

DSSSB Jail Warder

Previous Year Paper
22 Jun, 2024 Shift 1



Test Prime

**ALL EXAMS,
ONE SUBSCRIPTION**



70,000+
Mock Tests



**Personalised
Report Card**



**Unlimited
Re-Attempt**



600+
Exam Covered



**Previous Year
Papers**



**500%
Refund**



ATTEMPT FREE MOCK NOW



GOVT. OF NCT OF DELHI
Delhi Subordinate Services Selection Board
FC-18, Institutional Area, Karkardooma, Delhi – 110092.
www.dsssb.delhigovt.nic.in

Participant ID	
Participant Name	
Test Center Name	
Test Date	22/06/2024
Test Time	8:30 AM - 10:30 AM
Subject	Warder Reserved for male Only

Section : General intelligence and Reasoning Ability 1

Q.1 निम्नलिखित अक्षर श्रृंखला को देखें और उसके बाद आने वाले प्रश्न का उत्तर दें। गिनती केवल बाएं से दाएं की जानी चाहिए।
(बाएं) W I E M A K A E Q C F S C B T E W A U A V Y U E X I (दाएं)
ऐसे कितने E हैं, जिनमें से प्रत्येक के ठीक पहले एक व्यंजन है?

- Ans
- ☒ 1. चार
 - ☒ 2. दो
 - ☒ 3. तीन
 - ☒ 4. एक

Question ID : 630680860159
Option 1 ID : 6306803368576
Option 2 ID : 6306803368574
Option 3 ID : 6306803368575
Option 4 ID : 6306803368573

Q.2 निश्चित संख्या में व्यक्तियों की एक पंक्ति में, मोहन बाएं छोर से 16वें स्थान पर और दाएं छोर से 19वें स्थान पर बैठा है। उस पंक्ति में बैठे व्यक्तियों की कुल संख्या कितनी है?

- Ans
- ☒ 1. 34
 - ☒ 2. 36
 - ☒ 3. 33
 - ☒ 4. 35

Question ID : 630680860151
Option 1 ID : 6306803368542
Option 2 ID : 6306803368544
Option 3 ID : 6306803368543
Option 4 ID : 6306803368541

Q.3 उस विकल्प का चयन करें जो तीसरे शब्द से उसी तरह संबंधित है जिस तरह दूसरा शब्द पहले शब्द से संबंधित है।
(शब्दों को सार्थक हिंदी शब्दों के रूप में माना जाना चाहिए और उन्हें शब्द में अक्षरों/व्यंजनों/स्वरों की संख्या के आधार पर एक दूसरे से संबंधित नहीं किया जाना चाहिए।)
घंटा : समय :: मीटर : ?

- Ans
- ☒ 1. वजन
 - ☒ 2. आयतन
 - ☒ 3. लंबाई
 - ☒ 4. बल

Question ID : 630680860166
Option 1 ID : 6306803368601
Option 2 ID : 6306803368603
Option 3 ID : 6306803368602
Option 4 ID : 6306803368604

Q.4 एक लड़की की ओर इशारा करते हुए एक आदमी ने कहा, “वह मेरे भाई की माँ की पुत्री है”। लड़की का उस आदमी से क्या संबंध है?

- Ans
- ☒ 1. पत्नी
 - ☒ 2. माँ
 - ☒ 3. पुत्री
 - ☒ 4. बहन

Question ID : 630680860161
Option 1 ID : 6306803368584
Option 2 ID : 6306803368581
Option 3 ID : 6306803368583
Option 4 ID : 6306803368582

Q.5 दिए गए विकल्पों में से उस अक्षर-समूह का चयन कीजिए जो निम्नलिखित श्रृंखला में प्रश्न चिह्न (?) के स्थान पर आ सकता है।
HCM, JEO, LGQ, NIS, PKU, ?

- Ans
- ☒ 1. SMX
 - ☒ 2. RMW
 - ☒ 3. SNX
 - ☒ 4. RNW

Question ID : 630680860174
Option 1 ID : 6306803368635
Option 2 ID : 6306803368636
Option 3 ID : 6306803368633
Option 4 ID : 6306803368634

7/5/24, 10:39 AM

cdn.digialm.com/per/g01/pub/1258/touchstone/AssessmentQPHTMLMode1//1258O24204/1258O24204S37D1687/171972523375...

Q.6 उस विकल्प का चयन कीजिए जो पांचवीं संख्या से उसी प्रकार संबंधित है जिस प्रकार चौथी संख्या तीसरी संख्या से संबंधित है और दूसरी संख्या पहली संख्या से संबंधित है।
14 : 210 :: 17 : 306 :: 10 : ?

- Ans ☒ 1. 180
☒ 2. 110
☒ 3. 100
☒ 4. 150

Question ID : 630680860186
Option 1 ID : 6306803368681
Option 2 ID : 6306803368684
Option 3 ID : 6306803368682
Option 4 ID : 6306803368683

Q.7 पाँच दोस्त V, W, X, Y और Z एक सीधी पंक्ति में उत्तर की ओर अभिमुख होकर बैठे हैं। V के प्रत्येक ओर केवल दो लोग बैठे हैं। V, Z के ठीक दाईं ओर बैठा है। V और W के बीच में केवल Z बैठा है। Y और Z के बीच में केवल V बैठा है। पंक्ति के दाएं छोर पर कौन बैठा है?

- Ans ☒ 1. Z
☒ 2. X
☒ 3. W
☒ 4. Y

Question ID : 630680860148
Option 1 ID : 6306803368532
Option 2 ID : 6306803368531
Option 3 ID : 6306803368529
Option 4 ID : 6306803368530

Q.8 दिए गए विकल्पों में से उस पद का चयन कीजिए जो निम्नलिखित श्रृंखला में प्रश्न चिह्न (?) के स्थान पर आ सकता है।
D-422, H-407, L-392, P-377, T-362, ?

- Ans ☒ 1. W-332
☒ 2. X-332
☒ 3. W-347
☒ 4. X-347

Question ID : 630680860175
Option 1 ID : 6306803368638
Option 2 ID : 6306803368639
Option 3 ID : 6306803368640
Option 4 ID : 6306803368637

Q.9 निम्नलिखित संख्या और प्रतीक श्रृंखला को देखें और उसके बाद आने वाले प्रश्न का उत्तर दें। गिनती केवल बाएं से दाएं की जानी चाहिए।
(बाएं) 1 # \$ 8 2 * 6 \$ 3 5 4 8 और 7 4 \$ 6 1 % @ 9 6 \$ 1 % 7 ^ 2 (दाएं)
ऐसे कितने प्रतीक हैं, जिनमें से प्रत्येक के ठीक पहले एक सम संख्या है और ठीक बाद एक विषम संख्या है?

- Ans
- ☒ 1. चार
 - ☒ 2. दो
 - ☒ 3. एक
 - ☒ 4. तीन

Question ID : 630680860160
Option 1 ID : 6306803368580
Option 2 ID : 6306803368578
Option 3 ID : 6306803368577
Option 4 ID : 6306803368579

Q.10 दिए गए कथनों और निष्कर्षों को ध्यान से पढ़ें। यह मानते हुए कि कथनों में दी गई जानकारी सत्य है, भले ही वह सामान्य रूप से ज्ञात तथ्यों से भिन्न प्रतीत होती हो, तय करें कि दिए गए निष्कर्षों में से कौन सा/से निष्कर्ष कथनों का तार्किक रूप से अनुसरण करता है/करते हैं।
कथन:
(A) सभी लाइटें, रेलगाड़ियाँ हैं।
(B) कुछ लाइटें, कप हैं।
निष्कर्ष:
I. कुछ कप, रेलगाड़ियाँ हैं।
II. सभी रेलगाड़ियाँ, कप हैं।

- Ans
- ☒ 1. न तो निष्कर्ष I अनुसरण करता है और न ही निष्कर्ष II अनुसरण करता है
 - ☒ 2. केवल निष्कर्ष II अनुसरण करता है
 - ☒ 3. केवल निष्कर्ष I अनुसरण करता है
 - ☒ 4. निष्कर्ष I और II दोनों अनुसरण करते हैं

Question ID : 630680860164
Option 1 ID : 6306803368595
Option 2 ID : 6306803368594
Option 3 ID : 6306803368593
Option 4 ID : 6306803368596

Q.11 छह छात्र X, Y, Z, A, B और C एक गोल मेज के परितः उसके केंद्र की ओर अभिमुख होकर बैठे हैं। X, C के ठीक दाएं बैठा है। C और Y के बीच केवल B बैठा है। A और X के बीच केवल Z बैठा है। A के ठीक दाएं कौन बैठा है?

- Ans
- ☒ 1. X
 - ☒ 2. C
 - ☒ 3. B
 - ☒ 4. Y

Question ID : 630680860149
Option 1 ID : 6306803368536
Option 2 ID : 6306803368535
Option 3 ID : 6306803368534
Option 4 ID : 6306803368533

7/5/24, 10:39 AM

cdn.digialm.com/per/g01/pub/1258/touchstone/AssessmentQPHTMLMode1//1258O24204/1258O24204S37D1687/171972523375...

Q.12 एक निश्चित कूट भाषा में, 'FOREST' को 'ROFTSE' लिखा जाता है और 'GUITAR' को 'IUGRAT' लिखा जाता है। उस भाषा में 'DOUBLE' को किस प्रकार लिखा जाएगा?

- Ans
- ☒ 1. UOEDLB
 - ☒ 2. ELUBOD
 - ☒ 3. ELBUOD
 - ☒ 4. UODELB

Question ID : 630680860154
Option 1 ID : 6306803368555
Option 2 ID : 6306803368556
Option 3 ID : 6306803368554
Option 4 ID : 6306803368553

Q.13 यदि X का अर्थ है 'गुणा', Y का अर्थ है 'जोड़', Z का अर्थ है 'भाग' और W का अर्थ है 'घटाव', तो निम्नलिखित समीकरण का मान क्या होगा?

$$15 \times 2 \times 6 \times 4 \div 2 = ?$$

- Ans
- ☒ 1. 42
 - ☒ 2. 35
 - ☒ 3. 29
 - ☒ 4. 34

Question ID : 630680851556
Option 1 ID : 6306803335290
Option 2 ID : 6306803335289
Option 3 ID : 6306803335291
Option 4 ID : 6306803335288

Q.14 छह बक्से A, B, C, D, E और F एक के ऊपर एक रखे गए हैं, लेकिन जरूरी नहीं है कि वे इसी क्रम में हों। F को नीचे से चौथे स्थान पर रखा गया है। C और F के बीच केवल दो बक्से रखे गए हैं। C और D के बीच केवल चार बक्से रखे गए हैं। E को A के ठीक नीचे रखा गया है। B और E के बीच कितने बक्से रखे गए हैं?

- Ans
- ☒ 1. तीन
 - ☒ 2. दो
 - ☒ 3. शून्य
 - ☒ 4. एक

Question ID : 630680860152
Option 1 ID : 6306803368547
Option 2 ID : 6306803368545
Option 3 ID : 6306803368548
Option 4 ID : 6306803368546

7/5/24, 10:39 AM

cdn.digialm.com/per/g01/pub/1258/touchstone/AssessmentQPHTMLMode1//1258O24204/1258O24204S37D1687/171972523375...

Q.15 यदि निम्नलिखित श्रृंखला की प्रत्येक संख्या के इकाई का अंक और सैकड़े के अंक को परस्पर बदल दिया जाए, तो कितनी संख्याएँ सम संख्याएँ बन जाएँगी?
632, 982, 357, 810, 315, 103

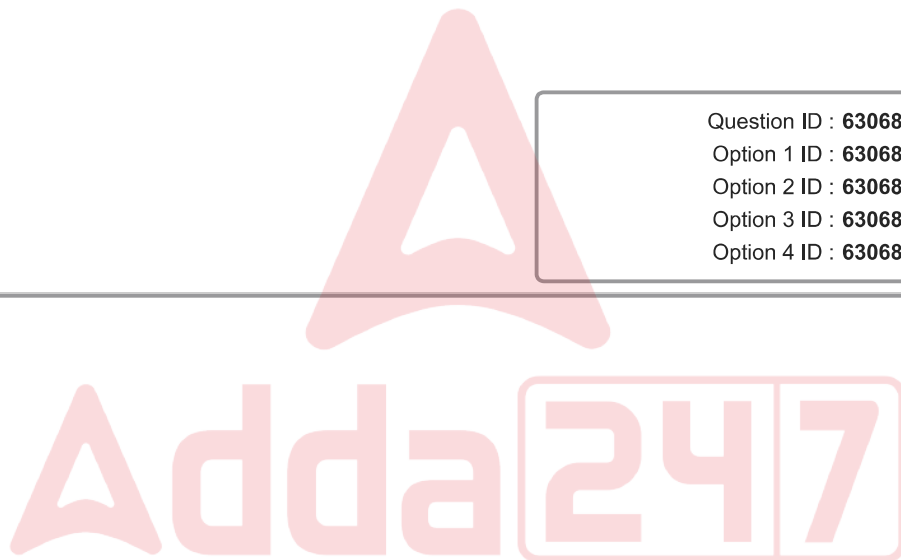
- Ans
- ☒ 1. तीन
 - ☒ 2. दो
 - ☒ 3. एक
 - ☒ 4. चार

Question ID : 630680860180
Option 1 ID : 6306803368658
Option 2 ID : 6306803368659
Option 3 ID : 6306803368657
Option 4 ID : 6306803368660

Q.16 दिए गए विकल्पों में से उस संख्या का चयन कीजिए जो निम्नलिखित श्रृंखला में प्रश्न चिह्न (?) के स्थान पर आ सकती है।
4, 7, 11, ?, 22, 29

- Ans
- ☒ 1. 14
 - ☒ 2. 18
 - ☒ 3. 12
 - ☒ 4. 16

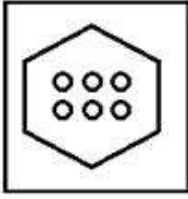
Question ID : 630680858126
Option 1 ID : 6306803360814
Option 2 ID : 6306803360816
Option 3 ID : 6306803360815
Option 4 ID : 6306803360817



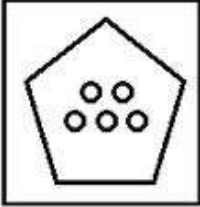
Q.17 निम्नलिखित में से तीन आकृतियाँ किसी तरह से एकसमान हैं और इसलिए एक समूह बनाती हैं। कौन सी आकृति उस समूह से संबंधित नहीं है?

Ans

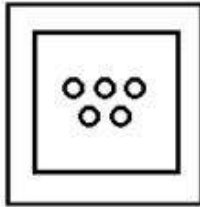
✗ 1.



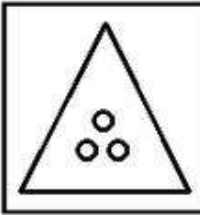
✗ 2.



✓ 3.



✗ 4.



Question ID : 630680860178
Option 1 ID : 6306803368649
Option 2 ID : 6306803368652
Option 3 ID : 6306803368650
Option 4 ID : 6306803368651

Q.18 निम्नलिखित में से तीन अक्षर-समूह युग्म किसी तरह से एकसमान हैं और इसलिए एक समूह बनाते हैं। कौन सा अक्षर-समूह युग्म उस समूह से संबंधित नहीं है?

Ans ✗ 1. JET : KFU

✗ 2. OLD : PME

✓ 3. DRY : FSZ

✗ 4. MAP : NBQ

Question ID : 630680860170
Option 1 ID : 6306803368617
Option 2 ID : 6306803368620
Option 3 ID : 6306803368618
Option 4 ID : 6306803368619

Q.19 उस समुच्चय का चयन करें जिसमें संख्याएँ आपस में उसी तरह से संबंधित हैं जैसे कि निम्नलिखित समुच्चयों की संख्याएँ आपस में संबंधित हैं।
(नोट: संख्याओं को उनके घटक अंकों में तोड़े बिना, संपूर्ण संख्याओं पर संक्रियाएँ की जानी चाहिए। उदाहरण के लिए 13 लीजिए - 13 पर संक्रियाएँ जैसे कि 13 में जोड़ना/घटाना/गुणा करना, केवल 13 पर की जा सकती हैं। 13 को 1 और 3 में तोड़ना और फिर 1 और 3 पर गणितीय संक्रियाएँ करने की अनुमति नहीं है।)
(8 : 64 : 16)
(22 : 132 : 12)

- Ans ☒ 1. (6 : 54 : 18)
☒ 2. (6 : 36 : 14)
☒ 3. (24 : 160 : 16)
☒ 4. (23 : 66 : 15)

Question ID : 630680860187
Option 1 ID : 6306803368685
Option 2 ID : 6306803368687
Option 3 ID : 6306803368688
Option 4 ID : 6306803368686

Q.20 एक निश्चित कूट भाषा में, 'HOSPITAL' को 'ALTIPSHO' लिखा जाता है और 'TRIANGLE' को 'LEGNAITR' लिखा जाता है। उस भाषा में 'FORECAST' को कैसे लिखा जाएगा?

- Ans ☒ 1. STACREFO
☒ 2. STCAERFO
☒ 3. STACERFO
☒ 4. STCAREFO

Question ID : 630680860156
Option 1 ID : 6306803368564
Option 2 ID : 6306803368562
Option 3 ID : 6306803368563
Option 4 ID : 6306803368561

Section : General intelligence and Reasoning Ability 2

Q.1 निम्नलिखित में से तीन अक्षर-समूह युग्म किसी तरह से एकसमान हैं और इसलिए एक समूह बनाते हैं। निम्नलिखित में से कौन सा अक्षर-समूह युग्म उस समूह से संबंधित नहीं है?

- Ans ☒ 1. BEAR : EHDU
☒ 2. FOUR : HRXV
☒ 3. CAME : FDPH
☒ 4. DONE : GRQH

Question ID : 630680860173
Option 1 ID : 6306803368630
Option 2 ID : 6306803368629
Option 3 ID : 6306803368632
Option 4 ID : 6306803368631

Q.2 उस समुच्चय का चयन करें जिसमें संख्याएँ आपस में उसी तरह से संबंधित हैं जैसे कि निम्नलिखित समुच्चयों की संख्याएँ आपस में संबंधित हैं।
(नोट: संख्याओं को उनके घटक अंकों में तोड़े बिना, संपूर्ण संख्याओं पर संक्रियाएँ की जानी चाहिए। उदाहरण के लिए 13 लीजिए - 13 पर संक्रियाएँ जैसे कि 13 में जोड़ना/घटाना/गुणा करना, केवल 13 पर की जा सकती हैं। 13 को 1 और 3 में तोड़ना और फिर 1 और 3 पर गणितीय संक्रियाएँ करने की अनुमति नहीं है।)
(16 : 29 : 13)
(29 : 63 : 34)

- Ans
- ☒ 1. (51 : 16 : 63)
 - ☒ 2. (72 : 112 : 54)
 - ☒ 3. (38 : 59 : 45)
 - ☒ 4. (26 : 43 : 17)

Question ID : 630680860185
Option 1 ID : 6306803368679
Option 2 ID : 6306803368680
Option 3 ID : 6306803368677
Option 4 ID : 6306803368678

Q.3 दिए गए कथनों और निष्कर्षों को ध्यानपूर्वक पढ़ें। यह मानते हुए कि कथनों में दी गई जानकारी सत्य है, भले ही वह सामान्यतः ज्ञात तथ्यों से भिन्न प्रतीत होती हो, तय करें कि दिए गए निष्कर्षों में से कौन सा/से निष्कर्ष कथनों का तार्किक रूप से अनुसरण करता है/करते हैं।
कथन:
(A) सभी चाकू, पत्थर हैं।
(B) सभी पत्थर, फूल हैं।
(C) कुछ चाकू, कलम हैं।
निष्कर्ष:
I. कुछ चाकू, फूल हैं।
II. कुछ पत्थर, कलम हैं।

- Ans
- ☒ 1. निष्कर्ष I और II दोनों अनुसरण करते हैं
 - ☒ 2. केवल निष्कर्ष I अनुसरण करता है
 - ☒ 3. न तो निष्कर्ष I अनुसरण करता है और न ही निष्कर्ष II अनुसरण करता है
 - ☒ 4. केवल निष्कर्ष II अनुसरण करता है

Question ID : 630680860165
Option 1 ID : 6306803368600
Option 2 ID : 6306803368597
Option 3 ID : 6306803368599
Option 4 ID : 6306803368598

Q.4 निम्नलिखित में से तीन अक्षर-समूह किसी तरह से एकसमान हैं और इसलिए एक समूह बनाते हैं। कौन सा अक्षर-समूह उस समूह से संबंधित नहीं है?

- Ans
- ☒ 1. JLN
 - ☒ 2. ORU
 - ☒ 3. DFH
 - ☒ 4. TVX

Question ID : 630680860172
Option 1 ID : 6306803368628
Option 2 ID : 6306803368626
Option 3 ID : 6306803368625
Option 4 ID : 6306803368627

Q.5 दिए गए कथनों और निष्कर्षों को ध्यानपूर्वक पढ़ें। यह मानते हुए कि कथनों में दी गई जानकारी सत्य है, भले ही वह सामान्यतः ज्ञात तथ्यों से भिन्न प्रतीत होती हो, तय करें कि दिए गए निष्कर्षों में से कौन सा/से निष्कर्ष कथनों का तार्किक रूप से अनुसरण करता है/करते हैं।

कथन:

(A) कुछ तोते, मोर हैं।

(B) कुछ मोर, डॉल्फिन हैं।

निष्कर्ष:

I. कुछ तोते, डॉल्फिन हैं।

II. सभी डॉल्फिन, तोते हैं।

Ans ☒ 1. निष्कर्ष I और II दोनों अनुसरण करते हैं

☒ 2. केवल निष्कर्ष II अनुसरण करता है

☒ 3. केवल निष्कर्ष I अनुसरण करता है

☒ 4. न तो निष्कर्ष I अनुसरण करता है और न ही निष्कर्ष II अनुसरण करता है

Question ID : 630680860163

Option 1 ID : 6306803368592

Option 2 ID : 6306803368590

Option 3 ID : 6306803368589

Option 4 ID : 6306803368591

Q.6 'A + B' का अर्थ है कि 'A, B का पिता है';

'A ÷ B' का अर्थ है कि 'A, B का भाई है';

'A × B' का अर्थ है कि 'A, B की माता है' और

'A - B' का अर्थ है कि 'A, B का पुत्र है'।

व्यंजक 'Q × R - P + S ÷ T' में, Q का S से क्या संबंध है?

Ans ☒ 1. पुत्री

☒ 2. बहन

☒ 3. पत्नी

☒ 4. माता

Question ID : 630680860162

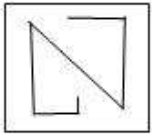
Option 1 ID : 6306803368587

Option 2 ID : 6306803368586

Option 3 ID : 6306803368588

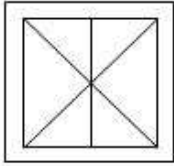
Option 4 ID : 6306803368585

Q.7 उस विकल्प का चयन करें जिसमें दी गई आकृति अंतर्निहित है।

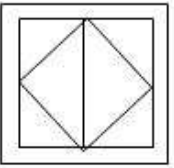


Ans

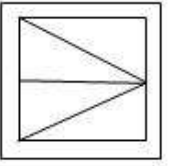
✓ 1.



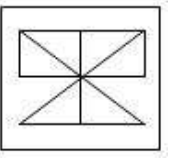
✗ 2.



✗ 3.



✗ 4.



Question ID : 630680858121
Option 1 ID : 6306803360796
Option 2 ID : 6306803360795
Option 3 ID : 6306803360794
Option 4 ID : 6306803360797

Q.8 निम्नलिखित में से तीन शब्द-युग्म किसी न किसी तरह से एकसमान हैं और इसलिए एक समूह बनाते हैं।
कौन सा शब्द-युग्म उस समूह से संबंधित नहीं है?
(शब्दों को सार्थक हिंदी शब्दों के रूप में माना जाना चाहिए और उन्हें शब्द में अक्षरों/व्यंजनों/स्वरों की संख्या के आधार पर समूहीकृत नहीं किया जाना चाहिए।)

Ans

✗ 1. पैर : जूता

✗ 2. हाथ : दस्ताना

✗ 3. सिर : टोपी

✓ 4. चेहरा : आस्तीन

Question ID : 630680860171
Option 1 ID : 6306803368623
Option 2 ID : 6306803368621
Option 3 ID : 6306803368622
Option 4 ID : 6306803368624

Q.9 इस प्रश्न में, अक्षरों के एक समूह को नीचे दी गई तालिका और उसके बाद दी गई शर्तों के अनुसार अंकों का उपयोग करके कूटबद्ध किया गया है। तालिका का ध्यानपूर्वक अध्ययन करें और निम्नलिखित प्रश्न का उत्तर दें।

Letter	X	D	G	Y	R	L	A	B	S	I
Digit	6	3	4	2	9	0	5	8	1	7

शर्तें:

- 1. यदि पहले और अंतिम अक्षर स्वर हैं, तो दोनों को 8 के रूप में कूटबद्ध किया जाना चाहिए।
- 2. यदि पहले और अंतिम अक्षर व्यंजन हैं, तो दोनों को 6 के रूप में कूटबद्ध किया जाना चाहिए।
- 3. यदि पहला अक्षर स्वर है और अंतिम अक्षर व्यंजन है, तो उनके कूट आपस में बदल दिए जाने चाहिए।
- 4. यदि पहला अक्षर व्यंजन है और अंतिम अक्षर स्वर है, तो उन्हें क्रमशः 2 और 4 के रूप में कूटबद्ध किया जाना चाहिए।

निम्नलिखित अक्षरों के समूह को कौन-सा विकल्प सही ढंग से दर्शाता है?

DAILY

- Ans**
- ☒ 1. 65726
 - ☒ 2. 63706
 - ☒ 3. 65076
 - ☒ 4. 65706

Question ID : 630680860155
Option 1 ID : 6306803368557
Option 2 ID : 6306803368558
Option 3 ID : 6306803368559
Option 4 ID : 6306803368560

Q.10 दिए गए विकल्पों में से उस संख्या का चयन कीजिए जो निम्नलिखित श्रृंखला में प्रश्न चिह्न (?) के स्थान पर आ सकती है।
347, 343, 334, 318, 293, ?

- Ans**
- ☒ 1. 244
 - ☒ 2. 267
 - ☒ 3. 257
 - ☒ 4. 272

Question ID : 630680860183
Option 1 ID : 6306803368672
Option 2 ID : 6306803368671
Option 3 ID : 6306803368669
Option 4 ID : 6306803368670

Q.11 छह व्यक्ति M, N, O, P, Q और R एक छह तल वाली इमारत में रह रहे हैं, लेकिन जरूरी नहीं है कि वे इसी क्रम में हों। सबसे निचले तल को 1 से क्रमांकित किया गया है; इसके ठीक ऊपरी तल को 2 से क्रमांकित किया गया है और इसी प्रकार अन्य तलों को भी क्रमांकित करते हुए सबसे ऊपरी तल को 6 से क्रमांकित किया गया है। प्रत्येक व्यक्ति अलग-अलग तल पर रहता है। R एक विषम संख्या वाले तल पर रहता है और P से तीन तल ऊपर रहता है। R और Q के बीच केवल M रहता है। N, Q से दो तल नीचे रहता है। O एक सम संख्या वाले तल पर रहता है। निम्नलिखित में से कौन R के ठीक ऊपर वाले तल पर रहता है?

- Ans
- ☒ 1. N
 - ☐ 2. P
 - ☒ 3. O
 - ☐ 4. M

Question ID : 630680860153
Option 1 ID : 6306803368552
Option 2 ID : 6306803368550
Option 3 ID : 6306803368551
Option 4 ID : 6306803368549

Q.12 पाँच लड़कियाँ G, H, K, L और M एक सीधी पंक्ति में उत्तर की ओर अभिमुख होकर बैठी हैं। H, K के बाएँ से चौथे स्थान पर बैठी है। G और K के बीच में केवल L बैठा है। H, M के ठीक बाएँ बैठा है। पंक्ति के बाएँ छोर से तीसरे स्थान पर कौन बैठा है?

- Ans
- ☒ 1. G
 - ☐ 2. H
 - ☐ 3. M
 - ☐ 4. L

Question ID : 630680860150
Option 1 ID : 6306803368540
Option 2 ID : 6306803368539
Option 3 ID : 6306803368537
Option 4 ID : 6306803368538

Q.13 उस विकल्प का चयन कीजिए जो पांचवीं संख्या से उसी प्रकार संबंधित है जिस प्रकार चौथी संख्या तीसरी संख्या से संबंधित है और दूसरी संख्या पहली संख्या से संबंधित है।
5 : 125 :: 7 : 343 :: 3 : ?

- Ans
- ☐ 1. 9
 - ☐ 2. 54
 - ☐ 3. 81
 - ☒ 4. 27

Question ID : 630680860184
Option 1 ID : 6306803368673
Option 2 ID : 6306803368676
Option 3 ID : 6306803368674
Option 4 ID : 6306803368675

Q.14 उस विकल्प का चयन करें जो तीसरे शब्द से उसी तरह संबंधित है जिस तरह दूसरा शब्द पहले शब्द से संबंधित है।
(शब्दों को सार्थक हिंदी शब्दों के रूप में माना जाना चाहिए और उन्हें शब्द में अक्षरों/व्यंजनों/स्वरों की संख्या के आधार पर एक दूसरे से संबंधित नहीं किया जाना चाहिए।)
लंदन : इंग्लैंड :: पेरिस : ?

- Ans
- ☒ 1. अमेरिका
 - ☒ 2. जर्मनी
 - ☒ 3. फ्रांस
 - ☒ 4. यूरोप

Question ID : 630680860168
Option 1 ID : 6306803368610
Option 2 ID : 6306803368612
Option 3 ID : 6306803368609
Option 4 ID : 6306803368611

Q.15 दिए गए विकल्पों में से उस अक्षर-समूह का चयन कीजिए जो निम्नलिखित श्रृंखला में प्रश्न चिह्न (?) के स्थान पर आ सकता है।
GTM, FSL, ERK, DQJ, CPI, ?

- Ans
- ☒ 1. BNH
 - ☒ 2. BOH
 - ☒ 3. ANG
 - ☒ 4. AOG

Question ID : 630680860176
Option 1 ID : 6306803368641
Option 2 ID : 6306803368643
Option 3 ID : 6306803368644
Option 4 ID : 6306803368642

Q.16 यदि '+' का अर्थ 'x' है, '-' का अर्थ '÷' है, '÷' का अर्थ '+' है और 'x' का अर्थ '-' है, तो निम्नलिखित व्यंजक का मान क्या है?
 $15 \times 5 \div 4 + 36 - 9$

- Ans
- ☒ 1. 6
 - ☒ 2. 32
 - ☒ 3. 12
 - ☒ 4. 4

Question ID : 630680860179
Option 1 ID : 6306803368653
Option 2 ID : 6306803368655
Option 3 ID : 6306803368654
Option 4 ID : 6306803368656

Q.17 उस विकल्प का चयन कीजिए जो पांचवें अक्षर-समूह से उसी प्रकार संबंधित है जिस प्रकार चौथा अक्षर-समूह तीसरे अक्षर-समूह से संबंधित है और दूसरा अक्षर-समूह पहले अक्षर-समूह से संबंधित है।
HAIR : ICLV :: ALSO : BNVS :: BEAT : ?

Ans ☒ 1. CGDX

☒ 2. DGCX

☒ 3. CFDW

☒ 4. DGCW

Question ID : 630680860169

Option 1 ID : 6306803368615

Option 2 ID : 6306803368616

Option 3 ID : 6306803368613

Option 4 ID : 6306803368614

Q.18 उस विकल्प का चयन कीजिए जो पांचवें अक्षर-समूह से उसी प्रकार संबंधित है जिस प्रकार चौथा अक्षर-समूह तीसरे अक्षर-समूह से संबंधित है और दूसरा अक्षर-समूह पहले अक्षर-समूह से संबंधित है।
JUST : HSQR :: GOLD : EMJB :: KNOT : ?

Ans ☒ 1. JKMQ

☒ 2. ILMR

☒ 3. ILNR

☒ 4. JKLQ

Question ID : 630680860167

Option 1 ID : 6306803368605

Option 2 ID : 6306803368606

Option 3 ID : 6306803368608

Option 4 ID : 6306803368607

Q.19 यदि शब्द 'COMPLAINER' के सभी अक्षरों को अंग्रेजी वर्णमाला क्रम के अनुसार पुनःव्यवस्थित किया जाए, तो पुनःव्यवस्थित करने के बाद कितने अक्षरों की स्थिति अपरिवर्तित रहेगी?

Ans ☒ 1. दो

☒ 2. शून्य

☒ 3. तीन

☒ 4. एक

Question ID : 630680860157

Option 1 ID : 6306803368566

Option 2 ID : 6306803368568

Option 3 ID : 6306803368567

Option 4 ID : 6306803368565

7/5/24, 10:39 AM

cdn.digialm.com/per/g01/pub/1258/touchstone/AssessmentQPHTMLMode1//1258O24204/1258O24204S37D1687/171972523375...

Q.20 निम्नलिखित संख्या श्रेणी में ऐसे कितने 2 हैं, जिनमें से प्रत्येक के ठीक बाद 7 है, लेकिन ठीक पहले 4 नहीं है? गिनती केवल बाएं से दाएं की ओर की जानी चाहिए।
(बाएं) 8 5 2 7 3 5 4 7 6 5 3 8 9 2 7 6 4 6 4 9 4 2 7 8 0 3 5 7 1 (दाएं)

- Ans
- ☒ 1. चार
 - ☒ 2. दो
 - ☒ 3. एक
 - ☒ 4. तीन

Question ID : 630680860158
Option 1 ID : 6306803368572
Option 2 ID : 6306803368570
Option 3 ID : 6306803368569
Option 4 ID : 6306803368571

Section : General Awareness 1

Q.1 कौन-सा त्यौहार भगवान कृष्ण के जन्म का प्रतीक है और इसे विशेष रूप से मथुरा और वृंदावन में बड़े उत्साह के साथ मनाया जाता है?

- Ans
- ☒ 1. गणेश चतुर्थी
 - ☒ 2. नवरात्रि
 - ☒ 3. दुर्गा पूजा
 - ☒ 4. जन्माष्टमी

Question ID : 630680847978
Option 1 ID : 6306803321475
Option 2 ID : 6306803321474
Option 3 ID : 6306803321477
Option 4 ID : 6306803321476

Q.2 रोज़ा के पवित्र महीने रमज़ान के अंत में मुस्लिम समुदाय द्वारा कौन सा त्योहार मनाया जाता है?

- Ans
- ☒ 1. मुहर्रम
 - ☒ 2. मिलाद-उन-नबी
 - ☒ 3. ईद-उल-फ़ित्र
 - ☒ 4. ईद-उल-अज़हा

Question ID : 630680848018
Option 1 ID : 6306803321635
Option 2 ID : 6306803321637
Option 3 ID : 6306803321636
Option 4 ID : 6306803321634

Q.3 भारत के उत्तरी भाग में स्थित लेह शहर में मुख्य रूप से किस कारण से चरम जलवायु परिस्थितियां होती हैं?

- Ans
- ☒ 1. थार रेगिस्तान का प्रभाव
 - ☒ 2. व्यापक नदी तंत्र की उपस्थिति
 - ☒ 3. उच्च उन्नतांश और हिमालय से निकटता
 - ☒ 4. पश्चिमी घाट के पवनाभिमुख भाग पर स्थित स्थान

Question ID : 630680848023
Option 1 ID : 6306803321655
Option 2 ID : 6306803321657
Option 3 ID : 6306803321654
Option 4 ID : 6306803321656

Q.4 किस त्यौहार पर लोग अपने घरों को कोलम (रंगोली) से सजाते हैं और सूर्य भगवान की पूजा करते हैं?

- Ans
- ☒ 1. दिवाली
 - ☒ 2. पोंगल
 - ☒ 3. नवरात्रि
 - ☒ 4. गणेश चतुर्थी

Question ID : 630680848058
Option 1 ID : 6306803321795
Option 2 ID : 6306803321794
Option 3 ID : 6306803321796
Option 4 ID : 6306803321797

Q.5 2011 की जनगणना के आंकड़ों के अनुसार भारत की कितनी प्रतिशत आबादी को कार्यशील आयु समूह (15-59 वर्ष) माना जाता है?

- Ans
- ☒ 1. लगभग 20%
 - ☒ 2. लगभग 50%
 - ☒ 3. लगभग 60%
 - ☒ 4. लगभग 35%

Question ID : 630680848025
Option 1 ID : 6306803321662
Option 2 ID : 6306803321664
Option 3 ID : 6306803321665
Option 4 ID : 6306803321663

Q.6 संविधान द्वारा उल्लिखित और संरक्षित अधिकारों की सूची का वर्णन करने के लिए किस शब्द का उपयोग किया जाता है?

- Ans
- ☒ 1. अधिकारों का घोषणापत्र
 - ☒ 2. स्वतंत्रता का अधिकार-पत्र
 - ☒ 3. स्वतंत्रताओं की सूची
 - ☒ 4. अधिकारों का विधेयक

Question ID : 630680847907
Option 1 ID : 6306803321192
Option 2 ID : 6306803321193
Option 3 ID : 6306803321190
Option 4 ID : 6306803321191

Q.7 अंतःकरण की और धर्म की अबाध रूप से मानने, आचरण और प्रचार करने की स्वतंत्रता किस अनुच्छेद के तहत उल्लिखित है?

- Ans
- ☒ 1. अनुच्छेद 23
 - ☒ 2. अनुच्छेद 22
 - ☒ 3. अनुच्छेद 24
 - ☒ 4. अनुच्छेद 25

Question ID : 630680847987
Option 1 ID : 6306803321511
Option 2 ID : 6306803321510
Option 3 ID : 6306803321512
Option 4 ID : 6306803321513

Q.8 भानु तटक और दिबांग रजिस्ट्रेंस को संयुक्त रूप से भागीरथ प्रयास सम्मान पुरस्कार प्रदान किये जाने के लिए क्या कारण था?

- Ans
- ☒ 1. साहित्य के क्षेत्र में उत्कृष्ट उपलब्धियाँ
 - ☒ 2. सामाजिक कल्याण कार्यक्रमों में योगदान
 - ☒ 3. खेल प्रतियोगिताओं में असाधारण प्रदर्शन
 - ☒ 4. दिबांग नदी बेसिन में अनुकरणीय संरक्षण प्रयास

Question ID : 630680847999
Option 1 ID : 6306803321558
Option 2 ID : 6306803321560
Option 3 ID : 6306803321561
Option 4 ID : 6306803321559

Q.9 अमृत बोरा ने निष्पक्ष और त्वरित सुनवाई के बिना "न्यायिक हिरासत" में 20 साल बिताए। उन्हें किस मौलिक अधिकार से वंचित किया गया था?

- Ans
- ☒ 1. राजनीतिक अधिकार
 - ☒ 2. शोषण के विरुद्ध अधिकार
 - ☒ 3. जीवन और स्वतंत्रता का अधिकार
 - ☒ 4. समानता का अधिकार

Question ID : 630680847947
Option 1 ID : 6306803321351
Option 2 ID : 6306803321353
Option 3 ID : 6306803321352
Option 4 ID : 6306803321350

Q.10 दादा साहब फाल्के पुरस्कार किस कला के क्षेत्र में दिया जाता है?

- Ans
- ☒ 1. साहित्य
 - ☒ 2. पेंटिंग
 - ☒ 3. संगीत
 - ☒ 4. सिनेमा

Question ID : 630680848095
Option 1 ID : 6306803321942
Option 2 ID : 6306803321944
Option 3 ID : 6306803321945
Option 4 ID : 6306803321943

Q.11 खाद्य श्रृंखला में प्रायः केवल तीन या चार चरण क्यों होते हैं?

- Ans ☒ 1. प्रत्येक चरण में घटती ऊर्जा के कारण
- ☒ 2. ऊर्जा प्रवाह के उत्क्रमण के कारण
- ☒ 3. पोषी स्तरों की जटिलता के कारण
- ☒ 4. प्रचुर ऊर्जा उपलब्धता के कारण

Question ID : 630680847916
Option 1 ID : 6306803321228
Option 2 ID : 6306803321227
Option 3 ID : 6306803321229
Option 4 ID : 6306803321226

Q.12 हांगजो, पीपुल्स रिपब्लिक ऑफ चाइना में आयोजित एशियाई खेल 2023 में भारतीय मुक्केबाजी टीम ने कितने पदक जीते?

- Ans ☒ 1. एक स्वर्ण, एक रजत और तीन कांस्य
- ☒ 2. एक रजत और चार कांस्य
- ☒ 3. दो स्वर्ण और तीन कांस्य
- ☒ 4. दो रजत और तीन कांस्य

Question ID : 630680848078
Option 1 ID : 6306803321875
Option 2 ID : 6306803321876
Option 3 ID : 6306803321877
Option 4 ID : 6306803321874

Q.13 जनवरी 2024 में, सोनम मस्कर ने किस देश में ISSF (इंटरनेशनल शूटिंग स्पोर्ट्स फेडरेशन) विश्व कप में महिलाओं की 10 मीटर एयर राइफल स्पर्धा में रजत पदक जीता?

- Ans ☒ 1. मिस्र
- ☒ 2. साइप्रस
- ☒ 3. क्रोएशिया
- ☒ 4. अज़रबैजान

Question ID : 630680847838
Option 1 ID : 6306803320915
Option 2 ID : 6306803320916
Option 3 ID : 6306803320917
Option 4 ID : 6306803320914

Q.14 भारत में 'मानसून निवर्तन' की अवधारणा निम्न में से किससे संबंधित है?

- Ans ☒ 1. भारतीय उपमहाद्वीप से मानसूनी हवाओं का दक्षिण की ओर लौटना
- ☒ 2. सर्दियों के महीनों में तापमान में क्रमिक कमी
- ☒ 3. बंगाल की खाड़ी में चक्रवाती तूफानों का बनना
- ☒ 4. दक्षिणी राज्यों में मानसून-पूर्व वर्षा का आगमन

Question ID : 630680847983
Option 1 ID : 6306803321496
Option 2 ID : 6306803321494
Option 3 ID : 6306803321495
Option 4 ID : 6306803321497

Q.15 किस भारतीय लेखक को उनके उपन्यास "द गॉड ऑफ स्मॉल थिंग्स" के लिए 1997 में पुलित्ज़र पुरस्कार से सम्मानित किया गया था?

- Ans
- ☒ 1. अरुंधति रॉय
 - ☐ 2. सलमान रुश्दी
 - ☐ 3. विक्रम सेठ
 - ☐ 4. झुम्पा लाहिड़ी

Question ID : 630680848055
Option 1 ID : 6306803321784
Option 2 ID : 6306803321783
Option 3 ID : 6306803321785
Option 4 ID : 6306803321782

Q.16 निम्नलिखित में से कौन सा पादप अनुकूलन मरूद्भिद की विशेषता है?

- Ans
- ☐ 1. पत्तियों की ऊपरी सतह पर मौजूद रंध
 - ☐ 2. नाजुक सूक्ष्म जड़ें
 - ☒ 3. मोटी, मांसल और रसीली पत्तियाँ और तना
 - ☐ 4. पत्ती का ब्लेड मोमी तथा पतली क्यूटिकल वाला होता है

Question ID : 630680848111
Option 1 ID : 6306803322009
Option 2 ID : 6306803322008
Option 3 ID : 6306803322006
Option 4 ID : 6306803322007

Q.17 गोवा की आधिकारिक भाषा कौन सी है?

- Ans
- ☐ 1. मराठी
 - ☐ 2. कन्नड़
 - ☐ 3. गुजराती
 - ☒ 4. कोंकणी

Question ID : 630680847936
Option 1 ID : 6306803321307
Option 2 ID : 6306803321308
Option 3 ID : 6306803321306
Option 4 ID : 6306803321309

Q.18 2011 की जनगणना के अनुसार भारत में जनसंख्या घनत्व कितना है?

- Ans
- ☒ 1. 382 व्यक्ति/sq km
 - ☐ 2. 117 व्यक्ति/sq km
 - ☐ 3. 555 व्यक्ति/sq km
 - ☐ 4. 11,297 व्यक्ति/sq km

Question ID : 630680847865
Option 1 ID : 6306803321023
Option 2 ID : 6306803321022
Option 3 ID : 6306803321024
Option 4 ID : 6306803321025

7/5/24, 10:39 AM

cdn.digialm.com/per/g01/pub/1258/touchstone/AssessmentQPHTMLMode1//1258O24204/1258O24204S37D1687/171972523375...

Q.19 कौन-सी नदी सिंधु की सबसे बड़ी सहायक नदी है और इसे चंद्रभागा भी कहा जाता है?

- Ans
- ☒ 1. व्यास
 - ☒ 2. झेलम
 - ☒ 3. चिनाब
 - ☒ 4. रावी

Question ID : 630680847901
Option 1 ID : 6306803321169
Option 2 ID : 6306803321166
Option 3 ID : 6306803321167
Option 4 ID : 6306803321168

Q.20 इंजीनियरिंग और कंप्यूटर विज्ञान के क्षेत्र में इन्फोसिस पुरस्कार 2023 के प्राप्तकर्ता कौन हैं?

- Ans
- ☒ 1. जान्हवी फल्केई
 - ☒ 2. अरुण कुमार शुक्ला
 - ☒ 3. करुणा मैटेना
 - ☒ 4. सच्चिदा नंद त्रिपाठी

Question ID : 630680848004
Option 1 ID : 6306803321580
Option 2 ID : 6306803321578
Option 3 ID : 6306803321581
Option 4 ID : 6306803321579

Section : General Awareness 2

Q.1 भूमध्य सागर में उत्पन्न होने वाले दुर्बल शीतोष्ण चक्रवातों के कारण किस क्षेत्र में सर्दियों में वर्षा होती है?

- Ans
- ☒ 1. ओडिशा
 - ☒ 2. दक्षिणी आंध्र प्रदेश
 - ☒ 3. पश्चिमी उत्तर प्रदेश
 - ☒ 4. गुजरात

Question ID : 630680847903
Option 1 ID : 6306803321175
Option 2 ID : 6306803321176
Option 3 ID : 6306803321177
Option 4 ID : 6306803321174

Q.2 निम्न में से कौन-सा क्वाशिओरकोर का विशिष्ट लक्षण है?

- Ans
- ☒ 1. मांसपेशियों का क्षय (Muscle wasting)
 - ☒ 2. एडिमा (Edema)
 - ☒ 3. सूखी, पपड़ीदार त्वचा
 - ☒ 4. भंगुर नाखून

Question ID : 630680847994
Option 1 ID : 6306803321538
Option 2 ID : 6306803321539
Option 3 ID : 6306803321540
Option 4 ID : 6306803321541

Q.3 केरल में पौराणिक राजा महाबली के स्वागत में कौन सा त्योहार मनाया जाता है और इसमें भव्य दावतें, नौका दौड़ और पारंपरिक नृत्य प्रदर्शन शामिल होते हैं?

- Ans ☒ 1. ओणम
☒ 2. बिहू
☒ 3. पोंगल
☒ 4. छठ पूजा

Question ID : 630680848098
Option 1 ID : 6306803321954
Option 2 ID : 6306803321955
Option 3 ID : 6306803321956
Option 4 ID : 6306803321957

Q.4 भारत में वन एवं कृषि वानिकी के सतत प्रबंधन को बढ़ावा देने के लिए केंद्रीय पर्यावरण, वन और जलवायु परिवर्तन मंत्रालय द्वारा दिसंबर 2023 में कौन-सी योजना शुरू की गई थी?

- Ans ☒ 1. इंडियन फॉरेस्ट एंड वुड सर्टिफिकेशन स्कीम
☒ 2. फॉरेस्ट कंजर्वेशन एक्सेलेंस प्लान
☒ 3. सस्टेनेबल वुड हार्वेस्टिंग प्रोग्राम
☒ 4. ग्रीन फॉरेस्ट इनीशिएटिव

Question ID : 630680847839
Option 1 ID : 6306803320921
Option 2 ID : 6306803320920
Option 3 ID : 6306803320919
Option 4 ID : 6306803320918

Q.5 महात्मा गांधी की आत्मकथा का शीर्षक निम्न में से कौन-सा है?

- Ans ☒ 1. दि डिस्कवरी ऑफ इंडिया
☒ 2. दि स्टोरी ऑफ माय एक्सपेरिमेंट्स विद ट्रुथ
☒ 3. हिंद स्वराज या इंडियन होम रूल
☒ 4. वन लाइफ इज नॉट एनफ

Question ID : 630680847854
Option 1 ID : 6306803320981
Option 2 ID : 6306803320979
Option 3 ID : 6306803320980
Option 4 ID : 6306803320978

Q.6 केंद्रीय औद्योगिक सुरक्षा बल (CISF) की महानिदेशक का कार्यभार संभालने वाली पहली महिला कौन बनीं?

- Ans ☒ 1. प्रिया मलिक
☒ 2. अंजलि शर्मा
☒ 3. गीता कपूर
☒ 4. नीना सिंह

Question ID : 630680848042
Option 1 ID : 6306803321732
Option 2 ID : 6306803321730
Option 3 ID : 6306803321731
Option 4 ID : 6306803321733

Q.7 निम्नलिखित में से कौन सा विटामिन, तंत्रिका तंत्र के समुचित कार्य के लिए आवश्यक है?

- Ans ☒ 1. विटामिन B
☒ 2. विटामिन A
☒ 3. विटामिन D
☒ 4. विटामिन E

Question ID : 630680848114
 Option 1 ID : 6306803322019
 Option 2 ID : 6306803322018
 Option 3 ID : 6306803322020
 Option 4 ID : 6306803322021

Q.8 मालवा पठार भारत के किस बड़े पठार का विस्तार है?

- Ans ☒ 1. तिब्बती पठार
☒ 2. दक्कन पठार
☒ 3. छोटा नागपुर पठार
☒ 4. काठियावाड़ पठार

Question ID : 630680848060
 Option 1 ID : 6306803321804
 Option 2 ID : 6306803321803
 Option 3 ID : 6306803321802
 Option 4 ID : 6306803321805

Q.9 अधिकांश वृद्धि _____ पादप ऊतक में होती है।

- Ans ☒ 1. मेरिस्टेम
☒ 2. जाइलम
☒ 3. फ्लोएम
☒ 4. एपिडर्मिस

Question ID : 630680847991
 Option 1 ID : 6306803321528
 Option 2 ID : 6306803321527
 Option 3 ID : 6306803321529
 Option 4 ID : 6306803321526

Q.10 भगवद गीता मूल रूप से किस शास्त्रीय भाषा में लिखी गई है?

- Ans ☒ 1. संस्कृत
☒ 2. प्राकृत
☒ 3. पाली
☒ 4. हिंदी

Question ID : 630680847976
 Option 1 ID : 6306803321467
 Option 2 ID : 6306803321466
 Option 3 ID : 6306803321468
 Option 4 ID : 6306803321469

Q.11 हिमालय अपवाह तंत्र में कौन-सी नदी सबसे पश्चिमी नदी है?

- Ans
- ☒ 1. ब्रह्मपुत्र
 - ☒ 2. यमुना
 - ☒ 3. गंगा
 - ☒ 4. सिंधु

Question ID : 630680847940
Option 1 ID : 6306803321322
Option 2 ID : 6306803321325
Option 3 ID : 6306803321323
Option 4 ID : 6306803321324

Q.12 जुलाई 2023 में, एयरटेल ने भारत में 5G तकनीक के लिए किसके साथ साझेदारी करने की घोषणा की?

- Ans
- ☒ 1. गूगल (Google)
 - ☒ 2. इंटेल (Intel)
 - ☒ 3. वीआई (Vi)
 - ☒ 4. माइक्रोसॉफ्ट (Microsoft)

Question ID : 630680848085
Option 1 ID : 6306803321903
Option 2 ID : 6306803321904
Option 3 ID : 6306803321905
Option 4 ID : 6306803321902

Q.13 2011 की जनगणना में पहली बार निम्न में से किसे एक श्रेणी (category) के रूप में जोड़ा गया था?

- Ans
- ☒ 1. ईसाई धर्म
 - ☒ 2. ताओ धर्म
 - ☒ 3. कोई धर्म नहीं
 - ☒ 4. यहूदी धर्म

Question ID : 630680847945
Option 1 ID : 6306803321344
Option 2 ID : 6306803321343
Option 3 ID : 6306803321345
Option 4 ID : 6306803321342

Q.14 'अरब सागर शाखा' और 'बंगाल की खाड़ी शाखा' भारत में किस मौसम प्रणाली से जुड़ी हैं?

- Ans
- ☒ 1. पूर्व-मानसून वर्षा
 - ☒ 2. टॉरनेडोज़
 - ☒ 3. उत्तर-पूर्व मानसून
 - ☒ 4. दक्षिण-पश्चिम मानसून

Question ID : 630680848103
Option 1 ID : 6306803321974
Option 2 ID : 6306803321977
Option 3 ID : 6306803321976
Option 4 ID : 6306803321975

Q.15 किस भारतीय राज्य में धन की देवी को समर्पित हल्दा उत्सव मनाया जाता है?

- Ans
- ☒ 1. अरुणाचल प्रदेश
 - ☒ 2. उत्तराखंड
 - ☒ 3. जम्मू और कश्मीर
 - ☒ 4. हिमाचल प्रदेश

Question ID : 630680847938
Option 1 ID : 6306803321314
Option 2 ID : 6306803321317
Option 3 ID : 6306803321316
Option 4 ID : 6306803321315

Q.16 नेशनल यूथ पॉलिसी (NYP-2014) किस आयु वर्ग को "युवा" के रूप में परिभाषित करती है?

- Ans
- ☒ 1. 25-45 वर्ष
 - ☒ 2. 18-35 वर्ष
 - ☒ 3. 20-40 वर्ष
 - ☒ 4. 15-29 वर्ष

Question ID : 630680847905
Option 1 ID : 6306803321185
Option 2 ID : 6306803321183
Option 3 ID : 6306803321184
Option 4 ID : 6306803321182

Q.17 कौन सा मौलिक अधिकार धर्म, मूलवंश, जाति, लिंग या जन्म स्थान के आधार पर भेदभाव के विरुद्ध संरक्षण सुनिश्चित करता है?

- Ans
- ☒ 1. संवैधानिक उपचारों का अधिकार
 - ☒ 2. स्वतंत्रता का अधिकार
 - ☒ 3. समानता का अधिकार
 - ☒ 4. सांस्कृतिक और शैक्षिक अधिकार

Question ID : 630680848027
Option 1 ID : 6306803321673
Option 2 ID : 6306803321671
Option 3 ID : 6306803321670
Option 4 ID : 6306803321672

Q.18 केन्द्रीय हिंदी संस्थान का प्राथमिक उद्देश्य क्या है?

- Ans
- ☒ 1. हिंदी व्याकरण और उच्चारण का मानकीकरण करना
 - ☒ 2. हिंदी साहित्य का क्षेत्रीय भाषाओं में अनुवाद करना
 - ☒ 3. हिंदी भाषा और साहित्य का संरक्षण और संवर्धन करना
 - ☒ 4. भारत में क्षेत्रीय भाषाओं का विकास करना

Question ID : 630680848057
Option 1 ID : 6306803321793
Option 2 ID : 6306803321792
Option 3 ID : 6306803321790
Option 4 ID : 6306803321791

7/5/24, 10:39 AM

cdn.digialm.com/per/g01/pub/1258/touchstone/AssessmentQPHTMLMode1//1258O24204/1258O24204S37D1687/171972523375...

Q.19 वैज्ञानिक दृष्टिकोण, मानवतावाद, तथा जिज्ञासा एवं सुधार की भावना विकसित करने का मौलिक कर्तव्य किस संशोधन अधिनियम द्वारा जोड़ा गया?

- Ans
- ☒ 1. 42वां संशोधन अधिनियम
 - ☐ 2. 44वां संशोधन अधिनियम
 - ☐ 3. 84वां संशोधन अधिनियम
 - ☐ 4. 93वां संशोधन अधिनियम

Question ID : 630680848107
Option 1 ID : 6306803321990
Option 2 ID : 6306803321991
Option 3 ID : 6306803321992
Option 4 ID : 6306803321993

Q.20 2024 खेलो इंडिया विंटर गेम्स के आधिकारिक शुभंकर का नाम क्या है?

- Ans
- ☐ 1. आशा चीता (Asha the Cheetah)
 - ☐ 2. उज्ज्वला- एक गौरैया (Ujjwala- a sparrow)
 - ☒ 3. हिम तेंदुआ 'शीन-ए-शी' (Snow leopard 'Sheen-e-She')
 - ☐ 4. जीतू बारहसिंहा (Jitu Barasingha)

Question ID : 630680847878
Option 1 ID : 6306803321077
Option 2 ID : 6306803321074
Option 3 ID : 6306803321076
Option 4 ID : 6306803321075

Section : Arithmetical and Numerical Ability 1

Q.1 ₹1,000 की राशि साधारण ब्याज की एक निश्चित दर पर 3 वर्ष में ₹1,300 हो जाती है। यदि ब्याज दर में 3% की वृद्धि की जाती है, तो समान अवधि के लिए ₹1,000 पर अर्जित ब्याज कितना होगा?

- Ans
- ☐ 1. ₹300
 - ☐ 2. ₹412
 - ☐ 3. ₹330
 - ☒ 4. ₹390

Question ID : 630680855548
Option 1 ID : 6306803350910
Option 2 ID : 6306803350911
Option 3 ID : 6306803350912
Option 4 ID : 6306803350913

7/5/24, 10:39 AM

cdn.digialm.com/per/g01/pub/1258/touchstone/AssessmentQPHTMLMode1//1258O24204/1258O24204S37D1687/171972523375...

Q.2 10 संख्याओं का औसत 14 है। यदि इनमें से 7 संख्याओं का औसत 11 है, तो शेष संख्याओं का औसत कितना होगा?

- Ans ☒ 1. 21
☒ 2. 17
☒ 3. 19
☒ 4. 22

Question ID : 630680855584
 Option 1 ID : 6306803351056
 Option 2 ID : 6306803351054
 Option 3 ID : 6306803351055
 Option 4 ID : 6306803351057

Q.3 अखिलेश 2 km की दौड़ 5 मिनट में पूरी करता है, जबकि सुरेश 4 km की दौड़ 12 मिनट में पूरी करता है। उनकी चालों का अनुपात ज्ञात कीजिए।

- Ans ☒ 1. 5 : 6
☒ 2. 6 : 5
☒ 3. 7 : 6
☒ 4. 2 : 3

Question ID : 630680855541
 Option 1 ID : 6306803350884
 Option 2 ID : 6306803350883
 Option 3 ID : 6306803350882
 Option 4 ID : 6306803350885

Q.4 निम्नलिखित में से कौन-सा मान $1.8\overline{3} + 0.2\overline{34} - 0.8\overline{1}$ के बराबर है?

- Ans ☒ 1. $1.4\overline{29}$
☒ 2. $1.2\overline{49}$
☒ 3. $1.2\overline{419}$
☒ 4. $1.1\overline{29}$

Question ID : 630680855523
 Option 1 ID : 6306803350813
 Option 2 ID : 6306803350812
 Option 3 ID : 6306803350811
 Option 4 ID : 6306803350810

Q.5 $k, (k + 10), 6, 8$ और 9 का औसत 9 है तथा $p, (4p + 1), 7$ और 5 का औसत 7 है। $(k - p)$ का मान ज्ञात कीजिए।

- Ans

✗ 1. 3.5

✗ 2. 2

✓ 3. 3

✗ 4. 3.8

Question ID : 630680855505
Option 1 ID : 6306803350740
Option 2 ID : 6306803350738
Option 3 ID : 6306803350739
Option 4 ID : 6306803350741

Q.6 निम्नलिखित सारणी 5 वर्षों में एक विद्यालय में विभिन्न खेलों में रुचि रखने वाले लड़कों और लड़कियों की संख्या दर्शाती है। दिए गए 5 वर्षों में टेनिस या बैडमिंटन में रुचि रखने वाले लड़कों की संख्या और एथलेटिक्स में रुचि रखने वाली लड़कियों की संख्या का अनुपात ज्ञात कीजिए।

वर्ष	टेनिस		एथलेटिक्स		बैडमिंटन	
	लड़कियाँ	लड़के	लड़कियाँ	लड़के	लड़कियाँ	लड़के
2012	65	20	62	35	45	35
2014	72	22	45	32	42	32
2016	80	25	42	30	38	36
2018	62	30	46	23	34	28
2020	71	23	45	30	41	29

- Ans

✗ 1. 4 : 7

✗ 2. 5 : 7

✓ 3. 7 : 6

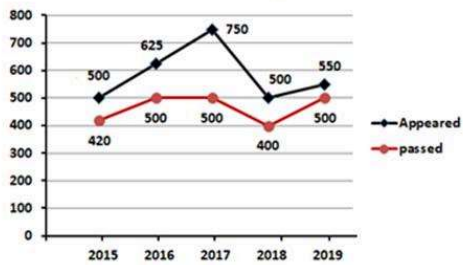
✗ 4. 5 : 4

Question ID : 630680855514
Option 1 ID : 6306803350774
Option 2 ID : 6306803350775
Option 3 ID : 6306803350777
Option 4 ID : 6306803350776

7/5/24, 10:39 AM

cdn.digialm.com/per/g01/pub/1258/touchstone/AssessmentQPHTMLMode1//1258O24204/1258O24204S37D1687/171972523375...

Q.7 नीचे दिया गया रेखा आलेख एक परीक्षा में उपस्थित विद्यार्थियों की संख्या और दिए गए पाँच वर्षों में परीक्षा में उत्तीर्ण होने वाले विद्यार्थियों की संख्या दर्शाता है। 2015 और 2016 में उत्तीर्ण विद्यार्थियों का प्रतिशत ज्ञात कीजिए। (एक दशमलव स्थान तक पूर्णांकित)



Appeared - उपस्थित, passed - उत्तीर्ण

- Ans
- ☒ 1. 80.8%
 - ☒ 2. 81.9%
 - ☒ 3. 82.5%
 - ☒ 4. 81.8%

Question ID : 63068085512
Option 1 ID : 6306803350769
Option 2 ID : 6306803350767
Option 3 ID : 6306803350766
Option 4 ID : 6306803350768

Q.8 10 घंटे और 2 दिन का अनुपात, ____ के समतुल्य है।

- Ans
- ☒ 1. 5 : 24
 - ☒ 2. 5 : 22
 - ☒ 3. 6 : 1
 - ☒ 4. 5 : 1

Question ID : 630680855495
Option 1 ID : 6306803350700
Option 2 ID : 6306803350701
Option 3 ID : 6306803350699
Option 4 ID : 6306803350698

Q.9 प्रथम 17 प्राकृत संख्याओं के वर्गों का योग क्या है?

- Ans
- ☒ 1. 1780
 - ☒ 2. 1788
 - ☒ 3. 1650
 - ☒ 4. 1785

Question ID : 630680848182
Option 1 ID : 6306803322287
Option 2 ID : 6306803322288
Option 3 ID : 6306803322286
Option 4 ID : 6306803322289

7/5/24, 10:39 AM

cdn.digialm.com/per/g01/pub/1258/touchstone/AssessmentQPHTMLMode1//1258O24204/1258O24204S37D1687/171972523375...

Q.10 72 km/h की चाल से चलने वाली 280 m लंबी ट्रेन एक प्लेटफॉर्म को 30 सेकंड में पार करती है। प्लेटफॉर्म की लंबाई (m में) ज्ञात कीजिए।

- Ans
- ☒ 1. 335
 - ☒ 2. 300
 - ☒ 3. 320
 - ☒ 4. 280

Question ID : 630680855501
Option 1 ID : 6306803350725
Option 2 ID : 6306803350723
Option 3 ID : 6306803350724
Option 4 ID : 6306803350722

Q.11 एक चुनाव में दो उम्मीदवारों के बीच विजेता को 54% वोट मिले और उसने 4520 वोटों से चुनाव जीता। डाले गए वोटों की कुल संख्या कितनी थी?

- Ans
- ☒ 1. 56,500
 - ☒ 2. 52,800
 - ☒ 3. 55,980
 - ☒ 4. 57,240

Question ID : 630680855605
Option 1 ID : 6306803351140
Option 2 ID : 6306803351138
Option 3 ID : 6306803351139
Option 4 ID : 6306803351141

Q.12 किसी वस्तु की बिक्री पर, एक दुकानदार ने दो क्रमिक छूट इस प्रकार दी कि प्रतिशत के पदों में, दूसरी छूट पहली छूट की केवल एक तिहाई थी। यदि कुल छूट वस्तु के अंकित मूल्य का 15.52% थी, तो केवल पहली छूट लागू करने के बाद वस्तु का विक्रय मूल्य (₹ में) ज्ञात कीजिए, यदि इसका अंकित मूल्य ₹10,000 था?

- Ans
- ☒ 1. 8,620
 - ☒ 2. 9,000
 - ☒ 3. 8,800
 - ☒ 4. 8,750

Question ID : 630680855533
Option 1 ID : 6306803350850
Option 2 ID : 6306803350853
Option 3 ID : 6306803350852
Option 4 ID : 6306803350851

7/5/24, 10:39 AM

cdn.digialm.com/per/g01/pub/1258/touchstone/AssessmentQPHTMLMode1//1258O24204/1258O24204S37D1687/171972523375...

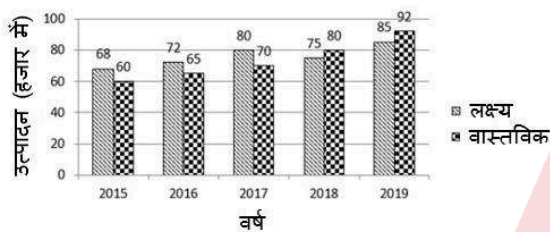
Q.13 वरुण के वेतन में पहले 30% की कमी की गई और बाद में 40% की वृद्धि की गई। उसके वेतन में कुल कितने प्रतिशत की वृद्धि या कमी हुई?

- Ans ☒ 1. 2% की कमी
☒ 2. 2% की वृद्धि
☒ 3. 10% की वृद्धि
☒ 4. 8% की कमी

Question ID : 630680855606
Option 1 ID : 6306803351143
Option 2 ID : 6306803351144
Option 3 ID : 6306803351142
Option 4 ID : 6306803351145

Q.14 क्रमिक 5 वर्षों में एक कंपनी द्वारा रेफ्रिजरेटर का लक्ष्य उत्पादन और वास्तविक उत्पादन (हजार में) नीचे दिए गए बार ग्राफ में प्रस्तुत किया गया है। 2015, 2016 और 2019 में कुल वास्तविक उत्पादन, 2017 और 2018 में कुल लक्ष्य उत्पादन से कितने प्रतिशत अधिक है?

रेफ्रिजरेटर का लक्ष्य उत्पादन और वास्तविक उत्पादन (हजार में)



- Ans ☒ 1. 46%
☒ 2. 40%
☒ 3. 22.6%
☒ 4. 45.1%

Question ID : 630680855554
Option 1 ID : 6306803350937
Option 2 ID : 6306803350935
Option 3 ID : 6306803350934
Option 4 ID : 6306803350936

Q.15 एक रेलगाड़ी 64 km/h की चाल से चलती है और 6 घंटे में 336 km की दूरी तय करती है। यदि यह प्रत्येक 35 km के पश्चात समान अवधि के लिए रुकती है, तो प्रत्येक ठहराव की अवधि (मिनटों में) ज्ञात कीजिए।

- Ans ☒ 1. 6
☒ 2. 4
☒ 3. 5
☒ 4. 8

Question ID : 630680855583
Option 1 ID : 6306803351052
Option 2 ID : 6306803351050
Option 3 ID : 6306803351051
Option 4 ID : 6306803351053

Q.16 A और B एक कार्य को क्रमशः 30 और 35 दिनों में पूरा कर सकते हैं। यदि A और B बारी बारी से एक दिन काम करते हैं, तो कार्य पूरा करने में कितने दिन लगेंगे (पहले दिन A काम शुरू करता है)?

- Ans
- ☒ 1. $\frac{220}{7}$ दिन
 - ☒ 2. $\frac{226}{7}$ दिन
 - ☒ 3. $\frac{217}{7}$ दिन
 - ☒ 4. $\frac{260}{7}$ दिन

Question ID : 630680848202
Option 1 ID : 6306803322366
Option 2 ID : 6306803322369
Option 3 ID : 6306803322367
Option 4 ID : 6306803322368

Q.17 संख्याओं 0.902, 0.099, 0.93 और 0.924 में से सबसे बड़ी संख्या और 8.1, 0.082, 0.81 और 0.08 में से सबसे छोटी संख्या के बीच का अंतर ज्ञात करें।

- Ans
- ☒ 1. 0.019
 - ☒ 2. 0.842
 - ☒ 3. 0.85
 - ☒ 4. 0.848

Question ID : 630680855558
Option 1 ID : 6306803350952
Option 2 ID : 6306803350950
Option 3 ID : 6306803350951
Option 4 ID : 6306803350953

Q.18 शालू के मासिक वेतन में 20% की वृद्धि हुई और तत्पश्चात 10% की कमी हुई। उसके वेतन में शुद्ध वृद्धि प्रतिशत ज्ञात कीजिए।

- Ans
- ☒ 1. 10%
 - ☒ 2. 12.5%
 - ☒ 3. 8%
 - ☒ 4. 12%

Question ID : 630680855526
Option 1 ID : 6306803350823
Option 2 ID : 6306803350825
Option 3 ID : 6306803350822
Option 4 ID : 6306803350824

7/5/24, 10:39 AM

cdn.digialm.com/per/g01/pub/1258/touchstone/AssessmentQPHTMLMode1//1258O24204/1258O24204S37D1687/171972523375...

Q.19 A, B और C की वर्तमान आयु का योग 96 वर्ष है। 11 वर्ष पूर्व, उनकी आयु का अनुपात 2 : 3 : 4 था। C की वर्तमान आयु (वर्ष में) कितनी है?

- Ans
- ☐ 1. 23
 - ☐ 2. 36
 - ☐ 3. 27
 - ☒ 4. 39

Question ID : 630680855496
Option 1 ID : 6306803350705
Option 2 ID : 6306803350702
Option 3 ID : 6306803350703
Option 4 ID : 6306803350704

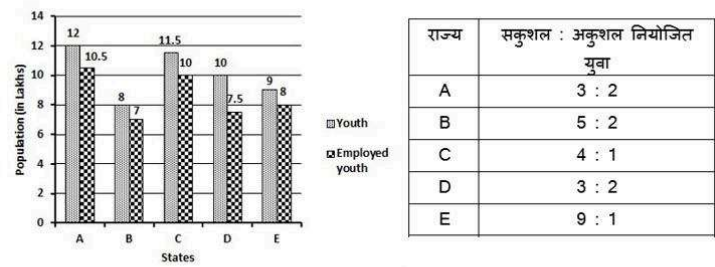
Q.20 $\frac{2}{3}, \frac{8}{9}, \frac{68}{81}$ और $\frac{10}{27}$ का महत्तम समापवर्तक (HCF) ज्ञात कीजिए।

- Ans
- ☐ 1. $\frac{1}{81}$
 - ☐ 2. $\frac{2}{3}$
 - ☒ 3. $\frac{2}{81}$
 - ☐ 4. $\frac{2}{9}$

Question ID : 630680855519
Option 1 ID : 6306803350795
Option 2 ID : 6306803350794
Option 3 ID : 6306803350796
Option 4 ID : 6306803350797

Section : Arithmetical and Numerical Ability 2

Q.1 नीचे दिया गया बार ग्राफ 5 राज्यों में युवाओं और नियोजित युवाओं की कुल संख्या (लाखों में) प्रस्तुत करता है। ग्राफ के बाद की तालिका इन राज्यों में कुशल और अकुशल नियोजित युवाओं के बीच अनुपात दर्शाती है।



- Ans
- ✓ 1. $33\frac{1}{3}\%$
 - ✗ 2. 35%
 - ✗ 3. 30%
 - ✗ 4. $32\frac{1}{4}\%$

Question ID : 630680855595
Option 1 ID : 6306803351100
Option 2 ID : 6306803351099
Option 3 ID : 6306803351098
Option 4 ID : 6306803351101

Q.2 8%, 10% और 20% की क्रमिक छूट के बराबर एकल छूट कितनी होगी?

- Ans
- ✗ 1. 33%
 - ✓ 2. 33.76%
 - ✗ 3. 33.58%
 - ✗ 4. 33.5%

Question ID : 630680855572
Option 1 ID : 6306803351006
Option 2 ID : 6306803351009
Option 3 ID : 6306803351008
Option 4 ID : 6306803351007

Q.3 जोगिंदर दो वस्तुएँ ₹3,500 प्रति वस्तु की दर से बेचता है। यदि एक वस्तु 25% लाभ पर तथा दूसरी वस्तु 40% लाभ पर बेची जाती है, तो पूरे सौदे में उसका कुल लाभ प्रतिशत कितना है?

Ans

✓ 1. $32\frac{4}{53}\%$

✗ 2. 30%

✗ 3. $33\frac{3}{43}\%$

✗ 4. $32\frac{1}{2}\%$

Question ID : 630680855490

Option 1 ID : 6306803350680

Option 2 ID : 6306803350678

Option 3 ID : 6306803350681

Option 4 ID : 6306803350679

Q.4 कौशल ने 40 km/h की चाल से 2 घंटे 15 मिनट यात्रा की। उसी दूरी को 2 घंटे में तय करने के लिए उसे किस चाल (km/h में) से यात्रा करनी चाहिए?

Ans

✗ 1. 48.5

✓ 2. 45

✗ 3. 48

✗ 4. 44

Question ID : 630680855500

Option 1 ID : 6306803350718

Option 2 ID : 6306803350720

Option 3 ID : 6306803350719

Option 4 ID : 6306803350721

Q.5 एक विद्युत पंप एक टंकी को 7 घंटे में भर सकता है। टंकी में रिसाव के कारण टंकी को भरने में 9 घंटे लग गये। यदि टंकी भरी हुई है, तो रिसाव को पूरी टंकी को खाली करने में कितना समय लगेगा?

Ans

✗ 1. 25.5 घंटे

✓ 2. 31.5 घंटे

✗ 3. 36 घंटे

✗ 4. 20.5 घंटे

Question ID : 630680848217

Option 1 ID : 6306803322426

Option 2 ID : 6306803322427

Option 3 ID : 6306803322429

Option 4 ID : 6306803322428

7/5/24, 10:39 AM

cdn.digialm.com/per/g01/pub/1258/touchstone/AssessmentQPHTMLMode1//1258O24204/1258O24204S37D1687/171972523375...

Q.6 नीचे दी गई तालिका एक विश्वविद्यालय में वर्ष 2005, 2006, 2007 और 2008 में मानविकी, विज्ञान और वाणिज्य के वर्गों में प्रवेश लेने वाले विद्यार्थियों की संख्या दर्शाती है।

वर्ष	मानविकी	विज्ञान	वाणिज्य
2005	970	912	750
2006	812	940	757
2007	985	1134	1032
2008	974	810	1121

वर्ष 2007 और 2008 में मिलाकर विज्ञान वर्ग की तुलना में मानविकी वर्ग में प्रवेश लेने वाले छात्रों की संख्या कितनी अधिक थी?

Ans ☒ 1. 8

☒ 2. 15

☒ 3. 13

☒ 4. 10

Question ID : 630680855593
Option 1 ID : 6306803351090
Option 2 ID : 6306803351093
Option 3 ID : 6306803351092
Option 4 ID : 6306803351091

Q.7 अभिनव ने 2 वर्षों के लिए 10% वार्षिक दर से साधारण ब्याज पर ऋण लिया। उसने उस राशि को उसी अवधि के लिए उसी दर पर अर्धवार्षिक रूप से संयोजित होने वाले चक्रवृद्धि ब्याज पर उधार दे दिया। 2 वर्षों के अंत में, उसने ₹2,481 अर्जित किए। उसके द्वारा ऋण के रूप में ली गई धनराशि ज्ञात कीजिए।

Ans ☒ 1. ₹1,44,000

☒ 2. ₹1,60,000

☒ 3. ₹1,36,800

☒ 4. ₹1,52,000

Question ID : 630680855511
Option 1 ID : 6306803350763
Option 2 ID : 6306803350765
Option 3 ID : 6306803350762
Option 4 ID : 6306803350764

Q.8 अरुण और भानु एक व्यवसाय में साझेदार थे। उन्होंने 3 : 4 के अनुपात में निवेश किया, लेकिन 8 माह के अंत में अरुण ने अपना धन वापस ले लिया। यदि उन्हें 6 : 11 के अनुपात में लाभ प्राप्त हुआ, तो भानु के निवेश का उपयोग कितने माह के लिए किया गया?

Ans ☒ 1. 15

☒ 2. 12

☒ 3. 10

☒ 4. 11

Question ID : 630680855537
Option 1 ID : 6306803350869
Option 2 ID : 6306803350868
Option 3 ID : 6306803350866
Option 4 ID : 6306803350867

Q.9
साधारण ब्याज पर ₹50,000 की एक राशि 5 वर्ष में ₹70,000 हो जाती है। ब्याज की दर ज्ञात कीजिए।

- Ans

☒

1. 7.5%
- ☒

2. 6.5%
- ☒

3. 8%
- ☒

4. 9%

Question ID : 630680855507

Option 1 ID : 6306803350747

Option 2 ID : 6306803350746

Option 3 ID : 6306803350748

Option 4 ID : 6306803350749

Q.10
एक लैंप पोस्ट की आधी लंबाई कीचड़ में और एक-तिहाई लंबाई जल में है। यदि लैंप पोस्ट की $3\frac{1}{3}$ m लंबाई जल से ऊपर है, तो लैंप पोस्ट की कुल लंबाई (m में) कितनी है?

- Ans

☒

1. 30
- ☒

2. 20
- ☒

3. 16
- ☒

4. 12

Question ID : 630680855476

Option 1 ID : 6306803350625

Option 2 ID : 6306803350624

Option 3 ID : 6306803350623

Option 4 ID : 6306803350622

Q.11
निम्न तालिका में, कुछ निश्चित खेलों में रुचि रखने वाले विद्यार्थियों की संख्या और उनके लिंग-वार विवरण को दर्शाया गया है।

खेल	विद्यार्थियों की संख्या	पुरुष	महिलाएँ
खो-खो	240	40%	60%
बैडमिंटन	210	30%	70%
हॉकी	180	60%	40%
बास्केटबॉल	420	70%	30%

खो-खो में रुचि रखने वाले पुरुष विद्यार्थियों की संख्या का बास्केटबॉल में रुचि रखने वाली महिला विद्यार्थियों की संख्या से अनुपात _____ है।

- Ans

☒

1. 3 : 4
- ☒

2. 2 : 3
- ☒

3. 28 : 45
- ☒

4. 16 : 21

Question ID : 630680855552

Option 1 ID : 6306803350926

Option 2 ID : 6306803350927

Option 3 ID : 6306803350929

Option 4 ID : 6306803350928

7/5/24, 10:39 AM

cdn.digialm.com/per/g01/pub/1258/touchstone/AssessmentQPHTMLMode1//1258O24204/1258O24204S37D1687/171972523375...

Q.12 0.1324242424.... को एक साधारण भिन्न के रूप में व्यक्त करें।

- Ans
- ☒ 1. 430/921
 - ☒ 2. 236/2475
 - ☒ 3. 437/3300
 - ☒ 4. 527/9900

Question ID : 630680848234
Option 1 ID : 6306803322495
Option 2 ID : 6306803322497
Option 3 ID : 6306803322494
Option 4 ID : 6306803322496

Q.13 2 वर्षों के लिए 8% वार्षिक दर से एक निश्चित राशि पर चक्रवृद्धि ब्याज और साधारण ब्याज के बीच का अंतर ₹480 है। राशि (₹ में) कितनी है?

- Ans
- ☒ 1. 60,000
 - ☒ 2. 81,250
 - ☒ 3. 75,000
 - ☒ 4. 70,000

Question ID : 630680855550
Option 1 ID : 6306803350918
Option 2 ID : 6306803350921
Option 3 ID : 6306803350920
Option 4 ID : 6306803350919

Q.14 निम्नलिखित व्यंजक का मान ज्ञात कीजिए।

$$\left(\frac{4}{5} \div 4 \times 2 + 2 \right) \div \left(\frac{3}{5} + \frac{2}{5} \times 15 \div 3 \right)$$

$$2\frac{1}{3} \div 7 \times \frac{2}{7} + \frac{5}{7}$$

- Ans
- ☒ 1. $\frac{84}{221}$
 - ☒ 2. $\frac{252}{221}$
 - ☒ 3. $\frac{336}{897}$
 - ☒ 4. $\frac{36}{23}$

Question ID : 630680855602
Option 1 ID : 6306803351129
Option 2 ID : 6306803351128
Option 3 ID : 6306803351127
Option 4 ID : 6306803351126

Q.15 अमित और बिनोद एक साझेदारी व्यवसाय में 4 : 5 के अनुपात में निवेश करते हैं और अमित को ₹5,000 के कुल लाभ में से लाभ के हिस्से के रूप में ₹1,500 मिलते हैं, तो अमित के निवेश की अवधि का बिनोद की अवधि से अनुपात ज्ञात करें।

Ans ☒ 1. 12 : 25

☒ 2. 15 : 28

☒ 3. 25 : 36

☒ 4. 15 : 34

Question ID : 630680848216

Option 1 ID : 6306803322423

Option 2 ID : 6306803322424

Option 3 ID : 6306803322425

Option 4 ID : 6306803322422

Q.16 यदि 2013 pk एक ऐसी 6 अंकों वाली संख्या है जो 24 से विभाज्य है, तो $(p + k)$ का सबसे बड़ा मान ज्ञात कीजिए।

Ans ☒ 1. 12

☒ 2. 18

☒ 3. 14

☒ 4. 13

Question ID : 630680855603

Option 1 ID : 6306803351132

Option 2 ID : 6306803351133

Option 3 ID : 6306803351131

Option 4 ID : 6306803351130

Q.17 किसी व्यवसाय में A और B के निवेश का अनुपात 7 : 9 है और ₹24,000 के कुल लाभ में से A का शेयर ₹15,000 है। उस अवधि का अनुपात क्या है जिसके लिए A और B ने अपनी पूंजी निवेश की?

Ans ☒ 1. 15 : 7

☒ 2. 15 : 11

☒ 3. 15 : 13

☒ 4. 15 : 19

Question ID : 630680848186

Option 1 ID : 6306803322304

Option 2 ID : 6306803322302

Option 3 ID : 6306803322305

Option 4 ID : 6306803322303

Q.18 A, B और C में से प्रत्येक ने ₹50,000 का निवेश करके एक व्यवसाय शुरू किया। 7 महीने बाद, A ने ₹10,000 और निवेश किए। वर्ष के अंत से चार महीने पहले, B ने अपना पूरा पैसा निकाल लिया, जबकि D ₹75,000 का निवेश करके शामिल हो गया। यदि वर्ष के अंत में D को अपने लाभ के हिस्से के रूप में ₹10,000 प्राप्त हुए, तो लाभ में B का हिस्सा कितना है? (निकटतम रुपये में मान दीजिए)

- Ans
- ☒ 1. ₹12,000
 - ☒ 2. ₹12,455
 - ☒ 3. ₹13,333
 - ☒ 4. ₹13,200

Question ID : 630680855617
Option 1 ID : 6306803351186
Option 2 ID : 6306803351187
Option 3 ID : 6306803351189
Option 4 ID : 6306803351188

Q.19 ₹8,200 की राशि 6% वार्षिक दर से साधारण ब्याज पर निवेश की जाती है। 3 वर्ष पश्चात मिश्रधन ज्ञात कीजिए।

- Ans
- ☒ 1. ₹9,676
 - ☒ 2. ₹9,697
 - ☒ 3. ₹9,688
 - ☒ 4. ₹9,628

Question ID : 630680855547
Option 1 ID : 6306803350907
Option 2 ID : 6306803350909
Option 3 ID : 6306803350908
Option 4 ID : 6306803350906

Q.20 निम्नलिखित व्यंजक का मान ज्ञात कीजिए।

$$\frac{7\frac{5}{6} - 3\frac{8}{9} - 2}{1 + \frac{1}{2} + \frac{1}{4}}$$


- Ans
- ☒ 1. $\frac{4}{3}$
 - ☒ 2. $\frac{12}{7}$
 - ☒ 3. $\frac{10}{9}$
 - ☒ 4. $\frac{2}{7}$

Question ID : 630680855560
Option 1 ID : 6306803350959
Option 2 ID : 6306803350960
Option 3 ID : 6306803350961
Option 4 ID : 6306803350958


Section : **Test of English Language and Comprehension 1**

Q.1 "All that glitters is not gold." What can replace "all that glitters is not gold"?


- Ans




1. everything shiny is valuable



2. beauty is only skin deep



3. gold is the most valuable metal



4. appearances can be deceiving

Question ID : 630680847036

Option 1 ID : 6306803317827

Option 2 ID : 6306803317829

Option 3 ID : 6306803317828

Option 4 ID : 6306803317826

Q.2 In the sentence "The company faced a formidable challenge in the competitive market," what does the word "formidable" mean?

- Ans



1. Weak



2. Easy



3. Simple



4. Difficult to overcome

Question ID : 630680847168

Option 1 ID : 6306803318331

Option 2 ID : 6306803318330


Option 3 ID : 6306803318333

Option 4 ID : 6306803318332


Q.3 Replace the bracketed segment with the appropriate adverb:

"The singer sang (beautified) during the emotional performance."


- Ans




1. beautifully



2. beautiful



3. beauty



4. beautify

Question ID : 630680847146

Option 1 ID : 6306803318247

Option 2 ID : 6306803318246


Option 3 ID : 6306803318248

Option 4 ID : 6306803318249


Q.4 Choose the correct spelling for the misspelled word in the given sentence.

"The hiker explored the breathtaking cinery of the mountainous region."


- Ans




1. scenerey



2. scenary



3. sceneri




4. scenery


Question ID : 630680847256
 Option 1 ID : 6306803318669
 Option 2 ID : 6306803318668
 Option 3 ID : 6306803318667
 Option 4 ID : 6306803318666

Q.5 "Cost an arm and a leg." What does this idiom indicate?


- Ans




1. To require negotiation



2. To be affordable



3. To involve physical effort




4. To be very expensive

Question ID : 630680847079
 Option 1 ID : 6306803317993
 Option 2 ID : 6306803317990
 Option 3 ID : 6306803317992
 Option 4 ID : 6306803317991


Q.6 Choose the correct proverb to replace the bracketed segment:

"After facing criticism for her innovative approach, the scientist remained confident, remembering that (challenges inspire creative solutions). "


- Ans




1. Necessity is the mother of invention.



2. A rolling stone gathers no moss.



3. A penny for your thoughts.



4. Don't put all your eggs in one basket.

Question ID : 630680846994
 Option 1 ID : 6306803317667
 Option 2 ID : 6306803317666
 Option 3 ID : 6306803317668
 Option 4 ID : 6306803317669

Q.7 Choose the correct adverb to complete the sentence.

He completed the puzzle _____ than I expected.

- Ans
- ☒ 1. slowly
 - ☒ 2. quickly
 - ☒ 3. more quickly
 - ☒ 4. more careful

Question ID : 630680847224
Option 1 ID : 6306803318544
Option 2 ID : 6306803318545
Option 3 ID : 6306803318543
Option 4 ID : 6306803318542

Q.8 Identify the correct antonym for the bracketed word in the given sentence.

"Despite facing setbacks, the team remained (persistent) in their pursuit of the project goals."

- Ans
- ☒ 1. Stubborn
 - ☒ 2. Tenacious
 - ☒ 3. Relentless
 - ☒ 4. Inconsistent

Question ID : 630680847251
Option 1 ID : 6306803318646
Option 2 ID : 6306803318647
Option 3 ID : 6306803318648
Option 4 ID : 6306803318649

Q.9 Choose the appropriate conjunction to complete the sentence:

"He wanted to go to the party, _____ his car broke down."

- Ans
- ☒ 1. for
 - ☒ 2. so
 - ☒ 3. but
 - ☒ 4. nor

Question ID : 630680847184
Option 1 ID : 6306803318390
Option 2 ID : 6306803318392
Option 3 ID : 6306803318391
Option 4 ID : 6306803318393

Q.10 In the given sentence, identify the antonym for the bracketed word.

"Despite his reputation for being tight-fisted, he surprised everyone with a (miserly) donation to the charity."

- Ans

☒

1. Avaricious
- ☒

2. Lavish
- ☒

3. Churlish
- ☒

4. Paltry

Question ID : 630680847125

Option 1 ID : 6306803318167

Option 2 ID : 6306803318169

Option 3 ID : 6306803318168

Option 4 ID : 6306803318166

Q.11 Arrange the following sentences to form a coherent paragraph.

- A. Each household would build a mejhi - a pile of firewood stacked neatly together in their backyard.
- B. The Bihu festival was fast approaching.
- C. On the first morning of the festival the mejhi would be set alight invoking the blessings of Agni, the god of fire.
- D. There would be much feasting and merriment during the festival.

- Ans

☒

1. BDAC
- ☒

2. DBCA
- ☒

3. CABD
- ☒

4. ABCD

Question ID : 630680847063

Option 1 ID : 6306803317930

Option 2 ID : 6306803317931

Option 3 ID : 6306803317932

Option 4 ID : 6306803317933

Q.12 Replace the bracketed word with the correct segment to form the correct proverb:

When the cat's away, the (dogs) will play."

- Ans

☒

1. birds
- ☒

2. mice
- ☒

3. rodents
- ☒

4. monkeys

Question ID : 630680847120

Option 1 ID : 6306803318149


Option 2 ID : 6306803318146

Option 3 ID : 6306803318147


Option 4 ID : 6306803318148

Q.13 Identify the sentence with the correct use of articles:


- Ans




1. She is reading a book.



2. She is reading the book.



3. She reading books.



4. She is reading book.

Question ID : 630680847017
 Option 1 ID : 6306803317756
 Option 2 ID : 6306803317755
 Option 3 ID : 6306803317757
 Option 4 ID : 6306803317754

Q.14 What is the term for the act of speaking or writing in an exaggerated, bombastic, or pompous manner to impress others?

- Ans



1. Grandiloquence



2. Obfuscation



3. Ineffable




4. Perspicacity

Question ID : 630680846986
 Option 1 ID : 6306803317638
 Option 2 ID : 6306803317641
 Option 3 ID : 6306803317640
 Option 4 ID : 6306803317639


Q.15 Identify the misspelled word in the sentence:

The mountain climbers faced trecherous conditions as they ascended to the peak.


- Ans




1. ascended



2. mountain



3. trecherous



4. climbers

Question ID : 630680847129
 Option 1 ID : 6306803318185
 Option 2 ID : 6306803318182
 Option 3 ID : 6306803318184
 Option 4 ID : 6306803318183

Q.16 Identify the antonym for the word "expensive."

- Ans



1. Lavish



2. Costly



3. Pricey



4. Affordable

Question ID : 630680847165
 Option 1 ID : 6306803318320
 Option 2 ID : 6306803318318
 Option 3 ID : 6306803318321
 Option 4 ID : 6306803318319

Q.17 Choose the correct article to fill in the blank in the following sentence:

"He bought _____ loaf of bread from the bakery."

- Ans

☒ 1. an
 ☒ 2. the
 ☒ 3. no article
 ☒ 4. a

Question ID : 630680846970
 Option 1 ID : 6306803317575
 Option 2 ID : 6306803317576
 Option 3 ID : 6306803317577
 Option 4 ID : 6306803317574

Q.18 What does the idiom "Burn bridges" mean?

- Ans

☒ 1. To cross a river on a burning bridge
 ☒ 2. To set fire to a wooden structure
 ☒ 3. To destroy relationships or connections, making it impossible to return
 ☒ 4. To construct a bridge over a body of water

Question ID : 630680847121
 Option 1 ID : 6306803318152
 Option 2 ID : 6306803318150
 Option 3 ID : 6306803318151
 Option 4 ID : 6306803318153

Q.19 Fill in the blank with the correct article:

"I have _____ interesting story to share with you."

- Ans

☒ 1. no article
 ☒ 2. the
 ☒ 3. a
 ☒ 4. an

Question ID : 630680847180
 Option 1 ID : 6306803318377
 Option 2 ID : 6306803318376
 Option 3 ID : 6306803318375
 Option 4 ID : 6306803318374

Q.20 Identify the sentence with the correct use of adjectives:

- Ans

☒ 1. The building is tall and shiny.
 ☒ 2. The building tall and is shiny.
 ☒ 3. Tall the building is and shiny.
 ☒ 4. The tall is building and shiny.

Question ID : 630680847187
 Option 1 ID : 6306803318403
 Option 2 ID : 6306803318404
 Option 3 ID : 6306803318405
 Option 4 ID : 6306803318402

Section : Test of English Language and Comprehension 2

Q.1 "Too many cooks spoil the broth."

What is the meaning of this proverb?

- Ans

☒

1. Collaboration leads to better results.

☒

2. Broth should always be prepared by many cooks.

☒

3. Too many people involved in a task can ruin it.

☒

4. Cooking requires a specific number of people.

Question ID : 630680846996

Option 1 ID : 6306803317675

Option 2 ID : 6306803317674

Option 3 ID : 6306803317676

Option 4 ID : 6306803317677

Q.2 Choose the appropriate option to complete the sentence:

This route to our school is not only the _____ but also the least crowded.

- Ans

☒

1. as short

☒

2. short

☒

3. shorter

☒

4. shortest

Question ID : 630680847181

Option 1 ID : 6306803318381

Option 2 ID : 6306803318378

Option 3 ID : 6306803318380

Option 4 ID : 6306803318379

Q.3 What is the term for a person whose job is to take care of trees and make sure that they are healthy and safe?

- Ans

☒

1. Harborer

☒

2. Arborist

☒

3. Horticulturist

☒

4. Arboricole

Question ID : 630680847111

Option 1 ID : 6306803318117


Option 2 ID : 6306803318115

Option 3 ID : 6306803318114


Option 4 ID : 6306803318116

Q.4 Select the sentence with the correct use of an article:


- Ans




1. My brother is any talented musician.



2. My brother is some talented musician.



3. My brother is a talented musician.



4. My brother is an talented musician.

Question ID : 630680847186

Option 1 ID : 6306803318401

Option 2 ID : 6306803318399

Option 3 ID : 6306803318398

Option 4 ID : 6306803318400

Q.5 What is the term for the practice of eating insects?

- Ans



1. Myrmecophagist



2. Creepivore



3. Entomophagy



4. Insectivoria

Question ID : 630680847109

Option 1 ID : 6306803318109


Option 2 ID : 6306803318108

Option 3 ID : 6306803318106


Option 4 ID : 6306803318107

Q.6 Identify the sentence with the correct use of conjunctions:-


- Ans




1. Join us either for dinner or join to the movie.



2. You can either join us for dinner or come to the movie.



3. You can either join us for dinner nor come to the movie.



4. Either join us for dinner or coming to the movie

Question ID : 630680847232

Option 1 ID : 6306803318577

Option 2 ID : 6306803318575

Option 3 ID : 6306803318574

Option 4 ID : 6306803318576

Q.7 Which of the following words is misspelled?

- Ans



1. Restaurant



2. Embarrass



3. Accidentally



4. Conscous

Question ID : 630680847087

Option 1 ID : 6306803318025

Option 2 ID : 6306803318023

Option 3 ID : 6306803318022

Option 4 ID : 6306803318024

Q.8 Select the appropriate word to fill in the blank.

"She decided to _____ her soul and share her deepest emotions with the group."

- Ans



1. bar



2. bare



3. bear




4. beer


Question ID : 630680847254
 Option 1 ID : 6306803318661
 Option 2 ID : 6306803318659
 Option 3 ID : 6306803318658
 Option 4 ID : 6306803318660

Q.9 Select the sentence with the correct use of prepositions:


- Ans




1. She is interested with photography.



2. She is interested for photography.



3. She is interested in photography.



4. She is interested to photography.

Question ID : 630680847189
 Option 1 ID : 6306803318410
 Option 2 ID : 6306803318412
 Option 3 ID : 6306803318413
 Option 4 ID : 6306803318411

Q.10 Identify the correct synonym for the bracketed word in the given sentence.

"The sudden announcement of the company's bankruptcy had a profound (impact) on the stock market."

- Ans



1. Gain



2. Detriment



3. Advantage



4. Influence

Question ID : 630680847250
 Option 1 ID : 6306803318643
 Option 2 ID : 6306803318644
 Option 3 ID : 6306803318645
 Option 4 ID : 6306803318642

Comprehension:

Fill in the blanks with the most appropriate words to complete the passage. For each blank, select the most appropriate word from the given option.

In the Thanjavur district of Tamil Nadu is located a structure built way back in 150 CE and has stood the 1. _____ of time over thousands of years. The Kallanai dam, 2. _____ over the Kaveri River is the oldest operational dam in India and the fourth 3. _____ operational water structure in the world. The credit for building the ancient Kallanai dam goes to King Karikala Chola of the Chola dynasty 4. _____ is considered among the greatest emperors who ruled over ancient Tamil Nadu. The idea behind the 5. _____ of the dam was to divert the river to the delta districts thereby boosting irrigation and also to prevent flooding.

SubQuestion No : 11

Q.11 Select the most appropriate option for Blank 3:

- Ans



1. old



2. older



3. oldest



4. most older

Question ID : 630680847008
 Option 1 ID : 6306803317718
 Option 2 ID : 6306803317719
 Option 3 ID : 6306803317720
 Option 4 ID : 6306803317721

Comprehension:


Fill in the blanks with the most appropriate words to complete the passage. For each blank, select the most appropriate word from the given option.

In the Thanjavur district of Tamil Nadu is located a structure built way back in 150 CE and has stood the 1. _____ of time over thousands of years. The Kallanai dam, 2. _____ over the Kaveri River is the oldest operational dam in India and the fourth 3. _____ operational water structure in the world. The credit for building the ancient Kallanai dam goes to King Karikala Chola of the Chola dynasty 4. _____ is considered among the greatest emperors who ruled over ancient Tamil Nadu. The idea behind the 5. _____ of the dam was to divert the river to the delta districts thereby boosting irrigation and also to prevent flooding.


SubQuestion No : 12

Q.12 Select the most appropriate option for Blank 5:


- Ans



1. construction



2. manufacturing



3. development



4. production

Question ID : 630680847010
 Option 1 ID : 6306803317727
 Option 2 ID : 6306803317728
 Option 3 ID : 6306803317729
 Option 4 ID : 6306803317726

Comprehension:


Fill in the blanks with the most appropriate words to complete the passage. For each blank, select the most appropriate word from the given option.

In the Thanjavur district of Tamil Nadu is located a structure built way back in 150 CE and has stood the 1. _____ of time over thousands of years. The Kallanai dam, 2. _____ over the Kaveri River is the oldest operational dam in India and the fourth 3. _____ operational water structure in the world. The credit for building the ancient Kallanai dam goes to King Karikala Chola of the Chola dynasty 4. _____ is considered among the greatest emperors who ruled over ancient Tamil Nadu. The idea behind the 5. _____ of the dam was to divert the river to the delta districts thereby boosting irrigation and also to prevent flooding.


SubQuestion No : 13

Q.13 Select the most appropriate option for Blank 1:


- Ans




 1. check



 2. examination



 3. test



 4. analysis

Question ID : 630680847006
 Option 1 ID : 6306803317713
 Option 2 ID : 6306803317712
 Option 3 ID : 6306803317710
 Option 4 ID : 6306803317711

Comprehension:

Fill in the blanks with the most appropriate words to complete the passage. For each blank, select the most appropriate word from the given option.

In the Thanjavur district of Tamil Nadu is located a structure built way back in 150 CE and has stood the 1. _____ of time over thousands of years. The Kallanai dam, 2. _____ over the Kaveri River is the oldest operational dam in India and the fourth 3. _____ operational water structure in the world. The credit for building the ancient Kallanai dam goes to King Karikala Chola of the Chola dynasty 4. _____ is considered among the greatest emperors who ruled over ancient Tamil Nadu. The idea behind the 5. _____ of the dam was to divert the river to the delta districts thereby boosting irrigation and also to prevent flooding.

SubQuestion No : 14

Q.14 Select the most appropriate option for Blank 2:

- Ans



 1. building



 2. built



 3. build



 4. builds

Question ID : 630680847007
 Option 1 ID : 6306803317714
 Option 2 ID : 6306803317717
 Option 3 ID : 6306803317715
 Option 4 ID : 6306803317716

Comprehension:

Fill in the blanks with the most appropriate words to complete the passage. For each blank, select the most appropriate word from the given option.

In the Thanjavur district of Tamil Nadu is located a structure built way back in 150 CE and has stood the 1. _____ of time over thousands of years. The Kallanai dam, 2. _____ over the Kaveri River is the oldest operational dam in India and the fourth 3. _____ operational water structure in the world. The credit for building the ancient Kallanai dam goes to King Karikala Chola of the Chola dynasty 4. _____ is considered among the greatest emperors who ruled over ancient Tamil Nadu. The idea behind the 5. _____ of the dam was to divert the river to the delta districts thereby boosting irrigation and also to prevent flooding.

SubQuestion No : 15

Q.15 Select the most appropriate option for Blank 4:

- Ans

☒

1. which

☒

2. that

☒

3. who

☒

4. whom

Question ID : 630680847009

Option 1 ID : 6306803317722

Option 2 ID : 6306803317724

Option 3 ID : 6306803317723

Option 4 ID : 6306803317725

Comprehension:

Read the passage carefully and answer the following questions.

Women's education is a crucial catalyst for societal progress, fostering empowerment and breaking down systemic barriers. Access to education equips women with the skills and knowledge needed to navigate an evolving world. It not only enhances their individual capabilities but also positively impacts communities and economies. Educated women are more likely to participate in decision-making processes, contribute to innovative solutions, and promote social change. However, despite significant strides, challenges persist. Cultural norms, economic disparities, and gender-based discrimination can hinder girls' educational opportunities. To address these issues, it is imperative to advocate for equal access to quality education, dismantle stereotypes, and promote inclusive policies. Supporting women's education is an investment in the future, creating a ripple effect that uplifts families, communities, and entire nations. By fostering a culture that values and prioritizes women's education, we pave the way for a more equitable and prosperous world.

SubQuestion No : 16

Q.16 What can be inferred from this passage?

- Ans

☒

1. Challenges persist despite strides in women's education.

☒

2. Cultural norms have a negligible impact on education.

☒

3. Educated women are less likely to face challenges

☒

4. Gender-based discrimination no longer exists.

Question ID : 630680847243

Option 1 ID : 6306803318616

Option 2 ID : 6306803318617

Option 3 ID : 6306803318614

Option 4 ID : 6306803318615

Comprehension:

Read the passage carefully and answer the following questions.

Women's education is a crucial catalyst for societal progress, fostering empowerment and breaking down systemic barriers. Access to education equips women with the skills and knowledge needed to navigate an evolving world. It not only enhances their individual capabilities but also positively impacts communities and economies. Educated women are more likely to participate in decision-making processes, contribute to innovative solutions, and promote social change. However, despite significant strides, challenges persist. Cultural norms, economic disparities, and gender-based discrimination can hinder girls' educational opportunities. To address these issues, it is imperative to advocate for equal access to quality education, dismantle stereotypes, and promote inclusive policies. Supporting women's education is an investment in the future, creating a ripple effect that uplifts families, communities, and entire nations. By fostering a culture that values and prioritizes women's education, we pave the way for a more equitable and prosperous world.

SubQuestion No : 17

Q.17 Select the most appropriate title for the passage.

- Ans ☒ 1. The Impact of Education on Societal Progress
- ☒ 2. Challenges in Women's Education
- ☒ 3. Empowering Women Through Education
- ☒ 4. Cultural Barriers and Gender Equality

Question ID : 630680847240
Option 1 ID : 6306803318605
Option 2 ID : 6306803318602
Option 3 ID : 6306803318603
Option 4 ID : 6306803318604

Comprehension:

Read the passage carefully and answer the following questions.

Women's education is a crucial catalyst for societal progress, fostering empowerment and breaking down systemic barriers. Access to education equips women with the skills and knowledge needed to navigate an evolving world. It not only enhances their individual capabilities but also positively impacts communities and economies. Educated women are more likely to participate in decision-making processes, contribute to innovative solutions, and promote social change. However, despite significant strides, challenges persist. Cultural norms, economic disparities, and gender-based discrimination can hinder girls' educational opportunities. To address these issues, it is imperative to advocate for equal access to quality education, dismantle stereotypes, and promote inclusive policies. Supporting women's education is an investment in the future, creating a ripple effect that uplifts families, communities, and entire nations. By fostering a culture that values and prioritizes women's education, we pave the way for a more equitable and prosperous world.

SubQuestion No : 18

Q.18 What is the structure of this passage?

- Ans ☒ 1. Chronological Order
- ☒ 2. Problem-Solution
- ☒ 3. Cause and Effect
- ☒ 4. Compare and Contrast

Question ID : 630680847244
Option 1 ID : 6306803318621
Option 2 ID : 6306803318618
Option 3 ID : 6306803318619
Option 4 ID : 6306803318620

Comprehension:

Read the passage carefully and answer the following questions.

Women's education is a crucial catalyst for societal progress, fostering empowerment and breaking down systemic barriers. Access to education equips women with the skills and knowledge needed to navigate an evolving world. It not only enhances their individual capabilities but also positively impacts communities and economies. Educated women are more likely to participate in decision-making processes, contribute to innovative solutions, and promote social change. However, despite significant strides, challenges persist. Cultural norms, economic disparities, and gender-based discrimination can hinder girls' educational opportunities. To address these issues, it is imperative to advocate for equal access to quality education, dismantle stereotypes, and promote inclusive policies. Supporting women's education is an investment in the future, creating a ripple effect that uplifts families, communities, and entire nations. By fostering a culture that values and prioritizes women's education, we pave the way for a more equitable and prosperous world.

SubQuestion No : 19

Q.19 What is the tone of the passage?

- Ans ☒ 1. Neutral
☒ 2. Pessimistic
☒ 3. Critical
☒ 4. Optimistic

Question ID : 630680847242
Option 1 ID : 6306803318612
Option 2 ID : 6306803318611
Option 3 ID : 6306803318613
Option 4 ID : 6306803318610

Comprehension:

Read the passage carefully and answer the following questions.

Women's education is a crucial catalyst for societal progress, fostering empowerment and breaking down systemic barriers. Access to education equips women with the skills and knowledge needed to navigate an evolving world. It not only enhances their individual capabilities but also positively impacts communities and economies. Educated women are more likely to participate in decision-making processes, contribute to innovative solutions, and promote social change. However, despite significant strides, challenges persist. Cultural norms, economic disparities, and gender-based discrimination can hinder girls' educational opportunities. To address these issues, it is imperative to advocate for equal access to quality education, dismantle stereotypes, and promote inclusive policies. Supporting women's education is an investment in the future, creating a ripple effect that uplifts families, communities, and entire nations. By fostering a culture that values and prioritizes women's education, we pave the way for a more equitable and prosperous world.

SubQuestion No : 20

Q.20 What is the central theme of the passage?

- Ans ☒ 1. Challenges in Decision-Making for Educated Women
☒ 2. Economic Disparities in Education
☒ 3. The Cultural Impact on Women's Economic Opportunities
☒ 4. Societal Progress and Empowerment through Women's Education

Question ID : 630680847241
Option 1 ID : 6306803318608
Option 2 ID : 6306803318606
Option 3 ID : 6306803318609
Option 4 ID : 6306803318607

Section : Test of Hindi Language and Comprehension 1

- Q.1 1. महानगरों और प्लैट संस्कृति ने जो बहुत
2. जहाँ सवेरे-सवेरे सूरज की किरणें और
3. चिड़ियों की चहक एक साथ आया करती थी
4. कुछ हमसे छिना है, उसमें वह आँगन भी है
प्रस्तुत खंडित वाक्य में वाक्य संरचना का सही क्रम क्या होगा?

Ans ☒ 1. 1,4,2,3

☒ 2. 1,2,4,3

☒ 3. 2,3,4,1

☒ 4. 3,1,2,4

Question ID : 630680847486

Option 1 ID : 6306803319543

Option 2 ID : 6306803319545

Option 3 ID : 6306803319542

Option 4 ID : 6306803319544

- Q.2 निम्नलिखित शब्द का तत्सम शब्द ज्ञात करें।
कहानी

Ans ☒ 1. कर्तन

☒ 2. कीटक

☒ 3. कृत

☒ 4. कथानिका

Question ID : 630680847384

Option 1 ID : 6306803319154

Option 2 ID : 6306803319157

Option 3 ID : 6306803319155

Option 4 ID : 6306803319156

- Q.3 1. वहीं देश की भाषाओं के आंकड़े और बुनियादी
2. नई शिक्षा नीति में मातृभाषा के जरिए जहां
3. उच्चारण आदि का संग्रह भी किया जा रहा है
4. प्राथमिक शिक्षा पर जोर दिया गया है
प्रस्तुत खंडित वाक्य में वाक्य संरचना का सही क्रम क्या होगा?

Ans ☒ 1. 3,1,4,2

☒ 2. 4,1,2,3

☒ 3. 3,4,1,2

☒ 4. 2,4,1,3

Question ID : 630680847359

Option 1 ID : 6306803319058

Option 2 ID : 6306803319059

Option 3 ID : 6306803319061

Option 4 ID : 6306803319060

Q.4 नीचे दिए गए शब्द का पर्यायवाची शब्द ज्ञात करें।
इन्द्र

- Ans
- ☒ 1. प्रभु
 - ☒ 2. देवराज
 - ☒ 3. निशापति
 - ☒ 4. सहायक

Question ID : 630680847598
Option 1 ID : 6306803319970
Option 2 ID : 6306803319971
Option 3 ID : 6306803319972
Option 4 ID : 6306803319973

Q.5 निम्नलिखित वाक्य का वह भाग ज्ञात करें, जिसमें कोई त्रुटि है। यदि कोई त्रुटि नहीं है, तो 'कोई त्रुटि नहीं है' चुनें।
प्रगतिशील राजनीति का सोच है कि राष्ट्रवाद की अत्यधिक खुराक वास्तविक आज़ादी को दबा देती है।

- Ans
- ☒ 1. प्रगतिशील राजनीति का सोच है कि
 - ☒ 2. कोई त्रुटि नहीं है
 - ☒ 3. वास्तविक आज़ादी को दबा देती है।
 - ☒ 4. राष्ट्रवाद की अत्यधिक खुराक

Question ID : 630680847483
Option 1 ID : 6306803319530
Option 2 ID : 6306803319533
Option 3 ID : 6306803319532
Option 4 ID : 6306803319531

Q.6 नीचे दिए गए शब्द का पर्यायवाची शब्द ज्ञात करें।
वृक्ष

- Ans
- ☒ 1. नाव
 - ☒ 2. घन
 - ☒ 3. हेम
 - ☒ 4. वित्त

Question ID : 630680847472
Option 1 ID : 6306803319492
Option 2 ID : 6306803319490
Option 3 ID : 6306803319491
Option 4 ID : 6306803319493

Q.7 1. आज केवल एक पैगोडा ही बचा है। शेष छह
2. की वजह से आकर्षण का केंद्र रहा, हालाँकि
3. पैगोडाओं को समुद्र ने अपने आँचल में समेट लिया है
4. महाबलीपुरम् पर्यटकों के लिए सात पैगोडाओं
प्रस्तुत खंडित वाक्य में वाक्य संरचना का सही क्रम क्या होगा?

Ans ☒ 1. 4,2,1,3

☒ 2. 1,3,2,4

☒ 3. 1,4,2,3

☒ 4. 3,2,1,4

Question ID : 630680847401

Option 1 ID : 6306803319220

Option 2 ID : 6306803319218

Option 3 ID : 6306803319221

Option 4 ID : 6306803319219

Q.8 दिए गए वाक्यांश के लिए सार्थक शब्द ज्ञात कीजिए।
जिसे कोई भ्रम या संदेह न हो

Ans ☒ 1. निर्भ्रति

☒ 2. निर्दय

☒ 3. निराकार

☒ 4. निर्जल

Question ID : 630680847577

Option 1 ID : 6306803319887

Option 2 ID : 6306803319886

Option 3 ID : 6306803319888

Option 4 ID : 6306803319889

Q.9 निम्नलिखित प्रश्न में, दिए गए चार विकल्पों में से, उस विकल्प का चयन करें जो दी गई लोकोक्ति के अर्थ को सर्वश्रेष्ठ रूप से व्यक्त करता है।
कभी घी घना, कभी मुट्ठी घना

Ans ☒ 1. जो मिल जाए उसी में संतुष्ट रहना

☒ 2. जो नहीं मिले उसके बारे में सोचते रहना

☒ 3. जो मिल जाए उस में असंतुष्ट रहना

☒ 4. जो मिल जाए उसी में दुखी रहना

Question ID : 630680847587

Option 1 ID : 6306803319926

Option 2 ID : 6306803319929

Option 3 ID : 6306803319927

Option 4 ID : 6306803319928

Q.10 निम्नलिखित शब्द का तत्सम शब्द ज्ञात करें।
कोना

- Ans
- ☒ 1. कोष्ठ
 - ☒ 2. कन्दुक
 - ☒ 3. कच्छप
 - ☒ 4. कोण

Question ID : 630680847594
Option 1 ID : 6306803319954
Option 2 ID : 6306803319956
Option 3 ID : 6306803319957
Option 4 ID : 6306803319955

Q.11 निम्नलिखित वाक्य में रेखांकित शब्दों में त्रुटि ज्ञात कर त्रुटिरहित विकल्प का चयन करें। यदि कोई त्रुटि नहीं है, तो 'कोई त्रुटि नहीं है' चुनें।
हमारी त्रासदी तो यह है कि अब हमें कोयल की कूक भी अच्छी नहीं लगती है।

- Ans
- ☒ 1. कोई त्रुटि नहीं है
 - ☒ 2. हमारी त्रासदी तो यह है कि अब हमें कोयल की कूक भी अच्छी नहीं लगती है।
 - ☒ 3. हमारी त्रासदी तो यह है कि अब हमें कोयल की कुक भी अच्छी नहीं लगती है।
 - ☒ 4. हमारी त्रासदी तो यह है कि अब हमें कौयल की कूक भी अच्छी नहीं लगती है।

Question ID : 630680847505
Option 1 ID : 6306803319617
Option 2 ID : 6306803319616
Option 3 ID : 6306803319615
Option 4 ID : 6306803319614

Q.12 निम्नलिखित वाक्यों को क, ख, ग और घ के लेबल से क्रमांकित किया गया है जो उसी क्रम से एक स्पष्ट पैराग्राफ/वाक्य बनाते हैं किन्तु इनमें से एक लेबल 'अतिरिक्त' है और उसके बिना भी पैराग्राफ/वाक्य सही रहेगा। निम्नलिखित विकल्पों में से उस अतिरिक्त लेबल का चयन करें।
क. जैसे-जैसे वक्त गुज़रता है तो ज़माना भी साथ-साथ बदलता ही रहता है
ख. फ़र्क सिर्फ़ ये है कि हमारा पुराना जो ज़माना था उसमें एक गहराई होती थी, सच्चाई होती थी
ग. अमीन साहब का 21 फरवरी 2024 को 91 साल की उम्र में निधन हो गया
घ. लेकिन आजकल के ज़माने में झूठ-फरेब और धोखाधड़ी देखने को मिलती हैं

- Ans
- ☒ 1. ख
 - ☒ 2. ग
 - ☒ 3. क
 - ☒ 4. घ

Question ID : 630680847565
Option 1 ID : 6306803319843
Option 2 ID : 6306803319844
Option 3 ID : 6306803319842
Option 4 ID : 6306803319845

Q.13 निम्नलिखित प्रश्न में, दिए गए चार विकल्पों में से, उस विकल्प का चयन करें जो दी गई लोकोक्ति के अर्थ को सर्वश्रेष्ठ रूप से व्यक्त करता है।
ऊँची दुकान फीका पकवान

- Ans
- ☒ 1. जिसका नाम कम हो, पर गुण अधिक हो
 - ☒ 2. जिसका नाम अधिक हो, पर गुण कम हो
 - ☒ 3. जिसका नाम कम हो और गुण भी कम हो
 - ☒ 4. जिसका नाम अधिक हो और गुण भी अधिक हो

Question ID : 630680847461
Option 1 ID : 6306803319449
Option 2 ID : 6306803319446
Option 3 ID : 6306803319448
Option 4 ID : 6306803319447

Q.14 निम्नलिखित प्रश्न में, दिए गए चार विकल्पों में से, उस विकल्प का चयन करें जो दिए गए मुहावरे के अर्थ को सर्वश्रेष्ठ रूप से व्यक्त करता है।
अंगार बरसना

- Ans
- ☒ 1. बहुत अधिक ठंड पड़ना
 - ☒ 2. बहुत अधिक बारिश पड़ना
 - ☒ 3. बहुत अधिक गरमी पड़ना
 - ☒ 4. बहुत अधिक डांट पड़ना

Question ID : 630680847584
Option 1 ID : 6306803319914
Option 2 ID : 6306803319915
Option 3 ID : 6306803319916
Option 4 ID : 6306803319917

Q.15 निम्नलिखित शब्द का विलोम शब्द ज्ञात करें।
ऊष्मा

- Ans
- ☒ 1. पतन
 - ☒ 2. शीतलता
 - ☒ 3. चंचल
 - ☒ 4. नीच

Question ID : 630680847389
Option 1 ID : 6306803319177
Option 2 ID : 6306803319175
Option 3 ID : 6306803319174
Option 4 ID : 6306803319176

Q.16 निम्नलिखित शब्द के अनेकार्थी शब्द का चयन करें।
दल

- Ans ☒ 1. भूमि
☒ 2. मित्र
☒ 3. हिस्सा
☒ 4. कुशल

Question ID : 630680847554
Option 1 ID : 6306803319805
Option 2 ID : 6306803319803
Option 3 ID : 6306803319802
Option 4 ID : 6306803319804

Q.17 निम्नलिखित शब्द का विलोम शब्द ज्ञात करें।
हास्य

- Ans ☒ 1. उदय
☒ 2. उपेक्षा
☒ 3. स्थूल
☒ 4. रुदन

Question ID : 630680847599
Option 1 ID : 6306803319974
Option 2 ID : 6306803319977
Option 3 ID : 6306803319976
Option 4 ID : 6306803319975

Q.18 निम्नलिखित वाक्य का वह भाग ज्ञात करें, जिसमें कोई त्रुटि है।
अब मेरी नज़रों में शुक्ला सस्ते जूतों और गंदे कपड़ों में एक ईमानदार इंसान ही नहीं बल्कि एक
ज़िंदादिल और साहस व्यक्ति भी था।

- Ans ☒ 1. और गंदे कपड़ों में एक ईमानदार इंसान
☒ 2. ज़िंदादिल और साहस व्यक्ति भी था।
☒ 3. अब मेरी नज़रों में शुक्ला सस्ते जूतों
☒ 4. ही नहीं बल्कि एक

Question ID : 630680847399
Option 1 ID : 6306803319211
Option 2 ID : 6306803319213
Option 3 ID : 6306803319210
Option 4 ID : 6306803319212

7/5/24, 10:39 AM

cdn.digialm.com/per/g01/pub/1258/touchstone/AssessmentQPHTMLMode1//1258O24204/1258O24204S37D1687/171972523375...

Q.19 दिए गए वाक्यांश के लिए सार्थक शब्द ज्ञात कीजिए।
वह हथियार जो फेंककर चलाया जाए

- Ans ☒ 1. अस्त्र
☐ 2. शास्त्र
☐ 3. शस्त्र
☐ 4. चक्र

Question ID : 630680847410
Option 1 ID : 6306803319250
Option 2 ID : 6306803319251
Option 3 ID : 6306803319252
Option 4 ID : 6306803319253

Q.20 निम्नलिखित शब्द का तद्भव शब्द ज्ञात करें।
अमावस्या

- Ans ☐ 1. अरपन
☐ 2. अमिय
☒ 3. अमावस
☐ 4. अमचूर

Question ID : 630680847425
Option 1 ID : 6306803319313
Option 2 ID : 6306803319311
Option 3 ID : 6306803319310
Option 4 ID : 6306803319312

Section : Test of Hindi Language and Comprehension 2

Q.1 निम्नलिखित शब्द के अनेकार्थी शब्द का चयन करें।
पतंग

- Ans ☐ 1. जंगल
☐ 2. मंगल
☐ 3. इज्जत
☒ 4. सूर्य

Question ID : 630680847470
Option 1 ID : 6306803319483
Option 2 ID : 6306803319485
Option 3 ID : 6306803319482
Option 4 ID : 6306803319484

Q.2 निम्नलिखित वाक्यों को क, ख, ग और घ के लेबल से क्रमांकित किया गया है जो उसी क्रम से एक स्पष्ट पैराग्राफ/वाक्य बनाते हैं किन्तु इनमें से एक लेबल 'अतिरिक्त' है और उसके बिना भी पैराग्राफ/वाक्य सही रहेगा। निम्नलिखित विकल्पों में से उस अतिरिक्त लेबल का चयन करें।
क. मैं हमेशा कहता हूँ कि दुनिया में जो बड़े काम होते हैं, वह अचानक ही होते हैं
ख. ग्वालियर का महत्त्व केवल इसी कारण नहीं है कि यह एक अति प्राचीन नगर है
ग. बल्कि इसलिए है कि भारतीय इतिहास के हर काल-खंड में
घ. यह एक प्रमुख सांस्कृतिक केन्द्र के रूप में जगमगाता रहा है

- Ans
- ☒ 1. ग
 - ☒ 2. घ
 - ☒ 3. ख
 - ☒ 4. क

Question ID : 630680847440
Option 1 ID : 6306803319368
Option 2 ID : 6306803319369
Option 3 ID : 6306803319367
Option 4 ID : 6306803319366

Q.3 निम्नलिखित वाक्यों को क, ख, ग और घ के लेबल से क्रमांकित किया गया है जो उसी क्रम से एक स्पष्ट पैराग्राफ/वाक्य बनाते हैं किन्तु इनमें से एक लेबल 'अतिरिक्त' है और उसके बिना भी पैराग्राफ/वाक्य सही रहेगा। निम्नलिखित विकल्पों में से उस अतिरिक्त लेबल का चयन करें।
क. आज के युवा द्वारा अपनी मातृभाषा के प्रति इतना नकार
ख. भाव, उसके प्रति हिंकारत का भाव रखना, हमें भारतीय भाषाओं
ग. गणित का यह प्रश्न मैं पिछले दो दिन से हल करने का प्रयास कर रही हूँ
घ. विशेषकर मातृभाषाओं के भविष्य के प्रति चिंतित करता है

- Ans
- ☒ 1. ख
 - ☒ 2. ग
 - ☒ 3. घ
 - ☒ 4. क

Question ID : 630680847356
Option 1 ID : 6306803319047
Option 2 ID : 6306803319048
Option 3 ID : 6306803319049
Option 4 ID : 6306803319046

Q.4 निम्नलिखित शब्द का विलोम शब्द ज्ञात करें।
अर्थी

- Ans
- ☒ 1. विरक्ति
 - ☒ 2. वितल
 - ☒ 3. वैरागी
 - ☒ 4. प्रत्यर्थी

Question ID : 630680847474
Option 1 ID : 6306803319498
Option 2 ID : 6306803319501
Option 3 ID : 6306803319499
Option 4 ID : 6306803319500

Q.5 निम्नलिखित शब्द के अनेकार्थी शब्द का चयन करें।
जड़

- Ans
- ☒ 1. प्यारा
 - ☒ 2. शरीर
 - ☒ 3. मुख
 - ☒ 4. किनारा

Question ID : 630680847596
Option 1 ID : 6306803319964
Option 2 ID : 6306803319965
Option 3 ID : 6306803319962
Option 4 ID : 6306803319963

Q.6 निम्नलिखित वाक्य में रेखांकित शब्दों में त्रुटि ज्ञात कर त्रुटिरहित विकल्प का चयन करें। यदि कोई त्रुटि नहीं है, तो 'कोई त्रुटि नहीं है' चुनें।
ब्रिटेन में सम्राटों के बाद सर्वाधिक सम्मान लेखकों, कवियों और सैनिकों को दिया जाता रहा है।

- Ans
- ☒ 1. ब्रिटेन में सम्राटों के बाद सर्वाधिक सम्मान लेखकों, कवियों और सैनिकों को दिया जाता रहा है।
 - ☒ 2. कोई त्रुटि नहीं है
 - ☒ 3. ब्रिटेन में सम्राटों के बाद सर्वाधिक सम्मान लेखकों, कवियों और सैनिकों को दिया जाता रहा है।
 - ☒ 4. ब्रिटेन में सम्राटों के बाद सर्वाधिक सम्मान लेखकों, कवियों और सैनिकों को दिया जाता रहा है।

Question ID : 630680847591
Option 1 ID : 6306803319943
Option 2 ID : 6306803319945
Option 3 ID : 6306803319944
Option 4 ID : 6306803319942

Q.7 1. ऊँचा वृक्ष होता है। इसका तना गाँठदार तथा
2. ऋतुराज वसंत के स्वागत का प्रमुख श्रेय लाल रंग से आवृत पलाश वृक्ष को ही जाता है
3. छाल मोटी, राख के रंग की होती है
4. पलाश एक छोटा मध्यम आकार का बारह से पन्द्रह मीटर
प्रस्तुत खंडित वाक्य में वाक्य संरचना का सही क्रम क्या होगा?

- Ans
- ☒ 1. 2,4,1,3
 - ☒ 2. 2,1,4,3
 - ☒ 3. 3,1,4,2
 - ☒ 4. 4,1,2,3

Question ID : 630680847485
Option 1 ID : 6306803319540
Option 2 ID : 6306803319538
Option 3 ID : 6306803319541
Option 4 ID : 6306803319539

- Q.8 1. किंतु मानसून के दिनों में आकाश में
2. इसलिए शरद ऋतु में सूर्योदय एवं सूर्यास्त दोनों देखा जा सकता है
3. कन्याकुमारी का सूर्योदय एवं सूर्यास्त देखने योग्य होता है
4. बादल होने के कारण कभी-कभी वंचित भी होना पड़ सकता है
प्रस्तुत खंडित वाक्य में वाक्य संरचना का सही क्रम क्या होगा?

Ans ☒ 1. 3,1,4,2

☒ 2. 2,1,3,4

☒ 3. 3,2,4,1

☒ 4. 2,4,3,1

Question ID : 630680847444
Option 1 ID : 6306803319383
Option 2 ID : 6306803319382
Option 3 ID : 6306803319384
Option 4 ID : 6306803319385

- Q.9 निम्नलिखित प्रश्न में, दिए गए चार विकल्पों में से, उस विकल्प का चयन करें जो दिए गए मुहावरे के अर्थ को सर्वश्रेष्ठ रूप से व्यक्त करता है।
तेली का बैल होना

Ans ☒ 1. हर समय काम को अनदेखा करने वाला

☒ 2. हर समय काम में व्यस्त रहने वाला

☒ 3. हर समय काम से विमुख रहने वाला

☒ 4. हर समय अपना काम किसी और से करवाने वाला

Question ID : 630680847418
Option 1 ID : 6306803319283
Option 2 ID : 6306803319285
Option 3 ID : 6306803319284
Option 4 ID : 6306803319282

- Q.10 निम्नलिखित वाक्य में रेखांकित शब्दों में त्रुटि ज्ञात कर त्रुटिरहित विकल्प का चयन करें। यदि कोई त्रुटि नहीं है, तो 'कोई त्रुटि नहीं है' चुनें।
यह गिरजाघर 400 ई. में बनाया गया था किन्तु इसका कई बार पुनर्निर्माण किया जा चुका है।

Ans ☒ 1. यह गिरजाघर 400 ई. में बनाया गया था किन्तु इसका कयी बार पुनर्निर्माण किया जा चुका है।

☒ 2. कोई त्रुटि नहीं है

☒ 3. यह गिरजाघर 400 ई. में बनाया गया था किन्तु इसका कई बार पुनर्निमाण किया जा चुका है।

☒ 4. यह गिरजाघर 400 ई. में बनाया गया था किन्तु इसका कई बार पुननिमाण किया जा चुका है।

Question ID : 630680847592
Option 1 ID : 6306803319946
Option 2 ID : 6306803319949
Option 3 ID : 6306803319948
Option 4 ID : 6306803319947

Comprehension:

निम्नलिखित गद्यांश के आधार पर पाँच प्रश्न दिए गए हैं। गद्यांश को ध्यानपूर्वक पढ़ें तथा प्रत्येक प्रश्न के चार विकल्पों में से सही विकल्प चुनें।

पानी की समस्या आज भारत के कई हिस्सों में विकराल रूप धारण कर चुकी है और इस बात को लेकर कई चर्चाएँ भी हो रही हैं। इस समस्या से जूझने के कई प्रस्ताव भी सामने आए हैं और उनमें से एक है नदियों को जोड़ना। लेकिन यह काम बहुत महँगा और बृहद स्तर का है, साथ ही पर्यावरण की दृष्टि से काफी खतरनाक साबित हो सकता है, जिसके विरुद्ध काफी प्रतिक्रियाएँ भी हुई हैं। कहावत है बूँद-बूँद से सागर भरता है, यदि इस कहावत को अक्षरशः सत्य माना जाए तो छोटे-छोटे प्रयास एक दिन काफी बड़े समाधान में परिवर्तित हो सकते हैं। इसी तरह से पानी को बचाने के कुछ प्रयासों में एक उत्तम व नायाब तरीका है आकाश से बारिश के रूप में गिरे हुए पानी को बर्बाद होने से बचाना और उसका संरक्षण करना। शायद ज़मीनी नदियों को जोड़ने की अपेक्षा आकाश में बह रही गंगा को जोड़ना ज़्यादा आसान है।

यदि पानी का संरक्षण एक दिन शहरी नागरिकों के लिए अहम मुद्दा बनता है तो निश्चित ही इसमें तमिलनाडु का नाम सबसे आगे होगा। लंबे समय से तमिलनाडु में ठेकेदारों और भवन निर्माताओं के लिए नए मकानों की छत पर वर्षा के जल संरक्षण के लिए इंतज़ाम करना आवश्यक है पर पिछले कुछ सालों से गंभीर सूखे से जूझने के बाद तमिलनाडु सरकार इस मामले में और भी प्रयत्नशील हो गई है और उसने एक आदेश जारी किया है जिसके तहत तीन महीनों के अंदर सारे शहरी मकानों और भवनों की छतों पर वर्षा जल संरक्षण संयंत्रों (वजस) का लगाना अनिवार्य हो गया है। सबसे महत्वपूर्ण बात यह थी कि सारे सरकारी भवनों को इसका पालन करना पड़ा। पूरे राज्य में इस बात को व्यापक रूप से प्रचारित किया गया। नौकरशाहों को वर्षा जल संरक्षण संयंत्रों को प्राथमिकता देने के लिए कहा गया। यह चेतावनी भी दी गई कि यदि नियत तिथि तक इस आदेश का पालन नहीं किया जाता तो सरकार द्वारा उन्हें दी गई सेवाएँ समाप्त कर दी जाएँगी, साथ ही दंड स्वरूप नौकरशाहों के पैसे से ही इन संयंत्रों को चालू करवाया जाएगा। इन सबके चलते सबकुछ तेज़ी से होने लगा।

वर्षा जल को बचाने के कई पुराने व सस्ते किंतु निष्क्रिय तरीके हैं। पहले भारत के गाँवों में तालाब हुआ करते थे। राजीव गांधी ग्राम पेयजल योजना सराहनीय थी लेकिन जैसे शहरों में गाय के थन और दूध का संपर्क टूट गया वैसे ही इस योजना ने तालाबों और जलापूर्ति के बीच का संपर्क तोड़ दिया। इस योजना के कारण लोग पंचायत और विकास अफ़सर अपनी-अपनी व्यक्तिगत स्तर की पानी के प्रबंधन संबंधी ज़िम्मेदारियों से विमुख होने लगे। लोगों का विश्वास था कि जैसे प्लास्टिक के पैकेट में दूध मिलता है वैसे ही ट्यूबवेल पानी की आपूर्ति करेंगे। इस कारण तालाबों को अनदेखा किया गया और उनके ऊपर मिट्टी और रेत जमा होती गई।

पानी की समस्याओं का निवारण करने के लिए केवल कुछ अनुकरणीय उदाहरणों की और कुछ सामान्य जानकारी की ज़रूरत है। ऐसे कई उदाहरण हैं जिनसे कि आम आदमी को थोड़ा पैसा और थोड़ा प्रयास लगा कर इस काम को करने की प्रेरणा मिलती है। इन कामों के लिए किसी भी सहायता या निगरानी की ज़रूरत नहीं है और न ही नदियों को जोड़ने जैसी बृहद परियोजनाओं की। इन बड़ी परियोजनाओं को करने में समय लगता है, पैसा लगता है, और साथ में भारी पर्यावरणीय राजनीतिक और तकनीकी क्षतियाँ हो सकती हैं, और सबसे बुरी चीज़ जो होती है वो यह कि लोग अपने आप काम करना छोड़कर सरकार से उम्मीद लगाए रखते हैं। इन सब कामों में ठेकेदारों के मिले होने की वजह से भ्रष्टाचार फैलता है। पहले ही कई दूरदराज़ के गाँवों में पानी की बोतल को दूध से भी महँगा बेचा जाता है। नई पीढ़ी को ये भी मालूम नहीं कि पानी हमारे लिए प्रकृति की एक अमूल्य किंतु निःशुल्क भेंट है।

SubQuestion No : 11

Q.11 गद्यांश के आधार पर, निम्नलिखित वाक्य में प्रयुक्त, रेखांकित शब्द का उचित पर्यायवाची शब्द ज्ञात करें।
इस कारण तालाबों को अनदेखा किया गया।

- Ans
- ☒ 1. गिरि
 - ☒ 2. सरोवर
 - ☒ 3. सहायक
 - ☒ 4. अनल

Question ID : 630680847476
Option 1 ID : 6306803319502
Option 2 ID : 6306803319504
Option 3 ID : 6306803319503
Option 4 ID : 6306803319505

Comprehension:

निम्नलिखित गद्यांश के आधार पर पाँच प्रश्न दिए गए हैं। गद्यांश को ध्यानपूर्वक पढ़ें तथा प्रत्येक प्रश्न के चार विकल्पों में से सही विकल्प चुनें।

पानी की समस्या आज भारत के कई हिस्सों में विकराल रूप धारण कर चुकी है और इस बात को लेकर कई चर्चाएँ भी हो रही हैं। इस समस्या से जूझने के कई प्रस्ताव भी सामने आए हैं और उनमें से एक है नदियों को जोड़ना। लेकिन यह काम बहुत महँगा और बृहद स्तर का है, साथ ही पर्यावरण की दृष्टि से काफी खतरनाक साबित हो सकता है, जिसके विरुद्ध काफी प्रतिक्रियाएँ भी हुई हैं। कहावत है बूँद-बूँद से सागर भरता है, यदि इस कहावत को अक्षरशः सत्य माना जाए तो छोटे-छोटे प्रयास एक दिन काफी बड़े समाधान में परिवर्तित हो सकते हैं। इसी तरह से पानी को बचाने के कुछ प्रयासों में एक उत्तम व नायाब तरीका है आकाश से बारिश के रूप में गिरे हुए पानी को बर्बाद होने से बचाना और उसका संरक्षण करना। शायद ज़मीनी नदियों को जोड़ने की अपेक्षा आकाश में बह रही गंगा को जोड़ना ज़्यादा आसान है।

यदि पानी का संरक्षण एक दिन शहरी नागरिकों के लिए अहम मुद्दा बनता है तो निश्चित ही इसमें तमिलनाडु का नाम सबसे आगे होगा। लंबे समय से तमिलनाडु में ठेकेदारों और भवन निर्माताओं के लिए नए मकानों की छत पर वर्षा के जल संरक्षण के लिए इंतज़ाम करना आवश्यक है पर पिछले कुछ सालों से गंभीर सूखे से जूझने के बाद तमिलनाडु सरकार इस मामले में और भी प्रयत्नशील हो गई है और उसने एक आदेश जारी किया है जिसके तहत तीन महीनों के अंदर सारे शहरी मकानों और भवनों की छतों पर वर्षा जल संरक्षण संयंत्रों (वजस) का लगाना अनिवार्य हो गया है। सबसे महत्वपूर्ण बात यह थी कि सारे सरकारी भवनों को इसका पालन करना पड़ा। पूरे राज्य में इस बात को व्यापक रूप से प्रचारित किया गया। नौकरशाहों को वर्षा जल संरक्षण संयंत्रों को प्राथमिकता देने के लिए कहा गया। यह चेतावनी भी दी गई कि यदि नियत तिथि तक इस आदेश का पालन नहीं किया जाता तो सरकार द्वारा उन्हें दी गई सेवाएँ समाप्त कर दी जाएँगी, साथ ही दंड स्वरूप नौकरशाहों के पैसे से ही इन संयंत्रों को चालू करवाया जाएगा। इन सबके चलते सबकुछ तेज़ी से होने लगा।

वर्षा जल को बचाने के कई पुराने व सस्ते किंतु निष्क्रिय तरीके हैं। पहले भारत के गाँवों में तालाब हुआ करते थे। राजीव गांधी ग्राम पेयजल योजना सराहनीय थी लेकिन जैसे शहरों में गाय के थन और दूध का संपर्क टूट गया वैसे ही इस योजना ने तालाबों और जलापूर्ति के बीच का संपर्क तोड़ दिया। इस योजना के कारण लोग पंचायत और विकास अफ़सर अपनी-अपनी व्यक्तिगत स्तर की पानी के प्रबंधन संबंधी ज़िम्मेदारियों से विमुख होने लगे। लोगों का विश्वास था कि जैसे प्लास्टिक के पैकेट में दूध मिलता है वैसे ही ट्यूबवेल पानी की आपूर्ति करेंगे। इस कारण तालाबों को अनदेखा किया गया और उनके ऊपर मिट्टी और रेत जमा होती गई।

पानी की समस्याओं का निवारण करने के लिए केवल कुछ अनुकरणीय उदाहरणों की और कुछ सामान्य जानकारी की ज़रूरत है। ऐसे कई उदाहरण हैं जिनसे कि आम आदमी को थोड़ा पैसा और थोड़ा प्रयास लगा कर इस काम को करने की प्रेरणा मिलती है। इन कामों के लिए किसी भी सहायता या निगरानी की ज़रूरत नहीं है और न ही नदियों को जोड़ने जैसी बृहद परियोजनाओं की। इन बड़ी परियोजनाओं को करने में समय लगता है, पैसा लगता है, और साथ में भारी पर्यावरणीय राजनीतिक और तकनीकी क्षतियाँ हो सकती हैं, और सबसे बुरी चीज़ जो होती है वो यह कि लोग अपने आप काम करना छोड़कर सरकार से उम्मीद लगाए रखते हैं। इन सब कामों में ठेकेदारों के मिले होने की वजह से भ्रष्टाचार फैलता है। पहले ही कई दूरदराज़ के गाँवों में पानी की बोतल को दूध से भी महँगा बेचा जाता है। नई पीढ़ी को ये भी मालूम नहीं कि पानी हमारे लिए प्रकृति की एक अमूल्य किंतु निःशुल्क भेंट है।

SubQuestion No : 12

Q.12 प्रस्तुत गद्यांश के लिए उचित शीर्षक का चयन करें।

- Ans
- ☒ 1. वर्षा ऋतु का आगमन
 - ☒ 2. पानी की समस्या व सुझाव
 - ☒ 3. पंचायत का इतिहास
 - ☒ 4. बाढ़ का खतरा

Question ID : 630680847480
Option 1 ID : 6306803319520
Option 2 ID : 6306803319519
Option 3 ID : 6306803319518
Option 4 ID : 6306803319521

Comprehension:

निम्नलिखित गद्यांश के आधार पर पाँच प्रश्न दिए गए हैं। गद्यांश को ध्यानपूर्वक पढ़ें तथा प्रत्येक प्रश्न के चार विकल्पों में से सही विकल्प चुनें।

पानी की समस्या आज भारत के कई हिस्सों में विकराल रूप धारण कर चुकी है और इस बात को लेकर कई चर्चाएँ भी हो रही हैं। इस समस्या से जूझने के कई प्रस्ताव भी सामने आए हैं और उनमें से एक है नदियों को जोड़ना। लेकिन यह काम बहुत महँगा और बृहद स्तर का है, साथ ही पर्यावरण की दृष्टि से काफी खतरनाक साबित हो सकता है, जिसके विरुद्ध काफी प्रतिक्रियाएँ भी हुई हैं। कहावत है बूँद-बूँद से सागर भरता है, यदि इस कहावत को अक्षरशः सत्य माना जाए तो छोटे-छोटे प्रयास एक दिन काफी बड़े समाधान में परिवर्तित हो सकते हैं। इसी तरह से पानी को बचाने के कुछ प्रयासों में एक उत्तम व नायाब तरीका है आकाश से बारिश के रूप में गिरे हुए पानी को बर्बाद होने से बचाना और उसका संरक्षण करना। शायद ज़मीनी नदियों को जोड़ने की अपेक्षा आकाश में बह रही गंगा को जोड़ना ज़्यादा आसान है।

यदि पानी का संरक्षण एक दिन शहरी नागरिकों के लिए अहम मुद्दा बनता है तो निश्चित ही इसमें तमिलनाडु का नाम सबसे आगे होगा। लंबे समय से तमिलनाडु में ठेकेदारों और भवन निर्माताओं के लिए नए मकानों की छत पर वर्षा के जल संरक्षण के लिए इंतज़ाम करना आवश्यक है पर पिछले कुछ सालों से गंभीर सूखे से जूझने के बाद तमिलनाडु सरकार इस मामले में और भी प्रयत्नशील हो गई है और उसने एक आदेश जारी किया है जिसके तहत तीन महीनों के अंदर सारे शहरी मकानों और भवनों की छतों पर वर्षा जल संरक्षण संयंत्रों (वजस) का लगाना अनिवार्य हो गया है। सबसे महत्वपूर्ण बात यह थी कि सारे सरकारी भवनों को इसका पालन करना पड़ा। पूरे राज्य में इस बात को व्यापक रूप से प्रचारित किया गया। नौकरशाहों को वर्षा जल संरक्षण संयंत्रों को प्राथमिकता देने के लिए कहा गया। यह चेतावनी भी दी गई कि यदि नियत तिथि तक इस आदेश का पालन नहीं किया जाता तो सरकार द्वारा उन्हें दी गई सेवाएँ समाप्त कर दी जाएँगी, साथ ही दंड स्वरूप नौकरशाहों के पैसे से ही इन संयंत्रों को चालू करवाया जाएगा। इन सबके चलते सबकुछ तेज़ी से होने लगा।

वर्षा जल को बचाने के कई पुराने व सस्ते किंतु निष्क्रिय तरीके हैं। पहले भारत के गाँवों में तालाब हुआ करते थे। राजीव गांधी ग्राम पेयजल योजना सराहनीय थी लेकिन जैसे शहरों में गाय के थन और दूध का संपर्क टूट गया वैसे ही इस योजना ने तालाबों और जलापूर्ति के बीच का संपर्क तोड़ दिया। इस योजना के कारण लोग पंचायत और विकास अफ़सर अपनी-अपनी व्यक्तिगत स्तर की पानी के प्रबंधन संबंधी ज़िम्मेदारियों से विमुख होने लगे। लोगों का विश्वास था कि जैसे प्लास्टिक के पैकेट में दूध मिलता है वैसे ही ट्यूबवेल पानी की आपूर्ति करेंगे। इस कारण तालाबों को अनदेखा किया गया और उनके ऊपर मिट्टी और रेत जमा होती गई।

पानी की समस्याओं का निवारण करने के लिए केवल कुछ अनुकरणीय उदाहरणों की और कुछ सामान्य जानकारी की ज़रूरत है। ऐसे कई उदाहरण हैं जिनसे कि आम आदमी को थोड़ा पैसा और थोड़ा प्रयास लगा कर इस काम को करने की प्रेरणा मिलती है। इन कामों के लिए किसी भी सहायता या निगरानी की ज़रूरत नहीं है और न ही नदियों को जोड़ने जैसी बृहद परियोजनाओं की। इन बड़ी परियोजनाओं को करने में समय लगता है, पैसा लगता है, और साथ में भारी पर्यावरणीय राजनीतिक और तकनीकी क्षतियाँ हो सकती हैं, और सबसे बुरी चीज़ जो होती है वो यह कि लोग अपने आप काम करना छोड़कर सरकार से उम्मीद लगाए रखते हैं। इन सब कामों में ठेकेदारों के मिले होने की वजह से भ्रष्टाचार फैलता है। पहले ही कई दूरदराज़ के गाँवों में पानी की बोतल को दूध से भी महँगा बेचा जाता है। नई पीढ़ी को ये भी मालूम नहीं कि पानी हमारे लिए प्रकृति की एक अमूल्य किंतु निःशुल्क भेंट है।

SubQuestion No : 13

Q.13 गद्यांश में प्रयुक्त निम्नलिखित शब्द का उपयुक्त अर्थ ज्ञात करें।

अनुकरणीय

Ans ☒ 1. करतब करने योग्य

☒ 2. नकल करने योग्य

☒ 3. देखने योग्य

☒ 4. लिखने योग्य

Question ID : 630680847479

Option 1 ID : 6306803319517

Option 2 ID : 6306803319515

Option 3 ID : 6306803319514

Option 4 ID : 6306803319516

Comprehension:

निम्नलिखित गद्यांश के आधार पर पाँच प्रश्न दिए गए हैं। गद्यांश को ध्यानपूर्वक पढ़ें तथा प्रत्येक प्रश्न के चार विकल्पों में से सही विकल्प चुनें।

पानी की समस्या आज भारत के कई हिस्सों में विकराल रूप धारण कर चुकी है और इस बात को लेकर कई चर्चाएँ भी हो रही हैं। इस समस्या से जूझने के कई प्रस्ताव भी सामने आए हैं और उनमें से एक है नदियों को जोड़ना। लेकिन यह काम बहुत महँगा और बृहद स्तर का है, साथ ही पर्यावरण की दृष्टि से काफी खतरनाक साबित हो सकता है, जिसके विरुद्ध काफी प्रतिक्रियाएँ भी हुई हैं। कहावत है बूँद-बूँद से सागर भरता है, यदि इस कहावत को अक्षरशः सत्य माना जाए तो छोटे-छोटे प्रयास एक दिन काफी बड़े समाधान में परिवर्तित हो सकते हैं। इसी तरह से पानी को बचाने के कुछ प्रयासों में एक उत्तम व नायाब तरीका है आकाश से बारिश के रूप में गिरे हुए पानी को बर्बाद होने से बचाना और उसका संरक्षण करना। शायद ज़मीनी नदियों को जोड़ने की अपेक्षा आकाश में बह रही गंगा को जोड़ना ज़्यादा आसान है।

यदि पानी का संरक्षण एक दिन शहरी नागरिकों के लिए अहम मुद्दा बनता है तो निश्चित ही इसमें तमिलनाडु का नाम सबसे आगे होगा। लंबे समय से तमिलनाडु में ठेकेदारों और भवन निर्माताओं के लिए नए मकानों की छत पर वर्षा के जल संरक्षण के लिए इंतज़ाम करना आवश्यक है पर पिछले कुछ सालों से गंभीर सूखे से जूझने के बाद तमिलनाडु सरकार इस मामले में और भी प्रयत्नशील हो गई है और उसने एक आदेश जारी किया है जिसके तहत तीन महीनों के अंदर सारे शहरी मकानों और भवनों की छतों पर वर्षा जल संरक्षण संयंत्रों (वजस) का लगाना अनिवार्य हो गया है। सबसे महत्वपूर्ण बात यह थी कि सारे सरकारी भवनों को इसका पालन करना पड़ा। पूरे राज्य में इस बात को व्यापक रूप से प्रचारित किया गया। नौकरशाहों को वर्षा जल संरक्षण संयंत्रों को प्राथमिकता देने के लिए कहा गया। यह चेतावनी भी दी गई कि यदि नियत तिथि तक इस आदेश का पालन नहीं किया जाता तो सरकार द्वारा उन्हें दी गई सेवाएँ समाप्त कर दी जाएँगी, साथ ही दंड स्वरूप नौकरशाहों के पैसे से ही इन संयंत्रों को चालू करवाया जाएगा। इन सबके चलते सबकुछ तेज़ी से होने लगा।

वर्षा जल को बचाने के कई पुराने व सस्ते किंतु निष्क्रिय तरीके हैं। पहले भारत के गाँवों में तालाब हुआ करते थे। राजीव गांधी ग्राम पेयजल योजना सराहनीय थी लेकिन जैसे शहरों में गाय के थन और दूध का संपर्क टूट गया वैसे ही इस योजना ने तालाबों और जलापूर्ति के बीच का संपर्क तोड़ दिया। इस योजना के कारण लोग पंचायत और विकास अफ़सर अपनी-अपनी व्यक्तिगत स्तर की पानी के प्रबंधन संबंधी ज़िम्मेदारियों से विमुख होने लगे। लोगों का विश्वास था कि जैसे प्लास्टिक के पैकेट में दूध मिलता है वैसे ही ट्यूबवेल पानी की आपूर्ति करेंगे। इस कारण तालाबों को अनदेखा किया गया और उनके ऊपर मिट्टी और रेत जमा होती गई।

पानी की समस्याओं का निवारण करने के लिए केवल कुछ अनुकरणीय उदाहरणों की और कुछ सामान्य जानकारी की ज़रूरत है। ऐसे कई उदाहरण हैं जिनसे कि आम आदमी को थोड़ा पैसा और थोड़ा प्रयास लगा कर इस काम को करने की प्रेरणा मिलती है। इन कामों के लिए किसी भी सहायता या निगरानी की ज़रूरत नहीं है और न ही नदियों को जोड़ने जैसी बृहद परियोजनाओं की। इन बड़ी परियोजनाओं को करने में समय लगता है, पैसा लगता है, और साथ में भारी पर्यावरणीय राजनीतिक और तकनीकी क्षतियाँ हो सकती हैं, और सबसे बुरी चीज़ जो होती है वो यह कि लोग अपने आप काम करना छोड़कर सरकार से उम्मीद लगाए रखते हैं। इन सब कामों में ठेकेदारों के मिले होने की वजह से भ्रष्टाचार फैलता है। पहले ही कई दूरदराज़ के गाँवों में पानी की बोतल को दूध से भी महँगा बेचा जाता है। नई पीढ़ी को ये भी मालूम नहीं कि पानी हमारे लिए प्रकृति की एक अमूल्य किंतु निःशुल्क भेंट है।

SubQuestion No : 14

Q.14 गद्यांश के आधार पर उस विकल्प का चयन करें जिसमें दिया गया तथ्य गलत है।

- Ans
- ☒ 1. पानी को बचाने का एक उत्तम तरीका बारिश के पानी का संरक्षण करना है
 - ☒ 2. राजीव गांधी ग्राम पेयजल योजना सराहनीय थी परन्तु अन्त में इसका कुछ खास परिणाम नहीं निकल सका
 - ☒ 3. पानी की समस्या आज भारत के कई हिस्सों में सुलझती जा रही है
 - ☒ 4. नदियों को जोड़ने का काम बहुत महँगा और बृहद स्तर का है

Question ID : 630680847478
Option 1 ID : 6306803319512
Option 2 ID : 6306803319511
Option 3 ID : 6306803319513
Option 4 ID : 6306803319510

Comprehension:

निम्नलिखित गद्यांश के आधार पर पाँच प्रश्न दिए गए हैं। गद्यांश को ध्यानपूर्वक पढ़ें तथा प्रत्येक प्रश्न के चार विकल्पों में से सही विकल्प चुनें।

पानी की समस्या आज भारत के कई हिस्सों में विकराल रूप धारण कर चुकी है और इस बात को लेकर कई चर्चाएँ भी हो रही हैं। इस समस्या से जूझने के कई प्रस्ताव भी सामने आए हैं और उनमें से एक है नदियों को जोड़ना। लेकिन यह काम बहुत महँगा और बृहद स्तर का है, साथ ही पर्यावरण की दृष्टि से काफी खतरनाक साबित हो सकता है, जिसके विरुद्ध काफी प्रतिक्रियाएँ भी हुई हैं। कहावत है बूँद-बूँद से सागर भरता है, यदि इस कहावत को अक्षरशः सत्य माना जाए तो छोटे-छोटे प्रयास एक दिन काफी बड़े समाधान में परिवर्तित हो सकते हैं। इसी तरह से पानी को बचाने के कुछ प्रयासों में एक उत्तम व नायाब तरीका है आकाश से बारिश के रूप में गिरे हुए पानी को बर्बाद होने से बचाना और उसका संरक्षण करना। शायद ज़मीनी नदियों को जोड़ने की अपेक्षा आकाश में बह रही गंगा को जोड़ना ज़्यादा आसान है।

यदि पानी का संरक्षण एक दिन शहरी नागरिकों के लिए अहम मुद्दा बनता है तो निश्चित ही इसमें तमिलनाडु का नाम सबसे आगे होगा। लंबे समय से तमिलनाडु में ठेकेदारों और भवन निर्माताओं के लिए नए मकानों की छत पर वर्षा के जल संरक्षण के लिए इंतज़ाम करना आवश्यक है पर पिछले कुछ सालों से गंभीर सूखे से जूझने के बाद तमिलनाडु सरकार इस मामले में और भी प्रयत्नशील हो गई है और उसने एक आदेश जारी किया है जिसके तहत तीन महीनों के अंदर सारे शहरी मकानों और भवनों की छतों पर वर्षा जल संरक्षण संयंत्रों (वजस) का लगाना अनिवार्य हो गया है। सबसे महत्वपूर्ण बात यह थी कि सारे सरकारी भवनों को इसका पालन करना पड़ा। पूरे राज्य में इस बात को व्यापक रूप से प्रचारित किया गया। नौकरशाहों को वर्षा जल संरक्षण संयंत्रों को प्राथमिकता देने के लिए कहा गया। यह चेतावनी भी दी गई कि यदि नियत तिथि तक इस आदेश का पालन नहीं किया जाता तो सरकार द्वारा उन्हें दी गई सेवाएँ समाप्त कर दी जाएँगी, साथ ही दंड स्वरूप नौकरशाहों के पैसे से ही इन संयंत्रों को चालू करवाया जाएगा। इन सबके चलते सबकुछ तेज़ी से होने लगा।

वर्षा जल को बचाने के कई पुराने व सस्ते किंतु निष्क्रिय तरीके हैं। पहले भारत के गाँवों में तालाब हुआ करते थे। राजीव गांधी ग्राम पेयजल योजना सराहनीय थी लेकिन जैसे शहरों में गाय के थन और दूध का संपर्क टूट गया वैसे ही इस योजना ने तालाबों और जलापूर्ति के बीच का संपर्क तोड़ दिया। इस योजना के कारण लोग पंचायत और विकास अफ़सर अपनी-अपनी व्यक्तिगत स्तर की पानी के प्रबंधन संबंधी ज़िम्मेदारियों से विमुख होने लगे। लोगों का विश्वास था कि जैसे प्लास्टिक के पैकेट में दूध मिलता है वैसे ही ट्यूबवेल पानी की आपूर्ति करेंगे। इस कारण तालाबों को अनदेखा किया गया और उनके ऊपर मिट्टी और रेत जमा होती गई।

पानी की समस्याओं का निवारण करने के लिए केवल कुछ अनुकरणीय उदाहरणों की और कुछ सामान्य जानकारी की ज़रूरत है। ऐसे कई उदाहरण हैं जिनसे कि आम आदमी को थोड़ा पैसा और थोड़ा प्रयास लगा कर इस काम को करने की प्रेरणा मिलती है। इन कामों के लिए किसी भी सहायता या निगरानी की ज़रूरत नहीं है और न ही नदियों को जोड़ने जैसी बृहद परियोजनाओं की। इन बड़ी परियोजनाओं को करने में समय लगता है, पैसा लगता है, और साथ में भारी पर्यावरणीय राजनीतिक और तकनीकी क्षतियाँ हो सकती हैं, और सबसे बुरी चीज़ जो होती है वो यह कि लोग अपने आप काम करना छोड़कर सरकार से उम्मीद लगाए रखते हैं। इन सब कामों में ठेकेदारों के मिले होने की वजह से भ्रष्टाचार फैलता है। पहले ही कई दूरदराज़ के गाँवों में पानी की बोटल को दूध से भी महँगा बेचा जाता है। नई पीढ़ी को ये भी मालूम नहीं कि पानी हमारे लिए प्रकृति की एक अमूल्य किंतु निःशुल्क भेंट है।

SubQuestion No : 15

Q.15 गद्यांश के आधार पर, निम्नलिखित वाक्य में प्रयुक्त, रेखांकित शब्द का उचित विलोम शब्द ज्ञात करें।
यदि पानी का संरक्षण एक दिन शहरी नागरिकों के लिए अहम मुद्दा बनता है तो निश्चित ही इसमें तमिलनाडु का नाम सबसे आगे होगा।

- Ans ☒ 1. प्राचीन
☒ 2. अरक्षण
☒ 3. वाचाल
☒ 4. अपयश

Question ID : 630680847477
Option 1 ID : 6306803319509
Option 2 ID : 6306803319506
Option 3 ID : 6306803319507
Option 4 ID : 6306803319508

Comprehension:

नीचे दिए गए पदों में कुछ शब्द छोड़ दिए गए हैं, प्रत्येक रिक्त स्थान के चार विकल्प दिए गए हैं। इन चारों में से कौन सा विकल्प रिक्त स्थान की पूर्ति करेगा?

करीब ढाई दशक पहले जब भारत में कंप्यूटर का _____ (1) हो रहा था और इसके बाद जब तकनीक ने कंप्यूटर पर भारतीय भाषाओं में काम करना _____ (2) बनाया, तब भी यह सोचना बेमानी था कि किसी दिन कंप्यूटर का भारतीय भाषाओं पर भी _____ (3) हो सकेगा। लेकिन अब यह भी हकीकत हो चुका है। जिस तरह तकनीक ने भारतीय भाषाओं को न सिर्फ कंप्यूटर के लिए _____ (4) बनाया, कुछ उसी तरह अब भारतीय भाषाओं को उच्च शिक्षा का _____ (5) बनाया जाने लगा है।

SubQuestion No : 16

Q.16 रिक्त स्थान (1) के लिए उपयुक्त विकल्प का चयन कीजिए।

- Ans ☒ 1. विस्तार
☒ 2. विद्वान्
☒ 3. विक्रेता
☒ 4. विचारधारा

Question ID : 630680847530
Option 1 ID : 6306803319708
Option 2 ID : 6306803319707
Option 3 ID : 6306803319709
Option 4 ID : 6306803319706

Comprehension:

नीचे दिए गए पदों में कुछ शब्द छोड़ दिए गए हैं, प्रत्येक रिक्त स्थान के चार विकल्प दिए गए हैं। इन चारों में से कौन सा विकल्प रिक्त स्थान की पूर्ति करेगा?

करीब ढाई दशक पहले जब भारत में कंप्यूटर का _____ (1) हो रहा था और इसके बाद जब तकनीक ने कंप्यूटर पर भारतीय भाषाओं में काम करना _____ (2) बनाया, तब भी यह सोचना बेमानी था कि किसी दिन कंप्यूटर का भारतीय भाषाओं पर भी _____ (3) हो सकेगा। लेकिन अब यह भी हकीकत हो चुका है। जिस तरह तकनीक ने भारतीय भाषाओं को न सिर्फ कंप्यूटर के लिए _____ (4) बनाया, कुछ उसी तरह अब भारतीय भाषाओं को उच्च शिक्षा का _____ (5) बनाया जाने लगा है।

SubQuestion No : 17

Q.17 रिक्त स्थान (5) के लिए उपयुक्त विकल्प का चयन कीजिए।

- Ans ☒ 1. गगन
☒ 2. ऊंचाई
☒ 3. माध्यम
☒ 4. भूमि

Question ID : 630680847534
Option 1 ID : 6306803319724
Option 2 ID : 6306803319723
Option 3 ID : 6306803319725
Option 4 ID : 6306803319722

Comprehension:

नीचे दिए गए पदों में कुछ शब्द छोड़ दिए गए हैं, प्रत्येक रिक्त स्थान के चार विकल्प दिए गए हैं। इन चारों में से कौन सा विकल्प रिक्त स्थान की पूर्ति करेगा?

करीब ढाई दशक पहले जब भारत में कंप्यूटर का _____ (1) हो रहा था और इसके बाद जब तकनीक ने कंप्यूटर पर भारतीय भाषाओं में काम करना _____ (2) बनाया, तब भी यह सोचना बेमानी था कि किसी दिन कंप्यूटर का भारतीय भाषाओं पर भी _____ (3) हो सकेगा। लेकिन अब यह भी हकीकत हो चुका है। जिस तरह तकनीक ने भारतीय भाषाओं को न सिर्फ कंप्यूटर के लिए _____ (4) बनाया, कुछ उसी तरह अब भारतीय भाषाओं को उच्च शिक्षा का _____ (5) बनाया जाने लगा है।

SubQuestion No : 18

Q.18 रिक्त स्थान (3) के लिए उपयुक्त विकल्प का चयन कीजिए।

- Ans
- ☒ 1. भारीपन
 - ☒ 2. घनत्व
 - ☒ 3. प्रभुत्व
 - ☒ 4. मातृत्व

Question ID : 630680847532
Option 1 ID : 6306803319714
Option 2 ID : 6306803319715
Option 3 ID : 6306803319717
Option 4 ID : 6306803319716

Comprehension:

नीचे दिए गए पदों में कुछ शब्द छोड़ दिए गए हैं, प्रत्येक रिक्त स्थान के चार विकल्प दिए गए हैं। इन चारों में से कौन सा विकल्प रिक्त स्थान की पूर्ति करेगा?

करीब ढाई दशक पहले जब भारत में कंप्यूटर का _____ (1) हो रहा था और इसके बाद जब तकनीक ने कंप्यूटर पर भारतीय भाषाओं में काम करना _____ (2) बनाया, तब भी यह सोचना बेमानी था कि किसी दिन कंप्यूटर का भारतीय भाषाओं पर भी _____ (3) हो सकेगा। लेकिन अब यह भी हकीकत हो चुका है। जिस तरह तकनीक ने भारतीय भाषाओं को न सिर्फ कंप्यूटर के लिए _____ (4) बनाया, कुछ उसी तरह अब भारतीय भाषाओं को उच्च शिक्षा का _____ (5) बनाया जाने लगा है।

SubQuestion No : 19

Q.19 रिक्त स्थान (4) के लिए उपयुक्त विकल्प का चयन कीजिए।

- Ans
- ☒ 1. सहज
 - ☒ 2. बोझ
 - ☒ 3. उपभोग
 - ☒ 4. गत

Question ID : 630680847533
Option 1 ID : 6306803319719
Option 2 ID : 6306803319720
Option 3 ID : 6306803319718
Option 4 ID : 6306803319721

Comprehension:

नीचे दिए गए पदों में कुछ शब्द छोड़ दिए गए हैं, प्रत्येक रिक्त स्थान के चार विकल्प दिए गए हैं। इन चारों में से कौन सा विकल्प रिक्त स्थान की पूर्ति करेगा?

करीब ढाई दशक पहले जब भारत में कंप्यूटर का _____ (1) हो रहा था और इसके बाद जब तकनीक ने कंप्यूटर पर भारतीय भाषाओं में काम करना _____ (2) बनाया, तब भी यह सोचना बेमानी था कि किसी दिन कंप्यूटर का भारतीय भाषाओं पर भी _____ (3) हो सकेगा। लेकिन अब यह भी हकीकत हो चुका है। जिस तरह तकनीक ने भारतीय भाषाओं को न सिर्फ कंप्यूटर के लिए _____ (4) बनाया, कुछ उसी तरह अब भारतीय भाषाओं को उच्च शिक्षा का _____ (5) बनाया जाने लगा है।

SubQuestion No : 20

Q.20 रिक्त स्थान (2) के लिए उपयुक्त विकल्प का चयन कीजिए।

- Ans
- ☒ 1. सन्कोचपूर्ण
 - ☒ 2. भावपूर्ण
 - ☒ 3. मुलायम
 - ☒ 4. सुलभ

Question ID : 630680847531
Option 1 ID : 6306803319712
Option 2 ID : 6306803319711
Option 3 ID : 6306803319713
Option 4 ID : 6306803319710

