

DSSSB Jail Warder

**Previous Year Paper
12 Jun, 2024 Shift 1**



Test Prime

**ALL EXAMS,
ONE SUBSCRIPTION**



70,000+
Mock Tests



**Personalised
Report Card**



**Unlimited
Re-Attempt**



600+
Exam Covered



**Previous Year
Papers**



500%
Refund



ATTEMPT FREE MOCK NOW



GOVT. OF NCT OF DELHI
Delhi Subordinate Services Selection Board
FC-18, Institutional Area, Karkardooma, Delhi – 110092.
www.dsssb.delhigovt.nic.in

Participant ID	
Participant Name	
Test Center Name	
Test Date	12/06/2024
Test Time	8:30 AM - 10:30 AM
Subject	Warder Reserved for male Only

Section : General intelligence and Reasoning Ability 1

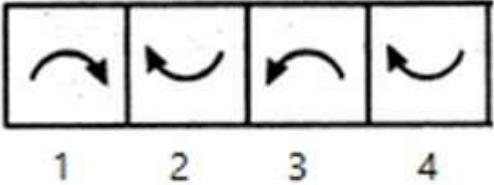
Q.1 यदि S का अर्थ (\times), T का अर्थ ($-$), U का अर्थ (\div) और V का अर्थ ($+$) है, तो निम्नलिखित अभिव्यक्ति का मान क्या होगा?

$(24 \text{ U } 8) \text{ V } (8 \text{ S } 6)$

- Ans
- ☒ 1. 48
 - ☒ 2. 49
 - ☒ 3. 50
 - ☒ 4. 51

Question ID : 630680835401
Option 1 ID : 6306803272390
Option 2 ID : 6306803272391
Option 3 ID : 6306803272392
Option 4 ID : 6306803272393

Q.2 क्लॉक वाइज या एंटी क्लॉक वाइज के आधार पर वह आकृति ज्ञात कीजिए जो नीचे दिए गए शेष आकृति विकल्पों से भिन्न है।



- Ans
- ☒ 1. 1
 - ☒ 2. 2
 - ☒ 3. 4
 - ☒ 4. 3

Question ID : 630680835448
Option 1 ID : 6306803272578
Option 2 ID : 6306803272579
Option 3 ID : 6306803272581
Option 4 ID : 6306803272580

Q.3 दिए गए कथनों और निष्कर्षों को ध्यानपूर्वक पढ़ें। यह मानते हुए कि कथनों में दी गई जानकारी सत्य है, भले ही यह सामान्यतः ज्ञात तथ्यों से भिन्न प्रतीत होती हो, निर्णय लें कि दिए गए निष्कर्षों में से कौन सा निष्कर्ष कथनों का तार्किक रूप से अनुसरण करता है।

कथन:

- A. कुछ टमाटर फल हैं।
B. कुछ टमाटर सूप हैं।

निष्कर्ष:

1. सभी टमाटर सूप हैं।
2. सभी सूप टमाटर हैं।

- Ans ☒ 1. केवल निष्कर्ष 1 अनुसरण करता है
☒ 2. न तो निष्कर्ष 1 और न ही 2 अनुसरण करता है
☒ 3. दोनों निष्कर्ष 1 और 2 अनुसरण करते हैं
☒ 4. केवल निष्कर्ष 2 अनुसरण करता है

Question ID : 630680835431
Option 1 ID : 6306803272510
Option 2 ID : 6306803272512
Option 3 ID : 6306803272513
Option 4 ID : 6306803272511

Q.4 केवल वर्णमाला क्रम के आधार पर निम्नलिखित श्रृंखला को तार्किक रूप से पूर्ण बनाने के लिए प्रश्न चिह्न (?) के स्थान पर क्या आएगा?

V, W, Y, B, F, K, ?

- Ans ☒ 1. S
☒ 2. T
☒ 3. Q
☒ 4. R

Question ID : 630680835395
Option 1 ID : 6306803272368
Option 2 ID : 6306803272369
Option 3 ID : 6306803272367
Option 4 ID : 6306803272366

Q.5 केवल अभाज्य संख्याओं के आधार पर निम्नलिखित में से कौन सा जोड़ा नीचे दिए गए अभिव्यक्ति के समान है?

97 : 31

- Ans ☒ 1. 70 : 13
☒ 2. 13 : 16
☒ 3. 19 : 63
☒ 4. 47 : 73

Question ID : 630680835459
Option 1 ID : 6306803272622
Option 2 ID : 6306803272624
Option 3 ID : 6306803272623
Option 4 ID : 6306803272625

Q.6 मिताली(महिला) के पति के भाई के पिता का मिताली के पति से क्या संबंध है?

- Ans ☒ 1. पिता
☒ 2. चाचा
☒ 3. मामा
☒ 4. दादा

Question ID : 630680835320
Option 1 ID : 6306803272062
Option 2 ID : 6306803272065
Option 3 ID : 6306803272063
Option 4 ID : 6306803272064

Q.7 यदि 40 छात्रों के समूह में गीता की रैंक ऊपर से 13वीं है तो नीचे से उसकी रैंक कितनी होगी?

- Ans ☒ 1. 28
☒ 2. 23
☒ 3. 22
☒ 4. 25

Question ID : 630680835307
Option 1 ID : 6306803272012
Option 2 ID : 6306803272011
Option 3 ID : 6306803272010
Option 4 ID : 6306803272013

Q.8 एक निश्चित कूट भाषा में, REAP को 40 के रूप में लिखा जाता है और CRY को 46 के रूप में लिखा जाता है। उसी कूट भाषा में GRAND को कैसे लिखा जाएगा?

- Ans ☒ 1. 47
☒ 2. 44
☒ 3. 46
☒ 4. 48

Question ID : 630680835419
Option 1 ID : 6306803272463
Option 2 ID : 6306803272465
Option 3 ID : 6306803272462
Option 4 ID : 6306803272464

Q.9 How many such letters are there in the series given below, each of which is immediately preceded by a symbol?

7 N # 9 J 0 L 5 S \$ 3 * P % & A 8 6 B 2 * H 4

- Ans ☒ 1. 5
☒ 2. 1
☒ 3. 2
☒ 4. 3

Question ID : 630680835373
Option 1 ID : 6306803272281
Option 2 ID : 6306803272278
Option 3 ID : 6306803272279
Option 4 ID : 6306803272280

7/5/24, 11:53 AM

cdn.digialm.com/per/g01/pub/1258/touchstone/AssessmentQPHTMLMode1//1258O24204/1258O24204S7D1091/1718799232809...

Q.10 यदि '\$' का अर्थ '-' है, '*' का अर्थ '+' है, '@' का अर्थ '÷' है, '#' का अर्थ 'x' है, तो निम्नलिखित अभिव्यक्ति का मान क्या होगा?

$$4 \# 4 * 18 @ 6 \$ 6 = ?$$

- Ans
- ☒ 1. 16
 - ☒ 2. 15
 - ☒ 3. 14
 - ☒ 4. 13

Question ID : 630680835341
Option 1 ID : 6306803272149
Option 2 ID : 6306803272148
Option 3 ID : 6306803272147
Option 4 ID : 6306803272146

Q.11 केवल अभाज्य संख्याओं के आधार पर निम्नलिखित में से कौन सा युग्म नीचे दिए गए अभिव्यक्ति के समान है?

19 : 23

- Ans
- ☒ 1. 71 : 77
 - ☒ 2. 19 : 62
 - ☒ 3. 13 : 16
 - ☒ 4. 37 : 59

Question ID : 630680835408
Option 1 ID : 6306803272418
Option 2 ID : 6306803272419
Option 3 ID : 6306803272420
Option 4 ID : 6306803272421

Q.12 Which of the following options based only on common sense and general mental ability without regard to any scientific and technical facts is different from the other three options based on fruits and flowers?

- Ans
- ☒ 1. Hibiscus
 - ☒ 2. Banana
 - ☒ 3. Rose
 - ☒ 4. Orange

Question ID : 630680835439
Option 1 ID : 6306803272544
Option 2 ID : 6306803272543
Option 3 ID : 6306803272542
Option 4 ID : 6306803272545

7/5/24, 11:53 AM

cdn.digialm.com/per/g01/pub/1258/touchstone/AssessmentQPHTMLMode1//1258O24204/1258O24204S7D1091/1718799232809...

Q.13 नीचे दी गई श्रृंखला को केवल जोड़ने और घटाने की प्रक्रिया, जो भी लागू हो, का उपयोग करके तार्किक रूप से पूर्ण बनाने के लिए प्रश्न चिह्न (?) के स्थान पर क्या आएगा?

27, 23, 29, 25, 31, ?, ?

Ans ☒ 1. 33, 27

☒ 2. 27, 33

☒ 3. 35, 28

☒ 4. 28, 35

Question ID : 630680835453

Option 1 ID : 6306803272601

Option 2 ID : 6306803272600

Option 3 ID : 6306803272598

Option 4 ID : 6306803272599

Q.14 एक निश्चित कूट भाषा में, KANPUR को RUPNAK के रूप में और DELHI को IHLED के रूप में लिखा जाता है। उसी कूट भाषा में AGARTALA कैसे लिखा जाएगा?

Ans ☒ 1. ALATRAGA

☒ 2. AGARTALA

☒ 3. ALATAGAR

☒ 4. AGARALAT

Question ID : 630680835421

Option 1 ID : 6306803272470

Option 2 ID : 6306803272473

Option 3 ID : 6306803272472

Option 4 ID : 6306803272471

Q.15 निम्नलिखित में से कौन सा विकल्प किसी भी वैज्ञानिक और तकनीकी तथ्यों पर ध्यान दिए बिना, केवल सामान्य मानसिक क्षमता और सामान्य मानसिक समझ के आधार पर डिवाइस और उसके कार्य के आधार पर प्रश्न चिह्न को प्रतिस्थापित करेगा?

कलम : लिखना :: कुल्हाड़ी : ?

Ans ☒ 1. स्केचिंग

☒ 2. आवर्धन

☒ 3. पेंटिंग

☒ 4. काटना

Question ID : 630680835327

Option 1 ID : 6306803272092

Option 2 ID : 6306803272093

Option 3 ID : 6306803272091

Option 4 ID : 6306803272090

Q.16 If the following words are arranged in the dictionary order then which of the following word will come on the third place ?

Respect, Strong, Tough, Underground

Ans ☒ 1. Underground

☒ 2. Tough

☒ 3. Respect

☒ 4. Strong

Question ID : 630680835427

Option 1 ID : 6306803272497

Option 2 ID : 6306803272496

Option 3 ID : 6306803272494

Option 4 ID : 6306803272495

Q.17 Five men namely Asit, Bindesh, Raju, Kush and Piyush are sitting in a straight line facing north. Asit is sitting on the extreme left end of the row. Bindesh is sitting between Asit and Kush. Kush is sitting exactly between Bindesh and Piyush. If Piyush is sitting immediately to the left of Raju from the right end, then who is sitting in the middle of the line?

Ans ☒ 1. Piyush

☒ 2. Asit

☒ 3. Kush

☒ 4. Bindesh

Question ID : 630680835362

Option 1 ID : 6306803272237

Option 2 ID : 6306803272234

Option 3 ID : 6306803272236

Option 4 ID : 6306803272235

Q.18 एक खेल की कक्षा में, कई छात्र एक पंक्ति में खड़े हैं। दोनों ओर से, एक छात्र की रैंक 27 पाई गई। खेल की कक्षा में कुल कितने छात्र हैं?

Ans ☒ 1. 53

☒ 2. 45

☒ 3. 35

☒ 4. 54

Question ID : 630680835414

Option 1 ID : 6306803272442

Option 2 ID : 6306803272444

Option 3 ID : 6306803272443

Option 4 ID : 6306803272445

Q.19 Six friends Amita, Vinita, Chandni, Diya, Neerja, and Roshni are sitting in a row facing north. Amita is sitting immediately before Chandni from left . Chandni is sitting between Amita and Neerja. Vinita is sitting immediately to the right of Neerja. Roshni is sitting immediate left of Amita. If Diya is sitting at the right end of the row, then who is sitting on the left end of the row?

- Ans

☒ 1. Vinita

☒ 2. Neerja

☒ 3. Chandni

☒ 4. Roshni

Question ID : 630680835303

Option 1 ID : 6306803271994

Option 2 ID : 6306803271996

Option 3 ID : 6306803271995

Option 4 ID : 6306803271997

Q.20 निम्नलिखित श्रृंखला को तार्किक रूप से पूर्ण बनाने के लिए प्रश्न चिह्न (?) के स्थान पर क्या आएगा?

BE, BF, BG, BH, ?

- Ans

☒ 1. BK

☒ 2. BJ

☒ 3. BI

☒ 4. BL

Question ID : 630680835337

Option 1 ID : 6306803272132

Option 2 ID : 6306803272131

Option 3 ID : 6306803272130

Option 4 ID : 6306803272133

Section : General intelligence and Reasoning Ability 2

Q.1 अल्फाबेट्स के अंकीय मान के आधार पर निम्नलिखित श्रृंखला को तार्किक रूप से पूर्ण बनाने के लिए प्रश्न चिह्न (?) के स्थान पर क्या आएगा?

L, U, D, M, V, ?

- Ans

☒ 1. G

☒ 2. E

☒ 3. C

☒ 4. H

Question ID : 630680835443

Option 1 ID : 6306803272559

Option 2 ID : 6306803272560

Option 3 ID : 6306803272561

Option 4 ID : 6306803272558

Q.2 दिए गए कथनों और निष्कर्षों को ध्यानपूर्वक पढ़ें। यह मानते हुए कि कथनों में दी गई जानकारी सत्य है, भले ही यह सामान्यतः ज्ञात तथ्यों से भिन्न प्रतीत होती हो, निर्णय लें कि दिए गए निष्कर्षों में से कौन सा निष्कर्ष कथनों का तार्किक रूप से अनुसरण करता है।

कथन:

- A. कुछ बिटा डॉट्स हैं।
B. कुछ बिटा कोलन हैं।

निष्कर्ष:

1. सभी डॉट्स कोलन हैं।
2. सभी कोलन डॉट्स हैं।

- Ans ☒ 1. केवल निष्कर्ष 2 अनुसरण करता है
☒ 2. दोनों निष्कर्ष 1 और 2 अनुसरण करते हैं
☒ 3. केवल निष्कर्ष 1 अनुसरण करता है
☒ 4. न तो निष्कर्ष 1 और न ही 2 अनुसरण करता है

Question ID : 630680835432
Option 1 ID : 6306803272515
Option 2 ID : 6306803272517
Option 3 ID : 6306803272514
Option 4 ID : 6306803272516

Q.3 नीचे दी गई श्रृंखला को केवल जोड़ने और घटाने की प्रक्रिया, जो भी लागू हो, का उपयोग करके तार्किक रूप से पूर्ण बनाने के लिए प्रश्न चिह्न (?) के स्थान पर क्या आएगा?

16, 19, 27, 30, 38, ?, ?

- Ans ☒ 1. 40, 48
☒ 2. 49, 41
☒ 3. 48, 40
☒ 4. 41, 49

Question ID : 630680835404
Option 1 ID : 6306803272403
Option 2 ID : 6306803272404
Option 3 ID : 6306803272402
Option 4 ID : 6306803272405

Q.4 On the basis of only common mental understanding and general mental ability without caring about any scientific and technical aspect, which of the following options is different from the other three options based on flowers and fruits?

- Ans ☒ 1. Lotus
☒ 2. Jasmine
☒ 3. Lily
☒ 4. Grape

Question ID : 630680835442
Option 1 ID : 6306803272554
Option 2 ID : 6306803272556
Option 3 ID : 6306803272557
Option 4 ID : 6306803272555

Q.5 निम्नलिखित में से कौन सा युग्म नीचे दिए गए अभिव्यक्ति के समान है?

3581 : 1853

5978 : 8795

Ans ☒ 1. 5274: 4725

☒ 2. 7331: 1373

☒ 3. 4578: 4587

☒ 4. 1356: 1365

Question ID : 630680835405

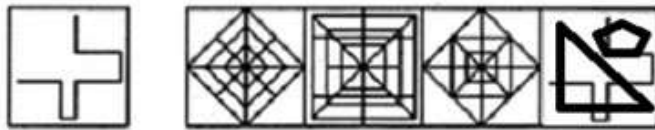
Option 1 ID : 6306803272407

Option 2 ID : 6306803272408

Option 3 ID : 6306803272409

Option 4 ID : 6306803272406

Q.6 निम्नलिखित में से कौन सा विकल्प मूल छवि (X) को एम्बेड करेगा?



(X).

1.

2.

3.

4.

Ans ☒ 1. 1

☒ 2. 2

☒ 3. 4

☒ 4. 3

Question ID : 630680835396

Option 1 ID : 6306803272370

Option 2 ID : 6306803272371

Option 3 ID : 6306803272373

Option 4 ID : 6306803272372

Q.7 किसी भी वैज्ञानिक और तकनीकी तथ्यों की परवाह किए बिना केवल सामान्य ज्ञान और सामान्य मानसिक क्षमता के आधार पर निम्नलिखित में से कौन सा विकल्प फिल्म निर्माण के आधार पर अन्य तीन विकल्पों से अलग है?

Ans ☒ 1. फ़िल्म

☒ 2. निर्माता

☒ 3. निदेशक

☒ 4. पटकथा लेखक

Question ID : 630680835388

Option 1 ID : 6306803272340

Option 2 ID : 6306803272338

Option 3 ID : 6306803272339

Option 4 ID : 6306803272341

Q.8 वैज्ञानिक एवं तकनीकी तथ्यों की परवाह किये बिना केवल सामान्य मानसिक योग्यता एवं सामान्य मानसिक समझ के आधार पर निम्नलिखित में से कौन सा विकल्प विषयों और उनके उप-विषयों के आधार पर प्रश्न चिह्न का स्थान लेगा?

अर्थशास्त्र: बजट :: इतिहास:?

- Ans ☒ 1. जलवायु
☒ 2. दिल्ली सल्तनत
☒ 3. अंकगणित
☒ 4. हाइड्रोजन

Question ID : 630680835434
Option 1 ID : 6306803272525
Option 2 ID : 6306803272524
Option 3 ID : 6306803272523
Option 4 ID : 6306803272522

Q.9 On the basis of general mental ability and general mental understanding only, without regard to scientific and technical facts, which of the following options will replace the question mark on the basis of workers and their tools?

Chef: Knife :: Sculptor:?

- Ans ☒ 1. Bread
☒ 2. Chisel
☒ 3. Sword
☒ 4. Pen

Question ID : 630680835433
Option 1 ID : 6306803272518
Option 2 ID : 6306803272521
Option 3 ID : 6306803272520
Option 4 ID : 6306803272519

Q.10 If all the numbers are removed from the series given below, which will be the 9th element from the right?

O 7 @ K 7 # A 6 G 4 * L ^ 4 K & M 9 K & 3 G

- Ans ☒ 1. ^
☒ 2. G
☒ 3. L
☒ 4. *

Question ID : 630680835423
Option 1 ID : 6306803272478
Option 2 ID : 6306803272481
Option 3 ID : 6306803272479
Option 4 ID : 6306803272480

Q.11 एक तस्वीर की ओर इशारा करते हुए सीमा (महिला) कहती है कि तस्वीर में दिख रही महिला सीमा के पिता के बेटे की इकलौती बहन है। सीमा का तस्वीर में दिख रही महिला से क्या संबंध है?

- Ans ☒ 1. माँ
- ☒ 2. स्वयं सीमा
- ☒ 3. बहन
- ☒ 4. चचेरी बहन

Question ID : 630680835321
Option 1 ID : 6306803272069
Option 2 ID : 6306803272066
Option 3 ID : 6306803272067
Option 4 ID : 6306803272068

Q.12 यदि '\$' का अर्थ '-' है, '*' का अर्थ '+' है, '@' का अर्थ '÷' है, '#' का अर्थ 'x' है, तो निम्नलिखित अभिव्यक्ति का मान क्या होगा?

$$4 \# 3 * 8 @ 2 \$ 5 = ?$$

- Ans ☒ 1. 14
- ☒ 2. 15
- ☒ 3. 16
- ☒ 4. 11

Question ID : 630680835399
Option 1 ID : 6306803272383
Option 2 ID : 6306803272384
Option 3 ID : 6306803272385
Option 4 ID : 6306803272382

Q.13 एक निश्चित कोड भाषा में, RED को 27 के रूप में लिखा जाता है और BLUE को 40 के रूप में लिखा जाता है। उसी कोड भाषा में GREEN को कैसे लिखा जाएगा?

- Ans ☒ 1. 46
- ☒ 2. 47
- ☒ 3. 49
- ☒ 4. 48

Question ID : 630680835311
Option 1 ID : 6306803272026
Option 2 ID : 6306803272027
Option 3 ID : 6306803272029
Option 4 ID : 6306803272028

Q.14 यदि निम्नलिखित शब्दों को शब्दकोष क्रम में व्यवस्थित किया जाए, तो निम्नलिखित में से कौन सा चौथे स्थान पर आएगा?

- Ans
- ☒ 1. Forget
 - ☒ 2. Respective
 - ☒ 3. Successful
 - ☒ 4. Torque

Question ID : 630680835317
Option 1 ID : 6306803272052
Option 2 ID : 6306803272051
Option 3 ID : 6306803272050
Option 4 ID : 6306803272053

Q.15 दिए गए कथनों और निष्कर्षों को ध्यानपूर्वक पढ़ें। यह मानते हुए कि कथनों में दी गई जानकारी सत्य है, भले ही यह सामान्यतः ज्ञात तथ्यों से भिन्न प्रतीत होती हो, निर्णय लें कि दिए गए निष्कर्षों में से कौन सा निष्कर्ष कथनों का तार्किक रूप से अनुसरण करता है।

कथन:

- A. कुछ कौवे खरगोश हैं।
- B. कुछ कौवे हाथी हैं।

निष्कर्ष:

- 1. सभी खरगोश हाथी हैं।
- 2. सभी कौवे हाथी हैं।

- Ans
- ☒ 1. केवल निष्कर्ष 1 अनुसरण करता है
 - ☒ 2. न तो निष्कर्ष 1 और न ही 2 अनुसरण करता है
 - ☒ 3. केवल निष्कर्ष 2 अनुसरण करता है
 - ☒ 4. दोनों निष्कर्ष 1 और 2 अनुसरण करते हैं

Question ID : 630680835323
Option 1 ID : 6306803272074
Option 2 ID : 6306803272076
Option 3 ID : 6306803272075
Option 4 ID : 6306803272077

Q.16 किसी भी वैज्ञानिक और तकनीकी तथ्यों की परवाह किए बिना केवल सामान्य ज्ञान और सामान्य मानसिक क्षमता के आधार पर, निम्नलिखित में से कौन सा विकल्प अंगों, आंतरिक अंगों और मानव शरीर के आधार पर अन्य तीन विकल्पों से अलग है?

- Ans
- ☒ 1. किडनी
 - ☒ 2. हृदय
 - ☒ 3. फेफड़े
 - ☒ 4. सिर

Question ID : 630680835391
Option 1 ID : 6306803272352
Option 2 ID : 6306803272353
Option 3 ID : 6306803272351
Option 4 ID : 6306803272350

Q.17 वैज्ञानिक एवं तकनीकी तथ्यों पर ध्यान दिए बिना केवल सामान्य मानसिक योग्यता एवं सामान्य मानसिक समझ के आधार पर निम्नलिखित में से कौन सा विकल्प उत्पाद और कच्चे माल के आधार पर प्रश्न चिह्न का स्थान लेगा?

मक्खन : दूध :: चावल : ?

- Ans
- ☒ 1. मक्का
 - ☒ 2. गेहूं
 - ☒ 3. धान
 - ☒ 4. ऊन

Question ID : 630680835387
Option 1 ID : 6306803272335
Option 2 ID : 6306803272337
Option 3 ID : 6306803272334
Option 4 ID : 6306803272336

Q.18 Six friends Amita, Vinita, Chandni, Diya, Neerja, and Roshni are sitting in a row facing north. Amita is sitting immediately before Chandni from left . Chandni is sitting between Amita and Neerja. Vinita is sitting immediately to the right of Neerja. Roshni is sitting immediate left of Amita. If Diya is sitting at the right end of the row then, who is sitting between Chandni and Vinita?

- Ans
- ☒ 1. Chandni
 - ☒ 2. Roshni
 - ☒ 3. Vinita
 - ☒ 4. Neerja

Question ID : 630680835305
Option 1 ID : 6306803272003
Option 2 ID : 6306803272005
Option 3 ID : 6306803272002
Option 4 ID : 6306803272004

Q.19 केवल अंकों के योग विधि के आधार पर निम्नलिखित में से कौन सा युग्म नीचे दिए गए अभिव्यक्ति के समान है?

587 : 20
123 : 06

- Ans
- ☒ 1. 340 : 50
 - ☒ 2. 458 : 17
 - ☒ 3. 198 : 15
 - ☒ 4. 289 : 17

Question ID : 630680835349
Option 1 ID : 6306803272180
Option 2 ID : 6306803272181
Option 3 ID : 6306803272178
Option 4 ID : 6306803272179

7/5/24, 11:53 AM

cdn.digialm.com/per/g01/pub/1258/touchstone/AssessmentQPHTMLMode1//1258O24204/1258O24204S7D1091/1718799232809...

Q.20 अवनि, बानो, चंदन, दीपम, काजल और सोहन छह दोस्त हैं जो इमारत की अलग-अलग मंजिलों पर रहते हैं लेकिन जरूरी नहीं कि इसी क्रम में हों। अवनि और काजल क्रमशः ऊपरी और निचली मंजिल पर हैं। बानो, अवनी और चंदन की मंजिल के ठीक बीच में रहती है। दीपम, चंदन और सोहन की मंजिल के ठीक बीच में रहता है। ऊपर से तीसरी मंजिल पर कौन रहता है?

- Ans
- ☒ 1. अवनी
 - ☒ 2. दीपम
 - ☒ 3. चंदन
 - ☒ 4. काजल

Question ID : 630680835369
Option 1 ID : 6306803272262
Option 2 ID : 6306803272264
Option 3 ID : 6306803272263
Option 4 ID : 6306803272265

Section : General Awareness 1

Q.1 निम्नलिखित में से कौन 1887 में कलकता में आयोजित भारतीय राष्ट्रीय कांग्रेस के अध्यक्ष थे?

- Ans
- ☒ 1. सुरेंद्रनाथ बनर्जी
 - ☒ 2. दादाभाई नौरोजी
 - ☒ 3. डबल्यू. सी. बनर्जी
 - ☒ 4. ए.ओ. ह्यूम

Question ID : 630680840339
Option 1 ID : 6306803292040
Option 2 ID : 6306803292037
Option 3 ID : 6306803292039
Option 4 ID : 6306803292038

Q.2 How many types of justice have been mentioned in the Preamble of the Indian Constitution?

- Ans
- ☒ 1. 4
 - ☒ 2. 3
 - ☒ 3. 2
 - ☒ 4. 5

Question ID : 630680839273
Option 1 ID : 6306803287774
Option 2 ID : 6306803287775
Option 3 ID : 6306803287776
Option 4 ID : 6306803287773

Q.3 नारी शक्ति वंदन अधिनियम, लोकसभा, राज्य विधानसभाओं और _____ की विधान सभा में महिलाओं के लिए सीटें आरक्षित करता है?

- Ans
- ☒ 1. लद्दाख
 - ☒ 2. अंडमान द्वीप
 - ☒ 3. चंडीगढ़
 - ☒ 4. राष्ट्रीय राजधानी क्षेत्र दिल्ली

Question ID : 630680840330
Option 1 ID : 6306803292004
Option 2 ID : 6306803292003
Option 3 ID : 6306803292001
Option 4 ID : 6306803292002

Q.4 एडविन लुटियंस और हर्बर्ट बेकर वे आर्किटेक्ट हैं जिन्होंने भारत में संसद का मॉडल डिजाइन किया था। संसद भवन की आधारशिला _____ को रखी गई थी और निर्माण 18 जनवरी, 1927 को पूरा हुआ था।

- Ans
- ☒ 1. 12 फरवरी, 1919
 - ☒ 2. 12 फरवरी, 1923
 - ☒ 3. 12 फरवरी, 1921.
 - ☒ 4. 12 फरवरी, 1920

Question ID : 630680839279
Option 1 ID : 6306803287800
Option 2 ID : 6306803287797
Option 3 ID : 6306803287799
Option 4 ID : 6306803287798

Q.5 भारत में निम्नलिखित में से किस स्थान पर भारतीय राष्ट्रीय कांग्रेस की स्थापना की गई थी?

- Ans
- ☒ 1. मद्रास
 - ☒ 2. लाहौर
 - ☒ 3. बंबई
 - ☒ 4. कलकत्ता

Question ID : 630680840338
Option 1 ID : 6306803292036
Option 2 ID : 6306803292033
Option 3 ID : 6306803292035
Option 4 ID : 6306803292034

Q.6 शिशु मृत्यु दर प्रति 1000 जीवित जन्मों पर _____ वर्ष की आयु से पहले शिशुओं की मृत्यु की संख्या है।

- Ans
- ☒ 1. 2 वर्ष
 - ☒ 2. 1 वर्ष
 - ☒ 3. 2 महीने
 - ☒ 4. 6 महीने

Question ID : 630680840354
Option 1 ID : 6306803292100
Option 2 ID : 6306803292098
Option 3 ID : 6306803292099
Option 4 ID : 6306803292097

Q.7 _____ को श्रद्धांजलि देने के लिए पूरे भारत में जन जातीय गौरव दिवस मनाया गया।

- Ans
- ☒ 1. सिद्धू कान्हू
 - ☒ 2. तिलका मांझी
 - ☒ 3. भगवान बिरसा मुंडा
 - ☒ 4. अल्लूरी सीताराम राजू

Question ID : 630680839246
Option 1 ID : 6306803287666
Option 2 ID : 6306803287665
Option 3 ID : 6306803287667
Option 4 ID : 6306803287668

Q.8 निम्नलिखित में से किसने मेजर ध्यानचंद खेल रत्न पुरस्कार 2023 जीता है? (उत्तर केवल दिए गए विकल्पों में से दें।)

- Ans
- ☒ 1. मोहम्मद शमी
 - ☒ 2. स्मृति मंधाना
 - ☒ 3. रंकीरेड्डी सात्विक साई राज
 - ☒ 4. विराट कोहली

Question ID : 630680840322
Option 1 ID : 6306803291969
Option 2 ID : 6306803291971
Option 3 ID : 6306803291972
Option 4 ID : 6306803291970

Q.9 निम्नलिखित में से किसने पॉवर्टी एंड अन-ब्रिटिश रूल इन इंडिया पुस्तक लिखी है ?

- Ans
- ☒ 1. दादाभाई नौरोजी
 - ☒ 2. सुरेंद्रनाथ बनर्जी
 - ☒ 3. डबल्यू. सी. बनर्जी
 - ☒ 4. ए.ओ. ह्यूम

Question ID : 630680839257
Option 1 ID : 6306803287709
Option 2 ID : 6306803287712
Option 3 ID : 6306803287711
Option 4 ID : 6306803287710

Q.10 जिन जानवरों में शरीर गुहा अनुपस्थित होती है उन्हें _____ कहा जाता है।

- Ans
- ☒ 1. कोएल
 - ☒ 2. एकोएलोमेट्स
 - ☒ 3. स्पूडोकोइलोमेट्स
 - ☒ 4. सीलोमेट्स

Question ID : 630680840364
Option 1 ID : 6306803292139
Option 2 ID : 6306803292138
Option 3 ID : 6306803292137
Option 4 ID : 6306803292140

Q.11 भारत का सर्वोच्च न्यायालय भारत के संविधान के तहत सर्वोच्च न्यायिक निकाय है। संविधान के अनुच्छेद _____ में कहा गया है कि “भारत का एक सर्वोच्च न्यायालय होगा।

- Ans
- ☒ 1. 133
 - ☒ 2. 128
 - ☒ 3. 135
 - ☒ 4. 124

Question ID : 630680839278
Option 1 ID : 6306803287795
Option 2 ID : 6306803287794
Option 3 ID : 6306803287796
Option 4 ID : 6306803287793

Q.12 These forests are restricted to heavy rainfall areas of the Western Ghats and the island groups of Lakshadweep, Andaman and Nicobar, upper parts of Assam and Tamil Nadu coast. Which kind of forest has been discussed here?

- Ans
- ☒ 1. Tropical Evergreen Forests
 - ☒ 2. Mangrove Forest
 - ☒ 3. Tropical Deciduous Forests
 - ☒ 4. Montane Forest

Question ID : 630680839269
Option 1 ID : 6306803287759
Option 2 ID : 6306803287760
Option 3 ID : 6306803287758
Option 4 ID : 6306803287757

Q.13 भारत सरकार ने मौजूदा प्रजनन और बाल स्वास्थ्य (आरसीएच) और संचारी और गैर-संचारी रोग सेवाओं का विस्तार और सुदृढ़ीकरण करके व्यापक प्राथमिक स्वास्थ्य देखभाल (सीपीएचसी) प्रदान करने के लिए 2023 में आयुष्मान भारत स्वास्थ्य और कल्याण केंद्रों (एबी-एचडब्ल्यूसी) का नाम बदलकर _____ कर दिया। .

- Ans
- ☒ 1. आयुष्मान आरोग्य मंदिर
 - ☒ 2. अमृत स्वास्थ्य केंद्र
 - ☒ 3. अमृत सामुदायिक स्वास्थ्य केंद्र
 - ☒ 4. अमृत आरोग्य मंदिर

Question ID : 630680839253
Option 1 ID : 6306803287694
Option 2 ID : 6306803287695
Option 3 ID : 6306803287696
Option 4 ID : 6306803287693

Q.14 निम्नलिखित में से किस पोषक तत्व की कमी से स्कर्वी नामक रोग होता है?

- Ans ☒ 1. विटामिन C
- ☒ 2. वसा
- ☒ 3. विटामिन B
- ☒ 4. प्रोटीन

Question ID : 630680840366
Option 1 ID : 6306803292147
Option 2 ID : 6306803292148
Option 3 ID : 6306803292146
Option 4 ID : 6306803292145

Q.15 _____ वे प्राप्तियाँ(Receipt) हैं जिन पर सरकार पर कोई दावा नहीं बनता है। इसलिए उन्हें गैर-प्रतिदेय कहा जाता है। इन्हें कर और गैर-कर में विभाजित किया गया है

- Ans ☒ 1. पूंजीगत प्राप्तियाँ
- ☒ 2. नियोजित प्राप्तियाँ
- ☒ 3. संतुलित प्राप्तियाँ
- ☒ 4. राजस्व प्राप्तियाँ

Question ID : 630680839255
Option 1 ID : 6306803287702
Option 2 ID : 6306803287701
Option 3 ID : 6306803287704
Option 4 ID : 6306803287703

Q.16 टॉम्ब ऑफ सैंड(रेत की समाधि) निम्नलिखित में से किसकी रचना है?

- Ans ☒ 1. गीतांजली श्री
- ☒ 2. अमर्त्य सेन
- ☒ 3. अरविंद आडिगा
- ☒ 4. अरुंधति रॉय

Question ID : 630680840342
Option 1 ID : 6306803292050
Option 2 ID : 6306803292051
Option 3 ID : 6306803292049
Option 4 ID : 6306803292052

Q.17 Ugadi Festival is primarily associated with which of the following states of India?

- Ans ☒ 1. Nagaland
- ☒ 2. Manipur
- ☒ 3. Sikkim
- ☒ 4. Andhra Pradesh

Question ID : 630680840348
Option 1 ID : 6306803292074
Option 2 ID : 6306803292075
Option 3 ID : 6306803292076
Option 4 ID : 6306803292073

7/5/24, 11:53 AM

cdn.digialm.com/per/g01/pub/1258/touchstone/AssessmentQPHTMLMode1//1258O24204/1258O24204S7D1091/1718799232809...

Q.18 "राष्ट्रपति प्रत्येक वित्तीय वर्ष के संबंध में उस वर्ष के लिए भारत सरकार की अनुमानित प्राप्तियों और व्यय का एक विवरण संसद के दोनों सदनों के समक्ष रखवाएंगे, जिसे "वार्षिक वित्तीय विवरण" कहा जाएगा।, यहाँ भारतीय संविधान के किस अनुच्छेद का उल्लेख किया गया है?

- Ans
- ☒ 1. अनुच्छेद - 118
 - ☒ 2. अनुच्छेद - 115
 - ☒ 3. अनुच्छेद - 112
 - ☒ 4. अनुच्छेद - 116

Question ID : 630680840335
Option 1 ID : 6306803292024
Option 2 ID : 6306803292022
Option 3 ID : 6306803292021
Option 4 ID : 6306803292023

Q.19 When the primary tributaries of rivers flow parallel to each other and secondary tributaries join them at right angles, the pattern is known as_____.

- Ans
- ☒ 1. Radial
 - ☒ 2. Dendritic
 - ☒ 3. Centripetal
 - ☒ 4. Trellis

Question ID : 630680839268
Option 1 ID : 6306803287755
Option 2 ID : 6306803287753
Option 3 ID : 6306803287756
Option 4 ID : 6306803287754

Q.20 31 जनवरी 2024 तक निम्नलिखित में से कौन सी भाषा भारत की शास्त्रीय भाषाओं की सूची में शामिल नहीं है?

- Ans
- ☒ 1. मैथिली
 - ☒ 2. तेलुगू
 - ☒ 3. संस्कृत
 - ☒ 4. तामिल

Question ID : 630680840344
Option 1 ID : 6306803292057
Option 2 ID : 6306803292060
Option 3 ID : 6306803292058
Option 4 ID : 6306803292059

Section : General Awareness 2

Q.1 ऐसी अर्थव्यवस्था क्या है जिसमें निजी क्षेत्र और सरकारी क्षेत्र दोनों मौजूद और संचालित होते हैं?

- Ans
- ☒ 1. बाजार अर्थव्यवस्था
 - ☒ 2. पारंपरिक अर्थव्यवस्था
 - ☒ 3. अर्थव्यवस्था पर पकड़ रखें
 - ☒ 4. मिश्रित अर्थव्यवस्था

Question ID : 630680839254
Option 1 ID : 6306803287698
Option 2 ID : 6306803287700
Option 3 ID : 6306803287699
Option 4 ID : 6306803287697

Q.2 हमपी के खंडहरों को 1800 में _____ नामक एक इंजीनियर और पुरातत्ववेत्ता द्वारा प्रकाश में लाया गया था।

- Ans
- ☒ 1. फ्रांसिस ग्रांट
 - ☒ 2. हेनरी हार्डिंग
 - ☒ 3. जोसेफ नोएल पैटन
 - ☒ 4. कर्नल कॉलिन मैकेंज़ी

Question ID : 630680839259
Option 1 ID : 6306803287717
Option 2 ID : 6306803287718
Option 3 ID : 6306803287720
Option 4 ID : 6306803287719

Q.3 31 जनवरी – 2024 तक निम्नलिखित में से कौन सी भाषा भारत की शास्त्रीय भाषाओं की सूची में शामिल नहीं है?

- Ans
- ☒ 1. हिंदी
 - ☒ 2. ओडिया
 - ☒ 3. तमिल
 - ☒ 4. मलयालम

Question ID : 630680839262
Option 1 ID : 6306803287729
Option 2 ID : 6306803287730
Option 3 ID : 6306803287731
Option 4 ID : 6306803287732

Q.4 जनगणना समय-समय पर की जाने वाली जनसंख्या की एक आधिकारिक गणना है। भारत में पहली जनगणना वर्ष _____ में हुई थी।

- Ans
- ☒ 1. 1872
 - ☒ 2. 1871
 - ☒ 3. 1881
 - ☒ 4. 1951

Question ID : 630680839271
Option 1 ID : 6306803287765
Option 2 ID : 6306803287766
Option 3 ID : 6306803287767
Option 4 ID : 6306803287768

7/5/24, 11:53 AM

cdn.digialm.com/per/g01/pub/1258/touchstone/AssessmentQPHTMLMode1//1258O24204/1258O24204S7D1091/1718799232809...

Q.5 “चुनावों का अधीक्षण, निर्देशन और नियंत्रण एक चुनाव आयोग को सौंपा जाएगा”, यहाँ भारतीय संविधान के किस अनुच्छेद का उल्लेख किया गया है?

- Ans ☒ 1. अनुच्छेद - 324
☒ 2. अनुच्छेद - 329
☒ 3. अनुच्छेद - 328
☒ 4. अनुच्छेद - 345

Question ID : 630680839276
 Option 1 ID : 6306803287785
 Option 2 ID : 6306803287787
 Option 3 ID : 6306803287786
 Option 4 ID : 6306803287788

Q.6 वर्ष 2023 में भारत में राष्ट्रीय खेलों का कौन सा संस्करण आयोजित किया गया?

- Ans ☒ 1. 37 वें
☒ 2. 34 वें
☒ 3. 38 वें
☒ 4. 35 वें

Question ID : 630680839242
 Option 1 ID : 6306803287649
 Option 2 ID : 6306803287652
 Option 3 ID : 6306803287650
 Option 4 ID : 6306803287651

Q.7 निम्नलिखित में से किस पोषकतत्व की कमी से बेरिबेरी नामक रोग होता है?

- Ans ☒ 1. विटामिन B – K
☒ 2. वसा
☒ 3. प्रोटीन
☒ 4. विटामिन B – 1

Question ID : 630680839283
 Option 1 ID : 6306803287814
 Option 2 ID : 6306803287816
 Option 3 ID : 6306803287813
 Option 4 ID : 6306803287815

Q.8 निम्नलिखित में से कौन सा अंतर्राष्ट्रीय बुकर पुरस्कार जीतने वाला पहला हिंदी उपन्यास है?

- Ans ☒ 1. गॉड ऑफ स्मॉल थिंग्स
☒ 2. टॉम्ब ऑफ सैंड(रेत की समाधि)
☒ 3. द एंड ऑफ इमैजिनेशन
☒ 4. व्हाइट टाइगर

Question ID : 630680839260
 Option 1 ID : 6306803287724
 Option 2 ID : 6306803287722
 Option 3 ID : 6306803287723
 Option 4 ID : 6306803287721

Q.9 निम्नलिखित में से किस दिन, जन जातीय गौरव दिवस पूरे भारत में मनाया जाता है?

- Ans
- ☒ 1. 25 अगस्त
 - ☒ 2. 15 नवंबर
 - ☒ 3. 31 दिसंबर
 - ☒ 4. 31 जनवरी

Question ID : 630680840327
Option 1 ID : 6306803291992
Option 2 ID : 6306803291991
Option 3 ID : 6306803291990
Option 4 ID : 6306803291989

Q.10 The Himalayas consist of three parallel ranges in its longitudinal extent. with the northern-most range being ____.

- Ans
- ☒ 1. Aravalli
 - ☒ 2. Himadri
 - ☒ 3. Kalsubai
 - ☒ 4. Shivalik

Question ID : 630680840349
Option 1 ID : 6306803292077
Option 2 ID : 6306803292079
Option 3 ID : 6306803292080
Option 4 ID : 6306803292078

Q.11 _____ सभी नागा जनजातियों का एक आधुनिक सांस्कृतिक उत्सव है। यह उत्सव एक वार्षिक कार्यक्रम है जो आमतौर पर 01 से 10 दिसंबर तक होता है। इस उत्सव की परिकल्पना विविधता में एकता की भावना के साथ पारंपरिक और समकालीन नागा संस्कृति को प्रदर्शित करने के लिए की गई थी।

- Ans
- ☒ 1. निशागांधी महोत्सव
 - ☒ 2. हॉर्नबिल महोत्सव
 - ☒ 3. उगाडि महोत्सव
 - ☒ 4. आदि महोत्सव

Question ID : 630680839266
Option 1 ID : 6306803287747
Option 2 ID : 6306803287745
Option 3 ID : 6306803287746
Option 4 ID : 6306803287748

Q.12 भारतीय संविधान के किस भाग में मौलिक कर्तव्यों की चर्चा की गई है?

- Ans
- ☒ 1. भाग – V A
 - ☒ 2. भाग – IV
 - ☒ 3. भाग – V
 - ☒ 4. भाग – IV A

Question ID : 630680839274
Option 1 ID : 6306803287777
Option 2 ID : 6306803287779
Option 3 ID : 6306803287780
Option 4 ID : 6306803287778

Q.13 ये भारत के सबसे विस्तृत वन हैं। इन्हें मानसून वन भी कहा जाता है और ये 200 सेमी से 70 सेमी के बीच वर्षा वाले क्षेत्र में फैले हुए हैं। इस वन प्रकार के पेड़ शुष्क गर्मी में लगभग छह से आठ सप्ताह तक अपनी पत्तियाँ गिरा देते हैं। यहाँ किस प्रकार के वन का उल्लेख किया गया है?

- Ans
- ☒ 1. पर्वतीय वन
 - ☒ 2. उष्णकटिबंधीय सदाबहार वन
 - ☒ 3. उष्णकटिबंधीय पर्णपाती वन
 - ☒ 4. मैंग्रोव वन

Question ID : 630680840351
Option 1 ID : 6306803292085
Option 2 ID : 6306803292087
Option 3 ID : 6306803292086
Option 4 ID : 6306803292088

Q.14 भारतीय राष्ट्रीय कांग्रेस की स्थापना तब हुई थी, जब पूरे देश से _____ प्रतिनिधि महाराष्ट्र (तब बॉम्बे प्रांत के रूप में जाना जाता था) में मिले थे?

- Ans
- ☒ 1. 85
 - ☒ 2. 125
 - ☒ 3. 80
 - ☒ 4. 72

Question ID : 630680839256
Option 1 ID : 6306803287708
Option 2 ID : 6306803287705
Option 3 ID : 6306803287706
Option 4 ID : 6306803287707

Q.15 नारी शक्ति वंदन अधिनियम, 2023 ने लोकसभा और राज्य/केंद्र शासित प्रदेश विधानमंडलों में महिलाओं को _____ आरक्षण देने को मंजूरी दे दी है?

- Ans
- ☒ 1. एक तिहाई
 - ☒ 2. पाँचवा भाग
 - ☒ 3. एक चौथाई
 - ☒ 4. छठवाँ भाग

Question ID : 630680839249
Option 1 ID : 6306803287678
Option 2 ID : 6306803287677
Option 3 ID : 6306803287680
Option 4 ID : 6306803287679

Q.16 भारत में कोविशील्ड वैक्सीन का निर्माण/उत्पादन निम्नलिखित में से किसके द्वारा किया गया है?

- Ans
- ☒ 1. एम्स, नई दिल्ली
 - ☒ 2. भारत बायो टेक
 - ☒ 3. स्वास्थ्य और परिवार कल्याण मंत्रालय।
 - ☒ 4. सीरम इंस्टीट्यूट ऑफ इंडिया

Question ID : 630680840334
Option 1 ID : 6306803292019
Option 2 ID : 6306803292017
Option 3 ID : 6306803292020
Option 4 ID : 6306803292018

Q.17 निम्नलिखित में से किस वर्ष में कोशिकाएँ पहली बार खोजी गई थी ?

- Ans
- ☒ 1. 1695 ई
 - ☒ 2. 1665 ई
 - ☒ 3. 1680 ई
 - ☒ 4. 1725 ई

Question ID : 630680839282
Option 1 ID : 6306803287811
Option 2 ID : 6306803287809
Option 3 ID : 6306803287810
Option 4 ID : 6306803287812

Q.18 भारत का संविधान, चरित्र में गणतांत्रिक और संरचना में संघीय, संसदीय प्रणाली की मुख्य विशेषताओं का प्रतीक है। यह संघ के लिए एक संसद का प्रावधान करता है जिसमें _____ और दो सदन, अर्थात् राज्य सभा (राज्यों की परिषद) और लोकसभा (लोगों का सदन) शामिल हैं।

- Ans
- ☒ 1. उपराष्ट्रपति
 - ☒ 2. लोकसभा अध्यक्ष
 - ☒ 3. राष्ट्रपति
 - ☒ 4. प्रधान मंत्री

Question ID : 630680840362
Option 1 ID : 6306803292132
Option 2 ID : 6306803292129
Option 3 ID : 6306803292131
Option 4 ID : 6306803292130

Q.19 निम्नलिखित में से किस वर्ष भारत में जीएसटी (लागू किया गया था)?

- Ans
- ☒ 1. 2017
 - ☒ 2. 2015
 - ☒ 3. 2014
 - ☒ 4. 2019

Question ID : 630680840336
Option 1 ID : 6306803292027
Option 2 ID : 6306803292026
Option 3 ID : 6306803292025
Option 4 ID : 6306803292028

Q.20 रज़िया सुल्तान दिल्ली सल्तनत के निम्नलिखित में से किस राजवंश से संबंधित थी?

- Ans
- ☒ 1. मामलुक वंश/गुलाम वंश
 - ☒ 2. लोदी वंश
 - ☒ 3. खिलजी वंश
 - ☒ 4. तुगलक वंश

Question ID : 630680839258
Option 1 ID : 6306803287716
Option 2 ID : 6306803287715
Option 3 ID : 6306803287713
Option 4 ID : 6306803287714

Section : **Arithmetical and Numerical Ability 1**

Q.1 How many twin primes are there between 100 and 150?

- Ans
- ☒ 1. 6
 - ☒ 2. 3
 - ☒ 3. 5
 - ☒ 4. 4

Question ID : 630680840449
Option 1 ID : 6306803292480
Option 2 ID : 6306803292478
Option 3 ID : 6306803292479
Option 4 ID : 6306803292477

Q.2 A और B एक काम को 5 दिनों में कर सकते हैं, जबकि C और D उसी काम को 14 दिनों में कर सकते हैं। A, B, C और D इसे एक साथ कितने दिनों में पूरा करेंगे?

- Ans
- ☒ 1. 62/18 दिन
 - ☒ 2. 60/9 दिन
 - ☒ 3. 70/19 दिन
 - ☒ 4. 77/20 दिन

Question ID : 630680840467
Option 1 ID : 6306803292551
Option 2 ID : 6306803292549
Option 3 ID : 6306803292552
Option 4 ID : 6306803292550

Q.3 एक आदमी ₹ 440 में एक खिलौना खरीदता है और उसे 16% की हानि पर बेचता है। खिलौने का विक्रय मूल्य क्या होगा?

- Ans
- ☒ 1. ₹ 369.60
 - ☒ 2. ₹ 310.25
 - ☒ 3. ₹ 373.80
 - ☒ 4. ₹ 345.50

Question ID : 630680840457
Option 1 ID : 6306803292511
Option 2 ID : 6306803292509
Option 3 ID : 6306803292512
Option 4 ID : 6306803292510

Q.4 21 से 60 तक कितने प्रतिशत संख्याओं का इकाई अंक 1 या 9 है?

- Ans
- ☒ 1. 20%
 - ☒ 2. 25%
 - ☒ 3. 27.5%
 - ☒ 4. 22.5%

Question ID : 630680840452
Option 1 ID : 6306803292489
Option 2 ID : 6306803292491
Option 3 ID : 6306803292492
Option 4 ID : 6306803292490

7/5/24, 11:53 AM

cdn.digialm.com/per/g01/pub/1258/touchstone/AssessmentQPHTMLMode1//1258O24204/1258O24204S7D1091/1718799232809...

Q.5 यदि 21 से.मी. ऊंचाई वाले एक बेलन का वक्र पृष्ठीय क्षेत्रफल 2244 से.मी.² है, तो इसका आयतन क्या होगा? ($\pi = \frac{22}{7}$ का प्रयोग करें)

- Ans
- ☒ 1. 18854 से.मी.³
 - ☒ 2. 19074 से.मी.³
 - ☒ 3. 19860 से.मी.³
 - ☒ 4. 16324 से.मी.³

Question ID : 630680840478
Option 1 ID : 6306803292593
Option 2 ID : 6306803292595
Option 3 ID : 6306803292594
Option 4 ID : 6306803292596

Q.6 A certain sum amounts to ₹ 5,887 in 2 years at 16% per annum compound interest (compounded yearly), the sum is.

- Ans
- ☒ 1. ₹ 4786
 - ☒ 2. ₹ 4523
 - ☒ 3. ₹ 4375
 - ☒ 4. ₹ 4126

Question ID : 630680840439
Option 1 ID : 6306803292440
Option 2 ID : 6306803292439
Option 3 ID : 6306803292438
Option 4 ID : 6306803292437

Q.7 एक शहर की जनसंख्या 30000 है। यदि वार्षिक जन्म दर 9% और मृत्यु दर 7% है, तो 2 वर्ष बाद उस शहर की जनसंख्या कितनी होगी?

- Ans
- ☒ 1. 31212
 - ☒ 2. 28561
 - ☒ 3. 31205
 - ☒ 4. 29172

Question ID : 630680840456
Option 1 ID : 6306803292508
Option 2 ID : 6306803292505
Option 3 ID : 6306803292507
Option 4 ID : 6306803292506

7/5/24, 11:53 AM

cdn.digialm.com/per/g01/pub/1258/touchstone/AssessmentQPHTMLMode1//1258O24204/1258O24204S7D1091/1718799232809...

Q.8 तालिका का अध्ययन करें और प्रश्न का उत्तर दें:

5 अलग-अलग महीनों (जनवरी-मई) में 6 स्टोर (A, B, C, D, E और F) द्वारा बेची गई कारों की संख्या

	A	B	C	D	E	F
जनवरी	356	234	245	412	341	203
फरवरी	315	245	274	300	412	230
मार्च	287	253	314	325	365	280
अप्रैल	345	322	412	290	256	321
मई	423	345	270	285	268	310

फरवरी में सभी दिए गए दुकानों द्वारा बेची गई कारों की औसत संख्या क्या है?

Ans ☒ 1. 305

☒ 2. 296

☒ 3. 300

☒ 4. 302

Question ID : 630680840444

Option 1 ID : 6306803292460

Option 2 ID : 6306803292457

Option 3 ID : 6306803292458

Option 4 ID : 6306803292459

Q.9 20 सेमी x 4 सेमी आयाम वाले एक आयताकार टुकड़े से, सबसे बड़ी संभव त्रिज्या वाली एक वृत्ताकार डिस्क काटी जाती है। डिस्क का क्षेत्रफल ज्ञात कीजिए। ($\pi = \frac{22}{7}$ का प्रयोग करें)

Ans ☒ 1. 12.40 से.मी.²

☒ 2. 32.52 से.मी.²

☒ 3. 12.56 से.मी.²

☒ 4. 33.63 से.मी.²

Question ID : 630680840475

Option 1 ID : 6306803292582

Option 2 ID : 6306803292583

Option 3 ID : 6306803292581

Option 4 ID : 6306803292584

Q.10 दो ट्रेनों की गति के बीच का अनुपात 5: 8 है। यदि दूसरी ट्रेन 3 घंटे में 330 कि.मी. चलती है, तो पहली ट्रेन की गति क्या होगी?

Ans ☒ 1. 59.45 कि.मी./घंटा

☒ 2. 68.75 कि.मी./घंटा

☒ 3. 68.67 कि.मी./घंटा

☒ 4. 68.55 कि.मी./घंटा

Question ID : 630680840421

Option 1 ID : 6306803292366

Option 2 ID : 6306803292367

Option 3 ID : 6306803292368

Option 4 ID : 6306803292365

7/5/24, 11:53 AM

cdn.digialm.com/per/g01/pub/1258/touchstone/AssessmentQPHTMLMode1//1258O24204/1258O24204S7D1091/1718799232809...

Q.11 निम्नलिखित विकल्पों में से सबसे बड़ा विकल्प खोजें।

- Ans
- ☒ 1. 0.34
 - ☒ 2. 0.45
 - ☒ 3. $\frac{7}{17}$
 - ☒ 4. $\frac{4}{7}$

Question ID : 630680840445
Option 1 ID : 6306803292461
Option 2 ID : 6306803292463
Option 3 ID : 6306803292464
Option 4 ID : 6306803292462

Q.12 5 लगातार संख्याओं में तीसरी और चौथी संख्या का औसत 27.25 है। इन 5 संख्याओं का योग क्या होगा?

- Ans
- ☒ 1. 135
 - ☒ 2. 29
 - ☒ 3. 162
 - ☒ 4. 132

Question ID : 630680840433
Option 1 ID : 6306803292414
Option 2 ID : 6306803292413
Option 3 ID : 6306803292416
Option 4 ID : 6306803292415

Q.13 यदि $628xy$ 3, 7 और 11 से विभाजित होने वाली 5 अंकों की सबसे बड़ी संख्या है, तो $(4x - 3y)$ का मान क्या है?

- Ans
- ☒ 1. 3
 - ☒ 2. 6
 - ☒ 3. 5
 - ☒ 4. 8

Question ID : 630680840450
Option 1 ID : 6306803292481
Option 2 ID : 6306803292483
Option 3 ID : 6306803292482
Option 4 ID : 6306803292484

Q.14 248 से.मी.³ आयतन वाले एक ठोस घन को 2 से.मी. किनारे वाले छोटे ठोस घनों में विभाजित किया गया है। बनने वाले छोटे घनों की संख्या ज्ञात कीजिए।

- Ans
- ☒ 1. 13
 - ☒ 2. 31
 - ☒ 3. 25
 - ☒ 4. 30

Question ID : 630680840425
Option 1 ID : 6306803292383
Option 2 ID : 6306803292381
Option 3 ID : 6306803292382
Option 4 ID : 6306803292384

Q.15 यदि $x : y = 1 : 3$ है, तो $(2x + 5y) : (x + 4y)$ का मान ज्ञात कीजिए।

- Ans
- ☒ 1. 13 : 10
 - ☒ 2. 15 : 12
 - ☒ 3. 17 : 13
 - ☒ 4. 15 : 14

Question ID : 630680840463
Option 1 ID : 6306803292533
Option 2 ID : 6306803292536
Option 3 ID : 6306803292534
Option 4 ID : 6306803292535

Q.16 A moneylender charges ₹ 40 as simple interest on a sum of ₹ 600 for four months. What is the rate of interest per annum?

- Ans
- ☒ 1. 18 %
 - ☒ 2. 20 %
 - ☒ 3. 22 %
 - ☒ 4. 25 %

Question ID : 630680840388
Option 1 ID : 6306803292233
Option 2 ID : 6306803292234
Option 3 ID : 6306803292235
Option 4 ID : 6306803292236

Q.17 A shopkeeper sells a toy by giving 20% discount on its marked price and gains 25%. What is the marked price of the toy, if its cost price is ₹ 2400?

- Ans
- ☒ 1. ₹ 1650
 - ☒ 2. ₹ 1845
 - ☒ 3. ₹ 1990
 - ☒ 4. ₹ 3750

Question ID : 630680840460
Option 1 ID : 6306803292523
Option 2 ID : 6306803292521
Option 3 ID : 6306803292522
Option 4 ID : 6306803292524

7/5/24, 11:53 AM

cdn.digialm.com/per/g01/pub/1258/touchstone/AssessmentQPHTMLMode1//1258O24204/1258O24204S7D1091/1718799232809...

Q.18 एक आदमी कार्यालय की ओर 5 कि.मी. प्रति घंटे की गति से यात्रा करता है और 8 कि.मी. प्रति घंटे की गति से वापस आता है। अगर उसे ऑफिस जाने और वापस आने में 16 घंटे लगते हैं तो ऑफिस घर से कितनी दूर है? (एक दशमलव स्थान तक शुद्ध)

- Ans
- ☒ 1. 35.5 कि.मी.
 - ☒ 2. 40.5 कि.मी.
 - ☒ 3. 55.4 कि.मी.
 - ☒ 4. 49.2 कि.मी.

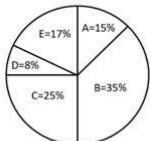
Question ID : 630680840423
Option 1 ID : 6306803292374
Option 2 ID : 6306803292375
Option 3 ID : 6306803292376
Option 4 ID : 6306803292373

Q.19 90 से.मी. लंबाई वाली डोरी के एक टुकड़े को टुकड़ों में काटा गया, जिनकी लंबाई का अनुपात 3:7 था। सबसे लंबे टुकड़े की लंबाई ज्ञात कीजिए।

- Ans
- ☒ 1. 55 से.मी.
 - ☒ 2. 48 से.मी.
 - ☒ 3. 63 से.मी.
 - ☒ 4. 36 से.मी.

Question ID : 630680840415
Option 1 ID : 6306803292341
Option 2 ID : 6306803292343
Option 3 ID : 6306803292342
Option 4 ID : 6306803292344

Q.20 नीचे दिया गया पाई चार्ट 5 अलग-अलग कारखानों (A, B, C, D और E) के उत्पादन का वितरण दर्शाता है। इन सभी 5 कारखानों का कुल उत्पादन 1000 इकाई है। किसी विशेष कारखाने का उत्पादन इन सभी 5 कारखानों के कुल उत्पादन के प्रतिशत के रूप में दिखाया गया है।



कंपनियों D और C के उत्पादन को एक साथ दर्शाने वाले क्षेत्रों का केंद्रीय कोण (डिग्री में) ज्ञात कीजिए।

- Ans
- ☒ 1. 120.4°
 - ☒ 2. 112.6°
 - ☒ 3. 123.2°
 - ☒ 4. 118.8°

Question ID : 630680840392
Option 1 ID : 6306803292251
Option 2 ID : 6306803292249
Option 3 ID : 6306803292252
Option 4 ID : 6306803292250

Section : **Arithmetical and Numerical Ability 2**

Q.1 Three times of a natural number is 28 more than the number. Then, the number is:

- Ans
- ☒ 1. 18
 - ☒ 2. 21
 - ☒ 3. 20
 - ☒ 4. 14

Question ID : 630680840400
Option 1 ID : 6306803292283
Option 2 ID : 6306803292284
Option 3 ID : 6306803292282
Option 4 ID : 6306803292281

Q.2 4 से.मी. त्रिज्या वाले सीसे के एक अर्धगोले को 50 से.मी. ऊंचाई वाले एक लंब वृत्तीय शंकु में डाला जाता है। शंकु के आधार की त्रिज्या क्या होगी?

- Ans
- ☒ 1. 4 से.मी
 - ☒ 2. 2.5 से.मी
 - ☒ 3. 3.8 से.मी
 - ☒ 4. 1.6 से.मी

Question ID : 630680840479
Option 1 ID : 6306803292600
Option 2 ID : 6306803292598
Option 3 ID : 6306803292599
Option 4 ID : 6306803292597

Q.3 एक छात्र के 12 पेपरों में औसत अंक 40 हैं। पहले 6 पेपरों के औसत अंक 42 हैं और अंतिम सात पेपरों के औसत अंक 35 हैं। सातवें पेपर में उसे कितने अंक प्राप्त हुए?

- Ans
- ☒ 1. 25
 - ☒ 2. 17
 - ☒ 3. 23
 - ☒ 4. 20

Question ID : 630680840384
Option 1 ID : 6306803292217
Option 2 ID : 6306803292220
Option 3 ID : 6306803292218
Option 4 ID : 6306803292219

Q.4 बुज्जी अपनी यात्रा के पहले 4 घंटे 82 कि.मी./घंटा की गति से तय करती है। और शेष दूरी 38 कि.मी./घंटा की गति से 6 घंटे में तय करती है। कि.मी./घंटा में उसकी औसत गति क्या होगी?

- Ans
- ☒ 1. 52.5
 - ☒ 2. 50
 - ☒ 3. 55.6
 - ☒ 4. 48

Question ID : 630680840470
Option 1 ID : 6306803292561
Option 2 ID : 6306803292564
Option 3 ID : 6306803292563
Option 4 ID : 6306803292562

7/5/24, 11:53 AM

cdn.digialm.com/per/g01/pub/1258/touchstone/AssessmentQPHTMLMode1//1258O24204/1258O24204S7D1091/1718799232809...

Q.5 दो सकारात्मक संख्याओं का अनुपात 8:3 है। यदि बड़ी संख्या में 5 जोड़ा जाए और छोटी संख्या में से 2 घटाया जाए, तो बड़ी संख्या छोटी संख्या की तीन गुना हो जाती है। संख्याएँ ज्ञात करें।

- Ans
- ☒ 1. 72, 27
 - ☒ 2. 88, 33
 - ☒ 3. 80, 30
 - ☒ 4. 64, 24

Question ID : 630680840411
Option 1 ID : 6306803292326
Option 2 ID : 6306803292325
Option 3 ID : 6306803292327
Option 4 ID : 6306803292328

Q.6 320 मीटर लंबी एक ट्रेन एक पेड़ को 20 सेकंड में पार करती है और विपरीत दिशा में यात्रा कर रही समान लंबाई की दूसरी ट्रेन को 32 सेकंड में पार करती है। दूसरी ट्रेन की गति क्या है?

- Ans
- ☒ 1. 4 मी/से.
 - ☒ 2. 6 मी/से.
 - ☒ 3. 8 मी/से.
 - ☒ 4. 9 मी/से.

Question ID : 630680840472
Option 1 ID : 6306803292570
Option 2 ID : 6306803292572
Option 3 ID : 6306803292569
Option 4 ID : 6306803292571

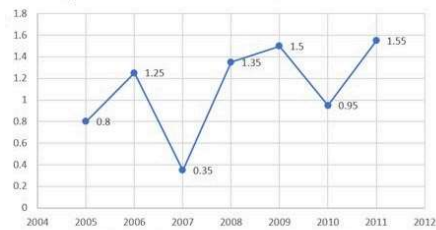
Q.7 एक पेंसिल बॉक्स ₹ 20 में खरीदा जाता है और ₹ 45 में बेचा जाता है। अर्जित लाभ का प्रतिशत क्या होगा?

- Ans
- ☒ 1. 125
 - ☒ 2. 30
 - ☒ 3. 60
 - ☒ 4. 90

Question ID : 630680840407
Option 1 ID : 6306803292310
Option 2 ID : 6306803292309
Option 3 ID : 6306803292311
Option 4 ID : 6306803292312

Q.8 निम्नलिखित लाइन ग्राफ 2005 से 2011 की अवधि के दौरान किसी कंपनी द्वारा आयात की मात्रा और उस कंपनी से निर्यात की मात्रा का अनुपात दर्शाता है।

पिछले कुछ वर्षों में किसी कंपनी द्वारा आयात और निर्यात के मूल्य का अनुपात



यदि 2006 में कंपनी का आयात ₹ 400 करोड़ था, तो 2006 में कंपनी का निर्यात (₹ करोड़ में) कितना था?

Ans

- ☒ 1. 260 करोड़
- ☒ 2. 320 करोड़
- ☒ 3. 350 करोड़
- ☒ 4. 200 करोड़

Question ID : 630680840395
Option 1 ID : 6306803292262
Option 2 ID : 6306803292263
Option 3 ID : 6306803292264
Option 4 ID : 6306803292261

Q.9 Mohan has borrowed ₹ 4000 at the rate of 6% p.a. simple interest. What amount does he need to pay after 3 years to clear the debt?

Ans

- ☒ 1. ₹3200
- ☒ 2. ₹4720
- ☒ 3. ₹4500
- ☒ 4. ₹2650

Question ID : 630680840387
Option 1 ID : 6306803292231
Option 2 ID : 6306803292229
Option 3 ID : 6306803292232
Option 4 ID : 6306803292230

Q.10 चार अंकों की संख्या में, पहला अंक दूसरे अंक का एक तिहाई है, तीसरा अंक पहले और दूसरे अंक का योग है, जबकि अंतिम अंक पहले अंक का तीन गुना है। निम्नलिखित में से वह संख्या कौन सी हो सकती है?

Ans

- ☒ 1. 1456
- ☒ 2. 2686
- ☒ 3. 1345
- ☒ 4. 2608

Question ID : 630680840451
Option 1 ID : 6306803292485
Option 2 ID : 6306803292486
Option 3 ID : 6306803292488
Option 4 ID : 6306803292487

Q.11 अमरेन्द्र को परीक्षा में 94% अंक मिले। यदि उसे 470 अंक मिलते हैं, तो अधिकतम अंक ज्ञात कीजिए।

- Ans

☒

1. 550

☒

2. 580

☒

3. 520

☒

4. 500

Question ID : 630680840406
 Option 1 ID : 6306803292306
 Option 2 ID : 6306803292308
 Option 3 ID : 6306803292307
 Option 4 ID : 6306803292305

Q.12 निम्नलिखित तालिका का अध्ययन करें और प्रश्नों के उत्तर दें।

विभिन्न खेल खेलने वाले 5 विभिन्न स्कूलों के छात्रों की संख्या: (एक छात्र केवल एक खेल खेलता है)					
खेल	विद्यालय				
	A	B	C	D	E
क्रिकेट	300	240	260	280	260
फुटबॉल	209	150	160	130	180
बास्केटबॉल	205	200	215	220	240
बेडमिंटन	100	310	170	180	220
टेनिस	85	90	80	75	70

सभी स्कूलों में टेनिस खेलने वाले छात्रों की कुल संख्या और सभी स्कूलों में बास्केटबॉल खेलने वाले छात्रों की कुल संख्या के बीच का अंतर क्या है?

- Ans

☒

1. 540

☒

2. 680

☒

3. 580

☒

4. 640

Question ID : 630680840393
 Option 1 ID : 6306803292253
 Option 2 ID : 6306803292256
 Option 3 ID : 6306803292254
 Option 4 ID : 6306803292255

Q.13 Sunil buys a mobile phone by getting a discount of 30 % on its marked price and sells it at its marked price. What is his profit percent (approximate)?

- Ans

☒

1. 18%

☒

2. 42.9%

☒

3. 32%

☒

4. 22.8%

Question ID : 630680840410
 Option 1 ID : 6306803292323
 Option 2 ID : 6306803292321
 Option 3 ID : 6306803292322
 Option 4 ID : 6306803292324

7/5/24, 11:53 AM

cdn.digialm.com/per/g01/pub/1258/touchstone/AssessmentQPHTMLMode1//1258O24204/1258O24204S7D1091/1718799232809...

Q.14 260 और 520 का HCF क्या है?

- Ans ☒ 1. 260
- ☐ 2. 120
- ☐ 3. 520
- ☐ 4. 160

Question ID : 630680840397
Option 1 ID : 6306803292269
Option 2 ID : 6306803292271
Option 3 ID : 6306803292270
Option 4 ID : 6306803292272

Q.15 नवनीता ने काव्या को 3% वार्षिक चक्रवृद्धि ब्याज की दर से 3 वर्ष के लिए ₹ 8200 उधार दिए। 3 वर्ष बाद नवनीता को मिलने वाली राशि (लगभग) है

- Ans ☒ 1. ₹ 8960
- ☐ 2. ₹ 6340
- ☐ 3. ₹ 7740
- ☐ 4. ₹ 8741

Question ID : 630680840390
Option 1 ID : 6306803292241
Option 2 ID : 6306803292244
Option 3 ID : 6306803292242
Option 4 ID : 6306803292243

Q.16 कौशल एक कार्य को $\frac{45}{2}$ दिनों में पूरा करता है। वह कार्य का कौन सा भाग 4 दिनों में पूरा करेगा?

- Ans ☒ 1. $\frac{8}{45}$
- ☐ 2. $\frac{1}{45}$
- ☐ 3. $\frac{2}{45}$
- ☐ 4. $\frac{4}{45}$

Question ID : 630680840417
Option 1 ID : 6306803292349
Option 2 ID : 6306803292351
Option 3 ID : 6306803292352
Option 4 ID : 6306803292350

Q.17 आधार त्रिज्या 4.28 सेमी और तिर्यक ऊँचाई 10 सेमी वाले एक शंकु का वक्र पृष्ठीय क्षेत्रफल निकटतम है ($\pi = \frac{22}{7}$ का प्रयोग करें)

- Ans
- ☒ 1. 110 से.मी.²
 - ☒ 2. 169 से.मी.²
 - ☒ 3. 122.8 से.मी.²
 - ☒ 4. 134.5 से.मी.²

Question ID : 630680840476
Option 1 ID : 6306803292585
Option 2 ID : 6306803292587
Option 3 ID : 6306803292586
Option 4 ID : 6306803292588

Q.18 तीन उम्मीदवारों, प्रीति, रंजीत और चंद्र ने एक चुनाव लड़ा और उन्हें क्रमशः 2000, 1910 और 2590 वोट प्राप्त हुए। प्रीति को कुल मतों का कितना प्रतिशत प्राप्त हुआ (अनुमानित)?

- Ans
- ☒ 1. 25 %
 - ☒ 2. 30.77%
 - ☒ 3. 44%
 - ☒ 4. 32.16%

Question ID : 630680840402
Option 1 ID : 6306803292290
Option 2 ID : 6306803292289
Option 3 ID : 6306803292292
Option 4 ID : 6306803292291

Q.19 यदि एक घनाभ की लंबाई और ऊँचाई क्रमशः 16 मीटर और 12 मीटर है, और इसका आयतन 3072 मीटर³ है, तो इसकी चौड़ाई (मीटर में) ज्ञात करें।

- Ans
- ☒ 1. 10
 - ☒ 2. 18
 - ☒ 3. 16
 - ☒ 4. 22

Question ID : 630680840473
Option 1 ID : 6306803292575
Option 2 ID : 6306803292573
Option 3 ID : 6306803292576
Option 4 ID : 6306803292574

Q.20 दो संख्याओं का अनुपात 6 : 11 है। यदि उनके बीच का अंतर 280 है, तो दोनों संख्याओं में से छोटी संख्या कौन सी है?

- Ans
- ☒ 1. 325
 - ☒ 2. 230
 - ☒ 3. 336
 - ☒ 4. 285

Question ID : 630680840464
Option 1 ID : 6306803292537
Option 2 ID : 6306803292538
Option 3 ID : 6306803292539
Option 4 ID : 6306803292540

Section : Test of English Language and Comprehension 1

Q.1 Choose the most logical order of the sentences from among the four given choices to construct a coherent paragraph.

Artificial Intelligence (AI) has become an increasingly popular topic of discussion in recent years.

- A) Artificial Intelligence has taken over almost every industry and household with its advanced and easy to use technology.
- B) A few centuries back, who would have thought that there would be self-driving cars, robots who would even vacuum the floors of our houses or virtual assistants who would answer any of our questions without typing it on our mobile phones but here we are today with all of these facilities improving and easing our lives.
- C) Most famous examples are: Virtual assistants like Alexa, Siri and Google assistant, Self-driving cars like Nissan Pro Pilot assist and Tesla Autopilot, Robots like Roomba 980 vacuum cleaning robot.
- D) AI has been a game changer in business but outside the offices as well. Virtual assistants have removed half of the burden of the household chores as it has helped people leverage their time.

- Ans

✗ 1. CDBA

✗ 2. DCBA

✓ 3. BACD

✗ 4. ABCD

Question ID : 630680837922
 Option 1 ID : 6306803282390
 Option 2 ID : 6306803282387
 Option 3 ID : 6306803282388
 Option 4 ID : 6306803282389

Q.2 Select the appropriate article from the below options to complete the sentence. Mark “No article” if there is no requirement of article in the given sentence.

___only tea I like is black tea.

- Ans

✗ 1. an

✓ 2. the

✗ 3. a

✗ 4. No article

Question ID : 630680837984
 Option 1 ID : 6306803282634
 Option 2 ID : 6306803282633
 Option 3 ID : 6306803282632
 Option 4 ID : 6306803282631

Q.3 A statement has been given with highlighted text. You are required to replace the text with correct idiom from the given options.

Do not (commit something that you cannot fulfill).

- Ans

1. bite off more than you can chew

2. Back against the wall

3. Cry wolf

4. Upset someone's applecart

Question ID : 630680837828
 Option 1 ID : 6306803282021
 Option 2 ID : 6306803282019
 Option 3 ID : 6306803282022
 Option 4 ID : 6306803282020

Q.4 Choose the most appropriate one-word substitution for the below word.

“ A place where money is coined”

- Ans

1. Bank

2. Treasury

3. Mint

4. Granary

Question ID : 630680838003
 Option 1 ID : 6306803282709
 Option 2 ID : 6306803282707
 Option 3 ID : 6306803282710
 Option 4 ID : 6306803282708

Q.5 Select the correct preposition from the below options to complete the below sentence.

He might not be at home _ Tuesday morning but he'll probably be there in the afternoon.

- Ans

1. for

2. while

3. on

4. at

Question ID : 630680837910
 Option 1 ID : 6306803282340
 Option 2 ID : 6306803282342
 Option 3 ID : 6306803282341
 Option 4 ID : 6306803282339

Q.6 Select the appropriate article from the below options to complete the sentence. Mark “No article” if there is no requirement of article in the given sentence.

_____ artists who came to see me today are quite accomplished.

- Ans

☒

1. A

☒

2. No article

☒

3. The

☒

4. An

Question ID : 630680837800
 Option 1 ID : 6306803281912
 Option 2 ID : 6306803281911
 Option 3 ID : 6306803281913
 Option 4 ID : 6306803281914

Q.7 Select the most appropriate form of verb from the given options to replace the underlined and bracketed word in order to correct the below sentence.

This temple will (closed) after an hour.

- Ans

☒

1. close

☒

2. is closes

☒

3. closing

☒

4. was closed

Question ID : 630680837812
 Option 1 ID : 6306803281962
 Option 2 ID : 6306803281961
 Option 3 ID : 6306803281959
 Option 4 ID : 6306803281960

Q.8 Select the most appropriate meaning of the proverb below from the given options.

“The pen is mightier than the sword “

- Ans

☒

1. Explaining something is easier through a picture than by words.

☒

2. The written word is more effective than violence as a means of social or political change.

☒

3. Something might not be as valuable as it seems to be.

☒


4. People dependent on others must be content with what is offered to them.

Question ID : 630680837831
 Option 1 ID : 6306803282032
 Option 2 ID : 6306803282031
 Option 3 ID : 6306803282033
 Option 4 ID : 6306803282034

Q.9 Fill in the blanks with the most appropriate homonym in the following sentence.

Fishermen make their living from the _____.

- Ans

 1. she

 2. saw

 3. see

 4. sea

Question ID : 630680837840
 Option 1 ID : 6306803282068
 Option 2 ID : 6306803282070
 Option 3 ID : 6306803282067
 Option 4 ID : 6306803282069

Q.10 Choose the most appropriate one-word substitution for the below word.

“A person with a compulsion to steal”

- Ans

 1. Teetotaler

 2. Sommelier

 3. Kleptomaniac

 4. Apostate


Question ID : 630680838002
 Option 1 ID : 6306803282704
 Option 2 ID : 6306803282703
 Option 3 ID : 6306803282705
 Option 4 ID : 6306803282706


Q.11 A statement has been given with highlighted text. You are required to replace the text with correct idiom from the given options.


When they heard about the surprise quiz, the students were (not at all) excited.

- Ans

 1. (on) cloud nine

 2. beating around the bush

 3. all ears

 4. anything but

Question ID : 630680838011
 Option 1 ID : 6306803282735
 Option 2 ID : 6306803282738
 Option 3 ID : 6306803282736
 Option 4 ID : 6306803282737

Q.12 Select the most appropriate form of verb from the given options to replace the underlined and bracketed word in order to correct the below sentence.

I was eager to (talks) to her, but she showed little interest.

- Ans



1. talking



2. talked



3. talk



4. be talking

Question ID : 630680837921
 Option 1 ID : 6306803282386
 Option 2 ID : 6306803282385
 Option 3 ID : 6306803282384
 Option 4 ID : 6306803282383

Q.13 Select the most appropriate form of verb from the given options to replace the underlined and bracketed word in order to correct the below sentence.

If you are busy now I will (comes) tomorrow.

- Ans



1. came



2. had come



3. come



4. be coming

Question ID : 630680837920
 Option 1 ID : 6306803282380
 Option 2 ID : 6306803282382
 Option 3 ID : 6306803282381
 Option 4 ID : 6306803282379


Q.14 Select the most appropriate form of verb from the given options to replace the underlined and bracketed word in order to correct the below sentence.

I (goes) around the town looking for my cat.


- Ans



1. am go



2. went



3. going



4. was went

Question ID : 630680837916
 Option 1 ID : 6306803282366
 Option 2 ID : 6306803282365
 Option 3 ID : 6306803282363
 Option 4 ID : 6306803282364

Q.15 Select the most appropriate SYNONYM of the word highlighted/ given in brackets in the below sentence.

Today, distance has become (insignificant) in terms of time, and travel for business, military or diplomatic reasons has become virtually immediate.

- Ans ☒ 1. Consequential
☒ 2. Trivial
☒ 3. Substantial
☒ 4. Meaningful

Question ID : 630680838020
Option 1 ID : 6306803282772
Option 2 ID : 6306803282773
Option 3 ID : 6306803282774
Option 4 ID : 6306803282771

Q.16 Select the most appropriate SYNONYM of the given word below.

Deteriorate

- Ans ☒ 1. Develop
☒ 2. Flourish
☒ 3. Decline
☒ 4. Upgrade

Question ID : 630680838104
Option 1 ID : 6306803283102
Option 2 ID : 6306803283099
Option 3 ID : 6306803283101
Option 4 ID : 6306803283100

Q.17 Select the most appropriate SYNONYM of the given word below.

Malicious

- Ans ☒ 1. Respectful
☒ 2. Gracious
☒ 3. Nasty
☒ 4. Compassionate

Question ID : 630680837836
Option 1 ID : 6306803282051
Option 2 ID : 6306803282052
Option 3 ID : 6306803282054
Option 4 ID : 6306803282053

Q.18 Parts of the following sentence have been given as options that contain an error in spelling. Select from the below options that identify the misspelt word.

Rising global temperatures and drought have helped turn parts of Hawaii into a tindrex ahead of one of the deadliest fires in modern US history, with these conditions worsened by strong winds from a nearby cyclone.

- Ans

 1. conditions

 2. worsened

 3. deadliest

 4. tindrex

Question ID : 630680838027
 Option 1 ID : 6306803282799
 Option 2 ID : 6306803282801
 Option 3 ID : 6306803282800
 Option 4 ID : 6306803282802

Q.19 Select the most appropriate SYNONYM of the word highlighted/ given in brackets in the below sentence.

The annual inflation rate, coupled with the (unscrupulousness) of some employers, has led to a situation where many people are not able to earn enough to cover their basic needs.

- Ans

 1. Corruption

 2. hardwork

 3. Faith

 4. Honesty

Question ID : 630680838022
 Option 1 ID : 6306803282780
 Option 2 ID : 6306803282779
 Option 3 ID : 6306803282782
 Option 4 ID : 6306803282781

Q.20 Select the correct preposition from the below options to complete the below sentence.

I love playing cricket __ summer.

- Ans

 1. from

 2. on

 3. in


 4. at

Question ID : 630680838074
 Option 1 ID : 6306803282983
 Option 2 ID : 6306803282984
 Option 3 ID : 6306803282985
 Option 4 ID : 6306803282986


Q.1 Select the most appropriate form of verb from the given options to replace the underlined and bracketed word in order to correct the below sentence.

He had made his decision and refused to (changes) his mind.


- Ans



1. is changes



2. change



3. was changing



4. changed

Question ID : 630680837811
 Option 1 ID : 6306803281957
 Option 2 ID : 6306803281958
 Option 3 ID : 6306803281955
 Option 4 ID : 6306803281956

Q.2 Select the most appropriate form of verb from the given options to replace the underlined and bracketed word in order to correct the below sentence.

We are (participate) in the cultural program.

- Ans



1. participates



2. been participate



3. participating




4. participated

Question ID : 630680838084
 Option 1 ID : 6306803283024
 Option 2 ID : 6306803283026
 Option 3 ID : 6306803283025
 Option 4 ID : 6306803283023

Q.3 Fill in the blanks with the most appropriate homonym in the following sentence.

Houses built near the _____ are at greater risk of flooding.

- Ans



1. sole



2. soul



3. shore




4. sure


Question ID : 630680837943
 Option 1 ID : 6306803282469
 Option 2 ID : 6306803282470
 Option 3 ID : 6306803282468
 Option 4 ID : 6306803282467


Q.4 Select the most appropriate form of verb from the given options to replace the underlined and bracketed word in order to correct the below sentence.


It (taking) me an hour to finish the job.

- Ans

 1. be taking

 2. took

 3. is take

 4. be took

Question ID : 630680837919

Option 1 ID : 6306803282378

Option 2 ID : 6306803282375

Option 3 ID : 6306803282376

Option 4 ID : 6306803282377

Q.5 Choose the most appropriate one-word substitution for the below word.

“A collection of weapons and military equipment”

- Ans

 1. Convent

 2. Hangar

 3. Burrow

 4. Arsenal

Question ID : 630680837821

Option 1 ID : 6306803281995

Option 2 ID : 6306803281997


Option 3 ID : 6306803281996


Option 4 ID : 6306803281998


Q.6 Parts of the following sentence have been given as options that contain an error in spelling. Select from the below options that identify the misspelt word. If you don't find any error, mark “No error” as your answer.


The Renaissance first emphasized the value of scientific progress, but it was not until the 18th century Industrial Revolution in the West that the impact of science on everyday living became aparrent.

- Ans

 1. No error

 2. aparrent

 3. impact

 4. Renaissance

Question ID : 630680837842

Option 1 ID : 6306803282078

Option 2 ID : 6306803282077

Option 3 ID : 6306803282076

Option 4 ID : 6306803282075

Q.7 Choose the most appropriate one-word substitution for the below word.

“Building in which dead bodies are kept for a time”

- Ans

☒ 1. Mortuary
 ☐ 2. Asylum
 ☐ 3. Monastery
 ☐ 4. Sanctuary

Question ID : 630680837818
 Option 1 ID : 6306803281986
 Option 2 ID : 6306803281984
 Option 3 ID : 6306803281985
 Option 4 ID : 6306803281983

Q.8 Select the most appropriate meaning of the proverb below from the given options.

“Don’t count your chickens before they hatch”

- Ans

☐ 1. Do not delay a task if you can do it immediately
 ☐ 2. Do not risk everything on a single venture
 ☐ 3. Don’t risk everything on a single venture
 ☒ 4. Don’t make plans based on events that have not yet happened

Question ID : 630680838103
 Option 1 ID : 6306803283097
 Option 2 ID : 6306803283098
 Option 3 ID : 6306803283095
 Option 4 ID : 6306803283096

Q.9 Select the appropriate article from the below options to complete the sentence. Mark “No article” if there is no requirement of article in the given sentence.

She is ____ most beautiful girl in the class.

- Ans

☐ 1. a
 ☐ 2. an
 ☐ 3. No article
 ☒ 4. the

Question ID : 630680838073
 Option 1 ID : 6306803282979
 Option 2 ID : 6306803282982
 Option 3 ID : 6306803282981
 Option 4 ID : 6306803282980

Q.10 Choose the most logical order of the sentences from among the four given choices to construct a coherent paragraph.

A tsunami is a destructive natural disaster that can result in the loss of lives and property.

- A) To understand the cause of tsunamis, it is essential to have knowledge about plate tectonics, which are huge plates that form the top layer of the earth.
- B) The disruption can come from various sources, including meteorites, volcanic eruptions, landslides, and earthquakes in the sea.
- C) Tsunamis differ from normal underwater flow because they have an extended wavelength and can be caused by various factors.
- D) It is a series of long, high waves that are generated when there is a disturbance in the ocean's water.

- Ans

1. DBCA

2. ABCD

3. ACBD

4. CDBA

Question ID : 630680837816
 Option 1 ID : 6306803281976
 Option 2 ID : 6306803281978
 Option 3 ID : 6306803281975
 Option 4 ID : 6306803281977

Comprehension:

Refer to the below passage and answer the questions

Symbols can be an effective way of communicating ideas and messages. They allow us to convey complex concepts and emotions in a simple and easy-to-understand way. Symbolism can be found in many different forms of communication, from art and literature to advertising and branding. One example of symbolism is the use of colors. Different colors can have different meanings and associations. For example, red can represent passion, love, and danger, while blue can represent calmness, trust, and stability. This is why many companies use specific colors in their branding to evoke certain emotions and associations in their customers.

Another example of symbolism is the use of images and metaphors. These can be used to communicate complex ideas in a simple and easy-to-understand way. For example, a heart can be used to represent love, a dove can represent peace, and a broken chain can represent freedom. Symbolism can also be used to communicate cultural and historical meanings. For example, the American flag is a symbol of the United States and represents its history, values, and culture. Similarly, the Chinese dragon is a symbol of power and strength in Chinese culture.

The power of symbolism lies in its ability to evoke emotions, convey ideas, and communicate messages in a way that is easily understood. Symbols can be used to create a sense of identity and community, as well as to bridge cultural and linguistic barriers. Whether in art, literature, or everyday communication, symbols are a powerful tool for effective communication.

SubQuestion No : 11

Q.11 Select the most appropriate SYNONYM of the given word below.

Complex

- Ans

1. Modest

2. Simplified

3. Uniform

4. Intricate

Question ID : 630680838007
 Option 1 ID : 6306803282720
 Option 2 ID : 6306803282722
 Option 3 ID : 6306803282719
 Option 4 ID : 6306803282721

Comprehension:

Refer to the below passage and answer the questions

Symbols can be an effective way of communicating ideas and messages. They allow us to convey complex concepts and emotions in a simple and easy-to-understand way. Symbolism can be found in many different forms of communication, from art and literature to advertising and branding. One example of symbolism is the use of colors. Different colors can have different meanings and associations. For example, red can represent passion, love, and danger, while blue can represent calmness, trust, and stability. This is why many companies use specific colors in their branding to evoke certain emotions and associations in their customers.

Another example of symbolism is the use of images and metaphors. These can be used to communicate complex ideas in a simple and easy-to-understand way. For example, a heart can be used to represent love, a dove can represent peace, and a broken chain can represent freedom. Symbolism can also be used to communicate cultural and historical meanings. For example, the American flag is a symbol of the United States and represents its history, values, and culture. Similarly, the Chinese dragon is a symbol of power and strength in Chinese culture.

The power of symbolism lies in its ability to evoke emotions, convey ideas, and communicate messages in a way that is easily understood. Symbols can be used to create a sense of identity and community, as well as to bridge cultural and linguistic barriers. Whether in art, literature, or everyday communication, symbols are a powerful tool for effective communication.

SubQuestion No : 12

Q.12 Identify the suitable title for the passage.

- Ans**

✗

1. Cultural and linguistic barriers

✓

2. The power of symbolism in communication

✗

3. Advertising and Branding

✗

4. Powerful tools for ineffective communication

Question ID : 630680838006
Option 1 ID : 6306803282717
Option 2 ID : 6306803282715
Option 3 ID : 6306803282718
Option 4 ID : 6306803282716

Comprehension:

Refer to the below passage and answer the questions

Symbols can be an effective way of communicating ideas and messages. They allow us to convey complex concepts and emotions in a simple and easy-to-understand way. Symbolism can be found in many different forms of communication, from art and literature to advertising and branding. One example of symbolism is the use of colors. Different colors can have different meanings and associations. For example, red can represent passion, love, and danger, while blue can represent calmness, trust, and stability. This is why many companies use specific colors in their branding to evoke certain emotions and associations in their customers.

Another example of symbolism is the use of images and metaphors. These can be used to communicate complex ideas in a simple and easy-to-understand way. For example, a heart can be used to represent love, a dove can represent peace, and a broken chain can represent freedom. Symbolism can also be used to communicate cultural and historical meanings. For example, the American flag is a symbol of the United States and represents its history, values, and culture. Similarly, the Chinese dragon is a symbol of power and strength in Chinese culture.

The power of symbolism lies in its ability to evoke emotions, convey ideas, and communicate messages in a way that is easily understood. Symbols can be used to create a sense of identity and community, as well as to bridge cultural and linguistic barriers. Whether in art, literature, or everyday communication, symbols are a powerful tool for effective communication.

SubQuestion No : 13

Q.13 Select the most appropriate **ANTONYM** of the given word below.

Evoke

- Ans**

✗

1. Encourage

✓

2. Disregard

✗

3. Elicit

✗

4. Inspire

Question ID : 630680838009
Option 1 ID : 6306803282730
Option 2 ID : 6306803282728
Option 3 ID : 6306803282729
Option 4 ID : 6306803282727

Comprehension:

Refer to the below passage and answer the questions

Symbols can be an effective way of communicating ideas and messages. They allow us to convey complex concepts and emotions in a simple and easy-to-understand way. Symbolism can be found in many different forms of communication, from art and literature to advertising and branding. One example of symbolism is the use of colors. Different colors can have different meanings and associations. For example, red can represent passion, love, and danger, while blue can represent calmness, trust, and stability. This is why many companies use specific colors in their branding to evoke certain emotions and associations in their customers.

Another example of symbolism is the use of images and metaphors. These can be used to communicate complex ideas in a simple and easy-to-understand way. For example, a heart can be used to represent love, a dove can represent peace, and a broken chain can represent freedom. Symbolism can also be used to communicate cultural and historical meanings. For example, the American flag is a symbol of the United States and represents its history, values, and culture. Similarly, the Chinese dragon is a symbol of power and strength in Chinese culture.

The power of symbolism lies in its ability to evoke emotions, convey ideas, and communicate messages in a way that is easily understood. Symbols can be used to create a sense of identity and community, as well as to bridge cultural and linguistic barriers. Whether in art, literature, or everyday communication, symbols are a powerful tool for effective communication.

SubQuestion No : 14

Q.14 Select the most appropriate **SYNONYM** of the given word below.

Stability

- Ans**

✗

1. Insecurity

✓

2. Strength

✗

3. Unstableness

✗

4. Irregularity

Question ID : 630680838008
Option 1 ID : 6306803282723
Option 2 ID : 6306803282726
Option 3 ID : 6306803282725
Option 4 ID : 6306803282724

Comprehension:

Refer to the below passage and answer the questions

Symbols can be an effective way of communicating ideas and messages. They allow us to convey complex concepts and emotions in a simple and easy-to-understand way. Symbolism can be found in many different forms of communication, from art and literature to advertising and branding. One example of symbolism is the use of colors. Different colors can have different meanings and associations. For example, red can represent passion, love, and danger, while blue can represent calmness, trust, and stability. This is why many companies use specific colors in their branding to evoke certain emotions and associations in their customers.

Another example of symbolism is the use of images and metaphors. These can be used to communicate complex ideas in a simple and easy-to-understand way. For example, a heart can be used to represent love, a dove can represent peace, and a broken chain can represent freedom. Symbolism can also be used to communicate cultural and historical meanings. For example, the American flag is a symbol of the United States and represents its history, values, and culture. Similarly, the Chinese dragon is a symbol of power and strength in Chinese culture.


The power of symbolism lies in its ability to evoke emotions, convey ideas, and communicate messages in a way that is easily understood. Symbols can be used to create a sense of identity and community, as well as to bridge cultural and linguistic barriers. Whether in art, literature, or everyday communication, symbols are a powerful tool for effective communication.

SubQuestion No : 15


Q.15 Select the most appropriate ANTONYM of the given word below.

Ability


- Ans




1. Skill



2. Capacity



3. Incapacity



4. Aptitude

Question ID : 630680838010

Option 1 ID : 6306803282734

Option 2 ID : 6306803282733

Option 3 ID : 6306803282732

Option 4 ID : 6306803282731

Comprehension:

Refer to the below passage and answer the questions

Wetlands are areas of land that are saturated with water, and they play a vital role in maintaining the health of our environment. They are home to a wide variety of plant and animal species, and they provide many benefits to humans as well. However, wetlands have been undervalued for a long time, and their destruction and degradation pose a serious threat to our planet.

Wetlands come in different types, including mangroves, freshwater swamp forests, peat swamp forests, lakes, and river systems. They are formed and characterized by water, and they are critical ecosystems for many reasons. One of their essential functions is flood prevention. Wetlands act as sponges, absorbing water during storms and releasing it slowly when water levels are low. They also slow down the flow of water, reducing its erosive force. In addition to their ecological value, wetlands also provide many socio-economic benefits. They are sources of water for domestic use, fisheries, forage resources, craft materials, and medicinal plants. Another crucial function of wetlands is water filtration. They help purify water by filtering out sedimentation and converting harmful chemicals into usable forms. Wetlands are sometimes referred to as the "kidneys" of the ecosystem because of their ability to cleanse the water. Wetlands also attract tourists who come to appreciate their natural beauty and engage in activities like boating, fishing, and birdwatching.

In conclusion, wetlands are vital ecosystems that play a critical role in maintaining the health of our environment. They provide ecological, socio-economic, and aesthetic benefits to humans and wildlife. Wetlands must be conserved, and efforts must be taken to protect them from further degradation and destruction. It is our responsibility to appreciate the importance of wetlands and take action to preserve them for future generations.

SubQuestion No : 16

Q.16 Select the most appropriate ANTONYM of the given word below.

Destruction

- Ans ☒ 1. Devastation
- ☒ 2. Loss
- ☒ 3. Protection
- ☒ 4. Havoc

Question ID : 630680837932
Option 1 ID : 6306803282426
Option 2 ID : 6306803282425
Option 3 ID : 6306803282424
Option 4 ID : 6306803282423

Comprehension:

Refer to the below passage and answer the questions

Wetlands are areas of land that are saturated with water, and they play a vital role in maintaining the health of our environment. They are home to a wide variety of plant and animal species, and they provide many benefits to humans as well. However, wetlands have been undervalued for a long time, and their destruction and degradation pose a serious threat to our planet.

Wetlands come in different types, including mangroves, freshwater swamp forests, peat swamp forests, lakes, and river systems. They are formed and characterized by water, and they are critical ecosystems for many reasons. One of their essential functions is flood prevention. Wetlands act as sponges, absorbing water during storms and releasing it slowly when water levels are low. They also slow down the flow of water, reducing its erosive force. In addition to their ecological value, wetlands also provide many socio-economic benefits. They are sources of water for domestic use, fisheries, forage resources, craft materials, and medicinal plants. Another crucial function of wetlands is water filtration. They help purify water by filtering out sedimentation and converting harmful chemicals into usable forms. Wetlands are sometimes referred to as the "kidneys" of the ecosystem because of their ability to cleanse the water. Wetlands also attract tourists who come to appreciate their natural beauty and engage in activities like boating, fishing, and birdwatching.

In conclusion, wetlands are vital ecosystems that play a critical role in maintaining the health of our environment. They provide ecological, socio-economic, and aesthetic benefits to humans and wildlife. Wetlands must be conserved, and efforts must be taken to protect them from further degradation and destruction. It is our responsibility to appreciate the importance of wetlands and take action to preserve them for future generations.

SubQuestion No : 17

Q.17 Select the most appropriate **SYNONYM** of the given word below.

Vital

- Ans
- ✗

1. Worthless
- ✗

2. Inconsequential
- ✓

3. Essential
- ✗

4. Insufficient

Question ID : 630680837929
 Option 1 ID : 6306803282414
 Option 2 ID : 6306803282412
 Option 3 ID : 6306803282413
 Option 4 ID : 6306803282411

Comprehension:

Refer to the below passage and answer the questions

Wetlands are areas of land that are saturated with water, and they play a vital role in maintaining the health of our environment. They are home to a wide variety of plant and animal species, and they provide many benefits to humans as well. However, wetlands have been undervalued for a long time, and their destruction and degradation pose a serious threat to our planet.

Wetlands come in different types, including mangroves, freshwater swamp forests, peat swamp forests, lakes, and river systems. They are formed and characterized by water, and they are critical ecosystems for many reasons. One of their essential functions is flood prevention. Wetlands act as sponges, absorbing water during storms and releasing it slowly when water levels are low. They also slow down the flow of water, reducing its erosive force. In addition to their ecological value, wetlands also provide many socio-economic benefits. They are sources of water for domestic use, fisheries, forage resources, craft materials, and medicinal plants. Another crucial function of wetlands is water filtration. They help purify water by filtering out sedimentation and converting harmful chemicals into usable forms. Wetlands are sometimes referred to as the "kidneys" of the ecosystem because of their ability to cleanse the water. Wetlands also attract tourists who come to appreciate their natural beauty and engage in activities like boating, fishing, and birdwatching.

In conclusion, wetlands are vital ecosystems that play a critical role in maintaining the health of our environment. They provide ecological, socio-economic, and aesthetic benefits to humans and wildlife. Wetlands must be conserved, and efforts must be taken to protect them from further degradation and destruction. It is our responsibility to appreciate the importance of wetlands and take action to preserve them for future generations.

SubQuestion No : 18

Q.18 Select the most appropriate **SYNONYM** of the given word below.

Aesthetic

- Ans ☒ 1. Attractive
- ☐ 2. Plain
- ☐ 3. Hideous
- ☐ 4. Ugly

Question ID : 630680837930
Option 1 ID : 6306803282418
Option 2 ID : 6306803282416
Option 3 ID : 6306803282415
Option 4 ID : 6306803282417

Comprehension:

Refer to the below passage and answer the questions

Wetlands are areas of land that are saturated with water, and they play a vital role in maintaining the health of our environment. They are home to a wide variety of plant and animal species, and they provide many benefits to humans as well. However, wetlands have been undervalued for a long time, and their destruction and degradation pose a serious threat to our planet.

Wetlands come in different types, including mangroves, freshwater swamp forests, peat swamp forests, lakes, and river systems. They are formed and characterized by water, and they are critical ecosystems for many reasons. One of their essential functions is flood prevention. Wetlands act as sponges, absorbing water during storms and releasing it slowly when water levels are low. They also slow down the flow of water, reducing its erosive force. In addition to their ecological value, wetlands also provide many socio-economic benefits. They are sources of water for domestic use, fisheries, forage resources, craft materials, and medicinal plants. Another crucial function of wetlands is water filtration. They help purify water by filtering out sedimentation and converting harmful chemicals into usable forms. Wetlands are sometimes referred to as the "kidneys" of the ecosystem because of their ability to cleanse the water. Wetlands also attract tourists who come to appreciate their natural beauty and engage in activities like boating, fishing, and birdwatching.

In conclusion, wetlands are vital ecosystems that play a critical role in maintaining the health of our environment. They provide ecological, socio-economic, and aesthetic benefits to humans and wildlife. Wetlands must be conserved, and efforts must be taken to protect them from further degradation and destruction. It is our responsibility to appreciate the importance of wetlands and take action to preserve them for future generations.

SubQuestion No : 19

Q.19 Select the most appropriate ANTONYM of the given word below.

Appreciate

- Ans ☒ 1. Decrease
- ☐ 2. Rise
- ☐ 3. Accelerate
- ☐ 4. Expand

Question ID : 630680837931
Option 1 ID : 6306803282420
Option 2 ID : 6306803282422
Option 3 ID : 6306803282419
Option 4 ID : 6306803282421

Comprehension:

Refer to the below passage and answer the questions

Wetlands are areas of land that are saturated with water, and they play a vital role in maintaining the health of our environment. They are home to a wide variety of plant and animal species, and they provide many benefits to humans as well. However, wetlands have been undervalued for a long time, and their destruction and degradation pose a serious threat to our planet.

Wetlands come in different types, including mangroves, freshwater swamp forests, peat swamp forests, lakes, and river systems. They are formed and characterized by water, and they are critical ecosystems for many reasons. One of their essential functions is flood prevention. Wetlands act as sponges, absorbing water during storms and releasing it slowly when water levels are low. They also slow down the flow of water, reducing its erosive force. In addition to their ecological value, wetlands also provide many socio-economic benefits. They are sources of water for domestic use, fisheries, forage resources, craft materials, and medicinal plants. Another crucial function of wetlands is water filtration. They help purify water by filtering out sedimentation and converting harmful chemicals into usable forms. Wetlands are sometimes referred to as the "kidneys" of the ecosystem because of their ability to cleanse the water. Wetlands also attract tourists who come to appreciate their natural beauty and engage in activities like boating, fishing, and birdwatching.

In conclusion, wetlands are vital ecosystems that play a critical role in maintaining the health of our environment. They provide ecological, socio-economic, and aesthetic benefits to humans and wildlife. Wetlands must be conserved, and efforts must be taken to protect them from further degradation and destruction. It is our responsibility to appreciate the importance of wetlands and take action to preserve them for future generations.

SubQuestion No : 20

Q.20 Identify the suitable title for the passage.

- Ans**
- ☒

1. Variety of plant and animal species
- ☒

2. Craft materials and medicinal plants
- ☒

3. The Importance of Wetlands
- ☒

4. Wetlands- serious threat to environment

Question ID : 630680837928
Option 1 ID : 6306803282409
Option 2 ID : 6306803282408
Option 3 ID : 6306803282407
Option 4 ID : 6306803282410

Section : Test of Hindi Language and Comprehension 1

Q.1 दिए गए वाक्य में क्रम सही नहीं है । उनके सही क्रम के चार विकल्प दिए गये हैं। उनमें से सही विकल्प का चयन करें।

- 1) कि वे अपने
2) भारतीयों को चाहिए
3) भारत हमारा है
4) बच्चों को बतायें कि

- Ans**
- ☒

1. 1,3,4,2
- ☒

2. 4,2,1,3
- ☒

3. 3,1,4,2
- ☒

4. 2,1,4,3

Question ID : 630680840615
Option 1 ID : 6306803293126
Option 2 ID : 6306803293128
Option 3 ID : 6306803293125
Option 4 ID : 6306803293127

Q.2 'अधजल गगरी छलकत जाये' लोकोक्ति का उचित अर्थ निम्नलिखित में से क्या होगा?

- Ans
- ☒ 1. मूर्ख होना
 - ☒ 2. डींग हांकना
 - ☒ 3. काम करने पर उतारू होना
 - ☒ 4. बहाना बनाना

Question ID : 630680840570
Option 1 ID : 6306803292954
Option 2 ID : 6306803292953
Option 3 ID : 6306803292955
Option 4 ID : 6306803292956

Q.3 उनके नेत्रों में बड़ी _____ है ।

इस वाक्य में रिक्त स्थान की पूर्ति शुद्ध शब्द द्वारा कीजिये

- Ans
- ☒ 1. पीढ़ा
 - ☒ 2. पिढा
 - ☒ 3. पीड़ा
 - ☒ 4. पिडा

Question ID : 630680840639
Option 1 ID : 6306803293224
Option 2 ID : 6306803293221
Option 3 ID : 6306803293223
Option 4 ID : 6306803293222

Q.4 दिए गए विकल्पों में से रिक्त स्थानों की पूर्ति कीजिये ।

दुश्मन _____ छोड़कर भाग खड़े हुए ।

- Ans
- ☒ 1. मैदान
 - ☒ 2. दोस्त
 - ☒ 3. दुश्मन
 - ☒ 4. माँ

Question ID : 630680840550
Option 1 ID : 6306803292875
Option 2 ID : 6306803292873
Option 3 ID : 6306803292874
Option 4 ID : 6306803292876

Q.5 निम्नलिखित में से 'रंग लाना' मुहावरे का उचित अर्थ क्या है?

- Ans
- ☒ 1. असर दिखाना
 - ☒ 2. छिप जाना
 - ☒ 3. धाक न जमना
 - ☒ 4. एहसान मानना

Question ID : 630680840630
Option 1 ID : 6306803293185
Option 2 ID : 6306803293188
Option 3 ID : 6306803293186
Option 4 ID : 6306803293187

Q.6 निम्नलिखित में से 'चिराग तले अँधेरा' लोकोक्ति का उचित अर्थ क्या है?

- Ans
- ☒ 1. अधिक लाभ
 - ☒ 2. एक काम से दूसरा काम हो जाना
 - ☒ 3. काम न जानना
 - ☒ 4. अपनी बुराई नहीं दिखती

Question ID : 630680840571
Option 1 ID : 6306803292958
Option 2 ID : 6306803292959
Option 3 ID : 6306803292957
Option 4 ID : 6306803292960

Q.7 दिए गए विकल्पों में से रिक्त स्थानों की पूर्ति कीजिये ।

बुद्धिमान व्यक्ति _____ से काम लेते हैं।

- Ans
- ☒ 1. आरामों
 - ☒ 2. साहसी
 - ☒ 3. सोच के
 - ☒ 4. धैर्य

Question ID : 630680840614
Option 1 ID : 6306803293121
Option 2 ID : 6306803293123
Option 3 ID : 6306803293124
Option 4 ID : 6306803293122

Q.8 दशा , स्वाद , दिशा , समय इत्यादि विशेषण के कौन-से भेद हैं?

- Ans
- ☒ 1. संख्यावाचक विशेषण
 - ☒ 2. गुणवाचक विशेषण
 - ☒ 3. संबंधवाचक विशेषण
 - ☒ 4. परिमाणवाचक विशेषण

Question ID : 630680840629
Option 1 ID : 6306803293182
Option 2 ID : 6306803293181
Option 3 ID : 6306803293184
Option 4 ID : 6306803293183

Q.9 यह सभी _____ के लिए है ।

इस वाक्य में रिक्त स्थान की पूर्ति शुद्ध शब्द द्वारा कीजिये।

- Ans
- ☒ 1. प्रनिमात्र
 - ☒ 2. प्राणियों
 - ☒ 3. प्रानीमात्र
 - ☒ 4. प्राणीमात्र

Question ID : 630680840574
Option 1 ID : 6306803292969
Option 2 ID : 6306803292970
Option 3 ID : 6306803292972
Option 4 ID : 6306803292971

Q.10 निम्नलिखित वाक्यों में से अशुद्ध वाक्य का चयन करें।

- Ans ☒ 1. बहुसंख्यक मनुष्य यहाँ आये थे ।
☒ 2. बिजली का अविष्कार किसने किया ?
☒ 3. प्राण निकल गये ।
☒ 4. श्याम ने पुस्तक खरीदी।

Question ID : 630680840611
 Option 1 ID : 6306803293111
 Option 2 ID : 6306803293109
 Option 3 ID : 6306803293112
 Option 4 ID : 6306803293110

Q.11 निम्नलिखित विकल्पों में से कौन-सा एक वाक्य क्रिया-विशेषण से सम्बन्ध रखता है ?

- Ans ☒ 1. चोरों को पीटा गया ।
☒ 2. सीता खाती है ।
☒ 3. वह बहुत धीरे चलता है ।
☒ 4. अजय सुनता है ।

Question ID : 630680840628
 Option 1 ID : 6306803293177
 Option 2 ID : 6306803293179
 Option 3 ID : 6306803293180
 Option 4 ID : 6306803293178

Q.12 दिए गए वाक्य में क्रम सही नहीं है । उनके सही क्रम के चार विकल्प दिए गये हैं । उनमें से सही विकल्प चुनिए

- 1) नागेंद्र की अपील
- 2) छह महीने की
- 3) मंजूर हो गयी
- 4) सजा पानेवाले

- Ans ☒ 1. 1,4,3,2
☒ 2. 4,1,3,2
☒ 3. 2,4,1,3
☒ 4. 3,1,4,2

Question ID : 630680840623
 Option 1 ID : 6306803293157
 Option 2 ID : 6306803293160
 Option 3 ID : 6306803293158
 Option 4 ID : 6306803293159

Q.13 आजकल _____ का बोलबाला है ।

इस वाक्य में रिक्त स्थान की पूर्ति शुद्ध शब्द द्वारा कीजिये

- Ans
- ☒ 1. भ्रष्टाचार
 - ☒ 2. भ्रष्टाचार
 - ☒ 3. भ्रष्टाचार
 - ☒ 4. भ्रष्टाचार

Question ID : 630680840636
Option 1 ID : 6306803293209
Option 2 ID : 6306803293212
Option 3 ID : 6306803293211
Option 4 ID : 6306803293210

Q.14 आगरा _____ स्थल है ।

इस वाक्य में रिक्त स्थान की पूर्ति शुद्ध शब्द द्वारा कीजिये

- Ans
- ☒ 1. दरसनीय
 - ☒ 2. दर्शनिय
 - ☒ 3. दर्शनीय
 - ☒ 4. दरसनिय

Question ID : 630680840575
Option 1 ID : 6306803292973
Option 2 ID : 6306803292974
Option 3 ID : 6306803292976
Option 4 ID : 6306803292975

Q.15 निम्नलिखित विकल्पों में से कौन सा एक वाक्य क्रिया-विशेषण से सम्बन्ध रखता है ?

- Ans
- ☒ 1. महिमा सो रही है ।
 - ☒ 2. शेर जंगल में रहता है ।
 - ☒ 3. रमण रो रहा है ।
 - ☒ 4. राम धीरे-धीरे टहलता है ।

Question ID : 630680840563
Option 1 ID : 6306803292927
Option 2 ID : 6306803292925
Option 3 ID : 6306803292926
Option 4 ID : 6306803292928

Q.16 'हजामत बनाना' मुहावरे का उचित अर्थ निम्नलिखित में से कौन-सा है?

- Ans
- ☒ 1. बेवकूफ बनाकर ठगना
 - ☒ 2. मारपीट करना
 - ☒ 3. गुस्सा होना
 - ☒ 4. उपहास करना

Question ID : 630680840568
Option 1 ID : 6306803292947
Option 2 ID : 6306803292948
Option 3 ID : 6306803292945
Option 4 ID : 6306803292946

Q.17 संख्यावाचक विशेषण के कितने भेद होते हैं ?

- Ans
- ☒ 1. चार
 - ☒ 2. छह
 - ☒ 3. दो
 - ☒ 4. पाँच

Question ID : 630680840565
Option 1 ID : 6306803292933
Option 2 ID : 6306803292935
Option 3 ID : 6306803292936
Option 4 ID : 6306803292934

Q.18 क्रिया के कितने भेद होते हैं ?

- Ans
- ☒ 1. चार
 - ☒ 2. तीन
 - ☒ 3. दो
 - ☒ 4. छह

Question ID : 630680840627
Option 1 ID : 6306803293173
Option 2 ID : 6306803293175
Option 3 ID : 6306803293174
Option 4 ID : 6306803293176

Q.19 'अंगूठा दिखाना' मुहावरे का उचित अर्थ क्या होता है?

- Ans
- ☒ 1. चाल चलाना
 - ☒ 2. संकट मोल लेना
 - ☒ 3. छिप जाना
 - ☒ 4. समय पर धोखा देना

Question ID : 630680840566
Option 1 ID : 6306803292938
Option 2 ID : 6306803292939
Option 3 ID : 6306803292940
Option 4 ID : 6306803292937

Q.20 दिए गए विकल्पों में से रिक्त स्थानों की पूर्ति कीजिये ।

प्रसाद के नाटकों का अभिनय _____ होना चाहिए।

- Ans
- ☒ 1. सुरक्षित
 - ☒ 2. चमकीला
 - ☒ 3. आकर्षक
 - ☒ 4. सुमति

Question ID : 630680840548
Option 1 ID : 6306803292867
Option 2 ID : 6306803292866
Option 3 ID : 6306803292865
Option 4 ID : 6306803292868

Section : Test of Hindi Language and Comprehension 2

Q.1 निम्नलिखित में से 'मान' का अनेकार्थक शब्द क्या होगा?

- Ans
- ☒ 1. चमक
 - ☒ 2. अस्तित्व
 - ☒ 3. मोक्ष
 - ☒ 4. अभिमान

Question ID : 630680840580
Option 1 ID : 6306803292995
Option 2 ID : 6306803292993
Option 3 ID : 6306803292996
Option 4 ID : 6306803292994

Q.2 निम्नलिखित में से 'मृदुल' का विलोम शब्द क्या होगा?

- Ans
- ☒ 1. कठोर
 - ☒ 2. खराब
 - ☒ 3. कठिन
 - ☒ 4. सरल

Question ID : 630680840587
Option 1 ID : 6306803293022
Option 2 ID : 6306803293023
Option 3 ID : 6306803293021
Option 4 ID : 6306803293024

Q.3 निम्नलिखित में से 'अभिमान' का पर्यायावाची शब्द क्या होगा?

- Ans
- ☒ 1. अहनिका
 - ☒ 2. असीम
 - ☒ 3. विपिन
 - ☒ 4. अनादर

Question ID : 630680840585
Option 1 ID : 6306803293015
Option 2 ID : 6306803293014
Option 3 ID : 6306803293016
Option 4 ID : 6306803293013

Q.4 निम्नलिखित वाक्यों में से कौन-सा वाक्य अशुद्ध है?

- Ans
- ☒ 1. पिताजी गदगद हो गये।
 - ☒ 2. दो रुपये से वह खुश नहीं हुआ।
 - ☒ 3. तालाब में छोटा-सा मंदिर है।
 - ☒ 4. "नौका-विहार" कविता अनेकों भावों को व्यक्त करती है।

Question ID : 630680840616
Option 1 ID : 6306803293131
Option 2 ID : 6306803293132
Option 3 ID : 6306803293129
Option 4 ID : 6306803293130

Q.5 निम्नलिखित में से 'असमय' का विलोम शब्द क्या होगा?

- Ans ☒ 1. समय
☒ 2. सुसमय
☒ 3. असमय
☒ 4. अनसमय

Question ID : 630680840586
 Option 1 ID : 6306803293019
 Option 2 ID : 6306803293018
 Option 3 ID : 6306803293017
 Option 4 ID : 6306803293020

Q.6 निम्नलिखित में से 'अग्र' का अनेकार्थक शब्द नहीं है ?

- Ans ☒ 1. अधिक
☒ 2. शिव
☒ 3. शिखर
☒ 4. मुख्य

Question ID : 630680840642
 Option 1 ID : 6306803293234
 Option 2 ID : 6306803293233
 Option 3 ID : 6306803293235
 Option 4 ID : 6306803293236

Q.7 निम्नलिखित में से 'चन्द्रमा' का पर्यायवाची शब्द क्या होगा?

- Ans ☒ 1. रजनीपति
☒ 2. निलय
☒ 3. नागर
☒ 4. जोन्हा

Question ID : 630680840646
 Option 1 ID : 6306803293251
 Option 2 ID : 6306803293252
 Option 3 ID : 6306803293250
 Option 4 ID : 6306803293249

Q.8 ऐसे शब्द , जो संस्कृत और प्राकृत से विकृत होकर हिंदी में आये हैं , उसे क्या कहते हैं?

- Ans ☒ 1. विदेशज
☒ 2. तद्भव
☒ 3. तत्सम
☒ 4. देशज

Question ID : 630680840641
 Option 1 ID : 6306803293232
 Option 2 ID : 6306803293231
 Option 3 ID : 6306803293230
 Option 4 ID : 6306803293229

Q.9 निम्नलिखित वाक्यों में से शुद्ध वाक्य का चयन करें।

- Ans ☒ 1. निराशा की किरणें छाई हुई है ।
☒ 2. पिता का उत्तरदायित्व पुत्र पर होता है ।
☒ 3. पिता जी आज मुझे एक रुपये दिये है ।
☒ 4. नदिए बह रही है ।

Question ID : 630680840617
 Option 1 ID : 6306803293133
 Option 2 ID : 6306803293135
 Option 3 ID : 6306803293136
 Option 4 ID : 6306803293134

Q.10 निम्नलिखित में से कौन-सा शब्द “सुई” का तत्सम शब्द है।

- Ans ☒ 1. शत
☒ 2. सत्तुत
☒ 3. शलाका
☒ 4. सूची

Question ID : 630680840579
 Option 1 ID : 6306803292992
 Option 2 ID : 6306803292990
 Option 3 ID : 6306803292991
 Option 4 ID : 6306803292989

Comprehension:

नीचे दिये गए गद्यांश को ध्यानपूर्वक पढ़ें और बिना किसी सामान्य ज्ञान एवं साहित्य के तथ्यों की परवाह किए बिना, केवल नीचे दिये गए गद्यांश के आधार पर ही सही उत्तर का चयन करें।

एक प्रसिद्ध जीवनशास्त्री का कहना है कि जिन्दगी संघर्ष से भरी हुई है । एक के बाद एक खींच-तान लगी ही रहती है और चैन नहीं मिल पाता । इसलिए जीवन में उन क्षणों की बहुत कीमत है , जो जीवन को गुदगुदा दे और खींच-तान की तेजी को भुला दे । इस जीवनशास्त्री ने लोगों को एक बड़ा दिलचस्प मशविरा दिया है कि जब तुम अपने किसी मित्र-दोस्त से बात करने बैठो , तो घड़ी का मुँह दीवार की तरफ कर दो । जब उससे पूछा गया कि बातचीत और घड़ी का क्या सम्बन्ध है , तो उत्तर मिला कि वह कमबख्त याद दिलाती रहती है कि इतनी देर हो गयी--इतनी देर हो गयी और इस तरह वह आनन्द-क्षण खंडित हो जाता है, जो मित्र की बातचीत से मिलता है ।

SubQuestion No : 11

Q.11 जीवन में कौन से क्षण मूल्यवान है ?

- Ans ☒ 1. जो जीवन में चैन से बैठने न दे ।
☒ 2. जो जीवन में आलस को भर दे ।
☒ 3. जो जीवन की खींच-तान की तेजी को भुला दे ।
☒ 4. जो जीवन को संघर्ष से भर दे ।

Question ID : 630680840607
 Option 1 ID : 6306803293095
 Option 2 ID : 6306803293093
 Option 3 ID : 6306803293094
 Option 4 ID : 6306803293096

Comprehension:

नीचे दिये गए गद्यांश को ध्यानपूर्वक पढ़ें और बिना किसी सामान्य ज्ञान एवं साहित्य के तथ्यों की परवाह किए बिना, केवल नीचे दिये गए गद्यांश के आधार पर ही सही उत्तर का चयन करें।

एक प्रसिद्ध जीवनशास्त्री का कहना है कि जिन्दगी संघर्ष से भरी हुई है। एक के बाद एक खींच-तान लगी ही रहती है और चैन नहीं मिल पाता। इसलिए जीवन में उन क्षणों की बहुत कीमत है, जो जीवन को गुदगुदा दे और खींच-तान की तेजी को भुला दे। इस जीवनशास्त्री ने लोगों को एक बड़ा दिलचस्प मशविरा दिया है कि जब तुम अपने किसी मित्र-दोस्त से बात करने बैठो, तो घड़ी का मुँह दीवार की तरफ कर दो। जब उससे पूछा गया कि बातचीत और घड़ी का क्या सम्बन्ध है, तो उत्तर मिला कि वह कमबख्त याद दिलाती रहती है कि इतनी देर हो गयी--इतनी देर हो गयी और इस तरह वह आनन्द-क्षण खंडित हो जाता है, जो मित्र की बातचीत से मिलता है।

SubQuestion No : 12

Q.12 जीवन में उन क्षणों की बहुत कीमत है, जो जीवन को _____ दे और खींच-तान की तेजी को भुला दे।

- Ans ☒ 1. खुशियों से दूर कर दे
- ☒ 2. गुदगुदा
- ☒ 3. संवार
- ☒ 4. रुला

Question ID : 630680840609
Option 1 ID : 6306803293104
Option 2 ID : 6306803293102
Option 3 ID : 6306803293103
Option 4 ID : 6306803293101

Comprehension:

नीचे दिये गए गद्यांश को ध्यानपूर्वक पढ़ें और बिना किसी सामान्य ज्ञान एवं साहित्य के तथ्यों की परवाह किए बिना, केवल नीचे दिये गए गद्यांश के आधार पर ही सही उत्तर का चयन करें।

एक प्रसिद्ध जीवनशास्त्री का कहना है कि जिन्दगी संघर्ष से भरी हुई है। एक के बाद एक खींच-तान लगी ही रहती है और चैन नहीं मिल पाता। इसलिए जीवन में उन क्षणों की बहुत कीमत है, जो जीवन को गुदगुदा दे और खींच-तान की तेजी को भुला दे। इस जीवनशास्त्री ने लोगों को एक बड़ा दिलचस्प मशविरा दिया है कि जब तुम अपने किसी मित्र-दोस्त से बात करने बैठो, तो घड़ी का मुँह दीवार की तरफ कर दो। जब उससे पूछा गया कि बातचीत और घड़ी का क्या सम्बन्ध है, तो उत्तर मिला कि वह कमबख्त याद दिलाती रहती है कि इतनी देर हो गयी--इतनी देर हो गयी और इस तरह वह आनन्द-क्षण खंडित हो जाता है, जो मित्र की बातचीत से मिलता है।

SubQuestion No : 13

Q.13 जिंदगी किससे भरी हुई है ?

- Ans ☒ 1. आलस से
- ☒ 2. श्रम से
- ☒ 3. संकटों से
- ☒ 4. संघर्ष से

Question ID : 630680840606
Option 1 ID : 6306803293090
Option 2 ID : 6306803293089
Option 3 ID : 6306803293092
Option 4 ID : 6306803293091

Comprehension:

नीचे दिये गए गद्यांश को ध्यानपूर्वक पढ़ें और बिना किसी सामान्य ज्ञान एवं साहित्य के तथ्यों की परवाह किए बिना, केवल नीचे दिये गए गद्यांश के आधार पर ही सही उत्तर का चयन करें।

एक प्रसिद्ध जीवनशास्त्री का कहना है कि जिन्दगी संघर्ष से भरी हुई है। एक के बाद एक खींच-तान लगी ही रहती है और चैन नहीं मिल पाता। इसलिए जीवन में उन क्षणों की बहुत कीमत है, जो जीवन को गुदगुदा दे और खींच-तान की तेजी को भुला दे। इस जीवनशास्त्री ने लोगों को एक बड़ा दिलचस्प मशविरा दिया है कि जब तुम अपने किसी मित्र-दोस्त से बात करने बैठो, तो घड़ी का मुँह दीवार की तरफ कर दो। जब उससे पूछा गया कि बातचीत और घड़ी का क्या सम्बन्ध है, तो उत्तर मिला कि वह कमबख्त याद दिलाती रहती है कि इतनी देर हो गयी--इतनी देर हो गयी और इस तरह वह आनन्द-क्षण खंडित हो जाता है, जो मित्र की बातचीत से मिलता है।

SubQuestion No : 14

Q.14 मित्र का पर्यावाची शब्द निम्नलिखित में से कौन है?

- Ans ☒ 1. अराति
☒ 2. अरि
☒ 3. वैरी
☒ 4. सहचर

Question ID : 630680840608
Option 1 ID : 6306803293097
Option 2 ID : 6306803293098
Option 3 ID : 6306803293099
Option 4 ID : 6306803293100

Comprehension:

नीचे दिये गए गद्यांश को ध्यानपूर्वक पढ़ें और बिना किसी सामान्य ज्ञान एवं साहित्य के तथ्यों की परवाह किए बिना, केवल नीचे दिये गए गद्यांश के आधार पर ही सही उत्तर का चयन करें।

एक प्रसिद्ध जीवनशास्त्री का कहना है कि जिन्दगी संघर्ष से भरी हुई है। एक के बाद एक खींच-तान लगी ही रहती है और चैन नहीं मिल पाता। इसलिए जीवन में उन क्षणों की बहुत कीमत है, जो जीवन को गुदगुदा दे और खींच-तान की तेजी को भुला दे। इस जीवनशास्त्री ने लोगों को एक बड़ा दिलचस्प मशविरा दिया है कि जब तुम अपने किसी मित्र-दोस्त से बात करने बैठो, तो घड़ी का मुँह दीवार की तरफ कर दो। जब उससे पूछा गया कि बातचीत और घड़ी का क्या सम्बन्ध है, तो उत्तर मिला कि वह कमबख्त याद दिलाती रहती है कि इतनी देर हो गयी--इतनी देर हो गयी और इस तरह वह आनन्द-क्षण खंडित हो जाता है, जो मित्र की बातचीत से मिलता है।

SubQuestion No : 15

Q.15 निम्नलिखित में से कौन याद दिलाती रहती है कि इतनी देर हो गयी--इतनी देर हो गयी और इस तरह वह आनन्द-क्षण खंडित हो जाता है, जो मित्र की बातचीत से मिलता है।

- Ans ☒ 1. मित्र की संगति
☒ 2. घड़ी
☒ 3. दीवार
☒ 4. संघर्ष

Question ID : 630680840610
Option 1 ID : 6306803293108
Option 2 ID : 6306803293106
Option 3 ID : 6306803293105
Option 4 ID : 6306803293107

Comprehension:

नीचे दिये गए गद्यांश को ध्यानपूर्वक पढ़ें और बिना किसी सामान्य ज्ञान एवं साहित्य के तथ्यों की परवाह किए बिना, केवल नीचे दिये गए गद्यांश के आधार पर ही सही उत्तर का चयन करें।

किसी बात की प्राप्ति केवल इच्छा-मात्र से नहीं होती केवल चाहने से नहीं होती, बल्कि उसके लिए अथवसाय करना पड़ता है। श्रम का वरण करना पड़ता है। घोर आपदाओं और संकटों में भी अपने कर्तव्य से विचलित नहीं होनेवाला व्यक्ति ही विजयी होता है। संसार में जितने भी महान पुरुष हुए हैं, उन्होंने प्रतिकूल परिस्थितियों से जमकर संघर्ष किया है और धैर्यपूर्वक निर्भय होकर दृढ़ संकल्प के साथ आगे कदम बढ़ाते हुए सफलता के शीर्ष पर पहुँच गये हैं। सागर की गहराई से डरकर किनारे पर बैठे रहनेवाले बौराहों के हाथ मोती कैसे लग सकता है।

SubQuestion No : 16

Q.16 संसार में जितने भी महान पुरुष हुए हैं, उन्होंने प्रतिकूल परिस्थितियों से जमकर क्या किया है?

- Ans
- ☒ 1. संघर्ष
 - ☐ 2. पढ़ाई
 - ☐ 3. मेहनत
 - ☐ 4. सहयोग

Question ID : 630680840544
Option 1 ID : 6306803292852
Option 2 ID : 6306803292850
Option 3 ID : 6306803292851
Option 4 ID : 6306803292849

Comprehension:

नीचे दिये गए गद्यांश को ध्यानपूर्वक पढ़ें और बिना किसी सामान्य ज्ञान एवं साहित्य के तथ्यों की परवाह किए बिना, केवल नीचे दिये गए गद्यांश के आधार पर ही सही उत्तर का चयन करें।

किसी बात की प्राप्ति केवल इच्छा-मात्र से नहीं होती केवल चाहने से नहीं होती, बल्कि उसके लिए अथवसाय करना पड़ता है। श्रम का वरण करना पड़ता है। घोर आपदाओं और संकटों में भी अपने कर्तव्य से विचलित नहीं होनेवाला व्यक्ति ही विजयी होता है। संसार में जितने भी महान पुरुष हुए हैं, उन्होंने प्रतिकूल परिस्थितियों से जमकर संघर्ष किया है और धैर्यपूर्वक निर्भय होकर दृढ़ संकल्प के साथ आगे कदम बढ़ाते हुए सफलता के शीर्ष पर पहुँच गये हैं। सागर की गहराई से डरकर किनारे पर बैठे रहनेवाले बौराहों के हाथ मोती कैसे लग सकता है।

SubQuestion No : 17

Q.17 किस प्रकार का व्यक्ति विजयी होता है ?

- Ans
- ☐ 1. किसी बात की इच्छा रखने वाला
 - ☐ 2. किनारे पर बैठे रहने वाला
 - ☒ 3. जो कर्तव्य से विचलित न हो
 - ☐ 4. संकटों से भागने वाला

Question ID : 630680840541
Option 1 ID : 6306803292839
Option 2 ID : 6306803292840
Option 3 ID : 6306803292838
Option 4 ID : 6306803292837

Comprehension:

नीचे दिये गए गद्यांश को ध्यानपूर्वक पढ़ें और बिना किसी सामान्य ज्ञान एवं साहित्य के तथ्यों की परवाह किए बिना, केवल नीचे दिये गए गद्यांश के आधार पर ही सही उत्तर का चयन करें।

किसी बात की प्राप्ति केवल इच्छा-मात्र से नहीं होती केवल चाहने से नहीं होती, बल्कि उसके लिए अथवसाय करना पड़ता है। श्रम का वरण करना पड़ता है। घोर आपदाओं और संकटों में भी अपने कर्तव्य से विचलित नहीं होनेवाला व्यक्ति ही विजयी होता है। संसार में जितने भी महान पुरुष हुए हैं, उन्होंने प्रतिकूल परिस्थितियों से जमकर संघर्ष किया है और धैर्यपूर्वक निर्भय होकर दृढ़ संकल्प के साथ आगे कदम बढ़ाते हुए सफलता के शीर्ष पर पहुँच गये हैं। सागर की गहराई से डरकर किनारे पर बैठे रहनेवाले बौराहों के हाथ मोती कैसे लग सकता है।

SubQuestion No : 18

Q.18 किसी बात की प्राप्ति केवल इच्छा-मात्र एवं चाहने के अलावा कैसे होती है ?

- Ans
- ☒ 1. आलस से
 - ☒ 2. संकटों से
 - ☒ 3. श्रम के वरण से
 - ☒ 4. संघर्ष से

Question ID : 630680840540
Option 1 ID : 6306803292834
Option 2 ID : 6306803292836
Option 3 ID : 6306803292833
Option 4 ID : 6306803292835

Comprehension:

नीचे दिये गए गद्यांश को ध्यानपूर्वक पढ़ें और बिना किसी सामान्य ज्ञान एवं साहित्य के तथ्यों की परवाह किए बिना, केवल नीचे दिये गए गद्यांश के आधार पर ही सही उत्तर का चयन करें।

किसी बात की प्राप्ति केवल इच्छा-मात्र से नहीं होती केवल चाहने से नहीं होती, बल्कि उसके लिए अथवसाय करना पड़ता है। श्रम का वरण करना पड़ता है। घोर आपदाओं और संकटों में भी अपने कर्तव्य से विचलित नहीं होनेवाला व्यक्ति ही विजयी होता है। संसार में जितने भी महान पुरुष हुए हैं, उन्होंने प्रतिकूल परिस्थितियों से जमकर संघर्ष किया है और धैर्यपूर्वक निर्भय होकर दृढ़ संकल्प के साथ आगे कदम बढ़ाते हुए सफलता के शीर्ष पर पहुँच गये हैं। सागर की गहराई से डरकर किनारे पर बैठे रहनेवाले बौराहों के हाथ मोती कैसे लग सकता है।

SubQuestion No : 19

Q.19 घोर आपदाओं और संकटों में भी अपने कर्तव्य से विचलित नहीं होनेवाला व्यक्ति ही _____ होता है।

- Ans
- ☒ 1. ज्ञानी
 - ☒ 2. विजयी
 - ☒ 3. सुंदर
 - ☒ 4. मेहनती

Question ID : 630680840543
Option 1 ID : 6306803292848
Option 2 ID : 6306803292847
Option 3 ID : 6306803292846
Option 4 ID : 6306803292845

Comprehension:

नीचे दिये गए गद्यांश को ध्यानपूर्वक पढ़ें और बिना किसी सामान्य ज्ञान एवं साहित्य के तथ्यों की परवाह किए बिना, केवल नीचे दिये गए गद्यांश के आधार पर ही सही उत्तर का चयन करें।

किसी बात की प्राप्ति केवल इच्छा-मात्र से नहीं होती केवल चाहने से नहीं होती, बल्कि उसके लिए अध्वसाय करना पड़ता है। श्रम का वरण करना पड़ता है। घोर आपदाओं और संकटों में भी अपने कर्तव्य से विचलित नहीं होनेवाला व्यक्ति ही विजयी होता है। संसार में जितने भी महान पुरुष हुए हैं, उन्होंने प्रतिकूल परिस्थितियों से जमकर संघर्ष किया है और धैर्यपूर्वक निर्भय होकर दृढ़ संकल्प के साथ आगे कदम बढ़ाते हुए सफलता के शीर्ष पर पहुँच गये हैं। सागर की गहराई से डरकर किनारे पर बैठे रहनेवाले बौराहों के हाथ मोती कैसे लग सकता है।

SubQuestion No : 20

Q.20 किससे डरकर किनारों पर बैठे रहनेवाले बौराहों के हाथ मोती नहीं लगता है?

Ans ☒ 1. सागर की गहराई से

☐ 2. इच्छा से

☐ 3. केवल श्रम से

☐ 4. संघर्ष

Question ID : 630680840542

Option 1 ID : 6306803292843

Option 2 ID : 6306803292842

Option 3 ID : 6306803292841

Option 4 ID : 6306803292844

