

DSSSB Jail Warder

Previous Year Paper
10 Jun, 2024 Shift 1

Test Prime

**ALL EXAMS,
ONE SUBSCRIPTION**



70,000+
Mock Tests



**Personalised
Report Card**



**Unlimited
Re-Attempt**



600+
Exam Covered



**Previous Year
Papers**



**500%
Refund**



ATTEMPT FREE MOCK NOW



GOVT. OF NCT OF DELHI
Delhi Subordinate Services Selection Board
FC-18, Institutional Area, Karkardooma, Delhi – 110092.
www.dsssb.delhigovt.nic.in

Participant ID	
Participant Name	
Test Center Name	
Test Date	10/06/2024
Test Time	8:30 AM - 10:30 AM
Subject	Warder Reserved for male Only

Section : General intelligence and Reasoning Ability 1

Q.1 आठ व्यक्ति R1, R2, R3, R4, R5, R6, R7 तथा R8 आठ अलग-अलग मंजिलों पर रहते हैं जैसे कि सबसे निचली मंजिल की संख्या 1 है, इसके ऊपर की मंजिल की संख्या 2 है और इसी प्रकार सबसे ऊपरी मंजिल तक की मंजिल की संख्या 8 है। R3 सम संख्या वाली मंजिल पर रहता है। R3 तथा R4 के बीच केवल तीन व्यक्ति रहते हैं। R8 तथा R5 के बीच केवल पांच व्यक्ति रहते हैं, और दोनों (R8 तथा R5) विषम संख्या वाली मंजिल पर रहते हैं। R8, R3 से ऊपर रहता है। R6 तथा R7 दोनों R1 से ऊपर रहते हैं। R6, R7 के ऊपर रहता है। R8, R2 के ऊपर रहता है। R1 तथा R2 के बीच तीन व्यक्ति रहते हैं। R2 सम संख्या वाली मंजिल पर रहता है। निम्नलिखित में से कौन सा व्यक्ति मंजिल 2 पर रहता है?

- Ans
- ☒ 1. वह जो R7 से तीन मंजिल नीचे रहता है।
 - ☒ 2. R5
 - ☒ 3. वह जो R4 के ठीक नीचे रहता है।
 - ☒ 4. R1

Question ID : 630680832511
Option 1 ID : 6306803261033
Option 2 ID : 6306803261034
Option 3 ID : 6306803261035
Option 4 ID : 6306803261036

Q.2 उस लुप्त युग्म (तीसरा अक्षर-संख्या समूह : चौथे अक्षर-संख्या समूह) का चयन करें जो उसी प्रकार संबंधित है जिस प्रकार पहला अक्षर-संख्या समूह दूसरे अक्षर-संख्या समूह से संबंधित है और पांचवा अक्षर-संख्या समूह छठे अक्षर-संख्या समूह से संबंधित है।
EK43 : GN21 :: ? :: LT92 : NW33

- Ans
- ☒ 1. VC24 : EG32
 - ☒ 2. UC24 : WF18
 - ☒ 3. VO4 : WG18
 - ☒ 4. UC24 : WF32

Question ID : 630680832487
Option 1 ID : 6306803260937
Option 2 ID : 6306803260938
Option 3 ID : 6306803260939
Option 4 ID : 6306803260940

7/5/24, 10:38 AM

cdn.digialm.com/per/g01/pub/1258/touchstone/AssessmentQPHTMLMode1//1258O24204/1258O24204S1D1942/1719306945924...

Q.3 उस लुप्त युग्म (तीसरा अक्षर समूह : चौथे अक्षर समूह) का चयन करें जो उसी प्रकार संबंधित है जिस प्रकार पहला अक्षर समूह दूसरे अक्षर समूह से संबंधित है और पांचवा अक्षर समूह छठे अक्षर समूह से संबंधित है।

GH : DK :: ? :: QR : NU

- Ans
- ☒ 1. SV : PX
 - ☒ 2. KL : MO
 - ☒ 3. FI : DK
 - ☒ 4. XZ : UC

Question ID : 630680832365
Option 1 ID : 6306803260449
Option 2 ID : 6306803260451
Option 3 ID : 6306803260450
Option 4 ID : 6306803260452

Q.4 नीचे दी गई पांच तीन अंकों की संख्याओं पर विचार करें तथा उनके आधार पर प्रश्नों के उत्तर दें।
(बाएं) 654 789 123 675 327 (दाएं)
दी गई तीन अंकीय संख्याओं के सौवें अंक का योग क्या होगा?

- Ans
- ☒ 1. 24
 - ☒ 2. 20
 - ☒ 3. 23
 - ☒ 4. 26

Question ID : 630680832478
Option 1 ID : 6306803260902
Option 2 ID : 6306803260903
Option 3 ID : 6306803260904
Option 4 ID : 6306803260901

Q.5 निम्नलिखित प्रश्न में दिए गए विकल्पों में से विषम अक्षर/अक्षरों को चुनिए।

- Ans
- ☒ 1. TQR
 - ☒ 2. YVW
 - ☒ 3. GDE
 - ☒ 4. DGE

Question ID : 630680832528
Option 1 ID : 6306803261104
Option 2 ID : 6306803261101
Option 3 ID : 6306803261102
Option 4 ID : 6306803261103

Q.6 सात बॉक्स B1, B2, B3, B4, B5, B6 तथा B7 एक के ऊपर एक रखे गए हैं। बॉक्स B4 के ऊपर केवल दो बॉक्स रखे गए हैं। बॉक्स B7 तथा B4 के बीच केवल एक बॉक्स रखा गया है। बॉक्स B7 तथा B5 के बीच उतने ही बॉक्स रखे गए हैं जितने बॉक्स B5 तथा B1 के बीच रखे गए हैं। बॉक्स B2 तथा B3 के बीच तीन बॉक्स रखे गए हैं। B2 को B3 के ऊपर रखा गया है। तो, कौन सा बॉक्स नीचे से तीसरे बॉक्स के ठीक ऊपर है?

- Ans
- ☒ 1. B2
 - ☒ 2. B4
 - ☒ 3. B5
 - ☒ 4. B3

Question ID : 630680832470
Option 1 ID : 6306803260872
Option 2 ID : 6306803260870
Option 3 ID : 6306803260871
Option 4 ID : 6306803260869

Q.7 निम्नलिखित प्रश्न में दिए गए विकल्पों में से विषम अक्षर/अक्षरों को चुनिए।

- Ans
- ☒ 1. RUS
 - ☒ 2. WZX
 - ☒ 3. OQN
 - ☒ 4. CFD

Question ID : 630680832329
Option 1 ID : 6306803260306
Option 2 ID : 6306803260308
Option 3 ID : 6306803260307
Option 4 ID : 6306803260305

Q.8 निम्नलिखित प्रश्न में दिए गए विकल्पों में से विषम अक्षर/अक्षरों को चुनिए।

- Ans
- ☒ 1. DG – GJ
 - ☒ 2. HK – KN
 - ☒ 3. PS – SV
 - ☒ 4. BE – DH

Question ID : 630680832410
Option 1 ID : 6306803260631
Option 2 ID : 6306803260630
Option 3 ID : 6306803260632
Option 4 ID : 6306803260629

Q.9 अक्षरों से बनी नीचे दी गई स्ट्रिंग पर विचार करें।
TROYDPUYQHDL\$AZJB TUBGDHTNIFZ
कितने स्वरों के ठीक आगे एक स्वर है?

- Ans
- ☒ 1. 5
 - ☒ 2. 0
 - ☒ 3. 4
 - ☒ 4. 6

Question ID : 630680832437
Option 1 ID : 6306803260739
Option 2 ID : 6306803260737
Option 3 ID : 6306803260738
Option 4 ID : 6306803260740

Q.10 उस लुप्त युग्म (पांचवा अक्षर समूह : छठा अक्षर समूह) का चयन करें जो उसी प्रकार संबंधित है जिस प्रकार पहला अक्षर समूह दूसरे अक्षर समूह से संबंधित है और तीसरा अक्षर समूह चौथे अक्षर समूह से संबंधित है।
GMN : IOP :: FHJ : HJL :: ?

- Ans
- ☒ 1. RST : PUR
 - ☒ 2. XYZ : ZZB
 - ☒ 3. PRT : QTU
 - ☒ 4. FBH : HDJ

Question ID : 630680832486
Option 1 ID : 6306803260935
Option 2 ID : 6306803260936
Option 3 ID : 6306803260933
Option 4 ID : 6306803260934

Q.11 एक विशिष्ट कोड भाषा में, 'CONDUCTED + AFTER' को '14' लिखा जाता है, 'EXAM + DATES' को '9' लिखा जाता है। इस कोड भाषा में 'HOME + AFFAIRS' का कोड क्या है?

- Ans
- ☒ 1. 9
 - ☒ 2. 11
 - ☒ 3. 7
 - ☒ 4. 14

Question ID : 630680832514
Option 1 ID : 6306803261048
Option 2 ID : 6306803261046
Option 3 ID : 6306803261045
Option 4 ID : 6306803261047

Q.12 S – T का अर्थ 'S, T की पत्नी है', 'S + T' का अर्थ 'S, T की पुत्री है' तथा 'S ÷ T' का अर्थ 'S, T का पुत्र है'। यदि $A + B - D \div H - P$ है, तो H, A से किस प्रकार संबंधित है?

- Ans
- ☒ 1. पिता की बहन
 - ☒ 2. पत्नी की माता
 - ☒ 3. माता
 - ☒ 4. पिता की माता

Question ID : 630680832320
Option 1 ID : 6306803260271
Option 2 ID : 6306803260269
Option 3 ID : 6306803260270
Option 4 ID : 6306803260272

Q.13 नीचे दिए गए पांच तीन अक्षरों वाले शब्दों पर विचार करें तथा उनके आधार पर प्रश्नों के उत्तर दें।
(बाएं) WRD RUV PCR POM DOZ (दाएं)
यदि प्रत्येक शब्द के सभी अक्षरों को अंग्रेजी वर्णमाला क्रम के अनुसार पिछले अक्षर से बदल दिया जाए, तो कितने नवगठित शब्दों में केवल दो स्वर होंगे?

- Ans
- ☒ 1. 2
 - ☒ 2. 0
 - ☒ 3. 4
 - ☒ 4. 3

Question ID : 630680832396
Option 1 ID : 6306803260575
Option 2 ID : 6306803260574
Option 3 ID : 6306803260573
Option 4 ID : 6306803260576

Q.14 नीचे दिए गए प्रश्न में, चार अक्षर युग्म दिए गए हैं। (–) के बायीं ओर दिये गये अक्षर (–) के दायीं ओर दिये गये अक्षर से किसी तर्क/नियम/संबंध से संबंधित है। तीन उसी एक तर्क/नियम/संबंध के आधार पर समान हैं। दिए गए विकल्पों में से विषम को चुनिए।

- Ans
- ☒ 1. BOZ – YMY
 - ☒ 2. NCP – JZN
 - ☒ 3. TQH – QOG
 - ☒ 4. LER – ICQ

Question ID : 630680832491
Option 1 ID : 6306803260954
Option 2 ID : 6306803260953
Option 3 ID : 6306803260955
Option 4 ID : 6306803260956

7/5/24, 10:38 AM

cdn.digialm.com/per/g01/pub/1258/touchstone/AssessmentQPHTMLMode1//1258O24204/1258O24204S1D1942/1719306945924...

Q.15 एक विशिष्ट कोड भाषा में, 'RIDE' को 'ZYDM' लिखा जाता है तथा 'HINT' को 'OIDC' लिखा जाता है। इस कोड भाषा में 'SEEN' का कोड क्या है?

- Ans
- ☒ 1. IYYN
 - ☒ 2. IYYO
 - ☒ 3. IZZM
 - ☒ 4. IZZN

Question ID : 630680832472
Option 1 ID : 6306803260878
Option 2 ID : 6306803260880
Option 3 ID : 6306803260879
Option 4 ID : 6306803260877

Q.16 A, B का पिता है। B, C का भाई है। C, D का भाई है। D, E का पुत्र है। C, E से किस प्रकार संबंधित है?

- Ans
- ☒ 1. माता
 - ☒ 2. बहन
 - ☒ 3. भाई
 - ☒ 4. पुत्र

Question ID : 630680832439
Option 1 ID : 6306803260747
Option 2 ID : 6306803260748
Option 3 ID : 6306803260745
Option 4 ID : 6306803260746

Q.17 उस लुप्त युग्म (तीसरा अक्षर समूह : चौथे अक्षर समूह) का चयन करें जो उसी प्रकार संबंधित है जिस प्रकार पहला अक्षर समूह दूसरे अक्षर समूह से संबंधित है और पांचवा अक्षर समूह छठे अक्षर समूह से संबंधित है।

SW : VZ :: ? :: CD : FG

- Ans
- ☒ 1. BH : EJ
 - ☒ 2. MR : NQ
 - ☒ 3. TU : VW
 - ☒ 4. KL : NO

Question ID : 630680832404
Option 1 ID : 6306803260606
Option 2 ID : 6306803260608
Option 3 ID : 6306803260605
Option 4 ID : 6306803260607

Q.18 नीचे दी गई पांच तीन अंकों की संख्याओं पर विचार करें तथा उनके आधार पर प्रश्नों के उत्तर दें।
(बाएं) 589 786 285 789 625 (दाएं)
दी गई तीन अंकीय संख्याओं के सौवें स्थान के अंक का योग क्या होगा?

- Ans ☒ 1. 29
☒ 2. 34
☒ 3. 25
☒ 4. 27

Question ID : 630680832315
Option 1 ID : 6306803260252
Option 2 ID : 6306803260250
Option 3 ID : 6306803260251
Option 4 ID : 6306803260249

Q.19 6 बॉक्स B1, B2, B3, B4, B5 तथा B6 को एक के ऊपर एक रखा गया है लेकिन जरूरी नहीं कि इसी क्रम में हों। B4 शीर्ष से दूसरे स्थान पर है। B1 के नीचे केवल दो बॉक्स रखे गए हैं। केवल B5 को B2 के नीचे रखा गया है। B6 को B3 से ऊपर रखा गया है। B3 के नीचे के बॉक्सों की संख्या किसके ऊपर के बॉक्सों की संख्या के समान है?

- Ans ☒ 1. B5
☒ 2. B4
☒ 3. B2
☒ 4. B1

Question ID : 630680832509
Option 1 ID : 6306803261026
Option 2 ID : 6306803261028
Option 3 ID : 6306803261025
Option 4 ID : 6306803261027

Q.20 एक विशिष्ट कोड भाषा में, 'PROOF' को 'BKKNL' लिखा जाता है। इस कोड भाषा में 'QUEEN' का कोड क्या है?

- Ans ☒ 1. JAARM
☒ 2. JAAQN
☒ 3. JAAPM
☒ 4. JAAQM

Question ID : 630680832313
Option 1 ID : 6306803260243
Option 2 ID : 6306803260244
Option 3 ID : 6306803260241
Option 4 ID : 6306803260242

Section : General intelligence and Reasoning Ability 2

Q.1 दिए गए दो चिह्नों तथा दो संख्याओं (अंकों को नहीं) को आपस में परस्पर बदलने पर, निम्नलिखित में से कौन सा समीकरण सही होगा?
× तथा ÷, 7 तथा 9

Ans ☒ 1. $9 - 7 \times 3 + 6 \div 2 = 19$

☒ 2. $8 \times 3 \div 6 + 9 - 7 = 14$

☒ 3. $9 \times 3 + 4 \div 2 - 7 = 18$

☒ 4. $9 + 4 \times 3 - 7 \div 1 = 19$

Question ID : 630680832339

Option 1 ID : 6306803260348

Option 2 ID : 6306803260345

Option 3 ID : 6306803260346

Option 4 ID : 6306803260347

Q.2 नीचे दिए गए प्रश्न में कुछ कथन और उनके बाद उन कथनों पर आधारित कुछ निष्कर्ष दिए गए हैं। दिए गए कथनों को सही माने, चाहे उनमें सामान्य ज्ञात तथ्यों से भिन्नता हो। सभी निष्कर्ष पढ़ें और फिर निर्धारित करें कि दिए गए कौन से निष्कर्ष, दिए गए कथनों के आधार पर युक्तिसंगत हैं।

कथन:

I. कुछ P, A हैं।

II. कोई भी L, A नहीं है।

III. कोई भी C, P नहीं है।

निष्कर्ष:

I. सभी L, C हैं।

II. सभी C, A हैं।

III. सभी P, L हैं।

Ans ☒ 1. दोनों निष्कर्ष II तथा III अनुसरण करते हैं।

☒ 2. दोनों निष्कर्ष I तथा II अनुसरण करते हैं।

☒ 3. दोनों निष्कर्ष I तथा III अनुसरण करते हैं।

☒ 4. कोई भी निष्कर्ष अनुसरण नहीं करता है।

Question ID : 630680832363

Option 1 ID : 6306803260442

Option 2 ID : 6306803260441

Option 3 ID : 6306803260443

Option 4 ID : 6306803260444

Q.3 पांच मित्र P, B, C, G तथा H एक गोलाकार मेज के चारों ओर केंद्र की ओर मुख करके बैठे हैं। H, C के निकटतम दाएं ओर बैठा है। B, H के बाएं ओर तीसरे स्थान पर बैठा है। P, C का निकटतम पड़ोसी नहीं है। B के ठीक दाएं ओर कौन बैठा है?

Ans ☒ 1. C

☒ 2. P

☒ 3. G

☒ 4. H

Question ID : 630680832308

Option 1 ID : 6306803260224

Option 2 ID : 6306803260221

Option 3 ID : 6306803260222

Option 4 ID : 6306803260223

Q.4 उस विकल्प का चयन करें जो पहले संख्या समूह से उसी प्रकार संबंधित है जिस प्रकार चौथा संख्या समूह तीसरे संख्या समूह से संबंधित है तथा छठा संख्या समूह पांचवे संख्या समूह से संबंधित है। (ध्यान दें: संख्याओं को उनके घटक अंकों में विभाजित किए बिना, पूर्ण संख्याओं पर संक्रियाएँ की जानी चाहिए। उदाहरण 13 - 13 पर संक्रियाएँ जैसे 13 में जोड़ना / घटाना / गुणा करना आदि किया जा सकता है। 13 को 1 और 3 में तोड़ना और फिर 1 और 3 पर गणितीय संक्रियाएँ करने की अनुमति नहीं है)
49 : ? :: 28 : 33 :: 61 : 66

- Ans
- ☒ 1. 57
 - ☒ 2. 55
 - ☒ 3. 54
 - ☒ 4. 56

Question ID : 630680832382
Option 1 ID : 6306803260520
Option 2 ID : 6306803260518
Option 3 ID : 6306803260517
Option 4 ID : 6306803260519

Q.5 उस विकल्प का चयन करें जो छठे संख्या समूह से उसी प्रकार संबंधित है जिस प्रकार पहला संख्या समूह दूसरे संख्या समूह से संबंधित है तथा तीसरा संख्या समूह चौथे संख्या समूह से संबंधित है। (ध्यान दें: संख्याओं को उनके घटक अंकों में विभाजित किए बिना, पूर्ण संख्याओं पर संक्रियाएँ की जानी चाहिए। उदाहरण 13 - 13 पर संक्रियाएँ जैसे 13 में जोड़ना / घटाना / गुणा करना आदि किया जा सकता है। 13 को 1 और 3 में तोड़ना और फिर 1 और 3 पर गणितीय संक्रियाएँ करने की अनुमति नहीं है)
63 : 126 :: 52 : 104 :: ? : 48

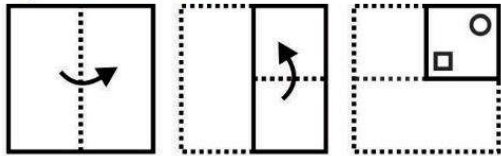
- Ans
- ☒ 1. 23
 - ☒ 2. 32
 - ☒ 3. 28
 - ☒ 4. 24

Question ID : 630680832383
Option 1 ID : 6306803260521
Option 2 ID : 6306803260523
Option 3 ID : 6306803260524
Option 4 ID : 6306803260522

7/5/24, 10:38 AM


cdn.digialm.com/per/g01/pub/1258/touchstone/AssessmentQPHTMLMode1//1258O24204/1258O24204S1D1942/1719306945924...

Q.6 नीचे की प्रश्न आकृतियों में दिखाए गए अनुसार कागज को मोड़कर छेदने तथा खोलने के बाद वह किस विकल्प आकृति जैसा दिखाई देगा?

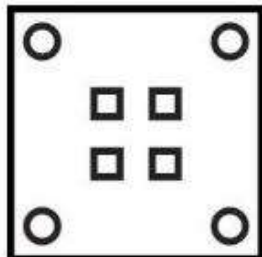


Ans


✗ 1.



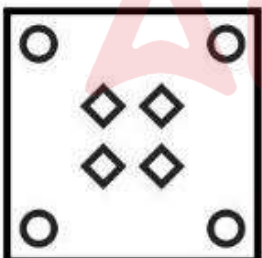
✓ 2.



✗ 3.



✗ 4.



Question ID : 630680832455
Option 1 ID : 6306803260810
Option 2 ID : 6306803260812
Option 3 ID : 6306803260811
Option 4 ID : 6306803260809

Q.7 उस विकल्प का चयन करें जिसमें संख्याएँ समुच्चय में वही संबंध साझा करती हैं जो दिए गए समुच्चय में संख्याओं द्वारा साझा किया गया है। (ध्यान दें: संख्याओं को उनके घटक अंकों में विभाजित किए बिना, पूर्ण संख्याओं पर संक्रियाएँ की जानी चाहिए। उदाहरण 13 - 13 पर संक्रियाएँ जैसे 13 में जोड़ना / घटाना / गुणा करना आदि किया जा सकता है। 13 को 1 और 3 में तोड़ना और फिर 1 और 3 पर गणितीय संक्रियाएँ करने की अनुमति नहीं है)
(5, 10, 15)
(6, 12, 18)

- Ans ☒ 1. (15, 15, 30)
☒ 2. (100, 36, 146)
☒ 3. (25, 50, 100)
☒ 4. (38, 44, 172)

Question ID : 630680832505
Option 1 ID : 6306803261010
Option 2 ID : 6306803261012
Option 3 ID : 6306803261011
Option 4 ID : 6306803261009

Q.8 एक अनुक्रम दिया गया है, जिसमें से एक पद लुप्त है। दिए गए विकल्पों में से वह सही विकल्प चुनिए, जो अनुक्रम को पूरा करे।
JW, LT, NQ, PN, ?

- Ans ☒ 1. QM
☒ 2. QL
☒ 3. PK
☒ 4. RK

Question ID : 630680832533
Option 1 ID : 6306803261122
Option 2 ID : 6306803261124
Option 3 ID : 6306803261121
Option 4 ID : 6306803261123

Q.9 निम्नलिखित प्रश्न में दी गई श्रृंखला में से लुप्त अंक ज्ञात कीजिए।
163, 162, 154, 127, ?

- Ans ☒ 1. 65
☒ 2. 66
☒ 3. 63
☒ 4. 64

Question ID : 630680832541
Option 1 ID : 6306803261155
Option 2 ID : 6306803261156
Option 3 ID : 6306803261153
Option 4 ID : 6306803261154

7/5/24, 10:38 AM

cdn.digialm.com/per/g01/pub/1258/touchstone/AssessmentQPHTMLMode1//1258O24204/1258O24204S1D1942/1719306945924...

Q.10 निम्नलिखित प्रश्न में दी गई श्रृंखला में से लुप्त अंक ज्ञात कीजिए।
193, 186, 179, 172, 165, 158, ?

Ans ☒ 1. 154

☒ 2. 150

☒ 3. 151

☒ 4. 153

Question ID : 630680832380

Option 1 ID : 6306803260510

Option 2 ID : 6306803260509

Option 3 ID : 6306803260511

Option 4 ID : 6306803260512




Q.11 कौन सी आकृति दी गई आकृतियों के समान है?

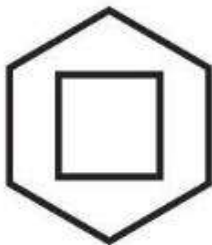


Ans

✓ 1.




✗ 2.



✗ 3.



✗ 4.



Question ID : 630680832536
Option 1 ID : 6306803261133
Option 2 ID : 6306803261135
Option 3 ID : 6306803261134
Option 4 ID : 6306803261136

Q.12 एक अनुक्रम दिया गया है, जिसमें से एक पद लुप्त है। दिए गए विकल्पों में से वह सही विकल्प चुनिए, जो अनुक्रम को पूरा करे।
I, L, O, R, U, ?

- Ans
- ☒ 1. Y
 - ☒ 2. W
 - ☒ 3. X
 - ☒ 4. V

Question ID : 630680832492
Option 1 ID : 6306803260957
Option 2 ID : 6306803260959
Option 3 ID : 6306803260960
Option 4 ID : 6306803260958

Q.13 नीचे दिए गए प्रश्न में कुछ कथन और उनके बाद उन कथनों पर आधारित कुछ निष्कर्ष दिए गए हैं। दिए गए कथनों को सही माने, चाहे उनमें सामान्य ज्ञात तथ्यों से भिन्नता हो। सभी निष्कर्ष पढ़ें और फिर निर्धारित करें कि दिए गए कौन से निष्कर्ष, दिए गए कथनों के आधार पर युक्तिसंगत हैं।
कथन:
I. सभी ट्रेन, नाव हैं।
II. कोई भी ट्रेन, कार नहीं है।

निष्कर्ष:
I. सभी नाव, ट्रेन हैं।
II. सभी कार, नाव हैं।

- Ans
- ☒ 1. केवल निष्कर्ष I अनुसरण करता है।
 - ☒ 2. दोनों निष्कर्ष I तथा II अनुसरण करते हैं।
 - ☒ 3. कोई भी निष्कर्ष अनुसरण नहीं करता है।
 - ☒ 4. केवल निष्कर्ष II अनुसरण करता है।

Question ID : 630680832522
Option 1 ID : 6306803261077
Option 2 ID : 6306803261079
Option 3 ID : 6306803261080
Option 4 ID : 6306803261078

Q.14 नीचे दिए गए प्रश्न में कुछ कथन और उनके बाद उन कथनों पर आधारित कुछ निष्कर्ष दिए गए हैं। दिए गए कथनों को सही माने, चाहे उनमें सामान्य ज्ञात तथ्यों से भिन्नता हो। सभी निष्कर्ष पढ़ें और फिर निर्धारित करें कि दिए गए कौन से निष्कर्ष, दिए गए कथनों के आधार पर युक्तिसंगत हैं।
कथन:
I. सभी सोना, चाँदी हैं।
II. कुछ चाँदी, तांबा हैं।

निष्कर्ष:
I. कोई भी तांबा, सोना नहीं है।
II. कोई भी चाँदी, सोना नहीं है।

- Ans
- ☒ 1. केवल निष्कर्ष I अनुसरण करता है।
 - ☒ 2. केवल निष्कर्ष II अनुसरण करता है।
 - ☒ 3. दोनों निष्कर्ष I तथा II अनुसरण करते हैं।
 - ☒ 4. कोई भी निष्कर्ष अनुसरण नहीं करता है।

Question ID : 630680832481
Option 1 ID : 6306803260913
Option 2 ID : 6306803260914
Option 3 ID : 6306803260915
Option 4 ID : 6306803260916

Q.15 सात लड़के P, Q, R, S, T, U तथा V उत्तर दिशा की ओर मुख करके एक सीधी रेखा में बैठे हैं (जरूरी नहीं कि इसी क्रम में हों)। R, P के दाएं ओर से पांचवें स्थान पर बैठा है। V पंक्ति के ठीक मध्य में बैठा है। V, Q के दाएं ओर से तीसरे स्थान पर बैठा है। U तथा T के बीच केवल दो लड़के बैठे हैं। U तथा V निकटतम पड़ोसी नहीं हैं। निम्नलिखित में से कौन से युग्म में दूसरा लड़का पहले लड़के के बाएं ओर से चौथे स्थान पर है?

- Ans
- ☒ 1. PS
 - ☒ 2. QS
 - ☒ 3. TR
 - ☒ 4. UP

Question ID : 630680832306
Option 1 ID : 6306803260216
Option 2 ID : 6306803260215
Option 3 ID : 6306803260213
Option 4 ID : 6306803260214

Q.16 यदि $43 \# 27 * 13 = 29$ तथा $37 \# 17 * 3 = 23$ हो, तो $68 \# 20 * 38 = ?$

- Ans
- ☒ 1. 101
 - ☒ 2. 86
 - ☒ 3. 76
 - ☒ 4. 85

Question ID : 630680832498
Option 1 ID : 6306803260982
Option 2 ID : 6306803260981
Option 3 ID : 6306803260984
Option 4 ID : 6306803260983

Q.17 पांच मित्र P, B, C, G और H एक गोलाकार मेज के चारों ओर केंद्र की ओर मुख करके बैठे हैं (जरूरी नहीं कि इसी क्रम में हों)। H, C के निकटतम दाएं बैठा है। B, H के बाएँ तीसरे स्थान पर बैठा है। P, C का निकटतम पड़ोसी नहीं है। H के बाएँ ओर से दूसरे स्थान पर कौन बैठा है?

- Ans
- ☒ 1. P
 - ☒ 2. C
 - ☒ 3. B
 - ☒ 4. G

Question ID : 630680832347
Option 1 ID : 6306803260379
Option 2 ID : 6306803260378
Option 3 ID : 6306803260380
Option 4 ID : 6306803260377

Q.18 यदि $39 @ 47 \# 73 = 159$ तथा $101 @ 80 \# 73 = 254$ हो, तो $52 @ 59 \# 95 = ?$

Ans ☒ 1. 206

☐ 2. 219

☐ 3. 231

☐ 4. 227

Question ID : 630680832337

Option 1 ID : 6306803260337

Option 2 ID : 6306803260338

Option 3 ID : 6306803260340

Option 4 ID : 6306803260339

Q.19 उस विकल्प का चयन करें जिसमें संख्याएँ समुच्चय में वही संबंध साझा करती हैं जो दिए गए समुच्चय में संख्याओं द्वारा साझा किया गया है। (ध्यान दें: संख्याओं को उनके घटक अंकों में विभाजित किए बिना, पूर्ण संख्याओं पर संक्रियाएँ की जानी चाहिए। उदाहरण $13 - 13$ पर संक्रियाएँ जैसे 13 में जोड़ना / घटाना / गुणा करना आदि किया जा सकता है। 13 को 1 और 3 में तोड़ना और फिर 1 और 3 पर गणितीय संक्रियाएँ करने की अनुमति नहीं है)

(5, 5, 4)

(6, 5, 5)

Ans ☐ 1. (10, 12, 15)

☐ 2. (8, 35, 4)

☐ 3. (9, 5, 4)

☒ 4. (10, 10, 8)

Question ID : 630680832464

Option 1 ID : 6306803260848

Option 2 ID : 6306803260846

Option 3 ID : 6306803260847

Option 4 ID : 6306803260845

Q.20 एक अनुक्रम दिया गया है, जिसमें से एक पद लुप्त है। दिए गए विकल्पों में से वह सही विकल्प चुनिए, जो अनुक्रम को पूरा करे।
IQ, KT, MW, OZ, ?

Ans ☐ 1. PC

☐ 2. QA

☒ 3. QC

☐ 4. QB

Question ID : 630680832454

Option 1 ID : 6306803260808

Option 2 ID : 6306803260807

Option 3 ID : 6306803260806

Option 4 ID : 6306803260805

Section : General Awareness 1

Q.1 स्वप्नमय चक्रवर्ती को निम्नलिखित में से किस बंगाली साहित्य के लिए साहित्य अकादमी पुरस्कार - 2023 प्राप्त हुआ?

- Ans
- ☒ 1. सोमाय जापानेर टुक्रो
 - ☒ 2. संववामि
 - ☒ 3. नागमंगल
 - ☒ 4. जालेर ऊपर पानी

Question ID : 630680830482
Option 1 ID : 6306803253023
Option 2 ID : 6306803253024
Option 3 ID : 6306803253021
Option 4 ID : 6306803253022

Q.2 निम्नलिखित में से कौन सा वसा में घुलनशील विटामिन नहीं है?

- Ans
- ☒ 1. विटामिन D
 - ☒ 2. विटामिन C
 - ☒ 3. विटामिन K
 - ☒ 4. विटामिन A

Question ID : 630680830419
Option 1 ID : 6306803252770
Option 2 ID : 6306803252772
Option 3 ID : 6306803252771
Option 4 ID : 6306803252769

Q.3 संकोश किस नदी की सहायक नदी है?

- Ans
- ☒ 1. गंगा
 - ☒ 2. सिंधु
 - ☒ 3. यमुना
 - ☒ 4. ब्रह्मपुत्र

Question ID : 630680830487
Option 1 ID : 6306803253042
Option 2 ID : 6306803253041
Option 3 ID : 6306803253044
Option 4 ID : 6306803253043

Q.4 राष्ट्रीय सिंधी भाषा संवर्धन परिषद (एन.सी.पी.एस.एल.) की स्थापना निम्नलिखित में से किस वर्ष में की गई थी?

- Ans
- ☒ 1. 1982
 - ☒ 2. 2001
 - ☒ 3. 1988
 - ☒ 4. 1994

Question ID : 630680830443
Option 1 ID : 6306803252865
Option 2 ID : 6306803252868
Option 3 ID : 6306803252866
Option 4 ID : 6306803252867

Q.5 The Government of India created RIDF in NABARD in 1995-96 with an initial corpus of ₹ 2,000 crore. What is the full form of RIDF?

- Ans**
- ☒ 1. Regional Infrastructure Development Fund
 - ☒ 2. Rural Infrastructure Department Fund
 - ☒ 3. Rural Infrastructure Development Fund
 - ☒ 4. Rural Investment Development Fund

Question ID : 630680830355
Option 1 ID : 6306803252513
Option 2 ID : 6306803252514
Option 3 ID : 6306803252515
Option 4 ID : 6306803252516

Q.6 गुड़ियों का त्यौहार 'बौम्बे हब्बा' भारत के किस राज्य में मनाया जाता है?

- Ans**
- ☒ 1. कर्नाटक
 - ☒ 2. असम
 - ☒ 3. मध्य प्रदेश
 - ☒ 4. गुजरात

Question ID : 630680830485
Option 1 ID : 6306803253033
Option 2 ID : 6306803253035
Option 3 ID : 6306803253034
Option 4 ID : 6306803253036

Q.7 महात्मा गांधी की आत्मकथा का क्या नाम है?

- Ans**
- ☒ 1. इंडिया ऑफ माई ड्रीम्स
 - ☒ 2. यंग इण्डिया
 - ☒ 3. दी स्टोरी ऑफ माई एक्सपेरिमेंट
 - ☒ 4. हिन्द स्वराज

Question ID : 630680830361
Option 1 ID : 6306803252540
Option 2 ID : 6306803252538
Option 3 ID : 6306803252539
Option 4 ID : 6306803252537

Q.8 निम्नलिखित में से कौन सा सरकार के पूंजीगत व्यय का उदाहरण है?

- Ans**
- ☒ 1. लोगों को निःशुल्क शिक्षा एवं स्वास्थ्य सेवाएँ प्रदान करना
 - ☒ 2. स्कूल और अस्पताल भवन जैसी परिसंपत्तियों का निर्माण
 - ☒ 3. सरकारी कर्मचारियों को वेतन का भुगतान
 - ☒ 4. सार्वजनिक संपत्ति का रखरखाव

Question ID : 630680830434
Option 1 ID : 6306803252832
Option 2 ID : 6306803252831
Option 3 ID : 6306803252829
Option 4 ID : 6306803252830

Q.9 _____ सिंधु की सबसे बड़ी सहायक नदी है।

- Ans ☒ 1. चेनाब
☒ 2. सतलुज
☒ 3. झेलम
☒ 4. रावी

Question ID : 630680830368
Option 1 ID : 6306803252566
Option 2 ID : 6306803252568
Option 3 ID : 6306803252565
Option 4 ID : 6306803252567

Q.10 राष्ट्रीय उर्दू भाषा संवर्धन परिषद ने स्वायत्त निकाय के रूप में किस वर्ष से कार्य करना प्रारंभ किया?

- Ans ☒ 1. 1969
☒ 2. 1956
☒ 3. 1982
☒ 4. 1996

Question ID : 630680830404
Option 1 ID : 6306803252710
Option 2 ID : 6306803252709
Option 3 ID : 6306803252711
Option 4 ID : 6306803252712

Q.11 भितरकनिका' राष्ट्रीय उद्यान भारत के किस राज्य में स्थित है?

- Ans ☒ 1. गुजरात
☒ 2. आंध्र प्रदेश
☒ 3. बिहार
☒ 4. ओडिशा

Question ID : 630680830489
Option 1 ID : 6306803253052
Option 2 ID : 6306803253051
Option 3 ID : 6306803253050
Option 4 ID : 6306803253049

Q.12 हेमिस महोत्सव भारत के किस राज्य/केंद्र शासित प्रदेश में मनाया जाता है?

- Ans ☒ 1. लद्दाख
☒ 2. बिहार
☒ 3. पुदुचेरी
☒ 4. असम

Question ID : 630680830446
Option 1 ID : 6306803252878
Option 2 ID : 6306803252880
Option 3 ID : 6306803252877
Option 4 ID : 6306803252879

Q.13 लोहे पर जिक की परत चढ़ाने का प्रक्रम _____ कहलाता है।

- Ans
- ☒ 1. संक्षारण
 - ☒ 2. उदासीनीकरण
 - ☒ 3. यशद लेपन
 - ☒ 4. क्रिस्टलीकरण

Question ID : 630680830502
Option 1 ID : 6306803253104
Option 2 ID : 6306803253101
Option 3 ID : 6306803253102
Option 4 ID : 6306803253103

Q.14 2001-2011 के दशक के दौरान बौद्ध जनसंख्या के अनुपात में कितने प्रतिशत अंक (पीपी) की गिरावट आई है?

- Ans
- ☒ 1. 0.4 पीपी
 - ☒ 2. 0.1 पीपी
 - ☒ 3. 0.3 पीपी
 - ☒ 4. 0.6 पीपी

Question ID : 630680830572
Option 1 ID : 6306803253383
Option 2 ID : 6306803253381
Option 3 ID : 6306803253382
Option 4 ID : 6306803253384

Q.15 मनुष्यों पर ई-कचरे के प्रभाव के संबंध में निम्नलिखित में से कौन सा कथन सही है?

- I. कुछ इलेक्ट्रॉनिक उपकरणों में पारा होता है जो श्वसन संबंधी विकारों तथा मस्तिष्क क्षति का कारण बनता है।
II. अर्धचालकों तथा प्रतिरोधकों में पाया जाने वाला कैडमियम किडनी, लीवर और अस्थियों को हानि पहुंचा सकता है।

- Ans
- ☒ 1. केवल II
 - ☒ 2. I तथा II दोनों
 - ☒ 3. केवल I
 - ☒ 4. ना ही I ना ही II

Question ID : 630680830463
Option 1 ID : 6306803252946
Option 2 ID : 6306803252947
Option 3 ID : 6306803252945
Option 4 ID : 6306803252948

Q.16 पूर्व मानसून 'आम्र वर्षा' भारत के किस भाग में होती है?

- Ans
- ☒ 1. पश्चिम बंगाल और बिहार
 - ☒ 2. आंध्र प्रदेश और ओडिशा
 - ☒ 3. पश्चिम बंगाल और असम
 - ☒ 4. केरल और कर्नाटक

Question ID : 630680830530
Option 1 ID : 6306803253214
Option 2 ID : 6306803253215
Option 3 ID : 6306803253216
Option 4 ID : 6306803253213

Q.17 निम्नलिखित में से किसे कोशिका का 'शक्ति गृह' कहा जाता है?

- Ans
- ☒ 1. सूत्रकणिका
 - ☒ 2. कोशिका झिल्ली
 - ☒ 3. लयनकाय
 - ☒ 4. केंद्रक उपकरण

Question ID : 630680830380
Option 1 ID : 6306803252616
Option 2 ID : 6306803252613
Option 3 ID : 6306803252615
Option 4 ID : 6306803252614

Q.18 निम्नलिखित में से कौन सा पादप नियामक बीज विकास, परिपक्वता और प्रसुप्ति में महत्वपूर्ण भूमिका निभाता है?

- Ans
- ☒ 1. ईथीलीन
 - ☒ 2. जिब्वेरेलिन्स
 - ☒ 3. साइटोकिनिंस
 - ☒ 4. एबसिसिक एसिड

Question ID : 630680830541
Option 1 ID : 6306803253259
Option 2 ID : 6306803253257
Option 3 ID : 6306803253258
Option 4 ID : 6306803253260

Q.19 मंगोलिज्म या डाउन सिंड्रोम में कितने गुणसूत्र होते हैं?

- Ans
- ☒ 1. 47
 - ☒ 2. 49
 - ☒ 3. 46
 - ☒ 4. 48

Question ID : 630680830498
Option 1 ID : 6306803253086
Option 2 ID : 6306803253088
Option 3 ID : 6306803253085
Option 4 ID : 6306803253087

Q.20 अनधिमान वक्रों के गुणों के बारे में निम्नलिखित में से कौन सा कथन गलत है?

- Ans
- ☒ 1. अनधिमान वक्र कभी भी प्रतिच्छेद नहीं करते।
 - ☒ 2. अनधिमान वक्र सदैव नीचे की ओर झुकते हैं।
 - ☒ 3. उच्च अनधिमान वक्र संतुष्टि के उच्च स्तर को निरूपित करते हैं।
 - ☒ 4. अनधिमान वक्र सदैव मूल बिंदु की ओर अवतल होते हैं।

Question ID : 630680830516
Option 1 ID : 6306803253159
Option 2 ID : 6306803253158
Option 3 ID : 6306803253160
Option 4 ID : 6306803253157

Section : General Awareness 2

Q.1 निम्नलिखित में से किस भारतीय मंत्रालय ने अगस्त 2023 में इंटरनेट से जुड़े सभी कंप्यूटरों में माइक्रोसॉफ्ट ऑपरेटिंग सिस्टम (ओ.एस.) को स्थानीय स्तर पर विकसित ओपन-सोर्स उबंटू पर आधारित एक नए ओ.एस., माया से बदलने का निर्णय लिया?

- Ans
- ☒ 1. वाणिज्य और उद्योग मंत्रालय
 - ☒ 2. रेल मंत्रालय
 - ☒ 3. रक्षा मंत्रालय
 - ☒ 4. पृथ्वी विज्ञान मंत्रालय

Question ID : 630680830353
Option 1 ID : 6306803252505
Option 2 ID : 6306803252508
Option 3 ID : 6306803252506
Option 4 ID : 6306803252507

Q.2 निम्नलिखित में से कौन खिलाफत आंदोलन का नेता था?

- I. मोहम्मद अली
II. शौकत अली

- Ans
- ☒ 1. केवल I
 - ☒ 2. ना ही I ना ही II
 - ☒ 3. I तथा II दोनों
 - ☒ 4. केवल II

Question ID : 630680830478
Option 1 ID : 6306803253005
Option 2 ID : 6306803253008
Option 3 ID : 6306803253007
Option 4 ID : 6306803253006

Q.3 निम्नलिखित में से किस वर्ष में औरंगजेब ने गोलकुंडा को अपने राज्य में मिला लिया था?

- Ans
- ☒ 1. 1666
 - ☒ 2. 1677
 - ☒ 3. 1703
 - ☒ 4. 1687

Question ID : 630680830480
Option 1 ID : 6306803253013
Option 2 ID : 6306803253014
Option 3 ID : 6306803253016
Option 4 ID : 6306803253015

Q.4 अप्रैल 2023 में भारत के प्रधानमंत्री द्वारा निम्नलिखित में से किस शहर में संयुक्त प्रगति (सामावेशी विकास) अभियान शुरू किया गया था?

- Ans
- ☒ 1. जबलपुर
 - ☒ 2. भोपाल
 - ☒ 3. रीवा
 - ☒ 4. इंदौर

Question ID : 630680830548
Option 1 ID : 6306803253288
Option 2 ID : 6306803253285
Option 3 ID : 6306803253286
Option 4 ID : 6306803253287

Q.5 किस वर्ष बाबर ने खानुवा में राणा सांगा, राजपूत राजाओ और उनके समर्थको को हराया था?

- Ans
- ☒ 1. 1527
 - ☒ 2. 1526
 - ☒ 3. 1530
 - ☒ 4. 1528

Question ID : 630680830519
Option 1 ID : 6306803253170
Option 2 ID : 6306803253169
Option 3 ID : 6306803253172
Option 4 ID : 6306803253171

Q.6 भारतीय संविधान का निम्नलिखित में से कौन सा अनुच्छेद मूल कर्तव्यों से संबंधित है?

- Ans
- ☒ 1. अनुच्छेद 50
 - ☒ 2. अनुच्छेद 49
 - ☒ 3. अनुच्छेद 48 क
 - ☒ 4. अनुच्छेद 51क

Question ID : 630680830493
Option 1 ID : 6306803253067
Option 2 ID : 6306803253066
Option 3 ID : 6306803253065
Option 4 ID : 6306803253068

Q.7 निम्नलिखित में से किस राज्य के वन विभाग ने भारत का पहला जिम्नोस्पर्म उद्यान स्थापित किया?

- Ans
- ☒ 1. सिक्किम
 - ☒ 2. अरुणाचल प्रदेश
 - ☒ 3. केरल
 - ☒ 4. उत्तराखंड

Question ID : 630680830386
Option 1 ID : 6306803252640
Option 2 ID : 6306803252637
Option 3 ID : 6306803252638
Option 4 ID : 6306803252639

Q.8 2011 की जनगणना के अनुसार भारत की वयस्क महिला साक्षरता दर क्या है?

- Ans
- ☒ 1. 59.3 प्रतिशत
 - ☒ 2. 75.6 प्रतिशत
 - ☒ 3. 49.2 प्रतिशत
 - ☒ 4. 69.5 प्रतिशत

Question ID : 630680830371
Option 1 ID : 6306803252578
Option 2 ID : 6306803252580
Option 3 ID : 6306803252577
Option 4 ID : 6306803252579

Q.9 निम्नलिखित में से कौन सा कथन भारतीय संविधान के "भारत के प्रत्येक नागरिक के कर्तव्यों" से संबंधित है?

- Ans
- ☒ 1. भारत की प्रभुता, एकता और अखंडता की रक्षा करे और उसे अक्षुण्ण रखे।
 - ☒ 2. अंतर्राष्ट्रीय शांति और सुरक्षा में अभिवृद्धि।
 - ☒ 3. राष्ट्रों के बीच न्यायसंगत और सम्मानपूर्ण संबंधों को बनाए रखना।
 - ☒ 4. अंतर्राष्ट्रीय विवादों के माध्यस्थता द्वारा निपटारे के लिए प्रोत्साहन देने का।

Question ID : 630680830534
Option 1 ID : 6306803253229
Option 2 ID : 6306803253230
Option 3 ID : 6306803253231
Option 4 ID : 6306803253232

Q.10 भारतीय संविधान का निम्नलिखित में से कौन सा अनुच्छेद राष्ट्रपति के चुनाव का प्रावधान करता है?

- Ans
- ☒ 1. अनुच्छेद 50
 - ☒ 2. अनुच्छेद 63
 - ☒ 3. अनुच्छेद 76
 - ☒ 4. अनुच्छेद 54

Question ID : 630680830376
Option 1 ID : 6306803252597
Option 2 ID : 6306803252599
Option 3 ID : 6306803252600
Option 4 ID : 6306803252598

Q.11 भारत ने फाइनल में किस देश को हराकर एशियाई चैंपियंस ट्रॉफी हॉकी 2023 टूर्नामेंट जीता?

- Ans
- ☒ 1. चीन
 - ☒ 2. जापान
 - ☒ 3. पाकिस्तान
 - ☒ 4. मलेशिया

Question ID : 630680830464
Option 1 ID : 6306803252949
Option 2 ID : 6306803252950
Option 3 ID : 6306803252951
Option 4 ID : 6306803252952

Q.12 आंध्र के डेल्टा इलाकों में स्वदेशी आंदोलन को निम्नलिखित में से किस नाम से जाना जाता था?

- Ans
- ☒ 1. होम रूल आंदोलन
 - ☒ 2. मोपला विद्रोह
 - ☒ 3. वंदेमातरम आंदोलन
 - ☒ 4. खिलाफत आंदोलन

Question ID : 630680830477
Option 1 ID : 6306803253003
Option 2 ID : 6306803253001
Option 3 ID : 6306803253002
Option 4 ID : 6306803253004

Q.13 जुलाई 2023 में, निम्नलिखित में से किस संगठन ने सेमी-क्रायोजेनिक इंजन के मध्यवर्ती विन्यास पर प्रथम तप्त परीक्षण आयोजित किया, जिसे पावर हेड टेस्ट आर्टिकल (पी.एच.टी.ए.) के रूप में जाना जाता है?

- Ans
- ☒ 1. डी.आर.डी.ओ.
 - ☒ 2. इसरो
 - ☒ 3. बी.ए.आर.सी.
 - ☒ 4. आई.आई.आर.एस.

Question ID : 630680830391
Option 1 ID : 6306803252659
Option 2 ID : 6306803252660
Option 3 ID : 6306803252658
Option 4 ID : 6306803252657

Q.14 भारतीय संविधान के किस अनुच्छेद में राज्यों में विधान परिषदों का उत्सादन या सृजन का प्रावधान है?

- Ans
- ☒ 1. अनुच्छेद 226
 - ☒ 2. अनुच्छेद 169
 - ☒ 3. अनुच्छेद 213
 - ☒ 4. अनुच्छेद 243

Question ID : 630680830417
Option 1 ID : 6306803252763
Option 2 ID : 6306803252761
Option 3 ID : 6306803252762
Option 4 ID : 6306803252764

Q.15 एशियाई चैंपियंस ट्रॉफी हॉकी का सातवां संस्करण अगस्त 2023 में भारत के किस शहर में आयोजित किया गया था?

- Ans
- ☒ 1. चेन्नई
 - ☐ 2. गुवाहाटी
 - ☐ 3. कोलकाता
 - ☐ 4. पुणे

Question ID : 630680830505
Option 1 ID : 6306803253113
Option 2 ID : 6306803253116
Option 3 ID : 6306803253114
Option 4 ID : 6306803253115

Q.16 बच्चों को जापानी एन्सेफलाइटिस से बचाने के लिए पहली पूर्ण स्वदेशी भारतीय टीके का क्या नाम है?

- Ans
- ☐ 1. अक्टोसाइट
 - ☒ 2. जेनवैक
 - ☐ 3. R21 वैक्सीन
 - ☐ 4. मैट्रिक्स-एम

Question ID : 630680830392
Option 1 ID : 6306803252662
Option 2 ID : 6306803252661
Option 3 ID : 6306803252663
Option 4 ID : 6306803252664

Q.17 राष्ट्रीय अपराध रिकॉर्ड ब्यूरो (NCRB) की 2022 की वार्षिक रिपोर्ट के अनुसार, भारत के निम्नलिखित में से किस राज्य में देश में भ्रष्टाचार के सबसे अधिक मामले हैं?

I. बिहार
II. महाराष्ट्र

- Ans
- ☐ 1. केवल I
 - ☒ 2. केवल II
 - ☐ 3. ना ही I ना ही II
 - ☐ 4. I तथा II दोनों

Question ID : 630680830350
Option 1 ID : 6306803252493
Option 2 ID : 6306803252494
Option 3 ID : 6306803252496
Option 4 ID : 6306803252495

Q.18 राष्ट्रपति पर महाभियोग चलाने की प्रक्रिया भारतीय संविधान के किस अनुच्छेद में दी गई है?

- Ans
- ☐ 1. अनुच्छेद 80
 - ☐ 2. अनुच्छेद 63
 - ☒ 3. अनुच्छेद 61
 - ☐ 4. अनुच्छेद 76

Question ID : 630680830495
Option 1 ID : 6306803253076
Option 2 ID : 6306803253074
Option 3 ID : 6306803253073
Option 4 ID : 6306803253075

Q.19 निम्नलिखित में से किस राज्य सरकार ने जून 2023 में महिलाओं के लिए मुफ्त बस यात्रा की पेशकश करने वाली 'शक्ति' योजना शुरू की?

- Ans
- ☒ 1. केरल
 - ☒ 2. कर्नाटक
 - ☒ 3. महाराष्ट्र
 - ☒ 4. गोवा

Question ID : 630680830349
Option 1 ID : 6306803252492
Option 2 ID : 6306803252490
Option 3 ID : 6306803252489
Option 4 ID : 6306803252491

Q.20 जलवायु परिवर्तन प्रदर्शन सूचकांक 2024 में भारत का स्थान क्या है?

- Ans
- ☒ 1. 4
 - ☒ 2. 5
 - ☒ 3. 10
 - ☒ 4. 7

Question ID : 630680830507
Option 1 ID : 6306803253121
Option 2 ID : 6306803253122
Option 3 ID : 6306803253124
Option 4 ID : 6306803253123

Section : Arithmetical and Numerical Ability 1

Q.1 37 लड़कों के एक समूह की औसत आयु 28 वर्ष है। 17 वर्ष आयु वाला एक लड़का समूह छोड़कर चला जाता है। एक नया लड़का समूह में शामिल हो जाता है तथा औसत 1 वर्ष से बढ़ जाती है। नये लड़के की आयु क्या है?

- Ans
- ☒ 1. 54 वर्ष
 - ☒ 2. 58 वर्ष
 - ☒ 3. 56 वर्ष
 - ☒ 4. 52 वर्ष

Question ID : 630680831588
Option 1 ID : 6306803257399
Option 2 ID : 6306803257398
Option 3 ID : 6306803257400
Option 4 ID : 6306803257397

7/5/24, 10:38 AM

cdn.digialm.com/per/g01/pub/1258/touchstone/AssessmentQPHTMLMode1//1258O24204/1258O24204S1D1942/1719306945924...

Q.2 पीयूष अपनी वस्तु के मूल्य को उसके क्रय मूल्य से 30 प्रतिशत अधिक अंकित करता है। यदि 20 प्रतिशत की छूट देने के पश्चात वह वस्तु को 2756 रुपये में बेचता है, तो वस्तु का क्रय मूल्य क्या होगा?

- Ans
- ☒ 1. 2250 रुपये
 - ☒ 2. 2460 रुपये
 - ☒ 3. 2780 रुपये
 - ☒ 4. 2650 रुपये

Question ID : 630680831616
Option 1 ID : 6306803257512
Option 2 ID : 6306803257509
Option 3 ID : 6306803257510
Option 4 ID : 6306803257511

Q.3 एक विद्यालय के 77 विद्यार्थियों का औसत भार 47 कि.ग्रा. है। यदि लड़कों का औसत भार 50 कि.ग्रा है तथा लड़कियों का औसत भार 29 कि.ग्रा. है, तो लड़कों के कुल भार तथा लड़कियों के कुल भार का क्रमशः अनुपात क्या है?

- Ans
- ☒ 1. 304 : 33
 - ☒ 2. 300 : 29
 - ☒ 3. 290 : 27
 - ☒ 4. 301 : 31

Question ID : 630680831629
Option 1 ID : 6306803257564
Option 2 ID : 6306803257561
Option 3 ID : 6306803257562
Option 4 ID : 6306803257563

Q.4 एक निश्चित राशि 2 वर्ष के अंत में 30 प्रतिशत प्रतिवर्ष की दर से चक्रवृद्धि व्याज (वार्षिक संयोजन पर) के रूप में 4485 रुपये देती है। वह राशि क्या है?

- Ans
- ☒ 1. 8850 रुपये
 - ☒ 2. 6500 रुपये
 - ☒ 3. 6700 रुपये
 - ☒ 4. 6850 रुपये

Question ID : 630680831632
Option 1 ID : 6306803257573
Option 2 ID : 6306803257575
Option 3 ID : 6306803257576
Option 4 ID : 6306803257574

Q.5 नीचे दी गई तालिका एक परीक्षा में 5 छात्रों द्वारा प्राप्त अंकों को दर्शाती है।

छात्र	अंक
P	600
Q	400
R	100
S	500
T	200

P द्वारा प्राप्त अंकों का Q द्वारा प्राप्त अंकों से अनुपात क्या है?

Ans ☒ 1. 3 : 2

☐ 2. 3 : 1

☐ 3. 2 : 1

☐ 4. 4 : 1

Question ID : 630680831715
Option 1 ID : 6306803257905
Option 2 ID : 6306803257906
Option 3 ID : 6306803257907
Option 4 ID : 6306803257908

Q.6 नीचे दी गई तालिका 6 विभिन्न राज्यों से एक सर्वेक्षण में भाग लेने वाले व्यक्तियों की संख्या को दर्शाती है।

राज्य	व्यक्ति
S1	100
S2	200
S3	400
S4	500
S5	600
S6	800

राज्य S3 से सर्वेक्षण में भाग लेने वाले व्यक्तियों की संख्या का राज्य S6 से सर्वेक्षण में भाग लेने वाले व्यक्तियों की संख्या से अनुपात क्या है?

Ans ☐ 1. 1 : 3

☒ 2. 1 : 2

☐ 3. 2 : 3

☐ 4. 1 : 4

Question ID : 630680831636
Option 1 ID : 6306803257590
Option 2 ID : 6306803257589
Option 3 ID : 6306803257592
Option 4 ID : 6306803257591

Q.7 4420 रुपये को P तथा Q के मध्य विभाजित किया गया है। वह अपने हिस्से को 10 प्रतिशत प्रति वर्ष की दर से चक्रवृद्धि ब्याज पर (वार्षिक संयोजन पर) निवेश करते हैं। यदि 8 वर्ष के अंत में P का हिस्सा 10 वर्ष के अंत में Q के हिस्से के बराबर है, तो निम्नलिखित में से कौन सा/से कथन सही है/हैं?
I. P का हिस्सा 2420 रुपये है।
II. 1 वर्ष के अंत में Q का हिस्सा 2200 रुपये होगा।

- Ans**
- ☒ 1. केवल II
 - ☒ 2. केवल I
 - ☒ 3. ना ही I ना ही II
 - ☒ 4. I तथा II दोनों

Question ID : 630680831594
Option 1 ID : 6306803257422
Option 2 ID : 6306803257421
Option 3 ID : 6306803257424
Option 4 ID : 6306803257423

Q.8 यदि $\frac{1}{A} + \frac{1}{A} + \frac{1}{A} + \frac{1}{A} = 48$ है, तो A का मान क्या है?

- Ans**
- ☒ 1. 1/12
 - ☒ 2. 1/14
 - ☒ 3. 1/10
 - ☒ 4. 1/8

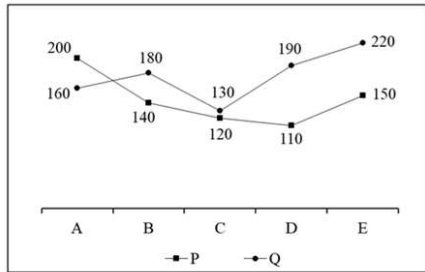
Question ID : 630680831761
Option 1 ID : 6306803258090
Option 2 ID : 6306803258091
Option 3 ID : 6306803258089
Option 4 ID : 6306803258092

Q.9 $8.\overline{642}$ का मान क्या है?

- Ans**
- ☒ 1. $\frac{8634}{999}$
 - ☒ 2. $\frac{8642}{900}$
 - ☒ 3. $\frac{8642}{999}$
 - ☒ 4. $\frac{8634}{900}$

Question ID : 630680831762
Option 1 ID : 6306803258094
Option 2 ID : 6306803258093
Option 3 ID : 6306803258095
Option 4 ID : 6306803258096

Q.10 नीचे दिया गया रेखा चित्र 2 शोरूम द्वारा बेची गई विभिन्न स्कूटर की संख्या को दर्शाता है।



Q द्वारा बेचे गए स्कूटर A तथा B की औसत संख्या, P द्वारा बेचे गए स्कूटर C तथा D की औसत संख्या का कितना प्रतिशत है? (include approximately)

- Ans
- ✓ 1. 147.83 प्रतिशत
 - ✗ 2. 214.36 प्रतिशत
 - ✗ 3. 123.46 प्रतिशत
 - ✗ 4. 182.47 प्रतिशत

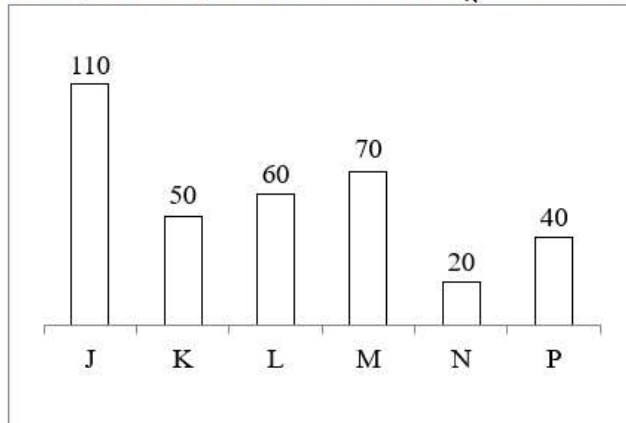
Question ID : 630680831637
Option 1 ID : 6306803257594
Option 2 ID : 6306803257596
Option 3 ID : 6306803257593
Option 4 ID : 6306803257595

Q.11 यदि A, 3 तथा 2 दोनों से विभाजित होने वाली सबसे छोटी 3 अंकों की संख्या है। B, 3 तथा 2 दोनों से विभाजित होने वाली सबसे बड़ी 3 अंकों की संख्या है, तो B - A का मान क्या है?

- Ans
- ✗ 1. 864
 - ✗ 2. 874
 - ✓ 3. 894
 - ✗ 4. 892

Question ID : 630680831606
Option 1 ID : 6306803257472
Option 2 ID : 6306803257471
Option 3 ID : 6306803257469
Option 4 ID : 6306803257470

Q.12 नीचे दिया गया दंड आरेख 6 विभिन्न स्कूलों में छात्रों की संख्या को दर्शाता है।



L में छात्रों की संख्या का, N में छात्रों की संख्या से अनुपात क्या है?

- Ans
- ☒ 1. 2 : 1
 - ☒ 2. 3 : 1
 - ☒ 3. 2 : 7
 - ☒ 4. 3 : 4

Question ID : 630680831718
Option 1 ID : 6306803257918
Option 2 ID : 6306803257917
Option 3 ID : 6306803257920
Option 4 ID : 6306803257919

Q.13 $\frac{0.3216}{0.05} \times \frac{0.05}{0.16}$ का मान क्या है?

- Ans
- ☒ 1. 0.201
 - ☒ 2. 201
 - ☒ 3. 20.1
 - ☒ 4. 2.01

Question ID : 630680831800
Option 1 ID : 6306803258247
Option 2 ID : 6306803258245
Option 3 ID : 6306803258246
Option 4 ID : 6306803258248

Q.14 A, 15 तथा 8 दोनों से विभाजित होने वाली सबसे छोटी 3 अंकों की संख्या है। B, 15 तथा 8 दोनों से विभाजित होने वाली सबसे बड़ी 3 अंकों की संख्या है। तो $B - A$ का मान क्या है?

- Ans
- ☐ 1. 890
 - ☒ 2. 840
 - ☐ 3. 850
 - ☐ 4. 855

Question ID : 630680831683
Option 1 ID : 6306803257779
Option 2 ID : 6306803257778
Option 3 ID : 6306803257780
Option 4 ID : 6306803257777

Q.15 एक नया छात्र जिसका भार 50 कि.ग्रा. है, 44 छात्रों की एक कक्षा में शामिल हो जाता है और कक्षा का औसत भार 1 कि.ग्रा. से कम हो जाता है। कक्षा का नया औसत भार क्या है?

- Ans
- ☐ 1. 100 कि.ग्रा.
 - ☐ 2. 97 कि.ग्रा.
 - ☒ 3. 94 कि.ग्रा.
 - ☐ 4. 98 कि.ग्रा.

Question ID : 630680831707
Option 1 ID : 6306803257873
Option 2 ID : 6306803257875
Option 3 ID : 6306803257876
Option 4 ID : 6306803257874

Q.16 एक विद्यालय की तीन कक्षाएं हैं। प्रत्येक कक्षा में क्रमशः 12, 70 तथा 42 छात्र हैं। विद्यालय प्रत्येक कक्षा को समूहों में विभाजित करना चाहता है ताकि प्रत्येक कक्षा में प्रत्येक समूह में छात्रों की संख्या समान हो और कोई भी छात्र न बचे। प्रत्येक समूह में अधिकतम कितने विद्यार्थियों को रखा जा सकता है?

- Ans
- ☐ 1. 12
 - ☒ 2. 2
 - ☐ 3. 6
 - ☐ 4. 8

Question ID : 630680831725
Option 1 ID : 6306803257946
Option 2 ID : 6306803257947
Option 3 ID : 6306803257945
Option 4 ID : 6306803257948

7/5/24, 10:38 AM

cdn.digialm.com/per/g01/pub/1258/touchstone/AssessmentQPHTMLMode1//1258O24204/1258O24204S1D1942/1719306945924...

Q.17 1 से 100 तक ऐसी कितनी संख्याएँ हैं जो 7 से विभाज्य नहीं हैं?

- Ans
- ✓ 1. 86
 - ✗ 2. 84
 - ✗ 3. 74
 - ✗ 4. 76

Question ID : 630680831804
Option 1 ID : 6306803258262
Option 2 ID : 6306803258261
Option 3 ID : 6306803258263
Option 4 ID : 6306803258264

Q.18 $(414 \div 3) \times 2 + 15 - 112$ का मान क्या है?

- Ans
- ✓ 1. 179
 - ✗ 2. 175
 - ✗ 3. 173
 - ✗ 4. 171

Question ID : 630680831599
Option 1 ID : 6306803257444
Option 2 ID : 6306803257443
Option 3 ID : 6306803257442
Option 4 ID : 6306803257441

Q.19 एक राशि 15 प्रतिशत प्रतिवर्ष की दर से 3 वर्ष बाद चक्रवृद्धि ब्याज (वार्षिक संयोजन से) पर 19467.20 रुपये हो जाती है। राशि क्या है?

- Ans
- ✓ 1. 12800 रुपये
 - ✗ 2. 11500 रुपये
 - ✗ 3. 12200 रुपये
 - ✗ 4. 14700 रुपये

Question ID : 630680831593
Option 1 ID : 6306803257418
Option 2 ID : 6306803257417
Option 3 ID : 6306803257419
Option 4 ID : 6306803257420

7/5/24, 10:38 AM

cdn.digialm.com/per/g01/pub/1258/touchstone/AssessmentQPHTMLMode1//1258O24204/1258O24204S1D1942/1719306945924...

Q.20 रोहित 1300 रुपये की एक गैद खरीदता है। रोहित ग्राहक को इस गैद पर 25 प्रतिशत तथा 20 प्रतिशत की दो क्रमिक छूट देता है। गैद का विक्रय मूल्य क्या होगा?

- Ans**
- ☒ 1. 760 रुपये
 - ☒ 2. 780 रुपये
 - ☒ 3. 750 रुपये
 - ☒ 4. 740 रुपये

Question ID : 630680831815
Option 1 ID : 6306803258308
Option 2 ID : 6306803258307
Option 3 ID : 6306803258305
Option 4 ID : 6306803258306

Section : Arithmetical and Numerical Ability 2

Q.1 एक गोले की त्रिज्या में 10 प्रतिशत की कमी की जाती है, तो गोले का आयतन कितने प्रतिशत से कम हो जाएगा?

- Ans**
- ☒ 1. 27.1 प्रतिशत
 - ☒ 2. 32.1 प्रतिशत
 - ☒ 3. 30 प्रतिशत
 - ☒ 4. 26.1 प्रतिशत

Question ID : 630680831767
Option 1 ID : 6306803258114
Option 2 ID : 6306803258115
Option 3 ID : 6306803258113
Option 4 ID : 6306803258116

Q.2 एक निश्चित राशि साधारण ब्याज पर 7 वर्षों में 2200 रुपये तथा 11 वर्षों में 2320 रुपये हो जाती है। राशि क्या है?

- Ans**
- ☒ 1. 1920 रुपये
 - ☒ 2. 1870 रुपये
 - ☒ 3. 1940 रुपये
 - ☒ 4. 1990 रुपये

Question ID : 630680831790
Option 1 ID : 6306803258206
Option 2 ID : 6306803258208
Option 3 ID : 6306803258205
Option 4 ID : 6306803258207

7/5/24, 10:38 AM

cdn.digialm.com/per/g01/pub/1258/touchstone/AssessmentQPHTMLMode1//1258O24204/1258O24204S1D1942/1719306945924...

Q.3 यदि एक आयत की लम्बाई तथा चौड़ाई को क्रमशः 30 प्रतिशत तथा 25 प्रतिशत से बढ़ाया जाता है, तो इसके क्षेत्रफल में कितने प्रतिशत की वृद्धि होगी?

- Ans**
- ✓ 1. 62.5 प्रतिशत
 - ✗ 2. 60 प्रतिशत
 - ✗ 3. 55 प्रतिशत
 - ✗ 4. 56.5 प्रतिशत

Question ID : 630680831729
Option 1 ID : 6306803257963
Option 2 ID : 6306803257962
Option 3 ID : 6306803257961
Option 4 ID : 6306803257964

Q.4 यदि $(a + b) : (b + c) : (c + a) = 3 : 5 : 6$ तथा $(a + b + c) = 28$ है, तो c का मान क्या है?

- Ans**
- ✗ 1. 22
 - ✓ 2. 16
 - ✗ 3. 14
 - ✗ 4. 18

Question ID : 630680831738
Option 1 ID : 6306803258000
Option 2 ID : 6306803257997
Option 3 ID : 6306803257998
Option 4 ID : 6306803257999

Q.5 एक व्यक्ति एक बैट को 2405 रुपये में बेचने पर 30 प्रतिशत का लाभ कमाता है। यदि वह उसे 1554 रुपये में बेचता है, तो हानि प्रतिशत क्या होगा?

- Ans**
- ✓ 1. 16 प्रतिशत
 - ✗ 2. 22 प्रतिशत
 - ✗ 3. 10 प्रतिशत
 - ✗ 4. 15 प्रतिशत

Question ID : 630680831772
Option 1 ID : 6306803258133
Option 2 ID : 6306803258136
Option 3 ID : 6306803258135
Option 4 ID : 6306803258134

Q.6 C, D से 60 प्रतिशत कम है। यदि C का मान 320 है, तो D का मान क्या है?

- Ans
- ☐ 1. 80
 - ☐ 2. 88
 - ☐ 3. 880
 - ☒ 4. 800

Question ID : 630680831770
Option 1 ID : 6306803258125
Option 2 ID : 6306803258126
Option 3 ID : 6306803258127
Option 4 ID : 6306803258128

Q.7 विवेक 11:00 पूर्वाह्न पर 74 कि.मी./घंटा की गति से चलना आरंभ करता है। नीरज, विवेक के 4 घंटे बाद 111 कि.मी./घंटा की गति से उसी जगह से उसी दिशा में दिशा में चलना आरंभ करता है। निम्नलिखित में से कौन सा/से कथन सही है/हैं?

- I. नीरज तथा विवेक एक-दूसरे से 11:00 अपराह्न पर मिलते हैं।
II. 6 अपराह्न तक नीरज और विवेक दोनों के द्वारा तय की गई कुल दूरी 725 कि.मी. है।

- Ans
- ☐ 1. ना ही I ना ही II
 - ☐ 2. I तथा II दोनों
 - ☒ 3. केवल I
 - ☐ 4. केवल II

Question ID : 630680831786
Option 1 ID : 6306803258192
Option 2 ID : 6306803258191
Option 3 ID : 6306803258189
Option 4 ID : 6306803258190

Q.8 एक स्कूटर 80 मी./से. की गति से चल रही है। इस स्कूटर की गति कि.मी./घंटा में क्या होगी?

- Ans
- ☐ 1. 264 कि.मी./घंटा
 - ☐ 2. 296 कि.मी./घंटा
 - ☐ 3. 276 कि.मी./घंटा
 - ☒ 4. 288 कि.मी./घंटा

Question ID : 630680831663
Option 1 ID : 6306803257697
Option 2 ID : 6306803257700
Option 3 ID : 6306803257698
Option 4 ID : 6306803257699

7/5/24, 10:38 AM

cdn.digialm.com/per/g01/pub/1258/touchstone/AssessmentQPHTMLMode1//1258O24204/1258O24204S1D1942/1719306945924...

Q.9 एक लड़का 16 कि.मी./घंटा की गति से चलते हुए एक निश्चित दूरी को 8 घंटे 15 मिनट में तय करता है। यदि वह समान दूरी को साइकिल द्वारा 11 घंटे में तय करता है, तो साइकिल की गति क्या है?

- Ans**
- ☒ 1. 8 कि.मी./घंटा
 - ☒ 2. 12 कि.मी./घंटा
 - ☒ 3. 14 कि.मी./घंटा
 - ☒ 4. 11 कि.मी./घंटा

Question ID : 630680831664
Option 1 ID : 6306803257701
Option 2 ID : 6306803257703
Option 3 ID : 6306803257704
Option 4 ID : 6306803257702

Q.10 यदि कुल बैगों के 70 प्रतिशत को 30 प्रतिशत के लाभ पर बेचा गया है तथा शेष बैगों को 20 प्रतिशत की हानि पर बेचा गया है, तो कुल लाभ प्रतिशत क्या होगा?

- Ans**
- ☒ 1. 12 प्रतिशत
 - ☒ 2. 18 प्रतिशत
 - ☒ 3. 20 प्रतिशत
 - ☒ 4. 15 प्रतिशत

Question ID : 630680831694
Option 1 ID : 6306803257822
Option 2 ID : 6306803257824
Option 3 ID : 6306803257821
Option 4 ID : 6306803257823

Q.11 दो व्यक्ति R तथा T, 11:45 पूर्वाह्न पर एक दूसरे से 240 कि.मी. की एक दूरी पर हैं। 15 मिनट बाद, R, 40 कि.मी./घंटा की गति से T की ओर चलना आरंभ करता है जबकि 3 अपराह्न पर T, 30 कि.मी./घंटा की गति से R से दूर चलना आरंभ करता है। वह अगले दिन किस समय मिलेंगे?

- Ans**
- ☒ 1. 1:00 पूर्वाह्न
 - ☒ 2. 5:00 पूर्वाह्न
 - ☒ 3. 3:00 पूर्वाह्न
 - ☒ 4. 7:00 पूर्वाह्न

Question ID : 630680831745
Option 1 ID : 6306803258025
Option 2 ID : 6306803258026
Option 3 ID : 6306803258027
Option 4 ID : 6306803258028

Q.12 करन, सचिन से 20 प्रतिशत अधिक कार्यकुशल है। यदि सचिन अकेले किसी कार्य को 20 दिनों में पूरा कर सकता है, तो करन अकेले उसी कार्य को कितने दिनों में पूरा करेगा?

- Ans
- ☒ 1. 50/7 दिन
 - ☒ 2. 50/3 दिन
 - ☒ 3. 100/3 दिन
 - ☒ 4. 100/7 दिन

Question ID : 630680831661
Option 1 ID : 6306803257690
Option 2 ID : 6306803257689
Option 3 ID : 6306803257691
Option 4 ID : 6306803257692

Q.13 यदि किसी संख्या के 25 प्रतिशत में से 75 को घटाया जाए, तो परिणाम 1225 आता है। संख्या का मान क्या है?

- Ans
- ☒ 1. 5000
 - ☒ 2. 5300
 - ☒ 3. 5200
 - ☒ 4. 5100

Question ID : 630680831608
Option 1 ID : 6306803257477
Option 2 ID : 6306803257480
Option 3 ID : 6306803257479
Option 4 ID : 6306803257478

Q.14 यदि $X : Y = 2 : 5$ तथा $Y : Z = 3 : 2$ है, तो $Y : (X + Z)$ का मान क्या है?

- Ans
- ☒ 1. 14 : 13
 - ☒ 2. 15 : 13
 - ☒ 3. 15 : 16
 - ☒ 4. 15 : 17

Question ID : 630680831777
Option 1 ID : 6306803258154
Option 2 ID : 6306803258155
Option 3 ID : 6306803258156
Option 4 ID : 6306803258153

Q.15 एक छात्र ने अंग्रेजी तथा इतिहास में समान अंक प्राप्त किए। इतिहास तथा गणित के अंको का अनुपात क्रमशः 10 : 3 है। तीनों विषयों के कुल अंक 69 प्रतिशत है। प्रत्येक विषय के लिए अधिकतम अंक 100 है। उसने इतिहास में कितने अंक प्राप्त किए?

- Ans
- ☒ 1. 60
 - ☐ 2. 110
 - ☐ 3. 80
 - ☒ 4. 90

Question ID : 630680831820
Option 1 ID : 6306803258328
Option 2 ID : 6306803258327
Option 3 ID : 6306803258326
Option 4 ID : 6306803258325

Q.16 190000 रुपये को X, Y तथा Z में इस प्रकार विभाजित किया जाता है कि X के हिस्से का 40 प्रतिशत = Y के हिस्से का 10 प्रतिशत = Z के हिस्से का 30 प्रतिशत है। Z का हिस्सा क्या है?

- Ans
- ☒ 1. 40000 रुपये
 - ☐ 2. 120000 रुपये
 - ☐ 3. 80000 रुपये
 - ☐ 4. 30000 रुपये

Question ID : 630680831659
Option 1 ID : 6306803257683
Option 2 ID : 6306803257681
Option 3 ID : 6306803257682
Option 4 ID : 6306803257684

Q.17 एक व्यक्ति ने 30 प्रतिशत की हानि पर 1526 रुपये में एक पेन बेचा। यदि वह 40 प्रतिशत का लाभ कमाना चाहता है, तो उसे पेन को किस मूल्य पर बेचना चाहिए?

- Ans
- ☒ 1. 3052 रुपये
 - ☐ 2. 3268 रुपये
 - ☐ 3. 3100 रुपये
 - ☐ 4. 3066 रुपये

Question ID : 630680831773
Option 1 ID : 6306803258138
Option 2 ID : 6306803258140
Option 3 ID : 6306803258139
Option 4 ID : 6306803258137

7/5/24, 10:38 AM

cdn.digialm.com/per/g01/pub/1258/touchstone/AssessmentQPHTMLMode1//1258O24204/1258O24204S1D1942/1719306945924...

Q.18 12 व्यस्क या 36 बच्चे एक कार्य को 42 दिन में कर सकते हैं। 8 व्यस्क तथा 12 बच्चे साथ मिलकर उसी कार्य को कितने दिन में पूरा कर सकते हैं?

- Ans**
- ☐ 1. 21 दिन
 - ☐ 2. 47 दिन
 - ☒ 3. 42 दिन
 - ☐ 4. 48 दिन

Question ID : 630680831782
Option 1 ID : 6306803258173
Option 2 ID : 6306803258176
Option 3 ID : 6306803258174
Option 4 ID : 6306803258175

Q.19 नमन की आय तथा व्यय का क्रमशः अनुपात 13 : 5 है। यदि उसकी आय को 50 प्रतिशत से बढ़ाया जाता है तथा व्यय को 50 प्रतिशत से कम किया जाता है, तो उसकी आय तथा व्यय का नया क्रमशः अनुपात क्या होगा?

- Ans**
- ☐ 1. 40 : 5
 - ☒ 2. 39 : 5
 - ☐ 3. 26 : 5
 - ☐ 4. 37 : 5

Question ID : 630680831731
Option 1 ID : 6306803257969
Option 2 ID : 6306803257972
Option 3 ID : 6306803257970
Option 4 ID : 6306803257971

Q.20 6000 रुपये की एक राशि दो भागों में साधारण ब्याज पर उधार दी जाती है। एक भाग 12 प्रतिशत की वार्षिक दर से तथा अन्य भाग 18 प्रतिशत की वार्षिक दर से दिया जाता है। यदि कुल वार्षिक ब्याज 900 रुपये है, तो 18 प्रतिशत की दर पर उधार दी गई राशि क्या है?

- Ans**
- ☐ 1. 3500 रुपये
 - ☐ 2. 4000 रुपये
 - ☒ 3. 3000 रुपये
 - ☐ 4. 4500 रुपये

Question ID : 630680831631
Option 1 ID : 6306803257569
Option 2 ID : 6306803257571
Option 3 ID : 6306803257570
Option 4 ID : 6306803257572

Section : Test of English Language and Comprehension 1

Q.1 Select the most appropriate option to fill in the blank.
I was reluctant to leave _____ I was having such a good time.

Ans ✔ 1. because

✖ 2. such

✖ 3. almost

✖ 4. whichever

Question ID : 630680829995
 Option 1 ID : 6306803251131
 Option 2 ID : 6306803251132
 Option 3 ID : 6306803251129
 Option 4 ID : 6306803251130

Q.2 Select the most appropriate option to fill in the blank.
Father Costello assured me _____ he'll perform the rites today.

Ans ✔ 1. that

✖ 2. which

✖ 3. as

✖ 4. what

Question ID : 630680830208
 Option 1 ID : 6306803251942
 Option 2 ID : 6306803251941
 Option 3 ID : 6306803251943
 Option 4 ID : 6306803251944

Q.3 Choose the idiom/phrase that can substitute the highlighted group of words meaningfully.
If you don't do your homework now, it'll be a problem in the future.

Ans ✔ 1. Down the road

✖ 2. One for the road

✖ 3. In the nick of time

✖ 4. Bend over backward

Question ID : 630680830102
 Option 1 ID : 6306803251540
 Option 2 ID : 6306803251537
 Option 3 ID : 6306803251539
 Option 4 ID : 6306803251538

Q.4 Improve the underlined part of the sentence. Choose 'No improvement' as an answer if the sentence is grammatically correct.
Seoul were the capital of South Korea.

Ans ✖ 1. is the capitals

✔ 2. is the capital

✖ 3. are the capital

✖ 4. No improvement

Question ID : 630680830044
 Option 1 ID : 6306803251317
 Option 2 ID : 6306803251318
 Option 3 ID : 6306803251319
 Option 4 ID : 6306803251320

Q.5 Choose the most appropriate antonym of the underlined word.
I felt that with a touch of his wand the magician could transform us all.

- Ans
- ☒

1. Commute
- ☒

2. Alter
- ☒

3. Convert
- ☒

4. Unalter

Question ID : 630680830149

Option 1 ID : 6306803251718

Option 2 ID : 6306803251717

Option 3 ID : 6306803251720

Option 4 ID : 6306803251719

Q.6 Improve the underlined part of the sentence. Choose ‘No improvement’ as an answer if the sentence is grammatically correct.
He felt like a different person and didn’t wanted to return back in his previous life.

- Ans
- ☒

1. didn’t want to return to
- ☒

2. doesn't want to return to
- ☒

3. don't wanted to return back to
- ☒

4. No improvement

Question ID : 630680830213

Option 1 ID : 6306803251963

Option 2 ID : 6306803251962

Option 3 ID : 6306803251961

Option 4 ID : 6306803251964

Q.7 Select the most appropriate option to fill in the blank.
_____ governor declined to meet the committee.

- Ans
- ☒

1. An
- ☒

2. The
- ☒

3. No article
- ☒

4. A

Question ID : 630680830120

Option 1 ID : 6306803251606

Option 2 ID : 6306803251607

Option 3 ID : 6306803251608

Option 4 ID : 6306803251605

Q.8 Select the most appropriate option to fill in the blank.
Leisure is essential _____ civilization.

- Ans
- ☒

1. by
- ☒

2. to
- ☒

3. at
- ☒

4. of

Question ID : 630680830207

Option 1 ID : 6306803251937

Option 2 ID : 6306803251938

Option 3 ID : 6306803251940

Option 4 ID : 6306803251939

Q.9 Select the most appropriate option for the given blank.
 The shopkeeper encouraged customers to _____ one item and get the second one at half price.

- Ans

☒ 1. buy
 ☐ 2. by
 ☐ 3. buoy
 ☐ 4. bye

Question ID : 630680830236
 Option 1 ID : 6306803252051
 Option 2 ID : 6306803252052
 Option 3 ID : 6306803252049
 Option 4 ID : 6306803252050

Q.10 Select the most appropriate option for the given blank.
 For dinner, we decided to grill some juicy _____ chops.

- Ans

☒ 1. pork
 ☐ 2. poke
 ☐ 3. puke
 ☐ 4. pour

Question ID : 630680830193
 Option 1 ID : 6306803251888
 Option 2 ID : 6306803251887
 Option 3 ID : 6306803251886
 Option 4 ID : 6306803251885

Q.11 Improve the underlined part of the sentence. Choose 'No improvement' as an answer if the sentence is grammatically correct.
 The normally placid Inspector was piqued by his friend's unreasonable attitude.

- Ans

☐ 1. did piqued by his friend's
 ☐ 2. has piqued by his friends
 ☐ 3. piqued by his friend
 ☒ 4. No improvement

Question ID : 630680830088
 Option 1 ID : 6306803251485
 Option 2 ID : 6306803251487
 Option 3 ID : 6306803251486
 Option 4 ID : 6306803251488

Q.12 Select the most appropriate option to fill in the blank.
 I have _____ black and a brown-coloured dog.

- Ans

☐ 1. an
 ☐ 2. No article
 ☐ 3. the
 ☒ 4. a

Question ID : 630680829993
 Option 1 ID : 6306803251122
 Option 2 ID : 6306803251124
 Option 3 ID : 6306803251123
 Option 4 ID : 6306803251121

Q.13 Improve the underlined part of the sentence. Choose ‘No improvement’ as an answer if the sentence is grammatically correct.
The band play a merriest tune.

- Ans

☒

1. plays a merriest

☒

2. No improvement

☒

3. played a merry

☒

4. playing a merrier

Question ID : 630680830169

Option 1 ID : 6306803251793

Option 2 ID : 6306803251796

Option 3 ID : 6306803251795

Option 4 ID : 6306803251794

Q.14 Choose the most appropriate synonym of the given word.

Frenzy

- Ans

☒

1. Gallant

☒

2. Fury

☒

3. Repose

☒

4. Still

Question ID : 630680830021

Option 1 ID : 6306803251229

Option 2 ID : 6306803251231

Option 3 ID : 6306803251230

Option 4 ID : 6306803251232

Q.15 Improve the underlined part of the sentence. Choose ‘No improvement’ as an answer if the sentence is grammatically correct.
I need precise measurements for room.

- Ans

☒

1. precisely measurements for room

☒

2. precise measurements on room

☒

3. No improvement

☒

4. precise measurements for the room

Question ID : 630680830042

Option 1 ID : 6306803251310

Option 2 ID : 6306803251311

Option 3 ID : 6306803251312

Option 4 ID : 6306803251309

Q.16 Choose the most appropriate meaning of the given idiom.
Go bananas

- Ans

✖

1. To file a case

✔

2. To go crazy

✖

3. To crack bad jokes

✖

4. To go in speed

Question ID : 630680830020

Option 1 ID : 6306803251228

Option 2 ID : 6306803251225

Option 3 ID : 6306803251226

Option 4 ID : 6306803251227

Q.17 Choose the idiom/phrase that can substitute the highlighted group of words meaningfully.
They are using advanced and innovative technology in their new gadgets.

- Ans

✖

1. Crack a book

✖

2. Smash hit

✖

3. Dead meat

✔

4. Cutting edge

Question ID : 630680830101

Option 1 ID : 6306803251535

Option 2 ID : 6306803251533

Option 3 ID : 6306803251536

Option 4 ID : 6306803251534

Q.18 In the following question, out of the given four alternatives, select the alternative which best expresses the meaning of the Idiom/Phrase.
To make much ado about nothing

- Ans

✖

1. To be in a good mood

✔

2. To make a great fuss about a trifle

✖

3. To behave in a weird way

✖

4. To find loopholes

Question ID : 630680830061

Option 1 ID : 6306803251382

Option 2 ID : 6306803251383

Option 3 ID : 6306803251381

Option 4 ID : 6306803251384

Q.19 Improve the underlined part of the sentence. Choose ‘No improvement’ as an answer if the sentence is grammatically correct.
A whole place reeked of cheap perfume.

- Ans ☒ 1. The whole place reeked of
- ☒ 2. No improvement
- ☒ 3. A whole place is reeked of
- ☒ 4. A whole place reeked over

Question ID : 630680830209
 Option 1 ID : 6306803251945
 Option 2 ID : 6306803251948
 Option 3 ID : 6306803251946
 Option 4 ID : 6306803251947

Q.20 Select the most appropriate option to fill in the blank.
 He made _____ excursions into the tribal habitats there.

- Ans ☒ 1. several
- ☒ 2. all
- ☒ 3. very
- ☒ 4. much

Question ID : 630680830206
 Option 1 ID : 6306803251934
 Option 2 ID : 6306803251935
 Option 3 ID : 6306803251933
 Option 4 ID : 6306803251936

Section : Test of English Language and Comprehension 2

Q.1 Rearrange the following sentences to form a coherent paragraph.
 A. Especially when you think about endless traffic jams, the bad roads dotted with potholes, uncleared garbage and the spate of waterborne diseases.
 B. The beginning of the fun-filled season with the sun hidden behind the grey clouds brings cheer to many of us.
 C. Of course, not everything about rain is glamorous.
 D. We wait eagerly to splash in the rain.
 E. Also, viral infections like colds and coughs make their presence felt.

- Ans ☒ 1. CABDE
- ☒ 2. ABCDE
- ☒ 3. CEABD
- ☒ 4. BDCAE

Question ID : 630680830047
 Option 1 ID : 6306803251329
 Option 2 ID : 6306803251331
 Option 3 ID : 6306803251332
 Option 4 ID : 6306803251330

Q.2 Rearrange the following sentences to form a coherent paragraph.
 A. They can be said to be the powerhouse of information.
 Moreover, they offer us other benefits as well which he lps us in our lives.
 B. As the world is moving towards digitalisation, no one really reads the newspaper.
 C. You become better informed through newspaper reading and it also broadens your perspective.
 D. However, newspaper reading is becoming a dying habit.
 E. Newspapers are one of the most important documents.

- Ans

☒

1. CEABD

☒

2. EACDB

☒

3. ABCDE

☒

4. BEACD

Question ID : 630680830090
 Option 1 ID : 6306803251494
 Option 2 ID : 6306803251495
 Option 3 ID : 6306803251493
 Option 4 ID : 6306803251496

Q.3 Choose the word that can substitute the given group of words.
 A government that respects all religions

- Ans

☒

1. Camatic

☒

2. Secular

☒

3. Majoritarian

☒

4. Partisan

Question ID : 630680830007
 Option 1 ID : 6306803251178
 Option 2 ID : 6306803251177
 Option 3 ID : 6306803251180
 Option 4 ID : 6306803251179

Q.4 Select the incorrectly spelt word from the given sentence.
 Many places might require advance reservations and have abreviated hours, so check their websites in advance.

- Ans

☒

1. abreviated

☒

2. websites

☒

3. require

☒

4. reservations

Question ID : 630680830028
 Option 1 ID : 6306803251259
 Option 2 ID : 6306803251260
 Option 3 ID : 6306803251257
 Option 4 ID : 6306803251258

Q.5 Choose the word that can substitute the given group of words.
500th anniversary of something

- Ans

☒

1. Pentavalent

☒

2. Tercentenary

☒

3. Bicentennial

☒

4. Quincentenary

Question ID : 630680830218
 Option 1 ID : 6306803251981
 Option 2 ID : 6306803251984
 Option 3 ID : 6306803251983
 Option 4 ID : 6306803251982

Q.6 Choose the correct antonym of the word given below.
Halcyon

- Ans

☒

1. Cheerful

☒

2. Serene

☒

3. Tumultuous

☒

4. Still

Question ID : 630680830148
 Option 1 ID : 6306803251714
 Option 2 ID : 6306803251713
 Option 3 ID : 6306803251716
 Option 4 ID : 6306803251715

Q.7 Select the incorrectly spelt word from the given sentence.
The city is incredebly violent for its size, on par with metropolises that dwarf the town.

- Ans

☒

1. dwarf

☒

2. metropolises

☒

3. violent

☒

4. incredebly

Question ID : 630680830027
 Option 1 ID : 6306803251256
 Option 2 ID : 6306803251255
 Option 3 ID : 6306803251254
 Option 4 ID : 6306803251253

Q.8 Choose the word that can substitute the given group of words.
A word or expression used as a substitute for something else with which it is closely associated

- Ans

☒

1. Antonym

☒

2. Acronym

☒

3. Metonym

☒

4. Synecdoche

Question ID : 630680830093
 Option 1 ID : 6306803251507
 Option 2 ID : 6306803251505
 Option 3 ID : 6306803251506
 Option 4 ID : 6306803251508

Q.9 Choose the word that can substitute the given group of words.
A concluding speech/comment at the end of the play

- Ans

☒ 1. Epilogue

☐ 2. Bibliography

☐ 3. Appendix

☐ 4. Preface

Question ID : 630680830010

Option 1 ID : 6306803251192

Option 2 ID : 6306803251189

Option 3 ID : 6306803251190

Option 4 ID : 6306803251191

Q.10 Choose the most appropriate synonym of the underlined word.
The tips of the fingers are particularly sensitive.

- Ans

☐ 1. Wilt

☐ 2. Wither

☒ 3. Vulnerable

☐ 4. Vanishing

Question ID : 630680830192

Option 1 ID : 6306803251882

Option 2 ID : 6306803251881

Option 3 ID : 6306803251883

Option 4 ID : 6306803251884

Comprehension:

Read the following passage and answer the questions given below.

In our modern world, fuel is the lifeblood of our transportation, heating, and industrial processes. However, the excessive use of fossil fuels, such as gasoline and diesel, has dire consequences for our environment and our health. The burning of fossil fuels releases a cocktail of pollutants into the atmosphere, including carbon dioxide (CO2), nitrogen oxides (NOx), and particulate matter. These pollutants contribute to climate change, global warming, and air pollution, leading to a host of environmental and health problems. The urgent need to save fuel for a better environment has never been more critical. By conserving fuel, we not only protect our environment but also ensure a better future for generations to come.

SubQuestion No : 11

Q.11 Which word in the passage is Synonymous to Dreadful?

- Ans

☒ 1. dire

☐ 2. consequences

☐ 3. prevent

☐ 4. urgent

Question ID : 630680830226

Option 1 ID : 6306803252009

Option 2 ID : 6306803252011

Option 3 ID : 6306803252010

Option 4 ID : 6306803252012

Comprehension:

Read the following passage and answer the questions given below.

In our modern world, fuel is the lifeblood of our transportation, heating, and industrial processes. However, the excessive use of fossil fuels, such as gasoline and diesel, has dire consequences for our environment and our health. The burning of fossil fuels releases a cocktail of pollutants into the atmosphere, including carbon dioxide (CO2), nitrogen oxides (NOx), and particulate matter. These pollutants contribute to climate change, global warming, and air pollution, leading to a host of environmental and health problems. The urgent need to save fuel for a better environment has never been more critical. By conserving fuel, we not only protect our environment but also ensure a better future for generations to come.

SubQuestion No : 12

- Q.12** The inference that can be drawn from the above passage is _____.
A. Saving fuel directly translates to reducing harmful emissions.
B. The need to save fuel and adopt sustainable practices has never been more urgent.

- Ans** ☒ 1. Only option A is correct
☒ 2. Only option B is correct
☒ 3. Both A and B are incorrect
☒ 4. Both A and B are correct

Question ID : 630680830223
 Option 1 ID : 6306803251997
 Option 2 ID : 6306803251998
 Option 3 ID : 6306803252000
 Option 4 ID : 6306803251999

Comprehension:

Read the following passage and answer the questions given below.

In our modern world, fuel is the lifeblood of our transportation, heating, and industrial processes. However, the excessive use of fossil fuels, such as gasoline and diesel, has dire consequences for our environment and our health. The burning of fossil fuels releases a cocktail of pollutants into the atmosphere, including carbon dioxide (CO2), nitrogen oxides (NOx), and particulate matter. These pollutants contribute to climate change, global warming, and air pollution, leading to a host of environmental and health problems. The urgent need to save fuel for a better environment has never been more critical. By conserving fuel, we not only protect our environment but also ensure a better future for generations to come.

SubQuestion No : 13

- Q.13** Suggest a suitable title for the passage.

- Ans** ☒ 1. Fossil fuel and its importance
☒ 2. Save fuel, save the environment
☒ 3. Human dependence on fuel
☒ 4. Renewable sources of energy

Question ID : 630680830222
 Option 1 ID : 6306803251993
 Option 2 ID : 6306803251996
 Option 3 ID : 6306803251994
 Option 4 ID : 6306803251995

Comprehension:

Read the following passage and answer the questions given below.

In our modern world, fuel is the lifeblood of our transportation, heating, and industrial processes. However, the excessive use of fossil fuels, such as gasoline and diesel, has dire consequences for our environment and our health. The burning of fossil fuels releases a cocktail of pollutants into the atmosphere, including carbon dioxide (CO2), nitrogen oxides (NOx), and particulate matter. These pollutants contribute to climate change, global warming, and air pollution, leading to a host of environmental and health problems. The urgent need to save fuel for a better environment has never been more critical. By conserving fuel, we not only protect our environment but also ensure a better future for generations to come.

SubQuestion No : 14

Q.14 The tone of the author in the passage is _____.

- Ans

☒

1. illogical

☒

2. casual

☒

3. cautionary

☒

4. controversial

Question ID : 630680830224
 Option 1 ID : 6306803252003
 Option 2 ID : 6306803252004
 Option 3 ID : 6306803252001
 Option 4 ID : 6306803252002

Comprehension:

Read the following passage and answer the questions given below.

In our modern world, fuel is the lifeblood of our transportation, heating, and industrial processes. However, the excessive use of fossil fuels, such as gasoline and diesel, has dire consequences for our environment and our health. The burning of fossil fuels releases a cocktail of pollutants into the atmosphere, including carbon dioxide (CO2), nitrogen oxides (NOx), and particulate matter. These pollutants contribute to climate change, global warming, and air pollution, leading to a host of environmental and health problems. The urgent need to save fuel for a better environment has never been more critical. By conserving fuel, we not only protect our environment but also ensure a better future for generations to come.

SubQuestion No : 15

Q.15 According to the passage, it can be concluded that _____.

- Ans

☒

1. By striking a balance between energy consumption and industrial development, nations and its people may grow richer for generations.

☒

2. Our environment is being severely affected, with rising levels of pollution, climate change, etc.

☒

3. We need to urgently switch to unconventional sources of energy, to protect the earth and its resources for future generations.

☒

4. In today's rapidly developing world, the consumption of fossil fuels is increasing at an alarming rate.

Question ID : 630680830225
 Option 1 ID : 6306803252008
 Option 2 ID : 6306803252007
 Option 3 ID : 6306803252006
 Option 4 ID : 6306803252005

Comprehension:

Read the following passage and choose the most appropriate option for the given blanks.
America is known as the land of opportunity, 1_____ one could achieve anything they put
their mind to, no matter who they 2_____. Thousands of people immigrate to the United
States every year from different parts of the world to have 3_____ to these kinds of
opportunities. This is what is known as "the American dream". One of the many reasons
America is such a great country is the diversity you see all 4_____. America is one big
melting pot of citizens from 5_____ backgrounds.

SubQuestion No : 16

Q.16 Select the most appropriate option for blank 3.

- Ans ☒ 1. access
☐ 2. ascent
☐ 3. assent
☐ 4. assess

Question ID : 630680830242
Option 1 ID : 6306803252072
Option 2 ID : 6306803252071
Option 3 ID : 6306803252069
Option 4 ID : 6306803252070

Comprehension:

Read the following passage and choose the most appropriate option for the given blanks.
America is known as the land of opportunity, 1_____ one could achieve anything they put
their mind to, no matter who they 2_____. Thousands of people immigrate to the United
States every year from different parts of the world to have 3_____ to these kinds of
opportunities. This is what is known as "the American dream". One of the many reasons
America is such a great country is the diversity you see all 4_____. America is one big
melting pot of citizens from 5_____ backgrounds.

SubQuestion No : 17

Q.17 Select the most appropriate option for blank 4.

- Ans ☐ 1. about
☐ 2. against
☐ 3. under
☒ 4. around

Question ID : 630680830243
Option 1 ID : 6306803252073
Option 2 ID : 6306803252076
Option 3 ID : 6306803252074
Option 4 ID : 6306803252075

Comprehension:

Read the following passage and choose the most appropriate option for the given blanks.
 America is known as the land of opportunity, 1_____one could achieve anything they put
 their mind to, no matter who they 2_____. Thousands of people immigrate to the United
 States every year from different parts of the world to have 3_____to these kinds of
 opportunities. This is what is known as "the American dream". One of the many reasons
 America is such a great country is the diversity you see all 4_____. America is one big
 melting pot of citizens from 5_____ backgrounds.

SubQuestion No : 18

Q.18 Select the most appropriate option for blank 1.

- Ans

☒

1. where

☐

2. when

☐

3. what

☐

4. here

Question ID : 630680830240
 Option 1 ID : 6306803252061
 Option 2 ID : 6306803252062
 Option 3 ID : 6306803252063
 Option 4 ID : 6306803252064

Comprehension:

Read the following passage and choose the most appropriate option for the given blanks.
 America is known as the land of opportunity, 1_____one could achieve anything they put
 their mind to, no matter who they 2_____. Thousands of people immigrate to the United
 States every year from different parts of the world to have 3_____to these kinds of
 opportunities. This is what is known as "the American dream". One of the many reasons
 America is such a great country is the diversity you see all 4_____. America is one big
 melting pot of citizens from 5_____ backgrounds.

SubQuestion No : 19

Q.19 Select the most appropriate option for blank 5.

- Ans

☐

1. divisive

☒

2. different

☐

3. difference

☐

4. differential

Question ID : 630680830244
 Option 1 ID : 6306803252080
 Option 2 ID : 6306803252078
 Option 3 ID : 6306803252077
 Option 4 ID : 6306803252079

Comprehension:

Read the following passage and choose the most appropriate option for the given blanks.
America is known as the land of opportunity, 1_____ one could achieve anything they put their mind to, no matter who they 2_____. Thousands of people immigrate to the United States every year from different parts of the world to have 3_____ to these kinds of opportunities. This is what is known as "the American dream". One of the many reasons America is such a great country is the diversity you see all 4_____. America is one big melting pot of citizens from 5_____ backgrounds.

SubQuestion No : 20

Q.20 Select the most appropriate option for blank 2.

- Ans ☒ 1. has
☒ 2. are
☒ 3. be
☒ 4. is

Question ID : 630680830241
Option 1 ID : 6306803252066
Option 2 ID : 6306803252067
Option 3 ID : 6306803252068
Option 4 ID : 6306803252065

Section : Test of Hindi Language and Comprehension 1

Q.1 निम्नलिखित वाक्य में रेखांकित शब्दों में त्रुटि ज्ञात कर त्रुटिरहित विकल्प का चयन करें। यदि कोई त्रुटि नहीं है, तो 'कोई त्रुटि नहीं है' चुनें।
दुंदुभि को ब्रह्मा से वरदान मिला था कि वह किसी भी शस्त्र से मारा नहीं जाएगा। इसी वजह से वह अनाचारी और निरभय हो गया था।

- Ans ☒ 1. दुंदुभि को ब्रह्मा से वरदान मिला था कि वह किसी भी शस्त्र से मारा नहीं जाएगा। इसी वजह से वह अनाचारी और निरभे हो गया था।
☒ 2. दुंदुभि को ब्रह्मा से वरदान मिला था कि वह किसी भी शस्त्र से मारा नहीं जाएगा। इसी वजे से वह अनाचारी और निर्भय हो गया था।
☒ 3. दुंदुभि को ब्रह्मा से वरदान मिला था कि वह किसी भी शस्त्र से मारा नहीं जाएगा। इसी वजह से वह अनाचारी और निर्भय हो गया था।
☒ 4. कोई त्रुटि नहीं है

Question ID : 630680830846
Option 1 ID : 6306803254439
Option 2 ID : 6306803254437
Option 3 ID : 6306803254438
Option 4 ID : 6306803254440

Q.2 निम्नलिखित शब्द के अनेकार्थी शब्द का चयन करें।
पानी

- Ans ☒ 1. ठिकाना
☒ 2. वन
☒ 3. इज्जत
☒ 4. शिव

Question ID : 630680832928
Option 1 ID : 6306803262661
Option 2 ID : 6306803262664
Option 3 ID : 6306803262662
Option 4 ID : 6306803262663

7/5/24, 10:38 AM

cdn.digialm.com/per/g01/pub/1258/touchstone/AssessmentQPHTMLMode1//1258O24204/1258O24204S1D1942/1719306945924...

Q.3 दिए गए वाक्य में उचित क्रिया का चयन करके रिक्त स्थान की पूर्ति करें।
वह इतना थका हुआ था की लेटते ही चैन की नींद _____ गया।

- Ans
- ☒ 1. लिख
 - ☒ 2. पढ़ता
 - ☒ 3. खाता
 - ☒ 4. सो

Question ID : 630680830794
Option 1 ID : 6306803254238
Option 2 ID : 6306803254239
Option 3 ID : 6306803254237
Option 4 ID : 6306803254240

Q.4 निम्नलिखित शब्द का तद्भव शब्द ज्ञात करें।
अंगुष्ठ

- Ans
- ☒ 1. अंगुली
 - ☒ 2. अनमोल
 - ☒ 3. अंगूठा
 - ☒ 4. अनोखा

Question ID : 630680833053
Option 1 ID : 6306803263137
Option 2 ID : 6306803263139
Option 3 ID : 6306803263138
Option 4 ID : 6306803263140

Q.5 दिए गए वाक्य में उचित विशेषण का चयन करके रिक्त स्थान की पूर्ति करें।
शरबत बनाने के लिए _____ दूध भी ले आओ।

- Ans
- ☒ 1. तीन मीटर
 - ☒ 2. तीन लीटर
 - ☒ 3. हल्का
 - ☒ 4. नई

Question ID : 630680830793
Option 1 ID : 6306803254236
Option 2 ID : 6306803254233
Option 3 ID : 6306803254235
Option 4 ID : 6306803254234

Q.6 दिए गए वाक्य में उचित कारक का चयन करके रिक्त स्थान की पूर्ति करें।
रमन ने गेंद इतनी ज़ोर _____ मारी कि रोहन को चोट लग गई।

- Ans
- ☒ 1. से
 - ☒ 2. का
 - ☒ 3. को
 - ☒ 4. ने

Question ID : 630680832874
Option 1 ID : 6306803262454
Option 2 ID : 6306803262453
Option 3 ID : 6306803262455
Option 4 ID : 6306803262456

Q.7 दिए गए वाक्य में उचित क्रिया-विशेषण का चयन करके रिक्त स्थान की पूर्ति करें।
हिरण चाहे शेर से कमजोर हो पर वह बहुत _____ भागता है।

- Ans ☒ 1. तेज़
☒ 2. कल
☒ 3. लगभग
☒ 4. खूबसूरती

Question ID : 630680830879
Option 1 ID : 6306803254561
Option 2 ID : 6306803254562
Option 3 ID : 6306803254564
Option 4 ID : 6306803254563

Q.8 निम्नलिखित वाक्य में रेखांकित शब्दों में त्रुटि ज्ञात कर त्रुटिरहित विकल्प का चयन करें। यदि कोई त्रुटि नहीं है, तो 'कोई त्रुटि नहीं है' चुनें।
ऐसा कहा जाता है कि कैक्टस की उत्पत्ति दक्षिणी अमेरिका के रेगिस्तान में हुई थी और बाद में प्रकृति प्रेमी मुसाफ़िर इसे दुनिया के कोने-कोने में ले गए।

- Ans ☒ 1. कोई त्रुटि नहीं है
☒ 2. ऐसा कहा जाता है कि कैक्टस की उत्पत्ति दक्षिणी अमेरिका के रेगिस्तान में हुई थी और बाद में प्रकृति प्रेमी मुसाफ़िर इसे दुनिया के कोने-कोने में ले गए।
☒ 3. ऐसा कहा जाता है कि कैक्टस की उत्पत्ति दक्षिणी अमेरिका के रेगिस्तान में हुई थी और बाद में प्रकृति प्रेमी मुसाफ़िर इसे दुनिया के कोने-कोने में ले गए।
☒ 4. ऐसा कहा जाता है कि कैक्टस की उत्पत्ति दक्षिणी अमेरिका के रेगिस्तान में हुई थी और बाद में प्रकृति प्रेमी मुसाफ़िर इसे दुनिया के कोने-कोने में ले गए।

Question ID : 630680832967
Option 1 ID : 6306803262812
Option 2 ID : 6306803262811
Option 3 ID : 6306803262809
Option 4 ID : 6306803262810

Q.9 निम्नलिखित प्रश्न में, दिए गए चार विकल्पों में से, उस विकल्प का चयन करें जो दी गई लोकोक्ति के अर्थ को सर्वश्रेष्ठ रूप से व्यक्त करता है।
गाछे कटहल, ओठे तेल

- Ans ☒ 1. अपनी सब्जियाँ घर में खुद उगाना
☒ 2. घर की वस्तु या व्यक्ति को कोई महत्व न देना
☒ 3. झूठा दिखावा करना
☒ 4. काम होने के पहले ही फल पाने की इच्छा करने लगना

Question ID : 630680830844
Option 1 ID : 6306803254430
Option 2 ID : 6306803254431
Option 3 ID : 6306803254432
Option 4 ID : 6306803254429

Q.10 निम्नलिखित वाक्य में रेखांकित शब्दों में त्रुटि ज्ञात कर त्रुटिरहित विकल्प का चयन करें। यदि कोई त्रुटि नहीं है, तो 'कोई त्रुटि नहीं है' चुनें।
कंगारू मुख्य रूप से ऑस्ट्रेलियाई महाद्वीप एवं पापुआ न्यू गिनी के कुछ भागों के मूल पशु हैं।

- Ans
- ☒ 1. कोई त्रुटि नहीं है
 - ☒ 2. कंगारू मुख्य रूप से ऑस्ट्रेलियाई महाद्वीप एवं पापुआ न्यू गिनी के कुछ भागों के मूल पशु हैं।
 - ☒ 3. कंगारू मुख्य रूप से ऑस्ट्रेलियाई महाद्वीप एवं पापुआ न्यू गिनी के कुछ भागों के मूल पशु हैं।
 - ☒ 4. कंगारू मुख्य रूप से ऑस्ट्रेलियाई महाद्वीप एवं पापुआ न्यू गिनी के कुछ भागों के मूल पशु हैं।

Question ID : 630680830719
Option 1 ID : 6306803253956
Option 2 ID : 6306803253953
Option 3 ID : 6306803253955
Option 4 ID : 6306803253954

Q.11 निम्नलिखित प्रश्न में, दिए गए चार विकल्पों में से, उस विकल्प का चयन करें जो दी गई लोकोक्ति के अर्थ को सर्वश्रेष्ठ रूप से व्यक्त करता है।
घोड़ा घास से यारी करेगा तो खायेगा क्या

- Ans
- ☒ 1. अपनी बुराई नहीं दिखना
 - ☒ 2. गुण कुछ नहीं, पर गुणी कहलाना
 - ☒ 3. दूसरे को सुधारने से पहले अपने आप को सुधारना
 - ☒ 4. मेहनताना या पारिश्रमिक माँगने में संकोच नहीं करना चाहिए

Question ID : 630680830884
Option 1 ID : 6306803254584
Option 2 ID : 6306803254582
Option 3 ID : 6306803254583
Option 4 ID : 6306803254581

Q.12 निम्नलिखित प्रश्न में, दिए गए चार विकल्पों में से, उस विकल्प का चयन करें जो दी गई लोकोक्ति के अर्थ को सर्वश्रेष्ठ रूप से व्यक्त करता है।
गोद में छोरा नगर में ढिंढोरा

- Ans
- ☒ 1. शहर जाकर काम ढूँढना
 - ☒ 2. गाँव जाकर काम ढूँढना
 - ☒ 3. सबसे अपने दुश्मन की बुराई करना
 - ☒ 4. पास की वस्तु का को दूर जाकर ढूँढना

Question ID : 630680833004
Option 1 ID : 6306803262951
Option 2 ID : 6306803262952
Option 3 ID : 6306803262949
Option 4 ID : 6306803262950

Q.13 नीचे दिए गए शब्द का पर्यायवाची शब्द ज्ञात करें।
इशारा

- Ans ☒ 1. संकेत
☒ 2. अनूठा
☒ 3. तुलना
☒ 4. मेहमान

Question ID : 630680832973
Option 1 ID : 6306803262835
Option 2 ID : 6306803262834
Option 3 ID : 6306803262833
Option 4 ID : 6306803262836

Q.14 दिए गए वाक्य में उचित कारक का चयन करके रिक्त स्थान की पूर्ति करें।
आसमान _____ बूंदें गिरने लगीं और सबको पता चल गया कि मॉनसून का आगमन हो गया है।

- Ans ☒ 1. से
☒ 2. ने
☒ 3. को
☒ 4. पर

Question ID : 630680830754
Option 1 ID : 6306803254085
Option 2 ID : 6306803254086
Option 3 ID : 6306803254087
Option 4 ID : 6306803254088

Q.15 निम्नलिखित शब्द का तत्सम शब्द ज्ञात करें।
कपूत

- Ans ☒ 1. कपाट
☒ 2. कदंब
☒ 3. कपोत
☒ 4. कुपुत्र

Question ID : 630680833052
Option 1 ID : 6306803263135
Option 2 ID : 6306803263134
Option 3 ID : 6306803263133
Option 4 ID : 6306803263136

Q.16 निम्नलिखित प्रश्न में, दिए गए चार विकल्पों में से, उस विकल्प का चयन करें जो दिए गए मुहावरे के अर्थ को सर्वश्रेष्ठ रूप से व्यक्त करता है।
दूध की नदियाँ बहाना

- Ans
- ☒ 1. अक्सर कम होना
 - ☒ 2. बुद्धिमान होना
 - ☒ 3. गरीब होना
 - ☒ 4. धन-धान्य से परिपूर्ण होना

Question ID : 630680830841
Option 1 ID : 6306803254419
Option 2 ID : 6306803254420
Option 3 ID : 6306803254418
Option 4 ID : 6306803254417

Q.17 नीचे दिए गए शब्द का पर्यायवाची शब्द ज्ञात करें।
कंठ

- Ans
- ☒ 1. कौशल
 - ☒ 2. वैभव
 - ☒ 3. विविध
 - ☒ 4. ग्रीवा

Question ID : 630680832972
Option 1 ID : 6306803262829
Option 2 ID : 6306803262832
Option 3 ID : 6306803262831
Option 4 ID : 6306803262830

Q.18 निम्नलिखित शब्द का विलोम शब्द ज्ञात करें।
आध्यात्मिक

- Ans
- ☒ 1. कृपालु
 - ☒ 2. भौतिक
 - ☒ 3. अनुज
 - ☒ 4. आय

Question ID : 630680830855
Option 1 ID : 6306803254475
Option 2 ID : 6306803254476
Option 3 ID : 6306803254474
Option 4 ID : 6306803254473

Q.19 निम्नलिखित प्रश्न में, दिए गए चार विकल्पों में से, उस विकल्प का चयन करें जो दिए गए मुहावरे के अर्थ को सर्वश्रेष्ठ रूप से व्यक्त करता है।
कच्चा चिट्ठा खोलना

- Ans ☒ 1. किसी और की चिट्ठी खुद पढ़ लेना
☒ 2. अपना पत्र गलत जगह भेज देना
☒ 3. गुप्त भेद खोलना
☒ 4. किसी की प्रशंसा करना

Question ID : 630680832917
Option 1 ID : 6306803262617
Option 2 ID : 6306803262619
Option 3 ID : 6306803262618
Option 4 ID : 6306803262620

Q.20 निम्नलिखित वाक्य में रेखांकित शब्दों में त्रुटि ज्ञात कर त्रुटिरहित विकल्प का चयन करें। यदि कोई त्रुटि नहीं है, तो 'कोई त्रुटि नहीं है' चुनें।
ये तस्वीरों का ही कमाल था, जिसने मोबाइल से अपनी खुद की तस्वीरें लेने की कला 'सेल्फी' को विकसित किया और देखते-देखते सारी दुनिया में छा गई।

- Ans ☒ 1. ये तस्वीरों का ही कमाल था, जिसने मोबाइल से अपनी खुद की तस्वीरें लेने की कला 'सेल्फी' को विकसित किया और देखते-देखते सारी दुनिया में छा गई।
☒ 2. कोई त्रुटि नहीं है
☒ 3. ये तस्वीरों का ही कमाल था, जिसने मोबाइल से अपनी खुद की तस्वीरें लेने की कला 'सेल्फी' को विकसित किया और देखते-देखते सारी दुनिया में छा गई।
☒ 4. ये तस्वीरों का ही कमाल था, जिसने मोबाइल से अपनी खुद की तस्वीरें लेने की कला 'सेल्फी' को विकसित किया और देखते-देखते सारी दुनिया में छा गई।

Question ID : 630680830847
Option 1 ID : 6306803254441
Option 2 ID : 6306803254444
Option 3 ID : 6306803254442
Option 4 ID : 6306803254443

Section : Test of Hindi Language and Comprehension 2

Q.1 निम्नलिखित वाक्य का वह भाग ज्ञात करें, जिसमें कोई त्रुटि है।
आम तौर पर जहाँ आय असमानता बढ़ी होती है, वहाँ पैसा ज्यादा मायने रखता है और लोग कम खुश होते हैं।

- Ans ☒ 1. आम तौर पर जहाँ आय असमानता
☒ 2. कम खुश होते हैं।
☒ 3. मायने रखता है और लोग
☒ 4. बढ़ी होते हैं, वहाँ पैसा ज्यादा

Question ID : 630680832900
Option 1 ID : 6306803262553
Option 2 ID : 6306803262556
Option 3 ID : 6306803262555
Option 4 ID : 6306803262554

Q.2 निम्नलिखित शब्द का विलोम शब्द ज्ञात करें।
उत्थान

- Ans
- ☒ 1. वक्ता
 - ☒ 2. विमुख
 - ☒ 3. पतन
 - ☒ 4. उपयुक्त

Question ID : 630680830730
Option 1 ID : 6306803254000
Option 2 ID : 6306803253998
Option 3 ID : 6306803253997
Option 4 ID : 6306803253999

Q.3 निम्नलिखित वाक्यों को क, ख, ग और घ के लेबल से क्रमांकित किया गया है जो उसी क्रम से एक स्पष्ट पैराग्राफ/वाक्य बनाते हैं किन्तु इनमें से एक लेबल 'अतिरिक्त' है और उसके बिना भी पैराग्राफ/वाक्य सही रहेगा। निम्नलिखित विकल्पों में से उस अतिरिक्त लेबल का चयन करें।
क. उनका घर अभी नया ही बना था
ख. एक-दो क्षण बाद कमला ने सिर को दरवाज़े से बाहर निकालकर
ग. गली के छोर की तरफ निहारा, तो उसका बड़ा लड़का
घ. रामचंद्र धीरे-धीरे घर की ओर बढ़ता नजर आया

- Ans
- ☒ 1. ग
 - ☒ 2. क
 - ☒ 3. ख
 - ☒ 4. घ

Question ID : 630680832857
Option 1 ID : 6306803262391
Option 2 ID : 6306803262389
Option 3 ID : 6306803262390
Option 4 ID : 6306803262392

Q.4 निम्नलिखित शब्द के अनेकार्थी शब्द का चयन करें।
नील

- Ans
- ☒ 1. नीलम
 - ☒ 2. गेंद
 - ☒ 3. वसंत ऋतु
 - ☒ 4. प्रश्न पत्र

Question ID : 630680830852
Option 1 ID : 6306803254462
Option 2 ID : 6306803254461
Option 3 ID : 6306803254464
Option 4 ID : 6306803254463

Q.5 निम्नलिखित खंडित वाक्यांश में वाक्य संरचना का सही क्रम क्या होगा?

1. महाविद्यालय की प्राध्यापिका श्रीमती अलका झाडगांवकर ने
2. नागपुर महाराष्ट्र के एक इंजीनियरिंग.
3. जिससे प्लास्टिक को इंधन में परिवर्तित किया जा सकता है
4. एक ऐसी प्रणाली की खोज की है

Ans ☒ 1. 1,4,2,3

☒ 2. 4,1,3,2

☒ 3. 3,1,4,2

☒ 4. 2,1,4,3

Question ID : 630680830868

Option 1 ID : 6306803254522

Option 2 ID : 6306803254524

Option 3 ID : 6306803254521

Option 4 ID : 6306803254523

Q.6 निम्नलिखित वाक्यों को क, ख, ग और घ के लेबल से क्रमांकित किया गया है जो उसी क्रम से एक स्पष्ट

पैराग्राफ/वाक्य बनाते हैं किन्तु इनमें से एक लेबल 'अतिरिक्त' है और उसके बिना भी पैराग्राफ/वाक्य सही रहेगा। निम्नलिखित विकल्पों में से उस अतिरिक्त लेबल का चयन करें।

क. कॉलेज से डिग्री लेते ही अंशुमन को बम्बई की एक फिल्म-कम्पनी में अच्छी जगह मिल

ख. गई थी और अल्प-काल ही में उसकी गणना भारत के श्रेष्ठ अभिनेताओं में

ग. भेस और आवाज बदलने में उसे कमाल हासिल था

घ. होने लगी थी। लोग उसके अभिनय को देख कर आश्चर्यचकित रह जाते थे

Ans ☒ 1. क

☒ 2. ग

☒ 3. घ

☒ 4. ख

Question ID : 630680830737

Option 1 ID : 6306803254021

Option 2 ID : 6306803254023

Option 3 ID : 6306803254024

Option 4 ID : 6306803254022

Q.7 दिए गए वाक्यांश के लिए सार्थक शब्द ज्ञात कीजिए।

वर्ष में एक बार होने वाला

Ans ☒ 1. अनावृत्त

☒ 2. दैनिक

☒ 3. अर्ध-वार्षिक

☒ 4. वार्षिक

Question ID : 630680830665

Option 1 ID : 6306803253746

Option 2 ID : 6306803253748

Option 3 ID : 6306803253747

Option 4 ID : 6306803253745

Q.8 निम्नलिखित वाक्य का वह भाग ज्ञात करें, जिसमें कोई त्रुटि है। यदि कोई त्रुटि नहीं है, तो 'कोई त्रुटि नहीं है' चुनें।
फिनलैंड में दूसरे देशों की तुलना में अधिक निष्पक्ष एवं भेदभाव रहित स्कूल हैं, जहां आप अच्छी शिक्षा प्राप्त कर सके हो।

- Ans
- ☒ 1. फिनलैंड में दूसरे देशों की तुलना में अधिक निष्पक्ष एवं
 - ☒ 2. कोई त्रुटि नहीं है
 - ☒ 3. भेदभाव रहित स्कूल हैं, जहां आप
 - ☒ 4. अच्छी शिक्षा प्राप्त कर सके हो।

Question ID : 630680832901
Option 1 ID : 6306803262557
Option 2 ID : 6306803262560
Option 3 ID : 6306803262558
Option 4 ID : 6306803262559

Q.9 दिए गए वाक्यांश के लिए सार्थक शब्द ज्ञात कीजिए।
जो व्यक्ति विदेश में रहता हो

- Ans
- ☒ 1. अप्रवासी
 - ☒ 2. अन्तःवासी
 - ☒ 3. अलंघनीय
 - ☒ 4. अजर

Question ID : 630680832911
Option 1 ID : 6306803262593
Option 2 ID : 6306803262595
Option 3 ID : 6306803262594
Option 4 ID : 6306803262596

Q.10 निम्नलिखित खंडित वाक्यांश में वाक्य संरचना का सही क्रम क्या होगा?

1. के लिए उत्तरदायी माना
2. कारण भी हो सकते हैं
3. जाता है किंतु इसके अनेक
4. आमतौर पर अतिवृष्टि को ही बाढ़

- Ans
- ☒ 1. 4,1,2,3
 - ☒ 2. 3,1,2,4
 - ☒ 3. 4,1,3,2
 - ☒ 4. 4,3,1,2

Question ID : 630680830825
Option 1 ID : 6306803254360
Option 2 ID : 6306803254359
Option 3 ID : 6306803254357
Option 4 ID : 6306803254358

Comprehension:

निम्नलिखित गद्यांश के आधार पर पाँच प्रश्न दिए गए हैं। गद्यांश को ध्यानपूर्वक पढ़ें तथा प्रत्येक प्रश्न के चार विकल्पों में से सही विकल्प चुनें।

भारत देश में कृषि उत्पादन की पद्धतियों में आधुनिक विधियों का चलन बढ़ने लगा है। पक्षी खेतों में उन कीड़ों का भक्षण करते हैं जो फसल को खाकर उनका नाश करते हैं। पाया गया है कि पक्षी हमारे देश की कृषि प्रणालियों के लिए अत्यंत मूल्यवान है। यह खेतों में कीड़े मकौड़ों की समस्या का हल बनकर, अनाज की रखवाली में किसानों की मदद करते हैं। भारत का पश्चिमी तट विभिन्न प्रजातियों के पक्षियों का निवास है।

नीलकंठ पक्षी कर्नाटक का राज्य पक्षी है। ये यहां के बांदीपुर राष्ट्रीय उपवन में पाए जाते हैं। यह न केवल दक्षिण भारत में, बल्कि उत्तर पूर्व और अन्य कई प्रांतों में भी कीटनाशक पक्षी के रूप में लोकप्रिय है। हमारी जानी पहचानी चिड़िया घरेलू गौरैया का भी धान, कपास और मकई की खेती में अमूल्य योगदान होता है।

गौरैया और नीलकंठ दोनों को सांस्कृतिक तौर से भी महत्वपूर्ण माना जाता है। ये टिड्डी (लोकस्ट) के दुश्मन एवं किसानों के दोस्त होते हैं। 1958 से 1962 के बीच चीन की सरकार ने "फोर पेस्ट्स कैंपेन" के ज़रिये गौरैया का विनाश रचाया था। इसका नतीजा यह हुआ कि टिड्डियों की संख्या असामान्य मात्रा में बढ़ गई और यह विश्व के सबसे भयानक अकाल का कारण बन गया। यह एक सबक है जो हमें वर्तमान में याद रखना चाहिए। पिछले कई सालों से प्रदूषण के कारण गौरैया की संख्या का शहरी इलाकों में तेज़ी से हास हुआ है।

SubQuestion No : 11

Q.11 गद्यांश के आधार पर गद्य की उचित संरचना का चयन करें।

- Ans ☒ 1. प्रेरक
☒ 2. विवरणात्मक
☒ 3. आलोचनात्मक
☒ 4. तुलनात्मक

Question ID : 630680833019
Option 1 ID : 6306803263005
Option 2 ID : 6306803263008
Option 3 ID : 6306803263006
Option 4 ID : 6306803263007

Comprehension:

निम्नलिखित गद्यांश के आधार पर पाँच प्रश्न दिए गए हैं। गद्यांश को ध्यानपूर्वक पढ़ें तथा प्रत्येक प्रश्न के चार विकल्पों में से सही विकल्प चुनें।

भारत देश में कृषि उत्पादन की पद्धतियों में आधुनिक विधियों का चलन बढ़ने लगा है। पक्षी खेतों में उन कीड़ों का भक्षण करते हैं जो फसल को खाकर उनका नाश करते हैं। पाया गया है कि पक्षी हमारे देश की कृषि प्रणालियों के लिए अत्यंत मूल्यवान है। यह खेतों में कीड़े मकौड़ों की समस्या का हल बनकर, अनाज की रखवाली में किसानों की मदद करते हैं। भारत का पश्चिमी तट विभिन्न प्रजातियों के पक्षियों का निवास है।

नीलकंठ पक्षी कर्नाटक का राज्य पक्षी है। ये यहां के बांदीपुर राष्ट्रीय उपवन में पाए जाते हैं। यह न केवल दक्षिण भारत में, बल्कि उत्तर पूर्व और अन्य कई प्रांतों में भी कीटनाशक पक्षी के रूप में लोकप्रिय है। हमारी जानी पहचानी चिड़िया घरेलू गौरैया का भी धान, कपास और मकई की खेती में अमूल्य योगदान होता है।

गौरैया और नीलकंठ दोनों को सांस्कृतिक तौर से भी महत्वपूर्ण माना जाता है। ये टिड्डी (लोकस्ट) के दुश्मन एवं किसानों के दोस्त होते हैं। 1958 से 1962 के बीच चीन की सरकार ने "फोर पेस्ट्स कैम्पेन" के ज़रिये गौरैया का विनाश रचाया था। इसका नतीजा यह हुआ कि टिड्डियों की संख्या असामान्य मात्रा में बढ़ गई और यह विश्व के सबसे भयानक अकाल का कारण बन गया। यह एक सबक है जो हमें वर्तमान में याद रखना चाहिए। पिछले कई सालों से प्रदूषण के कारण गौरैया की संख्या का शहरी इलाकों में तेज़ी से हास हुआ है।

SubQuestion No : 12

Q.12 प्रस्तुत गद्यांश के लिए उचित शीर्षक का चयन करें।

- Ans
- ☒ 1. कृषि प्रणालियाँ और उनका उत्तरदायित्व
 - ☒ 2. कृषि क्षेत्र का बढ़ता योगदान
 - ☒ 3. कृषि प्रणालियों का अद्भुत दृष्टिकोण
 - ☒ 4. कृषि प्रणालियों में पक्षी प्रजातियों का महत्व

Question ID : 630680833023
Option 1 ID : 6306803263021
Option 2 ID : 6306803263024
Option 3 ID : 6306803263023
Option 4 ID : 6306803263022

Comprehension:

निम्नलिखित गद्यांश के आधार पर पाँच प्रश्न दिए गए हैं। गद्यांश को ध्यानपूर्वक पढ़ें तथा प्रत्येक प्रश्न के चार विकल्पों में से सही विकल्प चुनें।

भारत देश में कृषि उत्पादन की पद्धतियों में आधुनिक विधियों का चलन बढ़ने लगा है। पक्षी खेतों में उन कीड़ों का भक्षण करते हैं जो फसल को खाकर उनका नाश करते हैं। पाया गया है कि पक्षी हमारे देश की कृषि प्रणालियों के लिए अत्यंत मूल्यवान है। यह खेतों में कीड़े मकौड़ों की समस्या का हल बनकर, अनाज की रखवाली में किसानों की मदद करते हैं। भारत का पश्चिमी तट विभिन्न प्रजातियों के पक्षियों का निवास है।

नीलकंठ पक्षी कर्नाटक का राज्य पक्षी है। ये यहां के बांदीपुर राष्ट्रीय उपवन में पाए जाते हैं। यह न केवल दक्षिण भारत में, बल्कि उत्तर पूर्व और अन्य कई प्रांतों में भी कीटनाशक पक्षी के रूप में लोकप्रिय है। हमारी जानी पहचानी चिड़िया घरेलू गौरैया का भी धान, कपास और मकई की खेती में अमूल्य योगदान होता है।

गौरैया और नीलकंठ दोनों को सांस्कृतिक तौर से भी महत्वपूर्ण माना जाता है। ये टिड्डी (लोकस्ट) के दुश्मन एवं किसानों के दोस्त होते हैं। 1958 से 1962 के बीच चीन की सरकार ने "फोर पेस्ट्स कैम्पेन" के ज़रिये गौरैया का विनाश रचाया था। इसका नतीजा यह हुआ कि टिड्डियों की संख्या असामान्य मात्रा में बढ़ गई और यह विश्व के सबसे भयानक अकाल का कारण बन गया। यह एक सबक है जो हमें वर्तमान में याद रखना चाहिए। पिछले कई सालों से प्रदूषण के कारण गौरैया की संख्या का शहरी इलाकों में तेज़ी से हास हुआ है।

SubQuestion No : 13

Q.13 गद्यांश के आधार पर, निम्नलिखित वाक्य में प्रयुक्त, रेखांकित शब्द का उचित विलोम शब्द ज्ञात करें।
भारत देश में कृषि उत्पादन की पद्धतियों में आधुनिक विधियों का चलन बढ़ने लगा है।

Ans ☒ 1. प्राचीन

☐ 2. विपिन

☐ 3. अपूर्व

☐ 4. नवीन

Question ID : 630680833020
Option 1 ID : 6306803263010
Option 2 ID : 6306803263012
Option 3 ID : 6306803263011
Option 4 ID : 6306803263009

Comprehension:

निम्नलिखित गद्यांश के आधार पर पाँच प्रश्न दिए गए हैं। गद्यांश को ध्यानपूर्वक पढ़ें तथा प्रत्येक प्रश्न के चार विकल्पों में से सही विकल्प चुनें।

भारत देश में कृषि उत्पादन की पद्धतियों में आधुनिक विधियों का चलन बढ़ने लगा है। पक्षी खेतों में उन कीड़ों का भक्षण करते हैं जो फसल को खाकर उनका नाश करते हैं। पाया गया है कि पक्षी हमारे देश की कृषि प्रणालियों के लिए अत्यंत मूल्यवान है। यह खेतों में कीड़े मकौड़ों की समस्या का हल बनकर, अनाज की रखवाली में किसानों की मदद करते हैं। भारत का पश्चिमी तट विभिन्न प्रजातियों के पक्षियों का निवास है।

नीलकंठ पक्षी कर्नाटक का राज्य पक्षी है। ये यहां के बांदीपुर राष्ट्रीय उपवन में पाए जाते हैं। यह न केवल दक्षिण भारत में, बल्कि उत्तर पूर्व और अन्य कई प्रांतों में भी कीटनाशक पक्षी के रूप में लोकप्रिय है। हमारी जानी पहचानी चिड़िया घरेलू गौरैया का भी धान, कपास और मकई की खेती में अमूल्य योगदान होता है।

गौरैया और नीलकंठ दोनों को सांस्कृतिक तौर से भी महत्वपूर्ण माना जाता है। ये टिड्डी (लोकस्ट) के दुश्मन एवं किसानों के दोस्त होते हैं। 1958 से 1962 के बीच चीन की सरकार ने "फोर पेस्ट्स कैम्पेन" के ज़रिये गौरैया का विनाश रचाया था। इसका नतीजा यह हुआ कि टिड्डियों की संख्या असामान्य मात्रा में बढ़ गई और यह विश्व के सबसे भयानक अकाल का कारण बन गया। यह एक सबक है जो हमें वर्तमान में याद रखना चाहिए। पिछले कई सालों से प्रदूषण के कारण गौरैया की संख्या का शहरी इलाकों में तेज़ी से हास हुआ है।

SubQuestion No : 14

Q.14 गद्यांश में दिए गए निम्नलिखित शब्द का उचित पर्यायवाची शब्द चुनें।

नतीजा

Ans ☒ 1. परिणाम

☐ 2. नियंत्रण

☐ 3. अभ्यागत

☐ 4. अंधकार

Question ID : 630680833022
Option 1 ID : 6306803263017
Option 2 ID : 6306803263018
Option 3 ID : 6306803263019
Option 4 ID : 6306803263020

Comprehension:

निम्नलिखित गद्यांश के आधार पर पाँच प्रश्न दिए गए हैं। गद्यांश को ध्यानपूर्वक पढ़ें तथा प्रत्येक प्रश्न के चार विकल्पों में से सही विकल्प चुनें।

भारत देश में कृषि उत्पादन की पद्धतियों में आधुनिक विधियों का चलन बढ़ने लगा है। पक्षी खेतों में उन कीड़ों का भक्षण करते हैं जो फसल को खाकर उनका नाश करते हैं। पाया गया है कि पक्षी हमारे देश की कृषि प्रणालियों के लिए अत्यंत मूल्यवान हैं। यह खेतों में कीड़े मकौड़ों की समस्या का हल बनकर, अनाज की रखवाली में किसानों की मदद करते हैं। भारत का पश्चिमी तट विभिन्न प्रजातियों के पक्षियों का निवास है।

नीलकंठ पक्षी कर्नाटक का राज्य पक्षी है। ये यहां के बांदीपुर राष्ट्रीय उपवन में पाए जाते हैं। यह न केवल दक्षिण भारत में, बल्कि उत्तर पूर्व और अन्य कई प्रांतों में भी कीटनाशक पक्षी के रूप में लोकप्रिय है। हमारी जानी पहचानी चिड़िया घरेलू गौरैया का भी धान, कपास और मकई की खेती में अमूल्य योगदान होता है।

गौरैया और नीलकंठ दोनों को सांस्कृतिक तौर से भी महत्वपूर्ण माना जाता है। ये टिड्डी (लोकस्ट) के दुश्मन एवं किसानों के दोस्त होते हैं। 1958 से 1962 के बीच चीन की सरकार ने "फोर पेस्ट्स कैपेन" के ज़रिये गौरैया का विनाश रचाया था। इसका नतीजा यह हुआ कि टिड्डियों की संख्या असामान्य मात्रा में बढ़ गई और यह विश्व के सबसे भयानक अकाल का कारण बन गया। यह एक सबक है जो हमें वर्तमान में याद रखना चाहिए। पिछले कई सालों से प्रदूषण के कारण गौरैया की संख्या का शहरी इलाकों में तेज़ी से हास हुआ है।

SubQuestion No : 15

Q.15 गद्यांश के आधार पर उस विकल्प का चयन करें जिसमें दिया गया तथ्य गलत है

- Ans ☒ 1. गौरैया और नीलकंठ दोनों को सांस्कृतिक तौर से भी महत्वपूर्ण माना जाता है
- ☒ 2. 1960 से 1982 के बीच चीन की सरकार ने "फोर पेस्ट्स कैपेन" के ज़रिये गौरैया का विनाश रचाया था
- ☒ 3. पिछले कई सालों से प्रदूषण के कारण गौरैया की संख्या का शहरी इलाकों में तेज़ी से हास हुआ है
- ☒ 4. पक्षी हमारे देश की कृषि प्रणालियों के लिए अत्यंत मूल्यवान हैं

Question ID : 630680833021
Option 1 ID : 6306803263014
Option 2 ID : 6306803263015
Option 3 ID : 6306803263016
Option 4 ID : 6306803263013

Comprehension:

नीचे दिए गए पदों में कुछ शब्द छोड़ दिए गए हैं, प्रत्येक रिक्त स्थान के चार विकल्प दिए गए हैं। इन चारों में से कौन-सा विकल्प रिक्त स्थान की पूर्ति करेगा।

दिवाली का _____ (1) हो और घर वालों के लिए कुछ मीठा नहीं बनाया जाए, भला ऐसा कैसे हो सकता है। वैसे तो _____ (2) के मौके पर लोग खीर और सेवई बनाया ज्यादा पसंद करते हैं, मगर आज चलिए कोई नई चीज बनाने की _____ (3) करते हैं। इस मौके पर अगर आप पनीर की खीर बनाकर सबका _____ (4) मीठा करेंगे तो आप यकीन मानिए वे सब अपनी उंगलियां _____ (5) रह जाएंगे। चावल की खीर को खा कर अगर आप ऊब गए हैं तो पनीर की खीर बनाना तो बनता ही है।

SubQuestion No : 16

Q.16 रिक्त स्थान (5) के लिए उपयुक्त विकल्प का चयन कीजिए।

- Ans ☒ 1. चाटते
- ☒ 2. परोसते
- ☒ 3. काटते
- ☒ 4. खाते

Question ID : 630680832825
Option 1 ID : 6306803262265
Option 2 ID : 6306803262268
Option 3 ID : 6306803262267
Option 4 ID : 6306803262266

Comprehension:

नीचे दिए गए पदों में कुछ शब्द छोड़ दिए गए हैं, प्रत्येक रिक्त स्थान के चार विकल्प दिए गए हैं। इन चारों में से कौन-सा विकल्प रिक्त स्थान की पूर्ति करेगा।

दिवाली का _____ (1) हो और घर वालों के लिए कुछ मीठा नहीं बनाया जाए, भला ऐसा कैसे हो सकता है। वैसे तो _____ (2) के मौके पर लोग खीर और सेवई बनाना ज्यादा पसंद करते हैं, मगर आज चलिए कोई नई चीज बनाने की _____ (3) करते हैं। इस मौके पर अगर आप पनीर की खीर बनाकर सबका _____ (4) मीठा करेंगे तो आप यकीन मानिए वे सब अपनी उंगलियां _____ (5) रह जाएंगे। चावल की खीर को खा कर अगर आप ऊब गए हैं तो पनीर की खीर बनाना तो बनता ही है।

SubQuestion No : 17

Q.17 रिक्त स्थान (1) के लिए उपयुक्त विकल्प का चयन कीजिए।

- Ans ☒ 1. सरफ़रोश
☒ 2. त्योहार
☒ 3. अस्तित्व
☒ 4. समाधान

Question ID : 630680832821
Option 1 ID : 6306803262252
Option 2 ID : 6306803262249
Option 3 ID : 6306803262251
Option 4 ID : 6306803262250

Comprehension:

नीचे दिए गए पदों में कुछ शब्द छोड़ दिए गए हैं, प्रत्येक रिक्त स्थान के चार विकल्प दिए गए हैं। इन चारों में से कौन-सा विकल्प रिक्त स्थान की पूर्ति करेगा।

दिवाली का _____ (1) हो और घर वालों के लिए कुछ मीठा नहीं बनाया जाए, भला ऐसा कैसे हो सकता है। वैसे तो _____ (2) के मौके पर लोग खीर और सेवई बनाना ज्यादा पसंद करते हैं, मगर आज चलिए कोई नई चीज बनाने की _____ (3) करते हैं। इस मौके पर अगर आप पनीर की खीर बनाकर सबका _____ (4) मीठा करेंगे तो आप यकीन मानिए वे सब अपनी उंगलियां _____ (5) रह जाएंगे। चावल की खीर को खा कर अगर आप ऊब गए हैं तो पनीर की खीर बनाना तो बनता ही है।

SubQuestion No : 18

Q.18 रिक्त स्थान (4) के लिए उपयुक्त विकल्प का चयन कीजिए।

- Ans ☒ 1. पैर
☒ 2. गला
☒ 3. हाथ
☒ 4. मुंह

Question ID : 630680832824
Option 1 ID : 6306803262263
Option 2 ID : 6306803262261
Option 3 ID : 6306803262264
Option 4 ID : 6306803262262

Comprehension:

नीचे दिए गए पदों में कुछ शब्द छोड़ दिए गए हैं, प्रत्येक रिक्त स्थान के चार विकल्प दिए गए हैं। इन चारों में से कौन-सा विकल्प रिक्त स्थान की पूर्ति करेगा।

दिवाली का _____ (1) हो और घर वालों के लिए कुछ मीठा नहीं बनाया जाए, भला ऐसा कैसे हो सकता है। वैसे तो _____ (2) के मौके पर लोग खीर और सेवई बनाना ज्यादा पसंद करते हैं, मगर आज चलिए कोई नई चीज बनाने की _____ (3) करते हैं। इस मौके पर अगर आप पनीर की खीर बनाकर सबका _____ (4) मीठा करेंगे तो आप यकीन मानिए वे सब अपनी उंगलियां _____ (5) रह जाएंगे। चावल की खीर को खा कर अगर आप ऊब गए हैं तो पनीर की खीर बनाना तो बनता ही है।

SubQuestion No : 19

Q.19 रिक्त स्थान (2) के लिए उपयुक्त विकल्प का चयन कीजिए।

- Ans
- ☒ 1. सुखी
 - ☒ 2. दुखी
 - ☒ 3. दुखदाय
 - ☒ 4. ईद

Question ID : 630680832822
Option 1 ID : 6306803262254
Option 2 ID : 6306803262253
Option 3 ID : 6306803262255
Option 4 ID : 6306803262256

Comprehension:

नीचे दिए गए पदों में कुछ शब्द छोड़ दिए गए हैं, प्रत्येक रिक्त स्थान के चार विकल्प दिए गए हैं। इन चारों में से कौन-सा विकल्प रिक्त स्थान की पूर्ति करेगा।

दिवाली का _____ (1) हो और घर वालों के लिए कुछ मीठा नहीं बनाया जाए, भला ऐसा कैसे हो सकता है। वैसे तो _____ (2) के मौके पर लोग खीर और सेवई बनाना ज्यादा पसंद करते हैं, मगर आज चलिए कोई नई चीज बनाने की _____ (3) करते हैं। इस मौके पर अगर आप पनीर की खीर बनाकर सबका _____ (4) मीठा करेंगे तो आप यकीन मानिए वे सब अपनी उंगलियां _____ (5) रह जाएंगे। चावल की खीर को खा कर अगर आप ऊब गए हैं तो पनीर की खीर बनाना तो बनता ही है।

SubQuestion No : 20

Q.20 रिक्त स्थान (3) के लिए उपयुक्त विकल्प का चयन कीजिए।

- Ans
- ☒ 1. जरूरत
 - ☒ 2. चिंताजनक
 - ☒ 3. कोशिश
 - ☒ 4. पछतावा

Question ID : 630680832823
Option 1 ID : 6306803262257
Option 2 ID : 6306803262260
Option 3 ID : 6306803262259
Option 4 ID : 6306803262258