

Sub Inspector in Delhi Police and Central Armed Police Forces Examination 2022

Roll Number	
Candidate Name	
Venue Name	
Exam Date	09/11/2022
Exam Time	9:00 AM - 11:00 AM
Subject	SICPO Paper I 2022

Section : General Intelligence and Reasoning

Q.1 उस विकल्प का चयन कीजिए, जिसका तीसरे पद से ठीक वही संबंध है, जो संबंध दूसरे पद का पहले पद से है और वही संबंध छठे पद का पाँचवें पद से है।
6 : 32 :: 10 : ? :: 11 : 117

- Ans
- ☒ 1. 110
 - ☒ 2. 88
 - ☒ 3. 99
 - ☒ 4. 96

Question ID : 26433056287

Status : Answered

Chosen Option : 4

Q.2 उस शब्द-युग्म का चयन कीजिए जिसमें दोनों शब्दों के मध्य वही संबंध है जो नीचे दिए गए शब्द-युग्म के दोनों शब्दों के मध्य है।
(शब्दों को अर्थपूर्ण हिंदी शब्द माना जाना चाहिए और शब्दों को अक्षरों की संख्या/व्यंजनों की संख्या/स्वरों की संख्या के आधार पर एक दूसरे से संबंधित नहीं किया जाना चाहिए)
उधार देना : ऋण लेना

- Ans
- ☒ 1. रोमांचक : उबाऊ
 - ☒ 2. कठोर : सख्त
 - ☒ 3. तीक्ष्ण : धार
 - ☒ 4. खुश : हर्षित

Question ID : 26433091419

Status : Answered

Chosen Option : 1

Q.3 उस समुच्चय का चयन कीजिए जिसमें संख्याएँ आपस में उसी प्रकार संबंधित हैं जिस प्रकार निम्नलिखित समुच्चयों की संख्याएँ आपस में संबंधित हैं। (नोट: संख्याओं को उसके घटक अंकों में विभाजित किए बिना, पूर्ण संख्याओं पर गणितीय संक्रियाएँ की जानी चाहिए। उदाहरण के लिए 13 - गणितीय संक्रियाएँ जैसे कि जोड़ना/घटाना/गुणा करना इत्यादि 13 में किया जा सकता है। 13 को 1 और 3 में विभाजित करना और फिर 1 और 3 पर गणितीय संक्रियाएँ करने की अनुमति नहीं है।)
(17, 12, 612)
(6, 14, 252)

- Ans
- ☒ 1. (3, 6, 108)
 - ☒ 2. (2, 3, 12)
 - ☒ 3. (11, 4, 144)
 - ☒ 4. (13, 7, 273)

Question ID : 26433057442

Status : Answered

Chosen Option : 4

Q.4 निम्नलिखित शृंखला को जारी रखने के लिए प्रश्न-चिह्न (?) के स्थान पर कौन-सी आकृति आएगी?

B	S	T	T	U	B	B	T	U	U	☆	B	
	A			S			S			T		?
O	U	☆	☆	A	O	O	☆	A	A	S	O	

Ans

✗ 1.

B	S	O
	☆	
U	T	A

✗ 2.

O	☆	A
	T	
B	S	U

✓ 3.

B	U	☆
	T	
O	A	S

✗ 4.

B	S	U
	☆	
O	T	A

Question ID : 26433090142

Status : Answered

Chosen Option : 3

Q.5 सुमन बिंदु A से उत्तर की ओर 3 km ड्राइव करती है। वह दाएँ मुड़ती है और 4 km और ड्राइव करती है। फिर वह फिर से दाएँ मुड़ती है और 3 km ड्राइव करती है। अंत में वह एक और बार दाएँ मुड़ती है और बिंदु B तक पहुँचने के लिए 6 km ड्राइव करती है। बिंदु A पर फिर से पहुँचने के लिए उसे कितनी दूर और किस दिशा में ड्राइव करना चाहिए?

Ans ✓ 1. 2 km पूर्व की ओर

✗ 2. 3 km पश्चिम की ओर

✗ 3. 2 km दक्षिण की ओर

✗ 4. 3 km उत्तर की ओर

Question ID : 26433068274

Status : Answered

Chosen Option : 1

Q.6 दो कथनों के बाद दो निष्कर्ष I और II दिए गए हैं। कथनों को सत्य मानते हुए, भले ही वे सामान्य रूप से ज्ञात तथ्यों से भिन्न प्रतीत होते हों, यह निर्णय लीजिए कि कौन-सा/से निष्कर्ष कथनों का तार्किक रूप से अनुसरण करता है/करते हैं।

कथन

कुछ लेस जूते हैं।

कुछ लेस मोज़े हैं।

निष्कर्ष:

I. सभी मोज़े जूते हैं।

II. कुछ मोज़े लेस हैं।

Ans ☒ 1. निष्कर्ष I और II दोनों अनुसरण करते हैं।

☒ 2. केवल निष्कर्ष II अनुसरण करता है।

☒ 3. न तो निष्कर्ष I और न ही II अनुसरण करता है।

☒ 4. केवल निष्कर्ष I अनुसरण करता है।

Question ID : 26433056058

Status : Answered

Chosen Option : 2

Q.7 उस विकल्प का चयन कीजिए, जिसका तीसरे पद से ठीक वही संबंध है, जो संबंध दूसरे पद का पहले पद से है और वही संबंध छठे पद का पाँचवें पद से है।

2 : 9 :: 9 : ? :: 6 : 217

Ans ☒ 1. 28

☒ 2. 513

☒ 3. 730

☒ 4. 82

Question ID : 26433056289

Status : Answered

Chosen Option : 3

Q.8 आठ व्यक्ति दो समानांतर पंक्तियों में प्रत्येक में 4 व्यक्ति इस प्रकार बैठे हैं कि आसन्न व्यक्तियों के बीच समान दूरी है। पंक्ति I में - 1, 2, 3 और 4 बैठे हैं और उन सभी का मुख दक्षिण की ओर है। पंक्ति II में - 6, 7, 8 और 9 बैठे हैं और उन सभी का मुख उत्तर की ओर है। 1 और 2 अंतिम छोर पर नहीं बैठे हैं और 1, 2 के ठीक बाईं ओर बैठा है। 9 और 7, 1 और 2 के विपरीत बैठे हैं और 7, 1 के ठीक विपरीत बैठा है। 7, 6 का निकटतम पड़ोसी नहीं है। पंक्ति II के अंतिम दाएँ कोने पर उत्तर की ओर मुख करके कौन बैठा है?

Ans ☒ 1. 6

☒ 2. 9

☒ 3. 7

☒ 4. 8

Question ID : 26433068738

Status : Answered

Chosen Option : 4

Q.9 एक निश्चित कूट भाषा में 'ANYWAY' को 'YNAYAW' लिखा जाता है और 'BATTLE' को 'TABELT' लिखा जाता है। उस भाषा में 'COSTLY' को कैसे लिखा जाएगा?

Ans ☒ 1. SCTOLY

☒ 2. YLT SOC

☒ 3. SOCYLT

☒ 4. OCTSLY

Question ID : 26433056565

Status : Answered

Chosen Option : 3

Q.10 दर्पण को चित्र में दिखाए अनुसार MN पर रखे जाने पर दी गई आकृति के सही दर्पण प्रतिबिम्ब का चयन करें।



Ans

- ✓ 1. **9 W V 8 2 7 5 A**
 ✗ 2. **a W V 8 2 7 5 A**
 ✗ 3. **6 W V 8 5 7 5 A**
 ✗ 4. **A C 7 5 & V W P**

Question ID : 26433085392

Status : Answered

Chosen Option : 1

Q.11 उस विकल्प का चयन कीजिए जो उन अक्षरों को निरूपित करता है, जिन्हें नीचे दिए गए रिक्त स्थानों में क्रमिक रूप से बाएं से दाएं रखने पर अक्षर श्रृंखला पूर्ण हो जाएगी।
 F U _ U _ E _ U T _ _ E F _ T _ R E _ _ T U _ E

Ans

- ✗ 1. TRFUFRUTUF
 ✗ 2. FUFRTUTRRF
 ✗ 3. FUFRTUUFTRF
 ✓ 4. TRFURUUFUR

Question ID : 26433056395

Status : Answered

Chosen Option : 4

Q.12 तीन कथन और उनके बाद चार निष्कर्ष क्रमांक 1, 2, 3 और 4 दिए गए हैं। कथनों को सत्य मानते हुए, भले ही वे सामान्य रूप से ज्ञात तथ्यों से भिन्न प्रतीत होते हों, निर्णय करें कि कौन सा निष्कर्ष तार्किक रूप से कथनों का अनुसरण नहीं करता है।

कथन:

कुछ रातें लाइट हैं।
 कोई भी लाइट वैन नहीं है।
 सभी वैन चाबुक हैं।

निष्कर्ष:

- 1) कुछ रातें वैन नहीं हैं।
 2) कोई भी वैन लाइट नहीं है।
 3) कुछ चाबुक लाइट नहीं हैं।
 4) कुछ रातें चाबुक हैं।

Ans

- ✗ 1. केवल निष्कर्ष 3 अनुसरण नहीं करता है।
 ✗ 2. केवल निष्कर्ष 2 अनुसरण नहीं करता है।
 ✗ 3. केवल निष्कर्ष 1 अनुसरण नहीं करता है।
 ✓ 4. केवल निष्कर्ष 4 अनुसरण नहीं करता है।

Question ID : 26433069181

Status : Answered

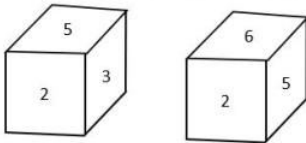
Chosen Option : 4

Q.13 यदि \times का अर्थ $+$ है, \div का अर्थ $-$ है, $+$ का अर्थ \times है, $-$ का अर्थ \div है, तो दिए गए व्यंजक में प्रश्न-चिह्न (?) के स्थान पर क्या आएगा?
 $182 - 13 \times 5 + 16 \div 44 = ?$

- Ans
- ☒ 1. 62
 - ☒ 2. 86
 - ☒ 3. 50
 - ☒ 4. 48

Question ID : 26433080447
 Status : Answered
 Chosen Option : 3

Q.14 एक ही पासे की दो अलग-अलग स्थितियां दर्शाई गई हैं, जिसके छह फलकों को 1 से 6 से क्रमांकित किया गया है। उस संख्या का चयन करें जो 6 दर्शाने वाले फलक के विपरीत फलक पर होगी।



- Ans
- ☒ 1. 2
 - ☒ 2. 5
 - ☒ 3. 3
 - ☒ 4. 4

Question ID : 26433068028
 Status : Answered
 Chosen Option : 3

Q.15 गणितीय चिह्नों के उस सही संयोजन का चयन करें, जिन्हें * चिह्नों के स्थान पर क्रमिक रूप से रखे जाने पर दिया गया समीकरण संतुलित हो जाएगा।
 $234 * 345 * 456 * 567 * 678 * 12$

- Ans
- ☒ 1. $+, -, +, -, =$
 - ☒ 2. $+, \times, +, -, =$
 - ☒ 3. $+, -, +, -, =$
 - ☒ 4. $-, +, +, -, =$

Question ID : 26433068685
 Status : Answered
 Chosen Option : 1

Q.16 किसी कोड भाषा में 'SPACE' को '5-91' के रूप में लिखा जाता है और 'ROTTEN' को '6-70' के रूप में लिखा जाता है। उसी भाषा में 'MEAN' को किस प्रकार लिखा जाएगा?

- Ans
- ☒ 1. 4-76
 - ☒ 2. 4-75
 - ☒ 3. 4-73
 - ☒ 4. 4-74

Question ID : 26433056266
 Status : Answered
 Chosen Option : 2

Q.17 किसी कोड भाषा में 'WINNER' को 'XJOOFS' के रूप में लिखा जाता है और 'RALLY' को 'SBMMZ' के रूप में लिखा जाता है। उसी भाषा में 'CARTOON' को किस प्रकार लिखा जाएगा?

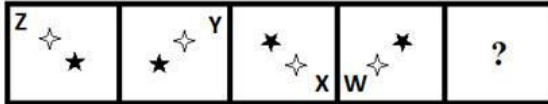
- Ans
- ☒ 1. DBSOPPU
 - ☒ 2. CAPTOON
 - ☒ 3. CAPNOOT
 - ☒ 4. DBSUPPO

Question ID : 26433056263

Status : Answered

Chosen Option : 4

Q.18 नीचे दी गई आकृति श्रृंखला में प्रश्न-चिह्न (?) के स्थान पर आने वाली आकृति का चयन कीजिए।



Ans

- ☒ 1.
- ☒ 2.
- ☒ 3.
- ☒ 4.

Question ID : 26433056944

Status : Answered

Chosen Option : 2

Q.19 अंग्रेजी वर्णमाला क्रम में स्थिति के आधार पर, निम्नलिखित में से तीन अक्षर-समूह किसी न किसी प्रकार से एक समान हैं और एक भिन्न है। भिन्न अक्षर-समूह का चयन करें।

- Ans
- ☒ 1. JLPV
 - ☒ 2. FHLR
 - ☒ 3. HJNU
 - ☒ 4. CEIO

Question ID : 26433065651

Status : Answered

Chosen Option : 3

Q.20 उस विकल्प का चयन करें, जो उन अक्षरों का प्रतिनिधित्व करता है, जो रिक्त स्थानों में क्रमिक रूप से बाएँ से दाएँ रखे जाने पर दी गई अक्षर श्रृंखला को पूरा करेंगे।
_ M _ X J _ P X _ M P _ J _ _ X

- Ans
- ☒ 1. J P X M J M P
 - ☒ 2. J P M X J M P
 - ☒ 3. J O J M X M P
 - ☒ 4. J P M J X M P

Question ID : 26433056781

Status : Answered

Chosen Option : 4


Q.21 उस शब्द-युग्म का चयन कीजिए जो नीचे दिए गए शब्दों के युग्म में व्यक्त किए गए समान संबंध का सबसे अच्छा निरूपण करता है।
(शब्दों को अर्थपूर्ण हिंदी शब्दों के रूप में माना जाना चाहिए और उन्हें शब्द में अक्षरों की संख्या/व्यंजन/स्वरों की संख्या के आधार पर एक दूसरे से संबंधित नहीं किया जाना चाहिए)
चेचक : वायरस

- Ans
- ☒ 1. एंथ्रेक्स : परजीवी
 - ☒ 2. एंथ्रेक्स : कवक
 - ☒ 3. एंथ्रेक्स : बैक्टीरिया
 - ☒ 4. एंथ्रेक्स : वायरस

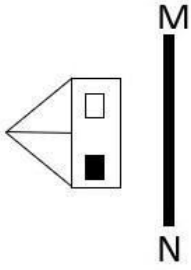
Question ID : 26433085619

Status : Answered

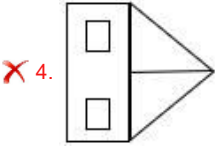
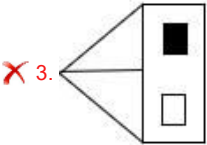
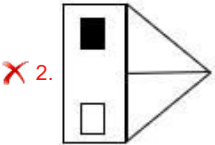
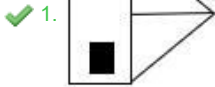
Chosen Option : 2



Q.22 दी गई आकृति के सही दर्पण प्रतिबिंब का चयन कीजिए जब दर्पण को रेखा MN पर रखा जाता है जैसा कि दिखाया गया है।



Ans



Q.23 निम्नलिखित में से कौन-सी संख्या दी गई श्रृंखला में प्रश्न चिह्न (?) के स्थान पर आएगी?
164, 172, 145, ?, 84

Ans

✗ 1. 283

✓ 2. 209

✗ 3. 234

✗ 4. 308

Question ID : 26433067632

Status : Answered

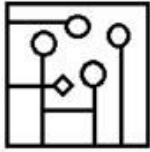
Chosen Option : 2

Q.24 उस विकल्प का चयन कीजिए, जिसमें दी गई आकृति सन्निहित है (घूर्णन की अनुमति नहीं है)।

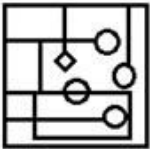


Ans

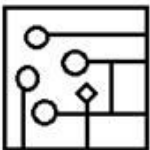
✓ 1.



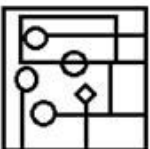
✗ 2.



✗ 3.



✗ 4.



Question ID : 26433057871

Status : Answered

Chosen Option : 1

Q.25 यदि A का अर्थ '+' है, B का अर्थ 'x' है, C का अर्थ '-' है और D का अर्थ '÷' है, तो निम्नलिखित व्यंजक का मान क्या होगा?

50 A 86 C 40 D 10 B 5 = ?

Ans

✓ 1. 116

✗ 2. 150

✗ 3. 134

✗ 4. 124

Question ID : 26433085362

Status : Answered

Chosen Option : 1

Q.26 X \$ Y का अर्थ है 'X, Y का पुत्र है'
'X @ Y' का अर्थ है 'X, Y का पति है'
'X * Y' का अर्थ है 'X, Y की बहन है'
'X # Y' का अर्थ है 'X, Y की माता है'
यदि 'P \$ Q # V @ B' है, तो P किस प्रकार B से संबंधित है?

Ans

✓ 1. देवर/जेठ

✗ 2. पुत्र

✗ 3. माता

✗ 4. पिता

Question ID : 26433090234

Status : Answered

Chosen Option : 1

Q.27 नेहा अपने घर से निकलती है और दक्षिण की ओर 51 m चलती है और फिर बाएँ मुड़कर 44 m चलती है। अब वह फिर से बाएँ मुड़ती है और 83 m चलती है। वह उस खम्भे से कितनी दूर है, जो अब उसके घर से ठीक 32 m उत्तर में है? (यह मानते हुए कि सभी मोड़ केवल 90 डिग्री के मोड़ हैं)

Ans ☒ 1. 44 m

☒ 2. 7 m

☒ 3. 39 m

☒ 4. 14 m

Question ID : 26433058019

Status : Answered

Chosen Option : 1

Q.28 अक्षरों के उस संयोजन का चयन करें जो दी गई श्रृंखला के रिक्त स्थानों में क्रमिक रूप से रखे जाने पर श्रृंखला को पूर्ण करेगा।
_ SSRS _ SS _ S _

Ans ☒ 1. RRRSR

☒ 2. RSSRR

☒ 3. RSRRS

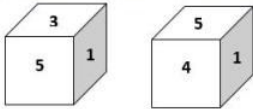
☒ 4. SRRSR

Question ID : 26433057730

Status : Answered

Chosen Option : 3

Q.29 एक ही पासे की दो अलग-अलग स्थितियाँ दिखाई गई हैं, जिनमें छः फलकों को 1 से 6 तक संख्यांकित किया गया है। उस संख्या का चयन करें, जो '3' को दर्शाने वाले फलक के विपरीत फलक पर होगी।



Ans ☒ 1. 4

☒ 2. 1

☒ 3. 5

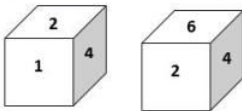
☒ 4. 2

Question ID : 26433058070

Status : Answered

Chosen Option : 1

Q.30 एक ही पासे की दो अलग-अलग स्थितियाँ दिखाई गई हैं, जिनमें छः फलकों को 1 से 6 तक संख्यांकित किया गया है। उस संख्या का चयन करें, जो '1' को दर्शाने वाले फलक के विपरीत फलक पर होगी।



Ans ☒ 1. 6

☒ 2. 4

☒ 3. 2

☒ 4. 3

Question ID : 26433058068

Status : Answered

Chosen Option : 1

Q.31 कौन-सा विकल्प प्रस्तुत शब्दों के ऐसे सही क्रम का द्योतक है, जैसा कि वे किसी अंग्रेजी शब्दकोश में दिखें?

- 1 Method
- 2 Methanol
- 3 Metrics
- 4 Metro
- 5 Melody

Ans ☒ 1. 5,3,1,2,4
☒ 2. 5,1,2,4,3
☒ 3. 5,2,1,4,3
☒ 4. 5,2,1,3,4

Question ID : 26433069261

Status : Answered

Chosen Option : 4

Q.32 उस समुच्चय का चयन करें जिसमें दी गई संख्याएं आपस में उसी प्रकार संबंधित हैं जिस प्रकार प्रश्न में दिए गए समुच्चय की संख्याएं आपस में संबंधित हैं।
 (नोट: संख्याओं को उसके घटक अंकों में विभाजित किए बिना, पूर्ण संख्याओं पर गणितीय संक्रियाएं की जानी चाहिए। उदाहरण के लिए 13 के मामले में - 13 पर गणितीय संक्रियाएं जैसे कि जोड़ने / घटाना / गुणा करने की अनुमति है। 13 को 1 और 3 में तोड़कर और फिर 1 और 3 पर गणितीय संक्रियाएं करने की अनुमति नहीं है।)
 (23, 308, 15)
 (18, 187, 12)

Ans ☒ 1. (14, 104, 9)
☒ 2. (16, 122, 7)
☒ 3. (20, 280, 14)
☒ 4. (19, 325, 27)

Question ID : 26433067928

Status : Not Attempted and
Marked For Review

Chosen Option : --

Q.33 एक निश्चित कूट भाषा में 'CASTLE' को 'IFWWNF' लिखा जाता है और 'DRIVER' को 'JWMYGS' लिखा जाता है। उस भाषा में 'FEMALE' को कैसे लिखा जाएगा?

Ans ☒ 1. MKPDOF
☒ 2. MJRDNO
☒ 3. LJQDNF
☒ 4. KKQEMG

Question ID : 26433056569

Status : Answered

Chosen Option : 3

Q.34 निम्नलिखित में से कौन-सी संख्या दी गई श्रृंखला में प्रश्नवाचक चिह्न (?) का स्थान लेगी?

23, 50, 73, 100, ?

Ans ☒ 1. 123
☒ 2. 127
☒ 3. 125
☒ 4. 120

Question ID : 26433057337

Status : Answered

Chosen Option : 1

Q.35 सात व्यक्ति P, Q, R, S, T, U और V सीधी पंक्ति में उत्तर मुख करके बैठे हैं। U के दाईं ओर मात्र दो व्यक्ति बैठते हैं। R के बाईं ओर मात्र दो व्यक्ति बैठते हैं। U और Q के मध्य मात्र दो व्यक्ति बैठते हैं। R और V के मध्य मात्र तीन व्यक्ति बैठते हैं। T, U के ठीक पास में समीपस्थ नहीं हैं। S, U के दाएँ बैठता है। U के ठीक दाईं ओर कौन बैठता है?

Ans ☒ 1. R

☒ 2. S

☒ 3. P

☒ 4. T

Question ID : 26433055902

Status : Answered

Chosen Option : 3

Q.36 निम्नलिखित चार अक्षर-समूहों में से तीन एक निश्चित तरीके से समान हैं और एक अलग है। अलग अक्षर-समूह का चयन करें।

Ans ☒ 1. DHN

☒ 2. EIO

☒ 3. YCI

☒ 4. PTY

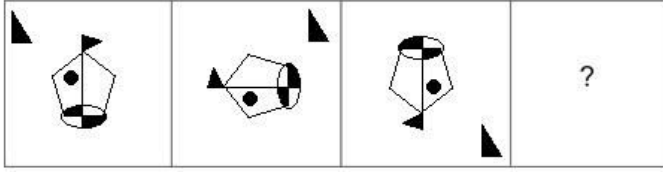
Question ID : 26433057223

Status : Answered

Chosen Option : 4

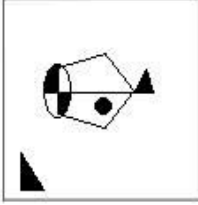


Q.37 उस आकृति का चयन कीजिए जो नीचे दी गई श्रृंखला में प्रश्न चिह्न (?) के स्थान पर आएगी।

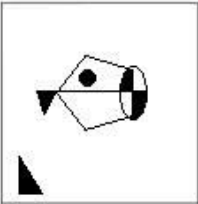


Ans

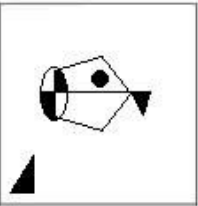
✗ 1.



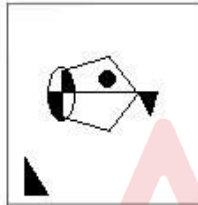
✗ 2.



✗ 3.



✓ 4.



Question ID : 26433070424

Status : Answered

Chosen Option : 4

Q.38 यदि A का अर्थ '+' है, B का अर्थ 'x' है, C का अर्थ '-' है, और D का अर्थ '÷' है तो निम्नलिखित समीकरण में '?' के स्थान पर क्या आएगा?
27 B 5 C 38 A 16 D 4 A 42 C 8 B 4 = ?

Ans ✗ 1. 130

✗ 2. 120

✓ 3. 111

✗ 4. 109

Question ID : 26433057638

Status : Answered

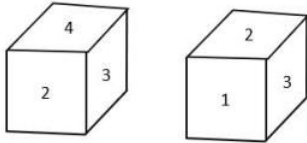
Chosen Option : 3

Q.39 यदि M का अर्थ \div है, N का अर्थ $+$ है, O का अर्थ \times है, और P का अर्थ $-$ है तो निम्नलिखित समीकरण में '?' के स्थान पर क्या आएगा?
 $324 P 35 M 184 M 17 O 3 P 39 = ?$

- Ans ☒ 1. 163
☒ 2. 153
☒ 3. 171
☒ 4. 159

Question ID : 26433057639
 Status : Answered
 Chosen Option : 1

Q.40 एक ही पासे की दो अलग-अलग स्थितियाँ दर्शाई गई हैं, जिसके छह फलकों को 1 से 6 से क्रमांकित किया गया है। उस संख्या का चयन करें जो 1 दर्शाने वाले फलक के विपरीत फलक पर होगी।



- Ans ☒ 1. 2
☒ 2. 3
☒ 3. 5
☒ 4. 4

Question ID : 26433068027
 Status : Answered
 Chosen Option : 4

Q.41 यदि \times का अर्थ $+$, \div का अर्थ \times , $-$ का अर्थ \div , और $+$ का अर्थ $-$ है, तो निम्नलिखित व्यंजक का मान क्या होगा?
 $32 \times 6 + 10 - 4 \div 8 = ?$

- Ans ☒ 1. 24
☒ 2. 18
☒ 3. 20
☒ 4. 22

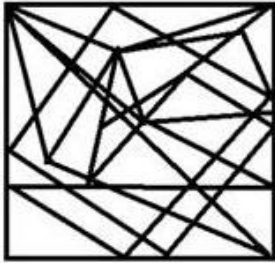
Question ID : 26433082769
 Status : Answered
 Chosen Option : 2

Q.42 उस विकल्प आकृति का चयन करें, जिसमें दी गई आकृति सन्निहित है (घुमाने की अनुमति नहीं है)।

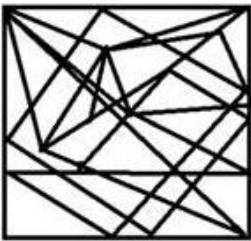


Ans

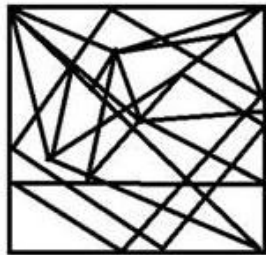
✗ 1.



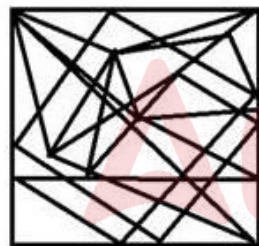
✗ 2.



✗ 3.



✓ 4.



Question ID : 26433056675

Status : Answered

Chosen Option : 4

Q.43 A # B का अर्थ है 'A, B की माता है'
A @ B का अर्थ है 'A, B की बहन है'
A & B का अर्थ है 'A, B के पिता है'
A % B का अर्थ है 'A, B की पत्नी है'
यदि W # Q @ T & Y @ M % K है, तो K, T से किस प्रकार संबंधित है?

Ans

✗ 1. साला

✗ 2. भाई

✗ 3. पुत्र

✓ 4. दामाद

Question ID : 26433074715

Status : Answered

Chosen Option : 4

Q.44 यदि A का अर्थ '+' है, B का अर्थ 'x' है, C का अर्थ '-' है और D का अर्थ '÷' है, तो निम्नलिखित व्यंजक का मान क्या होगा?
25 C 21 D 7 B 3 A 4

- Ans
- ☒ 1. 21
 - ☒ 2. 43
 - ☒ 3. 20
 - ☒ 4. 24




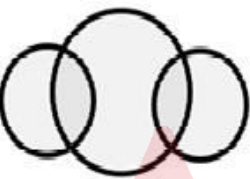
Question ID : 26433068703

Status : Answered

Chosen Option : 3

Q.45 उस वेन आरेख का चयन करें जो निम्नलिखित वर्गों के बीच के संबंध को सर्वोत्तम रूप से दर्शाता है।
सोना, चांदी, आभूषण

Ans

- ☒ 1. 
- ☒ 2. 
- ☒ 3. 
- ☒ 4. 

Question ID : 26433065948

Status : Answered

Chosen Option : 4

Q.46 दो कथन दिए गए हैं जिनके बाद तीन निष्कर्ष क्रमांक I, II और III दिए गए हैं। कथनों को सत्य मानते हुए, भले ही वे सामान्यतः ज्ञात तथ्यों से भिन्न प्रतीत होते हों, निर्णय लें कि कौन-सा/से निष्कर्ष कथनों का तार्किक रूप से अनुसरण करता/करते है/हैं।

कथन:

सभी कॉफी और मिल्कशेक, चाय हैं।
कोई भी कॉफी, मिल्कशेक नहीं है।

निष्कर्ष:

- I. कुछ कॉफी, मिल्कशेक हैं।
- II. कुछ चाय, कॉफी हैं।
- III. कुछ मिल्कशेक, चाय हैं।

- Ans
- ☒ 1. केवल निष्कर्ष II और III अनुसरण करते हैं।
 - ☒ 2. केवल निष्कर्ष I और II अनुसरण करते हैं।
 - ☒ 3. सभी निष्कर्ष अनुसरण करते हैं।
 - ☒ 4. केवल निष्कर्ष I और III अनुसरण करते हैं।

Question ID : 26433055694

Status : Answered

Chosen Option : 1

Q.47 यदि 31 दिसंबर 2003 को बुधवार था, तो 7 मार्च 2005 को सप्ताह का कौन-सा दिन था?

- Ans
- ☒ 1. मंगलवार
 - ☒ 2. सोमवार
 - ☒ 3. रविवार
 - ☒ 4. शनिवार

Question ID : 26433057433

Status : Answered

Chosen Option : 1

Q.48 निम्नलिखित में से कौन-सी संख्या दी गई श्रृंखला में प्रश्नवाचक चिह्न (?) का स्थान लेगी?
822, 817, 807, 787, ?

- Ans
- ☒ 1. 755
 - ☒ 2. 750
 - ☒ 3. 754
 - ☒ 4. 752

Question ID : 26433057348

Status : Answered

Chosen Option : 4

Q.49 दिए गए विकल्पों में से वह संख्या चुनिए, जो निम्नलिखित श्रृंखला में प्रश्न-चिह्न (?) को प्रतिस्थापित कर सके।
72, 85, 68, 81, ?, 77

- Ans
- ☒ 1. 64
 - ☒ 2. 67
 - ☒ 3. 70
 - ☒ 4. 61

Question ID : 26433057022

Status : Answered

Chosen Option : 1

Q.50 उस विकल्प का चयन कीजिए जो उन अक्षरों को निरूपित करता है जिन्हें नीचे रिक्त स्थानों में बाएँ से दाएँ रखने पर अक्षर श्रृंखला पूरी हो जाएगी।

_HK_PQ_H_O_QJ_K_P_JH_O_Q

- Ans
- ☒ 1. OJJKPHQOKP
 - ☒ 2. JOJKPHOQKP
 - ☒ 3. JOKJPHQOKP
 - ☒ 4. OJKJPHOQPK

Question ID : 26433059870

Status : Answered

Chosen Option : 2

Section : General Knowledge and General Awareness

Q.1 अवास्तविक और वास्तविक जीडीपी (GDP) के बीच के अनुपात को _____ कहा जाता है।

- Ans
- ✓ 1. जीडीपी अपस्फीतिकारक
 - ✗ 2. निवल राष्ट्रीय आय
 - ✗ 3. मूल्य वर्धित जीडीपी
 - ✗ 4. हरित जीडीपी

Question ID : 26433064107
Status : Not Answered
Chosen Option : --

Q.2 निम्नलिखित में से कौन से तत्व आवर्त सारणी में एक ही समूह में शामिल हैं?

- Ans
- ✗ 1. Ne, Ar, Na, Mg
 - ✗ 2. He, Li, Mg, K
 - ✗ 3. H, Li, Mg, Ca
 - ✓ 4. H, Li, Na, K

Question ID : 26433053984
Status : Answered
Chosen Option : 4

Q.3 राष्ट्रीय सुदूर संवेदन केंद्र (NRSC) का मुख्यालय कहाँ स्थित है?

- Ans
- ✗ 1. कोलकाता
 - ✓ 2. हैदराबाद
 - ✗ 3. मुंबई
 - ✗ 4. बेंगलुरु

Question ID : 26433071611
Status : Not Answered
Chosen Option : --

Q.4 निम्नलिखित में से बेरियम पेरोक्साइड का सूत्र कौन-सा है?

- Ans
- ✓ 1. BaO₂
 - ✗ 2. BaSO₄
 - ✗ 3. BaO
 - ✗ 4. Ba₂O₂

Question ID : 26433054013
Status : Not Answered
Chosen Option : --

Q.5 निम्नलिखित में से कौन सा, प्रकाश-संश्लेषण में सक्षम जलीय जीवों का एक विविध समूह है?

- Ans
- ✓ 1. शैवाल
 - ✗ 2. प्रोटोज़ोआ
 - ✗ 3. कवक
 - ✗ 4. खमीर

Question ID : 26433055098
Status : Answered
Chosen Option : 1

Q.6 पृथ्वी के मौसम में सभी परिवर्तन _____ के कारण होते हैं।

- Ans
- ☒ 1. ज्वार
 - ☒ 2. चंद्रमा
 - ☒ 3. ऊँचाई
 - ☒ 4. सूर्य

Question ID : 26433055152

Status : Answered

Chosen Option : 4

Q.7 सुधा चंद्रन एक प्रसिद्ध अभिनेत्री और एक कुशल _____ नर्तकी हैं।

- Ans
- ☒ 1. कथकली
 - ☒ 2. कुचिपुड़ी
 - ☒ 3. भरतनाट्यम
 - ☒ 4. सलिया

Question ID : 26433054213

Status : Not Answered

Chosen Option : --

Q.8 बेकिंग पाउडर और बेकिंग सोडा जैसे रासायनिक लेवनर द्वारा बेक की हुई चीजों को हल्का और हवादार करने के लिए किस गैस का उपयोग किया जाता है?

- Ans
- ☒ 1. हाइड्रोजन
 - ☒ 2. नाइट्रोजन
 - ☒ 3. हीलियम
 - ☒ 4. कार्बन डाइऑक्साइड

Question ID : 26433055806

Status : Not Answered

Chosen Option : --

Q.9 Around the time of its arrival, the normal rainfall increases suddenly and continues constantly for several days. This is known as the _____ of the monsoon, and can be distinguished from the pre-monsoon showers.

- Ans
- ☒ 1. breaking
 - ☒ 2. opening
 - ☒ 3. thrust
 - ☒ 4. burst

Question ID : 26433067192

Status : Answered

Chosen Option : 4

Q.10 स्थिरता के साथ विकास और आत्मनिर्भरता की प्रगतिशील उपलब्धि _____ पंचवर्षीय योजना का उद्देश्य था।

- Ans
- ☒ 1. तीसरी
 - ☒ 2. पाँचवीं
 - ☒ 3. चौथी
 - ☒ 4. दूसरी

Question ID : 26433054602

Status : Not Answered

Chosen Option : --

Q.11 विश्व कप-2022 में भारतीय महिला क्रिकेट टीम की कप्तान कौन थीं?

- Ans
- ☒ 1. हरमनप्रीत कौर
 - ☒ 2. मिताली राज
 - ☒ 3. स्मृति मंधाना
 - ☒ 4. शेफाली वर्मा

Question ID : 26433054668

Status : Answered

Chosen Option : 1

Q.12 _____ नामक घास की एक प्रजाति पर्यावरण के प्रति अपनी असंवेदनशीलता के कारण विलुप्त होने के कगार पर है।

- Ans
- ☒ 1. सैकरम ऑफिसिनारम (Saccharum officinarum)
 - ☒ 2. हबर्डिया हेप्टान्यूरॉन (Hubbardia heptaneuron)
 - ☒ 3. बेलिस पेरेंनिस (Bellis perennis)
 - ☒ 4. हेलियनथस एनस (Helianthus annuus)

Question ID : 26433059457

Status : Not Answered

Chosen Option : --

Q.13 GATT की स्थापना 1948 में _____ देशों के साथ वैश्विक व्यापार संगठन के रूप में की गई थी, जिसका काम व्यापारिक उद्देश्यों के लिए अंतर्राष्ट्रीय बाजार में सभी देशों को समान अवसर प्रदान करके सभी बहुपक्षीय व्यापार समझौतों को संचालित करना था।

- Ans
- ☒ 1. 35
 - ☒ 2. 28
 - ☒ 3. 29
 - ☒ 4. 23

Question ID : 26433059331

Status : Not Answered

Chosen Option : --

Q.14 निम्नलिखित में से किस राजवंश के शासकों ने मध्य भारत में 950 से 1050 A.D के बीच खजुराहो के मंदिरों का निर्माण करवाया था?

- Ans
- ☒ 1. चंदेल वंश
 - ☒ 2. गुर्जर-प्रतिहार वंश
 - ☒ 3. पाल वंश
 - ☒ 4. राष्ट्रकूट वंश

Question ID : 26433054199

Status : Answered

Chosen Option : 1

Q.15 पहला एथलेटिक्स विश्व कप कहां और कब आयोजित किया गया था, जिसे इसके पहले संस्करण के बाद बंद कर दिया गया था?

- Ans
- ☒ 1. सियोल, 2019
 - ☒ 2. टोक्यो, 2020
 - ☒ 3. बीजिंग, 2018
 - ☒ 4. लंदन, 2018

Question ID : 26433059419

Status : Not Answered

Chosen Option : --

Q.16 निम्नलिखित में से किस देश ने एफ.आई.वी.बी. (FIVB) वॉलीबॉल पुरुष विश्व कप के उद्घाटन सत्र की मेजबानी की थी?

- Ans ☒ 1. 1965, पोलैंड
☒ 2. 1981, जापान
☒ 3. 1977, जापान
☒ 4. 1969, पूर्वी जर्मनी

Question ID : 26433059416
 Status : Not Answered
 Chosen Option : --

Q.17 मेट्टूर बांध निम्नलिखित में से किस नदी पर स्थित है?

- Ans ☒ 1. कृष्णा
☒ 2. वैगाई
☒ 3. कावेरी
☒ 4. पेरियार

Question ID : 26433067197
 Status : Answered
 Chosen Option : 3

Q.18 'आई एम नो मसीहा', अभिनेता _____ की आत्मकथा है।

- Ans ☒ 1. सोनू निगम
☒ 2. आमिर खान
☒ 3. सलमान खान
☒ 4. सोनू सूद

Question ID : 26433054238
 Status : Answered
 Chosen Option : 4

Q.19 कोपेन के अनुसार, निम्नलिखित में से कौन सा कोड शुष्क सर्दियों के साथ ठंडी जलवायु को व्यक्त करता है?

- Ans ☒ 1. Df
☒ 2. EF
☒ 3. ET
☒ 4. Dw

Question ID : 26433055154
 Status : Not Answered
 Chosen Option : --

Q.20 GNP के संबंध में निम्न में से कौन सा विकल्प सही है?

- Ans ☒ 1. GNP = GDP + शेष विश्व में नियोजित उत्पादन के घरेलू कारकों द्वारा अर्जित कारक आय + घरेलू अर्थव्यवस्था में नियोजित शेष विश्व के उत्पादन कारकों द्वारा अर्जित कारक आय
☒ 2. GNP = GDP + शेष विश्व में नियोजित उत्पादन के घरेलू कारकों द्वारा अर्जित कारक आय - घरेलू अर्थव्यवस्था में नियोजित शेष विश्व के उत्पादन कारकों द्वारा अर्जित कारक आय
☒ 3. GNP = GDP - शेष विश्व में नियोजित उत्पादन के घरेलू कारकों द्वारा अर्जित कारक आय - घरेलू अर्थव्यवस्था में नियोजित शेष विश्व के उत्पादन कारकों द्वारा अर्जित कारक आय
☒ 4. GNP = GDP - शेष विश्व में नियोजित उत्पादन के घरेलू कारकों द्वारा अर्जित कारक आय + घरेलू अर्थव्यवस्था में नियोजित शेष विश्व के उत्पादन कारकों द्वारा अर्जित कारक आय

Question ID : 26433059257
 Status : Not Answered
 Chosen Option : --

Q.21 निम्नलिखित नदियों में से कौन सी सिंधु नदी प्रणाली की सहायक नदी नहीं है?

- Ans
- ☒ 1. रावी
 - ☒ 2. ब्यास
 - ☒ 3. सतलुज
 - ☒ 4. कोसी

Question ID : 26433071620

Status : Answered

Chosen Option : 4

Q.22 अगस्त 1907 में मैडम भीकाजी कामा विदेशी धरती पर भारतीय ध्वज फहराने वाली पहली व्यक्ति बनीं। उन्होंने _____ में भारतीय ध्वज फहराया।

- Ans
- ☒ 1. पोलैंड
 - ☒ 2. जर्मनी
 - ☒ 3. स्वीडन
 - ☒ 4. बेल्जियम

Question ID : 26433064614

Status : Answered

Chosen Option : 2

Q.23 शिजिथ नांबियार और पार्वती मेनन को केरल स्थित नवनीतम ट्रस्ट द्वारा _____ के क्षेत्र में उनकी सेवाओं के लिए 11 दिसंबर 2021 को 2020 के लिए 5वें भारत कला रत्न पुरस्कार से सम्मानित किया गया।

- Ans
- ☒ 1. कथक
 - ☒ 2. कुचिपुड़ी
 - ☒ 3. मोहिनीअट्टम
 - ☒ 4. भरतनाट्यम

Question ID : 26433054495

Status : Not Answered

Chosen Option : --

Q.24 बहमनी सल्तनत की स्थापना निम्नलिखित में से किस नेता ने की थी?

- Ans
- ☒ 1. महमूद गवन
 - ☒ 2. मोहम्मद बिन तुगलक
 - ☒ 3. मुहम्मद शाह
 - ☒ 4. अलाउद्दीन हसन बहमन शाह

Question ID : 26433099207

Status : Answered

Chosen Option : 4

Q.25 पारिस्थितिकी में _____ को जैवभार प्रति इकाई क्षेत्रफल को वन पारिस्थितिकी तंत्र की आयु से विभाजित करके निर्धारित किया जाता है।

- Ans
- ☒ 1. जैवभार आकार
 - ☒ 2. जैवभार उत्पादकता
 - ☒ 3. जैवभार ऊर्जा प्रवाह
 - ☒ 4. जैवभार घनत्व

Question ID : 26433055125

Status : Not Answered

Chosen Option : --

Q.26 कार्बन काल-निर्धारण (डेटिंग) का क्या अर्थ है?

- Ans
- ☒ 1. एक बहुत पुरानी चट्टान के वजन के निर्धारण की विधि
 - ☒ 2. कठोर चट्टान में सल्फर और नाइट्रोजन के अवशेषों की गणना करने की विधि
 - ☒ 3. बहुत पुरानी वस्तुओं में कार्बन के विभिन्न रूपों की मात्रा को मापकर उनकी आयु की गणना करने की विधि
 - ☒ 4. विखंडनीय सामग्री के घनत्व को निर्धारित करने की विधि

Question ID : 26433054059
Status : Answered
Chosen Option : 3

Q.27 उच्च न्यायालय के संबंध में निम्नलिखित में से कौन सा कथन सही नहीं है?

- Ans
- ☒ 1. यह निचली अदालतों से अपील की सुनवाई कर सकता है।
 - ☒ 2. यह राज्य के अधिकार-क्षेत्र के अंतर्गत आने वाले मामलों की सुनवाई कर सकता है।
 - ☒ 3. यह भारत के राष्ट्रपति को सलाहकारी राय दे सकता है।
 - ☒ 4. यह मौलिक अधिकारों की रक्षा के विभिन्न रिट जारी कर सकता है।

Question ID : 26433054100
Status : Answered
Chosen Option : 4

Q.28 कथक गुरु, शोवना नारायण ने 1992 में _____ प्राप्त किया।

- Ans
- ☒ 1. नृत्य शिरोमणि
 - ☒ 2. पद्म श्री
 - ☒ 3. पद्म विभूषण
 - ☒ 4. पद्म भूषण

Question ID : 26433090714
Status : Not Answered
Chosen Option : --

Q.29 मुगल साम्राज्य की भू-राजस्व प्रणाली के संदर्भ कर के लिए तय राशि को '_____ ' कहा जाता था।

- Ans
- ☒ 1. पोलाज
 - ☒ 2. बंजर
 - ☒ 3. जमा
 - ☒ 4. हासिल

Question ID : 26433082064
Status : Not Answered
Chosen Option : --

Q.30 रससुंदरी देवी की आत्मकथा का नाम क्या है ?

- Ans
- ☒ 1. आलो अंधारी
 - ☒ 2. आमार जीबोन
 - ☒ 3. स्मृतिचित्र: द मेमोरी ऑफ अ स्पिरिटेड वाइफ़
 - ☒ 4. रसीदी टिकट

Question ID : 26433054272
Status : Not Answered
Chosen Option : --

Q.31 निम्नलिखित में से किस गवर्नर जनरल ने दिसंबर 1829 में सती प्रथा के खिलाफ कानून बनाया था?

- Ans
- ☒ 1. लॉर्ड डलहौजी
 - ☒ 2. लॉर्ड वारेन हेस्टिंग्स
 - ☒ 3. लॉर्ड विलियम बैंटिक
 - ☒ 4. लॉर्ड कैनिंग

Question ID : 26433071405

Status : Answered

Chosen Option : 3

Q.32 चंद्रमा पृथ्वी का एक चक्कर पूरा करने के साथ ही साथ अपनी धुरी पर भी _____ चक्कर पूरा करता है।

- Ans
- ☒ 1. 1
 - ☒ 2. 4
 - ☒ 3. 3
 - ☒ 4. 2

Question ID : 26433054941

Status : Answered

Chosen Option : 1

Q.33 'मैटर्स ऑफ डिस्क्रिशन' भारत के किस पूर्व प्रधानमंत्री की आत्मकथा है?

- Ans
- ☒ 1. मनमोहन सिंह
 - ☒ 2. इंदर कुमार गुजराल
 - ☒ 3. अटल बिहारी वाजपेयी
 - ☒ 4. पी.वी. नरसिम्हा राव

Question ID : 26433054176

Status : Answered

Chosen Option : 2

Q.34 संविधान द्वारा निम्नलिखित में से किनके लिए लोकसभा और विधानसभाओं में सीटों के आरक्षण का प्रावधान किया गया है?

- Ans
- ☒ 1. अनुसूचित जनजातियों
 - ☒ 2. दिव्यांगजनों
 - ☒ 3. अन्य पिछड़ा वर्ग
 - ☒ 4. महिलाओं

Question ID : 26433054096

Status : Answered

Chosen Option : 4

Q.35 'ट्रेन टू पाकिस्तान' नामक उपन्यास के लेखक निम्नलिखित में से कौन हैं?

- Ans
- ☒ 1. खुशवंत सिंह
 - ☒ 2. चेतन भगत
 - ☒ 3. आर. के. नारायण
 - ☒ 4. विक्रम सेठ

Question ID : 26433054249

Status : Answered

Chosen Option : 1

Q.36 ठुमरी गायकी की विशेषताओं के संदर्भ में निम्न में से कौन सा/से युग्म सुमेलित है/हैं?

- I. पूरब - मृदु और गंभीर
II. पंजाब - अत्यधिक चपल

- Ans ☒ 1. केवल II
☒ 2. I और II दोनों
☒ 3. न तो I और न ही II
☒ 4. केवल I

Question ID : 26433054413

Status : Not Answered

Chosen Option : --

Q.37 निम्नलिखित में से कौन से मौलिक अधिकार देश में 'आपातकाल' घोषित होने पर भी निलंबित नहीं किए जा सकते हैं?

- Ans ☒ 1. अनुच्छेद 21 और 22
☒ 2. अनुच्छेद 22 और 23
☒ 3. अनुच्छेद 20 और 21
☒ 4. अनुच्छेद 19 और 20

Question ID : 26433069866

Status : Answered

Chosen Option : 1

Q.38 57 वां ज्ञानपीठ पुरस्कार जीतने वाले उपन्यासकार दामोदर मौजो निम्नलिखित में से किस भाषा के लेखक हैं?

- Ans ☒ 1. उड़िया
☒ 2. असमिया
☒ 3. कोंकणी
☒ 4. संस्कृत

Question ID : 26433054189

Status : Not Answered

Chosen Option : --

Q.39 निम्नलिखित में से किसने 1784 में 'एशियाटिक सोसाइटी ऑफ बंगाल' की स्थापना की?

- Ans ☒ 1. द्वारकानाथ टैगोर
☒ 2. सर विलियम जोन्स
☒ 3. राजा राम मोहन राय
☒ 4. हेनरी विवियन डेरोजियो

Question ID : 26433055641

Status : Answered

Chosen Option : 3

Q.40 दिए गए समीकरण में k_B का परिभाषित मान क्या है?
 $k_B = PV/TN$

- Ans ☒ 1. $1.08 \times 10^{-23} \text{ J K}^{-1}$
☒ 2. $1.38 \times 10^{-23} \text{ J K}^{-1}$
☒ 3. $0.38 \times 10^{-23} \text{ J K}^{-1}$
☒ 4. $1.68 \times 10^{-23} \text{ J K}^{-1}$

Question ID : 26433059083

Status : Not Answered

Chosen Option : --

Q.41 Which of the following is NOT a part of the All India Services?

- Ans ☒ 1. Indian Forest Service
☒ 2. Indian Engineering Service
☒ 3. Indian Administrative Service
☒ 4. Indian Police Service

Question ID : 26433055023
 Status : Answered
 Chosen Option : 1

Q.42 निम्नलिखित में से कौन-सा, नदी की लंबाई का सही क्रम है?

- Ans ☒ 1. गोदावरी, कृष्णा, गंगा, यमुना
☒ 2. गोदावरी, गंगा, कृष्णा, यमुना
☒ 3. गंगा, गोदावरी, कृष्णा, यमुना
☒ 4. गंगा, यमुना, गोदावरी, कृष्णा

Question ID : 26433054949
 Status : Answered
 Chosen Option : 3

Q.43 राष्ट्रीय बाल अधिकार संरक्षण आयोग की स्थापना किस वर्ष में की गई थी?

- Ans ☒ 1. 2005 में
☒ 2. 2007 में
☒ 3. 2014 में
☒ 4. 2010 में

Question ID : 26433064711
 Status : Not Answered
 Chosen Option : --

Q.44 राष्ट्रीय जलमार्ग-96 निम्नलिखित में से किस राज्य से होकर गुजरता है?

- Ans ☒ 1. असम
☒ 2. उत्तर प्रदेश
☒ 3. ओडिशा
☒ 4. मध्य प्रदेश

Question ID : 26433067187
 Status : Not Answered
 Chosen Option : --

Q.45 बक्सर का युद्ध हेक्टर मुनरो के नेतृत्व वाली ब्रिटिश ईस्ट इंडिया कंपनी की कमान के अधीन सेनाओं और _____ की संयुक्त सेनाओं के बीच हुआ था।

- Ans ☒ 1. मीर जाफर, मुगल सम्राट बहादुर शाह II, शुजाउद्दौला
☒ 2. मीर कासिम, मुगल बादशाह शाह आलम और अवध के शुजाउद्दौला
☒ 3. मीर जाफर, सिराजुद्दौला और मुगल बादशाह शाह आलम II
☒ 4. सिराजुद्दौला, शुजाउद्दौला, मुगल बादशाह शाह आलम II

Question ID : 26433099219
 Status : Answered
 Chosen Option : 3

Q.46 निम्नलिखित में से कौन-सा देश 22वें फीफा विश्व कप फुटबॉल का आयोजन 2022 में करेगा?

- Ans ☒ 1. कतर
☒ 2. ब्राजील
☒ 3. दक्षिण अफ्रीका
☒ 4. ओमान

Question ID : 26433054681
Status : Answered
Chosen Option : 1

Q.47 निम्नलिखित में से कौन, भारत के चुनाव आयुक्तों की नियुक्ति करते हैं?

- Ans ☒ 1. उप राष्ट्रपति
☒ 2. राष्ट्रपति
☒ 3. महान्यायवादी
☒ 4. प्रधान मंत्री

Question ID : 26433086820
Status : Answered
Chosen Option : 2

Q.48 निम्न में से किस अनुच्छेद में शामिल मौलिक कर्तव्य अनुच्छेद 21A के समान है?

- Ans ☒ 1. अनुच्छेद 51A (k)
☒ 2. अनुच्छेद 51A (h)
☒ 3. अनुच्छेद 51A (j)
☒ 4. अनुच्छेद 51A (i)

Question ID : 26433069868
Status : Not Answered
Chosen Option : --

Q.49 'मानसून' के संबंध में निम्न में से कौन सा कथन सही है?

- Ans ☒ 1. 'मानसून' शब्द तमिल शब्द से लिया गया है और यह हर महीने हवा की दिशा में मौसमी उलटफेर को व्यक्त करता है।
☒ 2. 'मानसून' शब्द अरबी शब्द से लिया गया है और यह हर महीने हवा की दिशा में मौसमी उलटफेर को व्यक्त करता है।
☒ 3. 'मानसून' शब्द अरबी शब्द से लिया गया है और यह एक वर्ष के दौरान हवा की दिशा में मौसमी उलटफेर को व्यक्त करता है।
☒ 4. 'मानसून' शब्द तमिल शब्द से लिया गया है और यह एक वर्ष के दौरान हवा की दिशा में मौसमी उलटफेर को व्यक्त करता है।

Question ID : 26433054938
Status : Answered
Chosen Option : 3

Q.50 मोहिनीअट्टम किस हिंदू देवता से संबंधित है?

- Ans ☒ 1. विष्णु
☒ 2. ब्रह्मा
☒ 3. शिव
☒ 4. गणपति

Question ID : 26433054129
Status : Answered
Chosen Option : 3

Q.1 एक विक्रेता 2 kg वजन के स्थान पर गलत वजन का उपयोग करता है और 25% लाभ अर्जित करता है। उसका दावा है कि वह ग्राहकों को क्रय मूल्य पर बेच रहा है लेकिन गलत वजन का उपयोग करता है। 25% का लाभ कमाने के लिए उसे 2 kg में कितना वजन कम करना होगा?

- Ans
- ☒ 1. 250 g
 - ☒ 2. 500 g
 - ☒ 3. 300 g
 - ☒ 4. 400 g

Question ID : 26433063320
Status : Answered
Chosen Option : 2

Q.2 एक खेत एक आयत के आकार का है जिसकी लंबाई 90 m और चौड़ाई 75 m है। खेत के एक कोने में 18 m लंबा 15 m चौड़ा और 6 m गहरा एक गड्ढा खोदा गया है। इसमें से निकाली गई मिट्टी खेत के शेष भाग में समान रूप से फैली हुई है। खेत के स्तर में वृद्धि का पता लगाएं।

- Ans
- ☒ 1. 28 cm
 - ☒ 2. 24 cm
 - ☒ 3. 25 cm
 - ☒ 4. 27 cm

Question ID : 26433061743
Status : Answered
Chosen Option : 3

Q.3 निम्नलिखित तालिका अतिरिक्त पाठ्यतर गतिविधियों में भाग लेने वाले सात कॉलेजों के छात्रों की संख्या को दर्शाती है।

तालिका को पढ़िए और दिए गए प्रश्न का उत्तर दीजिए।

कॉलेज →	A	B	C	D	E	F	G
अतिरिक्त पाठ्यतर गतिविधियां ↓							
I	150	250	450	50	350	250	150
II	50	150	150	50	50	50	50
III	100	50	400	125	100	500	150
IV	250	125	350	275	250	150	150

गतिविधि II से विद्यार्थियों की संख्या का गतिविधि IV से विद्यार्थियों की संख्या से प्रतिशत ज्ञात कीजिए।

(दशमलव के दो स्थानों तक सही उत्तर दीजिए)

- Ans
- ☒ 1. 34.25 प्रतिशत
 - ☒ 2. 39.18 प्रतिशत
 - ☒ 3. 45.48 प्रतिशत
 - ☒ 4. 35.48 प्रतिशत

Question ID : 26433074229
Status : Answered
Chosen Option : 4

Q.4 यहां दिया गया दंड आरेख तीन अलग-अलग कंपनियों X, Y, Z द्वारा भिन्न-भिन्न वर्षों में उनके कारों के उत्पादन का आंकड़ा प्रदर्शित करता है।



5 वर्षों का औसत उत्पादन किस कंपनी/कंपनियों के लिए अधिकतम था?

- Ans
- ☐ 1. Y और Z
 - ☐ 2. X और Y
 - ☐ 3. Y
 - ☒ 4. X और Z

Question ID : 26433075106

Status : Answered

Chosen Option : 4

Q.5 एक परीक्षा में तीन पेपर हैं। चार छात्रों द्वारा प्राप्त अंकों को नीचे सारणीबद्ध किया गया है:

P1, P2 और P3 में क्रमशः किन छात्रों को सबसे अधिक अंक मिले हैं।

विद्यार्थी	P1	P2	P3
मोहित	79	78	77
शिवम	73	87	80
विशाल	82	74	83
विराज	77	89	86

- Ans
- ☐ 1. शिवम, विराज, विशाल
 - ☐ 2. विराज, विशाल, मोहित
 - ☐ 3. मोहित, विराज, विशाल
 - ☒ 4. विशाल, विराज, विराज

Question ID : 26433076017

Status : Answered

Chosen Option : 1

Q.6 एक पुलिस कर्मी चोर को 250 m की दूरी से देखता है। जब पुलिस कर्मी उसका पीछा करना प्रारंभ करता है, तो चोर भी दौड़ना प्रारंभ करता है। यह मानकर कि चोर की चाल 10 km/h और पुलिस कर्मी की चाल 12 km/h हो, तो चोर अपने पकड़े जाने के पहले कितनी दूर दौड़ चुका होगा?

- Ans
- ☒ 1. 1.25 km
 - ☐ 2. 4 km
 - ☐ 3. 3 km
 - ☐ 4. 2 km

Question ID : 26433063890

Status : Answered

Chosen Option : 1

Q.7 एक बेलन की ऊँचाई और आधार की त्रिज्या का अनुपात 7 : 5 है। यदि इसका आयतन 14836.5 cm^3 है, तो इसका संपूर्ण पृष्ठीय क्षेत्रफल ज्ञात कीजिए। ($\pi = 3.14$ मानिए)।

- Ans
- ☒ 1. 5391.2 cm^2
 - ☒ 2. 4391.2 cm^2
 - ☒ 3. 5591.2 cm^2
 - ☒ 4. 3391.2 cm^2

Question ID : 26433061440

Status : Not Attempted and
Marked For Review

Chosen Option : --

Q.8 विभिन्न विषयों में 6 छात्रों द्वारा प्राप्त प्रतिशत अंक नीचे दिए गए हैं। प्रत्येक विषय के लिए अधिकतम अंक तालिका में दर्शाए गए हैं।

विषय छात्र	भौतिक विज्ञान	गणित	हिन्दी	भूगोल	अंग्रेजी	इतिहास
अधिकतम अंक →	80	150	100	75	120	50
P	70	44	88	88	70	38
Q	90	40	54	92	65	40
R	85	32	70	64	55	30
S	75	70	58	80	60	35
T	65	60	45	88	50	42
U	60	50	60	72	25	48

भूगोल में सभी छात्रों द्वारा प्राप्त औसत अंक क्या है?

- Ans
- ☒ 1. 65.5
 - ☒ 2. 58.2
 - ☒ 3. 63.8
 - ☒ 4. 60.5

Question ID : 26433075818

Status : Answered

Chosen Option : 4

Q.9 एक दुकानदार द्वारा अपने सामान को तौलने के लिए एक दोषपूर्ण तराजू का उपयोग किया जाता है, जो 900 gm भार को 1 kg दर्शाता है, साथ ही दुकानदार अपने सामान का मूल्य 10% बढ़ाकर अंकित करता है, लेकिन दुर्भाग्य से वह मापिकी विभाग द्वारा पकड़ लिया जाता है, जिसके बाद उसे तराजू को ठीक करवाकर और दंडस्वरूप एक महीने तक क्रय मूल्य पर 10% की छूट देते हुए सामान बेचने का आदेश दिया जाता है। यदि प्रत्येक ग्राहक अब 1 kg के लिए ₹20 का भुगतान कर रहा है, तो छापे से पहले वे सामान मात्रा के लिए कितनी धनराशि का भुगतान कर रहे थे? (दशमलव के दो स्थान तक पूर्णांकित)

- Ans
- ✓ 1. ₹27.16
 - ✗ 2. ₹28.15
 - ✗ 3. ₹28.05
 - ✗ 4. ₹27.04

Question ID : 26433079932

Status : Not Attempted and Marked For Review

Chosen Option : --

Q.10 $16\sec^2 A - 16\tan^2 A = \underline{\hspace{2cm}}$.

- Ans
- ✗ 1. 0
 - ✗ 2. 9
 - ✓ 3. 16
 - ✗ 4. 1

Question ID : 26433058168

Status : Answered

Chosen Option : 3

Q.11 निम्नलिखित को हल कीजिए।

$$81^{\frac{3}{4}} + [(20 \div 5 \text{ of } 3 \times 6) + \{(8 \div 24 \text{ of } 3) \times 4\} - 10 \div 5] - \left(\frac{1}{32}\right)^{-\frac{2}{5}}$$

- Ans
- ✗ 1. $24\frac{1}{4}$
 - ✗ 2. $27\frac{4}{5}$
 - ✗ 3. $21\frac{1}{9}$
 - ✓ 4. $29\frac{4}{9}$

Question ID : 26433061876

Status : Answered

Chosen Option : 4

Q.12 यदि A, B से 7 अधिक है, B, C से 16 अधिक है, और $A + B + C$ का मान 255 है, तो $3A + C - 4B$ का मान ज्ञात करें।

- Ans
- ✓ 1. 5
 - ✗ 2. 10
 - ✗ 3. 4
 - ✗ 4. 8

Question ID : 26433099300

Status : Answered

Chosen Option : 1

Q.13 $(2 \cos^2 \theta - 1) \left[\frac{1+\tan\theta}{1-\tan\theta} + \frac{1-\tan\theta}{1+\tan\theta} \right]$ का मान क्या है?

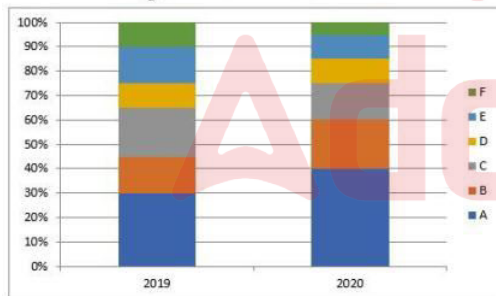
- Ans
- ✗ 1. 1
 - ✗ 2. $\frac{\sqrt{3}}{2}$
 - ✓ 3. 2
 - ✗ 4. 0

Question ID : 26433075833

Status : Answered

Chosen Option : 3

Q.14 निम्नलिखित दण्ड आरेख वर्ष 2019 और 2020 में मोबाइल के विभिन्न मॉडलों के उत्पादन को दर्शाता है।
2019 के दौरान कुल उत्पादन 40 लाख और 2020 के दौरान कुल उत्पादन 65 लाख है।



2020 में मॉडल A मोबाइल और 2019 में मॉडल E मोबाइल का कुल उत्पादन कितना है?

- Ans
- ✓ 1. 32,00,000
 - ✗ 2. 36,00,000
 - ✗ 3. 39,00,000
 - ✗ 4. 21,00,000

Question ID : 26433075516

Status : Answered

Chosen Option : 1

Q.15 यदि $x^4 + \frac{1}{x^4} = 1154$ है, जहाँ $x > 0$ है, तो $x^3 + \frac{1}{x^3}$ का मान क्या है?

- Ans
- ☐ 1. 214
 - ☐ 2. 205
 - ☒ 3. 198
 - ☐ 4. 185

Question ID : 26433063837

Status : Answered

Chosen Option : 3

Q.16 निम्न तालिका पांच छात्रों - V, W, X, Y और Z द्वारा पांच विषयों में प्राप्त किए गए अंकों का प्रतिशत दर्शाती है।

विषय→	गणित	भौतिक विज्ञान	रसायन विज्ञान	वनस्पति विज्ञान	हिन्दी
अधिकतम अंक→	300	300	200	100	100
छात्र↓					
V	60	80	90	100	95
W	90	70	80	70	40
X	70	90	95	80	75
Y	80	60	70	95	80
Z	90	50	80	85	85

X द्वारा प्राप्त किए गए औसत अंक प्रतिशत में कितने हैं?

- Ans
- ☐ 1. 76.5%
 - ☐ 2. 85.5%
 - ☐ 3. 80.5%
 - ☒ 4. 82.5%

Question ID : 26433066154

Status : Answered

Chosen Option : 4

Q.17 एक ऐसे घन का आयतन ज्ञात करें जिसका पृष्ठीय क्षेत्रफल 54 cm^2 है?

- Ans
- ☐ 1. 3 cm^3
 - ☐ 2. 28 cm^3
 - ☐ 3. 9 cm^3
 - ☒ 4. 27 cm^3

Question ID : 26433073146

Status : Answered

Chosen Option : 4

Q.18 दो ट्रेनें - A और B- जिनकी लंबाई क्रमशः 195 m और 165 m है, समानांतर पटरियों पर एक ही दिशा में चल रही हैं। यदि A और B की चाल क्रमशः 77 km/h और 85 km/h है, तो उनके द्वारा एक दूसरे को पार करने में कितना समय (सेकंड में) लिया जाएगा?

Ans ☒ 1. 162

☐ 2. 166

☐ 3. 164

☐ 4. 160

Question ID : 26433061414

Status : Answered

Chosen Option : 1

Q.19 एक निश्चित राशि पर 10% प्रति वर्ष की दर पर दो वर्ष के चक्रवृद्धि ब्याज और साधारण ब्याज में अंतर Rs.250 है। वह राशि ज्ञात करें।

Ans ☐ 1. Rs.25,450

☒ 2. Rs.25,000

☐ 3. Rs.26,000

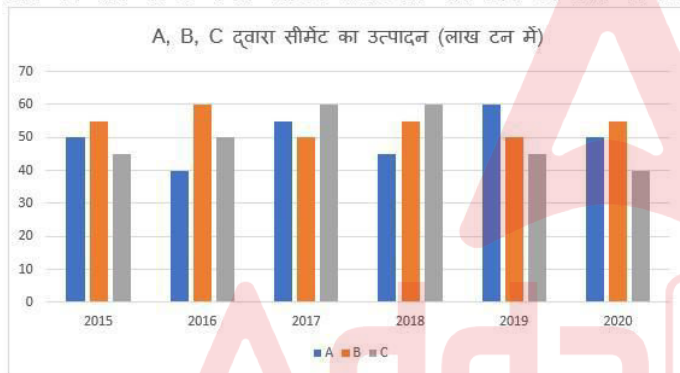
☐ 4. Rs.26,550

Question ID : 26433063948

Status : Answered

Chosen Option : 2

Q.20 दिए गए ग्राफ का अध्ययन कीजिए और उसके बाद दिए गए प्रश्न का उत्तर दीजिए।



2015 में कंपनी C के उत्पादन और 2018 में कंपनी B के उत्पादन के बीच कितना अंतर है?

Ans ☐ 1. 15,00,000 टन

☒ 2. 10,00,000 टन

☐ 3. 1,00,000 टन

☐ 4. 10,000 टन

Question ID : 26433076215

Status : Answered

Chosen Option : 2

Q.21

एक छात्र द्वारा विभिन्न विषयों में प्राप्त अंक नीचे तालिका में दिए गए हैं।

विषय	100 में से प्राप्त अंक
अंग्रेजी	55
हिंदी	90
गणित	75
विज्ञान	80
विदेशी भाषा	90

उपस्थिति कम होने के कारण प्रत्येक विषय से पांच अंक काटे जा रहे हैं। प्राप्त अंकों के माध्य, माधिका और बहुलक का शुद्ध औसत _____ है।

Ans

✗ 1. 73

✗ 2. 79.33

✗ 3. 82.66

✓ 4. 77.67

Question ID : 26433073116

Status : Not Answered

Chosen Option : --

Q.22

एक स्कूल में लड़कों और लड़कियों की संख्या का अनुपात क्रमशः 3 : 4 है। यदि लड़कों की संख्या में 10% की वृद्धि होती है और लड़कियों की संख्या में 15% की वृद्धि होती है, तो लड़कों की संख्या और लड़कियों की संख्या का नया अनुपात क्या होगा?

Ans

✓ 1. $\frac{33}{46}$

✗ 2. $\frac{46}{33}$

✗ 3. $\frac{35}{46}$

✗ 4. $\frac{33}{45}$

Question ID : 26433065062

Status : Answered

Chosen Option : 1

Q.23

एक व्यापारी अपने माल पर क्रय मूल्य से 26% अधिक मूल्य अंकित करता है। वह अपने ग्राहक को अंकित मूल्य पर 12% की छूट देता है। उसका लाभ प्रतिशत ज्ञात कीजिए।

Ans

✗ 1. 10%

✗ 2. 10.50%

✗ 3. 11.08%

✓ 4. 10.88%

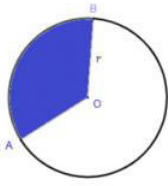
Question ID : 26433071360

Status : Answered

Chosen Option : 4

Q.24 दी गई आकृति में, चाप AB की लंबाई वृत्त की त्रिज्या r की लंबाई के दोगुने के बराबर है। त्रिज्या r के संदर्भ में त्रिज्यखंड OAB का क्षेत्रफल

ज्ञात कीजिए।



- Ans
- ☒ 1. $2r$
 - ☒ 2. r^2
 - ☒ 3. $3r$
 - ☒ 4. πr^2

Question ID : 26433057155

Status : Answered

Chosen Option : 4

Q.25 निम्नलिखित में से कौन-सी एक अभिज्य संख्या है?

- Ans
- ☒ 1. 54
 - ☒ 2. 89
 - ☒ 3. 39
 - ☒ 4. 68

Question ID : 26433063676

Status : Answered

Chosen Option : 2

Q.26 $\frac{\sqrt[3]{-2744} \times \sqrt[3]{-216}}{\sqrt[3]{\frac{64}{729}}}$ का मान ज्ञात करें।

- Ans
- ☒ 1. 152
 - ☒ 2. 189
 - ☒ 3. 156
 - ☒ 4. 164

Question ID : 26433099289

Status : Answered

Chosen Option : 2

Q.27 चार संख्याएँ 1 : 2 : 3 : 5 के अनुपात में हैं। उनके योग का दोगुना 44 है। प्रत्येक संख्या के घन में से 3 घटाकर प्राप्त संख्याओं का अनुपात ज्ञात कीजिए।

- Ans
- ☒ 1. 5 : 61 : 213 : 997
 - ☒ 2. 11 : 67 : 219 : 1003
 - ☒ 3. 3 : 13 : 208 : 992
 - ☒ 4. 2 : 31 : 204 : 999

Question ID : 26433063214

Status : Answered

Chosen Option : 1

Q.28 a और b का लघुत्तम समापवर्त्य 42 है। 5a और 11b का लघुत्तम समापवर्त्य (LCM) क्या है?

- Ans ☒ 1. 4620
☒ 2. 2310
☒ 3. 462
☒ 4. 210

Question ID : 26433066161

Status : Answered

Chosen Option : 2

Q.29 यदि 25 व्यक्ति किसी कार्य को 140 दिनों में पूरा कर सकते हैं, तो उसी कार्य को 70 दिनों में पूरा करने के लिए कितने व्यक्तियों की आवश्यकता होगी?

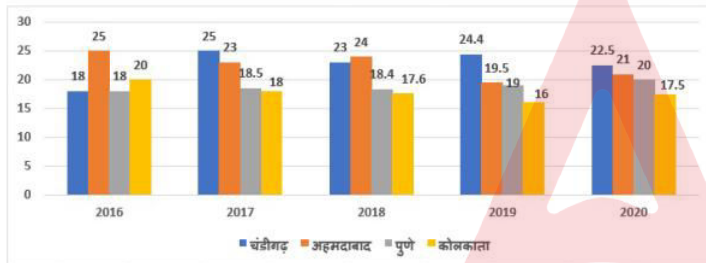
- Ans ☒ 1. 80
☒ 2. 70
☒ 3. 50
☒ 4. 40

Question ID : 26433064928

Status : Answered

Chosen Option : 3

Q.30 दिया गया ग्राफ 2016-2020 की अवधि के दौरान चार शहरों में काटे गए पेड़ों की संख्या (सैकड़ों में) को दर्शाता है।



वह वर्ष ज्ञात कीजिए जिसमें सबसे कम पेड़ काटे गए।

- Ans ☒ 1. 2019
☒ 2. 2017
☒ 3. 2016
☒ 4. 2020

Question ID : 26433074344

Status : Answered

Chosen Option : 3

Q.31 यदि $x = \frac{2\sin\theta}{(1 + \cos\theta + \sin\theta)}$ है, तो $\frac{1 - \cos\theta + \sin\theta}{(1 + \sin\theta)}$ का मान है:

- Ans ☒ 1. x
☒ 2. $\frac{x}{(1+x)}$
☒ 3. $\frac{1}{x}$
☒ 4. $\frac{(1+x)}{x}$

Question ID : 26433065319

Status : Answered

Chosen Option : 2

Q.32 चाय की दो किस्मों का मूल्य क्रमशः ₹300 और ₹375 है। यदि चाय की दोनों किस्मों को एक साथ 3 : 2 के अनुपात में मिलाया जाता है, तो मिश्रित किस्म की चाय का मूल्य प्रति kg क्या होना चाहिए?

- Ans
- ☒ 1. ₹360
 - ☒ 2. ₹340
 - ☒ 3. ₹330
 - ☒ 4. ₹350

Question ID : 26433074271
Status : Answered
Chosen Option : 3

Q.33 एक कंपनी के सभी कर्मचारियों का औसत वेतन Rs.14,000 है। 5 तकनीशियनों का औसत वेतन Rs.18,000 है और बाकी का औसत वेतन Rs.13,200 है। कंपनी में कर्मचारियों की कुल संख्या _____ है।

- Ans
- ☒ 1. 27
 - ☒ 2. 29
 - ☒ 3. 30
 - ☒ 4. 28

Question ID : 26433056300
Status : Answered
Chosen Option : 3

Q.34 यदि $\left\{\left(\frac{\sec \theta - 1}{\sec \theta + 1}\right)\right\}^n = \operatorname{cosec} \theta - \cot \theta$ है, तो $n = ?$

- Ans
- ☒ 1. 1
 - ☒ 2. -1
 - ☒ 3. -0.5
 - ☒ 4. 0.5

Question ID : 26433061622
Status : Answered
Chosen Option : 4

Q.35 $(1018)^2 - 1019 \times 1017 + 1015 \times 1012 - 1016 \times 1011$ का मान ज्ञात करें।

- Ans
- ☒ 1. 5
 - ☒ 2. 1
 - ☒ 3. 4
 - ☒ 4. 3

Question ID : 26433099288
Status : Answered
Chosen Option : 1

Q.36 जब किसी संख्या को 15 और 18 से विभाजित किया जाता है तो प्रत्येक स्थिति में शेषफल 3 प्राप्त होता है, सबसे छोटी संभावित संख्या ज्ञात कीजिए।

- Ans ☒ 1. 93
☒ 2. 103
☒ 3. 83
☒ 4. 39

Question ID : 26433071293
 Status : Answered
 Chosen Option : 1

Q.37 तली से बंद एक अर्धगोले का संपूर्ण पृष्ठीय क्षेत्रफल ज्ञात कीजिए। अर्ध गोले की त्रिज्या $\sqrt{\frac{25}{\pi}}$ इकाई है।

- Ans ☒ 1. 50 unit²
☒ 2. 70 unit²
☒ 3. 75 unit²
☒ 4. 60 unit²

Question ID : 26433071349
 Status : Answered
 Chosen Option : 3

Q.38 x का न्यूनतम मान क्या होगा ताकि संख्या $8x5215$, 9 से विभाज्य हो?

- Ans ☒ 1. 5
☒ 2. 1
☒ 3. 3
☒ 4. 6

Question ID : 26433061059
 Status : Answered
 Chosen Option : 4

Q.39 2 दलों A और B के बीच एक चुनाव में, A को डाले गए कुल मतों का 37% प्राप्त होता है और यह दल 338 मतों से हार जाता है। डाले गए मतों की कुल संख्या क्या है? (मान लें कि कोई भी मत अवैध घोषित नहीं किया गया था)

- Ans ☒ 1. 1200
☒ 2. 1800
☒ 3. 1500
☒ 4. 1300

Question ID : 26433061066
 Status : Answered
 Chosen Option : 4

Q.40 एक निश्चित काम करने के लिए X को, उसी काम को Y और Z को एकसाथ मिलकर करने में लगे समय से 3 गुना समय लगता है; और Z को, Y और X को एकसाथ मिलकर करने में लगे समय से 4 गुना समय लगता है। तीनों मिलकर काम को 10 दिनों में पूरा कर सकते हैं। X और Z को एकसाथ मिलकर काम पूरा करने में कितना समय लगेगा?

- Ans
- ✓ 1. $22 \frac{2}{9}$ दिन
 - ✗ 2. $18 \frac{2}{9}$ दिन
 - ✗ 3. $21 \frac{1}{9}$ दिन
 - ✗ 4. $20 \frac{1}{9}$ दिन

Question ID : 26433081606
Status : Answered
Chosen Option : 1

Q.41 यदि $x^4 + x^{-4} = 47$, $x > 0$ है, तो $x + \frac{1}{x} - 2$ का मान क्या होगा?

- Ans
- ✗ 1. 3
 - ✓ 2. 1
 - ✗ 3. 0
 - ✗ 4. 5

Question ID : 26433061941
Status : Answered
Chosen Option : 2

Q.42 यदि $p : q = 4 : 5$, $q : r = 3 : 4$ और $r : s = 2 : 5$ है, तो $p : s$ क्या होगा?

- Ans
- ✗ 1. 5 : 2
 - ✗ 2. 25 : 6
 - ✗ 3. 2 : 5
 - ✓ 4. 6 : 25

Question ID : 26433062639
Status : Answered
Chosen Option : 4

Q.43 $\triangle ABC$ में, $DE \parallel BC$ इस प्रकार है कि A-D-B और A-E-C है। यदि $m \angle ACB = 40^\circ$ है, तो $m \angle DAE + m \angle ADE =$ क्या होगा?

- Ans
- ✗ 1. 240°
 - ✗ 2. 230°
 - ✓ 3. 140°
 - ✗ 4. 120°

Question ID : 26433066251
Status : Answered
Chosen Option : 3

Q.44 निम्नलिखित को हल कीजिए।

$$\frac{24 \div \frac{3}{8} \text{ of } (8 + 2 \times 7 - 3) + \left[\frac{2}{11} \div \frac{4}{55} - \left\{ \frac{5}{8} + \frac{6}{16} \right\} \right]}{32 \div 15 - 7 + 75 \div (6 + 15 \div 3 + 4)}$$

- Ans
- ☒ 1. $\frac{9}{2}$
 - ☒ 2. $\frac{15}{19}$
 - ☒ 3. $\frac{11}{18}$
 - ☒ 4. $\frac{23}{27}$

Question ID : 26433061879

Status : Answered

Chosen Option : 3

Q.45 12 मीटर त्रिज्या वाले एक वृत्त के दीर्घ त्रिज्यखंड का परिमाप ज्ञात कीजिए, जिसका लघु त्रिज्यखंड केंद्र पर 75° का कोण अंतरित करता है।

- Ans
- ☒ 1. $24 - 5\pi$ मीटर
 - ☒ 2. $24 + 5\pi$ मीटर
 - ☒ 3. $24 + 19\pi$ मीटर
 - ☒ 4. $24 - 19\pi$ मीटर

Question ID : 26433056348

Status : Answered

Chosen Option : 3

Q.46 $\triangle ABC$ और $\triangle DEF$ दो ऐसे त्रिभुज हैं कि $\triangle ABC \cong \triangle FDE$ है। यदि $AB = 5$ cm, $\angle B = 40^\circ$ और $\angle A = 80^\circ$ है, तो निम्नलिखित में से कौन-सा विकल्प सत्य है?

- Ans
- ☒ 1. $DE = 5$ cm, $\angle F = 60^\circ$
 - ☒ 2. $DF = 5$ cm, $\angle E = 60^\circ$
 - ☒ 3. $DE = 5$ cm, $\angle E = 60^\circ$
 - ☒ 4. $DE = 5$ cm, $\angle D = 60^\circ$

Question ID : 26433079783

Status : Answered

Chosen Option : 2

Q.47 एक सीधी सड़क पर, कोई बस उसी दिशा में चल रही किसी कार से 30 km आगे है। 3 घंटे बाद, कार बस से 60 km आगे निकल जाती है। यदि बस की चाल 42 km/h है, तो कार की चाल ज्ञात करें।

- Ans
- ☒ 1. 67 km/h
 - ☒ 2. 59 km/h
 - ☒ 3. 72 km/h
 - ☒ 4. 65 km/h

Question ID : 26433061387

Status : Answered

Chosen Option : 3

Q.48 Rs.2,300 के अंकित मूल्य वाले एक मिक्सर को Rs.2,024 में बेचा जाता है। छूट के प्रतिशत की गणना करें?

- Ans
- ☒ 1. 11%
 - ☒ 2. 12%
 - ☒ 3. 10%
 - ☒ 4. 13%

Question ID : 26433056313
Status : Answered
Chosen Option : 2

Q.49 एक त्रिभुज के कोणों का अनुपात 1 : 1 : 2 है। सबसे बड़ा कोण, कुल आंतरिक कोण का कितना प्रतिशत है?

- Ans
- ☒ 1. 65%
 - ☒ 2. 45%
 - ☒ 3. 50%
 - ☒ 4. 40%

Question ID : 26433065270
Status : Answered
Chosen Option : 3

Q.50 यदि $a - \frac{1}{a-5} = 10$ है, तो $(a-5)^3 - \frac{1}{(a-5)^3}$ का मान क्या होगा?

- Ans
- ☒ 1. 100
 - ☒ 2. 120
 - ☒ 3. 140
 - ☒ 4. 70

Question ID : 26433066270
Status : Answered
Chosen Option : 3

Section : English Comprehension

Q.1 Select the most appropriate ANTONYM of the given word.
Emulate

- Ans
- ☒ 1. Bash
 - ☒ 2. Respect
 - ☒ 3. Neglect
 - ☒ 4. Spoilt

Question ID : 26433066099
Status : Answered
Chosen Option : 2

Q.2 Choose the correct meaning of the underlined idiom in the given sentence.
Blue blood is not necessarily a guarantee of one's public decorum.

- Ans ☒ 1. A person belonging to a middle-class family
☒ 2. A person belonging to a poor family
☒ 3. A person belonging to a high family
☒ 4. A person belonging to an honest family

Question ID : 26433059962
Status : Answered
Chosen Option : 3

Q.3 Select the most appropriate synonym to replace the italicised word.
The smoke was bothering me, and I didn't want to *ruin* the party for all of you, so I simply walked home.

- Ans ☒ 1. recover
☒ 2. fix
☒ 3. despoil
☒ 4. revamp

Question ID : 26433059755
Status : Answered
Chosen Option : 3

Q.4 Select the most appropriate ANTONYM of the underlined word.

The entire environment was very hostile towards us.

- Ans ☒ 1. Handy
☒ 2. Accurate
☒ 3. Antagonistic
☒ 4. Favourable

Question ID : 26433088271
Status : Answered
Chosen Option : 4

Q.5 Select the most appropriate option that can substitute the underlined segment in the given sentence.

Antonio Stradivari was an Italian who is being made wonderful violins.

- Ans ☒ 1. who have made wonderful
☒ 2. who makes wonderful
☒ 3. who made wonderful
☒ 4. who is made wonderful

Question ID : 26433060267
Status : Answered
Chosen Option : 3

Q.6 Read the given sentence and select the most appropriate ANTONYM of the word 'Deplete' from the following options.

Depletion of old things has become a fancy business as it brings back old memories but at a high cost.

- Ans
- ☒ 1. fancy
 - ☒ 2. old
 - ☒ 3. high
 - ☒ 4. restore

Q.7 Select the most appropriate option that can substitute the underlined segment in the given sentence. If there is no need to substitute it, select 'No substitution required'.

As Simon had already been to the park, he lead the way for the other children.

- Ans
- ☒ 1. No substitution required
 - ☒ 2. leading the way
 - ☒ 3. led the way
 - ☒ 4. lead away

Question ID : 26433060076
Status : Answered
Chosen Option : 3

Q.8 Select the option that can be used as a one-word substitute for the given group of words.

Profitable, yielding financial gain

- Ans
- ☒ 1. Lucrative
 - ☒ 2. Luggar
 - ☒ 3. Ludicrous
 - ☒ 4. Luddite

Question ID : 26433060491
Status : Answered
Chosen Option : 1

Q.9 Identify the correct antonym for the following word.

With her spry and athletic build, she won the race easily.

- Ans
- ☒ 1. Workaholic
 - ☒ 2. Agile
 - ☒ 3. Sleuth
 - ☒ 4. Lethargic

Question ID : 26433058339
Status : Answered
Chosen Option : 4

Q.10 Identify the INCORRECTLY spelt word in the given sentence.
The pyramids that you see in Egypt were built by the Pharaoh dynasties who ruled the ancient kingdom of Egypt for thousands of years.

- Ans ☒ 1. Pharaoh
☒ 2. Fulfillment
☒ 3. Ensure
☒ 4. Strategy

Question ID : 26433059849
Status : Answered
Chosen Option : 1

Q.11 The following sentence has been divided into parts. One of them may contain an error.
Select the part that contains the error from the given options. If you don't find any error, mark 'No error' as your answer.

Psychology has been / defined the scientific study of / human psyche and behaviour.

- Ans ☒ 1. defined the scientific study of
☒ 2. Psychology has been
☒ 3. human psyche and behaviour
☒ 4. No error

Question ID : 26433060122
Status : Answered
Chosen Option : 1

Q.12 The following sentence has been split into four segments. Identify the segment that contains a grammatical error.
It is nothing else than / sheer foolishness that / you have decided / to resign.

- Ans ☒ 1. It is nothing else than
☒ 2. sheer foolishness that
☒ 3. you have decided
☒ 4. to resign

Question ID : 26433060136
Status : Answered
Chosen Option : 1

Q.13 Select the INCORRECTLY spelt word.

- Ans ☒ 1. Vociferous
☒ 2. Episcopal
☒ 3. Innocuous
☒ 4. Affliction

Question ID : 26433060203
Status : Answered
Chosen Option : 1

Q.14 Select the most appropriate option that can substitute the underlined segment in the given sentence.

I enjoy to be laugh at my little brother.

- Ans ☒ 1. enjoy laughed at
- ☒ 2. enjoy laughing at
- ☒ 3. have enjoy laughing at
- ☒ 4. am enjoy to laughing at

Question ID : 26433060275
Status : Answered
Chosen Option : 2

Q.15 Select the most appropriate ANTONYM of the given word.

Asperity

- Ans ☒ 1. Civility
- ☒ 2. Acridity
- ☒ 3. Curiosity
- ☒ 4. Virility

Question ID : 26433055884
Status : Not Attempted and Marked For Review
Chosen Option : --

Q.16 Select the most appropriate idiom from the following options that can substitute the underlined part of the given sentence.

He is the most successful businessman. One of his traits is to take risk.

- Ans ☒ 1. Fill somebody's shoes
- ☒ 2. Talk through his hat
- ☒ 3. Throw caution to the wind
- ☒ 4. Tighten his belt

Question ID : 26433058497
Status : Answered
Chosen Option : 3

Q.17 Select the most appropriate synonym to replace the italicised word.
Colossal granite obelisks were erected by only a few kings.

- Ans ☒ 1. Minute
- ☒ 2. Minuscule
- ☒ 3. Gigantic
- ☒ 4. Lilliputian

Question ID : 26433059646
Status : Answered
Chosen Option : 3

Q.18 Select the most appropriate meaning of the given idiom.
Call it a day

- Ans ☒ 1. Call it as a bad day
☒ 2. Call it as a good and productive day
☒ 3. Stop thinking in daytime
☒ 4. Stop working on something

Question ID : 26433058591
Status : Answered
Chosen Option : 4

Q.19 Select the most appropriate ANTONYM of the underlined word in the given sentence.

China expects to welcome back Indian students to resume their studies in the country.

- Ans ☒ 1. usher
☒ 2. presume
☒ 3. announce
☒ 4. cease

Question ID : 26433092307
Status : Answered
Chosen Option : 4

Q.20 Select the option that can be used as a one-word substitute for the given group of words.

One who does a thing for pleasure and not as a profession

- Ans ☒ 1. Amateur
☒ 2. Performer
☒ 3. Professional
☒ 4. Ascetic

Question ID : 26433059704
Status : Answered
Chosen Option : 1

Q.21 Select the option that can be used as a one-word substitute for the given group of words/phrase.

Showing astute powers of judgement; clever and judicious

- Ans ☒ 1. Shift
☒ 2. Shrike
☒ 3. Shriek
☒ 4. Shrewd

Question ID : 26433059778
Status : Not Answered
Chosen Option : --

Q.22 Choose the correct meaning of the underlined idiom in the given sentence.
With two toddlers to handle and no house help at her disposal, Shilpa can never put her house in apple-pie order.

- Ans ☒ 1. Completely arranged
☒ 2. Ready for guests
☒ 3. Completely messy
☒ 4. Smell-proof

Question ID : 26433059958
Status : Answered
Chosen Option : 1

Q.23 Select the option that can be used as a one-word substitute for the given group of words.
One who takes a dark view of things

- Ans ☒ 1. Polyglot
☒ 2. Pessimist
☒ 3. Pedant
☒ 4. Periscope

Question ID : 26433060179
Status : Answered
Chosen Option : 3

Q.24 Select the most appropriate meaning of the given idiom.

Cutting corners

- Ans ☒ 1. Investing in MNCs to get better returns and exchange
☒ 2. Doing something poorly in order to save time or money
☒ 3. Stitching clothes with a unique design
☒ 4. Cutting the edges to make it small and round

Question ID : 26433060372
Status : Answered
Chosen Option : 2

Q.25 Select the most appropriate ANTONYM of the given word.

Scanty

- Ans ☒ 1. Abundant
☒ 2. Expedient
☒ 3. Paltry
☒ 4. Nasty

Question ID : 26433058323
Status : Answered
Chosen Option : 1

Q.26 Select the option that can be used as a one-word substitute for the given group of words.

Evoking a keen sense of sadness or regret

- Ans ☒ 1. Poignant
☒ 2. Unaffecting
☒ 3. Pungent
☒ 4. Impactful

Question ID : 26433060734
 Status : Answered
 Chosen Option : 1

Q.27 Select the most appropriate meaning of the given idiom.

Heart and soul

- Ans ☒ 1. With complete honesty
☒ 2. Front to front
☒ 3. With all the effort you can put
☒ 4. Feeling sympathy for someone

Question ID : 26433091885
 Status : Answered
 Chosen Option : 3

Q.28 Select the most appropriate ANTONYM of the underlined word.

Spurious medicine can be fatal to the patient.

- Ans ☒ 1. Contemptuous
☒ 2. Genuine
☒ 3. Inferior
☒ 4. Virtuous

Question ID : 26433089003
 Status : Answered
 Chosen Option : 2

Q.29 Select the most appropriate option that can substitute the underlined segment in the given sentence.

When the weather is hot, I will like to eat ice cream.

- Ans ☒ 1. I should like to eat
☒ 2. I like to eat
☒ 3. I liked to eat
☒ 4. I shall like to eat

Question ID : 26433060943
 Status : Answered
 Chosen Option : 2

Q.30 Select the INCORRECTLY spelt word.

- Ans ☒ 1. Abyssal
☒ 2. Incision
☒ 3. Abstruse
☒ 4. Abcission

Question ID : 26433060472
Status : Answered
Chosen Option : 1

Q.31 The following sentence has been divided into parts. One of them may contain an error. Select the part that contains the error from the given options. If you don't find any error, mark 'No error' as your answer.
The investors were / put off by the dirty / visage of the workshop.

- Ans ☒ 1. visage of the workshop
☒ 2. No error
☒ 3. put off by the dirty
☒ 4. The investors were

Question ID : 26433059550
Status : Answered
Chosen Option : 3

Q.32 Select the most appropriate option to fill in the blank.

Some people are in the habit of sharing _____ and bull story on unsuitable occasions.

- Ans ☒ 1. rooster
☒ 2. wolf
☒ 3. cock
☒ 4. fox

Question ID : 26433073212
Status : Answered
Chosen Option : 3

Q.33 Select the most appropriate phrase for the underlined segment in the given sentence.

They are rivals and cannot work together in harmony.

- Ans ☒ 1. Put down
☒ 2. Pull together
☒ 3. Potter about
☒ 4. Make up

Question ID : 26433072823
Status : Answered
Chosen Option : 2

Q.34 Select the most appropriate meaning of the given idiom.

To make matters worse

- Ans
- ☐ 1. Matters can be worse
 - ☐ 2. Sometimes situation can become worse
 - ☒ 3. Make the situation worse
 - ☐ 4. No matter can become worse

Question ID : 26433072759

Status : Answered

Chosen Option : 3

Q.35 Select the INCORRECTLY spelt word.

- Ans
- ☐ 1. Calculate
 - ☐ 2. Postulate
 - ☐ 3. Manipulate
 - ☒ 4. Stippulate

Question ID : 26433060639

Status : Answered

Chosen Option : 4

Q.36 Select the correct meaning of the idiom in bold and italics.
I had a *close shave* this morning – my car was hit badly by a bull.

- Ans
- ☐ 1. To be carrying a wild look
 - ☐ 2. To request someone to stay calm and not get annoyed
 - ☒ 3. A narrow escape
 - ☐ 4. In a position where one might receive severe criticism

Question ID : 26433059659

Status : Answered

Chosen Option : 3

Q.37 Identify the INCORRECTLY spelt word in the given sentence.
The graduate students have discovered that they can address issues more effectually through letter writing *campaignes* and not through public demonstrations.

- Ans
- ☐ 1. address
 - ☒ 2. campaignes
 - ☐ 3. demonstrations
 - ☐ 4. discovered

Question ID : 26433059971

Status : Answered

Chosen Option : 2

Q.38 Select the most appropriate ANTONYM of the given word.

Dull

- Ans
- ☐ 1. Clever
 - ☐ 2. Coloured
 - ☐ 3. Youthful
 - ☒ 4. Bright

Question ID : 26433088132

Status : Answered

Chosen Option : 4

Q.39 Select the most appropriate ANTONYM of the underlined word.

His explanation is always concise.

- Ans
- ☒ 1. Frank
 - ☒ 2. Precise
 - ☒ 3. Lengthy
 - ☒ 4. Intelligent

Question ID : 26433088770
Status : Answered
Chosen Option : 3

Q.40 Select the option that can be used as a one-word substitute for the given group of words.

A place for storage of arms and ammunition

- Ans
- ☒ 1. Wardrobe
 - ☒ 2. Granary
 - ☒ 3. Arsenal
 - ☒ 4. Warehouse

Question ID : 26433060348
Status : Answered
Chosen Option : 3

Comprehension:

Read the passage carefully and answer the following question.

Reservation is a part of 1_____ action, which seeks to bring equality. The Constitution (One Hundred and Twenty Fourth Amendment) Bill, 2019, seeks to provide for the advancement of 'economically weaker sections' of citizens. Article 15 of the Constitution 2_____ discrimination against any citizen on the grounds of race, religion, caste, sex or place of birth. However, the government may make special provisions for the 3_____ of socially and educationally backward classes or for Scheduled Castes or Scheduled Tribes. The Bill seeks to amend Article 15 to additionally permit the government to provide for the advancement of 'economically weaker sections'. Further, up to 10% of the seats may be 4_____ for such sections for admission in educational institutions. Such reservation will not apply to minority educational institutions.

SubQuestion No : 41

Q.41 Select the most appropriate option to fill in blank no. 2.

- Ans
- ☒ 1. exhibits
 - ☒ 2. establishes
 - ☒ 3. inhibits
 - ☒ 4. prohibits

Question ID : 26433090550
Status : Answered
Chosen Option : 4

Comprehension:

Read the passage carefully and answer the following question.

Reservation is a part of 1 _____ action, which seeks to bring equality. The Constitution (One Hundred and Twenty Fourth Amendment) Bill, 2019, seeks to provide for the advancement of 'economically weaker sections' of citizens. Article 15 of the Constitution 2 _____ discrimination against any citizen on the grounds of race, religion, caste, sex or place of birth. However, the government may make special provisions for the 3 _____ of socially and educationally backward classes or for Scheduled Castes or Scheduled Tribes. The Bill seeks to amend Article 15 to additionally permit the government to provide for the advancement of 'economically weaker sections'. Further, up to 10% of the seats may be 4 _____ for such sections for admission in educational institutions. Such reservation will not apply to minority educational institutions.

SubQuestion No : 42

Q.42 Identify a suitable title for the passage above.

- Ans ☒ 1. Prohibition of discrimination
☒ 2. Reservation for Equality
☒ 3. Article 15
☒ 4. Constitution (124th Amendment) Bill 2019

Question ID : 26433090548

Status : Answered

Chosen Option : 2

Comprehension:

Read the passage carefully and answer the following question.

Reservation is a part of 1 _____ action, which seeks to bring equality. The Constitution (One Hundred and Twenty Fourth Amendment) Bill, 2019, seeks to provide for the advancement of 'economically weaker sections' of citizens. Article 15 of the Constitution 2 _____ discrimination against any citizen on the grounds of race, religion, caste, sex or place of birth. However, the government may make special provisions for the 3 _____ of socially and educationally backward classes or for Scheduled Castes or Scheduled Tribes. The Bill seeks to amend Article 15 to additionally permit the government to provide for the advancement of 'economically weaker sections'. Further, up to 10% of the seats may be 4 _____ for such sections for admission in educational institutions. Such reservation will not apply to minority educational institutions.

SubQuestion No : 43

Q.43 Select the most appropriate option to fill in blank no. 3.

- Ans ☒ 1. advancement
☒ 2. postponement
☒ 3. containment
☒ 4. enhancement

Question ID : 26433090551

Status : Answered

Chosen Option : 1

Comprehension:

Read the passage carefully and answer the following question.

Reservation is a part of 1 _____ action, which seeks to bring equality. The Constitution (One Hundred and Twenty Fourth Amendment) Bill, 2019, seeks to provide for the advancement of 'economically weaker sections' of citizens. Article 15 of the Constitution 2 _____ discrimination against any citizen on the grounds of race, religion, caste, sex or place of birth. However, the government may make special provisions for the 3 _____ of socially and educationally backward classes or for Scheduled Castes or Scheduled Tribes. The Bill seeks to amend Article 15 to additionally permit the government to provide for the advancement of 'economically weaker sections'. Further, up to 10% of the seats may be 4 _____ for such sections for admission in educational institutions. Such reservation will not apply to minority educational institutions.

SubQuestion No : 44

Q.44 Select the most appropriate option to fill in blank no. 4.

- Ans ☒ 1. deserved
☒ 2. reserved
☒ 3. preserved
☒ 4. conserved

Question ID : 26433090552

Status : Answered

Chosen Option : 2

Comprehension:

Read the passage carefully and answer the following question.

Reservation is a part of 1 _____ action, which seeks to bring equality. The Constitution (One Hundred and Twenty Fourth Amendment) Bill, 2019, seeks to provide for the advancement of 'economically weaker sections' of citizens. Article 15 of the Constitution 2 _____ discrimination against any citizen on the grounds of race, religion, caste, sex or place of birth. However, the government may make special provisions for the 3 _____ of socially and educationally backward classes or for Scheduled Castes or Scheduled Tribes. The Bill seeks to amend Article 15 to additionally permit the government to provide for the advancement of 'economically weaker sections'. Further, up to 10% of the seats may be 4 _____ for such sections for admission in educational institutions. Such reservation will not apply to minority educational institutions.

SubQuestion No : 45

Q.45 Select the most appropriate option to fill in blank no. 1.

- Ans ☒ 1. effective
☒ 2. directive
☒ 3. ineffective
☒ 4. corrective

Question ID : 26433090549

Status : Answered

Chosen Option : 4

Comprehension:

In the following passage, some words have been deleted. Read the passage carefully and select the most appropriate option to fill in each blank.

A broad definition of wetlands (1)_____ ecosystems such as lakes and rivers, underground aquifers, swamps, coral reefs, and many others; but also, human-made artificial sites (2)_____ fishponds or reservoirs. Though they cover only around 6 per cent of the Earth's land surface, 40 per cent of all plant and animal species live or breed in them.

Wetlands are also vital for human wellbeing and security. More than a billion people across the world depend on them for their livelihoods, about one in eight people on Earth. According to the UN Environment Programme (UNEP), these ecosystems are also the unsung heroes of the climate crisis. In fact, they (3)_____ more carbon than any other ecosystem, with peatlands alone storing twice (4)_____ all the world's forests. And inland wetland ecosystems absorb excess water and help prevent floods and drought, something critical to help communities adapt to a changing climate.

In the words of Leticia Carvalho, Principal Coordinator for Marine and Freshwater at UNEP, healthy wetlands 'punch above their weight in terms of benefits'. The theme for the very first World Day is "Wetlands Action for People and Nature". It serves as an urgent call to act and to invest financial, human, and political capital, to save the world's wetlands from disappearing altogether - and to restore those areas already lost. Wetlands are disappearing three times (5)_____ forests and are Earth's most threatened ecosystem. In just 50 years - since 1970 - 35 per cent of the world's wetlands have evaporated.

SubQuestion No : 46

Q.46 Select the most appropriate option to fill blank 1.

- Ans ☒ 1. excludes
☒ 2. includes
☒ 3. omit
☒ 4. leave out

Question ID : 26433060255

Status : Answered

Chosen Option : 2

Comprehension:

In the following passage, some words have been deleted. Read the passage carefully and select the most appropriate option to fill in each blank.

A broad definition of wetlands (1)_____ ecosystems such as lakes and rivers, underground aquifers, swamps, coral reefs, and many others; but also, human-made artificial sites (2)_____ fishponds or reservoirs. Though they cover only around 6 per cent of the Earth's land surface, 40 per cent of all plant and animal species live or breed in them.

Wetlands are also vital for human wellbeing and security. More than a billion people across the world depend on them for their livelihoods, about one in eight people on Earth. According to the UN Environment Programme (UNEP), these ecosystems are also the unsung heroes of the climate crisis. In fact, they (3)_____ more carbon than any other ecosystem, with peatlands alone storing twice (4)_____ all the world's forests. And inland wetland ecosystems absorb excess water and help prevent floods and drought, something critical to help communities adapt to a changing climate.

In the words of Leticia Carvalho, Principal Coordinator for Marine and Freshwater at UNEP, healthy wetlands 'punch above their weight in terms of benefits'. The theme for the very first World Day is "Wetlands Action for People and Nature". It serves as an urgent call to act and to invest financial, human, and political capital, to save the world's wetlands from disappearing altogether - and to restore those areas already lost. Wetlands are disappearing three times (5)_____ forests and are Earth's most threatened ecosystem. In just 50 years - since 1970 - 35 per cent of the world's wetlands have evaporated.

SubQuestion No : 47

Q.47 Select the most appropriate option to fill blank 2.

- Ans ☒ 1. more as
☒ 2. as much as
☒ 3. such as
☒ 4. much as

Question ID : 26433060256

Status : Answered

Chosen Option : 3

Comprehension:

In the following passage, some words have been deleted. Read the passage carefully and select the most appropriate option to fill in each blank.

A broad definition of wetlands (1)_____ ecosystems such as lakes and rivers, underground aquifers, swamps, coral reefs, and many others; but also, human-made artificial sites (2)_____ fishponds or reservoirs. Though they cover only around 6 per cent of the Earth's land surface, 40 per cent of all plant and animal species live or breed in them.

Wetlands are also vital for human wellbeing and security. More than a billion people across the world depend on them for their livelihoods, about one in eight people on Earth. According to the UN Environment Programme (UNEP), these ecosystems are also the unsung heroes of the climate crisis. In fact, they (3)_____ more carbon than any other ecosystem, with peatlands alone storing twice (4)_____ all the world's forests. And inland wetland ecosystems absorb excess water and help prevent floods and drought, something critical to help communities adapt to a changing climate.

In the words of Leticia Carvalho, Principal Coordinator for Marine and Freshwater at UNEP, healthy wetlands 'punch above their weight in terms of benefits'. The theme for the very first World Day is "Wetlands Action for People and Nature". It serves as an urgent call to act and to invest financial, human, and political capital, to save the world's wetlands from disappearing altogether - and to restore those areas already lost. Wetlands are disappearing three times (5)_____ forests and are Earth's most threatened ecosystem. In just 50 years - since 1970 - 35 per cent of the world's wetlands have evaporated.

SubQuestion No : 48

Q.48 Select the most appropriate option to fill blank 3.

Ans ☒ 1. store

☐ 2. has

☐ 3. stored

☐ 4. have

Question ID : 26433060257

Status : Answered

Chosen Option : 1

Comprehension:

In the following passage, some words have been deleted. Read the passage carefully and select the most appropriate option to fill in each blank.

A broad definition of wetlands (1)_____ ecosystems such as lakes and rivers, underground aquifers, swamps, coral reefs, and many others; but also, human-made artificial sites (2)_____ fishponds or reservoirs. Though they cover only around 6 per cent of the Earth's land surface, 40 per cent of all plant and animal species live or breed in them.

Wetlands are also vital for human wellbeing and security. More than a billion people across the world depend on them for their livelihoods, about one in eight people on Earth. According to the UN Environment Programme (UNEP), these ecosystems are also the unsung heroes of the climate crisis. In fact, they (3)_____ more carbon than any other ecosystem, with peatlands alone storing twice (4)_____ all the world's forests. And inland wetland ecosystems absorb excess water and help prevent floods and drought, something critical to help communities adapt to a changing climate.

In the words of Leticia Carvalho, Principal Coordinator for Marine and Freshwater at UNEP, healthy wetlands 'punch above their weight in terms of benefits'. The theme for the very first World Day is "Wetlands Action for People and Nature". It serves as an urgent call to act and to invest financial, human, and political capital, to save the world's wetlands from disappearing altogether - and to restore those areas already lost. Wetlands are disappearing three times (5)_____ forests and are Earth's most threatened ecosystem. In just 50 years - since 1970 - 35 per cent of the world's wetlands have evaporated.

SubQuestion No : 49

Q.49 Select the most appropriate option to fill blank 4.

Ans ☐ 1. as more as

☒ 2. as much as

☐ 3. as long as

☐ 4. as such as

Question ID : 26433060258

Status : Answered

Chosen Option : 2

Comprehension:

In the following passage, some words have been deleted. Read the passage carefully and select the most appropriate option to fill in each blank.

A broad definition of wetlands (1)_____ ecosystems such as lakes and rivers, underground aquifers, swamps, coral reefs, and many others; but also, human-made artificial sites (2)_____ fishponds or reservoirs. Though they cover only around 6 per cent of the Earth's land surface, 40 per cent of all plant and animal species live or breed in them.

Wetlands are also vital for human wellbeing and security. More than a billion people across the world depend on them for their livelihoods, about one in eight people on Earth. According to the UN Environment Programme (UNEP), these ecosystems are also the unsung heroes of the climate crisis. In fact, they (3)_____ more carbon than any other ecosystem, with peatlands alone storing twice (4)_____ all the world's forests. And inland wetland ecosystems absorb excess water and help prevent floods and drought, something critical to help communities adapt to a changing climate.

In the words of Leticia Carvalho, Principal Coordinator for Marine and Freshwater at UNEP, healthy wetlands 'punch above their weight in terms of benefits'. The theme for the very first World Day is "Wetlands Action for People and Nature". It serves as an urgent call to act and to invest financial, human, and political capital, to save the world's wetlands from disappearing altogether - and to restore those areas already lost. Wetlands are disappearing three times (5)_____ forests and are Earth's most threatened ecosystem. In just 50 years - since 1970 - 35 per cent of the world's wetlands have evaporated.

SubQuestion No : 50

Q.50 Select the most appropriate option to fill blank 5.

- Ans ☒ 1. much than
- ☒ 2. faster than
- ☒ 3. more than
- ☒ 4. fastest than

Question ID : 26433060259

Status : Answered

Chosen Option : 2

