

Sub Inspector in Delhi Police and Central Armed Police Forces Examination 2022

Roll Number	
Candidate Name	
Venue Name	
Exam Date	09/11/2022
Exam Time	4:00 PM - 6:00 PM
Subject	SICPO Paper I 2022

Section : General Intelligence and Reasoning

Q.1 राजेश बिंदु A से पश्चिम की ओर 4 km ड्राइव करता है और दाएँ मुड़ता है और 8 km ड्राइव करता है। वह फिर से दाएँ मुड़ता है और 8 km ड्राइव करता है। वह फिर से एक और बार दाएँ मुड़ता है और 4 km ड्राइव करता है। अंत में वह दाएँ मुड़ता है और बिंदु B तक पहुँचने के लिए 4 km ड्राइव करता है। बिंदु A पर फिर से पहुँचने के लिए उसे कितनी दूर और किस दिशा में ड्राइव करना चाहिए?

- Ans
- ☒ 1. 3 km उत्तर की ओर
 - ☒ 2. 2 km पूर्व की ओर
 - ☒ 3. 4 km दक्षिण की ओर
 - ☒ 4. 4 km पश्चिम की ओर

Question ID : 26433068269

Status : Answered

Chosen Option : 3

Q.2 गणितीय चिह्नों के उस सही संयोजन का चयन करें, जिन्हें * चिह्नों के स्थान पर क्रमिक रूप से रखे जाने पर दिया गया समीकरण संतुलित हो जाएगा।
 $54 * 6 * 72 * 8 * 3 * 15$

- Ans
- ☒ 1. +, ÷, ×, +, =
 - ☒ 2. ÷, -, -, +, =
 - ☒ 3. ÷, +, ÷, -, =
 - ☒ 4. ×, -, -, +, =

Q.3 उस समुच्चय का चयन करें जिसमें संख्याएँ उसी प्रकार से संबंधित हैं जिस प्रकार दिए गए समुच्चय की संख्याएँ संबंधित हैं।
 (नोट: संख्याओं को उसके घटक अंकों में विभाजित किए बिना, पूर्ण संख्याओं पर संक्रियाओं को किया जाना चाहिए। उदाहरण के तौर पर 13 - संक्रियाएँ जैसे कि जोड़ना / घटाना / गुणा करना आदि पूर्ण 13 पर की जा सकती है। 13 को 1 और 3 में विभाजित करके और फिर 1 और 3 पर गणितीय संक्रियाओं को करने की अनुमति नहीं है।)
 (11, 10, 21)
 (14, 6, 160)

- Ans
- ☒ 1. (19, 12, 217)
 - ☒ 2. (27, 18, 9)
 - ☒ 3. (81, 16, 65)
 - ☒ 4. (16, 9, 165)

Question ID : 26433056508

Status : Answered

Chosen Option : 1

Q.4 दिए गए विकल्पों में से कौन-सा वेन आरेख निम्नलिखित वर्गों के बीच के संबंध को सर्वोत्तम रूप से दर्शाता है?
स्मारक, ताजमहल, व्हाइट हाउस

Ans

- ✗ 1.
- ✗ 2.
- ✗ 3.
- ✓ 4.

Question ID : 26433057663

Status : Answered

Chosen Option : 4

Q.5 जब कोई दर्पण प्रदर्शित किए गए MN पर रखा जाए, तो प्रस्तुत आकृति के सही दर्पण प्रतिबिंब का चयन कीजिए।

M
B 4 2 d r h
N

Ans

- ✓ 1.
- ✗ 2.
- ✗ 3.
- ✗ 4.

Question ID : 26433055955

Status : Answered

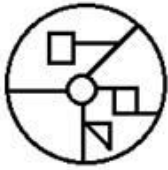
Chosen Option : 1

Q.6 उस विकल्प का चयन कीजिए, जिसमें दी गई आकृति सन्निहित है (घूर्णन की अनुमति नहीं है)।

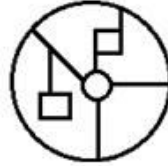


Ans

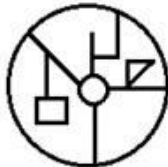
✗ 1.



✓ 2.



✗ 3.



✗ 4.



Question ID : 26433057867

Status : Answered

Chosen Option : 2

Q.7 किसी कोड भाषा में 'ELEMENT' को '5, 12, 5, 13, 5, 14, 20' के रूप में लिखा जाता है और 'ALLOY' को '1, 12, 12, 15, 25' के रूप में लिखा जाता है। उसी भाषा में 'VIBRANIUM' को किस प्रकार लिखा जाएगा?

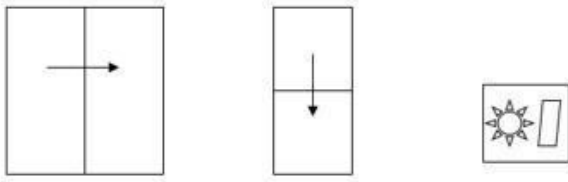
Ans ✗ 1. 22, 9, 2, 14, 18, 1, 9, 21, 13

✓ 2. 22, 9, 2, 18, 1, 14, 9, 21, 13

✗ 3. 22, 9, 2, 18, 1, 14, 21, 9, 13

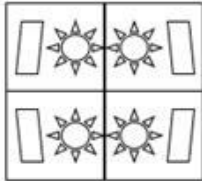
✗ 4. 22, 9, 2, 18, 14, 1, 9, 21, 13

Q.8 एक कागज को नीचे दर्शाए गए अनुसार मोड़ा और काटा जाता है।
खुलने पर यह कैसा दिखाई देगा?




Ans


✓ 1.




✗ 2.



✗ 3.



✗ 4.



Question ID : 26433057536

Status : Answered

Chosen Option : 1

Q.9 कौन-सा विकल्प प्रस्तुत शब्दों के ऐसे सही क्रम का द्योतक है, जैसा कि वे किसी अंग्रेजी शब्दकोश में दिखें?

- 1 Kelvin
- 2 Kegel
- 3 Keto
- 4 Kennel
- 5 Kernel

Ans ✗ 1. 2,3,1,4,5

✗ 2. 1,2,4,5,3

✓ 3. 2,1,4,5,3

✗ 4. 1,4,3,2,5

Question ID : 26433069260

Status : Answered

Chosen Option : 3

Q.10 उस आकृति का चयन कीजिए, जो निम्नलिखित आकृति शृंखला में आगे आएगी।



Ans

✗ 1.



✓ 2.



✗ 3.



✗ 4.



Question ID : 26433090224

Status : Answered

Chosen Option : 1

Q.11 उस विकल्प का चयन कीजिए, जिसका तीसरे पद से ठीक वही संबंध है, जो संबंध दूसरे पद का पहले पद से है और वही संबंध छठे पद का पाँचवें पद से है।
3 : 8 :: 6 : ? :: 11 : 1000

Ans ✗ 1. 729

✗ 2. 512

✗ 3. 216

✓ 4. 125

Question ID : 26433056284

Status : Answered

Chosen Option : 4

Q.12 एक निश्चित कूट भाषा में 'SOMEONE' को '1645655' के रूप में और 'BRINJAL' को '2995113' के रूप में लिखा जाता है। उसी कूट भाषा में 'NOVEMBER' को कैसे लिखा जाएगा?

- Ans ☒ 1. 56454259
☒ 2. 56254251
☒ 3. 56455259
☒ 4. 45253258

Question ID : 26433056215
 Status : Answered
 Chosen Option : 1

Q.13 उस विकल्प का चयन कीजिए जो तीसरे शब्द से उसी प्रकार संबंधित है जिस प्रकार दूसरा शब्द पहले शब्द से संबंधित है। (शब्दों को अर्थपूर्ण हिंदी शब्दों के रूप में माना जाना चाहिए और शब्द में अक्षरों की संख्या / व्यंजनों / स्वरों की संख्या के आधार पर एक-दूसरे से संबंधित नहीं होने चाहिए।)
 बढ़ाना (Increase) : घटाना (Diminish) :: मुस्कुराना (Smile) : ?

- Ans ☒ 1. मायूस होना (Frown)
☒ 2. हँसना (Laugh)
☒ 3. पलक झपकाना (Wink)
☒ 4. चिल्लाना (Shout)

Question ID : 26433065623
 Status : Answered
 Chosen Option : 1

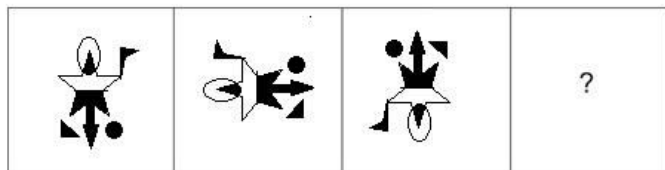
Q.14 निम्नलिखित में से कौन-सी संख्या दी गई श्रृंखला में प्रश्नवाचक चिह्न (?) का स्थान लेगी?

25, 30, 35, 38, 41, 46, ?

- Ans ☒ 1. 50
☒ 2. 53
☒ 3. 49
☒ 4. 51

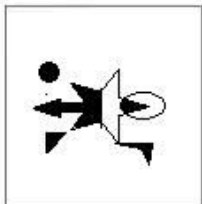
Question ID : 26433057336
 Status : Answered
 Chosen Option : 4

Q.15 उस आकृति का चयन कीजिए जो नीचे दी गई श्रृंखला में प्रश्न चिह्न (?) के स्थान पर आएगी।



Ans

✗ 1.



✗ 2.



✗ 3.



✓ 4.



Question ID : 26433070425

Status : Answered

Chosen Option : 4

Q.16 * चिह्नों को क्रमानुसार प्रतिस्थापित करने और दिए गए समीकरण को संतुलित करने के लिए गणितीय चिह्नों के सही संयोजन का चयन करें।
(130 * 4) * 21 * 485 * (28 * 2)

Ans ✗ 1. x, -, =, -, +

✓ 2. x, -, =, +, +

✗ 3. +, +, =, -, x

✗ 4. +, -, =, -, x

Question ID : 26433057652

Status : Answered

Chosen Option : 2

Q.17 उस विकल्प का चयन करें, जो उन अक्षरों का प्रतिनिधित्व करता है, जो रिक्त स्थानों में क्रमिक रूप से बाएँ से दाएँ रखे जाने पर दी गई अक्षर श्रृंखला को पूरा करेंगे।
_ a d _ v k _ a _ d v v _ r a a _ v _ k r

- Ans
- ☒ 1. avrkadv
 - ☒ 2. avrvada
 - ☒ 3. avrakdv
 - ☒ 4. varvkdv

Question ID : 26433056788

Status : Answered

Chosen Option : 3

Q.18 A # B का अर्थ है 'A, B का पिता है'।
A @ B का अर्थ है 'A, B का पुत्र है'।
A & B का अर्थ है 'A, B की बहन है'।
A % B का अर्थ है 'A, B की पत्नी है'।
यदि W # Q @ T & Y @ M % K, तो K, W से किस प्रकार संबंधित है?

- Ans
- ☒ 1. ससुर
 - ☒ 2. भाई
 - ☒ 3. पिता
 - ☒ 4. देवर/जेठ/ननदोई/बहनोई/जीजा/साला

Question ID : 26433079496

Status : Answered

Chosen Option : 1

Q.19 अंग्रेजी वर्णमाला क्रम में स्थिति के आधार पर, निम्नलिखित में से तीन अक्षर-समूह किसी न किसी प्रकार से एक समान हैं और एक भिन्न है। भिन्न अक्षर-समूह का चयन करें।

- Ans
- ☒ 1. PLJG
 - ☒ 2. ZTSQ
 - ☒ 3. QMKH
 - ☒ 4. WSQN

Question ID : 26433065657

Status : Answered

Chosen Option : 2

Q.20 यदि P का अर्थ '×' है, Q का अर्थ '+' है, R का अर्थ '-' है, और S का अर्थ '÷' है तो निम्नलिखित समीकरण में '?' के स्थान पर क्या आएगा?

$$\sqrt{81} R 6 P 3 S 26 R 64 = ?$$

- Ans
- ☒ 1. 59
 - ☒ 2. 65
 - ☒ 3. 63
 - ☒ 4. 56

Question ID : 26433057626

Status : Answered

Chosen Option : 1

Q.21 यदि P का अर्थ 'x' है, Q का अर्थ '+' है, R का अर्थ '-' है, और S का अर्थ '÷' है तो निम्नलिखित समीकरण में '?' के स्थान पर क्या आएगा?
94 R 16 Q 2 P 7 S 64 R 13 P 2 = ?

- Ans ☒ 1. 112
☐ 2. 108
☐ 3. 118
☐ 4. 120

Question ID : 26433057617
Status : Answered
Chosen Option : 1

Q.22 एक निश्चित कूट भाषा में 'HAPPY' को 'JCRRA' लिखा जाता है और 'MAGIC' को 'OCIKE' लिखा जाता है। उस भाषा में 'LEVEL' को कैसे लिखा जाएगा?

- Ans ☐ 1. MFME0
☒ 2. NGXGN
☐ 3. MHNGO
☐ 4. OGYEN

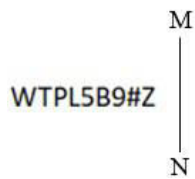
Question ID : 26433056561
Status : Answered
Chosen Option : 2

Q.23 यदि A का अर्थ '+' है, B का अर्थ 'x' है, C का अर्थ '-' है और D का अर्थ '÷' है, तो निम्नलिखित व्यंजक का मान क्या होगा?
23 C 46 D 23 B 3 A 65

- Ans ☐ 1. 85
☐ 2. 87
☐ 3. 84
☒ 4. 82

Question ID : 26433068706
Status : Answered
Chosen Option : 4

Q.24 दर्पण को चित्र में दिखाए अनुसार MN पर रखे जाने पर, दी गई आकृति के सही दर्पण प्रतिबिम्ब का चयन करें।



- Ans ☒ 1. WTPL5B9#Z
☐ 2. Z#6B57PTW
☐ 3. WTPL5B9#Z
☐ 4. WTPL5B9#S

Question ID : 26433068730
Status : Answered
Chosen Option : 1

Q.25 सात व्यक्ति A, B, C, D, E, F और G सीधी पंक्ति में उत्तर की ओर मुख करके बैठे हैं। C के बाईं ओर मात्र दो व्यक्ति बैठते हैं। A और B के मध्य मात्र दो व्यक्ति बैठते हैं। B, A के बाईं ओर बैठता है। E, A के ठीक पास दाईं ओर समीपस्थ है। मात्र एक व्यक्ति D के दाईं ओर बैठता है। F, B के ठीक पास समीपस्थ नहीं है। E और B के मध्य कितने व्यक्ति बैठते हैं?

- Ans
- ☒ 1. दो
 - ☒ 2. तीन
 - ☒ 3. एक
 - ☒ 4. चार

Question ID : 26433055890

Status : Answered

Chosen Option : 1

Q.26 निम्नलिखित में से कौन-सी संख्या दी गई श्रृंखला में प्रश्न चिह्न (?) के स्थान पर आएगी?
13, 14, 14, ?, 176

- Ans
- ☒ 1. 42
 - ☒ 2. 22
 - ☒ 3. 38
 - ☒ 4. 148

Question ID : 26433067645

Status : Answered

Chosen Option : 3

Q.27 एक निश्चित कूट भाषा में, 'food is fresh' को 'dy in pq' के रूप में कूटबद्ध किया गया है, 'bring fresh food' को 'tq pq dy' के रूप में कूटबद्ध किया गया है, और 'food is hot' को 'dy in to' के रूप में कूटबद्ध किया गया है। शब्द 'fresh' के लिए किस कूट का उपयोग किया गया है?

- Ans
- ☒ 1. pq
 - ☒ 2. to
 - ☒ 3. In
 - ☒ 4. dy

Question ID : 26433056037

Status : Answered

Chosen Option : 1

Q.28 उस विकल्प का चयन कीजिए जो उन अक्षरों को निरूपित करता है जिन्हें नीचे रिक्त स्थानों में बाएँ से दाएँ रखने पर अक्षर श्रृंखला पूरी हो जाएगी।

_ZW_V_Y_WX_UY_W_V__ZW_VU

- Ans
- ☒ 1. YXZUXZUYXV
 - ☒ 2. XYUZVXZUXY
 - ☒ 3. XYUZZVXUXY
 - ☒ 4. YXUZVZXUYX

Question ID : 26433059872

Status : Answered

Chosen Option : 4

Q.29 उस समुच्चय का चयन कीजिए जिसमें संख्याएँ आपस में उसी प्रकार संबंधित हैं जिस प्रकार निम्नलिखित समुच्चयों की संख्याएँ आपस में संबंधित हैं। (नोट: संख्याओं को उसके घटक अंकों में विभाजित किए बिना, पूर्ण संख्याओं पर गणितीय संक्रियाएँ की जानी चाहिए। उदाहरण के लिए 13 - गणितीय संक्रियाएँ जैसे कि जोड़ना/घटाना/गुणा करना इत्यादि 13 में किया जा सकता है। 13 को 1 और 3 में विभाजित करना और फिर 1 और 3 पर गणितीय संक्रियाएँ करने की अनुमति नहीं है।)
(9, 55, 64)
(7, 43, 50)

- Ans ☒ 1. (4, 17, 21)
☒ 2. (8, 32, 41)
☒ 3. (7, 42, 50)
☒ 4. (5, 31, 36)

Question ID : 26433057439

Status : Answered

Chosen Option : 4

Q.30 'B % D' का अर्थ है 'B, D का भाई है'।
'B & D' का अर्थ है 'B, D की माँ है'।
'B x D' का अर्थ है 'B, D का पति है'।
'B # D' का अर्थ है 'B, D की बहन है'।
'B \$ D' का अर्थ है 'B, D का बेटा है'।
'B @ D' का अर्थ है 'B, D के पिता है'।
दिए गए व्यंजक के संबंध में निम्नलिखित में से कौन-सा कथन सही है?
P % Q \$ S # R % U x T

- Ans ☒ 1. S, T का साला है।
☒ 2. U, P की माँ का भाई है।
☒ 3. P, T का बेटा है।
☒ 4. P, T की बेटी है।

Question ID : 26433057297

Status : Answered

Chosen Option : 2

Q.31 यदि + का आशय - से है, - का आशय x से है, x का आशय ÷ से है और ÷ का आशय + से है, तो निम्नलिखित व्यंजक का मान क्या होगा?
 $64 \times 8 \div 24 - 5 + 3$

- Ans ☒ 1. 7
☒ 2. 125
☒ 3. 64
☒ 4. 157

Question ID : 26433076711

Status : Answered

Chosen Option : 2

Q.32 दो कथनों के बाद दो निष्कर्ष I और II दिए गए हैं। कथनों को सत्य मानते हुए, भले ही वे सामान्य रूप से ज्ञात तथ्यों से भिन्न प्रतीत होते हों, यह निर्णय लीजिए कि कौन-सा/से निष्कर्ष कथनों का तार्किक रूप से अनुसरण करता है/करते हैं।

कथन:

कुछ खिड़कियाँ घर हैं।

कुछ खिड़कियाँ छत हैं।

निष्कर्ष:

I. कुछ छत घर हैं।

II. कुछ छत खिड़कियाँ हैं।

Ans ☒ 1. निष्कर्ष I और II दोनों अनुसरण करते हैं।

☒ 2. केवल निष्कर्ष II अनुसरण करता है।

☒ 3. न तो निष्कर्ष I और न ही II अनुसरण करता है।

☒ 4. केवल निष्कर्ष I अनुसरण करता है।

Question ID : 26433056055

Status : Answered

Chosen Option : 2

Q.33 सात व्यक्ति P, Q, R, S, T, U और V सीधी पंक्ति में उत्तर मुख करके बैठे हैं। U के दाईं ओर मात्र दो व्यक्ति बैठते हैं। R के बाईं ओर मात्र दो व्यक्ति बैठते हैं। U और Q के मध्य मात्र दो व्यक्ति बैठते हैं। R और V के मध्य मात्र तीन व्यक्ति बैठते हैं। T, U के ठीक पास में समीपस्थ नहीं हैं। S, U के दाईं ओर बैठता है। Q और V के मध्य कितने व्यक्ति बैठते हैं?

Ans ☒ 1. 3

☒ 2. 1

☒ 3. 4

☒ 4. 2

Question ID : 26433055904

Status : Answered

Chosen Option : 3

Q.34 यदि A का अर्थ '+' है, B का अर्थ '×' है, C का अर्थ '-' है और D का अर्थ '÷' है, तो निम्नलिखित व्यंजक का मान क्या होगा?

10 B 19 A 10 D 10 C 7 = ?

Ans ☒ 1. 180

☒ 2. 165

☒ 3. 184

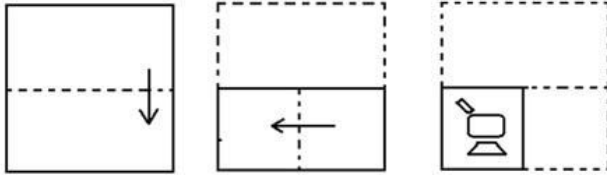
☒ 4. 140

Question ID : 26433085365

Status : Answered

Chosen Option : 3

Q.35 कागज के एक टुकड़े को मोड़ने का क्रम और मोड़े गए कागज को काटने का तरीका नीचे दर्शाया गया है। उस आकृति का चयन करें जो कागज को खोलने पर उसके खुले रूप से सबसे अधिक मिलती जुलती होगी।



Ans

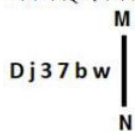
- ✗ 1.
- ✗ 2.
- ✗ 3.
- ✓ 4.

Question ID : 26433067456

Status : Answered

Chosen Option : 4

Q.36 जब कोई दर्पण प्रदर्शित किए गए MN पर रखा जाए, तो प्रस्तुत आकृति के सही दर्पण-प्रतिबिंब का चयन कीजिए।



Ans

- ✓ 1.
- ✗ 2.
- ✗ 3.
- ✗ 4.

Question ID : 26433055954

Status : Answered

Chosen Option : 1

Q.37 उस समुच्चय का चयन करें जिसमें दी गई संख्याएं आपस में उसी प्रकार संबंधित हैं जिस प्रकार प्रश्न में दिए गए समुच्चय की संख्याएं आपस में संबंधित हैं।
(नोट: संख्याओं को उसके घटक अंकों में विभाजित किए बिना, पूर्ण संख्याओं पर गणितीय संक्रियाएं की जानी चाहिए। उदाहरण के लिए 13 के मामले में - 13 पर गणितीय संक्रियाएं जैसे कि जोड़ने / घटाना / गुणा करने की अनुमति है। 13 को 1 और 3 में तोड़कर और फिर 1 और 3 पर गणितीय संक्रियाएं करने की अनुमति नहीं है।)
(39, 81, 123)
(56, 32, 8)

Ans ☒ 1. (61, 57, 53)

☒ 2. (42, 33, 15)

☒ 3. (97, 63, 38)

☒ 4. (24, 35, 31)

Question ID : 26433067927

Status : Answered

Chosen Option : 1

Q.38 उस विकल्प का चयन करें, जो तीसरे शब्द से उसी प्रकार संबंधित है, जिस प्रकार दूसरा शब्द, पहले शब्द से संबंधित है। (शब्दों को अर्थपूर्ण हिंदी शब्दों के रूप में माना जाना चाहिए और शब्दों को उनमें अक्षरों की संख्या / व्यंजनों की संख्या / स्वरों की संख्या के आधार पर एक दूसरे से संबंधित नहीं किया जाना चाहिए।)
कवच (Shield) : गार्ड (Guard) :: पाना (Spanner) : ?

Ans ☒ 1. शॉट (Shot)

☒ 2. पीसना (Grind)

☒ 3. ग्रीप (Grip)

☒ 4. बढ़ाना (Amplify)

Question ID : 26433056594

Status : Answered

Chosen Option : 3

Q.39 यदि 30 अप्रैल 1983 को शनिवार था, तो 13 अगस्त 1989 को सप्ताह का कौन-सा दिन था?

Ans ☒ 1. शुक्रवार

☒ 2. सोमवार

☒ 3. रविवार

☒ 4. गुरुवार

Question ID : 26433057431

Status : Answered

Chosen Option : 3

Q.40 उस विकल्प का चयन कीजिए जो उन अक्षरों को निरूपित करता है जिन्हें नीचे दिए गए रिक्त स्थानों में बाएं से दाएं क्रमिक रूप से रखने पर अक्षर श्रृंखला पूरी हो जाएगी।
T R _ _ Q T _ E W _ T _ _ W Q _ R G _ Q

Ans ☒ 1. D W S Q S F T W

☒ 2. D W R Q R F T W

☒ 3. E W R Q R F T W

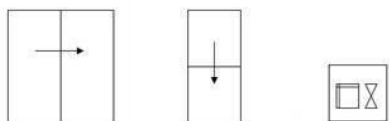
☒ 4. D W S Q R F T W

Question ID : 26433067543

Status : Answered

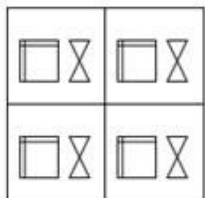
Chosen Option : 2

Q.41 एक कागज को नीचे दर्शाए गए अनुसार मोड़ा और काटा जाता है। खुलने पर यह कैसा दिखाई देगा?

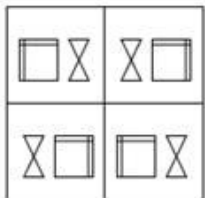


Ans

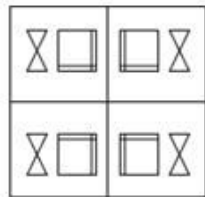
✗ 1.



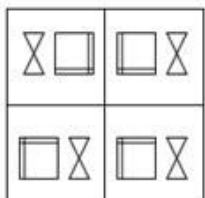
✗ 2.



✓ 3.



✗ 4.

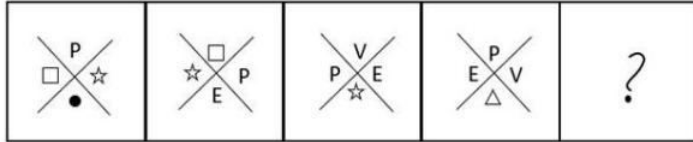


Question ID : 26433057533

Status : Answered

Chosen Option : 3

Q.42 दिए गए विकल्पों में से उस आकृति का चयन करें, जो निम्नलिखित श्रृंखला में प्रश्न-चिह्न (?) का स्थान ले सकती है।



Ans

✗ 1.



✗ 2.



✗ 3.



✓ 4.



Question ID : 26433056832

Status : Answered

Chosen Option : 4

Q.43 दिए गए विकल्पों में से वह संख्या चुनिए, जो निम्नलिखित श्रृंखला में प्रश्न-चिह्न (?) को प्रतिस्थापित कर सके।

112, 101, 91, ?, 74, 67

Ans ✓ 1. 82

✗ 2. 81

✗ 3. 80

✗ 4. 85

Question ID : 26433057026

Status : Answered

Chosen Option : 1

Q.44 निम्नलिखित में से कौन-सी संख्या दी गई श्रृंखला में प्रश्नवाचक चिह्न (?) का स्थान लेगी?

35, 51, 76, 112, ?

- Ans
- ☒ 1. 158
 - ☒ 2. 162
 - ☒ 3. 161
 - ☒ 4. 164

Question ID : 26433057332

Status : Answered

Chosen Option : 3

Q.45 निम्नलिखित में से कौन-सा अक्षर-समूह दी गई श्रृंखला को तार्किक रूप से पूर्ण बनाने के लिए में प्रश्न-चिह्न (?) को प्रतिस्थापित करेगा?
KGB, JFA, IEZ, HDY, ?

- Ans
- ☒ 1. BGK
 - ☒ 2. GCB
 - ☒ 3. GCK
 - ☒ 4. GKB

Question ID : 26433056073

Status : Answered

Chosen Option : 3

Q.46 प्रतिमा अपने घर से निकलती है और उत्तर की ओर 29 m चलती है और फिर दाएँ मुड़ती है और 16 m चलती है। अब वह फिर से दाएँ मुड़ती है और 17 m चलती है। वह फिर से दाएँ मुड़ती है और 21 m चलने के बाद रुक जाती है। अब प्रतिमा और उसके घर के बीच न्यूनतम दूरी कितनी है? (यह मानते हुए कि सभी मोड़ केवल 90 डिग्री के मोड़ हैं)

- Ans
- ☒ 1. 12 m
 - ☒ 2. 13 m
 - ☒ 3. 17 m
 - ☒ 4. 18 m

Question ID : 26433058017

Status : Answered

Chosen Option : 2

Q.47 दो कथनों के बाद दो निष्कर्ष I और II दिए गए हैं। कथनों को सत्य मानते हुए, भले ही वे सामान्य रूप से ज्ञात तथ्यों से भिन्न प्रतीत होते हों, यह निर्णय लीजिए कि कौन-सा/से निष्कर्ष कथनों का तार्किक रूप से अनुसरण करता है/करते हैं।

कथन:
कोई भी पिन टिन नहीं है।
कुछ पिन विन्स हैं।

निष्कर्ष:
I. सभी विन्स टिन हैं।
II. कुछ विन्स पिन हैं।

- Ans
- ☒ 1. न तो निष्कर्ष I और न ही II अनुसरण करता है।
 - ☒ 2. केवल निष्कर्ष I अनुसरण करता है।
 - ☒ 3. केवल निष्कर्ष II अनुसरण करता है।
 - ☒ 4. निष्कर्ष I और II दोनों अनुसरण करते हैं।

Question ID : 26433056053

Status : Answered

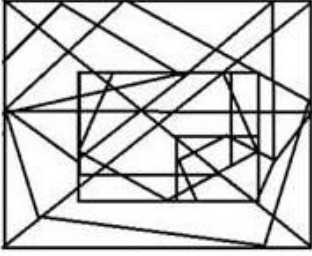
Chosen Option : 3

Q.48 उस विकल्प आकृति का चयन करें, जिसमें दी गई आकृति सन्निहित है (घुमाने की अनुमति नहीं है)।

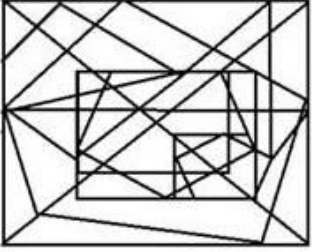


Ans

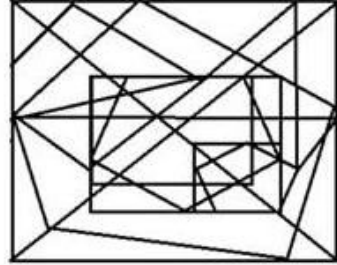
✗ 1.



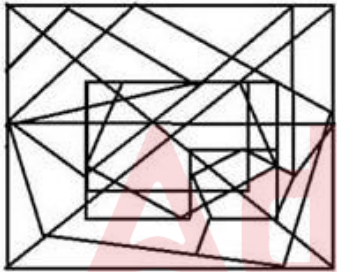
✗ 2.



✓ 3.



✗ 4.



Question ID : 26433056678

Status : Answered

Chosen Option : 3

Q.49 निम्नलिखित चार अक्षर-समूहों में से तीन एक निश्चित तरीके से समान हैं और एक अलग है। अलग अक्षर-समूह का चयन करें।

Ans ✗ 1. EHJM

✓ 2. NPSU

✗ 3. SVXA

✗ 4. PSUX

Question ID : 26433057226

Status : Answered

Chosen Option : 2

Q.50 निम्न वर्गों के बीच के संबंध को सर्वोत्तम रूप से दर्शाने वाले वेन आरेख का चयन करें।
बैग, चमड़ा, कपड़ा

Ans

- ✗ 1.
- ✓ 2.
- ✗ 3.
- ✗ 4.

Question ID : 26433067226

Status : Answered

Chosen Option : 2

Section : General Knowledge and General Awareness

Q.1 यौगिक के नाम और उसके सूत्र का/के निम्नलिखित में से कौन सा/से युग्म सही है/हैं?

I. कैल्शियम ऑक्साइड - Ca_2O

II. एल्युमिनियम ऑक्साइड - Al_2O_3

Ans

- ✓ 1. केवल II
- ✗ 2. I और II दोनों
- ✗ 3. न तो I और न ही II
- ✗ 4. केवल I

Question ID : 26433054014

Status : Answered

Chosen Option : 2

Q.2 किसी धारावाही चालक से जुड़े चुंबकीय क्षेत्र की दिशा ज्ञात करने के लिए निम्नलिखित में से किस नियम का उपयोग किया जाता है?

Ans

- ✗ 1. बाएं हाथ का नियम
- ✗ 2. फ्लेमिंग के दाएं हाथ का नियम
- ✗ 3. फ्लेमिंग के बाएं हाथ का नियम
- ✓ 4. मैक्सवेल का कॉर्क स्कू नियम

Question ID : 26433059079

Status : Answered

Chosen Option : 3

Q.3 विजयनगर साम्राज्य की स्थापना किस वर्ष हुई थी?

- Ans
- ☒ 1. 1368
 - ☒ 2. 1210
 - ☒ 3. 1315
 - ☒ 4. 1336

Question ID : 26433054200

Status : Not Answered

Chosen Option : --

Q.4 निम्नलिखित में से किस खेल/स्पर्धा में 'फॉलो-ऑन' शब्द प्रयुक्त होता है?

- Ans
- ☒ 1. बैडमिंटन
 - ☒ 2. फुटबॉल
 - ☒ 3. क्रिकेट
 - ☒ 4. हॉकी

Question ID : 26433054698

Status : Answered

Chosen Option : 3

Q.5 निम्नलिखित में से किसका उपयोग तत्काल ऊर्जा बूस्टर के रूप में किया जा सकता है?

- Ans
- ☒ 1. केला
 - ☒ 2. धनिया
 - ☒ 3. लहसुन
 - ☒ 4. नींबू

Question ID : 26433054932

Status : Answered

Chosen Option : 1

Q.6 सार्वजनिक सेवा के लिए रेमन मैग्सेसे पुरस्कार प्राप्त करने वाले प्रथम भारतीय संगीतकार का नाम क्या है?

- Ans
- ☒ 1. एमएस सुब्बुलक्ष्मी
 - ☒ 2. ज़ाकिर हुसैन
 - ☒ 3. बिस्मिल्लाह खान
 - ☒ 4. भीमसेन जोशी

Question ID : 26433054407

Status : Not Answered

Chosen Option : --

Q.7 अप्रैल 2022 तक प्राप्त जानकारी के अनुसार, भारतीय संविधान में दी गई नागरिकता की निम्नलिखित में से कौन सी विशेषता सही नहीं है?

- Ans
- ☒ 1. एकल नागरिकता की धारणा यूके के संविधान से प्रेरित है।
 - ☒ 2. भारतीय संविधान में एकल नागरिकता का प्रावधान है।
 - ☒ 3. लोग विकास का लाभ केवल नागरिक बनकर ही ले सकते हैं।
 - ☒ 4. मतदान करने और राष्ट्रपति और संसद सदस्य जैसे पदों के लिए चुने जाने की क्षमता दुनिया भर के भारतीयों के लिए सुलभ है।

Question ID : 26433054517

Status : Answered

Chosen Option : 3

Q.8 दक्कन के पठार के संबंध में निम्नलिखित में से कौन सा कथन सही है?

- Ans
- ☒ 1. दक्कन का पठार पूर्व में ऊंचा है और इसमें धीरे-धीरे पश्चिम की ओर ढलान है।
 - ☒ 2. दक्कन का पठार पूर्व और पश्चिम छोर पर ऊंचा है और इसके केंद्र की ओर ढलान है।
 - ☒ 3. दक्कन के पठार की ऊंचाई लगभग समान है।
 - ☒ 4. दक्कन का पठार पश्चिम में ऊंचा है और इसमें धीरे-धीरे पूर्व की ओर ढलान है।

Question ID : 26433092850

Status : Answered

Chosen Option : 4

Q.9 1991 में, भारतीय रुपये अवमूल्यन कितने चरणों में किया गया?

- Ans
- ☒ 1. दो बार
 - ☒ 2. तीन बार
 - ☒ 3. चार बार
 - ☒ 4. एक बार

Question ID : 26433059332

Status : Not Answered

Chosen Option : --

Q.10 42वां संशोधन अधिनियम किसके नेतृत्व में पारित हुआ था?

- Ans
- ☒ 1. मोरारजी देसाई
 - ☒ 2. इंदिरा गांधी
 - ☒ 3. चरण सिंह
 - ☒ 4. राजीव गांधी

Question ID : 26433069872

Status : Answered

Chosen Option : 2

Q.11 निम्नलिखित में से किस अधिवेशन में कांग्रेस दो गुटों में विभाजित हो गई?

- Ans
- ☒ 1. 1907 का नागपुर अधिवेशन
 - ☒ 2. 1907 का सूरत अधिवेशन
 - ☒ 3. 1908 का छोटानागपुर अधिवेशन
 - ☒ 4. 1907 का कलकत्ता अधिवेशन

Question ID : 26433064732

Status : Answered

Chosen Option : 2

Q.12 निम्नलिखित में से किसमें मानवाधिकारों की सार्वभौमिक घोषणा के अनुच्छेद 29(1) से समानता है जिसमें कहा गया है कि "समुदाय के प्रति, प्रत्येक व्यक्ति का कर्तव्य है जिसमें अकेले उसके व्यक्तित्व का स्वतंत्र और पूर्ण विकास संभव है"?

- Ans
- ☒ 1. निदेशक सिद्धांत
 - ☒ 2. मौलिक अधिकार
 - ☒ 3. सहकारी समितियां
 - ☒ 4. मौलिक कर्तव्य

Question ID : 26433069871

Status : Answered

Chosen Option : 2

Q.13 2022 बीजिंग शीतकालीन ओलंपिक में दिए गए पदक "टोंग शिन" का क्या अर्थ है?

- Ans
- ☒ 1. टुगेदर फॉर अ शेयर्ड फ्यूचर (Together for a Shared Future)
 - ☒ 2. टुगेदर वि केन अचीव (Together we Can Achieve)
 - ☒ 3. टुगेदर फॉर अ सक्सेसफुल फ्यूचर (Together for a Successful Future)
 - ☒ 4. टुगेदर एज वन (Together as One)

Question ID : 26433086727

Status : Answered

Chosen Option : 2

Q.14 ठंड के मौसम में चेन्नई का औसत तापमान कितना होता है?

- Ans
- ☒ 1. 20° - 21° सेल्सियस
 - ☒ 2. 24° - 25° सेल्सियस
 - ☒ 3. 29° - 30° सेल्सियस
 - ☒ 4. 32° - 33° सेल्सियस

Question ID : 26433074146

Status : Not Answered

Chosen Option : --

Q.15 जनता के हाथ में मुद्रा + वाणिज्यिक बैंकों का नकद भंडार _____ कहलाता है, इसे 'उच्च-शक्तिशाली मुद्रा' भी कहा जाता है।

- Ans
- ☒ 1. मुद्रा गुणक
 - ☒ 2. मौद्रिक आधार
 - ☒ 3. वांछित आरक्षित निधि अनुपात
 - ☒ 4. अतिरिक्त आरक्षित निधि

Question ID : 26433064106

Status : Answered

Chosen Option : 4

Q.16 निम्नलिखित में से कौन-सा विकल्प सही सुमेलित है?

- Ans
- ☒ 1. दाब की इकाइयाँ - पास्कल, बार और टॉर
 - ☒ 2. किए गए कार्य की इकाइयाँ - न्यूटन, पास्कल, बार
 - ☒ 3. बल की इकाइयाँ - जूल, अश्वशक्ति, टॉर
 - ☒ 4. आयतन की इकाइयाँ - किलोग्राम, ग्राम, मीटर

Question ID : 26433064122

Status : Answered

Chosen Option : 1

Q.17 निम्नलिखित में से किस संस्था से मदन मोहन मालवीय का नाम संबंधित है?

- Ans
- ☒ 1. मोहम्मडन एंग्लो-ओरिएंटल कॉलेज
 - ☒ 2. हिंदू कॉलेज
 - ☒ 3. बनारस हिंदू विश्वविद्यालय
 - ☒ 4. फ़ोर्ट विलियम कॉलेज

Question ID : 26433081950

Status : Answered

Chosen Option : 3

Q.18 कॉनिफ़र, साइकैड और जिन्कगो पौधे निम्नलिखित में से किस पादप समूह से संबंधित हैं?

- Ans
- ☒ 1. ब्रायोफाइट्स
 - ☒ 2. आवृतबीजी
 - ☒ 3. अनावृतबीजी
 - ☒ 4. टेरीडोफाइट्स

Question ID : 26433064111

Status : Not Answered

Chosen Option : --

Q.19 निम्नलिखित भारतीय शास्त्रीय नर्तकों में से किसे भारत और पूरी दुनिया में ओडिसी नृत्य शैली को लोकप्रिय बनाने के लिए वर्ष 2000 में पद्म विभूषण से सम्मानित किया गया था?

- Ans
- ☒ 1. देबासिस पटनायक
 - ☒ 2. केलुचरण महापात्र
 - ☒ 3. पंकज चरण दास
 - ☒ 4. राहुल आचार्य

Question ID : 26433074839

Status : Not Answered

Chosen Option : --

Q.20 कोपेन जलवायु वर्गीकरण प्रणाली का कौन-सा समूह एडव्यू (Aw) अक्षर कोड द्वारा निरूपित किया जाता है, जिसे कभी-कभी 'सवाना' जलवायु कहा जाता है, यह भूमध्य रेखा के पास आईटीसीज़ेड (ITCZ) के ठीक बाहर स्थित है?

- Ans
- ☒ 1. आर्द्र उपोष्णकटिबंधीय जलवायु
 - ☒ 2. भूमध्यसागरीय जलवायु
 - ☒ 3. उष्णकटिबंधीय आर्द्र और शुष्क जलवायु
 - ☒ 4. समुद्री पश्चिमी तट जलवायु

Question ID : 26433055156

Status : Answered

Chosen Option : 1

Q.21 निम्नलिखित में से किसे 'इकलाब जिंदाबाद' सूत्रवाक्य को लोकप्रिय बनाने का श्रेय दिया जाता है?

- Ans
- ☒ 1. सुखदेव
 - ☒ 2. चंद्रशेखर आज़ाद
 - ☒ 3. राम प्रसाद बिस्मिल
 - ☒ 4. भगत सिंह

Question ID : 26433066653

Status : Answered

Chosen Option : 4

Q.22 वर्ष 2011 में भारत के किस राज्य में हिंदू आबादी का प्रतिशत सबसे अधिक था?

- Ans
- ☒ 1. राजस्थान
 - ☒ 2. आंध्र प्रदेश
 - ☒ 3. उत्तर प्रदेश
 - ☒ 4. हिमाचल प्रदेश

Question ID : 26433067206

Status : Answered

Chosen Option : 4

Q.23 'द अनब्लेमिश्ड वन' _____ की एक नृत्य फिल्म है, जिसने व्हाइट यूनिवर्स इंटरनेशनल फिल्म फेस्टिवल (WUIFF) में 'प्रायोगिक फिल्म (एक्सपेरिमेंटल फिल्म)' और 'महिलाओं पर फिल्म (फिल्म ऑन वुमन)' की श्रेणियों में दो पुरस्कार जीते हैं।

- Ans ☒ 1. अंजना घोनसगी
☒ 2. दीपा मेहता
☒ 3. ऊपाली ओपेराजिता
☒ 4. चित्रा विश्वेश्वरन

Question ID : 26433054492
Status : Not Answered
Chosen Option : --

Q.24 'रोलिंग प्लान' किन दो पंचवर्षीय योजनाओं के बीच लागू किया गया था?

- Ans ☒ 1. छठी और सातवीं
☒ 2. पांचवीं और छठी
☒ 3. चौथी और पांचवीं
☒ 4. दूसरी और तीसरी

Question ID : 26433054586
Status : Not Answered
Chosen Option : --

Q.25 निम्नलिखित में से कौन-सा त्योहार त्रिपुरा से संबंधित है?

- Ans ☒ 1. खार्ची पूजा
☒ 2. बिहू
☒ 3. वांगला
☒ 4. कांग चिंगबा

Question ID : 26433054264
Status : Not Answered
Chosen Option : --

Q.26 ट्राइक्लोरोमीथेन _____ का IUPAC नाम है।

- Ans ☒ 1. ग्लिसरॉल
☒ 2. क्लोरोफार्म
☒ 3. ब्लीचिंग पाउडर
☒ 4. बेजीन हेक्साक्लोराइड

Question ID : 26433054909
Status : Answered
Chosen Option : 2

Q.27 कौन-सा झिल्ली-बद्ध कोशिका अंगक, जिसमें एकल झिल्लियों से घिरी एक छोटी थैली जैसी संरचना होती है, कोशिका के पाचन-तंत्र के रूप में कार्य करती है, जो कोशिका के बाहर से ली गई सामग्री को कोशिका के अप्रचलित घटकों को निष्प्रेकृत करने और पचाने की अनुमति देती है?

- Ans ☒ 1. परऑक्सिसोम
☒ 2. पॉलीसोम
☒ 3. ग्लाइऑक्सीसोम
☒ 4. लाइसोसोम

Question ID : 26433055121
Status : Not Answered
Chosen Option : --

Q.28 निम्न में से कौन भारतीय ओलंपिक संघ के प्रथम अध्यक्ष थे?

- Ans ☒ 1. सर दोराबजी टाटा
☒ 2. एन रामचंद्रन
☒ 3. सुरेश कलमाड़ी
☒ 4. विजय कुमार मल्होत्रा

Question ID : 26433059386

Status : Answered

Chosen Option : 2

Q.29 निम्नलिखित में से क्या खगोलीय पिंडों का हिस्सा है?

- I. तारे
 II. ग्रह
 III. चंद्रमा

- Ans ☒ 1. I, II और III
☒ 2. केवल I और II
☒ 3. केवल II और III
☒ 4. केवल I और III

Question ID : 26433054940

Status : Answered

Chosen Option : 2

Q.30 परमाणु की संरचना की जाँच के लिए अर्नेस्ट लॉरेंस के साथ 1934 में साइक्लोट्रॉन नामक उपकरण के सह-आविष्कारक कौन थे?

- Ans ☒ 1. एम.एस. लिविंगस्टन
☒ 2. एनरिको फर्मी
☒ 3. अर्नेस्ट रदरफोर्ड
☒ 4. जे.जे. थॉमसन

Question ID : 26433055752

Status : Not Answered

Chosen Option : --

Q.31 एडोल्फ हिटलर की आत्मकथा 'मीन कैम्फ (mein kampf)' मूल रूप से निम्नलिखित में से किस भाषा में लिखी गई थी?

- Ans ☒ 1. फ्रेंच
☒ 2. जापानी
☒ 3. अंग्रेज़ी
☒ 4. जर्मन

Question ID : 26433054174

Status : Answered

Chosen Option : 4

Q.32 खतोली का युद्ध, 1517 में राणा सांगा के अधीन मेवाड़ राज्य और _____ के बीच हुआ था ।

- Ans ☒ 1. इब्राहिम लोदी
☒ 2. सिकंदर लोदी
☒ 3. महमूद लोदी
☒ 4. बाबर

Question ID : 26433099210

Status : Answered

Chosen Option : 2

Q.33 वायलिन वर्चुअसो, एल. सुब्रमण्यम निम्नलिखित में से किस संगीत शैली के लिए विश्व स्तर पर प्रसिद्ध हैं?

- Ans
- ☒ 1. रॉक
 - ☒ 2. कर्नाटक संगीत
 - ☒ 3. हिंदुस्तानी संगीत
 - ☒ 4. जैज

Question ID : 26433055379

Status : Not Answered

Chosen Option : --

Q.34 निम्नलिखित में से कौन कथक के लखनऊ कालका-बिंदादीन घराने से संबंधित है?

- Ans
- ☒ 1. पंडित बिरजू महाराज
 - ☒ 2. पद्मा सुब्रह्मण्यम
 - ☒ 3. गुरु बिपिन सिंह
 - ☒ 4. सोनल मानसिंह

Question ID : 26433054260

Status : Answered

Chosen Option : 4

Q.35 कैल्शियम हाइपोक्लोराइट को सामान्यतः _____ रूप में जाना जाता है।

- Ans
- ☒ 1. बारूद
 - ☒ 2. हास्य गैस
 - ☒ 3. बोर्दो मिश्रण
 - ☒ 4. विरंजक चूर्ण

Question ID : 26433064126

Status : Not Answered

Chosen Option : --

Q.36 प्रसिद्ध संगीतकार भजन सोपौरी किस वाद्य-यंत्र से संबंधित हैं?

- Ans
- ☒ 1. शहनाई
 - ☒ 2. सरोद
 - ☒ 3. संतूर
 - ☒ 4. सितार

Question ID : 26433054398

Status : Not Answered

Chosen Option : --

Q.37 निम्नलिखित में से कौन सा भारत के प्रमुख औद्योगिक क्षेत्र का उदाहरण नहीं है?

- Ans
- ☒ 1. हुगली क्षेत्र
 - ☒ 2. छोटा नागपुर क्षेत्र
 - ☒ 3. गुजरात क्षेत्र
 - ☒ 4. उत्तरी मालाबार क्षेत्र

Question ID : 26433071609

Status : Answered

Chosen Option : 4

Q.38 यौगिक और उसके सामान्य सूत्र का/के निम्नलिखित में से कौन सा/से युग्म सही है/हैं?

- I. एल्कीन – C_nH_{2n}
II. एल्केन – C_nH_{2n-1}

Ans ☒ 1. केवल II
☒ 2. I और II दोनों
☒ 3. केवल I
☒ 4. न तो I और न ही II

Question ID : 26433054908
Status : Answered
Chosen Option : 3

Q.39 लॉर्ड डलहौजी ने अवध को किस वर्ष ब्रिटिश साम्राज्य में शामिल कर लिया?

Ans ☒ 1. 1856 में
☒ 2. 1857 में
☒ 3. 1855 में
☒ 4. 1858 में

Question ID : 26433055630
Status : Answered
Chosen Option : 1

Q.40 भारत के संविधान के किस अनुच्छेद के अंतर्गत राष्ट्रीय अनुसूचित जाति आयोग की स्थापना की गई है?

Ans ☒ 1. अनुच्छेद 338
☒ 2. अनुच्छेद 333
☒ 3. अनुच्छेद 336
☒ 4. अनुच्छेद 335

Question ID : 26433064710
Status : Answered
Chosen Option : 2

Q.41 31 वें दक्षिण पूर्व एशियाई खेल _____ में आयोजित किए गए थे।

Ans ☒ 1. इंडोनेशिया
☒ 2. मलेशिया
☒ 3. वियतनाम
☒ 4. सिंगापुर

Question ID : 26433054686
Status : Not Answered
Chosen Option : --

Q.42 निम्नलिखित में से क्या उपग्रह इनसैट-1बी (INSAT-1B) का उद्देश्य नहीं था?

Ans ☒ 1. राष्ट्रीय सीमाओं की रक्षा करना
☒ 2. मौसम की भविष्यवाणी
☒ 3. आपदा चेतावनी
☒ 4. टीवी संचार

Question ID : 26433092847
Status : Answered
Chosen Option : 1

Q.43 किसान के अपने खेत में खपत से अधिक उत्पादन के बीच के अंतर को _____ के रूप में जाना जाता है।

- Ans
- ☒ 1. घरेलू खपत
 - ☒ 2. उपभोक्ता अधिशेष
 - ☒ 3. विदेशी खपत
 - ☒ 4. विपणन योग्य अधिशेष

Question ID : 26433054638
Status : Answered
Chosen Option : 2

Q.44 _____ में औरंगज़ेब ने बीजापुर को मुगल साम्राज्य में मिला लिया।

- Ans
- ☒ 1. 1683
 - ☒ 2. 1685
 - ☒ 3. 1687
 - ☒ 4. 1689

Question ID : 26433082066
Status : Not Answered
Chosen Option : --

Q.45 मौलिक कर्तव्यों के बारे में निम्नलिखित में से कौन सा कथन सही नहीं है?

- Ans
- ☒ 1. संविधान में इनका समावेश अमेरिकी संविधान से प्रेरित था।
 - ☒ 2. इन्हें 42वें संविधान संशोधन अधिनियम, 1976 द्वारा शामिल किया गया था।
 - ☒ 3. ये प्रकृति में गैर-न्यायिक हैं।
 - ☒ 4. इनका उल्लेख संविधान के अनुच्छेद 51A के अंतर्गत किया गया है।

Question ID : 26433072912
Status : Answered
Chosen Option : 2

Q.46 भ्रंश रेखाएं (fault lines) _____ का कारण बन सकती हैं।

- Ans
- ☒ 1. तूफान
 - ☒ 2. अचानक बारिश
 - ☒ 3. बाढ़
 - ☒ 4. भूकंप

Question ID : 26433054060
Status : Answered
Chosen Option : 4

Q.47 भारत में धर्म के अधिकार के बारे में निम्नलिखित में से कौन सा सही नहीं है?

- Ans
- ☒ 1. प्रत्येक व्यक्ति को धर्म चुनने और उसके अनुरूप आचरण करने की स्वतंत्रता है।
 - ☒ 2. जबरन धर्म-परिवर्तन की स्वतंत्रता।
 - ☒ 3. किसी भी धर्म को अपनाने, उसके अनुरूप आचरण करने और प्रचार करने की स्वतंत्रता।
 - ☒ 4. व्यक्ति किसी भी धर्म को चुन सकता है या किसी भी धर्म का पालन न करने का विकल्प चुन सकता है।

Question ID : 26433054085
Status : Answered
Chosen Option : 2

Q.48 भारत में मतदान की आयु कब घटाकर 18 वर्ष कर दी गई?

- Ans
- ☐ 1. 1991 में
 - ☐ 2. 1998 में
 - ☐ 3. 2004 में
 - ☒ 4. 1989 में

Question ID : 26433054095

Status : Answered

Chosen Option : 4

Q.49 बड़े फतेह अली खान और अली बख्श जरनैल खान ने किस घराने की स्थापना की?

- Ans
- ☐ 1. खालियर घराना
 - ☐ 2. आगरा घराना
 - ☐ 3. भिंडी बाजार घराना
 - ☒ 4. पटियाला घराना

Question ID : 26433054412

Status : Answered

Chosen Option : 4

Q.50 निम्नलिखित में से किस जनजाति द्वारा देवी सरस्वती की पूजा करने के लिए घूमर नृत्य शैली को विकसित किया गया था?

- Ans
- ☐ 1. गुर्जर
 - ☐ 2. सहरिया
 - ☐ 3. गोंड
 - ☒ 4. भील

Question ID : 26433072628

Status : Answered

Chosen Option : 4

Section : Quantitative Aptitude

Q.1 $\frac{\sin(A+B)}{\sin A \cos B}$ का मान क्या है?

- Ans
- ☐ 1. $1 + \tan A \cot B$
 - ☐ 2. $1 - \cot A \tan B$
 - ☐ 3. $1 - \sin A \cos B$
 - ☒ 4. $1 + \cot A \tan B$

Question ID : 26433061929

Status : Answered

Chosen Option : 4

Q.2 7 सेमी त्रिज्या और 8 सेमी ऊँचाई वाले एक ठोस लम्ब वृत्तीय बेलन का कुल पृष्ठीय क्षेत्रफल कितना है?
($\pi = 22/7$)

- Ans
- ☒ 1. 760 सेमी²
 - ☒ 2. 660 सेमी²
 - ☒ 3. 850 सेमी²
 - ☒ 4. 560 सेमी²

Question ID : 26433058977
Status : Answered
Chosen Option : 2

Q.3 दो संख्याओं 960 और 1020 का महत्तम समापवर्तक (HCF) क्या है?

- Ans
- ☒ 1. 60
 - ☒ 2. 40
 - ☒ 3. 80
 - ☒ 4. 120

Question ID : 26433064879
Status : Answered
Chosen Option : 1

Q.4 Rs.18,000 के अंकित मूल्य वाले एक कंप्यूटर को Rs.15,840 में बेचा गया। छूट का प्रतिशत कितना है?

- Ans
- ☒ 1. 21.60%
 - ☒ 2. 21%
 - ☒ 3. 13.6%
 - ☒ 4. 12%

Question ID : 26433058135
Status : Answered
Chosen Option : 4

Q.5 $\sqrt{\frac{1 - \sin 45^\circ}{1 + \sin 45^\circ}}$ का मान निम्नलिखित में से कौन-सा है?

- Ans
- ☒ 1. $\cos 45^\circ - \tan 45^\circ$
 - ☒ 2. $\tan 45^\circ - \sec 45^\circ$
 - ☒ 3. $\sec 45^\circ - \tan 45^\circ$
 - ☒ 4. $\tan 45^\circ$

Question ID : 26433075870
Status : Answered
Chosen Option : 3

Q.6 छह टोकरीयाँ हैं – हरी, लाल, नीली, पीली, काली और सफेद। प्रत्येक टोकरी में कुछ छल्ले हैं। सभी छह टोकरीयों में छल्लों की औसत संख्या 38 है। यदि नीली टोकरी को हटा दिया जाता है, तो शेष टोकरीयों में छल्लों की औसत संख्या 34 हो जाती है। नीली टोकरी में कितने छल्ले हैं?

Ans ☒ 1. 22

☒ 2. 37

☒ 3. 58

☒ 4. 45

Question ID : 26433058779

Status : Answered

Chosen Option : 3

Q.7 दी गई तालिका का अध्ययन कीजिए और उसके बाद नीचे दिए गए प्रश्न का उत्तर दीजिए।

स्कूल का नाम	नामांकित विद्यार्थियों की कुल संख्या	नामांकित विद्यार्थियों का प्रतिशत जिन्होंने जीव विज्ञान को चुना	जीव विज्ञान को चुनने वाले छात्रों और छात्राओं का अनुपात
A	900	30	7 : 8
B	400	38	9 : 10
C	1000	24	5 : 19
D	800	20	5 : 7

स्कूल D में जीवविज्ञान को चुनने वाले विद्यार्थियों की संख्या ज्ञात कीजिए।

Ans ☒ 1. 20

☒ 2. 160

☒ 3. 120

☒ 4. 800

Question ID : 26433076212

Status : Answered

Chosen Option : 2

Q.8

$\frac{\{(m^2+n^2)(m-n)-(m-n)^3\}}{(m^2n-mn^2)}$ का मान क्या है?

Ans ☒ 1. $\frac{m}{n}$

☒ 2. $m + n$

☒ 3. 2

☒ 4. $m - n$

Question ID : 26433072986

Status : Answered

Chosen Option : 3

Q.9 एक वस्तु को एक निश्चित कीमत पर बेचने के बाद वास्तविक लाभ प्रतिशत (निकटतम पूर्णांक में पूर्णांकित) क्या होगा, जबकि वस्तु को विक्रय मूल्य के $\frac{3}{8}$ पर बेचने पर 45% की हानि होती है?

Ans ☒ 1. 17 प्रतिशत

☒ 2. 27 प्रतिशत

☒ 3. 47 प्रतिशत

☒ 4. 37 प्रतिशत

Question ID : 26433081566

Status : Answered

Chosen Option : 3

Q.10 दिया गया है कि A और B द्वितीय चतुर्थांश के कोण हैं, $\sin A = \frac{1}{3}$ और $\sin B = \frac{1}{5}$ है, तो $\cos(A - B)$ का मान ज्ञात कीजिए।

Ans

✗ 1. $\frac{4\sqrt{3}-1}{15}$

✓ 2. $\frac{8\sqrt{3}+1}{15}$

✗ 3. $\frac{8\sqrt{3}-1}{15}$

✗ 4. $\frac{4\sqrt{3}+1}{15}$

Question ID : 26433058931

Status : Answered

Chosen Option : 2

Q.11 0.04 और 0.36 के बीच मध्यानुपाती क्या होगा?

Ans

✗ 1. 0.144

✗ 2. 1.2

✗ 3. 12

✓ 4. 0.12

Question ID : 26433062638

Status : Answered

Chosen Option : 4

Q.12 एक नाव 7 घंटे 30 मिनट में 40 km धारा की दिशा में और 25 km धारा की विपरीत दिशा में जा सकती है। यह 10 घंटे में 48 km धारा की दिशा में और 36 km धारा की विपरीत दिशा में जा सकती है। शांत जल में नाव की चाल (km/h में) कितनी होगी?

Ans

✗ 1. 15

✗ 2. 12

✓ 3. 9

✗ 4. 6

Question ID : 26433071285

Status : Answered

Chosen Option : 3

Q.13 यदि एक 9 अंकीय संख्या $72x8431y4$, 36 से विभाज्य है, x और y प्राकृत संख्याएँ हैं, तो y के सबसे छोटे मान के लिए $\left(\frac{x}{y} - \frac{y}{x}\right)$ का मान क्या होगा?

Ans

✓ 1. $2\frac{1}{10}$

✗ 2. $1\frac{5}{7}$

✗ 3. $2\frac{9}{10}$

✗ 4. $1\frac{2}{5}$

Question ID : 26433061882

Status : Answered

Chosen Option : 1

Q.14 A और B एक कार्य को क्रमशः 10 दिनों और 15 दिनों में पूरा कर सकते हैं। उसी कार्य के लिए उन्हें कुल Rs. 1,250 मिले। B का हिस्सा क्या होगा?

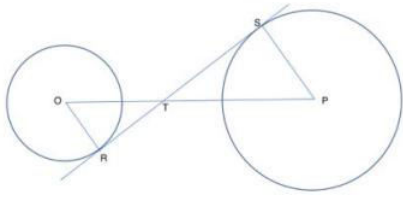
- Ans
- ☒ 1. Rs. 200
 - ☒ 2. Rs. 600
 - ☒ 3. Rs. 400
 - ☒ 4. Rs. 500

Question ID : 26433064927

Status : Answered

Chosen Option : 4

Q.15 दी गई आकृति में, O केंद्र वाले वृत्त की त्रिज्या 10 cm है। केंद्र P वाले वृत्त की त्रिज्या x है। STR, चित्र में दिखाए अनुसार दो वृत्तों के बिंदु R और S पर एक उभयनिष्ठ स्पर्श रेखा है। RT = 16 cm और TS = 24 cm है। x का मान (cm में) क्या है?



- Ans
- ☒ 1. 18
 - ☒ 2. 12
 - ☒ 3. 16
 - ☒ 4. 15

Question ID : 26433061928

Status : Answered

Chosen Option : 4

Q.16 एक निश्चित राशि में से 20% और फिर शेष राशि में से 10% की कटौती के बाद, Rs. 7,200 शेष हैं। मूल राशि ज्ञात कीजिए।

- Ans
- ☒ 1. Rs. 10,000
 - ☒ 2. Rs. 7,500
 - ☒ 3. Rs. 9,000
 - ☒ 4. Rs. 7,800

Question ID : 26433065058

Status : Answered

Chosen Option : 1

Q.17 दी गई तालिका का अध्ययन कीजिए और नीचे दिए गए प्रश्न का उत्तर दीजिए।

तालिका 2002 से 2005 तक चार सदस्यों के कुल चार परिवारों द्वारा विभिन्न प्रकार के अनाजों की खपत को दर्शाती है।

वर्ष	गेहूं (kg)	चावल (kg)	जई (kg)	क्विनोआ (kg)
2002	162	62	131	61
2003	196	80	116	64
2004	187	116	103	46
2005	189	122	101	45

इन सभी चार परिवारों के लिए, प्रति वर्ष गेहूं और जई की औसत खपत के बीच का अंतर (kg में) कितना है?

Ans ☒ 1. 70.75

☐ 2. 90.67

☐ 3. 63.5

☐ 4. 129.5

Question ID : 26433075246

Status : Answered

Chosen Option : 1

Q.18 $23\operatorname{cosec}^2 A - 23\cot^2 A$ का मान क्या है?

Ans ☐ 1. 0

☐ 2. 27

☐ 3. 1

☒ 4. 23

Question ID : 26433061363

Status : Answered

Chosen Option : 4

Q.19 दिए गए व्यंजक को हल कीजिए।

$$72 - 42 \div 6 \text{ of } 7 \times 4 \text{ of } 3 \div 4 \times 3 - 5$$

Ans ☒ 1. 58

☐ 2. 16

☐ 3. 45

☐ 4. 32

Question ID : 26433061719

Status : Answered

Chosen Option : 1

Q.20 x और y का लघुतम समापवर्त्य 441 है और उनका महतम समापवर्तक 7 है। यदि $x = 49$ है, तो y ज्ञात कीजिए।

Ans ☐ 1. 56

☒ 2. 63

☐ 3. 65

☐ 4. 36

Question ID : 26433065038

Status : Answered

Chosen Option : 2

Q.21 एक शहर की जनसंख्या 1,25,000 है। यदि वार्षिक जन्म दर 12.7% है और वार्षिक मृत्यु दर 2.7% है, तो 3 वर्षों के बाद जनसंख्या में कितनी वृद्धि होगी?

- Ans
- ☒ 1. 43,285
 - ☒ 2. 41,375
 - ☒ 3. 42,565
 - ☒ 4. 40,275

Question ID : 26433063945

Status : Answered

Chosen Option : 3

Q.22 एक कलाई घड़ी को उसके क्रय मूल्य के बराबर लाभ प्रतिशत पर ₹1,200 में बेचा जाता है। कलाई घड़ी का क्रय मूल्य ज्ञात करें।

- Ans
- ☒ 1. ₹300
 - ☒ 2. ₹400
 - ☒ 3. ₹350
 - ☒ 4. ₹250

Question ID : 26433063396

Status : Answered

Chosen Option : 1

Q.23 यदि $\{(1 \div x) \times (x^3 - 2x^2) + (4^3 \div 2^5) \times x\} \div 25 = 1$ है, तो x का लगभग मान _____ हो सकता है/सकते हैं?

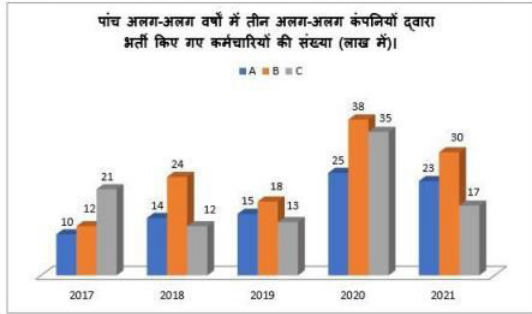
- Ans
- ☒ 1. 5
 - ☒ 2. -5
 - ☒ 3. दोनों 5 और -5
 - ☒ 4. 0

Question ID : 26433076000

Status : Answered

Chosen Option : 3

Q.24 दिए गए दंड आलेख का अध्ययन कीजिए और नीचे दिए गए प्रश्न का उत्तर दीजिए। दंड आलेख पांच अलग-अलग वर्षों में तीन अलग-अलग कंपनियों द्वारा भर्ती कर्मचारियों की संख्या (लाखों में) को दर्शाता है।



वर्ष 2019 में कंपनी B में भर्ती किए गए कर्मचारियों की संख्या, वर्ष 2021 में कंपनी C में भर्ती किए गए कर्मचारियों की संख्या की कितनी प्रतिशत (दशमलव के ठीक दो स्थानों तक) थी?

- Ans
- ☒ 1. 88.85%
 - ☒ 2. 85.25%
 - ☒ 3. 102.35%
 - ☒ 4. 105.88%

Question ID : 26433075537

Status : Answered

Chosen Option : 4

Q.25 वह सबसे बड़ी संख्या ज्ञात कीजिए जो 24, 56 और 96 को पूर्णतः विभाजित करती है।

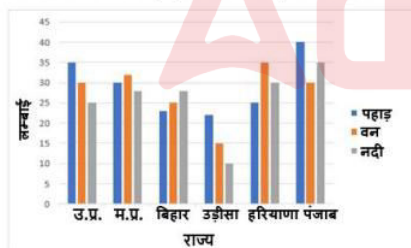
- Ans
- ☒ 1. 8
 - ☒ 2. 2
 - ☒ 3. 4
 - ☒ 4. 1

Question ID : 26433073060

Status : Answered

Chosen Option : 1

Q.26 निम्नलिखित प्रश्न का उत्तर देने के लिए दिए गए ग्राफ का अध्ययन करें। ग्राफ विभिन्न राज्यों में पहाड़ों, वनों और नदियों की लंबाई (हजार km में) दर्शाता है।



पंजाब में पहाड़ों की लंबाई उड़ीसा में नदियों की लंबाई से कितने प्रतिशत अधिक है?

- Ans
- ☒ 1. 200%
 - ☒ 2. 300%
 - ☒ 3. 400%
 - ☒ 4. 100%

Question ID : 26433079968

Status : Answered

Chosen Option : 2

Q.27 एक खोखले गोले की त्रिज्या 21 cm है। इसके केंद्र से गुज़रने वाले तल द्वारा इसे दो बराबर भागों में काटा जाता है। गोलाई के वक्र पृष्ठीय क्षेत्रफल का 75% (cm² में, निकटतम दहाई तक पूर्णांकित) कितना होगा? ($\pi = \frac{22}{7}$ लीजिए)

- Ans
- ☒ 1. 4160
 - ☒ 2. 2770
 - ☒ 3. 3470
 - ☒ 4. 2080

Question ID : 26433063263
Status : Not Answered
Chosen Option : --

Q.28 एक त्रिभुज की भुजाएँ 8 से.मी., 12 से.मी. तथा 16 से.मी. हैं। त्रिभुज का क्षेत्रफल क्या है?

- Ans
- ☒ 1. $24\sqrt{15}$
 - ☒ 2. $6\sqrt{15}$
 - ☒ 3. $8\sqrt{15}$
 - ☒ 4. $12\sqrt{15}$

Question ID : 26433075476
Status : Answered
Chosen Option : 4

Q.29 यदि $x + y + z = 8$, और $x^2 + y^2 + z^2 = 20$ है, तो $x^3 + y^3 + z^3 - 3xyz$ का मान _____ होगा।

- Ans
- ☒ 1. 10
 - ☒ 2. 15
 - ☒ 3. 16
 - ☒ 4. -16

Question ID : 26433066411
Status : Answered
Chosen Option : 4

Q.30 A, B और C के वेतन 2 : 3 : 4 के अनुपात में हैं। यदि उनके वेतनों में क्रमशः 30%, 20% और 10% वृद्धि हो जाए, तो उनके वेतन का नया अनुपात क्या होगा?

- Ans
- ☒ 1. 22 : 11 : 18
 - ☒ 2. 13 : 18 : 22
 - ☒ 3. 22 : 18 : 13
 - ☒ 4. 18 : 13 : 22

Question ID : 26433073017
Status : Answered
Chosen Option : 2

Q.31 चार अंकों की वह सबसे बड़ी संख्या ज्ञात करें, जो 15, 24 और 40 से पूर्णतः विभाज्य है।

- Ans
- ☒ 1. 9940
 - ☒ 2. 9990
 - ☒ 3. 9960
 - ☒ 4. 9980

Question ID : 26433099296
Status : Answered
Chosen Option : 3

Q.32 550 और 700 के बीच की उन संख्याओं का योग ज्ञात करें, जिन्हें 12, 16 और 24 से विभाजित करने पर प्रत्येक स्थिति में शेषफल 5 प्राप्त होगा।

- Ans
- ☒ 1. 1860
 - ☒ 2. 1867
 - ☒ 3. 1980
 - ☒ 4. 1887

Question ID : 26433099297
Status : Answered
Chosen Option : 4

Q.33 A एक कार्य को 10 दिन में कर सकता है। B इसे 15 दिन में कर सकता है। C की सहायता से उन्होंने कार्य को 5 दिन में पूरा किया। ज्ञात कीजिए कि C अकेले इसे कितने दिन में कर सकता है?

- Ans
- ☒ 1. 20
 - ☒ 2. 25
 - ☒ 3. 30
 - ☒ 4. 35

Question ID : 26433074307
Status : Answered
Chosen Option : 3

Q.34 निम्नलिखित समीकरण को हल कीजिए।
 $12^3 \times (16^2 - 14^2 - 40) \div 2 - 9^4$

- Ans
- ☒ 1. 9865
 - ☒ 2. 10719
 - ☒ 3. 17280
 - ☒ 4. 6561

Question ID : 26433061294
Status : Answered
Chosen Option : 2

Q.35 विभिन्न शहरों से प्रतियोगी परीक्षा में शामिल और उत्तीर्ण होने वाले उम्मीदवारों की कुल संख्या निम्न बार ग्राफ में दी गई है। बार ग्राफ का ध्यानपूर्वक अध्ययन कीजिए और उसके बाद पूछे गए प्रश्न का उत्तर दीजिए।



सभी शहरों से परीक्षा में शामिल हुए उम्मीदवारों की औसत संख्या और परीक्षा में उत्तीर्ण हुए उम्मीदवारों की औसत संख्या के बीच का अंतर कितना है?

- Ans
- ☒ 1. 525
 - ☒ 2. 625
 - ☒ 3. 650
 - ☒ 4. 550

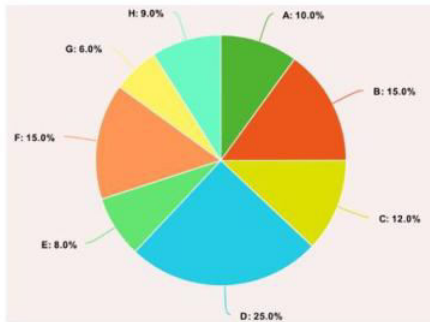
Question ID : 26433073102
Status : Answered
Chosen Option : 3

Q.36 दो उम्मीदवारों के चुनाव में, 10% मतदाताओं ने अपना मत नहीं दिया। दिए गए मतों में से 10% अवैध मत पाए गए। विजेता उम्मीदवार को वैध मतों का 54% प्राप्त हुआ और वह 1620 मतों से विजयी हुआ। मतदाता सूची में उन लोगों की संख्या ज्ञात कीजिए जिन्होंने मतदान करने के लिए पंजीकरण कराया हुआ है।

- Ans ☒ 1. 24500
☒ 2. 25000
☒ 3. 25500
☒ 4. 26000

Question ID : 26433057123
 Status : Answered
 Chosen Option : 2

Q.37 निम्न पाई चार्ट 1995 में एक कारखाने की विभिन्न श्रेणियों A, B, C, D, E, F, G और H के श्रमिकों की संख्या को दर्शाता है।



यदि 1996 में श्रेणी B में श्रमिकों की संख्या में 10% की वृद्धि की जाती है और श्रेणी D में श्रमिकों की संख्या में 5% की कमी की जाती है, तो 1996 में श्रेणी B और D में श्रमिकों की कुल संख्या क्या है, यदि वर्ष 1995 में श्रेणी B में श्रमिकों की संख्या 1500 थी?

- Ans ☒ 1. 4000
☒ 2. 5000
☒ 3. 4500
☒ 4. 4025

Question ID : 26433066389
 Status : Answered
 Chosen Option : 4

Q.38 एक त्रिभुज के दो कोण बराबर हैं और तीसरे कोण की माप 70° है। प्रत्येक अज्ञात कोण की माप क्या है?

- Ans ☒ 1. 75°
☒ 2. 55°
☒ 3. 65°
☒ 4. 45°

Question ID : 26433061357
 Status : Answered
 Chosen Option : 2

Q.39 निम्नलिखित तालिका का अध्ययन करें और दिए गए प्रश्न का उत्तर दें।

छात्र	विषय				
	रसायन विज्ञान अधिकतम अंक 300	गणित अधिकतम अंक 300	भौतिकी अधिकतम अंक 150	हिंदी अधिकतम अंक 300	अंग्रेजी अधिकतम अंक 200
राजू	60	85	90	80	65
श्यामू	65	70	60	75	65
मोहन	70	75	80	65	85
शोभ	60	65	60	85	80
सुशील	65	75	70	60	75

विभिन्न विषयों में पांच छात्रों द्वारा प्राप्त अंकों का प्रतिशत मोहन द्वारा प्राप्त औसत अंक प्रतिशत में ज्ञात करें।

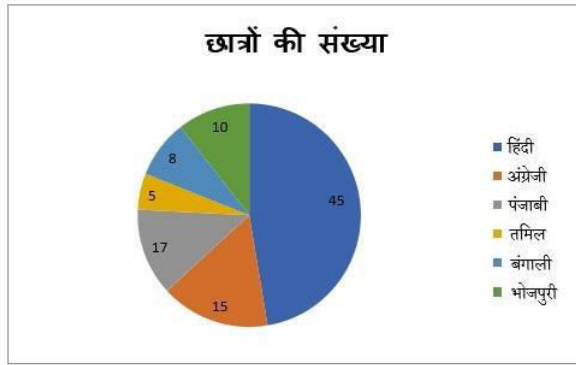
- Ans
- ☒ 1. 74.6 प्रतिशत
 - ☒ 2. 70.6 प्रतिशत
 - ☒ 3. 73.6 प्रतिशत
 - ☒ 4. 73.2 प्रतिशत

Q.40 एक दुकान में, 8% की छूट प्रदान की जाती है। यदि छूट के बाद भुगतान की जाने वाली कुल राशि ₹5,000 से अधिक है, तो 20% की अतिरिक्त छूट प्रदान की जाती है। एक ग्राहक प्रत्येक ₹750 के मूल्य के 12 उत्पाद खरीदता है, उसके द्वारा भुगतान की जाने वाली अंतिम राशि ज्ञात कीजिए।

- Ans
- ☒ 1. ₹6,724
 - ☒ 2. ₹6,624
 - ☒ 3. ₹6,424
 - ☒ 4. ₹6,524

Question ID : 26433074284
Status : Answered
Chosen Option : 2

Q.41 दिया गया पाई चार्ट एक छात्रावास में विभिन्न भाषाएं बोलने वाले छात्रों का प्रतिशत दर्शाता है। छात्रावास में कुल छात्रों की संख्या 120 है।



अंग्रेजी और भोजपुरी बोलने वाले छात्रों का तमिल बोलने वालों से अनुपात क्या है?

Ans ☒ 1. 5 : 1

☐ 2. 1 : 1

☐ 3. 10 : 3

☐ 4. 20 : 3

Question ID : 26433075446

Status : Answered

Chosen Option : 1

Q.42 एक आयत का परिमाण, एक वर्ग के परिमाण के बराबर है। यदि आयत की लंबाई 10 cm और चौड़ाई 8 cm है, तो वर्ग का क्षेत्रफल क्या होगा?

Ans ☐ 1. 98 cm^2

☒ 2. 81 cm^2

☐ 3. 64 cm^2

☐ 4. 72 cm^2

Question ID : 26433063816

Status : Answered

Chosen Option : 2

Q.43 एक चुनाव में दो उम्मीदवारों ने भाग लिया। चुनाव में, 65% मतदाताओं ने अपने मत डाले, जिनमें से 3% मत अवैध घोषित कर दिए गए। एक उम्मीदवार को 81965 मत मिले जो कुल वैध मतों का 65% है। उस चुनाव में नामांकित मतों की कुल संख्या कितनी है?

Ans ☐ 1. 185000

☐ 2. 190000

☐ 3. 215000

☒ 4. 200000

Question ID : 26433061248

Status : Answered

Chosen Option : 4

Q.44 दो रेलगाड़ियाँ A और B, दो अलग-अलग स्टेशनों से एक दूसरे की ओर 80 km/h और 82 km/h की चाल से चलना शुरू करती हैं। वे 1 घंटे 30 मिनट के बाद मिलती हैं। जब रेलगाड़ियों ने चलना शुरू किया तो वे एक-दूसरे से कितनी दूरी पर थीं?

- Ans ☒ 1. 262 km
☒ 2. 243 km
☒ 3. 224 km
☒ 4. 190 km

Question ID : 26433061164

Status : Answered

Chosen Option : 2

Q.45 निम्नलिखित तालिका का ध्यानपूर्वक अध्ययन कीजिए और उस पर आधारित प्रश्नों के उत्तर दीजिए।

निम्नलिखित तालिका 2010 से 2015 तक चार निर्माताओं के वाहनों की घरेलू बिक्री को दर्शाती है।

निर्माता	2010	2011	2012	2013	2014	2015
A	560000	700000	600000	620000	650000	680000
B	540000	590000	570000	630000	710000	650000
C	610000	580000	620000	680000	690000	630000
D	630000	570000	700000	690000	700000	640000

निम्नलिखित में से किस संयोजन के संबंध में, दी गई अवधि में वाहनों की बिक्री सबसे अधिक है?

- Ans ☒ 1. A, 2011
☒ 2. D, 2014
☒ 3. D, 2012
☒ 4. B, 2014

Question ID : 26433074317

Status : Answered

Chosen Option : 4

Q.46 अमित और सुमित एक ही बिंदु से विपरीत दिशाओं में क्रमशः 6 किमी/घंटा और 4 किमी/घंटा की गति से चलना शुरू करते हैं। 4 घंटे बाद वे एक दूसरे से कितनी दूर होंगे?

- Ans ☒ 1. 500 m
☒ 2. 40 km
☒ 3. 300 m
☒ 4. 35 km

Question ID : 26433061277

Status : Answered

Chosen Option : 2

Q.47

यदि $16y^2 - k = \left(4y + \frac{3}{2}\right)\left(4y - \frac{3}{2}\right)$ है, तो k का मान क्या है?

Ans

✗ 1. $\frac{6}{4}$

✓ 2. $\frac{9}{4}$

✗ 3. $\frac{11}{4}$

✗ 4. $\frac{7}{4}$

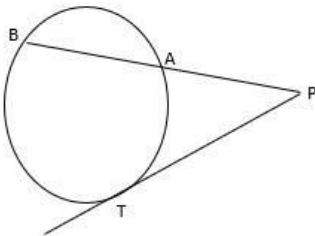
Question ID : 26433061374

Status : Answered

Chosen Option : 2

Q.48

निम्नलिखित आकृति में, यदि $PT = 12$ cm और $PB = 24$ cm है, तो AB ज्ञात कीजिए।



Ans

✗ 1. 16 cm

✗ 2. 12 cm

✗ 3. 24 cm

✓ 4. 18 cm

Question ID : 26433075902

Status : Answered

Chosen Option : 4

Q.49

एक व्यक्ति स्थान A से B तक 12 km/h की चाल से जाता है और B से A तक 18 km/h की चाल से लौटता है। पूरी यात्रा के दौरान उसकी औसत चाल ज्ञात करें।

Ans

✗ 1. 30 km/h

✗ 2. 6 km/h

✗ 3. 15 km/h

✓ 4. $14\frac{2}{5}$ km/h

Question ID : 26433073122

Status : Answered

Chosen Option : 4

Q.50 एक ठोस धात्विक अर्धगोले का संपूर्ण पृष्ठीय क्षेत्रफल 462 cm^2 है। इसे पिघलाकर एक लंबवृत्तीय शंकु के रूप में ढाला जाता है। यदि शंकु के आधार की त्रिज्या, अर्धगोले की त्रिज्या के बराबर है, तो इसकी ऊंचाई ज्ञात करें। ($\pi = 22/7$ का प्रयोग करें)

Ans ☒ 1. 14 cm

☐ 2. 7 cm

☐ 3. 28 cm

☐ 4. 21 cm

Question ID : 26433075480

Status : Answered

Chosen Option : 1

Section : English Comprehension

Q.1 Select the option that expresses the given sentence in passive voice.
The officers kept us waiting for one hour.

Ans ☐ 1. We keep waiting for one hour.

☒ 2. We were kept waiting for one hour by the officers.

☐ 3. We are keeping waiting for one hour.

☐ 4. We kept waiting for one hour.

Question ID : 26433059124

Status : Answered

Chosen Option : 2

Q.2 Select the most appropriate meaning of the given idiom.

At the drop of a dime

Ans ☐ 1. Extremely easy to understand

☐ 2. A way of saying that you are happy to see someone

☒ 3. Something that can happen very fast without hesitation

☐ 4. Something that is not popular

Question ID : 26433091886

Status : Answered

Chosen Option : 3

Q.3 Select the most appropriate option that can substitute the underlined segment in the given sentence.

You must cut off your expenses if you want to save money.

Ans ☐ 1. cut out

☐ 2. cut up

☒ 3. cut down on

☐ 4. cut for

Question ID : 26433059683

Status : Answered

Chosen Option : 3

Q.4 Select the most appropriate meaning of the underlined idiom.
The mother-in-law deliberately rained on the new bride's parade when she asked her to change the dress of her choice.

- Ans ☒ 1. Force traditions upon someone
☒ 2. Make someone tearful out of viciousness
☒ 3. To spoil a moment
☒ 4. Save one from embarrassment

Question ID : 26433060188
Status : Answered
Chosen Option : 3

Q.5 Select the most appropriate synonym of the given word.

Erudite

- Ans ☒ 1. Scholarly
☒ 2. Impressive
☒ 3. Lazy
☒ 4. Excited

Question ID : 26433058328
Status : Answered
Chosen Option : 1

Q.6 Select the most appropriate synonym of the given word.
Prohibit

- Ans ☒ 1. Assist
☒ 2. Aid
☒ 3. Allow
☒ 4. Ban

Question ID : 26433059788
Status : Answered
Chosen Option : 4

Q.7 Select the most appropriate option that can substitute the underlined segment in the given sentence. If there is no need to substitute it, select 'No substitution required'.

They are cautious about their car as it's door is broken.

- Ans ☒ 1. No substitution required
☒ 2. because it's
☒ 3. as it is
☒ 4. as its

Question ID : 26433060070
Status : Answered
Chosen Option : 4

Q.8 Select the most appropriate synonym of the given word.
Impasse

- Ans
- ☒ 1. Peaceful
 - ☒ 2. Resolution
 - ☒ 3. Deadlock
 - ☒ 4. Harmony

Question ID : 26433059199
Status : Answered
Chosen Option : 3

Q.9 Select the most appropriate synonym to replace the italicised word.
A shadow of *guilt* darkened his eyes.

- Ans
- ☒ 1. impenitence
 - ☒ 2. innocence
 - ☒ 3. remorselessness
 - ☒ 4. remorse

Question ID : 26433059642
Status : Answered
Chosen Option : 4

Q.10 Select the most appropriate option that can substitute the underlined segment in the given sentence.
The doctors have given off the case.

- Ans
- ☒ 1. given out
 - ☒ 2. given over
 - ☒ 3. given forth
 - ☒ 4. given up

Question ID : 26433059682
Status : Answered
Chosen Option : 4

Q.11 Select the most appropriate ANTONYM of the given word.

Opulent

- Ans
- ☒ 1. Flourishing
 - ☒ 2. Insolvent
 - ☒ 3. Depressed
 - ☒ 4. Destitute

Question ID : 26433088932
Status : Answered
Chosen Option : 4

Q.12 Select the most appropriate synonym of the given word.
Peril

- Ans
- ☒ 1. Danger
 - ☒ 2. Safety
 - ☒ 3. Benefit
 - ☒ 4. Doubt

Question ID : 26433059517
Status : Answered
Chosen Option : 1

Q.13 Select the option that can be used as a one-word substitute for the given group of words.

Honour given for some achievement.

- Ans ☒ 1. Party
☒ 2. Gift
☒ 3. Placard
☒ 4. Laurel

Question ID : 26433060101
Status : Answered
Chosen Option : 4

Q.14 Select the option that can be used as a one-word substitute for the given group of words.

The scientific study of the behaviour, structure, physiology, classification and distribution of animals

- Ans ☒ 1. Zoology
☒ 2. Petrology
☒ 3. Archaeology
☒ 4. Ecology

Question ID : 26433060346
Status : Answered
Chosen Option : 1

Q.15 Select the option that can be used as a one-word substitute for the underlined group of words.

The ducks were not afraid of the fast moving water.

- Ans ☒ 1. Flood
☒ 2. Overflow
☒ 3. Torrent
☒ 4. Current

Question ID : 26433060395
Status : Answered
Chosen Option : 3

Q.16 Select the most appropriate idiom from the following options that can substitute the underlined part of the given sentence.

It is his first interview, so he has a nervous feeling.

- Ans ☒ 1. Butterflies in his stomach
☒ 2. A slap on the wrist
☒ 3. Icing on the cake
☒ 4. Tug at his heartstrings

Question ID : 26433058366
Status : Answered
Chosen Option : 1

Q.17 Select the most appropriate meaning of the given idiom.
To pull someone's leg

- Ans ☒ 1. To talk something bad about someone
☒ 2. To joke with someone
☒ 3. To push a person
☒ 4. To talk something good about someone

Question ID : 26433060413
Status : Answered
Chosen Option : 2

Q.18 The following sentence has been divided into parts. One of them may contain an error.
Select the part that contains the error from the given options. If you don't find any error, mark 'No error' as your answer.
He took a hurried glance / on the newspaper / and swiftly left for work.

- Ans ☒ 1. He took a hurried glance
☒ 2. and swiftly left for work
☒ 3. on the newspaper
☒ 4. No error

Question ID : 26433060151
Status : Answered
Chosen Option : 3

Q.19 Select the INCORRECTLY spelt word.

- Ans ☒ 1. Sermonise
☒ 2. Chhivalrous
☒ 3. Nefarious
☒ 4. Acquittal

Question ID : 26433060202
Status : Not Answered
Chosen Option : --

Q.20 Select the most appropriate option that can substitute the underlined segment in the given sentence. If there is no need to substitute it, select 'No substitution required'.

Psychology and Sociology are very interesting science to study.

- Ans ☒ 1. sciences to study
☒ 2. No substitution required
☒ 3. science to studies
☒ 4. science for study

Question ID : 26433060058
Status : Answered
Chosen Option : 1

Q.21 Select the most appropriate option to substitute the underlined segment in the given sentence.

They are looking to a place to rest.

- Ans
- ☒ 1. looking into
 - ☒ 2. should be looking
 - ☒ 3. are looking for
 - ☒ 4. have looking at

Question ID : 26433060272
Status : Answered
Chosen Option : 3

Q.22 Select the most appropriate meaning of the given idiom.
Salt of the earth

- Ans
- ☒ 1. A very good and honest person
 - ☒ 2. Discovered after a lot of searching
 - ☒ 3. Do anything possible
 - ☒ 4. Choose one at random

Question ID : 26433060466
Status : Answered
Chosen Option : 1

Q.23 Select the INCORRECTLY spelt word.

- Ans
- ☒ 1. Purvey
 - ☒ 2. Perspicuius
 - ☒ 3. Peruse
 - ☒ 4. Pervade

Question ID : 26433060476
Status : Answered
Chosen Option : 2

Q.24 Select the option that can be used as a one-word substitute for the given group of words.

Killing of a person by another

- Ans
- ☒ 1. Genocide
 - ☒ 2. Democide
 - ☒ 3. Euthanasia
 - ☒ 4. Homicide

Question ID : 26433060349
Status : Answered
Chosen Option : 4

Q.25 Select the most appropriate ANTONYM of the given word.
Wily

- Ans
- ☒ 1. Triumphant
 - ☒ 2. Raunchy
 - ☒ 3. Honest
 - ☒ 4. Horrid

Question ID : 26433066098
Status : Not Answered
Chosen Option : --

Q.26 Select the most appropriate synonym of the given word.
Restrain

- Ans ☒ 1. Constrain
☐ 2. Assist
☐ 3. Free
☐ 4. Allow

Question ID : 26433059792
Status : Answered
Chosen Option : 1

Q.27 The following sentence has been split into four segments. Identify the segment that contains a grammatical error.

My granny says that / it is quite all right / to get married young, / though I do not absolute agree with her a bit on this.

- Ans ☐ 1. to get married young
☐ 2. My granny says that
☒ 3. though I do not absolute agree with her a bit on this
☐ 4. it is quite all right

Question ID : 26433055589
Status : Answered
Chosen Option : 3

Q.28 Select the most appropriate meaning of the given idiom.

All ears

- Ans ☐ 1. To scold someone bitterly
☐ 2. To not be vocal
☒ 3. To listening attentively
☐ 4. To listen to everyone

Question ID : 26433059530
Status : Answered
Chosen Option : 3

Q.29 Select the most appropriate phrase for the underlined segment in the given sentence.

My mother said, "You must pay attention to your studies."

- Ans ☐ 1. Act up to
☒ 2. Concentrate on
☐ 3. Ask for
☐ 4. Back up

Question ID : 26433072821
Status : Answered
Chosen Option : 2

Q.30 Select the most appropriate meaning of the underlined idiom.

He burnt his fingers by getting into others' problems.

- Ans
- ☒ 1. To get rewarded
 - ☒ 2. To get rid off
 - ☒ 3. To burn ones fingers
 - ☒ 4. To get into trouble

Question ID : 26433088275
Status : Answered
Chosen Option : 4

Q.31 Read the given sentence and select the most appropriate ANTONYM of the word 'Straighten' from the following options.

The soldiers were crouching and crawling behind the fence to take a better shot at the enemies and surprise them.

- Ans
- ☒ 1. fence
 - ☒ 2. surprise
 - ☒ 3. enemies
 - ☒ 4. crouching

Question ID : 26433089726
Status : Answered
Chosen Option : 4

Q.32 Select the most appropriate meaning of the given idiom.
Snowed under

- Ans
- ☒ 1. Calm
 - ☒ 2. Busy
 - ☒ 3. Silent
 - ☒ 4. Lazy

Question ID : 26433058566
Status : Answered
Chosen Option : 1

Q.33 Select the INCORRECTLY spelt word.

- Ans
- ☒ 1. Exuberant
 - ☒ 2. Membrane
 - ☒ 3. Highlight
 - ☒ 4. Solvant

Question ID : 26433060640
Status : Answered
Chosen Option : 4

Q.34 Select the most appropriate idiom for the underlined segment in the given sentence.

Rajeshwar has a vision for capturing beautiful pictures of nature.

- Ans
- ☒ 1. A high horse
 - ☒ 2. Cry wolf
 - ☒ 3. A cat nap
 - ☒ 4. An eagle eye

Question ID : 26433072819
Status : Answered
Chosen Option : 4

Q.35 Select the most appropriate ANTONYM for the underlined word in the following sentence.

This is really an attractive painting made by the novice artist.

- Ans
- ☒ 1. Expert
 - ☒ 2. Mature
 - ☒ 3. Stylish
 - ☒ 4. Apprentice

Question ID : 26433093036
Status : Answered
Chosen Option : 2

Q.36 Select the most appropriate ANTONYM of the given word.

Colloquial

- Ans
- ☒ 1. Slack
 - ☒ 2. Formal
 - ☒ 3. Slang
 - ☒ 4. Informal

Question ID : 26433088134
Status : Answered
Chosen Option : 2

Q.37 Select the most appropriate option that can substitute the underlined segment in the given sentence.

The speaker is about to beginner his speech.

- Ans
- ☒ 1. is about to beginning
 - ☒ 2. is about to begin
 - ☒ 3. was about to began
 - ☒ 4. was about to beginner

Question ID : 26433059667
Status : Answered
Chosen Option : 2

Q.38 Select the INCORRECTLY spelt word.

- Ans
- ☒ 1. Wreak
 - ☒ 2. Wreathe
 - ☒ 3. Wriggle
 - ☒ 4. Wegggle

Question ID : 26433060483
Status : Answered
Chosen Option : 4

Q.39 Choose the correct spelling of the underlined word.

The school calander this year has turned out really nice.

- Ans
- ☒ 1. celender
 - ☒ 2. calender
 - ☒ 3. calendar
 - ☒ 4. calunder

Question ID : 26433059718
Status : Answered
Chosen Option : 2

Q.40 Select the most appropriate ANTONYM of the given word.

Awkward

- Ans
- ☒ 1. Cordial
 - ☒ 2. Adroit
 - ☒ 3. Catchy
 - ☒ 4. Tender

Question ID : 26433055885
Status : Answered
Chosen Option : 1

Comprehension:

Read the passage carefully and answer the question that follows.

Humans are social animals by nature. To prosper in life, we require the company of others, and the strength of our bonds has a significant influence on our mental health and happiness. Being socially linked to people may help you cope with stress, worry and depression, increase your self-esteem, bring comfort and joy, prevent loneliness, and even add years to your life. On the other hand, a lack of strong social relationships might put your mental and emotional health at in danger. Many of us use social media sites like Facebook, Twitter, Snapchat, YouTube and Instagram to locate and communicate with one another in today's society. While each has its own set of advantages, it's vital to realise that social media will never be a substitute for genuine human interaction. In order to trigger the hormones that relieve stress and make you feel happier, healthier, and more optimistic, you must interact with individuals in person. Spending too much time on social media, ironically for a tool supposed to bring people closer together, can instead make you feel more lonely and isolated, and aggravate mental health issues like anxiety and depression. If you're spending too much time on social media and are experiencing emotions of unhappiness, discontent, irritation or loneliness, it's time to re-evaluate your online habits and establish a healthier balance.

Because social media is such a new technology, little study has been done to determine the long-term effects, good or ill, of its use. Multiple studies, however, have linked extensive social media use to an increased risk of melancholy, anxiety, loneliness, self-harm and even suicide ideation. The purpose of social media sites is to capture your interest, keep you online, and keep you checking your screen for updates. It's how businesses generate money. However, much like a gambling addiction or a nicotine, alcohol, or drug addiction, social media use may lead to psychological cravings. When you get a like, a share, or a positive reaction to a post, your brain releases dopamine, the same 'reward' chemical that you get after winning at a slot machine, eating chocolate, or smoking a cigarette, for example. The more you're rewarded, the more time you want to spend on social media, even if it has negative consequences in other areas of your life.

SubQuestion No : 41

Q.41 Which hormone is released in our minds when we receive a positive reaction to our posts on social media?

- Ans**
- ☒ 1. Calcitonin
 - ☒ 2. Dopamine
 - ☒ 3. Adrenaline
 - ☒ 4. Melatonin

Question ID : 26433074437

Status : Answered

Chosen Option : 2

Comprehension:

Read the passage carefully and answer the question that follows.

Humans are social animals by nature. To prosper in life, we require the company of others, and the strength of our bonds has a significant influence on our mental health and happiness. Being socially linked to people may help you cope with stress, worry and depression, increase your self-esteem, bring comfort and joy, prevent loneliness, and even add years to your life. On the other hand, a lack of strong social relationships might put your mental and emotional health at in danger. Many of us use social media sites like Facebook, Twitter, Snapchat, YouTube and Instagram to locate and communicate with one another in today's society. While each has its own set of advantages, it's vital to realise that social media will never be a substitute for genuine human interaction. In order to trigger the hormones that relieve stress and make you feel happier, healthier, and more optimistic, you must interact with individuals in person. Spending too much time on social media, ironically for a tool supposed to bring people closer together, can instead make you feel more lonely and isolated, and aggravate mental health issues like anxiety and depression. If you're spending too much time on social media and are experiencing emotions of unhappiness, discontent, irritation or loneliness, it's time to re-evaluate your online habits and establish a healthier balance. Because social media is such a new technology, little study has been done to determine the long-term effects, good or ill, of its use. Multiple studies, however, have linked extensive social media use to an increased risk of melancholy, anxiety, loneliness, self-harm and even suicide ideation. The purpose of social media sites is to capture your interest, keep you online, and keep you checking your screen for updates. It's how businesses generate money. However, much like a gambling addiction or a nicotine, alcohol, or drug addiction, social media use may lead to psychological cravings. When you get a like, a share, or a positive reaction to a post, your brain releases dopamine, the same 'reward' chemical that you get after winning at a slot machine, eating chocolate, or smoking a cigarette, for example. The more you're rewarded, the more time you want to spend on social media, even if it has negative consequences in other areas of your life.

SubQuestion No : 42

Q.42 What is the purpose of social media sites?

- Ans ☒ 1. To keep people online by capturing their interests
- ☐ 2. To provide a platform to decrease loneliness
- ☐ 3. To provide a platform to replace physical interaction
- ☐ 4. To offer a platform for people with anxiety and depression

Question ID : 26433074436

Status : Answered

Chosen Option : 1

Comprehension:

Read the passage carefully and answer the question that follows.

Humans are social animals by nature. To prosper in life, we require the company of others, and the strength of our bonds has a significant influence on our mental health and happiness. Being socially linked to people may help you cope with stress, worry and depression, increase your self-esteem, bring comfort and joy, prevent loneliness, and even add years to your life. On the other hand, a lack of strong social relationships might put your mental and emotional health at in danger. Many of us use social media sites like Facebook, Twitter, Snapchat, YouTube and Instagram to locate and communicate with one another in today's society. While each has its own set of advantages, it's vital to realise that social media will never be a substitute for genuine human interaction. In order to trigger the hormones that relieve stress and make you feel happier, healthier, and more optimistic, you must interact with individuals in person. Spending too much time on social media, ironically for a tool supposed to bring people closer together, can instead make you feel more lonely and isolated, and aggravate mental health issues like anxiety and depression. If you're spending too much time on social media and are experiencing emotions of unhappiness, discontent, irritation or loneliness, it's time to re-evaluate your online habits and establish a healthier balance. Because social media is such a new technology, little study has been done to determine the long-term effects, good or ill, of its use. Multiple studies, however, have linked extensive social media use to an increased risk of melancholy, anxiety, loneliness, self-harm and even suicide ideation. The purpose of social media sites is to capture your interest, keep you online, and keep you checking your screen for updates. It's how businesses generate money. However, much like a gambling addiction or a nicotine, alcohol, or drug addiction, social media use may lead to psychological cravings. When you get a like, a share, or a positive reaction to a post, your brain releases dopamine, the same 'reward' chemical that you get after winning at a slot machine, eating chocolate, or smoking a cigarette, for example. The more you're rewarded, the more time you want to spend on social media, even if it has negative consequences in other areas of your life.

SubQuestion No : 43

Q.43 Select the most appropriate **ANTONYM** of the given word.

Discontent

Ans  1. Satisfaction

 2. Relaxation

 3. Approval

 4. Serenity

Question ID : 26433074439

Status : Answered

Chosen Option : 1

Comprehension:

Read the passage carefully and answer the question that follows.

Humans are social animals by nature. To prosper in life, we require the company of others, and the strength of our bonds has a significant influence on our mental health and happiness. Being socially linked to people may help you cope with stress, worry and depression, increase your self-esteem, bring comfort and joy, prevent loneliness, and even add years to your life. On the other hand, a lack of strong social relationships might put your mental and emotional health at in danger. Many of us use social media sites like Facebook, Twitter, Snapchat, YouTube and Instagram to locate and communicate with one another in today's society. While each has its own set of advantages, it's vital to realise that social media will never be a substitute for genuine human interaction. In order to trigger the hormones that relieve stress and make you feel happier, healthier, and more optimistic, you must interact with individuals in person. Spending too much time on social media, ironically for a tool supposed to bring people closer together, can instead make you feel more lonely and isolated, and aggravate mental health issues like anxiety and depression. If you're spending too much time on social media and are experiencing emotions of unhappiness, discontent, irritation or loneliness, it's time to re-evaluate your online habits and establish a healthier balance. Because social media is such a new technology, little study has been done to determine the long-term effects, good or ill, of its use. Multiple studies, however, have linked extensive social media use to an increased risk of melancholy, anxiety, loneliness, self-harm and even suicide ideation. The purpose of social media sites is to capture your interest, keep you online, and keep you checking your screen for updates. It's how businesses generate money. However, much like a gambling addiction or a nicotine, alcohol, or drug addiction, social media use may lead to psychological cravings. When you get a like, a share, or a positive reaction to a post, your brain releases dopamine, the same 'reward' chemical that you get after winning at a slot machine, eating chocolate, or smoking a cigarette, for example. The more you're rewarded, the more time you want to spend on social media, even if it has negative consequences in other areas of your life.

SubQuestion No : 44

Q.44 Select the most appropriate title for the given passage.

- Ans
- ☒ 1. Advantages of Social Media
 - ☒ 2. Mental Health During Troubled Times
 - ☒ 3. Social Media and Mental Health
 - ☒ 4. Consequences of Social Media

Question ID : 26433074435

Status : Answered

Chosen Option : 4

Comprehension:

Read the passage carefully and answer the question that follows.

Humans are social animals by nature. To prosper in life, we require the company of others, and the strength of our bonds has a significant influence on our mental health and happiness. Being socially linked to people may help you cope with stress, worry and depression, increase your self-esteem, bring comfort and joy, prevent loneliness, and even add years to your life. On the other hand, a lack of strong social relationships might put your mental and emotional health at in danger. Many of us use social media sites like Facebook, Twitter, Snapchat, YouTube and Instagram to locate and communicate with one another in today's society. While each has its own set of advantages, it's vital to realise that social media will never be a substitute for genuine human interaction. In order to trigger the hormones that relieve stress and make you feel happier, healthier, and more optimistic, you must interact with individuals in person. Spending too much time on social media, ironically for a tool supposed to bring people closer together, can instead make you feel more lonely and isolated, and aggravate mental health issues like anxiety and depression. If you're spending too much time on social media and are experiencing emotions of unhappiness, discontent, irritation or loneliness, it's time to re-evaluate your online habits and establish a healthier balance. Because social media is such a new technology, little study has been done to determine the long-term effects, good or ill, of its use. Multiple studies, however, have linked extensive social media use to an increased risk of melancholy, anxiety, loneliness, self-harm and even suicide ideation. The purpose of social media sites is to capture your interest, keep you online, and keep you checking your screen for updates. It's how businesses generate money. However, much like a gambling addiction or a nicotine, alcohol, or drug addiction, social media use may lead to psychological cravings. When you get a like, a share, or a positive reaction to a post, your brain releases dopamine, the same 'reward' chemical that you get after winning at a slot machine, eating chocolate, or smoking a cigarette, for example. The more you're rewarded, the more time you want to spend on social media, even if it has negative consequences in other areas of your life.

SubQuestion No : 45

Q.45 Which of the following statements is NOT true?

- Ans
- ☒ 1. Social bonds have a strong influence on our mental health.
 - ☒ 2. Lack of social interaction may cause anxiety and depression.
 - ☒ 3. Humans need to reassess their social media usage.
 - ☒ 4. Social media can offer a substitute for real-life social interaction.

Question ID : 26433074438

Status : Answered

Chosen Option : 4

Comprehension:

In the following passage, some words have been deleted. Read the passage carefully and select the most appropriate option to fill in each blank.

Last week, I made the mistake of revisiting the village where I grew up. It used to be a small, friendly community with two farms and a number of old cottages round the village green. I realised very quickly that although in (1)_____ ways it appears unchanged, in reality hardly anything is the same. All the pretty cottages are there, of course, and both the traditional farm houses. (2)_____, none of the inhabitants are country people. All of them are commuters, who leave early every morning for the nearby town. Neither of the farmhouses are attached to a farm these days; the land (3)_____ and is managed by somebody in an office somewhere who has little interest in the village (4)_____. There are a few new houses but, they have no local character. You can see the same style anywhere in the country. The whole village, (5)_____, has been tidied up so much that it looks no more picturesque than any suburban street.

SubQuestion No : 46

Q.46 Select the most appropriate option to fill in blank number 1.

- Ans
- ☒ 1. many
 - ☒ 2. few
 - ☒ 3. such
 - ☒ 4. much

Question ID : 26433060281

Status : Answered

Chosen Option : 2

Comprehension:

In the following passage, some words have been deleted. Read the passage carefully and select the most appropriate option to fill in each blank.

Last week, I made the mistake of revisiting the village where I grew up. It used to be a small, friendly community with two farms and a number of old cottages round the village green. I realised very quickly that although in (1)_____ ways it appears unchanged, in reality hardly anything is the same. All the pretty cottages are there, of course, and both the traditional farm houses. (2)_____, none of the inhabitants are country people. All of them are commuters, who leave early every morning for the nearby town. Neither of the farmhouses are attached to a farm these days; the land (3)_____ and is managed by somebody in an office somewhere who has little interest in the village (4)_____. There are a few new houses but, they have no local character. You can see the same style anywhere in the country. The whole village, (5)_____, has been tidied up so much that it looks no more picturesque than any suburban street.

SubQuestion No : 47

Q.47 Select the most appropriate option to fill in blank number 2.

Ans ☒ 1. But

☐ 2. Because

☐ 3. As

☐ 4. When

Question ID : 26433060282

Status : Answered

Chosen Option : 1

Comprehension:

In the following passage, some words have been deleted. Read the passage carefully and select the most appropriate option to fill in each blank.

Last week, I made the mistake of revisiting the village where I grew up. It used to be a small, friendly community with two farms and a number of old cottages round the village green. I realised very quickly that although in (1)_____ ways it appears unchanged, in reality hardly anything is the same. All the pretty cottages are there, of course, and both the traditional farm houses. (2)_____, none of the inhabitants are country people. All of them are commuters, who leave early every morning for the nearby town. Neither of the farmhouses are attached to a farm these days; the land (3)_____ and is managed by somebody in an office somewhere who has little interest in the village (4)_____. There are a few new houses but, they have no local character. You can see the same style anywhere in the country. The whole village, (5)_____, has been tidied up so much that it looks no more picturesque than any suburban street.

SubQuestion No : 48

Q.48 Select the most appropriate option to fill in blank number 3.

Ans ☐ 1. had been sold

☐ 2. sold

☒ 3. has been sold

☐ 4. sells

Question ID : 26433060283

Status : Answered

Chosen Option : 3

Comprehension:

In the following passage, some words have been deleted. Read the passage carefully and select the most appropriate option to fill in each blank.

Last week, I made the mistake of revisiting the village where I grew up. It used to be a small, friendly community with two farms and a number of old cottages round the village green. I realised very quickly that although in (1)_____ ways it appears unchanged, in reality hardly anything is the same. All the pretty cottages are there, of course, and both the traditional farm houses. (2)_____, none of the inhabitants are country people. All of them are commuters, who leave early every morning for the nearby town. Neither of the farmhouses are attached to a farm these days; the land (3)_____ and is managed by somebody in an office somewhere who has little interest in the village (4)_____. There are a few new houses but, they have no local character. You can see the same style anywhere in the country. The whole village, (5)_____, has been tidied up so much that it looks no more picturesque than any suburban street.

SubQuestion No : 49

Q.49 Select the most appropriate option to fill in blank number 4.

- Ans ☒ 1. itself
☐ 2. herself
☐ 3. himself
☐ 4. themselves

Question ID : 26433060284

Status : Answered

Chosen Option : 3

Comprehension:

In the following passage, some words have been deleted. Read the passage carefully and select the most appropriate option to fill in each blank.

Last week, I made the mistake of revisiting the village where I grew up. It used to be a small, friendly community with two farms and a number of old cottages round the village green. I realised very quickly that although in (1)_____ ways it appears unchanged, in reality hardly anything is the same. All the pretty cottages are there, of course, and both the traditional farm houses. (2)_____, none of the inhabitants are country people. All of them are commuters, who leave early every morning for the nearby town. Neither of the farmhouses are attached to a farm these days; the land (3)_____ and is managed by somebody in an office somewhere who has little interest in the village (4)_____. There are a few new houses but, they have no local character. You can see the same style anywhere in the country. The whole village, (5)_____, has been tidied up so much that it looks no more picturesque than any suburban street.

SubQuestion No : 50

Q.50 Select the most appropriate option to fill in blank number 5.

- Ans ☐ 1. of course
☒ 2. in fact
☐ 3. as a result
☐ 4. despite

Question ID : 26433060285

Status : Answered

Chosen Option : 2