

Sub Inspector in Delhi Police and Central Armed Police Forces Examination 2022

Roll Number	
Candidate Name	
Venue Name	
Exam Date	10/11/2022
Exam Time	4:00 PM - 6:00 PM
Subject	SICPO Paper I 2022

Section : General Intelligence and Reasoning

www.exammix.com

Q.1 उस विकल्प का चयन करें जो तीसरे शब्द से उसी प्रकार संबंधित है जिस प्रकार दूसरा शब्द पहले शब्द से संबंधित है। (शब्दों को अर्थपूर्ण हिन्दी शब्दों के रूप में माना जाना चाहिए और इन्हें शब्द में अक्षरों की संख्या/व्यंजनों की संख्या/स्वरों की संख्या के आधार पर एक-दूसरे से संबद्ध नहीं किया जाना चाहिए।)
रूस : रूबल :: म्यांमार : ?

- Ans**
- ☒ 1. पेसेटा (Peseta)
 - ☒ 2. दिरहम (Dirham)
 - ☒ 3. क्यात (Kyat)
 - ☒ 4. बात (Baht)

Question ID : 26433067379

Status : Answered

Chosen Option : 3

Q.2 उस समुच्चय का चयन कीजिए जिसमें संख्याएँ आपस में उसी प्रकार संबंधित हैं जिस प्रकार निम्नलिखित समुच्चयों की संख्याएँ आपस में संबंधित हैं। (नोट: संख्याओं को उसके घटक अंकों में विभाजित किए बिना, पूर्ण संख्याओं पर गणितीय संक्रियाएँ की जानी चाहिए। उदाहरण के लिए 13 - गणितीय संक्रियाएँ जैसे कि जोड़ना/घटाना/गुणा करना इत्यादि 13 में किया जा सकता है। 13 को 1 और 3 में विभाजित करना और फिर 1 और 3 पर गणितीय संक्रियाएँ करने की अनुमति नहीं है।)
(7, 13, 10)
(15, 21, 18)

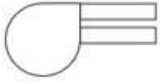
- Ans**
- ☒ 1. (9, 14, 12)
 - ☒ 2. (11, 15, 13)
 - ☒ 3. (5, 10, 15)
 - ☒ 4. (8, 15, 22)

Question ID : 26433057437

Status : Answered

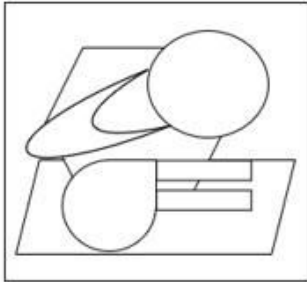
Chosen Option : 2

Q.3 उस विकल्प का चयन करें जिसमें प्रश्न में दी गई आकृति सन्निहित है
(घुमाने की अनुमति नहीं है)।

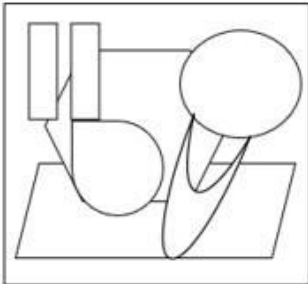


Ans

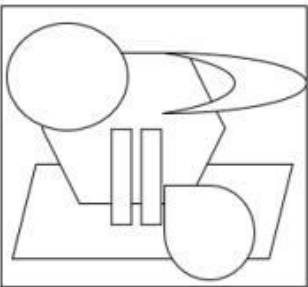
✓ 1.



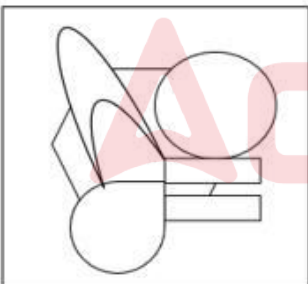
✗ 2.



✗ 3.



✗ 4.



Question ID : 26433057801

Status : Answered

Chosen Option : 1

Q.4 निम्नलिखित में से कौन-सा अक्षर-समूह दी गई श्रृंखला को तार्किक रूप से पूर्ण बनाने के लिए में प्रश्न-चिह्न
(?) को प्रतिस्थापित करेगा?
PTA, QUB, RVC, SWD, ?

Ans ✗ 1. TEX

✗ 2. XTE

✓ 3. TXE

✗ 4. XET

Question ID : 26433056074

Status : Answered

Chosen Option : 3

Q.5 यदि \times का अर्थ $+$ है, $+$ का अर्थ $-$ है, $-$ का अर्थ \div है, \div का अर्थ \times है, तो प्रश्न-चिह्न (?) के स्थान पर क्या आएगा?

$$13 \times 6 \div 18 + 98 - 7 = ?$$

Ans ☒ 1. 107

☐ 2. 95

☐ 3. 88

☐ 4. 102

Question ID : 26433068113

Status : Answered

Chosen Option : 1

Q.6 एक निश्चित कूट भाषा में, 'GARDEN' को 'OFESBH' के रूप में लिखा जाता है और 'LADDER' को 'SFEEBM' के रूप में लिखा जाता है। उसी भाषा में 'HANDLE' को किस प्रकार लिखा जाएगा?

Ans ☐ 1. FMD0BI

☐ 2. FMFOBI

☐ 3. FMGOBI

☒ 4. FME0BI

Question ID : 26433056377

Status : Answered

Chosen Option : 4

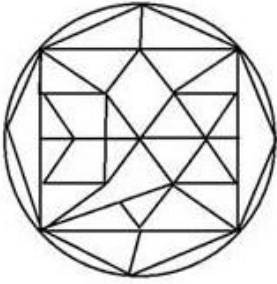


Q.7 उस विकल्प आकृति का चयन करें, जिसमें दी गई आकृति सन्निहित है (घुमाने की अनुमति नहीं है)।

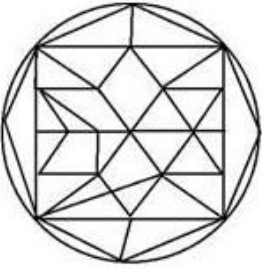


Ans

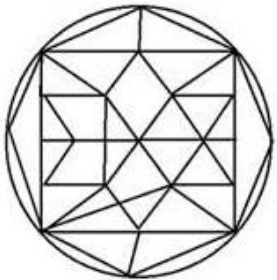
✗ 1.



✗ 2.



✓ 3.



✗ 4.



Question ID : 26433056674

Status : Answered

Chosen Option : 3

Q.8 निम्नलिखित में से कौन-सी संख्या दी गई श्रृंखला में प्रश्न चिह्न (?) के स्थान पर आएगी?
8, 10, 16, 28, ?

Ans ✓ 1. 48

✗ 2. 46

✗ 3. 56

✗ 4. 58

Question ID : 26433067646

Status : Answered

Chosen Option : 1

Q.9 तीन कथन दिए गए हैं, जिनके बाद I, II और III से क्रमांकित तीन निष्कर्ष दिए गए हैं। कथनों को सत्य मानते हुए, भले ही वे सामान्य रूप से ज्ञात तथ्यों से भिन्न प्रतीत होते हों, निर्णय लीजिए कि कौन-सा/से निष्कर्ष कथनों का तार्किक रूप से अनुसरण करता/करते है/हैं।

कथन :

कुछ चम्मच, कांटे हैं।

कुछ चिमटे, करछुल हैं।

सभी करछुल, चम्मच हैं।

निष्कर्ष:

(I) कुछ चिमटे, चम्मच हैं।

(II) कुछ कांटे, करछुल हैं।

(III) सभी करछुल, कांटे हैं।

Ans ☒ 1. केवल निष्कर्ष I अनुसरण करता है।

☒ 2. निष्कर्ष II और III दोनों अनुसरण करते हैं।

☒ 3. निष्कर्ष I और II दोनों अनुसरण करते हैं।

☒ 4. निष्कर्ष I और III दोनों अनुसरण करते हैं।

Question ID : 26433068957

Status : Answered

Chosen Option : 1

Q.10 आठ व्यक्ति दो समानांतर पंक्तियों में प्रत्येक में 4 व्यक्ति इस प्रकार बैठे हैं कि आसन्न व्यक्तियों के बीच समान दूरी है।

पंक्ति I में - L, O, V और E बैठे हैं और इन सभी का मुख दक्षिण दिशा की ओर है।

पंक्ति II में - P, I, C और T बैठे हैं और इन सभी का मुख उत्तर दिशा की ओर है।

C अपनी पंक्ति के अंतिम बाएँ छोर पर बैठे व्यक्ति के बगल में बैठा है और O के ठीक विपरीत है। V उनकी पंक्ति के अंतिम बाएँ छोर पर बैठा है और T के ठीक विपरीत है। E, V का निकटतम पड़ोसी है और P के बिल्कुल विपरीत है। उत्तर दिशा की ओर उन्मुख व्यक्तियों की पंक्ति के अंतिम बाएँ छोर पर कौन बैठा है?

Ans ☒ 1. T

☒ 2. P

☒ 3. I

☒ 4. C

Question ID : 26433068741

Status : Answered

Chosen Option : 3

Q.11 निम्नलिखित चार अक्षर-समूहों में से तीन एक निश्चित तरीके से समान हैं और एक अलग है। अलग अक्षर-समूह का चयन करें।

Ans ☒ 1. JQT

☒ 2. PKN

☒ 3. EUY

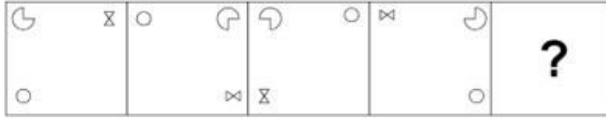
☒ 4. DWZ

Question ID : 26433057215

Status : Answered

Chosen Option : 3

Q.12 उस आकृति का चयन कीजिए, जो निम्न आकृति-श्रृंखला में प्रश्नचिह्न (?) के स्थान पर आएगी।



Ans

- ✗ 1.
- ✗ 2.
- ✗ 3.
- ✓ 4.

Question ID : 26433089604

Status : Answered

Chosen Option : 4

Q.13 उस विकल्प का चयन करें जो तीसरे पद से उसी प्रकार संबंधित है जिस प्रकार दूसरा पद पहले पद से और छठा पद पांचवें पद से संबंधित है।
88.4 : 64 :: 72.8 : ? :: 96.2 : 71.8

- Ans ✗ 1. 51.2
- ✗ 2. 50
- ✗ 3. 49
- ✓ 4. 48.4

Question ID : 26433057571

Status : Answered

Chosen Option : 1

Q.14 यदि M का अर्थ '-' है, N का अर्थ '+' है, O का अर्थ 'x' है, और P का अर्थ '÷' है तो निम्नलिखित समीकरण में '?' के स्थान पर क्या आएगा?
185 N 5 P 62 M 32 O 4 P 32 = ?

- Ans ✗ 1. 9
- ✓ 2. 3
- ✗ 3. 12
- ✗ 4. 5

Question ID : 26433057622

Status : Answered

Chosen Option : 2

Q.15 उस विकल्प का चयन कीजिए जो उन अक्षरों को निरूपित करता है जिन्हें नीचे रिक्त स्थानों में बाएँ से दाएँ रखने पर अक्षर श्रृंखला पूरी हो जाएगी।

D _ C _ F E _ C C _ _ E _ C _ E F _ D _ C E _ E

Ans ☒ 1. CEDEFCDECE

☒ 2. CEDEFDCECF

☒ 3. CEDFEDCECE

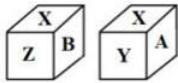
☒ 4. ECDEFDCECF

Question ID : 26433059867

Status : Answered

Chosen Option : 2

Q.16 एक घनाकार ब्लॉक की दो स्थितियाँ दर्शाई गई हैं। जब फलक w सबसे ऊपर (शीर्ष पर) होगा तो कौन-सा फलक सबसे नीचे (तल पर) होगा?



Ans ☒ 1. B

☒ 2. X

☒ 3. Z

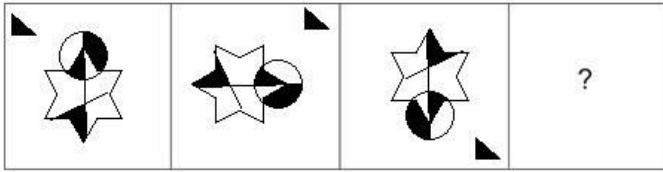
☒ 4. Y

Question ID : 26433057369

Status : Answered

Chosen Option : 2

Q.17 उस आकृति का चयन कीजिए जो नीचे दी गई श्रृंखला में प्रश्न चिह्न (?) के स्थान पर आएगी।



Ans

- ✗ 1.
- ✓ 2.
- ✗ 3.
- ✗ 4.

Question ID : 26433070428

Status : Answered

Chosen Option : 2

Q.18 एक कूट भाषा में, 'GROUP' को 'ETMWN' लिखा जाता है और 'PACTED' को 'NCAVCF' लिखा जाता है। उसी भाषा में 'LIONS' को कैसे लिखा जाएगा?

- ✓ 1. JKMPQ
- ✗ 2. JKNOQ
- ✗ 3. JGMPR
- ✗ 4. JKNPR

Question ID : 26433055257

Status : Answered

Chosen Option : 1

Q.19 यदि A का अर्थ '+' है, B का अर्थ 'x' है, C का अर्थ '-' है और D का अर्थ '÷' है, तो निम्नलिखित व्यंजक का मान क्या होगा?
32 C 16 D 8 A 4 B 2

- Ans ☒ 1. 35
☒ 2. 38
☒ 3. 98
☒ 4. 89

Question ID : 26433068695

Status : Answered

Chosen Option : 2

Q.20 दिए गए विकल्पों में से उस आकृति का चयन करें, जो निम्नलिखित शृंखला में प्रश्न-चिह्न (?) का स्थान ले सकती है।

M S	T F	● B	V S	
F	●	●	S S	T T
				B
				?

Ans

☒ 1.

T S
B V

☒ 2.

H T
B V

☒ 3.

T H
B V

☒ 4.

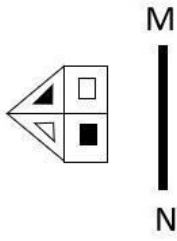
H T
B S

Question ID : 26433056829

Status : Answered

Chosen Option : 2

Q.21 दी गई आकृति के सही दर्पण प्रतिबिंब का चयन कीजिए जब दर्पण को रेखा MN पर रखा जाता है जैसा कि दिखाया गया है।



Ans

- ✗ 1.
- ✗ 2.
- ✓ 3.
- ✗ 4.

Question ID : 26433055742

Status : Answered

Chosen Option : 3

Q.22 यदि 2 मार्च 2022 को बुधवार था, तो 2 मार्च 2006 को सप्ताह का कौन-सा दिन था?

- Ans ✓ 1. गुरुवार (बृहस्पतिवार)
- ✗ 2. सोमवार
- ✗ 3. मंगलवार
- ✗ 4. शुक्रवार

Question ID : 26433057668

Status : Answered

Chosen Option : 4

Q.23 एक निश्चित कूट भाषा में 'ROBOT' को 'BOTOR' और 'BRING' को 'INGRB' लिखा जाता है। उसी भाषा में 'PANTS' कैसे लिखा जाएगा?

- Ans ✗ 1. NAPTS
- ✗ 2. STNAP
- ✗ 3. NTSPA
- ✓ 4. NTSAP

Question ID : 26433056078

Status : Answered

Chosen Option : 4

Q.24 यदि A का अर्थ '+' है, B का अर्थ 'x' है, C का अर्थ '-' है और D का अर्थ '÷' है, तो निम्नलिखित व्यंजक का मान क्या होगा?

72 D 12 A 16 C 4 B 2 = ?

- Ans
- ☒ 1. 45
 - ☒ 2. 19
 - ☒ 3. 30
 - ☒ 4. 14

Question ID : 26433085364

Status : Answered

Chosen Option : 4

Q.25 उस विकल्प का चयन करें, जो उन अक्षरों का प्रतिनिधित्व करता है, जो रिक्त स्थानों में क्रमिक रूप से बाएँ से दाएँ रखे जाने पर दी गई अक्षर श्रृंखला को पूरा करेंगे।

g _ c _ p _ c _ b c _ p s _ g _ c p _ s c

- Ans
- ☒ 1. b p s p g c b p
 - ☒ 2. b p s p p s b p
 - ☒ 3. b p c g p s b p
 - ☒ 4. b p s g p c b p

Question ID : 26433056790

Status : Answered

Chosen Option : 4

Q.26 उस शब्द-युग्म का चयन कीजिए जिसमें दोनों शब्दों के मध्य वही संबंध है जो नीचे दिए गए शब्द-युग्म के दोनों शब्दों के मध्य है।

(शब्दों को अर्थपूर्ण हिंदी शब्द माना जाना चाहिए और शब्दों को अक्षरों की संख्या/व्यंजनों की संख्या/स्वरों की संख्या के आधार पर एक दूसरे से संबंधित नहीं किया जाना चाहिए)

चिड़िया : घोंसला

- Ans
- ☒ 1. बकरी : घास
 - ☒ 2. चींटी : चीनी
 - ☒ 3. मवेशी : बाड़ा
 - ☒ 4. बाघ : केनेल

Question ID : 26433091423

Status : Answered

Chosen Option : 3

Q.27 निम्नलिखित में से कौन-सी संख्या प्रश्न-चिह्न (?) का स्थान लेगी और दी गई संख्या श्रृंखला को पूरा करेगी?

48, 50, 54, 66, 114, ?

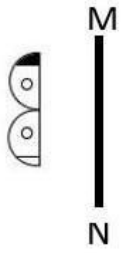
- Ans
- ☒ 1. 352
 - ☒ 2. 356
 - ☒ 3. 354
 - ☒ 4. 358

Question ID : 26433067463

Status : Answered

Chosen Option : 3

Q.28 दी गई आकृति के सही दर्पण प्रतिबिंब का चयन कीजिए जब दर्पण को रेखा MN पर रखा जाता है जैसा कि दिखाया गया है।



Ans

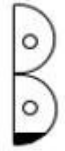
✗ 1.



✓ 2.



✗ 3.



✗ 4.



Question ID : 26433055738

Status : Answered

Chosen Option : 2

Q.29 कौन-सा विकल्प प्रस्तुत शब्दों के ऐसे सही क्रम का द्योतक है, जैसा कि वे किसी अंग्रेजी शब्दकोश में दिखें?

- 1 Measurement
- 2 Methodology
- 3 Melanin
- 4 Metaphor
- 5 Meritorious

Ans ✗ 1. 1,5,3,2,4

✗ 2. 1,4,2,5,3

✓ 3. 1,3,5,4,2

✗ 4. 3,1,5,4,2

Question ID : 26433069262

Status : Answered

Chosen Option : 3

Q.30 रॉकी बिंदु A से प्रारंभ करके पूर्व की ओर 3 km ड्राइव करता है। वह बाएँ मुड़ता है और 4 km ड्राइव करता है। वह फिर से बाएँ मुड़ता है और 3 km ड्राइव करता है। वह एक और बार बाएँ मुड़ता है और 2 km ड्राइव करता है और B पर रुकता है। बिंदु A पर फिर से पहुँचने के लिए उसे कितनी दूर और किस दिशा में ड्राइव करना चाहिए?

- Ans ☒ 1. 2 km दक्षिण की ओर
☐ 2. 3 km दक्षिण की ओर
☐ 3. 2 km उत्तर की ओर
☐ 4. 3 km पूर्व की ओर

Question ID : 26433068267

Status : Answered

Chosen Option : 1

Q.31 उस समुच्चय का चयन कीजिए, जिसमें संख्याएँ उसी प्रकार संबंधित हैं, जिस प्रकार दिए गए समुच्चय की संख्याएँ आपस में संबंधित हैं।
(नोट: संख्याओं को उसके घटक अंकों में विभाजित किए बिना, पूर्ण संख्याओं पर गणितीय संक्रियाएँ की जा सकती हैं। उदाहरण के लिए 13 - संख्या 13 पर गणितीय संक्रियाएँ जैसे कि जोड़ना/घटाना/गुणा करना आदि को 13 पर ही किया जा सकता है। 13 को 1 और 3 में विभाजित करने और फिर 1 और 3 पर गणितीय संक्रियाएँ करने की अनुमति नहीं है।)
(3, 11, 92)
(4, 8, 264)

- Ans ☐ 1. (2, 32, 50)
☒ 2. (5, 35, 660)
☐ 3. (6, 12, 676)
☐ 4. (7, 13, 2401)

Question ID : 26433057097

Status : Not Answered

Chosen Option : --

Q.32 एक निश्चित कूट भाषा में 'CLOUDS' को 'SBQAJM' के रूप में और 'BRIGHT' को 'EFRZPG' के रूप में लिखा जाता है। उसी कूट भाषा में 'DREAMY' को कैसे लिखा जाएगा?

- Ans ☐ 1. YKXCPB
☒ 2. YKWBPC
☐ 3. WKXBPC
☐ 4. YKWCBP

Question ID : 26433056199

Status : Not Answered

Chosen Option : --

Q.33 दो कथनों के बाद तीन निष्कर्ष I, II और III दिए गए हैं। कथनों को सत्य मानते हुए, भले ही वे सामान्य रूप से ज्ञात तथ्यों से भिन्न प्रतीत होते हों, यह निर्णय लीजिए कि कौन-सा/से निष्कर्ष कथनों का तार्किक रूप से अनुसरण करता है/करते हैं।

कथन:
कोई भी ट्रक बस नहीं है।
कुछ बस कार हैं।

निष्कर्ष:
I. कोई भी बस ट्रक नहीं है।
II. सभी कार ट्रक हैं।
III. कुछ कार बसें हैं।

- Ans
- ☒ 1. निष्कर्ष I, II और III अनुसरण करते हैं।
 - ☒ 2. निष्कर्ष II और III दोनों अनुसरण करते हैं।
 - ☒ 3. निष्कर्ष I और III दोनों अनुसरण करते हैं।
 - ☒ 4. निष्कर्ष I और II दोनों अनुसरण करते हैं।

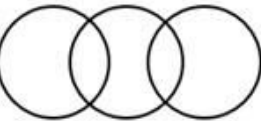
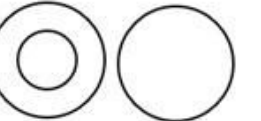

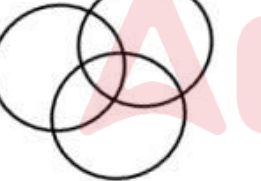
Question ID : 26433056064

Status : Answered

Chosen Option : 3

Q.34 निम्न वर्गों के बीच के संबंध को सर्वोत्तम रूप से दर्शाने वाले वेन आरेख का चयन करें।
खेल का मैदान, स्कूल, कॉलेज

Ans

- ☒ 1. 
- ☒ 2. 
- ☒ 3. 
- ☒ 4. 

Question ID : 26433067227

Status : Answered

Chosen Option : 1

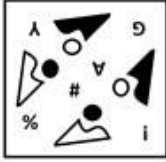
Q.35 जब दर्पण को दाहिनी ओर रखा जाता है, तो निम्नलिखित में से कौन-सी विकल्प आकृति दी गई प्रश्न आकृति का सटीक दर्पण प्रतिबिम्ब होगी?

प्रश्न आकृति:

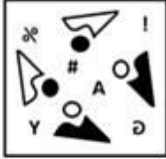


Ans

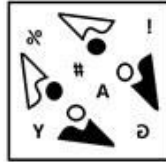
✗ 1.



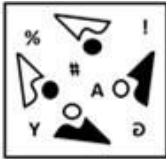
✗ 2.



✓ 3.



✗ 4.



Question ID : 26433057392

Status : Answered

Chosen Option : 3

Q.36 यदि A का अर्थ '+' है, B का अर्थ 'x' है, C का अर्थ '-' है, और D का अर्थ '÷' है तो निम्नलिखित समीकरण में '?' के स्थान पर क्या आएगा?
(51 D 17) A (21 B 9) C 78 A (16 D 4) = ?

Ans

✗ 1. 106

✗ 2. 124

✓ 3. 118

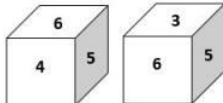
✗ 4. 112

Question ID : 26433057632

Status : Answered

Chosen Option : 3

Q.37 एक ही पासे की दो अलग-अलग स्थितियाँ दिखाई गई हैं, जिनमें छः फलकों को 1 से 6 तक संख्यांकित किया गया है। उस संख्या का चयन करें, जो '3' को दर्शाने वाले फलक के विपरीत फलक पर होगी।



Ans

✓ 1. 4

✗ 2. 2

✗ 3. 5

✗ 4. 1

Question ID : 26433058061

Status : Answered

Chosen Option : 1

Q.38 यदि A का अर्थ '+' है, B का अर्थ 'x' है, C का अर्थ '-' है और D का अर्थ '÷' है, तो निम्नलिखित व्यंजक का मान क्या होगा?
45 A 15 D 15 C 14 B 2

- Ans
- ☒ 1. 12
 - ☒ 2. 14
 - ☒ 3. 15
 - ☒ 4. 18

Question ID : 26433068705
Status : Answered
Chosen Option : 4

Q.39 अंग्रेजी वर्णमाला क्रम में स्थिति के आधार पर, निम्नलिखित में से तीन अक्षर-समूह किसी न किसी प्रकार से एक समान हैं और एक भिन्न है। भिन्न अक्षर-समूह का चयन करें।

- Ans
- ☒ 1. LOPU
 - ☒ 2. ADEJ
 - ☒ 3. FIJO
 - ☒ 4. PSTZ

Question ID : 26433065652
Status : Answered
Chosen Option : 4

Q.40 रोशनी बाज़ार में एक व्यक्ति से मिली, जो उसकी माँ के पिता की पत्नी का इकलौता पुत्र है। उस व्यक्ति की पत्नी का रोशनी से क्या संबंध है?

- Ans
- ☒ 1. पुत्री
 - ☒ 2. मामी
 - ☒ 3. बहन
 - ☒ 4. माँ

Question ID : 26433069178
Status : Answered
Chosen Option : 2

Q.41 निम्नलिखित में से कौन-सी संख्या प्रश्न-चिह्न (?) का स्थान लेगी और दी गई संख्या श्रृंखला को पूरा करेगी?
35, 36, 39, 48, ?

- Ans
- ☒ 1. 72
 - ☒ 2. 75
 - ☒ 3. 78
 - ☒ 4. 70

Question ID : 26433067465
Status : Answered
Chosen Option : 2

Q.42 * चिह्नों को क्रमानुसार प्रतिस्थापित करने और दिए गए समीकरण को संतुलित करने के लिए गणितीय चिह्नों के सही संयोजन का चयन करें।

$$(\sqrt{729 \div 9}) * 67 * 81 * (4 * 6) * 19$$

- Ans
- ☒ 1. +, -, ÷, =, -, ×
 - ☒ 2. +, -, +, +, =, ×
 - ☒ 3. ÷, +, =, -, ×, +
 - ☒ 4. ×, +, -, +, ×, =

Question ID : 26433057655

Status : Answered

Chosen Option : 3

Q.43 शहर A, शहर B के उत्तर में स्थित है। शहर D, शहर B के पूर्व में स्थित है। शहर C, शहर D के पश्चिम में स्थित है। शहर E, शहर C के दक्षिण में और शहर A के दक्षिण-पश्चिम में स्थित है। शहर C के संदर्भ में शहर B की स्थिति क्या है?

- Ans
- ☒ 1. पूर्व
 - ☒ 2. दक्षिण
 - ☒ 3. पश्चिम
 - ☒ 4. उत्तर

Question ID : 26433068156

Status : Answered

Chosen Option : 1

Q.44 आठ बच्चे P, Q, R, S, T, U, V और W एक वर्गाकार खाने की मेज के चारों ओर केंद्र की ओर मुख करके बैठे हैं। उनमें से कुछ कोनों पर बैठे हैं, जबकि कुछ मेज की भुजाओं के ठीक केंद्र में बैठे हैं। V एक कोने पर बैठा है और R किसी एक भुजा के मध्य में बैठा है। S, R का निकटतम पड़ोसी है। Q, V के दाएँ से तीसरे स्थान पर बैठा है। Q और S के बीच में ठीक दो बच्चे बैठे हैं। T, V और P दोनों का निकटतम पड़ोसी है। W, S के बाएँ से दूसरे स्थान पर बैठा है। यदि U, V का निकटतम पड़ोसी नहीं है, तो R कहाँ बैठा है?

- Ans
- ☒ 1. W के दाएँ से तीसरे स्थान पर
 - ☒ 2. W के ठीक बाएँ
 - ☒ 3. U के दाएँ से तीसरे स्थान पर
 - ☒ 4. U के बाएँ चौथा

Question ID : 26433068367

Status : Answered

Chosen Option : 1

Q.45 निम्नलिखित में से कौन-सी संख्या दी गई श्रृंखला में प्रश्न चिह्न (?) का स्थान लेगी?
83, 100, 134, ?, 253

- Ans
- ☒ 1. 168
 - ☒ 2. 151
 - ☒ 3. 185
 - ☒ 4. 253

Question ID : 26433056468

Status : Answered

Chosen Option : 3

Q.46 नीचे दो कथन दिए गए हैं, जिनके बाद दो निष्कर्ष I और II दिए गए हैं। कथनों को सत्य मानते हुए, भले ही वे सामान्य रूप से ज्ञात तथ्यों से भिन्न प्रतीत होते हों, यह निर्णय लीजिए कि कौन-सा/से निष्कर्ष कथनों का तार्किक रूप से अनुसरण करता है/करते हैं।

कथन:

कुछ पेन, मार्कर हैं।
सभी मार्कर, क्रेयॉन हैं।

निष्कर्ष:

- I. सभी पेन कभी भी क्रेयॉन नहीं हो सकते हैं।
II. कम से कम कुछ क्रेयॉन पेन हैं।

- Ans ☒ 1. केवल निष्कर्ष I अनुसरण करता है
☒ 2. केवल निष्कर्ष II अनुसरण करता है
☒ 3. निष्कर्ष I और II दोनों अनुसरण करते हैं
☒ 4. न तो निष्कर्ष I अनुसरण करता है और न ही II अनुसरण करता है

Question ID : 26433055217

Status : Answered

Chosen Option : 2

Q.47 'Q * R' का अर्थ है 'Q, R की माता है'
'Q + R' का अर्थ है 'Q, R का पति है'
'Q × R' का अर्थ है 'Q, R की बहन है'
'Q ÷ R' का अर्थ है 'Q, R का पुत्र है'
यदि 'D × O ÷ E + Y' है, तो D किस प्रकार Y से संबंधित है?


- Ans ☒ 1. पुत्री
☒ 2. भाई
☒ 3. बहन
☒ 4. पुत्र-वधू

Question ID : 26433090232

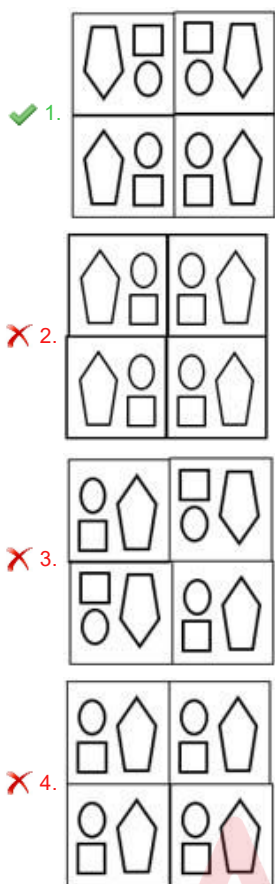
Status : Answered

Chosen Option : 1

Q.48 कागज के एक टुकड़े को मोड़ने का क्रम और जिस तरीके से मुड़े हुए कागज को काटा गया है, उसे निम्नलिखित आकृतियों में दिखाया गया है। खोले जाने पर यह कागज कैसा दिखेगा?



Ans



Question ID : 26433068394

Status : Answered

Chosen Option : 1

Q.49 निम्नलिखित में से कौन-सा अक्षर-समूह दी गई श्रृंखला में प्रश्नवाचक चिह्न (?) का स्थान लेगा?
PL, RO, TS, VX, XD, ?

- Ans
- ✗ 1. ZJ
- ✗ 2. YK
- ✗ 3. ZL
- ✓ 4. ZK

Question ID : 26433057190

Status : Answered

Chosen Option : 4

Q.50 उस विकल्प का चयन करें जो तीसरे पद से उसी प्रकार संबंधित है जिस प्रकार दूसरा पद पहले पद से और छठा पद पांचवें पद से संबंधित है।
21 : 40 :: 16 : ? :: 26 : 50

- Ans
- ☒ 1. 35
 - ☒ 2. 25
 - ☒ 3. 40
 - ☒ 4. 30

Question ID : 26433057573
Status : Answered
Chosen Option : 4

Section : General Knowledge and General Awareness

Q.1 वर्ष 2020-21 के आंकड़ों के अनुसार भारत में कौन सा राज्य दुग्ध उत्पादन में प्रथम स्थान पर है?

- Ans
- ☒ 1. गुजरात
 - ☒ 2. राजस्थान
 - ☒ 3. उत्तर प्रदेश
 - ☒ 4. आंध्र प्रदेश

Question ID : 26433067184
Status : Answered
Chosen Option : 3

Q.2 भारतीय संविधान की कौन सी विशेषता जापान के संविधान से ली गई है?

- Ans
- ☒ 1. विधि द्वारा स्थापित प्रक्रिया
 - ☒ 2. विशेषाधिकार रिट
 - ☒ 3. राष्ट्रपति और सर्वोच्च न्यायालय के न्यायाधीशों पर महाभियोग
 - ☒ 4. संविधान का संशोधन

Question ID : 26433054516
Status : Answered
Chosen Option : 1

Q.3 भारत में न्यायिक प्रणाली काफी हद तक स्वायत्त है। न्यायपालिका को भारतीय संविधान में दिए गए मूल अधिकारों की रक्षा के लिए अनुच्छेद 32 और _____ के तहत अपनी शक्तियों का उपयोग करना चाहिए।

- Ans
- ☒ 1. 13
 - ☒ 2. 11
 - ☒ 3. 10
 - ☒ 4. 12

Question ID : 26433054515
Status : Answered
Chosen Option : 2

Q.4 गवर्नर-जनरल लॉर्ड डलहौजी ने ब्रिटिश साम्राज्य के विस्तार से संबंधित निम्नलिखित में से कौन-सी नीति पेश की थी?

- Ans
- ☒ 1. सर्वोपरि नीति
 - ☒ 2. रिंग फेंस नीति
 - ☒ 3. सहायक संधि
 - ☒ 4. व्यपगत का सिद्धान्त

Question ID : 26433071402
Status : Answered
Chosen Option : 4

Q.5 कंदरिया महादेव मंदिर में, _____ अनुष्ठानिक पूजा का स्थान था, जहां केवल राजा, उनके परिवार के लोग और पुजारी एकत्रित होते थे।

- Ans
- ✓ 1. गर्भगृह
 - ✗ 2. महामंडप
 - ✗ 3. आमलक
 - ✗ 4. अंतराल

Question ID : 26433070844
Status : Not Answered
Chosen Option : --

Q.6 चकरी (Chhakri), एक सामूहिक गीत है। यह _____ के लोक संगीत का एक लोकप्रिय रूप है।

- Ans
- ✗ 1. बिहार
 - ✗ 2. पश्चिम बंगाल
 - ✗ 3. तमिलनाडु
 - ✓ 4. कश्मीर

Question ID : 26433055384
Status : Not Answered
Chosen Option : --

Q.7 संविधान के किस अनुच्छेद में कहा गया है कि 'किसी भी व्यक्ति को उसके प्राण या दैहिक स्वतंत्रता से विधि द्वारा स्थापित प्रक्रिया के अनुसार ही वंचित किया जाएगा, अन्यथा नहीं'?

- Ans
- ✓ 1. अनुच्छेद 21
 - ✗ 2. अनुच्छेद 20
 - ✗ 3. अनुच्छेद 19
 - ✗ 4. अनुच्छेद 22

Question ID : 26433071655
Status : Answered
Chosen Option : 1

Q.8 निम्नलिखित में से क्या मध्यवर्ती माल का एक उदाहरण नहीं है?

- Ans
- ✓ 1. औषधि
 - ✗ 2. स्टील
 - ✗ 3. हार्ड ड्राइव
 - ✗ 4. पेंट

Question ID : 26433059255
Status : Answered
Chosen Option : 3

Q.9 वार्षिक रिपोर्ट 2020-21 (सड़क परिवहन और राजमार्ग मंत्रालय, भारत सरकार) के अनुसार देश में राष्ट्रीय राजमार्गों की कुल लंबाई कितनी है?

- Ans
- ✗ 1. 178,300 km
 - ✗ 2. 162,700 km
 - ✓ 3. 136,440 km
 - ✗ 4. 145,500 km

Question ID : 26433071586
Status : Answered
Chosen Option : 2

Q.10 एक पारंपरिक आदिवासी नृत्य है, जो मुख्य रूप से झारखंड की महिलाओं द्वारा खेती के मौसम में किया जाता है।

- Ans
- ☒ 1. वेरा नृत्य
 - ☒ 2. यक्षगान
 - ☒ 3. वेडिंगाओ नृत्य
 - ☒ 4. झूमर

Question ID : 26433054211
Status : Answered
Chosen Option : 1

Q.11 प्रथम यूनिफाइड एशियन गेम्स का आयोजन कहाँ किया गया था?

- Ans
- ☒ 1. मनीला
 - ☒ 2. टोक्यो
 - ☒ 3. जकार्ता
 - ☒ 4. नई दिल्ली

Question ID : 26433059390
Status : Answered
Chosen Option : 4

Q.12 स्तंभों को सुमेलित कीजिए।

उपकरण	उनके कार्य
i. बोल्टमीटर	a. एक उपकरण जो धारा के परिमाण को मापता है
ii. अमीटर	b. एक उपकरण जो बोल्टेज को मापता है
iii. गैल्वेनोमीटर	c. एक उपकरण जो प्रतिरोध को मापता है
iv. ओममीटर	d. एक उपकरण जो धारा की दिशा और परिमाण को मापता है

- Ans
- ☒ 1. i-a, ii-b, iii-c, iv-d
 - ☒ 2. i-b, ii-a, iii-c, iv-d
 - ☒ 3. i-b, ii-a, iii-d, iv-c
 - ☒ 4. i-a, ii-c, iii-b, iv-d

Question ID : 26433054008
Status : Answered
Chosen Option : 3

Q.13 दिल्ली सल्तनत में, निम्नलिखित में से किन्हें बंदगान (Bandagan) के रूप में जाना जाता था?

- Ans
- ☒ 1. शाही कारखानों (Kharkhanas) में तैनात विशेष कारीगर
 - ☒ 2. धर्म परिवर्तन के लिए नियुक्त विशेष व्यक्ति
 - ☒ 3. सैन्य सेवा के लिए खरीदे गए खास गुलाम
 - ☒ 4. भू-राजस्व वसूली के लिए विशेष अधिकारी

Question ID : 26433054286
Status : Answered
Chosen Option : 4

Q.14 दक्षिण में राष्ट्रकूट वंश नामक वंश का संस्थापक कौन था?

- Ans ☒ 1. दंतिदुर्ग
☒ 2. गोपाल
☒ 3. नागभट्ट
☒ 4. विजयालय

Question ID : 26433099222

Status : Answered

Chosen Option : 1

Q.15 सूक्ष्मजीव और उसके प्रकार का/के निम्नलिखित में से कौन सा/से युग्म सही नहीं है/हैं?

- I. पैरामीशियम - कवक
II. पेनिसिलियम - प्रोटोजोआ

- Ans ☒ 1. न तो I और न ही II
☒ 2. केवल II
☒ 3. केवल I
☒ 4. I और II दोनों

Question ID : 26433055107

Status : Not Answered

Chosen Option : --

Q.16 टेस्ट मैचों में न्यूनतम ओवर दर क्या होती है?

- Ans ☒ 1. 13 ओवर/घंटे
☒ 2. 10 ओवर/घंटे
☒ 3. 15 ओवर/घंटे
☒ 4. 12ओवर/घंटे

Question ID : 26433054697

Status : Answered

Chosen Option : 4

Q.17 1950-51 में, भारत के सकल घरेलू उत्पाद (GDP) में औद्योगिक क्षेत्र की प्रतिशत हिस्सेदारी लगभग कितनी थी?

- Ans ☒ 1. 13 प्रतिशत
☒ 2. 22 प्रतिशत
☒ 3. 28 प्रतिशत
☒ 4. 16 प्रतिशत

Question ID : 26433054606

Status : Not Answered

Chosen Option : --

Q.18 निम्नलिखित में से आत्मकथा और संबंधित व्यक्तित्व के सही युग्म का चयन करें।

- Ans ☒ 1. मून वॉक : माइकल जैक्सन
☒ 2. ड्रीम्स फ्रॉम माय फादर : विजय कुमार
☒ 3. द टेस्ट ऑफ माई लाइफ : सानिया मिर्जा
☒ 4. स्ट्रेट फ्रॉम द हार्ट : बराक ओबामा

Question ID : 26433054233

Status : Not Answered

Chosen Option : --

Q.19 अकबर के प्रशासन के तहत दहसाला प्रणाली _____ से संबंधित थी।

- Ans
- ☒ 1. राजनयिक मिशन
 - ☒ 2. पत्थरों का निर्यात और आयात
 - ☒ 3. भू-राजस्व प्रणाली
 - ☒ 4. सांस्कृतिक सम्मेलन

Question ID : 26433082065

Status : Answered

Chosen Option : 3

Q.20 कैल्शियम हाइड्रॉक्साइड का सही सूत्र क्या है?

- Ans
- ☒ 1. $\text{Ca}(\text{AlOH})_4$
 - ☒ 2. $\text{Ca}(\text{OH})_4$
 - ☒ 3. CaOH
 - ☒ 4. $\text{Ca}(\text{OH})_2$

Question ID : 26433054015

Status : Answered

Chosen Option : 4

Q.21 परिधि से गहरे क्षेत्रों तक संकेंद्रित परतों में पाए जाने वाले टाइफा बुलरुश, सैगिटारिया, हाइड्रिला, रूपिया, कारा खाद्य शृंखला के किस स्तर में शामिल हैं?

- Ans
- ☒ 1. अपघटक
 - ☒ 2. प्राथमिक उपभोक्ता
 - ☒ 3. उत्पादक
 - ☒ 4. द्वितीयक उपभोक्ता

Question ID : 26433055798

Status : Not Answered

Chosen Option : --

Q.22 इनमें से किस युद्ध में मुगल सेना की भागीदारी नहीं थी?

- Ans
- ☒ 1. अलीवाल का युद्ध
 - ☒ 2. बक्सर का युद्ध
 - ☒ 3. पानीपत का दूसरा युद्ध
 - ☒ 4. हल्दीघाटी का युद्ध

Question ID : 26433099217

Status : Answered

Chosen Option : 1

Q.23 तीसरे कर्नाटक युद्ध में, ब्रिटिश ईस्ट इंडिया कंपनी ने 1760 में _____ में फ्रांसीसी सेना को हराया और भारत में फ्रांसीसी वर्चस्व के प्रति लगभग एक सदी के संघर्ष को समाप्त किया।

- Ans
- ☒ 1. अड्यार के युद्ध
 - ☒ 2. वांडीवाश के युद्ध
 - ☒ 3. अंबर के युद्ध
 - ☒ 4. आर्कोट की घेराबंदी

Question ID : 26433099223

Status : Answered

Chosen Option : 2

Q.24 जावा सांस्कृतिक उत्सव निम्नलिखित में से किस भारतीय राज्य में मनाया जाता है?

- Ans
- ☒ 1. तमिलनाडु
 - ☒ 2. राजस्थान
 - ☒ 3. झारखंड
 - ☒ 4. गुजरात

Question ID : 26433064666
Status : Answered
Chosen Option : 3

Q.25 जलवायु-क्षेत्र युग्म का निम्नलिखित में से कौन-सा प्रकार सुमेलित नहीं है?

- I. अर्ध-शुष्क मैदानी जलवायु – पंजाब
II. शुष्क गर्मी के साथ मानसून - तमिलनाडु का कोरोमंडल तट

- Ans
- ☒ 1. केवल I
 - ☒ 2. केवल II
 - ☒ 3. I और II दोनों
 - ☒ 4. न तो I और न ही II

Question ID : 26433055820
Status : Not Answered
Chosen Option : --

Q.26 मौलिक कर्तव्यों का _____, सामाजिक और आर्थिक महत्व है।

- Ans
- ☒ 1. ऐतिहासिक
 - ☒ 2. राजनीतिक
 - ☒ 3. धार्मिक
 - ☒ 4. नैतिक

Question ID : 26433069869
Status : Answered
Chosen Option : 4

Q.27 _____ मुख्य रूप से पैकेजिंग सामग्री का कार्य करता है, जिसे या तो इंट्रा-सेलुलर लक्ष्यों तक पहुंचाया जाता है या कोशिका के बाहर स्रावित किया जाता है।

- Ans
- ☒ 1. रिक्तिकाएं
 - ☒ 2. अन्तः प्रद्वयी जलिका
 - ☒ 3. लाइसोसोम
 - ☒ 4. गॉल्जीकाय

Question ID : 26433055118
Status : Answered
Chosen Option : 2

Q.28 2011 की जनगणना के अनुसार, भारत में पुरुष साक्षरता दर और महिला साक्षरता दर का अंतर कितना है?

- Ans
- ☒ 1. 15.23 प्रतिशत
 - ☒ 2. 16.68 प्रतिशत
 - ☒ 3. 14.96 प्रतिशत
 - ☒ 4. 17.98 प्रतिशत

Question ID : 26433089240
Status : Answered
Chosen Option : 3

Q.29 कौन-सा कोशिकांग ER जैसी मोटाई वाला एक के ऊपर एक लगी हुई झिल्लीदार थैली है, जो प्रोटीन और लिपिड अणुओं, विशेष रूप से स्थायी प्रोटीन को संसाधित करने और उसकी पैकेजिंग में सहायक होता है?

- Ans
- ☐ 1. लाइसोसोम
 - ☐ 2. माइटोकॉन्ड्रिया
 - ☐ 3. लवक
 - ☒ 4. गॉल्जी उपकरण

Question ID : 26433055119
Status : Answered
Chosen Option : 4

Q.30 सितंबर 2022 में, भारत द्वारा व्यापारिक माल के निर्यात (merchandise exports) का मूल्य कितना है?

- Ans
- ☐ 1. 61.16 बिलियन USD
 - ☐ 2. 18.23 बिलियन USD
 - ☐ 3. 108.59 बिलियन USD
 - ☒ 4. 35.45 बिलियन USD

Question ID : 26433054619
Status : Not Answered
Chosen Option : --

Q.31 निम्नलिखित में से कौन से प्रकार के तत्व आवर्त सारणी के सबसे बाएं समूह में शामिल है?

- Ans
- ☐ 1. उत्कृष्ट गैसें
 - ☒ 2. क्षारीय धातु
 - ☐ 3. हैलोजन
 - ☐ 4. अधातु

Question ID : 26433054018
Status : Answered
Chosen Option : 2

Q.32 भारत ने महिला क्रिकेट का विश्व कप कितनी बार जीता है?

- Ans
- ☐ 1. एक बार
 - ☐ 2. दो बार
 - ☐ 3. तीन बार
 - ☒ 4. एक बार भी नहीं

Question ID : 26433054667
Status : Answered
Chosen Option : 4

Q.33 निम्नलिखित में से किसे 'देश के लोकतंत्र का मंदिर' कहा जाता है?

- Ans
- ☐ 1. अशोक स्तम्भ
 - ☐ 2. सर्वोच्च न्यायालय
 - ☒ 3. संसद
 - ☐ 4. राज घाट

Question ID : 26433054102
Status : Answered
Chosen Option : 2

Q.34 भारतीय राष्ट्रीय कांग्रेस के _____ के अधिवेशन में 'सूरत विभाजन' हुआ था।

- Ans
- ☒ 1. 1908
 - ☒ 2. 1907
 - ☒ 3. 1905
 - ☒ 4. 1906

Question ID : 26433055013

Status : Answered

Chosen Option : 2

Q.35 स्तंभ A में झीलों का मिलान स्तंभ B में उनके देशों के साथ करें।

स्तंभ -A	स्तंभ -B
i. बैकाल झील	a. युगांडा और तंजानिया
ii. झील सुपीरियर	b. कनाडा और यूएसए
iii. लोच लोमंड	c. स्कॉटलैंड
iv. विक्टोरिया झील	d. रूस

- Ans
- ☒ 1. i-a, ii-b, iii-c, iv-d
 - ☒ 2. i-a, ii-c, iii-b, iv-d
 - ☒ 3. i-a, ii-d, iii-b, iv-c
 - ☒ 4. i-d, ii-b, iii-c, iv-a

Question ID : 26433054950

Status : Answered

Chosen Option : 4

Q.36 लवक और उसमें संग्रहित का/के निम्नलिखित में से कौन सा/से युग्म सही नहीं है/हैं?

- I. अमाइलोप्लास्ट - तेल और वसा
II. एल्यूरोप्लास्ट - कार्बोहाइड्रेट

- Ans
- ☒ 1. केवल I
 - ☒ 2. I और II दोनों
 - ☒ 3. केवल II
 - ☒ 4. न तो I और न ही II

Question ID : 26433055120

Status : Not Answered

Chosen Option : --

Q.37 30 सितंबर 2022 तक, अंतरराष्ट्रीय ओलंपिक समिति (IOC) के अध्यक्ष कौन थे?

- Ans
- ☒ 1. जैक काउंट रो (Jacques Count Rogge)
 - ☒ 2. थॉमस बाक (Thomas Bach)
 - ☒ 3. लार्ड किलेनिन (Lord Killanin)
 - ☒ 4. दिमित्री विकेलस (Demetrius Vikelas)

Question ID : 26433059385

Status : Answered

Chosen Option : 2

Q.38 निम्नलिखित में से किस भारतीय राज्य में दुन्नापोथुला पांडुंगा मनाया जाता है?

- Ans
- ☒ 1. तमिलनाडु
 - ☒ 2. तेलंगाना
 - ☒ 3. असम
 - ☒ 4. पश्चिम बंगाल

Question ID : 26433064672

Status : Answered

Chosen Option : 1

Q.39 भारत के संविधान का कौन सा अनुच्छेद किसी राज्य की सरकार के कामकाज के संचालन से संबंधित है?

- Ans
- ☒ 1. अनुच्छेद 164
 - ☒ 2. अनुच्छेद 166
 - ☒ 3. अनुच्छेद 163
 - ☒ 4. अनुच्छेद 165

Question ID : 26433064727

Status : Answered

Chosen Option : 3

Q.40 17वीं शताब्दी ईस्वी के किस असाधारण विद्वान और कलाकार ने कुचीपुडी पर आधारित एक नृत्य नाटक भामाकलापम की रचना की?

- Ans
- ☒ 1. सिद्धार्थ योगी
 - ☒ 2. शिवेंद्र योगी
 - ☒ 3. सचिंद्र योगी
 - ☒ 4. सिद्धेंद्र योगी

Question ID : 26433090723

Status : Not Answered

Chosen Option : --

Q.41 उस्ताद बुंदू खान और संतोष मिश्रा किस वाद्य-यंत्र के प्रसिद्ध वादक हैं?

- Ans
- ☒ 1. शहनाई
 - ☒ 2. सितार
 - ☒ 3. सरोद
 - ☒ 4. सारंगी

Question ID : 26433054403

Status : Answered

Chosen Option : 1

Q.42 निम्नलिखित में से कौन-सा हमारे शरीर में कैल्शियम का कार्य नहीं है?

- Ans
- ☒ 1. यह मांसपेशियों को सिकोड़ने में मदद करता है।
 - ☒ 2. यह पाचन तंत्र में मदद करता है।
 - ☒ 3. यह रक्त के थक्के जमने में महत्वपूर्ण भूमिका निभाता है।
 - ☒ 4. यह स्वस्थ हड्डियों और दांतों से जुड़ा है।

Question ID : 26433054917

Status : Answered

Chosen Option : 2

Q.43 MNCs के विषय में निम्नलिखित में से कौन कथन सही है/हैं?

कथन:

- 1) एक बहुराष्ट्रीय कंपनी एक ऐसी कंपनी है जो एक से अधिक देशों में उत्पादन का स्वामित्व या नियंत्रण करती है।
- 2) वे स्वदेश में एकाधिकार स्थापित करती हैं।
- 3) उन्हें राजविहीन संगठन भी कहा जाता है।

- Ans
- ☒ 1. केवल कथन 1
 - ☒ 2. केवल कथन 2
 - ☒ 3. केवल कथन 1 और 2
 - ☒ 4. केवल कथन 1 और 3

Question ID : 26433059306

Status : Not Answered

Chosen Option : --

Q.44 मंत्रिपरिषद् सामूहिक रूप से किसके प्रति उत्तरदायी होती है?

- Ans
- ☒ 1. लोकसभा और राज्य-सभा दोनों
 - ☒ 2. संसद
 - ☒ 3. भारत के राष्ट्रपति
 - ☒ 4. लोकसभा

Question ID : 26433054091

Status : Answered

Chosen Option : 2

Q.45 निम्नलिखित में से किसका रासायनिक नाम सोडियम हाइड्रोजन कार्बोनेट है?

- Ans
- ☒ 1. बेकिंग सोडा
 - ☒ 2. बेकिंग पाउडर
 - ☒ 3. धावन सोडा
 - ☒ 4. प्लास्टर ऑफ पेरिस

Question ID : 26433055808

Status : Answered

Chosen Option : 1

Q.46 कदम्ब स्कूल ऑफ डांस एंड म्यूजिक की संस्थापक कुमुदिनी लाखिया एक _____ नृत्यांगना हैं।

- Ans
- ☒ 1. भरतनाट्यम
 - ☒ 2. कुचिपुड़ी
 - ☒ 3. कथक
 - ☒ 4. कथकली

Question ID : 26433054138

Status : Not Answered

Chosen Option : --

Q.47 देवका बीच, जहां दूर तक फैली हुई काली रेत अत्यंत सुंदर दृश्य निर्मित करती है, _____ में स्थित है।

- Ans
- ☒ 1. विजयवाड़ा
 - ☒ 2. कोच्चि
 - ☒ 3. मुंबई
 - ☒ 4. दमन

Question ID : 26433081915

Status : Not Answered

Chosen Option : --

Q.48 फास्फोरस की परमाणुता क्या है?

- Ans ☒ 1. चतुष्परमाणुक
☒ 2. द्विपरमाणुक
☒ 3. बहु-परमाणुक
☒ 4. एकपरमाणुक

Question ID : 26433064128
 Status : Not Answered
 Chosen Option : --

Q.49 तवा बाँध भारत के किस राज्य में स्थित है?

- Ans ☒ 1. मध्य प्रदेश
☒ 2. हरियाणा
☒ 3. उत्तर प्रदेश
☒ 4. राजस्थान

Question ID : 26433074147
 Status : Answered
 Chosen Option : 1

Q.50 प्रसिद्ध संगीतकार सत्यदेव पवार किस वाद्य-यंत्र से संबंधित हैं?

- Ans ☒ 1. वायलिन
☒ 2. वीणा
☒ 3. शहनाई
☒ 4. सितार

Question ID : 26433054402
 Status : Not Answered
 Chosen Option : --

Section : Quantitative Aptitude

Q.1 यदि संख्या $86y5$, 3 से पूर्णतः विभाज्य है, तो y का न्यूनतम मान क्या होगा?

- Ans ☒ 1. 3
☒ 2. 2
☒ 3. 1
☒ 4. 0

Question ID : 26433061349
 Status : Answered
 Chosen Option : 2

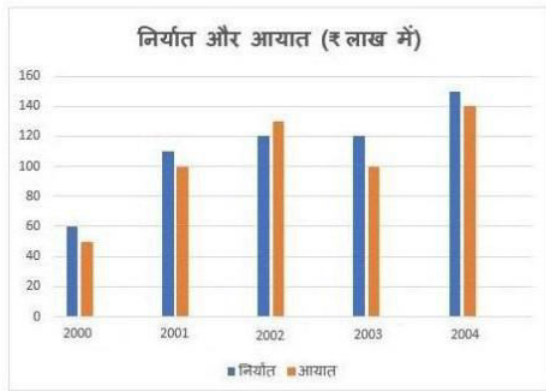
Q.2 8 cm ऊँचाई और 6 cm त्रिज्या वाले एक बेलन को पिघलाया जाता है और बेलन की त्रिज्या और ऊँचाई के समान त्रिज्या वाले 3 शंकुओं में परिवर्तित किया जाता है। शंकु का कुल वक्र पृष्ठीय क्षेत्रफल ज्ञात कीजिए।

- Ans ☒ 1. $120 \pi \text{ cm}^2$
☒ 2. $180 \pi \text{ cm}^2$
☒ 3. $144 \pi \text{ cm}^2$
☒ 4. $60 \pi \text{ cm}^2$

Question ID : 26433071352
 Status : Not Attempted and Marked For Review
 Chosen Option : --

Q.3 दिए गए बार-ग्राफ का अध्ययन कीजिए और नीचे दिए गए प्रश्न का उत्तर दीजिए।

बार-ग्राफ 2000 से 2004 तक किसी कंपनी के निर्यात और आयात (₹ लाख में) को दर्शाता है।



2000 से 2004 तक औसत निर्यात कितना (लाख में) है?

- Ans
- ☒ 1. 112
 - ☐ 2. 125
 - ☐ 3. 100
 - ☐ 4. 130

Question ID : 26433075248

Status : Answered

Chosen Option : 3

Q.4 एक दुकानदार एक वस्तु के खुदरा मूल्य पर 20% कमीशन देता है और 5% लाभ अर्जित करता है। यदि उसके कमीशन में 10% की कमी की जाती है, तो उसका लगभग लाभ प्रतिशत कितना है? (निकटतम पूर्णांकीय मान)

- Ans
- ☐ 1. 8%
 - ☒ 2. 18%
 - ☐ 3. 15%
 - ☐ 4. 10%

Question ID : 26433079926

Status : Not Answered

Chosen Option : --

Q.5 $\cos\left(-\frac{7\pi}{2}\right)$ ज्ञात कीजिए।

- Ans
- ☐ 1. $\frac{1}{2}$
 - ☐ 2. -1
 - ☐ 3. 1
 - ☒ 4. 0

Question ID : 26433057158

Status : Answered

Chosen Option : 3

Q.6 एक स्कूल में विभिन्न विषयों में शिक्षकों की कुल संख्या और उनमें से महिलाओं का संबंधित प्रतिशत निम्न तालिका में दिया गया है। तालिका का अध्ययन करें और निम्नलिखित प्रश्न का उत्तर दें।

विषय	शिक्षकों की कुल संख्या	महिलाओं का प्रतिशत
हिन्दी	50	80
अंग्रेजी	40	90
गणित	60	35
विज्ञान	55	40
वाणिज्य	30	50
सामाजिक विज्ञान	40	75

सामाजिक विज्ञान में पुरुष शिक्षकों की संख्या का महिला शिक्षकों से अनुपात कितना है?

- Ans
- ☒ 1. 2 : 3
- ☒ 2. 1 : 3
- ☒ 3. 3 : 1
- ☒ 4. 3 : 2

Question ID : 26433073150

Status : Answered

Chosen Option : 2

Q.7 यदि एक गोले की त्रिज्या 10% बढ़ जाती है, तो गोले के पृष्ठीय क्षेत्रफल में क्या परिवर्तन होगा?

- Ans
- ☒ 1. 31%
- ☒ 2. 25%
- ☒ 3. 21%
- ☒ 4. 20%

Question ID : 26433071347

Status : Answered

Chosen Option : 3

Q.8 निम्न तालिका 2015 में मई, जून, जुलाई और अगस्त के महीनों के दौरान अपने मौखिक स्वास्थ्य से संबंधित मुद्दों के लिए दंत चिकित्सा क्लिनिक में जाने वाले रोगियों की संख्या दर्शाती है। तालिका का ध्यानपूर्वक अध्ययन करें और नीचे दिए गए प्रश्न का उत्तर दें।

महीना (2015)	दांतों की सफाई और पॉलिश	क्राउन फिक्सिंग और ब्रिजिंग	ऑर्थोडॉंटिक उपचार	दांत चमकाना
मई	410	880	680	360
जून	160	970	790	270
जुलाई	520	680	460	530
अगस्त	440	590	1020	280

2015 में दिए गए महीनों के लिए, दांतों की सफाई और पॉलिश, क्राउन फिक्सिंग और ब्रिजिंग और दांत चमकाने के लिए

दंत चिकित्सा क्लिनिक में आने वाले रोगियों की औसत संख्या, ऑर्थोडॉंटिक उपचार के लिए दंत चिकित्सालय में आने वाले रोगियों की औसत संख्या से कितने प्रतिशत अधिक/कम है? (1 दशमलव स्थान तक पूर्णांकित)

- Ans
- ☒ 1. 31.2 प्रतिशत कम
- ☒ 2. 38.9 प्रतिशत अधिक
- ☒ 3. 38.9 प्रतिशत कम
- ☒ 4. 31.2 प्रतिशत अधिक

Question ID : 26433063250

Status : Not Answered

Chosen Option : --

Q.9 A, B और C के वेतन $\frac{2}{3} : \frac{5}{4} : \frac{4}{3}$ के अनुपात में हैं। A और B का वेतन मिलाकर Rs.40,500 है। A का वेतन, C के वेतन से कितने प्रतिशत अधिक है?

- Ans
- ☒ 1. 11.5%
 - ☒ 2. 12%
 - ☒ 3. 13%
 - ☒ 4. 12.5%

Question ID : 26433056308

Status : Answered

Chosen Option : 4

Q.10 दी गई तालिका का अध्ययन कीजिए और उसके बाद पूछे गए प्रश्न का उत्तर दीजिए।

	विभिन्न अनाजों का उत्पादन (मिलियन टन में)			
वर्ष	चावल	गेहूँ	जौ	अन्य
2016	6800	2700	2500	4500
2017	8000	4200	4400	3000
2018	6800	3500	5200	4600
2019	7200	4000	5800	5000
2020	8200	5600	6100	6900

कौन सा अनाज दिए गए वर्षों में अपने उत्पादन में निरंतर वृद्धि दर्शाता है?

- Ans
- ☒ 1. अन्य
 - ☒ 2. गेहूँ
 - ☒ 3. जौ
 - ☒ 4. चावल

Question ID : 26433075443

Status : Answered

Chosen Option : 3

Q.11 रमेश के वेतन में पहले 35% की वृद्धि होती है, फिर 40% की कमी होती है, फिर 25% की वृद्धि होती है। कुल वृद्धि या कमी का प्रतिशत ज्ञात कीजिए।

- Ans
- ☒ 1. 1.25% की वृद्धि
 - ☒ 2. 2.25% की कमी
 - ☒ 3. 1.25% की कमी
 - ☒ 4. 2.25% की वृद्धि

Question ID : 26433064963

Status : Answered

Chosen Option : 1

Q.12 दो संख्याओं का अनुपात 5 : 7 है और उनका महत्तम समापवर्तक (HCF) 3 है। उनका लघुत्तम समापवर्त्य (LCM) ज्ञात कीजिए।

- Ans
- ☒ 1. 125
 - ☒ 2. 105
 - ☒ 3. 35
 - ☒ 4. 75

Question ID : 26433063668

Status : Answered

Chosen Option : 2

Q.13 एक निश्चित दूरी को तय करने हेतु 20% समय कम करने के लिए एक धावक को कितने प्रतिशत चाल बढ़ानी चाहिए?

- Ans
- ☐ 1. 30%
 - ☐ 2. 35%
 - ☐ 3. 40%
 - ☒ 4. 25%

Question ID : 26433061065
Status : Answered
Chosen Option : 4

Q.14 छह अंकों की वह बड़ी से बड़ी संख्या कौन सी है, जिसे 16, 24, 72 और 84 में से प्रत्येक से विभाजित करने पर, शेषफल 15 बचता है?

- Ans
- ☐ 1. 999981
 - ☐ 2. 999915
 - ☐ 3. 999963
 - ☒ 4. 999951

Question ID : 26433099304
Status : Not Answered
Chosen Option : --

Q.15 एक कक्षा में 25 लड़कियों की औसत आयु 11.2 वर्ष है और शेष 15 लड़कियों की औसत आयु 10 वर्ष है। कक्षा में सभी लड़कियों की औसत आयु ज्ञात कीजिए।

- Ans
- ☐ 1. 10.45 वर्ष
 - ☐ 2. 11.05 वर्ष
 - ☒ 3. 10.75 वर्ष
 - ☐ 4. 11.35 वर्ष

Question ID : 26433074266
Status : Answered
Chosen Option : 3

Q.16 दो लंबवृत्तीय शंकुओं की ऊँचाइयों का अनुपात 1 : 5 है और उनके आधार की परिधियों का अनुपात 5 : 3 के है। उनके आयतनों का अनुपात ज्ञात करें।

- Ans
- ☐ 1. 8 : 11
 - ☒ 2. 5 : 9
 - ☐ 3. 7 : 6
 - ☐ 4. 3 : 4

Question ID : 26433061388
Status : Answered
Chosen Option : 2

Q.17 विभिन्न कार्य (T1, T2, T3) के लिए श्रमिकों (W1, W2, W3, W4, W5, W6) की मजदूरी दी गई है-



कार्य T1 और कार्य T3 के लिए प्रति कर्मचारी औसत वेतन में कितना अंतर है?

Ans

- ☒ 1. $\frac{2}{3}$
☒ 2. $\frac{1}{4}$
☒ 3. $\frac{1}{3}$
☒ 4. $\frac{1}{2}$

Question ID : 26433066181

Status : Not Answered

Chosen Option : --

Q.18 निम्न तालिका से माध्य की गणना कीजिए।

अंक	बारंबारता
0 - 10	2
10 - 20	4
20 - 30	12
30 - 40	21
40 - 50	6
50 - 60	3
60 - 70	2

Ans

- ☒ 1. 34.2
☒ 2. 33.4
☒ 3. 35.8
☒ 4. 32.6

Question ID : 26433075515

Status : Not Answered

Chosen Option : --

Q.19 एक वृत्त के त्रिज्यखंड का क्षेत्रफल 128 cm^2 है। यदि उस त्रिज्यखंड के चाप की लंबाई 64 cm है, तो वृत्त की त्रिज्या ज्ञात कीजिए।

- Ans
- ☒ 1. 16 cm
 - ☒ 2. 4 cm
 - ☒ 3. 8 cm
 - ☒ 4. 2 cm

Question ID : 26433061754

Status : Answered

Chosen Option : 1

Q.20 जब Rs.15,625 की राशि 3 वर्षों के लिए 4% प्रति वर्ष की दर पर निवेशित हो, तो उसके चक्रवृद्धि ब्याज और साधारण ब्याज के बीच अंतर ज्ञात कीजिए।

- Ans
- ☒ 1. Rs.86
 - ☒ 2. Rs.76
 - ☒ 3. Rs.56
 - ☒ 4. Rs.96

Question ID : 26433063886

Status : Answered

Chosen Option : 2

Q.21 यदि $\cos \theta + \sec \theta = 2$ है, तो $\sin^6 \theta + \cos^6 \theta$ का मान _____ होगा।

- Ans
- ☒ 1. 1
 - ☒ 2. $1/2$
 - ☒ 3. $1/3$
 - ☒ 4. 0

Question ID : 26433075904

Status : Answered

Chosen Option : 1

Q.22 $(\operatorname{cosec} A + \cot A)(1 - \cos A)$ का मान क्या है?

- Ans
- ☒ 1. $\cot A$
 - ☒ 2. $\tan A$
 - ☒ 3. $\sin A$
 - ☒ 4. $\cos A$

Question ID : 26433061366

Status : Answered

Chosen Option : 3

Q.23 एक वस्तु का क्रय मूल्य ₹1,200 है। ऐसी चार वस्तुएँ खरीदने पर ग्राहक को एक वस्तु निःशुल्क मिलती है। यदि प्रत्येक वस्तु का विक्रय मूल्य ₹1,800 है, तो चार वस्तुओं को बेचने पर दुकानदार द्वारा अर्जित शुद्ध प्रतिशत लाभ ज्ञात कीजिए।

- Ans
- ☒ 1. 12%
 - ☒ 2. 15%
 - ☒ 3. 20%
 - ☒ 4. 18%

Question ID : 26433074285

Status : Answered

Chosen Option : 3

Q.24 यदि संख्या 27B58A4, 88 द्वारा पूर्णतः विभाज्य है, तो (A+B) का न्यूनतम मान ज्ञात कीजिए।

- Ans
- ☒ 1. 7
 - ☒ 2. 2
 - ☒ 3. 5
 - ☒ 4. 4

Question ID : 26433061436

Status : Answered

Chosen Option : 2

Q.25 यदि संख्या 476 ** 0, 3 और 11 दोनों से विभाज्य है, तो सैकड़े और दहाई के स्थान पर, गैर-शून्य अंक क्रमशः क्या होंगे?

- Ans
- ☒ 1. 8 और 5
 - ☒ 2. 5 और 8
 - ☒ 3. 3 और 2
 - ☒ 4. 2 और 3

Question ID : 26433057116

Status : Answered

Chosen Option : 1

Q.26 एक बस पहले 1/2 घंटे के लिए 100 km/h की चाल से चलती है। बाद में यह 80 km/h की चाल से चलती है। 290 km की दूरी तय करने के लिए बस द्वारा लिया गया समय ज्ञात कीजिए।

- Ans
- ☒ 1. 4 घंटे
 - ☒ 2. 3 घंटे
 - ☒ 3. 3.5 घंटे
 - ☒ 4. 2.5 घंटे

Question ID : 26433061160

Status : Answered

Chosen Option : 3

Q.27 क्रमशः 121 m और 99 m लंबी दो ट्रेनें विपरीत दिशाओं में चल रही हैं, जिनमें से एक की चाल 40 km/h है और दूसरी की चाल 32 km/h है। उनके मिलने के समय से कितनी देर में वे एक दूसरे को पूरी तरह से पार कर लेंगी?

- Ans
- ☒ 1. 11 sec
 - ☒ 2. 12 sec
 - ☒ 3. 10 sec
 - ☒ 4. 13 sec

Question ID : 26433063895

Status : Answered

Chosen Option : 1

Q.28 A एक काम को 8 दिनों में पूरा कर सकता है और B उसी काम को 11 दिनों में पूरा कर सकता है। यदि दोनों एक साथ काम करते हैं, तो उन्हें इस काम को पूरा करने में कितना समय लगेगा?

- Ans
- ✗ 1. $4\frac{11}{19}$ दिन
- ✗ 2. $4\frac{12}{17}$ दिन
- ✓ 3. $4\frac{12}{19}$ दिन
- ✗ 4. $5\frac{12}{19}$ दिन

Question ID : 26433065099

Status : Answered

Chosen Option : 3

Q.29 16 पारियों में एक बल्लेबाज का औसत 36 है। अगली पारी में, वह 70 रन बनाता है। उसका नया औसत क्या होगा?

- Ans
- ✗ 1. 35
- ✓ 2. 38
- ✗ 3. 106
- ✗ 4. 53

Question ID : 26433056869

Status : Answered

Chosen Option : 2

Q.30 दी गई तालिका का अध्ययन कीजिए और उसके बाद पूछे गए प्रश्न का उत्तर दीजिए।
2020 की पहली छमाही के दौरान एक कंपनी द्वारा मास्क का उत्पादन (मिलियन में)

माह प्रकार	अप्रैल	मई	जून	जुलाई	अगस्त	सितंबर
सर्जिकल	250	250	180	400	200	150
एन 95 (N 95)	250	270	500	450	300	200
एफएफपी1	250	270	150	250	300	200
सक्रियित कार्बन	250	260	250	330	300	350
कपड़े और स्पंज	250	260	260	350	320	240
कुल	1250	1310	1340	1750	1420	1140

सक्रियित मास्क के मामले में, किन दो महीनों में उत्पादन बराबर था?

- Ans
- ✗ 1. अप्रैल, मई
- ✗ 2. जुलाई, सितंबर
- ✓ 3. अप्रैल, जून
- ✗ 4. अप्रैल, जुलाई

Question ID : 26433075444

Status : Answered

Chosen Option : 3

Q.31 $(1 + \cot^2 \theta)(1 - \cos \theta)(1 + \cos \theta)$ को हल कीजिए।

- Ans
- ✗ 1. 3
- ✗ 2. -3
- ✗ 3. -5
- ✓ 4. 1

Question ID : 26433061761

Status : Answered

Chosen Option : 4

Q.32 एक पिता की आयु और उसके पुत्र की आयु का अनुपात 3 : 2 है, उनकी आयु को दर्शाने वाली संख्याओं का गुणनफल 486 है। 5 वर्ष बाद उनकी आयु का अनुपात क्या होगा?

- Ans
- ✓ 1. 32:23
 - ✗ 2. 32:21
 - ✗ 3. 32:24
 - ✗ 4. 32:22

Question ID : 26433063405
Status : Answered
Chosen Option : 1

Q.33 दो समरूप त्रिभुजों के परिमाप क्रमशः 36 cm और 24 cm हैं। उनके क्षेत्रफलों का अनुपात ज्ञात कीजिए।

- Ans
- ✗ 1. 2 : 3
 - ✗ 2. 6 : 13
 - ✓ 3. 9 : 4
 - ✗ 4. 35 : 24

Question ID : 26433061751
Status : Answered
Chosen Option : 3

Q.34 A और B 1200 m लंबे वृत्ताकार ट्रैक पर 12 km की दौड़ लगाते हैं। वे क्रमशः 300 सेकंड और 400 सेकंड में एक चक्कर पूरा करते हैं। प्रारंभ से कितने समय बाद तेज व्यक्ति, धीमे व्यक्ति से अंतिम बार मिलेगा?

- Ans
- ✗ 1. 9600 सेकंड
 - ✓ 2. 2400 सेकंड
 - ✗ 3. 8400 सेकंड
 - ✗ 4. 10800 सेकंड

Question ID : 26433066247
Status : Answered
Chosen Option : 3

Q.35 यदि $x^2 + 6x + 1 = 0$ है, तो $(x + 6)^3 + \frac{1}{(x+6)^3}$ का मान ज्ञात करें।

- Ans
- ✗ 1. 245
 - ✓ 2. 198
 - ✗ 3. 186
 - ✗ 4. 216

Question ID : 26433066344
Status : Answered
Chosen Option : 2

Q.36 निम्न तालिका पिछले 5 वर्ष में क्रिकेटर्स द्वारा बनाए गए शतकों की संख्या दर्शाती है।

क्रिकेटर \ वर्ष	2021	2020	2019	2018	2017
A	1	0	2	1	1
B	1	2	0	0	1
C	0	0	1	1	0
D	0	1	1	0	1
E	1	0	1	0	1

उल्लिखित वर्षों में किन दो खिलाड़ियों द्वारा बनाए गए शतकों की कुल संख्या समान है?

- Ans
- ☐ 1. D और B
- ☐ 2. A और E
- ☒ 3. D और E
- ☐ 4. A और C

Question ID : 26433079966

Status : Answered

Chosen Option : 3

Q.37 8 cm और 3 cm त्रिज्या वाले क्रमशः दो वृत्त, 13 cm की दूरी पर हैं। AB दोनों वृत्तों की उभयनिष्ठ सामान्य स्पर्श रेखा है। A और B की क्रमशः लंबाई ज्ञात करें।

- Ans
- ☒ 1. 12 cm
- ☐ 2. 6 cm
- ☐ 3. 8 cm
- ☐ 4. 10 cm

Question ID : 26433075868

Status : Answered

Chosen Option : 1

Q.38 $\frac{\frac{5}{2} - \frac{3}{7} \times 1\frac{4}{5} + 3\frac{6}{7}}{\frac{3}{2} + 1\frac{2}{5} + 3\frac{1}{2} \times 1\frac{1}{4}}$ का मान ज्ञात कीजिए।

- Ans
- ☐ 1. $1\frac{2}{20}$
- ☐ 2. $1\frac{7}{20}$
- ☐ 3. $2\frac{3}{20}$
- ☒ 4. $1\frac{3}{20}$

Question ID : 26433064874

Status : Answered

Chosen Option : 4

Q.39

 $\{1 + 7 + (16 \div 8 \div 2)\} + \{(6 \times 2^2 + 6) \times \frac{2}{\sqrt{36}}\}$ का मान ज्ञात करें।

- Ans
- ☒ 1. 17
 - ☒ 2. 21
 - ☒ 3. 19
 - ☒ 4. 12

Question ID : 26433061233

Status : Answered

Chosen Option : 3

Q.40

दी गई तालिका का अध्ययन कीजिए और उसके बाद प्रश्नों के उत्तर दीजिए।
चार छात्रों A, B, C और D द्वारा गणित, सांख्यिकी और कंप्यूटर में प्राप्त अंक निम्न तालिका में दिए गए हैं।

विषय \ छात्र	A	B	C	D
गणित	60	50	70	75
सांख्यिकी	70	45	60	80
कंप्यूटर	80	55	55	75

दी गई तालिका के अनुसार, प्राप्त कुल अंकों के आधार पर छात्रों में से किसने प्रथम स्थान प्राप्त किया है?

- Ans
- ☒ 1. D
 - ☒ 2. B
 - ☒ 3. A
 - ☒ 4. C

Question ID : 26433075003

Status : Answered

Chosen Option : 1

Q.41

एक लम्ब वृत्तीय बेलन की ऊँचाई और वक्र पृष्ठीय क्षेत्रफल क्रमशः 7 cm और $70\pi \text{ cm}^2$ है। इसका कुल पृष्ठीय क्षेत्रफल क्या होगा?

- Ans
- ☒ 1. $180\pi \text{ cm}^2$
 - ☒ 2. $120\pi \text{ cm}^2$
 - ☒ 3. $140\pi \text{ cm}^2$
 - ☒ 4. $150\pi \text{ cm}^2$

Question ID : 26433061089

Status : Answered

Chosen Option : 2

Q.42

यदि दो संख्याओं a और b का लघुत्तम समापवर्त्य (LCM) 60 है और उनका महत्तम समापवर्तक (HCF) 15 है, तो उनका मध्यानुपात ज्ञात कीजिए।

- Ans
- ☒ 1. 60
 - ☒ 2. 25
 - ☒ 3. 4
 - ☒ 4. 30

Question ID : 26433071321

Status : Answered

Chosen Option : 4

Q.43

यदि $\frac{x^8+1}{x^4} = 14$ है, तो $\frac{x^{12}+1}{x^6}$ का मान क्या है?

- Ans
- ☐ 1. 14
 - ☐ 2. 16
 - ☒ 3. 52
 - ☐ 4. 64

Question ID : 26433072987

Status : Answered

Chosen Option : 3

Q.44 $\frac{11}{25}, \frac{9}{20}, \frac{16}{15}$ और $\frac{10}{33}$ का म.स.प. ज्ञात कीजिए

- Ans
- ☐ 1. $\frac{1}{300}$
 - ☐ 2. $\frac{1}{33}$
 - ☒ 3. $\frac{1}{3300}$
 - ☐ 4. $\frac{1}{330}$

Question ID : 26433063666

Status : Answered

Chosen Option : 3

Q.45 $(x+y)^3 - (x-y)^3 - 6y(x^2 - y^2)$ को हल कीजिए।

- Ans
- ☐ 1. y^3
 - ☐ 2. x^3
 - ☒ 3. $8y^3$
 - ☐ 4. $8x^3$

Question ID : 26433061773

Status : Answered

Chosen Option : 3

Q.46 A और B एक काम को क्रमशः 36 दिन और 45 दिन में पूरा कर सकते हैं। उन्होंने 2 दिन तक एक साथ काम किया और फिर A ने काम छोड़ दिया। शेष काम को B कितने दिन में पूरा करेगा?

- Ans
- ☒ 1. 40.5
 - ☐ 2. 40
 - ☐ 3. 41
 - ☐ 4. 41.5

Question ID : 26433079961

Status : Answered

Chosen Option : 1

Q.47 सतीश ने ₹700 में 35 नोटबुक खरीदी और उनमें से 28 नोटबुक ₹600 में बेच दी। उसका प्रतिशत लाभ ज्ञात करें।

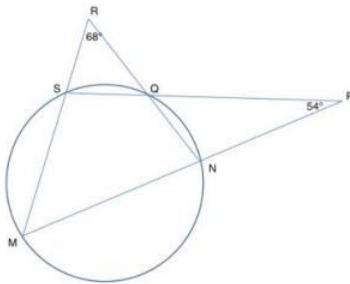
- Ans
- ✓ 1. $7\frac{1}{7}\%$
- ✗ 2. $9\frac{1}{7}\%$
- ✗ 3. $6\frac{1}{7}\%$
- ✗ 4. $8\frac{1}{7}\%$

Question ID : 26433063395

Status : Answered

Chosen Option : 2

Q.48 दी गई आकृति में, MNP, SQP, NQR और MSR सीधी रेखाएं हैं। $\angle NPQ = 54^\circ$ और $\angle QRS = 68^\circ$ है। $\angle SMN$ का डिग्री माप ज्ञात करें।



- Ans
- ✗ 1. 68°
- ✗ 2. 54°
- ✗ 3. 38°
- ✓ 4. 29°

Question ID : 26433061927

Status : Answered

Chosen Option : 4

Q.49 एक फुटकर विक्रेता एक वस्तु को 10% छूट देकर Rs.2,700 में बेचना चाहता है। वस्तु का अंकित मूल्य क्या है?

- Ans
- ✗ 1. Rs.3,110
- ✗ 2. Rs.3,050
- ✓ 3. Rs.3,000
- ✗ 4. Rs.2,850

Question ID : 26433057126

Status : Answered

Chosen Option : 3

Q.50 $\frac{3}{4}, \frac{7}{8}$ और $\frac{13}{14}$ का महत्तम समापवर्तक (HCF) क्या है?

Ans

- ☒ 1. $\frac{1}{36}$
- ☒ 2. $\frac{1}{70}$
- ☒ 3. $\frac{1}{60}$
- ☒ 4. $\frac{1}{56}$

Question ID : 26433064880

Status : Answered

Chosen Option : 4

Section : English Comprehension

Q.1 Select the most appropriate meaning of the given idiom.
By hook or by crook

Ans

- ☒ 1. Making more of an effort
- ☒ 2. Probably possible, but it will be difficult
- ☒ 3. Using whatever methods are necessary
- ☒ 4. Using a lot of energy and effort to do something

Question ID : 26433060460

Status : Answered

Chosen Option : 3

Q.2 Select the most appropriate synonym to replace the italicised word.
The little girl had *obsequious* manners.

Ans

- ☒ 1. defiant
- ☒ 2. law-abiding
- ☒ 3. mischievous
- ☒ 4. headstrong

Question ID : 26433059757

Status : Answered

Chosen Option : 3

Q.3 Select the most appropriate synonym of the underlined word in the following sentence.
Dr. Brahm Prakash advised me to take care of the performance degraders and cautioned me against seeking optimal performance from the participating work centres.

Ans

- ☒ 1. worst
- ☒ 2. best
- ☒ 3. faulty
- ☒ 4. minimum

Question ID : 26433059796

Status : Answered

Chosen Option : 2

Q.4 Select the most appropriate idiom for the underlined segment in the given sentence.

The dacoit was shot from up close by the police officer.

- Ans ☒ 1. Smell a rat
☒ 2. Point blank
☒ 3. Bullet proof
☒ 4. Milksop

Question ID : 26433072820
Status : Answered
Chosen Option : 1

Q.5 Select the most appropriate meaning of the given idiom.

Hand and glove

- Ans ☒ 1. Oppressive
☒ 2. Decided
☒ 3. Very intimate terms
☒ 4. Under all conditions

Question ID : 26433060220
Status : Answered
Chosen Option : 4

Q.6 Select the most appropriate synonym of the given word.
Abridge

- Ans ☒ 1. Shorten
☒ 2. Earmark
☒ 3. Expand
☒ 4. Increase

Question ID : 26433063586
Status : Answered
Chosen Option : 1

Q.7 Select the most appropriate idiom from the following options that can substitute the underlined part of the given sentence.

Sometimes doing something that makes it impossible to return to the previous situation later strengthens you.

- Ans ☒ 1. Painting the town red
☒ 2. Burning your bridges
☒ 3. Knocking your socks off
☒ 4. A red-letter day

Question ID : 26433058498
Status : Answered
Chosen Option : 2

Q.8 Select the most appropriate idiom to fill in the blank.

The family's meeting on property dispute begins today and I'm just sitting down with a cup of coffee, enjoying _____.

- Ans ☒ 1. the better of
- ☒ 2. the calm before the storm
- ☒ 3. the bottom line
- ☒ 4. the corridors of power

Question ID : 26433091888
Status : Answered
Chosen Option : 2

Q.9 The following sentence has been split into four segments. Identify the segment that contains a grammatical error.

She is / the very ambitious woman / I have ever / come across.

- Ans ☒ 1. the very ambitious woman
- ☒ 2. She is
- ☒ 3. I have hard ever
- ☒ 4. come across

Question ID : 26433055862
Status : Answered
Chosen Option : 1

Q.10 Select the INCORRECTLY spelt word.

- Ans ☒ 1. Voracity
- ☒ 2. Vassal
- ☒ 3. Vial
- ☒ 4. Vise

Question ID : 26433060485
Status : Answered
Chosen Option : 1

Q.11 Select the INCORRECTLY spelt word

- Ans ☒ 1. Seeing
- ☒ 2. Waiting
- ☒ 3. Washing
- ☒ 4. Dieing

Question ID : 26433060235
Status : Answered
Chosen Option : 4

Q.12 Select the most appropriate synonym of the given word.
Pester

- Ans ☒ 1. Abuse
- ☒ 2. Amuse
- ☒ 3. Adore
- ☒ 4. Annoy

Question ID : 26433059522
Status : Answered
Chosen Option : 4

Q.13 Select the option that can be used as a one-word substitute for the given group of words/phrase.

Take hold of forcibly or suddenly

- Ans ☒ 1. Relinquish
☒ 2. Release
☒ 3. Seize
☒ 4. Liberate

Question ID : 26433059779
Status : Answered
Chosen Option : 3

Q.14 Select the most appropriate option to replace the underlined word in the given sentence.

Rama has been very unlucky in the last few years.

- Ans ☒ 1. undeserving
☒ 2. degraded
☒ 3. hapless
☒ 4. unnerving

Question ID : 26433059993
Status : Answered
Chosen Option : 3

Q.15 Select the option that can be used as a one-word substitute for the given group of words.

The arrangement of events or dates in the order of their occurrence

- Ans ☒ 1. Chronology
☒ 2. Serially
☒ 3. Axiom
☒ 4. Docket

Question ID : 26433060816
Status : Answered
Chosen Option : 1

Q.16 Select the most appropriate option that can substitute the underlined segment in the given sentence. If there is no need to substitute it, select 'No substitution required'.

By the time his friends woke up, he had already begun his journey.

- Ans ☒ 1. begin
☒ 2. No substitution required
☒ 3. beginning
☒ 4. began

Question ID : 26433060069
Status : Answered
Chosen Option : 2

Q.17 The following sentence has been divided into parts. One of them may contain an error. Select the part that contains the error from the given options. If you don't find any error, mark 'No error' as your answer.
He was enough tall / to be admitted / into the armed forces.

- Ans ☒ 1. He was enough tall
☒ 2. into the armed forces
☒ 3. to be admitted
☒ 4. No error

Question ID : 26433060127
Status : Answered
Chosen Option : 1

Q.18 Identify the INCORRECTLY spelt word in the given sentence.
A study of metaphysics is the study of the nature of reality, of what exists in the world, what it is like and how it is ordered.

- Ans ☒ 1. nature
☒ 2. metaphysics
☒ 3. reality
☒ 4. study

Question ID : 26433059844
Status : Answered
Chosen Option : 2

Q.19 Choose the correct meaning of the underlined idiom in the given sentence.
Saira is unable to sustain friendships because she always has too many axes to grind.

- Ans ☒ 1. To have one's own interests to serve
☒ 2. To use weapons carefully
☒ 3. To work for others
☒ 4. To believe in selflessness

Question ID : 26433059957
Status : Answered
Chosen Option : 1

Q.20 Select the most appropriate option that can substitute the underlined segment in the given sentence. If there is no need to substitute it, select 'No substitution required'.

She paid a high price for the clothes she brought at the boutique.

- Ans ☒ 1. bring at
☒ 2. brought to
☒ 3. bought at
☒ 4. No substitution required

Question ID : 26433060068
Status : Answered
Chosen Option : 3

Q.21 Select the most appropriate meaning of the given idiom.

Wild goose chase

- Ans ☒ 1. Futile search
- ☒ 2. To betray someone
- ☒ 3. Doing something crazy
- ☒ 4. Working very hard for something

Question ID : 26433059534

Status : Answered

Chosen Option : 1

Q.22 Identify the sentence that correctly uses the indefinite article.

- Ans ☒ 1. 'Amateur' is a noun which refers to a person who takes part in an activity as a hobby or for pleasure and not as a job.
- ☒ 2. 'Amateur' is a noun which refers to a person who takes part in an activity as a hobby or for pleasure and not as a job.
- ☒ 3. 'Amateur' is a noun which refers to a person who takes part in a activity as a hobby or for pleasure and not as a job.
- ☒ 4. 'Amateur' is a noun which refers to a person who takes part in an activity as a hobby or for pleasure and not as an job.

Question ID : 26433059570

Status : Answered

Chosen Option : 4

Q.23 Select the option in which all the words are spelt correctly.

- Ans ☒ 1. Ritu is deficient in calcium.
- ☒ 2. Ritu is daficient in calcium.
- ☒ 3. Ritu is defecient in calcium.
- ☒ 4. Ritu is defisient in calcium.

Question ID : 26433072289

Status : Answered

Chosen Option : 1

Q.24 Select the most appropriate option to substitute the underlined segment in the given sentence.

How did you come about his purse?

- Ans ☒ 1. come into
- ☒ 2. come by
- ☒ 3. come out
- ☒ 4. come off

Question ID : 26433060055

Status : Answered

Chosen Option : 4

Q.25 Select the option that can be used as a one-word substitute for the given group of words.

Someone who does not believe that God exists

- Ans ☒ 1. Devotee
☒ 2. Atheist
☒ 3. Nun
☒ 4. Priest

Question ID : 26433060093
 Status : Answered
 Chosen Option : 2

Q.26 Select the most appropriate ANTONYM of the given word.

Sordid

- Ans ☒ 1. Excellent
☒ 2. Censurable
☒ 3. Shameful
☒ 4. Honourable

Question ID : 26433088931
 Status : Answered
 Chosen Option : 1

Q.27 Select the most appropriate meaning of the given idiom.
 Up in the air

- Ans ☒ 1. Something that is certain and decided
☒ 2. Something that is invisible and unattainable
☒ 3. Something that is tossed up in the air
☒ 4. Something that is unknown entirely

Question ID : 26433091743
 Status : Answered
 Chosen Option : 2

Q.28 Select the most appropriate option that can substitute the underlined segment in the given sentence.

Seeing the danger of a group governed by old people, Ratan planned to recruit young people for his project.

- Ans ☒ 1. adhocracy
☒ 2. plutocracy
☒ 3. gerontocracy
☒ 4. autocracy

Question ID : 26433070592
 Status : Answered
 Chosen Option : 3

Q.29 Select the most appropriate ANTONYM of the given word.
Reprive

- Ans ☒ 1. Continuation
☒ 2. Torrential
☒ 3. Turn out
☒ 4. Cease

Question ID : 26433066094
Status : Answered
Chosen Option : 1

Q.30 Select the most appropriate ANTONYM of the underlined word.

Sukhen always seeks to capitalise on opportunities.

- Ans ☒ 1. destroy
☒ 2. dismantle
☒ 3. forfeit
☒ 4. seize

Question ID : 26433089389
Status : Answered
Chosen Option : 2

Q.31 Identify the INCORRECTLY spelt word in the given sentence.
The new management repeated its committment to the development of the deprived.

- Ans ☒ 1. committment
☒ 2. development
☒ 3. deprived
☒ 4. management

Question ID : 26433059969
Status : Answered
Chosen Option : 1

Q.32 Select the most appropriate ANTONYM of the underlined word in the given sentence.

A boy died after he was assaulted by a teacher in his school.

- Ans ☒ 1. criticised
☒ 2. scolded
☒ 3. guarded
☒ 4. warned

Question ID : 26433092306
Status : Answered
Chosen Option : 3

Q.33 Select the option that can be used as a one-word substitute for the given group of words.

One who believes in his fate

- Ans
- ☒ 1. Fugitive
 - ☒ 2. Fanatic
 - ☒ 3. Fatalist
 - ☒ 4. Fastidious

Question ID : 26433059711
Status : Answered
Chosen Option : 3

Q.34 Select the most appropriate meaning of the given idiom.
Once in a blue moon

- Ans
- ☒ 1. Occasionally
 - ☒ 2. Often
 - ☒ 3. Continuously
 - ☒ 4. Rarely

Question ID : 26433058595
Status : Answered
Chosen Option : 4

Q.35 Select the most appropriate option that can substitute the underlined segment in the given sentence.
I am not afraid to spoke the truth.

- Ans
- ☒ 1. was not afraid to spoke
 - ☒ 2. am not afraid to speak
 - ☒ 3. was not afraid to spoken
 - ☒ 4. am not afraid to speaking

Question ID : 26433059669
Status : Answered
Chosen Option : 2

Q.36 Choose the correct meaning of the underlined idiom in the given sentence.
The accident site had become a bear garden by afternoon.

- Ans
- ☒ 1. A soothing environment
 - ☒ 2. A place of noise and disturbance
 - ☒ 3. Unclean and dirty
 - ☒ 4. A peaceful place

Question ID : 26433059960
Status : Answered
Chosen Option : 2

Q.37 Select the most appropriate ANTONYM of the given word.
Vociferous

- Ans
- ☒ 1. Silent
 - ☒ 2. Gallant
 - ☒ 3. Sullen
 - ☒ 4. Pugnacious

Question ID : 26433066097
Status : Answered
Chosen Option : 2

Q.38 Select the most appropriate option that can substitute the words in the brackets in the given sentence.

The bridge which (connecting) the two cities has been destroyed by the bomb.

- Ans ☒ 1. has connecting
☒ 2. connects
☒ 3. will be connecting
☒ 4. connected

Question ID : 26433061026
Status : Answered
Chosen Option : 4

Q.39 Select the most appropriate ANTONYM of the underlined word.

He applied for the vacant post.

- Ans ☒ 1. Empty
☒ 2. Occupied
☒ 3. Lucid
☒ 4. Indistinct

Question ID : 26433089064
Status : Answered
Chosen Option : 2

Q.40 Select the most appropriate synonym of the bracketed word to fill in the blank.

The curving rod offers the _____ (mirage) of a larger and spacious bathtub.

- Ans ☒ 1. illusion
☒ 2. reflexes
☒ 3. virtual
☒ 4. fission

Question ID : 26433060688
Status : Answered
Chosen Option : 1

Comprehension:

Read the passage carefully and answer the questions that follow.

India's favourable demographic trends, which have increased the workforce's percentage of the overall population, have paved the way for a significant middle-class expansion. A big population bulge emerging from absolute poverty and set to reach the middle class would generate new dynamics. In India, over 55 per cent of the population is predicted to reach the middle class. In reality, because India's demographics are significantly younger than China and the United States, the country's middle class might be the world's largest (in terms of population) by 2025.

It is no exaggeration to argue that future growth will be reliant on the increasing middle class, and that the middle class's development will be reliant on growth. Growth has been fuelled by both private consumption and saving, both of which are fuelled by the middle class. India's private consumption accounts for over 60% of the country's GDP, while private consumption growth has contributed for 70% of the country's growth since 2000.

Despite the fact that China's middle class is now greater than India's, private spending in the former accounts for a lesser share of growth. In contrast to the United States, where domestic savings are dropping and the country borrows excess funds from outside to invest and expand, India's domestic savings and investments are increasing and funding investments. The emergence of the middle class is anticipated to coincide with a transition away from large-scale informality, which now characterises much of the services and industrial sectors, and toward more formal, wage-earning, and medium-scale firms. Technological advancements will spread at a faster rate. Cities will expand as job possibilities concentrate on them. If there is enough movement across states and from rural to urban regions, the population increase will be more evenly distributed.

SubQuestion No : 41

Q.41 What is the tone of the passage?

- Ans
- ☒ 1. Didactic
 - ☒ 2. Objective
 - ☒ 3. Subjective
 - ☒ 4. Critical

Question ID : 26433090535

Status : Not Answered

Chosen Option : --

Comprehension:

Read the passage carefully and answer the questions that follow.

India's favourable demographic trends, which have increased the workforce's percentage of the overall population, have paved the way for a significant middle-class expansion. A big population bulge emerging from absolute poverty and set to reach the middle class would generate new dynamics. In India, over 55 per cent of the population is predicted to reach the middle class. In reality, because India's demographics are significantly younger than China and the United States, the country's middle class might be the world's largest (in terms of population) by 2025.

It is no exaggeration to argue that future growth will be reliant on the increasing middle class, and that the middle class's development will be reliant on growth. Growth has been fuelled by both private consumption and saving, both of which are fuelled by the middle class. India's private consumption accounts for over 60% of the country's GDP, while private consumption growth has contributed for 70% of the country's growth since 2000.

Despite the fact that China's middle class is now greater than India's, private spending in the former accounts for a lesser share of growth. In contrast to the United States, where domestic savings are dropping and the country borrows excess funds from outside to invest and expand, India's domestic savings and investments are increasing and funding investments. The emergence of the middle class is anticipated to coincide with a transition away from large-scale informality, which now characterises much of the services and industrial sectors, and toward more formal, wage-earning, and medium-scale firms. Technological advancements will spread at a faster rate. Cities will expand as job possibilities concentrate on them. If there is enough movement across states and from rural to urban regions, the population increase will be more evenly distributed.

SubQuestion No : 42

Q.42 Select the most suitable title for the given passage.

- Ans ☒ 1. Favourable Demographic Trends in India
- ☒ 2. Rise of the Middle Class in India
- ☒ 3. Dropping Domestic Savings in the USA
- ☒ 4. Middle Class and Economic Growth

Question ID : 26433090532

Status : Answered

Chosen Option : 4

Comprehension:

Read the passage carefully and answer the questions that follow.

India's favourable demographic trends, which have increased the workforce's percentage of the overall population, have paved the way for a significant middle-class expansion. A big population bulge emerging from absolute poverty and set to reach the middle class would generate new dynamics. In India, over 55 per cent of the population is predicted to reach the middle class. In reality, because India's demographics are significantly younger than China and the United States, the country's middle class might be the world's largest (in terms of population) by 2025.

It is no exaggeration to argue that future growth will be reliant on the increasing middle class, and that the middle class's development will be reliant on growth. Growth has been fuelled by both private consumption and saving, both of which are fuelled by the middle class. India's private consumption accounts for over 60% of the country's GDP, while private consumption growth has contributed for 70% of the country's growth since 2000.

Despite the fact that China's middle class is now greater than India's, private spending in the former accounts for a lesser share of growth. In contrast to the United States, where domestic savings are dropping and the country borrows excess funds from outside to invest and expand, India's domestic savings and investments are increasing and funding investments. The emergence of the middle class is anticipated to coincide with a transition away from large-scale informality, which now characterises much of the services and industrial sectors, and toward more formal, wage-earning, and medium-scale firms. Technological advancements will spread at a faster rate. Cities will expand as job possibilities concentrate on them. If there is enough movement across states and from rural to urban regions, the population increase will be more evenly distributed.

SubQuestion No : 43

Q.43 Select the most appropriate **ANTONYM** of the given word.

Coincide

- Ans ☒ 1. Differ
☐ 2. Agree
☐ 3. Confuse
☐ 4. Detest

Question ID : 26433090536

Status : Answered

Chosen Option : 2

Comprehension:

Read the passage carefully and answer the questions that follow.

India's favourable demographic trends, which have increased the workforce's percentage of the overall population, have paved the way for a significant middle-class expansion. A big population bulge emerging from absolute poverty and set to reach the middle class would generate new dynamics. In India, over 55 per cent of the population is predicted to reach the middle class. In reality, because India's demographics are significantly younger than China and the United States, the country's middle class might be the world's largest (in terms of population) by 2025.

It is no exaggeration to argue that future growth will be reliant on the increasing middle class, and that the middle class's development will be reliant on growth. Growth has been fuelled by both private consumption and saving, both of which are fuelled by the middle class. India's private consumption accounts for over 60% of the country's GDP, while private consumption growth has contributed for 70% of the country's growth since 2000.

Despite the fact that China's middle class is now greater than India's, private spending in the former accounts for a lesser share of growth. In contrast to the United States, where domestic savings are dropping and the country borrows excess funds from outside to invest and expand, India's domestic savings and investments are increasing and funding investments. The emergence of the middle class is anticipated to coincide with a transition away from large-scale informality, which now characterises much of the services and industrial sectors, and toward more formal, wage-earning, and medium-scale firms. Technological advancements will spread at a faster rate. Cities will expand as job possibilities concentrate on them. If there is enough movement across states and from rural to urban regions, the population increase will be more evenly distributed.

SubQuestion No : 44

Q.44 Which of the following options has contributed to the expansion of the middle class?

- Ans
- ☒ 1. Increased foreign investment
 - ☒ 2. Increased private consumption
 - ☒ 3. Increased workforce percentage
 - ☒ 4. Evenly distributed economic opportunities

Question ID : 26433090533

Status : Answered

Chosen Option : 2

Comprehension:

Read the passage carefully and answer the questions that follow.

India's favourable demographic trends, which have increased the workforce's percentage of the overall population, have paved the way for a significant middle-class expansion. A big population bulge emerging from absolute poverty and set to reach the middle class would generate new dynamics. In India, over 55 per cent of the population is predicted to reach the middle class. In reality, because India's demographics are significantly younger than China and the United States, the country's middle class might be the world's largest (in terms of population) by 2025.

It is no exaggeration to argue that future growth will be reliant on the increasing middle class, and that the middle class's development will be reliant on growth. Growth has been fuelled by both private consumption and saving, both of which are fuelled by the middle class. India's private consumption accounts for over 60% of the country's GDP, while private consumption growth has contributed for 70% of the country's growth since 2000.

Despite the fact that China's middle class is now greater than India's, private spending in the former accounts for a lesser share of growth. In contrast to the United States, where domestic savings are dropping and the country borrows excess funds from outside to invest and expand, India's domestic savings and investments are increasing and funding investments. The emergence of the middle class is anticipated to coincide with a transition away from large-scale informality, which now characterises much of the services and industrial sectors, and toward more formal, wage-earning, and medium-scale firms. Technological advancements will spread at a faster rate. Cities will expand as job possibilities concentrate on them. If there is enough movement across states and from rural to urban regions, the population increase will be more evenly distributed.

SubQuestion No : 45

Q.45 Which of the following statements in the light of the given passage is FALSE?

- Ans** ☒ 1. China's middle class is currently smaller than India's middle class.
- ☐ 2. Future economic growth will be reliant on middle class and middle class's development will be dependent on economic growth.
- ☐ 3. A huge population is expected to escape poverty and reach the middle class.
- ☐ 4. India's middle class will be significantly larger and younger than other countries, like China.

Question ID : 26433090534

Status : Answered

Chosen Option : 3

Comprehension:

In the following passage, some words have been deleted. Read the passage carefully and select the most appropriate option to fill in each blank.

Challenges are (1)_____ that knock on our door. It may sound difficult to (2)_____ the obstacles in our career but challenges are rewarding. If there were no challenges there would have been no (3)_____ on this planet. Every challenge poses as an opportunity for those who like to put their (4)_____ to the fullest utilisation. Knowledge and (5)_____ is the key to overcome challenges.

SubQuestion No : 46

Q.46 Select the most appropriate option to fill in blank number 1.

- Ans** ☐ 1. fear
- ☒ 2. opportunities
- ☐ 3. trouble
- ☐ 4. problems

Question ID : 26433060389

Status : Answered

Chosen Option : 2

Comprehension:

In the following passage, some words have been deleted. Read the passage carefully and select the most appropriate option to fill in each blank.
Challenges are (1)_____ that knock on our door. It may sound difficult to (2)_____ the obstacles in our career but challenges are rewarding. If there were no challenges there would have been no (3)_____ on this planet. Every challenge poses as an opportunity for those who like to put their (4)_____ to the fullest utilisation. Knowledge and (5)_____ is the key to overcome challenges.

SubQuestion No : 47

Q.47 Select the most appropriate option to fill in blank number 2.

- Ans ☒ 1. forego
☒ 2. meet
☒ 3. solve
☒ 4. overcome

Question ID : 26433060390

Status : Answered

Chosen Option : 4

Comprehension:

In the following passage, some words have been deleted. Read the passage carefully and select the most appropriate option to fill in each blank.
Challenges are (1)_____ that knock on our door. It may sound difficult to (2)_____ the obstacles in our career but challenges are rewarding. If there were no challenges there would have been no (3)_____ on this planet. Every challenge poses as an opportunity for those who like to put their (4)_____ to the fullest utilisation. Knowledge and (5)_____ is the key to overcome challenges.

SubQuestion No : 48

Q.48 Select the most appropriate option to fill in blank number 3.

- Ans ☒ 1. requirement
☒ 2. invention
☒ 3. scientists
☒ 4. science

Question ID : 26433060391

Status : Answered

Chosen Option : 4

Comprehension:

In the following passage, some words have been deleted. Read the passage carefully and select the most appropriate option to fill in each blank.
Challenges are (1)_____ that knock on our door. It may sound difficult to (2)_____ the obstacles in our career but challenges are rewarding. If there were no challenges there would have been no (3)_____ on this planet. Every challenge poses as an opportunity for those who like to put their (4)_____ to the fullest utilisation. Knowledge and (5)_____ is the key to overcome challenges.

SubQuestion No : 49

Q.49 Select the most appropriate option to fill in blank number 4.

- Ans ☒ 1. job
☒ 2. work
☒ 3. potential
☒ 4. time

Question ID : 26433060392

Status : Answered

Chosen Option : 3

Comprehension:

In the following passage, some words have been deleted. Read the passage carefully and select the most appropriate option to fill in each blank.
Challenges are (1)_____ that knock on our door. It may sound difficult to (2)_____ the obstacles in our career but challenges are rewarding. If there were no challenges there would have been no (3)_____ on this planet. Every challenge poses as an opportunity for those who like to put their (4)_____ to the fullest utilisation. Knowledge and (5)_____ is the key to overcome challenges.

SubQuestion No : 50

Q.50 Select the most appropriate option to fill in blank number 5.

- Ans ☒ 1. gadget
☒ 2. patience
☒ 3. confidentiality
☒ 4. time

Question ID : 26433060393

Status : Answered

Chosen Option : 2

