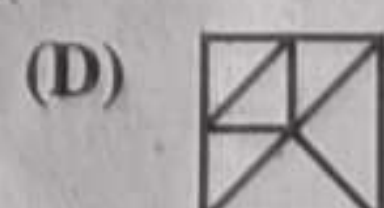
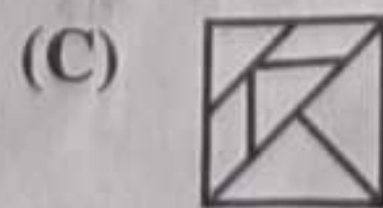
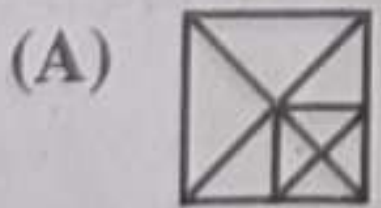



भाग-अ  
मानसिक योग्यता

- निम्नलिखित को तार्किक क्रम में व्यवस्थित करें -  
(1) पुलिस (2) सजा (3) अपराध (4) न्यायाधीश (5) फैसला  
(A) 12345 (B) 32541 (C) 54321 (D) 31452
  - यदि किसी निश्चित कूट में 'DELHI' को 'CDKGH' लिखा जाता है, तो 'PATNA' को क्या लिखा जायेगा?  
(A) OZTMZ (B) OZSMZ (C) QBUMB (D) OZTSM
  - यदि किसी निश्चित कूट में 'SCHOOL = PNIKKB' तथा 'ME = ZY' हो, तो 'COOLHOME' को आप कैसे लिखेंगे?  
(A) NKKBIKZY (B) NKKLIKZY (C) PKKNIKYZ (D) NKKBPKZY
  - निम्नलिखित शब्दों को शब्दकोश के क्रमानुसार क्रमबद्ध कीजिये -  
(1) Reacquire (2) Ratiocinate (3) Readdress (4) Raconteur (5) Reaganism  
(A) 34125 (B) 45312 (C) 43251 (D) 42135
  - एक निश्चित कूटभाषा में 'ROAD' को '6912' लिखा जाता है और 'CLIMB' को '74853' लिखा जाता है। उसी कूटभाषा में 'MIRA' को कैसे लिखा जाएगा?  
(A) 8562 (B) 5861 (C) 5816 (D) 5982
  - निम्नलिखित शब्दों को सार्थक क्रम में व्यवस्थित करें -  
(1) स्वास्थ्य लाभ (2) चिकित्सक (3) उपचार (4) बीमारी (5) परामर्श  
(A) 52431 (B) 42531 (C) 45213 (D) 42351
  - निम्नलिखित को तार्किक और सार्थक क्रम में व्यवस्थित करें -  
(1) तापमण्डल (2) समतापमण्डल (3) क्षोभमण्डल (4) मध्यमण्डल (5) बहिर्मण्डल  
(A) 12345 (B) 35241 (C) 32415 (D) 23145
  - प्रश्न चिन्ह के स्थान पर लुप्त शब्द ढूँढ़ें -  
दूषितकरण : भोजन :: संक्रमण : ?  
(A) शरीर (B) रोग (C) कीटाणु (D) सूक्ष्मजीव
  - लुप्त पद ज्ञात कीजिए -  
rh, ul, xp, ....., dx, gb  
(A) mk (B) lu (C) at (D) zb
- निर्देश (प्रश्न संख्या : 10 से 14) - निम्न में से विसंगत छाँटिये -
- (A) 325 (B) 315 (C) 207 (D) 711
  - (A) 121 (B) 123421 (C) 12321 (D) 123454321
  - (A) 102 (B) 210 (C) 365 (D) 320
  - (A) 140 (B) 97 (C) 98 (D) 77
  - (A) 7 (B) 17 (C) 9 (D) 37





# Test Prime

**ALL EXAMS,  
ONE SUBSCRIPTION**




**70,000+**  
Mock Tests



**Personalised  
Report Card**



**Unlimited  
Re-Attempt**



**600+**  
Exam Covered



**Previous Year  
Papers**







**500%  
Refund**




**ATTEMPT FREE MOCK NOW**



16. एक मूर्तिकार संगमरमर के एक टुकड़े के लिए वैसा ही है जैसा एक लेखक के लिए -  
 (A) खाली पृष्ठ (B) प्रकाशित पुस्तक (C) लेखन डेस्क (D) रबड़
17. KAB, LCD, MEF, NGH, ....., PKL.  
 (A) AEF (B) OIJ (C) BHI (D) CKL
18. निम्नलिखित में से कौनसा वेन आरेख राजस्थान, भारत, पंजाब के बीच संबंधों को सही ढंग से दर्शाता है?  
 (A)  (B)  (C)  (D) 
19. प्रश्न चिन्ह के स्थान पर उपयुक्त अक्षर ढूँढें -

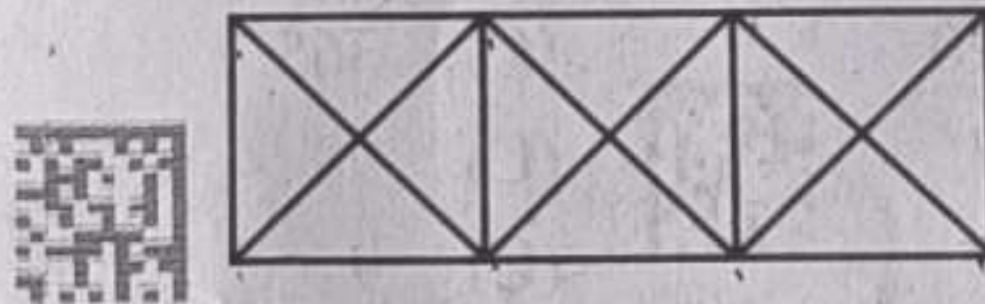


- (A) L (B) K (C) G (D) Z
20. MUSEUM का जल प्रतिबिम्ब क्या है?  
 (A) MU2EUM (B) MŲSEUŲ (C) WŲ2EUW (D) MUSEUM
21. निम्नलिखित में से विषम आकृति का चयन कीजिए -  
 (1) (2) (3) (4) (5)



- (A) 3 (B) 1 (C) 4 (D) 5

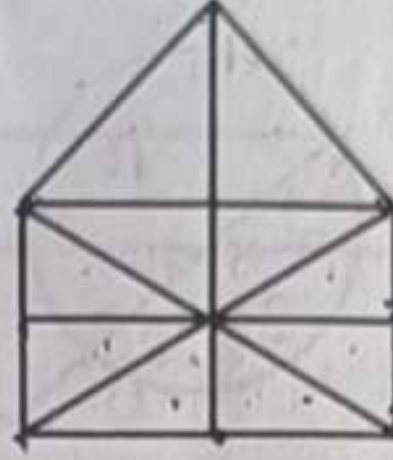
निर्देश (प्रश्न संख्या 22 एवं 23) - नीचे दी गई आकृति का अध्ययन कीजिए और निम्नलिखित प्रश्नों के उत्तर दीजिए -



22. उपरोक्त चित्र में कुल कितने त्रिभुज हैं?  
 (A) 12 (B) 20 (C) 24 (D) 28
23. उपरोक्त चित्र में कुल कितने आयत हैं?  
 (A) 1 (B) 2 (C) 3 (D) 4
24. व्यक्तियों के एक समूह में 70% व्यक्ति पुरुष हैं और 30% व्यक्ति विवाहित हैं। यदि 2/7 पुरुष विवाहित हैं, तो महिलाओं का कितना भाग अविवाहित है?  
 (A) 2/7 (B) 3/7 (C) 1/3 (D) 2/3



25. नीचे दी गई आकृति में संभावित त्रिभुजों की अधिकतम संख्या ज्ञात कीजिए -



- (A) 10 (B) 19 (C) 23 (D) 21

26. प्रत्येक तीन वर्ष के अंतराल पर जन्में पाँच बच्चों की आयु का योग पचास वर्ष है। सबसे छोटे बच्चे की आयु क्या है?

- (A) 4 साल (B) 6 साल (C) 8 साल (D) 10 साल

27. आज गुरुवार है। 59 दिन बाद आने वाला दिन होगा -

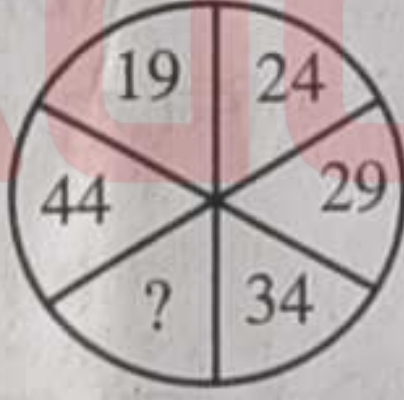
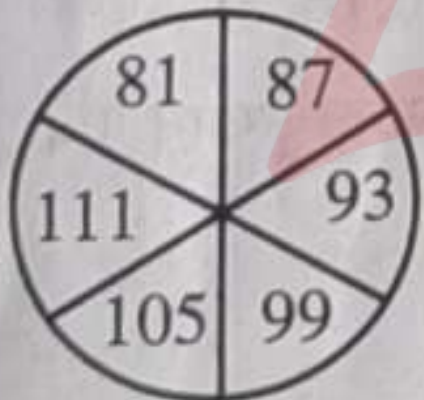
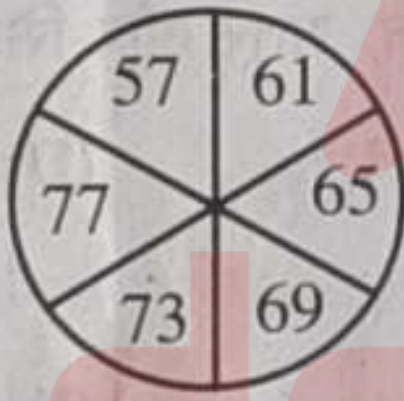
- (A) रविवार (B) सोमवार (C) शुक्रवार (D) बुधवार

28.

I	M	R
F	H	K
C	E	?

- (A) L (B) H (C) G (D) J

29. प्रश्न चिन्ह (?) के स्थान पर आने वाली संख्या को पहचानें -



- (A) 39 (B) 57 (C) 23 (D) 31

30. फोटो में एक महिला की ओर इशारा करते हुए राघव ने कहा, "उसके इकलौते भाई का बेटा मेरी पत्नी का भाई है।" वह महिला राघव से किस प्रकार संबंधित है?

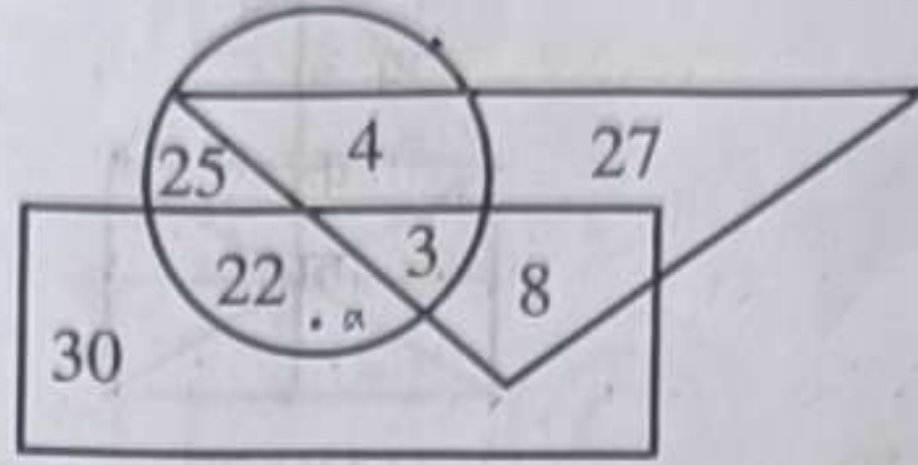
- (A) माँ की माँ (B) सास (C) मौसी (D) ससुर की बहन

31. यदि किसी महीने का तीसरा दिन मंगलवार है, तो निम्नलिखित में से कौनसा उस महीने की 21 तारीख से पांचवां दिन होगा?

- (A) गुरुवार (B) रविवार (C) बुधवार (D) शुक्रवार



निर्देश (प्रश्न संख्या 32 से 34) – निम्नलिखित वेन आरेख का अध्ययन कीजिए और नीचे दिए गए प्रश्नों के उत्तर दीजिए –



आयत 'कलाकारों' को दर्शाता है  
वृत्त 'खिलाड़ियों' को दर्शाता है  
त्रिभुज 'डॉक्टरों' को दर्शाता है

32. कितने खिलाड़ी ऐसे हैं, जो न तो कलाकार हैं ना ही डॉक्टर?

- (A) 3 (B) 8 (C) 22 (D) 25

33. कितने डॉक्टर हैं, जो खिलाड़ी एवं कलाकार दोनों हैं?

- (A) 3 (B) 4 (C) 8 (D) 11

34. कितने कलाकार ऐसे हैं, जो खिलाड़ी हैं लेकिन डॉक्टर नहीं?

- (A) 30 (B) 29 (C) 25 (D) 22

35. प्रिंसिपल एक कार्यक्रम में भाग लेने के लिए 12 बजकर 15 मिनट पर कॉलेज आये और वे अपने निजी सहायक से 25 मिनट पहले आये, जो कार्यक्रम में 30 मिनट देरी से पहुँचा। कार्यक्रम किस समय शुरू होना था?

- (A) 12:20 (B) 12:15 (C) 12:40 (D) 12:10

36. निम्नलिखित प्रश्न के चार विकल्प हैं, इनमें से वह चुनें जो वायलिन, संतूर और सितार के समान हो –

- (A) बाँसुरी (B) बेंजो (C) अकॉर्डियन (D) हारमोनियम



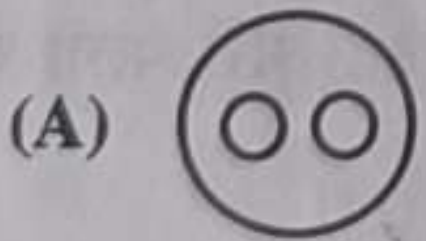
37. यदि  $x = 225$  और  $y = 15$ , तो  $x:y$  क्या है?

- (A) 120:8 (B) 123:9 (C) 169:13 (D) 256:16

38. 45 छात्रों की एक कक्षा में, रोमी 20 वें स्थान पर है। जब दो लड़के शामिल हुए, तो उसका स्थान एक कम हो गया। अंत से उसका नया स्थान क्या है?

- (A) 27<sup>th</sup> (B) 24<sup>th</sup> (C) 25<sup>th</sup> (D) 28<sup>th</sup>

निर्देश – निम्नलिखित में से कौनसा चित्र प्रश्न 39 से 43 के दिये गये शब्दों/पदों में सर्वोत्तम सम्बन्ध दर्शाने वाला चित्र है?



39. जानवर, गाय, हाथी

40. पिता, भाई, मानवजाति

41. संगीतकार, यंत्रवादक, वायलिन वादक

42. साँप, सपेरा, टोकरी

43. डॉक्टर, महिला, माता



44. कारण: सप्ताहांत पर शहर की बहुराष्ट्रीय कंपनियों ने अपने कर्मचारियों के लिए लचीले कार्य घंटे शुरू किए।  
प्रभाव: (1) कर्मचारी संतुष्टि और उत्पादकता में वृद्धि हुई।  
(2) प्रतिभा आकर्षण और प्रतिधारण के साथ बेहतर कार्य-जीवन संतुलन।  
(3) कर्मचारियों को स्पष्ट संचार की चुनौती का सामना करना पड़ सकता है।  
(4) कर्मचारी सप्ताहांत पर अपने व्यक्तिगत काम को प्राथमिकता दे सकते हैं।  
कौनसा कारण और प्रभाव संबंध सही है?  
(A) केवल (1) और (2) सही हैं। (B) (1), (2) और (4) सही हैं।  
(C) (1) और (4) सही हैं। (D) (1) और (3) गलत हैं।
45. सेंट जेवियर कॉलेज एक टैलेंट शो का आयोजन कर रहा है और छात्रों को अपनी प्रतिभा दिखाने के लिए प्रोत्साहित किया जा रहा है। टैलेंट शो के लिए निम्नलिखित में से कौनसा उपयुक्त होगा?  
(A) एक छात्र का संगीत वाद्ययंत्र बजाना।  
(B) एक छात्र का स्टैंड-अप कॉमेडी रूटीन करना।  
(C) एक छात्र का जादू का खेल दिखाना।  
(D) एक छात्र का राजनीतिक विषय पर भाषण देना।
46. R, H से लम्बा है जो कि S से छोटा है। N, K से लम्बा है लेकिन H से छोटा है। यदि S, R से छोटा है, तो सबसे लम्बा कौन है?  
(A) H (B) R (C) K (D) S
47. निम्नलिखित समूह में कौनसा व्यक्ति अलग है?  
(A) एम.एच. अंसारी (B) अब्दुल कलाम (C) प्रणब मुखर्जी (D) डॉ. राजेंद्र प्रसाद
48. यदि यह सत्य है कि :  
"सभी शेर जानवर हैं।"  
"कुछ जानवर स्तनधारी हैं।"  
"सभी स्तनधारियों के चार पैर होते हैं।"  
शेरों के बारे में क्या अनुमान लगाया जा सकता है?  
(A) वे स्तनधारी हैं। (B) उनके चार पैर हैं।  
(C) वे जानवर नहीं हैं। (D) वे स्तनधारी नहीं हैं।
49. निम्नलिखित में से कौनसा विकल्प अन्य के समान नहीं है?  
(A) फेसबुक (B) इंस्टाग्राम (C) ट्विटर (D) व्हाट्सऐप
50. नीचे एक कथन दिया गया है जिसके बाद दो धारणाएँ I और II दी गई हैं। आपको कथन और उसके बाद दी गई धारणाओं पर विचार करना है और तय करना है कि कथन में कौनसी धारणा/धारणाएँ अंतर्निहित हैं।  
कथन - रमेश, दमन से सुरेश को फोन पर संपर्क नहीं कर सकता।  
धारणा I - दमन में टेलीफोन सुविधा उपलब्ध नहीं है।  
धारणा II - आजकल फोन पर सम्पर्क करना मुश्किल है।  
(A) यदि केवल धारणा (I) ही अंतर्निहित है।  
(B) यदि केवल धारणा (II) ही अंतर्निहित है।  
(C) यदि दोनों धारणाएं अंतर्निहित हैं।  
(D) यदि न तो (I) और ना ही (II) अंतर्निहित है।



भाग-ब

शिक्षण अभिक्षमता एवं अभिवृत्ति

51. यदि कुछ विद्यार्थी शिक्षक के साथ दुर्व्यवहार करते हैं, तो शिक्षक को –  
 (A) उनके माता-पिता को बताना चाहिए।  
 (B) स्वयं के चरित्र व विद्वता द्वारा उनके व्यवहार को सुधारना चाहिए।  
 (C) प्रधानाध्यापक को बताना चाहिए।  
 (D) अन्य शिक्षकों को उन विद्यार्थियों के खिलाफ संगठित करना चाहिए।
52. शैक्षिक निर्देशन कौनसी कक्षा में दिया जाना हितकर होता है?  
 (A) प्रारम्भ से प्रत्येक कक्षा में।  
 (B) जब छात्र किसी विशिष्ट ग्रुप में जाने को तैयार हों।  
 (C) जब आवश्यक हो तब दिया जाये।  
 (D) जब छात्र एक विद्यालय से दूसरे में प्रवेश करे।
53. एक शिक्षक कक्षा में विविधता और समावेश को कैसे बढ़ावा दे सकता है?  
 (A) विविध शिक्षण सामग्री और संसाधनों का उपयोग करके  
 (B) छात्रों को अपनी सांस्कृतिक पृष्ठभूमि और अनुभव साझा करने के लिए प्रोत्साहित करके  
 (C) एक प्रमुख संस्कृति को बढ़ावा देकर और दूसरों को अनदेखा करके  
 (D) विविधता को अनदेखा करके और सभी छात्रों के साथ एक जैसा व्यवहार करके
54. निम्नलिखित में से कौनसी विशेषताएँ वैज्ञानिक दृष्टिकोण वाले व्यक्ति की हैं?  
 (A) साहसिकता (B) संक्षिप्तता (C) लचीलापन (D) वस्तुनिष्ठता
55. किसी अवधारणा से जूझ रहे छात्रों को पढ़ाने का सबसे प्रभावी तरीका क्या है?  
 (A) छात्र के संघर्षों को अनदेखा करके आगे बढ़ना  
 (B) अतिरिक्त अभ्यास और समीक्षा प्रदान करके  
 (C) व्यक्तिगत सहायता और आधार प्रदान करके  
 (D) ना समझने पर छात्र को दंडित करके
56. शिक्षकों को निरंतर शिक्षा से क्या लाभ है?  
 (A) अध्ययन में रुचि रहती है।  
 (B) अपने ज्ञान की पुष्टि होती है।  
 (C) नवीन ज्ञान को समझने में सहायता मिलती है।  
 (D) नई परीक्षा पास होने/उत्तीर्ण होने में मदद मिलती है।
57. शिक्षक की योग्यता एवं आचरण का सबसे अच्छा मूल्यांकन करते हैं –  
 (A) उनके प्रधानाचार्य (B) उनके शिष्य  
 (C) समाज के सम्भ्रांत लोग (D) विशेषज्ञ
58. एक शिक्षक अपने छात्रों से मधुर संबंध किस प्रकार स्थापित करता है?  
 (A) हंसी मजाक करके  
 (B) उनसे उचित दूरी बनाकर  
 (C) उनकी समस्याओं को सुनने के बाद उनका निदान करके  
 (D) छात्रों को अपना मित्र बनाकर





59. विद्यालय में खेलों के आयोजन का उद्देश्य होता है –  
 (A) छात्रों को किसी कार्य में लगाना। (B) शरीर को हृष्टपुष्ट बनाना।  
 (C) प्रतियोगी खेलों के लिए तैयारी करना। (D) बालक का सर्वांगीण विकास करना।
60. शिक्षा में प्रौद्योगिकी की प्राथमिक भूमिका क्या है?  
 (A) शिक्षकों और पारंपरिक शिक्षण को प्रतिस्थापित करना  
 (B) शिक्षण और सीखने को बढ़ाना तथा संसाधनों तक पहुँच प्रदान करना  
 (C) मनोरंजन और विकर्षण प्रदान करना  
 (D) शिक्षा की आवश्यकता को समाप्त करना
61. "एक रेखाचित्र में 1000 से अधिक शब्द निहित होते हैं।" इस कथन का आशय है कि शिक्षक को –  
 (A) पढ़ाते समय रेखाचित्रों का प्रयोग करना चाहिये।  
 (B) कक्षा में शिक्षण सहायक सामग्री का प्रयोग करना चाहिये।  
 (C) कक्षा में कम एवं शुद्ध शब्द बोलने चाहिये।  
 (D) कक्षा में अधिक बोलना चाहिये।
62. शिक्षा में, शिक्षक अभिभावकों की भागीदारी को कैसे बढ़ावा दे सकता है?  
 (A) अभिभावकों के साथ नियमित रूप से संवाद स्थापित करके तथा उन्हें निर्णय लेने में शामिल करके  
 (B) अभिभावकों को कक्षा में स्वेच्छा से काम करने के अवसर प्रदान करके  
 (C) अभिभावकों की अनदेखी करके तथा उन्हें शिक्षा में शामिल न करके  
 (D) अभिभावकों की भागीदारी को हतोत्साहित करके
63. एक शिक्षक छात्रों में रचनात्मकता और नवाचार को कैसे बढ़ावा दे सकता है?  
 (A) विकल्प और स्वायत्तता के अवसर प्रदान करके  
 (B) विचार-मंथन और विचार निर्माण को प्रोत्साहित करके  
 (C) उत्तरोत्तर निर्देश और दिशा-निर्देश प्रदान करके  
 (D) एक निर्धारित प्रक्रिया की पालना करने के लिए कहकर
64. शिक्षक का प्राथमिक लक्ष्य क्या है?  
 (A) ज्ञान और कौशल प्रदान करना  
 (B) पाठ्यक्रम को शीघ्रता से पूरा करना  
 (C) कक्षा में अनुशासन बनाए रखना  
 (D) छात्रों को सीखने के लिए प्रेरित करना
65. आलोचनात्मक सोच को बढ़ावा देने के लिए शिक्षक को विद्यार्थियों से कहना चाहिए कि वे –  
 (A) पाठ्यपुस्तक पढ़ें और याद करें।  
 (B) व्याख्यान सुनें और नोट्स लिखें।  
 (C) चर्चा करें और विमर्श में भाग लें।  
 (D) स्मरण करें और दोहराएँ।
66. छात्र उस अध्यापक से संबंध रखना पसंद करता है –  
 (A) जो कक्षा में खूब कहानी किस्से सुनाता है।  
 (B) जो छात्रों को खूब हँसाता है।  
 (C) जो छात्रों को समझाकर पढ़ाता है।  
 (D) जो उदाहरण देकर व्याख्यान करता है।



67. एक अच्छे विद्यालय प्रमुख का चरित्र संबंधी गुण है -  
 (A) आदर्श विचार और प्रेरक भावनाएँ।  
 (B) सामाजिक और सांस्कृतिक मूल्यों का प्रतीक।  
 (C) आकर्षक व्यक्तित्व।  
 (D) कठोर और अनुशासित।
68. भगोड़े विद्यार्थियों के प्रति आपकी क्या अभिवृत्ति होगी?  
 (A) दया (B) उदासीन (C) सहानुभूतिशील (D) प्रतिशोधी
69. शिशु की प्रथम पाठशाला है -  
 (A) किण्डरगार्टन (B) अड़ोस-पड़ोस (C) माता-पिता (D) परिवार
70. एक शिक्षक समस्या-समाधान कौशल को कैसे बढ़ावा दे सकता है?  
 (A) समस्या-समाधान को हतोत्साहित करके  
 (B) व्याख्यान देकर और चरण-दर-चरण निर्देश प्रदान करके  
 (C) केवल बहुविकल्पीय प्रश्न प्रदान करके  
 (D) पूछताछ-आधारित सीखने और वास्तविक दुनिया के अनुप्रयोगों के अवसर प्रदान करके
71. छात्र दण्ड की अपेक्षा प्यार से अधिक सीखते हैं, क्योंकि -  
 (A) यह बहुत मनोवैज्ञानिक है। (B) इससे उनको सुख मिलता है।  
 (C) इससे उनको मानसिक शक्ति मिलती है। (D) इससे वे जिददी बनते हैं।
72. अध्यापन व्यवसाय की सफलता निर्भर करती है -  
 (A) छात्रों को प्रसन्न रखने की नीति पर।  
 (B) कार्य की गुणवत्ता को बनाए रखने पर।  
 (C) परिश्रम एवं ईमानदारी पर।  
 (D) अधिकारियों को प्रसन्न रखने की नीति पर।
73. एक शिक्षक कक्षा में छात्रों की भागीदारी को कैसे बढ़ावा दे सकता है?  
 (A) खुले-अंत वाले प्रश्न पूछकर और चर्चा को प्रोत्साहित करके  
 (B) समूह कार्य और सहयोग के अवसर प्रदान करके  
 (C) छात्रों पर व्यक्तिगत ध्यान देकर  
 (D) व्याख्यान देकर और प्रश्न न पूछने देकर
74. एक विद्यार्थी जो किसी समस्या को हल करने का प्रयास अध्यापक की सहायता लिए बिना करता है, तो अध्यापक को -  
 (A) विद्यार्थी को सलाह देनी चाहिए कि वह अपने मित्रों की मदद ले।  
 (B) उस पर ध्यान देना चाहिए।  
 (C) उसकी उस मूर्खता पर उसे डाँटना चाहिए।  
 (D) उसके व्यक्तिगत प्रयासों की सराहना करनी चाहिए।
75. एक अध्यापक का श्रेष्ठतम गुण है -  
 (A) अध्यापन के प्रति पूर्ण समर्पण। (B) अनुशासित।  
 (C) अध्यापन के प्रति उच्च विचार। (D) धर्मनिरपेक्ष दृष्टिकोण।



विद्यालय की समय सारणी का आधार होना चाहिए -

- (A) छात्रों की सुविधा। (B) अध्यापकों की सुविधा।  
(C) विषयों की विषय-वस्तु अनुसार। (D) मौसम अनुसार।

एक अध्यापक होने के नाते आप कक्षा में प्रश्न क्यों पूछेंगे?

- (A) कक्षा में अनुशासन बनाए रखने हेतु।  
(B) विद्यार्थियों का विषय-वस्तु पर ध्यान केन्द्रित करने हेतु।  
(C) विषय-वस्तु पर चर्चा करने हेतु।  
(D) कक्षा में समय बिताने हेतु।

शिक्षक चिंतन और आत्म-सुधार को कैसे बढ़ावा दे सकता है?

- (A) नियमित रूप से शिक्षण पद्धतियों पर चिंतन करके और फीडबैक मांगकर  
(B) केवल शिक्षण पद्धतियों पर चिंतन करके, लेकिन फीडबैक नहीं मांगकर  
(C) शिक्षक चिंतन और आत्म-सुधार को अनदेखा करके  
(D) शिक्षक चिंतन और आत्म-सुधार को हतोत्साहित करके

रचनात्मक मूल्यांकन का प्राथमिक उद्देश्य क्या है?

- (A) किसी पाठ या इकाई के अंत में छात्र के सीखने का मूल्यांकन करना  
(B) छात्र की प्रगति की निगरानी करना और निर्देश को समायोजित बनाना  
(C) छात्रों को फीडबैक प्रदान करना, लेकिन निर्देश को समायोजित नहीं बनाना  
(D) अपेक्षाओं को पूरा न करने पर छात्रों को दंडित करना

कक्षा में व्यवहार को प्रबंधित करने का सबसे प्रभावी तरीका क्या है?

- (A) नियम और परिणाम को स्पष्ट रूप से स्थापित करके तथा सकारात्मक व्यवहार को प्रोत्साहित  
(B) शारीरिक बल और धमकी का उपयोग करके  
(C) दुर्व्यवहार को अनदेखा करके तथा शिक्षण पर ध्यान केंद्रित करके  
(D) दंड और पुरस्कार का उपयोग करके

शिक्षकों के मूल्यांकन का प्राथमिक उद्देश्य क्या है?

- (A) अच्छा प्रदर्शन न करने वाले शिक्षकों को हटाना  
(B) जवाबदेही और मानक बनाए रखना  
(C) शिक्षकों को दंडित या पुरस्कृत करना  
(D) शिक्षण पद्धतियों और छात्र अधिगम में सुधार करना

एक बच्चा सबसे पहले समाजीकरण के पाठ कहाँ से सीखता है?

- (A) स्कूल (B) वातावरण  
(C) माता-पिता (D) समाचार-पत्र

यदि कोई अध्यापक बिना आपकी गलती के आपको दंडित करता है, तो आप -

- (A) प्रधानाध्यापक से उस शिक्षक की शिकायत करेंगे।  
(B) विद्यालय छोड़ देंगे।  
(C) अध्यापक से स्वयं बात कर खुद को निर्दोष साबित करेंगे।  
(D) अध्यापक से कभी भी बात नहीं करेंगे।



84. आप खेल के मैदान पर दो छात्रों को आपस में लड़ता हुआ देखते हैं, तो आप –  
 (A) प्रधानाध्यापक को सूचित करेंगे।  
 (B) अन्य विद्यार्थियों को उन्हें लड़ने से रोकने के लिये कहेंगे।  
 (C) दोनों से बात कर उन्हें शान्त करेंगे।  
 (D) दोनों को अनदेखा कर आगे बढ़ जायेंगे।
85. कक्षा में सम्प्रेषण की सबसे शक्तिशाली बाधा है –  
 (A) बाहरी हस्तक्षेप  
 (B) शिक्षण सामग्री का अभाव  
 (C) शिक्षक के स्तर पर भ्रांति  
 (D) कक्षा में शोरगुल
86. एक प्रभावी शिक्षक का सबसे महत्वपूर्ण गुण क्या है?  
 (A) विषय-वस्तु विशेषज्ञता  
 (B) सम्प्रेषण कौशल  
 (C) धैर्य और सहानुभूति  
 (D) सत्तावादी रवैया
87. यदि आपका मित्र आपसे बिना विशेष कारण के नाराज हो गया है, तो आप –  
 (A) उसे खुश करने के लिये उसकी प्रशंसा करेंगे।  
 (B) उससे बात करके गलतफहमी को दूर करेंगे।  
 (C) उससे बात करना बंद कर देंगे।  
 (D) उसकी सर्वत्र निंदा करेंगे।
88. शिक्षक के द्वारा छात्रों में मूल्यों की स्थापना संभव है, क्योंकि –  
 (A) शिक्षक में छात्रों को प्रेरित करने की शक्ति होती है।  
 (B) छात्र शिक्षक को अपना आदर्श भूमिका निर्वाह करने वाला व्यक्ति मानते हैं।  
 (C) छात्र शिक्षक से भयभीत रहते हैं।  
 (D) शिक्षक छात्र की सहायता करते हैं।
89. सामाजिक परिपक्वता वाले व्यक्ति की दृष्टि होती है –  
 (A) रचनात्मक (B) सकारात्मक (C) द्वंद्वात्मक (D) तटस्थ
90. बच्चों का प्रथम अध्यापक कौन होता है?  
 (A) उनका अपना चेतन मन  
 (B) उनका पर्यावरण  
 (C) उनके माँ-बाप  
 (D) अध्यापक
91. खेल आधारित शिक्षा से तात्पर्य है –  
 (A) खेल द्वारा शिक्षा प्रदान करना।  
 (B) समय व्यतीत करना।  
 (C) विद्यार्थियों में खेल की भावना विकसित करना।  
 (D) जीवन में खेल को महत्त्व देना।
92. बालकों में नेतृत्व गुण का विकास करने के लिये उन्हें विद्यालय में अवसर प्रदान किये जाने चाहिए –  
 (A) पाठ्येतर क्रियाकलापों के आयोजन के लिए।  
 (B) छात्र-संघ चुनावों के लिए।  
 (C) कक्षा में मॉनिटर चयन के लिए।  
 (D) ताकतवर छात्रों द्वारा शक्ति प्रदर्शन करने के लिए।



93. अध्यापक की कार्यक्षमता को बढ़ाया जा सकता है –  
 (A) परीक्षाफल के अनुसार पदोन्नति देकर। (B) कड़े स्कूल प्रशासन द्वारा।  
 (C) अध्यापक के कार्यों की सराहना करके। (D) अच्छा वेतन देकर।
94. एक शिक्षक छात्र में प्रेरणा और सहभागिता को कैसे बढ़ावा दे सकता है?  
 (A) विकल्प और स्वायत्तता प्रदान करके और छात्र हितों को प्रोत्साहित करके  
 (B) छात्र प्रेरणा और सहभागिता को अनदेखा करके  
 (C) पुरस्कार और दंड का उपयोग करके  
 (D) बोलकर लिखवाकर और प्रदर्शित करके
95. प्रायः एक अध्यापक को सर्वाधिक आनंद की प्राप्ति होती है –  
 (A) छात्रों से प्रश्नोत्तर के दौरान। (B) छात्रों द्वारा अपनी प्रशंसा सुनकर।  
 (C) सम्प्रेषण की सार्थकता सिद्ध होने पर। (D) छात्रों के उत्तम परीक्षाफल से।
96. एक शिक्षक छात्रों में विकास की मानसिकता को कैसे बढ़ावा दे सकता है?  
 (A) चुनौती और प्रतिक्रिया के अवसर प्रदान करके और दृढ़ता को प्रोत्साहित करके  
 (B) केवल आसान कार्य प्रदान करके और चुनौतियों से बचाकर  
 (C) छात्र मानसिकता को अनदेखा करके और शिक्षण के अन्य पहलुओं पर ध्यान केंद्रित करके  
 (D) एक निश्चित मानसिकता को बढ़ावा देकर और चुनौतियों को हतोत्साहित करके
97. एक शिक्षक छात्र के सीखने का प्रभावी ढंग से आकलन कैसे कर सकता है?  
 (A) केवल बहुविकल्पीय प्रश्नों का उपयोग करके  
 (B) क्विज़, प्रोजेक्ट और कक्षा चर्चा सहित विभिन्न मूल्यांकन विधियों का उपयोग करके  
 (C) केवल निबंध प्रश्नों का उपयोग करके  
 (D) केवल मौखिक परीक्षण द्वारा
98. विशेष आवश्यकता वाले छात्रों को पढ़ाने का सबसे प्रभावी तरीका क्या है?  
 (A) विभेदित निर्देश का उपयोग करके और व्यक्तिगत आवश्यकताओं के अनुसार अनुकूलन करके  
 (B) विशेष आवश्यकता वाले छात्रों को अनदेखा करके  
 (C) सभी के लिए एक ही दृष्टिकोण का उपयोग करके  
 (D) विशेष आवश्यकता वाले छात्रों को कक्षा से बाहर करके
99. एक शिक्षक सकारात्मक कक्षा वातावरण को कैसे बढ़ावा दे सकता है?  
 (A) छात्रों के बीच प्रतिस्पर्धा और आक्रामकता को बढ़ावा देकर  
 (B) कक्षा की गतिशीलता को अनदेखा करके और निर्देश पर ध्यान केंद्रित करके  
 (C) व्यवहार को नियंत्रित करने के लिए दंड और पुरस्कार का उपयोग करके  
 (D) छात्रों के बीच स्पष्ट अपेक्षाएँ स्थापित करके और सम्मान को प्रोत्साहित करके
100. यदि कोई अभिभावक परीक्षा में अपने बालक की सिफारिश अध्यापक से करे, तो अध्यापक को चाहिए  
 (A) उसकी सहायता करने का प्रयास करे।  
 (B) उससे कहे कि वह फिर कभी ऐसा न करे।  
 (C) नम्रता तथा दृढ़ता से उसे ऐसा करने के लिये मना करे।  
 (D) बेरुखी से उसे वहाँ से चले जाने के लिये कहे।



भाग-स

सामान्य जागरूकता

101. भारत की पंचामृत रणनीति किसके लिये कार्यवाही से संबंधित है?  
 (A) जलवायु परिवर्तन (B) विश्व स्वास्थ्य  
 (C) विश्व के जंगलों को बचाने से (D) विश्व की नदियों को बचाने से
102. 'भूदान' के अग्रणी नेता कौन थे?  
 (A) सरदार वल्लभभाई पटेल (B) विनोबा भावे  
 (C) जयप्रकाश नारायण (D) राम मनोहर लोहिया
103. निम्न में से किस महिला स्वतंत्रता सेनानी ने भारत छोड़ो आंदोलन के दौरान गोपनीय रेडियो स्टेशन की स्थापना की थी?  
 (A) अरुणा आसफ अली (B) सुचेता कृपलानी  
 (C) उषा मेहता (D) सरोजिनी नायडू
104. किस वर्ष में 'प्रोजेक्ट टाईगर' की शुरुआत हुई?  
 (A) 1971 (B) 1972 (C) 1973 (D) 1975
105. जनवरी, 2025 में डोनाल्ड ट्रम्प ने शपथ ली -  
 (A) यू.एस.ए. के 47वें राष्ट्रपति के रूप में (B) यू.एस.ए. के 44वें राष्ट्रपति के रूप में  
 (C) यू.एस.ए. के 43वें राष्ट्रपति के रूप में (D) यू.एस.ए. के 41वें राष्ट्रपति के रूप में
106. किस राज्य में सम्बलपुर हाथी संरक्षित क्षेत्र स्थित है?  
 (A) केरल (B) ओडिशा (C) उत्तर प्रदेश (D) तमिलनाडु
107. हिमालय की निम्न में से कौनसी चोटी (शिखर) भारत में नहीं है?  
 (A) धौलागिरी (B) कामेट (C) सालतोरों काँगड़ी (D) नंदा देवी
108. किस राज्य में मानस संरक्षित जैवमण्डल स्थित है?  
 (A) मेघालय (B) सिक्किम (C) असम (D) मणिपुर
109. हिमाचल प्रदेश का मंडी जिला किस खनिज के लिये प्रसिद्ध है?  
 (A) चूना पत्थर (B) जिप्सम (C) रॉक सॉल्ट (D) स्लेट
110. राजस्थान में शिवसागर बांध किस नदी पर बना है?  
 (A) गंभीरी (B) मेज (C) मानसी (D) बनास
111. निम्नांकित में से किसने "भारत छोड़ो" का नारा दिया?  
 (A) महात्मा गांधी (B) अब्दुल गफ्फार खान  
 (C) यूसुफ मेहरअली (D) जवाहरलाल नेहरू
112. राजस्थान आर्थिक समीक्षा 2024-25 के अनुसार, वर्ष 2024-25 के लिए प्रचलित कीमतों पर सकल राज्य घरेलू उत्पाद की वृद्धि दर है -  
 (A) 17.46 प्रतिशत (B) 13.45 प्रतिशत (C) 12.02 प्रतिशत (D) 12.17 प्रतिशत



113. भारतीय वन्यजीव संस्थान किस जगह पर स्थित है?  
(A) देहरादून (B) शिमला (C) चंडीगढ़ (D) अमृतसर
114. 'लांगुरिया' नृत्य के लिए विशेष रूप से कौनसा क्षेत्र प्रसिद्ध है?  
(A) उदयपुर (B) करौली (C) बाड़मेर (D) सीकर
115. निम्नलिखित में से किस शहर में राजस्थान के राजस्व मंडल का मुख्यालय स्थित है?  
(A) अजमेर (B) जयपुर (C) कोटा (D) अलवर
116. निम्न में से किस जिले में गोलेराव जैन मन्दिर स्थित है?  
(A) बीकानेर (B) जोधपुर (C) राजसमन्द (D) बांसवाड़ा
117. निम्न में से कौनसा स्थान यूरेनियम भंडार से संबंधित नहीं है?  
(A) आंध्र प्रदेश में तुम्मलापल्ले (B) राजस्थान में उमरा  
(C) झारखण्ड में जादूगुड़ा (D) उड़ीसा में बैलाडीला
118. निम्नलिखित में से किसे 59वाँ ज्ञानपीठ पुरस्कार दिया गया है?  
(A) गुलज़ार (B) विनोद कुमार शुक्ल (C) दामोदर मौजो (D) नीलमणि फूकन
119. 'अजरख' प्रिन्ट के लिए राजस्थान का कौनसा क्षेत्र प्रसिद्ध है?  
(A) दौसा क्षेत्र (B) डूंगरपुर क्षेत्र (C) बाड़मेर क्षेत्र (D) जयपुर क्षेत्र
120. किस देश ने 2024 में अपने सर्वोच्च नागरिक सम्मान 'द ऑर्डर ऑफ मुबारक अल-कबीर' से भारतीय प्रधानमंत्री श्री नरेन्द्र मोदी को सम्मानित किया है?  
(A) यू.ए.ई. (B) ओमान (C) कुवैत (D) कतर
121. भारत के प्रथम प्रधानमंत्री पंडित जवाहरलाल नेहरू ने निम्नलिखित में से किन्हें 'आधुनिक भारत का मंदिर' कहा?  
(A) भारतीय तकनीकी संस्थान (B) कपड़ा मिलें  
(C) बांध (D) आधुनिक शहर
122. किस वेद में अनेक देवताओं, विशेष रूप से अग्नि, इन्द्र एवं सोम की प्रशंसा/स्तुति में भजन हैं?  
(A) ऋग्वेद (B) अथर्ववेद (C) सामवेद (D) यजुर्वेद
123. निम्न में से कौन 'प्रयाग प्रशस्ति' के लेखक हैं?  
(A) हरिषेण (B) कालिदास (C) विष्णुगुप्त (D) कामन्दक
124. राष्ट्रीय पक्षी दिवस मनाया जाता है -  
(A) प्रत्येक वर्ष की 5 जनवरी को (B) प्रत्येक वर्ष के 3 मार्च को  
(C) प्रत्येक वर्ष के 10 अगस्त को (D) प्रत्येक वर्ष के 11 दिसम्बर को
125. निम्नलिखित में से किसे 'प्राथमिक शैल' कहा जाता है?  
(A) आग्नेय शैल (B) अवसादी शैल (C) कायांतरित शैल (D) लाल बलुआ शैल
126. केन्द्रीय बजट 2025-26 के उल्लेख अनुसार, प्रधानमंत्री धन-धान्य कृषि योजना के अन्तर्गत कितने जिलों को सम्मिलित किया जाएगा?  
(A) 100 (B) 75 (C) 50 (D) 25



127. संयुक्त राष्ट्र पर्यावरण कार्यक्रम का मुख्यालय कहाँ स्थित है?  
 (A) ओस्लो (B) रोम (C) कोलम्बो (D) नैरोबी
128. हाल ही में किस दिन को संयुक्त राष्ट्र महासभा ने 'विश्व ध्यान दिवस' घोषित किया है?  
 (A) 21 दिसम्बर (B) 3 दिसम्बर (C) 1 दिसम्बर (D) 25 दिसम्बर
129. पिचवरम मैंग्रोव वन किस राज्य में स्थित है?  
 (A) आंध्र प्रदेश (B) तमिलनाडु (C) केरल (D) कर्नाटक
130. निम्न में से कौनसे लोकदेवता जोधपुर के राव जोधा के समकालीन थे?  
 (A) तेजाजी (B) हड़बूजी (C) कल्लाजी (D) देवनारायण जी
131. विक्रमशिला, जो कि हाल ही में समाचारों में था, किस प्राचीन स्मारक का नाम है?  
 (A) बौद्ध विश्वविद्यालय (B) बौद्ध स्तूप (C) बौद्ध मठ (D) बौद्ध शिलालेख
132. किस स्थान पर लोकदेवता गोगाजी का जन्म हुआ था?  
 (A) ददरेवा (B) खरनाल (C) पोखरण (D) देशनोक
133. निम्नांकित में से किस संगठन से अमरीका ने स्वयं को जनवरी, 2025 में अलग कर लिया था?  
 (A) विश्व स्वास्थ्य संगठन (B) विश्व बैंक  
 (C) अन्तर्राष्ट्रीय मुद्रा कोष (D) अन्तर्राष्ट्रीय श्रम संगठन
134. 'कजली तीज' मेला कहाँ आयोजित होता है?  
 (A) बीकानेर (B) बूँदी (C) प्रतापगढ़ (D) डूंगरपुर
135. निम्न में से कौनसी नदी कर्नाटक की ब्रह्मगिरी पहाड़ियों से निकलती है?  
 (A) कृष्णा (B) कावेरी (C) गोदावरी (D) ताप्ती
136. किसने 1947 में अहमदाबाद में भौतिक अनुसंधान प्रयोगशाला की स्थापना की?  
 (A) के. कस्तूरीरंगन (B) विक्रम साराभाई  
 (C) ए.पी.जे. अब्दुल कलाम (D) जी. माधवन नायर
137. निम्नलिखित में से किस संस्था ने राष्ट्रीय वायु गुणवत्ता निगरानी कार्यक्रम आरंभ किया?  
 (A) राष्ट्रीय हरित प्राधिकरण (नेशनल ग्रीन ट्रिब्यूनल)  
 (B) केन्द्रीय प्रदूषण नियंत्रण बोर्ड  
 (C) केन्द्रीय वायु निगरानी बोर्ड  
 (D) राष्ट्रीय हरित न्यायालय (नेशनल ग्रीन कोर्ट्स)
138. कठपुतली शैली 'यमपुरी' का सम्बन्ध किस राज्य से है?  
 (A) राजस्थान (B) मध्य प्रदेश (C) बिहार (D) गुजरात
139. भैंसरोड़गढ़ अभ्यारण्य किस जिले में स्थित है?  
 (A) चित्तौड़गढ़ (B) डूंगरपुर (C) सिरौही (D) बूँदी



किस वर्ष में सरदार वल्लभभाई पटेल भारतीय राष्ट्रीय कांग्रेस के अध्यक्ष रहे?

- (A) 1931 (B) 1921 (C) 1936 (D) 1926

किस स्थान पर नवम्बर, 2024 में प्रथम एशियाई बौद्ध शिखर सम्मेलन आयोजित किया गया था?

- (A) जयपुर (B) आगरा (C) पटना (D) नई दिल्ली

सेल्फ एम्प्लॉयड विमेन्स एसोसिएशन (सेवा) की संस्थापक कौन थीं?

- (A) ईला भट्ट (B) मेधा पाटकर (C) वंदना शिवा (D) अरुणा राय

पीएम-कुसुम निम्न में से किस क्षेत्र से सम्बंधित है?

- (A) कृषि क्षेत्र में सौर ऊर्जा (B) जैविक खेती  
(C) पर्यावरण संरक्षण (D) भू-जल संरक्षण

आहू और काली सिंध नदियों के संगम पर कौनसा किला बना हुआ है?

- (A) गागरोन किला (B) शाहबाद किला (C) तारागढ़ किला (D) शेरगढ़ किला

चित्रकला की देवगढ़ शैली सम्बंधित है -

- (A) मारवाड़ चित्रकला शैली से (B) हाड़ौती चित्रकला शैली से  
(C) ढूँडाड़ चित्रकला शैली से (D) मेवाड़ चित्रकला शैली से

लोकसभा चुनाव 2024 में भारतीय जनता पार्टी तथा भारतीय राष्ट्रीय कांग्रेस के बाद सर्वाधिक सीट प्राप्त करने वाला राजनीतिक दल कौनसा है?

- (A) ऑल इंडिया तृणमूल कांग्रेस (B) समाजवादी पार्टी  
(C) द्रविड़ मुनेत्र कड़गम (D) तेलुगू देशम पार्टी

हाल ही में भारत द्वारा किस देश को ऑपरेशन ब्रह्मा के अंतर्गत मानवीय सहायता एवं आपदा राहत प्रदान की गयी?

- (A) वियतनाम (B) म्यांमार (C) नेपाल (D) भूटान

'स्वच्छ भारत मिशन' कब आरंभ हुआ?

- (A) 2 अक्टूबर, 2014 (B) 2 अक्टूबर, 2015  
(C) 2 अक्टूबर, 2016 (D) 2 अक्टूबर, 2013

सुन्दरलाल बहुगुणा के संबंध में निम्नलिखित में से कौनसा कथन सही नहीं है?

- (A) वह गांधीवादी मूल्यों में विश्वास करते थे।  
(B) वह चिपको आंदोलन के लिए प्रसिद्ध थे।  
(C) उन्होंने राजस्थान के थार में 'खेजड़ी पेड़' बचाने के लिए महत्वपूर्ण भूमिका निभाई।  
(D) उन्होंने टिहरी बांध के निर्माण के विरुद्ध लम्बा संघर्ष किया।

निम्न में कौनसी मृदा देश के लगभग 40 प्रतिशत हिस्से में फैली है?

- (A) जलोढ़ मृदा (B) काली मृदा (C) वन मृदा (D) शुष्क मृदा



Section-D  
English

151. The teacher has instructed all of us to finish the work by tomorrow,.....?  
(A) has he? (B) didn't he? (C) hasn't he? (D) would he?
152. Select the option which will mean 'rare' when suffix 'ly' is added to it.  
(A) like (B) hard (C) kind (D) easy
153. Identify the tense in the sentence "She was dancing so well."  
(A) Present Simple (B) Past Simple (C) Past Perfect (D) Past Continuous
154. Identify the sentence with correct subject verb concord -  
(A) He go to temple every morning. (B) They plays chess every night.  
(C) The ironsmith beats the iron daily. (D) They will study yesterday.
155. Fill in the blank with correct option -  
I want .....sugar.  
(A) a (B) some (C) a few (D) few
156. The mosquitoes are always out at this time.  
The underlined word is a/an -  
(A) Adjective (B) Adverb (C) Verb (D) Noun
157. Choose the correct option to complete the sentence -  
I ..... lift the box when I was young.  
(A) can (B) could (C) may (D) must
158. "A man of letters" means -  
(A) Illiterate (B) Student (C) Scholar (D) Teacher
159. ".....driving one of his four chariots....."  
The word "his" in the above line stands for -  
(A) Attendants (B) Konark (C) Sun-god, Surya (D) The writer
160. Fill in the blank with correct option -  
I felt a little apprehensive ..... the choice.  
(A) in (B) to (C) about (D) from
161. Identify the correct sentence in the following sentence.  
(A) Not much has been written on the subject.  
(B) Not much have written on the subject.  
(C) No much has been written on the subject.  
(D) No much have written on the subject.
162. I am sorry ..... hear that your father is ill.  
(A) on (B) by (C) with (D) to
163. A noisy party kept us awake.  
The underlined word is a/an -  
(A) Noun (B) Verb (C) Adverb (D) Adjective
164. Mr. Bhat .....here since 1990 and has made this place his home.  
(A) had staying (B) has been staying (C) was to stay (D) is staying
165. Mark the word which is synonym of "Loving".  
(A) Anatomy (B) Amorous (C) Prurience (D) Licentious
166. We should learn to.....luxuries.  
(A) draw back (B) come upon (C) done with (D) do without
167. Fill in the blank with the most appropriate phrasal verb -  
Are you.....to your holiday?  
(A) showing round (B) giving back (C) earning more (D) looking forward



168. Mark one word substitution of the following -  
"That which can be easily broken."  
(A) Breakable (B) Soft (C) Delicate (D) Brittle
169. Fill in the blank with the most appropriate phrasal verb -  
I was .....the baby.  
(A) holding up to (B) looking after  
(C) putting of (D) caring emotionally
170. Mark the correct spelling.  
(A) Billionaire (B) Billiannaiyer (C) Belianeiyer (D) Belianaiyer
171. Which is the largest Hindu Temple in the North-East India?  
(A) Pashupatinath Temple (B) Konark Temple  
(C) Minakshi Temple (D) Balaji Temple
172. My father told a story. 'Told' is a.....  
(A) Transitive verb (B) Intransitive verb (C) Linking verb (D) Both (A) & (B)
173. Complete the sentence with correct option -  
There is hardly ..... reason to doubt his intentions.  
(A) some (B) much (C) every (D) any
174. Mark correct antonym of the word - 'Deficit'.  
(A) Pause (B) Extra (C) Addition (D) Surplus
175. Mark correct antonym of the word - 'Help'.  
(A) Problem (B) Hinder (C) Cause (D) Against
176. Fill in the blank with correct option -  
.....few students who were in the class, also left after a while.  
(A) The (B) No (C) Most (D) Very
177. Mark correct Passive form of the following sentence -  
The clients kept them waiting for an hour.  
(A) They waited for the clients for an hour.  
(B) They were keeping waiting for an hour.  
(C) They were kept waiting for an hour by the clients.  
(D) They were kept waiting for an hour.
178. She loves playing the violin.  
The underlined word is a -  
(A) Participle (B) Infinitive (C) Present Participle (D) Gerund
179. Which of the following sentence is in Present Perfect tense?  
(A) The team won the match. (B) The team will win the match.  
(C) The team has won the match. (D) The team had won the match.
180. I am peeling ..... potatoes.  
(A) a (B) an (C) the (D) no article
181. Choose the simple sentence -  
(A) You may do it when you please. (B) You may do it at your pleasure.  
(C) It pleases you and it your pleasure. (D) You may do it because it pleases you.
182. Fill in the blank with correct option -  
.....you do, don't mention my name.  
(A) What (B) Which (C) Whenever (D) Whatever
183. "To us it was beautiful....."  
The underlined words are -  
(A) Noun (B) Pronoun (C) Preposition (D) Adjective



184. Identify the type of sentence -  
They were pleased at winning the prize.  
(A) Simple (B) Complex (C) Compound (D) Imperative
185. The Active form of the sentence "The letter was written in blood by her." is -  
(A) She wrote a bloody letter. (B) She was writing letter in blood.  
(C) She wrote the letter in blood. (D) In blood was the letter written.
186. I think the government ..... do more to improve education.  
(A) could (B) can (C) might (D) should
187. Add prefix to form opposite word - 'interpret'.  
(A) Un (B) Dis (C) Mis (D) Im
188. Fill in the blank with correct option -  
'We saw him near .....cinema hall last night.'  
(A) an (B) a (C) the (D) zero
189. Choose the complex sentence -  
(A) I am responsible my actions. (B) I am responsible for all my actions.  
(C) I do all and I am responsible for that. (D) I am responsible for what I do.
190. My mother asked me when .....have a glass of milk.  
(A) I will (B) would I (C) I would (D) will I
191. Change the following sentence into Direct Speech -  
"Rahul said he was very busy then."  
(A) Rahul said that he had been very busy. (B) Rahul said, "I am very busy now."  
(C) Rahul has been busy that time. (D) Rahul was busy then.
192. Fill in the blank with correct option -  
"Rashmi is .....university student."  
(A) an (B) the (C) a (D) no
193. The dogs .....in the street for half an hour.  
(A) bark (B) are barking (C) have barked (D) have been barking
194. This story is interesting.  
The underlined word is a -  
(A) Gerund (B) Past Participle (C) Present Participle (D) Infinitive
195. Kavin.....safe to his home.  
(A) got at (B) got on (C) got back (D) got up
196. Choose the opposite of the word - 'Arrogant'  
(A) Rude (B) Cruel (C) Humble (D) Naughty
197. Identify the correct sequence of the jumbled sentence -  
(P) the house (Q) we got (R) clean (S) until (T) it took us (U) six weeks  
(A) PQTRSU (B) TUSQPR (C) PRSQTU (D) TPQUSR
198. Complete the sentence with correct option -  
It is a big factory. Five hundred people .....there.  
(A) are employed (B) employing (C) have employed (D) is employing
199. Add prefix to form opposite word - 'connect'.  
(A) Un (B) Dis (C) Mis (D) Im
200. Complete the sentence with appropriate option -  
She cannot dance ..... she can sing well.  
(A) neither (B) both (C) either (D) but



भाग-द  
हिन्दी

151. 'निशाचर' का अर्थ 'राक्षस' है, तो 'निशाकर' का अर्थ होता है -  
(A) सूरज (B) कमल (C) निर्धन (D) चंद्रमा
152. 'उतराई' शब्द में प्रत्यय है -  
(A) उ (B) उत् (C) राई (D) आई
153. समूहवाचक संज्ञा को दर्शाने वाला विकल्प है -  
(A) सोना (B) नगर (C) सेना (D) कावेरी
154. 'गाल फुलाना' मुहावरे का अर्थ होता है -  
(A) अभिमान प्रकट करना (B) गुस्सा होना  
(C) डींग मारना (D) मिथ्या कल्पना करना
155. संप्रदान तत्पुरुष का उदाहरण नहीं है -  
(A) युद्ध भूमि (B) राह खर्च (C) पथ भ्रष्ट (D) हवन सामग्री
156. संबंधवाचक विशेषण को दर्शाने वाला विकल्प है -  
(A) कौन लड़का (B) जो बातें (C) यह पुस्तक (D) कुछ काम
157. निम्नलिखित में से किसमें स्वर संधि है?  
(A) पुनश्च (B) वयोवृद्ध (C) सज्जन (D) महात्मा
158. "स्वामी नौकर से काम करवाता है।" वाक्य में 'करवाता है' शब्द किस क्रिया को दर्शाता है?  
(A) संयुक्त क्रिया (B) प्रेरणार्थक क्रिया (C) नामधातु क्रिया (D) पूर्वकालिक क्रिया
159. 'भ्रमर' शब्द का पर्यायवाची शब्द नहीं है -  
(A) अलि (B) भुजंग (C) षट्पद (D) मधुकर
160. निम्न में से कौनसा विकल्प अशुद्ध है?  
(A) घुटने टेकना - हार मान लेना (B) गिद्ध दृष्टि - लालच  
(C) छक्के छुड़ाना - पराजित कर देना (D) नाक कटना - गायब हो जाना
161. 'भादों' शब्द का तत्सम रूप है -  
(A) भाद्रपद (B) भौरा (C) भ्रमर (D) भगिनी
162. अव्ययीभाव समास का उदाहरण है -  
(A) गुणभरा (B) रसोईघर (C) यथाक्रम (D) देशनिकाला
163. निम्नलिखित में से तद्भव शब्द नहीं है -  
(A) आश्चर्य (B) अनूठा (C) अदरक (D) अँधेरा
164. निम्नलिखित में से तत्सम शब्द नहीं है -  
(A) हरिण (B) खत्री (C) स्नेह (D) स्तंभ
165. 'आशा से अधिक' को कहते हैं -  
(A) आशावान (B) आशातीत (C) आशानुकूल (D) आशानुरूप
166. 'गौरव' शब्द में प्रत्यय है -  
(A) रव (B) व (C) अ (D) गौ
167. निम्नलिखित में से देशज शब्द नहीं है -  
(A) थैला (B) चूँ-चूँ (C) चाबी (D) फटफटिया
168. "मोहन ने गोपाल से पूछा कि तुम कब आओगे।" वाक्य में सर्वनाम शब्द है -  
(A) मोहन (B) गोपाल (C) पूछा (D) तुम



169. निम्नलिखित में से जातिवाचक संज्ञा नहीं है –  
(A) यमुना (B) नदी (C) स्त्री (D) झील
170. निम्नलिखित में से 'अध' उपसर्ग से बना शब्द है –  
(A) अधर्म (B) अधकचरा (C) अधिमास (D) अधःपतन
171. निम्नलिखित में से किस विकल्प में सभी शब्द 'स्वर्ण' के पर्यायवाची हैं?  
(A) कनक, कुंदन, हेम (B) सुवर्ण, पाणि, मतंग  
(C) कंचन, मारुत, नगराज (D) सोना, हिरण्य, भानु
172. 'देखकर गुण-दोष की परीक्षा करना' को दर्शाने वाला मुहावरा है –  
(A) नजर में तौलना (B) नजर बाँधना (C) नजर रखना (D) नजर फेंकना
173. 'अविकारी' शब्द है –  
(A) अव्यय (B) विशेषण (C) लिंग (D) वचन
174. विलोम शब्द की दृष्टि से सही विकल्प नहीं है –  
(A) प्रसन्न – खिन्न (B) मधुर – कर्कश (C) अनुज – अग्रज (D) उत्कर्ष – समुत्कर्ष
175. 'तट' और 'तीर' निम्नलिखित में से किसके पर्यायवाची हैं?  
(A) कपड़ा (B) किनारा (C) आँख (D) उद्यान
176. 'नमस्कार' शब्द का सही संधि विच्छेद होता है –  
(A) नमस् + कार (B) नम + कार (C) नमस्क + र (D) नमः + कार
177. निम्न में से किस शब्द में 'प्र' उपसर्ग है?  
(A) प्रस्थान (B) प्रत्यक्ष (C) प्रत्येक (D) प्रतिनिधि
178. निम्नलिखित में से परिमाणबोधक विशेषण नहीं है –  
(A) बहुत दूध (B) सारा देश (C) वह लड़का (D) पूरा आनंद
179. निम्नलिखित में से शुद्ध शब्द है –  
(A) सन्यासी (B) पेदावार (C) ऐतिहासिक (D) भाषाएँ
180. "माँ खाना पका चुकी है।" वाक्य किस काल को दर्शाता है?  
(A) सामान्य वर्तमान (B) अपूर्ण वर्तमान (C) पूर्ण वर्तमान (D) संदिग्ध वर्तमान
181. संयुक्त स्वर का उदाहरण है –  
(A) अ (B) आ (C) इ (D) ए
182. 'बड़े-बड़े भी अंधेरे करते हैं' को दर्शाने वाली लोकोक्ति है –  
(A) तू डाल-डाल मैं पात-पात (B) डूबते को तिनके का सहारा  
(C) तीन लोक से मथुरा न्यारी (D) ढोल में पोल
183. विदेशी भाषा का शब्द नहीं है –  
(A) अनार (B) दही (C) खच्चर (D) चाकू
184. व्यंजन संधि से बना शब्द है –  
(A) यद्यपि (B) वागीश (C) स्वागत (D) वनांचल
185. निम्नलिखित में से किस विकल्प में भाववाचक संज्ञाएँ हैं?  
(A) शिशु, विद्वान (B) इंसान, दानव (C) बंधु, सेवक (D) विद्वता, मित्रता
186. व्यक्तिवाचक संज्ञा को दर्शाने वाला शब्द है –  
(A) हिमालय (B) पहाड़ (C) चिड़िया (D) बचपन
187. 'रात्रि' शब्द का पर्यायवाची है –  
(A) निशान (B) निकेतन (C) विभावरी (D) निशाकर



188. "अधजल गगरी छलकत जाय" का अर्थ है -  
 (A) थोड़ी उपलब्धि पर शेखी बघारना (B) अपना काम स्वयं नहीं करना  
 (C) अकेला आदमी कोई काम नहीं कर सकता (D) मूर्ख को अपनी व्यथा सुनाना
189. 'नि' उपसर्ग से बना शब्द नहीं है -  
 (A) निर्भय (B) निदर्शन (C) निपात (D) निवास
190. विदेशी उपसर्ग से बना शब्द है -  
 (A) अनपढ़ (B) सुजान (C) बदकिस्मत (D) सुडौल
191. संज्ञा से बना गुणवाचक विशेषण नहीं है -  
 (A) जंगली (B) नागपुरी (C) आलसी (D) बिकाऊ
192. स्त्रीलिंग शब्द है -  
 (A) मलयालम (B) वरुण (C) नयन (D) हीरा
193. 'गंगोर्मि' शब्द में संधि है -  
 (A) गुण संधि (B) वृद्धि संधि (C) यण संधि (D) अयादि संधि
194. अनिश्चयवाचक सर्वनाम को दर्शाने वाला शब्द है -  
 (A) कोई (B) क्या (C) वह (D) आप
195. कर्मधारय समास का उदाहरण नहीं है -  
 (A) शुभागमन (B) तलघर (C) नीलगाय (D) खानपान

निम्नलिखित गद्यांश को पढ़कर प्रश्नों (196 से 200) के उत्तर दीजिए -

गीता मानव-जीवन के लिए रचनात्मक कार्यक्रम है। यह मानव धर्म का सुन्दर महाकाव्य है जो जीवन को उत्साह, आनन्द और कर्म की भावना से भर देता है। मानव मात्र की उन्नत और उदार आवश्यकताओं की पूर्ति गीता से होती है। गीता योगेश्वर श्रीकृष्ण की बंशी का संगीत है जिसकी प्रत्येक ध्वनि 'सत्यं शिवं और सुन्दरम्' से सम्पन्न आध्यात्मिक जीवन को जगाने वाली है। गीता का अमृत-संदेश जीवन को स्फूर्ति और रूप देकर उभारता है। सत्य को सुन्दर बनाकर व्यवहार में लाना और विश्व के भोग भोगते हुए भी सच्चिदानन्द से दूर न जाना गीता के कर्म-योग की विलक्षणता है। इस दुःखी संसार में वही सुखी है जो कर्म करते हुए भी गीता के गुण गुणगुनाता रहता है। कर्तव्य-बोध के लिए गीता ज्ञान की कामधेनु है।

196. गीता को इस गद्यांश में क्या कहा गया है?  
 (A) पांचजन्य का नाद (B) श्री कृष्ण की बंशी का संगीत  
 (C) शिव धनुष की टंकार (D) मंदिर की घंटी का नाद
197. गीता जीवन को किस भाव से नहीं भरती है?  
 (A) उत्साह (B) आनंद (C) कर्म (D) अकर्मण्यता
198. सत्य को सुंदर बनाकर व्यवहार में लाना और विश्व भोग को भोगते हुए सच्चिदानंद से दूर न जाना, गद्यांश में इसे कहा है -  
 (A) भावयोग की विलक्षणता (B) कर्मयोग की विलक्षणता  
 (C) मोक्ष की विलक्षणता (D) जीवन सौंदर्य की विलक्षणता
199. इस गद्यांश का उपयुक्त शीर्षक दीजिए -  
 (A) गीता मानव जीवन के लिए जरूरी है (B) भगवान कृष्ण और गीता का सार  
 (C) गीता का महत्त्व (D) गीता जीवन को रूप देती है
200. गीता को ज्ञान की कामधेनु क्यों कहा गया है?  
 (A) कर्तव्य बोध के लिए (B) स्वार्थपूर्ति के लिए (C) मोक्ष के लिए (D) अपरिग्रह के लिए