



अर्थशास्त्र ECONOMICS

- | | |
|---|---|
| <p>1. भूविप्लव का अनुमान लगाइये यदि समान्तर माध्य और मध्यिका क्रमशः 12 तथा 14 हैं।
(A) 16 (B) 18
(C) 14 (D) 20</p> | <p>1. Find out an estimate of median are 12 and 14
(A) 16 (B) 18
(C) 14 (D) 20</p> |
| <p>2. सैमुएलसन व्यापार चक्र मॉडल में निम्नलिखित में से किस स्थिति में नियमित व्यापार चक्र प्राप्त होंगे ?
(A) $\alpha = 0.5, \beta = 1$
(B) $\alpha = 0.5, \beta = 2$
(C) $\alpha = 0.6, \beta = 2$
(D) $\alpha = 0.8, \beta = 4$</p> | <p>2. In the Samuelson cycle, in which of the following we get regular trade cycle?
(A) $\alpha = 0.5, \beta = 1$
(B) $\alpha = 0.5, \beta = 2$
(C) $\alpha = 0.6, \beta = 2$
(D) $\alpha = 0.8, \beta = 4$</p> |
| <p>3. कोई देश अपने भुगतान सन्तुलन में अखमूल्यन के द्वारा सुधार ला सकता है जब उस देश की निर्यातों और आयातों की माँग की लोच होती है
(A) इकाई से अधिक
(B) इकाई के बराबर
(C) इकाई से कम
(D) शून्य</p> | <p>3. A country can improve its balance of payments by devaluation if the elasticity of demand for exports is
(A) greater than unity
(B) equal to unity
(C) less than unity
(D) zero</p> |
| <p>4. मौद्रिक नीति का कौन सा उद्देश्य नहीं है ?
(A) मुद्रा की तटस्थता
(B) मूल्य स्थिरता
(C) विनिमय दर स्थिरता
(D) गतिशील संसाधन</p> | <p>4. Which of the following is not an objective of monetary policy?
(A) Neutrality of money
(B) Price stability
(C) Exchange rate stability
(D) Resource mobility</p> |
| <p>5. भूमि सुधार का प्रमुख उद्देश्य था
(A) भूमि की उर्वरता में सुधार करना
(B) भूमि का पुनर्वितरण
(C) भूमि का अधिग्रहण
(D) भूमि की सिंचाई</p> | <p>5. The main objective of land reform was
(A) To improve soil fertility
(B) Redistribution of land
(C) Acquisition of land
(D) Irrigation</p> |

Test Prime

**ALL EXAMS,
ONE SUBSCRIPTION**



70,000+
Mock Tests



**Personalised
Report Card**



**Unlimited
Re-Attempt**



600+
Exam Covered



**Previous Year
Papers**



**500%
Refund**



ATTEMPT FREE MOCK NOW

6. अर्थशास्त्र के अध्ययन की आगमन रीति का श्रेय किसे दिया जाता है ?
 (A) आस्ट्रियाई विचार धारा
 (B) जर्मनी की ऐतिहासिक विचार धारा
 (C) प्रतिष्ठित विचार धारा
 (D) रूसी विचार धारा
7. फिलिप्स वक्र विश्लेषण के अनुसार, स्फीति की समस्या को हल करते हैं तो
 (A) बेरोजगारी बढ़ जाती है या उत्पादकता बढ़ जाती है
 (B) बेरोजगारी बढ़ जाती है या उत्पादकता घट जाती है
 (C) बेरोजगारी घट जाती है या मुद्रा पूर्ति बढ़ जाती है
 (D) बेरोजगारी बढ़ जाती है या मुद्रा पूर्ति बढ़ जाती है
8. इनमें से किस प्रधानमंत्री द्वारा किसान कॉल सेंटर की स्थापना की गयी थी ?
 (A) श्री नरसिम्हा राव
 (B) श्री इन्द्र कुमार गुजराल
 (C) श्री अटल बिहारी वाजपेई
 (D) श्री मनमोहन सिंह
9. अदृश्य बेरोजगारी किस क्षेत्र में पायी जाती है ?
 (A) बैंकिंग क्षेत्र
 (B) सेवा क्षेत्र
 (C) कृषि क्षेत्र
 (D) उद्योग क्षेत्र
10. कीमत-विभेद केवल तभी सम्भव है जब
 (A) विक्रेता अकेला है
 (B) वस्तुएँ समरूप हैं
 (C) बाजार सरकार के द्वारा नियन्त्रित है
 (D) इनमें से कोई नहीं

6. Who is responsible for inductive method of studying economics ?
 (A) Austrian School
 (B) German Historical School
 (C) Classical School
 (D) Russian School
7. According to the Phillips curve analysis, the way to solve inflation is to
 (A) Increase unemployment or increase productivity
 (B) Increase unemployment or decrease productivity
 (C) Decrease unemployment or increase money supply
 (D) Increase unemployment or increase the money supply
8. The founder of KCC among the following Prime Ministers in India
 (A) Sri Narsimha Rao
 (B) Sri Indra Kumar Gujral
 (C) Sri Atal Bihari Vajpayee
 (D) Sri Manmohan Singh
9. In which sector disguised unemployment found ?
 (A) Banking sector
 (B) Service sector
 (C) Agriculture sector
 (D) Industrial sector
10. Price discrimination is possible only when
 (A) Seller is alone
 (B) Goods are homogenous
 (C) Market is controlled by the Government
 (D) None of these



11. यदि उपभोक्ता का उपयोगिता फलन $U = X_1 X_2$ है और बजट प्रतिबंध $M = P_1 X_1 + P_2 X_2$ है, तो संतुलन स्तर पर, X_1 के लिए माँग फलन होगा

(A) $\frac{M}{2P_1}$ (B) $\frac{-M}{2P_1^2}$
(C) $\frac{M}{2P_1^2}$ (D) $\frac{-M}{2P_1}$

12. जनॉकिकीय संक्रमण का अभिप्राय है

(A) कम जन्म दर और उच्च मृत्यु दर की स्थिति से उच्च जन्म दर और उच्च मृत्यु दर की स्थिति की ओर बढ़ना
(B) उच्च जन्म दर और उच्च मृत्यु दर की स्थिति से कम जन्म दर और कम मृत्यु दर की स्थिति की ओर बढ़ना
(C) उच्च मृत्यु दर और कम जन्म दर की स्थिति से उच्च मृत्यु दर और उच्च जन्म दर की स्थिति की ओर बढ़ना
(D) उपर्युक्त में से कोई नहीं

13. त्वरक गुणांक व्यक्त किया जा सकता है, इस रूप में

(A) $\frac{\Delta Y}{\Delta C}$ (B) $\frac{\Delta Y}{\Delta I}$
(C) $\frac{\Delta C}{\Delta I}$ (D) $\frac{\Delta I}{\Delta C}$

14. इनमें से कौन सा सन्तुलन का एक प्रकार नहीं है ?

(A) सम्भावित (B) स्थिर
(C) अस्थिर (D) तटस्थ

15. "तटस्थ मुद्रा" शब्द का प्रयोग सर्वप्रथम किसने किया ?

(A) राबर्टसन (B) हेयक
(C) विकस्टीड (D) फ्रीडमैन

11. If the consumption function of a consumer is $U = X_1 X_2$ and the constraint is $M = P_1 X_1 + P_2 X_2$ at the equilibrium level, the demand function for X_1 will be

(A) $\frac{M}{2P_1}$ (B) $\frac{-M}{2P_1^2}$
(C) $\frac{M}{2P_1^2}$ (D) $\frac{-M}{2P_1}$

12. Demographic transition means

(A) Shift from the condition of low birth and high death rates to high birth and high death rates
(B) Shift from the condition of high birth and high death rates to high birth and low death rates
(C) Shift from the condition of low birth and low death rates to high birth and high death rates
(D) None of the above

13. The accelerator coefficient may be expressed as

(A) $\frac{\Delta Y}{\Delta C}$ (B) $\frac{\Delta Y}{\Delta I}$
(C) $\frac{\Delta C}{\Delta I}$ (D) $\frac{\Delta I}{\Delta C}$

14. Which of them is not a type of equilibrium ?

(A) Probable (B) Stable
(C) Unstable (D) Neutral

15. Who has first used the term "Neutral of Money" ?

(A) Robertson (B) Hayek
(C) Wiksted (D) Friedman



16. किस अर्थशास्त्री का विचार था कि बैंक दर में परिवर्तन ब्याज की अल्पकालीन दरों तथा कार्यशील पूँजी के माध्यम से अर्थव्यवस्था पर प्रभाव डालते हैं?

- ☒ (A) कीन्स
- (B) डी काक
- ☒ (C) हाट्टे
- (D) इनमें से कोई नहीं

17. फिलिप्स वक्र किनके बीच सम्बन्ध स्थापित करता है ?

- (A) मजदूरी एवं श्रम आपूर्ति
- ☒ (B) मुद्रा स्फीति एवं बेरोजगारी
- (C) कीमत एवं मांग
- (D) समग्र आपूर्ति एवं समग्र मांग

18. एक माँग वक्र के विभिन्न बिन्दुओं पर माँग की लोच

- (A) समान होती है
- (B) शून्य होती है
- (C) अनन्त होती है
- ☒ (D) अलग-अलग होती है

19. परिमाणात्मक साख नियन्त्रण का एक उपाय है

- (A) नैतिक दबाव
- ☒ (B) उपभोक्ता साख का नियमन
- (C) प्रचार
- (D) बैंक-दर

20. भारत में ऊर्जा उत्पादन में सर्वाधिक अंश है

- (A) जल ऊर्जा
- ☒ (B) ताप ऊर्जा
- (C) सौर ऊर्जा
- (D) परमाणु ऊर्जा

16. Who among the following economist proposed the idea that changes in bank rate impact on the economy through short terms rates of interest and working capital ?

- (A) Keynes
- (B) De Kock
- (C) Hawtrey
- (D) None of these

17. Phillips curve sets up a relationship between

- (A) Wages and labour supply
- (B) Inflation and unemployment
- (C) Price and demand
- (D) Aggregate supply and aggregate demand

18. Elasticity of demand on different point of a demand curve is

- (A) Equal
- (B) Zero
- (C) Infinite
- (D) Different

19. One of the instrument of quantitative credit control is

- ☒ (A) Moral pressure
- (B) Regulation of consumer's credit
- (C) Publicity
- (D) Bank-rate

20. In India the highest share in power generation is from

- (A) Hydel power
- (B) Thermal power
- (C) Solar power
- (D) Atomic power

21. परिवर्तनशील अनुपातों का नियम अस्तित्व में आता है जब
(A) केवल दो परिवर्तनशील साधन हो
(B) एक स्थिर साधन और एक परिवर्तनशील साधन हो
(C) सभी साधन परिवर्तनशील हो
(D) परिवर्तनशील साधन कम उपज देते हो
22. उपयोगिता विश्लेषण में वह स्थिति जो उपभोक्ता सन्तुलन को दर्शाती है
(A) $\frac{MU_x}{P_x} \times \frac{MU_y}{P_y}$
(B) $\frac{MU_x}{P_x} \div \frac{MU_y}{P_y}$
(C) $\frac{MU_x}{MU_y} \times \frac{P_x}{P_y}$
(D) $\frac{MU_x}{MU_y} = \frac{P_x}{P_y}$
23. OPEC तेल निर्यात पर नियन्त्रण रखता है
(A) कार्टेल के द्वारा
(B) राशिपातन द्वारा
(C) एकाधिकार के द्वारा
(D) इनमें से कोई नहीं
24. सार्वजनिक व्यय में वृद्धि के परिणाम स्वरूप
(A) फिलिप्स वक्र दाहिनी तरफ प्रतिस्थापित होता है
(B) फिलिप्स वक्र बायीं तरफ प्रतिस्थापित होता है
(C) फिलिप्स वक्र का संचलन इस प्रकार होता है कि बेरोजगारी बढ़ती है और मुद्रास्फीति गिरती है
(D) फिलिप्स वक्र का संचलन इस प्रकार होता है कि बेरोजगारी गिरती है और मुद्रास्फीति बढ़ती है

21. The law of variable proportions comes into being when
(A) There are only two variable factors
(B) There is a fixed factor and a variable factor
(C) All factors are variable
(D) Variable factors yield less
22. The condition which shows consumer equilibrium in utility analysis
(A) $\frac{MU_x}{P_x} \times \frac{MU_y}{P_y}$
(B) $\frac{MU_x}{P_x} \div \frac{MU_y}{P_y}$
(C) $\frac{MU_x}{MU_y} \times \frac{P_x}{P_y}$
(D) $\frac{MU_x}{MU_y} = \frac{P_x}{P_y}$
23. OPEC controls oil export through
(A) Cartel
(B) Dumping
(C) Monopoly
(D) None of these
24. As a result of increase in public expenditure
(A) Phillips curve shifts to the right
(B) Phillips curve shifts to the left
(C) Movement of Phillips curve is such that unemployment increases and inflation is reduced
(D) Movement of Phillips curve is such that unemployment reduces and inflation is increased

is com
ble
d a

25. निम्न में से कौन सा एक युग्म प्रत्यक्ष-कर है ?
 (A) उत्पाद शुल्क और सम्पत्ति कर
 (B) सेवा कर और आय कर
 (C) सम्पत्ति कर और आय कर
 (D) उत्पाद शुल्क और सेवा कर

26. मांग की आड़ी कीमत लोच होती है

(A) $\frac{\Delta Q}{\Delta P} \cdot \frac{P}{Q}$ (B) $\frac{\Delta Q_1}{\Delta P_2} \cdot \frac{P_2}{Q_1}$
 (C) $\frac{\Delta Q_1}{Q_2} \cdot \frac{P_2}{\Delta P_1}$ (D) $\left(\frac{Q_1 + Q_2}{P_1 + P_2} \right) \cdot \frac{P_1}{P_2}$

27. किस बाजार में फर्म की सीमान्त आय (MR) कीमत के बराबर होती है ?

- (A) एकाधिकार
 (B) अल्पाधिकार
 (C) एकाधिकृत प्रतियोगिता
 (D) पूर्ण प्रतियोगिता

$MR = P$

28. NABARD किसकी सिफारिशों के आधार पर गठित किया गया ?

- (A) लोक लेखा समिति
 (B) नरसिंहन समिति
 (C) शिवरामन समिति
 (D) चेलैया समिति

29. कीन्स सबसे अधिक सम्बद्ध हैं

- (A) मांग जनित स्फीति
 (B) लागत प्रेरित स्फीति
 (C) संरचनात्मक स्फीति
 (D) निस्पंद स्फीति

30. भारत में 'नीति आयोग' का गठन कब हुआ ?

- (A) 2013 (B) 2014
 (C) 2015 (D) 2016

25. Which one of the following is a combination of direct tax ?

- (A) Excise duty and wealth tax
 (B) Service tax and income tax
 (C) Wealth tax and income tax
 (D) Excise duty and service tax

26. The cross price elasticity of demand is equal to

(A) $\frac{\Delta Q}{\Delta P} \cdot \frac{P}{Q}$ (B) $\frac{\Delta Q_1}{\Delta P_2} \cdot \frac{P_2}{Q_1}$
 (C) $\frac{\Delta Q_1}{Q_2} \cdot \frac{P_2}{\Delta P_1}$ (D) $\left(\frac{Q_1 + Q_2}{P_1 + P_2} \right) \cdot \frac{P_1}{P_2}$

27. In which market firm's Marginal Revenue (MR) is equal to price ?

- (A) Monopoly
 (B) Oligopoly
 (C) Monopolistic competition
 (D) Perfect competition

28. NABARD was established on the recommendations of

- (A) Public Accounts Committee
 (B) Narasimhan Committee
 (C) Shivaraman Committee
 (D) Chelaiyah Committee

29. Keynes was most concerned with

- (A) Demand-pull inflation
 (B) Cost push inflation
 (C) Structural inflation
 (D) Stagflation

30. When was 'Niti Aayog' formulated in India ?

- (A) 2013 (B) 2014
 (C) 2015 (D) 2016

9/2/2018

31. एशियन विकास बैंक का मुख्यालय है
(A) सिंगापुर (B) मनीला
(C) हांगकांग (D) टोकियो
32. निम्नलिखित में से कौन कॉब-डॉगलस उत्पादन फलन के लिए सत्य नहीं है ?
(A) $X = b_0 L^{b_1} K^{b_2}$
(B) पैमाने के स्थिर प्रतिफल
(C) यूजर प्रमेय संतुष्ट होती है
(D) प्रतिस्थापन की लोच इकाई से अधिक
33. CRISIL, ICRA एवं CIBIL क्या है ?
(A) वैश्विक क्रेडिट रेटिंग एजेंसीज
(B) भारतीय क्रेडिट रेटिंग एजेंसीज
(C) अमरीकी क्रेडिट रेटिंग एजेंसीज
(D) एशियाई क्रेडिट रेटिंग एजेंसीज
34. प्रशुल्क एक विधि नहीं है
(A) भुगतान सन्तुलन की
(B) संरक्षण की
(C) आयातों को कम करने की
(D) विनिमय दर स्थिरीकरण की
35. मुद्रा स्फीति से किसे लाभ होता है ?
(A) पेंशनधारी को (B) ऋणी को
(C) ऋणदाता को (D) बचतकर्ता का
31. The headquarter of Asian Development Bank is at
(A) Singapore (B) Manila
(C) HongKong (D) Tokyo
32. Which of the following is not true for the Cobb-Douglas Production Function
(A) $X = b_0 L^{b_1} K^{b_2}$
(B) Constant returns to scale
(C) Euler's theorem is satisfied
(D) Elasticity of substitution is greater than one
33. CRISIL, ICRA and CIBIL are
(A) World Credit Rating Agencies
(B) Indian Credit Rating Agencies
(C) American Credit Rating Agencies
(D) Asian Credit Rating Agencies
34. Tariff is not a tool for
(A) Balance of payments
(B) Protection
(C) Decrease in imports
(D) Exchange rate stabilization
35. Who is benefited during money inflation ?
(A) Pensioner (B) Borrower
(C) Lender (D) Saver

हेक्शर-ओहलिन सिद्धांत में साधन कीमत के संदर्भ में साधन प्रचुरता के कारण कम किसी देश को पूर्वी प्रचुर कहा जाता ?

(A) $\left(\frac{P_C}{P_L}\right)_A < \left(\frac{P_C}{P_L}\right)_B$

(B) $\left(\frac{P_C}{P_L}\right)_A > \left(\frac{P_C}{P_L}\right)_B$

(C) $\left(\frac{P_C}{P_L}\right)_A < \left(\frac{P_C}{P_L}\right)_B$

(D) $\left(\frac{P_C}{P_L}\right)_A = \left(\frac{P_C}{P_L}\right)_B$

36. लिबोवित्ज का विरोधाभास किस सिद्धांत का अध्ययन करता है ?

(A) अवसर लागत का सिद्धांत

(B) दुर्लभात्मक लागत का सिद्धांत

(C) हेक्शर-ओहलिन सिद्धांत

(D) इनमें से कोई नहीं

37. भारत की अन्तिम पंचवर्षीय योजना थी

(A) बारहवीं

(B) तेरहवीं

(C) चौदहवीं

(D) उपर्युक्त में से कोई नहीं

38. "व्यापार-चक्र एक विशुद्ध मौद्रिक घटना है।" यह कथन सम्बंधित है

(A) ए. सी. पीगू

(B) आर. जी. हाद्रे

(C) जॉन शुम्पीटर

(D) जे. एम. कीन्स

36. According to Heckscher-Ohlin theory of factor abundance in terms of factor price, when a country will be called capital abundant ?

(A) $\left(\frac{P_C}{P_L}\right)_A < \left(\frac{P_C}{P_L}\right)_B$

(B) $\left(\frac{P_C}{P_L}\right)_A > \left(\frac{P_C}{P_L}\right)_B$

(C) $\left(\frac{P_C}{P_L}\right)_A < \left(\frac{P_C}{P_L}\right)_B$

(D) $\left(\frac{P_C}{P_L}\right)_A = \left(\frac{P_C}{P_L}\right)_B$

37. Which theory is examined by Leontief Paradox ?

(A) Opportunity costs theory

(B) Comparative costs theory

(C) Heckscher-Ohlin theory

(D) None of these

38. The last Five Year Plan of India was

(A) 12th

(B) 13th

(C) 14th

(D) None of the above

39. "Trade-cycle is a purely monetary phenomenon". This statement belongs to

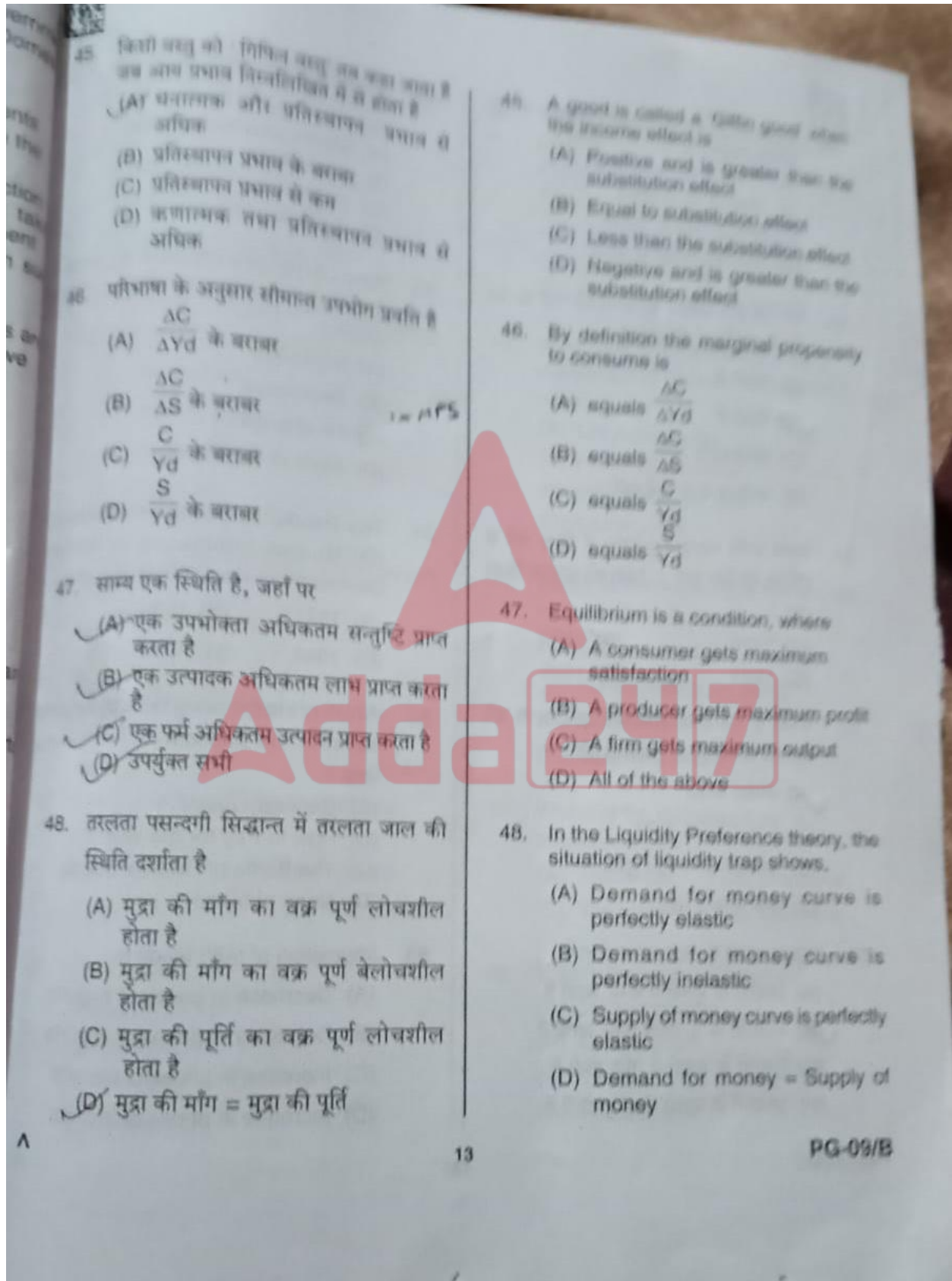
(A) A. C. Pigou

(B) R. G. Hawtrey

(C) J. Schumpeter

(D) J. M. Keynes

40. सरकार द्वारा अन्तरण भुगतान निबल घरेलू उत्पाद में सम्मिलित नहीं किया जाता क्योंकि
- (A) यह लाभार्थियों को सरकार द्वारा प्रदत्त उपहार होते हैं
- (B) यह लाभार्थियों की प्रत्यक्ष आय होते हैं
- (C) उक्त भुगतानों की बराबरी करने के लिए वस्तुओं एवं सेवाओं का कोई तत्सम्बन्धी उत्पादन नहीं है
- (D) उक्त भुगतानों में रिखाव सम्भव है
41. यदि उधार और अन्य देयताएँ बजटीय घाटा में जोड़ दिया जाय तो प्राप्त होता है
- (A) प्राथमिक घाटा
- (B) राजकोषीय घाटा
- (C) पूँजीगत घाटा
- (D) आगम घाटा
42. इष्टतम प्रशुल्क
- (A) व्यापार शर्त में सुधार करता है
- (B) व्यापार शर्त को स्थिर रखता है
- (C) व्यापार शर्त को कम करता है
- (D) देश के कल्याण के स्तर को घटाता है
43. कुल माँग वक्र (AD) प्रारम्भ होता है
- (A) मूल बिन्दु से
- (B) मूल बिन्दु के नीचे से
- (C) मूल बिन्दु के ऊपर से
- (D) इनमें से कोई नहीं
44. हेक्सर-ओहलिन के अनुसार विभिन्न देशों के बीच व्यापार का कारण होता है
- (A) माँग दशाएँ
- (B) साधन सम्पन्नता
- (C) तकनीक
- (D) टेस्ट पैटर्न
40. Transfer payments by the government are not included in the Net Domestic Product (NDP) because
- (A) These are gifts from the government to the recipients
- (B) They are direct income to the recipients
- (C) No corresponding production of goods and services has taken place to match such payments
- (D) There may be leakages in the payments
41. If borrowings and other liabilities are added to the budgetary deficit, we get
- (A) Primary deficit
- (B) Fiscal deficit
- (C) Capital deficit
- (D) Revenue deficit
42. An optimum tariff
- (A) Improves the terms of trade
- (B) Keeps the terms of trade constant
- (C) Lowers the terms of trade
- (D) Reduces the country's welfare level
43. Aggregate Demand (AD) curve starts from
- (A) The origin
- (B) Point below the origin
- (C) Point above the origin
- (D) None of these
44. According to Heckscher-Ohlin the cause of trade between countries is
- (A) Demand conditions
- (B) Factor abundance
- (C) Technique
- (D) Test pattern





49. सकल राष्ट्रीय उत्पाद (GNP) तथा शुद्ध राष्ट्रीय उत्पाद (NNP) के बीच अन्तर होता है
(A) विदेशों से शुद्ध आय के कारण
(B) अप्रत्यक्ष कर के कारण
(C) घिसावट व्यय के कारण
(D) सरकारी सब्सिडी के कारण
50. एक देश द्वारा आयात शुल्क लगाये जाने पर उस देश में उपभोक्ता की बचत
(A) बढ़ती है
(B) घटती है
(C) अपरिवर्तित
(D) उपरोक्त में से कोई नहीं
51. मानव प्रगति व्याख्या (HDI) में किस वर्ष से लैंगिक सशक्ति माप (GEM) को आरम्भ किया गया ?
(A) 1975
(B) 1990
(C) 1994
(D) 1995
52. कीन्स ने स्फीतिक अंतर की अवधारणा की व्याख्या अपनी किस पुस्तक में की ?
(A) जनरल थ्योरी
(B) हाऊ टू पे फार द वार
(C) द बैटल आफ ब्रेटन वुड्स
(D) इनमें से कोई नहीं
53. प्रशुल्क लगाने के फलस्वरूप होता है
(A) निर्यातों के मूल्यों में कमी आती है
(B) आयातों के मूल्यों में कमी आती है
(C) निर्यातों के मूल्यों में वृद्धि होती है
(D) आयातों के मूल्यों में वृद्धि होती है
49. The difference between Gross National Product (GNP) and Net National Product (NNP) is due to
(A) Net Income from abroad
(B) Indirect tax
(C) Depreciation charges
(D) Govt. Subsidies
50. When a country imposes an import duty then the consumer savings of the country
(A) Increases
(B) Decreases
(C) No change
(D) None of the above
51. The Gender Empowerment Measure (GEM) was introduced in Human Development Report from the year
(A) 1975
(B) 1990
(C) 1994
(D) 1995
52. Which of the following book by Keynes interpret the concept of Inflationary Gap ?
(A) General Theory
(B) How to Pay for the War
(C) The Battle of Bretton Woods
(D) None of these
53. Imposition of tariff leads to
(A) Decrease in prices of exports
(B) Decrease in prices of imports
(C) Increase in prices of exports
(D) Increase in prices of imports

53. कोन्स ने जे.बी. से के किस नियम को गलत बताया है ?

- (A) बाजार का नियम
- (B) माँग-पूर्ति का नियम
- (C) आर्थिक कल्याण का नियम
- (D) मुद्रा परिमाण का सिद्धांत

54. निम्नलिखित में से कौन सा "मानव विकास सूचकांक" (HDI) का घटक नहीं है ?

- (A) जीवन प्रत्याशा
- (B) प्रति व्यक्ति आय
- (C) शिशु मृत्यु दर
- (D) साक्षरता दर

55. निम्न में से कौन सा राजकोषीय नीति का उपकरण नहीं है ?

- (A) बजट सम्बन्धी नीति
- (B) सिमुदीपन व्यय
- (C) करारोपण नीति
- (D) बैंक दर नीति

56. निम्न में से कौन सा केन्द्रीय प्रवृत्ति का माप नहीं है ?

- (A) विस्तार
- (B) भूयिष्ठक
- (C) मध्यिका
- (D) समान्तर माध्य

57. यूलर के प्रमेय का सम्बन्ध है

- (A) मुद्रा स्फीति से
- (B) वितरण से
- (C) कर प्रणाली से
- (D) जनसंख्या से

54. Which one among the following law given by J.B. Say is proved false by economist Keynes ?

- (A) Law of market
- (B) Law of demand and supply
- (C) Law of economic welfare
- (D) Principle of quantity money

55. Which one of the following is not a component of "Human Development Index" ?

- (A) Life expectancy
- (B) Per Capita income
- (C) Infant mortality rate
- (D) Literacy rate

56. Which of the following is not the tool of fiscal policy ?

- (A) Budgetary policy
- (B) Pump-priming spending
- (C) Taxation policy
- (D) Bank rate policy

57. Which of the following is not a measure of central tendency ?

- (A) The range
- (B) The mode
- (C) The median
- (D) The mean

58. Euler's theorem is related to

- (A) Money inflation
- (B) Distribution
- (C) Taxation
- (D) Population

59. हैबरलर के अवसर लागत सिद्धान्त के अनुसार, पूर्ण विशिष्टीकरण घटित होता है जब
- (A) उत्पादन संभावना वक्र, वृद्धिमान अवसर लागत के अन्तर्गत होती है
- (B) उत्पादन के साधनों में हासमान प्रतिफल होता है
- (C) उत्पादन संभावना वक्र, स्थिर अवसर लागत के अन्तर्गत होती है
- (D) इनमें से कोई नहीं
60. तुलनात्मक लागत सिद्धान्त का अवसर लागत के रूप में किसने प्रतिस्थापित किया ?
- (A) हैक्सर-ओहलिन
- (B) जे. एस. मिल
- (C) मार्शल
- (D) हैबरलर
61. पूँजी एवं श्रम की निरन्तर प्रतिस्थापन किसके द्वारा दर्शाया गया है ?
- (A) चिकना उत्तल समोत्पाद वक्र
- (B) किंक्ड समोत्पाद वक्र
- (C) रेखिक समोत्पाद वक्र
- (D) अवतल समोत्पाद वक्र
62. वित्त आयोग का गठन कौन करता है ?
- (A) वित्त मंत्रालय
- (B) प्रधानमंत्री
- (C) राष्ट्रपति
- (D) महालेखाकार
59. According to opportunity cost theory of Haberler, full specialisation occurs when
- (A) The production possibility curve satisfies increasing opportunity cost
- (B) There are diminishing returns to the factor of production
- (C) The production possibility curve satisfies constant opportunity cost
- (D) None of these
60. Opportunity cost version of comparative cost theory was introduced by
- (A) Heckscher-Ohlin
- (B) J. S. Mill
- (C) Marshall
- (D) Haberler
61. Continuous substitutability of capital and labour is shown by
- (A) Smooth convex isoquant curve
- (B) Kinked isoquant curve
- (C) Linear isoquant curve
- (D) Concave isoquant curve
62. Finance Commission is constituted by
- (A) Ministry of Finance
- (B) Prime Minister
- (C) President
- (D) Accountant General

63. सीमान्त उपभोग प्रवृत्ति (MPG) का मूल्य क्या है जब सीमान्त बचत प्रवृत्ति शून्य हो ?
- (A) 1 (एक)
(B) 0 (शून्य)
(C) ∞ (अनन्त)
(D) इनमें से कोई नहीं
- MFC
 $MPS = 0$

64. एशियन विकास बैंक का मुख्यालय है
- (A) कैरो में (B) टोक्यो में
(C) मनीला में (D) बुर्बई में

65. निम्नलिखित को सुमेलित कीजिए।

सूची - I

सूची - II

- a. ब्याज का तरलता अधिमान सिद्धान्त
b. ब्याज का त्याग सिद्धान्त
c. ब्याज का समय अधिमान सिद्धान्त
d. ब्याज का आस्ट्रियाई सिद्धान्त
- i. सीनियर
ii. कीन्स
iii. बोम बावर्क
iv. फिशर

कूट :

	a	b	c	d
(A)	I	II	III	IV
(B)	III	I	IV	II
(C)	II	I	IV	III
(D)	IV	II	III	I

63. What is the value of MPG when MPG is zero ?

- (A) 1 (One)
(B) 0 (Zero)
(C) ∞ (Infinite)
(D) None of these

64. The headquarter of ADB is in

- (A) Cairo (B) Tokyo
(C) Manila (D) Dubai

65. Match the following.

List - I

List - II

- a. Liquidity preference theory of interest
b. Abstinence theory of interest
c. Time preference theory of interest
d. Austrian theory of interest
- i. Senior
ii. Keynes
iii. Bohm Bawerk
iv. Fisher

Codes :

	a	b	c	d
(A)	I	II	III	IV
(B)	III	I	IV	II
(C)	II	I	IV	III
(D)	IV	II	III	I



66. आन्तरिक मितव्ययतायें उत्पन्न होती हैं जब
 (A) फर्म श्रम विभाजन लागू करती है
 (B) उत्पादक कम उत्पादन करते हैं
 (C) सरकार सड़कें उपलब्ध कराती है
 (D) फर्म एकल वस्तु का उत्पादन करती है
67. गिफिन वस्तु के सम्बन्ध में क्या सही है ?
 (A) प्रबल प्रतिस्थापन प्रभाव
 (B) प्रबल धनात्मक आय प्रभाव
 (C) प्रबल ऋणात्मक आय प्रभाव
 (D) इनमें से कोई नहीं
68. निम्न में से कौन सा एक राजकोषीय नीति का उद्देश्य नहीं है ?
 (A) आर्थिक वृद्धि
 (B) आर्थिक स्थिरता
 (C) रोजगार के स्तर में अधिकतमकरण
 (D) वित्तीय संस्थाओं का विनियमन
69. आर. एन. मल्होत्रा समिति ने किस क्षेत्र से सम्बन्धित सिफारिशें की ?
 (A) कृषि क्षेत्र
 (B) बीमा क्षेत्र
 (C) रुग्ण उद्योग
 (D) बैंकिंग क्षेत्र
70. _____ के मॉडल में प्रत्येक विक्रेता प्रतिद्वन्द्वी के उत्पादन को स्थिर मानता है।
 (A) कूर्नो
 (B) एजवर्थ
 (C) बरट्रेण्ड
 (D) इनमें से कोई नहीं
66. Internal economies arise when
 (A) Firm applies division of labour
 (B) Producer produces less
 (C) Roads are provided by government
 (D) Firm produces a single product
67. What is true for Giffen good ?
 (A) Strong substitution effect
 (B) Strong positive income effect
 (C) Strong negative income effect
 (D) None of these
68. Which of the following is not objective of fiscal policy ?
 (A) Economic growth
 (B) Economic stability
 (C) Maximisation of employment level
 (D) Regulating of financial institutions
69. R. N. Malhotra Committee gave recommendations in the field of
 (A) Agricultural sector
 (B) Insurance sector
 (C) Sick industries
 (D) Banking sector
70. Each seller assumes his rival's output is constant in the model of
 (A) Cournot
 (B) Edgeworth
 (C) Bertrand
 (D) None of these

- वास्तविक मजदूरी, मौद्रिक मजदूरी के अतिरिक्त दिया जाने वाला प्रतिफल है
- (A) मुक्त मकान
(B) मुक्त चिकित्सा
(C) बच्चों को मुक्त शिक्षा
(D) उपर्युक्त सभी
72. शब्द "सम्भाव्य अचम्भा" किस सिद्धान्त से सम्बन्धित है ?
- (A) लगान सिद्धान्त
(B) व्याज सिद्धान्त
(C) मजदूरी सिद्धान्त
(D) लाभ सिद्धान्त
73. वी.के.आर.वी.राव सम्बन्धित हैं
- (A) वित्त आयोग
(B) पंचवर्षीय योजना
(C) राष्ट्रीय आय
(D) सभी सत्य हैं
74. एक वस्तुओं हेतु आड़ी मांग की लोच होगी
- (A) शून्य
(B) अनन्त
(C) धनात्मक परन्तु अनन्त से कम
(D) ऋणात्मक
75. अर्थशास्त्र में चयन की समस्या उत्पन्न होती है क्योंकि
- (A) आवश्यकताओं की प्रकृति अति आवश्यक होती है
(B) संसाधन प्रकृति प्रदत्त होते हैं
(C) संसाधनों के वैकल्पिक उपयोग होते हैं
(D) संसाधनों पर सरकार का अधिकार होता है
71. Real wage is, more returns than monetary wage
- (A) Free house
(B) Free treatment
(C) Free education for children
(D) All of the above
72. Word "Potential Surprise" is related to which of the theory ?
- (A) Rent theory
(B) Interest theory
(C) Wage theory
(D) Profit theory
73. V.K.R.V. Rao is associated with
- (A) Finance Commission
(B) The Five Year Plan
(C) National Income
(D) All are the correct
74. For complementary goods, the cross elasticity of demand will be
- (A) Zero
(B) Infinity
(C) Positive but less than infinity
(D) Negative
75. In economics problem of choice arises because
- (A) Needs are urgent in nature
(B) Resources are given by nature
(C) Resources have alternative uses
(D) Resources are in government possession

76. कुल आभास लगान बराबर होता है
 (A) कुल आगम - कुल लागत
 (B) कुल आगम - कुल स्थिर लागत
 (C) कुल आगम - कुल परिवर्तनशील लागत
 (D) कुल आगत/कुल लागत
77. निम्न में से कौन सा ग्रामीण साख का संस्थागत स्रोत नहीं है ?
 (A) प्राथमिक कृषि सहकारी साख समितियाँ
 (B) भूमि विकास बैंक
 (C) क्षेत्रीय ग्रामीण बैंक
 (D) देशी बैंकर
78. कॉब-डॉगलस उत्पादन फलन $Q = AL^\alpha K^\beta$ स्थिर पैमाने के प्रतिफल देगा, जब
 (A) $\alpha + \beta > 1$
 (B) $\alpha + \beta < 1$
 (C) $\alpha + \beta = 1$
 (D) $\alpha - \beta = 1$
79. विकास के आधार पर निम्नलिखित को कालक्रमबद्ध कीजिए।
 i. मांग का नियम
 ii. प्रकट अधिमान सिद्धांत
 iii. क्रमवाचक उपयोगिता सिद्धांत
 iv. हासमान सीमान्त उपयोगिता का नियम
 (A) i ii iii iv
 (B) i ii iv iii
 (C) iv iii i ii
 (D) i iv iii ii
80. माइक्रो यूनिट्स डेवलपमेंट रीफाईनान्स एजेंसी लि. (MUDRA) भारत के प्रधानमंत्री द्वारा कब प्रारम्भ की गई ?
 (A) 8 अप्रैल 2015
 (B) 8 मई 2015
 (C) 8 अगस्त 2015
 (D) 8 सितम्बर 2015

PG-09/B

76. Total Quasi rent is equal to
 (A) Total Revenue - Total variable cost
 (B) Total Revenue - Total cost
 (C) Total Revenue - Total variable cost
 (D) Total Revenue/ Total cost
77. Which of the following is not an institutional source of rural credit?
 (A) Primary Agricultural Credit Societies
 (B) Land Development Bank
 (C) Regional Rural Bank
 (D) Indigenous Banker
78. Cobb-Douglas production function $Q = AL^\alpha K^\beta$ will give constant returns to scale, when
 (A) $\alpha + \beta > 1$
 (B) $\alpha + \beta < 1$
 (C) $\alpha + \beta = 1$
 (D) $\alpha - \beta = 1$
79. Put the following in chronological order on the basis of development.
 i. Law of demand
 ii. Revealed preference theory
 iii. Indifference curve theorem
 iv. Law of diminishing marginal utility
 (A) i ii iii iv
 (B) i ii iv iii
 (C) iv iii i ii
 (D) i iv iii ii
80. Micro Units Development Refinance Agency Ltd. (MUDRA) was launched by the Prime Minister of India on
 (A) 8 April 2015
 (B) 8 May 2015
 (C) 8 August 2015
 (D) 8 September 2015

सुचेत कीजिए।

सूची - I

सूची - II

अ. री. ओ. मैथ्यू

ब. जेम्स ड्यूसनबरी

ग. जी. कैसेल

द. मिल्टन फ्रीडमैन

कूट :

	a	b	c	d
(A)	IV	I	II	III
(B)	III	II	I	IV
(C)	II	I	IV	III
(D)	I	II	III	IV

81. Match the following.

List - I

List - II

a. Relative Income Hypothesis of consumption

b. Capital stock Adjustment model of investment

c. Non Accelerating Inflation Rate of Unemployment (NAIRU)

d. Purchasing Power Parity theory

I. R.C.O. Mathews

II. James Duesenberry

III. G. Cassel

IV. Milton Friedman

Codes :

	a	b	c	d
(A)	IV	I	II	III
(B)	III	II	I	IV
(C)	II	I	IV	III
(D)	I	II	III	IV

82. लागतों में तुलनात्मक लाभ सिद्धांत के प्रतिपादक है

(A) मार्शल

(B) रिकार्डो

(C) एडम स्मिथ

(D) जे.एस. मिल

82. Propounder of comparative cost advantage theory

(A) Marshall

(B) Ricardo

(C) Adam Smith

(D) J.S. Mill

83. भारत में जनसंख्या वृद्धि के संदर्भ में कौन सा वर्ष 'महान विभाजन वर्ष' है ?

(A) 1921

(B) 1951

(C) 1971

(D) 1991

83. Which is the 'Year of great divide' in the history of population growth in India ?

(A) 1921

(B) 1951

(C) 1971

(D) 1991

PG-09/1



84. निम्नलिखित के सही कालक्रम को ज्ञात कीजिए।

1. कीन्स का उपभोग फलन
2. आयु चक्र परिकल्पना
3. सापेक्ष आय परिकल्पना
4. फ्रीडमैन की स्थायी आय परिकल्पना

कोड :

- (A) 4, 2, 1, 3 (B) 2, 1, 3, 4
(C) 1, 3, 4, 2 (D) 3, 4, 2, 1

85. सट्टा उद्देश्य हेतु मुद्रा की माँग निर्भर करती है

- (A) आय के स्तर पर
(B) ब्याज की दर पर
(C) मुद्रा की उपलब्धता पर
(D) रहन-सहन के स्तर पर

86. निम्न में से कौन सा कारक निर्यात प्रोत्साहन के लिए उपयुक्त नहीं है ?

- (A) विश्व बाजार में निर्यात का हिस्सा बढ़ाने के लिए
(B) आयातों का वित्त प्रबन्धन करने के लिए
(C) घरेलू बाजार में वस्तुओं की आपूर्ति बढ़ाने के लिए
(D) विदेशी ऋणों की अदायगी के लिए

87. दो वस्तुओं X और Y के बीच रूपान्तरण दर को किस रूप में परिभाषित किया जाता है ?

- (A) $MRT_{X,Y} = \frac{MC_X}{MC_Y}$
(B) $MRT_{X,Y} = MRS_{X,Y}$
(C) $MRT_{X,Y} = MRS_{X,Y} = \frac{P_X}{P_Y}$
(D) इनमें से कोई नहीं

84. Find out the correct chronological order of the following.

1. Consumption function of Keynes
2. Life cycle hypothesis
3. Relative Income hypothesis
4. Friedman's permanent income hypothesis

Codes :

- (A) 4, 2, 1, 3 (B) 2, 1, 3, 4
(C) 1, 3, 4, 2 (D) 3, 4, 2, 1

85. For Speculative motive, demand of money depends on

- (A) Level of income
(B) Rate of interest
(C) Availability of money
(D) Standard of living

86. Which of the following factor is appropriate regarding export promotion ?

- (A) To increase share of export world market
(B) To financing of imports
(C) To increase supply of goods home market
(D) To pay off external loan

87. Marginal rate of transformation between two goods X and Y is defined as

- (A) $MRT_{X,Y} = \frac{MC_X}{MC_Y}$
(B) $MRT_{X,Y} = MRS_{X,Y}$
(C) $MRT_{X,Y} = MRS_{X,Y} = \frac{P_X}{P_Y}$
(D) None of the above

88. वह बजट जिसमें उसकी कर-आय और व्यय बराबर है। उसे कहते हैं
(A) अधिशेष बजट
(B) असन्तुलित बजट
(C) सन्तुलित बजट
(D) इनमें से कोई नहीं

89. व्यापक मुद्रा की माप किसके द्वारा होती है ?
(A) M_1 (B) M_2
(C) M_3 (D) M_4

90. उपभोग-कर लगाने की सिफारिश की थी
(A) ए. एम. खुसरो
(B) ए. के. सेन
(C) काल्डोर
(D) जे. आर. हिक्स

91. विकृत-मांग वक्र सिद्धांत का प्रतिपादन किस अर्थशास्त्री द्वारा किया गया था ?
(A) काल्डोर
(B) चैम्बरलिन
(C) पाल एम. स्वीजी
(D) इनमें से कोई नहीं

92. जब श्रम बाजार में क्रेता एकाधिकार तथा वस्तु बाजार में पूर्ण प्रतियोगिता हो, तो सन्तुलन स्थिति में क्रेता एकाधिकारिक शोषण के बीच अन्तर होता है
(A) सीमान्त उत्पादन के मूल्य और सीमान्त आय उत्पादन
(B) औसत आय उत्पादन और सीमान्त आय उत्पादन
(C) सीमान्त मजदूरी और औसत मजदूरी
(D) सीमान्त मजदूरी और सीमान्त आय उत्पादन

88. The budget in which its tax revenue and expenditure is equal. It is called
(A) Surplus budget
(B) Unbalanced budget
(C) Balanced budget
(D) None of these

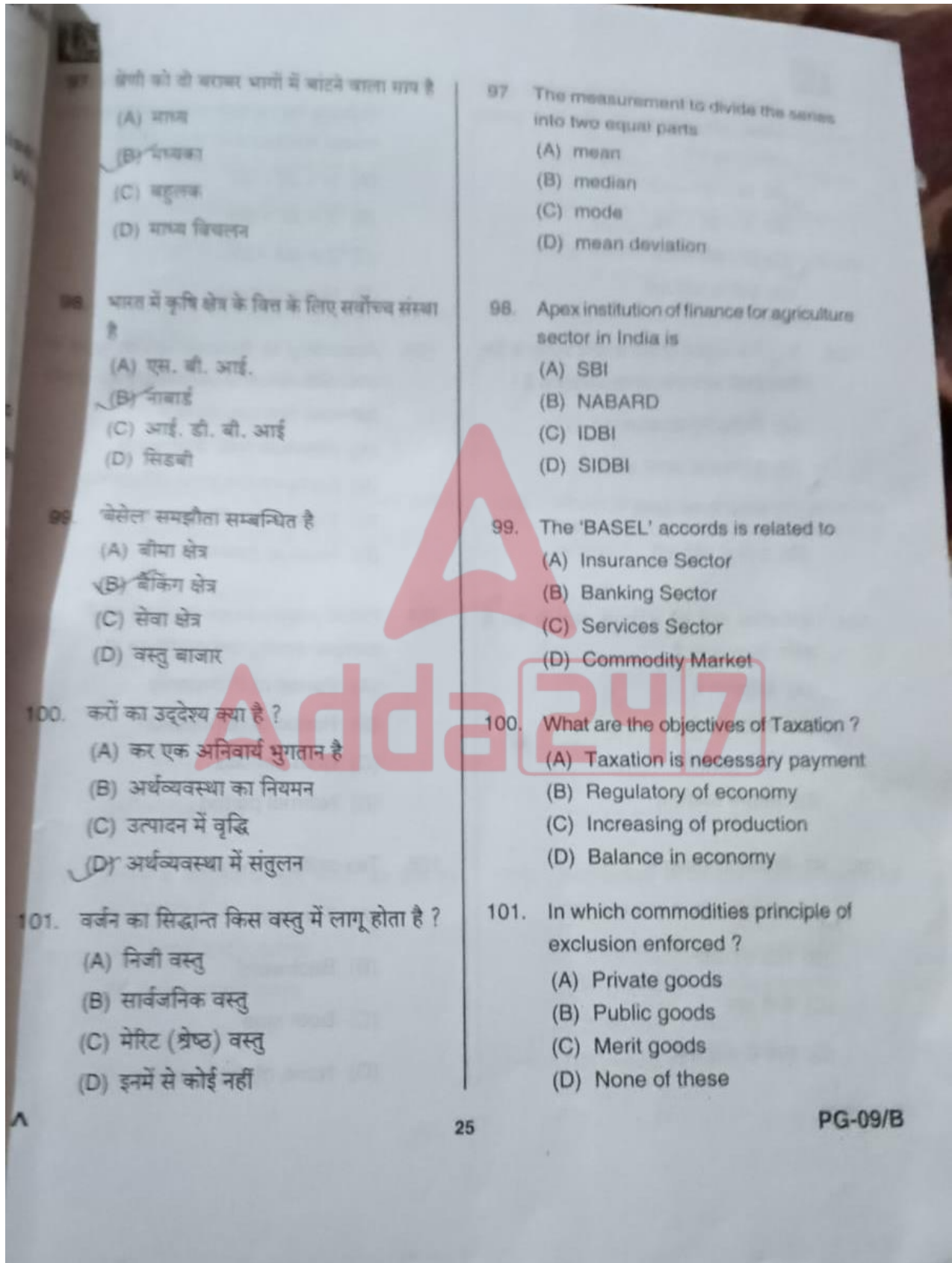
89. By which the broad money is measured through ?
(A) M_1 (B) M_2
(C) M_3 (D) M_4

90. Consumption tax was recommended by
(A) A. M. Khusro
(B) A. K. Sen
(C) Kaldor
(D) J. R. Hicks

91. Principle of Kinked demand curve was introduced by the economist called
(A) Kaldor
(B) Chamberlin
(C) Paul M. Sweezy
(D) None of these

92. When there is monopsony in labour market and perfect competition in product market, the monopsony exploitation in the equilibrium situation is the difference between
(A) VMP and MRP
(B) ARP and MRP
(C) MW and AW
(D) MW and MRP

93. भारत में टेलीकॉम की नियामक संस्था कौन सी है ?
 (A) TRAI (B) SEBI
 (C) HTML (D) BSNL
94. 1944 के ब्रेटन वुड्स सम्मेलन में किस अंतर्राष्ट्रीय संस्था का जन्म हुआ ?
 (A) विश्व व्यापार संगठन
 (B) विश्व बैंक
 (C) अंतर्राष्ट्रीय विकास संघ
 (D) इनमें से कोई नहीं
95. खुले बाजार की क्रियायें सम्बद्ध हैं
 (A) रिजर्व बैंक आफ इण्डिया से अनुसूचित बैंकों द्वारा उधार लेना
 (B) अनुसूचित बैंकों द्वारा उद्योग और व्यापार को उधार देना।
 (C) रिजर्व बैंक आफ इण्डिया के द्वारा सरकारी प्रतिभूतियों के क्रय और विक्रय
 (D) जमा को जुटाना
96. पूँजी पर्याप्तता अनुपात अथवा जोखिम भारित परिसम्पत्ति अनुपात है
 (A) $\frac{\text{कुल पूँजी फंड}}{\text{जोखिम भारित परिसम्पत्तियां}} \times 100$
 (B) $\frac{\text{जोखिम भारित परिसम्पत्तियां}}{\text{कुल पूँजी फंड}} \times 100$
 (C) $\frac{\text{जोखिम भारित पूँजी फंड}}{\text{जोखिम भारित परिसम्पत्तियां}} \times 100$
 (D) इनमें से कोई नहीं
93. Which is the regulatory body of telecom in India ?
 (A) TRAI (B) SEBI
 (C) HTML (D) BSNL
94. Which International organisation was formed at the Bretton Woods Conference of 1944 ?
 (A) WTO
 (B) World bank
 (C) IDA
 (D) None of these
95. Open market operations refers to
 (A) Borrowing by scheduled banks from the RBI
 (B) Lending by scheduled banks to industry and trade
 (C) Purchase and sale of government securities by the RBI
 (D) Deposit mobilisation
96. Capital Adequacy Ratio (CAR) or Capital to Risk weighted Assets Ratio (CRAR) is
 (A) $\frac{\text{Capital Fund}}{\text{Risk weighted Assets}} \times 100$
 (B) $\frac{\text{Risk weighted Assets}}{\text{Capital Fund}} \times 100$
 (C) $\frac{\text{Risk weighted Capital Fund}}{\text{Risk weighted Assets}} \times 100$
 (D) None of the above



102. निम्न में से कौन सा समीकरण समान्तर माध्य, मध्यका और भूयिष्ठक के बीच सही सम्बन्ध प्रदर्शित करता है ?

- (A) $M = 3\bar{X} - 2Z$
 (B) $\bar{X} = 2Z - 3M$
 (C) $Z = 3M - 2\bar{X}$
 (D) इनमें से कोई नहीं

103. रिकार्डो के अनुसार दो देशों के बीच व्यापार के लिए किस प्रकार का लागत अन्तर आवश्यक है ?

- (A) निरपेक्ष लागत अन्तर
 (B) तुलनात्मक लागत अन्तर
 (C) समान लागत अन्तर
 (D) इनमें से कोई नहीं

104. सार्वजनिक व्यय को क्षतिपूर्क व्यय के रूप में प्रयोग किया जाता है

- (A) तेजीकाल में
 (B) मन्दीकाल में
 (C) दोनों कालों में
 (D) सामान्य अवधि में

105. कर-विवर्तन हो सकता है

- (A) आगे की ओर
 (B) पीछे की ओर
 (C) दोनों ओर
 (D) इनमें से कोई नहीं

102. Which of the following equations indicate the correct relationship between mean, median and mode ?

- (A) $M = 3\bar{X} - 2Z$
 (B) $\bar{X} = 2Z - 3M$
 (C) $Z = 3M - 2\bar{X}$
 (D) None of these

103. According to Ricardo which type of cost difference is necessary for trade between two countries ?

- (A) Absolute cost difference
 (B) Comparative cost difference
 (C) Equal cost difference
 (D) None of these

104. Public expenditure is used as a compensatory expenditure in

- (A) Period of Prosperity
 (B) Period of depression
 (C) Both periods
 (D) Normal period

105. Tax-shifting may be

- (A) Forward
 (B) Backward
 (C) Both side
 (D) None of these

ion does
p among



मांग का नियम कहता है

106.

- (A) कीमत वृद्धि से मांग बढ़ती है
(B) कीमत वृद्धि से मांग घटती है
(C) मांग वृद्धि से कीमत बढ़ती है
(D) पूर्ति में वृद्धि से मांग बढ़ती है

pe of
trade

107. प्रजनन एवं बाल स्वास्थ्य (RCH) - II प्रारम्भ किया गया

- (A) अप्रैल 2004 (B) अप्रैल 2006
(C) अप्रैल 2005 (D) अप्रैल 2007

108. निम्नलिखित में से कौन सी शर्त उत्पादन साधनों के न्यूनतम लागत संयोग को प्रदर्शित करती है ?

(A) $\frac{P_L}{P_K} = MRTS_{LK}$

(B) $\frac{P_L}{P_K} = \frac{MP_L}{MP_K}$

(C) $\frac{MP_L}{MP_K} = \frac{dK}{dL}$

(D) उपरोक्त सभी

109. डाल्टन के अनुसार करदान क्षमता का कौन सा रूप उपयोगी है ?

- (A) निरपेक्ष करदान क्षमता
(B) सापेक्ष करदान क्षमता
(C) (A) और (B) दोनों
(D) इनमें से कोई नहीं

106. The 'law of demand' says

- (A) Demand increases with increase in price
(B) Demand decreases with increase in price
(C) Price increases with increase in demand
(D) Demand increases with increase in supply

107. Reproductive and Child Health (RCH) - II was started from

- (A) April 2004 (B) April 2006
(C) April 2005 (D) April 2007

108. Which of the following condition shows least cost combination of production factors ?

(A) $\frac{P_L}{P_K} = MRTS_{LK}$

(B) $\frac{P_L}{P_K} = \frac{MP_L}{MP_K}$

(C) $\frac{MP_L}{MP_K} = \frac{dK}{dL}$

(D) All of the above

109. According to Dalton, which forms of taxable capacity is useful ?

- (A) Absolute taxable capacity
(B) Relative taxable capacity
(C) Both (A) and (B)
(D) None of these

PG-09/B



110. घर्षणात्मक बेरोजगारी उत्पन्न होती है
- (A) जब वास्तविक सकल घरेलू उत्पाद घटे
- (B) जब कोई प्रथम बार श्रमशक्ति में जुड़ता है तो उसे काम मिलने में समय लगता है
- (C) तकनीकी परिवर्तन के परिणाम स्वरूप
- (D) जब एक व्यक्ति सेवा निवृत्त हो जाए

111. सूत्र में $R = 1 - \frac{6 \sum D^2}{N(N^2 - 1)}$, 'D' प्रकट करता है
- (A) विचलन
- (B) दो कोटि का अन्तर
- (C) सह-सम्बन्ध गुणांक
- (D) इनमें से कोई नहीं

112. तटस्थता वक्र की कौन सी विशेषता नहीं है ?
- (A) बायें से दायें नीचे की ओर गिरना
- (B) अक्षों को स्पर्श न करना
- (C) एक दूसरे को नहीं काटना
- (D) लम्बवत् रेखा होना

113. द्वि-अन्तराल मॉडल में दो अन्तरालों का तात्पर्य है
- (A) मुद्रास्फीतिकारी अन्तराल एवं निवेश अन्तराल
- (B) बचत अन्तराल एवं अपस्फीतिकारी अन्तराल
- (C) बचत बाध्यता एवं विदेशी मुद्रा बाध्यता
- (D) निवेश अन्तराल एवं बचत अन्तराल

110. Frictional unemployment exists
- (A) When there is a decrease in GDP
- (B) Because it takes time to find a job when one is first entering the labour force
- (C) As a result of technological change
- (D) When an individual retires

111. In the formula $R = 1 - \frac{6 \sum D^2}{N(N^2 - 1)}$, 'D' stands for
- (A) Deviation
- (B) Difference of two ranks
- (C) Coefficient of correlation
- (D) None of these

112. Which one is not the characteristic of indifference curve ?
- (A) Falling from left to right
- (B) Should not touch the axis
- (C) Never intersect each other
- (D) Vertical line

113. In 'dual gap' model, the two gaps refer to
- (A) Inflationary gap and Investment gap
- (B) Savings gap and deflationary gap
- (C) Savings constraint and foreign exchange constraint
- (D) Investment gap and savings gap

113. एक निम्नलिखित वक्र पर विभिन्न बिंदुओं पर स्थिति है।
(A) अधिकतम संतुष्टि
(B) समान संतुष्टि
(C) ऊपरी बिंदु पर अधिक संतुष्टि
(D) ऊपरी बिंदु पर कम संतुष्टि

114. एक निम्नलिखित वक्र पर विभिन्न बिंदुओं पर स्थिति है।
(A) अधिकतम संतुष्टि
(B) समान संतुष्टि
(C) ऊपरी बिंदु पर अधिक संतुष्टि
(D) ऊपरी बिंदु पर कम संतुष्टि

(A) $\frac{P - MC}{P}$ (B) $\frac{AR}{AR - MR}$ ✓
(C) $\frac{MR}{AR - MR}$ (D) $\frac{AR - MR}{AR}$ ✗

115. भारत में किस प्रकार की वित्त-व्यवस्था पायी जाती है ?

- (A) स्वतंत्र वित्त व्यवस्था
(B) संघीय वित्त व्यवस्था ✓
(C) एकाकी वित्त व्यवस्था
(D) स्थानीय वित्त व्यवस्था

116. व्यावसायिक बैंक साख का निर्माण करते हैं

- (A) कुछ भी नहीं
(B) अपनी प्रतिभूतियों के आधार पर ✓
(C) अपनी कुल परिसम्पत्तियों के आधार पर
(D) अपनी नकद जमा के आधार पर

114. The different combinations on a indifference curve show
(A) Maximum satisfaction
(B) Same satisfaction
(C) Greater satisfaction at upper point
(D) Less satisfaction at upper point

115. The degree of monopoly power can be measured by the formula

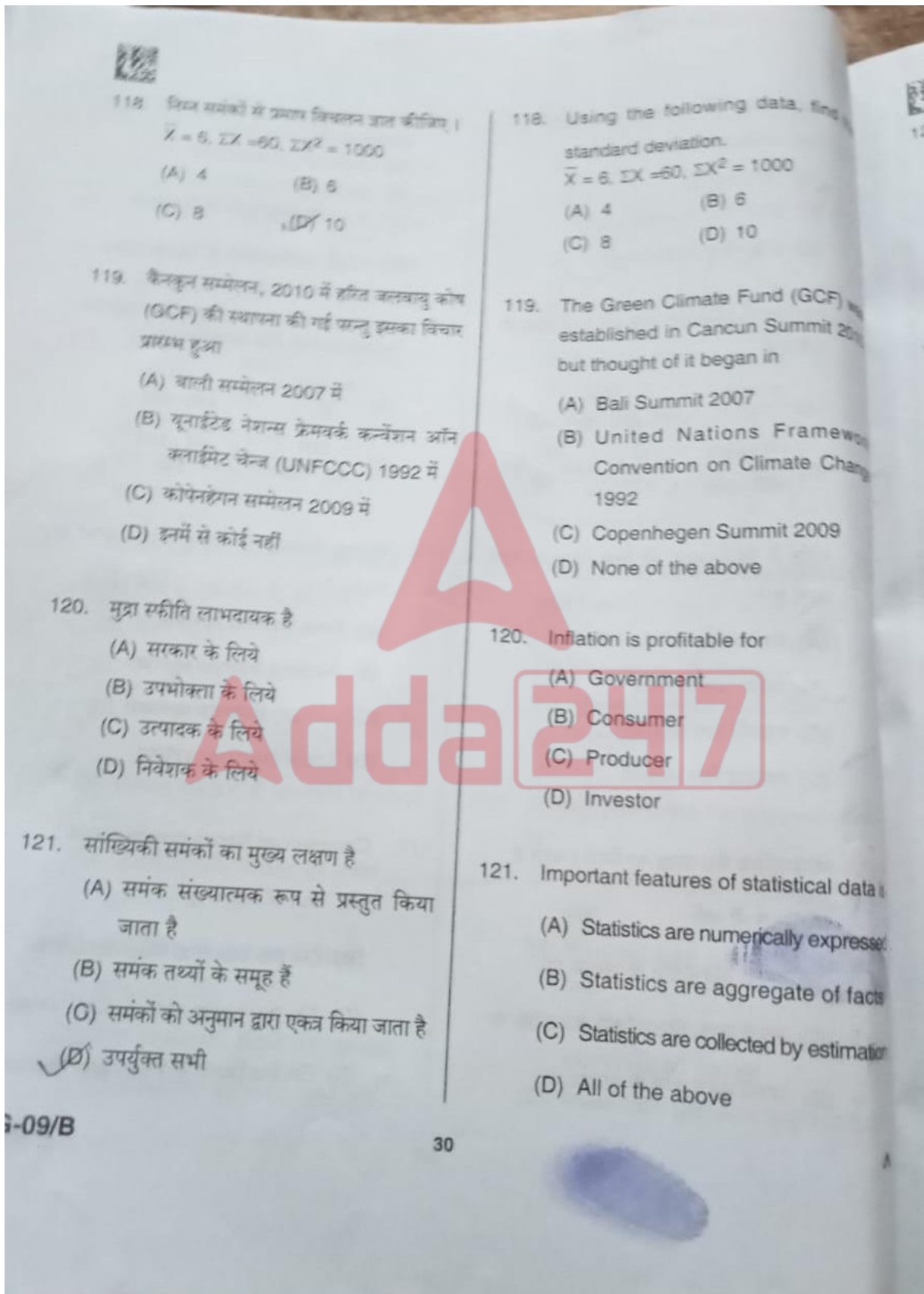
(A) $\frac{P - MC}{P}$ (B) $\frac{AR}{AR - MR}$
(C) $\frac{MR}{AR - MR}$ (D) $\frac{AR - MR}{AR}$

116. Which financial system is found in India ?

- (A) Free finance system
(B) Federal finance system ✓
(C) Unitary finance system
(D) Local finance system

117. Commercial Banks create credit

- (A) Out of nothing
(B) On the basis of their securities
(C) On the basis of their total assets
(D) On the basis of their cash deposits



118. निम्न समकों से प्रसार विचलन ज्ञात कीजिए।

$$\bar{X} = 6, \Sigma X = 60, \Sigma X^2 = 1000$$

- (A) 4 (B) 6
(C) 8 (D) 10

119. कैनकून सम्मेलन, 2010 में हरित जलवायु कोष (GCF) की स्थापना की गई परन्तु इसका विचार प्रारम्भ हुआ

- (A) बाली सम्मेलन 2007 में
(B) यूनाइटेड नेशन्स फ्रेमवर्क कन्वेंशन ऑन क्लाइमेट चेंज (UNFCCC) 1992 में
(C) कोपेनहेगन सम्मेलन 2009 में
(D) इनमें से कोई नहीं

120. मुद्रा स्फीति लाभदायक है

- (A) सरकार के लिये
(B) उपभोक्ता के लिये
(C) उत्पादक के लिये
(D) निवेशक के लिये

121. सांख्यिकी समकों का मुख्य लक्षण है

- (A) समंक संख्यात्मक रूप से प्रस्तुत किया जाता है
(B) समंक तथ्यों के समूह हैं
(C) समकों को अनुमान द्वारा एकत्र किया जाता है
(D) उपर्युक्त सभी

118. Using the following data, find standard deviation.

$$\bar{X} = 6, \Sigma X = 60, \Sigma X^2 = 1000$$

- (A) 4 (B) 6
(C) 8 (D) 10

119. The Green Climate Fund (GCF) was established in Cancun Summit 2010 but thought of it began in

- (A) Bali Summit 2007
(B) United Nations Framework Convention on Climate Change 1992
(C) Copenhagen Summit 2009
(D) None of the above

120. Inflation is profitable for

- (A) Government
(B) Consumer
(C) Producer
(D) Investor

121. Important features of statistical data is

- (A) Statistics are numerically expressed
(B) Statistics are aggregate of facts
(C) Statistics are collected by estimation
(D) All of the above

122. जब तक सीमान्त उत्पादन बढ़ता है, तब तक कुल उत्पादन

(A) बढ़ती दर से बढ़ता है
(B) स्थिर रहता है
(C) घटती दर से बढ़ता है
(D) इनमें से कोई नहीं

123. मजदूरी सिद्धांत में किसका प्रतिपादन प्रो. वाकर द्वारा किया गया ?

(A) जीवन निर्वाह सिद्धांत
(B) जीवन स्तर का सिद्धांत
(C) मजदूरी कोष सिद्धांत
(D) अवशेष अधिकारी सिद्धांत

124. मुद्रा पूर्ति में वृद्धि के फलस्वरूप होता है

(A) IS वक्र दाहिनी तरफ खिसक जाती है
(B) IS वक्र बायीं तरफ खिसक जाती है
(C) LM वक्र बायीं तरफ खिसक जाती है
(D) LM वक्र दायीं तरफ खिसक जाती है

25. यदि $MPC = 0.5$, तो गुणक (k) का मान होगा

(A) $\frac{1}{2}$ (B) 5
(C) शून्य (D) 2

122. When marginal production increases then total production

(A) Increases by increasing rate
(B) Is neutral
(C) Decreases by increasing rate
(D) None of these

123. Which of the following theory of wages was propounded by Prof. Walker ?

(A) Subsistence theory
(B) Standard of living theory
(C) Wage fund theory
(D) Residual claimant theory

124. An increase in money supply leads to

(A) rightward shift of IS curve
(B) leftward shift of IS curve
(C) leftward shift of LM curve
(D) rightward shift of LM curve

125. If $MPC = 0.5$, the multiplier (k) will be

(A) $\frac{1}{2}$ (B) 5
(C) zero (D) 2

PG-09/B

Handwritten calculations:

$\frac{1}{1-MPC}$
 $\frac{1}{1-0.5} = \frac{1}{0.5} = 2$
 $\frac{10}{5} = 2$
 $\frac{100}{50} = 2$

Handwritten notes:

10' 10
S.D = 2
6 60 100