

भाग-अ / Section-A
मानसिक योग्यता / Mental Ability

1. नीचे दिये गये अभिकथन 'A' और 'R' के लिये निम्नलिखित विकल्पों में से सही विकल्प चुनें -

अभिकथन 'A': भारत में लोग अपना प्रतिनिधि स्वयं चुनते हैं।

कारण 'R': भारत एक लोकतान्त्रिक देश है।

- (A) 'A' और 'R' दोनों सत्य हैं तथा 'R', 'A' की सही व्याख्या है।
(B) 'A' और 'R' दोनों सत्य हैं किन्तु 'R', 'A' की सही व्याख्या नहीं है।
(C) 'A' सही है किन्तु 'R' गलत है।
(D) 'A' गलत है किन्तु 'R' सही है।

निर्देश (प्र.स. 2 से 5) -

आर्थिक क्षितिज पर एक मात्र काला बादल असन्तोषजनक विदेशी मुद्रा है और यह उम्मीद की जा सकती है कि उद्योग अपने निर्यात में योगदान देकर इसे सुधारने में अपनी भूमिका निभायेगा। हमारी कम्पनी की चहुंमुखी प्रगति जारी है। मुझे यह बताते हुये खुशी हो रही है कि चालू वर्ष की पहली छः माही (अप्रैल-सितम्बर, 2023) के दौरान कामकाज में और सुधार हुआ।

गद्यांश को ध्यानपूर्वक पढ़ें और प्रश्नों का उत्तर इस प्रकार दें -

- (I) यदि अनुमान निश्चित रूप से सत्य है।
(II) यदि अनुमान संभवतः सत्य है।
(III) यदि आंकड़े अपर्याप्त हैं।
(IV) यदि अनुमान संभवतः असत्य है।

2. कम्पनी का चालू वित्तीय वर्ष 31 मार्च, 2024 को समाप्त होगा -

- (A) I (B) III
(C) II (D) IV

3. देश की सरकार ने कम्पनी को अपना माल निर्यात करने के लिये कहा है -

- (A) I (B) II
(C) IV (D) III

4. देश के पास अपर्याप्त विदेशी भंडार है -

- (A) II (B) I
(C) III (D) IV

5. विदेशों में हमारी कम्पनी द्वारा निर्मित उत्पादों की कोई मांग नहीं है -

- (A) I (B) II
(C) III (D) IV

1. Choose the correct option from the following options for the Assertion 'A' and Reason 'R' given below -

Assertion 'A': In India people elect their own representatives.

Reason 'R': India is a democratic country.

- (A) Both 'A' and 'R' are true and 'R' is the correct explanation of 'A'.
(B) Both 'A' and 'R' are true but 'R' is not the correct explanation of 'A'.
(C) 'A' is true but 'R' is false.
(D) 'A' is false but 'R' is true.

Direction (Q. No. 2 to 5) -

The only dark cloud in the economic horizon is the rather unsatisfactory foreign exchange and one may hope that the industry will play its role in improving it by contributing to its export. The all round progress of our company is continuing. I am happy to report that during the current year (April-Sept., 2023) there has been further improvement in its working.

Read the passage carefully and answer the questions as -

- (I) If the inference is definitely true.
(II) If the inference is probably true.
(III) If the data are inadequate.
(IV) If the inference is probably false.

2. The current financial year of the company will end on 31st March, 2024 -

- (A) I (B) III
(C) II (D) IV

3. The Government of the country has asked the company to export its goods -

- (A) I (B) II
(C) IV (D) III

4. The country is having inadequate foreign exchange reserves -

- (A) II (B) I
(C) III (D) IV

5. In foreign countries, there is no demand for the products manufactured by our company -

- (A) I (B) II
(C) III (D) IV



Test Prime

**ALL EXAMS,
ONE SUBSCRIPTION**



70,000+
Mock Tests



**Personalised
Report Card**



**Unlimited
Re-Attempt**



600+
Exam Covered



**Previous Year
Papers**



500%
Refund



ATTEMPT FREE MOCK NOW

6. एक धनराशि को A, B, C तथा D में क्रमशः 3:4:9:10 के अनुपात में विभाजित किया जाता है। यदि D का हिस्सा A के हिस्से से 3612₹ अधिक है, तो A एवं D द्वारा एक साथ प्राप्त धनराशि कितनी होगी?

(A) 6568₹ (B) 6708₹
(C) 6228₹ (D) 6028₹

7. निम्नलिखित शब्द को अव्यवस्थित तरीके से प्रस्तुत किया गया है। आपको अक्षर को पुनर्व्यवस्थित करके शब्द का पता लगाना है और दिये गये विकल्पों में से अन्तिम अक्षर को चिन्हित करना है; अव्यवस्थित शब्द है -

"ATHRE"

(A) H (B) R
(C) E (D) A

8. एक निश्चित कूट भाषा में, 'RICKSHAW' को 'TLENUKCZ' के रूप में कूटबद्ध किया जाता है। उसी भाषा में 'BATTERY' को कैसे कूटबद्ध किया जायेगा?

(A) DDVWGUA
(B) CDWVUGA
(C) DCVVGUA
(D) CDWUVAG

9. निम्नलिखित जानकारी को ध्यानपूर्वक पढ़ें तथा नीचे दिये गये प्रश्न का उत्तर दें -

- (i) $P+Q$ का अर्थ है P, Q का बेटा है।
(ii) $P-Q$ का अर्थ है P, Q की पत्नी है।
(iii) $P \times Q$ का अर्थ है P, Q का भाई है।
(iv) $P \div Q$ का अर्थ है P, Q की माँ है।
(v) $P=Q$ का अर्थ है P, Q की बहन है।

" $A \times B \div C$ " का क्या अर्थ है?

(A) A, B का भाई है
(B) A, C का पिता है
(C) A, C का मामा है
(D) A, C का भतीजा है

10. नीचे दिये गये प्रश्न का अनुमानित मान क्या होगा?

$$(52.36)^3 = ?$$

(A) 1,29,600
(B) 1,38,850
(C) 1,43,550
(D) 1,65,790

6. A sum of money is divided among A, B, C, D in the ratio of 3:4:9:10 respectively. If share of D is ₹ 3612 more than A, what is the total amount of money received by A and together?

(A) ₹ 6568 (B) ₹ 6708
(C) ₹ 6228 (D) ₹ 6028

7. The following word is presented in disarranged way. You are to find out the word by rearranging the letters and mark the last letter from given alternatives; the disarranged word is -

"ATHRE"

(A) H (B) R
(C) E (D) A

8. In a certain code language, 'RICKSHAW' is coded as 'TLENUKCZ'. How is 'BATTERY' coded in that code language?

(A) DDVWGUA
(B) CDWVUGA
(C) DCVVGUA
(D) CDWUVAG

9. Read the following information carefully and answer the question given below -

- (i) $P+Q$ means P is the son of Q
(ii) $P-Q$ means P is the wife of Q
(iii) $P \times Q$ means P is the brother of Q
(iv) $P \div Q$ means P is the mother of Q
(v) $P=Q$ means P is the sister of Q

What does " $A \times B \div C$ " means?

(A) A is the brother of B
(B) A is the father of C
(C) A is the maternal uncle of C
(D) A is the nephew of C

10. What will be the approximate value of given question?

$$(52.36)^3 = ?$$

(A) 1,29,600
(B) 1,38,850
(C) 1,43,550
(D) 1,65,790

11. वर्ष 1998 का प्रथम दिन गुरुवार था। वर्ष 2001 का अन्तिम दिन कौनसा होगा?
(A) मंगलवार (B) रविवार
(C) सोमवार (D) शनिवार
12. पुरुषों की एक पंक्ति में सुजल दायीं ओर से 30वें स्थान पर हैं और गर्वित बाईं ओर से 20वें स्थान पर हैं, जब वे अपना परस्पर स्थान बदलते हैं, तो सुजल दायीं ओर से 35वें स्थान पर हो जाता है। पंक्ति में पुरुषों की कुल संख्या कितनी है?
(A) 44 (B) 34
(C) 54 (D) 45
13. एक व्यक्ति का परिचय देते हुये श्याम लाल ने कहा— उस व्यक्ति का इकलौता पुत्र मेरा पिता है। श्याम लाल एवं उस व्यक्ति में क्या संबंध है?
(A) भाई
(B) पिता
(C) पुत्र
(D) दादा
14. विषम पद ज्ञात कीजिये —
275, 396, 385, 891, 932
(A) 891 (B) 385
(C) 396 (D) 932
15. श्रृंखला पूरी करें —
1ZA, 3YB, 6XC, 10WD,..... ?
(A) 14VE (B) 15UE
(C) 15VE (D) 12VE
16. निम्न में से विषम को पहचानिये —
(A) BNNAAB (B) OAGRNE
(C) GAERPS (D) JSIEAMN
17. लुप्त मान ज्ञात कीजिये —
11 : 22 :: 33 :?
(A) 118 (B) 120
(C) 78 (D) 66
18. पांच पुस्तकें एक दूसरे के ऊपर रखी हुई हैं। E, A के ऊपर है, C, B के नीचे है। यदि A, B के ऊपर है और D, C के नीचे है, तो शीर्ष पर कौनसी पुस्तक है?
(A) A पुस्तक (B) E पुस्तक
(C) B पुस्तक (D) D पुस्तक
19. शुद्धतापूर्वक गणना कीजिये —
 $1148 \div 28 \times 1408 \div 32 = ?$
(A) 1800 (B) 1804
(C) 1814 (D) 1822
11. The first day of the year 1998 was Thursday. Which will be the last day of the year 2001?
(A) Tuesday (B) Sunday
(C) Monday (D) Saturday
12. In a row of men Sujal is 30th from the right and Garvit is 20th from left. When they interchange their position; Sujal becomes 35th from the right. What is the total number of men in the row?
(A) 44 (B) 34
(C) 54 (D) 45
13. Introducing a person, Shyamlal said, the only son of that person is my father. What is the relationship between Shyamlal and that person?
(A) Brother
(B) Father
(C) Son
(D) Grand Father
14. Find out the odd one -
275, 396, 385, 891, 932
(A) 891 (B) 385
(C) 396 (D) 932
15. Complete the series -
1ZA, 3YB, 6XC, 10WD,..... ?
(A) 14VE (B) 15UE
(C) 15VE (D) 12VE
16. Identify the odd out from the following -
(A) BNNAAB (B) OAGRNE
(C) GAERPS (D) JSIEAMN
17. Find out the missing value -
11 : 22 :: 33 :?
(A) 118 (B) 120
(C) 78 (D) 66
18. Five books are kept on each other. E is above A, C is below B. If A is above B and D is below C, then which book is at the top?
(A) A Book (B) E Book
(C) B Book (D) D Book
19. Calculate correctly -
 $1148 \div 28 \times 1408 \div 32 = ?$
(A) 1800 (B) 1804
(C) 1814 (D) 1822



20. 3 से 100 तक ऐसी कितनी संख्याएँ हैं जो 4 से विभाज्य हैं और या तो इकाई अंक या दहाई अंक अथवा दोनों में 4 शामिल है?

(A) 10 (B) 11
(C) 19 (D) <10

21. लुप्त पद ज्ञात कीजिए -


आग : राख :: विस्फोटक : ?

(A) आवाज (B) विस्फोटक
(C) मलबा (D) ज्वाला

22. छात्रों की एक कक्षा में राघव की रैंक शुरू से 8वीं और आखिर से 28वीं है, तो कक्षा में कुल कितने छात्र हैं?

(A) 34 (B) 35
(C) 36 (D) 40

23. निम्नलिखित में त्रिभुजों की कितनी संख्या हैं?



(A) 20 (B) 24
(C) 28 (D) 32

24. निम्न सभी शब्दों को उपयुक्त क्रम प्रदान करें -

शब्द : 1-बच्चा 2-नौकरी 3-विवाह 4-शिशु
5-शिक्षा

(A) 4, 1, 5, 2, 3 ✓
(B) 1, 3, 5, 2, 4
(C) 4, 1, 3, 5, 2
(D) 3, 5, 1, 2, 4

25. वर्णमाला में 'G' और 'S' के मध्य में कौनसा अक्षर आता है?

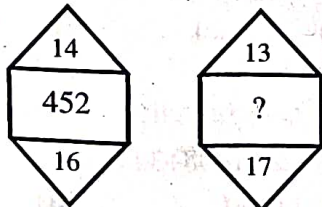
(A) M (B) N
(C) O (D) P

26. सही ढंग से रिक्त स्थान की पूर्ति करें

ACF : GIL :: MOR : ?

(A) SUX (B) TUX
(C) UWZ (D) SVY ✓

27. नीचे दिये गये विकल्पों में से आकृति की लुप्त संख्या ज्ञात कीजिये -



(A) 400 (B) 458
(C) 456 (D) 440

20. How many numbers are there from 3 to 10 which are divisible by 4 and either unit digit or tenth digit or both include 4?

(A) 10 (B) 11
(C) 19 (D) <10

21. Find out the missing term -

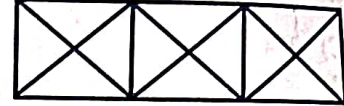
Fire : Ashes :: Explosion : ?

(A) Sound (B) Explosive
(C) Debris (D) Flame

22. In a class of students, Raghav's rank is 8th from beginning and 28th from last. How many students are there in the class?

(A) 34 (B) 35
(C) 36 (D) 40

23. What is the number of triangles in the following?



(A) 20 (B) 24
(C) 28 (D) 32

24. Arrange all following words in proper sequence -

Words: 1-Child 2-Job 3-Marriage 4-Infant
5-Education

(A) 4, 1, 5, 2, 3
(B) 1, 3, 5, 2, 4
(C) 4, 1, 3, 5, 2
(D) 3, 5, 1, 2, 4

25. Which letter comes halfway between 'G' and 'S' in the alphabet?

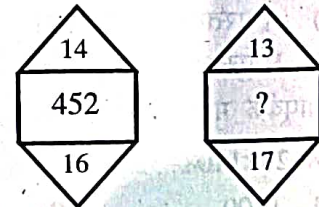
(A) M (B) N
(C) O (D) P

26. Fill up the blank space properly -

ACF : GIL :: MOR : ?

(A) SUX (B) TUX
(C) UWZ (D) SVY

27. Find the missing number of figure from the below options.




(A) 400 (B) 458
(C) 456 (D) 440



28. किसी सांकेतिक भाषा में, यदि TRIPPLE का अर्थ DMOQHSS है, तो उसी भाषा में VICTORY का क्या अर्थ होगा?

- (A) UJBUNSX
(B) ZXPSDHW
(C) XSNUBJU
(D) WHDSPQZ

29. निम्नलिखित में से किस उत्तर-आकृति द्वारा प्रश्न-आकृति पूरी होती है?

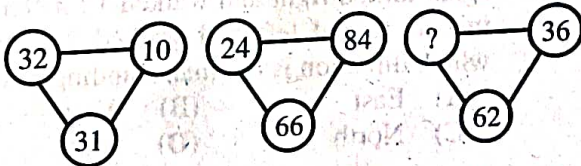


- (A) (B)
(C) (D)

30. अपनी कक्षा में डिम्पल की रैंक ऊपर से सातवीं और नीचे से सत्ताईसवीं है, तो कक्षा में कुल कितने विद्यार्थी हैं?

- (A) 33 (B) 34
(C) 32 (D) 35

31. निम्नलिखित प्रश्न में लुप्त अंक ज्ञात कीजिये।



- (A) 24 (B) 62
(C) 36 (D) 44

32. एक दिन में घड़ी की सुइयाँ कितनी बार मेल खाती हैं?

- (A) 24 (B) 22
(C) 21 (D) 20


33. 100 और 300 के बीच कितनी संख्याएं 2 के साथ प्रारम्भ या समाप्त होती हैं?

- (A) 100 (B) 110
(C) 120 (D) 140

28. In a certain sign language, TRIPPLE means DMOQHSS, then what will be VICTORY in the same language?

- (A) UJBUNSX
(B) ZXPSDHW
(C) XSNUBJU
(D) WHDSPQZ

29. Which of the following answer figure complete the question figure?

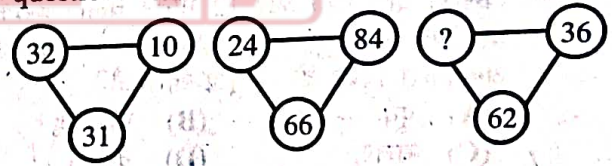


- (A) (B)
(C) (D)

30. Dimple's rank in her class is 7th from the top and 27th from the bottom. So how many students are there in the class?

- (A) 33 (B) 34
(C) 32 (D) 35

31. Find the missing character in the following question.



- (A) 24 (B) 62
(C) 36 (D) 44

32. How many times do the hands of a clock coincide in a day?

- (A) 24 (B) 22
(C) 21 (D) 20

33. How many numbers between 100 and 300 start and end with 2?

- (A) 100 (B) 110
(C) 120 (D) 140



34. लुप्त संख्या ज्ञात कीजिये -
 $47 \times 38 = 8374$, $53 \times 16 = 6135$, $20 \times 92 = \dots\dots ?$

- (A) 1840 (B) 2902
(C) 9220 (D) 2920

34. Find the missing number -

$47 \times 38 = 8374$, $53 \times 16 = 6135$, $20 \times 92 = \dots\dots ?$

- (A) 1840 (B) 2902
(C) 9220 (D) 2920


35. दिसम्बर, 1984 की किन तारीखों को रविवार पड़ा था?

- (A) 2, 9, 16, 23, 30
(B) 3, 10, 17, 24, 31
(C) 6, 13, 20, 27
(D) 1, 8, 15, 22, 29

35. On what dates of December, 1984 did Sunday fall?


- (A) 2, 9, 16, 23, 30
(B) 3, 10, 17, 24, 31
(C) 6, 13, 20, 27
(D) 1, 8, 15, 22, 29

36. चार विकल्पों में से एक आकृति का चयन करें, जिससे रिक्त स्थान में रखने पर पैटर्न पूरा हो जायेगा -



- (A) (B)
(C) (D)

36. Select a figure from the four alternatives which when placed in the blank space would complete the pattern -



- (A) (B)
(C) (D)

37. एक आदमी 28 मीटर उत्तर की ओर चला वह अब दाईं ओर मुड़ा और 11 मीटर चला। वह एक बार फिर से दाईं मुड़ा और 12 मीटर चला। इसके बाद वह बाईं ओर मुड़ा और 23 मीटर चला। आदमी अब किस दिशा के सम्मुख खड़ा है?

- (A) पूर्व (B) पश्चिम
(C) उत्तर (D) दक्षिण

37. A man walked 28 meter towards North. Now he turned right and walked 11 meter. He once again turned right and walked 12 meter. After this he turned left and walked 23 meter. In which direction is the man standing now?

- (A) East (B) West
(C) North (D) South

38. आप रिक्त स्थान में कौनसी संख्या लिखेंगे?

$\frac{16}{256}$	$\frac{25}{625}$	$\frac{?}{1156}$	$\frac{43}{1849}$
------------------	------------------	------------------	-------------------

- (A) 37 (B) 36
(C) 35 (D) 34

38. Which number will you write in blank space?

$\frac{16}{256}$	$\frac{25}{625}$	$\frac{?}{1156}$	$\frac{43}{1849}$
------------------	------------------	------------------	-------------------

- (A) 37 (B) 36
(C) 35 (D) 34

39. निम्न श्रृंखला को पूर्ण कीजिये -

2, 7, 12, 17, 22, ?

- (A) 7 (B) 17
(C) 27 (D) 37

39. Complete the following series -

2, 7, 12, 17, 22, ?

- (A) 7 (B) 17
(C) 27 (D) 37



40. A और B एक कार्य को 12 दिन में कर सकते हैं, B और C उस कार्य को 15 दिन में कर सकते हैं और C तथा A उस कार्य को 20 दिन में कर सकते हैं। यदि A, B व C तीनों मिलकर कार्य करते हैं, तो वे उस कार्य को कितने दिन में पूरा करेंगे?

(A) 5 दिन
(B) $7\frac{5}{6}$ दिन
(C) 10 दिन
(D) $5\frac{2}{3}$ दिन

41. कुछ वर्णों का एक मैट्रिक्स दिया गया है। ये वर्ण पंक्तिवार तथा स्तंभावार एक निश्चित प्रवृत्ति का अनुसरण करते हैं। लुप्त वर्ण का पता लगायें।

42	44	38
23	55	28
37	?	39

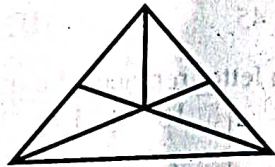
(A) 11 (B) 22
(C) 33 (D) 44

42. निम्नलिखित आकृति में पंचकोणों की संख्या क्या है?



(A) 5 (B) 6
(C) 8 (D) 10

43. निम्नलिखित आकृति में कुल कितने त्रिभुज होंगे?



(A) 9 (B) 10
(C) 12 (D) 7

44. एक दिन में घड़ी की सुईयां कितनी बार समकोण पर होती हैं?

(A) 22 (B) 44
(C) 24 (D) 48

40. A and B can do a work in 12 days, B and C can do the work in 15 days and C and A can do the work in 20 days. If A, B and C work together, they will complete the work in how many days?

(A) 5 days
(B) $7\frac{5}{6}$ days
(C) 10 days
(D) $5\frac{2}{3}$ days

41. A matrix of certain character is given. These characters follow a certain trend, row wise and column wise. Find out missing character.

42	44	38
23	55	28
37	?	39

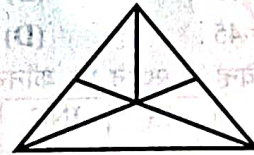
(A) 11 (B) 22
(C) 33 (D) 44

42. What is the number of pentagons in the following figure?



(A) 5 (B) 6
(C) 8 (D) 10

43. How many total triangles are there in the following figure?



(A) 9 (B) 10
(C) 12 (D) 7

44. How many times are hands of a clock at right angle in a day?

(A) 22 (B) 44
(C) 24 (D) 48



45. यदि किसी पुरानी कार का मूल्य ₹ 45,000 है, यदि कीमत में 15% की कमी की जाये, तो उसकी नई कीमत ज्ञात करें।

(A) 41,420 (B) 40,250
(C) 38,250 (D) 39,350

46. यदि किसी महीने का तीसरा दिन सोमवार है, तो निम्नलिखित में से कौनसा दिन महीने की 21वीं तारीख का पांचवाँ दिन होगा?

(A) सोमवार
(B) मंगलवार
(C) बुधवार
(D) शुक्रवार

47. निम्नलिखित श्रृंखला में अगला पद ज्ञात कीजिये—
श्रृंखला : 8, 9, 11, 14, 18, 23,.....?

(A) 28 (B) 30
(C) 29 (D) 31

48. यदि "हरे" का मतलब "पीला", "पीला" का मतलब "सफेद", "सफेद" का मतलब "लाल", और "लाल" का मतलब "बैंगनी" है, तो निम्नलिखित में से मनुष्य के खून का रंग कौनसे रंग का होगा?

(A) सफेद (B) लाल
(C) हरा (D) बैंगनी

49. लक्ष्मण के पास एक घड़े में 500 सिक्के थे। उसने सिक्कों को 25 अलग-अलग ढेरों में बाँटा, प्रत्येक ढेर में सिक्कों की संख्या समान थी, प्रत्येक ढेर में कितने सिक्के थे?

(A) 12 (B) 20
(C) 45 (D) 25

50. प्रश्न चिन्ह के स्थान पर कौनसा अक्षर आयेगा?

13	INC	2
6	QRG	7
4	DOM	8
7	SUI	7
8	AD?	2

(A) Y (B) K
(C) L (D) M

45. If the value of an old car is ₹ 45,000. price is decreased by 15%. Find the price.

(A) 41,420 (B) 40,250
(C) 38,250 (D) 39,350

46. If the third day of a month is Monday which day of the following will be the first from 21st of the month?

(A) Monday
(B) Tuesday
(C) Wednesday
(D) Friday

47. Find the next term in the following series:
Series: 8, 9, 11, 14, 18, 23,.....?

(A) 28 (B) 30
(C) 29 (D) 31

48. If "Green" means "Yellow", "Yellow" means "White", "White" means "Red", "Red" means "Violet", then which of the following becomes the color of human blood?

(A) White (B) Red
(C) Green (D) Violet

49. Laxman had 500 Coins in a jar. He sorted the coins into 25 different stacks. Each stack had the same number of coins. How many coins were in each stack?

(A) 12 (B) 20
(C) 45 (D) 25

50. Which letter replaces the question mark?

13	INC	2
6	QRG	7
4	DOM	8
7	SUI	7
8	AD?	2

(A) J (B) K
(C) L (D) M

भाग-ब / Section-B

शिक्षक अभिक्षमता एवं अभिवृत्ति / Teacher Aptitude and Attitude

51. सद्भावपूर्ण सामाजिक सम्बन्धों को बनाए रखने एवं बढ़ाने के लिये अध्यापक को बल देना चाहिये -
- (A) जीवन के बौद्धिक मूल्यों पर
(B) जीवन के सांवेगिक मूल्यों पर
(C) जीवन के शारीरिक मूल्यों पर
(D) जीवन के प्रजातांत्रिक मूल्यों पर
52. एस.टी.ई.एम. (STEM) पाठ्यक्रम क्या है?
- (A) साइंस, टेक्नोलॉजी, एज्युकेशन एण्ड मैथेमेटिक्स
(B) साइंस, टेक्नोलॉजी, इंजीनियरिंग एण्ड मैथेमेटिक्स
(C) साइंस, टेक्नोलॉजी, इवेल्युएशन एण्ड मैथेमेटिक्स
(D) सोशियोलॉजी, टेक्नोलॉजी, एज्युकेशन एण्ड मैथेमेटिक्स
53. आपके विचारों के अनुसार, समाज के प्रति सर्वाधिक उपयुक्त अभिवृत्ति होगी -
- (A) लोगों के साथ कोई विशेष सम्बन्ध न हों।
(B) कुछ लोगों के साथ सम्बन्ध हों।
(C) सभी के साथ सामान्य सम्बन्ध हों।
(D) कुछ विश्वसनीय लोगों के साथ ही सम्बन्ध हों।
54. मानसिक स्वास्थ्य है -
- (A) संपूर्ण व्यक्तित्व की सन्तुलित कार्य प्रणाली।
(B) समायोजन का लक्षण।
(C) आधारभूत सामाजिक एवं संज्ञानात्मक कौशल।
(D) तीव्रतम उत्तेजनशीलता की स्थिति।
55. शिक्षक के संप्रेषण में होना चाहिये -
- (A) उत्साह
(B) अचेतना
(C) विचारों की स्पष्टता
(D) उद्देश्य प्राप्ति की लालसा
51. To maintain and foster harmonious social relationship, the teacher should lay emphasis on -
- (A) Intellectual values of life
(B) Emotional values of life
(C) Bodily values of life
(D) Democratic values of life
52. What is STEM curriculum?
- (A) Science, Technology, Education & Mathematics
(B) Science, Technology, Engineering & Mathematics
(C) Science, Technology, Evaluation & Mathematics
(D) Sociology, Technology, Education & Mathematics
53. According to your view, the most appropriate attitude towards society is -
- (A) not to have any special relation with people.
(B) to have relation with some people only.
(C) to have relation with all in general.
(D) to have relation only with one's own reliable people.
54. Mental health is -
- (A) balanced working of complete personality.
(B) symptoms of adjustment.
(C) basic social and cognitive skills.
(D) state of intense excitement.
55. Teacher's communication must have -
- (A) Excitement
(B) Unconsciousness
(C) Clarity of thoughts
(D) Desire to achieve purpose



56. यदि आप, एक अध्यापक के रूप में, कक्षा के अन्तर्गत किसी उत्तर को देने में असमर्थ हो, तो आप -
- (A) कहेंगे कि आप जानकारी प्राप्त कर उत्तर देंगे।
(B) कहेंगे कि प्रश्न ही गलत है।
(C) उस प्रश्न को गृहकार्य के रूप में देंगे।
(D) कक्षा में ही उसका उत्तर देने का प्रयास करेंगे।
57. विद्यालय का नेता कहा जाता है -
- (A) विद्यार्थी (B) प्रधानाध्यापक
(C) अध्यापक (D) समाज सेवी
58. एक शिक्षक के नाते आप सामाजिक कुरीतियों को कैसे दूर कर सकते हैं?
- (A) जनचेतना जागृत करने का प्रयास करेंगे।
(B) समाज सुधार का संकल्प लेंगे।
(C) पोस्टर द्वारा प्रचार करेंगे।
(D) यह सोचकर कि सामाजिक कुरीतियों कभी दूर नहीं हो सकती, अंतः बनी रहने देंगे।
59. यदि आप के किसी साथी के प्रबन्धक से मतभेद हो जाता है, तो आप -
- (A) ज्ञात होने पर साथी को भला-बुरा कहेंगे।
(B) मतभेद का कारण जानेंगे।
(C) साथी से इस सम्बन्ध में बात करेंगे।
(D) अनदेखा करेंगे।
60. पर्यावरण की जानकारी के लिये नगर के भ्रमण हेतु विद्यार्थियों को ले जाना चाहिये -
- (A) विशेष अवसरों पर
(B) यदा-कदा
(C) सदैव
(D) प्रायः
61. विद्यार्थियों की अध्ययन के प्रति अभिवृत्ति जौंचने के लिये कौनसा तरीका अधिक सटीक रहेगा?
- (A) विद्यार्थियों द्वारा दिये गए कई प्रश्नों के मौखिक उत्तर।
(B) विभिन्न परिस्थितियों में उनके द्वारा किया गया व्यवहार।
(C) उनके लिखित उत्तर।
(D) उनके मूड का अवलोकन।
56. If you, as a teacher, are unable to give any answer in the class, then you -
- (A) will reply after getting the information.
(B) will say that the question itself is wrong.
(C) will give that question as home-work.
(D) will try to answer it in class itself.
57. The leader of the school is -
- (A) Student (B) Headmaster
(C) Teacher (D) Social-worker
58. How can you eradicate social-evils being a teacher?
- (A) Will try to awaken public consciousness.
(B) Will make resolution for social-reform.
(C) Will publicize through posters.
(D) Think that social evils can't be eradicated, let them remain as they are.
59. If your colleague develops differences with administrator, you will -
- (A) rebuke the colleague after knowing.
(B) try to know the reason of clash.
(C) talk to the colleague regarding this.
(D) ignore it.
60. Students should be taken on a city-tour to gain knowledge about the environment -
- (A) on special occasion
(B) occasionally
(C) always
(D) often
61. Which of the following ways is more capable of testing the attitude of students towards study?
- (A) Their verbal answer to many questions.
(B) Their behaviour in different situations.
(C) Their written answer.
(D) Observation of their mood.

62. अध्यापक का कौनसा गुण विद्यार्थियों के द्वारा सबसे अधिक पसंद किया जाता है?
- (A) उसकी समयबद्धता
(B) उसकी निष्पक्षता
(C) उसका अनुशासन के प्रति प्रेम
(D) उसका प्रभुत्व
63. विद्यार्थियों को गृहकार्य दिया जाना चाहिये -
- (A) उनकी रुचियों के अनुसार।
(B) उनके बौद्धिक स्तर को ध्यान में रखते हुए।
(C) उनके आयु स्तर को ध्यान में रखते हुए।
(D) उनके अंतिम परीक्षा की आवश्यकताओं को ध्यान में रखते हुए।
64. बालक के उन्नयन एवं विकास में सर्वाधिक भूमिका होती है -
- (A) समर्पित शिक्षक की
(B) अच्छी पुस्तकों की
(C) उत्तम क्रीड़ा स्थल की
(D) विशाल विद्यालय भवनों की
65. सामाजिक परिपक्वता युक्त व्यक्ति की निर्णय क्षमता होती है -
- (A) अनिश्चित (B) अनिर्णयात्मक
(C) तुरन्त (D) सुनिश्चित
66. अतिरिक्त-पाठ्यचर्या कार्यक्रमों की क्या आवश्यकता है?
- (A) यह समय की बर्बादी है।
(B) यह आत्म सम्मान को बढ़ाता है।
(C) सर्वांगीण विकास के लिये यह आवश्यक है।
(D) यह खाली समय का सदुपयोग है।
67. अच्छा शिक्षण सर्वोत्तम रूप से परिलक्षित होता है -
- (A) छात्रों की उपस्थिति से।
(B) उच्च अंक प्राप्त करने वाले छात्रों की संख्या से।
(C) छात्रों द्वारा पूछे गए सार्थक प्रश्नों से।
(D) कक्षा में शान्तिपूर्ण वातावरण से।
62. Which quality of the teacher is liked most by students?
- (A) His punctuality
(B) His impartiality
(C) His love for discipline
(D) His dominance
63. Home-work should be given to students -
- (A) according to their interest.
(B) keeping their intelligence level in view.
(C) keeping their age in view.
(D) keeping in view their needs of the final examination.
64. In the upgradation and development of the child, the most important role is of -
- (A) Dedicated teacher
(B) Good books
(C) Best playground
(D) Huge school buildings
65. The decision making ability of a person with social maturity is -
- (A) Uncertain (B) Inconclusive
(C) Immediate (D) Certain
66. What is the need of extra-curricular programmes?
- (A) It is a wastage of time.
(B) It enhances self-esteem.
(C) It is necessary for all-round development.
(D) It is utilization of leisure-time.
67. Good teaching is best reflected by -
- (A) attendance of students.
(B) number of students with distinctions.
(C) meaningful questions asked by students.
(D) pin-drop silence in class.



68. एक पेशे का रूप में शिक्षण में सबसे आकर्षक क्या है?
- (A) आत्म-अभिव्यक्ति का अवसर
(B) राष्ट्रनिर्माण में योगदान
(C) युवा मन से जुड़ना
(D) लंबी छुट्टियाँ
69. बालक की प्रवेश परीक्षा के पश्चात् उसके भविष्य की शिक्षा के लिये क्या करना चाहिये?
- (A) अभिभावकों को निर्णय लेना चाहिये।
(B) बालकों को निर्णय लेना चाहिये।
(C) शाला प्रधान को निर्णय लेना चाहिये।
(D) अभिवृत्ति एवं अभिरुचि परीक्षण का आयोजन होना चाहिये।
70. प्रधानाचार्य का विश्वास जीतने के लिये अध्यापक को -
- (A) प्रधानाचार्य को गिफ्ट देते रहना चाहिये।
(B) प्रधानाचार्य को अन्य अध्यापकों की चुगली और उनके लिये पारवन्दी करना चाहिये।
(C) अपने स्वयं के शिक्षण कार्य को संतोषजनक तरीके से करने में लगे रहना चाहिये।
(D) विद्यार्थियों के बीच प्रसिद्धि प्राप्त करनी चाहिये।
71. नेता के लिये किस क्षेत्र का ज्ञान सर्वाधिक आवश्यक होता है?
- (A) मनोविज्ञान का
(B) सम्मोहन शक्ति का
(C) राजनीति का
(D) प्रभावी वक्तव्य का
72. निम्नलिखित में से कौनसे रवैये में शिक्षक सहयोग और व्यावसायिक विकास में बाधा डालने की सबसे अधिक संभावना होती है?
- (A) अहंकार प्रेरित व्यवहार
(B) नए विचारों और फीडबैक के प्रति खुलापन
(C) संसाधनों और विशेषज्ञता को साझा करने की इच्छा
(D) टीमवर्क और सामूहिक सफलता पर जोर
68. What is most attractive in teaching as a profession?
- (A) Opportunity of self-expression
(B) Contribution in nation building
(C) Connecting with young minds
(D) Long vacations
69. What should be done to determine the future education of a child after his entrance examination?
- (A) Parents should take decision.
(B) The child should take decision.
(C) The Head of school should take decision.
(D) Aptitude and interest test should be held.
70. In your view, to win the confidence of the Principal, a teacher should -
- (A) keep on giving gifts to the Principal.
(B) keep on censuring and backbiting other teachers.
(C) keep on executing his own teaching work in a satisfactory manner.
(D) gain popularity among students.
71. Knowledge of which area is most necessary for a leader?
- (A) Psychology
(B) Hypnotism power
(C) Politics
(D) Effective statement
72. Which of the following attitude is most likely to hinder teacher collaboration and professional growth?
- (A) Ego driven behaviour
(B) Openness to new ideas and feedback
(C) Willingness to share resources and expertise
(D) Emphasis on team-work and collective success

73. नेतृत्व क्षमता का एक समुच्चय है -
(A) व्यक्तित्व
(B) संज्ञानात्मक कौशल
(C) व्यवहारात्मक कौशल
(D) संचार कौशल
74. प्रभावी कक्षा प्रबन्धन के लिये कौनसी योग्यता महत्वपूर्ण है?
(A) सूक्ष्म प्रबन्धन
(B) परिवर्तन का विरोध
(C) लचीलापन
(D) अधिनायकवाद
75. निम्नलिखित में से कौनसा योगात्मक मूल्यांकन का उदाहरण है?
(A) अंतिम परीक्षा
(B) साप्ताहिक प्रश्नोत्तरी
(C) समूह परियोजनाएं
(D) कक्षा-चर्चाएं
76. विद्यार्थियों की वास्तविक शिक्षा वह है -
(A) जो वैश्विक अभिवृत्ति को उत्पन्न करें।
(B) जो कठोर राष्ट्रीय भावना को उत्पन्न करें।
(C) जो संस्थागत धार्मिक अभिवृत्ति को उत्पन्न करें।
(D) जो धर्म-विरुद्ध तथा वैज्ञानिक अभिवृत्ति को उत्पन्न करें।
77. अध्यापक का सर्वाधिक ईमानदारी पूर्वक मनोवैज्ञानिक कार्य है -
(A) उसे राष्ट्रीयता की भावना को प्रोत्साहित करना चाहिये।
(B) उसे सामुदायिक भावना को विकसित करना चाहिये।
(C) उसे जातीय भावना का विकास करना चाहिये।
(D) उसे सभी के जीवन की एकता का विश्वास पैदा करना चाहिये।
78. कुशल नेतृत्व वाले व्यक्ति का गुण है -
(A) सामान्य व्यक्ति जैसा
(B) समूह का नेता
(C) उच्च आदर्श
(D) चापलूसी
73. Leadership activity is a set of -
(A) Personality
(B) Cognitive skills
(C) Behavioural skills
(D) Communication skills
74. Which aptitude is crucial for effective class-room management?
(A) Micro-management
(B) Resistance to change
(C) Flexibility
(D) Authoritarianism
75. Which of the following is an example of a summative assessment?
(A) Final exam
(B) Weekly quizzes
(C) Group projects
(D) Class-room discussions
76. The truest education of the students is that -
(A) which creates global attitude.
(B) which creates rigid national attitude.
(C) which creates institutionalized religious attitude.
(D) which creates anti-religious and scientific attitude.
77. The most honest psychological function of the teacher is -
(A) that he should inculcate the spirit of nationalism.
(B) that he should develop community feelings.
(C) that he should develop racial feelings.
(D) that he should create faith in the unity of all life.
78. A person with effective leadership has the quality of -
(A) Common man
(B) Leader of group
(C) Highly ideal
(D) Flattery



79. बालक के सामाजिक विकास हेतु आवश्यक है -
- (A) धन
(B) संयुक्त परिवार
(C) एकल परिवार
(D) मित्र
80. विद्यार्थियों के शैक्षिक प्रदर्शन में सुधार हेतु अभिभावकों को प्रेरित करना चाहिये -
- (A) विद्यार्थियों के कार्य की निगरानी करने हेतु।
(B) अतिरिक्त ट्यूशन की व्यवस्था हेतु।
(C) इस विषय में चिंतित रहने हेतु।
(D) शिक्षकों के साथ बार-बार बातचीत करने हेतु।
81. कौशल विकास है -
- (A) शिक्षण (B) अनुदेशन
(C) प्रशिक्षण (D) प्रौद्योगिकी
82. आधुनिक विद्यालय प्रायः सर्वाधिक अवहेलना करते प्रतीत होते हैं -
- (A) खेलकूद की
(B) सामाजिक सक्रियता की
(C) मूल्य संवर्धन की
(D) शैक्षिक नियोजन की
83. पाठ्यचर्या को अधिक उपयोगी बनाया जा सकता है -
- (A) स्थानीय ज्ञान द्वारा
(B) भारतीय इतिहास द्वारा
(C) भारतीय भौगोलिक ज्ञान द्वारा
(D) भारतीय सांस्कृतिक ज्ञान द्वारा
- सामाजिक रूप से परिपक्व शिक्षक सकारात्मक कक्षा वातावरण को कैसे बढ़ावा देते हैं?
- (A) किसी विद्यार्थी के प्रति पक्षपात दिखाकर।
(B) शिक्षण समय के बाद विद्यार्थियों के साथ बातचीत से बचकर।
(C) संघर्षों को संबोधित करके और छात्रों के बीच सम्मान को बढ़ावा देकर।
(D) व्यक्तिगत जरूरतों पर विचार किये बिना नियमों का सख्ती से पालन करना।
79. The requirement for the social development of the child is -
- (A) Wealth
(B) Joint family
(C) Nuclear family
(D) Friends
80. The academic performance of the students can be improved if parents are encouraged to -
- (A) supervise the work of their wards.
(B) arrange for extra tuitions.
(C) remain concerned about it.
(D) interact with teachers frequently.
81. Skill development is -
- (A) Teaching (B) Instruction
(C) Training (D) Technology
82. Modern schools often seem to ignore the most -
- (A) Games
(B) Social activism
(C) Value addition
(D) Educational management
83. Curriculum can be more useful -
- (A) by local knowledge
(B) by Indian History
(C) by Indian Geographical knowledge
(D) by Indian Cultural knowledge
84. How do socially mature teachers foster positive class-room environment?
- (A) By showing favouritism towards certain students.
(B) By avoiding interaction with students outside of institutional time.
(C) By addressing conflicts and promoting respect among students.
(D) By strictly adhering to rules without considering individual needs.

85. शैक्षिक प्रौद्योगिकी के उपयोग के फलस्वरूप अध्यापक का कार्य -
 (A) सरल हो गया है
 (B) कठिन हो गया है
 (C) बढ़ गया है
 (D) वैज्ञानिक हो गया है
86. कौनसी शिक्षण पद्धति छात्र-केन्द्रित शिक्षण और सक्रिय भागीदारी पर केन्द्रित है?
 (A) व्याख्यान विधि
 (B) सीधे निर्देशन
 (C) पूछताछ आधारित शिक्षा
 (D) ड्रिल और अभ्यास
87. छात्रों को व्यावसायिक परामर्श की आवश्यकता है, क्योंकि -
 (A) उन्हें अपनी रुचि की नौकरी मिल सकती है।
 (B) उन्हें अपनी रुचि के अनुसार नौकरी और संतुष्टि मिल सकती है।
 (C) उन्हें उनकी क्षमता के अनुसार नौकरी मिल सकती है।
 (D) उन्हें अपने माता-पिता की पसंद की नौकरी मिल सकती है।
88. कौनसी विधि द्वारा विद्यार्थी सबसे ज्यादा तथा उत्तम गति से सीखता है?
 (A) देखकर
 (B) पढ़कर
 (C) सुनकर
 (D) स्वयं करके
89. एक शिक्षक के रूप में, आप बालिकाओं को प्रोत्साहित करेंगे -
 (A) स्वावलम्बी बनने के लिये
 (B) उच्च शिक्षा प्राप्त करने के लिये
 (C) अपनी प्रतिभा का परिमार्जन करने के लिये
 (D) विवाह करने के लिये
90. एक प्रभावी संप्रेषण की आवश्यकता है -
 (A) भाषा पैटर्न में बदलाव।
 (B) उचित हाव-भाव।
 (C) विषय का ज्ञान।
 (D) सुन्दर व्यक्तित्व।
85. As a result of the use of Educational Technology, the work of the teacher has -
 (A) become easy
 (B) become difficult
 (C) increased
 (D) become scientific
86. Which teaching method focuses on student-centered learning and active participation?
 (A) Lecture method
 (B) Direct instruction
 (C) Inquiry based learning
 (D) Drill and practice
87. Students need vocational counselling, because -
 (A) they may get job of their own interest.
 (B) they may get job of their own interest and job satisfaction.
 (C) they may get job as per their capacity.
 (D) they may get job as per their parents choice.
88. By which method, students learn to the maximum extent and with the utmost speed?
 (A) By seeing
 (B) By reading
 (C) By listening
 (D) By doing themselves
89. As a teacher, you will motivate the girls to -
 (A) be self-supporting
 (B) achieve higher education
 (C) refine their talent
 (D) to get married
90. An effective communication requires -
 (A) change in speech pattern.
 (B) appropriate gestures.
 (C) mastery of content.
 (D) handsome personality.



91. एक उत्तम शिक्षक की पहचान है -
 (A) जो विद्यार्थियों को अभिप्रेरित करता हो।
 (B) जो विद्यार्थियों को आज्ञाकारी बनाए।
 (C) जो विद्यार्थियों में अनुकरण प्रवृत्ति का विकास करे।
 (D) जो विद्यार्थियों में स्वतंत्र चिन्तन पैदा करे।
92. सामाजिक विकास का आधारभूत अभिकरण कौनसा है?
 (A) माता-पिता व परिवार
 (B) समाज व समुदाय
 (C) विद्यालय व मित्रगण
 (D) धन व साधन सम्पन्नता
93. एक अच्छा अध्यापक वह होता है, जो -
 (A) विद्यार्थियों को शिक्षण के दौरान प्रश्न पूछने की अनुमति नहीं देता।
 (B) विद्यार्थियों की जिज्ञासा के लिये उन्हें फटकार लगाता है।
 (C) विद्यार्थियों को सुसंगत प्रश्न पूछने की इजाजत देता है और उनकी व्याख्या करता है।
 (D) जिसकी उपस्थिति से विद्यार्थी डरते हैं और प्रश्न पूछने में असफल हो जाते हैं।
94. विद्यार्थियों में नैतिक मूल्यों को किस प्रकार विकसित किया जा सकता है?
 (A) सख्त अनुशासन से।
 (B) नैतिक मूल्यों पर व्याख्यान देकर।
 (C) मूल्यों को पाठ्यक्रम से सम्बन्धित करके।
 (D) महान व्यक्तियों की जीवन गाथा बताकर।
95. यदि कोई विद्यार्थी कक्षा में अनुत्तीर्ण होता है, तो यह गलती है -
 (A) अध्यापक की
 (B) संस्था प्रधान की
 (C) स्वयं छात्र की
 (D) इसे सामान्यीकृत नहीं किया जा सकता
91. The mark of the best teacher is -
 (A) one who motivates the students.
 (B) one who makes the students disciplined.
 (C) one who develops imitation tendency among students.
 (D) one who generates independent thinking among students.
92. Which is the basic agency of social development?
 (A) Parents and family
 (B) Society and community
 (C) School and friends
 (D) Wealth and prosperity
93. A good teacher is one -
 (A) who doesn't allow students to ask questions while teaching.
 (B) who rebukes students for their curiosity.
 (C) who allows students for relevant questions and explains.
 (D) in whose presence students fear and fail to put questions.
94. How can moral values be developed among the students?
 (A) Through strict discipline.
 (B) By giving lecture on moral-values.
 (C) By relating the values with curriculum.
 (D) By telling biographies of great personalities.
95. If a student fails in examination, it is the fault of -
 (A) The Teacher
 (B) The Principal
 (C) Student himself/herself
 (D) It cannot be generalized

96. शिक्षण में सकारात्मक पारस्परिक संबंधों को बढ़ावा देने के लिये कौनसी अभिवृत्ति आवश्यक है?
- (A) परानुभूति
(B) उदासीनता
(C) अधीरता
(D) अहंकार
97. सामाजिक परिपक्वता में वृद्धि होती है -
- (A) आयु के साथ
(B) सामाजिक अंतःक्रिया के साथ
(C) सामाजिक मान्यता के साथ
(D) सामाजिक अभिक्षमता के साथ
98. अध्यापन के समय प्रश्न पूछना महत्वपूर्ण है -
- (A) अनुशासन बनाए रखने के लिये।
(B) प्रधानाचार्य को प्रसन्न रखने के लिये।
(C) छात्रों को अभिव्यक्ति का अवसर मिलता है।
(D) अध्यापन की गई विषयवस्तु की छात्रों में विकसित समझ का पता लगाने हेतु।
99. राष्ट्रीय शिक्षा नीति व कार्यक्रमों की जानकारी दर्शाती है -
- (A) शिक्षक की धनोपार्जन क्षमता।
(B) शिक्षक की व्यावसायिक रुचि।
(C) शिक्षक की राजनैतिक चेतना।
(D) शिक्षक की शिक्षा के प्रति सजगता।
100. विद्यार्थियों में तार्किक शक्तियों के विकास के लिये आप कार्य करना पसंद करेंगे -
- (A) सभी विद्यार्थियों को किसी एक विषय पर विचार प्रस्तुत करने को कहेंगे।
(B) विद्यार्थियों के लिये सामूहिक परिचर्चा का आयोजन करेंगे।
(C) एक दो विद्यार्थियों से नोट्स तैयार कराएंगे।
(D) विद्यार्थियों के लिये प्रश्नोत्तर सत्र करवाएंगे।
96. Which attitude is essential for fostering positive interpersonal relations in teaching?
- (A) Empathy
(B) Indifference
(C) Impatience
(D) Arrogance
97. Social maturity increases with -
- (A) age
(B) social-interaction
(C) social-recognition
(D) social-competence
98. Asking question at the time of teaching is important in order to -
- (A) maintain discipline.
(B) please the Principal.
(C) give opportunity of expression to students.
(D) find out the understanding of content taught to students.
99. The knowledge of National Education Policy and Programmes shows -
- (A) earning capacity of teacher.
(B) professional interest of teacher.
(C) political consciousness of teacher.
(D) teacher's awareness of education.
100. In order to develop logical thinking among students you will -
- (A) ask students to present their views on a particular topic.
(B) organize group discussion for students.
(C) make one or two students prepare notes.
(D) conduct question-answer session for students.



भाग-स/Section-C
सामान्य जागरूकता / General Awareness

101. 6 नवंबर, 2023 को भारत के मुख्य सूचना आयुक्त के रूप में किसने शपथ ली?
(A) राजीव गाँबा
(B) आनन्दी रामलिंगम
(C) विनोद कुमार तिवारी
(D) हीरालाल सामरिया
102. आधुनिक मोबाइल की बैट्रियों के विघटन से कौनसा अवशिष्ट मुख्य रूप से पर्यावरण में छोड़ा जाता है?
(A) बेरिलियम (B) यूरेनियम
(C) सोडियम (D) पोटैशियम
103. निम्नलिखित नदियों में कौनसी लम्बाई में सबसे छोटी है?
(A) नर्मदा (B) कृष्णा
(C) महानदी (D) गोदावरी
104. राजस्थान की 16वीं विधानसभा में महिला विधायकों का प्रतिशत है -
(A) 10% (B) 12%
(C) 15% (D) 20%
105. बून्दी का राज कवि था -
(A) नैणसी
(B) कन्हैया लाल सेठिया
(C) सूर्यमल्ल मिश्रण
(D) चन्द बरदाई
106. कौनसे समुद्र यूक्रेन की तट रेखा बनाते हैं?
(A) काला सागर और सी ऑफ अज़ोव
(B) भूमध्य सागर और सी ऑफ अज़ोव
(C) भूमध्य सागर और काला सागर
(D) काला सागर और कैस्पियन सी
107. हाल ही में रीयूजेबल लॉन्च व्हीकल 'पुष्पक' का चित्रदुर्ग परीक्षण रेंज में सफलतापूर्वक परीक्षण किया गया। इस पुष्पक विमान का निर्माण किस संस्थान द्वारा किया गया?
(A) रक्षा अनुसंधान एवं विकास संगठन
(B) हिंदुस्तान एयरोनॉटिक्स लिमिटेड
(C) भाभा परमाणु अनुसंधान केन्द्र
(D) भारतीय अंतरिक्ष अनुसंधान संगठन
108. 'फिलॉसोफी ऑफ द बॉम्ब' के लेखक हैं -
(A) भगत सिंह
(B) राम प्रसाद बिस्मिल
(C) अशफाक उल्लाह खान
(D) भगवती चरण वोहरा
101. Who took Oath as the Chief Information Commissioner of India on 6th November 2023?
(A) Rajiv Gauba
(B) Anandi Ramalingam
(C) Vinod Kumar Tiwari
(D) Heeralal Samariya
102. Which residue is mainly released into environment by the dissolution of modern mobile batteries?
(A) Beryllium (B) Uranium
(C) Sodium (D) Potassium
103. Which of the following river is the shortest in length?
(A) Narmada (B) Krishna
(C) Mahanadi (D) Godawari
104. The percentage of women MLA's in the 16th Assembly of Rajasthan is -
(A) 10% (B) 12%
(C) 15% (D) 20%
105. The Royal Poet of Bundi was -
(A) Nansi
(B) Kanhaiya Lal Sethia
(C) Suryamalla Mishran
(D) Chand Bardai
106. Which seas form the coast line of Ukraine?
(A) Black Sea and Sea of Azov
(B) Mediterranean Sea and Sea of Azov
(C) Mediterranean Sea and Black Sea
(D) Black Sea and Caspian Sea
107. Recently the Reusable Launch Vehicle 'Pushpak' was successfully tested at Chitradurga Test Range. Which institute developed the Pushpak Viman?
(A) Defence Research and Development Organization
(B) Hindustan Aeronautics Limited
(C) Bhabha Atomic Research Centre
(D) Indian Space Research Organization
108. 'Philosophy of the Bomb' was written by -
(A) Bhagat Singh
(B) Ramprasad Bismil
(C) Ashfaqullah Khan
(D) Bhagwati Charan Vohra



109. आई.एम.टी. ट्राइलेट-24 (IMT TRILAT-24) नामक युद्धाभ्यास में कौन-कौन सदस्य हैं?
(A) भारत, मोजाम्बिक व तन्ज़ानिया
(B) भारत, वियतनाम व ऑस्ट्रेलिया
(C) भारत, मोजाम्बिक व केन्या
(D) भारत, मोजाम्बिक व साउथ अफ्रीका
110. निम्न में से कौन राजस्थान के एकीकरण की प्रक्रिया में राजस्थान संघ का हिस्सा नहीं था?
(A) प्रतापगढ़ (B) करौली
(C) बून्दी (D) डूंगरपुर
111. राजस्थान के नक्शे में निम्न में से कौनसा सुदूर दक्षिण में है?
(A) मेड़ता सिटी
(B) सोजत
(C) मारवाड़ जंक्शन
(D) राजसमंद
112. निम्न में से किस केन्द्र से चन्द्रयान-3 का लॉन्च हुआ था?
(A) सतीश धवन स्पेस केन्द्र
(B) विक्रम सारा भाई स्पेस केन्द्र
(C) फिजिकल रिसर्च लेबोरेटरी
(D) इसरो (ISRO)
113. निम्न में से कौनसा सही सुमेलित नहीं है?
(A) मैंगो शावरस - तमिलनाडु
(B) चेरी ब्लॉसम - कर्नाटक
(C) नॉर्वेस्टर्स - पश्चिमी बंगाल
(D) बारदोली छीड़ा - केरल
114. विरुपाक्ष एवं पंपा देवी तीर्थ किस राज्य में स्थित थे?
(A) विजयनगर (B) चोल
(C) चालुक्य (D) पांड्य
115. निम्न में से किसे द्वितीयक क्षेत्र माना जाता है?
(A) ऑटोमोबाइल उत्पादन
(B) जंगल
(C) खनन
(D) (B) एवं (C) दोनों
116. किरातार्जुनीयम् के लेखक कौन हैं?
(A) कालिदास (B) भारवि
(C) माघ (D) मल्लिकार्जुन
109. Which of the following countries are part of IMT TRILAT-24 exercise?
(A) India, Mozambique and Tanzania
(B) India, Vietnam and Australia
(C) India, Mozambique and Kenya
(D) India, Mozambique and South Africa
110. Which of the following was not a part of Rajasthan Union in the process of Unification of Rajasthan?
(A) Pratapgarh (B) Karauli
(C) Bundi (D) Dungarpur
111. Which of the following is in the far South on the Map of the Rajasthan?
(A) Merta City
(B) Sojat
(C) Marwad Junction
(D) Rajsamand
112. From which of the following centre Chandrayaan-3 was launched?
(A) Satish Dhawan Space Centre
(B) Vikram Sarabhai Space Centre
(C) Physical Research Laboratory
(D) ISRO
113. Which of the following is not correctly matched?
(A) Mango Showers - Tamil Nadu
(B) Cherry Blossoms - Karnataka
(C) Norwesters - West Bengal
(D) Bardoli Chheerha - Kerala
114. Virupaksha and Pampa Devi were Shrines located in which Kingdom?
(A) Vijay Nagar (B) Chola
(C) Chalukya (D) Pandya
115. Which of the following is considered the Secondary Sector?
(A) Automobile Production
(B) Forest
(C) Mines or Mining
(D) Both (B) and (C)
116. Who is the writer of Kiratarjuniyam?
(A) Kalidas (B) Bharavi
(C) Magha (D) Bhavbhuti



117. निम्न में से किस दर्रे में होकर जवाहर सुरंग निकलती है?
(A) रोहतांग (B) नाथुला
(C) बनिहाल (D) दुंगरी ला
118. भारत ने हैती से अपने नागरिकों को निकालने के लिये कौनसा अभियान आरम्भ किया था?
(A) ऑपरेशन इन्द्रावती
(B) ऑपरेशन अपलिफ्ट
(C) ऑपरेशन सेफ प्लेस
(D) ऑपरेशन सफल
119. राष्ट्रीय बालिका दिवस कब मनाया जाता है?
(A) 24 जनवरी (B) 8 मार्च
(C) 14 नवंबर (D) 19 नवंबर
120. प्रधानमंत्री नरेन्द्र मोदी द्वारा नवंबर 2021 में ग्लासगो में COP26 में किस अवधारणा को प्रस्तुत किया गया?
(A) पर्यावरण के लिये जीवनशैली
(B) सतत विकास के लिये जीवनशैली
(C) गरीबी उन्मूलन के लिये जीवनशैली
(D) सभी की समानता के लिये जीवनशैली
121. हाल ही में भारत सरकार द्वारा हाशिये के वर्ग अथवा वंचित वर्ग के लोगों को सीधे वित्तीय लाभ देने के लिये किस पोर्टल को शुरू किया गया है?
(A) PM-SURAJ (B) PM-USHA
(C) SAMARTH (D) SWAYAM
122. निम्न में से कौनसे प्राकृतिक हत्यारी कोशिकाएं कहलाती हैं?
(A) मोनोसाइट्स (B) न्यूट्रोफिल्स
(C) थ्रोम्बोसाइट्स (D) लिम्फोसाइट्स
123. रेमन मैग्सेसे पुरस्कार किस देश द्वारा दिया जाता है?
(A) फिलीपींस (B) ब्रिटेन
(C) ऑस्ट्रेलिया (D) मलेशिया
124. निम्न में से कौन रिजर्व बैंक ऑफ इंडिया के गवर्नर नहीं रहे?
(A) डॉ. मनमोहन सिंह
(B) डॉ. विमल जालान
(C) डॉ. आई.जी. पटेल
(D) डॉ. अरविन्द पनगडिया
125. 2023 का नोबेल शान्ति पुरस्कार प्रदान किया गया -
(A) नरगस मोहम्मदी को
(B) पियरे एगोस्टिनी को
(C) जॉन फॉसे को
(D) सुलुहु हसन को
117. Through which of the following passes do the Jawahar Tunnel pass?
(A) Rohtang (B) Nathula
(C) Banihal (D) Dungri La
118. Which Operation was launched by India to evacuate Indian Nationals from Haiti?
(A) Operation Indravati
(B) Operation Uplift
(C) Operation Safe Places
(D) Operation Safal
119. When is the 'National Girl Child Day' celebrated?
(A) January 24 (B) March 8
(C) November 14 (D) November 19
120. Which concept was introduced by Prime Minister Narendra Modi at COP26 in Glasgow in November 2021?
(A) Lifestyle for Environment
(B) Lifestyle for Sustainable Growth
(C) Lifestyle for Poverty Alliviation
(D) Lifestyle for Equality for all
121. Which portal has been launched by the Government of India to directly give financial assistance to people from marginalised communities?
(A) PM-SURAJ (B) PM-USHA
(C) SAMARTH (D) SWAYAM
122. Which of the following are also called natural killers cells?
(A) Monocytes (B) Neutrophils
(C) Thrombocytes (D) Lymphocytes
123. Which country gives the Ramon Magsaysay Award?
(A) Philippines (B) Britain
(C) Australia (D) Malaysia
124. Who of the following has not been the Governor of Reserve Bank of India?
(A) Dr. Manmohan Singh
(B) Dr. Bimal Jalan
(C) Dr. I.G. Patel
(D) Dr. Arvind Pangariya
125. The Nobel Peace Prize 2023 was given to -
(A) Narges Mohammadi
(B) Pierre Agostini
(C) Jon Fosse
(D) Suluhu Hassan

126. वर्ष 2023 का राजस्थानी भाषा का साहित्य अकादमी, दिल्ली पुरस्कार किसे दिया गया?
(A) श्रीमति दीप्ति किरण
(B) अविनाश चुण्डावत
(C) डॉ. गजेन्द्र सिंह राजपुरोहित
(D) जयेन्द्र सिंह
127. 1945-46 में उदयपुर में हुए अखिल भारतीय लोक राज्य परिषद के नवें सत्र की अध्यक्षता किसने की थी?
(A) जवाहरलाल नेहरू
(B) सरदार पटेल
(C) माणिक्य लाल वर्मा
(D) बलवंत राय मेहता
128. राजस्थान लोक सेवाओं के प्रदान की गारंटी अधिनियम किस वर्ष पारित हुआ?
(A) 2006 (B) 2000
(C) 2009 (D) 2011
129. देवराय का युद्ध, 1659 में हुआ था -
(A) औरंगजेब और दारा शिकोह के बीच
(B) अजमेर के सवाई जयसिंह और मराठों के बीच
(C) सुल्तान इल्तुतमिश और मेवाड़ के महाराणा जैत्र सिंह के बीच
(D) बीकानेर के राव जैतसी और मारवाड़ के मालदेव के बीच
130. देश में धार्मिक पर्यटन को बढ़ावा देने के लिये शुरू की गई प्रसाद (PRASAD) योजना में राजस्थान का कौनसा धार्मिक तीर्थ स्थल शामिल नहीं है?
(A) पुष्कर (अजमेर)
(B) मालासेरी डूंगरी (असींद, भीलवाड़ा)
(C) कपिल सरोवर (कोलायत, बीकानेर)
(D) खादू श्याम जी (सीकर)
131. 'आत्मीय सभा' के संस्थापक थे -
(A) राजा राम मोहन रॉय
(B) ज्योतिबा फुले
(C) दयानन्द सरस्वती
(D) विनोबा भावे
132. 'जीरो डिस्क्रीमिनेशन डे' कब होता है?
(A) 1 मार्च (B) 1 दिसंबर
(C) 1 जनवरी (D) 1 नवंबर
126. Who has received the Sahitya Academy, Delhi Award for 2023 for Rajasthani Language?
(A) Shrimati Deepti Kiran
(B) Avinash Chundawat
(C) Dr. Gajendra Singh Rajpurohit
(D) Jayendra Singh
127. Who presided over the ninth session of the All India Lok Rajya Parishad in 1945-46 in Udaipur?
(A) Jawaharlal Nehru
(B) Sardar Patel
(C) Manikya Lal Verma
(D) Balwant Rai Mehta
128. In which year The Rajasthan Guaranteed Delivery of Public Services Act was passed?
(A) 2006 (B) 2000
(C) 2009 (D) 2011
129. The Battle of Deorai in 1659 was fought between -
(A) Aurangzeb and Dara Shikoh
(B) Sawai Jai Singh of Ajmer and the Maratha
(C) Sultan Iltutmish and Maharana Jaitra Singh of Mewar
(D) Rao Jaitsi of Bikaner and Maldeo of Marwar
130. Which religious pilgrimage site of Rajasthan is not included in the 'PRASAD' Scheme launched to promote religious tourism in the country?
(A) Pushkar (Ajmer)
(B) Malaseri Dungri (Asind, Bhilwara)
(C) Kapil Sarovar (Kolayat, Bikaner)
(D) Khatu Shyam Ji (Sikar)
131. Founder of 'Atmiya Sabha' was -
(A) Raja Ram Mohan Roy
(B) Jyotiba Phule
(C) Dayanand Saraswati
(D) Vinoba Bhave
132. When is the 'Zero Discrimination Day'?
(A) 1st March (B) 1st December
(C) 1st January (D) 1st November



133. 27 नवंबर, 2023 को न्यूजीलैंड के प्रधानमंत्री के रूप में किसने शपथ ली?
(A) सिंडी किरो
(B) क्रिस्टोफर लक्सन
(C) एंथनी अल्बानेस
(D) क्रिस हिपकिंस
134. निम्नलिखित में से कौनसा राज्य मैंगनीज का अग्रणी उत्पादक है?
(A) ओडिशा (B) बिहार
(C) असम (D) उत्तर प्रदेश
135. किस प्रतिहार शासक ने 'आदिवराह' की उपाधि धारण की?
(A) नागभट्ट I (B) नागभट्ट II
(C) वत्सराज (D) मिहिर भोज
136. निम्न में से कौनसा सही मेल नहीं है?
(A) गोसुंडा बाँध - बनास नदी
(B) जाखम बाँध - जाखम नदी
(C) जवाहर सागर बाँध - चंबल नदी
(D) बीसलपुर बाँध - बेडच नदी
137. किस वर्ष में भारतीय रेलवे बोर्ड की स्थापना हुई?
(A) 1951 (B) 1857
(C) 1853 (D) 1905
138. NIRF कौन आयोजित करता है?
(A) शिक्षा मंत्रालय
(B) वित्त मंत्रालय
(C) विज्ञान एवं प्रौद्योगिकी मंत्रालय
(D) स्वास्थ्य मंत्रालय
139. किस वर्ष भारत में राष्ट्रीय मतदाता दिवस मनाया शुरू हुआ?
(A) 2005 (B) 2000
(C) 2011 (D) 2019
140. हिन्दुस्तान रिपब्लिकन एसोसिएशन के संस्थापक सदस्य कौन थे?
(A) चन्द्रशेखर आजाद
(B) सचिन्द्र नाथ सान्याल
(C) अरविन्दो घोष
(D) राम प्रसाद बिस्मिल
141. राष्ट्रीय हरित प्राधिकरण की स्थापना किस वर्ष हुई?
(A) 1947 (B) 1991
(C) 2018 (D) 2010
133. Who took Oath as the Prime Minister of New Zealand on November 27, 2023?
(A) Cindy Kiro
(B) Christopher Luxon
(C) Anthony Albanese
(D) Chris Hipkins
134. Which of the following State is the leading producer of Manganese?
(A) Odisha (B) Bihar
(C) Assam (D) Uttar Pradesh
135. Which Pratihara ruler assumed the title 'Adivarah'?
(A) Nagbhatt I (B) Nagbhatt II
(C) Vatsraj (D) Mihir Bhoj
136. Which of the following is not correctly matched?
(A) Gosunda Dam - River Banas
(B) Jakham Dam - River Jakham
(C) Jawahar Sagar Dam - River Chambal
(D) Bisalpur Dam - River Berach
137. In which year Indian Railway Board was established?
(A) 1951 (B) 1857
(C) 1853 (D) 1905
138. Who conducts NIRF?
(A) Ministry of Education
(B) Ministry of Finance
(C) Ministry of Science and Technology
(D) Ministry of Health
139. In which year did the celebration of National Voters Day start in India?
(A) 2005 (B) 2000
(C) 2011 (D) 2019
140. Who were the founder member of the Hindustan Republican Association?
(A) Chandra Shekhar Azad
(B) Sachindra Nath Sanyal
(C) Aurobindo Ghosh
(D) Ram Prasad Bismil
- Choose the correct code -
(A) A, B, C and D (B) A and C
(C) A and D (D) A, B and D
141. In which year the National Green Tribunal (NGT) was established?
(A) 1947 (B) 1991
(C) 2018 (D) 2010

142. तरंगदैर्घ्य की SI इकाई क्या है?
(A) हर्ट्ज (B) डायोप्टर
(C) फेराडे (D) मीटर
143. SIPRI का पूरा नाम क्या है?
(A) स्टॉकहोम इंटरनेशनल पीस रिसर्च इंस्टीट्यूट
(B) स्वीडिश इंटरनेशनल पीस रिसर्च इंस्टीट्यूट
(C) स्विट्जरलैंड इंटरनेशनल पीस रिसर्च इंस्टीट्यूट
(D) सारायेवो इंटरनेशनल पीस रिसर्च इंस्टीट्यूट
144. 'ग्लोबल स्टॉकटेक' शब्द का सम्बन्ध है -
(A) संयुक्त राष्ट्र जलवायु परिवर्तन सम्मेलन से
(B) विश्व बैंक सम्मेलन से
(C) संयुक्त राष्ट्र निशस्त्रीकरण सम्मेलन से
(D) विश्व स्वास्थ्य संगठन सम्मेलन से
145. 'खेलो इंडिया यूथ गेम्स 2023' का आयोजन कहाँ हुआ था?
(A) महाराष्ट्र (B) तमिलनाडु
(C) मध्य प्रदेश (D) उड़ीसा
146. हाल ही में घोषित 'ADITI' स्कीम किस क्षेत्र से सम्बन्धित है?
(A) प्रतिरक्षा (B) स्वास्थ्य
(C) शिक्षा (D) वित्त
147. 2023 के अर्जुन पुरस्कार से सम्मानित दिव्यकृति सिंह का संबंध किस खेल से है?
(A) तैराकी (B) घुड़सवारी
(C) तीरंदाजी (D) निशानेबाजी
148. किस पर्वत मालाओं को सह्याद्री भी कहा जाता है?
(A) पूर्वी घाट (B) पश्चिमी घाट
(C) विन्ध्याचल (D) सतपुड़ा
149. 'भैरोदेव डाकव' अभ्यारण्य कहाँ स्थित है?
(A) अलवर (B) भरतपुर
(C) करौली (D) दौसा
150. हुमायूँ के मकबरे के बारे में निम्नलिखित कथनों पर विचार कीजिये -
(A) यह चार बाग शैली के बगीचे के मध्य अवस्थित है।
(B) लाल बलुआ पत्थर मकबरे की मुख्य निर्माण वस्तु है।
सही कूट चुनिये -
(A) केवल A सही है
(B) केवल B सही है
(C) दोनों सही नहीं हैं
(D) दोनों A तथा B सही हैं
142. What is the SI Unit of wavelength?
(A) Hertz (B) Diopter
(C) Faraday (D) Meter
143. What is the full form of SIPRI?
(A) Stockholm International Peace Research Institute
(B) Swedish International Peace Research Institute
(C) Switzerland International Peace Research Institute
(D) Sarajevo International Peace Research Institute
144. 'Global Stocktake' is a term related to -
(A) UN Climate Change Conference
(B) World Bank Conference
(C) UN Disarmament Conference
(D) WHO Conference
145. Where were 'Khelo India' Youth Games 2023 organised?
(A) Maharashtra (B) Tamil Nadu
(C) M.P. (D) Orissa
146. The recently launched 'ADITI' Scheme is associated with which sector?
(A) Defence (B) Health
(C) Education (D) Finance
147. Divyakriti Singh, honoured with the Arjuna Award for 2023, is related to which sport?
(A) Swimming (B) Horse Riding
(C) Archery (D) Shooting
148. Which Mountain Range is also called Sahyadri?
(A) Eastern Ghat (B) Western Ghat
(C) Vindhyaachal (D) Satpura
149. Where is the 'Bhairodev Dakav' Sanctuary located?
(A) Alwar (B) Bharatpur
(C) Karauli (D) Dausa
150. Consider the following statements regarding the Humayun's Tomb -
(A) It is situated in the middle of a Charbagh Style Garden.
(B) Red Sandstone is the main construction material of the tomb.
Choose the correct code -
(A) Only A is true.
(B) Only B is true
(C) Both are false
(D) Both A and B are true



भाग-द / Section-D
अंग्रेजी / English

Direct - Indirect -

151. Mohit said, "O that I were a child again!"
(A) Mohit exclaimed with wonder that he was a child again.
(B) Mohit wondered that will he be a child again?
(C) Mohit strongly wished that he had been a child again.
(D) Mohit prayed that he will be a child again.
152. I doubted the truth of his excuse for coming late :?
(A) Do you (B) Will you (C) Didn't I (D) Isn't it
153. Note : Choose the alternative which is similar in meaning of the following words -
Indolent -
(A) Effect (B) Slothful (C) Dilemma (D) Impish
154. He refused to be led by the nose.
(A) Quarrelsome (B) Submissive (C) Bully (D) Irresponsible
155. To flog a dead horse.
(A) to do a vain thing (B) to be foolish
(C) to drag (D) to revive interest
156. She had to the job offer due to her parents' ill health.
(A) take on (B) hand out (C) look forward to (D) turn down
157. Choose the antonym for 'Dark' -
(A) Dim (B) Gloomy (C) Bright (D) Shadowy
158. Modern science has made advance.
(A) incredible (B) illegible (C) legitimate (D) objective
159. Correct spelling -
(A) Etiquete (B) Etiquette (C) Eltiquete (D) Eltiquette
160. I completed my post graduation by the end of this year.
(A) have (B) will have (C) am (D) will
161. Select suitable 'prefix' to form a new word -
Pathic
(A) up (B) pro (C) pre (D) tele
162. he is poor he is contented.
(A) So - as (B) As - as (C) Though - yet (D) No sooner than
163. Choose the word that means - 'a person who studies the origin, history and structure of words'.
(A) Philosopher (B) Etymologist (C) Archaeologist (D) Sociologist
164. An man is sure to be successful.
(A) industrius (B) indistrious (C) industrious (D) indestrius
165. Correct spelling -
(A) Preserverance (B) Preservance (C) Perseverence (D) Preserverience
166. Direct - Indirect -
"I don't know the way. Do you?" he asked.
(A) He said that he didn't know the way and asked if I know it.
(B) He said that he didn't know the way and asked me if I did.
(C) He asked me if I knew the way which he didn't.
(D) He told that he was not knowing the way, but wondered if I know.
167. Hurry up! there isn't time left.
(A) great (B) many (C) little (D) much
168. She is fond playing the piano.
(A) in (B) of (C) at (D) with
169. Identify the degree of comparison in the mountain near our building is the tallest in the region -
(A) Positive (B) Comparative
(C) Superlative (D) None of the above

170. He isn't very intelligent but he reads.....
(A) much (B) too much (C) a lot (D) lot
171. I am not scared.....him.
(A) by (B) of (C) with (D) to
172. 'His threats had become a nightmare' in this sentence 'a nightmare' is -
(A) Object (Indirect) (B) Complement (C) Adjunct (D) Object (Direct)
173. Children often take.....their parents.
(A) to (B) behind (C) after (D) for
174. Identify the suffix in 'Friendliness'-
(A) Friend (B) Ness (C) Friendly (D) Fri
175. Choose the prefix that can be attached to 'comprehensible' -
(A) Non (B) Un (C) Dis (D) In
176. She is allergic.....cats.
(A) to (B) with (C) by (D) for
177. Identify the correct sequence of jumbled sentence -
(P) sales last year (Q) effect much (R) improvement in (S) we did not
(A) SQRP (B) QSRP (C) RSQP (D) PRSQ
178. If you.....the history of the world, you will find that many great men have also been good.
(A) look at (B) go from (C) meanwhile (D) such as
179. He cleared the.....with acid.
(A) flower (B) flour (C) floor (D) flow
180. You will certain by come to grief if you follow his foot steps.
(A) Again (B) Benefited (C) Ruined (D) Outshine
181. Choose the word similar in meaning to 'fostering' -
(A) Safeguarding (B) Neglecting (C) Ignoring (D) Nurturing

Direction (Q. no. 182-186) : Read the following passage and answer the questions given below :

In today's fast-paced world, stress has become a common phenomenon affecting people of all ages. Stress can be triggered by various factors such as work pressure, financial worries, relationship issues or health concerns. When left unmanaged stress can have detrimental effects on both physical and mental well-being. Therefore, it is essential to develop effective coping strategies to deal with stressors and maintain a healthy balance in life. One effective way to manage stress is through relaxation techniques. These may include deep breathing exercises, meditation, yoga and spending time in nature. Engaging in hobbies or activities that bring joy and relaxation can also help alleviate stress. Additionally maintaining a healthy life style with regular exercise, proper nutrition and sufficient sleeps can build resilience against stressors and promote over-all well-being. Furthermore, seeking social support is crucial in times of stress. Talking to friends, family members or a therapist can provide emotional support and perspective. It's essential to remember that it's okay to ask for help, when needed. By addressing stress proactively and incorporating relaxation techniques and social support in daily life, individuals can better manage stress and lead healthier more fulfilling lives.

182. What is the main focus of the passage?
(A) Impact of stress on physical health
(B) Techniques for managing stress
(C) The prevalence of stress in modern society
(D) The importance of meditation
183. What role does social-support play in managing stress?
(A) It has no impact on individual life.
(B) It can provide emotional support and perspective.
(C) It exacerbates stress.
(D) It is the only factor causing stress.



184. What triggers stress according to the passage?
(A) Only financial worries (B) Only work pressures
(C) Only relationship issues (D) All of the above
185. What is NOT mentioned as a method of stress management?
(A) Deep breathing exercises (B) Yoga and meditation
(C) Playing video games (D) Spending time in nature
186. What is considered important for maintaining healthy balance?
(A) Developing effective coping strategies (B) Engaging in work without breaks
(C) Avoiding social interactions (D) Forgetting stressors
187. Select the synonyms of the word -
'Rendezvous'
(A) Restless (B) Party (C) Meeting (D) Fantastic
188. What is one word for 'custom of having many wives'?
(A) Monogamy (B) Bigamy (C) Polygamy (D) Matrimony
189. Choose the correct form of 'be' verb for the sentence -
The team.....practicing hard for the upcoming match.
(A) are (B) is (C) were (D) have
190. Find out synonyms for the underlined word -
The old Mansion was shrouded in mystery, its dark corridors echoing with whisper of the past.
(A) Plainness (B) Clarity (C) Overt (D) Enigma
191. What tense is used in the following sentence?
'She had already finished her homework before dinner.'
(A) Past Perfect (B) Past simple (C) Present Perfect (D) Future Perfect
192. Choose the correct form of adjective -
This is thebook I have ever read.
(A) superlative (B) interesting
(C) more interesting (D) most interesting
193. He failed his best effort.
(A) with (B) inspite (C) in case (D) instead of
194. What is the definition of the word 'sycophant'?
(A) A person who is socially awkward.
(B) A person who flatters others.
(C) Someone who is highly skilled in a particular field.
(D) An individual who is excessively self centred.
195. A person who studies earthquakes and their effects is known as -
(A) Novice (B) Theist (C) Tourist (D) Seismologist
196. Which sentence is an imperative sentence?
(A) The sun is shining brightly today. (B) Please pass the salt.
(C) She sings beautifully. (D) The dog barked loudly at night.
197. He prevented me.....going there.
(A) in (B) with (C) for (D) from
198. Which sentence is an active sentence?
(A) The cake was baked by Rima. (B) The ball was thrown by Ramesh.
(C) The letter was written by Rohit. (D) Rohit sang a song for the class.
199. Change into Passive Voice - Juice fills the jar.
(A) The jar is filled with juice. (B) Juice has been filled in the jar.
(C) Juice has filled in jar. (D) Jar is filled.
200. Select the word opposite to 'Departure' -
(A) Exit (B) Pullout (C) Farewell (D) Arrival

भाग-द / Section-D
हिन्दी / Hindi

151. 'दोपहर तक जरूर आ जाना' वाक्य निम्नलिखित में से क्या है?
(A) विधानवाचक (B) निषेधवाचक (C) विधिवाचक (D) प्रश्नवाचक
152. निम्नलिखित में से शुद्ध विकल्प कौनसा है?
(A) मनः + योग = मनोयोग (B) मनः + भाव = मनाभाव
(C) निः + जल = निजल (D) निः + विकार = निर्विकार
153. 'कहीं का नहीं' के लिये उपयुक्त है -
(A) घड़ों पानी पड़ना (B) चल बसना
(C) घर का न घाट का (D) चार दिन की चांदनी
154. निम्नलिखित में से अकर्मक क्रिया नहीं है -
(A) हैंसना (B) दौड़ना (C) उठना (D) पीना
155. 'मैंने एक व्यक्ति देखा जो बड़ा दुबला-पतला था' वाक्य में विशेषण उपवाक्य क्या है?
(A) मैंने एक व्यक्ति देखा (B) जो बड़ा दुबला पतला था
(C) व्यक्ति देखा जो बड़ा (D) एक व्यक्ति देखा जो
156. निम्नलिखित में से गुण संधि का उदाहरण है -
(A) शिवालय (B) महोत्सव (C) विद्यार्थी (D) भानूदय
157. निम्न में से शुद्ध विकल्प है -
(A) पाप-पुण्य - द्वंद्व समास (B) रामराज्य - कर्मधारय समास
(C) प्रतिदिन - तत्पुरुष समास (D) काला बाजार - द्विगु समास
158. निम्नलिखित में से 'आ' उपसर्ग से बना शब्द नहीं है -
(A) आरक्त (B) अधिकरण (C) आकाश (D) आचरण
159. 'तुच्छ व्यक्ति के साथ मित्रता नहीं निभति' के लिए उपयुक्त है -
(A) ओछे की प्रीत बालू की भीत (B) ओस चाटे प्यास नहीं बुझती
(C) एक तो करेला और दूसरा नीम चढ़ा (D) ऊँट के मुँह में जीरा
160. निम्नलिखित में से मिश्र वाक्य है -
(A) उसने कहा कि मैं निर्दोष हूँ।
(B) अच्छे लड़के परिश्रमी होते हैं।
(C) लोकप्रिय अभिनेता का सम्मान सभी करते हैं।
(D) सूर्योदय होने पर कुहासा जाता रहा।
161. 'सैधव' और 'घोटक' निम्नलिखित में से किसके पर्यायवाची शब्द हैं?
(A) अनल (B) वाजि (C) अक्षि (D) पीयूष
162. निम्नलिखित में से अशुद्ध विकल्प है -
(A) उगल देना - गुप्त बात प्रकट कर देना
(B) अब-तब करना - बहाने बनाना
(C) अपने पैरों पर खड़ा होना - अपना काम निकालना
(D) अक्ल पर पत्थर पड़ना - बुद्धि भ्रष्ट होना
163. निम्न में से कौनसा शब्द सदैव बहुवचन नहीं है?
(A) नदी (B) दर्शन (C) समाचार (D) हस्ताक्षर
164. निम्नलिखित में से अघोष वर्ण नहीं है -
(A) क (B) च (C) य (D) स
165. निम्न में से किस विकल्प में सभी शब्द शुद्ध हैं?
(A) लक्षण, व्यवहार, वास्थ (B) बुढ़ा, महत्त्व, विस्मरण
(C) ग्रहीता, ज्येष्ठ, दधियि (D) द्वंद्व, नुपुर, पुज्य



166. निम्नलिखित में से 'तासीर' शब्द का समानार्थक शब्द है -
 (A) ताबीज (B) तिजोरी (C) प्रभाव (D) तीक्ष्ण
167. निम्नलिखित में से अशुद्ध विकल्प है -
 (A) उपकार - अपकार (B) आदान - प्रदान (C) कोमल - प्रतिकूल (D) राग - द्वेष
168. 'नरेश से बैठा नहीं जाता' में है -
 (A) भाववाच्य (B) कर्तृवाच्य (C) कर्मवाच्य (D) कर्तृकर्मवाच्य

निर्देश (प्रश्न संख्या 169 से 173) अनुच्छेद पढ़कर पूछे गए प्रश्नों के उत्तर दीजिए -

अठाहरवीं सदी पूर्वार्ध में लोगों का ध्यान ललछंद की कविताओं की तरफ गया और फिर उनके संग्रह के प्रयास हुए। ललछंद की रचनाओं का पहला परिचय 1730 ई. में लिखी गयी पुस्तक 'तारीखे कश्मीर' में मिलता है। रैणा के अनुसार, सबसे पहले जॉर्ज अब्राहम ग्रियर्सन ने इस दिशा में महत्वपूर्ण कार्य किया। उन्होंने पंडित मुकुंदराम शास्त्री की सहायता से 106 वाख एकत्र किए और उन्हें 'ललवाक्यानि' में संपादित किया। यह पुस्तक 1920 ई. में रॉयल एशियाटिक सोसायटी, लंदन से प्रकाशित हुई। आर.सी. टेंपल की पुस्तक 'दि वर्ड ऑफ लला' में ललछंद के वाखों का गंभीर अध्ययन मिलता है उसके बाद अनेक विद्वानों ने इस दिशा में प्रयास किया। ललछंद के वाख मुक्तछंद में होते हुए भी लययुक्त हैं।

169. अनुच्छेद में प्रयुक्त 'वाख' शब्द का तत्सम शब्द है -
 (A) वज्र (B) वाक् (C) वाणी (D) विचार
170. अनुच्छेद का सबसे सटीक शीर्षक क्या है?
 (A) ललछंद और ग्रियर्सन (B) ललछंद के वाख
 (C) कश्मीर और ललछंद (D) ललछंद का जीवन
171. अनुच्छेद के अनुसार, पंडित मुकुंदराम शास्त्री ने क्या किया?
 (A) ललछंद के वाखों को प्रकाशित किया।
 (B) ग्रियर्सन को वाखों के संकलन में सहयोग दिया।
 (C) आर.सी. टेंपल की वाखों के समझने में मदद की।
 (D) 'तारीखे कश्मीर' के संपादन में सहायता की।
172. ललछंद के वाखों का संपादन निम्नलिखित में से पहले किसने किया?
 (A) रैणा (B) आर.सी. टेंपल
 (C) पंडित मुकुंदराम शास्त्री (D) जॉर्ज अब्राहम ग्रियर्सन
173. अनुच्छेद के अनुसार, लोगों का ध्यान ललछंद की तरफ कब गया?
 (A) 'ललवाक्यानि' के प्रकाशन के बाद (B) 'तारीखे कश्मीर' में उल्लेख के बाद
 (C) बीसवीं सदी के पूर्वार्ध में (D) 'दी वर्ड ऑफ लला' के प्रकाशन के बाद
174. इनमें से कौनसा वाक्य सकर्मक क्रिया है?
 (A) श्याम दौड़ रहा है। (B) मैं आ रहा हूँ।
 (C) मोहन पेड़ देख रहा है। (D) सलीम हँस रहा है।
175. दीर्घ संधि के संधि-विच्छेद की दृष्टि से उपयुक्त उदाहरण नहीं है -
 (A) आत्मा + आनंद (B) गदा + आघात (C) वार्ता + लाप (D) महा + आत्मा
176. विलोम शब्दों को दर्शाने वाला विकल्प नहीं है -
 (A) प्रसन्न-खिन्न (B) स्थावर - जंगम (C) मधुर - सुमधुर (D) उत्कर्ष - अपकर्ष
177. 'व्यूह' में संधि है -
 (A) दीर्घ संधि (B) यण संधि (C) गुण संधि (D) विसर्ग संधि
178. अशुद्ध शब्द है -
 (A) आनुपातिक (B) इतिहासिक (C) वैदिक (D) निरपराध
179. 'कलाप्रवीण' शब्द में समास है -
 (A) संप्रदान तत्पुरुष (B) अपादान तत्पुरुष (C) सम्बन्ध तत्पुरुष (D) अधिकरण तत्पुरुष

180. 'उल्टे छुरे मूँडना' मुहावरे का अर्थ होता है -
(A) ठगना (B) लाँछन लगाना (C) ध्यंग्य करना (D) परेशान करना
181. 'अपनी प्रशंसा करना' कहलाता है -
(A) गले का हार (B) गाल फुलाना (C) गाल बजाना (D) गुलछर्रे उड़ाना
182. 'चन्द्रचूड़' शब्द में समास है -
(A) अव्ययीभाव समास (B) बहुव्रीहि समास (C) द्वन्द्व समास (D) कर्मधारय समास
183. वह जो शीघ्र उत्तर देने की बुद्धि रखता है, कहलाता है -
(A) लब्ध प्रतिष्ठ (B) विशेषज्ञ (C) प्रत्युत्पन्न मति (D) वैयाकरण
184. 'खल' शब्द का अनेकार्थी नहीं है -
(A) दुष्ट (B) बर्बाद (C) खरल (D) धतूरा
185. किस विकल्प में सब परस्पर पर्यायवाची नहीं है?
(A) सुर, देव, निर्जर (B) अनि, कटक, अराति (C) नारी, दारा, यामा (D) कांत, वर, नाथ
186. यण संधि से बना शब्द है -
(A) अन्वेषण (B) वनौपधि (C) नायक (D) राजर्षि
187. अशुद्ध वाक्य है -
(A) उसके सिर में घने बाल हैं। (B) अपनों से बैर अच्छा नहीं।
(C) वहाँ आँखों का मुफ्त ऑपरेशन होगा। (D) मैंने पत्ते को बहते हुए देखा।
188. 'पावस' का अर्थ वर्षा ऋतु है तो 'पायस' का अर्थ होगा -
(A) कीचड़ (B) खीर (C) पंख (D) कमल
189. 'चरण-कमल बंदौ हरिराई' पंक्ति में अलंकार है -
(A) उत्प्रेक्षा (B) अतिशयोक्ति (C) रूपक (D) श्लेष
190. वे क्रियापद जो संज्ञा, सर्वनाम, विशेषण आदि से बनते हैं, कहलाते हैं -
(A) कृदंत क्रिया (B) सजातीय क्रिया (C) नामधातु क्रिया (D) सहायक क्रिया
191. पृथ्वी का पर्यायवाची नहीं है -
(A) क्षिति (B) धरा (C) वसुधा (D) शैल
192. 'हिमकर' का पर्यायवाची नहीं है -
(A) हिमालय (B) अंशुमाली (C) विधु (D) विभाकर
193. 'तुमने कहा होगा।' वाक्य दर्शाता है -
(A) आसन्न भूत (B) पूर्णभूत (C) हेतु हेतुमद् भूत (D) संदिग्ध भूत
194. 'अत्युक्ति' शब्द में उपसर्ग है -
(A) अ (B) अत् (C) अति (D) अत्यु
195. 'दुगुना' और 'चौगुना' शब्द किस प्रकार के विशेषण हैं?
(A) गणनावाचक (B) क्रमवाचक (C) आवृत्तिवाचक (D) समुदायवाचक
196. 'बच्चों के लिए बाजार से कुछ ले आना।' वाक्य किस प्रकार के सर्वनाम को दर्शाता है?
(A) सम्बन्धवाचक सर्वनाम (B) निजवाचक सर्वनाम
(C) निश्चयवाचक सर्वनाम (D) अनिश्चयवाचक सर्वनाम
197. 'भरपेट' का समास भेद है -
(A) कर्मधारय समास (B) द्विगु समास (C) अव्ययी भाव समास (D) द्वन्द्व समास
198. 'निरपेक्ष न्याय करना' के लिए लोकोक्ति है -
(A) आप भला तो जग भला (B) जैसी करनी वैसी भरनी
(C) खग ही जाने खग की भाषा (D) दूध का दूध पानी का पानी
199. 'बलीवर्द' शब्द का तद्भव होता है -
(A) बलशाली (B) बलहीन (C) बैल (D) बकरा
200. विशेषण से बनी भाववाचक संज्ञा है -
(A) पंडिताई (B) कठोरता (C) दौड़ (D) निजत्व



