



**MPESB 2024**  
Group-4, Asstt. Grade -3 Stenotypist , Stenographer &  
Other Post Combined Recruitment Test - 2023 - Reports

View Challenged Items/  
शिकायती प्रश्न देखें

View Report

View QP

View Candidate Response

Print Objection

View Candidate Question

Moderator  
loggedin.[  
Logout ]

[Print](#)

Testdate

15 Jul 2023 ▼

TestSlot

Shift 1 ▼

**Submit**

Q.No: 1 What population of India is engaged in agricultural activities?  
**2624295**

भारत की कितनी जनसंख्या कृषि गतिविधियों में लगी हुई है?

A

$\frac{2}{3}$

B

$\frac{2}{3}$

$\frac{1}{3}$

C

$\frac{1}{3}$

$\frac{1}{4}$

D

$\frac{1}{4}$

$\frac{1}{2}$

Correct Ans : **A**

Subject : **General Knowledge graduate**

Q.No: 2 What is a celestial body that revolves around a planet in the same way that a planet revolves around the Sun?  
**2624351**

एक खगोलीय पिंड क्या है जो एक ग्रह के चारों ओर उसी तरह घूमता है जैसे एक ग्रह सूर्य के चारों ओर घूमता है?

# Test Prime

**ALL EXAMS,  
ONE SUBSCRIPTION**



**70,000+**  
Mock Tests



Personalised  
Report Card



Unlimited  
Re-Attempt



**600+**  
Exam Covered



Previous Year  
Papers



**500%**  
Refund



**ATTEMPT FREE MOCK NOW**

**Moon**

A

चांद

**Satellite**

B

उपग्रह

**Solar system**

C

सौर मंडल

**Meteorites**

D

उल्कापिंड

Correct Ans : **B**

Subject : **General Knowledge graduate**

Q.No: 3 Who entered the Gupta Empire during the reign of Kumaragupta?  
**2624719**

कुमारगुप्त के शासनकाल में गुप्त साम्राज्य में किसने प्रवेश किया?

**Mangole**

A

मंगोल

**Afghans**

B

अफगान

**Hunas**

C

हूण

**All of the given options are incorrect.**

D

दिए गए सभी विकल्प गलत हैं।

Correct Ans : **C**

Subject : **General Knowledge graduate**

Q.No: 4 In which of the following journeys will a person have to cross the Tropic of Cancer?  
**2651236**

निम्नलिखित में से किस यात्रा में व्यक्ति को कर्क रेखा को पार करना होगा?

A

**Harda to Khandwa**

हरदा से खंडवा

**Bhopal to Sanchi**

**B**

भोपाल से सांची

**Khandwa to burhanpur**

**C**

खंडवा से बुरहानपुर

**Balaghat to Mandla**

**D**

बालाघाट से मंडला

Correct Ans : **B**

Subject : **General Knowledge graduate**

Q.No: 5 Which of the following cities of Madhya Pradesh is known as 'City of Royals'?

**2651279**

मध्य प्रदेश के निम्नलिखित में से किस शहर को 'रॉयलों का शहर (सिटी ऑफ़ रॉयल्स)' कहा जाता है?

**Satna**

**A**

सतना

**Indore**

**B**

इंदौर

**Bhopal**

**C**

भोपाल

**Jabalpur**

**D**

जबलपुर

Correct Ans : **C**

Subject : **General Knowledge graduate**

Q.No: 6 The resolution on Fundamental right and National Economic programme was enacted in which congress session?

**2674534**

मौलिक अधिकार और राष्ट्रीय आर्थिक कार्यक्रम का प्रस्ताव काँग्रेस के किस अधिवेशन में लाया गया था?

**A**

**Lahore Session,1929**

लाहौर अधिवेशन , 1929

**Karachi Session,1931**

**B**

कराची अधिवेशन, 1931

**Lucknow Session,1916**

**C**

लखनऊ अधिवेशन, 1916

**Kanpur Session,1925**

**D**

कानपुर अधिवेशन, 1925

Correct Ans : **B**

Subject : **General Knowledge graduate**

Q.No: 7 Which among the following is NOT a bulwark of the constitution?  
**2674799**

निम्नलिखित में से कौन संविधान का संरक्षक नहीं है?

**Supreme Court**

**A**

उच्चतम न्यायालय

**Comptroller and Auditor General**

**B**

नियंत्रक एवं महालेखा परीक्षक

**Union Public Service Commission**

**C**

संघ लोक सेवा आयोग

**Attorney General of India**

**D**

भारत का महान्यायवादी

Correct Ans : **D**

Subject : **General Knowledge graduate**

Q.No: 8 Which of the following was a major port city during medieval India, known for its trade with Southeast Asia and China?  
**2680667**

निम्नलिखित में से कौन-सा मध्यकालीन भारत के दौरान एक प्रमुख बंदरगाह शहर था, जो दक्षिण पूर्व एशिया और चीन के साथ अपने व्यापार के लिए जाना जाता था?

**A**

**Agra**

आगरा

Calicut

B

कालीकट

Goa

C

गोवा

Khandwa

D

खंडवा

Correct Ans : B

Subject : **General Knowledge graduate**

Q.No: 9 Which of the following forests is not situated in Tamil Nadu?  
2680853

निम्नलिखित में से कौन सा वन तमिलनाडु में स्थित नहीं है?

Kalakad Wildlife Sanctuary

A

कलाकड वन्यजीव अभ्यारण्य

Indira Gandhi Wildlife Sanctuary

B

इंदिरा गांधी वन्यजीव अभ्यारण्य

Bandhavgarh National Park

C

बांधवगढ़ राष्ट्रीय उद्यान

Point Calimere Wildlife Sanctuary

D

प्वाइंट कैलिमेरे वन्यजीव अभ्यारण्य

Correct Ans : C

Subject : **General Knowledge graduate**

Q.No: 10 Which of the following details are not required to transfer funds through NEFT?  
2681626

निम्नलिखित में से कौन सा विवरण एनईएफटी के माध्यम से धन का भुगतान करने में आवश्यक नहीं है?

A

Consumer Id

उपभोक्ता आईडी

**IFSC code of beneficiary's branch**

B

प्राप्तकर्ता की शाखा का IFSC कोड

**Account number of beneficiary**

C

प्राप्तकर्ता का खाता नंबर

**Name of bank of beneficiary**

D

प्राप्तकर्ता बैंक का नाम

Correct Ans : A

Subject : **General Knowledge graduate**

Q.No: 11 Which of the following tournaments does the team Dabang Mumbai play in?  
**2683654**

टीम दबंग मुंबई निम्नलिखित में से कौन सा टूर्नामेंट में खेलती है?

**Indian Premier League**

A

इंडियन प्रीमियर लीग

**Indian Super League**

B

इंडियन सुपर लीग

**Hockey India League**

C

हॉकी इंडिया लीग

**Pro-Kabaddi League**

D

प्रो-कबड्डी लीग

Correct Ans : C

Subject : **General Knowledge graduate**

Q.No: 12 What was India's rank in the RSF 2022 World Press Freedom Ranking?  
**2683697**

आर.एस. एफ़. 2022 वर्ल्ड प्रेस फ्रीडम रैंकिंग में भारत का रैंक क्या था?

**136**

A

**136**

B

**142**

142

150

C

150

156

D

156

Correct Ans : C

Subject : **General Knowledge graduate**

Q.No: 13 Which organization recognizes outstanding contributions in the field of mathematics with the Fields Medal?  
**2684874**

कौन सा संगठन फील्ड्स मेडल के साथ गणित के क्षेत्र में उत्कृष्ट योगदान को मान्यता देता है?

**International Mathematical Union**

A

अंतर्राष्ट्रीय गणितीय संघ

**American Mathematical Society**

B

अमेरिकन मैथमेटिकल सोसाइटी

**European Mathematical Society**

C

यूरोपीय गणितीय सोसायटी

**London Mathematical Society**

D

लंदन गणितीय सोसायटी

Correct Ans : A

Subject : **General Knowledge graduate**

Q.No: 14 How many times was the Preamble of the Constitution amended?  
**2685248**

संविधान की प्रस्तावना में कितनी बार संशोधन किया गया?

**Three times**

A

तीन बार

B

**Two times**



दो बार

**Once**

**C**

एक बार

**None of the given options**

**D**

दिए गए विकल्पों में से कोई नहीं

Correct Ans : **C**

Subject : **General Knowledge graduate**

Q.No: 15 Sania Mirza has announced her retirement recently. She is related to which sport?  
**2691652**

सानिया मिर्जा ने हाल ही में अपने संन्यास लेने की घोषणा की है। वह किस खेल से संबंधित है?

**Baseball**

**A**

बेसबॉल

**Chess**

**B**

शतरंज

**Cricket**

**C**

क्रिकेट

**Tennis**

**D**

टेनिस

Correct Ans : **D**

Subject : **General Knowledge graduate**

Q.No: 16 Chanakya was the chief advisor of which ruler ?  
**2733182**

चाणक्य किस शासक के प्रमुख सलाहकार थे?

**Chandragupta Maurya**

**A**

चंद्रगुप्त मौर्य

**B**

**Kanishka**

कनिष्क

**Rajyavardhan singh rathore**

C

राज्यवर्धन सिंह राठौड़

**Sikander**

D

सिकंदर

Correct Ans : **A**

Subject : **General Knowledge graduate**

Q.No: 17 Which of the following element is used in the process of galvanization?

**2733339**

गैल्वनीकरण की प्रक्रिया में निम्नलिखित में से किस तत्व का उपयोग किया जाता है?

**Sodium**

A

सोडियम

**Copper**

B

कॉपर

**Zinc**

C

जिंक

**Tin**

D

टिन

Correct Ans : **C**

Subject : **General Knowledge graduate**

Q.No: 18 Identify the segment in the sentence which contains the grammatical error from the given options.

**2621227**

It's normal to be scary during an earthquake, which can rock the ground like a boat in rough water.

**A It's normal to be scary**

B **during an earthquake**

C **which can rock the**

D **ground like a boat**

Correct Ans : **A**

Subject : **General English graduate**

Q.No: 19 Identify the segment in the sentence which contains the grammatical error from the given options.

2621235

Once the wettest place on Earth, Cherrapunji, a town in northeastern India, has face a drought each winter for the past few years.

- A **Once the wettest place**
- B **a town in northeastern India,**
- C **has face a drought each winter**
- D **for the past few years.**

Correct Ans : C

Subject : **General English graduate**

Q.No: 20 Select the most appropriate meaning of the given idiom.

2631498

Get on one's nerves

- A **To irritate**
- B **To be impatient**
- C **To try to copy**
- D **To follow aimlessly**

Correct Ans : A

Subject : **General English graduate**

Q.No: 21 Find the most appropriate option for the given blank space which can make the given sentence grammatically and contextually correct.

2648552

The children are always \_\_\_\_\_ when they get home from school.

- A **anger**
- B **freshly**
- C **hungry**
- D **eagerly**

Correct Ans : C

Subject : **General English graduate**

Q.No: 22 Select the correct synonym of the given word.

2675209

FLAGRANT

- A **blatant**
- B **inconspicuous**
- C **concealed**
- D **unobtrusive**

Correct Ans : A

Subject : **General English graduate**

Q.No: 23 In the following question, a sentence has been given in Active/Passive Voice. Out of the four alternatives suggested, select the one which best expresses the same sentence in Passive/Active Voice.

2675920

He rang the temple bell loudly.

- A **The temple bell was rung loudly by him.**
- B **The temple bell was rang loudly by him.**
- C **The temple bell had been rung loudly by him.**
- D **The temple bell has been rung loudly by him.**

Correct Ans : A

Subject : **General English graduate**

Q.No: 24 In the following question, a sentence has been given in Direct/ Indirect speech. Out of the four alternatives suggested, select the one which best expresses the same sentence in Direct/ Indirect speech.

2676211

"Politics still interests me, but I avoid discussing it," I said.

- A **I said that politics still interested me, but I avoid discussing it.**
- B **I said that politics still interested me, but I avoided discussing it.**
- C **I said that politics still interests me, but I avoid discussing it.**
- D **I said that politics still interests me, but I avoided discussing it.**

Correct Ans : B

Subject : **General English graduate**

Q.No: 25 In the following question, a sentence has been given in Direct/ Indirect speech. Out of the four alternatives suggested, select the one which best expresses the same sentence in Direct/ Indirect speech.

2676318

"He is trying his best to collect the money he needs," said the girl.

- A **The girl said that he is trying his best to collect the money he needs.**
- B **The girl said that he is trying his best to collect the money he needed.**
- C **The girl said that he was trying his best to collect the money he needed.**
- D **The girl said that he was trying his best to collect the money he had needed.**

Correct Ans : C

Subject : **General English graduate**

Q.No: 26 In the following question, four words are given, out of which only one word is correctly spelt. Find the correctly spelt word.

2676527

- A **conscience**
- B **scrupuluos**
- C **conscientious**
- D **manifesting**

Correct Ans : **C**

Subject : **General English graduate**

Q.No: 27 In the following question, out of the four alternatives, choose the one which can be substituted for the given words/sentence.  
**2676745**

One that cannot be erased

- A **connoisseur**
- B **indelible**
- C **heretic**
- D **Convalescent**

Correct Ans : **B**

Subject : **General English graduate**

Q.No: 28 In the sentence, identify the segment which contains the grammatical error.  
**2677409**

She was pleased at see them and gave them a grand welcome.

- A **grand welcome**
- B **gave them a**
- C **at see them**
- D **She was**

Correct Ans : **C**

Subject : **General English graduate**

Q.No: 29 In the following question, one part of the sentence may or may not have an error. Find out which part of the sentence has an error and select the appropriate option. If the sentence is free from error, select 'No Error'.  
**2677514**

Articulating your reservations about a proposal is the work of acquainting yourself with your own thoughts.

- A **Articulating your reservations**
- B **about a proposal is the work**
- C **No error**
- D **of acquainting yourself with your own thoughts.**

Correct Ans : **C**

Subject : **General English graduate**

Q.No: 30 In the following question a sentence is given in Direct/Indirect speech. Out of the four alternatives choose the one which best expresses the same sentence in Indirect/Direct Speech.  
**2686495**

He said, "Help! Help!"

- A **He screamed for me that help.**
- B **He screamed that help help.**

- C He shouted for help.**  
**D He has asked for help.**

Correct Ans : **C**

Subject : **General English graduate**

Q.No: 31 **2689747** In the below question, there are five sentences/paragraphs. The sentence/paragraph labelled A is in its correct place. The four that follow are labelled B, C, D and E, and need to be arranged in the logical order to form a coherent paragraph/passage. From the given options, choose the most appropriate option.

A. I had six thousand acres of land, and had thus got much spare land besides the coffee plantation. Part of the farm was native forest, and about one thousand acres were squatters' land, what the Kikuyu called their shambas.

B. The squatters' land was more intensely alive than, the rest of the farm, and was changing with the seasons the year round. The maize grew up higher than your head as you walked on the narrow hard- trampled footpaths in between the tall green rustling regiments.

C. The squatters are Natives, who with their families (hold a few acres on a white man's farm, and in return have to work for him a certain number of days in the year. My squatters, I think, saw the relationship in a different light, for many of them were born on the farm, and their fathers before them, and they very likely regarded me as a sort of superior squatter on their estates.

D. The Kikuyu also grew the sweet potatoes that have a vine like leaf and spread over the ground like a dense entangled mat, and many varieties of big yellow and green speckled pumpkins.

E. The beans ripened in the fields, were gathered and thrashed by the women, and the maize stalks and coffee pods were collected and burned, so that in certain seasons thin blue columns of smoke rose here and there all over the farm.

- A CBDE**  
**B CBED**  
**C BCDE**  
**D DBCE**

Correct Ans : **B**

Subject : **General English graduate**

Q.No: 32 **2727921** In the following question given below, a sentence is provided with two blanks. Choose the correct combination of words that fit into the corresponding blanks.

\_\_\_\_\_ for tests on the immuniser developed in India will serve to \_\_\_\_\_ the efficacy, safety and consistency between vaccine batches.

- A approved, assessing**  
**B approval, assess**  
**C approval, assessed**  
**D approved, assess**

Correct Ans : **B**

Subject : **General English graduate**

Q.No: 33 Select the most appropriate option to fill in the blank.  
2729026

He believed that he had struck terror in his children's hearts because of his \_\_\_\_\_.

- A **love**
- B **rage**
- C **calmness**
- D **distress**

Correct Ans : B

Subject : **General English graduate**

Q.No: 34 Select the most appropriate synonym of the given word.  
2729243

DELIGHTED

- A **Coarse**
- B **Unsuited**
- C **Disliked**
- D **Joyful**

Correct Ans : D

Subject : **General English graduate**

Q.No: 35 Which of the following statements about ICMP (Internet Control Message Protocol) might be true?  
2635713

ICMP (इंटरनेट कंट्रोल मैसेज प्रोटोकॉल) के बारे में निम्नलिखित में से कौन-सा कथन सत्य हो सकता है?

**It reports all errors which occur during transmission**

A

यह प्रसारण के दौरान होने वाली सभी त्रुटियों की रिपोर्ट करता है

**A redirect message is used when a router notices that a packet seems to have been routed wrongly**

B

एक रीडायरेक्ट संदेश का उपयोग तब किया जाता है जब एक राउटर नोटिस करता है कि एक पैकेट गलत तरीके से रूट किया गया

**It informs routers when an incorrect path has been taken**

C

गलत रास्ता अपनाने पर यह राउटर को सूचित करता है

**The "destination unreachable" type message is used when a router cannot locate the destination**

D

"गंतव्य अगम्य" (destination

unreachable) प्रकार का संदेश तब उपयोग किया जाता है जब राउटर गंतव्य का पता नहीं लगा सकता है

Correct Ans : B

Subject : **General Computer Graduate**

Q.No: 36 BASIC is a computer language, what is its full form?  
2635781

BASIC एक कंप्यूटर भाषा है, इसका पूर्ण रूप क्या है?

**Beginners' All-purpose Symbolists Instruction Code**

A

बिगिनर्स आल-पर्पस सिम्बॉलिस्ट्स इंस्ट्रक्शन कोड

**Beginner's All-purpose Symbols Instruction Code**

B

बिगिनर्स ऑल-पर्पज सिंबल्स इंस्ट्रक्शन कोड

**Beginner's All-purpose Symmetry Instruction Code**

C

बिगिनर्स ऑल-पर्पज सिमिट्री इंस्ट्रक्शन कोड

**Beginner's All-purpose Symbolic Instruction Code**

D

बिगिनर्स ऑल-पर्पस सिंबॉलिक इंस्ट्रक्शन कोड

Correct Ans : D

Subject : **General Computer Graduate**

Q.No: 37 FPS is the frequency at which consecutive image/jpgs are captured or displayed. What is its full form?  
2635804

FPS वह फ्रीक्वेंसी है जिस पर लगातार इमेज कैप्चर की जाती हैं या प्रदर्शित की जाती हैं। इसका फुलफॉर्म क्या है?

**File Per Second**

A

फ़ाइल पर सेकंड

**Flow Per Second**

B

फ्लो पर सेकंड

**Flops Per Second**

C

फ्लॉप पर सेकंड

**Frames Per Second**

D

फ्रेम पर सेकंड

Correct Ans : D

Subject : **General Computer Graduate**

Q.No: 38 Which of the following is not an example of hardware?  
2635893



निम्नलिखित में से कौन-सा हार्डवेयर का उदाहरण नहीं है?

**Scanner**

A

स्कैनर

**Monitor**

B

मॉनीटर

**Printer**

C

प्रिंटर

**Interpreter**

D

इंटरप्रिटर

Correct Ans : **D**

Subject : **General Computer Graduate**

Q.No: 39 Which is the menu to create a text box on a slide?  
**2636077**

स्लाइड पर टेक्स्ट बॉक्स बनाने के लिए मेन्यू कौन-सा है?

**View -> Text Box**

A

व्यू -> टेक्स्ट बॉक्स

**Insert -> Text Box**

B

इंसर्ट -> टेक्स्ट बॉक्स

**Format -> Text Box**

C

फॉर्मेट -> टेक्स्ट बॉक्स

**Tools -> Text Box**

D

टूल्स -> टेक्स्ट बॉक्स

Correct Ans : **B**

Subject : **General Computer Graduate**

Q.No: 40 What is the purpose of data loss prevention (DLP) software in computer security?  
**2636947**

कंप्यूटर सुरक्षा में डेटा लॉस प्रिवेंशन (DLP) सॉफ्टवेयर का उद्देश्य क्या है?

**To prevent the loss or theft of sensitive information**

A

संवेदनशील जानकारी के नुकसान या चोरी को रोकने के लिए

**To protect against malware**

B

मैलवेयर से बचाव के लिए

**To encrypt data**

C

डेटा एन्क्रिप्ट करने के लिए

**To prevent data breaches**

D

डेटा उल्लंघनों (breaches) को रोकने के लिए

Correct Ans : A

Subject : **General Computer Graduate**

Q.No: 41 Which of the following operating systems doesn't have a firm owning and licensing it?  
**2638929**

निम्नलिखित में से किस ऑपरेटिंग सिस्टम के पास कोई फर्म नहीं है और इसका लाइसेंस नहीं है?

**Windows**

A

विंडोज

**Mac**

B

मैक

**Unix**

C

यूनिक्स

**None of the given options**

D

दिए गए विकल्पों में से कोई नहीं

Correct Ans : C

Subject : **General Computer Graduate**

Q.No: 42 The internet service that provides 'audio' and 'video' conversations is called:  
**2645145**

इन्टरनेट की वह सेवा को, जो 'ऑडियो एवं वीडियो वार्तालाप प्रदान करती है, कहलाती हैं

A

**Chat**

चैट

**E-mail**

B

ई-मेल

**Video Conferencing**

C

वीडियो कॉन्फ्रेंसिंग

**Voice Call**

D

वाईस कॉल

Correct Ans : **C**

Subject : **General Computer Graduate**

Q.No: 43 Who out of the following introduced the concept of stored-program computers which was capable of storing data as well as programs in the memory?  
**2675298**

निम्नलिखित में से किसने संगृहीत-प्रोग्राम (स्टोर-प्रोग्राम) कंप्यूटर की अवधारणा पेश की जो डेटा के साथ-साथ मेमोरी में प्रोग्राम को संगृहीत (स्टोर) करने में सक्षम था?

**Alan Turing**

A

एलन ट्यूरिंग

**Herman Hollerith**

B

हरमन होलेरिथ

**John Von Neumann**

C

जॉन वॉन न्यूमैन

**Blaise Pascal**

D

ब्लेज़ पास्कल

Correct Ans : **C**

Subject : **General Computer Graduate**

Q.No: 44 In which of the following services do users need to log in to a server computer remotely, and then to log out again when the user finishes accessing information on the server computer?  
**2675314**

निम्नलिखित में से किस सेवा में उपयोगकर्ताओं को दूरस्थ रूप से सर्वर कंप्यूटर में लॉग इन करने की आवश्यकता होती है, और फिर जब उपयोगकर्ता सर्वर कंप्यूटर पर जानकारी एक्सेस करना समाप्त कर लेता है तो फिर से लॉग आउट करना पड़ता है?

**NetScape**

A

नेटस्केप

**Mozilla**

B

मोज़िला

**FTP**

C

एफ़टीपी

**MacWeb**

D

मैकवेब

Correct Ans : C

Subject : **General Computer Graduate**

Q.No: 45 Which technique is used to hide the information in a picture?

**2675671**

किसी चित्र में सूचनाओं को छिपाने के लिए किस तकनीक का प्रयोग किया जाता है?

**Cryptography**

A

क्रिप्टोग्राफी

**Forensics**

B

फोरेंसिक

**Steganography**

C

स्टेगोग्राफी

**Image rendering**

D

छवि प्रतिपादन

Correct Ans : C

Subject : **General Computer Graduate**

Q.No: 46 What is the purpose of BIOS shadow?

**2678186**

बीआईओएस छाया का उद्देश्य क्या है?

**Copying RAM to ROM**

A

रैम को रोम में कॉपी करना

**Coping ROM to RAM**

B

रोम को रैम से कॉपी करना

**Copying HD to RAM**

C

हार्डडिस्क को रैम में कॉपी करना

**Copying RAM to HD**

D

रैम को हार्डडिस्क में कॉपी करना

Correct Ans : B

Subject : **General Computer Graduate**

Q.No: 47 Which one of the following is a text function in MS Excel?  
**2678256**

निम्नलिखित में से कौन सा एमएस एक्सेल में एक टेक्स्ट फंक्शन है?

**MID()**

A

**MID()**

**NOW()**

B

**NOW()**

**COUNT()**

C

**COUNT()**

**SIGN()**

D

**SIGN()**

Correct Ans : A

Subject : **General Computer Graduate**

Q.No: 48 Which modern technology is used by the majority of grocery retailers to enter the product code?  
**2680420**

उत्पाद कोड दर्ज करने के लिए अधिकांश किराना खुदरा विक्रेताओं द्वारा किस आधुनिक तकनीक का उपयोग किया जाता है?

A

**Interface/Pick Devices**

इंटरफ़ेस / पिक डिवाइस

**Touch Screens**

B

टच स्क्रीन

**Light Pens**

C

लाइट पेन

**Scanning devices**

D

स्कैनिंग डिवाइस

Correct Ans : **D**

Subject : **General Computer Graduate**

Q.No: 49 What type of input device does video game use?  
**2680421**

वीडियो गेम किस प्रकार के इनपुट डिवाइस का उपयोग करता है?

**Joystick**

A

जॉयस्टिक

**Digitising tablet**

B

डिजिटाइजिंग टैबलेट

**Trackball**

C

ट्रैकबॉल

**Mouse**

D

माउस

Correct Ans : **A**

Subject : **General Computer Graduate**

Q.No: 50 Which of the following is an output device?  
**2684603**

निम्नलिखित में से कौन-सा एक आउटपुट डिवाइस है?

A

**Printer**

प्रिंटर

Monitor

B

मॉनिटर

Mouse

C

माउस

Printer and Monitor both

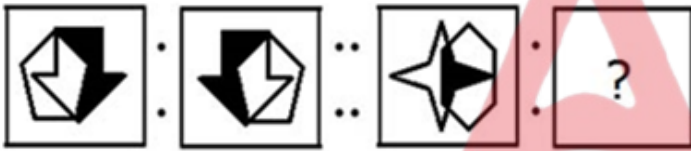
D

प्रिंटर और मॉनिटर दोनों

Correct Ans : D

Subject : General Computer Graduate

Q.No: 51 Select the option that is related to the figure in the same way that the second figure is related to the first figure.  
2629421



उस विकल्प का चयन करें जो तीसरी आकृति से उसी तरह संबंधित है जैसे दूसरी आकृति पहली आकृति से संबंधित है।



A



B





C



D



Correct Ans : A

Subject : **General Aptitude Graduate**

Q.No: 52  
2641070 If,  $(2x + 3y + 4z) = 0$ , find the value of  $(8x^3 + 27y^3 + 64z^3)$ .

यदि  $(2x + 3y + 4z) = 0$  है तो,  $(8x^3 + 27y^3 + 64z^3)$  का मान ज्ञात करें-

42xyz

A

42xyz

72xyz

B

72xyz

C

$\frac{36}{xyz}$



$$\frac{36}{xyz}$$

$$\frac{32}{xyz}$$

D

$$\frac{32}{xyz}$$

Correct Ans : **B**

Subject : **General Aptitude Graduate**

Q.No: 53 In the following question, select a figure from amongst the four alternatives, which when placed in the blank space of figure (X) would complete the pattern. Identify the figure that completes the pattern.



निम्नलिखित प्रश्न में, चार आकृति में से एक आकृति का चयन कीजिए, जिसे जब आकृति के खाली स्थान (X) में रखा जाता है, तो पैटर्न पूरा होता है। उस आकृति को पहचानें जो पैटर्न को पूरा करता है।



A



B





C



D



Correct Ans : C

Subject : **General Aptitude Graduate**

Q.No: 54 **2663907** Eight friends J, K, L, M, N, O, P and Q are sitting around a circle facing the centre. J is not the neighbour of N. L is third to the right of K. Q is second to the left of N who is next to the right of L. O is not the neighbour of N or K and is to the immediate left of P.

Which of the following is the correct position of L?

आठ मित्र J, K, L, M, N, O, P और Q केंद्र की ओर मुख करके एक वृत्त के चारों ओर बैठे हैं। J, N का पड़ोसी नहीं है। L, K के दायें से तीसरा है। Q, N के बायें से दूसरे स्थान पर है, जो L के दायें से अगला है। O, N या K का पड़ोसी नहीं है और उसके ठीक बायें P है।

निम्नलिखित में से L की सही स्थिति कौन सी है?

**To the immediate right of N**

A

**N के ठीक दायें**

**To the immediate right of Q**

B

**Q के ठीक दायें**

**To the immediate left of L**

C

L के ठीक बायें

To the immediate left of Q

D

Q के ठीक बायें है

Correct Ans : B

Subject : **General Aptitude Graduate**

Q.No: 55 In the following question select the odd word pair from the given alternatives.  
**2665138**

निम्नलिखित प्रश्न में दिए गए विकल्पों में से विषम शब्द युग्म का चयन करें।

**Desert: sand**

A

रेगिस्तान: रेत

**Grassland: grass**

B

घास का मैदान: घास

**River: water**

C

नदी: पानी

**Forest: Jungle**

D

वन: जंगल

Correct Ans : D

Subject : **General Aptitude Graduate**

Q.No: 56 Which set of letters when sequentially placed at the gaps in the given letter series shall complete it?  
**2665168**

a b \_ \_ a \_ c \_ a \_

अनुक्रमिक रूप से दी गई अक्षर श्रृंखला में रिक्त स्थानों पर रखे जाने पर अक्षरों का कौन-सा समूह इसे पूरा करेगा?

a b \_ \_ a \_ c \_ a \_

**cbdab**

A

**cbdab**

**cdbbd**

B

**cdbbd**

C

**cdddd**

cdddd

cdbdb

D

cdbdb

Correct Ans : D

Subject : General Aptitude Graduate

Q.No: 57 Two pipes X and Y can fill an empty tank in 16 hours and 20 hours respectively. Pipe Z alone can empty the completely filled tank in 25 hours. Firstly both pipes X and Y are opened and after 6 hours pipe Z is also opened. What will be the total time (in hours) taken to completely fill the tank?

2670464

दो नल X और Y एक खाली टंकी को क्रमशः 16 घंटे और 20 घंटे में भर सकते हैं। नल Z अकेले पूर्णतः भरी हुई टंकी को 25 घंटे में खाली कर सकता है। पहले X और Y दोनों नल खोले जाते हैं और 6 घंटे के बाद नल Z भी खोला जाता है। टंकी को पूर्णतः भरने के लिए लिया गया कुल समय (घंटे में) क्या होगा?

80/7

A

80/7

67/7

B

67/7

28/3

C

28/3

304/29

D

304/29

Correct Ans : D

Subject : General Aptitude Graduate

Q.No: 58 If in 3 years at simple interest the principal increases by 18%, what will be the compound interest (in Rs.) earned on Rs.25,000 in 3 years at the same rate?

2673183

यदि 3 वर्षों में साधारण ब्याज पर मूलधन 18% से बढ़ जाता है, तो उसी दर पर 3 साल में 25,000 रु. पर अर्जित चक्रवृद्धि ब्याज (रु. में) क्या होगा?

4775.4

A

4775.4

B

5774.5

5774.5

4557.4

C

4557.4

5575.4

D

5575.4

Correct Ans : A

Subject : **General Aptitude Graduate**

Q.No: 59 **Directions:** Four statements and Three conclusions are given in this question. Read the statements carefully and understand which of the conclusions are correct by logically.

**Statements:**

Some red are blue.

All white are blue.

All yellow are red.

Some white are orange.

**Conclusions:**

I. Some white are yellow.

II. Some orange are definitely red.

III. At least some blue are orange.

**निर्देश:** इस प्रश्न में चार कथन और तीन निष्कर्ष दिए गए हैं। कथनों को ध्यान से पढ़ें और समझें कि कौन से निष्कर्ष तार्किक रूप से सही हैं।

**कथन:**

कुछ लाल नीले हैं।

सभी सफेद नीले हैं।

सभी पीले लाल हैं।

कुछ सफेद नारंगी हैं।

**निष्कर्ष:**

I. कुछ सफेद पीले हैं।

II. कुछ नारंगी निश्चित रूप से लाल हैं।

III. कम से कम कुछ नीले नारंगी हैं।

**both conclusions I and III follow**

A

दोनों निष्कर्ष I और III अनुसरण करते हैं

B

**only conclusion III follow**

केवल निष्कर्ष III अनुसरण करता है

**both conclusions I and II follow**

C

दोनों निष्कर्ष I और II अनुसरण करते हैं

**both conclusions II and III follow**

D

दोनों निष्कर्ष II और III अनुसरण करते हैं

Correct Ans : **B**

Subject : **General Aptitude Graduate**

Q.No: 60 A shopkeeper sells 90 litres of mustard oil in Rs.8730 at the profit of Rs.12 per litre of mustard oil. What is the cost price of 1 litre of mustard oil?  
**2695621**

एक दुकानदार 8730 रुपये में 90 लीटर सरसों का तेल, 12 लीटर सरसों के तेल के लाभ पर बेचता है। 1 लीटर सरसों के तेल का क्रय मूल्य क्या है?

**Rs.90**

A

**90 रुपये**

**Rs.95**

B

**95 रुपये**

**Rs.80**

C

**80 रुपये**

**Rs.85**

D

**85 रुपये**

Correct Ans : **D**

Subject : **General Aptitude Graduate**

Q.No: 61 Which number will replace the question mark (?) in the following series?  
**2698519**

5, 8, 20, 34, 76, 142, ?

निम्नलिखित श्रृंखला में प्रश्न चिन्ह (?) के स्थान पर कौन सी संख्या आएगी?

5, 8, 20, 34, 76, 142, ?

A

**272**

272

296

B

296

284

C

284

302

D

302

Correct Ans : B

Subject : **General Aptitude Graduate**

Q.No: 62 From the given alternatives, select the word which **cannot** be formed using the letters given in the word.  
**2698586**

INTERNATIONAL

दिए हुए विकल्पों में से उस शब्द को चुनिए जो नीचे दिए गए शब्द में शामिल अक्षरों से बन नहीं सकता हो।

INTERNATIONAL

A

**TERMINAL**  
**TERMINAL**

**RATIONALE**

B

**RATIONALE**

C

**INTERNAL**  
**INTERNAL**

**LANTERN**

D

**LANTERN**

Correct Ans : A

Subject : **General Aptitude Graduate**

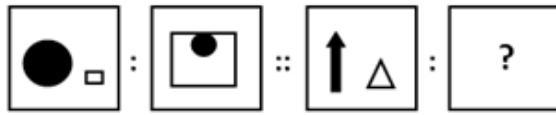
Q.No: 63 Find the figure from the answer figure that will replace the question mark (?) from the problem figure.  
**2755671**

Question Figure:



उत्तर आकृति से वह आकृति ज्ञात कीजिए जो समस्या आकृति से प्रश्नवाचक चिन्ह (?) को प्रतिस्थापित कर दे।

प्रश्न आकृति:



A



B



C



D



Correct Ans : D

Subject : **General Aptitude Graduate**

Q.No: 64 Find the figure from the answer figure that will replace the question mark (?) from the problem figure.  
2755691

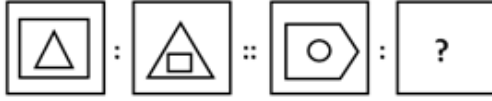
Question Figure:





उत्तर आकृति से वह आकृति ज्ञात कीजिए जो समस्या आकृति से प्रश्नवाचक चिन्ह (?) को प्रतिस्थापित कर दे।

प्रश्न आकृति:



A



B



C



D



Correct Ans : C

Subject : **General Aptitude Graduate**

Q.No: 65 In a certain code if 'M' denotes '÷', 'N' denotes '×', 'O' denotes '+' and 'P' denotes '-', then what will be the value of 16M4N3O5P3M3?

यदि एक निश्चित कोड भाषा में 'M', '÷' को दर्शाता है, 'N', '×' को दर्शाता है, 'O', '+' को दर्शाता है और 'P', '-' को दर्शाता है, तो 16MAN3O5P3M3 का मान कितना होगा?

A

14

14

15

B

15

16

C

16

17

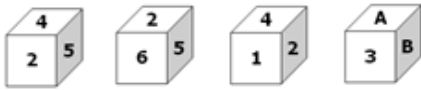
D

17

Correct Ans : C

Subject : General Aptitude Graduate

Q.No: 66 Three positions of a cube are shown below. Which numbers will come on two faces marked 'A' and 'B' in the fourth position?  
2755730



एक घन की तीन स्थितियां नीचे दर्शाई गई हैं। कौन सी संख्या चौथी स्थिति में 'A' और 'B' के रूप में चिह्नित दो फलकों होगी?



(4, 2)

A

(4, 2)

(5, 2)

B

(5, 2)

(6, 5)

C

(6, 5)

(6, 2)

D

(6, 2)

Correct Ans : C

Subject : General Aptitude Graduate

Q.No: 67 At three distinct road crossings, the traffic lights change after 15, 3, and 45 seconds, respectively. What time will they all change at once again if they all change simultaneously at 11:45:25 AM?  
**2617093**

तीन अलग-अलग सड़क चौराहों पर, ट्रैफिक लाइट क्रमशः 15, 3 और 45 सेकंड के बाद बदल जाती है। यदि वे सभी 11:45:25 पूर्वाह्न पर एक साथ बदलते हैं, तो वे सभी एक बार फिर कितने बजे बदलेंगे?

**11:45:55 AM**

A

**11:45:55 AM**

**11:46:55 AM**

B

**11:46:55 AM**

**11:46:25 AM**

C

**11:46:25 AM**

**None of the given options**

D

दिए गए विकल्पों में से कोई नहीं

Correct Ans : **B**

Subject : **General Maths graduate**

Q.No: 68 A and B earn in the ratio of 8:9. They spend in the ratio of 5:7 and their savings is in the ratio of 9:7. If their total monthly expenditure is Rs. 8400, then the annual salary of B is?  
**2629615**

A तथा B 8:9 के अनुपात में कमाते हैं। वे 5:7 के अनुपात में व्यय करते हैं तथा 9:7 के अनुपात में बचत करते हैं। यदि उनका कुल मासिक व्यय 8400 रूपए हो, तो B का वार्षिक वेतन कितना है?

**Rs. 84672**

A

**84672 रूपए**

**Rs. 77526**

B

**77526 रूपए**

**Rs. 80154**

C

**80154 रूपए**

**Rs. 75256**

D

**75256 रूपए**

Correct Ans : **A**

Subject : **General Maths graduate**

Q.No: 69 The average marks of 45 students was found to be 66. If the marks of two students were incorrectly entered as 28 and 64 instead of 82 and 46 respectively, then what is the correct average?  
**2643172**

45 विद्यार्थियों के औसत अंक 66 पाए गए।  
यदि दो विद्यार्थियों के अंक 82 और 46 के स्थान पर गलती से क्रमशः 28 और 64 लिए गए हों, तो सही औसत क्या होगा?

**67.2**

A

**67.2**

**66.8**

B

**66.8**

**66.4**

C

**66.4**

**66.6**

D

**66.6**

Correct Ans : **B**

Subject : **General Maths graduate**

Q.No: 70 The LCM of two numbers is 15 times their HCF. The sum of LCM and HCF is 960. If one of the number is 180, then the other is:  
**2645758**

दो संख्याओं का ल.स. उनके म.स. का 15 गुना है। ल.स. और म.स. का योग 960 है। यदि एक संख्या 180 है, तो दूसरी संख्या है:

A

**210**

210

B

**300**

300

C

240

240

D

270

270

Correct Ans : **B**

Subject : **General Maths graduate**

Q.No: 71 Simplify:  $4-(2 \times 10) \times 0$   
**2667138**

सरल कीजिए:  $4-(2 \times 10) \times 0$

A

**3**

3

4

**B**

4

5

C

5

0

D

0

Correct Ans : **B**

Subject : **General Maths graduate**

Q.No: 72 Simplify-  
**2667329**

$$\frac{8 \times 76 \div 38 \times ? - 50}{? \times 7 \times 12 \div 3 - 32} = \frac{30}{108}$$

सरल कीजिए-

$$\frac{8 \times 76 \div 38 \times ? - 50}{? \times 7 \times 12 \div 3 - 32} = \frac{30}{108}$$

4

A

4

5

**B**

5

8

C

8

6

D

6

Correct Ans : **B**

Subject : **General Maths graduate**

Q.No: 73 The average of the test scores of a class of 'm' students is 70 and that of 'n' students is 91. When the scores of both the classes are combined, the average is 80. What is m:n?

'm' छात्रों की एक कक्षा के परीक्षा के अंकों का औसत 70 है तथा 'n' छात्रों की कक्षा के अंकों का औसत 91 है। दोनों कक्षाओं के अंकों को जोड़ने पर औसत 80 प्राप्त होता है। m:n क्या है?

10/13

A

10/13

10/11

B

10/11

11/10

C

11/10

13/10

D

13/10

Correct Ans : C

Subject : General Maths graduate

Q.No: 74 If polynomial  $x^4 + x^3 + 8x^2 + ax + b$  is fully divisible by  $x^2 + 1$ , then find the value of a and b.

यदि बहुपद  $x^4 + x^3 + 8x^2 + ax + b$ ,  $x^2 + 1$  से पूर्णतः विभाजित है, तो 'a' और 'b' का मान ज्ञात कीजिये।

a = 1, b = 7

A

a = 1, b = 7

a = 2, b = 5

B

a = 2, b = 5

a = 2, b = 7

C

a = 2, b = 7

None of the given option

D

दिए गए विकल्पों में से कोई नहीं

Correct Ans : A

Subject : General Maths graduate

Q.No: 75 The ratio of speed of A and B is 4 : 5 and A loses the race by 200m, then what is the length of the race course?  
2672911

A और B की गति का अनुपात 4: 5 है और A, 200 मीटर से दौड़ हार जाता है, तो दौड़ की लंबाई कितनी है?

1000m

A

1000 मी

3000m

B

3000मी

4000m

C

4000 मी

5000m

D

5000 मी

Correct Ans : A

Subject : General Maths graduate

Q.No: 76  
2673059

A and B together can finish a work in 36 days. A and C take  $7\frac{3}{11}$  days more to complete the same work than that of B and C. A, B and C together complete the work in 24 days. In how many days will A, B and C finish it separately?

A और B मिलकर 36 दिनों में एक काम पूरा कर सकते हैं। A और C को मिलकर काम करने में, B और C द्वारा एक साथ काम करने की तुलना में  $7\frac{3}{11}$  दिन अधिक लगते हैं। A, B और C मिलकर 24 दिनों में कार्य पूरा करते हैं। A, B और C अकेले इसे कितने दिनों में पूरा करेगा?

60,72,90

A

60,72,90

60,90,72

B

60,90,72

72,60,90

C

72,60,90

D

90,60,72

90,60,72

Correct Ans : D

Subject : General Maths graduate

Q.No: 77 There is sufficient food for 2400 soldiers for 60 days and each soldier eats 750 grams every day after 43 days 900 soldiers left the camp. Now for how many days rest of the food lasted for the rest of the soldiers if each ate 850gram food every day.

2400 सैनिकों के लिए 60 दिनों के लिए पर्याप्त भोजन है और प्रत्येक सैनिक प्रतिदिन 750 ग्राम भोजन खाता है 43 दिनों के बाद 900 सैनिकों के शिविर से बाहर निकल जाते हैं। अब बाकी जवानों के लिए खाना कितने दिनों तक रहता है। यदि अब प्रतिदिन हरेक सैनिक 850 ग्राम खाना खाए।

18

A

18

28

B

28

24

C

24

32

D

32

Correct Ans : C

Subject : General Maths graduate

Q.No: 78 ABCD is a rhombus and  $\angle ABC = 72^\circ$ , then what is the measure of  $\angle CAD$ ?

2674500

एक समचतुर्भुज ABCD और  $\angle ABC = 72^\circ$  है, तो  $\angle CAD$  का मान कितना होगा?

62°

A

62°

54°

B

54°

C

58°



58°

52°

D

52°

Correct Ans : **B**Subject : **General Maths graduate**

Q.No: 79 12 men, 10 women and 28 children complete a work in 120 days and 6 women, 6 men and 14 children complete the same work in 60 days. In how many days will 5 women together complete the whole work?  
**2675174**

12 पुरुष, 10 महिला और 28 बच्चे एक कार्य को 120 दिनों में पूरा करते हैं तथा 6 महिला, 6 पुरुष और 14 बच्चे समान कार्य को 60 दिनों में पूरा करते हैं। 5 महिलाएं एक साथ संपूर्ण कार्य को कितने दिनों में पूरा करेंगी?

**12 days**

A

**12 दिन****16 days****B****16 दिन****14 days**

C

**14 दिन****18 days**

D

**18 दिन**Correct Ans : **B**Subject : **General Maths graduate**

Q.No: 80 Find the LCM of 0.6, 1.8, 0.36.  
**2680161**

0.6, 1.8, 0.36 का ल.स. ज्ञात कीजिए।

**3.6**

A

**3.6****1.8****B****1.8**

7.2

C

7.2

10.8

D

10.8

Correct Ans : B

Subject : General Maths graduate

Q.No: 81 **2681525** A shopkeeper gives three successive discounts of 10%, 15% and 25% to his customer on marked price of a product. To his another customer he gives 10%, 20% and 20% discounts on the same product. If the difference between the purchasing prices of two customers is Rs.540, then what is the marked price of each product?

एक दुकानदार अपने उत्पाद की चिह्नित कीमत पर अपने ग्राहक को 10%, 15% और 25% की लगातार छूट देता है। अपने दूसरे ग्राहक को वह उसी उत्पाद पर 10%, 20% और 20% की छूट देता है। यदि दो ग्राहकों के क्रय मूल्य के बीच का अंतर रु.540 है, तो प्रत्येक उत्पादन की चिह्नित कीमत क्या है?

Rs.215000

A

रु.215000

Rs.228000

B

रु.228000

Rs.240000

C

रु.240000

Rs.232000

D

रु.232000

Correct Ans : C

Subject : General Maths graduate

Q.No: 82 **2688012** A Man travelled a certain distance by car. One-third of distance travelled at 60 km/hr. Two third of remaining travelled at 50 km/hr and the rest at 70 km/hr. Find the average speed of the car.

एक आदमी कार से एक निश्चित दूरी तय करता है। एक तिहाई दूरी 60 किमी/घंटा की गति से तय की गई। शेष का दो तिहाई 50 किमी/घंटा की गति से और शेष 75 किमी/घंटा की गति से यात्रा करता है। कार की औसत गति ज्ञात कीजिए।

50 kmph

A

50 किमी प्रति घंटा

B

48 kmph

48 किमी प्रति घंटा

62 kmph

C

62 किमी प्रति घंटा

52 kmph

D

52 किमी प्रति घंटा

Correct Ans : A

Subject : **General Maths graduate**

Q.No: 83 Four friends A, B, C and D rented a bungalow and promised to share the rent as follows:  
**2696132**

A : B = 8 : 15, B : C = 5 : 8, C : D = 4 : 5. What part of the rent C will pay?

चार दोस्तों A, B, C और D ने एक बंगला किराए पर लिया और किराये को इस प्रकार साझा करने का वादा किया कि A : B = 8 : 15, B : C = 5 : 8, C : D = 4 : 5. है तो C के हिस्से का किराया क्या होगा?

A

$$\frac{24}{77}$$

B

$$\frac{24}{77}$$

$$\frac{23}{77}$$

C

$$\frac{23}{77}$$

$$\frac{25}{77}$$

D

$$\frac{25}{77}$$

$$\frac{26}{77}$$

$$\frac{26}{77}$$

Correct Ans : A

Subject : **General Maths graduate**

Q.No: 84 निम्नलिखित में से कौन-सा शब्द तत्पुरुष समास का सही उदाहरण है?  
**2660111**

A ज्ञानयुक्त

B राधाकृष्ण

C निर्भय

D नवयुवक

Correct Ans : A

Subject : **General Hindi graduate**

Q.No: 85 निम्नलिखित शब्द-समूहों में से कौन-सा विकल्प रूढ़ शब्दों का सही उदाहरण है?  
**2660245**

- A निशाचर, मुरलीधर, त्रिलोचन
- B लंबोदर, पंकज, दशानन
- C टब, कल, पर
- D पुस्तकालय, देवेन्द्र, डाकघर

Correct Ans : **C**

Subject : **General Hindi graduate**

Q.No: 86 निम्नलिखित में से शब्द-युग्म "अर्थ - अर्थ" के सही अर्थ भेद का चयन कीजिए-  
**2660470**

- A मतलब/धन- धन/मतलब
- B अभ्याश - निकट
- C अम्ब - माता
- D अनभिज्ञ - अनजान

Correct Ans : **A**

Subject : **General Hindi graduate**

Q.No: 87 "जौओं" का एकवचन शब्द निम्न में से क्या होगा?  
**2660708**

- A बाजरा
- B जौ
- C ज्वार
- D जोर

Correct Ans : **B**

Subject : **General Hindi graduate**

Q.No: 88 निम्न में से विस्मयादिबोधक हर्षबोधक अव्ययों का चयन कीजिए-  
**2660891**

- A राम-राम!, थू-थू! छि:!!-छि:!! धत! धिक्!
- B शाबाश! खूब!
- C हाय! हा! ऊँह! उफ! त्राहि-त्राहि
- D अहा! वाह! वाह-वाह

Correct Ans : **D**

Subject : **General Hindi graduate**

Q.No: 89 निम्नलिखित में से कर्तृवाच्य का वाक्य बताइए-  
**2661176**

- A आपके द्वारा गाना गाया जाय।

- B** राम ने लंका का राज्य विभीषण को दे दिया।  
**C** बच्चों से शांत नहीं रहा जाता।  
**D** मुझसे चला नहीं जाता।

Correct Ans : **B**

Subject : **General Hindi graduate**

Q.No: 90 निम्नलिखित में से कौन-सा वाक्य, कर्मवाच्य का उदाहरण नहीं है?  
**2661203**

- A** राज्यों को अनुदान दिया।  
**B** मोहन द्वारा पढ़ा जा रहा है।  
**C** भारतवासियों द्वारा महात्मा गांधी नहीं भुलाए जा सकते।  
**D** शीला द्वारा पत्र लिखा जा रहा है।

Correct Ans : **A**

Subject : **General Hindi graduate**

Q.No: 91 जहाँ पर अल्प विराम के प्रयोग से भ्रान्ति होने की सम्भावना हो, वहाँ पर निम्न में से किस विरामचिन्ह का प्रयोग अनिवार्य हो जाता है?  
**2661246**

- A** योजक चिन्ह  
**B** प्रश्नवाचक चिन्ह  
**C** विस्मयादिबोधक चिन्ह  
**D** अर्द्धविराम चिन्ह

Correct Ans : **D**

Subject : **General Hindi graduate**

Q.No: 92 निम्नलिखित प्रश्न में पांच कथन दिए गए हैं। इन्हें इस तरह क्रमबद्ध कीजिए कि उनसे एक अर्थपूर्ण परिच्छेद बन जाए, फिर उसके बाद दिए गए विकल्पों में से सही विकल्प का चयन कीजिए।

- A. किसी भी भाषा के शब्द व्यवहार पर ध्यान देने से ही लिंग का ज्ञान हो जाता है।  
 B. हिन्दी भाषा में सृष्टि के समस्त पदार्थों को  
 C. अतः सजीव शब्दों का लिंग निर्धारण सरलता से हो जाता है,  
 D. दो ही लिंग में विभक्त किया गया है।  
 E. लेकिन निर्जीव शब्दों का लिंग निर्धारण करना कठिन होता है।
- A** **ABDCE**  
**B** **BDACE**  
**C** **EDABC**  
**D** **CDBAE**

Correct Ans : **A**

Subject : **General Hindi graduate**

Q.No: 93 "मुकेश बहुत तेज दौड़ता है।" इस वाक्य में विशेषण क्या ?  
**2666427**

- A मुकेश  
B बहुत  
C तेज  
D दौड़ता

Correct Ans : C

Subject : **General Hindi graduate**

Q.No: 94 निम्नलिखित में से "आडम्बर" का विलोम शब्द क्या है?  
**2666494**

- A उद्गम  
B अनादृत  
C सादगी  
D अनुपमेय

Correct Ans : C

Subject : **General Hindi graduate**

Q.No: 95 निम्नलिखित में से आसन्न भूतकाल के सही उदाहरण का चयन कीजिए-  
**2666796**

- A यदि वर्षा अच्छी होगी तो फसल भी अच्छी होगी।  
B मोहन जाएगा तो मैं नाचूंगा।  
C मैं आम खा चुका हूँ।  
D सम्भव है कि वह कल कालेज जाए।

Correct Ans : C

Subject : **General Hindi graduate**

Q.No: 96 विस्मयादिबोधक वाक्य "ओ हो! तुम खूब आए।", का सही विधानवाचक वाक्य निम्न में से क्या होगा?  
**2666928**

- A ओह तुम आ गए!  
B मुझे तुम्हारे आगमन से अपार खुशी है।  
C ओह, तुम नहीं आए थे।  
D क्यों, तुम नहीं आए हो।

Correct Ans : B

Subject : **General Hindi graduate**

Q.No: 97 निम्नलिखित में से "दुस्साहस " शब्द में \_\_\_\_\_ उपसर्ग है।  
**2667977**

- A साहस  
B दु  
C स  
D दुस्

Correct Ans : D

Subject : **General Hindi graduate**

Q.No: 98 निम्नलिखित में से 'केवल मोहन ही आ रहा है' -वाक्य में प्रयुक्त 'केवल' निपात का प्रकार बताइए-  
**2668138**

- A आदरसूचक
- B विस्मयादिबोधक
- C अवधारणबोधक
- D बलदायक

Correct Ans : **D**

Subject : **General Hindi graduate**

Q.No: 99 निम्नलिखित प्रश्न में पांच कथन दिए गए हैं। इन्हें इस तरह क्रमबद्ध कीजिए कि उनसे एक अर्थपूर्ण परिच्छेद बन जाए, फिर उसके बाद दिए गए विकल्पों में से सही विकल्प का चयन कीजिए।  
**2668488**

- A दहकना है उसी प्रकार
  - B मनुष्य का धर्म उसके
  - C स्वभाव का पर्याय होना चाहिए।
  - D अग्नि का धर्म
  - E जिस प्रकार
- A **ABDCE**
  - B **BDACE**
  - C **EDABC**
  - D **CDBAE**

Correct Ans : **C**

Subject : **General Hindi graduate**

Q.No: 100 निम्नलिखित में से पुल्लिंग शब्द का चयन कीजिए-  
**2731784**

- A पूँजी
- B अपमान
- C संक्रान्ति
- D लड़ाई

Correct Ans : **B**

Subject : **General Hindi graduate**

