

# **TSPSC Group 3**

**Previous Year Paper  
Steno 2017 Paper-II**



# Test Prime

**ALL EXAMS,  
ONE SUBSCRIPTION**



**70,000+**  
Mock Tests



**Personalised  
Report Card**



**Unlimited  
Re-Attempt**



**600+**  
Exam Covered



**Previous Year  
Papers**



**500%**  
Refund



**ATTEMPT FREE MOCK NOW**

## TSPSCPCBGroup302

Topic:- Steno Typist Jr Assistant Paper2

1) Find the next number in the series 5, 11, 21, 43, 85, \_\_\_ /

ఈ సంఖ్యల క్రమంలో వచ్చు తర్వాత సంఖ్య ఏది?

5, 11, 21, 43, 85, --

[Question ID = 10919]

1. 169 [Option ID = 13670]
2. 171 [Option ID = 13671]
3. 172 [Option ID = 13672]
4. 168 [Option ID = 13673]

Correct Answer :-

- 171 [Option ID = 13671]

2) Which term of the series 7, 10, 13, 16, 19, ..... is 151 /

7, 10, 13, 16, 19, --- అదే సంఖ్యల క్రమంలో 151 ఎన్నో సంఖ్య అవుతుంది?

[Question ID = 10920]

1. 48th / 48 వది [Option ID = 13674]
2. 47th / 47 వది [Option ID = 13675]
3. 50th / 50 వది [Option ID = 13676]
4. 49th / 49 వది [Option ID = 13677]

Correct Answer :-

- 49th / 49 వది [Option ID = 13677]

3) What is the next term in the series BEI, DGK, FIM, \_\_\_\_\_? /

ఈ సీరీస్‌లో తరువాత వచ్చే అక్షరాలు ఏవి?

BEI, DGK, FIM, ---

[Question ID = 10921]

1. LOS [Option ID = 13678]
2. HKN [Option ID = 13679]
3. HKO [Option ID = 13680]
4. LOR [Option ID = 13681]

Correct Answer :-

- HKO [Option ID = 13680]

4) In the given four options, three are related in some way, find the odd man out . /

ఇచ్చిన నాలుగు ఆప్షన్స్‌లో, మూడు ఒక విధంగా సంబంధం కలిగి ఉన్నాయి.

భిన్నంగా ఉన్న దానిని కనుగొనండి?

[Question ID = 10922]

1. Telangana / తెలంగాణ [Option ID = 13682]
2. Karnataka / కర్ణాటక [Option ID = 13683]
3. Chennai / చెన్నై [Option ID = 13684]
4. Kerala / కేరళ [Option ID = 13685]

Correct Answer :-

- Chennai / చెన్నై [Option ID = 13684]

5) In the given four options, three are related in some way, find the odd man out . /

ఇచ్చిన నాలుగు ఆప్షన్స్‌లో, మూడు ఒక విధంగా సంబంధం కలిగి ఉన్నాయి.

భిన్నంగా ఉన్న దానిని కనుగొనండి?

[Question ID = 10923]

1. Pigeon / పావురము [Option ID = 13686]
2. Parrot / చిలుక [Option ID = 13687]
3. Crow / కాకి [Option ID = 13688]
4. Bird / పక్షి [Option ID = 13689]

Correct Answer :-

- Bird / పక్షి [Option ID = 13689]

6) In the given four options, three are related in some way, find the odd man out . /

ఇచ్చిన నాలుగు ఆప్షన్స్‌లో, మూడు ఒక విధంగా సంబంధం కలిగి ఉన్నాయి.

భిన్నంగా ఉన్న దానిని కనుగొనండి?

[Question ID = 10924]

1. 15 [Option ID = 13690]
2. 23 [Option ID = 13691]
3. 17 [Option ID = 13692]
4. 29 [Option ID = 13693]

Correct Answer :-



- 15 [Option ID = 13690]

7) In the following Question, there is a certain relationship between first two words. Find the fourth word which is related to the third word with a similar relationship. Export : Import :: Income : ? /

ఈ కింది ప్రశ్నలో మొదటి రెండు పదాలలో ఒక విధమైన సంబంధం కలదు.  
మూడవ పదంతో ఆ రకమైన సంబంధం కలిగిన నాల్గవ పదాన్ని గుర్తింపుము.  
ఎగుమతి : దిగుమతి :: ఆదాయం : ?

[Question ID = 10925]

1. Loan / అప్పు [Option ID = 13694]
2. Deficit / లోటు [Option ID = 13695]
3. Profit / లాభం [Option ID = 13696]
4. Expenditure / వ్యయం [Option ID = 13697]

Correct Answer :-

- Expenditure / వ్యయం [Option ID = 13697]

8) In the following Question, there is a certain relationship between first two words. Find the fourth word which is related to the third word with a similar relationship. WATCH : CHTAW :: PLATE : ? /

ఈ కింది ప్రశ్నలో మొదటి రెండు పదాలలో ఒక విధమైన సంబంధం కలదు.  
మూడవ పదంతో ఆ రకమైన సంబంధం కలిగిన నాల్గవ పదాన్ని గుర్తింపుము.  
WATCH : CHTAW :: PLATE : ?

[Question ID = 10926]

1. TEAPL [Option ID = 13698]
2. TEPAL [Option ID = 13699]
3. TELPA [Option ID = 13700]
4. TEALP [Option ID = 13701]

Correct Answer :-

- TEALP [Option ID = 13701]

9) In the following Question, there is a certain relationship between first two words. Find the fourth word which is related to the third word with a similar relationship. Walking : Legs :: Thinking : ? /

ఈ కింది ప్రశ్నలో మొదటి రెండు పదాలలో ఒక విధమైన సంబంధం కలదు.  
మూడవ పదంతో ఆ రకమైన సంబంధం కలిగిన నాల్గవ పదాన్ని గుర్తింపుము.  
నడక : కాళ్లు :: ఆలోచన

[Question ID = 10927]

1. Head / తల [Option ID = 13702]
2. Brain / మెదడు [Option ID = 13703]
3. Heart / గుండె [Option ID = 13704]
4. Ears / చెవులు [Option ID = 13705]

Correct Answer :-

- Brain / మెదడు [Option ID = 13703]

10) In a code 'BOLD' is written as 3492 and 'FINE' is written as 5716, then how is 'FILED' coded? /

ఒక కోడ్ భాషలో 'BOLD'ను 3492 గాను, 'FINE'ను 5716 గాను రాసినచో,  
'FILED' అనుదానిని ఆ కోడ్‌లో ఎలా రాస్తారు?

[Question ID = 10928]

1. 57962 [Option ID = 13706]
2. 57692 [Option ID = 13707]
3. 57926 [Option ID = 13708]
4. 57269 [Option ID = 13709]

Correct Answer :-

- 57962 [Option ID = 13706]

11) If 'White' is called 'red', 'red' is called 'blue', 'blue' is called 'green' and 'green' is called 'yellow', then what is the colour of sky? /

ఒక వేళ తెలుపును ఎరుపుగాను, ఎరుపును నీలంగాను, నీలంను ఆకుపచ్చగాను,  
ఆకుపచ్చను పసుపు పచ్చగాను అనుకుంటే, ఆకాశం ఏ రంగులో ఉంటుంది.

[Question ID = 10929]

1. Red / ఎరుపు [Option ID = 13710]
2. Green / ఆకుపచ్చ [Option ID = 13711]
3. Yellow / పసుపు పచ్చ [Option ID = 13712]
4. Blue / నీలం [Option ID = 13713]

Correct Answer :-

- Green / ఆకుపచ్చ [Option ID = 13711]

12) In a certain code 'ya mi te' means 'do regular exercise', 'ya no ka' means 'exercise gives health' and 'bu ka di' means 'health is wealth', then what is the code for health? /

ఒక కోడ్‌లో 'ya mi te' అనగా 'క్రమంగా కసరత్తు చేయుము', అనియు, 'ya no ka' అనగా  
'కసరత్తు ఆరోగ్యాన్ని ఇస్తుంది' అనియు మరియు 'bu ka di' అనగా 'ఆరోగ్యం ఒక మహాభాగ్యం'  
అనియు సూచిస్తే, 'ఆరోగ్యం'ను సూచించే కోడ్ ఏది?

[Question ID = 10930]

1. ya [Option ID = 13714]
2. te [Option ID = 13715]
3. di [Option ID = 13716]
4. ka [Option ID = 13717]

Correct Answer :-

- ka [Option ID = 13717]

13) Pointing to a man Mr. Prasad said that 'he is the grand father of my daughter'. How is the man's wife is related to the Prasad? /

ఒక వ్యక్తిని చూపిస్తూ Mr. ప్రసాద్ ఇలా అన్నాడు. "ఇతను నా కూతురు యొక్క తాతగారు." ఆ వ్యక్తి యొక్క భార్య ప్రసాద్ కు ఏమౌతుంది?

[Question ID = 10931]

1. Sister / సోదరి [Option ID = 13718]
2. Mother / తల్లి [Option ID = 13719]
3. Sister-in-law / మరదలు [Option ID = 13720]
4. Daughter-in-law / కోడలు [Option ID = 13721]

Correct Answer :-

- Mother / తల్లి [Option ID = 13719]

14) Shravya is the sister of Priyanka whose father is Prabhu. Manish is the son of Rama who is the sister of Prabhu. How is Shravya related to Manish? /

ప్రభు కూతురైన ప్రియాంకకు శ్రావ్య సోదరి అవుతుంది. ప్రభు సోదరి అయిన రామకు మనీష్ కుమారుడు అయినచో, మనీష్ కు శ్రావ్య ఏమౌతుంది?

[Question ID = 10932]

1. Cousin / కజిన్ [Option ID = 13722]
2. Sister / సోదరి [Option ID = 13723]
3. Sister-in-law / వదిస/ మరదలు [Option ID = 13724]
4. Mother / తల్లి [Option ID = 13725]

Correct Answer :-

- Cousin / కజిన్ [Option ID = 13722]

15) If A+B means A is the wife of B, B-C means C is the father of B, how 'R' is related to 'Q' in R+P-Q? /

ఒక వేళ  $A + B$  అసగా  $A$ ,  $B$ కి భార్య అనియు,  $B - C$  అసగా  $C$ ,  $B$ కి తండ్రి అయినచో,  
 $R + P - Q$  అను దానిలో  $R$  అనువారు  $Q$ కు ఏమి అవుతారు?

[Question ID = 10933]

1. Daughter / కూతురు [Option ID = 13726]
2. Father / తండ్రి [Option ID = 13727]
3. Daughter-in-Law / కోడలు [Option ID = 13728]
4. Father-in-Law / మామగారు [Option ID = 13729]

Correct Answer :-

- Daughter-in-Law / కోడలు [Option ID = 13728]

16) A man is facing East and turns  $45^\circ$  to his left and again turns  $180^\circ$  to his right. Which direction is he facing now?

/

తూర్పు వైపు చూస్తున్న ఒక వ్యక్తి  $45^\circ$  కోణంలో ఎడమ వైపుకు తిరిగి మరలా  $180^\circ$  అతని కుడి వైపుకు తిరిగినచో, అతను ప్రస్తుతం ఏ వైపుకు చూస్తున్నాడు?

[Question ID = 10934]

1. South / దక్షిణం [Option ID = 13730]
2. South-West / నైరుతి [Option ID = 13731]
3. South-East / ఆగ్నేయం [Option ID = 13732]
4. West / పడమర [Option ID = 13733]

Correct Answer :-

- South-West / నైరుతి [Option ID = 13731]

17) A man facing south walks for 4km, from there he turns to his left and walks for another 3km. How far is he now from his starting point? /

దక్షిణం వైపు చూస్తున్న వ్యక్తి 4 కిలోమీటర్ల దూరం నడిచిన తరువాత అతని ఎడమ వైపుకు తిరిగి మరొక 3 కిలోమీటర్లు నడిచినచో అతను బయలుదేరిన స్థానం నుంచి ఎంత దూరంలో ఉన్నాడు?

[Question ID = 10935]

1. 8 km [Option ID = 13734]
2. 7 km [Option ID = 13735]
3. 5 km [Option ID = 13736]
4. 4 km [Option ID = 13737]

Correct Answer :-



- 5 km [Option ID = 13736]

18) There are four villages A,B, C and D. B is on the south-east of A, C is on the north of B and north-east of A. D is on the west of B in straight line with C and A. In which direction of A, D is located? /

A, B, C మరియు D అను నాలుగు గ్రామాలు కలవు. Aకు ఆగ్నేయంలో B కలదు. Bకు ఉత్తరం వైపు మరియు Aకు ఈశాన్యం వైపుకు C కలదు. Bకు పడమరలో C మరియు Aకు సరళరేఖలో D కలదు. D, Aకి ఏ వైపున ఉన్నది?

[Question ID = 10936]

1. South-West / నైరుతి [Option ID = 13738]
2. South / దక్షిణం [Option ID = 13739]
3. West / పడమర [Option ID = 13740]
4. North-East / ఈశాన్యం [Option ID = 13741]

Correct Answer :-

- South-West / నైరుతి [Option ID = 13738]

19) How many 7s are there in the following number sequence which are immediately preceded by an even number? 6 4 5 7 3 2 7 1 8 9 7 3 4 7 8 2 6 7 5 8 7 2 9 7 /

ఈ కేంద్ర ఇచ్చిన అంకెల క్రమములో ఎన్ని 7 (ఏడు) అంకెలు వాటి ముందు సరి సంఖ్యలు వచ్చినవి ఉన్నాయి?

6 4 5 7 3 2 7 1 8 9 7 3 4 7 8 2 6 7 5 8 7 2 9 7

[Question ID = 10937]

1. Two / రెండు [Option ID = 13742]
2. Three / మూడు [Option ID = 13743]
3. Four / నాలుగు [Option ID = 13744]
4. Seven / ఏడు [Option ID = 13745]

Correct Answer :-

- Four / నాలుగు [Option ID = 13744]

20) In a class of girls Rama is 8th from top and Padma is 8th from bottom. If they interchange their position, Rama will become 18th from top. How many girls are there in the class? /

ఒక బాలికల తరగతిలో రమ పైనుంచి 8వ స్థానంలోను, పద్మ కింది నుంచి 8వ స్థానంలో ఉన్నారు. వారు పరస్పరం స్థానాలు మారినచో, రమ పైనుంచి 18వ స్థానంలో ఉంటుంది. ఆ తరగతిలో ఎంత మంది బాలికలు ఉన్నారు?

[Question ID = 10938]

1. 26 [Option ID = 13746]
2. 24 [Option ID = 13747]
3. 27 [Option ID = 13748]
4. 25 [Option ID = 13749]

Correct Answer :-

- 25 [Option ID = 13749]

21) Murali remembers that his colleagues Santhosh's birthday falls after 17 October but before 25th October, whereas Sreenu remembers that Santhosh's birthday falls before 19th October but after 10th October. On which date Santhosh celebrates his birthday? /

సంతోష్ పుట్టిన రోజు 17 అక్టోబర్ తరువాత మరియు 25 అక్టోబర్ ముందు అని అతని సహోద్యోగి మురళికి గుర్తుంది. కానీ సంతోష్ యొక్క పుట్టిన రోజు 19 అక్టోబర్ ముందు మరియు 10 అక్టోబర్ తరువాత అని శ్రీనుకు గుర్తుంది. సంతోష్ ఏ తేదీన తన పుట్టిన రోజు జరుపుకుంటాడు?

[Question ID = 10939]

1. 19th October / 19 అక్టోబర్ [Option ID = 13750]
2. 17th October / 17 అక్టోబర్ [Option ID = 13751]
3. 18th October / 18 అక్టోబర్ [Option ID = 13752]
4. Data inadequate / అసంపూర్ణ దత్తాంశం [Option ID = 13753]

Correct Answer :-

- 18th October / 18 అక్టోబర్ [Option ID = 13752]

22) If '+' means 'x', '-' means '/', 'x' means '+' and '/' means '-', then find the value of the expression  $36 - 6 + 2 \times 8 - 2/3$  /

ఒక వేళ '+' అనగా x, '-' అనగా /, 'x' అనగా + మరియు '/' అనగా - అయినట్లయితే  $36 - 6 + 2 \times 8 - 2/3$  యొక్క విలువ ఎంత?

[Question ID = 10940]

1. 15 [Option ID = 13754]
2. 16 [Option ID = 13755]
3. 12 [Option ID = 13756]
4. 13 [Option ID = 13757]

Correct Answer :-

- 13 [Option ID = 13757]

23) Which of the following equation is correct, if the signs '+' and x' & '4 and 5' are interchanged /

ఒక వేళ '+' మరియు 'x', అలాగే '4 మరియు 5' పరస్పరం మారినట్లయితే, ఈ కింది వాటిలో సరైనది ఏది?

[Question ID = 10941]

1.  $5 \times 4 + 20 = 40$  [Option ID = 13758]
2.  $5 \times 4 + 20 = 85$  [Option ID = 13759]
3.  $5 \times 4 + 20 = 104$  [Option ID = 13760]
4.  $5 \times 4 + 20 = 95$  [Option ID = 13761]

Correct Answer :-

- $5 \times 4 + 20 = 104$  [Option ID = 13760]

24) If P means '+', Q means '-', R means 'x' and S means '/', then which of the following is correct? /

ఒక వేళ P అనగా +, Q అనగా -, R అనగా x మరియు S అనగా / అయినట్లయితే, ఈ కింది వాటిలో సరైనది ఏది?

[Question ID = 10942]

1.  $3R4S2P5Q3 = 8$  [Option ID = 13762]
2.  $4P3Q6S2R4 = 2$  [Option ID = 13763]
3.  $6Q4P5R3S7 = 3$  [Option ID = 13764]
4.  $5P3S4Q6R3 = -12$  [Option ID = 13765]

Correct Answer :-

- $3R4S2P5Q3 = 8$  [Option ID = 13762]

25) Six friends A,B,C,D,E and F are sitting around a round table facing centre. A is sitting to the left of D and is on the opposite to F. E is not a neighbour to F but is on the opposite to C. Who is on the opposite to D /

ఆరుగురు స్నేహితులు A, B, C, D, E మరియు F అనువారు ఒక వృత్తాకార టేబుల్ చుట్టూ మధ్యకు చూస్తూ కూర్చున్నారు. Dకు ఎడమ వైపు, Fకు ఎదురుగా A కూర్చున్నారు. Fకు ఇరువైపులా E లేడు. కానీ Cకి ఎదురుగా ఉన్నాడు. Dకు ఎదురుగా కూర్చున్న వారు ఎవరు?

[Question ID = 10943]

1. E [Option ID = 13766]
2. B [Option ID = 13767]
3. C [Option ID = 13768]
4. F [Option ID = 13769]

Correct Answer :-

- B [Option ID = 13767]

26) Ravi scored more marks in chemistry than physics but not more than maths, he scored less marks in english than physics but not less than telugu. In which subject ravi scored 2nd highest marks? /



[Question ID = 10944]

1. Physics / ఫిజిక్స్ [Option ID = 13770]
2. Maths / మ్యాథ్స్ [Option ID = 13771]
3. Chemistry / కెమిస్ట్రీ [Option ID = 13772]
4. English / ఇంగ్లీష్ [Option ID = 13773]

Correct Answer :-

- Chemistry / కెమిస్ట్రీ [Option ID = 13772]

27) Arrange the words given in Alphabetical order as in dictionary and give the sequence a) tumbler b) tabular c) tortoise d) torture e) tablet /

ఇచ్చిన అండ్ల పదములను నిఘంటువు ప్రకారం అక్షర క్రమంలో అమర్చి వాటి యొక్క వరైన క్రమాన్ని గుర్తించగలరు.

- a. tumbler      b. tabular      c. tortoise      d. torture      e. tablet

[Question ID = 10945]

1. ebcda [Option ID = 13774]
2. becda [Option ID = 13775]
3. adcbe [Option ID = 13776]
4. ebadc [Option ID = 13777]

Correct Answer :-

- ebcda [Option ID = 13774]

28) Find the word that cannot be formed with the letters of the word "TABULATION" /

'TABULATION' అనే పదములోని అక్షరములతో ఏర్పడని పదమును గుర్తించండి?

[Question ID = 10946]

1. LOTION [Option ID = 13778]
2. TUITION [Option ID = 13779]
3. TABLE [Option ID = 13780]
4. NOTIONAL [Option ID = 13781]

Correct Answer :-

- TABLE [Option ID = 13780]

29) There are 8 teams playing in IPL tournament. If each team has to play twice with another team, how many matches we can see including two qualifier matches, one eliminator match and the final match? /

IPL క్రికెట్ పోటీలో ఎనిమిది జట్లు తలపడుతున్నాయి. ప్రతి ఒక్క జట్టు మరొక జట్టుతో రెండుసార్లు తలపడతాయి. రెండు క్వాలిఫయర్ మ్యాచ్లు, ఒక ఎలిమినేటర్ మ్యాచ్ మరియు ఫైనల్ మ్యాచ్తో సహా మనం ఎన్ని మ్యాచ్లు చూడగలం?

[Question ID = 10947]

1. 56 [Option ID = 13782]
2. 60 [Option ID = 13783]
3. 64 [Option ID = 13784]
4. 32 [Option ID = 13785]

Correct Answer :-

- 60 [Option ID = 13783]

30) Find the number in the place of '?' mark. /

ప్రశ్నార్థకం ఉన్నచోట ఉండవలసిన సంఖ్యను కనుగొనండి.

2	29	5
3	90	9
4	?	6

[Question ID = 10948]

1. 50 [Option ID = 13786]
2. 52 [Option ID = 13787]
3. 60 [Option ID = 13788]
4. 81 [Option ID = 13789]

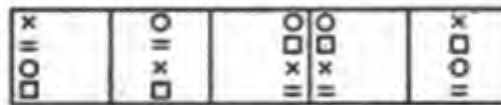
Correct Answer :-

- 52 [Option ID = 13787]

31) Select a figure from amongst the Answer Figures which will continue the same series as established by the problem figure /

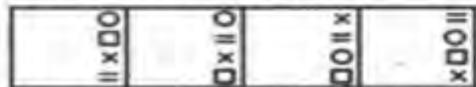
దిగువ నీయబడిన ప్రశ్నాపటం (Problem figure)లోని శ్రేణిని అనుసరించి ఆ తర్వాత క్రమంలో వచ్చు నరైన పటమును సమాధాన పటములలో (Answer figure) నుంచి గుర్తించుము.

Problem Figures:



(A) (B) (C) (D) (E)

Answer Figures:



(1) (2) (3) (4)



[Question ID = 10949]

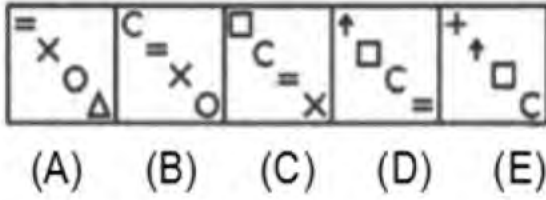
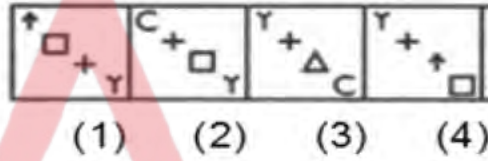
1. 1 [Option ID = 13790]
2. 2 [Option ID = 13791]
3. 3 [Option ID = 13792]
4. 4 [Option ID = 13793]

**Correct Answer :-**

- 3 [Option ID = 13792]

**32) Select a figure from amongst the Answer Figures which will continue the same series as established by the problem figure /**

దిగువ సీయబడిన ప్రశ్నాపటం (Problem figure)లోని శ్రేణిని అనుసరించి ఆ తర్వాత క్రమంలో వచ్చు సరైన పటమును సమాధాన పటములలో (Answer figure) నుంచి గుర్తించుము.

**Problem Figures:****Answer Figures:**

[Question ID = 10950]

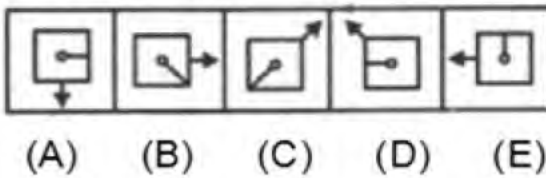
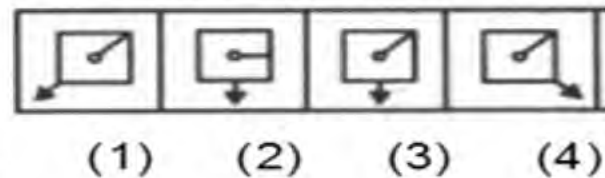
1. 1 [Option ID = 13794]
2. 2 [Option ID = 13795]
3. 3 [Option ID = 13796]
4. 4 [Option ID = 13797]

**Correct Answer :-**

- 4 [Option ID = 13797]

**33) Select a figure from amongst the Answer Figures which will continue the same series as established by the problem figure /**

దిగువ సీయబడిన ప్రశ్నాపటం (Problem figure)లోని శ్రేణిని అనుసరించి ఆ తర్వాత క్రమంలో వచ్చు సరైన పటమును సమాధాన పటములలో (Answer figure) నుంచి గుర్తించుము.

**Problem Figures:****Answer Figures:**

[Question ID = 10951]

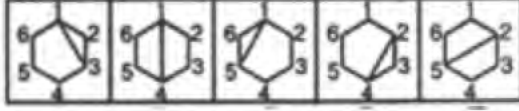
1. 1 [Option ID = 13798]
2. 2 [Option ID = 13799]
3. 3 [Option ID = 13800]
4. 4 [Option ID = 13801]

**Correct Answer :-**

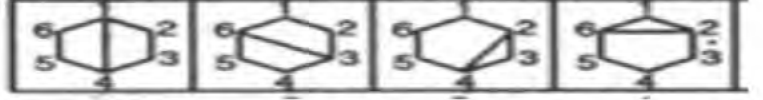
- 3 [Option ID = 13800]

**34) Select a figure from amongst the Answer Figures which will continue the same series as established by the problem figure**

దిగువ నీయబడిన ప్రశ్నాపటం (Problem figure)లోని శ్రేణిని అనుసరించి ఆ తర్వాత క్రమంలో వచ్చు వరైన పటమును సమాధాన పటములలో (Answer figure) సుంచి గుర్తించుము.

**Problem Figures:**

(A) (B) (C) (D) (E)

**Answer Figures:**

(1) (2) (3) (4)

**[Question ID = 10952]**

- 1 [Option ID = 13802]
- 2 [Option ID = 13803]
- 3 [Option ID = 13804]
- 4 [Option ID = 13805]

**Correct Answer :-**

- 4 [Option ID = 13805]

**35) Select a figure from amongst the Answer Figures which will continue the same series as established by the problem figure /**

దిగువ నీయబడిన ప్రశ్నాపటం (Problem figure)లోని శ్రేణిని అనుసరించి ఆ తర్వాత క్రమంలో వచ్చు వరైన పటమును సమాధాన పటములలో (Answer figure) సుంచి గుర్తించుము.

**Problem Figures:**

(A) (B) (C) (D) (E)

**Answer Figures:**

(1) (2) (3) (4)

**[Question ID = 10953]**

- 1 [Option ID = 13806]
- 2 [Option ID = 13807]
- 3 [Option ID = 13808]
- 4 [Option ID = 13809]

**Correct Answer :-**

- 4 [Option ID = 13809]

**36) Select a suitable figure from the Answer Figures that would replace the question mark (?) /**

సమాధాన పటములలో నుంచి సరైన ఒక దానితో ప్రశ్నా పటములోని ప్రశ్నార్థకమును చోట పూరించండి.

**Problem Figures:**



(A) (B) (C) (D)

**Answer Figures:**



(1) (2) (3) (4)

[Question ID = 10954]

1. 1 [Option ID = 13810]
2. 2 [Option ID = 13811]
3. 3 [Option ID = 13812]
4. 4 [Option ID = 13813]

**Correct Answer :-**

- 1 [Option ID = 13810]

**37) Select a suitable figure from the Answer Figures that would replace the question mark (?) /**

సమాధాన పటములలో నుంచి సరైన ఒక దానితో ప్రశ్నా పటములోని ప్రశ్నార్థకమును చోట పూరించండి.

**Problem Figures:**



(A) (B) (C) (D)

**Answer Figures:**



(1) (2) (3) (4)

[Question ID = 10955]

1. 1 [Option ID = 13814]
2. 2 [Option ID = 13815]
3. 3 [Option ID = 13816]
4. 4 [Option ID = 13817]

**Correct Answer :-**


- 4 [Option ID = 13817]

**38) Select a suitable figure from the Answer Figures that would replace the question mark (?) /**



సమాధాన పటములలో నుంచి నరైన ఒక దానితో ప్రశ్నా పటములోని ప్రశ్నార్థకమున్న చోట పూరించండి.

Problem Figures:



(A) (B) (C) (D)

Answer Figures:



(1) (2) (3) (4)

[Question ID = 10956]

1. 1 [Option ID = 13818]
2. 2 [Option ID = 13819]
3. 3 [Option ID = 13820]
4. 4 [Option ID = 13821]

Correct Answer :-


- 1 [Option ID = 13818]

39) Select a suitable figure from the Answer Figures that would replace the question mark (?) /

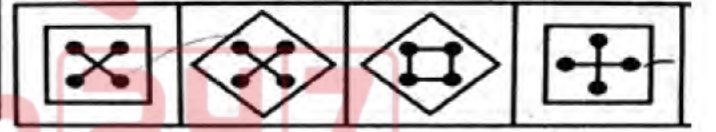
సమాధాన పటములలో నుంచి నరైన ఒక దానితో ప్రశ్నా పటములోని ప్రశ్నార్థకమున్న చోట పూరించండి.

ప్రశ్నా పటము

సమాధాన పటము



A B C D



1 2 3 4

[Question ID = 10957]

1. 1 [Option ID = 13822]
2. 2 [Option ID = 13823]
3. 3 [Option ID = 13824]
4. 4 [Option ID = 13825]

Correct Answer :-


- 2 [Option ID = 13823]

40) Select a suitable figure from the Answer Figures that would replace the question mark (?) /

సమాధాన పటములలో నుంచి నరైన ఒక దానితో ప్రశ్నా పటములోని ప్రశ్నార్థకమున్న చోట పూరించండి.

ప్రశ్నా పటము

సమాధాన పటము



A B C D



1 2 3 4

[Question ID = 10958]

1. 1 [Option ID = 13826]
2. 2 [Option ID = 13827]
3. 3 [Option ID = 13828]
4. 4 [Option ID = 13829]

Correct Answer :-

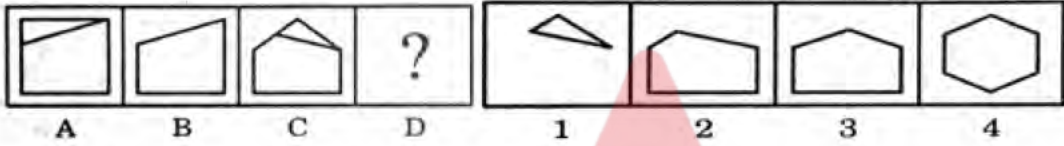
- 4 [Option ID = 13829]

41) Select a suitable figure from the Answer Figures that would replace the question mark (?) /

సమాధాన పటములలో నుంచి నరైన ఒక దానితో ప్రశ్నా పటములోని ప్రశ్నార్థకమున్న చోట పూరించండి.

ప్రశ్నా పటము

సమాధాన పటము



[Question ID = 10959]

1. 1 [Option ID = 13830]
2. 2 [Option ID = 13831]
3. 3 [Option ID = 13832]
4. 4 [Option ID = 13833]

Correct Answer :-


- 2 [Option ID = 13831]

42) Select a suitable figure from the Answer Figures that would replace the question mark (?) /

సమాధాన పటములలో నుంచి నరైన ఒక దానితో ప్రశ్నా పటములోని ప్రశ్నార్థకమున్న చోట పూరించండి

ప్రశ్నా పటము

సమాధాన పటము



[Question ID = 10960]

1. 1 [Option ID = 13834]
2. 2 [Option ID = 13835]
3. 3 [Option ID = 13836]
4. 4 [Option ID = 13837]

Correct Answer :-

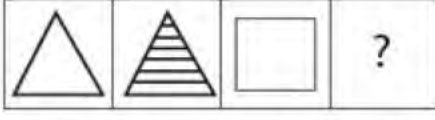
- 4 [Option ID = 13837]

43) Select a suitable figure from the Answer Figures that would replace the question mark (?) /



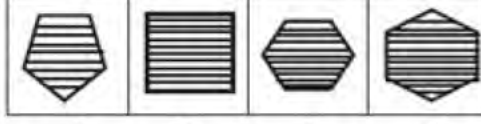
సమాధాన పటములలో నుంచి సరైన ఒక దానితో ప్రశ్నా పటములోని ప్రశ్నార్థకమును చోట పూరించండి.

ప్రశ్నా పటము



A B C D

సమాధాన పటము



1 2 3 4

[Question ID = 10961]

1. 1 [Option ID = 13838]
2. 2 [Option ID = 13839]
3. 3 [Option ID = 13840]
4. 4 [Option ID = 13841]

Correct Answer :-

- 2 [Option ID = 13839]

44) Select a suitable figure from the Answer Figures that would replace the question mark (?) /

సమాధాన పటములలో నుంచి సరైన ఒక దానితో ప్రశ్నా పటములోని ప్రశ్నార్థకమును చోట పూరించండి.

ప్రశ్నా పటము



సమాధాన పటము



1 2 3 4

[Question ID = 10962]

1. 1 [Option ID = 13842]
2. 2 [Option ID = 13843]
3. 3 [Option ID = 13844]
4. 4 [Option ID = 13845]

Correct Answer :-

- 4 [Option ID = 13845]

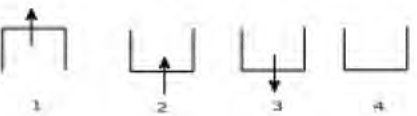
45) Select a suitable figure from the Answer Figures that would replace the question mark (?) /

సమాధాన పటములలో నుంచి సరైన ఒక దానితో ప్రశ్నా పటములోని ప్రశ్నార్థకమును చోట పూరించండి.

ప్రశ్నా పటము



సమాధాన పటము



1 2 3 4

[Question ID = 10963]

1. 1 [Option ID = 13846]
2. 2 [Option ID = 13847]
3. 3 [Option ID = 13848]
4. 4 [Option ID = 13849]

**Correct Answer :-**


- 2 [Option ID = 13847]

**46) Select a suitable figure from the Answer Figures that would replace the question mark (?) /**

సమాధాన పటములలో నుంచి సరైన ఒక దానితో ప్రశ్నా పటములోని ప్రశ్నార్థకమున్న చోట పూరించండి.

ప్రశ్నా పటము

సమాధాన పటము

**[Question ID = 10964]**

1. 1 [Option ID = 13850]
2. 2 [Option ID = 13851]
3. 3 [Option ID = 13852]
4. 4 [Option ID = 13853]

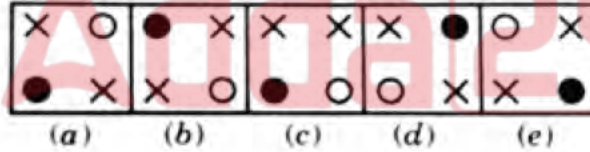
**Correct Answer :-**

- 2 [Option ID = 13851]

**47) Select the figure from the given Figures that would not fit in the group /**

ఇచ్చిన ఆష్టస్తలో ఒకటి తప్ప మిగతావన్నియూ ఒక విధంగా సంబంధం కలిగి ఉన్నాయి.

భిన్నంగా ఉన్నదానిని గుర్తించండి.

**[Question ID = 10965]**

1. a [Option ID = 13854]
2. b [Option ID = 13855]
3. c [Option ID = 13856]
4. e [Option ID = 13857]

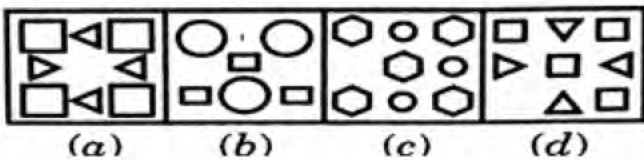
**Correct Answer :-**

- c [Option ID = 13856]

**48) Select the figure from the given Figures that would not fit in the group /**

ఇచ్చిన ఆష్టస్తలో ఒకటి తప్ప మిగతావన్నియూ ఒక విధంగా సంబంధం కలిగి ఉన్నాయి.

భిన్నంగా ఉన్నదానిని గుర్తించండి.



**[Question ID = 10966]**

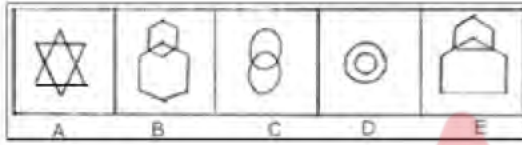
1. a [Option ID = 13858]
2. b [Option ID = 13859]
3. c [Option ID = 13860]
4. d [Option ID = 13861]

**Correct Answer :-**

- c [Option ID = 13860]

**49) Select the figure from the given Figures that would not fit in the group /**

ఇచ్చిన ఆప్షన్లలో ఒకటి తప్ప మిగతావన్నీయూ ఒక విధంగా సంబంధం కలిగి ఉన్నాయి.  
భిన్నంగా ఉన్నదానిని గుర్తించండి.

**[Question ID = 10967]**

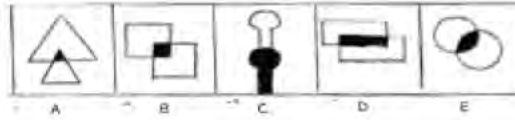
1. A [Option ID = 13862]
2. E [Option ID = 13863]
3. C [Option ID = 13864]
4. D [Option ID = 13865]

**Correct Answer :-**

- D [Option ID = 13865]

**50) Select the figure from the given Figures that would not fit in the group /**

ఇచ్చిన ఆప్షన్లలో ఒకటి తప్ప మిగతావన్నీయూ ఒక విధంగా సంబంధం కలిగి ఉన్నాయి.  
భిన్నంగా ఉన్నదానిని గుర్తించండి.

**[Question ID = 10968]**

1. E [Option ID = 13866]
2. D [Option ID = 13867]
3. C [Option ID = 13868]
4. B [Option ID = 13869]

**Correct Answer :-**

- C [Option ID = 13868]

**51) Two statements are given followed by two conclusions. You are required to find which conclusion follows based on the given statements and select best option.**

**Statements:** 1. All bags are cakes



2. All lamps are cakes

Conclusions A. Some lamps are bags.  
B. No lamp is bag

దిగువ రెండు ప్రకటనలు (Statements) ఇవ్వబడినవి మరియు ఆ తర్వాత రెండు నిర్ణయాలు A, Bలు కూడా ఇవ్వబడినవి. ఏ నిర్ణయము(లు) (Conclusion(s)) ఇచ్చిన ప్రకటనల ననుసరించి ఉన్నాయో నరైన సమాధానంతో గుర్తించండి.

ప్రకటన: 1. అన్ని సంచులు కేకులు

2. అన్ని దీపములు కేకులు

నిర్ణయం: A. కొన్ని దీపములు సంచులు

B. ఏ దీపము సంచి కాదు

[Question ID = 10969]

1. Only conclusion A follows / నిర్ణయం: A మాత్రమే అనుసరిస్తుంది [Option ID = 13870]
2. Only conclusion B follows / నిర్ణయం: B మాత్రమే అనుసరిస్తుంది [Option ID = 13871]
3. Both conclusions A and B follow / నిర్ణయం A, Bలు రెండూ అనుసరిస్తాయి [Option ID = 13872]
4. Neither conclusion A nor B follows / నిర్ణయం: A కానీ B కానీ అనుసరించదు [Option ID = 13873]

Correct Answer :-

- Neither conclusion A nor B follows / నిర్ణయం: A కానీ B కానీ అనుసరించదు [Option ID = 13873]

52) Two statements are given followed by two conclusions. You are required to find which conclusion follows based on the given statements and select best option.

Statements: 1. All doors are needles

2. Some trees are doors

Conclusions A. Some trees are needles.  
B. Some trees are not needles.

దిగువ రెండు ప్రకటనలు (Statements) ఇవ్వబడినవి మరియు ఆ తర్వాత రెండు నిర్ణయాలు A, Bలు కూడా ఇవ్వబడినవి. ఏ నిర్ణయము(లు) (Conclusion(s)) ఇచ్చిన ప్రకటనల ననుసరించి ఉన్నాయో నరైన సమాధానంతో గుర్తించండి.

ప్ర: 1. అన్ని తలుపులు సూదులు

2. కొన్ని చెట్లు తలుపులు

ని: A. కొన్ని చెట్లు సూదులు

B. కొన్ని చెట్లు సూదులు కావు

[Question ID = 10970]

1. Only conclusion A follows / నిర్ణయం: A మాత్రమే అనుసరిస్తుంది [Option ID = 13874]
2. Only conclusion B follows / నిర్ణయం: B మాత్రమే అనుసరిస్తుంది [Option ID = 13875]
3. Both conclusions A and B follow / నిర్ణయం A, Bలు రెండూ అనుసరిస్తాయి [Option ID = 13876]
4. Neither conclusion A nor B follows / నిర్ణయం: A కానీ B కానీ అనుసరించదు [Option ID = 13877]

**Correct Answer :-**

- Only conclusion A follows / నిర్ణయం: A మాత్రమే అనుసరిస్తుంది [Option ID = 13874]

**53) Two statements are given followed by two conclusions. You are required to find which conclusion follows based on the given statements and select best option.**

**Statements: 1. All planets are mugs.**

**2. All mugs are buckets**

**Conclusions A. All mugs are planets.**

**B. All planets are buckets.**

దిగువ రెండు ప్రకటనలు (Statements) ఇవ్వబడినవి మరియు ఆ తర్వాత రెండు నిర్ణయాలు A, Bలు కూడా ఇవ్వబడినవి. ఏ నిర్ణయము(లు) (Conclusion(s)) ఇచ్చిన ప్రకటనల ననుసరించి ఉన్నాయో వ్రాసే సమాధానంతో గుర్తించండి.

ప్ర: 1. అన్ని గ్రహాలు మగ్గులు

2. అన్ని మగ్గులు బకెట్లు

ని: A. అన్ని మగ్గులు గ్రహాలు

**[Question ID = 10971]**

- Only conclusion A follows / నిర్ణయం: A మాత్రమే అనుసరిస్తుంది [Option ID = 13878]
- Only conclusion B follows / నిర్ణయం: B మాత్రమే అనుసరిస్తుంది [Option ID = 13879]
- Both conclusions A and B follow / నిర్ణయం: A, Bలు రెండూ అనుసరిస్తాయి [Option ID = 13880]
- Neither conclusion A nor B follows / నిర్ణయం: A కానీ B కానీ అనుసరించదు [Option ID = 13881]

**Correct Answer :-**

- Only conclusion B follows / నిర్ణయం: B మాత్రమే అనుసరిస్తుంది [Option ID = 13879]

**54) Two statements are given followed by two conclusions. You are required to find which conclusion follows based on the given statements and select best option.**

**Statements: 1. Some players are writers**

**2. All writers are short**

**Conclusions A. Some players are short.**

**B. All players are short.**

దిగువ రెండు ప్రకటనలు (Statements) ఇవ్వబడినవి మరియు ఆ తర్వాత రెండు నిర్ణయాలు A, Bలు కూడా ఇవ్వబడినవి. ఏ నిర్ణయము(లు) (Conclusion(s)) ఇచ్చిన ప్రకటనల ననుసరించి ఉన్నాయో వ్రాసే సమాధానంతో గుర్తించండి.

ప్ర: 1. కొందరు ఆటగాళ్ళు, రచయితలు

2. అందరు రచయితలు పొట్టివాళ్ళు

ని: A. కొందరు ఆటగాళ్ళు పొట్టివాళ్ళు

B. అందరు ఆటగాళ్ళు పొట్టివాళ్ళు

**[Question ID = 10972]**



1. Only conclusion A follows / నిర్ణయం: A మాత్రమే అనుసరిస్తుంది [Option ID = 13882]  
 2. Only conclusion B follows / నిర్ణయం: B మాత్రమే అనుసరిస్తుంది [Option ID = 13883]  
 3. Both conclusions A and B follow / నిర్ణయం A, Bలు రెండూ అనుసరిస్తాయి [Option ID = 13884]  
 4. Neither conclusion A nor B follows / నిర్ణయం: A కానీ B కానీ అనుసరించదు [Option ID = 13885]

**Correct Answer :-**

- Only conclusion A follows / నిర్ణయం: A మాత్రమే అనుసరిస్తుంది [Option ID = 13882]

**55) Two statements are given followed by two conclusions. You are required to find which conclusion follows based on the given statements and select best option.**

**Statements: 1. No man is a donkey.**

**2. Ramesh is a man.**

**Conclusions A. Ramesh is not a donkey.**

**B. All men are not Ramesh.**

దిగువ రెండు ప్రకటనలు (Statements) ఇవ్వబడినవి మరియు ఆ తర్వాత రెండు నిర్ణయాలు A, Bలు కూడా ఇవ్వబడినవి. ఏ నిర్ణయము(లు) (Conclusion(s)) ఇచ్చిన ప్రకటనల ననుసరించి ఉన్నాయో వరైన సమాధానంతో గుర్తించండి.

ప్ర: 1. ఏ పురుషుడు గాడిద కాదు

2. రమేష్ ఒక పురుషుడు

ని: A. రమేష్ గాడిద కాదు

B. అందరు పురుషులు రమేష్ కాదు

**[Question ID = 10973]**

1. Only conclusion A follows / నిర్ణయం: A మాత్రమే అనుసరిస్తుంది [Option ID = 13886]  
 2. Only conclusion B follows / నిర్ణయం: B మాత్రమే అనుసరిస్తుంది [Option ID = 13887]  
 3. Both conclusions A and B follow / నిర్ణయం A, Bలు రెండూ అనుసరిస్తాయి [Option ID = 13888]  
 4. Neither conclusion A nor B follows / నిర్ణయం: A కానీ B కానీ అనుసరించదు [Option ID = 13889]

**Correct Answer :-**

- Only conclusion A follows / నిర్ణయం: A మాత్రమే అనుసరిస్తుంది [Option ID = 13886]

**56) find which conclusion follows based on the given statements and select best option.**

**Statements: 1. Some lawyers are men**

**2. No man is black**

**Conclusions A. Some lawyers are not black.**

**B. Some men are lawyers.**

దిగువ రెండు ప్రకటనలు (Statements) ఇవ్వబడినవి మరియు ఆ తర్వాత రెండు నిర్ణయాలు A, Bలు కూడా ఇవ్వబడినవి. ఏ నిర్ణయము(లు) (Conclusion(s)) ఇచ్చిన ప్రకటనల ననుసరించి ఉన్నాయో సరైన సమాధానంతో గుర్తించండి.

- ప్ర: 1. కొందరు న్యాయవాదులు పురుషులు  
2. ఏ పురుషుడు సల్లటివాడు కాదు
- ని: A. కొందరు న్యాయవాదులు సల్లటి వాళ్లు కారు  
B. కొందరు పురుషులు న్యాయవాదులు

[Question ID = 10974]

1. Only conclusion A follows / నిర్ణయం: A మాత్రమే అనుసరిస్తుంది [Option ID = 13890]  
2. Only conclusion B follows / నిర్ణయం: B మాత్రమే అనుసరిస్తుంది [Option ID = 13891]  
3. Both conclusions A and B follow / నిర్ణయం A, Bలు రెండూ అనుసరిస్తాయి [Option ID = 13892]  
4. Neither conclusion A nor B follows / నిర్ణయం: A కానీ B కానీ అనుసరించదు [Option ID = 13893]

**Correct Answer :-**

- Only conclusion A follows / నిర్ణయం: A మాత్రమే అనుసరిస్తుంది [Option ID = 13890]

**57) Two statements are given followed by two conclusions. You are required to find which conclusion follows based on the given statements and select best option.**

**Statements: 1. Some flies are ants**

**2. All insects are ants**

**Conclusions**

**A. All flies are ants.**

**B. Some ants are insects.**

దిగువ రెండు ప్రకటనలు (Statements) ఇవ్వబడినవి మరియు ఆ తర్వాత రెండు నిర్ణయాలు A, Bలు కూడా ఇవ్వబడినవి. ఏ నిర్ణయము(లు) (Conclusion(s)) ఇచ్చిన ప్రకటనల ననుసరించి ఉన్నాయో సరైన సమాధానంతో గుర్తించండి.

- ప్ర: 1. కొన్ని ఈగలు చీమలు  
2. అన్ని కీటకాలు చీమలు
- ని: A. అన్ని ఈగలు చీమలు  
B. కొన్ని చీమలు కీటకాలు

[Question ID = 10975]

1. Only conclusion A follows / నిర్ణయం: A మాత్రమే అనుసరిస్తుంది [Option ID = 13894]  
2. Only conclusion B follows / నిర్ణయం: B మాత్రమే అనుసరిస్తుంది [Option ID = 13895]  
3. Both conclusions A and B follow / నిర్ణయం A, Bలు రెండూ అనుసరిస్తాయి [Option ID = 13896]  
4. Neither conclusion A nor B follows / నిర్ణయం: A కానీ B కానీ అనుసరించదు [Option ID = 13897]

**Correct Answer :-**

- Neither conclusion A nor B follows / నిర్ణయం: A కానీ B కానీ అనుసరించదు [Option ID = 13897]



58) Two statements are given followed by two conclusions. You are required to find which conclusion follows based on the given statements and select best option.

Statements: 1. All shirts are poles

2. No pole is door.

Conclusions

A. Some shirts are doors.

B. Some doors are poles.

దిగువ రెండు ప్రకటనలు (Statements) ఇవ్వబడినవి మరియు ఆ తర్వాత రెండు నిర్ణయాలు A, Bలు కూడా ఇవ్వబడినవి. ఏ నిర్ణయము(లు) (Conclusion(s)) ఇచ్చిన ప్రకటనల ననుసరించి ఉన్నాయో సరైన సమాధానంతో గుర్తించండి.

- ప్ర: 1. అన్ని చొక్కాలు స్తంభాలు  
2. ఏ స్తంభము తలుపు కాదు  
ని: A. కొన్ని చొక్కాలు తలుపులు  
B. కొన్ని తలుపులు స్తంభాలు

[Question ID = 10976]

1. Only conclusion A follows / నిర్ణయం: A మాత్రమే అనుసరిస్తుంది [Option ID = 13898]  
2. Only conclusion B follows / నిర్ణయం: B మాత్రమే అనుసరిస్తుంది [Option ID = 13899]  
3. Both conclusions A and B follow / నిర్ణయం A, Bలు రెండూ అనుసరిస్తాయి [Option ID = 13900]  
4. Neither conclusion A nor B follows / నిర్ణయం: A కానీ B కానీ అనుసరించదు [Option ID = 13901]

Correct Answer :-

- Neither conclusion A nor B follows / నిర్ణయం: A కానీ B కానీ అనుసరించదు [Option ID = 13901]

59) A statement is given followed by two Arguments. You are required to choose suitable option.

Statement: Should cutting of trees be banned?

Arguments

A. Yes, it is necessary to restore ecological balance.

B. No, the ban would affect timber based industries.

దిగువ ప్రకటనను గమనించాక, ఆ తర్వాత నీయబడిన వాదనలు A మరియు Bలని చదివి, సరైన సమాధానాన్ని గుర్తించండి.

ప్రకటన: చెట్ల సరికేవేళను నిషేధించాలా?

- వాదన: A. ఔను, పర్యావరణ సమతుల్యాన్ని కాపాడుటకు  
B. కాదు, కలప ఆధారిత పరిశ్రమలపై ప్రభావితం చూపుతుంది

[Question ID = 10977]

1. Only Argument A is strong / వాదన A మాత్రమే బలమైనది [Option ID = 13902]  
2. Only Argument B is strong / వాదన B మాత్రమే బలమైనది [Option ID = 13903]  
3. Both Argument A and B are strong / వాదన A, Bలు రెండూ బలమైనవి [Option ID = 13904]  
4. Neither Argument A nor B is strong / వాదన A కానీ, B కానీ బలమైనది కాదు [Option ID = 13905]

**Correct Answer :-**

- Both Argument A and B are strong / వాదన A, Bలు రెండూ బలమైనవి [Option ID = 13904]

**60) A statement is given followed by two Arguments. You are required to choose suitable option.****Statement: Should Steam engines be replaced by electric engines in Indian railways?****Arguments A. No, in India power production is insufficient.****B. Yes, Steam engines cause pollution.**

దిగువ ప్రకటనను గమనించాక, ఆ తర్వాత నీయబడిన వాదనలు A మరియు

Bలని చదివి, సరైన సమాధానాన్ని గుర్తించండి

ప్రకటన: భారత రైల్వేలలో ఆవిరి ఇంజన్ల స్థానంలో విద్యుత్తు ఇంజన్లు మార్చాలా?

వాదన: A. కాదు, ఇండియాలో విద్యుత్ ఉత్పత్తి సరిపోయినంత లేదు.

B. ఔను, ఆవిరి ఇంజన్లు కాలుష్య కారకాలు.

**[Question ID = 10978]**

- Only Argument A is strong / వాదన A మాత్రమే బలమైనది [Option ID = 13906]
- Only Argument B is strong / వాదన B మాత్రమే బలమైనది [Option ID = 13907]
- Both Argument A and B are strong / వాదన A, Bలు రెండూ బలమైనవి [Option ID = 13908]
- Neither Argument A nor B is strong / వాదన A కానీ, B కానీ బలమైనది కాదు [Option ID = 13909]

**Correct Answer :-**

- Only Argument B is strong / వాదన B మాత్రమే బలమైనది [Option ID = 13907]

**61) A statement is given followed by two Arguments. You are required to choose suitable option.****Statement: Should India have no defense forces at all?****Arguments A. No, other countries don't follow non violence.****B. Yes, many Indians believe and follow non violence**

దిగువ ప్రకటనను గమనించాక, ఆ తర్వాత నీయబడిన వాదనలు A మరియు

Bలని చదివి, సరైన సమాధానాన్ని గుర్తించండి

ప్రకటన: ఇండియా రక్షణ దళాలు కలిగి ఉండనవసరం లేదా?

వాదనలు: A. కాదు. ఇతర దేశాలు 'అహింస'ను పాటించవు.

B. ఔను, చాలామంది భారతీయులు అహింసను విశ్వసించి, పాటిస్తారు.

**[Question ID = 10979]**

- Only Argument A is strong / వాదన A మాత్రమే బలమైనది [Option ID = 13910]
- Only Argument B is strong / వాదన B మాత్రమే బలమైనది [Option ID = 13911]
- Both Argument A and B are strong / వాదన A, Bలు రెండూ బలమైనవి [Option ID = 13912]
- Neither Argument A nor B is strong / వాదన A కానీ, B కానీ బలమైనది కాదు [Option ID = 13913]

**Correct Answer :-**



- Only Argument A is strong / వాదన A మాత్రమే బలమైనది [Option ID = 13910]

**62) A statement is given followed by two Arguments. You are required to choose suitable option.**  
**Statement:** Should the grooms accepting dowry to be punished, though there is a law prohibiting dowry?

- Arguments**      **A. No, since time immemorial the system persists.**  
                          **B. Yes, must be punished for violation of law.**

దిగువ ప్రకటనను గమనించాక, ఆ తర్వాత నీయబడిన వాదనలు A మరియు

Bలని చదివి, నరైన సమాధానాన్ని గుర్తించండి

ప్రకటన: చట్టబద్ధంగా కట్టుం నిషేధించినప్పటికీ, కట్టుం తీసుకునే పెళ్లి కొడుకుల్ని శిక్షించాలా?

వాదనలు: A. కాదు. ఎప్పటినుంచో, ఈ వ్యవస్థ కొనసాగుతుంది.

B. ఔను, చట్టాన్ని అతిక్రమించుతున్నారు కాబట్టి శిక్షార్హులే.

[Question ID = 10980]

1. Only Argument A is strong / వాదన A మాత్రమే బలమైనది [Option ID = 13914]
2. Only Argument B is strong / వాదన B మాత్రమే బలమైనది [Option ID = 13915]
3. Both Argument A and B are strong / వాదన A, Bలు రెండూ బలమైనవి [Option ID = 13916]
4. Neither Argument A nor B is strong / వాదన A కానీ, B కానీ బలమైనది కాదు [Option ID = 13917]

**Correct Answer :-**

- Only Argument B is strong / వాదన B మాత్రమే బలమైనది [Option ID = 13915]

**63) A statement is given followed by two Arguments. You are required to choose suitable option.**  
**Statement:** Should education in India be made compulsory for all children?

- Arguments**      **A. Yes, it would immediately increase the standard of living.**  
                          **B. Yes, it would reduce child labor.**

దిగువ ప్రకటనను గమనించాక, ఆ తర్వాత నీయబడిన వాదనలు A మరియు

Bలని చదివి, నరైన సమాధానాన్ని గుర్తించండి

ప్రకటన: ఇండియాలో చిన్న పిల్లలందరికీ విద్యను తప్పనిసరిగా చేయాలా?

వాదన: A. ఔను. అది వెంటనే జీవన ప్రమాణాల్ని మెరుగుపరుస్తుంది.

B. ఔను. ఇది బాలకార్మికుల్ని తగ్గిస్తుంది.

[Question ID = 10981]

1. Only Argument A is strong / వాదన A మాత్రమే బలమైనది [Option ID = 13918]
2. Only Argument B is strong / వాదన B మాత్రమే బలమైనది [Option ID = 13919]
3. Both Argument A and B are strong / వాదన A, Bలు రెండూ బలమైనవి [Option ID = 13920]
4. Neither Argument A nor B is strong / వాదన A కానీ, B కానీ బలమైనది కాదు [Option ID = 13921]

**Correct Answer :-**



- Neither Argument A nor B is strong / వాదన A కానీ, B కానీ బలమైనది కాదు [Option ID = 13921]

**64) A statement is given followed by two Arguments. You are required to choose suitable option.**

**Statement: Should high chimneys be installed in industries?**

**Arguments A. Yes, ground level pollution is reduced.**

**B. No, it increases cost to the Industries.**

దిగువ ప్రకటనను గమనించాక, ఆ తర్వాత నీయబడిన వాదనలు A మరియు

Bలని చదివి, సరైన సమాధానాన్ని గుర్తించండి

ప్రకటన: పరిశ్రమలలో ఎత్తయిన పొగ గొట్టాల్ని ఏర్పరచాలా?

వాదన: A. ఔను. భూతలంలో కాలుష్యాన్ని తగ్గించవచ్చు.

B. కాదు. అది పరిశ్రమల ఖర్చును పెంచుతుంది

[Question ID = 10982]

- Only Argument A is strong / వాదన A మాత్రమే బలమైనది [Option ID = 13922]
- Only Argument B is strong / వాదన B మాత్రమే బలమైనది [Option ID = 13923]
- Both Argument A and B are strong / వాదన A, Bలు రెండూ బలమైనవి [Option ID = 13924]
- Neither Argument A nor B is strong / వాదన A కానీ, B కానీ బలమైనది కాదు [Option ID = 13925]

**Correct Answer :-**

- Only Argument A is strong / వాదన A మాత్రమే బలమైనది [Option ID = 13922]

**65) A statement is given followed by two conclusions. You are required to find which conclusion follows based on the given statements and select best option.**

**Statements: A survey revealed that, who undertake physical exercise for at least 30 minutes a day are less prone to heart problems.**

**Conclusions A. Moderate level of physical exercise is needed for healthy life of any person.**

**B. All persons who do office desk jobs suffer from heart problems.**

దిగువ రెండు ప్రకటనలు (Statements) ఇవ్వబడినవి మరియు ఆ తర్వాత రెండు నిర్ణయాలు A, Bలు

కూడా ఇవ్వబడినవి. ఏ నిర్ణయము(లు) (Conclusion(s)) ఇచ్చిన ప్రకటనల ననుసరించి ఉన్నాయో

సరైన సమాధానంతో గుర్తించండి.

ప్రకటన: ఒక సర్వే ప్రకారం, ప్రతి దినము 30 నిమిషాలకు తగ్గకుండా భౌతిక వ్యాయామం చేసేవాళ్లు

గుండె సంబంధిత వ్యాధులకు తక్కువగా గురవుతారు.

ని: A. ఒక మోతాదులో భౌతిక వ్యాయామం, ప్రతి ఒక్కరి ఆరోగ్యానికీ అవసరం

B. ఆఫీస్ డెస్క్ ఉద్యోగం చేసే వ్యక్తులు అందరూ గుండె సంబంధిత వ్యాధులకు గురవుతారు.

[Question ID = 10983]

- Only conclusion A follows / నిర్ణయం: A మాత్రమే అనుసరిస్తుంది [Option ID = 13926]
- Only conclusion B follows / నిర్ణయం: B మాత్రమే అనుసరిస్తుంది [Option ID = 13927]
- Both conclusions A and B follow / నిర్ణయం: A, Bలు రెండూ అనుసరిస్తాయి [Option ID = 13928]

4. Neither conclusion A nor B follows / నిర్ణయం: A కానీ B కానీ అనుసరించదు [Option ID = 13929]

**Correct Answer :-**

• Only conclusion A follows / నిర్ణయం: A మాత్రమే అనుసరిస్తుంది [Option ID = 13926]

**66) A statement is given followed by two conclusions. You are required to find which conclusion follows based on the given statements and select best option**

**Statements:** This world is neither good nor bad. Each person manufactures a world for him/her self.

**Conclusions**      **A. Some persons find this world quite good.**  
                         **B. Some persons find this world quite bad.**

దిగువ రెండు ప్రకటనలు (Statements) ఇవ్వబడినవి మరియు ఆ తర్వాత రెండు నిర్ణయాలు A, Bలు కూడా ఇవ్వబడినవి. ఏ నిర్ణయము(లు) (Conclusion(s)) ఇచ్చిన ప్రకటనల ననుసరించి ఉన్నాయో సరైన సమాధానంతో గుర్తించండి.

ప్రకటన: ఈ ప్రపంచం మంచిది కాదు, చెడుది కాదు. ప్రతి వ్యక్తి తనకు తానే తన ప్రపంచాన్ని తయారుచేసుకుంటాడు.

నిర్ణయం: A. కొందరు వ్యక్తులు ఈ ప్రపంచం బాగుంది అనుకుంటారు.

B. కొందరు వ్యక్తులు ఈ ప్రపంచం బాగాలేదు అని అనుకుంటారు.

[Question ID = 10984]

1. Only conclusion A follows / నిర్ణయం: A మాత్రమే అనుసరిస్తుంది [Option ID = 13930]
2. Only conclusion B follows / నిర్ణయం: B మాత్రమే అనుసరిస్తుంది [Option ID = 13931]
3. Both conclusions A and B follow / నిర్ణయం A, Bలు రెండూ అనుసరిస్తాయి [Option ID = 13932]
4. Neither conclusion A nor B follows / నిర్ణయం: A కానీ B కానీ అనుసరించదు [Option ID = 13933]

**Correct Answer :-**

• Both conclusions A and B follow / నిర్ణయం A, Bలు రెండూ అనుసరిస్తాయి [Option ID = 13932]

**67) A statement is given followed by two conclusions. You are required to find which conclusion follows based on the given statements and select best option .**

**Statements:** Money plays an important and vital role in Indian Politics.

**Conclusions**      **A. The poor can't become politicians.**  
                         **B. All the rich persons join in Politics**

దిగువ రెండు ప్రకటనలు (Statements) ఇవ్వబడినవి మరియు ఆ తర్వాత రెండు నిర్ణయాలు A, Bలు కూడా ఇవ్వబడినవి. ఏ నిర్ణయము(లు) (Conclusion(s)) ఇచ్చిన ప్రకటనల ననుసరించి ఉన్నాయో సరైన సమాధానంతో గుర్తించండి.

ప్రకటన: భారత రాజకీయాలలో ధనం ముఖ్యమైన మరియు ప్రభావవంతమైన పాత్ర వహిస్తుంది.

నిర్ణయం: A. పేదవారు రాజకీయ నాయకులు కాలేరు.

B. అందరు ధనవంతులు రాజకీయాలలో చేరుతారు.

[Question ID = 10985]



1. Only conclusion A follows / నిర్ణయం: A మాత్రమే అనుసరిస్తుంది [Option ID = 13934]
2. Only conclusion B follows / నిర్ణయం: B మాత్రమే అనుసరిస్తుంది [Option ID = 13935]
3. Both conclusions A and B follow / నిర్ణయం: A, Bలు రెండూ అనుసరిస్తాయి [Option ID = 13936]
4. Neither conclusion A nor B follows / నిర్ణయం: A కానీ B కానీ అనుసరించదు [Option ID = 13937]

**Correct Answer :-**

- Neither conclusion A nor B follows / నిర్ణయం: A కానీ B కానీ అనుసరించదు [Option ID = 13937]

**68) A statement is given below followed by two courses of actions. You are required to find which course of action should follow in the statement and select best option.**

**Statement:** The librarian finds some pages torn in the books issued.

**Course of Action:** A. Strict measures should be taken against the student, who resorts to tear the pages of book issued to him.

B. Some additional funds be collected from all the students to replenish the torn books.

దీగువ, ఒక ప్రకటన ఆ తర్వాత తీసుకోవలసిన చర్యలు రెండు ఇవ్వబడినవి.

నైన చర్య(ల)ను గుర్తించి, నైన సమాధానాన్ని గుర్తించండి.

ప్రకటన: ఒక గ్రంథాలయాధికారి ఇష్యూ చేసిన పుస్తకాలలో కొన్ని పేజీలు చిరిగి ఉండటాన్ని గమనించాడు.

చర్య: A. ఏ విద్యార్థి అయితే తనకు ఇవ్వబడిన పుస్తకంలో నుంచి పేజీలు చింపివేశాడో అతనికి/ ఆమెకు వ్యతిరేకంగా కఠిన చర్యలు తీసుకోవాలి.

B. చినిగిపోయిన పుస్తకాలను పునరుద్ధరించడానికి,

నింపటానికి అందరు విద్యార్థుల నుంచి అదనపు నిధుల్ని పోగుచేయాలి.

**[Question ID = 10986]**

1. Only Course of Action A follows / చర్య A మాత్రమే నైనది [Option ID = 13938]
2. Only Course of Action B follows / చర్య B మాత్రమే నైనది [Option ID = 13939]
3. Both Course of Actions A and B follow / చర్యలు A, Bలు నైనవి [Option ID = 13940]
4. Neither Course of Action A nor B follows / చర్య A కానీ B కానీ నైనవి కావు [Option ID = 13941]

**Correct Answer :-**

- Only Course of Action A follows / చర్య A మాత్రమే నైనది [Option ID = 13938]

**69) A statement is given below followed by two Assumptions. You are required to find which assumption is implicit in the statement and select best option.**

**Statements:** The firm must settle all the payments due to its suppliers within four working days.

**Assumptions** A. The firm should maintain sufficient funds to pay to the suppliers.

B. The firm is capable of processing the bills in four working days

దిగువ ఒక ప్రకటన తర్వాత రెండు భావనలు ఇవ్వబడినవి. ఇచ్చిన ప్రకటననుసరించి ఏ భావన (లు) దాని ఉన్నాయో కనుగొని వ్రాసే సమాధానం గుర్తించండి.

ప్రకటన: ఒక సంస్థ తన సరఫరాదారులకు నాలుగు పని దినములలో చెల్లింపులను పూర్తి చేయాలి.

భావనలు: A. ఆ సంస్థ సరఫరాదారుల చెల్లింపులకు సరిపడే నిధులు అందుబాటులో ఉంచుకోవాలి.

B. ఆ సంస్థ, నాలుగు పని దినములలో బిల్లు చెల్లింపు ప్రక్రియను పూర్తిచేసే సామర్థ్యాన్ని కలిగి ఉండాలి.

[Question ID = 10987]

1. Only Assumption A is implicit / భావన A మాత్రమే [Option ID = 13942]
2. Only Assumption B is implicit / భావన B మాత్రమే [Option ID = 13943]
3. Both Assumptions A and B are implicit / భావనలు A, B వరైనవి [Option ID = 13944]
4. Neither Assumption A nor B is implicit. / భావన A లేదా B వరైనది కాదు [Option ID = 13945]

**Correct Answer :-**

- Both Assumptions A and B are implicit / భావనలు A, B వరైనవి [Option ID = 13944]

**70) A statement is given below followed by two Assumptions. You are required to find which assumption is implicit in the statement and select best option.**

**Statements: All the workers are hereby instructed to reach the factory by 8.00 am, sharp**

**Assumptions A. Some of the workers are not reaching by 8.00 am**

**B. Some of the workers are punctual.**

దిగువ ఒక ప్రకటన తర్వాత రెండు భావనలు ఇవ్వబడినవి. ఇచ్చిన ప్రకటననుసరించి ఏ భావన (లు) దాని ఉన్నాయో కనుగొని వ్రాసే సమాధానం గుర్తించండి.

ప్రకటన: ఇందుమూలంగా శ్రామికులందరూ (కార్మికులందరూ) ప్యాక్టరీకి సరిగ్గా 8 గంటలకు

చేరుకోవాలని ఆదేశించడమైనది.

భావనలు: A. కొందరు కార్మికులు ఉదయం 8 గంటలకు చేరుకోవడం లేదు.

B. కొందరు కార్మికులు సమయపాటన చేస్తారు.

[Question ID = 10988]

1. Only Assumption A is implicit / భావన A మాత్రమే [Option ID = 13946]
2. Only Assumption B is implicit / భావన B మాత్రమే [Option ID = 13947]
3. Both Assumptions A and B are implicit / భావనలు A, B వరైనవి [Option ID = 13948]
4. Neither Assumption A nor B is implicit. / భావన A లేదా B వరైనది కాదు [Option ID = 13949]

**Correct Answer :-**

- Only Assumption A is implicit / భావన A మాత్రమే [Option ID = 13946]

**71) Read the paragraph given below and answer the questions**

**Courage is not only the basis of virtue; it is its expression. Faith, hope, charity and all the rest don't become virtues until it takes courage to exercise them. There are roughly two types of courages.**



The first an emotional state which urges a man to risk injury or death, is physical courage. The second, more reasoning attitude which enables him to take coolly his career, happiness, his whole future or his judgement of what he thinks either right or worthwhile, is moral courage. I have known many men, who had marked physical courage, but lacked moral courage. Some of them were in high places, but they failed to be great in themselves because they lacked moral courage. On the other hand I have seen men who undoubtedly possessed moral courage but were very cautious about taking physical risks. But I have never met a man with moral courage who couldn't, when it was really necessary, face a situation boldly.

All virtues become meaningful because of /

కిందనీయబడిన పేరాని చదివి ప్రశ్నలు వరకు నమాధానాల్ని గుర్తించండి.  
దైర్యం ధర్మం యొక్క ఆధారం మూత్రమే కాదు, వ్యక్తికరణ, నమ్మకం, దయ, ఆశ మరియు మిగతా అన్నీ నడుగులు, అర్థవంతమవడానికి దైర్యం ఆధారమైనది. రెండు రకాల దైర్యాలు ఉన్నాయి. మొదటిది భౌతిక దైర్యం. ఇది ఒక భావోద్వేగ స్థితి తెలుపుతుంది. ఇందులో మనిషి గాయం చేసుకోవడానికి, మరణించడానికి కూడా ప్రేరేపించబడతాడు. తన కెరీర్, ఆనందం అతని మొత్తం భవిష్యత్తు మరియు అతని నిర్ణయం నైనవి, విలువైనవి అని తెలుసుకోవడానికి ఉపయోగపడేది 'నైతిక దైర్యం.' ఇది రెండో రకం. భౌతిక దైర్యం కలిగిన చాలామంది నాకు తెలుసు. కానీ వారిలో నైతిక దైర్యం ఉండదు. కొందరు ఉన్నత స్థానంలో ఉన్న వాళ్లకు నైతిక దైర్యం లేకపోవడం వల్ల గొప్పగా చెప్పుకోలేరు. ఇంకొకవైపు నేను నైతిక దైర్యం కల వాళ్లని చూశాను. పీల్చందరూ భౌతిక నష్టాలను/రిస్కుని తీసుకోరు. జాగ్రత్తగా ఉంటారు. ఒక పరిస్థితిని దైర్యంగా ఎదుర్కొనని నైతిక దైర్యం కలిగిన వాళ్లను ఎవరినీ నేను చూడలేదు.

నడుగులన్నీ అర్థవంతమవాలంటే - కావాలి.

[Question ID = 11091]

1. faith / నమ్మకం [Option ID = 14358]
2. charity / దయ [Option ID = 14359]
3. courage / దైర్యం [Option ID = 14360]
4. hope / ఆశ [Option ID = 14361]

Correct Answer :-

- courage / దైర్యం [Option ID = 14360]

72) Read the paragraph given below and answer the questions

Courage is not only the basis of virtue; it is its expression. Faith, hope, charity and all the rest don't become virtues until it takes courage to exercise them. There are roughly two types of courages.

The first an emotional state which urges a man to risk injury or death, is physical courage. The second, more reasoning attitude which enables him to take coolly his career, happiness, his whole future or his judgement of what he thinks either right or worthwhile, is moral courage. I have known many men, who had marked physical courage, but lacked moral courage. Some of them were in high places, but they failed to be great in themselves because they lacked moral courage. On the other hand I have seen men who undoubtedly possessed moral courage but were very



cautious about taking physical risks. But I have never met a man with moral courage who couldn't, when it was really necessary, face a situation boldly.

People with physical courage urges a man to risk/

కిందనీయబడిన పేరాని చదివి ప్రశ్నలు వరకు నమాధానాల్ని గుర్తించండి.  
ధైర్యం ధర్మం యొక్క ఆధారం మాత్రమే కాదు, వ్యక్తికరణ, సమ్మతం, దయ, ఆశ మరియు మిగతా అన్నీ నడ్లుణాలు, అర్థవంతమవడానికి ధైర్యం ఆధారమైనది. రెండు రకాల ధైర్యాలు ఉన్నాయి. మొదటిది భౌతిక ధైర్యం. ఇది ఒక భావోద్వేగ స్థితి తెలుపుతుంది. ఇందులో మనిషి గాయం చేసుకోవడానికి, మరణించడానికి కూడా ప్రేరేపించబడతాడు. తన కెరీర్, ఆనందం అతని మొత్తం భవిష్యత్తు మరియు అతని నిర్ణయం నైనవి, విలువైనవి అని తెలుసుకోవడానికి ఉవయోగవడేది 'నైతిక ధైర్యం.' ఇది రెండో రకం, భౌతిక ధైర్యం కలిగిన చాలామంది నాకు తెలుసు. కానీ వారిలో నైతిక ధైర్యం ఉండదు. కొందరు ఉన్నత స్థానంలో ఉన్న వాళ్లకు నైతిక ధైర్యం లేకపోవడం వల్ల గొప్పగా చెప్పుకోలేరు. ఇంకొకవైపు నేను నైతిక ధైర్యం కల వాళ్లని చూశాను. పిల్లందరూ భౌతిక సమ్మతం/రిస్కిని తీసుకోరు. జాగ్రత్తగా ఉంటారు. ఒక పరిస్థితిని ధైర్యంగా ఎదుర్కొనని నైతిక ధైర్యం కలిగిన వాళ్లను ఎవరినీ నేను చూడలేదు.

భౌతిక ధైర్యం కలిగిన వ్యక్తులు ప్రేరేపించేది?

[Question ID = 11072]

1. mental balance / మానసిక సమతుల్యత [Option ID = 14282]
2. Death or injury / చావు లేదా గాయపడడం [Option ID = 14283]
3. stability / స్థిరత్వం [Option ID = 14284]
4. Safe / భద్రత [Option ID = 14285]

Correct Answer :-

- Death or injury / చావు లేదా గాయపడడం [Option ID = 14283]

73) Read the paragraph given below and answer the questions

Courage is not only the basis of virtue; it is its expression. Faith, hope, charity and all the rest don't become virtues until it takes courage to exercise them. There are roughly two types of courages.

The first an emotional state which urges a man to risk injury or death, is physical courage. The second, more reasoning attitude which enables him to take coolly his career, happiness, his whole future or his judgement of what he thinks either right or worthwhile, is moral courage. I have known many men, who had marked physical courage, but lacked moral courage. Some of them were in high places, but they failed to be great in themselves because they lacked moral courage. On the other hand I have seen men who undoubtedly possessed moral courage but were very cautious about taking physical risks. But I have never met a man with moral courage who couldn't, when it was really necessary, face a situation boldly.

A man with moral courage can /

కిందనీయబడిన పేరాని చదివి ప్రశ్నలు వరకు సమాధానాల్ని గుర్తించండి.

ధైర్యం ధర్మం యొక్క ఆధారం మాత్రమే కాదు, వ్యక్తీకరణ, సమ్మతం, దయ, ఆశ మరియు మిగతా అన్నీ సద్గుణాలు, అర్థవంతమవడానికి ధైర్యం ఆధారమైనది. రెండు రకాల ధైర్యాలు ఉన్నాయి. మొదటిది భౌతిక ధైర్యం.

ఇది ఒక భావోద్వేగ స్థితి తెలుపుతుంది. ఇందులో మనిషి గాయం చెనుకోవడానికి, మరణించడానికి కూడా ప్రేరేపించబడతాడు. తన కెరీర్, ఆనందం అతని మొత్తం భవిష్యత్తు మరియు అతని నిర్ణయం సరైనవి, విలువైనవి అని తెలుసుకోవడానికి ఉపయోగపడేది 'నైతిక ధైర్యం.' ఇది రెండో రకం.

భౌతిక ధైర్యం కలిగిన చాలామంది నాకు తెలుసు. కానీ వారిలో నైతిక ధైర్యం ఉండదు. కొందరు ఉన్నత స్థానంలో ఉన్న వాళ్ళకు నైతిక ధైర్యం లేకపోవడం వల్ల గొప్పగా చెప్పుకోలేరు. ఇంకొకవైపు నేను నైతిక ధైర్యం కల వాళ్ళని చూశాను. వీళ్ళందరూ భౌతిక సమస్యలను/రిస్క్స్ తీసుకోరు. జాగ్రత్తగా ఉంటారు. ఒక పరిస్థితిని ధైర్యంగా ఎదుర్కొనని నైతిక ధైర్యం కలిగిన వాళ్ళను ఎవరినీ నేను చూడలేదు.

నైతిక ధైర్యం కలిగిన మనిషి ఇది చేయగలడు-

[Question ID = 11073]

1. defy his enemies / శత్రువులను అంగీకరించడు [Option ID = 14286]
2. overcome all difficulties / అన్ని కష్టాలను అధిగమిస్తాడు [Option ID = 14287]
3. face a situation boldly / పరిస్థితిని ధైర్యంగా ఎదుర్కొంటాడు [Option ID = 14288]
4. be very pragmatic / కార్యసాధకుడిగా ఉంటాడు [Option ID = 14289]

Correct Answer :-

- face a situation boldly / పరిస్థితిని ధైర్యంగా ఎదుర్కొంటాడు [Option ID = 14288]

74) Read the paragraph given below and answer the questions

Courage is not only the basis of virtue; it is its expression. Faith, hope, charity and all the rest don't become virtues until it takes courage to exercise them. There are roughly two types of courages.

The first an emotional state which urges a man to risk injury or death, is physical courage. The second, more reasoning attitude which enables him to take coolly his career, happiness, his whole future or his judgement of what he thinks either right or worthwhile, is moral courage. I have known many men, who had marked physical courage, but lacked moral courage. Some of them were in high places, but they failed to be great in themselves because they lacked moral courage. On the other hand I have seen men who undoubtedly possessed moral courage but were very cautious about taking physical risks. But I have never met a man with moral courage who couldn't, when it was really necessary, face a situation boldly.

Physical courage is an expression of /



కిందనీయబడిన పేరాని చదివి ప్రశ్నలు వరకు సమాధానాల్ని గుర్తించండి.  
 ధైర్యం ధర్మం యొక్క ఆధారం మాత్రమే కాదు, వ్యక్తీకరణ, సమ్మతం, దయ, ఆశ మరియు మిగతా అన్నీ సద్గుణాలు, అర్థవంతమవడానికి ధైర్యం ఆధారమైనది. రెండు రకాల ధైర్యాలు ఉన్నాయి. మొదటిది భౌతిక ధైర్యం. ఇది ఒక భావోద్వేగ స్థితి తెలుపుతుంది. ఇందులో మనిషి గాయం చేసుకోవడానికి, మరణించడానికి కూడా ప్రేరేపించబడతాడు. తన కెరీర్, ఆనందం అతని మొత్తం భవిష్యత్తు మరియు అతని నిర్ణయం నైనవి, విలువైనవి అని తెలుసుకోవడానికి ఉపయోగపడేది 'నైతిక ధైర్యం.' ఇది రెండో రకం. భౌతిక ధైర్యం కలిగిన చాలామంది నాకు తెలుసు. కానీ వారిలో నైతిక ధైర్యం ఉండదు. కొందరు ఉన్నత స్థానంలో ఉన్న వాళ్లకు నైతిక ధైర్యం లేకపోవడం వల్ల గొప్పగా చెప్పుకోలేరు. ఇంకొకవైపు నేను నైతిక ధైర్యం కల వాళ్లని చూశాను. వీళ్లందరూ భౌతిక సామర్థ్యాలను/రిస్క్స్ తీసుకోరు. జాగ్రత్తగా ఉంటారు. ఒక పరిస్థితిని ధైర్యంగా ఎదుర్కొనని నైతిక ధైర్యం కలిగిన వాళ్లను ఎవరినీ నేను చూడలేదు.

భౌతిక ధైర్యం దీని యొక్క (ప్రకటితం) వ్యక్తీకరణము-

[Question ID = 11074]

1. emotions / భావోద్వేగాలు [Option ID = 14290]
2. deliberation / నిశిత చర్యలు [Option ID = 14291]
3. uncertainty / అస్థిరత్వము [Option ID = 14292]
4. defiance / ధిక్కరణ [Option ID = 14293]

Correct Answer :-

- emotions / భావోద్వేగాలు [Option ID = 14290]

75) Read the paragraph given below and answer the questions

Courage is not only the basis of virtue; it is its expression. Faith, hope, charity and all the rest don't become virtues until it takes courage to exercise them. There are roughly two types of courages. The first an emotional state which urges a man to risk injury or death, is physical courage. The second, more reasoning attitude which enables him to take coolly his career, happiness, his whole future or his judgement of what he thinks either right or worthwhile, is moral courage. I have known many men, who had marked physical courage, but lacked moral courage. Some of them were in high places, but they failed to be great in themselves because they lacked moral courage. On the other hand I have seen men who undoubtedly possessed moral courage but were very cautious about taking physical risks. But I have never met a man with moral courage who couldn't, when it was really necessary, face a situation boldly.

Two types of courages are discussed, one is physical courage the other is /

కిందనీయబడిన పేరాని చదివి ప్రశ్నలు వరకు సమాధానాల్ని గుర్తించండి.

ధైర్యం ధర్మం యొక్క ఆధారం మాత్రమే కాదు, వ్యక్తీకరణ, సమృద్ధి, దయ, ఆశ మరియు మిగతా అన్నీ సద్గుణాలు, అర్థవంతమవడానికి ధైర్యం ఆధారమైనది. రెండు రకాల ధైర్యాలు ఉన్నాయి. మొదటిది భౌతిక ధైర్యం. ఇది ఒక భావోద్వేగ స్థితి తెలుపుతుంది. ఇందులో మనిషి గాయం చేసుకోవడానికి, మరణించడానికి కూడా ప్రేరేపించబడతాడు. తన కెరీర్, ఆనందం అతని మొత్తం భవిష్యత్తు మరియు అతని నిర్ణయం సరైనవి, విలువైనవి అని తెలుసుకోవడానికి ఉపయోగపడేది 'నైతిక ధైర్యం.' ఇది రెండో రకం. భౌతిక ధైర్యం కలిగిన చాలామంది నాకు తెలుసు. కానీ వారిలో నైతిక ధైర్యం ఉండదు. కొందరు ఉన్నత స్థానంలో ఉన్న వాళ్ళకు నైతిక ధైర్యం లేకపోవడం వల్ల గొప్పగా చెప్పుకోలేరు. ఇంకొకవైపు నేను నైతిక ధైర్యం కల వాళ్ళని చూశాను. వీళ్ళందరూ భౌతిక సమాలను/రిస్క్స్ తీసుకోరు. జాగ్రత్తగా ఉంటారు. ఒక పరిస్థితిని ధైర్యంగా ఎదుర్కొనని నైతిక ధైర్యం కలిగిన వాళ్ళను ఎవరినీ నేను చూడలేదు.

రెండు రకాల ధైర్యాల గురించి చర్చించడం జరిగింది. ఒకటి భౌతిక ధైర్యం, ఇంకొకటి-

[Question ID = 11075]

1. Cunning courage / జిత్తుల ధైర్యం [Option ID = 14294]
2. Intelligent courage / మేధా ధైర్యం [Option ID = 14295]
3. Moral courage / నైతిక ధైర్యం [Option ID = 14296]
4. Hope courage / ఆశ ధైర్యం [Option ID = 14297]

Correct Answer :-

- Moral courage / నైతిక ధైర్యం [Option ID = 14296]

76) Read the paragraph given below and answer the questions

Dr. Avul Pakir Jainulabdeen Abdul kalam, was born on 15th October 1931 at Rameswaram in Tamil Nadu. He was responsible for the evolution of ISRO's launch vehicle programme, particularly the PSLV configuration and for the development and operationalization of AGNI and PRITHVI missiles and for building indigenous capability in critical technologies through networking of multiple institutions. In his literary pursuit, four of Dr. Kalam's books - 'Wings of Fires', 'India 2020 -A vision for the New Millennium', 'My Journey' and 'Ignited Minds – Unleashing the power within India' have become household names in India and among the Indian nationals abroad. Dr. Kalam received honorary doctorates from 30 universities and institutions. He was awarded the coveted civilian awards – Padma Bhushan (1981) and Padma Vibhushan (1990) and the highest civilian award Bharat Ratna (1997). Dr. Kalam became the 11th President of India on 25th July 2002.

Dr A P J Kalam was born at ..... /



కిందనీయబడిన పేరాని చదివి ప్రశ్నలు వరకు నమాధానాల్ని గుర్తించండి.

డా॥ ఆవుల్ వకీర్ జైనులబ్దీన్ అబ్దుల్ కలాం 1931 అక్టోబర్ 15న తమిళనాడులోని రామేశ్వరంలో జన్మించారు. అతను ISRO యొక్క లాంచ్ వేహికల్ను ఆకృతీకరించడంలో ముఖ్యంగా PSLVని అభివృద్ధిపరచడంలో అలాగే 'అగ్ని' మరియు 'పృథ్వి' అనే క్షిపణులను జాతీయంగా నిర్మించే స్థితికి తీసుకుని రావడంలో ప్రధాన పాత్ర పోషించారు. చాలా సంస్థల్ని నెట్వర్కింగ్ చేసి దీన్ని సాధించారు. సాహిత్యాన్నేషణలో డా॥ కలాం 'Wings of Fire', 'India-2020', 'A Vision for the New Millennium', 'My Journey' and 'Ignited Minds - Unleashing the Power within India' అనే పుస్తకాలను రచించారు. ఇవి భారతదేశంలో ఇంటింటా కనిపిస్తాయి. 30 విశ్వవిద్యాలయాల నుంచి డా॥ కలాం గౌరవ డాక్టరేట్ని గ్రహించారు. అతనికి గౌరవనీయమైన పౌర పురస్కారాలు అయిన పద్మభూషన్ (1981), పద్మవిభూషన్ (1990), భారతరత్న (1997)లు లభించాయి. డా॥ కలాం 25 జూలై, 2002న 11వ రాష్ట్రపతిగా పదవిని అలంకరించారు.

Dr. A.P.J.Kalam పుట్టిన స్థలం-

[Question ID = 11076]

1. Rameshwaram / రామేశ్వరం [Option ID = 14298]
2. Ramavaram / రామవరం [Option ID = 14299]
3. Bhadrachalam / భద్రాచలం [Option ID = 14300]
4. Kanyakumari / కన్యాకుమారి [Option ID = 14301]

Correct Answer :-

- Rameshwaram / రామేశ్వరం [Option ID = 14298]

77) Read the paragraph given below and answer the questions

Dr. Avul Pakir Jainulabdeen Abdul kalam, was born on 15th October 1931 at Rameswaram in Tamil Nadu. He was responsible for the evolution of ISRO's launch vehicle programme, particularly the PSLV configuration and for the development and operationalization of AGNI and PRITHVI missiles and for building indigenous capability in critical technologies through networking of multiple institutions. In his literary pursuit, four of Dr. Kalam's books - 'Wings of Fires', 'India 2020 -A vision for the New Millennium', 'My Journey' and 'Ignited Minds – Unleashing the power within India' have become household names in India and among the Indian nationals abroad. Dr. Kalam received honorary doctorates from 30 universities and institutions. He was awarded the coveted civilian awards – Padma Bhushan (1981) and Padma Vibhushan (1990) and the highest civilian award Bharat Ratna (1997). Dr. Kalam became the 11th President of India on 25th July 2002.

Who was responsible for configuring PSLV? /

కిందనీయబడిన పేరాని చదివి ప్రశ్నలు వరకు సమాధానాల్ని గుర్తించండి.

డా॥ ఆవుల్ వకీర్ జైనులబ్దీన్ అబ్దుల్ కలాం 1931 అక్టోబర్ 15న తమిళనాడులోని రామేశ్వరంలో జన్మించారు. అతను ISRO యొక్క లాంచ్ వేహికల్ ను ఆకృతీకరించడంలో ముఖ్యంగా PSLVని అభివృద్ధిపరచడంలో అలాగే 'అగ్ని' మరియు 'వృద్ధి' అనే క్షిప్రణులను జాతీయంగా నిర్మించే స్థితికి తీసుకుని రావడంలో ప్రధాన పాత్ర పోషించారు. చాలా సంవత్సరాల నెట్ వర్కింగ్ చేసే దీన్ని సాధించారు. సాహిత్యాన్నేషనల్ డా॥ కలాం 'Wings of Fire', 'India-2020', 'A Vision for the New Millennium', 'My Journey' and 'Ignited Minds - Unleashing the Power within India' అనే పుస్తకాలను రచించారు.

ఇవి భారతదేశంలో ఇంటింటా కనిపిస్తాయి. 30 విశ్వవిద్యాలయాల నుంచి డా॥ కలాం గౌరవ డాక్టరేట్ ని గ్రహించారు. అతనికి గౌరవనీయమైన పౌర పురస్కారాలు అయిన పద్మభూషన్ (1981), పద్మవిభూషన్ (1990), భారతరత్న (1997)లు లభించాయి. డా॥ కలాం 25 జూలై, 2002న 11వ రాష్ట్రపతిగా పదవిని అలంకరించారు.

PSLVని ఆకృతీకరించడంలో ప్రధాన పాత్ర ఎవరిది?

[Question ID = 11077]

1. Rameshwaram / రామేశ్వరం [Option ID = 14302]
2. Rahul / రాహుల్ [Option ID = 14303]
3. Dr. A P J Kalam / డా॥ ఎ.పి.జె.అబ్దుల్ కలాం [Option ID = 14304]
4. Jalaluddin / జలాలుద్దీన్ [Option ID = 14305]

Correct Answer :-

- Dr. A P J Kalam / డా॥ ఎ.పి.జె.అబ్దుల్ కలాం [Option ID = 14304]

78) Read the paragraph given below and answer the questions

Dr. Avul Pakir Jainulabdeen Abdul kalam, was born on 15th October 1931 at Rameswaram in Tamil Nadu. He was responsible for the evolution of ISRO's launch vehicle programme, particularly the PSLV configuration and for the development and operationalization of AGNI and PRITHVI missiles and for building indigenous capability in critical technologies through networking of multiple institutions. In his literary pursuit, four of Dr. Kalam's books - 'Wings of Fires', 'India 2020 -A vision for the New Millennium', 'My Journey' and 'Ignited Minds – Unleashing the power within India' have become household names in India and among the Indian nationals abroad. Dr. Kalam received honorary doctorates from 30 universities and institutions. He was awarded the coveted civilian awards – Padma Bhushan (1981) and Padma Vibhushan (1990) and the highest civilian award Bharat Ratna (1997). Dr. Kalam became the 11th President of India on 25th July 2002.

Name the two missiles Kalam developed /



కిందనీయబడిన పేరాని చదివి ప్రశ్నలు వరకు సమాధానాల్ని గుర్తించండి.  
డా॥ ఆవుల్ వకీర్ జైనులబ్దీన్ అబ్దుల్ కలాం 1931 అక్టోబర్ 15న తమిళనాడులోని రామేశ్వరంలో జన్మించారు. అతను ISRO యొక్క లాంచ్ వేహికల్‌ను ఆకృతీకరించడంలో ముఖ్యంగా PSLVని అభివృద్ధిపరచడంలో అలాగే 'అగ్ని' మరియు 'పృథ్వి' అనే క్షిపణులను జాతీయంగా నిర్మించే స్థితికి తీసుకుని రావడంలో ప్రధాన పాత్ర పోషించారు. చాలా సంస్థల్ని నెట్‌వర్కింగ్ చేసి దీన్ని సాధించారు. సాహిత్యాన్నేషణలో డా॥ కలాం 'Wings of Fire', 'India-2020', 'A Vision for the New Millennium', 'My Journey' and 'Ignited Minds - Unleashing the Power within India' అనే పుస్తకాలను రచించారు. ఇవి భారతదేశంలో ఇంటింటా కనిపిస్తాయి. 30 విశ్వవిద్యాలయాల నుంచి డా॥ కలాం గౌరవ డాక్టరేట్‌ని గ్రహించారు. అతనికి గౌరవనీయమైన పౌర పురస్కారాలు అయిన పద్మభూషన్ (1981), పద్మవిభూషన్ (1990), భారతరత్న (1997)లు లభించాయి. డా॥ కలాం 25 జూలై, 2002న 11వ రాష్ట్రపతిగా వదలి అలంకరించారు.

డా॥ కలాం అభివృద్ధి చేసిన రెండు క్షిపణులు-

[Question ID = 11078]

1. AGNI and EARTH / అగ్ని మరియు భూమి [Option ID = 14306]
2. AGNI and PRITHVI / అగ్ని మరియు పృథ్వి [Option ID = 14307]
3. WINGS and FIRE / వింగ్స్ అండ్ ఫైర్ [Option ID = 14308]
4. FIRE and PRITHVI / ఫైర్ మరియు పృథ్వి [Option ID = 14309]

Correct Answer :-

- AGNI and PRITHVI / అగ్ని మరియు పృథ్వి [Option ID = 14307]

79) Read the paragraph given below and answer the questions

Dr. Avul Pakir Jainulabdeen Abdul kalam, was born on 15th October 1931 at Rameswaram in Tamil Nadu. He was responsible for the evolution of ISRO's launch vehicle programme, particularly the PSLV configuration and for the development and operationalization of AGNI and PRITHVI missiles and for building indigenous capability in critical technologies through networking of multiple institutions. In his literary pursuit, four of Dr. Kalam's books - 'Wings of Fires', 'India 2020 -A vision for the New Millennium', 'My Journey' and 'Ignited Minds – Unleashing the power within India' have become household names in India and among the Indian nationals abroad. Dr. Kalam received honorary doctorates from 30 universities and institutions. He was awarded the coveted civilian awards – Padma Bhushan (1981) and Padma Vibhushan (1990) and the highest civilian award Bharat Ratna (1997). Dr. Kalam became the 11th President of India on 25th July 2002.

Name one of the books written by Dr. Kalam? /

కిందనీయబడిన పేరాని చదివి ప్రశ్నలు వరకు సమాధానాల్ని గుర్తించండి.  
డా॥ ఆవుల్ వకీర్ జైనులబ్దీన్ అబ్దుల్ కలాం 1931 అక్టోబర్ 15న తమిళనాడులోని రామేశ్వరంలో జన్మించారు. అతను ISRO యొక్క లాంచ్ వేహికల్‌ను ఆకృతీకరించడంలో ముఖ్యంగా PSLVని అభివృద్ధిపరచడంలో అలాగే 'అగ్ని' మరియు 'పృథ్వి' అనే క్షిపణులను జాతీయంగా నిర్మించే స్థితికి తీసుకుని రావడంలో ప్రధాన పాత్ర పోషించారు. చాలా సంవత్సరాల నెట్‌వర్కింగ్ చేసి దీన్ని సాధించారు. సాహిత్యాన్నేవలన  
డా॥ కలాం 'Wings of Fire', 'India-2020', 'A Vision for the New Millennium', 'My Journey' and 'Ignited Minds - Unleashing the Power within India' అనే పుస్తకాలను రచించారు. ఇవి భారతదేశంలో ఇంటింటా కనిపిస్తాయి. 30 విశ్వవిద్యాలయాల నుంచి డా॥ కలాం గౌరవ డాక్టరేట్‌ని గ్రహించారు. అతనికి గౌరవనీయమైన పౌర పురస్కారాలు అయిన పద్మభూషన్ (1981), పద్మవిభూషన్ (1990), భారతరత్న (1997)లు లభించాయి. డా॥ కలాం 25 జూలై, 2002న 11వ రాష్ట్రపతిగా పదవిని అలంకరించారు.

డా॥ కలాం రచించిన ఒక పుస్తకం పేరు?

[Question ID = 11079]

1. Wings along Fires / వింగ్స్ అలాంగ్ ఫైర్స్ [Option ID = 14310]
2. Wings of Fires / వింగ్స్ ఆఫ్ ఫైర్స్ [Option ID = 14311]
3. Wings and India Fires / వింగ్స్ & ఇండియా ఫైర్స్ [Option ID = 14312]
4. Wings of Agni / వింగ్స్ ఆఫ్ అగ్ని [Option ID = 14313]

Correct Answer :-

- Wings of Fires / వింగ్స్ ఆఫ్ ఫైర్స్ [Option ID = 14311]

80) Read the paragraph given below and answer the questions

Dr. Avul Pakir Jainulabdeen Abdul kalam, was born on 15th October 1931 at Rameswaram in Tamil Nadu. He was responsible for the evolution of ISRO's launch vehicle programme, particularly the PSLV configuration and for the development and operationalization of AGNI and PRITHVI missiles and for building indigenous capability in critical technologies through networking of multiple institutions. In his literary pursuit, four of Dr. Kalam's books - 'Wings of Fires', 'India 2020 -A vision for the New Millennium', 'My Journey' and 'Ignited Minds – Unleashing the power within India' have become household names in India and among the Indian nationals abroad. Dr. Kalam received honorary doctorates from 30 universities and institutions. He was awarded the coveted civilian awards – Padma Bhushan (1981) and Padma Vibhushan (1990) and the highest civilian award Bharat Ratna (1997). Dr. Kalam became the 11th President of India on 25th July 2002.

When was Bharat Ratna awarded to Dr. Kalam? /



కిందసీయబడిన పేరాని చదివి ప్రశ్నలు వరకు నమాధానాల్ని గుర్తించండి.

డా॥ ఆవుల్ వకీర్ జైనులబ్లీన్ అబ్దుల్ కలాం 1931 అక్టోబర్ 15న తమిళనాడులోని రామేశ్వరంలో జన్మించారు.

అతను ISRO యొక్క లాంచ్ వేహికల్‌ను ఆకృతీకరించడంలో ముఖ్యంగా PSLVని అభివృద్ధిపరచడంలో

అలాగే 'అగ్ని' మరియు 'వృద్ధి' అనే క్షిపణులను జాతీయంగా నిర్మించే స్థితికి తీసుకుని రావడంలో

ప్రధాన పాత్ర పోషించారు. చాలా సంవత్సరాల నెట్‌వర్కింగ్ చేసి దీన్ని సాధించారు. సాహిత్యావ్వేషణలో

డా॥ కలాం 'Wings of Fire', 'India-2020', 'A Vision for the New Millennium', 'My Journey' and

'Ignited Minds - Unleashing the Power within in India' అనే పుస్తకాలను రచించారు.

ఇవి భారతదేశంలో ఇంటింటా కనిపిస్తాయి. 30 విశ్వవిద్యాలయాల నుంచి డా॥ కలాం

గౌరవ డాక్టరేట్‌ని గ్రహించారు. అతనికి గౌరవనీయమైన పౌర పురస్కారాలు అయిన పద్మభూషన్ (1981),

పద్మవిభూషన్ (1990), భారతరత్న (1997)లు లభించాయి. డా॥ కలాం 25 జూలై, 2002న 11వ

రాష్ట్రపతిగా వదలి ఆలంకరించారు.

భారతరత్న అవార్డు డా॥ కలాంకు ఎన్నడు ప్రధానం చేశారు?

[Question ID = 11080]

1. 1987 [Option ID = 14314]
2. 1977 [Option ID = 14315]
3. 1997 [Option ID = 14316]
4. 2007 [Option ID = 14317]

**Correct Answer :-**

- 1997 [Option ID = 14316]

**81) Read the paragraph given below and answer the questions**

The India Meteorological Department (IMD) has warned of a heat wave in the coming weeks. According to forecasts, temperatures are likely to rise above 40 degrees Celsius in most parts of the country and heat wave-like conditions are likely to develop in Gujarat, Odisha, Telangana and Andhra Pradesh. Such extreme temperature events are becoming a norm in India and other sub-tropical countries around the world. According to reports, climate change is likely to have caused this increase in incidences and severity of heat waves. IMD estimates that average temperatures between March and May in recent years, have increased by 1-1.2°C above the 100-year-average. According to the Intergovernmental Panel on Climate Change (IPCC), as average temperatures increase, outlier events like heat waves—defined by the IMD as an increase of 5°C above normal temperatures—are likely to become more severe. This means that they will entail higher temperatures and will last longer. In the past, heat waves have caused loss of life, increased morbidity and productivity losses. According to estimates, more than 4,000 people have died due to heat waves between 2013 and 2016 in India. Additionally, productivity losses worth US \$450 billion will be incurred due to extreme temperatures in India by 2030.

**What is the warning given by IMD ? /**

కిందనీయబడిన పేరాని చదివి ప్రశ్నలు వరకు సమాధానాల్ని గుర్తించండి.

భారత వాతావరణ విభాగం (India Meteorological Department) రాబోయే వారాలలో హీట్‌వేవ్ (heat wave) హెచ్చరిక జారీ చేసింది. ముందస్తు

నూచిక ప్రకారం హీట్‌వేవ్ (heat wave) వరిస్థితులు గుజరాత్, ఒడిశా, తెలంగాణ, ఆంధ్రప్రదేశ్‌లలో ఏర్పడవచ్చు. ఇటువంటి వివరీత ఉష్ణోగ్రతలు ఇండియా మరియు మిగతా ఉష్ణమండల దేశాలలో సర్వసాధారణం. Inter-governmental Panel on Climate Change

ప్రకారం సరాసరి ఉష్ణోగ్రతలు పెరిగినప్పుడు ఇబ్బందికరమైన సంఘటనలు.

అనగా హీట్‌వేవ్ వంటి తీవ్రతరమవుతాయి. IMD నిర్వచనం ప్రకారం సాధారణ ఉష్ణోగ్రత కంటే 5°C ఎక్కువగా పెరిగితే హీట్‌వేవ్ అంటారు. గతంలో హీట్‌వేవ్ వలన ప్రాణనష్టం, ఆనారోగ్య స్థితి పెరుగుదల, ఉత్పాదకత నష్టాలు జరిగాయి. అంచనాల ప్రకారం, 2013-2016 మధ్య, ఇండియాలో 4,000 మందికి పైగా చనిపోయారు.

IMD చేసిన హెచ్చరిక ఏమిటి?

[Question ID = 11081]

1. Heat wave / హీట్‌వేవ్ [Option ID = 14318]
2. Hurricane / హరకేన్ [Option ID = 14319]
3. Cyclone / సైక్లోన్ [Option ID = 14320]
4. Earthquake / భూకంపం [Option ID = 14321]

Correct Answer :-

- Heat wave / హీట్‌వేవ్ [Option ID = 14318]

82) Read the paragraph given below and answer the questions

The India Meteorological Department (IMD) has warned of a heat wave in the coming weeks. According to forecasts, temperatures are likely to rise above 40 degrees Celsius in most parts of the country and heat wave-like conditions are likely to develop in Gujarat, Odisha, Telangana and Andhra Pradesh. Such extreme temperature events are becoming a norm in India and other sub-tropical countries around the world. According to reports, climate change is likely to have caused this increase in incidences and severity of heat waves. IMD estimates that average temperatures between March and May in recent years, have increased by 1-1.2°C above the 100-year-average. According to the Intergovernmental Panel on Climate Change (IPCC), as average temperatures increase, outlier events like heat waves—defined by the IMD as an increase of 5°C above normal temperatures—are likely to become more severe. This means that they will entail higher temperatures and will last longer. In the past, heat waves have caused loss of life, increased morbidity and productivity losses. According to estimates, more than 4,000 people have died due to heat waves between 2013 and 2016 in India. Additionally, productivity losses worth US \$450 billion will be incurred due to extreme temperatures in India by 2030.

What is the warning given by IMD ? /



కిందనీయబడిన పేరాని చదివి ప్రశ్నలు వరకు నమాధానాల్ని గుర్తించండి.  
భారత వాతావరణ విభాగం (India Meteorological Department) రాబోయే వారాలలో హీట్‌వేవ్ (heat wave) హెచ్చరిక జారీ చేసింది. ముందస్తు నూచిక ప్రకారం హీట్‌వేవ్ (heat wave) వరిస్థితులు గుజరాత్, ఒడిశా, తెలంగాణ, ఆంధ్రప్రదేశ్‌లలో ఏర్పడవచ్చు. ఇటువంటి వివరీత ఉష్ణోగ్రతలు ఇండియా మరియు మిగతా ఉప ఉష్ణమండల దేశాలలో నర్వసాధారణం. Inter-governmental Panel on Climate Change ప్రకారం నరానరి ఉష్ణోగ్రతలు పెరిగినప్పుడు ఇబ్బందికరమైన సంఘటనలు. అనగా హీట్‌వేవ్ వంటి తీవ్రతరమవుతాయి. IMD నిర్వచనం ప్రకారం సాధారణ ఉష్ణోగ్రత కంటే 5°C ఎక్కువగా పెరిగితే హీట్‌వేవ్ అంటారు. గతంలో హీట్‌వేవ్ వలన ప్రాణనష్టం, అనారోగ్య స్థితి పెరుగుదల, ఉత్పాదకత నష్టాలు జరిగాయి. అంచనాల ప్రకారం, 2013-2016 మధ్య, ఇండియాలో 4,000 మందికి పైగా చనిపోయారు.

ఈ కింది వానిలో ఏ రాష్ట్రం హెచ్చరికలో లేదు?

[Question ID = 11082]

1. Gujarat / గుజరాత్ [Option ID = 14322]
2. Telangana / తెలంగాణ [Option ID = 14323]
3. Kerala / కేరళ [Option ID = 14324]
4. Andhra Pradesh / ఆంధ్రప్రదేశ్ [Option ID = 14325]

Correct Answer :-

- Kerala / కేరళ [Option ID = 14324]

83) Read the paragraph given below and answer the questions

The India Meteorological Department (IMD) has warned of a heat wave in the coming weeks. According to forecasts, temperatures are likely to rise above 40 degrees Celsius in most parts of the country and heat wave-like conditions are likely to develop in Gujarat, Odisha, Telangana and Andhra Pradesh. Such extreme temperature events are becoming a norm in India and other sub-tropical countries around the world. According to reports, climate change is likely to have caused this increase in incidences and severity of heat waves. IMD estimates that average temperatures between March and May in recent years, have increased by 1-1.2°C above the 100-year-average. According to the Intergovernmental Panel on Climate Change (IPCC), as average temperatures increase, outlier events like heat waves—defined by the IMD as an increase of 5°C above normal temperatures—are likely to become more severe. This means that they will entail higher temperatures and will last longer. In the past, heat waves have caused loss of life, increased morbidity and productivity losses. According to estimates, more than 4,000 people have died due to heat waves between 2013 and 2016 in India. Additionally, productivity losses worth US \$450 billion will be incurred due to extreme temperatures in India by 2030.

Heat wave is defined as increase of \_\_\_\_ above normal temperatures. /



కిందనీయబడిన పేరాని చదివి ప్రశ్నలు వరకు నమాధానాల్ని గుర్తించండి.  
భారత వాతావరణ విభాగం (India Meteorological Department) రాబోయే వారాలలో హీట్‌వేవ్ (heat wave) హెచ్చరిక జారీ చేసింది. ముందస్తు నూచిక ప్రకారం హీట్‌వేవ్ (heat wave) వరిస్థితులు గుజరాత్, ఒడిశా, తెలంగాణ, ఆంధ్రప్రదేశ్‌లలో ఏర్పడవచ్చు. ఇటువంటి వివరీత ఉష్ణోగ్రతలు ఇండియా మరియు మిగతా ఉప ఉష్ణమండల దేశాలలో నర్వసాధారణం. Inter-governmental Panel on Climate Change ప్రకారం నరానరి ఉష్ణోగ్రతలు పెరిగినప్పుడు ఇబ్బందికరమైన సంఘటనలు. అనగా హీట్‌వేవ్ వంటి తీవ్రతరమవుతాయి. IMD నిర్వచనం ప్రకారం సాధారణ ఉష్ణోగ్రత కంటే 5°C ఎక్కువగా పెరిగితే హీట్‌వేవ్ అంటారు. గతంలో హీట్‌వేవ్ వలన ప్రాణనష్టం, ఆనారోగ్య స్థితి పెరుగుదల, ఉత్పాదకత నష్టాలు జరిగాయి. అంచనాల ప్రకారం, 2013-2016 మధ్య, ఇండియాలో 4,000 మందికి పైగా చనిపోయారు.

హీట్‌వేవ్ నిర్వచనంలో సాధారణ ఉష్ణోగ్రత కంటే ఎన్ని డిగ్రీలు ఎక్కువగా ఉంటుంది.

[Question ID = 11083]

1. 15°C [Option ID = 14326]
2. 5°C [Option ID = 14327]
3. 50°C [Option ID = 14328]
4. 1°C [Option ID = 14329]

Correct Answer :-

- 5°C [Option ID = 14327]

84) Read the paragraph given below and answer the questions

The India Meteorological Department (IMD) has warned of a heat wave in the coming weeks. According to forecasts, temperatures are likely to rise above 40 degrees Celsius in most parts of the country and heat wave-like conditions are likely to develop in Gujarat, Odisha, Telangana and Andhra Pradesh. Such extreme temperature events are becoming a norm in India and other sub-tropical countries around the world. According to reports, climate change is likely to have caused this increase in incidences and severity of heat waves. IMD estimates that average temperatures between March and May in recent years, have increased by 1-1.2°C above the 100-year-average. According to the Intergovernmental Panel on Climate Change (IPCC), as average temperatures increase, outlier events like heat waves—defined by the IMD as an increase of 5°C above normal temperatures—are likely to become more severe. This means that they will entail higher temperatures and will last longer. In the past, heat waves have caused loss of life, increased morbidity and productivity losses. According to estimates, more than 4,000 people have died due to heat waves between 2013 and 2016 in India. Additionally, productivity losses worth US \$450 billion will be incurred due to extreme temperatures in India by 2030.

What is the toll due to heat wave condition between 2013 and 2016 in India? /

కిందనీయబడిన పేరాని చదివి ప్రశ్నలు వరకు సమాధానాల్ని గుర్తించండి.  
భారత వాతావరణ విభాగం (India Meteorological Department) రాబోయే వారాలలో హీట్‌వేవ్ (heat wave) హెచ్చరిక జారీ చేసింది. ముందస్తు నూచిక ప్రకారం హీట్‌వేవ్ (heat wave) పరిస్థితులు గుజరాత్, ఒడిశా, తెలంగాణ, ఆంధ్రప్రదేశ్‌లలో ఏర్పడవచ్చు. ఇటువంటి వివరీత ఉష్ణోగ్రతలు ఇండియా మరియు మిగతా ఉప ఉష్ణమండల దేశాలలో నర్వసాధారణం. Inter-governmental Panel on Climate Change ప్రకారం నరానరి ఉష్ణోగ్రతలు పెరిగినప్పుడు ఇబ్బందికరమైన సంఘటనలు. అనగా హీట్‌వేవ్ వంటి తీవ్రతరమవుతాయి. IMD నిర్వచనం ప్రకారం సాధారణ ఉష్ణోగ్రత కంటే 5°C ఎక్కువగా పెరిగితే హీట్‌వేవ్ అంటారు. గతంలో హీట్‌వేవ్ వలన ప్రాణనష్టం, అనారోగ్య స్థితి పెరుగుదల, ఉత్పాదకత నష్టాలు జరిగాయి. అంచనాల ప్రకారం, 2013-2016 మధ్య, ఇండియాలో 4,000 మందికి పైగా చనిపోయారు.

2013 మరియు 2016 మధ్య, ఇండియాలో హీట్‌వేవ్ స్థితివలన ఎంతమంది పైగా చనిపోయారు?

[Question ID = 11084]

1. 240 [Option ID = 14330]
2. 2400 [Option ID = 14331]
3. 400 [Option ID = 14332]
4. 4000 [Option ID = 14333]

Correct Answer :-

- 4000 [Option ID = 14333]

85) Read the paragraph given below and answer the questions

The India Meteorological Department (IMD) has warned of a heat wave in the coming weeks. According to forecasts, temperatures are likely to rise above 40 degrees Celsius in most parts of the country and heat wave-like conditions are likely to develop in Gujarat, Odisha, Telangana and Andhra Pradesh. Such extreme temperature events are becoming a norm in India and other sub-tropical countries around the world. According to reports, climate change is likely to have caused this increase in incidences and severity of heat waves. IMD estimates that average temperatures between March and May in recent years, have increased by 1-1.2°C above the 100-year-average. According to the Intergovernmental Panel on Climate Change (IPCC), as average temperatures increase, outlier events like heat waves—defined by the IMD as an increase of 5°C above normal temperatures—are likely to become more severe. This means that they will entail higher temperatures and will last longer. In the past, heat waves have caused loss of life, increased morbidity and productivity losses. According to estimates, more than 4,000 people have died due to heat waves between 2013 and 2016 in India. Additionally, productivity losses worth US \$450 billion will be incurred due to extreme temperatures in India by 2030.

Which of the following is not a loss due to heat wave? /



కిందనీయబడిన పేరాని చదివి ప్రశ్నలు వరకు సమాధానాల్ని గుర్తించండి.  
భారత వాతావరణ విభాగం (India Meteorological Department) రాబోయే వారాలలో హీట్‌వేవ్ (heat wave) హెచ్చరిక జారీ చేసింది. ముందస్తు నూచిక ప్రకారం హీట్‌వేవ్ (heat wave) పరిస్థితులు గుజరాత్, ఒడిశా, తెలంగాణ, ఆంధ్రప్రదేశ్‌లలో ఏర్పడవచ్చు. ఇటువంటి వివరీత ఉష్ణోగ్రతలు ఇండియా మరియు మిగతా ఉప ఉష్ణమండల దేశాలలో నర్వసాధారణం. Inter-governmental Panel on Climate Change ప్రకారం సరాసరి ఉష్ణోగ్రతలు పెరిగినప్పుడు ఇబ్బందికరమైన సంఘటనలు. అనగా హీట్‌వేవ్ వంటి తీవ్రతరమవుతాయి. IMD నిర్వచనం ప్రకారం సాధారణ ఉష్ణోగ్రత కంటే 5°C ఎక్కువగా పెరిగితే హీట్‌వేవ్ అంటారు. గతంలో హీట్‌వేవ్ వలన ప్రాణనష్టం, అనారోగ్య స్థితి పెరుగుదల, ఉత్పాదకత నష్టాలు జరిగాయి. అంచనాల ప్రకారం, 2013-2016 మధ్య, ఇండియాలో 4,000 మందికి పైగా చనిపోయారు.

హీట్‌వేవ్ వలన ఈ కింది వానిలో ఏ నష్టం జరగదు?

[Question ID = 11085]

1. Increased morbidity / అనారోగ్య స్థితిలో పెరుగుదల [Option ID = 14334]
2. Productivity loss / ఉత్పాదకతలో నష్టం [Option ID = 14335]
3. Employment loss / ఉద్యోగిత నష్టం [Option ID = 14336]
4. Life loss / ప్రాణనష్టం [Option ID = 14337]

Correct Answer :-

- Employment loss / ఉద్యోగిత నష్టం [Option ID = 14336]

86) Read the paragraph given below and answer the questions

We talk about democracy, but when it comes to any particular thing, we prefer a man belonging to our caste and community. It means our democracy is a phony kind of democracy. We must be in a position to respect a man as a man. We must extend opportunities of development to those who deserve them. Our weakness of our own caste and community should not influence our decision. Caste and community should be out of society for democracy to cherish. Any type of favour in decisions leads to corruption and thereby the roots of democracy will loose its foundation.

Whom do we prefer, a man belonging to our\_\_\_\_\_? /



కిందనీయబడిన పేరాని చదివి ప్రశ్నలు వరకు నమాధానాల్ని గుర్తించండి.  
మనం ప్రజాస్వామ్యం గురించి మాట్లాడతాం కానీ, ఏదైనా నిర్దిష్ట విషయం వచ్చినప్పుడు, మనం మన కులానికి మరియు నమూనానికి (Community) చెందిన వ్యక్తులను ఇష్టపడతాము అంటే దాని అర్థం, మన ప్రజాస్వామ్యం ఒక మోనోపారిత రకమైనది. మనం ఒక మనిషిని మనిషిగా గౌరవించే స్థితిలో ఉండాలి. మనం అర్హత గల వారికి అభివృద్ధి అవకాశాలను విస్తరించగలిగి ఉండాలి. మన యొక్క కులం మరియు కమ్యూనిటీ అనే బలహీనత మన నిర్ణయాలను ప్రభావితం చేసేవిధంగా ఉండకూడదు. కులం మరియు కమ్యూనిటీని, సమాజం నుంచి నివారించడం ద్వారా ప్రజాస్వామ్యం వికసిస్తుంది. నిర్ణయాలలో ఒక వైపు మొగ్గు చూపడం అనేది అవినీతికి దారితీస్తూ, ప్రజాస్వామ్య పునాదుల్ని కదిలిస్తుంది.

మనకు సంబంధించిన మనిషి అని ఎవరిని అనుకుంటాము?

[Question ID = 11086]

1. religion / మన మతం వారిని [Option ID = 14338]
2. Community and caste / మన కమ్యూనిటీ & కులం వారిని [Option ID = 14339]
3. country / మన దేశం వారిని [Option ID = 14340]
4. villager / మన గ్రామస్థుడు అని [Option ID = 14341]

**Correct Answer :-**

- Community and caste / మన కమ్యూనిటీ & కులం వారిని [Option ID = 14339]

**87) Read the paragraph given below and answer the questions**

We talk about democracy, but when it comes to any particular thing, we prefer a man belonging to our caste and community. It means our democracy is a phony kind of democracy. We must be in a position to respect a man as a man. We must extend opportunities of development to those who deserve them. Our weakness of our own caste and community should not influence our decision. Caste and community should be out of society for democracy to cherish. Any type of favour in decisions leads to corruption and thereby the roots of democracy will loose its foundation.

**Whom we must extend opportunities of development ? /**

కిందనీయబడిన పేరాని చదివి ప్రశ్నలు వరకు నమాధానాల్ని గుర్తించండి.  
మనం ప్రజాస్వామ్యం గురించి మాట్లాడతాం కానీ, ఏదైనా నిర్దిష్ట విషయం వచ్చినప్పుడు, మనం మన కులానికి మరియు నమూనానికి (Community) చెందిన వ్యక్తులను ఇష్టపడతాము అంటే దాని అర్థం, మన ప్రజాస్వామ్యం ఒక మోనోపారిత రకమైనది. మనం ఒక మనిషిని మనిషిగా గౌరవించే స్థితిలో ఉండాలి. మనం అర్హత గల వారికి అభివృద్ధి అవకాశాలను విస్తరించగలిగి ఉండాలి. మన యొక్క కులం మరియు కమ్యూనిటీ అనే బలహీనత మన నిర్ణయాలను ప్రభావితం చేసేవిధంగా ఉండకూడదు. కులం మరియు కమ్యూనిటీని, సమాజం నుంచి నివారించడం ద్వారా ప్రజాస్వామ్యం వికసిస్తుంది. నిర్ణయాలలో ఒక వైపు మొగ్గు చూపడం అనేది అవినీతికి దారితీస్తూ, ప్రజాస్వామ్య పునాదుల్ని కదిలిస్తుంది.

మనం ఎవరి కోసం అభివృద్ధి అవకాశాలను విస్తరించాలి?

[Question ID = 11087]

1. to those who belong to our caste / మన కులం సంబంధించిన వారికి [Option ID = 14342]
2. to those who belong to our community / మన కమ్యూనిటీకి సంబంధించిన వారికి [Option ID = 14343]
3. to those who deserve them / ఎవరైతే అర్హుల వారికి [Option ID = 14344]
4. to those who are deprived / ఎవరైతే దూరం చేయబడి ఉన్నారో వారికి [Option ID = 14345]

**Correct Answer :-**

- to those who deserve them / ఎవరైతే అర్హుల వారికి [Option ID = 14344]

**88) Read the paragraph given below and answer the questions**

We talk about democracy, but when it comes to any particular thing, we prefer a man belonging to our caste and community. It means our democracy is a phony kind of democracy. We must be in a position to respect a man as a man. We must extend opportunities of development to those who deserve them. Our weakness of our own caste and community should not influence our decision. Caste and community should be out of society for democracy to cherish. Any type of favour in decisions leads to corruption and thereby the roots of democracy will loose its foundation.

**Avoiding caste and community from society will \_\_\_\_\_. /**

కిందనీయబడిన పేరాని చదివి ప్రశ్నలు వరకు నమాధానాల్ని గుర్తించండి.  
మనం ప్రజాస్వామ్యం గురించి మాట్లాడతాం కానీ, ఏదైనా నిర్దిష్ట విషయం వచ్చినప్పుడు, మనం మన కులానికి మరియు నమూనానికి (Community) చెందిన వ్యక్తులను ఇవ్వవడతాము అంటే దాని అర్థం, మన ప్రజాస్వామ్యం ఒక మోసవూరిత రకమైనది. మనం ఒక మనిషిని మనిషిగా గౌరవించే స్థితిలో ఉండాలి. మనం అర్హత గల వారికి అభివృద్ధి అవకాశాలను విస్తరించగలిగి ఉండాలి. మన యొక్క కులం మరియు కమ్యూనిటీ అనే బలహీనత మన నిర్ణయాలను ప్రభావితం చేసేవిధంగా ఉండకూడదు. కులం మరియు కమ్యూనిటీని, సమాజం నుంచి నివారించడం ద్వారా ప్రజాస్వామ్యం వికసిస్తుంది. నిర్ణయాలలో ఒక వైపు మొగ్గు చూపడం అనేది అవినీతికి దారితీస్తూ, ప్రజాస్వామ్య వునాదుల్ని కదిలిస్తుంది.

సమాజం నుంచి కులం మరియు కమ్యూనిటీని నివారించడం ద్వారా ...

[Question ID = 11088]

1. Not effect the democracy / ప్రజాస్వామ్యంపై ఎలాంటి ప్రభావం లేదు [Option ID = 14346]
2. Perish the democracy / ప్రజాస్వామ్య వినాశం జరుగుతుంది [Option ID = 14347]
3. Cherish the democracy / ప్రజాస్వామ్య వికాసం జరుగుతుంది [Option ID = 14348]
4. Be impossible / నివారించడం అసాధ్యం [Option ID = 14349]

**Correct Answer :-**

- Cherish the democracy / ప్రజాస్వామ్య వికాసం జరుగుతుంది [Option ID = 14348]

**89) Read the paragraph given below and answer the questions**



We talk about democracy, but when it comes to any particular thing, we prefer a man belonging to our caste and community. It means our democracy is a phony kind of democracy. We must be in a position to respect a man as a man. We must extend opportunities of development to those who deserve them. Our weakness of our own caste and community should not influence our decision. Caste and community should be out of society for democracy to cherish. Any type of favour in decisions leads to corruption and thereby the roots of democracy will loose its foundation.

Favour in decisions leads to \_\_\_\_ . /

కిందనీయబడిన పేరాని చదివి ప్రశ్నలు వరకు నమాధానాల్ని గుర్తించండి.

మనం ప్రజాస్వామ్యం గురించి మాట్లాడతాం కానీ, ఏదైనా నిర్దిష్ట విషయం వచ్చినప్పుడు, మనం మన కులానికి మరియు నమూనానికి (Community) చెందిన వ్యక్తులను ఇష్టపడతాము అంటే దాని ఆర్థం, మన ప్రజాస్వామ్యం ఒక మోసపూరిత రకమైనది. మనం ఒక మనిషిని మనిషిగా గౌరవించే స్థితిలో ఉండాలి. మనం అర్హత గల వారికి అభివృద్ధి అవకాశాలను విస్తరించగలిగి ఉండాలి. మన యొక్క కులం మరియు కమ్యూనిటీ అనే బలహీనత మన నిర్ణయాలను ప్రభావితం చేసేవిధంగా ఉండకూడదు. కులం మరియు కమ్యూనిటీని, సమాజం నుంచి నివారించడం ద్వారా ప్రజాస్వామ్యం వికసిస్తుంది. నిర్ణయాలలో ఒక వైపు మొగ్గు చూపడం అనేది అవినీతికి దారితీస్తూ, ప్రజాస్వామ్య వునాదుల్ని కదిలిస్తుంది.

నిర్ణయాలలో ఒక వైపు మొగ్గు చూపడం వలన ..... జరుగుతుంది.

[Question ID = 11089]

1. Economic development / ఆర్థిక అభివృద్ధి [Option ID = 14350]
2. democracy / ప్రజాస్వామ్యం [Option ID = 14351]
3. Increased corruption / అవినీతిలో పెరుగుదల [Option ID = 14352]
4. Environment degradation / పర్యావరణ క్షీణత [Option ID = 14353]

Correct Answer :-

- Increased corruption / అవినీతిలో పెరుగుదల [Option ID = 14352]

90) Read the paragraph given below and answer the questions

We talk about democracy, but when it comes to any particular thing, we prefer a man belonging to our caste and community. It means our democracy is a phony kind of democracy. We must be in a position to respect a man as a man. We must extend opportunities of development to those who deserve them. Our weakness of our own caste and community should not influence our decision. Caste and community should be out of society for democracy to cherish. Any type of favour in decisions leads to corruption and thereby the roots of democracy will loose its foundation.

Our democracy is a \_\_\_\_\_ kind of democracy /



కిందనీయబడిన పేరాని చదివి ప్రశ్నలు వరకు సమాధానాన్ని గుర్తించండి.  
మనం ప్రజాస్వామ్యం గురించి మాట్లాడతాం కానీ, ఏదైనా నిర్దిష్ట విషయం వచ్చినప్పుడు, మనం మన కులానికి మరియు సమాహానికి (Community) చెందిన వ్యక్తులను ఇష్టపడతాము అంటే దాని అర్థం, మన ప్రజాస్వామ్యం ఒక మోసపూరిత రకమైనది. మనం ఒక మనిషిని మనిషిగా గౌరవించే స్థితిలో ఉండాలి. మనం అర్హత గల వారికి అభివృద్ధి అవకాశాలను విస్తరించగలిగి ఉండాలి. మన యొక్క కులం మరియు కమ్యూనిటీ అనే బలహీనత మన నిర్ణయాలను ప్రభావితం చేసేవిధంగా ఉండకూడదు. కులం మరియు కమ్యూనిటీని, సమాజం నుంచి నివారించడం ద్వారా ప్రజాస్వామ్యం వికసిస్తుంది. నిర్ణయాలలో ఒక వైపు మొగ్గు చూపడం అనేది అవినీతికి దారితీస్తూ, ప్రజాస్వామ్య వునాదుల్ని కదిలిస్తుంది.

మన ప్రజాస్వామ్యం ఒక ..... ప్రజాస్వామ్యం.

[Question ID = 11090]

1. mobile / మొబైల్ వంటి [Option ID = 14354]
2. phony / మోసపూరితమైన [Option ID = 14355]
3. good / మంచి [Option ID = 14356]
4. poor / పేద [Option ID = 14357]

Correct Answer :-

- phony / మోసపూరితమైన [Option ID = 14355]

91) Arrange the following sentences in suitable sequence to form a meaningful paragraph and choose correct option

- A. The mail is first collected from different letter boxes
- B. The mail is delivered by the postman.
- C. It is then sorted out at the sorting office.
- D. From there it is sent to the concerned head post office.

ఈ దిగువ నీయబడిన వాక్యాలను పరిశీలించి, వాటిని అర్థవంతమైన Paragraph వచ్చునట్లు, సరైన క్రమంలో అమర్చుతూ సమాధానాన్ని గుర్తింపుము.

- A. మొదటగా వివిధ లెటర్ బాక్స్ నుంచి ఉత్తరాలు సేకరించబడును
- B. ఉత్తరాలు పోస్టుమాన్ చే చేర్చబడును/ పంపిణీ చేయబడును
- C. ఆ తర్వాత సార్టింగ్ ఆఫీస్ లో ఉత్తరాలను వేరు చేయుదురు
- D. అక్కడి నుంచి సంబంధిత ప్రధాన తపాలా కార్యాలయాలకి పంపించబడును

[Question ID = 11009]

1. ACDB [Option ID = 14030]
2. BDAC [Option ID = 14031]
3. ABDC [Option ID = 14032]
4. BACD [Option ID = 14033]

Correct Answer :-

- ACDB [Option ID = 14030]

92) Arrange the following sentences in suitable sequence to form a meaningful paragraph and choose correct option

- A. Plastic bags are being used more and more to package soft drinks, milk, oil, fruit juices, etc.  
B. Most people think that using plastic bags is economical.  
C. Plastic bags are introduced in India.  
D. They are not aware of the evils of the plastic.

ఈ దిగువ నీయబడిన వాక్యాలను పరిశీలించి, వాటిని అర్థవంతమైన Paragraph వచ్చునట్లు, సరైన క్రమంలో అమర్చుతూ సమాధానాన్ని గుర్తింపుము.

- A. ఎక్కువగా పాలు, సాఫ్ట్ డ్రింక్స్, సూనెలు, పళ్ల రసములు నింపుటకు ప్లాస్టిక్ సంచులు విరివిగా వాడుతున్నారు.  
B. చాలా మంది ప్రజలు ప్లాస్టిక్ సంచులు వాడటం చవక అనుకుంటారు.  
C. భారతదేశంలో ప్లాస్టిక్ సంచులను ప్రవేశపెట్టారు.

[Question ID = 11010]

1. CDAB [Option ID = 14034]  
2. CBDA [Option ID = 14035]  
3. BCDA [Option ID = 14036]  
4. CABD [Option ID = 14037]

Correct Answer :-

- CABD [Option ID = 14037]

93) Arrange the following sentences in suitable sequence to form a meaningful paragraph and choose correct option

- A. There was a power interruption while viewing TV.  
B. Sarita was lonely in the house.  
C. She then started doing needle work.  
D. She sat all the day in TV room watching serials.

ఈ దిగువ నీయబడిన వాక్యాలను పరిశీలించి, వాటిని అర్థవంతమైన Paragraph వచ్చునట్లు, సరైన క్రమంలో అమర్చుతూ సమాధానాన్ని గుర్తింపుము.

- A. TV చూస్తుండగా విద్యుత్తుకు అంతరాయం ఏర్పడింది.  
B. సరికే ఒక్కతే ఇంట్లో ఉంది.  
C. ఆమె, అప్పుడు సూది పని చేయడం ప్రారంభించింది.  
D. ఆమె, దినమంతా టీవీ రూములో సీరియల్స్ చూస్తూ కూర్చుంది.

[Question ID = 11011]

1. DCAB [Option ID = 14038]  
2. BDAC [Option ID = 14039]  
3. BCDA [Option ID = 14040]  
4. BACD [Option ID = 14041]

Correct Answer :-

- BDAC [Option ID = 14039]

94)

Arrange the following sentences in suitable sequence to form a meaningful paragraph and choose correct option

Arrange the following sentences in suitable sequence to form a meaningful paragraph and choose correct option

- A. Many districts form a state.
- B. Many villages and towns form a Mandal.
- C. Some Mandals form a district
- D. One of such states is our Telangana.

ఈ దిగువ నీయబడిన వాక్యాలను పరిశీలించి, వాటిని అర్థవంతమైన Paragraph వచ్చునట్లు, సరైన క్రమంలో అమర్చుతూ సమాధానాన్ని గుర్తింపుము.

- A. చాలా జిల్లాలు కలసి రాష్ట్రం ఏర్పడుతుంది.
- B. చాలా గ్రామాలు మరియు పట్టణాలు కలసి మండలం ఏర్పడుతుంది.
- C. కొన్ని మండలాలు కలసి జిల్లా ఏర్పడుతుంది.
- D. అలాంటి రాష్ట్రాలలో మన తెలంగాణ ఒకటి.

[Question ID = 11012]

- 1. ACDB [Option ID = 14042]
- 2. BDAC [Option ID = 14043]
- 3. BCAD [Option ID = 14044]
- 4. CBDA [Option ID = 14045]

Correct Answer :-

- BCAD [Option ID = 14044]

95) Arrange the following sentences in suitable sequence to form a meaningful paragraph and choose correct option

- A. Common pain killers had been of no use.
- B. Anjali was suffering from tooth problem.
- C. Finally, in desperation, she went to a religious place for relief.
- D. Since it was Sunday morning, no dentist was available.

ఈ దిగువ నీయబడిన వాక్యాలను పరిశీలించి, వాటిని అర్థవంతమైన Paragraph వచ్చునట్లు, సరైన క్రమంలో అమర్చుతూ సమాధానాన్ని గుర్తింపుము.

- A. సాధారణ నొప్పి మ్మాత్రాలు ఏమూత్రం ఉపయోగపడలేదు.
- B. అంజలి పంటినొప్పి వలన బాధ పడుతుంది.
- C. చివరగా, నిరాశతో, ఆమె మతపరమైన స్థలానికి విశ్రాంతి పోయింది.
- D. అది ఆదివారం ఉదయం కావున, పంటి వైద్యులు (డెంటిస్ట్) ఎవరూ అందుబాటులో లేరు.

[Question ID = 11013]

- 1. ACDB [Option ID = 14046]
- 2. BCDA [Option ID = 14047]
- 3. BCAD [Option ID = 14048]
- 4. BDAC [Option ID = 14049]

Correct Answer :-

- BDAC [Option ID = 14049]



96) Arrange the following sentences in suitable sequence to form a meaningful paragraph and choose correct option

- A. But, excess cholesterol causes heart problems  
B. Cholesterol is produced by liver.  
C. The human body also absorbs it from the (animal) fats one eats.  
D. It is used to build cell walls and essential hormones.

ఈ దిగువ నీయబడిన వాక్యాలను పరిశీలించి, వాటిని అర్థవంతమైన Paragraph వచ్చునట్లు, సరైన క్రమంలో అమర్చుతూ సమాధానాన్ని గుర్తింపుము.

- A. కానీ, ఎక్కువ మోతాదులో కొలెస్ట్రాల్ హృదయ సంబంధిత కష్టాలను కలిగిస్తుంది.  
B. కొలెస్ట్రాల్ మన కాలేయంలో తయారవుతుంది.  
C. మానవ శరీరం మనం తినే (జంతు సంబంధిత) కొవ్వు నుంచి దానిని గ్రహిస్తుంది.  
D. అది కణ కుడ్యములను మరియు ముఖ్యమైన హార్మోనుల ఉత్పత్తికి ఉపయోగపడును.

[Question ID = 11014]

1. ADBC [Option ID = 14050]  
2. BCDA [Option ID = 14051]  
3. BCAD [Option ID = 14052]  
4. BACD [Option ID = 14053]

Correct Answer :-

- BCDA [Option ID = 14051]

97) Arrange the following sentences in suitable sequence to form a meaningful paragraph and choose correct option

- A. Skill is the key in performance of any task  
B. Skilled person can be employed easily.  
C. Hence Central and Telangana government is focusing on skill development.  
D. It can be learned from a trainer.

ఈ దిగువ నీయబడిన వాక్యాలను పరిశీలించి, వాటిని అర్థవంతమైన Paragraph వచ్చునట్లు, సరైన క్రమములో అమర్చుతూ సమాధానాన్ని గుర్తింపుము.

- A. ఒక పనిని ప్రదర్శించుటకు నైపుణ్యత ముఖ్యమైన పాత్ర వహిస్తుంది.  
B. నైపుణ్యం గల వ్యక్తి, సులభంగా ఉద్యోగంలో నియమితుడవుతాడు.  
C. కావున కేంద్ర మరియు తెలంగాణ రాష్ట్రం, నైపుణ్యాభివృద్ధి మీద దృష్టి సారించింది.  
D. దానిని ట్రైనర్ ద్వారా నేర్చుకొనవచ్చు.

[Question ID = 11015]

1. ACDB [Option ID = 14054]  
2. DBCA [Option ID = 14055]  
3. BCAD [Option ID = 14056]  
4. ADBC [Option ID = 14057]

Correct Answer :-

- ADBC [Option ID = 14057]

98) Arrange the following sentences in suitable sequence to form a meaningful paragraph and choose correct option

- A. Two trains started from Ramagundam and Secunderabad  
B. The signal problem is rectified before any fatal accident.  
C. An alert was sent to all the trains involved about signal failure.  
D. The signal system at Kazipet failed meanwhile

ఈ దిగువ సీయబడిన వాక్యాలను పరిశీలించి, వాటిని అర్థవంతమైన Paragraph వచ్చునట్లు, సరైన క్రమములో అమర్చుతూ సమాధానాన్ని గుర్తింపుము.

- A. రామగుండం మరియు సికింద్రాబాద్ నుంచి రెండు రైళ్లు కదిలినవి.  
B. సిగ్నల్ వ్యవస్థను, ఎలాంటి ప్రాణప్రదమైన ప్రమాదం జరగకముందే సరిచేశారు.  
C. సంబంధిత రైళ్లన్నింటికీ సిగ్నల్ ఫెయిల్యూర్ గురించి, సూచికను (వార్తను) పంపించారు.  
D. ఈ మధ్యలో కాజీపేట వద్ద సిగ్నల్ వ్యవస్థ కుప్పకూలించింది.

[Question ID = 11016]

1. ACDB [Option ID = 14058]  
2. DABC [Option ID = 14059]  
3. BCAD [Option ID = 14060]  
4. ADCB [Option ID = 14061]

Correct Answer :-

- ADCB [Option ID = 14061]

99) Arrange the following sentences in suitable sequence to form a meaningful paragraph and choose correct option

- A. That Bus started its journey  
B. Mohan has attended the preventive repairs of the bus.  
C. Finally, the Bus reached Ooty in two days.  
D. There are 42 tourists inside the bus travelling to Ooty.

ఈ దిగువ సీయబడిన వాక్యాలను పరిశీలించి, వాటిని అర్థవంతమైన Paragraph వచ్చునట్లు, సరైన క్రమములో అమర్చుతూ సమాధానాన్ని గుర్తింపుము.

- A. ఆ బస్సు దాన్ని ప్రయాణాన్ని ఆరంభించింది.  
B. మోహన్ బస్సుకు ముందస్తు (Preventive) మరమ్మత్తులు చేశాడు.  
C. చివరగా బస్సు ఊటీకి రెండు రోజులలో చేరింది.  
D. అందులో 42 మంది యాత్రికులు (టూరిస్టులు) ఊటీకి ప్రయాణిస్తున్నారు.

[Question ID = 11017]

1. DCAB [Option ID = 14062]  
2. BADC [Option ID = 14063]  
3. BCDA [Option ID = 14064]  
4. ABCD [Option ID = 14065]

Correct Answer :-

- BADC [Option ID = 14063]

100) Arrange the following sentences in suitable sequence to form a meaningful paragraph and choose correct option

- A. Writing is introduced for storing information.  
B. Computer technology is helping all the above tasks easily.  
C. Printing helped to dissemination of knowledge.  
D. The Speech is the first means of conveying information.

ఈ దిగువ సీయబడిన వాక్యాలను పరిశీలించి, వాటిని అర్థవంతమైన Paragraph వచ్చునట్లు, సరైన క్రమములో అమర్చుతూ సమాధానాన్ని గుర్తింపుము.

- A. సమాచారాన్ని నిక్షేపం చేయడానికి 'రాతను' ప్రారంభించారు.  
B. పైవన్నింటికీ కంప్యూటర్ టెక్నాలజీ ఉపయోగపడుతుంది.  
C. ముద్రణ, సమాచారాన్ని విస్తృతం చేయడానికి ఉపయోగపడుతుంది.  
D. 'మాట' అనేది సమాచార వ్యక్తీకరణకు మొదటి పద్ధతి.

[Question ID = 11018]

1. ACDB [Option ID = 14066]  
2. DABC [Option ID = 14067]  
3. DACB [Option ID = 14068]  
4. ADBC [Option ID = 14069]

Correct Answer :-

- DACB [Option ID = 14068]

101) Arrange the following sentences in suitable sequence to form a meaningful paragraph and choose correct option

- A. It deals with surveying subject.  
B. I will give a copy of it.  
C. It is very useful for diploma holders.  
D. The book was published in Hyderabad

ఈ దిగువ సీయబడిన వాక్యాలను పరిశీలించి, వాటిని అర్థవంతమైన Paragraph వచ్చునట్లు, సరైన క్రమములో అమర్చుతూ సమాధానాన్ని గుర్తింపుము.

- A. అది సర్వేయింగ్ సబ్జెక్టును వివరిస్తుంది.  
B. నేను దాని యొక్క ప్రతిని ఇస్తాను.  
C. అది డిప్లామా హోల్డర్లకు ఉపయోగకరం.  
D. ఒక పుస్తకం హైదరాబాద్ లో ముద్రించబడింది.

[Question ID = 11019]

1. DACB [Option ID = 14070]  
2. DBCA [Option ID = 14071]  
3. BADC [Option ID = 14072]  
4. ABDC [Option ID = 14073]

Correct Answer :-

- DACB [Option ID = 14070]



102) Arrange the following sentences in suitable sequence to form a meaningful paragraph and choose correct option

- A. Regular exercise will benefit your heart.  
B. A thirst during exercise is agreeable.  
C. But beware of the warning signals from your body.  
D. If you can combine this with music, then it is better.

ఈ దిగువ నీయబడిన వాక్యాలను పరిశీలించి, వాటిని అర్థవంతమైన Paragraph వచ్చునట్లు, సరైన క్రమములో అమర్చుతూ సమాధానాన్ని గుర్తింపుము.

- A. క్రమమైన వ్యాయామం మీ హృదయానికి ప్రయోజనకరం.  
B. వ్యాయామం చేయునప్పుడు దాహం వేయడం సాధారణం.  
C. కానీ, మీ శరీరం పంపించే హెచ్చరిక గుర్తులను గమనించండి.  
D. మీరు దీనిని సంగీతంతో కలిపితే బాగుంటుంది.

[Question ID = 11020]

1. ADBC [Option ID = 14074]  
2. ABDC [Option ID = 14075]  
3. DBAC [Option ID = 14076]  
4. CDAB [Option ID = 14077]

Correct Answer :-

- ADBC [Option ID = 14074]

- 103) A. Follow the signal lights at the junction to cross the road.  
B. If there are no signal lights at the crossing, look to the right, then to the left and again to the right.  
C. Pedestrians should always cross the road at the zebra crossing.  
D. Finally, don't be in hurry to cross the road for safety.

ఈ దిగువ నీయబడిన వాక్యాలను పరిశీలించి, వాటిని అర్థవంతమైన Paragraph వచ్చునట్లు, సరైన క్రమములో అమర్చుతూ సమాధానాన్ని గుర్తింపుము.

- A. జంక్షన్ వద్ద రోడ్డు క్రాస్ చేయుటకు సిగ్నల్ లైట్స్ అనుసరించండి.  
B. జంక్షన్ వద్ద సిగ్నల్ లైట్స్ లేనిచో, కుడి, ఎడమ మరలా కుడి వైపు చూసి క్రాస్ చేయాలి.  
C. పాదచారులు ఎల్లప్పుడు జీబ్రా క్రాసింగ్ వద్ద రోడ్ క్రాస్ చేయాలి.  
D. చివరగా సురక్షితంగా రోడ్డు క్రాస్ చేయాలంటే తొందరపడవద్దు.

[Question ID = 11021]

1. DCBA [Option ID = 14078]  
2. DBCA [Option ID = 14079]  
3. CABD [Option ID = 14080]  
4. CDBA [Option ID = 14081]

Correct Answer :-

- CABD [Option ID = 14080]

104)

Arrange the following sentences in suitable sequence to form a meaningful paragraph and choose correct option

- A. For this, he arranged a Truck.  
B. He is surprised at the amount demanded by truck driver.  
C. He wants to take the paddy to the mill.  
D. A farmer harvested his crop.

ఈ దిగువ నీయబడిన వాక్యాలను పరిశీలించి, వాటిని అర్థవంతమైన Paragraph వచ్చునట్లు, నరైన క్రమములో అమర్చుతూ సమాధానాన్ని గుర్తింపుము.

- A. దీనికోసం అతను ఒక ట్రక్కును ఏర్పాటు చేసుకున్నాడు.  
B. ట్రక్కు డ్రైవర్ డిమాండ్ చేసిన మొత్తం పట్ల ఆశ్చర్యపడ్డాడు.  
C. అతను వరి ధాన్యంను మిల్లు వద్దకు తీసుకుని పోవాలనుకున్నాడు.  
D. ఒక రైతు తన పంటను కోశాడు.

[Question ID = 11022]

1. ADBC [Option ID = 14082]  
2. ABDC [Option ID = 14083]  
3. ABCD [Option ID = 14084]  
4. DCAB [Option ID = 14085]

Correct Answer :-

- DCAB [Option ID = 14085]

105) Arrange the following sentences in suitable sequence to form a meaningful paragraph and choose correct option

- A. Applying with demand draft.  
B. Interview for the job.  
C. Written test  
D. Recruitment notification

ఈ దిగువ నీయబడిన వాక్యాలను పరిశీలించి, వాటిని అర్థవంతమైన Paragraph వచ్చునట్లు, నరైన క్రమములో అమర్చుతూ సమాధానాన్ని గుర్తింపుము.

- A. డిమాండ్ డ్రాఫ్ట్తో అప్లై చేయడం.  
B. ఉద్యోగానికి ఇంటర్వ్యూ (మౌఖిక పరీక్ష)  
C. రాత పరీక్ష  
D. రిక్రూట్మెంట్ ప్రకటన (ఉద్యోగ ప్రకటన)

[Question ID = 11023]

1. ACBD [Option ID = 14086]  
2. DACB [Option ID = 14087]  
3. DCBA [Option ID = 14088]  
4. DABC [Option ID = 14089]

Correct Answer :-

- DACB [Option ID = 14087]

106) Arrange the following sentences in suitable sequence to form a meaningful paragraph and choose correct option

- A. The house is locked  
B. It is midnight in winter season, when thief saw a locked house.  
C. The thief broke open the lock  
D. The house owner identified a theft of ornaments next morning /

ఈ దిగువ సీయబడిన వాక్యాలను పరిశీలించి, వాటిని అర్థవంతమైన Paragraph వచ్చునట్లు, సరైన క్రమములో అమర్చుతూ సమాధానాన్ని గుర్తింపుము.

- A. ఒక ఇల్లు తాళం వేయబడి ఉంది.  
B. చలికాలంలో, మధ్య రాత్రి అవుతున్నప్పుడు దొంగ, ఆ తాళం వేసిన ఇల్లును చూశాడు.  
C. ఆ దొంగ ఇల్లు తాళాన్ని పగలగొట్టి తెరిచాడు.  
D. ఇంటి స్వంతదారు, తన ఇంట్లో సగల దొంగతనాన్ని తర్వాతి ఉదయం గుర్తించాడు.

[Question ID = 11024]

1. DCAB [Option ID = 14090]  
2. DACB [Option ID = 14091]  
3. BCDA [Option ID = 14092]  
4. ABCD [Option ID = 14093]

Correct Answer :-

- ABCD [Option ID = 14093]

107) Arrange the following sentences in suitable sequence to form a meaningful paragraph and choose correct option

- A. He immediately acknowledged Mohan's good work and invited him to his home for dinner.  
B. One day a wealthy merchant sent his son's bicycle to the shop for repair.  
C. The next day the merchant came to claim the bicycle and noticed that it was shiny.  
D. After repairing the bicycle, Mohan cleaned it up and made it look new.  
E. Once upon a time, there was a boy named Mohan who worked as an apprentice in a bicycle shop.  
/

ఈ దిగువ సీయబడిన వాక్యాలను పరిశీలించి, వాటిని అర్థవంతమైన Paragraph వచ్చునట్లు, సరైన క్రమములో అమర్చుతూ సమాధానాన్ని గుర్తింపుము.

- A. అతను మోహన్ యొక్క పనితీరును వెంటనే మెచ్చుకుని, తన ఇంటికి డిన్నర్‌కి ఆహ్వానించాడు.  
B. ఒక రోజు ధనవంతుడైన వ్యాపారి అతని కుమారుని సైకిల్‌ని రిపేర్‌కై దుకాణానికి పంపించాడు.  
C. తర్వాత రోజు వ్యాపారి సైకిల్ తీసుకోవడానికి వచ్చినప్పుడు అది మెరుస్తూ ఉండటం గమనించాడు.  
D. సైకిల్ రిపేర్ చేసిన తర్వాత మోహన్ దాన్ని శుభ్రపరిచి కొత్తగా కనిపించేట్లు చేశాడు.  
E. ఒకప్పుడు, ఒక సైకిల్ షాపులో మోహన్ అనే అతను అప్రెంటిస్‌గా పనిచేస్తుండే వాడు.

[Question ID = 11025]

1. EDBCA [Option ID = 14094]  
2. EDCBA [Option ID = 14095]  
3. EBDCA [Option ID = 14096]  
4. EBDAC [Option ID = 14097]

Correct Answer :-



- EBDCA [Option ID = 14096]

**108) Arrange the following sentences in suitable sequence to form a meaningful paragraph and choose correct option**

- A. To unearth black money, higher denomination notes banned.**  
**B. ATMs are recalibrated**  
**C. Restrictions on cash transactions imposed finally.**  
**D. New notes have been introduced within a month /**

ఈ దిగువ సీయబడిన వాక్యాలను పరిశీలించి, వాటిని అర్థవంతమైన Paragraph వచ్చునట్లు, సరైన క్రమములో అమర్చుతూ సమాధానాన్ని గుర్తింపుము.

- A. బ్లాక్ మనీ (సల్లదనాన్ని) వెలికితీయడానికి పెద్ద నోట్లను నిషేధించారు.  
 B. ATM లను కొత్త నోట్లకు అనుగుణంగా మార్చడం.  
 C. చివరికి అవసరం నగదు లావాదేవీలపై కొన్ని కట్టుబాట్లు విధించారు.  
 D. కొత్త నోట్లు ఒక నెలలోపే ప్రవేశపెట్టారు.

[Question ID = 11026]

1. ABDC [Option ID = 14098]
2. ADBC [Option ID = 14099]
3. CADB [Option ID = 14100]
4. CABD [Option ID = 14101]

**Correct Answer :-**

- ADBC [Option ID = 14099]

**109) Arrange the following sentences in suitable sequence to form a meaningful paragraph and choose correct option**

- A. Write on it**  
**B. Post in letter box**  
**C. Purchase suitable post card or letter.**  
**D. Go to Post office /**

ఈ దిగువ సీయబడిన వాక్యాలను పరిశీలించి, వాటిని అర్థవంతమైన Paragraph వచ్చునట్లు, సరైన క్రమములో అమర్చుతూ సమాధానాన్ని గుర్తింపుము.

- A. దాని మీద రాయండి.  
 B. లెటర్ బాక్స్ లో వేయండి.  
 C. తగిన ఉత్తరం (కార్డు లేదా లెటర్) కొనండి.  
 D. పోస్టు ఆఫీస్ కు వెళ్ళండి.

[Question ID = 11027]

1. BADC [Option ID = 14102]
2. DCAB [Option ID = 14103]
3. CBDA [Option ID = 14104]
4. ABDC [Option ID = 14105]

**Correct Answer :-**

- DCAB [Option ID = 14103]

**110) Arrange the following sentences in suitable sequence to form a meaningful paragraph and choose correct option**

- A. Dr. Reddy attended to the wounded Mr. P.  
B. Mr. P was taken to hospital in ambulance.  
C. His brother immediately called an ambulance.  
D. Mr. P was met with a road accident. /

ఈ దిగువ నీయబడిన వాక్యాలను పరిశీలించి, వాటిని అర్థవంతమైన Paragraph వచ్చునట్లు, సరైన క్రమములో అమర్చుతూ సమాధానాన్ని గుర్తింపుము.

- A. డా॥ రెడ్డి గారు Mr. P కి వైద్యం చేశారు.  
B. Mr. P. అంబులెన్స్ లో హాస్పిటల్ కి చేర్చబడ్డాడు.  
C. అతని సోదరుడు వెంటనే అంబులెన్స్ ని పిలిపించారు.  
D. Mr. P రోడ్డు ప్రమాదానికి గురైనాడు.

**[Question ID = 11028]**

1. DCBA [Option ID = 14106]
2. CABD [Option ID = 14107]
3. CDAB [Option ID = 14108]
4. CBDA [Option ID = 14109]

**Correct Answer :-**

- DCBA [Option ID = 14106]

**111) If 70% of  $\frac{4}{5}$  of a number is 42, then the number is /**

ఒక సంఖ్య యొక్క  $\frac{4}{5}$  వ భాగంలో 70%, 42 అయినచో ఆ సంఖ్య-

**[Question ID = 11029]**

1. 75 [Option ID = 14110]
2. 100 [Option ID = 14111]
3. 90 [Option ID = 14112]
4. 120 [Option ID = 14113]

**Correct Answer :-**

- 75 [Option ID = 14110]

**112) What is the sum of all numbers divisible by 6 between 100 and 200? /**

100 నుంచి 200 మధ్య గల 6 చే భాగింపబడే సంఖ్యల మొత్తం ఎంత?

**[Question ID = 11030]**

1. 2600 [Option ID = 14114]
2. 5100 [Option ID = 14115]
3. 2550 [Option ID = 14116]

4. 2850 [Option ID = 14117]

**Correct Answer :-**

- 2550 [Option ID = 14116]

**113) The sum of two numbers is 13 and their product is 40. What is difference of these two numbers? /**

రెండు సంఖ్యల మొత్తం 13 మరియు వాటి లబ్ధం 40 అయినచో వాటి మధ్య భేదం ఎంత?

**[Question ID = 11031]**

1. 3 [Option ID = 14118]
2. 4 [Option ID = 14119]
3. 2 [Option ID = 14120]
4. 5 [Option ID = 14121]

**Correct Answer :-**

- 3 [Option ID = 14118]

**114) The LCM of two numbers is 84. If these numbers are in 3:4 ratio, find the sum of these numbers /**

రెండు సంఖ్యల క.సా.గు. 84, ఆ సంఖ్యలు 3 : 4 నిష్పత్తిలో ఉన్న వాటి మొత్తం కనుగొనండి.

**[Question ID = 11032]**

1. 49 [Option ID = 14122]
2. 46 [Option ID = 14123]
3. 50 [Option ID = 14124]
4. 48 [Option ID = 14125]

**Correct Answer :-**

- 49 [Option ID = 14122]

**115) The two numbers are in the ratio of 9:13. If their HCF is 7 find the numbers. /**

రెండు సంఖ్యలు 9 : 13 నిష్పత్తిలో కలవు. వాటి గ.సా.భా. (HCF) 7 అయినచో, ఆ సంఖ్యలు-

**[Question ID = 11033]**

1. 45, 65 [Option ID = 14126]
2. 59, 63 [Option ID = 14127]
3. 63, 91 [Option ID = 14128]
4. 72, 104 [Option ID = 14129]

**Correct Answer :-**

- 63, 91 [Option ID = 14128]

**116) If the product of two numbers is 1014 and their HCF is 13 find LCM of those two numbers /**

రెండు సంఖ్యల లబ్ధం 1014 మరియు వాటి గ.సా.భా. (HCF) 13 అయినచో,  
ఆ సంఖ్యల క.సా.గు. (LCM) కనుగొనండి.



[Question ID = 11034]

1. 78 [Option ID = 14130]
2. 1001 [Option ID = 14131]
3. 26 [Option ID = 14132]
4. 39 [Option ID = 14133]

Correct Answer :-

- 78 [Option ID = 14130]

117) Find the value of  $246.73 + 5.432 + 62.1$  /

246.73 + 5.432 + 62.1 యొక్క విలువ ఎంత?

[Question ID = 11035]

1. 314.262 [Option ID = 14134]
2. 307.264 [Option ID = 14135]
3. 315.262 [Option ID = 14136]
4. 316.264 [Option ID = 14137]

Correct Answer :-

- 314.262 [Option ID = 14134]

118) Find the value of 'x' in the equation  $12.56 \times 0.01 = x$  /

$12.56 \times 0.01 = x$  అయినచో, x విలువ ఎంత?

[Question ID = 11036]

1. 1.256 [Option ID = 14138]
2. 125.6 [Option ID = 14139]
3. 0.1256 [Option ID = 14140]
4. 0.01256 [Option ID = 14141]

Correct Answer :-

- 0.1256 [Option ID = 14140]

119) Which of the following is the biggest?  $4/5, 7/8, 10/13, 9/11, 2/3$  /

ఈ కింది వాటిలో ఏది పెద్దది?

$4/5, 7/8, 10/13, 9/11, 2/3$

[Question ID = 11037]

1.  $4/5$  [Option ID = 14142]
2.  $7/8$  [Option ID = 14143]
3.  $10/13$  [Option ID = 14144]
4.  $9/11$  [Option ID = 14145]

Correct Answer :-

- $7/8$  [Option ID = 14143]

**120) If 24 carat gold is called pure gold, what is percentage of gold available in an ornament of 21 carat? /**

24 క్యారెట్ల బంగారం శుద్ధ బంగారం అయినచో, ఒక 21 క్యారెట్ల ఒక బంగారు ఆభరణాలలో బంగారం శాతం ఎంత?

[Question ID = 11038]

1. 87.50 [Option ID = 14146]
2. 91.67 [Option ID = 14147]
3. 90.25 [Option ID = 14148]
4. 95.67 [Option ID = 14149]

**Correct Answer :-**

- 87.50 [Option ID = 14146]

**121) If 30% of a number is 14 less than 50% of that number, then the number is /**

ఒక సంఖ్య యొక్క 30%, ఆ సంఖ్య యొక్క 50%కి 14 తక్కువ అయినట్లయితే, ఆ సంఖ్య ఏది?

[Question ID = 11039]

1. 44 [Option ID = 14150]
2. 60 [Option ID = 14151]
3. 80 [Option ID = 14152]
4. 70 [Option ID = 14153]

**Correct Answer :-**

- 70 [Option ID = 14153]

**122) A car is insured for 90% of its original value. If the premium amounts to Rs.5,625/- at 2.5% of the insured value, what is the original value of the car? /**

ఒక కారుని దాని యొక్క అసలు ధరలో 90%కి బీమా (ఇన్సూరెన్స్) చేయడం జరిగింది.

బీమా చేయించిన విలువలో 2.5% చొప్పున రూ.5,625/-లు ప్రీమియం కింద చెల్లించిన

ఆ కారు యొక్క అసలు ధర ఎంత?

[Question ID = 11040]

1. Rs. 2,25,000/- / రూ. 2,25,000/- [Option ID = 14154]
2. Rs. 2,75,000/- / రూ. 2,75,000/- [Option ID = 14155]
3. Rs.3,00,000/- / రూ. 3,00,000/- [Option ID = 14156]
4. Rs.2,50,000/- / రూ. 2,50,000/- [Option ID = 14157]

**Correct Answer :-**

- Rs.2,50,000/- / రూ. 2,50,000/- [Option ID = 14157]

**123) A cricketer scored an average of 37 runs in his 137 innings. By playing an extra innings he improved his average to 38 and got out. How many runs he scored in his last innings? /**

ఒక క్రికెటర్ అతను ఆడిన 137 ఇన్నింగ్స్‌లలో సగటున 37 పరుగులు సాధించాడు. మరొక ఇన్నింగ్స్ ఆడి అతని సగటు 38కి పెంచుకుని అవుట్ అయినచో, అతను ఆడిన చివరి ఇన్నింగ్స్‌లో సాధించిన పరుగులు ఎన్ని?

[Question ID = 11041]

1. 137 [Option ID = 14158]
2. 142 [Option ID = 14159]
3. 157 [Option ID = 14160]
4. 175 [Option ID = 14161]

Correct Answer :-

- 175 [Option ID = 14161]

**124) The average marks in Intermediate examination of 16 (Sixteen) IIT batch students is 98 and 24 (Twenty Four) EAMCET batch students is 89. What is the average of total students? /**

ఇంటర్మీడియట్‌లో 16 మంది IIT బ్యాచ్ విద్యార్థుల సగటు 98 మార్కులు, 24 మంది EAMCET బ్యాచ్ విద్యార్థుల సగటు 89 మార్కులు అయినచో మొత్తం విద్యార్థుల సగటు మార్కులు ఎన్ని?

[Question ID = 11042]

1. 93.5 [Option ID = 14162]
2. 96 [Option ID = 14163]
3. 94.4 [Option ID = 14164]
4. 92.6 [Option ID = 14165]

Correct Answer :-

- 92.6 [Option ID = 14165]

**125) Raju scored an average of 56 marks in quarterly examinations. Had he got 100 marks in Maths subject instead of 76 marks he would have got an average of 59 marks. How many subjects were there in the examination of 100 marks each? /**

రాజు, త్రైమాసిక పరీక్షలో 56 మార్కులు సగటున సాధించాడు. ఒక వేళ గణితంలో 76 మార్కులు

బదులు 100 మార్కులు సాధించినట్లయితే, అతని సగటు 59 మార్కులు అయి ఉండేది.

ప్రతి సబ్జెక్టుకు గరిష్టంగా 100 మార్కులు ఉన్నట్లయితే ఆ పరీక్షలో మొత్తం ఎన్ని సబ్జెక్టులు కలవు?

[Question ID = 11043]

1. 4 [Option ID = 14166]
2. 6 [Option ID = 14167]
3. 10 [Option ID = 14168]
4. 8 [Option ID = 14169]

Correct Answer :-

- 8 [Option ID = 14169]

**126) If  $a:b = 3:7$  and  $b:c = 4:7$ , then  $a:c = ?$  /**

$a:b = 3 : 7$  మరియు  $b : c = 4 : 7$  అయిన  $a : c = ?$



[Question ID = 11044]

1. 12:49 [Option ID = 14170]
2. 28 : 21 [Option ID = 14171]
3. 21:28 [Option ID = 14172]
4. 49:12 [Option ID = 14173]

Correct Answer :-

- 12:49 [Option ID = 14170]

127) Two numbers are in the ratio of 2:3. If 6 is added to both the numbers, the ratio changes to 3:4. Find the lowest of the two. /

రెండు సంఖ్యలు 2 : 3 నిష్పత్తిలో కలవు. ఆ రెండు సంఖ్యలకు 6 చొప్పున కలిపినచో వాటి నిష్పత్తి 3 : 4 అయినచో వాటిలో చిన్న సంఖ్య ఏది?

[Question ID = 11045]

1. 18 [Option ID = 14174]
2. 12 [Option ID = 14175]
3. 24 [Option ID = 14176]
4. 16 [Option ID = 14177]

Correct Answer :-

- 12 [Option ID = 14175]

128) The prices of a Refrigerator and Air-conditioner are in the ratio of 5:8. If the Air-conditioner costs Rs 15000/- more than the Refrigerator, then the price of the Refrigerator is /

రెఫ్రిజరేటర్ మరియు ఎయిర్ కండిషనర్ ధరలు 5 : 8 నిష్పత్తిలో కలవు. ఒక వేళ ఎయిర్ కండిషనర్ ధర రెఫ్రిజరేటర్ ధర కంటే రూ.15,000/- అధికం అయినచో రెఫ్రిజరేటర్ ధర ఎంత?

[Question ID = 11046]

1. Rs.25,000/- / రూ.25,000/- [Option ID = 14178]
2. Rs.40,000/- / రూ.40,000/- [Option ID = 14179]
3. Rs.30,000/- / రూ.30,000/- [Option ID = 14180]
4. Rs.35,000/- / రూ.35,000/- [Option ID = 14181]

Correct Answer :-

- Rs.25,000/- / రూ.25,000/- [Option ID = 14178]

129) Ravi purchased an old T.V. for Rs. 6200/- and incurs Rs. 800/- for its repairs. If he sells the T.V. for Rs. 8,050/-, then what is his gain percent in the transaction? /

రవి ఒక పాత TVని రూ.6,200/-లకు కొని దాని రిపేర్ కోసం రూ.800/- ఖర్చు చేశాడు. ఒక వేళ ఆ TVని రూ. 8,050/-లకు అమ్మినచో, ఈ లావాదేవీలో అతని లాభశాతం ఎంత?

[Question ID = 11047]

1. 1.5 [Option ID = 14182]
2. 15 [Option ID = 14183]
3. 25 [Option ID = 14184]
4. 10 [Option ID = 14185]

**Correct Answer :-**

- 15 [Option ID = 14183]

**130) By selling an item for Rs. 72.25 a trader sustains a loss of 15%. What should be the selling price to gain 20% profit on the item? /**

ఒక వస్తువును రూ.72.25కు అమ్ముట వలన ఒక వ్యాపారికి 15% నష్టం వచ్చినది.

ఆ వస్తువును ఎంతకు అమ్మినచో 20% లాభం వచ్చును.

**[Question ID = 11048]**

1. Rs.100/- / రూ. 100/- [Option ID = 14186]
2. Rs.96/- / రూ. 96/- [Option ID = 14187]
3. Rs.98/- / రూ. 98/- [Option ID = 14188]
4. Rs.102/- / రూ. 102/- [Option ID = 14189]

**Correct Answer :-**

- Rs.102/- / రూ. 102/- [Option ID = 14189]

**131) A shopkeeper gains 15% by selling an item for a price. If he sells it at double the price, what will be the percentage of profit he earns? /**

ఒక వస్తువును కొంత ధరకు అమ్ముటవలన ఆ దుకాణదారుకు 15% లాభం వచ్చినది.

ఒక వేళ ఆ వస్తువును రెండింతలు ధరకు అమ్మినచో అతని లాభశాతం ఎంత?

**[Question ID = 11049]**

1. 130 [Option ID = 14190]
2. 30 [Option ID = 14191]
3. 120 [Option ID = 14192]
4. 100 [Option ID = 14193]

**Correct Answer :-**

- 130 [Option ID = 14190]

**132) A, B and C are partners invested in a business in 2:3:4 ratio respectively. If B earns Rs. 45,000/- as his share of profit, what is the total profit earned by the partners? /**

ఒక వ్యాపారంలో A, B మరియు C అనే భాగస్థులు క్రమంగా 2 : 3 : 4 నిష్పత్తిలో పెట్టుబడులు పెట్టారు.

ఒక వేళ B యొక్క లాభ వాటా రూ.45,000/- అయినచో ఆ భాగస్థులు సంపాదించిన మొత్తం లాభం ఎంత?

**[Question ID = 11050]**

1. Rs.1,50,000/- / రూ. 1,50,000/- [Option ID = 14194]

2. Rs.1,35,000/- / రూ. 1,35,000/- [Option ID = 14195]  
 3. Rs.1,20,000/- / రూ. 1,20,000/- [Option ID = 14196]  
 4. Rs.1,60,000/- / రూ. 1,60,000/- [Option ID = 14197]

**Correct Answer :-**

- Rs.1,35,000/- / రూ. 1,35,000/- [Option ID = 14195]

**133) A,B and C are partners. A invests half of B's investment and B invests half of C's investment. If they got a profit of Rs. 2,45,000/- , what is C's share of profit? /**

A, B మరియు C అనే భాగస్వామీలు, A యొక్క పెట్టుబడి B యొక్క పెట్టుబడిలో నగం మరియు B యొక్క పెట్టుబడి C యొక్క పెట్టుబడిలో నగం అయినచో, వారికి వచ్చిన మొత్తం లాభం రూ.2,45,000/-లో C యొక్క భాగం ఎంత?

**[Question ID = 11051]**

1. Rs.35,000/- / రూ. 35,000/- [Option ID = 14198]  
 2. Rs.70,000/- / రూ. 70,000/- [Option ID = 14199]  
 3. Rs.1,05,000/- / రూ. 1,05,000/- [Option ID = 14200]  
 4. Rs.1,40,000/- / రూ. 1,40,000/- [Option ID = 14201]

**Correct Answer :-**

- Rs.1,40,000/- / రూ. 1,40,000/- [Option ID = 14201]

**134) P and Q are partners. P invests Rs. 24,000/- for 8 months and Q invests his capital for 4 months. If Q claims 3/7th of the profit as his share, What was his capital? /**

P మరియు Qలు భాగస్వామీలు. P తన పెట్టుబడి రూ. 24,000/-లను 8 నెలల పాటు మరియు Q తన పెట్టుబడి మొత్తాన్ని 4 నెలలపాటు ఉంచారు. ఒక వేళ Q యొక్క లాభ భాగం 3/7 అయినచో అతని యొక్క పెట్టుబడి ఎంత?

**[Question ID = 11052]**

1. Rs.1,44,000/- / రూ. 1,44,000/- [Option ID = 14202]  
 2. Rs.72,000/- / రూ. 72,000/- [Option ID = 14203]  
 3. Rs.78,000/- / రూ. 78,000/- [Option ID = 14204]  
 4. Rs.36,000/- / రూ. 36,000/- [Option ID = 14205]

**Correct Answer :-**

- Rs.36,000/- / రూ. 36,000/- [Option ID = 14205]

**135) The present ages of A and B are in the ratio 4:5 respectively. After six years from now, this ratio will become 5:6. What is B's present age in years? /**



A, Bల ప్రస్తుత వయస్సు 4 : 5 నిష్పత్తిలో కలదు. ఆరు సంవత్సరాల తరువాత వారి వయస్సుల నిష్పత్తి 5 : 6 అయినచో B యొక్క ప్రస్తుత వయస్సు ఎంత?

[Question ID = 11053]

1. 24 [Option ID = 14206]
2. 30 [Option ID = 14207]
3. 36 [Option ID = 14208]
4. 32 [Option ID = 14209]

Correct Answer :-

- 30 [Option ID = 14207]

136) The sum of the present ages of a mother and her daughter is 48 years. Four years ago, the mother's age was four times of her daughter's age. The daughter's age after 4 years will be /

ఒక తల్లి, కూతుళ్ల ప్రస్తుత వయస్సు మొత్తం 48 సంవత్సరాలు. 4 సంవత్సరాల క్రితం తల్లి వయస్సు కూతురు వయస్సుకు 4 రెట్లు ఉండెను. 4 సంవత్సరాల తరువాత కూతురు వయస్సు ఎంత?

[Question ID = 11054]

1. 15 years / 15 సంవత్సరాలు [Option ID = 14210]
2. 14 years / 14 సంవత్సరాలు [Option ID = 14211]
3. 17 years / 17 సంవత్సరాలు [Option ID = 14212]
4. 16 years / 16 సంవత్సరాలు [Option ID = 14213]

Correct Answer :-

- 16 years / 16 సంవత్సరాలు [Option ID = 14213]

137) The difference between the ages of A and B is 14 years. 5 years ago B's age was three times of A's age. After 5 years the age of B will be /

A, Bల వయస్సుల భేదం 14 సంవత్సరాలు. 5 సంవత్సరాల క్రితం B వయస్సు A వయస్సుకు మూడు రెట్లు ఉండెను. 5 సంవత్సరాల తర్వాత B వయస్సు ఎంత?

[Question ID = 11070]

1. 31 years / 31 సంవత్సరాలు [Option ID = 14274]
2. 30 years / 30 సంవత్సరాలు [Option ID = 14275]
3. 29 years / 29 సంవత్సరాలు [Option ID = 14276]
4. 32 years / 32 సంవత్సరాలు [Option ID = 14277]

Correct Answer :-

- 31 years / 31 సంవత్సరాలు [Option ID = 14274]

138) Raju can finish a work in 6 days and Kiran takes 6 days more than Raju to complete the same work. In how many days these together will complete the work? /

రాజు ఒక పనిని ఆరు రోజులలో పూర్తి చేయగలడు. కిరణ్ ఆ పనిని పూర్తి చేయుటకు రాజు కంటే ఆరు రోజులు ఎక్కువ తీసుకుంటాడు. ఇద్దరు కలిసి ఆ పనిని ఎన్ని రోజులలో పూర్తి చేయగలరు?

[Question ID = 11056]

1. 3 [Option ID = 14218]
2. 5 [Option ID = 14219]
3. 2 [Option ID = 14220]
4. 4 [Option ID = 14221]

**Correct Answer :-**

- 4 [Option ID = 14221]

**139) A and B can do a work in 8 days, B and C can do the same work in 12 days and A and C can complete it in 8 days. If A, B and C work together in how many days the work can be completed? /**

A మరియు Bలు కలిసి ఒక పనిని 8 రోజులలోను, B మరియు Cలు కలిసి ఆ పనిని 12 రోజులలోను మరియు A మరియు Cలు కలిసి ఆ పనిని 8 రోజులలో పూర్తి చేయగలరు. A, B మరియు Cలు కలిసి ఆ పనిని ఎన్ని రోజులలో పూర్తి చేయగలరు?

[Question ID = 11057]

1. 6 [Option ID = 14222]
2. 3 [Option ID = 14223]
3. 4 [Option ID = 14224]
4. 8 [Option ID = 14225]

**Correct Answer :-**

- 6 [Option ID = 14222]

**140) A pipe can fill a tank in 10 hours, a tap can empty the same tank in 12 hours. If these two are kept open simultaneously, In how much time the tank can be filled? /**

ఒక పైపు ఒక ట్యాంక్‌ను 10 గంటలలో నింపగలదు. అదే ట్యాంక్‌ను ఒక నల్ల (Tap) 12 గంటలలో ఖాళీ చేయగలదు. ఆ రెండింటినీ ఒకేసారి తెరిచిన ఆ ట్యాంక్ ఎంత సమయంలో నిండుతుంది?

[Question ID = 11058]

1. 22 hours / 22 గంటలు [Option ID = 14226]
2. 60 hours / 60 గంటలు [Option ID = 14227]
3. 120 hours / 120 గంటలు [Option ID = 14228]
4. 24 hours / 24 గంటలు [Option ID = 14229]

**Correct Answer :-**

- 60 hours / 60 గంటలు [Option ID = 14227]

**141) An aeroplane travels from Hyderabad to Dubai in 3 hours 20 minutes. If its speed is 600 KM/hour, what is the distance between Hyderabad and Dubai? /**

ఒక విమానం హైదరాబాద్ నుంచి దుబాయ్ వరకు 3 గంటల 20 నిమిషాలలో ప్రయాణించగలదు.  
విమానం యొక్క వేగం 600 km/h అయినచో ఆ రెండు నగరాల మధ్య దూరం ఎంత?

[Question ID = 11059]

1. 1920 km [Option ID = 14230]
2. 2000 km [Option ID = 14231]
3. 2100 km [Option ID = 14232]
4. 2050 km [Option ID = 14233]

Correct Answer :-

- 2000 km [Option ID = 14231]

142) A train crosses a bridge in 14 seconds at 90 kmph. If the train length is 180 metres, what is the length of the bridge? /

90 km/ph వేగంతో ప్రయాణించే ఒక రైలు ఒక బ్రిడ్జిని 14 సెకన్లలో దాటిస్తది. రైలు పొడవు 180 మీటర్లు అయినచో బ్రిడ్జి పొడవు ఎంత?

[Question ID = 11060]

1. 180 m [Option ID = 14234]
2. 190 m [Option ID = 14235]
3. 160 m [Option ID = 14236]
4. 170 m [Option ID = 14237]

Correct Answer :-

- 170 m [Option ID = 14237]

143) The speeds of two cyclists A and B, who are travelling between two villages is in the ratio of 3:4. If A takes 20 minutes more than B to reach the destination, what is the time taken by B? /

రెండు గ్రామాల మధ్య ప్రయాణిస్తున్న A, B అనే ఇద్దరు సైక్లిస్టుల వేగం 3 : 4 నిష్పత్తిలో కలదు. ఒక వేళ A, B కంటే 20 నిమిషాలు ఎక్కువ సమయం తీసుకుంటే, గమ్యం చేరుకోవడం కొరకు B తీసుకున్న సమయం ఎంత?

[Question ID = 11061]

1. 1 hour / 1 గంట [Option ID = 14238]
2. 1 hour 30 mts / 1 గంట 30 ని. [Option ID = 14239]
3. 2 hours / 2 గంటలు [Option ID = 14240]
4. 1 hour 20 minutes / 1 గంట 20 ని. [Option ID = 14241]

Correct Answer :-

- 1 hour / 1 గంట [Option ID = 14238]

144) Prasad paid Rs. 2,400/- to his bank towards interest for 3 years for a sum of loan obtained at 8% simple interest. How much loan was taken by him? /



ప్రసాద్ తన తీసుకున్న అప్పుపై వడ్డీగా రూ.2,400/-లను 3 సంవత్సరాల కొరకు 8% బారువడ్డీ చొప్పున బ్యాంకుకు చెల్లించెను. ఆతను తీసుకున్న అప్పు ఎంత?

[Question ID = 11062]

1. Rs. 10,000/- [Option ID = 14242]
2. Rs.12,000/- [Option ID = 14243]
3. Rs.8,000/- [Option ID = 14244]
4. Rs.14,000/- [Option ID = 14245]

**Correct Answer :-**

- Rs. 10,000/- [Option ID = 14242]

**145) If a sum of money doubles in 5 years at a simple Interest. In how many years it will become 4 times at the same interest rate? /**

కొంత సొమ్ము సాధారణ వడ్డీ ప్రకారం 5 సంవత్సరాలలో రెట్టింపు అయినచో, అదే వడ్డీ లెక్కన ఆ సొమ్ము నాలుగు రెట్లు కావడానికి ఎంత కాలం పడుతుంది?

[Question ID = 11063]

1. 10 [Option ID = 14246]
2. 15 [Option ID = 14247]
3. 20 [Option ID = 14248]
4. 12 [Option ID = 14249]

**Correct Answer :-**

- 15 [Option ID = 14247]

**146) Find the compound interest on Rs. 5,000/- in one year at 6% per annum if the interest is compounded half yearly. /**

అర్ధ సంవత్సరానికి ఒక సారి వడ్డీ లెక్కించినచో, రూ.5,000/-లకు 6% చక్రవడ్డీ చొప్పున ఒక సంవత్సరానికి అయిన వడ్డీ ఎంత?

[Question ID = 11064]

1. Rs. 305 రూ. 305 [Option ID = 14250]
2. Rs.304.50 / రూ. 304.50 [Option ID = 14251]
3. Rs.310 / రూ. 310 [Option ID = 14252]
4. Rs.303 / రూ. 303 [Option ID = 14253]

**Correct Answer :-**

- Rs.304.50 / రూ. 304.50 [Option ID = 14251]

**147) What is the angle (in degrees) between hours hand and minutes hand when the clock shows 5.20 pm /**

గడియారం 5:20 గంటల సమయం చూపించినప్పుడు, నిమిషాల ముల్లు, గంటల ముల్లు మధ్య కోణం ఎంత? (in degrees)

[Question ID = 11065]

1. 30 [Option ID = 14254]
2. 40 [Option ID = 14255]
3. 20 [Option ID = 14256]
4. 25 [Option ID = 14257]

**Correct Answer :-**

- 40 [Option ID = 14255]

**148) At what time between 7 and 8'O clock will the hands of a clock be in the same straight line in opposite direction? /**

7, 8 గంటల మధ్య ఏ సమయంలో రెండు ముళ్లు సరళరేఖలో వ్యతిరేక దిశలో ఉంటాయి?

[Question ID = 11066]

1. 5 min past 7 / 7 గంటల తరువాత 5 నిమిషాలకు [Option ID = 14258]
2. 5 2/11 minutes past 7 / 7 గంటల తరువాత 5 2/11 నిమిషాలకు [Option ID = 14259]
3. 5 5/11 minutes past 7 / 7 గంటల తరువాత 5 5/11 నిమిషాలకు [Option ID = 14260]
4. 5 3/11 minutes past 7 / 7 గంటల తరువాత 5 3/11 నిమిషాలకు [Option ID = 14261]

**Correct Answer :-**

- 5 5/11 minutes past 7 / 7 గంటల తరువాత 5 5/11 నిమిషాలకు [Option ID = 14260]

**149) Yashvardhan purchased a piece of square land measuring 324 sq.m. How much he needs to incur to lay fencing around the plot at 120/- per metre. /**

యశ్వర్థన్ 324 చదరపు మీటర్ల చతురస్రాకారంలో గల కొంత స్థలాన్ని కొన్నాడు. ఆ స్థలం చుట్టూ కంచె వేయుటకు మీటర్లకు రూ.120/-ల చొప్పున ఎంత ఖర్చు అవుతుంది?

[Question ID = 11067]

1. Rs. 8,640/- / రూ. 8,640/- [Option ID = 14262]
2. Rs.7,640/- / రూ. 7,640/- [Option ID = 14263]
3. Rs.8,260/- / రూ. 8,260/- [Option ID = 14264]
4. Rs.7,460/- / రూ. 7,460/- [Option ID = 14265]

**Correct Answer :-**

- Rs. 8,640/- / రూ. 8,640/- [Option ID = 14262]

**150) Find the surface area of brick whose length, breadth and height are 9 cm, 4 cm, 3 cm respectively? /**

9 సెంటీమీటర్ల పొడవు, 4 సెంటీమీటర్ల వెడల్పు, 3 సెంటీమీటర్లు ఎత్తు గల ఒక ఇటుక యొక్క ఉపరితల వైశాల్యం ఎంత?

[Question ID = 11068]

1. 140 sq cm / 140 చదరపు సెంటీమీటర్లు [Option ID = 14266]
2. 160 sq cm / 160 చదరపు సెంటీమీటర్లు [Option ID = 14267]
3. 150 sq cm / 150 చదరపు సెంటీమీటర్లు [Option ID = 14268]
4. 180 sq cm / 180 చదరపు సెంటీమీటర్లు [Option ID = 14269]

**Correct Answer :-**

- 150 sq cm / 150 చదరపు సెంటీమీటర్లు [Option ID = 14268]

