

Bihar D.El.Ed.

Previous Year Paper
27 Aug, 2025 Shift 1

Adda247



**Test
Prime**

By Adda247

ALL EXAMS, ONE SUBSCRIPTION



Test. Analyze. Improve. Repeat.



Don't just *prepare*. *Perform*.

Test Prime — built only for mock tests.



1,50,000+
Mock Tests



25,000+
Previous Year Papers



800+
Exam Covered



500% Refund
on Selection



5 lakh+
Free Quizzes



Daily
Free PDFs



Job Alerts
Stay Updated

- Multilingual
- Detailed Solution
- Strong and Weak Areas



**All India
Rankings**

Compete with lakhs.
Rank. Improve. Repeat.



← Adda247 test prime

Rating ▾

Editors' choice

New



Adda247 Test Prime
Adda Education • Education
Installed



DOWNLOAD THE APP





बिहार विद्यालय परीक्षा समिति
BIHAR SCHOOL EXAMINATION BOARD

Roll No	
Participant Name	
Test Center Name	
Test Date	27/08/2025
Test Time	9:00 AM - 11:30 AM
Exam Name	DELED Entrance 2025

Section : Hindi

Q.1 घनाक्षरा कौन सा छंद है ?

- Ans A. मारिका
 B. वर्णिक
 C. आक्षरिक
 D. इनमें से कोई नहीं

Question Type : MCQ

Question ID : 7650441366

Option 1 ID : 7650445461

Option 2 ID : 7650445462

Option 3 ID : 7650445463

Option 4 ID : 7650445464

Status : Answered

Chosen Option : B

Q.2 'देव जो महान है' यह किस समास का उदाहरण है?

- Ans A. कर्मधारय
 B. द्वन्द्व
 C. तत्पुरुष
 D. अव्ययीभाव

Question Type : MCQ

Question ID : 765044110

Option 1 ID : 765044437

Option 2 ID : 765044438

Option 3 ID : 765044439

Option 4 ID : 765044440

Status : Answered

Chosen Option : A



Q.3 'यशोदा' का संधि-विच्छेद कौन है?

- Ans A. यशो+दा
 B. यशः+दा
 C. य+शोदा
 D. यशोद+आ

Question Type : MCQ
 Question ID : 76504430
 Option 1 ID : 765044117
 Option 2 ID : 765044118
 Option 3 ID : 765044119
 Option 4 ID : 765044120
 Status : Answered
 Chosen Option : B

Q.4 पावन पाप पखारि के नाव चढ़इहौ, आयसु होत कहा है। तुलसी सुनि केवट के वर बैन, हँसे प्रभु जानकी ओर हहा है। उपर्युक्त पंक्तियों में शब्द-शक्ति है-

- Ans A. अभिधा
 B. लक्षणा
 C. व्यंजना
 D. इनमें से कोई नहीं

Question Type : MCQ
 Question ID : 765044875
 Option 1 ID : 7650443497
 Option 2 ID : 7650443498
 Option 3 ID : 7650443499
 Option 4 ID : 7650443500
 Status : Answered
 Chosen Option : C

Q.5 'चादर से बाहर पैर पसारना' मुहावरे का अर्थ क्या होगा?

- Ans A. चादर ओढकर सोना
 B. चादर से पैर ढकना
 C. कंजूस होना
 D. आय से अधिक व्यय करना

Question Type : MCQ
 Question ID : 765044535
 Option 1 ID : 7650442137
 Option 2 ID : 7650442138
 Option 3 ID : 7650442139
 Option 4 ID : 7650442140
 Status : Answered
 Chosen Option : D



Q.6 इनमें से कौन सा वाक्य अशुद्ध है___--

- Ans A. तुम्हें कल कुछ हो जाये तो मैं कहीं का नहीं रहूँगा।
 B. वाह ! कैसा मनोहरी दृश्य है।
 C. देशभक्त कठोर यातनाओं को सहते हैं।
 D. हमारी सौभाग्यवती कन्या का विवाह हो रहा है।

Question Type : MCQ
 Question ID : 765044591
 Option 1 ID : 7650442361
 Option 2 ID : 7650442362
 Option 3 ID : 7650442363
 Option 4 ID : 7650442364
 Status : Answered
 Chosen Option : B

Q.7 कनक कनक ते सौगुनी, मादकता अधिकाय । वा खाए बौरात नर या पाए बौराय ।।
 उक्त पंक्तियों में कौन सा अलंकार है ?

- Ans A. उपमा
 B. यमक
 C. अनुप्रास
 D. श्लेष

Question Type : MCQ
 Question ID : 765044917
 Option 1 ID : 7650443665
 Option 2 ID : 7650443666
 Option 3 ID : 7650443667
 Option 4 ID : 7650443668
 Status : Answered
 Chosen Option : B

Q.8 वा मुख की मधुराई कहा कहौं, मीठी लगे अँखियन लुनाई । इस पंक्ति में कौन-सा अलंकार है-

- Ans A. यमक
 B. श्लेष
 C. विरोधाभास
 D. रूपक

Question Type : MCQ
 Question ID : 7650441215
 Option 1 ID : 7650444857
 Option 2 ID : 7650444858
 Option 3 ID : 7650444859
 Option 4 ID : 7650444860
 Status : Answered
 Chosen Option : C



Q.9 “ चढ चेतक पर तलवार उठा करता था भूतल पानी को।
राणा प्रताप सर काट-कट करता था सफल जवानी को ।। ”

- Ans A. शृंगार रस
 B. हास्य रस
 C. वीर रस
 D. भयानक रस

Question Type : MCQ
Question ID : 7650441447
Option 1 ID : 7650445785
Option 2 ID : 7650445786
Option 3 ID : 7650445787
Option 4 ID : 7650445788
Status : Answered
Chosen Option : C

Q.10 जब वाक्य या कविता में कोई शब्द अपने मुख्य अर्थ यह शब्दकोशीय अर्थ प्रकट करता है तो वहां कौन सी शब्दशक्ति होती है..

- Ans A. अभिधा
 B. लक्षणा
 C. व्यंजना
 D. कोई नहीं

Question Type : MCQ
Question ID : 765044885
Option 1 ID : 7650443537
Option 2 ID : 7650443538
Option 3 ID : 7650443539
Option 4 ID : 7650443540
Status : Answered
Chosen Option : A

Q.11 किस अलंकार में व्यंजन वर्णों की आवृत्ति लगातार होती है ?

- Ans A. अनुप्रास
 B. श्लेष
 C. रूपक
 D. यमक

Question Type : MCQ
Question ID : 765044996
Option 1 ID : 7650443981
Option 2 ID : 7650443982
Option 3 ID : 7650443983
Option 4 ID : 7650443984
Status : Answered
Chosen Option : A



Q.12 चरर मरर खुल गए अरर रवस्फुटों से में कौन-सा अलंकार है ?

- Ans A. अनुप्रास
 B. श्लेष
 C. यमक
 D. अतिशयोक्ति

Question Type : MCQ
 Question ID : 7650441097
 Option 1 ID : 7650444385
 Option 2 ID : 7650444386
 Option 3 ID : 7650444387
 Option 4 ID : 7650444388
 Status : Answered
 Chosen Option : A

Q.13 मगण में कितने लघु और गुरु वर्ण होते हैं?

- Ans A. SSS
 B. III
 C. ISS
 D. SIS

Question Type : MCQ
 Question ID : 7650441283
 Option 1 ID : 7650445129
 Option 2 ID : 7650445130
 Option 3 ID : 7650445131
 Option 4 ID : 7650445132
 Status : Answered
 Chosen Option : A

Q.14 महान् देशभक्त तथा पत्रकार श्री गणेश शंकर विद्यार्थी का जन्म 26 अक्टूबर, सन् 1890 को इलाहाबाद में हुआ था। इनके पिता ग्वालियर राज्य में अध्यापक थे, अतः विद्यार्थी जी की प्रारंभिक शिक्षा ग्वालियर राज्य में मुंगवावली नामक स्थान से ही प्रारंभ हुई। उन्होंने उर्दू, फ़ारसी, अंग्रेज़ी, इतिहास, गणित आदि विषयों का अध्ययन किया। कानपुर स्थित क्राइस्ट चर्च कॉलेज से इन्होंने एट्रेंस की परीक्षा उत्तीर्ण की। इनका विवाह चंद्रप्रकाश देवी से हुआ। यहीं उनका संबंध पत्रकारिता से हुआ। इन्होंने अपने समय के पत्र 'कर्मयोगी' के लिए लेख टिप्पणियाँ और समाचार लिखना प्रारंभ किया। ये पंडित महावीर प्रसाद द्विवेदी और पंडित मदन मोहन मालवीय के संपर्क में आए। 9 नवंबर, 1913 से कानपुर से साप्ताहिक प्रताप का प्रारंभ किया। 'प्रताप' का कार्यालय क्रांतिकारियों का आश्रय-स्थल बन गया था। भयभीत अंग्रेज़ी सरकार बार-बार प्रताप को बंद करने की धमकी देती थी, लेकिन विद्यार्थी जी ने 'प्रताप' की आभा को कभी फीका नहीं पड़ने दिया। प्रश्न:- विद्यार्थी जी किस पत्र के लिए लिखा करते थे ?

- Ans A. राष्ट्रबंधु
 B. कर्मयोगी
 C. कल्पतरु
 D. नवभारत

Question Type : MCQ
 Question ID : 765044222
 Option 1 ID : 765044885
 Option 2 ID : 765044886
 Option 3 ID : 765044887
 Option 4 ID : 765044888
 Status : Answered
 Chosen Option : B



Q.15 'फूल हँसे कलियाँ मुसकाई।' में कौन सा अलंकार है।

- Ans A. मानवीकरण अलंकार
 B. यमक अलंकार
 C. उपमा अलंकार
 D. रूपक अलंकार

Question Type : MCQ
Question ID : 7650441128
Option 1 ID : 7650444509
Option 2 ID : 7650444510
Option 3 ID : 7650444511
Option 4 ID : 7650444512
Status : Answered
Chosen Option : A

Q.16 'अमित से दौड़ा नहीं जाता' वाक्य में वाक्यभेद बताइए

- Ans A. कर्तृवाच्य
 B. कर्मवाच्य
 C. भाववाच्य
 D. उपर्युक्त कोई नहीं

Question Type : MCQ
Question ID : 765044706
Option 1 ID : 7650442821
Option 2 ID : 7650442822
Option 3 ID : 7650442823
Option 4 ID : 7650442824
Status : Answered
Chosen Option : C

Q.17 काव्य-गुण क्या है?

- Ans A. काव्य के सौन्दर्य और अभिव्यंजना शक्ति को बढ़ाने वाले तत्व
 B. काव्य में रस, अलंकार और छंद का समावेश
 C. काव्य का स्वरूप
 D. इनमें से कोई नहीं।

Question Type : MCQ
Question ID : 7650441383
Option 1 ID : 7650445529
Option 2 ID : 7650445530
Option 3 ID : 7650445531
Option 4 ID : 7650445532
Status : Answered
Chosen Option : B



Q.18 Deputation' के लिये उपयुक्त हिन्दी शब्द होगा-

- Ans A. स्थानान्तरण
 B. प्रतिनियुक्ति
 C. पुनःनियुक्ति
 D. अतिरिक्त प्रभार

Question Type : MCQ
 Question ID : 765044370
 Option 1 ID : 7650441477
 Option 2 ID : 7650441478
 Option 3 ID : 7650441479
 Option 4 ID : 7650441480
 Status : Answered
 Chosen Option : B

Q.19 'विमल वाणी ने वीणा ली ,कमल कोमल क्र में सप्रीत।' में कौन सा अलंकार है।

- Ans A. अनुप्रास अलंकार
 B. यमक अलंकार
 C. उपमा अलंकार
 D. रूपक अलंकार

Question Type : MCQ
 Question ID : 7650441184
 Option 1 ID : 7650444733
 Option 2 ID : 7650444734
 Option 3 ID : 7650444735
 Option 4 ID : 7650444736
 Status : Answered
 Chosen Option : A

Q.20 'रूचि घर जा रही है।' वाक्य में कौन-सा वाच्य है?

- Ans A. कर्तृवाच्य
 B. कर्मवाच्य
 C. भाववाच्य
 D. इनमें से कोई नहीं

Question Type : MCQ
 Question ID : 765044422
 Option 1 ID : 7650441685
 Option 2 ID : 7650441686
 Option 3 ID : 7650441687
 Option 4 ID : 7650441688
 Status : Answered
 Chosen Option : A



Q.21 निम्न में कौन सा वाक्य शुद्ध है-....

- Ans A. पाँच बैल को लाओ।
 B. आपके दर्शन हुए।
 C. उसका प्राण उड़ गया।
 D. देवी पर अक्षत छीटा गया।

Question Type : MCQ
 Question ID : 765044749
 Option 1 ID : 7650442993
 Option 2 ID : 7650442994
 Option 3 ID : 7650442995
 Option 4 ID : 7650442996
 Status : Answered
 Chosen Option : B

Q.22 'गगनचुम्बी' कौन-सा समास है?

- Ans A. कर्मधारय
 B. तत्पुरुष
 C. बहुव्रीहि
 D. अव्ययीभाव

Question Type : MCQ
 Question ID : 765044165
 Option 1 ID : 765044657
 Option 2 ID : 765044658
 Option 3 ID : 765044659
 Option 4 ID : 765044660
 Status : Answered
 Chosen Option : A

Q.23 नदी कलकल करती हुई बहती चली जा रही थी। इस वाक्य में बहती चली जा रही थी में कौन पदबंध है

- Ans A. क्रिया पदबंध
 B. क्रिया विशेषण पदबंध
 C. सर्वनाम पदबंध
 D. इनमें से कोई नहीं।

Question Type : MCQ
 Question ID : 765044619
 Option 1 ID : 7650442473
 Option 2 ID : 7650442474
 Option 3 ID : 7650442475
 Option 4 ID : 7650442476
 Status : Answered
 Chosen Option : B



Q.24 'राहुल मन लगाकर पढ़ता है।' इस वाक्य में उद्देश्य बताएँ ।

- Ans A. राहुल
 B. मन लगाकर
 C. पढ़ता है
 D. इनमें से कोई नहीं

Question Type : MCQ
 Question ID : 765044243
 Option 1 ID : 765044969
 Option 2 ID : 765044970
 Option 3 ID : 765044971
 Option 4 ID : 765044972
 Status : Answered
 Chosen Option : C

Q.25 'जब विद्यालय में पढ़ाई बंद हो गई तब हम घर लौट आए।' वाक्य किस भेद से संबंधित है?

- Ans A. मिश्र वाक्य
 B. संयुक्त वाक्य
 C. सरल वाक्य
 D. आश्रित वाक्य

Question Type : MCQ
 Question ID : 765044345
 Option 1 ID : 7650441377
 Option 2 ID : 7650441378
 Option 3 ID : 7650441379
 Option 4 ID : 7650441380
 Status : Answered
 Chosen Option : B

Section : General English

Q.26 Which one of the following is an example of a cohesive sentence?

- Ans A. A representation of teams
 B. A team representation
 C. They represent a team.
 D. None of these

Question Type : MCQ
 Question ID : 7650442243
 Option 1 ID : 7650448969
 Option 2 ID : 7650448970
 Option 3 ID : 7650448971
 Option 4 ID : 7650448972
 Status : Answered
 Chosen Option : A



Q.27 Directions : In the following sentences there is a blank space and sentence is followed by four options. Select the most appropriate option to fill the blank space.
Ravi remembers the year when there was a _____ flood.

- Ans A. ravage
 B. devastating
 C. salubrious
 D. ameliorative

Question Type : MCQ
Question ID : 7650442873
Option 1 ID : 76504411489
Option 2 ID : 76504411490
Option 3 ID : 76504411491
Option 4 ID : 76504411492
Status : Answered
Chosen Option : B

Q.28 Complete the sentence using appropriate option.

I..... working all afternoon and have just finished the assignment.

- Ans A. have been
 B. had been
 C. shall be
 D. am

Question Type : MCQ
Question ID : 7650441821
Option 1 ID : 7650447281
Option 2 ID : 7650447282
Option 3 ID : 7650447283
Option 4 ID : 7650447284
Status : Answered
Chosen Option : A

Q.29 Fill up the blank with the correct option.

The children..... their home work.

- Ans A. does
 B. was
 C. done
 D. do

Question Type : MCQ
Question ID : 7650442481
Option 1 ID : 7650449921
Option 2 ID : 7650449922
Option 3 ID : 7650449923
Option 4 ID : 7650449924
Status : Answered
Chosen Option : A



Q.30 Fill up the blank, with the correct option

My mother was proficient..... English.

- Ans A. at
 B. in
 C. on
 D. to

Question Type : MCQ
Question ID : 7650442181
Option 1 ID : 7650448721
Option 2 ID : 7650448722
Option 3 ID : 7650448723
Option 4 ID : 7650448724
Status : Answered
Chosen Option : B

Q.31 A teacher asked the learners to exchange workbooks and check their partners work.
The objective of this task is to:-

- Ans A. give practice in extensive reading
 B. give practice in using new vocabulary
 C. give controlled practice of structures
 D. develop the skill of peer correction

Question Type : MCQ
Question ID : 7650442973
Option 1 ID : 76504411889
Option 2 ID : 76504411890
Option 3 ID : 76504411891
Option 4 ID : 76504411892
Status : Answered
Chosen Option : D

Q.32 Fill up the blank with the correct option.

Either He or I..... right.

- Ans A. Am
 B. Is
 C. Are
 D. Were

Question Type : MCQ
Question ID : 7650442517
Option 1 ID : 76504410065
Option 2 ID : 76504410066
Option 3 ID : 76504410067
Option 4 ID : 76504410068
Status : Answered
Chosen Option : D



Q.33 _____ comprehension is the skill of reading a piece of text closely or intensely for the purpose of extracting specific information from the text.

- Ans A. Inferential
 B. Global
 C. Local
 D. Transactional

Question Type : MCQ
Question ID : 7650442965
Option 1 ID : 76504411857
Option 2 ID : 76504411858
Option 3 ID : 76504411859
Option 4 ID : 76504411860
Status : Answered
Chosen Option : A

Q.34 Fill up the blank, with correct option

Alas (.....) My beloved leader is no more.

- Ans A. !
 B. ?
 C. :
 D. ;

Question Type : MCQ
Question ID : 7650442110
Option 1 ID : 7650448437
Option 2 ID : 7650448438
Option 3 ID : 7650448439
Option 4 ID : 7650448440
Status : Answered
Chosen Option : A

Q.35 Identify the correct sentence: ""

- Ans A. He thinks that she is there.
 B. He thinks that she was there.
 C. He thinks that she will be there.
 D. All are correct.

Question Type : MCQ
Question ID : 7650442794
Option 1 ID : 76504411173
Option 2 ID : 76504411174
Option 3 ID : 76504411175
Option 4 ID : 76504411176
Status : Answered
Chosen Option : D



Q.36 Pickout the Non finite verb/verbs in the sentence given below

I am not afraid to speak the truth.

- Ans A. I
 B. Afraid
 C. Speak
 D. Truth

Question Type : MCQ
Question ID : 7650442003
Option 1 ID : 7650448009
Option 2 ID : 7650448010
Option 3 ID : 7650448011
Option 4 ID : 7650448012
Status : Answered
Chosen Option : C

Q.37 Choose the correct phrase from the given option and make a conditional sentence.
My sister didn't want to marry Sam. If he had proposed to her, she.....

- Ans A. would refuse
 B. would have refused
 C. have refused
 D. had refused

Question Type : MCQ
Question ID : 7650442456
Option 1 ID : 7650449821
Option 2 ID : 7650449822
Option 3 ID : 7650449823
Option 4 ID : 7650449824
Status : Answered
Chosen Option : D

Q.38 Oral Communication Consists of:

- Ans A. Reading and Speaking.
 B. Reading and Listening
 C. Writing and Speaking
 D. Listening and Speaking.

Question Type : MCQ
Question ID : 7650442657
Option 1 ID : 76504410625
Option 2 ID : 76504410626
Option 3 ID : 76504410627
Option 4 ID : 76504410628
Status : Answered
Chosen Option : D



Q.39 Select the most appropriate option to change the sentence from direct speech to indirect speech

"What have you decided to do?" she asked him.

She asked him what -----decided-----

- Ans A. He has/be done
 B. You have/did it
 C. He had/to do
 D. She has/to do

Question Type : MCQ
Question ID : 7650441961
Option 1 ID : 7650447841
Option 2 ID : 7650447842
Option 3 ID : 7650447843
Option 4 ID : 7650447844
Status : Answered
Chosen Option : D

Q.40 Complete the sentence using appropriate option

Has the itineraryyet?

- Ans A. been deciding
 B. been decided
 C. decided
 D. be decided

Question Type : MCQ
Question ID : 7650441889
Option 1 ID : 7650447553
Option 2 ID : 7650447554
Option 3 ID : 7650447555
Option 4 ID : 7650447556
Status : Answered
Chosen Option : B

Q.41 Identify the Passive Voice of the given sentence

I offered him a chair.

- Ans A. A chair is offered to her.
 B. A chair was offered to her by me.
 C. A chair has been offered to her.
 D. A chair was being offered to her by us.

Question Type : MCQ
Question ID : 7650442076
Option 1 ID : 7650448301
Option 2 ID : 7650448302
Option 3 ID : 7650448303
Option 4 ID : 7650448304
Status : Answered
Chosen Option : B



Q.42 Which of the following word rhymes with the word 'walk' ?

- Ans A. wake
 B. woke
 C. talk
 D. walks

Question Type : MCQ
Question ID : 7650442726
Option 1 ID : 76504410901
Option 2 ID : 76504410902
Option 3 ID : 76504410903
Option 4 ID : 76504410904
Status : Answered
Chosen Option : B

Q.43 Choose the correct phrase from the given option and make a conditional sentence.
If the trees..... , what would you have planted instead of them?

- Ans A. had died
 B. have died
 C. had been died
 D. have been died

Question Type : MCQ
Question ID : 7650442461
Option 1 ID : 7650449841
Option 2 ID : 7650449842
Option 3 ID : 7650449843
Option 4 ID : 7650449844
Status : Answered
Chosen Option : D

Q.44 Classroom projects are the part of:

- Ans A. Summative Evaluation
 B. Formative Evaluation
 C. Both
 D. None

Question Type : MCQ
Question ID : 7650442719
Option 1 ID : 76504410873
Option 2 ID : 76504410874
Option 3 ID : 76504410875
Option 4 ID : 76504410876
Status : Answered
Chosen Option : C



Q.45 Choose the suitable combination of sentences.
The accused was guilty. He admitted this in court.

- Ans A. The accused admitted in court that he was guilty.
 B. The accused admit in court that he is guilty.
 C. The accused admit on court that he is guilty.
 D. The accused admit by court that he is guilty.

Question Type : MCQ
 Question ID : 7650442261
 Option 1 ID : 7650449041
 Option 2 ID : 7650449042
 Option 3 ID : 7650449043
 Option 4 ID : 7650449044
 Status : Answered
 Chosen Option : A

Section : Mathematics

Q.46 यदि दो धनात्मक पूर्णांक A और B को $A = xy^3$ और $B = x^4y^2z$ के रूप में व्यक्त किया जा सकता है; x, y अभाज्य संख्या है तो HCF (A, B) है

- Ans A. xy^2
 B. x^4y^2z
 C. x^4y^3
 D. x^4y^3z

Question Type : MCQ
 Question ID : 7650446121
 Option 1 ID : 76504424481
 Option 2 ID : 76504424482
 Option 3 ID : 76504424483
 Option 4 ID : 76504424484
 Status : Answered
 Chosen Option : A

Q.47 एक गोलाकार गुब्बारे की त्रिज्या 8 सेमी से बढ़कर 12 सेमी हो जाती है। दोनों स्थितियों में गुब्बारे के पृष्ठीय क्षेत्रफल का अनुपात _____ होगा।

- Ans A. 2 : 3
 B. 3 : 2
 C. 8 : 27
 D. 4 : 9

Question Type : MCQ
 Question ID : 7650447012
 Option 1 ID : 76504428045
 Option 2 ID : 76504428046
 Option 3 ID : 76504428047
 Option 4 ID : 76504428048
 Status : Answered
 Chosen Option : D



Q.48 यदि 60° के कोण पर झुकी हुई दो स्पर्शरेखाएँ 3 सेमी त्रिज्या वाले एक वृत्त पर खींची जाती हैं, तो प्रत्येक स्पर्शरेखा की लंबाई बराबर है.....

- Ans
- A. $(3/2)\sqrt{3}$ सेमी
 - B. 6 सेमी
 - C. 3 सेमी
 - D. $3\sqrt{3}$ सेमी

Question Type : MCQ
 Question ID : 7650447233
 Option 1 ID : 76504428929
 Option 2 ID : 76504428930
 Option 3 ID : 76504428931
 Option 4 ID : 76504428932
 Status : Answered
 Chosen Option : D

Q.49 किसी त्रिभुज के भुजाओं के मध्य बिन्दुओं के निर्देशांक (1,1), (2,3) और (4,1) है तो उनके शीर्षों के निर्देशांकहोगा -

- Ans
- A. (4,3),(2,1),(7,3)
 - B. (5,3),(3,-1),(-1,3)
 - C. (2,3),(5,6),(7,8)
 - D. इनमें से कोई नहीं

Question Type : MCQ
 Question ID : 7650446691
 Option 1 ID : 76504426761
 Option 2 ID : 76504426762
 Option 3 ID : 76504426763
 Option 4 ID : 76504426764
 Status : Answered
 Chosen Option : B

Q.50 दो या अधिक एकतलीय रेखाओं को भिन्न-भिन्न बिन्दुओं पर काटनेवाली रेखा कहलाती है-

- Ans
- A. तिर्यक रेखा
 - B. समांतर रेखा
 - C. तिर्यक रेखा और समांतर रेखा दोनों
 - D. इनमें से कोई नहीं

Question Type : MCQ
 Question ID : 7650446829
 Option 1 ID : 76504427313
 Option 2 ID : 76504427314
 Option 3 ID : 76504427315
 Option 4 ID : 76504427316
 Status : Answered
 Chosen Option : A



Q.51 त्रिभुज के सभी कोणों का योग है :

- Ans A. 60°
 B. 90°
 C. 180°
 D. 360°

Question Type : MCQ
Question ID : 7650447123
Option 1 ID : 76504428489
Option 2 ID : 76504428490
Option 3 ID : 76504428491
Option 4 ID : 76504428492
Status : Answered
Chosen Option : C

Q.52 मोहन एक घर 30000 ₹ में खरीदा जिसका 25% वार्षिक दर से अवमूल्यन हो रहा है। 3 वर्ष बाद घर की कीमत होगी...

- Ans A. 13656 ₹
 B. 13656.25 ₹
 C. 12656 ₹
 D. 12656.25 ₹

Question Type : MCQ
Question ID : 7650446580
Option 1 ID : 76504426317
Option 2 ID : 76504426318
Option 3 ID : 76504426319
Option 4 ID : 76504426320
Status : Answered
Chosen Option : D

Q.53 किसी त्रिभुज में _____ वर्धित की रचना की जा सकती है?

- Ans A. एक
 B. दो
 C. तीन
 D. चार

Question Type : MCQ
Question ID : 7650446956
Option 1 ID : 76504427821
Option 2 ID : 76504427822
Option 3 ID : 76504427823
Option 4 ID : 76504427824
Status : Answered
Chosen Option : C



Q.54 $\cos 0^\circ + \sqrt{2}\sec 45^\circ - \sqrt{3}\tan 30^\circ = \text{-----}$

- Ans
- A. 0
 - B. 1
 - C. 2
 - D. -1

Question Type : MCQ
 Question ID : 7650447341
 Option 1 ID : 76504429361
 Option 2 ID : 76504429362
 Option 3 ID : 76504429363
 Option 4 ID : 76504429364
 Status : Answered
 Chosen Option : C

Q.55 The value of $\cos 15^\circ \cos 7\frac{1}{2}^\circ \sin 7\frac{1}{2}^\circ$ is.....

$\cos 15^\circ \cos 7\frac{1}{2}^\circ \sin 7\frac{1}{2}^\circ$ का मान..... होगा

- Ans
- A. $\frac{1}{2}$
 - B. $\frac{1}{8}$
 - C. $\frac{1}{4}$
 - D. $\frac{1}{16}$

Question Type : MCQ
 Question ID : 7650447199
 Option 1 ID : 76504428793
 Option 2 ID : 76504428794
 Option 3 ID : 76504428795
 Option 4 ID : 76504428796
 Status : Answered
 Chosen Option : B

Q.56 अवरोधी समीकरण युग्म का _____ हल होता है :

- Ans
- A. कोई हल नहीं
 - B. अनगिनत हल
 - C. एक और सिर्फ एक हल
 - D. इनमें कोई नहीं

Question Type : MCQ
 Question ID : 7650446235
 Option 1 ID : 76504424937
 Option 2 ID : 76504424938
 Option 3 ID : 76504424939
 Option 4 ID : 76504424940
 Status : Answered
 Chosen Option : C



Q.57 यदि किसी त्रिभुज के कोण 2: 3:4 के अनुपात में हो तो त्रिभुज के तीनों कोण ----- होंगे

- Ans A. $20^\circ, 40^\circ, 60^\circ$
 B. $40^\circ, 60^\circ, 80^\circ$
 C. $30^\circ, 50^\circ, 70^\circ$
 D. $90^\circ, 60^\circ, 80^\circ$

Question Type : MCQ
 Question ID : 7650446913
 Option 1 ID : 76504427649
 Option 2 ID : 76504427650
 Option 3 ID : 76504427651
 Option 4 ID : 76504427652
 Status : Answered
 Chosen Option : B

Q.58 सोनाली 2000 रुपये की खरीदारी पर दी गई 30% की छूट या 25% और 5% की दो क्रमिक छूटों के बीच निर्णय नहीं ले सकी। दोनों छूटों में क्या अंतर है?

- Ans A. ₹. 15
 B. ₹. 25
 C. ₹. 100
 D. इसमें कोई फर्क नहीं है

Question Type : MCQ
 Question ID : 7650446604
 Option 1 ID : 76504426413
 Option 2 ID : 76504426414
 Option 3 ID : 76504426415
 Option 4 ID : 76504426416
 Status : Answered
 Chosen Option : B

Q.59 यदि $2x+3y = 13$ तथा $4x-y = 5$ हो तो x, y के मान होगा

- Ans A. $X = 2 Y = 3$
 B. $X = 3 Y = -2$
 C. $X = -3 Y = -2$
 D. $X = -2 Y = -3$

Question Type : MCQ
 Question ID : 7650446419
 Option 1 ID : 76504425673
 Option 2 ID : 76504425674
 Option 3 ID : 76504425675
 Option 4 ID : 76504425676
 Status : Answered
 Chosen Option : A



Q.60 एक बेलन और एक शंकु के आधार की त्रिज्याएँ 3 : 4 के अनुपात में हैं। यदि उनकी ऊँचाई 2:3 के अनुपात में है, तो उनके आयतन के बीच का अनुपात है

Ans A. 9 : 8

B. 3 : 4

C. 8 : 9

D. 4 : 3

Question Type : MCQ

Question ID : 7650447409

Option 1 ID : 76504429633

Option 2 ID : 76504429634

Option 3 ID : 76504429635

Option 4 ID : 76504429636

Status : Answered

Chosen Option : A

Q.61 समीकरण $2x+3y=5$ का आलेख होगा :

Ans A. वक्र रेखा

B. सरल रेखा

C. एक वृत्ताकार

D. इनमें कोई नहीं

Question Type : MCQ

Question ID : 7650446200

Option 1 ID : 76504424797

Option 2 ID : 76504424798

Option 3 ID : 76504424799

Option 4 ID : 76504424800

Status : Answered

Chosen Option : A

Q.62 सरल रेखा $2x+3y-6=0$ का आरेख y -अक्ष के जिस बिन्दु पर काटता है, वह बिन्दु है :

Ans A. (0, 2)

B. (2, 0)

C. (0, 3)

D. (3, 0)

Question Type : MCQ

Question ID : 7650446250

Option 1 ID : 76504424997

Option 2 ID : 76504424998

Option 3 ID : 76504424999

Option 4 ID : 76504425000

Status : Answered

Chosen Option : D



Q.63 किसी पूर्णांक संख्या p के लिए विषम संख्या का रूप है

- Ans A. $2p+1$
 B. $2p$
 C. P
 D. $p+1$

Question Type : MCQ
 Question ID : 7650446020
 Option 1 ID : 76504424077
 Option 2 ID : 76504424078
 Option 3 ID : 76504424079
 Option 4 ID : 76504424080
 Status : Answered
 Chosen Option : A

Q.64 What is the decimal expansion of $\frac{11}{15}$?

$\frac{11}{15}$ का दशमलव प्रसार होता है ?

- Ans A. सांत
 B. असांत आवर्ती
 C. असांत अनावर्ती
 D. इनमें कोई नहीं

Question Type : MCQ
 Question ID : 7650446031
 Option 1 ID : 76504424121
 Option 2 ID : 76504424122
 Option 3 ID : 76504424123
 Option 4 ID : 76504424124
 Status : Answered
 Chosen Option : B

Q.65 एक समांतर चतुर्भुज के किन्ही दो आसन्न कोणों के समद्विभाजक एक दूसरे को प्रतिच्छेदित.....पर करते हैं।

- Ans A. 30°
 B. 45°
 C. 60°
 D. 90°

Question Type : MCQ
 Question ID : 7650446888
 Option 1 ID : 76504427549
 Option 2 ID : 76504427550
 Option 3 ID : 76504427551
 Option 4 ID : 76504427552
 Status : Answered
 Chosen Option : D



Q.66 एक वृत्त की परिधि 36 सेमी और 20 सेमी व्यास वाले दो वृत्तों की परिधि के योग के बराबर है। नये वृत्त की त्रिज्या है

- Ans
- A. 16 सेमी
 - B. 28 सेमी
 - C. 42 सेमी
 - D. 56 सेमी

Question Type : MCQ
 Question ID : 7650447350
 Option 1 ID : 76504429397
 Option 2 ID : 76504429398
 Option 3 ID : 76504429399
 Option 4 ID : 76504429400
 Status : Answered
 Chosen Option : B

Q.67 बिन्दु (x,y) की दूरी मूल बिन्दु से है।

- Ans
- A. $\sqrt{x^2 - y^2}$
 - B. $\sqrt{x^2 + y^2}$
 - C. $x^2 - y^2$
 - D. $x^2 y^2$

Question Type : MCQ
 Question ID : 7650446670
 Option 1 ID : 76504426677
 Option 2 ID : 76504426678
 Option 3 ID : 76504426679
 Option 4 ID : 76504426680
 Status : Answered
 Chosen Option : B

Q.68 एक समलंब की समानांतर भुजाएँ 9.7 सेमी और 6.3 सेमी हैं, और उनके बीच की दूरी 6.5सेमी है। समलंब का क्षेत्रफल है

- Ans
- A. 104 सेमी²
 - B. 78 सेमी²
 - C. 52 सेमी²
 - D. 65 सेमी²

Question Type : MCQ
 Question ID : 7650447279
 Option 1 ID : 76504429113
 Option 2 ID : 76504429114
 Option 3 ID : 76504429115
 Option 4 ID : 76504429116
 Status : Answered
 Chosen Option : C

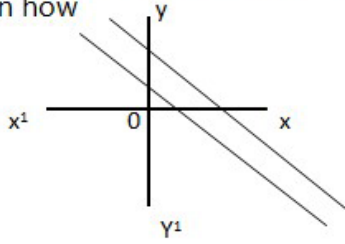


Q.69 यदि आँकड़ों के मान, $\cos 0^\circ, \cos 30^\circ, \cos 45^\circ, \cos 60^\circ, \cos 90^\circ$ के रूप में हो तो इसकी माधिका है।

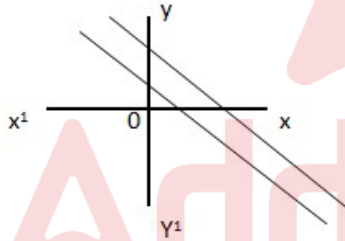
- Ans A. 0
 B. 1
 C. $\frac{1}{\sqrt{2}}$
 D. None

Question Type : MCQ
 Question ID : 7650446352
 Option 1 ID : 76504425405
 Option 2 ID : 76504425406
 Option 3 ID : 76504425407
 Option 4 ID : 76504425408
 Status : Answered
 Chosen Option : C

Q.70 If two linear equations are plotted on graph as shown below then how



यदि दो रेखिक समीकरणों का आलेख चिन्ह ग्राफ पर निम्न तरीके से दर्शाये



गये हों तो कितने हल संभव हैं -

- Ans A. कोई हल नहीं
 B. अनंत हल
 C. दो हल
 D. कुछ नहीं

Question Type : MCQ
 Question ID : 7650446387
 Option 1 ID : 76504425545
 Option 2 ID : 76504425546
 Option 3 ID : 76504425547
 Option 4 ID : 76504425548
 Status : Answered
 Chosen Option : A

Section : Science



Q.71 किसी विद्युत बल्ब पर 220V तथा 100 watt अंकित है जब इसे 110 वोल्ट पर प्रचालित करते है तब इसके द्वारा उपयुक्त शक्ति कितनी होती है?

- Ans A. 100w
 B. 75w
 C. 50w
 D. 25w

Question Type : MCQ
Question ID : 7650443556
Option 1 ID : 76504414221
Option 2 ID : 76504414222
Option 3 ID : 76504414223
Option 4 ID : 76504414224
Status : Answered
Chosen Option : C

Q.72 शरीर निर्माण करने वाला भोजन है?

- Ans A. जल
 B. कार्बोहाइड्रेट
 C. प्रोटीन
 D. वसा

Question Type : MCQ
Question ID : 7650444165
Option 1 ID : 76504416657
Option 2 ID : 76504416658
Option 3 ID : 76504416659
Option 4 ID : 76504416660
Status : Answered
Chosen Option : C

Q.73 एक बालक अपने घर से पूर्व दिशा में 100 मीटर की दूरी 50 सेकण्ड में तय कर अपनी दिशा बदल लेता है और पुनः 100 मीटर की दूरी 50 सेकण्ड में तय कर वापस घर लौट जाता है तो उस बालक का औसत वेग होगा

- Ans A. 2 m/s
 B. 0 m/s
 C. 1 m/s
 D. 0.5 m/s

Question Type : MCQ
Question ID : 7650443400
Option 1 ID : 76504413597
Option 2 ID : 76504413598
Option 3 ID : 76504413599
Option 4 ID : 76504413600
Status : Answered
Chosen Option : A



Q.74 पृथ्वी के वायुमंडल में पाई जानेवाली गैसों में नाइट्रोजन की मात्रा कितनी होती है?

- Ans A. 0.1
 B. 0.2
 C. 0.4
 D. 0.780800000000000005

Question Type : MCQ
 Question ID : 7650443493
 Option 1 ID : 76504413969
 Option 2 ID : 76504413970
 Option 3 ID : 76504413971
 Option 4 ID : 76504413972
 Status : Answered
 Chosen Option : D

Q.75 किसी ठोस के सतह क्षेत्र और कण आकार के बीच संबंध को इस प्रकार परिभाषित किया जा सकता है

- Ans A. किसी ठोस का सतह क्षेत्र हमेशा उसके कण आकार के बराबर होता है
 B. कण आकार में कमी के साथ ठोस का सतह क्षेत्र बढ़ता हुआ देखा गया है
 C. किसी ठोस का सतह क्षेत्र कण आकार पर निर्भर नहीं करता है
 D. कण आकार में वृद्धि के साथ ठोस का सतह क्षेत्र बढ़ता हुआ देखा गया है

Question Type : MCQ
 Question ID : 7650443655
 Option 1 ID : 76504414617
 Option 2 ID : 76504414618
 Option 3 ID : 76504414619
 Option 4 ID : 76504414620
 Status : Answered
 Chosen Option : D

Q.76 दो साम्राज्य वर्गीकरण के बीच अंतर नहीं करता है

- Ans A. यूकेरियोट्स और प्रोकैरियोट्स
 B. एककोशिकीय और बहुकोशिकीय जीव
 C. प्रकाश संश्लेषक (हरित शैवाल) और गैर-प्रकाश संश्लेषक
 D. ये सभी

Question Type : MCQ
 Question ID : 7650443233
 Option 1 ID : 76504412929
 Option 2 ID : 76504412930
 Option 3 ID : 76504412931
 Option 4 ID : 76504412932
 Status : Answered
 Chosen Option : D



Q.77 कोशिका भित्ति के बारे में निम्नलिखित में से कौन सा कथन सत्य है?

- Ans
- A. कोशिका भित्ति मुख्य रूप से लिपिड से बनी होती है
 - B. कोशिका भित्ति मुख्य रूप से स्टार्च से बनी होती है
 - C. कोशिका भित्ति मुख्य रूप से प्रोटीन से बनी होती है
 - D. कोशिका भित्ति मुख्य रूप से सेलुलोज से बनी होती है

Question Type : MCQ
Question ID : 7650443713
Option 1 ID : 76504414849
Option 2 ID : 76504414850
Option 3 ID : 76504414851
Option 4 ID : 76504414852
Status : Answered
Chosen Option : B

Q.78 The scientific name of a species is given in which two parts?

- Ans
- A. Family & Genus
 - B. Genus & Species
 - C. Order & Family
 - D. Species & Phylum

Question Type : MCQ
Question ID : 7650444088
Option 1 ID : 76504416349
Option 2 ID : 76504416350
Option 3 ID : 76504416351
Option 4 ID : 76504416352
Status : Answered
Chosen Option : D

Q.79 जैव तकनीक कृषि में सम्मिलित मुख्य तकनीक है-

- Ans
- A. ऊतक संवर्धन
 - B. रूपांतर
 - C. पौध प्रजनन
 - D. DNA प्रतिरूप

Question Type : MCQ
Question ID : 7650443025
Option 1 ID : 76504412097
Option 2 ID : 76504412098
Option 3 ID : 76504412099
Option 4 ID : 76504412100
Status : Answered
Chosen Option : D



Q.80 जिन कोशिकाओं में गुणसूत्रों के दो से अधिक पूर्ण सेट होते हैं, कहलाती हैं...

- Ans A. अगुणित
 B. द्विगुणित
 C. ब्रहुगुणित
 D. ब्रहुसंकर

Question Type : MCQ
 Question ID : 7650443283
 Option 1 ID : 76504413129
 Option 2 ID : 76504413130
 Option 3 ID : 76504413131
 Option 4 ID : 76504413132
 Status : Answered
 Chosen Option : B

Q.81 निम्नलिखित में मानव शरीर द्वारा उत्पादित प्रमुख अपशिष्ट कौन हैं -

- Ans A. कार्बन - डाई - ऑक्साइड
 B. यूरिया
 C. CO₂+ यूरिया
 D. इनमें से कोई नहीं

Question Type : MCQ
 Question ID : 7650443339
 Option 1 ID : 76504413353
 Option 2 ID : 76504413354
 Option 3 ID : 76504413355
 Option 4 ID : 76504413356
 Status : Answered
 Chosen Option : C

Q.82 नाइट्रोजन यौगिकीकरण ' शब्द का क्या अर्थ है ?

- Ans A. नाइट्रोजन यौगिकों का गैसीय नाइट्रोजन में रूपांतरण
 B. मृदा में उपस्थित (विद्यमान) जीवाणुओं द्वारा अमोनिया का नाइट्रेट में रूपांतरण
 C. मृत जैव पदार्थ में उपस्थित (विद्यमान) नाइट्रोजन का वापस मृदा में अभिमुक्त करना (वापस छोड़ना)
 D. जीवित प्राणियों के लिए अधिक प्रयोगलायक (प्रयोज्य) रूप हेतु वायुमंडलीय नाइट्रोजन का रूपांतरण

Question Type : MCQ
 Question ID : 7650444151
 Option 1 ID : 76504416601
 Option 2 ID : 76504416602
 Option 3 ID : 76504416603
 Option 4 ID : 76504416604
 Status : Answered
 Chosen Option : B



Q.83 निम्नलिखित में से असंतृप्त हाइड्रोकार्बनों का समूह पहचानिए:

- Ans A. प्रोपेन, एथीन, ब्यूटाइन
 B. एथीन, प्रोपेन, हैक्सेन
 C. साइक्लोहेक्सेन, मीथेन, एथेन
 D. ब्यूटाइन, एथीन, प्रोपाइन

Question Type : MCQ
Question ID : 7650443131
Option 1 ID : 76504412521
Option 2 ID : 76504412522
Option 3 ID : 76504412523
Option 4 ID : 76504412524
Status : Answered
Chosen Option : A

Q.84 इन में से कौन बल की SI इकाई है?

- Ans A. Kgm/s²
 B. Kgm/s
 C. न्यूटन-मीटर
 D. न्यूटन

Question Type : MCQ
Question ID : 7650443774
Option 1 ID : 76504415093
Option 2 ID : 76504415094
Option 3 ID : 76504415095
Option 4 ID : 76504415096
Status : Answered
Chosen Option : D

Q.85 विद्युत परिपथ में प्रवाहित धारा का मान मापने में प्रयुक्त यंत्र है

- Ans A. गैल्वेनोमीटर
 B. वोल्टमीटर
 C. आमीटर
 D. इनमें से कोई नहीं

Question Type : MCQ
Question ID : 7650443570
Option 1 ID : 76504414277
Option 2 ID : 76504414278
Option 3 ID : 76504414279
Option 4 ID : 76504414280
Status : Answered
Chosen Option : C



Q.86 मनुष्य में श्वसन वर्णक है

- Ans A. इंसुलिन
 B. एंजाइम
 C. हीमोग्लोबिन
 D. इनमें से कोई नहीं

Question Type : MCQ
 Question ID : 7650443927
 Option 1 ID : 76504415705
 Option 2 ID : 76504415706
 Option 3 ID : 76504415707
 Option 4 ID : 76504415708
 Status : Answered
 Chosen Option : C

Q.87 मैग्नेट प्रेरित ई.एम.एफ. उत्पन्न करते हैं, जब कुंडलियों में डाला जाता है। प्रेरित ई.एम.एफ. की ताकत..... से स्वतंत्र होती है:

- Ans A. चुंबक की ताकत
 B. कुंडल के घुमावों की संख्या
 C. कुण्डली में तार का प्रतिरोध
 D. जिस गति से चुंबक चलता है

Question Type : MCQ
 Question ID : 7650443990
 Option 1 ID : 76504415957
 Option 2 ID : 76504415958
 Option 3 ID : 76504415959
 Option 4 ID : 76504415960
 Status : Answered
 Chosen Option : B

Q.88 निम्नांकित में से कौन सा कथन वाष्पीकरण पर आद्रता का पड़ने वाला प्रभाव के संबंध में सही है -

- Ans A. आद्रता बढ़ने पर वाष्पीकरण की दर घटता है।
 B. आद्रता कभी वाष्पीकरण की दर को बढ़ाता है, कभी घटाता है
 C. आद्रता का प्रभाव वाष्पीकरण पर नहीं पड़ता है।
 D. आद्रता घटने से वाष्पीकरण की दर घटती है।

Question Type : MCQ
 Question ID : 7650443142
 Option 1 ID : 76504412565
 Option 2 ID : 76504412566
 Option 3 ID : 76504412567
 Option 4 ID : 76504412568
 Status : Answered
 Chosen Option : A



Q.89 पर्यावरण की कार्यात्मक इकाई है

- Ans A. पारिस्थितिकी तंत्र
 B. नाइट्रोजन
 C. कार्बन
 D. ऑक्सीजन

Question Type : MCQ
 Question ID : 7650443909
 Option 1 ID : 76504415633
 Option 2 ID : 76504415634
 Option 3 ID : 76504415635
 Option 4 ID : 76504415636
 Status : Answered
 Chosen Option : A

Q.90 वायु गुणवत्ता सूचकांक के बारे में इन में से कौन सा कथन सत्य है?

- Ans A. यह हवा के रंग को इंगित करता है।
 B. यह आपके क्षेत्र में ओजोन स्तर की भविष्यवाणी करता है।
 C. यह ध्वनि और ध्वनि प्रदूषण की तीव्रता को निर्धारित करता है।
 D. यह वायु प्रदूषण का अनुमान लगाता है, मुख्य रूप से हवा में सल्फर की मात्रा।

Question Type : MCQ
 Question ID : 7650443850
 Option 1 ID : 76504415397
 Option 2 ID : 76504415398
 Option 3 ID : 76504415399
 Option 4 ID : 76504415400
 Status : Answered
 Chosen Option : D

Section : Social Studies

Q.91 इनमें से कौन एक राजनीतिक अधिकार है ?

- Ans A. चुनाव लड़ने का अधिकार
 B. काम का अधिकार
 C. पारिवारिक जीवन का अधिकार
 D. किसी धर्म को स्वीकार करने का अधिकार

Question Type : MCQ
 Question ID : 7650444754
 Option 1 ID : 76504419013
 Option 2 ID : 76504419014
 Option 3 ID : 76504419015
 Option 4 ID : 76504419016
 Status : Answered
 Chosen Option : A



Q.92 निम्नलिखित में से कौन सा समकालीन विश्व में सरकार का सबसे लोकप्रिय रूप है?

- Ans A. तानाशाही
 B. राजशाही
 C. सैन्य शासन
 D. लोकतंत्र

Question Type : MCQ
Question ID : 7650445256
Option 1 ID : 76504421021
Option 2 ID : 76504421022
Option 3 ID : 76504421023
Option 4 ID : 76504421024
Status : Answered
Chosen Option : D

Q.93 निम्नलिखित में से किस राज्य में शहरीकरण का स्तर सबसे कम है?

- Ans A. उत्तर प्रदेश
 B. बिहार
 C. मध्य प्रदेश
 D. गुजरात

Question Type : MCQ
Question ID : 7650445116
Option 1 ID : 76504420461
Option 2 ID : 76504420462
Option 3 ID : 76504420463
Option 4 ID : 76504420464
Status : Answered
Chosen Option : B

Q.94 निम्नलिखित में से कौन राष्ट्र संघ के भीतर एक संगठन नहीं था?

- Ans A. शरणार्थियों के लिए आयोग
 B. अंतर्राष्ट्रीय सैन्य बोर्ड
 C. स्थायी केंद्रीय अफीम बोर्ड
 D. दासता आयोग

Question Type : MCQ
Question ID : 7650444349
Option 1 ID : 76504417393
Option 2 ID : 76504417394
Option 3 ID : 76504417395
Option 4 ID : 76504417396
Status : Answered
Chosen Option : D



Q.95 निम्नलिखित में से कौन सी मणिपुर की लुप्तप्राय प्रजाति है?

- Ans A. नीली भेड़
 B. एशियाई भैंस
 C. संगई
 D. मवेशी

Question Type : MCQ
Question ID : 7650445059
Option 1 ID : 76504420233
Option 2 ID : 76504420234
Option 3 ID : 76504420235
Option 4 ID : 76504420236
Status : Answered
Chosen Option : C

Q.96 What is the numerator always in a representative fractions?

- Ans A. 0
 B. 1
 C. 2
 D. Infinite

Question Type : MCQ
Question ID : 7650444510
Option 1 ID : 76504418037
Option 2 ID : 76504418038
Option 3 ID : 76504418039
Option 4 ID : 76504418040
Status : Answered
Chosen Option : B

Q.97 निम्नलिखित में से कौन सा भारत में वनस्पति और वन्य जीवन के वितरण को प्रभावित करने वाला कारक है?

- Ans A. तापमान
 B. ऊँचाई
 C. वर्षा
 D. उपरोक्त सभी

Question Type : MCQ
Question ID : 7650444952
Option 1 ID : 76504419805
Option 2 ID : 76504419806
Option 3 ID : 76504419807
Option 4 ID : 76504419808
Status : Answered
Chosen Option : D



Q.98 राज्यसभा के सदस्य का कार्यकाल कितने वर्ष का होता है ?

- Ans A. 3 वर्ष
 B. 5 वर्ष
 C. 6 वर्ष
 D. 2 वर्ष

Question Type : MCQ
 Question ID : 7650444783
 Option 1 ID : 76504419129
 Option 2 ID : 76504419130
 Option 3 ID : 76504419131
 Option 4 ID : 76504419132
 Status : Answered
 Chosen Option : C

Q.99 निम्नलिखित में से कौन सा खनिज मोनाज़ाइट रेत में निहित है? (पाठ्यपुस्तक)

- Ans A. तेल
 B. यूरेनियम
 C. थोरियम
 D. कोयला

Question Type : MCQ
 Question ID : 7650444580
 Option 1 ID : 76504418317
 Option 2 ID : 76504418318
 Option 3 ID : 76504418319
 Option 4 ID : 76504418320
 Status : Answered
 Chosen Option : C

Q.10 1855 ई. में संथाल विद्रोह का नेता कौन था ?

- 0
 Ans A. सिद्धू
 B. बिरसा मुड़ा
 C. मंगल पांडे
 D. इनमें से कोई नहीं

Question Type : MCQ
 Question ID : 7650444291
 Option 1 ID : 76504417161
 Option 2 ID : 76504417162
 Option 3 ID : 76504417163
 Option 4 ID : 76504417164
 Status : Answered
 Chosen Option : A



Q.10 'भूमण्डलीकरण' शब्द का ईजाद किसने और कब किया ?

1

- Ans A. रूजवेल्ट, 1989
 B. जॉन विलियम्सन 1990
 C. फ्रेडरिक विलियम 1998
 D. ब्रिया 1999

Question Type : MCQ
 Question ID : 7650444410
 Option 1 ID : 76504417637
 Option 2 ID : 76504417638
 Option 3 ID : 76504417639
 Option 4 ID : 76504417640
 Status : Answered
 Chosen Option : C

Q.10 2011 की जनगणना के अनुसार भारत में निम्नलिखित में से किस राज्य की साक्षरता दर सबसे कम है?

2

- Ans A. केरल
 B. बिहार
 C. महाराष्ट्र
 D. तमिलनाडु और बिहार

Question Type : MCQ
 Question ID : 7650445128
 Option 1 ID : 76504420509
 Option 2 ID : 76504420510
 Option 3 ID : 76504420511
 Option 4 ID : 76504420512
 Status : Answered
 Chosen Option : B

Q.10 पचवाणी और 'बीजक' में निम्नलिखित में से किस महान हस्ती के छंद और विचारों को संरक्षित किया गया है?

3

- Ans A. मीराबाई
 B. कबीर
 C. गुरुनानक
 D. रविदास

Question Type : MCQ
 Question ID : 7650445413
 Option 1 ID : 76504421649
 Option 2 ID : 76504421650
 Option 3 ID : 76504421651
 Option 4 ID : 76504421652
 Status : Answered
 Chosen Option : B



Q.10 निम्नलिखित में से कौन-सा/से परियोजना कार्य की विशिष्टता/विशिष्टताएँ है/हैं ?

- 4 (a) यह विद्यार्थियों को पाठ्यपुस्तक के आगे जाने का मौका देती है।
 (b) परियोजना कार्य घर पर ही करना चाहिए ताकि कक्षा में शिक्षण के लिए अधिक समय मिल सके।
 (c) सामूहिक परियोजना कार्य विद्यार्थियों में सहयोगात्मक कौशल के विकास में मदद करती है।
 सही विकल्प का चयन कीजिए।

- Ans A. (a), और (b)
 B. (a), और (c)
 C. (b) और (c)
 D. केवल (a)

Question Type : MCQ
 Question ID : 7650445331
 Option 1 ID : 76504421321
 Option 2 ID : 76504421322
 Option 3 ID : 76504421323
 Option 4 ID : 76504421324
 Status : Answered
 Chosen Option : B

Q.10 अमेरिका का संविधान किस वर्ष लागू किया गया ?

- 5 Ans A. 1776
 B. 1783
 C. 1787
 D. 1789

Question Type : MCQ
 Question ID : 7650444241
 Option 1 ID : 76504416961
 Option 2 ID : 76504416962
 Option 3 ID : 76504416963
 Option 4 ID : 76504416964
 Status : Answered
 Chosen Option : D

Q.10 भारत में ताँबा गलाने का आधुनिक कारखाना सबसे पहले कहाँ खुला ?

- 6 Ans A. तुतीकोरिन
 B. गुमला
 C. घाटशिला
 D. जमशेदपुर

Question Type : MCQ
 Question ID : 7650444620
 Option 1 ID : 76504418477
 Option 2 ID : 76504418478
 Option 3 ID : 76504418479
 Option 4 ID : 76504418480
 Status : Answered
 Chosen Option : C



Q.10 बिहार की प्राचीनतम् नदी घाटी परियोजना है ?
7

- Ans A. सोन परियोजना
 B. गंडक परियोजना
 C. कोसी परियोजना
 D. दामोदर परियोजना

Question Type : MCQ
 Question ID : 7650444663
 Option 1 ID : 76504418649
 Option 2 ID : 76504418650
 Option 3 ID : 76504418651
 Option 4 ID : 76504418652
 Status : Answered
 Chosen Option : D

Q.10 यूएसएसआर और जर्मनी के बीच युद्ध कब शुरू हुआ?
8

- Ans A. 20 मई 1940
 B. 22 जून 1941
 C. 26 जुलाई 1941
 D. 16 अगस्त 1942

Question Type : MCQ
 Question ID : 7650444891
 Option 1 ID : 76504419561
 Option 2 ID : 76504419562
 Option 3 ID : 76504419563
 Option 4 ID : 76504419564
 Status : Answered
 Chosen Option : B

Q.10 जब साथी नागरिक या सरकार एक-दूसरे के अधिकारों का सम्मान नहीं करते हैं, तो इसे निम्नलिखित में से
9 किस पद के रूप में जाना जाता है?

- Ans A. अतिक्रमण
 B. उल्लंघन
 C. 'ए' और 'बी' दोनों
 D. इनमें से कोई नहीं

Question Type : MCQ
 Question ID : 7650445208
 Option 1 ID : 76504420829
 Option 2 ID : 76504420830
 Option 3 ID : 76504420831
 Option 4 ID : 76504420832
 Status : Answered
 Chosen Option : C



Q.11 भारत के अधिकांश क्षेत्रों में महिलाओं को भूमि के स्वामित्व से बाहर क्यों रखा गया है?

0

Ans A. ये सभी

B. पितृवंशीय रिश्तेदारी प्रणाली और विरासत के तरीके के कारण

C. क्योंकि वे कमजोर हैं

D. क्योंकि वे असमर्थ हैं

Question Type : MCQ

Question ID : 7650444865

Option 1 ID : 76504419457

Option 2 ID : 76504419458

Option 3 ID : 76504419459

Option 4 ID : 76504419460

Status : Answered

Chosen Option : B

Section : Logical and Analytical Reasoning

Q.11 दिये गये अक्षर श्रृंखला में प्रश्नवाचक चिह्न के स्थान पर कौन - सी अक्षर आयेगी ।

1 5X9, 8U12, 11R15, 14O18, ?

Ans A. 16P21

B. 17L21

C. 19I24

D. 13U24

Question Type : MCQ

Question ID : 7650445487

Option 1 ID : 76504421945

Option 2 ID : 76504421946

Option 3 ID : 76504421947

Option 4 ID : 76504421948

Status : Answered

Chosen Option : B

Q.11 Identify the word, that cannot written by mixing the Letters of a given word ?

2 DEPARTMENT

Ans A. Parade

B. Enter

C. Parent

D. Rat

Question Type : MCQ

Question ID : 7650445603

Option 1 ID : 76504422409

Option 2 ID : 76504422410

Option 3 ID : 76504422411

Option 4 ID : 76504422412

Status : Answered

Chosen Option : A



Q.11 वह शब्द चुनें जो समूह के अन्य शब्दों से सबसे कम मिलता जुलता हो
3

- Ans
- A. तेंदुआ
 - B. पैथर
 - C. शेर
 - D. लोमड़ी

Question Type : MCQ
Question ID : 7650445915
Option 1 ID : 76504423657
Option 2 ID : 76504423658
Option 3 ID : 76504423659
Option 4 ID : 76504423660
Status : Answered
Chosen Option : D

Q.11 वर्णमाला में अक्षर X के ठीक पहले वाले अक्षर के तीन अक्षर बाद कौन सा अक्षर आता है?
4

- Ans
- A. U
 - B. V
 - C. W
 - D. Y

Question Type : MCQ
Question ID : 7650445811
Option 1 ID : 76504423241
Option 2 ID : 76504423242
Option 3 ID : 76504423243
Option 4 ID : 76504423244
Status : Answered
Chosen Option : D

Q.11 एक व्यक्ति के वेतन में 10 प्रतिशत की वृद्धि हुई। यदि उसका वेतन 50000 रु. है, तो नया वेतन है:
5

- Ans
- A. रु. 55000
 - B. रु. 60000
 - C. रु. 45000
 - D. रु. 65000

Question Type : MCQ
Question ID : 7650445656
Option 1 ID : 76504422621
Option 2 ID : 76504422622
Option 3 ID : 76504422623
Option 4 ID : 76504422624
Status : Answered
Chosen Option : A



Q.11 नीचे दिए गए प्रश्न में एक कथन और एक कारण दिया गया है। उनके लिए सही विकल्प का चुनाव किया जाए।

कथन: लोहे में जंग का लगना एक रासायनिक प्रक्रिया है।

कारण: वायु में जल पाया जाता है।

- Ans A. यदि कथन और कारण दोनों सत्य हैं और कारण, कथन की उचित व्याख्या कर रहा है।
 B. यदि कथन एवं कारण दोनों सत्य हैं और कारण, कथन का उचित व्याख्या नहीं कर रहा है।
 C. यदि कथन सत्य है लेकिन कारण असत्य है।
 D. यदि कथन एवं कारण दोनों असत्य हैं।

Question Type : MCQ
 Question ID : 7650445967
 Option 1 ID : 76504423865
 Option 2 ID : 76504423866
 Option 3 ID : 76504423867
 Option 4 ID : 76504423868
 Status : Answered
 Chosen Option : B

Q.11 सुमन का परिचय कराते हुए सरला ने कहा, " इसकी माँ मेरी माँ की इकलौती पुत्री है"। सरला सुमन से कैसे सम्बन्धित है?

- Ans A. बहन
 B. पुत्री
 C. मौसी
 D. माँ

Question Type : MCQ
 Question ID : 7650445544
 Option 1 ID : 76504422173
 Option 2 ID : 76504422174
 Option 3 ID : 76504422175
 Option 4 ID : 76504422176
 Status : Answered
 Chosen Option : D

Q.11 लापता संख्या खोजें: 4, 9, 25, 49, 121, ___।

- Ans A. 147
 B. 169
 C. 182
 D. 215

Question Type : MCQ
 Question ID : 7650445761
 Option 1 ID : 76504423041
 Option 2 ID : 76504423042
 Option 3 ID : 76504423043
 Option 4 ID : 76504423044
 Status : Answered
 Chosen Option : B



Test

Prime

By Adda247

Previous Year Papers PDF

PRACTICE MORE, SCORE HIGHER!



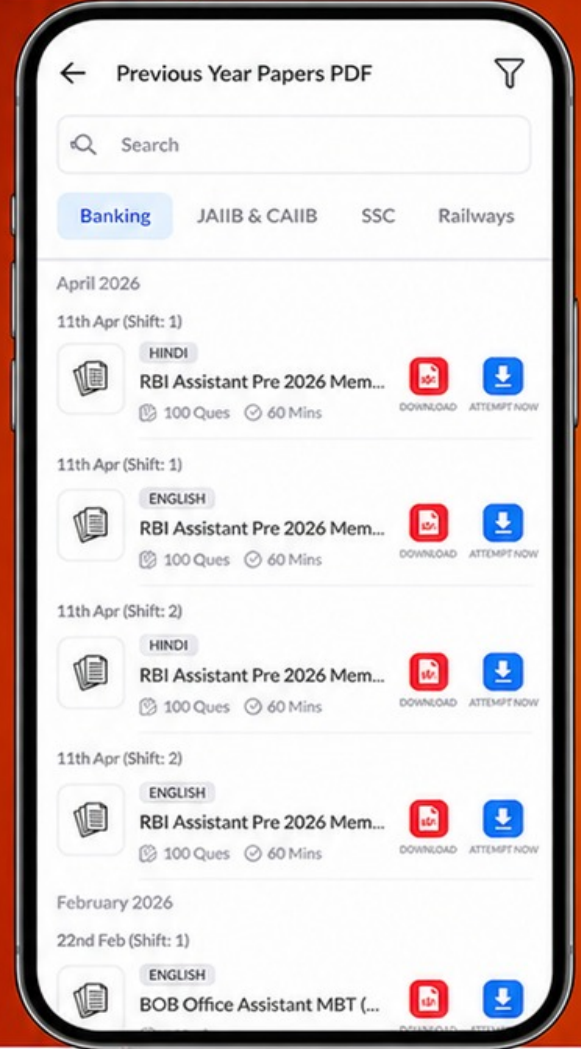
Free
25,000+
PDF's

High-Quality | Exam-Wise | Updated Regularly

ATTEMPT AS
MOCK



Turn PDFs into real exam experience.
Analyze. Improve. Succeed.



Topic-wise & Exam-wise PDFs



Download & Study Offline



Attempt as Mock & Track Score



Smart Analysis & Performance

AVAILABLE IN



Banking



SSC



Railway



Teaching



UGC



Agriculture



Nursing



Bihar



UP



Punjab



WB



Odisha



TN



AP & Telangana



Haryana



DOWNLOAD THE APP



Q.11 दिए गये प्रश्न में प्रश्नवाचक चिह्न के स्थान पर सही विकल्प को चुनें।

9 मोर : भारत :: सफेद भालु : ?

- Ans A. रूस
 B. जर्मनी
 C. जापान
 D. अमेरिका

Question Type : MCQ
Question ID : 7650445427
Option 1 ID : 76504421705
Option 2 ID : 76504421706
Option 3 ID : 76504421707
Option 4 ID : 76504421708
Status : Answered
Chosen Option : A

Q.12 अक्षरों का कौन सा समूह दी गई अक्षर श्रृंखला में रिक्त स्थानों पर क्रमिक रूप से रखे जाने पर इसे पूरा करेगा?

j_l_jk_m_kl_

- Ans A. jkljm
 B. kmjij
 C. kmijm
 D. mkijm

Question Type : MCQ
Question ID : 7650445849
Option 1 ID : 76504423393
Option 2 ID : 76504423394
Option 3 ID : 76504423395
Option 4 ID : 76504423396
Status : Answered
Chosen Option : C