

Bihar D.El.Ed.

Previous Year Paper
12 Sept, 2025 Shift 2

Adda247



**Test
Prime**

By Adda247

ALL EXAMS, ONE SUBSCRIPTION



Test. Analyze. Improve. Repeat.



Don't just *prepare*. *Perform*.

Test Prime — built only for mock tests.



1,50,000+
Mock Tests



25,000+
Previous Year Papers



800+
Exam Covered



500% Refund
on Selection



5 lakh+
Free Quizzes



Daily
Free PDFs



Job Alerts
Stay Updated

- Multilingual
- Detailed Solution
- Strong and Weak Areas



**All India
Rankings**

Compete with lakhs.
Rank. Improve. Repeat.



← Adda247 test prime

Rating ▾

Editors' choice

New



Adda247 Test Prime
Adda Education • Education
Installed



DOWNLOAD THE APP





बिहार विद्यालय परीक्षा समिति
BIHAR SCHOOL EXAMINATION BOARD

Roll No	
Participant Name	
Test Center Name	
Test Date	12/09/2025
Test Time	2:00 PM - 4:30 PM
Exam Name	DELED Entrance 2025

Section : Hindi

Q.1 संध्या-सुंदरी उतर रही है' में कौन सा अलंकार है?

- Ans
- A. अतिशयोक्ति अलंकार
 - B. मानवीकरण अलंकार
 - C. रूपक अलंकार
 - D. उत्प्रेक्षा अलंकार

Question Type : MCQ

Question ID : 7650441095

Option 1 ID : 7650444377

Option 2 ID : 7650444378

Option 3 ID : 7650444379

Option 4 ID : 7650444380

Status : Answered

Chosen Option : B

Q.2 'अन्न-जल' में कौन-सा समास है?

- Ans
- A. द्वन्द्व
 - B. तत्पुरुष
 - C. बहुव्रीहि
 - D. कर्मधारय

Question Type : MCQ

Question ID : 765044128

Option 1 ID : 765044509

Option 2 ID : 765044510

Option 3 ID : 765044511

Option 4 ID : 765044512

Status : Answered

Chosen Option : A



Q.3 इनमें से कौन सा वाक्य अशुद्ध है -----

- Ans A. राम दिन-रात मेहनत करता है।
 B. जैसा बोओगे उसी तरह काटोगे।
 C. पुस्तक विद्वतापूर्वक लिखी गई है।
 D. मैंने सारी पुस्तक पढ़ डाली।

Question Type : MCQ
 Question ID : 765044582
 Option 1 ID : 7650442325
 Option 2 ID : 7650442326
 Option 3 ID : 7650442327
 Option 4 ID : 7650442328
 Status : Answered
 Chosen Option : A

Q.4 'स्वार्थ' का संधि-विच्छेद क्या है?

- Ans A. सु+अर्थ
 B. स्व+अर्थ
 C. स+अर्थ
 D. स्वा+अर्थ

Question Type : MCQ
 Question ID : 76504433
 Option 1 ID : 765044129
 Option 2 ID : 765044130
 Option 3 ID : 765044131
 Option 4 ID : 765044132
 Status : Answered
 Chosen Option : D

Q.5 'वर्षा शुरू हुई और मोहन आ गया।' वाक्य संबंधित है-

- Ans A. मिश्र वाक्य
 B. सरल वाक्य
 C. संयुक्त वाक्य
 D. कटु वाक्य

Question Type : MCQ
 Question ID : 765044346
 Option 1 ID : 7650441381
 Option 2 ID : 7650441382
 Option 3 ID : 7650441383
 Option 4 ID : 7650441384
 Status : Answered
 Chosen Option : C



Q.6 'जब मैं अकेला था तब मुझे चार गुंडों ने पीटा।' वाक्य का भेद है-

- Ans A. सरल वाक्य
 B. मिश्र वाक्य
 C. संयुक्त वाक्य
 D. प्रश्नवाचक वाक्य

Question Type : MCQ
 Question ID : 765044347
 Option 1 ID : 7650441385
 Option 2 ID : 7650441386
 Option 3 ID : 7650441387
 Option 4 ID : 7650441388
 Status : Answered
 Chosen Option : C

Q.7 मैं तो चंद्र खिलौना लैहों। कौन से अलंकार का उदाहरण है?

- Ans A. अतिशयोक्ति अलंकार
 B. मानवीकरण अलंकार
 C. रूपक अलंकार
 D. उत्प्रेक्षा अलंकार

Question Type : MCQ
 Question ID : 7650441093
 Option 1 ID : 7650444369
 Option 2 ID : 7650444370
 Option 3 ID : 7650444371
 Option 4 ID : 7650444372
 Status : Answered
 Chosen Option : C

Q.8 'संधि' का शाब्दिक अर्थ है-

- Ans A. अनमेल
 B. बेमेल
 C. मेल
 D. इनमें से कोई नहीं

Question Type : MCQ
 Question ID : 765044398
 Option 1 ID : 7650441589
 Option 2 ID : 7650441590
 Option 3 ID : 7650441591
 Option 4 ID : 7650441592
 Status : Answered
 Chosen Option : C



Q.9 जहाँ किसी बात को सीधे-साधे-सादे रूप में न कहकर किसी के माध्यम से कही जाती है, वहाँ कौन सा अलंकार होता है ?

- Ans A. अतिशयोक्ति
 B. अन्योक्ति
 C. विरोधाभास
 D. दृष्टांत

Question Type : MCQ
 Question ID : 765044936
 Option 1 ID : 7650443741
 Option 2 ID : 7650443742
 Option 3 ID : 7650443743
 Option 4 ID : 7650443744
 Status : Answered
 Chosen Option : C

Q.10 'प्रतिभट कटक कटीले केते काटि काटि' में कौन सा अलंकार है।

- Ans A. अनुप्रास अलंकार
 B. यमक अलंकार
 C. उपमा अलंकार
 D. रूपक अलंकार

Question Type : MCQ
 Question ID : 7650441251
 Option 1 ID : 7650445001
 Option 2 ID : 7650445002
 Option 3 ID : 7650445003
 Option 4 ID : 7650445004
 Status : Answered
 Chosen Option : A

Q.11 ऊ, ए, ऐ कौन-सा वर्ण है?

- Ans A. ह्रस्व
 B. दीर्घ
 C. ह्रस्व और दीर्घ
 D. प्लुत

Question Type : MCQ
 Question ID : 7650441271
 Option 1 ID : 7650445081
 Option 2 ID : 7650445082
 Option 3 ID : 7650445083
 Option 4 ID : 7650445084
 Status : Answered
 Chosen Option : C



Q.12 क्रिया के जिस रूप से भाव की प्रधानता होती है, वह क्या कहलाता है?

- Ans A. कर्तृवाच्य
 B. कर्मवाच्य
 C. भाववाच्य
 D. क्रिया

Question Type : MCQ
 Question ID : 765044667
 Option 1 ID : 7650442665
 Option 2 ID : 7650442666
 Option 3 ID : 7650442667
 Option 4 ID : 7650442668
 Status : Answered
 Chosen Option : C

Q.13 जो अलंकार शब्द और अर्थ दोनों के अधीन हो उसे कहते हैं -

- Ans A. अर्थालंकार
 B. उभयालंकार
 C. शब्दालंकार
 D. श्लेषालंकार

Question Type : MCQ
 Question ID : 7650441007
 Option 1 ID : 7650444025
 Option 2 ID : 7650444026
 Option 3 ID : 7650444027
 Option 4 ID : 7650444028
 Status : Answered
 Chosen Option : A

Q.14 अब दरवाजा खोला जा सकता है। रेखांकित शब्द कौन पदबंध है।

- Ans A. संज्ञा पदबंध
 B. क्रिया पदबंध
 C. सर्वनाम पदबंध
 D. क्रिया विशेषण पदबंध

Question Type : MCQ
 Question ID : 765044615
 Option 1 ID : 7650442457
 Option 2 ID : 7650442458
 Option 3 ID : 7650442459
 Option 4 ID : 7650442460
 Status : Answered
 Chosen Option : C



Q.15 इनमें से हिन्दी का प्राचीनतम (प्रथम) महाकाव्य कौन-सा है ?

- Ans A. श्रीरामचरितमानस
 B. पद्मावत
 C. पृथ्वीराज रासो
 D. प्रिय प्रवास

Question Type : MCQ
 Question ID : 7650441434
 Option 1 ID : 7650445733
 Option 2 ID : 7650445734
 Option 3 ID : 7650445735
 Option 4 ID : 7650445736
 Status : Answered
 Chosen Option : A

Q.16 ' काली लड़की को देखकर अभय ने कहा धरती पर चोंद उतरता है । उक्त वाक्य में शब्द शक्ति है -

- Ans A. अभिधा
 B. व्यंजना
 C. लक्षणा
 D. तीनों

Question Type : MCQ
 Question ID : 765044835
 Option 1 ID : 7650443337
 Option 2 ID : 7650443338
 Option 3 ID : 7650443339
 Option 4 ID : 7650443340
 Status : Answered
 Chosen Option : C

Q.17 उस काल कारे क्रोध के, तन कांपने उसका लगा | मानो हवा के जोर से, सोता हुआ सागर जगा || प्रस्तुत पंक्तियों में कौन -सा रस है ?

- Ans A. वीर रस
 B. रौद्र रस
 C. अद्भुत रस
 D. करुण रस

Question Type : MCQ
 Question ID : 7650441477
 Option 1 ID : 7650445905
 Option 2 ID : 7650445906
 Option 3 ID : 7650445907
 Option 4 ID : 7650445908
 Status : Answered
 Chosen Option : B



Q.18 अंग्रेजी सरकार की ओर से अदालत का कामकाज देश की प्रचलित भाषाओं में करने का 'इशतहारनामा' किस सन् में निकला?

- Ans A. सन् 1816
 B. सन् 1826
 C. सन् 1836
 D. सन् 1846

Question Type : MCQ
 Question ID : 765044239
 Option 1 ID : 765044953
 Option 2 ID : 765044954
 Option 3 ID : 765044955
 Option 4 ID : 765044956
 Status : Answered
 Chosen Option : A

Q.19 'दुख है जीवन-तरु के मूल।' में कौन सा अलंकार है।

- Ans A. अनुप्रास अलंकार
 B. यमक अलंकार
 C. उपमा अलंकार
 D. रूपक अलंकार

Question Type : MCQ
 Question ID : 7650441185
 Option 1 ID : 7650444737
 Option 2 ID : 7650444738
 Option 3 ID : 7650444739
 Option 4 ID : 7650444740
 Status : Answered
 Chosen Option : D

Q.20 'आँख का अंधा नाम नयनसुख' लोकोक्ति का सही अर्थ है-

- Ans A. गुण के अनुरूप नाम
 B. जन्म से अंधा
 C. गुण के विरुद्ध नाम
 D. नयन से सुख

Question Type : MCQ
 Question ID : 765044518
 Option 1 ID : 7650442069
 Option 2 ID : 7650442070
 Option 3 ID : 7650442071
 Option 4 ID : 7650442072
 Status : Answered
 Chosen Option : C



Q.21 'अधमरा' कौन-सा समास है?

- Ans A. तत्पुरुष
 B. द्वन्द्व
 C. अव्ययीभाव
 D. कर्मधारय

Question Type : MCQ
Question ID : 765044163
Option 1 ID : 765044649
Option 2 ID : 765044650
Option 3 ID : 765044651
Option 4 ID : 765044652
Status : Answered
Chosen Option : D

Q.22 शाब्दी व्यंजना किसके भेद के अन्तर्गत आता है-

- Ans A. अभिधा
 B. व्यंजना
 C. लक्षणा
 D. इनमें से कोई नहीं

Question Type : MCQ
Question ID : 765044807
Option 1 ID : 7650443225
Option 2 ID : 7650443226
Option 3 ID : 7650443227
Option 4 ID : 7650443228
Status : Answered
Chosen Option : B

Q.23 निम्नलिखित में से कौन-सा शब्द फारसी का है---

- Ans A. दाग
 B. औरत
 C. नीलम
 D. फीस

Question Type : MCQ
Question ID : 765044477
Option 1 ID : 7650441905
Option 2 ID : 7650441906
Option 3 ID : 7650441907
Option 4 ID : 7650441908
Status : Answered
Chosen Option : D



Q.24 अर्द्धसम किस मात्रिक जाति का छंद है ?

- Ans A. रोला छंद
 B. दोहा छंद
 C. चौपाई छंद
 D. कुण्डलिया छंद

Question Type : MCQ
 Question ID : 7650441373
 Option 1 ID : 7650445489
 Option 2 ID : 7650445490
 Option 3 ID : 7650445491
 Option 4 ID : 7650445492
 Status : Answered
 Chosen Option : C

Q.25 छोटे वाक्यों को स्पष्ट करने के लिए उनका विस्तार करना ---- कहा जाता है।

- Ans A. संक्षिप्त वाक्य
 B. प्रत्यक्ष कथन
 C. वाक्य प्रसारण
 D. इनमें से कोई नहीं।

Question Type : MCQ
 Question ID : 765044778
 Option 1 ID : 7650443109
 Option 2 ID : 7650443110
 Option 3 ID : 7650443111
 Option 4 ID : 7650443112
 Status : Answered
 Chosen Option : C

Section : General English

Q.26 Which of the following pairs rhyme together?

- Ans A. Moor and Door
 B. Sun and Son
 C. Pen and Pain
 D. Ship and Sheep

Question Type : MCQ
 Question ID : 7650442730
 Option 1 ID : 76504410917
 Option 2 ID : 76504410918
 Option 3 ID : 76504410919
 Option 4 ID : 76504410920
 Status : Answered
 Chosen Option : A



Q.27 A sentence has been given in Active Voice. Out of the four alternative given below, select the one which best expresses the same sentence in Passive Voice

Let us dance.

- Ans A. It is suggested that we should dance.
 B. It was suggested that we shall dance.
 C. It has been suggested that we will dance.
 D. It is suggested that we shall dance.

Question Type : MCQ
Question ID : 7650442061
Option 1 ID : 7650448241
Option 2 ID : 7650448242
Option 3 ID : 7650448243
Option 4 ID : 7650448244
Status : Answered
Chosen Option : B

Q.28 A sentence given below has a blank space with four options. Select the most appropriate option for the blank space
----- your transfer request is concerned, we'll be discussing it at the next meeting.

- Ans A. As far as
 B. To begin with
 C. By the way
 D. Talking about

Question Type : MCQ
Question ID : 7650442614
Option 1 ID : 76504410453
Option 2 ID : 76504410454
Option 3 ID : 76504410455
Option 4 ID : 76504410456
Status : Answered
Chosen Option : D

Q.29 Choose the correct phrase from the given option and make a conditional sentence.

If you..... my best friend, I wouldn't tolerate your behaviours.

- Ans A. aren't
 B. weren't
 C. haven't
 D. hadn't

Question Type : MCQ
Question ID : 7650442446
Option 1 ID : 7650449781
Option 2 ID : 7650449782
Option 3 ID : 7650449783
Option 4 ID : 7650449784
Status : Answered
Chosen Option : A



Q.30 Select the most appropriate option to change the sentence from direct speech to indirect speech

"Where have you spent your money?" She asked him.
She asked him where Spent..... money.

- Ans A. I had/my
 B. he had/his
 C. he has/his
 D. she has/her

Question Type : MCQ
Question ID : 7650441914
Option 1 ID : 7650447653
Option 2 ID : 7650447654
Option 3 ID : 7650447655
Option 4 ID : 7650447656
Status : Answered
Chosen Option : D

Q.31 Choose the correct meaning of ' White Elephant ' :

- Ans A. Expensive but of no use
 B. Good and bad time
 C. Difficult task
 D. One who spoils the enjoyment

Question Type : MCQ
Question ID : 7650443003
Option 1 ID : 76504412009
Option 2 ID : 76504412010
Option 3 ID : 76504412011
Option 4 ID : 76504412012
Status : Answered
Chosen Option : D

Q.32 Fill up the blank with the correct option.

The numbers of rooms in this school..... fifty.

- Ans A. Are
 B. Were
 C. Is
 D. Have

Question Type : MCQ
Question ID : 7650442525
Option 1 ID : 76504410097
Option 2 ID : 76504410098
Option 3 ID : 76504410099
Option 4 ID : 76504410100
Status : Answered
Chosen Option : A



Q.33 Pick out the Non-Finite verbs in the given sentence

I had sooner run than walk.

- Ans A. I
 B. Walk
 C. Run
 D. Run, walk

Question Type : MCQ
Question ID : 7650442024
Option 1 ID : 7650448093
Option 2 ID : 7650448094
Option 3 ID : 7650448095
Option 4 ID : 7650448096
Status : Answered
Chosen Option : A

Q.34 Choose the correct indirect speech of:

"John said to his servant, "At what time did you go to the station yesterday?"

- Ans A. John asked his servant at what time he had gone to the station the previous day.
 B. John enquired his servant at what time he had gone to the station yesterday.
 C. John said to his servant as to what time had he gone to the station the day before.
 D. John said to his servant as to whom had he gone to the station yesterday.

Question Type : MCQ
Question ID : 7650442964
Option 1 ID : 76504411853
Option 2 ID : 76504411854
Option 3 ID : 76504411855
Option 4 ID : 76504411856
Status : Answered
Chosen Option : A

Q.35 Select the most appropriate option to change the sentence from direct speech to indirect speech

"I will be late tonight", He said.

He told me that..... be late.....

- Ans A. He would/that night
 B. He should/to night
 C. I would/this night
 D. He would/yesterday night

Question Type : MCQ
Question ID : 7650441936
Option 1 ID : 7650447741
Option 2 ID : 7650447742
Option 3 ID : 7650447743
Option 4 ID : 7650447744
Status : Answered
Chosen Option : C



Q.36 Choose the correct phrase from the given option and make a conditional sentence.

What birthday present would youhave bought for me if you about it?

- Ans A. hadn't forgotten
 B. haven't forgotten
 C. aren't forgotten
 D. weren't forgotten

Question Type : MCQ
Question ID : 7650442464
Option 1 ID : 7650449853
Option 2 ID : 7650449854
Option 3 ID : 7650449855
Option 4 ID : 7650449856
Status : Answered
Chosen Option : C

Q.37 Which of the following is /are used as a mark/marks of punctuation?

- Ans A. Full stop
 B. Comma
 C. Colon
 D. All of these

Question Type : MCQ
Question ID : 7650442092
Option 1 ID : 7650448365
Option 2 ID : 7650448366
Option 3 ID : 7650448367
Option 4 ID : 7650448368
Status : Answered
Chosen Option : A

Q.38 Which of the following is a correct sentence?"..

- Ans A. I want to know the reason and two friends quarrelled.
 B. I want to know the reason to the two friends quarrelled.
 C. I want to know the reason for which the two friends quarrelled.
 D. I want to know the reason of friends quarrelled.

Question Type : MCQ
Question ID : 7650442898
Option 1 ID : 76504411589
Option 2 ID : 76504411590
Option 3 ID : 76504411591
Option 4 ID : 76504411592
Status : Answered
Chosen Option : D



Q.39 A sentence has been given in Active Voice. Out of the four alternative given below, select the one which best expresses the same sentence in Passive Voice

She beat you.

- Ans A. You were beaten by her.
 B. You have been beaten by her.
 C. You were being beaten by her.
 D. You had been beaten by her.

Question Type : MCQ
Question ID : 7650442041
Option 1 ID : 7650448161
Option 2 ID : 7650448162
Option 3 ID : 7650448163
Option 4 ID : 7650448164
Status : Answered
Chosen Option : B

Q.40 Ravi's health.....since he left the city.

- Ans A. improved
 B. has improved
 C. had improved
 D. could improve

Question Type : MCQ
Question ID : 7650442783
Option 1 ID : 76504411129
Option 2 ID : 76504411130
Option 3 ID : 76504411131
Option 4 ID : 76504411132
Status : Answered
Chosen Option : B

Q.41 Identify the article in this sentence.
"An apple a day keeps the doctor away."

- Ans A. Apple
 B. An
 C. The
 D. A

Question Type : MCQ
Question ID : 7650442639
Option 1 ID : 76504410553
Option 2 ID : 76504410554
Option 3 ID : 76504410555
Option 4 ID : 76504410556
Status : Answered
Chosen Option : B



Q.42 Fill up the blank with the correct option.

A lot of workyet to be done.

- Ans A. are
 B. were
 C. is
 D. have

Question Type : MCQ
Question ID : 7650442547
Option 1 ID : 76504410185
Option 2 ID : 76504410186
Option 3 ID : 76504410187
Option 4 ID : 76504410188
Status : Answered
Chosen Option : C

Q.43 Fill up the blank, with the correct option

The students were playing -----the garden.

- Ans A. In
 B. Round
 C. At
 D. Under

Question Type : MCQ
Question ID : 7650442209
Option 1 ID : 7650448833
Option 2 ID : 7650448834
Option 3 ID : 7650448835
Option 4 ID : 7650448836
Status : Answered
Chosen Option : D

Q.44 Select the alternative which best express the meaning of the idioms/phrase.

Black sheep

- Ans A. An honourable member of a group
 B. An disreputable member of a group
 C. A quarrelsome person
 D. A Kind man

Question Type : MCQ
Question ID : 7650442328
Option 1 ID : 7650449309
Option 2 ID : 7650449310
Option 3 ID : 7650449311
Option 4 ID : 7650449312
Status : Answered
Chosen Option : A



Q.45 Select the alternative which best express the meaning of the idioms/phrase.

Kith and kin

- Ans A. Costly
 B. Close friend
 C. Blood relatives
 D. Well wishers

Question Type : MCQ
 Question ID : 7650442306
 Option 1 ID : 7650449221
 Option 2 ID : 7650449222
 Option 3 ID : 7650449223
 Option 4 ID : 7650449224
 Status : Answered
 Chosen Option : B

Section : Mathematics

Q.46 रैखिक समीकरण युग्म $2x-3y-2=0$ एवं $4x-4y-5=0$ को निरूपित करने वाली रेखाएँ होगी :

- Ans A. प्रतिच्छेदी
 B. समांतर
 C. संपाती
 D. इनमें कोई नहीं

Question Type : MCQ
 Question ID : 7650446188
 Option 1 ID : 76504424749
 Option 2 ID : 76504424750
 Option 3 ID : 76504424751
 Option 4 ID : 76504424752
 Status : Answered
 Chosen Option : C

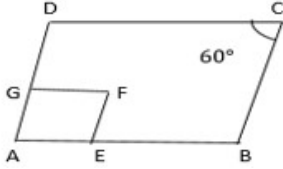
Q.47 यदि बहुपद $f(x)=x^2-p(x+1)-c$ के शून्यक α और β हो तथा $(\alpha+1)(\beta+1)=0$ हो तो c का मान होगा :

- Ans A. 2
 B. 0
 C. 1
 D. -1

Question Type : MCQ
 Question ID : 7650446209
 Option 1 ID : 76504424833
 Option 2 ID : 76504424834
 Option 3 ID : 76504424835
 Option 4 ID : 76504424836
 Status : Answered
 Chosen Option : B



Q.48 In the following figure, ABCD and AEFG are two parallelograms. If $\angle C = 60^\circ$, then $\angle GEF$ is निम्नलिखित आकृति में. ABCD और AEFG दो समांतर चतुर्भुज है। यदि $\angle C = 60^\circ$, तो $\angle GEF$ है.....



- Ans A. 30°
 B. 60°
 C. 90°
 D. 120°

Question Type : MCQ
 Question ID : 7650446889
 Option 1 ID : 76504427553
 Option 2 ID : 76504427554
 Option 3 ID : 76504427555
 Option 4 ID : 76504427556
 Status : Answered
 Chosen Option : C

Q.49 यदि a और p समीकरण $2x^2 - 3x - 6 = 0$ के मूल हैं। वह समीकरण है जिसके मूल $1/a$ और $1/p$ हैं

- Ans A. $6x^2 - 3x + 2 = 0$
 B. $6x^2 + 3x - 2 = 0$
 C. $6x^2 - 3x - 2 = 0$
 D. $x^2 + 3x - 2 = 0$

Question Type : MCQ
 Question ID : 7650446473
 Option 1 ID : 76504425889
 Option 2 ID : 76504425890
 Option 3 ID : 76504425891
 Option 4 ID : 76504425892
 Status : Answered
 Chosen Option : D

Q.50 किसी चक्रीय समांतर चतुर्भुज का प्रत्येक कोण _____ समकोण के बराबर होता है।

- Ans A. एक समकोण
 B. दो समकोण
 C. तीन समकोण
 D. चार समकोण

Question Type : MCQ
 Question ID : 7650446966
 Option 1 ID : 76504427861
 Option 2 ID : 76504427862
 Option 3 ID : 76504427863
 Option 4 ID : 76504427864
 Status : Answered
 Chosen Option : B



Q.51 निम्न मे से माध्य, माध्यक, बहुलक समान है.....

- Ans A. 2, 2, 2, 2, 4
 B. 1, 3, 3, 3, 5
 C. 1, 1, 2, 5, 6
 D. 1, 1, 1, 2, 5

Question Type : MCQ
 Question ID : 7650447153
 Option 1 ID : 76504428609
 Option 2 ID : 76504428610
 Option 3 ID : 76504428611
 Option 4 ID : 76504428612
 Status : Answered
 Chosen Option : B

Q.52 यदि $x^2+9x+20=0$ के शून्यक α हो तो $\alpha^2+\beta^2$

- Ans A. 21
 B. 40
 C. 41
 D. 39

Question Type : MCQ
 Question ID : 7650446384
 Option 1 ID : 76504425533
 Option 2 ID : 76504425534
 Option 3 ID : 76504425535
 Option 4 ID : 76504425536
 Status : Answered
 Chosen Option : D

Q.53 बिंदु (0, 5) और (-5, 0) के बीच की दूरी है

- Ans A. 5 इकाइयाँ
 B. $5\sqrt{2}$ इकाइयाँ
 C. $2\sqrt{5}$ इकाइयाँ
 D. 10 इकाइयाँ

Question Type : MCQ
 Question ID : 7650446752
 Option 1 ID : 76504427005
 Option 2 ID : 76504427006
 Option 3 ID : 76504427007
 Option 4 ID : 76504427008
 Status : Answered
 Chosen Option : D



Q.54 त्रिज्या 5 सेमी के एक ठोस गोले को पिघलाकर एक ठोस दायां गोलाकार शंकु एक ही वृत्ताकार आधार त्रिज्या का बना है। शंकु की ऊंचाई है:

- Ans A. 20 सेमी
 B. 10 सेमी
 C. 5 सेमी
 D. 12 सेमी

Question Type : MCQ
 Question ID : 7650447024
 Option 1 ID : 76504428093
 Option 2 ID : 76504428094
 Option 3 ID : 76504428095
 Option 4 ID : 76504428096
 Status : Answered
 Chosen Option : C

Q.55 Consider the following frequency distribution:

निम्नलिखित आवृत्ति वितरण पर विचार करें:

Class	0 – 5	6 – 11	12 – 17	18 – 23	24 – 29
Frequency	13	10	15	8	11

The upper limit of the median class is

माध्यिका वर्ग की ऊपरी सीमा है

- Ans A. 17
 B. 17.5
 C. 18
 D. 18.5

Question Type : MCQ
 Question ID : 7650447433
 Option 1 ID : 76504429729
 Option 2 ID : 76504429730
 Option 3 ID : 76504429731
 Option 4 ID : 76504429732
 Status : Answered
 Chosen Option : D

Q.56 200 mL और 300 mL माप वाले बर्तनों का उपयोग कर 2000 mL आयतन की एक बाल्टी भरनी है। 200 mL और 300 mL के बर्तनों द्वारा क्रमशः बाल्टी भरने के लिए बर्तनों के निम्नलिखित संयोजनों में से कौन-सा सही नहीं है?

- Ans A. 1,6
 B. 4,4
 C. 7,2
 D. 6,3

Question Type : MCQ
 Question ID : 7650446152
 Option 1 ID : 76504424605
 Option 2 ID : 76504424606
 Option 3 ID : 76504424607
 Option 4 ID : 76504424608
 Status : Answered
 Chosen Option : B



Q.57 जिस कोण की माप 90° से अधिक परन्तु 180° से कम हो, कहलाता है-

- Ans A. समकोण
 B. ऋजु कोण
 C. प्रतिवर्ती कोण
 D. अधिककोण

Question Type : MCQ

Question ID : 7650446807

Option 1 ID : 76504427225

Option 2 ID : 76504427226

Option 3 ID : 76504427227

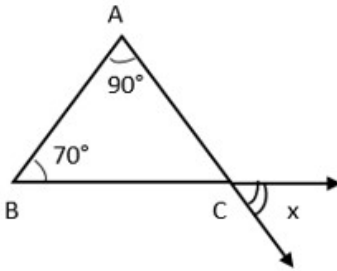
Option 4 ID : 76504427228

Status : Answered

Chosen Option : A

Q.58 In the given ΔABC , $x = \underline{\hspace{2cm}}$

दिए गए ΔABC , में $x = \underline{\hspace{2cm}}$ होगा।



- Ans A. 16°
 B. 20°
 C. 22°
 D. 18°

Question Type : MCQ

Question ID : 7650446929

Option 1 ID : 76504427713

Option 2 ID : 76504427714

Option 3 ID : 76504427715

Option 4 ID : 76504427716

Status : Answered

Chosen Option : B



Q.59 किस चक्रवृद्धि ब्याज की दर से ₹ 4000 का चक्रवृद्धि ब्याज 2 वर्ष में ₹ 410 होगा.....

Ans A. 5%

B. 6%

C. 4%

D. 7%

Question Type : MCQ

Question ID : 7650446574

Option 1 ID : 76504426293

Option 2 ID : 76504426294

Option 3 ID : 76504426295

Option 4 ID : 76504426296

Status : Answered

Chosen Option : A

Q.60 एक बेलन का वक्र पृष्ठीय क्षेत्रफल 1760 सेमी है और इसके आधार की त्रिज्या 14 सेमी है। सिलेंडर की ऊंचाई है

Ans A. 10 सेमी

B. 15 सेमी

C. 20 सेमी

D. 40 सेमी

Question Type : MCQ

Question ID : 7650447399

Option 1 ID : 76504429593

Option 2 ID : 76504429594

Option 3 ID : 76504429595

Option 4 ID : 76504429596

Status : Answered

Chosen Option : C

Q.61 एक वृत्त का क्षेत्रफल 49π सेमी² है। इसकी परिधि है

Ans A. 7π

B. 14π

C. 21π

D. 28π

Question Type : MCQ

Question ID : 7650447344

Option 1 ID : 76504429373

Option 2 ID : 76504429374

Option 3 ID : 76504429375

Option 4 ID : 76504429376

Status : Answered

Chosen Option : C



Q.62 एक _____ सदैव सम बहुभुज होता है।

- Ans A. समद्विबाहु त्रिभुज
 B. वर्ग
 C. पंचभुज
 D. वृत्त

Question Type : MCQ
 Question ID : 7650447122
 Option 1 ID : 76504428485
 Option 2 ID : 76504428486
 Option 3 ID : 76504428487
 Option 4 ID : 76504428488
 Status : Answered
 Chosen Option : A

Q.63 निम्नलिखित तालिका को पढ़िए :

रक्त समूह विद्यार्थियों की संख्या

A 9

B 6

O 12

AB 3

कुल 30

सबसे अधिक और सबसे कम पाए जाने वाले रक्त समूहों का अनुपात क्या है ?

- Ans A. 1 : 4
 B. 1 : 3
 C. 4 : 1
 D. 3 : 1

Question Type : MCQ
 Question ID : 7650446649
 Option 1 ID : 76504426593
 Option 2 ID : 76504426594
 Option 3 ID : 76504426595
 Option 4 ID : 76504426596
 Status : Answered
 Chosen Option : C

Q.64 यदि a, b, c, d, तथा e का माध्य 28 है a,c,e का माध्य 24 है b तथा d का माध्यतो है

- Ans A. 31
 B. 32
 C. 33
 D. 34

Question Type : MCQ
 Question ID : 7650447149
 Option 1 ID : 76504428593
 Option 2 ID : 76504428594
 Option 3 ID : 76504428595
 Option 4 ID : 76504428596
 Status : Answered
 Chosen Option : B



Q.65 बिन्दुओं $(x, -1)$ तथा $(3, 2)$ के बीच की दूरी 5 मात्रक है तो x का मान होगा ।

- Ans A. 1
 B. -1
 C. 7
 D. 1 और 7 दोनों

Question Type : MCQ
 Question ID : 7650446689
 Option 1 ID : 76504426753
 Option 2 ID : 76504426754
 Option 3 ID : 76504426755
 Option 4 ID : 76504426756
 Status : Answered
 Chosen Option : A

Q.66 किसी वृत्त की स्पर्शरिखा, संपर्क बिंदु से गुजरने वाली त्रिज्या की _____ होती है।

- Ans A. समानांतर
 B. लंबवत
 C. लंबवत द्विभाजक
 D. द्विभाजक

Question Type : MCQ
 Question ID : 7650447234
 Option 1 ID : 76504428933
 Option 2 ID : 76504428934
 Option 3 ID : 76504428935
 Option 4 ID : 76504428936
 Status : Answered
 Chosen Option : C

Q.67 समीकरणों की जोड़ी $x + 2y + 5 = 0$ और $-3x - 6y + 1 = 0$ है

- Ans A. अद्वितीय समाधान
 B. बिल्कुल दो समाधान
 C. अनंत रूप से कई समाधान
 D. कोई समाधान नहीं

Question Type : MCQ
 Question ID : 7650446273
 Option 1 ID : 76504425089
 Option 2 ID : 76504425090
 Option 3 ID : 76504425091
 Option 4 ID : 76504425092
 Status : Answered
 Chosen Option : A



Q.68 निम्नलिखित में कौन अपरिमेय नहीं है ?

Ans

- A. $4\sqrt{5}$
- B. $\sqrt{9} \sqrt{16}$
- C. $\sqrt{11}$
- D. $\sqrt{15}$

Question Type : MCQ

Question ID : 7650445997

Option 1 ID : 76504423985

Option 2 ID : 76504423986

Option 3 ID : 76504423987

Option 4 ID : 76504423988

Status : Answered

Chosen Option : B

Q.69 यदि a, p समीकरण $(x - a)(x - b) + c = 0$ के मूल हैं, तो समीकरण $(x - a)(x - p) = c$ के मूल हैं

Ans A. a, b

- B. a, c
- C. b, c
- D. इनमें से कोई नहीं

Question Type : MCQ

Question ID : 7650446471

Option 1 ID : 76504425881

Option 2 ID : 76504425882

Option 3 ID : 76504425883

Option 4 ID : 76504425884

Status : Answered

Chosen Option : C

Q.70 किसी पूर्णांक p के लिए, प्रत्येक विषम पूर्णांक रूप का होता है

Ans A. $2p + 1$

- B. $2p$
- C. $p + 1$
- D. p

Question Type : MCQ

Question ID : 7650446118

Option 1 ID : 76504424469

Option 2 ID : 76504424470

Option 3 ID : 76504424471

Option 4 ID : 76504424472

Status : Answered

Chosen Option : A

Section : Science



Q.71 इन में से आइसोबार है

- Ans A. $^{40}\text{Ca}_{20}$ और $^{23}\text{Na}_{11}$
 B. $^{150}\text{Sm}_{62}$ और $^{150}\text{Eu}_{63}$
 C. $^{98}\text{Tc}_{43}$ और $^{99}\text{Tc}_{43}$
 D. $^{129}\text{Te}_{52}$ और $^{128}\text{Sb}_{51}$

Question Type : MCQ
 Question ID : 7650443677
 Option 1 ID : 76504414705
 Option 2 ID : 76504414706
 Option 3 ID : 76504414707
 Option 4 ID : 76504414708
 Status : Answered
 Chosen Option : B

Q.72 वायुमंडल में उपस्थित विभिन्न गैस पृथ्वी पर किसके कारण मौजूद रह पाते हैं -

- Ans A. वायु
 B. पृथ्वी के चुम्बकीय क्षेत्र
 C. गुरुत्वीय त्वरण
 D. बादल

Question Type : MCQ
 Question ID : 7650443416
 Option 1 ID : 76504413661
 Option 2 ID : 76504413662
 Option 3 ID : 76504413663
 Option 4 ID : 76504413664
 Status : Answered
 Chosen Option : C

Q.73 जल संवहनी प्रणाली में केंद्रित है

- Ans A. पोरिफेरा
 B. मोलस्का
 C. इचिनोडर्मेटा
 D. कोएलेरेंटेरा

Question Type : MCQ
 Question ID : 7650443253
 Option 1 ID : 76504413009
 Option 2 ID : 76504413010
 Option 3 ID : 76504413011
 Option 4 ID : 76504413012
 Status : Answered
 Chosen Option : B



Q.74 किस सूक्ष्म तत्व की कमी से पौधों के पुष्पण में समस्या आती है?

- Ans A. क्लोरिन
 B. जिंक
 C. बोरॉन
 D. कैल्सियम

Question Type : MCQ
Question ID : 7650444161
Option 1 ID : 76504416641
Option 2 ID : 76504416642
Option 3 ID : 76504416643
Option 4 ID : 76504416644
Status : Answered
Chosen Option : A

Q.75 मानव में कायिक गुणसूत्र (ऑटोसोम) की संख्या क्या है -

- Ans A. 46
 B. 44
 C. 23
 D. 22

Question Type : MCQ
Question ID : 7650443358
Option 1 ID : 76504413429
Option 2 ID : 76504413430
Option 3 ID : 76504413431
Option 4 ID : 76504413432
Status : Answered
Chosen Option : A

Q.76 गोली उपकरण की कमी है...

- Ans A. जिगर की कोशिकाएँ
 B. उच्च पौधे
 C. नील-हरित शैवाल
 D. यीस्ट

Question Type : MCQ
Question ID : 7650443277
Option 1 ID : 76504413105
Option 2 ID : 76504413106
Option 3 ID : 76504413107
Option 4 ID : 76504413108
Status : Answered
Chosen Option : C



Q.77 आप आधुनिक आवर्त सारणी में इलेक्ट्रॉनिक विन्यास 2, 8 वाले तत्व को कहां पाएंगे?

- Ans A. समूह 8
 B. समूह 2
 C. समूह 18
 D. समूह 10

Question Type : MCQ
 Question ID : 7650443903
 Option 1 ID : 76504415609
 Option 2 ID : 76504415610
 Option 3 ID : 76504415611
 Option 4 ID : 76504415612
 Status : Answered
 Chosen Option : A

Q.78 घर में बिजली की खपत कम करने के लिए किस प्रकार का उपकरण खरीदना चाहिए?

- Ans A. जो कम बिजली खींचता है
 B. जो कम गर्मी पैदा करता है
 C. जो उच्च वोल्टेज पर संचालित होता है
 D. जो अधिक मात्रा में विद्युत धारा खींचता है

Question Type : MCQ
 Question ID : 7650443974
 Option 1 ID : 76504415893
 Option 2 ID : 76504415894
 Option 3 ID : 76504415895
 Option 4 ID : 76504415896
 Status : Answered
 Chosen Option : A

Q.79 उत्तल लेंस पर पड़ने वाला सूर्य का प्रकाश _____ पर परिवर्तित होगा।

- Ans A. वक्रता त्रिज्या
 B. ऑप्टिकल सेंटर
 C. केंद्र
 D. कोई भी विकल्प नहीं

Question Type : MCQ
 Question ID : 7650444004
 Option 1 ID : 76504416013
 Option 2 ID : 76504416014
 Option 3 ID : 76504416015
 Option 4 ID : 76504416016
 Status : Answered
 Chosen Option : B



Q.80 एक माइक्रो एम्पीयर विद्युत धारा निम्नलिखित में कौन सी है?

- Ans A. $10^{-4}A$
 B. $10^{-5}A$
 C. $10^{-6}A$
 D. $10^{-7}A$

Question Type : MCQ
 Question ID : 7650443541
 Option 1 ID : 76504414161
 Option 2 ID : 76504414162
 Option 3 ID : 76504414163
 Option 4 ID : 76504414164
 Status : Answered
 Chosen Option : C

Q.81 व्यावसायिक रूप से उत्पादित किस रासायनिक पदार्थ से मिट्टी की उर्वरता बढ़ती है-

- Ans A. शाकनाशी (Herbicides) खरपतवार नाशक
 B. कीटनाशक
 C. कृमिनाशक
 D. उर्वरक/ खाद

Question Type : MCQ
 Question ID : 7650443030
 Option 1 ID : 76504412117
 Option 2 ID : 76504412118
 Option 3 ID : 76504412119
 Option 4 ID : 76504412120
 Status : Answered
 Chosen Option : A

Q.82 इन में से कौन सा गैर-बायोडिग्रेडेबल कचरे का उदाहरण है?

- Ans A. भोजन की बर्बादी
 B. प्लास्टिक
 C. कागज
 D. लकड़ी

Question Type : MCQ
 Question ID : 7650443835
 Option 1 ID : 76504415337
 Option 2 ID : 76504415338
 Option 3 ID : 76504415339
 Option 4 ID : 76504415340
 Status : Answered
 Chosen Option : B



Q.83 किस रंग का विचलन न्यूनतम होता है?

- Ans A. लाल
 B. पीला
 C. नीला
 D. बैंगनी

Question Type : MCQ
 Question ID : 7650443604
 Option 1 ID : 76504414413
 Option 2 ID : 76504414414
 Option 3 ID : 76504414415
 Option 4 ID : 76504414416
 Status : Answered
 Chosen Option : A

Q.84 यह एपिथेलियल ऊतक के बारे में सही है

- Ans A. तंत्रिका आपूर्ति की कमी
 B. रक्त आपूर्ति में कमी
 C. मुक्त सतह की कमी
 D. अंतरकोशिकीय मैट्रिक्स की कमी

Question Type : MCQ
 Question ID : 7650443724
 Option 1 ID : 76504414893
 Option 2 ID : 76504414894
 Option 3 ID : 76504414895
 Option 4 ID : 76504414896
 Status : Answered
 Chosen Option : B

Q.85 मिट्टी का घर गर्मियों के मौसम में ठंडा तथा जाड़े के मौसम में गर्म होता है, क्योंकि मिट्टी ऊष्मा का है।

- Ans A. सुचालक
 B. कुचालक
 C. अर्धचालक
 D. अतिचालक

Question Type : MCQ
 Question ID : 7650443150
 Option 1 ID : 76504412597
 Option 2 ID : 76504412598
 Option 3 ID : 76504412599
 Option 4 ID : 76504412600
 Status : Answered
 Chosen Option : A



Q.86 निम्न में से कौन से धातु ठंडे जल से अभिक्रिया कर धातु के हाइड्राआक्साइड बनाता है-

- Ans A. Na & K
 B. Mg & Ca
 C. Na & Cu
 D. इनमें से कोई नहीं

Question Type : MCQ
Question ID : 7650443082
Option 1 ID : 76504412325
Option 2 ID : 76504412326
Option 3 ID : 76504412327
Option 4 ID : 76504412328
Status : Answered
Chosen Option : D

Q.87 उपलब्धता के आधार पर संसाधनों को कितने भागों में बाँटा गया है।

- Ans A. 1
 B. 2
 C. 3
 D. 4

Question Type : MCQ
Question ID : 7650443471
Option 1 ID : 76504413881
Option 2 ID : 76504413882
Option 3 ID : 76504413883
Option 4 ID : 76504413884
Status : Answered
Chosen Option : D

Q.88 एक क्षेत्र में जीवित जीवों की विविधता को क्या कहते हैं?

- Ans A. पारिस्थितिकी
 B. जैव विविधता
 C. विकास
 D. वर्गीकरण

Question Type : MCQ
Question ID : 7650444087
Option 1 ID : 76504416345
Option 2 ID : 76504416346
Option 3 ID : 76504416347
Option 4 ID : 76504416348
Status : Answered
Chosen Option : B



Q.89 चंद्रमा की सतह के पास स्वतंत्र रूप से गिरने वाली विभिन्न द्रव्यमान वाली दो वस्तुओं में से कौन सा सत्य है?

- Ans A. उन दोनों की गति अलग-अलग होती है।
 B. किसी भी क्षण उनकी गति समान होती है
 C. वे समान परिमाण की शक्तियों का अनुभव करते हैं
 D. वे अपनी जड़ता को बदल देते हैं

Question Type : MCQ
 Question ID : 7650443781
 Option 1 ID : 76504415121
 Option 2 ID : 76504415122
 Option 3 ID : 76504415123
 Option 4 ID : 76504415124
 Status : Answered
 Chosen Option : D

Q.90 वैध मक्खन में कम से कम कितने प्रतिशत वसा होनी चाहिए?

- Ans A. 70 प्रतिशत
 B. 80 प्रतिशत
 C. 90 प्रतिशत
 D. 95 प्रतिशत

Question Type : MCQ
 Question ID : 7650444112
 Option 1 ID : 76504416445
 Option 2 ID : 76504416446
 Option 3 ID : 76504416447
 Option 4 ID : 76504416448
 Status : Answered
 Chosen Option : B

Section : Social Studies

Q.91 भारत में लोकसभा का चुनाव लड़ने के लिए न्यूनतम आयु कितनी होनी चाहिए?

- Ans A. 25 वर्ष
 B. 21 वर्ष
 C. 18 वर्ष
 D. 30 वर्ष

Question Type : MCQ
 Question ID : 7650445174
 Option 1 ID : 76504420693
 Option 2 ID : 76504420694
 Option 3 ID : 76504420695
 Option 4 ID : 76504420696
 Status : Answered
 Chosen Option : A



Q.92 महानदी नदी निम्नलिखित में से किस राज्य से होकर बहती है?

- Ans A. मध्य प्रदेश और महाराष्ट्र
 B. उत्तर प्रदेश और बिहार
 C. ओडिशा और छत्तीसगढ़
 D. राजस्थान और गुजरात

Question Type : MCQ
 Question ID : 7650444949
 Option 1 ID : 76504419793
 Option 2 ID : 76504419794
 Option 3 ID : 76504419795
 Option 4 ID : 76504419796
 Status : Answered
 Chosen Option : B

Q.93 पर्यावरण और वन मंत्रालय द्वारा किए गए सर्वेक्षण के अनुसार, भारत में कुल वन क्षेत्र लगभग है:

- Ans A. 33प्रतिशत
 B. 23प्रतिशत
 C. 21प्रतिशत
 D. 28प्रतिशत

Question Type : MCQ
 Question ID : 7650445040
 Option 1 ID : 76504420157
 Option 2 ID : 76504420158
 Option 3 ID : 76504420159
 Option 4 ID : 76504420160
 Status : Answered
 Chosen Option : A

Q.94 संयुक्त राष्ट्र महासचिव संयुक्त राष्ट्र संगठन के किस प्रमुख अंग के प्रमुख हैं?

- Ans A. महासभा
 B. सुरक्षा परिषद्
 C. आर्थिक और सामाजिक परिषद्
 D. सचिवालय

Question Type : MCQ
 Question ID : 7650444343
 Option 1 ID : 76504417369
 Option 2 ID : 76504417370
 Option 3 ID : 76504417371
 Option 4 ID : 76504417372
 Status : Answered
 Chosen Option : A



Q.95 हमारी पृथ्वी का वास्तविक निरूपक प्रतिरूप है :

- Ans A. उपग्रह से प्राप्त चित्र
 B. रबी गेद
 C. ग्लोब
 D. मानचित्र

Question Type : MCQ
Question ID : 7650445320
Option 1 ID : 76504421277
Option 2 ID : 76504421278
Option 3 ID : 76504421279
Option 4 ID : 76504421280
Status : Answered
Chosen Option : A

Q.96 दुनिया की प्रदूषित नदियों में शामिल है?

- Ans A. सतलज
 B. कावेरी
 C. चिनाव
 D. गंगा

Question Type : MCQ
Question ID : 7650444520
Option 1 ID : 76504418077
Option 2 ID : 76504418078
Option 3 ID : 76504418079
Option 4 ID : 76504418080
Status : Answered
Chosen Option : D

Q.97 लेनिन के नेतृत्व में बोल्शेविकों ने लोगों से वादा किया:

- Ans A. एक पूंजीवादी अर्थव्यवस्था
 B. "शांति, भूमि और रोटी"
 C. राजतंत्र को कायम रखना
 D. अभिजात वर्ग को अधिक शक्ति

Question Type : MCQ
Question ID : 7650444887
Option 1 ID : 76504419545
Option 2 ID : 76504419546
Option 3 ID : 76504419547
Option 4 ID : 76504419548
Status : Answered
Chosen Option : C



Q.98 निम्नलिखित में से कौन-से गैर-पारंपरिक संसाधन हैं?

- Ans A. पवन ऊर्जा
 B. सौर ऊर्जा
 C. ज्वारीय ऊर्जा
 D. ये सभी

Question Type : MCQ
Question ID : 7650445064
Option 1 ID : 76504420253
Option 2 ID : 76504420254
Option 3 ID : 76504420255
Option 4 ID : 76504420256
Status : Answered
Chosen Option : D

Q.99 संजय गाँधी जैविक उद्यान बिहार में कहाँ पर स्थित है ?

- Ans A. पटना
 B. दरभंगा
 C. गया
 D. मोतिहारी

Question Type : MCQ
Question ID : 7650444666
Option 1 ID : 76504418661
Option 2 ID : 76504418662
Option 3 ID : 76504418663
Option 4 ID : 76504418664
Status : Answered
Chosen Option : A

Q.10 निम्नलिखित में से कौन सा देश चावल का प्रमुख उत्पादक है?

- 0
Ans A. चीन
 B. पाकिस्तान
 C. मलेशिया
 D. मिस्र

Question Type : MCQ
Question ID : 7650444305
Option 1 ID : 76504417217
Option 2 ID : 76504417218
Option 3 ID : 76504417219
Option 4 ID : 76504417220
Status : Answered
Chosen Option : A



Q.10 ब्रिटिश शासन के विरुद्ध बस्तर विद्रोह किस वर्ष हुआ था?

1

- Ans A. 1910
 B. 1891
 C. 1824
 D. 1774

Question Type : MCQ
 Question ID : 7650444858
 Option 1 ID : 76504419429
 Option 2 ID : 76504419430
 Option 3 ID : 76504419431
 Option 4 ID : 76504419432
 Status : Answered
 Chosen Option : B

Q.10 दिए गए कथनों A और B को पढ़िए और सही उत्तर का चयन कीजिए:

2

- A. आलोचनात्मक सोच धारणाओं के निर्माण तथा विचारों के अनुप्रयोग और विस्तार को बढ़ावा देती है।
 B. यह दूसरों के तर्कों और विश्वासों को समझने और मूल्यांकन करने में मदद नहीं करती है।

- Ans A. A सत्य है और B असत्य है
 B. A असत्य है और B सत्य है
 C. A और B दोनों असत्य है
 D. A और B दोनों सत्य है

Question Type : MCQ
 Question ID : 7650445372
 Option 1 ID : 76504421485
 Option 2 ID : 76504421486
 Option 3 ID : 76504421487
 Option 4 ID : 76504421488
 Status : Answered
 Chosen Option : D

Q.10 झारखंड में कोडरमा, निम्नलिखित खनिजों में से किस एक का प्रमुख उत्पादक है?

3

- Ans A. बॉक्साइट
 B. अभ्रक
 C. लौह अयस्क
 D. कॉपर

Question Type : MCQ
 Question ID : 7650444578
 Option 1 ID : 76504418309
 Option 2 ID : 76504418310
 Option 3 ID : 76504418311
 Option 4 ID : 76504418312
 Status : Answered
 Chosen Option : B



Q.10 हल्के और तेज चलने वाले जहाज "कैरावल" को किसने बनाया था?
4

- Ans A. पुर्तगालियों ने
 B. यूनानियों ने
 C. डचों ने
 D. जापानियों ने

Question Type : MCQ
 Question ID : 7650444226
 Option 1 ID : 76504416901
 Option 2 ID : 76504416902
 Option 3 ID : 76504416903
 Option 4 ID : 76504416904
 Status : Answered
 Chosen Option : A

Q.10 भारत में किस प्रकार के लोकतंत्र की व्यवस्था है?
5

- Ans A. प्रत्यक्ष
 B. अप्रत्यक्ष
 C. प्रत्यक्ष- अप्रत्यक्ष दोनों
 D. इनमें से कोई नहीं

Question Type : MCQ
 Question ID : 7650444803
 Option 1 ID : 76504419209
 Option 2 ID : 76504419210
 Option 3 ID : 76504419211
 Option 4 ID : 76504419212
 Status : Answered
 Chosen Option : A

Q.10 भारत में प्रेस का जनक किसे कहा जाता है ?
6

- Ans A. राजा राम मोहन राय
 B. गोविंदा मोहन
 C. जैम्स ऑगस्टस हिक्की
 D. विनोबा भावे

Question Type : MCQ
 Question ID : 7650444421
 Option 1 ID : 76504417681
 Option 2 ID : 76504417682
 Option 3 ID : 76504417683
 Option 4 ID : 76504417684
 Status : Answered
 Chosen Option : A



Q.10 पक्की सड़को की लम्बाई की दृष्टि से प्रथम स्थान पर कौन राज्य है?

7

- Ans
- A. बिहार
 - B. महाराष्ट्र
 - C. तमिलनाडु
 - D. केरल

Question Type : MCQ
 Question ID : 7650444627
 Option 1 ID : 76504418505
 Option 2 ID : 76504418506
 Option 3 ID : 76504418507
 Option 4 ID : 76504418508
 Status : Answered
 Chosen Option : B

Q.10 सत्ता-साझाकरण व्यवस्था के बारे में निम्नलिखित में से कौन सा कथन सही है?

8

- Ans
- A. सत्ता की साझेदारी केवल उन समाजों में आवश्यक है जिनमें धार्मिक, भाषाई या जातीय विभाजन हैं।
 - B. सत्ता की साझेदारी केवल उन बड़े देशों के लिए उपयुक्त है जिनमें क्षेत्रीय विभाजन हैं।
 - C. प्रत्येक समाज को किसी न किसी रूप में सत्ता की साझेदारी की आवश्यकता होती है, भले ही वह छोटा हो या उसमें सामाजिक विभाजन न हो।
 - D. सत्ता-साझाकरण बिल्कुल भी आवश्यक नहीं है।

Question Type : MCQ
 Question ID : 7650445241
 Option 1 ID : 76504420961
 Option 2 ID : 76504420962
 Option 3 ID : 76504420963
 Option 4 ID : 76504420964
 Status : Answered
 Chosen Option : C

Q.10 भारत में आपातकाल सर्वप्रथम लागू हुआ-

9

- Ans
- A. 1952
 - B. 1962
 - C. 1965
 - D. 1972

Question Type : MCQ
 Question ID : 7650444734
 Option 1 ID : 76504418933
 Option 2 ID : 76504418934
 Option 3 ID : 76504418935
 Option 4 ID : 76504418936
 Status : Answered
 Chosen Option : A



Q.11 पावर शेयरिंग निम्नलिखित की स्थिरता सुनिश्चित करने का एक अच्छा तरीका है:

0

- Ans A. जनसंख्या
 B. राजनीतिक व्यवस्था
 C. दोनों (ए) और (बी)
 D. उपरोक्त में से कोई नहीं

Question Type : MCQ
 Question ID : 7650445236
 Option 1 ID : 76504420941
 Option 2 ID : 76504420942
 Option 3 ID : 76504420943
 Option 4 ID : 76504420944
 Status : Answered
 Chosen Option : B

Section : Logical and Analytical Reasoning

Q.11 दिये गये अक्षर श्रृंखला में प्रश्नवाचक चिह्न के स्थान पर कौन - सी अक्षर आयेगी।

1 CAT, ECV, HFY, ?

- Ans A. LIC
 B. KLP
 C. LCI
 D. LJC

Question Type : MCQ
 Question ID : 7650445495
 Option 1 ID : 76504421977
 Option 2 ID : 76504421978
 Option 3 ID : 76504421979
 Option 4 ID : 76504421980
 Status : Answered
 Chosen Option : A

Q.11 ÷ और *, 10 और 5 को परस्पर बदलने पर निम्न में से क्या सही समीकरण बन जाता है?

2

- Ans A. $(30 \div 5) * 10 = 24$
 B. $(30 * 10) \div 5 = 40$
 C. $(30 * 10) \div 5 = 60$
 D. $(30 \div 10) * 5 = 18$

Question Type : MCQ
 Question ID : 7650445643
 Option 1 ID : 76504422569
 Option 2 ID : 76504422570
 Option 3 ID : 76504422571
 Option 4 ID : 76504422572
 Status : Answered
 Chosen Option : C



Q.11 प्रश्न के लिए निर्देश

3 एक संगठन में उप कार्मिक प्रबंधकों के चयन के लिए निम्नलिखित शर्तें हैं:
उम्मीदवार को -

- (ए) कम से कम 60% अंकों के साथ किसी भी विषय में स्नातक होना चाहिए।
(बी) 1.6.2006 को कम से कम 25 वर्ष और 35 वर्ष से अधिक नहीं होना चाहिए।
(सी) एक संगठन में कार्मिक विभाग में योग्यता के बाद कम से कम चार साल का कार्य अनुभव है।
(डी) कम से कम 55% अंकों के साथ प्रबंधन में स्नातकोत्तर डिग्री / डिप्लोमा प्राप्त किया हो।
(ई) साक्षात्कार में कम से कम 50% अंक हासिल किए

हैं एक उम्मीदवार के मामले में जो

उपरोक्त (ए) को छोड़कर सभी मानदंडों को पूरा करता है, लेकिन स्नातकोत्तर डिग्री डिप्लोमा में कम से कम 65% अंक हासिल किया है। प्रबंधन, उसके मामले को

ऊपर (सी) में उपाध्यक्ष-कार्मिक (ii) को संदर्भित किया जाना है, लेकिन योग्यता के बाद कम से कम दो साल का कार्य अनुभव है, एक संगठन में सहायक कार्मिक प्रबंधक के रूप में, उसका मामला है

एसउपाध्यक्ष-कार्मिक को संदर्भित किया जाना चाहिए।

प्रश्न - विपिन यादव का जन्म 7 दिसंबर 1976 को हुआ था। वे 60% अंकों के साथ प्रबंधन में स्नातकोत्तर उपाधि प्राप्त करने के बाद पिछले चार वर्षों से एक संगठन के कार्मिक विभाग में कार्यरत हैं। उसने साक्षात्कार में 50% अंक और स्नातक में 62% अंक प्राप्त किए हैं।

Ans

- ✓ A. उम्मीदवार का चयन किया जाना है
✗ B. उम्मीदवार का चयन नहीं किया जाना है
✗ C. प्रदान किया गया डेटा, निर्णय पर पहुंचने के लिए पर्याप्त नहीं है
✗ D. मामला उपाध्यक्ष-कार्मिक

Question Type : MCQ

Question ID : 7650445786

Option 1 ID : 76504423141

Option 2 ID : 76504423142

Option 3 ID : 76504423143

Option 4 ID : 76504423144

Status : Answered

Chosen Option : D

Q.11 A एक स्थान से चलना शुरू करता है। वह पश्चिम की ओर जाता है और 4 km चलता है। फिर वह दौरे घूमता है और 3 Km चलता है। A आरम्भिक स्थान से कितना दूर है?

Ans

- ✓ A. 5 km.
✗ B. 6 km.
✗ C. 7 km.
✗ D. 8 km.

Question Type : MCQ

Question ID : 7650445569

Option 1 ID : 76504422273

Option 2 ID : 76504422274

Option 3 ID : 76504422275

Option 4 ID : 76504422276

Status : Answered

Chosen Option : C



Q.11 पैटर्न के लिए ध्यान से देखें, और फिर चुनें कि कौन सी संख्या जोड़ी आगे आती है।
5 13 29 15 26 17 23 19 - -

- Ans A. 21 23
 B. 20 21
 C. 20 17
 D. 25 27

Question Type : MCQ
 Question ID : 7650445708
 Option 1 ID : 76504422829
 Option 2 ID : 76504422830
 Option 3 ID : 76504422831
 Option 4 ID : 76504422832
 Status : Answered
 Chosen Option : C

Q.11 नगर निगम ने गर्मी के मौसम में शहर में जल आपूर्ति में 50 प्रतिशत कमी करने की धोषणा की है।
6

- I. शहर के लोग जल का कम उपयोग करते हैं।
 II. शहर के जलस्तर में भारी गिरावट आयी है।

- Ans A. केवल कथन I उपयुक्त है।
 B. केवल कथन II उपयुक्त है।
 C. दोनों कथन I और II उपयुक्त हैं।
 D. दोनों कथन I और II उपयुक्त नहीं हैं।

Question Type : MCQ
 Question ID : 7650445982
 Option 1 ID : 76504423925
 Option 2 ID : 76504423926
 Option 3 ID : 76504423927
 Option 4 ID : 76504423928
 Status : Answered
 Chosen Option : D

Q.11 नीचे दिये गए विकल्पों में से विषम तत्व को ज्ञात कीजिए.::
7

- Ans A. आत्मीय सभा
 B. ब्रह्म समाज
 C. वेदान्त कॉलेज
 D. यंग बंग आन्दोलन

Question Type : MCQ
 Question ID : 7650445458
 Option 1 ID : 76504421829
 Option 2 ID : 76504421830
 Option 3 ID : 76504421831
 Option 4 ID : 76504421832
 Status : Answered
 Chosen Option : D



Test

Prime

By Adda247

Previous Year Papers PDF

PRACTICE MORE, SCORE HIGHER!



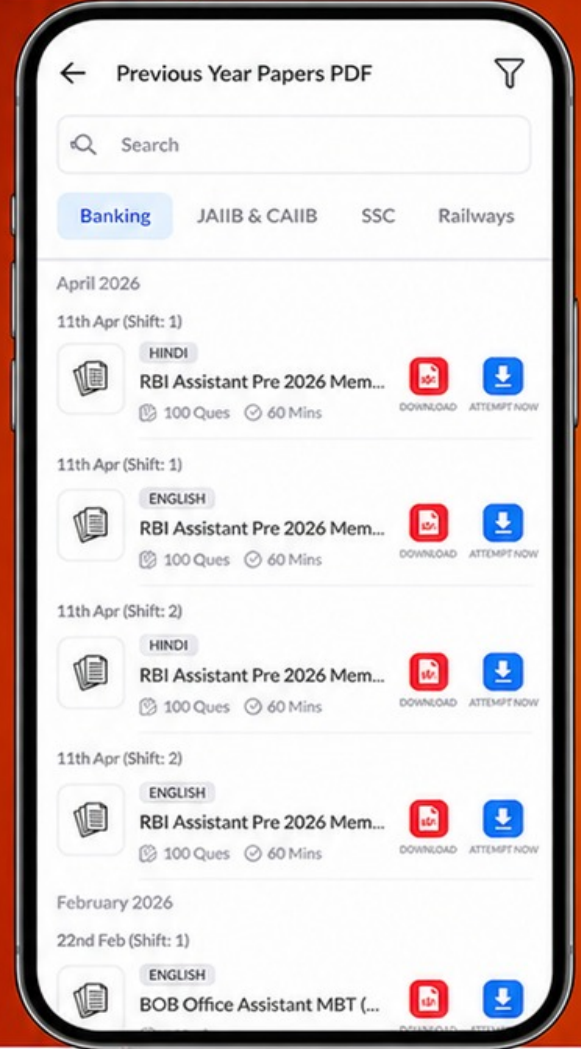
Free
25,000+
PDF's

High-Quality | Exam-Wise | Updated Regularly

ATTEMPT AS
MOCK



Turn PDFs into real exam experience.
Analyze. Improve. Succeed.



Topic-wise & Exam-wise PDFs



Download & Study Offline



Attempt as Mock & Track Score



Smart Analysis & Performance

AVAILABLE IN



Banking



SSC



Railway



Teaching



UGC



Agriculture



Nursing



Bihar



UP



Punjab



WB



Odisha



TN



AP & Telangana



Haryana



DOWNLOAD THE APP



Q.11 एक श्रृंखला दी गई है जिसमें एक पद लुप्त है। दिए गए विकल्पों में से वह सही विकल्प चुनें जो श्रृंखला को पूरा करेगा।

I, L, O, R, ?

Ans A. S

B. T

C. U

D. V

Question Type : MCQ

Question ID : 7650445847

Option 1 ID : 76504423385

Option 2 ID : 76504423386

Option 3 ID : 76504423387

Option 4 ID : 76504423388

Status : Answered

Chosen Option : C

Q.11 चुनें कि कौन-सी संख्या जोड़ी आगे आती है
9 28 25 5 21 18 5 14 --

Ans A. 11 5

B. 10 7

C. 11 8

D. 5 10

Question Type : MCQ

Question ID : 7650445697

Option 1 ID : 76504422785

Option 2 ID : 76504422786

Option 3 ID : 76504422787

Option 4 ID : 76504422788

Status : Answered

Chosen Option : D

Q.12 वह शब्द चुनें जो समूह के अन्य शब्दों से सबसे कम मिलता जुलता हो।

Ans A. गुर्दा

B. दिल

C. फेफड़े

D. कान

Question Type : MCQ

Question ID : 7650445910

Option 1 ID : 76504423637

Option 2 ID : 76504423638

Option 3 ID : 76504423639

Option 4 ID : 76504423640

Status : Answered

Chosen Option : A

