



बिहार विद्यालय परीक्षा समिति
BIHAR SCHOOL EXAMINATION BOARD

Roll No	
Participant Name	
Test Center Name	
Test Date	06/09/2025
Test Time	9:00 AM - 11:30 AM
Exam Name	DELED Entrance 2025

Section : Hindi

Q.1 निम्नलिखित प्रश्न में से दिये गये पद्यांश में विद्यमान छन्द का निर्देश कीजिए-शोभित मंच की अवली बजदन्त मयी छवि उज्जलु छाई।

Ans A. सुन्दरी

B. मत्तगयन्द

C. रोला

D. बरवै

Question Type : MCQ

Question ID : 7650441314

Option 1 ID : 7650445253

Option 2 ID : 7650445254

Option 3 ID : 7650445255

Option 4 ID : 7650445256

Status : Answered

Chosen Option : A

Q.2 इस बुढ़िया को न सताओ, यह तो निरी गाय है।" इस वाक्य में किस शब्द-शक्ति का चमत्कार है -"

Ans A. अभिधा

B. लक्षणा

C. व्यंजना

D. व्यंजना प्रधान अभिधा

Question Type : MCQ

Question ID : 765044895

Option 1 ID : 7650443577

Option 2 ID : 7650443578

Option 3 ID : 7650443579

Option 4 ID : 7650443580

Status : Answered

Chosen Option : B



**Test
Prime**

By Adda247

ALL EXAMS, ONE SUBSCRIPTION



Test. Analyze. Improve. Repeat.



Don't just prepare. Perform.

Test Prime — built only for mock tests.



1,50,000+
Mock Tests



25,000+
Previous Year Papers



800+
Exam Covered



500% Refund
on Selection



5 lakh+
Free Quizzes



Daily
Free PDFs



Job Alerts
Stay Updated

- Multilingual
- Detailed Solution
- Strong and Weak Areas



**All India
Rankings**

Compete with lakhs.
Rank. Improve. Repeat.



← Adda247 test prime

Rating ▾

Editors' choice

New



Adda247 Test Prime
Adda Education • Education
Installed



DOWNLOAD THE APP



Q.3 भाव जिसके हृदय में रहते हैं उसे कहते हैं ?

- Ans A. आश्रय
 B. आलंबन
 C. उद्दीपन
 D. आलंबन जन्म उद्दीपन

Question Type : MCQ
 Question ID : 7650441483
 Option 1 ID : 7650445929
 Option 2 ID : 7650445930
 Option 3 ID : 7650445931
 Option 4 ID : 7650445932
 Status : Answered
 Chosen Option : B

Q.4 मैत्री की राह बताने को, सबको सुमार्ग पर लाने को दुर्योधन को समझाने को, भीषण विध्वंस बचाने को भगवान हस्तिनापुर आए, पांडव का संदेशा लिए दो न्याय अगर तो आधा दो, पर इसमें भी यदि बाधा हो तो दे दो केवल पाँच ग्राम, रखो अपनी धरती तमाम हम वहीं खुशी से खाएँगे, परिजन पर असि न उठाएँगे दुर्योधन वह भी दे न सका, आशीष समाज का ले न सका उलटे हरि को बाँधने चला, जो था असाध्य साधने चला जब नाश मनुज पर छाता है, पहले विवेक मर जाता है। 'मनुज' का अर्थ है:

- Ans A. मानव
 B. मनुष्य
 C. मनु की संतान
 D. उपर्युक्त सभी

Question Type : MCQ
 Question ID : 765044207
 Option 1 ID : 765044825
 Option 2 ID : 765044826
 Option 3 ID : 765044827
 Option 4 ID : 765044828
 Status : Answered
 Chosen Option : B

Q.5 विकसते मुरझाने को फूल, दीप जलता होने को मंद। बरसते भर जाने को मेघ, उदय होता छिपने को चाँद। इस पंक्ति में कौन-सा अलंकार है-

- Ans A. रूपक
 B. विरोधाभास
 C. श्लेष
 D. यमक

Question Type : MCQ
 Question ID : 7650441230
 Option 1 ID : 7650444917
 Option 2 ID : 7650444918
 Option 3 ID : 7650444919
 Option 4 ID : 7650444920
 Status : Answered
 Chosen Option : B



Q.6 'राम ने ऐसी कहानी सुनाई कि करन रो पड़ा।' वाक्य का संयुक्त वाक्य में रूपांतरण है-

- Ans A. राम ने कहानी सुनाई क्योंकि करन रो रहा था।
 B. राम ने ऐसी कहानी सुनाई जिसको सुन कर करन रो पड़ा।
 C. राम ने कहानी सुनाई और करन रो पड़ा।
 D. इन में से कोई नहीं

Question Type : MCQ
 Question ID : 765044308
 Option 1 ID : 7650441229
 Option 2 ID : 7650441230
 Option 3 ID : 7650441231
 Option 4 ID : 7650441232
 Status : Answered
 Chosen Option : B

Q.7 निम्न में से रूपक का उदाहरण है -

- Ans A. आए महंत वसंत।
 B. मन का मनका का फेर।
 C. चरण - कमल बंदों हरिराई।
 D. उपयुक्त सभी

Question Type : MCQ
 Question ID : 7650441036
 Option 1 ID : 7650444141
 Option 2 ID : 7650444142
 Option 3 ID : 7650444143
 Option 4 ID : 7650444144
 Status : Answered
 Chosen Option : D

Q.8 निरस्त करना शब्द का अंग्रेजी पारिभाषिक शब्द होगा-

- Ans A. Void
 B. Revalidate
 C. Routine
 D. Revoke

Question Type : MCQ
 Question ID : 765044368
 Option 1 ID : 7650441469
 Option 2 ID : 7650441470
 Option 3 ID : 7650441471
 Option 4 ID : 7650441472
 Status : Answered
 Chosen Option : C



Q.9 पूत कपूत तो क्यों धन संचय।
पूत सपूत तो क्यों धन संचय।।
उक्त पंक्तियों में अलंकार का प्रकार बताएँ

- Ans A. छेकानुप्रास
 B. लाटानुप्रास
 C. वृत्यानुप्रास
 D. श्लेष

Question Type : MCQ
Question ID : 765044942
Option 1 ID : 7650443765
Option 2 ID : 7650443766
Option 3 ID : 7650443767
Option 4 ID : 7650443768
Status : Answered
Chosen Option : D

Q.10 जहाँ उपमेय में अनेक उपमानों की शंका होती है -

- Ans A. यमक
 B. अनुप्रास
 C. श्लेष
 D. भ्रान्तिमान

Question Type : MCQ
Question ID : 7650441014
Option 1 ID : 7650444053
Option 2 ID : 7650444054
Option 3 ID : 7650444055
Option 4 ID : 7650444056
Status : Answered
Chosen Option : A

Q.11 'पुत्र-पुत्री' में कौन-सा समास है?

- Ans A. बहुव्रीहि
 B. द्वन्द्व
 C. तत्पुरुष
 D. द्विगु

Question Type : MCQ
Question ID : 76504492
Option 1 ID : 765044365
Option 2 ID : 765044366
Option 3 ID : 765044367
Option 4 ID : 765044368
Status : Answered
Chosen Option : B



Q.12 वाच्य का शाब्दिक अर्थ क्या है?

- Ans A. वचन
 B. बोली
 C. बोलने का विषय
 D. कहावत

Question Type : MCQ
 Question ID : 765044678
 Option 1 ID : 7650442709
 Option 2 ID : 7650442710
 Option 3 ID : 7650442711
 Option 4 ID : 7650442712
 Status : Answered
 Chosen Option : C

Q.13 पुलक प्रकट करती है, धरती हरित तृणों की नोक से।
 मानो झूम रहे हो तरू भी, मंद पवन की झोंकों से।।
 इस पंक्ति में कौन-सा अलंकार है।

- Ans A. रूपक
 B. उत्प्रेक्षा
 C. यमक
 D. विभावना

Question Type : MCQ
 Question ID : 7650441158
 Option 1 ID : 7650444629
 Option 2 ID : 7650444630
 Option 3 ID : 7650444631
 Option 4 ID : 7650444632
 Status : Answered
 Chosen Option : A

Q.14 'मेरे चाहने के अनुसार सब कुछ हो रहा था।' वाक्य का मिश्र वाक्य में रूप होगा-

- Ans A. सब कुछ हो रहा था, वो भी मेरे चाहने के अनुसार ।
 B. मेरे चाहने पर ही सब कुछ हो रहा था।
 C. मेरे अनुसार ही सब कुछ हो रहा था।
 D. मैं जैसा चाह रहा था, वैसा ही सब कुछ होता जा रहा था।

Question Type : MCQ
 Question ID : 765044316
 Option 1 ID : 7650441261
 Option 2 ID : 7650441262
 Option 3 ID : 7650441263
 Option 4 ID : 7650441264
 Status : Answered
 Chosen Option : A



Q.15 रहिमान जो गति दीप की, कुल कपूत गति सोय। बारे उजियारै लगै, बढै अंधेरो होय।। उपर्युक्त पंक्तियों में कौन सा अलंकार है?

- Ans A. उपमा
 B. रूपक
 C. यमक
 D. श्लेष

Question Type : MCQ
 Question ID : 7650441353
 Option 1 ID : 7650445409
 Option 2 ID : 7650445410
 Option 3 ID : 7650445411
 Option 4 ID : 7650445412
 Status : Answered
 Chosen Option : B

Q.16 खड़ी बोली के सर्वप्रथम लोकप्रिय कवि माने जाते हैं ?

- Ans A. रामधारी सिंह 'दिनकर'
 B. सूर्यकांत त्रिपाठी 'निराला'
 C. मैथली शरण गुप्त
 D. अयोध्या सिंह उपाध्याय 'हरिऔध'

Question Type : MCQ
 Question ID : 7650441428
 Option 1 ID : 7650445709
 Option 2 ID : 7650445710
 Option 3 ID : 7650445711
 Option 4 ID : 7650445712
 Status : Answered
 Chosen Option : A

Q.17 निम्न में कौन सा वाक्य शुद्ध है--

- Ans A. इस परिश्रम का बदला अपने कार्य से मनुष्य को जो संतोष होता है, वही है।
 B. उसने जोर जोर से रोने लगा।
 C. आप उस प्रतिज्ञा को न भूले होंगे।
 D. इस किताब का क्या मूल्य है?

Question Type : MCQ
 Question ID : 765044756
 Option 1 ID : 7650443021
 Option 2 ID : 7650443022
 Option 3 ID : 7650443023
 Option 4 ID : 7650443024
 Status : Answered
 Chosen Option : D



Q.18 अंग्रेजी के पारिभाषिक शब्द 'ALLOTMENT' के लिए हिन्दी का समानार्थक शब्द है-

- Ans A. पंजीयन
 B. निस्तारण
 C. आवंटन
 D. संशोधन

Question Type : MCQ
 Question ID : 765044371
 Option 1 ID : 7650441481
 Option 2 ID : 7650441482
 Option 3 ID : 7650441483
 Option 4 ID : 7650441484
 Status : Answered
 Chosen Option : B

Q.19 'परीक्षा' का संधि-विच्छेद है-

- Ans A. पर+इच्छा
 B. परी+क्षा
 C. परी+इच्छा
 D. परि+ईक्षा

Question Type : MCQ
 Question ID : 76504439
 Option 1 ID : 765044153
 Option 2 ID : 765044154
 Option 3 ID : 765044155
 Option 4 ID : 765044156
 Status : Answered
 Chosen Option : B

Q.20 अन्वय की दृष्टि से कौन- सा वाक्य शुद्ध है?

- Ans A. गीता को सिलाई करनी नहीं आती।
 B. गीता को सिलाई करने नहीं आता।
 C. गीता को सिलाई करना नहीं आता।
 D. गीता को सिलाई करना नहीं आती।

Question Type : MCQ
 Question ID : 765044894
 Option 1 ID : 7650443573
 Option 2 ID : 7650443574
 Option 3 ID : 7650443575
 Option 4 ID : 7650443576
 Status : Answered
 Chosen Option : B



Q.21 'विषय-वारि मन- मीन भिन्न नहिं होत कबहुं पल एक' । में कौन - सा अलंकार है -

- Ans A. रूपक
 B. अतिशयोक्ति
 C. मानवीकरण
 D. उपमा

Question Type : MCQ
 Question ID : 7650441027
 Option 1 ID : 7650444105
 Option 2 ID : 7650444106
 Option 3 ID : 7650444107
 Option 4 ID : 7650444108
 Status : Answered
 Chosen Option : B

Q.22 'औसू पौछना' मुहावरे का क्या अर्थ है?

- Ans A. दिलासा देना
 B. खिल्ली उड़ाना
 C. रूलाना
 D. बहलाना

Question Type : MCQ
 Question ID : 765044482
 Option 1 ID : 7650441925
 Option 2 ID : 7650441926
 Option 3 ID : 7650441927
 Option 4 ID : 7650441928
 Status : Answered
 Chosen Option : A

Q.23 अशुद्ध वाक्य की पहचान कीजिए ..

- Ans A. ये फल अच्छे नहीं है।
 B. मुझे निबंध लिखना है।
 C. राम और राम का पुत्र बाजार गया।
 D. यह पुस्तक रोहन की है।

Question Type : MCQ
 Question ID : 765044553
 Option 1 ID : 7650442209
 Option 2 ID : 7650442210
 Option 3 ID : 7650442211
 Option 4 ID : 7650442212
 Status : Answered
 Chosen Option : C



Q.24 राहुल फुटबॉल खेलकर चला गया। रेखांकित शब्द में कौन पदबंध है।

- Ans A. क्रिया पदबंध
 B. क्रिया विशेषण पदबंध
 C. संज्ञा पदबंध
 D. सर्वनाम पदबंध

Question Type : MCQ
 Question ID : 765044621
 Option 1 ID : 7650442481
 Option 2 ID : 7650442482
 Option 3 ID : 7650442483
 Option 4 ID : 7650442484
 Status : Answered
 Chosen Option : B

Q.25 'घुड़दौड़' का समास-विग्रह बताइए?

- Ans A. घोड़े जैसी तेज दौड़
 B. घोड़े की दौड़
 C. दौड़ने वाला घोड़ा
 D. घोड़ा और दौड़

Question Type : MCQ
 Question ID : 76504488
 Option 1 ID : 765044349
 Option 2 ID : 765044350
 Option 3 ID : 765044351
 Option 4 ID : 765044352
 Status : Answered
 Chosen Option : D

Section : General English

Q.26 Fill in the blank with the suitable option:
 The child looks----- if he were hungry.

- Ans A. and
 B. as
 C. but
 D. or

Question Type : MCQ
 Question ID : 7650442920
 Option 1 ID : 76504411677
 Option 2 ID : 76504411678
 Option 3 ID : 76504411679
 Option 4 ID : 76504411680
 Status : Answered
 Chosen Option : B



Q.27 Complete the statement :
The Preposition 'Beside' means _____.

- Ans A. in addition to
 B. by the side of
 C. Both
 D. None

Question Type : MCQ
Question ID : 7650442882
Option 1 ID : 76504411525
Option 2 ID : 76504411526
Option 3 ID : 76504411527
Option 4 ID : 76504411528
Status : Answered
Chosen Option : C

Q.28 Fill up the blank, with the correct option
The ball rolled--the lawn.

- Ans A. towards
 B. over
 C. under
 D. across

Question Type : MCQ
Question ID : 7650442233
Option 1 ID : 7650448929
Option 2 ID : 7650448930
Option 3 ID : 7650448931
Option 4 ID : 7650448932
Status : Answered
Chosen Option : B

Q.29 Identify the correct word.

- Ans A. Summary
 B. Sammary
 C. Sumary
 D. Samary

Question Type : MCQ
Question ID : 7650442723
Option 1 ID : 76504410889
Option 2 ID : 76504410890
Option 3 ID : 76504410891
Option 4 ID : 76504410892
Status : Answered
Chosen Option : B



Q.30 Select the most appropriate option to change the sentence from direct speech to indirect speech

"She must apply for the job," he said.

He said that -----apply for the job.

- Ans A. She had to
 B. He has to
 C. They have to
 D. I have to

Question Type : MCQ
Question ID : 7650441959
Option 1 ID : 7650447833
Option 2 ID : 7650447834
Option 3 ID : 7650447835
Option 4 ID : 7650447836
Status : Answered
Chosen Option : D

Q.31 Choose the correct phrase from the given option and make a conditional sentence.

You would manage it if you..... panic

- Ans A. didn't
 B. weren't
 C. don't
 D. haven't

Question Type : MCQ
Question ID : 7650442436
Option 1 ID : 7650449741
Option 2 ID : 7650449742
Option 3 ID : 7650449743
Option 4 ID : 7650449744
Status : Answered
Chosen Option : C

Q.32 By the time she was fifteen, she..... a beautiful singer.

- Ans A. Shall become
 B. become
 C. had become
 D. has becoming

Question Type : MCQ
Question ID : 7650441864
Option 1 ID : 7650447453
Option 2 ID : 7650447454
Option 3 ID : 7650447455
Option 4 ID : 7650447456
Status : Answered
Chosen Option : A



Q.33 Fill in the blanks with suitable conjunction.

----our constant disagreements, we remained fast friends.

- Ans A. Although
 B. Despite
 C. Unless
 D. Due to

Question Type : MCQ
Question ID : 7650442251
Option 1 ID : 7650449001
Option 2 ID : 7650449002
Option 3 ID : 7650449003
Option 4 ID : 7650449004
Status : Answered
Chosen Option : B

Q.34 Identify the incorrect sentence: :

- Ans A. You who are my friend, should not betray me.
 B. He who is my friend, should not betray me.
 C. Rani who is my friend, should not betray me.
 D. Neeta who are my friend, should not betray me

Question Type : MCQ
Question ID : 7650442941
Option 1 ID : 76504411761
Option 2 ID : 76504411762
Option 3 ID : 76504411763
Option 4 ID : 76504411764
Status : Answered
Chosen Option : B

Q.35 Select the alternative which best express the meaning of the idioms/phrase.

Addicted to

- Ans A. Habituated to something
 B. Under the pressure of someone
 C. Under the control of
 D. Blind to someone's fault

Question Type : MCQ
Question ID : 7650442352
Option 1 ID : 7650449405
Option 2 ID : 7650449406
Option 3 ID : 7650449407
Option 4 ID : 7650449408
Status : Answered
Chosen Option : C



Q.36 Fill in the blank with the past continuous tense form of the verb given in the bracket.
"Monica--- since last week" (Plan)

- Ans A. did plan
 B. has been planning
 C. had been planning
 D. was planning

Question Type : MCQ
Question ID : 7650441872
Option 1 ID : 7650447485
Option 2 ID : 7650447486
Option 3 ID : 7650447487
Option 4 ID : 7650447488
Status : Answered
Chosen Option : D

Q.37 The sentence given below has a word/words underlined. Read the sentence carefully and find which word class the underlined word/words belongs/belong to. Indicate your response accordingly.
To swim every day is good for health.

- Ans A. Participle
 B. Infinitive verb
 C. Gerund
 D. Adjective

Question Type : MCQ
Question ID : 7650442587
Option 1 ID : 76504410345
Option 2 ID : 76504410346
Option 3 ID : 76504410347
Option 4 ID : 76504410348
Status : Not Answered
Chosen Option : --

Q.38 Identify the correct sequence for the following parts of a sentence.
i. and forbade him ii.to return
iii. he ordered him iv.to leave the room

- Ans A. (i) (ii) (iii) (iv)
 B. (ii) (iii) (iv) (i)
 C. (iii) (iv) (ii) (i)
 D. (iii) (iv) (i) (ii)

Question Type : MCQ
Question ID : 7650442818
Option 1 ID : 76504411269
Option 2 ID : 76504411270
Option 3 ID : 76504411271
Option 4 ID : 76504411272
Status : Not Answered
Chosen Option : --



Q.39 Select the most appropriate option to change the sentence from direct speech to indirect speech

The salesman said, "Are you interested in the scheme?"

The salesman asked me if interested in the scheme.

- Ans A. they were
 B. you were
 C. he was
 D. I was

Question Type : MCQ
Question ID : 7650441968
Option 1 ID : 7650447869
Option 2 ID : 7650447870
Option 3 ID : 7650447871
Option 4 ID : 7650447872
Status : Answered
Chosen Option : C

Q.40 Identify the Passive Voice of the given sentence

The police arrested some thieves last night.

- Ans A. Some thieves have been arrested by police last night.
 B. Last night some thieves were arrested by the police.
 C. Some thieves were being arrested by the police last night.
 D. Some thieves has been arrested by the police last night.

Question Type : MCQ
Question ID : 7650442070
Option 1 ID : 7650448277
Option 2 ID : 7650448278
Option 3 ID : 7650448279
Option 4 ID : 7650448280
Status : Not Answered
Chosen Option : --

Q.41 Select the appropriate option

"If I forget her birthday, Ravi gets upset." Which conditional is this?

- Ans A. zero
 B. first
 C. second
 D. third

Question Type : MCQ
Question ID : 7650442477
Option 1 ID : 7650449905
Option 2 ID : 7650449906
Option 3 ID : 7650449907
Option 4 ID : 7650449908
Status : Answered
Chosen Option : A



Q.42 We.....afford a new car this year.

- Ans A. should
 B. might
 C. may
 D. can

Question Type : MCQ
Question ID : 7650442712
Option 1 ID : 76504410845
Option 2 ID : 76504410846
Option 3 ID : 76504410847
Option 4 ID : 76504410848
Status : Answered
Chosen Option : D

Q.43 Fill up the blank, with correct option

..... Bracket is generally used to add in the middle of the sentence.

- Ans A. Round
 B. Square
 C. Braces
 D. All of these

Question Type : MCQ
Question ID : 7650442108
Option 1 ID : 7650448429
Option 2 ID : 7650448430
Option 3 ID : 7650448431
Option 4 ID : 7650448432
Status : Answered
Chosen Option : A

Q.44 Which of the following statement is 'true'?

- Ans A. Listening and Reading are the Receptive Skills.
 B. Listening and Speaking are the Receptive Skills.
 C. Reading and Writing are the Productive Skills.
 D. Listening and Speaking are the Productive Skills.

Question Type : MCQ
Question ID : 7650442710
Option 1 ID : 76504410837
Option 2 ID : 76504410838
Option 3 ID : 76504410839
Option 4 ID : 76504410840
Status : Not Answered
Chosen Option : --



Q.45 Fill up the blank with the correct option.

An empty vesselmuch.

- Ans A. sounds
 B. have sound
 C. sound
 D. were sound

Question Type : MCQ
Question ID : 7650442553
Option 1 ID : 76504410209
Option 2 ID : 76504410210
Option 3 ID : 76504410211
Option 4 ID : 76504410212
Status : Answered
Chosen Option : B

Section : Mathematics

Q.46 X के मान..... के लिए 1, 5, 3, 4, 7, 4, X, 7 का बहुलक 4 होगा

- Ans A. 4
 B. 7
 C. 3
 D. 5

Question Type : MCQ
Question ID : 7650447055
Option 1 ID : 76504428217
Option 2 ID : 76504428218
Option 3 ID : 76504428219
Option 4 ID : 76504428220
Status : Answered
Chosen Option : A

Q.47 10 सेमी त्रिज्या वाले वृत्त की एक जीवा केंद्र पर समकोण बनाती है। छोटे खंडों का क्षेत्रफल (दिया गया है, $\pi = 3.14$) है

- Ans A. 32.5 सेमी²
 B. 34.5 सेमी²
 C. 28.5 सेमी²
 D. 30.5 सेमी²

Question Type : MCQ
Question ID : 7650447366
Option 1 ID : 76504429461
Option 2 ID : 76504429462
Option 3 ID : 76504429463
Option 4 ID : 76504429464
Status : Answered
Chosen Option : B



Q.48 यदि वृत्त $C(o,r)$ में जीवा AB का मध्य बिंदु P है तो $\angle OPA$ की माप ____ होगी।

- Ans A. 120°
 B. 160°
 C. 90°
 D. 180°

Question Type : MCQ
 Question ID : 7650446976
 Option 1 ID : 76504427901
 Option 2 ID : 76504427902
 Option 3 ID : 76504427903
 Option 4 ID : 76504427904
 Status : Answered
 Chosen Option : D

Q.49 यदि बहुपद $f(x)=2x^3-3kx^2+4x-5$ के शून्यकों का योगफल 6 है तो K का मान होगा :

- Ans A. 4
 B. -4
 C. 2
 D. -2

Question Type : MCQ
 Question ID : 7650446207
 Option 1 ID : 76504424825
 Option 2 ID : 76504424826
 Option 3 ID : 76504424827
 Option 4 ID : 76504424828
 Status : Answered
 Chosen Option : C

Q.50 लंबाई (l) और चौड़ाई (b) वाले समांतर चतुर्भुज का क्षेत्रफल _____ है:

- Ans A. $\frac{1}{2} lb$
 B. $2lb$
 C. lb
 D. $(lb)^2$

Question Type : MCQ
 Question ID : 7650446983
 Option 1 ID : 76504427929
 Option 2 ID : 76504427930
 Option 3 ID : 76504427931
 Option 4 ID : 76504427932
 Status : Answered
 Chosen Option : A



Q.51 बिन्दुओं (-3,-4) तथा (1,-2) को मिलाने वाली रेखाखण्ड को y-अक्ष अनुपात में बाँटती है,

- Ans A. 2:3
 B. 3:1
 C. 1:3
 D. 3:2

Question Type : MCQ
Question ID : 7650446714
Option 1 ID : 76504426853
Option 2 ID : 76504426854
Option 3 ID : 76504426855
Option 4 ID : 76504426856
Status : Answered
Chosen Option : B

Q.52 $\triangle ABC$ में, $DE \parallel AB$. यदि $CD=3$ सेमी, $EC=4$ सेमी, $BE = 6$ सेमी है, तो DA बराबर..... है

- Ans A. 7.5 cm
 B. 3 cm
 C. 4.5 cm
 D. 6 cm

Question Type : MCQ
Question ID : 7650446895
Option 1 ID : 76504427577
Option 2 ID : 76504427578
Option 3 ID : 76504427579
Option 4 ID : 76504427580
Status : Answered
Chosen Option : C

Q.53 द्विघात समीकरण $ax^2 + bx + c = 0$ के मूल $\sin\alpha, \cos\alpha$, हो तो $b^2 =$

- Ans A. $a^2 + 2ac$
 B. $a^2 - 2ac$
 C. $a^2 - ac$
 D. $a^2 + ac$

Question Type : MCQ
Question ID : 7650446437
Option 1 ID : 76504425745
Option 2 ID : 76504425746
Option 3 ID : 76504425747
Option 4 ID : 76504425748
Status : Answered
Chosen Option : A



Q.54 द्विघात समीकरण $2x^2 + 6x + p = 0$ के मूल वास्तविक तथा असमान हो तो p का मान।

Ans

✓ A. $p < \frac{9}{2}$

✗ B. $p \leq \frac{9}{2}$

✗ C. $p > \frac{9}{2}$

✗ D. $p \geq \frac{9}{2}$

Question Type : MCQ

Question ID : 7650446430

Option 1 ID : 76504425717

Option 2 ID : 76504425718

Option 3 ID : 76504425719

Option 4 ID : 76504425720

Status : Answered

Chosen Option : A

Q.55 एक त्रिभुज की भुजाएँ 12 : 14 : 25 के अनुपात में हैं और इसका परिमाण 25.5 सेमी है। त्रिभुज की सबसे बड़ी भुजा है

Ans

✗ A. 7 सेमी

✗ B. 14 सेमी

✓ C. 12.5 सेमी

✗ D. 18 सेमी

Question Type : MCQ

Question ID : 7650447278

Option 1 ID : 76504429109

Option 2 ID : 76504429110

Option 3 ID : 76504429111

Option 4 ID : 76504429112

Status : Answered

Chosen Option : C

Q.56 If a is rational number, then what is $\frac{1}{a}$?

यदि a परिमेय संख्या है, तो $\frac{1}{a}$ क्या होगा ?

Ans

✓ A. परिमेय संख्या

✗ B. अपरिमेय संख्या

✗ C. अभाज्य संख्या

✗ D. सम संख्या

Question Type : MCQ

Question ID : 7650446059

Option 1 ID : 76504424233

Option 2 ID : 76504424234

Option 3 ID : 76504424235

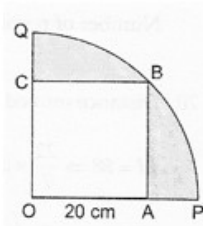
Option 4 ID : 76504424236

Status : Answered

Chosen Option : B



Q.57 In the given figure, a square OABC has been inscribed in the quadrant OPBQ. If OA = 20 cm then the area of the shaded region is [take $\pi = 3.14$]
 दिए गए चित्र में, एक वर्ग OABC को चतुर्थांश OPBQ में अंकित किया गया है। यदि OA = 20 सेमी है तो छायांकित क्षेत्र का क्षेत्रफल है [$\pi = 3.14$ लें]



- (a) 214cm^2
 (b) 228cm^2
 (c) 242cm^2
 (d) 248cm^2

Ans A. 214 सेमी²
 B. 228 सेमी²
 C. 242 सेमी²
 D. 248 सेमी²

Question Type : MCQ

Question ID : 7650447369

Option 1 ID : 76504429473

Option 2 ID : 76504429474

Option 3 ID : 76504429475

Option 4 ID : 76504429476

Status : Not Answered

Chosen Option : --

Q.58 कितने समय में 5% वार्षिक चक्रवृद्धि ब्याज की दर से 1600 रु० से बढ़कर 1852.20 रु० हो जाएगी...

Ans A. 2 वर्ष
 B. 3 वर्ष
 C. 5 वर्ष
 D. इनमें से कोई नहीं

Question Type : MCQ

Question ID : 7650446577

Option 1 ID : 76504426305

Option 2 ID : 76504426306

Option 3 ID : 76504426307

Option 4 ID : 76504426308

Status : Answered

Chosen Option : A

Q.59 रोमन अंकों का उपयोग आमतौर पर हिंदू-अरबी अंकों जैसी संख्याओं के लेखन में क्यों नहीं किया जाता ?

Ans A. रोमन अंक स्थानीय मान का नियोजन नहीं करते हैं , इसलिए इन अंकों का उपयोग करके गणना करना मुश्किल होता है ।
 B. रोमन अंकों को याद करना मुश्किल है।
 C. रोमन अंकों का उपयोग करके संख्याओं को बनाना एक जटिल कार्य है।
 D. बच्चे अंग्रेजी वर्णमाला और रोमन अंकों में भ्रमित हो जाते हैं ।

Question Type : MCQ

Question ID : 7650446135

Option 1 ID : 76504424537

Option 2 ID : 76504424538

Option 3 ID : 76504424539

Option 4 ID : 76504424540

Status : Answered

Chosen Option : D



Q.60 $9\sec^2 A - 9\tan^2 A = \dots$

- Ans A. 1
 B. 9
 C. 8
 D. 0

Question Type : MCQ
 Question ID : 7650447290
 Option 1 ID : 76504429157
 Option 2 ID : 76504429158
 Option 3 ID : 76504429159
 Option 4 ID : 76504429160
 Status : Answered
 Chosen Option : A

Q.61 सिमरन को एक किताब बेचते समय राज का लाभ रु. 63 है। पुस्तक पर 23% की छूट के बावजूद राज 10% लाभ प्राप्त करने में सफल रहा। पुस्तक का सूची मूल्य क्या होना चाहिए?

- Ans A. रु. 1120
 B. रु. 560
 C. रु. 900
 D. रु. 750

Question Type : MCQ
 Question ID : 7650446627
 Option 1 ID : 76504426505
 Option 2 ID : 76504426506
 Option 3 ID : 76504426507
 Option 4 ID : 76504426508
 Status : Answered
 Chosen Option : C

Q.62 बच्चों को भिन्न की संकल्पना पढ़ाने के लिए निम्नलिखित में से क्या अत्यंत उपयुक्त है ?

- Ans A. गिनतारा
 B. जियोबोर्ड
 C. संख्या चार्ट
 D. कूज़ेनेयर छड़ें

Question Type : MCQ
 Question ID : 7650446343
 Option 1 ID : 76504425369
 Option 2 ID : 76504425370
 Option 3 ID : 76504425371
 Option 4 ID : 76504425372
 Status : Answered
 Chosen Option : C

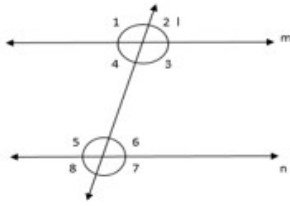


Q.63 यदि दो त्रिभुजों DEF और PQR में, कोण D= कोण Q और कोण R= कोण E, तो निम्न में से कौन सा सत्य नहीं है ?

- Ans A. $EF/PR=DF/PQ$
 B. $DE/PQ=EF/RP$
 C. $DE/QR=DF/PQ$
 D. $EF/RP=DE/QR$

Question Type : MCQ
 Question ID : 7650446843
 Option 1 ID : 76504427369
 Option 2 ID : 76504427370
 Option 3 ID : 76504427371
 Option 4 ID : 76504427372
 Status : Answered
 Chosen Option : C

Q.64 In the given, figure $m \parallel n$ and l is a transversal, then $\angle 1$ is always equal to



दी आकृति में, $m \parallel n$ और l एक तिर्यक है, तब $\angle 1$ हमेशा बराबर होगा -

- Ans A. $\angle 2$
 B. $\angle 4$
 C. $\angle 5$
 D. $\angle 8$

Question Type : MCQ
 Question ID : 7650446830
 Option 1 ID : 76504427317
 Option 2 ID : 76504427318
 Option 3 ID : 76504427319
 Option 4 ID : 76504427320
 Status : Not Answered
 Chosen Option : --

Q.65 भोलू के पास 30 पैसे तथा 10 पैसे मूल्य वाले कुल 40 सिक्के हैं। इन सबका कुल मूल्य 9 ₹ है। 10 पैसे मूल्य वाले कुल कितने सिक्के उसके पास हैं ?

- Ans A. 25
 B. 35
 C. 15
 D. 20

Question Type : MCQ
 Question ID : 7650446426
 Option 1 ID : 76504425701
 Option 2 ID : 76504425702
 Option 3 ID : 76504425703
 Option 4 ID : 76504425704
 Status : Answered
 Chosen Option : B



Q.66 यदि किसी घटना की प्रायिकता p है, तो उसकी पूरक घटना की प्रायिकता होगी

- Ans A. $p-1$
 B. p
 C. $1-p$
 D. $1-1/p$

Question Type : MCQ
 Question ID : 7650447455
 Option 1 ID : 76504429817
 Option 2 ID : 76504429818
 Option 3 ID : 76504429819
 Option 4 ID : 76504429820
 Status : Answered
 Chosen Option : B

Q.67 k के किस मान के लिए समीकरण युग्म $x+2y-3=0$ तथा $5x+ky+7=0$ का कोई हल नहीं होगा ?

- Ans A. 3
 B. 10
 C. 1
 D. -1

Question Type : MCQ
 Question ID : 7650446220
 Option 1 ID : 76504424877
 Option 2 ID : 76504424878
 Option 3 ID : 76504424879
 Option 4 ID : 76504424880
 Status : Answered
 Chosen Option : C

Q.68

$$6 \tan^2 \theta - \frac{6}{\cos^2 \theta} = \dots$$

- Ans A. -1
 B. 6
 C. -6
 D. 1

Question Type : MCQ
 Question ID : 7650447302
 Option 1 ID : 76504429205
 Option 2 ID : 76504429206
 Option 3 ID : 76504429207
 Option 4 ID : 76504429208
 Status : Answered
 Chosen Option : A



Q.69 Which type of number is $3+2\sqrt{5}$?

$3+2\sqrt{5}$ कैसी संख्या है?

- Ans A. अपरिमेय
 B. परिमेय
 C. अभाज्य
 D. प्राकृत

Question Type : MCQ
 Question ID : 7650446029
 Option 1 ID : 76504424113
 Option 2 ID : 76504424114
 Option 3 ID : 76504424115
 Option 4 ID : 76504424116
 Status : Answered
 Chosen Option : A

Q.70 किसी तल में दो बिन्दु A(1,1) तथा B(2,3) को जोड़ने वाले रेखा खण्ड की दूरीहोगी ।

- Ans A. $\sqrt{6}$
 B. $\sqrt{5}$
 C. $2\sqrt{2}$
 D. इनमें से कोई नहीं

Question Type : MCQ
 Question ID : 7650446702
 Option 1 ID : 76504426805
 Option 2 ID : 76504426806
 Option 3 ID : 76504426807
 Option 4 ID : 76504426808
 Status : Answered
 Chosen Option : D

Section : Science

Q.71 प्राकृतिक संसाधनों को नष्ट किए बिना उनका उपयोग करने की प्रक्रिया क्या है?

- Ans A. सतत प्रबंधन
 B. अतिशोषण
 C. खनन
 D. निष्कर्षण

Question Type : MCQ
 Question ID : 7650443831
 Option 1 ID : 76504415321
 Option 2 ID : 76504415322
 Option 3 ID : 76504415323
 Option 4 ID : 76504415324
 Status : Answered
 Chosen Option : C



Q.72 निम्न में से कौन सा जीवाणु लेग्यूम (फलियां) की जड़ों से सम्बद्ध है-

- Ans A. नॉस्टोक
 B. क्लॉस्ट्रिडियम
 C. राइजोबियम
 D. स्पाइरोगायरा

Question Type : MCQ
Question ID : 7650443043
Option 1 ID : 76504412169
Option 2 ID : 76504412170
Option 3 ID : 76504412171
Option 4 ID : 76504412172
Status : Answered
Chosen Option : C

Q.73 किसी कार का अग्रदीप में प्रयुक्त दर्पण निम्नलिखित में से कौन होता है?

- Ans A. अवतल दर्पण
 B. उत्तल दर्पण
 C. समतल दर्पण
 D. समतल/उत्तल दर्पण

Question Type : MCQ
Question ID : 7650443597
Option 1 ID : 76504414385
Option 2 ID : 76504414386
Option 3 ID : 76504414387
Option 4 ID : 76504414388
Status : Answered
Chosen Option : B

Q.74 कटलफिश किस संघ से संबंधित है?

- Ans A. मोलस्का
 B. एकीनोडरमेटा
 C. कोर्डेटा
 D. एनेलिडा

Question Type : MCQ
Question ID : 7650443702
Option 1 ID : 76504414805
Option 2 ID : 76504414806
Option 3 ID : 76504414807
Option 4 ID : 76504414808
Status : Answered
Chosen Option : B



Q.75 दुनिया भर में पौधों और जानवरों के वितरण के अध्ययन को कहा जाता है:

- Ans A. बायोग्राफी
 B. जीवाश्म विज्ञान
 C. तुलनात्मक शरीर रचना
 D. आप्टिक जीव विज्ञान

Question Type : MCQ
 Question ID : 7650443956
 Option 1 ID : 76504415821
 Option 2 ID : 76504415822
 Option 3 ID : 76504415823
 Option 4 ID : 76504415824
 Status : Answered
 Chosen Option : B

Q.76 जब पानी 0°C पर जम कर 0°C के समान तापमान पर बर्फ बनता है, तो वह:

- Ans A. कुछ गर्मी अवशोषित करता है
 B. कुछ गर्मी छोड़ता है
 C. न तो गर्मी को अवशोषित करता है और न ही छोड़ता है
 D. 3.34×10^5 जे/किलो ताप अवशोषित करता है

Question Type : MCQ
 Question ID : 7650444067
 Option 1 ID : 76504416265
 Option 2 ID : 76504416266
 Option 3 ID : 76504416267
 Option 4 ID : 76504416268
 Status : Answered
 Chosen Option : C

Q.77 एक छात्र जीवाश्म ईंधन से ऊर्जा निकालना चाहता है। कौन सी प्रक्रिया उसे जीवाश्म ईंधन से ऊर्जा निकालने में मदद करेगी?

- Ans A. जलना
 B. क्रिस्टलीकरण
 C. संघनन
 D. आसवन

Question Type : MCQ
 Question ID : 7650444028
 Option 1 ID : 76504416109
 Option 2 ID : 76504416110
 Option 3 ID : 76504416111
 Option 4 ID : 76504416112
 Status : Answered
 Chosen Option : B



Q.78 जब एथनॉल, सोडियम के साथ क्रिया करता है तो निम्नलिखित कौन सी गैस निकलती है ?

- Ans A. CO₂
 B. H₂
 C. O₂
 D. N₂

Question Type : MCQ
Question ID : 7650443132
Option 1 ID : 76504412525
Option 2 ID : 76504412526
Option 3 ID : 76504412527
Option 4 ID : 76504412528
Status : Answered
Chosen Option : C

Q.79 इनमें से कौन - सी बीमारी कोरोना वाइरस से संबंधित हैं -

- Ans A. MERS
 B. SARS
 C. दोनों
 D. इनमें से कोई नहीं

Question Type : MCQ
Question ID : 7650443299
Option 1 ID : 76504413193
Option 2 ID : 76504413194
Option 3 ID : 76504413195
Option 4 ID : 76504413196
Status : Answered
Chosen Option : D

Q.80 उन अंगों का नाम बताए जो मनुष्यों में उत्सर्जन प्रणाली को बनाते हैं -

- Ans A. दो किडनी
 B. दो युरेटर
 C. मूत्राशय और युरेथ्रा
 D. ये सभी

Question Type : MCQ
Question ID : 7650443338
Option 1 ID : 76504413349
Option 2 ID : 76504413350
Option 3 ID : 76504413351
Option 4 ID : 76504413352
Status : Answered
Chosen Option : D



Q.81 निम्नलिखित में से पादप (पौधे) सूक्ष्म पोषकों के समुच्चय (लघु मात्राओं में पादपों द्वारा आपेक्षित पोषक) की पहचान कीजिए:

- Ans A. ताँबा, फॉस्फोरस, कैल्शियम
 B. सल्फर, ऐलुमिनियम, क्लोरीन
 C. जिंक (जस्ता) , लौह, मैंगनीज
 D. पोटैशियम , मैग्नीशियम, ताँबा

Question Type : MCQ
 Question ID : 7650444123
 Option 1 ID : 76504416489
 Option 2 ID : 76504416490
 Option 3 ID : 76504416491
 Option 4 ID : 76504416492
 Status : Answered
 Chosen Option : D

Q.82 त्रिज्या r के एक वृत्त में, स्थिर गति v के साथ घूम रहे, किसी पिंड का कोणीय वेग इस प्रकार दिया जाता है?

- Ans A. $v/2r$
 B. $V.R.$
 C. V/R
 D. RV

Question Type : MCQ
 Question ID : 7650443756
 Option 1 ID : 76504415021
 Option 2 ID : 76504415022
 Option 3 ID : 76504415023
 Option 4 ID : 76504415024
 Status : Answered
 Chosen Option : C

Q.83 pH मान 7 से कम यह दर्शाता है कि विलयन है -

- Ans A. अम्लीय
 B. क्षारीय
 C. उदासीन
 D. कोई प्रभाव नहीं

Question Type : MCQ
 Question ID : 7650443864
 Option 1 ID : 76504415453
 Option 2 ID : 76504415454
 Option 3 ID : 76504415455
 Option 4 ID : 76504415456
 Status : Answered
 Chosen Option : B



Q.84 निम्नांकित में कौन एक तत्व नहीं है?

- Ans A. मार्बल
 B. ऑक्सीजन
 C. जिंक
 D. ब्रोमीन

Question Type : MCQ
 Question ID : 7650443209
 Option 1 ID : 76504412833
 Option 2 ID : 76504412834
 Option 3 ID : 76504412835
 Option 4 ID : 76504412836
 Status : Answered
 Chosen Option : B

Q.85 सूखी बर्फ गर्म करने पर में परिणत होगा ।

- Ans A. द्रव CO₂
 B. गैस द्रव CO₂
 C. जल
 D. जलवाष्प

Question Type : MCQ
 Question ID : 7650443185
 Option 1 ID : 76504412737
 Option 2 ID : 76504412738
 Option 3 ID : 76504412739
 Option 4 ID : 76504412740
 Status : Answered
 Chosen Option : C

Q.86 इन में से कौन सी ऊष्माक्षेपी प्रक्रियाएं हैं?

- (i) बिना बुझे चूने के साथ पानी की प्रतिक्रिया
 (ii) अम्ल का तनुकरण
 (iii) पानी का वाष्पीकरण
 (iv) कपूर (क्रिस्टल) का उर्ध्वपातन

- Ans A. (i) और (ii)
 B. (ii) और (iii)
 C. (i) और (iv)
 D. (ii) और (iv)

Question Type : MCQ
 Question ID : 7650443642
 Option 1 ID : 76504414565
 Option 2 ID : 76504414566
 Option 3 ID : 76504414567
 Option 4 ID : 76504414568
 Status : Answered
 Chosen Option : C



Q.87 G' का वर्तमान मान्य मान है लगभग -

- Ans A. $6.673 \times 10^{-11} \text{Nm}^2 \text{kg}^{-2}$
 B. $6.73 \times 10^{11} \text{Nm}^2 \text{kg}^{-2}$
 C. $6.73 \times 10^{11} \text{Nm}^2 \text{kg}^2$
 D. 9.8ms^2

Question Type : MCQ
 Question ID : 7650443422
 Option 1 ID : 76504413685
 Option 2 ID : 76504413686
 Option 3 ID : 76504413687
 Option 4 ID : 76504413688
 Status : Answered
 Chosen Option : D

Q.88 बाल्मीकी नगर जीव अभ्यारण बिहार के किस जिला में स्थित है?

- Ans A. पश्चिमी चंपारण
 B. पूर्वी चंपारण
 C. पटना
 D. गया

Question Type : MCQ
 Question ID : 7650443510
 Option 1 ID : 76504414037
 Option 2 ID : 76504414038
 Option 3 ID : 76504414039
 Option 4 ID : 76504414040
 Status : Answered
 Chosen Option : C

Q.89 एक वस्तु पानी में तैरता है पर नारियल तेल में डूब जाता है। वस्तु का घनत्व

- Ans A. तेल के घनत्व से ज्यादा है।
 B. पानी के घनत्व से कम है।
 C. दोनों सत्य हैं।
 D. उपलब्ध सूचना के आधार पर कुछ कहना संभव नहीं है।

Question Type : MCQ
 Question ID : 7650443451
 Option 1 ID : 76504413801
 Option 2 ID : 76504413802
 Option 3 ID : 76504413803
 Option 4 ID : 76504413804
 Status : Answered
 Chosen Option : D



Q.90 ऐलुमिनियम और जिंक के ऑक्साइड होते है:

- Ans A. अम्लीय
 B. उभयधर्मी
 C. क्षारकीय
 D. उदासीन

Question Type : MCQ
 Question ID : 7650444199
 Option 1 ID : 76504416793
 Option 2 ID : 76504416794
 Option 3 ID : 76504416795
 Option 4 ID : 76504416796
 Status : Answered
 Chosen Option : B

Section : Social Studies

Q.91 निम्नलिखित में से किस राज्य में स्थायी वनों के अंतर्गत सबसे बड़ा क्षेत्र है?

- Ans A. नागालैंड
 B. असम
 C. मध्य प्रदेश
 D. केरल

Question Type : MCQ
 Question ID : 7650445047
 Option 1 ID : 76504420185
 Option 2 ID : 76504420186
 Option 3 ID : 76504420187
 Option 4 ID : 76504420188
 Status : Answered
 Chosen Option : C

Q.92 जब प्राकृतिक पदार्थ रूप बदलकर संसाधन बन जाते हैं तो वे कहलाते हैं

- Ans A. नवीकरणीय संसाधन
 B. गैर-नवीकरणीय संसाधन
 C. मानव निर्मित संसाधन
 D. रूढ़िवादी संसाधन

Question Type : MCQ
 Question ID : 7650444997
 Option 1 ID : 76504419985
 Option 2 ID : 76504419986
 Option 3 ID : 76504419987
 Option 4 ID : 76504419988
 Status : Answered
 Chosen Option : C



Q.93 बिहार में कृषि आधारित उद्योगों में कौन सा खाद्य उद्योग प्रमुख है?

- Ans A. मसाला उद्योग
 B. दलहन उद्योग
 C. गन्ना उद्योग
 D. अनाज आधारित उद्योग

Question Type : MCQ
 Question ID : 7650445120
 Option 1 ID : 76504420477
 Option 2 ID : 76504420478
 Option 3 ID : 76504420479
 Option 4 ID : 76504420480
 Status : Answered
 Chosen Option : D

Q.94 किस गवर्नर-जनरल ने घोषित किया कि अवध पर गलत तरीके से शासन किया जा रहा था और उचित प्रशासन सुनिश्चित करने के लिए ब्रिटिश शासन की आवश्यकता था?

- Ans A. लॉर्ड रिपन
 B. लॉर्ड कैनिंग
 C. लॉर्ड डलहौजी
 D. लॉर्ड माउंटबेटन

Question Type : MCQ
 Question ID : 7650445410
 Option 1 ID : 76504421637
 Option 2 ID : 76504421638
 Option 3 ID : 76504421639
 Option 4 ID : 76504421640
 Status : Answered
 Chosen Option : C

Q.95 रेशम के धागे के उत्पादन के लिए रेशम कीड़े के पालन के रूप में जाना जाता है:

- Ans A. रेशम उत्पादन
 B. जलीय कृषि
 C. मधुमक्खी पालन
 D. मछली पालन

Question Type : MCQ
 Question ID : 7650444315
 Option 1 ID : 76504417257
 Option 2 ID : 76504417258
 Option 3 ID : 76504417259
 Option 4 ID : 76504417260
 Status : Answered
 Chosen Option : A



Q.96 सामाजिक परिणाम जैसे क्षेत्रों को कवर करते हैं

- (i) नागरिकों की गरिमा और स्वतंत्रता
- (ii) छुआछूत और भेदभाव
- (iii) लैंगिक समानता
- (iv) बाल श्रम पर रोक

- Ans A. (i), (iii) और (iv)
 B. (ii), (i) और (iv)
 C. (ii) और (iv)
 D. (i) केवल

Question Type : MCQ
 Question ID : 7650445258
 Option 1 ID : 76504421029
 Option 2 ID : 76504421030
 Option 3 ID : 76504421031
 Option 4 ID : 76504421032
 Status : Answered
 Chosen Option : D

Q.97 पूर्वी मध्य रेलवे का मुख्यालय कहाँ है?

- Ans A. हाजीपुर
 B. गोरखपुर
 C. भुवनेश्वर
 D. कोलकाता-हावड़ा

Question Type : MCQ
 Question ID : 7650444632
 Option 1 ID : 76504418525
 Option 2 ID : 76504418526
 Option 3 ID : 76504418527
 Option 4 ID : 76504418528
 Status : Answered
 Chosen Option : B

Q.98 कोलंबस ने कई वर्षों तक पश्चिम में जाने के लिए पैसे देने हेतु किसी की खोज की। किस देश और नेताओं ने आखिरकार उसे पैसे दिए?

- Ans A. उसकी माँ
 B. किंग फर्डिनेंड और इटली के क्वीन एलिजाबेथ
 C. लीफ एरिकसन
 D. किंग फर्डिनेंड और स्पेन के क्वीन इसाबेला

Question Type : MCQ
 Question ID : 7650444822
 Option 1 ID : 76504419285
 Option 2 ID : 76504419286
 Option 3 ID : 76504419287
 Option 4 ID : 76504419288
 Status : Answered
 Chosen Option : B



Q.99 भारत मे केन्द्र में गैर-कांग्रेसी सरकार कब बनी थी ?

- Ans A. 1967 में
 B. 1977 में
 C. 1989 में
 D. 1991 में

Question Type : MCQ
Question ID : 7650444794
Option 1 ID : 76504419173
Option 2 ID : 76504419174
Option 3 ID : 76504419175
Option 4 ID : 76504419176
Status : Answered
Chosen Option : A

Q.10 काकरापारा परमाणु ऊर्जा स्टेशन किस राज्य में स्थित है?

- Ans A. महाराष्ट्र
 B. आंध्र प्रदेश
 C. कर्नाटक
 D. गुजरात

Question Type : MCQ
Question ID : 7650444572
Option 1 ID : 76504418285
Option 2 ID : 76504418286
Option 3 ID : 76504418287
Option 4 ID : 76504418288
Status : Answered
Chosen Option : C

Q.10 राज्यसभा के सदस्यों का कार्यकाल होता है?

- Ans A. 4 वर्ष
 B. 5 वर्ष
 C. 6 वर्ष
 D. 2 वर्ष

Question Type : MCQ
Question ID : 7650444711
Option 1 ID : 76504418841
Option 2 ID : 76504418842
Option 3 ID : 76504418843
Option 4 ID : 76504418844
Status : Answered
Chosen Option : B



Q.10 भारत में संविधान का संरक्षक कौन है?

2

- Ans
- A. भारत के राष्ट्रपति
 - B. संसद
 - C. चुनाव आयोग
 - D. उच्चतम न्यायालय

Question Type : MCQ

Question ID : 7650445196

Option 1 ID : 76504420781

Option 2 ID : 76504420782

Option 3 ID : 76504420783

Option 4 ID : 76504420784

Status : Answered

Chosen Option : B

Q.10 आदिवासी समाज की विशिष्टता का श्रेय जाता है।

3

- (a) जाति व्यवस्था के प्रचलन को
(b) दूसरे प्रचलित धर्मों से भिन्न, अनेक प्रकार के जनजातीय धर्मों के पालन को
(c) विशिष्ट भाषा के प्रयोग को
(d) ऊँच-नीच की कम उपस्थिति को
सही उत्तर का चयन कीजिए।

- Ans
- A. (b), (c), और (d)
 - B. (a), (b) और (d)
 - C. (a), (b), (c) और (d)
 - D. (a), (b) और (c)

Question Type : MCQ

Question ID : 7650445344

Option 1 ID : 76504421373

Option 2 ID : 76504421374

Option 3 ID : 76504421375

Option 4 ID : 76504421376

Status : Answered

Chosen Option : D

Q.10 दुर्गावती जलाशय परियोजना बिहार के किस जिले में स्थित है ?

4

- Ans
- A. रोहतास
 - B. कैमूर
 - C. गया
 - D. पटना

Question Type : MCQ

Question ID : 7650444651

Option 1 ID : 76504418601

Option 2 ID : 76504418602

Option 3 ID : 76504418603

Option 4 ID : 76504418604

Status : Answered

Chosen Option : B



Q.10 बाडा.बंदी आंदोलन कहाँ हुआ ?

5

- Ans
- A. फ्रॉस
 - B. रूस
 - C. इंग्लैंड
 - D. जर्मनी

Question Type : MCQ
 Question ID : 7650444392
 Option 1 ID : 76504417565
 Option 2 ID : 76504417566
 Option 3 ID : 76504417567
 Option 4 ID : 76504417568
 Status : Answered
 Chosen Option : A

Q.10 इंपीरियल ओटावा सम्मेलन किस वर्ष हुआ था ?

6

- Ans
- A. 1928
 - B. 1929
 - C. 1930
 - D. 1932

Question Type : MCQ
 Question ID : 7650444414
 Option 1 ID : 76504417653
 Option 2 ID : 76504417654
 Option 3 ID : 76504417655
 Option 4 ID : 76504417656
 Status : Answered
 Chosen Option : A

Q.10 वह व्यक्ति जो लोगों को गाँव से लाता था, उनके लिए नौकरियाँ सुनिश्चित करता था, उन्हें शहरों में बसने में मदद करता था और ज़रूरत के समय उन्हें धन उपलब्ध कराता था, उसे कहा जाता था:

7

- Ans
- A. स्टेप्लर
 - B. फुलर
 - C. गोमस्थ
 - D. जॉबर

Question Type : MCQ
 Question ID : 7650444917
 Option 1 ID : 76504419665
 Option 2 ID : 76504419666
 Option 3 ID : 76504419667
 Option 4 ID : 76504419668
 Status : Answered
 Chosen Option : C



Q.10 सामंतवाद व्यवस्था में भूमि का मालिक कौन होता था?

8

- Ans
- A. सामंत
 - B. किसान
 - C. राजा
 - D. कम्मी

Question Type : MCQ

Question ID : 7650444224

Option 1 ID : 76504416893

Option 2 ID : 76504416894

Option 3 ID : 76504416895

Option 4 ID : 76504416896

Status : Answered

Chosen Option : B

Q.10 निम्नलिखित में से कौन सा कथन सत्य है?

9

- Ans
- A. लोकतंत्र में बहुमत और अल्पसंख्यक की राय स्थायी नहीं होती है।
 - B. लोकतंत्र में यह भी आवश्यक है कि बहुमत का शासन धर्म या नस्ल या भाषाई समूह के आधार पर बहुसंख्यक समुदाय का शासन न बन जाए।
 - C. लोकतंत्र तभी तक लोकतंत्र बना रहता है जब तक प्रत्येक नागरिक को किसी समय बहुमत में होने का मौका मिलता है।
 - D. उपरोक्त सभी।

Question Type : MCQ

Question ID : 7650445134

Option 1 ID : 76504420533

Option 2 ID : 76504420534

Option 3 ID : 76504420535

Option 4 ID : 76504420536

Status : Answered

Chosen Option : D

Q.11 सिमलीपाल वाथो रिजर्व किस राज्य में स्थित है ?

0

- Ans
- A. बिहार
 - B. झारखंड
 - C. उड़ीसा
 - D. मध्य-प्रदेश

Question Type : MCQ

Question ID : 7650444463

Option 1 ID : 76504417849

Option 2 ID : 76504417850

Option 3 ID : 76504417851

Option 4 ID : 76504417852

Status : Answered

Chosen Option : C

Section : Logical and Analytical Reasoning



Q.11 W अक्षर के ठीक पहले वाले अक्षर के 4 अक्षर दायीं ओर कौन सा है?

1

- Ans A. R
 B. S
 C. T
 D. U

Question Type : MCQ
 Question ID : 7650445805
 Option 1 ID : 76504423217
 Option 2 ID : 76504423218
 Option 3 ID : 76504423219
 Option 4 ID : 76504423220
 Status : Answered
 Chosen Option : B

Q.11 यदि दो संख्याओं का एलसीएम और एचसीएफ बराबर है, तो संख्याएं होनी चाहिए

2

- Ans A. प्राइम नंबर
 B. समग्र संख्या
 C. समान
 D. सह-अभाज्य संख्याएं

Question Type : MCQ
 Question ID : 7650445661
 Option 1 ID : 76504422641
 Option 2 ID : 76504422642
 Option 3 ID : 76504422643
 Option 4 ID : 76504422644
 Status : Answered
 Chosen Option : C

Q.11 कौन सा अक्षर उस अक्षर के दाईं ओर 7 वॉ है जो कि आपके बाईं ओर 13 वॉ है ?

3

- Ans A. V
 B. U
 C. T
 D. S

Question Type : MCQ
 Question ID : 7650445591
 Option 1 ID : 76504422361
 Option 2 ID : 76504422362
 Option 3 ID : 76504422363
 Option 4 ID : 76504422364
 Status : Answered
 Chosen Option : C



Q.11 अरुणा छियालीस की कक्षा में बारहवें स्थान पर है, अंतिम से उसकी रैंक क्या होगी?
4

- Ans A. 33
 B. 34
 C. 35
 D. 37

Question Type : MCQ
Question ID : 7650445729
Option 1 ID : 76504422913
Option 2 ID : 76504422914
Option 3 ID : 76504422915
Option 4 ID : 76504422916
Status : Answered
Chosen Option : B

Q.11 यदि किसी कोड में SPIDER को PSDIRE लिखा जाता है तो उसी कोड में COMMON को कैसे लिखा जाएगा ?
5

- Ans A. OCMMON
 B. OCMOMN
 C. OCMMNO
 D. OCOMMO

Question Type : MCQ
Question ID : 7650445935
Option 1 ID : 76504423737
Option 2 ID : 76504423738
Option 3 ID : 76504423739
Option 4 ID : 76504423740
Status : Answered
Chosen Option : C

Q.11 नीचे दिये गए विकल्पों में से विषम तत्व को ज्ञात कीजिए";.
6

- Ans A. 11
 B. 13
 C. 15
 D. 17

Question Type : MCQ
Question ID : 7650445466
Option 1 ID : 76504421861
Option 2 ID : 76504421862
Option 3 ID : 76504421863
Option 4 ID : 76504421864
Status : Answered
Chosen Option : C



Q.11 यदि किसी सांकेतिक भाषा में DOG को 4157 कहा जाए, तो उसी भाषा में MAN को क्या कहेंगे ?
7

- Ans A. 13114
 B. 131114
 C. 14113
 D. 13141

Question Type : MCQ
 Question ID : 7650445524
 Option 1 ID : 76504422093
 Option 2 ID : 76504422094
 Option 3 ID : 76504422095
 Option 4 ID : 76504422096
 Status : Answered
 Chosen Option : A

Q.11 एक लड़की ने अपने बाएं हाथ की उंगलियों को इस प्रकार गिना: उसने अंगूठे को 1, तर्जनी को 2, मध्यमा को 3, अनामिका को 4, छोटी उंगली को 5 कहते हुए शुरू किया और फिर उल्टी दिशा में अनामिका उंगली को 6, मध्यमा को 7 कहते हुए इसी तरह आगे बढ़ते रही। उसने 1994 तक की गिनती की। उसने किस उंगली पर गिनती खत्म की?
8

- Ans A. अंगूठा
 B. तर्जनी
 C. मध्यमा उंगली
 D. अनामिका

Question Type : MCQ
 Question ID : 7650445828
 Option 1 ID : 76504423309
 Option 2 ID : 76504423310
 Option 3 ID : 76504423311
 Option 4 ID : 76504423312
 Status : Answered
 Chosen Option : D

Q.11 उस शब्द का चयन कीजिए जो अन्य से भिन्न है।
9

- Ans A. मुर्गा
 B. साँप
 C. हंस
 D. मगरमच्छ

Question Type : MCQ
 Question ID : 7650445906
 Option 1 ID : 76504423621
 Option 2 ID : 76504423622
 Option 3 ID : 76504423623
 Option 4 ID : 76504423624
 Status : Answered
 Chosen Option : A



Test

Prime

By Adda247

Previous Year Papers PDF

PRACTICE MORE, SCORE HIGHER!



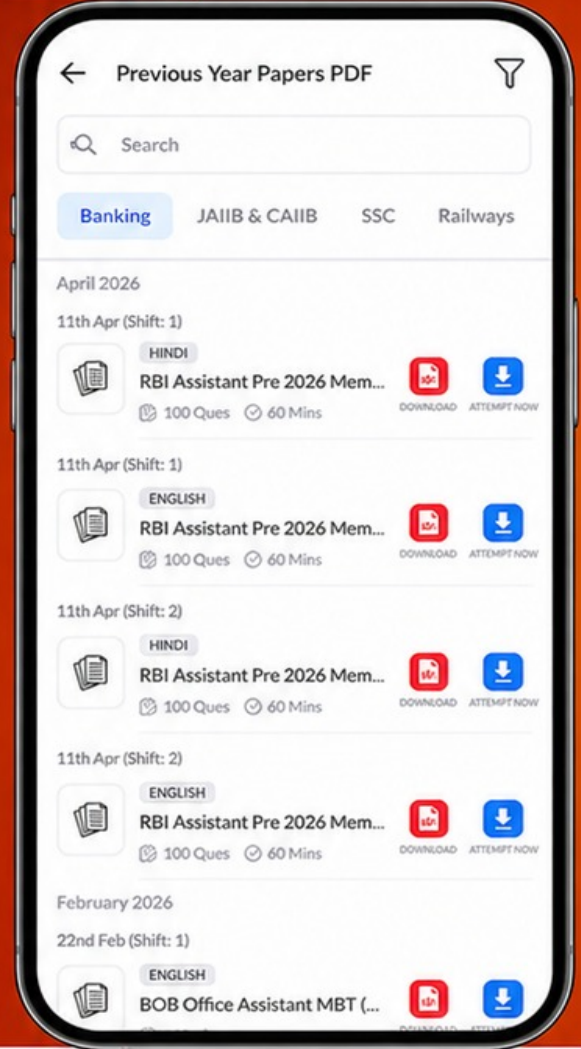
Free
25,000+
PDF's

High-Quality | Exam-Wise | Updated Regularly

ATTEMPT AS
MOCK



Turn PDFs into real exam experience.
Analyze. Improve. Succeed.



Topic-wise & Exam-wise PDFs



Download & Study Offline



Attempt as Mock & Track Score



Smart Analysis & Performance

AVAILABLE IN



Banking



SSC



Railway



Teaching



UGC



Agriculture



Nursing



Bihar



UP



Punjab



WB



Odisha



TN



AP & Telangana



Haryana



DOWNLOAD THE APP



Q.12 निम्न में से कौन सा अक्षर H और P के बीचों बीच आता है ?

0

- Ans A. K
 B. L
 C. M
 D. N

Question Type : MCQ

Question ID : 7650445600

Option 1 ID : 76504422397

Option 2 ID : 76504422398

Option 3 ID : 76504422399

Option 4 ID : 76504422400

Status : Answered

Chosen Option : B

