

Bihar D.El.Ed.

Previous Year Paper
30 Aug, 2025 Shift 1

Adda247



**Test
Prime**

By Adda247

ALL EXAMS, ONE SUBSCRIPTION



Test. Analyze. Improve. Repeat.



Don't just *prepare*. *Perform*.

Test Prime — built only for mock tests.



1,50,000+
Mock Tests



25,000+
Previous Year Papers



800+
Exam Covered



500% Refund
on Selection



5 lakh+
Free Quizzes



Daily
Free PDFs



Job Alerts
Stay Updated

- Multilingual
- Detailed Solution
- Strong and Weak Areas



**All India
Rankings**

Compete with lakhs.
Rank. Improve. Repeat.



← Adda247 test prime

Rating ▾

Editors' choice

New



Adda247 Test Prime
Adda Education • Education
📌 Installed



DOWNLOAD THE APP





बिहार विद्यालय परीक्षा समिति BIHAR SCHOOL EXAMINATION BOARD

Roll No	
Participant Name	
Test Center Name	
Test Date	30/08/2025
Test Time	9:00 AM - 11:30 AM
Exam Name	DELED Entrance 2025

Section : Hindi

Q.1 महान् देशभक्त तथा पत्रकार श्री गणेश शंकर विद्यार्थी का जन्म 26 अक्टूबर, सन् 1890 को इलाहाबाद में हुआ था । इनके पिता ग्वालियर राज्य में अध्यापक थे, अतः विद्यार्थी जी की प्रारंभिक शिक्षा ग्वालियर राज्य में मुंगावली नामक स्थान से ही प्रारंभ हुई । उन्होंने उर्दू, फ़ारसी, अंग्रेज़ी, इतिहास, गणित आदि विषयों का अध्ययन किया । कानपुर स्थित क्राइस्ट चर्च कॉलेज से इन्होंने एटेंस की परीक्षा उत्तीर्ण की । इनका विवाह चंद्रप्रकाश देवी से हुआ । यहीं उनका संबंध पत्रकारिता से हुआ । इन्होंने अपने समय के पत्र 'कर्मयोगी' के लिए लेख टिप्पणियाँ और समाचार लिखना प्रारंभ किया । ये पंडित महावीर प्रसाद द्विवेदी और पंडित मदन मोहन मालवीय के संपर्क में आए । 9 नवंबर, 1913 से कानपुर से साप्ताहिक प्रताप का प्रारंभ किया । 'प्रताप' का कार्यालय क्रांतिकारियों का आश्रय-स्थल बन गया था । भयभीत अंग्रेज़ी सरकार बार-बार प्रताप को बंद करने की धमकी देती थी, लेकिन विद्यार्थी जी ने 'प्रताप' की आभा को कभी फीका नहीं पड़ने दिया ।
प्रश्न:- प्रताप का कार्यालय किसका आश्रय-स्थल बन गया ?

Ans A. क्रांतिकारियों

B. पत्रकारों

C. लेखकों

D. कवियों

Question Type : MCQ

Question ID : 765044224

Option 1 ID : 765044893

Option 2 ID : 765044894

Option 3 ID : 765044895

Option 4 ID : 765044896

Status : Answered

Chosen Option : A



Q.2 भाववाचक संज्ञा की रचना निम्न में से किससे होती है?

- Ans A. क्रिया से
 B. जातिवाचक संज्ञा से
 C. विशेषण से
 D. उपरोक्त सभी से

Question Type : MCQ
 Question ID : 765044472
 Option 1 ID : 7650441885
 Option 2 ID : 7650441886
 Option 3 ID : 7650441887
 Option 4 ID : 7650441888
 Status : Answered
 Chosen Option : D

Q.3 इनमें से कौन सा वाक्य अशुद्ध है _____

- Ans A. कच्चे तेल की कीमत घट गया है।
 B. मनुष्य ईश्वर की उत्कृष्टतम कृति है।
 C. बन्दूक एक उपयोगी अस्त्र है।
 D. आत्मा अमर है।

Question Type : MCQ
 Question ID : 765044587
 Option 1 ID : 7650442345
 Option 2 ID : 7650442346
 Option 3 ID : 7650442347
 Option 4 ID : 7650442348
 Status : Answered
 Chosen Option : B

Q.4 जहाँ प्रस्तुत तथा अप्रस्तुत में एक धर्म-संबंध वर्णित है, वहाँ होता है ?

- Ans A. प्रतीप अलंकार
 B. दीपक अलंकार
 C. संदेह अलंकार
 D. विरोधाभास अलंकार

Question Type : MCQ
 Question ID : 765044951
 Option 1 ID : 7650443801
 Option 2 ID : 7650443802
 Option 3 ID : 7650443803
 Option 4 ID : 7650443804
 Status : Answered
 Chosen Option : C



Q.5 सीता किताब पढ़ती है। वाक्य के अनुसार निम्नलिखित में कौन सा विकल्प सही है?

- Ans A. सीता : उद्देश्य
 B. सीता : विधेय
 C. किताब : उद्देश्य
 D. पढ़ती है : उद्देश्य

Question Type : MCQ
 Question ID : 765044375
 Option 1 ID : 7650441497
 Option 2 ID : 7650441498
 Option 3 ID : 7650441499
 Option 4 ID : 7650441500
 Status : Answered
 Chosen Option : A

Q.6 मैदान छोड़ना' मुहावरे का अर्थ क्या है?

- Ans A. रणक्षेत्र में युद्ध करना
 B. रणक्षेत्र में घायल होना
 C. रणक्षेत्र में रूकना
 D. रणक्षेत्र से भागना

Question Type : MCQ
 Question ID : 765044497
 Option 1 ID : 7650441985
 Option 2 ID : 7650441986
 Option 3 ID : 7650441987
 Option 4 ID : 7650441988
 Status : Answered
 Chosen Option : D

Q.7 निम्न में कौन सा वाक्य शुद्ध है-----

- Ans A. विद्यार्थियों ने शास्त्री जी को अभिनंदन पत्र प्रदान किया।
 B. वह लड़की को बुलाओ।
 C. मैं गाने का अभ्यास करता हूँ।
 D. वह दंड देने के योग्य है

Question Type : MCQ
 Question ID : 765044730
 Option 1 ID : 7650442917
 Option 2 ID : 7650442918
 Option 3 ID : 7650442919
 Option 4 ID : 7650442920
 Status : Answered
 Chosen Option : D



Q.8 'मैं जैसा चाह रहा था, वैसा ही सब कुछ होता जा रहा था।' वाक्य का भेद है-

- Ans A. सरल वाक्य
 B. मिश्र वाक्य
 C. संयुक्त वाक्य
 D. प्रश्नवाचक वाक्य

Question Type : MCQ
 Question ID : 765044322
 Option 1 ID : 7650441285
 Option 2 ID : 7650441286
 Option 3 ID : 7650441287
 Option 4 ID : 7650441288
 Status : Answered
 Chosen Option : B

Q.9 इनमें से प्रवृत्ति के आधार पर किस काल का नामकरण किया गया है ?

- Ans A. आदिकाल
 B. रीतिकाल
 C. भारतेन्दु युग
 D. कोई नहीं

Question Type : MCQ
 Question ID : 7650441138
 Option 1 ID : 7650444549
 Option 2 ID : 7650444550
 Option 3 ID : 7650444551
 Option 4 ID : 7650444552
 Status : Answered
 Chosen Option : A

Q.10 हमो जो कुछ देख रहे हैं, सुन्दर है सत्य नहीं है। वह दृश्य जगत भासित है, विन कर्म शिवत्व नहीं है। उपर्युक्त पंक्तियों में कौन सा छंद है ?

- Ans A. 14-14 मात्राओं की यति से यति से 28 मात्राओं वाला मात्रिक छंद
 B. 10-10 वर्णों की यति से 20 वर्णों वाला वर्णिक छंद
 C. 13-13 मात्राओं की यति से 26 मात्राओं वाला मात्रिक छंद
 D. 15-15 मात्राओं की यति से 30 मात्राओं वाला मात्रिक छंद

Question Type : MCQ
 Question ID : 7650441308
 Option 1 ID : 7650445229
 Option 2 ID : 7650445230
 Option 3 ID : 7650445231
 Option 4 ID : 7650445232
 Status : Answered
 Chosen Option : B



Q.11 कवित्त वर्णिक छन्द में कुल कितने वर्ण होते हैं?

- Ans A. 11
 B. 24
 C. 31
 D. 41

Question Type : MCQ
Question ID : 7650441329
Option 1 ID : 7650445313
Option 2 ID : 7650445314
Option 3 ID : 7650445315
Option 4 ID : 7650445316
Status : Answered
Chosen Option : C

Q.12 'महौजस्वी' का संधि-विच्छेद है-

- Ans A. महा+ओजस्वी
 B. महौ+जस्वी
 C. म+हौजस्वी
 D. महौज+स्वी

Question Type : MCQ
Question ID : 76504447
Option 1 ID : 765044185
Option 2 ID : 765044186
Option 3 ID : 765044187
Option 4 ID : 765044188
Status : Answered
Chosen Option : A

Q.13 अलंकार सम्प्रदाय के जनक किसे कहा गया है ?

- Ans A. भामह
 B. दण्डी
 C. भरतमुनि
 D. वामन

Question Type : MCQ
Question ID : 7650441020
Option 1 ID : 7650444077
Option 2 ID : 7650444078
Option 3 ID : 7650444079
Option 4 ID : 7650444080
Status : Answered
Chosen Option : C



Q.14 भाववाच्य का उदाहरण है

- Ans A. राकेश पुस्तक पढ़ता है
 B. पिंकी जग गई
 C. मैं ऐसा नहीं कर सकता
 D. पक्षी से उड़ा न
 ही जाता है

Question Type : MCQ
 Question ID : 765044719
 Option 1 ID : 7650442873
 Option 2 ID : 7650442874
 Option 3 ID : 7650442875
 Option 4 ID : 7650442876
 Status : Answered
 Chosen Option : D

Q.15 'यथाशक्ति' में कौन-सा समास है?

- Ans A. बहुव्रीहि
 B. तत्पुरुष
 C. अव्ययीभाव
 D. कर्मधारय

Question Type : MCQ
 Question ID : 765044121
 Option 1 ID : 765044481
 Option 2 ID : 765044482
 Option 3 ID : 765044483
 Option 4 ID : 765044484
 Status : Answered
 Chosen Option : D

Q.16 'टीवी के मरीज ने दवा का पूरा कोर्स किया और वह स्वस्थ हो गया।' वाक्य संबंधित है-

- Ans A. संयुक्त वाक्य से
 B. सरल वाक्य से
 C. मिश्र वाक्य से
 D. प्रश्न वाक्य से

Question Type : MCQ
 Question ID : 765044329
 Option 1 ID : 7650441313
 Option 2 ID : 7650441314
 Option 3 ID : 7650441315
 Option 4 ID : 7650441316
 Status : Answered
 Chosen Option : A



Q.17 “ कंकन किकिन नूपुर धुनि सुनि ।
कहत लखन सन राम हृदय गुनि।।” उपर्युक्त पंक्ति में किस काव्य-गुण का समावेश है?

- Ans A. प्रसाद गुण
 B. माधुर्य गुण
 C. ओज गुण
 D. इनमें से कोई नहीं।

Question Type : MCQ
 Question ID : 7650441402
 Option 1 ID : 7650445605
 Option 2 ID : 7650445606
 Option 3 ID : 7650445607
 Option 4 ID : 7650445608
 Status : Answered
 Chosen Option : B

Q.18 जिस शब्द का दूसरा पद प्रधान हो उसे-----समास कहते हैं।

- Ans A. तत्पुरुष
 B. अव्ययीभाव
 C. द्वंद्व
 D. बहुव्रीहि

Question Type : MCQ
 Question ID : 76504465
 Option 1 ID : 765044257
 Option 2 ID : 765044258
 Option 3 ID : 765044259
 Option 4 ID : 765044260
 Status : Answered
 Chosen Option : A

Q.19 “ वीरों का कैसा हो वसंत ” उपर्युक्त पंक्ति में किस रस की प्रधानता है?

- Ans A. श्रृंगार रस
 B. करुण रस
 C. वीर रस
 D. रौद्र रस

Question Type : MCQ
 Question ID : 7650441462
 Option 1 ID : 7650445845
 Option 2 ID : 7650445846
 Option 3 ID : 7650445847
 Option 4 ID : 7650445848
 Status : Answered
 Chosen Option : C



Q.20 'सपना क्या है ? नयन सेज पर , सोया हुआ आँख का पानी।' में अलंकार है -

- Ans A. श्लेष
 B. उल्लेख
 C. अनुप्रास
 D. रूपक

Question Type : MCQ
 Question ID : 7650441035
 Option 1 ID : 7650444137
 Option 2 ID : 7650444138
 Option 3 ID : 7650444139
 Option 4 ID : 7650444140
 Status : Answered
 Chosen Option : A

Q.21 'महामूर्ख को देखकर लड़का ने कहा महापंडित जी पधार रहें हैं। इस वाक्य में शब्द शक्ति है -

- Ans A. व्यंजना
 B. अभिधा
 C. लक्षणा
 D. तीनों

Question Type : MCQ
 Question ID : 765044833
 Option 1 ID : 7650443329
 Option 2 ID : 7650443330
 Option 3 ID : 7650443331
 Option 4 ID : 7650443332
 Status : Answered
 Chosen Option : C

Q.22 'हरि है राजनीति पढि आए' प्रस्तुत कविता में शब्द शक्ति है -

- Ans A. अभिधा
 B. लक्षणा
 C. व्यंजना
 D. इनमें से कोई नहीं

Question Type : MCQ
 Question ID : 765044839
 Option 1 ID : 7650443353
 Option 2 ID : 7650443354
 Option 3 ID : 7650443355
 Option 4 ID : 7650443356
 Status : Answered
 Chosen Option : C



Q.23 का सरवरि तेहिं देउं मयंकू।

चांद कलंकी वह निकलंकू।।

में कौनसा अलंकार है?

- Ans A. द्रष्टान्त अलंकार
 B. व्यतिरेक अलंकार
 C. अपहृति अलंकार
 D. उत्प्रेक्षा अलंकार

Question Type : MCQ

Question ID : 7650441196

Option 1 ID : 7650444781

Option 2 ID : 7650444782

Option 3 ID : 7650444783

Option 4 ID : 7650444784

Status : Answered

Chosen Option : A

Q.24 'उदित उदय गिरि-मंच पर रघुबर-बाल पतंग, बिकसे संत-सरोज सब हरषे लोचन-भृंग।' में कौन सा अलंकार है।

- Ans A. अनुप्रास अलंकार
 B. यमक अलंकार
 C. उपमा अलंकार
 D. रूपक अलंकार

Question Type : MCQ

Question ID : 7650441246

Option 1 ID : 7650444981

Option 2 ID : 7650444982

Option 3 ID : 7650444983

Option 4 ID : 7650444984

Status : Answered

Chosen Option : A

Q.25 नीचे दिए गए प्रश्न में रेखांकित पद का पदबंध भेद बतायें

अयोध्या के राजा दशरथ के चार पुत्र थे।

- Ans A. क्रिया पदबंध
 B. सर्वनाम पदबंध
 C. विशेषण पदबंध
 D. संज्ञा पदबंध

Question Type : MCQ

Question ID : 765044656

Option 1 ID : 7650442621

Option 2 ID : 7650442622

Option 3 ID : 7650442623

Option 4 ID : 7650442624

Status : Answered

Chosen Option : B



Section : General English

Q.26 Select the alternative which best express the meaning of the idioms/phrase.

At a stretch

- Ans A. Wide spread
 B. Pulling with full strength
 C. At one time without stopping
 D. Standing till the end

Question Type : MCQ
Question ID : 7650442359
Option 1 ID : 7650449433
Option 2 ID : 7650449434
Option 3 ID : 7650449435
Option 4 ID : 7650449436
Status : Answered
Chosen Option : C

Q.27 Which of the following method supports dominance of mother tongue while teaching English?

- Ans A. Direct Method
 B. Audio-lingual Method
 C. Structural Approach
 D. Grammar-cum-Translation Method

Question Type : MCQ
Question ID : 7650442646
Option 1 ID : 76504410581
Option 2 ID : 76504410582
Option 3 ID : 76504410583
Option 4 ID : 76504410584
Status : Answered
Chosen Option : A

Adda247



Q.28 In the following item, a pair of sentences are given in which the keywords have been underlined. Identify the sentence/s in which the underlined words have been used correctly in the context and mark your choice using the option that follows:

1. They will soon be applying for the permission.

2. They shall be pleased with the arrangements made by us.

- Ans A. 1 only
 B. 2 only
 C. Both 1 and 2
 D. Neither 1 nor 2

Question Type : MCQ

Question ID : 7650442609

Option 1 ID : 76504410433

Option 2 ID : 76504410434

Option 3 ID : 76504410435

Option 4 ID : 76504410436

Status : Answered

Chosen Option : A

Q.29 Identify the Passive Voice of the given sentence

We can give you time.

- Ans A. Time could be given to you by us.
 B. Time can be given to us by you.
 C. Time can be given to you by us.
 D. Time could be given by us.

Question Type : MCQ

Question ID : 7650442077

Option 1 ID : 7650448305

Option 2 ID : 7650448306

Option 3 ID : 7650448307

Option 4 ID : 7650448308

Status : Answered

Chosen Option : C



Q.30 Select the most appropriate option to change the sentence from direct speech to indirect speech

He said to me, "Do you like the book?"

He asked----- if I----- The book.

- Ans A. He/likes
 B. You/liked
 C. Him/likes
 D. Me/liked

Question Type : MCQ
Question ID : 7650441945
Option 1 ID : 7650447777
Option 2 ID : 7650447778
Option 3 ID : 7650447779
Option 4 ID : 7650447780
Status : Answered
Chosen Option : D

Q.31 A sentence has been given in Active Voice. Out of the four alternatives given below, select the one which best expresses the same sentence in Passive Voice.

I have done the work

- Ans A. The work is done by me.
 B. The work was done by me.
 C. The work has been done by me.
 D. The work is being done by me.

Question Type : MCQ
Question ID : 7650442031
Option 1 ID : 7650448121
Option 2 ID : 7650448122
Option 3 ID : 7650448123
Option 4 ID : 7650448124
Status : Answered
Chosen Option : C



Q.32 Given below are four sentences in jumbled order. Select the option that gives their correct order.

(A) The old sculptor. Jakanachari, was working on the main image of the temple in the inner shrine.

(B) At the next full moon it was to be consecrated and opened for worship.

(C) The temple of Belur was nearly ready.

(D) He spoke to no one and tolerated no interruption.

Choose the correct answer from the options given below :

- Ans A. (A), (D), (B), (C)
 B. (C), (B), (A), (D)
 C. (B), (C), (A), (D)
 D. (B), (A), (C), (D)

Question Type : MCQ

Question ID : 7650442638

Option 1 ID : 76504410549

Option 2 ID : 76504410550

Option 3 ID : 76504410551

Option 4 ID : 76504410552

Status : Answered

Chosen Option : A

Q.33 Which cohesive device is the most suitable for the following sentence?

My brother is my best friend. He is always willing to go the extra mile to help me. -----, the other day he helped me study until 1.00 Am.

- Ans A. For example
 B. Additionally
 C. As a result
 D. Furthermore

Question Type : MCQ

Question ID : 7650442277

Option 1 ID : 7650449105

Option 2 ID : 7650449106

Option 3 ID : 7650449107

Option 4 ID : 7650449108

Status : Answered

Chosen Option : C



Q.34 Which punctuation mark is used to express sudden change in feelings or emotion?

- Ans A. Semicolon
 B. question
 C. Comma
 D. Exclamation mark

Question Type : MCQ
Question ID : 7650442096
Option 1 ID : 7650448381
Option 2 ID : 7650448382
Option 3 ID : 7650448383
Option 4 ID : 7650448384
Status : Answered
Chosen Option : D

Q.35 Select the correct meaning of the underline words in the gives sentences:
You can not always go by appearances.

- Ans A. You can not always appreciate appearances.
 B. you can not always criticise appearances.
 C. you cannot always judge by appearances.
 D. you cannot always more around appearances.

Question Type : MCQ
Question ID : 7650442904
Option 1 ID : 76504411613
Option 2 ID : 76504411614
Option 3 ID : 76504411615
Option 4 ID : 76504411616
Status : Answered
Chosen Option : C

Q.36 Identify the correct sentence.

- Ans A. He dislikes being talked about.
 B. He dislikes being talked above.
 C. He dislikes being talked under.
 D. He dislikes being talked till.

Question Type : MCQ
Question ID : 7650442875
Option 1 ID : 76504411497
Option 2 ID : 76504411498
Option 3 ID : 76504411499
Option 4 ID : 76504411500
Status : Answered
Chosen Option : B



Q.37 Fill in the blanks with the suitable 'Verb' form:
He said that hemoney.

- Ans A. wants
 B. want
 C. wanted
 D. wanting

Question Type : MCQ
Question ID : 7650442795
Option 1 ID : 76504411177
Option 2 ID : 76504411178
Option 3 ID : 76504411179
Option 4 ID : 76504411180
Status : Answered
Chosen Option : A

Q.38 Complete the sentence using appropriate option

"Shyam and his brothers"..... a famous sweet shop in our neighbourhood.

- Ans A. are
 B. have been
 C. is
 D. have

Question Type : MCQ
Question ID : 7650441856
Option 1 ID : 7650447421
Option 2 ID : 7650447422
Option 3 ID : 7650447423
Option 4 ID : 7650447424
Status : Answered
Chosen Option : C

Q.39 Which one of the following helps in learning the second language without using the printed text?

- Ans A. Natural approach
 B. Language immersion
 C. Grammar-translation method
 D. Situation approach

Question Type : MCQ
Question ID : 7650442979
Option 1 ID : 76504411913
Option 2 ID : 76504411914
Option 3 ID : 76504411915
Option 4 ID : 76504411916
Status : Answered
Chosen Option : C



Q.40 Fill up the blank with the correct option.

Most of the information..... wrong.

- Ans A. were
 B. are
 C. was
 D. have

Question Type : MCQ
Question ID : 7650442550
Option 1 ID : 76504410197
Option 2 ID : 76504410198
Option 3 ID : 76504410199
Option 4 ID : 76504410200
Status : Answered
Chosen Option : C

Q.41 Select the alternative which best express the meaning of the idioms/phrase.

Bring up

- Ans A. To make something clear
 B. To nurture with care
 C. To bring into light
 D. To evaluate

Question Type : MCQ
Question ID : 7650442367
Option 1 ID : 7650449465
Option 2 ID : 7650449466
Option 3 ID : 7650449467
Option 4 ID : 7650449468
Status : Answered
Chosen Option : A

Q.42 Choose the correct phrase from the given option and make a conditional sentence.

We'll take some sandwiches with us in case..... hungry.

- Ans A. we will be
 B. we are
 C. we would be
 D. can be

Question Type : MCQ
Question ID : 7650442425
Option 1 ID : 7650449697
Option 2 ID : 7650449698
Option 3 ID : 7650449699
Option 4 ID : 7650449700
Status : Answered
Chosen Option : B



Q.43 Fill up the blank, with the correct option

She has been reading a novel..... morning.

- Ans A. for
 B. form
 C. since
 D. at

Question Type : MCQ
Question ID : 7650442230
Option 1 ID : 7650448917
Option 2 ID : 7650448918
Option 3 ID : 7650448919
Option 4 ID : 7650448920
Status : Answered
Chosen Option : C

Q.44 Select the most appropriate option to change the sentence from direct speech to indirect speech

Vinit said, "I will not go to the party tomorrow".

Vinit told us that..... not go to the party the.....

- Ans A. He would/ next day
 B. They will/ tomorrow
 C. I would/other day
 D. You should/yesterday

Question Type : MCQ
Question ID : 7650441939
Option 1 ID : 7650447753
Option 2 ID : 7650447754
Option 3 ID : 7650447755
Option 4 ID : 7650447756
Status : Answered
Chosen Option : A

Q.45 Fill up the blank with the correct option.

India..... a big country.

- Ans A. are
 B. were
 C. is
 D. have

Question Type : MCQ
Question ID : 7650442570
Option 1 ID : 76504410277
Option 2 ID : 76504410278
Option 3 ID : 76504410279
Option 4 ID : 76504410280
Status : Answered
Chosen Option : C



Section : Mathematics

Q.46 एक वृत्त जिसका क्षेत्रफल 24 सेमी हो, जो 7 सेमी त्रिज्या वाले दो वृत्तों के क्षेत्रफलों के योग के बराबर है, तो अर्धवृत्त का व्यासहोगी

- Ans A. 31 cm
 B. 25 cm
 C. 62 cm
 D. 50 cm

Question Type : MCQ
 Question ID : 7650446863
 Option 1 ID : 76504427449
 Option 2 ID : 76504427450
 Option 3 ID : 76504427451
 Option 4 ID : 76504427452
 Status : Answered
 Chosen Option : A

Q.47 80 मीटर x 50 मीटर के एक आयताकार मैदान के चारों ओर बाहर 1 मीटर चौड़ा रास्ता है। पथ का क्षेत्रफल है

- Ans A. 264 मीटर²
 B. 284 मीटर²
 C. 400 मीटर²
 D. 464 मीटर²

Question Type : MCQ
 Question ID : 7650447262
 Option 1 ID : 76504429045
 Option 2 ID : 76504429046
 Option 3 ID : 76504429047
 Option 4 ID : 76504429048
 Status : Answered
 Chosen Option : C

Q.48 $3\frac{1}{4}$ kg चीनी से $\frac{1}{16}$ kg के कितने पैकेट बनाए जा सकते हैं?

- Ans A. 52
 B. 48
 C. 12
 D. 64

Question Type : MCQ
 Question ID : 7650446150
 Option 1 ID : 76504424597
 Option 2 ID : 76504424598
 Option 3 ID : 76504424599
 Option 4 ID : 76504424600
 Status : Answered
 Chosen Option : A



Q.49 त्रिज्या 'R' के साथ एक सर्कल का क्षेत्रफल है:

Ans A. πR^2

B. $\frac{1}{2} \pi R^2$

C. $2\pi R^2$

D. $4\pi R^2$

Question Type : MCQ

Question ID : 7650446984

Option 1 ID : 76504427933

Option 2 ID : 76504427934

Option 3 ID : 76504427935

Option 4 ID : 76504427936

Status : Answered

Chosen Option : D

Q.50

A pair of linear equations $a_1x + b_1y + c_1 = 0$; $a_2x + b_2y + c_2 = 0$ is said to be inconsistent, if रेखिक समीकरणों का एक युग्म $a_1x + b_1y + c_1 = 0$; $a_2x + b_2y + c_2 = 0$ को असंगत कहा जाता है, यदि

(a) $\frac{a_1}{a_2} \neq \frac{b_1}{b_2}$

(b) $\frac{a_1}{a_2} = \frac{b_1}{b_2} \neq \frac{c_1}{c_2}$

(c) $\frac{a_1}{a_2} = \frac{b_1}{b_2} = \frac{c_1}{c_2}$

(d) $\frac{a_1}{a_2} \neq \frac{c_1}{c_2}$

Ans A. विकल्प (A) सही है

B. विकल्प (B) सही है

C. विकल्प (C) सही है

D. विकल्प (D) सही है

Question Type : MCQ

Question ID : 7650446281

Option 1 ID : 76504425121

Option 2 ID : 76504425122

Option 3 ID : 76504425123

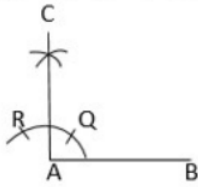
Option 4 ID : 76504425124

Status : Answered

Chosen Option : A



Q.51

In the given figure $\angle BAC = \underline{\hspace{2cm}}$ दिए गए चित्र में $\angle BAC = \underline{\hspace{2cm}}$ Ans A. right angle isosceler triangle B. 60° C. 45° D. 100°

Question Type : MCQ

Question ID : 7650446971

Option 1 ID : 76504427881

Option 2 ID : 76504427882

Option 3 ID : 76504427883

Option 4 ID : 76504427884

Status : Answered

Chosen Option : A

Q.52 एक वृत्त का क्षेत्रफल जो 10 सेमी भुजा वाले वर्ग में अन्तर्निहित किया जा सकता है.....

Ans A. $40\pi \text{ cm}^2$ B. $30\pi \text{ cm}^2$ C. $100\pi \text{ cm}^2$ D. $25\pi \text{ cm}^2$

Question Type : MCQ

Question ID : 7650446909

Option 1 ID : 76504427633

Option 2 ID : 76504427634

Option 3 ID : 76504427635

Option 4 ID : 76504427636

Status : Answered

Chosen Option : C



Q.53 $(x_1, y_1), (x_2, y_2)$ और (x_3, y_3) से बने Δ का क्षेत्रफल होगा-

Ans A. $\frac{1}{2}[x_1(y_2 - y_3) + x_2(y_3 - y_1) + x_3(y_1 - y_2)]$

B. $x_1(y_2 - y_3) + x_2(y_3 - y_1) + x_3(y_1 - y_2)$

C. $-x_1(y_2 - y_3) + x_2(y_1 - y_3) + x_3(y_2 - y_1)$

D. इनमें से कोई नहीं ।

Question Type : MCQ

Question ID : 76504426878

Option 1 ID : 76504426869

Option 2 ID : 76504426870

Option 3 ID : 76504426871

Option 4 ID : 76504426872

Status : Answered

Chosen Option : B

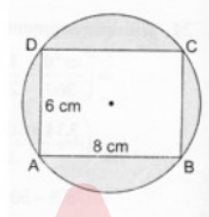
Q.54 In the given figure, ABCD is a rectangle inscribed in a circle having length 8 cm and breadth 6 cm.

if $\pi = 3.14$ then the area of the shaded region is

दी गई आकृति में, ABCD एक वृत्त के अंदर अंकित

एक आयत है जिसकी लंबाई 8 सेमी और चौड़ाई 6 सेमी है।

यदि $\pi = 3.14$ तो छायांकित क्षेत्र का क्षेत्रफल है



(a) 264 cm^2

(b) 266 cm^2

(c) 272 cm^2

(d) 254 cm^2

Ans A. 264 सेमी²

B. 266 सेमी²

C. 272 सेमी²

D. 254 सेमी²

Question Type : MCQ

Question ID : 7650447372

Option 1 ID : 76504429485

Option 2 ID : 76504429486

Option 3 ID : 76504429487

Option 4 ID : 76504429488

Status : Answered

Chosen Option : B



Q.55 कोणों का कौन-सा समूह आरोही क्रम में है ?

- Ans A. $30^\circ, 20^\circ, 40^\circ$
 B. $40^\circ, 20^\circ, 30^\circ$
 C. $20^\circ, 30^\circ, 40^\circ$
 D. $40^\circ, 30^\circ, 20^\circ$

Question Type : MCQ

Question ID : 7650446812

Option 1 ID : 76504427245

Option 2 ID : 76504427246

Option 3 ID : 76504427247

Option 4 ID : 76504427248

Status : Answered

Chosen Option : D

Q.56 यदि समीकरण $y=5-6x$ के लिये $y=29$ हो तो x का मान क्या होगा ?

- Ans A. -4
 B. 5
 C. -6
 D. -1

Question Type : MCQ

Question ID : 7650446233

Option 1 ID : 76504424929

Option 2 ID : 76504424930

Option 3 ID : 76504424931

Option 4 ID : 76504424932

Status : Answered

Chosen Option : A

Q.57 बिन्दु (3,4) और (-3,2) दोनों अवस्थित है.....

- Ans A. x-अक्ष पर
 B. y-अक्ष पर
 C. x-अक्ष के एक ओर
 D. x-अक्ष के दोनों ओर

Question Type : MCQ

Question ID : 7650446671

Option 1 ID : 76504426681

Option 2 ID : 76504426682

Option 3 ID : 76504426683

Option 4 ID : 76504426684

Status : Answered

Chosen Option : C



Q.58

Consider the following table

Class interval (वर्ग अन्तराल)	10-14	14-18	18-22	22-26	26-30
Frequency(आवृत्ति)	5	11	16	25	19

The mode of the data is

डेटा का बहुलक है

- (A) 23.5
(B) 24
(C) 24.5
(D) 25

Ans A. 23.5 B. 24 C. 24.4 D. 25

Question Type : MCQ

Question ID : 7650447478

Option 1 ID : 76504429909

Option 2 ID : 76504429910

Option 3 ID : 76504429911

Option 4 ID : 76504429912

Status : Answered

Chosen Option : B

Q.59 द्विघात समीकरण $6x^2 - x - 2 = 0$ के मूल हैंAns A. $2/3, 1/2$ B. $-2/3, 1/2$ C. $2/3, -1/2$ D. $-2/3, -1/2$

Question Type : MCQ

Question ID : 7650446484

Option 1 ID : 76504425933

Option 2 ID : 76504425934

Option 3 ID : 76504425935

Option 4 ID : 76504425936

Status : Answered

Chosen Option : C



Q.60 चीनी के मूल्य में 5% का बड़ा प्राप्त करने पर एक खरीद दार ₹ 608 में 2 किलो चीनी अधिक प्राप्त करता है तो चीनी का विक्रय मूल्य होगा....

- Ans A. ₹ 20 प्रति किलो
 B. ₹ 25 प्रति किलो
 C. ₹ 16 प्रति किलो
 D. ₹ 18 प्रति किलो

Question Type : MCQ
 Question ID : 7650446548
 Option 1 ID : 76504426189
 Option 2 ID : 76504426190
 Option 3 ID : 76504426191
 Option 4 ID : 76504426192
 Status : Answered
 Chosen Option : D

Q.61 वह न्यूनतम संख्या कौन सी है जिसे 1056 में जोड़ने पर वह संख्या 23 से विभाज्य हो जाए?

- Ans A. 0
 B. 3
 C. 2
 D. 1

Question Type : MCQ
 Question ID : 7650446081
 Option 1 ID : 76504424321
 Option 2 ID : 76504424322
 Option 3 ID : 76504424323
 Option 4 ID : 76504424324
 Status : Answered
 Chosen Option : C

Q.62 यूक्लिड की विभाजन प्रमेयिका में कहा गया है, "धनात्मक पूर्णांक a और b दिए जाने पर, $a = bq + r$ को संतुष्ट करने वाले अद्वितीय पूर्णांक q और r मौजूद हैं। निम्नलिखित में से कौन सा r के लिए सत्य है?

- Ans A. $r > a$
 B. $r < 0$
 C. $0 \leq r < b$
 D. $r > b$

Question Type : MCQ
 Question ID : 7650446083
 Option 1 ID : 76504424329
 Option 2 ID : 76504424330
 Option 3 ID : 76504424331
 Option 4 ID : 76504424332
 Status : Answered
 Chosen Option : D



Q.63 यदि बिंदु P(1, 2), B(0, 0) और C(a, b) सररेख हैं, तो

Ans A. $2a = b$

B. $a = -b$

C. $a = 2b$

D. $a = b$

Question Type : MCQ

Question ID : 7650447075

Option 1 ID : 76504428297

Option 2 ID : 76504428298

Option 3 ID : 76504428299

Option 4 ID : 76504428300

Status : Answered

Chosen Option : A

Q.64 यदि किसी वृत्त की दो त्रिज्याओं के बीच का कोण 110° है, तो त्रिज्याओं के सिरों पर स्पर्श रेखाओं के बीच का कोण है:

Ans A. 90°

B. 50°

C. 70°

D. 40°

Question Type : MCQ

Question ID : 7650447224

Option 1 ID : 76504428893

Option 2 ID : 76504428894

Option 3 ID : 76504428895

Option 4 ID : 76504428896

Status : Answered

Chosen Option : C

Q.65 प्राथमिक कक्षा की एक शिक्षिका अपने विद्यार्थियों में गणितीय तर्कणा/विवेचन के कौशल के विकास पर ध्यान केंद्रित कर रही है। निम्नलिखित में से कौन से कार्य उसकी सबसे उपयुक्त तरीके से सहायता कर सकते हैं ?

Ans A. अपनी कक्षा में गणितीय क्रीड़ाओं और पहेलियों का उपयोग करना

B. अभ्यास के लिए, दिए गए एक सूत्र पर आधारित बहुत सारे प्रश्न देना

C. नियमित कक्षा परीक्षाओं का आयोजन करना

D. ब्लैकबोर्ड पर पाठ्यपुस्तक के प्रश्नों को हल करना

Question Type : MCQ

Question ID : 7650446510

Option 1 ID : 76504426037

Option 2 ID : 76504426038

Option 3 ID : 76504426039

Option 4 ID : 76504426040

Status : Answered

Chosen Option : A



Q.66 किसी संपत्ति की कीमत 500000 रु० है तथा प्रतिवर्ष 10% की दर से इसका अवमूल्यन होता है। कितने समय में इसकी कीमत 364500 रु० हो जायगी.....

Ans A. 3 वर्ष

B. $3\frac{1}{2}$ वर्ष

C. 2 वर्ष

D. $2\frac{1}{2}$ वर्ष

Question Type : MCQ

Question ID : 7650446579

Option 1 ID : 76504426313

Option 2 ID : 76504426314

Option 3 ID : 76504426315

Option 4 ID : 76504426316

Status : Answered

Chosen Option : A

Q.67 दिए गए ऑकड़ो 6,6,9,8,x,6,3,4,8 का बहुलक 6 है तो X का कौन सा मान संभव नहीं है ?

Ans A. 8

B. 7

C. 6

D. 19

Question Type : MCQ

Question ID : 7650446362

Option 1 ID : 76504425445

Option 2 ID : 76504425446

Option 3 ID : 76504425447

Option 4 ID : 76504425448

Status : Answered

Chosen Option : A

Adda247



Q.68

If $\cos\theta = \frac{3}{4}$ then $9\tan^2\theta + 9 = \dots$ यदि $\cos\theta = \frac{3}{4}$ तो $9\tan^2\theta + 9 = \dots$

Ans

- A. 9
- B. 16
- C. 3
- D. 1

Question Type : MCQ

Question ID : 7650447301

Option 1 ID : 76504429201

Option 2 ID : 76504429202

Option 3 ID : 76504429203

Option 4 ID : 76504429204

Status : Answered

Chosen Option : B

Q.69 K के किस मान के लिए समीकरण $x+2y-7=0$ तथा $2x+ky=14$ संपाती होंगे :Ans A. 4

- B. 1
- C. 3
- D. इनमें से कोई नहीं

Question Type : MCQ

Question ID : 7650446258

Option 1 ID : 76504425029

Option 2 ID : 76504425030

Option 3 ID : 76504425031

Option 4 ID : 76504425032

Status : Answered

Chosen Option : A

Q.70 यदि एक वर्ग की परिधि एक वृत्त की परिधि के बराबर है तो उनके क्षेत्रफलों का अनुपात है

- Ans A. $4 : \pi$
- B. $\pi : 4$
- C. $\pi : 7$
- D. $7 : \pi$

Question Type : MCQ

Question ID : 7650447352

Option 1 ID : 76504429405

Option 2 ID : 76504429406

Option 3 ID : 76504429407

Option 4 ID : 76504429408

Status : Answered

Chosen Option : B

Section : Science



Q.71 चमगादड़ के सिद्धांत का उपयोग करके अपने शिकार को पकड़ सकते हैं।

- Ans A. ध्वनि का प्रतिबिंब
 B. ध्वनि का अपवर्तन
 C. प्रतिध्वनि की अवधारणा
 D. ध्वनि का प्रतिबिंब एवं उसकी प्रतिध्वनि की अवधारणा दोनों

Question Type : MCQ

Question ID : 7650443819

Option 1 ID : 76504415273

Option 2 ID : 76504415274

Option 3 ID : 76504415275

Option 4 ID : 76504415276

Status : Answered

Chosen Option : D

Q.72 इनमें से किसमें द्विखंडन होता है ?

- Ans A. अमीबा में
 B. पैरामीशियम में
 C. युग्लीना में
 D. इन सभी में

Question Type : MCQ

Question ID : 7650443351

Option 1 ID : 76504413401

Option 2 ID : 76504413402

Option 3 ID : 76504413403

Option 4 ID : 76504413404

Status : Answered

Chosen Option : D

Q.73 झरीया किस वस्तु के उत्पादन के लिए जाना जाता है?

- Ans A. चोंदी
 B. कोयला
 C. पेट्रोलियम
 D. सोना

Question Type : MCQ

Question ID : 7650443513

Option 1 ID : 76504414049

Option 2 ID : 76504414050

Option 3 ID : 76504414051

Option 4 ID : 76504414052

Status : Answered

Chosen Option : C



Q.74 वाष्पीकरण की दर किस प्रकार बढ़ती है?

- Ans A. द्रव का खुला सतह क्षेत्र बढ़ने से
 B. द्रव का खुला सतह क्षेत्र घटने से
 C. द्रव की सतह के ऊपर हवा की गति कम होने
 D. वायुमंडलीय दबाव बढ़ जाने

Question Type : MCQ

Question ID : 7650443637

Option 1 ID : 76504414545

Option 2 ID : 76504414546

Option 3 ID : 76504414547

Option 4 ID : 76504414548

Status : Answered

Chosen Option : A

Q.75 20 किलोग्राम द्रव्यमान के वस्तु पर 5N का बल लगाने से उत्पन्न त्वरण का मान होगा -

- Ans A. 2.5 m/s^2
 B. 100 m/s^2
 C. 4 m/s^2
 D. $.25 \text{ m/s}^2$

Question Type : MCQ

Question ID : 7650443412

Option 1 ID : 76504413645

Option 2 ID : 76504413646

Option 3 ID : 76504413647

Option 4 ID : 76504413648

Status : Answered

Chosen Option : A

Q.76 समुद्रतल की गहराई ज्ञात करने के लिए समुद्री जहाज में किस विशेष तकनीक का उपयोग किया जाता है

- Ans A. अनुरणन
 B. सोनार
 C. लेजर
 D. प्रतिध्वनि

Question Type : MCQ

Question ID : 7650443459

Option 1 ID : 76504413833

Option 2 ID : 76504413834

Option 3 ID : 76504413835

Option 4 ID : 76504413836

Status : Answered

Chosen Option : B



Q.77 निम्नलिखित में से कौन एकल-झिल्ली से घिरा हुआ है?

- Ans A. लाइसोसोम
 B. माइटोकॉन्ड्रिया
 C. न्यूक्लियस
 D. क्लोरोप्लास्ट

Question Type : MCQ
 Question ID : 7650443269
 Option 1 ID : 76504413073
 Option 2 ID : 76504413074
 Option 3 ID : 76504413075
 Option 4 ID : 76504413076
 Status : Answered
 Chosen Option : A

Q.78 विद्युत शक्ति की इकाई को इस प्रकार भी व्यक्त किया जा सकता है

- Ans A. वोल्ट-एम्पीयर
 B. किलोवाट-घंटा
 C. वाट दूसरा
 D. जूल सेकंड

Question Type : MCQ
 Question ID : 7650443970
 Option 1 ID : 76504415877
 Option 2 ID : 76504415878
 Option 3 ID : 76504415879
 Option 4 ID : 76504415880
 Status : Answered
 Chosen Option : B

Q.79 निम्नलिखित में से कौन से खाद्य उत्पाद पशु प्रोटीन का सबसे अच्छा स्रोत हैं?

- Ans A. दूध
 B. अंडा
 C. पनीर
 D. सभी।

Question Type : MCQ
 Question ID : 7650444043
 Option 1 ID : 76504416169
 Option 2 ID : 76504416170
 Option 3 ID : 76504416171
 Option 4 ID : 76504416172
 Status : Answered
 Chosen Option : D



Q.80 एक माध्यम से दूसरे माध्यम में जाने वाली तरंग की दिशा में परिवर्तन को _____ कहा जाता है।

- Ans A. इनफरेंस
 B. मृगतृष्णा
 C. विवर्तन
 D. अपवर्तन

Question Type : MCQ
 Question ID : 7650443996
 Option 1 ID : 76504415981
 Option 2 ID : 76504415982
 Option 3 ID : 76504415983
 Option 4 ID : 76504415984
 Status : Answered
 Chosen Option : B

Q.81 वर्गीकरण की इस प्रणाली का प्रयोग लिनियस ने किया था

- Ans A. फ़ाइलोजेनेटिक प्रणाली
 B. प्राकृतिक प्रणाली
 C. कृत्रिम प्रणाली
 D. अलैंगिक प्रणाली

Question Type : MCQ
 Question ID : 7650443693
 Option 1 ID : 76504414769
 Option 2 ID : 76504414770
 Option 3 ID : 76504414771
 Option 4 ID : 76504414772
 Status : Answered
 Chosen Option : A

Q.82 कहा-जा सकता है कि निम्नलिखित में से सभी में बीज प्रकीर्णन ने पादपों को लाभ पहुँचाया है (सहायता की है) सिवाय :

- Ans A. सूर्य के प्रकाश, जल एवं खनिजों के लिए प्रतिस्पर्धा टालने के
 B. नए आवासों में अपनी पकड़ बनाने के
 C. नई किस्में उत्पन्न करने के
 D. अतिसंकुलता

Question Type : MCQ
 Question ID : 7650444129
 Option 1 ID : 76504416513
 Option 2 ID : 76504416514
 Option 3 ID : 76504416515
 Option 4 ID : 76504416516
 Status : Answered
 Chosen Option : D



Q.83 मॉडेम आवर्त सारणी में तत्वों की व्यवस्था उनके आधार पर होती है

- Ans A. आवर्त में परमाणु द्रव्यमान बढ़ रहा है
 B. क्षैतिज पंक्तियों में परमाणु क्रमांक बढ़ाना
 C. ऊर्ध्वाधर स्तंभों में परमाणु क्रमांक बढ़ाना
 D. समूह में परमाणु द्रव्यमान में वृद्धि

Question Type : MCQ

Question ID : 7650443902

Option 1 ID : 76504415605

Option 2 ID : 76504415606

Option 3 ID : 76504415607

Option 4 ID : 76504415608

Status : Answered

Chosen Option : A

Q.84 मैग्नेशियम रिबन को जलाने से पहले रगड़ा जाता है क्योंकि इस पर निम्न में से किसका स्तर चढ़ा होता है?

- Ans A. मूल मैग्नीशियम कार्बोनेट
 B. मूल मैग्नीशियम ऑक्साइड
 C. मूल मैग्नीशियम क्लोराइड
 D. इनमें से कोई नहीं

Question Type : MCQ

Question ID : 7650443067

Option 1 ID : 76504412265

Option 2 ID : 76504412266

Option 3 ID : 76504412267

Option 4 ID : 76504412268

Status : Answered

Chosen Option : B

Q.85 निम्नलिखित में कौन सी धातु को गहने बनाने में प्रयोग किया जाता है ?

- Ans A. सोना
 B. चाँदी
 C. प्लैटिनम
 D. ये सभी

Question Type : MCQ

Question ID : 7650443116

Option 1 ID : 76504412461

Option 2 ID : 76504412462

Option 3 ID : 76504412463

Option 4 ID : 76504412464

Status : Answered

Chosen Option : D



Q.86 निम्नलिखित में से उस यौगिक को पहचानिए जिसका उपयोग कागज, काँच और साबुन उद्योगों में किया जाता है।

- Ans A. सोडियम क्लोराइड
 B. विरंजक चूर्ण
 C. बेकिंग सोडा
 D. थोने का सोडा

Question Type : MCQ
 Question ID : 7650444200
 Option 1 ID : 76504416797
 Option 2 ID : 76504416798
 Option 3 ID : 76504416799
 Option 4 ID : 76504416800
 Status : Answered
 Chosen Option : B

Q.87 यदि पिंड का द्रव्यमान दोगुना कर दिया जाए और उसका वेग आधा हो जाए, तो पिंड का रेखिक संवेग होगा

- Ans A. दोगुना हो जाएगा
 B. एक ही रहेगा
 C. आधा हो जाएगा
 D. चार गुना हो जाएगा

Question Type : MCQ
 Question ID : 7650443775
 Option 1 ID : 76504415097
 Option 2 ID : 76504415098
 Option 3 ID : 76504415099
 Option 4 ID : 76504415100
 Status : Answered
 Chosen Option : B

Q.88 एक चालक का प्रतिरोध 440 ओम है। यदि इसे 110 बोल्ट के स्रोत से जोड़ दिया जाय तो इसमें कितनी धारा प्रवाहित होगी?

- Ans A. 0.24 ऐम्पियर
 B. 0.25 ऐम्पियर
 C. 24 ऐम्पियर
 D. 25 ऐम्पियर

Question Type : MCQ
 Question ID : 7650443581
 Option 1 ID : 76504414321
 Option 2 ID : 76504414322
 Option 3 ID : 76504414323
 Option 4 ID : 76504414324
 Status : Answered
 Chosen Option : B



Q.89 जिन पौधों में विभेदित पादप शरीर नहीं होता है वे समूह के अंतर्गत आते हैं।

- Ans A. टेरिडोफाइट
 B. फेनरोगैम
 C. थैलोफाइट
 D. ब्रायोफाइट

Question Type : MCQ

Question ID : 7650443244

Option 1 ID : 76504412973

Option 2 ID : 76504412974

Option 3 ID : 76504412975

Option 4 ID : 76504412976

Status : Answered

Chosen Option : B

Q.90 आवोगाद्रो नियतांक का मान होता है -

- Ans A. 6.022×10^{24}
 B. 60.22×10^{23}
 C. 6.022×10^{22}
 D. 6.022×10^{23}

Question Type : MCQ

Question ID : 7650443193

Option 1 ID : 76504412769

Option 2 ID : 76504412770

Option 3 ID : 76504412771

Option 4 ID : 76504412772

Status : Answered

Chosen Option : D

Section : Social Studies

Q.91 'दोहरा बोझ' क्या है?

- Ans A. यह महिलाओं द्वारा किए जाने वाले गृहकार्य में अनुपातहीन हिस्सेदारी को संदर्भित करता है।
 B. यह सत्रहवीं शताब्दी का है।
 C. यह सार्वजनिक और निजी जीवन के बीच अंतर की लैंगिक धारणाओं में निहित है।
 D. दिए गए सभी विकल्प सही हैं।

Question Type : MCQ

Question ID : 7650445228

Option 1 ID : 76504420909

Option 2 ID : 76504420910

Option 3 ID : 76504420911

Option 4 ID : 76504420912

Status : Answered

Chosen Option : D



Q.92 बताएं कि नीचे दिया गया कथन सही है या गलत - "भारत में लोकतंत्र ने वंचित और भेदभाव वाली जातियों के समान दर्जे और समान अवसर के दावों को मजबूत किया है।"

- Ans A. कथन सत्य है
- B. कथन गलत है
- C. कथन में अस्पष्टता
- D. इनमें से कोई नहीं

Question Type : MCQ
 Question ID : 7650445142
 Option 1 ID : 76504420565
 Option 2 ID : 76504420566
 Option 3 ID : 76504420567
 Option 4 ID : 76504420568
 Status : Answered
 Chosen Option : A

Q.93 प्रथम विश्व युद्ध के बाद मैनचेस्टर का भारत को निर्यात क्यों कम हो गया?

- Ans A. लोग युद्ध लड़ने में व्यस्त थे।
- B. सुरक्षा समस्या के कारण कारखाने बंद हो गए।
- C. कारखाने और मिलें सेना की आवश्यकता को पूरा करने के लिए सामान बनाने में व्यस्त थे।
- D. निर्यात व्यापार सरकार द्वारा प्रतिबंधित था।

Question Type : MCQ
 Question ID : 7650444918
 Option 1 ID : 76504419669
 Option 2 ID : 76504419670
 Option 3 ID : 76504419671
 Option 4 ID : 76504419672
 Status : Answered
 Chosen Option : C

Q.94 इनमें से कौन सा लोकतंत्र के पक्ष में अच्छा तर्क नहीं है?

- Ans A. लोकतंत्र में लोग स्वतंत्र और समान महसूस करते हैं।
- B. लोकतंत्र दूसरों की तुलना में संघर्ष को बेहतर तरीके से हल करता है।
- C. लोकतांत्रिक सरकार लोगों के प्रति अधिक जवाबदेह होती है।
- D. लोकतंत्र दूसरों की तुलना में अधिक समृद्ध है।

Question Type : MCQ
 Question ID : 7650445289
 Option 1 ID : 76504421153
 Option 2 ID : 76504421154
 Option 3 ID : 76504421155
 Option 4 ID : 76504421156
 Status : Answered
 Chosen Option : C



Q.95 पानी की कमी क्या है?

- Ans A. पानी की कमी एक क्षेत्र के भीतर पानी के उपयोग की मांगों को पूरा करने के लिए पर्याप्त उपलब्ध ताजे पानी के संसाधनों की कमी है।
- B. पानी की कमी एक क्षेत्र के भीतर पानी के उपयोग की मांगों को पूरा करने के लिए पर्याप्त उपलब्ध समुद्री पानी की कमी है।
- C. देश के उद्योगों की मांगों को पूरा करने के लिए पर्याप्त उपलब्ध ताजे जल संसाधनों की कमी
- D. ये सभी

Question Type : MCQ

Question ID : 7650444561

Option 1 ID : 76504418241

Option 2 ID : 76504418242

Option 3 ID : 76504418243

Option 4 ID : 76504418244

Status : Answered

Chosen Option : D

Q.96 यूरोप के मध्यम वर्ग के लिए उदारवाद की सबसे महत्वपूर्ण विशेषता थी

- Ans A. रूढ़िवाद का उन्मूलन।
- B. उदार और शिक्षित होने का अधिकार।
- C. व्यक्तिगत स्वतंत्रता और कानून के समक्ष समानता
- D. प्रतिनिधि सरकार।

Question Type : MCQ

Question ID : 7650444880

Option 1 ID : 76504419517

Option 2 ID : 76504419518

Option 3 ID : 76504419519

Option 4 ID : 76504419520

Status : Answered

Chosen Option : B

Q.97 निम्नलिखित में कौन जनसंख्या वृद्धि का घटक नहीं है ?

- Ans A. जन्म दर
- B. मृत्यु दर
- C. प्रवास
- D. लिंगानुपात

Question Type : MCQ

Question ID : 7650444475

Option 1 ID : 76504417897

Option 2 ID : 76504417898

Option 3 ID : 76504417899

Option 4 ID : 76504417900

Status : Answered

Chosen Option : D



Q.98 विधान परिषद् की स्थापना को भारत के संविधान के अनुच्छेदमें परिभाषित किया गया है।

Ans A. 169

B. 170

C. 172

D. 175

Question Type : MCQ

Question ID : 7650444744

Option 1 ID : 76504418973

Option 2 ID : 76504418974

Option 3 ID : 76504418975

Option 4 ID : 76504418976

Status : Answered

Chosen Option : A

Q.99 अंतरराष्ट्रीय जैव-विविधता दिवस कब मनाया जाता है?

Ans A. प्रत्येक वर्ष 22 मई को

B. प्रत्येक वर्ष 22 अप्रैल को

C. प्रत्येक 22वर्ष जून को

D. प्रत्येक 22 वर्ष नवम्बर को

Question Type : MCQ

Question ID : 7650444588

Option 1 ID : 76504418349

Option 2 ID : 76504418350

Option 3 ID : 76504418351

Option 4 ID : 76504418352

Status : Answered

Chosen Option : A

Q.100 विश्व बैंक का मुख्यालय निम्न में से कहाँ स्थित है ?

Ans A. जेनेवा

B. न्यूयार्क

C. वाशिंगटन डी.सी.

D. मनीला

Question Type : MCQ

Question ID : 7650444407

Option 1 ID : 76504417625

Option 2 ID : 76504417626

Option 3 ID : 76504417627

Option 4 ID : 76504417628

Status : Answered

Chosen Option : C



Q.101 अल्लूरी सीताराम राजू कौन थे?

- Ans A. उग्रवादी
 B. वन अधिकारी
 C. आंध्र का आदिवासी नेता
 D. संत

Question Type : MCQ
Question ID : 7650444379
Option 1 ID : 76504417513
Option 2 ID : 76504417514
Option 3 ID : 76504417515
Option 4 ID : 76504417516
Status : Answered
Chosen Option : C

Q.102 राज्यसभा में सदस्यों को कौन नामांकित करता है?

- Ans A. राष्ट्रपति
 B. उपराष्ट्रपति
 C. प्रधानमंत्री
 D. सर्वोच्च न्यायालय के मुख्य न्यायाधीश

Question Type : MCQ
Question ID : 7650445401
Option 1 ID : 76504421601
Option 2 ID : 76504421602
Option 3 ID : 76504421603
Option 4 ID : 76504421604
Status : Answered
Chosen Option : A

Q.103 भारत का सबसे लंबा राष्ट्रीय राजमार्ग कौन सा है?

- Ans A. NH5
 B. NH6
 C. NH7
 D. NH8

Question Type : MCQ
Question ID : 7650445105
Option 1 ID : 76504420417
Option 2 ID : 76504420418
Option 3 ID : 76504420419
Option 4 ID : 76504420420
Status : Answered
Chosen Option : C



Q.104 कुस्तुनतुनिया का पतन किस वर्ष हुआ?

- Ans A. 1420
 B. 1453
 C. 1510
 D. 1498

Question Type : MCQ
Question ID : 7650444222
Option 1 ID : 76504416885
Option 2 ID : 76504416886
Option 3 ID : 76504416887
Option 4 ID : 76504416888
Status : Answered
Chosen Option : C

Q.105 निम्नलिखित में से कौन सी फाइबर फसल है?

- Ans A. रबड़
 B. जूट
 C. टमाटर
 D. कॉफी

Question Type : MCQ
Question ID : 7650444332
Option 1 ID : 76504417325
Option 2 ID : 76504417326
Option 3 ID : 76504417327
Option 4 ID : 76504417328
Status : Answered
Chosen Option : B

Q.106 उष्णकटिबंधीय वन उदाहरण है-----

- Ans A. प्राकृतिक संसाधन के
 B. रूढ़िवादी संसाधन के
 C. मानव निर्मित संसाधन के
 D. गैर-नवीकरणीय संसाधन के

Question Type : MCQ
Question ID : 7650445001
Option 1 ID : 76504420001
Option 2 ID : 76504420002
Option 3 ID : 76504420003
Option 4 ID : 76504420004
Status : Answered
Chosen Option : A



Q.107 1929 में बाल विवाह निषेध अधिनियम पारित किया गया। इस अधिनियम के अनुसार पुरुष तथा महिला के लिए शादी की न्यूनतम आयु क्रमशः कितनी रखी गई?

- Ans A. 18 वर्ष तथा 16 वर्ष
 B. 21 वर्ष तथा 18 वर्ष
 C. 17 वर्ष तथा 15 वर्ष
 D. 20 वर्ष तथा 18 वर्ष

Question Type : MCQ
 Question ID : 7650445321
 Option 1 ID : 76504421281
 Option 2 ID : 76504421282
 Option 3 ID : 76504421283
 Option 4 ID : 76504421284
 Status : Answered
 Chosen Option : B

Q.108 रंगभेद की नीति किस देश में कायम था?

- Ans A. दक्षिण अफ्रीका
 B. उत्तर अमेरिका
 C. पेरू
 D. वेनेजुएला

Question Type : MCQ
 Question ID : 7650444684
 Option 1 ID : 76504418733
 Option 2 ID : 76504418734
 Option 3 ID : 76504418735
 Option 4 ID : 76504418736
 Status : Answered
 Chosen Option : A

Q.109 भारतीय संविधान का 73 वाँ संशोधन अधिनियम निम्नलिखित में किससे संबंधित है ?

- Ans A. नगरपालिका से
 B. पंचायती राज से
 C. ग्राम पंचायत से
 D. ग्राम कचहरी से

Question Type : MCQ
 Question ID : 7650444780
 Option 1 ID : 76504419117
 Option 2 ID : 76504419118
 Option 3 ID : 76504419119
 Option 4 ID : 76504419120
 Status : Answered
 Chosen Option : B



Q.110 आमतौर पर लोगों की संख्या और क्षमता को कहा जाता है

- Ans A. मानव संसाधन
 B. संसाधनों का भंडार
 C. प्राकृतिक संसाधन
 D. नवीकरणीय संसाधन

Question Type : MCQ
 Question ID : 7650445000
 Option 1 ID : 76504419997
 Option 2 ID : 76504419998
 Option 3 ID : 76504419999
 Option 4 ID : 76504420000
 Status : Answered
 Chosen Option : D

Section : Logical and Analytical Reasoning

Q.111 अंग्रेजी वर्णमाला में अक्षर S तथा अक्षर G के मध्य में कौन सा अक्षर होगा ?

- Ans A. N
 B. M
 C. L
 D. P

Question Type : MCQ
 Question ID : 7650445597
 Option 1 ID : 76504422385
 Option 2 ID : 76504422386
 Option 3 ID : 76504422387
 Option 4 ID : 76504422388
 Status : Answered
 Chosen Option : B

Q.112 नीचे दिए गए प्रश्न में एक कथन और एक कारण दिया गया है। उनके लिए सही विकल्प का चुनाव किया जाए।

कथन: रेगिस्तान में मृगमरीचिका उत्पन्न होती है।

कारण: प्रकाश के अपवर्तन के कारण होता है।

- Ans A. यदि कथन और कारण दोनों सत्य हैं और कारण, कथन की उचित व्याख्या कर रहा है।
 B. यदि कथन एवं कारण दोनों सत्य हैं और कारण, कथन का उचित व्याख्या नहीं कर रहा है।
 C. यदि कथन सत्य है लेकिन कारण असत्य है।
 D. यदि कथन एवं कारण दोनों असत्य हैं।

Question Type : MCQ
 Question ID : 7650445958
 Option 1 ID : 76504423829
 Option 2 ID : 76504423830
 Option 3 ID : 76504423831
 Option 4 ID : 76504423832
 Status : Answered
 Chosen Option : A



Q.113 नीचे दिये गए विकल्पों में से विषम तत्व को ज्ञात कीजिए.

- Ans A. सूना
 B. चलना
 C. दौड़ना
 D. तैरना

Question Type : MCQ

Question ID : 7650445453

Option 1 ID : 76504421809

Option 2 ID : 76504421810

Option 3 ID : 76504421811

Option 4 ID : 76504421812

Status : Answered

Chosen Option : A

Q.114 निम्नलिखित अनुक्रम में ऐसे कितने 3 हैं जिनके न तो पहले और न ही ठीक बाद में 9 है?
 9 3 6 6 3 9 5 9 3 7 8 9 1 6 3 9 6 3 9

- Ans A. एक
 B. दो
 C. तीन
 D. इनमें से कोई नहीं

Question Type : MCQ

Question ID : 7650445712

Option 1 ID : 76504422845

Option 2 ID : 76504422846

Option 3 ID : 76504422847

Option 4 ID : 76504422848

Status : Answered

Chosen Option : D

Q.115 निम्नलिखित प्रश्न में, अक्षरों का कौन सा समूह दी गई अक्षर शृंखला में रिक्त स्थानों पर क्रमिक रूप से रखे जाने पर इसे पूरा करेगा?

a _ c a a b _ a _ b c a a b _ a _ b _ a

- Ans A. cbacba
 B. bcacac
 C. acbaca
 D. bbacaa

Question Type : MCQ

Question ID : 7650445862

Option 1 ID : 76504423445

Option 2 ID : 76504423446

Option 3 ID : 76504423447

Option 4 ID : 76504423448

Status : Answered

Chosen Option : B



Q.116 2, 10, 40, 120, ?, 240

- Ans A. 120
 B. 180
 C. 220
 D. 240

Question Type : MCQ

Question ID : 7650445888

Option 1 ID : 76504423549

Option 2 ID : 76504423550

Option 3 ID : 76504423551

Option 4 ID : 76504423552

Status : Answered

Chosen Option : D

Q.117 सुमन प्रातः उठकर अपने घर से निकलता है, और कुछ चलने के बाद दाहिने मुड़ जाता है। पुनः दाहिने मुड़ जाता है, अगर वह अभी दक्षिण दिशा में जा रहा है, तो उसने किस दिशा में चलना प्रारम्भ किया था ?

- Ans A. पूरब
 B. उत्तर
 C. दक्षिण
 D. पश्चिम

Question Type : MCQ

Question ID : 7650445583

Option 1 ID : 76504422329

Option 2 ID : 76504422330

Option 3 ID : 76504422331

Option 4 ID : 76504422332

Status : Answered

Chosen Option : B

Adda247



Q.118 प्रश्न के लिए निर्देश

उम्मीदवार को -

ए - कम से कम 65% अंकों के साथ सिविल इंजीनियरिंग स्नातक होना चाहिए।

बी - 1-1-2016 को 21 वर्ष से कम और 28 वर्ष से अधिक नहीं होना चाहिए।

सी - चयन परीक्षा कम से कम 70% अंकों के साथ उत्तीर्ण की हो।

घ - 50,000 रुपये की जमा राशि का भुगतान करने के लिए तैयार रहें जो प्रशिक्षण पूरा होने पर वापस किया जाना है।

हालाँकि, यदि उपरोक्त सभी मानदंड -

I - उपरोक्त (ए) को छोड़कर संतुष्ट हैं, लेकिन पिछले सेमेस्टर की परीक्षा में उपस्थित हुए हैं और पिछले 7 सेमेस्टर में 75% अंक प्राप्त किए हैं, तो मामला उपाध्यक्ष को भेजा जाएगा। कंपनी।

II - ऊपर (डी) पर, लेकिन इस क्षेत्र में एक वर्ष से अधिक समय तक काम करने का अनुभव है, मामला कंपनी के महाप्रबंधक को भेजा जा सकता है।

प्रश्न- गुंजन यादव ने टेस्ट में 72% अंक प्राप्त किए हैं लेकिन बी.टेक में उन्होंने 60% अंक प्राप्त किए हैं। उसकी उम्र 23 साल है और वह कंपनी में 50,000 रुपये जमा करने को तैयार है।

Ans

- A. यदि उम्मीदवार का चयन किया जाना है।
- B. यदि मामला महाप्रबंधक को भेजा जाना है।
- C. यदि मामला उपाध्यक्ष को भेजा जाना है।
- D. यदि उम्मीदवार का चयन नहीं किया जाना है तो

Question Type : MCQ

Question ID : 7650445769

Option 1 ID : 76504423073

Option 2 ID : 76504423074

Option 3 ID : 76504423075

Option 4 ID : 76504423076

Status : Answered

Chosen Option : A

Q.119 दिये गये अक्षर श्रृंखला में प्रश्नवाचक चिह्न के स्थान पर कौन - सी अक्षर आयेगी।
SUN, URR, WOV, ?

Ans

- A. XKZ
- B. YLZ
- C. YIX
- D. ZLX

Question Type : MCQ

Question ID : 7650445496

Option 1 ID : 76504421981

Option 2 ID : 76504421982

Option 3 ID : 76504421983

Option 4 ID : 76504421984

Status : Answered

Chosen Option : B



Test

Prime

By Adda247

Previous Year Papers PDF

PRACTICE MORE, SCORE HIGHER!



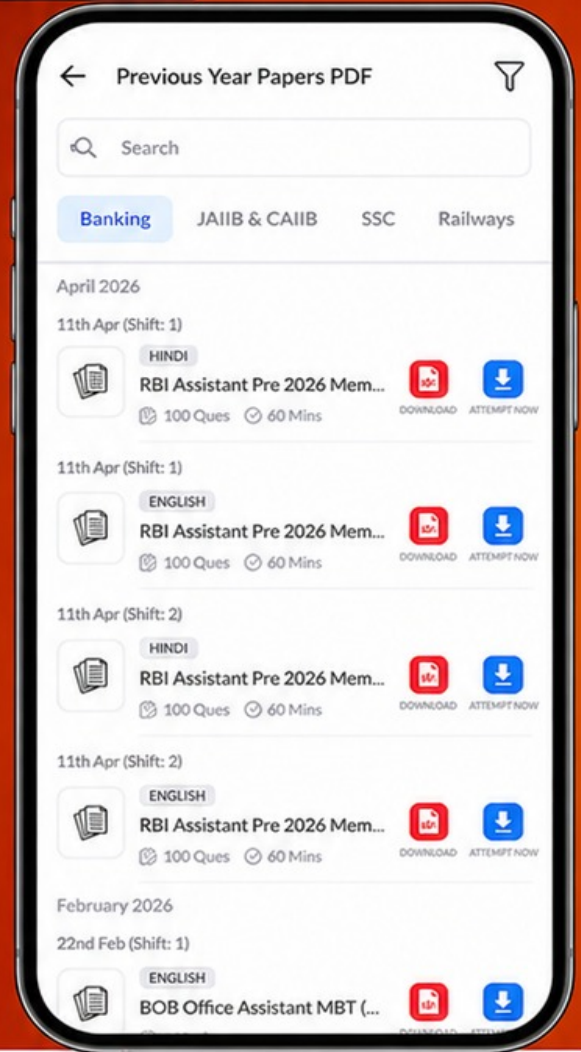
Free
25,000+
PDF's

High-Quality | Exam-Wise | Updated Regularly

ATTEMPT AS
MOCK



Turn PDFs into real exam experience.
Analyze. Improve. Succeed.



Topic-wise & Exam-wise PDFs



Download & Study Offline



Attempt as Mock & Track Score



Smart Analysis & Performance

AVAILABLE IN



Banking



SSC



Railway



Teaching



UGC



Agriculture



Nursing



Bihar



UP



Punjab



WB



Odisha



TN



AP & Telangana



Haryana



DOWNLOAD THE APP



Q.120 एक टेलीफोन के डायल में सभी नंबरों का गुणनफल क्या होता है?

- Ans A. 158480
 B. 159450
 C. 159480
 D. इनमें से कोई नहीं

Question Type : MCQ

Question ID : 76504422625

Option 1 ID : 76504422625

Option 2 ID : 76504422626

Option 3 ID : 76504422627

Option 4 ID : 76504422628

Status : Answered

Chosen Option : A

