

# Bihar D.El.Ed.

Previous Year Paper  
12 Sept, 2025 Shift 2

**Test  
Prime**

By Adda247

# ALL EXAMS, ONE SUBSCRIPTION



Test. Analyze. Improve. Repeat.



**Don't just *prepare*. Perform.**

Test Prime — built only for mock tests.



**1,50,000+**  
Mock Tests



**25,000+**  
Previous Year Papers



**800+**  
Exam Covered



**500% Refund**  
on Selection



**5 lakh+**  
Free Quizzes



**Daily**  
Free PDFs



**Job Alerts**  
Stay Updated

- Multilingual
- Detailed Solution
- Strong and Weak Areas



**All India  
Rankings**

Compete with lakhs.  
Rank. Improve. Repeat.



← Adda247 test prime

Rating ▾

Editors' choice

New



Adda247 Test Prime  
Adda Education • Education  
Installed



**DOWNLOAD THE APP**





बिहार विद्यालय परीक्षा समिति  
BIHAR SCHOOL EXAMINATION BOARD

Roll No	
Participant Name	
Test Center Name	
Test Date	12/09/2025
Test Time	2:00 PM - 4:30 PM
Exam Name	DELED Entrance 2025

Section : Hindi

Q.1 संध्या-सुंदरी उतर रही है' में कौन सा अलंकार है?

- Ans  A. अतिशयोक्ति अलंकार  
 B. मानवीकरण अलंकार  
 C. रूपक अलंकार  
 D. उत्प्रेक्षा अलंकार

Question Type : MCQ

Question ID : 7650441095

Option 1 ID : 7650444377

Option 2 ID : 7650444378

Option 3 ID : 7650444379

Option 4 ID : 7650444380

Status : Answered

Chosen Option : B

Q.2 'अन्न-जल' में कौन-सा समास है?

- Ans  A. द्वन्द्व  
 B. तत्पुरुष  
 C. बहुव्रीहि  
 D. कर्मधारय

Question Type : MCQ

Question ID : 765044128

Option 1 ID : 765044509

Option 2 ID : 765044510

Option 3 ID : 765044511

Option 4 ID : 765044512

Status : Answered

Chosen Option : A



Q.3 इनमें से कौन सा वाक्य अशुद्ध है -----

- Ans  A. राम दिन-रात मेहनत करता है।  
 B. जैसा बोओगे उसी तरह काटोगे।  
 C. पुस्तक विद्वतापूर्वक लिखी गई है।  
 D. मैंने सारी पुस्तक पढ़ डाली।

Question Type : MCQ  
 Question ID : 765044582  
 Option 1 ID : 7650442325  
 Option 2 ID : 7650442326  
 Option 3 ID : 7650442327  
 Option 4 ID : 7650442328  
 Status : Answered  
 Chosen Option : A

Q.4 'स्वार्थ' का संधि-विच्छेद क्या है?

- Ans  A. सु+अर्थ  
 B. स्व+अर्थ  
 C. स+अर्थ  
 D. स्वा+अर्थ

Question Type : MCQ  
 Question ID : 76504433  
 Option 1 ID : 765044129  
 Option 2 ID : 765044130  
 Option 3 ID : 765044131  
 Option 4 ID : 765044132  
 Status : Answered  
 Chosen Option : D

Q.5 'वर्षा शुरू हुई और मोहन आ गया।' वाक्य संबंधित है-

- Ans  A. मिश्र वाक्य  
 B. सरल वाक्य  
 C. संयुक्त वाक्य  
 D. कटु वाक्य

Question Type : MCQ  
 Question ID : 765044346  
 Option 1 ID : 7650441381  
 Option 2 ID : 7650441382  
 Option 3 ID : 7650441383  
 Option 4 ID : 7650441384  
 Status : Answered  
 Chosen Option : C



Q.6 'जब मैं अकेला था तब मुझे चार गुंडों ने पीटा।' वाक्य का भेद है-

- Ans  A. सरल वाक्य  
 B. मिश्र वाक्य  
 C. संयुक्त वाक्य  
 D. प्रश्नवाचक वाक्य

Question Type : MCQ  
 Question ID : 765044347  
 Option 1 ID : 7650441385  
 Option 2 ID : 7650441386  
 Option 3 ID : 7650441387  
 Option 4 ID : 7650441388  
 Status : Answered  
 Chosen Option : C

Q.7 मैं तो चंद्र खिलौना लैहों। कौन से अलंकार का उदाहरण है?

- Ans  A. अतिशयोक्ति अलंकार  
 B. मानवीकरण अलंकार  
 C. रूपक अलंकार  
 D. उत्प्रेक्षा अलंकार

Question Type : MCQ  
 Question ID : 7650441093  
 Option 1 ID : 7650444369  
 Option 2 ID : 7650444370  
 Option 3 ID : 7650444371  
 Option 4 ID : 7650444372  
 Status : Answered  
 Chosen Option : C

Q.8 'संधि' का शाब्दिक अर्थ है-

- Ans  A. अनमेल  
 B. बेमेल  
 C. मेल  
 D. इनमें से कोई नहीं

Question Type : MCQ  
 Question ID : 765044398  
 Option 1 ID : 7650441589  
 Option 2 ID : 7650441590  
 Option 3 ID : 7650441591  
 Option 4 ID : 7650441592  
 Status : Answered  
 Chosen Option : C



Q.9 जहाँ किसी बात को सीधे-साधे-सादे रूप में न कहकर किसी के माध्यम से कही जाती है, वहाँ कौन सा अलंकार होता है ?

- Ans  A. अतिशयोक्ति  
 B. अन्योक्ति  
 C. विरोधाभास  
 D. दृष्टांत

Question Type : MCQ  
 Question ID : 765044936  
 Option 1 ID : 7650443741  
 Option 2 ID : 7650443742  
 Option 3 ID : 7650443743  
 Option 4 ID : 7650443744  
 Status : Answered  
 Chosen Option : C

Q.10 'प्रतिभट कटक कटीले केते काटि काटि' में कौन सा अलंकार है।

- Ans  A. अनुप्रास अलंकार  
 B. यमक अलंकार  
 C. उपमा अलंकार  
 D. रूपक अलंकार

Question Type : MCQ  
 Question ID : 7650441251  
 Option 1 ID : 7650445001  
 Option 2 ID : 7650445002  
 Option 3 ID : 7650445003  
 Option 4 ID : 7650445004  
 Status : Answered  
 Chosen Option : A

Q.11 ऊ, ए, ऐ कौन-सा वर्ण है?

- Ans  A. ह्रस्व  
 B. दीर्घ  
 C. ह्रस्व और दीर्घ  
 D. प्लुत

Question Type : MCQ  
 Question ID : 7650441271  
 Option 1 ID : 7650445081  
 Option 2 ID : 7650445082  
 Option 3 ID : 7650445083  
 Option 4 ID : 7650445084  
 Status : Answered  
 Chosen Option : C



Q.12 क्रिया के जिस रूप से भाव की प्रधानता होती है, वह क्या कहलाता है?

- Ans  A. कर्तृवाच्य  
 B. कर्मवाच्य  
 C. भाववाच्य  
 D. क्रिया

Question Type : MCQ  
 Question ID : 765044667  
 Option 1 ID : 7650442665  
 Option 2 ID : 7650442666  
 Option 3 ID : 7650442667  
 Option 4 ID : 7650442668  
 Status : Answered  
 Chosen Option : C

Q.13 जो अलंकार शब्द और अर्थ दोनों के अधीन हो उसे ..... कहते हैं -

- Ans  A. अर्थालंकार  
 B. उभयालंकार  
 C. शब्दालंकार  
 D. श्लेषालंकार

Question Type : MCQ  
 Question ID : 7650441007  
 Option 1 ID : 7650444025  
 Option 2 ID : 7650444026  
 Option 3 ID : 7650444027  
 Option 4 ID : 7650444028  
 Status : Answered  
 Chosen Option : A

Q.14 अब दरवाजा खोला जा सकता है। रेखांकित शब्द कौन पदबंध है।

- Ans  A. संज्ञा पदबंध  
 B. क्रिया पदबंध  
 C. सर्वनाम पदबंध  
 D. क्रिया विशेषण पदबंध

Question Type : MCQ  
 Question ID : 765044615  
 Option 1 ID : 7650442457  
 Option 2 ID : 7650442458  
 Option 3 ID : 7650442459  
 Option 4 ID : 7650442460  
 Status : Answered  
 Chosen Option : C



Q.15 इनमें से हिन्दी का प्राचीनतम (प्रथम) महाकाव्य कौन-सा है ?

- Ans  A. श्रीरामचरितमानस  
 B. पद्मावत  
 C. पृथ्वीराज रासो  
 D. प्रिय प्रवास

Question Type : MCQ  
 Question ID : 7650441434  
 Option 1 ID : 7650445733  
 Option 2 ID : 7650445734  
 Option 3 ID : 7650445735  
 Option 4 ID : 7650445736  
 Status : Answered  
 Chosen Option : A

Q.16 ' काली लड़की को देखकर अभय ने कहा धरती पर चोंद उतरता है । उक्त वाक्य में शब्द शक्ति है -

- Ans  A. अभिधा  
 B. व्यंजना  
 C. लक्षणा  
 D. तीनों

Question Type : MCQ  
 Question ID : 765044835  
 Option 1 ID : 7650443337  
 Option 2 ID : 7650443338  
 Option 3 ID : 7650443339  
 Option 4 ID : 7650443340  
 Status : Answered  
 Chosen Option : C

Q.17 उस काल कारे क्रोध के, तन कांपने उसका लगा | मानो हवा के जोर से, सोता हुआ सागर जगा || प्रस्तुत पंक्तियों में कौन -सा रस है ?

- Ans  A. वीर रस  
 B. रौद्र रस  
 C. अद्भुत रस  
 D. करुण रस

Question Type : MCQ  
 Question ID : 7650441477  
 Option 1 ID : 7650445905  
 Option 2 ID : 7650445906  
 Option 3 ID : 7650445907  
 Option 4 ID : 7650445908  
 Status : Answered  
 Chosen Option : B



Q.18 अंग्रेजी सरकार की ओर से अदालत का कामकाज देश की प्रचलित भाषाओं में करने का 'इशतहारनामा' किस सन् में निकला?

- Ans  A. सन् 1816  
 B. सन् 1826  
 C. सन् 1836  
 D. सन् 1846

Question Type : MCQ  
 Question ID : 765044239  
 Option 1 ID : 765044953  
 Option 2 ID : 765044954  
 Option 3 ID : 765044955  
 Option 4 ID : 765044956  
 Status : Answered  
 Chosen Option : A

Q.19 'दुख है जीवन-तरु के मूल।' में कौन सा अलंकार है।

- Ans  A. अनुप्रास अलंकार  
 B. यमक अलंकार  
 C. उपमा अलंकार  
 D. रूपक अलंकार

Question Type : MCQ  
 Question ID : 7650441185  
 Option 1 ID : 7650444737  
 Option 2 ID : 7650444738  
 Option 3 ID : 7650444739  
 Option 4 ID : 7650444740  
 Status : Answered  
 Chosen Option : D

Q.20 'आँख का अंधा नाम नयनसुख' लोकोक्ति का सही अर्थ है-

- Ans  A. गुण के अनुरूप नाम  
 B. जन्म से अंधा  
 C. गुण के विरुद्ध नाम  
 D. नयन से सुख

Question Type : MCQ  
 Question ID : 765044518  
 Option 1 ID : 7650442069  
 Option 2 ID : 7650442070  
 Option 3 ID : 7650442071  
 Option 4 ID : 7650442072  
 Status : Answered  
 Chosen Option : C



Q.21 'अधमरा' कौन-सा समास है?

- Ans  A. तत्पुरुष  
 B. द्वन्द्व  
 C. अव्ययीभाव  
 D. कर्मधारय

Question Type : MCQ  
Question ID : 765044163  
Option 1 ID : 765044649  
Option 2 ID : 765044650  
Option 3 ID : 765044651  
Option 4 ID : 765044652  
Status : Answered  
Chosen Option : D

Q.22 शाब्दी व्यंजना किसके भेद के अन्तर्गत आता है-

- Ans  A. अभिधा  
 B. व्यंजना  
 C. लक्षणा  
 D. इनमें से कोई नहीं

Question Type : MCQ  
Question ID : 765044807  
Option 1 ID : 7650443225  
Option 2 ID : 7650443226  
Option 3 ID : 7650443227  
Option 4 ID : 7650443228  
Status : Answered  
Chosen Option : B

Q.23 निम्नलिखित में से कौन-सा शब्द फारसी का है---

- Ans  A. दाग  
 B. औरत  
 C. नीलम  
 D. फीस

Question Type : MCQ  
Question ID : 765044477  
Option 1 ID : 7650441905  
Option 2 ID : 7650441906  
Option 3 ID : 7650441907  
Option 4 ID : 7650441908  
Status : Answered  
Chosen Option : D



Q.24 अर्द्धसम किस मात्रिक जाति का छंद है ?

- Ans  A. रोला छंद  
 B. दोहा छंद  
 C. चौपाई छंद  
 D. कुण्डलिया छंद

Question Type : MCQ  
Question ID : 7650441373  
Option 1 ID : 7650445489  
Option 2 ID : 7650445490  
Option 3 ID : 7650445491  
Option 4 ID : 7650445492  
Status : Answered  
Chosen Option : C

Q.25 छोटे वाक्यों को स्पष्ट करने के लिए उनका विस्तार करना ---- कहा जाता है।

- Ans  A. संक्षिप्त वाक्य  
 B. प्रत्यक्ष कथन  
 C. वाक्य प्रसारण  
 D. इनमें से कोई नहीं।

Question Type : MCQ  
Question ID : 765044778  
Option 1 ID : 7650443109  
Option 2 ID : 7650443110  
Option 3 ID : 7650443111  
Option 4 ID : 7650443112  
Status : Answered  
Chosen Option : C

Section : General English

Q.26 Which of the following pairs rhyme together?

- Ans  A. Moor and Door  
 B. Sun and Son  
 C. Pen and Pain  
 D. Ship and Sheep

Question Type : MCQ  
Question ID : 7650442730  
Option 1 ID : 76504410917  
Option 2 ID : 76504410918  
Option 3 ID : 76504410919  
Option 4 ID : 76504410920  
Status : Answered  
Chosen Option : A



Q.27 A sentence has been given in Active Voice. Out of the four alternative given below, select the one which best expresses the same sentence in Passive Voice

Let us dance.

- Ans  A. It is suggested that we should dance.  
 B. It was suggested that we shall dance.  
 C. It has been suggested that we will dance.  
 D. It is suggested that we shall dance.

Question Type : MCQ  
Question ID : 7650442061  
Option 1 ID : 7650448241  
Option 2 ID : 7650448242  
Option 3 ID : 7650448243  
Option 4 ID : 7650448244  
Status : Answered  
Chosen Option : B

Q.28 A sentence given below has a blank space with four options. Select the most appropriate option for the blank space  
----- your transfer request is concerned, we'll be discussing it at the next meeting.

- Ans  A. As far as  
 B. To begin with  
 C. By the way  
 D. Talking about

Question Type : MCQ  
Question ID : 7650442614  
Option 1 ID : 76504410453  
Option 2 ID : 76504410454  
Option 3 ID : 76504410455  
Option 4 ID : 76504410456  
Status : Answered  
Chosen Option : D

Q.29 Choose the correct phrase from the given option and make a conditional sentence.

If you..... my best friend, I wouldn't tolerate your behaviours.

- Ans  A. aren't  
 B. weren't  
 C. haven't  
 D. hadn't

Question Type : MCQ  
Question ID : 7650442446  
Option 1 ID : 7650449781  
Option 2 ID : 7650449782  
Option 3 ID : 7650449783  
Option 4 ID : 7650449784  
Status : Answered  
Chosen Option : A



Q.30 Select the most appropriate option to change the sentence from direct speech to indirect speech

"Where have you spent your money?" She asked him.  
She asked him where ..... Spent..... money.

- Ans  A. I had/my  
 B. he had/his  
 C. he has/his  
 D. she has/her

Question Type : MCQ  
Question ID : 7650441914  
Option 1 ID : 7650447653  
Option 2 ID : 7650447654  
Option 3 ID : 7650447655  
Option 4 ID : 7650447656  
Status : Answered  
Chosen Option : D

Q.31 Choose the correct meaning of ' White Elephant ' :

- Ans  A. Expensive but of no use  
 B. Good and bad time  
 C. Difficult task  
 D. One who spoils the enjoyment

Question Type : MCQ  
Question ID : 7650443003  
Option 1 ID : 76504412009  
Option 2 ID : 76504412010  
Option 3 ID : 76504412011  
Option 4 ID : 76504412012  
Status : Answered  
Chosen Option : D

Q.32 Fill up the blank with the correct option.

The numbers of rooms in this school..... fifty.

- Ans  A. Are  
 B. Were  
 C. Is  
 D. Have

Question Type : MCQ  
Question ID : 7650442525  
Option 1 ID : 76504410097  
Option 2 ID : 76504410098  
Option 3 ID : 76504410099  
Option 4 ID : 76504410100  
Status : Answered  
Chosen Option : A



Q.33 Pick out the Non-Finite verbs in the given sentence

I had sooner run than walk.

- Ans
- A. I
  - B. Walk
  - C. Run
  - D. Run, walk

Question Type : MCQ  
Question ID : 7650442024  
Option 1 ID : 7650448093  
Option 2 ID : 7650448094  
Option 3 ID : 7650448095  
Option 4 ID : 7650448096  
Status : Answered  
Chosen Option : A

Q.34 Choose the correct indirect speech of:

"John said to his servant, "At what time did you go to the station yesterday?"

- Ans
- A. John asked his servant at what time he had gone to the station the previous day.
  - B. John enquired his servant at what time he had gone to the station yesterday.
  - C. John said to his servant as to what time had he gone to the station the day before.
  - D. John said to his servant as to whom had he gone to the station yesterday.

Question Type : MCQ  
Question ID : 7650442964  
Option 1 ID : 76504411853  
Option 2 ID : 76504411854  
Option 3 ID : 76504411855  
Option 4 ID : 76504411856  
Status : Answered  
Chosen Option : A

Q.35 Select the most appropriate option to change the sentence from direct speech to indirect speech

"I will be late tonight", He said.

He told me that..... be late.....

- Ans
- A. He would/that night
  - B. He should/to night
  - C. I would/this night
  - D. He would/yesterday night

Question Type : MCQ  
Question ID : 7650441936  
Option 1 ID : 7650447741  
Option 2 ID : 7650447742  
Option 3 ID : 7650447743  
Option 4 ID : 7650447744  
Status : Answered  
Chosen Option : C



Q.36 Choose the correct phrase from the given option and make a conditional sentence.

What birthday present would you .....have bought for me if you about it?

- Ans  A. hadn't forgotten  
 B. haven't forgotten  
 C. aren't forgotten  
 D. weren't forgotten

Question Type : MCQ  
Question ID : 7650442464  
Option 1 ID : 7650449853  
Option 2 ID : 7650449854  
Option 3 ID : 7650449855  
Option 4 ID : 7650449856  
Status : Answered  
Chosen Option : C

Q.37 Which of the following is /are used as a mark/marks of punctuation?

- Ans  A. Full stop  
 B. Comma  
 C. Colon  
 D. All of these

Question Type : MCQ  
Question ID : 7650442092  
Option 1 ID : 7650448365  
Option 2 ID : 7650448366  
Option 3 ID : 7650448367  
Option 4 ID : 7650448368  
Status : Answered  
Chosen Option : A

Q.38 Which of the following is a correct sentence?"..

- Ans  A. I want to know the reason and two friends quarrelled.  
 B. I want to know the reason to the two friends quarrelled.  
 C. I want to know the reason for which the two friends quarrelled.  
 D. I want to know the reason of friends quarrelled.

Question Type : MCQ  
Question ID : 7650442898  
Option 1 ID : 76504411589  
Option 2 ID : 76504411590  
Option 3 ID : 76504411591  
Option 4 ID : 76504411592  
Status : Answered  
Chosen Option : D



Q.39 A sentence has been given in Active Voice. Out of the four alternative given below, select the one which best expresses the same sentence in Passive Voice

She beat you.

- Ans  A. You were beaten by her.  
 B. You have been beaten by her.  
 C. You were being beaten by her.  
 D. You had been beaten by her.

Question Type : MCQ  
Question ID : 7650442041  
Option 1 ID : 7650448161  
Option 2 ID : 7650448162  
Option 3 ID : 7650448163  
Option 4 ID : 7650448164  
Status : Answered  
Chosen Option : B

Q.40 Ravi's health.....since he left the city.

- Ans  A. improved  
 B. has improved  
 C. had improved  
 D. could improve

Question Type : MCQ  
Question ID : 7650442783  
Option 1 ID : 76504411129  
Option 2 ID : 76504411130  
Option 3 ID : 76504411131  
Option 4 ID : 76504411132  
Status : Answered  
Chosen Option : B

Q.41 Identify the article in this sentence.  
"An apple a day keeps the doctor away."

- Ans  A. Apple  
 B. An  
 C. The  
 D. A

Question Type : MCQ  
Question ID : 7650442639  
Option 1 ID : 76504410553  
Option 2 ID : 76504410554  
Option 3 ID : 76504410555  
Option 4 ID : 76504410556  
Status : Answered  
Chosen Option : B



Q.42 Fill up the blank with the correct option.

A lot of work .....yet to be done.

- Ans  A. are  
 B. were  
 C. is  
 D. have

Question Type : MCQ  
Question ID : 7650442547  
Option 1 ID : 76504410185  
Option 2 ID : 76504410186  
Option 3 ID : 76504410187  
Option 4 ID : 76504410188  
Status : Answered  
Chosen Option : C

Q.43 Fill up the blank, with the correct option

The students were playing -----the garden.

- Ans  A. In  
 B. Round  
 C. At  
 D. Under

Question Type : MCQ  
Question ID : 7650442209  
Option 1 ID : 7650448833  
Option 2 ID : 7650448834  
Option 3 ID : 7650448835  
Option 4 ID : 7650448836  
Status : Answered  
Chosen Option : D

Q.44 Select the alternative which best express the meaning of the idioms/phrase.

Black sheep

- Ans  A. An honourable member of a group  
 B. An disreputable member of a group  
 C. A quarrelsome person  
 D. A Kind man

Question Type : MCQ  
Question ID : 7650442328  
Option 1 ID : 7650449309  
Option 2 ID : 7650449310  
Option 3 ID : 7650449311  
Option 4 ID : 7650449312  
Status : Answered  
Chosen Option : A



Q.45 Select the alternative which best express the meaning of the idioms/phrase.

Kith and kin

- Ans  A. Costly  
 B. Close friend  
 C. Blood relatives  
 D. Well wishers

Question Type : MCQ  
 Question ID : 7650442306  
 Option 1 ID : 7650449221  
 Option 2 ID : 7650449222  
 Option 3 ID : 7650449223  
 Option 4 ID : 7650449224  
 Status : Answered  
 Chosen Option : B

Section : Mathematics

Q.46 रैखिक समीकरण युग्म  $2x-3y-2=0$  एवं  $4x-4y-5=0$  को निरूपित करने वाली रेखाएँ होगी :

- Ans  A. प्रतिच्छेदी  
 B. समांतर  
 C. संपाती  
 D. इनमें कोई नहीं

Question Type : MCQ  
 Question ID : 7650446188  
 Option 1 ID : 76504424749  
 Option 2 ID : 76504424750  
 Option 3 ID : 76504424751  
 Option 4 ID : 76504424752  
 Status : Answered  
 Chosen Option : C

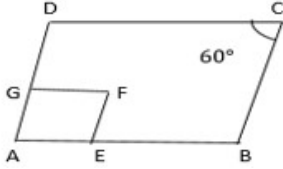
Q.47 यदि बहुपद  $f(x)=x^2-p(x+1)-c$  के शून्यक  $\alpha$  और  $\beta$  हो तथा  $(\alpha+1)(\beta+1)=0$  हो तो  $c$  का मान होगा :

- Ans  A. 2  
 B. 0  
 C. 1  
 D. -1

Question Type : MCQ  
 Question ID : 7650446209  
 Option 1 ID : 76504424833  
 Option 2 ID : 76504424834  
 Option 3 ID : 76504424835  
 Option 4 ID : 76504424836  
 Status : Answered  
 Chosen Option : B



Q.48 In the following figure, ABCD and AEFG are two parallelograms. If  $\angle C = 60^\circ$ , then  $\angle GEF$  is निम्नलिखित आकृति में. ABCD और AEFG दो समांतर चतुर्भुज है। यदि  $\angle C = 60^\circ$ , तो  $\angle GEF$  है.....



- Ans  A.  $30^\circ$   
 B.  $60^\circ$   
 C.  $90^\circ$   
 D.  $120^\circ$

Question Type : MCQ  
 Question ID : 7650446889  
 Option 1 ID : 76504427553  
 Option 2 ID : 76504427554  
 Option 3 ID : 76504427555  
 Option 4 ID : 76504427556  
 Status : Answered  
 Chosen Option : C

Q.49 यदि a और p समीकरण  $2x^2 - 3x - 6 = 0$  के मूल हैं। वह समीकरण है जिसके मूल  $1/a$  और  $1/p$  हैं

- Ans  A.  $6x^2 - 3x + 2 = 0$   
 B.  $6x^2 + 3x - 2 = 0$   
 C.  $6x^2 - 3x - 2 = 0$   
 D.  $x^2 + 3x - 2 = 0$

Question Type : MCQ  
 Question ID : 7650446473  
 Option 1 ID : 76504425889  
 Option 2 ID : 76504425890  
 Option 3 ID : 76504425891  
 Option 4 ID : 76504425892  
 Status : Answered  
 Chosen Option : D

Q.50 किसी चक्रीय समांतर चतुर्भुज का प्रत्येक कोण \_\_\_\_\_ समकोण के बराबर होता है।

- Ans  A. एक समकोण  
 B. दो समकोण  
 C. तीन समकोण  
 D. चार समकोण

Question Type : MCQ  
 Question ID : 7650446966  
 Option 1 ID : 76504427861  
 Option 2 ID : 76504427862  
 Option 3 ID : 76504427863  
 Option 4 ID : 76504427864  
 Status : Answered  
 Chosen Option : B



Q.51 निम्न मे से माध्य, माध्यक, बहुलक समान है.....

- Ans  A. 2, 2, 2, 2, 4  
 B. 1, 3, 3, 3, 5  
 C. 1, 1, 2, 5, 6  
 D. 1, 1, 1, 2, 5

Question Type : MCQ  
 Question ID : 7650447153  
 Option 1 ID : 76504428609  
 Option 2 ID : 76504428610  
 Option 3 ID : 76504428611  
 Option 4 ID : 76504428612  
 Status : Answered  
 Chosen Option : B

Q.52 यदि  $x^2+9x+20=0$  के शून्यक  $\alpha$  हो तो  $\alpha^2+\beta^2$  .....

- Ans  A. 21  
 B. 40  
 C. 41  
 D. 39

Question Type : MCQ  
 Question ID : 7650446384  
 Option 1 ID : 76504425533  
 Option 2 ID : 76504425534  
 Option 3 ID : 76504425535  
 Option 4 ID : 76504425536  
 Status : Answered  
 Chosen Option : D

Q.53 बिंदु (0, 5) और (-5, 0) के बीच की दूरी है

- Ans  A. 5 इकाइयाँ  
 B.  $5\sqrt{2}$  इकाइयाँ  
 C.  $2\sqrt{5}$  इकाइयाँ  
 D. 10 इकाइयाँ

Question Type : MCQ  
 Question ID : 7650446752  
 Option 1 ID : 76504427005  
 Option 2 ID : 76504427006  
 Option 3 ID : 76504427007  
 Option 4 ID : 76504427008  
 Status : Answered  
 Chosen Option : D



Q.54 त्रिज्या 5 सेमी के एक ठोस गोले को पिघलाकर एक ठोस दायां गोलाकार शंकु एक ही वृत्ताकार आधार त्रिज्या का बना है। शंकु की ऊंचाई है:

- Ans  A. 20 सेमी  
 B. 10 सेमी  
 C. 5 सेमी  
 D. 12 सेमी

Question Type : MCQ  
 Question ID : 7650447024  
 Option 1 ID : 76504428093  
 Option 2 ID : 76504428094  
 Option 3 ID : 76504428095  
 Option 4 ID : 76504428096  
 Status : Answered  
 Chosen Option : C

Q.55 Consider the following frequency distribution:

निम्नलिखित आवृत्ति वितरण पर विचार करें:

Class	0 – 5	6 – 11	12 – 17	18 – 23	24 – 29
Frequency	13	10	15	8	11

The upper limit of the median class is

माध्यिका वर्ग की ऊपरी सीमा है

- Ans  A. 17  
 B. 17.5  
 C. 18  
 D. 18.5

Question Type : MCQ  
 Question ID : 7650447433  
 Option 1 ID : 76504429729  
 Option 2 ID : 76504429730  
 Option 3 ID : 76504429731  
 Option 4 ID : 76504429732  
 Status : Answered  
 Chosen Option : D

Q.56 200 mL और 300 mL माप वाले बर्तनों का उपयोग कर 2000 mL आयतन की एक बाल्टी भरनी है। 200 mL और 300 mL के बर्तनों द्वारा क्रमशः बाल्टी भरने के लिए बर्तनों के निम्नलिखित संयोजनों में से कौन-सा सही नहीं है?

- Ans  A. 1,6  
 B. 4,4  
 C. 7,2  
 D. 6,3

Question Type : MCQ  
 Question ID : 7650446152  
 Option 1 ID : 76504424605  
 Option 2 ID : 76504424606  
 Option 3 ID : 76504424607  
 Option 4 ID : 76504424608  
 Status : Answered  
 Chosen Option : B



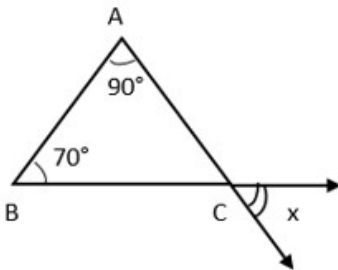
Q.57 जिस कोण की माप  $90^\circ$  से अधिक परन्तु  $180^\circ$  से कम हो, कहलाता है-

- Ans  A. समकोण  
 B. ऋजु कोण  
 C. प्रतिवर्ती कोण  
 D. अधिककोण

Question Type : MCQ  
 Question ID : 7650446807  
 Option 1 ID : 76504427225  
 Option 2 ID : 76504427226  
 Option 3 ID : 76504427227  
 Option 4 ID : 76504427228  
 Status : Answered  
 Chosen Option : A

Q.58 In the given  $\Delta ABC$ ,  $x =$  \_\_\_\_\_

दिए गए  $\Delta ABC$ , में  $x =$  \_\_\_\_\_ होगा।



- Ans  A.  $16^\circ$   
 B.  $20^\circ$   
 C.  $22^\circ$   
 D.  $18^\circ$

Question Type : MCQ  
 Question ID : 7650446929  
 Option 1 ID : 76504427713  
 Option 2 ID : 76504427714  
 Option 3 ID : 76504427715  
 Option 4 ID : 76504427716  
 Status : Answered  
 Chosen Option : B



Q.59 किस चक्रवृद्धि ब्याज की दर से ₹ 4000 का चक्रवृद्धि ब्याज 2 वर्ष में ₹ 410 होगा.....

Ans  A. 5%

B. 6%

C. 4%

D. 7%

Question Type : MCQ

Question ID : 7650446574

Option 1 ID : 76504426293

Option 2 ID : 76504426294

Option 3 ID : 76504426295

Option 4 ID : 76504426296

Status : Answered

Chosen Option : A

Q.60 एक बेलन का वक्र पृष्ठीय क्षेत्रफल 1760 सेमी है और इसके आधार की त्रिज्या 14 सेमी है। सिलेंडर की ऊंचाई है

Ans  A. 10 सेमी

B. 15 सेमी

C. 20 सेमी

D. 40 सेमी

Question Type : MCQ

Question ID : 7650447399

Option 1 ID : 76504429593

Option 2 ID : 76504429594

Option 3 ID : 76504429595

Option 4 ID : 76504429596

Status : Answered

Chosen Option : C

Q.61 एक वृत्त का क्षेत्रफल  $49\pi$  सेमी<sup>2</sup> है। इसकी परिधि है

Ans  A.  $7\pi$

B.  $14\pi$

C.  $21\pi$

D.  $28\pi$

Question Type : MCQ

Question ID : 7650447344

Option 1 ID : 76504429373

Option 2 ID : 76504429374

Option 3 ID : 76504429375

Option 4 ID : 76504429376

Status : Answered

Chosen Option : C



Q.62 एक \_\_\_\_\_ सदैव सम बहुभुज होता है।

- Ans  A. समद्विबाहु त्रिभुज  
 B. वर्ग  
 C. पंचभुज  
 D. वृत्त

Question Type : MCQ  
 Question ID : 7650447122  
 Option 1 ID : 76504428485  
 Option 2 ID : 76504428486  
 Option 3 ID : 76504428487  
 Option 4 ID : 76504428488  
 Status : Answered  
 Chosen Option : A

Q.63 निम्नलिखित तालिका को पढ़िए :

रक्त समूह विद्यार्थियों की संख्या

A 9

B 6

O 12

AB 3

कुल 30

सबसे अधिक और सबसे कम पाए जाने वाले रक्त समूहों का अनुपात क्या है ?

- Ans  A. 1 : 4  
 B. 1 : 3  
 C. 4 : 1  
 D. 3 : 1

Question Type : MCQ  
 Question ID : 7650446649  
 Option 1 ID : 76504426593  
 Option 2 ID : 76504426594  
 Option 3 ID : 76504426595  
 Option 4 ID : 76504426596  
 Status : Answered  
 Chosen Option : C

Q.64 यदि a, b, c, d, तथा e का माध्य 28 है a,c,e का माध्य 24 है b तथा d का माध्य ....तो है

- Ans  A. 31  
 B. 32  
 C. 33  
 D. 34

Question Type : MCQ  
 Question ID : 7650447149  
 Option 1 ID : 76504428593  
 Option 2 ID : 76504428594  
 Option 3 ID : 76504428595  
 Option 4 ID : 76504428596  
 Status : Answered  
 Chosen Option : B



Q.65 बिन्दुओं  $(x, -1)$  तथा  $(3, 2)$  के बीच की दूरी 5 मात्रक है तो  $x$  का मान ..... होगा ।

- Ans  A. 1  
 B. -1  
 C. 7  
 D. 1 और 7 दोनों

Question Type : MCQ  
 Question ID : 7650446689  
 Option 1 ID : 76504426753  
 Option 2 ID : 76504426754  
 Option 3 ID : 76504426755  
 Option 4 ID : 76504426756  
 Status : Answered  
 Chosen Option : A

Q.66 किसी वृत्त की स्पर्शरिखा, संपर्क बिंदु से गुजरने वाली त्रिज्या की \_\_\_\_\_ होती है।

- Ans  A. समानांतर  
 B. लंबवत  
 C. लंबवत द्विभाजक  
 D. द्विभाजक

Question Type : MCQ  
 Question ID : 7650447234  
 Option 1 ID : 76504428933  
 Option 2 ID : 76504428934  
 Option 3 ID : 76504428935  
 Option 4 ID : 76504428936  
 Status : Answered  
 Chosen Option : C

Q.67 समीकरणों की जोड़ी  $x + 2y + 5 = 0$  और  $-3x - 6y + 1 = 0$  है

- Ans  A. अद्वितीय समाधान  
 B. बिल्कुल दो समाधान  
 C. अनंत रूप से कई समाधान  
 D. कोई समाधान नहीं

Question Type : MCQ  
 Question ID : 7650446273  
 Option 1 ID : 76504425089  
 Option 2 ID : 76504425090  
 Option 3 ID : 76504425091  
 Option 4 ID : 76504425092  
 Status : Answered  
 Chosen Option : A



Q.68 निम्नलिखित में कौन अपरिमेय नहीं है ?

Ans

- A.  $4\sqrt{5}$
- B.  $\sqrt{9}$   $\sqrt{16}$
- C.  $\sqrt{11}$
- D.  $\sqrt{15}$

Question Type : MCQ

Question ID : 7650445997

Option 1 ID : 76504423985

Option 2 ID : 76504423986

Option 3 ID : 76504423987

Option 4 ID : 76504423988

Status : Answered

Chosen Option : B

Q.69 यदि a, p समीकरण  $(x - a)(x - b) + c = 0$  के मूल हैं, तो समीकरण  $(x - a)(x - p) = c$  के मूल हैं

Ans  A. a, b

- B. a, c
- C. b, c
- D. इनमें से कोई नहीं

Question Type : MCQ

Question ID : 7650446471

Option 1 ID : 76504425881

Option 2 ID : 76504425882

Option 3 ID : 76504425883

Option 4 ID : 76504425884

Status : Answered

Chosen Option : C

Q.70 किसी पूर्णांक p के लिए, प्रत्येक विषम पूर्णांक रूप का होता है

Ans  A.  $2p + 1$

- B.  $2p$
- C.  $p + 1$
- D.  $p$

Question Type : MCQ

Question ID : 7650446118

Option 1 ID : 76504424469

Option 2 ID : 76504424470

Option 3 ID : 76504424471

Option 4 ID : 76504424472

Status : Answered

Chosen Option : A

Section : Science



Q.71 इन में से आइसोबार है

- Ans  A.  $^{40}\text{Ca}_{20}$  और  $^{23}\text{Na}_{11}$   
 B.  $^{150}\text{Sm}_{62}$  और  $^{150}\text{Eu}_{63}$   
 C.  $^{98}\text{Tc}_{43}$  और  $^{99}\text{Tc}_{43}$   
 D.  $^{129}\text{Te}_{52}$  और  $^{128}\text{Sb}_{51}$

Question Type : MCQ  
 Question ID : 7650443677  
 Option 1 ID : 76504414705  
 Option 2 ID : 76504414706  
 Option 3 ID : 76504414707  
 Option 4 ID : 76504414708  
 Status : Answered  
 Chosen Option : B

Q.72 वायुमंडल में उपस्थित विभिन्न गैस पृथ्वी पर किसके कारण मौजूद रह पाते हैं -

- Ans  A. वायु  
 B. पृथ्वी के चुम्बकीय क्षेत्र  
 C. गुरुत्वीय त्वरण  
 D. बादल

Question Type : MCQ  
 Question ID : 7650443416  
 Option 1 ID : 76504413661  
 Option 2 ID : 76504413662  
 Option 3 ID : 76504413663  
 Option 4 ID : 76504413664  
 Status : Answered  
 Chosen Option : C

Q.73 जल संवहनी प्रणाली में केंद्रित है

- Ans  A. पोरिफेरा  
 B. मोलस्का  
 C. इचिनोडर्मेटा  
 D. कोएलेरेंटेरा

Question Type : MCQ  
 Question ID : 7650443253  
 Option 1 ID : 76504413009  
 Option 2 ID : 76504413010  
 Option 3 ID : 76504413011  
 Option 4 ID : 76504413012  
 Status : Answered  
 Chosen Option : B



Q.74 किस सूक्ष्म तत्व की कमी से पौधों के पुष्पण में समस्या आती है?

- Ans  A. क्लोरिन  
 B. जिंक  
 C. बोरॉन  
 D. कैल्सियम

Question Type : MCQ  
Question ID : 7650444161  
Option 1 ID : 76504416641  
Option 2 ID : 76504416642  
Option 3 ID : 76504416643  
Option 4 ID : 76504416644  
Status : Answered  
Chosen Option : A

Q.75 मानव में कायिक गुणसूत्र (ऑटोसोम) की संख्या क्या है -

- Ans  A. 46  
 B. 44  
 C. 23  
 D. 22

Question Type : MCQ  
Question ID : 7650443358  
Option 1 ID : 76504413429  
Option 2 ID : 76504413430  
Option 3 ID : 76504413431  
Option 4 ID : 76504413432  
Status : Answered  
Chosen Option : A

Q.76 गोली उपकरण की कमी है...

- Ans  A. जिगर की कोशिकाएँ  
 B. उच्च पौधे  
 C. नील-हरित शैवाल  
 D. यीस्ट

Question Type : MCQ  
Question ID : 7650443277  
Option 1 ID : 76504413105  
Option 2 ID : 76504413106  
Option 3 ID : 76504413107  
Option 4 ID : 76504413108  
Status : Answered  
Chosen Option : C



Q.77 आप आधुनिक आवर्त सारणी में इलेक्ट्रॉनिक विन्यास 2, 8 वाले तत्व को कहां पाएंगे?

- Ans  A. समूह 8  
 B. समूह 2  
 C. समूह 18  
 D. समूह 10

Question Type : MCQ  
 Question ID : 7650443903  
 Option 1 ID : 76504415609  
 Option 2 ID : 76504415610  
 Option 3 ID : 76504415611  
 Option 4 ID : 76504415612  
 Status : Answered  
 Chosen Option : A

Q.78 घर में बिजली की खपत कम करने के लिए किस प्रकार का उपकरण खरीदना चाहिए?

- Ans  A. जो कम बिजली खींचता है  
 B. जो कम गर्मी पैदा करता है  
 C. जो उच्च वोल्टेज पर संचालित होता है  
 D. जो अधिक मात्रा में विद्युत धारा खींचता है

Question Type : MCQ  
 Question ID : 7650443974  
 Option 1 ID : 76504415893  
 Option 2 ID : 76504415894  
 Option 3 ID : 76504415895  
 Option 4 ID : 76504415896  
 Status : Answered  
 Chosen Option : A

Q.79 उत्तल लेंस पर पड़ने वाला सूर्य का प्रकाश \_\_\_\_\_ पर परिवर्तित होगा।

- Ans  A. वक्रता त्रिज्या  
 B. ऑप्टिकल सेंटर  
 C. केंद्र  
 D. कोई भी विकल्प नहीं

Question Type : MCQ  
 Question ID : 7650444004  
 Option 1 ID : 76504416013  
 Option 2 ID : 76504416014  
 Option 3 ID : 76504416015  
 Option 4 ID : 76504416016  
 Status : Answered  
 Chosen Option : B



Q.80 एक माइक्रो एम्पीयर विद्युत धारा निम्नलिखित में कौन सी है?

- Ans  A.  $10^{-4}A$   
 B.  $10^{-5}A$   
 C.  $10^{-6}A$   
 D.  $10^{-7}A$

Question Type : MCQ  
 Question ID : 7650443541  
 Option 1 ID : 76504414161  
 Option 2 ID : 76504414162  
 Option 3 ID : 76504414163  
 Option 4 ID : 76504414164  
 Status : Answered  
 Chosen Option : C

Q.81 व्यावसायिक रूप से उत्पादित किस रासायनिक पदार्थ से मिट्टी की उर्वरता बढ़ती है-

- Ans  A. शाकनाशी (Herbicides) खरपतवार नाशक  
 B. कीटनाशक  
 C. कृमिनाशक  
 D. उर्वरक/ खाद

Question Type : MCQ  
 Question ID : 7650443030  
 Option 1 ID : 76504412117  
 Option 2 ID : 76504412118  
 Option 3 ID : 76504412119  
 Option 4 ID : 76504412120  
 Status : Answered  
 Chosen Option : A

Q.82 इन में से कौन सा गैर-बायोडिग्रेडेबल कचरे का उदाहरण है?

- Ans  A. भोजन की बर्बादी  
 B. प्लास्टिक  
 C. कागज  
 D. लकड़ी

Question Type : MCQ  
 Question ID : 7650443835  
 Option 1 ID : 76504415337  
 Option 2 ID : 76504415338  
 Option 3 ID : 76504415339  
 Option 4 ID : 76504415340  
 Status : Answered  
 Chosen Option : B



Q.83 किस रंग का विचलन न्यूनतम होता है?

- Ans  A. लाल  
 B. पीला  
 C. नीला  
 D. बैंगनी

Question Type : MCQ  
 Question ID : 7650443604  
 Option 1 ID : 76504414413  
 Option 2 ID : 76504414414  
 Option 3 ID : 76504414415  
 Option 4 ID : 76504414416  
 Status : Answered  
 Chosen Option : A

Q.84 यह एपिथेलियल ऊतक के बारे में सही है

- Ans  A. तंत्रिका आपूर्ति की कमी  
 B. रक्त आपूर्ति में कमी  
 C. मुक्त सतह की कमी  
 D. अंतरकोशिकीय मैट्रिक्स की कमी

Question Type : MCQ  
 Question ID : 7650443724  
 Option 1 ID : 76504414893  
 Option 2 ID : 76504414894  
 Option 3 ID : 76504414895  
 Option 4 ID : 76504414896  
 Status : Answered  
 Chosen Option : B

Q.85 मिट्टी का घर गर्मियों के मौसम में ठंडा तथा जाड़े के मौसम में गर्म होता है, क्योंकि मिट्टी ऊष्मा का  
 ..... है।

- Ans  A. सुचालक  
 B. कुचालक  
 C. अर्धचालक  
 D. अतिचालक

Question Type : MCQ  
 Question ID : 7650443150  
 Option 1 ID : 76504412597  
 Option 2 ID : 76504412598  
 Option 3 ID : 76504412599  
 Option 4 ID : 76504412600  
 Status : Answered  
 Chosen Option : A



Q.86 निम्न में से कौन से धातु ठंडे जल से अभिक्रिया कर धातु के हाइड्राआक्साइड बनाता है-

- Ans  A. Na & K  
 B. Mg & Ca  
 C. Na & Cu  
 D. इनमें से कोई नहीं

Question Type : MCQ  
 Question ID : 7650443082  
 Option 1 ID : 76504412325  
 Option 2 ID : 76504412326  
 Option 3 ID : 76504412327  
 Option 4 ID : 76504412328  
 Status : Answered  
 Chosen Option : D

Q.87 उपलब्धता के आधार पर संसाधनों को कितने भागों में बाँटा गया है।

- Ans  A. 1  
 B. 2  
 C. 3  
 D. 4

Question Type : MCQ  
 Question ID : 7650443471  
 Option 1 ID : 76504413881  
 Option 2 ID : 76504413882  
 Option 3 ID : 76504413883  
 Option 4 ID : 76504413884  
 Status : Answered  
 Chosen Option : D

Q.88 एक क्षेत्र में जीवित जीवों की विविधता को क्या कहते हैं?

- Ans  A. पारिस्थितिकी  
 B. जैव विविधता  
 C. विकास  
 D. वर्गीकरण

Question Type : MCQ  
 Question ID : 7650444087  
 Option 1 ID : 76504416345  
 Option 2 ID : 76504416346  
 Option 3 ID : 76504416347  
 Option 4 ID : 76504416348  
 Status : Answered  
 Chosen Option : B



Q.89 चंद्रमा की सतह के पास स्वतंत्र रूप से गिरने वाली विभिन्न द्रव्यमान वाली दो वस्तुओं में से कौन सा सत्य है?

- Ans  A. उन दोनों की गति अलग-अलग होती है।  
 B. किसी भी क्षण उनकी गति समान होती है  
 C. वे समान परिमाण की शक्तियों का अनुभव करते हैं  
 D. वे अपनी जड़ता को बदल देते हैं

Question Type : MCQ  
 Question ID : 7650443781  
 Option 1 ID : 76504415121  
 Option 2 ID : 76504415122  
 Option 3 ID : 76504415123  
 Option 4 ID : 76504415124  
 Status : Answered  
 Chosen Option : D

Q.90 वैध मक्खन में कम से कम कितने प्रतिशत वसा होनी चाहिए?

- Ans  A. 70 प्रतिशत  
 B. 80 प्रतिशत  
 C. 90 प्रतिशत  
 D. 95 प्रतिशत

Question Type : MCQ  
 Question ID : 7650444112  
 Option 1 ID : 76504416445  
 Option 2 ID : 76504416446  
 Option 3 ID : 76504416447  
 Option 4 ID : 76504416448  
 Status : Answered  
 Chosen Option : B

Section : Social Studies

Q.91 भारत में लोकसभा का चुनाव लड़ने के लिए न्यूनतम आयु कितनी होनी चाहिए?

- Ans  A. 25 वर्ष  
 B. 21 वर्ष  
 C. 18 वर्ष  
 D. 30 वर्ष

Question Type : MCQ  
 Question ID : 7650445174  
 Option 1 ID : 76504420693  
 Option 2 ID : 76504420694  
 Option 3 ID : 76504420695  
 Option 4 ID : 76504420696  
 Status : Answered  
 Chosen Option : A



Q.92 महानदी नदी निम्नलिखित में से किस राज्य से होकर बहती है?

- Ans  A. मध्य प्रदेश और महाराष्ट्र  
 B. उत्तर प्रदेश और बिहार  
 C. ओडिशा और छत्तीसगढ़  
 D. राजस्थान और गुजरात

Question Type : MCQ  
Question ID : 7650444949  
Option 1 ID : 76504419793  
Option 2 ID : 76504419794  
Option 3 ID : 76504419795  
Option 4 ID : 76504419796  
Status : Answered  
Chosen Option : B

Q.93 पर्यावरण और वन मंत्रालय द्वारा किए गए सर्वेक्षण के अनुसार, भारत में कुल वन क्षेत्र लगभग है:

- Ans  A. 33प्रतिशत  
 B. 23प्रतिशत  
 C. 21प्रतिशत  
 D. 28प्रतिशत

Question Type : MCQ  
Question ID : 7650445040  
Option 1 ID : 76504420157  
Option 2 ID : 76504420158  
Option 3 ID : 76504420159  
Option 4 ID : 76504420160  
Status : Answered  
Chosen Option : A

Q.94 संयुक्त राष्ट्र महासचिव संयुक्त राष्ट्र संगठन के किस प्रमुख अंग के प्रमुख हैं?

- Ans  A. महासभा  
 B. सुरक्षा परिषद्  
 C. आर्थिक और सामाजिक परिषद्  
 D. सचिवालय

Question Type : MCQ  
Question ID : 7650444343  
Option 1 ID : 76504417369  
Option 2 ID : 76504417370  
Option 3 ID : 76504417371  
Option 4 ID : 76504417372  
Status : Answered  
Chosen Option : A



Q.95 हमारी पृथ्वी का वास्तविक निरूपक प्रतिरूप है :

- Ans  A. उपग्रह से प्राप्त चित्र  
 B. रबी गेद  
 C. ग्लोब  
 D. मानचित्र

Question Type : MCQ  
Question ID : 7650445320  
Option 1 ID : 76504421277  
Option 2 ID : 76504421278  
Option 3 ID : 76504421279  
Option 4 ID : 76504421280  
Status : Answered  
Chosen Option : A

Q.96 दुनिया की प्रदूषित नदियों में शामिल है?

- Ans  A. सतलज  
 B. कावेरी  
 C. चिनाव  
 D. गंगा

Question Type : MCQ  
Question ID : 7650444520  
Option 1 ID : 76504418077  
Option 2 ID : 76504418078  
Option 3 ID : 76504418079  
Option 4 ID : 76504418080  
Status : Answered  
Chosen Option : D

Q.97 लेनिन के नेतृत्व में बोल्शेविकों ने लोगों से वादा किया:

- Ans  A. एक पूंजीवादी अर्थव्यवस्था  
 B. "शांति, भूमि और रोटी"  
 C. राजतंत्र को कायम रखना  
 D. अभिजात वर्ग को अधिक शक्ति

Question Type : MCQ  
Question ID : 7650444887  
Option 1 ID : 76504419545  
Option 2 ID : 76504419546  
Option 3 ID : 76504419547  
Option 4 ID : 76504419548  
Status : Answered  
Chosen Option : C



Q.98 निम्नलिखित में से कौन-से गैर-पारंपरिक संसाधन हैं?

- Ans  A. पवन ऊर्जा  
 B. सौर ऊर्जा  
 C. ज्वारीय ऊर्जा  
 D. ये सभी

Question Type : MCQ  
Question ID : 7650445064  
Option 1 ID : 76504420253  
Option 2 ID : 76504420254  
Option 3 ID : 76504420255  
Option 4 ID : 76504420256  
Status : Answered  
Chosen Option : D

Q.99 संजय गाँधी जैविक उद्यान बिहार में कहाँ पर स्थित है ?

- Ans  A. पटना  
 B. दरभंगा  
 C. गया  
 D. मोतिहारी

Question Type : MCQ  
Question ID : 7650444666  
Option 1 ID : 76504418661  
Option 2 ID : 76504418662  
Option 3 ID : 76504418663  
Option 4 ID : 76504418664  
Status : Answered  
Chosen Option : A

Q.10 निम्नलिखित में से कौन सा देश चावल का प्रमुख उत्पादक है?

- 0  
Ans  A. चीन  
 B. पाकिस्तान  
 C. मलेशिया  
 D. मिस्र

Question Type : MCQ  
Question ID : 7650444305  
Option 1 ID : 76504417217  
Option 2 ID : 76504417218  
Option 3 ID : 76504417219  
Option 4 ID : 76504417220  
Status : Answered  
Chosen Option : A



Q.10 ब्रिटिश शासन के विरुद्ध बस्तर विद्रोह किस वर्ष हुआ था?

1

- Ans  A. 1910  
 B. 1891  
 C. 1824  
 D. 1774

Question Type : MCQ  
 Question ID : 7650444858  
 Option 1 ID : 76504419429  
 Option 2 ID : 76504419430  
 Option 3 ID : 76504419431  
 Option 4 ID : 76504419432  
 Status : Answered  
 Chosen Option : B

Q.10 दिए गए कथनों A और B को पढ़िए और सही उत्तर का चयन कीजिए:

2

- A. आलोचनात्मक सोच धारणाओं के निर्माण तथा विचारों के अनुप्रयोग और विस्तार को बढ़ावा देती है।  
 B. यह दूसरों के तर्कों और विश्वासों को समझने और मूल्यांकन करने में मदद नहीं करती है।

- Ans  A. A सत्य है और B असत्य है  
 B. A असत्य है और B सत्य है  
 C. A और B दोनों असत्य है  
 D. A और B दोनों सत्य है

Question Type : MCQ  
 Question ID : 7650445372  
 Option 1 ID : 76504421485  
 Option 2 ID : 76504421486  
 Option 3 ID : 76504421487  
 Option 4 ID : 76504421488  
 Status : Answered  
 Chosen Option : D

Q.10 झारखंड में कोडरमा, निम्नलिखित खनिजों में से किस एक का प्रमुख उत्पादक है?

3

- Ans  A. बॉक्साइट  
 B. अभ्रक  
 C. लौह अयस्क  
 D. कॉपर

Question Type : MCQ  
 Question ID : 7650444578  
 Option 1 ID : 76504418309  
 Option 2 ID : 76504418310  
 Option 3 ID : 76504418311  
 Option 4 ID : 76504418312  
 Status : Answered  
 Chosen Option : B



Q.10 हल्के और तेज चलने वाले जहाज "कैरावल" को किसने बनाया था?  
4

- Ans  A. पुर्तगालियों ने  
 B. यूनानियों ने  
 C. डचों ने  
 D. जापानियों ने

Question Type : MCQ  
 Question ID : 7650444226  
 Option 1 ID : 76504416901  
 Option 2 ID : 76504416902  
 Option 3 ID : 76504416903  
 Option 4 ID : 76504416904  
 Status : Answered  
 Chosen Option : A

Q.10 भारत में किस प्रकार के लोकतंत्र की व्यवस्था है?  
5

- Ans  A. प्रत्यक्ष  
 B. अप्रत्यक्ष  
 C. प्रत्यक्ष- अप्रत्यक्ष दोनों  
 D. इनमें से कोई नहीं

Question Type : MCQ  
 Question ID : 7650444803  
 Option 1 ID : 76504419209  
 Option 2 ID : 76504419210  
 Option 3 ID : 76504419211  
 Option 4 ID : 76504419212  
 Status : Answered  
 Chosen Option : A

Q.10 भारत में प्रेस का जनक किसे कहा जाता है ?  
6

- Ans  A. राजा राम मोहन राय  
 B. गोविंदा मोहन  
 C. जैम्स ऑगस्टस हिक्की  
 D. विनोबा भावे

Question Type : MCQ  
 Question ID : 7650444421  
 Option 1 ID : 76504417681  
 Option 2 ID : 76504417682  
 Option 3 ID : 76504417683  
 Option 4 ID : 76504417684  
 Status : Answered  
 Chosen Option : A



Q.10 पक्की सड़को की लम्बाई की दृष्टि से प्रथम स्थान पर कौन राज्य है?

7

- Ans  A. बिहार  
 B. महाराष्ट्र  
 C. तमिलनाडु  
 D. केरल

Question Type : MCQ  
 Question ID : 7650444627  
 Option 1 ID : 76504418505  
 Option 2 ID : 76504418506  
 Option 3 ID : 76504418507  
 Option 4 ID : 76504418508  
 Status : Answered  
 Chosen Option : B

Q.10 सत्ता-साझाकरण व्यवस्था के बारे में निम्नलिखित में से कौन सा कथन सही है?

8

- Ans  A. सत्ता की साझेदारी केवल उन समाजों में आवश्यक है जिनमें धार्मिक, भाषाई या जातीय विभाजन हैं।  
 B. सत्ता की साझेदारी केवल उन बड़े देशों के लिए उपयुक्त है जिनमें क्षेत्रीय विभाजन हैं।  
 C. प्रत्येक समाज को किसी न किसी रूप में सत्ता की साझेदारी की आवश्यकता होती है, भले ही वह छोटा हो या उसमें सामाजिक विभाजन न हो।  
 D. सत्ता-साझाकरण बिल्कुल भी आवश्यक नहीं है।

Question Type : MCQ  
 Question ID : 7650445241  
 Option 1 ID : 76504420961  
 Option 2 ID : 76504420962  
 Option 3 ID : 76504420963  
 Option 4 ID : 76504420964  
 Status : Answered  
 Chosen Option : C

Q.10 भारत में आपातकाल सर्वप्रथम लागू हुआ-

9

- Ans  A. 1952  
 B. 1962  
 C. 1965  
 D. 1972

Question Type : MCQ  
 Question ID : 7650444734  
 Option 1 ID : 76504418933  
 Option 2 ID : 76504418934  
 Option 3 ID : 76504418935  
 Option 4 ID : 76504418936  
 Status : Answered  
 Chosen Option : A



Q.11 पावर शेयरिंग निम्नलिखित की स्थिरता सुनिश्चित करने का एक अच्छा तरीका है:

0

- Ans
- A. जनसंख्या
  - B. राजनीतिक व्यवस्था
  - C. दोनों (ए) और (बी)
  - D. उपरोक्त में से कोई नहीं

Question Type : MCQ  
 Question ID : 7650445236  
 Option 1 ID : 76504420941  
 Option 2 ID : 76504420942  
 Option 3 ID : 76504420943  
 Option 4 ID : 76504420944  
 Status : Answered  
 Chosen Option : B

Section : Logical and Analytical Reasoning

Q.11 दिये गये अक्षर श्रृंखला में प्रश्नवाचक चिह्न के स्थान पर कौन - सी अक्षर आयेगी।

1 CAT, ECV, HFY, ?

- Ans
- A. LIC
  - B. KLP
  - C. LCI
  - D. LJC

Question Type : MCQ  
 Question ID : 7650445495  
 Option 1 ID : 76504421977  
 Option 2 ID : 76504421978  
 Option 3 ID : 76504421979  
 Option 4 ID : 76504421980  
 Status : Answered  
 Chosen Option : A

Q.11 ÷ और \*, 10 और 5 को परस्पर बदलने पर निम्न में से क्या सही समीकरण बन जाता है?

2

- Ans
- A.  $(30 \div 5) * 10 = 24$
  - B.  $(30 * 10) \div 5 = 40$
  - C.  $(30 * 10) \div 5 = 60$
  - D.  $(30 \div 10) * 5 = 18$

Question Type : MCQ  
 Question ID : 7650445643  
 Option 1 ID : 76504422569  
 Option 2 ID : 76504422570  
 Option 3 ID : 76504422571  
 Option 4 ID : 76504422572  
 Status : Answered  
 Chosen Option : C



Q.11 प्रश्न के लिए निर्देश

3 एक संगठन में उप कार्मिक प्रबंधकों के चयन के लिए निम्नलिखित शर्तें हैं:  
उम्मीदवार को -

- (ए) कम से कम 60% अंकों के साथ किसी भी विषय में स्नातक होना चाहिए।  
(बी) 1.6.2006 को कम से कम 25 वर्ष और 35 वर्ष से अधिक नहीं होना चाहिए।  
(सी) एक संगठन में कार्मिक विभाग में योग्यता के बाद कम से कम चार साल का कार्य अनुभव है।  
(डी) कम से कम 55% अंकों के साथ प्रबंधन में स्नातकोत्तर डिग्री / डिप्लोमा प्राप्त किया हो।  
(ई) साक्षात्कार में कम से कम 50% अंक हासिल किए

हैं एक उम्मीदवार के मामले में जो

उपरोक्त (ए) को छोड़कर सभी मानदंडों को पूरा करता है, लेकिन स्नातकोत्तर डिग्री डिप्लोमा में कम से कम 65% अंक हासिल किया है। प्रबंधन, उसके मामले को

ऊपर (सी) में उपाध्यक्ष-कार्मिक (ii) को संदर्भित किया जाना है, लेकिन योग्यता के बाद कम से कम दो साल का कार्य अनुभव है, एक संगठन में सहायक कार्मिक प्रबंधक के रूप में, उसका मामला है

एसउपाध्यक्ष-कार्मिक को संदर्भित किया जाना चाहिए।

प्रश्न - विपिन यादव का जन्म 7 दिसंबर 1976 को हुआ था। वे 60% अंकों के साथ प्रबंधन में स्नातकोत्तर उपाधि प्राप्त करने के बाद पिछले चार वर्षों से एक संगठन के कार्मिक विभाग में कार्यरत हैं। उसने साक्षात्कार में 50% अंक और स्नातक में 62% अंक प्राप्त किए हैं।

Ans  A. उम्मीदवार का चयन किया जाना है

B. उम्मीदवार का चयन नहीं किया जाना है

C. प्रदान किया गया डेटा, निर्णय पर पहुंचने के लिए पर्याप्त नहीं है

D. मामला उपाध्यक्ष-कार्मिक

Question Type : MCQ

Question ID : 7650445786

Option 1 ID : 76504423141

Option 2 ID : 76504423142

Option 3 ID : 76504423143

Option 4 ID : 76504423144

Status : Answered

Chosen Option : D

Q.11 A एक स्थान से चलना शुरू करता है। वह पश्चिम की ओर जाता है और 4 km चलता है। फिर वह दौरे घूमता है और 3 Km चलता है। A आरम्भिक स्थान से कितना दूर है?

Ans  A. 5 km.

B. 6 km.

C. 7 km.

D. 8 km.

Question Type : MCQ

Question ID : 7650445569

Option 1 ID : 76504422273

Option 2 ID : 76504422274

Option 3 ID : 76504422275

Option 4 ID : 76504422276

Status : Answered

Chosen Option : C



Q.11 पैटर्न के लिए ध्यान से देखें, और फिर चुनें कि कौन सी संख्या जोड़ी आगे आती है।  
5 13 29 15 26 17 23 19 - -

- Ans  A. 21 23  
 B. 20 21  
 C. 20 17  
 D. 25 27

Question Type : MCQ  
 Question ID : 7650445708  
 Option 1 ID : 76504422829  
 Option 2 ID : 76504422830  
 Option 3 ID : 76504422831  
 Option 4 ID : 76504422832  
 Status : Answered  
 Chosen Option : C

Q.11 नगर निगम ने गर्मी के मौसम में शहर में जल आपूर्ति में 50 प्रतिशत कमी करने की धोषणा की है।  
6

- I. शहर के लोग जल का कम उपयोग करते हैं।  
 II. शहर के जलस्तर में भारी गिरावट आयी है।

- Ans  A. केवल कथन I उपयुक्त है।  
 B. केवल कथन II उपयुक्त है।  
 C. दोनों कथन I और II उपयुक्त हैं।  
 D. दोनों कथन I और II उपयुक्त नहीं हैं।

Question Type : MCQ  
 Question ID : 7650445982  
 Option 1 ID : 76504423925  
 Option 2 ID : 76504423926  
 Option 3 ID : 76504423927  
 Option 4 ID : 76504423928  
 Status : Answered  
 Chosen Option : D

Q.11 नीचे दिये गए विकल्पों में से विषम तत्व को ज्ञात कीजिए.::  
7

- Ans  A. आत्मीय सभा  
 B. ब्रह्म समाज  
 C. वेदान्त कॉलेज  
 D. यंग बंग आन्दोलन

Question Type : MCQ  
 Question ID : 7650445458  
 Option 1 ID : 76504421829  
 Option 2 ID : 76504421830  
 Option 3 ID : 76504421831  
 Option 4 ID : 76504421832  
 Status : Answered  
 Chosen Option : D



Test

Prime

By Adda247

# Previous Year Papers PDF

PRACTICE MORE, SCORE HIGHER!



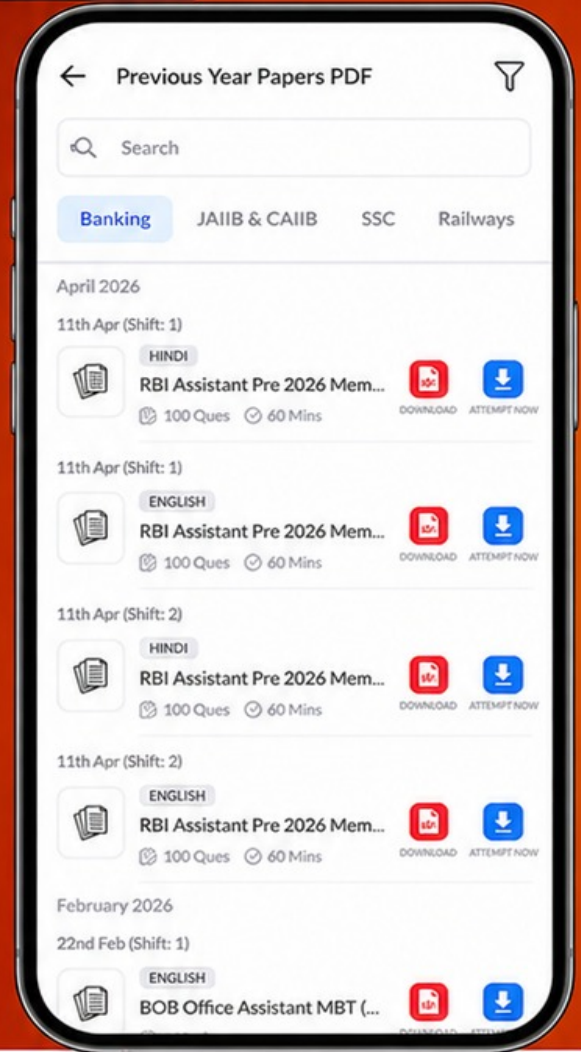
Free  
**25,000+**  
PDF's

High-Quality | Exam-Wise | Updated Regularly

ATTEMPT AS  
**MOCK**



Turn PDFs into real exam experience.  
Analyze. Improve. Succeed.



Topic-wise & Exam-wise PDFs



Download & Study Offline



Attempt as Mock & Track Score



Smart Analysis & Performance

AVAILABLE IN



Banking



SSC



Railway



Teaching



UGC



Agriculture



Nursing



Bihar



UP



Punjab



WB



Odisha



TN



AP & Telangana



Haryana



DOWNLOAD THE APP



Q.11 एक श्रृंखला दी गई है जिसमें एक पद लुप्त है। दिए गए विकल्पों में से वह सही विकल्प चुनें जो श्रृंखला को पूरा करेगा।

I, L, O, R, ?

Ans  A. S

B. T

C. U

D. V

Question Type : MCQ

Question ID : 7650445847

Option 1 ID : 76504423385

Option 2 ID : 76504423386

Option 3 ID : 76504423387

Option 4 ID : 76504423388

Status : Answered

Chosen Option : C

Q.11 चुनें कि कौन-सी संख्या जोड़ी आगे आती है  
9 28 25 5 21 18 5 14 --

Ans  A. 11 5

B. 10 7

C. 11 8

D. 5 10

Question Type : MCQ

Question ID : 7650445697

Option 1 ID : 76504422785

Option 2 ID : 76504422786

Option 3 ID : 76504422787

Option 4 ID : 76504422788

Status : Answered

Chosen Option : D

Q.12 वह शब्द चुनें जो समूह के अन्य शब्दों से सबसे कम मिलता जुलता हो।

Ans  A. गुर्दा

B. दिल

C. फेफड़े

D. कान

Question Type : MCQ

Question ID : 7650445910

Option 1 ID : 76504423637

Option 2 ID : 76504423638

Option 3 ID : 76504423639

Option 4 ID : 76504423640

Status : Answered

Chosen Option : A

