

REET Mains PRT General Paper 17 Jan 2026

1. “वन की आशा” किस नदी को कहा जाता है?

- (A) कांतली नदी (B) काकनी नदी
(C) बनास नदी (D) सरस्वती नदी
(E) अनुत्तरित प्रश्न

2. सूची I को सूची II से सुमेलित करें :

सूची I		सूची II	
(a)	आचार्य नानेश मुनि	(i)	अणुव्रत आंदोलन
(b)	आचार्य तुलसी	(ii)	रूपायन संस्थान
(c)	कोमल कोठारी	(iii)	जयपुर फुट
(d)	डॉ. पी. के. सेठी	(iv)	समता दर्शन

नीचे दिए गए विकल्पों में से सबसे उपयुक्त उत्तर चुनें :

- (A) (a)-(iv), (b)-(i), (c)-(ii), (d)-(iii)
(B) (a)-(iv), (b)-(ii), (c)-(i), (d)-(iii)
(C) (a)-(i), (b)-(ii), (c)-(iii), (d)-(iv)
(D) (a)-(iv), (b)-(iii), (c)-(ii), (d)-(i)
(E) अनुत्तरित प्रश्न

1. The River called as “Hope of the forest” :

- (A) Kantli River (B) Kakni River
(C) Banas River (D) Saraswati River
(E) Question not attempted

2. Match List I with List II :

List I		List II	
(a)	Acharya Nanesesh Muni	(i)	Anuvrata Movement
(b)	Acharya Tulsi	(ii)	Rupayan Sansthan
(c)	Komal Kothari	(iii)	Jaipur Foot
(d)	Dr. P.K. Sethi	(iv)	Samta Darshan

Choose the most appropriate answer from the options given below :

- (A) (a)-(iv), (b)-(i), (c)-(ii), (d)-(iii)
(B) (a)-(iv), (b)-(ii), (c)-(i), (d)-(iii)
(C) (a)-(i), (b)-(ii), (c)-(iii), (d)-(iv)
(D) (a)-(iv), (b)-(iii), (c)-(ii), (d)-(i)
(E) Question not attempted

Adda247

Test Prime

ALL EXAMS, ONE SUBSCRIPTION



1,00,000+
Mock Tests



**Personalised
Report Card**



**Unlimited
Re-Attempt**



600+
Exam Covered



25,000+ Previous
Year Papers



500%
Refund



ATTEMPT FREE MOCK NOW

3. राजस्थान में बिजौलिया किसान आंदोलन से संबंधित निम्नलिखित घटनाओं को कालक्रमानुसार व्यवस्थित करें।

- आंदोलन के नेता के रूप में जमनालाल बजाज
- राजपूताना में गवर्नर जनरल के एजेंट सहित भारत सरकार द्वारा उच्च शक्ति प्राप्त समिति की नियुक्ति
- आंदोलन के नेता के रूप में विजय सिंह पथिक
- साधु सीताराम दास के नेतृत्व में ज्ञापन
- तलवार बंधाई लागू की आड़ में कुछ नवीन कर नीचे दिए गए विकल्पों में से सबसे उपयुक्त उत्तर चुनें :

- (b), (d), (c), (e), (a)
- (d), (c), (b), (a), (e)
- (a), (b), (c), (d), (e)
- ☒ (e), (d), (c), (b), (a)
- अनुत्तरित प्रश्न

3. Arrange the following events related to Bijolia Peasant Movement in Rajasthan in chronological order :

- Jamnalal Bajaj as a leader of the movement.
- High power committee appointed by Government of India including the agent to Governor General in Rajputana.
- Vijay Singh Pathik as a leader of the movement.
- Presentation under the leadership of Sadhu Sitaram Das.
- Imposition of some new taxes on the pretext of Talwarbandhai lag.

Choose the most appropriate answer from the options given below :

- (b), (d), (c), (e), (a)
- (d), (c), (b), (a), (e)
- (a), (b), (c), (d), (e)
- (e), (d), (c), (b), (a)
- Question not attempted

4. सूची I को सूची II से सुमेलित करें :

सूची I		सूची II	
(a)	लहरिया पगड़ी	(i)	विवाह
(b)	मोठड़ा पगड़ी	(ii)	होली
(c)	मदील पगड़ी	(iii)	सावण/श्रावण
(d)	अलंकृत छपाई पगड़ी	(iv)	दशहरा

नीचे दिए गए विकल्पों में से सबसे उपयुक्त उत्तर चुनें :

- (A) (a)-(iii), (b)-(i), (c)-(iv), (d)-(ii)
 (B) (a)-(iv), (b)-(ii), (c)-(i), (d)-(iii)
 (C) (a)-(ii), (b)-(i), (c)-(iv), (d)-(iii)
 (D) (a)-(i), (b)-(iii), (c)-(iv), (d)-(ii)
 (E) अनुत्तरित प्रश्न

5. कौनसे कथन 'फड़ साहित्य' से संबंधित है ?

- (a) टोंक और जयपुर इसके लिए प्रसिद्ध हैं।
 (b) पाबूजी, देवनारायण जी आदि लोक देवताओं के जीवन से कहानियों का निरूपण किया जाता है।
 (c) पद्म श्री लाल जोशी ने इसे अंतर्राष्ट्रीय पहचान दी है।
 (d) नुरुद्दीन द्वारा चित्रित 'कालिया दमन' फड़ चित्रण का सबसे प्रसिद्ध उदाहरण है।

नीचे दिए गए विकल्पों में से सबसे उपयुक्त उत्तर का चयन कीजिए :

- (A) केवल (a) और (d) (B) केवल (b) और (d)
 (C) केवल (a) और (c) (D) केवल (b) और (c)
 (E) अनुत्तरित प्रश्न

6. 15 अगस्त 2025 को कहाँ पर आयोजित स्वतंत्रता दिवस समारोह में दिव्यांश एम. भारद्वाज को "राजस्थान का सर्वश्रेष्ठ सरपंच" का पुरस्कार दिया गया था ?

- (A) जैसलमेर दुर्ग (B) मेहरानगढ़ दुर्ग
 (C) आमेर दुर्ग (D) कुम्भलगढ़ दुर्ग
 (E) अनुत्तरित प्रश्न

4. Match List I with List II :

List I		List II	
(a)	Lahariya turban	(i)	Marriages
(b)	Mothda turban	(ii)	Holi
(c)	Madeel turban	(iii)	Sharvan
(d)	Floral prints turban	(iv)	Dussehra

Choose the **most appropriate** answer from the options given below :

- (A) (a)-(iii), (b)-(i), (c)-(iv), (d)-(ii)
 (B) (a)-(iv), (b)-(ii), (c)-(i), (d)-(iii)
 (C) (a)-(ii), (b)-(i), (c)-(iv), (d)-(iii)
 (D) (a)-(i), (b)-(iii), (c)-(iv), (d)-(ii)
 (E) Question not attempted

5. Which statements belong to 'FAAD LITERATURE' ?

- (a) Tonk and Jaipur are famous for it.
 (b) Stories from the life of Lok Devta as Pabuji, Dev Narayan ji etc. are depicted.
 (c) Padma Shri Lal Joshi ji gave International recognition to it.
 (d) 'Kaliya Daman' painted by Nuruddin is one of the most famous FAAD painting.

Choose the **most appropriate** answer from the options given below :

- (A) (a) and (d) only (B) (b) and (d) only
 (C) (a) and (c) only (D) (b) and (c) only
 (E) Question not attempted

Divyansh M. Bhardwaj was given the title of "Best Sarpanch of Rajasthan" during Independence Day celebration on 15 Aug 2025 at :

- (A) Jaisalmer Fort (B) Mehrangarh Fort
 (C) Amber Fort (D) Kumbhalgarh Fort
 (E) Question not attempted

7. नीचे दो कथन दिए गए हैं : एक अभिकथन A (Assertion A) के रूप में लिखित है तो दूसरा उसके कारण R (Reason R) के रूप में।

अभिकथन A :

खेजड़ी वृक्ष ने भी चिपको आंदोलन को प्रेरित किया था।

कारण R :

अमृता देवी के नेतृत्व में लगभग 363 पुरुषों और महिलाओं ने खेजड़ी की रक्षा करते हुए अपने प्राणों का बलिदान दिया था।

उपरोक्त कथनों के आलोक में, नीचे दिए गए विकल्पों में से सबसे उपयुक्त उत्तर का चयन कीजिए :

- (A) A सही है लेकिन R सही नहीं है।
(B) A सही नहीं है लेकिन R सही है।
(C) A और R दोनों सही हैं और R, A की सही व्याख्या है।
(D) A और R दोनों सही हैं लेकिन R, A की सही व्याख्या नहीं है।
(E) अनुत्तरित प्रश्न

8. सूची I को सूची II से सुमेलित करें :

सूची I (पर्यावरण पर्यटन स्थल)		सूची II (जिला)	
(a)	पीताम्बर की गाल/गाव	(i)	बारां
(b)	कुंड खोह	(ii)	बलोत्रा
(c)	सिवाणा	(iii)	बूंदी
(d)	भीमलाट	(iv)	अजमेर

नीचे दिए गए विकल्पों में से सबसे उपयुक्त उत्तर चुनें :

- (A) (a)-(iv), (b)-(ii), (c)-(iii), (d)-(i)
(B) (a)-(iv), (b)-(iii), (c)-(ii), (d)-(i)
(C) (a)-(iv), (b)-(i), (c)-(iii), (d)-(ii)
(D) (a)-(iv), (b)-(i), (c)-(ii), (d)-(iii)
(E) अनुत्तरित प्रश्न

7. Given below are two statements : one is labelled as Assertion A and the other is labelled as Reason R

Assertion A :

The Khejri tree also inspired Chipko movement.

Reason R :

About 363 men and women led by Amrita Devi sacrificed their lives while trying to protect Khejri.

In the light of the above statements, choose the **most appropriate** answer from the options given below :

- (A) A is correct but R is not correct.
(B) A is not correct but R is correct.
(C) Both A and R are correct and R is the correct explanation of A.
(D) Both A and R are correct but R is NOT the correct explanation of A.
(E) Question not attempted

8. Match List I with List II :

List I (EcoTourism site)		List II (District)	
(a)	Pitambar ki Gal	(i)	Baran
(b)	Kund khoh	(ii)	Balotra
(c)	Siwana	(iii)	Bundi
(d)	Bhimlat	(iv)	Ajmer

Choose the **most appropriate** answer from the options given below :

- (A) (a)-(iv), (b)-(ii), (c)-(iii), (d)-(i)
(B) (a)-(iv), (b)-(iii), (c)-(ii), (d)-(i)
(C) (a)-(iv), (b)-(i), (c)-(iii), (d)-(ii)
(D) (a)-(iv), (b)-(i), (c)-(ii), (d)-(iii)
(E) Question not attempted

9. भक्तिकाल की मुख्य विशेषताएँ हैं :
- (a) भक्ति आंदोलन का प्रवर्तन भक्ति संतों द्वारा किया गया था।
 - (b) उन्होंने अपने उपदेशों से सभी प्रकार का भेदभाव समाप्त करने की कोशिश की थी।
 - (c) कुछ भक्ति संत राजाओं के चरित्र, गुणों और अन्य सराहनीय कार्यों का गुण वर्णन करते थे।
 - (d) निर्गुण संतों ने गुरु की महिमा एवं महत्व के बिना समस्त समय भगवान का स्मरण करने की महत्ता पर बल दिया।

नीचे दिए गए विकल्पों में से सबसे उपयुक्त उत्तर चुनें :

- (A) केवल (a), (b) और (d)
- (B) केवल (a), (c) और (d)
- (C) केवल (a), (b) और (c)
- (D) केवल (b), (c) और (d)
- (E) अनुत्तरित प्रश्न

10. नीचे दो कथन दिए गए हैं : एक अभिकथन A (Assertion A) के रूप में लिखित है तो दूसरा उसके कारण R (Reason R) के रूप में।

अभिकथन A :

“अढ़ाई दिन का झोंपड़ा” नामक भवन मूलतः विग्रहराज IV द्वारा निर्मित संस्कृत पाठशाला थी।

कारण R :

यह भवन हिन्दू-इस्लामी वास्तुकला का नमूना है।

उपरोक्त कथनों के आलोक में, नीचे दिए गए विकल्पों में से सबसे उपयुक्त उत्तर का चयन कीजिए :

- (A) A सही है लेकिन R सही नहीं है।
- (B) A सही नहीं है लेकिन R सही है।
- (C) A और R दोनों सही हैं और R, A की सही व्याख्या है।
- (D) A और R दोनों सही हैं लेकिन R, A की सही व्याख्या नहीं है।
- (E) अनुत्तरित प्रश्न

9. The salient features of Bhakti period are :

- (a) Bhakti Movement was propagated by the bhakti saints.
- (b) They tried to eradicate all discrimination through their teachings.
- (c) Some bhakti saints described the character, traits and other commendable works of the kings.
- (d) The Nirgun saints emphasized on the importance of remembering God all the time without attributes and importance of guru.

Choose the **most appropriate** answer from the options given below :

- (A) (a), (b) and (d) only
- (B) (a), (c) and (d) only
- (C) (a), (b) and (c) only
- (D) (b), (c) and (d) only
- (E) Question not attempted

10. Given below are two statements : one is labelled as **Assertion A** and the other is labelled as **Reason R**.

Assertion A :

The building called “Adhai Din Ka Jhonpra” was originally Sanskrit college built by Vignaraja IV.

Reason R :

This building is a sample of Hindu and Islamic architecture.

In the light of the above statements, choose the **most appropriate** answer from the options given below :

- (A) A is correct but R is not correct.
- (B) A is not correct but R is correct.
- (C) Both A and R are correct and R is the correct explanation of A.
- (D) Both A and R are correct but R is NOT the correct explanation of A.
- (E) Question not attempted

11. राजस्थान की सबसे अधिक प्रयुक्त की जाने वाली बोली कौनसी है ?

नीचे दिए गए विकल्पों में से सबसे उपयुक्त उत्तर चुनें :

- (A) बागड़ी (B) मारवाड़ी
(C) डूँड़ाड़ी (D) मेवाती
(E) अनुत्तरित प्रश्न

12. नीचे दो कथन दिए गए हैं : एक अभिकथन A (Assertion A) के रूप में लिखित है तो दूसरा उसके कारण R (Reason R) के रूप में।

अभिकथन A :

कालीबंगा के कब्रगाह में छह (6) छेदों वाली बालक की खोपड़ी मिली है।

कारण R :

छेद/छिद्र, मस्तिष्क ज्वर के उपचार के सूचक हो सकते हैं।

उपरोक्त कथनों के आलोक में, नीचे दिए गए विकल्पों में से सबसे उपयुक्त उत्तर का चयन कीजिए :

- (A) A सही है लेकिन R सही नहीं है।
(B) A सही नहीं है लेकिन R सही है।
(C) A और R दोनों सही हैं और R, A की सही व्याख्या है।
(D) A और R दोनों सही हैं लेकिन R, A की सही व्याख्या नहीं है।
(E) अनुत्तरित प्रश्न

13. राष्ट्रीय उद्यान को उनके मूल जिला से मिलान करें :

सूची I (राष्ट्रीय उद्यान)	सूची II (जिला)
(a) रणथंभोर राष्ट्रीय उद्यान	(i) अलवर
(b) केवलादेव राष्ट्रीय उद्यान	(ii) सवाई माधोपुर
(c) सरिस्का राष्ट्रीय उद्यान	(iii) भरतपुर
(d) मुकुन्द्र पहाड़ी राष्ट्रीय उद्यान	(iv) कोटा

नीचे दिए गए विकल्पों में से सबसे उपयुक्त उत्तर चुनें :

- (A) (a)-(iv), (b)-(iii), (c)-(ii), (d)-(i)
(B) (a)-(iii), (b)-(iv), (c)-(ii), (d)-(i)
(C) (a)-(i), (b)-(ii), (c)-(iii), (d)-(iv)
(D) (a)-(ii), (b)-(iii), (c)-(i), (d)-(iv)
(E) अनुत्तरित प्रश्न

11. Which is the most spoken dialect of Rajasthan ?

Choose the **most appropriate** answer from the options given below :

- (A) Bagri (B) Marwari
(C) Dhundhari (D) Mewati
(E) Question not attempted

12. Given below are two statements : one is labelled as **Assertion A** and the other is labelled as **Reason R**.

Assertion A :

A skull of a child with six holes has been found at the burial ground in Kalibangan.

Reason R :

The holes may have been the indication of treatment given for encephalitis.

In the light of the above statements, choose the **most appropriate** answer from the options given below :

- (A) A is correct but R is not correct.
(B) A is not correct but R is correct.
(C) Both A and R are correct and R is the correct explanation of A.
(D) Both A and R are correct but R is NOT the correct explanation of A.
(E) Question not attempted

13. Match the National Park with its Primary District.

List - I (National Park)	List - II (District)
(a) Ranathambore National Park	(i) Alwar
(b) Keoladeo National Park	(ii) Sawai Madhopur
(c) Sariska National Park	(iii) Bharatpur
(d) Mukundra Hills National Park	(iv) Kota

Choose the **most appropriate** answer from the options given below :

- (A) (a)-(iv), (b)-(iii), (c)-(ii), (d)-(i)
(B) (a)-(iii), (b)-(iv), (c)-(ii), (d)-(i)
(C) (a)-(i), (b)-(ii), (c)-(iii), (d)-(iv)
(D) (a)-(ii), (b)-(iii), (c)-(i), (d)-(iv)
(E) Question not attempted

14. राजस्थान का दक्षिण पूर्व पठार क्षेत्र :
- हाड़ौती पठार के रूप में भी जाना जाता है।
 - यह बारां, बून्दी और कोटा जिलों में विस्तृत है।
 - चंबल इस क्षेत्र की मुख्य नदी है।
 - चूलिया जलप्रपात भी यहाँ स्थित है।
 - यह छप्पन के मैदान के नाम से भी जाना जाता है।
- नीचे दिए गए विकल्पों में से सबसे उपयुक्त उत्तर चुनें:
- (a), (b), (d) और (e)
 - (a), (c), (d) और (e)
 - ☒ (a), (b), (c) और (d)
 - (b), (c), (d) और (e)
 - अनुत्तरित प्रश्न

15. सूची I को सूची II से सुमेलित करें :

सूची I		सूची II	
(a)	हाड़ौती प्रजामंडल	(i)	माणिक्यलाल वर्मा
(b)	मेवाड़ प्रजामंडल	(ii)	त्रिलोकचंद माथुर
(c)	करौली प्रजामंडल	(iii)	मिठालाल व्यास
(d)	जैसलमेर प्रजामंडल	(iv)	नयनुराम शर्मा

नीचे दिए गए विकल्पों में से सबसे उपयुक्त उत्तर चुनें :

- (a)-(iv), (b)-(ii), (c)-(iii), (d)-(i)
 - (a)-(iii), (b)-(iv), (c)-(i), (d)-(ii)
 - ☒ (a)-(iv), (b)-(i), (c)-(ii), (d)-(iii)
 - (a)-(iii), (b)-(ii), (c)-(i), (d)-(iv)
 - अनुत्तरित प्रश्न
16. राजस्थान सरकार ने हाल ही में पर्यावरण-संवेदनशील क्षेत्रों की सूची प्रकाशित की है। निम्नलिखित में से कौनसा राजस्थान से नहीं है ?
- जयसमंद वन्यजीवन अभयारण्य
 - ☒ नारायण सरोवर अभयारण्य
 - मुकुंदरा हिल्स बाघ रिजर्व
 - केवलादेव राष्ट्रीय पार्क
 - अनुत्तरित प्रश्न

14. South Eastern plateau region of Rajasthan:
- Also known as Hadoti Plateau.
 - It is spread into Baran, Bundi and Kota Districts.
 - Chambal is the main river of this area.
 - Chuliya waterfall is also located here.
 - It is also known as plain of Chhapan.
- Choose the **most appropriate** answer from the options given below :
- (a), (b), (d) and (e)
 - (a), (c), (d) and (e)
 - (a), (b), (c) and (d)
 - (b), (c), (d) and (e)
 - Question not attempted

15. Match List I with List II :

List I		List II	
(a)	Hadoti Praja Mandal	(i)	Manikyalal Verma
(b)	Mewar Praja Mandal	(ii)	Trilok Chand Mathur
(c)	Karauli Praja Mandal	(iii)	Mithalal Vyas
(d)	Jaisalmer Praja Mandal	(iv)	Nayanuram Sharma

Choose the **most appropriate** answer from the options given below :

- (a)-(iv), (b)-(ii), (c)-(iii), (d)-(i)
 - (a)-(iii), (b)-(iv), (c)-(i), (d)-(ii)
 - (a)-(iv), (b)-(i), (c)-(ii), (d)-(iii)
 - (a)-(iii), (b)-(ii), (c)-(i), (d)-(iv)
 - Question not attempted
16. Government of Rajasthan has recently published the list of Eco-Sensitive zones. Which of the following is **not** from the state of Rajasthan ?
- Jaisamand wildlife sanctuary
 - Narayan Sarovar sanctuary
 - Mukundara Hills Tiger Reserve
 - Keoladeo National park
 - Question not attempted

17. व्यवसायिक शिक्षा सहित उच्चतर शिक्षा में सकल नामांकन अनुपात में किस वर्ष तक 26.3% (2018) से वृद्धि करके 50% किए जाने का लक्ष्य है ?

- (A) 2035 (B) 2040
(C) 2030 (D) 2025
(E) अनुत्तरित प्रश्न

18. आधुनिक अलवर राज्य के निम्नलिखित कछवाहा शासकों को आरोही क्रम में व्यवस्थित करें :

- (a) मंगल सिंह प्रभाकर बहादुर
(b) बने सिंह प्रभाकर बहादुर
(c) जय सिंह प्रभाकर बहादुर
(d) श्योदान सिंह प्रभाकर बहादुर

नीचे दिए गए विकल्पों में से सबसे उपयुक्त उत्तर चुनें :

- (A) (d), (b), (c), (a) (B) (b), (d), (a), (c)
(C) (a), (d), (b), (c) (D) (c), (a), (d), (b)
(E) अनुत्तरित प्रश्न

19. निम्नलिखित योजनाओं/नीतियों को कालक्रमानुसार व्यवस्थित करें :

- (a) निपुण भारत
(b) पढ़े भारत
(c) बेटी बचाओ बेटी पढ़ाओ
(d) निष्ठा

नीचे दिए गए विकल्पों में से सबसे उपयुक्त उत्तर चुनें :

- (A) (b), (c), (d), (a) (B) (b), (c), (a), (d)
(C) (a), (b), (c), (d) (D) (a), (c), (d), (b)
(E) अनुत्तरित प्रश्न

20. एनईपी 2020 के अनुसार नवीन शिक्षाशास्त्रीय और पाठ्यचर्या संरचना क्या है ?

- (A) 4+3+3+4 (B) 5+4+3+4
(C) 4+2+3+4 (D) 5+3+3+4
(E) अनुत्तरित प्रश्न

17. By which year, there is the target to increase the Gross Enrolment Ratio in higher education including vocational education from 26.3% (2018) to 50% ?

- (A) 2035 (B) 2040
(C) 2030 (D) 2025
(E) Question not attempted

18. Arrange the following Kachwaha Rulers of Modern Alwar state in ascending order :

- (a) Mangal Singh Prabhakar Bahadur
(b) Bane Singh Prabhakar Bahadur
(c) Jai Singh Prabhakar Bahadur
(d) Sheodan Singh Prabhakar Bahadur

Choose the **most appropriate** answer from the options given below :

- (A) (d), (b), (c), (a) (B) (b), (d), (a), (c)
(C) (a), (d), (b), (c) (D) (c), (a), (d), (b)
(E) Question not attempted

19. Arrange the following schemes/policies in chronological order :

- (a) Nipun Bharat
(b) Padhe Bharat
(c) Beti Bachao Beti Padhao
(d) NISTHA

Choose the **most appropriate** answer from the options given below :

- (A) (b), (c), (d), (a) (B) (b), (c), (a), (d)
(C) (a), (b), (c), (d) (D) (a), (c), (d), (b)
(E) Question not attempted

20. What is the new pedagogical and curricular structure according to NEP-2020 ?

- (A) 4+3+3+4 (B) 5+4+3+4
(C) 4+2+3+4 (D) 5+3+3+4
(E) Question not attempted

21. ग्रेनाइट है :

- (a) एक उपयोगी इमारती वस्तु, जो फर्श, मंदिर आदि बनाने में उपयोग होता है।
- (b) गुलाबी पिक और मटमैला ग्रे, जालौर में पाया जाता है।
- (c) पेंथर गुलाबी, अलवर में पाया जाता है।
- (d) सीकर जिले में बंदनवाडा ग्रेनाइट का एक महत्वपूर्ण उत्पादक स्थान है।

नीचे दिए गए विकल्पों में से सबसे उपयुक्त उत्तर चुनें :

- (A) केवल (a), (b) और (d)
- ✓ (B) केवल (a), (b) और (c)
- (C) केवल (a) और (b)
- (D) केवल (b) और (c)
- (E) अनुत्तरित प्रश्न

22. 9 अप्रैल 1991 को राजस्थान में नए जिले बनाए गए थे-

- (a) कोटा जिले से बारां बनाया गया था।
- (b) गंगानगर जिले से हनुमानगढ़ बनाया गया था।
- (c) उदयपुर जिले से राजसमंद बनाया गया था।
- (d) जयपुर जिले से दौसा बनाया गया था।
- (e) राजस्थान में अब 7 प्रमंडल हैं।

नीचे दिए गए विकल्पों में से सबसे उपयुक्त उत्तर चुनें :

- (A) केवल (b), (c) और (d)
- (B) केवल (d) और (e)
- (C) केवल (a), (b), (c) और (d)
- ✓ (D) केवल (a), (b) और (c)
- (E) अनुत्तरित प्रश्न

23. राजस्थान निःशुल्क और अनिवार्य शिक्षा का अधिकार नियम, 2011 के अनुसार स्थानीय प्राधिकारी अपने अधिकार क्षेत्र में, घर - घर सर्वेक्षण के माध्यम से, सभी बालकों का उनके जन्म से लेकर कितने वर्ष की आयु पूर्ण करने तक रिकॉर्ड रखेंगे ?

- ✓ (A) 14 वर्ष
- (B) 18 वर्ष
- (C) 12 वर्ष
- (D) 16 वर्ष
- (E) अनुत्तरित प्रश्न

21. Granite is :

- (a) Useful building material used for flooring, temples etc.
- (b) Rosy pink and ash grey is found from Jalore.
- (c) Panther pink is found from Alwar.
- (d) Bandanwale in Sikar district is major producer of granite.

Choose the **most appropriate** answer from the options given below :

- (A) (a), (b) and (d) only
- (B) (a), (b) and (c) only
- (C) (a) and (b) only
- (D) (b) and (c) only
- (E) Question not attempted

22. On 9 April 1991, some new districts in Rajasthan were created :

- (a) Baran was created from Kota district.
- (b) Hanumangarh was created from Ganganagar district.
- (c) Rajsamand was created from Udaipur district.
- (d) Dausa was created from Jaipur district.
- (e) Rajasthan now has 7 divisions.

Choose the **most appropriate** answer from the option given below :

- (A) (b), (c) and (d) only
- (B) (d) and (e) only
- (C) (a), (b), (c) and (d) only
- (D) (a), (b) and (c) only
- (E) Question not attempted

23. According to the Rajasthan Right of Children to Free and Compulsory Education Rules 2011, the local authority shall maintain a record of all the children in its jurisdiction through a household survey from their birth till they attain the age of which year ?

- (A) 14 years
- (B) 18 years
- (C) 12 years
- (D) 16 years
- (E) Question not attempted

24. चैत्र कृष्ण सप्तमी और अष्टमी को जयपुर की चाकसू तहसील में कौनसा मेला लगता है?

- (A) शीतला माता (B) डिग्गी कल्याण जी
(C) कैला देवी (D) कपिल मुनि
(E) अनुत्तरित प्रश्न

25. राजस्थान खादी और ग्रामोद्योग बोर्ड एक गैर-लाभकारी वैधानिक निकाय है, जो निम्नलिखित के अंतर्गत स्थापित किया गया है-

नीचे दिए गए विकल्पों में से सबसे उपयुक्त उत्तर चुनें :

- (A) राइजिंग राजस्थान - 2020
(B) सूक्ष्म स्तर और घरेलू उद्योग अधिनियम - 1991
(C) राजस्थान खादी और ग्रामोद्योग बोर्ड अधिनियम 1995
(D) पंचायती राज संशोधन - अध्यादेश - 2000
(E) अनुत्तरित प्रश्न

26. निम्नलिखित राज्यों को उनके क्षेत्रफल के अनुसार अवरोही क्रम में व्यवस्थित करें।

- (a) राजस्थान
(b) हरियाणा
(c) उत्तर प्रदेश
(d) गुजरात

नीचे दिए गए विकल्पों में से सबसे उपयुक्त उत्तर चुनें :

- (A) (b), (d), (c), (a) (B) (d), (b), (c), (a)
(C) (a), (c), (d), (b) (D) (a), (c), (b), (d)
(E) अनुत्तरित प्रश्न

24. On Chaitra Krishna Saptami and Ashtami in Chaksu Tehsil of Jaipur the fair celebrated is of :

- (A) Sheetla Mata (B) Diggi Kalyanji
(C) Kaila Devi (D) Kapil Muni
(E) Question not attempted

25. The Rajasthan Khadi and Village Industries Board is a non-profit making statutory body established under :

Choose the **most appropriate** answer from the option given below :

- (A) Rising Rajasthan - 2020.
(B) Small scale and household industries Act - 1991.
(C) Rajasthan Khadi and Village Industries Board Act 1995.
(D) Panchayati Raj Amendment - ordinance - 2000.
(E) Question not attempted

26. Arrange the following states according to their area in descending order :

- (a) Rajasthan
(b) Haryana
(c) Uttar Pradesh
(d) Gujarat

Choose the **most appropriate** answer from the options given below :

- (A) (b), (d), (c), (a) (B) (d), (b), (c), (a)
(C) (a), (c), (d), (b) (D) (a), (c), (b), (d)
(E) Question not attempted

27. नीचे दो कथन दिए गए हैं : एक अभिकथन A (Assertion A) के रूप में लिखित है तो दूसरा उसके कारण R (Reason R) के रूप में।

अभिकथन A :

राजा उम्मेद सिंह ने रंगमहल बनवाया, जो अपने भित्ति चित्रों के लिए विश्व-विख्यात है।

कारण R :

उनके शासनकाल में बूंदी शैली ने नवीन मोड़ लिया। वनस्पति और प्राणि विविधता, बहुरंगी बादल और झीलों संपूर्ण समृद्धि में निरूपित होना शुरू हो गई।

उपरोक्त कथनों के आलोक में, नीचे दिए गए विकल्पों में से सबसे उपयुक्त उत्तर का चयन कीजिए :

- (A) A सही है लेकिन R सही नहीं है।
(B) A सही नहीं है लेकिन R सही है।
(C) A और R दोनों सही हैं और R, A की सही व्याख्या है।
(D) A और R दोनों सही हैं लेकिन R, A की सही व्याख्या नहीं है।
(E) अनुत्तरित प्रश्न
28. नीचे दो कथन दिए गए हैं : एक अभिकथन A (Assertion A) के रूप में लिखित है तो दूसरा उसके कारण R (Reason R) के रूप में।
- अभिकथन A :
- नागरी/नगरी शिलालेख (424 AD) संस्कृत भाषा में है।
- कारण R :
- वर्तमान में यह आमेर दुर्ग संग्रहालय में संरक्षित है, गुहिल शासक अपराजित की वीरता का इसमें वर्णन किया गया है।
- उपरोक्त कथनों के आलोक में, नीचे दिए गए विकल्पों में से सबसे उपयुक्त उत्तर का चयन कीजिए :
- (A) A सही है लेकिन R सही नहीं है।
(B) A सही नहीं है लेकिन R सही है।
(C) A और R दोनों सही हैं और R, A की सही व्याख्या है।
(D) A और R दोनों सही हैं लेकिन R, A की सही व्याख्या नहीं है।
(E) अनुत्तरित प्रश्न

ZZ8

27. Given below are two statements : one labelled as Assertion A and the other labelled as Reason R.

Assertion A :

Raja Ummed Singh constructed a Rangmehal which is world famous for its murals (Chitra).

Reason R :

During the reign of the Raja Ummed Singh the Bundi style took a new turn. Diverse flora and fauna, multi-colored clouds and lakes began to be depicted in all richness.

In the light of the above statements, choose the most appropriate answer from the options given below :

- (A) A is correct but R is not correct.
(B) A is not correct but R is correct.
(C) Both A and R are correct and R is the correct explanation of A.
(D) Both A and R are correct but R is not the correct explanation of A.
(E) Question not attempted

28. Given below are two statements : one labelled as Assertion A and the other labelled as Reason R.

Assertion A :

The Nagari Rock Inscription (424 AD) is in Sanskrit language.

Reason R :

It is presently preserved at Amber Fort museum, Bravery of Guhil ruler Aparajit has been described on it.

In the light of the above statements, choose the most appropriate answer from the options given below :

- (A) A is correct but R is not correct.
(B) A is not correct but R is correct.
(C) Both A and R are correct and R is the correct explanation of A.
(D) Both A and R are correct but R is not the correct explanation of A.
(E) Question not attempted

29. नीचे दो कथन दिए गए हैं : एक अभिकथन A (Assertion A) के रूप में लिखित है तो दूसरा उसके कारण R (Reason R) के रूप में।

अभिकथन A :

राजस्थान “खनिजों के अजायबघर” के रूप में प्रसिद्ध है।

कारण R :

गेरु/गेरिक खनिज केवल राजस्थान द्वारा उत्पादित किया जाता है।

उपरोक्त कथनों के आलोक में, नीचे दिए गए विकल्पों में से सबसे उपयुक्त उत्तर का चयन कीजिए

- (A) A सही है लेकिन R सही नहीं है।
(B) A सही नहीं है लेकिन R सही है।
(C) A और R दोनों सही हैं और R, A की सही व्याख्या है।
(D) A और R दोनों सही हैं लेकिन R, A की सही व्याख्या नहीं है।
(E) अनुत्तरित प्रश्न

30. नीचे दो कथन दिए गए हैं : एक अभिकथन A (Assertion A) के रूप में लिखित है तो दूसरा उसके कारण R (Reason R) के रूप में।

अभिकथन A :

राजस्थान में शाला दर्पण कार्यक्रम शिक्षण अधिगम में नवोन्मेष को बढ़ावा देने के लिए कक्षा-कक्ष में डिजिटल प्रौद्योगिकी को बढ़ावा देने पर केन्द्रित है।

कारण R :

राजस्थान शाला दर्पण कार्यक्रम केवल राज्य के ग्रामीण क्षेत्र में क्रियान्वित है।

उपरोक्त कथनों के आलोक में, नीचे दिए गए विकल्पों में से सबसे उपयुक्त उत्तर का चयन कीजिए :

- (A) A सही है लेकिन R सही नहीं है।
(B) A सही नहीं है लेकिन R सही है।
(C) A और R दोनों सही हैं और R, A की सही व्याख्या है।
(D) A और R दोनों सही हैं लेकिन R, A की सही व्याख्या नहीं है।
(E) अनुत्तरित प्रश्न

29. Given below are two statements : one is labelled as Assertion A and the other is labelled as Reason R.

Assertion A :

Rajasthan is known as “A Museum of Minerals”.

Reason R :

Ochre mineral is only produced by Rajasthan.

In the light of the above statements, choose the **most appropriate** answer from the options given below :

- (A) A is correct but R is not correct.
(B) A is not correct but R is correct.
(C) Both A and R are correct and R is the correct explanation of A.
(D) Both A and R are correct but R is NOT the correct explanation of A.
(E) Question not attempted

30. Given below are two statements : one is labelled as Assertion A and the other is labelled as Reason R.

Assertion A :

Shala Darpan Programme in Rajasthan promotes using digital technology in class room to enhance innovation in teaching learning.

Reason R :

Rajasthan's Shala Darpan Programme work only in rural areas of the state.

In the light of the above statements, choose the **most appropriate** answer from the options given below :

- (A) A is correct but R is not correct.
(B) A is not correct but R is correct.
(C) Both A and R are correct and R is the correct explanation of A.
(D) Both A and R are correct but R is NOT the correct explanation of A.
(E) Question not attempted

31. राजस्थान के निम्नलिखित जिलों को दक्षिण से उत्तर के क्रम में बढ़ते हुए अक्षांश के अनुसार व्यवस्थित करें।

- (a) झालावाड़
- (b) झुंझुनूं
- (c) जोधपुर
- (d) सवाई माधोपुर

नीचे दिए गए विकल्पों में से सबसे उपयुक्त उत्तर चुनें :

- (A) (a), (b), (d), (c)
- (B) (d), (c), (b), (a)
- (C) (a), (d), (c), (b)
- (D) (a), (c), (b), (d)
- (E) अनुत्तरित प्रश्न

32. निम्नलिखित चित्रों को कालक्रमानुसार व्यवस्थित करें :

- (a) ढोला - मारू
- (b) रागमाला चित्रावली
- (c) जंगली सुअर का शिकार
- (d) राजा पाबूजी का चित्र

नीचे दिए गए विकल्पों में से सबसे उपयुक्त उत्तर चुनें :

- (A) (d), (a), (b), (c)
- (B) (c), (b), (a), (d)
- (C) (a), (b), (d), (c)
- (D) (b), (a), (c), (d)
- (E) अनुत्तरित प्रश्न

33. नीचे दो कथन दिए गए हैं : एक अभिकथन A (Assertion A) के रूप में लिखित है तो दूसरा उसके कारण R (Reason R) के रूप में।

अभिकथन A :

राजस्थान में शरद ऋतु मध्य सितंबर से लेकर मध्य दिसंबर तक व्याप्त रहती है।

कारण R :

वर्षा के पश्चात् स्पष्ट/खुले आसमान के कारण इस ऋतु में तापमान 38°C तक बढ़ जाता है।

उपरोक्त कथनों के आलोक में, नीचे दिए गए विकल्पों में से सबसे उपयुक्त उत्तर का चयन कीजिए :

- (A) A सही है लेकिन R सही नहीं है।
- (B) A सही नहीं है लेकिन R सही है।
- (C) A और R दोनों सही हैं और R, A की सही व्याख्या है।
- (D) A और R दोनों सही हैं लेकिन R, A की सही व्याख्या नहीं है।
- (E) अनुत्तरित प्रश्न

31. Arrange the following districts of Rajasthan according to increasing latitude from south to north.

- (a) Jhalawar
- (b) Jhunjhunu
- (c) Jodhpur
- (d) Sawai Madhopur

Choose the most appropriate answer from the options given below :

- (A) (a), (b), (d), (c)
- (B) (d), (c), (b), (a)
- (C) (a), (d), (c), (b)
- (D) (a), (c), (b), (d)
- (E) Question not attempted

32. Arrange the following painting in chronological order :

- (a) Dhola-Marua
- (b) Ragmala chitravali
- (c) Hunting a wild boar
- (d) The portrait of Raja Pabuji

Choose the most appropriate answer from the options given below :

- (A) (d), (a), (b), (c)
- (B) (c), (b), (a), (d)
- (C) (a), (b), (d), (c)
- (D) (b), (a), (c), (d)
- (E) Question not attempted

33. Given below are two statements : one is labelled as Assertion A and the other is labelled as Reason R.

Assertion A :

Autumn season in Rajasthan spread from mid-September to mid-December.

Reason R :

In this season the temperature grows upto 38°C because of the clear sky after the Rainfall.

In the light of the above statements, choose the most appropriate answer from the options given below :

- (A) A is correct but R is not correct.
- (B) A is not correct but R is correct.
- (C) Both A and R are correct and R is the correct explanation of A.
- (D) Both A and R are correct but R is NOT the correct explanation of A.
- (E) Question not attempted

34. निम्नलिखित कथन बीकानेर शहर से संबंधित हैं :
- यह पहाड़ी ढाल पर निर्मित किया गया था।
 - पेशों/व्यवसायों के आधार पर शहर विभाजित किया गया था।
 - आर्थिक क्रियाकलापों को सुगम बनाने और व्यापार को बढ़ावा देने के लिए हाट और बाजार बनाए गए थे।
 - शहर के दोनों छोर पर, दो चौपड़ हैं।
- नीचे दिए गए विकल्पों में से सबसे उपयुक्त उत्तर चुनें :
- केवल (c) और (d) ~~(B)~~ केवल (b) और (c)
 - केवल (a) और (b) (D) केवल (b) और (d)
 - अनुत्तरित प्रश्न

35. नीचे दो कथन दिए गए हैं : एक अभिकथन A (Assertion A) के रूप में लिखित है तो दूसरा उसके कारण R (Reason R) के रूप में।

अभिकथन A :

कजली तीज भाद्रपद कृष्ण तृतीया को बून्दी में मनाई जाती है।

कारण R :

अलंकृत पालकियों में तीज का मनोहारी जुलूस पिछोला झील के मनोहारी गणगौर घाट से शुरू होता है और नौकायन एवं आतिशबाजी के साथ समाप्त होता है।

उपरोक्त कथनों के आलोक में, नीचे दिए गए विकल्पों में से सबसे उपयुक्त उत्तर का चयन कीजिए :

- A सही है लेकिन R सही नहीं है।
- A सही नहीं है लेकिन R सही है।
- A और R दोनों सही हैं और R, A की सही व्याख्या है।
- ☒ A और R दोनों सही हैं लेकिन R, A की सही व्याख्या नहीं है।
- अनुत्तरित प्रश्न

34. The statements belong to Bikaner city :

- It was built on hilly slopes.
- The city was divided on the basis of professions.
- The haats and markets were built to facilitate economic activities and promotion of trade.
- At both the ends of the city, there are two chaupads.

Choose the **most appropriate** answer from the options given below :

- (A) (c) and (d) only (B) (b) and (c) only
- (C) (a) and (b) only (D) (b) and (d) only
- (E) Question not attempted

35. Given below are two statements : one is labelled as **Assertion A** and the other is labelled as **Reason R**.

Assertion A :

Kajli Teej is celebrated in Bundi on Bhadrapad Krishna Tiritiya.

Reason R :

The joyful procession of Teej in decorated palanquins starts from the picturesque Gangaur Ghat of Pichola Lake and ends up after boating and display of fireworks.

In the light of the above statements, choose the **most appropriate** answer from the options given below :

- (A) A is correct but R is not correct.
- (B) A is not correct but R is correct.
- (C) Both A and R are correct and R is the correct explanation of A.
- (D) Both A and R are correct but R is NOT the correct explanation of A.
- (E) Question not attempted

36. कीर्ति स्तम्भ के बारे में निम्नलिखित कथनों पर विचार करें :

- (a) कीर्ति स्तम्भ जैन तीर्थंकर को समर्पित है।
- (b) यह 13वीं सदी में निर्मित किया गया था।
- (c) यह 24.5 मीटर ऊँचा स्तम्भ है।
- (d) यह इस्लामी वास्तुकला शैली में निर्मित है।
- (e) यह विजय स्तम्भ के लगभग 150 वर्षों बाद निर्मित किया गया था।

नीचे दिए गए विकल्पों में से सबसे उपयुक्त उत्तर चुनें :

- (A) केवल (c), (d) और (e)
- (B) केवल (b), (d) और (e)
- ☒ (C) केवल (a), (b) और (c)
- (D) केवल (b), (c) और (d)
- (E) अनुत्तरित प्रश्न

37. नीचे दो कथन दिए गए हैं : एक, अभिकथन A (Assertion A) के रूप में लिखित है तो दूसरा उसके कारण R (Reason R) के रूप में।

अभिकथन A :

घर-घर औषधि योजना के अंतर्गत तुलसी, अश्वगंधा, गिलोय और कालमेघ के पौधे प्रदान किए जाएंगे।

कारण R :

योजना जन प्रतिनिधियों के सहयोग से सार्वजनिक अभियान के रूप में कार्यान्वित की जाएगी।

उपरोक्त कथनों के आलोक में, नीचे दिए गए विकल्पों में से सबसे उपयुक्त उत्तर का चयन कीजिए :

- (A) A सही है लेकिन R सही नहीं है।
- (B) A सही नहीं है लेकिन R सही है।
- ☒ (C) A और R दोनों सही हैं और R, A की सही व्याख्या है।
- (D) A और R दोनों सही हैं लेकिन R, A की सही व्याख्या नहीं है।
- (E) अनुत्तरित प्रश्न

36. Consider the following statements about Kirti Stambh :

- (a) Kirti Stambh is dedicated to Jain Tirthankar.
- (b) It was built in 13th century.
- (c) It is 24.5 meter high pillar.
- (d) It is built in Islamic architectural style.
- (e) It was constructed almost 150 years late to Vijay Stambh.

Choose the **most appropriate** answer from the options given below :

- (A) (c), (d) and (e) only
- (B) (b), (d) and (e) only
- (C) (a), (b) and (c) only
- (D) (b), (c) and (d) only
- (E) Question not attempted

37. Given below are two statements : one is labelled as **Assertion A** and the other is labelled as **Reason R**

Assertion A :

Under door to door medicine scheme plants of Tulsi, Ashwagandha, Giloy and Kalmegh will be distributed.

Reason R :

The scheme will be implemented as public campaign with cooperation of public representatives.

In the light of the above statements, choose the **most appropriate** answer from the options given below :

- (A) A is correct but R is not correct.
- (B) A is not correct but R is correct.
- (C) Both A and R are correct and R is the correct explanation of A.
- (D) Both A and R are correct but R is NOT the correct explanation of A.
- (E) Question not attempted

38. नीचे दो कथन दिए गए हैं : एक अभिकथन A (Assertion A) के रूप में लिखित है तो दूसरा उसके कारण R (Reason R) के रूप में।

अभिकथन A :

राजस्थान का मिशन बुनियाद प्राथमिकतया शिक्षण में मूलभूत और अंकगणितीय अधिगम में नवोन्मेष पर केन्द्रित है।

कारण R :

यह केवल उच्च प्राथमिक कक्षाओं के लिए ही शुरू किया गया था।

उपरोक्त कथनों के आलोक में, नीचे दिए गए विकल्पों में से सबसे उपयुक्त उत्तर का चयन कीजिए :

(A) A सही है लेकिन R सही नहीं है।

(B) A सही नहीं है लेकिन R सही है।

✓ (C) A और R दोनों सही हैं और R, A की सही व्याख्या है।

(D) A और R दोनों सही हैं लेकिन R, A की सही व्याख्या नहीं है।

(E) अनुत्तरित प्रश्न

39. नीचे दो कथन दिए गए हैं : एक अभिकथन A (Assertion A) के रूप में लिखित है तो दूसरा उसके कारण R (Reason R) के रूप में।

अभिकथन A :

सौर कृषि आजीविका योजना पोर्टल राजस्थान के ऊर्जा मंत्री द्वारा 17 अक्टूबर 2022 में शुरू किया गया था।

कारण R :

इसका उद्देश्य सौर विद्युत संयंत्रों का विकेन्द्रीकरण करना था।

उपरोक्त कथनों के आलोक में, नीचे दिए गए विकल्पों में से सबसे उपयुक्त उत्तर का चयन कीजिए :

(A) A सही है लेकिन R सही नहीं है।

(B) A सही नहीं है लेकिन R सही है।

✓ (C) A और R दोनों सही हैं और R, A की सही व्याख्या है।

(D) A और R दोनों सही हैं लेकिन R, A की सही व्याख्या नहीं है।

(E) अनुत्तरित प्रश्न

38. Given below are two statements : one is labelled as Assertion A and the other is labelled as Reason R.

Assertion A :

Rajasthan's Mission Buniyad focuses primarily on innovation in foundational and numeracy learning in teaching.

Reason R :

It was launched for the upper primary classes only.

In the light of the above statements, choose the most appropriate answer from the options given below :

(A) A is correct but R is not correct.

(B) A is not correct but R is correct.

(C) Both A and R are correct and R is the correct explanation of A.

(D) Both A and R are correct but R is NOT the correct explanation of A.

(E) Question not attempted

39. Given below are two statements : one is labelled as Assertion A and the other is labelled as Reason R

Assertion A :

Solar Agriculture livelihood scheme portal was launched on 17 Oct 2022 by Energy minister of Rajasthan.

Reason R :

The objective was to decentralize solar power plants.

In the light of the above statements, choose the most appropriate answer from the options given below :

(A) A is correct but R is not correct.

(B) A is not correct but R is correct.

(C) Both A and R are correct and R is the correct explanation of A.

(D) Both A and R are correct but R is NOT the correct explanation of A.

(E) Question not attempted

40. राजस्थान में ऊँट संरक्षण योजना :
- 2022-23 बजट में शुरूआत।
 - प्रधानमंत्री मोदी द्वारा इसकी घोषणा की गई थी।
 - नवजात ऊँट/टोलडे के जन्म पर 10,000 रूपए प्रति नवजात ऊँट/टोलडा प्रोत्साहन राशि प्रदान की जाएगी।
 - प्रोत्साहन राशि दो किशतों में प्रदान की जाएगी।
 - प्रत्येक किशत नकद प्रदान की जाएगी।
- नीचे दिए गए विकल्पों में से सबसे उपयुक्त उत्तर चुनें :

- केवल (a), (c), (d) और (e)
- केवल (a), (c) और (d)
- केवल (a), (b) और (c)
- केवल (b), (c) और (d)
- अनुत्तरित प्रश्न

41. बांसवाड़ा में माही बांध किसके किनारे स्थित है?

- सांभर नदी
- गंगा नदी
- माही नदी
- लूणी नदी
- अनुत्तरित प्रश्न

42. राजस्थान के निम्नलिखित जिलों को जनसंख्या के अनुसार अवरोही क्रम में व्यवस्थित करें (जनगणना 2011 के अनुसार) :

- अलवर
- बाड़मेर
- बूंदी
- बीकानेर

नीचे दिए गए विकल्पों में से सबसे उपयुक्त उत्तर चुनें :

- (b), (a), (d), (c)
- (b), (a), (c), (d)
- (a), (b), (d), (c)
- (a), (b), (c), (d)
- अनुत्तरित प्रश्न

40. Camel conservation scheme in Rajasthan :
- Launched in 2022-23 budget.
 - It was announced by Prime Minister Modi.
 - Incentive of Rs. 10,000 /- each will be provided at the birth of calf.
 - Incentives will be provided in two installments.
 - Each installment will be given in cash.
- Choose the **most appropriate** answer from the options given below :

- (a), (c), (d) and (e) only
- (a), (c) and (d) only
- (a), (b) and (c) only
- (b), (c) and (d) only
- Question not attempted

41. Mahi dam in Banswara is situated on the bank of :

- Sambhar River
- Ganga River
- Mahi River
- Luni River
- Question not attempted

42. Arrange the following districts of Rajasthan according to population in descending order (As per census 2011) :

- Alwar
- Barmer
- Bundi
- Bikaner

Choose the **most appropriate** answer from the options given below :

- (b), (a), (d), (c)
- (b), (a), (c), (d)
- (a), (b), (d), (c)
- (a), (b), (c), (d)
- Question not attempted

43. नीचे दो कथन दिए गए हैं : एक अभिकथन A (Assertion A) के रूप में लिखित है तो दूसरा उसके कारण R (Reason R) के रूप में।

अभिकथन A :

महाराजा सूरजमल को जाटों का प्लेटों/जाट यूलीसैस कहा जाता है।

कारण R :

उन्होंने खेमकरण को पराजित करके भरतपुर दुर्ग कब्जा किया तथा भरतपुर की नींव रखी।

उपरोक्त कथनों के आलोक में, नीचे दिए गए विकल्पों में से सबसे उपयुक्त उत्तर का चयन कीजिए :

- (A) A सही है लेकिन R सही नहीं है।
(B) A सही नहीं है लेकिन R सही है।
(C) A और R दोनों सही हैं और R, A की सही व्याख्या है।
(D) A और R दोनों सही हैं लेकिन R, A की सही व्याख्या नहीं है।
(E) अनुत्तरित प्रश्न

44. राजस्थान का कौनसा मेला “आदिवासियों का कुम्भ” कहा जाता है ?

- (A) कपिल मुनि मेला (B) भर्तृहरि मेला
(C) गलियाकोट उर्स (D) बेणेश्वर मेला
(E) अनुत्तरित प्रश्न

45. सूची I को सूची II से सुमेलित करें :

सूची I	सूची II
(a) कान्हड़ - दे - प्रबंध	(i) चंद बरदाई
(b) गंगा लहरी	(ii) पद्मनाभ
(c) पृथ्वीराज रासो	(iii) पृथ्वीराज राठौड़
(d) वीसलदेव रासो	(iv) नरपति नाल्ह

नीचे दिए गए विकल्पों में से सबसे उपयुक्त उत्तर चुनें :

- (A) (a)-(iii), (b)-(iv), (c)-(i), (d)-(ii)
(B) (a)-(ii), (b)-(iii), (c)-(i), (d)-(iv)
(C) (a)-(ii), (b)-(i), (c)-(iv), (d)-(iii)
(D) (a)-(iv), (b)-(i), (c)-(iii), (d)-(ii)
(E) अनुत्तरित प्रश्न

43. Given below are two statements : one is labelled as Assertion A and the other is labelled as Reason R

Assertion A :

Maharaja Suraj Mal is called as Plato of Jat/Jat Ulysses.

Reason R :

He captured the fort of Bharatpur by vanquishing Khemkaran and laid the foundation for Bharatpur.

In the light of the above statements, choose the **most appropriate** answer from the options given below :

- (A) A is correct but R is not correct.
(B) A is not correct but R is correct.
(C) Both A and R are correct and R is the correct explanation of A.
(D) Both A and R are correct but R is NOT the correct explanation of A.
(E) Question not attempted

44. Which fair of Rajasthan is called the ‘Kumbh of Tribals’ ?

- (A) Kapil Muni Fair (B) Bhartrhari Fair
(C) Galiyakot Urs (D) Beneshwar Fair
(E) Question not attempted

45. Match List I with List II :

List I	List II
(a) Kanhad-de-Prabandha	(i) Chand Bardai
(b) Ganga Lahari	(ii) Padmanabh
(c) Prithviraj Raso	(iii) Prithivi Raj Rathore
(d) Bisaldev Raso	(iv) Narpati Nalha

Choose the **most appropriate** answer from the options given below :

- (A) (a)-(iii), (b)-(iv), (c)-(i), (d)-(ii)
(B) (a)-(ii), (b)-(iii), (c)-(i), (d)-(iv)
(C) (a)-(ii), (b)-(i), (c)-(iv), (d)-(iii)
(D) (a)-(iv), (b)-(i), (c)-(iii), (d)-(ii)
(E) Question not attempted

46. स्कूल विकास योजना (SDP) के संदर्भ में निम्न में से क्या सही है ?

- (a) एसडीपी, स्कूल के सभी पहलुओं पर अभिकेन्द्रित एक समग्र योजना के रूप में परिकल्पित किया गया है।
- (b) आरटीई एक्ट - 2009 इस संबंध में एक्ट की धारा 22 के अंतर्गत उपबंध प्रदान करता है।
- (c) यह बाल अधिकारों के संरक्षण, अवसंरचना और शिक्षक उपलब्धता आदि पर अभिकेन्द्रित है।
- (d) एसडीपी उसी स्कूल के अध्यापकों द्वारा तैयार किया जाता है।

नीचे दिए गए विकल्पों में से सबसे उपयुक्त उत्तर चुनें :

- (A) केवल (b), (c), (d) ✓ (B) केवल (a), (c), (d)
- (C) केवल (a), (b), (d) (D) केवल (a), (b), (c)
- (E) अनुत्तरित प्रश्न

47. नीचे दो कथन दिए गए हैं : एक अभिकथन A (Assertion A) के रूप में लिखित है तो दूसरा उसके कारण R (Reason R) के रूप में।

अभिकथन A :

गुर्जरी से राजस्थान और गुजरात की सर्वसामान्य भाषा मारु-गुर्जर विकसित हुई थी।

कारण R :

बाद में राजस्थानी और गुजराती विभेदित होना शुरू हो गई तथा पश्चात्पूर्वी शताब्दियों में विशिष्ट राजस्थानी भाषा (मारु-भाषा) (डिंगल) विकसित हुई।

उपरोक्त कथनों के आलोक में, नीचे दिए गए विकल्पों में से सबसे उपयुक्त उत्तर का चयन कीजिए :

- (A) A सही है लेकिन R सही नहीं है।
- (B) A सही नहीं है लेकिन R सही है।
- ✓ (C) A और R दोनों सही हैं और R, A की सही व्याख्या है।
- (D) A और R दोनों सही हैं लेकिन R, A की सही व्याख्या नहीं है।
- (E) अनुत्तरित प्रश्न

46. Which of the following are correct about School Development Plan (SDP) ?

- (a) The SDP is a comprehensive plan focusing on all aspects of school.
- (b) RTE Act-2009 provides provision in regard under section 22 of the act.
- (c) It focuses on protection of children's rights, infrastructure and teacher availability etc.
- (d) SDP is prepared by the teachers of school.

Choose the **most appropriate** answer from options given below :

- (A) (b), (c), (d) only (B) (a), (c), (d) only
- (C) (a), (b), (d) only (D) (a), (b), (c) only
- (E) Question not attempted

47. Given below are two statements : one labelled as **Assertion A** and the other labelled as **Reason R**.

Assertion A :

From Gurjari developed Maru-Gurjar, is a common language of Rajasthan and Gujarat.

Reason R :

Later on Rajasthani and Gujarati started to differentiate and in subsequent centuries distinct Rajasthani language (Maru-Bhasi) (Dingal) developed.

In the light of the above statements, choose the **most appropriate** answer from the options given below :

- (A) A is correct but R is not correct.
- (B) A is not correct but R is correct.
- (C) Both A and R are correct and R is a correct explanation of A.
- (D) Both A and R are correct but R is not the correct explanation of A.
- (E) Question not attempted

48. एनईपी-2020 के अनुसार नवीन स्कूल संरचना के चरणों को व्यवस्थित करें :

- (a) तैयारी/शुरुआती चरण
- (b) माध्यमिक चरण
- (c) मध्यम चरण
- (d) आधारभूत चरण

नीचे दिए गए विकल्पों में से सबसे उपयुक्त उत्तर चुनें :

- (A) (a), (d), (b), (c) (B) (a), (d), (c), (b)
- (C) (d), (a), (c), (b) (D) (d), (c), (a), (b)
- (E) अनुत्तरित प्रश्न

49. निम्न में से कौन राजस्थान इंदिरा प्रियदर्शिनी पुरस्कार योजना के संदर्भ में सही हैं ?

- (a) योजना केवल 'आर बी एस ई' की छात्राओं के लिए है।
- (b) कक्षा 8, 10 और 12 के जिला टॉपर इस योजना के लिए पात्र हैं।
- (c) यह राजस्थान में कन्या शिक्षा को बढ़ावा देती है।
- (d) इस योजना के अंतर्गत कक्षा 12 के जिला टॉपर को 20,000 रुपये मिलते हैं।

नीचे दिए गए विकल्पों में से सबसे उपयुक्त उत्तर चुनें :

- (A) केवल (b), (c), (d) (B) केवल (a), (c), (d)
- (C) केवल (a), (b), (d) (D) केवल (a), (b), (c)
- (E) अनुत्तरित प्रश्न

50. सूची I को सूची II से सुमेलित करें :

सूची I (झील)	सूची II (शहर)
(a) राजसमंद झील	(i) अजमेर
(b) पिछोला झील	(ii) उदयपुर
(c) आनासागर झील	(iii) कांकरोली
(d) सिलिसेढ़ झील	(iv) अलवर

नीचे दिए गए विकल्पों में से सबसे उपयुक्त उत्तर चुनें :

- (A) (a)-(i), (b)-(ii), (c)-(iii), (d)-(iv)
- (B) (a)-(iv), (b)-(iii), (c)-(ii), (d)-(i)
- (C) (a)-(iii), (b)-(ii), (c)-(iv), (d)-(i)
- (D) (a)-(iii), (b)-(ii), (c)-(i), (d)-(iv)
- (E) अनुत्तरित प्रश्न

48. Arrange the stages of new school structure as per the NEP-2020 :

- (a) Preparatory stage
- (b) Secondary stage
- (c) Middle stage
- (d) Foundational stage

Choose the **most appropriate** answer from the options given below :

- (A) (a), (d), (b), (c) (B) (a), (d), (c), (b)
- (C) (d), (a), (c), (b) (D) (d), (c), (a), (b)
- (E) Question not attempted

49. Which of the following are correct about Rajasthan's Indira Priyadarshini Puraskar Yojana ?

- (a) This yojana is only for girl students of RBSE.
- (b) District toppers of class 8, 10 and 12 are eligible for this scheme.
- (c) It encourages girl's education in Rajasthan.
- (d) Under this scheme the district topper of class 12th gets Rs. 20 thousand.

Choose the **most appropriate** answer from the options given below :

- (A) (b), (c), (d) only (B) (a), (c), (d) only
- (C) (a), (b), (d) only (D) (a), (b), (c) only
- (E) Question not attempted

50. Match List I with List II :

List I (Lake)	List II (City)
(a) Rajsamand lake	(i) Ajmer
(b) Pichola lake	(ii) Udaipur
(c) Annasagar lake	(iii) Kankroli
(d) Silised lake	(iv) Alwar

Choose the **most appropriate** answer from the options given below :

- (A) (a)-(i), (b)-(ii), (c)-(iii), (d)-(iv)
- (B) (a)-(iv), (b)-(iii), (c)-(ii), (d)-(i)
- (C) (a)-(iii), (b)-(ii), (c)-(iv), (d)-(i)
- (D) (a)-(iii), (b)-(ii), (c)-(i), (d)-(iv)
- (E) Question not attempted

51. नीचे दो कथन दिए गए हैं : एक अभिकथन A (Assertion A) के रूप में लिखित है तो दूसरा उसके कारण R (Reason R) के रूप में।

अभिकथन A :

राजस्थान सरकार ने अरावली हरित विकास परियोजना शुरू की है।

कारण R :

प्रथम वर्ष में इसका जोर वृक्षारोपण पर है। यह अरावली हरित दीवार परियोजना से संरेखित है।

उपरोक्त कथनों के आलोक में, नीचे दिए गए विकल्पों में से सबसे उपयुक्त उत्तर का चयन कीजिए :

- (A) A सही है लेकिन R सही नहीं है।
(B) A सही नहीं है लेकिन R सही है।
(C) A और R दोनों सही हैं और R, A की सही व्याख्या है।
(D) A और R दोनों सही हैं लेकिन R, A की सही व्याख्या नहीं है।
(E) अनुत्तरित प्रश्न

52. हिन्दुओं के द्वारा किनको श्रीकृष्ण के अवतार और मुस्लिमों के द्वारा रामसा-पीर के रूप में पूजा जाता है ?

- (A) गोगाजी (B) रामदेवजी
(C) मल्लीनाथ जी (D) देवनारायण जी
(E) अनुत्तरित प्रश्न

53. राजस्थान में 1857 की क्रांति को कालक्रम में व्यवस्थित करें :

- (a) कोटा में क्रांति
(b) नसीराबाद में क्रांति
(c) एरिनपुर में क्रांति
(d) नीमच में क्रांति

नीचे दिए गए विकल्पों में से सबसे उपयुक्त उत्तर चुनें :

- (A) (b), (d), (c), (a) (B) (c), (b), (a), (d)
(C) (c), (d), (a), (b) (D) (b), (a), (c), (d)
(E) अनुत्तरित प्रश्न

51. Given below are two statements : one labelled as Assertion A and the other labelled as Reason R.

Assertion A :

Rajasthan government launched Aravali Green Development project.

Reason R :

First year focused on plantation. It is aligned with the Aravali Green wall project.

In the light of the above statements, choose the most appropriate answer from the options given below :

- (A) A is correct but R is not correct.
(B) A is not correct but R is correct.
(C) Both A and R are correct and R is a correct explanation of A.
(D) Both A and R are correct but R is not the correct explanation of A.
(E) Question not attempted

52. Who is worshipped by Hindus as an incarnation of Shri Krishna and by Muslims as Ramsa-Pir ?

- (A) Gogaji (B) Ramdevji
(C) Mallinathji (D) Devnarayanji
(E) Question not attempted

53. Arrange the revolt of 1857 in Rajasthan in chronological order :

- (a) Revolt at Kota
(b) Revolt at Naseerabad
(c) Revolt at Erinpura
(d) Revolt at Neemach

Choose the most appropriate answer from the options given below :

- (A) (b), (d), (c), (a) (B) (c), (b), (a), (d)
(C) (c), (d), (a), (b) (D) (b), (a), (c), (d)
(E) Question not attempted

54. पुरन्दर की संधि पर किस वर्ष हस्ताक्षर हुए थे ?

- (A) 1695 AD (B) 1756 AD
(C) 1665 AD (D) 1668 AD
(E) अनुत्तरित प्रश्न

55. नीचे दो कथन दिए गए हैं : एक अभिकथन A (Assertion A) के रूप में लिखित है तो दूसरा उसके कारण R (Reason R) के रूप में।

अभिकथन A :

शुष्क वन उन क्षेत्रों में पाये जाते हैं, जहाँ औसत वर्षा 50-100 सेमी रहती है।

कारण R :

यहाँ पाये जाने वाले पेड़ अबोनी (आबनूस) और जंगली आम हैं।

उपरोक्त कथनों के आलोक में, नीचे दिए गए विकल्पों में से सबसे उपयुक्त उत्तर का चयन कीजिए :

- (A) A सही है लेकिन R सही नहीं है।
(B) A सही नहीं है लेकिन R सही है।
(C) A और R दोनों सही हैं और R, A की सही व्याख्या है।
(D) A और R दोनों सही हैं लेकिन R, A की सही व्याख्या नहीं है।
(E) अनुत्तरित प्रश्न

56. निम्नलिखित जिलों को (जनगणना 2011 के अनुसार) साक्षरता दर के आरोही क्रम में व्यवस्थित करें :

- (a) राजसमंद
(b) पाली
(c) नागौर
(d) कोटा

नीचे दिए गए विकल्पों में से सबसे उपयुक्त उत्तर चुनें :

- (A) (d), (c), (b), (a) (B) (b), (c), (a), (d)
(C) (a), (b), (c), (d) (D) (c), (b), (a), (d)
(E) अनुत्तरित प्रश्न

54. In which year treaty of Purandar was signed ?

- (A) 1695 AD (B) 1756 AD
(C) 1665 AD (D) 1668 AD
(E) Question not attempted

55. Given below are two statements : one is labelled as Assertion A and the other is labelled as Reason R.

Assertion A :

Arid forest are found in areas where the average rainfall remains 50-100 cm.

Reason R :

The trees found here are Aboni and wild mango.

In the light of the above statements, choose the most appropriate answer from the options given below :

- (A) A is correct but R is not correct.
(B) A is not correct but R is correct.
(C) Both A and R are correct and R is the correct explanation of A.
(D) Both A and R are correct but R is NOT the correct explanation of A.
(E) Question not attempted

56. Arrange the following districts in ascending order of literacy rate (according to census 2011) :

- (a) Rajsamand
(b) Pali
(c) Nagaur
(d) Kota

Choose the most appropriate answer from the options given below :

- (A) (d), (c), (b), (a) (B) (b), (c), (a), (d)
(C) (a), (b), (c), (d) (D) (c), (b), (a), (d)
(E) Question not attempted

57. एन सी एफ का पूरा नाम क्या है ?

- (A) राष्ट्रीय कक्षा-कक्ष रूपरेखा
- (B) राष्ट्रीय सृजनात्मकता रूपरेखा
- ✓ (C) राष्ट्रीय पाठ्यचर्या रूपरेखा
- (D) राष्ट्रीय सांस्कृतिक रूपरेखा
- (E) अनुत्तरित प्रश्न

58. राजस्थानी साहित्य की निम्नलिखित रचनाओं को कालक्रमानुसार व्यवस्थित करें :

- (a) वंश भास्कर
- (b) बुद्धि रासो
- (c) ढोला मारू रा दोहा
- (d) बिनहाई रासो

नीचे दिए गए विकल्पों में से सबसे उपयुक्त उत्तर चुनें :

- ✓ (A) (d), (b), (c), (a) (B) (d), (c), (a), (b)
- (C) (b), (a), (d), (c) (D) (c), (b), (d), (a)
- (E) अनुत्तरित प्रश्न

59. पैरा ओलम्पिक टोक्यो, 2020 में राजस्थान के निम्नलिखित खिलाड़ियों ने पदक जीते :-

- (a) सुरेन्द्र सिंह गुर्जर
- (b) अवनी लेखरा
- (c) देवेन्द्र झाझड़िया
- (d) राज्यवर्धन सिंह राठौड़

नीचे दिए गए विकल्पों में से सबसे उपयुक्त उत्तर चुनें :

- (A) केवल (c), (a) और (d)
- (B) केवल (b), (c) और (d)
- ✓ (C) केवल (a), (b) और (c)
- (D) केवल (a), (b) और (d)
- (E) अनुत्तरित प्रश्न

57. What is the full form of NCF ?

- (A) National Class-Room Framework
- (B) National Creativity Framework
- (C) National Curriculum Framework
- (D) National Cultural Framework
- (E) Question not attempted

58. Arrange the following works of Rajasthan Literature in chronological order :

- (a) Vansh Bhaskar
- (b) Buddhi Raso
- (c) Dhola Maru ra Doha
- (d) Bintahi Raso

Choose the **most appropriate** answer from options given below :

- (A) (d), (b), (c), (a) (B) (d), (c), (a), (b)
- (C) (b), (a), (d), (c) (D) (c), (b), (d), (a)
- (E) Question not attempted

59. Following players of Rajasthan won medal Paralympic Tokyo, 2020 :

- (a) Surender Singh Gurjar
- (b) Avni Lekhra
- (c) Devendra Jhajharia
- (d) Rajyavardhan Singh Rathore

Choose the **most appropriate** answer from options given below :

- (A) (c), (a) and (d) Only
- (B) (b), (c) and (d) Only
- (C) (a), (b) and (c) Only
- (D) (a), (b) and (d) Only
- (E) Question not attempted

60. निम्नलिखित सामासिक शब्दों के साथ उनके समास के भेद दिए गए हैं। सही युग्म को पहचानिए।

- (a) चारपाई – द्विगु समास
- (b) पंचानन – कर्मधारय समास
- (c) जलधर – तत्पुरुष समास
- (d) आग-पानी – द्विगु समास
- (e) दशानन – बहुव्रीहि समास

नीचे दिए गए विकल्पों में से सबसे उपयुक्त उत्तर का चयन कीजिए :

- ✓ (A) (a), (c) और (e)
- (B) (b), (c) और (d)
- (C) (a), (b) और (d)
- (D) (b), (d) और (e)
- (E) अनुत्तरित प्रश्न

61. 'ढाक के तीन पात होना' मुहावरे का अर्थ है-

- (A) अनुरूप बनाना
- ✓ (B) सदा एक सा
- (C) यत्नपूर्वक रखना
- (D) ऊटपटाँग काम करना
- (E) अनुत्तरित प्रश्न

62. वर्तनी की दृष्टि से शुद्ध शब्दों का चयन कीजिए-

- (a) श्रृंगार
- (b) घनिष्ठ
- (c) उज्ज्वल
- (d) संसारिक
- (e) संन्यास

नीचे दिए गए विकल्पों में से सबसे उपयुक्त उत्तर का चयन कीजिए :

- (A) केवल (a), (c) और (d)
- ✓ (B) केवल (b), (c) और (e)
- (C) केवल (a), (b) और (d)
- (D) केवल (c), (d) और (e)
- (E) अनुत्तरित प्रश्न

63. निम्न शब्दों के सही संधि - विच्छेद को पहचानिए-

- (a) अत्याचार – अति + आचार
- (b) तथैव – तथ + एव
- (c) परीक्षा – पर + ईक्षा
- (d) प्रौढ़ – प्र + ऊढ़
- (e) गव्यम् – गो + यम्

नीचे दिए गए विकल्पों में से सबसे उपयुक्त उत्तर चुनें :

- ✓ (A) केवल (a), (d) और (e)
- (B) केवल (b), (d) और (e)
- (C) केवल (a), (b) और (c)
- (D) केवल (b), (c) और (e)
- (E) अनुत्तरित प्रश्न

64. सूची I को सूची II से सुमेलित करें-

सूची I	सूची II
(a) भाववाचक संज्ञा	(i) माधव सो रहा है।
(b) पुरुषवाचक सर्वनाम	(ii) इस मोहल्ले का बजबजाता नाला नगर-निगम की पोल खोल रहा है।
(c) अकर्मक क्रिया	(iii) छोटे बालक की मुस्कुराहट अत्यंत प्यारी है।
(d) गुणवाचक विशेषण	(iv) आप कहाँ जा रहे थे ?

नीचे दिए गए विकल्पों में से सबसे उपयुक्त उत्तर चुनें :

- (A) (a)-(ii), (b)-(i), (c)-(iv), (d)-(iii)
- (B) (a)-(iv), (b)-(iii), (c)-(i), (d)-(ii)
- (C) (a)-(iv), (b)-(i), (c)-(ii), (d)-(iii)
- ✓ (D) (a)-(iii), (b)-(iv), (c)-(i), (d)-(ii)
- (E) अनुत्तरित प्रश्न

65. Rearrange the sequence of words to form a meaningful sentence in **past tense** :

- (a) were talking
- (b) was writing
- (c) on the black-board.
- (d) when the teacher
- (e) The students

Choose the **most appropriate** answer from the options given below :

- (A) (a), (e), (b), (d), (c)
- (B) (e), (d), (c), (b), (a)
- (C) (a), (b), (c), (d), (e)
- ☒ (D) (e), (a), (d), (b), (c)
- (E) Question not attempted

66. Identify the type of sentence given below in reported speech.

Ria asked Ravi if he had bought tickets for the concert.

- (a) Statement - Assertive
- (b) Statement - Negative
- (c) Interrogative
- (d) Imperative
- (e) A universal truth.

Choose the **most appropriate** answer from the options given below :

- ☒ (A) (c) only
- (B) (d) only
- (C) (a) and (e) only
- (D) (b) only
- (E) Question not attempted

67. Match List I with List II :

List I		List II	
(a)	A piece of cake	(i)	To stop working on something
(b)	Call it a day	(ii)	Feeling slightly unwell
(c)	Once in a blue moon	(iii)	Something very easy
(d)	Under the weather	(iv)	Very rarely

Choose the **most appropriate** answer from the options given below :

- (A) (a)-(iii), (b)-(iv), (c)-(ii), (d)-(i)
- (B) (a)-(iv), (b)-(iii), (c)-(ii), (d)-(i)
- ☒ (C) (a)-(iii), (b)-(i), (c)-(iv), (d)-(ii)
- (D) (a)-(i), (b)-(ii), (c)-(iii), (d)-(iv)
- (E) Question not attempted

68. Choose the best single word that replace the statement given below :

A person who knows and uses several languages is called :

- (A) Trilingual
- ☒ (B) Polyglot
- (C) Monolingual
- (D) Bilingual
- (E) Question not attempted

69. Fill in the blank with the **most appropriate** article :

This is _____ best book of elementary physics.

- ☒ (A) The
- (B) Some
- (C) A
- (D) An
- (E) Question not attempted

70. निम्नलिखित कथनों पर विचार करें :

- (a) अकबर ने 1562 में अजमेर दौरा किया था।
- (b) तत्पश्चात् अजमेर शहर, अजमेर सूबा की राजधानी बना था।
- (c) अजमेर सूबा में सात सरकार (संभाग) थे।
- (d) इसमें 197 परगने थे।
- (e) हालांकि, इसने गुजरात, मेवाड़ और मारवाड़ के विरुद्ध साम्राज्यवादी अभियानों के आधार केन्द्र की भूमिका नहीं निभाई थी।

नीचे दिए गए विकल्पों में से सबसे उपयुक्त उत्तर चुनें :

- (A) केवल (b), (c), (d) और (e)
- ✓ (B) केवल (a), (b), (c) और (d)
- (C) केवल (a) और (b)
- (D) केवल (b), (c) और (d)
- (E) अनुत्तरित प्रश्न

71. 19 वीं सदी के दौरान ब्रिटिश ने शहरी जीवन में सुधार के प्रयास किए और नगर पालिकाओं की स्थापना की। ब्रिटिश द्वारा स्थापित नगरपालिकाओं को कालक्रमानुसार व्यवस्थित करें।

- (a) आबू
- (b) जैसलमेर
- (c) कोटा
- (d) बूंदी

नीचे दिए गए विकल्पों में से सबसे उपयुक्त उत्तर चुनें :

- (A) (a), (b), (c), (d) (B) (d), (c), (b), (a)
- ✓ (C) (a), (c), (d), (b) (D) (a), (d), (b), (c)
- (E) अनुत्तरित प्रश्न

70. Consider the following statements :

- (a) Akbar visited Ajmer in 1562.
- (b) Thereafter, Ajmer city became capital of Ajmer Subah.
- (c) Ajmer Subah contained seven Sarkar's (divisions).
- (d) It contained one hundred and ninety-seven Parganas.
- (e) However, it did not serve as the base for imperial operations against Gujarat, Mewar and Marwar.

Choose the **most appropriate** answer from the options given below :

- (A) (b), (c), (d) and (e) only
- (B) (a), (b), (c) and (d) only
- (C) (a) and (b) only
- (D) (b), (c) and (d) only
- (E) Question not attempted

71. During the 19th century British made attempts towards improvement in urban life and set up municipalities. Arrange the following municipalities set up by British chronologically :

- (a) Abu
- (b) Jaisalmer
- (c) Kota
- (d) Bundi

Choose the **most appropriate** answer from the options given below :

- (A) (a), (b), (c), (d) (B) (d), (c), (b), (a)
- (C) (a), (c), (d), (b) (D) (a), (d), (b), (c)
- (E) Question not attempted

72. नीचे दो कथन दिए गए हैं : एक अभिकथन A (Assertion A) के रूप में लिखित है तो दूसरा उसके कारण R (Reason R) के रूप में।

अभिकथन A :

एक पहिया 88 किमी. की दूरी तय करने में 1000 घूर्णन करता है।

कारण R :

ऐसे पहिए की त्रिज्या 14 मीटर होगी।

उपरोक्त कथनों के आलोक में, नीचे दिए गए विकल्पों में से सबसे उपयुक्त उत्तर का चयन कीजिए :

- (A) A सही है लेकिन R सही नहीं है।
- (B) A सही नहीं है लेकिन R सही है।
- (C) A और R दोनों सही हैं और R, A की सही व्याख्या है।
- (D) A और R दोनों सही हैं, लेकिन R, A की सही व्याख्या नहीं है।
- (E) अनुत्तरित प्रश्न

72. Given below are two statements : one labelled as Assertion A and the other labelled as Reason R.

Assertion A :

A wheel makes 1000 revolutions in covering distance of 88 km.

Reason R :

The radius of such wheel will be 14 meter.

In the light of the above statements, choose the most appropriate answer from the options given below :

- (A) A is correct but R is not correct.
- (B) A is not correct but R is correct.
- (C) Both A and R are correct and R is the correct explanation of A.
- (D) Both A and R are correct but R is NOT the correct explanation of A.
- (E) Question not attempted

73. नीचे दो कथन दिए गए हैं : एक अभिकथन A (Assertion A) के रूप में लिखित है तो दूसरा उसके कारण R (Reason R) के रूप में।

अभिकथन A :

अंकगणित की मूलभूत प्रमेय के अनुसार प्रत्येक घनात्मक पूर्णांक को अभाज्य संख्याओं के गुणनफल के रूप में अभिव्यक्त किया जा सकता है।

कारण R :

किसी संख्या को अभाज्य संख्याओं के गुणनफल के रूप में अभिव्यक्त करने की प्रक्रिया को अभाज्य गुणनखण्डीयन के रूप में नहीं निरूपित किया जा सकता है।

उपरोक्त कथनों के आलोक में, नीचे दिए गए विकल्पों में से सबसे उपयुक्त उत्तर का चयन कीजिए :

- ✓ (A) A सही है लेकिन R सही नहीं है।
- (B) A सही नहीं है लेकिन R सही है।
- (C) A और R दोनों सही हैं और R, A की सही व्याख्या है।
- (D) A और R दोनों सही हैं, लेकिन R, A की सही व्याख्या नहीं है।
- (E) अनुत्तरित प्रश्न

73. Given below are two statements : one is labelled as Assertion A and the other is labelled as Reason R.

Assertion A :

The fundamental theorem of arithmetic states that every positive integer can be expressed as the product of prime numbers.

Reason R :

The focus of expressing a number as the product of prime numbers factor cannot be trimmed as prime factorization.

In the light of the above statements, choose the most appropriate answer from the options given below :

- (A) A is correct but R is not correct.
- (B) A is not correct but R is correct.
- (C) Both A and R are correct and R is the correct explanation of A.
- (D) Both A and R are correct but R is NOT the correct explanation of A.
- (E) Question not attempted

74. नीचे दो कथन दिए गए हैं : एक अभिकथन A (Assertion A) के रूप में लिखित है तो दूसरा उसके कारण R (Reason R) के रूप में।

अभिकथन A :

जलवायु के कारण बाजरा राजस्थान की सबसे महत्वपूर्ण खाद्यान्न फसल है।

कारण R :

शुष्क और अर्द्ध-शुष्क जलवायु बाजरा उत्पादन के लिए उचित है।

उपरोक्त कथन के आलोक में, नीचे दिए गए विकल्पों में से सबसे उपयुक्त उत्तर का चयन कीजिए :

- (A) A सही है लेकिन R सही नहीं है
(B) A सही नहीं है लेकिन R सही है
(C) A और R दोनों सही हैं और R, A की सही व्याख्या है
(D) A और R दोनों सही हैं लेकिन R, A की सही व्याख्या नहीं है
(E) अनुत्तरित प्रश्न

75. नीचे दो कथन दिए गए हैं : एक अभिकथन A (Assertion A) के रूप में लिखित है तो दूसरा उसके कारण R (Reason R) के रूप में।

अभिकथन A :

कोलॉइड ऐसे मिश्रण हैं जिनमें कण आमाप इतना छोटा होता है कि नग्न आँखों से नहीं देखा जा सकता है, लेकिन प्रकाश के प्रकीर्णन के लिए पर्याप्त बड़ा होता है।

कारण R :

कोलॉइड समांगी मिश्रण है।

उपरोक्त कथनों के आलोक में, नीचे दिए गए विकल्पों में से सबसे उपयुक्त उत्तर का चयन कीजिए :

- (A) A सही है लेकिन R सही नहीं है।
(B) A सही नहीं है लेकिन R सही है।
(C) A और R दोनों सही हैं और R, A की सही व्याख्या है।
(D) A और R दोनों सही हैं, लेकिन R, A की सही व्याख्या नहीं है।
(E) अनुत्तरित प्रश्न

74. Given below are two statements : one is labelled as **Assertion A** and the other is labelled as **Reason R**

Assertion A :

Bajra is the most important cereal crop of Rajasthan because of climate.

Reason R :

Arid and Semi-Arid climate is suitable for the production of Bajra.

In the light of the above statements, choose the **most appropriate** answer from the options given below :

- (A) A is correct but R is not correct.
(B) A is not correct but R is correct.
(C) Both A and R are correct and R is the correct explanation of A.
(D) Both A and R are correct but R is NOT the correct explanation of A.
(E) Question not attempted

75. Given below are two statements : one is labelled as **Assertion A** and the other is labelled as **Reason R**.

Assertion A :

Colloids are mixtures in which the particles size is too small to be seen with naked eye, but is big enough in scatter light.

Reason R :

Colloids are Homogeneous mixtures.

In the light of the above statements, choose the **most appropriate** answer from the options given below :

- (A) A is correct but R is not correct.
(B) A is not correct but R is correct.
(C) Both A and R are correct and R is the correct explanation of A.
(D) Both A and R are correct but R is NOT the correct explanation of A.
(E) Question not attempted

76. सूची I को सूची II से सुमेलित करें :

सूची I (लवण)	सूची II (रासायनिक सूत्र)
(a) ब्लिचिंग पाउडर (विरंजक चूर्ण)	(i) $\text{Ca}(\text{ClO})_2$
(b) बेकिंग सोडा	(ii) NaHCO_3
(c) धावन सोडा (वाशिंग सोडा)	(iii) $\text{Na}_2\text{CO}_3 \cdot 10\text{H}_2\text{O}$
(d) प्लास्टर ऑफ पेरिस	(iv) $\text{CaSO}_4 \cdot \frac{1}{2} \text{H}_2\text{O}$

नीचे दिए गए विकल्पों में से सबसे उपयुक्त उत्तर चुनें :

- (A) (a)-(iv), (b)-(iii), (c)-(ii), (d)-(i)
 ✓ (B) (a)-(i), (b)-(ii), (c)-(iii), (d)-(iv)
 (C) (a)-(iv), (b)-(iii), (c)-(i), (d)-(ii)
 (D) (a)-(iv), (b)-(i), (c)-(ii), (d)-(iii)
 (E) अनुत्तरित प्रश्न

77. दो संख्याओं का लघुत्तम समापवर्त्य 495 और महत्तम समापवर्तक 5 है। यदि संख्याओं का योग 100 है, तब उनका अंतर होगा :

- ✓ (a) 10
 (b) 20
 (c) 30
 (d) 40

नीचे दिए गए विकल्पों में से सबसे उपयुक्त उत्तर चुनें :

- (A) केवल (b) (B) केवल (a)
 (C) केवल (d) (D) केवल (c)
 (E) अनुत्तरित प्रश्न

78. 18000 रूपए की धनराशि पर 2 वर्षों में उपचयित चक्रवृद्धि व्याज और साधारण व्याज के बीच अंतर 405 रूपए है। प्रति वर्ष व्याज दर क्या है ?

- (A) 24% (B) 25%
 (C) 14% ✓ (D) 15%
 (E) अनुत्तरित प्रश्न

76. Match List I with List II :

List I (Salt)	List II (Chemical formula)
(a) Bleaching Powder	(i) $\text{Ca}(\text{ClO})_2$
(b) Baking Soda	(ii) NaHCO_3
(c) Washing Soda	(iii) $\text{Na}_2\text{CO}_3 \cdot 10\text{H}_2\text{O}$
(d) Plaster of Paris	(iv) $\text{CaSO}_4 \cdot \frac{1}{2} \text{H}_2\text{O}$

Choose the **most appropriate** answer from the options given below :

- (A) (a)-(iv), (b)-(iii), (c)-(ii), (d)-(i)
 (B) (a)-(i), (b)-(ii), (c)-(iii), (d)-(iv)
 (C) (a)-(iv), (b)-(iii), (c)-(i), (d)-(ii)
 (D) (a)-(iv), (b)-(i), (c)-(ii), (d)-(iii)
 (E) Question not attempted

77. The LCM of two numbers is 495 and their HCF is 5. If the sum of numbers is 100, then their difference between them will be :

- (a) 10
 (b) 20
 (c) 30
 (d) 40

Choose the **most appropriate** answer from the options given below :

- (A) (b) only (B) (a) only
 (C) (d) only (D) (c) only
 (E) Question not attempted

78. The difference between compound interest and simple interest accrued on amount of Rs. 18000 in 2 years is Rs. 405. What is the rate of interest per annum ?

- (A) 24% (B) 25%
 (C) 14% (D) 15%
 (E) Question not attempted

79. फेफड़ों में मार्ग/पथ (पासेज) छोटी/लघुतम नलिकाओं में बँट जाता है, जो गुब्बारे जैसी संरचनाओं में समाप्त होता है, जिन्हें निम्नलिखित में से क्या कहा जाता है ?

- (A) श्वसनी / ब्रॉन्कस
(B) कूविका / एल्विओल
(C) डायाफ्राम / पट
(D) फुफुसावरणी झिल्ली
(E) अनुत्तरित प्रश्न

80. एक सजीव के शरीर के संगठन को पदानुक्रम में इस प्रकार व्यवस्थित किया जा सकता है-

- (a) कोशिकाएँ (b) ऊतक
(c) अंग तंत्र (d) अंग

नीचे दिए गए विकल्पों में से सबसे उपयुक्त उत्तर का चयन कीजिए :

- (A) (a), (d), (c), (b) (B) (a), (c), (d), (b)
(C) (a), (b), (c), (d) (D) (a), (b), (d), (c)
(E) अनुत्तरित प्रश्न

81. सूची I को सूची II से सुमेलित करें :

सूची I (आकृति)	सूची II (आयतन)
(a) घनाम	(i) लंबाई × चौड़ाई × ऊँचाई
(b) शंकु	(ii) $\pi \times (\text{त्रिज्या})^2 \times \text{ऊँचाई}$
(c) बेलन	(iii) $\frac{1}{3} \pi \times (\text{त्रिज्या})^2 \times \text{ऊँचाई}$
(d) गोला	(iv) $\frac{4}{3} \pi \times (\text{त्रिज्या})^3$

नीचे दिए गए विकल्पों में से सबसे उपयुक्त उत्तर चुनें :

- (A) (a)-(i), (b)-(iii), (c)-(ii), (d)-(iv)
(B) (a)-(i), (b)-(ii), (c)-(iii), (d)-(iv)
(C) (a)-(i), (b)-(iii), (c)-(iv), (d)-(ii)
(D) (a)-(i), (b)-(iv), (c)-(iii), (d)-(ii)
(E) अनुत्तरित प्रश्न

79. Within lungs the passage divides into small tubes which terminate in balloon like structures termed as :

- (A) Bronchi
(B) Alveoli
(C) Diaphragm
(D) Pleural membrane
(E) Question not attempted

80. The Hierarchy in the organization of the body of a living organism can be arranged as :

- (a) Cells (b) Tissues
(c) Organ system (d) Organs

Choose the **most appropriate** answer from the options given below :

- (A) (a), (d), (c), (b) (B) (a), (c), (d), (b)
(C) (a), (b), (c), (d) (D) (a), (b), (d), (c)
(E) Question not attempted

81. Match List I with List II :

List I (Shape)	List II (Volume)
(a) Cuboid	(i) Length × Breadth × Height
(b) Cone	(ii) $\pi \times (\text{Radius})^2 \times \text{Height}$
(c) Cylinder	(iii) $\frac{1}{3} \pi \times (\text{Radius})^2 \times \text{Height}$
(d) Sphere	(iv) $\frac{4}{3} \pi \times (\text{Radius})^3$

Choose the **most appropriate** answer from the options given below :

- (A) (a)-(i), (b)-(iii), (c)-(ii), (d)-(iv)
(B) (a)-(i), (b)-(ii), (c)-(iii), (d)-(iv)
(C) (a)-(i), (b)-(iii), (c)-(iv), (d)-(ii)
(D) (a)-(i), (b)-(iv), (c)-(iii), (d)-(ii)
(E) Question not attempted

82. नीचे दो कथन दिए गए हैं : एक अभिकथन A (Assertion A) के रूप में लिखित है तो दूसरा उसके कारण R (Reason R) के रूप में।

अभिकथन A :

उच्चतम न्यायालय और उच्च न्यायालय के न्यायाधीशों को हटाया जाना बहुत कठिन है।

कारण R :

उच्चतम न्यायालय और उच्च न्यायालय के किसी न्यायाधीश को केवल सिद्ध कदाचार और अक्षमता के आधार पर ही हटाया जा सकता है।

उपरोक्त कथनों के आलोक में, नीचे दिए गए विकल्पों में से सबसे उपयुक्त उत्तर का चयन कीजिए :

(A) A सही है लेकिन R सही नहीं है।

(B) A सही नहीं है लेकिन R सही है।

✓ (C) A और R दोनों सही हैं और R, A की सही व्याख्या है।

(D) A और R दोनों सही हैं लेकिन R, A की सही व्याख्या नहीं है।

(E) अनुत्तरित प्रश्न

83. राजस्थान के दक्षिणी और दक्षिण-पूर्व भागों में सागौन वन स्थित हैं। सबसे अधिक सागौन वन क्षेत्र वाला वन संभाग है :

(A) उदयपुर

(B) बारां

✓ (C) बांसवाड़ा

(D) चित्तौड़गढ़

(E) अनुत्तरित प्रश्न

84. रूडोल्फ विर्चो ने सबसे पहले इस वर्ष में समझाया था कि कोशिकाएँ विभाजन करती हैं और नई कोशिकाएँ पूर्व-विद्यमान कोशिकाओं से बनती हैं-

(a) 1855

(b) 1858

(c) 1859

(d) 1860

नीचे दिए गए विकल्पों में से सबसे उपयुक्त उत्तर का चयन कीजिए :

✓ (A) केवल (c)

(B) केवल (d)

(C) केवल (a)

(D) केवल (b)

(E) अनुत्तरित प्रश्न

82. Given below are two statements : one is labelled as Assertion A and the other is labelled as Reason R

Assertion A :

The removal of judges of Supreme Court and High Court is extremely difficult.

Reason R :

A judge of Supreme Court and High Court can be removed only on the ground of proven misbehavior or incapacity.

In the light of the above statements, choose the most appropriate answer from the options given below :

(A) A is correct but R is not correct.

(B) A is not correct but R is correct.

(C) Both A and R are correct and R is the correct explanation of A.

(D) Both A and R are correct but R is NOT the correct explanation of A.

(E) Question not attempted

83. Teak forests are located in the southern and south-eastern parts of Rajasthan. The forest division having the maximum teak forest is :

(A) Udaipur

(B) Baran

(C) Banswara

(D) Chittorgarh

(E) Question not attempted

84. The Rudolf Virchow first explained that cells divide and new cells are formed from pre-existing cells in year _____ :

(a) 1855

(b) 1858

(c) 1859

(d) 1860

Choose the most appropriate answer from the options given below :

(A) (c) only

(B) (d) only

(C) (a) only

(D) (b) only

(E) Question not attempted

85. सूची I को सूची II से सुमेलित करें :

सूची I		सूची II	
(a)	श्रवण कौशल	(i)	भावों और विचारों को लिखित भाषा के माध्यम से पढ़कर समझना
(b)	वाचन कौशल	(ii)	भावों एवं विचारों की कलात्मक अभिव्यक्ति
(c)	लेखन कौशल	(iii)	मौखिक भाषा सुनकर उसके अर्थ एवं भाव समझना
(d)	पठन कौशल	(iv)	भावानुसार स्वर के उचित आरोह-अवरोह के साथ पढ़ना

नीचे दिए गए विकल्पों में से सबसे उपयुक्त उत्तर चुनें :

- (A) (a)-(iii), (b)-(ii), (c)-(i), (d)-(iv)
 (B) (a)-(iv), (b)-(iii), (c)-(ii), (d)-(i)
 (C) (a)-(ii), (b)-(iii), (c)-(i), (d)-(iv)
☒ (D) (a)-(iii), (b)-(iv), (c)-(ii), (d)-(i)
 (E) अनुत्तरित प्रश्न

86. निम्नलिखित विधियों में से कौन सी विधि हिन्दी-भाषा कौशल की शिक्षण विधि नहीं है?

- (A) आगमन निगमन विधि
 (B) संवाद विधि
 (C) अनुकरण विधि
☒ (D) भाषा प्रयोगशाला
 (E) अनुत्तरित प्रश्न

87. हिन्दी शिक्षण के मूल्यांकन के संबंध में कौन से सही नहीं हैं ?

- (a) बालकों की उपलब्धियों के मापन विश्वसनीय तथा वैध उपकरणों का प्रयोग करना चाहिए।
 (b) शिक्षण एवं परीक्षण बिन्दुओं को पहले निश्चित करना चाहिए।
 (c) परीक्षण बिन्दुओं तथा शिक्षण बिन्दुओं समन्वय स्थापित करना आवश्यक नहीं है।
 (d) शिक्षण में मूल्यांकन-विधि का प्रयोग करने लिए विशेष प्रशिक्षण की आवश्यकता होती है।

नीचे दिए गए विकल्पों में से सबसे उपयुक्त उत्तर चयन कीजिए :

- (A) केवल (a) और (d)
 (B) केवल (a) और (c)
 (C) केवल (b) और (c)
☒ (D) केवल (c) और (d)
 (E) अनुत्तरित प्रश्न

88. नीचे दो कथन दिए गए हैं : एक अभिकथन A (Assertion A) के रूप में लिखित है तो दूसरा उसके कारण R (Reason R) के रूप में।

अभिकथन A :

शैक्षणिक निदान द्वारा बालकों की कठिनाइयों का पता लगाकर उन कठिनाइयों को दूर करते हुए जो शिक्षण कार्य किया जाता है उसे उपचारी शिक्षण कहते हैं।

कारण R :

शैक्षणिक निदान का प्रयोजन ही उपचारी शिक्षण है। उपरोक्त कथन के आलोक में, नीचे दिए गए विकल्पों में से सबसे उपयुक्त उत्तर का चयन कीजिए :

- (A) A सही है लेकिन R सही नहीं है।
 (B) A सही नहीं है लेकिन R सही है।
☒ (C) A और R दोनों सही हैं और R, A की सही व्याख्या है।
 (D) A और R दोनों सही हैं, लेकिन R, A की सही व्याख्या नहीं है।
 (E) अनुत्तरित प्रश्न

89. Which principle is central to guide methods of teaching English effectively in the classroom ?

- (A) Encouraging students to communicate in English as much as possible.
- (B) Focusing only on reading classical literature.
- ☒ (C) Translating every word to mother tongue.
- (D) Teaching all the grammar rules in detail before practice.
- (E) Question not attempted

90. Match List I with List II

List I		List II	
(a)	Listening	(i)	Narrating events in a logical sequence.
(b)	Speaking Skill	(ii)	Locating details or the sequence of events in a text.
(c)	Reading Skill	(iii)	Identifying the sequence in which things happen in a story.
(d)	Writing Skill	(iv)	Using suitable punctuation marks and writing meaningfully.

Choose the **most appropriate** answer from the options given below :

- (A) (a)-(iv) (b)-(iii), (c)-(ii), (d)-(i)
- (B) (a)-(i), (b)-(iii), (c)-(ii), (d)-(iv)
- ☒ (C) (a)-(iii), (b)-(i), (c)-(ii), (d)-(iv)
- (D) (a)-(i), (b)-(ii), (c)-(iii), (d)-(iv)
- (E) Question not attempted

91. Given below are two statements : one is labelled as **Assertion A** and the other is labelled as **Reason R**

Assertion A :

Questions for testing writing skills should not be based on rote learning.

Reason R :

Rote learning only tests memory, which fails to assess the learner's actual ability to write.

In the light of the above statements, choose the **most appropriate** answer from the options given below :

- (A) A is correct but R is not correct.
- (B) A is not correct but R is correct.
- ☒ (C) Both A and R are correct and R is the correct explanation of A.
- (D) Both A and R are correct but R is NOT the correct explanation of A.
- (E) Question not attempted

92. Arrange the following steps for conducting a listening test, in the correct order :

- (a) The teacher reads out the listening text. For example, a story.
- (b) The pupil/student receives the test instructions.
- (c) The teacher grades the responses, accepting minor spelling mistakes (if spelling are not being tested).
- (d) The students perform the required task. (For example, fill in the blanks, choose the correct answer)

Choose the **most appropriate** answer from the options given below :

- (A) (d), (c), (b), (a)
- ☒ (B) (a), (b), (d), (c)
- (C) (a), (b), (c), (d)
- (D) (b), (a), (d), (c)
- (E) Question not attempted

93. नीचे दो कथन दिए गए हैं : एक अभिकथन A (Assertion A) के रूप में लिखित है तो दूसरा उसके कारण R (Reason R) के रूप में।

अभिकथन A :

स्वानुभाविक शोध विधि कोई विधि नहीं है, किन्तु एक अभिवृत्ति है जो शिक्षण-अधिगम प्रक्रिया के दौरान बनाई रखी जानी चाहिए।

कारण R :

स्वानुभाविक शोध विधि याद करने और रट्टा मारने पर बल देती है क्योंकि विद्यार्थी स्वयं अपने-आप संलग्न/सम्मिलित नियमों की खोज करने में असफल रहते हैं।

उपरोक्त कथनों के आलोक में, नीचे दिए गए विकल्पों में से सबसे उपयुक्त उत्तर का चयन कीजिए :

- ✓ (A) A सही है लेकिन R सही नहीं है।
- (B) A सही नहीं है लेकिन R सही है।
- (C) A और R दोनों सही हैं और R, A की सही व्याख्या है।
- (D) A और R दोनों सही हैं, लेकिन R, A की सही व्याख्या नहीं है।
- (E) अनुत्तरित प्रश्न

93. Given below are two statements : one labelled as Assertion A and the other labelled as Reason R

Assertion A:

Heuristic method is not a method, but attitude which must be maintained during teaching-learning process.

Reason R :

Heuristic method encourages memorization and rote learning as students fails to discover laws involved of their own.

In the light of the above statements, choose the **most appropriate** answer from the options given below :

- (A) A is correct but R is not correct.
- (B) A is not correct but R is correct.
- (C) Both A and R are correct and R is the correct explanation of A.
- (D) Both A and R are correct but R is NOT the correct explanation of A.
- (E) Question not attempted

94. नीचे दो कथन दिए गए हैं : एक अभिकथन A (Assertion A) के रूप में लिखित है तो दूसरा उसके कारण R (Reason R) के रूप में;

अभिकथन A :

परियोजना कार्य (प्रोजेक्ट वर्क) स्वयं करके और जी कर सीखने (अधिगम) के उपागम को अपनाता है।

कारण R :

परियोजना कार्य अध्ययन का एक नियोजित अंश हैं जिसमें शिक्षार्थी द्वारा किए जाने वाला कार्य में कक्षा और प्रयोगशाला अधिगम का अनुप्रयोग करता है और उसका पूरक होता है।

उपरोक्त कथनों के आलोक में, नीचे दिए गए विकल्पों में से सबसे उपयुक्त उत्तर का चयन कीजिए :

(A) A सही है लेकिन R सही नहीं है।

(B) A सही नहीं है लेकिन R सही है।

✓ (C) A और R दोनों सही हैं और R, A की सही व्याख्या है।

(D) A और R दोनों सही हैं, लेकिन R, A की सही व्याख्या नहीं है।

(E) अनुत्तरित प्रश्न

94. Given below are two statements : one is labelled as Assertion A and the other is labelled as Reason R

Assertion A :

Project work follows the approach of learning by doing and learning by living.

Reason R :

Project work is a planned piece of study involving a task taken by learner to supplement and apply classroom and laboratory learning.

In the light of the above statements, choose the most appropriate answer from the options given below :

(A) A is correct but R is not correct.

(B) A is not correct but R is correct.

(C) Both A and R are correct and R is the correct explanation of A.

(D) Both A and R are correct but R is NOT the correct explanation of A.

(E) Question not attempted

95. नीचे दो कथन दिए गए हैं : एक अभिकथन A (Assertion A) के रूप में लिखित है तो दूसरा उसके कारण R (Reason R) के रूप में।

अभिकथन A :

शैक्षिक मनोवैज्ञानिक व्यक्तियों को शैक्षिक और कार्य दशा दोनों में प्रशिक्षित करने के लिए उपयोग की जाने वाली निर्देशात्मक विधियों को विकसित करने में सहायता करते हैं।

कारण R :

शैक्षिक मनोवैज्ञानिकों का सरोकार शिक्षा, उपबोधन और अधिगम की समस्याओं के लिए सार्थक पक्षों के अनुसंधानों से भी होता है।

उपरोक्त कथनों के आलोक में, नीचे दिए गए विकल्पों में से सबसे उपयुक्त उत्तर का चयन कीजिए :

- (A) A सही है लेकिन R सही नहीं है।
(B) A सही नहीं है लेकिन R सही है।
(C) A और R दोनों सही हैं और R, A की सही व्याख्या है।
(D) A और R दोनों सही हैं, लेकिन R, A की सही व्याख्या नहीं है।
(E) अनुत्तरित प्रश्न

96. गणित में एक इकाई योजना न्यूनतम _____ दिनों की अवधि से एक सप्ताह अथवा एक माह तक विस्तारित हो सकती है।

- (a) 2-3 दिन (b) 4-5 दिन
(c) 5-6 दिन (d) 6-7 दिन

नीचे दिए गए विकल्पों में से सबसे उपयुक्त उत्तर चुनें :

- (A) केवल (c) (B) केवल (d)
(C) केवल (a) (D) केवल (b)
(E) अनुत्तरित प्रश्न

95. Given below are two statements : one labelled as Assertion A and the other labelled as Reason R.

Assertion A :

Educational psychologists help develop instructional methods used to train people in both educational and work settings.

Reason R :

Educational psychologists are concerned with research on issues of relevance for education counselling and learning problems.

In the light of the above statements, choose the **most appropriate** answer from the option given below :

- (A) A is correct but R is not correct.
(B) A is not correct but R is correct.
(C) Both A and R are correct and R is the correct explanation of A.
(D) Both A and R are correct but R is NOT the correct explanation of A.
(E) Question not attempted

96. A unit plan in mathematics may extend from a minimum of _____ days duration to one week or a month.

- (a) 2-3 days (b) 4-5 days
(c) 5-6 days (d) 6-7 days

Choose the **most appropriate** answer from the options given below :

- (A) (c) Only (B) (d) Only
(C) (a) Only (D) (b) Only
(E) Question not attempted

97. निम्नलिखित घटनाओं को कालक्रमानुसार (पुराने से नए) व्यवस्थित करें :

- भारत में मारवाड़ियों जैसे नवीन व्यवसाय समुदायों का विकास।
- भारत में जाति आधारित बाजारों और व्यापार नेटवर्कों का उभार।
- भारत में बीपाओं (BPOs) (व्यवसाय प्रक्रिया आउटसोर्सिंग) का आगमन।
- जजमानी प्रणाली में वस्तु-विनिमय अर्थव्यवस्था।

नीचे दिए गए विकल्पों में से सबसे उपयुक्त उत्तर चुनें :

- (b), (d), (c), (a)
- (b), (d), (a), (c)
- (b), (a), (d), (c)
- (d), (b), (a), (c)
- अनुत्तरित प्रश्न

98. नीचे दो कथन दिए गए हैं : एक अभिकथन A (Assertion A) के रूप में लिखित है तो दूसरा उसके कारण R (Reason R) के रूप में।

अभिकथन A :

अधिगम एक अनुमानित प्रक्रिया है और निष्पादन से भिन्न है।

कारण R :

निष्पादन व्यक्ति की प्रेक्षित अनुक्रिया या क्रिया है और ये व्यवहार में स्थायी प्रकृति का परिवर्तन नहीं है।

उपरोक्त कथनों के आलोक में, नीचे दिए गए विकल्पों में से सबसे उपयुक्त उत्तर का चयन कीजिए :

- ☒ A सही है लेकिन R सही नहीं है।
- A सही नहीं है लेकिन R सही है।
- A और R दोनों सही हैं और R, A की सही व्याख्या है।
- A और R दोनों सही हैं, लेकिन R, A की सही व्याख्या नहीं है।
- अनुत्तरित प्रश्न

97. Arrange the following developments in a chronological order (from old to new) :

- Development of new business communities like Marwaris in India.
- Emergence of caste-based markets and trading networks in India.
- The coming of BPO (Business Process Outsourcing) industries in India.
- Barter economy under Jajmani system.

Choose the **most appropriate** answer from the options given below :

- (b), (d), (c), (a)
- (b), (d), (a), (c)
- (b), (a), (d), (c)
- (d), (b), (a), (c)
- Question not attempted

98. Given below are two statements : one is labelled as **Assertion A** and the other is labelled as **Reason R**

Assertion A :

Learning is an inferred process and is different from performance.

Reason R : Performance is a person's observed response or action and not a change of a permanent nature in behavior.

In the light of the above statements, choose the **most appropriate** answer from the options given below :

- A is correct but R is not correct.
- A is not correct but R is correct.
- Both A and R are correct and R is the correct explanation of A.
- Both A and R are correct but R is NOT the correct explanation of A.
- Question not attempted

99. गणित में अचर कितने प्राथमिक रूपों में विद्यमान होते हैं ?

- (A) चार (B) पांच
(C) दो (D) तीन
(E) अनुत्तरित प्रश्न

100. सूची I को सूची II से सुमेलित करें :

सूची I (प्रतिवर्त)		सूची II (विकासात्मक क्रम)	
(a)	रूटिंग	(i)	3 से 6 माह में विलुप्त हो जाते हैं
(b)	मोरो	(ii)	6 से 7 माह में विलुप्त हो जाते हैं
(c)	पकड़ना	(iii)	3 से 4 माह में विलुप्त हो जाते हैं
(d)	बेबिन्स्की	(iv)	8 से 12 माह में विलुप्त हो जाते हैं

नीचे दिए गए विकल्पों में से सबसे उपयुक्त उत्तर चुनें :

- (A) (a)-(i), (b)-(iv), (c)-(iii), (d)-(ii)
(B) (a)-(ii), (b)-(i), (c)-(iii), (d)-(iv)
(C) (a)-(i), (b)-(ii), (c)-(iii), (d)-(iv)
(D) (a)-(i), (b)-(iii), (c)-(ii), (d)-(iv)
(E) अनुत्तरित प्रश्न

99. Constants in mathematics exist in how many primary forms ?

- (A) Four (B) Five
(C) Two (D) Three
(E) Question not attempted


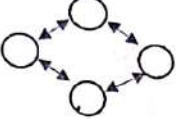
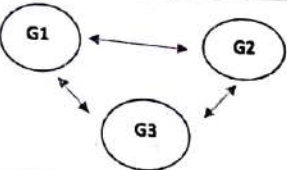
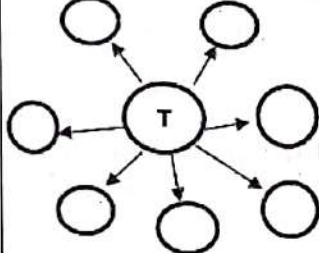
100. Match List I with List II :

List I (Reflex)		List II (Development Course)	
(a)	Rooting	(i)	Disappears between 3 to 6 months
(b)	Moro	(ii)	Disappears in 6 to 7 months
(c)	Grasp	(iii)	Disappears in 3 to 4 months
(d)	Babinski	(iv)	Disappears in 8 to 12 months

Choose the **most appropriate** answer from the options given below :

- (A) (a)-(i), (b)-(iv), (c)-(iii), (d)-(ii)
(B) (a)-(ii), (b)-(i), (c)-(iii), (d)-(iv)
(C) (a)-(i), (b)-(ii), (c)-(iii), (d)-(iv)
(D) (a)-(i), (b)-(iii), (c)-(ii), (d)-(iv)
(E) Question not attempted

101. सूची I को सूची II से सुमेलित करें :

सूची I	सूची II
(a) एक से एक युग्मन	(i) 
(b) समूह के अंदर	(ii) 
(c) समूह में	(iii) 
(d) आरंभक के रूप में शिक्षक	(iv) 


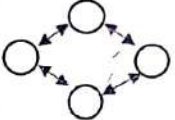
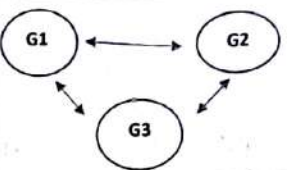
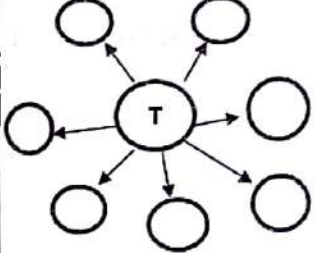
नीचे दिए गए विकल्पों में से सबसे उपयुक्त उत्तर चुनें :

- (A) (a)-(iv), (b)-(i), (c)-(iii), (d)-(ii)
 (B) (a)-(iv), (b)-(i), (c)-(ii), (d)-(iii)
 ✓ (C) (a)-(i), (b)-(ii), (c)-(iii), (d)-(iv)
 (D) (a)-(ii), (b)-(iii), (c)-(i), (d)-(iv)
 (E) अनुत्तरित प्रश्न

102. “समाजशास्त्रीय कल्पना” क्या है ?

- (A) समाजशास्त्र और अन्य समाज विज्ञानों के बीच संबंध समझने की योग्यता।
 (B) समाजशास्त्रीय रूप से प्रासंगिक शोध विषय सृजित करने की योग्यता।
 ✓ (C) सामाजिक यथार्थ को समझने के लिए अमूर्त विचारों का उपयोग करने की योग्यता।
 (D) “व्यक्तिगत समस्याओं” और “सार्वजनिक मुद्दों” के बीच संबंधों को समझने की योग्यता।
 (E) अनुत्तरित प्रश्न

101. Match List I with List II :

List I	List II
(a) One to One pairing	(i) 
(b) Within the group	(ii) 
(c) Among the group	(iii) 
(d) Teacher as initiator	(iv) 

Choose the **most appropriate** answer from the options given below :

- (A) (a)-(iv), (b)-(i), (c)-(iii), (d)-(ii)
 (B) (a)-(iv), (b)-(i), (c)-(ii), (d)-(iii)
 (C) (a)-(i), (b)-(ii), (c)-(iii), (d)-(iv)
 (D) (a)-(ii), (b)-(iii), (c)-(i), (d)-(iv)
 (E) Question not attempted

102. What is “Sociological Imagination” ?

- (A) The ability to understand the relationship between sociology and other social sciences.
 (B) The ability to create sociologically relevant research topic.
 (C) The ability to use abstract ideas to understand social reality.
 (D) The ability to understand the relationship between “personal troubles” and “public issues”.
 (E) Question not attempted

103. सृजनात्मक परीक्षणों को विकसित करने वाले कुछ प्रसिद्ध मनोवैज्ञानिक हैं-

- (a) टोरेस
- (b) परमेश
- (c) गिलफोर्ड
- (d) कोहलबर्ग

नीचे दिए गए विकल्पों में से सबसे उपयुक्त उत्तर का चयन कीजिए :

- (A) केवल (b), (c), (d) (B) केवल (a), (b), (d)
- (C) केवल (a), (b), (c) (D) केवल (a), (c), (d)
- (E) अनुत्तरित प्रश्न

104. सूची I को सूची II से सुमेलित करें :

सूची I (मूल्य / गुण)	सूची II (परिणाम)
(a) धैर्य	(i) आंकड़ों को एकत्रित और रिकॉर्ड करने में
(b) अध्यवसाय / दृढ़ता	(ii) उपकरणों को साझा करने की तत्परता
(c) सहयोग	(iii) पुनरावर्ती रूप से परीक्षणों को करते रहना जब तक परिणाम प्राप्त नहीं हो जाते हैं।
(d) निष्ठा / ईमानदारी	(iv) परीक्षणों के परिणामों की प्रतिकक्षा करने में

नीचे दिए गए विकल्पों में से सबसे उपयुक्त उत्तर चुनें :

- (A) (a)-(iv), (b)-(ii), (c)-(iii), (d)-(i)
- (B) (a)-(iv), (b)-(iii), (c)-(ii), (d)-(i)
- (C) (a)-(i), (b)-(iv), (c)-(ii), (d)-(iii)
- (D) (a)-(iv), (b)-(i), (c)-(iii), (d)-(ii)
- (E) अनुत्तरित प्रश्न

103. Some of the famous psychologists who have developed creativity test are :

- (a) Torrance
- (b) Paramesh
- (c) Guilford
- (d) Kohlberg

Choose the most appropriate answer from the options given below :

- (A) (b), (c), (d) only (B) (a), (b), (d) only
- (C) (a), (b), (c) only (D) (a), (c), (d) only
- (E) Question not attempted

104. Match List I with List II :

List I (Value)	List II (Result)
(a) Patience	(i) In gathering & rewarding data
(b) Perseverance	(ii) Willingness to share equipments
(c) Cooperation	(iii) Experiments on repeated basis till results are achieved
(d) Honesty	(iv) In waiting for results of experiments

Choose the most appropriate answer from the options given below :

- (A) (a)-(iv), (b)-(ii), (c)-(iii), (d)-(i)
- (B) (a)-(iv), (b)-(iii), (c)-(ii), (d)-(i)
- (C) (a)-(i), (b)-(iv), (c)-(ii), (d)-(iii)
- (D) (a)-(iv), (b)-(i), (c)-(iii), (d)-(ii)
- (E) Question not attempted

105. सामान्य पब्लिक लाइसेंस कौनसे मुफ्त उपयोग सॉफ्टवेयर लाइसेंसों से अलग होते हैं ?

- (a) स्काइपे
- (b) एडोबी रीडर
- (c) रेनसम वेयर
- (d) उल्लंघन (इनफ्रिजमेंट)

नीचे दिए गए विकल्पों में से सबसे उपयुक्त उत्तर चुनें :

- (A) केवल (b), (c) (B) केवल (c), (d)
- (C) केवल (a), (b) (D) केवल (a), (c)
- (E) अनुत्तरित प्रश्न

106. स्वस्थ आँखों के दृष्टिकोण से कम्प्यूटर के सामने बैठते समय सही दृश्यन (व्यूइंग) दूरी क्या है ?

- (A) 14-18 इंच (B) 19-24 इंच
- (C) 15-18 इंच (D) 13-17 इंच
- (E) अनुत्तरित प्रश्न

107. ज्ञान के सृजन की प्रक्रिया के रूप में विज्ञान के मुख्य चरण हैं-

- (a) प्रेक्षण / अवलोकन
- (b) परिकल्पना
- (c) परिकल्पना से पूर्वानुमान
- (d) परिकल्पना परीक्षण

नीचे दिए गए विकल्पों में से सबसे उपयुक्त उत्तर का चयन कीजिए :

- (A) (c), (d), (a), (b) (B) (c), (d), (b), (a)
- (C) (a), (b), (c), (d) (D) (a), (b), (d), (c)
- (E) अनुत्तरित प्रश्न

108. 12 वर्ष की मानसिक आयु वाले 10 वर्षीय बच्चे का बुद्धि लब्धि (आई.क्यू) स्तर क्या होता है ?

- (A) 120 (B) 130
- (C) 83 (D) 93
- (E) अनुत्तरित प्रश्न

105. General Public License is different from free ware software licenses like :

- (a) Skype
- (b) Adobe reader
- (c) Ransom ware
- (d) Infringement

Choose the **most appropriate** answer from the options given below :

- (A) (b), (c) only (B) (c), (d) only
- (C) (a), (b) only (D) (a), (c) only
- (E) Question not attempted

106. What is the correct viewing distance while sitting in front of the computer from the perspective of healthy eyes ?

- (A) 14-18 inches (B) 19-24 inches
- (C) 15-18 inches (D) 13-17 inches
- (E) Question not attempted

107. The key steps in science as a process of constructing knowledge are :

- (a) Observations
- (b) Hypothesis
- (c) Prediction from Hypothesis
- (d) Hypothesis Testing

Choose the **most appropriate** answer from the options given below :

- (A) (c), (d), (a), (b) (B) (c), (d), (b), (a)
- (C) (a), (b), (c), (d) (D) (a), (b), (d), (c)
- (E) Question not attempted

108. What is the IQ level of a 10 year old child with a mental age of 12 ?

- (A) 120 (B) 130
- (C) 83 (D) 93
- (E) Question not attempted

109. सूची I को सूची II से सुमेलित करें :

सूची I (संकल्पना)	सूची II (व्याख्या)
(a) जाति प्रणाली	(i) धार्मिक पहचान के आधार पर आक्रामक व्यवहार
(b) जनसांख्यिकीय लाभांश	(ii) सामाजिक स्तरीकरण की प्रणाली
(c) सांप्रदायिकतावाद	(iii) निवास प्रणाली जिसमें युगल/जोड़ा पति के माता-पिता के साथ रहता है
(d) पितृस्थानिक परिवार	(iv) एक विशाल कार्यशील - आयु जनसंख्या तथा अपेक्षाकृत कम वृद्ध जनसंख्या

नीचे दिए गए विकल्पों में से सबसे उपयुक्त उत्तर चुनें :

- ✓ (A) (a)-(ii), (b)-(iv), (c)-(i), (d)-(iii)
 (B) (a)-(ii), (b)-(iii), (c)-(i), (d)-(iv)
 (C) (a)-(ii), (b)-(i), (c)-(iv), (d)-(iii)
 (D) (a)-(i), (b)-(iv), (c)-(ii), (d)-(iii)
 (E) अनुत्तरित प्रश्न

109. Match List I with List II :

List I (Concept)	List II (Explanation)
(a) Caste-system	(i) Aggressive chauvinism based on religious identity
(b) Demographic Dividend	(ii) System of Social Stratification
(c) Communalism	(iii) A system of residence where the couple lives with the husband's parents.
(d) Patrilocal family	(iv) A larger working - age population and relatively small older population

Choose the **most appropriate** answer from the options given below :

- (A) (a)-(ii), (b)-(iv), (c)-(i), (d)-(iii)
 (B) (a)-(ii), (b)-(iii), (c)-(i), (d)-(iv)
 (C) (a)-(ii), (b)-(i), (c)-(iv), (d)-(iii)
 (D) (a)-(i), (b)-(iv), (c)-(ii), (d)-(iii)
 (E) Question not attempted

110. नीचे दो कथन दिए गए हैं : एक अभिकथन A (Assertion A) के रूप में लिखित है तो दूसरा उसके कारण R (Reason R) के रूप में।

अभिकथन A :

रियल टाइम ऑपरेटिंग सिस्टम सुनिश्चित करते हैं कि प्रत्युत्तर समय नियत हो।

कारण R :

रियल टाइम ऑपरेटिंग सिस्टम उन एप्लिकेशन के लिए बने होते हैं, जिन्हें डाटा तेजी से प्रसंस्कृत/संसाधित करने की जरूरत होती है।

उपरोक्त कथनों के आलोक में, नीचे दिए गए विकल्पों में से सबसे उपयुक्त उत्तर का चयन कीजिए :

- (A) A सही है लेकिन R सही नहीं है।
(B) A सही नहीं है लेकिन R सही है।
(C) A और R दोनों सही हैं और R, A की सही व्याख्या है।
(D) A और R दोनों सही हैं लेकिन R, A की सही व्याख्या नहीं है।
(E) अनुत्तरित प्रश्न

111. विभिन्न मनोवैज्ञानिकों द्वारा दी गई बुद्धि की परिभाषा को कालानुक्रमिक रूप से निम्न प्रकार से व्यवस्थित किया जा सकता है-

- (a) साइरिल बर्ट
(b) डेविड वेक्सलर
(c) एल्फ्रेड बाइनेट
(d) लॉयड हम्फ्रेज

नीचे दिए गए विकल्पों में से सबसे उपयुक्त उत्तर का चयन कीजिए :

- (A) (c), (a), (b), (d) (B) (c), (b), (a), (d)
(C) (a), (b), (c), (d) (D) (c), (d), (a), (b)
(E) अनुत्तरित प्रश्न

110. Given below are two statements : one is labelled as Assertion A and the other is labelled as Reason R.

Assertion A :

Real time operating system ensures that the response time is fixed.

Reason R :

Real time operating system are intended for application where data needs to be processed quickly.

In the light of the above statements, choose the **most appropriate** answer from the options given below :

- (A) A is correct but R is not correct.
(B) A is not correct but R is correct.
(C) Both A and R are correct and R is the correct explanation of A.
(D) Both A and R are correct but R is NOT the correct explanation of A.
(E) Question not attempted

111. The definition of intelligence in chronological sequence given by different psychologist can be arranged as follows :

- (a) A Cyril Burt
(b) David Wechsler
(c) Alfred Binet
(d) Lloyd Humphreys

Choose the **most appropriate** answer from the options given below :

- (A) (c), (a), (b), (d) (B) (c), (b), (a), (d)
(C) (a), (b), (c), (d) (D) (c), (d), (a), (b)
(E) Question not attempted

112. विपरीतार्थी प्रवृत्तियों के संदर्भ में मूल विशेषकों को जानने के लिए रेमंड कैटेल द्वारा कौन सा परीक्षण विकसित किया गया था ?

- (A) 12 व्यक्तित्व कारक प्रश्नावली
- (B) 10 व्यक्तित्व कारक प्रश्नावली
- ✓ (C) 16 व्यक्तित्व कारक प्रश्नावली
- (D) 14 व्यक्तित्व कारक प्रश्नावली
- (E) अनुत्तरित प्रश्न

113. निम्नलिखित में से कौन सा पद (कैप्शन) सामाजिक लांछन (सोशल स्टिग्मा) को प्रदर्शित करता है और किसी विद्यार्थी को सीखाना, पाठ्यपुस्तक उपलब्धता में क्रमिक हिनता/कमियों के लिए प्रताड़ित करता है ?

- (A) औसत से कम
- (B) औसत
- ✓ (C) फेल / असफल
- (D) पास / सफल
- (E) अनुत्तरित प्रश्न

114. अधिगम अशक्तता वाले बच्चे निम्नलिखित बोधात्मक विकार प्रदर्शित करते हैं-

- (a) दृष्टि संबंधी
- (b) श्रवण संबंधी
- (c) गतिबोधात्मक
- (d) अति सक्रियता

नीचे दिए गए विकल्पों में से सबसे उपयुक्त उत्तर का चयन कीजिए :

- (A) केवल (a), (b), (d)
- (B) केवल (b), (c)
- ✓ (C) केवल (a), (b), (c)
- (D) केवल (b), (c), (d)
- (E) अनुत्तरित प्रश्न

112. Which test was developed by Raymond Cattell to know source traits in terms of opposing tendencies ?

- (A) 12 personality factor questionnaire
- (B) 10 personality factor questionnaire
- (C) 16 personality factor questionnaire
- (D) 14 personality factor questionnaire
- (E) Question not attempted

113. Which of the following caption represents a social stigma and victimizes a student for systematic deficiencies in teaching, textbook availability ?

- (A) Below Average
- (B) Average
- (C) Fail
- (D) Pass
- (E) Question not attempted

114. Children with learning disabilities retreat following perceptual disorder :

- (a) Visual
- (b) Auditory
- (c) Kinesthetic
- (d) Hyperactivity

Choose the **most appropriate** answer from the options given below :

- (A) (a), (b), (d) only
- (B) (b), (c) only
- (C) (a), (b), (c) only
- (D) (b), (c), (d) only
- (E) Question not attempted

115. नीचे दो कथन दिए गए हैं : एक अभिकथन A (Assertion A) के रूप में लिखित है तो दूसरा उसके कारण R (Reason R) के रूप में।

अभिकथन A :

लोकल एरिया नेटवर्क, प्राइवेट नेटवर्क है तथा 1 किमी तक की परिधि में विस्तृत होते हैं।

कारण R :

लोकल एरिया नेटवर्क 7 Mbps से 70 Mbps की रेंज में विद्यमान स्पीड पर संचालित होते हैं।

उपरोक्त कथनों के आलोक में, नीचे दिए गए विकल्पों में से सबसे उपयुक्त उत्तर का चयन कीजिए :

- (A) A सही है लेकिन R सही नहीं है।
(B) A सही नहीं है लेकिन R सही है।
(C) A और R दोनों सही हैं और R, A की सही व्याख्या है।
(D) A और R दोनों सही हैं लेकिन R, A की सही व्याख्या नहीं है।
(E) अनुत्तरित प्रश्न

116. नीचे दो कथन दिए गए हैं : एक अभिकथन (Assertion A) के रूप में लिखित है तो दूसरा उसके कारण (Reason R) के रूप में।

अभिकथन A :

अलगाववाद, पूंजीवादी कारखाना आधारित उत्पादन का परिणाम है।

कारण R :

पूंजीवाद में वस्तुओं के उत्पादन ने सामाजिक संबंधों को बदल दिया है।

उपरोक्त कथनों के आलोक में, नीचे दिए गए विकल्पों में से सबसे उपयुक्त उत्तर का चयन कीजिए :

- (A) A सही है लेकिन R सही नहीं है।
(B) A सही नहीं है लेकिन R सही है।
(C) A और R दोनों सही हैं और R, A की सही व्याख्या है।
(D) A और R दोनों सही हैं लेकिन R, A की सही व्याख्या नहीं है।
(E) अनुत्तरित प्रश्न

115. Given below are two statements : one is labelled as Assertion A and the other is labelled as Reason R

Assertion A :

Local area networks are private network and can span a radius of upto 1 km.

Reason R :

Local area networks operate at a speed in the range of 7 Mbps to 70 Mbps.

In the light of the above statements, choose the most appropriate answer from the options given below :

- (A) A is correct but R is not correct.
(B) A is not correct but R is correct.
(C) Both A and R are correct and R is the correct explanation of A.
(D) Both A and R are correct but R is NOT the correct explanation of A.
(E) Question not attempted

116. Given below are two statements : one is labelled as Assertion A and the other is labelled as Reason R.

Assertion A :

Alienation is an outcome of capitalist factory based production.

Reason R :

Commodity production in capitalism has altered social relations.

In the light of the above statements, choose the most appropriate answer from the options given below :

- (A) A is correct but R is not correct.
(B) A is not correct but R is correct.
(C) Both A and R are correct and R is the correct explanation of A.
(D) Both A and R are correct but R is NOT the correct explanation of A.
(E) Question not attempted

117. सूची I को सूची II से सुमेलित करें :

सूची I (आयु)		सूची II (संज्ञानात्मक विकास की अवस्था)	
(a)	0-2 वर्ष	(i)	संवेदी प्रेरक
(b)	2-7 वर्ष	(ii)	पूर्व संक्रियात्मक
(c)	7-11 वर्ष	(iii)	मूर्त संक्रियात्मक
(d)	11-15 वर्ष	(iv)	औपचारिक संक्रियात्मक

नीचे दिए गए विकल्पों में से सबसे उपयुक्त उत्तर चुनें :

- (A) (a)-(i), (b)-(iii), (c)-(iv), (d)-(ii)
 (B) (a)-(i), (b)-(ii), (c)-(iii), (d)-(iv)
 (C) (a)-(ii), (b)-(i), (c)-(iii), (d)-(iv)
 (D) (a)-(i), (b)-(iv), (c)-(iii), (d)-(ii)
 (E) अनुत्तरित प्रश्न

118. भान्डूरा के अधिगम का सामाजिक संज्ञानात्मक सिद्धान्त के अनुसार प्रेक्षणात्मक अधिगम के क्रम से निम्नलिखित चरण हैं-

- (a) उत्पादन (प्रोडक्शन)
 (b) अभिप्रेरणा (मोटीवेशन)
 (c) धारण (रिटेंशन)
 (d) ध्यान देना (अटेन्शन)

नीचे दिए गए विकल्पों में से सबसे उपयुक्त उत्तर का चयन कीजिए :

- (A) (a), (b), (c), (d) (B) (b), (a), (c), (d)
 (C) (d), (c), (b), (a) (D) (c), (d), (b), (a)
 (E) अनुत्तरित प्रश्न

117. Match List I with List II :

List I (Age)		List II (Stage of Cognitive Development)	
(a)	0-2 years	(i)	Sensorimotor
(b)	2-7 years	(ii)	Preoperational
(c)	7-11 years	(iii)	Concrete operational
(d)	11-15 years	(iv)	Formal operational

Choose the **most appropriate** answer from the options given below :

- (A) (a)-(i), (b)-(iii), (c)-(iv), (d)-(ii)
 (B) (a)-(i), (b)-(ii), (c)-(iii), (d)-(iv)
 (C) (a)-(ii), (b)-(i), (c)-(iii), (d)-(iv)
 (D) (a)-(i), (b)-(iv), (c)-(iii), (d)-(ii)
 (E) Question not attempted

118. Observational learning as an outcome of Bhandura's social cognitive theory of learning has following steps :

- (a) Production
 (b) Motivation
 (c) Retention
 (d) Attention

Choose the **most appropriate** answer from the options given below :

- (A) (a), (b), (c), (d) (B) (b), (a), (c), (d)
 (C) (d), (c), (b), (a) (D) (c), (d), (b), (a)
 (E) Question not attempted

119. सूची I को सूची II से सुमेलित करें :

सूची I		सूची II	
(a)	कम्प्यूटर एडेड डिजाइन	(i)	ऑटोकैड
(b)	वैश्विक स्थानिकीकरण प्रणाली	(ii)	उपग्रह आधारित नौगम्यन प्रणाली
(c)	भौगोलिक सूचना प्रणाली	(iii)	भौगोलिकीय संदर्भित सूचना
(d)	प्रक्रिया प्रबंधन प्रणाली	(iv)	टेली

नीचे दिए गए विकल्पों में से सबसे उपयुक्त उत्तर चुनें :

- (A) (a)-(iii), (b)-(i), (c)-(ii), (d)-(iv)
 (B) (a)-(iii), (b)-(ii), (c)-(i), (d)-(iv)
☒ (C) (a)-(i), (b)-(ii), (c)-(iii), (d)-(iv)
 (D) (a)-(ii), (b)-(i), (c)-(iii), (d)-(iv)
 (E) अनुत्तरित प्रश्न

120. कान में कौनसा आभूषण पहना जाता है/था ?

- (A) मोकड़ी (B) दामणा
 (C) बजट्टी/बजत्ति ☒ (D) पीपलपत्र
 (E) अनुत्तरित प्रश्न

119. Match List I with List II :

List I		List II	
(a)	Computer Aided Design	(i)	Autocad
(b)	Global Positioning System	(ii)	Satellite based navigation system
(c)	Geographic Information System	(iii)	Geographically referenced information
(d)	Process Management System	(iv)	Tally

Choose the most appropriate answer from the options given below :

- (A) (a)-(iii), (b)-(i), (c)-(ii), (d)-(iv)
 (B) (a)-(iii), (b)-(ii), (c)-(i), (d)-(iv)
 (C) (a)-(i), (b)-(ii), (c)-(iii), (d)-(iv)
 (D) (a)-(ii), (b)-(i), (c)-(iii), (d)-(iv)
 (E) Question not attempted

120. Which jewellery is/was worn in the ear ?

- (A) Mokdi (B) Daamna
 (C) Bajatti (D) Peepalpatra
 (E) Question not attempted

121. निम्नलिखित कथनों पर विचार करें :

- (a) सरिस्का बाघ रिजर्व अजमेर में स्थित है।
- (b) इसे 1 नवंबर 1955 में अभयारण्य का दर्जा दिया गया था।
- (c) इसे 1978-1979 में बाघ रिजर्व का दर्जा दिया गया था।
- (d) पुष्कर झील इस रिजर्व का अन्य आकर्षण है।
- (e) इसका वन क्षेत्र लगभग 1213 वर्ग किमी. में विस्तृत है।

नीचे दिए गए विकल्पों में से सबसे उपयुक्त उत्तर चुनें :

✓ (A) केवल (b), (c) और (e)

(B) केवल (c), (d) और (e)

(C) केवल (a), (b) और (c)

(D) केवल (b), (c) और (d)

(E) अनुत्तरित प्रश्न

121. Consider the following statements :

- (a) Sariska Tiger reserve is situated Ajmer.
- (b) It was granted sanctuary status on 1 Nov 1955.
- (c) It was given status of tiger reserve in 1978-1979.
- (d) Pushkar lake is another attraction of the reserve.
- (e) Its forest area is spread in around 1213 sq km.

Choose the **most appropriate** answer from the options given below :

(A) (b), (c) and (e) only

(B) (c), (d) and (e) only

(C) (a), (b) and (c) only

(D) (b), (c) and (d) only

(E) Question not attempted

122. सूची I को सूची II से सुमेलित करें :

सूची I (विद्युत संयंत्र)		सूची II (लगभग क्षमता)	
(a)	धौलपुर संयुक्त चक्र विद्युत स्टेशन	(i)	172 MW
(b)	राणा प्रताप सागर बांध	(ii)	1180 MW
(c)	राजस्थान परमाणु विद्युत स्टेशन- रावतभाटा	(iii)	330 MW
(d)	नोख सौर पार्क	(iv)	980 MW

नीचे दिए गए विकल्पों में से सबसे उपयुक्त उत्तर चुनें :

- ✓ (A) (a)-(iii), (b)-(i), (c)-(ii), (d)-(iv)
 (B) (a)-(iv), (b)-(iii), (c)-(ii), (d)-(i)
 (C) (a)-(i), (b)-(iii), (c)-(ii), (d)-(iv)
 (D) (a)-(i), (b)-(ii), (c)-(iii), (d)-(iv)
 (E) अनुत्तरित प्रश्न

123. राजस्थान की निम्नलिखित योजनाओं/परियोजनाओं को कालक्रमानुसार व्यवस्थित करें :

- (a) प्रोजेक्ट ग्रेट इण्डियन बस्टर्ड
 (b) प्रोजेक्ट टायगर
 (c) जनता वन योजना
 (d) अमृता देवी बिशनोई स्मृती पुरस्कार

नीचे दिए गए विकल्पों में से सबसे उपयुक्त उत्तर चुनें :

- (A) (c), (d), (b), (a) (B) (c), (d), (a), (b)
 (C) (a), (b), (c), (d) ✓ (D) (b), (c), (d), (a)
 (E) अनुत्तरित प्रश्न

122. Match List I with List II :

List I (Power Plant)		List II (Approx Capacity)	
(a)	Dholpur combined cycle power station	(i)	172 MW
(b)	Rana Pratap Sagar Dam	(ii)	1180 MW
(c)	Rajasthan Atomic Power Station - Ravatbhata	(iii)	330 MW
(d)	NOKH Solar Park	(iv)	980 MW

Choose the most appropriate answer from the options given below :

- (A) (a)-(iii), (b)-(i), (c)-(ii), (d)-(iv)
 (B) (a)-(iv), (b)-(iii), (c)-(ii), (d)-(i)
 (C) (a)-(i), (b)-(iii), (c)-(ii), (d)-(iv)
 (D) (a)-(i), (b)-(ii), (c)-(iii), (d)-(iv)
 (E) Question not attempted

123. Arrange the following schemes/projects of Rajasthan chronologically :

- (a) Project Great Indian Bustard
 (b) Project Tiger
 (c) Janta Van Yojana
 (d) Amrita Devi Bishnoi Smriti Award

Choose the most appropriate answer from the options given below :

- (A) (c), (d), (b), (a) (B) (c), (d), (a), (b)
 (C) (a), (b), (c), (d) (D) (b), (c), (d), (a)
 (E) Question not attempted

124. निम्नलिखित को राजस्थान सरकार द्वारा राज्य प्रतीकों के रूप में घोषित किया गया है। इन्हें कालक्रमानुसार व्यवस्थित करें :

- (a) ऊँट
- (b) चिंकारा
- (c) रोहिड़ा
- (d) बास्केटबॉल

नीचे दिए गए विकल्पों में से सबसे उपयुक्त उत्तर चुनें :

- (A) (a), (b), (c), (d) (B) (b), (c), (d), (a)
- (C) (d), (b), (a), (c) (D) (d), (b), (c), (a)
- (E) अनुत्तरित प्रश्न

124. Following were declared by Rajasthan government as state symbols. Arrange them chronologically :

- (a) Camel
- (b) Chinkara
- (c) Rohida
- (d) Basketball

Choose the **most appropriate** answer from the options given below :

- (A) (a), (b), (c), (d) (B) (b), (c), (d), (a)
- (C) (d), (b), (a), (c) (D) (d), (b), (c), (a)
- (E) Question not attempted

125. सूची I को सूची II से सुमेलित करें :

सूची I		सूची II	
(a)	राजपूताना का कर्ण	(i)	राव लूणकरण
(b)	कलियुग का कर्ण	(ii)	राव करण सिंह
(c)	कविबाँधव	(iii)	राव राय सिंह
(d)	जांगलधर बादशाह	(iv)	विग्रहराज IV

नीचे दिए गए विकल्पों में से सबसे उपयुक्त उत्तर चुनें :

- (A) (a)-(iii), (b)-(i), (c)-(iv), (d)-(ii)
- (B) (a)-(iv), (b)-(iii), (c)-(ii), (d)-(i)
- (C) (a)-(iii), (b)-(ii), (c)-(i), (d)-(iv)
- (D) (a)-(ii), (b)-(iii), (c)-(i), (d)-(iv)
- (E) अनुत्तरित प्रश्न

125. Match List I with List II :

List I		List II	
(a)	Karna of Rajputana	(i)	Rao Lunakarna
(b)	Karna of Kalyug	(ii)	Rao Karan Singh
(c)	Kavibandhava	(iii)	Rao Rai Singh
(d)	Jangaldhar Badshah	(iv)	Vigraharaj IV

Choose the **most appropriate** answer from the options given below :

- (A) (a)-(iii), (b)-(i), (c)-(iv), (d)-(ii)
- (B) (a)-(iv), (b)-(iii), (c)-(ii), (d)-(i)
- (C) (a)-(iii), (b)-(ii), (c)-(i), (d)-(iv)
- (D) (a)-(ii), (b)-(iii), (c)-(i), (d)-(iv)
- (E) Question not attempted

126. लवणीय झील-सांभर किस नदी से जल प्राप्त करती है?

- (A) रूपनगढ़ (B) फलौदी
(C) साबी (D) लूणी
(E) अनुत्तरित प्रश्न

127. किस स्थल से प्राप्त लौह पात्र और उपकरण भारत में लौह युग के प्रादुर्भाव की तारीख नियत करने का महत्वपूर्ण स्रोत हैं ?

नीचे दिए गए विकल्पों में से सबसे उपयुक्त उत्तर चुनें :

- (A) गिलुंड (राजसमंद)
(B) झाड़ोल (उदयपुर)
(C) नोह (भरतपुर)
(D) पिंड-पाडलिया (चित्तौड़)
(E) अनुत्तरित प्रश्न

128. निम्नलिखित को कालक्रमानुसार व्यवस्थित करें।

- (a) निःशुल्क और अनिवार्य शिक्षा अधिकार अधिनियम।
(b) राजस्थान बालकों को निःशुल्क और अनिवार्य शिक्षा नियम।
(c) आरटीई अधिनियम का क्रियान्वयन।
(d) स्वतंत्र भारत की प्रथम राष्ट्रीय पाठ्यचर्या रूपरेखा।

नीचे दिए गए विकल्पों में से सबसे उपयुक्त उत्तर चुनें :

- (A) (a), (d), (c), (b) (B) (a), (d), (b), (c)
(C) (d), (a), (c), (b) (D) (d), (a), (b), (c)
(E) अनुत्तरित प्रश्न

126. Saline water lake-Sambhar receives water from River :

- (A) Roopangarh (B) Falodi
(C) Sabi (D) Luni
(E) Question not attempted

127. The iron implements and tools from which place are important source to fix the date of the advent of the Iron Age in India ?

Choose the **most appropriate** answer from the options given below :

- (A) Gilund (Rajsamand)
(B) Jhadol (Udaipur)
(C) Noh (Bharatpur)
(D) Pind-padliya (Chittor)
(E) Question not attempted

128. Arrange the following in chronological order :

- (a) Right to free and compulsory education act.
(b) Rajasthan right of children to free and compulsory education rules.
(c) Implementation of RTE act.
(d) First National Curriculum Framework of Independent India.

Choose the **most appropriate** answer from the options given below :

- (A) (a), (d), (c), (b) (B) (a), (d), (b), (c)
(C) (d), (a), (c), (b) (D) (d), (a), (b), (c)
(E) Question not attempted

129. सूची I को सूची II से सुमेलित करें :

सूची I		सूची II	
(a)	एकलव्य पुरस्कार	(i)	5000 रुपए
(b)	इंस्पायर पुरस्कार	(ii)	51000 रुपए
(c)	विद्यार्थी खेल रत्न पुरस्कार	(iii)	नियत नहीं
(d)	गार्गी पुरस्कार योजना	(iv)	प्रति वर्ष 3000 रुपए

नीचे दिए गए विकल्पों में से सबसे उपयुक्त उत्तर चुनें :

- (A) (a)-(iii) (b)-(i), (c)-(ii), (d)-(iv)
 (B) (a)-(iv), (b)-(iii), (c)-(i), (d)-(ii)
 (C) (a)-(iii), (b)-(ii), (c)-(i), (d)-(iv)
☒ (D) (a)-(iv), (b)-(iii), (c)-(ii), (d)-(i)
 (E) अनुत्तरित प्रश्न

130. सूची I को सूची II से सुमेलित करें :

सूची I (विभाग)		सूची II (योजना)	
(a)	सामाजिक न्याय और अधिकारिता	(i)	घर-घर औषधि योजना
(b)	स्थानीय स्व-शासन	(ii)	इंदिरा रसोई योजना
(c)	वन विभाग	(iii)	जन आधार योजना
(d)	योजना विभाग	(iv)	पालनहार योजना

नीचे दिए गए विकल्पों में से सबसे उपयुक्त उत्तर चुनें :

- (A) (a)-(iv), (b)-(ii), (c)-(iii), (d)-(i)
☒ (B) (a)-(iv), (b)-(ii), (c)-(i), (d)-(iii)
 (C) (a)-(iii), (b)-(iv), (c)-(i), (d)-(ii)
 (D) (a)-(iv), (b)-(i), (c)-(ii), (d)-(iii)
 (E) अनुत्तरित प्रश्न

129. Match List I with List II :

List I		List II	
(a)	Ekalavya Award	(i)	Rs. 5000
(b)	Inspire Award	(ii)	Rs. 51000
(c)	Vidyarthi Khel Ratna Award	(iii)	Not fixed
(d)	Gargi Puraskar Yojana	(iv)	Rs. 3000 per year

Choose the **most appropriate** answer from the options given below :

- (A) (a)-(iii) (b)-(i), (c)-(ii), (d)-(iv)
 (B) (a)-(iv), (b)-(iii), (c)-(i), (d)-(ii)
 (C) (a)-(iii), (b)-(ii), (c)-(i), (d)-(iv)
 (D) (a)-(iv), (b)-(iii), (c)-(ii), (d)-(i)
 (E) Question not attempted

130. Match List I with List II :

List I (Department)		List II (Scheme)	
(a)	Social Justice and Empowerment	(i)	Ghar Ghar Aushadi Yojana
(b)	Local Self Government	(ii)	Indira Rasoi Yojana
(c)	Forest Department	(iii)	Jan Aadhar Yojana
(d)	Planning Department	(iv)	Palanhar Yojana

Choose the **most appropriate** answer from the options given below :

- (A) (a)-(iv), (b)-(ii), (c)-(iii), (d)-(i)
 (B) (a)-(iv), (b)-(ii), (c)-(i), (d)-(iii)
 (C) (a)-(iii), (b)-(iv), (c)-(i), (d)-(ii)
 (D) (a)-(iv), (b)-(i), (c)-(ii), (d)-(iii)
 (E) Question not attempted

131. राजस्थान की ज्योति योजना के अंतर्गत :

- (a) उन महिलाओं को रोजगार में प्राथमिकता दी जाएगी जिनका कोई लड़का नहीं हो और 1-2 लड़कियाँ हो तथा नसबंदी करवा ली हो।
- (b) राजस्थान सरकार शिक्षा के लिए सहायता करेगी।
- (c) सरकारी चिकित्सालयों में निःशुल्क उपचार।
- (d) यह योजना सामाजिक न्याय और अधिकारिता मंत्रालय द्वारा क्रियान्वित है।

नीचे दिए गए विकल्पों में से सबसे उपयुक्त उत्तर चुनें :

- (A) केवल (a), (b) और (c)
- (B) (a), (b), (c) और (d)
- (C) केवल (a) और (b)
- (D) केवल (b) और (c)
- (E) अनुत्तरित प्रश्न

132. राजस्थान की विश्वास योजना :-

- (a) स्वास्थ्य और परिवार कल्याण विभाग द्वारा क्रियान्वयन।
- (b) ऋण का 50% अथवा अधिकतम 50,000 रूपए जो भी कम हो, प्रदान किया जायेगा।
- (c) यह योजना दिव्यांग पुरुषों/महिलाओं के लिए है।
- (d) अधिकतम 5 लाख रुपये तक ऋण दिव्यांगजनों को दिया जा रहा है।
- (e) अर्हता के लिए, मासिक आय 1000 रूपए प्रति माह से अधिक नहीं होनी चाहिए।

नीचे दिए गए विकल्पों में से सबसे उपयुक्त उत्तर चुनें :

- (A) केवल (c), (d) और (e)
- (B) केवल (a) और (e)
- (C) केवल (a), (b) और (c)
- (D) केवल (b), (c) और (d)
- (E) अनुत्तरित प्रश्न

131. Under Jyoti Yojana of Rajasthan :

- (a) Employment preference will be given to women with no male child & 1-2 female child & have undergone sterilization.
- (b) Rajasthan government will help for education.
- (c) Free treatment in govt. hospitals.
- (d) This scheme is implemented by Social Justice and Empowerment department.

Choose the **most appropriate** answer from the options given below :

- (A) (a), (b) and (c) only
- (B) (a), (b), (c) and (d)
- (C) (a) and (b) only
- (D) (b) and (c) only
- (E) Question not attempted

132. Vishwas Yojana of Rajasthan :

- (a) Implemented by Health and Family Welfare Department.
- (b) A grant of 50% of loan or a maximum Rs. 50,000/- whichever is less, will be provided.
- (c) This scheme is for specially abled persons.
- (d) Loan of upto 5 lakh is being provided to specially abled persons.
- (e) For eligibility monthly income should not exceed Rs. 1,000/- per month.

Choose the **most appropriate** answer from the options given below :

- (A) (c), (d) and (e) only
- (B) (a) and (e) only
- (C) (a), (b) and (c) only
- (D) (b), (c) and (d) only
- (E) Question not attempted

133. उभरता राजस्थान वैश्विक निवेश सम्मेलन :-

- (a) 9, 10 और 11 दिसंबर 2024 को आयोजित किया गया था।
- (b) यह जयपुर प्रदर्शनी सम्मेलन केन्द्र में आयोजित किया गया था।
- (c) सम्मेलन केन्द्र सांगानेर, जयपुर में है।
- (d) तीन दिवसीय सम्मेलन में विषयात्मक सत्र, राष्ट्र सत्र और वैयक्तिक व्यवसायिक बैठकें हुई थीं।

नीचे दिए गए विकल्पों में से सबसे उपयुक्त उत्तर चुनें :

- ✓ (A) केवल (a), (b) और (d)
- (B) केवल (a) और (b)
- (C) केवल (a), (b) और (c)
- (D) केवल (b), (c) और (d)
- (E) अनुत्तरित प्रश्न

134. राजस्थान, भारत के उत्तर-पश्चिम में स्थित है। इसका आकार कैसा है?

नीचे दिए गए विकल्पों में से सबसे उपयुक्त उत्तर चुनें :

- (A) प्लेट की तरह
- (B) प्याला की तरह
- (C) गेंद की तरह
- ✓ (D) पतंग की तरह
- (E) अनुत्तरित प्रश्न

135. स्थापना वर्ष के अनुसार निम्नलिखित को कालक्रम से व्यवस्थित करें :

- (a) शुष्क वन अनुसंधान संस्थान, जोधपुर
- (b) केन्द्रीय ऊन विकास बोर्ड, जोधपुर
- (c) केन्द्रीय कृषि फार्म, गंगानगर
- (d) भेड़-प्रजनन केन्द्र, सीकर

नीचे दिए गए विकल्पों में से सबसे उपयुक्त उत्तर चुनें :

- ✓ (A) (a), (b), (c), (d)
- (B) (d), (b), (c), (a)
- (C) (c), (d), (b), (a)
- (D) (b), (d), (c), (a)
- (E) अनुत्तरित प्रश्न

133. Rising Rajasthan Global investment summit was :

- (a) Organized on 9th, 10th and 11th December 2024.
- (b) It was organized in Jaipur exhibition convention center.
- (c) The convention center is in Sanganeer Jaipur.
- (d) In three days summit there were thematic sessions, country sessions and one-on-one business meetings.

Choose the **most appropriate** answer from the options given below :

- (A) (a), (b) and (d) only
- (B) (a) and (b) only
- (C) (a), (b) and (c) only
- (D) (b), (c) and (d) only
- (E) Question not attempted

134. Rajasthan lies in North-West of India. It is having the shape of :

Choose the **most appropriate** answer from the options given below :

- (A) Plate
- (B) Bowl
- (C) Ball
- (D) Kite
- (E) Question not attempted

135. According to establishment year, arrange them chronologically :

- (a) Arid forest research institute, Jodhpur
- (b) Central wool development board, Jodhpur
- (c) Central agricultural farm, Ganganagar
- (d) Sheep Breeding centre, Sikar

Choose the **most appropriate** answer from the options given below :

- (A) (a), (b), (c), (d)
- (B) (d), (b), (c), (a)
- (C) (c), (d), (b), (a)
- (D) (b), (d), (c), (a)
- (E) Question not attempted

136. प्रख्यात पत्रकार कर्पूरचंद कुलिश के कार्य हैं :

- उन्होंने अग्रणी हिन्दी दैनिक "राजस्थान पत्रिका" शुरू किया।
- उन्होंने राजस्थान के ग्रामीण जीवन और समाज पर "मैं देखता चला गया" श्रृंखला शुरू की।
- उन्होंने रामचंद्र के साथ मिलकर जयपुर फुट का सह-आविष्कार किया था।
- उन्होंने ढूंढाड़ी बोली में नियमित स्तंभ पोलमपोल में योगदान दिया।

नीचे दिए गए विकल्पों में से सबसे उपयुक्त उत्तर चुनें :

- केवल (a), (b) और (d)
- केवल (b), (c) और (d)
- केवल (a) और (b)
- केवल (a), (b) और (c)
- अनुत्तरित प्रश्न

137. सूची I को सूची II से सुमेलित करें :

सूची I (खेल)	सूची II (राजस्थान के खिलाड़ी)
(a) क्रिकेट	(i) प्रभाकर राजू
(b) हॉकी	(ii) प्रवीण आमरे
(c) हॉलीबॉल	(iii) लिम्बाराम
(d) तीरंदाजी	(iv) गंगोत्री भंडारी

नीचे दिए गए विकल्पों में से सबसे उपयुक्त उत्तर चुनें :

- (a)-(iii), (b)-(iv), (c)-(ii), (d)-(i)
- (a)-(i), (b)-(ii), (c)-(iii), (d)-(iv)
- (a)-(i), (b)-(iv), (c)-(ii), (d)-(iii)
- (a)-(ii), (b)-(iv), (c)-(i), (d)-(iii)
- अनुत्तरित प्रश्न

136. Works of Karpurchand Kulish, a famous journalist are :

- He launched a leading Hindi daily 'Rajasthan Patrika'.
- He started his series 'mein dekhta chala gaya' on rural life and society of Rajasthan.
- He along with Ramchandra co-invented the Jaipur foot.
- He contributed a regular column in Dhundari dialect entitled polampol.

Choose the **most appropriate** answer from the options given below :

- (a), (b) and (d) only
- (b), (c) and (d) only
- (a) and (b) only
- (a), (b) and (c) only
- Question not attempted

137. Match List I with List II :

List I (Games)	List II (Players of Rajasthan)
(a) Cricket	(i) Prabhakar Raju
(b) Hockey	(ii) Pravin Amre
(c) Volleyball	(iii) Limbaram
(d) Archery	(iv) Gangotri Bhandari

Choose the **most appropriate** answer from the options given below :

- (a)-(iii), (b)-(iv), (c)-(ii), (d)-(i)
- (a)-(i), (b)-(ii), (c)-(iii), (d)-(iv)
- (a)-(i), (b)-(iv), (c)-(ii), (d)-(iii)
- (a)-(ii), (b)-(iv), (c)-(i), (d)-(iii)
- Question not attempted

138. सूची I को सूची II से सुमेलित करें :

सूची I		सूची II	
(a)	दिव्यांगजन (समान अवसर, संरक्षण और पूर्ण भागीदारी) अधिनियम	(i)	1971
(b)	राजस्थान गैर-सरकारी शैक्षणिक संस्थान अधिनियम	(ii)	2008
(c)	राजस्थान पंचायती राज प्रबोधक सेवा नियम	(iii)	1989
(d)	राजस्थान शैक्षणिक अधीनस्थ सेवा नियम	(iv)	1996

नीचे दिए गए विकल्पों में से सबसे उपयुक्त उत्तर चुनें :

- (A) (a)-(iii), (b)-(iv), (c)-(i), (d)-(ii)
 (B) (a)-(iv), (b)-(iii), (c)-(ii), (d)-(i)
 (C) (a)-(iv), (b)-(ii), (c)-(iii), (d)-(i)
 (D) (a)-(iii), (b)-(iv), (c)-(ii), (d)-(i)
 (E) अनुत्तरित प्रश्न

139. भीलवाड़ा जिला में, शाहपुरा का जोशी परिवार किस लोक कला का परंपरागत कलाकार रहा है ?

- (A) सांझी (B) कवड़
 (C) मांडणा (D) फड़
 (E) अनुत्तरित प्रश्न

140. भीनमाल (जालौर) से संबंधित तथा 'शिशुपाल वध' के लेखक/कवि का नाम बताएँ।

- (A) सोमदेव (B) कालिदास
 (C) माघ (D) उद्योतन सूरी
 (E) अनुत्तरित प्रश्न

141. संगीत उपकरण पूंगी किस जनजाति द्वारा मुख्यतः प्रयुक्त होती है?

नीचे दिए गए विकल्पों में से सबसे उपयुक्त उत्तर चुनें :

- (A) मीणा (B) सहरिया
 (C) भील (D) कालबेलिया
 (E) अनुत्तरित प्रश्न

138. Match List I with List II :

List I		List II	
(a)	Persons with Disabilities (Equal Opportunities, Protection and Full Participation) Act	(i)	1971
(b)	Rajasthan Non-Government Education Institutions Act	(ii)	2008
(c)	Rajasthan Panchayati Raj Prabodhak Service Rules	(iii)	1989
(d)	Rajasthan Educational Subordinate Service Rules	(iv)	1996

Choose the most appropriate answer from the options given below :

- (A) (a)-(iii), (b)-(iv), (c)-(i), (d)-(ii)
 (B) (a)-(iv), (b)-(iii), (c)-(ii), (d)-(i)
 (C) (a)-(iv), (b)-(ii), (c)-(iii), (d)-(i)
 (D) (a)-(iii), (b)-(iv), (c)-(ii), (d)-(i)
 (E) Question not attempted

139. The Joshi families of Shahpura in Bhilwara district have been the traditional artists of folk art form :

- (A) Sanji (B) Kavadi
 (C) Mandana (D) Phad
 (E) Question not attempted

140. Name the poet/writer, belonged to Bhinmal (Jalore) town and wrote 'Shishupal Vadh'.

- (A) Somdeva (B) Kalidas
 (C) Magh (D) Udhyan Suri
 (E) Question not attempted

141. The musical instrument Pungi is mainly used by the tribe :

Choose the most appropriate answer from the options given below :

- (A) Meena (B) Sahariya
 (C) Bheels (D) Kalbelias
 (E) Question not attempted

142. सूची I को सूची II से सुमेलित करें :

सूची I		सूची II	
(a)	भामाशाह योजना	(i)	2015-16
(b)	देवनारायण स्कूटी एवं प्रोत्साहन योजना	(ii)	2021
(c)	अंबेडकर छात्रवृत्ति योजना	(iii)	2014-15
(d)	मुख्यमंत्री हमारी बेटियाँ योजना	(iv)	2011-12

नीचे दिए गए विकल्पों में से सबसे उपयुक्त उत्तर चुनें :

- (A) (a)-(iv), (b)-(i), (c)-(iii), (d)-(ii)
 (B) (a)-(iii), (b)-(i), (c)-(iv), (d)-(ii)
 (C) (a)-(iii), (b)-(iv), (c)-(ii), (d)-(i)
☒ (D) (a)-(iv), (b)-(iii), (c)-(i), (d)-(ii)
 (E) अनुत्तरित प्रश्न

143. सूची I को सूची II से सुमेलित करें :

सूची I (देश-राज्य)		सूची II (राजस्थान की सीमा)	
(a)	पाकिस्तान	(i)	दक्षिण
(b)	मध्यप्रदेश	(ii)	पूर्व
(c)	पंजाब	(iii)	उत्तर
(d)	गुजरात	(iv)	उत्तर-पश्चिम

नीचे दिए गए विकल्पों में से सबसे उपयुक्त उत्तर चुनें :

- ☒ (A) (a)-(iv), (b)-(ii), (c)-(iii), (d)-(i)
 (B) (a)-(iv), (b)-(i), (c)-(ii), (d)-(iii)
 (C) (a)-(i), (b)-(ii), (c)-(iii), (d)-(iv)
 (D) (a)-(iv), (b)-(iii), (c)-(ii), (d)-(i)
 (E) अनुत्तरित प्रश्न

142. Match List I with List II :

List I		List II	
(a)	Bhamashah Yojana	(i)	2015-16
(b)	Devnarayan Scooty & Incentive Scheme	(ii)	2021
(c)	Ambedkar Fellowship Scheme	(iii)	2014-15
(d)	Mukhyamantri Hamari Betiyan Yojana	(iv)	2011-12

Choose the **most appropriate** answer from the options given below :

- (A) (a)-(iv), (b)-(i), (c)-(iii), (d)-(ii)
 (B) (a)-(iii), (b)-(i), (c)-(iv), (d)-(ii)
 (C) (a)-(iii), (b)-(iv), (c)-(ii), (d)-(i)
 (D) (a)-(iv), (b)-(iii), (c)-(i), (d)-(ii)
 (E) Question not attempted

143. Match List I with List II :

List I (Country-state)		List II (Boundary of Rajasthan)	
(a)	Pakistan	(i)	South
(b)	Madhya Pradesh	(ii)	East
(c)	Punjab	(iii)	North
(d)	Gujarat	(iv)	North-West

Choose the **most appropriate** answer from the options given below :

- (A) (a)-(iv), (b)-(ii), (c)-(iii), (d)-(i)
 (B) (a)-(iv), (b)-(i), (c)-(ii), (d)-(iii)
 (C) (a)-(i), (b)-(ii), (c)-(iii), (d)-(iv)
 (D) (a)-(iv), (b)-(iii), (c)-(ii), (d)-(i)
 (E) Question not attempted

144. सूची I को सूची II से सुमेलित करें :

सूची I (शोध संस्थान)	सूची II (स्थान)
(a) केन्द्रीय शुष्क क्षेत्र अनुसंधान संस्थान	(i) जोधपुर
(b) केन्द्रीय भेड़ और ऊन अनुसंधान संस्थान	(ii) जयपुर
(c) भेड़ और ऊन प्रशिक्षण संस्थान	(iii) अविकानगर
(d) केन्द्रीय सरसों अनुसंधान संस्थान	(iv) सेवर

नीचे दिए गए विकल्पों में से सबसे उपयुक्त उत्तर चुनें :

- (A) (a)-(i), (b)-(ii), (c)-(iii), (d)-(iv)
 (B) (a)-(iv), (b)-(iii), (c)-(ii), (d)-(i)
 (C) (a)-(i), (b)-(iii), (c)-(ii), (d)-(iv)
 (D) (a)-(i), (b)-(iv), (c)-(iii), (d)-(ii)
 (E) अनुत्तरित प्रश्न

145. सूची I को सूची II से सुमेलित करें :

सूची I (मृदा)	सूची II (अभिलक्षण)
(a) नवीन जलोढ़ मृदा	(i) नाइट्रोजन और पोटैश की कमी
(b) काली मिट्टी	(ii) खादर
(c) लेटेराइट मिट्टी	(iii) कंकड़ और पत्थर
(d) पर्वतीय मिट्टी	(iv) पोटैश और लाइम (चूने) की प्रचुरता

नीचे दिए गए विकल्पों में से सबसे उपयुक्त उत्तर चुनें :

- (A) (a)-(iv), (b)-(iii), (c)-(ii), (d)-(i)
 (B) (a)-(ii), (b)-(iv), (c)-(iii), (d)-(i)
 (C) (a)-(ii), (b)-(iv), (c)-(i), (d)-(iii)
 (D) (a)-(i), (b)-(ii), (c)-(iii), (d)-(iv)
 (E) अनुत्तरित प्रश्न

144. Match List I with List II :

List I (Research Institute)	List II (Place)
(a) Central Arid Zone Research Institute	(i) Jodhpur
(b) Central Sheep and Wool Research Institute	(ii) Jaipur
(c) Sheep and Wool Training Institute	(iii) Avikanagar
(d) Central Mustard Research Institute	(iv) Sewar

Choose the **most appropriate** answer from the options given below :

- (A) (a)-(i), (b)-(ii), (c)-(iii), (d)-(iv)
 (B) (a)-(iv), (b)-(iii), (c)-(ii), (d)-(i)
 (C) (a)-(i), (b)-(iii), (c)-(ii), (d)-(iv)
 (D) (a)-(i), (b)-(iv), (c)-(iii), (d)-(ii)
 (E) Question not attempted

145. Match List I with List II :

List I (Soil)	List II (Characteristic)
(a) New Alluvial Soil	(i) Lacks in nitrogen and potash
(b) Black Soil	(ii) Khadar
(c) Laterite Soil	(iii) Pebbles and stones.
(d) Montane Soil	(iv) Rich in potash and lime

Choose the **most appropriate** answer from the options given below :

- (A) (a)-(iv), (b)-(iii), (c)-(ii), (d)-(i)
 (B) (a)-(ii), (b)-(iv), (c)-(iii), (d)-(i)
 (C) (a)-(ii), (b)-(iv), (c)-(i), (d)-(iii)
 (D) (a)-(i), (b)-(ii), (c)-(iii), (d)-(iv)
 (E) Question not attempted

146. नीचे दो कथन दिए गए हैं : एक अभिकथन A (Assertion A) के रूप में लिखित है तो दूसरा उसके कारण R (Reason R) के रूप में।

अभिकथन A :

निजी गैर-अनुदान प्राप्त संस्थानों को स्कूल प्रबंधन समिति के गठन से छूट प्राप्त है।

कारण R :

अतः, आरटीई एक्ट में प्रावधान है कि माता-पिता स्कूल प्रबंधन समिति में बहुमत में होंगे, जिसमें स्कूल शिक्षक और निर्वाचित पंचायत सदस्य भी शामिल होंगे।

उपरोक्त कथनों के आलोक में, नीचे दिए गए विकल्पों में से सबसे उपयुक्त उत्तर का चयन कीजिए :

- (A) A सही है लेकिन R सही नहीं है।
(B) A सही नहीं है लेकिन R सही है।
(C) A और R दोनों सही हैं और R, A की सही व्याख्या है।
(D) A और R दोनों सही हैं लेकिन R, A की सही व्याख्या नहीं है।
(E) अनुत्तरित प्रश्न

147. रामगढ़ भांड देवरा मंदिर की मुख्य विशेषताएँ हैं :

- (a) यह बारां शहर से 40 किमी दूर स्थित है।
(b) यह भगवान विष्णु को समर्पित है।
(c) इसे राजस्थान का लघु खजुराहो भी कहा जाता है।
(d) यह परवण नदी के किनारे स्थित है।

नीचे दिए गए विकल्पों में से सबसे उपयुक्त उत्तर चुनें :

- (A) केवल (a) और (c) (B) केवल (c) और (d)
(C) केवल (a) और (b) (D) केवल (b) और (c)
(E) अनुत्तरित प्रश्न

146. Given below are two statements : one is labelled as Assertion A and the other is labelled as Reason R

Assertion A :

Private unaided institutions are exempted from the constitution of School Management Committee.

Reason R :

The RTE act therefore envisages that parents would form a majority in the School Management Committee, which would also include elected members from panchayat and school teachers.

In the light of the above statements, choose the **most appropriate** answer from the options given below :

- (A) A is correct but R is not correct.
(B) A is not correct but R is correct.
(C) Both A and R are correct and R is the correct explanation of A.
(D) Both A and R are correct but R is NOT the correct explanation of A.
(E) Question not attempted

147. The main features of Ramgarh Bhand Devra Temple are :

- (a) It is located 40 km away from the city Baran.
(b) It is dedicated to Lord Vishnu.
(c) It is also called mini Khajuraho of Rajasthan.
(d) It is situated on the banks of the Parvan River.

Choose the **most appropriate** answer from the options given below :

- (A) (a) and (c) only (B) (c) and (d) only
(C) (a) and (b) only (D) (b) and (c) only
(E) Question not attempted

148. नीचे दिए गए राजस्थान के संतों और लोक देवताओं को उनके जन्म वर्ष के आधार पर कालक्रमानुसार व्यवस्थित करें :

- (a) पाबुजी
- (b) पीपा
- (c) दादूदयाल
- (d) देवनारियणजी

नीचे दिए गए विकल्पों में से सबसे उपयुक्त उत्तर चुनें :

- (A) (a), (c), (b), (d) (B) (a), (b), (c), (d)
- (C) (a), (d), (c), (b) (D) (a), (d), (b), (c)
- (E) अनुत्तरित प्रश्न

149. राजस्थान की 'साहित्य अकादमी' पुरस्कार प्राप्त साहित्यिक रचनाओं को कालक्रमानुसार व्यवस्थित करें :

- (a) सुंदर नैन सुधा
- (b) गवाड़ (उपन्यास)
- (c) पग फेरो (कविता)
- (d) बातांरी फुलवारी खण्ड-X

नीचे दिए गए विकल्पों में से सबसे उपयुक्त उत्तर चुनें :

- (A) (c), (d), (a), (b) (B) (d), (c), (a), (b)
- (C) (a), (b), (c), (d) (D) (b), (a), (c), (d)
- (E) अनुत्तरित प्रश्न

150. मुख्यमंत्री अनुप्रति कोचिंग योजना किन परीक्षाओं की तैयारी कर रहे विद्यार्थियों को निःशुल्क कोचिंग प्रदान करती है ?

- (a) आर.ए.एस.
- (b) आई.ए.एस.
- (c) नीट
- (d) खेल
- (e) जे.ई.ई.

नीचे दिए गए विकल्पों में से सबसे उपयुक्त उत्तर चुनें :

- (A) केवल (b), (c), (d), (e)
- (B) केवल (a), (c), (d), (e)
- (C) केवल (a), (b), (c), (e)
- (D) केवल (a), (b), (c), (d)
- (E) अनुत्तरित प्रश्न

148. Arrange the following saints and folk God of Rajasthan chronologically according to their birth year :

- (a) Pabuji
- (b) Peepa
- (c) Dadu Dayal
- (d) Dev Narayanji

Choose the **most appropriate** answer from the options given below :

- (A) (a), (c), (b), (d) (B) (a), (b), (c), (d)
- (C) (a), (d), (c), (b) (D) (a), (d), (b), (c)
- (E) Question not attempted

149. Arrange in chronological order 'Sahitya Academy' award winning literature of Rajasthan :

- (a) Sundar Nain Sudha
- (b) Gawaad (Novel)
- (c) Pag fero (Poetry)
- (d) Batan Ri Phulwari Vol - X

Choose the **most appropriate** answer from the options given below :

- (A) (c), (d), (a), (b) (B) (d), (c), (a), (b)
- (C) (a), (b), (c), (d) (D) (b), (a), (c), (d)
- (E) Question not attempted

150. The Mukhyamantri Anuprati Coaching Yojana provides free coaching to students preparing for :

- (a) RAS
- (b) IAS
- (c) NEET
- (d) SPORTS
- (e) JEE

Choose the **most appropriate** answer from the options given below :

- (A) (b), (c), (d), (e) only
- (B) (a), (c), (d), (e) only
- (C) (a), (b), (c), (e) only
- (D) (a), (b), (c), (d) only
- (E) Question not attempted