

Participant ID:	
Participant Name:	
Test Center Name:	
Test Date:	
Test Time:	12:30 PM - 2:30 PM
Subject:	TGT HINDI MALE

Section : Mental Ability

Q.1 यदि L का अर्थ + है, M का अर्थ - है, N का अर्थ × है, P का अर्थ + है, तो निम्नलिखित का मान क्या होगा?

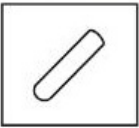
Question ID : 7230532974

6N12L14P7M5=?





- Ans
- 1. 65
 - 2. 69
 - 3. 70
 - 4. 72

Q.2 Find out in which of the options is the given figure embedded.

Question ID : 7230532967



Ans

- 1. 
- 2. 
- 3. 
- 4. 

Q.3 Ammeter is related to current in the same way as Barometer is related to:

Question ID : 7230532961

Identify from the given options.

- Ans
- 1. Pressure
 - 2. Voltage

3. Power

4. Temperature

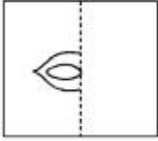
Q.4 जब पारदर्शी पत्रक (शीट) को बिंदुवार रेखा (डॉटेड लाइन) पर मोड़ा जाता है तो आकृति कैसी प्रतीत होती है?

Question ID : 7230532970

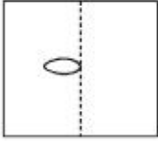


Ans

1.



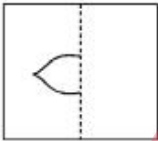
2.



3.



4.



Q.5 ज्यामितीय उत्तरोत्तर श्रेणी की निम्नलिखित श्रृंखला में सातवीं संख्या क्या होगी?

Question ID : 7230532979

5, 35, 245, 1715, ____

Ans

1. 84035

2. 4117715

3. 588245

4. 12005

Q.6 एक पुस्तक में सदा _____ होते हैं।

Question ID : 7230532971

कथन को पूर्ण करने के लिए सर्वोत्तम विकल्प का चयन करें।

Ans

1. चित्र

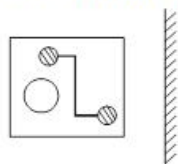
2. पृष्ठ

3. पाठ

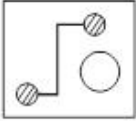
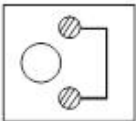
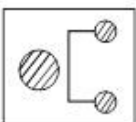
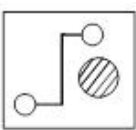
4. उदाहरण

Q.7 निम्नलिखित आकृति के लिए दर्पण छवि की पहचान करें।

Question ID : 7230532964



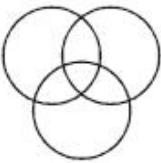


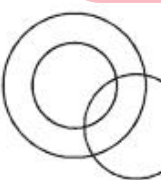
Ans

- ✓ 1. 
- ✗ 2. 
- ✗ 3. 
- ✗ 4. 

Q.8 निम्नलिखित समुच्चय (सेट) "पेडल, हैंडल, साइकिल" के लिए वेन आरेख चुनें।

Question ID : 7230532972

Ans

- ✗ 1. 
- ✗ 2. 
- ✓ 3. 
- ✗ 4. 

TEACHERS
adda247

Q.9 एक व्यक्ति की ओर संकेत करते हुए, एक महिला ने कहा, वह मेरे पिता की बहन का पुत्र है। तो उस व्यक्ति का संबंध उस महिला के साथ किसके रूप में है?

Question ID : 7230532973

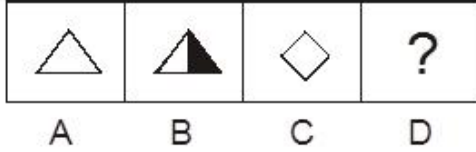
Ans

- ✗ 1. पिता
- ✗ 2. चाचा/ मामा/ फूफा/ मौसा/ काका/ ताऊ
- ✗ 3. भाई
- ✓ 4. चचेरे भाई/ ममेरे भाई

Q.10

Question ID : 7230532962

'D' के लिए उपयुक्त आकृति का चयन करें।



Ans

- ✓ 1.
- ✗ 2.
- ✗ 3.
- ✗ 4.

Q.11 समीर और प्रशांत की वर्तमान आयु क्रमशः 2 : 3 के अनुपात में हैं। 6 वर्ष पश्चात् आयु का अनुपात क्रमशः 4 : 5 हो जाएगा। प्रशांत की वर्तमान आयु क्या है?


Question ID : 7230532976

- Ans
- ✗ 1. 12
- ✗ 2. 36
- ✓ 3. 9
- ✗ 4. 6

TEACHERS
adda247

Q.12 निम्नलिखित पाई लेखाचित्र (चार्ट) "LMN" कंपनी द्वारा चॉकलेट के उत्पादन के संबंध में जानकारी दर्शाता है। सभी उत्पादों की बिक्री द्वारा प्राप्त राजस्व \$ 12,400 है।

Question ID : 7230532966



शर्करा मुक्त (शुगर फ्री) चॉकलेट की बिक्री द्वारा प्राप्त राजस्व कितना है?

- Ans
- ✗ 1. \$ 1,240
- ✗ 2. \$ 2,480
- ✓ 3. \$ 620
- ✗ 4. \$ 310

Q.13 आप कार से कार्यालय जा रहे हैं। यदि आप सड़क पर सहायता के लिए पुकार रहे किसी दुर्घटनाग्रस्त व्यक्ति को देखते हैं, तो वह सर्वोत्तम विकल्प चुनें जो आप पहले करेंगे।

Question ID : 7230532969

- Ans
- ✗ 1.

उसे छोड़ देंगे और अपने कार्य के लिए आगे बढ़ जाएंगे

- ✓ 2.

एम्बुलेंस को फ़ोन करेंगे या उसे उपचार के लिए किसी भी माध्यम से अस्पताल ले जाएंगे

3.

उसकी देखभाल करने के लिए उसके परिवार के सदस्यों को फ़ोन करेंगे

4. पुलिस स्टेशन को फ़ोन करेंगे

Q.14 कैप्टन और सैनिकों सहित 1600 व्यक्तियों का एक समूह रेलगाड़ी में यात्रा कर रहा है। प्रत्येक 15 सैनिकों के लिए एक कैप्टन है। समूह में कैप्टनों की संख्या कितनी है? Question ID : 7230532975

Ans

1. 75

2. 25

3. 100

4. 50

Q.15 श्रृंखला में आगामी आकृति कौन सी होगी? Question ID : 7230532965



Ans

1. b

2. P

3. 9

4. d

TEACHERS
adda247

Q.16 Choose the odd pair of words. Question ID : 7230532977

Ans

1. Physiology : Body

2. Haematology : Blood

3. Cardiology : Heart

4. Mycology : Insects




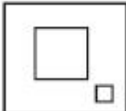
Q.17 निम्नलिखित श्रृंखला में अनुपस्थित पद क्या होगा? Question ID : 7230532980

B3, D6, H12, N24, ?

- Ans
- 1. P48
 - 2. V48
 - 3. Q48
 - 4. S48

Q.18 श्रृंखला में से विषम आकृति का चयन करें।

Question ID : 7230532963

- Ans
- 1. 
 - 2. 
 - 3. 
 - 4. 

Q.19 निम्नलिखित जानकारी को सावधानीपूर्वक पढ़ें और नीचे दिये गए प्रश्न का उत्तर दें

Question ID : 7230532968

एक शोध संगठन (रिसर्च ऑर्गेनाइजेशन) में वैज्ञानिक की भर्ती के मापदंड निम्नलिखित हैं। अभ्यर्थी -

- (1) न्यूनतम 65% अंकों के साथ गणित/ भौतिकी/ रसायन विज्ञान विषय में स्नातकोत्तर होना चाहिए
- (2) 01-01-2018 को 26 वर्ष से कम और 35 वर्ष से अधिक नहीं होना चाहिए
- (3) के पास 50% से अधिक अंकों के साथ पोस्ट-डॉक्टोरल की उपाधि होनी चाहिए
- (4) को उपरोक्त क्षेत्रों में कम से कम 3 वर्ष का अनुभव होना चाहिए
- (5) को एक वर्ष के लिए परिबीक्षा (प्रोबेशन) के लिए तैयार होना चाहिए

यदि अभ्यर्थी (3) के अतिरिक्त उपरोक्त सभी मापदंडों को पूर्ण करता है तो उसे परियोजना वैज्ञानिक के रूप में निर्दिष्ट किया जा सकता है।

यदि अभ्यर्थी (3) और (4) के अतिरिक्त उपरोक्त सभी मापदंडों को पूर्ण करता है तो उसे कनिष्ठ वैज्ञानिक के रूप में निर्दिष्ट किया जा सकता है।

यदि अभ्यर्थी प्रासंगिक क्षेत्रों में 7 वर्षों के अनुभव के साथ उपरोक्त सभी मापदंडों को पूर्ण करता है तो उसे वरिष्ठ वैज्ञानिक के रूप में निर्दिष्ट किया जा सकता है। यदि अभ्यर्थी प्रासंगिक क्षेत्र में 12 वर्षों के अनुभव के साथ उपरोक्त सभी मापदंडों को पूर्ण करता है तो उसे मुख्य वैज्ञानिक के रूप में निर्दिष्ट किया जा सकता है।

सुधीर की आयु 1/1/18 को 28 वर्ष है, उसके पास गणित में पोस्ट डॉक्टोरियल और स्नातकोत्तर की उपाधियाँ हैं, उसने अकादमिक शिक्षा में भी 75% से अधिक अंक प्राप्त किये हैं। उसके पास कोई अनुभव नहीं है, किंतु वह नौकरी के एक वर्ष के लिए परिबीक्षा (प्रोबेशन) पर रहने के लिए तैयार है। उसे किस पद के लिए निर्दिष्ट किया जा सकता है?

- Ans
- 1. वरिष्ठ वैज्ञानिक
 - 2. मुख्य वैज्ञानिक
 - 3. वैज्ञानिक
 - 4. कनिष्ठ वैज्ञानिक

Q.20 दिये गए विकल्पों में से संख्या के विषम युग्म का चयन करें।

Question ID : 7230532978

- Ans
- ✓ 1. 64 : 256
 - ✗ 2. 25 : 125
 - ✗ 3. 49 : 343
 - ✗ 4. 81 : 729

Section : General Awareness

Q.1 क्षेत्र का उसी क्षेत्र से संबंधित कला से संबद्ध पारंपरिक रंगमंच स्वरूप का मिलान करें।

Question ID : 7230532990

a. भांड पाथर	e. गुजरात
b. यक्षगान	f. कश्मीर
c. भवाई	g. पश्चिम बंगाल
d. जात्रा	h. कर्नाटक

- Ans
- ✓ 1. d-g, b-h, c-e, a-f
 - ✗ 2. d-f, a-g, b-h, c-e
 - ✗ 3. c-h, b-e, a-f, d-g
 - ✗ 4. b-f, a-h, c-e, d-g

Q.2 Who among the following did NOT serve as the Prime Minister of India successively for a second time?

Question ID : 7230532984

- Ans
- ✗ 1. Manmohan Singh
 - ✗ 2. Jawaharlal Nehru
 - ✓ 3. Atal Bihari Vajpayee
 - ✗ 4. Indira Gandhi

Q.3 भारत ने 1974 और 1976 में किये गए समझौते के अंतर्गत श्रीलंका को _____ द्वीप का स्वामित्व सल्लान्तरित कर दिया।

Question ID : 7230532991

- Ans
- ✓ 1. कच्चथीवू
 - ✗ 2. साल्सेट
 - ✗ 3. नील
 - ✗ 4. हैवलॉक

Q.4 _____ is the harmful substance found in carboic acid.

Question ID : 7230532996

- Ans
- ✗ 1. Red liquor
 - ✓ 2. Phenol
 - ✗ 3. Lye
 - ✗ 4. Quicklime

Q.5 निम्नलिखित में से कौन दिल्ली सल्लतनत से संबंधित नहीं था?

Question ID : 7230532981

- Ans
- ✓ 1. मोहम्मद गोरी

- 2. गयास-उद-दीन बलबान
- 3. मोहम्मद बिन तुगलक
- 4. अलाउद्दीन खिलजी

Q.6 निम्नलिखित में से किसने भारत के वित्त मंत्री के रूप में कार्य नहीं किया?

Question ID : 7230532986

Ans

- 1. जसवंत सिंह
- 2. लालकृष्ण आडवाणी
- 3. पी. चिदंबरम्
- 4. यशवंत सिन्हा

Q.7 जलोढ़ी मिट्टी के संबंध में निम्नलिखित में से कौन सा विकल्प असत्य है?

Question ID : 7230532992

Ans

- 1. यह मिट्टी और रेत का मिश्रण है
- 2. यह पोषक तत्वों से भरपूर है
- 3.

यह उत्तरी भारत के डेल्टा क्षेत्रों के अधिकांश भागों में पायी जाती है

4.

यह सब्जियाँ और फल उगाने के लिए उपयुक्त नहीं है

Q.8 निम्नलिखित में से वे कौन भारत के पूर्व प्रधान मंत्री हैं, जो लोकसभा के सदस्य नहीं थे?

Question ID : 7230532983

Ans

- 1. पी.वी. नरसिम्हा राव
- 2. चंद्रशेखर
- 3. विश्वनाथ प्रताप सिंह
- 4. मनमोहन सिंह

Q.9 _____ को विश्व व्याप्त संजाल (वर्ल्ड वाइड वेब) का आविष्कार करने का श्रेय दिया जाता है।

Question ID : 7230532997

Ans

- 1. जेम्स डायसन
- 2. हेनरी फोर्ड
- 3. टिम बर्नर्स - ली
- 4. बिल गेट्स

Q.10 अलेक्जेंडर रोड और थॉमस मुनरो के शासनकाल के दौरान _____ व्यवस्था को धीरे-धीरे संपूर्ण दक्षिण भारत में विस्तारित किया गया था।

Question ID : 7230532982

Ans

- 1. रैयतवाड़ी
- 2. स्थायी निपटान
- 3. महलवारी
- 4. जागीरदारी

Q.11 Three of the following correctly describe existing types of mutual funds in India. Find the odd one out.

Question ID : 7230532994

- Ans
- 1. Short cap funds
 - 2. Mid cap funds
 - 3. Large cap funds
 - 4. Multi cap funds

Q.12 टेनिस के खेल में, सर्विस बॉक्स में गेंद इस प्रकार डालते हैं कि उसे विरोधी खिलाड़ी अपने रैकेट से स्पर्श या वापस नहीं कर सकता/ती है, उसे क्या कहा जाता है?

Question ID : 7230532988

- Ans
- 1. फ़ॉल्ट
 - 2. एस
 - 3. लॉब
 - 4. लेट

Q.13 जैसा कि अंतरराष्ट्रीय ओलंपिक समिति द्वारा निश्चित किया गया है, _____ ओलंपिक खेल 2024 की मेज़बानी करेगा।

Question ID : 7230532987

- Ans
- 1. लॉस एंजिल्स
 - 2. पेरिस
 - 3. टोक्यो
 - 4. माँस्को

Q.14 बहाई मंदिर कहाँ स्थित है?

Question ID : 7230532989

- Ans
- 1. तंजावुर में
 - 2. मथुरा में
 - 3. नई दिल्ली में
 - 4. उदयपुर में

Q.15 भारतीय राष्ट्रीय ध्वज में सफ़ेद पट्टी के केंद्र में स्थित अशोक चक्र क्या दर्शाता है?

Question ID : 7230532985

- Ans
- 1. धर्म
 - 2. त्याग
 - 3. उर्वरता और विकास
 - 4. शक्ति और साहस

Q.16 भारतीय मृदा विज्ञान संस्थान (IISS) कहाँ स्थित है?

Question ID : 7230532999

- Ans
- 1. करनाल, हरियाणा
 - 2. लुधियाना, पंजाब
 - 3. भोपाल, मध्य प्रदेश
 - 4. कोयंबतूर, तमिलनाडु

Q.17 Which of the following does NOT fall under the classification of elements?

Question ID : 7230532995

- Ans
- 1. Non-metals
 - 2. Metals
 - 3. Water
 - 4. Metalloids

Q.18 If an asset is easy to sell or convert into cash without any loss in its value, it is called as:

Question ID : 7230532993

- Ans
- 1. Fluid Asset
 - 2. Liquid Asset
 - 3. Financial Asset
 - 4. Easy Money

Q.19 _____ का मुख्यालय वियेना, ऑस्ट्रिया में है।

Question ID : 7230533000

- Ans
- 1. पेट्रोलियम निर्यातक देशों का संगठन (ओ.पी.इ.सी.)
 - 2. विश्व व्यापार संगठन (डब्ल्यू.टी.ओ.)
 - 3. अंतरराष्ट्रीय श्रम संगठन (आय.एल.ओ.)
 - 4. विश्व स्वास्थ्य संगठन (डब्ल्यू.एच.ओ.)

Q.20 In 2015, scientists detected _____ waves for the very first time using an instrument called LIGO.

Question ID : 7230532998

- Ans
- 1. electromagnetic
 - 2. gravitational
 - 3. sonar
 - 4. seismic

Section : Arithmetic Ability

Q.1 अविन अपनी आय का 70% खर्च करता है। उसकी आय में $x\%$ की वृद्धि तथा उसके खर्च में 10% की वृद्धि होती है। यदि उसकी बचत में $16\frac{2}{3}\%$ की वृद्धि हो, तो x का मान क्या है?

Question ID : 7230533005

- Ans
- 1. 15
 - 2. 18
 - 3. 10
 - 4. 12

Q.2 $\left(8 \div \frac{2}{3} \text{ of } \frac{4}{5}\right) \times \frac{(0.89)^2 + 0.64(1.53)}{(0.89)^3 - (0.64)^3} \div \left(8 \times \frac{2}{3} \div \frac{4}{5}\right)$ का मान है:

Question ID : 7230533003

- Ans
- 1. 3
 - 2. 9
 - 3. 0.3
 - 4. 0.9

Q.3 माना की x एक न्यूनतम संख्या है जो 12, 16 तथा 24 से विभाज्य है, लेकिन जब इसे 13 से भाग दें, तो शेषफल 1 है। जब x को 52 से भाग दिया जाए तो शेषफल क्या होगा?

Question ID : 7230533004

- Ans
- 1. 40
 - 2. 42
 - 3. 37
 - 4. 39

Q.4 वस्तुएँ A तथा B के क्रय मूल्यों में $x : y$ का अनुपात है। अगले दो वर्षों में A के मूल्य में 10% की वृद्धि और B के मूल्य में 20% की कमी हुई है। यदि दो वर्ष के पश्चात, उनके मूल्यों में 10 : 7 का अनुपात है, तो $\frac{80y-2x}{60y+6x}$ का क्या मान है?

Question ID : 7230533010

- Ans
- 1. $1\frac{31}{69}$
 - 2. $1\frac{3}{69}$
 - 3. $1\frac{3}{17}$
 - 4. $1\frac{13}{17}$

Q.5 पंद्रह संख्याओं का औसत 72.4 है। पहली छः संख्याओं का औसत 69.5 तथा अगली छः संख्याओं का औसत 74.5 है। 13वीं संख्या 14वीं संख्या से 8 कम है लेकिन 15वीं संख्या से 8 अधिक है। 13वीं और 15वीं संख्याओं का औसत है:

Question ID : 7230533009

- Ans
- 1. 71.6
 - 2. 73.5
 - 3. 70
 - 4. 78

Q.6 यदि A के $\frac{1}{5}$ भाग का 50%, B के 25% भाग के 50% के दुगुने के बराबर हो, तो A, B से कितना प्रतिशत अधिक या कम है?

Question ID : 7230533006

- Ans
- 1. 125% कम
 - 2. 100% कम
 - 3. 150% अधिक
 - 4. 250% अधिक

Q.7 एक व्यक्ति 4 पंखे और 9 घड़ियों ₹ 26800 में खरीदता है। यदि वह पंखों को 10% लाभ और घड़ियों को 20% लाभ पर बेचता है तो उसे ₹ 3760 का लाभ प्राप्त होता है। 2 पंखे और 3 घड़ियों का कुल कितना क्रय मूल्य है?

Question ID : 7230533008

- Ans
- 1. ₹ 11600
 - 2. ₹ 12800
 - 3. ₹ 15600
 - 4. ₹ 14400

Q.8 किसी वस्तु के अंकित मूल्य और क्रय मूल्य में 5 : 3 का अनुपात है, जबकि उसके अंकित मूल्य और विक्रय मूल्य में 9 : 5 का अनुपात है। लाभ हानि प्रतिशत क्या है?

Question ID : 7230533007

- Ans
- 1. 8% लाभ
 - 2. $7\frac{11}{27}$ % लाभ
 - 3. $7\frac{11}{27}$ % हानि

✗ 4. 8% हानि

Q.9 किसी व्यक्ति को 360 किमी की दूरी 30 किमी/घं की चाल से तय करनी है। प्रतिदिन वह अपने गंतव्य पर शाम के पांच बजे पहुंच जाता है। एक दिन, उसने 2 घंटे की देरी से चलना आरंभ किया, लेकिन फिर भी शाम के पांच बजे ही पहुंच गया। उसने अपनी चाल में कितने प्रतिशत की वृद्धि की?

Question ID : 7230533015

- Ans
- ✗ 1. $16\frac{2}{3}\%$
 - ✓ 2. 20%
 - ✗ 3. 25%
 - ✗ 4. 24%

Q.10 किसी संख्या को 5, 7 और 9 से उल्लरोत्तर भाग देने पर क्रमशः 2, 4 और 6 शेष बचते हैं और अंतिम भागफल 2 है। यदि भाजकों का क्रम उलट दिया जाए तो शेषफल क्या होंगे?

Question ID : 7230533002

- Ans
- ✓ 1. 7, 4 और 3
 - ✗ 2. 6, 3 और 1
 - ✗ 3. 7, 3 और 2
 - ✗ 4. 6, 4 और 2

Q.11 एक नाव धारा के प्रतिकूल 4 किमी की दूरी और धारा के अनुकूल 6 किमी की दूरी एक घंटे में तय करती है, जबकि यह धारा के प्रतिकूल 6 किमी की दूरी और धारा के अनुकूल 4 किमी की दूरी एक घंटा 5 मिनट में तय करती है। नाव की शांत जल में चाल (किमी/घं में) क्या है?

Question ID : 7230533014

- Ans
- ✗ 1. 9
 - ✗ 2. 12
 - ✗ 3. 8
 - ✓ 4. 10

TEACHERS

adda247

Q.12 किसी काम को करने के लिए A और B बारी बारी से एक-एक दिन काम करते हैं और शुरुआत B करता है। A अकेला उस काम को 48 दिन में पूरा कर सकता है। यदि काम $11\frac{1}{3}$ दिन में पूरा हुआ हो, तो B अकेला उस काम को कितने दिन में पूरा कर सकता है?

Question ID : 7230533016

- Ans
- ✓ 1. $6\frac{3}{4}$ दिन
 - ✗ 2. $8\frac{1}{2}$ दिन
 - ✗ 3. $8\frac{1}{4}$ दिन
 - ✗ 4. $6\frac{1}{2}$ दिन

Q.13 ₹ 50460 की एक राशि को दो भागों A और B में इस प्रकार बांटा गया है कि 8 वर्ष पश्चात A का मिश्रधन और 10 वर्ष के पश्चात B का मिश्रधन चक्रवृद्धि ब्याज द्वारा 5% वार्षिक दर से बराबर है, जबकि ब्याज वार्षिक संयोजित है। A और B का अंतर क्या है?

Question ID : 7230533012

- Ans
- ✗ 1. ₹ 2500
 - ✗ 2. ₹ 2640
 - ✓ 3. ₹ 2460
 - ✗ 4. ₹ 2400

Q.14 एक मैदान समबाहु त्रिभुजाकार है। मैदान के अन्दर किसी एक बिंदु से इसकी भुजाओं की न्यूनतम दूरियाँ 16 मी, 20 मी और 22 मी हैं। मैदान का क्षेत्रफल क्या है? (एक पूर्णांक के सन्निकट)

Question ID : 7230533018

- Ans
- ✓ 1. 1942

2. 1840

3. 1964

4. 2040

Q.15 यदि $x = 57^{492} \times 74^{231} \times 23^{59}$ है, तो x में इकाई का अंक क्या है?

Question ID : 7230533001

Ans 1. 7

2. 8

3. 1

4. 4

Q.16 धातु के एक ठोस आयताकार ब्लॉक, जिसकी लंबाई 16 सेमी, चौड़ाई 11 सेमी और ऊँचाई 7 सेमी हैं, को पिघलाकर एक ठोस लंब वृत्तीय बेलन के रूप में ढाला जाता है, जिसकी ऊँचाई 8 सेमी है। बेलन का संपूर्ण पृष्ठीय क्षेत्रफल है: ($\pi = \frac{22}{7}$ लीजिए)

Question ID : 7230533017

Ans 1. 550 सेमी²

2. 660 सेमी²

3. 352 सेमी²

4. 308 सेमी²

Q.17 तीन घोलों में स्पिरिट तथा पानी का अनुपात क्रमशः 2 : 3, 3 : 4 और 4 : 5 हैं और उनको 5 : 3 : 2 को अनुपात में मिलाया जाता है। इस प्रकार प्राप्त घोल के 1.26 लीटर घोल में 318 मिलीलीटर पानी मिलाया जाता है। अंतिम घोल में स्पिरिट और पानी की अनुपात है:

Question ID : 7230533011

Ans 1. 3 : 4

2. 4 : 5

3. 1 : 2

4. 2 : 3

Q.18 उधार ली गई एक धनराशि को प्रत्येक ₹ 1764 की वार्षिक दो बराबर किस्तों में लौटाया जाना है। यदि ब्याज दर 5% है और ब्याज वार्षिक संयोजित है, तो इस स्कीम में जो ब्याज दिया गया, वह निम्नलिखित है:

Question ID : 7230533013

Ans 1. ₹ 188

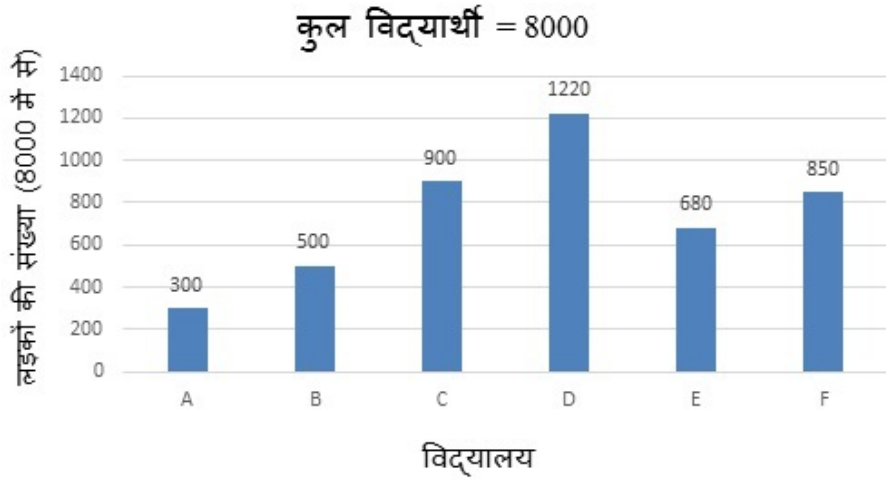
2. ₹ 224

3. ₹ 218

4. ₹ 248

Comprehension:

निम्नलिखित ग्राफ और सारणी को पढ़िए तथा प्रश्नों के उत्तर दीजिए।



विद्यालय	विद्यार्थियों की प्रतिशतता
A	12
B	10
C	25
D	20
E	15
F	18

TEACHERS

adda247

SubQuestion No : 19

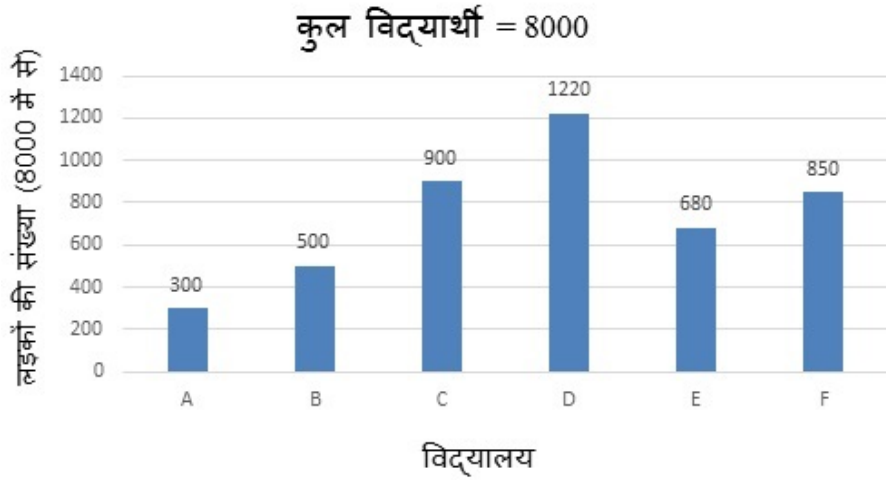
Q.1 किनते विद्यार्थियों में, लड़कों की संख्या सभी विद्यालयों में मिलाकर लड़कियों की औसत संख्या से अधिक है?

Question ID : 7230533021

- Ans
- 1. 2
 - 2. 3
 - 3. 1
 - 4. 4

Comprehension:

निम्नलिखित ग्राफ और सारणी को पढ़िए तथा प्रश्नों के उत्तर दीजिए।



विद्यालय	विद्यार्थियों की प्रतिशतता
A	12
B	10
C	25
D	20
E	15
F	18

TEACHERS

adda247

SubQuestion No : 20

Q.2 सभी छः विद्यार्थियों में कुल मिलाकर, लड़कियों की कुल संख्या विद्यार्थियों की कुल संख्या का कितना प्रतिशत है?

Question ID : 7230533020

Ans

1. $55\frac{3}{8}$

2. $45\frac{5}{8}$

3. $44\frac{3}{8}$

4. $55\frac{5}{8}$

Section : General English

Q.1 Fill in the blank in the sentence given below with the correct option.

I need to _____ what preventive measures are available to us at this stage of the disease.

Question ID : 7230533027

- Ans
- 1. look down
 - 2. look up
 - 3. look forward to
 - 4. look up to

Q.2 Select the indirect form of narration of the given sentence.

"Do you know that samosas, kebabs and pulaos came to India from the Middle East?" asked my friend Yasmin. "But the use of Indian spices changed the original taste."

Question ID : 7230533034

- Ans
- 1.
Indian spices changed the taste of samosas, kebabs and pulaos although all these food came from the Middle East.
 - 2.
Samosas, kebabs and pulaos—all have come to India from the Middle East, my friend Yasmin informed me. But the use of Indian spices changed the taste of these items.
 - 3.
My friend Yasmin asked me if I knew that samosas, kebabs and pulaos came to India from the Middle East. She further added that the use of Indian spices changed the original taste.
 - 4.
My friend Yasmin told me that samosas, kebabs and pulaos came to India from the Middle East. But the use of Indian spices changed the original taste.

Q.3 Fill in the blank in the sentence given below with the correct option.

Shivani _____ no sooner _____ the book than her friend _____ her.

Question ID : 7230533030

- Ans
- 1. had ; opened ; called
 - 2. having ; opening ; calling
 - 3. has ; found ; call
 - 4. has ; open ; call

TEACHERS

Q.4 Fill in the blank in the sentence given below with the correct option.

I _____ to be rude either to you or to Amit.

Question ID : 7230533029

- Ans
- 1. was not want
 - 2. have been wanting
 - 3. am not wanting
 - 4. do not want

Q.5 Select the PASSIVE VOICE form of the given sentence.

In India, some people consider keeping the Mahabharata in the house inauspicious because it deals with bloodshed and the break-up of a family.

Question ID : 7230533033

- Ans
- 1.
Some people in India consider the Mahabharata inauspicious because it deals with bloodshed and the break-up of a family.
 - 2.
As the Mahabharata deals with bloodshed and the breakup of a family, Indians consider the epic inauspicious.
 - 3.
In India people do not want to keep the Mahabharata in their house because it deals with bloodshed and the break-up of a family.
 - 4.
In India, the Mahabharata is considered inauspicious (by some people) because it deals with bloodshed and the breakup of a family.

Q.6 Choose the best option to combine the given sentences into a single sentence.

The Mahabharata has a Jain version. In this version, the battle is between Krishna of Dwaraka and Jarasandha, the emperor of Magadha. The battle is not between the Pandavas and the Kauravas.

Question ID : 7230533035

- Ans
- 1.

The Jain version of the Mahabharata highlight the battle of Krishna with Jarasandha.

2.

In the Jain version of the Mahabharata, the Pandavas support Krishna of Dwaraka whereas the Kauravas support Jarasandha, the emperor of Magadha.

3.

In the Jain tradition of the Mahabharata, the battle is not between the Pandavas and the Kauravas but between Krishna of Dwaraka, and Jarasandha, the emperor of Magadha.

4.

The Pandavas supported Krishna of Dwaraka against Jarasandha, the emperor of Magadha and the Kauravas supported Jarasandha in the Jain version of the Mahabharata.

Q.7 Given below is an incorrect sentence. From the given options, select the part that has an error.

Question ID : 7230533032

Babies given solid food along with milk from three months of age sleep best than those who are solely fed on milk, finds a research study.

Ans 1. solely fed on milk,

2. from three months

3. sleep best than those

4. Babies given solid food

Q.8 From the given options, select the one that represents the appropriate meaning of the underlined IDIOM in the sentence given below.

Question ID : 7230533025

I feel like a fish out of water when my friends discuss latest fashions and gourmet food.

Ans 1. prepare false accounts

2. wild with excitement

3. to feel uncomfortable

4. use an opportunity to best advantage

TEACHERS

Q.9 From the given options, select the word that can substitute the underlined words in the sentence given below.

Question ID : 7230533026

We really don't understand the pain of those who have to walk miles every day to get safe drinking water.

Ans 1. dribble

2. potable

3. reliable

4. edible

adda247

Q.10 Detect the mis-spelt word from the given options.

Question ID : 7230533024

Ans 1. bereaved

2. bemused

3. bestow

4. begining

Q.11 From the given options choose the one that means the OPPOSITE of terminate.

Question ID : 7230533023

Ans 1. wonderful

2. introduce

3. discontinue

4. distressing

Q.12 Choose the passage that is correctly punctuated.

Question ID : 7230533036

Ans 1.

Indians prefer retelling the stories of Krishna's childhood and youth with his mother yashoda and the gopikas.

2.

Indians prefer retelling stories of Krishna's childhood and youth with his mother Yashoda and the Gopikas.

3.

There are many stories about Krishna's childhood, his mother yashoda and the gopikas.

4.

Indians prefer retelling the story of Krishna, his mother yashoda and the gopikas.

Q.13 Given below is an incorrect sentence. From the given options, select the part that has an error.

Question ID : 7230533031

Have you ever noticed how tired my looks sometime?

Ans 1. ever noticed

2. Have you

3. how tired

4. looks sometime

Q.14 Fill in the blank in the sentence given below with the correct option.

Question ID : 7230533028

A: I am very hungry. Give me _____ to eat before lunch time.

B: Have _____ banana then. There are quite _____ on the dining table.

Ans 1. any ; the ; many

2. anything ; a few ; much

3. snacks ; some ; many

4. something ; a ; a few

TEACHERS

Q.15 From the given options choose the one that would mean the SAME as amiable.

Question ID : 7230533022

Ans 1. aggressive

2. hostile

3. good-natured

4. unfriendly

Comprehension:

Read the passage given below and answer the questions that follow.

On June 15, 2018 heavy rains had washed away soil under a portion of the track at Dhancherra between Mungiakami and Ambassa railway stations. Swapan and his nine year old daughter Sumati, saw this while crossing this track in search of bamboo shoots, edible leaves, bark, root, stem and small aquatic animals which they sell to earn some money. But that day Swapan decided to stay beside the track lest a train comes along. The father- daughter duo waited for a long time, and with no track inspection staff in sight, decided to carry on the vigil. Later, they heard the whistle of an approaching train from Ambassa. Realizing that if the train tries to cross the track--- made loose by the heavy downpour—it could mean certain disaster, the two started running towards it, waving a piece of cloth he had on himself. This caught the co-pilot’s attention and nearly 2000 passengers managed to escape unhurt.

Since then, Swapan and his daughter have achieved celebrity status. The other members of his family—his wife, four children and his parents—are basking in reflected glory. The state government has already felicitated them in the state assembly and both have been recommended for a bravery award. Swapan has received over Rs. 70,000 in cash and plenty of dresses, sweets and citations. He has also got cheques worth more than Rs. three lakh from various institutions and individuals. But he doesn’t know how to encash them. He has been unable to get an Aadhar card or open a bank account because he is illiterate. Recently, all formalities to open a bank account have been completed with the help of local educationists.

SubQuestion No : 16

Q.1 Choose the INCORRECT option.

Question ID : 7230533040

The qualities of the father and the daughter that stand out are:

- concern for others
- sharp observation
- greed for money
- unselfishness
- courage
- patience
- bad-temper
- laziness

- Ans
1. e, f, g
 2. b, c, g
 3. a, b, f
 4. c, g, h

Comprehension:

Read the passage given below and answer the questions that follow.

On June 15, 2018 heavy rains had washed away soil under a portion of the track at Dhancherra between Mungiakami and Ambassa railway stations. Swapan and his nine year old daughter Sumati, saw this while crossing this track in search of bamboo shoots, edible leaves, bark, root, stem and small aquatic animals which they sell to earn some money. But that day Swapan decided to stay beside the track lest a train comes along. The father- daughter duo waited for a long time, and with no track inspection staff in sight, decided to carry on the vigil. Later, they heard the whistle of an approaching train from Ambassa. Realizing that if the train tries to cross the track--- made loose by the heavy downpour—it could mean certain disaster, the two started running towards it, waving a piece of cloth he had on himself. This caught the co-pilot’s attention and nearly 2000 passengers managed to escape unhurt.

Since then, Swapan and his daughter have achieved celebrity status. The other members of his family—his wife, four children and his parents—are basking in reflected glory. The state government has already felicitated them in the state assembly and both have been recommended for a bravery award. Swapan has received over Rs. 70,000 in cash and plenty of dresses, sweets and citations. He has also got cheques worth more than Rs. three lakh from various institutions and individuals. But he doesn’t know how to encash them. He has been unable to get an Aadhar card or open a bank account because he is illiterate. Recently, all formalities to open a bank account have been completed with the help of local educationists.

SubQuestion No : 17

Q.1 Choose the correct option to complete the sentence.

Question ID : 7230533039

Heavy rains had washed away a portion of the railway track between _____ and _____ stations at _____ in Tripura.

- Ans
- 1. Mungiakami ; Ambassa ; Dhancherra
 - 2. Kumarghat ; Ambassa ; Agartala
 - 3. Dharmanagar ; Agartala ; Dhancherra
 - 4. Udaipur ; Sabrum ; Agartala

Comprehension:

Read the passage given below and answer the questions that follow.

On June 15, 2018 heavy rains had washed away soil under a portion of the track at Dhancherra between Mungiakami and Ambassa railway stations. Swapan and his nine year old daughter Sumati, saw this while crossing this track in search of bamboo shoots, edible leaves, bark, root, stem and small aquatic animals which they sell to earn some money. But that day Swapan decided to stay beside the track lest a train comes along. The father- daughter duo waited for a long time, and with no track inspection staff in sight, decided to carry on the vigil. Later, they heard the whistle of an approaching train from Ambassa. Realizing that if the train tries to cross the track--- made loose by the heavy downpour—it could mean certain disaster, the two started running towards it, waving a piece of cloth he had on himself. This caught the co-pilot’s attention and nearly 2000 passengers managed to escape unhurt.

Since then, Swapan and his daughter have achieved celebrity status. The other members of his family—his wife, four children and his parents—are basking in reflected glory. The state government has already felicitated them in the state assembly and both have been recommended for a bravery award. Swapan has received over Rs. 70,000 in cash and plenty of dresses, sweets and citations. He has also got cheques worth more than Rs. three lakh from various institutions and individuals. But he doesn’t know how to encash them. He has been unable to get an Aadhar card or open a bank account because he is illiterate. Recently, all formalities to open a bank account have been completed with the help of local educationists.

SubQuestion No : 18

Q.1 Choose the correct option to complete the statement.

Question ID : 7230533042

Swapan supports his family by collecting forest produce and selling them. Yet on June 25, he stayed beside the railway track for a very long time without going about his daily routine. This proves that he _____

Ans 1. Is acutely concerned about others and determined to prevent a tragedy.

2.

Extremely idle and doesn’t miss an opportunity to relax.

3.

Doesn’t bother about his family responsibilities.

4.

Wanted to get and save some money for his family.

Comprehension:

Read the passage given below and answer the questions that follow.

On June 15, 2018 heavy rains had washed away soil under a portion of the track at Dhancherra between Mungiakami and Ambassa railway stations. Swapan and his nine year old daughter Sumati, saw this while crossing this track in search of bamboo shoots, edible leaves, bark, root, stem and small aquatic animals which they sell to earn some money. But that day Swapan decided to stay beside the track lest a train comes along. The father- daughter duo waited for a long time, and with no track inspection staff in sight, decided to carry on the vigil. Later, they heard the whistle of an approaching train from Ambassa. Realizing that if the train tries to cross the track--- made loose by the heavy downpour—it could mean certain disaster, the two started running towards it, waving a piece of cloth he had on himself. This caught the co-pilot’s attention and nearly 2000 passengers managed to escape unhurt.

Since then, Swapan and his daughter have achieved celebrity status. The other members of his family—his wife, four children and his parents—are basking in reflected glory. The state government has already felicitated them in the state assembly and both have been recommended for a bravery award. Swapan has received over Rs. 70,000 in cash and plenty of dresses, sweets and citations. He has also got cheques worth more than Rs. three lakh from various institutions and individuals. But he doesn’t know how to encash them. He has been unable to get an Aadhar card or open a bank account because he is illiterate. Recently, all formalities to open a bank account have been completed with the help of local educationists.

SubQuestion No : 19

Q.1
9 Choose the correct option.

Question ID : 7230533041

Why could Swapan not encash his cheques?

Ans ✓ 1.

He is very poor and earns little money. He doesn’t have a bank account.

✗ 2.

Swapan doesn’t believe in keeping money in banks. He kept all his money at home.

✗ 3. There are no banks in Dhancherra village.

✗ 4. He doesn’t know about Aadhar card rules.

Comprehension:

Read the passage given below and answer the questions that follow.

On June 15, 2018 heavy rains had washed away soil under a portion of the track at Dhancherra between Mungiakami and Ambassa railway stations. Swapan and his nine year old daughter Sumati, saw this while crossing this track in search of bamboo shoots, edible leaves, bark, root, stem and small aquatic animals which they sell to earn some money. But that day Swapan decided to stay beside the track lest a train comes along. The father- daughter duo waited for a long time, and with no track inspection staff in sight, decided to carry on the vigil. Later, they heard the whistle of an approaching train from Ambassa. Realizing that if the train tries to cross the track--- made loose by the heavy downpour---it could mean certain disaster, the two started running towards it, waving a piece of cloth he had on himself. This caught the co-pilot's attention and nearly 2000 passengers managed to escape unhurt.

Since then, Swapan and his daughter have achieved celebrity status. The other members of his family---his wife, four children and his parents--- are basking in reflected glory. The state government has already felicitated them in the state assembly and both have been recommended for a bravery award. Swapan has received over Rs. 70,000 in cash and plenty of dresses, sweets and citations. He has also got cheques worth more than Rs. three lakh from various institutions and individuals. But he doesn't know how to encash them. He has been unable to get an Aadhar card or open a bank account because he is illiterate. Recently, all formalities to open a bank account have been completed with the help of local educationists.

SubQuestion No : 20

Q.2 Complete the statement by choosing the correct option.

Question ID : 7230533038

The text is about _____

Ans 1.

The recognition, awards and gifts that follow an act of selflessness and bravery.

2.

The state government of Tripura recognizing the extraordinary achievement of an ordinary man.

3.

A poor and illiterate father and daughter who saved the lives of 2000 railway passengers.

4.

A brave railway linesman doing his duty against all odds.

Section : General Hindi

Q.1

Question ID : 7230533051

निम्नलिखित में से तत्सम शब्द चुनिए:

- Ans
- 1. जेठ
 - 2. काजल
 - 3. ऊँचा
 - 4. अश्रु

Q.2 'अनुराग' शब्द का विलोम होता है:

Question ID : 7230533054

- Ans
- 1. विराग
 - 2. राग
 - 3. रागिनी
 - 4. आकर्षण

Q.3 निम्नलिखित में से स्त्रीलिंग शब्द छाँटिए:

Question ID : 7230533062

- Ans
- 1. आलू
 - 2. धनिया
 - 3. मटर
 - 4. टमाटर

Q.4 कौन-से वर्ग में दीर्घ स्वर नहीं है?

Question ID : 7230533043

- Ans
- 1. आ इ ए
 - 2. अ उ इ
 - 3. ई उ आ
 - 4. ऐ ओ अं

Q.5 वह खाना बना रही है। वाक्य का काल है:

Question ID : 7230533047

- Ans
- 1. अपूर्ण वर्तमान
 - 2. सामान्य वर्तमान
 - 3. आसन्न भूत
 - 4. पूर्ण वर्तमान

Q.6 डिविया शब्द में प्रत्यय लगा है:

Question ID : 7230533060

- Ans
- 1. आ
 - 2. इया
 - 3. या
 - 4. ईया

Q.7 निम्नलिखित में से तद्वच शब्द छँटिए:

Question ID : 7230533050

- Ans
- 1. चंद्र
 - 2. कोयल
 - 3. छात्र
 - 4. दश

Q.8 'बहुत प्रिय' के लिए मुहावरा है:

Question ID : 7230533057

- Ans
- 1. आँखों का तारा होना
 - 2. आँखे में धूल झोंकना
 - 3. आँख से ओझल होना
 - 4. आँखे चार होना

Q.9 सही वर्तनी वाला शब्द कौन-सा है?

Question ID : 7230533045

- Ans
- 1. वदोपरान्त
 - 2. इच्छिक
 - 3. अहल्या
 - 4. व्यवसायिक

Q.10 कौन-से वर्ग में ओष्ठ्य वर्ण है?

Question ID : 7230533044

- Ans
- 1. य श ह
 - 2. ब प म
 - 3. क ख ग
 - 4. घ च न

Q.11 'कर्ता' शब्द का स्त्रीलिंग रूप होगा:

Question ID : 7230533046

- Ans
- 1. कर्तु
 - 2. कर्त्री
 - 3. करत्री
 - 4. कारत्री

Q.12 वह धीरे-धीरे मेरी ओर आ रहा है। वाक्य में क्रियाविशेषण पद है:

Question ID : 7230533056

- Ans
- 1. धीरे धीरे
 - 2. वह
 - 3. मेरी ओर
 - 4. आ रहा है

Q.13 निम्नलिखित में से 'विशेषण' शब्द छाँटिए:

Question ID : 7230533055

- Ans
- 1. शहर
 - 2. ग्रामीण
 - 3. महाराष्ट्र
 - 4. आगमन

Q.14 व्यंजन संधि का शब्द है:

Question ID : 7230533048

- Ans
- 1. सूर्योदय
 - 2. अन्विति
 - 3. सदैव
 - 4. जगदीश

Q.15 मेरे को आज ही दिल्ली जाना है। वाक्य में अशुद्ध पद है:

Question ID : 7230533061

- Ans
- 1. मेरे को
 - 2. जाना है
 - 3. आज ही
 - 4. दिल्ली

Q.16 तत्पुरुष समास कौन-से शब्द में है?

Question ID : 7230533049

- Ans
- 1. गृहागत
 - 2. माता-पिता
 - 3. प्रतिदिन
 - 4. नीलगाय

Q.17 'जो वाणी दवार व्यक्त न किया जा सके'। इस वाक्यांश के लिए एक शब्द होगा:

Question ID : 7230533053

- Ans
- 1. मानसिक
 - 2. अनिर्वचनीय
 - 3. अव्यक्त
 - 4. मौखिक

Q.18 'अनपढ़' शब्द में उपसर्ग लगा है:

Question ID : 7230533059

- Ans
- 1. आ
 - 2. अनु
 - 3. अन
 - 4. अ

Q.19

'पर्वत' शब्द का पर्यायवाची शब्द नहीं है:

Question ID : 7230533052

- Ans
- 1. नग
 - 2. गिरि
 - 3. पर्वत
 - 4. शैलजा

Q.20 'तू चतुर है मगर मैं तुम से भी ज्यादा' इस भाव को व्यक्त करने के लिए लोकोक्ति है:

Question ID : 7230533058

- Ans
- 1. दूध का दूध पानी का पानी
 - 2. दादा बड़ा न भैया सबसे बड़ा रूपया
 - 3. तू डाल-डाल में पात-पात
 - 4. थोथा चना वाजे घना

Section : Subject Related

Q.1 'नहुष' नाटक के रचनाकार हैं-

Question ID : 7230533078

- Ans
- 1. भारतेन्दु हरिश्चंद्र
 - 2. जयशंकर प्रसाद
 - 3. श्रीनिवास दास
 - 4. गोपाल चंद्र

TEACHERS
adda247

Q.2 'सचेतन कहानी' के पुरोधा हैं:

Question ID : 7230533076

- Ans
- 1. राजेंद्र यादव
 - 2. कमलेश्वर
 - 3. गंगाप्रसाद विमल
 - 4. महीप सिंह

Q.3 'कारवाँ' एकांकी के रचनाकार कौन हैं?

Question ID : 7230533082

- Ans
- 1. गिरिजा कुमार माथुर
 - 2. रामकुमार वर्मा
 - 3. भुवनेश्वर प्रसाद
 - 4. जयशंकर प्रसाद

Q.4 निम्न में से कौन सा नाटक मोहन राकेश का नहीं है?

Question ID : 7230533080

Ans

- 1. लहरों के राजहंस
- 2. आषाढ़ का एक दिन
- 3. हानूश
- 4. आधे-अधूरे

Q.5 'उदन्त मार्तंड' नामक हिन्दी पत्र किसने निकाला?

Question ID : 7230533066

- Ans
- 1. राजा राममोहन राय
 - 2. पं. जुगुल किशोर
 - 3. राजा लक्ष्मण सिंह
 - 4. राममोहन राय

Q.6 निम्न में कौन सा सही सुमेलित नहीं है?

Question ID : 7230533074

- Ans
- 1. गुनाहों के देवता - धर्मवीर भारती
 - 2. उसका बचपन - मन्नु भण्डारी
 - 3. सारा आकाश - राजेंद्र यादव
 - 4. कितने पाकिस्तान - कमलेश्वर

TEACHERS

Q.7 'निस्सहाय हिन्दू' उपन्यास के लेखक थे:

Question ID : 7230533070

- Ans
- 1. बालकृष्ण भट्ट
 - 2. लाला श्रीनिवास दास
 - 3. राधाकृष्ण दास
 - 4. जगमोहन सिंह

adda247

Q.8 'रानी केतकी की कहानी' के लेखक थे:

Question ID : 7230533064

- Ans
- 1. इंशा अल्ला खाँ
 - 2. प्रेमचंद
 - 3. शिवप्रसाद सिंह
 - 4. देवकीनन्दन खत्री

Q.9 'आनंद कादंबिनी' पत्र के संपादक थे:

Question ID : 7230533068

- Ans
- 1. बदरीनारायण चौधरी
 - 2. प्रतापनारायण मिश्र
 - 3. बालकृष्ण भट्ट

✗ 4. भारतेन्दु हरिश्चंद्र

Q.10 निम्न में कौन सा सही सुमेलित नहीं है?

Question ID : 7230533081

- Ans
- ✗ 1. कोणार्क - जगदीश चंद्र माथुर
 - ✗ 2. सिंदूर की होली - लक्ष्मीनारायण मिश्र
 - ✗ 3. मादा कैक्टस - लक्ष्मीनारायण लाल
 - ✓ 4. आठवाँ सर्ग - उदयशंकर भट्ट

Q.11 निम्न में से कौन सा प्रेमचंद का उपन्यास नहीं है?

Question ID : 7230533071

- Ans
- ✗ 1. गबन
 - ✗ 2. निर्मला
 - ✓ 3. देहाती दुनिया
 - ✗ 4. सेवासदन

Q.12 निम्न में कौन सा सही सुमेलित नहीं है?

Question ID : 7230533072

- Ans
- ✓ 1. बाणभट्ट की आत्मकथा - राहुल सांकृत्यायन
 - ✗ 2. चित्रलेखा - भगवती चरण वर्मा
 - ✗ 3. वैशाली की नगरवधू - चतुरसेन शास्त्री
 - ✗ 4. अमृत और विष - अमृतलाल नागर

Q.13 'परीक्षा गुरु' उपन्यास कब प्रकाशित हुआ था?

Question ID : 7230533069

- Ans
- ✗ 1. 1887 ई.
 - ✗ 2. 1877 ई.
 - ✓ 3. 1882 ई.
 - ✗ 4. 1872 ई.

Q.14 'प्रजा हितैषी' नामक पत्र कौन निकालता था?

Question ID : 7230533067

- Ans
- ✗ 1. राजा शिवप्रसाद सिंह
 - ✓ 2. राजा लक्ष्मण सिंह
 - ✗ 3. भारतेन्दु हरिश्चंद्र
 - ✗ 4. राजा राममोहन राय

Q.15

Question ID : 7230533065

'नासिकेतोपाख्यान' किसकी रचना है?

- Ans
- 1. लल्लू लाल
 - 2. सदल मिश्र
 - 3. सदासुख लाल
 - 4. लक्ष्मण सिंह

Q.16 भारतेन्दु द्वारा रचित मौलिक नाटक कौन सा है?

Question ID : 7230533079

- Ans
- 1. भारत जननी
 - 2. मुद्रा राक्षस
 - 3. भारत दुर्दशा
 - 4. विद्या सुंदर

Q.17 'इन्दुमती' कहानी के लेखक कौन थे?

Question ID : 7230533075

- Ans
- 1. राधाचरण गोस्वामी
 - 2. किशोरीलाल गोस्वामी
 - 3. गिरिजा दत्त वाजपेयी
 - 4. भगवान दास

TEACHERS

Q.18 कौन सा उपन्यास अजेय का नहीं है?

Question ID : 7230533073

- Ans
- 1. नदी के द्वीप
 - 2. शेखर एक जीवनी
 - 3. अजय की डायरी
 - 4. अपने-अपने अजनबी

adda247

Q.19 निम्न में कौन-सा सही सुमेलित नहीं है?

Question ID : 7230533077

- Ans
- 1. जगदंबा बाबू गाँव आ रहे हैं - चित्रा मुद्गल
 - 2. यही सच है - मन्नू भण्डारी
 - 3. डेफोडिल जल रहे हैं - मृदुला गर्ग
 - 4. बादलों के घेरे - उषा प्रियंवदा

Q.20 फोर्ट विलियम कालेज के प्राध्यापक नहीं थे:

Question ID : 7230533063

- Ans
- 1. इंशा अल्ला खाँ
 - 2. सदासुख लाल

✓ 3. शिवप्रसाद सिंह

✗ 4. सद्दल मिश्र

Section : Subject Related

Q.1 हिन्दी काव्य में बारहमासा वर्णन सबसे कहले कहाँ मिलता है?

Question ID : 7230533095

Ans ✗ 1. पद्मावत

✗ 2. पृथ्वीराज रासो

✗ 3. परमाल रासो

✓ 4. बीसलदेव रासो

Q.2 'ऋण जल धन जल' रिपोर्टाज के लेखक कौन हैं?

Question ID : 7230533091

Ans ✗ 1. रांगेय राघव

✓ 2. फणीश्वर नाथ रेणु

✗ 3. विवेकी राय

✗ 4. धर्मवीर भारती

Q.3 'निराला की साहित्य साधना' के लेखक हैं:

Question ID : 7230533090

Ans ✓ 1. रामविलास शर्मा

✗ 2. मुक्तिबोध

✗ 3. बच्चन सिंह

✗ 4. नन्दकिशोर नवल

Q.4 जायसी की रचना नहीं है:

Question ID : 7230533100

Ans ✓ 1. मिरगावत

✗ 2. पद्मावत

✗ 3. कन्हावत

✗ 4. अखरावट

Q.5 'कवितावली' के ग्रंथकार कौन है?

Question ID : 7230533102

Ans ✗ 1. नन्ददास

✗ 2. केशवदास

✓ 3. तुलसीदास

✗ 4. सूरदास

Q.6

'स्मृति की रेखाएँ' किसकी रचना है?

Question ID : 7230533087

Ans

- 1. रामधारी सिंह दिनकर
- 2. रामवृक्ष बेनीपुरी
- 3. महादेवी वर्मा
- 4. हरिवंश राय बच्चन

Q.7 'खुमान रासो' के रचयिता कौन हैं?

Question ID : 7230533094

Ans

- 1. जगनिक
- 2. श्रीधर
- 3. नरपति नाल्ह
- 4. दलपति विजय

Q.8 रामचन्द्र शुक्ल ने आदिकाल को क्या नाम दिया है?

Question ID : 7230533092

Ans

- 1. सिद्ध सामंतकाल
- 2. वीरकाल
- 3. चारण काल
- 4. वीरगाथा काल

TEACHERS

Q.9 'गोरी सोवै सेज पर, मुख पर डारै केस' पंक्ति किसके द्वारा रचित है?

Question ID : 7230533093

Ans

- 1. चन्दवरदायी
- 2. जगनिक
- 3. अमीर खुसरो
- 4. विद्यापति

Q.10 'देश-विदेश' किसका यात्रा-साहित्य है?

Question ID : 7230533086

Ans

- 1. रामधारी सिंह दिनकर
- 2. निर्मल वर्मा
- 3. धर्मवीर भारती
- 4. राहुल सांकृत्यायन

Q.11 कौन सा सही सुमेलित नहीं है?

Question ID : 7230533101

Ans

- 1. चित्रावली - उसमान
- 2. इंद्रावती - नूर मुहम्मद

✗ 3. हंस जवाहिर - कासिम शाह

✓ 4. मधुमालती - कुतुबन

Q.12 बेकन के निबंधों का हिन्दी अनुवाद 'बेकन विचार रत्नावली' नाम से किसने किया?

Question ID : 7230533084

Ans ✗ 1. बालमुकुन्द गुप्त

✓ 2. महावीर प्रसाद द्विवेदी

✗ 3. रामचन्द्र शुक्ल

✗ 4. बालकृष्ण भट्ट

Q.13 'भाषा की पूर्ण शक्ति का विकास निबंधों में ही सबसे अधिक संभव होता है।' यह कथन किसका है?

Question ID : 7230533083

Ans ✗ 1. हजारीप्रसाद द्विवेदी

✗ 2. नन्ददुलारे वाजपेयी

✗ 3. महवीर प्रसाद द्विवेदी

✓ 4. रामचन्द्र शुक्ल

Q.14 'चंदायन' के रचयिता हैं:

Question ID : 7230533099

Ans ✓ 1. मुल्ला दाउद

✗ 2. जायसी

✗ 3. कुतुबन

✗ 4. मंझन

TEACHERS
adda247

Q.15 'नामदेव' का संबंध किस प्रान्त से था?

Question ID : 7230533097

Ans ✓ 1. महाराष्ट्र

✗ 2. गुजरात

✗ 3. राजस्थान

✗ 4. उत्तर प्रदेश

Q.16 दादू दयाल की रचनाओं का सम्पादन 'अंगवधू' नाम से कसने किया?

Question ID : 7230533098

Ans ✓ 1. रज्जब

✗ 2. सुंदरदास

✗ 3. गुरुनानक

✗ 4. रैदास

Q.17 बनारसी दास कृत 'अर्द्धकथा' है:

Question ID : 7230533089

Ans ✗ 1. उपन्यास

- 2. कहानी
- 3. जीवनी
- 4. आत्मकथा

Q.18 'अरे यायावर रहेगा याद' किस विधा की रचना है?

Question ID : 7230533085

- Ans
- 1. यात्रा-वृत्तांत
 - 2. उपन्यास
 - 3. नाटक
 - 4. काव्य

Q.19 'हम हशमत' संस्मरण किसके द्वारा रचित है?

Question ID : 7230533088

- Ans
- 1. दूधनाथ सिंह
 - 2. काशीनाथ सिंह
 - 3. विष्णु प्रभाकर
 - 4. कृष्णा सोबती

Q.20 वल्लभाचार्य का संबंध किस संप्रदाय से था?

Question ID : 7230533096

- Ans
- 1. श्री संप्रदाय
 - 2. ब्राह्म संप्रदाय
 - 3. पृष्टि संप्रदाय
 - 4. सनकादि संप्रदाय

TEACHERS
adda247

Section : Subject Related

Q.1 'एकांतवासी योगी' किसकी रचना है?

Question ID : 7230533113

- Ans
- 1. भारतेन्दु हरिश्चंद्र
 - 2. हरिऔध
 - 3. मैथिलीशरण गुप्त
 - 4. श्रीधर पाठक

Q.2 'तारसप्तक' के संपादक कौन थे?

Question ID : 7230533120

- Ans
- 1. मुक्तिबोध
 - 2. रामविलास शर्मा
 - 3. नेमिचंद्र जैन

✓ 4. अज्ञेय

Q.3 भक्तिकाल के किस कवि ने बरवै नायिका भेद लिखा है?

Question ID : 7230533104

- Ans
- ✗ 1. नन्ददास
 - ✓ 2. रहीम
 - ✗ 3. रसखान
 - ✗ 4. कृष्णदास

Q.4 कौन सी रचना भूषण की नहीं है?

Question ID : 7230533109

- Ans
- ✗ 1. छत्रसाल दशक
 - ✓ 2. काव्य रसायन
 - ✗ 3. शिवा बावनी
 - ✗ 4. शिवराज भूषण

Q.5 कौन सा सही सुमेलित नहीं है?

Question ID : 7230533111

- Ans
- ✗ 1. गंगावतरण - रत्नाकर
 - ✓ 2. कोकसार - आलम
 - ✗ 3. कवित्त रत्नाकर - सेनापति
 - ✗ 4. गंगालहरी - पद्माकर

TEACHERS

adda247

Q.6 'बीती विभावरी जाग री!' किसकी कविता है?

Question ID : 7230533116

- Ans
- ✗ 1. पंत
 - ✗ 2. निराला
 - ✗ 3. महादेवी वर्मा
 - ✓ 4. जयशंकर प्रसाद

Q.7 'अमिय हलाहल मदभरे, सेत, स्याम रतनार' पंक्ति के रचयिता कौन है?

Question ID : 7230533110

- Ans
- ✗ 1. बिहारी
 - ✗ 2. देव
 - ✗ 3. कुलपति मिश्र
 - ✓ 4. रसलीन

Q.8 'तीसरा सप्तक' कब प्रकाशित हुआ?

Question ID : 7230533121

- Ans
- ✗ 1. 1955 ई.
 - ✓ 2. 1959 ई.

3. 1943 ई.

4. 1951 ई.

Q.9 कौन सा कवि 'अष्टछाप' में शामिल नहीं है?

Question ID : 7230533105

Ans 1. सुंदरदास

2. गोविंद स्वामी

3. सूरदास

4. परमानन्ददास

Q.10 निम्न में से कौन सा काव्य ग्रंथ मैथिली शरण गुप्त द्वारा रचित नहीं है?

Question ID : 7230533114

Ans 1. वैदेही वनवास

2. यशोधरा

3. साकेत

4. जयद्रथ वध

Q.11 'नरसी जी का मायारा' किसकी रचना है?

Question ID : 7230533106

Ans 1. मीराबाई

2. रहीम

3. रसखान

4. हरिदास

TEACHERS

adda247

Q.12 'सीढ़ियों पर धूप में' किसका काव्य संग्रह है?

Question ID : 7230533122

Ans 1. दुष्यंत कुमार

2. धूमिल

3. सर्वेश्वर दयाल सक्सेना

4. रघुवीर सहाय

Q.13 कौन सी रचना सुमित्रानन्दन पंत की नहीं है?

Question ID : 7230533115

Ans 1. युगांत

2. प्रेमपथिक

3. पल्लव

4. गुंजन

Q.14 'हुंकार' किसका काव्यसंग्रह है?

Question ID : 7230533119

Ans

- 1. नागार्जुन
- 2. मैथिलीशरण गुप्त
- 3. रामधारी सिंह दिनकर
- 4. केदारनाथ अग्रवाल

Q.15 'बतरस लालच लाल की, मुरली धरी लुकाई' पंक्ति के रचयिता हैं?

Question ID : 7230533108

Ans

- 1. मतिराम
- 2. पद्माकर
- 3. केशवदास
- 4. बिहारी

Q.16 'संतन को कहा सीकरी सो काम।' किसने कहा था?

Question ID : 7230533103

Ans

- 1. तुलसीदास
- 2. सूरदास
- 3. कुंभनदास
- 4. भिखारीदास

Q.17 कौन सी काव्य रचना महादेवी वर्मा की नहीं है?

Question ID : 7230533117

Ans

- 1. बेला
- 2. सांध्यगीत
- 3. नीहार
- 4. नीरजा

Q.18 रीतिकालीन कवि चिंतामणि किसके भाई थे?

Question ID : 7230533107

Ans

- 1. बिहारी
- 2. भूषण
- 3. केशवदास
- 4. घनानन्द

Q.19 'हरी घास पर क्षण भर' किसकी काव्य रचना है?

Question ID : 7230533118

Ans

- 1. मुक्तिबोध
- 2. अज्ञेय
- 3. त्रिलोचन
- 4. नागार्जुन

Q.20 'पै धन विदेश चलि जात इहै अति खवारी।' पंक्ति किसकी है?

Question ID : 7230533112

Ans

- 1. हरिऔध
- 2. मैथिलीशरण गुप्त
- 3. भारतेन्दु हरिश्चंद्र
- 4. प्रताप नारायण मिश्र

Section : Subject Related

Q.1 देवनागरी लिपि के संदर्भ में कौन-सा कथन गलत है?

Question ID : 7230533128

Ans 1.

देवनागरी का प्रत्येक अक्षर उच्चरित होता है।

- 2. एक ध्वनि के लिए एक ही वर्ण है।
- 3. एक वर्ण से एक ही ध्वनि संकेतित होता है।
- 4. देवनागरी की वर्णमाला का वर्णक्रम अवैज्ञानिक है।

Q.2 'तुम कहाँ रहते हो?' कैसा वाक्य है?

Question ID : 7230533139

Ans

- 1. प्रश्नवाचक
- 2. संदेहवाचक
- 3. आज्ञावाचक
- 4. इच्छावाचक

Q.3 'शफरी सी जल में, विहंगिनी सी व्योम में' पंक्ति में कौन सा अलंकार है?

Question ID : 7230533142

Ans

- 1. उपमा
- 2. रूपक
- 3. श्लेष
- 4. उत्प्रेक्षा

Q.4 निम्न में कौन सा अलंकार शब्दालंकार है?

Question ID : 7230533141

Ans

- 1. रूपक
- 2. अतिशयोक्ति
- 3. उपमा
- 4. यमक

Q.5 'कृतज्ञ' का विलोम है:

Question ID : 7230533133

Ans

- 1. विज्ञ

✗ 2. दुष्ट

✓ 3. कृतघ्न

✗ 4. अज्ञ

Q.6 निम्न में कौन-सा शब्द अविकारी नहीं है?

Question ID : 7230533137

Ans ✗ 1. कब

✗ 2. किन्तु

✗ 3. इधर

✓ 4. लंबा

Q.7 रचना के आधार पर वाक्य के कितने भेद होते हैं?

Question ID : 7230533138

Ans ✗ 1. 2

✗ 2. 5

✗ 3. 4

✓ 4. 3

Q.8 'संसद से सड़क तक' काव्य संग्रह का रचयिता कौन है?

Question ID : 7230533123

Ans ✓ 1. धूमिल

✗ 2. केदारनाथ अग्रवाल

✗ 3. त्रिलोचन

✗ 4. नागार्जुन

TEACHERS
adda247

Q.9 'चिर-चीर' शब्द-युग्म का सही अर्थ क्या है?

Question ID : 7230533135

Ans ✗ 1. कपड़ा, पुराना

✗ 2. पुराना, वृक्ष

✗ 3. वृक्ष, पुराना

✓ 4. पुराना, कपड़ा

Q.10 देवनागरी लिपि का विकास किस लिपि से हुआ है?

Question ID : 7230533127

Ans ✗ 1. फारसी लिपि

✗ 2. खरोष्ठी लिपि

✗ 3. सिंधुघाटी की लिपि

✓ 4. ब्राह्मी लिपि

Q.11 निम्न में वर्तनी की दृष्टि से शुद्ध है:

Question ID : 7230533130

- Ans
- 1. अनुकुल
 - 2. अनूकुल
 - 3. अनूकूल
 - 4. अनुकूल

Q.12 स्वर संधि कितने प्रकार की होती है?

Question ID : 7230533131

- Ans
- 1. 4
 - 2. 5
 - 3. 3
 - 4. 6

Q.13 'अक्ष' का अर्थ नहीं होता है:

Question ID : 7230533134

- Ans
- 1. आँख
 - 2. धुरी
 - 3. पृथ्वी
 - 4. सर्प

Q.14 'अवधी' हिन्दी की किस उपभाषा के अंतर्गत आती है?

Question ID : 7230533125

- Ans
- 1. पूर्वी हिन्दी
 - 2. पश्चिमी हिन्दी
 - 3. राजस्थानी हिन्दी
 - 4. बिहारी हिन्दी

Q.15 उपमेय में उपमान की संभावना होने पर अलंकार क्या होगा?

Question ID : 7230533140

- Ans
- 1. उत्प्रेक्षा
 - 2. रूपक
 - 3. श्लेष
 - 4. यमक

Q.16 कौन सी बोली 'राजस्थानी' उपभाषा के अंतर्गत नहीं आती?

Question ID : 7230533126

- Ans
- 1. गढ़वाली
 - 2. मेवाती
 - 3. मालवी
 - 4. मारवाड़ी

Q.17 विद्यापति कृत कीर्तिलता की भाषा है:

Question ID : 7230533124

- Ans
- 1. अपभ्रंश
 - 2. अवहट्ट
 - 3. मैथिली
 - 4. संस्कृत

Q.18 वह विकारी शब्द जिससे किसी विशेष वस्तु, भाव और जीव के नाम का बोध हो, क्या कहलाता है?

Question ID : 7230533136

- Ans
- 1. क्रिया
 - 2. सर्वनाम
 - 3. विश्लेषण
 - 4. संज्ञा

Q.19 'नौका' का पर्यायवाची नहीं है:

Question ID : 7230533132

- Ans
- 1. तटिनी
 - 2. तरी
 - 3. पतंग
 - 4. तरिणी

Q.20 निम्न में कौन-सा वर्ण दंत्य है?

Question ID : 7230533129

- Ans
- 1. ज
 - 2. न
 - 3. ग
 - 4. ड

TEACHERS
adda247

Section : Subject Related

Q.1 'घड़ों पानी पड़ जाना' मुहावरे का सही अर्थ क्या है?

Question ID : 7230533144

- Ans
- 1. भीग जाना
 - 2. डूब जाना
 - 3. नहाना
 - 4. बहुत शर्मिदा होना

Q.2 किस अनुच्छेद में निर्देश है कि 'संघ का कर्तव्य है कि वह हिन्दी का प्रसार बढ़ाये।'

Question ID : 7230533147

- Ans
- 1. 350
 - 2. 352
 - 3. 351
 - 4. 353

Q.3 मुख्यार्थ के बाधित होने पर जब उससे सम्बद्ध दूसरा अर्थ लिया जाता है तो शब्द-शक्ति क्या होती है?

Question ID : 7230533143

- Ans
- 1. व्यंजना
 - 2. अभिधा
 - 3. आर्थी व्यंजना
 - 4. लक्षणा

Q.4 संविधान में हिन्दी को राजभाषा के रूप में मान्यता कब मिली?

Question ID : 7230533146

- Ans
- 1. 14 नवम्बर 1949
 - 2. 15 अगस्त 1947
 - 3. 26 जनवरी 1950
 - 4. 14 सितम्बर 1949

Q.5 'घर का जोगी जोगड़ा आन गाँव का सिद्ध' लोकोक्ति का सही अर्थ है-

Question ID : 7230533145

- Ans
- 1. जोगी घर छोड़े बिना सिद्ध नहीं हो सकता।
 - 2. अपने लोगों में आदर नहीं होता।
 - 3. सिद्ध होने के लिए जोगी होना जरूरी है।
 - 4. अपने लोगों में जो आदर मिलता है, वह बाहर नहीं मिल सकता।

Comprehension:

नीचे दिये गए गद्यांश को पढ़कर पूछे गये प्रश्नों के उत्तर दीजिए।
जैसे-जैसे भारतवर्ष में नवीन जागरण उत्पन्न हुआ है, वैसे-वैसे पुरानी पोथियों के संग्रह करने और पढ़ने की ओर भी प्रवृत्ति बढ़ती गई है। कश्मीर, नेपाल, तिब्बत, केरल, तमिल आदि प्रदेशों से अनेक नूतन ग्रंथरत्नों का उद्धार हुआ है। कौटिल्य का प्रसिद्ध अर्थशास्त्र पाया जा सका है, टी. गणपति शास्त्री ने भास के नाटकों का उद्धार किया है, हरप्रसाद शास्त्री के परिश्रम से नेपाल दरबार लाइब्रेरी से अनेक ग्रंथरत्नों का पता चला है, मुकुन्दराम शास्त्री ने कश्मीर की ग्रंथराशि को प्रकाशित करने का प्रयत्न किया है, श्रेडर ने वैष्णव संहिताओं के अध्ययन की ओर विद्वानमंडलों का ध्यान आकृष्ट किया है, वुडरफ के प्रयत्नों से तंत्र-ग्रन्थों के अध्ययन को बल मिला है और राहुल जी ने तिब्बत से अनेक बहुमूल्य बौद्ध ग्रंथों का उद्धार किया है।

SubQuestion No : 6

Q.6 गद्यांश का उपयुक्त शीर्षक क्या होगा?

Question ID : 7230533153

Ans

- ✓ 1. नवीन जागरण
- ✗ 2. भारतवर्ष
- ✗ 3. पुरानी पोथियाँ
- ✗ 4. उद्धार

Comprehension:

नीचे दिये गए गद्यांश को पढ़कर पूछे गये प्रश्नों के उत्तर दीजिए।

जैसे-जैसे भारतवर्ष में नवीन जागरण उत्पन्न हुआ है, वैसे-वैसे पुरानी पोथियों के संग्रह करने और पढ़ने की ओर भी प्रवृत्ति बढ़ती गई है। कश्मीर, नेपाल, तिब्बत, केरल, तमिल आदि प्रदेशों से अनेक नूतन ग्रंथरत्नों का उद्धार हुआ है। कौटिल्य का प्रसिद्ध अर्थशास्त्र पाया जा सका है, टी. गणपति शास्त्री ने भास के नाटकों का उद्धार किया है, हरप्रसाद शास्त्री के परिश्रम से नेपाल दरबार लाइब्रेरी से अनेक ग्रंथरत्नों का पता चला है, मुकुन्दराम शास्त्री ने कश्मीर की ग्रंथराशि को प्रकाशित करने का प्रयत्न किया है, श्रेडर ने वैष्णव संहिताओं के अध्ययन की ओर विद्वानमंडलों का ध्यान आकृष्ट किया है, वुडरफ के प्रयत्नों से तंत्र-ग्रन्थों के अध्ययन को बल मिला है और राहुल जी ने तिब्बत से अनेक बहुमूल्य बौद्ध ग्रंथों का उद्धार किया है।

SubQuestion No : 7

Q.7 कश्मीर की ग्रंथ राशि को प्रकाशित करने का प्रयास किसने किया?

Question ID : 7230533150

Ans

- ✓ 1. मुकुन्दराम शास्त्री
- ✗ 2. पं. राहुल सांकृत्यायन
- ✗ 3. टी. गणपति शास्त्री
- ✗ 4. हरप्रसाद शास्त्री

Comprehension:

नीचे दिये गए गद्यांश को पढ़कर पूछे गये प्रश्नों के उत्तर दीजिए।

जैसे-जैसे भारतवर्ष में नवीन जागरण उत्पन्न हुआ है, वैसे-वैसे पुरानी पोथियों के संग्रह करने और पढ़ने की ओर भी प्रवृत्ति बढ़ती गई है। कश्मीर, नेपाल, तिब्बत, केरल, तमिल आदि प्रदेशों से अनेक नूतन ग्रंथरत्नों का उद्धार हुआ है। कौटिल्य का प्रसिद्ध अर्थशास्त्र पाया जा सका है, टी. गणपति शास्त्री ने भास के नाटकों का उद्धार किया है, हरप्रसाद शास्त्री के परिश्रम से नेपाल दरबार लाइब्रेरी से अनेक ग्रंथरत्नों का पता चला है, मुकुन्दराम शास्त्री ने कश्मीर की ग्रंथराशि को प्रकाशित करने का प्रयत्न किया है, श्रेडर ने वैष्णव संहिताओं के अध्ययन की ओर विद्वानमंडलों का ध्यान आकृष्ट किया है, वुडरफ के प्रयत्नों से तंत्र-ग्रन्थों के अध्ययन को बल मिला है और राहुल जी ने तिब्बत से अनेक बहुमूल्य बौद्ध ग्रंथों का उद्धार किया है।

SubQuestion No : 8

Q.8 तिब्बत के बहुमूल्य ग्रन्थों का उद्धार किसने किया?

Question ID : 7230533152

Ans

- 1. मुकुंदराम शास्त्री
- 2. राहुल सांकृत्यायन
- 3. वुडरफ
- 4. श्रेडर

TEACHERS
adda247

Comprehension:

नीचे दिये गए गद्यांश को पढ़कर पूछे गये प्रश्नों के उत्तर दीजिए।

जैसे-जैसे भारतवर्ष में नवीन जागरण उत्पन्न हुआ है, वैसे-वैसे पुरानी पोथियों के संग्रह करने और पढ़ने की ओर भी प्रवृत्ति बढ़ती गई है। कश्मीर, नेपाल, तिब्बत, केरल, तमिल आदि प्रदेशों से अनेक नूतन ग्रंथरत्नों का उद्धार हुआ है। कौटिल्य का प्रसिद्ध अर्थशास्त्र पाया जा सका है, टी. गणपति शास्त्री ने भास के नाटकों का उद्धार किया है, हरप्रसाद शास्त्री के परिश्रम से नेपाल दरबार लाइब्रेरी से अनेक ग्रंथरत्नों का पता चला है, मुकुन्दराम शास्त्री ने कश्मीर की ग्रंथराशि को प्रकाशित करने का प्रयत्न किया है, श्रेडर ने वैष्णव संहिताओं के अध्ययन की ओर विद्वानमंडलों का ध्यान आकृष्ट किया है, वुडरफ के प्रयत्नों से तंत्र-ग्रन्थों के अध्ययन को बल मिला है और राहुल जी ने तिब्बत से अनेक बहुमूल्य बौद्ध ग्रंथों का उद्धार किया है।

SubQuestion No : 9

Q.9 वैष्णव संहिताओं के अध्ययन की ओर किसने ध्यान आकृष्ट किया?

Question ID : 7230533151

Ans

1. मुकुन्दराम शास्त्री
2. हरप्रसाद शास्त्री
3. श्रीधर
4. टी. गणपति शास्त्री

TEACHERS
adda247

Comprehension:

नीचे दिये गए गद्यांश को पढ़कर पूछे गये प्रश्नों के उत्तर दीजिए।

जैसे-जैसे भारतवर्ष में नवीन जागरण उत्पन्न हुआ है, वैसे-वैसे पुरानी पोथियों के संग्रह करने और पढ़ने की ओर भी प्रवृत्ति बढ़ती गई है। कश्मीर, नेपाल, तिब्बत, केरल, तमिल आदि प्रदेशों से अनेक नूतन ग्रंथरत्नों का उद्धार हुआ है। कौटिल्य का प्रसिद्ध अर्थशास्त्र पाया जा सका है, टी. गणपति शास्त्री ने भास के नाटकों का उद्धार किया है, हरप्रसाद शास्त्री के परिश्रम से नेपाल दरबार लाइब्रेरी से अनेक ग्रंथरत्नों का पता चला है, मुकुन्दराम शास्त्री ने कश्मीर की ग्रंथराशि को प्रकाशित करने का प्रयत्न किया है, श्रेडर ने वैष्णव संहिताओं के अध्ययन की ओर विद्वानमंडलों का ध्यान आकृष्ट किया है, वुडरफ के प्रयत्नों से तंत्र-ग्रन्थों के अध्ययन को बल मिला है और राहुल जी ने तिब्बत से अनेक बहुमूल्य बौद्ध ग्रंथों का उद्धार किया है।

SubQuestion No : 10

Q.10 'अर्थशास्त्र' के रचयिता हैं?

Question ID : 7230533149

- Ans
- 1. अरस्तू
 - 2. कौटिल्य
 - 3. सुकरात
 - 4. प्लेटो

TEACHERS
adda247

Q.11 Students and teachers are agents of change in which of the curriculum designs?

Question ID : 7230533158

- Ans
- 1. Humanistic design
 - 2. Radical design
 - 3. Child centric design
 - 4. Experience-centered design

Q.12 When teaching strategies are flexible to the needs and interests of individual students, it is a typical example of which of the following?

Question ID : 7230533156

- Ans
- 1. Project method
 - 2. Language teaching
 - 3. Play way methods
 - 4. Differentiation

Q.13 Rashtriya Madhyamika Siksha Abhiyan is significant feature and an extension of which initiative into secondary education?

Question ID : 7230533155

- Ans
- 1. Rashtriya Uchcharatar Siksha Abhiyan
 - 2. Sarva Siksha Abhyan

3. Rajiv Vidya Mission

4. Sarva Siksha Mission

Q.14 What do the 3 'R's indicated in the study of school subjects?

Question ID : 7230533157

Ans 1. Reading, Remembering, Writing

2. Reading, Writing, Recalling

3. Reading, Writing, Arithmetic

4. Reading, Recalling, Revising

Q.15 Team teaching is most appropriate when the:

Question ID : 7230533160

Ans 1. Resources are limited

2. Space is limited

3. Technology is a constraint

4. School is newly established

Q.16 Which feature of the curriculum makes it adaptable to particular needs of schools and communities?

Question ID : 7230533163

Ans 1. Flexibility

2. Experience driven

3. Inclusivity

4. Content oriented

TEACHERS

Q.17 Preference of one section of people over the other/s is called:

Question ID : 7230533159

Ans 1. Equality

2. Bias

3. Equity

4. Stereotype

Q.18 Photography is an example of:

Question ID : 7230533162

Ans 1. Performing art

2. Theatre form

3. Visual art

4. Contemporary art

Q.19 Self-actualization and aesthetic needs are part of _____. According to Maslow's hierarchy of needs.

Question ID : 7230533154

Ans 1. Physiological needs

2. Self-fulfillment needs

3. Psychological needs

4. Social needs

Q.20 Main aim of Reading and reflecting on texts is to enhance:

Question ID : 7230533161

Ans

- ✓ 1. Language competency
- ✗ 2. Emotional intelligence
- ✗ 3. Knowledge of content
- ✗ 4. Social skills



TEACHERS

adda247