

Selection Post Phase IX 2021 Higher Secondary level

Roll Number	
Candidate Name	
Venue Name	
Exam Date	15/03/2022
Exam Time	12:00 PM - 1:00 PM
Subject	Selection Post Higher Secondary Level

Section : General Intelligence

Q.1 उस विकल्प का चयन कीजिए, जिसका तीसरे पद से वही संबंध है, जो दूसरे पद का पहले पद से है।

PRIZES: RPZISE:: CAUGHT: ?

- Ans
- 1. AGCUTH
 - 2. ACUGTH
 - 3. ACGUTH
 - 4. ACGTUH

Question ID : 65497841103

Status : Answered

Chosen Option : 3

Q.2 एक निश्चित कूट भाषा में,
A & B का अर्थ है - 'A, B का पिता है'
A % B का अर्थ है - 'A, B का भाई है'
A \$ B का अर्थ है - 'A, B की बहन है'
उपरोक्त के आधार पर, यदि C & K % T % H \$ Y है, तो H का C से क्या संबंध है?

- Ans
- 1. भांजी
 - 2. पुत्रवधू
 - 3. बहन
 - 4. पुत्री

Question ID : 65497840811

Status : Answered

Chosen Option : 4

Q.3 चार अक्षर-समूह दिए गए हैं, जिसमें से तीन किसी तरह से संगत हैं, और एक असंगत है। असंगत अक्षर-समूह का चयन कीजिए।

- Ans
- 1. FLQ
 - 2. GMR
 - 3. CIL
 - 4. TZE

Question ID : 65497841113

Status : Answered

Chosen Option : 3

**Test
Prime**

By Adda247

ALL EXAMS, ONE SUBSCRIPTION



Test. Analyze. Improve. Repeat.



Don't just *prepare*. *Perform*.

Test Prime — built only for mock tests.



1,50,000+
Mock Tests



25,000+
Previous Year Papers



800+
Exam Covered



500% Refund
on Selection



5 lakh+
Free Quizzes



Daily
Free PDFs



Job Alerts
Stay Updated

- Multilingual
- Detailed Solution
- Strong and Weak Areas



**All India
Rankings**

Compete with lakhs.
Rank. Improve. Repeat.



← Adda247 test prime

Rating ▾

Editors' choice

New



Adda247 Test Prime
Adda Education • Education
Installed



DOWNLOAD THE APP



Q.4 दिए गए विकल्पों में से उस संख्या का चयन कीजिए, जो निम्नलिखित श्रेणी में प्रश्न चिह्न (?) के स्थान पर आ सकती है।

14, 26, 41, 61, 88, ?

- Ans
- 1. 114
 - 2. 124
 - 3. 120
 - 4. 136

Question ID : 65497840917
Status : Answered
Chosen Option : 2

Q.5 अक्षरों के उस संयोजन का चयन कीजिए, जिसे दी गई श्रृंखला के रिक्त स्थानों में क्रमिक रूप से रखने पर श्रृंखला पूर्ण हो जाएगी।

F _ Q _ S _ E _ Z _ F E Q _ S

- Ans
- 1. Z Q F Q S Z
 - 2. E Z E F S Z
 - 3. E Z F Q S Z
 - 4. E Z F Q S Q

Question ID : 65497841114
Status : Answered
Chosen Option : 3

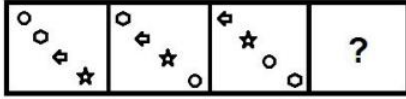
Q.6 दिए गए विकल्पों में से उस संख्या का चयन कीजिए, जो निम्नलिखित श्रेणी में प्रश्न चिह्न (?) के स्थान पर आ सकती है।

17, 28, 43, 62, 85, 112, ?

- Ans
- 1. 143
 - 2. 139
 - 3. 128
 - 4. 119

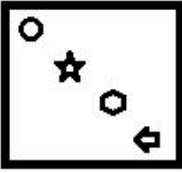
Question ID : 65497841120
Status : Answered
Chosen Option : 1

Q.7 दिए गए विकल्पों में से उस आकृति का चयन करें जो निम्न आकृति-श्रृंखला में प्रश्न चिह्न (?) के स्थान पर आ सकती है।

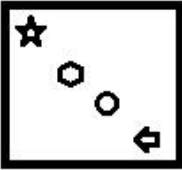


Ans

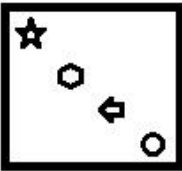
✗ 1.



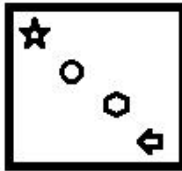
✗ 2.



✗ 3.



✓ 4.



Question ID : 65497841022
 Status : Answered
 Chosen Option : 4

Q.8 अक्षरों के उस संयोजन का चयन कीजिए, जिसे दी गई श्रृंखला के रिक्त स्थानों में क्रमिक रूप से रखने पर श्रृंखला पूर्ण हो जाएगी।

k _ d q _ c _ m _ q y _ k m _ q _ c

Ans

✗ 1. mykdcky

✗ 2. mykycdy

✗ 3. mykdcdm

✓ 4. mykdcdy

Question ID : 65497841013
 Status : Answered
 Chosen Option : 4

Q.9 उस सही विकल्प का चयन कीजिए, जो निम्नलिखित शब्दों को तार्किक और सार्थक क्रम में दर्शाता है।

1. मिलीमीटर
2. सेंटीमीटर
3. किलोमीटर
4. डेसीमीटर
5. हेक्टोमीटर

- Ans
- 1. 5, 3, 4, 2, 1
 - 2. 3, 5, 4, 1, 2
 - 3. 3, 5, 2, 4, 1
 - 4. 3, 5, 4, 2, 1

Question ID : 65497841105

Status : Marked For Review

Chosen Option : 4

Q.10 एक निश्चित कूट भाषा में, 'PRICES' को 'RCZEMJ' लिखा जाता है। उसी कूट भाषा में, 'SURITY' को किस प्रकार लिखा जाएगा?

- Ans
- 1. XRFNPM
 - 2. XRFNQM
 - 3. XRFMPN
 - 4. XRGNPL

Question ID : 65497840907

Status : Not Answered

Chosen Option : --

Q.11 उस विकल्प का चयन कीजिए, जिसका तीसरी संख्या से वही संबंध है, जो दूसरी संख्या का पहली संख्या से है, और छठी संख्या का पांचवीं संख्या से है।

8 : 71 :: 11 : ? :: 12 : 151

- Ans
- 1. 128
 - 2. 132
 - 3. 125
 - 4. 141

Question ID : 65497840816

Status : Answered

Chosen Option : 1

Q.12 उस सही विकल्प का चयन कीजिए, जो दिए गए शब्दों के उस क्रम को दर्शाता है, जिस क्रम में वे अंग्रेजी शब्दकोश में मौजूद होते हैं।

1. Sentence
2. Selector
3. Sentiment
4. Senile
5. Sincere

- Ans
- 1. 5, 4, 1, 3, 2
 - 2. 2, 4, 1, 3, 5
 - 3. 2, 1, 4, 3, 5
 - 4. 2, 4, 3, 1, 5

Question ID : 65497841004

Status : Answered

Chosen Option : 2

Q.13 यदि सुनीता का पति दयाल, चेतन की पत्नी प्रभा का इकलौता पुत्र है, तो दयाल का चेतन की पुत्री से क्या संबंध है?

- Ans
- 1. पुत्र
 - 2. पिता
 - 3. चाचा
 - 4. भाई

Question ID : 65497840912

Status : Answered

Chosen Option : 4

Q.14 उस विकल्प का चयन कीजिए, जिसमें, दी गई आकृति अंतर्निहित है (आकृति को घुमाने की अनुमति नहीं है)



Ans

1.



2.



3.



4.



Question ID : 65497841126

Status : Answered

Chosen Option : 2

Q.15 उस विकल्प का चयन कीजिए, जिसका तीसरे शब्द से वही संबंध है, जो दूसरे शब्द का पहले शब्द से है।

ईरान : रियाल :: बांग्लादेश : _____

- Ans
- 1. पेसो
 - 2. दीनार
 - 3. रुपया
 - 4. टका

Question ID : 65497840801

Status : Answered

Chosen Option : 4

Q.16 पांच मित्र A, B, C, D और E एक वृत्ताकार मेज के परितः केंद्र की ओर मुख करके बैठे हैं। C, A के दाईं ओर दूसरे स्थान पर बैठा है। D और B के बीच केवल एक व्यक्ति बैठा है। A, D के बाईं ओर ठीक बगल में बैठा है। A और B एक दूसरे के ठीक बगल में नहीं बैठे हैं। E के बाईं ओर ठीक बगल में कौन बैठा है?

- Ans
- 1. A
 - 2. D
 - 3. B
 - 4. C

Question ID : 65497841109
Status : Answered
Chosen Option : 3

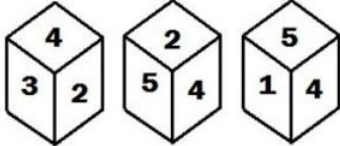
Q.17 किन दो संख्याओं को आपस में बदलने पर दिया गया समीकरण संतुलित हो जाएगा?

$$65 + 28 - 35 \times 21 \div 7 = 16$$

- Ans
- 1. 35 और 65
 - 2. 21 और 28
 - 3. 35 और 21
 - 4. 35 और 28

Question ID : 65497840919
Status : Answered
Chosen Option : 4

Q.18 एक ही पासे की तीन विभिन्न स्थितियां चित्र में दर्शाई गई हैं, जिसके छः फलकों पर 1 से 6 तक संख्याएं अंकित की गई हैं। उस संख्या का चयन कीजिए, जो संख्या '1' वाले फलक के विपरीत फलक पर होगी।



- Ans
- 1. 4
 - 2. 2
 - 3. 6
 - 4. 3

Question ID : 65497840819
Status : Answered
Chosen Option : 2

Q.19 'गाजियाबाद' का 'उत्तर प्रदेश' से वही संबंध है, जो 'अहमदाबाद' का '_____' से है।

- Ans
- 1. राज्य
 - 2. गांधीनगर
 - 3. भारत
 - 4. गुजरात

Question ID : 65497840904
Status : Answered
Chosen Option : 4

Q.20 एक निश्चित कूट भाषा में, 'LOST' को '32', 'CRAMP' को '50' लिखा जाता है। उसी कूट भाषा में 'FRY' को किस प्रकार लिखा जाएगा?

- Ans
- 1. 20
 - 2. 26
 - 3. 18
 - 4. 24

Question ID : 65497840806
 Status : Answered
 Chosen Option : 3

Q.21 उस विकल्प का चयन कीजिए, जिसका तीसरे अक्षर-समूह से वही संबंध है, जो दूसरे अक्षर-समूह का पहले अक्षर-समूह से है।

BENGAL : ODJQHE :: LAUNCH : ?

- Ans
- 1. KGQXEO
 - 2. LFQYDO
 - 3. KFQXDO
 - 4. KFRXDP

Question ID : 65497840798
 Status : Not Answered
 Chosen Option : --

Q.22 दिए गए संयोजन के सही दर्पण प्रतिबिंब का चयन कीजिए, जबकि दर्पण को चित्र में दर्शाए गए अनुसार रेखा 'PQ' पर रखा गया है।



- Ans
- 1. R 7 f e 2 5
 - 2. R 2 e f 7 5
 - 3. R 7 f e 2 5
 - 4. R 5 e f 7 2

Question ID : 65497840923
 Status : Answered
 Chosen Option : 4

Q.23 दिए गए कथनों और निष्कर्षों को ध्यानपूर्वक पढ़ें। कथनों में दी गई जानकारी को सत्य मानें, भले ही वह सामान्यतः ज्ञात तथ्यों से भिन्न प्रतीत होती हो, और तय करें कि दिए गए निष्कर्षों में से कौन से कथनों का तार्किक रूप से पालन करते हैं।

कथन:

कोई बादाम फल नहीं है।
कुछ काजू बादाम हैं।

निष्कर्ष:

I. कोई फल बादाम नहीं है।
II. सभी फल काजू हैं।

- Ans
- 1. निष्कर्ष I और II दोनों पालन करते हैं।
 - 2. केवल निष्कर्ष II पालन करता है।
 - 3. केवल निष्कर्ष I पालन करता है।
 - 4. या तो निष्कर्ष I या II पालन करता है।

Question ID : 65497841016

Status : Answered

Chosen Option : 3

Q.24 Eight friends P, Q, R, S, T, U, V and W are sitting clockwise around a circular table, facing the centre in the same sequence at equal distances between them. If W is sitting in the north direction, then in which direction is Q sitting?

- Ans
- 1. West
 - 2. North-east
 - 3. East
 - 4. South-west

Question ID : 65497841008

Status : Answered

Chosen Option : 3

Q.25 दिए गए कथनों और निष्कर्षों को ध्यानपूर्वक पढ़ें। कथनों में दी गई जानकारी को सत्य मानें, भले ही वह सामान्यतः ज्ञात तथ्यों से भिन्न प्रतीत होती हो, और तय करें कि दिए गए निष्कर्षों में से कौन से कथनों का तार्किक रूप से पालन करते हैं।

कथन:

कुछ रॉकस्टार, निर्माता हैं।
सभी निर्माता, डिज़ाइनर हैं।
सभी कर्मचारी, निर्माता हैं।

निष्कर्ष:

I. कुछ रॉकस्टार, डिज़ाइनर हैं।
II. सभी कर्मचारी, डिज़ाइनर हैं।
III. कोई कर्मचारी, रॉकस्टार नहीं है।

- Ans
- 1. केवल निष्कर्ष II पालन करता है।
 - 2. निष्कर्ष I और II, दोनों पालन करते हैं।
 - 3. निष्कर्ष II और III, दोनों पालन करते हैं।
 - 4. निष्कर्ष I, II और III पालन करते हैं।

Question ID : 65497840915

Status : Answered

Chosen Option : 2

Q.1 Select the most appropriate meaning of the given idiom.

Hit a brick wall

- Ans
- 1. Use unfair tactics
 - 2. Go to sleep
 - 3. Hit someone with a brick
 - 4. Encounter an obstacle

Question ID : 65497840935
Status : Answered
Chosen Option : 4

Q.2 Select the most appropriate option to fill in the blank.

His painting was declared the best _____ all the entries.

- Ans
- 1. among
 - 2. between
 - 3. from
 - 4. through

Question ID : 65497841134
Status : Answered
Chosen Option : 1

Q.3 The following sentence has been divided into parts. One of them may contain an error. Select the part that contains the error from the given options. If you don't find any error, mark 'No error' as your answer.

If you want scoring well / in the examination, / your answers must be to the point.

- Ans
- 1. your answers must be to the point
 - 2. No error
 - 3. If you want scoring well
 - 4. in the examination

Question ID : 65497840924
Status : Answered
Chosen Option : 3

Q.4 Select the option that can be used as a one-word substitute for the given group of words.

To protect from harm or danger

- Ans
- 1. Advise
 - 2. Pretend
 - 3. Defend
 - 4. Guide

Question ID : 65497841140
Status : Answered
Chosen Option : 3

Q.5 Select the most appropriate option that can substitute the underlined segment in the given sentence. If there is no need to substitute it, select 'No substitution required'.

He has come out on a brilliant idea of taking us to Jodhpur for the weekend.

- Ans
- 1. No substitution required
 - 2. across to
 - 3. up with
 - 4. over to

Question ID : 65497840929
Status : Answered
Chosen Option : 3

Q.6 Select the INCORRECTLY spelt word.

- Ans
- 1. Listener
 - 2. Regular
 - 3. Creator
 - 4. Prisonor

Question ID : 65497841040
Status : Answered
Chosen Option : 4

Q.7 Select the most appropriate ANTONYM of the given word.

Enthusiasm

- Ans
- 1. Energy
 - 2. Passion
 - 3. Eagerness
 - 4. Lethargy

Question ID : 65497840831
Status : Answered
Chosen Option : 4

Q.8 Select the option that expresses the given sentence in active voice.

Let the fence be repaired by him.

- Ans
- 1. He has repaired the fence.
 - 2. Let him repair the fence.
 - 3. Tell him to repair the fence.
 - 4. He had repaired the fence.

Question ID : 65497841130
Status : Answered
Chosen Option : 2

Q.9 Sentences of a paragraph are given below in jumbled order. Arrange the sentences in the correct order to form a meaningful and coherent paragraph.

- A. However, physical fitness and a stubborn fearlessness never let a climber fail.
- B. The equipment can be made so light that no extra energy is spent in carrying it.
- C. To a large extent, the physical difficulties can be reduced by paying attention to the equipment.
- D. It is certain that weather plays an important part in the success or failure of mountain climbers.

- Ans
- 1. BACD
 - 2. DCBA
 - 3. BCAD
 - 4. DBCA

Question ID : 65497841033
Status : Answered
Chosen Option : 2

Q.10 Select the option that expresses the given sentence in passive voice.

India is celebrating the 75th Azadi ka Amrit Mahotsava this year.

- Ans
- 1. The 75th Azadi ka Amrit Mahotsava was celebrated by India this year.
 - 2. The 75th Azadi ka Amrit Mahotsava is being celebrated by India this year.
 - 3. This year India is being celebrated by the 75th Azadi ka Amrit Mahotsava.
 - 4. The 75th Azadi ka Amrit Mahotsava has been celebrated by India this year.

Question ID : 65497840823
Status : Answered
Chosen Option : 2

Q.11 Select the most appropriate synonym of the given word.

Pertinent

- Ans
- 1. Living
 - 2. Puzzling
 - 3. Unrelated
 - 4. Relevant

Question ID : 65497840932
Status : Answered
Chosen Option : 4

Q.12 Select the option that expresses the given sentence in reported speech.

Vandana said to me, "I don't want to buy the same dress as yours."

- Ans
- 1. Vandana told me that she didn't want to buy the same dress as mine.
 - 2. Vandana told me that I didn't want to buy the same dress as hers.
 - 3. Vandana told me that she doesn't want to buy the same dress as mine.
 - 4. Vandana told me that I don't want to buy the same dress as yours.

Question ID : 65497840927
Status : Answered
Chosen Option : 1

Q.13 Select the option that can be used as a one-word substitute for the given group of words.

Safe to drink

- Ans 1. Edible
 2. Potable
 3. Portable
 4. Nutritious

Question ID : 65497841039

Status : Answered

Chosen Option : 2

Q.14 Select the most appropriate meaning of the given idiom.

Hold your horses

- Ans 1. Feel nervous
 2. Take control
 3. Be patient
 4. Run slowly

Question ID : 65497840832

Status : Answered

Chosen Option : 2

Q.15 Select the option that expresses the given sentence in direct speech.

The teacher asked if everyone was present in the class that day.

- Ans 1. The teacher said, "Was everyone present in the class today?"
 2. The teacher said, "Is everyone present in the class that day?"
 3. The teacher said, "Is everyone present in the class today?"
 4. The teacher said, "Was everyone present in the class that day?"

Question ID : 65497841030

Status : Answered

Chosen Option : 3

Comprehension:

Read the given passage and answer the questions that follow.

Gurgaon: A three-year-old male leopard was hit by a speeding vehicle near the Western Peripheral Expressway in Nuh on Saturday morning. The leopard was found to be conscious, but could not move because of the injury. It was later taken to the Rohtak zoo for treatment and officials said it should be fine in due course of time.

The injured leopard was spotted on the roadside at around 9 a.m. by one of the villagers in the area. It had been hit by a vehicle between Tauru and Padheni village of Nuh. In the last 14 years, 10 leopards have died in road accidents in south Haryana.

After being informed by the villagers, a team of wildlife department officials from Gurgaon rushed to the spot with nets, cage and a tranquiliser gun. As the leopard was injured, it took the team just 10 minutes to put the big cat in the cage. The leopard was first taken to a treatment centre in Sultanpur National Park and then to Rohtak zoo.

"The leopard wasn't able to move as it was injured. It was conscious and our team lifted it carefully and put it in the cage. We didn't tranquilise it. It has been referred to Rohtak zoo for treatment," said Rajesh Chahal, wildlife inspector, Gurgaon.

Asked if there is an underpass in the area for the wild animals to cross the expressway, Chahal said, "Yes, there is a wildlife underpass near the area where the incident occurred." Meanwhile, wildlife activists said these highways had fragmented the Aravalis and bisected the corridor used by the wild animals to traverse from Asola Wildlife sanctuary in Delhi, passing through Gurgaon, to Sariska in Rajasthan.

"It is high time that the Haryana government imposed speed restrictions of 40-50 kmph on these corridors," said Vaishali Rana Chandra, a wildlife activist.

SubQuestion No : 16

Q.16 The above passage is:

- Ans 1. an interview
2. a news item
3. an article
4. a zoo memorandum

Question ID : 65497840844

Status : Answered

Chosen Option : 2

Comprehension:

Read the given passage and answer the questions that follow.

Gurgaon: A three-year-old male leopard was hit by a speeding vehicle near the Western Peripheral Expressway in Nuh on Saturday morning. The leopard was found to be conscious, but could not move because of the injury. It was later taken to the Rohtak zoo for treatment and officials said it should be fine in due course of time.

The injured leopard was spotted on the roadside at around 9 a.m. by one of the villagers in the area. It had been hit by a vehicle between Tauru and Padheni village of Nuh. In the last 14 years, 10 leopards have died in road accidents in south Haryana.

After being informed by the villagers, a team of wildlife department officials from Gurgaon rushed to the spot with nets, cage and a tranquiliser gun. As the leopard was injured, it took the team just 10 minutes to put the big cat in the cage. The leopard was first taken to a treatment centre in Sultanpur National Park and then to Rohtak zoo.

"The leopard wasn't able to move as it was injured. It was conscious and our team lifted it carefully and put it in the cage. We didn't tranquilise it. It has been referred to Rohtak zoo for treatment," said Rajesh Chahal, wildlife inspector, Gurgaon.

Asked if there is an underpass in the area for the wild animals to cross the expressway, Chahal said, "Yes, there is a wildlife underpass near the area where the incident occurred." Meanwhile, wildlife activists said these highways had fragmented the Aravalis and bisected the corridor used by the wild animals to traverse from Asola Wildlife sanctuary in Delhi, passing through Gurgaon, to Sariska in Rajasthan.

"It is high time that the Haryana government imposed speed restrictions of 40-50 kmph on these corridors," said Vaishali Rana Chandra, a wildlife activist.

SubQuestion No : 17

Q.17 Which statement is NOT true according to the passage?

- Ans 1. The leopard was a three-year-old male.
2. In the last 14 years, 10 leopards have died in Haryana due to road accidents.
3. It took the rescue team just 10 minutes to put the leopard in the cage.
4. The leopard had to be tranquilised before being put into the cage.

Question ID : 65497840848

Status : Answered

Chosen Option : 4

Comprehension:

Read the given passage and answer the questions that follow.

Gurgaon: A three-year-old male leopard was hit by a speeding vehicle near the Western Peripheral Expressway in Nuh on Saturday morning. The leopard was found to be conscious, but could not move because of the injury. It was later taken to the Rohtak zoo for treatment and officials said it should be fine in due course of time.

The injured leopard was spotted on the roadside at around 9 a.m. by one of the villagers in the area. It had been hit by a vehicle between Tauru and Padheni village of Nuh. In the last 14 years, 10 leopards have died in road accidents in south Haryana.

After being informed by the villagers, a team of wildlife department officials from Gurgaon rushed to the spot with nets, cage and a tranquiliser gun. As the leopard was injured, it took the team just 10 minutes to put the big cat in the cage. The leopard was first taken to a treatment centre in Sultanpur National Park and then to Rohtak zoo.

"The leopard wasn't able to move as it was injured. It was conscious and our team lifted it carefully and put it in the cage. We didn't tranquilise it. It has been referred to Rohtak zoo for treatment," said Rajesh Chahal, wildlife inspector, Gurgaon.

Asked if there is an underpass in the area for the wild animals to cross the expressway, Chahal said, "Yes, there is a wildlife underpass near the area where the incident occurred." Meanwhile, wildlife activists said these highways had fragmented the Aravalis and bisected the corridor used by the wild animals to traverse from Asola Wildlife sanctuary in Delhi, passing through Gurgaon, to Sariska in Rajasthan.

"It is high time that the Haryana government imposed speed restrictions of 40-50 kmph on these corridors," said Vaishali Rana Chandra, a wildlife activist.

SubQuestion No : 18

Q.18 The accident of the leopard occurred primarily because:

- Ans 1. there is no speed restriction for vehicles near the wild life corridor
2. the express way has bisected the Aravali Hills
3. there is no underpass for the wild animals under the expressway
4. The animals have to cover a long way to reach the wildlife sanctuary

Question ID : 65497840847

Status : Answered

Chosen Option : 2

Comprehension:

Read the given passage and answer the questions that follow.

Gurgaon: A three-year-old male leopard was hit by a speeding vehicle near the Western Peripheral Expressway in Nuh on Saturday morning. The leopard was found to be conscious, but could not move because of the injury. It was later taken to the Rohtak zoo for treatment and officials said it should be fine in due course of time.

The injured leopard was spotted on the roadside at around 9 a.m. by one of the villagers in the area. It had been hit by a vehicle between Tauru and Padheni village of Nuh. In the last 14 years, 10 leopards have died in road accidents in south Haryana.

After being informed by the villagers, a team of wildlife department officials from Gurgaon rushed to the spot with nets, cage and a tranquiliser gun. As the leopard was injured, it took the team just 10 minutes to put the big cat in the cage. The leopard was first taken to a treatment centre in Sultanpur National Park and then to Rohtak zoo.

"The leopard wasn't able to move as it was injured. It was conscious and our team lifted it carefully and put it in the cage. We didn't tranquilise it. It has been referred to Rohtak zoo for treatment," said Rajesh Chahal, wildlife inspector, Gurgaon.

Asked if there is an underpass in the area for the wild animals to cross the expressway, Chahal said, "Yes, there is a wildlife underpass near the area where the incident occurred." Meanwhile, wildlife activists said these highways had fragmented the Aravalis and bisected the corridor used by the wild animals to traverse from Asola Wildlife sanctuary in Delhi, passing through Gurgaon, to Sariska in Rajasthan.

"It is high time that the Haryana government imposed speed restrictions of 40-50 kmph on these corridors," said Vaishali Rana Chandra, a wildlife activist.

SubQuestion No : 19

Q.19 In which state did the incident described in the passage happen?

- Ans 1. Rajasthan
2. Delhi
3. Haryana
4. Punjab

Question ID : 65497840845

Status : Answered

Chosen Option : 3

Comprehension:

Read the given passage and answer the questions that follow.

Gurgaon: A three-year-old male leopard was hit by a speeding vehicle near the Western Peripheral Expressway in Nuh on Saturday morning. The leopard was found to be conscious, but could not move because of the injury. It was later taken to the Rohtak zoo for treatment and officials said it should be fine in due course of time.

The injured leopard was spotted on the roadside at around 9 a.m. by one of the villagers in the area. It had been hit by a vehicle between Tauru and Padheni village of Nuh. In the last 14 years, 10 leopards have died in road accidents in south Haryana.

After being informed by the villagers, a team of wildlife department officials from Gurgaon rushed to the spot with nets, cage and a tranquiliser gun. As the leopard was injured, it took the team just 10 minutes to put the big cat in the cage. The leopard was first taken to a treatment centre in Sultanpur National Park and then to Rohtak zoo.

"The leopard wasn't able to move as it was injured. It was conscious and our team lifted it carefully and put it in the cage. We didn't tranquilise it. It has been referred to Rohtak zoo for treatment," said Rajesh Chahal, wildlife inspector, Gurgaon.

Asked if there is an underpass in the area for the wild animals to cross the expressway, Chahal said, "Yes, there is a wildlife underpass near the area where the incident occurred." Meanwhile, wildlife activists said these highways had fragmented the Aravalis and bisected the corridor used by the wild animals to traverse from Asola Wildlife sanctuary in Delhi, passing through Gurgaon, to Sariska in Rajasthan.

"It is high time that the Haryana government imposed speed restrictions of 40-50 kmph on these corridors," said Vaishali Rana Chandra, a wildlife activist.

SubQuestion No : 20

Q.20 Where was the injured leopard finally treated?

- Ans 1. Sultanpur National Park
 2. Sariska, Rajasthan
 3. Rohtak Zoo
 4. Asola Wildlife sanctuary in Delhi

Question ID : 65497840846

Status : Answered

Chosen Option : 3

Comprehension:

In the following passage, some words have been deleted. Read the passage carefully and select the most appropriate option to fill in each blank.

The tiger census has revealed that India's big cat count has (1) _____ up in the last few years. This is a (2) _____ of great hope and relief for (3) _____ who understand the value of (4) _____ wildlife and the environment. This success is the (5) _____ of collective efforts of the government and the environmentalists.

SubQuestion No : 21

Q.21 Select the most appropriate option to fill in blank no. 1.

- Ans 1. expanded
 2. shot
 3. grown
 4. popped

Question ID : 65497841144

Status : Answered

Chosen Option : 3

Comprehension:

In the following passage, some words have been deleted. Read the passage carefully and select the most appropriate option to fill in each blank.

The tiger census has revealed that India's big cat count has (1) _____ up in the last few years. This is a (2) _____ of great hope and relief for (3) _____ who understand the value of (4) _____ wildlife and the environment. This success is the (5) _____ of collective efforts of the government and the environmentalists.

SubQuestion No : 22

Q.22 Select the most appropriate option to fill in blank no. 2.

- Ans 1. stuff
 2. topic
 3. matter
 4. object

Question ID : 65497841145

Status : Answered

Chosen Option : 3

Comprehension:

In the following passage, some words have been deleted. Read the passage carefully and select the most appropriate option to fill in each blank.

The tiger census has revealed that India's big cat count has (1) _____ up in the last few years. This is a (2) _____ of great hope and relief for (3) _____ who understand the value of (4) _____ wildlife and the environment. This success is the (5) _____ of collective efforts of the government and the environmentalists.

SubQuestion No : 23

Q.23 Select the most appropriate option to fill in blank no. 3.

- Ans 1. that
 2. those
 3. these
 4. which

Question ID : 65497841146

Status : Answered

Chosen Option : 2

Comprehension:

In the following passage, some words have been deleted. Read the passage carefully and select the most appropriate option to fill in each blank.

The tiger census has revealed that India's big cat count has (1) _____ up in the last few years. This is a (2) _____ of great hope and relief for (3) _____ who understand the value of (4) _____ wildlife and the environment. This success is the (5) _____ of collective efforts of the government and the environmentalists.

SubQuestion No : 24

Q.24 Select the most appropriate option to fill in blank no. 4.

- Ans 1. retaining
 2. storing
 3. maintaining
 4. preserving

Question ID : 65497841147

Status : Answered

Chosen Option : 4

Comprehension:

In the following passage, some words have been deleted. Read the passage carefully and select the most appropriate option to fill in each blank.

The tiger census has revealed that India's big cat count has (1) _____ up in the last few years. This is a (2) _____ of great hope and relief for (3) _____ who understand the value of (4) _____ wildlife and the environment. This success is the (5) _____ of collective efforts of the government and the environmentalists.

SubQuestion No : 25

Q.25 Select the most appropriate option to fill in blank no. 5.

- Ans 1. reward
 2. award
 3. honour
 4. profit

Question ID : 65497841148

Status : Answered

Chosen Option : 3

Section : Quantitative Aptitude

Q.1 यदि $\cos^2\theta - \sin^2\theta - 3\cos\theta + 2 = 0$, $0^\circ < \theta < 90^\circ$ है, तो $1 + 5\cos\theta + \frac{\tan\theta}{2}$ का मान क्या होगा?

- Ans 1. $\frac{1 - \sqrt{3}}{2}$
 2. $\frac{7 + \sqrt{3}}{2}$
 3. $\frac{3 + \sqrt{3}}{2}$
 4. $\frac{5 - \sqrt{3}}{2}$

Question ID : 65497841074

Status : Answered

Chosen Option : 2

Q.2 $\triangle ABC$ में, D और E बिंदु क्रमशः AB और BC भुजाओं पर इस प्रकार स्थित हैं कि $DE \parallel AC$ है। यदि $BD = 4\sqrt{6}$ और $AB = 12\sqrt{3}$ cm है, तो $\triangle BDE$ के क्षेत्रफल और चतुर्भुज ACED के क्षेत्रफल का अनुपात है:

- Ans 1. 2 : 7
 2. 1 : 3
 3. 2 : 9
 4. 4 : 11

Question ID : 65497840971

Status : Answered

Chosen Option : 1

Q.3 यदि 7-अंक की संख्या $49x29y6$, 72 से विभाज्य हो, तो x और y के सबसे बड़े मान के लिए $(x + 2y)$ का मान कितना होगा?

- Ans
- 1. 12
 - 2. 25
 - 3. 22
 - 4. 18

Question ID : 65497841156
Status : Answered
Chosen Option : 3

Q.4 एक आदमी समान लागत मूल्य पर 120 खिलौने खरीदता है। वह 45% खिलौनों को 40% लाभ पर, शेष के एक तिहाई को 20% लाभ पर और शेष को 14 खिलौनों के लागत मूल्य के बराबर हानि पर बेचता है। पूरे लेन-देन में उसका लाभ प्रतिशत _____ है।

- Ans
- 1. $8\frac{1}{3}\%$
 - 2. $9\frac{1}{11}\%$
 - 3. 10%
 - 4. 12%

Question ID : 65497840857
Status : Not Answered
Chosen Option : --

Q.5 यदि 10-अंकीय संख्या $96530y15x8$, 72 द्वारा विभाज्य है, तो x के अधिकतम मान के लिए $(3x - 7y)$ का मान क्या होगा?

- Ans
- 1. 4
 - 2. 3
 - 3. 5
 - 4. 8

Question ID : 65497840849
Status : Answered
Chosen Option : 1

Q.6 दो रेलगाड़ियों की चालों का अनुपात 2 : 7 है। यदि पहली रेलगाड़ी 2 घंटे में 350 km की दूरी तय करती है, तो दोनों रेलगाड़ियों की चालों का योग (km/h में) ज्ञात कीजिए।

- Ans
- 1. 775
 - 2. 750.5
 - 3. 787.5
 - 4. 780.5

Question ID : 65497841169
Status : Answered
Chosen Option : 3

Q.7 A और B एक साथ मिलकर काम करते हुए किसी कार्य को 15 दिन में पूरा कर सकते हैं। यदि A, B और C एक साथ मिलकर इसी कार्य को 10 दिनों में पूरा कर सकते हैं, तो इसी कार्य को अकेले C कितने दिनों में पूरा कर सकता है?

- Ans
- 1. 35
 - 2. 28
 - 3. 20
 - 4. 30

Question ID : 65497841953

Status : Answered

Chosen Option : 4

Q.8 एक ट्रेन 400 m और 295 m लंबे दो पुलों को क्रमशः 75 sec और 60 sec में पार करती है। विपरीत दिशा में 97.2 km/h की गति से समानांतर पटरियों पर चल रही 325 m लंबी दूसरी ट्रेन को पार करने में यह ट्रेन कितना समय (sec में) लेगी?

- Ans
- 1. $22\frac{1}{2}$
 - 2. $27\frac{1}{2}$
 - 3. 25
 - 4. 20

Question ID : 65497840864

Status : Not Answered

Chosen Option : --

Q.9 यदि 300 का $(x+10)\%$, 250 के $x\%$ से 57.5% अधिक है, तो x का 15%, $(x+13)$ के 20% से कितने प्रतिशत कम है?

- Ans
- 1. $42\frac{1}{3}\%$
 - 2. $44\frac{1}{3}\%$
 - 3. $46\frac{2}{3}\%$
 - 4. $48\frac{2}{3}\%$

Question ID : 65497840956

Status : Answered

Chosen Option : 3

Q.10 20 क्रमागत पूर्णांकों के एक समुच्चय का औसत 21.5 है। इस समुच्चय में सबसे छोटा पूर्णांक कौन सा है?

- Ans
- 1. 33
 - 2. 12
 - 3. 31
 - 4. 11

Question ID : 65497841157

Status : Answered

Chosen Option : 2

Q.11 The following pie charts represent the distribution of candidates who were enrolled for a competitive examination, and the candidates (out of those enrolled) who passed the exam from five different institutes P, Q, R, S and T.

Total number of candidates who enrolled in five different institutes = 7500

Total number of candidates who passed the examination from five institutes = 4000



The total number of candidates who enrolled in institutes P, R and T together is what percentage more than the number of candidates who passed from institutes P, R and T together?

- Ans
- 1. 85.7%
 - 2. 84.3%
 - 3. 87.5%
 - 4. 83.4%

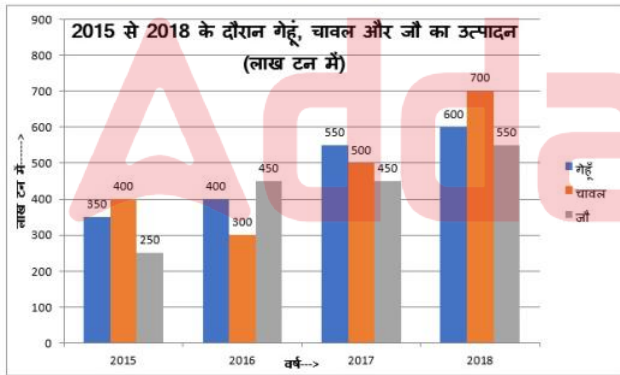
Question ID : 65497841179
 Status : Answered
 Chosen Option : 3

Q.12 यदि $x + y + z = 4, xy + yz + zx = 1$ और $x^3 + y^3 + z^3 = 34$ है, तो $6xyz$ का मान क्या होगा?

- Ans
- 1. 6
 - 2. -36
 - 3. -6
 - 4. 12

Question ID : 65497840867
 Status : Answered
 Chosen Option : 2

Q.13 दिए गए ग्राफ का अध्ययन करें और निम्नलिखित प्रश्नों के उत्तर दें।



दिए गए 4 वर्षों में जौ के कुल उत्पादन का 45%, 2017 में गेहूं, चावल और जौ के औसत उत्पादन (प्रति वर्ष) से कितने प्रतिशत अधिक है?

- Ans
- 1. 54.5%
 - 2. 53%
 - 3. 54%
 - 4. 52.5%

Question ID : 65497840872
 Status : Answered
 Chosen Option : 2

Q.14 A और B की आय का अनुपात 2 : 3 है और उनके व्यय का अनुपात 5 : 7 है। यदि A की आय का 7 गुना B के व्यय के 6 गुना के बराबर है, तो A और B की बचत का अनुपात क्या है?

- Ans
- 1. 2 : 3
 - 2. 3 : 5
 - 3. 1 : 2
 - 4. 5 : 9

Question ID : 65497840961
Status : Answered
Chosen Option : 3

Q.15 A किसी कार्य को 40 दिन में कर सकता है। B, A से 60% अधिक कार्यकुशल है। दोनों 10 दिन तक एक साथ मिलकर कार्य करते हैं। C अकेले शेष कार्य को $10\frac{1}{2}$ दिन में पूरा करता है। एक साथ मिलकर कार्य करते हुए, B और C मूल कार्य के 44% भाग को कितने दिन में पूरा कर सकते हैं?

- Ans
- 1. 6 दिन
 - 2. 8 दिन
 - 3. 9 दिन
 - 4. 5 दिन

Question ID : 65497840964
Status : Answered
Chosen Option : 1

Q.16 37 संख्याओं का औसत 80 है। पहली 19 संख्याओं का औसत 75 तथा अंतिम 19 संख्याओं का औसत 84 है। यदि 19वीं संख्या निकाल दी जाए, तो शेष संख्याओं का औसत (दशमलव के बाद लगभग एक स्थान तक) क्या होगा?

- Ans
- 1. 80.5
 - 2. 87.5
 - 3. 82.5
 - 4. 77.5

Question ID : 65497841056
Status : Answered
Chosen Option : 1

Q.17 एक घड़ी को 25% लाभ पर बेचा गया। यदि घड़ी के क्रय मूल्य और विक्रय मूल्य, दोनों में ₹75 की कमी की जाती है, तो लाभ 30% प्राप्त होता है। घड़ी का मूल विक्रय मूल्य (₹ में) ज्ञात कीजिए।

- Ans
- 1. 526.50
 - 2. 552.60
 - 3. 562.50
 - 4. 525.60

Question ID : 65497841162
Status : Answered
Chosen Option : 3

Q.18 साधारण ब्याज पर निवेश की गई एक निश्चित धनराशि $3\frac{1}{2}$ वर्षों में ₹10,072 और प्रति वर्ष समान दर पर 6 वर्षों में ₹11,552 हो जाती है। प्रति वर्ष ब्याज दर क्या है?

- Ans
- 1. 8.5%
 - 2. 7.4%
 - 3. 7.8%
 - 4. 7.5%

Question ID : 65497840860
Status : Not Answered
Chosen Option : --

Q.19 $\triangle ABC$ में, AB और AC को क्रमशः बिंदु D और E तक बढ़ाया जाता है। यदि $\angle CBD$ और $\angle BCE$ के समद्विभाजक बिंदु O पर इस प्रकार मिलते हैं कि $\angle BOC = 76^\circ$ होता है, तो $\angle A$ का मान क्या होगा?

- Ans
- 1. 28°
 - 2. 56°
 - 3. 76°
 - 4. 14°

Question ID : 65497841072
Status : Answered
Chosen Option : 1

Q.20 दो संभाव्य संख्याओं का अनुपात 7 : 11 है। यदि उनके वर्गों का योग 13770 है, तो दोनों संख्याओं का अंतर ज्ञात कीजिए।

- Ans
- 1. 28
 - 2. 36
 - 3. 44
 - 4. 72

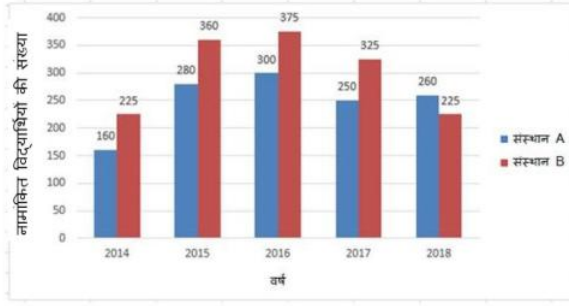
Question ID : 65497841062
Status : Answered
Chosen Option : 2

Q.21 एक संख्या में 20% की वृद्धि की जाती है, फिर 27% की कमी की जाती है और फिर 10% की वृद्धि की जाती है। संख्या में हुई शुद्ध वृद्धि/कमी का प्रतिशत (निकटतम पूर्णांक तक पूर्णांकित) कितना है?

- Ans
- 1. 7% की कमी
 - 2. 6% की वृद्धि
 - 3. 4% की कमी
 - 4. 5% की वृद्धि

Question ID : 65497841059
Status : Answered
Chosen Option : 3

Q.22 निम्नांकित दंड आरेख 5 वर्षों (2014 से 2018) के दौरान संस्थान A और B में नामांकित विद्यार्थियों की संख्या दर्शाता है।



2017 और 2018 के दौरान दोनों संस्थानों में नामांकित विद्यार्थियों की कुल संख्या तथा वर्ष 2016 में संस्थान B में नामांकित विद्यार्थियों की संख्या का अनुपात क्या है?

- Ans
- 1. 113 : 71
 - 2. 212 : 75
 - 3. 71 : 113
 - 4. 75 : 212

Question ID : 65497841075

Status : Answered

Chosen Option : 2

Q.23 एक व्यापारी किसी वस्तु को उसके सूची मूल्य पर 18% की छूट देकर ₹516.60 में बेचता है। यदि उसने छूट नहीं दी होती, तो उसे 26% का लाभ होता। वस्तु का क्रय मूल्य (₹ में) क्या है?

- Ans
- 1. 520
 - 2. 525
 - 3. 450
 - 4. 500

Question ID : 65497840955

Status : Answered

Chosen Option : 4

Q.24 यदि $2x + \frac{1}{3x} + 1 = 0, x \neq 0$ है, तो $\sqrt[3]{27x^3 + \frac{1}{8x^3}}$ का मान कितना है?

- Ans
- 1. $\frac{\sqrt{3}}{2}$
 - 2. $\frac{3}{4}$
 - 3. $\frac{3}{2}$
 - 4. $2\sqrt{3}$

Question ID : 65497840968

Status : Answered

Chosen Option : 3

Q.25 12 cm व्यास वाले एक ठोस तांबे के गोले को पिघलाकर खींचे गए 0.5 mm त्रिज्या वाले एक तार की लंबाई (cm में) कितनी है?

- Ans
- 1. 1150
 - 2. 11500
 - 3. 11520
 - 4. 1152

Question ID : 65497841171
Status : Marked For Review
Chosen Option : 3

Section : General awareness

Q.1 भारतीय संविधान का इनमें से कौन-सा अनुच्छेद संविधान में संशोधन करने की संसद की शक्ति और उसके लिए प्रक्रिया से संबंधित है?

- Ans
- 1. अनुच्छेद 366
 - 2. अनुच्छेद 371
 - 3. अनुच्छेद 368
 - 4. अनुच्छेद 369

Question ID : 65497841202
Status : Answered
Chosen Option : 3

Q.2 जनवरी 2022 में, ICC महिला क्रिकेटर ऑफ द इयर, 2021 के लिए राचेल हीरो फिल्ट अवार्ड किसे प्रदान किया गया?

- Ans
- 1. अरुंधति रेड्डी
 - 2. स्मृति मंधाना
 - 3. मानसी जोशी
 - 4. मिताली राज

Question ID : 65497840995
Status : Marked For Review
Chosen Option : 4

Q.3 टोक्यो 2020 पैरालिंपिक में F64 पुरुष भाला-फेंक प्रतिस्पर्धा (F64 Men's Javelin Throw event) में 68.55 m की दूरी पर भाला फेंक कर स्वर्ण पदक किसने जीता?

- Ans
- 1. रामेश्वर चौधरी
 - 2. पीयूष खन्ना
 - 3. नीरज चोपड़ा
 - 4. सुमित अंतिल

Question ID : 65497841200
Status : Answered
Chosen Option : 4

Q.4 संथाल विद्रोह (1855-56) के बाद, इनमें से किन जिलों से 5,500 वर्ग मील क्षेत्र को अलग करके संथाल परगना का निर्माण किया गया था?

- Ans 1. भागलपुर और बीरभूम
 2. बांकुरा और पुरुलिया
 3. हज़ारीबाग और बीरभूम
 4. बांकुरा और बीरभूम

Question ID : 65497840890
 Status : Marked For Review
 Chosen Option : 4

Q.5 भारतीय संविधान में संविधान संशोधन का प्रावधान _____ के संविधान से अंगीकृत किया गया था।

- Ans 1. दक्षिण अफ्रीका
 2. जर्मनी
 3. सोवियत संघ
 4. कनाडा

Question ID : 65497840895
 Status : Answered
 Chosen Option : 1

Q.6 'चित्रा, ए प्ले इन वन एक्ट (Chitra, a Play in One Act)' _____ द्वारा लिखित है।

- Ans 1. बंकिम चंद्र चटर्जी
 2. शरत चंद्र चट्टोपाध्याय
 3. महाश्वेता देवी
 4. रबींद्रनाथ टैगोर

Question ID : 65497841096
 Status : Not Answered
 Chosen Option : --

Q.7 दक्षिण-पूर्वी भारत की इनमें से कौन सी नृत्य शैली अत्यधिक अनुष्ठानिक है, जिसमें औपचारिक गायन-एवं-नृत्य से शुरू करके, पवित्र जल का छिड़काव करना और धूप जलाकर देवी-देवताओं का आह्वान करना शामिल है?

- Ans 1. कुचिपुडी
 2. मोहिनीअट्टम
 3. भरतनाट्यम
 4. कथकली

Question ID : 65497840976
 Status : Marked For Review
 Chosen Option : 3

Q.8 किसी द्रव के कुछ अभिलक्षणों, जैसे - घनत्व या आपेक्षिक घनत्व के मापन के लिए किस उपकरण का उपयोग किया जाता है?

- Ans 1. एल्कलीमीटर
 2. हाइड्रोमीटर
 3. कैलीब्रेटर
 4. लैक्टोमीटर

Question ID : 65497841084
 Status : Answered
 Chosen Option : 4

Q.9 मई 2020 में, 'सरकार द्वारा 60 वर्ष और उससे अधिक आयु के बुजुर्गों को _____ से सुरक्षित करने के लिए प्रधानमंत्री वय वंदना योजना' (PMVVY) शुरू की गई थी।

- Ans
- 1. मुद्रास्फीति के कारण निर्वाह व्यय में भावी वृद्धि
 - 2. अनिश्चित बाजार स्थितियों के कारण उनकी ब्याज से होने वाली आय में भावी गिरावट
 - 3. बुजुर्ग व्यक्तियों के लिए चिकित्सा उपचार लागत में भावी वृद्धि
 - 4. अप्रत्याशित जोखिमों के कारण बीमा प्रीमियम में भावी वृद्धि

Question ID : 65497840980
Status : Marked For Review
Chosen Option : 4

Q.10 निम्नलिखित में से कौन सी प्रधानमंत्री मुद्रा योजना के अंतर्गत आने वाली एक उप-योजना नहीं है?

- Ans
- 1. वयस्क
 - 2. शिशु
 - 3. तरुण
 - 4. किशोर

Question ID : 65497840877
Status : Marked For Review
Chosen Option : 3

Q.11 तिब्बत में कैलाश पर्वतमाला के उत्तरी ढलानों से निकलने वाली सिंधु नदी, भारतीय क्षेत्र में इनमें से किस राज्य या केंद्र शासित प्रदेश में प्रवेश करती है?

- Ans
- 1. लद्दाख
 - 2. हिमाचल प्रदेश
 - 3. उत्तराखंड
 - 4. जम्मू और कश्मीर

Question ID : 65497840884
Status : Answered
Chosen Option : 4

Q.12 खाद्य शृंखला का प्रत्येक चरण या स्तर एक पोषी स्तर का निर्माण करता है। इनमें से कौन सा विकल्प, उस कथित खाद्य शृंखला के प्रथम पोषी स्तर को दर्शाता है?

- Ans
- 1. शाकाहारी
 - 2. शीर्ष मांसाहारी
 - 3. स्वपोषी या उत्पादक
 - 4. मांसाहारी

Question ID : 65497840984
Status : Marked For Review
Chosen Option : 2

Q.13 गलवान नदी इनमें से किसकी सीमा के पास स्थित है?

- Ans
- 1. भारत और अफगानिस्तान
 - 2. भारत और नेपाल
 - 3. भारत और बांग्लादेश
 - 4. भारत और चीन

Question ID : 65497841091
Status : Answered
Chosen Option : 4

Q.14 पांच जगत वर्गीकरण (five kingdom classification) में, जीवाणुओं को किस जगत में शामिल किया गया है?

- Ans 1. मोनेरा (Monera)
 2. प्रोटिस्टा (Protista)
 3. प्लांटी (Plantae)
 4. कवक (Fungi)

Question ID : 65497841187
 Status : Answered
 Chosen Option : 1

Q.15 गौतम बुद्ध की माता का क्या नाम था?

- Ans 1. रुक्मणी
 2. गीतांजलि
 3. सिहामोनी
 4. माया

Question ID : 65497841194
 Status : Answered
 Chosen Option : 4

Q.16 "मुझे गोल्डन फाइबर के रूप में जाना जाता है। मुझे अपने विकास के दौरान उच्च तापमान की आवश्यकता होती है"। मैं कौन हूँ?

- Ans 1. कपास
 2. सन (Flax)
 3. जूट
 4. भांग (Hemp)

Question ID : 65497841191
 Status : Marked For Review
 Chosen Option : 3

Q.17 70वीं मिस यूनिवर्स सौंदर्य स्पर्धा (Miss Universe pageant) का आयोजन दिसंबर 2021 में _____ में किया गया था।

- Ans 1. रूस
 2. ऑस्ट्रिया
 3. इजराइल
 4. ब्राज़ील

Question ID : 65497841083
 Status : Answered
 Chosen Option : 4

Q.18 सुल्तान मुहम्मद बिन तुगलक ने इनमें से किस विद्वान को 1342 में अपने राजदूत के रूप में मंगोल शासक के पास चीन जाने का आदेश दिया था?

- Ans 1. इब्र बतूता
 2. मार्को पोलो
 3. सोलोन
 4. इब्र जुजाय

Question ID : 65497840991
 Status : Answered
 Chosen Option : 1

Q.19 केंद्र शासित प्रदेश वस्तु एवं सेवा कर अधिनियम कब पारित किया गया था?

- Ans 1. 2017
 2. 2019
 3. 2018
 4. 2020

Question ID : 65497841101
 Status : Answered
 Chosen Option : 1

Q.20 1882 के भारतीय शिक्षा आयोग की नियुक्ति किसके द्वारा की गई थी?

- Ans 1. लॉर्ड लिटन
 2. लॉर्ड मेयो
 3. लॉर्ड डफ़रिन
 4. लॉर्ड रिपन

Question ID : 65497841095
 Status : Answered
 Chosen Option : 2

Q.21 निम्नलिखित में से किस खिलाड़ी को वर्ष 2022 में 'परम विशिष्ट सेवा पदक' से सम्मानित किया गया है?

- Ans 1. नीरज चोपड़ा
 2. बजरंग पुनिया
 3. पी.वी. सिंधु
 4. मीराबाई चानू

Question ID : 65497841000
 Status : Answered
 Chosen Option : 1

Q.22 निम्नलिखित में से किसे टीपू सुल्तान का ग्रीष्मकालीन महल (Tipu Sultan's Summer Palace) कहा जाता है?

- Ans 1. दरिया दौलत बाग
 2. करामत बाग
 3. राम निवास बाग
 4. शालीमार बाग

Question ID : 65497841182
 Status : Not Answered
 Chosen Option : --

Q.23 स्वतंत्रता के बाद से, इनमें से किस दशक में भारत में जनसंख्या की दशकीय वृद्धि में तीव्रतम गिरावट दर्ज की गई?

- Ans 1. 2001 – 2011
 2. 1951 – 1961
 3. 1971 – 1981
 4. 1991 – 2000

Question ID : 65497840988
 Status : Answered
 Chosen Option : 2

Test

Prime

By Adda247

Previous Year Papers PDF

PRACTICE MORE, SCORE HIGHER!



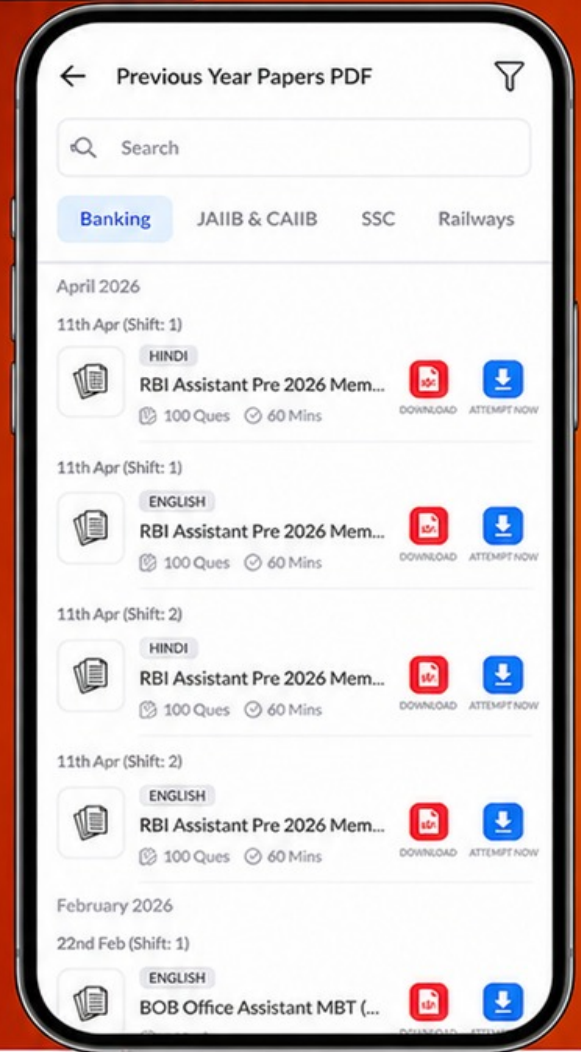
Free
25,000+
PDF's

High-Quality | Exam-Wise | Updated Regularly

ATTEMPT AS
MOCK



Turn PDFs into real exam experience.
Analyze. Improve. Succeed.



Topic-wise &
Exam-wise PDFs



Download &
Study Offline



Attempt as Mock
& Track Score



Smart Analysis
& Performance

AVAILABLE IN



Banking



SSC



Railway



Teaching



UGC



Agriculture



Nursing



Bihar



UP



Punjab



WB



Odisha



TN



AP & Telangana



Haryana



DOWNLOAD THE APP



Q.24 भारत में ड्री महोत्सव (Dree festival) इनमें से किस राज्य में मनाया जाता है?

- Ans
- 1. नागालैंड
 - 2. मणिपुर
 - 3. अरुणाचल प्रदेश
 - 4. असम

Question ID : 65497840875

Status : Marked For Review

Chosen Option : 1

Q.25 निम्नलिखित में से कौन सा सहज प्रतिरक्षा (innate immunity) के अंतर्गत आने वाला रोध (barrier) नहीं है?

- Ans
- 1. कोशिकीय रोध (Cellular barriers)
 - 2. शारीरिक रोध (Physical barriers)
 - 3. मानसिक रोध (Mental barriers)
 - 4. शरीर-क्रियात्मक रोध (Physiological barriers)

Question ID : 65497840883

Status : Not Answered

Chosen Option : --

