

Selection Post Phase IX 2021 Higher Secondary level

| | |
|----------------|---------------------------------------|
| Roll Number | |
| Candidate Name | |
| Venue Name | |
| Exam Date | 14/03/2022 |
| Exam Time | 12:00 PM - 1:00 PM |
| Subject | Selection Post Higher Secondary Level |

Section : General Intelligence

Q.1 दिए गए कथनों और निष्कर्षों को ध्यानपूर्वक पढ़िए। यह मानते हुए कि कथनों में दी गई जानकारी सत्य है, भले ही वह सामान्य रूप से ज्ञात तथ्यों से भिन्न प्रतीत होती हो, तय करें कि दिए गए निष्कर्षों में से कौन सा/से निष्कर्ष कथनों के आधार पर तार्किक रूप से सही है/हैं।

कथन:

कोई रेस्तरां दुकान नहीं है।
सभी दुकानें स्कूल हैं।
सभी पार्क दुकानें हैं।

निष्कर्ष:

I. कुछ स्कूल पार्क हैं।
II. कुछ पार्क रेस्तरां हैं।
III. कुछ दुकानें पार्क हैं।

- Ans
- 1. निष्कर्ष I, II और III सही हैं।
 - 2. निष्कर्ष I और II दोनों सही हैं।
 - 3. निष्कर्ष I और III दोनों सही हैं।
 - 4. निष्कर्ष II और III दोनों सही हैं।

Question ID : 65497840813
Status : Answered
Chosen Option : 3

Q.2 दिए गए समीकरण को सही बनाने के लिए किन दो संख्याओं को आपस में बदला जाना चाहिए?

$$68 + 85 - 15 \div 5 \times 3 = 32$$

- Ans
- 1. 85 और 15
 - 2. 68 और 15
 - 3. 85 और 3
 - 4. 15 और 3

Question ID : 65497840817
Status : Answered
Chosen Option : 1

**Test
Prime**

By Adda247

ALL EXAMS, ONE SUBSCRIPTION



Test. Analyze. Improve. Repeat.



Don't just prepare. Perform.

Test Prime — built only for mock tests.



1,50,000+
Mock Tests



25,000+
Previous Year Papers



800+
Exam Covered



500% Refund
on Selection



5 lakh+
Free Quizzes



Daily
Free PDFs



Job Alerts
Stay Updated

- Multilingual
- Detailed Solution
- Strong and Weak Areas



**All India
Rankings**

Compete with lakhs.
Rank. Improve. Repeat.



← Adda247 test prime

Rating ▾

Editors' choice

New



Adda247 Test Prime
Adda Education • Education
Installed



DOWNLOAD THE APP



Q.3 उस सही विकल्प का चयन करें जो दिए गए शब्दों को उस क्रम में दर्शाता है जिस क्रम में वे अंग्रेज़ी शब्दकोश में दिखाई देते हैं।

1. Syrup
2. Syndrome
3. System
4. Syntax
5. Synthesis

- Ans
- 1. 2, 1, 5, 3, 4
 - 2. 2, 5, 4, 1, 3
 - 3. 2, 4, 5, 3, 1
 - 4. 2, 4, 5, 1, 3

Question ID : 65497841003

Status : Answered

Chosen Option : 4

Q.4 एक निश्चित कूट भाषा में, 'PERMIT' को '1651813920' के रूप में कूटबद्ध किया जाता है। उसी भाषा में 'CLOSED' को किस प्रकार लिखा जाएगा?

- Ans
- 1. 312141964
 - 2. 312151954
 - 3. 313151854
 - 4. 242151954

Question ID : 65497841112

Status : Answered

Chosen Option : 2

Q.5 नेहा, रति, विश्व, चारु और सेजल एक सीधी पंक्ति में उत्तर की ओर मुख करके बैठे हैं। चारु, सेजल के बाएं तीसरे स्थान पर है। नेहा, रति के दाएं दूसरे स्थान पर है। विश्व, सेजल के बाएं दूसरे स्थान पर है। सेजल के ठीक दाएं बगल में कौन बैठा है?

- Ans
- 1. विश्व
 - 2. रति
 - 3. नेहा
 - 4. चारु

Question ID : 65497841007

Status : Answered

Chosen Option : 3

Q.6 उस विकल्प का चयन करें जिसमें दी गई आकृति अंतर्निहित है। (आकृति को घुमाने की अनुमति नहीं है)।



Ans

✗ 1.



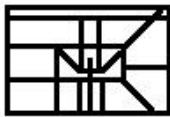
✗ 2.



✗ 3.



✓ 4.



Question ID : 65497841024

Status : Answered

Chosen Option : 4

Q.7 उस विकल्प का चयन कीजिए, जिसका तीसरी संख्या के साथ वही संबंध है, जो दूसरी संख्या का पहली संख्या और छठी संख्या का पांचवी संख्या के साथ है।

16 : 64 :: 36 : ? :: 20 : 100

Ans ✗ 1. 256

✓ 2. 324

✗ 3. 404


✗ 4. 144

Question ID : 65497841122

Status : Answered

Chosen Option : 2

Q.8 दिए गए विकल्पों में से उस आकृति का चयन कीजिए जो दी गई श्रृंखला में प्रश्नावचक चिह्न (?) के स्थान पर आएगा।



Ans

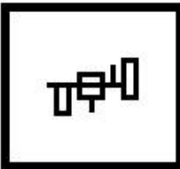
✗ 1.



✗ 2.



✗ 3.



✓ 4.



Question ID : 65497840920
Status : Answered
Chosen Option : 4

Q.9 अक्षरों के उस संयोजन का चयन कीजिए, जिसे निम्नांकित श्रृंखला के रिक्त स्थानों में क्रमबद्ध तरीके से रखने पर श्रृंखला पूर्ण हो जाएगी।

d _ m c _ z _ h _ c s _ d _ m _ _ z

Ans

✓ 1. h s d m z h c s

✗ 2. h s d m z h d s

✗ 3. h d s m z h c s

✗ 4. h s d z c h c s

Question ID : 65497840911
Status : Answered
Chosen Option : 1

Q.10 एक निश्चित कोड भाषा में, 'VIEWER' को 'XGCT' और 'DOER' को 'FMCT' के रूप में लिखा जाता है। उसी भाषा में 'FLAGSHIP' कैसे लिखा जाएगा?

Ans

✗ 1. RKJUCNG

✗ 2. HNCIUJKR

✓ 3. HNYIUJGR

✗ 4. HNCIPEJR

Question ID : 65497840805
Status : Not Answered
Chosen Option : --

Q.11 दिए गए विकल्पों में से उस संख्या का चयन कीजिए जो निम्नलिखित श्रेणी में प्रश्न चिह्न (?) के स्थान पर आएगी।

24, 25, 75, 80, 560, ?

- Ans
- 1. 575
 - 2. 840
 - 3. 1120
 - 4. 569

Question ID : 65497840916
Status : Answered
Chosen Option : 4

Q.12 उस विकल्प का चयन करें जो तीसरे पद से उसी प्रकार संबंधित है जिस प्रकार दूसरा पद पहले पद से संबंधित है।

SENATOR : ROTANES :: DESIGNER : ?

- Ans
- 1. RENGISED
 - 2. REGNISED
 - 3. RENIGSED
 - 4. RENGSIED

Question ID : 65497841001
Status : Answered
Chosen Option : 1

Q.13 जब दर्पण को रेखा PQ पर रखा जाता है, जैसा कि दिखाया गया है, उस स्थिति में दिए गए संयोजन की सही दर्पण छवि का चयन करें।

Y n w 4 d g $\left\{ \begin{array}{l} P \\ Q \end{array} \right.$

- Ans
- 1. g b P w n Y
 - 2. g b P w n Y
 - 3. g b P m n Y
 - 4. g P P w u Y

Question ID : 65497840821
Status : Answered
Chosen Option : 1

Q.14 विकल्पों में चार अक्षर-समूह दिए गए हैं, जिनमें से तीन किसी न किसी रूप में संगत हैं जबकि कोई एक उनसे असंगत है। असंगत अक्षर-समूह का चयन कीजिए।

- Ans
- 1. KMOP
 - 2. NPRT
 - 3. SUWY
 - 4. DFHJ

Question ID : 65497841011
Status : Answered
Chosen Option : 1

Q.15 उस विकल्प का चयन कीजिए, जिसका तीसरे पद के साथ वही संबंध है, जो दूसरे पद का पहले पद के साथ है।

CLAVICLE: WBMDFMDJ:: PRISTINE: ?

- Ans
- 1. TJSQGOJV
 - 2. SJTQFPJU
 - 3. TJSQFRKU
 - 4. TJSQFOJU

Question ID : 65497841104
Status : Answered
Chosen Option : 4

Q.16 A = B का अर्थ है कि 'A, B का पिता है'
A # B का अर्थ है कि 'A, B की माता है'
A @ B का अर्थ है कि 'A, B का पुत्र है'
यदि Q = K # D @ H = R है, तो Q, H से किस प्रकार संबंधित है?

- Ans
- 1. मामा
 - 2. पिता
 - 3. जेठ
 - 4. ससुर

Question ID : 65497841117
Status : Answered
Chosen Option : 4

Q.17 सात मित्र K, L, M, N, O, P और Q एक ही दिशा में मुख करके एक सीधी पंक्ति में बैठे हुए हैं। N एक सिरे पर बैठा हुआ है। O, Q के दाएं चौथे स्थान पर बैठा हुआ है। M और L के बीच केवल तीन व्यक्ति बैठे हुए हैं। Q, P के ठीक बाएं बैठा हुआ है। O, K के दाएं दूसरे स्थान पर बैठा हुआ है। N और M के बीच केवल चार व्यक्ति बैठे हुए हैं। L कहां पर बैठा हुआ है?

- Ans
- 1. P के दाएं तीसरे स्थान पर
 - 2. Q के ठीक दाएं
 - 3. P के बाएं दूसरे स्थान पर
 - 4. N के ठीक बाएं

Question ID : 65497840906
Status : Not Answered
Chosen Option : --

Q.18 उस सही विकल्प का चयन करें जो दिए गए शब्दों को उस क्रम में दर्शाता है जिस क्रम में वे अंग्रेजी शब्दकोश में दिखाई देते हैं।

1. Charger
2. Charity
3. Chariot
4. Chance
5. Charlatan

- Ans
- 1. 4, 1, 2, 5, 3
 - 2. 4, 1, 3, 2, 5
 - 3. 1, 2, 5, 3, 4
 - 4. 4, 1, 3, 5, 2

Question ID : 65497840902
Status : Answered
Chosen Option : 2

Q.19 उस विकल्प का चयन करें जो तीसरे शब्द से उसी प्रकार संबंधित है जैसे दूसरा शब्द पहले शब्द से संबंधित है।

पालक (Spinach) : पत्तेदार (Leafy) : : शलगम (Turnip) : ?

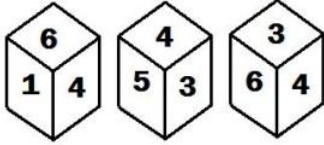
- Ans
- 1. कंद (Tuber)
 - 2. मूल (Root)
 - 3. शल्क कंद (Bulb)
 - 4. प्रकंद (Rhizome)

Question ID : 65497840802

Status : Answered

Chosen Option : 2

Q.20 एक ही पासे, जिसके छः फलकों पर 1, 2, 3, 4, 5 और 6 अंकित हैं, की तीन विभिन्न स्थितियां दिखाई गई हैं। उस संख्या का चयन कीजिए जो '5' को दर्शाने वाले फलक के विपरीत फलक पर होगी।



- Ans
- 1. 6
 - 2. 4
 - 3. 2
 - 4. 1

Question ID : 65497841125

Status : Answered

Chosen Option : 1

Q.21 रागिनी की तस्वीर की ओर इशारा करते हुए शिल्पा ने कहा, "वह मेरे इकलौते भाई के बेटे की पत्नी की सास है"। रागिनी, शिल्पा से किस प्रकार संबंधित है?

- Ans
- 1. भाभी
 - 2. भांजी
 - 3. बेटा
 - 4. माँ

Question ID : 65497840810

Status : Answered

Chosen Option : 1

Q.22 दिए गए विकल्पों में से उस संख्या का चयन करें, जो निम्नलिखित श्रेणी में प्रश्नवाचक चिह्न (?) के स्थान पर आ सकती है।

9, 21, 46, 97, 200, ?

- Ans
- 1. 345
 - 2. 419
 - 3. 407
 - 4. 399

Question ID : 65497841019

Status : Answered

Chosen Option : 3

Q.23 दिए गए कथनों और निष्कर्षों को ध्यानपूर्वक पढ़ें। यह मानते हुए कि कथनों में दी गई जानकारी सत्य है, भले ही वह सामान्य रूप से ज्ञात तथ्यों से भिन्न प्रतीत होती हो, निर्णय लें कि दिए गए निष्कर्षों में से कौन सा/से निष्कर्ष कथनों का तार्किक रूप से अनुसरण करता/ते है/हैं।

कथन:

कुछ गुलाब, नावें हैं।
सभी सुइयां, नावें हैं।

निष्कर्ष:

I. कुछ नावें, सुइयां हैं।
II. कुछ नावें, गुलाब हैं।

- Ans 1. निष्कर्ष I और II, दोनों अनुसरण करते हैं
 2. केवल निष्कर्ष I अनुसरण करता है
 3. या तो निष्कर्ष I या II अनुसरण करता है
 4. केवल निष्कर्ष II अनुसरण करता है

Question ID : 65497840914

Status : Answered

Chosen Option : 1

Q.24 अक्षरों के उस संयोजन का चयन कीजिए जिसे दी गई श्रृंखला के रिक्त स्थानों में क्रमिक रूप से रखने पर श्रृंखला पूर्ण हो जाएगी।

C _ R W _ _ T R _ N C T _ _ N

- Ans 1. T N C R C W
 2. T N C W R T
 3. T N C W R W
 4. T C N W R W

Question ID : 65497841012

Status : Answered

Chosen Option : 3

Q.25 उस विकल्प का चयन कीजिए, जिसका तीसरे शब्द के साथ वही संबंध है, जो दूसरे शब्द का पहले शब्द के साथ है।

सिंगापुर: एशिया:: डेनमार्क: ?

- Ans 1. अफ्रीका
 2. यूरोप
 3. उत्तर अमेरिका
 4. दक्षिण अमेरिका

Question ID : 65497841107

Status : Answered

Chosen Option : 2

Section : English Language

Q.1 Select the option that expresses the given sentence in active voice.

The ancient banyan tree is worshipped by the villagers.

- Ans 1. The villagers are worshipping the ancient banyan tree.
 2. The villagers worship the ancient banyan tree.
 3. The villagers have worshipped the ancient banyan tree.
 4. The villagers worshipped the ancient banyan tree.

Question ID : 65497841028

Status : Answered

Chosen Option : 2

Q.2 Select the most appropriate meaning of the given idiom.

Go to the dogs

- Ans
- 1. Be loyal to someone
 - 2. Defend someone
 - 3. Fail miserably
 - 4. Be ruined or destroyed

Question ID : 65497840833
Status : Answered
Chosen Option : 4

Q.3 Select the most appropriate meaning of the given idiom.

Shed light on

- Ans
- 1. To light a fire
 - 2. To reduce weight
 - 3. To explain a situation
 - 4. To disconnect electricity

Question ID : 65497841138
Status : Answered
Chosen Option : 3

Q.4 The following sentence has been divided into parts. One of them may contain an error. Select the part that contains the error from the given options. If you don't find any error, mark 'No error' as your answer.

She wanted telling her grandfather / her marks but / he had gone for a walk.

- Ans
- 1. he had gone for a walk
 - 2. her marks but
 - 3. No error
 - 4. She wanted telling her grandfather

Question ID : 65497840822
Status : Answered
Chosen Option : 4

Q.5 Select the option that expresses the given sentence in direct speech.

He clarified that he wasn't the one to send the controversial news to the newspaper.

- Ans
- 1. He said, "I am not the one to send the controversial news to the newspaper."
 - 2. He said, "He hadn't been the one to send the controversial news to the newspaper."
 - 3. He said, "He wasn't the one to send the controversial news to the newspaper."
 - 4. He said, "I wasn't the one to send the controversial news to the newspaper."

Question ID : 65497840928
Status : Answered
Chosen Option : 1

Q.6 Select the INCORRECTLY spelt word.

- Ans
- 1. Suspicious
 - 2. Swindel
 - 3. Sweater
 - 4. Supplement

Question ID : 65497840938
Status : Answered
Chosen Option : 2

Q.7 Select the most appropriate synonym of the given word.

Devoid

- Ans
- 1. Filled
 - 2. Entire
 - 3. Lacking
 - 4. Complete

Question ID : 65497840830
Status : Answered
Chosen Option : 3

Q.8 Select the most appropriate ANTONYM of the given word.

Establish

- Ans
- 1. Provide
 - 2. Endow
 - 3. Create
 - 4. Displace

Question ID : 65497841137
Status : Answered
Chosen Option : 4

Q.9 Select the option that expresses the given sentence in passive voice.

These girls speak English fluently.

- Ans
- 1. English was spoken fluently by these girls.
 - 2. English is spoken fluently by these girls.
 - 3. English is being spoken fluently by these girls.
 - 4. English has been spoken fluently by these girls.

Question ID : 65497841129
Status : Answered
Chosen Option : 2

Q.10 Select the option that can be used as a one-word substitute for the given group of words.

One who does one's work thoroughly and seriously

- Ans
- 1. Curious
 - 2. Conscientious
 - 3. Enthusiastic
 - 4. Conscientious

Question ID : 65497840937
Status : Answered
Chosen Option : 3

Q.11 Select the option that can be used as a one-word substitute for the given group of words.

A group of birds

- Ans
- 1. Flock
 - 2. Pride
 - 3. Herd
 - 4. Pack

Question ID : 65497841038
Status : Answered
Chosen Option : 2

Q.12 Select the most appropriate option to fill in the blank.

The work cannot be completed on time _____ you work for longer hours.

- Ans
- 1. unless
 - 2. even
 - 3. because
 - 4. since

Question ID : 65497841032
Status : Answered
Chosen Option : 1

Q.13 Sentences of a paragraph are given below in jumbled order. Arrange the sentences in the correct order to form a meaningful and coherent paragraph.

- A. My husband would not be back until late and I decided to settle down in a comfortable chair and read a book.
- B. I put the children to bed early and prepared some coffee.
- C. It had been a tiring day and I was looking forward to a quiet evening.
- D. Soon I was sitting comfortably with a cup of coffee and the book.

- Ans
- 1. CBDA
 - 2. CABD
 - 3. BADC
 - 4. DCAB

Question ID : 65497840931
Status : Answered
Chosen Option : 2

Q.14 Select the most appropriate option that can substitute the underlined segment in the given sentence. If there is no need to substitute it, select 'No substitution required'.

Anurag said that he is being fined by a policeman for not wearing a mask last evening.

- Ans
- 1. No substitution required
 - 2. has been fining
 - 3. was fining
 - 4. had been fined

Question ID : 65497840827

Status : Answered

Chosen Option : 4

Q.15 Select the option that expresses the given sentence in reported speech.


Rajesh said to Vandana, "You must buy a beautiful dress for your birthday."

- Ans
- 1. Rajesh told Vandana that she must buy a beautiful dress for her birthday.
 - 2. Rajesh told Vandana that she might buy a beautiful dress for my birthday.
 - 3. Rajesh told Vandana that he would buy a beautiful dress for her birthday.
 - 4. Rajesh told Vandana that you must buy a beautiful dress for your birthday.

Question ID : 65497840825

Status : Answered

Chosen Option : 1



Comprehension:

Read the given passage and answer the questions that follow.

Mani was beginning to look worried by the thought of the examinations and dogged the steps of the school clerk. There was a general belief in the school that the clerk knew all the question papers of all the classes. One day Mani went to the clerk's house and laid a neat bundle containing fresh brinjals at his feet. The clerk was pleased and took Mani in and seated him on a stool.

The clerk looked extremely amiable and Mani felt that he could ask anything at that moment and get it. The clerk was murmuring something about his cat, a lank ill fed thing, that was nestling close to him.

Most of what he was saying did not enter Mani's head. He was waiting to open the topic of question papers. The clerk had meanwhile passed from cats to eye-flies; but it made little difference to Mani, who was waiting for the other to pause for breath to launch his attack. 'You must never let these eye-flies buzz near your eyes. All cases of eyesore can be traced to it. When you get eyesore, the only thing you can do is to take a slice of raw onion...' continued the clerk.

Mani realised that the other would not stop and butted in, 'There is only a week more for the examinations sir.....'

The clerk was slightly puzzled : 'Yes. Indeed, a week more Mani tried to look pathetic. 'You see, sir, I am so worried, I don't sleep at nights, thinking of the examination ' If you could possibly tell me something important..... I have such a lot to study. I don't want to study unnecessary things that may not be necessary for the examination. The clerk understood what he was driving at, but advised, 'Just read all your portions and you will pass.' Mani asked bluntly, 'Please tell me, sir, what questions are we getting for our examination?'

The clerk denied having any knowledge of the question papers. Mani flattered him by asking, if he did not know the questions, who else would. By just a little more flattery the clerk was moved to give what Mani believed to be valuable hints. In spite of the fact that he did not know what the first form texts were, the clerk ventured to advise 'you must pay particular attention to Geography. May be you will have to practice map-drawing a lot. And in Arithmetic make it a point to solve at least five problems every day and you will be able to tackle Arithmetic easily.'

'And what about English?' asked Mani. 'Oh, don't worry about that. You must read all the important lessons again and if you have time, yet again and that will be ample.' These answers satisfied Mani greatly. On his way home, he smiled to himself and said that the four annas he had invested on brinjals was not after all a waste.

SubQuestion No : 16

Q.16 According to the clerk, what was the remedy for the eyesore?

- Ans
- 1. eye-flies
 - 2. raw onion
 - 3. sleep
 - 4. brinjals

Question ID : 65497841151
Status : Answered
Chosen Option : 2

Comprehension:

Read the given passage and answer the questions that follow.

Mani was beginning to look worried by the thought of the examinations and dogged the steps of the school clerk. There was a general belief in the school that the clerk knew all the question papers of all the classes. One day Mani went to the clerk's house and laid a neat bundle containing fresh brinjals at his feet. The clerk was pleased and took Mani in and seated him on a stool.

The clerk looked extremely amiable and Mani felt that he could ask anything at that moment and get it. The clerk was murmuring something about his cat, a lank ill fed thing, that was nestling close to him.

Most of what he was saying did not enter Mani's head. He was waiting to open the topic of question papers. The clerk had meanwhile passed from cats to eye-flies; but it made little difference to Mani, who was waiting for the other to pause for breath to launch his attack. 'You must never let these eye-flies buzz near your eyes. All cases of eyesore can be traced to it. When you get eyesore, the only thing you can do is to take a slice of raw onion...' continued the clerk.

Mani realised that the other would not stop and butted in, 'There is only a week more for the examinations sir.....'

The clerk was slightly puzzled : 'Yes. Indeed, a week more Mani tried to look pathetic. 'You see, sir, I am so worried, I don't sleep at nights, thinking of the examination ' If you could possibly tell me something important..... I have such a lot to study. I don't want to study unnecessary things that may not be necessary for the examination. The clerk understood what he was driving at, but advised, 'Just read all your portions and you will pass.' Mani asked bluntly, 'Please tell me, sir, what questions are we getting for our examination?'

The clerk denied having any knowledge of the question papers. Mani flattered him by asking, if he did not know the questions, who else would. By just a little more flattery the clerk was moved to give what Mani believed to be valuable hints. In spite of the fact that he did not know what the first form texts were, the clerk ventured to advise 'you must pay particular attention to Geography. May be you will have to practice map-drawing a lot. And in Arithmetic make it a point to solve at least five problems every day and you will be able to tackle Arithmetic easily.'

'And what about English?' asked Mani. 'Oh, don't worry about that. You must read all the important lessons again and if you have time, yet again and that will be ample.' These answers satisfied Mani greatly. On his way home, he smiled to himself and said that the four annas he had invested on brinjals was not after all a waste.

SubQuestion No : 17

Q.17 Select the most appropriate synonym of the given word.

Pathetic

Ans 1. Innocent

2. Miserable

3. Ignorant

4. Puzzled

Question ID : 65497841153

Status : Answered

Chosen Option : 1

Comprehension:

Read the given passage and answer the questions that follow.

Mani was beginning to look worried by the thought of the examinations and dogged the steps of the school clerk. There was a general belief in the school that the clerk knew all the question papers of all the classes. One day Mani went to the clerk's house and laid a neat bundle containing fresh brinjals at his feet. The clerk was pleased and took Mani in and seated him on a stool.

The clerk looked extremely amiable and Mani felt that he could ask anything at that moment and get it. The clerk was murmuring something about his cat, a lank ill fed thing, that was nestling close to him.

Most of what he was saying did not enter Mani's head. He was waiting to open the topic of question papers. The clerk had meanwhile passed from cats to eye-flies; but it made little difference to Mani, who was waiting for the other to pause for breath to launch his attack. 'You must never let these eye-flies buzz near your eyes. All cases of eyesore can be traced to it. When you get eyesore, the only thing you can do is to take a slice of raw onion...' continued the clerk.

Mani realised that the other would not stop and butted in, 'There is only a week more for the examinations sir.....'

The clerk was slightly puzzled : 'Yes. Indeed, a week more Mani tried to look pathetic. 'You see, sir, I am so worried, I don't sleep at nights, thinking of the examination ' If you could possibly tell me something important..... I have such a lot to study. I don't want to study unnecessary things that may not be necessary for the examination. The clerk understood what he was driving at, but advised, 'Just read all your portions and you will pass.' Mani asked bluntly, 'Please tell me, sir, what questions are we getting for our examination?'

The clerk denied having any knowledge of the question papers. Mani flattered him by asking, if he did not know the questions, who else would. By just a little more flattery the clerk was moved to give what Mani believed to be valuable hints. In spite of the fact that he did not know what the first form texts were, the clerk ventured to advise 'you must pay particular attention to Geography. May be you will have to practice map-drawing a lot. And in Arithmetic make it a point to solve at least five problems every day and you will be able to tackle Arithmetic easily.'

'And what about English?' asked Mani. 'Oh, don't worry about that. You must read all the important lessons again and if you have time, yet again and that will be ample.' These answers satisfied Mani greatly. On his way home, he smiled to himself and said that the four annas he had invested on brinjals was not after all a waste.

SubQuestion No : 18

Q.18 Why did Mani follow the school clerk?

- Ans**
- 1. Mani wanted to play with the clerk's cat.
 - 2. The clerk could help Mani with his studies.
 - 3. The clerk was a friendly fellow.
 - 4. Mani thought that the clerk knew about the question papers.

Question ID : 65497841150

Status : Answered

Chosen Option : 4

Comprehension:

Read the given passage and answer the questions that follow.

Mani was beginning to look worried by the thought of the examinations and dogged the steps of the school clerk. There was a general belief in the school that the clerk knew all the question papers of all the classes. One day Mani went to the clerk's house and laid a neat bundle containing fresh brinjals at his feet. The clerk was pleased and took Mani in and seated him on a stool.

The clerk looked extremely amiable and Mani felt that he could ask anything at that moment and get it. The clerk was murmuring something about his cat, a lank ill fed thing, that was nestling close to him.

Most of what he was saying did not enter Mani's head. He was waiting to open the topic of question papers. The clerk had meanwhile passed from cats to eye-flies; but it made little difference to Mani, who was waiting for the other to pause for breath to launch his attack. 'You must never let these eye-flies buzz near your eyes. All cases of eyesore can be traced to it. When you get eyesore, the only thing you can do is to take a slice of raw onion...' continued the clerk.

Mani realised that the other would not stop and butted in, 'There is only a week more for the examinations sir.....'

The clerk was slightly puzzled : 'Yes. Indeed, a week more Mani tried to look pathetic. 'You see, sir, I am so worried, I don't sleep at nights, thinking of the examination ' If you could possibly tell me something important..... I have such a lot to study. I don't want to study unnecessary things that may not be necessary for the examination. The clerk understood what he was driving at, but advised, 'Just read all your portions and you will pass.' Mani asked bluntly, 'Please tell me, sir, what questions are we getting for our examination?'

The clerk denied having any knowledge of the question papers. Mani flattered him by asking, if he did not know the questions, who else would. By just a little more flattery the clerk was moved to give what Mani believed to be valuable hints. In spite of the fact that he did not know what the first form texts were, the clerk ventured to advise 'you must pay particular attention to Geography. May be you will have to practice map-drawing a lot. And in Arithmetic make it a point to solve at least five problems every day and you will be able to tackle Arithmetic easily.'

'And what about English?' asked Mani. 'Oh, don't worry about that. You must read all the important lessons again and if you have time, yet again and that will be ample.' These answers satisfied Mani greatly. On his way home, he smiled to himself and said that the four annas he had invested on brinjals was not after all a waste.

SubQuestion No : 19

Q.19 What is the underlying irony in the passage?

- Ans**
- 1. The clerk felt he was very knowledgeable.
 - 2. Mani bribed the clerk with a bundle of fresh brinjals.
 - 3. Mani believed he had got valuable hints about the question papers.
 - 4. The clerk talked of his cat and eye-flies.

Question ID : 65497841154

Status : Answered

Chosen Option : 3

Comprehension:

Read the given passage and answer the questions that follow.

Mani was beginning to look worried by the thought of the examinations and dogged the steps of the school clerk. There was a general belief in the school that the clerk knew all the question papers of all the classes. One day Mani went to the clerk's house and laid a neat bundle containing fresh brinjals at his feet. The clerk was pleased and took Mani in and seated him on a stool.

The clerk looked extremely amiable and Mani felt that he could ask anything at that moment and get it. The clerk was murmuring something about his cat, a lank ill fed thing, that was nestling close to him.

Most of what he was saying did not enter Mani's head. He was waiting to open the topic of question papers. The clerk had meanwhile passed from cats to eye-flies; but it made little difference to Mani, who was waiting for the other to pause for breath to launch his attack. 'You must never let these eye-flies buzz near your eyes. All cases of eyesore can be traced to it. When you get eyesore, the only thing you can do is to take a slice of raw onion...' continued the clerk.

Mani realised that the other would not stop and butted in, 'There is only a week more for the examinations sir.....'

The clerk was slightly puzzled : 'Yes. Indeed, a week more Mani tried to look pathetic. 'You see, sir, I am so worried, I don't sleep at nights, thinking of the examination ' If you could possibly tell me something important..... I have such a lot to study. I don't want to study unnecessary things that may not be necessary for the examination. The clerk understood what he was driving at, but advised, 'Just read all your portions and you will pass.' Mani asked bluntly, 'Please tell me, sir, what questions are we getting for our examination?'

The clerk denied having any knowledge of the question papers. Mani flattered him by asking, if he did not know the questions, who else would. By just a little more flattery the clerk was moved to give what Mani believed to be valuable hints. In spite of the fact that he did not know what the first form texts were, the clerk ventured to advise 'you must pay particular attention to Geography. May be you will have to practice map-drawing a lot. And in Arithmetic make it a point to solve at least five problems every day and you will be able to tackle Arithmetic easily.'

'And what about English?' asked Mani. 'Oh, don't worry about that. You must read all the important lessons again and if you have time, yet again and that will be ample.' These answers satisfied Mani greatly. On his way home, he smiled to himself and said that the four annas he had invested on brinjals was not after all a waste.

SubQuestion No : 20

Q.20 Which of the following was NOT an advice given by the clerk?

- Ans 1. Read all important lessons in English only once
2. Solve five arithmetic problems daily
3. Read all your portions and you will pass
4. Practice map drawing for geography

Question ID : 65497841152

Status : Answered

Chosen Option : 1

Comprehension:

In the following passage, some words have been deleted. Read the passage carefully and select the most appropriate option to fill in each blank.

She was flying over the hills and felt delighted at the (1) _____ of the tall trees and their (2) _____ branches below her. She could (3) _____ see a river flowing in a zig-zag fashion. Birds (4) _____ alongside making chirruping sounds as if (5) _____ her to the skies.

SubQuestion No : 21

Q.21 Select the most appropriate option to fill in blank no. 1.

- Ans 1. sight
2. show
3. vision
4. spot

Question ID : 65497841042

Status : Answered

Chosen Option : 1

Comprehension:

In the following passage, some words have been deleted. Read the passage carefully and select the most appropriate option to fill in each blank.

She was flying over the hills and felt delighted at the (1) _____ of the tall trees and their (2) _____ branches below her. She could (3) _____ see a river flowing in a zig-zag fashion. Birds (4) _____ alongside making chirruping sounds as if (5) _____ her to the skies.

SubQuestion No : 22

Q.22 Select the most appropriate option to fill in blank no. 2.

- Ans
- 1. sinking
 - 2. slipping
 - 3. sloping
 - 4. sliding

Question ID : 65497841043
Status : Answered
Chosen Option : 3

Comprehension:

In the following passage, some words have been deleted. Read the passage carefully and select the most appropriate option to fill in each blank.

She was flying over the hills and felt delighted at the (1) _____ of the tall trees and their (2) _____ branches below her. She could (3) _____ see a river flowing in a zig-zag fashion. Birds (4) _____ alongside making chirruping sounds as if (5) _____ her to the skies.

SubQuestion No : 23

Q.23 Select the most appropriate option to fill in blank no. 3.

- Ans
- 1. either
 - 2. clear
 - 3. even
 - 4. much

Question ID : 65497841044
Status : Answered
Chosen Option : 3

Comprehension:

In the following passage, some words have been deleted. Read the passage carefully and select the most appropriate option to fill in each blank.

She was flying over the hills and felt delighted at the (1) _____ of the tall trees and their (2) _____ branches below her. She could (3) _____ see a river flowing in a zig-zag fashion. Birds (4) _____ alongside making chirruping sounds as if (5) _____ her to the skies.

SubQuestion No : 24

Q.24 Select the most appropriate option to fill in blank no. 4.

- Ans
- 1. flown
 - 2. flew
 - 3. fly
 - 4. flowed

Question ID : 65497841045
Status : Answered
Chosen Option : 2

Comprehension:

In the following passage, some words have been deleted. Read the passage carefully and select the most appropriate option to fill in each blank.

She was flying over the hills and felt delighted at the (1) _____ of the tall trees and their (2) _____ branches below her. She could (3) _____ see a river flowing in a zig-zag fashion. Birds (4) _____ alongside making chirruping sounds as if (5) _____ her to the skies.

SubQuestion No : 25

Q.25 Select the most appropriate option to fill in blank no. 5.

- Ans
- 1. greeting
 - 2. warming
 - 3. pleasing
 - 4. welcoming

Question ID : 65497841046
 Status : Answered
 Chosen Option : 1

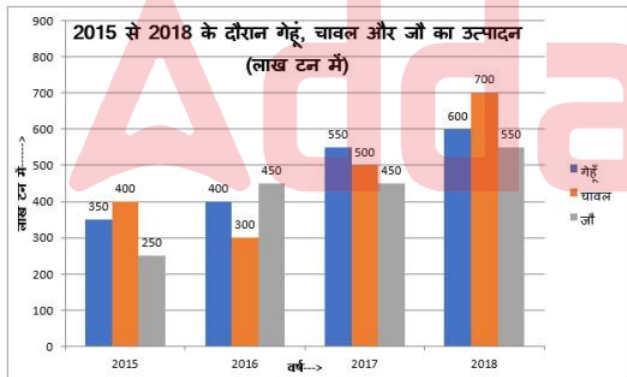
Section : Quantitative Aptitude

Q.1 सुरभि की बचत उसके खर्च का 16% है। यदि उसकी आय में 35% की वृद्धि होती है और व्यय में 38% की वृद्धि होती है, तो उसकी बचत में कितने प्रतिशत की वृद्धि/कमी होती है?

- Ans
- 1. 13.9% की कमी
 - 2. 16.25% की वृद्धि
 - 3. 22.5% की वृद्धि
 - 4. 12.25% की कमी

Question ID : 65497840957
 Status : Not Answered
 Chosen Option : --

Q.2 दिए गए ग्राफ का अध्ययन करें और निम्नलिखित प्रश्नों के उत्तर दें।



2015 और 2017 में गेहूँ के कुल उत्पादन और 2016 में चावल और जौ के कुल उत्पादन का अनुपात कितना है?

- Ans
- 1. 5 : 4
 - 2. 4 : 3
 - 3. 6 : 5
 - 4. 3 : 2

Question ID : 65497840871
 Status : Answered
 Chosen Option : 3

Q.3 In ΔABC , D and E are the points on sides AB and BC, respectively, such that $DE \parallel AC$. If $BD = 3$ cm and $AD = 4$ cm,

then $\frac{\text{Area of } \Delta BDE}{\text{Area of quadrilateral ADEC}} = \frac{p}{q}$, where p, q are coprime. What is the value of $|p - q|$?

- Ans
- 1. 37
 - 2. 40
 - 3. 33
 - 4. 31

Question ID : 65497840869

Status : Answered

Chosen Option : 3

Q.4 दिए गए व्यंजक को सरलीकृत कीजिए:

$$\left(\frac{(a+x)(ax^2-x^3)}{a^3+x^3} \times \frac{a^2-ax+x^2}{a^2x^2+x^4} \right) \div \frac{(a^2-2ax+x^2)(a-x)}{(a^4-x^4)}, a \neq x$$

- Ans
- 1. $\frac{a-x}{a+x}$
 - 2. $a^2 - x^2$
 - 3. $a^4 - x^4$
 - 4. $\frac{a+x}{a-x}$

Question ID : 65497840866

Status : Answered

Chosen Option : 4

Q.5 यदि एक ठोस बेलन का व्यास 70 cm और ऊँचाई 7 m है, तो $\text{₹}28/\text{m}^2$ की दर से इसके वक्र पृष्ठीय क्षेत्रफल को पॉलिश करने में कितना खर्च आएगा? ($\pi = \frac{22}{7}$ का प्रयोग करें)

- Ans
- 1. ₹255.37
 - 2. ₹425.80
 - 3. ₹431.20
 - 4. ₹477.20

Question ID : 65497841069

Status : Answered

Chosen Option : 3

Q.6 एक वस्तु को ₹246.80 में बेचने पर प्राप्त लाभ, उसे ₹216 में बेचने पर होने वाली हानि की राशि से 20% अधिक है। यदि वस्तु को ₹320.75 में बेचा जाता है, तो (एक दशमलव स्थान तक पूर्णांकित) लाभ/हानि का प्रतिशत कितना होगा?

- Ans
- 1. 28.7% हानि
 - 2. 27.8% लाभ
 - 3. 39.5% लाभ
 - 4. 35.9% हानि

Question ID : 65497841163

Status : Answered

Chosen Option : 3

Q.7 यदि 9 अंकों की एक संख्या $45069x4y8$, 44 से भाज्य है, तो y के न्यूनतम मान के लिए $(x - 2y)$ का मान क्या होगा?

- Ans
- 1. 3
 - 2. 4
 - 3. 1
 - 4. 0

Question ID : 65497841054
Status : Answered
Chosen Option : 1

Q.8 यदि x और y के किसी संभावित मान के लिए 7-अंक की एक संख्या $53345xy$, 40 से विभाज्य हो, तो $(2x - 5y)$ का एक मान कितना है?

- Ans
- 1. 9
 - 2. 12
 - 3. 8
 - 4. 10

Question ID : 65497841155
Status : Answered
Chosen Option : 2

Q.9 विलयन A और B में अम्ल और पानी का अनुपात क्रमशः 15 : 11 और 4 : 9 है। 6 लीटर A को 4 लीटर B के साथ मिलाया जाता है। परिणामी घोल 390 ml में कितना अम्ल (ml में) मिलाया जाना चाहिए ताकि उसमें अम्ल और पानी का अनुपात 3 : 2 हो जाए?

- Ans
- 1. 127.5
 - 2. 130
 - 3. 128
 - 4. 126.5

Question ID : 65497840859
Status : Not Answered
Chosen Option : --

Q.10 सात वर्ष पहले, A और B की आयु का अनुपात 2 : 7 था। उनकी वर्तमान आयु का अनुपात 3 : 8 है। अब से चार वर्ष बाद A और B की आयु का अनुपात क्या होगा?

- Ans
- 1. 4 : 11
 - 2. 1 : 3
 - 3. 5 : 12
 - 4. 2 : 5

Question ID : 65497840960
Status : Answered
Chosen Option : 3

Q.11 P और Q ने 120 km की यात्रा इस प्रकार की कि P की चाल, Q से अपेक्षाकृत तेज है। उनकी चालों का योग 75 km/h है और दोनों को कुल लगा समय 6 h और 40 min है। तो Q की चाल (km/h में) कितनी होगी?

- Ans
- 1. 42
 - 2. 40
 - 3. 30
 - 4. 25

Question ID : 65497841170
Status : Not Answered
Chosen Option : --

Q.12 एक टायर में 3 पंक्चर हैं। पहला पंक्चर, अकेले ही, टायर को 14 मिनट में फ्लैट कर सकता है, दूसरा पंक्चर, अकेले ही, इसे 28 मिनट में फ्लैट कर सकता है, और तीसरा पंक्चर, अकेले ही, इसे 56 मिनट में फ्लैट कर सकता है। यदि हवा नियत दर से निकल रही हो तो सभी पंक्चरों को एक साथ मिलकर टायर फ्लैट करने में कितना समय (मिनट में) लगेगा?

- Ans
- 1. 5
 - 2. 8
 - 3. 6
 - 4. 7

Question ID : 65497841167
Status : Answered
Chosen Option : 2

Q.13 P, Q और R का औसत वजन 57 kg है। यदि Q और R का औसत वजन 60 kg तथा R और P का औसत वजन 59 kg है, तो R का वजन _____ kg होगा।

- Ans
- 1. 47
 - 2. 43
 - 3. 57
 - 4. 67

Question ID : 65497841055
Status : Answered
Chosen Option : 4

Q.14 जब एक दुकानदार एक वस्तु को उसके अंकित मूल्य पर 20% की छूट पर बेचता है तो उसे 20% का लाभ होता है। यदि वस्तु का क्रय मूल्य 20% कम हो जाता है और वह 26% का लाभ अर्जित करना चाहता है, तो उसे वस्तु के उसी अंकित मूल्य पर कितने प्रतिशत की छूट देनी चाहिए?

- Ans
- 1. 32.8%
 - 2. 35.2%
 - 3. 30.6%
 - 4. 30.2%

Question ID : 65497840853
Status : Not Answered
Chosen Option : --

Q.15 ₹36,000 की धनराशि का एक भाग 9% और शेष भाग 7% वार्षिक ब्याज दर से उधार दे दिया जाता है। यदि औसत वार्षिक ब्याज 8.5% हो, तो 9% वार्षिक ब्याज दर पर उधार दी गई धनराशि (₹ में) कितनी होगी?

- Ans
- ✓ 1. 27,000
 - ✗ 2. 33,500
 - ✗ 3. 30,500
 - ✗ 4. 24,500

Question ID : 65497841166
Status : Answered
Chosen Option : 1

Q.16 पहले 3 मैचों में सुमित द्वारा बनाए गए औसत रन 122 हैं। चौथे मैच में, उसने कुछ रन बनाए, जिससे अब उसके औसत रन 130 हो गए। पाँचवें मैच में, उसने चौथे मैच की तुलना में 14 रन कम बनाए, और अब उसके अंतिम 4 मैचों का औसत 164 हो जाता है। सुमित द्वारा पहले मैच में बनाए गए रन ज्ञात कीजिए।

- Ans
- ✓ 1. 4
 - ✗ 2. 9
 - ✗ 3. 5
 - ✗ 4. 3

Question ID : 65497840954
Status : Not Answered
Chosen Option : --

Q.17 A और B एक निश्चित कार्य को क्रमशः 27 दिनों और 36 दिनों में कर सकते हैं। A ने कुछ दिनों तक काम किया और फिर B उसके साथ जुड़ गया। उन्होंने कार्य पूरा होने तक एक साथ काम किया। यदि कार्य कुल 18 दिनों में पूरा हो जाता है, तो A और B ने मिलकर कितने दिनों तक काम किया?

- Ans
- ✗ 1. 10
 - ✓ 2. 12
 - ✗ 3. 15
 - ✗ 4. 18

Question ID : 65497840862
Status : Answered
Chosen Option : 2

Q.18 यदि $x^2 - \sqrt{13}x + 1 = 0$ है, तो $(x^3 + x^{-3})$ कितना होगा?

- Ans
- ✗ 1. $7\sqrt{13}$
 - ✗ 2. $8\sqrt{13}$
 - ✓ 3. $10\sqrt{13}$
 - ✗ 4. $4\sqrt{13}$

Question ID : 65497841173
Status : Answered
Chosen Option : 3

Q.19 समबाहु $\triangle ABC$ में, भुजा AC पर बिंदु E इस प्रकार है कि $AE = AD$, जहाँ D, BC का मध्य-बिंदु है। $\angle EDC$ की माप क्या है?

- Ans
- 1. 15°
 - 2. 10°
 - 3. 20°
 - 4. 30°

Question ID : 65497840970
Status : Answered
Chosen Option : 4

Q.20 एक वस्तु को ₹948 में बेचने पर 21% की हानि होती है। 23% का लाभ प्राप्त करने के लिए, इसे ₹_____ पर बेचा जाना चाहिए।

- Ans
- 1. 1,746
 - 2. 1,764
 - 3. 1,476
 - 4. 1,674

Question ID : 65497841060
Status : Answered
Chosen Option : 3

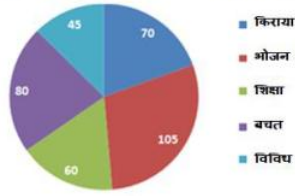
Q.21 A की आय B की आय से 25% अधिक है, और B की आय C की आय से 20% अधिक है। D की आय B और C की संयुक्त आय का 60% है। निम्नलिखित में से कौन सा सत्य है?

- Ans
- 1. D की आय, A की आय से 12% कम है।
 - 2. B की आय, D की आय से 12% कम है।
 - 3. C की आय, A की आय से 50% कम है।
 - 4. C की आय, D की आय से 32% कम है।

Question ID : 65497840854
Status : Answered
Chosen Option : 1

Q.22 एक माह में एक परिवार के व्यय का अंशवार विभाजन निम्नांकित पाई ग्राफ में दर्शाया गया है। परिवार का कुल व्यय ₹43,200 है।

एक माह में एक परिवार के व्यय का अंशवार विभाजन

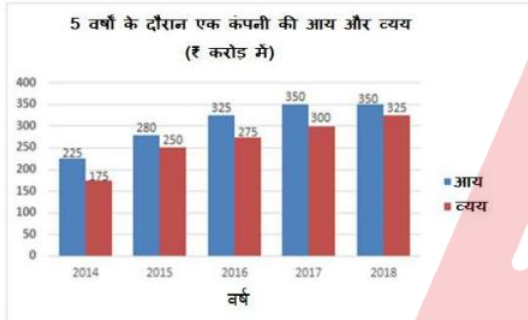


शिक्षा और किराए पर कुल व्यय, भोजन पर व्यय से कितने प्रतिशत अधिक है? (दो दशमलव स्थान तक पूर्णांकित)?

- Ans
- ✓ 1. 23.81%
 - ✗ 2. 28.31%
 - ✗ 3. 21.83%
 - ✗ 4. 23.18%

Question ID : 65497841178
Status : Answered
Chosen Option : 1

Q.23 निम्नांकित दंड आरेख 5 वर्षों (2014 से 2018) के दौरान एक कंपनी के आय और व्यय (₹ करोड़ में) को दर्शाता है।



किन वर्षों में, आय और व्यय के अनुपात क्रमशः न्यूनतम और अधिकतम हैं?

- Ans
- ✗ 1. 2016, 2015
 - ✗ 2. 2014, 2017
 - ✗ 3. 2015, 2017
 - ✓ 4. 2018, 2014

Question ID : 65497841077
Status : Answered
Chosen Option : 2

Q.24 यदि $\frac{1}{1+\tan\theta} + \frac{1}{1-\tan\theta} = 4, 0^\circ < \theta < 90^\circ$, तो $\operatorname{cosec} \theta + \sec \theta + \sin \theta$ का मान क्या है?

Ans

✗ 1. $\frac{4 + 3\sqrt{2}}{\sqrt{6}}$

✗ 2. $\frac{8\sqrt{3}}{3}$

✓ 3. $\frac{3 + 4\sqrt{2}}{\sqrt{6}}$

✗ 4. $\frac{3\sqrt{3}}{2}$

Question ID : 65497840972

Status : Answered

Chosen Option : 3

Q.25 एक व्यक्ति 2 km/h, 4 km/h, 5 km/h, 7 km/h, और 12 km/h की चाल से समान दूरियों को तय करता है और कुल 1485 मिनट का समय लेता है। तय की गई कुल दूरी (km में) कितनी है? (निकटतम पूर्णांक तक)

Ans

✗ 1. 175

✗ 2. 200

✓ 3. 105

✗ 4. 125

Question ID : 65497841067

Status : Not Answered

Chosen Option : --

Section : General awareness

Q.1 भारतीय संविधान का निम्नलिखित में से कौन-सा अनुच्छेद नागरिकों के लिए समान नागरिक संहिता से संबंधित है?

Ans

✗ 1. अनुच्छेद 47

✓ 2. अनुच्छेद 44

✗ 3. अनुच्छेद 45

✗ 4. अनुच्छेद 46

Question ID : 65497841201

Status : Not Answered

Chosen Option : --

Q.2 पद्म विभूषण पुरस्कार से सम्मानित और कथक दिग्गज पं. बिरजू महाराज कथक की लखनऊ शैली के किस घराने के पथप्रदर्शक थे?

Ans

✗ 1. बनारस

✗ 2. जयपुर

✓ 3. कालका-बिंदादीन

✗ 4. रायगढ़

Question ID : 65497840874

Status : Answered

Chosen Option : 1

Q.3 संविधान (एक सौवां संशोधन) अधिनियम, 2015 _____ से संबंधित है।

- Ans
- 1. भारत और चीन के बीच कुछ क्षेत्रों का पारस्परिक हस्तांतरण
 - 2. भारत और नेपाल के बीच कुछ क्षेत्रों का पारस्परिक हस्तांतरण
 - 3. भारत और बांग्लादेश के बीच कुछ क्षेत्रों का पारस्परिक हस्तांतरण
 - 4. भारत और सिक्किम के बीच कुछ क्षेत्रों का पारस्परिक हस्तांतरण

Question ID : 65497840999
Status : Answered
Chosen Option : 3

Q.4 भारत के पूर्व राष्ट्रपति स्वर्गीय डॉ.ए.पी.जे. अब्दुल कलाम के नाम पर 15 अक्टूबर 2020 को आरंभ किया गया कार्यक्रम 'कपिला' निम्नलिखित में से किससे संबंधित है?

- Ans
- 1. बौद्धिक संपदा, साक्षरता और जागरूकता
 - 2. अंतरिक्ष विज्ञान
 - 3. मिसाइल प्रौद्योगिकी
 - 4. वैमानिक अभियांत्रिकी

Question ID : 65497840878
Status : Answered
Chosen Option : 3

Q.5 'अहोम राजा का महल' कहाँ स्थित है?

- Ans
- 1. लद्दाख
 - 2. असम
 - 3. उत्तर प्रदेश
 - 4. तेलंगाना

Question ID : 65497841080
Status : Answered
Chosen Option : 4

Q.6 फीलपाँव, जिसे लसीका फाइलेरिया के रूप में भी जाना जाता है, _____ के कारण होता है।

- Ans
- 1. परजीवी कृमि
 - 2. प्रोटोजोआ
 - 3. जीवाणु
 - 4. विषाणु

Question ID : 65497841085
Status : Answered
Chosen Option : 2

Q.7 निम्नलिखित में से कौन-सा, भूटान का सबसे ऊँचा पर्वत है?

- Ans
- 1. गंगखर पुनसुम (Gangkhar Puensum)
 - 2. कांगफू कांग I (Kangphu Kang I)
 - 3. ग्यमो चें (Gyemo Chen)
 - 4. चोमोल्हारी (Chomolhari)

Question ID : 65497840989
Status : Answered
Chosen Option : 1

Q.8 जनवरी 2022 में, भारत सरकार के मुख्य आर्थिक सलाहकार (CEA) के रूप में किसे नियुक्त किया गया था?

- Ans 1. वेंकटरमण अनंत नागेश्वरन
 2. राजीव कुमार
 3. कृष्णमूर्ति सुब्रमण्यम
 4. अरविंद सुब्रमण्यम

Question ID : 65497840893
 Status : Answered
 Chosen Option : 2

Q.9 निम्नलिखित में से कौन-सा शब्द, जिसे अतिसंवेदनशीलता के रूप में भी जाना जाता है, का उपयोग उस स्थिति का वर्णन करने के लिए किया जाता है जिसमें मानव शरीर में किसी पदार्थ (जैसे भोजन या औषधि) के लिए अतिरंजित अनुक्रिया होती है?

- Ans 1. उत्परिवर्तन
 2. मरोड़
 3. संक्रमण
 4. प्रत्यूर्जता

Question ID : 65497841189
 Status : Answered
 Chosen Option : 2

Q.10 निम्नलिखित विकल्पों में से कौन सा सिंधु क्षेत्र की बेलनाकार मुहर पर पाए जाने वाले पशु रूपांकनों में से एक है?

- Ans 1. बैठा हुआ बाघ
 2. दौड़ता हुआ कुत्ता
 3. कूबड़ वाला वृषभ
 4. कूबड़ वाला ऊँट

Question ID : 65497841092
 Status : Answered
 Chosen Option : 3

Q.11 1967 में अशोक चक्र वर्ग-II का नाम बदलकर _____ कर दिया गया।

- Ans 1. वीर चक्र
 2. अशोक चक्र
 3. कीर्ति चक्र
 4. शौर्य चक्र

Question ID : 65497841196
 Status : Answered
 Chosen Option : 4

Q.12 एक झील के पानी के पोषक तत्व संवर्धन द्वारा उसकी प्राकृतिक काल-प्रभाव (नेचुरल एजिंग) को _____ कहा जाता है।

- Ans 1. जैव आवर्धन
 2. प्लवकीय
 3. सुपोषण
 4. यूट्रोफिसिनिया

Question ID : 65497840882
 Status : Answered
 Chosen Option : 1

Q.13 सीवर और सेप्टिक टैंक की जोखिम भरी मैनुअल सफाई को रोकने और उनकी मशीनीकृत सफाई को बढ़ावा देने के उद्देश्य से निम्नलिखित में से कौन-सी पहल शुरू की गई है?

- Ans
- 1. सफाईमित्र सुरक्षा टास्क-2021
 - 2. सफाईमित्र सुरक्षा टेस्ट-2021
 - 3. सफाईमित्र सुरक्षा चैलेंज -2021
 - 4. सफाईमित्र सुरक्षा कंटेस्ट-2021

Question ID : 65497841183
Status : Answered
Chosen Option : 3

Q.14 बारडोली में किसान आंदोलन निम्नलिखित में से किस वर्ष में हुआ था?

- Ans
- 1. 1928
 - 2. 1912
 - 3. 1943
 - 4. 1939

Question ID : 65497840993
Status : Answered
Chosen Option : 2

Q.15 निम्नलिखित में से किस विद्वान ने पतंजलि के व्याकरण के कार्यों का अरबी में अनुवाद किया?

- Ans
- 1. अल बिरूनी
 - 2. इब्न अल-हज
 - 3. इब्न हजर अल-हयातमी
 - 4. इब्न हुबली

Question ID : 65497840889
Status : Answered
Chosen Option : 2

Q.16 पलार नदी बेसिन _____ की प्रमुख नदी घाटियों में से एक है।

- Ans
- 1. लद्दाख
 - 2. ओडिशा
 - 3. तमिलनाडु
 - 4. महाराष्ट्र

Question ID : 65497841190
Status : Answered
Chosen Option : 3

Q.17 मामल्लपुरम नृत्य महोत्सव का आयोजन निम्नलिखित में से किस राज्य में किया जाता है?

- Ans
- 1. तेलंगाना
 - 2. तमिलनाडु
 - 3. आंध्र प्रदेश
 - 4. कर्नाटक

Question ID : 65497841181
Status : Answered
Chosen Option : 2

Q.18 जनवरी 2022 में भारतीय राजनेता गुलाम नबी आजाद को निम्नलिखित में से कौन सा पुरस्कार प्राप्त हुआ?

- Ans
- 1. पद्म श्री
 - 2. भारत रत्न
 - 3. पद्म भूषण
 - 4. पद्म विभूषण

Question ID : 65497841098
Status : Answered
Chosen Option : 4

Q.19 निम्नलिखित में से किस नोबेल पुरस्कार विजेता ने 'कुकिंग टू सेव योर लाइफ' लिखी है, जो पाक कला पर लिखी गई पुस्तक है?

- Ans
- 1. अभिजीत बनर्जी
 - 2. बेंजामिन लिस्ट
 - 3. मारिया रेसा
 - 4. अमर्त्य सेन

Question ID : 65497840994
Status : Answered
Chosen Option : 3

Q.20 जनवरी 2022 में, किस भारतीय खिलाड़ी को 2021 के लिए 'द वर्ल्ड गोम्स एथलीट ऑफ़ द इयर' के रूप में चुना गया था?

- Ans
- 1. नीरज चोपड़ा
 - 2. रानी रामपाल
 - 3. पी.वी. सिंधु
 - 4. पी.आर. श्रीजेश

Question ID : 65497840898
Status : Answered
Chosen Option : 1

Q.21 अमेज़न प्राइम विडियो (Amazon Prime Video) ने विश्व में अपना पहला मोबाइल-ऑनली प्लान किस देश से शुरू किया?

- Ans
- 1. चीन
 - 2. अमेरिका
 - 3. भारत
 - 4. यूनाइटेड किंगडम

Question ID : 65497840981
Status : Answered
Chosen Option : 3

Q.22 भारत के संविधान का निम्नलिखित में से कौन सा अनुच्छेद ग्राम पंचायतों के संगठन से संबंधित है?

- Ans
- 1. अनुच्छेद 37
 - 2. अनुच्छेद 39
 - 3. अनुच्छेद 40
 - 4. अनुच्छेद 38

Question ID : 65497841100
Status : Answered
Chosen Option : 2

Test

Prime

By Adda247

Previous Year Papers PDF

PRACTICE MORE, SCORE HIGHER!



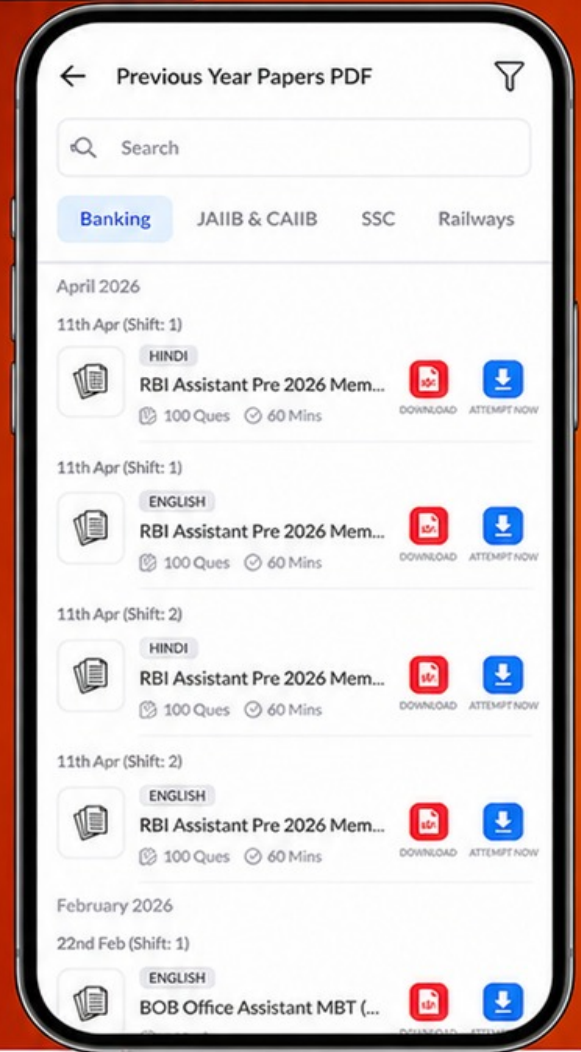
Free
25,000+
PDF's

High-Quality | Exam-Wise | Updated Regularly

ATTEMPT AS
MOCK



Turn PDFs into real exam experience.
Analyze. Improve. Succeed.



Topic-wise & Exam-wise PDFs



Download & Study Offline



Attempt as Mock & Track Score



Smart Analysis & Performance

AVAILABLE IN



Banking



SSC



Railway



Teaching



UGC



Agriculture



Nursing



Bihar



UP



Punjab



WB



Odisha



TN



AP & Telangana



Haryana



DOWNLOAD THE APP



Q.23 भारत की जनगणना 2011 के आँकड़ों के अनुसार, भारत की जनसंख्या की कुल वृद्धि में 2001 से 2011 के बीच निम्नलिखित में से किस राज्य का दूसरा सर्वाधिक प्रतिशत योगदान है?

- Ans
- 1. बिहार
 - 2. राजस्थान
 - 3. उत्तर प्रदेश
 - 4. महाराष्ट्र

Question ID : 65497840886
Status : Answered
Chosen Option : 2

Q.24 _____, अरण्यभूमि की देखभाल और कृषिकरण है।

- Ans
- 1. अंगूरोंत्पादन (Viticulture)
 - 2. पुष्प कृषि (Floriculture)
 - 3. रेशम कीटपालन (Sericulture)
 - 4. वन-संवर्धन (Silviculture)

Question ID : 65497841089
Status : Answered
Chosen Option : 2

Q.25 _____ का उपयोग इमारतों और निर्माण प्रक्रियाओं में ऊष्मा हास या ऊष्मा लब्धि को रोकने के लिए किया जाता है।

- Ans
- 1. संवहन (कंवेक्शन)
 - 2. हिमीकरण (फ्रीज़िंग)
 - 3. चालन (कंडक्शन)
 - 4. रोधन (इंसुलेशन)

Question ID : 65497840982
Status : Answered
Chosen Option : 4