

Combined Higher Secondary Level (10+2) Examination-2018

Roll No.	
Registration No.	
Name	
Test Venue	
Test Time	1:00 PM - 2:00 PM
Test Date	11/07/2019

Section : General Intelligence

Q.1 उस समुच्चय का चयन करें जिसमें संख्याएँ उसी तरह से संबंधित हैं जैसे कि निम्नलिखित समुच्चय की संख्याएँ संबंधित हैं।

(16, 23, 32)

- Ans 1. (11, 18, 27)
 2. (6, 14, 25)
 3. (10, 23, 46)
 4. (10, 17, 28)

Question ID : 98958017020

Status : Answered

Chosen Option : 3

Q.2 दो कथन दिए गए हैं, उसके बाद चार निष्कर्ष I, II, III और IV दिए गए हैं। कथनों को सत्य मानते हुए, भले ही वे आम तौर पर ज्ञात तथ्यों से अलग हों, यह निर्णय लीजिए कि कौन सा/से निष्कर्ष, कथनों का तार्किक रूप से अनुसरण करता है/करते हैं।

कथन :
कोई भी गाजर जड़ नहीं है।
सभी जड़ें आलू हैं।

निष्कर्ष:
I. कोई भी गाजर आलू नहीं है।
II. कोई भी आलू गाजर नहीं है।
III. कुछ आलू जड़ हैं।
IV. सभी आलू जड़ हैं।

- Ans 1. केवल निष्कर्ष (I) और (IV) अनुसरण करते हैं।
 2. केवल निष्कर्ष (I) और (II) अनुसरण करता है।
 3. केवल निष्कर्ष (I) अनुसरण करता है।
 4. केवल निष्कर्ष (III) अनुसरण करता है।

Question ID : 98958017016

Status : Answered

Chosen Option : 4

Q.3 यदि SAW को 8264 के रूप में कोडबद्ध किया गया है और CUDDLE को 24623231522 के रूप में कोडबद्ध किया गया है, तो MEDULLA को कैसे कोडबद्ध किया जाएगा?

- Ans 1. 1422236151625
 2. 1422237151525
 3. 1422236151526
 4. 1422236161526

**Test
Prime**

By Adda247

ALL EXAMS, ONE SUBSCRIPTION



Test. Analyze. Improve. Repeat.



Don't just prepare. Perform.

Test Prime — built only for mock tests.



1,50,000+
Mock Tests



25,000+
Previous Year Papers



800+
Exam Covered



500% Refund
on Selection



5 lakh+
Free Quizzes



Daily
Free PDFs



Job Alerts
Stay Updated

- Multilingual
- Detailed Solution
- Strong and Weak Areas



**All India
Rankings**

Compete with lakhs.
Rank. Improve. Repeat.



← Adda247 test prime

Rating ▾

Editors' choice

New



Adda247 Test Prime
Adda Education • Education
Installed



DOWNLOAD THE APP



Question ID : 98958017008

Status : Not Answered

Chosen Option : --

Q.4 निम्नलिखित श्रृंखला में प्रश्न चिह्न (?) का स्थान पर कौन सी संख्या आएगी?

7, 9, 12, 17, 24, 35, ?

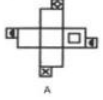
Ans 1. 48 2. 52 3. 45 4. 47

Question ID : 98958017022

Status : Answered

Chosen Option : 1

Q.5 एक पेपर शीट निम्नलिखित पैटर्न (A) में बनाई गई है। पेपर (A) को मोड़ने के बाद उसे सर्वोत्तम तरीके से दर्शाने वाले घन (क्यूब) को चुनें।

Ans 1. केवल 1, 2 और 3 2. केवल 1, 3 और 4 3. केवल 2 और 3 4. केवल 2, 3 और 4

Question ID : 98958017024

Status : Answered

Chosen Option : 1

Q.6 निम्नलिखित चार शब्दों में से तीन शब्द एक निश्चित तरीके से एक जैसे हैं और एक अलग है। उस अलग शब्द को चुनिए।

Ans 1. बत्तख 2. गिद्ध 3. चील 4. कीवी

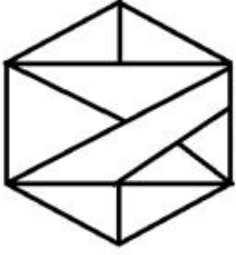
Question ID : 98958017015

Status : Answered

Chosen Option : 1

Q.7

निम्नलिखित आकृति में कितने त्रिभुज मौजूद हैं?



- Ans
- 1. 16
 - 2. 14
 - 3. 13
 - 4. 11

Question ID : 98958017026

Status : Answered

Chosen Option : 3

Q.8 'रेटिना' 'आँख' से उसी तरह संबंधित है जैसे 'हाइड्रोजन' '_____' से संबंधित है।

- Ans
- 1. आयोडीन
 - 2. पानी
 - 3. कान
 - 4. पैर

Question ID : 98958017010

Status : Answered

Chosen Option : 2

Q.9 निम्नलिखित चार संख्याओं में से तीन संख्या एक निश्चित तरीके से एक जैसे हैं और एक अलग है। उस अलग संख्या चयन कीजिए।

- Ans
- 1. 17
 - 2. 23
 - 3. 51
 - 4. 13

Question ID : 98958017023

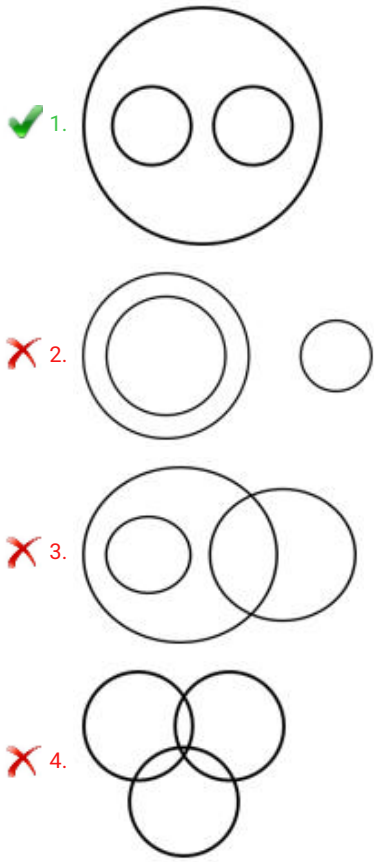
Status : Answered

Chosen Option : 3

Q.10 उस वेन आरेख का चयन करें जो निम्नलिखित वर्गों के बीच के संबंध को सबसे अच्छा दर्शाता है।

चिटियाँ, तितलियाँ, कीड़े

Ans



Question ID : 98958017030
Status : Answered
Chosen Option : 1

Q.11 निम्नलिखित श्रृंखला में प्रश्न चिह्न (?) के स्थान पर कौन सा अक्षर-युग्म आएगा?

EI, GK, ?, KO, MQ

- Ans
- 1. IM
 - 2. IL
 - 3. KM
 - 4. JK

Question ID : 98958017011
Status : Answered
Chosen Option : 3

Q.12 उस विकल्प को चुनें जिसमें दी गई आकृति (X) अंतर्निहित है।



X

Ans



- 2. 
- 3. 
- 4. 

Question ID : 98958017027
Status : Answered
Chosen Option : 3

Q.13 निम्नलिखित चार अक्षर-समूहों में से तीन अक्षर-समूह एक निश्चित तरीके से एक जैसे हैं और एक अलग है। उस अलग अक्षर-समूह को चुनिए।

- Ans
- 1. CEGI
 - 2. IKMO
 - 3. BDFH
 - 4. PRTW

Question ID : 98958017014
Status : Answered
Chosen Option : 4

Q.14 अगर एक दर्पण को आकृति के बाएं ओर रखा जाए, तो दी गई आकृति की सही दर्पण छवि को चुनें।

- Ans
- 1. 
 - 2. 
 - 3. 



Question ID : 98958017029

Status : Answered

Chosen Option : 2

Q.15 26 जनवरी 2012 को सप्ताह का कौन सा दिन था?

- Ans
- 1. मंगलवार
 - 2. शनिवार
 - 3. गुरुवार
 - 4. रविवार

Question ID : 98958017017

Status : Not Answered

Chosen Option : --

Q.16 उस समुच्चय का चयन करें जिसमें संख्याएँ उसी तरह से संबंधित हैं जैसे कि निम्नलिखित समुच्चय की संख्याएँ संबंधित हैं।

(25, 49, 37)

- Ans
- 1. (26, 64, 120)
 - 2. (12, 14, 8)
 - 3. (16, 64, 78)
 - 4. (6, 4, 5)

Question ID : 98958017021

Status : Answered

Chosen Option : 2

Q.17 उस संख्या-युग्म का चयन करें जिसमें दो संख्याएँ उसी तरह से संबंधित हैं जैसे कि निम्नलिखित संख्या-युग्म की दो संख्याएँ संबंधित हैं।

7, 13

- Ans
- 1. 23, 31
 - 2. 17, 21
 - 3. 15, 19
 - 4. 17, 25

Question ID : 98958017019

Status : Answered

Chosen Option : 4

Q.18 माला और लाली बहनें हैं। महेश, देव के पिता हैं। गार्गी, माला और देव की माता है। महेश के पिता लाली से कैसे संबंधित है?

- Ans
- 1. नाना
 - 2. दादा
 - 3. चाचा/ ताऊ

✗ 4. पिता

Question ID : 98958017012

Status : Answered

Chosen Option : 2

Q.19 उस विकल्प का चयन करें जो तीसरे अक्षर-समूह से उसी तरह संबंधित है जैसे दूसरा अक्षर-समूह पहले अक्षर-समूह से संबंधित है।

CH : FP :: GK : ?

- Ans
- ✗ 1. MP
 - ✓ 2. JS
 - ✗ 3. JL
 - ✗ 4. NU

Question ID : 98958017009

Status : Answered

Chosen Option : 4

Q.20 एक कोड भाषा में, KNIFE को MPGHG के रूप में लिखा जाता है। उस भाषा में SWORD को कैसे लिखा जाएगा?

- Ans
- ✓ 1. UYMTF
 - ✗ 2. VYMTF
 - ✗ 3. UYQTF
 - ✗ 4. UYMTE

Question ID : 98958017007

Status : Answered

Chosen Option : 3

Q.21 निम्नलिखित समीकरण को सही बनाने के लिए इसमें किन दो चिन्हों को और किन दो संख्याओं को आपस में बदलना चाहिए?

$$8 + 15 - 20 \times 10 \div 5 = 47$$

- Ans
- ✗ 1. × और ÷, 5 और 8
 - ✓ 2. + और -, 8 और 15
 - ✗ 3. × और -, 15 और 20
 - ✗ 4. + और ÷, 10 और 20

Question ID : 98958017018

Status : Not Answered

Chosen Option : --

Q.22 उस शब्द-युग्म का चयन करें जिसमें दो शब्द उसी तरह से संबंधित हैं जैसे कि निम्नलिखित शब्द-युग्म में दो शब्द संबंधित हैं।

शुतुरमुर्ग : चील

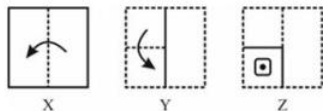
- Ans
- ✗ 1. मुर्गी : बकरी
 - ✗ 2. व्हेल : कनकैया (काइट)
 - ✓ 3. गाय : हाथी
 - ✗ 4. हंस : शेर

Question ID : 98958017013

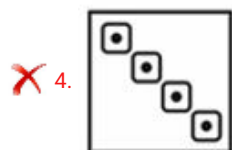
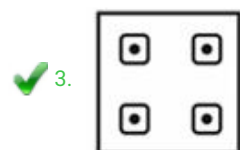
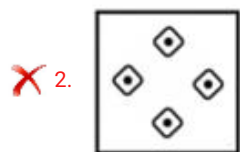
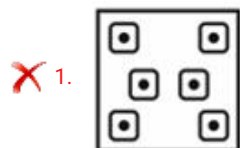
Status : Answered

Chosen Option : 2

Q.23 एक कागज को मोड़कर काट दिया जाता है जैसा कि निम्नलिखित आकृति (X, Y और Z) में दिखाया गया है। उस विकल्प को चुनें जिसमें दर्शाया गया है कि यह कागज खोलने पर कैसा दिखाई देगा?



Ans



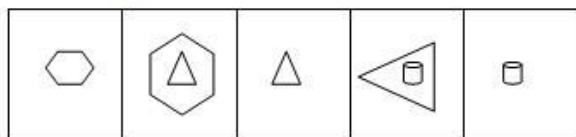
Question ID : 98958017028

Status : Answered

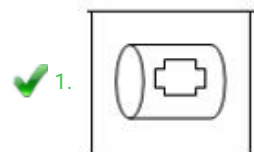
Chosen Option : 3

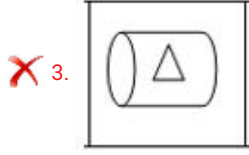
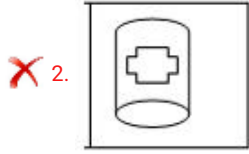
Q.24 उस आकृति को चुनें जो आकृति श्रृंखला में अगले स्थान पर आएगी।

समस्या आकृति



Ans





Question ID : 98958017025

Status : Answered

Chosen Option : 2

Q.25 अंग्रेजी शब्दकोश वर्णक्रम के अनुसार निम्नलिखित शब्दों को व्यवस्थित करें।

1. Master
2. Marvel
3. Market
4. Marker
5. Marble
6. Margin

- Ans
- ✘ 1. 5, 6, 4, 3, 1, 2
 - ✘ 2. 6, 5, 4, 2, 1, 3
 - ✘ 3. 5, 4, 6, 3, 2, 1
 - ✔ 4. 5, 6, 4, 3, 2, 1

Question ID : 98958017006

Status : Answered

Chosen Option : 1

Section : General Awareness

Q.1 प्रधानमंत्री मुद्रा योजना के तहत निम्नलिखित में से कौन से प्रकार का ऋण उपलब्ध नहीं है?

- Ans
- ✘ 1. तरुण
 - ✘ 2. किशोर
 - ✘ 3. शिशु
 - ✔ 4. पुरुष

Question ID : 98958017434

Status : Not Answered

Chosen Option : --

Q.2 नरेंद्र मोदी 2.0 सरकार की पहली कैबिनेट बैठक में निम्नलिखित में से कौन-सा निर्णय लिया गया था?

- Ans
- ✘ 1. नई रोजगार नीति की घोषणा
 - ✘ 2. आयुष्मान भारत कार्यक्रम का विस्तार
 - ✔ 3. राज्य पुलिस के शहीद अधिकारियों के बच्चों को छात्रवृत्ति

✘ 4. 10 प्रमुख सार्वजनिक उपक्रमों का विनिवेश

Question ID : 98958017454
Status : Answered
Chosen Option : 4

Q.3 सरिस्का टाइगर रिजर्व _____ में स्थित है।

- Ans
- ✘ 1. मध्य प्रदेश
 - ✘ 2. महाराष्ट्र
 - ✘ 3. उत्तराखंड
 - ✔ 4. राजस्थान

Question ID : 98958017443
Status : Answered
Chosen Option : 1

Q.4 1964 में जवाहरलाल नेहरू की मृत्यु के बाद भारत के कार्यवाहक प्रधानमंत्री कौन बने?

- Ans
- ✘ 1. मोरारजी देसाई
 - ✘ 2. वी पी सिंह
 - ✔ 3. गुलजारीलाल नंदा
 - ✘ 4. चरण सिंह

Question ID : 98958017448
Status : Answered
Chosen Option : 1

Q.5 'द आइडिया ऑफ इंडिया' पुस्तक का लेखक कौन है?

- Ans
- ✔ 1. सुनील खिलनानी
 - ✘ 2. अमर्त्य सेन
 - ✘ 3. अमिताव घोष
 - ✘ 4. गिरीश कुबेर

Question ID : 98958017447
Status : Answered
Chosen Option : 2

Q.6 भारत ने अप्रैल 2019 में 'निर्भय' का सफल परीक्षण किया। वह क्या है?

- Ans
- ✘ 1. सुपरसोनिक मिसाइल
 - ✘ 2. ट्रांस-सोनिक मिसाइल
 - ✘ 3. हाइपरसोनिक मिसाइल
 - ✔ 4. सब-सोनिक मिसाइल

Question ID : 98958017453
Status : Answered
Chosen Option : 2

Q.7 निम्नलिखित में से कौन-सी नदी गंगा नदी के उत्तरी तट की सहायक नदियाँ है?

- Ans
- ✔ 1. गंडक

- 2. केन
- 3. बेतवा
- 4. सोन

Question ID : 98958017442
Status : Answered
Chosen Option : 1

Q.8 1974 में पोखरण का पहला परमाणु परीक्षण को क्या कोड दिया गया था?

- Ans
- 1. लाफिंग बुद्धा
 - 2. डांसिंग बुद्धा
 - 3. ब्लेसिंग बुद्धा
 - 4. स्माइलिंग बुद्धा

Question ID : 98958017449
Status : Answered
Chosen Option : 1

Q.9 निम्नलिखित में से किस हार्मोन को तनाव से मुकाबला करने में सहायक माना जाता है?

- Ans
- 1. सेरोटोनिन
 - 2. कैल्सीटोनिन
 - 3. टेस्टोस्टेरोन
 - 4. मेलाटोनिन

Question ID : 98958017436
Status : Answered
Chosen Option : 4

Q.10 निम्नलिखित में से किसने रक्त प्रवाह (Blood Circulation) की खोज की?

- Ans
- 1. वॉन ल्यूवेन्हॉक
 - 2. विलियम हार्वे
 - 3. अर्नेस्ट हेनरिक वेबर
 - 4. फ्लोरेंस रेन साबिन

Question ID : 98958017437
Status : Answered
Chosen Option : 1

Q.11 1982 के एशियाई खेलों की मेजबानी किसके द्वारा की गई थी?

- Ans
- 1. सऊदी अरब
 - 2. भारत
 - 3. पाकिस्तान
 - 4. दक्षिण कोरिया

Question ID : 98958017450
Status : Not Answered
Chosen Option : --

Q.12

प्रसिद्ध नागरिक अधिकार कार्यकर्ता इरोम चानू शर्मिला भारत के निम्नलिखित में से किस राज्य से संबंधित हैं?

- Ans
- 1. असम
 - 2. हिमाचल प्रदेश
 - 3. मणिपुर
 - 4. त्रिपुरा

Question ID : 98958017446

Status : Answered

Chosen Option : 1

Q.13 धनुयात्रा' खुली रंगशाला नाट्य प्रस्तुति निम्नलिखित में से किस राज्य में वार्षिक रूप से आयोजित की जाती है?

- Ans
- 1. उत्तराखंड
 - 2. ओडिशा
 - 3. गुजरात
 - 4. असम

Question ID : 98958017431

Status : Answered

Chosen Option : 1

Q.14 मई 2019 में, हैदराबाद स्थित वैज्ञानिक और औद्योगिक अनुसंधान परिषद (CSIR) के कोशिकीय एवं आणविक जीवविज्ञान केन्द्र के वैज्ञानिकों ने पहली बार निम्नलिखित में से किस पशु के समग्र जीनोम को श्रृंखलाबद्ध किया?

- Ans
- 1. नीलगिरि तहर
 - 2. हाथी
 - 3. शेर की पूंछ वाला मैकाक
 - 4. एशियाई शेर

Question ID : 98958017435

Status : Not Answered

Chosen Option : --

Q.15 नेताजी सुभाष राष्ट्रीय क्रीड़ा संस्थान कहां पर स्थित है?

- Ans
- 1. कटक
 - 2. करनाल
 - 3. पटियाला
 - 4. अगरतला

Question ID : 98958017452

Status : Answered

Chosen Option : 3

Q.16 निम्नलिखित में से किसे 'देवानाम पिया' के नाम से जाना जाता है?

- Ans
- 1. अमोघवर्ष
 - 2. कनिष्क
 - 3. खारवेल
 - 4. अशोक

Question ID : 98958017445
Status : Answered
Chosen Option : 1

Q.17 निम्नलिखित में से कौन सी आग्नेय चट्टान है?

- Ans
- 1. स्लेट
 - 2. संगमरमर
 - 3. ग्रेनाइट
 - 4. चूना पत्थर

Question ID : 98958017441
Status : Not Answered
Chosen Option : --

Q.18 इंटरनेट के संदर्भ में, IP का पूर्ण रूप क्या है?

- Ans
- 1. इंटर प्रोटोकॉल
 - 2. इंटरनेट प्रोटोकॉल
 - 3. इंटरनेट प्रोजेक्ट
 - 4. इंटर प्रोपेगेंडा

Question ID : 98958017438
Status : Answered
Chosen Option : 2

Q.19 भारत की बैंकिंग प्रणाली के संदर्भ में, NEFT का पूर्ण रूप (Full Form) क्या है?

- Ans
- 1. नेशनल इलेक्ट्रॉनिक फंड्स ट्रांसफर
 - 2. नेशनल इक्विटी फाइनेंस ट्रांजेक्शन
 - 3. नेशनल इलेक्ट्रॉनिक फाइनेंस ट्रांसफर
 - 4. नेशनल इक्विटी फंड्स ट्रांजेक्शन

Question ID : 98958017433
Status : Answered
Chosen Option : 1

Q.20 निम्नलिखित में से कौन-सा खिलाड़ी भारत का स्नूकर का प्रसिद्ध खिलाड़ी है?

- Ans
- 1. पंकज आडवाणी
 - 2. प्रजनेश गुणेश्वरन
 - 3. विमल कुमार
 - 4. शरथ अचंत

Question ID : 98958017451
Status : Answered
Chosen Option : 1

Q.21 तमिल महाकाव्य 'शिल्पदिकारम' का लेखन किसने किया है?

- Ans
- 1. अट्टवैयर
 - 2. सतनार
 - 3. तिरुवल्लुवर

✓ 4. इलंगो आदिगल

Question ID : 98958017444
Status : Answered
Chosen Option : 3

Q.22 दरिगबाड़ी हिल स्टेशन कहां पर स्थित है?

- Ans
- ✗ 1. झारखंड
 - ✗ 2. पश्चिम बंगाल
 - ✓ 3. ओडिशा
 - ✗ 4. मध्य प्रदेश

Question ID : 98958017440
Status : Answered
Chosen Option : 2

Q.23 1 जून 2019 को निम्नलिखित में से किस ट्रेन ने अपनी सेवा के 90 वें वर्ष में प्रवेश किया?

- Ans
- ✗ 1. पैलेस ऑन व्हील्स
 - ✗ 2. दक्कन ओडिसी
 - ✗ 3. गोल्डन चेरियट
 - ✓ 4. दक्खन की रानी

Question ID : 98958017455
Status : Answered
Chosen Option : 4

Q.24 निम्नलिखित में से कौन-सी भाषा भारत की शास्त्रीय भाषा नहीं है?

- Ans
- ✗ 1. कन्नड़
 - ✗ 2. उड़िया
 - ✓ 3. पालि
 - ✗ 4. तेलुगू

Question ID : 98958017432
Status : Answered
Chosen Option : 3

Q.25 मई 2019 तक की स्थिति के अनुसार, गूगल के सीईओ कौन है?

- Ans
- ✗ 1. जेन कूम
 - ✓ 2. सुंदर पिचाई
 - ✗ 3. सत्य नडेला
 - ✗ 4. विनोद खोसला

Question ID : 98958017439
Status : Answered
Chosen Option : 2

Section : Quantitative Aptitude

Q.1 3, 4, 9 के चतुर्थ अनुपाती तथा 2 और 98 के मध्यानुपाती का अनुपात क्या है?

- Ans
- 1. 7 : 8
 - 2. 7 : 6
 - 3. 8 : 7
 - 4. 6 : 7

Question ID : 98958017413
Status : Answered
Chosen Option : 4

Q.2 अगर $a + \frac{1}{a} = 2$ है, तो $(a^{118} + \frac{1}{a^{117}})$ का मान क्या है?

- Ans
- 1. 2
 - 2. 118
 - 3. 1
 - 4. 117

Question ID : 98958017417
Status : Answered
Chosen Option : 1

Q.3 21 संख्याओं की एक श्रृंखला का औसत 43 के बराबर है। उनमें से प्रथम ग्यारह संख्याओं का औसत 33 है। अंतिम ग्यारह संख्याओं का औसत 53 है। श्रृंखला की ग्यारहवीं संख्या है:

- Ans
- 1. 33
 - 2. 46
 - 3. 47
 - 4. 43

Question ID : 98958017409
Status : Answered
Chosen Option : 3

Q.4 10-अंकों की संख्या $79x00001y6$, 88 से पूर्णतः विभाज्य है। $(x + y)$ का मान क्या है?

- Ans
- 1. 6
 - 2. 7
 - 3. 5
 - 4. 9

Question ID : 98958017415
Status : Answered
Chosen Option : 4

Q.5 अगर $(a + b + 4)(ab + 4(a + b)) - 4ab = 0$ है, तथा $a \neq -4, b \neq -4$, है, तो $\left\{ \frac{1}{(a+b+4)^{117}} - 2^{-234} \right\}$ बराबर है:

- Ans
- 1. $\frac{1}{4^{117}}$
 - 2. 0

3. $\frac{1}{2^{117}}$

4. $-\frac{1}{2^{234}}$

Question ID : 98958017419

Status : Answered

Chosen Option : 3

Q.6 0° और 90° के बीच सभी α_i s, ($i = 1, 2, 3, \dots, 20$) के लिए दिया गया है कि,
 $\cos \alpha_1 + \cos \alpha_2 + \cos \alpha_3 + \dots + \cos \alpha_{20} = 20$ तो $(\alpha_1 + \alpha_2 + \alpha_3 + \dots + \alpha_{20})$ का मान क्या है?

Ans 1. 900°

2. 20°

3. 0°

4. 1800°

Question ID : 98958017424

Status : Answered

Chosen Option : 1

Q.7 $\left(\frac{\sin^2 31^\circ + \sin^2 59^\circ}{\sec^2 35^\circ - \cot^2 55^\circ} + \tan 29^\circ \cot 61^\circ - \operatorname{cosec}^2 61^\circ \right)$

का सरलीकृत मान क्या है?

Ans 1. 0

2. $\frac{1}{2}$

3. 1

4. -1

Question ID : 98958017425

Status : Answered

Chosen Option : 3

Q.8 एक ट्रेन u km/h की गति से, P से Q तक जाती है, फिर $3u$ km/h की गति से, Q से R तक ($QR = 2PQ$) जाती है और फिर $\frac{u}{2}$ km/h की गति से, R से P तक वापस आती है। P से यात्रा शुरू करके और P तक वापस आने के लिए ट्रेन की औसत गति (km/h में) क्या है?

Ans 1. $\frac{4u}{3}$

2. $\frac{16u}{23}$

3. $\frac{3u}{2}$

✓ 4. $\frac{18u}{23}$

Question ID : 98958017407

Status : Answered

Chosen Option : 4

Q.9 दिया गया दंड आरेख (बार ग्राफ) तीन शोरूम- A, B और C के द्वारा जनवरी, फरवरी, मार्च और अप्रैल, 2016 के दौरान कार के एक खास ब्रांड की (100 के गुणक में) बिक्री को दर्शाता है।



फरवरी-अप्रैल 2016 के दौरान, A के द्वारा बेची गई कारों की औसत संख्या क्या थी?

- Ans
- ✗ 1. 300
 - ✗ 2. 375
 - ✗ 3. 250
 - ✓ 4. 350

Question ID : 98958017427

Status : Not Answered

Chosen Option : --

Q.10 दिया गया दंड आरेख (बार ग्राफ) तीन शोरूम - A, B और C के द्वारा जनवरी, फरवरी, मार्च और अप्रैल, 2016 के दौरान कार के एक खास ब्रांड की (100 के गुणक में) बिक्री को दर्शाता है।



यदि A और B के द्वारा बेची गई सभी कारें सही पाई गईं, लेकिन C के द्वारा जनवरी, फरवरी, मार्च और अप्रैल 2016 में बेची गई क्रमशः 15%, 10%, 8% और 6% कारें दोषपूर्ण पाई गईं तो C के द्वारा बेची गई दोषमुक्त कारों तथा A और B के द्वारा जनवरी-मार्च के दौरान बेची गई कुल कारों का अनुपात क्या है?

- Ans
- ✗ 1. 177 : 1400
 - ✗ 2. 384 : 1385
 - ✗ 3. 255 : 1348
 - ✓ 4. 489 : 1300

Question ID : 98958017429

Status : Not Answered

Chosen Option : --

Q.11 भरने वाला पाइप एक टैंक को 10 घंटे में भर सकता है और खाली करने वाला पाइप, पूरी तरह से भरे हुए टैंक को 20 घंटे में खाली कर सकता है। दोनों पाइप सुबह 6.30 बजे खोले जाते हैं। टैंक कब भर जाएगा?

- Ans
- 1. अगले दिन सुबह 1 बजे
 - 2. मध्यरात्रि 12.00 बजे
 - 3. अगले दिन सुबह 2 बजे
 - 4. अगले दिन सुबह 2.30 बजे

Question ID : 98958017406

Status : Answered

Chosen Option : 4

Q.12 एक दुकानदार किसी वस्तु के अंकित मूल्य को 10% बढ़ाने का फैसला करता है। उसे उस वस्तु पर कितने प्रतिशत की छूट देनी चाहिए ताकि वह उस वस्तु को मूल अंकित मूल्य पर बेच सके?

- Ans
- 1. $9\frac{1}{2}\%$
 - 2. $9\frac{1}{11}\%$
 - 3. 10%
 - 4. $8\frac{1}{9}\%$

Question ID : 98958017410

Status : Answered

Chosen Option : 2

Q.13 ABCD एक समचतुर्भुज है, जिसकी प्रत्येक भुजा 8 cm है। यदि $BD = 10$ cm, $AC = 2\sqrt{x}$ cm है, तो $\sqrt{x+10}$ का मान क्या है?

- Ans
- 1. $2\sqrt{3}$
 - 2. $3\sqrt{2}$
 - 3. 5
 - 4. 7

Question ID : 98958017423

Status : Answered

Chosen Option : 2

Q.14 एक व्यक्ति किसी सामान को ₹96 में बेचकर 20% की हानि उठाता है तो 15% लाभ कमाने के लिए उसे उस सामान को कितने में बेचना चाहिए था?

- Ans
- 1. ₹115
 - 2. ₹140
 - 3. ₹120
 - 4. ₹138

Question ID : 98958017412

Status : Answered

Chosen Option : 4

Q.15 किसी वृत्त की दो जीवाएँ AB और CD, वृत्त के बाहर बिंदु O पर मिलती हैं। दिया गया है कि AB = 7 cm, CD = 4 cm, OB = 5 cm तो OD की लंबाई क्या है?

- Ans
- 1. 5 cm
 - 2. 7.5 cm
 - 3. 6 cm
 - 4. 10 cm

Question ID : 98958017421
Status : Answered
Chosen Option : 2

Q.16 ΔABC की परिमिति 24 cm है और उसकी भुजा BC = 9 cm है। $\angle BAC$ का समद्विभाजक AD है, जबकि I अंतःकेंद्र है। AI : ID बराबर है :

- Ans
- 1. 5 : 2
 - 2. 5 : 3
 - 3. 7 : 5
 - 4. 3 : 2

Question ID : 98958017422
Status : Not Answered
Chosen Option : --

Q.17 अगर $(1.25)(1 - 6.4 \times 10^{-5}) = 1.2496 + a$ है, तो a बराबर है:

- Ans
- 1. 0.00016
 - 2. 0.0032
 - 3. 0.0016
 - 4. 0.00032

Question ID : 98958017418
Status : Not Answered
Chosen Option : --

Q.18 एक वृत्त के अन्दर एक वर्ग बनाया गया है। वर्ग की भुजा की लंबाई और वृत्त की त्रिज्या का अनुपात क्या है?

- Ans
- 1. 1:2
 - 2. 2:1
 - 3. $\sqrt{2}:1$
 - 4. $1:\sqrt{2}$

Question ID : 98958017420
Status : Answered
Chosen Option : 4

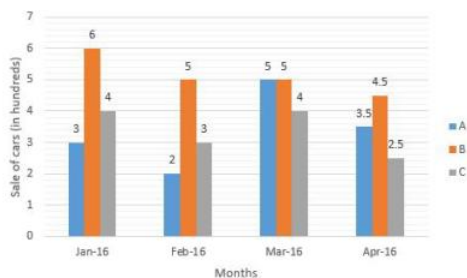
Q.19 $0^\circ < \theta < 90^\circ$, के लिए $\tan\theta + \cot\theta = 2$ तो θ बराबर है:

- Ans
- 1. 45°

- 2. 0°
- 3. 30°
- 4. 60°

Question ID : 98958017426
Status : Answered
Chosen Option : 1

Q.20 दिया गया टंड आरेख (बार ग्राफ) तीन शोरूम- A, B और C के द्वारा जनवरी, फरवरी, मार्च और अप्रैल, 2016 के दौरान कार के एक खास ब्रांड की (100 के गुणक में) बिक्री को दर्शाता है।



जनवरी-फरवरी, 2016 में A के द्वारा और मार्च-अप्रैल, 2016 के दौरान B के द्वारा बेची गई कारों की संख्या का अनुपात क्या है?

- Ans
- 1. 12 : 19
 - 2. 5 : 8
 - 3. 10 : 19
 - 4. 8 : 17

Question ID : 98958017428
Status : Not Answered
Chosen Option : --

Q.21 $\frac{2}{3} \div \left\{ \frac{3}{7} \text{ of } \frac{14}{5} \times 1\frac{2}{3} - \left(3\frac{1}{2} - 2\frac{1}{6} \right) \right\}$

का सरलीकृत मान है:

- Ans
- 1. 2
 - 2. $\frac{2}{3}$
 - 3. $\frac{1}{3}$
 - 4. 1

Question ID : 98958017416
Status : Answered
Chosen Option : 2

Q.22 दिया गया टंड आरेख (बार ग्राफ) तीन शोरूम- A, B और C के द्वारा जनवरी, फरवरी, मार्च और अप्रैल, 2016 के दौरान कार के एक खास ब्रांड की (100 के गुणक में) बिक्री को दर्शाता है।



यदि A और B के द्वारा बेची गई सभी कारें सही पाई गईं, लेकिन C के द्वारा जनवरी, फरवरी, मार्च और अप्रैल 2016 में बेची गई क्रमशः 15%, 10%, 8% और 6% कारें दोषपूर्ण पाई गईं तो अप्रैल, 2016 के दौरान सभी शोरूमों के द्वारा बेची गई दोषपूर्ण कारों का प्रतिशत क्या है?

Ans

- 1. $7\frac{2}{3}$
- 2. $2\frac{4}{9}$
- 3. $4\frac{4}{9}$
- 4. $1\frac{3}{7}$

Question ID : 98958017430

Status : Not Answered

Chosen Option : --

Q.23 तीन वर्षों के लिए 10% प्रति वर्ष की दर से चक्रवृद्धि ब्याज और साधारण ब्याज का अंतर ₹155 है। मूलधन (₹ में) है:

- Ans
- 1. 5,000
 - 2. 5,500
 - 3. 6,000
 - 4. 6,600

Question ID : 98958017414

Status : Answered

Chosen Option : 1

Q.24 किसी लंबवृत्तीय शंकु का आयतन, उस गोले के बराबर है जिसकी त्रिज्या, शंकु के आधार की त्रिज्या की आधी है। शंकु के आधार की त्रिज्या और इसकी ऊंचाई का अनुपात क्या है?

- Ans
- 1. 4 : 1
 - 2. 1 : 2
 - 3. 1 : 4
 - 4. 2 : 1

Question ID : 98958017408

Status : Answered

Chosen Option : 1

Q.25 1 से बड़ी किसी संख्या के लिए, उस संख्या और उसके व्युत्क्रम का अंतर, उस संख्या और उसके व्युत्क्रम के योगफल का 20% है। संख्या का वर्गफल, इसके घनफल से कितने प्रतिशत (पूर्णांक के करीब) कम है?

- Ans
- 1. 122
 - 2. 18
 - 3. 33
 - 4. 81

Question ID : 98958017411
Status : Not Answered
Chosen Option : --

Section : English Language

Q.1 Select the most appropriate synonym of the given word.

MINIATURE

- Ans
- 1. diminutive
 - 2. mammoth
 - 3. colossal
 - 4. gigantic

Question ID : 98958016338
Status : Answered
Chosen Option : 1

Q.2 Select the most appropriate word for the given group of words

A game in which no one wins

- Ans
- 1. draw
 - 2. triumph
 - 3. conquest
 - 4. feat

Question ID : 98958016344
Status : Answered
Chosen Option : 1

Q.3 Select the most appropriate synonym of the given word.

CAMOUFLAGE

- Ans
- 1. expose
 - 2. disguise
 - 3. divulge
 - 4. exhibit

Question ID : 98958016339
Status : Answered
Chosen Option : 2

Q.4 Select the most appropriate word to fill in the blank.

A fresh interest rate cut by the Reserve Bank of India would largely _____ on how the monsoon turns out in the months ahead.

- Ans
- 1. determine
 - 2. depend
 - 3. define
 - 4. demonstrate

Question ID : 98958016349
Status : Answered
Chosen Option : 2

Q.5 Identify the segment in the sentence which contains the grammatical error.

The little boy was so busy playing with his toy train that he do not even look up at us.

- Ans
- 1. busy playing with
 - 2. his toy train
 - 3. look up at us
 - 4. he do not even

Question ID : 98958016324
Status : Answered
Chosen Option : 3

Q.6 Select the correct passive form of the given sentence.

The cyclone has damaged several crops.

- Ans
- 1. Several crops had been damaged by the cyclone.
 - 2. Several crops have been damaged by the cyclone.
 - 3. Several crops have damaged the cyclone.
 - 4. Several crops are being damaged by the cyclone.

Question ID : 98958016326
Status : Answered
Chosen Option : 1

Q.7 Select the most appropriate word to fill in the blank.

The pilgrims grew increasingly aware of the _____ of sacred Buddhist texts in the Chinese language and decided to travel to India in search of them.

- Ans
- 1. preference
 - 2. paucity
 - 3. parity
 - 4. persistence

Question ID : 98958016348
Status : Answered
Chosen Option : 3

Q.8 Select the most appropriate option to substitute the underlined segment in the given sentence. If there is no need to substitute it, select No improvement.

The government has adopted a tough stance with respect of terror and security.

- Ans
- 1. in respect of

- 2. No improvement
- 3. with respect to
- 4. about respect to

Question ID : 98958016328
 Status : Answered
 Chosen Option : 1

Q.9 Select the most appropriate word for the given group of words

A strong and fast moving stream of water

- Ans
- 1. trickle
 - 2. rivulet
 - 3. creek
 - 4. torrent

Question ID : 98958016345
 Status : Answered
 Chosen Option : 2

Q.10 Select the most appropriate meaning of the given idiom.

be an open book

- Ans
- 1. one who is fond of reading even when travelling
 - 2. one who advises others to be frank and unsecretive
 - 3. one who has written an examination without preparation
 - 4. one about whom it is easy to know everything

Question ID : 98958016342
 Status : Answered
 Chosen Option : 4

Q.11 Select the most appropriate antonym of the given word.

VIRULENT

- Ans
- 1. powerful
 - 2. lethal
 - 3. amicable
 - 4. dangerous

Question ID : 98958016341
 Status : Answered
 Chosen Option : 3

Q.12 Identify the segment in the sentence which contains the grammatical error.

We will use enamel paint on this wall because it gives a best finish.

- Ans
- 1. We will use
 - 2. because it gives
 - 3. a best finish
 - 4. enamel paint on this wall

Question ID : 98958016325
Status : Answered
Chosen Option : 3

Q.13 Select the most appropriate antonym of the given word.

GAUNT

- Ans
- 1. lean
 - 2. bent
 - 3. plump
 - 4. old

Question ID : 98958016340
Status : Answered
Chosen Option : 3

Comprehension:

In the following passage some words have been deleted. Fill in the blanks with the help of the alternatives given. Select the most appropriate option for each blank.

With the groundwater table receding alarmingly, an ostrich mentality will only increase water woes. Deficit rainfall (1) _____ indiscriminate extraction of ground water (2) _____ two major reasons for (3) _____ situation. Government must promote (4) _____ harvesting and conservation. Citizens must (5) _____ learn to use water judiciously or else the State will run out of water like Cape Town.

SubQuestion No : 14

Q.14 Select the most appropriate option to fill in blank No.1.

- Ans
- 1. but
 - 2. and
 - 3. unless
 - 4. also

Question ID : 98958016331
Status : Answered
Chosen Option : 1

Comprehension:

In the following passage some words have been deleted. Fill in the blanks with the help of the alternatives given. Select the most appropriate option for each blank.

With the groundwater table receding alarmingly, an ostrich mentality will only increase water woes. Deficit rainfall (1) _____ indiscriminate extraction of ground water (2) _____ two major reasons for (3) _____ situation. Government must promote (4) _____ harvesting and conservation. Citizens must (5) _____ learn to use water judiciously or else the State will run out of water like Cape Town.

SubQuestion No : 15

Q.15 Select the most appropriate option to fill in blank No.2.

- Ans
- 1. was
 - 2. are
 - 3. be
 - 4. is

Question ID : 98958016332
Status : Answered

Chosen Option : 4

Comprehension:

In the following passage some words have been deleted. Fill in the blanks with the help of the alternatives given. Select the most appropriate option for each blank.

With the groundwater table receding alarmingly, an ostrich mentality will only increase water woes. Deficit rainfall (1) _____ indiscriminate extraction of ground water (2) _____ two major reasons for (3) _____ situation. Government must promote (4) _____ harvesting and conservation. Citizens must (5) _____ learn to use water judiciously or else the State will run out of water like Cape Town.

SubQuestion No : 16**Q.16** Select the most appropriate option to fill in blank No.3.

- Ans
- 1. a
 - 2. those
 - 3. the
 - 4. their

Question ID : 98958016333

Status : Answered

Chosen Option : 4

Comprehension:

In the following passage some words have been deleted. Fill in the blanks with the help of the alternatives given. Select the most appropriate option for each blank.

With the groundwater table receding alarmingly, an ostrich mentality will only increase water woes. Deficit rainfall (1) _____ indiscriminate extraction of ground water (2) _____ two major reasons for (3) _____ situation. Government must promote (4) _____ harvesting and conservation. Citizens must (5) _____ learn to use water judiciously or else the State will run out of water like Cape Town.

SubQuestion No : 17**Q.17** Select the most appropriate option to fill in blank No.4.

- Ans
- 1. soil
 - 2. crop
 - 3. water
 - 4. seed

Question ID : 98958016334

Status : Answered

Chosen Option : 2

Comprehension:

In the following passage some words have been deleted. Fill in the blanks with the help of the alternatives given. Select the most appropriate option for each blank.

With the groundwater table receding alarmingly, an ostrich mentality will only increase water woes. Deficit rainfall (1) _____ indiscriminate extraction of ground water (2) _____ two major reasons for (3) _____ situation. Government must promote (4) _____ harvesting and conservation. Citizens must (5) _____ learn to use water judiciously or else the State will run out of water like Cape Town.

SubQuestion No : 18**Q.18** Select the most appropriate option to fill in blank No.5.

- Ans
- 1. although
 - 2. anyhow
 - 3. already

✓ 4. also

Question ID : 98958016335
Status : Answered
Chosen Option : 4

Q.19 Given below are four jumbled sentences. Out of the given options pick the one that gives their correct order.

- A. Today flax is used to make fine linen fabric.
- B. The Neolithic man first clad himself with animal skins.
- C. He also used flax which had a good fibre for making cloth.
- D. But in those days cloth made of flax must have been very rough.

- Ans
- ✓ 1. BCDA
 - ✗ 2. CADB
 - ✗ 3. BDAC
 - ✗ 4. DABC

Question ID : 98958016337
Status : Answered
Chosen Option : 3

Q.20 Given below are four jumbled sentences. Out of the given options pick the one that gives their correct order.

- A. Baskets and carts flooded the street turning it into a mobile market.
- B. Hearing their cries people with bags started coming out from their houses.
- C. Suddenly the street came alive.
- D. From one end to the other cries of the vendors rent the air.

- Ans
- ✗ 1. DACB
 - ✗ 2. ABDC
 - ✓ 3. CADB
 - ✗ 4. CBAD

Question ID : 98958016336
Status : Not Answered
Chosen Option : --

Q.21 Select the wrongly spelt word.

- Ans
- ✗ 1. opposition
 - ✗ 2. oppression
 - ✗ 3. opulence
 - ✓ 4. oppurtunity

Question ID : 98958016347
Status : Answered
Chosen Option : 3

Q.22 Select the most appropriate option to substitute the underlined segment in the given sentence. If there is no need to substitute it, select No improvement.

After going through their brochure I has decided to make a donation to help their campaign.

- Ans
- ✓ 1. I decided to make a donation to help
 - ✗ 2. I decide to make a donation for helping

Test

Prime

By Adda247

Previous Year Papers PDF

PRACTICE MORE, SCORE HIGHER!



Free
25,000+
PDF's

High-Quality | Exam-Wise | Updated Regularly

ATTEMPT AS
MOCK



Turn PDFs into real exam experience.
Analyze. Improve. Succeed.



Topic-wise & Exam-wise PDFs



Download & Study Offline



Attempt as Mock & Track Score



Smart Analysis & Performance

AVAILABLE IN



Banking



SSC



Railway



Teaching



UGC



Agriculture



Nursing



Bihar



UP



Punjab



WB



Odisha



TN



AP & Telangana



Haryana



DOWNLOAD THE APP



- 3. I decided for making a donation to help
- 4. No improvement

Question ID : 98958016329
Status : Answered
Chosen Option : 2

Q.23 Select the correctly spelt word.

- Ans
- 1. remunerative
 - 2. substentive
 - 3. tantative
 - 4. speculetive

Question ID : 98958016346
Status : Answered
Chosen Option : 2

Q.24 Select the correct indirect form of the given sentence.

Mahesh said to the interviewer, "Sir, I was in charge of the production unit at my previous office."

- Ans
- 1. Mahesh told the interviewer I was in charge of the production unit at his previous office.
 - 2. Mahesh told the interviewer that Sir was in charge of the production unit at my previous office.
 - 3. Mahesh told the interviewer you were in charge of the production unit at my previous office.
 - 4. Mahesh told the interviewer that he had been in charge of the production unit at his previous office.

Question ID : 98958016327
Status : Not Answered
Chosen Option : --

Q.25 Select the most appropriate meaning of the given idiom

in a nutshell

- Ans
- 1. express very briefly
 - 2. add nuts into something
 - 3. packed very tightly
 - 4. put everything in a shell

Question ID : 98958016343
Status : Answered
Chosen Option : 3