

Combined Higher Secondary Level (10+2) Examination-2018

Roll No.	
Registration No.	
Name	
Test Venue	
Test Time	1:00 PM - 2:00 PM
Test Date	10/07/2019

Section : General Intelligence

Q.1 उस संख्या-युग्म को चुनें जिसमें दो संख्याएँ उसी तरह संबंधित हैं जैसे कि निम्नलिखित संख्या-युग्म की दो संख्याएँ संबंधित हैं।

8 : 72

- Ans 1. 11 : 132
 2. 13 : 156
 3. 15 : 625
 4. 12 : 144

Question ID : 98958017069

Status : Answered

Chosen Option : 1

Q.2 निम्नलिखित चार शब्दों में से तीन शब्द निश्चित तरीके से एक जैसे हैं और एक अलग है। उस अलग शब्द को चुनें।

- Ans 1. श्यामपट्ट (ब्लैक बोर्ड)
 2. चाक
 3. लेखन सामग्री (स्टेशनरी)
 4. डस्टर

Question ID : 98958017065

Status : Answered

Chosen Option : 3

Q.3 निम्नलिखित श्रृंखला में प्रश्न चिन्ह (?) के स्थान पर कौन सा अक्षर-युग्म आएगा?

HE, ? , NK, TQ, BY

- Ans 1. IG
 2. JH
 3. JG
 4. IK

Question ID : 98958017061

Status : Answered

Chosen Option : 3

Q.4

Test
Prime

By Adda247

ALL EXAMS, ONE SUBSCRIPTION



Test. Analyze. Improve. Repeat.



Don't just **prepare**. **Perform**.

Test Prime — built only for mock tests.



1,50,000+

Mock Tests



25,000+

Previous Year Papers



800+

Exam Covered



500% Refund

on Selection



5 lakh+

Free Quizzes



Daily

Free PDFs



Job Alerts

Stay Updated

- Multilingual
- Detailed Solution
- Strong and Weak Areas



All India
Rankings

Compete with lakhs.
Rank. Improve. Repeat.



← Adda247 test prime

Rating ▾

Editors' choice

New



Adda247 Test Prime

Adda Education • Education

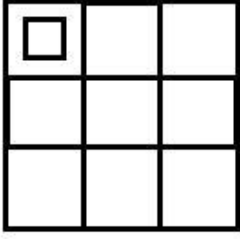
📌 Installed



DOWNLOAD THE APP



नीचे दी गई आकृति में कितने वर्ग मौजूद हैं?



- Ans
- 1. 10
 - 2. 15
 - 3. 12
 - 4. 16

Question ID : 98958017076

Status : Answered

Chosen Option : 2

Q.5 निम्नलिखित चार संख्याओं में से तीन संख्याएं एक निश्चित तरीके से एक जैसी हैं और एक अलग है। वह संख्या चुनें जो अन्य संख्याओं से अलग है।

- Ans
- 1. 639
 - 2. 189
 - 3. 459
 - 4. 259

Question ID : 98958017073

Status : Answered

Chosen Option : 4

Q.6 निम्नलिखित समीकरण को सही बनाने के लिए इसमें किन दो चिन्हों को आपस में बदलना चाहिए?
 $35 + 7 - 5 \times 2 \div 25 = 20$

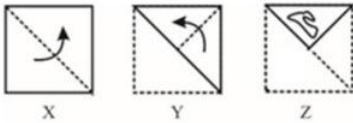
- Ans
- 1. \times और $-$
 - 2. $+$ और $-$
 - 3. \times और \div
 - 4. $+$ और \div

Question ID : 98958017068





Status : Answered

Chosen Option : 4

Q.7 एक कागज को मोड़कर काट दिया जाता है, जैसा कि नीचे दिखाया गया है। जब इस कागज को खोला जाएगा तो यह कैसा दिखाई देगा?



Ans

- ✓ 1. 
- ✗ 2. 
- ✗ 3. 
- ✗ 4. 

Question ID : 98958017078
Status : Answered
Chosen Option : 1

Q.8 निम्नलिखित श्रृंखला में प्रश्न चिन्ह (?) के स्थान पर कौन-सी संख्या आएगी?
12, 22, 42, 72, ?

- Ans
- ✗ 1. 92
 - ✗ 2. 122
 - ✓ 3. 112
 - ✗ 4. 102

Question ID : 98958017072
Status : Answered
Chosen Option : 3

Q.9 यदि EAST को 180 के रूप में कोडबद्ध किया गया है और NORTH को 375 के रूप में कोडबद्ध किया गया है, तो उसी कोड भाषा में SOUTH को कैसे कोडबद्ध किया जाएगा?

- Ans
- ✗ 1. 83
 - ✗ 2. 332
 - ✓ 3. 415
 - ✗ 4. 625

Question ID : 98958017058
Status : Answered
Chosen Option : 2

Q.10 S is son of M. R is the father of Q and A. A is the daughter of M. How is A related to S?

- Ans
- ✗ 1. Aunt
 - ✗ 2. Daughter

✓ 3. Sister

✗ 4. Mother

Question ID : 98958017062

Status : Answered

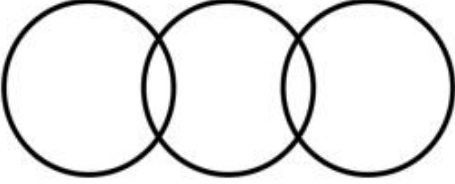
Chosen Option : 1

Q.11 उस वेन आरेख का चयन करें जो निम्नलिखित वर्गों के बीच के संबंध को सबसे अच्छा दर्शाता है।

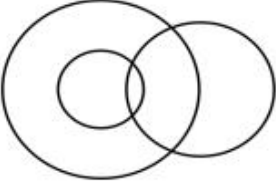
फूल, गुलाब, पीला

Ans

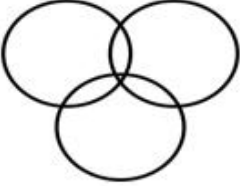
✗ 1.



✓ 2.



✗ 3.



✗ 4.



Question ID : 98958017080

Status : Answered

Chosen Option : 3

Q.12 निम्नलिखित चार अक्षर-समूहों में से तीन अक्षर-समूह एक निश्चित तरीके से एक जैसे हैं और एक अलग है। उस अलग अक्षर समूह को चुनें।

Ans ✗ 1. MQU

✓ 2. DGL

✗ 3. KOS

✗ 4. BFJ

Question ID : 98958017064

Status : Answered

Chosen Option : 2

Q.13 शब्द का संबंध 'मधुमक्खी' से उसी तरह है जैसे 'अंडे' का संबंध '____' से है।

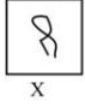
Ans ✗ 1. जर्दी

✗ 2. औओलोजी

- ✓ 3. पक्षी
- ✗ 4. लार्वा

Question ID : 98958017060
Status : Answered
Chosen Option : 1

Q.14 उस विकल्प को चुनें जिसमें दी गई आकृति (X) अंतर्निहित है। (आकृति को घुमाने की अनुमति नहीं है)।

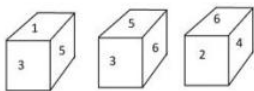


Ans

- ✓ 1.
- ✗ 2.
- ✗ 3.
- ✗ 4.

Question ID : 98958017077
Status : Answered
Chosen Option : 1

Q.15 एक पासे की तीन अलग-अलग स्थितियाँ नीचे दिखाई गई हैं। संख्या 6 के सामने वाले फलक पर कौन-सी संख्या आएगी?



Ans

- ✓ 1. 1
- ✗ 2. 5
- ✗ 3. 3
- ✗ 4. 4

Question ID : 98958017074
Status : Answered
Chosen Option : 1

Q.16 तीन कथन दिए गए हैं, जिनके बाद तीन निष्कर्ष I, II और III दिए गए हैं। कथनों को सत्य मानते हुए, भले ही वे आम तौर पर ज्ञात तथ्यों से अलग लगते हों, यह निर्णय लीजिए कि कौन सा/से निष्कर्ष, कथनों का तार्किक रूप से अनुसरण करता है/करते हैं।

कथन:
सभी मुर्गियाँ अंडे हैं।
कोई पक्षी अंडे नहीं हैं।
सभी अंडे शेर हैं।

निष्कर्ष:
I. सभी मुर्गियाँ शेर हैं।
II. कुछ शेर मुर्गियाँ हैं।
III. कोई अंडे पक्षी नहीं हैं।

- Ans
- 1. केवल निष्कर्ष I और II अनुसरण करते हैं।
 - 2. सभी निष्कर्ष अनुसरण करते हैं।
 - 3. या तो निष्कर्ष II या III अनुसरण करते हैं।
 - 4. केवल निष्कर्ष I अनुसरण करता है।

Question ID : 98958017066

Status : Answered

Chosen Option : 2

Q.17 अगर दर्पण को आकृति के बाईं ओर रखा जाए, तो दी गई आकृति की सही दर्पण छवि को चुनें।



Ans

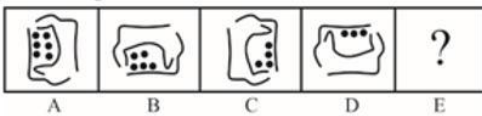
- 1.
- 2.
- 3.
- 4.

Question ID : 98958017079

Status : Answered

Chosen Option : 3

Q.18 उस उत्तर आकृति को चुनें जो नीचे दी गई समस्या आकृति श्रृंखला में अगले स्थान पर आएगी?



Ans



Question ID : 98958017075
Status : Answered
Chosen Option : 2

Q.19 एक कोड भाषा में, ROCKET को TEKROC लिखा जाता है। उसी भाषा में DRIVER को कैसे लिखा जाएगा?

- Ans
- ✗ 1. RFVDRI
 - ✓ 2. REVVDRI
 - ✗ 3. REVDRI
 - ✗ 4. REVDRJ

Question ID : 98958017057
Status : Answered
Chosen Option : 2

Q.20 उस विकल्प को चुनें जो तीसरे अक्षर-युग्म से उसी तरह संबंधित है जैसे दूसरा अक्षर-युग्म पहले अक्षर-युग्म से संबंधित है।

GI : KN :: PQ : ?

- Ans
- ✓ 1. TV
 - ✗ 2. UV
 - ✗ 3. TX
 - ✗ 4. VT

Question ID : 98958017059
Status : Answered
Chosen Option : 1

Q.21 उस समुच्चय को चुनें जिसमें संख्याएँ उसी तरह संबंधित हैं जैसे कि निम्नलिखित समुच्चय की संख्याएँ संबंधित हैं।

(15, 49, 151)

- Ans
- ✗ 1. (25, 79, 137)

2. (17, 55, 155)
 3. (6, 18, 37)
 4. (5, 19, 61)

Question ID : 98958017071

Status : Not Attempted and
Marked For Review

Chosen Option : --

Q.22 अगर 1 जनवरी 2017 को रविवार था, तो 31 दिसंबर 2017 को सप्ताह का कौन सा दिन था?

- Ans 1. शुक्रवार
 2. रविवार
 3. मंगलवार
 4. सोमवार

Question ID : 98958017067

Status : Answered

Chosen Option : 2

Q.23 निम्नलिखित शब्दों को उसी तार्किक क्रम में लगाएँ जिस क्रम में वे अंग्रेजी शब्दकोश में आएँगे।

1. Jacklight
2. Jacket
3. Jade
4. Joker
5. Jampacked

- Ans 1. 2, 3, 1, 4, 5
 2. 2, 1, 3, 5, 4
 3. 1, 2, 3, 4, 5
 4. 3, 1, 2, 5, 4

Question ID : 98958017056

Status : Answered

Chosen Option : 2

Q.24 उस शब्द-युग्म को चुनें जिसमें दो शब्द उसी तरह संबंधित हैं जैसे निम्नलिखित शब्द-युग्म में दो शब्द संबंधित हैं।

मुंबई : राजधानी

- Ans 1. न्यूयॉर्क : चीन
 2. दिल्ली : ताजमहल
 3. पहाड़ी : ऊँची
 4. येन : मुद्रा

Question ID : 98958017063

Status : Answered

Chosen Option : 1

Q.25 उस समुच्चय को चुनें जिसमें संख्याएँ उसी तरह संबंधित हैं जैसे कि निम्नलिखित समुच्चय की संख्याएँ संबंधित हैं।

(16, 64, 320)

- Ans 1. (25, 75, 125)

2. (10, 40, 200)
3. (15, 45, 180)
4. (15, 60, 310)

Question ID : 98958017070
Status : Answered
Chosen Option : 2

Section : General Awareness

Q.1 निम्नलिखित में से किस शहर ने हाल ही में हिंदी को न्यायालय की तीसरी आधिकारिक भाषा के रूप में शामिल किया है?

- Ans 1. अजमन
2. शारजाह
3. दुबई
4. आबु धाबी

Question ID : 98958017530
Status : Not Answered
Chosen Option : --

Q.2 भारतीय संविधान की 10 वीं अनुसूची के तहत, लोकसभा के किसी भी सदस्य की अयोग्यता से संबंधित किसी भी मुद्दे पर, अंतिम निर्णय किसके द्वारा लिया जाता है?

- Ans 1. भारत के उपराष्ट्रपति
2. भारत के राष्ट्रपति
3. भारत का निर्वाचन आयोग
4. अध्यक्ष, लोकसभा

Question ID : 98958017524
Status : Answered
Chosen Option : 4

Q.3 नेशनल वायरल हेपेटाइटिस कंट्रोल प्रोग्राम (NVHCP) का लक्ष्य _____ तक देश भर में हेपेटाइटिस C के व्यापक उन्मूलन को प्राप्त करना है।

- Ans 1. 2030
2. 2025
3. 2022
4. 2028

Question ID : 98958017529
Status : Not Answered
Chosen Option : --

Q.4 पुस्तक 'टारगेट 3 बिलियन' के लेखक कौन हैं?

- Ans 1. शंकर दयाल शर्मा
2. राम नाथ कोविंद
3. ए पी जे अब्दुल कलाम
4. प्रणब मुखर्जी

Question ID : 98958017522
Status : Answered
Chosen Option : 1

Q.5 एवरी बोट काउंट्स- द स्टोरी ऑफ इंडियाज इलेक्शन्स' नामक पुस्तक किसके द्वारा लिखी गई थी?

- Ans
- 1. एसवाई कुरेशी
 - 2. नवीन चावला
 - 3. हामिद अंसारी
 - 4. जेएम लिंगदोह

Question ID : 98958017521
Status : Answered
Chosen Option : 4

Q.6 निम्नलिखित में से किस शहर ने उस अंतर्राष्ट्रीय शिखर सम्मेलन की मेजबानी की थी, जिसने डिजिटल स्वास्थ्य पर एक घोषणा को अपनाया था?

- Ans
- 1. ढाका
 - 2. टोरंटो
 - 3. पेरिस
 - 4. दिल्ली

Question ID : 98958017528
Status : Not Answered
Chosen Option : --

Q.7 अल्ट्रासोनिक ध्वनियाँ वे ध्वनियाँ होती हैं जो _____ आवृत्तियाँ होती हैं।

- Ans
- 1. 30 kHz से अधिक
 - 2. 40 kHz से अधिक
 - 3. 20 kHz से अधिक
 - 4. 50 kHz से अधिक

Question ID : 98958017512
Status : Answered
Chosen Option : 3

Q.8 निम्नलिखित में से कौन-सा देश बंदरगाह-विहीन देश है?

- Ans
- 1. मंगोलिया
 - 2. इरीट्रिया
 - 3. सीरिया
 - 4. तुर्की

Question ID : 98958017518
Status : Not Answered
Chosen Option : --

Q.9 Which of the following articles of Indian Constitution provides for the appointment of a Finance Commission?

- Ans
- 1. Article 300
 - 2. Article 290

✓ 3. Article 280

✗ 4. Article 320

Question ID : 98958017523

Status : Answered

Chosen Option : 3

Q.10 जरा दूरदर्शिता (प्रेस्बायोपिया) को सही करने के लिए आमतौर पर किस प्रकार के लेंस का इस्तेमाल किया जाता है?

Ans ✓ 1. द्वि फोकसी लेंस (बाइफोकल लेंस)

✗ 2. बेलनाकार लेंस (सिलेंडरिकल लेंस)

✗ 3. उत्तल लेंस (कॉन्वेक्स लेंस)

✗ 4. अवतल लेंस (कांकावे लेंस)

Question ID : 98958017511

Status : Answered

Chosen Option : 3

Q.11 "बढ़ती का नाम जिंदगी" निम्नलिखित में से किस बैंक की टैगलाइन है?

Ans ✗ 1. सिंडीकेट

✗ 2. कॉरपोरेशन

✓ 3. एक्सिस

✗ 4. इंडियन

Question ID : 98958017509

Status : Answered

Chosen Option : 3

Q.12 2019 के अंतरिम बजट में, केंद्र सरकार ने 60 वर्ष की आयु प्राप्त करने के बाद असंगठित क्षेत्र में काम करने वालों के लिए न्यूनतम पेंशन आश्वासन योजना शुरू की है। इस योजना का नाम प्रधानमंत्री _____ के रूप में नामित किया गया है।

Ans ✗ 1. सुरक्षा बीमा योजना

✗ 2. विश्वकर्मा श्रम सम्मान योजना

✓ 3. श्रम योगी मान-धन योजना

✗ 4. जीवन ज्योति बीमा योजना

Question ID : 98958017508

Status : Answered

Chosen Option : 3

Q.13 प्रदीप कुमार बनर्जी, जिन्होंने लाइफटाइम अचीवमेंट के लिए ईएसपीएन मल्टी-स्पोर्ट्स अवार्ड जीता, जो _____ से संबंधित है।

Ans ✗ 1. हॉकी

✗ 2. तीरंदाजी

✗ 3. शूटिंग

✓ 4. फुटबॉल

Question ID : 98958017527

Status : Not Answered

Chosen Option : --

Q.14 लिक्विड-इन-ग्लास थर्मामीटर में आमतौर पर उपयोग किए जाने वाले तरल पदार्थों में से एक _____ है।

- Ans 1. एल्कोहल
 2. पानी
 3. लिक्विड हाइड्रोजन
 4. लिक्विड नाइट्रोजन

Question ID : 98958017510
 Status : Not Answered
 Chosen Option : --

Q.15 19वीं शताब्दी में, मध्य भारत में सतनामी आंदोलन की स्थापना किसने की थी?

- Ans 1. गुरु घासीदास
 2. नारायण गुरु
 3. केशव चंद्र सेन
 4. हरिदास ठाकुर

Question ID : 98958017519
 Status : Not Answered
 Chosen Option : --

Q.16 प्रसिद्ध कंदरिया मंदिर कहाँ स्थित है?

- Ans 1. खजुराहो
 2. विदिशा
 3. गंगैकोण्ड चोलपुरम्
 4. हम्पी

Question ID : 98958017506
 Status : Not Answered
 Chosen Option : --

Q.17 निम्नलिखित में से किस क्षेत्र ने अपने संतरों के उत्पादन के लिए भौगोलिक संकेतक (Geographical Indication) प्राप्त किया है?

- Ans 1. कुर्ना
 2. वायनाड
 3. फैजाबाद
 4. मेरठ

Question ID : 98958017507
 Status : Not Answered
 Chosen Option : --

Q.18 वर्ड डॉक्यूमेंट के संदर्भ में, 'गटर' शब्द किसके लिए प्रयोग किया जाता है?

- Ans 1. सिलाई और बाइंडिंग के लिए एक तरफ बचा हुआ स्थान
 2. रफ काम के लिए बाईं ओर छोड़ दिया गया स्थान
 3. दो पैराग्राफ के बीच का स्थान
 4. दो भरे हुए पृष्ठों के बीच में डाला गया रिक्त पृष्ठ

Question ID : 98958017514
Status : Not Answered
Chosen Option : --

Q.19 कृषि के संदर्भ में, 'बारानी' शब्द का क्या अर्थ है?

- Ans 1. वर्षा प्रधान-खेती
 2. सूखी खेती
 3. मिश्रित खेती
 4. सिंचित खेती

Question ID : 98958017515
Status : Not Answered
Chosen Option : --

Q.20 दक्षिण एशिया का एकमात्र सक्रिय ज्वालामुखी कहां स्थित है?

- Ans 1. तोशाम हिल्स
 2. बैरन द्वीप
 3. नर्कोन्दम द्वीप
 4. धिनोधर हिल्स

Question ID : 98958017516
Status : Not Answered
Chosen Option : --

Q.21 मुगलों के संदर्भ में, निम्नलिखित में से कौन-सा कथन सही नहीं है?

- Ans 1. मुगल दरबार के इतिहासकार उन्हें महान ईरानी राजा अफरासियाब के वंशज के रूप में वर्णित करते हैं।
 2. वे पितृ पक्ष से तैमूर के वंशज थे।
 3. बाबर का संबंध अपनी माँ की तरफ से चंगेज़ खान से था।
 4. उज़बेक के लोगों के द्वारा बाबर को उसकी मातृभूमि फरगाना से निकाल दिया गया था।

Question ID : 98958017520
Status : Not Answered
Chosen Option : --

Q.22 उसैन बोल्ट को आईएएफ पुरुष एथलीट ऑफ द ईयर अवार्ड _____ बार जीता है।

- Ans 1. छह
 2. पांच
 3. दो
 4. एक

Question ID : 98958017525
Status : Answered
Chosen Option : 2

Q.23 निम्नलिखित में से किस शहर ने विशेष ओलंपिक विश्व खेल 2019 की मेजबानी की थी?

- Ans 1. आबू धाबी
 2. लंदन
 3. सिएटल

✗ 4. इस्तांबुल

Question ID : 98958017526
Status : Answered
Chosen Option : 1

Q.24 डोमेन नामों में, '.au' अभिव्यक्ति का अर्थ क्या है?

- Ans
- ✗ 1. अण्टीगुआ
 - ✗ 2. अफ्रीकी संघ
 - ✓ 3. ऑस्ट्रेलिया
 - ✗ 4. ऑस्ट्रिया

Question ID : 98958017513
Status : Not Answered
Chosen Option : --

Q.25 2011 की जनगणना के अनुसार, निम्नलिखित में से किस राज्य / केंद्रशासित प्रदेश ने साक्षरता दर के मामले में दूसरा स्थान प्राप्त किया?

- Ans
- ✗ 1. मिजोरम
 - ✗ 2. गोवा
 - ✗ 3. पुडुचेरी
 - ✓ 4. लक्षद्वीप

Question ID : 98958017517
Status : Answered
Chosen Option : 4

Section : Quantitative Aptitude

Q.1 रिक्त स्थान भरें।

प्रथम 101 संख्याओं का औसत 102 के बराबर है।

- Ans
- ✗ 1. प्राकृतिक
 - ✗ 2. विषम
 - ✗ 3. पूर्ण वर्ग
 - ✓ 4. सम

Question ID : 98958017609
Status : Answered
Chosen Option : 2Q.2 $\frac{\sin^3 21^\circ + \cos^3 19^\circ}{\sin 21^\circ + \cos 19^\circ} + \sin^2 69^\circ + \cos^2 71^\circ + \frac{1}{\sec 69^\circ \operatorname{cosec} 71^\circ}$ का सरलीकृत मान क्या होगा?

- Ans
- ✗ 1. 3
 - ✗ 2. 1
 - ✗ 3. 4
 - ✓ 4. 2

Question ID : 98958017625
Status : Not Answered
Chosen Option : --

Q.3 θ एक न्यून कोण है, और दिया गया है कि, $\sec^2\theta + 4\tan^2\theta = 6$ है θ का मान क्या होगा?

- Ans
- 1. 0°
 - 2. 45°
 - 3. 60°
 - 4. 30°

Question ID : 98958017626
Status : Answered
Chosen Option : 1

Q.4 $\frac{1}{2}$ of $\frac{8}{5} \div \left\{ 2\frac{1}{5} - \left(\frac{5}{16} + \frac{3}{5} \times 1\frac{7}{8} \div \frac{2}{3} \right) \right\}$ का सरलीकृत मान क्या होगा?

- Ans
- 1. $\frac{1}{5}$
 - 2. 1
 - 3. 4
 - 4. $\frac{2}{5}$

Question ID : 98958017616
Status : Not Attempted and Marked For Review
Chosen Option : --

Q.5 दिया हुआ है कि दो लड़कों द्वारा अलग-अलग गति से प्रक्षेपित (thrown) गेंद के मार्गों की लंबाइयाँ समान हैं। यदि वे उक्त लंबाई को तय करने के लिए क्रमशः 0.6 sec और 1 sec लेते हैं, तो यदि दूसरे प्रक्षेप की औसत गति 96 km/h है, तो पहले प्रक्षेप की औसत गति क्या होगी?

- Ans
- 1. 150 km/h
 - 2. 200 km/h
 - 3. 160 km/h
 - 4. 100 km/h

Question ID : 98958017607
Status : Answered
Chosen Option : 3

Q.6 The price of sugar got raised by 25%. To maintain the same level of expenses on sugar, a person reduced the consumption of sugar by 4% and also increased his expenditure on sugar by $x\%$. The value of x is:

- Ans
- 1. 21
 - 2. 19.5
 - 3. 20
 - 4. 18.75

Question ID : 98958017611
Status : Answered

Chosen Option : 3

Q.7 एक दुकानदार आम तौर पे प्रत्येक वस्तु के अंकित मूल्य पर 10% की छूट देता है। एक सेल सीज़न के दौरान वह दो और छूट देने का निर्णय लेता है- पहली छूट मूल छूट के 50% की दर से और दूसरी छूट, पहली की 40% की दर से। यह सारे छूट की समतुल्य एकल छूट की प्रतिशत दर (दशमलव के दो स्थानों तक सही) क्या होगी?

- Ans
- 1. 14.85
 - 2. 16.21
 - 3. 11.25
 - 4. 13.27

Question ID : 98958017610

Status : Not Answered

Chosen Option : --

Q.8 यदि $a + \frac{1}{a} = 3$, है, तो $(a^6 + \frac{1}{a^6})$ किसके समान होगा?

- Ans
- 1. 780
 - 2. 322
 - 3. 730
 - 4. 319

Question ID : 98958017617

Status : Not Answered

Chosen Option : --

Q.9 यदि $a + b - c = 12$ और $a^2 + b^2 + c^2 = 110$ है, तो निम्नलिखित में से कौन सा संबंध सही है?

- (p) $ab + bc + ca = 34$,
- (q) $ab + bc - ca = 17$
- (r) $ab - bc + ca = 17$,
- (s) $ab - bc - ca = 17$

- Ans
- 1. (p)
 - 2. (s)
 - 3. (q)
 - 4. (r)

Question ID : 98958017618

Status : Not Answered

Chosen Option : --

Q.10 निम्नलिखित में से कौन सी एक अपरिमेय संख्या (irrational quantity) है?

- (a) $\tan 30^\circ \tan 60^\circ$
- (b) $\sin 30^\circ$
- (c) $\tan 45^\circ$
- (d) $\cos 30^\circ$

- Ans
- 1. (b)

2. (c)

3. (a)

4. (d)

Question ID : 98958017624

Status : Answered

Chosen Option : 4

Q.11 ₹10,000/- को 3 कारीगरों, 5 सहायकों और 6 श्रमिकों में इस प्रकार वितरित किया जाना है कि प्रत्येक सहायक को एक श्रमिक को प्राप्त होने वाली धन-राशि से दोगुनी धन-राशि प्राप्त हो, और प्रत्येक कारीगर को एक श्रमिक को प्राप्त होने वाली धन-राशि से तीन गुनी धन-राशि प्राप्त हो। तीनों कारीगरों द्वारा प्राप्त धन-राशि कितनी है?

Ans 1. ₹3,600

2. ₹2,400

3. ₹4,000

4. ₹2,700

Question ID : 98958017613

Status : Not Answered

Chosen Option : --

Q.12 इकाई लंबाई की प्रत्येक बारह छड़ों का प्रयोग एक समकोण त्रिभुज बनाने के लिए किया जाता है। त्रिभुज का क्षेत्रफल क्या होगा?

Ans 1. 4 sq units

2. 8 sq units

3. 6 sq units

4. 10 sq units

Question ID : 98958017608

Status : Not Answered

Chosen Option : --

Q.13 दिया गया है कि एक त्रिभुज का क्षेत्रफल A है। इसकी परिमिति (perimeter), अंत:त्रिज्या (inradius), परित्रिज्या (circumradius) और माध्यिकाओं की औसत लंबाई क्रमशः p, r, R और d है। अनुपात A : p किसके समान होगा?

Ans 1. r : 1

2. r : 2

3. $(R - r)^2 : r$

4. $(R + r)^2 : d$

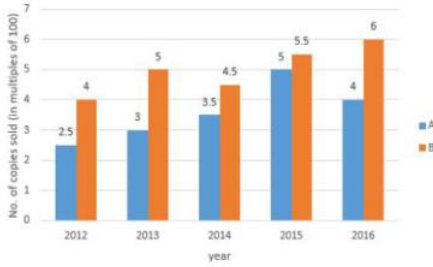
Question ID : 98958017622

Status : Not Answered

Chosen Option : --

Q.14

एकपुस्तक का सह-लेखन X और Y द्वारा किया गया है। भारत में और विदेश में पुस्तक का मूल्य क्रमशः ₹800 और ₹1000 है। भारत में और विदेश में बिक्री पर अर्जित स्वत्व शुल्क (रॉयल्टी) क्रमशः 10% और 16% है। स्वत्व शुल्क (रॉयल्टी) की धन-राशि को X और Y के बीच 5 : 3 के अनुपात में वितरित किया जाता है। दिया गया स्तंभ आलेख (बार ग्राफ) 2012-16 के दौरान भारत (A) और विदेश (B) में बिक्री पुस्तक की संख्या को दर्शाता है।



निम्नलिखित परिस्थितियों में अर्जित स्वत्व शुल्क (रॉयल्टी) का अनुपात क्या है -
X द्वारा 2013 और 2014 में भारत में पुस्तकों की बिक्री का और Y द्वारा 2015 और 2016 में विदेश में पुस्तकों की बिक्री का?

- Ans
- 1. 63 : 130
 - 2. 64 : 135
 - 3. 62 : 117
 - 4. 65 : 138

Question ID : 98958017630

Status : Not Answered

Chosen Option : --

Q.15 दो समबाहु त्रिभुज किसी समद्विबाहु समकोण त्रिभुज के कर्ण पर और उसके लंबवत् भुजाओं में से किसी एक पर निर्मित किए जाते हैं। उनके क्षेत्रफल क्रमशः H और A हैं। $\frac{A}{H}$ किसके समान होगा?

- Ans
- 1. $\frac{1}{4}$
 - 2. $\frac{1}{2}$
 - 3. $\frac{1}{\sqrt{2}}$
 - 4. $\frac{1}{\sqrt[3]{2}}$

Question ID : 98958017623

Status : Not Answered

Chosen Option : --

Q.16 A ने 31 दिसंबर 2011 को अपने मित्र B से ₹2,000 की राशि इस शर्त पर उधार ली कि वह एक वर्ष बाद इसे 8% के साधारण व्याज के साथ लौटा देगा। किंतु A, 1 जुलाई 2012 को ही धन-राशि लौटाने की स्थिति में आ जाता है। उसे B को कितनी धन-राशि लौटानी है?

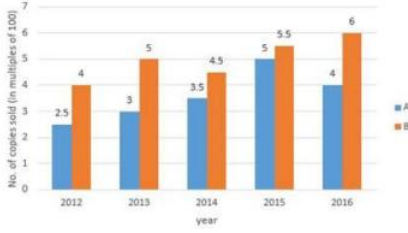
- Ans
- 1. ₹2,070
 - 2. ₹2,088
 - 3. ₹2,080
 - 4. ₹2,200

Question ID : 98958017614

Status : Not Answered

Chosen Option : --

Q.17 एकपुस्तक का सह-लेखन X और Y द्वारा किया गया है। भारत में और विदेश में पुस्तक का मूल्य क्रमशः ₹800 और ₹1000 है। भारत में और विदेश में बिक्री पर अर्जित स्वत्व शुल्क (रॉयल्टी) क्रमशः 10% और 16% है। स्वत्व शुल्क (रॉयल्टी) की धन-राशि को X और Y के बीच 5 : 3 के अनुपात में वितरित किया जाता है। दिया गया स्तंभ आलेख (बार ग्राफ) 2012-16 के दौरान भारत (A) और विदेश (B) में बिक्री पुस्तक की संख्या को दर्शाता है।



2012-2015 के दौरान भारत में बेची गई पुस्तक की कुल संख्या क्या है?

- Ans
- 1. 2000
 - 2. 1600
 - 3. 1800
 - 4. 1400

Question ID : 98958017627

Status : Not Answered

Chosen Option : --

Q.18 निम्नलिखित में से कौन सी संख्या 11, 13 और 7 से पूर्णतः विभाज्य है?

- (a) 624613
- (b) 624624
- (c) 624635
- (d) 624646

- Ans
- 1. (b)
 - 2. (a)
 - 3. (d)
 - 4. (c)

Question ID : 98958017615

Status : Answered

Chosen Option : 4

Q.19 2 cm और 5.6 cm व्यास वाले दो ऐसे वृत्त हैं जिनके केंद्रों के बीच की दूरी 8.2 cm है। वृत्तों की उस एक उभयनिष्ठ स्पर्शरेखा की लंबाई क्या होगी जो दो केंद्रों को मिलाने वाली रेखा को छेद नहीं करती है?

- Ans
- 1. 8 cm
 - 2. 8.4 cm
 - 3. 6.4 cm
 - 4. 7.2 cm

Question ID : 98958017621

Status : Not Answered

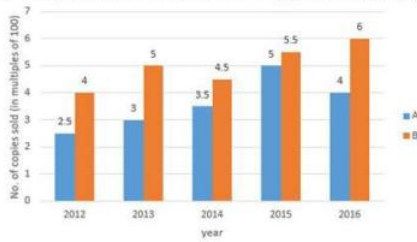
Chosen Option : --

Q.20 यदि, $a^{\frac{1}{3}} + b^{\frac{1}{3}} + c^{\frac{1}{3}} = 0$ है, तो $(a + b + c)^6$ किसके समान होगा?

- Ans
- ✓ 1. $729 a^2 b^2 c^2$
 - ✗ 2. $81 a^2 b^2 c^2$
 - ✗ 3. $729 abc$
 - ✗ 4. $81 abc$

Question ID : 98958017619
Status : Answered
Chosen Option : 2

Q.21 एक पुस्तक का सह-लेखन X और Y द्वारा किया गया है। भारत में और विदेश में पुस्तक का मूल्य क्रमशः ₹800 और ₹1000 है। भारत में और विदेश में बिक्री पर अर्जित स्वत्व शुल्क (रॉयल्टी) क्रमशः 10% और 16% है। स्वत्व शुल्क (रॉयल्टी) की धन-राशि को X और Y के बीच 5 : 3 के अनुपात में वितरित किया जाता है। दिया गया स्तंभ आलेख (बार ग्राफ) 2012-16 के दौरान भारत (A) और विदेश (B) में बिक्री पुस्तक की संख्या को दर्शाता है।



वर्ष 2012, 2013 और 2016 के दौरान लेखकों को भुगतान किये गए स्वत्व शुल्क (रॉयल्टी) की कुल राशि (₹ में) कितनी है?

- Ans
- ✗ 1. 2,73,400
 - ✗ 2. 2,72,000
 - ✗ 3. 2,71,600
 - ✓ 4. 3,16,000

Question ID : 98958017628
Status : Not Answered
Chosen Option : --

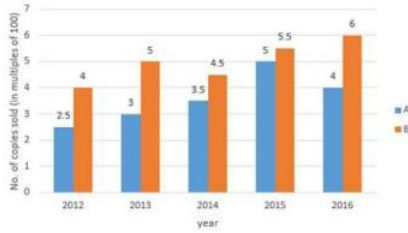
Q.22 एक वस्तु को ₹144 में बेचने पर दुकानदार को 28% की हानि होती है। हानि को कम करके 14% तक लाने के लिए विक्रय मूल्य क्या होना चाहिए?

- Ans
- ✗ 1. ₹180
 - ✗ 2. ₹182
 - ✗ 3. ₹156
 - ✓ 4. ₹172

Question ID : 98958017612
Status : Answered
Chosen Option : 4

Q.23

एकपुस्तक का सह-लेखन X और Y द्वारा किया गया है। भारत में और विदेश में पुस्तक का मूल्य क्रमशः ₹800 और ₹1000 है। भारत में और विदेश में बिक्री पर अर्जित स्वत्व शुल्क (रॉयल्टी) क्रमशः 10% और 16% है। स्वत्व शुल्क (रॉयल्टी) की धन-राशि को X और Y के बीच 5 : 3 के अनुपात में वितरित किया जाता है। दिया गया स्तंभ आलेख (बार ग्राफ) 2012-16 के दौरान भारत (A) और विदेश (B) में बिक्री पुस्तक की संख्या को दर्शाता है।



वर्ष 2014 और 2015 को मिलाकर X तथा Y द्वारा अर्जित स्वत्व शुल्क (रॉयल्टी) में कितना अंतर (₹ में) है?

- Ans
- 1. 57,000
 - 2. 41,250
 - 3. 41,340
 - 4. 57,550

Question ID : 98958017629

Status : Not Answered

Chosen Option : --

Q.24 यदि 40 पुरुष प्रतिदिन 12 घंटे कार्य करते हुए किसी कार्य को 8 दिनों में पूर्ण कर सकते हैं, तो कितने पुरुष प्रतिदिन 4 घंटे कार्य करते हुए उसी कार्य को 16 दिनों में पूर्ण कर सकते हैं?

- Ans
- 1. 50
 - 2. 45
 - 3. 54
 - 4. 60

Question ID : 98958017606

Status : Answered

Chosen Option : 4

Q.25 O केंद्र वाले एक वृत्त के अंदर एक नियमित अष्टभुज ABCDEFGH, निर्मित है। $\angle AOB$ के साथ $\angle OAB$ का अनुपात क्या होगा?

- Ans
- 1. 8 : 3
 - 2. 3 : 1
 - 3. 3 : 2
 - 4. 4 : 3

Question ID : 98958017620

Status : Not Answered

Chosen Option : --

Section : English Language

Q.1 Select the wrongly spelt word.

- Ans
- 1. horizontal

- 2. fomentation
- 3. bureaucracy
- 4. plateau

Question ID : 98958016753
Status : Answered
Chosen Option : 2

Q.2 Select the correct passive form of the given sentence.

His mother gave him a note for his teacher.

- Ans
- 1. He is given a note for his teacher by his mother.
 - 2. His teacher was given a note for his mother.
 - 3. He was given a note for his teacher by his mother.
 - 4. He had been given a note for his teacher by his mother.

Question ID : 98958016732
Status : Answered
Chosen Option : 3

Q.3 Select the most appropriate option to substitute the underlined segment in the given sentence. If there is no need to substitute it, select No improvement.

"I'm afraid I must left now," said the guest after the inaugural function was over.

- Ans
- 1. No improvement
 - 2. I'm afraid I must leave now
 - 3. I'm afraid I has to be leaving now
 - 4. I'm afraid I can left now

Question ID : 98958016734
Status : Answered
Chosen Option : 4

Q.4 Select the most appropriate option to substitute the underlined segment in the given sentence. If there is no need to substitute it, select No improvement.

Durga is now the Executive Vice- President of the company with a responsibility to marketing for the entire northern zone.

- Ans
- 1. with a responsibility by marketing
 - 2. with the responsibility of marketing
 - 3. No improvement
 - 4. with responsibility from marketing

Question ID : 98958016735
Status : Answered
Chosen Option : 2

Q.5 Identify the segment in the sentence which contains the grammatical error.

Deepak said he would pack few things he had and vacate the hostel room the next day.

- Ans
- 1. pack few things he had
 - 2. the next day

- 3. and vacate the hostel room
- 4. Deepak said he would pack

Question ID : 98958016731
Status : Answered
Chosen Option : 3

Q.6 Select the most appropriate synonym of the given word.

RADIANCE

- Ans
- 1. dryness
 - 2. redness
 - 3. sparkle
 - 4. depth

Question ID : 98958016744
Status : Answered
Chosen Option : 3

Q.7 Select the most appropriate antonym of the given word.

RANDOM

- Ans
- 1. casual
 - 2. irregular
 - 3. formal
 - 4. specific

Question ID : 98958016747
Status : Answered
Chosen Option : 3

Q.8 Select the correct indirect form of the given sentence.

"Don't park here," the policeman said to them.

- Ans
- 1. Don't park here he said to the policeman.
 - 2. The policeman ordered them not to park there.
 - 3. The policeman said to them not to park here.
 - 4. The policeman ordered them not to park here.

Question ID : 98958016733
Status : Answered
Chosen Option : 2

Q.9 Select the most appropriate word for the given group of words.

Able to adapt to many different functions or activities

- Ans
- 1. surrogate
 - 2. versatile
 - 3. deputy
 - 4. expert

Question ID : 98958016751

Status : **Answered**
Chosen Option : 2

Q.10 Select the most appropriate word for the given group of words.

A person or thing that has the same name as another

- Ans
- 1. pseudonym
 - 2. namesake
 - 3. successor
 - 4. relative

Question ID : 98958016750
Status : **Answered**
Chosen Option : 1

Q.11 Select the most appropriate meaning of the given idiom

at snail's pace

- Ans
- 1. keep your moves secret
 - 2. be very persistent
 - 3. do something very slowly
 - 4. do something very carefully

Question ID : 98958016748
Status : **Not Answered**
Chosen Option : --

Comprehension:

In the following passage some words have been deleted. Fill in the blanks with the help of the alternatives given. Select the most appropriate option for each blank.

The pattern of birds flocking to Pakhal lake has been observed over several years. So far, (1) _____ than 190 bird species (2) _____ been identified and this is one of the best (3) _____ in the state for bird-watchers to (4) _____. In fact, we can spot (5) _____ 80 species of birds in a single day.

SubQuestion No : 12

Q.12 Select the most appropriate option to fill in blank No.1.

- Ans
- 1. most
 - 2. many
 - 3. more
 - 4. much

Question ID : 98958016737
Status : **Answered**
Chosen Option : 3

Comprehension:

In the following passage some words have been deleted. Fill in the blanks with the help of the alternatives given. Select the most appropriate option for each blank.

The pattern of birds flocking to Pakhal lake has been observed over several years. So far, (1) _____ than 190 bird species (2) _____ been identified and this is one of the best (3) _____ in the state for bird-watchers to (4) _____. In fact, we can spot (5) _____ 80 species of birds in a single day.

SubQuestion No : 13

Q.13 Select the most appropriate option to fill in blank No.2.

- Ans
- 1. has
 - 2. are
 - 3. is
 - 4. have

Question ID : 98958016738
Status : Answered
Chosen Option : 4

Comprehension:

In the following passage some words have been deleted. Fill in the blanks with the help of the alternatives given. Select the most appropriate option for each blank.

The pattern of birds flocking to Pakhal lake has been observed over several years. So far, (1) _____ than 190 bird species (2) _____ been identified and this is one of the best (3) _____ in the state for bird-watchers to (4) _____. In fact, we can spot (5) _____ 80 species of birds in a single day.

SubQuestion No : 14

Q.14 Select the most appropriate option to fill in blank No.3.

- Ans
- 1. sanctuary
 - 2. place
 - 3. lake
 - 4. places

Question ID : 98958016739
Status : Answered
Chosen Option : 3

Comprehension:

In the following passage some words have been deleted. Fill in the blanks with the help of the alternatives given. Select the most appropriate option for each blank.

The pattern of birds flocking to Pakhal lake has been observed over several years. So far, (1) _____ than 190 bird species (2) _____ been identified and this is one of the best (3) _____ in the state for bird-watchers to (4) _____. In fact, we can spot (5) _____ 80 species of birds in a single day.

SubQuestion No : 15

Q.15 Select the most appropriate option to fill in blank No.4.

- Ans
- 1. visiting
 - 2. visits
 - 3. visit
 - 4. visited

Question ID : 98958016740
Status : Answered
Chosen Option : 3

Comprehension:

In the following passage some words have been deleted. Fill in the blanks with the help of the alternatives given. Select the most appropriate option for each blank.

The pattern of birds flocking to Pakhal lake has been observed over several years. So far, (1) _____ than 190 bird species (2) _____ been identified and this is one of the best (3) _____ in

the state for bird-watchers to (4) _____. In fact, we can spot (5) _____ 80 species of birds in a single day.

SubQuestion No : 16

Q.16 Select the most appropriate option to fill in blank No.5.

- Ans
- 1. between
 - 2. any
 - 3. near
 - 4. around

Question ID : 98958016741
Status : Answered
Chosen Option : 4

Q.17 Select the most appropriate word to fill in the blank

The _____ of ancient scientists often made up for the lack of proper equipment.

- Ans
- 1. creation
 - 2. anxiety
 - 3. dedication
 - 4. concern

Question ID : 98958016754
Status : Answered
Chosen Option : 1

Q.18 Select the most appropriate antonym of the given word.

SHALLOW

- Ans
- 1. slight
 - 2. deep
 - 3. narrow
 - 4. crooked

Question ID : 98958016746
Status : Answered
Chosen Option : 3

Q.19 Identify the segment in the sentence which contains the grammatical error.

Even Sharat tried his best, he could not clear all the examination papers in one attempt.

- Ans
- 1. Even Sharat tried his best
 - 2. all the examination papers
 - 3. he could not clear
 - 4. in one attempt

Question ID : 98958016730
Status : Answered
Chosen Option : 1

Q.20 Select the most appropriate synonym of the given word.

RECAPITULATION

- Ans
- 1. readiness
 - 2. prominence
 - 3. summary
 - 4. movement

Question ID : 98958016745
 Status : Answered
 Chosen Option : 2

Q.21 Given below are four jumbled sentences. Out of the given options pick the one that gives their correct order.

- A. As man's intelligence grew so did his power.
- B. This intelligence made him cleverer and stronger than enormous animals which would otherwise have destroyed him.
- C. The chief difference between man and the other animals was the intelligence of man.
- D. Combining intelligence with power, man developed weapons to fight his enemies.

- Ans
- 1. CBAD
 - 2. ACDB
 - 3. BCDA
 - 4. DABC

Question ID : 98958016742
 Status : Not Answered
 Chosen Option : --

Q.22 Given below are four jumbled sentences. Out of the given options pick the one that gives their correct order.

- A. Today, he is popular for creating scaled-down models of automobiles that are not just showpieces but are working toys.
- B. "I used to ride it during playtime in the evenings as a five-year old," recalls Arun Kumar.
- C. As a kid I used to pester my parents for toy cars but my carpenter father often couldn't afford them.
- D. Then, one day he got an old tricycle from the junkyard, made three wooden wheels and fitted them to the cycle.

- Ans
- 1. CADB
 - 2. BCDA
 - 3. ACDB
 - 4. CDBA

Question ID : 98958016743
 Status : Answered
 Chosen Option : 4

Q.23 Select the correctly spelt word.

- Ans
- 1. comemorate
 - 2. commemorete
 - 3. commemorate
 - 4. commemmorate

Question ID : 98958016752
 Status : Answered
 Chosen Option : 3

Test

Prime

By Adda247

Previous Year Papers PDF

PRACTICE MORE, SCORE HIGHER!



Free
25,000+
PDF's

High-Quality | Exam-Wise | Updated Regularly

ATTEMPT AS
MOCK



Turn PDFs into real exam experience.
Analyze. Improve. Succeed.



Topic-wise & Exam-wise PDFs



Download & Study Offline



Attempt as Mock & Track Score



Smart Analysis & Performance

AVAILABLE IN



Banking



SSC



Railway



Teaching



UGC



Agriculture



Nursing



Bihar



UP



Punjab



WB



Odisha



TN



AP & Telangana



Haryana



DOWNLOAD THE APP



Q.24 Select the most appropriate meaning of the given idiom

put your best foot forward

- Ans
- 1. check every step
 - 2. try as hard as one can
 - 3. take care to dress well
 - 4. walk very cautiously

Question ID : 98958016749

Status : Answered

Chosen Option : 2

Q.25 Select the most appropriate word to fill in the blank

The Board of Directors of the pharma company has approved the _____ of investment limits in its wholly- owned subsidiary.

- Ans
- 1. enchantment
 - 2. entrenchment
 - 3. enhancement
 - 4. enforcement

Question ID : 98958016755

Status : Not Answered

Chosen Option : --