

## Combined Higher Secondary Level (10+2) Examination-2018

Roll No.	
Name	
Test Venue	
Test Time	4:00 PM - 5:00 PM
Test Date	08/07/2019

## Section : General Intelligence

Q.1 निम्नलिखित चार शब्दों में से तीन शब्द एक निश्चित तरीके से एक जैसे हैं और एक अलग है। उस अलग शब्द को चुनिए।

- Ans
- 1. घबराया हुआ
  - 2. शांत
  - 3. भयभीत
  - 4. चिंतित

Question ID : 98958016890

Status : Answered

Chosen Option : 2

Q.2 यदि DIRECTOR को 49953269 के रूप में कोडबद्ध किया गया है, तो FRIENDLY को किस प्रकार कोडबद्ध किया जाएगा?

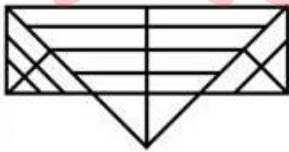
- Ans
- 1. 68955438
  - 2. 79954435
  - 3. 69845447
  - 4. 69955437

Question ID : 98958016883

Status : Answered

Chosen Option : 4

Q.3 दी गई आकृति में कितने त्रिभुज मौजूद हैं।



- Ans
- 1. 30
  - 2. 31
  - 3. 32
  - 4. 28

Question ID : 98958016901

Status : Answered

Chosen Option : 1

Q.4 निम्नलिखित गतिविधियों को तार्किक और सार्थक क्रम में व्यवस्थित करें।

1. कॉलेज में कक्षाओं में उपस्थित रहना
2. प्रवेश योग्यता क्रम सूची की घोषणा
3. कॉलेज में दाखिला मिलना

**Test  
Prime**

By Adda247

# ALL EXAMS, ONE SUBSCRIPTION



Test. Analyze. Improve. Repeat.



**Don't just *prepare*. *Perform*.**

Test Prime — built only for mock tests.



**1,50,000+**  
Mock Tests



**25,000+**  
Previous Year Papers



**800+**  
Exam Covered



**500% Refund**  
on Selection



**5 lakh+**  
Free Quizzes



**Daily**  
Free PDFs



**Job Alerts**  
Stay Updated

- Multilingual
- Detailed Solution
- Strong and Weak Areas



**All India  
Rankings**

Compete with lakhs.  
Rank. Improve. Repeat.



← Adda247 test prime

Rating ▾

Editors' choice

New



Adda247 Test Prime  
Adda Education • Education  
Installed



**DOWNLOAD THE APP**



4. परिणाम में दाखिल के लिए आवेदन करना  
5. वार्षिक परीक्षा - कक्षा 12  
6. परिणाम घोषणा - कक्षा 12

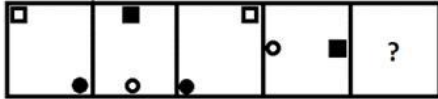
- Ans  1. 5, 6, 4, 2, 3, 1  
 2. 6, 5, 4, 2, 3, 1  
 3. 5, 6, 4, 2, 1, 3  
 4. 5, 6, 2, 4, 3, 1

Question ID : 98958016881

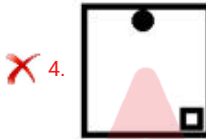
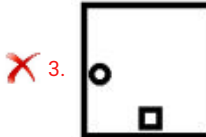
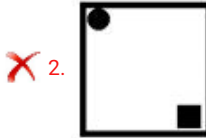
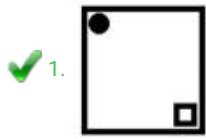
Status : Answered

Chosen Option : 1

Q.5 उस आकृति का चयन करें जो नीचे दी गई आकृति श्रृंखला में अगले स्थान पर आएगी।



Ans



Question ID : 98958016900

Status : Answered

Chosen Option : 1

Q.6 निम्नलिखित चार अक्षर-समूहों में से तीन अक्षर-समूह एक निश्चित तरीके से एक जैसे हैं और एक अलग है। उस अलग अक्षर-समूह को चुनिए।

- Ans  1. RVZD  
 2. DHLP  
 3. PTXB  
 4. JNRW

Question ID : 98958016889

Status : Answered

Chosen Option : 1

Q.7 A + B का अर्थ है 'A बहन है B की'  
A - B का अर्थ है 'A बेटी है B की'  
A × B का अर्थ है 'A भाई है B का'  
A ÷ B का अर्थ है 'A माता है B की'

यदि  $D + P \div I \times K \div T - R$  है, तो R कैसे संबंधित है P से?

- Ans  1. बेटा

2. माई
- ✓ 3. बेटी का पति
- ✗ 4. बेटी का बेटा

Question ID : 98958016887  
Status : Answered  
Chosen Option : 3

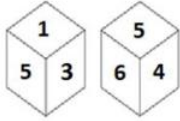
Q.8 उस शब्द-युग्म का चयन करें जिसमें दो शब्द उसी तरह से संबंधित हैं जैसे कि निम्नलिखित शब्द-युग्म में दो शब्द संबंधित हैं।

विस्तृत : सूक्ष्म

- Ans ✓ 1. वसा : मोटापा
- ✗ 2. भारी : हल्का
- ✗ 3. भूखा : संतुष्ट
- ✗ 4. तेज़ : कमजोर

Question ID : 98958016888  
Status : Answered  
Chosen Option : 2

Q.9 एक ही पासे की दो अलग-अलग स्थितियों को नीचे दर्शाया गया है, इसके छः फलकों पर 1 से 6 तक की संख्याएं अंकित हैं। '5' संख्या वाले फलक के सामने वाली संख्या ज्ञात कीजिए।



- Ans ✗ 1. 6
- ✗ 2. 3
- ✓ 3. 2
- ✗ 4. 4

Question ID : 98958016899  
Status : Answered  
Chosen Option : 3

Q.10 निम्नलिखित श्रृंखला में कौन सी संख्या प्रश्न चिह्न (?) के स्थान पर आएगी?

77, 92, 125, 178, 253, ?

- Ans ✗ 1. 351
- ✗ 2. 350
- ✓ 3. 352
- ✗ 4. 353

Question ID : 98958016897  
Status : Answered  
Chosen Option : 3

Q.11 निम्नलिखित चार संख्याओं में से तीन संख्या एक निश्चित तरीके से एक जैसे हैं और एक अलग है। उस अलग संख्या चयन कीजिए।

- Ans ✗ 1. 49
- ✗ 2. 16
- ✓ 3. 64
- ✗ 4. 25

Question ID : 98958016898

Status : Answered

Chosen Option : 3

Q.12 दो कथन दिए गए हैं, इसके बाद तीन निष्कर्ष I, II और III दिए गए हैं। कथनों को सत्य मानते हुए, भले ही वे आम तौर पर ज्ञात तथ्यों से अलग हों, यह निर्णय लीजिए कि कौन सा/से निष्कर्ष, कथनों का तार्किक रूप से अनुसरण करता है/करते हैं।

कथन:

कुछ मिर्च आलू हैं।  
कुछ आलू प्याज हैं।

निष्कर्ष:

I. कुछ प्याज मिर्च हैं।  
II. कुछ प्याज आलू हैं।  
III. कोई भी प्याज मिर्च नहीं है।

- Ans
- 1. केवल निष्कर्ष I और II अनुसरण करते हैं।
  - 2. निष्कर्ष II और निष्कर्ष I या III में से एक का अनुसरण करते हैं।
  - 3. निष्कर्ष I और या तो निष्कर्ष II अथवा III अनुसरण करते हैं।
  - 4. केवल निष्कर्ष II और III अनुसरण करते हैं।

Question ID : 98958016894

Status : Answered

Chosen Option : 2

Q.13 उस संख्या-युग्म का चयन करें जिसमें दो संख्याएँ उसी तरह से संबंधित हैं जैसे कि निम्नलिखित संख्या-युग्म की दो संख्याएँ संबंधित हैं।

2 : 9

- Ans
- 1. 4 : 65
  - 2. 3 : 26
  - 3. 7 : 50
  - 4. 8 : 65

Question ID : 98958016894

Status : Answered

Chosen Option : 1

Q.14 अगर एक दर्पण को आकृति के दाईं ओर रखा जाए, तो दिए गए चित्र की सही दर्पण छवि का चयन करें।

B f D e Y 5 3 2

- Ans
- 1. B f D e Y 5 3 2
  - 2. B f D e Y 2 3 5
  - 3. B f D e Y 2 3 2
  - 4. B f D e Y 5 3 5

Question ID : 98958016904

Status : Answered

Chosen Option : 2

Q.15 ऐसे अक्षरों के संयोजन का चयन करें जो कि दी गई अक्षरों की श्रृंखला में रिक्त स्थानों में क्रमिक रूप से रखे जाने पर श्रृंखला को पूरा करेगा।

x \_ \_ y q \_ \_ t x z \_ \_ q s q t x \_ \_ y q s \_ t

- Ans  1. zysqyyzyq  
 2. zyqszyzyq  
 3. yysqzyzyq  
 4. zysqyyzt

Question ID : 98958016886  
 Status : Not Answered  
 Chosen Option : --

Q.16 उस विकल्प का चयन करें जो तीसरे अक्षर-समूह से उसी तरह संबंधित है जैसे दूसरा अक्षर-समूह पहले अक्षर-समूह से संबंधित है।

SMKJ : VONL :: DPOA : ?

- Ans  1. GSSC  
 2. GRRC  
 3. GSSD  
 4. HRRD

Question ID : 98958016884  
 Status : Answered  
 Chosen Option : 2

Q.17 उस विकल्प का चयन करें जिसमें चित्र-एक्स अंतर्निहित है। (आकृति को घुमाने की अनुमति नहीं है)



Figure-X

Ans

- 1.
- 2.
- 3.
- 4.

Question ID : 98958016902  
 Status : Answered  
 Chosen Option : 1

Q.18 टैडपोल 'मंडक' से उसी तरह संबंधित है जैसे 'केटरपिलर' ' \_\_\_\_\_ ' से संबंधित है।

Ans

- 1. जमना पूंजर
- 2. तितली
- 3. चमगादड़
- 4. लंगूर

Question ID : 98958016885  
Status : Answered  
Chosen Option : 1

Q.19 उस समुच्चय का चयन करें जिसमें संख्याएँ उसी तरह से संबंधित हैं जैसे कि निम्नलिखित समुच्चय की संख्याएँ संबंधित हैं।

(4, 113, 7)

- Ans
- 1. (5, 141, 4)
  - 2. (8, 155, 4)
  - 3. (3, 118, 9)
  - 4. (6, 161, 4)

Question ID : 98958016896  
Status : Answered  
Chosen Option : 1

Q.20 उस समुच्चय का चयन करें जिसमें संख्याएँ उसी तरह से संबंधित हैं जैसे कि निम्नलिखित समुच्चय की संख्याएँ संबंधित हैं।

(8, 112, 28)

- Ans
- 1. (12, 216, 34)
  - 2. (14, 364, 52)
  - 3. (18, 216, 22)
  - 4. (16, 282, 36)

Question ID : 98958016895  
Status : Answered  
Chosen Option : 2

Q.21 एक पारदर्शी शीट का चित्र एक पैटर्न के साथ नीचे दिया गया है। उस विकल्प का चयन करें जो यह दिखाता है कि बिंदीदार रेखा पर पारदर्शी शीट को मोड़ने पर पैटर्न कैसा दिखाई देगा।



Ans

- 1.
- 2.
- 3.



Question ID : 98958016903

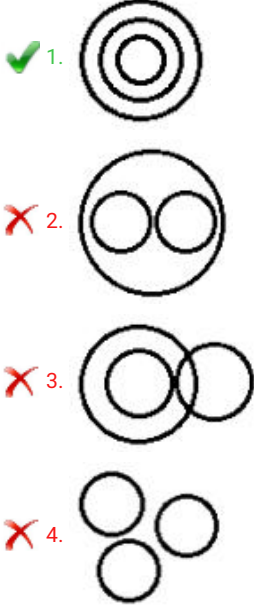
Status : Answered

Chosen Option : 2

Q.22 उस वेन आरेख का चयन करें जो निम्नलिखित वर्गों के बीच के संबंध को सबसे अच्छा दर्शाता है।

भोजन, मसूर की दाल, दालें

Ans



Question ID : 98958016905

Status : Answered

Chosen Option : 3

Q.23 एक कोड भाषा में, ADVISORY को GDLYRVBU लिखा जाता है। उस भाषा में CHEMICAL को कैसे लिखा जाएगा?

- Ans
- ✓ 1. KFPHFLOD
  - ✗ 2. JFPGFMOD
  - ✗ 3. MFOHFLOD
  - ✗ 4. KFQHFPE

Question ID : 98958016882

Status : Not Answered

Chosen Option : --

Q.24 तीन दोस्तों A, B और C के बीच ₹153 का कुल योग इस तरह वितरित किया जाता है कि C को A से पाँच गुना अधिक धन मिलता है और B को A से तीन गुना अधिक धन मिलता है। B को कितने रूपए मिले हैं?

- Ans
- ✗ 1. 61
  - ✓ 2. 51
  - ✗ 3. 66
  - ✗ 4. 65

Question ID : 98958016892

Status : Answered

Chosen Option : 2

Q.25 निम्नलिखित समीकरण को सही बनाने के लिए इसमें किन दो संख्याओं को आपस में बदलना चाहिए?

$$731 \div 13 + 450 - 25 \times 43 = 142$$

- Ans
- 1. 731 और 450
  - 2. 13 और 43
  - 3. 13 और 25
  - 4. 450 और 25

Question ID : 98958016893  
Status : Answered  
Chosen Option : 2

Section : General Awareness

Q.1 2018 में किस लेखक को के.के. बिड़ला फाउंडेशन के 27वें व्यास सम्मान से सम्मानित किया गया है?

- Ans
- 1. पंकज दुबे
  - 2. आशीष चौधरी
  - 3. ममता कालिया
  - 4. योगिता यादव

Question ID : 98958016570  
Status : Not Answered  
Chosen Option : --

Q.2 संसदीय कार्यवाही में, 'शून्यकाल' के दौरान लॉटरी (Ballot) में उनकी प्राथमिकता के अनुसार प्रति दिन कितने मामलों को उठाने की अनुमति दी जाती है?

- Ans
- 1. 19
  - 2. 18
  - 3. 20
  - 4. 21

Question ID : 98958016572  
Status : Answered  
Chosen Option : 1

Q.3 पानी में पास-पास बिखरे हुए द्वीपों की श्रृंखला को क्या कहा जाता है?

- Ans
- 1. जलडमरूमध्य
  - 2. द्वीपसमूह
  - 3. चट्टान
  - 4. घाटी

Question ID : 98958016563  
Status : Answered  
Chosen Option : 2

Q.4 1973 में प्रोजेक्ट टाइगर की शुरुआत \_\_\_\_\_ राष्ट्रीय उद्यान में की गयी थी।

- Ans
- 1. सुंदरबन
  - 2. संजय गांधी
  - 3. जिम कॉर्बेट
  - 4. भीतरकनिका

Question ID : 98958016564  
Status : Not Answered  
Chosen Option : --

Q.5 प्रसिद्ध नर्तक चमनचरी कुन्हीरामन नायर निम्नलिखित में से किस नृत्य से जुड़े हैं?

- Ans
- 1. मोहिनीअट्टम
  - 2. मणिपुरी
  - 3. सतरीया
  - 4. कथकली

Question ID : 98958016555  
Status : Not Answered  
Chosen Option : --

Q.6 बुमचू किस भारतीय राज्य में मनाया जाने वाला एक अनूठा सांस्कृतिक त्योहार है?

- Ans
- 1. असम
  - 2. सिक्किम
  - 3. ओडिशा
  - 4. पश्चिम बंगाल

Question ID : 98958016554  
Status : Not Answered  
Chosen Option : --

Q.7 \_\_\_\_\_ समुद्र से मिलने वाली एक नदी का विस्तृत छोर होता है।

- Ans
- 1. संकरी खाड़ी
  - 2. घुमावदार मार्ग
  - 3. तंग नदी घाटी
  - 4. मुहाना

Question ID : 98958016565  
Status : Not Answered  
Chosen Option : --

Q.8 इंडिया ओपन इंटरनेशनल बॉक्सिंग टूर्नामेंट का दूसरा संस्करण किस राज्य में आयोजित किया गया था?

- Ans
- 1. असम
  - 2. कर्नाटक
  - 3. मध्य प्रदेश
  - 4. ओडिशा

Question ID : 98958016578  
Status : Answered  
Chosen Option : 3

Q.9 'टवीडल' शब्द निम्नलिखित खेलों में से किस खेल से जुड़ा हुआ है?

- Ans
- 1. क्रिकेट
  - 2. रबी
  - 3. हॉकी
  - 4. टेबल टेनिस

Question ID : 98958016573  
Status : Answered  
Chosen Option : 2

Q.10 \_\_\_\_\_ पत्ते के तने जैसा हिस्सा होता है जो अंकुर को तने से जोड़ता है।

- Ans
- 1. मध्यशिरा (Midrib)

2. शिस (Vein)

✓ 3. डंठल (Petiole)

✗ 4. अनुपर्ण (stipules)

Question ID : 98958016559

Status : Answered

Chosen Option : 3

Q.11 ऐसे मामले जो 'व्यवस्था का प्रश्न' नहीं हैं, उन्हें लोकसभा के नियम \_\_\_\_\_ के तहत विशेष उल्लेख के ज़रिए उठाया जा सकता है।

Ans ✓ 1. 377

✗ 2. 214

✗ 3. 302

✗ 4. 223

Question ID : 98958016571

Status : Not Answered

Chosen Option : --

Q.12 निम्नलिखित में से क्या एक आउटपुट डिवाइस नहीं है?

Ans ✗ 1. हैडफोन

✗ 2. प्रोजेक्टर

✓ 3. जॉय स्टिक

✗ 4. प्लॉटर

Question ID : 98958016562

Status : Answered

Chosen Option : 3

Q.13 निम्नलिखित में से कौन-सा देश 2020 में फीफा अंडर-17 महिला विश्व कप की मेजबानी करेगा?

Ans ✗ 1. बांग्लादेश

✓ 2. भारत

✗ 3. नेपाल

✗ 4. चीन

Question ID : 98958016574

Status : Answered

Chosen Option : 2

Q.14 \_\_\_\_\_ is a type of good for which demand increases as its price rises.

Ans ✗ 1. Club Good

✗ 2. Consumer Good

✓ 3. Giffen Good

✗ 4. Capital Good

Question ID : 98958016556

Status : Answered

Chosen Option : 2

Q.15 भारतीय फिल्म स्टार राहुल बोस भारत के किस खेल से जुड़े हुए थे?

Ans ✗ 1. स्कवैश

✗ 2. रोइंग

✓ 3. रग्बी

Question ID : 98958016575  
Status : Not Answered  
Chosen Option : --

Q.16 वर्ष 1757 की \_\_\_\_\_ की लड़ाई के बाद, अंग्रेज़ों ने भारत में राजनीतिक शक्ति हासिल की।

- Ans
- 1. बक्सर
  - 2. अलीवाल
  - 3. प्लासी
  - 4. सारागढ़ी

Question ID : 98958016568  
Status : Answered  
Chosen Option : 3

Q.17 2019 में, रडार इमेजिंग उपग्रह RISAT-2B को \_\_\_\_\_ में स्थित सतीश धवन अंतरिक्ष केंद्र द्वारा सफलतापूर्वक लॉन्च किया गया था।

- Ans
- 1. मुंबई
  - 2. बालासोर
  - 3. तिरुवनंतपुरम
  - 4. श्रीहरिकोटा

Question ID : 98958016576  
Status : Answered  
Chosen Option : 4

Q.18 जून 2019 तक की स्थिति के अनुसार, किस भारतीय राज्य में जिलों की संख्या सबसे कम है?

- Ans
- 1. सिक्किम
  - 2. गोवा
  - 3. अरुणाचल प्रदेश
  - 4. तेलंगाना

Question ID : 98958016566  
Status : Answered  
Chosen Option : 1

Q.19 वाइज़ एंड अदरवाइज़' पुस्तक का लेखन निम्नलिखित में से किसने किया है?

- Ans
- 1. झुम्पा लाहिड़ी
  - 2. अरुंधति रॉय
  - 3. सुधा मूर्ति
  - 4. गीता पिरामल

Question ID : 98958016569  
Status : Not Answered  
Chosen Option : --

Q.20 किस सिख गुरु ने सिख धर्म के पवित्र ग्रंथ 'आदि ग्रंथ' को संकलित किया?

- Ans
- 1. गुरु हरगोबिंद
  - 2. गुरु राम दास
  - 3. गुरु अर्जन देव
  - 4. गुरु अमर दास

Question ID : 98958016567

Status : Answered  
Chosen Option : 3

Q.21 किस भारतीय समकालीन कलाकार को 7वाँ जोन मिरो पुरस्कार 2019 से सम्मानित किया गया?

- Ans
- 1. नलिनी मालानी
  - 2. अतुल डोडिया
  - 3. अर्पिता सिंह
  - 4. दिवान सुंदरम

Question ID : 98958016577  
Status : Answered  
Chosen Option : 1

Q.22 लाल, गुलाबी, नीले और बैंगनी रंग के फूल मुख्य रूप से \_\_\_\_\_ नामक रंजक(पिगमेंट) से आते हैं।

- Ans
- 1. कैरोटेनॉइड्स
  - 2. लाइकोपीन
  - 3. क्लोरोफिल
  - 4. एंथोसायनिन्स

Question ID : 98958016560  
Status : Not Answered  
Chosen Option : --

Q.23 अर्स मेजर (Ursa Major) नक्षत्र को भारत में किस नाम से भी जाना जाता है?

- Ans
- 1. सप्तऋषि
  - 2. स्वदेशी
  - 3. महर्षि
  - 4. देवर्षि

Question ID : 98958016558  
Status : Not Answered  
Chosen Option : --

Q.24 एक कंप्यूटर के शुरू होने और रैम में ऑपरेटिंग सिस्टम के ज़रूरी हिस्से लोड करने की प्रक्रिया को क्या कहते हैं?

- Ans
- 1. मैपिंग
  - 2. स्वीपिंग
  - 3. टैगिंग
  - 4. बूटिंग

Question ID : 98958016561  
Status : Answered  
Chosen Option : 4

Q.25 A/an \_\_\_\_\_ stock is the stock of a large, well-established and financially sound company that has operated for many years.

- Ans
- 1. Blue-Chip
  - 2. Income
  - 3. Cyclical
  - 4. Defensive

Question ID : 98958016557  
Status : Not Answered  
Chosen Option : --

Q.1 यदि आयत की प्रत्येक भुजा 13% कम कर दी जाए, तो इसका क्षेत्रफल कितने प्रतिशत कम हो जाएगा?

- Ans
- 1. 24.31%
  - 2. 26%
  - 3. 13%
  - 4. 21.69%

Question ID : 98958017258

Status : Answered

Chosen Option : 1

Q.2 एक डीलर ₹20000 अंकित मूल्य का कोई सामान 20% और 5% की दो क्रमिक छूट पर खरीदता है। वह उसकी मरम्मत पर ₹1800 खर्च करता है और उसे ₹20000 में बेच देता है। उसका लाभ/हानि प्रतिशत (एक दशमलव स्थान तक) क्या है?

- Ans
- 1. 23.64% हानि
  - 2. 17.65% लाभ
  - 3. 23.46% लाभ
  - 4. 17.65% हानि

Question ID : 98958017260

Status : Answered

Chosen Option : 2

Q.3 अगर  $4(\operatorname{cosec}^2 65^\circ - \tan^2 25^\circ) - \sin 90^\circ - \tan^2 63^\circ y \tan^2 27^\circ = \frac{y}{2}$ , है, तब  $y$  का मान है:

- Ans
- 1.  $-\frac{1}{2}$
  - 2.  $-1$
  - 3. 2
  - 4. 1

Question ID : 98958017274

Status : Not Answered

Chosen Option : --

Q.4 यदि  $\cot \theta = 5x$  और  $\operatorname{cosec} \theta = \frac{5}{x}$  ( $x \neq 0$ ) है, तो  $5\left(x^2 - \frac{1}{x^2}\right)$  का मान है:

- Ans
- 1.  $\frac{1}{2}$
  - 2.  $-\frac{1}{4}$
  - 3.  $\frac{1}{5}$
  - 4.  $-\frac{1}{5}$

Question ID : 98958017275

Status : Not Answered

Chosen Option : --

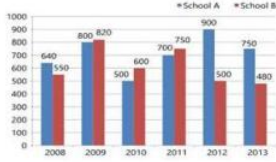
Q.5 माना  $\triangle ABC \sim \triangle PQR$  और  $\frac{\operatorname{ar}(\triangle ABC)}{\operatorname{ar}(\triangle PQR)} = \frac{4}{25}$  है। यदि  $AB = 12$  cm,  $BC = 8$  cm और  $AC = 9$  cm है, तो  $PR$  बराबर है:

- Ans
- 1. 20

2. 18  
 3. 17.5  
 4. 15

Question ID : 98958017273  
 Status : Answered  
 Chosen Option : 1

Q.6 दिया गया दंड आरेख (बार ग्राफ) दो स्कूलों के विद्यार्थियों की छह वर्षों की संख्या को दर्शाता है।



स्कूल A और B में विद्यार्थियों की कुल संख्या में, अपने पिछले वर्ष की तुलना में किस वर्ष में सबसे अधिक प्रतिशत वृद्धि हुई है?

- Ans
1. 2010  
 2. 2009  
 3. 2011  
 4. 2012

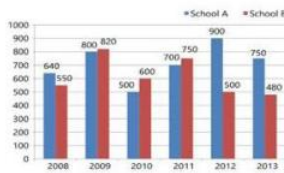
Question ID : 98958017280  
 Status : Answered  
 Chosen Option : 2

Q.7 A और B किसी काम को क्रमशः 15 दिनों और 10 दिनों में पूरा कर सकते हैं। एक काम को ₹75000 में पूरा करने के लिए उन्हें ठेका (कॉन्ट्रैक्ट) मिला। ठेके की राशि में B का हिस्सा (₹ में) होगा:

- Ans
1. 30,000  
 2. 40,000  
 3. 35,000  
 4. 45,000

Question ID : 98958017256  
 Status : Answered  
 Chosen Option : 4

Q.8 दिया गया दंड आरेख (बार ग्राफ) दो स्कूलों में छह वर्षों के दौरान विद्यार्थियों की संख्या को दर्शाता है।

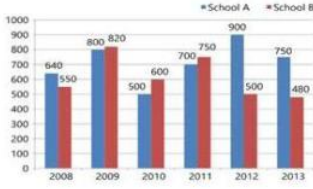


स्कूल A में वर्ष 2008, 2012 और 2013 में विद्यार्थियों की कुल संख्या और स्कूल B में वर्ष 2008, 2012 और 2013 में विद्यार्थियों की कुल संख्या का अनुपात क्या है?

- Ans
1. 101 : 117  
 2. 229 : 153  
 3. 117 : 101  
 4. 153 : 229

Question ID : 98958017277  
Status : Answered  
Chosen Option : 2

Q.9 दिया गया दंड आरेख (बार ग्राफ) दो स्कूलों में छह वर्षों के दौरान विद्यार्थियों की संख्या को दर्शाता है।



किस वर्ष, दोनों स्कूलों में विद्यार्थियों का योग सबसे अधिक है?

- Ans
- 1. 2012
  - 2. 2011
  - 3. 2009
  - 4. 2008

Question ID : 98958017277  
Status : Answered  
Chosen Option : 3

Q.10 अगर  $\cos x = \frac{-\sqrt{3}}{2}$  तथा  $\pi < x < \frac{3\pi}{2}$  है, तो  $2\cot^2 x - 3\sec^2 x$  का मान है:

- Ans
- 1. 4
  - 2. 2
  - 3. 6
  - 4. 8

Question ID : 98958017276  
Status : Not Answered  
Chosen Option : --

Q.11 A और B के वेतन का योग ₹45000 है। A अपने वेतन का 85% और B अपने वेतन का 70% खर्च करता है। यदि अब उनकी बचत समान है, तो B का वेतन (₹ में) क्या है?

- Ans
- 1. 18,000
  - 2. 12,600
  - 3. 30,000
  - 4. 15,000

Question ID : 98958017261  
Status : Answered  
Chosen Option : 4

Q.12 यदि  $a^3 + b^3 = 1344$  और  $a + b = 28$  है, तो  $(a + b)^2 - 3ab$  बराबर है:

- Ans
- 1. 24
  - 2. 32
  - 3. 48
  - 4. 16

Question ID : 98958017269

Status : Answered  
Chosen Option : 3Q.13 सात अंकों की संख्या  $54x29y6$  ( $x > y$ ) यदि 72 से विभाज्य है, तो  $(2x + 3y)$  का मान क्या है?

- Ans
- 1. 38
  - 2. 23
  - 3. 13
  - 4. 32

Question ID : 98958017265  
Status : Not Answered  
Chosen Option : --

Q.14 A प्रतिदिन ₹640 कमाता है और 8 घंटे काम करता है। B प्रतिदिन ₹360 कमाता है और 6 घंटे काम करता है। A और B की प्रतिदिन की मजदूरी का अनुपात है:

- Ans
- 1. 9 : 16
  - 2. 5 : 4
  - 3. 16 : 9
  - 4. 4 : 5

Question ID : 98958017263  
Status : Answered  
Chosen Option : 3

Q.15 3 cm और 2 cm त्रिज्या वाले दो वृत्तों के केंद्रों के बीच की दूरी 13 cm है। तिर्यक उभयनिष्ठ स्पर्शरेखा (transverse common tangent) की लंबाई (cm में) है:

- Ans
- 1. 10
  - 2. 12
  - 3. 6
  - 4. 8

Question ID : 98958017270  
Status : Answered  
Chosen Option : 2

Q.16 पंद्रह व्यक्तियों की औसत आयु 32 वर्ष है। यदि दो और व्यक्तियों को जोड़ दिया जाए तो औसत 3 वर्ष बढ़ जाता है। नए व्यक्तियों की आयु में 9 वर्ष का अंतर है। नए व्यक्तियों में से सबसे बड़े की आयु (वर्षों में) क्या है?

- Ans
- 1. 50
  - 2. 62
  - 3. 58
  - 4. 53

Question ID : 98958017259  
Status : Answered  
Chosen Option : 2Q.17  $\triangle ABC$  में,  $\angle B$  और  $\angle C$  के सम-द्विभाजक, बिभुज के अंदर O पर मिलते हैं। अगर  $\angle BOC = 106^\circ$  है तो  $\angle A$  की माप है:

- Ans
- 1.  $106^\circ$
  - 2.  $16^\circ$
  - 3.  $84^\circ$

Question ID : 98958017272

Status : Answered

Chosen Option : 4

Q.18 O केंद्र वाले किसी वृत्त के बाहर बिंदु P से PA और PB स्पर्शरेखाएँ हैं। A और B, वृत्त पर बिंदु हैं। यदि  $\angle APB = 72^\circ$ , तो  $\angle OAB$  बराबर है:

- Ans
- 1.  $24^\circ$
  - 2.  $18^\circ$
  - 3.  $36^\circ$
  - 4.  $72^\circ$

Question ID : 98958017271

Status : Answered

Chosen Option : 3

Q.19 किसी व्यक्ति ने तीन वस्तुएँ खरीदीं, जिनमें से प्रत्येक की कीमत ₹3000 थी। उसने उन वस्तुओं को क्रमशः 10% लाभ, 5% लाभ और 15% हानि पर बेच दिया। उसके द्वारा अर्जित कुल लाभ/हानि प्रतिशत है:

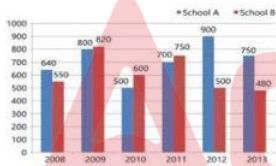
- Ans
- 1. न लाभ न हानि
  - 2. 5% हानि
  - 3. 5% लाभ
  - 4. 10% हानि

Question ID : 98958017262

Status : Answered

Chosen Option : 1

Q.20 दिया गया दंड आरेख (बार ग्राफ) दो स्कूलों में छह वर्षों के दौरान विद्यार्थियों की संख्या को दर्शाता है।



छह वर्षों की अवधि के दौरान स्कूल A और B में विद्यार्थियों की कुल संख्या का औसत (दशमलव के दो स्थानों तक) क्या है?

- Ans
- 1. 1221.67
  - 2. 1133.57
  - 3. 1331.67
  - 4. 1122.57

Question ID : 98958017279

Status : Answered

Chosen Option : 3

Q.21 दो रेलगाड़ियों की गति के बीच का अनुपात 2 : 5 है। यदि पहली रेलगाड़ी 5 घंटे में 350 किमी चलती है, तो दोनों रेलगाड़ियों की गति (km/h) में अंतर है?

- Ans
- 1. 180
  - 2. 165
  - 3. 350

Question ID : 98958017257

Status : Answered

Chosen Option : 4

Q.22 किसी निश्चित राशि पर 21% से 2 वर्षों के लिए चक्रवृद्धि ब्याज ₹9,282 है। इसी दर से और उतने ही समय के लिए इसका साधारण ब्याज (₹ में) है:

- Ans
- 1. 8,000
  - 2. 8,500
  - 3. 8,400
  - 4. 8,750

Question ID : 98958017264

Status : Answered

Chosen Option : 3

Q.23  $46 - \frac{3}{4}$  of  $32 - 6$  का सरलीकृत मान है:

- Ans
- 1.  $\frac{19}{16}$
  - 2. 1
  - 3. 2
  - 4.  $\frac{19}{64}$

Question ID : 98958017266

Status : Answered

Chosen Option : 2

Q.24 यदि  $x^4 + x^{-4} = 47$ , ( $x > 0$ ) है, तो  $(2x - 3)^2$  का मान है:

- Ans
- 1. 2
  - 2. 5
  - 3. 4
  - 4. 3

Question ID : 98958017267

Status : Not Answered

Chosen Option : --

Q.25 यदि  $x = 2 + \sqrt{5}$  है, तो  $(x^3 - x^{-3})$  का मान है:

- Ans
- 1. 52
  - 2. 76
  - 3. -52
  - 4. -76

Question ID : 98958017268

Status : Not Answered

Chosen Option : --

**Q.1 Identify the segment which contains the grammatical error.**

Climate change are a greatest threat facing our planet which needs our immediate attention.

- Ans
- 1. which needs
  - 2. are a greatest
  - 3. our immediate attention
  - 4. facing our planet

Question ID : 98958016194  
Status : Not Answered  
Chosen Option : --

**Q.2 Select the most appropriate passive form of the given sentence.**

Please lock the door.

- Ans
- 1. You are being ordered to lock the door.
  - 2. Please let the door be lock.
  - 3. The door should kindly being locked.
  - 4. You are requested to lock the door.

Question ID : 98958016196  
Status : Not Answered  
Chosen Option : --

**Q.3 Select the most appropriate synonym of the given word.**

DISCOVER

- Ans
- 1. find
  - 2. hide
  - 3. ignore
  - 4. neglect

Question ID : 98958016208  
Status : Not Answered  
Chosen Option : --

**Q.4 Given below are four jumbled sentences. Out of the given options pick the one that gives their correct order.**

- A. This kindness converted his street into a neighbourhood.
- B. He and his wife were always ready to lend a helping hand.
- C. Mohan was an ideal neighbour in every way.
- D. Whether it was lending tools or watering fields, the couple embodied neighbourly kindness.

- Ans
- 1. CDAB
  - 2. BDAC
  - 3. CBDA
  - 4. DBCA

Question ID : 98958016206  
Status : Answered  
Chosen Option : 3

**Q.5 Identify the segment which contains the grammatical error.**

Great many students who are good at other subjects perform poorly in English.

- Ans
- 1. perform poorly

2. Great many students

3. who are good at

4. in English

Question ID : 98958016195  
 Status : Not Answered  
 Chosen Option : --

**Q.6 Identify the most appropriate option to substitute the underlined segment. If no substitution is required, select No substitution.**

This was an only the mistake he made.

Ans  1. only the mistake

2. No substitution

3. the only mistake

4. the mistake only

Question ID : 98958016199  
 Status : Answered  
 Chosen Option : 3

**Q.7 Select the most appropriate word for the group of words.**

One who eats too much

Ans  1. glutton

2. corpulent

3. obese

4. overweight

Question ID : 98958016214  
 Status : Answered  
 Chosen Option : 1

**Q.8 Select the correctly spelt word.**

Ans  1. genuin

2. genuene

3. genuine

4. genwin

Question ID : 98958016216  
 Status : Answered  
 Chosen Option : 3

**Q.9 Select the most appropriate antonym of the given word.**

RETALIATION

Ans  1. retribution

2. regression

3. retrospection

4. reconciliation

Question ID : 98958016211  
 Status : Not Answered  
 Chosen Option : --

**Q.10 Select the most appropriate antonym of the given word.**

- Ans
- 1. fidelity
  - 2. trust
  - 3. faith
  - 4. treason

Question ID : 98958016210  
 Status : Answered  
 Chosen Option : 3

Q.11 Select the wrongly spelt word.

- Ans
- 1. eager
  - 2. value
  - 3. beggar
  - 4. vehical

Question ID : 98958016217  
 Status : Answered  
 Chosen Option : 1

**Comprehension:**

In the following passage some words have been deleted. Fill in the blanks with the help of the alternatives given. Select the most appropriate option for each blank.

Each child deserves love and care. The child who is (1) \_\_\_\_\_ for what he is even if he is slow or (2) \_\_\_\_\_, will grow with confidence in himself. He will (3) \_\_\_\_\_ the ability to make the best use of the (4) \_\_\_\_\_ which come his way and make light of any (5) \_\_\_\_\_ that may pose difficulties in his path.

SubQuestion No : 12

Q.12 Select the most appropriate option to fill in blank number 1

- Ans
- 1. appreciated
  - 2. thanked
  - 3. rebuked
  - 4. jeered

Question ID : 98958016201  
 Status : Not Answered  
 Chosen Option : --

**Comprehension:**

In the following passage some words have been deleted. Fill in the blanks with the help of the alternatives given. Select the most appropriate option for each blank.

Each child deserves love and care. The child who is (1) \_\_\_\_\_ for what he is even if he is slow or (2) \_\_\_\_\_, will grow with confidence in himself. He will (3) \_\_\_\_\_ the ability to make the best use of the (4) \_\_\_\_\_ which come his way and make light of any (5) \_\_\_\_\_ that may pose difficulties in his path.

SubQuestion No : 13

Q.13 Select the most appropriate option to fill in blank number 2

- Ans
- 1. clever
  - 2. clumsy
  - 3. courteous
  - 4. capable

Question ID : 98958016202  
 Status : Not Answered  
 Chosen Option : --

Comprehension

In the following passage some words have been deleted. Fill in the blanks with the help of the alternatives given. Select the most appropriate option for each blank.

Each child deserves love and care. The child who is (1) \_\_\_\_\_ for what he is even if he is slow or (2) \_\_\_\_\_, will grow with confidence in himself. He will (3) \_\_\_\_\_ the ability to make the best use of the (4) \_\_\_\_\_ which come his way and make light of any (5) \_\_\_\_\_ that may pose difficulties in his path.

SubQuestion No : 14

Q.14 Select the most appropriate option to fill in blank number 3

- Ans
- 1. maintain
  - 2. develop
  - 3. consider
  - 4. conceal

Question ID : 98958016203  
Status : Not Answered  
Chosen Option : --

Comprehension:

In the following passage some words have been deleted. Fill in the blanks with the help of the alternatives given. Select the most appropriate option for each blank.

Each child deserves love and care. The child who is (1) \_\_\_\_\_ for what he is even if he is slow or (2) \_\_\_\_\_, will grow with confidence in himself. He will (3) \_\_\_\_\_ the ability to make the best use of the (4) \_\_\_\_\_ which come his way and make light of any (5) \_\_\_\_\_ that may pose difficulties in his path.

SubQuestion No : 15

Q.15 Select the most appropriate option to fill in blank number 4

- Ans
- 1. favours
  - 2. opportunities
  - 3. dreams
  - 4. threats

Question ID : 98958016204  
Status : Not Answered  
Chosen Option : --

Comprehension:

In the following passage some words have been deleted. Fill in the blanks with the help of the alternatives given. Select the most appropriate option for each blank.

Each child deserves love and care. The child who is (1) \_\_\_\_\_ for what he is even if he is slow or (2) \_\_\_\_\_, will grow with confidence in himself. He will (3) \_\_\_\_\_ the ability to make the best use of the (4) \_\_\_\_\_ which come his way and make light of any (5) \_\_\_\_\_ that may pose difficulties in his path.

SubQuestion No : 16

Q.16 Select the most appropriate option to fill in blank number 5

- Ans
- 1. prohibitions
  - 2. handicaps
  - 3. consequences
  - 4. intrusions

Question ID : 98958016205  
Status : Not Answered  
Chosen Option : --

Q.17 Select the most appropriate meaning of the given idiom.

Through thick and thin

- Ans
- 1. to be scared of small dangers

- 2. support under all circumstances
- 3. to be hard-hearted in times of loss
- 4. passing through a thick forest

Question ID : 98958016212  
 Status : Not Answered  
 Chosen Option : --

Q.18 Select the most appropriate synonym of the given word.

**IGNOMINIOUS**

- Ans
- 1. disgraceful
  - 2. generous
  - 3. innocuous
  - 4. wonderful

Question ID : 98958016209  
 Status : Not Answered  
 Chosen Option : --

Q.19 Fill in the blank with the most appropriate word.

The landlord is very \_\_\_\_\_ about cleanliness and finds fault with all his tenants.

- Ans
- 1. fastidious
  - 2. fabulous
  - 3. ominous
  - 4. pompous

Question ID : 98958016219  
 Status : Not Answered  
 Chosen Option : --

Q.20 Select the most appropriate meaning of the given idiom.

**Rule the roost**

- Ans
- 1. to frequently pick a quarrel
  - 2. to make all the decisions
  - 3. to be prosperous but generous
  - 4. to blindly follow others

Question ID : 98958016213  
 Status : Not Answered  
 Chosen Option : --

Q.21 Select the most appropriate word for the group of words.

people who enjoy social company

- Ans
- 1. gorgeous
  - 2. herbivorous
  - 3. gregarious
  - 4. unanimous

Question ID : 98958016215  
 Status : Answered  
 Chosen Option : 4

Q.22 Fill in the blank with the most appropriate word.

Test

Prime

By Adda247

# Previous Year Papers PDF

PRACTICE MORE, SCORE HIGHER!



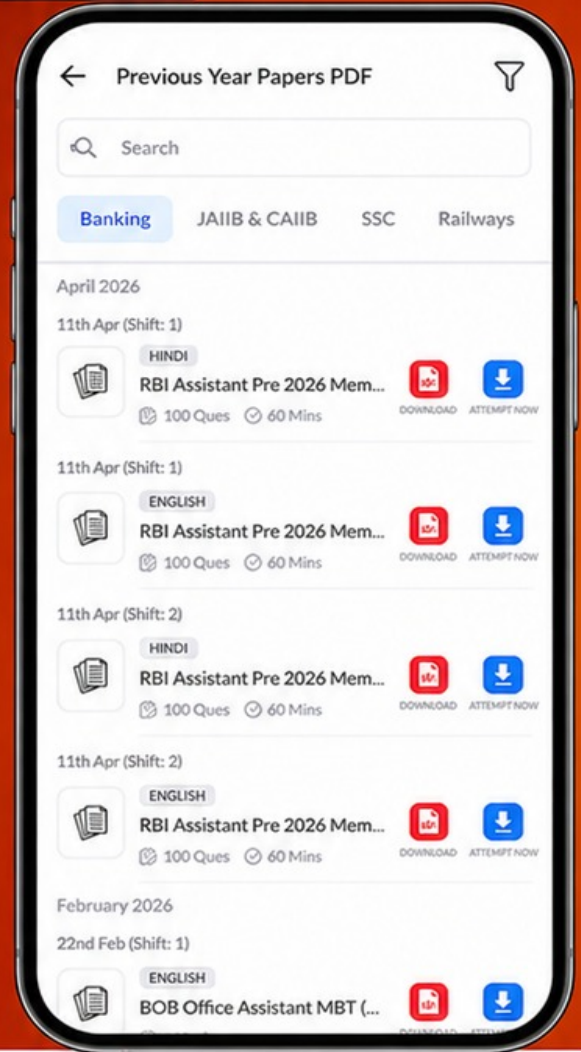
Free  
**25,000+**  
PDF's

High-Quality | Exam-Wise | Updated Regularly

ATTEMPT AS  
**MOCK**



Turn PDFs into real exam experience.  
Analyze. Improve. Succeed.



Topic-wise &  
Exam-wise PDFs



Download &  
Study Offline



Attempt as Mock  
& Track Score



Smart Analysis  
& Performance

AVAILABLE IN



Banking



SSC



Railway



Teaching



UGC



Agriculture



Nursing



Bihar



UP



Punjab



WB



Odisha



TN



AP & Telangana



Haryana



DOWNLOAD THE APP



We must not lose heart in times of \_\_\_\_ .

- Ans
- 1. deformity
  - 2. adversity
  - 3. inactivity
  - 4. diversity

Question ID : 98958016218  
Status : Not Answered  
Chosen Option : --

Q.23 Given below are four jumbled sentences. Out of the given options pick the one that gives their correct order.

- A. Till quite recently the trend was to go to the west that offered advanced medical facilities.
- B. This is because it has on offer the highest level of services, facilities and professional skills.
- C. But over the last decade the trend has reversed and India is being chosen for medical tourism.
- D. Today, it is not uncommon to travel to a foreign country for medical treatment.

- Ans
- 1. BCDA
  - 2. DACB
  - 3. ABCD
  - 4. CBDA

Question ID : 98958016207  
Status : Not Answered  
Chosen Option : --

Q.24 Identify the most appropriate option to substitute the underlined segment. If no substitution is required, select No substitution.

He is a good singer of the two.

- Ans
- 1. the better singer
  - 2. the good singer
  - 3. the best singer
  - 4. No substitution

Question ID : 98958016198  
Status : Answered  
Chosen Option : 1

Q.25 Select the most appropriate indirect form of the given sentence.

She said to you, "I have a thousand rupees in my purse now."

- Ans
- 1. She told you that she has a thousand rupees in my purse now.
  - 2. She told me that she had a thousand rupees in her purse now.
  - 3. She said you that she have a thousand rupees in my purse then.
  - 4. She told you that she had a thousand rupees in her purse then.

Question ID : 98958016197  
Status : Answered  
Chosen Option : 3