

Combined Higher Secondary Level (10+2) Examination-2018

Roll No.	
Registration No.	
Name	
Test Venue	
Test Time	1:00 PM - 2:00 PM
Test Date	08/07/2019

Section : General Intelligence

Q.1 उस शब्द-युग्म का चयन करें जिसमें दो शब्द उसी तरह से संबंधित हैं जैसे निम्नलिखित शब्द-युग्म में दो शब्द संबंधित हैं:

मंदिर : पूजा

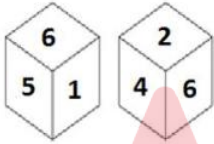
- Ans
- 1. अस्पताल : डॉक्टर
 - 2. होटल : खर्च
 - 3. विश्वविद्यालय : प्रोफेसर
 - 4. विद्यालय : शिक्षा

Question ID : 98958016863

Status : Answered

Chosen Option : 4

Q.2 एक ही पासे की दो अलग-अलग स्थितियों को नीचे दर्शाया गया है, जिसके छह फलकों पर 1 से 6 संख्याएँ अंकित हैं। '3' संख्या वाले फलक के सामने वाली संख्या ज्ञात कीजिए।



- Ans
- 1. 2
 - 2. 5
 - 3. 6
 - 4. 4

Question ID : 98958016874

Status : Answered

Chosen Option : 3

Q.3 उस समुच्चय का चयन करें जिसमें संख्याएँ उसी तरह से संबंधित हैं जैसे कि निम्नलिखित समुच्चय की संख्याएँ संबंधित हैं।

(145, 65, 115)

- Ans
- 1. (185, 65, 170)
 - 2. (80, 50, 110)
 - 3. (185, 70, 95)
 - 4. (130, 70, 100)

Question ID : 98958016870

**Test
Prime**

By Adda247

ALL EXAMS, ONE SUBSCRIPTION



Test. Analyze. Improve. Repeat.



Don't just *prepare*. *Perform*.

Test Prime — built only for mock tests.



1,50,000+
Mock Tests



25,000+
Previous Year Papers



800+
Exam Covered



500% Refund
on Selection



5 lakh+
Free Quizzes



Daily
Free PDFs



Job Alerts
Stay Updated

- Multilingual
- Detailed Solution
- Strong and Weak Areas



**All India
Rankings**

Compete with lakhs.
Rank. Improve. Repeat.



← Adda247 test prime

Rating ▾

Editors' choice

New



Adda247 Test Prime
Adda Education • Education
📌 Installed



DOWNLOAD THE APP



Status : Not Answered
Chosen Option : --

Q.4 निम्नलिखित चार अक्षर-समूहों में से तीन अक्षर-समूह एक निश्चित तरीके से एक जैसे हैं और एक अलग है। उस अलग अक्षर-समूह को चुनिए।

- Ans
- 1. TWZC
 - 2. BDGJ
 - 3. KNQT
 - 4. DGJM

Question ID : 98958016864
Status : Answered
Chosen Option : 2

Q.5 उस विकल्प का चयन करें जिसमें चित्र-एक्स अंतर्निहित है। (आकृति को घुमाने की अनुमति नहीं है)



चित्र-एक्स

Ans

- 1.
- 2.
- 3.
- 4.

Question ID : 98958016877
Status : Answered
Chosen Option : 3

Q.6 A + B का अर्थ है 'A बहन है B की'
A - B का अर्थ है 'A बेटा है B का'

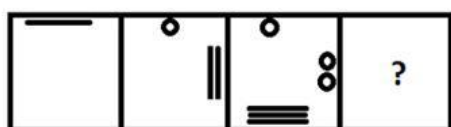
$A \times B$ का अर्थ है 'A पिता है B का'
 $A \div B$ का अर्थ है 'A भाई है B का'

यदि $S \times M \div U + L \times Z - I$ है, तो L किस प्रकार संबंधित है I से?

- Ans
- 1. पति
 - 2. बेटा
 - 3. पिता
 - 4. भाई

Question ID : 98958016862
 Status : Not Answered
 Chosen Option : --

Q.7 उस आकृति का चयन करें जो नीचे दी गई आकृति श्रृंखला में अगले स्थान पर आएगी।



- Ans
- 1.
 - 2.
 - 3.
 - 4.

Question ID : 98958016875
 Status : Answered
 Chosen Option : 3

Q.8 अगर एक दर्पण को आकृति के दाईं ओर रखा जाये तो दिए गए चित्र की सही दर्पण छवि का चयन करें।

64EKPC92

- Ans
- 1.

- ✓ 2. S O C P K E F @
- ✗ 3. S @ C P K E F @
- ✗ 4. S O C P K E F 9

Question ID : 98958016879

Status : Answered

Chosen Option : 2

Q.9 तीन मित्रों A, B और C के पास अलग-अलग राशि हैं। यदि A, B से ₹10 लेता है, तो A के पास C से ₹4 कम होंगे। A और C के पास कुल मिला कर ₹330 हैं। C के पास कितने रुपये हैं?

- Ans
- ✗ 1. 176
- ✗ 2. 174
- ✗ 3. 170
- ✓ 4. 172

Question ID : 98958016867

Status : Not Answered

Chosen Option : --

Q.10 ऐसे अक्षरों के संयोजन का चयन करें जोकि दी गई अक्षर श्रृंखला के रिक्त स्थानों में क्रमिक रूप से रखे जाने पर श्रृंखला को पूरा करेगा।

u _ _ m p m _ _ u u c m _ m m j _ u c _ p m m _

- Ans
- ✗ 1. u c m j u u m m
- ✓ 2. u c m j p u m j
- ✗ 3. u c u j p m m j
- ✗ 4. p c j m p u m j

Question ID : 98958016861

Status : Not Answered

Chosen Option : --

Q.11 एक कोड भाषा में, PROXIMITY को ZQTRKAVKO के रूप में लिखा जाता है। उस भाषा में ILLOGICAL को कैसे लिखा जाएगा?

- Ans
- ✗ 1. QMMKIMCEK
- ✗ 2. QNNLINBEL
- ✗ 3. RNNLINCEK
- ✓ 4. QNNKINCEK

Question ID : 98958016857

Status : Not Answered

Chosen Option : --

Q.12 निम्नलिखित चार शब्दों में से तीन शब्द एक निश्चित तरीके से एक जैसे हैं और एक अलग है। उस अलग शब्द को चुनिए।

- Ans
- ✗ 1. खून की कमी

2. उच्च रक्तचाप
3. हार्मोन
4. फोड़ा

Question ID : 98958016865
Status : Answered
Chosen Option : 3

Q.13 निम्नलिखित गतिविधियों को एक तार्किक और सार्थक क्रम में व्यवस्थित करें।

1. घड़ी में अलार्म लगाना
2. प्रश्न पत्र हल करना
3. अलार्म की घंटी बजना
4. परीक्षा केंद्र पर पहुंचना
5. कपड़े पहन कर तैयार होना
6. उत्तर पुस्तिका लौटाना

- Ans 1. 1, 3, 4, 5, 2, 6
2. 3, 1, 5, 4, 2, 6
3. 1, 3, 5, 4, 6, 2
4. 1, 3, 5, 4, 2, 6

Question ID : 98958016856
Status : Answered
Chosen Option : 4

Q.14 यदि CALLOSUM को 31336134 के रूप में कोडबद्ध किया गया है, तो CEREMONY को कैसे कोडबद्ध किया जाएगा?


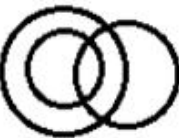
- Ans 1. 35954657
2. 35954547
3. 25945757
4. 35854656

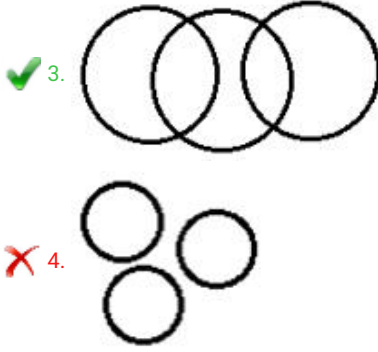
Question ID : 98958016858
Status : Answered
Chosen Option : 1

Q.15 उस वेन आरेख का चयन करें जो निम्नलिखित वर्गों के बीच के संबंध को सबसे अच्छा दर्शाता है।

महिलाएं, वकील, बेटे

Ans

1. 
2. 



Question ID : 98958016880

Status : Answered

Chosen Option : 3

Q.16 उस विकल्प का चयन करें जो तीसरे अक्षर-समूह से उसी तरह संबंधित है जैसे दूसरा अक्षर-समूह पहले अक्षर-समूह से संबंधित है।

DHMR : BJKT :: XCOE : ?

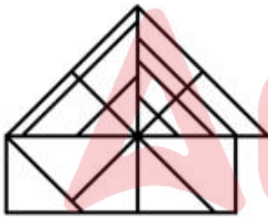
- Ans
- ✗ 1. VENG
- ✗ 2. UENG
- ✓ 3. VEMG
- ✗ 4. VFMH

Question ID : 98958016859

Status : Answered

Chosen Option : 3

Q.17 दी गई आकृति में कितने त्रिभुज मौजूद हैं?



- Ans
- ✓ 1. 25
- ✗ 2. 26
- ✗ 3. 24
- ✗ 4. 27

Question ID : 98958016876

Status : Answered

Chosen Option : 1

Q.18 दो कथन दिए गए हैं, इसके बाद तीन निष्कर्ष I, II और III दिए गए हैं। कथनों को सत्य मानते हुए, भले ही वे आम तौर पर ज्ञात तथ्यों से अलग हों, यह निर्णय लीजिए कि कौन-सा/से निष्कर्ष कथनों का तार्किक रूप से अनुसरण करता है/करते हैं।

कथन:

कुछ पौधे सब्जी हैं।

सभी सब्जियां विटामिन हैं।

निष्कर्ष:

- I. कुछ विटामिन पौधे हैं।
 II. कुछ विटामिन सब्जियां हैं।
 III. कोई भी विटामिन पौधा नहीं है।

- Ans 1. केवल निष्कर्ष I और II अनुसरण करते हैं।
 2. या तो निष्कर्ष I अथवा III अनुसरण करता है।
 3. केवल निष्कर्ष I और III अनुसरण करते हैं।
 4. केवल निष्कर्ष II और III अनुसरण करते हैं।

Question ID : 98958016866

Status : Answered

Chosen Option : 1

Q.19 उस संख्या-युग्म का चयन करें जिसमें दो संख्याएँ उसी तरह से संबंधित हैं जैसे कि निम्नलिखित संख्या-युग्म की दो संख्याएँ संबंधित हैं।

11 : 120

- Ans 1. 8 : 65
 2. 2 : 3
 3. 17 : 289
 4. 12 : 144

Question ID : 98958016869

Status : Answered

Chosen Option : 2

Q.20 निम्नलिखित समीकरण को सही बनाने के लिए इसमें किन दो संख्याओं को एक-दूसरे से बदलना होगा?

$$779 + 14 \times 21 - 532 \div 41 = 807$$

- Ans 1. 21 और 41
 2. 532 और 41
 3. 779 और 21
 4. 532 और 779

Question ID : 98958016868

Status : Answered

Chosen Option : 4

Q.21 'पारा' का संबंध 'धातु' से उसी प्रकार है जैसे 'मेंढक' का संबंध '_____' से है।

- Ans 1. सरीसृप
 2. कृतक
 3. जलथलचर
 4. स्तनधारी

Question ID : 98958016860

Status : Answered

Chosen Option : 3

Q.22 निम्नलिखित चार संख्याओं में से तीन संख्या एक निश्चित तरीके से एक जैसे हैं और एक अलग है। उस अलग संख्या चयन कीजिए।

Ans

✗ 1. 448

✓ 2. 226

✗ 3. 336

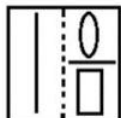
✗ 4. 224

Question ID : 98958016873

Status : Answered

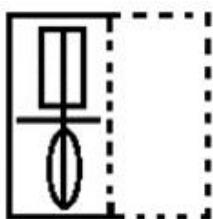
Chosen Option : 2

Q.23 एक पारदर्शी शीट का चित्र एक पैटर्न के साथ नीचे दिया गया है। उस विकल्प का चयन करें जो यह दिखाता है कि बिंदीदार रेखा पर पारदर्शी शीट को मोड़ने पर पैटर्न कैसा दिखाई देगा।




Ans

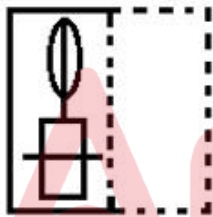
✗ 1.




✗ 2.



✗ 3.



✓ 4.



Question ID : 98958016878

Status : Answered

Chosen Option : 4

Q.24 निम्नलिखित श्रृंखला में कौन-सी संख्या प्रश्न चिह्न (?) के स्थान पर आएगी?

55, 56, 64, 91, 155, ?

Ans ✗ 1. 275

✗ 2. 265

✗ 3. 270

✓ 4. 280

Question ID : 98958016872
Status : Answered
Chosen Option : 4

Q.25 उस समुच्चय का चयन करें जिसमें संख्याएँ उसी तरह से संबंधित हैं जैसे कि निम्नलिखित समुच्चय की संख्याएँ संबंधित हैं।

(8, 39, 5)

- Ans
- ✗ 1. (11, 67, 8)
 - ✓ 2. (14, 115, 9)
 - ✗ 3. (10, 60, 6)
 - ✗ 4. (9, 55, 4)

Question ID : 98958016871
Status : Answered
Chosen Option : 1

Section : General Awareness

Q.1 एक बाज़ार में किसी संपत्ति को खरीदने और उसी समय किसी दूसरे बाज़ार में ऊँची कीमत पर वैसी ही संपत्ति बेचने को अर्थशास्त्र में _____ कहा जाता है।

- Ans
- ✓ 1. अन्तरपणन
 - ✗ 2. गिरवी
 - ✗ 3. मूल्यहास
 - ✗ 4. अवमूल्यन

Question ID : 98958016532
Status : Answered
Chosen Option : 1

Q.2 निम्न में से किस भारतीय राज्य में 'चकरी' एक प्रकार का पारंपरिक संगीत लोकप्रिय है?

- Ans
- ✗ 1. राजस्थान
 - ✗ 2. पंजाब
 - ✓ 3. जम्मू और कश्मीर
 - ✗ 4. मध्य प्रदेश

Question ID : 98958016530
Status : Not Answered
Chosen Option : --

Q.3 1998 में गूगल की स्थापना लैरी पेज और _____ ने की थी।

- Ans
- ✓ 1. सर्गी ब्रिन
 - ✗ 2. पीटर थिएल
 - ✗ 3. इलॉन मस्क
 - ✗ 4. स्टीव वॉज़निएक

Question ID : 98958016537
Status : Answered

Chosen Option : 4

Q.4 _____ बहुत ऊंचाई पर हिमपात (Snow) और बर्फ का एक बड़ा ढेर होता है जो पहाड़ी ढलानों से नीचे गिरता है।

- Ans
- 1. ज्वालामुखी
 - 2. चक्रवात
 - 3. हिमस्खलन
 - 4. तूफान

Question ID : 98958016538

Status : Answered

Chosen Option : 3

Q.5 टम्बल टर्न्स शब्द निम्नलिखित में से किस खेल से जुड़ा हुआ है?

- Ans
- 1. लम्बी कूद
 - 2. दौड़
 - 3. तैराकी
 - 4. साइकिलिंग

Question ID : 98958016548

Status : Not Answered

Chosen Option : --

Q.6 _____ कंप्यूटर में मुख्य प्रिंटेड सर्किट बोर्ड (PCB) होता है।

- Ans
- 1. CPU (सेंट्रल प्रोसेसिंग यूनिट)
 - 2. मदरबोर्ड
 - 3. ROM (रीड ओनली मेमोरी)
 - 4. RAM (रैंडम एक्सेस मेमोरी)

Question ID : 98958016536

Status : Answered

Chosen Option : 1

Q.7 संसद के दोनों सदनों और उसकी समितियों और सदस्यों की शक्तियाँ, विशेषाधिकार और बचाव के बारे में मुख्य रूप से भारत के संविधान के अनुच्छेद _____ में उल्लेख किया गया है।

- Ans
- 1. 115
 - 2. 107
 - 3. 105
 - 4. 102

Question ID : 98958016546

Status : Not Answered

Chosen Option : --

Q.8 2018 में रैमन मैग्सेसे पुरस्कार से सम्मानित होने वाले दो भारतीय व्यक्ति भारत वटवानी और _____ थे।

- Ans
- 1. राजेन्द्र सिंह
 - 2. सोनम वांगचुक
 - 3. अरविंद केजरीवाल

✗ 4. सत्यभामा दास बीजू

Question ID : 98958016545
Status : Answered
Chosen Option : 2

Q.9 2019 में भारत में 'विश्व मौसम विज्ञान दिवस' _____ को मनाया गया।

- Ans
- ✗ 1. 18 अप्रैल
 - ✗ 2. 25 जनवरी
 - ✗ 3. 17 फरवरी
 - ✓ 4. 20 मई

Question ID : 98958016551
Status : Answered
Chosen Option : 4

Q.10 'एन एरा ऑफ डार्कनेस: द ब्रिटिश एम्पायर इन इंडिया' पुस्तक किसने लिखी है?

- Ans
- ✗ 1. ए पी जे अब्दुल कलाम
 - ✓ 2. शशि थरूर
 - ✗ 3. रामचंद्र गुहा
 - ✗ 4. सुधा मूर्ति

Question ID : 98958016544
Status : Not Answered
Chosen Option : --

Q.11 _____ वह प्रक्रिया है जिससे हवा में मौजूद जल-वाष्प, तरल पानी में बदल जाता है।

- Ans
- ✓ 1. संघनन
 - ✗ 2. वर्षण
 - ✗ 3. वाष्पीकरण
 - ✗ 4. निस्तारण

Question ID : 98958016533
Status : Answered
Chosen Option : 4

Q.12 संसद सदस्य स्थानीय क्षेत्र विकास योजना (MPLADS) को दिसंबर _____ में पेश किया गया था।

- Ans
- ✓ 1. 1993
 - ✗ 2. 1991
 - ✗ 3. 2004
 - ✗ 4. 2014

Question ID : 98958016547
Status : Not Answered
Chosen Option : --

Q.13 _____ तुर्की में खेले गये विश्व चैलेंज कप में एक ग्लोबल इवेंट में स्वर्ण पदक जीतने वाला पहला भारतीय जिम्नास्ट है।

- Ans
- ✗ 1. आशीष कुमार

- 2. अरुणा रेड्डी
- 3. राकेश पात्रा
- 4. दीपा कर्माकर

Question ID : 98958016550
Status : Answered
Chosen Option : 4

Q.14 ऐतिहासिक शेरशाह सूरी मार्ग को किस मार्ग के रूप में जाना जाता है?

- Ans
- 1. राष्ट्रीय राजमार्ग संख्या 11
 - 2. राष्ट्रीय राजमार्ग संख्या 1
 - 3. राष्ट्रीय राजमार्ग संख्या 23
 - 4. राष्ट्रीय राजमार्ग संख्या 8

Question ID : 98958016539
Status : Answered
Chosen Option : 2

Q.15 14 वीं शताब्दी की शुरुआत में चोल साम्राज्य पर _____ ने हमला किया था।

- Ans
- 1. मोहम्मद गौरी
 - 2. तैमूर
 - 3. मलिक काफूर
 - 4. चंगेज खान

Question ID : 98958016542
Status : Answered
Chosen Option : 3

Q.16 कलुमार शिखर _____ पर्वत श्रृंखला में उच्चतम बिंदु है।

- Ans
- 1. विंध्य
 - 2. सतपुड़ा
 - 3. अरावली
 - 4. काराकोरम

Question ID : 98958016541
Status : Not Answered
Chosen Option : --

Q.17 _____ ने अरब सागर के किनारे काठियावाड़ के दक्षिणी तट पर हमला किया, जहाँ उसने 1026 में सोमनाथ शहर और उस शहर के प्रसिद्ध हिंदू मंदिर को लूटा।

- Ans
- 1. मोहम्मद गौरी
 - 2. फ़िरोज़ शाह तुग़लक़
 - 3. महमूद गज़नवी
 - 4. अहमद शाह तुग़लक़

Question ID : 98958016543
Status : Answered
Chosen Option : 3

Q.18 बिब' शब्द निम्नलिखित में से किस खेल से जुड़ा है? इस शब्द का अर्थ संख्याएँ छपी हुई शीट होता है।

- Ans
- 1. लॉन टेनिस
 - 2. दौड़
 - 3. हॉकी
 - 4. फुटबॉल

Question ID : 98958016549
Status : Not Answered
Chosen Option : --

Q.19 चूने का रासायनिक नाम क्या है?

- Ans
- 1. कैल्शियम हाइड्रॉक्साइड
 - 2. कैल्शियम क्लोराइड
 - 3. सोडियम क्लोराइड
 - 4. कैल्शियम नाइट्रेट

Question ID : 98958016535
Status : Answered
Chosen Option : 1

Q.20 भारतीय इस्पात उपयोगकर्ता संघ के अनुसार वर्ष 2018 में वैश्विक कच्चे इस्पात उत्पादन में भारत का स्थान क्या था?

- Ans
- 1. तीसरा
 - 2. दूसरा
 - 3. पहला
 - 4. चौथा

Question ID : 98958016531
Status : Not Answered
Chosen Option : --

Q.21 रगड़ कर सफाई (scouring) और ब्लीच की प्रक्रियाओं से गुजरने के बाद 99% कपास किस पॉलीमर से बना होता है?

- Ans
- 1. सेल्यूलोज
 - 2. टेफ्लॉन
 - 3. प्रोटीन
 - 4. इपोक्सी

Question ID : 98958016534
Status : Not Answered
Chosen Option : --

Q.22 निम्नलिखित में से किस राज्य से 'भवाईया' लोकगीत संबंधित है?

- Ans
- 1. ओडिशा
 - 2. पश्चिम बंगाल
 - 3. छत्तीसगढ़
 - 4. झारखंड

Question ID : 98958016529
Status : Not Answered
Chosen Option : --

Q.23 मई 2019 में पाकिस्तान ने _____ नामक सतह से सतह पर मार करने वाली बैलिस्टिक मिसाइल का सफल परीक्षण किया।

- Ans
- 1. सलाम III
 - 2. शाहीन II
 - 3. वतन I
 - 4. मुसाफिर II

Question ID : 98958016553
Status : Not Answered
Chosen Option : --

Q.24 जवाहरलाल नेहरू बंदरगाह कहां स्थित है?

- Ans
- 1. केरल
 - 2. पश्चिम बंगाल
 - 3. आंध्र प्रदेश
 - 4. महाराष्ट्र

Question ID : 98958016540
Status : Answered
Chosen Option : 2

Q.25 मई 2019 में पूर्व मिस वर्ल्ड प्रियंका चोपड़ा ने मानवतावादी कार्यों के लिए यूनिसेफ की सद्भावना राजदूत के रूप में _____ का दौरा किया।

- Ans
- 1. युगांडा
 - 2. केन्या
 - 3. इथोपिया
 - 4. कांगो लोकतांत्रिक गणराज्य

Question ID : 98958016552
Status : Not Answered
Chosen Option : --

Section : Quantitative Aptitude

Q.1 A और B किसी काम को क्रमशः 15 और 10 दिनों में पूरा कर सकते हैं। उन्हें ₹35000 में काम पूरा करने का ठेका (कॉन्ट्रैक्ट) मिला। ठेके की राशि में B का हिस्सा (₹ में) होगा:

- Ans
- 1. ₹14000
 - 2. ₹21000
 - 3. ₹15000
 - 4. ₹7000

Question ID : 98958017231
Status : Answered
Chosen Option : 2

Q.2

पंद्रह व्यक्तियों की औसत आयु 32 वर्ष है। दो और व्यक्तियों को शामिल किए जाने पर, औसत आयु 3 वर्ष बढ़ जाती है। नए व्यक्तियों की आयु में 7 वर्षों का अंतर है। नए व्यक्तियों में बड़े व्यक्ति की आयु (वर्ष में) है:

- Ans
- 1. 58
 - 2. 54
 - 3. 50
 - 4. 61

Question ID : 98958017234
Status : Answered
Chosen Option : 4

Q.3 किसी धनराशि पर 11% की दर से 2 वर्षों का चक्रवृद्धि व्याज ₹6963 है। समान अवधि और समान दर पर इसका साधारण व्याज (₹ में) है:

- Ans
- 1. ₹6000
 - 2. ₹6750
 - 3. ₹6600
 - 4. ₹6500

Question ID : 98958017239
Status : Answered
Chosen Option : 3

Q.4 एक बहुभुज की 11 भुजाएं हैं। बहुभुज के शीर्ष-मात्र के उपयोग से कितने त्रिभुज खींचे जा सकते हैं?

- Ans
- 1. 180
 - 2. 175
 - 3. 165
 - 4. 150

Question ID : 98958017248
Status : Not Answered
Chosen Option : --

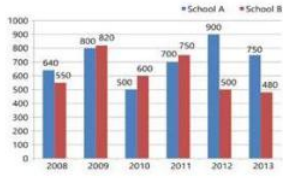
Q.5 एक पूर्णांक n दिया गया है, $(6n + 3)^2$ को 9 से विभाजित करने पर शेषफल कितना होगा?

- Ans
- 1. 3
 - 2. 0
 - 3. 2
 - 4. 1

Question ID : 98958017240
Status : Answered
Chosen Option : 2

Q.6

दिया गया दंड आरेख (बार ग्राफ) छह वर्षों के दौरान दो स्कूलों में विद्यार्थियों की संख्या को दर्शाता है।



किस वर्ष में, स्कूल A के विद्यार्थियों की संख्या में प्रतिशत वृद्धि इसके पिछले वर्ष की तुलना में सबसे अधिक है?

- Ans
- 1. 2011
 - 2. 2010
 - 3. 2009
 - 4. 2012

Question ID : 98958017255

Status : Answered

Chosen Option : 1

Q.7 A और B के वेतनों का योगफल ₹ 43000 है। A अपने वेतन का 95% खर्च करता है और B अपने वेतन का 80% खर्च करता है। अब यदि उनकी बचत बराबर है तो B का वेतन (₹ में) कितना है?

- Ans
- 1. 8000
 - 2. 34400
 - 3. 10600
 - 4. 8600

Question ID : 98958017236

Status : Answered

Chosen Option : 4

Q.8 यदि $\cos x = \frac{-\sqrt{3}}{2}$ और $\pi < x < \frac{3\pi}{2}$ है, तो $2\cot^2 x - 3\sec^2 x$ का मान है:

- Ans
- 1. 8
 - 2. 16
 - 3. 4
 - 4. 10

Question ID : 98958017251

Status : Not Answered

Chosen Option : --

Q.9 यदि $(x-7)^3 + (2x+8)^3 + (2x-3)^3 = 3(x-7)(2x+8)(2x-3)$ है, तो x का मान क्या है?

- Ans
- 1. 1.2
 - 2. 0.4
 - 3. 1.6
 - 4. 2.4

Question ID : 98958017244

Status : Not Answered
Chosen Option : --

Q.10 यदि $4(\operatorname{cosec}^2 66^\circ - \tan^2 24^\circ) + \frac{1}{2} \sin 90^\circ - 4 \tan^2 66^\circ y \tan^2 24^\circ = \frac{y}{2}$ है, तो y का मान है:

- Ans
- 1. $\frac{1}{2}$
 - 2. $-\frac{1}{2}$
 - 3. -1
 - 4. 1

Question ID : 98958017249
Status : Not Answered
Chosen Option : --

Q.11 किसी वृत्त की जीवा AB और CD एक-दूसरे को बाहरी रूप से P पर काटती हैं। यदि AB = 6 cm, CD = 3 cm और PB = 4 cm है, तो PD की लंबाई (cm में) है:

- Ans
- 1. 7
 - 2. 2
 - 3. 6
 - 4. 5

Question ID : 98958017246
Status : Answered
Chosen Option : 4

Q.12 $\left(3\frac{1}{5} + \frac{3}{5}\right) \div \frac{8}{5}$
 $1\frac{1}{8} \div \left\{\frac{5}{8} + \left(\frac{1}{8} \div \frac{1}{3}\right)\right\}$ का मान है:

- Ans
- 1. $\frac{19}{9}$
 - 2. $\frac{19}{16}$
 - 3. $\frac{19}{64}$
 - 4. $\frac{19}{7}$

Question ID : 98958017241
Status : Answered
Chosen Option : 1

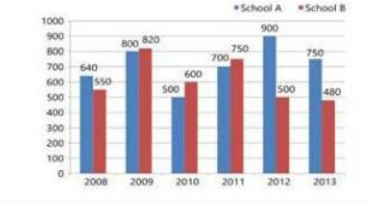
Q.13 यदि $\triangle ABC$ में, $\angle B$ और $\angle C$ के समद्विभाजक त्रिभुज के अंदर O पर मिलते हैं। यदि $\angle BOC = 156^\circ$ है, तो $\angle A$ की माप है:

- Ans
- 1. 84°
 - 2. 132°
 - 3. 156°

✗ 4. 66°

Question ID : 98958017247
Status : Answered
Chosen Option : 2

Q.14 दिया गया टंड आरेख (बार ग्राफ) छह वर्षों के दौरान दो स्कूलों में विद्यार्थियों की संख्या को दर्शाता है।



छह वर्षों की अवधि के दौरान स्कूल A के विद्यार्थियों की औसत संख्या क्या है?

- Ans
- ✗ 1. 700
 - ✗ 2. 760
 - ✗ 3. 765
 - ✓ 4. 715

Question ID : 98958017254
Status : Answered
Chosen Option : 4

Q.15 4 cm और 2 cm त्रिज्या वाले दो वृत्तों के केंद्रों के बीच की दूरी 10 सेमी है। अनुप्रस्थ उभयनिष्ठ स्पर्शरेखा की लंबाई (cm में) है:

- Ans
- ✗ 1. 4
 - ✗ 2. 6
 - ✗ 3. 10
 - ✓ 4. 8

Question ID : 98958017245
Status : Answered
Chosen Option : 4

Q.16 दो विद्यार्थी, A और B किसी परीक्षा में शामिल हुए। A को B से 8 अंक अधिक मिले और पूर्ववर्ती का अंक, उन दोनों के अंकों के योगफल का 60% था। A और B द्वारा प्राप्त अंकों का योगफल है:

- Ans
- ✗ 1. 45
 - ✗ 2. 50
 - ✓ 3. 40
 - ✗ 4. 75

Question ID : 98958017237
Status : Not Answered
Chosen Option : --

Q.17 यदि किसी आयत की प्रत्येक भुजा को 13% बढ़ाया जाए, तो इसके क्षेत्रफल में वृद्धि होगी:

Ans

- 1. 26%
- 2. 21.69%
- 3. 27.69%
- 4. 13%

Question ID : 98958017233
Status : Answered
Chosen Option : 3

Q.18 यदि $x = 2 + \sqrt{3}$ है, तो $x^3 - x^{-3}$ का मान है:

- Ans
- 1. $-30\sqrt{3}$
 - 2. 52
 - 3. -52
 - 4. $30\sqrt{3}$

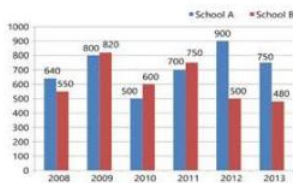
Question ID : 98958017243
Status : Answered
Chosen Option : 4

Q.19 एक डीलर ₹20000 के अंकित मूल्य पर 10% और 8% की दो क्रमिक छूटों के साथ एक वस्तु खरीदता है। वह मरम्मत पर ₹1440 खर्च करता है और इसे ₹20000 में बेच देता है। उसका लाभ/हानि प्रतिशत क्या है (एक दशमलव स्थान तक सही)?

- Ans
- 1. 12.3% हानि
 - 2. 11.1% हानि
 - 3. 11.1% लाभ
 - 4. 12.3% लाभ

Question ID : 98958017235
Status : Answered
Chosen Option : 3

Q.20 दिया गया दंड आरेख (बार ग्राफ) छह वर्षों के दौरान दो स्कूलों में विद्यार्थियों की संख्या को दर्शाता है।



एक साथ सभी वर्षों के लिए स्कूल A और स्कूल B के कुल विद्यार्थियों की संख्याओं का अनुपात कितना है?

- Ans
- 1. 429 : 370
 - 2. 417 : 401
 - 3. 401 : 417
 - 4. 370 : 429

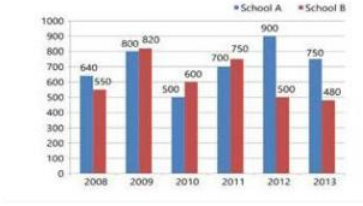
Question ID : 98958017236
Status : Answered
Chosen Option : 3

Question ID : 98958017253

Status : Answered

Chosen Option : 1

Q.21 दिया गया टंड आरेख (बार ग्राफ) छह वर्षों के दौरान दो स्कूलों में विद्यार्थियों की संख्या को दर्शाता है।



किस वर्ष में, दोनों स्कूलों के विद्यार्थियों की संख्या का निरपेक्ष अंतर सबसे कम है?

- Ans
- 1. 2011
 - 2. 2012
 - 3. 2009
 - 4. 2008

Question ID : 98958017252

Status : Answered

Chosen Option : 3

Q.22 दो संख्याएं 3 : 4 के अनुपात में हैं। प्रत्येक में 30 बढ़ाने पर, उनका अनुपात 9 : 10 हो जाता है। वह संख्याएं हैं:

- Ans
- 1. 30, 40
 - 2. 15, 20
 - 3. 12, 16
 - 4. 18, 24

Question ID : 98958017238

Status : Answered

Chosen Option : 2

Q.23 यदि $6\sqrt[4]{x} + 8\sqrt[4]{x} = 10\sqrt[4]{x}$ है, तो x का मान है:

- Ans
- 1. 4
 - 2. 16
 - 3. 8
 - 4. 2

Question ID : 98958017242

Status : Answered

Chosen Option : 2

Q.24 यदि $\sin \theta = 3x$ और $\cos \theta = \frac{3}{x}$, ($x \neq 0$) है, तो $6\left(x^2 + \frac{1}{x^2}\right)$ का मान है:

- Ans
- 1. $\frac{1}{3}$

2. $\frac{1}{2}$

3. $\frac{1}{4}$

4. $\frac{2}{3}$

Question ID : 98958017250

Status : Answered

Chosen Option : 4

Q.25 दो ट्रेनों की चालों का अनुपात 2 : 5 है। यदि पहली ट्रेन 5 घंटे में 350 km जाती है, तो दोनों ट्रेनों की चालों (km/h में) का योगफल है:

Ans 1. 265

2. 245

3. 180

4. 350

Question ID : 98958017232

Status : Answered

Chosen Option : 2

Section : English Language

Q.1 Select the most appropriate meaning of the given idiom.

Red letter day

Ans 1. a frightful day

2. a very special day

3. a very hot day

4. a very cold day

Question ID : 98958016186

Status : Answered

Chosen Option : 2

Q.2 Given below are four jumbled sentences. Out of the given options pick the one that gives their correct order.

A. As a result, he had gotten into a million activities and hobbies.

B. Thus, his parents were now reluctant to spend any more money on his hobbies.

C. John hated finishing things almost as much as he loved starting them.

D. But he never stuck with any of them for long.

Ans 1. ADCB

2. CDBA

3. CADB

4. BCAD

Question ID : 98958016180

Status : Not Answered

Chosen Option : --

Comprehension:

In the following passage some words have been deleted. Fill in the blanks with the help of the alternatives given. Select the most appropriate option for each blank.

For two months I have been trying to decide who (1) _____ the best ice cream. I have (2) _____ it down to my two favourite manufacturers. Let's start (3) _____ Randolph Farms who have lots of (4) _____ flavours. Then, we have Goodies who use natural (5) _____ to make excellent ice cream.

SubQuestion No : 3

Q.3 Select the most appropriate option to fill in blank number 1

- Ans
- 1. is making
 - 2. was making
 - 3. make
 - 4. makes

Question ID : 98958016175
Status : Answered
Chosen Option : 4

Comprehension:

In the following passage some words have been deleted. Fill in the blanks with the help of the alternatives given. Select the most appropriate option for each blank.

For two months I have been trying to decide who (1) _____ the best ice cream. I have (2) _____ it down to my two favourite manufacturers. Let's start (3) _____ Randolph Farms who have lots of (4) _____ flavours. Then, we have Goodies who use natural (5) _____ to make excellent ice cream.

SubQuestion No : 4

Q.4 Select the most appropriate option to fill in blank number 2

- Ans
- 1. narrowed
 - 2. cancelled
 - 3. chosen
 - 4. selected

Question ID : 98958016176
Status : Answered
Chosen Option : 3

Comprehension:

In the following passage some words have been deleted. Fill in the blanks with the help of the alternatives given. Select the most appropriate option for each blank.

For two months I have been trying to decide who (1) _____ the best ice cream. I have (2) _____ it down to my two favourite manufacturers. Let's start (3) _____ Randolph Farms who have lots of (4) _____ flavours. Then, we have Goodies who use natural (5) _____ to make excellent ice cream.

SubQuestion No : 5

Q.5 Select the most appropriate option to fill in blank number 3

- Ans
- 1. from
 - 2. with
 - 3. by
 - 4. off

Question ID : 98958016177
Status : Answered
Chosen Option : 2

Comprehension:

In the following passage some words have been deleted. Fill in the blanks with the help of the alternatives given. Select the most appropriate option for each blank.

For two months I have been trying to decide who (1) _____ the best ice cream. I have (2) _____ it down to my two favourite manufacturers. Let's start (3) _____ Randolph Farms who have lots of (4) _____ flavours. Then, we have Goodies who use natural (5) _____ to make excellent ice cream.

SubQuestion No : 6**Q.6 Select the most appropriate option to fill in blank number 4**

- Ans
- 1. various
 - 2. unlike
 - 3. different
 - 4. variety

Question ID : 98958016178

Status : Answered

Chosen Option : 4

Comprehension:

In the following passage some words have been deleted. Fill in the blanks with the help of the alternatives given. Select the most appropriate option for each blank.

For two months I have been trying to decide who (1) _____ the best ice cream. I have (2) _____ it down to my two favourite manufacturers. Let's start (3) _____ Randolph Farms who have lots of (4) _____ flavours. Then, we have Goodies who use natural (5) _____ to make excellent ice cream.

SubQuestion No : 7**Q.7 Select the most appropriate option to fill in blank number 5**

- Ans
- 1. particles
 - 2. elements
 - 3. goods
 - 4. ingredients

Question ID : 98958016179

Status : Answered

Chosen Option : 4

Q.8 Select the most appropriate antonym of the given word.**OMINOUS**

- Ans
- 1. baleful
 - 2. threatening
 - 3. foreboding
 - 4. auspicious

Question ID : 98958016185

Status : Answered

Chosen Option : 2

Q.9 Select the most appropriate indirect form of the given sentence.

She says, "I go for a walk every morning."

- Ans
- 1. She says that I go for a walk every morning.

- 2. She says that she goes for a walk every morning.
- 3. She said that she went for a walk every morning.
- 4. She said that she goes for a walk every morning.

Question ID : 98958016171
Status : Answered
Chosen Option : 2

Q.10 Select the most appropriate word for the group of words.

That which cannot be seen through

- Ans
- 1. invisible
 - 2. transparent
 - 3. magical
 - 4. opaque

Question ID : 98958016188
Status : Answered
Chosen Option : 4

Q.11 Identify the segment which contains the grammatical error.

The picture of the king's is exactly like the king himself.

- Ans
- 1. is exactly like
 - 2. The picture
 - 3. the king himself
 - 4. of the king's

Question ID : 98958016169
Status : Answered
Chosen Option : 3

Q.12 Identify the most appropriate option to substitute the underlined segment. If no substitution is required, select No substitution.

The commander of the ship as well as the crew are caught by the storm.

- Ans
- 1. No substitution
 - 2. are being caught by
 - 3. are caught in
 - 4. is caught in

Question ID : 98958016172
Status : Answered
Chosen Option : 4

Q.13 Given below are four jumbled sentences. Out of the given options pick the one that gives their correct order.

- A. We even fail to recognize that their call of duty keeps them away from their families.
- B. Yet, we often fail to appreciate these sacrifices that they make.
- C. They make countless sacrifices for the nation and keep us safe from our enemies.
- D. The uniformed men and women are our unsung heroes.

- Ans
- 1. DCBA

- 2. CBAD
- 3. ABCD
- 4. DABC

Question ID : 98958016181
Status : Not Answered
Chosen Option : --

Q.14 Identify the segment which contains the grammatical error.

He asked from me if I was interested in a career in modelling.

- Ans
- 1. He asked
 - 2. in a career
 - 3. I was interested
 - 4. from me if

Question ID : 98958016168
Status : Answered
Chosen Option : 4

Q.15 Select the most appropriate meaning of the given idiom.

In a pickle

- Ans
- 1. in trouble
 - 2. in deep sorrow
 - 3. in jubilation
 - 4. in great pain

Question ID : 98958016187
Status : Answered
Chosen Option : 1

Q.16 Select the most appropriate synonym of the given word.

PITFALL

- Ans
- 1. haven
 - 2. hazard
 - 3. refuge
 - 4. retreat

Question ID : 98958016183
Status : Not Answered
Chosen Option : --

Q.17 Select the correctly spelt word.

- Ans
- 1. persoue
 - 2. pursue
 - 3. persue
 - 4. purseue

Question ID : 98958016190

Status : Answered
Chosen Option : 3

Q.18 Select the most appropriate passive form of the given sentence.

He threw the ball towards his little brother.

- Ans
- 1. The ball is being thrown towards his little brother.
 - 2. The ball was thrown towards his little brother.
 - 3. His little brother's ball was thrown at him.
 - 4. The ball is thrown towards his little brother.

Question ID : 98958016170
Status : Answered
Chosen Option : 2

Q.19 Fill in the blank with the most appropriate word.

_____ people are remembered even after death for their good deeds.

- Ans
- 1. Virtual
 - 2. Violent
 - 3. Vicious
 - 4. Virtuous

Question ID : 98958016192
Status : Answered
Chosen Option : 4

Q.20 Identify the most appropriate option to substitute the underlined segment. If no substitution is required, select No substitution.

All the accident victims have been admitted and received attention.

- Ans
- 1. No substitution
 - 2. but are receiving
 - 3. so had received
 - 4. and have received

Question ID : 98958016173
Status : Answered
Chosen Option : 1

Q.21 Select the most appropriate antonym of the given word.

NOVEL

- Ans
- 1. fresh
 - 2. new
 - 3. original
 - 4. old

Question ID : 98958016184
Status : Answered
Chosen Option : 4

Test

Prime

By Adda247

Previous Year Papers PDF

PRACTICE MORE, SCORE HIGHER!



Free
25,000+
PDF's

High-Quality | Exam-Wise | Updated Regularly

ATTEMPT AS
MOCK



Turn PDFs into real exam experience.
Analyze. Improve. Succeed.



Topic-wise & Exam-wise PDFs



Download & Study Offline



Attempt as Mock & Track Score



Smart Analysis & Performance

AVAILABLE IN



Banking



SSC



Railway



Teaching



UGC



Agriculture



Nursing



Bihar



UP



Punjab



WB



Odisha



TN



AP & Telangana



Haryana



DOWNLOAD THE APP



Q.22 Fill in the blank with the most appropriate word.

She was _____ with joy at winning the talent show.

- Ans
- 1. overturned
 - 2. overwhelmed
 - 3. overruled
 - 4. overpowered

Question ID : 98958016193
Status : Answered
Chosen Option : 2

Q.23 Select the most appropriate word for the group of words.

Willing to be guided or controlled

- Ans
- 1. amenable
 - 2. abominable
 - 3. adorable
 - 4. adamant

Question ID : 98958016189
Status : Not Answered
Chosen Option : --

Q.24 Select the wrongly spelt word.

- Ans
- 1. acheive
 - 2. grieve
 - 3. receive
 - 4. believe

Question ID : 98958016191
Status : Answered
Chosen Option : 1

Q.25 Select the most appropriate synonym of the given word.

VITAL

- Ans
- 1. essential
 - 2. trivial
 - 3. insignificant
 - 4. needless

Question ID : 98958016182
Status : Answered
Chosen Option : 1