

Combined Higher Secondary Level (10+2) Examination-2018

Roll No.	
Registration No.	
Name	
Test Venue	
Test Time	10:00 AM - 11:00 AM
Test Date	08/07/2019

Section : General Intelligence

Q.1 उस संख्या-युग्म का चयन करें जिसमें दो संख्याएँ उसी तरह से संबंधित हैं जैसे कि निम्नलिखित संख्या-युग्म की दो संख्याएँ संबंधित हैं।

12 : 102

- Ans
1. 16 : 218
2. 8 : 68
3. 14 : 126
4. 6 : 52

Question ID : 98958016844

Status : Not Answered

Chosen Option : --

Q.2 उस विकल्प का चयन करें जिसमें चित्र-एक्स अंतर्निहित है। (आकृति को घुमाने की अनुमति नहीं है)



चित्र-एक्स

Ans

1.



2.



3.



**Test
Prime**

By Adda247

ALL EXAMS, ONE SUBSCRIPTION



Test. Analyze. Improve. Repeat.



Don't just *prepare*. Perform.

Test Prime — built only for mock tests.



1,50,000+
Mock Tests



25,000+
Previous Year Papers



800+
Exam Covered



500% Refund
on Selection



5 lakh+
Free Quizzes



Daily
Free PDFs



Job Alerts
Stay Updated

- Multilingual
- Detailed Solution
- Strong and Weak Areas



**All India
Rankings**

Compete with lakhs.
Rank. Improve. Repeat.



← Adda247 test prime

Rating ▾

Editors' choice

New



Adda247 Test Prime
Adda Education • Education
Installed



DOWNLOAD THE APP



✗ 4.



Question ID : 98958016852

Status : Answered

Chosen Option : 2

Q.3 निम्नलिखित श्रृंखला में कौन-सी संख्या प्रश्न चिह्न (?) के स्थान पर आएगी?

25, 42, 67, 101, 145, ?

Ans ✗ 1. 199

✗ 2. 201

✗ 3. 202

✓ 4. 200

Question ID : 98958016847

Status : Not Answered


Chosen Option : --

Q.4 एक पारदर्शी शीट का चित्र एक पैटर्न के साथ नीचे दिया गया है। उस विकल्प का चयन करें जो यह दिखाता है कि बिंदीदार रेखा पर पारदर्शी शीट को मोड़ने पर पैटर्न कैसा दिखाई देगा।



Ans

✗ 1.

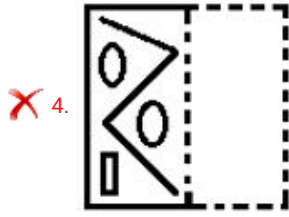


✗ 2.



✓ 3.





Question ID : 98958016853
Status : Not Answered
Chosen Option : --

Q.5 ऐसे अक्षरों के संयोजन का चयन करें जो कि दी गई अक्षर श्रृंखला के रिक्त स्थानों में क्रमिक रूप से रखे जाने पर श्रृंखला को पूरा करेगा।

t s m _ _ n q _ _ s m m n _ _ s t _ m m n _ q s

- Ans
- ✗ 1. nmstnqns
 - ✓ 2. mnstnqsn
 - ✗ 3. mmstmqtn
 - ✗ 4. mnstnqmn

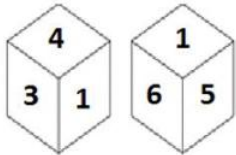
Question ID : 98958016836
Status : Answered
Chosen Option : 2

Q.6 हार्ट का संबंध 'परिसंचरण' से उसी तरह है जैसे 'फेफड़ों' का संबंध '_____ ' से है।

- Ans
- ✗ 1. ऑक्सीजन
 - ✓ 2. श्वसन
 - ✗ 3. पसलियाँ
 - ✗ 4. उत्सर्जन

Question ID : 98958016835
Status : Answered
Chosen Option : 2

Q.7 एक ही पासे की दो अलग-अलग स्थितियों को नीचे दर्शाया गया है, जिसके छह फलकों पर 1 से 6 संख्याएँ अंकित हैं। '1' संख्या वाले फलक के सामने वाली संख्या ज्ञात कीजिए।



- Ans
- ✓ 1. 2
 - ✗ 2. 5
 - ✗ 3. 4
 - ✗ 4. 3

Question ID : 98958016849
Status : Answered
Chosen Option : 1

Q.8

यदि FINANCIAL को 695153913 के रूप में कोडबद्ध किया जाता है, तो LUCRATIVE को कैसे कोडबद्ध किया जाएगा?

- Ans 1. 333912945
 2. 333912955
 3. 343912945
 4. 433922945

Question ID : 98958016833
 Status : Answered
 Chosen Option : 1

Q.9 तीन मित्रों A, B और C के पास अलग-अलग राशि हैं। यदि B, A से ₹7 लेता है, तो B के पास C के बराबर राशि होगी। B और C के पास कुल मिला कर ₹157 हैं। C के पास कितने रुपये हैं?

- Ans 1. 81
 2. 80
 3. 83
 4. 82

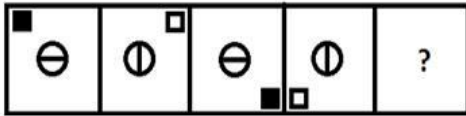
Question ID : 98958016842
 Status : Answered
 Chosen Option : 4

Q.10 निम्नलिखित चार संख्याओं में से तीन संख्या एक निश्चित तरीके से एक जैसे हैं और एक अलग है। उस अलग संख्या चयन कीजिए।

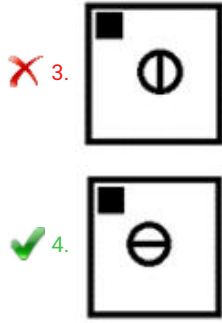
- Ans 1. 171
 2. 193
 3. 191
 4. 173

Question ID : 98958016848
 Status : Answered
 Chosen Option : 1

Q.11 उस आकृति का चयन करें जो नीचे दी गई आकृति श्रृंखला में अगले स्थान पर आएगी।



- Ans 1.
- 2.



Question ID : 98958016850
Status : Answered
Chosen Option : 4

Q.12 A + B का अर्थ है 'A माता है B की'
A - B का अर्थ है 'A पति है B का'
A × B का अर्थ है 'A बेटा है B का'
A ÷ B का अर्थ है 'A भाई है B का'

यदि $Q \div U \times K \times H - D + J$ है, तो K किस प्रकार संबंधित है J से?

- Ans
- 1. बहन
 - 2. चाचा
 - 3. पिता
 - 4. भाई

Question ID : 98958016837
Status : Not Answered
Chosen Option : --

Q.13 दो कथन दिए गए हैं, इसके बाद तीन निष्कर्ष I, II और III दिए गए हैं। कथनों को सत्य मानते हुए, भले ही वे आम तौर पर ज्ञात तथ्यों से अलग हों, यह निर्णय लीजिए कि कौन-सा/से निष्कर्ष कथनों का तार्किक रूप से अनुसरण करता है/करते हैं।

कथन:
सभी उपकरण पेचकस हैं।
सभी मशीनें उपकरण हैं।

निष्कर्ष:
I. कुछ पेचकस उपकरण हैं।
II. कुछ पेचकस मशीनें हैं।
III. सभी उपकरण मशीनें हैं।

- Ans
- 1. केवल निष्कर्ष II और III अनुसरण करते हैं।
 - 2. केवल निष्कर्ष I और II अनुसरण करते हैं।
 - 3. सभी निष्कर्ष अनुसरण करते हैं।
 - 4. केवल निष्कर्ष I और III अनुसरण करते हैं।

Question ID : 98958016841
Status : Answered
Chosen Option : 2

Q.14 निम्नलिखित में से कौन-सी चिह्न-श्रृंखला प्रश्न चिह्नों के स्थान पर रखने से दिए गए समीकरण को सही प्रकार से हल करेगी?

$$1105 ? 65 ? 835 ? 25 ? 5 = 727$$

- Ans
- 1. ÷, +, -, ×

2. $\times, -, +, \div$
3. $+, -, \times, \div$
4. $+, \div, -, \times$

Question ID : 98958016843
Status : Not Answered
Chosen Option : --

Q.15 निम्नलिखित चार शब्दों में से तीन शब्द एक निश्चित तरीके से एक जैसे हैं और एक अलग है। उस अलग शब्द को चुनिए।

- Ans 1. कार्बोहाइड्रेट
2. विटामिन्स
3. ऊर्जा
4. प्रोटीन

Question ID : 98958016840
Status : Answered
Chosen Option : 3

Q.16 उस शब्द-युग्म का चयन करें जिसमें दो शब्द उसी तरह से संबंधित हैं जैसे निम्नलिखित शब्द-युग्म में दो शब्द संबंधित हैं।

व्यायाम : स्वस्थता

- Ans 1. शौक : इंटरनेट
2. उपचार : स्वास्थ्य लाभ
3. शिक्षा : संस्थान
4. एकता : युद्ध

Question ID : 98958016838
Status : Answered
Chosen Option : 2

Q.17 एक कोड भाषा में, CARNIVAL को LPYAJYTG के रूप में लिखा जाता है। उस भाषा में DISTANCE को कैसे लिखा जाएगा?

- Ans 1. RQBCALY
2. RQBDAMY
3. SQHBCALZ
4. RQBCZLY

Question ID : 98958016832
Status : Not Answered
Chosen Option : --

Q.18 अगर एक दर्पण को आकृति के दाईं ओर रखा जाये तो दिए गए चित्र की सही दर्पण छवि का चयन करें।

GJ753fgQ

- Ans 1. QgJεTϛl9

✓ 2. Q g t e z l o

✗ 3. Q g t e z l o

✗ 4. Q g t e z l o

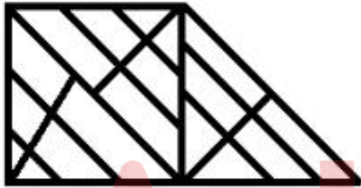
Question ID : 98958016854
Status : Answered
Chosen Option : 2

Q.19 निम्नलिखित चार अक्षर-समूहों में से तीन अक्षर-समूह एक निश्चित तरीके से एक जैसे हैं और एक अलग है। उस अलग अक्षर-समूह को चुनिए।

- Ans
- ✗ 1. DFHJ
 - ✗ 2. JLNP
 - ✗ 3. VXZB
 - ✓ 4. BDGJ

Question ID : 98958016839
Status : Answered
Chosen Option : 4

Q.20 दी गई आकृति में कितने त्रिभुज मौजूद हैं?



- Ans
- ✗ 1. 28
 - ✗ 2. 29
 - ✓ 3. 27
 - ✗ 4. 30

Question ID : 98958016851
Status : Answered
Chosen Option : 2

Q.21 उस विकल्प का चयन करें जो तीसरे अक्षर-समूह से उसी तरह संबंधित है जैसे दूसरा अक्षर-समूह पहले अक्षर-समूह से संबंधित है।

KSOE : MQQC :: ACZN : ?

- Ans
- ✗ 1. CABK
 - ✗ 2. CBBL
 - ✓ 3. CABL
 - ✗ 4. DACL

Question ID : 98958016834
Status : Answered

Chosen Option : 3

Q.22 उस समुच्चय का चयन करें जिसमें संख्याएँ उसी तरह से संबंधित हैं जैसे कि निम्नलिखित समुच्चय की संख्याएँ संबंधित हैं।

(4, 41, 5)

- Ans
- 1. (7, 81, 9)
 - 2. (2, 21, 4)
 - 3. (6, 85, 8)
 - 4. (5, 61, 6)

Question ID : 98958016846


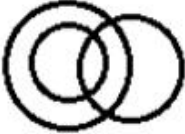
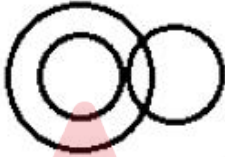

Status : Answered

Chosen Option : 4

Q.23 उस वेन आरेख का चयन करें जो निम्नलिखित वर्गों के बीच के संबंध को सबसे अच्छा दर्शाता है।

मोबाइल फोन, इलेक्ट्रॉनिक उपकरण, लैपटॉप

Ans

- 1. 
- 2. 
- 3. 
- 4. 

Question ID : 98958016855

Status : Answered

Chosen Option : 4

Q.24 उस समुच्चय का चयन करें जिसमें संख्याएँ उसी तरह से संबंधित हैं जैसे कि निम्नलिखित समुच्चय की संख्याएँ संबंधित हैं।

(8, 27, 64)

- Ans
- 1. (125, 636, 864)
 - 2. (343, 512, 729)
 - 3. (216, 343, 529)
 - 4. (49, 64, 81)

Question ID : 98958016845

Status : Answered
Chosen Option : 3

Q.25 निम्नलिखित गतिविधियों को एक तार्किक और सार्थक क्रम में व्यवस्थित करें।

1. विवाह सभागृह निश्चित करना
2. विवाह का दिन तय करना
3. मेहमानों को आमंत्रित करना
4. विवाह समारोह संपन्न होना
5. निमंत्रण कार्ड की छपाई करना

- Ans 1. 2, 1, 5, 3, 4
 2. 1, 2, 3, 5, 4
 3. 2, 1, 3, 5, 4
 4. 2, 1, 3, 4, 5

Question ID : 98958016831
Status : Answered
Chosen Option : 1

Section : General Awareness

Q.1 अबू धाबी में 14 से 21 मार्च 2019 तक आयोजित हुए विशेष ओलंपिक विश्व ग्रीष्मकालीन खेलों में भारत ने कुल _____ पदक जीत लिए हैं।

- Ans 1. 252
 2. 312
 3. 368
 4. 441

Question ID : 98958016525
Status : Answered
Chosen Option : 1

Q.2 केंद्रशासित प्रदेश दादरा और नागर हवेली की राजधानी निम्नलिखित में से कौन-सी है?

- Ans 1. कवरत्ती
 2. सिल्वासा
 3. पोर्ट ब्लेयर
 4. दमन

Question ID : 98958016513
Status : Answered
Chosen Option : 2

Q.3 निम्नलिखित में से कौन-सा फ्रांस और भारत के बीच संयुक्त सेना अभ्यास है?

- Ans 1. संप्रीति
 2. खंजर
 3. गरुड़ शक्ति
 4. शक्ति

Question ID : 98958016526
Status : Answered
Chosen Option : 3

Q.4 _____ एक निश्चित समय अवधि में देश की सीमाओं के भीतर उत्पादित सभी तैयार वस्तुओं और सेवाओं का अंतिम मूल्य है।

- Ans
- 1. शुद्ध राष्ट्रीय उत्पाद
 - 2. सकल घरेलू उत्पाद
 - 3. सकल राष्ट्रीय उत्पाद
 - 4. सरकारी राजस्व

Question ID : 98958016506

Status : Answered

Chosen Option : 1

Q.5 जापान की मुद्रा _____ है।

- Ans
- 1. यूरो
 - 2. रॉन्मिन्बी
 - 3. डॉलर
 - 4. येन

Question ID : 98958016507

Status : Answered

Chosen Option : 4

Q.6 वारली चित्रकला' की शुरुआत किस भारतीय राज्य से हुई?

- Ans
- 1. मध्य प्रदेश
 - 2. राजस्थान
 - 3. केरल
 - 4. महाराष्ट्र

Question ID : 98958016504

Status : Answered

Chosen Option : 3

Q.7 _____ सभी परमाणुओं में पाए जाने वाले स्थिर, नकारात्मक चार्ज वाले कण हैं।

- Ans
- 1. न्यूट्रॉन्स
 - 2. इलेक्ट्रॉन्स
 - 3. फोटॉन्स
 - 4. प्रोटॉन्स

Question ID : 98958016508

Status : Answered

Chosen Option : 1

Q.8 अगस्त 2018 में नॉर्वे के हेगेसन में आयोजित नॉर्वे के राष्ट्रीय पुरस्कारों के आयोजन में _____ 'सर्वश्रेष्ठ अभिनेता' का पुरस्कार जीतने वाले पहले भारतीय बन गए।

- Ans
- 1. नवाजुद्दीन सिद्दीकी
 - 2. आदिल हुसैन
 - 3. इरफान खान
 - 4. नसीरुद्दीन शाह

Question ID : 98958016520
Status : Answered
Chosen Option : 3

Q.9 पहली लोकसभा का पहला सत्र _____ को शुरू हुआ था।

- Ans
- 1. 26 जनवरी 1950
 - 2. 13 मई 1952
 - 3. 15 अगस्त 1951
 - 4. 15 अगस्त 1947

Question ID : 98958016521
Status : Not Answered
Chosen Option : --

Q.10 नरेंद्र हिरवानी निम्नलिखित में से किस खेल से जुड़े हुए थे?

- Ans
- 1. क्रिकेट
 - 2. हॉकी
 - 3. मुक्केबाज़ी
 - 4. फुटबॉल

Question ID : 98958016524
Status : Answered
Chosen Option : 2

Q.11 निम्नलिखित में से किसने 'द नेमसेक' पुस्तक लिखी है?

- Ans
- 1. अमिताव घोष
 - 2. सिद्धार्थ मुखर्जी
 - 3. अरुंधति रॉय
 - 4. झुम्पा लाहिड़ी

Question ID : 98958016519
Status : Answered
Chosen Option : 4

Q.12 समलैंगिक महिला, समलैंगिक पुरुष, उभयलिंगी, ट्रांसजेंडर और क्वीर (LGBTQ) समुदाय के लिए भारत का पहला एचआईवी उपचार केंद्र और क्लिनिक का उद्घाटन किस शहर में किया गया है?

- Ans
- 1. मुंबई
 - 2. कोलकाता
 - 3. भोपाल
 - 4. बेंगलुरु

Question ID : 98958016528
Status : Answered
Chosen Option : 4

Q.13 विक्रमशिला विश्वविद्यालय की स्थापना _____ ने की थी।

- Ans
- 1. बिम्बिसार
 - 2. चंद्रगुप्त-I

- ✓ 3. धर्मपाल
✗ 4. अशोक

Question ID : 98958016517
Status : Answered
Chosen Option : 4

Q.14 निम्नलिखित में से किस खेल के साथ 'कॉक्स' शब्द जुड़ा हुआ है?

- Ans ✗ 1. भाला फेंक
✗ 2. लम्बी कूद
✗ 3. मुक्केबाज़ी
✓ 4. नौका दौड़

Question ID : 98958016523
Status : Answered
Chosen Option : 4

Q.15 लोहे पर जंग लगना _____ का एक उदाहरण है।

- Ans ✓ 1. क्षरण
✗ 2. द्रवण
✗ 3. ज्वलन
✗ 4. वाष्पीकरण

Question ID : 98958016510
Status : Answered
Chosen Option : 1

Q.16 भारत और भूटान के बीच की सीमा _____ भारतीय राज्यों से लगती है।

- Ans ✓ 1. चार
✗ 2. तीन
✗ 3. पाँच
✗ 4. दो

Question ID : 98958016515
Status : Answered
Chosen Option : 1

Q.17 निम्नलिखित में से किस प्रतिहार शासक ने वर्तमान भोपाल शहर बनाया था?

- Ans ✗ 1. विजयसेन
✗ 2. महेंद्र भोज
✗ 3. राज्यपाल
✓ 4. मिहिर भोज

Question ID : 98958016518
Status : Answered
Chosen Option : 1

Q.18 चित्रकारी की 'पट्टचित्र' शैली _____ राज्य के सबसे पुराने और सबसे लोकप्रिय कला रूपों में से एक है।

Ans

- 1. असम
- 2. पश्चिम बंगाल
- 3. ओडिशा
- 4. राजस्थान

Question ID : 98958016505
Status : Answered
Chosen Option : 3

Q.19 निम्नलिखित में से क्या एक ऑडियो टूल है?

- Ans
- 1. डिस्कलर
 - 2. ऑडॉर
 - 3. ब्लेंडर
 - 4. एवीडेमक्स

Question ID : 98958016511
Status : Not Answered
Chosen Option : --

Q.20 डिजिटल चुनावी साक्षरता को बढ़ावा देने के लिए 'i-help' पहल निम्नलिखित राज्यों में से किस राज्य में शुरू की गई है?

- Ans
- 1. बिहार
 - 2. असम
 - 3. छत्तीसगढ़
 - 4. अरुणाचल प्रदेश

Question ID : 98958016527
Status : Not Answered
Chosen Option : --

Q.21 _____ वह नेटवर्क था जो इंटरनेट का आधार बन गया।

- Ans
- 1. अरपानेट (ARPANET)
 - 2. क्लस्टर (Clusters)
 - 3. एसएसआईडी (SSID)
 - 4. एचटीटीपी (HTTP)

Question ID : 98958016512
Status : Answered
Chosen Option : 4

Q.22 निम्नलिखित में से कौन-सी नदी मध्य प्रदेश में अमरकंटक पहाड़ी से निकलती है?

- Ans
- 1. नर्मदा
 - 2. पेरियार
 - 3. रावी
 - 4. गोमती

Question ID : 98958016516
Status : Answered

Chosen Option : 1

Q.23 _____ गैस से जब बिजली गुजरती है, तब ये नारंगी रंग की रोशनी देती है। यह आमतौर पर प्रतिदीप्त प्रकाश (fluorescent lighting) में इस्तेमाल की जाती है।

- Ans 1. निऑन
 2. ऑक्सीजन
 3. हाइड्रोजन
 4. नाइट्रोजन

Question ID : 98958016509

Status : Answered

Chosen Option : 4

Q.24 चैल हिल स्टेशन _____ में स्थित है।

- Ans 1. हिमाचल प्रदेश
 2. मध्य प्रदेश
 3. अरुणाचल प्रदेश
 4. उत्तर प्रदेश

Question ID : 98958016514

Status : Not Answered

Chosen Option : --

Q.25 लोकसभा में प्रश्नों की स्वीकार्यता का फैसला कौन करता है?

- Ans 1. अध्यक्ष
 2. उपाध्यक्ष
 3. उपराष्ट्रपति
 4. प्रधानमंत्री

Question ID : 98958016522

Status : Answered

Chosen Option : 1

Section : Quantitative Aptitude

Q.1 दो विद्यार्थी, A और B किसी परीक्षा में शामिल हुए। A को B से 8 अंक अधिक मिले और पूर्ववर्ती का अंक, उनके अंकों के योगफल का 55% था। A और B के प्राप्तांकों का योगफल है:

- Ans 1. 90
 2. 80
 3. 75
 4. 100

Question ID : 98958017212

Status : Answered

Chosen Option : 1

Q.2 यदि $x = 2 + \sqrt{3}$ है, तो $x^3 + x^{-3}$ का मान है:

- Ans 1. -52

- ✓ 2. 52
- ✗ 3. $-52\sqrt{3}$
- ✗ 4. $52\sqrt{3}$

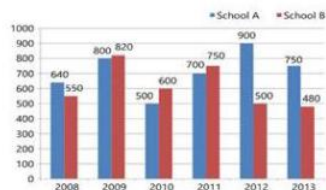
Question ID : 98958017218
Status : Answered
Chosen Option : 3

Q.3 एक डीलर ₹20000 के अंकित मूल्य पर 20% और 5% की दो क्रमिक छूट के साथ एक वस्तु खरीदता है। वह इसकी मरम्मत के लिए ₹1000 खर्च करता है और इसे ₹20000 में बेच देता है। उसका लाभ/हानि प्रतिशत कितना है (दो दशमलव स्थानों तक सही करें)?

- Ans
- ✗ 1. 23.64% हानि
 - ✗ 2. 25.64% लाभ
 - ✗ 3. 25.64% हानि
 - ✓ 4. 23.46% लाभ

Question ID : 98958017210
Status : Answered
Chosen Option : 2

Q.4 दिया गया दंड आरेख (बार ग्राफ) छह वर्षों के दौरान दो स्कूलों में विद्यार्थियों की संख्या को दर्शाता है।



सभी वर्षों के दौरान स्कूल B और स्कूल A के कुल विद्यार्थियों का अनुपात क्या है?

- Ans
- ✗ 1. 429 : 370
 - ✗ 2. 415 : 401
 - ✗ 3. 401 : 415
 - ✓ 4. 370 : 429

Question ID : 98958017228
Status : Answered
Chosen Option : 4

Q.5 दो वृत्त हैं, जिनकी त्रिज्याएं क्रमशः 5 cm और 3 cm हैं। उनके बीच के केंद्रों की दूरी 10 cm है। अनुप्रस्थ उभयनिष्ठ स्पर्शरेखा की लंबाई (cm में) है:

- Ans
- ✓ 1. 6
 - ✗ 2. 9
 - ✗ 3. 10
 - ✗ 4. 8

Question ID : 98958017220

Status : Answered
Chosen Option : 3

Q.6 यदि किसी आयत की प्रत्येक भुजा को 22% बढ़ाया जाए तो इसके क्षेत्रफल में वृद्धि होगी:

- Ans
- 1. 50%
 - 2. 44%
 - 3. 46.65%
 - 4. 48.84%

Question ID : 98958017208
Status : Answered
Chosen Option : 4

Q.7 दो संख्याएँ 3 : 4 के अनुपात में हैं। प्रत्येक में 30 बढ़ाने पर, उनका अनुपात 9 : 10 हो जाता है। संख्याओं का योगफल है:

- Ans
- 1. 35
 - 2. 32
 - 3. 30
 - 4. 25

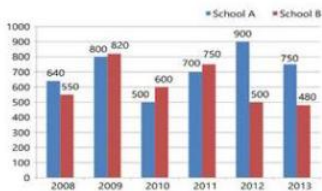
Question ID : 98958017213
Status : Answered
Chosen Option : 1

Q.8 यदि $(x-8)^3 + (2x+16)^3 + (2x-13)^3 = 3(x-8)(2x+16)(2x-13)$ है, तो x का मान है?

- Ans
- 1. -1
 - 2. 1
 - 3. 0.7
 - 4. 0

Question ID : 98958017219
Status : Not Answered
Chosen Option : --

Q.9 दिया गया टंड आरेख (बार ग्राफ) छह वर्षों के दौरान दो स्कूलों में विद्यार्थियों की संख्या को दर्शाता है।



किस वर्ष में, दोनों स्कूलों के विद्यार्थियों की संख्या का निरपेक्ष अंतर सबसे अधिक है?

- Ans
- 1. 2013

2. 2010
 3. 2011
 4. 2012

Question ID : 98958017227
 Status : Answered
 Chosen Option : 4

Q.10 A और B किसी काम को क्रमशः 15 और 10 दिनों में पूरा कर सकते हैं। उन्हें ₹35000 में काम पूरा करने का ठेका (कॉन्ट्रैक्ट) मिला। ठेके की राशि में A का हिस्सा (₹ में) होगा:

- Ans 1. 21000
 2. 7000
 3. 14000
 4. 15000

Question ID : 98958017206
 Status : Answered
 Chosen Option : 3

Q.11 पंद्रह व्यक्तियों की औसत आयु 32 वर्ष है। दो और व्यक्तियों को शामिल किए जाने पर, औसत आयु 3 वर्ष बढ़ जाती है। नए व्यक्तियों की आयु में 7 वर्षों का अंतर है। नए व्यक्तियों में छोटे व्यक्ति की आयु (वर्ष में) है:

- Ans 1. 54
 2. 61
 3. 50
 4. 58

Question ID : 98958017209
 Status : Answered
 Chosen Option : 1

Q.12 A और B के वेतनों का योगफल ₹43000 है। A अपने वेतन का 95% खर्च करता है और B अपने वेतन का 80% खर्च करता है। यदि उनकी बचत समान है, तो A का वेतन (₹ में) कितना है?

- Ans 1. 34400
 2. 8000
 3. 35000
 4. 10600

Question ID : 98958017211
 Status : Not Answered
 Chosen Option : --

Q.13 $\triangle ABC$ में, $\angle B$ और $\angle C$ के समद्विभाजक त्रिभुज के अंदर O पर मिलते हैं। यदि $\angle A = 110^\circ$, तो $\angle BOC$ की माप है:

- Ans 1. 145°
 2. 110°
 3. 55°

✗ 4. 84°

Question ID : 98958017222

Status : Not Answered

Chosen Option : --

Q.14 एक व्यक्ति ने ₹4,89,828 में एक वाहन खरीदा और ₹5,89,828 में बेच दिया। इस वाहन पर उसे कितने प्रतिशत लाभ प्राप्त हुआ (दो दशमलव स्थानों तक सही करें)?

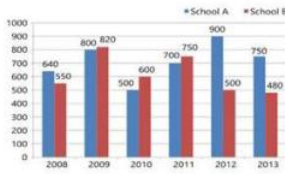
- Ans
- ✗ 1. 15%
 - ✓ 2. 20.42%
 - ✗ 3. 25%
 - ✗ 4. 18.65%

Question ID : 98958017214

Status : Answered

Chosen Option : 4

Q.15 दिया गया टंड आरेख (बार ग्राफ) छह वर्षों के दौरान दो स्कूलों में विद्यार्थियों की संख्या को दर्शाता है।



छह वर्षों की अवधि के दौरान स्कूल B के विद्यार्थियों की औसत संख्या कितनी है (दो दशमलव स्थानों तक सही)?

- Ans
- ✗ 1. 660.17
 - ✗ 2. 664.37
 - ✗ 3. 656.17
 - ✓ 4. 616.67

Question ID : 98958017229

Status : Not Answered

Chosen Option : --

Q.16 यदि 8-अंकों की कोई संख्या $30x558y2$, 88 से विभाज्य है, तो $(6x+6y)$ का मान है:

- Ans
- ✗ 1. 35
 - ✗ 2. 30
 - ✗ 3. 66
 - ✓ 4. 42

Question ID : 98958017215

Status : Not Answered

Chosen Option : --

Q.17 यदि $\cos x = \frac{-1}{2}$ और $\pi < x < \frac{3\pi}{2}$, तो $2\tan^2 x - 3\operatorname{cosec}^2 x$ का मान है:

- Ans
- ✗ 1. 4

- 2. 10
- 3. 8
- 4. 2

Question ID : 98958017226
Status : Not Answered
Chosen Option : --

Q.18 त्रिभुज ABC में, BC की लंबाई AB की लंबाई के दुगुने से 3 cm कम है। AC की लंबाई, AB की लंबाई से 1 cm अधिक है। त्रिभुज की परिमिति 34 cm है। त्रिभुज की छोटी भुजा की लंबाई (cm में) है:

- Ans
- 1. 8
 - 2. 7
 - 3. 9
 - 4. 10

Question ID : 98958017223
Status : Not Answered
Chosen Option : --

Q.19

$$\left(3\frac{1}{5} + \frac{3}{5}\right) \div \frac{8}{5}$$

$$1\frac{1}{7} \div \left\{\frac{5}{7} + \left(\frac{1}{7} \div \frac{1}{3}\right)\right\}$$

का सरलीकृत मान है:

- Ans
- 1. $\frac{19}{8}$
 - 2. $\frac{19}{64}$
 - 3. $\frac{19}{16}$
 - 4. $\frac{19}{7}$

Question ID : 98958017216
Status : Not Answered
Chosen Option : --

Q.20 यदि $\operatorname{cosec} \theta = 3x$ और $\cot \theta = \frac{3}{x}$, ($x \neq 0$) है, तो $\left(x^2 - \frac{1}{x^2}\right)$ का मान है:

- Ans
- 1. $\frac{1}{4}$
 - 2. $\frac{1}{2}$
 - 3. 1
 - 4. $\frac{2}{3}$

Question ID : 98958017225
Status : Not Answered

Chosen Option : --

Q.21 वृत्त $x^2 + y^2 = a^2$ के किसी बिंदु से वृत्त $x^2 + y^2 = b^2$ पर खींची गई सपर्श रेखाओं की स्पर्श-जीवा (chord of contact) वृत्त $x^2 + y^2 = c^2$ को इस प्रकार छूती है कि $b^p = a^m c^n$, जहाँ $m, n, p \in \mathbb{N}$, और m, n, p परस्पर अभाज्य हैं, तो $2m + n + 2p - 3$ का मान है:

- Ans
- 1. 6
 - 2. 4
 - 3. 5
 - 4. 2

Question ID : 98958017221

Status : Not Answered

Chosen Option : --

Q.22 यदि $2(\operatorname{cosec}^2 39^\circ - \tan^2 51^\circ) - \frac{2}{3} \sin 90^\circ - \tan^2 56^\circ y + \tan^2 34^\circ = \frac{y}{3}$ है, तो y का मान है:

- Ans
- 1. 1
 - 2. $-\frac{2}{3}$
 - 3. -1
 - 4. $\frac{2}{3}$

Question ID : 98958017224

Status : Not Answered

Chosen Option : --

Q.23 यदि $3\sqrt[4]{x} + 4\sqrt[4]{x} = 5\sqrt[4]{x}$ है, तो x का मान है:

- Ans
- 1. 16
 - 2. 8
 - 3. 2
 - 4. 4

Question ID : 98958017217

Status : Not Answered

Chosen Option : --

Q.24 दो ट्रेनों की चालों का अनुपात 2 : 5 है। यदि पहली ट्रेन 5 घंटे में 350 km तय करती है, तो दूसरी ट्रेन की चाल (km/h में) कितनी है?

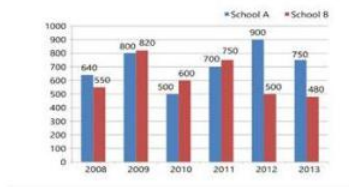
- Ans
- 1. 180
 - 2. 165
 - 3. 150
 - 4. 175

Question ID : 98958017207

Status : Not Answered

Chosen Option : --

Q.25 दिया गया दंड आरेख (बार ग्राफ) छह वर्षों के दौरान दो स्कूलों में विद्यार्थियों की संख्या को दर्शाता है।



किस वर्ष में, स्कूल B के विद्यार्थियों की संख्या में प्रतिशत वृद्धि इसके पिछले वर्ष की तुलना में सबसे अधिक है?

- Ans
- 1. 2010
 - 2. 2009
 - 3. 2011
 - 4. 2013

Question ID : 98958017230
Status : Not Answered
Chosen Option : --

Section : English Language

Q.1 Identify the segment which contains the grammatical error.

Lack of formal education did not prevent Lincoln to become a great leader.

- Ans
- 1. to become
 - 2. did not prevent
 - 3. a great leader
 - 4. Lack of

Question ID : 98958016143
Status : Answered
Chosen Option : 2

Q.2 Select the most appropriate word for the group of words.

An official pardon

- Ans
- 1. amnesty
 - 2. redemption
 - 3. amnesia
 - 4. regicide

Question ID : 98958016163
Status : Answered
Chosen Option : 1

Q.3 Select the most appropriate passive form of the given sentence.

The surgeon successfully operated upon the patient.

- Ans
- 1. The patient is being successfully operated upon by the surgeon.
 - 2. The surgeon has been successfully operated upon by the patient.
 - 3. The patient is successfully operated upon by the surgeon.
 - 4. The patient was successfully operated upon by the surgeon.

Question ID : 98958016144

Status : Answered

Chosen Option : 4

Q.4 Given below are four jumbled sentences. Out of the given options pick the one that gives their correct order.

- A. Little did she know that I was out of job once again.
- B. But all the money soon vanished into the bottomless pit of household needs.
- C. I returned home with my pockets full of my earnings.
- D. However, my grandmother was happy that I had become responsible.

- Ans
- 1. BCDA
 - 2. DBAC
 - 3. CDAB
 - 4. CBDA

Question ID : 98958016154

Status : Answered

Chosen Option : 4

Q.5 Select the wrongly spelt word.

- Ans
- 1. extract
 - 2. extension
 - 3. eligible
 - 4. explanation

Question ID : 98958016165

Status : Answered

Chosen Option : 4

Q.6 Select the most appropriate synonym of the given word.

RESOLUTE

- Ans
- 1. hesitant
 - 2. uncertain
 - 3. unsure
 - 4. determined

Question ID : 98958016156

Status : Answered

Chosen Option : 2

Q.7 Select the most appropriate indirect form of the given sentence.

Father said to his daughter, "I will attend your convocation tomorrow."

- Ans
- 1. Father told his daughter that he will attend her convocation tomorrow.
 - 2. Father told his daughter I will attend her convocation tomorrow.
 - 3. Father told his daughter that he would attend her convocation the next day.
 - 4. Father told his daughter that he will be attending her convocation the next day.

Question ID : 98958016145

Status : Answered

Chosen Option : 3

Q.8 Select the most appropriate antonym of the given word.**FLEXIBLE**

- Ans
- 1. pliant
 - 2. elastic
 - 3. stiff
 - 4. variable

Question ID : 98958016158

Status : Answered

Chosen Option : 3

Q.9 Select the correctly spelt word.

- Ans
- 1. oppurtunity
 - 2. opportunity
 - 3. oportunity
 - 4. oppertunity

Question ID : 98958016164

Status : Answered

Chosen Option : 4

Comprehension:

In the following passage some words have been deleted. Fill in the blanks with the help of the alternatives given. Select the most appropriate option for each blank.

As the rains receded I got a strange job. Our neighbour, a (1) _____ merchant decided to become a politician. But he was (2) _____ so he wanted me to (3) _____ him everywhere he went and read and write (4) _____ him. For my work I was to be paid decent (5) _____.

SubQuestion No : 10**Q.10 Select the most appropriate option to fill in blank number 1**

- Ans
- 1. populous
 - 2. prosperous
 - 3. affluent
 - 4. ambitious

Question ID : 98958016149

Status : Answered

Chosen Option : 4

Comprehension:

In the following passage some words have been deleted. Fill in the blanks with the help of the alternatives given. Select the most appropriate option for each blank.

As the rains receded I got a strange job. Our neighbour, a (1) _____ merchant decided to become a politician. But he was (2) _____ so he wanted me to (3) _____ him everywhere he went and read and write (4) _____ him. For my work I was to be paid decent (5) _____.

SubQuestion No : 11**Q.11 Select the most appropriate option to fill in blank number 2**

- Ans
- 1. illegitimate
 - 2. illogical

3. illegible

4. illiterate

Question ID : 98958016150
Status : Answered
Chosen Option : 3

Comprehension:

In the following passage some words have been deleted. Fill in the blanks with the help of the alternatives given. Select the most appropriate option for each blank.

As the rains receded I got a strange job. Our neighbour, a (1) _____ merchant decided to become a politician. But he was (2) _____ so he wanted me to (3) _____ him everywhere he went and read and write (4) _____ him. For my work I was to be paid decent (5) _____.

SubQuestion No : 12

Q.12 Select the most appropriate option to fill in blank number 3

- Ans 1. attend
 2. coexist
 3. coincide
 4. accompany

Question ID : 98958016151
Status : Answered
Chosen Option : 1

Comprehension:

In the following passage some words have been deleted. Fill in the blanks with the help of the alternatives given. Select the most appropriate option for each blank.

As the rains receded I got a strange job. Our neighbour, a (1) _____ merchant decided to become a politician. But he was (2) _____ so he wanted me to (3) _____ him everywhere he went and read and write (4) _____ him. For my work I was to be paid decent (5) _____.

SubQuestion No : 13

Q.13 Select the most appropriate option to fill in blank number 4

- Ans 1. from
 2. through
 3. for
 4. on

Question ID : 98958016152
Status : Answered
Chosen Option : 2

Comprehension:

In the following passage some words have been deleted. Fill in the blanks with the help of the alternatives given. Select the most appropriate option for each blank.

As the rains receded I got a strange job. Our neighbour, a (1) _____ merchant decided to become a politician. But he was (2) _____ so he wanted me to (3) _____ him everywhere he went and read and write (4) _____ him. For my work I was to be paid decent (5) _____.

SubQuestion No : 14

Q.14 Select the most appropriate option to fill in blank number 5

- Ans 1. bonus
 2. wages

- 3. prize
- 4. reward

Question ID : 98958016153
 Status : Answered
 Chosen Option : 3

Q.15 Identify the segment which contains the grammatical error

Pleasure cannot derive from giving pain to innocent people.

- Ans
- 1. pain to
 - 2. from giving
 - 3. innocent people
 - 4. Pleasure cannot derive

Question ID : 98958016142
 Status : Answered
 Chosen Option : 4

Q.16 Given below are four jumbled sentences. Out of the given options pick the one that gives their correct order.

- A. But when their short racing careers are over, greyhounds are adopted as household pets.
- B. Greyhound racing is a popular spectator sport in the United States.
- C. They worry that the greyhounds would need a large space to run to get sufficient exercise.
- D. Unfortunately, many people hesitate to adopt a retired racing greyhound as a pet.

- Ans
- 1. DBCA
 - 2. DACB
 - 3. BADC
 - 4. BDAC

Question ID : 98958016155
 Status : Not Answered
 Chosen Option : --

Q.17 Identify the most appropriate option to substitute the underlined segment. If no substitution is required, select No substitution.

I was astonished on the ignorance in the villagers.

- Ans
- 1. on the ignorance by
 - 2. No substitution
 - 3. over the ignorance between
 - 4. at the ignorance of

Question ID : 98958016147
 Status : Answered
 Chosen Option : 1

Q.18 Select the most appropriate antonym of the given word.

ASCENT

- Ans
- 1. crescent
 - 2. nascent

- 3. descent
- 4. recent

Question ID : 98958016159
Status : Answered
Chosen Option : 3

Q.19 Fill in the blank with the most appropriate word.

I had _____ pain in the stomach after taking lunch.

- Ans
- 1. heavy
 - 2. strict
 - 3. acute
 - 4. huge

Question ID : 98958016166
Status : Answered
Chosen Option : 1

Q.20 Select the most appropriate synonym of the given word.

INTREPID

- Ans
- 1. cowardly
 - 2. gallant
 - 3. invisible
 - 4. insecure

Question ID : 98958016157
Status : Answered
Chosen Option : 3

Q.21 Select the most appropriate word for the group of words.

One who walks on foot

- Ans
- 1. protagonist
 - 2. pedestrian
 - 3. pauper
 - 4. pediatrician

Question ID : 98958016162
Status : Answered
Chosen Option : 3

Q.22 Select the most appropriate meaning of the given idiom.

As the crow flies

- Ans
- 1. to be uncertain
 - 2. to be directionless
 - 3. a long winding path
 - 4. the shortest route

Question ID : 98958016160

Test

Prime

By Adda247

Previous Year Papers PDF

PRACTICE MORE, SCORE HIGHER!



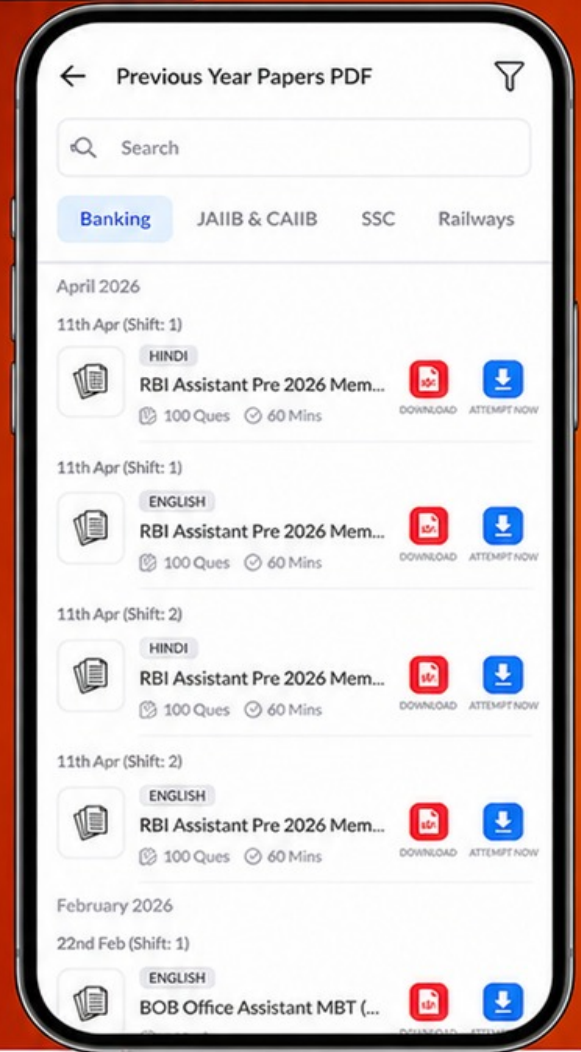
Free
25,000+
PDF's

High-Quality | Exam-Wise | Updated Regularly

ATTEMPT AS
MOCK



Turn PDFs into real exam experience.
Analyze. Improve. Succeed.



Topic-wise & Exam-wise PDFs



Download & Study Offline



Attempt as Mock & Track Score



Smart Analysis & Performance

AVAILABLE IN



Banking



SSC



Railway



Teaching



UGC



Agriculture



Nursing



Bihar



UP



Punjab



WB



Odisha



TN



AP & Telangana



Haryana



DOWNLOAD THE APP



Status : Answered
Chosen Option : 1

Q.23 Identify the most appropriate option to substitute the underlined segment. If no substitution is required, select No substitution.

No sooner was his name called out when he was gone onto the stage to receive the award.

- Ans
- 1. but he went
 - 2. No substitution
 - 3. and he was going
 - 4. than he went

Question ID : 98958016146
Status : Answered
Chosen Option : 1

Q.24 Select the most appropriate meaning of the given idiom.

Pass the hat

- Ans
- 1. to avoid work
 - 2. to collect money
 - 3. to play a game
 - 4. to sell something

Question ID : 98958016161
Status : Answered
Chosen Option : 1

Q.25 Fill in the blank with the most appropriate word.

All organizations seek sincere and _____ employees.

- Ans
- 1. industrious
 - 2. inactive
 - 3. industrial
 - 4. inert

Question ID : 98958016167
Status : Not Answered
Chosen Option : --