

Combined Higher Secondary Level (10+2) Examination-2018

Roll No.	
Registration No.	
Name	
Test Venue	
Test Time	10:00 AM - 11:00 AM
Test Date	05/07/2019

Section : General Intelligence

Q.1 अगर एक दर्पण को आकृति के दाईं ओर रखा जाये तो दिए गए चित्र की सही दर्पण छवि का चयन करें।



Ans

1.



2.



3.



4.



Question ID : 98958016779

Status : Answered

Chosen Option : 2

Q.2 एक कोड भाषा में, VERBATIM को EUHYPLWD के रूप में लिखा जाता है। उस भाषा में SALESMAN कैसे लिखा जाएगा?

Ans 1. OHVDDQVP

2. VDOHQDPV

3. HODVQDPV

4. HODVVPDQ

Question ID : 98958016757

Status : Answered

Chosen Option : 3

Q.3 निम्नलिखित समीकरण को सही बनाने के लिए इसमें किन दो चिह्नों को एक-दूसरे से बदलना होगा?

$$405 + 27 \times 40 - 308 \div 22 = 314$$

Ans 1. \times और $+$

2. $+$ और $-$

**Test
Prime**

By Adda247

ALL EXAMS, ONE SUBSCRIPTION



Test. Analyze. Improve. Repeat.



Don't just prepare. Perform.

Test Prime — built only for mock tests.



1,50,000+
Mock Tests



25,000+
Previous Year Papers



800+
Exam Covered



500% Refund
on Selection



5 lakh+
Free Quizzes



Daily
Free PDFs



Job Alerts
Stay Updated

- Multilingual
- Detailed Solution
- Strong and Weak Areas



**All India
Rankings**

Compete with lakhs.
Rank. Improve. Repeat.



← Adda247 test prime

Rating ▾

Editors' choice

New



Adda247 Test Prime
Adda Education • Education
Installed



DOWNLOAD THE APP



✗ 3. ÷ और ×

✓ 4. + और ÷

Question ID : 98958016768

Status : Answered

Chosen Option : 2

Q.4 उस विकल्प का चयन करें जिसमें चित्र-एक्स अंतर्निहित है। (आकृति को घुमाने की अनुमति नहीं है)



Figure-X

Ans


✓ 1.



✗ 2.



✗ 3.



✗ 4.



Question ID : 98958016777

Status : Answered

Chosen Option : 2

Q.5 उस विकल्प का चयन करें जो तीसरे अक्षर-समूह से उसी तरह संबंधित है जैसे दूसरा अक्षर-समूह पहले अक्षर-समूह से संबंधित है।

MDUK : QHYO :: SALQ : ?

Ans

✗ 1. WEPV

✓ 2. WEPV

✗ 3. WDPV

✗ 4. VDPV

Question ID : 98958016759

Status : Answered

Chosen Option : 2

Q.6 निम्नलिखित गतिविधियों को तार्किक और सार्थक क्रम में व्यवस्थित करें।

1. वापसी यात्रा
2. यात्रा व्यवस्थाएं
3. होटल में ठहरना
4. दर्शनीय स्थलों की यात्रा
5. गंतव्य पर पहुँचना

- Ans 1. 2, 5, 3, 4, 1
 2. 5, 3, 4, 2, 1
 3. 3, 2, 5, 4, 1
 4. 2, 5, 3, 1, 4

Question ID : 98958016756
 Status : Answered
 Chosen Option : 1

Q.7 'किडनी' 'उत्सर्जन' से उसी तरह संबंधित है जैसे 'हृदय' '_____ ' से संबंधित है।

- Ans 1. हृदय कक्षिकाएं
 2. मानव शरीर
 3. धमनी
 4. रक्त परिसंचरण

Question ID : 98958016760
 Status : Answered
 Chosen Option : 4

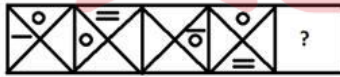
Q.8 उस संख्या-युग्म का चयन करें जिसमें दो संख्याएँ उसी तरह से संबंधित हैं जैसे कि निम्नलिखित संख्या-युग्म की दो संख्याएँ संबंधित हैं।

19 : 380

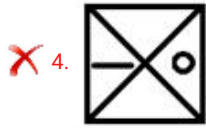
- Ans 1. 12 : 146
 2. 13 : 182
 3. 14 : 196
 4. 17 : 289

Question ID : 98958016769
 Status : Answered
 Chosen Option : 2

Q.9 उस आकृति का चयन करें जो नीचे दी गई आकृति श्रृंखला में अगले स्थान पर आएगी।



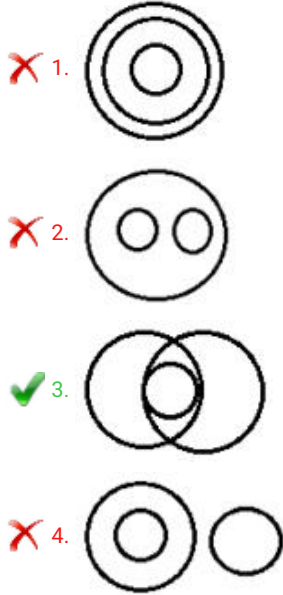
- Ans 1.
- 2.
- 3.



Question ID : 98958016775
Status : Answered
Chosen Option : 1

Q.10 उस वेन आरेख का चयन करें जो निम्नलिखित वर्गों के बीच के संबंध को सबसे अच्छा दर्शाता है।
ईंधन, डीज़ल, तरल

Ans



Question ID : 98958016780
Status : Answered
Chosen Option : 2

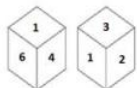
Q.11 निम्नलिखित श्रृंखला में कौन-सी संख्या प्रश्न चिह्न (?) के स्थान पर आएगी?

16, 18, 21, 26, 33, ?

- Ans
- ✗ 1. 45
 - ✓ 2. 44
 - ✗ 3. 43
 - ✗ 4. 46

Question ID : 98958016772
Status : Answered
Chosen Option : 2

Q.12 एक ही पासे की दो अलग-अलग स्थितियों को नीचे दर्शाया गया है, जिसके छह फलकों पर 1 से 6 संख्याएँ अंकित हैं। '5' संख्या वाले फलक के सामने वाली संख्या ज्ञात कीजिए।



- Ans
- ✗ 1. 3
 - ✗ 2. 4

✗ 3. 2

✓ 4. 1

Question ID : 98958016774

Status : Answered

Chosen Option : 4

Q.13 दो कथन दिए गए हैं, इसके बाद तीन निष्कर्ष I, II और III दिए गए हैं। कथनों को सत्य मानते हुए, भले ही वे आम तौर पर ज्ञात तथ्यों से अलग हों, यह निर्णय लीजिए कि कौन-सा/से निष्कर्ष कथनों का तार्किक रूप से अनुसरण करता है/करते हैं।

कथन:

सभी पर्स रुपये हैं।

कुछ रुपये सिक्के हैं।

निष्कर्ष:

I. कुछ पर्स सिक्के हैं।

II. कोई भी पर्स सिक्का नहीं है।

III. कोई भी रुपया सिक्का नहीं है।

Ans ✓ 1. या तो निष्कर्ष I अथवा II अनुसरण करता है।

✗ 2. केवल निष्कर्ष I और III अनुसरण करते हैं।

✗ 3. केवल निष्कर्ष I और II अनुसरण करते हैं।

✗ 4. केवल निष्कर्ष II और III अनुसरण करते हैं।

Question ID : 98958016766

Status : Answered

Chosen Option : 1

Q.14 तीन व्यक्तियों A, B और C के पास अलग-अलग राशि हैं। यदि A, C से ₹6 लेता है, तो A के पास B के बराबर राशि होगी। A और B के पास कुल मिला कर ₹74 हैं। B के पास कितने रुपये हैं?

Ans ✗ 1. 44

✗ 2. 30

✗ 3. 34

✓ 4. 40

Question ID : 98958016767

Status : Answered

Chosen Option : 3

Q.15 निम्नलिखित चार संख्याओं में से तीन संख्या एक निश्चित तरीके से एक जैसे हैं और एक अलग है। उस अलग संख्या चयन कीजिए।

Ans ✗ 1. 170

✗ 2. 50

✓ 3. 195

✗ 4. 65

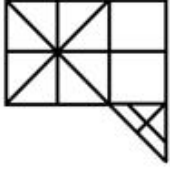
Question ID : 98958016773

Status : Answered

Chosen Option : 4

Q.16

दी गई आकृति में कितने त्रिभुज मौजूद हैं?



- Ans
- 1. 22
 - 2. 25
 - 3. 24
 - 4. 23

Question ID : 98958016776
Status : Answered
Chosen Option : 1

Q.17 यदि पारदर्शी कागज की शीट को बिंदु रेखा से मोड़ा जाए तो शीट निम्नलिखित विकल्पों में से किस प्रकार दिखाई देगी?



- Ans
- 1.
 - 2.
 - 3.
 - 4.



Question ID : 98958016778
Status : Answered
Chosen Option : 2

Q.18 निम्नलिखित चार अक्षर-समूहों में से तीन अक्षर-समूह एक निश्चित तरीके से एक जैसे हैं और एक अलग है। उस अलग अक्षर-समूह को चुनिए।

- Ans
- 1. CGKQ
 - 2. XBFJ

3. HLPT

4. DHLP

Question ID : 98958016764

Status : Answered

Chosen Option : 1

Q.19 ऐसे अक्षरों के संयोजन का चयन करें जो कि दी गई अक्षर श्रृंखला के रिक्त स्थानों में क्रमिक रूप से रखे जाने पर श्रृंखला को पूरा करेगा।

s _ m r q c t _ p d m _ q _ t s _ _ m r q c t

Ans 1. pdsrbpd

2. rdsrerd

3. pdsrerd

4. pdsrerd

Question ID : 98958016761

Status : Answered

Chosen Option : 3

Q.20 उस समुच्चय का चयन करें जिसमें संख्याएँ उसी तरह से संबंधित हैं जैसे कि निम्नलिखित समुच्चय की संख्याएँ संबंधित हैं।

(2, 4, 8)

Ans 1. (1, 2, 6)

2. (4, 16, 64)

3. (3, 9, 34)

4. (5, 25, 625)

Question ID : 98958016770

Status : Answered

Chosen Option : 2

Q.21 यदि YOGHURT को 7678392 के रूप में कोडबद्ध किया गया है, तो QUICKLY को कैसे कोडबद्ध किया जाएगा?

Ans 1. 8393237

2. 8393127

3. 7383237

4. 8393117

Question ID : 98958016758

Status : Answered

Chosen Option : 1

Q.22 उस समुच्चय का चयन करें जिसमें संख्याएँ उसी तरह से संबंधित हैं जैसे कि निम्नलिखित समुच्चय की संख्याएँ संबंधित हैं।

(5, 7, 11)

Ans 1. (23, 29, 31)

2. (14, 16, 18)

3. (15, 17, 23)

✗ 4. (17, 19, 21)

Question ID : 98958016771
Status : Answered
Chosen Option : 1

Q.23 निम्नलिखित चार शब्दों में से तीन शब्द एक निश्चित तरीके से एक जैसे हैं और एक अलग है। उस अलग शब्द को चुनिए।

- Ans
- ✗ 1. इतिहास
 - ✗ 2. समाज विज्ञान
 - ✓ 3. जीव विज्ञान
 - ✗ 4. राजनीति विज्ञान

Question ID : 98958016765
Status : Answered
Chosen Option : 1

Q.24 उस शब्द-युग्म का चयन करें जिसमें दो शब्द उसी तरह से संबंधित हैं जैसे निम्नलिखित शब्द-युग्म में दो शब्द संबंधित हैं:

जस्ता: पीतल

- Ans
- ✗ 1. पारा : थर्मामीटर
 - ✓ 2. तांबा : काँसा
 - ✗ 3. चाँदी : अंगूठी
 - ✗ 4. सोना : आभूषण

Question ID : 98958016763
Status : Answered
Chosen Option : 2

Q.25 A + B का अर्थ है 'A पति है B का'
A - B का अर्थ है 'A भाई है B का'
A × B का अर्थ है 'A बहन है B की'
A ÷ B का अर्थ है 'A माता है B की'

यदि $P + R \div S \times M - K$ है, तो R कैसे संबंधित है K से?

- Ans
- ✗ 1. बेटी
 - ✓ 2. माता
 - ✗ 3. बहन
 - ✗ 4. दादी

Question ID : 98958016762
Status : Answered
Chosen Option : 4

Section : General Awareness

Q.1 निम्नलिखित देशों में से कौन-सा देश यहूदी विरोधवाद का सामना करने के लिए अक्टूबर 2020 में "वर्ल्ड लीडर्स कांफ्रेंस" की मेजबानी करेगा?

- Ans
- ✓ 1. स्वीडन
 - ✗ 2. बेल्जियम
 - ✗ 3. डेनमार्क

✗ 4. नॉर्वे

Question ID : 98958015288

Status : Answered

Chosen Option : 3

Q.2 कंप्यूटर के संदर्भ में, PDF का पूर्ण रूप क्या है?

- Ans
- ✗ 1. पोर्टेबल डिटेल्स फॉर्मेट
 - ✓ 2. पोर्टेबल डॉक्यूमेंट फॉर्मेट
 - ✗ 3. पॉवरप्वाइंट डॉक्यूमेंट फॉर्मेट
 - ✗ 4. पर्सनल डॉक्यूमेंट फॉर्मेट

Question ID : 98958015271

Status : Answered

Chosen Option : 4

Q.3 बेसाइल कैलमेट-गुएरिन वैक्सीन (जिसे बीसीजी वैक्सीन कहा जाता है) निम्नलिखित में से किस बीमारी को रोकने के लिए लगाया जाने वाला टीका है?

- Ans
- ✗ 1. आंत्र ज्वर (टायफायड)
 - ✗ 2. पोलियो
 - ✗ 3. पीलिया
 - ✓ 4. तपेदिक

Question ID : 98958015269

Status : Answered

Chosen Option : 4

Q.4 मानव शरीर का कौन-सा हिस्सा ऑस्टियोपोरोसिस नामक बीमारी से प्रभावित होता है?

- Ans
- ✓ 1. हड्डियों
 - ✗ 2. गुर्दा
 - ✗ 3. फेफड़े
 - ✗ 4. मस्तिष्क

Question ID : 98958015270

Status : Answered

Chosen Option : 3

Q.5 उपदान (ग्रेच्युटी) के बारे में निम्नलिखित में से कौन-सा कथन सही नहीं है?

- Ans
- ✗ 1. नियोजन अवधि के दौरान कर्मचारियों द्वारा प्रदान की गई सेवाओं के लिए नियोजक उन्हें उपदान (ग्रेच्युटी) प्रदान करता है।
 - ✓ 2. कोई भी व्यक्ति केवल तभी ग्रेच्युटी प्राप्त करने का पात्र होगा यदि उसने किसी संगठन में न्यूनतम सात साल की सेवा पूरी कर ली हो।
 - ✗ 3. किसी कर्मचारी की मृत्यु के पांच साल पूरे होने से पहले या यदि वह दुर्घटना या बीमारी के कारण विकलांग हो जाता है तो ग्रेच्युटी का भुगतान किया जा सकता है।
 - ✗ 4. उपदान (ग्रेच्युटी) का भुगतान आमतौर पर सेवानिवृत्ति के समय किया जाता है लेकिन सेवानिवृत्ति से पहले भी इसका भुगतान किया जा सकता है, बशर्ते कुछ शर्तें पूरी हो जाएं।

Question ID : 98958015267

Status : Answered

Chosen Option : 2

Q.6 स्काईट्रैक्स वर्ल्ड एयरपोर्ट अवार्ड्स 2019 में निम्नलिखित में से किस हवाई अड्डे को लगातार सातवीं बार 'विश्व के सर्वश्रेष्ठ हवाई अड्डे' से पुरस्कृत किया गया था?

- Ans 1. चांगी हवाई अड्डा
 2. हनेडा अंतर्राष्ट्रीय हवाई अड्डा
 3. इंदिरा गांधी अंतर्राष्ट्रीय हवाई अड्डा
 4. छत्रपति शिवाजी महाराज अंतर्राष्ट्रीय हवाई अड्डा

Question ID : 98958015286

Status : Answered

Chosen Option : 2

Q.7 निम्नलिखित में से किसने 2019 में आयोजित 64 वें फिल्मफेयर पुरस्कार में 'सर्वश्रेष्ठ अभिनेता (महिला)' श्रेणी में पुरस्कार जीता?

- Ans 1. नीना गुप्ता
 2. जान्हवी कपूर
 3. आलिया भट्ट
 4. सारा अली खान

Question ID : 98958015280

Status : Answered

Chosen Option : 3

Q.8 विद्युत प्रतिरोध की एस आई (SI) इकाई क्या है?

- Ans 1. एम्पीयर
 2. मोल
 3. ओम
 4. वाल्ट

Question ID : 98958015268

Status : Answered

Chosen Option : 3

Q.9 विश्व थायराइड दिवस प्रति वर्ष कब मनाया जाता है?

- Ans 1. 5, सितम्बर
 2. 25, अक्तूबर
 3. 25, मई
 4. 15, जनवरी

Question ID : 98958015287

Status : Answered

Chosen Option : 1

Q.10 एक कंपनी जिसे 2003 के बाद स्थापित किया गया है और उसकी वर्तमान कीमत (वैल्यूएशन) 1 बिलियन अमरीकी डॉलर से अधिक है, तो इस प्रकार की कंपनी को उद्योग जगत में किस नाम से जाना जाता है?

- Ans 1. ब्लू मून स्टार्टअप कंपनी
 2. 5 वीं गियर स्टार्टअप कंपनी
 3. स्ट्रैटोस्फियर स्टार्टअप कंपनी
 4. यूनिकोर्न स्टार्टअप कंपनी

Question ID : 98958015266
Status : Answered
Chosen Option : 3

Q.11 कामाख्या मंदिर किस राज्य में स्थित है?

- Ans
- 1. झारखंड
 - 2. छत्तीसगढ़
 - 3. अरुणाचल प्रदेश
 - 4. असम

Question ID : 98958015265
Status : Answered
Chosen Option : 4

Q.12 निम्नलिखित में से किसे आदरपूर्वक 'भारत का वयोवृद्ध पुरुष' कहा जाता है?

- Ans
- 1. राजेन्द्र प्रसाद
 - 2. दादाभाई नौरोजी
 - 3. बिपिन चंद्र पाल
 - 4. लाल बहादुर शास्त्री

Question ID : 98958015278
Status : Answered
Chosen Option : 2

Q.13 किस राज्य में प्रतिवर्ष 'तारनेतर' मेला लगाया जाता है?

- Ans
- 1. तेलंगाना
 - 2. मणिपुर
 - 3. मध्य प्रदेश
 - 4. गुजरात

Question ID : 98958015264
Status : Answered
Chosen Option : 1

Q.14 असहयोग आंदोलन किस वर्ष में शुरू किया गया था?

- Ans
- 1. 1920
 - 2. 1877
 - 3. 1919
 - 4. 1856

Question ID : 98958015277
Status : Answered
Chosen Option : 1

Q.15 2018 में गेंद से छेड़छाड़ (Ball tampering) के मामले में क्रिकेट ऑस्ट्रेलिया द्वारा निम्नलिखित ऑस्ट्रेलियाई क्रिकेट खिलाड़ियों में से किस पर प्रतिबंध नहीं लगाया गया था?

- Ans
- 1. स्टीव स्मिथ
 - 2. कैमरन बैनक्रॉफ्ट

3. डेविड वार्नर
4. ग्लेन मैक्सवेल

Question ID : 98958015284
Status : Answered
Chosen Option : 4

Q.16 मई 2019 में, भारतीय चिकित्सा अनुसंधान परिषद (ICMR) के प्रोफेसर, _____ को जिनेवा में 72 वें विश्व स्वास्थ्य परिषद में '2019 का डॉ ली जॉंग-वूक मेमोरियल प्राइज़ फॉर पब्लिक हेल्थ' से सम्मानित किया गया।

- Ans 1. अजय वीर सिंह
2. सीमा सहाय
3. बलराम भार्गव
4. अलगारसु कालीचैमी

Question ID : 98958015279
Status : Answered
Chosen Option : 3

Q.17 निम्नलिखित में से कौन-सा राज्य भारत का सबसे बड़ा जूट उत्पादक राज्य है?

- Ans 1. राजस्थान
2. कर्नाटक
3. पश्चिम बंगाल
4. नागालैंड

Question ID : 98958015274
Status : Answered
Chosen Option : 2

Q.18 उस भारतीय अंडर-19 पुरुष क्रिकेट टीम का कोच कौन था, जिसने अंडर-19 विश्व कप 2018 जीता था?

- Ans 1. राहुल द्रविड़
2. रॉबिन सिंह
3. अनिल कुंबले
4. लालचंद राजपूत

Question ID : 98958015283
Status : Answered
Chosen Option : 3

Q.19 निम्नलिखित में से कौन-सा शब्द भारतीय संविधान के 42 वें संशोधन द्वारा प्रस्तावना में शामिल किया गया था?

- Ans 1. आर्थिक
2. राजनीतिक
3. आस्था
4. अखंडता

Question ID : 98958015282
Status : Answered
Chosen Option : 4

Q.20 फरवरी 2018 में, _____ को ICC की पहली स्वतंत्र महिला निदेशक के रूप में नियुक्त किया गया था।

- Ans 1. इंद्र नूयी
 2. नीता अंबानी
 3. इंद्र जय सिंह
 4. चंदा कोचर

Question ID : 98958015285
 Status : Answered
 Chosen Option : 4

Q.21 किस देश में अंतरसरकारी संगठन, 'द इंटरनैशनल ब्यूरो ऑफ वेट्स एंड मेजरस' का मुख्यालय है?

- Ans 1. फ्रांस
 2. बेल्जियम
 3. स्विट्जरलैंड
 4. ऑस्ट्रिया

Question ID : 98958015273
 Status : Answered
 Chosen Option : 3

Q.22 निम्नलिखित में से किसे 'सुपरकंप्यूटिंग का जनक' कहा जाता है?

- Ans 1. सीमोर क्रे
 2. विट सर्फ
 3. केन थॉम्पसन
 4. आलन पेरेलीस

Question ID : 98958015272
 Status : Answered
 Chosen Option : 3

Q.23 निम्नलिखित में से झारखंड के सिंहभूम जिला के जादूगोड़ा में किसकी महत्वपूर्ण खान है?

- Ans 1. मैंगनीज़
 2. यूरैनियम
 3. कोयला
 4. पन्ना

Question ID : 98958015276
 Status : Answered
 Chosen Option : 2

Q.24 भारतीय संविधान के अनुच्छेद 243 V के अनुसार, नगरपालिका का सदस्य बनने के लिए न्यूनतम आवश्यक आयु _____ है।

- Ans 1. 24 साल
 2. 21 साल
 3. 32 साल
 4. 28 साल

Question ID : 98958015281
 Status : Answered

Chosen Option : 2

Q.25 निम्नलिखित में से कौन-सा जिला मध्यप्रदेश राज्य के चंबल संभाग के तीन जिलों में नहीं है?

- Ans 1. छिंदवाड़ा
 2. मुरैना
 3. श्योपुर
 4. भिंड

Question ID : 98958015275

Status : Answered

Chosen Option : 1

Section : Quantitative Aptitude

Q.1 अगर $a^2 + b^2 = 135$ और $ab = 7$, ($a > 0$, $b > 0$) है, तो $(a^3 - b^3)$ का मान है:

- Ans 1. 1562
 2. 1350
 3. 1680
 4. 1600

Question ID : 98958017142

Status : Answered

Chosen Option : 2

Q.2 A, B और C एक काम को क्रमशः 5, 20 और 60 दिनों में पूरा कर सकते हैं। एकसाथ मिलकर काम करने पर, वे उसी काम को कितने दिनों में पूरा कर सकते हैं?

- Ans 1. $5\frac{1}{4}$
 2. $3\frac{1}{4}$
 3. $5\frac{3}{4}$
 4. $3\frac{3}{4}$

Question ID : 98958017131

Status : Answered

Chosen Option : 4

Q.3 अगर $x^4 + x^{-4} = 1442$, ($x > 0$) है, तो $x + x^{-1}$ का मान होगा:

- Ans 1. $\sqrt[4]{10}$
 2. $\sqrt[3]{10}$
 3. $\sqrt[2]{10}$
 4. 15

Question ID : 98958017143

Status : Answered

Chosen Option : 2

Q.4 तीन संख्याएँ $1/2 : 2/3 : 3/4$ के अनुपात में हैं। सबसे बड़ी और सबसे छोटी संख्या का अंतर 27 है। तीनों संख्याओं का औसत है:

- Ans
- 1. 81
 - 2. 54
 - 3. 69
 - 4. 40

Question ID : 98958017138
Status : Answered
Chosen Option : 1

Q.5 बैगों पर 25% की छूट थी। एक महिला ने एक बैग खरीदा और नकद भुगतान करने पर उसे 20% की अतिरिक्त छूट मिली। उसने ₹480 का भुगतान किया। बैग पर कितनी कीमत का टैग (₹ में) था?

- Ans
- 1. 825
 - 2. 950
 - 3. 750
 - 4. 800

Question ID : 98958017135
Status : Answered
Chosen Option : 1

Q.6 एक $\triangle ABC$ में, $\angle B$ और $\angle C$ के समद्विभाजक विभुज के अंदर O बिंदु पर मिलते हैं। अगर $\angle BOC = 148^\circ$ है, तो $\angle A$ का माप है:

- Ans
- 1. 116°
 - 2. 58°
 - 3. 87°
 - 4. 29°

Question ID : 98958017147
Status : Answered
Chosen Option : 1

Q.7 अगर $2 \sin^2 \theta + 5 \cos \theta - 4 = 0, 0^\circ < \theta < 90^\circ$ है, तो $\cot \theta + \operatorname{cosec} \theta$ का मान होगा:

- Ans
- 1. $\frac{3\sqrt{3}}{2}$
 - 2. $\sqrt{3}$
 - 3. $\frac{2}{\sqrt{3}}$
 - 4. $\frac{\sqrt{3}}{2}$

Question ID : 98958017151
Status : Answered
Chosen Option : 2

Q.8 उस समचतुर्भुज का क्षेत्रफल (cm^2 में) कितना होगा जिसकी भुजा 20 cm है और एक विकर्ण 24 cm है?

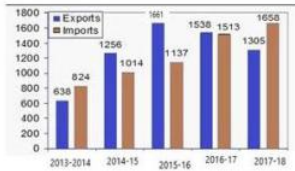
- Ans
- 1. 350
 - 2. 384
 - 3. 396
 - 4. 392

Question ID : 98958017133

Status : Answered

Chosen Option : 2

Q.9 दिया गया दंड आरेख (बार ग्राफ) पाँच वित्त वर्षों, 2013-2014 से 2017-2018, के दौरान एक कंपनी द्वारा निर्मित किसी वस्तु (टन में) के आयात और निर्यात को दर्शाता है।



किस वित्त वर्ष में पिछले वित्त वर्ष की तुलना में आयात में प्रतिशत वृद्धि सर्वाधिक है?

- Ans
- 1. 2014-2015
 - 2. 2015-2016
 - 3. 2016-2017
 - 4. 2017-2018

Question ID : 98958017155

Status : Answered

Chosen Option : 4

Q.10 अगर दस अंकों की एक संख्या $6220x558y2$ संख्या 88 से विभाज्य है, तो $(5x+5y)$ का मान है:

- Ans
- 1. 20
 - 2. 45
 - 3. 25
 - 4. 55

Question ID : 98958017140

Status : Answered

Chosen Option : 2

Q.11 त्रिभुज ABC में, AB और AC भुजाओं पर D और E क्रमशः दो बिंदु इस तरह हैं कि $DE \parallel BC$ और $AD/BD = 5/6$ है। $\triangle ABC$ के तथा समलंब चतुर्भुज DECB के क्षेत्रफल का अनुपात है:

- Ans
- 1. 121 : 96
 - 2. 121 : 36
 - 3. 36 : 121
 - 4. 96 : 121

Question ID : 98958017148

Status : Answered

Chosen Option : 3

Q.12 एक आदमी ने 2 वस्तुएँ खरीदीं, जिनमें से प्रत्येक की कीमत ₹3050 थी। उसने एक वस्तु 10% हानि पर और दूसरी 20% लाभ पर बेच दी। उसे कुल कितने प्रतिशत का लाभ हुआ अथवा हानि हुई?

- Ans
- 1. 10% हानि
 - 2. 10% लाभ
 - 3. 5% हानि
 - 4. 5% लाभ

Question ID : 98958017137

Status : Answered

Chosen Option : 2

Q.13 एक संख्या में 30% की कमी की गई, फिर 30% की वृद्धि हुई, फिर दोबारा 30% की वृद्धि हुई। संख्या में कितने प्रतिशत की शुद्ध वृद्धि/कमी (निकटतम पूर्णांक तक सही) हुई?

- Ans
- 1. 18% की कमी
 - 2. 18% की वृद्धि
 - 3. 19% की कमी
 - 4. 19% की वृद्धि

Question ID : 98958017136

Status : Answered

Chosen Option : 3

Q.14 अगर $\cos\theta = \frac{2p}{p^2+1}$, ($p \neq \pm 1$) है, तो $\operatorname{cosec} \theta$ बराबर है:

- Ans
- 1. $\frac{2p}{p^2-1}$
 - 2. $\frac{p^2+1}{p^2-1}$
 - 3. $\frac{2p}{p^2+1}$
 - 4. $\frac{p^2-1}{2p}$

Question ID : 98958017149

Status : Answered

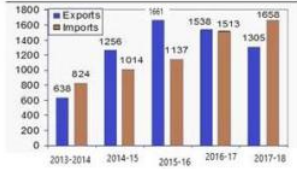
Chosen Option : 4

Q.15 कोई कार एकसमान गति से 25 km की दूरी तय करती है। अगर गति 8 km/h अधिक होती, तो उसी यात्रा में 10 घंटे कम लगते। कार की गति (km/h में) कितनी है?

- Ans
- 1. 2
 - 2. 3
 - 3. 2.5
 - 4. 4

Question ID : 98958017132
Status : Answered
Chosen Option : 3

Q.16 दिया गया दंड आरेख (बार ग्राफ) पाँच वित्त वर्षों, 2013-2014 से 2017-2018, के दौरान एक कंपनी द्वारा निर्मित किसी वस्तु (टन में) के आयात और निर्यात को दर्शाता है।



पाँचों वित्त वर्षों के दौरान कुल आयात और कुल निर्यात का अनुपात क्या है?

- Ans
- 1. 3199 : 3073
 - 2. 4011 : 4175
 - 3. 4175 : 4011
 - 4. 3073 : 3199

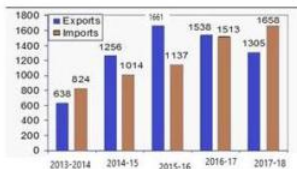
Question ID : 98958017153
Status : Answered
Chosen Option : 3

Q.17 त्रिभुज ABC के अंदर एक वृत्त बनाया गया है। यह AB, BC और AC भुजाओं को क्रमशः P, Q और R बिंदुओं पर स्पर्श करता है। अगर BP = 9 cm, CQ = 10 cm और AR = 11 cm है, तो ΔABC की परिमिति (cm में) है:

- Ans
- 1. 72.5
 - 2. 60
 - 3. 75
 - 4. 57.5

Question ID : 98958017145
Status : Answered
Chosen Option : 4

Q.18 दिया गया दंड आरेख (बार ग्राफ) पाँच वित्त वर्षों, 2013-2014 से 2017-2018, के दौरान एक कंपनी द्वारा निर्मित किसी वस्तु (टन में) के आयात और निर्यात को दर्शाता है।



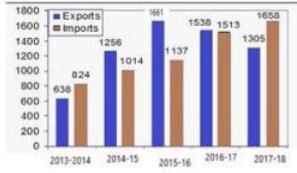
किस वित्त वर्ष में, निर्यात और आयात का योगफल सर्वाधिक है?

- Ans
- 1. 2017-2018
 - 2. 2016-2017
 - 3. 2015-2016
 - 4. 2014-2015

Question ID : 98958017152
Status : Answered

Chosen Option : 3

Q.19 दिया गया दंड आरेख (बार ग्राफ) पाँच वित्त वर्षों, 2013-2014 से 2017-2018, के दौरान एक कंपनी द्वारा निर्मित किसी वस्तु (टन में) के आयात और निर्यात को दर्शाता है।



पाँच वित्त वर्षों के दौरान निर्यात (टन में) का औसत कितना है?

- Ans
- 1. 1279.6
 - 2. 1552.4
 - 3. 1279.5
 - 4. 1025.9

Question ID : 98958017154

Status : Answered

Chosen Option : 3

Q.20 किसी निश्चित दर पर निवेश की गई कोई राशि (जिसमें ब्याज वार्षिक रूप से संयोजित होता है), पाँच वर्षों में बढ़कर वह राशि बन जाती है, जो उसकी 1.191016 फैक्टर जितनी अधिक है जो वह दो वर्षों में बढ़कर बन सकती थी। ब्याज की प्रतिशत दर क्या है?

- Ans
- 1. 4
 - 2. 8
 - 3. 6
 - 4. 5

Question ID : 98958017139

Status : Answered

Chosen Option : 3

Q.21 अगर $12 \cot^2 \theta - 31 \operatorname{cosec} \theta + 32 = 0$, $0^\circ < \theta < 90^\circ$ है, तो $\sin \theta$ के मान होंगे:

- Ans
- 1. $\frac{4}{5}, \frac{3}{4}$
 - 2. $\frac{5}{4}, \frac{4}{3}$
 - 3. $\frac{1}{3}, \frac{3}{2}$
 - 4. $\frac{2}{3}, \frac{1}{4}$

Question ID : 98958017150

Status : Answered

Chosen Option : 2

Q.22 पाँच सदस्यों के एक परिवार की 9 वर्ष पहले औसत आयु 33 वर्ष थी। अब, तीन नए सदस्य जुड़ जाते हैं, जिनकी आयु 8 वर्ष के लगातार अंतराल के साथ आरोही क्रम में है। अगर परिवार की वर्तमान औसत आयु उतनी ही है जितनी 9 वर्ष पहले थी, तो सबसे बड़े नए सदस्य की आयु (वर्षों में) कितनी है?

Ans

- 1. 29
- 2. 35
- 3. 26
- 4. 17

Question ID : 98958017134
Status : Answered
Chosen Option : 2

Q.23 7 cm और 9 cm त्रिज्या के दो वृत्त एक-दूसरे को A और B बिंदुओं पर काटते हैं। अगर AB = 10 cm है और वृत्तों के केंद्रों के बीच की दूरी x cm है, तो x का मान है:

- Ans
- 1. $2(\sqrt{6} + \sqrt{7})$
 - 2. $(\sqrt{6} + 7)$
 - 3. $2(\sqrt{6} + \sqrt{14})$
 - 4. $(\sqrt{6} + \sqrt{14})$

Question ID : 98958017146
Status : Answered
Chosen Option : 1

Q.24 अगर $(2x - 7)^3 + (2x - 8)^3 + (2x - 3)^3 = 3(2x - 7)(2x - 8)(2x - 3)$ है, तो x का मान क्या है?

- Ans
- 1. 2
 - 2. 4
 - 3. 1
 - 4. 3

Question ID : 98958017144
Status : Answered
Chosen Option : 3

Q.25 15 of $8 + 6 + [(27 - 3) \div 6 + 4]$ का सरलीकृत मान है:

- Ans
- 1. 134
 - 2. 136
 - 3. 130
 - 4. 128

Question ID : 98958017141
Status : Answered
Chosen Option : 1

Section : English Language

Q.1 Fill in the blank with the most appropriate word.

The man _____ heavy losses in his investments.

- Ans 1. incurred
 2. earned
 3. raised
 4. reaped

Question ID : 98958016088
 Status : Answered
 Chosen Option : 3

Q.2 Select the most appropriate word for the group of words.

One who is difficult to please

- Ans 1. feminist
 2. fatalist
 3. fastidious
 4. fanatic

Question ID : 98958016085
 Status : Answered
 Chosen Option : 4

Q.3 Select the most appropriate synonym of the given word.

THRIFTY

- Ans 1. rigid
 2. grand
 3. frugal
 4. discreet

Question ID : 98958016079
 Status : Answered
 Chosen Option : 4

Q.4 Select the most appropriate antonym of the given word.

CENSURE

- Ans 1. criticism
 2. distrust
 3. shame
 4. praise

Question ID : 98958016081
 Status : Answered
 Chosen Option : 2

Q.5 Select the most appropriate antonym of the given word.

PROSPERITY

- Ans 1. simplicity
 2. nobility

- 3. adversity
- 4. affinity

Question ID : 98958016080
 Status : Answered
 Chosen Option : 4

Q.6 In the sentence identify the segment which contains the grammatical error.

Darkness spilled like ink and began to spread at everything.

- Ans
- 1. spread at everything
 - 2. and began to
 - 3. Darkness spilled
 - 4. like ink

Question ID : 98958016064
 Status : Answered
 Chosen Option : 3

Q.7 Select the most appropriate indirect form of the given sentence.

Seema said to her daughter, "Don't go near the well."

- Ans
- 1. Seema requested to her daughter to go near the well.
 - 2. Seema warned her daughter not to go near the well.
 - 3. Seema said her daughter you shouldn't go near the well.
 - 4. Seema told her daughter that don't go near the well.

Question ID : 98958016067
 Status : Answered
 Chosen Option : 3

Comprehension:

In the following passage some words have been deleted. Fill in the blanks with the help of the alternatives given. Select the most appropriate option for each blank.

In July, 1937, the Japanese used an incident to provoke a war. They (1) _____ China and occupied a major portion (2) _____ it. Chinese and Japanese (3) _____ clashed in northern China, throwing the entire country into (4) _____. Millions of people were shot (5) _____ death.

SubQuestion No : 8

Q.8 Select the most appropriate option to fill in blank number 1

- Ans
- 1. persuaded
 - 2. invaded
 - 3. extended
 - 4. included

Question ID : 98958016071
 Status : Answered
 Chosen Option : 1

Comprehension:

In the following passage some words have been deleted. Fill in the blanks with the help of the alternatives given. Select the most appropriate option for each blank.

In July, 1937, the Japanese used an incident to provoke a war. They (1) _____ China and occupied a major portion (2) _____ it. Chinese and Japanese (3) _____ clashed in northern China, throwing the entire country into (4) _____. Millions of people were shot (5) _____ death.

SubQuestion No : 9

Q.9 Select the most appropriate option to fill in blank number 2

- Ans
- 1. for
 - 2. from
 - 3. of
 - 4. by

Question ID : 98958016072
Status : Answered
Chosen Option : 4

Comprehension:

In the following passage some words have been deleted. Fill in the blanks with the help of the alternatives given. Select the most appropriate option for each blank.

In July, 1937, the Japanese used an incident to provoke a war. They (1) _____ China and occupied a major portion (2) _____ it. Chinese and Japanese (3) _____ clashed in northern China, throwing the entire country into (4) _____. Millions of people were shot (5) _____ death.

SubQuestion No : 10

Q.10 Select the most appropriate option to fill in blank number 3

- Ans
- 1. crowds
 - 2. mobs
 - 3. caravans
 - 4. troops

Question ID : 98958016073
Status : Answered
Chosen Option : 3

Comprehension:

In the following passage some words have been deleted. Fill in the blanks with the help of the alternatives given. Select the most appropriate option for each blank.

In July, 1937, the Japanese used an incident to provoke a war. They (1) _____ China and occupied a major portion (2) _____ it. Chinese and Japanese (3) _____ clashed in northern China, throwing the entire country into (4) _____. Millions of people were shot (5) _____ death.

SubQuestion No : 11

Q.11 Select the most appropriate option to fill in blank number 4

- Ans
- 1. tranquility
 - 2. turmoil
 - 3. peace
 - 4. progress

Question ID : 98958016074
Status : Answered
Chosen Option : 1

Comprehension:

In the following passage some words have been deleted. Fill in the blanks with the help of the alternatives given. Select the most appropriate option for each blank.

In July, 1937, the Japanese used an incident to provoke a war. They (1) _____ China and occupied a major portion (2) _____ it. Chinese and Japanese (3) _____ clashed in northern China, throwing the entire country into (4) _____. Millions of people were shot (5) _____ death.

SubQuestion No : 12

Q.12 Select the most appropriate option to fill in blank number 5

- Ans
- 1. for
 - 2. in
 - 3. to
 - 4. on

Question ID : 98958016075
Status : Answered
Chosen Option : 1

Q.13 Select the most appropriate passive form of the given sentence.

She answered fifty questions in one hour.

- Ans
- 1. Fifty questions have been answered by her in one hour.
 - 2. Fifty questions were being answered by her in one hour.
 - 3. Fifty questions were answered by her in one hour.
 - 4. Fifty questions are answered by her in one hour.

Question ID : 98958016066
Status : Answered
Chosen Option : 3

Q.14 In the sentence identify the segment which contains the grammatical error.

Despite of his efforts he couldn't get a decent job.

- Ans
- 1. his efforts
 - 2. he couldn't get
 - 3. a decent job.
 - 4. Despite of

Question ID : 98958016065
Status : Answered
Chosen Option : 3

Q.15 Select the correctly spelt word.

- Ans
- 1. Janury
 - 2. February
 - 3. October
 - 4. Novamber

Question ID : 98958016086
Status : Answered
Chosen Option : 3

Q.16 Given below are four jumbled sentences. Out of the given options pick the one that gives their correct order.

- A. The fire destroyed many buildings which were rebuilt with red clay tiles.
- B. In the year 1689, a huge fire engulfed the city.
- C. Prague in the Czech Republic is known for its striking red roofs.
- D. Even now, traditional red roofs are included in any repairs or new construction.

- Ans
- 1. CBAD
 - 2. BADC
 - 3. DCBA
 - 4. CADB

Question ID : 98958016077
Status : Answered
Chosen Option : 3

Q.17 Given below are four jumbled sentences. Out of the given options pick the one that gives their correct order.

- A. This code contains information about its nature.
- B. Each living organism has a DNA code.
- C. If this genetic material is altered, it would alter the organism.
- D. The nature of an individual is determined by the unique genetic material in the code.

- Ans
- 1. BADC
 - 2. BCDA
 - 3. DCAB
 - 4. DBCA

Question ID : 98958016076
Status : Answered
Chosen Option : 2

Q.18 Fill in the blank with the most appropriate word.

During the curfew the army was _____ at strategic locations.

- Ans
- 1. supplied
 - 2. employed
 - 3. dispersed
 - 4. deployed

Question ID : 98958016089
Status : Answered
Chosen Option : 2

Q.19 Identify the most appropriate option to substitute the underlined segment. If no substitution is required, select No substitution.

We are going to have pleasure in accepting your kind invitation.

- Ans
- 1. No substitution
 - 2. We will have a pleasure
 - 3. We are having pleasure
 - 4. We have pleasure

Question ID : 98958016069

Status : Answered
Chosen Option : 4

Q.20 Identify the most appropriate option to substitute the underlined segment. If no substitution is required, select No substitution.

He persisted to do that he thought was right.

- Ans
- 1. in doing what he thought
 - 2. No substitution
 - 3. to do what he thinks
 - 4. for doing this which he thought

Question ID : 98958016068
Status : Answered
Chosen Option : 3

Q.21 Select the most appropriate word for the group of words.

Something that catches fire easily

- Ans
- 1. inflammable
 - 2. inflatable
 - 3. incredible
 - 4. infallible

Question ID : 98958016084
Status : Answered
Chosen Option : 2

Q.22 Select the wrongly spelt word.

- Ans
- 1. nurture
 - 2. consize
 - 3. discern
 - 4. particle

Question ID : 98958016087
Status : Answered
Chosen Option : 4

Q.23 Select the most appropriate meaning of the given idiom.

To take the bull by the horns

- Ans
- 1. to act foolishly
 - 2. to enjoy risky sports
 - 3. to escape unhurt
 - 4. to face danger boldly

Question ID : 98958016083
Status : Answered
Chosen Option : 3

Q.24 Select the most appropriate synonym of the given word.

Test

Prime

By Adda247

Previous Year Papers PDF

PRACTICE MORE, SCORE HIGHER!



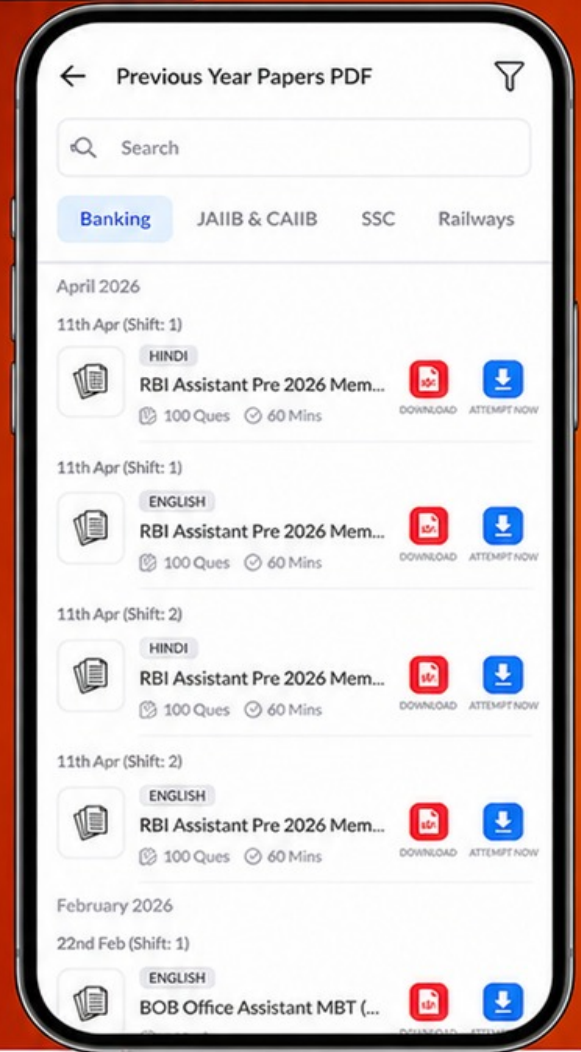
Free
25,000+
PDF's

High-Quality | Exam-Wise | Updated Regularly

ATTEMPT AS
MOCK



Turn PDFs into real exam experience.
Analyze. Improve. Succeed.



Topic-wise &
Exam-wise PDFs



Download &
Study Offline



Attempt as Mock
& Track Score



Smart Analysis
& Performance

AVAILABLE IN



Banking



SSC



Railway



Teaching



UGC



Agriculture



Nursing



Bihar



UP



Punjab



WB



Odisha



TN



AP & Telangana



Haryana



DOWNLOAD THE APP



STERN

- Ans
- 1. shrewd
 - 2. strict
 - 3. mellow
 - 4. proud

Question ID : 98958016078
Status : Answered
Chosen Option : 4

Q.25 Select the most appropriate meaning of the given idiom.

Gift of the gab

- Ans
- 1. have the ability to adapt
 - 2. have the talent to speak well
 - 3. receive a precious gift
 - 4. achieve sudden greatness

Question ID : 98958016082
Status : Answered
Chosen Option : 3