

Combined Higher Secondary Level (10+2) Examination-2018

Roll No.	
Registration No.	
Name	
Test Venue	
Test Time	1:00 PM - 2:00 PM
Test Date	04/07/2019

Section : General Intelligence

Q.1 एक कोड भाषा में, 'HEDONISM' को 'QFGJOUKP' लिखा जाता है। उसी भाषा में 'PROFITED' को कैसे लिखा जाएगा?

- Ans
- 1. HQTRFGVK
 - 2. HQTREGVL
 - 3. HQTSEFFVK
 - 4. GSQRFGUK

Question ID : 98958016014
Status : Not Answered
Chosen Option : --

Q.2 निम्नलिखित श्रृंखला में कौन सी संख्या प्रश्न चिह्न (?) के स्थान पर आएगी?

7, 11, ?, 31, 47

- Ans
- 1. 29
 - 2. 19
 - 3. 5
 - 4. 55

Question ID : 98958015527
Status : Answered
Chosen Option : 2

Q.3 निम्नलिखित चार संख्याओं में से तीन संख्याएं एक निश्चित तरीके से एक जैसी हैं और एक संख्या अलग है। वह

**Test
Prime**

By Adda247

ALL EXAMS, ONE SUBSCRIPTION



Test. Analyze. Improve. Repeat.



Don't just prepare. Perform.

Test Prime — built only for mock tests.



1,50,000+
Mock Tests



25,000+
Previous Year Papers



800+
Exam Covered



500% Refund
on Selection



5 lakh+
Free Quizzes



Daily
Free PDFs



Job Alerts
Stay Updated

- Multilingual
- Detailed Solution
- Strong and Weak Areas



**All India
Rankings**

Compete with lakhs.
Rank. Improve. Repeat.



← Adda247 test prime

Rating ▾

Editors' choice

New



Adda247 Test Prime
Adda Education • Education
Installed



DOWNLOAD THE APP



संख्या चुनें जो अन्य संख्याओं से अलग है।

- Ans
- 1. 97
 - 2. 83
 - 3. 99
 - 4. 89

Question ID : 98958016030
Status : Answered
Chosen Option : 3

Q.4 उस शब्द-युग्म को चुनें जिसमें दो शब्द उसी तरह संबंधित हैं जैसे निम्नलिखित शब्द-युग्म में दो शब्द संबंधित हैं।

वेटर : परोसना

- Ans
- 1. वकील : कानूनी
 - 2. वास्तुकार : फैशन
 - 3. मैकेनिक : मरम्मत
 - 4. इंजीनियर : तकनीकी

Question ID : 98958016020
Status : Answered
Chosen Option : 3

Q.5 यदि 'E' को '5' के रूप में कोडबद्ध किया जाता है और 'PEN' को '35' के रूप में कोडबद्ध किया जाता है तो 'PAGE' को किस रूप में कोडबद्ध किया जाएगा?

- Ans
- 1. 28
 - 2. 27
 - 3. 36
 - 4. 29

Question ID : 98958015522
Status : Answered
Chosen Option : 4

Q.6 अगर 'TRANSFER' को

'2018114196518' कोडबद्ध किया गया है, तो उसी भाषा में 'INCLUDED' को कैसे कोडबद्ध किया जाएगा?

- Ans
- 1. 91431221454
 - 2. 81431222353
 - 3. 18231220454
 - 4. 91331121454

Question ID : 98958016015
Status : Answered
Chosen Option : 1

Q.7 निम्नलिखित चार शब्दों में से तीन शब्द एक निश्चित तरीके से एक जैसे हैं और एक अलग है। उस अलग शब्द को चुनें।

- Ans
- 1. सैंडल
 - 2. चप्पलें
 - 3. जूते
 - 4. कमीज़

Question ID : 98958016022
Status : Answered
Chosen Option : 4

Q.8 उस समुच्चय को चुनें जिसमें संख्याएँ उसी तरह संबंधित हैं जैसे कि निम्नलिखित समुच्चय की संख्याएँ संबंधित हैं।

8, 6, 28

- Ans
- 1. 12, 6, 98
 - 2. 10, 5, 85
 - 3. 7, 2, 45
 - 4. 6, 4, 30

Question ID : 98958016028
Status : Answered
Chosen Option : 3

Q.9 निम्नलिखित चार अक्षर-समूहों में से

तीन अक्षर समूह एक निश्चित तरीके से एक जैसे हैं और एक अलग है। उस अलग अक्षर समूह को चुनें।

- Ans
- 1. KNTQ
 - 2. PSZV
 - 3. DGMJ
 - 4. SVBY

Question ID : 98958016021

Status : Answered

Chosen Option : 2

Q.10 एक पैटर्न वाली पारदर्शी शीट की आकृति नीचे दी गई है। जात करें कि दिए गए चार विकल्पों में से कौन-सा दिखाता है कि पारदर्शी शीट को बिन्दीदार रेखा से मोड़ने पर पैटर्न कैसा दिखाई देगा?



Ans

1.



2.



3.



4.



Question ID : 98958016035

Status : Not Answered

Chosen Option : --

Q.11 दिए गए समीकरण को सही करने के लिए किन दो संकेतों को आपस में

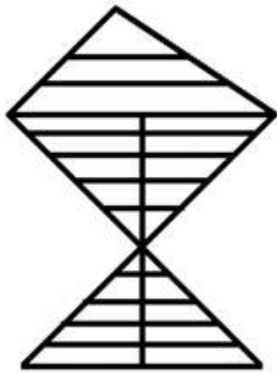
बदलना होगा।

$$14 + 4 \div 5 - 18 \times 2 = 25$$

- Ans
- 1. \times और $+$
 - 2. \times और \div
 - 3. \times और $-$
 - 4. \div और $+$

Question ID : 98958015526
Status : Answered
Chosen Option : 2

Q.12 नीचे दी गई आकृति में कितने त्रिभुज मौजूद हैं?



- Ans
- 1. 34
 - 2. 33
 - 3. 32
 - 4. 35



Question ID : 98958016033
Status : Not Answered
Chosen Option : --

Q.13 अगर दर्पण को दी गई आकृति के दाईं ओर रखा जाए, तो आकृति की सही दर्पण छवि को चुनें।

Y R e d f 8 7 5

- Ans
- 1. Y R e d f 8 7 5
 - 2. Y R e d f 8 7 5
 - 3. Y R e d f 8 7 5
 - 4. Y R e d f 8 7 5

Question ID : 98958016036
Status : Answered
Chosen Option : 3

Q.14 एक कोड भाषा में, COLD को ALHY

के रूप में लिखा जाता है। तो उसी कोड भाषा में IRON को कैसे लिखा जाएगा?

- Ans
- ✓ 1. GOKI
 - ✗ 2. GPKI
 - ✗ 3. GUKI
 - ✗ 4. FOKI

Question ID : 98958015521
Status : Answered
Chosen Option : 1

Q.15 उस वेन आरेख का चयन करें जो निम्नलिखित वर्गों के बीच के संबंध को सबसे अच्छा दर्शाता है।

सिक्किम, मणिपुर, इम्फाल

Ans

- ✗ 1.
- ✗ 2.
- ✓ 3.
- ✗ 4.

Question ID : 98958016037
Status : Answered
Chosen Option : 3

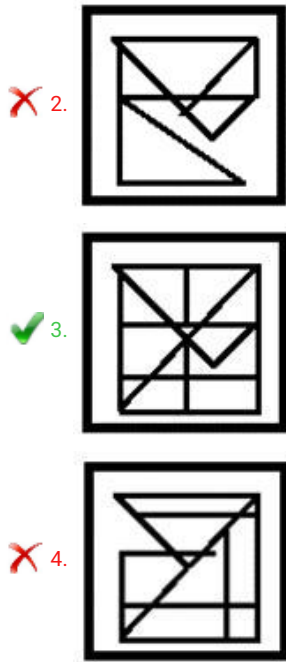
Q.16 उस विकल्प को चुनें जिसमें उसके एक भाग के रूप में नीचे दी गई आकृति X अंतर्निहित है (आकृति को घुमाने की अनुमति नहीं है)।



आकृति-X

Ans

- ✗ 1.



Question ID : 98958016034

Status : Answered

Chosen Option : 3

Q.17 उस संख्या-युग्म को चुनें जिसमें दो संख्याएँ उसी तरह संबंधित हैं जैसे निम्नलिखित संख्या-युग्म की दो संख्याएँ संबंधित हैं।

4 : 49

Ans ✗ 1. 8 : 144

✓ 2. 7 : 100

✗ 3. 5 : 81

✗ 4. 6 : 64

Question ID : 98958016026

Status : Answered

Chosen Option : 2

Q.18 निम्नलिखित वाक्यांशों के तार्किक और सार्थक क्रम को इंगित करने वाले सही विकल्प को चुनें।

1. दुनिया

2. मुंबई
3. गेटवे ऑफ इंडिया
4. एशिया
5. महाराष्ट्र
6. भारत

- Ans
- 1. 3, 2, 5, 6, 1, 4
 - 2. 3, 2, 5, 4, 6, 1
 - 3. 3, 2, 6, 5, 4, 1
 - 4. 3, 2, 5, 6, 4, 1

Question ID : 98958016013

Status : Answered

Chosen Option : 4

Q.19 निम्नलिखित समीकरण को सही बनाने के लिए इसमें किन दो संख्याओं को आपस में बदलना चाहिए?

$$618 + 37 \times 12 - 703 \div 14 = 767$$

- Ans
- 1. 14 और 37
 - 2. 618 और 14
 - 3. 12 और 37
 - 4. 703 और 12

Question ID : 98958016025

Status : Answered

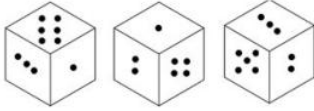
Chosen Option : 1

Q.20 ऋषभ नमिता का इकलौता भाई है। ऋषभ की पत्नी मृदु का एक भाई सोनू है। इलैना नमिता की इकलौती भतीजी है। सोनू इलैना से किस प्रकार संबंधित है।

- Ans
- 1. पिता
 - 2. चाचा
 - 3. मामा
 - 4. भाई

Question ID : 98958015524
Status : Answered
Chosen Option : 3


Q.21 एक ही पासे की तीन अलग-अलग स्थितियाँ दिखाई गई हैं। पासे के छह फलकों पर एक से लेकर छह बिंदु हैं। जब निचले फलक पर छह बिन्दुएँ होंगी, तो ऊपरी फलक पर कितनी बिन्दुएँ होंगी?



- Ans
- 1. 3
 - 2. 5
 - 3. 4
 - 4. 2

Question ID : 98958016031
Status : Answered
Chosen Option : 4

Q.22 नीचे दी गई आकृति श्रृंखला में अगले स्थान पर आने वाली आकृति को चुनें।



Ans

- 1.
- 2.
- 3.
- 4.

Question ID : 98958016032
Status : Answered
Chosen Option : 1

Q.23 निम्नलिखित श्रृंखला में अगले स्थान

पर आने वाले विकल्प का चयन कीजिए।

FBA, IGE, LLI, OQM, ?

- Ans
- 1. RUP
 - 2. RVQ
 - 3. QVQ
 - 4. RVP

Question ID : 98958015523

Status : Answered

Chosen Option : 2

Q.24 अक्षरों के उस संयोजन को चुनें जो दी गई अक्षर श्रृंखला के रिक्त स्थानों में क्रमानुसार भरे जाने पर श्रृंखला को पूरा करेगा।

U _ _ R P K Q _ U K D _ P K _ R _
K D R _ K _ R

- Ans
- 1. KDRRQUPQ
 - 2. KDRRUURQ
 - 3. KDRRQPPR
 - 4. KQPRQUPQ

Question ID : 98958016018

Status : Answered

Chosen Option : 1

Q.25 दो वर्ष पहले एक पुरुष अपने पुत्र की आयु से छह गुना बड़ा था। 18 वर्ष में, वह अपने पुत्र की आयु से दोगुना हो जाएगा। पुरुष और उसके पुत्र की वर्तमान आयु क्या है?

- Ans
- 1. 34 और 7 वर्ष
 - 2. 34 और 9 वर्ष
 - 3. 32 और 7 वर्ष

✗ 4. 32 और 13 वर्ष

Question ID : 98958015525
Status : Answered
Chosen Option : 3

Section : General Awareness

Q.1 अल्बर्ट आइंस्टीन को वर्ष _____ में भौतिकी का नोबेल पुरस्कार दिया गया था।

- Ans
- ✗ 1. 1920
 - ✗ 2. 1934
 - ✓ 3. 1921
 - ✗ 4. 1924

Question ID : 98958015218
Status : Answered
Chosen Option : 3

Q.2 निम्न में से किसने नृत्य और इससे संबंधित विषयों में प्रशिक्षण प्रदान करने के लिए 'कलाश्रम' नामक संस्था की स्थापना की थी?

- Ans
- ✗ 1. शंभू महाराज
 - ✓ 2. पंडित बिरजू महाराज
 - ✗ 3. सितारा देवी
 - ✗ 4. लच्छू महाराज

Question ID : 98958015214
Status : Answered
Chosen Option : 2

Q.3 निम्नलिखित में से किस टीम ने 1 जून 2019 को मैड्रिड में UEFA चैंपियंस लीग फुटबॉल ट्रॉफी जीती थी?

- Ans
- ✗ 1. टॉटनहैम हॉटस्पर
 - ✗ 2. मेनचेस्टर यूनाइटेड
 - ✗ 3. रियल मैड्रिड
 - ✓ 4. लिवरपूल

Question ID : 98958015235
Status : Answered

Chosen Option : 4

Q.4 स्वामी विवेकानंद एयरपोर्ट भारत के किस शहर में स्थित है?

- Ans
- 1. रांची
 - 2. दुर्गापुर
 - 3. कन्याकुमारी
 - 4. रायपुर

Question ID : 98958015223

Status : Answered

Chosen Option : 4

Q.5 प्रस्तुतिपरक कलाओं के लिए यूनेस्को के मुख्य भागीदार, अंतर्राष्ट्रीय रंगमंच संस्थान (ITI) द्वारा 'अंतर्राष्ट्रीय नृत्य दिवस' कब मनाया जाता है?

- Ans
- 1. 29, अप्रैल
 - 2. 7, जून
 - 3. 23, मार्च
 - 4. 8, मई

Question ID : 98958015236

Status : Answered

Chosen Option : 1

Q.6 सांझी कला भारत के निम्नलिखित में से किस राज्य से संबंधित है?

- Ans
- 1. पश्चिम बंगाल
 - 2. राजस्थान
 - 3. उत्तर प्रदेश
 - 4. गुजरात

Question ID : 98958015215

Status : Answered

Chosen Option : 1

Q.7 वैश्विक शांति सूचकांक, 2019 के अनुसार निम्नलिखित में से कौन-सा सबसे शांतिपूर्ण देश है?

- Ans
- 1. भारत

- 2. इंडोनेशिया
- 3. भूटान
- 4. आइसलैंड

Question ID : 98958015237
Status : Answered
Chosen Option : 4

Q.8 विश्व स्वास्थ्य संगठन द्वारा मई 2019 में निम्नलिखित में से किस देश को मलेरिया मुक्त देश घोषित किया गया है?

- Ans
- 1. मेडागास्कर
 - 2. नाइजीरिया
 - 3. भारत
 - 4. अर्जेंटीना

Question ID : 98958015238
Status : Answered
Chosen Option : 4

Q.9 निम्नलिखित में से किस राजा के शासनकाल के दौरान चीनी यात्री जुआनज़ैंग (Xuanzang) भारत आया था?

- Ans
- 1. अशोक
 - 2. हर्षवर्धन
 - 3. चंद्रगुप्त मौर्य
 - 4. प्रभाकर वर्धन

Question ID : 98958015227
Status : Answered
Chosen Option : 2

Q.10 निम्नलिखित में से किस राज्य में कोलेरू झील स्थित है?

- Ans
- 1. केरल
 - 2. तमिलनाडु
 - 3. आंध्र प्रदेश
 - 4. कर्नाटक

Question ID : 98958015224

Status : Answered
Chosen Option : 3

Q.11 मानव शरीर में सबसे बड़ी हड्डी कौन-सी है?

- Ans
- 1. रकाब (स्टेपजस)
 - 2. कान की हड्डी
 - 3. निहाई (इंगकस)
 - 4. जांघ की हड्डी

Question ID : 98958015220
Status : Answered
Chosen Option : 4

Q.12 निम्नलिखित में से कौन-सा व्यावसायिक समूह, भारत में सबसे बड़ी एब्रेसिव विनिर्माण कंपनियों में से एक कारबोरंडम यूनिवर्सल लिमिटेड (CUMI) से जुड़ा है?

- Ans
- 1. मुरुगप्पा समूह
 - 2. किलोस्कर समूह
 - 3. अदानी समूह
 - 4. बिड़ला समूह

Question ID : 98958015217
Status : Answered
Chosen Option : 2

Q.13 निम्नलिखित में से किसने संग्रहीत प्रोग्राम और डाटा दोनों को रखने के लिए मेमोरी सहित इलेक्ट्रॉनिक डिस्क्रेट वैरिएबल ऑटोमैटिक कंप्यूटर (EDVAC) बनाया?

- Ans
- 1. आर्थर सेमुअल
 - 2. ब्लेट्चले पार्क
 - 3. जॉन वॉन न्यूमैन
 - 4. थॉमस एच फ्लावर्स

Question ID : 98958015222
Status : Not Answered
Chosen Option : --

Q.14 निम्नलिखित में से किस पुस्तक ने कथा-साहित्य के लिए पुलित्जर पुरस्कार, 2019 जीता है?

- Ans
- 1. लेस
 - 2. द ओवरस्टोरी
 - 3. द सिम्पेथाइज़र
 - 4. द अंडरग्राउंड रेलरोड

Question ID : 98958015229
Status : Answered
Chosen Option : 2

Q.15 मार्च 2019 में, भारतीय रिजर्व बैंक ने चुनावों से पहले चलनिधि को सुलभ बनाने के प्रयास में दीर्घकालिक विदेशी मुद्रा विनिमय नीलामी के माध्यम से कितने बिलियन अमेरिकी डॉलर खरीदे थे?

- Ans
- 1. 1 बिलियन अमेरिकी डॉलर
 - 2. 4 बिलियन अमेरिकी डॉलर
 - 3. 2 बिलियन अमेरिकी डॉलर
 - 4. 5 बिलियन अमेरिकी डॉलर

Question ID : 98958015216
Status : Answered
Chosen Option : 3

Q.16 बुग्याल हिमालय की ढलानों में ऊंचाई वाले घास के मैदान और चारागाह हैं। यह अधिकतर किस राज्य में पाए जाते हैं?

- Ans
- 1. सिक्किम
 - 2. उत्तराखंड
 - 3. असम
 - 4. तमिलनाडु

Question ID : 98958015225
Status : Answered
Chosen Option : 1

Q.17 भारतीय संविधान के अनुच्छेद 123 के तहत अध्यादेशों को जारी करने की शक्ति निम्नलिखित में से किस के पास है?

- Ans
- 1. लोकसभा अध्यक्ष
 - 2. राज्यसभा के सभापति
 - 3. राष्ट्रपति
 - 4. महान्यायवादी

Question ID : 98958015232
Status : Answered
Chosen Option : 3

Q.18 विधान सभा का सदस्य बनने के लिए न्यूनतम कितनी आयु की होना आवश्यक है?

- Ans
- 1. 42 साल
 - 2. 20 साल
 - 3. 32 साल
 - 4. 25 साल

Question ID : 98958015231
Status : Answered
Chosen Option : 4

Q.19 दुनिया के शीर्ष पुरुष टेनिस खिलाड़ियों में से एक खिलाड़ी, राफेल नडाल किस यूरोपीय देश से है?

- Ans
- 1. ऑस्ट्रिया
 - 2. सर्बिया
 - 3. स्पेन
 - 4. स्विट्जरलैंड

Question ID : 98958015233
Status : Answered
Chosen Option : 3

Q.20 खेलों इंडिया युवा खेल 2019 को कहाँ आयोजित किया गया था?

- Ans 1. पुणे
 2. दिल्ली
 3. नोएडा
 4. लुधियाना

Question ID : 98958015234
 Status : Answered
 Chosen Option : 1

Q.21 निम्नलिखित में से कौन-सा उपकरण कान के पर्दे की जाँच के लिए उपयोग किया जाता है?

- Ans 1. ओटोस्कोप
 2. पॉलीग्राफ
 3. ओप्टो मीटर
 4. फोनोग्राफ

Question ID : 98958015219
 Status : Answered
 Chosen Option : 1

Q.22 उत्तर प्रदेश की सीमाएं कितने राज्यों/केंद्र शासित प्रदेशों के साथ लगती हैं?

- Ans 1. 8
 2. 9
 3. 7
 4. 6

Question ID : 98958015226
 Status : Answered
 Chosen Option : 1

Q.23 भारत में चट्टानों को काटकर बनाई गई सबसे पुरानी बची हुई 'बाराबर गुफाएं' निम्नलिखित में से किस काल की हैं?

- Ans 1. मौर्य साम्राज्य
 2. चोल वंश
 3. गुप्त साम्राज्य
 4. चेर वंश

Question ID : 98958015228
 Status : Answered
 Chosen Option : 1

Q.24

मई 2019 में, संयुक्त राष्ट्र महासचिव द्वारा दक्षिण सूडान में संयुक्त राष्ट्र मिशन (UNMISS) के नए फोर्स कमांडर के रूप में निम्नलिखित में से किसे नियुक्त किया है?

- Ans
- 1. प्राइवेट अंकुश चीमा
 - 2. लेफ्टिनेंट जनरल फ्रैंक कामांजी
 - 3. लेफ्टिनेंट जनरल शैलेश तिनिकर
 - 4. कर्नल अमित गुप्ता

Question ID : 98958015230

Status : Answered

Chosen Option : 3

Q.25 रोगियों के दिल की धड़कन को मापने के लिए अस्पतालों में निम्नलिखित में से किस कंप्यूटर का उपयोग किया जाता है?

- Ans
- 1. हाइब्रिड कंप्यूटर
 - 2. डिजिटल कंप्यूटर
 - 3. मेनफ्रेम कंप्यूटर
 - 4. एनालॉग कंप्यूटर

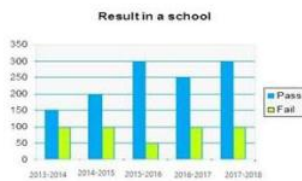
Question ID : 98958015221

Status : Answered

Chosen Option : 4

Section : Quantitative Aptitude

Q.1 दिया गया दंड आरेख (बार ग्राफ) पाँच शैक्षणिक वर्षों, 2013-2014 से 2017-2018, के दौरान किसी स्कूल के परीक्षाफल को विद्यार्थियों की संख्या के रूप में दर्शाता है।



पाँच शैक्षणिक वर्षों में अनुत्तीर्ण हुए विद्यार्थियों का औसत क्या है?

- Ans
- 1. 75
 - 2. 100
 - 3. 50
 - 4. 90

Question ID : 98958015985

Status : Answered
Chosen Option : 4

Q.2 5 cm और 8 cm त्रिज्या वाले दो वृत्त एक-दूसरे को बिंदु A और B पर काटते हैं। यदि AB = 8 cm है, और वृत्तों के केंद्रों के बीच की दूरी x cm है, तो x का मान (निकटतम पूर्णांक में) होगा:

- Ans
- 1. 11
 - 2. 8
 - 3. 10
 - 4. 9

Question ID : 98958015977
Status : Answered
Chosen Option : 3

Q.3 अगर $(x - 7)^3 + (x - 8)^3 + (x + 6)^3 = 3(x - 7)(x - 8)(x + 6)$ है, तो x का मान क्या है?

- Ans
- 1. 3
 - 2. 8
 - 3. 10
 - 4. 6

Question ID : 98958015975
Status : Answered
Chosen Option : 1

Q.4 5 of $8 - 6 + [(27 - 3) \div 6 - 4]$ का सरलीकृत मान है:

- Ans
- 1. 114
 - 2. 124
 - 3. 120
 - 4. 116

Question ID : 98958015972
Status : Not Answered
Chosen Option : --

Q.5 उस समचतुर्भुज का क्षेत्रफल (cm^2 में) क्या है जिसकी भुजा 10 cm है और छोटा विकर्ण 12 cm है?

- Ans
- 1. 120
 - 2. 192
 - 3. 50
 - 4. 96

Question ID : 98958015964
Status : Answered
Chosen Option : 4

Q.6 बैगों पर 29% की छूट थी। एक महिला ने एक बैग खरीदा और उसे नकद भुगतान करने पर 12% की छूट मिली। उसने ₹312.40 का भुगतान किया। बैग पर टैग की गई कीमत (₹ में) क्या है?

- Ans
- 1. 500
 - 2. 450

- 3. 625
- 4. 600

Question ID : 98958015966
Status : Answered
Chosen Option : 1

Q.7 एक निश्चित अवधि के लिए, किसी निश्चित दर पर निवेश की गई ₹60000 की राशि, जिसका ब्याज वार्षिक संयोजित होता है, बढ़कर ₹63,654 हो जाती है। यदि उसी दर पर, आधी अवधि के लिए उस राशि को निवेश किया जाता तो वह बढ़कर कितनी हो जाती?

- Ans
- 1. ₹61827
 - 2. ₹61800
 - 3. ₹61809
 - 4. ₹61675

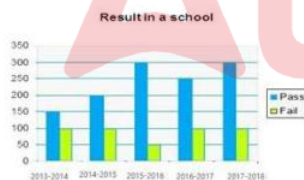
Question ID : 98958015970
Status : Answered
Chosen Option : 1

Q.8 A, B और C किसी काम को क्रमशः 10, 20 और 60 दिनों में पूरा कर सकते हैं। एकसाथ मिलकर काम करते हुए, वे उसी काम को कितने दिनों में पूरा करेंगे?

- Ans
- 1. 6
 - 2. 5
 - 3. 8
 - 4. 10

Question ID : 98958015962
Status : Answered
Chosen Option : 1

Q.9 दिया गया दंड आरेख (बार ग्राफ) पाँच शैक्षणिक वर्षों, 2013-2014 से 2017-2018, के दौरान किसी स्कूल के परीक्षाफल को विद्यार्थियों की संख्या के रूप में दर्शाता है।



पाँच शैक्षणिक वर्षों के दौरान उत्तीर्ण विद्यार्थियों का अनुमानित प्रतिशत (निकटतम पूर्णांक में) कितना है?

- Ans
- 1. 79%
 - 2. 78%
 - 3. 73%
 - 4. 72%

Question ID : 98958015984
Status : Answered
Chosen Option : 3

Q.10 यदि $\tan x = \cot (65^\circ + 9x)$ है, तो x का मान क्या होगा?

- Ans
- 1. 2.5°
 - 2. 1.0°

3. 2.0°

4. 1.5°

Question ID : 98958015729
Status : Answered
Chosen Option : 1

Q.11 यदि $x - \frac{1}{x} = 10$ है, तो $x^3 - \frac{1}{x^3}$ बराबर है:

Ans 1. 1000

2. 1030

3. 1100

4. 970

Question ID : 98958015727
Status : Answered
Chosen Option : 2

Q.12 किसी व्यक्ति ने 2 वस्तुएँ खरीदी जिनमें से प्रत्येक की कीमत ₹2650 थी। उसने एक वस्तु को 10% लाभ पर तथा दूसरी को 5% लाभ पर बेच दिया। उसने कुल कितने प्रतिशत लाभ कमाया?

Ans 1. 10%

2. 8.5%

3. 8%

4. 7.5%

Question ID : 98958015968
Status : Answered
Chosen Option : 4

Q.13 एक रेलगाड़ी एकसमान गति से 360 किमी की दूरी तय करती है। यदि रेलगाड़ी की गति 10 किमी/घंटा अधिक होती, तो वह उस यात्रा को 3 घंटे कम समय में पूरा कर लेती। रेलगाड़ी की गति (किमी/घंटा में) क्या है?

Ans 1. 50

2. 40

3. 25

4. 30

Question ID : 98958015963
Status : Answered
Chosen Option : 4

Q.14 अगर $\cos\theta = \frac{2p}{p^2+1}$ है, तो $\sin\theta$ बराबर है:

Ans 1. $\frac{2p}{p^2+1}$

2. $\frac{p^2-1}{p^2+1}$

3. $\frac{2p}{p^2-1}$

4. $\frac{p^2+1}{p^2-1}$

Question ID : 98958015980
Status : Answered

Chosen Option : 2

Q.15 अगर $x^4 + x^{-4} = 2207$, ($x > 0$) है, तो $x + x^{-1}$ का मान है:

- Ans
- 1. 19
 - 2. 11
 - 3. 9
 - 4. 7

Question ID : 98958015974

Status : Answered

Chosen Option : 4

Q.16 त्रिभुज ABC के अंदर एक वृत्त बनाया गया है। यह AB, BC और AC भुजाओं को क्रमशः P, Q और R बिंदुओं पर स्पर्श करता है। यदि BP = 6.5 cm, CQ = 4.5 cm और AR = 5.5 cm है, तो ΔABC की परिमिति (cm में) है:

- Ans
- 1. 33
 - 2. 66
 - 3. 22
 - 4. 16.5

Question ID : 98958015976

Status : Answered

Chosen Option : 1

Q.17 त्रिभुज ABC में, AB और AC भुजाओं पर दो बिंदु क्रमशः D और E इस प्रकार हैं कि $DE \parallel BC$ और $AD/BD = 3/4$ है। समलंब चतुर्भुज DECB के क्षेत्रफल का ΔABC के क्षेत्रफल से अनुपात है:

- Ans
- 1. 40 : 49
 - 2. 49 : 40
 - 3. 33 : 49
 - 4. 49 : 33

Question ID : 98958015979

Status : Answered

Chosen Option : 1

Q.18 10-अंकों की एक संख्या $1220x558y2$ यदि 88 से विभाज्य है, तो $(x + y)$ का मान है:

- Ans
- 1. 7
 - 2. 15
 - 3. 11
 - 4. 9

Question ID : 98958015971

Status : Answered

Chosen Option : 4

Q.19 अगर $a^2 + b^2 = 88$ और $ab = 6$, ($a > 0$, $b > 0$) है, तो $(a^3 + b^3)$ का मान क्या है?

- Ans
- 1. 1000
 - 2. 980
 - 3. 1180
 - 4. 820

Question ID : 98958015973

Status : Answered

Chosen Option : 4

Q.20 पाँच सदस्यों के एक परिवार की औसत आयु 10 वर्ष पूर्व 38 वर्ष थी। अब, दो नए सदस्य जुड़ते हैं, जिनकी उम्र का अंतर 8 वर्ष है। अगर परिवार की वर्तमान औसत आयु उतनी ही है जितनी 10 वर्ष पहले थी, तो नए सदस्यों में से छोटे सदस्य की आयु (वर्षों में) क्या है?

- Ans
- 1. 9
 - 2. 17
 - 3. 10
 - 4. 15

Question ID : 98958015965

Status : Answered

Chosen Option : 1

Q.21 एक संख्या में 30% की वृद्धि हुई, फिर 25% की कमी आई, फिर 25% की वृद्धि हुई। संख्या में कितने प्रतिशत की शुद्ध वृद्धि/कमी (निकटतम पूर्णांक में) हुई?

- Ans
- 1. 22% वृद्धि
 - 2. 21% वृद्धि
 - 3. 21% कमी
 - 4. 22% कमी

Question ID : 98958015967

Status : Answered

Chosen Option : 1

Q.22 माना कि $\triangle ABC \sim \triangle QPR$ और $\frac{\text{ar}(\triangle ABC)}{\text{ar}(\triangle PQR)} = \frac{9}{4}$ है। यदि $AB = 9$ cm, $BC = 6$ cm और $AC = 12$ cm है, तो QR बराबर है:

- Ans
- 1. 9 cm
 - 2. 8 cm
 - 3. 16 cm
 - 4. 12 cm

Question ID : 98958015728

Status : Answered

Chosen Option : 2

Q.23 एक $\triangle ABC$ में, $\angle B$ और $\angle C$ के समद्विभाजक, त्रिभुज के भीतर बिंदु O पर मिलते हैं। अगर $\angle A$ दिया गया है, तो निम्नलिखित विकल्पों में से कौन-सा सही है?

- Ans
- 1. $\angle BOC = 180^\circ - (\angle A/2)$
 - 2. $\angle BOC = 180^\circ - (\angle A)$
 - 3. $\angle BOC = 90^\circ + (\angle A/2)$
 - 4. $\angle BOC = 90^\circ - (\angle A/2)$

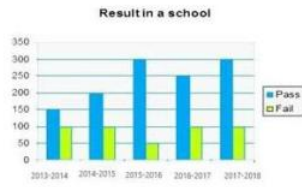
Question ID : 98958015978

Status : Answered

Chosen Option : 4

Q.24

दिया गया दंड आरेख (बार ग्राफ) पाँच शैक्षणिक वर्षों, 2013-2014 से 2017-2018, के दौरान किसी स्कूल के परीक्षाफल को विद्यार्थियों की संख्या के रूप में दर्शाता है।

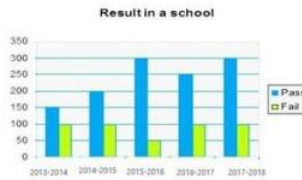


उत्तीर्ण छात्रों की संख्या और अनुत्तीर्ण होने वालों के बीच का अंतर किस शैक्षणिक वर्ष में सबसे अधिक है?

- Ans
- ✓ 1. 2015-2016
 - ✗ 2. 2016-2017
 - ✗ 3. 2014-2015
 - ✗ 4. 2017-2018

Question ID : 98958015983
Status : Answered
Chosen Option : 1

Q.25 दिया गया दंड आरेख (बार ग्राफ) पाँच शैक्षणिक वर्षों, 2013-2014 से 2017-2018, के दौरान किसी स्कूल के परीक्षाफल को विद्यार्थियों की संख्या के रूप में दर्शाता है।



पिछले शैक्षणिक वर्ष की तुलना में किस वर्ष, विद्यार्थियों की कुल संख्या में सबसे अधिक प्रतिशत वृद्धि हुई है?

- Ans
- ✓ 1. 2014-2015
 - ✗ 2. 2016-2017
 - ✗ 3. 2017-2018
 - ✗ 4. 2015-2016

Question ID : 98958015986
Status : Answered
Chosen Option : 1

Section : English Language

Q.1 Identify the most appropriate option to substitute the underlined segment. If no substitution is required, select No substitution.

No other man in the city is as rich than he is.

- Ans
- 1. as rich as he
 - 2. more richer than he
 - 3. No substitution
 - 4. so much rich as he

Question ID : 98958015991
Status : Answered
Chosen Option : 1

Q.2 **Fill in the blank with the most appropriate word.**

She kept her clothes neatly arranged in the _____ .

- Ans
- 1. larder
 - 2. godown
 - 3. warehouse
 - 4. wardrobe

Question ID : 98958016011
Status : Answered
Chosen Option : 4

Q.3 **Select the most appropriate meaning of the given idiom.**

GREEN THUMB

- Ans
- 1. to be envious
 - 2. to be angry
 - 3. to have talent in painting
 - 4. to have talent in gardening

Question ID : 98958016005
Status : Answered
Chosen Option : 4

Q.4 **Select the most appropriate word for the group of words.**

That which cannot be heard

- Ans
- 1. incredible
 - 2. invisible

3. inaudible
 4. incorrigible

Question ID : 98958016007
Status : Answered
Chosen Option : 3

Q.5 **Select the most appropriate synonym of the given word.**

SANE

- Ans 1. sensitive
 2. foolish
 3. crazy
 4. sensible

Question ID : 98958016001
Status : Answered
Chosen Option : 4

Q.6 **Select the most appropriate indirect form of the given sentence.**

She said, "Deepak slipped when he was trying to skate."

- Ans 1. She said that Deepak has slipped when he was trying to skate.
 2. She said that Deepak slipped when he was trying to skate.
 3. She said that Deepak was slipping when he was trying to skate.
 4. She said that Deepak had slipped when he was trying to skate.

Question ID : 98958015990
Status : Answered
Chosen Option : 4

Q.7 **Fill in the blank with the most appropriate word.**

The old man has lost his memory. He is suffering from

_____ .

- Ans
- 1. amnesia
 - 2. acacia
 - 3. anaesthesia
 - 4. ambrosia

Question ID : 98958016012
Status : Answered
Chosen Option : 1

Q.8 Given below are four jumbled sentences. Out of the given options pick the one that gives their correct order.

- A. Children are the most adversely affected.
- B. Their eyesight goes weak from their very childhood.
- C. Watching television continuously is very harmful for the eyes.
- D. This debilitating effect on eyes results in severe headaches as well.

- Ans
- 1. CABD
 - 2. ABDC
 - 3. CBDA
 - 4. ACBD

Question ID : 98958016000
Status : Answered
Chosen Option : 1

Q.9 Select the most appropriate meaning of the given idiom.

HEAD IN THE CLOUDS

- Ans
- 1. to be very lazy

- 2. to be very tall
- 3. to feel giddy
- 4. to daydream

Question ID : 98958016006
Status : Answered
Chosen Option : 3

Q.10 **Select the most appropriate word for the group of words.**

A remedy for all diseases

- Ans 1. panacea
- 2. antidote
 - 3. patent
 - 4. antibiotic

Question ID : 98958016008
Status : Answered
Chosen Option : 1

Q.11 **Select the correctly spelt word.**

- Ans 1. general
- 2. genuine
 - 3. guilty
 - 4. generus

Question ID : 98958016009
Status : Answered
Chosen Option : 2

Q.12 **Identify the segment which contains the grammatical error.**

The number of visitors at the fair were much larger than expected.

- Ans 1. were much larger
- 2. visitors at the fair
 - 3. The number of
 - 4. than expected

Question ID : 98958015987
Status : Answered

Chosen Option : 1

Q.13 **Select the wrongly spelt word.**

- Ans
- 1. affluence
 - 2. affilate
 - 3. alliance
 - 4. attendance

Question ID : 98958016010

Status : Answered

Chosen Option : 2

Q.14 **Select the most appropriate synonym of the given word.**

CANDID

- Ans
- 1. arrogant
 - 2. cruel
 - 3. frank
 - 4. sweet

Question ID : 98958016002

Status : Answered

Chosen Option : 3

Q.15 **Select the most appropriate antonym of the given word.**

MEAGRE

- Ans
- 1. scarce
 - 2. plentiful
 - 3. common
 - 4. minor

Question ID : 98958016004

Status : Answered

Chosen Option : 2

Q.16 **Identify the most appropriate option to substitute the underlined segment. If no substitution is required, select**

No substitution.

Those who have not received the invitation he should leave.

- Ans
- 1. he should be leaving
 - 2. they should leave
 - 3. No substitution
 - 4. should leave

Question ID : 98958015992

Status : Answered

Chosen Option : 4

Comprehension:

In the following passage some words have been deleted. Fill in the blanks with the help of the alternatives given. Select the most appropriate option for each blank.

Agatha Christie is a well known writer of mystery books. The (1) _____ in each of her stories involves everyday characters (2) _____ we can relate to. This makes her stories more (3) _____ because whatever she writes about can happen (4) _____ any of us. What makes her stories more interesting (5) _____ the twist at the end.

SubQuestion No : 17

Q.17 **Select the most appropriate**

option to fill in blank number 1

- Ans
- 1. style
 - 2. title
 - 3. ending
 - 4. plot

Question ID : 98958015994

Status : Answered

Chosen Option : 2

Comprehension:

In the following passage some words have been deleted. Fill in the blanks with the help of the alternatives given. Select the most appropriate option for each blank.

Agatha Christie is a well known writer of mystery books. The (1) _____ in each of her stories involves everyday characters (2) _____ we can relate to. This makes her stories more (3) _____ because whatever she writes about can happen (4) _____ any of us. What makes her stories more interesting (5) _____ the twist at the end.

SubQuestion No : 18

Q.18 **Select the most appropriate option to fill in blank number 2**

- Ans
- 1. whose
 - 2. these
 - 3. that

4. those

Question ID : 98958015995
Status : Answered
Chosen Option : 4

Comprehension:

In the following passage some words have been deleted. Fill in the blanks with the help of the alternatives given. Select the most appropriate option for each blank.

Agatha Christie is a well known writer of mystery books. The (1) _____ in each of her stories involves everyday characters (2) _____ we can relate to. This makes her stories more (3) _____ because whatever she writes about can happen (4) _____ any of us. What makes her stories more interesting (5) _____ the twist at the end.

SubQuestion No : 19

Q.19 **Select the most appropriate option to fill in blank number 3**

- Ans
- 1. artistic
 - 2. sarcastic
 - 3. exotic
 - 4. realistic

Question ID : 98958015996
Status : Answered
Chosen Option : 4

Comprehension:

In the following passage some words have been deleted. Fill in the blanks with the help of the alternatives given. Select the most appropriate option for each blank.

Agatha Christie is a well known writer of mystery books. The (1) _____ in each of her stories involves everyday characters (2) _____ we can relate to. This makes her stories more (3) _____ because whatever she writes about can happen (4) _____ any of us. What makes her stories more interesting (5) _____ the twist at the end.

SubQuestion No : 20

Q.20 **Select the most appropriate option to fill in blank number 4**

Ans

1. to

2. from

3. by

4. on

Question ID : 98958015997

Status : Answered

Chosen Option : 1

Comprehension:

In the following passage some words have been deleted. Fill in

the blanks with the help of the alternatives given. Select the most appropriate option for each blank.

Agatha Christie is a well known writer of mystery books. The (1) _____ in each of her stories involves everyday characters (2) _____ we can relate to. This makes her stories more (3) _____ because whatever she writes about can happen (4) _____ any of us. What makes her stories more interesting (5) _____ the twist at the end.

SubQuestion No : 21

Q.21 **Select the most appropriate option to fill in blank number 5**

- Ans
- 1. were
 - 2. is
 - 3. was
 - 4. are

Question ID : 98958015998

Status : Answered

Chosen Option : 2

Q.22 **Given below are four jumbled sentences. Out of the given options pick the one that gives their correct order.**

A. They have no mind of their

own.

B. It is misleading to imagine that computers can think like humans.

C. However, they make it possible for people to accumulate thoughts.

D. They cannot do so.

- Ans 1. BDAC
 2. ABCD
 3. BACD
 4. ACBD

Question ID : 98958015999
Status : Answered
Chosen Option : 1

Q.23 **Select the most appropriate antonym of the given word.**

URBAN

- Ans 1. rural
 2. modern
 3. alien
 4. casual

Question ID : 98958016003
Status : Answered
Chosen Option : 1

Q.24 **Select the most appropriate passive form of the given sentence.**

How much monthly rent did you pay for the house?

- Ans 1. How much monthly rent was paid for the house?
 2. How much monthly rent is being paid for the house?

Test

Prime

By Adda247

Previous Year Papers PDF

PRACTICE MORE, SCORE HIGHER!



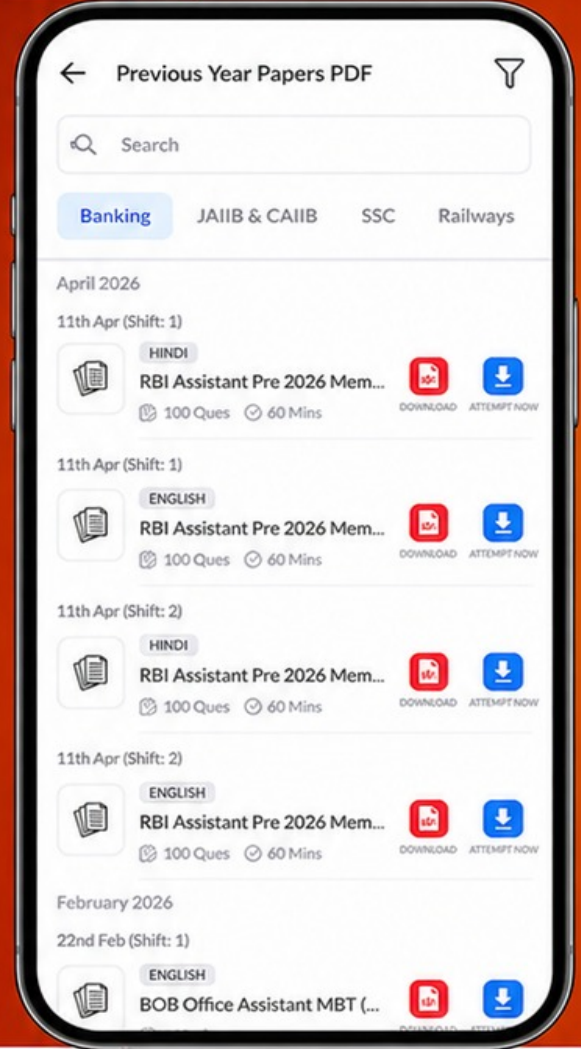
Free
25,000+
PDF's

High-Quality | Exam-Wise | Updated Regularly

ATTEMPT AS
MOCK



Turn PDFs into real exam experience.
Analyze. Improve. Succeed.



Topic-wise & Exam-wise PDFs



Download & Study Offline



Attempt as Mock & Track Score



Smart Analysis & Performance

AVAILABLE IN



Banking



SSC



Railway



Teaching



UGC



Agriculture



Nursing



Bihar



UP



Punjab



WB



Odisha



TN



AP & Telangana



Haryana



DOWNLOAD THE APP



3. How much monthly rent was being paid for the house?

4. How much monthly rent is paid for the house?

Question ID : 98958015989

Status : Answered

Chosen Option : 1

Q.25 **Identify the segment which contains the grammatical error.**

The soldiers had no choice when to obey the commander.

- Ans
- 1. The soldiers
 - 2. had no choice
 - 3. when to obey
 - 4. the commander

Question ID : 98958015988

Status : Answered

Chosen Option : 3