

Combined Higher Secondary Level (10+2) Examination-2018

Roll No.	
Registration No.	
Name	
Test Venue	
Test Time	1:00 PM - 2:00 PM
Test Date	03/07/2019

Section : General Intelligence

Q.1 मयंक बेटा है छाया का। छाया और दीपा बहने हैं। गायत्री माता है दीपा की। यदि नमन बेटा है गायत्री का, तो मयंक किस प्रकार नमन से संबंधित है?

- Ans
- 1. भाई
 - 2. भांजा
 - 3. पिता
 - 4. पुत्र

Question ID : 98958015510
Status : Answered
Chosen Option : 2

Q.2 निम्नलिखित श्रृंखला में प्रश्न चिन्ह के स्थान पर आने वाले शब्द का चयन कीजिए।

JVD, MTF, PRH, ?, VNL

- Ans
- 1. RQI
 - 2. SQJ
 - 3. RPJ
 - 4. SPJ

Question ID : 98958015509
Status : Answered
Chosen Option : 4

Q.3 उस विकल्प का चयन करें जो तीसरे अक्षर-समूह से उसी तरह संबंधित है जैसे दूसरा अक्षर-समूह पहले अक्षर-समूह से संबंधित है।

QDUJ : VIZO :: LPAR : ?

- Ans
- 1. QUFW
 - 2. RUFW
 - 3. QUEX
 - 4. PUFY

Question ID : 98958015787
Status : Answered
Chosen Option : 1

Q.4 यदि W = 46 और CAT = 48 है, तो आप SALE को किस रूप में कोडबद्ध करेंगे?

- Ans
- 1. 110

**Test
Prime**

By Adda247

ALL EXAMS, ONE SUBSCRIPTION



Test. Analyze. Improve. Repeat.



Don't just *prepare*. Perform.

Test Prime — built only for mock tests.



1,50,000+
Mock Tests



25,000+
Previous Year Papers



800+
Exam Covered



500% Refund
on Selection



5 lakh+
Free Quizzes



Daily
Free PDFs



Job Alerts
Stay Updated

- Multilingual
- Detailed Solution
- Strong and Weak Areas



**All India
Rankings**

Compete with lakhs.
Rank. Improve. Repeat.



← Adda247 test prime

Rating ▾

Editors' choice

New



Adda247 Test Prime
Adda Education • Education
Installed



DOWNLOAD THE APP



✓ 2. 74

✗ 3. 19

✗ 4. 54

Question ID : 98958015508

Status : Answered

Chosen Option : 2

Q.5 उस शब्द-युग्म का चयन करें जिसमें दो शब्द उसी तरह से संबंधित हैं जैसे निम्नलिखित शब्द-युग्म में दो शब्द संबंधित हैं।

वृक्क विज्ञान : गुर्दा

Ans ✗ 1. विकृति विज्ञान : ऊतक

✗ 2. प्राणी विज्ञान : पौधे

✗ 3. हृदय विज्ञान : यकृत

✓ 4. नेत्र विज्ञान : आंखे

Question ID : 98958015791

Status : Answered

Chosen Option : 4

Q.6 निम्नलिखित श्रृंखला में कौन-सी संख्या प्रश्न चिह्न (?) के स्थान पर आएगी?

16, 30, 62, 122, 246, ?

Ans ✗ 1. 488

✗ 2. 494

✓ 3. 490

✗ 4. 492

Question ID : 98958015800

Status : Answered

Chosen Option : 3

Q.7 उस विकल्प को चुनें जिसमें दी गई आकृति (X) अंतर्निहित है (आकृति को घुमाने की अनुमति नहीं है)।



Ans

✗ 1.



✗ 2.



✗ 3.



✓ 4.



Question ID : 98958015805

Status : Answered

Chosen Option : 3

Q.8 'चेसिस' का 'कार' से वैसा ही संबंध है जैसे 'कंकाल' का संबंध '_____ ' से है।

- Ans
- 1. अंग
 - 2. हड्डियाँ
 - 3. शरीर
 - 4. रीढ़ की हड्डी

Question ID : 98958015788

Status : Not Answered

Chosen Option : --

Q.9 नीचे दी गई श्रृंखला में अगले स्थान पर आने वाली संख्या का चयन कीजिए।

6, 24, 60, 120, ?

- Ans
- 1. 240
 - 2. 216
 - 3. 210
 - 4. 186

Question ID : 98958015513

Status : Answered

Chosen Option : 1

Q.10 निम्नलिखित चार शब्दों में से तीन शब्द एक निश्चित तरीके से एक जैसे हैं और एक अलग है। उस अलग शब्द को चुनिए।

- Ans
- 1. अंग
 - 2. कोशिकाएं
 - 3. ऊतक
 - 4. परमाणु

Question ID : 98958015793

Status : Answered

Chosen Option : 4

Q.11 एक कोड भाषा में, CONVEYER को FLQYBBBU लिखा जाता है। उस भाषा में PERSONAL को कैसे लिखा जाएगा?

- Ans
- 1. SBUVLQDO
 - 2. RAUVMQYO
 - 3. SBOULQXO
 - 4. SBUVLQXO

Question ID : 98958015785

Status : Answered

Chosen Option : 4

Q.12 उस समुच्चय का चयन करें जिसमें संख्याएँ उसी तरह से संबंधित हैं जैसे कि निम्नलिखित समुच्चय की संख्याएँ संबंधित हैं।

(84, 60, 51)

- Ans
- 1. (52, 64, 47)
 - 2. (80, 98, 69)
 - 3. (72, 56, 62)
 - 4. (64, 80, 72)

Question ID : 98958015799

Status : Marked For Review

Chosen Option : 2

Q.13 अक्षरों के उस संयोजन को चुनें जो दी गई अक्षर श्रृंखला के रिक्त स्थानों में क्रमानुसार भरे जाने पर श्रृंखला को पूरा करेंगे।

_ _ Q D P C _ _ Q C Q _ _ C P D Q C _ D P _ P D

- Ans
- 1. QCDDDPQD
 - 2. PCPDDPDC
 - 3. QCPDDPQC
 - 4. QCPCPPQC

Question ID : 98958015789

Status : Answered

Chosen Option : 3

Q.14 'A + B' का मतलब है 'A माता है B की'।
 'A - B' का मतलब है 'A पत्नी है B की'।
 'A × B' का मतलब है 'A भाई है B का'।
 'A ÷ B' का मतलब है 'A पति है B का'।

अगर $T \div V + Q - J \times M + U$ है, तो T का J से क्या संबंध है?

- Ans
- 1. भाई
 - 2. ससुर
 - 3. दामाद
 - 4. पिता

Question ID : 98958015790

Status : Not Answered

Chosen Option : --

Q.15 उस समुच्चय का चयन करें जिसमें संख्याएँ उसी तरह से संबंधित हैं जैसे कि निम्नलिखित समुच्चय की संख्याएँ संबंधित हैं।

(4, 6, 52)

- Ans
- 1. (5, 7, 72)
 - 2. (3, 5, 34)
 - 3. (6, 7, 95)
 - 4. (7, 9, 120)

Question ID : 98958015798

Status : Answered

Chosen Option : 3

Q.16 जून के महीने में, एक कक्षा में छात्रों की संख्या, छात्रों की संख्या से आधी थी। जुलाई में, पाँच और छात्रों ने प्रवेश लिया, जबकि पाँच छात्रों ने स्कूल छोड़ दिया। अब, कक्षा में छात्रों और छात्रों की संख्या बराबर है। जून में कक्षा में कुल कितने विद्यार्थी थे?

- Ans
- 1. 35
 - 2. 20
 - 3. 30
 - 4. 25

Question ID : 98958015795

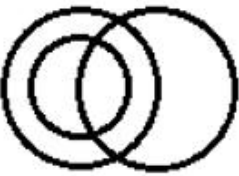
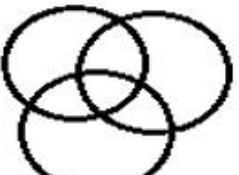


Status : Not Answered

Chosen Option : --

Q.17 उस वेन आरेख का चयन करें जो निम्नलिखित वर्गों के बीच के संबंध को सबसे अच्छा दर्शाता है।

पुरुष, खिलाड़ी, पिता

Ans

- 1. 
- 2. 
- 3. 
- 4. 

Question ID : 98958015808

Status : Answered

Chosen Option : 1

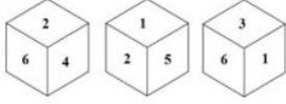
Q.18 उस संख्या-युग्म का चयन करें जिसमें दो संख्याएँ उसी तरह से संबंधित हैं जैसे कि निम्नलिखित संख्या-युग्म की दो संख्याएँ संबंधित हैं।

442 : 21

- Ans
- 1. 223 : 13
 - 2. 323 : 19
 - 3. 238 : 14
 - 4. 257 : 16

Question ID : 98958015797
Status : Answered
Chosen Option : 4

Q.19 एक ही पासे की तीन अलग-अलग स्थितियाँ दिखाई गई हैं। '3' संख्या के सामने वाले फलक की संख्या ज्ञात करें।



- Ans
- 1. 4
 - 2. 2
 - 3. 5
 - 4. 6

Question ID : 98958015802
Status : Answered
Chosen Option : 3

Q.20 दो कथन दिए गए हैं, इसके बाद तीन निष्कर्ष I, II और III दिए गए हैं। कथनों को सत्य मानते हुए, भले ही वे आम तौर पर ज्ञात तथ्यों से अलग हों, यह निर्णय लीजिए कि कौन-सा/से निष्कर्ष कथनों का तार्किक रूप से अनुसरण करता है/करते हैं।

कथन:
सभी पार्क स्कूल हैं।
कोई भी स्कूल कॉलेज नहीं है।

निष्कर्ष:
I. कोई भी कॉलेज स्कूल नहीं है।
II. कुछ स्कूल पार्क हैं।
III. कोई भी पार्क कॉलेज नहीं है।

- Ans
- 1. केवल निष्कर्ष II और III अनुसरण करते हैं।
 - 2. सभी निष्कर्ष अनुसरण करते हैं।
 - 3. केवल निष्कर्ष I और III अनुसरण करते हैं।
 - 4. केवल निष्कर्ष I और II अनुसरण करते हैं।

Question ID : 98958015794
Status : Answered
Chosen Option : 2

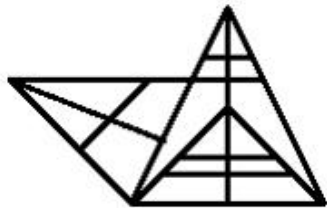
Q.21 यदि दर्पण को दिए गए संयोजन के दायें ओर रखा जाता है तो इस संयोजन की सही दर्पण छवि चुनें।

R G Y b s Q 7 9 1

- Ans
- 1. 1 9 7 Q s d Y B R
 - 2. 1 9 7 Q s d Y B R
 - 3. 1 9 7 Q s p Y G R
 - 4. 1 9 7 Q s d Y B R

Question ID : 98958015807
Status : Answered
Chosen Option : 1

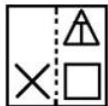
Q.22 नीचे दी गई आकृति में कितने त्रिभुज मौजूद हैं?



- Ans
- 1. 27
 - 2. 25
 - 3. 26
 - 4. 28

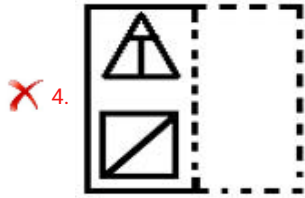
Question ID : 98958015804
Status : Not Answered
Chosen Option : --

Q.23 उस विकल्प को चुने जो यह दर्शाता है कि यदि दी गई कागज की पारदर्शी शीट को बिंदीदार रेखा पर मोड़ा जाता है तो वह कैसे दिखाई देगी।



Ans

- 1.
- 2.
- 3.



Question ID : 98958015806
Status : Answered
Chosen Option : 1

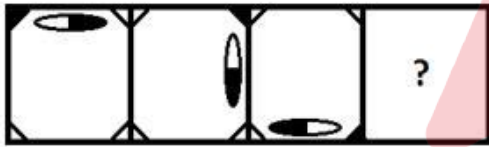
Q.24 निम्नलिखित समीकरण को सही बनाने के लिए इसमें किन दो चिह्नों को एक-दूसरे से बदलना होगा?

$$868 + 14 \times 55 - 1064 \div 56 = 117$$

- Ans
- ✗ 1. × और -
 - ✗ 2. + और ÷
 - ✗ 3. ÷ और ×
 - ✓ 4. + और -

Question ID : 98958015796
Status : Answered
Chosen Option : 4

Q.25 नीचे दी गई आकृति श्रृंखला में आने वाली अगली आकृति को चुनें।



- Ans
- ✓ 1.
 - ✗ 2.
 - ✗ 3.
 - ✗ 4.

Question ID : 98958015803
Status : Answered
Chosen Option : 1

Q.1 क्रिकेट वर्ल्ड कप: द इंडियन चैलेंज' पुस्तक के लेखक कौन हैं?

- Ans
- 1. हर्षा भोगले
 - 2. संजय मांजरेकर
 - 3. नरोत्तम पुरी
 - 4. आशीस रे

Question ID : 98958015162
Status : Not Answered
Chosen Option : --

Q.2 रिपब्लिक टी.वी. के प्रबंध निदेशक और प्रमुख संपादक कौन हैं?

- Ans
- 1. अर्नब गोस्वामी
 - 2. बरखा दत्त
 - 3. प्रणय रॉय
 - 4. राजदीप सरदेसाई

Question ID : 98958015161
Status : Not Answered
Chosen Option : --

Q.3 माइक्रोसॉफ्ट विंडोज द्वारा कॉन्फिगरेशन सूचना को संग्रहित करने के लिए उपयोग किए जाने वाले डेटाबेस को किस नाम से जाना जाता है?

- Ans
- 1. कैश
 - 2. कुकी
 - 3. रिकॉर्ड
 - 4. रजिस्ट्री

Question ID : 98958015146
Status : Not Answered
Chosen Option : --

Q.4 मिटोकॉन्ड्रिया शब्द किसने बनाया था?

- Ans
- 1. एंटोनी वैन लीउवेनहोक
 - 2. कार्ल बेंडा
 - 3. चार्ल्स लैवेरान
 - 4. जे ई सॉल्क

Question ID : 98958015143
Status : Not Answered
Chosen Option : --

Q.5 भारत की सबसे बड़ी झील 'वेम्बनाड झील' देश के किस राज्य में स्थित है?

- Ans
- 1. केरल
 - 2. तमिलनाडु
 - 3. कर्नाटक
 - 4. आंध्र प्रदेश

Question ID : 98958015150

Status : Answered
Chosen Option : 1

Q.6 चमेरा हाइड्रो इलेक्ट्रिक प्रोजेक्ट किस राज्य में स्थित है?

- Ans
- 1. महाराष्ट्र
 - 2. गुजरात
 - 3. पंजाब
 - 4. हिमाचल प्रदेश

Question ID : 98958015151
Status : Not Answered
Chosen Option : --

Q.7 गहिरामाथा अभयारण्य ओडिशा में _____ के लिए एकमात्र अभयारण्य है।

- Ans
- 1. कछुए
 - 2. हिरन
 - 3. हाथी
 - 4. मगरमच्छ

Question ID : 98958015149
Status : Not Answered
Chosen Option : --

Q.8 कुछ ही फर्मों के प्रभुत्व वाली बाजार संरचना को क्या कहा जाता है?

- Ans
- 1. पूर्ण प्रतियोगिता
 - 2. एकाधिकार प्रतियोगिता
 - 3. अल्पाधिकार
 - 4. एकाधिकार

Question ID : 98958015142
Status : Not Answered
Chosen Option : --

Q.9 निम्नलिखित में से कौन-सा खेल वेल्डोम में खेला जाता है?

- Ans
- 1. कुश्ती
 - 2. साइक्लिंग
 - 3. मुक्केबाज़ी
 - 4. फेंसिंग

Question ID : 98958015159
Status : Answered
Chosen Option : 2

Q.10 गुप्त काल के दौरान, सोने के सिक्कों को निम्न में से किस नाम से पुकारा जाता था?

- Ans
- 1. टंका
 - 2. दिनारस
 - 3. ड्रामा
 - 4. रुपका

Question ID : 98958015152

Status : Answered

Chosen Option : 1

Q.11 मार्च 2019 में, निम्नलिखित में से किस संगठन के अध्यक्ष के रूप में के. गोविंदराज को सर्वसम्मति से पुनः चुना गया है?

- Ans
- 1. बास्केट बॉल फेडरेशन ऑफ इंडिया
 - 2. स्पोर्ट्स अथोरिटी ऑफ इंडिया
 - 3. टेबल टेनिस फेडरेशन ऑफ इंडिया
 - 4. ऑल इंडिया टेनिस एसोसिएशन

Question ID : 98958015158

Status : Not Answered

Chosen Option : --

Q.12 रोडोप्सिन जिसे दृष्टि बैंगनी भी कहा जाता है, मानव शरीर में कहां स्थित है?

- Ans
- 1. बाल
 - 2. हाथ
 - 3. आंख
 - 4. नाखून

Question ID : 98958015144

Status : Answered

Chosen Option : 3

Q.13 कोथानदारमास्वामी मंदिर में नवनिर्मित 64 फुट की विश्वरूप महाविष्णु की प्रतिमा किस शहर में स्थापित की जानी प्रस्तावित है?

- Ans
- 1. मदुरै
 - 2. चेन्नई
 - 3. हैदराबाद
 - 4. बेंगलुरु

Question ID : 98958015140

Status : Not Answered

Chosen Option : --

Q.14 2019 के चुनावों के बाद निर्वाचित लोकसभा _____ लोकसभा है।

- Ans
- 1. 16 वीं
 - 2. 18 वीं
 - 3. 15 वीं
 - 4. 17 वीं

Question ID : 98958015157

Status : Answered

Chosen Option : 4

Q.15 वर्ष 2019 में, _____ द्वारा प्रस्तुत की गई शर्त के अनुसार, यदि कोई व्यक्ति उस देश में वीजा हेतु आवेदन कर रहा है तो उसे पिछले पांच वर्षों के अपने सोशल मीडिया ट्रैक रिकॉर्ड को प्रस्तुत करना आवश्यक होगा।

- Ans
- 1. ब्रिटेन

- 2. जापान
- 3. अमेरीका
- 4. फ्रांस

Question ID : 98958015163
Status : Not Answered
Chosen Option : --

Q.16 पैरा ओलंपिक में रजत पदक विजेता गिरीश गौड़ा को किस राज्य से दूसरी बार लोकसभा चुनाव - दूत (Lok Sabha Election Ambassador) के रूप में नियुक्त किया गया है?

- Ans
- 1. कर्नाटक
 - 2. केरल
 - 3. तमिलनाडु
 - 4. आंध्र प्रदेश

Question ID : 98958015156
Status : Not Answered
Chosen Option : --

Q.17 विकेट कीपर का हेलमेट जमीन पर रखा हुआ है और बल्लेबाज के शॉट से निकली बॉल हेलमेट पर जा लगी। ऐसा होने के कारण बैटिंग टीम को कितने पेनल्टी रन दिए जाते हैं?

- Ans
- 1. 2
 - 2. 4
 - 3. 6
 - 4. 5

Question ID : 98958015160
Status : Not Answered
Chosen Option : --

Q.18 निम्नलिखित में से किसे जून 2019 में मैक्सिको का 'ऑर्डेन मेक्सिकाना डेल अगुइला एज़टेका' पुरस्कार से सम्मानित किया गया था?

- Ans
- 1. स्मृति ईरानी
 - 2. प्रतिभा पाटिल
 - 3. सुषमा स्वराज
 - 4. निर्मला सीतारमण

Question ID : 98958015155
Status : Not Answered
Chosen Option : --

Q.19 किस नदी को नर्मदा की 'हैंडमेड' के रूप में जाना जाता है?

- Ans
- 1. ताप्ती
 - 2. लूनी
 - 3. साबरमती
 - 4. माही

Question ID : 98958015148
Status : Answered

Chosen Option : 1

Q.20 जून 2014 में शुरू की गई परियोजना 'मौसम', _____ की एक पहल है।

- Ans
- 1. संस्कृति मंत्रालय
 - 2. पृथ्वी विज्ञान मंत्रालय
 - 3. पर्यावरण और वन और जलवायु परिवर्तन मंत्रालय
 - 4. पर्यटन मंत्रालय

Question ID : 98958015139

Status : Answered

Chosen Option : 2

Q.21 आईटी सेवाओं के संदर्भ में, BCP का पूर्ण रूप (Full form) क्या है?

- Ans
- 1. बिजनेस कन्फर्मेशन प्रोटोकॉल
 - 2. बिजनेस कन्फर्मेशन प्लान
 - 3. बिजनेस कन्टिन्यूटी प्रोटोकॉल
 - 4. बिजनेस कन्टिन्यूटी प्लान

Question ID : 98958015147

Status : Not Answered

Chosen Option : --

Q.22 वित्त वर्ष 2018-19 में, निम्नलिखित में से कौन-सी कंपनी भारत की सबसे अधिक लाभदायक सार्वजनिक क्षेत्र की कंपनी बन गई है?

- Ans
- 1. इंडियन ऑयल कॉर्पोरेशन
 - 2. एनटीपीसी लिमिटेड
 - 3. ऑयल एंड नेचुरल गैस कॉर्पोरेशन
 - 4. भारत पेट्रोलियम

Question ID : 98958015141

Status : Answered

Chosen Option : 1

Q.23 मई 2019 में, _____ को लैंगिक समानता और महिला सशक्तिकरण के लिए संसाधन प्रबंधन, स्थिरता और भागीदारी हेतु संयुक्त राष्ट्र की संस्था का उप कार्यकारी निदेशक नियुक्त किया गया था।

- Ans
- 1. सुधा मूर्ति
 - 2. अनीता भाटिया
 - 3. लक्ष्मी पुरी
 - 4. अमृता फडनवीस

Question ID : 98958015154

Status : Not Answered

Chosen Option : --

Q.24 वाडगांव का सम्मेलन किस वर्ष में हुआ था?

- Ans
- 1. 1789
 - 2. 1769
 - 3. 1779

✗ 4. 1799

Question ID : 98958015153
Status : Not Answered
Chosen Option : --

Q.25 चट्टान अनुक्रमण के विवरण और उनके सामान्य समय-मापक्रम के संदर्भ में व्याख्या से संबंधित वैज्ञानिक अनुशासन को क्या कहा जाता है?

- Ans
- ✗ 1. खनिज विज्ञान
 - ✗ 2. भूगणित
 - ✗ 3. जीवाश्म विज्ञान
 - ✓ 4. स्तरित शैलविज्ञान

Question ID : 98958015145
Status : Not Answered
Chosen Option : --

Section : Quantitative Aptitude

Q.1 अगर $\frac{1}{1-\sin\theta} + \frac{1}{1+\sin\theta} = 4\sec\theta$, $0^\circ < \theta < 90^\circ$ है, तो $(3\cot\theta + \operatorname{cosec}\theta)$ का मान होगा:

- Ans
- ✗ 1. $4\sqrt{3}$
 - ✗ 2. $5\sqrt{3}$
 - ✗ 3. $\frac{2\sqrt{3}}{3}$
 - ✓ 4. $\frac{5\sqrt{3}}{3}$

Question ID : 98958015680
Status : Answered
Chosen Option : 4

Q.2 अगर $\sqrt{\frac{1-\cos\theta}{1+\cos\theta}} \times \sqrt{\frac{\operatorname{cosec}\theta - \cot\theta}{\operatorname{cosec}\theta + \cot\theta}} = \frac{1-r}{1+r}$ है, तो r का मान होगा:

- Ans
- ✗ 1. $\sin\theta$
 - ✓ 2. $\cos\theta$
 - ✗ 3. $\sec\theta$
 - ✗ 4. $\operatorname{cosec}\theta$

Question ID : 98958015679
Status : Not Answered
Chosen Option : --

Q.3 एक वस्तु को ₹2,300 बेचकर रेखा ने 25% लाभ कमाया। यदि वह इसे ₹1955 में बेचती है तो उसे कितने प्रतिशत हानि/लाभ होगी/होगा:

- Ans
- ✗ 1. लाभ, 6.5%
 - ✗ 2. हानि, 6.5%

✗ 3. हानि, 6.25%

✓ 4. लाभ, 6.25%

Question ID : 98958015666
Status : Not Answered
Chosen Option : --

Q.4 A और B दो संख्याओं का अनुपात 5 : 2 है। यदि प्रत्येक संख्या में 4 जोड़ दिया जाए तो यह अनुपात 9 : 4 हो जाता है। यदि प्रत्येक मूल संख्या में से 5 घटाया जाता है, तो A और B का अनुपात होगा:

Ans ✗ 1. 4 : 1

✗ 2. 8 : 3

✗ 3. 7 : 2

✓ 4. 3 : 1

Question ID : 98958015667
Status : Not Answered
Chosen Option : --

Q.5 ΔABC में, $\angle A$ का समद्विभाजक AD है जो BC को D पर मिलता है। यदि $BC = a$, $AC = b$ और $AB = c$ है, तो $BD - DC$ निम्नलिखित में से किसके बराबर होगा?

Ans ✗ 1. $\frac{a(c+b)}{c-b}$

✗ 2. $\frac{ac}{b+c}$

✗ 3. $\frac{ab}{b+c}$

✓ 4. $\frac{a(c-b)}{c+b}$

Question ID : 98958015677
Status : Not Answered
Chosen Option : --

Q.6 यदि $x \neq -1, 2$ और 5 है, तब $\left\{ \frac{2(x^2-9)}{x^2-x-2} \times \frac{x^2+2x+1}{x^2-4x-5} \div \frac{x^2+2x+4}{3x-15} \right\}$ का सरलीकृत मान बराबर है:

Ans ✗ 1. $\frac{2}{3}$

✓ 2. 6

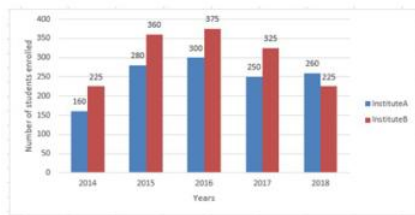
✗ 3. $\frac{3}{2}$

✗ 4. $\frac{1}{6}$

Question ID : 98958015672
Status : Answered
Chosen Option : 2

Q.7

दिया गया दंड आरेख (बार ग्राफ) पांच वर्ष की अवधि के दौरान संस्थान A और B में व्यावसायिक पाठ्यक्रम के लिए नामांकित विद्यार्थियों की संख्या को दर्शाता है।



संस्थान B में 2015, 2016 और 2018 में नामांकित हुए विद्यार्थियों की (प्रति वर्ष) औसत संख्या 2017 में संस्थान A में नामांकित विद्यार्थियों की संख्या से कितने प्रतिशत अधिक है?

- Ans
- 1. 25
 - 2. 28
 - 3. 22
 - 4. 30

Question ID : 98958015682
Status : Answered
Chosen Option : 1

Q.8 एक वस्तु का अंकित मूल्य ₹400 है। अंकित मूल्य पर 20% की छूट देने के बाद, एक दुकानदार ₹32 का लाभ कमाता है। उसका लाभ प्रतिशत है:

- Ans
- 1. $12\frac{1}{9}$
 - 2. 9
 - 3. 8
 - 4. $11\frac{1}{9}$

Question ID : 98958015664
Status : Answered
Chosen Option : 1

Q.9 यदि किसी त्रिभुज के कोणों में से एक 64° है, तो अन्य दो आंतरिक कोणों के समद्विभाजक के बीच का कोण होगा:

- Ans
- 1. 100°
 - 2. 112°
 - 3. 122°
 - 4. 96°

Question ID : 98958015676
Status : Not Answered
Chosen Option : --

Q.10 A और B की गति का अनुपात 3 : 5 है। यदि A एक निश्चित दूरी तय करने में B से 24 मिनट अधिक लेता है, तो B उसी दूरी को तय करने में कितना समय (मिनटों में) लेगा?

- Ans
- 1. 20
 - 2. 40
 - 3. 18

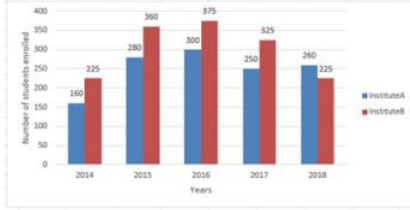
✓ 4. 36

Question ID : 98958015661

Status : Not Answered

Chosen Option : --

Q.11 दिया गया टंड आरेख (बार ग्राफ) पांच वर्ष की अवधि के दौरान संस्थान A और B में व्यावसायिक पाठ्यक्रम के लिए नामांकित विद्यार्थियों की संख्या को दर्शाता है।



किस वर्ष में संस्थान B में नामांकित विद्यार्थियों की संख्या उसी वर्ष संस्थान A में नामांकित विद्यार्थियों की संख्या से $x\%$ अधिक है, जहाँ $25 < x < 30$ है?

- Ans
- ✗ 1. 2016
 - ✓ 2. 2015
 - ✗ 3. 2014
 - ✗ 4. 2017

Question ID : 98958015684

Status : Not Answered

Chosen Option : --

Q.12 चार अलग-अलग संख्याएं दी हुई हैं। उनमें से पहली तीन संख्याओं का औसत, चौथी संख्या का चार गुना है और सभी चार संख्याओं का औसत 52 है। पहली तीन संख्याओं का औसत क्या है?

- Ans
- ✗ 1. 65
 - ✗ 2. 70
 - ✓ 3. 64
 - ✗ 4. 39

Question ID : 98958015662

Status : Answered

Chosen Option : 3

Q.13 केंद्र O वाले वृत्त के अंदर ABDC एक चक्रीय चतुर्भुज है, जिसमें AB वृत्त का व्यास है। AC और BD को बढ़ाया जाता है जो E पर मिलते हैं। अगर $\angle CED = 70^\circ$ है, तो $\angle COD$ क्या होगा?

- Ans
- ✓ 1. 40°
 - ✗ 2. 60°
 - ✗ 3. 45°
 - ✗ 4. 30°

Question ID : 98958015675

Status : Not Answered

Chosen Option : --

Q.14 अगर $250\sqrt{2}x^3 - 5\sqrt{5}y^3 = (5\sqrt{2}x - \sqrt{5}y) \times (Ax^2 + Bxy + Cy^2)$ है, तो $(A + C - \sqrt{10}B)$ का मान होगा:

- Ans
- 1. $2\sqrt{5}$
 - 2. 10
 - 3. 5
 - 4. $5\sqrt{2}$

Question ID : 98958015671
Status : Not Answered
Chosen Option : --

Q.15 जब ब्याज वार्षिक संयोजित होता है तो 10% प्रति वर्ष की दर से 4 वर्ष में कोई निश्चित राशि ₹29282 हो जाती है। उसी राशि पर, उसी ब्याज दर से, उतने ही समय का साधारण ब्याज क्या है?

- Ans
- 1. ₹7,600
 - 2. ₹8,000
 - 3. ₹8,400
 - 4. ₹8,500

Question ID : 98958015668
Status : Not Answered
Chosen Option : --

Q.16 यदि $x + \frac{1}{x} = 7$ है, तो $x^3 + \frac{1}{x^3}$ का मान है:

- Ans
- 1. 364
 - 2. 322
 - 3. 300
 - 4. 343

Question ID : 98958015719
Status : Answered
Chosen Option : 2

Q.17 एक तार एक आयत के आकार में है, जिसकी भुजाओं का अनुपात 7 : 4 है। यह शुरू में वृत्त के आकार में था जिसकी त्रिज्या लगभग 31.5 cm के बराबर थी। आयत की छोटी भुजा की लंबाई है:

($\pi = \frac{22}{7}$ लीजिए)

- Ans
- 1. 44 cm
 - 2. 32 cm
 - 3. 36 cm
 - 4. 40 cm

Question ID : 98958015663
Status : Not Answered
Chosen Option : --

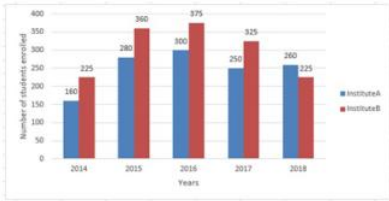
Q.18 $\left(\frac{7}{5} \div \frac{7}{10} \text{ of } \frac{3}{4}\right) \div \frac{4}{9} - \left(\frac{7}{16} \div 10\frac{1}{2} \times 7\frac{1}{5}\right) \times \frac{5}{12}$ का सरलीकृत मान है:

Ans

- 1. $\frac{41}{4}$
- 2. $\frac{47}{8}$
- 3. $\frac{39}{4}$
- 4. $\frac{49}{8}$

Question ID : 98958015670
Status : Not Answered
Chosen Option : --

Q.19 दिया गया दंड आरेख (बार ग्राफ) पांच साल की अवधि के दौरान संस्थान A और B में व्यावसायिक पाठ्यक्रम के लिए नामांकित विद्यार्थियों की संख्या को दर्शाता है।



2014, 2016 और 2018 के दौरान संस्थान A में नामांकित विद्यार्थियों की कुल संख्या, संस्थान B में पाँच वर्षों के दौरान नामांकित विद्यार्थियों की कुल संख्या का कितना प्रतिशत (एक दशमलव स्थान तक) है?

- Ans
- 1. 46.8
 - 2. 44.6
 - 3. 47.7
 - 4. 43.4

Question ID : 98958015683
Status : Not Answered
Chosen Option : --

Q.20 A और B मिलकर किसी काम को 10 दिनों में कर सकते हैं, B और C मिलकर उसी काम को 15 दिनों में कर सकते हैं जबकि C और A मिलकर उसे 20 दिनों में कर सकते हैं। वे सभी 8 दिनों तक एक साथ काम करते हैं। C अकेले शेष कार्य को कितने दिनों में पूरा करेगा?

- Ans
- 1. 12 दिनों में
 - 2. 16 दिनों में
 - 3. $5\frac{1}{3}$ दिनों में
 - 4. $3\frac{1}{5}$ दिनों में

Question ID : 98958015660
Status : Not Answered
Chosen Option : --

Q.21 केंद्र O वाले किसी वृत्त के अन्दर, एक आयत ABCD बनाया गया है। उसके विकर्ण CA को वृत्त के बाहर बिंदु E तक बढ़ाया जाता है। वृत्त के बिंदु D पर ED एक स्पर्शरेखा है। यदि $AC = 2BC$ है, तो $\angle DEC$ की माप क्या है?

- Ans
- 1. 40°

- 2. 45°
- 3. 30°
- 4. 60°

Question ID : 98958015674
Status : Not Answered
Chosen Option : --

Q.22 एक व्यक्ति अपने भोजन के बिल पर 30% और फिर 20% की छूट प्राप्त करता है। उसे कितने के समतुल्य एकल छूट प्राप्त हुई?

- Ans
- 1. 50%
 - 2. 44%
 - 3. 35%
 - 4. 40%

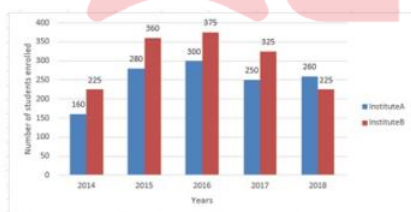
Question ID : 98958015718
Status : Answered
Chosen Option : 2

Q.23 माना कि $\Delta ABC \sim \Delta QPR$ और $\frac{\text{ar}(\Delta ABC)}{\text{ar}(\Delta PQR)} = \frac{9}{16}$ हैं। यदि $AB = 12$ cm, $BC = 6$ cm और $AC = 9$ cm है, तो QR बराबर है:

- Ans
- 1. 9 cm
 - 2. 12 cm
 - 3. 8 cm
 - 4. 16 cm

Question ID : 98958015720
Status : Not Answered
Chosen Option : --

Q.24 दिया गया दंड आरेख (बार ग्राफ) पांच वर्ष की अवधि के दौरान संस्थान A और B में व्यावसायिक पाठ्यक्रम में नामांकित विद्यार्थियों की संख्या को दर्शाता है।



2015 और 2018 में संस्थान A में नामांकित विद्यार्थियों की कुल संख्या तथा 2014 और 2016 संस्थान B में नामांकित विद्यार्थियों की कुल संख्या का अनुपात क्या है?

- Ans
- 1. 9 : 10
 - 2. 11 : 12
 - 3. 16 : 15
 - 4. 27 : 25

Question ID : 98958015681
Status : Answered

Chosen Option : 1

Q.25 किसी वस्तु की कीमत में 36% की वृद्धि हुई और क्रय की गई मात्रा में 30% की कमी हुई। वस्तु पर व्यय की गई राशि में कितने प्रतिशत की वृद्धि या कमी हुई है?

- Ans
- 1. 4.8%, वृद्धि
 - 2. 6%, वृद्धि
 - 3. 6%, कमी
 - 4. 4.8%, कमी

Question ID : 98958015665
Status : Not Answered
Chosen Option : --

Section : English Language

Q.1 Select the most appropriate antonym of the given word.

EXAGGERATE

- Ans
- 1. heighten
 - 2. amplify
 - 3. compress
 - 4. overdo

Question ID : 98958015876
Status : Not Answered
Chosen Option : --

Q.2 Select the most appropriate synonym of the given word.

ENTANGLE

- Ans
- 1. implicate
 - 2. exclude
 - 3. clarify
 - 4. release

Question ID : 98958015874
Status : Not Answered
Chosen Option : --

Q.3 Select the word which means the same as the group of words given.

rapid increase in the number or amount of something

- Ans
- 1. propensity
 - 2. proliferation
 - 3. paucity
 - 4. promotion

Question ID : 98958015880
Status : Not Answered
Chosen Option : --

Q.4 Select the most appropriate meaning of the given idiom.

To shake off

- Ans
- 1. to pass off
 - 2. to recollect
 - 3. to get rid of
 - 4. to denounce

Question ID : 98958015877

Status : Not Answered

Chosen Option : --

Q.5 Select the most appropriate meaning of the given idiom.

Hanging by a thread

- Ans
- 1. in a sorry or humble state
 - 2. unable to act as desired
 - 3. be extremely weak
 - 4. be in a dangerous situation

Question ID : 98958015878

Status : Not Answered

Chosen Option : --

Q.6 Select the correct indirect form of the given sentence.

Bhola said to his friend, "How can I make this charcoal white?"

- Ans
- 1. Bhola asked his friend how can I make this charcoal white.
 - 2. Bhola asked his friend how could he make that charcoal white.
 - 3. Bhola asked his friend how he could make that charcoal white.
 - 4. Bhola told his friend how he could make that charcoal white.

Question ID : 98958015862

Status : Not Answered

Chosen Option : --

Q.7 Select the word which means the same as the group of words given.

Living in air

- Ans
- 1. aerial
 - 2. feathery
 - 3. visual
 - 4. heavenly

Question ID : 98958015879

Status : Not Answered

Chosen Option : --

Q.8 Select the most appropriate antonym of the given word.

DENSE

- Ans
- 1. piled
 - 2. jammed
 - 3. crammed
 - 4. sparse

Question ID : 98958015875
Status : Not Answered
Chosen Option : --

Q.9 Select the most appropriate word to fill in the blank.

He once had a very frightening _____ with a wild bull.

- Ans
- 1. appointment
 - 2. commitment
 - 3. enterprise
 - 4. encounter

Question ID : 98958015883
Status : Not Answered
Chosen Option : --

Q.10 Select the wrongly spelt word.

- Ans
- 1. agreement
 - 2. agriculture
 - 3. agitation
 - 4. aggrassive

Question ID : 98958015882
Status : Answered
Chosen Option : 4

Q.11 Select the most appropriate option to substitute the underlined segment in the given sentence. If there is no need to substitute it, select No improvement.

Two senior officers have been entrusted with the responsibility by organize the reception of the guest.

- Ans
- 1. to organizing
 - 2. of organizing
 - 3. for organize
 - 4. No improvement

Question ID : 98958015864
Status : Answered
Chosen Option : 2

Comprehension:

In the following passage some words have been deleted. Fill in the blanks with the help of the alternatives given. Select the most appropriate option for each blank.

People make plastic products by mixing the plastic with additives. The additives (1) _____ it difficult to recycle the plastic. To recycle plastic things, (2) _____ grind them up first, but this new (3) _____ is not easy to use again. A laboratory in California made a new type (4) _____ plastic to deal with this problem. (5) _____ scientists put the new plastic in a high-acid solution, the plastic and the additives break apart. People can then easily reuse the plastic.

SubQuestion No : 12

Q.12 Select the most appropriate option for blank No. 1.

- Ans
- 1. is making
 - 2. was making
 - 3. make
 - 4. makes

Question ID : 98958015866
Status : Not Answered
Chosen Option : --

Comprehension:

In the following passage some words have been deleted. Fill in the blanks with the help of the alternatives given. Select the most appropriate option for each blank.

People make plastic products by mixing the plastic with additives. The additives (1) _____ it difficult to recycle the plastic. To recycle plastic things, (2) _____ grind them up first, but this new (3) _____ is not easy to use again. A laboratory in California made a new type (4) _____ plastic to deal with this problem. (5) _____ scientists put the new plastic in a high-acid solution, the plastic and the additives break apart. People can then easily reuse the plastic.

SubQuestion No : 13

Q.13 Select the most appropriate option for blank No. 2.

- Ans
- 1. personnel
 - 2. persons
 - 3. people
 - 4. human beings

Question ID : 98958015867
Status : Not Answered
Chosen Option : --

Comprehension:

In the following passage some words have been deleted. Fill in the blanks with the help of the alternatives given. Select the most appropriate option for each blank.

People make plastic products by mixing the plastic with additives. The additives (1) _____ it difficult to recycle the plastic. To recycle plastic things, (2) _____ grind them up first, but this new (3) _____ is not easy to use again. A laboratory in California made a new type (4) _____ plastic to deal with this problem. (5) _____ scientists put the new plastic in a high-acid solution, the plastic and the additives break apart. People can then easily reuse the plastic.

SubQuestion No : 14

Q.14 Select the most appropriate option for blank No. 3.

- Ans
- 1. material
 - 2. object
 - 3. thing
 - 4. component

Question ID : 98958015868
Status : Not Answered
Chosen Option : --

Comprehension:

In the following passage some words have been deleted. Fill in the blanks with the help of the alternatives given. Select the most appropriate option for each blank.

People make plastic products by mixing the plastic with additives. The additives (1) _____ it difficult to recycle the plastic. To recycle plastic things, (2) _____ grind them up first, but this new (3) _____ is not easy to use again. A laboratory in California made a new type (4) _____ plastic to deal with this problem. (5) _____ scientists put the new plastic in a high-acid solution, the plastic and the additives break apart. People can then easily reuse the plastic.

SubQuestion No : 15

Q.15 Select the most appropriate option for blank No. 4.

- Ans
- 1. in
 - 2. to
 - 3. with
 - 4. of

Question ID : 98958015869
Status : Not Answered
Chosen Option : --

Comprehension:

In the following passage some words have been deleted. Fill in the blanks with the help of the alternatives given. Select the most appropriate option for each blank.

People make plastic products by mixing the plastic with additives. The additives (1) _____ it difficult to recycle the plastic. To recycle plastic things, (2) _____ grind them up first, but this new (3) _____ is not easy to use again. A laboratory in California made a new type (4) _____ plastic to deal with this problem. (5) _____ scientists put the new plastic in a high-acid solution, the plastic and the additives break apart. People can then easily reuse the plastic.

SubQuestion No : 16

Q.16 Select the most appropriate option for blank No. 5.

- Ans
- 1. But
 - 2. Then
 - 3. Until
 - 4. When

Question ID : 98958015870
Status : Not Answered
Chosen Option : --

Q.17 Select the most appropriate option to substitute the underlined segment in the given sentence. If there is no need to substitute it, select No improvement.

He has been solving this sum for a couple of hours but he did not solve it yet.

- Ans
- 1. had not solved it
 - 2. No improvement
 - 3. has not solved it
 - 4. has not solve it

Question ID : 98958015863
Status : Not Answered
Chosen Option : --

Q.18 Given below are four jumbled sentences. Out of the given options pick the one that gives their correct order.

- A. Once Oliver made a big snowman.
- B. The fat snowman wore an old top hat and a muffler.

C. Now, it looked very grand indeed and Oliver's friends loved it.
D. It was as big as him but much fatter.

- Ans
- 1. ACBD
 - 2. DCAB
 - 3. ADBC
 - 4. CBAD

Question ID : 98958015871
Status : Not Answered
Chosen Option : --

Q.19 Given below are four jumbled sentences. Out of the given options pick the one that gives their correct order.

A. But once when Mark disturbed the whole class with his pranks I had to reprimand him.
B. He was in third grade when I taught at Saint Mary's School.
C. All 34 students were dear to me, but Mark Eklund, was one in a million.
D. He had a happy-to-be-alive attitude that made even his occasional mischievousness delightful.

- Ans
- 1. CBDA
 - 2. CADB
 - 3. ADBC
 - 4. BADC

Question ID : 98958015872
Status : Not Answered
Chosen Option : --

Q.20 Select the wrongly spelt word.

- Ans
- 1. glory
 - 2. gobbel
 - 3. goggles
 - 4. global

Question ID : 98958015881
Status : Not Answered
Chosen Option : --

Q.21 Select the correct passive form of the given sentence.

The merchant brought many gifts for his family from India.

- Ans
- 1. Many gifts brought by the merchant for his family from India.
 - 2. Many gifts were brought by the merchant for his family from India.
 - 3. Many gifts are brought by the merchant for his family from India.
 - 4. His family were brought by the merchant for many gifts from India.

Question ID : 98958015861
Status : Not Answered
Chosen Option : --

Q.22 Select the most appropriate word to fill in the blank.

During the elections political parties try to _____ their rivals in order to gain advantage.

Test

Prime

By Adda247

Previous Year Papers PDF

PRACTICE MORE, SCORE HIGHER!



Free
25,000+
PDF's

High-Quality | Exam-Wise | Updated Regularly

ATTEMPT AS
MOCK



Turn PDFs into real exam experience.
Analyze. Improve. Succeed.



Topic-wise &
Exam-wise PDFs



Download &
Study Offline



Attempt as Mock
& Track Score



Smart Analysis
& Performance

AVAILABLE IN



Banking



SSC



Railway



Teaching



UGC



Agriculture



Nursing



Bihar



UP



Punjab



WB



Odisha



TN



AP & Telangana



Haryana



DOWNLOAD THE APP



- Ans
- 1. commend
 - 2. covet
 - 3. vilify
 - 4. laud

Question ID : 98958015884
Status : Not Answered
Chosen Option : --

Q.23 In the sentence identify the segment which contains the grammatical error.

Many of China's exports has been redirected to the domestic market in view of the more consumption-driven economy.

- Ans
- 1. Many of China's exports
 - 2. to the domestic market
 - 3. in view of the more consumption-driven economy
 - 4. has been redirected

Question ID : 98958015859
Status : Not Answered
Chosen Option : --

Q.24 Select the most appropriate synonym of the given word.

ERODE

- Ans
- 1. fix
 - 2. preserve
 - 3. disintegrate
 - 4. build

Question ID : 98958015873
Status : Not Answered
Chosen Option : --

Q.25 In the sentence identify the segment which contains the grammatical error.

India's largest car maker is evaluating the launch to a small electric car next year.

- Ans
- 1. is evaluating the launch
 - 2. next year
 - 3. India's largest car maker
 - 4. to a small electric car

Question ID : 98958015860
Status : Not Answered
Chosen Option : --