

## Combined Higher Secondary Level (10+2) Examination-2018

Roll No.	
Registration No.	
Name	
Test Venue	
Test Time	4:00 PM - 5:00 PM
Test Date	02/07/2019

## Section : General Intelligence

Q.1 कोन का संबंध 'आइसक्रीम' से उसी तरह है जैसे 'कटोरे' का संबंध '\_\_\_\_\_ ' से है।

- Ans
- 1. पेय
  - 2. फूँट
  - 3. सूप
  - 4. साबुन

Question ID : 98958015472

Status : Answered

Chosen Option : 1

Q.2 नीचे दी गई आकृति में कितने त्रिभुज मौजूद हैं?



- Ans
- 1. 29
  - 2. 23
  - 3. 25
  - 4. 27

Question ID : 98958015488

Status : Answered

Chosen Option : 2

Q.3 उस शब्द-युग्म का चयन करें जिसमें दो शब्द उसी तरह से संबंधित हैं जैसे निम्नलिखित शब्द-युग्म में दो शब्द संबंधित हैं:

अदूरदर्शी : दूरदर्शी

- Ans
- 1. स्थगित : निलंबित
  - 2. दुविधा : अव्यवस्थित
  - 3. प्रसिद्ध : अप्रसिद्ध
  - 4. मुश्किल : दुःख

**Test  
Prime**

By Adda247

# ALL EXAMS, ONE SUBSCRIPTION



Test. Analyze. Improve. Repeat.



**Don't just *prepare*. Perform.**

Test Prime — built only for mock tests.



**1,50,000+**

Mock Tests



**25,000+**

Previous Year Papers



**800+**

Exam Covered



**500% Refund**

on Selection



**5 lakh+**

Free Quizzes



**Daily**

Free PDFs



**Job Alerts**

Stay Updated

- Multilingual
- Detailed Solution
- Strong and Weak Areas



**All India  
Rankings**

Compete with lakhs.  
Rank. Improve. Repeat.



← Adda247 test prime

Rating ▾

Editors' choice

New



Adda247 Test Prime

Adda Education • Education

📌 Installed



**DOWNLOAD THE APP**



Question ID : 98958015475  
Status : Answered  
Chosen Option : 3

Q.4 निम्नलिखित चार शब्दों में से तीन शब्द एक निश्चित तरीके से एक जैसे हैं और एक अलग है। उस अलग शब्द को चुनिए।


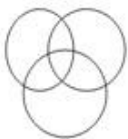


- Ans
- 1. इटली
  - 2. जर्मनी
  - 3. ऑस्ट्रिया
  - 4. सिंगापुर

Question ID : 98958015477  
Status : Answered  
Chosen Option : 4

Q.5 Select the Venn diagram that best illustrates the relationship between the following classes.

Nurses, Doctors, Pharmacists

Ans

- 1. 
- 2. 
- 3. 
- 4. 

Question ID : 98958015492  
Status : Answered  
Chosen Option : 3

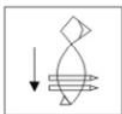
Q.6 उस समुच्चय को चुनें जिसमें संख्याएँ उसी तरह संबंधित हैं जैसे कि निम्नलिखित समुच्चय की संख्याएँ संबंधित हैं।

(15, 102, 313)

- Ans
- 1. (11, 74, 229)
  - 2. (8, 53, 164)
  - 3. (9, 60, 185)
  - 4. (5, 32, 121)

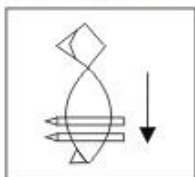
Question ID : 98958015483  
Status : Answered  
Chosen Option : 3

Q.7 जब एक दर्पण को आकृति के दाईं ओर रखा जाये तो दिए गए चित्र की सही दर्पण छवि का चयन करें।

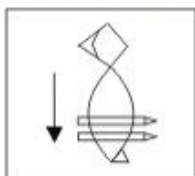


Ans

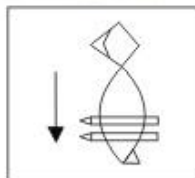
✗ 1.



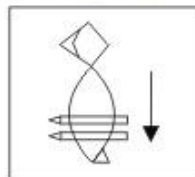
✗ 2.



✗ 3.



✓ 4.



Question ID : 98958015491

Status : Answered

Chosen Option : 4

Q.8 एक कोड भाषा में, CONSULTANCY को QOJKYOUYJWP लिखा जाता है। उसी भाषा में MASTERMINDS को कैसे लिखा जाएगा?

Ans ✗ 1. APOWJIOZJEI

✗ 2. APOWHIOZJEI

✓ 3. APOWIIOZJEI

✗ 4. APOWIHOZJEI

Question ID : 98958015469

Status : Not Answered

Chosen Option : --

Q.9 किसी कोड भाषा में 'CERTAIN' को 'XVIGZRM' के रूप में लिखा जाता है। उसी कोड भाषा में 'CLIMATE' को किस तरह लिखा जाएगा?

Ans ✗ 1. XORNZVG

✗ 2. XRONZGV

✗ 3. XONRZGV

✓ 4. XORNZGV

Question ID : 98958015500

Status : Not Answered  
Chosen Option : --

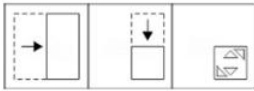
Q.10 ऐसे अक्षरों के संयोजन का चयन करें जो कि दी गई अक्षर श्रृंखला के रिक्त स्थानों में क्रमानुसार रखे जाने पर श्रृंखला को पूरा करेगा।

ab\_ba\_db\_bd\_ac\_ba\_db\_cdbabd\_

- Ans
- 1. dcabdbab
  - 2. cdabdbba
  - 3. dcdabbab
  - 4. dcadbbab

Question ID : 98958015473  
Status : Answered  
Chosen Option : 4

Q.11 नीचे दी गई आकृतियों में दिखाए गए अनुसार एक कागज को मोड़ा और काटा जाता है। यह कागज खोलने पर कैसे दिखाई देगा?



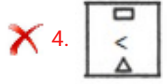
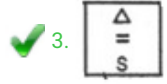
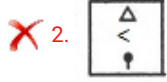
- Ans
- 1.
  - 2.
  - 3.
  - 4.

Question ID : 98958015490  
Status : Answered  
Chosen Option : 1

Q.12 उस आकृति का चयन करें जो नीचे दी गई आकृति श्रृंखला में अगले स्थान पर आएगी।



- Ans
- 1.



Question ID : 98958015487

Status : Answered

Chosen Option : 4

Q.13 T, D की बहन हैं। D की शादी P से हुई है। P, M का बेटा है। T, J की माता है। Y, U का पिता है। Y का केवल एक बेटा और केवल एक बेटी है। U, T की बेटी है। Q, D का बेटा है। अगर M, W की पत्नी है, तो Q का W से क्या संबंध है?

- Ans
- ✗ 1. बेटा
  - ✗ 2. दामाद
  - ✗ 3. भतीजा
  - ✓ 4. पोता

Question ID : 98958015474

Status : Answered

Chosen Option : 4

Q.14 उस विकल्प का चयन करें जो तीसरे अक्षर-समूह से उसी तरह संबंधित है जैसे दूसरा अक्षर-समूह पहले अक्षर-समूह से संबंधित है।

BANK : WXLJ :: IDOL : \_\_\_\_\_

- Ans
- ✗ 1. DAKM
  - ✓ 2. DAMK
  - ✗ 3. DAMJ
  - ✗ 4. ADMK

Question ID : 98958015471

Status : Not Answered

Chosen Option : --

Q.15 निम्नलिखित शब्दों को तार्किक और सार्थक क्रम में व्यवस्थित करें।

1. पंचाब्द
2. सदी
3. साल
4. सहस्राब्दी
5. दशक

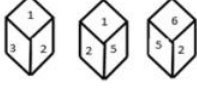
- Ans
- ✗ 1. 2, 1, 5, 3, 4
  - ✓ 2. 3, 1, 5, 2, 4
  - ✗ 3. 5, 1, 3, 2, 4
  - ✗ 4. 5, 4, 3, 2, 1

Question ID : 98958015468

Status : Answered

Chosen Option : 4

Q.16 एक ही पासे की तीन अलग-अलग स्थितियों को नीचे दर्शाया गया है। '1' संख्या वाले फलक के सामने वाले फलक की संख्या ज्ञात कीजिए।



- Ans
- 1. 2
  - 2. 4
  - 3. 3
  - 4. 6

Question ID : 98958015486

Status : Answered

Chosen Option : 4

Q.17 निम्नलिखित श्रृंखला में कौन-सी संख्या प्रश्न चिह्न (?) के स्थान पर आएगी?

2, 4, 16, 52, 132, 282, ?

- Ans
- 1. 512
  - 2. 527
  - 3. 534
  - 4. 572

Question ID : 98958015484

Status : Answered

Chosen Option : 4

Q.18 यदि 'FORTUNE' को '6521347' के रूप में और 'PREY' को '8279' के रूप में कोडबद्ध किया जाता है, तो 'NEPTUNE' को किस प्रकार कोडबद्ध किया जाएगा?

- Ans
- 1. 4781342
  - 2. 4781347
  - 3. 4781343
  - 4. 4782347

Question ID : 98958015501

Status : Answered

Chosen Option : 2

Q.19 निम्नलिखित चार संख्याओं में से तीन संख्याएँ एक निश्चित तरीके से एक जैसी हैं और एक अलग है। अन्य से अलग संख्या का चयन कीजिए।

- Ans
- 1. 12347
  - 2. 54215
  - 3. 83115
  - 4. 43217

Question ID : 98958015485

Status : Answered

Chosen Option : 3

Q.20 P, Q और R में 2100 रुपये इस प्रकार विभाजित किए गए हैं कि P का हिस्सा Q और R के संयुक्त हिस्से का आधा है और Q का हिस्सा P और R के संयुक्त हिस्से का एक-चौथाई है। R के हिस्से की राशि P के हिस्से की राशि से कितनी अधिक है?

- Ans
- 1. ₹200
  - 2. ₹280
  - 3. ₹500
  - 4. ₹250

Question ID : 98958015504

Status : Answered

Chosen Option : 2

Q.21 दो कथन दिए गए हैं, इसके बाद तीन निष्कर्ष I, II और III दिए गए हैं। कथनों को सत्य मानते हुए, भले ही वे आम तौर पर ज्ञात तथ्यों से अलग हों, यह निर्णय लीजिए कि कौन-सा/से निष्कर्ष कथनों का तार्किक रूप से अनुसरण करता है/करते हैं।

कथन:

सभी महिलाएँ इंजिनियर हैं।  
कुछ गायक इंजिनियर हैं।

निष्कर्ष:

- I. सभी महिलाएँ गायक हैं।
- II. सभी गायक महिलाएँ हैं।
- III. कुछ इंजिनियर महिलाएँ हैं।

- Ans
- 1. केवल निष्कर्ष III अनुसरण करता है।
  - 2. केवल निष्कर्ष II और III अनुसरण करते हैं।
  - 3. केवल निष्कर्ष I और II अनुसरण करते हैं।
  - 4. केवल निष्कर्ष I अनुसरण करता है।

Question ID : 98958015478

Status : Answered

Chosen Option : 1

Q.22 उस विकल्प का चयन करें जिसमें नीचे दी गई आकृति अंतर्निहित है।



Ans

- 1.
- 2.
- 3.

X 4.



Question ID : 98958015489

Status : Not Answered

Chosen Option : --

Q.23 निम्नलिखित श्रृंखला में कौन-सी संख्या प्रश्नवाचक चिह्न (?) के स्थान पर आएगी?

89, 90, 82, 109, 45, ?

Ans X 1. 125

X 2. -80

✓ 3. 170

X 4. 109

Question ID : 98958015506

Status : Not Answered

Chosen Option : --

Q.24 नीचे दिए गए विकल्पों में से ऐसी संख्याओं का चयन करें जिन्हें निम्नलिखित समीकरण को सही बनाने के लिए आपस में परिवर्तित किया जाना आवश्यक है।

 $16 - 6 + 12 \times 3 \div 4 = 18$ 

Ans ✓ 1. 6 और 4

X 2. 16 और 3

X 3. 12 और 4

X 4. 6 और 3

Question ID : 98958015505

Status : Answered

Chosen Option : 1

Q.25 रंगा के गणित के असाइनमेंट में गलत जवाब सही जवाबों का तीन गुना थे। यदि उसने कुल 72 सवाल हल किए थे, तो उसने अपने गणित असाइनमेंट में कितने सवाल सही हल किए थे?

Ans X 1. 14

X 2. 20

X 3. 16

✓ 4. 18

Question ID : 98958015479

Status : Answered

Chosen Option : 4

Section : General Awareness

Q.1 फ्लिपकार्ड के पूर्व प्रबंधक, संदीप पाटिल को मई 2019 में किस कंपनी में भारत के प्रबन्ध निदेशक के रूप में नियुक्त किया गया था?

Ans ✓ 1. टूकॉलर

X 2. स्नेप डील

- 3. पेटीएम
- 4. एमेजॉन

Question ID : 98958015105  
Status : Answered  
Chosen Option : 1

Q.2 मई 2019 में इसरो के अध्यक्ष द्वारा उद्घाटन किए गए युवा वैज्ञानिक कार्यक्रम का नाम क्या है?

- Ans  1. यूविका-2019
- 2. युवा-2019
  - 3. यंग इंडिया-2019
  - 4. यूथ-2019

Question ID : 98958015093  
Status : Answered  
Chosen Option : 1

Q.3 एक केंद्रित अभियान के माध्यम से प्रतिवर्ष प्रमुख विषयों पर जागरूकता को बढ़ावा देने के लिए किस बैंक ने 'वित्तीय साक्षरता सप्ताह 2019' की पहल है?

- Ans  1. इंडियन बैंक
- 2. आईसीआईसीआई बैंक
  - 3. भारतीय स्टेट बैंक
  - 4. भारतीय रिजर्व बैंक

Question ID : 98958015092  
Status : Answered  
Chosen Option : 4

Q.4 ज्योतिराव फुले द्वारा सत्य शोधक समाज की स्थापना किस वर्ष में की गई थी?

- Ans  1. 1865
- 2. 1870
  - 3. 1873
  - 4. 1861

Question ID : 98958015103  
Status : Answered  
Chosen Option : 3

Q.5 जून 2019 में निम्नलिखित में से किसे अन्तर्राष्ट्रीय वायु यातायात संघ (IATA) के बोर्ड में चुना गया था?

- Ans  1. राहुल भाटिया
- 2. अजय सिंह
  - 3. भास्कर भट
  - 4. नरेश गोयल

Question ID : 98958015104  
Status : Answered  
Chosen Option : 2

Q.6 निम्नलिखित में से किस केंद्रशासित प्रदेश को आंशिक राज्य का दर्जा दिया गया है?

- Ans
- 1. दमन और दीव
  - 2. लक्षद्वीप
  - 3. दादरा और नगर हवेली
  - 4. पुडुचेरी

Question ID : 98958015106  
Status : Answered  
Chosen Option : 4

Q.7 ICC पुरुष विश्व कप 2019 के विजेता को \_\_\_\_\_ का नकद पुरस्कार मिलेगा जो टूर्नामेंट के इतिहास में अब तक की सबसे अधिक पुरस्कार राशि है।

- Ans
- 1. \$5 मिलियन
  - 2. \$4 मिलियन
  - 3. \$6 मिलियन
  - 4. \$2 मिलियन

Question ID : 98958015109  
Status : Answered  
Chosen Option : 3

Q.8 "मुझे पड़ी लाठियां, भारत में ब्रिटिश शासन के ताबूत पर आखिरी कील साबित होगी" नामक उद्धरण निम्नलिखित स्वतंत्रता सेनानियों में से किससे संबंधित है?

- Ans
- 1. भगत सिंह
  - 2. राम प्रसाद बिस्मिल
  - 3. लाला लाजपत राय
  - 4. चंद्रशेखर आजाद

Question ID : 98958015102  
Status : Answered  
Chosen Option : 3

Q.9 पर्वतों की निम्नलिखित श्रेणियों में से किस श्रेणी से हिमालय संबंधित है?

- Ans
- 1. वलित पहाड़
  - 2. पठार पहाड़
  - 3. भ्रंशोत्थ पहाड़
  - 4. गुम्बदनुमा पहाड़

Question ID : 98958015099  
Status : Answered  
Chosen Option : 1

Q.10 मई 2019 में निम्नलिखित में से किस कंपनी ने यह घोषणा की थी कि वह भारत में अपने स्मार्टफोन बेचना बंद कर देगी?

- Ans
- 1. सैमसंग
  - 2. सोनी
  - 3. वन-प्लस
  - 4. ऐपल

Question ID : 98958015113

Status : Answered  
Chosen Option : 2

Q.11 किस राज्य की सरकार ने मई 2019 में 'आपकी बेटी' योजना के तहत लड़कियों को दी जाने वाली वित्तीय सहायता में वृद्धि की थी?

- Ans  1. राजस्थान  
 2. असम  
 3. सिक्किम  
 4. ओडिशा

Question ID : 98958015111  
Status : Answered  
Chosen Option : 1

Q.12 लोकसभा 2019 के चुनावों में, कांग्रेस ने पंजाब की 13 लोकसभा सीटों में से \_\_\_\_\_ सीटें जीती हैं।

- Ans  1. 10  
 2. 5  
 3. 6  
 4. 8

Question ID : 98958015107  
Status : Answered  
Chosen Option : 1

Q.13 निम्नलिखित में से किसने 2019 ISSF विश्व कप में महिलाओं की 25 मीटर पिस्टल स्पर्धा में स्वर्ण पदक जीता?

- Ans  1. राही सरनोबत  
 2. देवांशी राणा  
 3. मनु भाकर  
 4. हीना सिद्धू

Question ID : 98958015108  
Status : Answered  
Chosen Option : 3

Q.14 पिवट टेबल' निम्नलिखित में से किस सॉफ्टवेयर की विशेषता है?

- Ans  1. माइक्रोसॉफ्ट एक्सेल  
 2. माइक्रोसॉफ्ट पावरप्वाइंट  
 3. माइक्रोसॉफ्ट एक्सेस  
 4. माइक्रोसॉफ्ट वर्ड

Question ID : 98958015096  
Status : Answered  
Chosen Option : 2

Q.15 नीचे दिए गए ग्रहों में से सौर मंडल में कौन-सा ग्रह सूर्य से सबसे दूर है?

- Ans  1. वरुण  
 2. बृहस्पति  
 3. शुक्र

✗ 4. मंगल

Question ID : 98958015100  
Status : Answered  
Chosen Option : 1

Q.16 राष्ट्रीय पोषण संस्थान कहां पर स्थित है?

- Ans
- ✗ 1. इंदौर
  - ✗ 2. शिलांग
  - ✓ 3. हैदराबाद
  - ✗ 4. मुंबई

Question ID : 98958015095  
Status : Answered  
Chosen Option : 3

Q.17 विश्व रक्त दाता दिवस' दुनिया भर में \_\_\_\_\_ 2019 को 'सेफ ब्लड फॉर ऑल' थीम के साथ मनाया गया था।

- Ans
- ✗ 1. 16 मार्च
  - ✗ 2. 29 अप्रैल
  - ✓ 3. 14 जून
  - ✗ 4. 25 मई

Question ID : 98958015112  
Status : Answered  
Chosen Option : 3

Q.18 मुंद्रा पावर प्लांट किस राज्य में स्थित है?

- Ans
- ✗ 1. मध्य प्रदेश
  - ✗ 2. ओडिशा
  - ✗ 3. छत्तीसगढ़
  - ✓ 4. गुजरात

Question ID : 98958015101  
Status : Answered  
Chosen Option : 4

Q.19 हर्ट्ज़ किस का अन्तर्राष्ट्रीय मानक (SI) मात्रक है?

- Ans
- ✗ 1. ऊर्जा
  - ✓ 2. आवृत्ति
  - ✗ 3. बल
  - ✗ 4. दाब

Question ID : 98958015094  
Status : Answered  
Chosen Option : 2

Q.20 निवेश और वित्तीय सेवाओं की दिग्गज कंपनी गोल्डमैन सैचस ने, अपने सबसे बड़े वैश्विक कार्यस्थलों में से एक कार्यस्थल का \_\_\_\_\_ में निर्माण के लिए \$ 250 मिलियन की मंजूरी दी है।

- Ans
- ✗ 1. चेन्नई

2. पुणे  
 3. बेंगलुरु  
 4. गुरुग्राम

Question ID : 98958015091  
 Status : Answered  
 Chosen Option : 3

Q.21 सूर्य महोत्सव' (Soorya Festival) निम्नलिखित में से किस शहर से संबंधित है?

- Ans  1. जयपुर  
 2. हैदराबाद  
 3. तिरुवनंतपुरम  
 4. चेन्नई

Question ID : 98958015089  
 Status : Answered  
 Chosen Option : 1

Q.22 निम्नलिखित में से किस देश ने 2019 में एशियाई कप फुटबॉल टूर्नामेंट की मेजबानी की थी?

- Ans  1. संयुक्त अरब अमीरात  
 2. सिंगापुर  
 3. दक्षिण कोरिया  
 4. चीन

Question ID : 98958015110  
 Status : Answered  
 Chosen Option : 2

Q.23 सूचना और संचार प्रौद्योगिकी के क्षेत्र में, EEPROM का पूर्ण रूप क्या है?

- Ans  1. एन्हांस्ड इलेक्ट्रिकल पोर्टेबल रीड-ओनली मेमोरी  
 2. इलेक्ट्रिकली एफिशियेंट प्रोग्रामेबल रीड-ओनली मेमोरी  
 3. इलेक्ट्रिकली इरेजएबल प्रोग्रामेबल रीड-ओनली मेमोरी  
 4. इलेक्ट्रिकली एफिशियेंट पोर्टेबल रीड-ओनली मेमोरी

Question ID : 98958015097  
 Status : Answered  
 Chosen Option : 3

Q.24 भारत में सबसे बड़ी अंतर्देशीय खारे पानी की झील, सांभर किस राज्य में स्थित है?

- Ans  1. महाराष्ट्र  
 2. ओडिशा  
 3. राजस्थान  
 4. आंध्र प्रदेश

Question ID : 98958015098  
 Status : Answered  
 Chosen Option : 3

Q.25

20वीं सदी के किस प्रख्यात उपन्यासकार और कवि ने 'पिंजर' का लेखन किया है?

- Ans
- 1. हरिवंशराय बच्चन
  - 2. भवानी प्रसाद मिश्र
  - 3. प्रभा किरण जैन
  - 4. अमृता प्रीतम

Question ID : 98958015090

Status : Not Answered

Chosen Option : --

Section : Quantitative Aptitude

Q.1 A और B एक साथ काम करते हुए किसी काम को 16 दिनों में पूरा कर सकते हैं, C और A मिलकर इसे 32 दिनों में पूरा कर सकते हैं, B और C मिलकर इसे 24 दिनों में पूरा कर सकते हैं। उन्होंने 12 दिनों तक एक साथ काम किया। बचे हुए काम को C अकेले कितने दिनों में पूरा करेगा?

- Ans
- 1. 32
  - 2. 40
  - 3. 36
  - 4. 45

Question ID : 98958015610

Status : Answered

Chosen Option : 3

Q.2  $\Delta ABC$  में, D पर  $AD \perp BC$  है और AE  $\angle A$  का समद्विभाजक है। अगर  $\angle B = 72^\circ$  और  $\angle C = 26^\circ$  है, तो  $\angle DAE$  का माप क्या है?

- Ans
- 1.  $25^\circ$
  - 2.  $37^\circ$
  - 3.  $49^\circ$
  - 4.  $23^\circ$

Question ID : 98958015626

Status : Answered

Chosen Option : 2

Q.3 अगर  $40\sqrt{5}x^3 - 3\sqrt{3}y^3 = (2\sqrt{5}x - \sqrt{3}y) \times (Ax^2 + Bxy + Cy^2)$  है, तो  $\sqrt{B^2 + C^2 - A}$  का मान क्या है?

- Ans
- 1. 9
  - 2. 11
  - 3. 8
  - 4. 7

Question ID : 98958015621

Status : Not Answered

Chosen Option : --

Q.4 चतुर्भुज ABCD के अंदर एक वृत्त बनाया जाता है जो भुजाएँ AB, BC, CD और DA को क्रमशः P, Q, R और S पर स्पर्श करता है। यदि  $AS = 8$  cm,  $BC = 11$  cm, और  $CR = 5$  cm है, तो AB की लंबाई बराबर है:

- Ans
- 1. 12 cm

- 2. 13 cm
- 3. 16 cm
- 4. 14 cm

Question ID : 98958015625  
Status : Answered  
Chosen Option : 1

Q.5  $\Delta ABC$  में,  $\angle A = 90^\circ$  है। अगर BL और CM माध्यिकाएँ हैं, तो:

- Ans
- 1.  $5(BL^2 + CM^2) = 4BC^2$
  - 2.  $4(BL^2 + CM^2) = 5BC^2$
  - 3.  $3(BL^2 + CM^2) = 4BC^2$
  - 4.  $4(BL^2 + CM^2) = 3BC^2$

Question ID : 98958015627  
Status : Answered  
Chosen Option : 3

Q.6 यदि  $3\cos^2 A + 6\sin^2 A = 3, 0^\circ \leq A \leq 90^\circ$  है, तो A का मान है:

- Ans
- 1.  $45^\circ$
  - 2.  $0^\circ$
  - 3.  $30^\circ$
  - 4.  $90^\circ$

Question ID : 98958015717  
Status : Answered  
Chosen Option : 1

Q.7  $\frac{(\cos 9^\circ + \sin 81^\circ)(\sec 9^\circ + \operatorname{cosec} 81^\circ)}{\sin 56^\circ \sec 34^\circ + \cos 25^\circ \operatorname{cosec} 65^\circ}$  का मान है:

- Ans
- 1. 2
  - 2.  $\frac{1}{2}$
  - 3. 4
  - 4. 1

Question ID : 98958015628  
Status : Answered  
Chosen Option : 1

Q.8 एक सिलेंडर के आधार की त्रिज्या 7 cm है और इसके वक्र पृष्ठ का क्षेत्रफल  $440 \text{ cm}^2$  है। इसका आयतन ( $\text{cm}^3$  में)

होगा:  
( $\pi = \frac{22}{7}$  मानें)

- Ans
- 1. 1430
  - 2. 1760

✓ 3. 1540

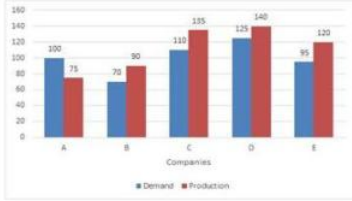
✗ 4. 1650

Question ID : 98958015612

Status : Answered

Chosen Option : 2

Q.9 दिया गया दंड आरेख (बार ग्राफ) पाँच कंपनियों द्वारा मोटरसाइकिलों की मांग और उत्पादन को (लाखों में) दर्शाता है।



वह कंपनी कौन-सी है, जिसमें मोटरसाइकिलों का उत्पादन उनकी मांग से लगभग 23% अधिक है:

Ans ✗ 1. D

✗ 2. B

✓ 3. C

✗ 4. E

Question ID : 98958015633

Status : Answered

Chosen Option : 3

Q.10 यदि  $a^3 + b^3 = 110$  और  $a + b = 5$  है, तो  $(a + b)^2 - 3ab$  का मान है:

Ans ✓ 1. 22

✗ 2. 32

✗ 3. 52

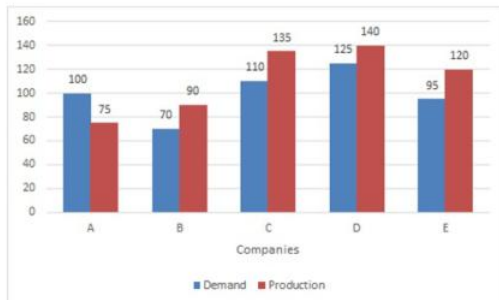
✗ 4. 42

Question ID : 98958015715

Status : Answered

Chosen Option : 2

Q.11 दिया गया दंड आरेख (बार ग्राफ) पाँच कंपनियों द्वारा मोटरसाइकिलों की मांग और उत्पादन को (लाखों में) दर्शाता है।



B, C और E कंपनियों की मोटरसाइकिलों के कुल उत्पादन का औसत, D की मोटरसाइकिलों की मांग से कितने प्रतिशत कम है?

Ans ✗ 1. 6%

- 2. 9.3%
- 3. 8%
- 4. 8.7%

Question ID : 98958015632  
Status : Answered  
Chosen Option : 2

Q.12 अगर  $3 - 2\sin^2\theta - 3\cos\theta = 0$ ,  $0^\circ < \theta < 90^\circ$  है, तो  $(2\operatorname{cosec}\theta + \tan\theta)$  का मान क्या है?

- Ans
- 1.  $\frac{7\sqrt{3}}{3}$
  - 2.  $5\sqrt{3}$
  - 3.  $\frac{5\sqrt{3}}{3}$
  - 4.  $7\sqrt{3}$

Question ID : 98958015630  
Status : Answered  
Chosen Option : 3

Q.13 कक्षा A और B में विद्यार्थियों की कुल संख्या 96 है। कक्षा A में विद्यार्थियों की संख्या B की तुलना में 40% अधिक है। कक्षा B के विद्यार्थियों का औसत वज़न (kg में) कक्षा A के विद्यार्थियों की तुलना में 50% अधिक है। अगर कक्षा A और B के सभी विद्यार्थियों का औसत वज़न 58 kg है, तो कक्षा B के विद्यार्थियों का औसत वजन कितना है?

- Ans
- 1. 48 kg
  - 2. 66 kg
  - 3. 72 kg
  - 4. 60 kg

Question ID : 98958015613  
Status : Answered  
Chosen Option : 2

Q.14  $\left(\frac{\sin\theta}{1+\cos\theta} + \frac{1+\cos\theta}{\sin\theta}\right)\left(\frac{1}{\tan\theta+\cot\theta}\right)$  का सरलीकृत मान है:

- Ans
- 1.  $2\sin\theta$
  - 2.  $\sin\theta$
  - 3.  $2\cos\theta$
  - 4.  $\cos\theta$

Question ID : 98958015629  
Status : Answered  
Chosen Option : 1

Q.15 84 km/h की गति से चलने वाली ट्रेन x विपरीत दिशा में 52 km/h की गति से दौड़ती हुई दूसरी ट्रेन y को 12 सेकंड में पार कर जाती है। अगर y की लंबाई x की दो-तिहाई है, तो x की लंबाई क्या है?

- Ans
- 1. 250 m

- 2. 242 m
- 3. 272 m
- 4. 408 m

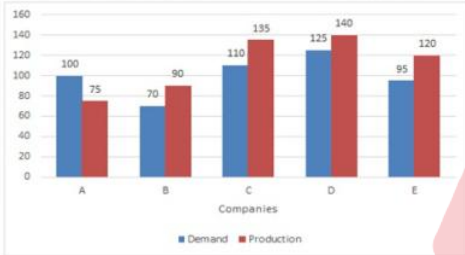
Question ID : 98958015611  
Status : Answered  
Chosen Option : 1

Q.16 माना  $\Delta ABC \sim \Delta QPR$  और  $\frac{ar(\Delta ABC)}{ar(\Delta PQR)} = \frac{9}{16}$  है। यदि  $AB = 12$  cm,  $BC = 6$  cm और  $AC = 9$  cm है, तो  $QP$  बराबर है:

- Ans  1. 16 cm
- 2. 9 cm
  - 3. 8 cm
  - 4. 12 cm

Question ID : 98958015716  
Status : Answered  
Chosen Option : 4

Q.17 दिया गया टंड आरेख (बार ग्राफ) पाँच कंपनियों द्वारा मोटरसाइकिलों की माँग और उत्पादन को (लाखों में) दर्शाता है।



A और D कंपनियों की मोटरसाइकिलों की कुल माँग का कंपनी C की मोटरसाइकिलों के उत्पादन से क्या अनुपात है?

- Ans  1. 13 : 9
- 2. 8 : 5
  - 3. 5 : 3
  - 4. 9 : 7

Question ID : 98958015631  
Status : Answered  
Chosen Option : 3

Q.18 एक वृत्त में, AB और CD जीवाएँ एक-दूसरे को E पर काटती हैं। अगर  $CD = 18$  cm,  $DE = 6$  cm और  $AE = 18$  cm है, तो  $BE = ?$

- Ans  1. 4 cm
- 2. 8 cm
  - 3. 6 cm
  - 4. 3 cm

Question ID : 98958015624  
Status : Answered  
Chosen Option : 2

Q.19 एक परीक्षा में, सफलता का असफलता से अनुपात 5 : 2 था। अगर असफलताओं की संख्या 14 अधिक थी, तो सफलता का असफलता से अनुपात 9 : 5 होता। परीक्षा में बैठने वाले उम्मीदवारों की कुल संख्या थी:

- Ans
- 1. 210
  - 2. 203
  - 3. 196
  - 4. 126

Question ID : 98958015617

Status : Answered

Chosen Option : 4

Q.20 15% प्रति वर्ष की दर पर  $2\frac{1}{2}$  वर्ष के लिए ₹4,096 की राशि पर चक्रवृद्धि ब्याज क्या होगा, अगर ब्याज 10-मासिक रूप से संयोजित होता है?

- Ans
- 1. ₹1,636
  - 2. ₹1,763
  - 3. ₹1,736
  - 4. ₹1,726

Question ID : 98958015618

Status : Answered

Chosen Option : 2

Q.21 अभि ने दो वस्तुओं में से प्रत्येक को ₹5,220 में बेचा। एक वस्तु पर उसे 16% का लाभ हुआ और दूसरी पर 10% की हानि हुई। पूरे लेन-देन पर उसे कितना लाभ हुआ या हानि हुई:

- Ans
- 1. हानि, ₹125
  - 2. लाभ, ₹140
  - 3. हानि, ₹130
  - 4. लाभ, ₹180

Question ID : 98958015616

Status : Answered

Chosen Option : 2

Q.22 अगर  $x^2 + 1 = 3x$  है, तो  $\frac{(x^4 + x^{-2})}{(x^2 + 5x + 1)}$  का मान है:

- Ans
- 1.  $2\frac{1}{4}$
  - 2.  $4\frac{1}{2}$
  - 3.  $2\frac{1}{3}$
  - 4.  $3\frac{1}{2}$

Question ID : 98958015622

Status : Answered

Chosen Option : 1

Q.23 अगर  $a + b + c = 5$  , और  $a^2 + b^2 + c^2 = 33$  है, तो  $a^3 + b^3 + c^3 - 3abc$  का मान क्या है?

- Ans
- 1. 180
  - 2. 195
  - 3. 185
  - 4. 192

Question ID : 98958015623

Status : Answered

Chosen Option : 4

Q.24 अनु अपनी आय का 90% खर्च करती है। अगर उसका खर्च 25% बढ़ जाता है और बचत 30% बढ़ जाती है, तो उसके वेतन में कितने प्रतिशत की वृद्धि होती है?

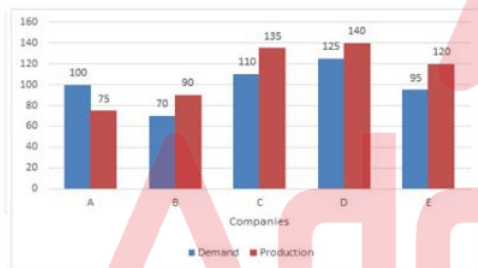
- Ans
- 1. 20%
  - 2. 22.5%
  - 3. 24%
  - 4. 25.5%

Question ID : 98958015615

Status : Answered

Chosen Option : 4

Q.25 दिया गया टंड आरेख (बार ग्राफ) पाँच कंपनियों द्वारा मोटरसाइकिलों की मांग और उत्पादन को (लाखों में) दर्शाता है।



B और D कंपनियों की मोटरसाइकिलों के उत्पादन का कुल योग, सभी कंपनियों की मोटरसाइकिलों की कुल मांग का कितने प्रतिशत है?

- Ans
- 1. 40%
  - 2. 46%
  - 3. 38%
  - 4. 48%

Question ID : 98958015634

Status : Answered

Chosen Option : 2

Section : English Language

Q.1 Select the correct passive form of the given sentence.

Bill Gates has given away twenty seven percent of his wealth in charity.

- Ans
- 1. Bill Gates has been given away by twenty seven percent of his wealth in charity.

- 2. Twenty seven percent of his wealth has been given away by Bill Gates in charity.
- 3. Twenty seven percent of his wealth has given away Bill Gates in charity.
- 4. Twenty seven percent of his wealth had been given away by Bill Gates in charity.

Question ID : 98958015343  
 Status : Answered  
 Chosen Option : 2

Q.2 Select the most appropriate word to fill in the blank.

The thick smoke \_\_\_\_\_ out of the landfill site is making the city's polluted air even more toxic.

- Ans
- 1. rocking
  - 2. billowing
  - 3. burning
  - 4. tossing

Question ID : 98958015365  
 Status : Answered  
 Chosen Option : 2

Q.3 In the sentence identify the segment which contains the grammatical error.

Different-coloured natural foods not only put a smile on children's faces and also benefit their overall growth.

- Ans
- 1. put a smile on children's faces
  - 2. benefit their overall growth
  - 3. Different-coloured natural foods
  - 4. and also benefit

Question ID : 98958015342  
 Status : Answered  
 Chosen Option : 1

Q.4 Given below are four jumbled sentences. Out of the given options pick the one that gives their correct order.

- A. Early on Christmas morning Pip returns to the graveyard with the file, a pie and brandy.
- B. On Christmas Eve, Pip, an orphan who is about seven years old, encounters an escaped convict in the village graveyard.
- C. The convict scares Pip into stealing food and a file.
- D. Pip, who lives with his elder sister and her husband Joe Gargery, a blacksmith, steals a file and some food.

- Ans
- 1. CBAD
  - 2. DCAB
  - 3. BCDA
  - 4. BDCA

Question ID : 98958015354  
 Status : Not Answered  
 Chosen Option : --

Q.5 Select the word which means the same as the group of words given.

That which cannot be taken by force

- Ans
- 1. immutable
  - 2. inaccessible
  - 3. impregnable
  - 4. inapprehensible

Question ID : 98958015362  
 Status : Answered  
 Chosen Option : 2

Q.6 Select the most appropriate synonym of the given word.

COMBUSTIBLE

- Ans
- 1. fragile
  - 2. nonexplosive
  - 3. unbreakable
  - 4. inflammable

Question ID : 98958015356  
 Status : Answered  
 Chosen Option : 4

Q.7 Select the most appropriate synonym of the given word.

EMBED

- Ans
- 1. bury
  - 2. rise
  - 3. dig up
  - 4. pull

Question ID : 98958015355  
 Status : Answered  
 Chosen Option : 1

**Comprehension:**

In the following passage some words have been deleted. Fill in the blanks with the help of the alternatives given. Select the most appropriate option for each blank.

Bill Gates is the second-richest (1) \_\_\_\_\_ in the world. He is (2) \_\_\_\_\_ an estimated \$ 103 billion. His wealth (3) \_\_\_\_\_ only by Jeff Bezos, (4) \_\_\_\_\_ has a current net worth of \$116 billion. Gates is (5) \_\_\_\_\_ rich that an average American spending \$1 is similar to Gates spending \$ 1.06 million.

SubQuestion No : 8

Q.8 Select the most appropriate option for blank No. 1.

- Ans
- 1. human
  - 2. character
  - 3. person
  - 4. personnel

Question ID : 98958015348  
 Status : Answered  
 Chosen Option : 3

**Comprehension:**

In the following passage some words have been deleted. Fill in the blanks with the help of the alternatives given. Select the most appropriate option for each blank.

Bill Gates is the second-richest (1) \_\_\_\_\_ in the world. He is (2) \_\_\_\_\_ an estimated \$ 103 billion. His wealth (3) \_\_\_\_\_ only by Jeff Bezos, (4) \_\_\_\_\_ has a current net worth of \$116 billion. Gates is (5) \_\_\_\_\_ rich that an average American spending \$1 is similar to Gates spending \$ 1.06 million.

**SubQuestion No : 9****Q.9 Select the most appropriate option for blank No. 2.**

- Ans
- 1. cost
  - 2. worth
  - 3. valuable
  - 4. classed

Question ID : 98958015349  
Status : Answered  
Chosen Option : 2

**Comprehension:**

In the following passage some words have been deleted. Fill in the blanks with the help of the alternatives given. Select the most appropriate option for each blank.

Bill Gates is the second-richest (1) \_\_\_\_\_ in the world. He is (2) \_\_\_\_\_ an estimated \$ 103 billion. His wealth (3) \_\_\_\_\_ only by Jeff Bezos, (4) \_\_\_\_\_ has a current net worth of \$116 billion. Gates is (5) \_\_\_\_\_ rich that an average American spending \$1 is similar to Gates spending \$ 1.06 million.

**SubQuestion No : 10****Q.10 Select the most appropriate option for blank No. 3.**

- Ans
- 1. surpassed
  - 2. is surpassed
  - 3. surpasses
  - 4. is surpassing

Question ID : 98958015350  
Status : Answered  
Chosen Option : 2

**Comprehension:**

In the following passage some words have been deleted. Fill in the blanks with the help of the alternatives given. Select the most appropriate option for each blank.

Bill Gates is the second-richest (1) \_\_\_\_\_ in the world. He is (2) \_\_\_\_\_ an estimated \$ 103 billion. His wealth (3) \_\_\_\_\_ only by Jeff Bezos, (4) \_\_\_\_\_ has a current net worth of \$116 billion. Gates is (5) \_\_\_\_\_ rich that an average American spending \$1 is similar to Gates spending \$ 1.06 million.

**SubQuestion No : 11****Q.11 Select the most appropriate option for blank No. 4.**

- Ans
- 1. which
  - 2. whom
  - 3. who
  - 4. whose

Question ID : 98958015351  
Status : Answered

Chosen Option : 4

**Comprehension:**

In the following passage some words have been deleted. Fill in the blanks with the help of the alternatives given. Select the most appropriate option for each blank.

Bill Gates is the second-richest (1) \_\_\_\_\_ in the world. He is (2) \_\_\_\_\_ an estimated \$ 103 billion. His wealth (3) \_\_\_\_\_ only by Jeff Bezos, (4) \_\_\_\_\_ has a current net worth of \$116 billion. Gates is (5) \_\_\_\_\_ rich that an average American spending \$1 is similar to Gates spending \$ 1.06 million.

**SubQuestion No : 12****Q.12 Select the most appropriate option for blank No. 5.**

- Ans
- 1. too
  - 2. as
  - 3. such
  - 4. so

Question ID : 98958015352

Status : Answered

Chosen Option : 1

**Q.13 Select the word which means the same as the group of words given.****A large impressive house**

- Ans
- 1. fort
  - 2. shack
  - 3. mansion
  - 4. cabin

Question ID : 98958015361

Status : Answered

Chosen Option : 2

**Q.14 Select the correct indirect form of the given sentence.****I asked the shopkeeper, "What is the price of this bike?"**

- Ans
- 1. I asked the shopkeeper what the price of that bike was.
  - 2. I asked the shopkeeper what is the price of this bike.
  - 3. I asked the shopkeeper that what the price of this bike was.
  - 4. I asked the shopkeeper what was the price of that bike.

Question ID : 98958015344

Status : Answered

Chosen Option : 1

**Q.15****Select the most appropriate word to fill in the blank.**

Financial institutions that had their premises in the World Trade Centre were crippled by the loss of \_\_\_\_\_ and hardware.

- Ans
- 1. individual
  - 2. personnel
  - 3. group

4. person

Question ID : 98958015366  
Status : Answered  
Chosen Option : 1

Q.16 In the sentence identify the segment which contains the grammatical error.

The Cannes Film Festival attract some of the world's most famous people.

- Ans  1. attract some of  
 2. The Cannes Film Festival  
 3. the world's  
 4. most famous people

Question ID : 98958015341  
Status : Answered  
Chosen Option : 1

Q.17 Select the most appropriate meaning of the given idiom.

Spill the beans

- Ans  1. frighten someone  
 2. make an excuse  
 3. reveal a secret  
 4. create difficulty

Question ID : 98958015359  
Status : Answered  
Chosen Option : 2

Q.18 Select the wrongly spelt word.

- Ans  1. brood  
 2. blosom  
 3. booty  
 4. boast

Question ID : 98958015363  
Status : Answered  
Chosen Option : 2

Q.19 Select the wrongly spelt word.

- Ans  1. emmision  
 2. emporium  
 3. emphasis  
 4. emolument

Question ID : 98958015364  
Status : Answered  
Chosen Option : 1

Q.20 Select the most appropriate antonym of the given word.

**MOROSE**

- Ans  1. cheerful  
 2. unsatisfied  
 3. sullen  
 4. mournful

Question ID : 98958015357  
 Status : Answered  
 Chosen Option : 2

**Q.21** Select the most appropriate option to substitute the underlined segment in the given sentence. If there is no need to substitute it, select No improvement.

I try to avoid travel in the rush hour.

- Ans  1. to travel at  
 2. travelling on  
 3. travelling in  
 4. No improvement

Question ID : 98958015346  
 Status : Answered  
 Chosen Option : 1

**Q.22** Select the most appropriate option to substitute the underlined segment in the given sentence. If there is no need to substitute it, select No improvement.

The children are too young to sit up a long lecture.

- Ans  1. sit through  
 2. No improvement  
 3. sit away  
 4. sit across

Question ID : 98958015345  
 Status : Answered  
 Chosen Option : 4

**Q.23** Select the most appropriate antonym of the given word.

**CORROBORATE**

- Ans  1. verify  
 2. confirm  
 3. approve  
 4. contradict

Question ID : 98958015358  
 Status : Answered  
 Chosen Option : 4

**Q.24** Select the most appropriate meaning of the given idiom.  
 As clear as mud

- Ans  1. completely suitable for someone

Test

Prime

By Adda247

# Previous Year Papers PDF

PRACTICE MORE, SCORE HIGHER!



Free  
**25,000+**  
PDF's

High-Quality | Exam-Wise | Updated Regularly

ATTEMPT AS  
**MOCK**



Turn PDFs into real exam experience.  
Analyze. Improve. Succeed.



Topic-wise & Exam-wise PDFs



Download & Study Offline



Attempt as Mock & Track Score



Smart Analysis & Performance

AVAILABLE IN



Banking



SSC



Railway



Teaching



UGC



Agriculture



Nursing



Bihar



UP



Punjab



WB



Odisha



TN



AP & Telangana



Haryana



DOWNLOAD THE APP



- 2. honest and legal
- 3. extremely dirty
- 4. impossible to understand

Question ID : 98958015360  
Status : Answered  
Chosen Option : 3

Q.25 Given below are four jumbled sentences. Out of the given options pick the one that gives their correct order.

- A. In a small town in England, there lived a poor little girl.
- B. She was very excited but her right shoe was worn out.
- C. So, she went to a cobbler to get it mended.
- D. Her friend invited her to come to her birthday party.

- Ans
- 1. DCAB
  - 2. ACBD
  - 3. CBAD
  - 4. ADBC

Question ID : 98958015353  
Status : Not Answered  
Chosen Option : --