

## Combined Higher Secondary Level (10+2) Examination-2018

Roll No.	
Registration No.	
Name	
Test Venue	
Test Time	10:00 AM - 11:00 AM
Test Date	02/07/2019

## Section : General Intelligence

Q.1 5 सदस्यों के एक परिवार में, X, Y की बहन है। M के दो बच्चे हैं और वह E का बेटा है, जो H का ससुर है। H को एक ही बेटा है। Y, E की पोती नहीं है। X का E से क्या संबंध है?

- Ans
- 1. पोता
  - 2. पोती
  - 3. बहन
  - 4. बेटी

Question ID : 98958015424

Status : Answered

Chosen Option : 1

Q.2 निम्नलिखित समीकरण को सही बनाने के लिए इसमें किन दो चिह्नों को एक-दूसरे से बदलना होगा?

$$24 \div 2 + 13 - 54 \times 2 = 34$$

- Ans
- 1. + और ×
  - 2. - और ÷
  - 3. × और ÷
  - 4. - और ×

Question ID : 98958015430

Status : Answered

Chosen Option : 2

Q.3 नीचे दी गई आकृति में कितने त्रिभुज मौजूद हैं?



- Ans
- 1. 13
  - 2. 10
  - 3. 14
  - 4. 12

Question ID : 98958015438

**Test  
Prime**

By Adda247

# ALL EXAMS, ONE SUBSCRIPTION



Test. Analyze. Improve. Repeat.



## Don't just *prepare*. *Perform*.

Test Prime — built only for mock tests.



**1,50,000+**  
Mock Tests



**25,000+**  
Previous Year Papers



**800+**  
Exam Covered



**500% Refund**  
on Selection



**5 lakh+**  
Free Quizzes



**Daily**  
Free PDFs



**Job Alerts**  
Stay Updated

- Multilingual
- Detailed Solution
- Strong and Weak Areas



**All India  
Rankings**

Compete with lakhs.  
Rank. Improve. Repeat.



← Adda247 test prime

Rating ▾

Editors' choice

New



Adda247 Test Prime  
Adda Education • Education  
Installed



# DOWNLOAD THE APP



Status : Answered  
Chosen Option : 4

Q.4 जब एक दर्पण को आकृति के दाईं ओर रखा जाये तो दिए गए चित्र की सही दर्पण छवि का चयन करें।

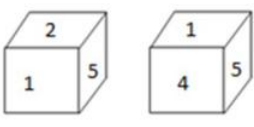


Ans

- ✓ 1.
- ✗ 2.
- ✗ 3.
- ✗ 4.

Question ID : 98958015441  
Status : Answered  
Chosen Option : 1

Q.5 एक ही पासे की दो अलग-अलग स्थितियों को नीचे दर्शाया गया है। '4' संख्या वाले फलक के सामने वाली संख्या ज्ञात कीजिए।



Ans

- ✓ 1. 2
- ✗ 2. 3
- ✗ 3. 6
- ✗ 4. 1

Question ID : 98958015436  
Status : Answered  
Chosen Option : 2

Q.6 उस विकल्प का चयन करें जो तीसरे अक्षर-समूह से उसी तरह संबंधित है जैसे दूसरा अक्षर-समूह पहले अक्षर-समूह से संबंधित है।

MARKET: IEONCV:: THERMO:\_\_\_\_\_

- Ans
- 1. PLDSKQ
  - 2. JLZUKQ
  - 3. JKCTKQ
  - 4. PLBUKQ

Question ID : 98958015421  
Status : Answered  
Chosen Option : 4

Q.7 यदि MASTER को 26138402536 के रूप में कोडबद्ध किया गया है और GOVIND को 142254481288 के रूप में कोडबद्ध किया गया है, तो BACKSPACE को कैसे कोडबद्ध किया जाएगा?

- Ans
- 1. 4172393337125
  - 2. 5172339317125
  - 3. 5172933373215
  - 4. 4162238321625

Question ID : 98958015420  
Status : Answered  
Chosen Option : 4

Q.8 निम्नलिखित चार शब्दों में से तीन शब्द एक निश्चित तरीके से एक जैसे हैं और एक अलग है। उस अलग शब्द को चुनिए।

- Ans
- 1. सूटकेस
  - 2. कालीन
  - 3. पर्स
  - 4. बैग

Question ID : 98958015427  
Status : Answered  
Chosen Option : 2

Q.9 निम्नलिखित चार अक्षर-समूहों में से तीन अक्षर-समूह एक निश्चित तरीके से एक जैसे हैं और एक अलग है। उस अलग अक्षर-समूह को चुनिए।

- Ans
- 1. LOPK
  - 2. CXGT
  - 3. MNQJ
  - 4. GSVE

Question ID : 98958015426  
Status : Answered  
Chosen Option : 4

Q.10 उस समुच्चय को चुनें जिसमें संख्याएँ उसी तरह संबंधित हैं जैसे कि निम्नलिखित समुच्चय की संख्याएँ संबंधित हैं।

(4, 10, 23)

Ans

- 1. (3, 7, 17)
- 2. (4, 12, 21)
- 3. (7, 23, 49)
- 4. (2, 6, 15)

Question ID : 98958015432

Status : Answered

Chosen Option : 4

Q.11 तीन कथन दिए गए हैं, इसके बाद तीन निष्कर्ष I, II और III दिए गए हैं। कथनों को सत्य मानते हुए, भले ही वे आम तौर पर ज्ञात तथ्यों से अलग हों, यह निर्णय लीजिए कि कौन-सा/से निष्कर्ष कथनों का तार्किक रूप से अनुसरण करता है/करते हैं।

कथन:

कुछ निबंध कविताएँ हैं।  
कुछ कविताएँ निर्देशक हैं।  
सभी निर्देशक गायक हैं।

निष्कर्ष:

I. कुछ निर्देशक कविताएँ हैं।  
II. कुछ गायक निबंध हैं।  
III. कुछ गायक कविताएँ हैं।

- Ans
- 1. केवल निष्कर्ष I और II अनुसरण करते हैं।
  - 2. केवल निष्कर्ष II और III अनुसरण करते हैं।
  - 3. केवल निष्कर्ष I अनुसरण करता है।
  - 4. केवल निष्कर्ष I और III अनुसरण करते हैं।

Question ID : 98958015428

Status : Answered

Chosen Option : 4

Q.12 निम्नलिखित श्रृंखला में कौन-सी संख्या प्रश्न चिह्न (?) के स्थान पर आएगी?

5, 9, 18, 43, 92, 213, 382, ?

- Ans
- 1. 382
  - 2. 617
  - 3. 671
  - 4. 328

Question ID : 98958015434

Status : Answered

Chosen Option : 3

Q.13 उस समुच्चय को चुनें जिसमें संख्याएँ उसी तरह संबंधित हैं जैसे कि निम्नलिखित समुच्चय की संख्याएँ संबंधित हैं।

(5, 2, 30)

- Ans
- 1. (5, 1, 29)
  - 2. (7, 8, 114)
  - 3. (9, 2, 87)
  - 4. (4, 3, 28)

Question ID : 98958015433


Status : Answered  
Chosen Option : 3

Q.14 नीचे दी गई आकृतियों में दिखाए गए अनुसार एक कागज को मोड़ा और काटा जाता है। यह कागज खोलने पर कैसे दिखाई देगा?




Ans

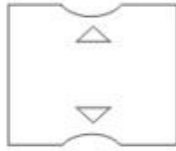
✗ 1.



✓ 2.



✗ 3.



✗ 4.



Question ID : 98958015440  
Status : Answered  
Chosen Option : 1

Q.15 ऐसे अक्षरों के संयोजन का चयन करें जो कि दी गई अक्षर श्रृंखला के रिक्त स्थानों में क्रमानुसार रूप से रखे जाने पर श्रृंखला को पूरा करेगा।

ab\_ba\_babd\_acb\_bdba\_b

Ans

✗ 1. dcabc

✗ 2. acbcd

✗ 3. cdabc

✓ 4. dcbac

Question ID : 98958015423  
Status : Answered  
Chosen Option : 1

Q.16 'कार्डियोलॉजिस्ट' 'हृदय' से उसी प्रकार संबंधित है, जैसे कि 'काइरोप्रेक्टर' '\_\_\_\_\_ ' से संबंधित है।

Ans

✗ 1. त्वचा

✗ 2. पैर

✗ 3. छाती

✓ 4. जोड़

Question ID : 98958015422  
Status : Answered

Chosen Option : 1

Q.17 राहुल के पास ₹2, ₹5 और ₹10 मूल्यवर्ग के नोटों में ₹340 है। प्रत्येक मूल्यवर्ग के नोटों की संख्या बराबर है। राहुल के पास कुल कितने नोट हैं?

- Ans
- 1. 20
  - 2. 80
  - 3. 60
  - 4. 40

Question ID : 98958015429

Status : Answered

Chosen Option : 3

Q.18 एक कोड भाषा में, PERMUTATION को IBKFRMXMFLG लिखा जाता है। उसी भाषा में PUBLICSECTOR को कैसे लिखा जाएगा?

- Ans
- 1. IRVEFVLBVMLK
  - 2. IRUEFVLBVMLK
  - 3. ICUFEVLBVNLK
  - 4. ICUFEVLBVMLJ

Question ID : 98958015419

Status : Answered

Chosen Option : 2

Q.19 उस विकल्प को चुनें जो तीसरी संख्या से उसी तरह से संबंधित है जैसे दूसरी संख्या पहली संख्या से संबंधित है।

54: 41 :: 32: \_\_\_\_

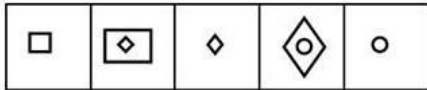
- Ans
- 1. 17
  - 2. 13
  - 3. 11
  - 4. 29

Question ID : 98958015431

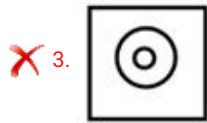
Status : Answered

Chosen Option : 2

Q.20 उस आकृति का चयन करें जो नीचे दी गई आकृति श्रृंखला में अगले स्थान पर आएगी।



- Ans
- 1.
  - 2.



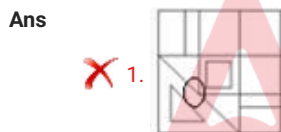
Question ID : 98958015437  
Status : Not Answered  
Chosen Option : --

Q.21 निम्नलिखित चार संख्याओं में से तीन संख्याएं एक निश्चित तरीके से एक जैसी हैं और एक अलग है। उस अलग संख्या का चयन कीजिए।

- Ans
- ✗ 1. 8205
  - ✗ 2. 9368
  - ✓ 3. 7298
  - ✗ 4. 4147

Question ID : 98958015435  
Status : Answered  
Chosen Option : 4

Q.22 उस विकल्प का चयन करें जिसमें नीचे दी गई आकृति अंतर्निहित है।



Question ID : 98958015439  
Status : Answered  
Chosen Option : 3

Q.23 निम्नलिखित शब्दों को तार्किक और सार्थक क्रम में व्यवस्थित करें।

1. पदोन्नति
2. आवेदन
3. नौकरी पर नियुक्ति
4. लिखित परीक्षा
5. मेरिट सूची

- Ans
- 1. 2, 5, 4, 3, 1
  - 2. 2, 4, 5, 3, 1
  - 3. 3, 2, 4, 1, 5
  - 4. 4, 2, 5, 3, 1

Question ID : 98958015418

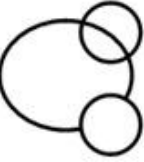



Status : Answered

Chosen Option : 1

Q.24 उस वेन आरेख का चयन करें जो निम्नलिखित वर्गों के बीच के संबंध को सबसे अच्छा दर्शाता है।

कच्चा माल, मज़दूर, मशीनें

Ans

- 1. 
- 2. 
- 3. 
- 4. 

Question ID : 98958015442

Status : Answered

Chosen Option : 3

Q.25 उस शब्द-युग्म का चयन करें जिसमें दो शब्द उसी तरह से संबंधित हैं जैसे निम्नलिखित शब्द-युग्म में दो शब्द संबंधित हैं।

छड़ : पहिया

- Ans
- 1. पेड़ : टहनी
  - 2. प्रिंटर : कंप्यूटर
  - 3. शब्द : वाक्य
  - 4. वर्ग : भुजा

Question ID : 98958015425

Status : Answered

Chosen Option : 2

## Section : General Awareness

Q.1 निम्नलिखित में से कौन-सा राजनीतिक दल 2019 के लोकसभा चुनावों में भाजपा के नेतृत्व वाले एनडीए का सहयोगी दल नहीं था?

- Ans
- 1. एआईएडीएमके
  - 2. असोम गण परिषद
  - 3. शिरोमणि अकाली दल
  - 4. डीएमके

Question ID : 98958015057

Status : Answered

Chosen Option : 2

Q.2 मई 2019 में, भारत सरकार ने एक नई योजना को मंजूरी दी है जिसमें 60 वर्ष की आयु प्राप्त करने के बाद सभी दुकानदारों, खुदरा व्यापारियों और स्व-नियोजित व्यक्तियों को न्यूनतम मासिक पेंशन का आश्वासन दिया गया है। इस योजना में पेंशन राशि कितनी है?

- Ans
- 1. ₹ 7,000
  - 2. ₹ 5,000
  - 3. ₹ 3,000
  - 4. ₹ 10,000

Question ID : 98958015061

Status : Answered

Chosen Option : 3

Q.3 वाल्मीकि रामायण का प्रमुख स्थान 'पंचवटी' भारत के किस राज्य में स्थित है?

- Ans
- 1. तमिलनाडु
  - 2. उत्तर प्रदेश
  - 3. महाराष्ट्र
  - 4. उत्तराखंड

Question ID : 98958015051

Status : Answered

Chosen Option : 4

Q.4 जून 2019 में, पेप्सीको इंडिया ने किस जगह फूड मैनुफैक्चरिंग प्लांट बनाने के लिए 70 मिलियन डॉलर का निवेश करने का प्रस्ताव रखा?

- Ans
- 1. मध्य प्रदेश
  - 2. महाराष्ट्र
  - 3. उत्तर प्रदेश
  - 4. गुजरात

Question ID : 98958015062

Status : Answered

Chosen Option : 2

Q.5 फिल्म 'पी एम नरेंद्र मोदी' के निर्देशक कौन हैं?

- Ans
- 1. हंसल मेहता
  - 2. तिग्मांशु धूलिया
  - 3. ओमंग कुमार
  - 4. राकेश ओमप्रकाश मेहरा

Question ID : 98958015055  
Status : Answered  
Chosen Option : 4

Q.6 पान सिंह तोमर, जो सात बार राष्ट्रीय चैंपियन रह चुके थे, निम्नलिखित में से किस खेल से जुड़े हुए थे?

- Ans
- 1. तैराकी
  - 2. लंबी घुड़दौड़ (स्टीपलचेज़)
  - 3. गोला फेंक
  - 4. हॉकी

Question ID : 98958015058  
Status : Answered  
Chosen Option : 2

Q.7 रानी-की-वाव (रानी का स्टेपेल), जो कि यूनेस्को के विश्व विरासत स्थल सूची में है, कहाँ स्थित है?

- Ans
- 1. मध्य प्रदेश
  - 2. राजस्थान
  - 3. उत्तर प्रदेश
  - 4. गुजरात

Question ID : 98958015040  
Status : Answered  
Chosen Option : 4

Q.8 वाष्पीकरण और द्रवण की संयुक्त प्रक्रिया को कहा जाता है:

- Ans
- 1. क्रिस्टलीकरण
  - 2. उत्सादन
  - 3. आसवनीकरण
  - 4. वर्ण लेखन

Question ID : 98958015044  
Status : Answered  
Chosen Option : 1

Q.9 31 मई को 'विश्व तंबाकू निषेध दिवस' के अवसर पर किस राज्य ने ई-सिगरेट पर प्रतिबंध लगा दिया?

- Ans
- 1. उत्तर प्रदेश
  - 2. असम
  - 3. गुजरात
  - 4. राजस्थान

Question ID : 98958015063  
Status : Answered

Chosen Option : 1

Q.10 जीएसटी (GST) के संबंध में जीएसटीआईएन (GSTIN) का पूर्ण रूप क्या है?

- Ans
- 1. गुड्स एंड सर्विसेज टैक्स आइडेंटिफिकेशन नोट
  - 2. गुड्स एंड सर्विसेज टैक्स इनफार्मेशन नंबर
  - 3. गुड्स एंड सर्विसेज टैक्स आइडेंटिफिकेशन नंबर
  - 4. गुड्स एंड सर्विसेज टैक्सेशन इनकम नंबर

Question ID : 98958015041

Status : Answered

Chosen Option : 3

Q.11 हिंदी की महानतम साहित्यिक कृतियों में से एक महाकाव्य 'कामायनी' का लेखक कौन है?

- Ans
- 1. मोहन राकेश
  - 2. प्रेमचंद
  - 3. रामधारी सिंह दिनकर
  - 4. जयशंकर प्रसाद

Question ID : 98958015039

Status : Answered

Chosen Option : 3

Q.12 2018 के एशियाई खेलों में रजत पदक जीतने वाली भारतीय महिला कबड्डी टीम की कप्तान कौन थी?

- Ans
- 1. शालिनी पाठक
  - 2. पायल चौधरी
  - 3. मनप्रीत कौर
  - 4. रितु नेगी

Question ID : 98958015060

Status : Answered

Chosen Option : 2

Q.13 निम्नलिखित में से किस धातु में गेलेना नामक अयस्क होता है?

- Ans
- 1. निकल
  - 2. सीसा
  - 3. लोहा
  - 4. तांबा

Question ID : 98958015045

Status : Not Answered

Chosen Option : --

Q.14 निम्नलिखित में से कौन दिल्ली का पहला सैयद शासक था?

- Ans
- 1. मुहम्मद शाह
  - 2. खिज़्र खॉ
  - 3. मुबारक शाह
  - 4. आलम शाह

Question ID : 98958015052  
Status : Answered  
Chosen Option : 1

Q.15 निम्नलिखित में से कौन-सा राज्य नेपाल को भूटान से अलग करता है?

- Ans
- 1. असम
  - 2. सिक्किम
  - 3. ओडिशा
  - 4. बिहार

Question ID : 98958015049  
Status : Answered  
Chosen Option : 1

Q.16 निम्नलिखित में से किसने 2018 एशियाई खेलों में घुड़सवारी प्रतियोगिता में रजत पदक जीता?

- Ans
- 1. फौआद मिर्जा
  - 2. राकेश कुमार
  - 3. आशीष मलिक
  - 4. जितेन्द्र सिंह

Question ID : 98958015059  
Status : Not Answered  
Chosen Option : --

Q.17 कंप्यूटर मेमोरी के उस क्षेत्र को क्या कहा जाता है जहां बार-बार एक्सेस किए गए डेटा को तेजी से एक्सेस करने के लिए स्टोर किया जा सकता है:

- Ans
- 1. कुकी
  - 2. टोकन
  - 3. कैश
  - 4. प्लग-इन

Question ID : 98958015046  
Status : Answered  
Chosen Option : 1

Q.18 भूपेन हज़ारिका सेतु, जिसे ढोला-सदिया पुल भी कहा जाता है, असम और \_\_\_\_\_ को जोड़ता है।

- Ans
- 1. सिक्किम
  - 2. मेघालय
  - 3. पश्चिम बंगाल
  - 4. अरुणाचल प्रदेश

Question ID : 98958015050  
Status : Answered  
Chosen Option : 3

Q.19 निम्नलिखित में से कौन-सी तरंगें/किरणें उच्चतम आवृत्ति वाली विद्युत चुंबकीय तरंगें/किरणें हैं?

- Ans
- 1. सूक्ष्म तरंगें
  - 2. गामा किरणें

- 3. रेडियो तरंगें
- 4. पराबैंगनी किरणें

Question ID : 98958015043  
Status : Answered  
Chosen Option : 2

Q.20 निम्नलिखित में से कौन 2019 के 100,000 डॉलर वाले नाइन डॉट्स पुरस्कार का विजेता है?

- Ans
- 1. अरुंधति रॉय
  - 2. एनी जैदी
  - 3. शशि थरूर
  - 4. चेतन भगत

Question ID : 98958015054  
Status : Not Answered  
Chosen Option : --

Q.21 चीन के साथ सबसे लंबी सीमा निम्नलिखित में से किस राज्य के साथ लगती है?

- Ans
- 1. हिमाचल प्रदेश
  - 2. अरुणाचल प्रदेश
  - 3. उत्तराखंड
  - 4. सिक्किम

Question ID : 98958015048  
Status : Answered  
Chosen Option : 1

Q.22 गूगल को किस वर्ष एक निजी कंपनी के रूप में स्थापित किया गया था?

- Ans
- 1. 2002
  - 2. 2005
  - 3. 1998
  - 4. 2000

Question ID : 98958015047  
Status : Answered  
Chosen Option : 1

Q.23 2019 के नए केंद्रीय मंत्रिमंडल में सूक्ष्म, लघु और मध्यम उद्यम मंत्रालय निम्नलिखित में से किसे आवंटित किया गया था?

- Ans
- 1. नितिन जयराम गडकरी
  - 2. रामविलास पासवान
  - 3. नरेंद्र सिंह तोमर
  - 4. सदानंद गौड़ा

Question ID : 98958015056  
Status : Answered  
Chosen Option : 1

Q.24 निम्नलिखित में से कौन सा शब्द किस्तों में ऋण के भुगतान में कमी या भुगतान को संदर्भित करता है?

- Ans
- 1. क्रेडिट क्रिएशन
  - 2. बेक्वर्डेशन
  - 3. एमोरटाईज़ेशन
  - 4. डिस्काउंटेड कैश फ्लो

Question ID : 98958015042  
Status : Not Answered  
Chosen Option : --

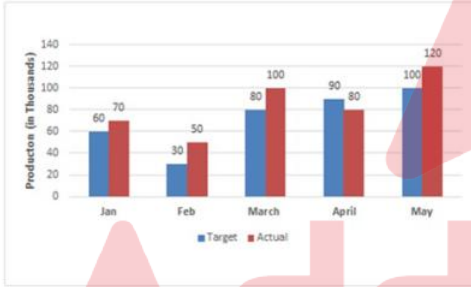
Q.25 रॉयल टाइटल एक्ट 1876 के पारित होने के दौरान, ब्रिटिश प्रधानमंत्री कौन थे?

- Ans
- 1. आर्थर बालफोर
  - 2. बेंजामिन डिज़रायली
  - 3. विलियम इवर्ट ग्लैडस्टोन
  - 4. जॉन रसेल

Question ID : 98958015053  
Status : Not Answered  
Chosen Option : --

Section : Quantitative Aptitude

Q.1 दिए गए दंड आरेख (बार ग्राफ) में किसी फैक्ट्री में पांच वर्षों के दौरान AC मशीनों के लक्ष्य उत्पादन और वास्तविक उत्पादन को दर्शाया गया है।



अप्रैल महीने में AC मशीनों का वास्तविक उत्पादन, पांच महीनों के दौरान औसत लक्ष्य उत्पादन से कितना प्रतिशत अधिक था?

- Ans
- 1.  $11\frac{1}{9}\%$
  - 2. 9%
  - 3. 10%
  - 4.  $10\frac{1}{9}\%$

Question ID : 98958015756  
Status : Answered  
Chosen Option : 3

Q.2  $\triangle ABC$  में,  $AB = 7$  cm,  $BC = 24$  cm और  $AC = 25$  cm है। यदि G त्रिभुज का केंद्रक है, तो BG की लंबाई (cm में) कितनी है?

- Ans
- 1. 9
  - 2.  $8\frac{1}{3}$

- 3.  $8\frac{2}{3}$
- 4. 10

Question ID : 98958015750  
Status : Answered  
Chosen Option : 1

Q.3 किसी लंब वृत्तीय शंकु का आयतन  $924 \text{ cm}^3$  है। यदि इसकी लंबाई 18 cm है, तो इसके आधार का क्षेत्रफल ( $\text{cm}^2$  में) है:

- Ans
- 1. 198
  - 2. 132
  - 3. 154
  - 4. 176

Question ID : 98958015736  
Status : Not Answered  
Chosen Option : --

Q.4  $\frac{(\sec\theta + \tan\theta)(1 - \sin\theta)}{\operatorname{cosec}\theta(1 + \cos\theta)(\operatorname{cosec}\theta - \cot\theta)}$  बराबर है:

- Ans
- 1.  $\sec \theta$
  - 2.  $\sin \theta$
  - 3.  $\cos \theta$
  - 4.  $\operatorname{cosec} \theta$

Question ID : 98958015753  
Status : Answered  
Chosen Option : 4

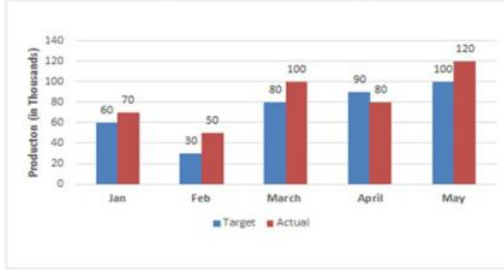
Q.5 यदि  $\cos^2\theta - \sin^2\theta - 3\cos\theta + 2 = 0$ ,  $0^\circ < \theta < 90^\circ$  है, तो  $4\operatorname{cosec}\theta + \cot\theta$  का मान कितना है?

- Ans
- 1. 3
  - 2.  $4\sqrt{3}$
  - 3.  $3\sqrt{3}$
  - 4. 4

Question ID : 98958015754  
Status : Answered  
Chosen Option : 2

Q.6

दिए गए दंड आरेख (बार ग्राफ) में किसी फैक्ट्री में पांच वर्षों के दौरान AC मशीनों के लक्ष्य उत्पादन और वास्तविक उत्पादन को दर्शाया गया है।



जनवरी और अप्रैल महीने में AC मशीनों का संयुक्त लक्ष्य उत्पादन और मार्च एवं अप्रैल महीने में AC मशीनों के संयुक्त वास्तविक उत्पादन का अनुपात था:

- Ans
- 1. 3 : 2
  - 2. 4 : 5
  - 3. 5 : 6
  - 4. 2 : 3

Question ID : 98958015755  
Status : Answered  
Chosen Option : 2

Q.7 A और B की आय का अनुपात 2 : 3 है और उनके व्यय का अनुपात 1 : 2 है। यदि B के व्यय का 90% A की आय के बराबर है, तो A और B की बचत का अनुपात कितना है?

- Ans
- 1. 3 : 2
  - 2. 8 : 7
  - 3. 9 : 8
  - 4. 1 : 1

Question ID : 98958015741  
Status : Answered  
Chosen Option : 3

Q.8 A, B से 20% अधिक है तो B, C से 25% अधिक है। इसी प्रकार C, D से 60% कम है और D, E से 20% अधिक है। ऊपर दी गई जानकारी के अनुसार, निम्नलिखित में से कौन सही है?

- Ans
- 1. A, D से 40% कम है।
  - 2. C, A से 24% कम है।
  - 3. D, B से 60% कम है।
  - 4. E, A से 28% अधिक है।

Question ID : 98958015739  
Status : Answered  
Chosen Option : 1

Q.9 यदि  $a + b + c = 5$ ,  $a^2 + b^2 + c^2 = 27$ , और  $a^3 + b^3 + c^3 = 125$  है, तो  $4abc$  का मान है:

- Ans
- 1. 20
  - 2. -20

3. -15

4. 15

Question ID : 98958015747

Status : Not Answered

Chosen Option : --

Q.10 15 cm और 12 cm त्रिज्या वाले दो वृत्त परस्पर काटते हैं, और उनकी उभयनिष्ठ जीवा की लंबाई 18 cm है। उनके केंद्रों के बीच की दूरी (cm) में कितनी है?

Ans  1.  $15 + \sqrt{7}$

2.  $12 + 3\sqrt{7}$

3.  $18 + \sqrt{7}$

4.  $12 + 2\sqrt{7}$

Question ID : 98958015748

Status : Not Answered

Chosen Option : --

Q.11 यदि  $\cot\theta = \frac{1}{\sqrt{3}}$ , तो  $\frac{2-\sin^2\theta}{1-\cos^2\theta} + (\operatorname{cosec}^2\theta + \sec\theta)$  का मान है:

Ans  1. 7

2. 6

3. 4

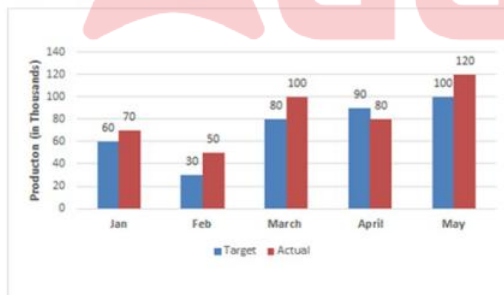
4. 5

Question ID : 98958015752

Status : Answered

Chosen Option : 3

Q.12 दिए गए दंड आरेख (बार ग्राफ) में किसी फैक्ट्री में पांच वर्षों के दौरान AC मशीनों के लक्ष्य उत्पादन और वास्तविक उत्पादन को दर्शाया गया है।



फरवरी, अप्रैल और मई महीने में AC मशीनों का कुल लक्ष्य उत्पादन, पूरे पांच महीनों के दौरान कुल वास्तविक उत्पादन का कितना प्रतिशत था (एक दशमलव स्थान तक सही करें)?

Ans  1. 46.2%

2. 46.8%

3. 47.6%

4. 47.1%

Question ID : 98958015758

Status : Answered  
Chosen Option : 3

Q.13 यदि  $a^2 + 4b^2 + 49c^2 + 18 = 2(2b + 28c - a)$  है, तो  $(3a + 2b + 7c)$  का मान है:

- Ans
- 1. 3
  - 2. 0
  - 3. 1
  - 4. 2

Question ID : 98958015746  
Status : Answered  
Chosen Option : 2

Q.14 समान लंबाई वाली दो ट्रेनें समांतर ट्रैक पर एक ही दिशा में क्रमशः 54 km/h और 42 km/h की गति से चल रही हैं। तेज चल रही ट्रेन दूसरी ट्रेन को 63 सेकंड में पार कर जाती है। प्रत्येक ट्रेन की लंबाई (मीटर में) कितनी है?

- Ans
- 1. 210
  - 2. 90
  - 3. 105
  - 4. 81

Question ID : 98958015735  
Status : Answered  
Chosen Option : 1

Q.15 किसी कक्षा में 90 विद्यार्थी हैं। उनमें से 70% विद्यार्थी गांव A से हैं और बाकी गांव B से। परीक्षा में गांव B के विद्यार्थियों का औसत प्राप्तांक गांव A के विद्यार्थियों के औसत प्राप्तांक से 20% अधिक है। यदि सभी विद्यार्थियों का औसत प्राप्तांक 53 है, तो गांव B के विद्यार्थियों का औसत प्राप्तांक कितना है?

- Ans
- 1. 54
  - 2. 64
  - 3. 50
  - 4. 60

Question ID : 98958015737  
Status : Not Answered  
Chosen Option : --

Q.16 किसी मूलधन पर 10% प्रति वर्ष की दर से  $3\frac{1}{2}$  वर्षों का साधारण ब्याज ₹2,940 है। उसी मूलधन पर उसी ब्याज दर से  $2\frac{1}{2}$  वर्षों का चक्रवृद्धि ब्याज कितना होगा जब ब्याज वार्षिक संयोजित होता है (रूप में सन्निकट)?

- Ans
- 1. ₹2,372
  - 2. ₹2,272
  - 3. ₹2,327
  - 4. ₹2,227

Question ID : 98958015742  
Status : Not Answered  
Chosen Option : --

Q.17 यदि आठ-अंकों की संख्या  $342x18y6$  को संख्या 72 से विभाजित किया जाए तो  $y$  के सबसे बड़े मान के लिए  $\sqrt{9x+y}$  का मान कितना होगा?

- Ans
- 1.  $2\sqrt{7}$
  - 2.  $4\sqrt{7}$
  - 3. 6
  - 4. 8

Question ID : 98958015743  
Status : Not Answered  
Chosen Option : --

Q.18  $\Delta ABC$  में, भुजाएं AB और AC पर क्रमशः D और E बिंदु इस प्रकार हैं कि  $DE \parallel BC$ । यदि  $DE : BC = 3 : 5$  है, तो  $(\Delta ADE)$  का क्षेत्रफल : (चतुर्भुज DECB का क्षेत्रफल) है:

- Ans
- 1. 9 : 25
  - 2. 3 : 4
  - 3. 9 : 16
  - 4. 5 : 8

Question ID : 98958015751  
Status : Not Answered  
Chosen Option : --

Q.19 यदि  $3\sqrt{3}x^3 - 2\sqrt{2}y^3 = (\sqrt{3}x - \sqrt{2}y)(Ax^2 - Bxy + Cy^2)$  है, तो  $(A^2 - B^2 + C^2)$  का मान है:

- Ans
- 1. 17
  - 2. 10
  - 3. 1
  - 4. 7

Question ID : 98958015745  
Status : Not Answered  
Chosen Option : --

Q.20 किसी वस्तु के अंकित मूल्य पर 10% छूट देने के बाद, इसे ₹360 में बेचा जाता है। यदि छूट नहीं दी जाती तो 25% का लाभ होता। वस्तु का क्रय मूल्य कितना है?

- Ans
- 1. ₹325
  - 2. ₹360
  - 3. ₹320
  - 4. ₹350

Question ID : 98958015738  
Status : Answered  
Chosen Option : 2

Q.21 एक व्यक्ति किसी वस्तु को 8% की हानि पर बेचता है। यदि उसने उस वस्तु को 10.5% के लाभ पर बेचा होता, तो उसे ₹37 अधिक मिलते। वस्तु का क्रय मूल्य क्या है?

- Ans
- 1. ₹240

2. ₹250  
 3. ₹200  
 4. ₹210

Question ID : 98958015740  
Status : Answered  
Chosen Option : 4

Q.22 दो संकेंद्रित वृत्तों की त्रिज्याएं 15 cm और 9 cm हैं। बड़े वृत्त के जीवा की लंबाई कितनी है जो छोटे वृत्त पर स्पर्शरेखा है।

- Ans
1. 25 cm  
 2. 24 cm  
 3. 18 cm  
 4. 20 cm

Question ID : 98958015749  
Status : Answered  
Chosen Option : 1

Q.23  $3 \div \{5 - 5 \div (6 - 7) \times 8 + 9\}$  का मान है:  
 $4 + 4 \times 4 \div 4$  of 4

- Ans
1.  $\frac{1}{45}$   
 2.  $\frac{1}{90}$   
 3.  $\frac{1}{18}$   
 4.  $\frac{1}{3}$

Question ID : 98958015744  
Status : Not Answered  
Chosen Option : --

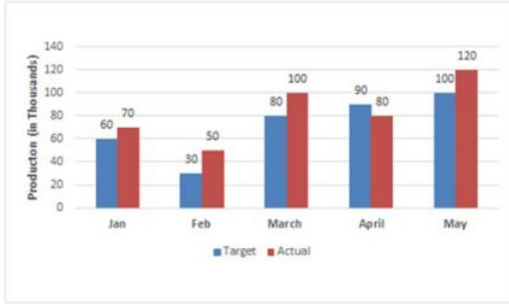
Q.24 यदि 30 व्यक्ति प्रतिदिन 8 घंटे काम करते हुए किसी काम को 10 दिनों में पूरा करते हैं, तो 40 व्यक्तियों को प्रतिदिन कितने घंटे काम करना होगा ताकि वे उसे 6 दिनों में पूरा कर लें?

- Ans
1. 12  
 2. 8  
 3. 6  
 4. 10

Question ID : 98958015734  
Status : Not Answered  
Chosen Option : --

Q.25

दिए गए दंड आरेख (बार ग्राफ) में किसी फैक्ट्री में पांच वर्षों के दौरान AC मशीनों के लक्ष्य उत्पादन और वास्तविक उत्पादन को दर्शाया गया है।



किस महीने में AC मशीनों का वास्तविक उत्पादन, लक्ष्य उत्पादन से 25% अधिक था?

- Ans
- 1. फरवरी
  - 2. जनवरी
  - 3. मार्च
  - 4. मई

Question ID : 98958015757

Status : Answered

Chosen Option : 4

Section : English Language

Q.1 Select the most appropriate option to substitute the underlined segment in the given sentence. If there is no need to substitute it, select No improvement.

Oh, what a lovely necklace! You need no buy such an expensive gift.

- Ans
- 1. didn't need to buying
  - 2. hadn't needed to buy
  - 3. needn't have bought
  - 4. No improvement

Question ID : 98958015294

Status : Answered

Chosen Option : 4

Q.2 Select the most appropriate meaning of the given idiom.

throw in the towel

- Ans
- 1. admit defeat
  - 2. face the situation
  - 3. think of a solution
  - 4. drop something

Question ID : 98958015307

Status : Answered

Chosen Option : 2

Q.3 Select the most appropriate option to substitute the underlined segment in the given sentence. If there is no need to substitute it, select No improvement.

I hope never to have another so experience as I had in Puri during Cyclone Fani.

- Ans
- 1. same experience as
  - 2. No improvement
  - 3. as experience as
  - 4. such experience as

Question ID : 98958015293  
Status : Answered  
Chosen Option : 3

Q.4 Select the most appropriate synonym of the given word.

HIND

- Ans
- 1. rear
  - 2. first
  - 3. front
  - 4. near

Question ID : 98958015303  
Status : Answered  
Chosen Option : 3

Q.5 Given below are four jumbled sentences. Out of the given options pick the one that gives their correct order.

- A. Most of them are in jail because of their circumstances.
- B. Not all prisoners are hardcore criminals.
- C. So, they deserve a chance to rehabilitate themselves.
- D. Therefore, learning a trade would help them reintegrate with society.

- Ans
- 1. ABCD
  - 2. BACD
  - 3. DCBA
  - 4. BDCA

Question ID : 98958015302  
Status : Answered  
Chosen Option : 3

Q.6 Select the word which means the same as the group of words given.

A group of singers in a church

- Ans
- 1. choir
  - 2. host
  - 3. troop
  - 4. band

Question ID : 98958015309  
Status : Answered  
Chosen Option : 3

Q.7 Select the most appropriate synonym of the given word.

INNUENDO

- Ans
- 1. verification

- 2. implication
- 3. evidence
- 4. proof

Question ID : 98958015304  
Status : Answered  
Chosen Option : 2

Q.8 Select the wrongly spelt word.

- Ans
- 1. assuredly
  - 2. assurable
  - 3. assurance
  - 4. assure

Question ID : 98958015312  
Status : Answered  
Chosen Option : 1

Q.9 In the sentence identify the segment which contains the grammatical error.

The Public Works Department has propose to construct an elevated corridor which will run parallel to the National highway.

- Ans
- 1. The Public Works Department has propose
  - 2. which will run parallel
  - 3. to construct an elevated corridor
  - 4. to the National highway

Question ID : 98958015289  
Status : Answered  
Chosen Option : 4

Q.10 Select the most appropriate word to fill in the blank.

In spite of being born in an \_\_\_\_\_ family, he chose to fight all odds and emerged as a notable statesman.

- Ans
- 1. immaculate
  - 2. intelligent
  - 3. impeccable
  - 4. impoverished

Question ID : 98958015314  
Status : Answered  
Chosen Option : 2

Q.11 Select the most appropriate meaning of the given idiom.

to air dirty linen in public

- Ans
- 1. to discuss private affairs in public
  - 2. to stand up and fight
  - 3. to continue to complain
  - 4. to hang out clothes in the open

Question ID : 98958015308  
Status : Answered  
Chosen Option : 3

Q.12 Select the correct passive form of the given sentence.

The gardener has mowed the lawn.

- Ans
- 1. The gardener has been mowed by the lawn.
  - 2. The lawn has been mowed by the gardener.
  - 3. The lawn was mowed by the gardener.
  - 4. The lawn is mowed by the gardener.

Question ID : 98958015291  
Status : Answered  
Chosen Option : 4

Q.13 Select the most appropriate antonym of the given word.

EXOTIC

- Ans
- 1. colourful
  - 2. curious
  - 3. alien
  - 4. ordinary

Question ID : 98958015305  
Status : Answered  
Chosen Option : 3

Q.14 Select the wrongly spelt word.

- Ans
- 1. barrier
  - 2. barren
  - 3. berry
  - 4. berrel

Question ID : 98958015311  
Status : Answered  
Chosen Option : 4

Q.15 Given below are four jumbled sentences. Out of the given options pick the one that gives their correct order.

- A. He often asked questions which were strange and witty.
- B. Emperor Akbar was in the habit of putting riddles and puzzles to his courtiers.
- C. Once he asked a strange question that confused everyone.
- D. It took much wisdom to answer these questions.

- Ans
- 1. CABD
  - 2. BACD
  - 3. BADC
  - 4. ABCD

Question ID : 98958015301  
Status : Answered

Chosen Option : 3

Q.16 Select the correct indirect form of the given sentence.

Mrs. Gupta said to me, "Why are these boys standing in the sun?"

- Ans
- 1. Mrs. Gupta said to me that why are these boys standing in the sun.
  - 2. Mrs. Gupta told me why those boys are standing in the sun.
  - 3. Mrs. Gupta asked me why were these boys standing in the sun.
  - 4. Mrs. Gupta asked me why those boys were standing in the sun.

Question ID : 98958015292

Status : Answered

Chosen Option : 3

Q.17 Select the word which means the same as the group of words given.

One who does not tire easily

- Ans
- 1. indelible
  - 2. inevitable
  - 3. infallible
  - 4. indefatigable

Question ID : 98958015310

Status : Answered

Chosen Option : 4

Q.18 Select the most appropriate antonym of the given word.

SUCCINCT

- Ans
- 1. pithy
  - 2. lengthy
  - 3. curt
  - 4. terse

Question ID : 98958015306

Status : Answered

Chosen Option : 2

Q.19

Select the most appropriate word to fill in the blank.

People's will and determination can help them \_\_\_\_\_ most of the challenges of life.

- Ans
- 1. overview
  - 2. overdo
  - 3. overvalue
  - 4. overcome

Question ID : 98958015313

Status : Answered

Chosen Option : 1

Comprehension:

In the following passage some words have been deleted. Fill in the blanks with the help of the alternatives given. Select the most appropriate option for each blank.

Big Ben is the UK's most iconic symbol. Since 2017, the Elizabeth Tower and the bell inside have been (1) \_\_\_\_\_ renovation. The structure is 160 years old and (2) \_\_\_\_\_ regular maintenance. (3) \_\_\_\_\_ many years, people had been painting the hands and numbers (4) \_\_\_\_\_ the clock black, but last Thursday, the workers (5) \_\_\_\_\_ the clock's original colour, Prussian Blue!

SubQuestion No : 20

Q.20 Select the most appropriate option for blank No. 1.

- Ans
- 1. undertaking
  - 2. undermining
  - 3. understanding
  - 4. undergoing

Question ID : 98958015296  
 Status : Answered  
 Chosen Option : 3

**Comprehension:**

In the following passage some words have been deleted. Fill in the blanks with the help of the alternatives given. Select the most appropriate option for each blank.

Big Ben is the UK's most iconic symbol. Since 2017, the Elizabeth Tower and the bell inside have been (1) \_\_\_\_\_ renovation. The structure is 160 years old and (2) \_\_\_\_\_ regular maintenance. (3) \_\_\_\_\_ many years, people had been painting the hands and numbers (4) \_\_\_\_\_ the clock black, but last Thursday, the workers (5) \_\_\_\_\_ the clock's original colour, Prussian Blue!

SubQuestion No : 21

Q.21 Select the most appropriate option for blank No. 2.

- Ans
- 1. has needed
  - 2. is needed
  - 3. need
  - 4. was needing

Question ID : 98958015297  
 Status : Answered  
 Chosen Option : 3

**Comprehension:**

In the following passage some words have been deleted. Fill in the blanks with the help of the alternatives given. Select the most appropriate option for each blank.

Big Ben is the UK's most iconic symbol. Since 2017, the Elizabeth Tower and the bell inside have been (1) \_\_\_\_\_ renovation. The structure is 160 years old and (2) \_\_\_\_\_ regular maintenance. (3) \_\_\_\_\_ many years, people had been painting the hands and numbers (4) \_\_\_\_\_ the clock black, but last Thursday, the workers (5) \_\_\_\_\_ the clock's original colour, Prussian Blue!

SubQuestion No : 22

Q.22 Select the most appropriate option for blank No. 3.

- Ans
- 1. Before
  - 2. In
  - 3. About
  - 4. For

Question ID : 98958015298

Status : Answered  
Chosen Option : 1

**Comprehension:**

In the following passage some words have been deleted. Fill in the blanks with the help of the alternatives given. Select the most appropriate option for each blank.

Big Ben is the UK's most iconic symbol. Since 2017, the Elizabeth Tower and the bell inside have been (1) \_\_\_\_\_ renovation. The structure is 160 years old and (2) \_\_\_\_\_ regular maintenance. (3) \_\_\_\_\_ many years, people had been painting the hands and numbers (4) \_\_\_\_\_ the clock black, but last Thursday, the workers (5) \_\_\_\_\_ the clock's original colour, Prussian Blue!

**SubQuestion No : 23**

**Q.23 Select the most appropriate option for blank No. 4.**

- Ans
- 1. to
  - 2. at
  - 3. for
  - 4. of

Question ID : 98958015299  
Status : Answered  
Chosen Option : 4

**Comprehension:**

In the following passage some words have been deleted. Fill in the blanks with the help of the alternatives given. Select the most appropriate option for each blank.

Big Ben is the UK's most iconic symbol. Since 2017, the Elizabeth Tower and the bell inside have been (1) \_\_\_\_\_ renovation. The structure is 160 years old and (2) \_\_\_\_\_ regular maintenance. (3) \_\_\_\_\_ many years, people had been painting the hands and numbers (4) \_\_\_\_\_ the clock black, but last Thursday, the workers (5) \_\_\_\_\_ the clock's original colour, Prussian Blue!

**SubQuestion No : 24**

**Q.24 Select the most appropriate option for blank No. 5.**

- Ans
- 1. discovered
  - 2. concealed
  - 3. invented
  - 4. imparted

Question ID : 98958015300  
Status : Answered  
Chosen Option : 2

**Q.25 In the sentence identify the segment which contains the grammatical error.**

I visited my friend to whom I had made an appointment.

- Ans
- 1. I had made
  - 2. I visited my friend
  - 3. to whom
  - 4. an appointment

Question ID : 98958015290  
Status : Answered  
Chosen Option : 2

Test

Prime

By Adda247

# Previous Year Papers PDF

PRACTICE MORE, SCORE HIGHER!



Free  
**25,000+**  
PDF's

High-Quality | Exam-Wise | Updated Regularly

ATTEMPT AS  
**MOCK**



Turn PDFs into real exam experience.  
Analyze. Improve. Succeed.



Topic-wise & Exam-wise PDFs



Download & Study Offline



Attempt as Mock & Track Score



Smart Analysis & Performance

AVAILABLE IN



Banking



SSC



Railway



Teaching



UGC



Agriculture



Nursing



Bihar



UP



Punjab



WB



Odisha



TN



AP & Telangana



Haryana



DOWNLOAD THE APP



