

Combined Higher Secondary Level (10+2) Examination-2018

Roll No.	
Registration No Name	
Test Venue	
Test Time	4:00 PM - 5:00 PM
Test Date	01/07/2019

Section : General Intelligence

Q.1 एक कोड भाषा में, BLEND को ENHPG लिखा जाता है। उसी भाषा में WINNER को कैसे लिखा जाएगा?

- Ans
- 1. ZKQPHT
 - 2. YKQPHT
 - 3. ZKOPHT
 - 4. ZKQPHU

Question ID : 98958015394
Status : Answered
Chosen Option : 1

Q.2 यदि V = 44 और FAT = 54 है, तो आप LATE को कैसे कोडबद्ध करेंगे?

- Ans
- 1. 19
 - 2. 54
 - 3. 110
 - 4. 76

Question ID : 98958015395
Status : Answered
Chosen Option : 4

Q.3 उस शब्द-युग्म का चयन करें जिसमें दो शब्द उसी तरह से संबंधित हैं जैसे निम्नलिखित शब्द-युग्म में दो शब्द संबंधित हैं।

तितलियाँ : लेपिडोप्टेरिस्ट

- Ans
- 1. मानचित्र : मानचित्रकार
 - 2. क्रोमोसोम : वनस्पतिशास्त्री
 - 3. गहने : जौहरी
 - 4. पोस्टकार्ड : डेलीओलॉजिस्ट

Question ID : 98958015400
Status : Answered
Chosen Option : 4

Q.4 ऐसे अक्षरों के संयोजन का चयन करें जो कि दी गई अक्षर श्रृंखला के रिक्त स्थानों में क्रमानुसार रूप से रखे जाने पर श्रृंखला को पूरा करेगा।

abc_dab__d_b_cdab_c_

- Ans
- 1. cccaccd
 - 2. cacacdc
 - 3. ccaacdc
 - 4. acacdcc

Question ID : 98958015398

**Test
Prime**

By Adda247

ALL EXAMS, ONE SUBSCRIPTION



Test. Analyze. Improve. Repeat.



Don't just *prepare*. *Perform*.

Test Prime — built only for mock tests.



1,50,000+
Mock Tests



25,000+
Previous Year Papers



800+
Exam Covered



500% Refund
on Selection



5 lakh+
Free Quizzes



Daily
Free PDFs



Job Alerts
Stay Updated

- Multilingual
- Detailed Solution
- Strong and Weak Areas



**All India
Rankings**

Compete with lakhs.
Rank. Improve. Repeat.



← Adda247 test prime

Rating ▾

Editors' choice

New



Adda247 Test Prime
Adda Education • Education
Installed



DOWNLOAD THE APP



Status : Not Attempted and
Marked For Review
Chosen Option : --

Q.5 निम्नलिखित श्रृंखला में कौन-सी संख्या प्रश्न चिह्न (?) के स्थान पर आएगी?

5, 8, 20, 34, 76, 142, ?

- Ans
- 1. 284
 - 2. 272
 - 3. 296
 - 4. 302

Question ID : 98958015409
Status : Answered
Chosen Option : 3

Q.6 प्लास्टिक के एक खिलौने की कीमत ₹ 7 है। प्लास्टिक के एक चम्मच की कीमत ₹ 5 है। X इन प्लास्टिक वस्तुओं पर ₹ 38 खर्च करता है। यह ज्ञात करें कि उसने प्लास्टिक के कितने खिलौने खरीदे?

- Ans
- 1. 5
 - 2. 2
 - 3. 4
 - 4. 3

Question ID : 98958015404
Status : Answered
Chosen Option : 3

Q.7 निम्नलिखित शब्दों को तार्किक और सार्थक क्रम में व्यवस्थित करें।

1. बंदर
2. हाथी
3. चूहा
4. मक्खी
5. शेर

- Ans
- 1. 4, 3, 1, 5, 2
 - 2. 3, 4, 1, 2, 5
 - 3. 3, 4, 1, 5, 2
 - 4. 4, 1, 3, 2, 5

Question ID : 98958015393
Status : Answered
Chosen Option : 1

Q.8 निम्नलिखित चार संख्याओं में से तीन संख्याएँ एक निश्चित तरीके से एक जैसी हैं और एक अलग है। उस अलग संख्या का चयन कीजिए।

- Ans
- 1. 3128
 - 2. 7158
 - 3. 9178
 - 4. 5138

Question ID : 98958015410
Status : Not Attempted and
Marked For Review
Chosen Option : --

Q.9 उस संख्या-युग्म को चुनें जिसमें दो संख्याएँ उसी तरह संबंधित हैं जैसे निम्नलिखित संख्या-युग्म की दो संख्याएँ संबंधित हैं।
7 : 85

- Ans
- 1. 5 : 43
 - 2. 8 : 113
 - 3. 2 : 9
 - 4. 3 : 31

Question ID : 98958015406

Status : Not Attempted and
Marked For Review

Chosen Option : --

Q.10 जब एक दर्पण को आकृति के दाईं ओर रखा जाये तो दिए गए चित्र की सही दर्पण छवि का चयन करें।



Ans

- 1.
- 2.
- 3.
- 4.

Question ID : 98958015416

Status : Answered

Chosen Option : 3

Q.11 तीन कथन दिए गए हैं, इसके बाद तीन निष्कर्ष I, II और III दिए गए हैं। कथनों को सत्य मानते हुए, भले ही वे आम तौर पर ज्ञात तथ्यों से अलग हों, यह निर्णय लीजिए कि कौन-सा/से निष्कर्ष कथनों का तार्किक रूप से अनुसरण करता है/करते हैं।

कथन:

सभी चट्टानें महासागर हैं।
सभी महासागर गुब्बारे हैं।
कुछ घड़ियाँ गुब्बारे हैं।

निष्कर्ष:

I. कुछ गुब्बारे चट्टानें हैं।
II. कुछ घड़ियाँ महासागर हैं।
III. सभी महासागर चट्टानें हैं।

- Ans
- 1. केवल निष्कर्ष I और III अनुसरण करते हैं।
 - 2. केवल निष्कर्ष I अनुसरण करता है।
 - 3. केवल निष्कर्ष I और II अनुसरण करते हैं।
 - 4. केवल निष्कर्ष II अनुसरण करता है।

Question ID : 98958015403

Status : Answered

Chosen Option : 2

Q.12 एक ही पासे की चार अलग-अलग स्थितियों को नीचे दर्शाया गया है। '3' संख्या वाले फलक के सामने वाली संख्या ज्ञात कीजिए।



- Ans
- 1. 1
 - 2. 2
 - 3. 4
 - 4. 6

Question ID : 98958015411
Status : Answered
Chosen Option : 2

Q.13 निम्नलिखित चार अक्षर-समूहों में से तीन अक्षर-समूह एक निश्चित तरीके से एक जैसे हैं और एक अलग है। उस अलग अक्षर-समूह को चुनिए।

- Ans
- 1. JQMNP
 - 2. HSKPM
 - 3. PKSHV
 - 4. DWGTJ

Question ID : 98958015401
Status : Answered
Chosen Option : 3

Q.14 उस समुच्चय को चुनें जिसमें संख्याएँ उसी तरह संबंधित हैं जैसे कि निम्नलिखित समुच्चय की संख्याएँ संबंधित हैं।

(4, 14, 44)

- Ans
- 1. (5, 15, 30)
 - 2. (9, 30, 57)
 - 3. (11, 35, 107)
 - 4. (7, 23, 69)

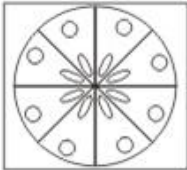
Question ID : 98958015407
Status : Not Attempted and Marked For Review
Chosen Option : --

Q.15 नीचे दी गई आकृतियों में दिखाए गए अनुसार एक कागज को मोड़ा और काटा जाता है। यह कागज खोलने पर कैसे दिखाई देगा?



Ans

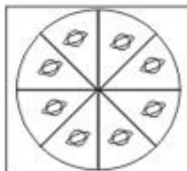
1.

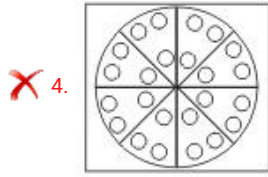


2.



3.





Question ID : 98958015415
Status : Answered
Chosen Option : 2

Q.16 एक परिवार में, B, K का पिता है। B के केवल दो बच्चे हैं। K, R का भाई है। R, P की बेटी है। A, P की पोती है। S, A का पिता है। S का K से क्या संबंध है?

- Ans
- ✓ 1. जीजा
 - ✗ 2. दामाद
 - ✗ 3. बेटा
 - ✗ 4. भाई

Question ID : 98958015399
Status : Answered
Chosen Option : 1

Q.17 उस विकल्प का चयन करें जिसमें नीचे दी गई आकृति अंतर्निहित है।



- Ans
- ✓ 1.
 - ✗ 2.
 - ✗ 3.
 - ✗ 4.

Question ID : 98958015414
Status : Answered
Chosen Option : 2

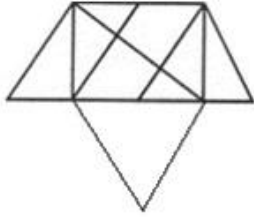
Q.18 उस विकल्प का चयन करें जो तीसरे अक्षर-समूह से उसी तरह संबंधित है जैसे दूसरा अक्षर-समूह पहले अक्षर-समूह से संबंधित है।

GATE: HXYX:: SINK:_____

- Ans
- 1. TESD
 - 2. TFSD
 - 3. TGSE
 - 4. TETD

Question ID : 98958015396
Status : Answered
Chosen Option : 2

Q.19 नीचे दी गई आकृति में कितने त्रिभुज मौजूद हैं?



- Ans
- 1. 13
 - 2. 14
 - 3. 16
 - 4. 15

Question ID : 98958015413
Status : Answered
Chosen Option : 2

Q.20 उस वेन आरेख का चयन करें जो निम्नलिखित वर्गों के बीच के संबंध को सबसे अच्छा दर्शाता है।

आलस्य, चिंता, शक्ति

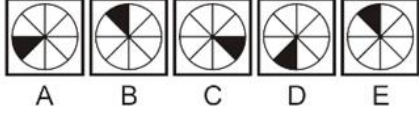
Ans

- 1.
- 2.
- 3.
- 4.

Question ID : 98958015417
Status : Answered
Chosen Option : 4

Q.21

उस आकृति का चयन करें जो नीचे दी गई आकृति श्रृंखला में अगले स्थान पर आएगी।



A B C D E

Ans



Question ID : 98958015412

Status : Answered

Chosen Option : 4

Q.22 उस समुच्चय को चुनें जिसमें संख्याएँ उसी तरह संबंधित हैं जैसे कि निम्नलिखित समुच्चय की संख्याएँ संबंधित हैं।

(4, 152, 6)

- Ans
- ✗ 1. (5, 287, 8)
- ✗ 2. (4, 179, 7)
- ✗ 3. (3, 55, 4)
- ✓ 4. (2, 208, 6)

Question ID : 98958015408

Status : Not Attempted and
Marked For Review

Chosen Option : --

Q.23 निम्नलिखित चार शब्दों में से तीन शब्द एक निश्चित तरीके से एक जैसे हैं और एक अलग है। उस अलग शब्द को चुनिए।

- Ans
- ✓ 1. टहलना
- ✗ 2. हिनहिनाना
- ✗ 3. गर्जना
- ✗ 4. हूह करना

Question ID : 98958015402

Status : Answered

Chosen Option : 1

Q.24 'चेचक' का 'विषाणु' से वैसा ही संबंध है जैसे 'दाद' का संबंध '_____' से है।

- Ans
- ✗ 1. जीवाणु
- ✗ 2. नेमाटोड्स
- ✗ 3. प्रोटोजोआ
- ✓ 4. फफूँदी

Question ID : 98958015397
Status : Answered
Chosen Option : 4

Q.25 निम्नलिखित समीकरण को सही बनाने के लिए इसमें किन दो चिह्नों को एक-दूसरे से बदलना होगा?

$$132 \times 11 + 8 - 3 \div 12 = -16$$

- Ans
- 1. \times और \div
 - 2. $+$ और \times
 - 3. $+$ और $-$
 - 4. $-$ और \times

Question ID : 98958015405
Status : Answered
Chosen Option : 1

Section : General Awareness

Q.1 करुण चंडोक निम्नलिखित में से किस खेल से संबंधित है?

- Ans
- 1. कार रेसिंग
 - 2. बैडमिंटन
 - 3. लॉन टेनिस
 - 4. टेबल टेनिस

Question ID : 98958015034
Status : Not Attempted and Marked For Review
Chosen Option : --

Q.2 प्रसिद्ध पत्रकार और टीवी एंकर करण थापर ने निम्नलिखित में से कौन-सी पुस्तक लिखी है?

- Ans
- 1. डेविल्स एडवोकेट: द अनटोल्ड स्टोरी
 - 2. हैपीनेस
 - 3. रेबेल सुलतान्स
 - 4. वाई आई ऐम ए हिंदू

Question ID : 98958015030
Status : Marked For Review
Chosen Option : 3

Q.3 निम्नलिखित में से किसने लिंकड कैपेसिटर का वर्णन करने के लिए "बैटरी" शब्द गढ़ा था?

- Ans
- 1. लुइगी गैल्वानी
 - 2. लुईस उर्सी
 - 3. बेंजामिन फ्रैंकलिन
 - 4. जॉन फ्रेडरिक डेनियल

Question ID : 98958015020
Status : Answered
Chosen Option : 4

Q.4 'गुलामगिरी' पुस्तक का लेखक कौन था?

- Ans
- 1. रमाबाई शिंदे
 - 2. ज्योतिराव फुले
 - 3. नारायण गुरु

✗ 4. हरिदास ठाकुर

Question ID : 98958015027

Status : Not Attempted and
Marked For Review

Chosen Option : --

Q.5 'आर्ची' नामक पहले सर्च इंजन का संस्थापक कौन था?

- Ans
- ✓ 1. एलन एस्टेज़
 - ✗ 2. डेविड फिलो
 - ✗ 3. मैथ्यू ग्रे
 - ✗ 4. मार्टिंज़न कोस्टर

Question ID : 98958015021

Status : Not Attempted and
Marked For Review

Chosen Option : --

Q.6 छत्तीसगढ़ की सीमा निम्नलिखित में से किस राज्य के साथ नहीं लगती है:

- Ans
- ✓ 1. पश्चिम बंगाल
 - ✗ 2. उत्तर प्रदेश
 - ✗ 3. मध्य प्रदेश
 - ✗ 4. तेलंगाना

Question ID : 98958015026

Status : Answered

Chosen Option : 4

Q.7 सिज़र कप किस खेल से संबंधित है?

- Ans
- ✗ 1. क्रिकेट
 - ✗ 2. बैडमिंटन
 - ✓ 3. फ़ुटबॉल
 - ✗ 4. हॉकी

Question ID : 98958015035

Status : Answered

Chosen Option : 2

Q.8 भारत के बैंकिंग क्षेत्र के संदर्भ में, IMPS का पूर्ण रूप क्या है?

- Ans
- ✓ 1. इमीडियेट पेमेंट सर्विस
 - ✗ 2. इंस्टेंट पेमेंट सेक्टर
 - ✗ 3. इमीडियेट पेमेंट सेक्टर
 - ✗ 4. इंस्टेंट पेमेंट सर्विस

Question ID : 98958015016

Status : Answered

Chosen Option : 1

Q.9 वलयार बांध केरल के किस जिले में है?

- Ans
- ✗ 1. कासरगोड
 - ✗ 2. इडुक्की
 - ✓ 3. पलक्कड़
 - ✗ 4. त्रिस्सूर

Question ID : 98958015024
Status : Answered
Chosen Option : 3

Q.10 मई 2019 में, सुरेश कुमार को किस कंपनी का मुख्य प्रौद्योगिकी अधिकारी के रूप में नियुक्त किया गया था?

- Ans
- 1. गूगल
 - 2. वॉल-मार्ट
 - 3. ऐप्पल
 - 4. ऐमज़ॉन

Question ID : 98958015029
Status : Not Attempted and
Marked For Review
Chosen Option : --

Q.11 सोनौली बॉर्डर भारत और _____ के बीच एक प्रसिद्ध पारगमन बिंदु है।

- Ans
- 1. भूटान
 - 2. नेपाल
 - 3. म्यांमार
 - 4. पाकिस्तान

Question ID : 98958015023
Status : Not Answered
Chosen Option : --

Q.12 गुजरात में स्थित स्टेच्यू ऑफ यूनिटी की ऊंचाई कितनी है?

- Ans
- 1. 120 m
 - 2. 182 m
 - 3. 153 m
 - 4. 93 m

Question ID : 98958015037
Status : Answered
Chosen Option : 2

Q.13 मई 2019 में प्रेम सिंह तमांग ने किस राज्य के मुख्यमंत्री के रूप में शपथ ली?

- Ans
- 1. असम
 - 2. उड़ीसा
 - 3. सिक्किम
 - 4. अरुणाचल प्रदेश

Question ID : 98958015032
Status : Answered
Chosen Option : 3

Q.14 यूनेस्को की मानवता की अमूर्त सांस्कृतिक सूची में केरल के निम्नलिखित कला रूपों में से कौन-सा कला रूप शामिल है?

- Ans
- 1. चक्कार कुटु
 - 2. तिरुवातिरकाली
 - 3. थेय्यम
 - 4. कूटियाट्टम

Question ID : 98958015014
Status : Answered

Chosen Option : 2

Q.15 जीव विज्ञान की वह शाखा है जो जीव की संरचना और उनके अंगों के अध्ययन से संबंधित है।

- Ans
- 1. शरीर रचना विज्ञान
 - 2. कवक विज्ञान
 - 3. क्रोनोबायोलॉजी
 - 4. परिस्थिति-विज्ञान

Question ID : 98958015019

Status : Answered

Chosen Option : 1

Q.16 निम्नलिखित में से "प्रिन्सिपल्ज़ ऑफ़ पॉलिटिकल इकॉनॉमी" का लेखक कौन है?

- Ans
- 1. डेविड रिकार्डो
 - 2. जॉन स्टुअर्ट मिल
 - 3. जोसेफ शूमपीटर
 - 4. मिल्टन फ्रीडमैन

Question ID : 98958015017

Status : Not Attempted and
Marked For Review

Chosen Option : --

Q.17 लाइपेज नामक एन्ज़ाइम शरीर के किस अंग द्वारा बनाया जाता है?

- Ans
- 1. यकृत
 - 2. लार ग्रंथि
 - 3. फेफड़ा
 - 4. अग्न्याशय

Question ID : 98958015018

Status : Answered

Chosen Option : 4

Q.18 ग्लोबल वेंचर कैपिटल सम्मेलन 2018 निम्नलिखित स्थानों में से किस स्थान पर आयोजित किया गया था?

- Ans
- 1. पुणे
 - 2. अहमदाबाद
 - 3. मुंबई
 - 4. गोवा

Question ID : 98958015038

Status : Not Attempted and
Marked For Review

Chosen Option : --

Q.19 एआईएक्स किस कंपनी का ऑपरेटिंग सिस्टम है?

- Ans
- 1. ऐप्पल
 - 2. माइक्रोसॉफ्ट
 - 3. आईबीएम
 - 4. यूनिक्स

Question ID : 98958015022

Status : Answered

Chosen Option : 3

Q.20 मई 2019 में 24वें नौसेनाध्यक्ष के रूप में किसे नियुक्त किया गया?

- Ans
- 1. बिमल वर्मा
 - 2. करमबीर सिंह
 - 3. सुनील लांबा
 - 4. सुरिंदर पाल सिंह

Question ID : 98958015036
Status : Answered
Chosen Option : 2

Q.21 किस राज्य में पारंपरिक नृत्य 'ओट्टमथुलाल' लोकप्रिय है?

- Ans
- 1. आंध्र प्रदेश
 - 2. कर्नाटक
 - 3. तमिलनाडु
 - 4. केरल

Question ID : 98958015015
Status : Answered
Chosen Option : 4

Q.22 किस राज्य ने भारत में पहला 'ब्लॉकचेन डिस्ट्रिक्ट' स्थापित करने का प्रस्ताव प्रस्तुत किया है?

- Ans
- 1. गुजरात
 - 2. तमिलनाडु
 - 3. महाराष्ट्र
 - 4. तेलंगाना

Question ID : 98958015031
Status : Answered
Chosen Option : 1

Q.23 भारत में सबसे ठंडा स्थान कौन-सा है?

- Ans
- 1. अमरनाथ
 - 2. द्रास
 - 3. लेह
 - 4. श्रीनगर

Question ID : 98958015025
Status : Answered
Chosen Option : 3

Q.24 भारत और पाकिस्तान के बीच हुए 1971 के युद्ध के दौरान भारत का रक्षा मंत्री कौन था?

- Ans
- 1. यशवंतराव चव्हाण
 - 2. इंदिरा गांधी
 - 3. स्वर्ण सिंह
 - 4. जगजीवन राम

Question ID : 98958015028
Status : Answered
Chosen Option : 1

Q.25 आईसीसी क्रिकेट विश्व कप 2019 का पहला मैच कब खेला गया था?

- Ans
- 1. 30 मई 2019
 - 2. 31 मई 2019

✗ 3. 2 जून 2019

✗ 4. 1 जून 2019

Question ID : 98958015033

Status : Not Attempted and
Marked For Review

Chosen Option : --

Section : Quantitative Aptitude

Q.1 एक आदमी 12 km/h की गति से एक निश्चित दूरी की यात्रा करता है और 9 km/h की रफ्तार से शुरूआती बिंदु पर लौटता है। पूरी यात्रा में उसे कुल $2\frac{1}{3}$ घंटे लगे। उसके द्वारा तय की गई कुल दूरी (km में) है:

- Ans
- ✗ 1. 12
 - ✗ 2. 25
 - ✗ 3. 28
 - ✓ 4. 24

Question ID : 98958015536

Status : Answered

Chosen Option : 4

Q.2 षटभुज के आकार के एक मैदान का क्षेत्रफल $2400\sqrt{3} \text{ m}^2$ है। ₹18.50 प्रति मीटर की दर से इसकी सभी तरफ बाड़ कराने की लागत क्या होगी?

- Ans
- ✗ 1. ₹5920
 - ✗ 2. ₹5550
 - ✗ 3. ₹5180
 - ✓ 4. ₹4440

Question ID : 98958015537

Status : Not Attempted and
Marked For Review

Chosen Option : --

Q.3 बिंदु A से किसी वृत्त पर AB और AC स्पर्शरेखाएँ इस तरह खींची जाती हैं कि $\angle BAC = 40^\circ$ है। एक जीवा CP को BA के समांतर खींचा जाता है। $\angle CBP$ की माप है:

- Ans
- ✓ 1. 40°
 - ✗ 2. 55°
 - ✗ 3. 35°
 - ✗ 4. 45°

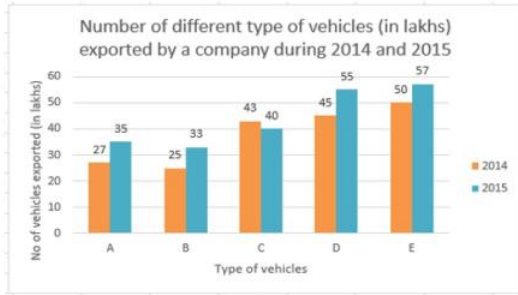
Question ID : 98958015549

Status : Answered

Chosen Option : 3

Q.4

दिया गया दंड आरेख (बार ग्राफ) 2014 और 2015 के दौरान एक कंपनी द्वारा निर्यात किए गए विभिन्न प्रकार के वाहनों की संख्या (लाखों में) को दर्शाता है।



2014 में निर्यात किए गए A और C प्रकार के वाहनों की कुल संख्या और 2015 में निर्यात किए गए B और E प्रकार के वाहनों की कुल संख्या का अनुपात क्या है?

- Ans
- 1. 2 : 3
 - 2. 8 : 11
 - 3. 5 : 7
 - 4. 7 : 9

Question ID : 98958015556

Status : Answered

Chosen Option : 4

Q.5 ₹12,000 की राशि पर 12% प्रति वर्ष की दर से $1\frac{1}{4}$ वर्ष में पंच-मासिक रूप से संयोजित चक्रवृद्धि ब्याज और साधारण ब्याज के बीच क्या अंतर होगा?

- Ans
- 1. ₹90
 - 2. ₹92.50
 - 3. ₹93
 - 4. ₹91.50

Question ID : 98958015543

Status : Not Attempted and Marked For Review

Chosen Option : --

Q.6 $\triangle ABC$ की भुजाओं AB और AC को क्रमशः D और E बिंदुओं तक बढ़ाया जाता है। $\angle CBD$ और $\angle BCE$ के समद्विभाजक P पर मिलते हैं। अगर $\angle A = 72^\circ$ है, तो $\angle P$ की माप होगी:

- Ans
- 1. 54°
 - 2. 36°
 - 3. 45°
 - 4. 60°

Question ID : 98958015551

Status : Answered

Chosen Option : 1

Q.7 एक वस्तु का अंकित मूल्य ₹600 है। अंकित मूल्य पर 25% की छूट देने के बाद, ₹30 का हानि हुआ। हानि का प्रतिशत है:

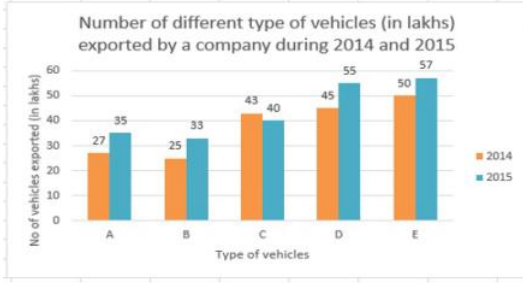
- Ans
- 1. 7.50%
 - 2. 6.25%
 - 3. 7.25%
 - 4. 6.50%

Question ID : 98958015539

Status : Answered

Chosen Option : 2

Q.8 दिया गया दंड आरेख (बार ग्राफ) 2014 और 2015 के दौरान एक कंपनी द्वारा निर्यात किए गए विभिन्न प्रकार के वाहनों की संख्या (लाखों में) को दर्शाता है।



2014 में निर्यात किए गए B, D और E प्रकार के वाहनों की कुल संख्या 2015 में निर्यात किए गए A, C, D और E प्रकार के वाहनों की कुल संख्या का कितना प्रतिशत है (एक दशमलव तक सही)?

- Ans
- 1. 62.4%
 - 2. 64.2%
 - 3. 63.8%
 - 4. 61.6%

Question ID : 98958015559

Status : Not Attempted and Marked For Review

Chosen Option : --

Q.9 72 वस्तुओं को बेचने से 8 वस्तुओं की बिक्री मूल्य के बराबर हानि हुई थी। हानि का प्रतिशत क्या है?

- Ans
- 1. $11\frac{1}{9}\%$
 - 2. 12%
 - 3. 10%
 - 4. $9\frac{1}{9}\%$

Question ID : 98958015541

Status : Answered

Chosen Option : 3

Q.10 अगर $x + y + z = 19$, $xyz = 216$ और $xy + yz + zx = 114$ है, तो $\sqrt{x^3 + y^3 + z^3 + xyz}$ का मान होगा:

- Ans
- 1. 28
 - 2. 30
 - 3. 32
 - 4. 35

Question ID : 98958015548

Status : Not Attempted and Marked For Review

Chosen Option : --

Q.11 A और B एक काम को 25 दिनों में पूरा कर सकते हैं। B अकेले उसी काम के $33\frac{1}{3}\%$ को 15 दिनों में पूरा कर सकता है। A अकेले उसी काम के $\frac{4}{15}$ th को कितने दिनों में पूरा कर सकता है?

- Ans
- 1. 15
 - 2. 10
 - 3. 12

✗ 4. 18

Question ID : 98958015535
Status : Answered
Chosen Option : 1

Q.12 अगर नौ अंकों की संख्या $43x1145y2$ संख्या 88 से विभाज्य है, तो y के सबसे छोटे मान के लिए $(3x - 2y)$ का मान है:

- Ans
- ✗ 1. 18
 - ✓ 2. 22
 - ✗ 3. 20
 - ✗ 4. 9

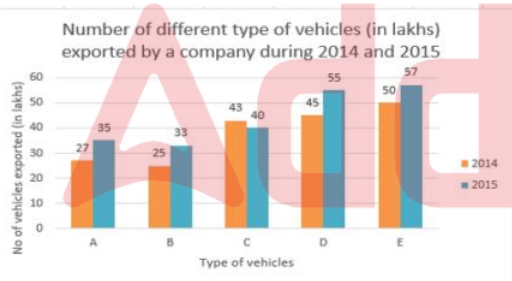
Question ID : 98958015544
Status : Answered
Chosen Option : 2

Q.13 अगर $8x^2 + y^2 - 12x - 4xy + 9 = 0$ है, तो $(14x - 5y)$ का मान होगा:

- Ans
- ✗ 1. 9
 - ✗ 2. 5
 - ✗ 3. 3
 - ✓ 4. 6

Question ID : 98958015547
Status : Answered
Chosen Option : 1

Q.14 दिया गया दंड आरेख (बार ग्राफ) 2014 और 2015 के दौरान एक कंपनी द्वारा निर्यात किए गए विभिन्न प्रकार के वाहनों की संख्या (लाखों में) को दर्शाता है।



पिछले वर्ष की तुलना में 2015 में किस प्रकार के वाहन ने निर्यात में 32% की वृद्धि दिखाई?

- Ans
- ✓ 1. B
 - ✗ 2. E
 - ✗ 3. A
 - ✗ 4. D

Question ID : 98958015557
Status : Answered
Chosen Option : 1

Q.15 अगर $x + y = 7$ और $xy = 10$ है, तो $(\frac{1}{x^2} + \frac{1}{y^2})$ का मान होगा:

- Ans
- ✗ 1. 0.543
 - ✗ 2. 0.453
 - ✓ 3. 0.133

✗ 4. 0.131

Question ID : 98958015546
Status : Answered
Chosen Option : 2

Q.16 O केंद्र वाले किसी वृत्त में, AD एक व्यास है और AC एक जीवा है। AC पर कोई बिंदु B इस तरह है कि OB = 5 cm और $\angle OBA = 60^\circ$ है। अगर $\angle DOC = 60^\circ$ है, तो BC की लंबाई कितनी है?

- Ans
- ✗ 1. $3\sqrt{5}$ cm
 - ✓ 2. 5 cm
 - ✗ 3. 4 cm
 - ✗ 4. $5\sqrt{3}$ cm

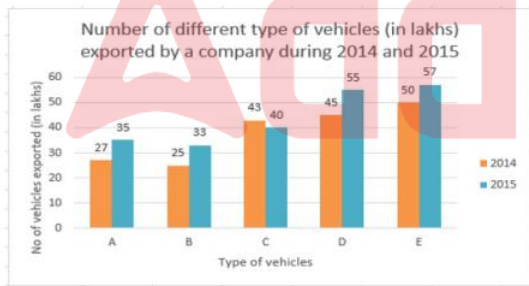
Question ID : 98958015550
Status : Answered
Chosen Option : 2

Q.17 एक आदमी अपनी आय का 72% खर्च करता है। अगर उसकी आय 28% बढ़ जाती है और उसका खर्च 25% बढ़ जाता है, तो उसकी बचत में कितने प्रतिशत की बढ़ोतरी अथवा कमी होगी (एक दशमलव तक सही)?

- Ans
- ✗ 1. 26.3% की कमी
 - ✓ 2. 35.7% की बढ़ोतरी
 - ✗ 3. 38.4% की बढ़ोतरी
 - ✗ 4. 26.9% की कमी

Question ID : 98958015540
Status : Answered
Chosen Option : 3

Q.18 दिया गया दंड आरेख (बार ग्राफ) 2014 और 2015 के दौरान एक कंपनी द्वारा निर्यात किए गए विभिन्न प्रकार के वाहनों की संख्या (लाखों में) को दर्शाता है।



2015 में निर्यात किए गए A, B और D प्रकार के वाहनों की औसत संख्या 2014 में निर्यात किए गए E प्रकार के वाहनों की संख्या से $x\%$ कम थी। x का मान क्या है?

- Ans
- ✓ 1. 18
 - ✗ 2. 24
 - ✗ 3. 20
 - ✗ 4. 25

Question ID : 98958015558
Status : Answered
Chosen Option : 2

Q.19 $\frac{\cot \theta}{(1 - \sin \theta)(\sec \theta + \tan \theta)}$ बराबर है:

Ans

- 1. $\operatorname{cosec} \theta$
- 2. $\sec \theta$
- 3. 1
- 4. $\sin \theta$

Question ID : 98958015554
Status : Answered
Chosen Option : 1

Q.20 तीन संख्याएँ हैं। अगर उनमें से किन्हीं दो के औसत को तीसरी संख्या में जोड़ दिया जाए, तो 177, 163 और 138 योगफल आएँगे। दी गई संख्याओं में से सबसे बड़ी और सबसे छोटी का औसत क्या है?

- Ans
- 1. 76
 - 2. 67
 - 3. 79
 - 4. 81

Question ID : 98958015538
Status : Answered
Chosen Option : 2

Q.21 $\triangle ABC$ में, AB भुजा पर एक बिंदु D इस तरह है कि $BD = 2$ cm और $DA = 3$ cm है। BC पर एक बिंदु E इस तरह है कि $DE \parallel AC$, और $AC = 4$ cm है। तो ($\triangle BDE$ का क्षेत्रफल) : (समलंब चतुर्भुज ACED का क्षेत्रफल) है:

- Ans
- 1. 4 : 21
 - 2. 1 : 5
 - 3. 2 : 5
 - 4. 4 : 25

Question ID : 98958015552
Status : Answered
Chosen Option : 1

Q.22 अगर $2\cos^2 \theta - 5\cos \theta + 2 = 0, 0^\circ < \theta < 90^\circ$ है, तो $(\operatorname{cosec} \theta + \cot \theta)$ का मान होगा:

- Ans
- 1. $2\sqrt{3}$
 - 2. $\frac{1}{3}$
 - 3. $\sqrt{3}$
 - 4. $\frac{1}{\sqrt{3}}$

Question ID : 98958015555
Status : Answered
Chosen Option : 3

Q.23 ₹4,360 की राशि को 3 : 4 : 5 : 8 के अनुपात में A, B, C और D के बीच बांटा जाना था, लेकिन गलती से यह

$\frac{1}{3} : \frac{1}{4} : \frac{1}{5} : \frac{1}{8}$ के अनुपात में बांट दी गई थी। नतीजा यह हुआ कि:

- Ans
- 1. B को ₹318 अधिक मिले
 - 2. C को ₹132 कम मिले
 - 3. A को ₹956 अधिक मिले
 - 4. D को ₹1,144 कम मिले

Question ID : 98958015542
Status : Answered
Chosen Option : 1

Q.24 $\frac{3}{4} \div \frac{3}{4}$ of $\frac{3}{4} \times \frac{4}{3} + \frac{5}{2} \div \frac{2}{5}$ of $\frac{5}{4} - \left(\frac{2}{3} + \frac{2}{3}\right)$ of $\frac{5}{6}$ का मान है:

- Ans
- 1. $\frac{41}{9}$
 - 2. $\frac{50}{9}$
 - 3. $\frac{14}{3}$
 - 4. $\frac{22}{3}$

Question ID : 98958015545
Status : Answered
Chosen Option : 4

Q.25 $\frac{\tan 13^\circ \tan 37^\circ \tan 45^\circ \tan 53^\circ \tan 77^\circ}{2\operatorname{cosec}^2 60^\circ (\cos^2 60^\circ - 3\cos 60^\circ + 2)}$ का मान है:

- Ans
- 1. 1
 - 2. $\frac{3}{2}$
 - 3. 2
 - 4. $\frac{1}{2}$

Question ID : 98958015553
Status : Answered
Chosen Option : 1

Section : English Language

Q.1 Select the most appropriate option to substitute the underlined segment in the given sentence. If there is no need to substitute it, select No improvement.

Lot of peoples visit this restaurant as its biryani is famous.

- Ans
- 1. A lot peoples
 - 2. A lot of people
 - 3. No improvement
 - 4. Much of people

Question ID : 98958014992
Status : Answered
Chosen Option : 3

Q.2 Select the most appropriate option to substitute the underlined segment in the given sentence. If there is no need to substitute it, select No improvement.

Nowadays rent for a two-room house can run as high to Rs. 40,000/ in Mumbai.

- Ans
- 1. so high to
 - 2. No improvement

3. as high as

4. so high so

Question ID : 98958014993
Status : Answered
Chosen Option : 2

Q.3 Select the most appropriate word to fill in the blank.

We have little choice early in life, but as we grow older choices _____.

Ans 1. aggravate

2. abound

3. afloat

4. adrift

Question ID : 98958015013
Status : Answered
Chosen Option : 3

Q.4 In the sentence identify the segment which contains the grammatical error.

Tilak rowed through the river and tied his boat on the other side.

Ans 1. Tilak rowed

2. on the other side

3. and tied his boat

4. through the river

Question ID : 98958014989
Status : Answered
Chosen Option : 3

Q.5 Select the most appropriate meaning of the given idiom.

leave no stone unturned

Ans 1. leave the path halfway

2. not make enough efforts

3. turn everything upside down

4. try everything possible

Question ID : 98958015006
Status : Answered
Chosen Option : 2

Q.6 In the sentence identify the segment which contains the grammatical error.

Three more elevated roads have been propose in the new plan to unclog the traffic in Delhi.

Ans 1. have been propose

2. Three more elevated roads

3. in the new plan

4. to unclog the traffic in Delhi

Question ID : 98958014988
Status : Answered
Chosen Option : 2

Comprehension:

In the following passage some words have been deleted. Fill in the blanks with the help of the

alternatives given. Select the most appropriate option for each blank.

During organised tours in Germany, tourists can (1) _____ a former Nazi compound 40 kilometres from Berlin (2) _____ the 'Forbidden City'. Around twenty thousand people visit this place (3) _____ year to learn about Nazi military history. The Nazis (4) _____ militarily active at the compound, which was kept (5) _____ in a forest and behind a fence. They hid underground bunkers in country homes, and they planned much of World War II here.

SubQuestion No : 7

Q.7 Select the most appropriate option for blank No. 1.

- Ans
- 1. visit
 - 2. stay
 - 3. travel
 - 4. trip

Question ID : 98958014995

Status : Answered

Chosen Option : 2

Comprehension:

In the following passage some words have been deleted. Fill in the blanks with the help of the alternatives given. Select the most appropriate option for each blank.

During organised tours in Germany, tourists can (1) _____ a former Nazi compound 40 kilometres from Berlin (2) _____ the 'Forbidden City'. Around twenty thousand people visit this place (3) _____ year to learn about Nazi military history. The Nazis (4) _____ militarily active at the compound, which was kept (5) _____ in a forest and behind a fence. They hid underground bunkers in country homes, and they planned much of World War II here.

SubQuestion No : 8

Q.8 Select the most appropriate option for blank No. 2.

- Ans
- 1. called
 - 2. calls
 - 3. calling
 - 4. call

Question ID : 98958014996

Status : Answered

Chosen Option : 2

Comprehension:

In the following passage some words have been deleted. Fill in the blanks with the help of the alternatives given. Select the most appropriate option for each blank.

During organised tours in Germany, tourists can (1) _____ a former Nazi compound 40 kilometres from Berlin (2) _____ the 'Forbidden City'. Around twenty thousand people visit this place (3) _____ year to learn about Nazi military history. The Nazis (4) _____ militarily active at the compound, which was kept (5) _____ in a forest and behind a fence. They hid underground bunkers in country homes, and they planned much of World War II here.

SubQuestion No : 9

Q.9 Select the most appropriate option for blank No. 3.

- Ans
- 1. every
 - 2. all
 - 3. whole
 - 4. one

Question ID : 98958014997

Status : Answered

Chosen Option : 2

Comprehension:

In the following passage some words have been deleted. Fill in the blanks with the help of the alternatives given. Select the most appropriate option for each blank.

During organised tours in Germany, tourists can (1) _____ a former Nazi compound 40 kilometres from Berlin (2) _____ the 'Forbidden City'. Around twenty thousand people visit this place (3) _____ year to learn about Nazi military history. The Nazis (4) _____ militarily active at the compound, which was kept (5) _____ in a forest and behind a fence. They hid underground bunkers in country homes, and they planned much of World War II here.

SubQuestion No : 10

Q.10 Select the most appropriate option for blank No. 4.

- Ans
- 1. have been
 - 2. has been
 - 3. were
 - 4. was

Question ID : 98958014998
Status : Answered
Chosen Option : 2

Comprehension:

In the following passage some words have been deleted. Fill in the blanks with the help of the alternatives given. Select the most appropriate option for each blank.

During organised tours in Germany, tourists can (1) _____ a former Nazi compound 40 kilometres from Berlin (2) _____ the 'Forbidden City'. Around twenty thousand people visit this place (3) _____ year to learn about Nazi military history. The Nazis (4) _____ militarily active at the compound, which was kept (5) _____ in a forest and behind a fence. They hid underground bunkers in country homes, and they planned much of World War II here.

SubQuestion No : 11

Q.11 Select the most appropriate option for blank No. 5.

- Ans
- 1. sacred
 - 2. mysterious
 - 3. concealed
 - 4. holy

Question ID : 98958014999
Status : Answered
Chosen Option : 2

Q.12 Select the correct passive form of the given sentence.

The prisoners have made these paintings.

- Ans
- 1. These prisoners have been made by the paintings.
 - 2. These paintings are made by the prisoners.
 - 3. These paintings were made by the prisoners.
 - 4. These paintings have been made by the prisoners.

Question ID : 98958014990
Status : Not Answered
Chosen Option : --

Q.13 Select the most appropriate synonym of the given word.

EXPOSE

- Ans
- 1. bury
 - 2. hide
 - 3. reveal
 - 4. protect

Question ID : 98958015002
Status : Not Answered
Chosen Option : --

Q.14 Select the correct indirect form of the given sentence.

Mr. Puri said to me, "Why are you taking down this fence?"

- Ans
- 1. Mr. Puri said to me that why are you taking down this fence.
 - 2. Mr. Puri asked me why I was taking down that fence.
 - 3. Mr. Puri said to me why you were taking down that fence.
 - 4. Mr. Puri asked me why was I taking down this fence.

Question ID : 98958014991
Status : Not Answered
Chosen Option : --

Q.15 Select the most appropriate antonym of the given word.

PERPETRATE

- Ans
- 1. commit
 - 2. perform
 - 3. execute
 - 4. prevent

Question ID : 98958015005
Status : Not Answered
Chosen Option : --

Q.16 Select the wrongly spelt word.

- Ans
- 1. eagel
 - 2. early
 - 3. eerie
 - 4. earn

Question ID : 98958015010
Status : Not Answered
Chosen Option : --

Q.17 Select the word which means the same as the group of words given.

Something that cannot be avoided

- Ans
- 1. infallible
 - 2. invincible
 - 3. indelible
 - 4. inevitable

Question ID : 98958015009
Status : Not Answered
Chosen Option : --

Q.18 Select the most appropriate word to fill in the blank.

I had a stroke at an early age, but what I thought was a great _____ at that time changed my life for the better.

- Ans
- 1. indent
 - 2. incentive
 - 3. indication
 - 4. injustice

Question ID : 98958015012

Status : **Not Answered**
Chosen Option : --

Q.19 Select the most appropriate synonym of the given word.

ADVERSARY

- Ans 1. rival
 2. assistant
 3. helper
 4. supporter

Question ID : **98958015003**
Status : **Not Answered**
Chosen Option : --

Q.20 Given below are four jumbled sentences. Out of the given options pick the one that gives their correct order.

- A. As he looked at them, their heads began to hang low.
 B. Akbar glanced at his courtiers in search of an answer.
 C. Once Akbar asked his courtiers a very strange question.
 D. The courtiers were dumb-founded by his question.

- Ans 1. ACBD
 2. CDBA
 3. CADB
 4. DCAB

Question ID : **98958015000**
Status : **Not Answered**
Chosen Option : --

Q.21 Given below are four jumbled sentences. Out of the given options pick the one that gives their correct order.

- A. Later, they set up their own art school and gallery in the prison.
 B. The prisoners wanted to display their art work inside the prison.
 C. They took the help of volunteers from the School of Art.
 D. Prisoners who were interested in visual arts and painting could study there.

- Ans 1. BCAD
 2. DCAB
 3. BDAC
 4. CBAD

Question ID : **98958015001**
Status : **Not Answered**
Chosen Option : --

Q.22 Select the wrongly spelt word.

- Ans 1. celebrant
 2. celebration
 3. celebrity
 4. celebrate

Question ID : **98958015011**
Status : **Not Answered**
Chosen Option : --

Q.23 Select the most appropriate meaning of the given idiom.

dance to someone's tune

Test

Prime

By Adda247

Previous Year Papers PDF

PRACTICE MORE, SCORE HIGHER!



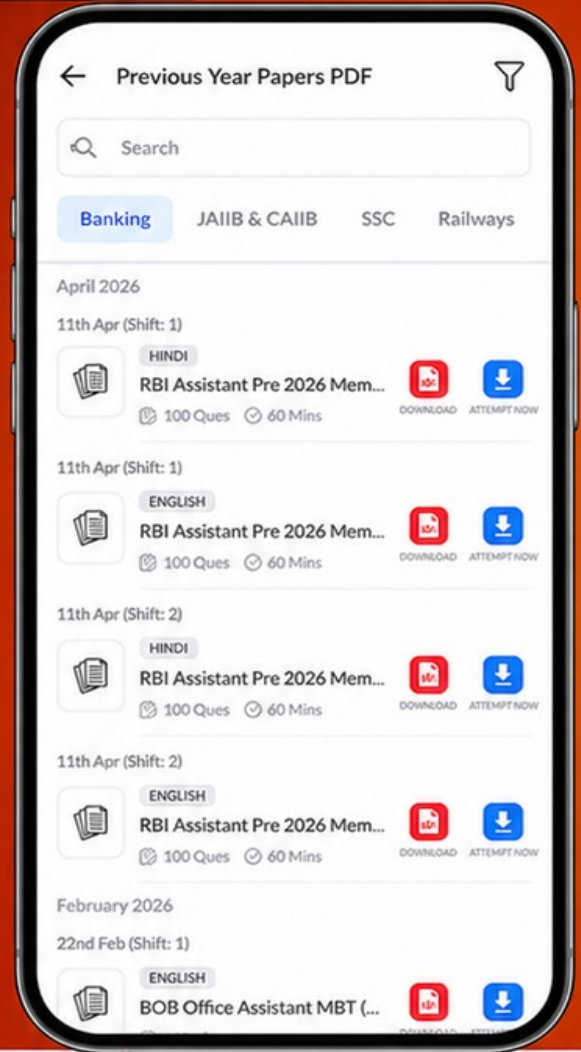
Free
25,000+
PDF's

High-Quality | Exam-Wise | Updated Regularly

ATTEMPT AS
MOCK



Turn PDFs into real exam experience.
Analyze. Improve. Succeed.



Topic-wise & Exam-wise PDFs



Download & Study Offline



Attempt as Mock & Track Score



Smart Analysis & Performance

AVAILABLE IN



Banking



SSC



Railway



Teaching



UGC



Agriculture



Nursing



Bihar



UP



Punjab



WB



Odisha



TN



AP & Telangana



Haryana



DOWNLOAD THE APP



- Ans 1. do what others want you to do
 2. delay in making a decision
 3. argue with others on petty matters
 4. be engaged in an energetic activity

Question ID : 98958015007
Status : Not Answered
Chosen Option : --

Q.24 Select the most appropriate antonym of the given word.

MINISCULE

- Ans 1. gigantic
 2. small
 3. meagre
 4. dwarf

Question ID : 98958015004
Status : Not Answered
Chosen Option : --

Q.25 Select the word which means the same as the group of words given.

A person belonging to a foreign country

- Ans 1. native
 2. inhabitant
 3. alien
 4. resident

Question ID : 98958015008
Status : Not Answered
Chosen Option : --