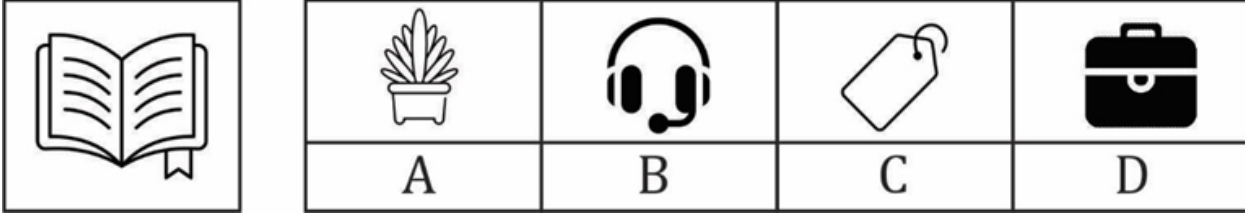


RRB ALP Psycho Test Paper

Q1.



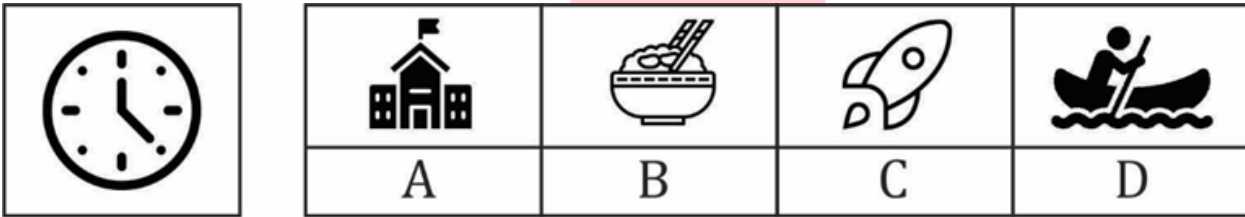
Instructions: (Questions 1 - 20) Observe the picture on the given memory page carefully in the given time of 3 minutes. After this, turn the memory page and in another 3 minutes, find the correct option from the four options given for the same picture in front of the pictures in the question sheet and blacken its number from the a, b, c, and d given in the answer sheet.

निर्देश : (प्रश्न 1 - 20) दिए गए स्मरण - पृष्ठ में चित्र को निर्धारित समय 3 मिनट में ध्यानपूर्वक अवलोकन करें। इसके बाद स्मरण - पृष्ठ को पलटकर दूसरे 3 मिनट में प्रश्न - पृष्ठ में चित्रों के सामने एक ही चित्र के दिए गए चार विकल्पों में सही विकल्प को हूँदकर उसके क्रमांक को उत्तर - पत्रक में दिए गए a, b, c, एवं d में से सही क्रमांक को काला करें।

- (a) A
- (b) B
- (c) C
- (d) D

Ans.(b)

Q2.



Instructions: (Questions 1 - 20) Observe the picture on the given memory page carefully in the given time of 3 minutes. After this, turn the memory page and in another 3 minutes, find the correct option from the four options given for the same picture in front of the pictures in the question sheet and blacken its number from the a, b, c, and d given in the answer sheet.

निर्देश : (प्रश्न 1 - 20) दिए गए स्मरण - पृष्ठ में चित्र को निर्धारित समय 3 मिनट में ध्यानपूर्वक अवलोकन करें। इसके बाद स्मरण - पृष्ठ को पलटकर दूसरे 3 मिनट में प्रश्न - पृष्ठ में चित्रों के सामने एक ही चित्र के दिए गए चार विकल्पों में सही विकल्प को हूँदकर उसके क्रमांक को उत्तर - पत्रक में दिए गए a, b, c, एवं d में से सही क्रमांक को काला करें।

- (a) A
- (b) B
- (c) C
- (d) D

Ans.(d)

Q3.

**Test
Prime**

By Adda247

ALL EXAMS, ONE SUBSCRIPTION



Test. Analyze. Improve. Repeat.



Don't just *prepare*. *Perform*.

Test Prime — built only for mock tests.



1,50,000+
Mock Tests



25,000+
Previous Year Papers



800+
Exam Covered



500% Refund
on Selection



5 lakh+
Free Quizzes



Daily
Free PDFs



Job Alerts
Stay Updated

- Multilingual
- Detailed Solution
- Strong and Weak Areas



**All India
Rankings**

Compete with lakhs.
Rank. Improve. Repeat.



← Adda247 test prime

Rating ▾

Editors' choice

New

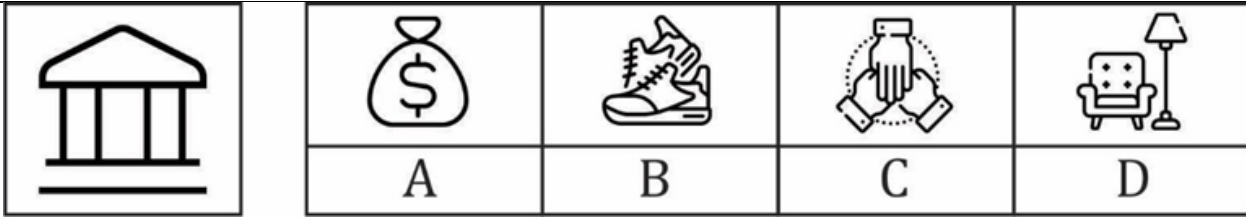


Adda247 Test Prime
Adda Education • Education
📌 Installed



DOWNLOAD THE APP





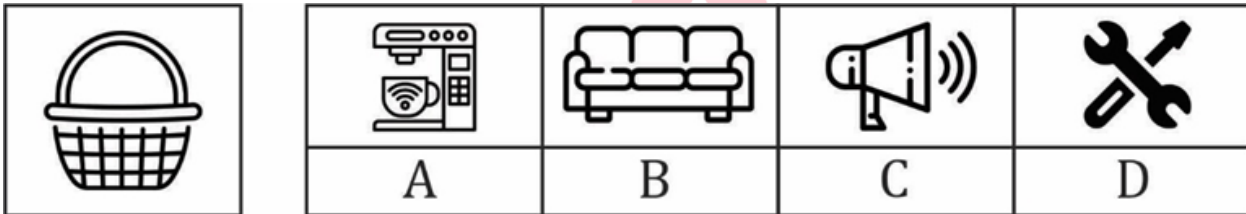
Instructions: (Questions 1 - 20) Observe the picture on the given memory page carefully in the given time of 3 minutes. After this, turn the memory page and in another 3 minutes, find the correct option from the four options given for the same picture in front of the pictures in the question sheet and blacken its number from the a, b, c, and d given in the answer sheet.

निर्देश : (प्रश्न 1 - 20) दिए गए स्मरण - पृष्ठ में चित्र को निर्धारित समय 3 मिनट में ध्यानपूर्वक अवलोकन करें। इसके बाद स्मरण - पृष्ठ को पलटकर दूसरे 3 मिनट में प्रश्न - पृष्ठ में चित्रों के सामने एक ही चित्र के दिए गए चार विकल्पों में सही विकल्प को हूँडकर उसके क्रमांक को उत्तर - पत्रक में दिए गए a, b, c, एवं d में से सही क्रमांक को काला करें।

- (a) A
(b) B
(c) C
(d) D

Ans.(c)

Q4.



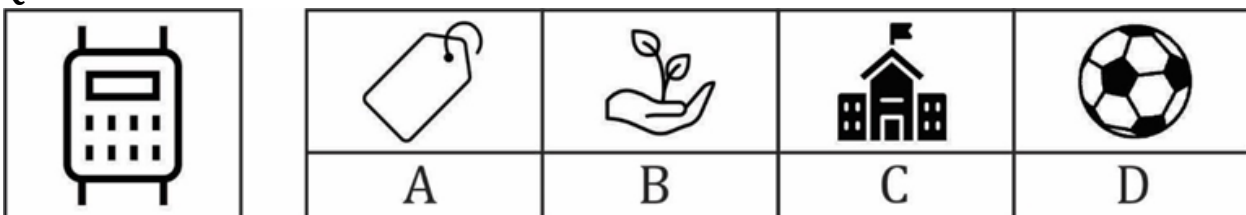
Instructions: (Questions 1 - 20) Observe the picture on the given memory page carefully in the given time of 3 minutes. After this, turn the memory page and in another 3 minutes, find the correct option from the four options given for the same picture in front of the pictures in the question sheet and blacken its number from the a, b, c, and d given in the answer sheet.

निर्देश : (प्रश्न 1 - 20) दिए गए स्मरण - पृष्ठ में चित्र को निर्धारित समय 3 मिनट में ध्यानपूर्वक अवलोकन करें। इसके बाद स्मरण - पृष्ठ को पलटकर दूसरे 3 मिनट में प्रश्न - पृष्ठ में चित्रों के सामने एक ही चित्र के दिए गए चार विकल्पों में सही विकल्प को हूँडकर उसके क्रमांक को उत्तर - पत्रक में दिए गए a, b, c, एवं d में से सही क्रमांक को काला करें।

- (a) A
(b) B
(c) C
(d) D

Ans.(a)

Q5.





Instructions: (Questions 1 - 20) Observe the picture on the given memory page carefully in the given time of 3 minutes. After this, turn the memory page and in another 3 minutes, find the correct option from the four options given for the same picture in front of the pictures in the question sheet and blacken its number from the a, b, c, and d given in the answer sheet.

निर्देश : (प्रश्न 1 - 20) दिए गए स्मरण - पृष्ठ में चित्र को निर्धारित समय 3 मिनट में ध्यानपूर्वक अवलोकन करें। इसके बाद स्मरण - पृष्ठ को पलटकर दूसरे 3 मिनट में प्रश्न - पृष्ठ में चित्रों के सामने एक ही चित्र के दिए गए चार विकल्पों में सही विकल्प को ढूंढकर उसके क्रमांक को उत्तर - पत्रक में दिए गए a, b, c, एवं d में से सही क्रमांक को काला करें।

- (a) A
- (b) B
- (c) C
- (d) D

Ans.(b)

Q6.



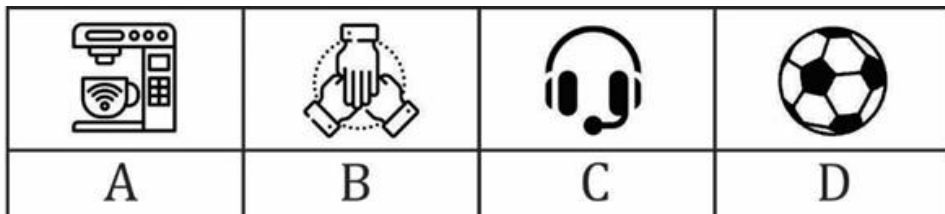
Instructions: (Questions 1 - 20) Observe the picture on the given memory page carefully in the given time of 3 minutes. After this, turn the memory page and in another 3 minutes, find the correct option from the four options given for the same picture in front of the pictures in the question sheet and blacken its number from the a, b, c, and d given in the answer sheet.

निर्देश : (प्रश्न 1 - 20) दिए गए स्मरण - पृष्ठ में चित्र को निर्धारित समय 3 मिनट में ध्यानपूर्वक अवलोकन करें। इसके बाद स्मरण - पृष्ठ को पलटकर दूसरे 3 मिनट में प्रश्न - पृष्ठ में चित्रों के सामने एक ही चित्र के दिए गए चार विकल्पों में सही विकल्प को ढूंढकर उसके क्रमांक को उत्तर - पत्रक में दिए गए a, b, c, एवं d में से सही क्रमांक को काला करें।

- (a) A
- (b) B
- (c) C
- (d) D

Ans.(a)

Q7.



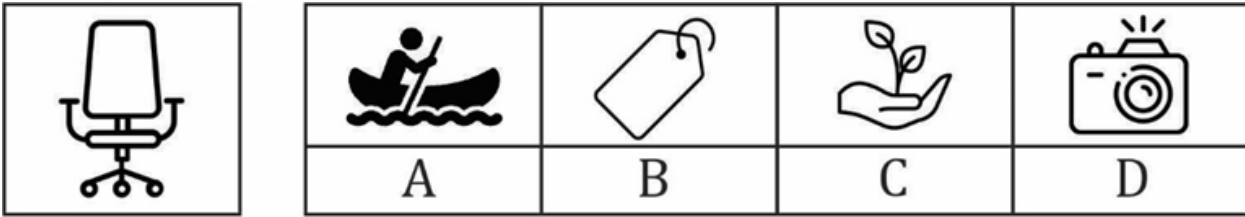
Instructions: (Questions 1 - 20) Observe the picture on the given memory page carefully in the given time of 3 minutes. After this, turn the memory page and in another 3 minutes, find the correct option from the four options given for the same picture in front of the pictures in the question sheet and blacken its number from the a, b, c, and d given in the answer sheet.

निर्देश : (प्रश्न 1 - 20)दिए गए स्मरण - पृष्ठ में चित्र को निर्धारित समय 3 मिनट में ध्यानपूर्वक अवलोकन करें। इसके बाद स्मरण - पृष्ठ को पलटकर दूसरे 3 मिनट में प्रश्न - पृष्ठ में चित्रों के सामने एक ही चित्र के दिए गए चार विकल्पों में सही विकल्प को ढूंढकर उसके क्रमांक को उत्तर - पत्रक में दिए गए a, b, c, एवं d में से सही क्रमांक को काला करें।

- (a) A
- (b) B
- (c) C
- (d) D

Ans.(d)

Q8.



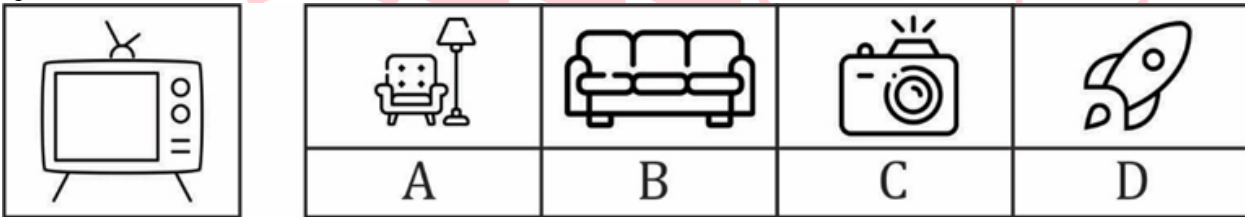
Instructions: (Questions 1 - 20)Observe the picture on the given memory page carefully in the given time of 3 minutes. After this, turn the memory page and in another 3 minutes, find the correct option from the four options given for the same picture in front of the pictures in the question sheet and blacken its number from the a, b, c, and d given in the answer sheet.

निर्देश : (प्रश्न 1 - 20)दिए गए स्मरण - पृष्ठ में चित्र को निर्धारित समय 3 मिनट में ध्यानपूर्वक अवलोकन करें। इसके बाद स्मरण - पृष्ठ को पलटकर दूसरे 3 मिनट में प्रश्न - पृष्ठ में चित्रों के सामने एक ही चित्र के दिए गए चार विकल्पों में सही विकल्प को ढूंढकर उसके क्रमांक को उत्तर - पत्रक में दिए गए a, b, c, एवं d में से सही क्रमांक को काला करें।

- (a) A
- (b) B
- (c) C
- (d) D

Ans.(b)

Q9.



Instructions: (Questions 1 - 20)Observe the picture on the given memory page carefully in the given time of 3 minutes. After this, turn the memory page and in another 3 minutes, find the correct option from the four options given for the same picture in front of the pictures in the question sheet and blacken its number from the a, b, c, and d given in the answer sheet.

निर्देश : (प्रश्न 1 - 20)दिए गए स्मरण - पृष्ठ में चित्र को निर्धारित समय 3 मिनट में ध्यानपूर्वक अवलोकन करें। इसके बाद स्मरण - पृष्ठ को पलटकर दूसरे 3 मिनट में प्रश्न - पृष्ठ में चित्रों के सामने एक ही चित्र के दिए गए चार विकल्पों में सही विकल्प को ढूंढकर उसके क्रमांक को उत्तर - पत्रक में दिए गए a, b, c, एवं d में से सही क्रमांक को काला करें।

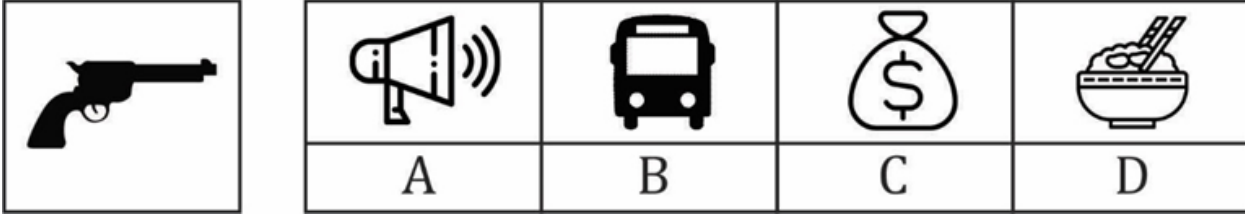
- (a) A
- (b) B

(c) C

(d) D

Ans.(c)

Q10.



Instructions: (Questions 1 - 20) Observe the picture on the given memory page carefully in the given time of 3 minutes. After this, turn the memory page and in another 3 minutes, find the correct option from the four options given for the same picture in front of the pictures in the question sheet and blacken its number from the a, b, c, and d given in the answer sheet.

निर्देश : (प्रश्न 1 - 20) दिए गए स्मरण - पृष्ठ में चित्र को निर्धारित समय 3 मिनट में ध्यानपूर्वक अवलोकन करें। इसके बाद स्मरण - पृष्ठ को पलटकर दूसरे 3 मिनट में प्रश्न - पृष्ठ में चित्रों के सामने एक ही चित्र के दिए गए चार विकल्पों में सही विकल्प को हूँदकर उसके क्रमांक को उत्तर - पत्रक में दिए गए a, b, c, एवं d में से सही क्रमांक को काला करें।

(a) A

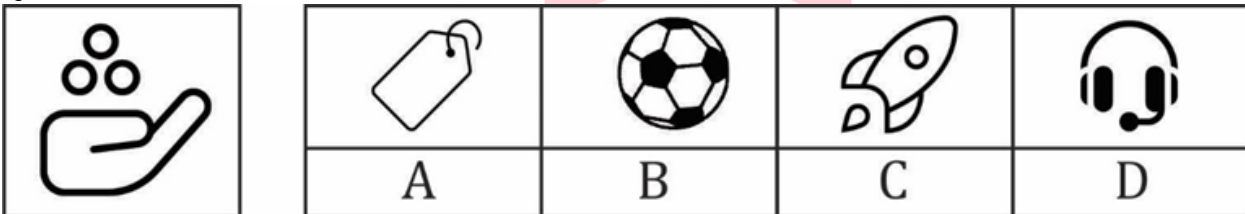
(b) B

(c) C

(d) D

Ans.(b)

Q11.



Instructions: (Questions 1 - 20) Observe the picture on the given memory page carefully in the given time of 3 minutes. After this, turn the memory page and in another 3 minutes, find the correct option from the four options given for the same picture in front of the pictures in the question sheet and blacken its number from the a, b, c, and d given in the answer sheet.

निर्देश : (प्रश्न 1 - 20) दिए गए स्मरण - पृष्ठ में चित्र को निर्धारित समय 3 मिनट में ध्यानपूर्वक अवलोकन करें। इसके बाद स्मरण - पृष्ठ को पलटकर दूसरे 3 मिनट में प्रश्न - पृष्ठ में चित्रों के सामने एक ही चित्र के दिए गए चार विकल्पों में सही विकल्प को हूँदकर उसके क्रमांक को उत्तर - पत्रक में दिए गए a, b, c, एवं d में से सही क्रमांक को काला करें।

(a) A

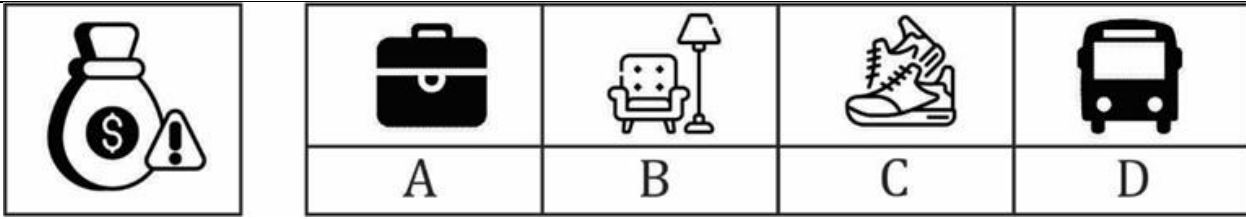
(b) B

(c) C

(d) D

Ans.(c)

Q12.



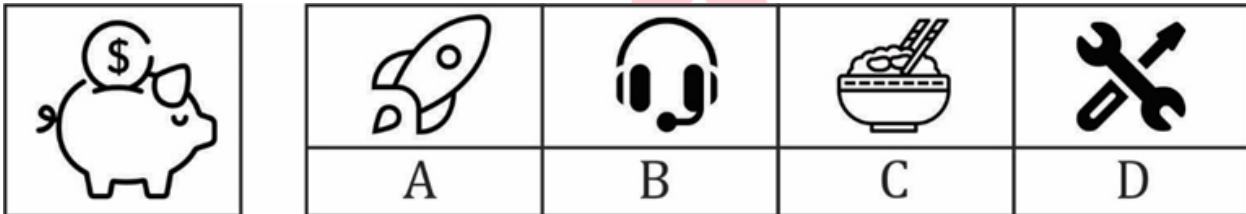
Instructions: (Questions 1 - 20) Observe the picture on the given memory page carefully in the given time of 3 minutes. After this, turn the memory page and in another 3 minutes, find the correct option from the four options given for the same picture in front of the pictures in the question sheet and blacken its number from the a, b, c, and d given in the answer sheet.

निर्देश : (प्रश्न 1 - 20) दिए गए स्मरण - पृष्ठ में चित्र को निर्धारित समय 3 मिनट में ध्यानपूर्वक अवलोकन करें। इसके बाद स्मरण - पृष्ठ को पलटकर दूसरे 3 मिनट में प्रश्न - पृष्ठ में चित्रों के सामने एक ही चित्र के दिए गए चार विकल्पों में सही विकल्प को हूँडकर उसके क्रमांक को उत्तर - पत्रक में दिए गए a, b, c, एवं d में से सही क्रमांक को काला करें।

- (a) A
- (b) B
- (c) C
- (d) D

Ans.(a)

Q13.



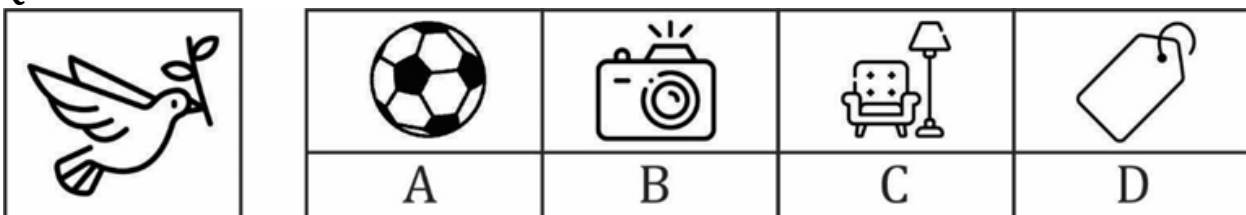
Instructions: (Questions 1 - 20) Observe the picture on the given memory page carefully in the given time of 3 minutes. After this, turn the memory page and in another 3 minutes, find the correct option from the four options given for the same picture in front of the pictures in the question sheet and blacken its number from the a, b, c, and d given in the answer sheet.

निर्देश : (प्रश्न 1 - 20) दिए गए स्मरण - पृष्ठ में चित्र को निर्धारित समय 3 मिनट में ध्यानपूर्वक अवलोकन करें। इसके बाद स्मरण - पृष्ठ को पलटकर दूसरे 3 मिनट में प्रश्न - पृष्ठ में चित्रों के सामने एक ही चित्र के दिए गए चार विकल्पों में सही विकल्प को हूँडकर उसके क्रमांक को उत्तर - पत्रक में दिए गए a, b, c, एवं d में से सही क्रमांक को काला करें।

- (a) A
- (b) B
- (c) C
- (d) D

Ans.(d)

Q14.



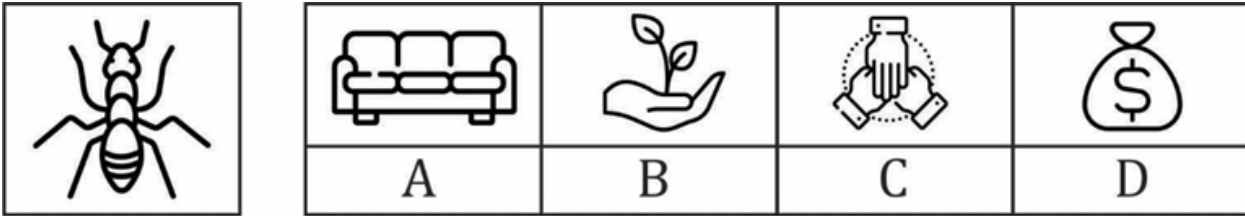
Instructions: (Questions 1 - 20) Observe the picture on the given memory page carefully in the given time of 3 minutes. After this, turn the memory page and in another 3 minutes, find the correct option from the four options given for the same picture in front of the pictures in the question sheet and blacken its number from the a, b, c, and d given in the answer sheet.

निर्देश : (प्रश्न 1 - 20) दिए गए स्मरण - पृष्ठ में चित्र को निर्धारित समय 3 मिनट में ध्यानपूर्वक अवलोकन करें। इसके बाद स्मरण - पृष्ठ को पलटकर दूसरे 3 मिनट में प्रश्न - पृष्ठ में चित्रों के सामने एक ही चित्र के दिए गए चार विकल्पों में सही विकल्प को ढूंढकर उसके क्रमांक को उत्तर - पत्रक में दिए गए a, b, c, एवं d में से सही क्रमांक को काला करें।

- (a) A
- (b) B
- (c) C
- (d) D

Ans.(c)

Q15.



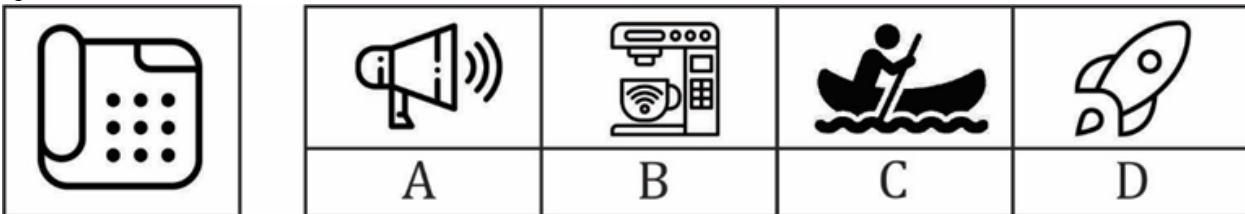
Instructions: (Questions 1 - 20) Observe the picture on the given memory page carefully in the given time of 3 minutes. After this, turn the memory page and in another 3 minutes, find the correct option from the four options given for the same picture in front of the pictures in the question sheet and blacken its number from the a, b, c, and d given in the answer sheet.

निर्देश : (प्रश्न 1 - 20) दिए गए स्मरण - पृष्ठ में चित्र को निर्धारित समय 3 मिनट में ध्यानपूर्वक अवलोकन करें। इसके बाद स्मरण - पृष्ठ को पलटकर दूसरे 3 मिनट में प्रश्न - पृष्ठ में चित्रों के सामने एक ही चित्र के दिए गए चार विकल्पों में सही विकल्प को ढूंढकर उसके क्रमांक को उत्तर - पत्रक में दिए गए a, b, c, एवं d में से सही क्रमांक को काला करें।

- (a) A
- (b) B
- (c) C
- (d) D

Ans.(d)

Q16.



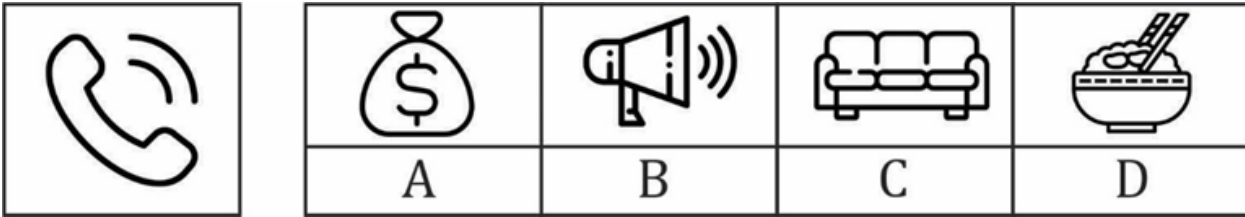
Instructions: (Questions 1 - 20) Observe the picture on the given memory page carefully in the given time of 3 minutes. After this, turn the memory page and in another 3 minutes, find the correct option from the four options given for the same picture in front of the pictures in the question sheet and blacken its number from the a, b, c, and d given in the answer sheet.

निर्देश : (प्रश्न 1 - 20) दिए गए स्मरण - पृष्ठ में चित्र को निर्धारित समय 3 मिनट में ध्यानपूर्वक अवलोकन करें। इसके बाद स्मरण - पृष्ठ को पलटकर दूसरे 3 मिनट में प्रश्न - पृष्ठ में चित्रों के सामने एक ही चित्र के दिए गए चार विकल्पों में सही विकल्प को ढूंढकर उसके क्रमांक को उत्तर - पत्रक में दिए गए a, b, c, एवं d में से सही क्रमांक को काला करें।

- (a) A
- (b) B
- (c) C
- (d) D

Ans.(a)

Q17.



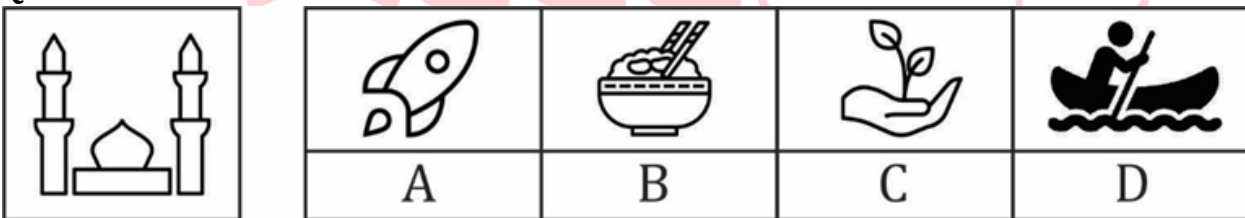
Instructions: (Questions 1 - 20) Observe the picture on the given memory page carefully in the given time of 3 minutes. After this, turn the memory page and in another 3 minutes, find the correct option from the four options given for the same picture in front of the pictures in the question sheet and blacken its number from the a, b, c, and d given in the answer sheet.

निर्देश : (प्रश्न 1 - 20) दिए गए स्मरण - पृष्ठ में चित्र को निर्धारित समय 3 मिनट में ध्यानपूर्वक अवलोकन करें। इसके बाद स्मरण - पृष्ठ को पलटकर दूसरे 3 मिनट में प्रश्न - पृष्ठ में चित्रों के सामने एक ही चित्र के दिए गए चार विकल्पों में सही विकल्प को ढूंढकर उसके क्रमांक को उत्तर - पत्रक में दिए गए a, b, c, एवं d में से सही क्रमांक को काला करें।

- (a) A
- (b) B
- (c) C
- (d) D

Ans.(c)

Q18.



Instructions: (Questions 1 - 20) Observe the picture on the given memory page carefully in the given time of 3 minutes. After this, turn the memory page and in another 3 minutes, find the correct option from the four options given for the same picture in front of the pictures in the question sheet and blacken its number from the a, b, c, and d given in the answer sheet.

निर्देश : (प्रश्न 1 - 20) दिए गए स्मरण - पृष्ठ में चित्र को निर्धारित समय 3 मिनट में ध्यानपूर्वक अवलोकन करें। इसके बाद स्मरण - पृष्ठ को पलटकर दूसरे 3 मिनट में प्रश्न - पृष्ठ में चित्रों के सामने एक ही चित्र के दिए गए चार विकल्पों में सही विकल्प को ढूंढकर उसके क्रमांक को उत्तर - पत्रक में दिए गए a, b, c, एवं d में से सही क्रमांक को काला करें।


- (a) A
- (b) B

(c) C

(d) D

Ans.(b)

Q19.



Instructions: (Questions 1 - 20) Observe the picture on the given memory page carefully in the given time of 3 minutes. After this, turn the memory page and in another 3 minutes, find the correct option from the four options given for the same picture in front of the pictures in the question sheet and blacken its number from the a, b, c, and d given in the answer sheet.

निर्देश : (प्रश्न 1 - 20) दिए गए स्मरण - पृष्ठ में चित्र को निर्धारित समय 3 मिनट में ध्यानपूर्वक अवलोकन करें। इसके बाद स्मरण - पृष्ठ को पलटकर दूसरे 3 मिनट में प्रश्न - पृष्ठ में चित्रों के सामने एक ही चित्र के दिए गए चार विकल्पों में सही विकल्प को हूँदकर उसके क्रमांक को उत्तर - पत्रक में दिए गए a, b, c, एवं d में से सही क्रमांक को काला करें।

(a) A

(b) B

(c) C

(d) D

Ans.(c)

Q20.



Instructions: (Questions 1 - 20) Observe the picture on the given memory page carefully in the given time of 3 minutes. After this, turn the memory page and in another 3 minutes, find the correct option from the four options given for the same picture in front of the pictures in the question sheet and blacken its number from the a, b, c, and d given in the answer sheet.

निर्देश : (प्रश्न 1 - 20) दिए गए स्मरण - पृष्ठ में चित्र को निर्धारित समय 3 मिनट में ध्यानपूर्वक अवलोकन करें। इसके बाद स्मरण - पृष्ठ को पलटकर दूसरे 3 मिनट में प्रश्न - पृष्ठ में चित्रों के सामने एक ही चित्र के दिए गए चार विकल्पों में सही विकल्प को हूँदकर उसके क्रमांक को उत्तर - पत्रक में दिए गए a, b, c, एवं d में से सही क्रमांक को काला करें।

(a) A

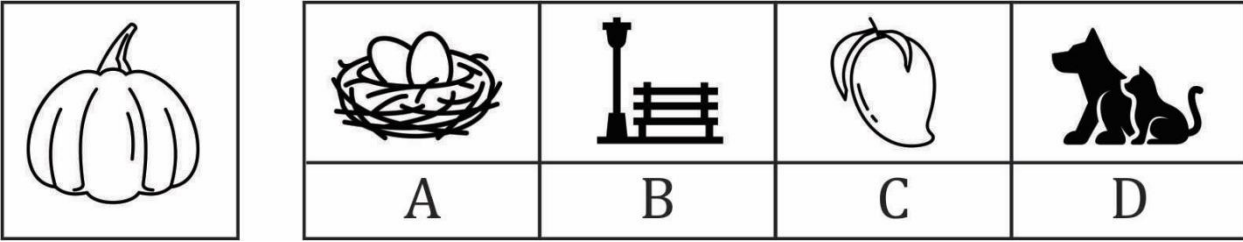
(b) B

(c) C

(d) D

Ans.(b)

Q21.



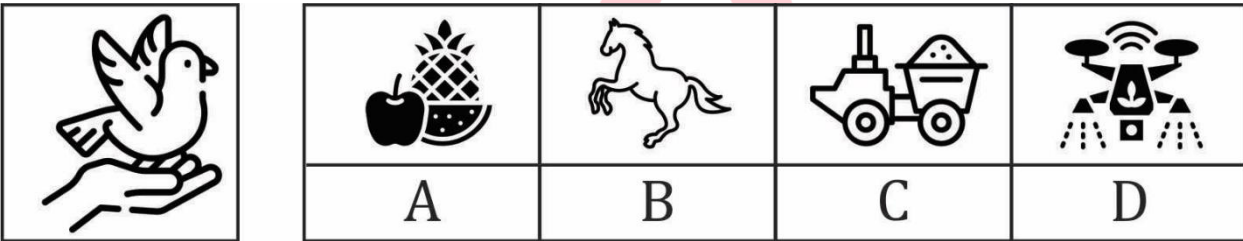
Instructions: (Questions 21 - 40) Observe the picture on the given memory page carefully in the given time of 3 minutes. After this, turn the memory page and in another 3 minutes, find the correct option from the four options given for the same picture in front of the pictures in the question sheet and blacken its number from the a, b, c, and d given in the answer sheet.

निर्देश : (प्रश्न 21 - 40) दिए गए स्मरण - पृष्ठ में चित्र को निर्धारित समय 3 मिनट में ध्यानपूर्वक अवलोकन करें। इसके बाद स्मरण - पृष्ठ को पलटकर दूसरे 3 मिनट में प्रश्न - पृष्ठ में चित्रों के सामने एक ही चित्र के दिए गए चार विकल्पों में सही विकल्प को हूँदकर उसके क्रमांक को उत्तर - पत्रक में दिए गए a, b, c, एवं d में से सही क्रमांक को काला करें।

- (a) A
- (b) B
- (c) C
- (d) D

Ans.(d)

Q22.



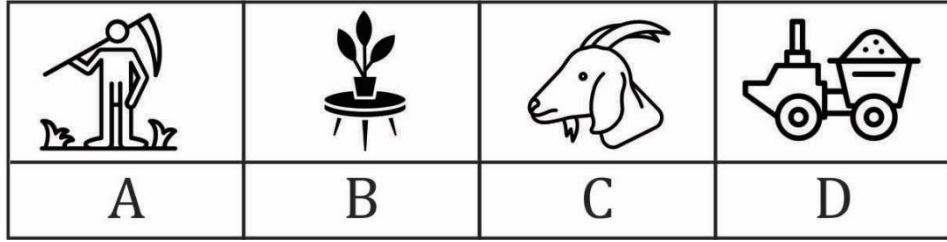
Instructions: (Questions 21 - 40) Observe the picture on the given memory page carefully in the given time of 3 minutes. After this, turn the memory page and in another 3 minutes, find the correct option from the four options given for the same picture in front of the pictures in the question sheet and blacken its number from the a, b, c, and d given in the answer sheet.

निर्देश : (प्रश्न 21 - 40) दिए गए स्मरण - पृष्ठ में चित्र को निर्धारित समय 3 मिनट में ध्यानपूर्वक अवलोकन करें। इसके बाद स्मरण - पृष्ठ को पलटकर दूसरे 3 मिनट में प्रश्न - पृष्ठ में चित्रों के सामने एक ही चित्र के दिए गए चार विकल्पों में सही विकल्प को हूँदकर उसके क्रमांक को उत्तर - पत्रक में दिए गए a, b, c, एवं d में से सही क्रमांक को काला करें।

- (a) A
- (b) B
- (c) C
- (d) D

Ans.(a)

Q23.



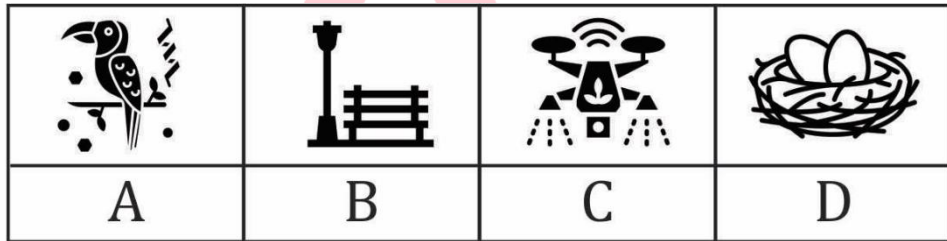
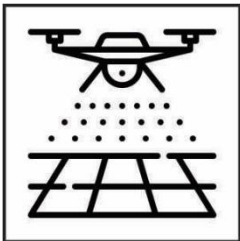
Instructions: (Questions 21 - 40) Observe the picture on the given memory page carefully in the given time of 3 minutes. After this, turn the memory page and in another 3 minutes, find the correct option from the four options given for the same picture in front of the pictures in the question sheet and blacken its number from the a, b, c, and d given in the answer sheet.

निर्देश : (प्रश्न 21 - 40) दिए गए स्मरण - पृष्ठ में चित्र को निर्धारित समय 3 मिनट में ध्यानपूर्वक अवलोकन करें। इसके बाद स्मरण - पृष्ठ को पलटकर दूसरे 3 मिनट में प्रश्न - पृष्ठ में चित्रों के सामने एक ही चित्र के दिए गए चार विकल्पों में सही विकल्प को हूँदकर उसके क्रमांक को उत्तर - पत्रक में दिए गए a, b, c, एवं d में से सही क्रमांक को काला करें।

- (a) A
- (b) B
- (c) C
- (d) D

Ans.(b)

Q24.



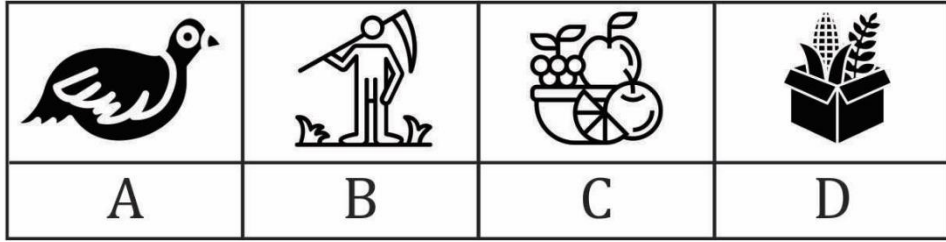
Instructions: (Questions 21 - 40) Observe the picture on the given memory page carefully in the given time of 3 minutes. After this, turn the memory page and in another 3 minutes, find the correct option from the four options given for the same picture in front of the pictures in the question sheet and blacken its number from the a, b, c, and d given in the answer sheet.

निर्देश : (प्रश्न 21 - 40) दिए गए स्मरण - पृष्ठ में चित्र को निर्धारित समय 3 मिनट में ध्यानपूर्वक अवलोकन करें। इसके बाद स्मरण - पृष्ठ को पलटकर दूसरे 3 मिनट में प्रश्न - पृष्ठ में चित्रों के सामने एक ही चित्र के दिए गए चार विकल्पों में सही विकल्प को हूँदकर उसके क्रमांक को उत्तर - पत्रक में दिए गए a, b, c, एवं d में से सही क्रमांक को काला करें।

- (a) A
- (b) B
- (c) C
- (d) D

Ans.(c)

Q25.



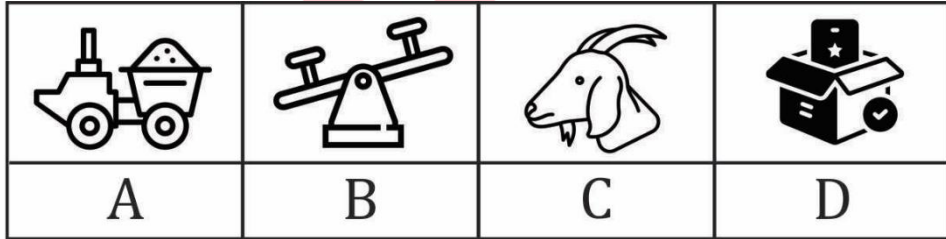
Instructions: (Questions 21 - 40) Observe the picture on the given memory page carefully in the given time of 3 minutes. After this, turn the memory page and in another 3 minutes, find the correct option from the four options given for the same picture in front of the pictures in the question sheet and blacken its number from the a, b, c, and d given in the answer sheet.

निर्देश : (प्रश्न 21 - 40) दिए गए स्मरण - पृष्ठ में चित्र को निर्धारित समय 3 मिनट में ध्यानपूर्वक अवलोकन करें। इसके बाद स्मरण - पृष्ठ को पलटकर दूसरे 3 मिनट में प्रश्न - पृष्ठ में चित्रों के सामने एक ही चित्र के दिए गए चार विकल्पों में सही विकल्प को हूँदकर उसके क्रमांक को उत्तर - पत्रक में दिए गए a, b, c, एवं d में से सही क्रमांक को काला करें।

- (a) A
- (b) B
- (c) C
- (d) D

Ans.(b)

Q26.



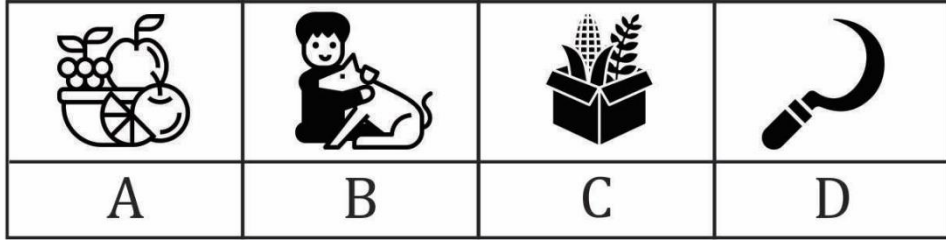
Instructions: (Questions 21 - 40) Observe the picture on the given memory page carefully in the given time of 3 minutes. After this, turn the memory page and in another 3 minutes, find the correct option from the four options given for the same picture in front of the pictures in the question sheet and blacken its number from the a, b, c, and d given in the answer sheet.

निर्देश : (प्रश्न 21 - 40) दिए गए स्मरण - पृष्ठ में चित्र को निर्धारित समय 3 मिनट में ध्यानपूर्वक अवलोकन करें। इसके बाद स्मरण - पृष्ठ को पलटकर दूसरे 3 मिनट में प्रश्न - पृष्ठ में चित्रों के सामने एक ही चित्र के दिए गए चार विकल्पों में सही विकल्प को हूँदकर उसके क्रमांक को उत्तर - पत्रक में दिए गए a, b, c, एवं d में से सही क्रमांक को काला करें।

- (a) A
- (b) B
- (c) C
- (d) D

Ans.(c)

Q27.



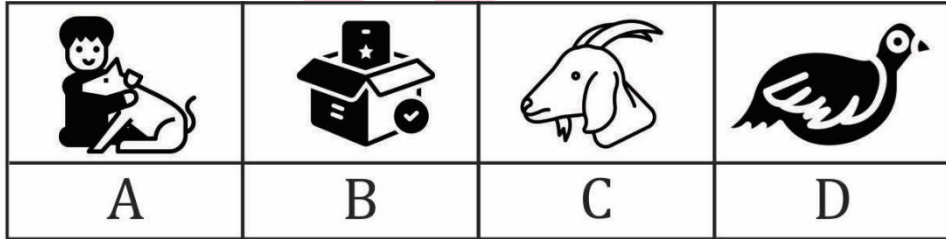
Instructions: (Questions 21 - 40) Observe the picture on the given memory page carefully in the given time of 3 minutes. After this, turn the memory page and in another 3 minutes, find the correct option from the four options given for the same picture in front of the pictures in the question sheet and blacken its number from the a, b, c, and d given in the answer sheet.

निर्देश : (प्रश्न 21 - 40) दिए गए स्मरण - पृष्ठ में चित्र को निर्धारित समय 3 मिनट में ध्यानपूर्वक अवलोकन करें। इसके बाद स्मरण - पृष्ठ को पलटकर दूसरे 3 मिनट में प्रश्न - पृष्ठ में चित्रों के सामने एक ही चित्र के दिए गए चार विकल्पों में सही विकल्प को हूँडकर उसके क्रमांक को उत्तर - पत्रक में दिए गए a, b, c, एवं d में से सही क्रमांक को काला करें।

- (a) A
- (b) B
- (c) C
- (d) D

Ans.(a)

Q28.



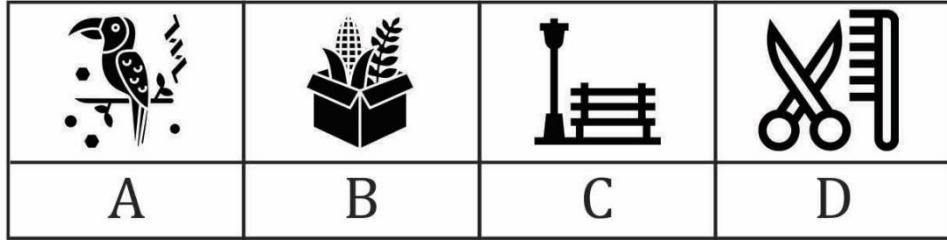
Instructions: (Questions 21 - 40) Observe the picture on the given memory page carefully in the given time of 3 minutes. After this, turn the memory page and in another 3 minutes, find the correct option from the four options given for the same picture in front of the pictures in the question sheet and blacken its number from the a, b, c, and d given in the answer sheet.

निर्देश : (प्रश्न 21 - 40) दिए गए स्मरण - पृष्ठ में चित्र को निर्धारित समय 3 मिनट में ध्यानपूर्वक अवलोकन करें। इसके बाद स्मरण - पृष्ठ को पलटकर दूसरे 3 मिनट में प्रश्न - पृष्ठ में चित्रों के सामने एक ही चित्र के दिए गए चार विकल्पों में सही विकल्प को हूँडकर उसके क्रमांक को उत्तर - पत्रक में दिए गए a, b, c, एवं d में से सही क्रमांक को काला करें।

- (a) A
- (b) B
- (c) C
- (d) D

Ans.(d)

Q29.



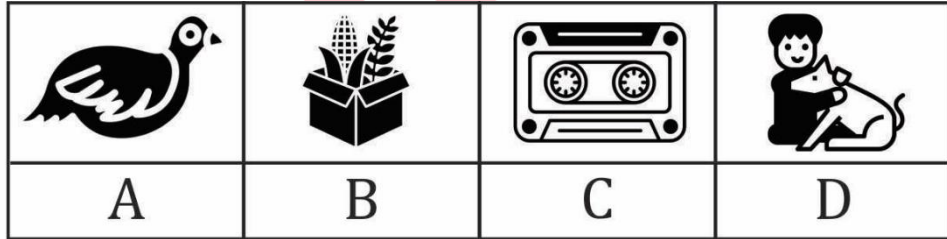
Instructions: (Questions 21 - 40) Observe the picture on the given memory page carefully in the given time of 3 minutes. After this, turn the memory page and in another 3 minutes, find the correct option from the four options given for the same picture in front of the pictures in the question sheet and blacken its number from the a, b, c, and d given in the answer sheet.

निर्देश : (प्रश्न 21 - 40) दिए गए स्मरण - पृष्ठ में चित्र को निर्धारित समय 3 मिनट में ध्यानपूर्वक अवलोकन करें। इसके बाद स्मरण - पृष्ठ को पलटकर दूसरे 3 मिनट में प्रश्न - पृष्ठ में चित्रों के सामने एक ही चित्र के दिए गए चार विकल्पों में सही विकल्प को हूँदकर उसके क्रमांक को उत्तर - पत्रक में दिए गए a, b, c, एवं d में से सही क्रमांक को काला करें।

- (a) A
- (b) B
- (c) C
- (d) D

Ans.(b)

Q30.



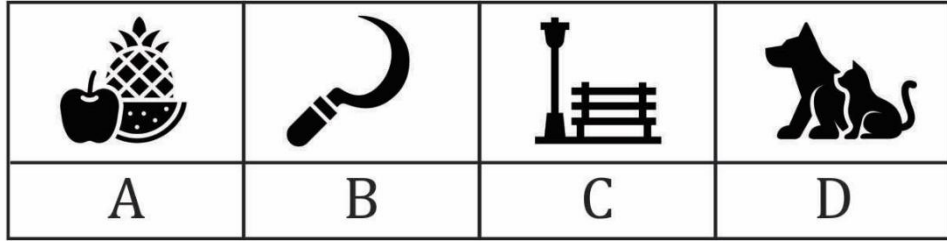

Instructions: (Questions 21 - 40) Observe the picture on the given memory page carefully in the given time of 3 minutes. After this, turn the memory page and in another 3 minutes, find the correct option from the four options given for the same picture in front of the pictures in the question sheet and blacken its number from the a, b, c, and d given in the answer sheet.

निर्देश : (प्रश्न 21 - 40) दिए गए स्मरण - पृष्ठ में चित्र को निर्धारित समय 3 मिनट में ध्यानपूर्वक अवलोकन करें। इसके बाद स्मरण - पृष्ठ को पलटकर दूसरे 3 मिनट में प्रश्न - पृष्ठ में चित्रों के सामने एक ही चित्र के दिए गए चार विकल्पों में सही विकल्प को हूँदकर उसके क्रमांक को उत्तर - पत्रक में दिए गए a, b, c, एवं d में से सही क्रमांक को काला करें।

- (a) A
- (b) B
- (c) C
- (d) D

Ans.(c)

Q31.



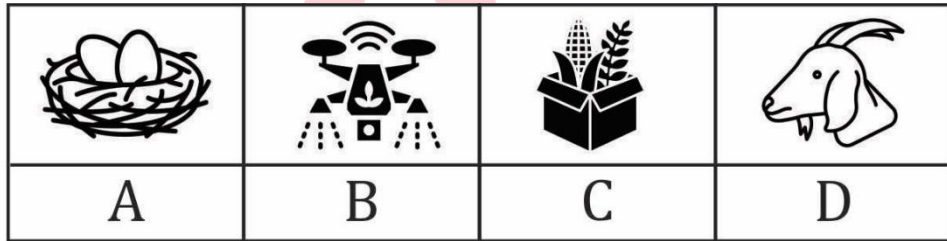
Instructions: (Questions 21 - 40) Observe the picture on the given memory page carefully in the given time of 3 minutes. After this, turn the memory page and in another 3 minutes, find the correct option from the four options given for the same picture in front of the pictures in the question sheet and blacken its number from the a, b, c, and d given in the answer sheet.

निर्देश : (प्रश्न 21 - 40) दिए गए स्मरण - पृष्ठ में चित्र को निर्धारित समय 3 मिनट में ध्यानपूर्वक अवलोकन करें। इसके बाद स्मरण - पृष्ठ को पलटकर दूसरे 3 मिनट में प्रश्न - पृष्ठ में चित्रों के सामने एक ही चित्र के दिए गए चार विकल्पों में सही विकल्प को हूँदकर उसके क्रमांक को उत्तर - पत्रक में दिए गए a, b, c, एवं d में से सही क्रमांक को काला करें।

- (a) A
- (b) B
- (c) C
- (d) D

Ans.(c)

Q32.



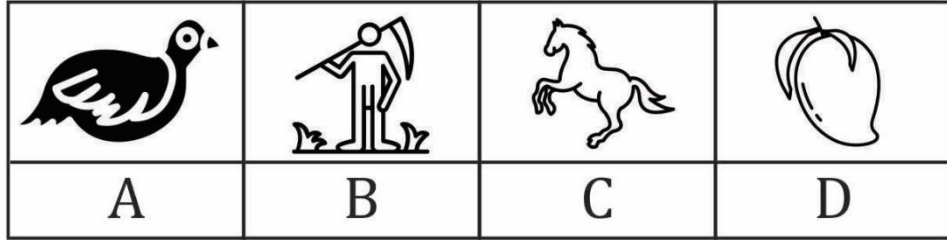
Instructions: (Questions 21 - 40) Observe the picture on the given memory page carefully in the given time of 3 minutes. After this, turn the memory page and in another 3 minutes, find the correct option from the four options given for the same picture in front of the pictures in the question sheet and blacken its number from the a, b, c, and d given in the answer sheet.

निर्देश : (प्रश्न 21 - 40) दिए गए स्मरण - पृष्ठ में चित्र को निर्धारित समय 3 मिनट में ध्यानपूर्वक अवलोकन करें। इसके बाद स्मरण - पृष्ठ को पलटकर दूसरे 3 मिनट में प्रश्न - पृष्ठ में चित्रों के सामने एक ही चित्र के दिए गए चार विकल्पों में सही विकल्प को हूँदकर उसके क्रमांक को उत्तर - पत्रक में दिए गए a, b, c, एवं d में से सही क्रमांक को काला करें।

- (a) A
- (b) B
- (c) C
- (d) D

Ans.(a)

Q33.



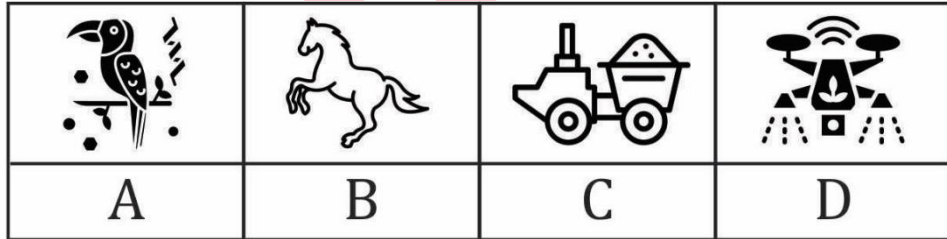
Instructions: (Questions 21 - 40) Observe the picture on the given memory page carefully in the given time of 3 minutes. After this, turn the memory page and in another 3 minutes, find the correct option from the four options given for the same picture in front of the pictures in the question sheet and blacken its number from the a, b, c, and d given in the answer sheet.

निर्देश : (प्रश्न 21 - 40) दिए गए स्मरण - पृष्ठ में चित्र को निर्धारित समय 3 मिनट में ध्यानपूर्वक अवलोकन करें। इसके बाद स्मरण - पृष्ठ को पलटकर दूसरे 3 मिनट में प्रश्न - पृष्ठ में चित्रों के सामने एक ही चित्र के दिए गए चार विकल्पों में सही विकल्प को हूँदकर उसके क्रमांक को उत्तर - पत्रक में दिए गए a, b, c, एवं d में से सही क्रमांक को काला करें।

- (a) A
- (b) B
- (c) C
- (d) D

Ans.(d)

Q34.



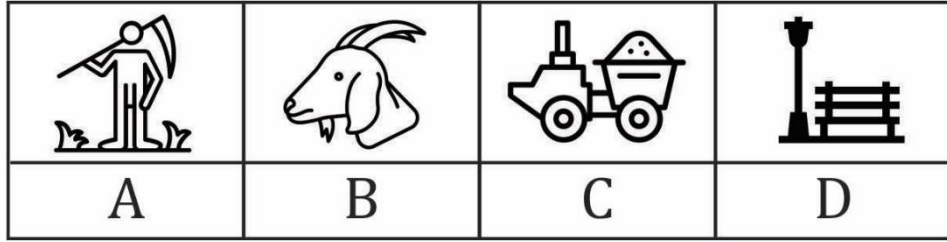
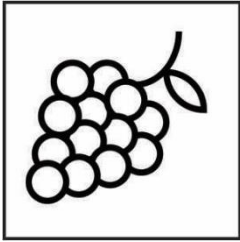
Instructions: (Questions 21 - 40) Observe the picture on the given memory page carefully in the given time of 3 minutes. After this, turn the memory page and in another 3 minutes, find the correct option from the four options given for the same picture in front of the pictures in the question sheet and blacken its number from the a, b, c, and d given in the answer sheet.

निर्देश : (प्रश्न 21 - 40) दिए गए स्मरण - पृष्ठ में चित्र को निर्धारित समय 3 मिनट में ध्यानपूर्वक अवलोकन करें। इसके बाद स्मरण - पृष्ठ को पलटकर दूसरे 3 मिनट में प्रश्न - पृष्ठ में चित्रों के सामने एक ही चित्र के दिए गए चार विकल्पों में सही विकल्प को हूँदकर उसके क्रमांक को उत्तर - पत्रक में दिए गए a, b, c, एवं d में से सही क्रमांक को काला करें।

- (a) A
- (b) B
- (c) C
- (d) D

Ans.(b)

Q35.



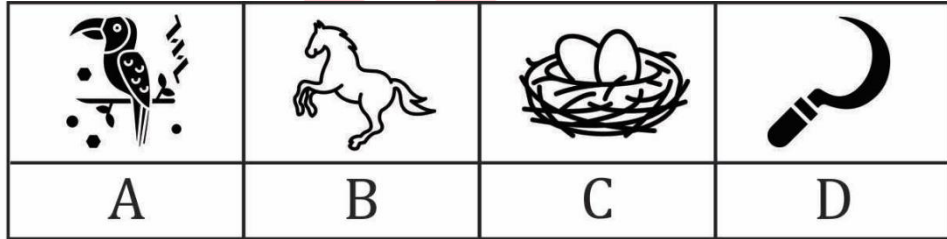
Instructions: (Questions 21 - 40) Observe the picture on the given memory page carefully in the given time of 3 minutes. After this, turn the memory page and in another 3 minutes, find the correct option from the four options given for the same picture in front of the pictures in the question sheet and blacken its number from the a, b, c, and d given in the answer sheet.

निर्देश : (प्रश्न 21 - 40) दिए गए स्मरण - पृष्ठ में चित्र को निर्धारित समय 3 मिनट में ध्यानपूर्वक अवलोकन करें। इसके बाद स्मरण - पृष्ठ को पलटकर दूसरे 3 मिनट में प्रश्न - पृष्ठ में चित्रों के सामने एक ही चित्र के दिए गए चार विकल्पों में सही विकल्प को हूँदकर उसके क्रमांक को उत्तर - पत्रक में दिए गए a, b, c, एवं d में से सही क्रमांक को काला करें।

- (a) A
- (b) B
- (c) C
- (d) D

Ans.(c)

Q36.



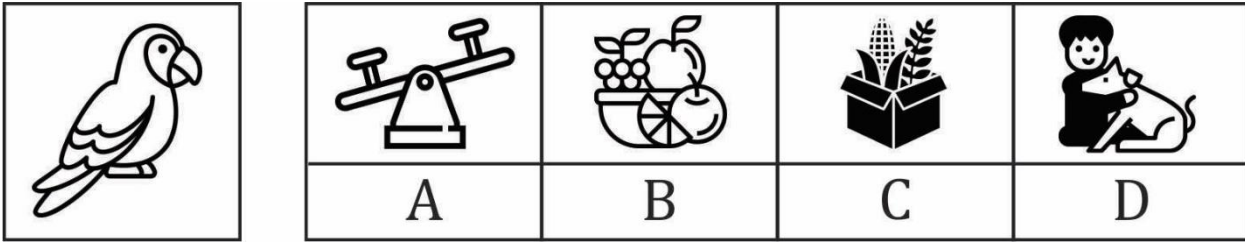
Instructions: (Questions 21 - 40) Observe the picture on the given memory page carefully in the given time of 3 minutes. After this, turn the memory page and in another 3 minutes, find the correct option from the four options given for the same picture in front of the pictures in the question sheet and blacken its number from the a, b, c, and d given in the answer sheet.

निर्देश : (प्रश्न 21 - 40) दिए गए स्मरण - पृष्ठ में चित्र को निर्धारित समय 3 मिनट में ध्यानपूर्वक अवलोकन करें। इसके बाद स्मरण - पृष्ठ को पलटकर दूसरे 3 मिनट में प्रश्न - पृष्ठ में चित्रों के सामने एक ही चित्र के दिए गए चार विकल्पों में सही विकल्प को हूँदकर उसके क्रमांक को उत्तर - पत्रक में दिए गए a, b, c, एवं d में से सही क्रमांक को काला करें।

- (a) A
- (b) B
- (c) C
- (d) D

Ans.(a)

Q37.



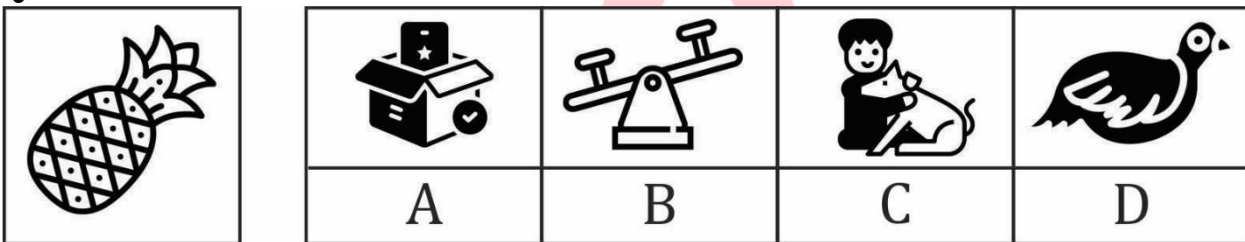
Instructions: (Questions 21 - 40) Observe the picture on the given memory page carefully in the given time of 3 minutes. After this, turn the memory page and in another 3 minutes, find the correct option from the four options given for the same picture in front of the pictures in the question sheet and blacken its number from the a, b, c, and d given in the answer sheet.

निर्देश : (प्रश्न 21 - 40) दिए गए स्मरण - पृष्ठ में चित्र को निर्धारित समय 3 मिनट में ध्यानपूर्वक अवलोकन करें। इसके बाद स्मरण - पृष्ठ को पलटकर दूसरे 3 मिनट में प्रश्न - पृष्ठ में चित्रों के सामने एक ही चित्र के दिए गए चार विकल्पों में सही विकल्प को हूँदकर उसके क्रमांक को उत्तर - पत्रक में दिए गए a, b, c, एवं d में से सही क्रमांक को काला करें।

- (a) A
- (b) B
- (c) C
- (d) D

Ans.(d)

Q38.



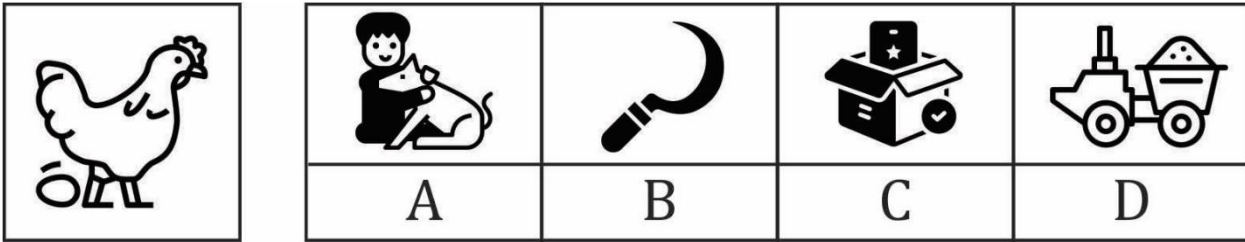
Instructions: (Questions 21 - 40) Observe the picture on the given memory page carefully in the given time of 3 minutes. After this, turn the memory page and in another 3 minutes, find the correct option from the four options given for the same picture in front of the pictures in the question sheet and blacken its number from the a, b, c, and d given in the answer sheet.

निर्देश : (प्रश्न 21 - 40) दिए गए स्मरण - पृष्ठ में चित्र को निर्धारित समय 3 मिनट में ध्यानपूर्वक अवलोकन करें। इसके बाद स्मरण - पृष्ठ को पलटकर दूसरे 3 मिनट में प्रश्न - पृष्ठ में चित्रों के सामने एक ही चित्र के दिए गए चार विकल्पों में सही विकल्प को हूँदकर उसके क्रमांक को उत्तर - पत्रक में दिए गए a, b, c, एवं d में से सही क्रमांक को काला करें।

- (a) A
- (b) B
- (c) C
- (d) D

Ans.(b)

Q39.



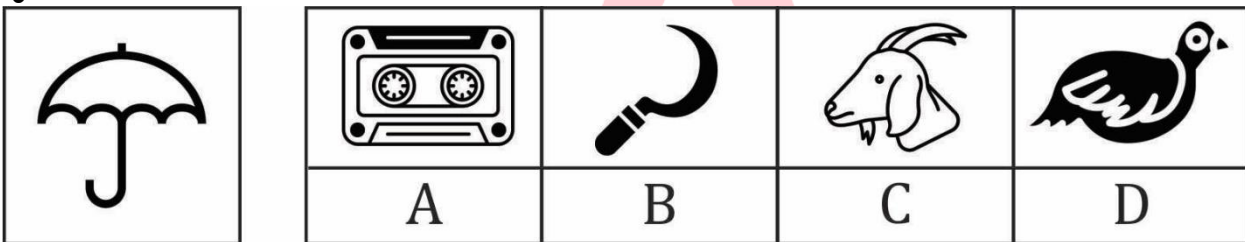
Instructions: (Questions 21 - 40) Observe the picture on the given memory page carefully in the given time of 3 minutes. After this, turn the memory page and in another 3 minutes, find the correct option from the four options given for the same picture in front of the pictures in the question sheet and blacken its number from the a, b, c, and d given in the answer sheet.

निर्देश : (प्रश्न 21 - 40) दिए गए स्मरण - पृष्ठ में चित्र को निर्धारित समय 3 मिनट में ध्यानपूर्वक अवलोकन करें। इसके बाद स्मरण - पृष्ठ को पलटकर दूसरे 3 मिनट में प्रश्न - पृष्ठ में चित्रों के सामने एक ही चित्र के दिए गए चार विकल्पों में सही विकल्प को हूँदकर उसके क्रमांक को उत्तर - पत्रक में दिए गए a, b, c, एवं d में से सही क्रमांक को काला करें।

- (a) A
- (b) B
- (c) C
- (d) D

Ans.(c)

Q40.



Instructions: (Questions 21 - 40) Observe the picture on the given memory page carefully in the given time of 3 minutes. After this, turn the memory page and in another 3 minutes, find the correct option from the four options given for the same picture in front of the pictures in the question sheet and blacken its number from the a, b, c, and d given in the answer sheet.

निर्देश : (प्रश्न 21 - 40) दिए गए स्मरण - पृष्ठ में चित्र को निर्धारित समय 3 मिनट में ध्यानपूर्वक अवलोकन करें। इसके बाद स्मरण - पृष्ठ को पलटकर दूसरे 3 मिनट में प्रश्न - पृष्ठ में चित्रों के सामने एक ही चित्र के दिए गए चार विकल्पों में सही विकल्प को हूँदकर उसके क्रमांक को उत्तर - पत्रक में दिए गए a, b, c, एवं d में से सही क्रमांक को काला करें।

- (a) A
- (b) B
- (c) C
- (d) D

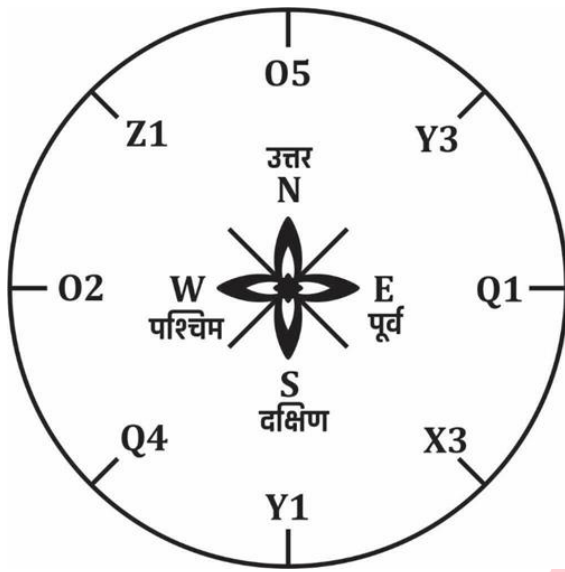
Ans.(b)

Q41. Which number occurred the most number of times going from north to west in a clockwise direction?

उत्तर से पश्चिम दक्षिणावर्त जाने पर किस संख्या की आवृत्ति सबसे अधिक बार हुई है?

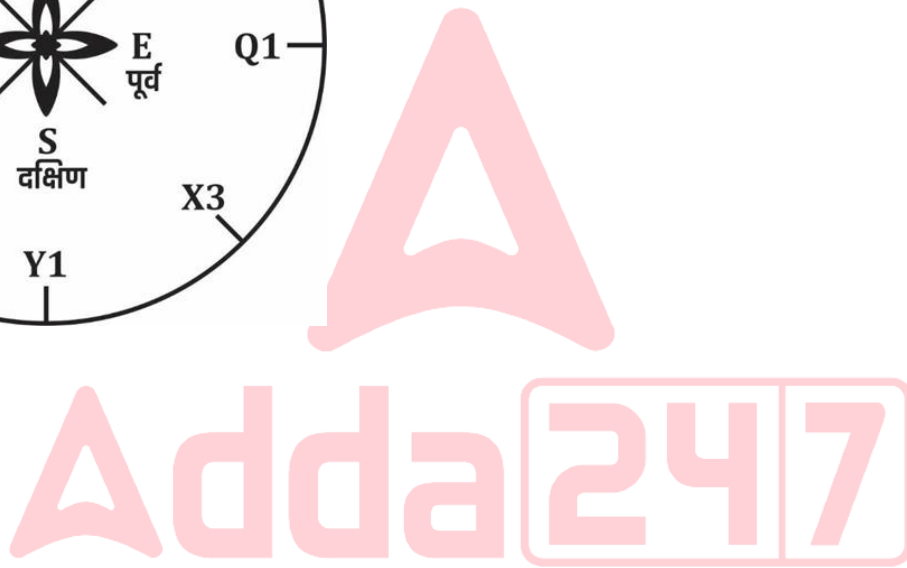
Instructions: (Questions 1-20) Study the clock and its letter given below carefully and answer the questions based on it as per instructions. For each question, five options are given in the answer sheet, namely A=1, B=2, C=3, D=4 and E=5 respectively. 10 minutes are given to solve all the 20 questions, in which there are two Watch Tables. There are 10-10 questions for each Watch Table. In this stipulated time, quickly darken the alternative circles given in the answer sheet.

निर्देश : (प्रश्न 1-20) नीचे दिए गए घड़ी एवं उनके अक्षर को ध्यानपूर्वक अध्ययन करके उस पर आधारित प्रश्नों का उत्तर निर्देशानुसार दें। प्रत्येक प्रश्न के लिए उत्तर-पत्रक में पाँच विकल्प क्रमशः A=1, B=2, C=3, D=4 एवं E=5 दिए गए हैं। सभी 20 प्रश्नों को हल करने के लिए 10 मिनट का समय निर्धारित है, इसमें दो Watch Table हैं। प्रत्येक Watch Table के लिए 10-10 प्रश्न हैं। इसी निर्धारित समय में ही त्वरित गति से उत्तर-पत्रक (Answer Sheet) में दिए गए वैकल्पिक गोले को काला करें।



- (a) A
- (b) B
- (c) C
- (d) D
- (e) E

Ans.(c)

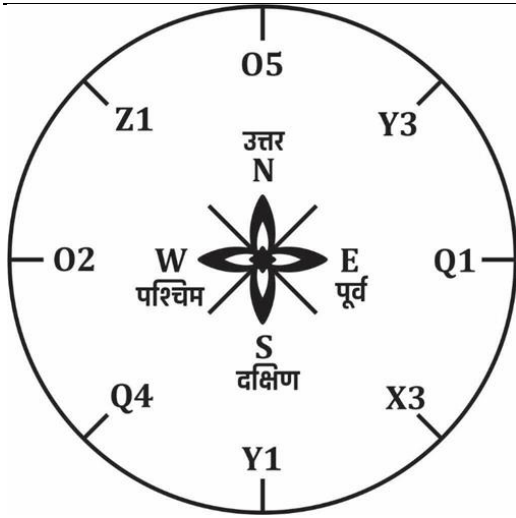


Q42. What will be the value of opposite west if the west component is interchanged with the east component?

पश्चिम के घटक को पूर्व के घटक से अदल-बदल करने पर पश्चिम के विपरीत का मान क्या होगा?

Instructions: (Questions 1-20) Study the clock and its letter given below carefully and answer the questions based on it as per instructions. For each question, five options are given in the answer sheet, namely A=1, B=2, C=3, D=4 and E=5 respectively. 10 minutes are given to solve all the 20 questions, in which there are two Watch Tables. There are 10-10 questions for each Watch Table. In this stipulated time, quickly darken the alternative circles given in the answer sheet.

निर्देश : (प्रश्न 1-20) नीचे दिए गए घड़ी एवं उनके अक्षर को ध्यानपूर्वक अध्ययन करके उस पर आधारित प्रश्नों का उत्तर निर्देशानुसार दें। प्रत्येक प्रश्न के लिए उत्तर-पत्रक में पाँच विकल्प क्रमशः A=1, B=2, C=3, D=4 एवं E=5 दिए गए हैं। सभी 20 प्रश्नों को हल करने के लिए 10 मिनट का समय निर्धारित है, इसमें दो Watch Table हैं। प्रत्येक Watch Table के लिए 10-10 प्रश्न हैं। इसी निर्धारित समय में ही त्वरित गति से उत्तर-पत्रक (Answer Sheet) में दिए गए वैकल्पिक गोले को काला करें।



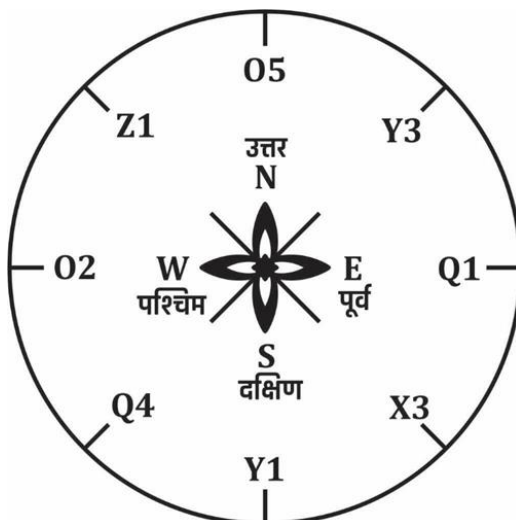
- (a) A
- (b) B
- (c) C
- (d) D
- (e) E

Ans.(b)

Q43. What will be the letter between West and South if Q4 is interchanged with X3 and Q1 with 02?
Q4 को X 3 से तथा Q1 को 02 से अदल-बदल करने पर पश्चिम तथा दक्षिण के मध्य का अक्षर क्या होगा?

Instructions: (Questions 1-20) Study the clock and its letter given below carefully and answer the questions based on it as per instructions. For each question, five options are given in the answer sheet, namely A=1, B=2, C=3, D=4 and E=5 respectively. 10 minutes are given to solve all the 20 questions, in which there are two Watch Tables. There are 10-10 questions for each Watch Table. In this stipulated time, quickly darken the alternative circles given in the answer sheet.

निर्देश : (प्रश्न 1-20) नीचे दिए गए घड़ी एवं उनके अक्षर को ध्यानपूर्वक अध्ययन करके उस पर आधारित प्रश्नों का उत्तर निर्देशानुसार दें। प्रत्येक प्रश्न के लिए उत्तर-पत्रक में पाँच विकल्प क्रमशः A=1, B=2, C=3, D=4 एवं E=5 दिए गए हैं। सभी 20 प्रश्नों को हल करने के लिए 10 मिनट का समय निर्धारित है, इसमें दो Watch Table हैं। प्रत्येक Watch Table के लिए 10-10 प्रश्न हैं। इसी निर्धारित समय में ही त्वरित गति से उत्तर-पत्रक (Answer Sheet) में दिए गए वैकल्पिक गोले को काला करें।



- (a) A
(b) B
(c) C
(d) D
(e) E

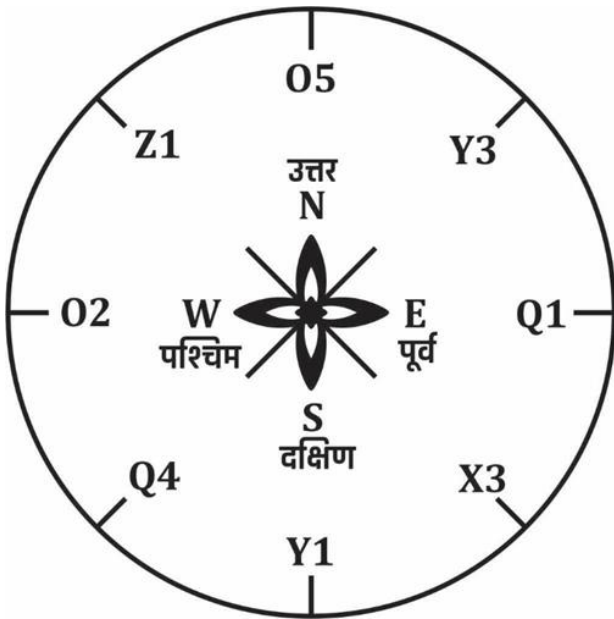
Ans.(c)

Q44. What will be the value of the letter between east and south if Q4 is interchanged with X3 and Q1 with O2?

Q4 को X3 से तथा Q1 को O2 से अदल-बदल करने पर पूर्व तथा दक्षिण के मध्य के अक्षर का मान क्या होगा?

Instructions: (Questions 1-20) Study the clock and its letter given below carefully and answer the questions based on it as per instructions. For each question, five options are given in the answer sheet, namely A=1, B=2, C=3, D=4 and E=5 respectively. 10 minutes are given to solve all the 20 questions, in which there are two Watch Tables. There are 10-10 questions for each Watch Table. In this stipulated time, quickly darken the alternative circles given in the answer sheet.

निर्देश : (प्रश्न 1-20) नीचे दिए गए घड़ी एवं उनके अक्षर को ध्यानपूर्वक अध्ययन करके उस पर आधारित प्रश्नों का उत्तर निर्देशानुसार दें। प्रत्येक प्रश्न के लिए उत्तर-पत्रक में पाँच विकल्प क्रमशः A=1, B=2, C=3, D=4 एवं E=5 दिए गए हैं। सभी 20 प्रश्नों को हल करने के लिए 10 मिनट का समय निर्धारित है, इसमें दो Watch Table हैं। प्रत्येक Watch Table के लिए 10-10 प्रश्न हैं। इसी निर्धारित समय में ही त्वरित गति से उत्तर-पत्रक (Answer Sheet) में दिए गए वैकल्पिक गोले को काला करें।



- (a) A
(b) B
(c) C
(d) D
(e) E

Ans.(d)

Q45. Which letter will have the highest value in reaching East from West in anticlockwise direction?

पश्चिम से घड़ी की विपरीत दिशा में चल कर पूर्व तक पहुँचने में किस अक्षर का मान सबसे अधिक होगा?

Instructions: (Questions 1-20) Study the clock and its letter given below carefully and answer the questions based on it as per instructions. For each question, five options are given in the answer sheet, namely A=1, B=2, C=3, D=4 and E=5 respectively. 10 minutes are given to solve all the 20 questions, in which there are two Watch Tables. There are 10-10 questions for each Watch Table. In this stipulated time, quickly darken the alternative circles given in the answer sheet.

निर्देश : (प्रश्न 1-20) नीचे दिए गए घड़ी एवं उनके अक्षर को ध्यानपूर्वक अध्ययन करके उस पर आधारित प्रश्नों का उत्तर निर्देशानुसार दें। प्रत्येक प्रश्न के लिए उत्तर-पत्रक में पाँच विकल्प क्रमशः A=1, B=2, C=3, D=4 एवं E=5 दिए गए हैं। सभी 20 प्रश्नों को हल करने के लिए 10 मिनट का समय निर्धारित है, इसमें दो Watch Table हैं। प्रत्येक Watch Table के लिए 10-10 प्रश्न हैं। इसी निर्धारित समय में ही त्वरित गति से उत्तर-पत्रक (Answer Sheet) में दिए गए वैकल्पिक गोले को काला करें।



- (a) A
- (b) B
- (c) C
- (d) D
- (e) E

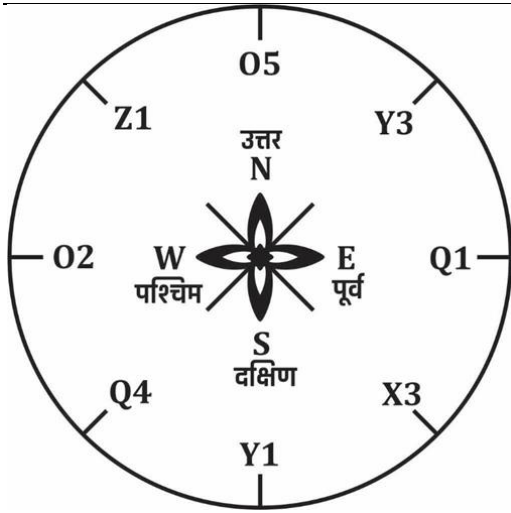
Ans.(d)

Q46. Which letter will be in the middle of the north and east if Z1 is interchanged with Y3 and Q4 is interchanged with X3?

Z1 को Y3 से तथा Q4 को X3 से अदल-बदल करने पर उत्तर और पूर्व के मध्य कौन अक्षर होगा?

Instructions: (Questions 1-20) Study the clock and its letter given below carefully and answer the questions based on it as per instructions. For each question, five options are given in the answer sheet, namely A=1, B=2, C=3, D=4 and E=5 respectively. 10 minutes are given to solve all the 20 questions, in which there are two Watch Tables. There are 10-10 questions for each Watch Table. In this stipulated time, quickly darken the alternative circles given in the answer sheet.

निर्देश : (प्रश्न 1-20) नीचे दिए गए घड़ी एवं उनके अक्षर को ध्यानपूर्वक अध्ययन करके उस पर आधारित प्रश्नों का उत्तर निर्देशानुसार दें। प्रत्येक प्रश्न के लिए उत्तर-पत्रक में पाँच विकल्प क्रमशः A=1, B=2, C=3, D=4 एवं E=5 दिए गए हैं। सभी 20 प्रश्नों को हल करने के लिए 10 मिनट का समय निर्धारित है, इसमें दो Watch Table हैं। प्रत्येक Watch Table के लिए 10-10 प्रश्न हैं। इसी निर्धारित समय में ही त्वरित गति से उत्तर-पत्रक (Answer Sheet) में दिए गए वैकल्पिक गोले को काला करें।



- (a) A
- (b) B
- (c) C
- (d) D
- (e) E

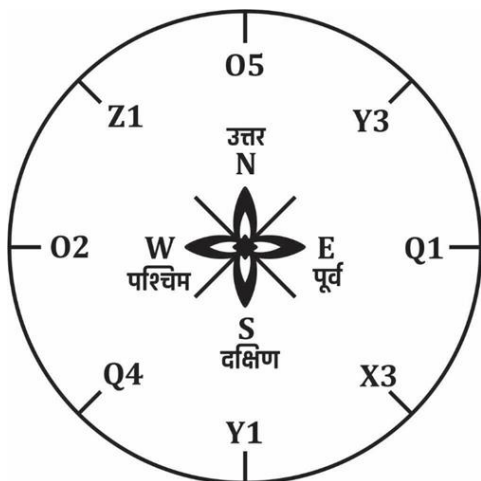
Ans.(a)

Q47. Which letter will be in the middle of North and East if North is interchanged with South and 05 with Y1?

उत्तर को दक्षिण से तथा 05 को Y1 से अदल-बदल करने पर उत्तर और पूर्व के मध्य कौन अक्षर होगा?

Instructions: (Questions 1-20) Study the clock and its letter given below carefully and answer the questions based on it as per instructions. For each question, five options are given in the answer sheet, namely A=1, B=2, C=3, D=4 and E=5 respectively. 10 minutes are given to solve all the 20 questions, in which there are two Watch Tables. There are 10-10 questions for each Watch Table. In this stipulated time, quickly darken the alternative circles given in the answer sheet.

निर्देश : (प्रश्न 1-20) नीचे दिए गए घड़ी एवं उनके अक्षर को ध्यानपूर्वक अध्ययन करके उस पर आधारित प्रश्नों का उत्तर निर्देशानुसार दें। प्रत्येक प्रश्न के लिए उत्तर-पत्रक में पाँच विकल्प क्रमशः A=1, B=2, C=3, D=4 एवं E=5 दिए गए हैं। सभी 20 प्रश्नों को हल करने के लिए 10 मिनट का समय निर्धारित है, इसमें दो Watch Table हैं। प्रत्येक Watch Table के लिए 10-10 प्रश्न हैं। इसी निर्धारित समय में ही त्वरित गति से उत्तर-पत्रक (Answer Sheet) में दिए गए वैकल्पिक गोले को काला करें।



- (a) A
(b) B
(c) C
(d) D
(e) E

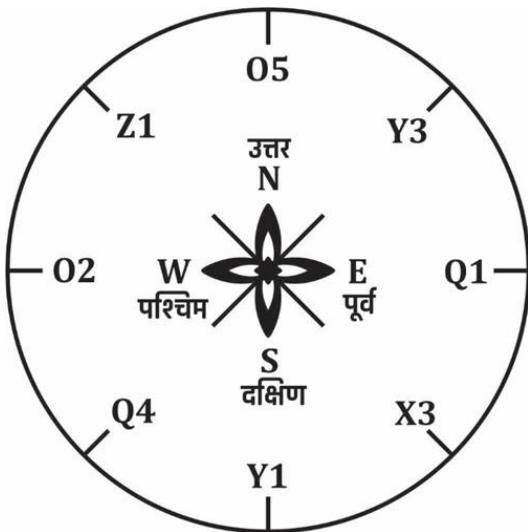
Ans.(c)

Q48. Find the value of the letter facing east by interchanging O5 with Q1 and O2 with Y1.

O5 को Q1 से तथा O2 को Y1 से अदल-बदल करने पर पूरब दिशा के सामने के अक्षर का मान ज्ञात करें।

Instructions: (Questions 1-20) Study the clock and its letter given below carefully and answer the questions based on it as per instructions. For each question, five options are given in the answer sheet, namely A=1, B=2, C=3, D=4 and E=5 respectively. 10 minutes are given to solve all the 20 questions, in which there are two Watch Tables. There are 10-10 questions for each Watch Table. In this stipulated time, quickly darken the alternative circles given in the answer sheet.

निर्देश : (प्रश्न 1-20) नीचे दिए गए घड़ी एवं उनके अक्षर को ध्यानपूर्वक अध्ययन करके उस पर आधारित प्रश्नों का उत्तर निर्देशानुसार दें। प्रत्येक प्रश्न के लिए उत्तर-पत्रक में पाँच विकल्प क्रमशः A=1, B=2, C=3, D=4 एवं E=5 दिए गए हैं। सभी 20 प्रश्नों को हल करने के लिए 10 मिनट का समय निर्धारित है, इसमें दो Watch Table हैं। प्रत्येक Watch Table के लिए 10-10 प्रश्न हैं। इसी निर्धारित समय में ही त्वरित गति से उत्तर-पत्रक (Answer Sheet) में दिए गए वैकल्पिक गोले को काला करें।



- (a) A
(b) B
(c) C
(d) D
(e) E

Ans.(a)

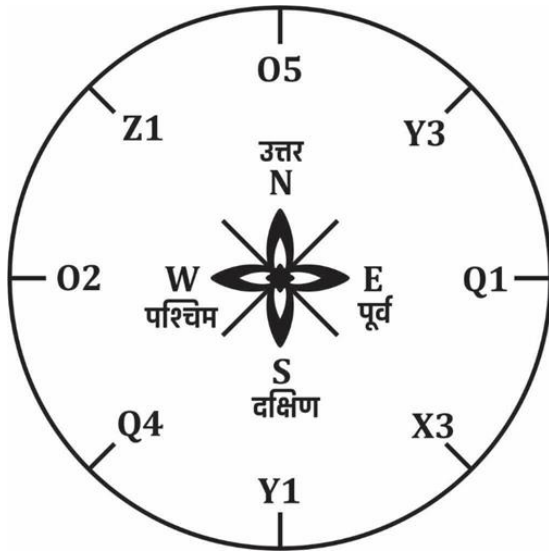
Q49. Find the value of the middle letter of the south and west by interchanging Q4 with X3 and O2 with Q1.

Q4 को X3 से तथा O2 को Q1 से अदल-बदल करने पर दक्षिण और पश्चिम के मध्य के अक्षर का मान ज्ञात करें।

Instructions: (Questions 1-20) Study the clock and its letter given below carefully and answer the questions based on it as per instructions. For each question, five options are given in the answer sheet,

namely A=1, B=2, C=3, D=4 and E=5 respectively. 10 minutes are given to solve all the 20 questions, in which there are two Watch Tables. There are 10-10 questions for each Watch Table. In this stipulated time, quickly darken the alternative circles given in the answer sheet.

निर्देश : (प्रश्न 1-20) नीचे दिए गए घड़ी एवं उनके अक्षर को ध्यानपूर्वक अध्ययन करके उस पर आधारित प्रश्नों का उत्तर निर्देशानुसार दें। प्रत्येक प्रश्न के लिए उत्तर-पत्रक में पाँच विकल्प क्रमशः A=1, B=2, C=3, D=4 एवं E=5 दिए गए हैं। सभी 20 प्रश्नों को हल करने के लिए 10 मिनट का समय निर्धारित है, इसमें दो Watch Table हैं। प्रत्येक Watch Table के लिए 10-10 प्रश्न हैं। इसी निर्धारित समय में ही त्वरित गति से उत्तर-पत्रक (Answer Sheet) में दिए गए वैकल्पिक गोले को काला करें।



- (a) A
- (b) B
- (c) C
- (d) D
- (e) E

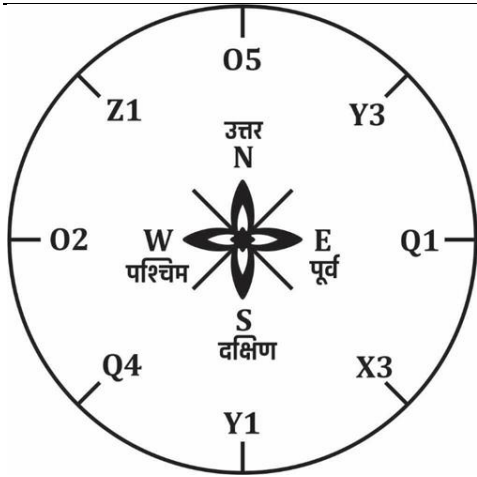
Ans.(c)

Q50. Find the value of the letter in front of the east direction.

पूर्व दिशा के सामने के अक्षर का मान ज्ञात करें।

Instructions: (Questions 1-20) Study the clock and its letter given below carefully and answer the questions based on it as per instructions. For each question, five options are given in the answer sheet, namely A=1, B=2, C=3, D=4 and E=5 respectively. 10 minutes are given to solve all the 20 questions, in which there are two Watch Tables. There are 10-10 questions for each Watch Table. In this stipulated time, quickly darken the alternative circles given in the answer sheet.

निर्देश : (प्रश्न 1-20) नीचे दिए गए घड़ी एवं उनके अक्षर को ध्यानपूर्वक अध्ययन करके उस पर आधारित प्रश्नों का उत्तर निर्देशानुसार दें। प्रत्येक प्रश्न के लिए उत्तर-पत्रक में पाँच विकल्प क्रमशः A=1, B=2, C=3, D=4 एवं E=5 दिए गए हैं। सभी 20 प्रश्नों को हल करने के लिए 10 मिनट का समय निर्धारित है, इसमें दो Watch Table हैं। प्रत्येक Watch Table के लिए 10-10 प्रश्न हैं। इसी निर्धारित समय में ही त्वरित गति से उत्तर-पत्रक (Answer Sheet) में दिए गए वैकल्पिक गोले को काला करें।



- (a) A
- (b) B
- (c) C
- (d) D
- (e) E

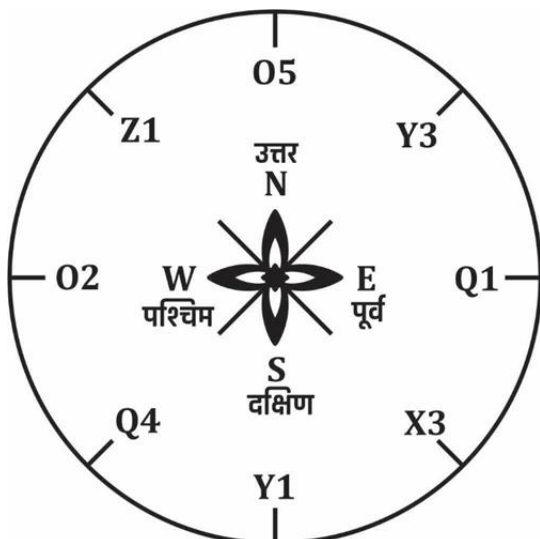
Ans.(a)

Q51. What will be the value of the middle letter of South and East?

दक्षिण और पूर्व के मध्य अक्षर का मान क्या होगा?

Instructions: (Questions 1-20) Study the clock and its letter given below carefully and answer the questions based on it as per instructions. For each question, five options are given in the answer sheet, namely A=1, B=2, C=3, D=4 and E=5 respectively. 10 minutes are given to solve all the 20 questions, in which there are two Watch Tables. There are 10-10 questions for each Watch Table. In this stipulated time, quickly darken the alternative circles given in the answer sheet.

निर्देश : (प्रश्न 1-20) नीचे दिए गए घड़ी एवं उनके अक्षर को ध्यानपूर्वक अध्ययन करके उस पर आधारित प्रश्नों का उत्तर निर्देशानुसार दें। प्रत्येक प्रश्न के लिए उत्तर-पत्रक में पाँच विकल्प क्रमशः A=1, B=2, C=3, D=4 एवं E=5 दिए गए हैं। सभी 20 प्रश्नों को हल करने के लिए 10 मिनट का समय निर्धारित है, इसमें दो Watch Table हैं। प्रत्येक Watch Table के लिए 10-10 प्रश्न हैं। इसी निर्धारित समय में ही त्वरित गति से उत्तर-पत्रक (Answer Sheet) में दिए गए वैकल्पिक गोले को काला करें।



- (a) A
(b) B
(c) C
(d) D
(e) E

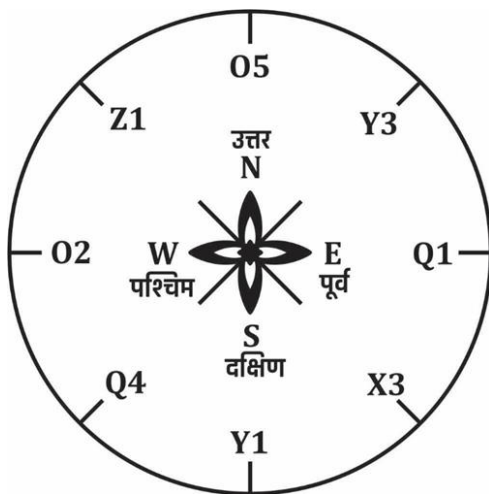
Ans.(c)

Q52. What will be the value of the middle letter in the south and west direction if Y3 is interchanged with X3 and Z1 with Q4?

Y3 को X3 से तथा Z1 को Q4 से अदल-बदल करने पर दक्षिण और पश्चिम दिशा के मध्य के अक्षर का मान क्या होगा?

Instructions: (Questions 1-20) Study the clock and its letter given below carefully and answer the questions based on it as per instructions. For each question, five options are given in the answer sheet, namely A=1, B=2, C=3, D=4 and E=5 respectively. 10 minutes are given to solve all the 20 questions, in which there are two Watch Tables. There are 10-10 questions for each Watch Table. In this stipulated time, quickly darken the alternative circles given in the answer sheet.

निर्देश : (प्रश्न 1-20) नीचे दिए गए घड़ी एवं उनके अक्षर को ध्यानपूर्वक अध्ययन करके उस पर आधारित प्रश्नों का उत्तर निर्देशानुसार दें। प्रत्येक प्रश्न के लिए उत्तर-पत्रक में पाँच विकल्प क्रमशः A=1, B=2, C=3, D=4 एवं E=5 दिए गए हैं। सभी 20 प्रश्नों को हल करने के लिए 10 मिनट का समय निर्धारित है, इसमें दो Watch Table हैं। प्रत्येक Watch Table के लिए 10-10 प्रश्न हैं। इसी निर्धारित समय में ही त्वरित गति से उत्तर-पत्रक (Answer Sheet) में दिए गए वैकल्पिक गोले को काला करें।



- (a) A
(b) B
(c) C
(d) D
(e) E

Ans.(a)

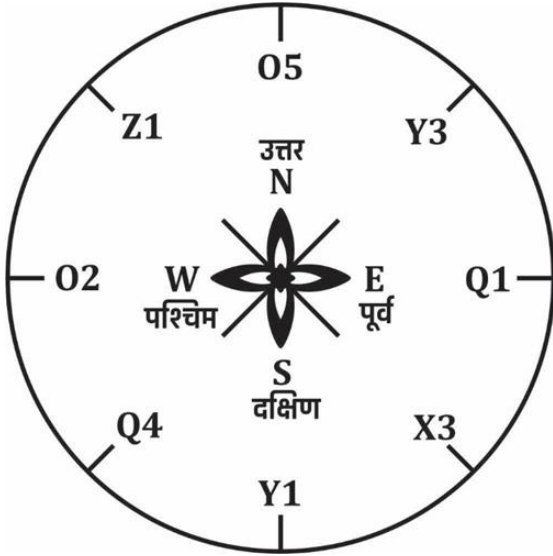
Q53. What will be the value of the letter in front of the south direction?

दक्षिण दिशा के सामने के अक्षर का मान क्या होगा?

Instructions: (Questions 1-20) Study the clock and its letter given below carefully and answer the questions based on it as per instructions. For each question, five options are given in the answer sheet, namely A=1, B=2, C=3, D=4 and E=5 respectively. 10 minutes are given to solve all the 20 questions, in

which there are two Watch Tables. There are 10-10 questions for each Watch Table. In this stipulated time, quickly darken the alternative circles given in the answer sheet.

निर्देश : (प्रश्न 1-20) नीचे दिए गए घड़ी एवं उनके अक्षर को ध्यानपूर्वक अध्ययन करके उस पर आधारित प्रश्नों का उत्तर निर्देशानुसार दें। प्रत्येक प्रश्न के लिए उत्तर-पत्रक में पाँच विकल्प क्रमशः A=1, B=2, C=3, D=4 एवं E=5 दिए गए हैं। सभी 20 प्रश्नों को हल करने के लिए 10 मिनट का समय निर्धारित है, इसमें दो Watch Table हैं। प्रत्येक Watch Table के लिए 10-10 प्रश्न हैं। इसी निर्धारित समय में ही त्वरित गति से उत्तर-पत्रक (Answer Sheet) में दिए गए वैकल्पिक गोले को काला करें।



- (a) A
- (b) B
- (c) C
- (d) D
- (e) E

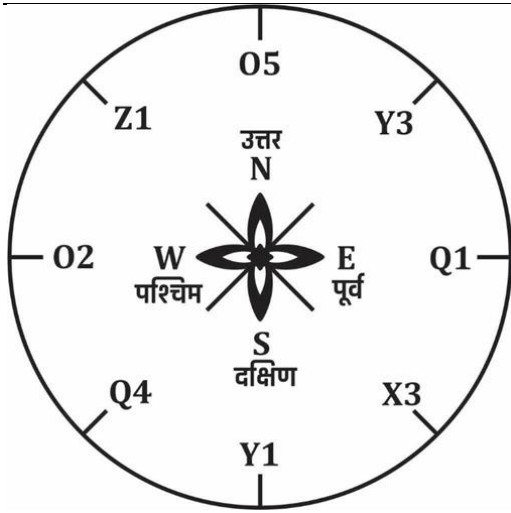
Ans.(a)

Q54. What will be the value of the letter opposite to the north direction?

उत्तर दिशा के विपरीत के अक्षर का मान क्या होगा?

Instructions: (Questions 1-20) Study the clock and its letter given below carefully and answer the questions based on it as per instructions. For each question, five options are given in the answer sheet, namely A=1, B=2, C=3, D=4 and E=5 respectively. 10 minutes are given to solve all the 20 questions, in which there are two Watch Tables. There are 10-10 questions for each Watch Table. In this stipulated time, quickly darken the alternative circles given in the answer sheet.

निर्देश : (प्रश्न 1-20) नीचे दिए गए घड़ी एवं उनके अक्षर को ध्यानपूर्वक अध्ययन करके उस पर आधारित प्रश्नों का उत्तर निर्देशानुसार दें। प्रत्येक प्रश्न के लिए उत्तर-पत्रक में पाँच विकल्प क्रमशः A=1, B=2, C=3, D=4 एवं E=5 दिए गए हैं। सभी 20 प्रश्नों को हल करने के लिए 10 मिनट का समय निर्धारित है, इसमें दो Watch Table हैं। प्रत्येक Watch Table के लिए 10-10 प्रश्न हैं। इसी निर्धारित समय में ही त्वरित गति से उत्तर-पत्रक (Answer Sheet) में दिए गए वैकल्पिक गोले को काला करें।



- (a) A
- (b) B
- (c) C
- (d) D
- (e) E

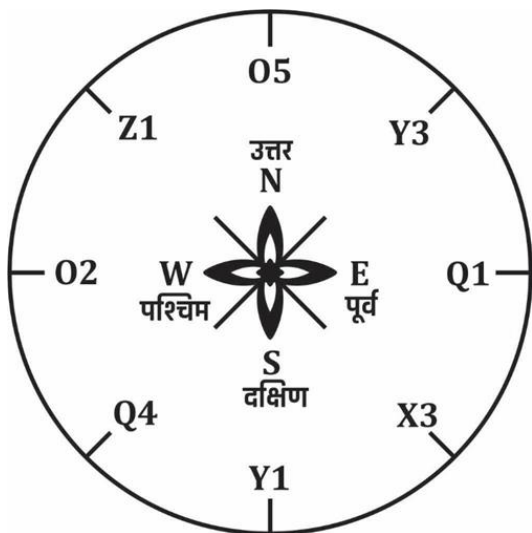
Ans.(a)

Q55. What will be the value of the letter facing south if Q4 is interchanged with Y3 and O5 with Y1?

Q4 को Y3 से तथा O5 को Y1 से अदल-बदल करने पर दक्षिण के सामने के अक्षर का मान क्या होगा?

Instructions: (Questions 1-20) Study the clock and its letter given below carefully and answer the questions based on it as per instructions. For each question, five options are given in the answer sheet, namely A=1, B=2, C=3, D=4 and E=5 respectively. 10 minutes are given to solve all the 20 questions, in which there are two Watch Tables. There are 10-10 questions for each Watch Table. In this stipulated time, quickly darken the alternative circles given in the answer sheet.

निर्देश : (प्रश्न 1-20) नीचे दिए गए घड़ी एवं उनके अक्षर को ध्यानपूर्वक अध्ययन करके उस पर आधारित प्रश्नों का उत्तर निर्देशानुसार दें। प्रत्येक प्रश्न के लिए उत्तर-पत्रक में पाँच विकल्प क्रमशः A=1, B=2, C=3, D=4 एवं E=5 दिए गए हैं। सभी 20 प्रश्नों को हल करने के लिए 10 मिनट का समय निर्धारित है, इसमें दो Watch Table हैं। प्रत्येक Watch Table के लिए 10-10 प्रश्न हैं। इसी निर्धारित समय में ही त्वरित गति से उत्तर-पत्रक (Answer Sheet) में दिए गए वैकल्पिक गोले को काला करें।



- (a) A
(b) B
(c) C
(d) D
(e) E

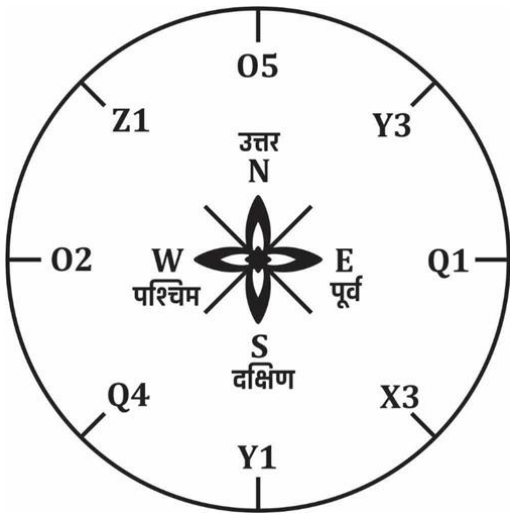
Ans.(a)

Q56. What will be the value of the letter in front of the answer if Q4 is interchanged with Y 3 and O5 with Y1?

Q4 को Y 3 से तथा O5 को Y1 से अदल-बदल करने पर उत्तर के सामने के अक्षर का मान क्या होगा?

Instructions: (Questions 1-20) Study the clock and its letter given below carefully and answer the questions based on it as per instructions. For each question, five options are given in the answer sheet, namely A=1, B=2, C=3, D=4 and E=5 respectively. 10 minutes are given to solve all the 20 questions, in which there are two Watch Tables. There are 10-10 questions for each Watch Table. In this stipulated time, quickly darken the alternative circles given in the answer sheet.

निर्देश : (प्रश्न 1-20) नीचे दिए गए घड़ी एवं उनके अक्षर को ध्यानपूर्वक अध्ययन करके उस पर आधारित प्रश्नों का उत्तर निर्देशानुसार दें। प्रत्येक प्रश्न के लिए उत्तर-पत्रक में पाँच विकल्प क्रमशः A=1, B=2, C=3, D=4 एवं E=5 दिए गए हैं। सभी 20 प्रश्नों को हल करने के लिए 10 मिनट का समय निर्धारित है, इसमें दो Watch Table हैं। प्रत्येक Watch Table के लिए 10-10 प्रश्न हैं। इसी निर्धारित समय में ही त्वरित गति से उत्तर-पत्रक (Answer Sheet) में दिए गए वैकल्पिक गोले को काला करें।



- (a) A
(b) B
(c) C
(d) D
(e) E

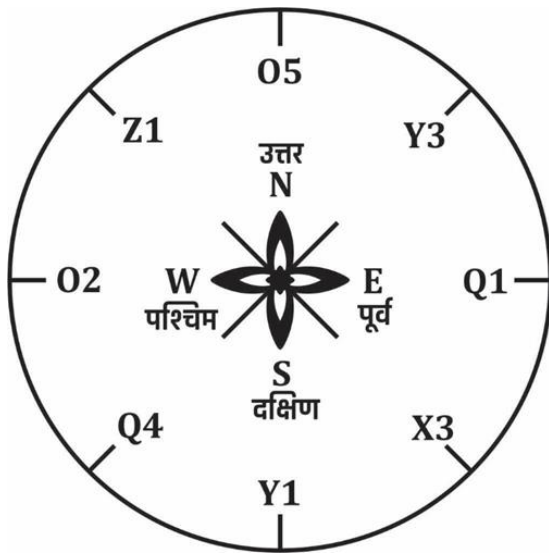
Ans.(e)

Q57. What will be the value of the letter at the top of the triangle if a triangle is formed from O5 to Q4, Q4 to X3 and X3 to O5?

यदि O5 से Q4, Q4 से X3 तथा X3 से O5 तक एक त्रिभुज बनाया जाता है, तो त्रिभुज के शीर्ष पर स्थित अक्षर का मान क्या होगा?

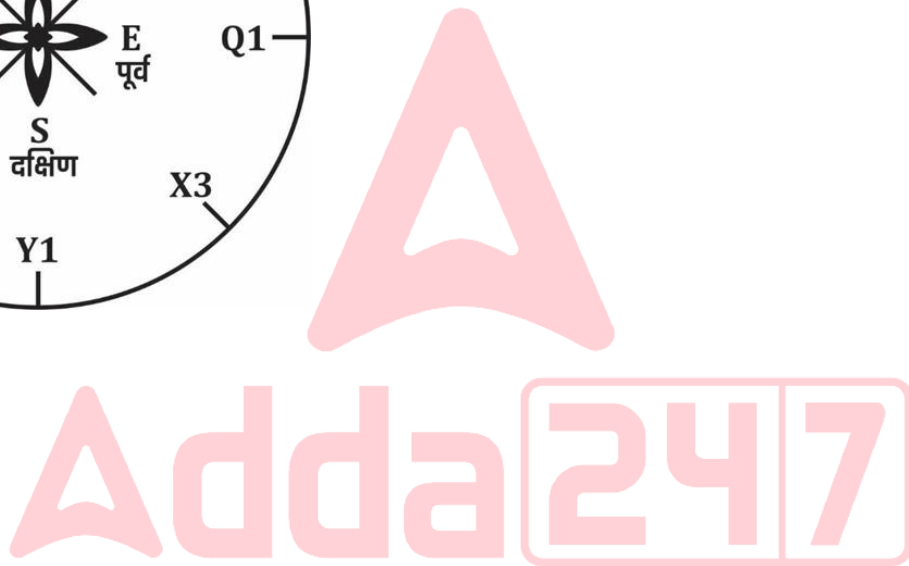
Instructions: (Questions 1-20) Study the clock and its letter given below carefully and answer the questions based on it as per instructions. For each question, five options are given in the answer sheet, namely A=1, B=2, C=3, D=4 and E=5 respectively. 10 minutes are given to solve all the 20 questions, in which there are two Watch Tables. There are 10-10 questions for each Watch Table. In this stipulated time, quickly darken the alternative circles given in the answer sheet.

निर्देश : (प्रश्न 1-20) नीचे दिए गए घड़ी एवं उनके अक्षर को ध्यानपूर्वक अध्ययन करके उस पर आधारित प्रश्नों का उत्तर निर्देशानुसार दें। प्रत्येक प्रश्न के लिए उत्तर-पत्रक में पाँच विकल्प क्रमशः A=1, B=2, C=3, D=4 एवं E=5 दिए गए हैं। सभी 20 प्रश्नों को हल करने के लिए 10 मिनट का समय निर्धारित है, इसमें दो Watch Table हैं। प्रत्येक Watch Table के लिए 10-10 प्रश्न हैं। इसी निर्धारित समय में ही त्वरित गति से उत्तर-पत्रक (Answer Sheet) में दिए गए वैकल्पिक गोले को काला करें।



- (a) A
- (b) B
- (c) C
- (d) D
- (e) E

Ans.(e)

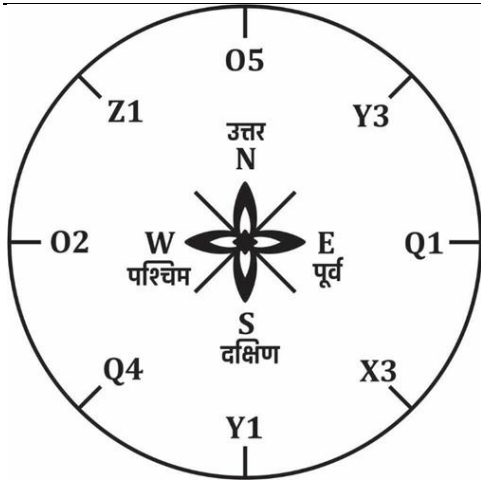


Q58. If a quadrilateral is formed by joining Z1, Y3, X3 and Q4 then what will be the maximum value among all the corners of the quadrilateral?

Z1, Y3, X3 तथा Q4 को मिलाने पर चतुर्भुज बनाने पर चतुर्भुज के सभी कोनों में सबसे अधिक मान कितना होगा?

Instructions: (Questions 1-20) Study the clock and its letter given below carefully and answer the questions based on it as per instructions. For each question, five options are given in the answer sheet, namely A=1, B=2, C=3, D=4 and E=5 respectively. 10 minutes are given to solve all the 20 questions, in which there are two Watch Tables. There are 10-10 questions for each Watch Table. In this stipulated time, quickly darken the alternative circles given in the answer sheet.

निर्देश : (प्रश्न 1-20) नीचे दिए गए घड़ी एवं उनके अक्षर को ध्यानपूर्वक अध्ययन करके उस पर आधारित प्रश्नों का उत्तर निर्देशानुसार दें। प्रत्येक प्रश्न के लिए उत्तर-पत्रक में पाँच विकल्प क्रमशः A=1, B=2, C=3, D=4 एवं E=5 दिए गए हैं। सभी 20 प्रश्नों को हल करने के लिए 10 मिनट का समय निर्धारित है, इसमें दो Watch Table हैं। प्रत्येक Watch Table के लिए 10-10 प्रश्न हैं। इसी निर्धारित समय में ही त्वरित गति से उत्तर-पत्रक (Answer Sheet) में दिए गए वैकल्पिक गोले को काला करें।



- (a) A
(b) B
(c) C
(d) D
(e) E

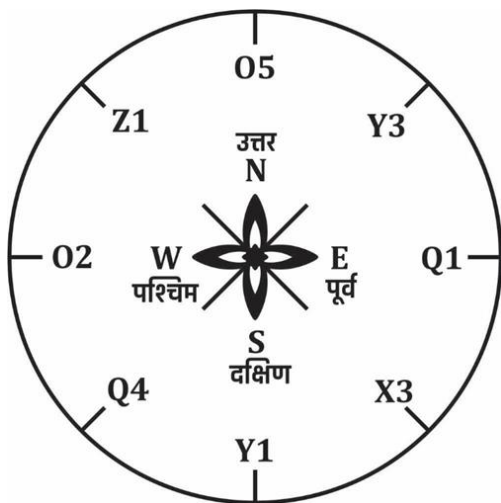
Ans.(d)

Q59. What will be the value of the letter of north direction when divided into two parts by a line from 05 to Y1?

05 से Y1 तक रेखा से दो भागों में बाँटने पर उत्तर दिशा के अक्षर का मान क्या होगा?

Instructions: (Questions 1-20) Study the clock and its letter given below carefully and answer the questions based on it as per instructions. For each question, five options are given in the answer sheet, namely A=1, B=2, C=3, D=4 and E=5 respectively. 10 minutes are given to solve all the 20 questions, in which there are two Watch Tables. There are 10-10 questions for each Watch Table. In this stipulated time, quickly darken the alternative circles given in the answer sheet.

निर्देश : (प्रश्न 1-20) नीचे दिए गए घड़ी एवं उनके अक्षर को ध्यानपूर्वक अध्ययन करके उस पर आधारित प्रश्नों का उत्तर निर्देशानुसार दें। प्रत्येक प्रश्न के लिए उत्तर-पत्रक में पाँच विकल्प क्रमशः A=1, B=2, C=3, D=4 एवं E=5 दिए गए हैं। सभी 20 प्रश्नों को हल करने के लिए 10 मिनट का समय निर्धारित है, इसमें दो Watch Table हैं। प्रत्येक Watch Table के लिए 10-10 प्रश्न हैं। इसी निर्धारित समय में ही त्वरित गति से उत्तर-पत्रक (Answer Sheet) में दिए गए वैकल्पिक गोले को काला करें।



- (a) A
(b) B
(c) C
(d) D
(e) E

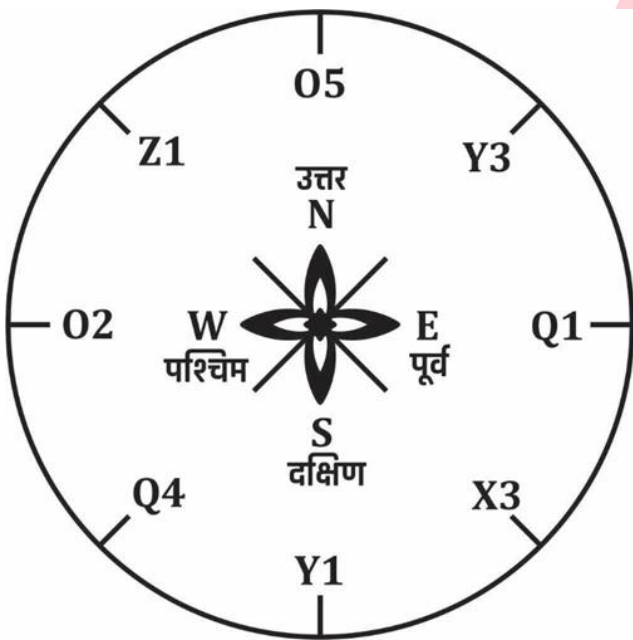
Ans.(e)

Q60. What will be the value of the letter at the top of the triangle if a triangle is formed by joining O5, O2 and Q1?

O5, O2 तथा Q1 को मिलाते हुए त्रिभुज बनाने पर त्रिभुज के शीर्ष के अक्षर का मान क्या होगा?

Instructions: (Questions 1-20) Study the clock and its letter given below carefully and answer the questions based on it as per instructions. For each question, five options are given in the answer sheet, namely A=1, B=2, C=3, D=4 and E=5 respectively. 10 minutes are given to solve all the 20 questions, in which there are two Watch Tables. There are 10-10 questions for each Watch Table. In this stipulated time, quickly darken the alternative circles given in the answer sheet.

निर्देश : (प्रश्न 1-20) नीचे दिए गए घड़ी एवं उनके अक्षर को ध्यानपूर्वक अध्ययन करके उस पर आधारित प्रश्नों का उत्तर निर्देशानुसार दें। प्रत्येक प्रश्न के लिए उत्तर-पत्रक में पाँच विकल्प क्रमशः A=1, B=2, C=3, D=4 एवं E=5 दिए गए हैं। सभी 20 प्रश्नों को हल करने के लिए 10 मिनट का समय निर्धारित है, इसमें दो Watch Table हैं। प्रत्येक Watch Table के लिए 10-10 प्रश्न हैं। इसी निर्धारित समय में ही त्वरित गति से उत्तर-पत्रक (Answer Sheet) में दिए गए वैकल्पिक गोले को काला करें।

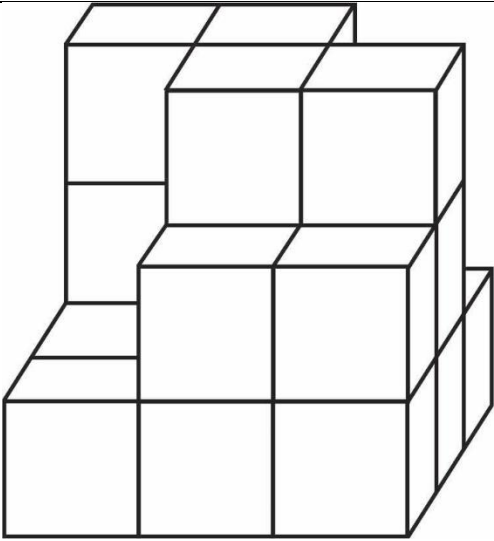


- (a) A
(b) B
(c) C
(d) D
(e) E

Ans.(e)

Q61. Number of hidden cubes = ?

छुपे घन की संख्या = ?



Instructions:(Questions 1-50) In this test, several cubes are put together to form a cube/cuboid. You have to count the number of cubes whose all surfaces and edges are completely hidden.

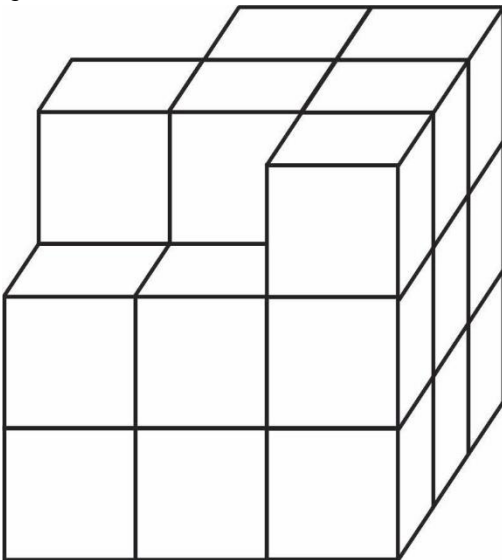
निर्देश :(प्रश्न 1-50) इस परीक्षण में कई घनों को मिलाकर एक घन/घनाभ का निर्माण किया रहता है। आपको वैसे घन की गिनती (Counting) करना है जिनकी सभी सतहें और किनारे पूर्ण रूप से छिपे हुए हैं।

- (a) 1
- (b) 2
- (c) 3
- (d) 4
- (e) 5
- F. 6
- G. 7
- H. 8
- I. 9
- J. 10

Ans.(e)

Q62. Number of hidden cubes = ?

छुपे घन की संख्या = ?



Instructions:(Questions 1-50) In this test, several cubes are put together to form a cube/cuboid. You have to count the number of cubes whose all surfaces and edges are completely hidden.

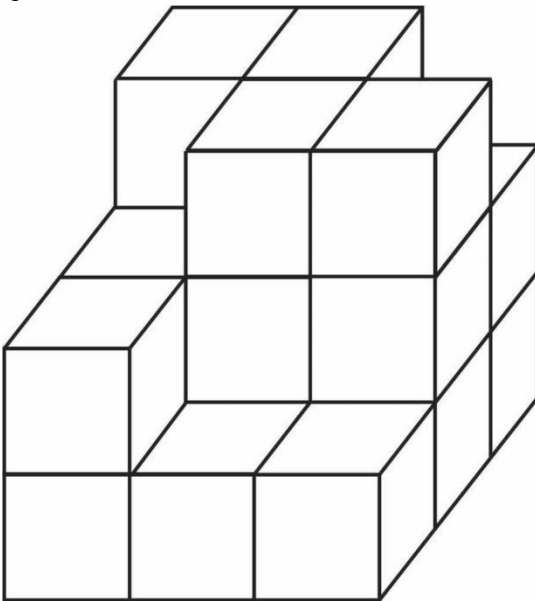
निर्देश :(प्रश्न 1-50) इस परीक्षण में कई घनों को मिलाकर एक घन/घनाभ का निर्माण किया रहता है। आपको वैसे घन की गिनती (Counting) करना है जिनकी सभी सतहें और किनारे पूर्ण रूप से छिपे हुए हैं।

- (a) 1
- (b) 2
- (c) 3
- (d) 4
- (e) 5
- F. 6
- G. 7
- H. 8
- I. 9
- J. 10

Ans.(H)

Q63. Number of hidden cubes = ?

छुपे घन की संख्या = ?



Instructions:(Questions 1-50) In this test, several cubes are put together to form a cube/cuboid. You have to count the number of cubes whose all surfaces and edges are completely hidden.

निर्देश :(प्रश्न 1-50) इस परीक्षण में कई घनों को मिलाकर एक घन/घनाभ का निर्माण किया रहता है। आपको वैसे घन की गिनती (Counting) करना है जिनकी सभी सतहें और किनारे पूर्ण रूप से छिपे हुए हैं।

- (a) 1
- (b) 2
- (c) 3
- (d) 4
- (e) 5
- F. 6
- G. 7
- H. 8

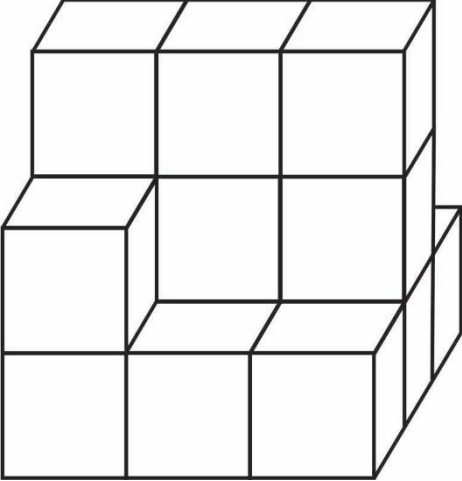
I. 9

J. 10

Ans.(f)

Q64. Number of hidden cubes = ?

छुपे घन की संख्या = ?



Instructions:(Questions 1-50) In this test, several cubes are put together to form a cube/cuboid. You have to count the number of cubes whose all surfaces and edges are completely hidden.

निर्देश :(प्रश्न 1-50) इस परीक्षण में कई घनों को मिलाकर एक घन/घनाभ का निर्माण किया रहता है। आपको वैसे घन की गिनती (Counting) करना है जिनकी सभी सतहें और किनारे पूर्ण रूप से छिपे हुए हैं।

(a) 1

(b) 2

(c) 3

(d) 4

(e) 5

F. 6

G. 7

H. 8

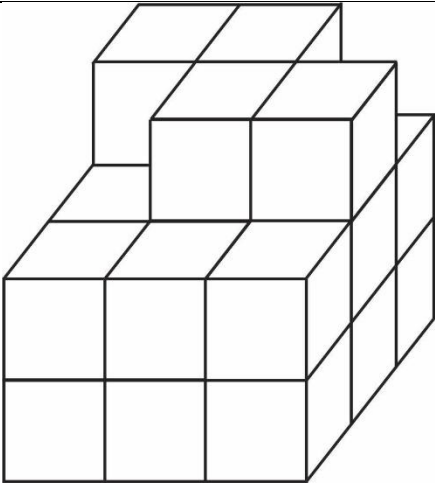
I. 9

J. 10

Ans.(e)

Q65. Number of hidden cubes = ?

छुपे घन की संख्या = ?



Instructions:(Questions 1-50) In this test, several cubes are put together to form a cube/cuboid. You have to count the number of cubes whose all surfaces and edges are completely hidden.

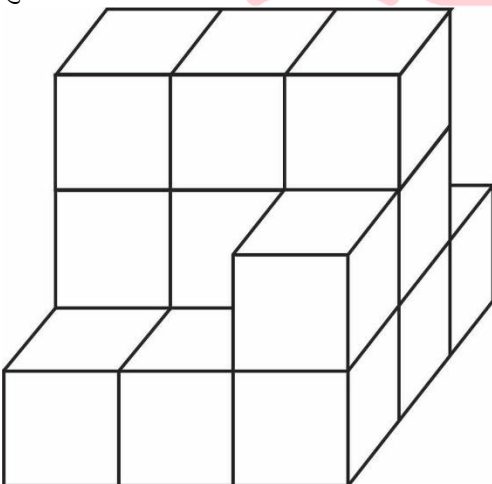
निर्देश : (प्रश्न 1-50) इस परीक्षण में कई घनों को मिलाकर एक घन/घनाभ का निर्माण किया रहता है। आपको वैसे घन की गिनती (Counting) करना है जिनकी सभी सतहें और किनारे पूर्ण रूप से छिपे हुए हैं।

- (a) 1
- (b) 2
- (c) 3
- (d) 4
- (e) 5
- F. 6
- G. 7
- H. 8
- I. 9
- J. 10

Ans.(g)

Q66. Number of hidden cubes = ?

छुपे घन की संख्या = ?



Instructions:(Questions 1-50) In this test, several cubes are put together to form a cube/cuboid. You have to count the number of cubes whose all surfaces and edges are completely hidden.

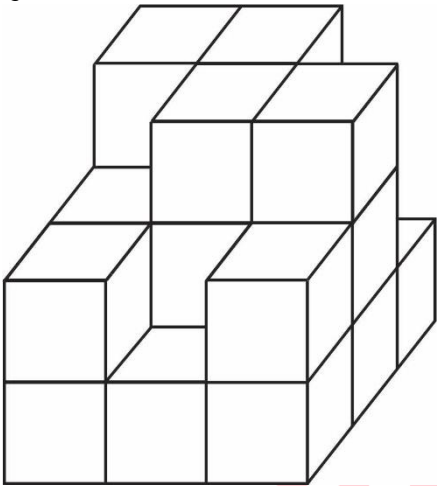
निर्देश : (प्रश्न 1-50) इस परीक्षण में कई घनों को मिलाकर एक घन/घनाभ का निर्माण किया रहता है। आपको वैसे घन की गिनती (Counting) करना है जिनकी सभी सतहें और किनारे पूर्ण रूप से छिपे हुए हैं।

- (a) 1
- (b) 2
- (c) 3
- (d) 4
- (e) 5
- F. 6
- G. 7
- H. 8
- I. 9
- J. 10

Ans.(d)

Q67. Number of hidden cubes = ?

छुपे घन की संख्या = ?



Instructions: (Questions 1-50) In this test, several cubes are put together to form a cube/cuboid. You have to count the number of cubes whose all surfaces and edges are completely hidden.

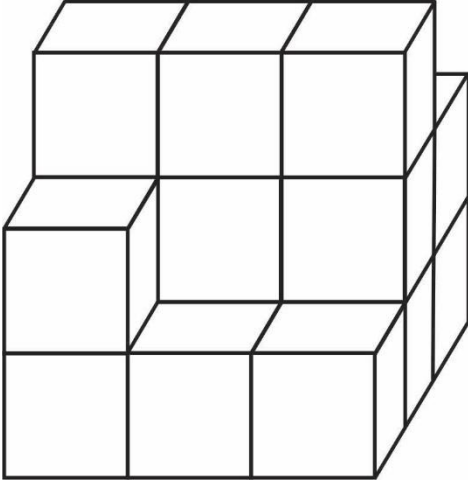
निर्देश : (प्रश्न 1-50) इस परीक्षण में कई घनों को मिलाकर एक घन/घनाभ का निर्माण किया रहता है। आपको वैसे घन की गिनती (Counting) करना है जिनकी सभी सतहें और किनारे पूर्ण रूप से छिपे हुए हैं।

- (a) 1
- (b) 2
- (c) 3
- (d) 4
- (e) 5
- F. 6
- G. 7
- H. 8
- I. 9
- J. 10

Ans.(f)

Q68. Number of hidden cubes = ?

छुपे घन की संख्या = ?



Instructions:(Questions 1-50) In this test, several cubes are put together to form a cube/cuboid. You have to count the number of cubes whose all surfaces and edges are completely hidden.

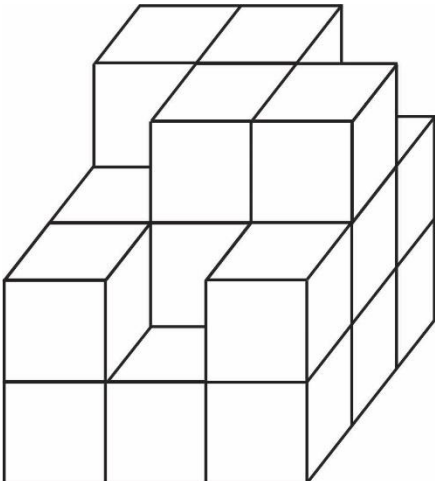
निर्देश : (प्रश्न 1-50) इस परीक्षण में कई घनों को मिलाकर एक घन/घनाभ का निर्माण किया रहता है। आपको वैसे घन की गिनती (Counting) करना है जिनकी सभी सतहें और किनारे पूर्ण रूप से छिपे हुए हैं।

- (a) 1
- (b) 2
- (c) 3
- (d) 4
- (e) 5
- F. 6
- G. 7
- H. 8
- I. 9
- J. 10

Ans.(g)

Q69. Number of hidden cubes = ?

छुपे घन की संख्या = ?



Instructions:(Questions 1-50) In this test, several cubes are put together to form a cube/cuboid. You have to count the number of cubes whose all surfaces and edges are completely hidden.

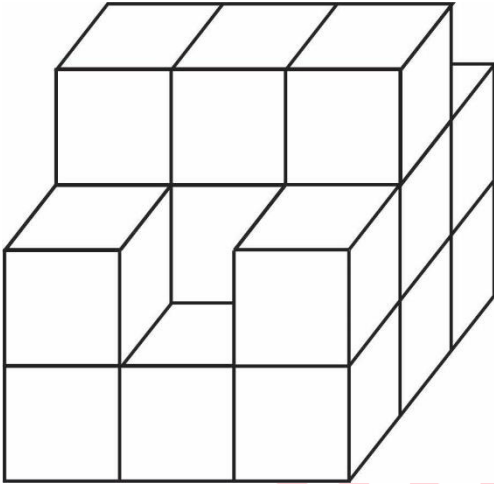
निर्देश : (प्रश्न 1-50) इस परीक्षण में कई घनों को मिलाकर एक घन/घनाभ का निर्माण किया रहता है। आपको वैसे घन की गिनती (Counting) करना है जिनकी सभी सतहें और किनारे पूर्ण रूप से छिपे हुए हैं।

- (a) 1
- (b) 2
- (c) 3
- (d) 4
- (e) 5
- F. 6
- G. 7
- H. 8
- I. 9
- J. 10

Ans.(f)

Q70. Number of hidden cubes = ?

छुपे घन की संख्या = ?



Instructions: (Questions 1-50) In this test, several cubes are put together to form a cube/cuboid. You have to count the number of cubes whose all surfaces and edges are completely hidden.

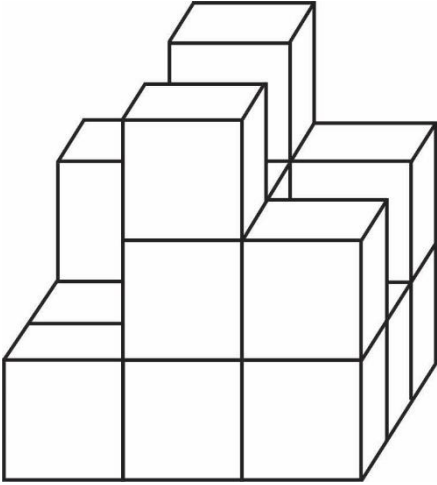
निर्देश : (प्रश्न 1-50) इस परीक्षण में कई घनों को मिलाकर एक घन/घनाभ का निर्माण किया रहता है। आपको वैसे घन की गिनती (Counting) करना है जिनकी सभी सतहें और किनारे पूर्ण रूप से छिपे हुए हैं।

- (a) 1
- (b) 2
- (c) 3
- (d) 4
- (e) 5
- F. 6
- G. 7
- H. 8
- I. 9
- J. 10

Ans.(g)

Q71. Number of hidden cubes = ?

छुपे घन की संख्या = ?



Instructions:(Questions 1-50) In this test, several cubes are put together to form a cube/cuboid. You have to count the number of cubes whose all surfaces and edges are completely hidden.

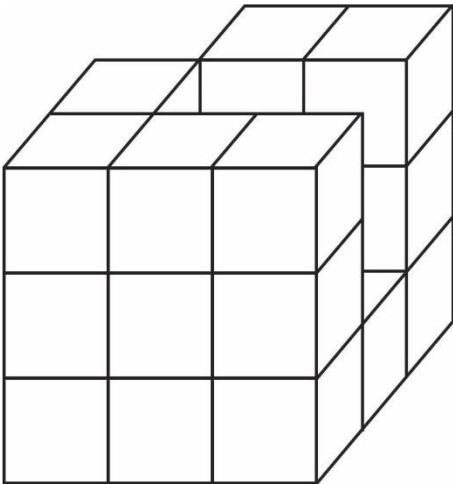
निर्देश :(प्रश्न 1-50) इस परीक्षण में कई घनों को मिलाकर एक घन/घनाभ का निर्माण किया रहता है। आपको वैसे घन की गिनती (Counting) करना है जिनकी सभी सतहें और किनारे पूर्ण रूप से छिपे हुए हैं।

- (a) 1
- (b) 2
- (c) 3
- (d) 4
- (e) 5
- F. 6
- G. 7
- H. 8
- I. 9
- J. 10

Ans.(d)

Q72. Number of hidden cubes = ?

छुपे घन की संख्या = ?



Instructions:(Questions 1-50) In this test, several cubes are put together to form a cube/cuboid. You have to count the number of cubes whose all surfaces and edges are completely hidden.

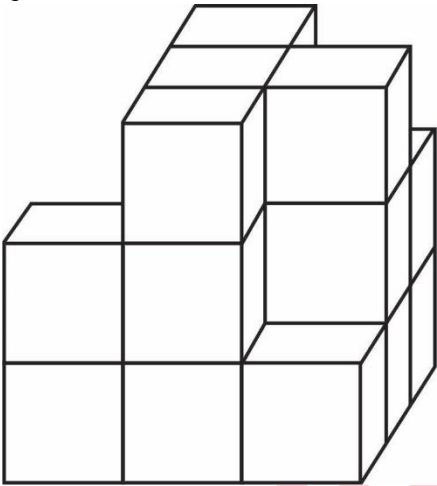
निर्देश : (प्रश्न 1-50) इस परीक्षण में कई घनों को मिलाकर एक घन/घनाभ का निर्माण किया रहता है। आपको वैसे घन की गिनती (Counting) करना है जिनकी सभी सतहें और किनारे पूर्ण रूप से छिपे हुए हैं।

- (a) 1
- (b) 2
- (c) 3
- (d) 4
- (e) 5
- F. 6
- G. 7
- H. 8
- I. 9
- J. 10

Ans.(g)

Q73. Number of hidden cubes = ?

छुपे घन की संख्या = ?



Instructions: (Questions 1-50) In this test, several cubes are put together to form a cube/cuboid. You have to count the number of cubes whose all surfaces and edges are completely hidden.

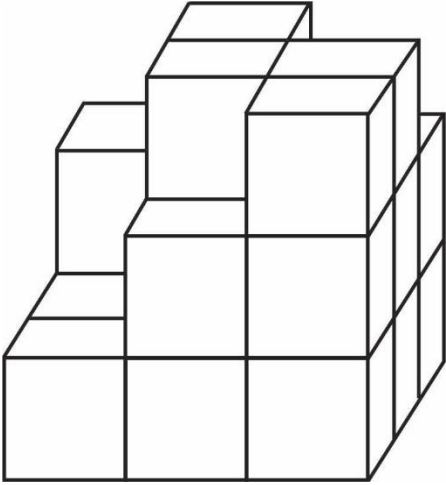
निर्देश : (प्रश्न 1-50) इस परीक्षण में कई घनों को मिलाकर एक घन/घनाभ का निर्माण किया रहता है। आपको वैसे घन की गिनती (Counting) करना है जिनकी सभी सतहें और किनारे पूर्ण रूप से छिपे हुए हैं।

- (a) 1
- (b) 2
- (c) 3
- (d) 4
- (e) 5
- F. 6
- G. 7
- H. 8
- I. 9
- J. 10

Ans.(f)

Q74. Number of hidden cubes = ?

छुपे घन की संख्या = ?



Instructions:(Questions 1-50) In this test, several cubes are put together to form a cube/cuboid. You have to count the number of cubes whose all surfaces and edges are completely hidden.

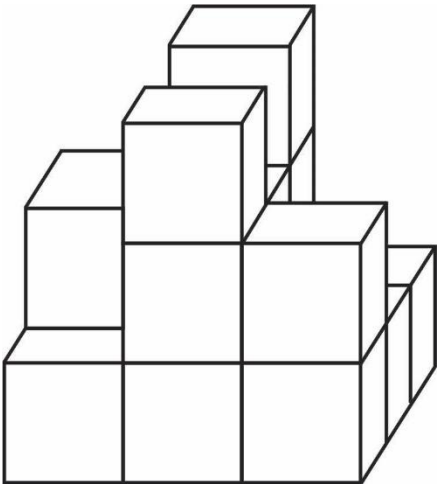
निर्देश :(प्रश्न 1-50) इस परीक्षण में कई घनों को मिलाकर एक घन/घनाभ का निर्माण किया रहता है। आपको वैसे घन की गिनती (Counting) करना है जिनकी सभी सतहें और किनारे पूर्ण रूप से छिपे हुए हैं।

- (a) 1
- (b) 2
- (c) 3
- (d) 4
- (e) 5
- F. 6
- G. 7
- H. 8
- I. 9
- J. 10

Ans.(e)

Q75. Number of hidden cubes = ?

छुपे घन की संख्या = ?



Instructions:(Questions 1-50) In this test, several cubes are put together to form a cube/cuboid. You have to count the number of cubes whose all surfaces and edges are completely hidden.

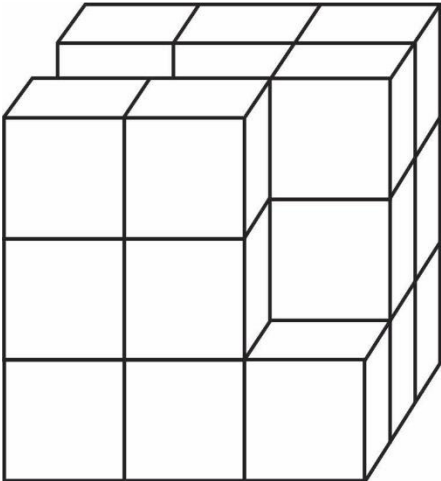
निर्देश : (प्रश्न 1-50) इस परीक्षण में कई घनों को मिलाकर एक घन/घनाभ का निर्माण किया रहता है। आपको वैसे घन की गिनती (Counting) करना है जिनकी सभी सतहें और किनारे पूर्ण रूप से छिपे हुए हैं।

- (a) 1
- (b) 2
- (c) 3
- (d) 4
- (e) 5
- F. 6
- G. 7
- H. 8
- I. 9
- J. 10

Ans.(d)

Q76. Number of hidden cubes = ?

छुपे घन की संख्या = ?



Instructions: (Questions 1-50) In this test, several cubes are put together to form a cube/cuboid. You have to count the number of cubes whose all surfaces and edges are completely hidden.

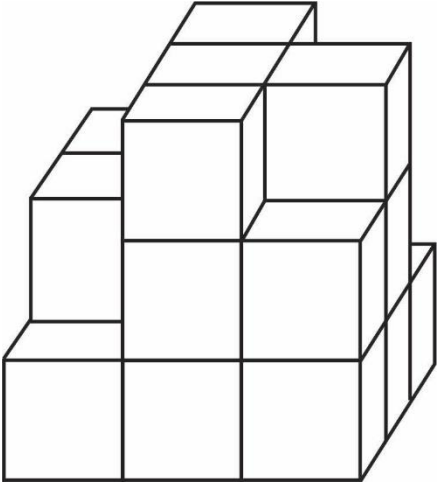
निर्देश : (प्रश्न 1-50) इस परीक्षण में कई घनों को मिलाकर एक घन/घनाभ का निर्माण किया रहता है। आपको वैसे घन की गिनती (Counting) करना है जिनकी सभी सतहें और किनारे पूर्ण रूप से छिपे हुए हैं।

- (a) 1
- (b) 2
- (c) 3
- (d) 4
- (e) 5
- F. 6
- G. 7
- H. 8
- I. 9
- J. 10

Ans.(h)

Q77. Number of hidden cubes = ?

छुपे घन की संख्या = ?



Instructions:(Questions 1-50) In this test, several cubes are put together to form a cube/cuboid. You have to count the number of cubes whose all surfaces and edges are completely hidden.

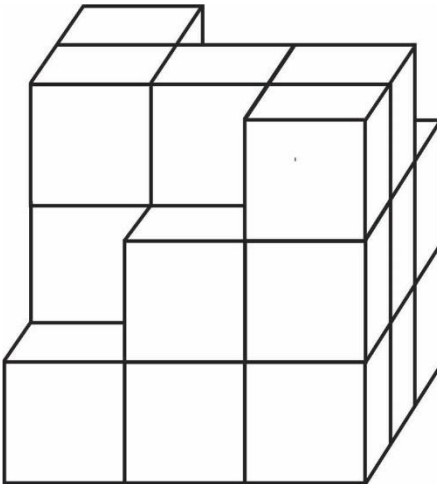
निर्देश :(प्रश्न 1-50) इस परीक्षण में कई घनों को मिलाकर एक घन/घनाभ का निर्माण किया रहता है। आपको वैसे घन की गिनती (Counting) करना है जिनकी सभी सतहें और किनारे पूर्ण रूप से छिपे हुए हैं।

- (a) 1
- (b) 2
- (c) 3
- (d) 4
- (e) 5
- F. 6
- G. 7
- H. 8
- I. 9
- J. 10

Ans.(f)

Q78. Number of hidden cubes = ?

छुपे घन की संख्या = ?



Instructions:(Questions 1-50) In this test, several cubes are put together to form a cube/cuboid. You have to count the number of cubes whose all surfaces and edges are completely hidden.

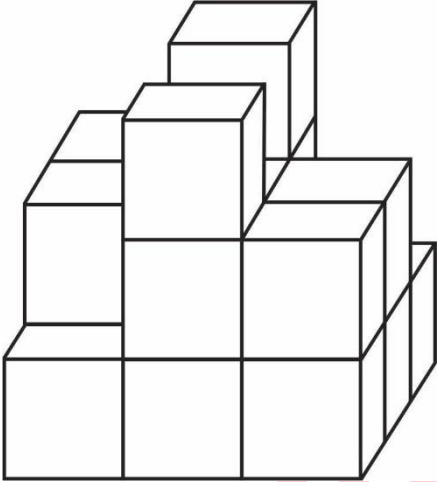
निर्देश : (प्रश्न 1-50) इस परीक्षण में कई घनों को मिलाकर एक घन/घनाभ का निर्माण किया रहता है। आपको वैसे घन की गिनती (Counting) करना है जिनकी सभी सतहें और किनारे पूर्ण रूप से छिपे हुए हैं।

- (a) 1
- (b) 2
- (c) 3
- (d) 4
- (e) 5
- F. 6
- G. 7
- H. 8
- I. 9
- J. 10

Ans.(g)

Q79. Number of hidden cubes = ?

छुपे घन की संख्या = ?



Instructions: (Questions 1-50) In this test, several cubes are put together to form a cube/cuboid. You have to count the number of cubes whose all surfaces and edges are completely hidden.

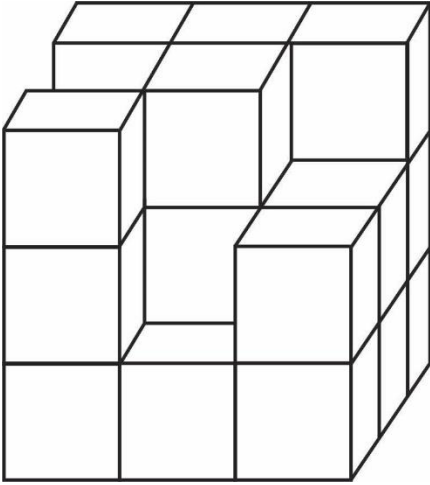
निर्देश : (प्रश्न 1-50) इस परीक्षण में कई घनों को मिलाकर एक घन/घनाभ का निर्माण किया रहता है। आपको वैसे घन की गिनती (Counting) करना है जिनकी सभी सतहें और किनारे पूर्ण रूप से छिपे हुए हैं।

- (a) 1
- (b) 2
- (c) 3
- (d) 4
- (e) 5
- F. 6
- G. 7
- H. 8
- I. 9
- J. 10

Ans.(d)

Q80. Number of hidden cubes = ?

छुपे घन की संख्या = ?



Instructions:(Questions 1-50) In this test, several cubes are put together to form a cube/cuboid. You have to count the number of cubes whose all surfaces and edges are completely hidden.

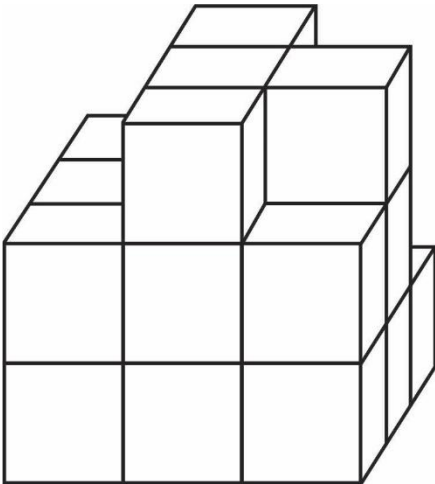
निर्देश :(प्रश्न 1-50) इस परीक्षण में कई घनों को मिलाकर एक घन/घनाभ का निर्माण किया रहता है। आपको वैसे घन की गिनती (Counting) करना है जिनकी सभी सतहें और किनारे पूर्ण रूप से छिपे हुए हैं।

- (a) 1
- (b) 2
- (c) 3
- (d) 4
- (e) 5
- F. 6
- G. 7
- H. 8
- I. 9
- J. 10

Ans.(g)

Q81. Number of hidden cubes = ?

छुपे घन की संख्या = ?



Instructions:(Questions 1-50) In this test, several cubes are put together to form a cube/cuboid. You have to count the number of cubes whose all surfaces and edges are completely hidden.

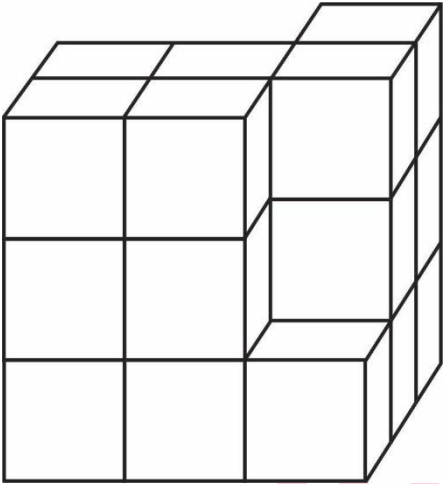
निर्देश : (प्रश्न 1-50) इस परीक्षण में कई घनों को मिलाकर एक घन/घनाभ का निर्माण किया रहता है। आपको वैसे घन की गिनती (Counting) करना है जिनकी सभी सतहें और किनारे पूर्ण रूप से छिपे हुए हैं।

- (a) 1
- (b) 2
- (c) 3
- (d) 4
- (e) 5
- F. 6
- G. 7
- H. 8
- I. 9
- J. 10

Ans.(f)

Q82. Number of hidden cubes = ?

छुपे घन की संख्या = ?



Instructions: (Questions 1-50) In this test, several cubes are put together to form a cube/cuboid. You have to count the number of cubes whose all surfaces and edges are completely hidden.

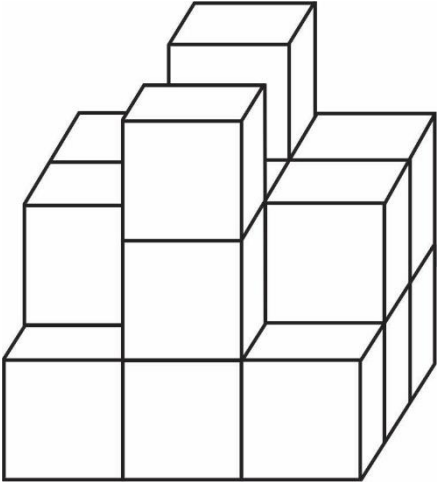
निर्देश : (प्रश्न 1-50) इस परीक्षण में कई घनों को मिलाकर एक घन/घनाभ का निर्माण किया रहता है। आपको वैसे घन की गिनती (Counting) करना है जिनकी सभी सतहें और किनारे पूर्ण रूप से छिपे हुए हैं।

- (a) 1
- (b) 2
- (c) 3
- (d) 4
- (e) 5
- F. 6
- G. 7
- H. 8
- I. 9
- J. 10

Ans.(h)

Q83. Number of hidden cubes = ?

छुपे घन की संख्या = ?



Instructions:(Questions 1-50) In this test, several cubes are put together to form a cube/cuboid. You have to count the number of cubes whose all surfaces and edges are completely hidden.

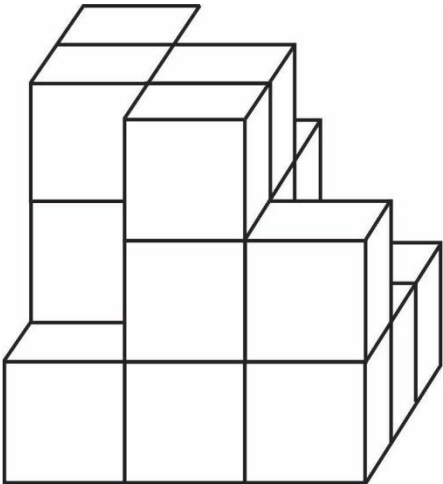
निर्देश :(प्रश्न 1-50) इस परीक्षण में कई घनों को मिलाकर एक घन/घनाभ का निर्माण किया रहता है। आपको वैसे घन की गिनती (Counting) करना है जिनकी सभी सतहें और किनारे पूर्ण रूप से छिपे हुए हैं।

- (a) 1
- (b) 2
- (c) 3
- (d) 4
- (e) 5
- F. 6
- G. 7
- H. 8
- I. 9
- J. 10

Ans.(e)

Q84. Number of hidden cubes = ?

छुपे घन की संख्या = ?



Instructions:(Questions 1-50) In this test, several cubes are put together to form a cube/cuboid. You have to count the number of cubes whose all surfaces and edges are completely hidden.

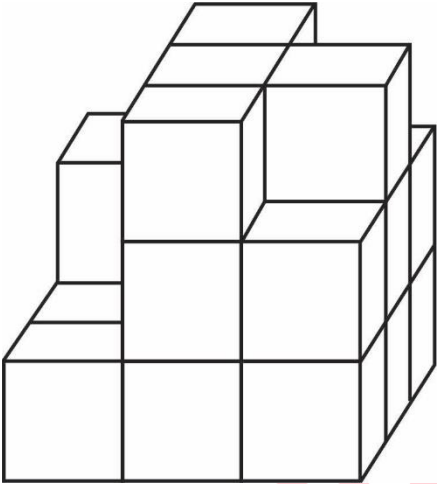
निर्देश : (प्रश्न 1-50) इस परीक्षण में कई घनों को मिलाकर एक घन/घनाभ का निर्माण किया रहता है। आपको वैसे घन की गिनती (Counting) करना है जिनकी सभी सतहें और किनारे पूर्ण रूप से छिपे हुए हैं।

- (a) 1
- (b) 2
- (c) 3
- (d) 4
- (e) 5
- F. 6
- G. 7
- H. 8
- I. 9
- J. 10

Ans.(e)

Q85. Number of hidden cubes = ?

छुपे घन की संख्या = ?



Instructions: (Questions 1-50) In this test, several cubes are put together to form a cube/cuboid. You have to count the number of cubes whose all surfaces and edges are completely hidden.

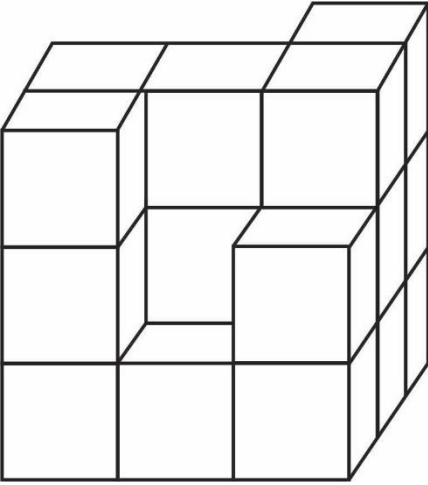
निर्देश : (प्रश्न 1-50) इस परीक्षण में कई घनों को मिलाकर एक घन/घनाभ का निर्माण किया रहता है। आपको वैसे घन की गिनती (Counting) करना है जिनकी सभी सतहें और किनारे पूर्ण रूप से छिपे हुए हैं।

- (a) 1
- (b) 2
- (c) 3
- (d) 4
- (e) 5
- F. 6
- G. 7
- H. 8
- I. 9
- J. 10

Ans.(e)

Q86. Number of hidden cubes = ?

छुपे घन की संख्या = ?



Instructions:(Questions 1-50) In this test, several cubes are put together to form a cube/cuboid. You have to count the number of cubes whose all surfaces and edges are completely hidden.

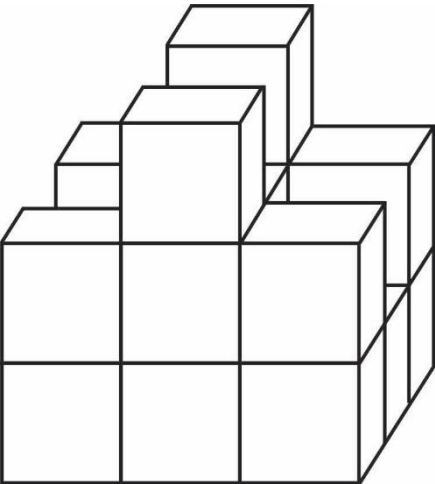
निर्देश :(प्रश्न 1-50) इस परीक्षण में कई घनों को मिलाकर एक घन/घनाभ का निर्माण किया रहता है। आपको वैसे घन की गिनती (Counting) करना है जिनकी सभी सतहें और किनारे पूर्ण रूप से छिपे हुए हैं।

- (a) 1
- (b) 2
- (c) 3
- (d) 4
- (e) 5
- F. 6
- G. 7
- H. 8
- I. 9
- J. 10

Ans.(g)

Q87. Number of hidden cubes = ?

छुपे घन की संख्या = ?



Instructions:(Questions 1-50) In this test, several cubes are put together to form a cube/cuboid. You have to count the number of cubes whose all surfaces and edges are completely hidden.

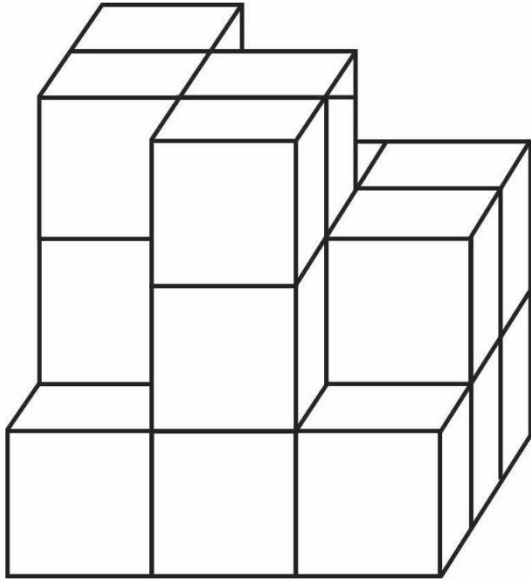
निर्देश : (प्रश्न 1-50) इस परीक्षण में कई घनों को मिलाकर एक घन/घनाभ का निर्माण किया रहता है। आपको वैसे घन की गिनती (Counting) करना है जिनकी सभी सतहें और किनारे पूर्ण रूप से छिपे हुए हैं।

- (a) 1
- (b) 2
- (c) 3
- (d) 4
- (e) 5
- F. 6
- G. 7
- H. 8
- I. 9
- J. 10

Ans.(e)

Q88. Number of hidden cubes = ?

छुपे घन की संख्या = ?



Instructions: (Questions 1-50) In this test, several cubes are put together to form a cube/cuboid. You have to count the number of cubes whose all surfaces and edges are completely hidden.

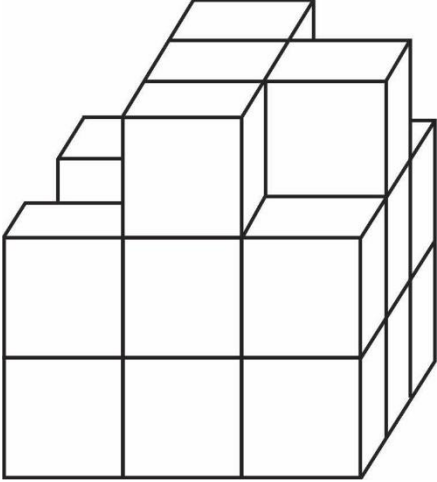
निर्देश : (प्रश्न 1-50) इस परीक्षण में कई घनों को मिलाकर एक घन/घनाभ का निर्माण किया रहता है। आपको वैसे घन की गिनती (Counting) करना है जिनकी सभी सतहें और किनारे पूर्ण रूप से छिपे हुए हैं।

- (a) 1
- (b) 2
- (c) 3
- (d) 4
- (e) 5
- F. 6
- G. 7
- H. 8
- I. 9
- J. 10

Ans.(f)

Q89. Number of hidden cubes = ?

छुपे घन की संख्या = ?



Instructions:(Questions 1-50) In this test, several cubes are put together to form a cube/cuboid. You have to count the number of cubes whose all surfaces and edges are completely hidden.

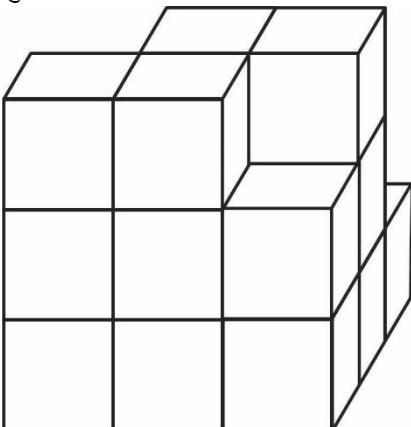
निर्देश :(प्रश्न 1-50) इस परीक्षण में कई घनों को मिलाकर एक घन/घनाभ का निर्माण किया रहता है। आपको वैसे घन की गिनती (Counting) करना है जिनकी सभी सतहें और किनारे पूर्ण रूप से छिपे हुए हैं।

- (a) 1
- (b) 2
- (c) 3
- (d) 4
- (e) 5
- F. 6
- G. 7
- H. 8
- I. 9
- J. 10

Ans.(f)

Q90. Number of hidden cubes = ?

छुपे घन की संख्या = ?



Instructions:(Questions 1-50) In this test, several cubes are put together to form a cube/cuboid. You have to count the number of cubes whose all surfaces and edges are completely hidden.

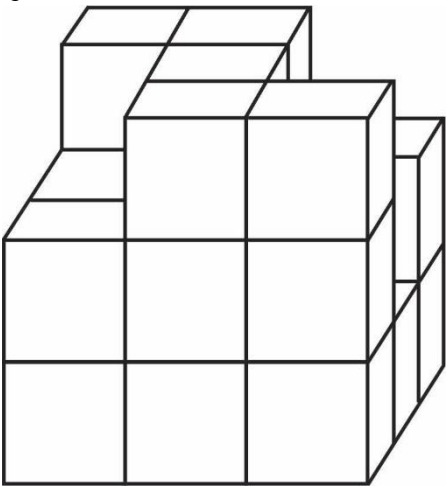
निर्देश :(प्रश्न 1-50) इस परीक्षण में कई घनों को मिलाकर एक घन/घनाभ का निर्माण किया रहता है। आपको वैसे घन की गिनती (Counting) करना है जिनकी सभी सतहें और किनारे पूर्ण रूप से छिपे हुए हैं।

- (a) 1
- (b) 2
- (c) 3
- (d) 4
- (e) 5
- F. 6
- G. 7
- H. 8
- I. 9
- J. 10

Ans.(f)

Q91. Number of hidden cubes = ?

छुपे घन की संख्या = ?



Instructions:(Questions 1-50) In this test, several cubes are put together to form a cube/cuboid. You have to count the number of cubes whose all surfaces and edges are completely hidden.

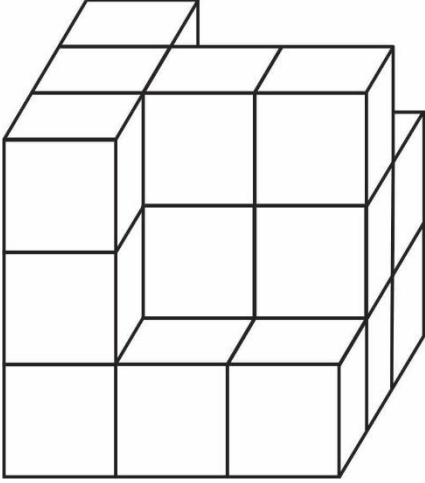
निर्देश :(प्रश्न 1-50) इस परीक्षण में कई घनों को मिलाकर एक घन/घनाभ का निर्माण किया रहता है। आपको वैसे घन की गिनती (Counting) करना है जिनकी सभी सतहें और किनारे पूर्ण रूप से छिपे हुए हैं।

- (a) 1
- (b) 2
- (c) 3
- (d) 4
- (e) 5
- F. 6
- G. 7
- H. 8
- I. 9
- J. 10

Ans.(g)

Q92. Number of hidden cubes = ?

छुपे घन की संख्या = ?



Instructions:(Questions 1-50) In this test, several cubes are put together to form a cube/cuboid. You have to count the number of cubes whose all surfaces and edges are completely hidden.

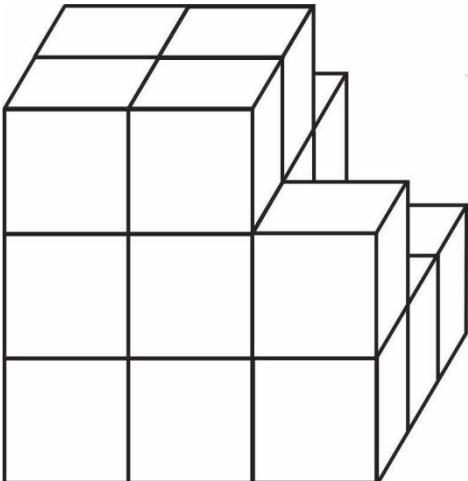
निर्देश :(प्रश्न 1-50) इस परीक्षण में कई घनों को मिलाकर एक घन/घनाभ का निर्माण किया रहता है। आपको वैसे घन की गिनती (Counting) करना है जिनकी सभी सतहें और किनारे पूर्ण रूप से छिपे हुए हैं।

- (a) 1
- (b) 2
- (c) 3
- (d) 4
- (e) 5
- F. 6
- G. 7
- H. 8
- I. 9
- J. 10

Ans.(g)

Q93. Number of hidden cubes = ?

छुपे घन की संख्या = ?



Instructions:(Questions 1-50) In this test, several cubes are put together to form a cube/cuboid. You have to count the number of cubes whose all surfaces and edges are completely hidden.

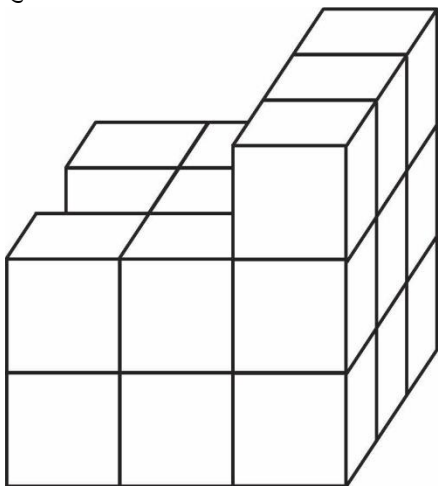
निर्देश :(प्रश्न 1-50) इस परीक्षण में कई घनों को मिलाकर एक घन/घनाभ का निर्माण किया रहता है। आपको वैसे घन की गिनती (Counting) करना है जिनकी सभी सतहें और किनारे पूर्ण रूप से छिपे हुए हैं।

- (a) 1
- (b) 2
- (c) 3
- (d) 4
- (e) 5
- F. 6
- G. 7
- H. 8
- I. 9
- J. 10

Ans.(f)

Q94. Number of hidden cubes = ?

छुपे घन की संख्या = ?



Instructions:(Questions 1-50) In this test, several cubes are put together to form a cube/cuboid. You have to count the number of cubes whose all surfaces and edges are completely hidden.

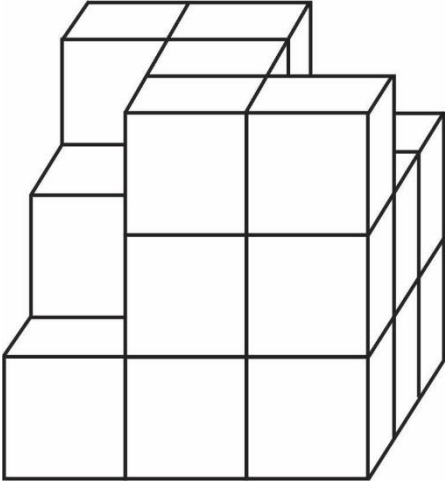
निर्देश :(प्रश्न 1-50) इस परीक्षण में कई घनों को मिलाकर एक घन/घनाभ का निर्माण किया रहता है। आपको वैसे घन की गिनती (Counting) करना है जिनकी सभी सतहें और किनारे पूर्ण रूप से छिपे हुए हैं।

- (a) 1
- (b) 2
- (c) 3
- (d) 4
- (e) 5
- F. 6
- G. 7
- H. 8
- I. 9
- J. 10

Ans.(d)

Q95. Number of hidden cubes = ?

छुपे घन की संख्या = ?



Instructions:(Questions 1-50) In this test, several cubes are put together to form a cube/cuboid. You have to count the number of cubes whose all surfaces and edges are completely hidden.

निर्देश :(प्रश्न 1-50) इस परीक्षण में कई घनों को मिलाकर एक घन/घनाभ का निर्माण किया रहता है। आपको वैसे घन की गिनती (Counting) करना है जिनकी सभी सतहें और किनारे पूर्ण रूप से छिपे हुए हैं।

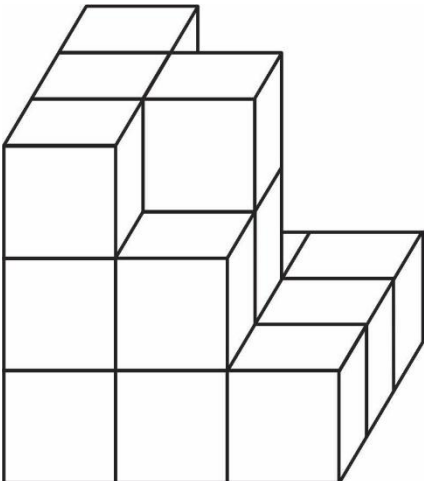
- (a) 1
- (b) 2
- (c) 3
- (d) 4
- (e) 5
- F. 6
- G. 7
- H. 8
- I. 9
- J. 10

Ans.(g)



Q96. Number of hidden cubes = ?

छुपे घन की संख्या = ?



Instructions:(Questions 1-50) In this test, several cubes are put together to form a cube/cuboid. You have to count the number of cubes whose all surfaces and edges are completely hidden.

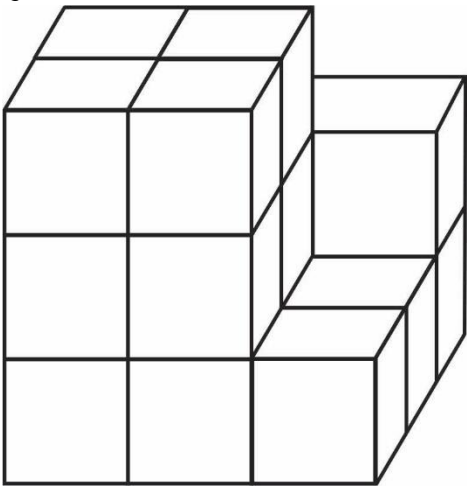
निर्देश :(प्रश्न 1-50) इस परीक्षण में कई घनों को मिलाकर एक घन/घनाभ का निर्माण किया रहता है। आपको वैसे घन की गिनती (Counting) करना है जिनकी सभी सतहें और किनारे पूर्ण रूप से छिपे हुए हैं।

- (a) 1
- (b) 2
- (c) 3
- (d) 4
- (e) 5
- F. 6
- G. 7
- H. 8
- I. 9
- J. 10

Ans.(e)

Q97. Number of hidden cubes = ?

छुपे घन की संख्या = ?



Instructions:(Questions 1-50) In this test, several cubes are put together to form a cube/cuboid. You have to count the number of cubes whose all surfaces and edges are completely hidden.

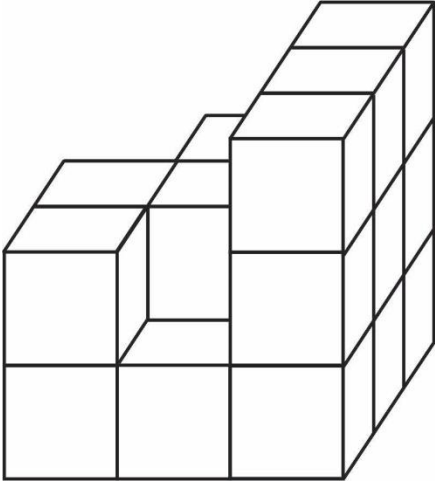
निर्देश :(प्रश्न 1-50) इस परीक्षण में कई घनों को मिलाकर एक घन/घनाभ का निर्माण किया रहता है। आपको वैसे घन की गिनती (Counting) करना है जिनकी सभी सतहें और किनारे पूर्ण रूप से छिपे हुए हैं।

- (a) 1
- (b) 2
- (c) 3
- (d) 4
- (e) 5
- F. 6
- G. 7
- H. 8
- I. 9
- J. 10

Ans.(f)

Q98. Number of hidden cubes = ?

छुपे घन की संख्या = ?



Instructions:(Questions 1-50) In this test, several cubes are put together to form a cube/cuboid. You have to count the number of cubes whose all surfaces and edges are completely hidden.

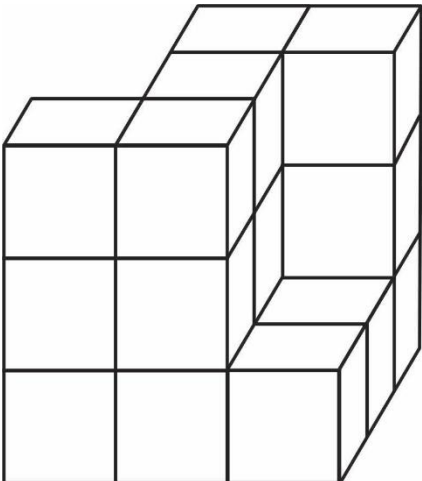
निर्देश : (प्रश्न 1-50) इस परीक्षण में कई घनों को मिलाकर एक घन/घनाभ का निर्माण किया रहता है। आपको वैसे घन की गिनती (Counting) करना है जिनकी सभी सतहें और किनारे पूर्ण रूप से छिपे हुए हैं।

- (a) 1
- (b) 2
- (c) 3
- (d) 4
- (e) 5
- F. 6
- G. 7
- H. 8
- I. 9
- J. 10

Ans.(d)

Q99. Number of hidden cubes = ?

छुपे घन की संख्या = ?



Instructions:(Questions 1-50) In this test, several cubes are put together to form a cube/cuboid. You have to count the number of cubes whose all surfaces and edges are completely hidden.

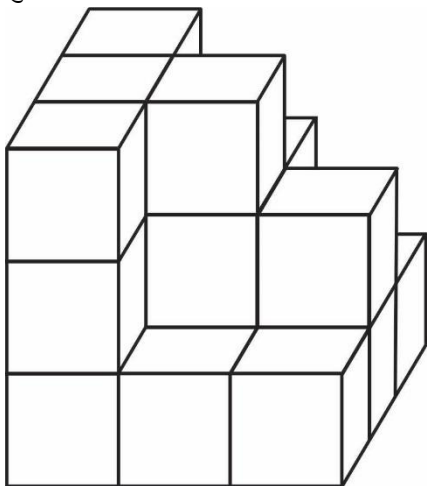
निर्देश : (प्रश्न 1-50) इस परीक्षण में कई घनों को मिलाकर एक घन/घनाभ का निर्माण किया रहता है। आपको वैसे घन की गिनती (Counting) करना है जिनकी सभी सतहें और किनारे पूर्ण रूप से छिपे हुए हैं।

- (a) 1
- (b) 2
- (c) 3
- (d) 4
- (e) 5
- F. 6
- G. 7
- H. 8
- I. 9
- J. 10

Ans.(g)

Q100. Number of hidden cubes = ?

छुपे घन की संख्या = ?



Instructions:(Questions 1-50) In this test, several cubes are put together to form a cube/cuboid. You have to count the number of cubes whose all surfaces and edges are completely hidden.

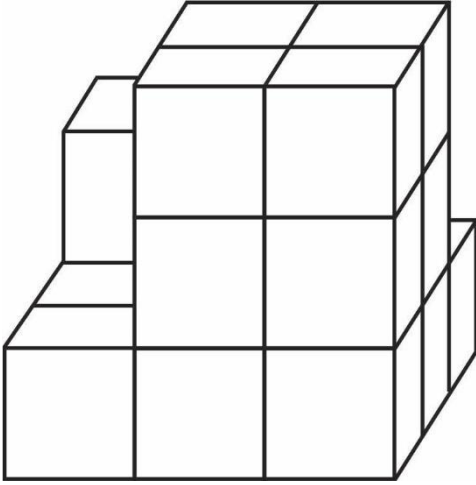
निर्देश : (प्रश्न 1-50) इस परीक्षण में कई घनों को मिलाकर एक घन/घनाभ का निर्माण किया रहता है। आपको वैसे घन की गिनती (Counting) करना है जिनकी सभी सतहें और किनारे पूर्ण रूप से छिपे हुए हैं।

- (a) 1
- (b) 2
- (c) 3
- (d) 4
- (e) 5
- F. 6
- G. 7
- H. 8
- I. 9
- J. 10

Ans.(f)

Q101. Number of hidden cubes = ?

छुपे घन की संख्या = ?



Instructions:(Questions 1-50) In this test, several cubes are put together to form a cube/cuboid. You have to count the number of cubes whose all surfaces and edges are completely hidden.

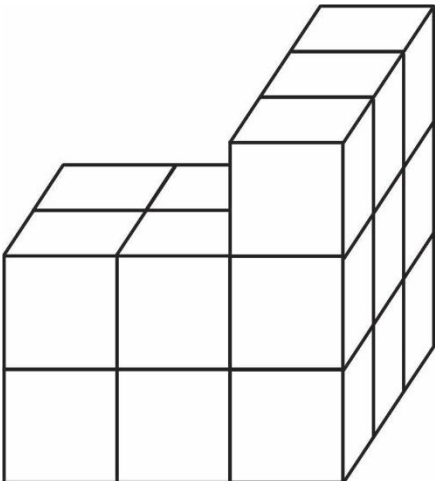
निर्देश :(प्रश्न 1-50) इस परीक्षण में कई घनों को मिलाकर एक घन/घनाभ का निर्माण किया रहता है। आपको वैसे घन की गिनती (Counting) करना है जिनकी सभी सतहें और किनारे पूर्ण रूप से छिपे हुए हैं।

- (a) 1
- (b) 2
- (c) 3
- (d) 4
- (e) 5
- F. 6
- G. 7
- H. 8
- I. 9
- J. 10

Ans.(d)

Q102. Number of hidden cubes = ?

छुपे घन की संख्या = ?



Instructions:(Questions 1-50) In this test, several cubes are put together to form a cube/cuboid. You have to count the number of cubes whose all surfaces and edges are completely hidden.

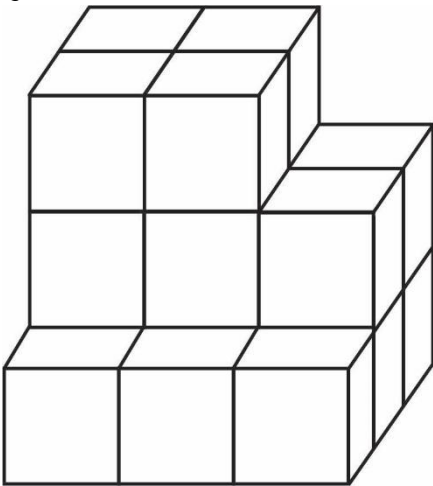
निर्देश :(प्रश्न 1-50) इस परीक्षण में कई घनों को मिलाकर एक घन/घनाभ का निर्माण किया रहता है। आपको वैसे घन की गिनती (Counting) करना है जिनकी सभी सतहें और किनारे पूर्ण रूप से छिपे हुए हैं।

- (a) 1
- (b) 2
- (c) 3
- (d) 4
- (e) 5
- F. 6
- G. 7
- H. 8
- I. 9
- J. 10

Ans.(d)

Q103. Number of hidden cubes = ?

छुपे घन की संख्या = ?



Instructions:(Questions 1-50) In this test, several cubes are put together to form a cube/cuboid. You have to count the number of cubes whose all surfaces and edges are completely hidden.

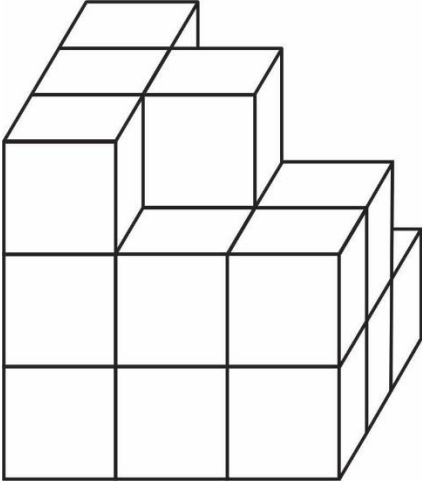
निर्देश :(प्रश्न 1-50) इस परीक्षण में कई घनों को मिलाकर एक घन/घनाभ का निर्माण किया रहता है। आपको वैसे घन की गिनती (Counting) करना है जिनकी सभी सतहें और किनारे पूर्ण रूप से छिपे हुए हैं।

- (a) 1
- (b) 2
- (c) 3
- (d) 4
- (e) 5
- F. 6
- G. 7
- H. 8
- I. 9
- J. 10

Ans.(f)

Q104. Number of hidden cubes = ?

छुपे घन की संख्या = ?



Instructions:(Questions 1-50) In this test, several cubes are put together to form a cube/cuboid. You have to count the number of cubes whose all surfaces and edges are completely hidden.

निर्देश : (प्रश्न 1-50) इस परीक्षण में कई घनों को मिलाकर एक घन/घनाभ का निर्माण किया रहता है। आपको वैसे घन की गिनती (Counting) करना है जिनकी सभी सतहें और किनारे पूर्ण रूप से छिपे हुए हैं।

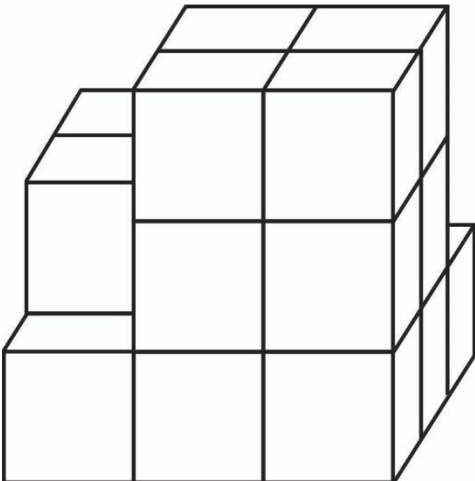
- (a) 1
- (b) 2
- (c) 3
- (d) 4
- (e) 5
- F. 6
- G. 7
- H. 8
- I. 9
- J. 10

Ans.(g)



Q105. Number of hidden cubes = ?

छुपे घन की संख्या = ?



Instructions:(Questions 1-50) In this test, several cubes are put together to form a cube/cuboid. You have to count the number of cubes whose all surfaces and edges are completely hidden.

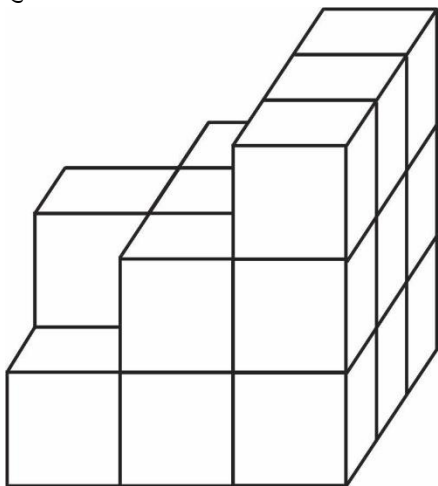
निर्देश :(प्रश्न 1-50) इस परीक्षण में कई घनों को मिलाकर एक घन/घनाभ का निर्माण किया रहता है। आपको वैसे घन की गिनती (Counting) करना है जिनकी सभी सतहें और किनारे पूर्ण रूप से छिपे हुए हैं।

- (a) 1
- (b) 2
- (c) 3
- (d) 4
- (e) 5
- F. 6
- G. 7
- H. 8
- I. 9
- J. 10

Ans.(e)

Q106. Number of hidden cubes = ?

छुपे घन की संख्या = ?



Instructions:(Questions 1-50) In this test, several cubes are put together to form a cube/cuboid. You have to count the number of cubes whose all surfaces and edges are completely hidden.

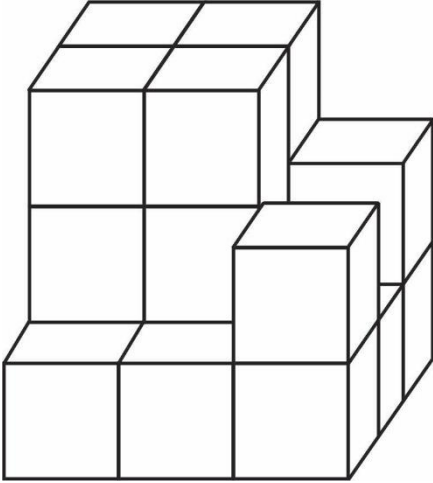
निर्देश :(प्रश्न 1-50) इस परीक्षण में कई घनों को मिलाकर एक घन/घनाभ का निर्माण किया रहता है। आपको वैसे घन की गिनती (Counting) करना है जिनकी सभी सतहें और किनारे पूर्ण रूप से छिपे हुए हैं।

- (a) 1
- (b) 2
- (c) 3
- (d) 4
- (e) 5
- F. 6
- G. 7
- H. 8
- I. 9
- J. 10

Ans.(d)

Q107. Number of hidden cubes = ?

छुपे घन की संख्या = ?



Instructions:(Questions 1-50) In this test, several cubes are put together to form a cube/cuboid. You have to count the number of cubes whose all surfaces and edges are completely hidden.

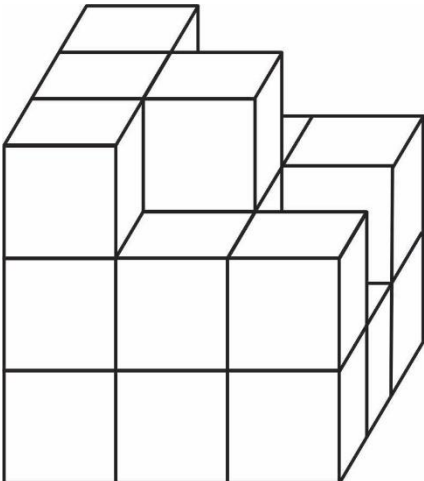
निर्देश : (प्रश्न 1-50) इस परीक्षण में कई घनों को मिलाकर एक घन/घनाभ का निर्माण किया रहता है। आपको वैसे घन की गिनती (Counting) करना है जिनकी सभी सतहें और किनारे पूर्ण रूप से छिपे हुए हैं।

- (a) 1
- (b) 2
- (c) 3
- (d) 4
- (e) 5
- F. 6
- G. 7
- H. 8
- I. 9
- J. 10

Ans.(f)

Q108. Number of hidden cubes = ?

छुपे घन की संख्या = ?



Instructions:(Questions 1-50) In this test, several cubes are put together to form a cube/cuboid. You have to count the number of cubes whose all surfaces and edges are completely hidden.

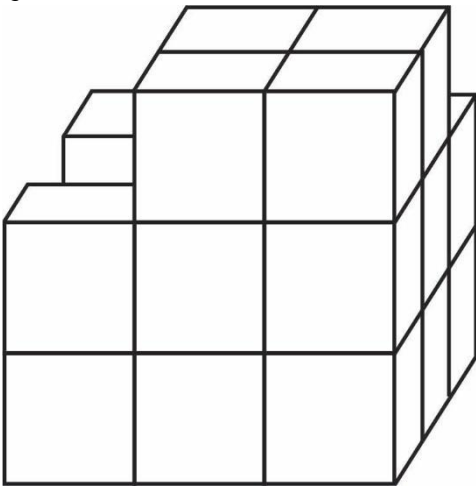
निर्देश :(प्रश्न 1-50) इस परीक्षण में कई घनों को मिलाकर एक घन/घनाभ का निर्माण किया रहता है। आपको वैसे घन की गिनती (Counting) करना है जिनकी सभी सतहें और किनारे पूर्ण रूप से छिपे हुए हैं।

- (a) 1
- (b) 2
- (c) 3
- (d) 4
- (e) 5
- F. 6
- G. 7
- H. 8
- I. 9
- J. 10

Ans.(f)

Q109. Number of hidden cubes = ?

छुपे घन की संख्या = ?



Instructions:(Questions 1-50) In this test, several cubes are put together to form a cube/cuboid. You have to count the number of cubes whose all surfaces and edges are completely hidden.

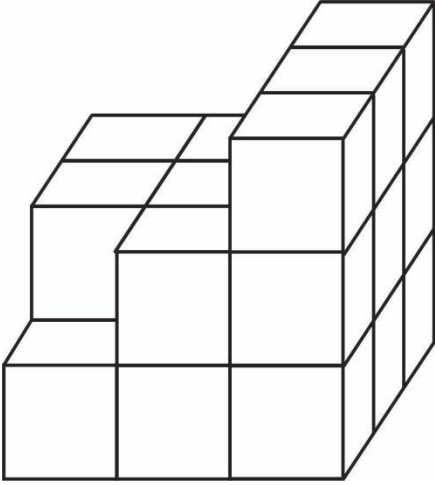
निर्देश :(प्रश्न 1-50) इस परीक्षण में कई घनों को मिलाकर एक घन/घनाभ का निर्माण किया रहता है। आपको वैसे घन की गिनती (Counting) करना है जिनकी सभी सतहें और किनारे पूर्ण रूप से छिपे हुए हैं।

- (a) 1
- (b) 2
- (c) 3
- (d) 4
- (e) 5
- F. 6
- G. 7
- H. 8
- I. 9
- J. 10

Ans.(f)

Q110. Number of hidden cubes = ?

छुपे घन की संख्या = ?



Instructions:(Questions 1-50) In this test, several cubes are put together to form a cube/cuboid. You have to count the number of cubes whose all surfaces and edges are completely hidden.

निर्देश : (प्रश्न 1-50) इस परीक्षण में कई घनों को मिलाकर एक घन/घनाभ का निर्माण किया रहता है। आपको वैसे घन की गिनती (Counting) करना है जिनकी सभी सतहें और किनारे पूर्ण रूप से छिपे हुए हैं।

- (a) 1
- (b) 2
- (c) 3
- (d) 4
- (e) 5
- F. 6
- G. 7
- H. 8
- I. 9
- J. 10

Ans.(d)

Q111. (a) 58753741

(b) 45385579

(c) 26756741

(d) 45388575

Find digit 9 carefully / अंक 9 को ध्यानपूर्वक खोजें

- (a) A
- (b) B
- (c) C
- (d) D
- (e) E

Ans.(b)

Q112. (a) 54827940

(b) 2386758

(c) 54821340

(d) 2386758

Find digit 9 carefully / अंक 9 को ध्यानपूर्वक खोजें

(a) A

(b) B

(c) C

(d) D

(e) E

Ans.(a)

Q113. (a) 7863451

(b) 538582019

(c) 7822451

(d) 538592015

Find digit 9 carefully / अंक 9 को ध्यानपूर्वक खोजें

(a) A

(b) B

(c) C

(d) D

(e) E

Ans.(e)

Q114. (a) 487580753

(b) 356734895

(c) 45220153

(d) 356734875

Find digit 9 carefully / अंक 9 को ध्यानपूर्वक खोजें

(a) A

(b) B

(c) C

(d) D

(e) E

Ans.(b)

Q115. (a) 534018835

(b) 855084537

(c) 2829225

(d) 855084537

Find digit 9 carefully / अंक 9 को ध्यानपूर्वक खोजें

(a) A

(b) B

(c) C

(d) D

(e) E

Ans.(c)

Q116. (a) 238742840

(b) 53625793

(c) 238202940

(d) 53625753

Find digit 9 carefully / अंक 9 को ध्यानपूर्वक खोजें

(a) A

(b) B

(c) C

(d) D

(e) E

Ans.(e)

Q117. (a) 75854839

(b) 754836324

(c) 79854230

(d) 754836324

Find digit 9 carefully / अंक 9 को ध्यानपूर्वक खोजें

(a) A

(b) B

(c) C

(d) D

(e) E

Ans.(e)

Q118. (a) 52381805

(b) 84754820

(c) 52921802

(d) 84754820

Find digit 9 carefully / अंक 9 को ध्यानपूर्वक खोजें

(a) A

(b) B

(c) C

(d) D

(e) E

Ans.(c)

Q119. (a) 345627280

(b) 354897970

(c) 3457120

(d) 354857870

Find digit 9 carefully / अंक 9 को ध्यानपूर्वक खोजें

(a) A

(b) B

(c) C

(d) D

(e) E

Ans.(b)

Q120. (a) 803527267

(b) 545825289

(c) 53527287

(d) 945825287

Find digit 9 carefully / अंक 9 को ध्यानपूर्वक खोजें

(a) A

(b) B

(c) C

(d) D

(e) E

Ans.(e)

Q121. (a) 47261208

(b) 37568502

(c) 47221208

(d) 97568502

Find digit 9 carefully / अंक 9 को ध्यानपूर्वक खोजें

(a) A

(b) B

(c) C

(d) D

(e) E

Ans.(d)

Q122. (a) 52348782

(b) 848355802

(c) 5264275

(d) 948325802

Find digit 9 carefully / अंक 9 को ध्यानपूर्वक खोजें

(a) A

(b) B

(c) C

(d) D

(e) E

Ans.(d)


Q123. (a) 8764213623

(b) 578335098

(c) 86253223

(d) 978331078

Find digit 9 carefully / अंक 9 को ध्यानपूर्वक खोजें



- (a) A
- (b) B
- (c) C
- (d) D
- (e) E

Ans.(e)

Q124. (a) 86416748

- (b) 53735587
- (c) 92312748
- (d) 53735787

Find digit 9 carefully / अंक 9 को ध्यानपूर्वक खोजें

- (a) A
- (b) B
- (c) C
- (d) D
- (e) E

Ans.(c)

Q125. (a) 35126875

- (b) 35697508
- (c) 35124875
- (d) 35687708

Find digit 9 carefully / अंक 9 को ध्यानपूर्वक खोजें

- (a) A
- (b) B
- (c) C
- (d) D
- (e) E

Ans.(b)

Q126. (a) 35227586

- (b) 343783520
- (c) 35124875
- (d) 35687708

Find digit 9 carefully / अंक 9 को ध्यानपूर्वक खोजें

- (a) A
- (b) B
- (c) C
- (d) D
- (e) E

Ans.(e)

Q127. (a) 59386985

- (b) 45736278

- (c) 39767582
(d) 343783720

Find digit 9 carefully / अंक 9 को ध्यानपूर्वक खोजें

- (a) A
(b) B
(c) C
(d) D
(e) E

Ans.(e)

- Q128.** (a) 16558399
(b) 35348455
(c) 52316045
(d) 45736278

Find digit 9 carefully / अंक 9 को ध्यानपूर्वक खोजें

- (a) A
(b) B
(c) C
(d) D
(e) E

Ans.(a)

- Q129.** (a) 17287387
(b) 25374579
(c) 12558320
(d) 35348475

Find digit 9 carefully / अंक 9 को ध्यानपूर्वक खोजें

- (a) A
(b) B
(c) C
(d) D
(e) E

Ans.(b)

- Q130.** (a) 483071283
(b) 37384940
(c) 9628732
(d) 253747478

Find digit 9 carefully / अंक 9 को ध्यानपूर्वक खोजें

- (a) A
(b) B
(c) C
(d) D
(e) E

Ans.(e)



Q131. (a) 738470549

(b) 717373404

(c) 48302283

(d) 37384740

Find digit 9 carefully / अंक 9 को ध्यानपूर्वक खोजें

(a) A

(b) B

(c) C

(d) D

(e) E

Ans.(a)

Q132. (a) 383747748

(b) 323740151

(c) 736480540

(d) 717373404

Find digit 9 carefully / अंक 9 को ध्यानपूर्वक खोजें

(a) A

(b) B

(c) C

(d) D

(e) E

Ans.(e)

Q133. (a) 477303587

(b) 14235857

(c) 386972248

(d) 323740151

Find digit 9 carefully / अंक 9 को ध्यानपूर्वक खोजें

(a) A

(b) B

(c) C

(d) D

(e) E

Ans.(c)

Q134. (a) 32487540

(b) 41465797

(c) 47630397

(d) 14235857

Find digit 9 carefully / अंक 9 को ध्यानपूर्वक खोजें

(a) A

(b) B

(c) C

(d) D

(e) E

Ans.(e)

Q135. (a) 348458757

(b) 353479847

(c) 38461540

(d) 41465709

Find digit 9 carefully / अंक 9 को ध्यानपूर्वक खोजें

(a) A

(b) B

(c) C

(d) D

(e) E

Ans.(e)

Q136. (a) 48487570

(b) 53478387

(c) 349428252

(d) 359474847

Find digit 9 carefully / अंक 9 को ध्यानपूर्वक खोजें

(a) A

(b) B

(c) C

(d) D

(e) E

Ans.(e)

Q137. (a) 412865723

(b) 1281408535

(c) 45282223

(d) 1297408735

Find digit 9 carefully / अंक 9 को ध्यानपूर्वक खोजें

(a) A

(b) B

(c) C

(d) D

(e) E

Ans.(d)


Q138. (a) 421347202

(b) 348340964

(c) 42426020

(d) 348370464

Find digit 9 carefully / अंक 9 को ध्यानपूर्वक खोजें



- (a) A
- (b) B
- (c) C
- (d) D
- (e) E

Ans.(b)

Q139. (a) 37384315

- (b) 36374249
- (c) 37321075
- (d) 36374747

Find digit 9 carefully / अंक 9 को ध्यानपूर्वक खोजें

- (a) A
- (b) B
- (c) C
- (d) D
- (e) E

Ans.(b)

Q140. (a) 38384874

- (b) 32538710
- (c) 35649894
- (d) 32538770

Find digit 9 carefully / अंक 9 को ध्यानपूर्वक खोजें

- (a) A
- (b) B
- (c) C
- (d) D
- (e) E

Ans.(c)

Q141. (a) 475736

- (b) 542348419
- (c) 47523560
- (d) 542348470

Find digit 9 carefully / अंक 9 को ध्यानपूर्वक खोजें

- (a) A
- (b) B
- (c) C
- (d) D
- (e) E

Ans.(b)

Q142. (a) 72341787

- (b) 57413783

(c) 82341586

(d) 97463783

Find digit 9 carefully / अंक 9 को ध्यानपूर्वक खोजें

(a) A

(b) B

(c) C

(d) D

(e) E

Ans.(d)

Q143. (a) 53838478

(b) 37341419

(c) 53238456

(d) 37346490

Find digit 9 carefully / अंक 9 को ध्यानपूर्वक खोजें

(a) A

(b) B

(c) C

(d) D

(e) E

Ans.(e)

Q144. (a) 17012749

(b) 456485430

(c) 13512543

(d) 456485430

Find digit 9 carefully / अंक 9 को ध्यानपूर्वक खोजें

(a) A

(b) B

(c) C

(d) D

(e) E

Ans.(a)

Q145. (a) 58735247

(b) 35493841

(c) 536243

(d) 35483846

Find digit 9 carefully / अंक 9 को ध्यानपूर्वक खोजें

(a) A

(b) B

(c) C

(d) D

(e) E

Ans.(b)

Q146. (a) 48473765

(b) 32831040

(c) 4947330

(d) 32836040

Find digit 9 carefully / अंक 9 को ध्यानपूर्वक खोजें

(a) A

(b) B

(c) C

(d) D

(e) E

Ans.(c)

Q147. (a) 34547867

(b) 79121318

(c) 36543846

(d) 74121368

Find digit 9 carefully / अंक 9 को ध्यानपूर्वक खोजें

(a) A

(b) B

(c) C

(d) D

(e) E

Ans.(b)

Q148. (a) 34737270

(b) 2475741

(c) 34736260

(d) 9475741

Find digit 9 carefully / अंक 9 को ध्यानपूर्वक खोजें

(a) A

(b) B

(c) C

(d) D

(e) E

Ans.(d)

Q149. (a) 5787577

(b) 83561134

(c) 5782574

(d) 93566134

Find digit 9 carefully / अंक 9 को ध्यानपूर्वक खोजें

(a) A

(b) B

(c) C

(d) D

(e) E

Ans.(d)

Q150. (a) 7458776

(b) 31298151

(c) 7454778

(d) 31268651

Find digit 9 carefully / अंक 9 को ध्यानपूर्वक खोजें

(a) A

(b) B

(c) C

(d) D

(e) E

Ans.(b)

Q151. (a) 83352519

(b) 8376153

(c) 53852516

(d) 8376153

Find digit 9 carefully / अंक 9 को ध्यानपूर्वक खोजें

(a) A

(b) B

(c) C

(d) D

(e) E

Ans.(a)

Q152. (a) 83378374

(b) 5295725

(c) 83678376

(d) 5245725

Find digit 9 carefully / अंक 9 को ध्यानपूर्वक खोजें

(a) A

(b) B

(c) C

(d) D

(e) E

Ans.(b)


Q153. (a) 7257637

(b) 1379140

(c) 7257537

(d) 6378640

Find digit 9 carefully / अंक 9 को ध्यानपूर्वक खोजें



- (a) A
- (b) B
- (c) C
- (d) D
- (e) E

Ans.(b)

Q154. (a) 214787783

- (b) 83564130
- (c) 819367783
- (d) 89564630

Find digit 9 carefully / अंक 9 को ध्यानपूर्वक खोजें

- (a) A
- (b) B
- (c) C
- (d) D
- (e) E

Ans.(e)

Q155. (a) 347478324

- (b) 83241805
- (c) 649278324
- (d) 83241806

Find digit 9 carefully / अंक 9 को ध्यानपूर्वक खोजें

- (a) A
- (b) B
- (c) C
- (d) D
- (e) E

Ans.(c)

Q156. (a) 435724820

- (b) 63497150
- (c) 632924820
- (d) 63427160

Find digit 9 carefully / अंक 9 को ध्यानपूर्वक खोजें

- (a) A
- (b) B
- (c) C
- (d) D
- (e) E

Ans.(e)

Q157. (a) 35480458

- (b) 83897287

(c) 35480456

(d) 83867287

Find digit 9 carefully / अंक 9 को ध्यानपूर्वक खोजें

(a) A

(b) B

(c) C

(d) D

(e) E

Ans.(b)

Q158. (a) 435783489

(b) 813431208

(c) 632783486

(d) 813431208

Find digit 9 carefully / अंक 9 को ध्यानपूर्वक खोजें

(a) A

(b) B

(c) C

(d) D

(e) E

Ans.(a)

Q159. (a) 72478402

(b) 83459278

(c) 72476502

(d) 83454278

Find digit 9 carefully / अंक 9 को ध्यानपूर्वक खोजें

(a) A

(b) B

(c) C

(d) D

(e) E

Ans.(b)

Q160. (a) 424573457

(b) 834693523

(c) 524543955

(d) 834673623

Find digit 9 carefully / अंक 9 को ध्यानपूर्वक खोजें

(a) A

(b) B

(c) C

(d) D

(e) E

Ans.(e)

Q161. (a) 43548748

(b) 834698748

(c) 53542758

(d) 834648748

Find digit 9 carefully / अंक 9 को ध्यानपूर्वक खोजें

(a) A

(b) B

(c) C

(d) D

(e) E

Ans.(b)

Q162. (a) 83435489

(b) 453274875

(c) 83426589

(d) 653274875

Find digit 9 carefully / अंक 9 को ध्यानपूर्वक खोजें

(a) A

(b) B

(c) C

(d) D

(e) E

Ans.(e)

Q163. (a) 246178408

(b) 83467589

(c) 24576508

(d) 83467586

Find digit 9 carefully / अंक 9 को ध्यानपूर्वक खोजें

(a) A

(b) B

(c) C

(d) D

(e) E

Ans.(b)

Q164. (a) 73454349

(b) 5844785

(c) 73256352

(d) 5844785

Find digit 9 carefully / अंक 9 को ध्यानपूर्वक खोजें

(a) A

(b) B

(c) C

(d) D

(e) E

Ans.(a)

Q165. (a) 45884847

(b) 14547639

(c) 45884719

(d) 14547636

Find digit 9 carefully / अंक 9 को ध्यानपूर्वक खोजें

(a) A

(b) B

(c) C

(d) D

(e) E

Ans.(e)

Q166. (a) 543575445

(b) 735438739

(c) 543425435

(d) 735438736

Find digit 9 carefully / अंक 9 को ध्यानपूर्वक खोजें

(a) A

(b) B

(c) C

(d) D

(e) E

Ans.(b)

Q167. (a) 8437443479

(b) 784847283

(c) 647843498

(d) 784867283

Find digit 9 carefully / अंक 9 को ध्यानपूर्वक खोजें

(a) A

(b) B

(c) C

(d) D

(e) E

Ans.(e)

Q168. (a) 338552840

(b) 216587954

(c) 336452640

(d) 216587054

Find digit 9 carefully / अंक 9 को ध्यानपूर्वक खोजें

- (a) A
- (b) B
- (c) C
- (d) D
- (e) E

Ans.(b)

Q169. (a) 834583494

- (b) 3735478
- (c) 736563404
- (d) 3735678

Find digit 9 carefully / अंक 9 को ध्यानपूर्वक खोजें

- (a) A
- (b) B
- (c) C
- (d) D
- (e) E

Ans.(a)

Q170. (a) 323545346

- (b) 484370817
- (c) 329548341
- (d) 484370817

Find digit 9 carefully / अंक 9 को ध्यानपूर्वक खोजें

- (a) A
- (b) B
- (c) C
- (d) D
- (e) E

Ans.(c)

Q171. (a) 173545787

- (b) 34174948
- (c) 173445746
- (d) 34174548

Find digit 9 carefully / अंक 9 को ध्यानपूर्वक खोजें

- (a) A
- (b) B
- (c) C
- (d) D
- (e) E

Ans.(b)

Q172. (a) 325475806

- (b) 547858656

(c) 329875607

(d) 547858656

Find digit 9 carefully / अंक 9 को ध्यानपूर्वक खोजें

(a) A

(b) B

(c) C

(d) D

(e) E

Ans.(c)

Q173. (a) 735345848

(b) 87691570

(c) 739375846

(d) 87651570

Find digit 9 carefully / अंक 9 को ध्यानपूर्वक खोजें

(a) A

(b) B

(c) C

(d) D

(e) E

Ans.(e)

Q174. (a) 54287987

(b) 527921626

(c) 54263987

(d) 527521626

Find digit 9 carefully / अंक 9 को ध्यानपूर्वक खोजें

(a) A

(b) B

(c) C

(d) D

(e) E

Ans.(e)

Q175. (a) 15883095

(b) 44731820

(c) 16864085

(d) 44731820

Find digit 9 carefully / अंक 9 को ध्यानपूर्वक खोजें

(a) A

(b) B

(c) C

(d) D

(e) E

Ans.(a)

Q176. (a) 235347048

(b) 25786786

(c) 239327048

(d) 25786786

Find digit 9 carefully / अंक 9 को ध्यानपूर्वक खोजें

(a) A

(b) B

(c) C

(d) D

(e) E

Ans.(c)

Q177. (a) 5328846

(b) 364234864

(c) 5389747

(d) 364234864

Find digit 9 carefully / अंक 9 को ध्यानपूर्वक खोजें

(a) A

(b) B

(c) C

(d) D

(e) E

Ans.(c)

Q178. (a) 73588786

(b) 45379630

(c) 53587566

(d) 45378630

Find digit 9 carefully / अंक 9 को ध्यानपूर्वक खोजें

(a) A

(b) B

(c) C

(d) D

(e) E

Ans.(b)

Q179. (a) 23854786

(b) 52659787

(c) 23814730

(d) 52656787

Find digit 9 carefully / अंक 9 को ध्यानपूर्वक खोजें

(a) A

(b) B

(c) C

(d) D

(e) E

Ans.(b)

Q180. (a) 57735873

(b) 531535768

(c) 57635973

(d) 531535769

Find digit 9 carefully / अंक 9 को ध्यानपूर्वक खोजें

(a) A

(b) B

(c) C

(d) D

(e) E

Ans.(e)

Q181. (a) 734572490

(b) 835857264

(c) 734588690

(d) 835857264

Find digit 9 carefully / अंक 9 को ध्यानपूर्वक खोजें

(a) A

(b) B

(c) C

(d) D

(e) E

Ans.(e)

Q182. (a) 423588854

(b) 74832149

(c) 423575854

(d) 74832146

Find digit 9 carefully / अंक 9 को ध्यानपूर्वक खोजें

(a) A

(b) B

(c) C

(d) D

(e) E

Ans.(b)

Q183. (a) 8335846

(b) 45333760

(c) 733645

(d) 45333760

Find digit 9 carefully / अंक 9 को ध्यानपूर्वक खोजें

- (a) A
(b) B
(c) C
(d) D
(e) E

Ans.(e)

Q184. (a) 37388704

- (b) 865345686
(c) 37365704
(d) 865345686

Find digit 9 carefully / अंक 9 को ध्यानपूर्वक खोजें

- (a) A
(b) B
(c) C
(d) D
(e) E

Ans.(e)

Q185. (a) 78473298

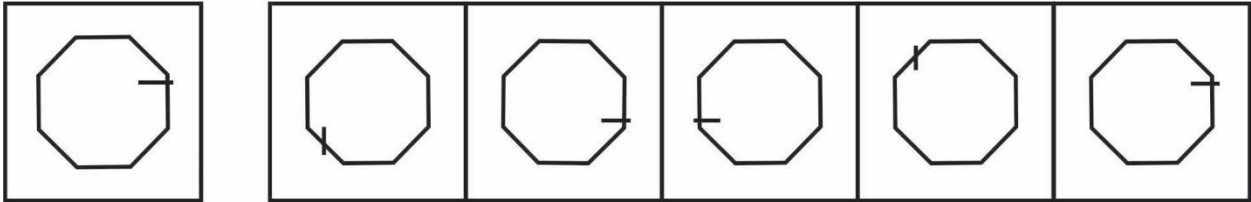
- (b) 35861260
(c) 75472658
(d) 35861260

Find digit 9 carefully / अंक 9 को ध्यानपूर्वक खोजें

- (a) A
(b) B
(c) C
(d) D
(e) E

Ans.(a)

Q186.



A

B

C

D

E

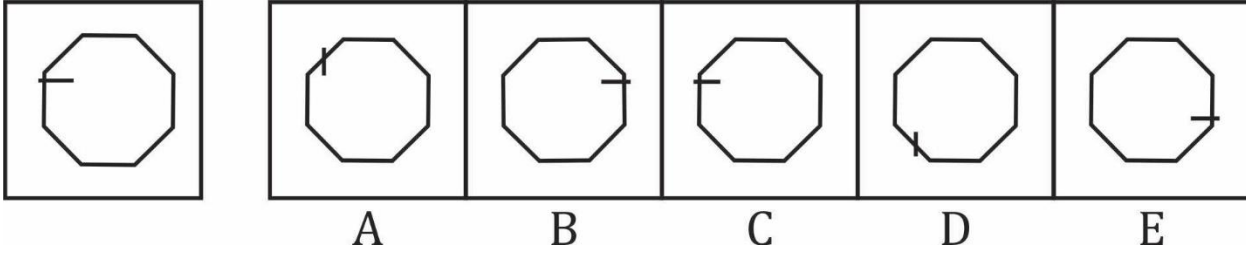
Question (1-96): This is a test of your ability to match figures quickly and accurately. In each question given below, there are five answer figures on the right side, where A, B, C, D, E are written below. One of them moved to the left is similar to a question-shape. You are required to find out which of the five figures is identical to the figure given on the left.

यह आकृतियों का त्वरित और सटीक मिलान करने की आपकी क्षमता का परीक्षण है नीचे दिए गए प्रत्येक प्रश्न में दाईं ओर पाँच उत्तर आकृतियाँ हैं, जहाँ नीचे A, B, C, D, E लिखा है। उनमें से एक बाईं ओर लेजाया गया प्रश्न-आकार के समान है। आपको यह पता लगाना है कि पाँच आकृतियों में से कौन सी बाईं ओर दी गई आकृति के समान है।

- (a) A
- (b) B
- (c) C
- (d) D
- (e) E

Ans.(e)

Q187.



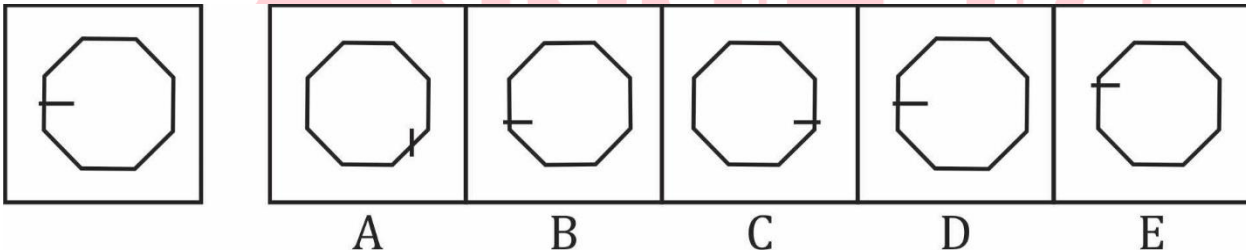
Question (1-96): This is a test of your ability to match figures quickly and accurately. In each question given below, there are five answer figures on the right side, where A, B, C, D, E are written below. One of them moved to the left is similar to a question-shape. You are required to find out which of the five figures is identical to the figure given on the left.

यह आकृतियों का त्वरित और सटीक मिलान करने की आपकी क्षमता का परीक्षण है नीचे दिए गए प्रत्येक प्रश्न में दाईं ओर पाँच उत्तर आकृतियाँ हैं, जहाँ नीचे A, B, C, D, E लिखा है। उनमें से एक बाईं ओर लेजाया गया प्रश्न-आकार के समान है। आपको यह पता लगाना है कि पाँच आकृतियों में से कौन सी बाईं ओर दी गई आकृति के समान है।

- (a) A
- (b) B
- (c) C
- (d) D
- (e) E

Ans.(c)

Q188.



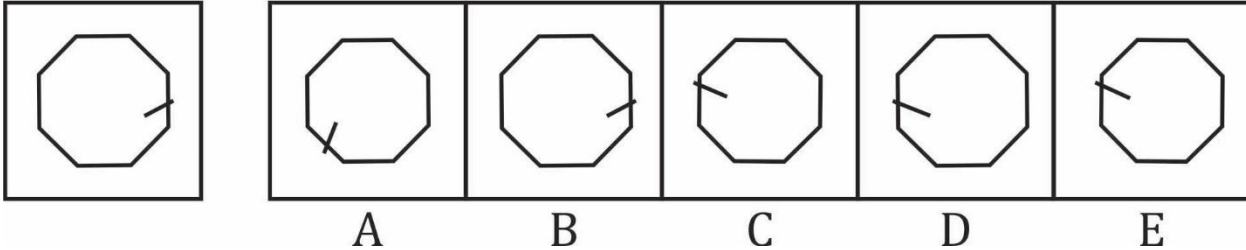
Question (1-96): This is a test of your ability to match figures quickly and accurately. In each question given below, there are five answer figures on the right side, where A, B, C, D, E are written below. One of them moved to the left is similar to a question-shape. You are required to find out which of the five figures is identical to the figure given on the left.

यह आकृतियों का त्वरित और सटीक मिलान करने की आपकी क्षमता का परीक्षण है नीचे दिए गए प्रत्येक प्रश्न में दाईं ओर पाँच उत्तर आकृतियाँ हैं, जहाँ नीचे A, B, C, D, E लिखा है। उनमें से एक बाईं ओर लेजाया गया प्रश्न-आकार के समान है। आपको यह पता लगाना है कि पाँच आकृतियों में से कौन सी बाईं ओर दी गई आकृति के समान है।

- (a) A
- (b) B

- (c) C
 (d) D
 (e) E
Ans.(d)

Q189.

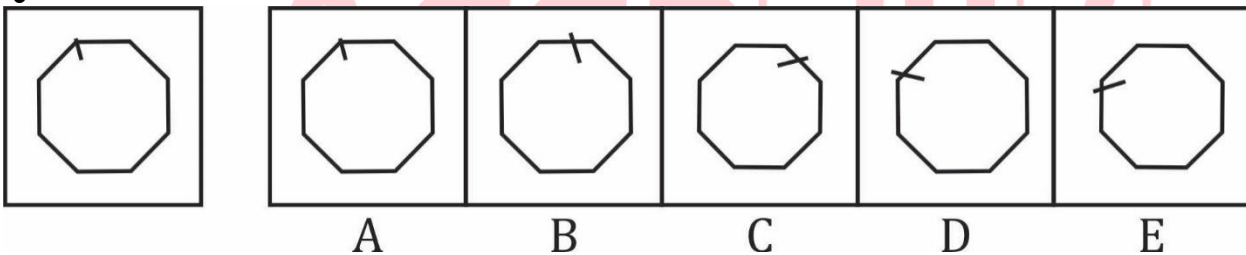


Question (1-96): This is a test of your ability to match figures quickly and accurately. In each question given below, there are five answer figures on the right side, where A, B, C, D, E are written below. One of them moved to the left is similar to a question-shape. You are required to find out which of the five figures is identical to the figure given on the left.

यह आकृतियों का त्वरित और सटीक मिलान करने की आपकी क्षमता का परीक्षण है नीचे दिए गए प्रत्येक प्रश्न में दाईं ओर पाँच उत्तर आकृतियाँ हैं, जहाँ नीचे A, B, C, D, E लिखा है। उनमें से एक बाईं ओर लेजाया गया प्रश्न-आकार के समान है। आपको यह पता लगाना है कि पाँच आकृतियों में से कौन सी बाईं ओर दी गई आकृति के समान है।

- (a) A
 (b) B
 (c) C
 (d) D
 (e) E
Ans.(b)

Q190.



Question (1-96): This is a test of your ability to match figures quickly and accurately. In each question given below, there are five answer figures on the right side, where A, B, C, D, E are written below. One of them moved to the left is similar to a question-shape. You are required to find out which of the five figures is identical to the figure given on the left.

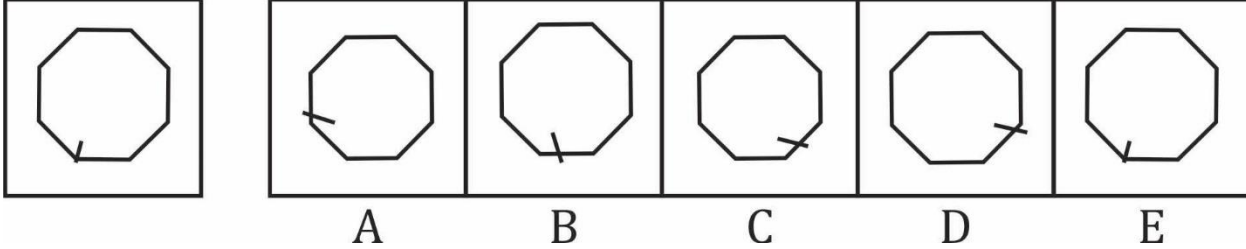
यह आकृतियों का त्वरित और सटीक मिलान करने की आपकी क्षमता का परीक्षण है नीचे दिए गए प्रत्येक प्रश्न में दाईं ओर पाँच उत्तर आकृतियाँ हैं, जहाँ नीचे A, B, C, D, E लिखा है। उनमें से एक बाईं ओर लेजाया गया प्रश्न-आकार के समान है। आपको यह पता लगाना है कि पाँच आकृतियों में से कौन सी बाईं ओर दी गई आकृति के समान है।

- (a) A
 (b) B
 (c) C
 (d) D

(e) E

Ans.(a)

Q191.



Question (1-96): This is a test of your ability to match figures quickly and accurately. In each question given below, there are five answer figures on the right side, where A, B, C, D, E are written below. One of them moved to the left is similar to a question-shape. You are required to find out which of the five figures is identical to the figure given on the left.

यह आकृतियों का त्वरित और सटीक मिलान करने की आपकी क्षमता का परीक्षण है नीचे दिए गए प्रत्येक प्रश्न में दाईं ओर पाँच उत्तर आकृतियाँ हैं, जहाँ नीचे A, B, C, D, E लिखा है। उनमें से एक बाईं ओर लेजाया गया प्रश्न-आकार के समान है। आपको यह पता लगाना है कि पाँच आकृतियों में से कौन सी बाईं ओर दी गई आकृति के समान है।

(a) A

(b) B

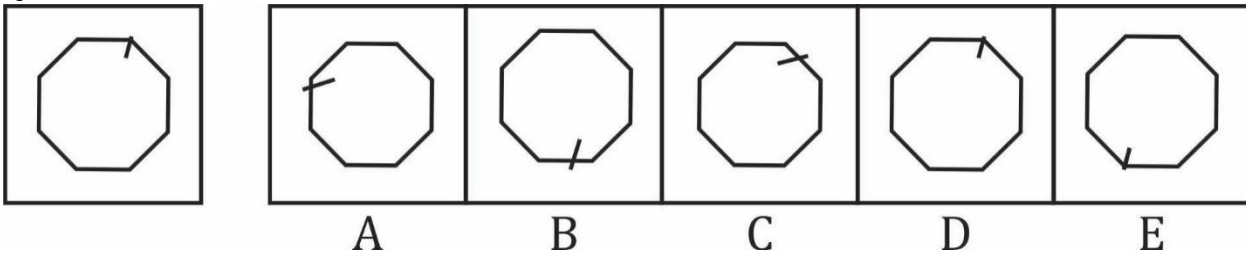
(c) C

(d) D

(e) E

Ans.(e)

Q192.



Question (1-96): This is a test of your ability to match figures quickly and accurately. In each question given below, there are five answer figures on the right side, where A, B, C, D, E are written below. One of them moved to the left is similar to a question-shape. You are required to find out which of the five figures is identical to the figure given on the left.

यह आकृतियों का त्वरित और सटीक मिलान करने की आपकी क्षमता का परीक्षण है नीचे दिए गए प्रत्येक प्रश्न में दाईं ओर पाँच उत्तर आकृतियाँ हैं, जहाँ नीचे A, B, C, D, E लिखा है। उनमें से एक बाईं ओर लेजाया गया प्रश्न-आकार के समान है। आपको यह पता लगाना है कि पाँच आकृतियों में से कौन सी बाईं ओर दी गई आकृति के समान है।

(a) A

(b) B

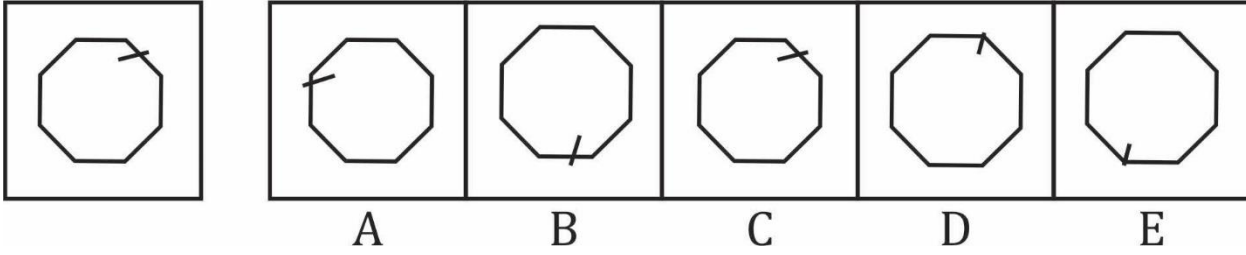
(c) C

(d) D

(e) E

Ans.(d)

Q193.



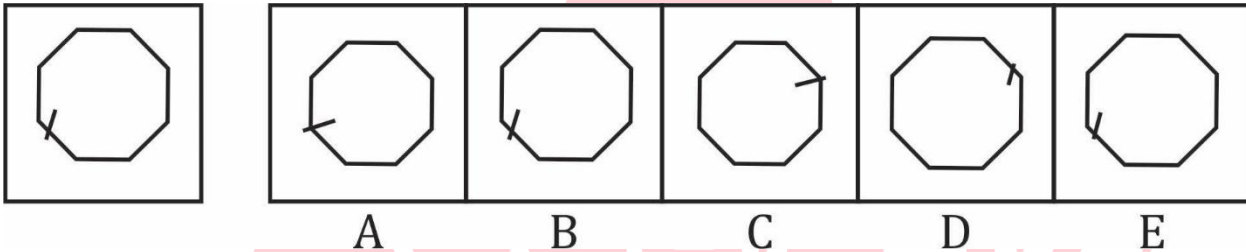
Question (1-96): This is a test of your ability to match figures quickly and accurately. In each question given below, there are five answer figures on the right side, where A, B, C, D, E are written below. One of them moved to the left is similar to a question-shape. You are required to find out which of the five figures is identical to the figure given on the left.

यह आकृतियों का त्वरित और सटीक मिलान करने की आपकी क्षमता का परीक्षण है नीचे दिए गए प्रत्येक प्रश्न में दाईं ओर पाँच उत्तर आकृतियाँ हैं, जहाँ नीचे A, B, C, D, E लिखा है। उनमें से एक बाईं ओर लेजाया गया प्रश्न-आकार के समान है। आपको यह पता लगाना है कि पाँच आकृतियों में से कौन सी बाईं ओर दी गई आकृति के समान है।

- (a) A
- (b) B
- (c) C
- (d) D
- (e) E

Ans.(c)

Q194.



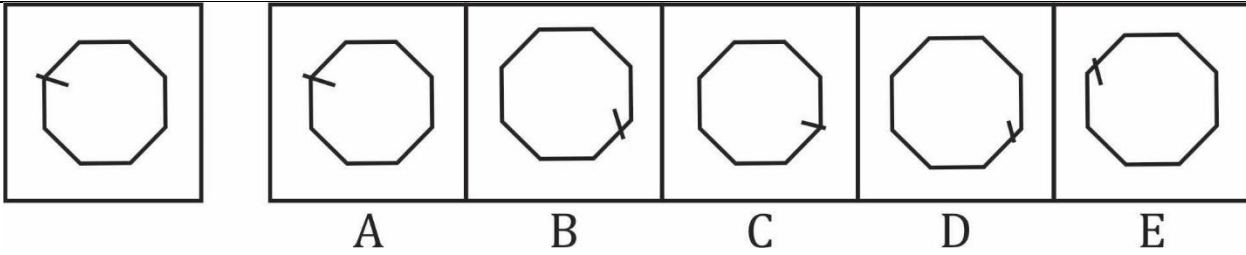
Question (1-96): This is a test of your ability to match figures quickly and accurately. In each question given below, there are five answer figures on the right side, where A, B, C, D, E are written below. One of them moved to the left is similar to a question-shape. You are required to find out which of the five figures is identical to the figure given on the left.

यह आकृतियों का त्वरित और सटीक मिलान करने की आपकी क्षमता का परीक्षण है नीचे दिए गए प्रत्येक प्रश्न में दाईं ओर पाँच उत्तर आकृतियाँ हैं, जहाँ नीचे A, B, C, D, E लिखा है। उनमें से एक बाईं ओर लेजाया गया प्रश्न-आकार के समान है। आपको यह पता लगाना है कि पाँच आकृतियों में से कौन सी बाईं ओर दी गई आकृति के समान है।

- (a) A
- (b) B
- (c) C
- (d) D
- (e) E

Ans.(b)

Q195.



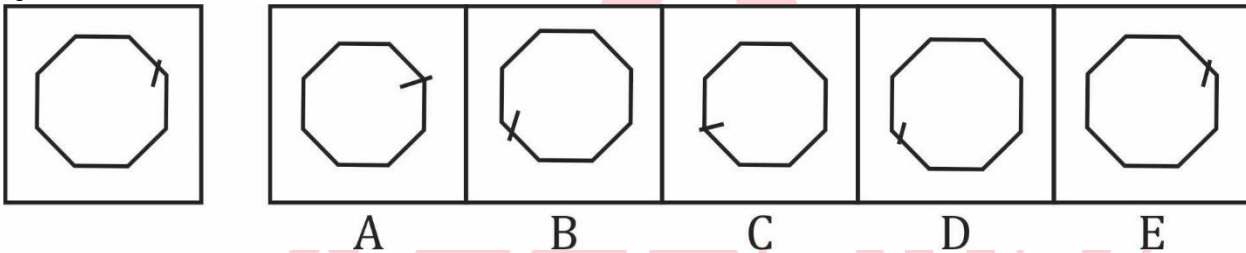
Question (1-96): This is a test of your ability to match figures quickly and accurately. In each question given below, there are five answer figures on the right side, where A, B, C, D, E are written below. One of them moved to the left is similar to a question-shape. You are required to find out which of the five figures is identical to the figure given on the left.

यह आकृतियों का त्वरित और सटीक मिलान करने की आपकी क्षमता का परीक्षण है नीचे दिए गए प्रत्येक प्रश्न में दाईं ओर पाँच उत्तर आकृतियाँ हैं, जहाँ नीचे A, B, C, D, E लिखा है। उनमें से एक बाईं ओर लेजाया गया प्रश्न-आकार के समान है। आपको यह पता लगाना है कि पाँच आकृतियों में से कौन सी बाईं ओर दी गई आकृति के समान है।

- (a) A
- (b) B
- (c) C
- (d) D
- (e) E

Ans.(a)

Q196.



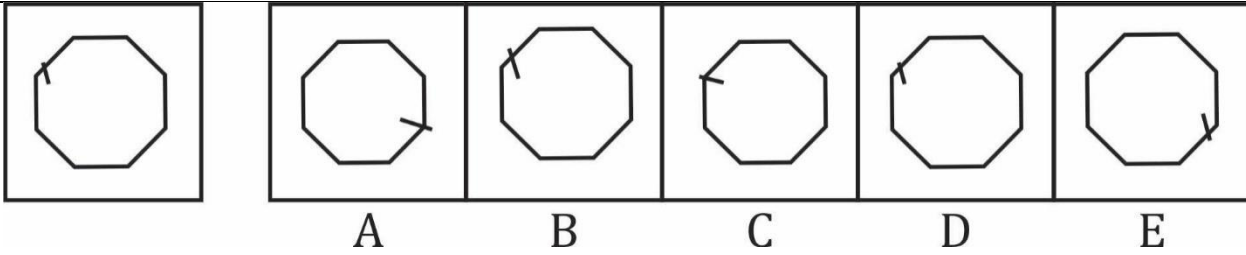
Question (1-96): This is a test of your ability to match figures quickly and accurately. In each question given below, there are five answer figures on the right side, where A, B, C, D, E are written below. One of them moved to the left is similar to a question-shape. You are required to find out which of the five figures is identical to the figure given on the left.

यह आकृतियों का त्वरित और सटीक मिलान करने की आपकी क्षमता का परीक्षण है नीचे दिए गए प्रत्येक प्रश्न में दाईं ओर पाँच उत्तर आकृतियाँ हैं, जहाँ नीचे A, B, C, D, E लिखा है। उनमें से एक बाईं ओर लेजाया गया प्रश्न-आकार के समान है। आपको यह पता लगाना है कि पाँच आकृतियों में से कौन सी बाईं ओर दी गई आकृति के समान है।

- (a) A
- (b) B
- (c) C
- (d) D
- (e) E

Ans.(e)

Q197.



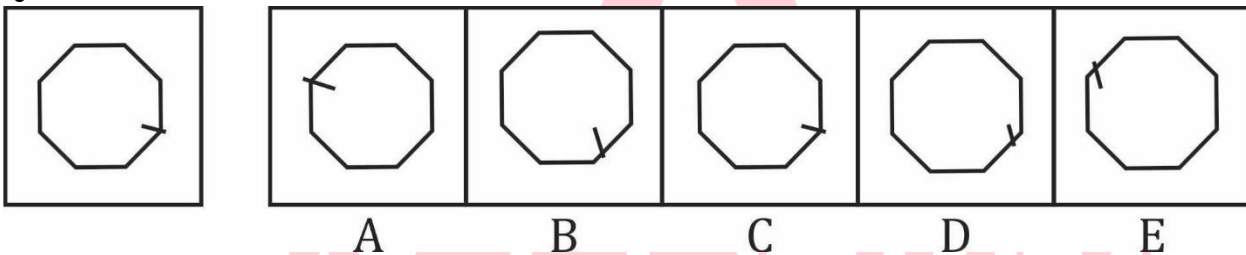
Question (1-96): This is a test of your ability to match figures quickly and accurately. In each question given below, there are five answer figures on the right side, where A, B, C, D, E are written below. One of them moved to the left is similar to a question-shape. You are required to find out which of the five figures is identical to the figure given on the left.

यह आकृतियों का त्वरित और सटीक मिलान करने की आपकी क्षमता का परीक्षण है नीचे दिए गए प्रत्येक प्रश्न में दाईं ओर पाँच उत्तर आकृतियाँ हैं, जहाँ नीचे A, B, C, D, E लिखा है। उनमें से एक बाईं ओर लेजाया गया प्रश्न-आकार के समान है। आपको यह पता लगाना है कि पाँच आकृतियों में से कौन सी बाईं ओर दी गई आकृति के समान है।

- (a) A
- (b) B
- (c) C
- (d) D
- (e) E

Ans.(d)

Q198.



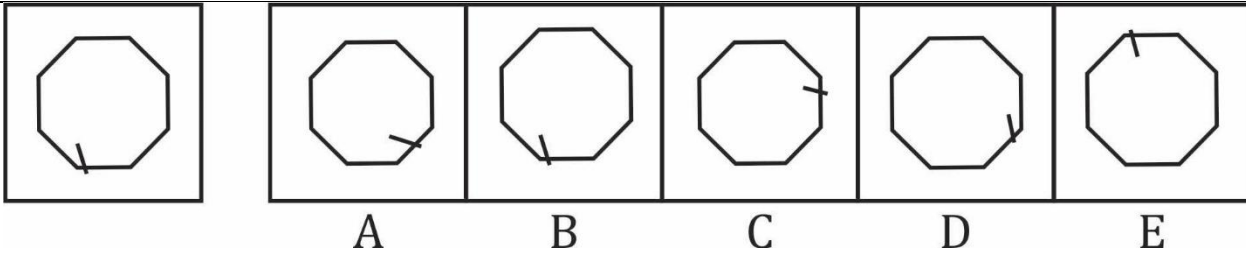
Question (1-96): This is a test of your ability to match figures quickly and accurately. In each question given below, there are five answer figures on the right side, where A, B, C, D, E are written below. One of them moved to the left is similar to a question-shape. You are required to find out which of the five figures is identical to the figure given on the left.

यह आकृतियों का त्वरित और सटीक मिलान करने की आपकी क्षमता का परीक्षण है नीचे दिए गए प्रत्येक प्रश्न में दाईं ओर पाँच उत्तर आकृतियाँ हैं, जहाँ नीचे A, B, C, D, E लिखा है। उनमें से एक बाईं ओर लेजाया गया प्रश्न-आकार के समान है। आपको यह पता लगाना है कि पाँच आकृतियों में से कौन सी बाईं ओर दी गई आकृति के समान है।

- (a) A
- (b) B
- (c) C
- (d) D
- (e) E

Ans.(c)

Q199.



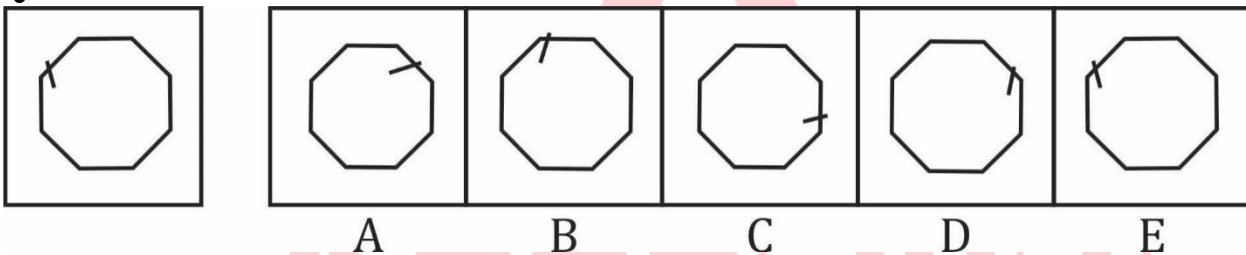
Question (1-96): This is a test of your ability to match figures quickly and accurately. In each question given below, there are five answer figures on the right side, where A, B, C, D, E are written below. One of them moved to the left is similar to a question-shape. You are required to find out which of the five figures is identical to the figure given on the left.

यह आकृतियों का त्वरित और सटीक मिलान करने की आपकी क्षमता का परीक्षण है नीचे दिए गए प्रत्येक प्रश्न में दाईं ओर पाँच उत्तर आकृतियाँ हैं, जहाँ नीचे A, B, C, D, E लिखा है। उनमें से एक बाईं ओर लेजाया गया प्रश्न-आकार के समान है। आपको यह पता लगाना है कि पाँच आकृतियों में से कौन सी बाईं ओर दी गई आकृति के समान है।

- (a) A
- (b) B
- (c) C
- (d) D
- (e) E

Ans.(b)

Q200.



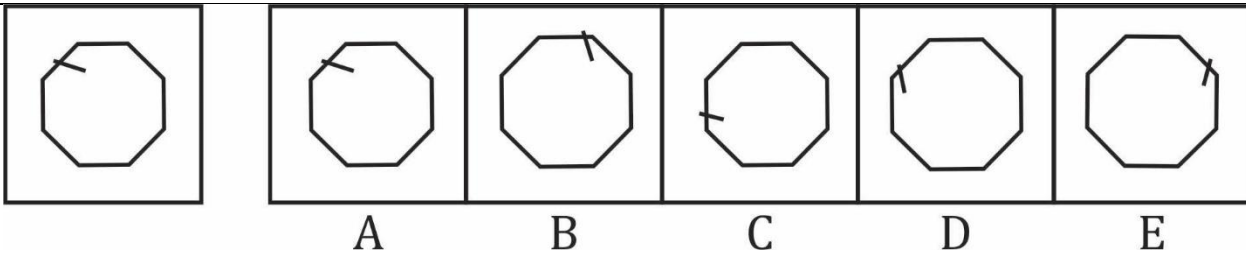
Question (1-96): This is a test of your ability to match figures quickly and accurately. In each question given below, there are five answer figures on the right side, where A, B, C, D, E are written below. One of them moved to the left is similar to a question-shape. You are required to find out which of the five figures is identical to the figure given on the left.

यह आकृतियों का त्वरित और सटीक मिलान करने की आपकी क्षमता का परीक्षण है नीचे दिए गए प्रत्येक प्रश्न में दाईं ओर पाँच उत्तर आकृतियाँ हैं, जहाँ नीचे A, B, C, D, E लिखा है। उनमें से एक बाईं ओर लेजाया गया प्रश्न-आकार के समान है। आपको यह पता लगाना है कि पाँच आकृतियों में से कौन सी बाईं ओर दी गई आकृति के समान है।

- (a) A
- (b) B
- (c) C
- (d) D
- (e) E

Ans.(e)

Q201.



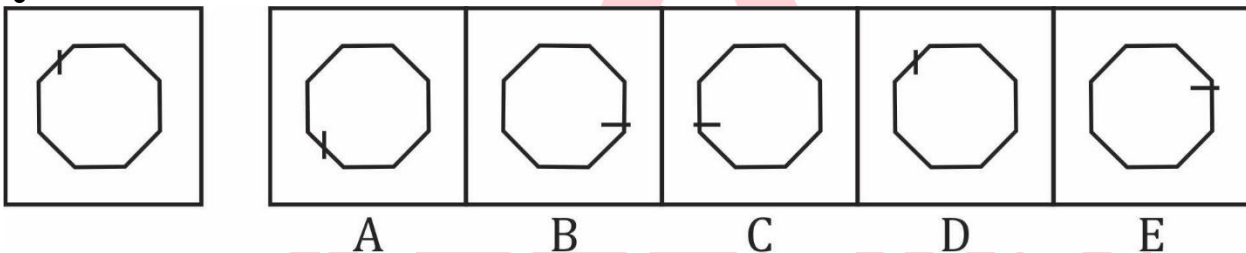
Question (1-96): This is a test of your ability to match figures quickly and accurately. In each question given below, there are five answer figures on the right side, where A, B, C, D, E are written below. One of them moved to the left is similar to a question-shape. You are required to find out which of the five figures is identical to the figure given on the left.

यह आकृतियों का त्वरित और सटीक मिलान करने की आपकी क्षमता का परीक्षण है नीचे दिए गए प्रत्येक प्रश्न में दाईं ओर पाँच उत्तर आकृतियाँ हैं, जहाँ नीचे A, B, C, D, E लिखा है। उनमें से एक बाईं ओर लेजाया गया प्रश्न-आकार के समान है। आपको यह पता लगाना है कि पाँच आकृतियों में से कौन सी बाईं ओर दी गई आकृति के समान है।

- (a) A
- (b) B
- (c) C
- (d) D
- (e) E

Ans.(a)

Q202.



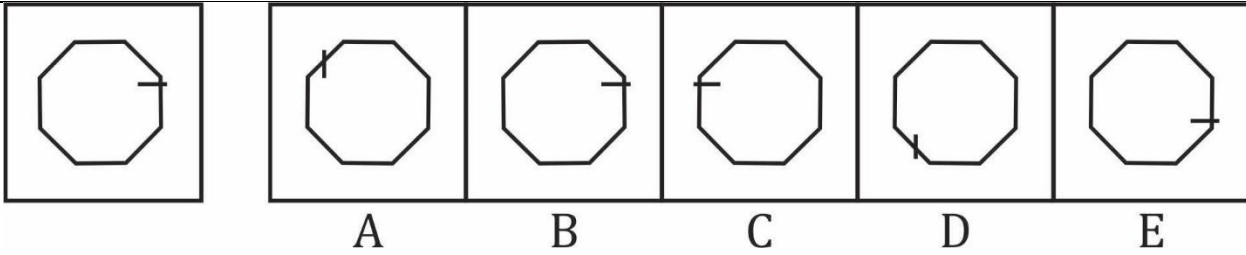
Question (1-96): This is a test of your ability to match figures quickly and accurately. In each question given below, there are five answer figures on the right side, where A, B, C, D, E are written below. One of them moved to the left is similar to a question-shape. You are required to find out which of the five figures is identical to the figure given on the left.

यह आकृतियों का त्वरित और सटीक मिलान करने की आपकी क्षमता का परीक्षण है नीचे दिए गए प्रत्येक प्रश्न में दाईं ओर पाँच उत्तर आकृतियाँ हैं, जहाँ नीचे A, B, C, D, E लिखा है। उनमें से एक बाईं ओर लेजाया गया प्रश्न-आकार के समान है। आपको यह पता लगाना है कि पाँच आकृतियों में से कौन सी बाईं ओर दी गई आकृति के समान है।

- (a) A
- (b) B
- (c) C
- (d) D
- (e) E

Ans.(d)

Q203.



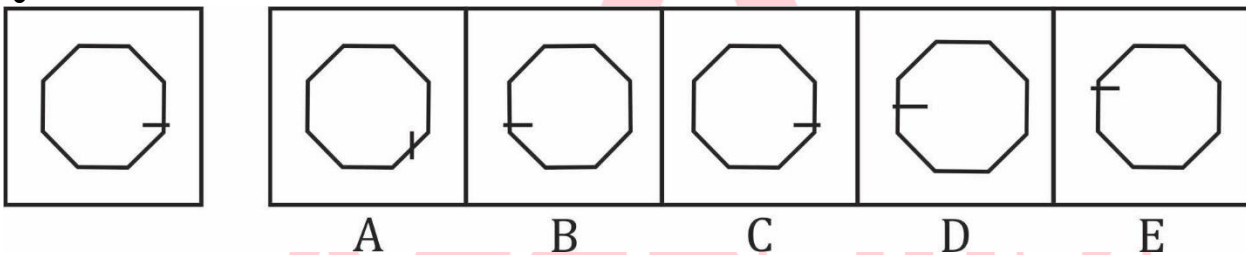
Question (1-96): This is a test of your ability to match figures quickly and accurately. In each question given below, there are five answer figures on the right side, where A, B, C, D, E are written below. One of them moved to the left is similar to a question-shape. You are required to find out which of the five figures is identical to the figure given on the left.

यह आकृतियों का त्वरित और सटीक मिलान करने की आपकी क्षमता का परीक्षण है नीचे दिए गए प्रत्येक प्रश्न में दाईं ओर पाँच उत्तर आकृतियाँ हैं, जहाँ नीचे A, B, C, D, E लिखा है। उनमें से एक बाईं ओर लेजाया गया प्रश्न-आकार के समान है। आपको यह पता लगाना है कि पाँच आकृतियों में से कौन सी बाईं ओर दी गई आकृति के समान है।

- (a) A
- (b) B
- (c) C
- (d) D
- (e) E

Ans.(b)

Q204.



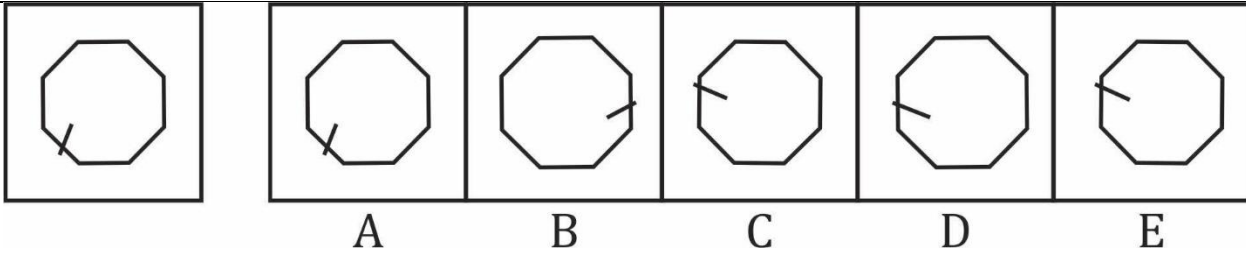
Question (1-96): This is a test of your ability to match figures quickly and accurately. In each question given below, there are five answer figures on the right side, where A, B, C, D, E are written below. One of them moved to the left is similar to a question-shape. You are required to find out which of the five figures is identical to the figure given on the left.

यह आकृतियों का त्वरित और सटीक मिलान करने की आपकी क्षमता का परीक्षण है नीचे दिए गए प्रत्येक प्रश्न में दाईं ओर पाँच उत्तर आकृतियाँ हैं, जहाँ नीचे A, B, C, D, E लिखा है। उनमें से एक बाईं ओर लेजाया गया प्रश्न-आकार के समान है। आपको यह पता लगाना है कि पाँच आकृतियों में से कौन सी बाईं ओर दी गई आकृति के समान है।

- (a) A
- (b) B
- (c) C
- (d) D
- (e) E

Ans.(c)

Q205.



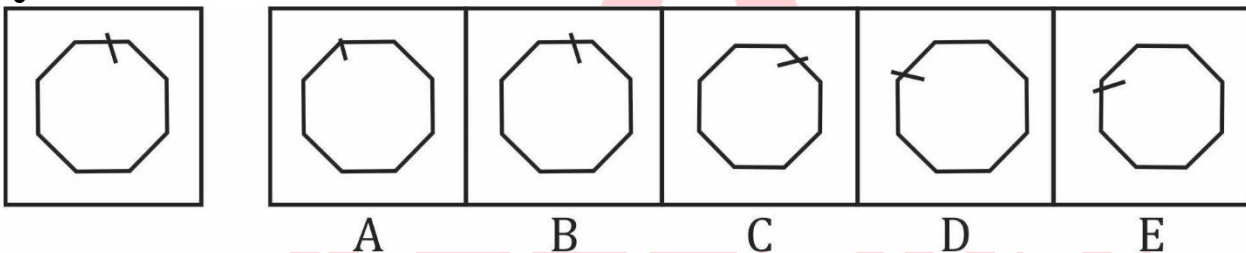
Question (1-96): This is a test of your ability to match figures quickly and accurately. In each question given below, there are five answer figures on the right side, where A, B, C, D, E are written below. One of them moved to the left is similar to a question-shape. You are required to find out which of the five figures is identical to the figure given on the left.

यह आकृतियों का त्वरित और सटीक मिलान करने की आपकी क्षमता का परीक्षण है नीचे दिए गए प्रत्येक प्रश्न में दाईं ओर पाँच उत्तर आकृतियाँ हैं, जहाँ नीचे A, B, C, D, E लिखा है। उनमें से एक बाईं ओर लेजाया गया प्रश्न-आकार के समान है। आपको यह पता लगाना है कि पाँच आकृतियों में से कौन सी बाईं ओर दी गई आकृति के समान है।

- (a) A
- (b) B
- (c) C
- (d) D
- (e) E

Ans.(a)

Q206.



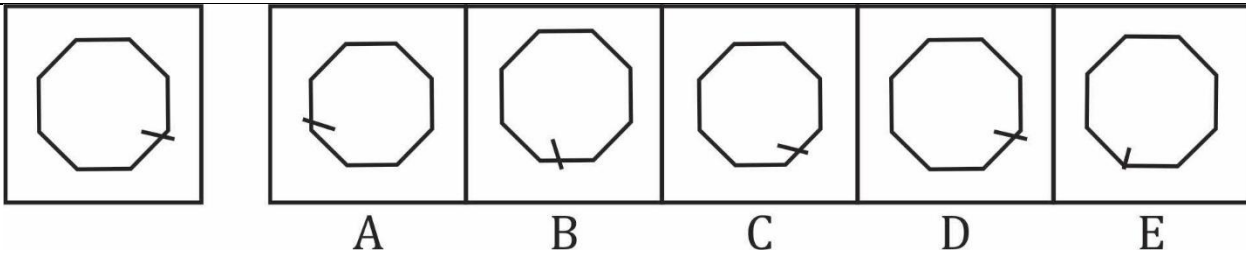
Question (1-96): This is a test of your ability to match figures quickly and accurately. In each question given below, there are five answer figures on the right side, where A, B, C, D, E are written below. One of them moved to the left is similar to a question-shape. You are required to find out which of the five figures is identical to the figure given on the left.

यह आकृतियों का त्वरित और सटीक मिलान करने की आपकी क्षमता का परीक्षण है नीचे दिए गए प्रत्येक प्रश्न में दाईं ओर पाँच उत्तर आकृतियाँ हैं, जहाँ नीचे A, B, C, D, E लिखा है। उनमें से एक बाईं ओर लेजाया गया प्रश्न-आकार के समान है। आपको यह पता लगाना है कि पाँच आकृतियों में से कौन सी बाईं ओर दी गई आकृति के समान है।

- (a) A
- (b) B
- (c) C
- (d) D
- (e) E

Ans.(b)

Q207.



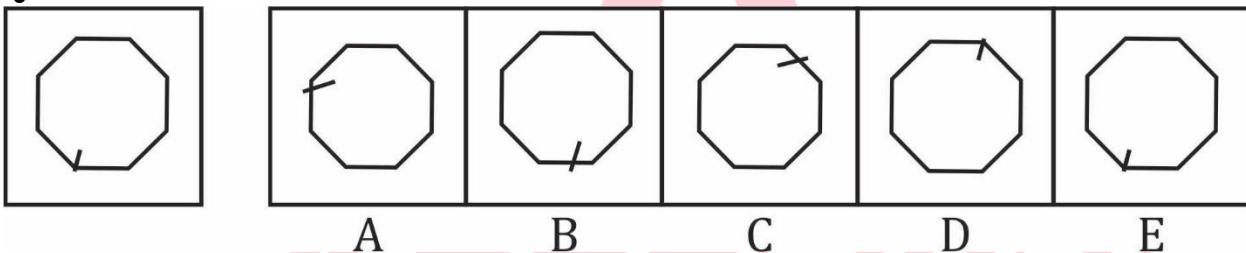
Question (1-96): This is a test of your ability to match figures quickly and accurately. In each question given below, there are five answer figures on the right side, where A, B, C, D, E are written below. One of them moved to the left is similar to a question-shape. You are required to find out which of the five figures is identical to the figure given on the left.

यह आकृतियों का त्वरित और सटीक मिलान करने की आपकी क्षमता का परीक्षण है नीचे दिए गए प्रत्येक प्रश्न में दाईं ओर पाँच उत्तर आकृतियाँ हैं, जहाँ नीचे A, B, C, D, E लिखा है। उनमें से एक बाईं ओर लेजाया गया प्रश्न-आकार के समान है। आपको यह पता लगाना है कि पाँच आकृतियों में से कौन सी बाईं ओर दी गई आकृति के समान है।

- (a) A
- (b) B
- (c) C
- (d) D
- (e) E

Ans.(d)

Q208.



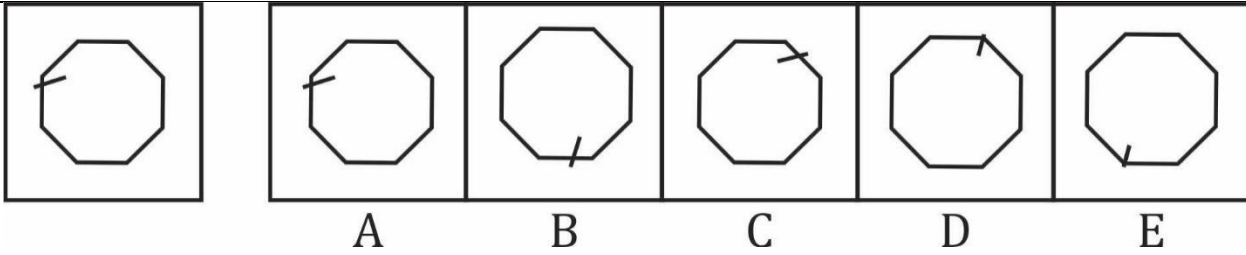
Question (1-96): This is a test of your ability to match figures quickly and accurately. In each question given below, there are five answer figures on the right side, where A, B, C, D, E are written below. One of them moved to the left is similar to a question-shape. You are required to find out which of the five figures is identical to the figure given on the left.

यह आकृतियों का त्वरित और सटीक मिलान करने की आपकी क्षमता का परीक्षण है नीचे दिए गए प्रत्येक प्रश्न में दाईं ओर पाँच उत्तर आकृतियाँ हैं, जहाँ नीचे A, B, C, D, E लिखा है। उनमें से एक बाईं ओर लेजाया गया प्रश्न-आकार के समान है। आपको यह पता लगाना है कि पाँच आकृतियों में से कौन सी बाईं ओर दी गई आकृति के समान है।

- (a) A
- (b) B
- (c) C
- (d) D
- (e) E

Ans.(e)

Q209.



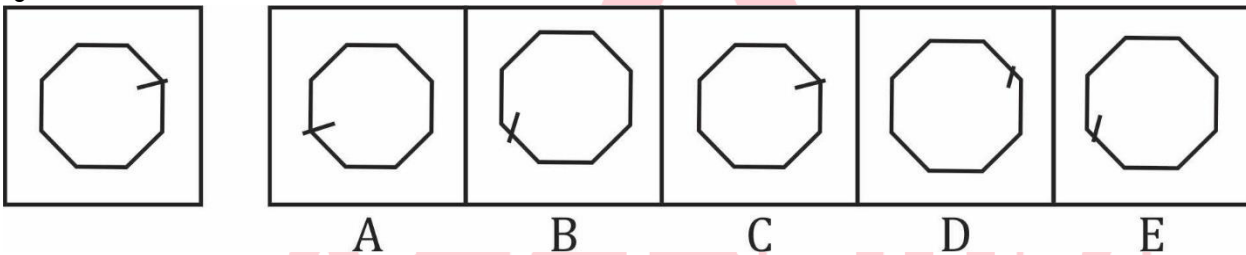
Question (1-96): This is a test of your ability to match figures quickly and accurately. In each question given below, there are five answer figures on the right side, where A, B, C, D, E are written below. One of them moved to the left is similar to a question-shape. You are required to find out which of the five figures is identical to the figure given on the left.

यह आकृतियों का त्वरित और सटीक मिलान करने की आपकी क्षमता का परीक्षण है नीचे दिए गए प्रत्येक प्रश्न में दाईं ओर पाँच उत्तर आकृतियाँ हैं, जहाँ नीचे A, B, C, D, E लिखा है। उनमें से एक बाईं ओर लेजाया गया प्रश्न-आकार के समान है। आपको यह पता लगाना है कि पाँच आकृतियों में से कौन सी बाईं ओर दी गई आकृति के समान है।

- (a) A
- (b) B
- (c) C
- (d) D
- (e) E

Ans.(a)

Q210.



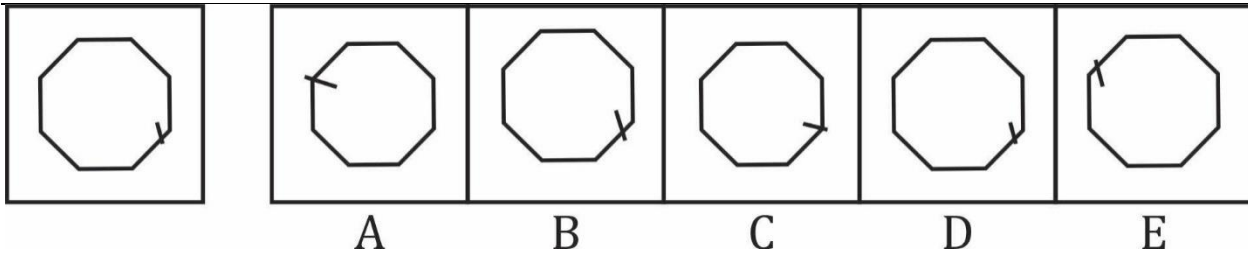
Question (1-96): This is a test of your ability to match figures quickly and accurately. In each question given below, there are five answer figures on the right side, where A, B, C, D, E are written below. One of them moved to the left is similar to a question-shape. You are required to find out which of the five figures is identical to the figure given on the left.

यह आकृतियों का त्वरित और सटीक मिलान करने की आपकी क्षमता का परीक्षण है नीचे दिए गए प्रत्येक प्रश्न में दाईं ओर पाँच उत्तर आकृतियाँ हैं, जहाँ नीचे A, B, C, D, E लिखा है। उनमें से एक बाईं ओर लेजाया गया प्रश्न-आकार के समान है। आपको यह पता लगाना है कि पाँच आकृतियों में से कौन सी बाईं ओर दी गई आकृति के समान है।

- (a) A
- (b) B
- (c) C
- (d) D
- (e) E

Ans.(c)

Q211.



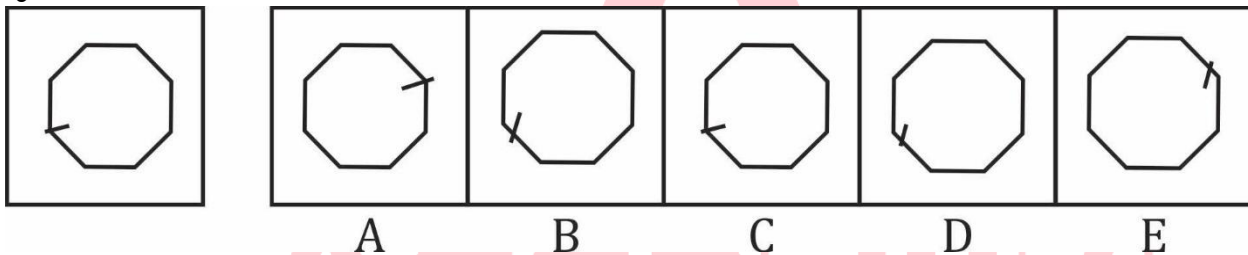
Question (1-96): This is a test of your ability to match figures quickly and accurately. In each question given below, there are five answer figures on the right side, where A, B, C, D, E are written below. One of them moved to the left is similar to a question-shape. You are required to find out which of the five figures is identical to the figure given on the left.

यह आकृतियों का त्वरित और सटीक मिलान करने की आपकी क्षमता का परीक्षण है नीचे दिए गए प्रत्येक प्रश्न में दाईं ओर पाँच उत्तर आकृतियाँ हैं, जहाँ नीचे A, B, C, D, E लिखा है। उनमें से एक बाईं ओर लेजाया गया प्रश्न-आकार के समान है। आपको यह पता लगाना है कि पाँच आकृतियों में से कौन सी बाईं ओर दी गई आकृति के समान है।

- (a) A
- (b) B
- (c) C
- (d) D
- (e) E

Ans.(d)

Q212.



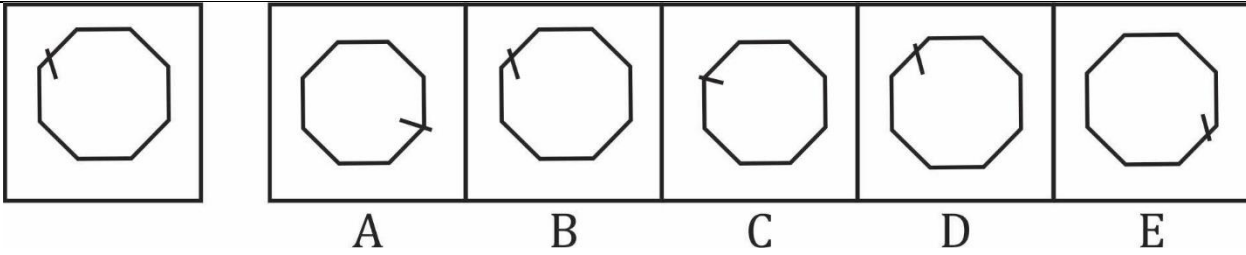
Question (1-96): This is a test of your ability to match figures quickly and accurately. In each question given below, there are five answer figures on the right side, where A, B, C, D, E are written below. One of them moved to the left is similar to a question-shape. You are required to find out which of the five figures is identical to the figure given on the left.

यह आकृतियों का त्वरित और सटीक मिलान करने की आपकी क्षमता का परीक्षण है नीचे दिए गए प्रत्येक प्रश्न में दाईं ओर पाँच उत्तर आकृतियाँ हैं, जहाँ नीचे A, B, C, D, E लिखा है। उनमें से एक बाईं ओर लेजाया गया प्रश्न-आकार के समान है। आपको यह पता लगाना है कि पाँच आकृतियों में से कौन सी बाईं ओर दी गई आकृति के समान है।

- (a) A
- (b) B
- (c) C
- (d) D
- (e) E

Ans.(c)

Q213.



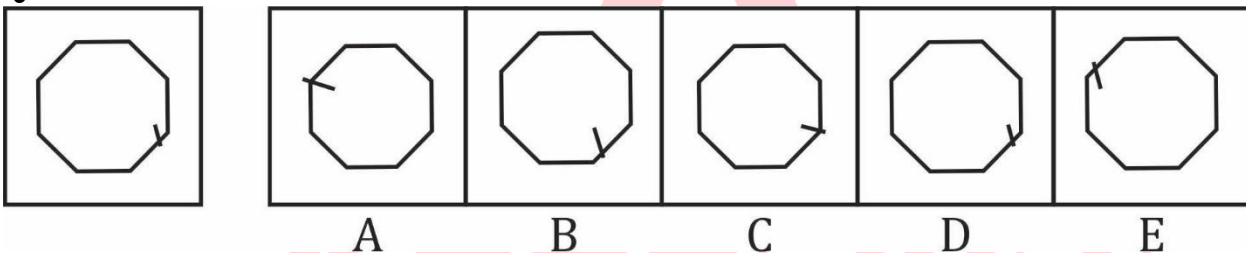
Question (1-96): This is a test of your ability to match figures quickly and accurately. In each question given below, there are five answer figures on the right side, where A, B, C, D, E are written below. One of them moved to the left is similar to a question-shape. You are required to find out which of the five figures is identical to the figure given on the left.

यह आकृतियों का त्वरित और सटीक मिलान करने की आपकी क्षमता का परीक्षण है नीचे दिए गए प्रत्येक प्रश्न में दाईं ओर पाँच उत्तर आकृतियाँ हैं, जहाँ नीचे A, B, C, D, E लिखा है। उनमें से एक बाईं ओर लेजाया गया प्रश्न-आकार के समान है। आपको यह पता लगाना है कि पाँच आकृतियों में से कौन सी बाईं ओर दी गई आकृति के समान है।

- (a) A
- (b) B
- (c) C
- (d) D
- (e) E

Ans.(b)

Q214.



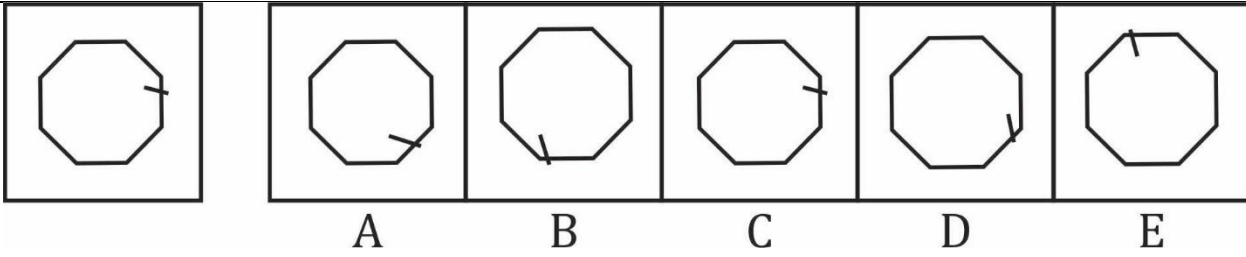
Question (1-96): This is a test of your ability to match figures quickly and accurately. In each question given below, there are five answer figures on the right side, where A, B, C, D, E are written below. One of them moved to the left is similar to a question-shape. You are required to find out which of the five figures is identical to the figure given on the left.

यह आकृतियों का त्वरित और सटीक मिलान करने की आपकी क्षमता का परीक्षण है नीचे दिए गए प्रत्येक प्रश्न में दाईं ओर पाँच उत्तर आकृतियाँ हैं, जहाँ नीचे A, B, C, D, E लिखा है। उनमें से एक बाईं ओर लेजाया गया प्रश्न-आकार के समान है। आपको यह पता लगाना है कि पाँच आकृतियों में से कौन सी बाईं ओर दी गई आकृति के समान है।

- (a) A
- (b) B
- (c) C
- (d) D
- (e) E

Ans.(d)

Q215.



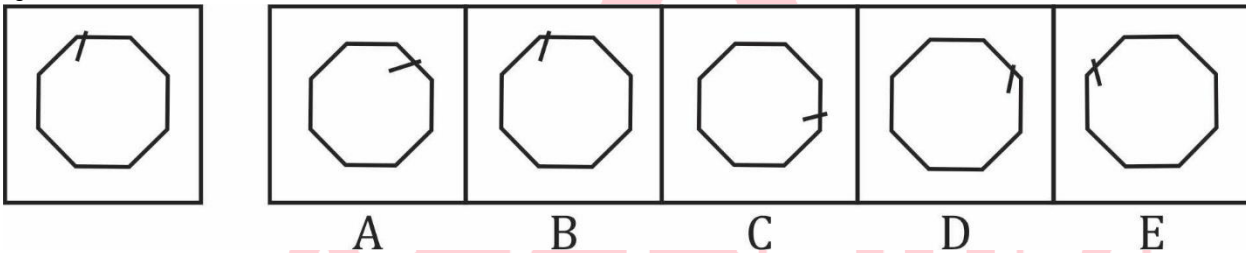
Question (1-96): This is a test of your ability to match figures quickly and accurately. In each question given below, there are five answer figures on the right side, where A, B, C, D, E are written below. One of them moved to the left is similar to a question-shape. You are required to find out which of the five figures is identical to the figure given on the left.

यह आकृतियों का त्वरित और सटीक मिलान करने की आपकी क्षमता का परीक्षण है नीचे दिए गए प्रत्येक प्रश्न में दाईं ओर पाँच उत्तर आकृतियाँ हैं, जहाँ नीचे A, B, C, D, E लिखा है। उनमें से एक बाईं ओर लेजाया गया प्रश्न-आकार के समान है। आपको यह पता लगाना है कि पाँच आकृतियों में से कौन सी बाईं ओर दी गई आकृति के समान है।

- (a) A
- (b) B
- (c) C
- (d) D
- (e) E

Ans.(c)

Q216.



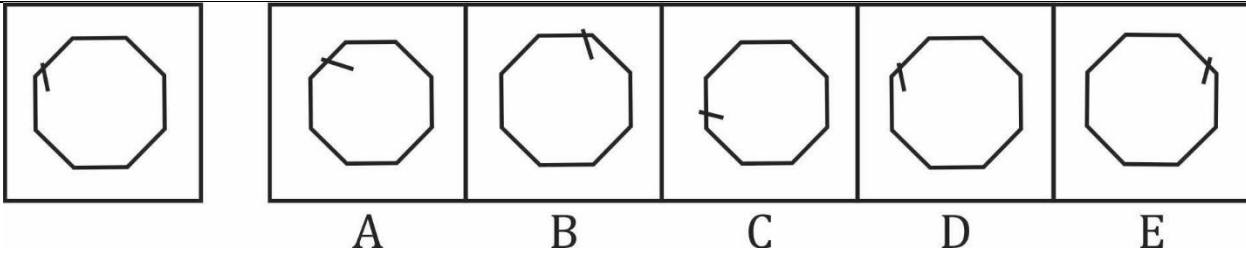
Question (1-96): This is a test of your ability to match figures quickly and accurately. In each question given below, there are five answer figures on the right side, where A, B, C, D, E are written below. One of them moved to the left is similar to a question-shape. You are required to find out which of the five figures is identical to the figure given on the left.

यह आकृतियों का त्वरित और सटीक मिलान करने की आपकी क्षमता का परीक्षण है नीचे दिए गए प्रत्येक प्रश्न में दाईं ओर पाँच उत्तर आकृतियाँ हैं, जहाँ नीचे A, B, C, D, E लिखा है। उनमें से एक बाईं ओर लेजाया गया प्रश्न-आकार के समान है। आपको यह पता लगाना है कि पाँच आकृतियों में से कौन सी बाईं ओर दी गई आकृति के समान है।

- (a) A
- (b) B
- (c) C
- (d) D
- (e) E

Ans.(b)

Q217.



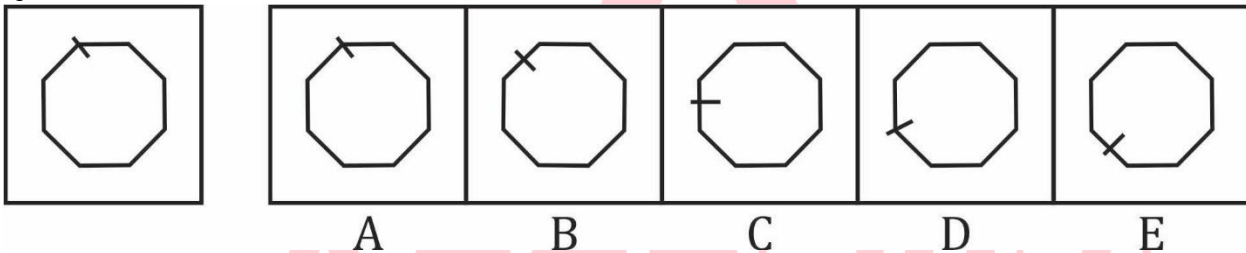
Question (1-96): This is a test of your ability to match figures quickly and accurately. In each question given below, there are five answer figures on the right side, where A, B, C, D, E are written below. One of them moved to the left is similar to a question-shape. You are required to find out which of the five figures is identical to the figure given on the left.

यह आकृतियों का त्वरित और सटीक मिलान करने की आपकी क्षमता का परीक्षण है नीचे दिए गए प्रत्येक प्रश्न में दाईं ओर पाँच उत्तर आकृतियाँ हैं, जहाँ नीचे A, B, C, D, E लिखा है। उनमें से एक बाईं ओर लेजाया गया प्रश्न-आकार के समान है। आपको यह पता लगाना है कि पाँच आकृतियों में से कौन सी बाईं ओर दी गई आकृति के समान है।

- (a) A
- (b) B
- (c) C
- (d) D
- (e) E

Ans.(d)

Q218.



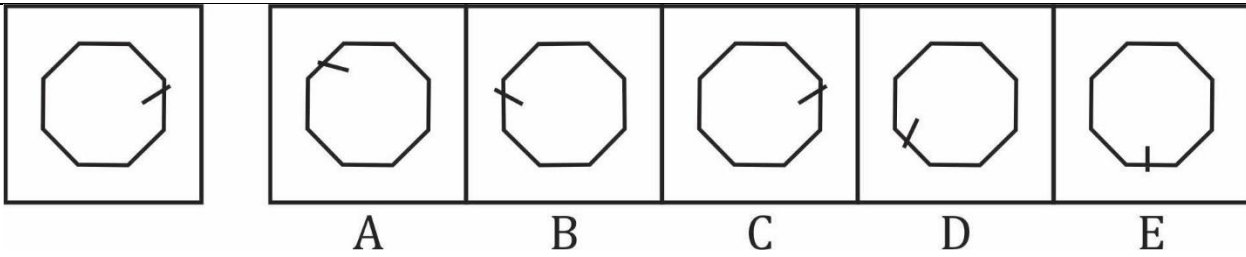
Question (1-96): This is a test of your ability to match figures quickly and accurately. In each question given below, there are five answer figures on the right side, where A, B, C, D, E are written below. One of them moved to the left is similar to a question-shape. You are required to find out which of the five figures is identical to the figure given on the left.

यह आकृतियों का त्वरित और सटीक मिलान करने की आपकी क्षमता का परीक्षण है नीचे दिए गए प्रत्येक प्रश्न में दाईं ओर पाँच उत्तर आकृतियाँ हैं, जहाँ नीचे A, B, C, D, E लिखा है। उनमें से एक बाईं ओर लेजाया गया प्रश्न-आकार के समान है। आपको यह पता लगाना है कि पाँच आकृतियों में से कौन सी बाईं ओर दी गई आकृति के समान है।

- (a) A
- (b) B
- (c) C
- (d) D
- (e) E

Ans.(a)

Q219.



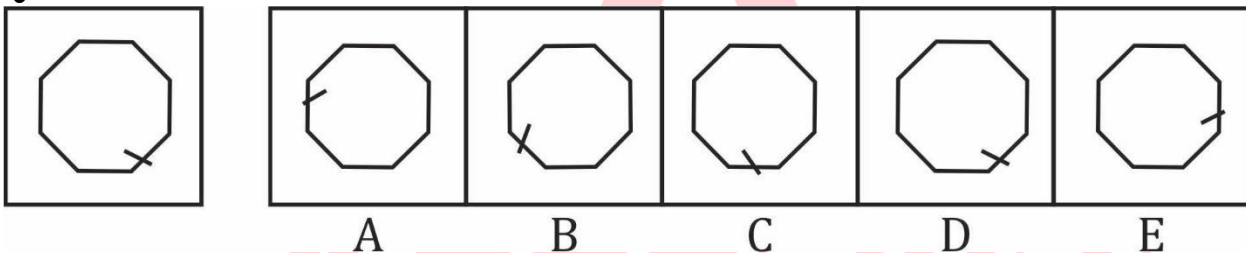
Question (1-96): This is a test of your ability to match figures quickly and accurately. In each question given below, there are five answer figures on the right side, where A, B, C, D, E are written below. One of them moved to the left is similar to a question-shape. You are required to find out which of the five figures is identical to the figure given on the left.

यह आकृतियों का त्वरित और सटीक मिलान करने की आपकी क्षमता का परीक्षण है नीचे दिए गए प्रत्येक प्रश्न में दाईं ओर पाँच उत्तर आकृतियाँ हैं, जहाँ नीचे A, B, C, D, E लिखा है। उनमें से एक बाईं ओर लेजाया गया प्रश्न-आकार के समान है। आपको यह पता लगाना है कि पाँच आकृतियों में से कौन सी बाईं ओर दी गई आकृति के समान है।

- (a) A
- (b) B
- (c) C
- (d) D
- (e) E

Ans.(c)

Q220.



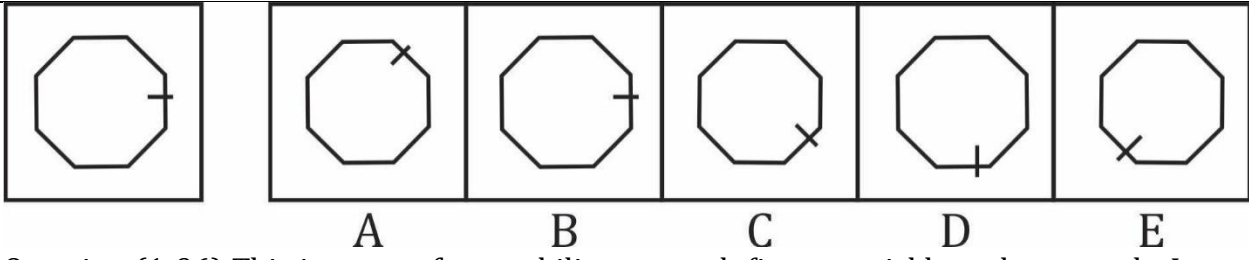
Question (1-96): This is a test of your ability to match figures quickly and accurately. In each question given below, there are five answer figures on the right side, where A, B, C, D, E are written below. One of them moved to the left is similar to a question-shape. You are required to find out which of the five figures is identical to the figure given on the left.

यह आकृतियों का त्वरित और सटीक मिलान करने की आपकी क्षमता का परीक्षण है नीचे दिए गए प्रत्येक प्रश्न में दाईं ओर पाँच उत्तर आकृतियाँ हैं, जहाँ नीचे A, B, C, D, E लिखा है। उनमें से एक बाईं ओर लेजाया गया प्रश्न-आकार के समान है। आपको यह पता लगाना है कि पाँच आकृतियों में से कौन सी बाईं ओर दी गई आकृति के समान है।

- (a) A
- (b) B
- (c) C
- (d) D
- (e) E

Ans.(d)

Q221.



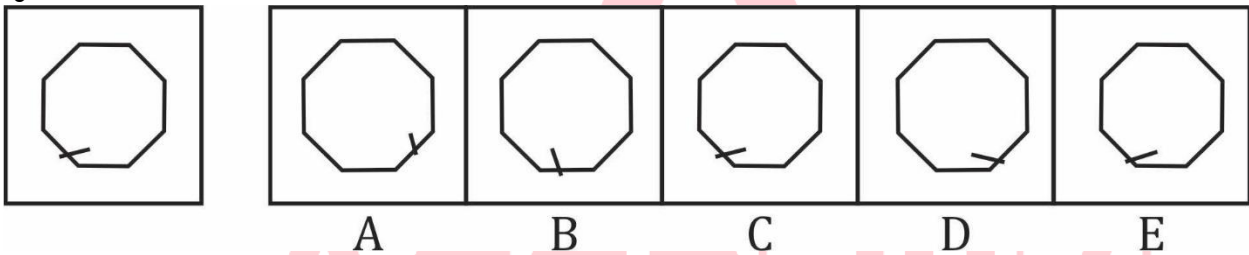
Question (1-96): This is a test of your ability to match figures quickly and accurately. In each question given below, there are five answer figures on the right side, where A, B, C, D, E are written below. One of them moved to the left is similar to a question-shape. You are required to find out which of the five figures is identical to the figure given on the left.

यह आकृतियों का त्वरित और सटीक मिलान करने की आपकी क्षमता का परीक्षण है नीचे दिए गए प्रत्येक प्रश्न में दाईं ओर पाँच उत्तर आकृतियाँ हैं, जहाँ नीचे A, B, C, D, E लिखा है। उनमें से एक बाईं ओर लेजाया गया प्रश्न-आकार के समान है। आपको यह पता लगाना है कि पाँच आकृतियों में से कौन सी बाईं ओर दी गई आकृति के समान है।

- (a) A
- (b) B
- (c) C
- (d) D
- (e) E

Ans.(b)

Q222.



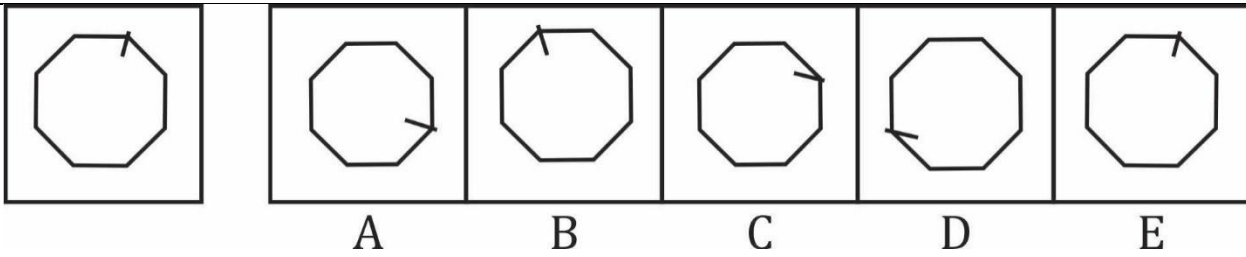
Question (1-96): This is a test of your ability to match figures quickly and accurately. In each question given below, there are five answer figures on the right side, where A, B, C, D, E are written below. One of them moved to the left is similar to a question-shape. You are required to find out which of the five figures is identical to the figure given on the left.

यह आकृतियों का त्वरित और सटीक मिलान करने की आपकी क्षमता का परीक्षण है नीचे दिए गए प्रत्येक प्रश्न में दाईं ओर पाँच उत्तर आकृतियाँ हैं, जहाँ नीचे A, B, C, D, E लिखा है। उनमें से एक बाईं ओर लेजाया गया प्रश्न-आकार के समान है। आपको यह पता लगाना है कि पाँच आकृतियों में से कौन सी बाईं ओर दी गई आकृति के समान है।

- (a) A
- (b) B
- (c) C
- (d) D
- (e) E

Ans.(c)

Q223.



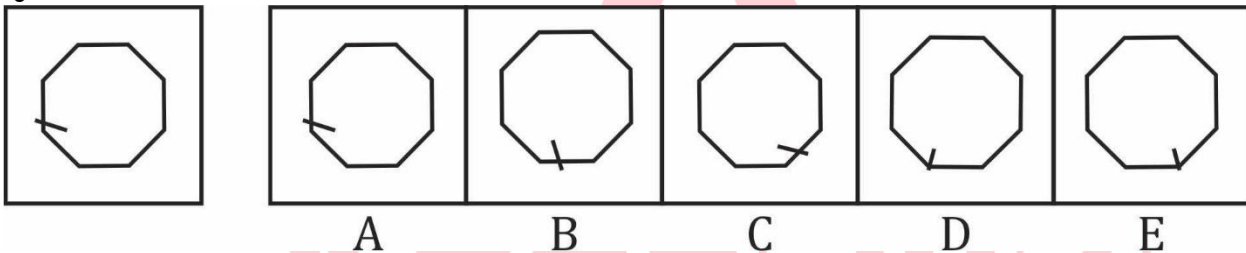
Question (1-96): This is a test of your ability to match figures quickly and accurately. In each question given below, there are five answer figures on the right side, where A, B, C, D, E are written below. One of them moved to the left is similar to a question-shape. You are required to find out which of the five figures is identical to the figure given on the left.

यह आकृतियों का त्वरित और सटीक मिलान करने की आपकी क्षमता का परीक्षण है नीचे दिए गए प्रत्येक प्रश्न में दाईं ओर पाँच उत्तर आकृतियाँ हैं, जहाँ नीचे A, B, C, D, E लिखा है। उनमें से एक बाईं ओर लेजाया गया प्रश्न-आकार के समान है। आपको यह पता लगाना है कि पाँच आकृतियों में से कौन सी बाईं ओर दी गई आकृति के समान है।

- (a) A
- (b) B
- (c) C
- (d) D
- (e) E

Ans.(e)

Q224.



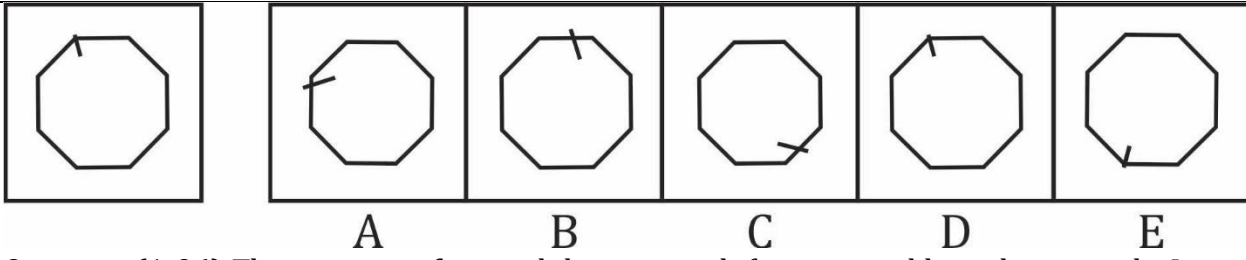
Question (1-96): This is a test of your ability to match figures quickly and accurately. In each question given below, there are five answer figures on the right side, where A, B, C, D, E are written below. One of them moved to the left is similar to a question-shape. You are required to find out which of the five figures is identical to the figure given on the left.

यह आकृतियों का त्वरित और सटीक मिलान करने की आपकी क्षमता का परीक्षण है नीचे दिए गए प्रत्येक प्रश्न में दाईं ओर पाँच उत्तर आकृतियाँ हैं, जहाँ नीचे A, B, C, D, E लिखा है। उनमें से एक बाईं ओर लेजाया गया प्रश्न-आकार के समान है। आपको यह पता लगाना है कि पाँच आकृतियों में से कौन सी बाईं ओर दी गई आकृति के समान है।

- (a) A
- (b) B
- (c) C
- (d) D
- (e) E

Ans.(a)

Q225.



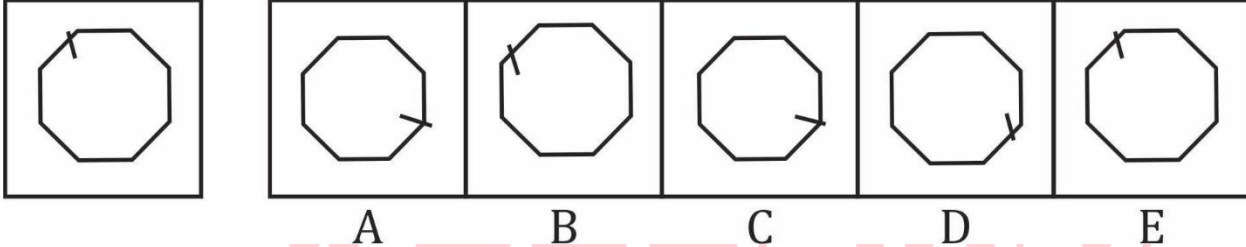
Question (1-96): This is a test of your ability to match figures quickly and accurately. In each question given below, there are five answer figures on the right side, where A, B, C, D, E are written below. One of them moved to the left is similar to a question-shape. You are required to find out which of the five figures is identical to the figure given on the left.

यह आकृतियों का त्वरित और सटीक मिलान करने की आपकी क्षमता का परीक्षण है नीचे दिए गए प्रत्येक प्रश्न में दाईं ओर पाँच उत्तर आकृतियाँ हैं, जहाँ नीचे A, B, C, D, E लिखा है। उनमें से एक बाईं ओर लेजाया गया प्रश्न-आकार के समान है। आपको यह पता लगाना है कि पाँच आकृतियों में से कौन सी बाईं ओर दी गई आकृति के समान है।

- (a) A
- (b) B
- (c) C
- (d) D
- (e) E

Ans.(d)

Q226.



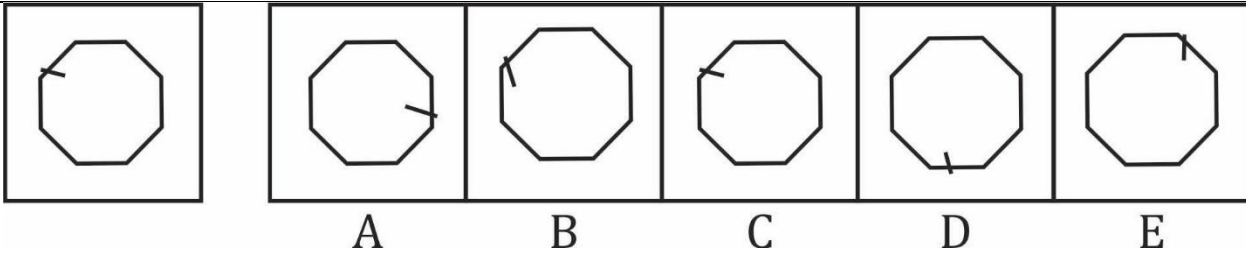
Question (1-96): This is a test of your ability to match figures quickly and accurately. In each question given below, there are five answer figures on the right side, where A, B, C, D, E are written below. One of them moved to the left is similar to a question-shape. You are required to find out which of the five figures is identical to the figure given on the left.

यह आकृतियों का त्वरित और सटीक मिलान करने की आपकी क्षमता का परीक्षण है नीचे दिए गए प्रत्येक प्रश्न में दाईं ओर पाँच उत्तर आकृतियाँ हैं, जहाँ नीचे A, B, C, D, E लिखा है। उनमें से एक बाईं ओर लेजाया गया प्रश्न-आकार के समान है। आपको यह पता लगाना है कि पाँच आकृतियों में से कौन सी बाईं ओर दी गई आकृति के समान है।

- (a) A
- (b) B
- (c) C
- (d) D
- (e) E

Ans.(e)

Q227.



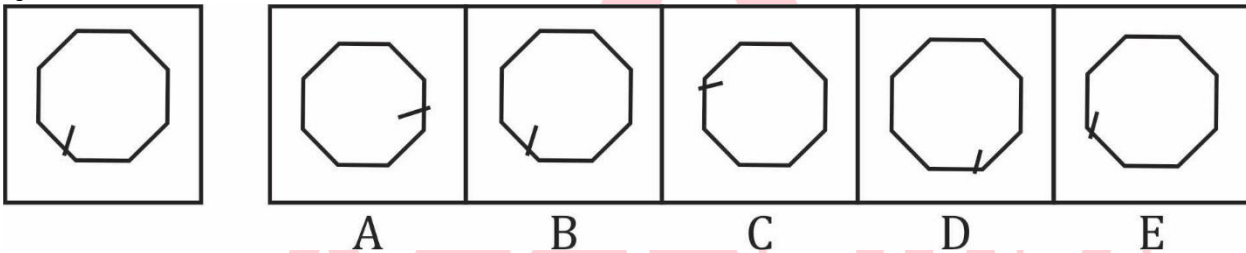
Question (1-96): This is a test of your ability to match figures quickly and accurately. In each question given below, there are five answer figures on the right side, where A, B, C, D, E are written below. One of them moved to the left is similar to a question-shape. You are required to find out which of the five figures is identical to the figure given on the left.

यह आकृतियों का त्वरित और सटीक मिलान करने की आपकी क्षमता का परीक्षण है नीचे दिए गए प्रत्येक प्रश्न में दाईं ओर पाँच उत्तर आकृतियाँ हैं, जहाँ नीचे A, B, C, D, E लिखा है। उनमें से एक बाईं ओर लेजाया गया प्रश्न-आकार के समान है। आपको यह पता लगाना है कि पाँच आकृतियों में से कौन सी बाईं ओर दी गई आकृति के समान है।

- (a) A
- (b) B
- (c) C
- (d) D
- (e) E

Ans.(c)

Q228.



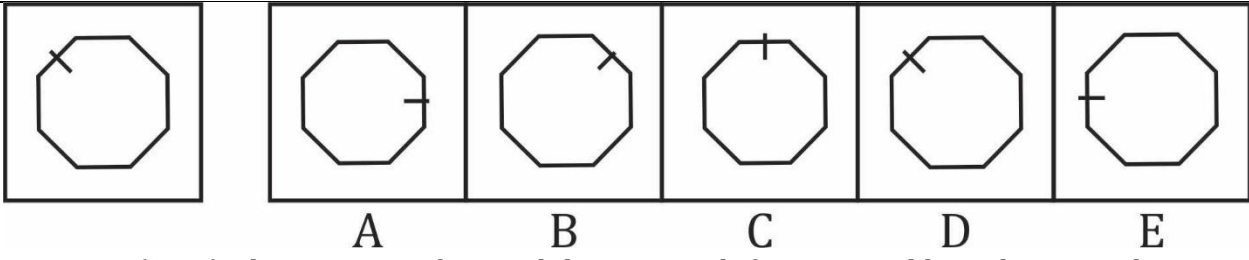
Question (1-96): This is a test of your ability to match figures quickly and accurately. In each question given below, there are five answer figures on the right side, where A, B, C, D, E are written below. One of them moved to the left is similar to a question-shape. You are required to find out which of the five figures is identical to the figure given on the left.

यह आकृतियों का त्वरित और सटीक मिलान करने की आपकी क्षमता का परीक्षण है नीचे दिए गए प्रत्येक प्रश्न में दाईं ओर पाँच उत्तर आकृतियाँ हैं, जहाँ नीचे A, B, C, D, E लिखा है। उनमें से एक बाईं ओर लेजाया गया प्रश्न-आकार के समान है। आपको यह पता लगाना है कि पाँच आकृतियों में से कौन सी बाईं ओर दी गई आकृति के समान है।

- (a) A
- (b) B
- (c) C
- (d) D
- (e) E

Ans.(b)

Q229.



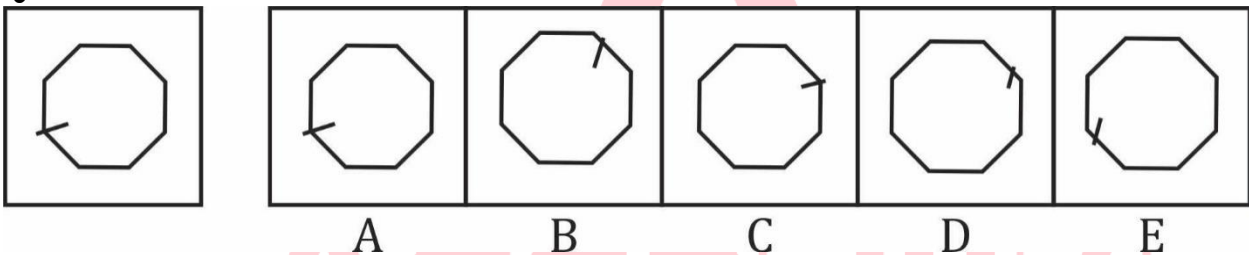
Question (1-96): This is a test of your ability to match figures quickly and accurately. In each question given below, there are five answer figures on the right side, where A, B, C, D, E are written below. One of them moved to the left is similar to a question-shape. You are required to find out which of the five figures is identical to the figure given on the left.

यह आकृतियों का त्वरित और सटीक मिलान करने की आपकी क्षमता का परीक्षण है नीचे दिए गए प्रत्येक प्रश्न में दाईं ओर पाँच उत्तर आकृतियाँ हैं, जहाँ नीचे A, B, C, D, E लिखा है। उनमें से एक बाईं ओर लेजाया गया प्रश्न-आकार के समान है। आपको यह पता लगाना है कि पाँच आकृतियों में से कौन सी बाईं ओर दी गई आकृति के समान है।

- (a) A
- (b) B
- (c) C
- (d) D
- (e) E

Ans.(d)

Q230.



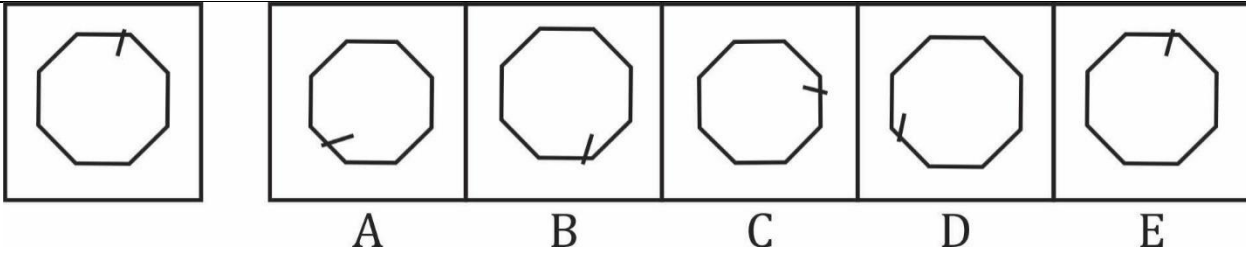
Question (1-96): This is a test of your ability to match figures quickly and accurately. In each question given below, there are five answer figures on the right side, where A, B, C, D, E are written below. One of them moved to the left is similar to a question-shape. You are required to find out which of the five figures is identical to the figure given on the left.

यह आकृतियों का त्वरित और सटीक मिलान करने की आपकी क्षमता का परीक्षण है नीचे दिए गए प्रत्येक प्रश्न में दाईं ओर पाँच उत्तर आकृतियाँ हैं, जहाँ नीचे A, B, C, D, E लिखा है। उनमें से एक बाईं ओर लेजाया गया प्रश्न-आकार के समान है। आपको यह पता लगाना है कि पाँच आकृतियों में से कौन सी बाईं ओर दी गई आकृति के समान है।

- (a) A
- (b) B
- (c) C
- (d) D
- (e) E

Ans.(a)

Q231.



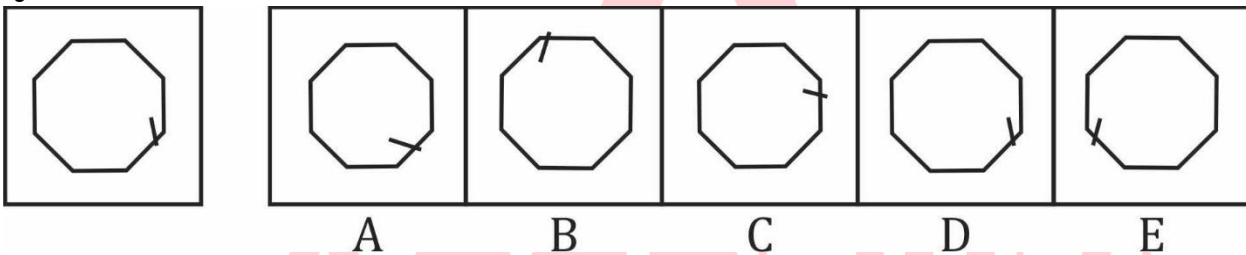
Question (1-96): This is a test of your ability to match figures quickly and accurately. In each question given below, there are five answer figures on the right side, where A, B, C, D, E are written below. One of them moved to the left is similar to a question-shape. You are required to find out which of the five figures is identical to the figure given on the left.

यह आकृतियों का त्वरित और सटीक मिलान करने की आपकी क्षमता का परीक्षण है नीचे दिए गए प्रत्येक प्रश्न में दाईं ओर पाँच उत्तर आकृतियाँ हैं, जहाँ नीचे A, B, C, D, E लिखा है। उनमें से एक बाईं ओर लेजाया गया प्रश्न-आकार के समान है। आपको यह पता लगाना है कि पाँच आकृतियों में से कौन सी बाईं ओर दी गई आकृति के समान है।

- (a) A
- (b) B
- (c) C
- (d) D
- (e) E

Ans.(e)

Q232.



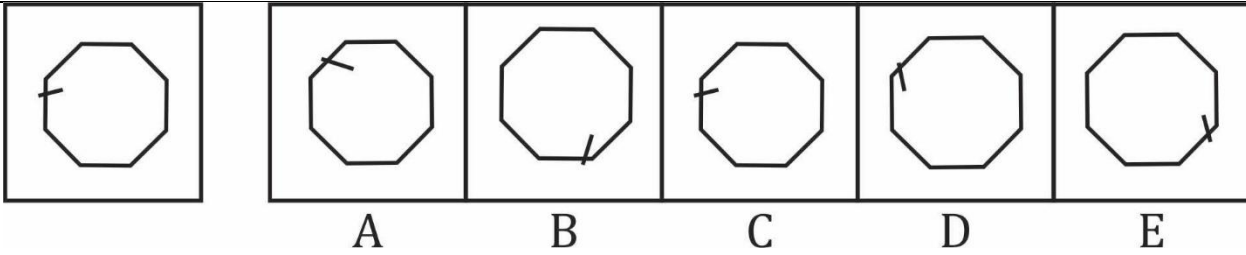
Question (1-96): This is a test of your ability to match figures quickly and accurately. In each question given below, there are five answer figures on the right side, where A, B, C, D, E are written below. One of them moved to the left is similar to a question-shape. You are required to find out which of the five figures is identical to the figure given on the left.

यह आकृतियों का त्वरित और सटीक मिलान करने की आपकी क्षमता का परीक्षण है नीचे दिए गए प्रत्येक प्रश्न में दाईं ओर पाँच उत्तर आकृतियाँ हैं, जहाँ नीचे A, B, C, D, E लिखा है। उनमें से एक बाईं ओर लेजाया गया प्रश्न-आकार के समान है। आपको यह पता लगाना है कि पाँच आकृतियों में से कौन सी बाईं ओर दी गई आकृति के समान है।

- (a) A
- (b) B
- (c) C
- (d) D
- (e) E

Ans.(d)

Q233.



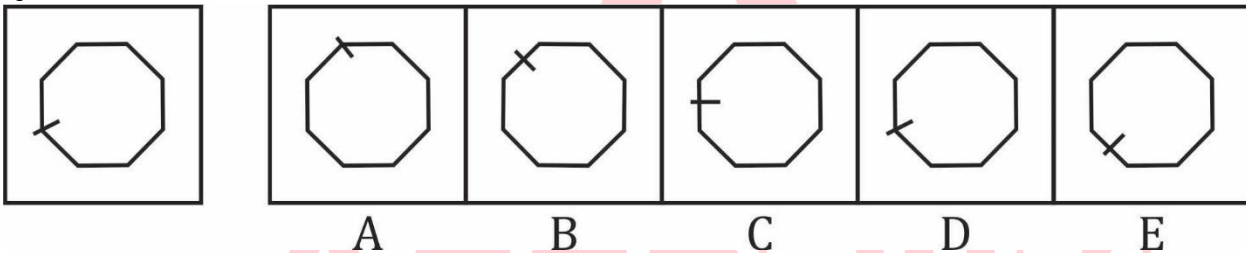
Question (1-96): This is a test of your ability to match figures quickly and accurately. In each question given below, there are five answer figures on the right side, where A, B, C, D, E are written below. One of them moved to the left is similar to a question-shape. You are required to find out which of the five figures is identical to the figure given on the left.

यह आकृतियों का त्वरित और सटीक मिलान करने की आपकी क्षमता का परीक्षण है नीचे दिए गए प्रत्येक प्रश्न में दाईं ओर पाँच उत्तर आकृतियाँ हैं, जहाँ नीचे A, B, C, D, E लिखा है। उनमें से एक बाईं ओर लेजाया गया प्रश्न-आकार के समान है। आपको यह पता लगाना है कि पाँच आकृतियों में से कौन सी बाईं ओर दी गई आकृति के समान है।

- (a) A
- (b) B
- (c) C
- (d) D
- (e) E

Ans.(c)

Q234.



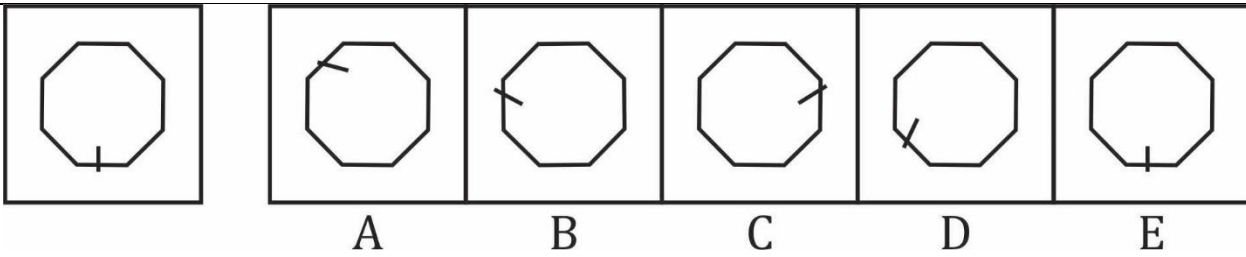
Question (1-96): This is a test of your ability to match figures quickly and accurately. In each question given below, there are five answer figures on the right side, where A, B, C, D, E are written below. One of them moved to the left is similar to a question-shape. You are required to find out which of the five figures is identical to the figure given on the left.

यह आकृतियों का त्वरित और सटीक मिलान करने की आपकी क्षमता का परीक्षण है नीचे दिए गए प्रत्येक प्रश्न में दाईं ओर पाँच उत्तर आकृतियाँ हैं, जहाँ नीचे A, B, C, D, E लिखा है। उनमें से एक बाईं ओर लेजाया गया प्रश्न-आकार के समान है। आपको यह पता लगाना है कि पाँच आकृतियों में से कौन सी बाईं ओर दी गई आकृति के समान है।

- (a) A
- (b) B
- (c) C
- (d) D
- (e) E

Ans.(d)

Q235.



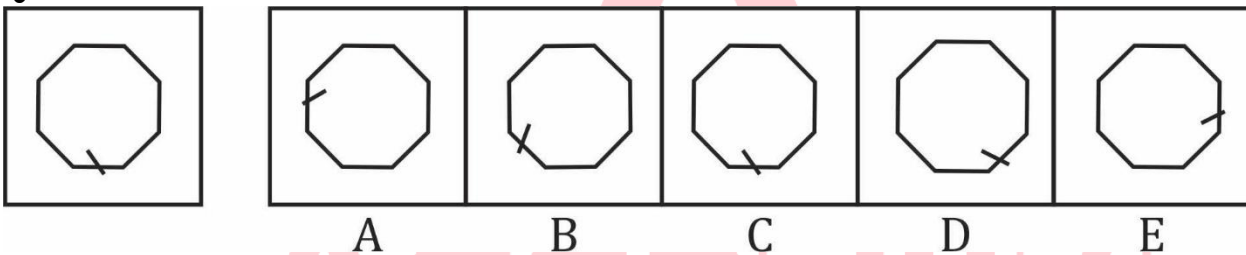
Question (1-96): This is a test of your ability to match figures quickly and accurately. In each question given below, there are five answer figures on the right side, where A, B, C, D, E are written below. One of them moved to the left is similar to a question-shape. You are required to find out which of the five figures is identical to the figure given on the left.

यह आकृतियों का त्वरित और सटीक मिलान करने की आपकी क्षमता का परीक्षण है नीचे दिए गए प्रत्येक प्रश्न में दाईं ओर पाँच उत्तर आकृतियाँ हैं, जहाँ नीचे A, B, C, D, E लिखा है। उनमें से एक बाईं ओर लेजाया गया प्रश्न-आकार के समान है। आपको यह पता लगाना है कि पाँच आकृतियों में से कौन सी बाईं ओर दी गई आकृति के समान है।

- (a) A
- (b) B
- (c) C
- (d) D
- (e) E

Ans.(e)

Q236.



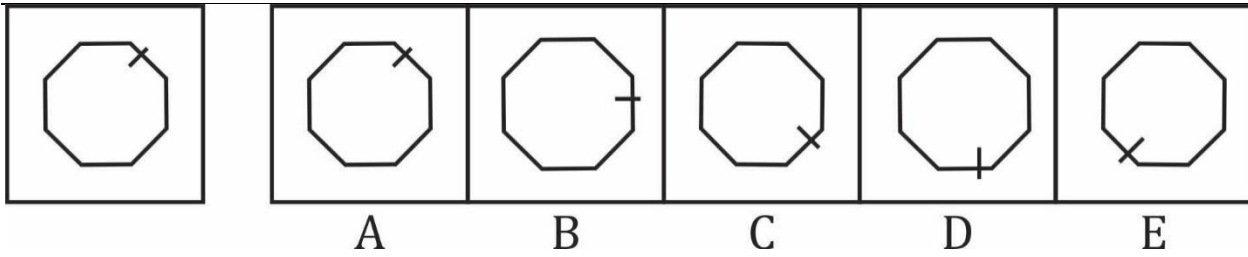
Question (1-96): This is a test of your ability to match figures quickly and accurately. In each question given below, there are five answer figures on the right side, where A, B, C, D, E are written below. One of them moved to the left is similar to a question-shape. You are required to find out which of the five figures is identical to the figure given on the left.

यह आकृतियों का त्वरित और सटीक मिलान करने की आपकी क्षमता का परीक्षण है नीचे दिए गए प्रत्येक प्रश्न में दाईं ओर पाँच उत्तर आकृतियाँ हैं, जहाँ नीचे A, B, C, D, E लिखा है। उनमें से एक बाईं ओर लेजाया गया प्रश्न-आकार के समान है। आपको यह पता लगाना है कि पाँच आकृतियों में से कौन सी बाईं ओर दी गई आकृति के समान है।

- (a) A
- (b) B
- (c) C
- (d) D
- (e) E

Ans.(c)

Q237.



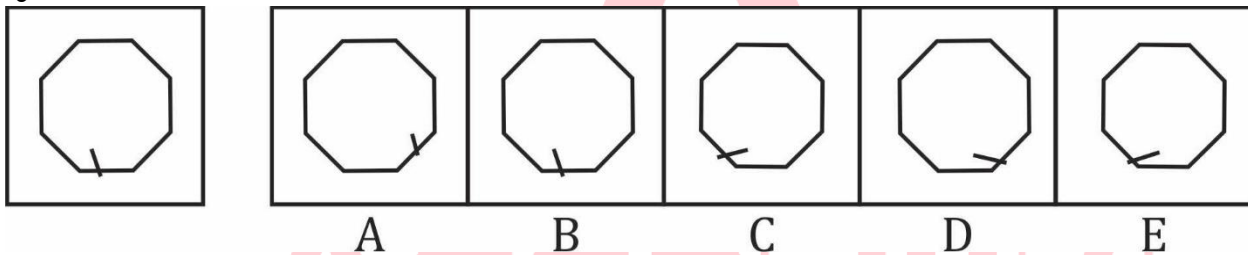
Question (1-96): This is a test of your ability to match figures quickly and accurately. In each question given below, there are five answer figures on the right side, where A, B, C, D, E are written below. One of them moved to the left is similar to a question-shape. You are required to find out which of the five figures is identical to the figure given on the left.

यह आकृतियों का त्वरित और सटीक मिलान करने की आपकी क्षमता का परीक्षण है नीचे दिए गए प्रत्येक प्रश्न में दाईं ओर पाँच उत्तर आकृतियाँ हैं, जहाँ नीचे A, B, C, D, E लिखा है। उनमें से एक बाईं ओर लेजाया गया प्रश्न-आकार के समान है। आपको यह पता लगाना है कि पाँच आकृतियों में से कौन सी बाईं ओर दी गई आकृति के समान है।

- (a) A
- (b) B
- (c) C
- (d) D
- (e) E

Ans.(a)

Q238.



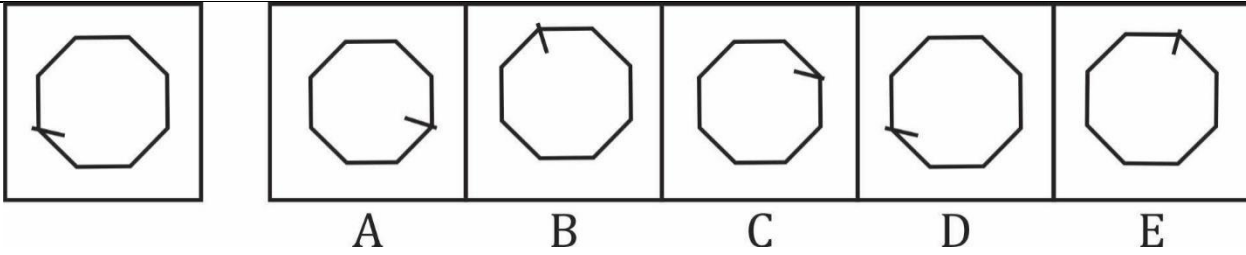
Question (1-96): This is a test of your ability to match figures quickly and accurately. In each question given below, there are five answer figures on the right side, where A, B, C, D, E are written below. One of them moved to the left is similar to a question-shape. You are required to find out which of the five figures is identical to the figure given on the left.

यह आकृतियों का त्वरित और सटीक मिलान करने की आपकी क्षमता का परीक्षण है नीचे दिए गए प्रत्येक प्रश्न में दाईं ओर पाँच उत्तर आकृतियाँ हैं, जहाँ नीचे A, B, C, D, E लिखा है। उनमें से एक बाईं ओर लेजाया गया प्रश्न-आकार के समान है। आपको यह पता लगाना है कि पाँच आकृतियों में से कौन सी बाईं ओर दी गई आकृति के समान है।

- (a) A
- (b) B
- (c) C
- (d) D
- (e) E

Ans.(b)

Q239.



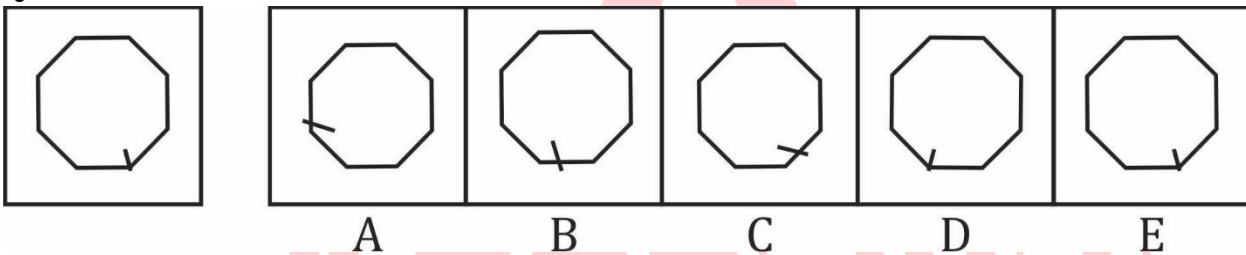
Question (1-96): This is a test of your ability to match figures quickly and accurately. In each question given below, there are five answer figures on the right side, where A, B, C, D, E are written below. One of them moved to the left is similar to a question-shape. You are required to find out which of the five figures is identical to the figure given on the left.

यह आकृतियों का त्वरित और सटीक मिलान करने की आपकी क्षमता का परीक्षण है नीचे दिए गए प्रत्येक प्रश्न में दाईं ओर पाँच उत्तर आकृतियाँ हैं, जहाँ नीचे A, B, C, D, E लिखा है। उनमें से एक बाईं ओर लेजाया गया प्रश्न-आकार के समान है। आपको यह पता लगाना है कि पाँच आकृतियों में से कौन सी बाईं ओर दी गई आकृति के समान है।

- (a) A
- (b) B
- (c) C
- (d) D
- (e) E

Ans.(d)

Q240.



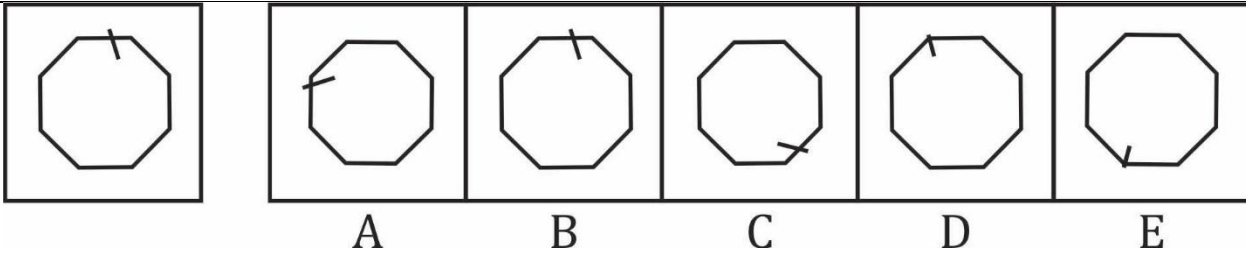
Question (1-96): This is a test of your ability to match figures quickly and accurately. In each question given below, there are five answer figures on the right side, where A, B, C, D, E are written below. One of them moved to the left is similar to a question-shape. You are required to find out which of the five figures is identical to the figure given on the left.

यह आकृतियों का त्वरित और सटीक मिलान करने की आपकी क्षमता का परीक्षण है नीचे दिए गए प्रत्येक प्रश्न में दाईं ओर पाँच उत्तर आकृतियाँ हैं, जहाँ नीचे A, B, C, D, E लिखा है। उनमें से एक बाईं ओर लेजाया गया प्रश्न-आकार के समान है। आपको यह पता लगाना है कि पाँच आकृतियों में से कौन सी बाईं ओर दी गई आकृति के समान है।

- (a) A
- (b) B
- (c) C
- (d) D
- (e) E

Ans.(e)

Q241.



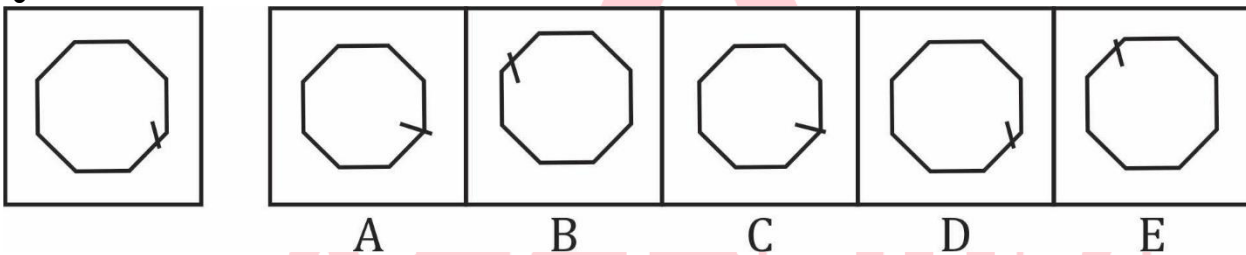
Question (1-96): This is a test of your ability to match figures quickly and accurately. In each question given below, there are five answer figures on the right side, where A, B, C, D, E are written below. One of them moved to the left is similar to a question-shape. You are required to find out which of the five figures is identical to the figure given on the left.

यह आकृतियों का त्वरित और सटीक मिलान करने की आपकी क्षमता का परीक्षण है नीचे दिए गए प्रत्येक प्रश्न में दाईं ओर पाँच उत्तर आकृतियाँ हैं, जहाँ नीचे A, B, C, D, E लिखा है। उनमें से एक बाईं ओर लेजाया गया प्रश्न-आकार के समान है। आपको यह पता लगाना है कि पाँच आकृतियों में से कौन सी बाईं ओर दी गई आकृति के समान है।

- (a) A
- (b) B
- (c) C
- (d) D
- (e) E

Ans.(b)

Q242.



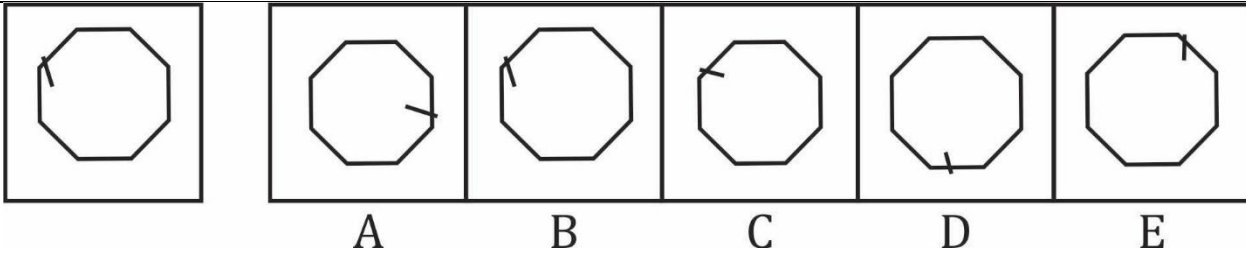
Question (1-96): This is a test of your ability to match figures quickly and accurately. In each question given below, there are five answer figures on the right side, where A, B, C, D, E are written below. One of them moved to the left is similar to a question-shape. You are required to find out which of the five figures is identical to the figure given on the left.

यह आकृतियों का त्वरित और सटीक मिलान करने की आपकी क्षमता का परीक्षण है नीचे दिए गए प्रत्येक प्रश्न में दाईं ओर पाँच उत्तर आकृतियाँ हैं, जहाँ नीचे A, B, C, D, E लिखा है। उनमें से एक बाईं ओर लेजाया गया प्रश्न-आकार के समान है। आपको यह पता लगाना है कि पाँच आकृतियों में से कौन सी बाईं ओर दी गई आकृति के समान है।

- (a) A
- (b) B
- (c) C
- (d) D
- (e) E

Ans.(d)

Q243.



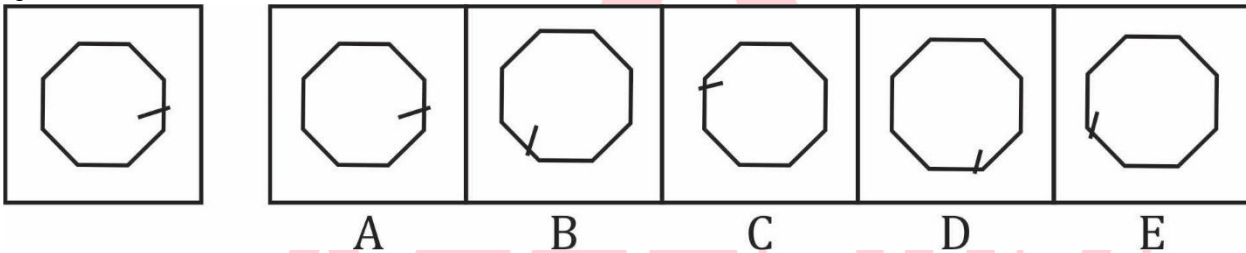
Question (1-96): This is a test of your ability to match figures quickly and accurately. In each question given below, there are five answer figures on the right side, where A, B, C, D, E are written below. One of them moved to the left is similar to a question-shape. You are required to find out which of the five figures is identical to the figure given on the left.

यह आकृतियों का त्वरित और सटीक मिलान करने की आपकी क्षमता का परीक्षण है नीचे दिए गए प्रत्येक प्रश्न में दाईं ओर पाँच उत्तर आकृतियाँ हैं, जहाँ नीचे A, B, C, D, E लिखा है। उनमें से एक बाईं ओर लेजाया गया प्रश्न-आकार के समान है। आपको यह पता लगाना है कि पाँच आकृतियों में से कौन सी बाईं ओर दी गई आकृति के समान है।

- (a) A
- (b) B
- (c) C
- (d) D
- (e) E

Ans.(b)

Q244.



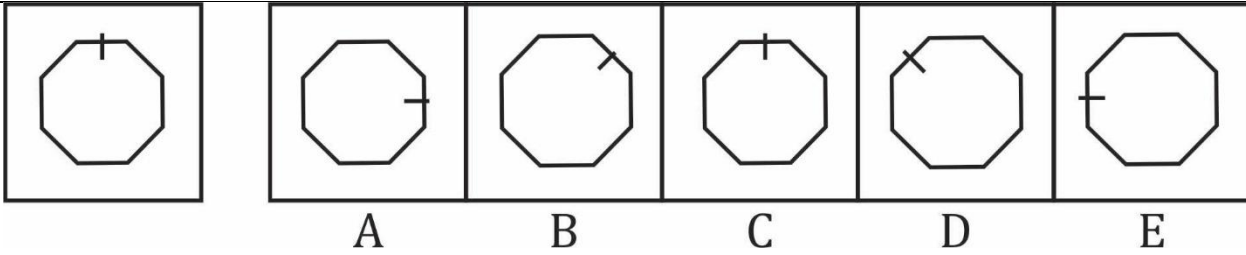
Question (1-96): This is a test of your ability to match figures quickly and accurately. In each question given below, there are five answer figures on the right side, where A, B, C, D, E are written below. One of them moved to the left is similar to a question-shape. You are required to find out which of the five figures is identical to the figure given on the left.

यह आकृतियों का त्वरित और सटीक मिलान करने की आपकी क्षमता का परीक्षण है नीचे दिए गए प्रत्येक प्रश्न में दाईं ओर पाँच उत्तर आकृतियाँ हैं, जहाँ नीचे A, B, C, D, E लिखा है। उनमें से एक बाईं ओर लेजाया गया प्रश्न-आकार के समान है। आपको यह पता लगाना है कि पाँच आकृतियों में से कौन सी बाईं ओर दी गई आकृति के समान है।

- (a) A
- (b) B
- (c) C
- (d) D
- (e) E

Ans.(a)

Q245.



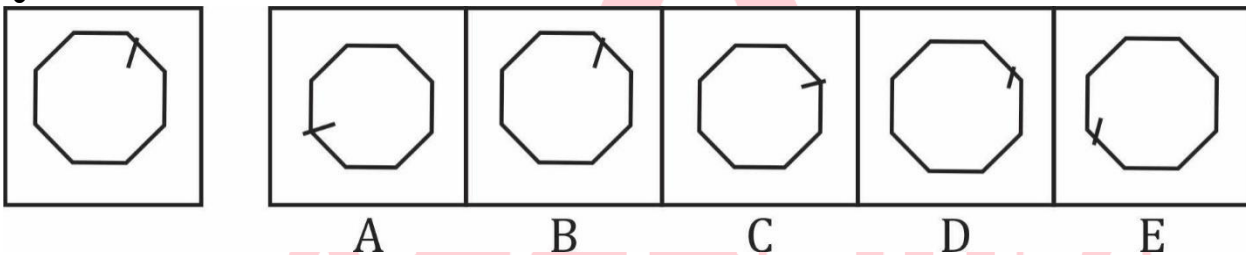
Question (1-96): This is a test of your ability to match figures quickly and accurately. In each question given below, there are five answer figures on the right side, where A, B, C, D, E are written below. One of them moved to the left is similar to a question-shape. You are required to find out which of the five figures is identical to the figure given on the left.

यह आकृतियों का त्वरित और सटीक मिलान करने की आपकी क्षमता का परीक्षण है नीचे दिए गए प्रत्येक प्रश्न में दाईं ओर पाँच उत्तर आकृतियाँ हैं, जहाँ नीचे A, B, C, D, E लिखा है। उनमें से एक बाईं ओर लेजाया गया प्रश्न-आकार के समान है। आपको यह पता लगाना है कि पाँच आकृतियों में से कौन सी बाईं ओर दी गई आकृति के समान है।

- (a) A
- (b) B
- (c) C
- (d) D
- (e) E

Ans.(c)

Q246.



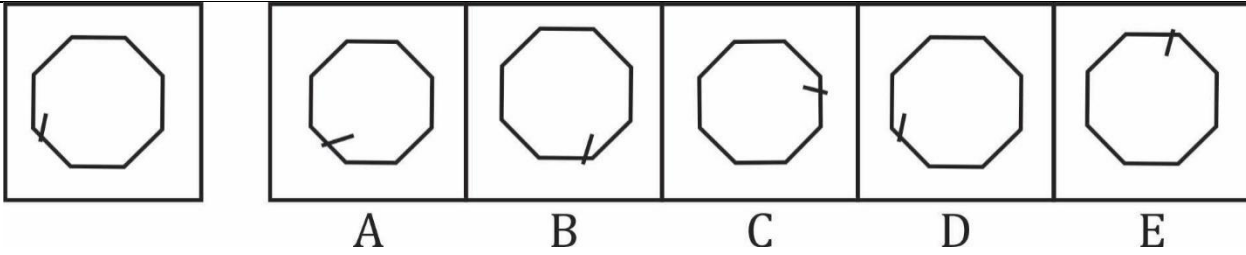
Question (1-96): This is a test of your ability to match figures quickly and accurately. In each question given below, there are five answer figures on the right side, where A, B, C, D, E are written below. One of them moved to the left is similar to a question-shape. You are required to find out which of the five figures is identical to the figure given on the left.

यह आकृतियों का त्वरित और सटीक मिलान करने की आपकी क्षमता का परीक्षण है नीचे दिए गए प्रत्येक प्रश्न में दाईं ओर पाँच उत्तर आकृतियाँ हैं, जहाँ नीचे A, B, C, D, E लिखा है। उनमें से एक बाईं ओर लेजाया गया प्रश्न-आकार के समान है। आपको यह पता लगाना है कि पाँच आकृतियों में से कौन सी बाईं ओर दी गई आकृति के समान है।

- (a) A
- (b) B
- (c) C
- (d) D
- (e) E

Ans.(b)

Q247.



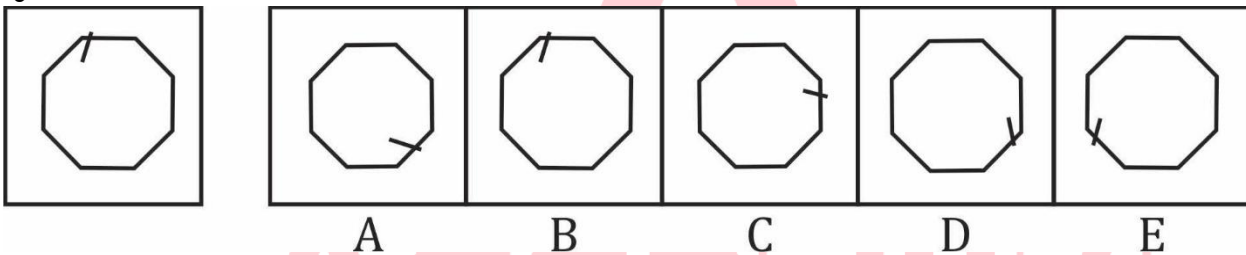
Question (1-96): This is a test of your ability to match figures quickly and accurately. In each question given below, there are five answer figures on the right side, where A, B, C, D, E are written below. One of them moved to the left is similar to a question-shape. You are required to find out which of the five figures is identical to the figure given on the left.

यह आकृतियों का त्वरित और सटीक मिलान करने की आपकी क्षमता का परीक्षण है नीचे दिए गए प्रत्येक प्रश्न में दाईं ओर पाँच उत्तर आकृतियाँ हैं, जहाँ नीचे A, B, C, D, E लिखा है। उनमें से एक बाईं ओर लेजाया गया प्रश्न-आकार के समान है। आपको यह पता लगाना है कि पाँच आकृतियों में से कौन सी बाईं ओर दी गई आकृति के समान है।

- (a) A
- (b) B
- (c) C
- (d) D
- (e) E

Ans.(d)

Q248.



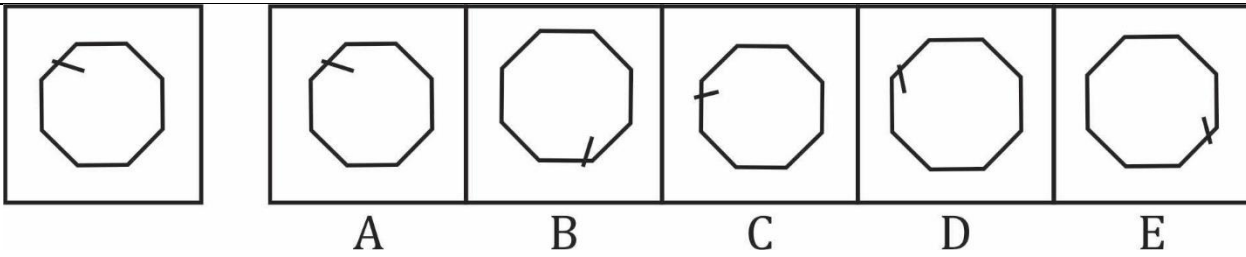
Question (1-96): This is a test of your ability to match figures quickly and accurately. In each question given below, there are five answer figures on the right side, where A, B, C, D, E are written below. One of them moved to the left is similar to a question-shape. You are required to find out which of the five figures is identical to the figure given on the left.

यह आकृतियों का त्वरित और सटीक मिलान करने की आपकी क्षमता का परीक्षण है नीचे दिए गए प्रत्येक प्रश्न में दाईं ओर पाँच उत्तर आकृतियाँ हैं, जहाँ नीचे A, B, C, D, E लिखा है। उनमें से एक बाईं ओर लेजाया गया प्रश्न-आकार के समान है। आपको यह पता लगाना है कि पाँच आकृतियों में से कौन सी बाईं ओर दी गई आकृति के समान है।

- (a) A
- (b) B
- (c) C
- (d) D
- (e) E

Ans.(b)

Q249.



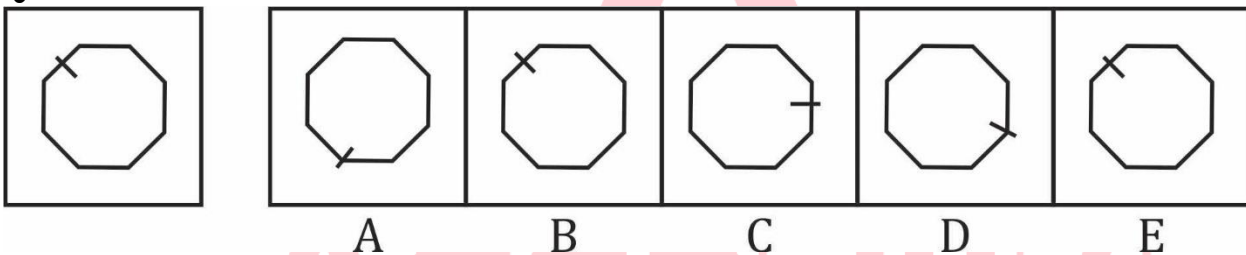
Question (1-96): This is a test of your ability to match figures quickly and accurately. In each question given below, there are five answer figures on the right side, where A, B, C, D, E are written below. One of them moved to the left is similar to a question-shape. You are required to find out which of the five figures is identical to the figure given on the left.

यह आकृतियों का त्वरित और सटीक मिलान करने की आपकी क्षमता का परीक्षण है नीचे दिए गए प्रत्येक प्रश्न में दाईं ओर पाँच उत्तर आकृतियाँ हैं, जहाँ नीचे A, B, C, D, E लिखा है। उनमें से एक बाईं ओर लेजाया गया प्रश्न-आकार के समान है। आपको यह पता लगाना है कि पाँच आकृतियों में से कौन सी बाईं ओर दी गई आकृति के समान है।

- (a) A
- (b) B
- (c) C
- (d) D
- (e) E

Ans.(a)

Q250.



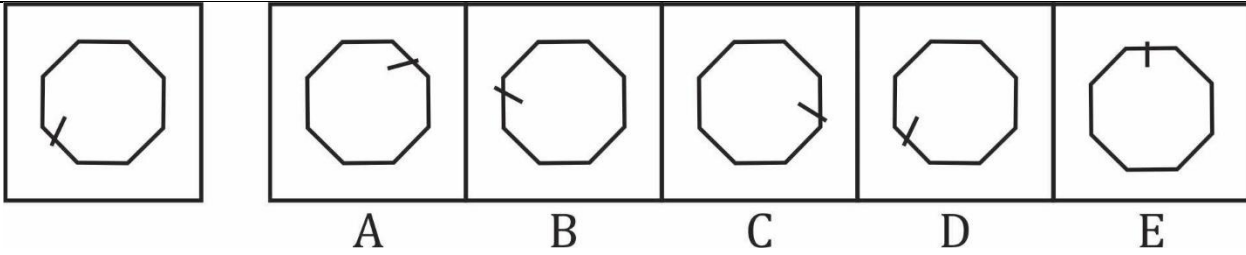
Question (1-96): This is a test of your ability to match figures quickly and accurately. In each question given below, there are five answer figures on the right side, where A, B, C, D, E are written below. One of them moved to the left is similar to a question-shape. You are required to find out which of the five figures is identical to the figure given on the left.

यह आकृतियों का त्वरित और सटीक मिलान करने की आपकी क्षमता का परीक्षण है नीचे दिए गए प्रत्येक प्रश्न में दाईं ओर पाँच उत्तर आकृतियाँ हैं, जहाँ नीचे A, B, C, D, E लिखा है। उनमें से एक बाईं ओर लेजाया गया प्रश्न-आकार के समान है। आपको यह पता लगाना है कि पाँच आकृतियों में से कौन सी बाईं ओर दी गई आकृति के समान है।

- (a) A
- (b) B
- (c) C
- (d) D
- (e) E

Ans.(e)

Q251.



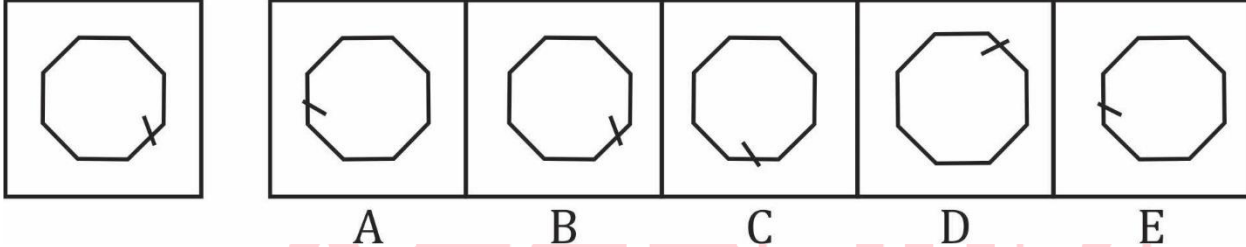
Question (1-96): This is a test of your ability to match figures quickly and accurately. In each question given below, there are five answer figures on the right side, where A, B, C, D, E are written below. One of them moved to the left is similar to a question-shape. You are required to find out which of the five figures is identical to the figure given on the left.

यह आकृतियों का त्वरित और सटीक मिलान करने की आपकी क्षमता का परीक्षण है नीचे दिए गए प्रत्येक प्रश्न में दाईं ओर पाँच उत्तर आकृतियाँ हैं, जहाँ नीचे A, B, C, D, E लिखा है। उनमें से एक बाईं ओर लेजाया गया प्रश्न-आकार के समान है। आपको यह पता लगाना है कि पाँच आकृतियों में से कौन सी बाईं ओर दी गई आकृति के समान है।

- (a) A
- (b) B
- (c) C
- (d) D
- (e) E

Ans.(d)

Q252.



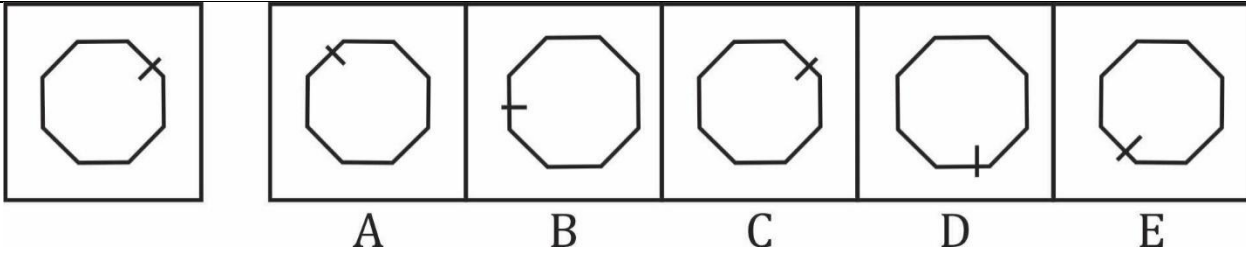
Question (1-96): This is a test of your ability to match figures quickly and accurately. In each question given below, there are five answer figures on the right side, where A, B, C, D, E are written below. One of them moved to the left is similar to a question-shape. You are required to find out which of the five figures is identical to the figure given on the left.

यह आकृतियों का त्वरित और सटीक मिलान करने की आपकी क्षमता का परीक्षण है नीचे दिए गए प्रत्येक प्रश्न में दाईं ओर पाँच उत्तर आकृतियाँ हैं, जहाँ नीचे A, B, C, D, E लिखा है। उनमें से एक बाईं ओर लेजाया गया प्रश्न-आकार के समान है। आपको यह पता लगाना है कि पाँच आकृतियों में से कौन सी बाईं ओर दी गई आकृति के समान है।

- (a) A
- (b) B
- (c) C
- (d) D
- (e) E

Ans.(b)

Q253.



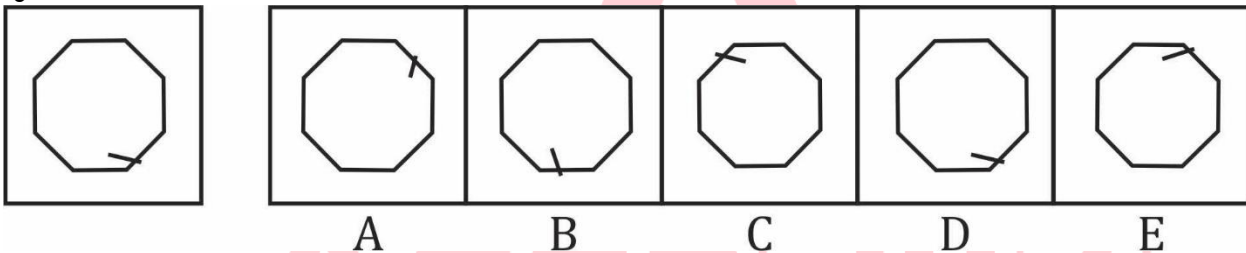
Question (1-96): This is a test of your ability to match figures quickly and accurately. In each question given below, there are five answer figures on the right side, where A, B, C, D, E are written below. One of them moved to the left is similar to a question-shape. You are required to find out which of the five figures is identical to the figure given on the left.

यह आकृतियों का त्वरित और सटीक मिलान करने की आपकी क्षमता का परीक्षण है नीचे दिए गए प्रत्येक प्रश्न में दाईं ओर पाँच उत्तर आकृतियाँ हैं, जहाँ नीचे A, B, C, D, E लिखा है। उनमें से एक बाईं ओर लेजाया गया प्रश्न-आकार के समान है। आपको यह पता लगाना है कि पाँच आकृतियों में से कौन सी बाईं ओर दी गई आकृति के समान है।

- (a) A
- (b) B
- (c) C
- (d) D
- (e) E

Ans.(c)

Q254.



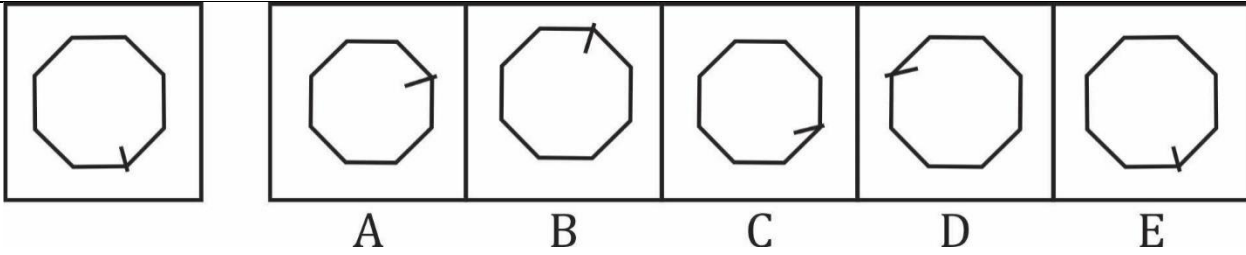
Question (1-96): This is a test of your ability to match figures quickly and accurately. In each question given below, there are five answer figures on the right side, where A, B, C, D, E are written below. One of them moved to the left is similar to a question-shape. You are required to find out which of the five figures is identical to the figure given on the left.

यह आकृतियों का त्वरित और सटीक मिलान करने की आपकी क्षमता का परीक्षण है नीचे दिए गए प्रत्येक प्रश्न में दाईं ओर पाँच उत्तर आकृतियाँ हैं, जहाँ नीचे A, B, C, D, E लिखा है। उनमें से एक बाईं ओर लेजाया गया प्रश्न-आकार के समान है। आपको यह पता लगाना है कि पाँच आकृतियों में से कौन सी बाईं ओर दी गई आकृति के समान है।

- (a) A
- (b) B
- (c) C
- (d) D
- (e) E

Ans.(d)

Q255.



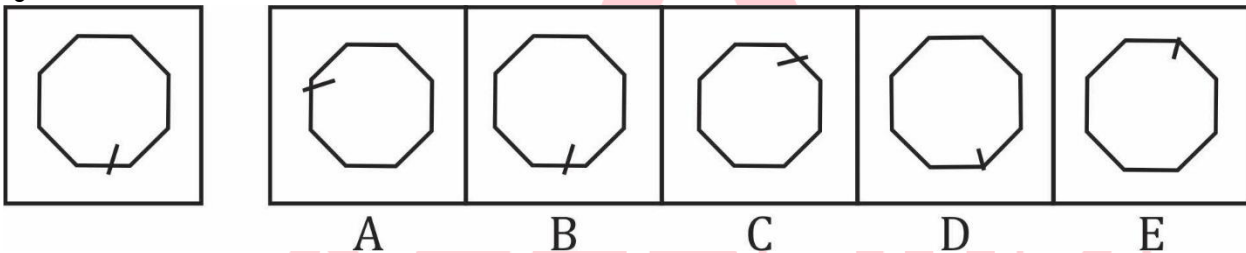
Question (1-96): This is a test of your ability to match figures quickly and accurately. In each question given below, there are five answer figures on the right side, where A, B, C, D, E are written below. One of them moved to the left is similar to a question-shape. You are required to find out which of the five figures is identical to the figure given on the left.

यह आकृतियों का त्वरित और सटीक मिलान करने की आपकी क्षमता का परीक्षण है नीचे दिए गए प्रत्येक प्रश्न में दाईं ओर पाँच उत्तर आकृतियाँ हैं, जहाँ नीचे A, B, C, D, E लिखा है। उनमें से एक बाईं ओर लेजाया गया प्रश्न-आकार के समान है। आपको यह पता लगाना है कि पाँच आकृतियों में से कौन सी बाईं ओर दी गई आकृति के समान है।

- (a) A
- (b) B
- (c) C
- (d) D
- (e) E

Ans.(e)

Q256.



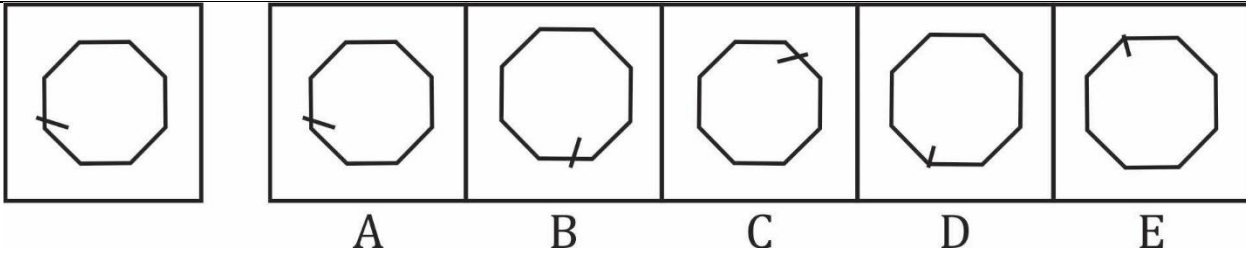
Question (1-96): This is a test of your ability to match figures quickly and accurately. In each question given below, there are five answer figures on the right side, where A, B, C, D, E are written below. One of them moved to the left is similar to a question-shape. You are required to find out which of the five figures is identical to the figure given on the left.

यह आकृतियों का त्वरित और सटीक मिलान करने की आपकी क्षमता का परीक्षण है नीचे दिए गए प्रत्येक प्रश्न में दाईं ओर पाँच उत्तर आकृतियाँ हैं, जहाँ नीचे A, B, C, D, E लिखा है। उनमें से एक बाईं ओर लेजाया गया प्रश्न-आकार के समान है। आपको यह पता लगाना है कि पाँच आकृतियों में से कौन सी बाईं ओर दी गई आकृति के समान है।

- (a) A
- (b) B
- (c) C
- (d) D
- (e) E

Ans.(b)

Q257.



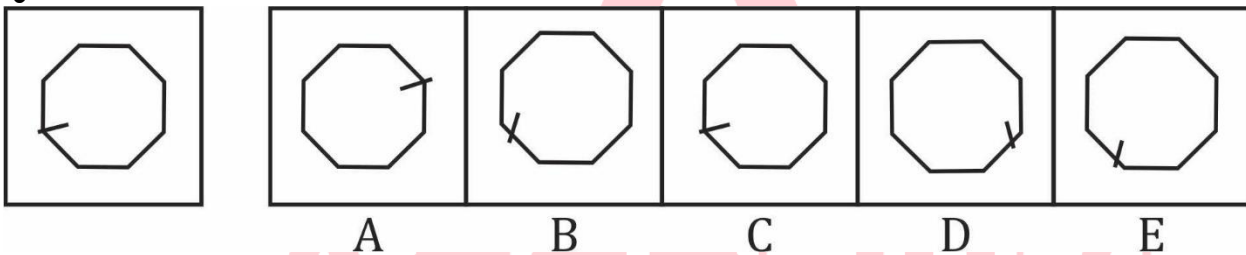
Question (1-96): This is a test of your ability to match figures quickly and accurately. In each question given below, there are five answer figures on the right side, where A, B, C, D, E are written below. One of them moved to the left is similar to a question-shape. You are required to find out which of the five figures is identical to the figure given on the left.

यह आकृतियों का त्वरित और सटीक मिलान करने की आपकी क्षमता का परीक्षण है नीचे दिए गए प्रत्येक प्रश्न में दाईं ओर पाँच उत्तर आकृतियाँ हैं, जहाँ नीचे A, B, C, D, E लिखा है। उनमें से एक बाईं ओर लेजाया गया प्रश्न-आकार के समान है। आपको यह पता लगाना है कि पाँच आकृतियों में से कौन सी बाईं ओर दी गई आकृति के समान है।

- (a) A
- (b) B
- (c) C
- (d) D
- (e) E

Ans.(a)

Q258.



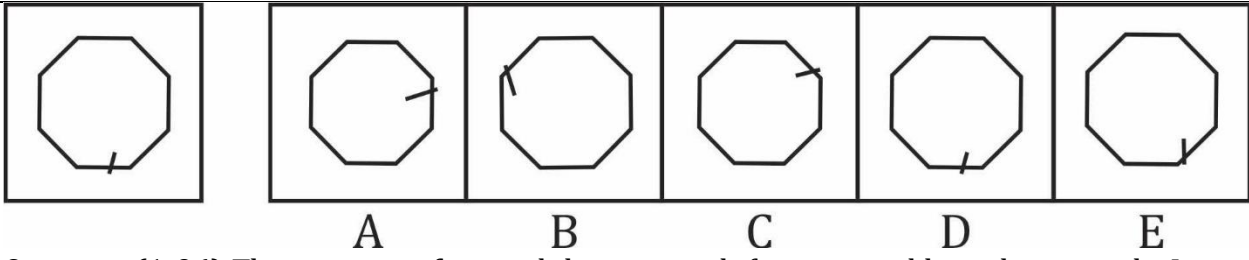
Question (1-96): This is a test of your ability to match figures quickly and accurately. In each question given below, there are five answer figures on the right side, where A, B, C, D, E are written below. One of them moved to the left is similar to a question-shape. You are required to find out which of the five figures is identical to the figure given on the left.

यह आकृतियों का त्वरित और सटीक मिलान करने की आपकी क्षमता का परीक्षण है नीचे दिए गए प्रत्येक प्रश्न में दाईं ओर पाँच उत्तर आकृतियाँ हैं, जहाँ नीचे A, B, C, D, E लिखा है। उनमें से एक बाईं ओर लेजाया गया प्रश्न-आकार के समान है। आपको यह पता लगाना है कि पाँच आकृतियों में से कौन सी बाईं ओर दी गई आकृति के समान है।

- (a) A
- (b) B
- (c) C
- (d) D
- (e) E

Ans.(c)

Q259.



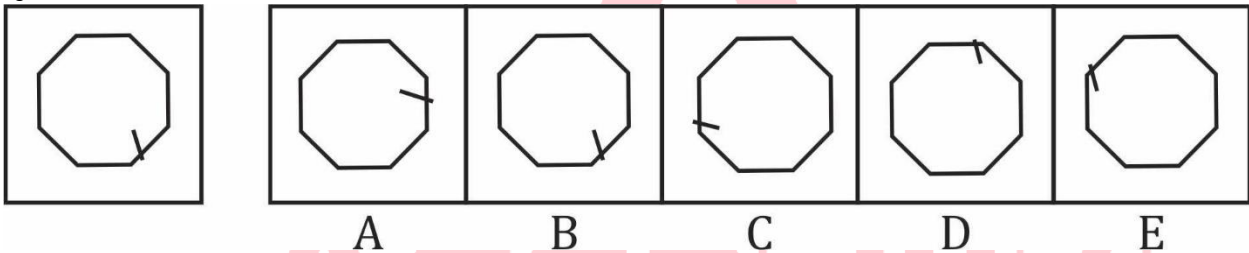
Question (1-96): This is a test of your ability to match figures quickly and accurately. In each question given below, there are five answer figures on the right side, where A, B, C, D, E are written below. One of them moved to the left is similar to a question-shape. You are required to find out which of the five figures is identical to the figure given on the left.

यह आकृतियों का त्वरित और सटीक मिलान करने की आपकी क्षमता का परीक्षण है नीचे दिए गए प्रत्येक प्रश्न में दाईं ओर पाँच उत्तर आकृतियाँ हैं, जहाँ नीचे A, B, C, D, E लिखा है। उनमें से एक बाईं ओर लेजाया गया प्रश्न-आकार के समान है। आपको यह पता लगाना है कि पाँच आकृतियों में से कौन सी बाईं ओर दी गई आकृति के समान है।

- (a) A
- (b) B
- (c) C
- (d) D
- (e) E

Ans.(d)

Q260.



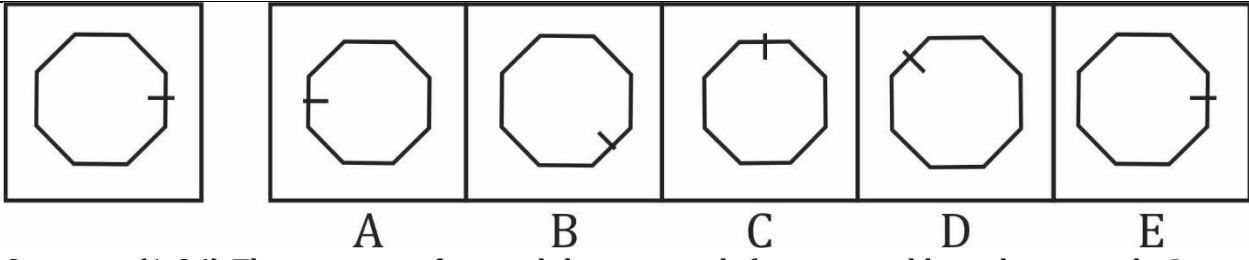
Question (1-96): This is a test of your ability to match figures quickly and accurately. In each question given below, there are five answer figures on the right side, where A, B, C, D, E are written below. One of them moved to the left is similar to a question-shape. You are required to find out which of the five figures is identical to the figure given on the left.

यह आकृतियों का त्वरित और सटीक मिलान करने की आपकी क्षमता का परीक्षण है नीचे दिए गए प्रत्येक प्रश्न में दाईं ओर पाँच उत्तर आकृतियाँ हैं, जहाँ नीचे A, B, C, D, E लिखा है। उनमें से एक बाईं ओर लेजाया गया प्रश्न-आकार के समान है। आपको यह पता लगाना है कि पाँच आकृतियों में से कौन सी बाईं ओर दी गई आकृति के समान है।

- (a) A
- (b) B
- (c) C
- (d) D
- (e) E

Ans.(b)

Q261.



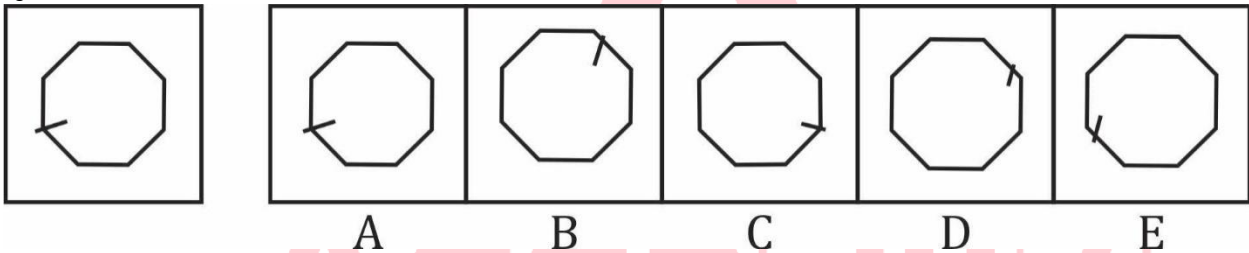
Question (1-96): This is a test of your ability to match figures quickly and accurately. In each question given below, there are five answer figures on the right side, where A, B, C, D, E are written below. One of them moved to the left is similar to a question-shape. You are required to find out which of the five figures is identical to the figure given on the left.

यह आकृतियों का त्वरित और सटीक मिलान करने की आपकी क्षमता का परीक्षण है नीचे दिए गए प्रत्येक प्रश्न में दाईं ओर पाँच उत्तर आकृतियाँ हैं, जहाँ नीचे A, B, C, D, E लिखा है। उनमें से एक बाईं ओर लेजाया गया प्रश्न-आकार के समान है। आपको यह पता लगाना है कि पाँच आकृतियों में से कौन सी बाईं ओर दी गई आकृति के समान है।

- (a) A
- (b) B
- (c) C
- (d) D
- (e) E

Ans.(e)

Q262.



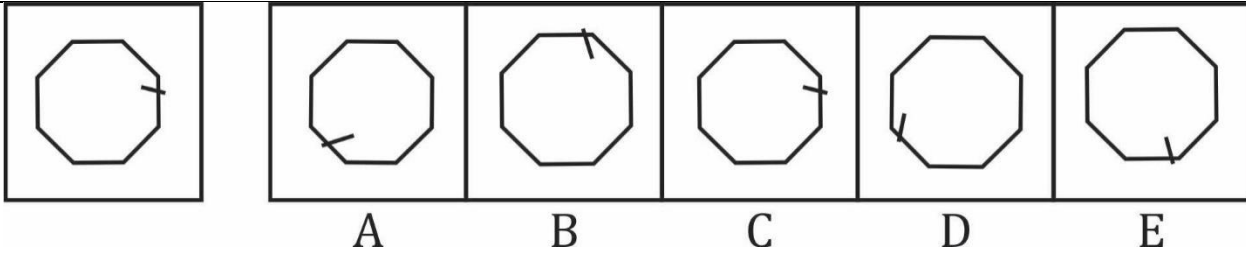
Question (1-96): This is a test of your ability to match figures quickly and accurately. In each question given below, there are five answer figures on the right side, where A, B, C, D, E are written below. One of them moved to the left is similar to a question-shape. You are required to find out which of the five figures is identical to the figure given on the left.

यह आकृतियों का त्वरित और सटीक मिलान करने की आपकी क्षमता का परीक्षण है नीचे दिए गए प्रत्येक प्रश्न में दाईं ओर पाँच उत्तर आकृतियाँ हैं, जहाँ नीचे A, B, C, D, E लिखा है। उनमें से एक बाईं ओर लेजाया गया प्रश्न-आकार के समान है। आपको यह पता लगाना है कि पाँच आकृतियों में से कौन सी बाईं ओर दी गई आकृति के समान है।

- (a) A
- (b) B
- (c) C
- (d) D
- (e) E

Ans.(a)

Q263.



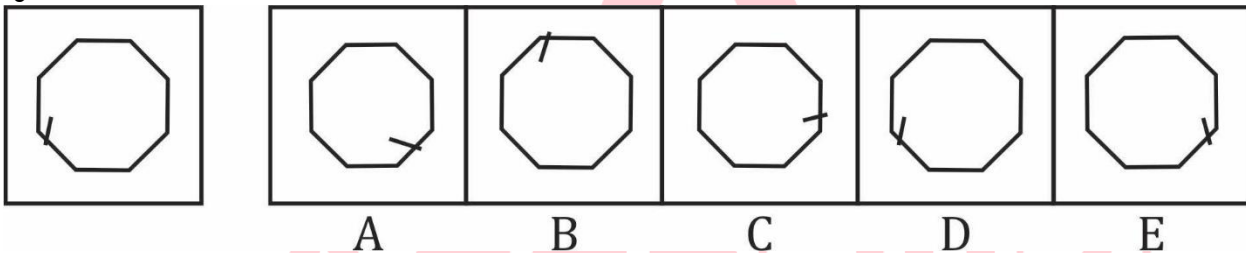
Question (1-96): This is a test of your ability to match figures quickly and accurately. In each question given below, there are five answer figures on the right side, where A, B, C, D, E are written below. One of them moved to the left is similar to a question-shape. You are required to find out which of the five figures is identical to the figure given on the left.

यह आकृतियों का त्वरित और सटीक मिलान करने की आपकी क्षमता का परीक्षण है नीचे दिए गए प्रत्येक प्रश्न में दाईं ओर पाँच उत्तर आकृतियाँ हैं, जहाँ नीचे A, B, C, D, E लिखा है। उनमें से एक बाईं ओर लेजाया गया प्रश्न-आकार के समान है। आपको यह पता लगाना है कि पाँच आकृतियों में से कौन सी बाईं ओर दी गई आकृति के समान है।

- (a) A
- (b) B
- (c) C
- (d) D
- (e) E

Ans.(c)

Q264.



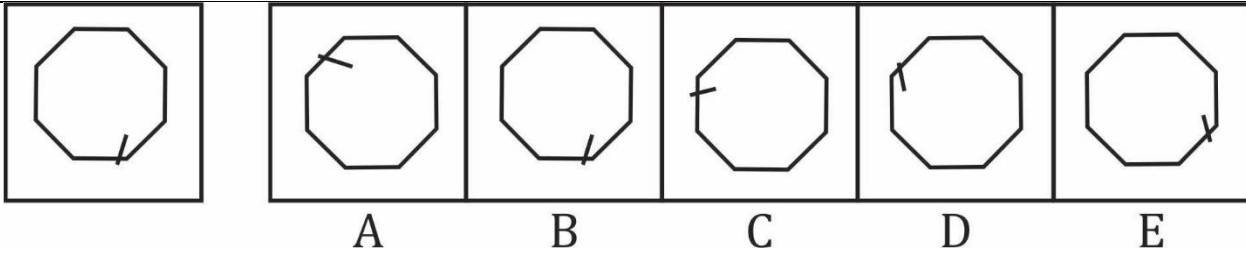
Question (1-96): This is a test of your ability to match figures quickly and accurately. In each question given below, there are five answer figures on the right side, where A, B, C, D, E are written below. One of them moved to the left is similar to a question-shape. You are required to find out which of the five figures is identical to the figure given on the left.

यह आकृतियों का त्वरित और सटीक मिलान करने की आपकी क्षमता का परीक्षण है नीचे दिए गए प्रत्येक प्रश्न में दाईं ओर पाँच उत्तर आकृतियाँ हैं, जहाँ नीचे A, B, C, D, E लिखा है। उनमें से एक बाईं ओर लेजाया गया प्रश्न-आकार के समान है। आपको यह पता लगाना है कि पाँच आकृतियों में से कौन सी बाईं ओर दी गई आकृति के समान है।

- (a) A
- (b) B
- (c) C
- (d) D
- (e) E

Ans.(d)

Q265.



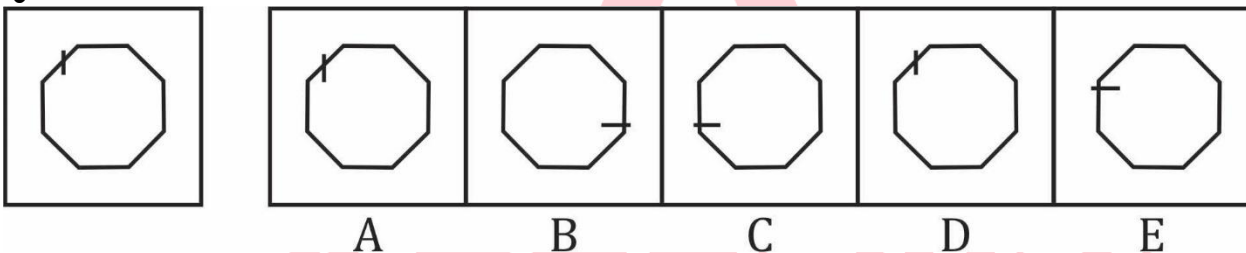
Question (1-96): This is a test of your ability to match figures quickly and accurately. In each question given below, there are five answer figures on the right side, where A, B, C, D, E are written below. One of them moved to the left is similar to a question-shape. You are required to find out which of the five figures is identical to the figure given on the left.

यह आकृतियों का त्वरित और सटीक मिलान करने की आपकी क्षमता का परीक्षण है नीचे दिए गए प्रत्येक प्रश्न में दाईं ओर पाँच उत्तर आकृतियाँ हैं, जहाँ नीचे A, B, C, D, E लिखा है। उनमें से एक बाईं ओर लेजाया गया प्रश्न-आकार के समान है। आपको यह पता लगाना है कि पाँच आकृतियों में से कौन सी बाईं ओर दी गई आकृति के समान है।

- (a) A
- (b) B
- (c) C
- (d) D
- (e) E

Ans.(b)

Q266.



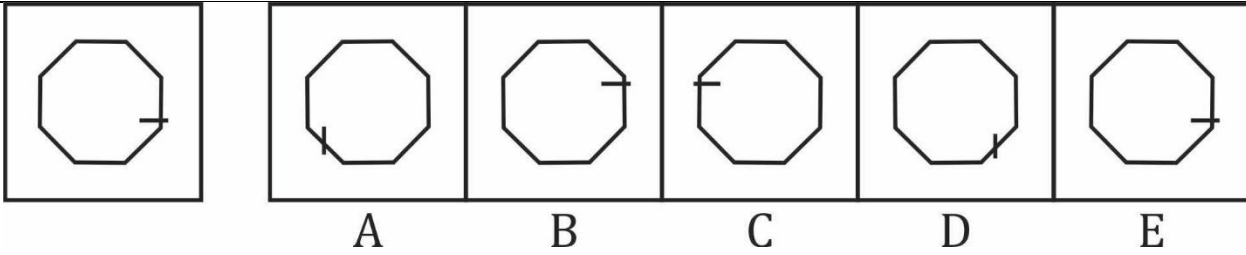
Question (1-96): This is a test of your ability to match figures quickly and accurately. In each question given below, there are five answer figures on the right side, where A, B, C, D, E are written below. One of them moved to the left is similar to a question-shape. You are required to find out which of the five figures is identical to the figure given on the left.

यह आकृतियों का त्वरित और सटीक मिलान करने की आपकी क्षमता का परीक्षण है नीचे दिए गए प्रत्येक प्रश्न में दाईं ओर पाँच उत्तर आकृतियाँ हैं, जहाँ नीचे A, B, C, D, E लिखा है। उनमें से एक बाईं ओर लेजाया गया प्रश्न-आकार के समान है। आपको यह पता लगाना है कि पाँच आकृतियों में से कौन सी बाईं ओर दी गई आकृति के समान है।

- (a) A
- (b) B
- (c) C
- (d) D
- (e) E

Ans.(d)

Q267.



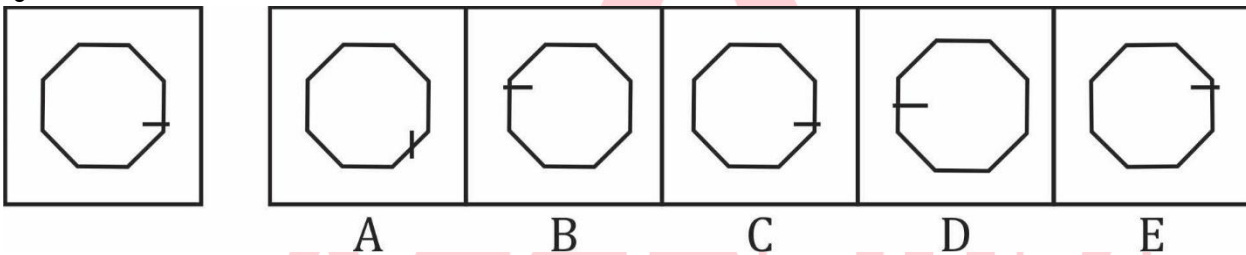
Question (1-96): This is a test of your ability to match figures quickly and accurately. In each question given below, there are five answer figures on the right side, where A, B, C, D, E are written below. One of them moved to the left is similar to a question-shape. You are required to find out which of the five figures is identical to the figure given on the left.

यह आकृतियों का त्वरित और सटीक मिलान करने की आपकी क्षमता का परीक्षण है नीचे दिए गए प्रत्येक प्रश्न में दाईं ओर पाँच उत्तर आकृतियाँ हैं, जहाँ नीचे A, B, C, D, E लिखा है। उनमें से एक बाईं ओर लेजाया गया प्रश्न-आकार के समान है। आपको यह पता लगाना है कि पाँच आकृतियों में से कौन सी बाईं ओर दी गई आकृति के समान है।

- (a) A
- (b) B
- (c) C
- (d) D
- (e) E

Ans.(e)

Q268.



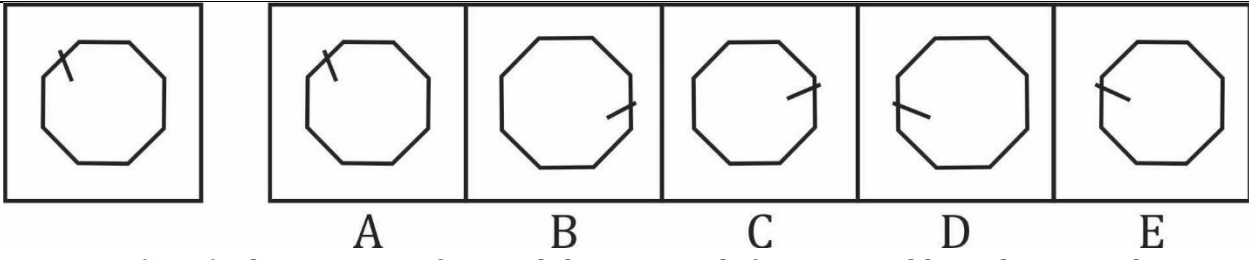
Question (1-96): This is a test of your ability to match figures quickly and accurately. In each question given below, there are five answer figures on the right side, where A, B, C, D, E are written below. One of them moved to the left is similar to a question-shape. You are required to find out which of the five figures is identical to the figure given on the left.

यह आकृतियों का त्वरित और सटीक मिलान करने की आपकी क्षमता का परीक्षण है नीचे दिए गए प्रत्येक प्रश्न में दाईं ओर पाँच उत्तर आकृतियाँ हैं, जहाँ नीचे A, B, C, D, E लिखा है। उनमें से एक बाईं ओर लेजाया गया प्रश्न-आकार के समान है। आपको यह पता लगाना है कि पाँच आकृतियों में से कौन सी बाईं ओर दी गई आकृति के समान है।

- (a) A
- (b) B
- (c) C
- (d) D
- (e) E

Ans.(c)

Q269.



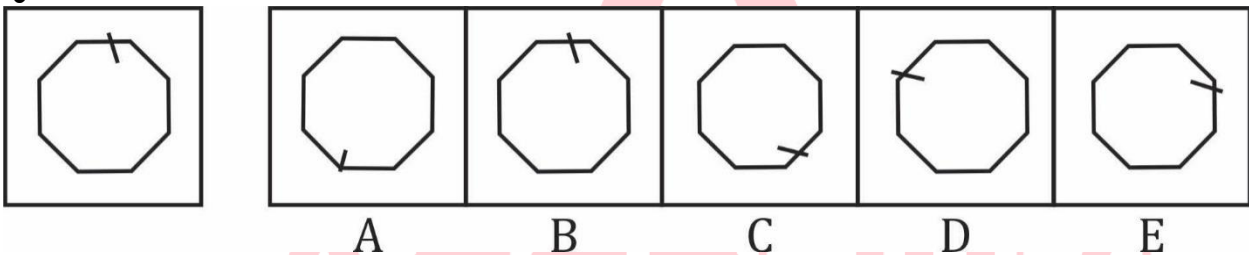
Question (1-96): This is a test of your ability to match figures quickly and accurately. In each question given below, there are five answer figures on the right side, where A, B, C, D, E are written below. One of them moved to the left is similar to a question-shape. You are required to find out which of the five figures is identical to the figure given on the left.

यह आकृतियों का त्वरित और सटीक मिलान करने की आपकी क्षमता का परीक्षण है नीचे दिए गए प्रत्येक प्रश्न में दाईं ओर पाँच उत्तर आकृतियाँ हैं, जहाँ नीचे A, B, C, D, E लिखा है। उनमें से एक बाईं ओर लेजाया गया प्रश्न-आकार के समान है। आपको यह पता लगाना है कि पाँच आकृतियों में से कौन सी बाईं ओर दी गई आकृति के समान है।

- (a) A
- (b) B
- (c) C
- (d) D
- (e) E

Ans.(a)

Q270.



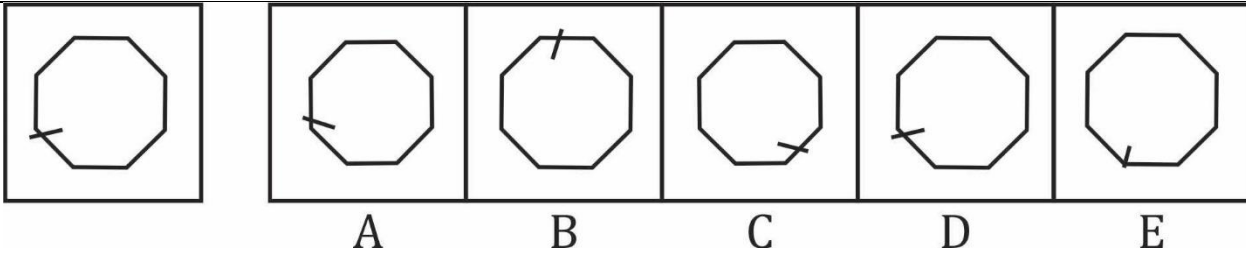
Question (1-96): This is a test of your ability to match figures quickly and accurately. In each question given below, there are five answer figures on the right side, where A, B, C, D, E are written below. One of them moved to the left is similar to a question-shape. You are required to find out which of the five figures is identical to the figure given on the left.

यह आकृतियों का त्वरित और सटीक मिलान करने की आपकी क्षमता का परीक्षण है नीचे दिए गए प्रत्येक प्रश्न में दाईं ओर पाँच उत्तर आकृतियाँ हैं, जहाँ नीचे A, B, C, D, E लिखा है। उनमें से एक बाईं ओर लेजाया गया प्रश्न-आकार के समान है। आपको यह पता लगाना है कि पाँच आकृतियों में से कौन सी बाईं ओर दी गई आकृति के समान है।

- (a) A
- (b) B
- (c) C
- (d) D
- (e) E

Ans.(b)

Q271.



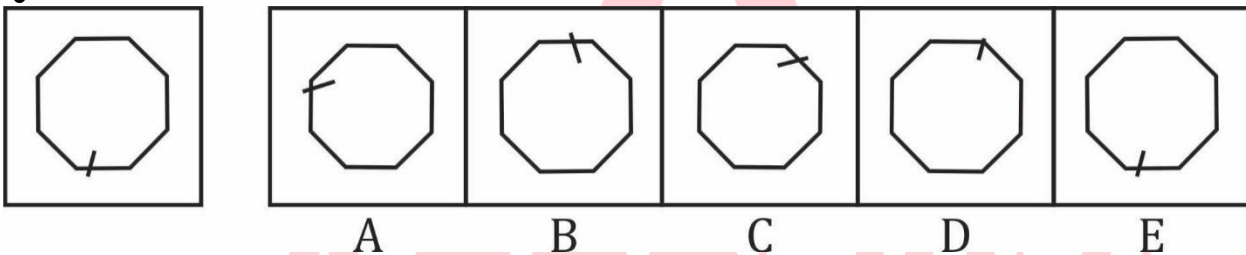
Question (1-96): This is a test of your ability to match figures quickly and accurately. In each question given below, there are five answer figures on the right side, where A, B, C, D, E are written below. One of them moved to the left is similar to a question-shape. You are required to find out which of the five figures is identical to the figure given on the left.

यह आकृतियों का त्वरित और सटीक मिलान करने की आपकी क्षमता का परीक्षण है नीचे दिए गए प्रत्येक प्रश्न में दाईं ओर पाँच उत्तर आकृतियाँ हैं, जहाँ नीचे A, B, C, D, E लिखा है। उनमें से एक बाईं ओर लेजाया गया प्रश्न-आकार के समान है। आपको यह पता लगाना है कि पाँच आकृतियों में से कौन सी बाईं ओर दी गई आकृति के समान है।

- (a) A
- (b) B
- (c) C
- (d) D
- (e) E

Ans.(d)

Q272.



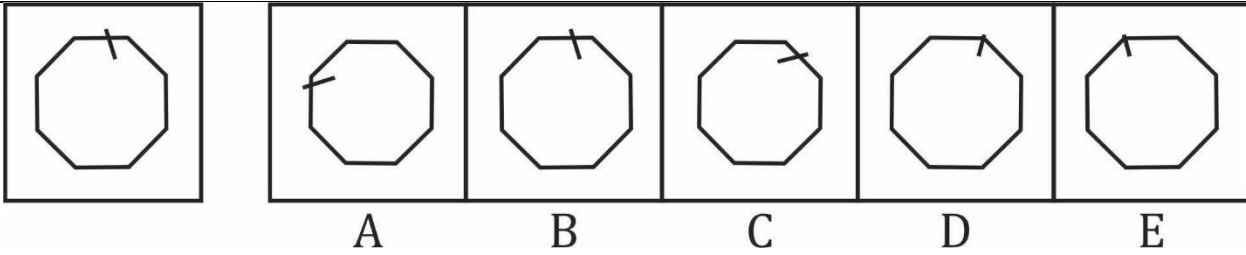
Question (1-96): This is a test of your ability to match figures quickly and accurately. In each question given below, there are five answer figures on the right side, where A, B, C, D, E are written below. One of them moved to the left is similar to a question-shape. You are required to find out which of the five figures is identical to the figure given on the left.

यह आकृतियों का त्वरित और सटीक मिलान करने की आपकी क्षमता का परीक्षण है नीचे दिए गए प्रत्येक प्रश्न में दाईं ओर पाँच उत्तर आकृतियाँ हैं, जहाँ नीचे A, B, C, D, E लिखा है। उनमें से एक बाईं ओर लेजाया गया प्रश्न-आकार के समान है। आपको यह पता लगाना है कि पाँच आकृतियों में से कौन सी बाईं ओर दी गई आकृति के समान है।

- (a) A
- (b) B
- (c) C
- (d) D
- (e) E

Ans.(e)

Q273.



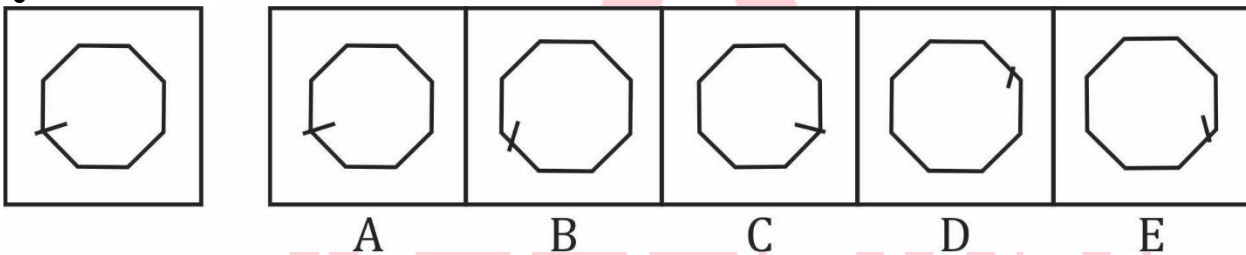
Question (1-96): This is a test of your ability to match figures quickly and accurately. In each question given below, there are five answer figures on the right side, where A, B, C, D, E are written below. One of them moved to the left is similar to a question-shape. You are required to find out which of the five figures is identical to the figure given on the left.

यह आकृतियों का त्वरित और सटीक मिलान करने की आपकी क्षमता का परीक्षण है नीचे दिए गए प्रत्येक प्रश्न में दाईं ओर पाँच उत्तर आकृतियाँ हैं, जहाँ नीचे A, B, C, D, E लिखा है। उनमें से एक बाईं ओर लेजाया गया प्रश्न-आकार के समान है। आपको यह पता लगाना है कि पाँच आकृतियों में से कौन सी बाईं ओर दी गई आकृति के समान है।

- (a) A
- (b) B
- (c) C
- (d) D
- (e) E

Ans.(b)

Q274.



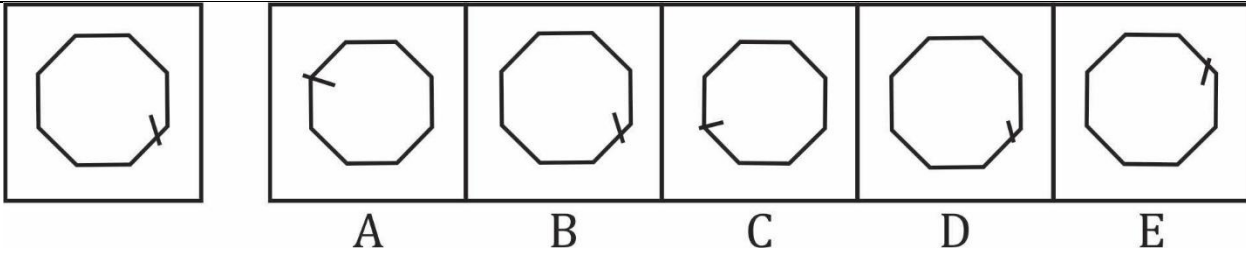
Question (1-96): This is a test of your ability to match figures quickly and accurately. In each question given below, there are five answer figures on the right side, where A, B, C, D, E are written below. One of them moved to the left is similar to a question-shape. You are required to find out which of the five figures is identical to the figure given on the left.

यह आकृतियों का त्वरित और सटीक मिलान करने की आपकी क्षमता का परीक्षण है नीचे दिए गए प्रत्येक प्रश्न में दाईं ओर पाँच उत्तर आकृतियाँ हैं, जहाँ नीचे A, B, C, D, E लिखा है। उनमें से एक बाईं ओर लेजाया गया प्रश्न-आकार के समान है। आपको यह पता लगाना है कि पाँच आकृतियों में से कौन सी बाईं ओर दी गई आकृति के समान है।

- (a) A
- (b) B
- (c) C
- (d) D
- (e) E

Ans.(a)

Q275.



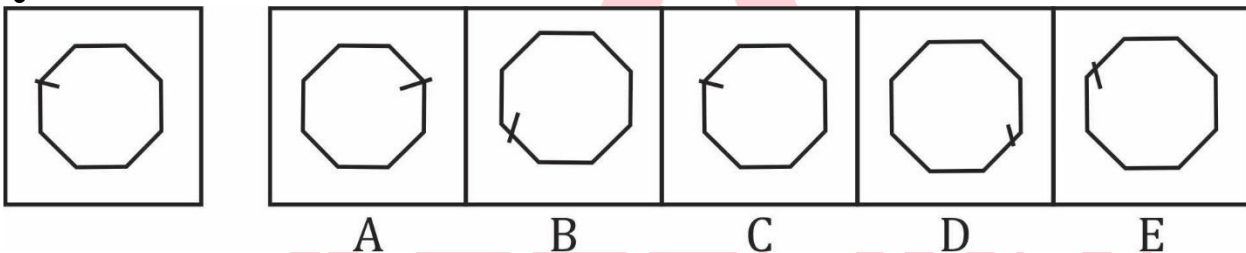
Question (1-96): This is a test of your ability to match figures quickly and accurately. In each question given below, there are five answer figures on the right side, where A, B, C, D, E are written below. One of them moved to the left is similar to a question-shape. You are required to find out which of the five figures is identical to the figure given on the left.

यह आकृतियों का त्वरित और सटीक मिलान करने की आपकी क्षमता का परीक्षण है नीचे दिए गए प्रत्येक प्रश्न में दाईं ओर पाँच उत्तर आकृतियाँ हैं, जहाँ नीचे A, B, C, D, E लिखा है। उनमें से एक बाईं ओर लेजाया गया प्रश्न-आकार के समान है। आपको यह पता लगाना है कि पाँच आकृतियों में से कौन सी बाईं ओर दी गई आकृति के समान है।

- (a) A
- (b) B
- (c) C
- (d) D
- (e) E

Ans.(b)

Q276.



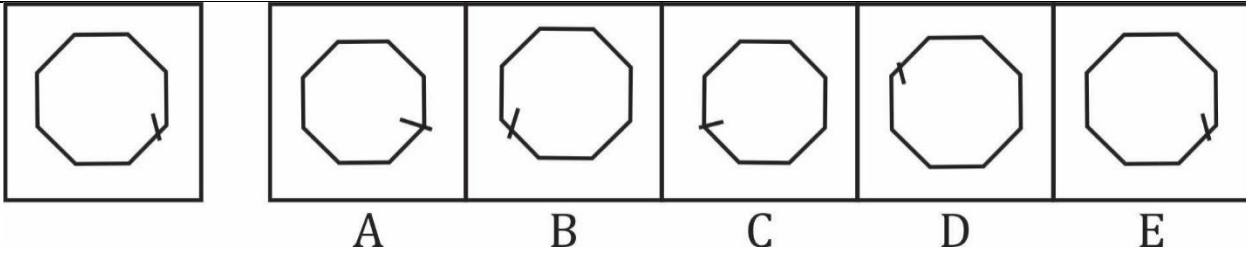
Question (1-96): This is a test of your ability to match figures quickly and accurately. In each question given below, there are five answer figures on the right side, where A, B, C, D, E are written below. One of them moved to the left is similar to a question-shape. You are required to find out which of the five figures is identical to the figure given on the left.

यह आकृतियों का त्वरित और सटीक मिलान करने की आपकी क्षमता का परीक्षण है नीचे दिए गए प्रत्येक प्रश्न में दाईं ओर पाँच उत्तर आकृतियाँ हैं, जहाँ नीचे A, B, C, D, E लिखा है। उनमें से एक बाईं ओर लेजाया गया प्रश्न-आकार के समान है। आपको यह पता लगाना है कि पाँच आकृतियों में से कौन सी बाईं ओर दी गई आकृति के समान है।

- (a) A
- (b) B
- (c) C
- (d) D
- (e) E

Ans.(c)

Q277.



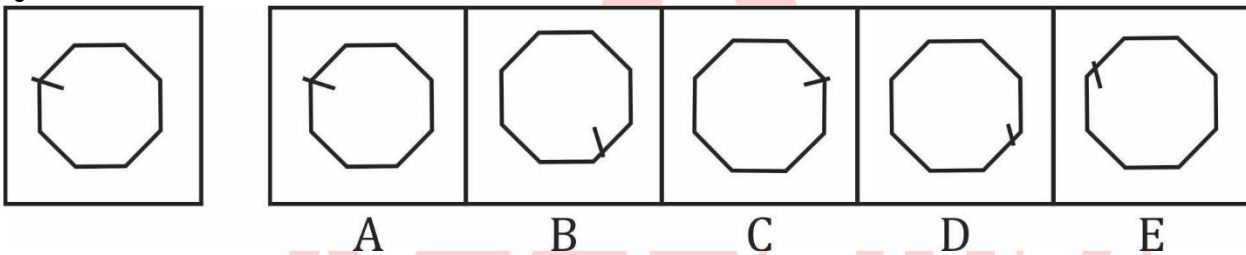
Question (1-96): This is a test of your ability to match figures quickly and accurately. In each question given below, there are five answer figures on the right side, where A, B, C, D, E are written below. One of them moved to the left is similar to a question-shape. You are required to find out which of the five figures is identical to the figure given on the left.

यह आकृतियों का त्वरित और सटीक मिलान करने की आपकी क्षमता का परीक्षण है नीचे दिए गए प्रत्येक प्रश्न में दाईं ओर पाँच उत्तर आकृतियाँ हैं, जहाँ नीचे A, B, C, D, E लिखा है। उनमें से एक बाईं ओर लेजाया गया प्रश्न-आकार के समान है। आपको यह पता लगाना है कि पाँच आकृतियों में से कौन सी बाईं ओर दी गई आकृति के समान है।

- (a) A
- (b) B
- (c) C
- (d) D
- (e) E

Ans.(e)

Q278.



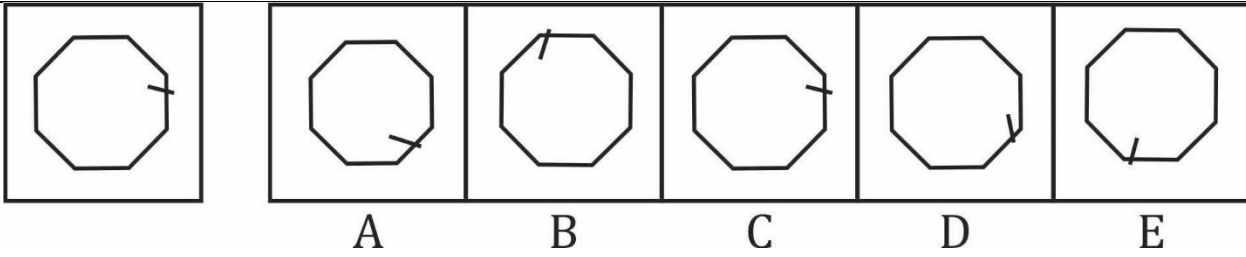
Question (1-96): This is a test of your ability to match figures quickly and accurately. In each question given below, there are five answer figures on the right side, where A, B, C, D, E are written below. One of them moved to the left is similar to a question-shape. You are required to find out which of the five figures is identical to the figure given on the left.

यह आकृतियों का त्वरित और सटीक मिलान करने की आपकी क्षमता का परीक्षण है नीचे दिए गए प्रत्येक प्रश्न में दाईं ओर पाँच उत्तर आकृतियाँ हैं, जहाँ नीचे A, B, C, D, E लिखा है। उनमें से एक बाईं ओर लेजाया गया प्रश्न-आकार के समान है। आपको यह पता लगाना है कि पाँच आकृतियों में से कौन सी बाईं ओर दी गई आकृति के समान है।

- (a) A
- (b) B
- (c) C
- (d) D
- (e) E

Ans.(a)

Q279.



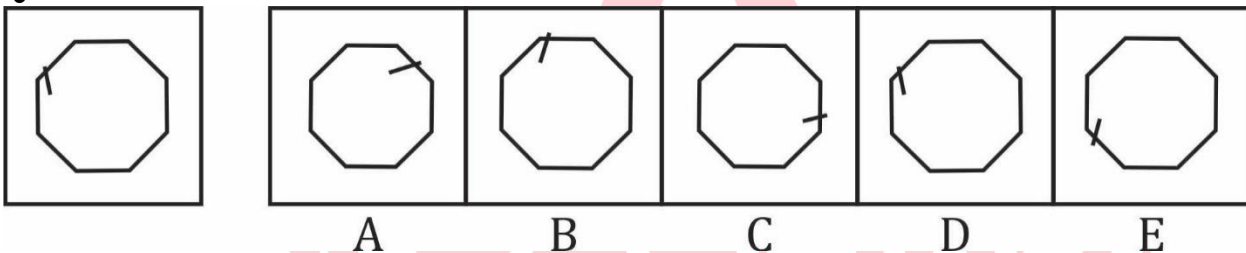
Question (1-96): This is a test of your ability to match figures quickly and accurately. In each question given below, there are five answer figures on the right side, where A, B, C, D, E are written below. One of them moved to the left is similar to a question-shape. You are required to find out which of the five figures is identical to the figure given on the left.

यह आकृतियों का त्वरित और सटीक मिलान करने की आपकी क्षमता का परीक्षण है नीचे दिए गए प्रत्येक प्रश्न में दाईं ओर पाँच उत्तर आकृतियाँ हैं, जहाँ नीचे A, B, C, D, E लिखा है। उनमें से एक बाईं ओर लेजाया गया प्रश्न-आकार के समान है। आपको यह पता लगाना है कि पाँच आकृतियों में से कौन सी बाईं ओर दी गई आकृति के समान है।

- (a) A
- (b) B
- (c) C
- (d) D
- (e) E

Ans.(c)

Q280.



Question (1-96): This is a test of your ability to match figures quickly and accurately. In each question given below, there are five answer figures on the right side, where A, B, C, D, E are written below. One of them moved to the left is similar to a question-shape. You are required to find out which of the five figures is identical to the figure given on the left.

यह आकृतियों का त्वरित और सटीक मिलान करने की आपकी क्षमता का परीक्षण है नीचे दिए गए प्रत्येक प्रश्न में दाईं ओर पाँच उत्तर आकृतियाँ हैं, जहाँ नीचे A, B, C, D, E लिखा है। उनमें से एक बाईं ओर लेजाया गया प्रश्न-आकार के समान है। आपको यह पता लगाना है कि पाँच आकृतियों में से कौन सी बाईं ओर दी गई आकृति के समान है।

- (a) A
- (b) B
- (c) C
- (d) D
- (e) E

Ans.(d)

Q281.

Test

Prime

By Adda247

Previous Year Papers PDF

PRACTICE MORE, SCORE HIGHER!



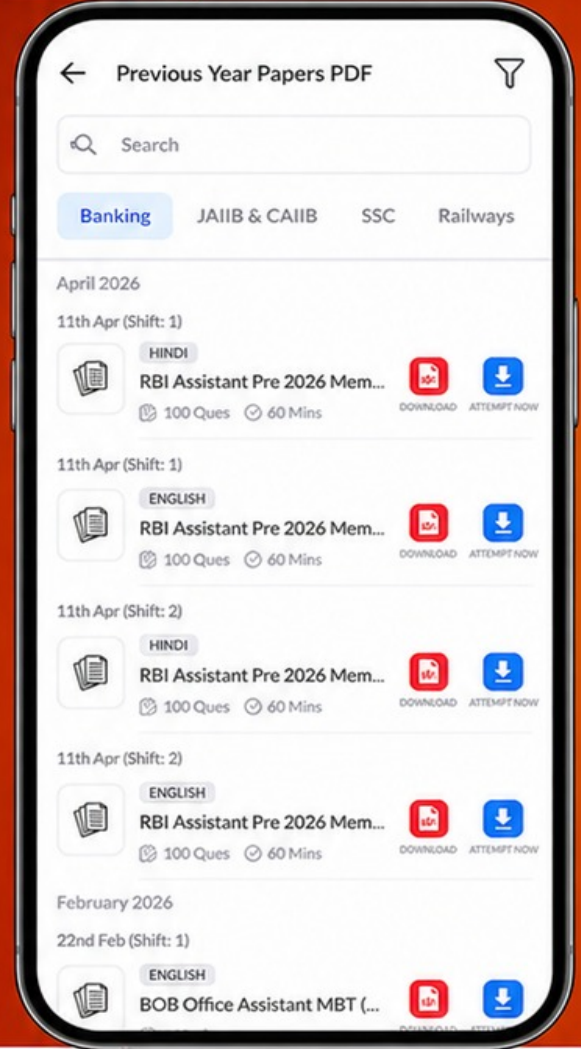
Free
25,000+
PDF's

High-Quality | Exam-Wise | Updated Regularly

ATTEMPT AS
MOCK



Turn PDFs into real exam experience.
Analyze. Improve. Succeed.



Topic-wise & Exam-wise PDFs



Download & Study Offline



Attempt as Mock & Track Score



Smart Analysis & Performance

AVAILABLE IN



Banking



SSC



Railway



Teaching



UGC



Agriculture



Nursing



Bihar



UP



Punjab



WB



Odisha



TN



AP & Telangana

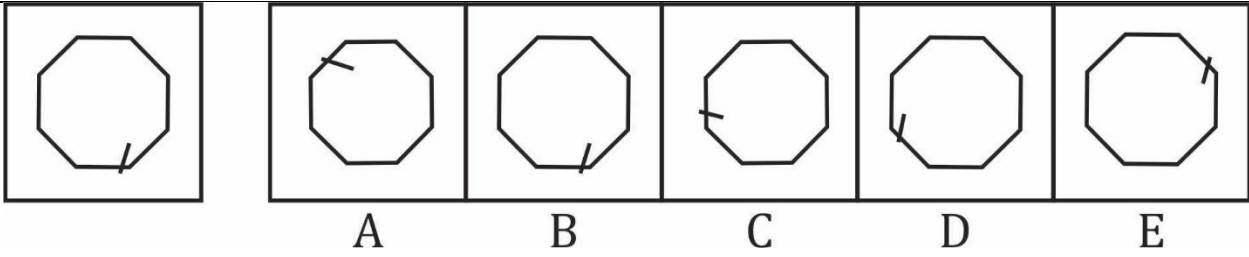


Haryana



DOWNLOAD THE APP





Question (1-96): This is a test of your ability to match figures quickly and accurately. In each question given below, there are five answer figures on the right side, where A, B, C, D, E are written below. One of them moved to the left is similar to a question-shape. You are required to find out which of the five figures is identical to the figure given on the left.

यह आकृतियों का त्वरित और सटीक मिलान करने की आपकी क्षमता का परीक्षण है नीचे दिए गए प्रत्येक प्रश्न में दाईं ओर पाँच उत्तर आकृतियाँ हैं, जहाँ नीचे A, B, C, D, E लिखा है। उनमें से एक बाईं ओर लेजाया गया प्रश्न-आकार के समान है। आपको यह पता लगाना है कि पाँच आकृतियों में से कौन सी बाईं ओर दी गई आकृति के समान है।

- (a) A
- (b) B
- (c) C
- (d) D
- (e) E

Ans.(b)