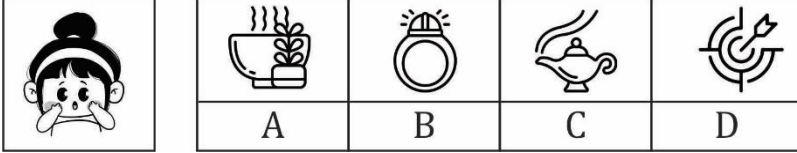


RRB ALP Psycho Test Paper (Based on Latest Pattern)

Q1.



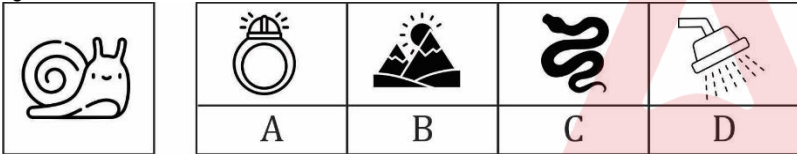
Instructions: (Questions 1 - 20) Observe the picture on the given memory page carefully in the given time of 3 minutes. After this, turn the memory page and in another 3 minutes, find the correct option from the four options given for the same picture in front of the pictures in the question sheet and blacken its number from the a, b, c, and d given in the answer sheet.

निर्देश : (प्रश्न 1 - 20) दिए गए स्मरण - पृष्ठ में चित्र को निर्धारित समय 3 मिनट में ध्यानपूर्वक अवलोकन करें। इसके बाद स्मरण - पृष्ठ को पलटकर दूसरे 3 मिनट में प्रश्न - पृष्ठ में चित्रों के सामने एक ही चित्र के दिए गए चार विकल्पों में सही विकल्प को ढूंढकर उसके क्रमांक को उत्तर - पत्रक में दिए गए a, b, c, एवं d में से सही क्रमांक को काला करें।

- (a) A
- (b) B
- (c) C
- (d) D

Ans.(b)

Q2.



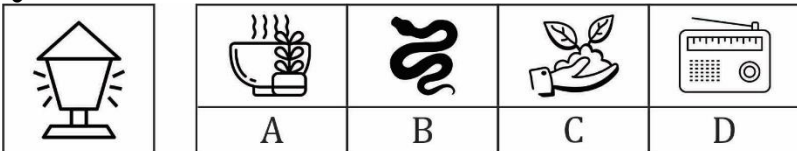
Instructions: (Questions 1 - 20) Observe the picture on the given memory page carefully in the given time of 3 minutes. After this, turn the memory page and in another 3 minutes, find the correct option from the four options given for the same picture in front of the pictures in the question sheet and blacken its number from the a, b, c, and d given in the answer sheet.

निर्देश : (प्रश्न 1 - 20) दिए गए स्मरण - पृष्ठ में चित्र को निर्धारित समय 3 मिनट में ध्यानपूर्वक अवलोकन करें। इसके बाद स्मरण - पृष्ठ को पलटकर दूसरे 3 मिनट में प्रश्न - पृष्ठ में चित्रों के सामने एक ही चित्र के दिए गए चार विकल्पों में सही विकल्प को ढूंढकर उसके क्रमांक को उत्तर - पत्रक में दिए गए a, b, c, एवं d में से सही क्रमांक को काला करें।

- (a) A
- (b) B
- (c) C
- (d) D

Ans.(c)

Q3.



Instructions: (Questions 1 - 20) Observe the picture on the given memory page carefully in the given time of 3 minutes. After this, turn the memory page and in another 3 minutes, find the correct option from the four options given for the same picture in front of the pictures in the question sheet and blacken its number from the a, b, c, and d given in the answer sheet.

निर्देश : (प्रश्न 1 - 20) दिए गए स्मरण - पृष्ठ में चित्र को निर्धारित समय 3 मिनट में ध्यानपूर्वक अवलोकन करें। इसके बाद स्मरण - पृष्ठ को पलटकर दूसरे 3 मिनट में प्रश्न - पृष्ठ में चित्रों के सामने एक ही चित्र के दिए गए चार विकल्पों में सही विकल्प को ढूंढकर उसके क्रमांक को उत्तर - पत्रक में दिए गए a, b, c, एवं d में से सही क्रमांक को काला करें।

- (a) A

**Test
Prime**

By Adda247

ALL EXAMS, ONE SUBSCRIPTION



Test. Analyze. Improve. Repeat.



Don't just *prepare*. *Perform*.

Test Prime — built only for mock tests.



1,50,000+
Mock Tests



25,000+
Previous Year Papers



800+
Exam Covered



500% Refund
on Selection



5 lakh+
Free Quizzes



Daily
Free PDFs



Job Alerts
Stay Updated

- Multilingual
- Detailed Solution
- Strong and Weak Areas



**All India
Rankings**

Compete with lakhs.
Rank. Improve. Repeat.



← Adda247 test prime

Rating ▾

Editors' choice

New



Adda247 Test Prime
Adda Education • Education
📌 Installed



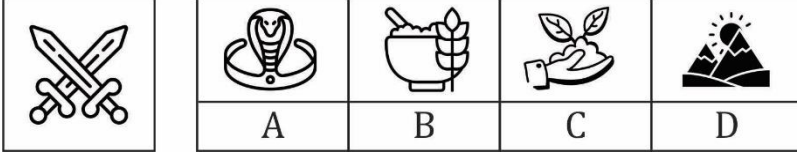
DOWNLOAD THE APP



- (b) B
(c) C
(d) D

Ans.(a)

Q4.



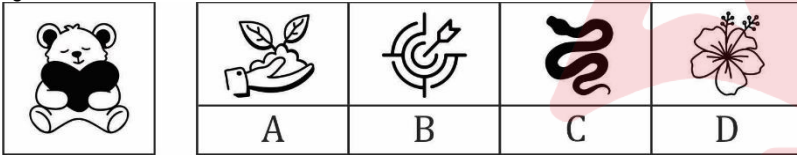
Instructions: (Questions 1 - 20) Observe the picture on the given memory page carefully in the given time of 3 minutes. After this, turn the memory page and in another 3 minutes, find the correct option from the four options given for the same picture in front of the pictures in the question sheet and blacken its number from the a, b, c, and d given in the answer sheet.

निर्देश : (प्रश्न 1 - 20) दिए गए स्मरण - पृष्ठ में चित्र को निर्धारित समय 3 मिनट में ध्यानपूर्वक अवलोकन करें। इसके बाद स्मरण - पृष्ठ को पलटकर दूसरे 3 मिनट में प्रश्न - पृष्ठ में चित्रों के सामने एक ही चित्र के दिए गए चार विकल्पों में सही विकल्प को ढूंढकर उसके क्रमांक को उत्तर - पत्रक में दिए गए a, b, c, एवं d में से सही क्रमांक को काला करें।

- (a) A
(b) B
(c) C
(d) D

Ans.(d)

Q5.



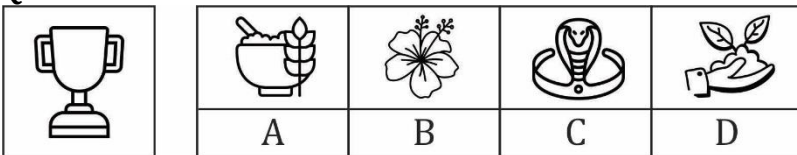
Instructions: (Questions 1 - 20) Observe the picture on the given memory page carefully in the given time of 3 minutes. After this, turn the memory page and in another 3 minutes, find the correct option from the four options given for the same picture in front of the pictures in the question sheet and blacken its number from the a, b, c, and d given in the answer sheet.

निर्देश : (प्रश्न 1 - 20) दिए गए स्मरण - पृष्ठ में चित्र को निर्धारित समय 3 मिनट में ध्यानपूर्वक अवलोकन करें। इसके बाद स्मरण - पृष्ठ को पलटकर दूसरे 3 मिनट में प्रश्न - पृष्ठ में चित्रों के सामने एक ही चित्र के दिए गए चार विकल्पों में सही विकल्प को ढूंढकर उसके क्रमांक को उत्तर - पत्रक में दिए गए a, b, c, एवं d में से सही क्रमांक को काला करें।

- (a) A
(b) B
(c) C
(d) D

Ans.(b)

Q6.



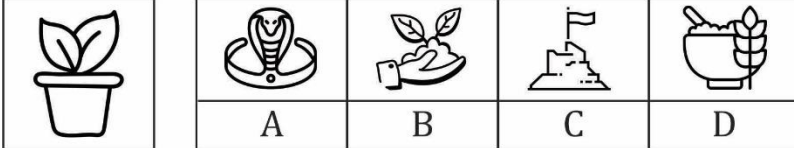
Instructions: (Questions 1 - 20) Observe the picture on the given memory page carefully in the given time of 3 minutes. After this, turn the memory page and in another 3 minutes, find the correct option from the four options given for the same picture in front of the pictures in the question sheet and blacken its number from the a, b, c, and d given in the answer sheet.

निर्देश : (प्रश्न 1 - 20) दिए गए स्मरण - पृष्ठ में चित्र को निर्धारित समय 3 मिनट में ध्यानपूर्वक अवलोकन करें। इसके बाद स्मरण - पृष्ठ को पलटकर दूसरे 3 मिनट में प्रश्न - पृष्ठ में चित्रों के सामने एक ही चित्र के दिए गए चार विकल्पों में सही विकल्प को ढूंढकर उसके क्रमांक को उत्तर - पत्रक में दिए गए a, b, c, एवं d में से सही क्रमांक को काला करें।

- (a) A
(b) B
(c) C
(d) D

Ans.(c)

Q7.



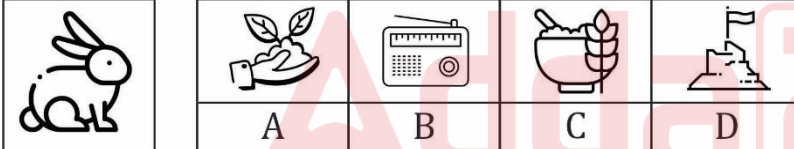
Instructions: (Questions 1 - 20) Observe the picture on the given memory page carefully in the given time of 3 minutes. After this, turn the memory page and in another 3 minutes, find the correct option from the four options given for the same picture in front of the pictures in the question sheet and blacken its number from the a, b, c, and d given in the answer sheet.

निर्देश : (प्रश्न 1 - 20) दिए गए स्मरण - पृष्ठ में चित्र को निर्धारित समय 3 मिनट में ध्यानपूर्वक अवलोकन करें। इसके बाद स्मरण - पृष्ठ को पलटकर दूसरे 3 मिनट में प्रश्न - पृष्ठ में चित्रों के सामने एक ही चित्र के दिए गए चार विकल्पों में सही विकल्प को ढूंढकर उसके क्रमांक को उत्तर - पत्रक में दिए गए a, b, c, एवं d में से सही क्रमांक को काला करें।

- (a) A
(b) B
(c) C
(d) D

Ans.(d)

Q8.



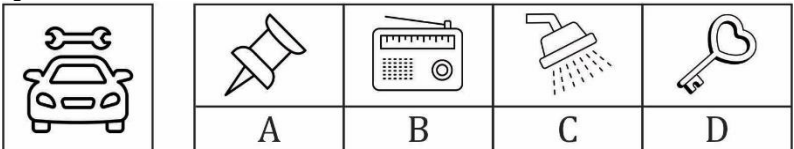
Instructions: (Questions 1 - 20) Observe the picture on the given memory page carefully in the given time of 3 minutes. After this, turn the memory page and in another 3 minutes, find the correct option from the four options given for the same picture in front of the pictures in the question sheet and blacken its number from the a, b, c, and d given in the answer sheet.

निर्देश : (प्रश्न 1 - 20) दिए गए स्मरण - पृष्ठ में चित्र को निर्धारित समय 3 मिनट में ध्यानपूर्वक अवलोकन करें। इसके बाद स्मरण - पृष्ठ को पलटकर दूसरे 3 मिनट में प्रश्न - पृष्ठ में चित्रों के सामने एक ही चित्र के दिए गए चार विकल्पों में सही विकल्प को ढूंढकर उसके क्रमांक को उत्तर - पत्रक में दिए गए a, b, c, एवं d में से सही क्रमांक को काला करें।

- (a) A
(b) B
(c) C
(d) D

Ans.(a)

Q9.



Instructions: (Questions 1 - 20) Observe the picture on the given memory page carefully in the given time of 3 minutes. After this, turn the memory page and in another 3 minutes, find the correct option from the four options

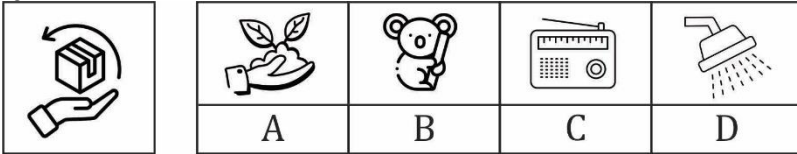
given for the same picture in front of the pictures in the question sheet and blacken its number from the a, b, c, and d given in the answer sheet.

निर्देश : (प्रश्न 1 - 20) दिए गए स्मरण - पृष्ठ में चित्र को निर्धारित समय 3 मिनट में ध्यानपूर्वक अवलोकन करें। इसके बाद स्मरण - पृष्ठ को पलटकर दूसरे 3 मिनट में प्रश्न - पृष्ठ में चित्रों के सामने एक ही चित्र के दिए गए चार विकल्पों में सही विकल्प को ढूंढकर उसके क्रमांक को उत्तर - पत्रक में दिए गए a, b, c, एवं d में से सही क्रमांक को काला करें।

- (a) A
(b) B
(c) C
(d) D

Ans.(b)

Q10.



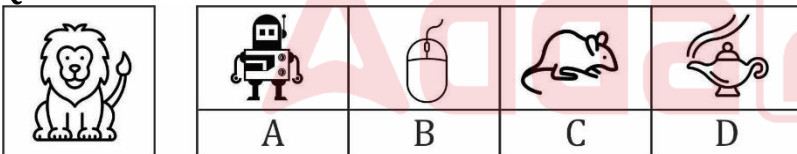
Instructions: (Questions 1 - 20) Observe the picture on the given memory page carefully in the given time of 3 minutes. After this, turn the memory page and in another 3 minutes, find the correct option from the four options given for the same picture in front of the pictures in the question sheet and blacken its number from the a, b, c, and d given in the answer sheet.

निर्देश : (प्रश्न 1 - 20) दिए गए स्मरण - पृष्ठ में चित्र को निर्धारित समय 3 मिनट में ध्यानपूर्वक अवलोकन करें। इसके बाद स्मरण - पृष्ठ को पलटकर दूसरे 3 मिनट में प्रश्न - पृष्ठ में चित्रों के सामने एक ही चित्र के दिए गए चार विकल्पों में सही विकल्प को ढूंढकर उसके क्रमांक को उत्तर - पत्रक में दिए गए a, b, c, एवं d में से सही क्रमांक को काला करें।

- (a) A
(b) B
(c) C
(d) D

Ans.(d)

Q11.



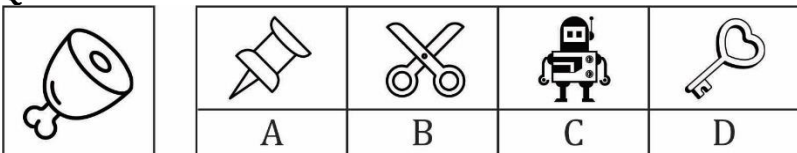
Instructions: (Questions 1 - 20) Observe the picture on the given memory page carefully in the given time of 3 minutes. After this, turn the memory page and in another 3 minutes, find the correct option from the four options given for the same picture in front of the pictures in the question sheet and blacken its number from the a, b, c, and d given in the answer sheet.

निर्देश : (प्रश्न 1 - 20) दिए गए स्मरण - पृष्ठ में चित्र को निर्धारित समय 3 मिनट में ध्यानपूर्वक अवलोकन करें। इसके बाद स्मरण - पृष्ठ को पलटकर दूसरे 3 मिनट में प्रश्न - पृष्ठ में चित्रों के सामने एक ही चित्र के दिए गए चार विकल्पों में सही विकल्प को ढूंढकर उसके क्रमांक को उत्तर - पत्रक में दिए गए a, b, c, एवं d में से सही क्रमांक को काला करें।

- (a) A
(b) B
(c) C
(d) D

Ans.(d)

Q12.



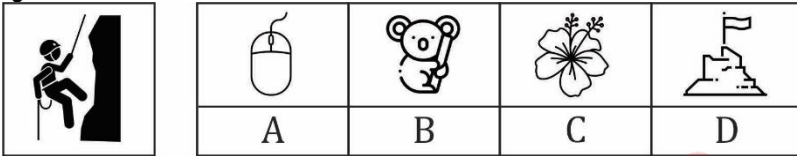
Instructions: (Questions 1 - 20) Observe the picture on the given memory page carefully in the given time of 3 minutes. After this, turn the memory page and in another 3 minutes, find the correct option from the four options given for the same picture in front of the pictures in the question sheet and blacken its number from the a, b, c, and d given in the answer sheet.

निर्देश : (प्रश्न 1 - 20) दिए गए स्मरण - पृष्ठ में चित्र को निर्धारित समय 3 मिनट में ध्यानपूर्वक अवलोकन करें। इसके बाद स्मरण - पृष्ठ को पलटकर दूसरे 3 मिनट में प्रश्न - पृष्ठ में चित्रों के सामने एक ही चित्र के दिए गए चार विकल्पों में सही विकल्प को ढूंढकर उसके क्रमांक को उत्तर - पत्रक में दिए गए a, b, c, एवं d में से सही क्रमांक को काला करें।

- (a) A
(b) B
(c) C
(d) D

Ans.(c)

Q13.



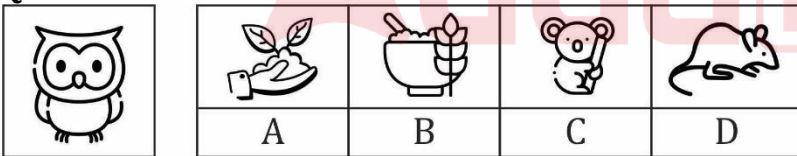
Instructions: (Questions 1 - 20) Observe the picture on the given memory page carefully in the given time of 3 minutes. After this, turn the memory page and in another 3 minutes, find the correct option from the four options given for the same picture in front of the pictures in the question sheet and blacken its number from the a, b, c, and d given in the answer sheet.

निर्देश : (प्रश्न 1 - 20) दिए गए स्मरण - पृष्ठ में चित्र को निर्धारित समय 3 मिनट में ध्यानपूर्वक अवलोकन करें। इसके बाद स्मरण - पृष्ठ को पलटकर दूसरे 3 मिनट में प्रश्न - पृष्ठ में चित्रों के सामने एक ही चित्र के दिए गए चार विकल्पों में सही विकल्प को ढूंढकर उसके क्रमांक को उत्तर - पत्रक में दिए गए a, b, c, एवं d में से सही क्रमांक को काला करें।

- (a) A
(b) B
(c) C
(d) D

Ans.(a)

Q14.



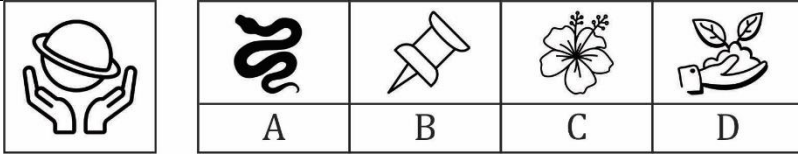
Instructions: (Questions 1 - 20) Observe the picture on the given memory page carefully in the given time of 3 minutes. After this, turn the memory page and in another 3 minutes, find the correct option from the four options given for the same picture in front of the pictures in the question sheet and blacken its number from the a, b, c, and d given in the answer sheet.

निर्देश : (प्रश्न 1 - 20) दिए गए स्मरण - पृष्ठ में चित्र को निर्धारित समय 3 मिनट में ध्यानपूर्वक अवलोकन करें। इसके बाद स्मरण - पृष्ठ को पलटकर दूसरे 3 मिनट में प्रश्न - पृष्ठ में चित्रों के सामने एक ही चित्र के दिए गए चार विकल्पों में सही विकल्प को ढूंढकर उसके क्रमांक को उत्तर - पत्रक में दिए गए a, b, c, एवं d में से सही क्रमांक को काला करें।

- (a) A
(b) B
(c) C
(d) D

Ans.(d)

Q15.



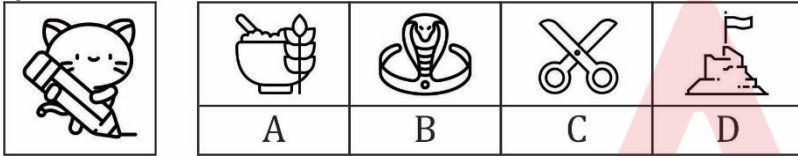
Instructions: (Questions 1 - 20) Observe the picture on the given memory page carefully in the given time of 3 minutes. After this, turn the memory page and in another 3 minutes, find the correct option from the four options given for the same picture in front of the pictures in the question sheet and blacken its number from the a, b, c, and d given in the answer sheet.

निर्देश : (प्रश्न 1 - 20) दिए गए स्मरण - पृष्ठ में चित्र को निर्धारित समय 3 मिनट में ध्यानपूर्वक अवलोकन करें। इसके बाद स्मरण - पृष्ठ को पलटकर दूसरे 3 मिनट में प्रश्न - पृष्ठ में चित्रों के सामने एक ही चित्र के दिए गए चार विकल्पों में सही विकल्प को हूँटकर उसके क्रमांक को उत्तर - पत्रक में दिए गए a, b, c, एवं d में से सही क्रमांक को काला करें।

- (a) A
(b) B
(c) C
(d) D

Ans.(b)

Q16.



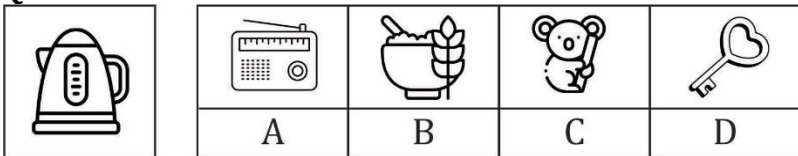
Instructions: (Questions 1 - 20) Observe the picture on the given memory page carefully in the given time of 3 minutes. After this, turn the memory page and in another 3 minutes, find the correct option from the four options given for the same picture in front of the pictures in the question sheet and blacken its number from the a, b, c, and d given in the answer sheet.

निर्देश : (प्रश्न 1 - 20) दिए गए स्मरण - पृष्ठ में चित्र को निर्धारित समय 3 मिनट में ध्यानपूर्वक अवलोकन करें। इसके बाद स्मरण - पृष्ठ को पलटकर दूसरे 3 मिनट में प्रश्न - पृष्ठ में चित्रों के सामने एक ही चित्र के दिए गए चार विकल्पों में सही विकल्प को हूँटकर उसके क्रमांक को उत्तर - पत्रक में दिए गए a, b, c, एवं d में से सही क्रमांक को काला करें।

- (a) A
(b) B
(c) C
(d) D

Ans.(c)

Q17.



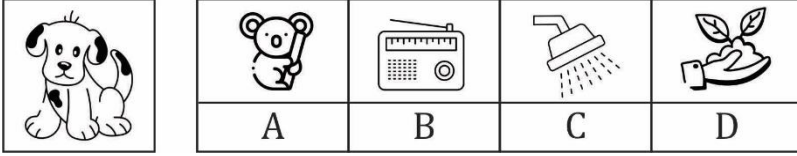
Instructions: (Questions 1 - 20) Observe the picture on the given memory page carefully in the given time of 3 minutes. After this, turn the memory page and in another 3 minutes, find the correct option from the four options given for the same picture in front of the pictures in the question sheet and blacken its number from the a, b, c, and d given in the answer sheet.

निर्देश : (प्रश्न 1 - 20) दिए गए स्मरण - पृष्ठ में चित्र को निर्धारित समय 3 मिनट में ध्यानपूर्वक अवलोकन करें। इसके बाद स्मरण - पृष्ठ को पलटकर दूसरे 3 मिनट में प्रश्न - पृष्ठ में चित्रों के सामने एक ही चित्र के दिए गए चार विकल्पों में सही विकल्प को हूँटकर उसके क्रमांक को उत्तर - पत्रक में दिए गए a, b, c, एवं d में से सही क्रमांक को काला करें।

- (a) A
(b) B
(c) C
(d) D

Ans.(d)

Q18.



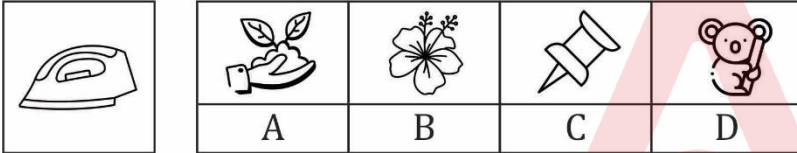
Instructions: (Questions 1 - 20) Observe the picture on the given memory page carefully in the given time of 3 minutes. After this, turn the memory page and in another 3 minutes, find the correct option from the four options given for the same picture in front of the pictures in the question sheet and blacken its number from the a, b, c, and d given in the answer sheet.

निर्देश : (प्रश्न 1 - 20) दिए गए स्मरण - पृष्ठ में चित्र को निर्धारित समय 3 मिनट में ध्यानपूर्वक अवलोकन करें। इसके बाद स्मरण - पृष्ठ को पलटकर दूसरे 3 मिनट में प्रश्न - पृष्ठ में चित्रों के सामने एक ही चित्र के दिए गए चार विकल्पों में सही विकल्प को ढूंढकर उसके क्रमांक को उत्तर - पत्रक में दिए गए a, b, c, एवं d में से सही क्रमांक को काला करें।

- (a) A
(b) B
(c) C
(d) D

Ans.(a)

Q19.



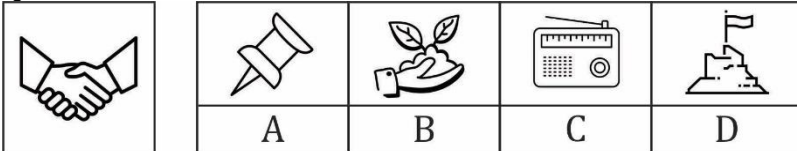
Instructions: (Questions 1 - 20) Observe the picture on the given memory page carefully in the given time of 3 minutes. After this, turn the memory page and in another 3 minutes, find the correct option from the four options given for the same picture in front of the pictures in the question sheet and blacken its number from the a, b, c, and d given in the answer sheet.

निर्देश : (प्रश्न 1 - 20) दिए गए स्मरण - पृष्ठ में चित्र को निर्धारित समय 3 मिनट में ध्यानपूर्वक अवलोकन करें। इसके बाद स्मरण - पृष्ठ को पलटकर दूसरे 3 मिनट में प्रश्न - पृष्ठ में चित्रों के सामने एक ही चित्र के दिए गए चार विकल्पों में सही विकल्प को ढूंढकर उसके क्रमांक को उत्तर - पत्रक में दिए गए a, b, c, एवं d में से सही क्रमांक को काला करें।

- (a) A
(b) B
(c) C
(d) D

Ans.(b)

Q20.



Instructions: (Questions 1 - 20) Observe the picture on the given memory page carefully in the given time of 3 minutes. After this, turn the memory page and in another 3 minutes, find the correct option from the four options given for the same picture in front of the pictures in the question sheet and blacken its number from the a, b, c, and d given in the answer sheet.

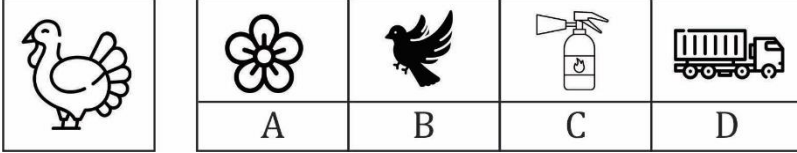
निर्देश : (प्रश्न 1 - 20) दिए गए स्मरण - पृष्ठ में चित्र को निर्धारित समय 3 मिनट में ध्यानपूर्वक अवलोकन करें। इसके बाद स्मरण - पृष्ठ को पलटकर दूसरे 3 मिनट में प्रश्न - पृष्ठ में चित्रों के सामने एक ही चित्र के दिए गए चार विकल्पों में सही विकल्प को ढूंढकर उसके क्रमांक को उत्तर - पत्रक में दिए गए a, b, c, एवं d में से सही क्रमांक को काला करें।

- (a) A
(b) B
(c) C

(d) D

Ans.(d)

Q21.



Instructions: (Questions 21 - 40) Observe the picture on the given memory page carefully in the given time of 3 minutes. After this, turn the memory page and in another 3 minutes, find the correct option from the four options given for the same picture in front of the pictures in the question sheet and blacken its number from the a, b, c, and d given in the answer sheet.

निर्देश : (प्रश्न 21 - 40) दिए गए स्मरण - पृष्ठ में चित्र को निर्धारित समय 3 मिनट में ध्यानपूर्वक अवलोकन करें। इसके बाद स्मरण - पृष्ठ को पलटकर दूसरे 3 मिनट में प्रश्न - पृष्ठ में चित्रों के सामने एक ही चित्र के दिए गए चार विकल्पों में सही विकल्प को डूँडकर उसके क्रमांक को उत्तर - पत्रक में दिए गए a, b, c, एवं d में से सही क्रमांक को काला करें।

(a) A

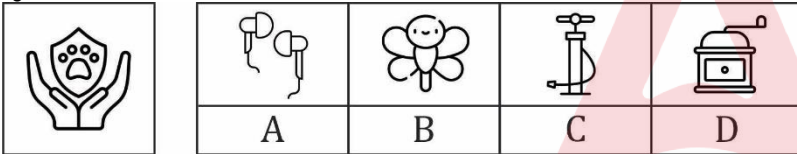
(b) B

(c) C

(d) D

Ans.(b)

Q22.



Instructions: (Questions 21 - 40) Observe the picture on the given memory page carefully in the given time of 3 minutes. After this, turn the memory page and in another 3 minutes, find the correct option from the four options given for the same picture in front of the pictures in the question sheet and blacken its number from the a, b, c, and d given in the answer sheet.

निर्देश : (प्रश्न 21 - 40) दिए गए स्मरण - पृष्ठ में चित्र को निर्धारित समय 3 मिनट में ध्यानपूर्वक अवलोकन करें। इसके बाद स्मरण - पृष्ठ को पलटकर दूसरे 3 मिनट में प्रश्न - पृष्ठ में चित्रों के सामने एक ही चित्र के दिए गए चार विकल्पों में सही विकल्प को डूँडकर उसके क्रमांक को उत्तर - पत्रक में दिए गए a, b, c, एवं d में से सही क्रमांक को काला करें।

(a) A

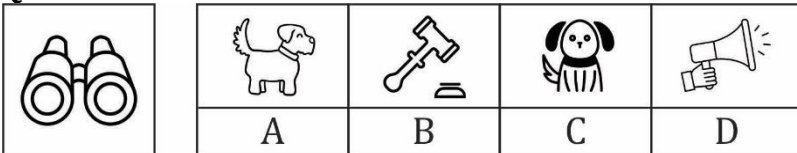
(b) B

(c) C

(d) D

Ans.(c)

Q23.



Instructions: (Questions 21 - 40) Observe the picture on the given memory page carefully in the given time of 3 minutes. After this, turn the memory page and in another 3 minutes, find the correct option from the four options given for the same picture in front of the pictures in the question sheet and blacken its number from the a, b, c, and d given in the answer sheet.

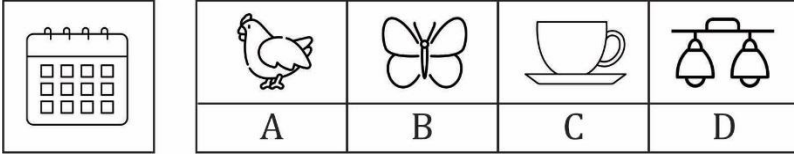
निर्देश : (प्रश्न 21 - 40) दिए गए स्मरण - पृष्ठ में चित्र को निर्धारित समय 3 मिनट में ध्यानपूर्वक अवलोकन करें। इसके बाद स्मरण - पृष्ठ को पलटकर दूसरे 3 मिनट में प्रश्न - पृष्ठ में चित्रों के सामने एक ही चित्र के दिए गए चार विकल्पों में सही विकल्प को डूँडकर उसके क्रमांक को उत्तर - पत्रक में दिए गए a, b, c, एवं d में से सही क्रमांक को काला करें।

(a) A

- (b) B
(c) C
(d) D

Ans.(d)

Q24.



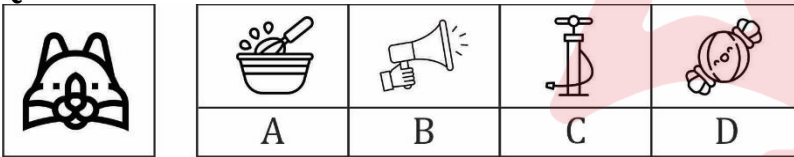
Instructions: (Questions 21 - 40) Observe the picture on the given memory page carefully in the given time of 3 minutes. After this, turn the memory page and in another 3 minutes, find the correct option from the four options given for the same picture in front of the pictures in the question sheet and blacken its number from the a, b, c, and d given in the answer sheet.

निर्देश : (प्रश्न 21 - 40) दिए गए स्मरण - पृष्ठ में चित्र को निर्धारित समय 3 मिनट में ध्यानपूर्वक अवलोकन करें। इसके बाद स्मरण - पृष्ठ को पलटकर दूसरे 3 मिनट में प्रश्न - पृष्ठ में चित्रों के सामने एक ही चित्र के दिए गए चार विकल्पों में सही विकल्प को ढूंढकर उसके क्रमांक को उत्तर - पत्रक में दिए गए a, b, c, एवं d में से सही क्रमांक को काला करें।

- (a) A
(b) B
(c) C
(d) D

Ans.(b)

Q25.



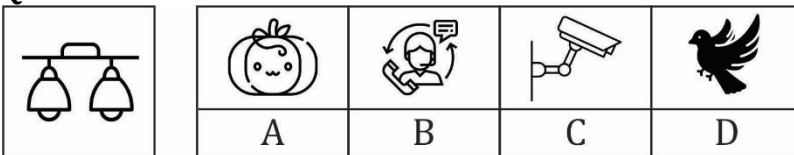
Instructions: (Questions 21 - 40) Observe the picture on the given memory page carefully in the given time of 3 minutes. After this, turn the memory page and in another 3 minutes, find the correct option from the four options given for the same picture in front of the pictures in the question sheet and blacken its number from the a, b, c, and d given in the answer sheet.

निर्देश : (प्रश्न 21 - 40) दिए गए स्मरण - पृष्ठ में चित्र को निर्धारित समय 3 मिनट में ध्यानपूर्वक अवलोकन करें। इसके बाद स्मरण - पृष्ठ को पलटकर दूसरे 3 मिनट में प्रश्न - पृष्ठ में चित्रों के सामने एक ही चित्र के दिए गए चार विकल्पों में सही विकल्प को ढूंढकर उसके क्रमांक को उत्तर - पत्रक में दिए गए a, b, c, एवं d में से सही क्रमांक को काला करें।

- (a) A
(b) B
(c) C
(d) D

Ans.(d)

Q26.



Instructions: (Questions 21 - 40) Observe the picture on the given memory page carefully in the given time of 3 minutes. After this, turn the memory page and in another 3 minutes, find the correct option from the four options given for the same picture in front of the pictures in the question sheet and blacken its number from the a, b, c, and d given in the answer sheet.

निर्देश : (प्रश्न 21 - 40) दिए गए स्मरण - पृष्ठ में चित्र को निर्धारित समय 3 मिनट में ध्यानपूर्वक अवलोकन करें। इसके बाद स्मरण - पृष्ठ को पलटकर दूसरे 3 मिनट में प्रश्न - पृष्ठ में चित्रों के सामने एक ही चित्र के दिए गए चार विकल्पों में सही विकल्प को ढूंढकर उसके क्रमांक को उत्तर - पत्रक में दिए गए a, b, c, एवं d में से सही क्रमांक को काला करें।

(a) A

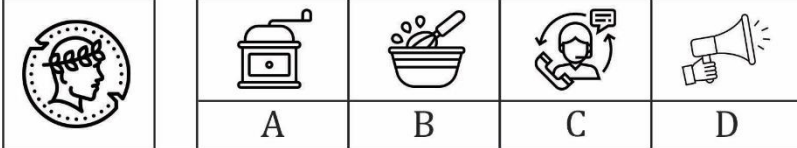
(b) B

(c) C

(d) D

Ans.(c)

Q27.



Instructions: (Questions 21 - 40) Observe the picture on the given memory page carefully in the given time of 3 minutes. After this, turn the memory page and in another 3 minutes, find the correct option from the four options given for the same picture in front of the pictures in the question sheet and blacken its number from the a, b, c, and d given in the answer sheet.

निर्देश : (प्रश्न 21 - 40) दिए गए स्मरण - पृष्ठ में चित्र को निर्धारित समय 3 मिनट में ध्यानपूर्वक अवलोकन करें। इसके बाद स्मरण - पृष्ठ को पलटकर दूसरे 3 मिनट में प्रश्न - पृष्ठ में चित्रों के सामने एक ही चित्र के दिए गए चार विकल्पों में सही विकल्प को ढूंढकर उसके क्रमांक को उत्तर - पत्रक में दिए गए a, b, c, एवं d में से सही क्रमांक को काला करें।

(a) A


(b) B

(c) C

(d) D

Ans.(a)

Q28.



Instructions: (Questions 21 - 40) Observe the picture on the given memory page carefully in the given time of 3 minutes. After this, turn the memory page and in another 3 minutes, find the correct option from the four options given for the same picture in front of the pictures in the question sheet and blacken its number from the a, b, c, and d given in the answer sheet.

निर्देश : (प्रश्न 21 - 40) दिए गए स्मरण - पृष्ठ में चित्र को निर्धारित समय 3 मिनट में ध्यानपूर्वक अवलोकन करें। इसके बाद स्मरण - पृष्ठ को पलटकर दूसरे 3 मिनट में प्रश्न - पृष्ठ में चित्रों के सामने एक ही चित्र के दिए गए चार विकल्पों में सही विकल्प को ढूंढकर उसके क्रमांक को उत्तर - पत्रक में दिए गए a, b, c, एवं d में से सही क्रमांक को काला करें।

(a) A

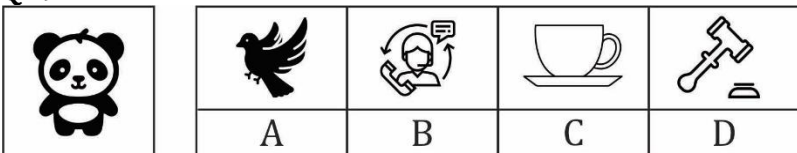
(b) B

(c) C

(d) D

Ans.(b)

Q29.



Instructions: (Questions 21 - 40) Observe the picture on the given memory page carefully in the given time of 3 minutes. After this, turn the memory page and in another 3 minutes, find the correct option from the four options

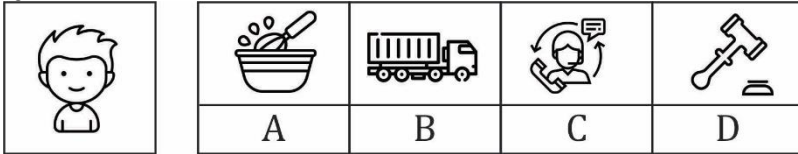
given for the same picture in front of the pictures in the question sheet and blacken its number from the a, b, c, and d given in the answer sheet.

निर्देश : (प्रश्न 21 - 40) दिए गए स्मरण - पृष्ठ में चित्र को निर्धारित समय 3 मिनट में ध्यानपूर्वक अवलोकन करें। इसके बाद स्मरण - पृष्ठ को पलटकर दूसरे 3 मिनट में प्रश्न - पृष्ठ में चित्रों के सामने एक ही चित्र के दिए गए चार विकल्पों में सही विकल्प को ढूंढकर उसके क्रमांक को उत्तर - पत्रक में दिए गए a, b, c, एवं d में से सही क्रमांक को काला करें।

- (a) A
(b) B
(c) C
(d) D

Ans.(c)

Q30.



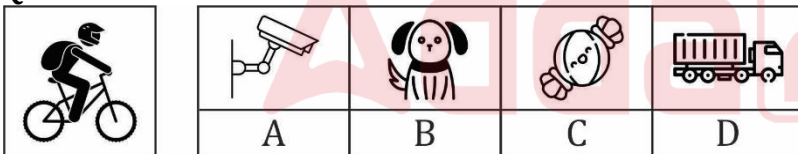
Instructions: (Questions 21 - 40) Observe the picture on the given memory page carefully in the given time of 3 minutes. After this, turn the memory page and in another 3 minutes, find the correct option from the four options given for the same picture in front of the pictures in the question sheet and blacken its number from the a, b, c, and d given in the answer sheet.

निर्देश : (प्रश्न 21 - 40) दिए गए स्मरण - पृष्ठ में चित्र को निर्धारित समय 3 मिनट में ध्यानपूर्वक अवलोकन करें। इसके बाद स्मरण - पृष्ठ को पलटकर दूसरे 3 मिनट में प्रश्न - पृष्ठ में चित्रों के सामने एक ही चित्र के दिए गए चार विकल्पों में सही विकल्प को ढूंढकर उसके क्रमांक को उत्तर - पत्रक में दिए गए a, b, c, एवं d में से सही क्रमांक को काला करें।

- (a) A
(b) B
(c) C
(d) D

Ans.(a)

Q31.



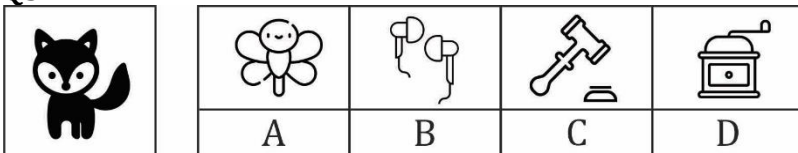
Instructions: (Questions 21 - 40) Observe the picture on the given memory page carefully in the given time of 3 minutes. After this, turn the memory page and in another 3 minutes, find the correct option from the four options given for the same picture in front of the pictures in the question sheet and blacken its number from the a, b, c, and d given in the answer sheet.

निर्देश : (प्रश्न 21 - 40) दिए गए स्मरण - पृष्ठ में चित्र को निर्धारित समय 3 मिनट में ध्यानपूर्वक अवलोकन करें। इसके बाद स्मरण - पृष्ठ को पलटकर दूसरे 3 मिनट में प्रश्न - पृष्ठ में चित्रों के सामने एक ही चित्र के दिए गए चार विकल्पों में सही विकल्प को ढूंढकर उसके क्रमांक को उत्तर - पत्रक में दिए गए a, b, c, एवं d में से सही क्रमांक को काला करें।

- (a) A
(b) B
(c) C
(d) D

Ans.(b)

Q32.



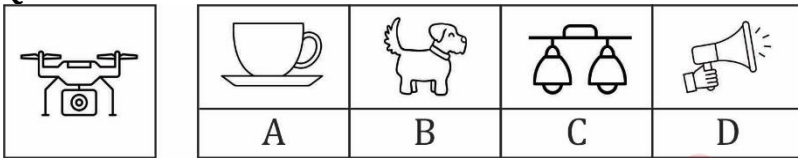
Instructions: (Questions 21 - 40) Observe the picture on the given memory page carefully in the given time of 3 minutes. After this, turn the memory page and in another 3 minutes, find the correct option from the four options given for the same picture in front of the pictures in the question sheet and blacken its number from the a, b, c, and d given in the answer sheet.

निर्देश : (प्रश्न 21 - 40) दिए गए स्मरण - पृष्ठ में चित्र को निर्धारित समय 3 मिनट में ध्यानपूर्वक अवलोकन करें। इसके बाद स्मरण - पृष्ठ को पलटकर दूसरे 3 मिनट में प्रश्न - पृष्ठ में चित्रों के सामने एक ही चित्र के दिए गए चार विकल्पों में सही विकल्प को ढूंढकर उसके क्रमांक को उत्तर - पत्रक में दिए गए a, b, c, एवं d में से सही क्रमांक को काला करें।

- (a) A
(b) B
(c) C
(d) D

Ans.(c)

Q33.



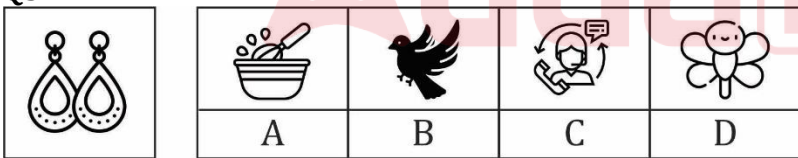
Instructions: (Questions 21 - 40) Observe the picture on the given memory page carefully in the given time of 3 minutes. After this, turn the memory page and in another 3 minutes, find the correct option from the four options given for the same picture in front of the pictures in the question sheet and blacken its number from the a, b, c, and d given in the answer sheet.

निर्देश : (प्रश्न 21 - 40) दिए गए स्मरण - पृष्ठ में चित्र को निर्धारित समय 3 मिनट में ध्यानपूर्वक अवलोकन करें। इसके बाद स्मरण - पृष्ठ को पलटकर दूसरे 3 मिनट में प्रश्न - पृष्ठ में चित्रों के सामने एक ही चित्र के दिए गए चार विकल्पों में सही विकल्प को ढूंढकर उसके क्रमांक को उत्तर - पत्रक में दिए गए a, b, c, एवं d में से सही क्रमांक को काला करें।

- (a) A
(b) B
(c) C
(d) D

Ans.(b)

Q34.



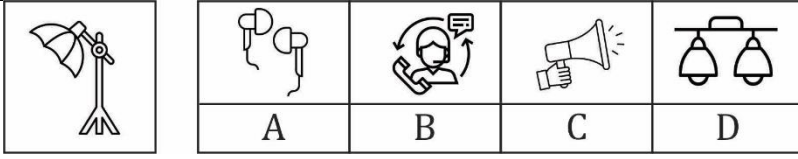
Instructions: (Questions 21 - 40) Observe the picture on the given memory page carefully in the given time of 3 minutes. After this, turn the memory page and in another 3 minutes, find the correct option from the four options given for the same picture in front of the pictures in the question sheet and blacken its number from the a, b, c, and d given in the answer sheet.

निर्देश : (प्रश्न 21 - 40) दिए गए स्मरण - पृष्ठ में चित्र को निर्धारित समय 3 मिनट में ध्यानपूर्वक अवलोकन करें। इसके बाद स्मरण - पृष्ठ को पलटकर दूसरे 3 मिनट में प्रश्न - पृष्ठ में चित्रों के सामने एक ही चित्र के दिए गए चार विकल्पों में सही विकल्प को ढूंढकर उसके क्रमांक को उत्तर - पत्रक में दिए गए a, b, c, एवं d में से सही क्रमांक को काला करें।

- (a) A
(b) B
(c) C
(d) D

Ans.(d)

Q35.



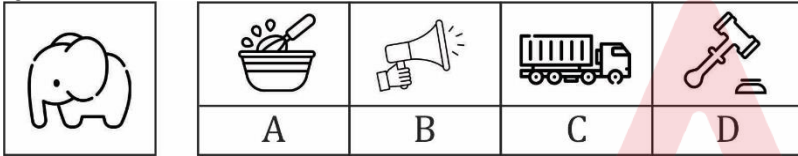
Instructions: (Questions 21 - 40) Observe the picture on the given memory page carefully in the given time of 3 minutes. After this, turn the memory page and in another 3 minutes, find the correct option from the four options given for the same picture in front of the pictures in the question sheet and blacken its number from the a, b, c, and d given in the answer sheet.

निर्देश : (प्रश्न 21 - 40) दिए गए स्मरण - पृष्ठ में चित्र को निर्धारित समय 3 मिनट में ध्यानपूर्वक अवलोकन करें। इसके बाद स्मरण - पृष्ठ को पलटकर दूसरे 3 मिनट में प्रश्न - पृष्ठ में चित्रों के सामने एक ही चित्र के दिए गए चार विकल्पों में सही विकल्प को ढूंढकर उसके क्रमांक को उत्तर - पत्रक में दिए गए a, b, c, एवं d में से सही क्रमांक को काला करें।

- (a) A
(b) B
(c) C
(d) D

Ans.(a)

Q36.



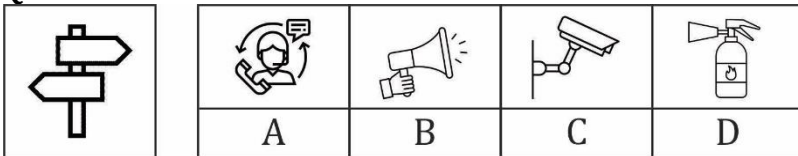
Instructions: (Questions 21 - 40) Observe the picture on the given memory page carefully in the given time of 3 minutes. After this, turn the memory page and in another 3 minutes, find the correct option from the four options given for the same picture in front of the pictures in the question sheet and blacken its number from the a, b, c, and d given in the answer sheet.

निर्देश : (प्रश्न 21 - 40) दिए गए स्मरण - पृष्ठ में चित्र को निर्धारित समय 3 मिनट में ध्यानपूर्वक अवलोकन करें। इसके बाद स्मरण - पृष्ठ को पलटकर दूसरे 3 मिनट में प्रश्न - पृष्ठ में चित्रों के सामने एक ही चित्र के दिए गए चार विकल्पों में सही विकल्प को ढूंढकर उसके क्रमांक को उत्तर - पत्रक में दिए गए a, b, c, एवं d में से सही क्रमांक को काला करें।

- (a) A
(b) B
(c) C
(d) D

Ans.(c)

Q37.



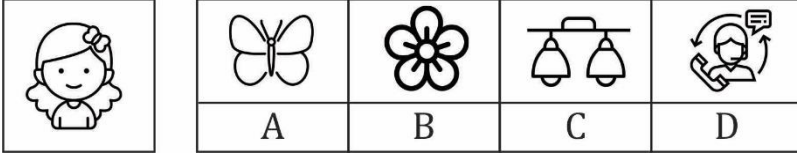
Instructions: (Questions 21 - 40) Observe the picture on the given memory page carefully in the given time of 3 minutes. After this, turn the memory page and in another 3 minutes, find the correct option from the four options given for the same picture in front of the pictures in the question sheet and blacken its number from the a, b, c, and d given in the answer sheet.

निर्देश : (प्रश्न 21 - 40) दिए गए स्मरण - पृष्ठ में चित्र को निर्धारित समय 3 मिनट में ध्यानपूर्वक अवलोकन करें। इसके बाद स्मरण - पृष्ठ को पलटकर दूसरे 3 मिनट में प्रश्न - पृष्ठ में चित्रों के सामने एक ही चित्र के दिए गए चार विकल्पों में सही विकल्प को ढूंढकर उसके क्रमांक को उत्तर - पत्रक में दिए गए a, b, c, एवं d में से सही क्रमांक को काला करें।

- (a) A
(b) B
(c) C
(d) D

Ans.(d)

Q38.



Instructions: (Questions 21 - 40) Observe the picture on the given memory page carefully in the given time of 3 minutes. After this, turn the memory page and in another 3 minutes, find the correct option from the four options given for the same picture in front of the pictures in the question sheet and blacken its number from the a, b, c, and d given in the answer sheet.

निर्देश : (प्रश्न 21 - 40) दिए गए स्मरण - पृष्ठ में चित्र को निर्धारित समय 3 मिनट में ध्यानपूर्वक अवलोकन करें। इसके बाद स्मरण - पृष्ठ को पलटकर दूसरे 3 मिनट में प्रश्न - पृष्ठ में चित्रों के सामने एक ही चित्र के दिए गए चार विकल्पों में सही विकल्प को ढूँढकर उसके क्रमांक को उत्तर - पत्रक में दिए गए a, b, c, एवं d में से सही क्रमांक को काला करें।

(a) A

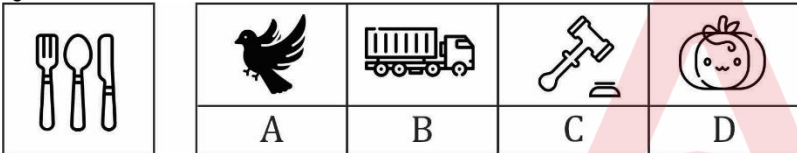
(b) B

(c) C

(d) D

Ans.(b)

Q39.



Instructions: (Questions 21 - 40) Observe the picture on the given memory page carefully in the given time of 3 minutes. After this, turn the memory page and in another 3 minutes, find the correct option from the four options given for the same picture in front of the pictures in the question sheet and blacken its number from the a, b, c, and d given in the answer sheet.

निर्देश : (प्रश्न 21 - 40) दिए गए स्मरण - पृष्ठ में चित्र को निर्धारित समय 3 मिनट में ध्यानपूर्वक अवलोकन करें। इसके बाद स्मरण - पृष्ठ को पलटकर दूसरे 3 मिनट में प्रश्न - पृष्ठ में चित्रों के सामने एक ही चित्र के दिए गए चार विकल्पों में सही विकल्प को ढूँढकर उसके क्रमांक को उत्तर - पत्रक में दिए गए a, b, c, एवं d में से सही क्रमांक को काला करें।

(a) A

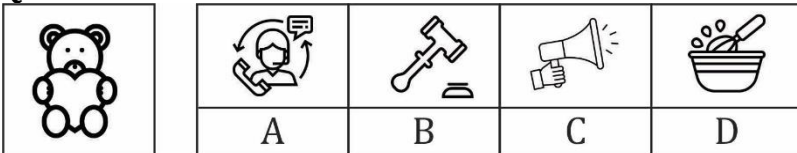
(b) B

(c) C

(d) D

Ans.(d)

Q40.



Instructions: (Questions 21 - 40) Observe the picture on the given memory page carefully in the given time of 3 minutes. After this, turn the memory page and in another 3 minutes, find the correct option from the four options given for the same picture in front of the pictures in the question sheet and blacken its number from the a, b, c, and d given in the answer sheet.

निर्देश : (प्रश्न 21 - 40) दिए गए स्मरण - पृष्ठ में चित्र को निर्धारित समय 3 मिनट में ध्यानपूर्वक अवलोकन करें। इसके बाद स्मरण - पृष्ठ को पलटकर दूसरे 3 मिनट में प्रश्न - पृष्ठ में चित्रों के सामने एक ही चित्र के दिए गए चार विकल्पों में सही विकल्प को ढूँढकर उसके क्रमांक को उत्तर - पत्रक में दिए गए a, b, c, एवं d में से सही क्रमांक को काला करें।

(a) A

(b) B

(c) C

(d) D

Ans.(a)

Q41. In which row is the letter not in the middle of the alphabetical order? And in which column is that letter in the middle of the alphabetical order?

किस पंक्ति में वर्णमाला क्रम का मध्य अक्षर नहीं है? तथा वह अक्षर किस कॉलम में वर्णमाला क्रम के अनुसार बीच में है?

Instructions (1-10): Study the table given below carefully and answer the following questions on your answer sheet as instructed. For each question, five circles are given on the answer sheet, inside which A, B, C, D and E are written. 5 minutes are allotted to solve all the 10 questions.

निर्देश(1-10): नीचे दिए गए तालिका का ध्यानपूर्वक अध्ययन करके निम्नांकित प्रश्नों का उत्तर अपने उत्तर-पत्रक में निर्देशानुसार दें। प्रत्येक प्रश्न के लिए उत्तर-पत्रक में पाँच वृत्त दिए गए हैं, जिनके अन्दर A,B,C,D एवं E दर्ज है। सभी 10 प्रश्नों को हल करने के लिए 5 मिनट का समय निर्धारित है।

Column स्तंभ	Column स्तंभ - 1	Column स्तंभ - 2	Column स्तंभ - 3	Column स्तंभ - 4	Column स्तंभ - 5
पंक्ति					
Row पंक्ति - 1	E	C	D	B	E
Row पंक्ति - 2	A	B	E	A	D
Row पंक्ति - 3	D	E	B	C	A
Row पंक्ति - 4	E	C	D	B	D
Row पंक्ति - 5	B	A	E	C	E

(a) A

(b) B

(c) C

(d) D

(e) E

Ans.(d)

Q42. What is the second letter of row 4 after reversing the letters of diagonals of column 1 and column 5 and mutually exchanging thereafter?

स्तंभ 1 और स्तंभ 5 के विकर्णों के अक्षरों को उलटने और उसके बाद परस्पर बदलने के बाद पंक्ति 4 का दूसरा अक्षर क्या है?

Instructions (1-10): Study the table given below carefully and answer the following questions on your answer sheet as instructed. For each question, five circles are given on the answer sheet, inside which A, B, C, D and E are written. 5 minutes are allotted to solve all the 10 questions.

निर्देश(1-10): नीचे दिए गए तालिका का ध्यानपूर्वक अध्ययन करके निम्नांकित प्रश्नों का उत्तर अपने उत्तर-पत्रक में निर्देशानुसार दें। प्रत्येक प्रश्न के लिए उत्तर-पत्रक में पाँच वृत्त दिए गए हैं, जिनके अन्दर A,B,C,D एवं E दर्ज है। सभी 10 प्रश्नों को हल करने के लिए 5 मिनट का समय निर्धारित है।

Column स्तंभ	Column स्तंभ - 1	Column स्तंभ - 2	Column स्तंभ - 3	Column स्तंभ - 4	Column स्तंभ - 5
पंक्ति					
Row पंक्ति - 1	E	C	D	B	E
Row पंक्ति - 2	A	B	E	A	D
Row पंक्ति - 3	D	E	B	C	A
Row पंक्ति - 4	E	C	D	B	D
Row पंक्ति - 5	B	A	E	C	E

- (a) A
(b) B
(c) C
(d) D
(e) E

Ans.(b)

Q43. If in a row there is only one similar letter present on the left and right side of a letter which is the middle letter of the complete alphabetical series then the answer will be the letter which is present second from the top in column 1 but not in column 2, otherwise the lower case letter of the last letter of that alphabet along with the last letter of the diagonal will be your answer?

यदि किसी पंक्ति में अक्षर के बायीं और दायीं ओर केवल एक समान अक्षर मौजूद है जो सम्पूर्ण वर्णमाला क्रम का मध्य अक्षर है, तो उत्तर वह अक्षर होगा जो कॉलम 1 में ऊपर से दूसरे स्थान पर मौजूद है लेकिन कॉलम 2 में नहीं है, अन्यथा विकर्ण के अंतिम अक्षर के साथ उस अक्षर के अंतिम अक्षर का निचला अक्षर आपका उत्तर होगा?

Instructions (1-10): Study the table given below carefully and answer the following questions on your answer sheet as instructed. For each question, five circles are given on the answer sheet, inside which A, B, C, D and E are written. 5 minutes are allotted to solve all the 10 questions.

निर्देश(1-10): नीचे दिए गए तालिका का ध्यानपूर्वक अध्ययन करके निम्नांकित प्रश्नों का उत्तर अपने उत्तर-पत्रक में निर्देशानुसार दें। प्रत्येक प्रश्न के लिए उत्तर-पत्रक में पाँच वृत्त दिए गए हैं, जिनके अन्दर A,B,C,D एवं E दर्ज हैं। सभी 10 प्रश्नों को हल करने के लिए 5 मिनट का समय निर्धारित है।

Column स्तंभ	Column स्तंभ - 1	Column स्तंभ - 2	Column स्तंभ - 3	Column स्तंभ - 4	Column स्तंभ - 5
पंक्ति					
Row पंक्ति - 1	E	C	D	B	E
Row पंक्ति - 2	A	B	E	A	D
Row पंक्ति - 3	D	E	B	C	A
Row पंक्ति - 4	E	C	D	B	D
Row पंक्ति - 5	B	A	E	C	E

- (a) A
(b) B
(c) C
(d) D
(e) E

Ans.(a)

Q44. If letter C exists at the left of the bottom letter of column 5 then the answer would be the letter which is not in the diagonal of row 5 otherwise the letter with the highest frequency in the diagonal of row 1?

यदि अक्षर C, स्तंभ 5 के सबसे नीचे वाले अक्षर के बाईं ओर मौजूद है तो उत्तर वह अक्षर होगा जो पंक्ति 5 के विकर्ण में नहीं है अन्यथा पंक्ति 1 के विकर्ण में सबसे अधिक आवृत्ति वाला अक्षर क्या होगा?

Instructions (1-10): Study the table given below carefully and answer the following questions on your answer sheet as instructed. For each question, five circles are given on the answer sheet, inside which A, B, C, D and E are written. 5 minutes are allotted to solve all the 10 questions.

निर्देश(1-10): नीचे दिए गए तालिका का ध्यानपूर्वक अध्ययन करके निम्नांकित प्रश्नों का उत्तर अपने उत्तर-पत्रक में निर्देशानुसार दें। प्रत्येक प्रश्न के लिए उत्तर-पत्रक में पाँच वृत्त दिए गए हैं, जिनके अन्दर A,B,C,D एवं E दर्ज है। सभी 10 प्रश्नों को हल करने के लिए 5 मिनट का समय निर्धारित है।

Column स्तंभ	Column स्तंभ - 1	Column स्तंभ - 2	Column स्तंभ - 3	Column स्तंभ - 4	Column स्तंभ - 5
पंक्ति					
Row पंक्ति - 1	E	C	D	B	E
Row पंक्ति - 2	A	B	E	A	D
Row पंक्ति - 3	D	E	B	C	A
Row पंक्ति - 4	E	C	D	B	D
Row पंक्ति - 5	B	A	E	C	E

- (a) A
(b) B
(c) C
(d) D
(e) E

Ans.(d)



Q45. What is the letter which is at the beginning and end of the row and column in the table and the letter is the ending letter of the alphabet too?

वह कौन सा अक्षर है जो तालिका में पंक्ति और स्तंभ के आरंभ और अंत में है और वह अक्षर वर्णमाला का अंतिम अक्षर भी है?

Instructions (1-10): Study the table given below carefully and answer the following questions on your answer sheet as instructed. For each question, five circles are given on the answer sheet, inside which A, B, C, D and E are written. 5 minutes are allotted to solve all the 10 questions.

निर्देश(1-10): नीचे दिए गए तालिका का ध्यानपूर्वक अध्ययन करके निम्नांकित प्रश्नों का उत्तर अपने उत्तर-पत्रक में निर्देशानुसार दें। प्रत्येक प्रश्न के लिए उत्तर-पत्रक में पाँच वृत्त दिए गए हैं, जिनके अन्दर A,B,C,D एवं E दर्ज है। सभी 10 प्रश्नों को हल करने के लिए 5 मिनट का समय निर्धारित है।

Column स्तंभ	Column स्तंभ - 1	Column स्तंभ - 2	Column स्तंभ - 3	Column स्तंभ - 4	Column स्तंभ - 5
पंक्ति					
Row पंक्ति - 1	E	C	D	B	E
Row पंक्ति - 2	A	B	E	A	D
Row पंक्ति - 3	D	E	B	C	A
Row पंक्ति - 4	E	C	D	B	D
Row पंक्ति - 5	B	A	E	C	E

- (a) A
(b) B
(c) C
(d) D
(e) E

Ans.(e)

Q46. Which letter has the highest frequency in the entire table?

पूरी तालिका में सबसे अधिक आवृत्ति वाला अक्षर कौन सा है?

Instructions (1-10): Study the table given below carefully and answer the following questions on your answer sheet as instructed. For each question, five circles are given on the answer sheet, inside which A, B, C, D and E are written. 5 minutes are allotted to solve all the 10 questions.

निर्देश(1-10): नीचे दिए गए तालिका का ध्यानपूर्वक अध्ययन करके निम्नांकित प्रश्नों का उत्तर अपने उत्तर-पत्रक में निर्देशानुसार दें। प्रत्येक प्रश्न के लिए उत्तर-पत्रक में पाँच वृत्त दिए गए हैं, जिनके अन्दर A,B,C,D एवं E दर्ज हैं। सभी 10 प्रश्नों को हल करने के लिए 5 मिनट का समय निर्धारित है।

Column स्तंभ	Column स्तंभ - 1	Column स्तंभ - 2	Column स्तंभ - 3	Column स्तंभ - 4	Column स्तंभ - 5
पंक्ति					
Row पंक्ति - 1	E	C	D	B	E
Row पंक्ति - 2	A	B	E	A	D
Row पंक्ति - 3	D	E	B	C	A
Row पंक्ति - 4	E	C	D	B	D
Row पंक्ति - 5	B	A	E	C	E

- (a) A
(b) B
(c) C
(d) D
(e) E

Ans.(e)

Q47. If a letter appears more than four times in the table then what is the middle letter of row 3 and 5?

यदि कोई अक्षर तालिका में चार से अधिक बार मौजूद है जो पंक्ति 3 और 5 का मध्य अक्षर कौन सा है ?

Instructions (1-10): Study the table given below carefully and answer the following questions on your answer sheet as instructed. For each question, five circles are given on the answer sheet, inside which A, B, C, D and E are written. 5 minutes are allotted to solve all the 10 questions.

निर्देश(1-10): नीचे दिए गए तालिका का ध्यानपूर्वक अध्ययन करके निम्नांकित प्रश्नों का उत्तर अपने उत्तर-पत्रक में निर्देशानुसार दें। प्रत्येक प्रश्न के लिए उत्तर-पत्रक में पाँच वृत्त दिए गए हैं, जिनके अन्दर A,B,C,D एवं E दर्ज हैं। सभी 10 प्रश्नों को हल करने के लिए 5 मिनट का समय निर्धारित है।

Column स्तंभ	Column स्तंभ - 1	Column स्तंभ - 2	Column स्तंभ - 3	Column स्तंभ - 4	Column स्तंभ - 5
पंक्ति					
Row पंक्ति - 1	E	C	D	B	E
Row पंक्ति - 2	A	B	E	A	D
Row पंक्ति - 3	D	E	B	C	A
Row पंक्ति - 4	E	C	D	B	D
Row पंक्ति - 5	B	A	E	C	E

- (a) A
(b) B
(c) C
(d) D
(e) E

Ans.(d)

Q48. Starting from crossing of row 5 and column 1 move diagonally to crossing of row 3 and column 3, move diagonally to crossing of row 1 and column 1, move back to the starting point and thus a triangular path is formed. Which letter is in the middle of the triangle?

पंक्ति 5 और स्तंभ 1 के चौराहे से शुरू करके पंक्ति 3 और स्तंभ 3 के चौराहे तक तिरछे चलते हुए पंक्ति 1 और स्तंभ 1 के चौराहे तक तिरछे चलते हुए वापस प्रारंभिक बिंदु पर आएँ और इस प्रकार एक त्रिभुजाकार पथ बनता है। त्रिभुज के मध्य में कौन सा अक्षर है?

Instructions (1-10): Study the table given below carefully and answer the following questions on your answer sheet as instructed. For each question, five circles are given on the answer sheet, inside which A, B, C, D and E are written. 5 minutes are allotted to solve all the 10 questions.

निर्देश(1-10): नीचे दिए गए तालिका का ध्यानपूर्वक अध्ययन करके निम्नांकित प्रश्नों का उत्तर अपने उत्तर-पत्रक में निर्देशानुसार दें। प्रत्येक प्रश्न के लिए उत्तर-पत्रक में पाँच वृत्त दिए गए हैं, जिनके अन्दर A,B,C,D एवं E दर्ज है। सभी 10 प्रश्नों को हल करने के लिए 5 मिनट का समय निर्धारित है।

Column स्तंभ	Column स्तंभ - 1	Column स्तंभ - 2	Column स्तंभ - 3	Column स्तंभ - 4	Column स्तंभ - 5
पंक्ति					
Row पंक्ति - 1	E	C	D	B	E
Row पंक्ति - 2	A	B	E	A	D
Row पंक्ति - 3	D	E	B	C	A
Row पंक्ति - 4	E	C	D	B	D
Row पंक्ति - 5	B	A	E	C	E

- (a) A
(b) B
(c) C
(d) D
(e) E

Ans.(b)

Q49. Write down the letters of row 1 and row 2 in reverse order. Again write down letters of row 4 and 5 in reverse order too. Which letter has the highest frequency in column 2?

पंक्ति 1 और पंक्ति 2 के अक्षरों को उल्टे क्रम में लिखें। फिर पंक्ति 4 और 5 के अक्षरों को भी उल्टे क्रम में लिखें। कॉलम 2 में किस अक्षर की आवृत्ति सबसे अधिक है?

Instructions (1-10): Study the table given below carefully and answer the following questions on your answer sheet as instructed. For each question, five circles are given on the answer sheet, inside which A, B, C, D and E are written. 5 minutes are allotted to solve all the 10 questions.

निर्देश(1-10): नीचे दिए गए तालिका का ध्यानपूर्वक अध्ययन करके निम्नांकित प्रश्नों का उत्तर अपने उत्तर-पत्रक में निर्देशानुसार दें। प्रत्येक प्रश्न के लिए उत्तर-पत्रक में पाँच वृत्त दिए गए हैं, जिनके अन्दर A,B,C,D एवं E दर्ज हैं। सभी 10 प्रश्नों को हल करने के लिए 5 मिनट का समय निर्धारित है।

Column स्तंभ	Column स्तंभ - 1	Column स्तंभ - 2	Column स्तंभ - 3	Column स्तंभ - 4	Column स्तंभ - 5
पंक्ति					
Row पंक्ति - 1	E	C	D	B	E
Row पंक्ति - 2	A	B	E	A	D
Row पंक्ति - 3	D	E	B	C	A
Row पंक्ति - 4	E	C	D	B	D
Row पंक्ति - 5	B	A	E	C	E

- (a) A
(b) B
(c) C
(d) D
(e) E

Ans.(b)

Q50. What is the last letter of the diagonal on the left above the middle letter of the table?

तालिका के मध्य अक्षर के ऊपर बायीं ओर स्थित विकर्ण का अंतिम अक्षर कौन सा है?

Instructions (1-10): Study the table given below carefully and answer the following questions on your answer sheet as instructed. For each question, five circles are given on the answer sheet, inside which A, B, C, D and E are written. 5 minutes are allotted to solve all the 10 questions.

निर्देश(1-10): नीचे दिए गए तालिका का ध्यानपूर्वक अध्ययन करके निम्नांकित प्रश्नों का उत्तर अपने उत्तर-पत्रक में निर्देशानुसार दें। प्रत्येक प्रश्न के लिए उत्तर-पत्रक में पाँच वृत्त दिए गए हैं, जिनके अन्दर A,B,C,D एवं E दर्ज हैं। सभी 10 प्रश्नों को हल करने के लिए 5 मिनट का समय निर्धारित है।

Column स्तंभ	Column स्तंभ - 1	Column स्तंभ - 2	Column स्तंभ - 3	Column स्तंभ - 4	Column स्तंभ - 5
पंक्ति					
Row पंक्ति - 1	E	C	D	B	E
Row पंक्ति - 2	A	B	E	A	D
Row पंक्ति - 3	D	E	B	C	A
Row पंक्ति - 4	E	C	D	B	D
Row पंक्ति - 5	B	A	E	C	E

- (a) A
(b) B
(c) C
(d) D
(e) E

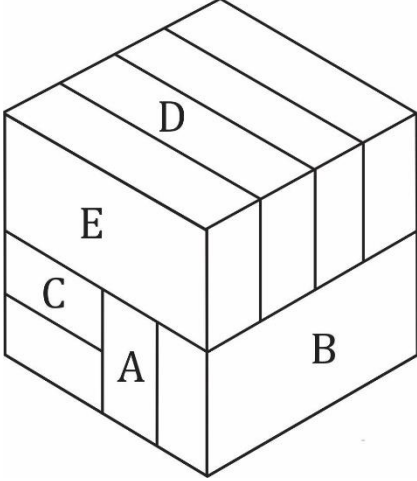
Ans.(e)

Q51. How many bricks are in contact with Bricks A ?

A कितनी ईंटों को स्पर्श करती है-

Directions (1-5): questions based on bricks are given, which are divided into subsections. Each subsection contains 5 questions. In each subsection, 5 bricks are marked A, B, C, D and E. You have to find out how many other bricks certain bricks are touching in the given questions. Blacken the circle marked with your answer in the answer sheet.

निर्देश : (1-5): ईंटों पर आधारित प्रश्न दिए गए हैं, जो उपखंडों में विभाजित हैं। प्रत्येक उपखंड में प्रश्न दिए गए हैं। प्रत्येक उपखंड में कोई 5 ईंटों पर A, एवं E अंकित है। आपको यह ज्ञात करना है कि दिये गए प्रश्नों में अमुक ईंटें कितने अन्य ईंटों से स्पर्श कर रही है। अपने उत्तर को उत्तर-पत्रक में अंकित गोले को काला करें।



- (a) 1
- (b) 2
- (c) 3
- (d) 4
- (e) 5
- (f) 6
- (g) 7
- (h) 8
- (i) 9
- (j) 10

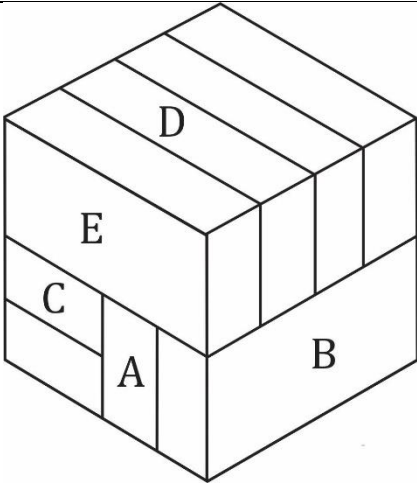
Ans.(g)

Q52. How many bricks are in contact with Bricks B ?

B कितनी ईंटों को स्पर्श करती है-

Directions (1-5): questions based on bricks are given, which are divided into subsections. Each subsection contains 5 questions. In each subsection, 5 bricks are marked A, B, C, D and E. You have to find out how many other bricks certain bricks are touching in the given questions. Blacken the circle marked with your answer in the answer sheet.

निर्देश : (1-5): ईंटों पर आधारित प्रश्न दिए गए हैं, जो उपखंडों में विभाजित हैं। प्रत्येक उपखंड में प्रश्न दिए गए हैं। प्रत्येक उपखंड में कोई 5 ईंटों पर A, एवं E अंकित है। आपको यह ज्ञात करना है कि दिये गए प्रश्नों में अमुक ईंटें कितने अन्य ईंटों से स्पर्श कर रही है। अपने उत्तर को उत्तर-पत्रक में अंकित गोले को काला करें।



- (a) 1
- (b) 2
- (c) 3
- (d) 4
- (e) 5
- (f) 6
- (g) 7
- (h) 8
- (i) 9
- (j) 10

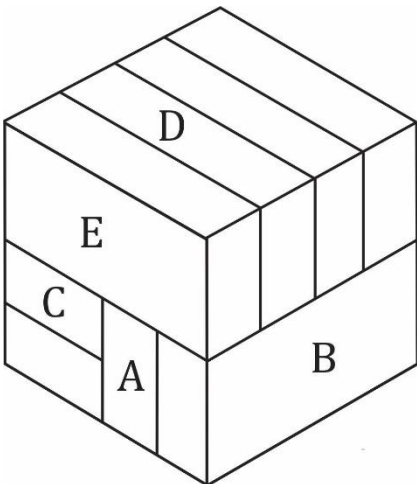
Ans.(e)

Q53. How many bricks are in contact with Bricks C ?

C कितनी ईंटों को स्पर्श करती है-

Directions (1-5): questions based on bricks are given, which are divided into subsections. Each subsection contains 5 questions. In each subsection, 5 bricks are marked A, B, C, D and E. You have to find out how many other bricks certain bricks are touching in the given questions. Blacken the circle marked with your answer in the answer sheet.

निर्देश : (1-5): ईंटों पर आधारित प्रश्न दिए गए हैं, जो उपखंडों में विभाजित हैं। प्रत्येक उपखंड में प्रश्न दिए गए हैं। प्रत्येक उपखंड में कोई 5 ईंटों पर A, एवं E अंकित है। आपको यह ज्ञात करना है कि दिये गए प्रश्नों में अमुक ईंटें कितने अन्य ईंटों से स्पर्श कर रही है। अपने उत्तर को उत्तर-पत्रक में अंकित गोले को काला करें।



- (a) 1
- (b) 2
- (c) 3
- (d) 4

- (e) 5
(f) 6
(g) 7
(h) 8
(i) 9
(j) 10

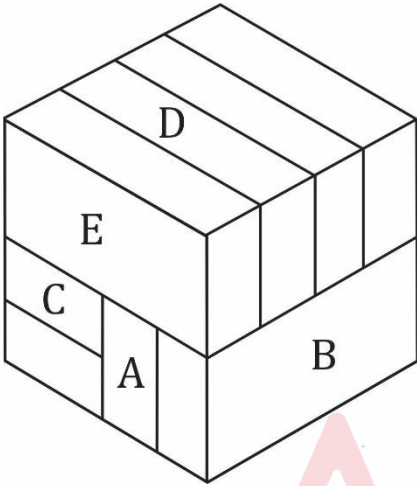
Ans.(f)

Q54. How many bricks are in contact with Bricks D ?

D कितनी ईंटों को स्पर्श करती है-

Directions (1-5): questions based on bricks are given, which are divided into subsections. Each subsection contains 5 questions. In each subsection, 5 bricks are marked A, B, C, D and E. You have to find out how many other bricks certain bricks are touching in the given questions. Blacken the circle marked with your answer in the answer sheet.

निर्देश : (1-5): ईंटों पर आधारित प्रश्न दिए गए हैं, जो उपखंडों में विभाजित हैं। प्रत्येक उपखंड में प्रश्न दिए गए हैं। प्रत्येक उपखंड में कोई 5 ईंटों पर A, एवं E अंकित है। आपको यह ज्ञात करना है कि दिये गए प्रश्नों में अमुक ईंटें कितने अन्य ईंटों से स्पर्श कर रही है। अपने उत्तर को उत्तर-पत्रक में अंकित गोले को काला करें।



- (a) 1
(b) 2
(c) 3
(d) 4
(e) 5
(f) 6
(g) 7
(h) 8
(i) 9
(j) 10

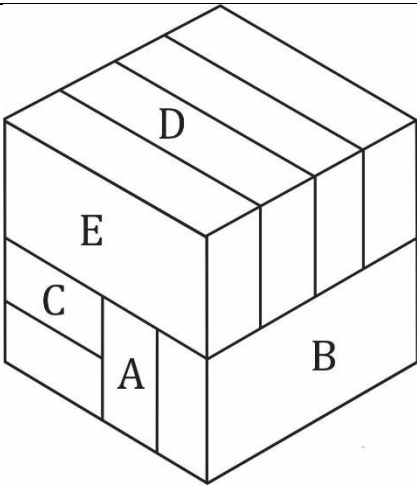
Ans.(e)

Q55. How many bricks are in contact with Bricks E ?

E कितनी ईंटों को स्पर्श करती है-

Directions (1-5): questions based on bricks are given, which are divided into subsections. Each subsection contains 5 questions. In each subsection, 5 bricks are marked A, B, C, D and E. You have to find out how many other bricks certain bricks are touching in the given questions. Blacken the circle marked with your answer in the answer sheet.

निर्देश : (1-5): ईंटों पर आधारित प्रश्न दिए गए हैं, जो उपखंडों में विभाजित हैं। प्रत्येक उपखंड में प्रश्न दिए गए हैं। प्रत्येक उपखंड में कोई 5 ईंटों पर A, एवं E अंकित है। आपको यह ज्ञात करना है कि दिये गए प्रश्नों में अमुक ईंटें कितने अन्य ईंटों से स्पर्श कर रही है। अपने उत्तर को उत्तर-पत्रक में अंकित गोले को काला करें।



- (a) 1
- (b) 2
- (c) 3
- (d) 4
- (e) 5
- (f) 6
- (g) 7
- (h) 8
- (i) 9
- (j) 10

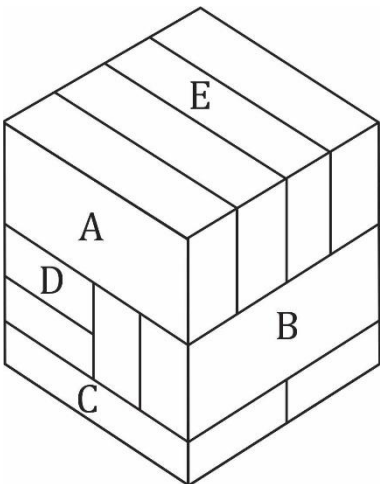
Ans.(d)

Q56. How many bricks are in contact with Bricks A ?

A कितनी ईंटों को स्पर्श करती है-

Directions (6-10): questions based on bricks are given, which are divided into subsections. Each subsection contains 5 questions. In each subsection, 5 bricks are marked A, B, C, D and E. You have to find out how many other bricks certain bricks are touching in the given questions. Blacken the circle marked with your answer in the answer sheet.

निर्देश : (6-10): ईंटों पर आधारित प्रश्न दिए गए हैं, जो उपखंडों में विभाजित हैं। प्रत्येक उपखंड में प्रश्न दिए गए हैं। प्रत्येक उपखंड में कोई 5 ईंटों पर A, एवं E अंकित है। आपको यह ज्ञात करना है कि दिये गए प्रश्नों में अमुक ईंटें कितने अन्य ईंटों से स्पर्श कर रही है। अपने उत्तर को उत्तर-पत्रक में अंकित गोले को काला करें।



- (a) 1
- (b) 2
- (c) 3
- (d) 4

- (e) 5
(f) 6
(g) 7
(h) 8
(i) 9
(j) 10

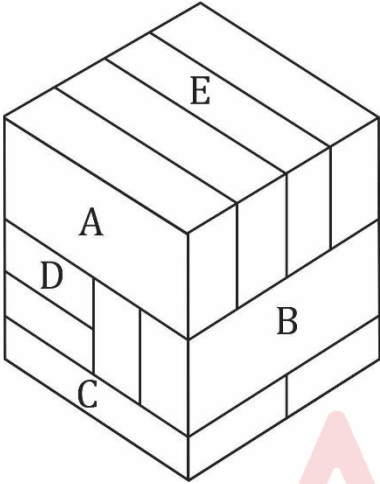
Ans.(d)

Q57. How many bricks are in contact with Bricks B ?

B कितनी ईंटों को स्पर्श करती है-

Directions (6-10): questions based on bricks are given, which are divided into subsections. Each subsection contains 5 questions. In each subsection, 5 bricks are marked A, B, C, D and E. You have to find out how many other bricks certain bricks are touching in the given questions. Blacken the circle marked with your answer in the answer sheet.

निर्देश : (6-10): ईंटों पर आधारित प्रश्न दिए गए हैं, जो उपखंडों में विभाजित हैं। प्रत्येक उपखंड में प्रश्न दिए गए हैं। प्रत्येक उपखंड में कोई 5 ईंटों पर A, एवं E अंकित है। आपको यह ज्ञात करना है कि दिये गए प्रश्नों में अमुक ईंटें कितने अन्य ईंटों से स्पर्श कर रही है। अपने उत्तर को उत्तर-पत्रक में अंकित गोले को काला करें।



- (a) 1
(b) 2
(c) 3
(d) 4
(e) 5
(f) 6
(g) 7
(h) 8
(i) 9
(j) 10

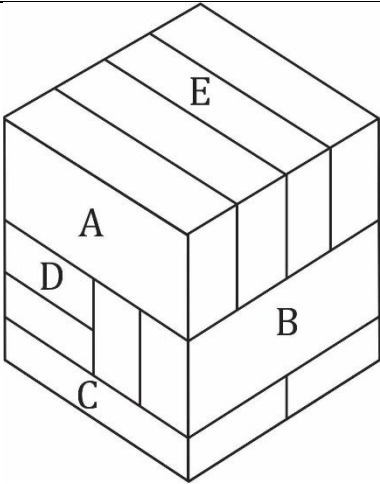
Ans.(g)

Q58. How many bricks are in contact with Bricks C ?

C कितनी ईंटों को स्पर्श करती है-

Directions (6-10): questions based on bricks are given, which are divided into subsections. Each subsection contains 5 questions. In each subsection, 5 bricks are marked A, B, C, D and E. You have to find out how many other bricks certain bricks are touching in the given questions. Blacken the circle marked with your answer in the answer sheet.

निर्देश : (6-10): ईंटों पर आधारित प्रश्न दिए गए हैं, जो उपखंडों में विभाजित हैं। प्रत्येक उपखंड में प्रश्न दिए गए हैं। प्रत्येक उपखंड में कोई 5 ईंटों पर A, एवं E अंकित है। आपको यह ज्ञात करना है कि दिये गए प्रश्नों में अमुक ईंटें कितने अन्य ईंटों से स्पर्श कर रही है। अपने उत्तर को उत्तर-पत्रक में अंकित गोले को काला करें।



- (a) 1
- (b) 2
- (c) 3
- (d) 4
- (e) 5
- (f) 6
- (g) 7
- (h) 8
- (i) 9
- (j) 10

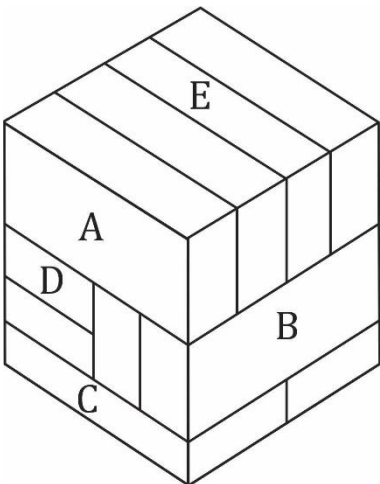
Ans.(d)

Q59. How many bricks are in contact with Bricks D ?

D कितनी ईंटों को स्पर्श करती है-

Directions (6-10): questions based on bricks are given, which are divided into subsections. Each subsection contains 5 questions. In each subsection, 5 bricks are marked A, B, C, D and E. You have to find out how many other bricks certain bricks are touching in the given questions. Blacken the circle marked with your answer in the answer sheet.

निर्देश : (6-10): ईंटों पर आधारित प्रश्न दिए गए हैं, जो उपखंडों में विभाजित हैं। प्रत्येक उपखंड में प्रश्न दिए गए हैं। प्रत्येक उपखंड में कोई 5 ईंटों पर A, एवं E अंकित है। आपको यह ज्ञात करना है कि दिये गए प्रश्नों में अमुक ईंटें कितने अन्य ईंटों से स्पर्श कर रही है। अपने उत्तर को उत्तर-पत्रक में अंकित गोले को काला करें।



- (a) 1
- (b) 2
- (c) 3
- (d) 4

- (e) 5
(f) 6
(g) 7
(h) 8
(i) 9
(j) 10

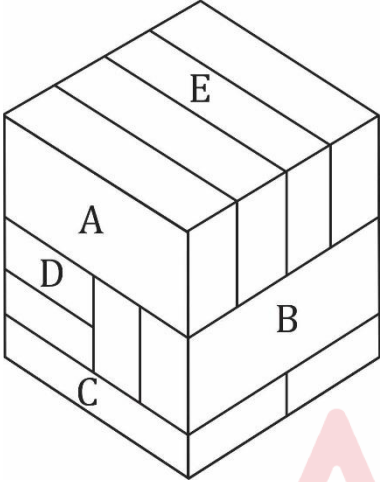
Ans.(f)

Q60. How many bricks are in contact with Bricks E ?

E कितनी ईंटों को स्पर्श करती है-

Directions (6-10): questions based on bricks are given, which are divided into subsections. Each subsection contains 5 questions. In each subsection, 5 bricks are marked A, B, C, D and E. You have to find out how many other bricks certain bricks are touching in the given questions. Blacken the circle marked with your answer in the answer sheet.

निर्देश : (6-10): ईंटों पर आधारित प्रश्न दिए गए हैं, जो उपखंडों में विभाजित हैं। प्रत्येक उपखंड में प्रश्न दिए गए हैं। प्रत्येक उपखंड में कोई 5 ईंटों पर A, एवं E अंकित है। आपको यह ज्ञात करना है कि दिये गए प्रश्नों में अमुक ईंटें कितने अन्य ईंटों से स्पर्श कर रही है। अपने उत्तर को उत्तर-पत्रक में अंकित गोले को काला करें।



- (a) 1
(b) 2
(c) 3
(d) 4
(e) 5
(f) 6
(g) 7
(h) 8
(i) 9
(j) 10

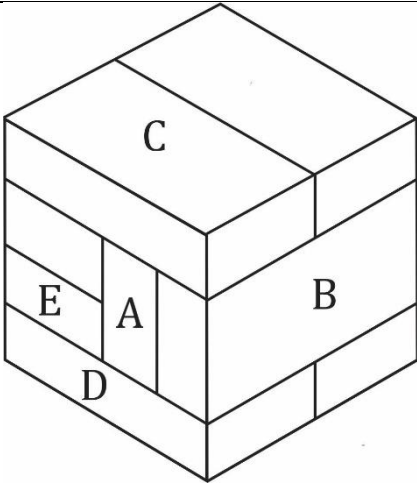
Ans.(e)

Q61. How many bricks are in contact with Bricks A ?

A कितनी ईंटों को स्पर्श करती है-

Directions (11-15): questions based on bricks are given, which are divided into subsections. Each subsection contains 5 questions. In each subsection, 5 bricks are marked A, B, C, D and E. You have to find out how many other bricks certain bricks are touching in the given questions. Blacken the circle marked with your answer in the answer sheet.

निर्देश (11-15): ईंटों पर आधारित प्रश्न दिए गए हैं, जो उपखंडों में विभाजित हैं। प्रत्येक उपखंड में प्रश्न दिए गए हैं। प्रत्येक उपखंड में कोई 5 ईंटों पर A, एवं E अंकित है। आपको यह ज्ञात करना है कि दिये गए प्रश्नों में अमुक ईंटें कितने अन्य ईंटों से स्पर्श कर रही है। अपने उत्तर को उत्तर-पत्रक में अंकित गोले को काला करें।



- (a) 1
- (b) 2
- (c) 3
- (d) 4
- (e) 5
- (f) 6
- (g) 7
- (h) 8
- (i) 9
- (j) 10

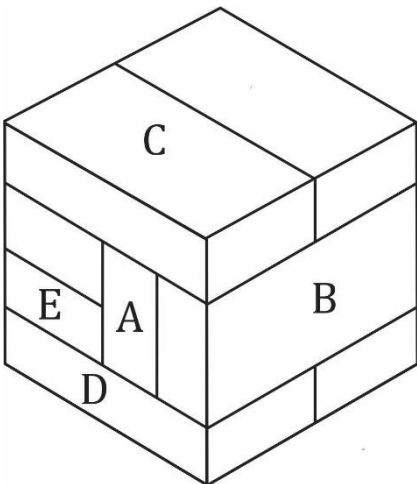
Ans.(g)

Q62. How many bricks are in contact with Bricks B ?

B कितनी ईंटों को स्पर्श करती है-

Directions (11-15): questions based on bricks are given, which are divided into subsections. Each subsection contains 5 questions. In each subsection, 5 bricks are marked A, B, C, D and E. You have to find out how many other bricks certain bricks are touching in the given questions. Blacken the circle marked with your answer in the answer sheet.

निर्देश (11-15): ईंटों पर आधारित प्रश्न दिए गए हैं, जो उपखंडों में विभाजित हैं। प्रत्येक उपखंड में प्रश्न दिए गए हैं। प्रत्येक उपखंड में कोई 5 ईंटों पर A, एवं E अंकित है। आपको यह ज्ञात करना है कि दिये गए प्रश्नों में अमुक ईंटें कितने अन्य ईंटों से स्पर्श कर रही है। अपने उत्तर को उत्तर-पत्रक में अंकित गोले को काला करें।



- (a) 1
- (b) 2
- (c) 3
- (d) 4

- (e) 5
(f) 6
(g) 7
(h) 8
(i) 9
(j) 10

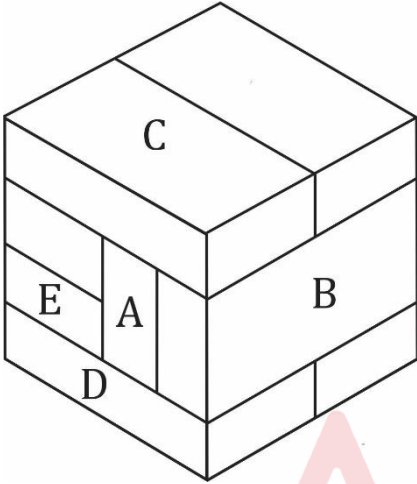
Ans.(e)

Q63. How many bricks are in contact with Bricks C ?

C कितनी ईंटों को स्पर्श करती है-

Directions (11-15): questions based on bricks are given, which are divided into subsections. Each subsection contains 5 questions. In each subsection, 5 bricks are marked A, B, C, D and E. You have to find out how many other bricks certain bricks are touching in the given questions. Blacken the circle marked with your answer in the answer sheet.

निर्देश (11-15): ईंटों पर आधारित प्रश्न दिए गए हैं, जो उपखंडों में विभाजित हैं। प्रत्येक उपखंड में प्रश्न दिए गए हैं। प्रत्येक उपखंड में कोई 5 ईंटों पर A, एवं E अंकित है। आपको यह ज्ञात करना है कि दिये गए प्रश्नों में अमुक ईंटें कितने अन्य ईंटों से स्पर्श कर रही है। अपने उत्तर को उत्तर-पत्रक में अंकित गोले को काला करें।



- (a) 1
(b) 2
(c) 3
(d) 4
(e) 5
(f) 6
(g) 7
(h) 8
(i) 9
(j) 10

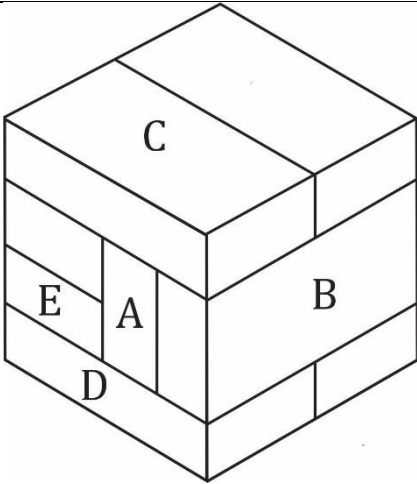
Ans.(d)

Q64. How many bricks are in contact with Bricks D ?

D कितनी ईंटों को स्पर्श करती है-

Directions (11-15): questions based on bricks are given, which are divided into subsections. Each subsection contains 5 questions. In each subsection, 5 bricks are marked A, B, C, D and E. You have to find out how many other bricks certain bricks are touching in the given questions. Blacken the circle marked with your answer in the answer sheet.

निर्देश (11-15): ईंटों पर आधारित प्रश्न दिए गए हैं, जो उपखंडों में विभाजित हैं। प्रत्येक उपखंड में प्रश्न दिए गए हैं। प्रत्येक उपखंड में कोई 5 ईंटों पर A, एवं E अंकित है। आपको यह ज्ञात करना है कि दिये गए प्रश्नों में अमुक ईंटें कितने अन्य ईंटों से स्पर्श कर रही है। अपने उत्तर को उत्तर-पत्रक में अंकित गोले को काला करें।



- (a) 1
- (b) 2
- (c) 3
- (d) 4
- (e) 5
- (f) 6
- (g) 7
- (h) 8
- (i) 9
- (j) 10

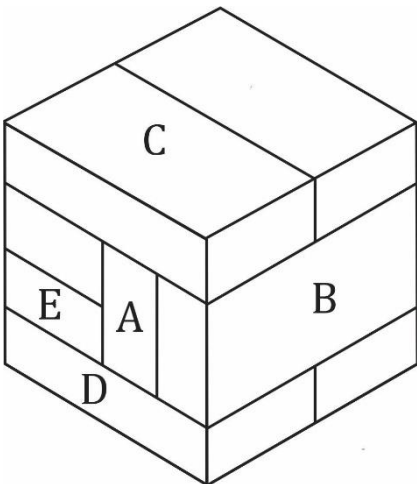
Ans.(d)

Q65. How many bricks are in contact with Bricks E ?

E कितनी ईंटों को स्पर्श करती है-

Directions (11-15): questions based on bricks are given, which are divided into subsections. Each subsection contains 5 questions. In each subsection, 5 bricks are marked A, B, C, D and E. You have to find out how many other bricks certain bricks are touching in the given questions. Blacken the circle marked with your answer in the answer sheet.

निर्देश (11-15): ईंटों पर आधारित प्रश्न दिए गए हैं, जो उपखंडों में विभाजित हैं। प्रत्येक उपखंड में प्रश्न दिए गए हैं। प्रत्येक उपखंड में कोई 5 ईंटों पर A, एवं E अंकित है। आपको यह ज्ञात करना है कि दिये गए प्रश्नों में अमुक ईंटें कितने अन्य ईंटों से स्पर्श कर रही है। अपने उत्तर को उत्तर-पत्रक में अंकित गोले को काला करें।



- (a) 1
- (b) 2
- (c) 3
- (d) 4

- (e) 5
(f) 6
(g) 7
(h) 8
(i) 9
(j) 10

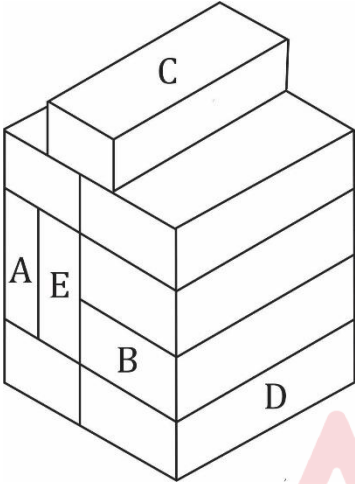
Ans.(d)

Q66. How many bricks are in contact with Bricks A ?

A कितनी ईंटों को स्पर्श करती है-

Directions (16-20): questions based on bricks are given, which are divided into subsections. Each subsection contains 5 questions. In each subsection, 5 bricks are marked A, B, C, D and E. You have to find out how many other bricks certain bricks are touching in the given questions. Blacken the circle marked with your answer in the answer sheet.

निर्देश : (16-20): ईंटों पर आधारित प्रश्न दिए गए हैं, जो उपखंडों में विभाजित हैं। प्रत्येक उपखंड में प्रश्न दिए गए हैं। प्रत्येक उपखंड में कोई 5 ईंटों पर A, एवं E अंकित है। आपको यह ज्ञात करना है कि दिये गए प्रश्नों में अमुक ईंटें कितने अन्य ईंटों से स्पर्श कर रही है। अपने उत्तर को उत्तर-पत्रक में अंकित गोले को काला करें



- (a) 1
(b) 2
(c) 3
(d) 4
(e) 5
(f) 6
(g) 7
(h) 8
(i) 9
(j) 10

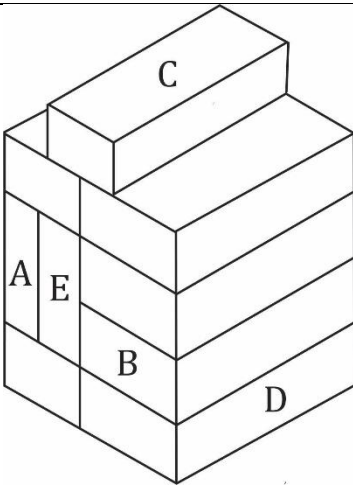
Ans.(c)

Q67. How many bricks are in contact with Bricks B ?

B कितनी ईंटों को स्पर्श करती है-

Directions (16-20): questions based on bricks are given, which are divided into subsections. Each subsection contains 5 questions. In each subsection, 5 bricks are marked A, B, C, D and E. You have to find out how many other bricks certain bricks are touching in the given questions. Blacken the circle marked with your answer in the answer sheet.

निर्देश : (16-20): ईंटों पर आधारित प्रश्न दिए गए हैं, जो उपखंडों में विभाजित हैं। प्रत्येक उपखंड में प्रश्न दिए गए हैं। प्रत्येक उपखंड में कोई 5 ईंटों पर A, एवं E अंकित है। आपको यह ज्ञात करना है कि दिये गए प्रश्नों में अमुक ईंटें कितने अन्य ईंटों से स्पर्श कर रही है। अपने उत्तर को उत्तर-पत्रक में अंकित गोले को काला करें



- (a) 1
- (b) 2
- (c) 3
- (d) 4
- (e) 5
- (f) 6
- (g) 7
- (h) 8
- (i) 9
- (j) 10

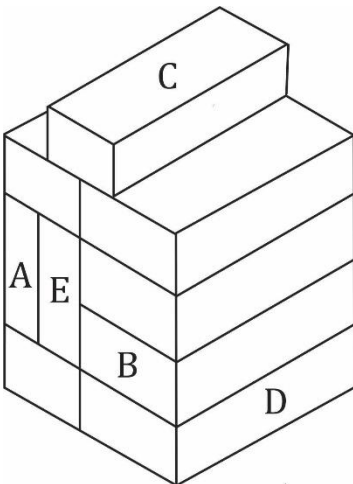
Ans.(c)

Q68. How many bricks are in contact with Bricks C ?

C कितनी ईंटों को स्पर्श करती है-

Directions (16-20): questions based on bricks are given, which are divided into subsections. Each subsection contains 5 questions. In each subsection, 5 bricks are marked A, B, C, D and E. You have to find out how many other bricks certain bricks are touching in the given questions. Blacken the circle marked with your answer in the answer sheet.

निर्देश : (16-20): ईंटों पर आधारित प्रश्न दिए गए हैं, जो उपखंडों में विभाजित हैं। प्रत्येक उपखंड में प्रश्न दिए गए हैं। प्रत्येक उपखंड में कोई 5 ईंटों पर A, एवं E अंकित है। आपको यह ज्ञात करना है कि दिये गए प्रश्नों में अमुक ईंटें कितने अन्य ईंटों से स्पर्श कर रही है। अपने उत्तर को उत्तर-पत्रक में अंकित गोले को काला करें



- (a) 1
- (b) 2
- (c) 3
- (d) 4

- (e) 5
(f) 6
(g) 7
(h) 8
(i) 9
(j) 10

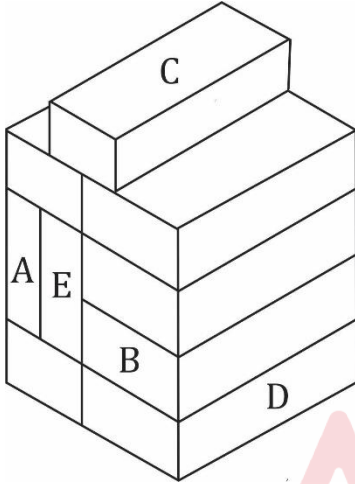
Ans.(b)

Q69. How many bricks are in contact with Bricks D ?

D कितनी ईंटों को स्पर्श करती है-

Directions (16-20): questions based on bricks are given, which are divided into subsections. Each subsection contains 5 questions. In each subsection, 5 bricks are marked A, B, C, D and E. You have to find out how many other bricks certain bricks are touching in the given questions. Blacken the circle marked with your answer in the answer sheet.

निर्देश : (16-20): ईंटों पर आधारित प्रश्न दिए गए हैं, जो उपखंडों में विभाजित हैं। प्रत्येक उपखंड में प्रश्न दिए गए हैं। प्रत्येक उपखंड में कोई 5 ईंटों पर A, एवं E अंकित है। आपको यह ज्ञात करना है कि दिये गए प्रश्नों में अमुक ईंटें कितने अन्य ईंटों से स्पर्श कर रही है। अपने उत्तर को उत्तर-पत्रक में अंकित गोले को काला करें



- (a) 1
(b) 2
(c) 3
(d) 4
(e) 5
(f) 6
(g) 7
(h) 8
(i) 9
(j) 10

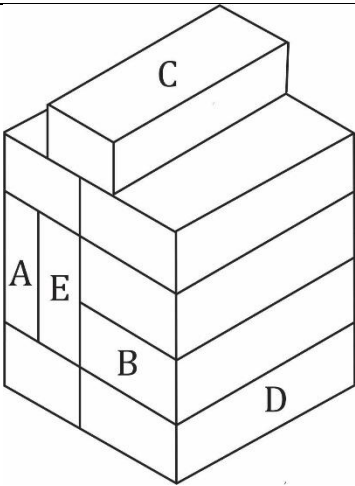
Ans.(b)

Q70. How many bricks are in contact with Bricks E ?

E कितनी ईंटों को स्पर्श करती है-

Directions (16-20): questions based on bricks are given, which are divided into subsections. Each subsection contains 5 questions. In each subsection, 5 bricks are marked A, B, C, D and E. You have to find out how many other bricks certain bricks are touching in the given questions. Blacken the circle marked with your answer in the answer sheet.

निर्देश : (16-20): ईंटों पर आधारित प्रश्न दिए गए हैं, जो उपखंडों में विभाजित हैं। प्रत्येक उपखंड में प्रश्न दिए गए हैं। प्रत्येक उपखंड में कोई 5 ईंटों पर A, एवं E अंकित है। आपको यह ज्ञात करना है कि दिये गए प्रश्नों में अमुक ईंटें कितने अन्य ईंटों से स्पर्श कर रही है। अपने उत्तर को उत्तर-पत्रक में अंकित गोले को काला करें



- (a) 1
- (b) 2
- (c) 3
- (d) 4
- (e) 5
- (f) 6
- (g) 7
- (h) 8
- (i) 9
- (j) 10

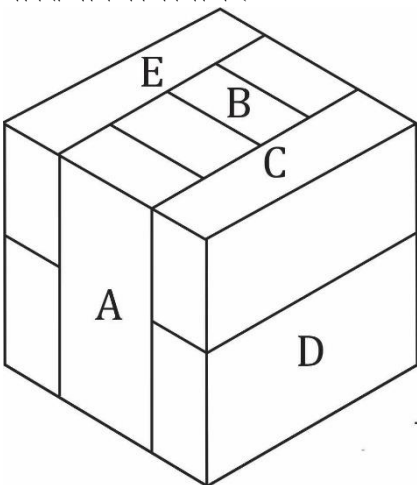
Ans. (e)

Q71. How many bricks are in contact with Bricks A ?

A कितनी ईंटों को स्पर्श करती है-

Directions (21-25): questions based on bricks are given, which are divided into subsections. Each subsection contains 5 questions. In each subsection, 5 bricks are marked A, B, C, D and E. You have to find out how many other bricks certain bricks are touching in the given questions. Blacken the circle marked with your answer in the answer sheet.

निर्देश : (21-25): ईंटों पर आधारित प्रश्न दिए गए हैं, जो उपखंडों में विभाजित हैं। प्रत्येक उपखंड में प्रश्न दिए गए हैं। प्रत्येक उपखंड में कोई 5 ईंटों पर A, एवं E अंकित है। आपको यह ज्ञात करना है कि दिये गए प्रश्नों में अमुक ईंटें कितने अन्य ईंटों से स्पर्श कर रही है। अपने उत्तर को उत्तर-पत्रक में अंकित गोले को काला करें



- (a) 1
- (b) 2
- (c) 3

- (d) 4
(e) 5
(f) 6
(g) 7
(h) 8
(i) 9
(j) 10

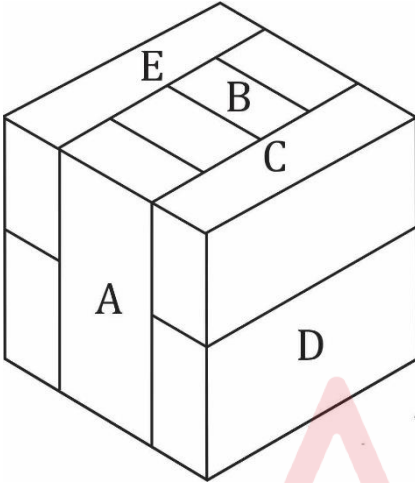
Ans.(e)

Q72. How many bricks are in contact with Bricks B ?

B कितनी ईंटों को स्पर्श करती है-

Directions (21-25): questions based on bricks are given, which are divided into subsections. Each subsection contains 5 questions. In each subsection, 5 bricks are marked A, B, C, D and E. You have to find out how many other bricks certain bricks are touching in the given questions. Blacken the circle marked with your answer in the answer sheet.

निर्देश : (21-25): ईंटों पर आधारित प्रश्न दिए गए हैं, जो उपखंडों में विभाजित हैं। प्रत्येक उपखंड में प्रश्न दिए गए हैं। प्रत्येक उपखंड में कोई 5 ईंटों पर A, एवं E अंकित है। आपको यह ज्ञात करना है कि दिये गए प्रश्नों में अमुक ईंटें कितने अन्य ईंटों से स्पर्श कर रही है। अपने उत्तर को उत्तर-पत्रक में अंकित गोले को काला करें



- (a) 1
(b) 2
(c) 3
(d) 4
(e) 5
(f) 6
(g) 7
(h) 8
(i) 9
(j) 10

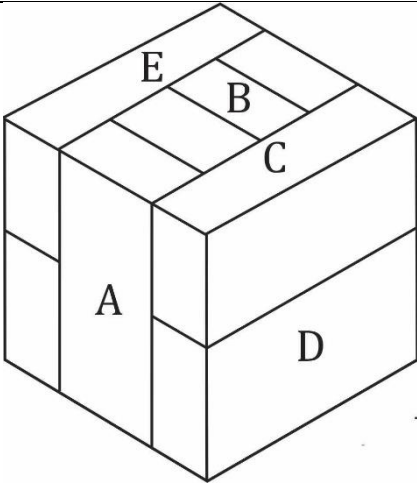
Ans.(f)

Q73. How many bricks are in contact with Bricks C ?

C कितनी ईंटों को स्पर्श करती है-

Directions (21-25): questions based on bricks are given, which are divided into subsections. Each subsection contains 5 questions. In each subsection, 5 bricks are marked A, B, C, D and E. You have to find out how many other bricks certain bricks are touching in the given questions. Blacken the circle marked with your answer in the answer sheet.

निर्देश : (21-25): ईंटों पर आधारित प्रश्न दिए गए हैं, जो उपखंडों में विभाजित हैं। प्रत्येक उपखंड में प्रश्न दिए गए हैं। प्रत्येक उपखंड में कोई 5 ईंटों पर A, एवं E अंकित है। आपको यह ज्ञात करना है कि दिये गए प्रश्नों में अमुक ईंटें कितने अन्य ईंटों से स्पर्श कर रही है। अपने उत्तर को उत्तर-पत्रक में अंकित गोले को काला करें



- (a) 1
- (b) 2
- (c) 3
- (d) 4
- (e) 5
- (f) 6
- (g) 7
- (h) 8
- (i) 9
- (j) 10

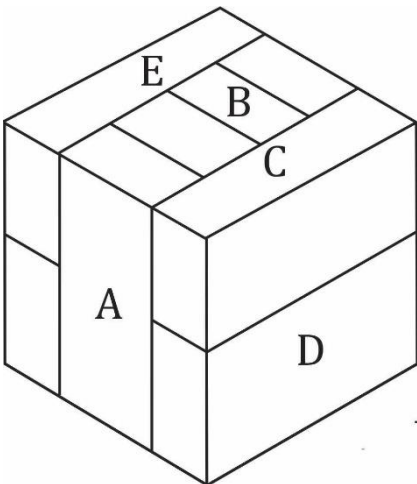
Ans.(e)

Q74. How many bricks are in contact with Bricks D ?

D कितनी ईंटों को स्पर्श करती है-

Directions (21-25): questions based on bricks are given, which are divided into subsections. Each subsection contains 5 questions. In each subsection, 5 bricks are marked A, B, C, D and E. You have to find out how many other bricks certain bricks are touching in the given questions. Blacken the circle marked with your answer in the answer sheet.

निर्देश : (21-25): ईंटों पर आधारित प्रश्न दिए गए हैं, जो उपखंडों में विभाजित हैं। प्रत्येक उपखंड में प्रश्न दिए गए हैं। प्रत्येक उपखंड में कोई 5 ईंटों पर A, एवं E अंकित है। आपको यह ज्ञात करना है कि दिये गए प्रश्नों में अमुक ईंटें कितने अन्य ईंटों से स्पर्श कर रही है। अपने उत्तर को उत्तर-पत्रक में अंकित गोले को काला करें



- (a) 1
- (b) 2
- (c) 3
- (d) 4

- (e) 5
(f) 6
(g) 7
(h) 8
(i) 9
(j) 10

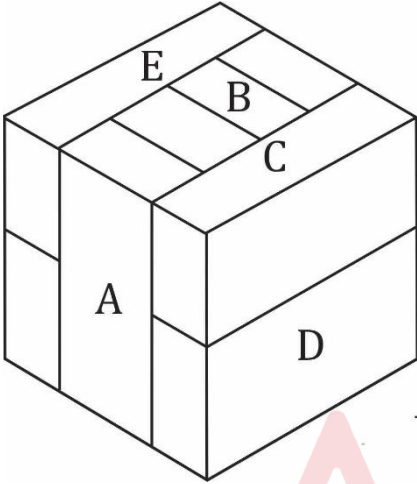
Ans.(e)

Q75. How many bricks are in contact with Bricks E ?

E कितनी ईंटों को स्पर्श करती है-

Directions (21-25): questions based on bricks are given, which are divided into subsections. Each subsection contains 5 questions. In each subsection, 5 bricks are marked A, B, C, D and E. You have to find out how many other bricks certain bricks are touching in the given questions. Blacken the circle marked with your answer in the answer sheet.

निर्देश : (21-25): ईंटों पर आधारित प्रश्न दिए गए हैं, जो उपखंडों में विभाजित हैं। प्रत्येक उपखंड में प्रश्न दिए गए हैं। प्रत्येक उपखंड में कोई 5 ईंटों पर A, एवं E अंकित है। आपको यह ज्ञात करना है कि दिये गए प्रश्नों में अमुक ईंटें कितने अन्य ईंटों से स्पर्श कर रही है। अपने उत्तर को उत्तर-पत्रक में अंकित गोले को काला करें



- (a) 1
(b) 2
(c) 3
(d) 4
(e) 5
(f) 6
(g) 7
(h) 8
(i) 9
(j) 10

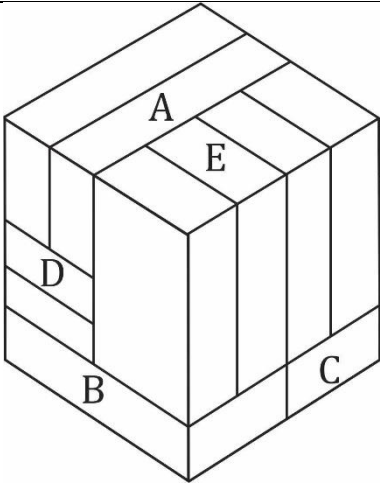
Ans.(e)

Q76. How many bricks are in contact with Bricks A ?

A कितनी ईंटों को स्पर्श करती है-

Directions (26-30): questions based on bricks are given, which are divided into subsections. Each subsection contains 5 questions. In each subsection, 5 bricks are marked A, B, C, D and E. You have to find out how many other bricks certain bricks are touching in the given questions. Blacken the circle marked with your answer in the answer sheet.

निर्देश : (26-30): ईंटों पर आधारित प्रश्न दिए गए हैं, जो उपखंडों में विभाजित हैं। प्रत्येक उपखंड में प्रश्न दिए गए हैं। प्रत्येक उपखंड में कोई 5 ईंटों पर A, एवं E अंकित है। आपको यह ज्ञात करना है कि दिये गए प्रश्नों में अमुक ईंटें कितने अन्य ईंटों से स्पर्श कर रही है। अपने उत्तर को उत्तर-पत्रक में अंकित गोले को काला करें



- (a) 1
- (b) 2
- (c) 3
- (d) 4
- (e) 5
- (f) 6
- (g) 7
- (h) 8
- (i) 9
- (j) 10

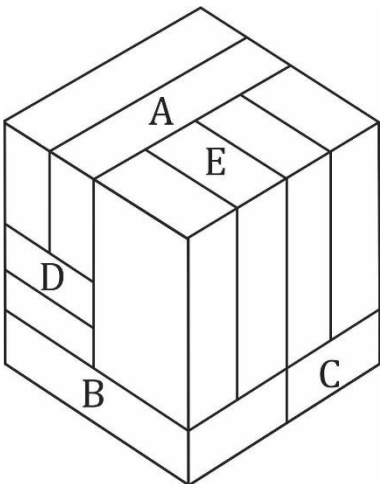
Ans.(f)

Q77. How many bricks are in contact with Bricks B ?

B कितनी ईंटों को स्पर्श करती है-

Directions (26-30): questions based on bricks are given, which are divided into subsections. Each subsection contains 5 questions. In each subsection, 5 bricks are marked A, B, C, D and E. You have to find out how many other bricks certain bricks are touching in the given questions. Blacken the circle marked with your answer in the answer sheet.

निर्देश : (26-30): ईंटों पर आधारित प्रश्न दिए गए हैं, जो उपखंडों में विभाजित हैं। प्रत्येक उपखंड में प्रश्न दिए गए हैं। प्रत्येक उपखंड में कोई 5 ईंटों पर A, एवं E अंकित है। आपको यह ज्ञात करना है कि दिये गए प्रश्नों में अमुक ईंटें कितने अन्य ईंटों से स्पर्श कर रही है। अपने उत्तर को उत्तर-पत्रक में अंकित गोले को काला करें



- (a) 1
- (b) 2
- (c) 3
- (d) 4

- (e) 5
(f) 6
(g) 7
(h) 8
(i) 9
(j) 10

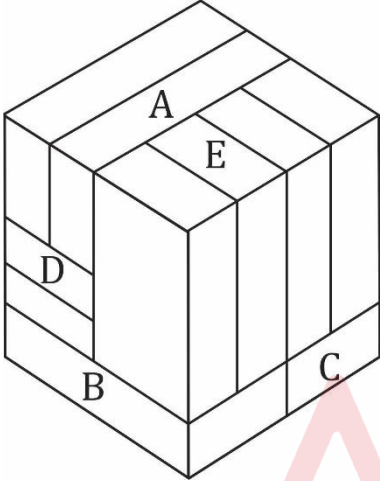
Ans.(d)

Q78. How many bricks are in contact with Bricks C ?

C कितनी ईंटों को स्पर्श करती है-

Directions (26-30): questions based on bricks are given, which are divided into subsections. Each subsection contains 5 questions. In each subsection, 5 bricks are marked A, B, C, D and E. You have to find out how many other bricks certain bricks are touching in the given questions. Blacken the circle marked with your answer in the answer sheet.

निर्देश : (26-30): ईंटों पर आधारित प्रश्न दिए गए हैं, जो उपखंडों में विभाजित हैं। प्रत्येक उपखंड में प्रश्न दिए गए हैं। प्रत्येक उपखंड में कोई 5 ईंटों पर A, एवं E अंकित है। आपको यह ज्ञात करना है कि दिये गए प्रश्नों में अमुक ईंटें कितने अन्य ईंटों से स्पर्श कर रही है। अपने उत्तर को उत्तर-पत्रक में अंकित गोले को काला करें



- (a) 1
(b) 2
(c) 3
(d) 4
(e) 5
(f) 6
(g) 7
(h) 8
(i) 9
(j) 10

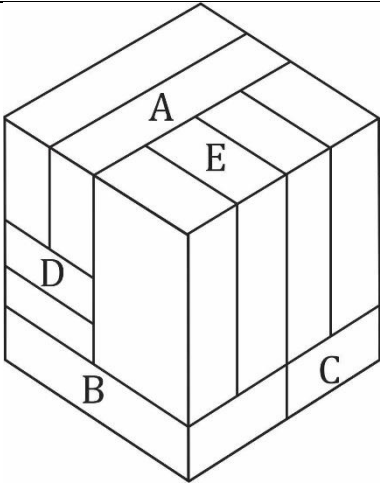
Ans.(d)

Q79. How many bricks are in contact with Bricks D ?

D कितनी ईंटों को स्पर्श करती है-

Directions (26-30): questions based on bricks are given, which are divided into subsections. Each subsection contains 5 questions. In each subsection, 5 bricks are marked A, B, C, D and E. You have to find out how many other bricks certain bricks are touching in the given questions. Blacken the circle marked with your answer in the answer sheet.

निर्देश : (26-30): ईंटों पर आधारित प्रश्न दिए गए हैं, जो उपखंडों में विभाजित हैं। प्रत्येक उपखंड में प्रश्न दिए गए हैं। प्रत्येक उपखंड में कोई 5 ईंटों पर A, एवं E अंकित है। आपको यह ज्ञात करना है कि दिये गए प्रश्नों में अमुक ईंटें कितने अन्य ईंटों से स्पर्श कर रही है। अपने उत्तर को उत्तर-पत्रक में अंकित गोले को काला करें



- (a) 1
- (b) 2
- (c) 3
- (d) 4
- (e) 5
- (f) 6
- (g) 7
- (h) 8
- (i) 9
- (j) 10

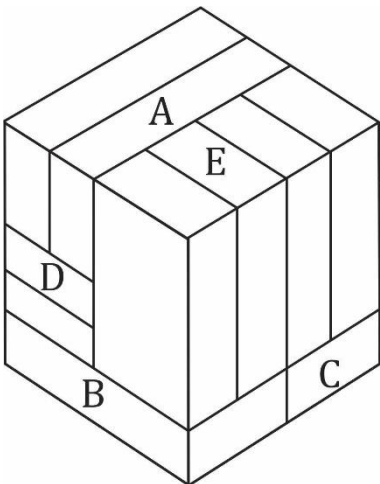
Ans.(g)

Q80. How many bricks are in contact with Bricks E ?

E कितनी ईंटों को स्पर्श करती है-

Directions (26-30): questions based on bricks are given, which are divided into subsections. Each subsection contains 5 questions. In each subsection, 5 bricks are marked A, B, C, D and E. You have to find out how many other bricks certain bricks are touching in the given questions. Blacken the circle marked with your answer in the answer sheet.

निर्देश : (26-30): ईंटों पर आधारित प्रश्न दिए गए हैं, जो उपखंडों में विभाजित हैं। प्रत्येक उपखंड में प्रश्न दिए गए हैं। प्रत्येक उपखंड में कोई 5 ईंटों पर A, एवं E अंकित है। आपको यह ज्ञात करना है कि दिये गए प्रश्नों में अमुक ईंटें कितने अन्य ईंटों से स्पर्श कर रही है। अपने उत्तर को उत्तर-पत्रक में अंकित गोले को काला करें



- (a) 1
- (b) 2
- (c) 3
- (d) 4

- (e) 5
(f) 6
(g) 7
(h) 8
(i) 9
(j) 10

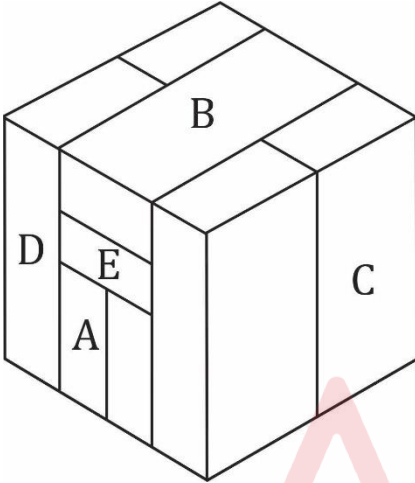
Ans.(f)

Q81. How many bricks are in contact with Bricks A ?

A कितनी ईंटों को स्पर्श करती है-

Directions (31-35): questions based on bricks are given, which are divided into subsections. Each subsection contains 5 questions. In each subsection, 5 bricks are marked A, B, C, D and E. You have to find out how many other bricks certain bricks are touching in the given questions. Blacken the circle marked with your answer in the answer sheet.

निर्देश : (31-35): ईंटों पर आधारित प्रश्न दिए गए हैं, जो उपखंडों में विभाजित हैं। प्रत्येक उपखंड में प्रश्न दिए गए हैं। प्रत्येक उपखंड में कोई 5 ईंटों पर A, एवं E अंकित है। आपको यह ज्ञात करना है कि दिये गए प्रश्नों में अमुक ईंटें कितने अन्य ईंटों से स्पर्श कर रही है। अपने उत्तर को उत्तर-पत्रक में अंकित गोले को काला करें



- (a) 1
(b) 2
(c) 3
(d) 4
(e) 5
(f) 6
(g) 7
(h) 8
(i) 9
(j) 10

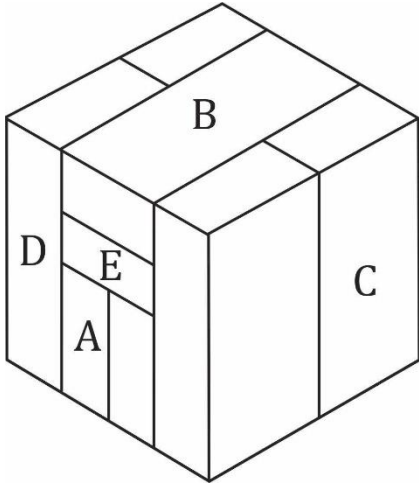
Ans.(d)

Q82. How many bricks are in contact with Bricks B ?

B कितनी ईंटों को स्पर्श करती है-

Directions (31-35): questions based on bricks are given, which are divided into subsections. Each subsection contains 5 questions. In each subsection, 5 bricks are marked A, B, C, D and E. You have to find out how many other bricks certain bricks are touching in the given questions. Blacken the circle marked with your answer in the answer sheet.

निर्देश : (31-35): ईंटों पर आधारित प्रश्न दिए गए हैं, जो उपखंडों में विभाजित हैं। प्रत्येक उपखंड में प्रश्न दिए गए हैं। प्रत्येक उपखंड में कोई 5 ईंटों पर A, एवं E अंकित है। आपको यह ज्ञात करना है कि दिये गए प्रश्नों में अमुक ईंटें कितने अन्य ईंटों से स्पर्श कर रही है। अपने उत्तर को उत्तर-पत्रक में अंकित गोले को काला करें



- (a) 1
- (b) 2
- (c) 3
- (d) 4
- (e) 5
- (f) 6
- (g) 7
- (h) 8
- (i) 9
- (j) 10

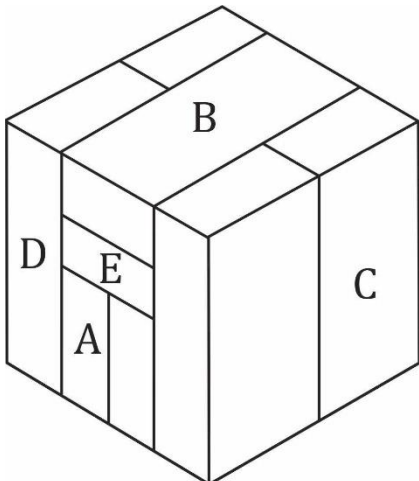
Ans.(e)

Q83. How many bricks are in contact with Bricks C ?

C कितनी ईंटों को स्पर्श करती है-

Directions (31-35): questions based on bricks are given, which are divided into subsections. Each subsection contains 5 questions. In each subsection, 5 bricks are marked A, B, C, D and E. You have to find out how many other bricks certain bricks are touching in the given questions. Blacken the circle marked with your answer in the answer sheet.

निर्देश : (31-35): ईंटों पर आधारित प्रश्न दिए गए हैं, जो उपखंडों में विभाजित हैं। प्रत्येक उपखंड में प्रश्न दिए गए हैं। प्रत्येक उपखंड में कोई 5 ईंटों पर A, एवं E अंकित है। आपको यह ज्ञात करना है कि दिये गए प्रश्नों में अमुक ईंटें कितने अन्य ईंटों से स्पर्श कर रही है। अपने उत्तर को उत्तर-पत्रक में अंकित गोले को काला करें



- (a) 1

- (b) 2
(c) 3
(d) 4
(e) 5
(f) 6
(g) 7
(h) 8
(i) 9
(j) 10

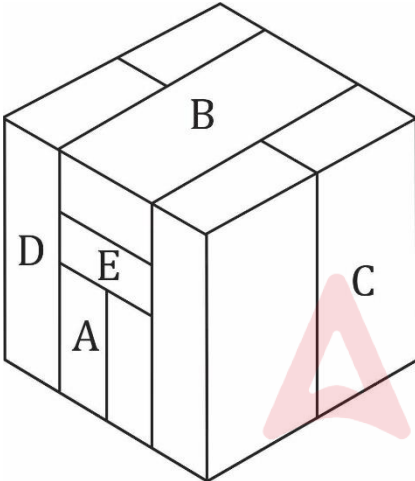
Ans.(d)

Q84. How many bricks are in contact with Bricks D ?

D कितनी ईंटों को स्पर्श करती है-

Directions (31-35): questions based on bricks are given, which are divided into subsections. Each subsection contains 5 questions. In each subsection, 5 bricks are marked A, B, C, D and E. You have to find out how many other bricks certain bricks are touching in the given questions. Blacken the circle marked with your answer in the answer sheet.

निर्देश : (31-35): ईंटों पर आधारित प्रश्न दिए गए हैं, जो उपखंडों में विभाजित हैं। प्रत्येक उपखंड में प्रश्न दिए गए हैं। प्रत्येक उपखंड में कोई 5 ईंटों पर A, एवं E अंकित है। आपको यह ज्ञात करना है कि दिये गए प्रश्नों में अमुक ईंटें कितने अन्य ईंटों से स्पर्श कर रही है। अपने उत्तर को उत्तर-पत्रक में अंकित गोले को काला करें



- (a) 1
(b) 2
(c) 3
(d) 4
(e) 5
(f) 6
(g) 7
(h) 8
(i) 9
(j) 10

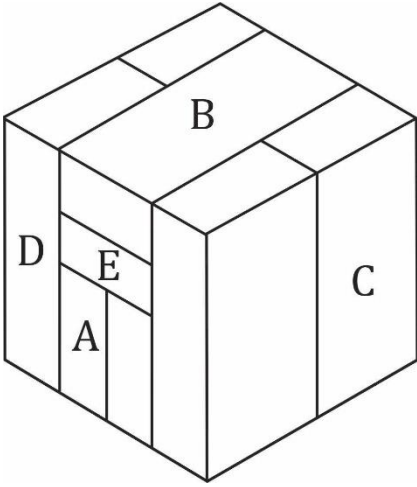
Ans.(d)

Q85. How many bricks are in contact with Bricks E ?

E कितनी ईंटों को स्पर्श करती है-

Directions (31-35): questions based on bricks are given, which are divided into subsections. Each subsection contains 5 questions. In each subsection, 5 bricks are marked A, B, C, D and E. You have to find out how many other bricks certain bricks are touching in the given questions. Blacken the circle marked with your answer in the answer sheet.

निर्देश : (31-35): ईंटों पर आधारित प्रश्न दिए गए हैं, जो उपखंडों में विभाजित हैं। प्रत्येक उपखंड में प्रश्न दिए गए हैं। प्रत्येक उपखंड में कोई 5 ईंटों पर A, एवं E अंकित है। आपको यह ज्ञात करना है कि दिये गए प्रश्नों में अमुक ईंटें कितने अन्य ईंटों से स्पर्श कर रही है। अपने उत्तर को उत्तर-पत्रक में अंकित गोले को काला करें



- (a) 1
- (b) 2
- (c) 3
- (d) 4
- (e) 5
- (f) 6
- (g) 7
- (h) 8
- (i) 9
- (j) 10

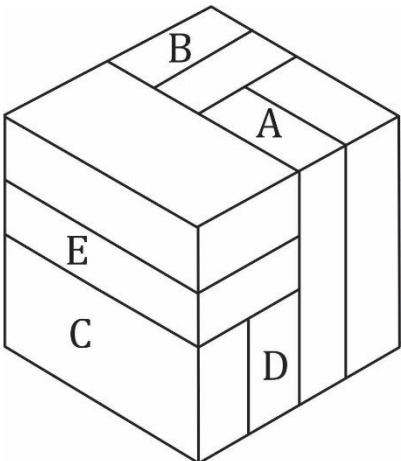
Ans.(g)

Q86. How many bricks are in contact with Bricks A ?

A कितनी ईंटों को स्पर्श करती है-

Directions (36-40): questions based on bricks are given, which are divided into subsections. Each subsection contains 5 questions. In each subsection, 5 bricks are marked A, B, C, D and E. You have to find out how many other bricks certain bricks are touching in the given questions. Blacken the circle marked with your answer in the answer sheet.

निर्देश : (36-40): ईंटों पर आधारित प्रश्न दिए गए हैं, जो उपखंडों में विभाजित हैं। प्रत्येक उपखंड में प्रश्न दिए गए हैं। प्रत्येक उपखंड में कोई 5 ईंटों पर A, एवं E अंकित है। आपको यह ज्ञात करना है कि दिये गए प्रश्नों में अमुक ईंटें कितने अन्य ईंटों से स्पर्श कर रही है। अपने उत्तर को उत्तर-पत्रक में अंकित गोले को काला करें



- (a) 1

- (b) 2
(c) 3
(d) 4
(e) 5
(f) 6
(g) 7
(h) 8
(i) 9
(j) 10

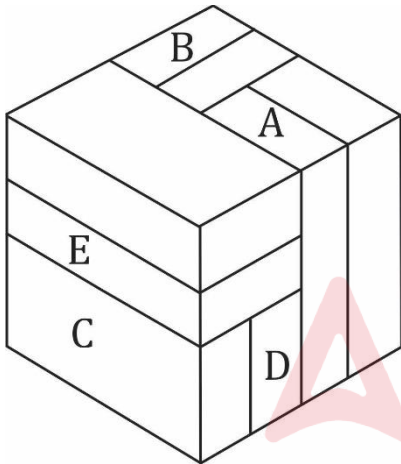
Ans.(e)

Q87. How many bricks are in contact with Bricks B ?

B कितनी ईंटों को स्पर्श करती है-

Directions (36-40): questions based on bricks are given, which are divided into subsections. Each subsection contains 5 questions. In each subsection, 5 bricks are marked A, B, C, D and E. You have to find out how many other bricks certain bricks are touching in the given questions. Blacken the circle marked with your answer in the answer sheet.

निर्देश : (36-40): ईंटों पर आधारित प्रश्न दिए गए हैं, जो उपखंडों में विभाजित हैं। प्रत्येक उपखंड में प्रश्न दिए गए हैं। प्रत्येक उपखंड में कोई 5 ईंटों पर A, एवं E अंकित है। आपको यह ज्ञात करना है कि दिये गए प्रश्नों में अमुक ईंटें कितने अन्य ईंटों से स्पर्श कर रही है। अपने उत्तर को उत्तर-पत्रक में अंकित गोले को काला करें



- (a) 1
(b) 2
(c) 3
(d) 4
(e) 5
(f) 6
(g) 7
(h) 8
(i) 9
(j) 10

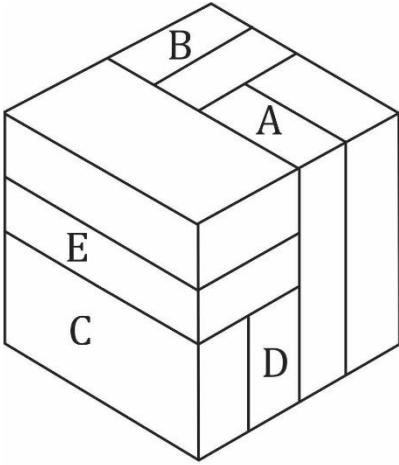
Ans.(d)

Q88. How many bricks are in contact with Bricks C ?

C कितनी ईंटों को स्पर्श करती है-

Directions (36-40): questions based on bricks are given, which are divided into subsections. Each subsection contains 5 questions. In each subsection, 5 bricks are marked A, B, C, D and E. You have to find out how many other bricks certain bricks are touching in the given questions. Blacken the circle marked with your answer in the answer sheet.

निर्देश : (36-40): ईंटों पर आधारित प्रश्न दिए गए हैं, जो उपखंडों में विभाजित हैं। प्रत्येक उपखंड में प्रश्न दिए गए हैं। प्रत्येक उपखंड में कोई 5 ईंटों पर A, एवं E अंकित है। आपको यह ज्ञात करना है कि दिये गए प्रश्नों में अमुक ईंटें कितने अन्य ईंटों से स्पर्श कर रही है। अपने उत्तर को उत्तर-पत्रक में अंकित गोले को काला करें



- (a) 1
- (b) 2
- (c) 3
- (d) 4
- (e) 5
- (f) 6
- (g) 7
- (h) 8
- (i) 9
- (j) 10

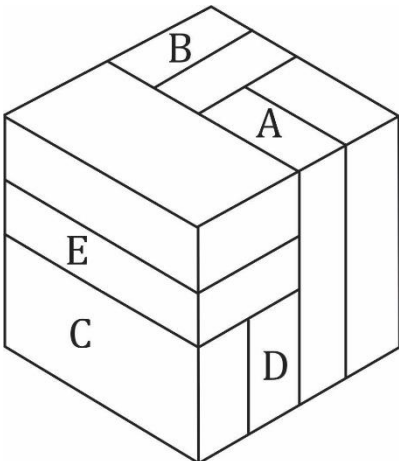
Ans.(b)

Q89. How many bricks are in contact with Bricks D ?

D कितनी ईंटों को स्पर्श करती है-

Directions (36-40): questions based on bricks are given, which are divided into subsections. Each subsection contains 5 questions. In each subsection, 5 bricks are marked A, B, C, D and E. You have to find out how many other bricks certain bricks are touching in the given questions. Blacken the circle marked with your answer in the answer sheet.

निर्देश : (36-40): ईंटों पर आधारित प्रश्न दिए गए हैं, जो उपखंडों में विभाजित हैं। प्रत्येक उपखंड में प्रश्न दिए गए हैं। प्रत्येक उपखंड में कोई 5 ईंटों पर A, एवं E अंकित है। आपको यह ज्ञात करना है कि दिये गए प्रश्नों में अमुक ईंटें कितने अन्य ईंटों से स्पर्श कर रही है। अपने उत्तर को उत्तर-पत्रक में अंकित गोले को काला करें



- (a) 1

- (b) 2
(c) 3
(d) 4
(e) 5
(f) 6
(g) 7
(h) 8
(i) 9
(j) 10

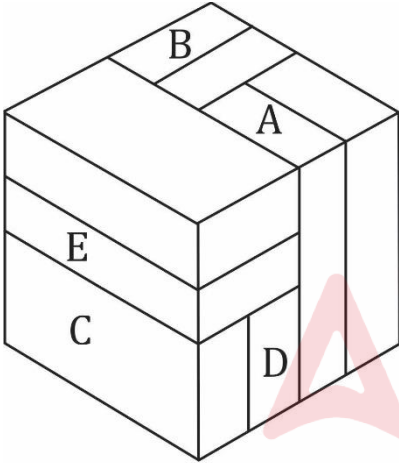
Ans.(e)

Q90. How many bricks are in contact with Bricks E ?

E कितनी ईंटों को स्पर्श करती है-

Directions (36-40): questions based on bricks are given, which are divided into subsections. Each subsection contains 5 questions. In each subsection, 5 bricks are marked A, B, C, D and E. You have to find out how many other bricks certain bricks are touching in the given questions. Blacken the circle marked with your answer in the answer sheet.

निर्देश : (36-40): ईंटों पर आधारित प्रश्न दिए गए हैं, जो उपखंडों में विभाजित हैं। प्रत्येक उपखंड में प्रश्न दिए गए हैं। प्रत्येक उपखंड में कोई 5 ईंटों पर A, एवं E अंकित है। आपको यह ज्ञात करना है कि दिये गए प्रश्नों में अमुक ईंटें कितने अन्य ईंटों से स्पर्श कर रही है। अपने उत्तर को उत्तर-पत्रक में अंकित गोले को काला करें



- (a) 1
(b) 2
(c) 3
(d) 4
(e) 5
(f) 6
(g) 7
(h) 8
(i) 9
(j) 10

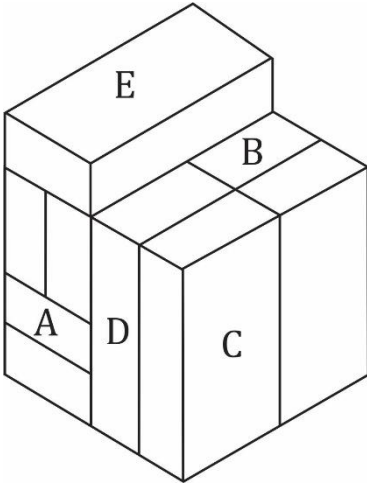
Ans.(f)

Q91. How many bricks are in contact with Bricks A ?

A कितनी ईंटों को स्पर्श करती है-

Directions (41-45): questions based on bricks are given, which are divided into subsections. Each subsection contains 5 questions. In each subsection, 5 bricks are marked A, B, C, D and E. You have to find out how many other bricks certain bricks are touching in the given questions. Blacken the circle marked with your answer in the answer sheet.

निर्देश : (41-45): ईंटों पर आधारित प्रश्न दिए गए हैं, जो उपखंडों में विभाजित हैं। प्रत्येक उपखंड में प्रश्न दिए गए हैं। प्रत्येक उपखंड में कोई 5 ईंटों पर A, एवं E अंकित है। आपको यह ज्ञात करना है कि दिये गए प्रश्नों में अमुक ईंटें कितने अन्य ईंटों से स्पर्श कर रही है। अपने उत्तर को उत्तर-पत्रक में अंकित गोले को काला करें



- (a) 1
- (b) 2
- (c) 3
- (d) 4
- (e) 5
- (f) 6
- (g) 7
- (h) 8
- (i) 9
- (j) 10

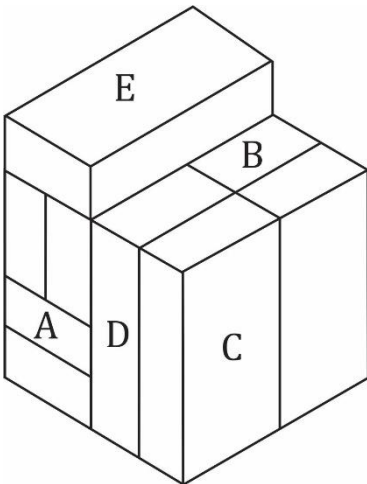
Ans.(e)

Q92. How many bricks are in contact with Bricks B ?

B कितनी ईंटों को स्पर्श करती है-

Directions (41-45): questions based on bricks are given, which are divided into subsections. Each subsection contains 5 questions. In each subsection, 5 bricks are marked A, B, C, D and E. You have to find out how many other bricks certain bricks are touching in the given questions. Blacken the circle marked with your answer in the answer sheet.

निर्देश : (41-45): ईंटों पर आधारित प्रश्न दिए गए हैं, जो उपखंडों में विभाजित हैं। प्रत्येक उपखंड में प्रश्न दिए गए हैं। प्रत्येक उपखंड में कोई 5 ईंटों पर A, एवं E अंकित है। आपको यह ज्ञात करना है कि दिये गए प्रश्नों में अमुक ईंटें कितने अन्य ईंटों से स्पर्श कर रही है। अपने उत्तर को उत्तर-पत्रक में अंकित गोले को काला करें



- (a) 1

- (b) 2
- (c) 3
- (d) 4
- (e) 5
- (f) 6
- (g) 7
- (h) 8
- (i) 9
- (j) 10

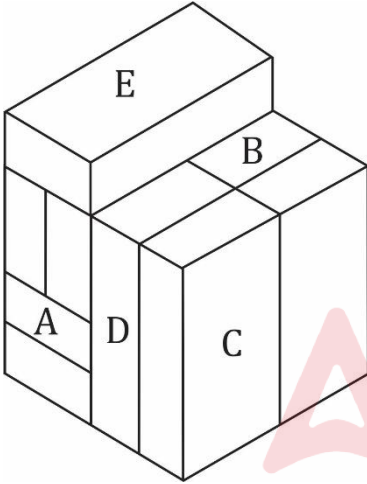
Ans.(e)

Q93. How many bricks are in contact with Bricks C ?

C कितनी ईंटों को स्पर्श करती है-

Directions (41-45): questions based on bricks are given, which are divided into subsections. Each subsection contains 5 questions. In each subsection, 5 bricks are marked A, B, C, D and E. You have to find out how many other bricks certain bricks are touching in the given questions. Blacken the circle marked with your answer in the answer sheet.

निर्देश : (41-45): ईंटों पर आधारित प्रश्न दिए गए हैं, जो उपखंडों में विभाजित हैं। प्रत्येक उपखंड में प्रश्न दिए गए हैं। प्रत्येक उपखंड में कोई 5 ईंटों पर A, एवं E अंकित है। आपको यह ज्ञात करना है कि दिये गए प्रश्नों में अमुक ईंटें कितने अन्य ईंटों से स्पर्श कर रही है। अपने उत्तर को उत्तर-पत्रक में अंकित गोले को काला करें



- (a) 1
- (b) 2
- (c) 3
- (d) 4
- (e) 5
- (f) 6
- (g) 7
- (h) 8
- (i) 9
- (j) 10

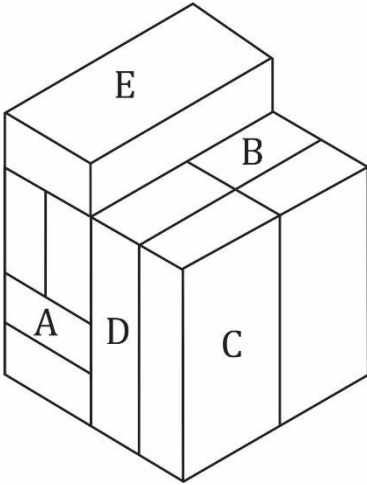
Ans.(b)

Q94. How many bricks are in contact with Bricks D ?

D कितनी ईंटों को स्पर्श करती है-

Directions (41-45): questions based on bricks are given, which are divided into subsections. Each subsection contains 5 questions. In each subsection, 5 bricks are marked A, B, C, D and E. You have to find out how many other bricks certain bricks are touching in the given questions. Blacken the circle marked with your answer in the answer sheet.

निर्देश : (41-45): ईंटों पर आधारित प्रश्न दिए गए हैं, जो उपखंडों में विभाजित हैं। प्रत्येक उपखंड में प्रश्न दिए गए हैं। प्रत्येक उपखंड में कोई 5 ईंटों पर A, एवं E अंकित है। आपको यह ज्ञात करना है कि दिये गए प्रश्नों में अमुक ईंटें कितने अन्य ईंटों से स्पर्श कर रही है। अपने उत्तर को उत्तर-पत्रक में अंकित गोले को काला करें



- (a) 1
- (b) 2
- (c) 3
- (d) 4
- (e) 5
- (f) 6
- (g) 7
- (h) 8
- (i) 9
- (j) 10

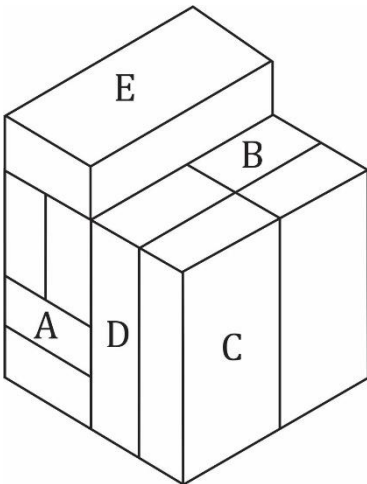
Ans.(e)

Q95. How many bricks are in contact with Bricks E ?

E कितनी ईंटों को स्पर्श करती है-

Directions (41-45): questions based on bricks are given, which are divided into subsections. Each subsection contains 5 questions. In each subsection, 5 bricks are marked A, B, C, D and E. You have to find out how many other bricks certain bricks are touching in the given questions. Blacken the circle marked with your answer in the answer sheet.

निर्देश : (41-45): ईंटों पर आधारित प्रश्न दिए गए हैं, जो उपखंडों में विभाजित हैं। प्रत्येक उपखंड में प्रश्न दिए गए हैं। प्रत्येक उपखंड में कोई 5 ईंटों पर A, एवं E अंकित है। आपको यह ज्ञात करना है कि दिये गए प्रश्नों में अमुक ईंटें कितने अन्य ईंटों से स्पर्श कर रही है। अपने उत्तर को उत्तर-पत्रक में अंकित गोले को काला करें



- (a) 1

- (b) 2
(c) 3
(d) 4
(e) 5
(f) 6
(g) 7
(h) 8
(i) 9
(j) 10

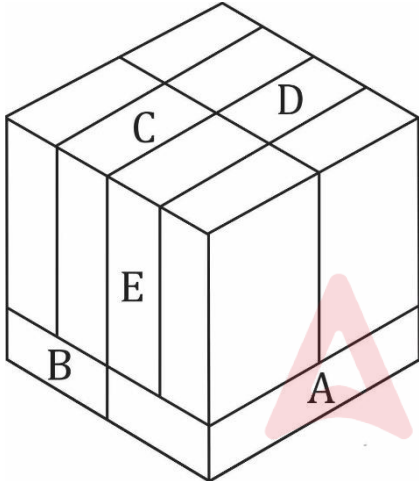
Ans.(b)

Q96. How many bricks are in contact with Bricks A ?

A कितनी ईंटों को स्पर्श करती है-

Directions (46-50): questions based on bricks are given, which are divided into subsections. Each subsection contains 5 questions. In each subsection, 5 bricks are marked A, B, C, D and E. You have to find out how many other bricks certain bricks are touching in the given questions. Blacken the circle marked with your answer in the answer sheet.

निर्देश : (46-50): ईंटों पर आधारित प्रश्न दिए गए हैं, जो उपखंडों में विभाजित हैं। प्रत्येक उपखंड में प्रश्न दिए गए हैं। प्रत्येक उपखंड में कोई 5 ईंटों पर A, एवं E अंकित है। आपको यह ज्ञात करना है कि दिये गए प्रश्नों में अमुक ईंटें कितने अन्य ईंटों से स्पर्श कर रही है। अपने उत्तर को उत्तर-पत्रक में अंकित गोले को काला करें



- (a) 1
(b) 2
(c) 3
(d) 4
(e) 5
(f) 6
(g) 7
(h) 8
(i) 9
(j) 10

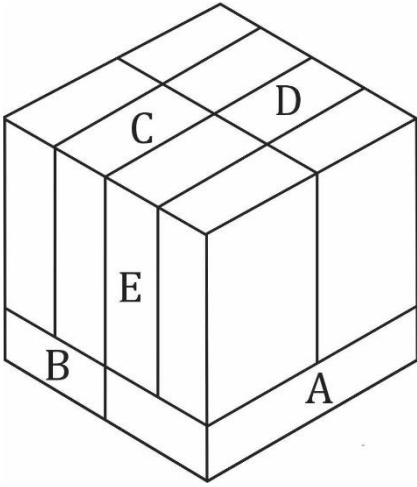
Ans.(e)

Q97. How many bricks are in contact with Bricks B ?

B कितनी ईंटों को स्पर्श करती है-

Directions (46-50): questions based on bricks are given, which are divided into subsections. Each subsection contains 5 questions. In each subsection, 5 bricks are marked A, B, C, D and E. You have to find out how many other bricks certain bricks are touching in the given questions. Blacken the circle marked with your answer in the answer sheet.

निर्देश : (46-50): ईंटों पर आधारित प्रश्न दिए गए हैं, जो उपखंडों में विभाजित हैं। प्रत्येक उपखंड में प्रश्न दिए गए हैं। प्रत्येक उपखंड में कोई 5 ईंटों पर A, एवं E अंकित है। आपको यह ज्ञात करना है कि दिये गए प्रश्नों में अमुक ईंटें कितने अन्य ईंटों से स्पर्श कर रही है। अपने उत्तर को उत्तर-पत्रक में अंकित गोले को काला करें



- (a) 1
- (b) 2
- (c) 3
- (d) 4
- (e) 5
- (f) 6
- (g) 7
- (h) 8
- (i) 9
- (j) 10

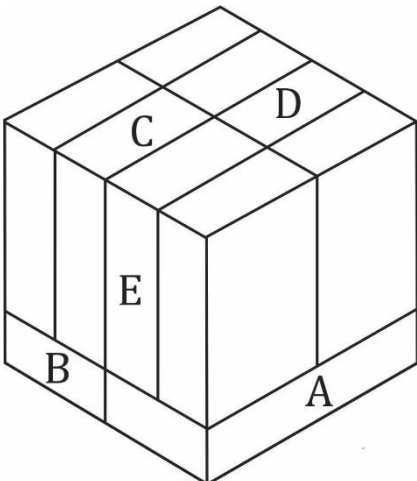
Ans.(e)

Q98. How many bricks are in contact with Bricks C ?

C कितनी ईंटों को स्पर्श करती है-

Directions (46-50): questions based on bricks are given, which are divided into subsections. Each subsection contains 5 questions. In each subsection, 5 bricks are marked A, B, C, D and E. You have to find out how many other bricks certain bricks are touching in the given questions. Blacken the circle marked with your answer in the answer sheet.

निर्देश : (46-50): ईंटों पर आधारित प्रश्न दिए गए हैं, जो उपखंडों में विभाजित हैं। प्रत्येक उपखंड में प्रश्न दिए गए हैं। प्रत्येक उपखंड में कोई 5 ईंटों पर A, एवं E अंकित है। आपको यह ज्ञात करना है कि दिये गए प्रश्नों में अमुक ईंटें कितने अन्य ईंटों से स्पर्श कर रही है। अपने उत्तर को उत्तर-पत्रक में अंकित गोले को काला करें



- (a) 1

- (b) 2
(c) 3
(d) 4
(e) 5
(f) 6
(g) 7
(h) 8
(i) 9
(j) 10

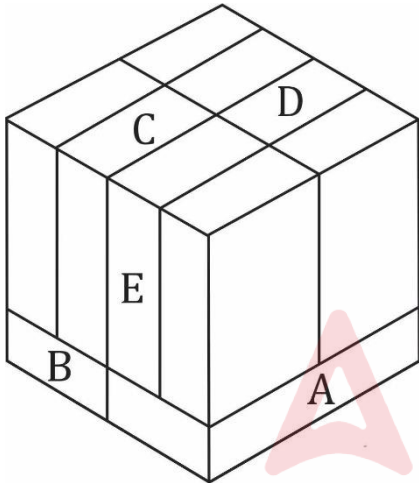
Ans.(d)

Q99. How many bricks are in contact with Bricks D ?

D कितनी ईंटों को स्पर्श करती है-

Directions (46-50): questions based on bricks are given, which are divided into subsections. Each subsection contains 5 questions. In each subsection, 5 bricks are marked A, B, C, D and E. You have to find out how many other bricks certain bricks are touching in the given questions. Blacken the circle marked with your answer in the answer sheet.

निर्देश : (46-50): ईंटों पर आधारित प्रश्न दिए गए हैं, जो उपखंडों में विभाजित हैं। प्रत्येक उपखंड में प्रश्न दिए गए हैं। प्रत्येक उपखंड में कोई 5 ईंटों पर A, एवं E अंकित है। आपको यह ज्ञात करना है कि दिये गए प्रश्नों में अमुक ईंटें कितने अन्य ईंटों से स्पर्श कर रही है। अपने उत्तर को उत्तर-पत्रक में अंकित गोले को काला करें



- (a) 1
(b) 2
(c) 3
(d) 4
(e) 5
(f) 6
(g) 7
(h) 8
(i) 9
(j) 10

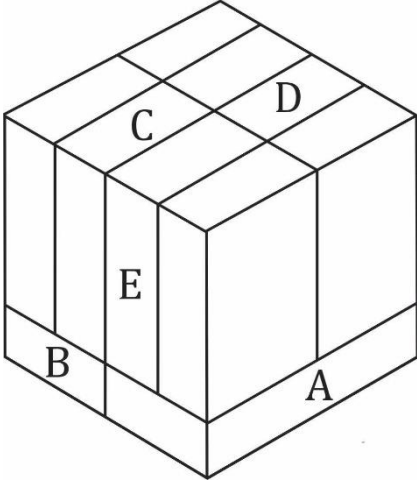
Ans.(d)

Q100. How many bricks are in contact with Bricks E ?

E कितनी ईंटों को स्पर्श करती है-

Directions (46-50): questions based on bricks are given, which are divided into subsections. Each subsection contains 5 questions. In each subsection, 5 bricks are marked A, B, C, D and E. You have to find out how many other bricks certain bricks are touching in the given questions. Blacken the circle marked with your answer in the answer sheet.

निर्देश : (46-50): ईंटों पर आधारित प्रश्न दिए गए हैं, जो उपखंडों में विभाजित हैं। प्रत्येक उपखंड में प्रश्न दिए गए हैं। प्रत्येक उपखंड में कोई 5 ईंटों पर A, एवं E अंकित है। आपको यह ज्ञात करना है कि दिये गए प्रश्नों में अमुक ईंटें कितने अन्य ईंटों से स्पर्श कर रही है। अपने उत्तर को उत्तर-पत्रक में अंकित गोले को काला करें



- (a) 1
- (b) 2
- (c) 3
- (d) 4
- (e) 5
- (f) 6
- (g) 7
- (h) 8
- (i) 9
- (j) 10

Ans.(d)

Q101. (a) 484390817

- (b) 98753741
- (c) 96756741
- (d) 45389575

Find digit 6 carefully / अंक 6 को ध्यानपूर्वक खोजें

- (a) A
- (b) B
- (c) C
- (d) D
- (e) E

Ans.(c)

Q102. (a) 34134544

- (b) 54829340
- (c) 54821340
- (d) 2386798

Find digit 6 carefully / अंक 6 को ध्यानपूर्वक खोजें

- (a) A
- (b) B
- (c) C
- (d) D
- (e) E

Ans.(d)

Q103. (a) 547858959

(b) 7863451

(c) 7892451

(d) 538982019

Find digit 6 carefully / अंक 6 को ध्यानपूर्वक खोजें

(a) A

(b) B

(c) C

(d) D

(e) E

Ans.(b)

Q104. (a) 87951590

(b) 487590753

(c) 45290153

(d) 356734879

Find digit 6 carefully / अंक 6 को ध्यानपूर्वक खोजें

(a) A

(b) B

(c) C

(d) D

(e) E

Ans.(d)

Q105. (a) 587521923

(b) 534018935

(c) 9894925

(d) 859084537

Find digit 6 carefully / अंक 6 को ध्यानपूर्वक खोजें

(a) A

(b) B

(c) C

(d) D

(e) E

Ans.(e)

Q106. (a) 44735820

(b) 238742940

(c) 238902940

(d) 53625793

Find digit 6 carefully / अंक 6 को ध्यानपूर्वक खोजें

(a) A

(b) B

(c) C

(d) D

(e) E

Ans.(d)

Q107. (a) 25789789

(b) 75854930

(c) 75854930

(d) 754836324

Find digit 6 carefully / अंक 6 को ध्यानपूर्वक खोजें



- (a) A
- (b) B
- (c) C
- (d) D
- (e) E

Ans.(d)

- Q108.** (a) 394234864
(b) 52391805
(c) 52321809
(d) 84754820

Find digit 6 carefully / अंक 6 को ध्यानपूर्वक खोजें

- (a) A
- (b) B
- (c) C
- (d) D
- (e) E

Ans.(a)

- Q109.** (a) 45357930
(b) 345627290
(c) 3457190
(d) 354897870

Find digit 6 carefully / अंक 6 को ध्यानपूर्वक खोजें

- (a) A
- (b) B
- (c) C
- (d) D
- (e) E

Ans.(b)

- Q110.** (a) 32949787
(b) 803527297
(c) 53527287
(d) 545829287

Find digit 6 carefully / अंक 6 को ध्यानपूर्वक खोजें

- (a) A
- (b) B
- (c) C
- (d) D
- (e) E

Ans.(e)

- Q111.** (a) 531545798
(b) 47291208
(c) 47291208
(d) 37568902

Find digit 6 carefully / अंक 6 को ध्यानपूर्वक खोजें

- (a) A
- (b) B
- (c) C
- (d) D
- (e) E



Ans.(d)

Q112. (a) 835737294

(b) 52348782

(c) 5264275

(d) 848395802

Find digit 6 carefully / अंक 6 को ध्यानपूर्वक खोजें

(a) A

(b) B

(c) C

(d) D

(e) E

Ans.(c)

Q113. (a) 74837849

(b) 8764213923

(c) 86953923

(d) 578339098

Find digit 6 carefully / अंक 6 को ध्यानपूर्वक खोजें

(a) A

(b) B

(c) C

(d) D

(e) E

Ans.(e)

Q114. (a) 45337790

(b) 89416748

(c) 89312748

(d) 53735987

Find digit 6 carefully / अंक 6 को ध्यानपूर्वक खोजें

(a) A

(b) B

(c) C

(d) D

(e) E

Ans.(b)

Q115. (a) 895345487

(b) 35129875

(c) 35124875

(d) 35687908

Find digit 6 carefully / अंक 6 को ध्यानपूर्वक खोजें

(a) A

(b) B

(c) C

(d) D

(e) E

Ans.(d)

Q116. (a) 7389578

(b) 35227589

(c) 35767589

(d) 343783920

Find digit 6 carefully / अंक 6 को ध्यानपूर्वक खोजें

- (a) A
- (b) B
- (c) C
- (d) D
- (e) E

Ans.(c)

Q117. (a) 2389745

(b) 59386085

(c) 52316045

(d) 45736278

Find digit 6 carefully / अंक 6 को ध्यानपूर्वक खोजें

- (a) A
- (b) B
- (c) C
- (d) D
- (e) E

Ans.(e)

Q118. (a) 568992519

(b) 16558390

(c) 12558390

(d) 35348495

Find digit 6 carefully / अंक 6 को ध्यानपूर्वक खोजें

- (a) A
- (b) B
- (c) C
- (d) D
- (e) E

Ans.(e)

Q119. (a) 36895879

(b) 17287389

(c) 1628739

(d) 253749498

Find digit 6 carefully / अंक 6 को ध्यानपूर्वक खोजें

- (a) A
- (b) B
- (c) C
- (d) D
- (e) E

Ans.(e)

Q120. (a) 851269537

(b) 483091283

(c) 48309283

(d) 39384940

Find digit 6 carefully / अंक 6 को ध्यानपूर्वक खोजें

- (a) A
- (b) B
- (c) C



(d) D

(e) E

Ans.(a)

Q121. (a) 5595783

(b) 738490540

(c) 736480540

(d) 719393404

Find digit 6 carefully / अंक 6 को ध्यानपूर्वक खोजें

(a) A

(b) B

(c) C

(d) D

(e) E

Ans.(c)

Q122. (a) 7548324

(b) 383949748

(c) 386979248

(d) 323940151

Find digit 6 carefully / अंक 6 को ध्यानपूर्वक खोजें

(a) A

(b) B

(c) C

(d) D

(e) E

Ans.(c)

Q123. (a) 84754820

(b) 479303587

(c) 47630387

(d) 14235857

Find digit 6 carefully / अंक 6 को ध्यानपूर्वक खोजें

(a) A

(b) B

(c) C

(d) D

(e) E

Ans.(c)

Q124. (a) 35489870

(b) 32489540

(c) 38461540

(d) 41465907

Find digit 6 carefully / अंक 6 को ध्यानपूर्वक खोजें

(a) A

(b) B

(c) C

(d) D

(e) E

Ans.(e)

Q125. (a) 54816287

(b) 348458959

(c) 343428959

(d) 353474849

Find digit 6 carefully / अंक 6 को ध्यानपूर्वक खोजें

(a) A

(b) B

(c) C

(d) D

(e) E

Ans.(a)

Q126. (a) 32548902

(b) 48489590

(c) 434815690

(d) 53478987

Find digit 6 carefully / अंक 6 को ध्यानपूर्वक खोजें

(a) A

(b) B

(c) C

(d) D

(e) E

Ans.(c)

Q127. (a) 3483959

(b) 412865923

(c) 45282923

(d) 1289408935

Find digit 6 carefully / अंक 6 को ध्यानपूर्वक खोजें

(a) A

(b) B

(c) C

(d) D

(e) E

Ans.(b)

Q128. (a) 5783498

(b) 421349202

(c) 42496020

(d) 348390464

Find digit 6 carefully / अंक 6 को ध्यानपूर्वक खोजें

(a) A

(b) B

(c) C

(d) D

(e) E

Ans.(e)

Q129. (a) 5273987

(b) 37384315

(c) 37391075

(d) 36374949

Find digit 6 carefully / अंक 6 को ध्यानपूर्वक खोजें

(a) A



- (b) B
- (c) C
- (d) D
- (e) E

Ans.(d)

- Q130.** (a) 3578908
(b) 38384894
(c) 35644894
(d) 32538790

Find digit 6 carefully / अंक 6 को ध्यानपूर्वक खोजें

- (a) A
- (b) B
- (c) C
- (d) D
- (e) E

Ans.(c)

- Q131.** (a) 843483920
(b) 475936
(c) 47593960
(d) 542348490

Find digit 6 carefully / अंक 6 को ध्यानपूर्वक खोजें

- (a) A
- (b) B
- (c) C
- (d) D
- (e) E

Ans.(e)

- Q132.** (a) 7389578
(b) 92341987
(c) 82341986
(d) 57493783

Find digit 6 carefully / अंक 6 को ध्यानपूर्वक खोजें

- (a) A
- (b) B
- (c) C
- (d) D
- (e) E

Ans.(c)

- Q133.** (a) 2389745
(b) 53838498
(c) 53238496
(d) 37349490

Find digit 6 carefully / अंक 6 को ध्यानपूर्वक खोजें

- (a) A
- (b) B
- (c) C
- (d) D
- (e) E

Ans.(c)



Q134. (a) 568992519

(b) 19012943

(c) 19512943

(d) 456485430

Find digit 6 carefully / अंक 6 को ध्यानपूर्वक खोजें

(a) A

(b) B

(c) C

(d) D

(e) E

Ans.(e)

Q135. (a) 36895879

(b) 58935249

(c) 536249

(d) 35483849

Find digit 6 carefully / अंक 6 को ध्यानपूर्वक खोजें

(a) A

(b) B

(c) C

(d) D

(e) E

Ans.(e)

Q136. (a) 719393404

(b) 48473965

(c) 4847390

(d) 32839040

Find digit 6 carefully / अंक 6 को ध्यानपूर्वक खोजें

(a) A

(b) B

(c) C

(d) D

(e) E

Ans.(b)

Q137. (a) 316940151

(b) 34549867

(c) 39549846

(d) 74121398

Find digit 6 carefully / अंक 6 को ध्यानपूर्वक खोजें

(a) A

(b) B

(c) C

(d) D

(e) E

Ans.(e)

Q138. (a) 14292847

(b) 34739290

(c) 34736290

(d) 2475741

Find digit 6 carefully / अंक 6 को ध्यानपूर्वक खोजें

- (a) A
- (b) B
- (c) C
- (d) D
- (e) E

Ans.(c)

Q139. (a) 42485907

- (b) 5789577
- (c) 5782574
- (d) 83569134

Find digit 6 carefully / अंक 6 को ध्यानपूर्वक खोजें

- (a) A
- (b) B
- (c) C
- (d) D
- (e) E

Ans.(d)

Q140. (a) 353464849

- (b) 7458779
- (c) 7454778
- (d) 31268951

Find digit 6 carefully / अंक 6 को ध्यानपूर्वक खोजें

- (a) A
- (b) B
- (c) C
- (d) D
- (e) E

Ans.(e)

Q141. (a) 53478987

- (b) 83352519
- (c) 53852519
- (d) 8376153

Find digit 6 carefully / अंक 6 को ध्यानपूर्वक खोजें

- (a) A
- (b) B
- (c) C
- (d) D
- (e) E

Ans.(d)

Q142. (a) 12893045

- (b) 83378379
- (c) 83678379
- (d) 5245725

Find digit 6 carefully / अंक 6 को ध्यानपूर्वक खोजें

- (a) A
- (b) B
- (c) C
- (d) D



(e) E

Ans.(c)

Q143. (a) 348650484

(b) 7257637

(c) 7257537

(d) 9378940

Find digit 6 carefully / अंक 6 को ध्यानपूर्वक खोजें

(a) A

(b) B

(c) C

(d) D

(e) E

Ans.(e)

Q144. (a) 35374949

(b) 214787783

(c) 814367783

(d) 83564930

Find digit 6 carefully / अंक 6 को ध्यानपूर्वक खोजें

(a) A

(b) B

(c) C

(d) D

(e) E

Ans.(e)

Q145. (a) 3738790

(b) 947978324

(c) 946278324

(d) 83241809

Find digit 6 carefully / अंक 6 को ध्यानपूर्वक खोजें

(a) A

(b) B

(c) C

(d) D

(e) E

Ans.(c)

Q146. (a) 5741490

(b) 935724820

(c) 932724820

(d) 63427190

Find digit 6 carefully / अंक 6 को ध्यानपूर्वक खोजें

(a) A

(b) B

(c) C

(d) D

(e) E

Ans.(d)

Q147. (a) 57491783

(b) 35480458

(c) 35480459

(d) 83897287

Find digit 6 carefully / अंक 6 को ध्यानपूर्वक खोजें

(a) A

(b) B

(c) C

(d) D

(e) E

Ans.(e)

Q148. (a) 37342496

(b) 935783487

(c) 932783486

(d) 813431208

Find digit 6 carefully / अंक 6 को ध्यानपूर्वक खोजें

(a) A

(b) B

(c) C

(d) D

(e) E

Ans.(e)

Q149. (a) 45748540

(b) 72478902

(c) 72476902

(d) 83454278

Find digit 6 carefully / अंक 6 को ध्यानपूर्वक खोजें

(a) A

(b) B

(c) C

(d) D

(e) E

Ans.(c)

Q150. (a) 3538749

(b) 924573957

(c) 924543955

(d) 834673923

Find digit 6 carefully / अंक 6 को ध्यानपूर्वक खोजें

(a) A

(b) B

(c) C

(d) D

(e) E

Ans.(d)

Q151. (a) 35889040

(b) 93548798

(c) 93542798

(d) 834648748

Find digit 6 carefully / अंक 6 को ध्यानपूर्वक खोजें

(a) A

(b) B



- (c) C
- (d) D
- (e) E

Ans.(d)

Q152. (a) 78125398

- (b) 83435987
- (c) 83426987
- (d) 953274875

Find digit 6 carefully / अंक 6 को ध्यानपूर्वक खोजें

- (a) A
- (b) B
- (c) C
- (d) D
- (e) E

Ans.(c)

Q153. (a) 2475741

- (b) 246178908
- (c) 24976908
- (d) 83467589

Find digit 6 carefully / अंक 6 को ध्यानपूर्वक खोजें

- (a) A
- (b) B
- (c) C
- (d) D
- (e) E

Ans.(e)

Q154. (a) 83589134

- (b) 73454392
- (c) 73256392
- (d) 5844785

Find digit 6 carefully / अंक 6 को ध्यानपूर्वक खोजें

- (a) A
- (b) B
- (c) C
- (d) D
- (e) E

Ans.(c)

Q155. (a) 31278951

- (b) 45884897
- (c) 45884717
- (d) 14547639

Find digit 6 carefully / अंक 6 को ध्यानपूर्वक खोजें

- (a) A
- (b) B
- (c) C
- (d) D
- (e) E

Ans.(d)

Q156. (a) 8320153

(b) 543575495

(c) 543425495

(d) 735438739

Find digit 6 carefully / अंक 6 को ध्यानपूर्वक खोजें

(a) A

(b) B

(c) C

(d) D

(e) E

Ans.(e)

Q157. (a) 5244725

(b) 843749498

(c) 647849498

(d) 784897283

Find digit 6 carefully / अंक 6 को ध्यानपूर्वक खोजें

(a) A

(b) B

(c) C

(d) D

(e) E

Ans.(c)

Q158. (a) 9398940

(b) 339552940

(c) 339452940

(d) 216587054

Find digit 6 carefully / अंक 6 को ध्यानपूर्वक खोजें

(a) A

(b) B

(c) C

(d) D

(e) E

Ans.(d)

Q159. (a) 83514930

(b) 934593404

(c) 736593404

(d) 3735978

Find digit 6 carefully / अंक 6 को ध्यानपूर्वक खोजें

(a) A

(b) B

(c) C

(d) D

(e) E

Ans.(c)

Q160. (a) 83841801

(b) 323545346

(c) 323548341

(d) 484370817

Find digit 6 carefully / अंक 6 को ध्यानपूर्वक खोजें



- (a) A
- (b) B
- (c) C
- (d) D
- (e) E

Ans.(b)

- Q161.** (a) 63457190
(b) 173545797
(c) 173445746
(d) 34174548

Find digit 6 carefully / अंक 6 को ध्यानपूर्वक खोजें

- (a) A
- (b) B
- (c) C
- (d) D
- (e) E

Ans.(e)

- Q162.** (a) 63737287
(b) 325475906
(c) 325875907
(d) 547858959

Find digit 6 carefully / अंक 6 को ध्यानपूर्वक खोजें

- (a) A
- (b) B
- (c) C
- (d) D
- (e) E

Ans.(e)

- Q163.** (a) 813431208
(b) 735345849
(c) 735375846
(d) 87951570

Find digit 6 carefully / अंक 6 को ध्यानपूर्वक खोजें

- (a) A
- (b) B
- (c) C
- (d) D
- (e) E

Ans.(c)

- Q164.** (a) 83454278
(b) 54297987
(c) 54293987
(d) 527521926

Find digit 6 carefully / अंक 6 को ध्यानपूर्वक खोजें

- (a) A
- (b) B
- (c) C
- (d) D
- (e) E



Ans.(d)

Q165. (a) 834373923

(b) 15893085

(c) 16894085

(d) 44731820

Find digit 6 carefully / अंक 6 को ध्यानपूर्वक खोजें

(a) A

(b) B

(c) C

(d) D

(e) E

Ans.(c)

Q166. (a) 834248748

(b) 235347048

(c) 238327048

(d) 25789786

Find digit 6 carefully / अंक 6 को ध्यानपूर्वक खोजें

(a) A

(b) B

(c) C

(d) D

(e) E

Ans.(d)

Q167. (a) 953274875

(b) 5328946

(c) 5384949

(d) 394234894

Find digit 6 carefully / अंक 6 को ध्यानपूर्वक खोजें

(a) A

(b) B

(c) C

(d) D

(e) E

Ans.(b)

Q168. (a) 83427589

(b) 73598796

(c) 53598796

(d) 45378630

Find digit 6 carefully / अंक 6 को ध्यानपूर्वक खोजें

(a) A

(b) B

(c) C

(d) D

(e) E

Ans.(e)

Q169. (a) 5854285

(b) 23854796

(c) 23814790

(d) 52959787

Find digit 6 carefully / अंक 6 को ध्यानपूर्वक खोजें

- (a) A
- (b) B
- (c) C
- (d) D
- (e) E

Ans.(b)

Q170. (a) 14537839

(b) 57735873

(c) 57635873

(d) 531535798

Find digit 6 carefully / अंक 6 को ध्यानपूर्वक खोजें

- (a) A
- (b) B
- (c) C
- (d) D
- (e) E

Ans.(c)

Q171. (a) 635838739

(b) 734572490

(c) 734572690

(d) 835857294

Find digit 6 carefully / अंक 6 को ध्यानपूर्वक खोजें

- (a) A
- (b) B
- (c) C
- (d) D
- (e) E

Ans.(e)

Q172. (a) 784597283

(b) 423589854

(c) 423579854

(d) 74832149

Find digit 6 carefully / अंक 6 को ध्यानपूर्वक खोजें

- (a) A
- (b) B
- (c) C
- (d) D
- (e) E

Ans.(e)

Q173. (a) 213587054

(b) 8335946

(c) 733649

(d) 45333790

Find digit 6 carefully / अंक 6 को ध्यानपूर्वक खोजें

- (a) A
- (b) B
- (c) C



(d) D

(e) E

Ans.(e)

Q174. (a) 3731078

(b) 37389704

(c) 37369704

(d) 895345689

Find digit 6 carefully / अंक 6 को ध्यानपूर्वक खोजें

(a) A

(b) B

(c) C

(d) D

(e) E

Ans.(e)

Q175. (a) 934548748

(b) 79473298

(c) 79472698

(d) 35891290

Find digit 6 carefully / अंक 6 को ध्यानपूर्वक खोजें

(a) A

(b) B

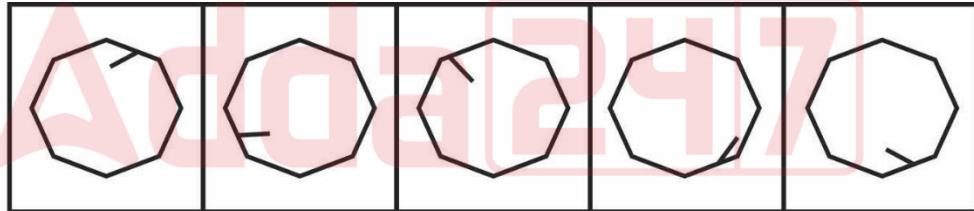
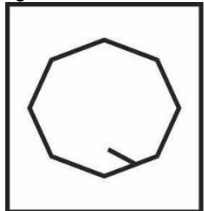
(c) C

(d) D

(e) E

Ans.(c)

Q176.



A

B

C

D

E

Question (1-96): This is a test of your ability to match figures quickly and accurately. In each question given below, there are five answer figures on the right side, where A, B, C, D, E are written below. One of them moved to the left is similar to a question-shape. You are required to find out which of the five figures is identical to the figure given on the left.

यह आकृतियों का त्वरित और सटीक मिलान करने की आपकी क्षमता का परीक्षण है नीचे दिए गए प्रत्येक प्रश्न में दाईं ओर पाँच उत्तर आकृतियाँ हैं, जहाँ नीचे A, B, C, D, E लिखा है। उनमें से एक बाईं ओर लेजाया गया प्रश्न-आकार के समान है। आपको यह पता लगाना है कि पाँच आकृतियों में से कौन सी बाईं ओर दी गई आकृति के समान है।

(a) A

(b) B

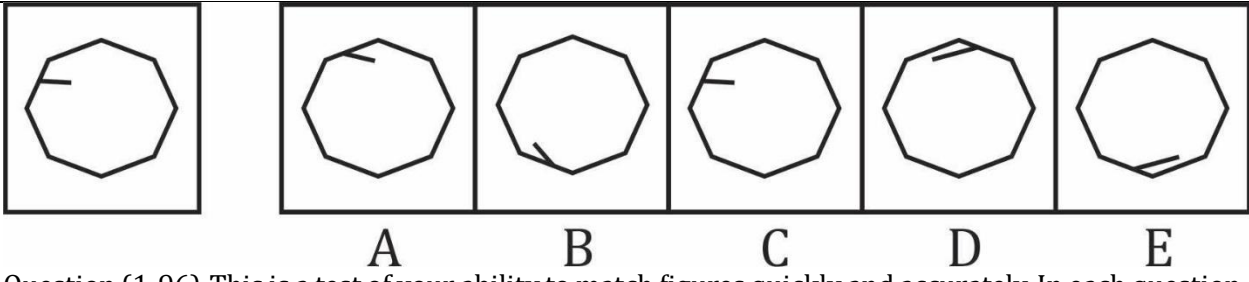
(c) C

(d) D

(e) E

Ans.(e)

Q177.



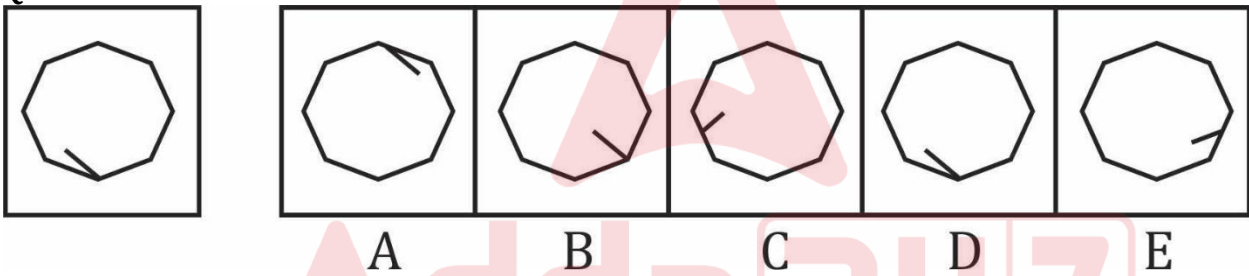
Question (1-96): This is a test of your ability to match figures quickly and accurately. In each question given below, there are five answer figures on the right side, where A, B, C, D, E are written below. One of them moved to the left is similar to a question-shape. You are required to find out which of the five figures is identical to the figure given on the left.

यह आकृतियों का त्वरित और सटीक मिलान करने की आपकी क्षमता का परीक्षण है नीचे दिए गए प्रत्येक प्रश्न में दाईं ओर पाँच उत्तर आकृतियाँ हैं, जहाँ नीचे A, B, C, D, E लिखा है। उनमें से एक बाईं ओर लेजाया गया प्रश्न-आकार के समान है। आपको यह पता लगाना है कि पाँच आकृतियों में से कौन सी बाईं ओर दी गई आकृति के समान है।

- (a) A
- (b) B
- (c) C
- (d) D
- (e) E

Ans. (c)

Q178.



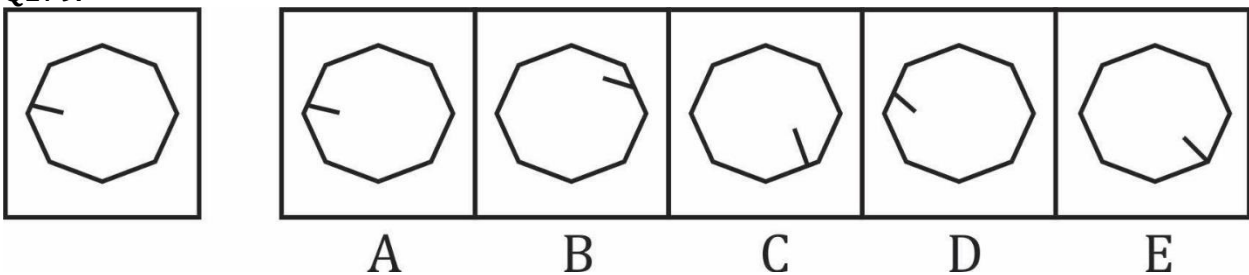
Question (1-96): This is a test of your ability to match figures quickly and accurately. In each question given below, there are five answer figures on the right side, where A, B, C, D, E are written below. One of them moved to the left is similar to a question-shape. You are required to find out which of the five figures is identical to the figure given on the left.

यह आकृतियों का त्वरित और सटीक मिलान करने की आपकी क्षमता का परीक्षण है नीचे दिए गए प्रत्येक प्रश्न में दाईं ओर पाँच उत्तर आकृतियाँ हैं, जहाँ नीचे A, B, C, D, E लिखा है। उनमें से एक बाईं ओर लेजाया गया प्रश्न-आकार के समान है। आपको यह पता लगाना है कि पाँच आकृतियों में से कौन सी बाईं ओर दी गई आकृति के समान है।

- (a) A
- (b) B
- (c) C
- (d) D
- (e) E

Ans. (d)

Q179.



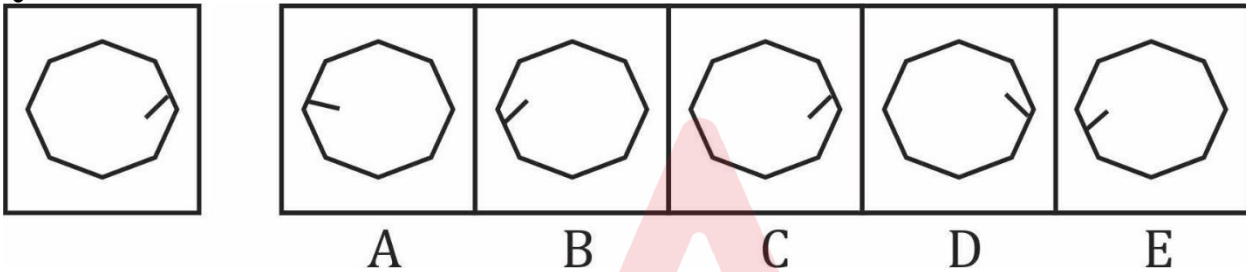
Question (1-96): This is a test of your ability to match figures quickly and accurately. In each question given below, there are five answer figures on the right side, where A, B, C, D, E are written below. One of them moved to the left is similar to a question-shape. You are required to find out which of the five figures is identical to the figure given on the left.

यह आकृतियों का त्वरित और सटीक मिलान करने की आपकी क्षमता का परीक्षण है नीचे दिए गए प्रत्येक प्रश्न में दाईं ओर पाँच उत्तर आकृतियाँ हैं, जहाँ नीचे A, B, C, D, E लिखा है। उनमें से एक बाईं ओर लेजाया गया प्रश्न-आकार के समान है। आपको यह पता लगाना है कि पाँच आकृतियों में से कौन सी बाईं ओर दी गई आकृति के समान है।

- (a) A
- (b) B
- (c) C
- (d) D
- (e) E

Ans.(a)

Q180.



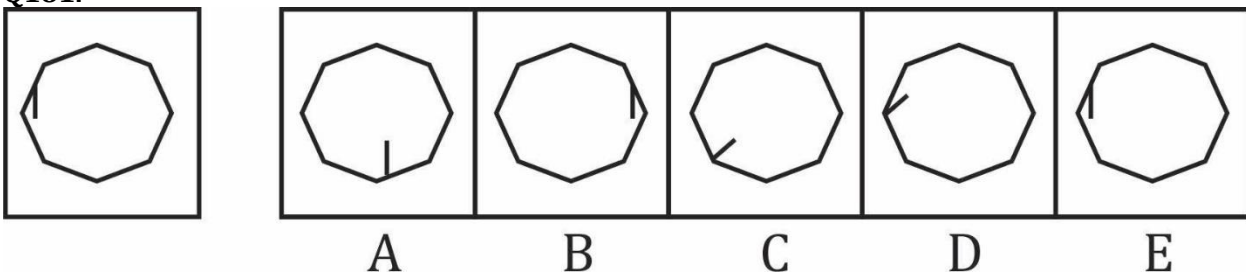
Question (1-96): This is a test of your ability to match figures quickly and accurately. In each question given below, there are five answer figures on the right side, where A, B, C, D, E are written below. One of them moved to the left is similar to a question-shape. You are required to find out which of the five figures is identical to the figure given on the left.

यह आकृतियों का त्वरित और सटीक मिलान करने की आपकी क्षमता का परीक्षण है नीचे दिए गए प्रत्येक प्रश्न में दाईं ओर पाँच उत्तर आकृतियाँ हैं, जहाँ नीचे A, B, C, D, E लिखा है। उनमें से एक बाईं ओर लेजाया गया प्रश्न-आकार के समान है। आपको यह पता लगाना है कि पाँच आकृतियों में से कौन सी बाईं ओर दी गई आकृति के समान है।

- (a) A
- (b) B
- (c) C
- (d) D
- (e) E

Ans.(c)

Q181.



Question (1-96): This is a test of your ability to match figures quickly and accurately. In each question given below, there are five answer figures on the right side, where A, B, C, D, E are written below. One of them moved to the left is similar to a question-shape. You are required to find out which of the five figures is identical to the figure given on the left.

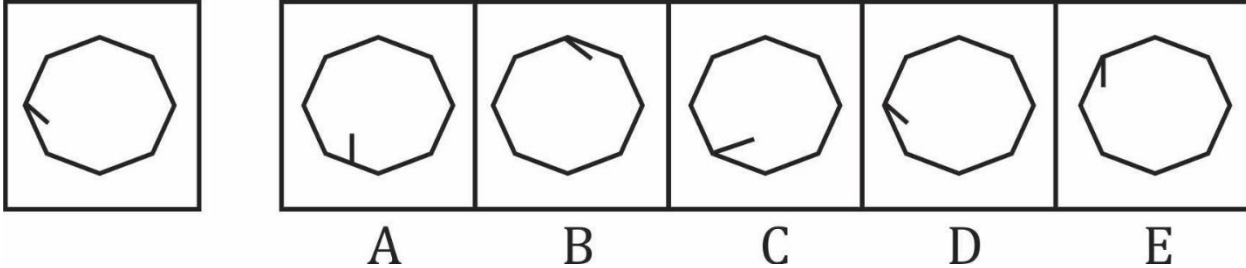
यह आकृतियों का त्वरित और सटीक मिलान करने की आपकी क्षमता का परीक्षण है नीचे दिए गए प्रत्येक प्रश्न में दाईं ओर पाँच उत्तर आकृतियाँ हैं, जहाँ नीचे A, B, C, D, E लिखा है। उनमें से एक बाईं ओर लेजाया गया प्रश्न-आकार के समान है। आपको यह पता लगाना है कि पाँच आकृतियों में से कौन सी बाईं ओर दी गई आकृति के समान है।

- (a) A

- (b) B
- (c) C
- (d) D
- (e) E

Ans.(e)

Q182.



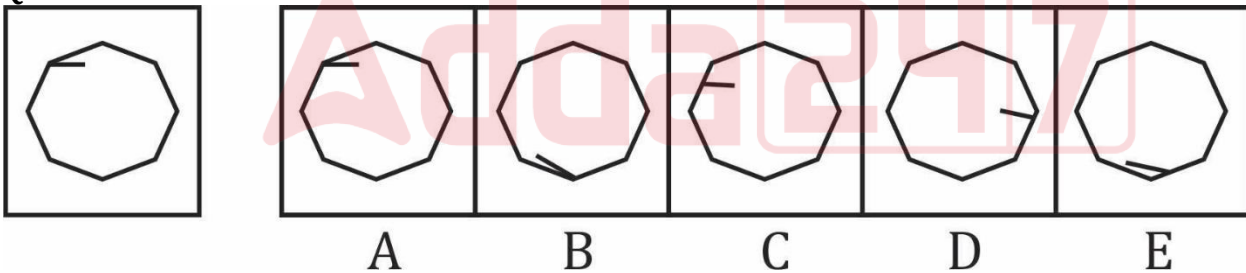
Question (1-96): This is a test of your ability to match figures quickly and accurately. In each question given below, there are five answer figures on the right side, where A, B, C, D, E are written below. One of them moved to the left is similar to a question-shape. You are required to find out which of the five figures is identical to the figure given on the left.

यह आकृतियों का त्वरित और सटीक मिलान करने की आपकी क्षमता का परीक्षण है नीचे दिए गए प्रत्येक प्रश्न में दाईं ओर पाँच उत्तर आकृतियाँ हैं, जहाँ नीचे A, B, C, D, E लिखा है। उनमें से एक बाईं ओर लेजाया गया प्रश्न-आकार के समान है। आपको यह पता लगाना है कि पाँच आकृतियों में से कौन सी बाईं ओर दी गई आकृति के समान है।

- (a) A
- (b) B
- (c) C
- (d) D
- (e) E

Ans.(d)

Q183.



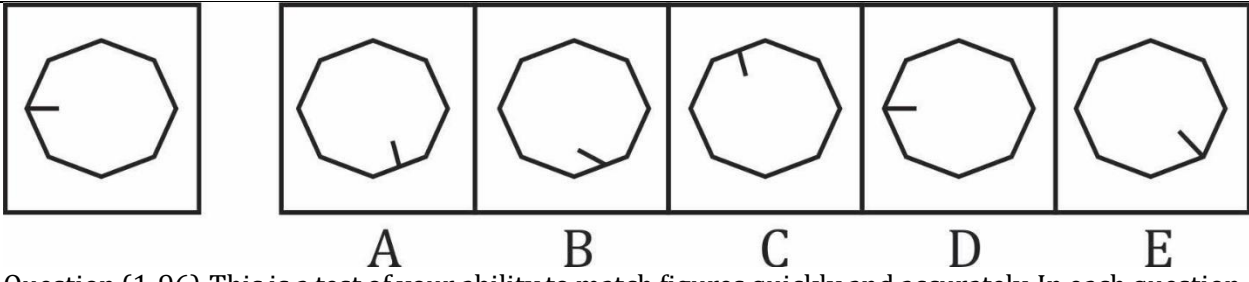
Question (1-96): This is a test of your ability to match figures quickly and accurately. In each question given below, there are five answer figures on the right side, where A, B, C, D, E are written below. One of them moved to the left is similar to a question-shape. You are required to find out which of the five figures is identical to the figure given on the left.

यह आकृतियों का त्वरित और सटीक मिलान करने की आपकी क्षमता का परीक्षण है नीचे दिए गए प्रत्येक प्रश्न में दाईं ओर पाँच उत्तर आकृतियाँ हैं, जहाँ नीचे A, B, C, D, E लिखा है। उनमें से एक बाईं ओर लेजाया गया प्रश्न-आकार के समान है। आपको यह पता लगाना है कि पाँच आकृतियों में से कौन सी बाईं ओर दी गई आकृति के समान है।

- (a) A
- (b) B
- (c) C
- (d) D
- (e) E

Ans.(a)

Q184.



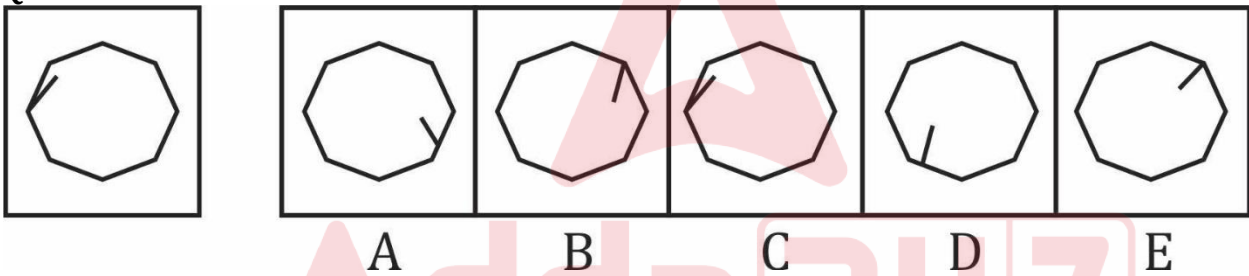
Question (1-96): This is a test of your ability to match figures quickly and accurately. In each question given below, there are five answer figures on the right side, where A, B, C, D, E are written below. One of them moved to the left is similar to a question-shape. You are required to find out which of the five figures is identical to the figure given on the left.

यह आकृतियों का त्वरित और सटीक मिलान करने की आपकी क्षमता का परीक्षण है नीचे दिए गए प्रत्येक प्रश्न में दाईं ओर पाँच उत्तर आकृतियाँ हैं, जहाँ नीचे A, B, C, D, E लिखा है। उनमें से एक बाईं ओर लेजाया गया प्रश्न-आकार के समान है। आपको यह पता लगाना है कि पाँच आकृतियों में से कौन सी बाईं ओर दी गई आकृति के समान है।

- (a) A
- (b) B
- (c) C
- (d) D
- (e) E

Ans. (d)

Q185.



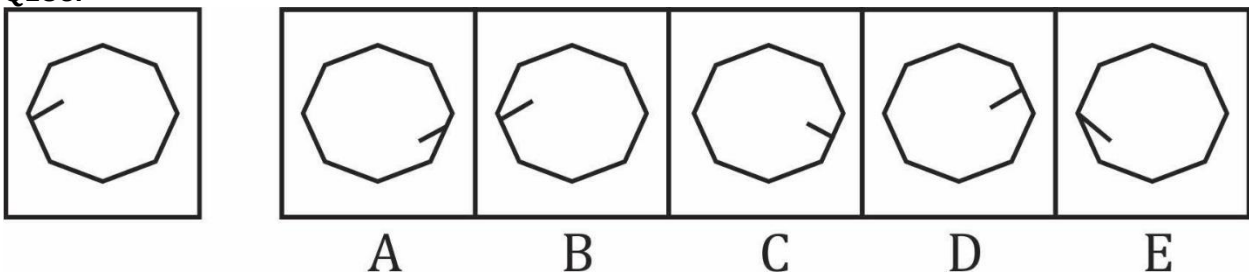
Question (1-96): This is a test of your ability to match figures quickly and accurately. In each question given below, there are five answer figures on the right side, where A, B, C, D, E are written below. One of them moved to the left is similar to a question-shape. You are required to find out which of the five figures is identical to the figure given on the left.

यह आकृतियों का त्वरित और सटीक मिलान करने की आपकी क्षमता का परीक्षण है नीचे दिए गए प्रत्येक प्रश्न में दाईं ओर पाँच उत्तर आकृतियाँ हैं, जहाँ नीचे A, B, C, D, E लिखा है। उनमें से एक बाईं ओर लेजाया गया प्रश्न-आकार के समान है। आपको यह पता लगाना है कि पाँच आकृतियों में से कौन सी बाईं ओर दी गई आकृति के समान है।

- (a) A
- (b) B
- (c) C
- (d) D
- (e) E

Ans. (c)

Q186.



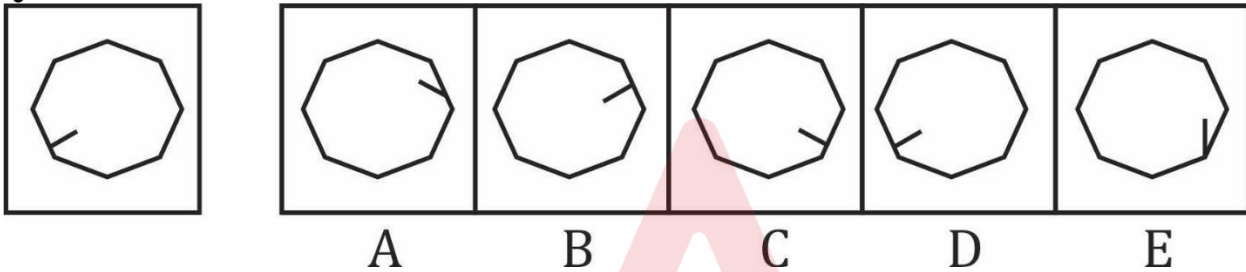
Question (1-96): This is a test of your ability to match figures quickly and accurately. In each question given below, there are five answer figures on the right side, where A, B, C, D, E are written below. One of them moved to the left is similar to a question-shape. You are required to find out which of the five figures is identical to the figure given on the left.

यह आकृतियों का त्वरित और सटीक मिलान करने की आपकी क्षमता का परीक्षण है नीचे दिए गए प्रत्येक प्रश्न में दाईं ओर पाँच उत्तर आकृतियाँ हैं, जहाँ नीचे A, B, C, D, E लिखा है। उनमें से एक बाईं ओर लेजाया गया प्रश्न-आकार के समान है। आपको यह पता लगाना है कि पाँच आकृतियों में से कौन सी बाईं ओर दी गई आकृति के समान है।

- (a) A
- (b) B
- (c) C
- (d) D
- (e) E

Ans.(b)

Q187.



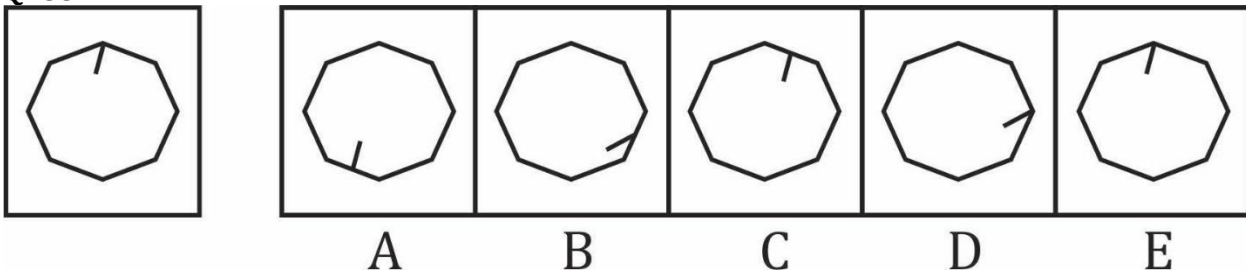
Question (1-96): This is a test of your ability to match figures quickly and accurately. In each question given below, there are five answer figures on the right side, where A, B, C, D, E are written below. One of them moved to the left is similar to a question-shape. You are required to find out which of the five figures is identical to the figure given on the left.

यह आकृतियों का त्वरित और सटीक मिलान करने की आपकी क्षमता का परीक्षण है नीचे दिए गए प्रत्येक प्रश्न में दाईं ओर पाँच उत्तर आकृतियाँ हैं, जहाँ नीचे A, B, C, D, E लिखा है। उनमें से एक बाईं ओर लेजाया गया प्रश्न-आकार के समान है। आपको यह पता लगाना है कि पाँच आकृतियों में से कौन सी बाईं ओर दी गई आकृति के समान है।

- (a) A
- (b) B
- (c) C
- (d) D
- (e) E

Ans.(d)

Q188.



Question (1-96): This is a test of your ability to match figures quickly and accurately. In each question given below, there are five answer figures on the right side, where A, B, C, D, E are written below. One of them moved to the left is similar to a question-shape. You are required to find out which of the five figures is identical to the figure given on the left.

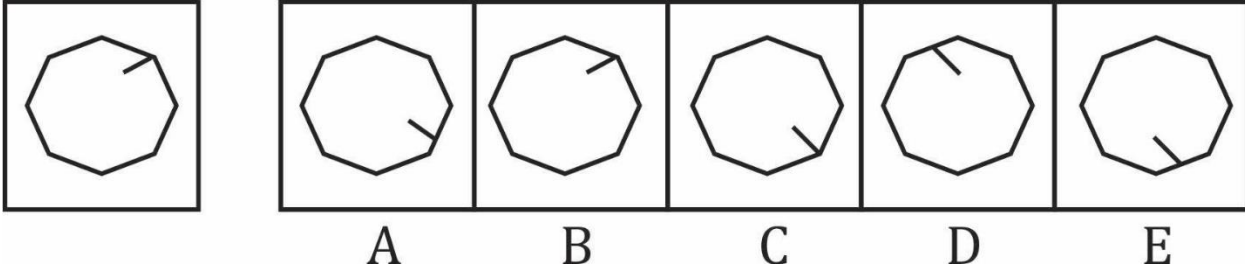
यह आकृतियों का त्वरित और सटीक मिलान करने की आपकी क्षमता का परीक्षण है नीचे दिए गए प्रत्येक प्रश्न में दाईं ओर पाँच उत्तर आकृतियाँ हैं, जहाँ नीचे A, B, C, D, E लिखा है। उनमें से एक बाईं ओर लेजाया गया प्रश्न-आकार के समान है। आपको यह पता लगाना है कि पाँच आकृतियों में से कौन सी बाईं ओर दी गई आकृति के समान है।

- (a) A

- (b) B
- (c) C
- (d) D
- (e) E

Ans.(e)

Q189.



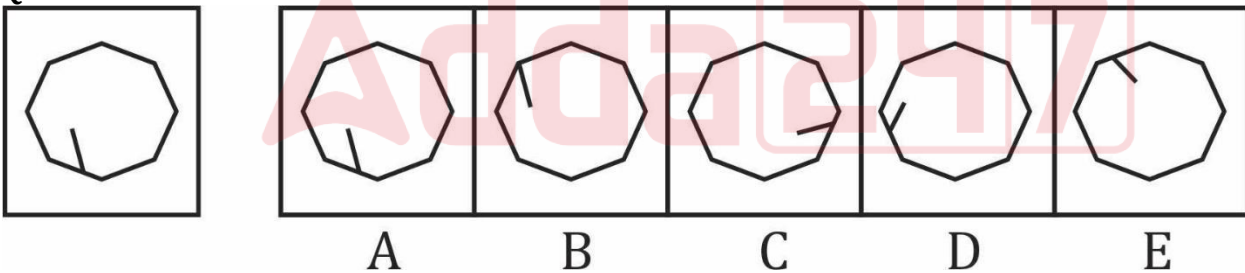
Question (1-96): This is a test of your ability to match figures quickly and accurately. In each question given below, there are five answer figures on the right side, where A, B, C, D, E are written below. One of them moved to the left is similar to a question-shape. You are required to find out which of the five figures is identical to the figure given on the left.

यह आकृतियों का त्वरित और सटीक मिलान करने की आपकी क्षमता का परीक्षण है नीचे दिए गए प्रत्येक प्रश्न में दाईं ओर पाँच उत्तर आकृतियाँ हैं, जहाँ नीचे A, B, C, D, E लिखा है। उनमें से एक बाईं ओर लेजाया गया प्रश्न-आकार के समान है। आपको यह पता लगाना है कि पाँच आकृतियों में से कौन सी बाईं ओर दी गई आकृति के समान है।

- (a) A
- (b) B
- (c) C
- (d) D
- (e) E

Ans.(b)

Q190.



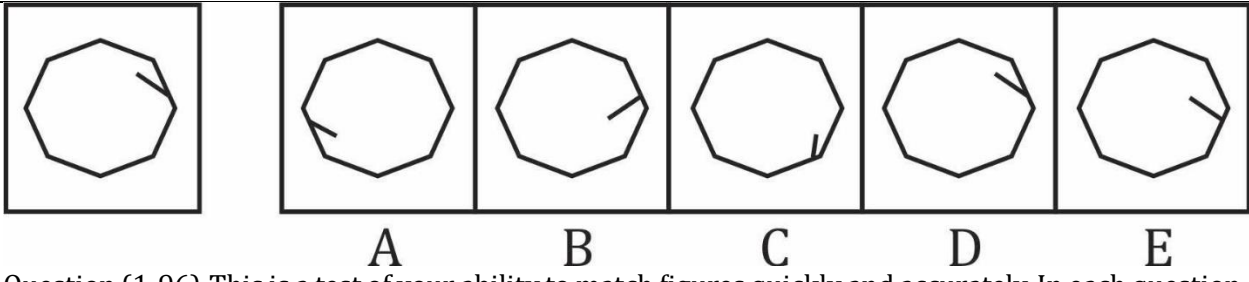
Question (1-96): This is a test of your ability to match figures quickly and accurately. In each question given below, there are five answer figures on the right side, where A, B, C, D, E are written below. One of them moved to the left is similar to a question-shape. You are required to find out which of the five figures is identical to the figure given on the left.

यह आकृतियों का त्वरित और सटीक मिलान करने की आपकी क्षमता का परीक्षण है नीचे दिए गए प्रत्येक प्रश्न में दाईं ओर पाँच उत्तर आकृतियाँ हैं, जहाँ नीचे A, B, C, D, E लिखा है। उनमें से एक बाईं ओर लेजाया गया प्रश्न-आकार के समान है। आपको यह पता लगाना है कि पाँच आकृतियों में से कौन सी बाईं ओर दी गई आकृति के समान है।

- (a) A
- (b) B
- (c) C
- (d) D
- (e) E

Ans.(a)

Q191.



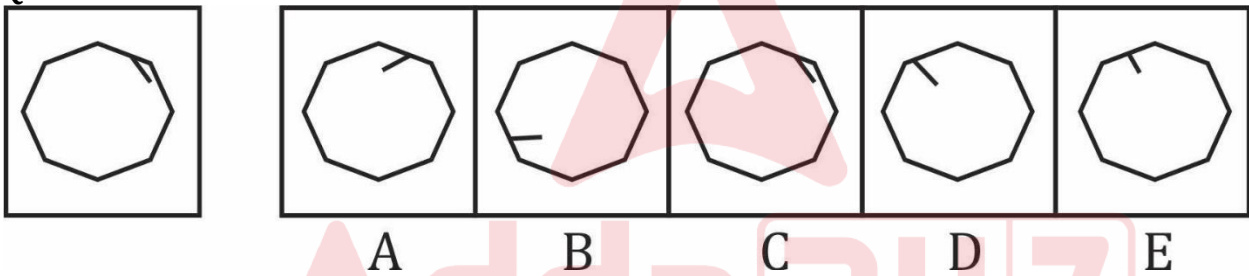
Question (1-96): This is a test of your ability to match figures quickly and accurately. In each question given below, there are five answer figures on the right side, where A, B, C, D, E are written below. One of them moved to the left is similar to a question-shape. You are required to find out which of the five figures is identical to the figure given on the left.

यह आकृतियों का त्वरित और सटीक मिलान करने की आपकी क्षमता का परीक्षण है नीचे दिए गए प्रत्येक प्रश्न में दाईं ओर पाँच उत्तर आकृतियाँ हैं, जहाँ नीचे A, B, C, D, E लिखा है। उनमें से एक बाईं ओर लेजाया गया प्रश्न-आकार के समान है। आप को यह पता लगाना है कि पाँच आकृतियों में से कौन सी बाईं ओर दी गई आकृति के समान है।

- (a) A
- (b) B
- (c) C
- (d) D
- (e) E

Ans. (d)

Q192.



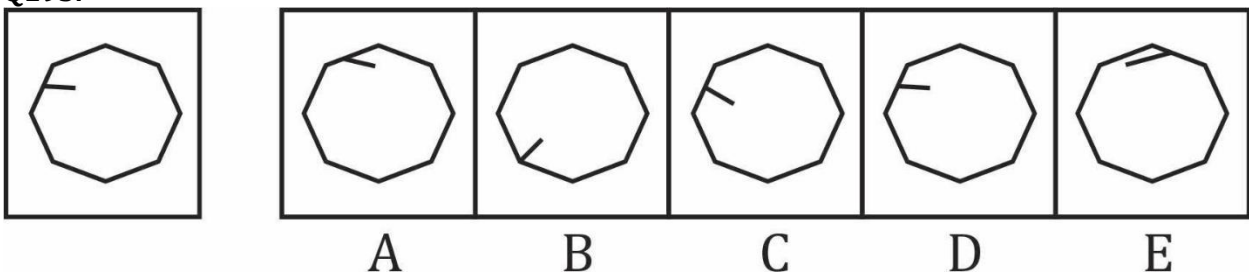
Question (1-96): This is a test of your ability to match figures quickly and accurately. In each question given below, there are five answer figures on the right side, where A, B, C, D, E are written below. One of them moved to the left is similar to a question-shape. You are required to find out which of the five figures is identical to the figure given on the left.

यह आकृतियों का त्वरित और सटीक मिलान करने की आपकी क्षमता का परीक्षण है नीचे दिए गए प्रत्येक प्रश्न में दाईं ओर पाँच उत्तर आकृतियाँ हैं, जहाँ नीचे A, B, C, D, E लिखा है। उनमें से एक बाईं ओर लेजाया गया प्रश्न-आकार के समान है। आप को यह पता लगाना है कि पाँच आकृतियों में से कौन सी बाईं ओर दी गई आकृति के समान है।

- (a) A
- (b) B
- (c) C
- (d) D
- (e) E

Ans. (c)

Q193.



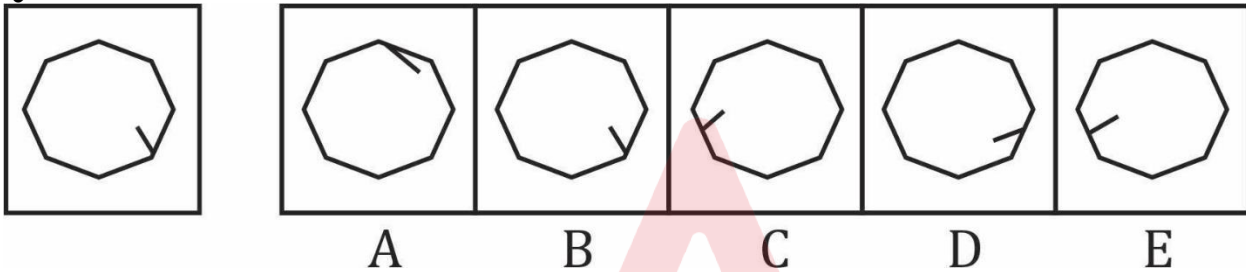
Question (1-96): This is a test of your ability to match figures quickly and accurately. In each question given below, there are five answer figures on the right side, where A, B, C, D, E are written below. One of them moved to the left is similar to a question-shape. You are required to find out which of the five figures is identical to the figure given on the left.

यह आकृतियों का त्वरित और सटीक मिलान करने की आपकी क्षमता का परीक्षण है नीचे दिए गए प्रत्येक प्रश्न में दाईं ओर पाँच उत्तर आकृतियाँ हैं, जहाँ नीचे A, B, C, D, E लिखा है। उनमें से एक बाईं ओर लेजाया गया प्रश्न-आकार के समान है। आपको यह पता लगाना है कि पाँच आकृतियों में से कौन सी बाईं ओर दी गई आकृति के समान है।

- (a) A
- (b) B
- (c) C
- (d) D
- (e) E

Ans.(d)

Q194.



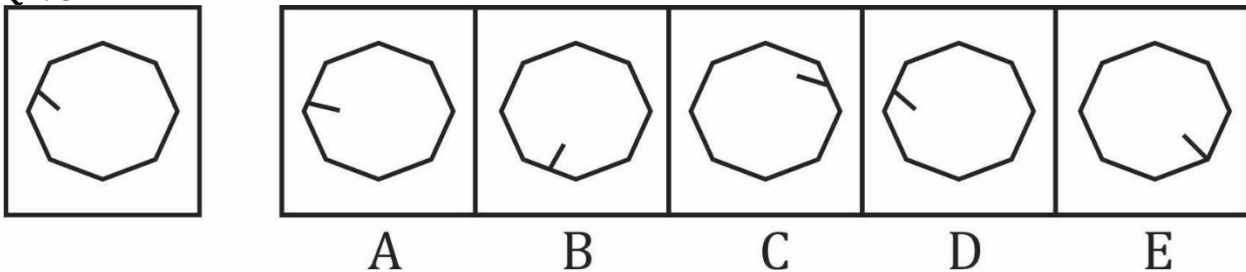
Question (1-96): This is a test of your ability to match figures quickly and accurately. In each question given below, there are five answer figures on the right side, where A, B, C, D, E are written below. One of them moved to the left is similar to a question-shape. You are required to find out which of the five figures is identical to the figure given on the left.

यह आकृतियों का त्वरित और सटीक मिलान करने की आपकी क्षमता का परीक्षण है नीचे दिए गए प्रत्येक प्रश्न में दाईं ओर पाँच उत्तर आकृतियाँ हैं, जहाँ नीचे A, B, C, D, E लिखा है। उनमें से एक बाईं ओर लेजाया गया प्रश्न-आकार के समान है। आपको यह पता लगाना है कि पाँच आकृतियों में से कौन सी बाईं ओर दी गई आकृति के समान है।

- (a) A
- (b) B
- (c) C
- (d) D
- (e) E

Ans.(b)

Q195.



Question (1-96): This is a test of your ability to match figures quickly and accurately. In each question given below, there are five answer figures on the right side, where A, B, C, D, E are written below. One of them moved to the left is similar to a question-shape. You are required to find out which of the five figures is identical to the figure given on the left.

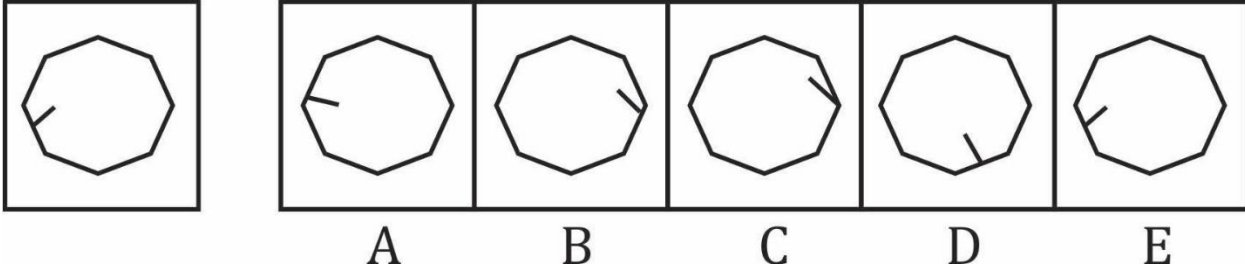
यह आकृतियों का त्वरित और सटीक मिलान करने की आपकी क्षमता का परीक्षण है नीचे दिए गए प्रत्येक प्रश्न में दाईं ओर पाँच उत्तर आकृतियाँ हैं, जहाँ नीचे A, B, C, D, E लिखा है। उनमें से एक बाईं ओर लेजाया गया प्रश्न-आकार के समान है। आपको यह पता लगाना है कि पाँच आकृतियों में से कौन सी बाईं ओर दी गई आकृति के समान है।

- (a) A

- (b) B
- (c) C
- (d) D
- (e) E

Ans.(d)

Q196.



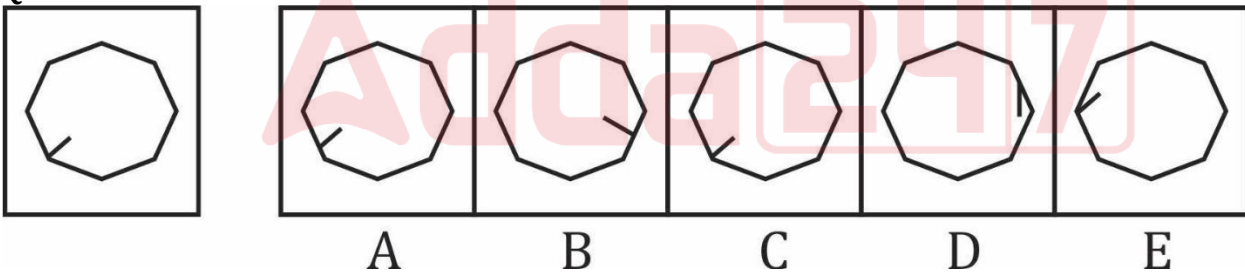
Question (1-96): This is a test of your ability to match figures quickly and accurately. In each question given below, there are five answer figures on the right side, where A, B, C, D, E are written below. One of them moved to the left is similar to a question-shape. You are required to find out which of the five figures is identical to the figure given on the left.

यह आकृतियों का त्वरित और सटीक मिलान करने की आपकी क्षमता का परीक्षण है नीचे दिए गए प्रत्येक प्रश्न में दाईं ओर पाँच उत्तर आकृतियाँ हैं, जहाँ नीचे A, B, C, D, E लिखा है। उनमें से एक बाईं ओर लेजाया गया प्रश्न-आकार के समान है। आपको यह पता लगाना है कि पाँच आकृतियों में से कौन सी बाईं ओर दी गई आकृति के समान है।

- (a) A
- (b) B
- (c) C
- (d) D
- (e) E

Ans.(e)

Q197.



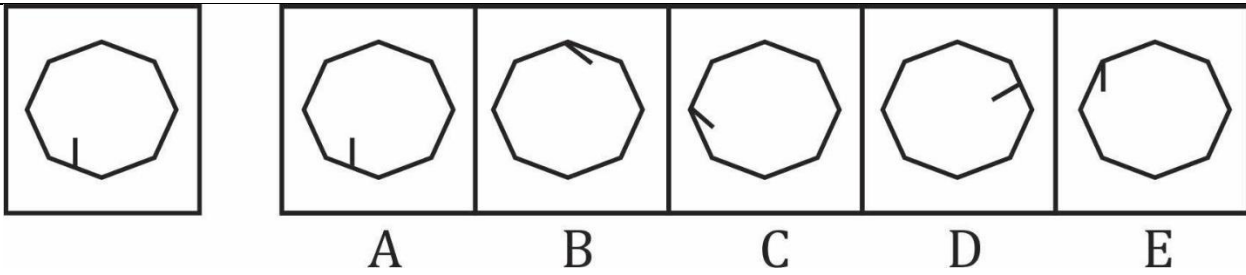
Question (1-96): This is a test of your ability to match figures quickly and accurately. In each question given below, there are five answer figures on the right side, where A, B, C, D, E are written below. One of them moved to the left is similar to a question-shape. You are required to find out which of the five figures is identical to the figure given on the left.

यह आकृतियों का त्वरित और सटीक मिलान करने की आपकी क्षमता का परीक्षण है नीचे दिए गए प्रत्येक प्रश्न में दाईं ओर पाँच उत्तर आकृतियाँ हैं, जहाँ नीचे A, B, C, D, E लिखा है। उनमें से एक बाईं ओर लेजाया गया प्रश्न-आकार के समान है। आपको यह पता लगाना है कि पाँच आकृतियों में से कौन सी बाईं ओर दी गई आकृति के समान है।

- (a) A
- (b) B
- (c) C
- (d) D
- (e) E

Ans.(c)

Q198.



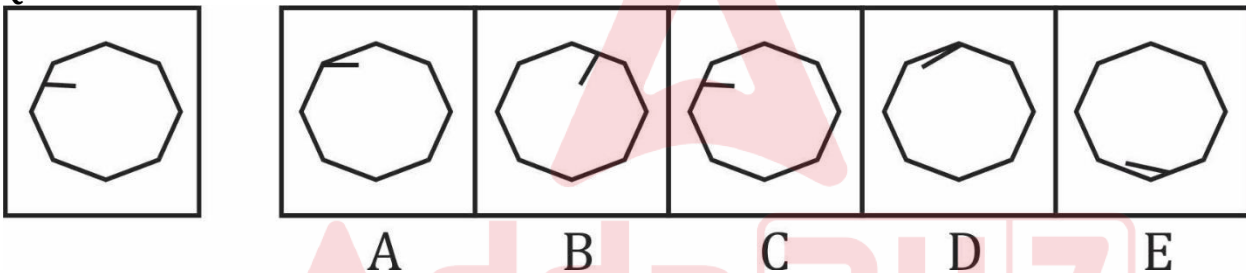
Question (1-96): This is a test of your ability to match figures quickly and accurately. In each question given below, there are five answer figures on the right side, where A, B, C, D, E are written below. One of them moved to the left is similar to a question-shape. You are required to find out which of the five figures is identical to the figure given on the left.

यह आकृतियों का त्वरित और सटीक मिलान करने की आपकी क्षमता का परीक्षण है नीचे दिए गए प्रत्येक प्रश्न में दाईं ओर पाँच उत्तर आकृतियाँ हैं, जहाँ नीचे A, B, C, D, E लिखा है। उनमें से एक बाईं ओर लेजाया गया प्रश्न-आकार के समान है। आपको यह पता लगाना है कि पाँच आकृतियों में से कौन सी बाईं ओर दी गई आकृति के समान है।

- (a) A
- (b) B
- (c) C
- (d) D
- (e) E

Ans. (a)

Q199.



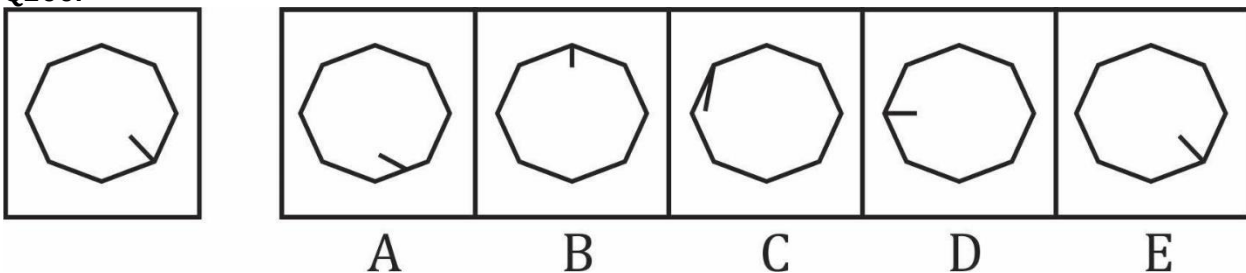
Question (1-96): This is a test of your ability to match figures quickly and accurately. In each question given below, there are five answer figures on the right side, where A, B, C, D, E are written below. One of them moved to the left is similar to a question-shape. You are required to find out which of the five figures is identical to the figure given on the left.

यह आकृतियों का त्वरित और सटीक मिलान करने की आपकी क्षमता का परीक्षण है नीचे दिए गए प्रत्येक प्रश्न में दाईं ओर पाँच उत्तर आकृतियाँ हैं, जहाँ नीचे A, B, C, D, E लिखा है। उनमें से एक बाईं ओर लेजाया गया प्रश्न-आकार के समान है। आपको यह पता लगाना है कि पाँच आकृतियों में से कौन सी बाईं ओर दी गई आकृति के समान है।

- (a) A
- (b) B
- (c) C
- (d) D
- (e) E

Ans. (c)

Q200.



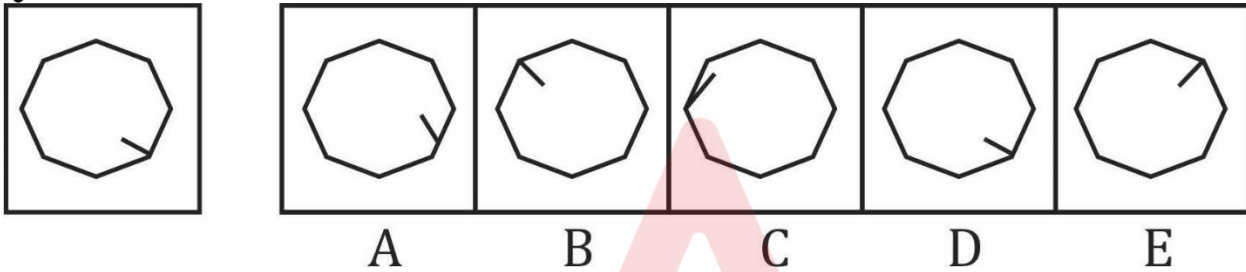
Question (1-96): This is a test of your ability to match figures quickly and accurately. In each question given below, there are five answer figures on the right side, where A, B, C, D, E are written below. One of them moved to the left is similar to a question-shape. You are required to find out which of the five figures is identical to the figure given on the left.

यह आकृतियों का त्वरित और सटीक मिलान करने की आपकी क्षमता का परीक्षण है नीचे दिए गए प्रत्येक प्रश्न में दाईं ओर पाँच उत्तर आकृतियाँ हैं, जहाँ नीचे A, B, C, D, E लिखा है। उनमें से एक बाईं ओर लेजाया गया प्रश्न-आकार के समान है। आपको यह पता लगाना है कि पाँच आकृतियों में से कौन सी बाईं ओर दी गई आकृति के समान है।

- (a) A
- (b) B
- (c) C
- (d) D
- (e) E

Ans.(e)

Q201.



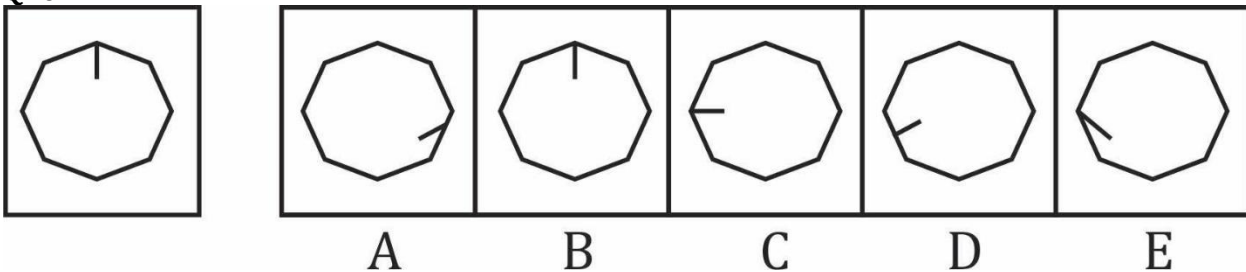
Question (1-96): This is a test of your ability to match figures quickly and accurately. In each question given below, there are five answer figures on the right side, where A, B, C, D, E are written below. One of them moved to the left is similar to a question-shape. You are required to find out which of the five figures is identical to the figure given on the left.

यह आकृतियों का त्वरित और सटीक मिलान करने की आपकी क्षमता का परीक्षण है नीचे दिए गए प्रत्येक प्रश्न में दाईं ओर पाँच उत्तर आकृतियाँ हैं, जहाँ नीचे A, B, C, D, E लिखा है। उनमें से एक बाईं ओर लेजाया गया प्रश्न-आकार के समान है। आपको यह पता लगाना है कि पाँच आकृतियों में से कौन सी बाईं ओर दी गई आकृति के समान है।

- (a) A
- (b) B
- (c) C
- (d) D
- (e) E

Ans.(d)

Q202.



Question (1-96): This is a test of your ability to match figures quickly and accurately. In each question given below, there are five answer figures on the right side, where A, B, C, D, E are written below. One of them moved to the left is similar to a question-shape. You are required to find out which of the five figures is identical to the figure given on the left.

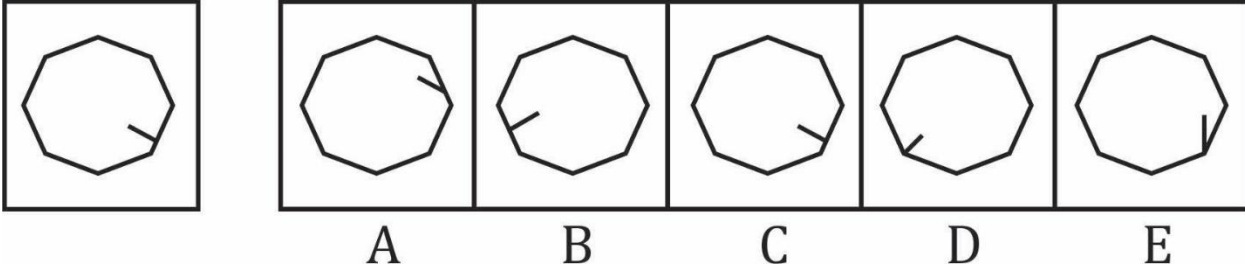
यह आकृतियों का त्वरित और सटीक मिलान करने की आपकी क्षमता का परीक्षण है नीचे दिए गए प्रत्येक प्रश्न में दाईं ओर पाँच उत्तर आकृतियाँ हैं, जहाँ नीचे A, B, C, D, E लिखा है। उनमें से एक बाईं ओर लेजाया गया प्रश्न-आकार के समान है। आपको यह पता लगाना है कि पाँच आकृतियों में से कौन सी बाईं ओर दी गई आकृति के समान है।

- (a) A

- (b) B
- (c) C
- (d) D
- (e) E

Ans.(b)

Q203.



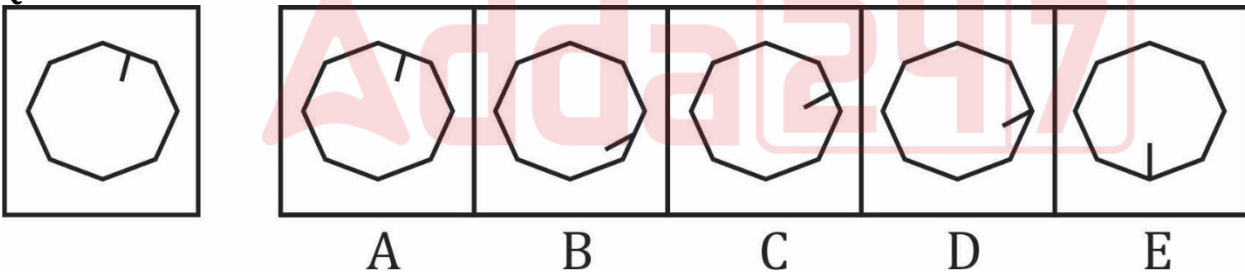
Question (1-96): This is a test of your ability to match figures quickly and accurately. In each question given below, there are five answer figures on the right side, where A, B, C, D, E are written below. One of them moved to the left is similar to a question-shape. You are required to find out which of the five figures is identical to the figure given on the left.

यह आकृतियों का त्वरित और सटीक मिलान करने की आपकी क्षमता का परीक्षण है नीचे दिए गए प्रत्येक प्रश्न में दाईं ओर पाँच उत्तर आकृतियाँ हैं, जहाँ नीचे A, B, C, D, E लिखा है। उनमें से एक बाईं ओर लेजाया गया प्रश्न-आकार के समान है। आपको यह पता लगाना है कि पाँच आकृतियों में से कौन सी बाईं ओर दी गई आकृति के समान है।

- (a) A
- (b) B
- (c) C
- (d) D
- (e) E

Ans.(c)

Q204.



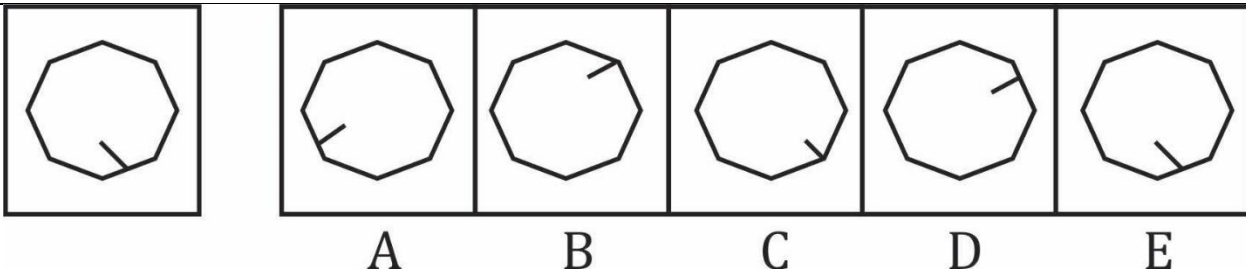
Question (1-96): This is a test of your ability to match figures quickly and accurately. In each question given below, there are five answer figures on the right side, where A, B, C, D, E are written below. One of them moved to the left is similar to a question-shape. You are required to find out which of the five figures is identical to the figure given on the left.

यह आकृतियों का त्वरित और सटीक मिलान करने की आपकी क्षमता का परीक्षण है नीचे दिए गए प्रत्येक प्रश्न में दाईं ओर पाँच उत्तर आकृतियाँ हैं, जहाँ नीचे A, B, C, D, E लिखा है। उनमें से एक बाईं ओर लेजाया गया प्रश्न-आकार के समान है। आपको यह पता लगाना है कि पाँच आकृतियों में से कौन सी बाईं ओर दी गई आकृति के समान है।

- (a) A
- (b) B
- (c) C
- (d) D
- (e) E

Ans.(a)

Q205.



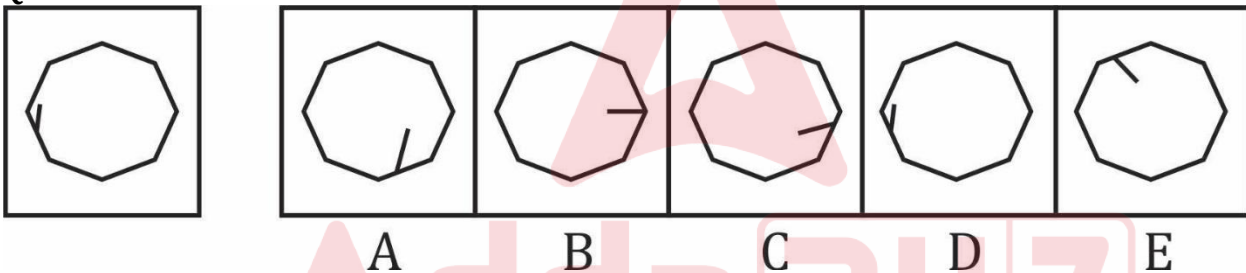
Question (1-96): This is a test of your ability to match figures quickly and accurately. In each question given below, there are five answer figures on the right side, where A, B, C, D, E are written below. One of them moved to the left is similar to a question-shape. You are required to find out which of the five figures is identical to the figure given on the left.

यह आकृतियों का त्वरित और सटीक मिलान करने की आपकी क्षमता का परीक्षण है नीचे दिए गए प्रत्येक प्रश्न में दाईं ओर पाँच उत्तर आकृतियाँ हैं, जहाँ नीचे A, B, C, D, E लिखा है। उनमें से एक बाईं ओर लेजाया गया प्रश्न-आकार के समान है। आपको यह पता लगाना है कि पाँच आकृतियों में से कौन सी बाईं ओर दी गई आकृति के समान है।

- (a) A
- (b) B
- (c) C
- (d) D
- (e) E

Ans. (e)

Q206.



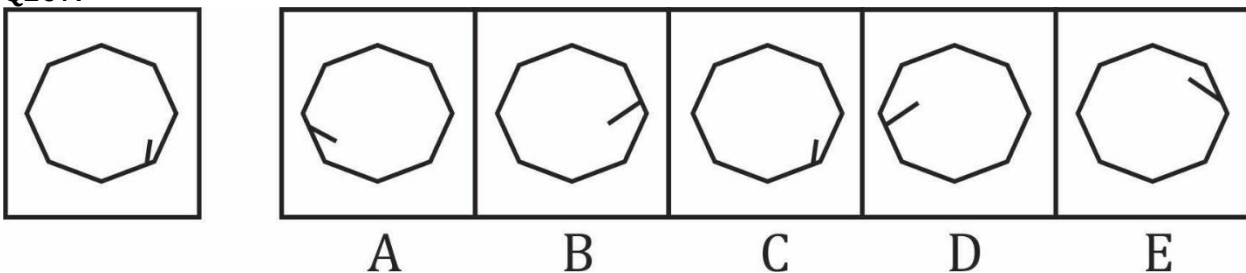
Question (1-96): This is a test of your ability to match figures quickly and accurately. In each question given below, there are five answer figures on the right side, where A, B, C, D, E are written below. One of them moved to the left is similar to a question-shape. You are required to find out which of the five figures is identical to the figure given on the left.

यह आकृतियों का त्वरित और सटीक मिलान करने की आपकी क्षमता का परीक्षण है नीचे दिए गए प्रत्येक प्रश्न में दाईं ओर पाँच उत्तर आकृतियाँ हैं, जहाँ नीचे A, B, C, D, E लिखा है। उनमें से एक बाईं ओर लेजाया गया प्रश्न-आकार के समान है। आपको यह पता लगाना है कि पाँच आकृतियों में से कौन सी बाईं ओर दी गई आकृति के समान है।

- (a) A
- (b) B
- (c) C
- (d) D
- (e) E

Ans. (d)

Q207.



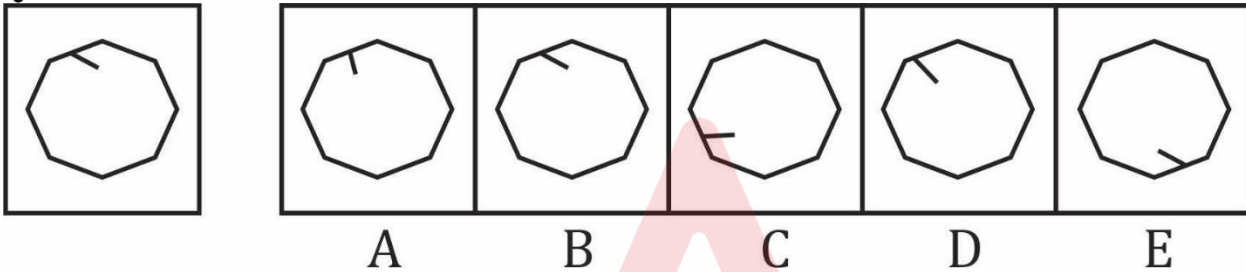
Question (1-96): This is a test of your ability to match figures quickly and accurately. In each question given below, there are five answer figures on the right side, where A, B, C, D, E are written below. One of them moved to the left is similar to a question-shape. You are required to find out which of the five figures is identical to the figure given on the left.

यह आकृतियों का त्वरित और सटीक मिलान करने की आपकी क्षमता का परीक्षण है नीचे दिए गए प्रत्येक प्रश्न में दाईं ओर पाँच उत्तर आकृतियाँ हैं, जहाँ नीचे A, B, C, D, E लिखा है। उनमें से एक बाईं ओर लेजाया गया प्रश्न-आकार के समान है। आपको यह पता लगाना है कि पाँच आकृतियों में से कौन सी बाईं ओर दी गई आकृति के समान है।

- (a) A
- (b) B
- (c) C
- (d) D
- (e) E

Ans.(c)

Q208.



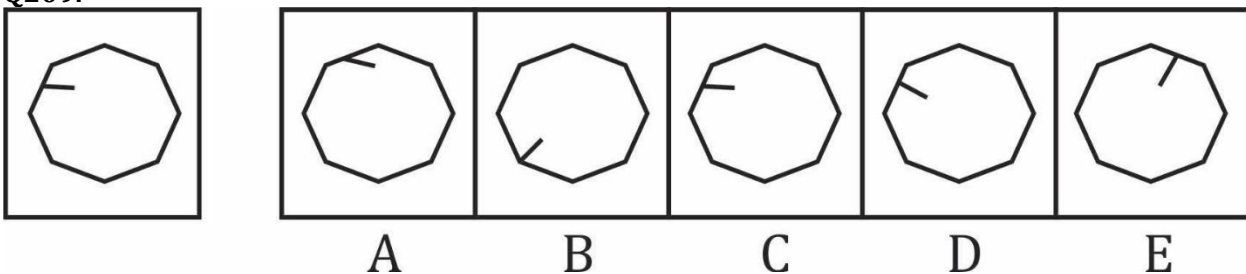
Question (1-96): This is a test of your ability to match figures quickly and accurately. In each question given below, there are five answer figures on the right side, where A, B, C, D, E are written below. One of them moved to the left is similar to a question-shape. You are required to find out which of the five figures is identical to the figure given on the left.

यह आकृतियों का त्वरित और सटीक मिलान करने की आपकी क्षमता का परीक्षण है नीचे दिए गए प्रत्येक प्रश्न में दाईं ओर पाँच उत्तर आकृतियाँ हैं, जहाँ नीचे A, B, C, D, E लिखा है। उनमें से एक बाईं ओर लेजाया गया प्रश्न-आकार के समान है। आपको यह पता लगाना है कि पाँच आकृतियों में से कौन सी बाईं ओर दी गई आकृति के समान है।

- (a) A
- (b) B
- (c) C
- (d) D
- (e) E

Ans.(b)

Q209.



Question (1-96): This is a test of your ability to match figures quickly and accurately. In each question given below, there are five answer figures on the right side, where A, B, C, D, E are written below. One of them moved to the left is similar to a question-shape. You are required to find out which of the five figures is identical to the figure given on the left.

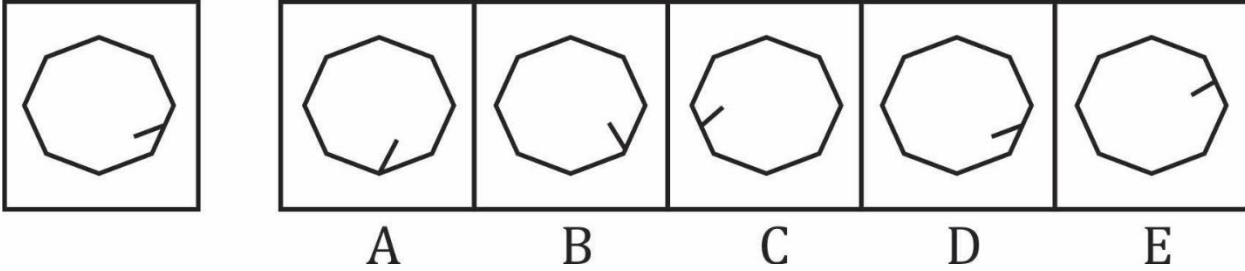
यह आकृतियों का त्वरित और सटीक मिलान करने की आपकी क्षमता का परीक्षण है नीचे दिए गए प्रत्येक प्रश्न में दाईं ओर पाँच उत्तर आकृतियाँ हैं, जहाँ नीचे A, B, C, D, E लिखा है। उनमें से एक बाईं ओर लेजाया गया प्रश्न-आकार के समान है। आपको यह पता लगाना है कि पाँच आकृतियों में से कौन सी बाईं ओर दी गई आकृति के समान है।

- (a) A

- (b) B
- (c) C
- (d) D
- (e) E

Ans.(c)

Q210.



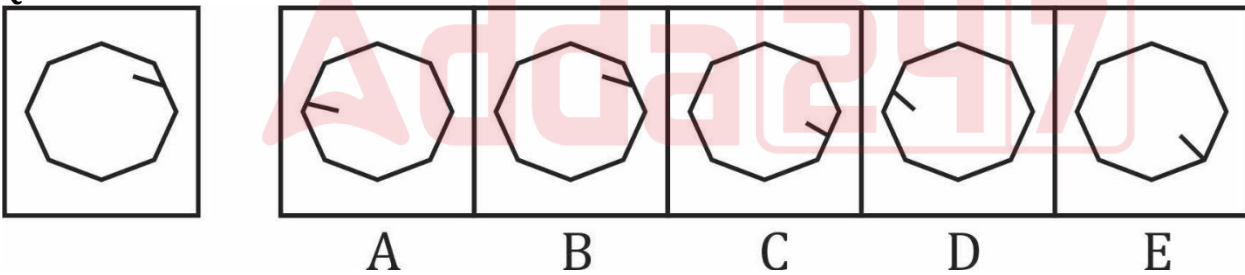
Question (1-96): This is a test of your ability to match figures quickly and accurately. In each question given below, there are five answer figures on the right side, where A, B, C, D, E are written below. One of them moved to the left is similar to a question-shape. You are required to find out which of the five figures is identical to the figure given on the left.

यह आकृतियों का त्वरित और सटीक मिलान करने की आपकी क्षमता का परीक्षण है नीचे दिए गए प्रत्येक प्रश्न में दाईं ओर पाँच उत्तर आकृतियाँ हैं, जहाँ नीचे A, B, C, D, E लिखा है। उनमें से एक बाईं ओर लेजाया गया प्रश्न-आकार के समान है। आपको यह पता लगाना है कि पाँच आकृतियों में से कौन सी बाईं ओर दी गई आकृति के समान है।

- (a) A
- (b) B
- (c) C
- (d) D
- (e) E

Ans.(d)

Q211.



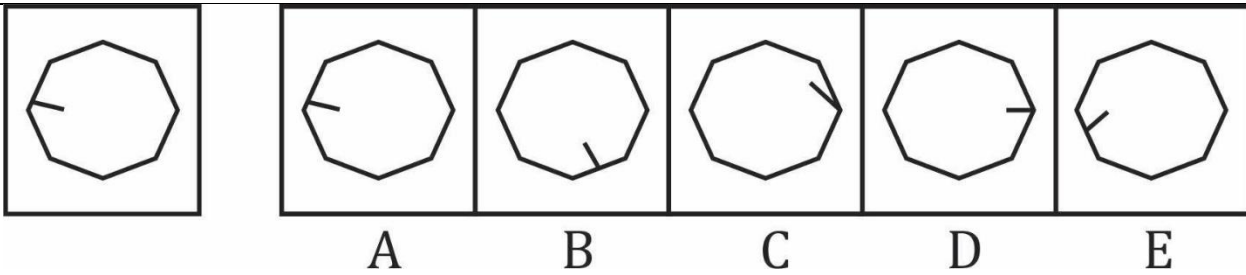
Question (1-96): This is a test of your ability to match figures quickly and accurately. In each question given below, there are five answer figures on the right side, where A, B, C, D, E are written below. One of them moved to the left is similar to a question-shape. You are required to find out which of the five figures is identical to the figure given on the left.

यह आकृतियों का त्वरित और सटीक मिलान करने की आपकी क्षमता का परीक्षण है नीचे दिए गए प्रत्येक प्रश्न में दाईं ओर पाँच उत्तर आकृतियाँ हैं, जहाँ नीचे A, B, C, D, E लिखा है। उनमें से एक बाईं ओर लेजाया गया प्रश्न-आकार के समान है। आपको यह पता लगाना है कि पाँच आकृतियों में से कौन सी बाईं ओर दी गई आकृति के समान है।

- (a) A
- (b) B
- (c) C
- (d) D
- (e) E

Ans.(b)

Q212.



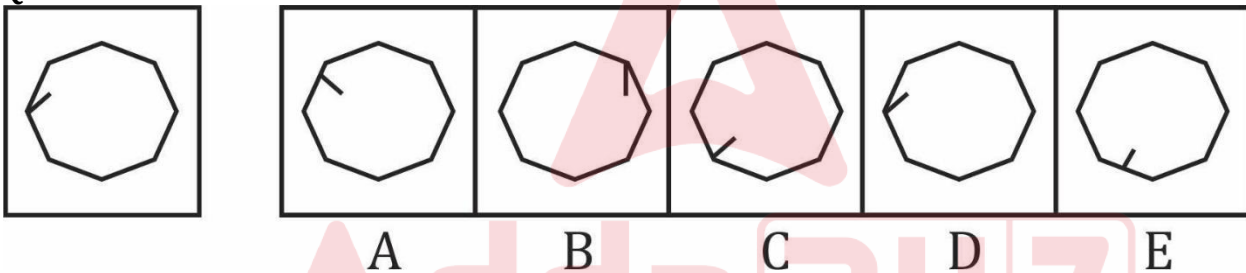
Question (1-96): This is a test of your ability to match figures quickly and accurately. In each question given below, there are five answer figures on the right side, where A, B, C, D, E are written below. One of them moved to the left is similar to a question-shape. You are required to find out which of the five figures is identical to the figure given on the left.

यह आकृतियों का त्वरित और सटीक मिलान करने की आपकी क्षमता का परीक्षण है नीचे दिए गए प्रत्येक प्रश्न में दाईं ओर पाँच उत्तर आकृतियाँ हैं, जहाँ नीचे A, B, C, D, E लिखा है। उनमें से एक बाईं ओर लेजाया गया प्रश्न-आकार के समान है। आप को यह पता लगाना है कि पाँच आकृतियों में से कौन सी बाईं ओर दी गई आकृति के समान है।

- (a) A
- (b) B
- (c) C
- (d) D
- (e) E

Ans. (a)

Q213.



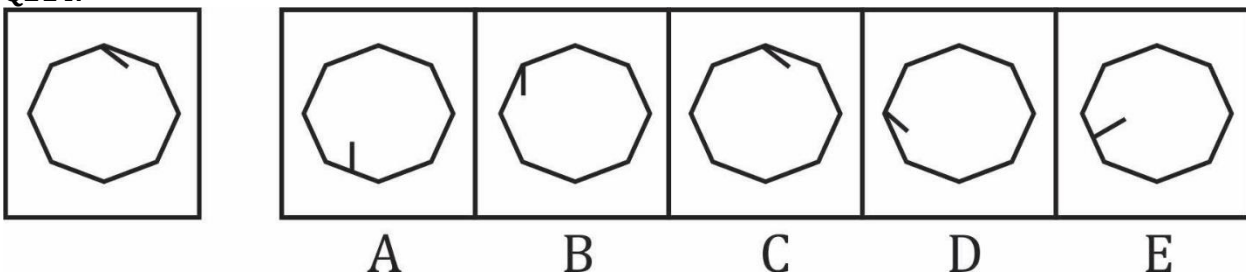
Question (1-96): This is a test of your ability to match figures quickly and accurately. In each question given below, there are five answer figures on the right side, where A, B, C, D, E are written below. One of them moved to the left is similar to a question-shape. You are required to find out which of the five figures is identical to the figure given on the left.

यह आकृतियों का त्वरित और सटीक मिलान करने की आपकी क्षमता का परीक्षण है नीचे दिए गए प्रत्येक प्रश्न में दाईं ओर पाँच उत्तर आकृतियाँ हैं, जहाँ नीचे A, B, C, D, E लिखा है। उनमें से एक बाईं ओर लेजाया गया प्रश्न-आकार के समान है। आप को यह पता लगाना है कि पाँच आकृतियों में से कौन सी बाईं ओर दी गई आकृति के समान है।

- (a) A
- (b) B
- (c) C
- (d) D
- (e) E

Ans. (d)

Q214.



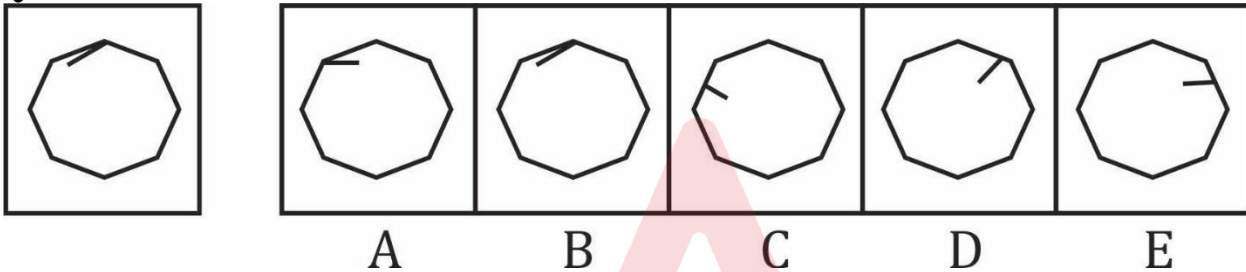
Question (1-96): This is a test of your ability to match figures quickly and accurately. In each question given below, there are five answer figures on the right side, where A, B, C, D, E are written below. One of them moved to the left is similar to a question-shape. You are required to find out which of the five figures is identical to the figure given on the left.

यह आकृतियों का त्वरित और सटीक मिलान करने की आपकी क्षमता का परीक्षण है नीचे दिए गए प्रत्येक प्रश्न में दाईं ओर पाँच उत्तर आकृतियाँ हैं, जहाँ नीचे A, B, C, D, E लिखा है। उनमें से एक बाईं ओर लेजाया गया प्रश्न-आकार के समान है। आपको यह पता लगाना है कि पाँच आकृतियों में से कौन सी बाईं ओर दी गई आकृति के समान है।

- (a) A
- (b) B
- (c) C
- (d) D
- (e) E

Ans.(c)

Q215.



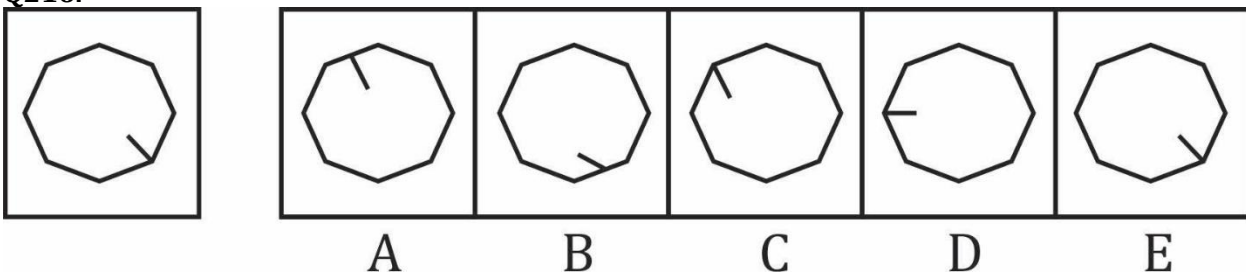
Question (1-96): This is a test of your ability to match figures quickly and accurately. In each question given below, there are five answer figures on the right side, where A, B, C, D, E are written below. One of them moved to the left is similar to a question-shape. You are required to find out which of the five figures is identical to the figure given on the left.

यह आकृतियों का त्वरित और सटीक मिलान करने की आपकी क्षमता का परीक्षण है नीचे दिए गए प्रत्येक प्रश्न में दाईं ओर पाँच उत्तर आकृतियाँ हैं, जहाँ नीचे A, B, C, D, E लिखा है। उनमें से एक बाईं ओर लेजाया गया प्रश्न-आकार के समान है। आपको यह पता लगाना है कि पाँच आकृतियों में से कौन सी बाईं ओर दी गई आकृति के समान है।

- (a) A
- (b) B
- (c) C
- (d) D
- (e) E

Ans.(b)

Q216.



Question (1-96): This is a test of your ability to match figures quickly and accurately. In each question given below, there are five answer figures on the right side, where A, B, C, D, E are written below. One of them moved to the left is similar to a question-shape. You are required to find out which of the five figures is identical to the figure given on the left.

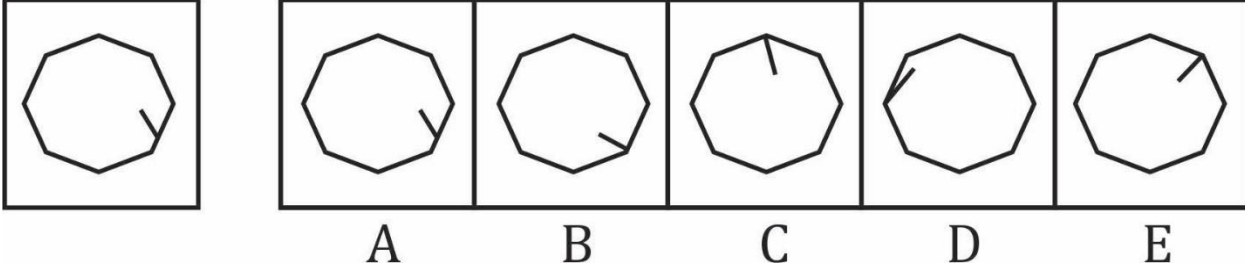
यह आकृतियों का त्वरित और सटीक मिलान करने की आपकी क्षमता का परीक्षण है नीचे दिए गए प्रत्येक प्रश्न में दाईं ओर पाँच उत्तर आकृतियाँ हैं, जहाँ नीचे A, B, C, D, E लिखा है। उनमें से एक बाईं ओर लेजाया गया प्रश्न-आकार के समान है। आपको यह पता लगाना है कि पाँच आकृतियों में से कौन सी बाईं ओर दी गई आकृति के समान है।

- (a) A

- (b) B
- (c) C
- (d) D
- (e) E

Ans.(e)

Q217.



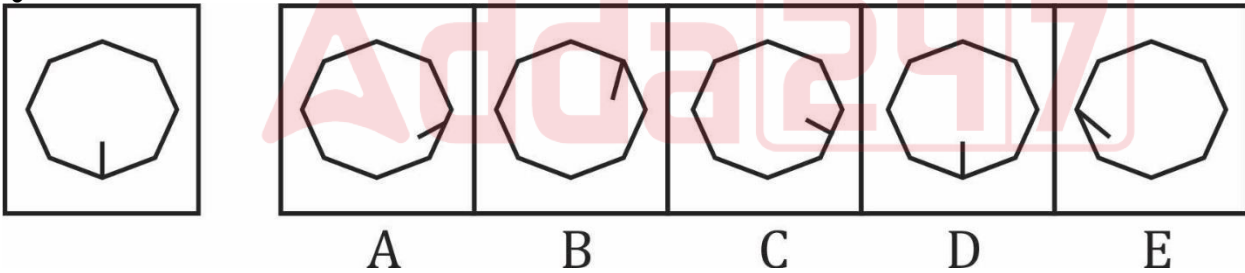
Question (1-96): This is a test of your ability to match figures quickly and accurately. In each question given below, there are five answer figures on the right side, where A, B, C, D, E are written below. One of them moved to the left is similar to a question-shape. You are required to find out which of the five figures is identical to the figure given on the left.

यह आकृतियों का त्वरित और सटीक मिलान करने की आपकी क्षमता का परीक्षण है नीचे दिए गए प्रत्येक प्रश्न में दाईं ओर पाँच उत्तर आकृतियाँ हैं, जहाँ नीचे A, B, C, D, E लिखा है। उनमें से एक बाईं ओर लेजाया गया प्रश्न-आकार के समान है। आपको यह पता लगाना है कि पाँच आकृतियों में से कौन सी बाईं ओर दी गई आकृति के समान है।

- (a) A
- (b) B
- (c) C
- (d) D
- (e) E

Ans.(a)

Q218.



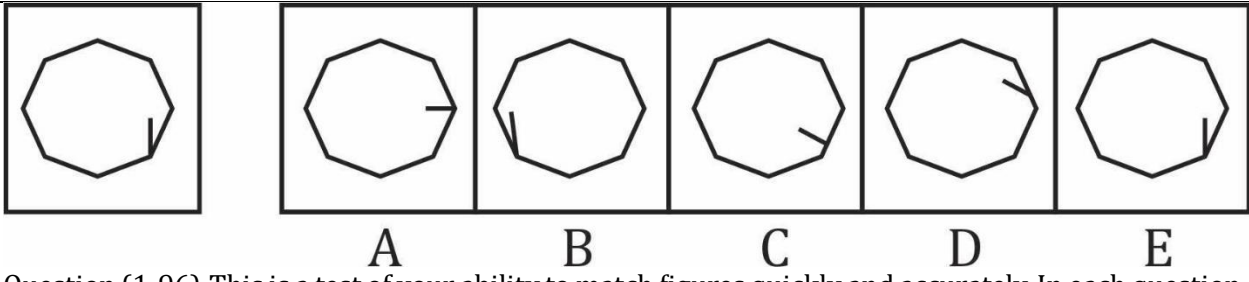
Question (1-96): This is a test of your ability to match figures quickly and accurately. In each question given below, there are five answer figures on the right side, where A, B, C, D, E are written below. One of them moved to the left is similar to a question-shape. You are required to find out which of the five figures is identical to the figure given on the left.

यह आकृतियों का त्वरित और सटीक मिलान करने की आपकी क्षमता का परीक्षण है नीचे दिए गए प्रत्येक प्रश्न में दाईं ओर पाँच उत्तर आकृतियाँ हैं, जहाँ नीचे A, B, C, D, E लिखा है। उनमें से एक बाईं ओर लेजाया गया प्रश्न-आकार के समान है। आपको यह पता लगाना है कि पाँच आकृतियों में से कौन सी बाईं ओर दी गई आकृति के समान है।

- (a) A
- (b) B
- (c) C
- (d) D
- (e) E

Ans.(d)

Q219.



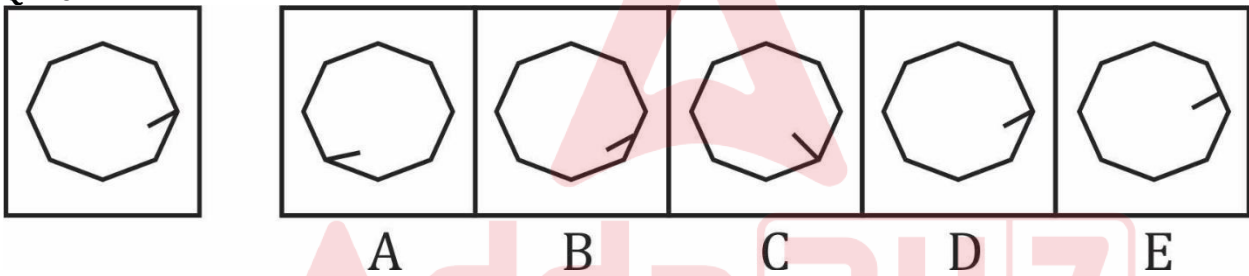
Question (1-96): This is a test of your ability to match figures quickly and accurately. In each question given below, there are five answer figures on the right side, where A, B, C, D, E are written below. One of them moved to the left is similar to a question-shape. You are required to find out which of the five figures is identical to the figure given on the left.

यह आकृतियों का त्वरित और सटीक मिलान करने की आपकी क्षमता का परीक्षण है नीचे दिए गए प्रत्येक प्रश्न में दाईं ओर पाँच उत्तर आकृतियाँ हैं, जहाँ नीचे A, B, C, D, E लिखा है। उनमें से एक बाईं ओर लेजाया गया प्रश्न-आकार के समान है। आप को यह पता लगाना है कि पाँच आकृतियों में से कौन सी बाईं ओर दी गई आकृति के समान है।

- (a) A
- (b) B
- (c) C
- (d) D
- (e) E

Ans. (e)

Q220.



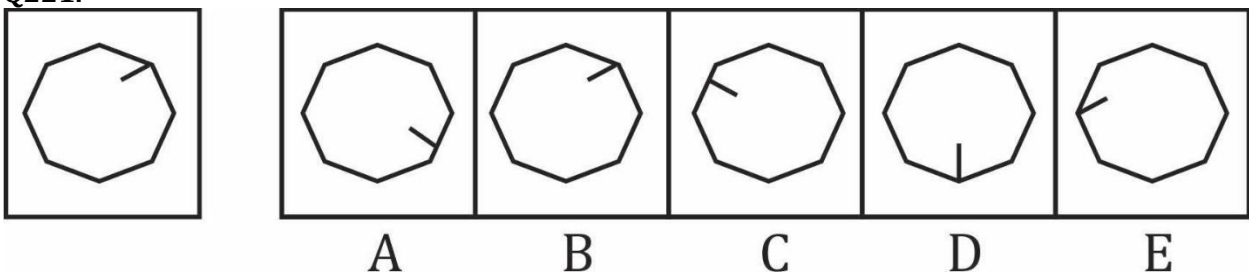
Question (1-96): This is a test of your ability to match figures quickly and accurately. In each question given below, there are five answer figures on the right side, where A, B, C, D, E are written below. One of them moved to the left is similar to a question-shape. You are required to find out which of the five figures is identical to the figure given on the left.

यह आकृतियों का त्वरित और सटीक मिलान करने की आपकी क्षमता का परीक्षण है नीचे दिए गए प्रत्येक प्रश्न में दाईं ओर पाँच उत्तर आकृतियाँ हैं, जहाँ नीचे A, B, C, D, E लिखा है। उनमें से एक बाईं ओर लेजाया गया प्रश्न-आकार के समान है। आप को यह पता लगाना है कि पाँच आकृतियों में से कौन सी बाईं ओर दी गई आकृति के समान है।

- (a) A
- (b) B
- (c) C
- (d) D
- (e) E

Ans. (d)

Q221.



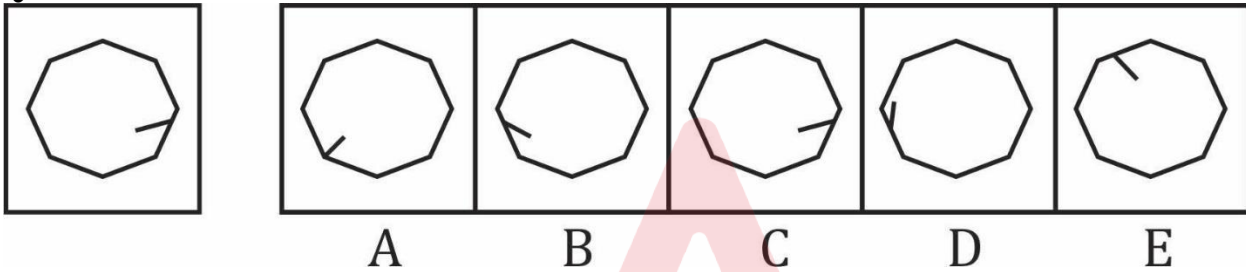
Question (1-96): This is a test of your ability to match figures quickly and accurately. In each question given below, there are five answer figures on the right side, where A, B, C, D, E are written below. One of them moved to the left is similar to a question-shape. You are required to find out which of the five figures is identical to the figure given on the left.

यह आकृतियों का त्वरित और सटीक मिलान करने की आपकी क्षमता का परीक्षण है नीचे दिए गए प्रत्येक प्रश्न में दाईं ओर पाँच उत्तर आकृतियाँ हैं, जहाँ नीचे A, B, C, D, E लिखा है। उनमें से एक बाईं ओर लेजाया गया प्रश्न-आकार के समान है। आपको यह पता लगाना है कि पाँच आकृतियों में से कौन सी बाईं ओर दी गई आकृति के समान है।

- (a) A
- (b) B
- (c) C
- (d) D
- (e) E

Ans.(b)

Q222.



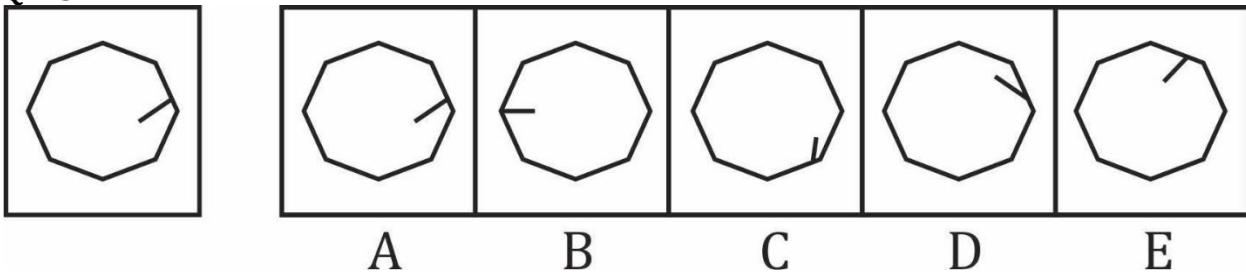
Question (1-96): This is a test of your ability to match figures quickly and accurately. In each question given below, there are five answer figures on the right side, where A, B, C, D, E are written below. One of them moved to the left is similar to a question-shape. You are required to find out which of the five figures is identical to the figure given on the left.

यह आकृतियों का त्वरित और सटीक मिलान करने की आपकी क्षमता का परीक्षण है नीचे दिए गए प्रत्येक प्रश्न में दाईं ओर पाँच उत्तर आकृतियाँ हैं, जहाँ नीचे A, B, C, D, E लिखा है। उनमें से एक बाईं ओर लेजाया गया प्रश्न-आकार के समान है। आपको यह पता लगाना है कि पाँच आकृतियों में से कौन सी बाईं ओर दी गई आकृति के समान है।

- (a) A
- (b) B
- (c) C
- (d) D
- (e) E

Ans.(c)

Q223.



Question (1-96): This is a test of your ability to match figures quickly and accurately. In each question given below, there are five answer figures on the right side, where A, B, C, D, E are written below. One of them moved to the left is similar to a question-shape. You are required to find out which of the five figures is identical to the figure given on the left.

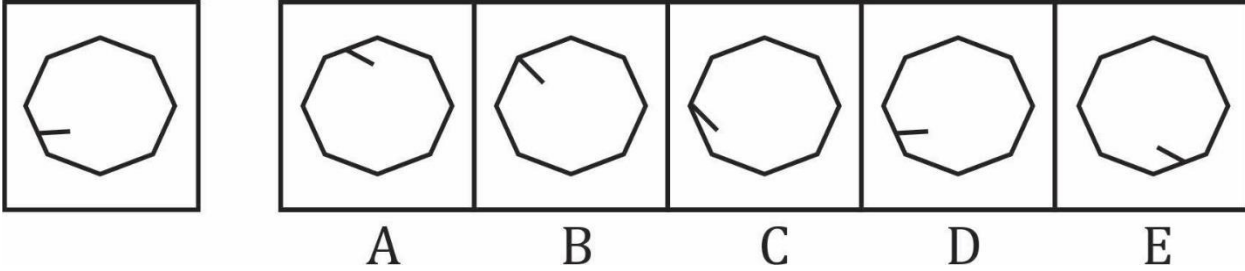
यह आकृतियों का त्वरित और सटीक मिलान करने की आपकी क्षमता का परीक्षण है नीचे दिए गए प्रत्येक प्रश्न में दाईं ओर पाँच उत्तर आकृतियाँ हैं, जहाँ नीचे A, B, C, D, E लिखा है। उनमें से एक बाईं ओर लेजाया गया प्रश्न-आकार के समान है। आपको यह पता लगाना है कि पाँच आकृतियों में से कौन सी बाईं ओर दी गई आकृति के समान है।

- (a) A

- (b) B
- (c) C
- (d) D
- (e) E

Ans.(a)

Q224.



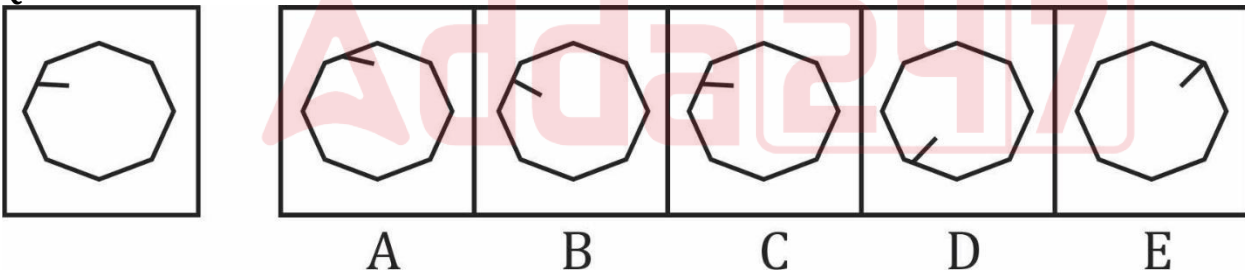
Question (1-96): This is a test of your ability to match figures quickly and accurately. In each question given below, there are five answer figures on the right side, where A, B, C, D, E are written below. One of them moved to the left is similar to a question-shape. You are required to find out which of the five figures is identical to the figure given on the left.

यह आकृतियों का त्वरित और सटीक मिलान करने की आपकी क्षमता का परीक्षण है नीचे दिए गए प्रत्येक प्रश्न में दाईं ओर पाँच उत्तर आकृतियाँ हैं, जहाँ नीचे A, B, C, D, E लिखा है। उनमें से एक बाईं ओर लेजाया गया प्रश्न-आकार के समान है। आपको यह पता लगाना है कि पाँच आकृतियों में से कौन सी बाईं ओर दी गई आकृति के समान है।

- (a) A
- (b) B
- (c) C
- (d) D
- (e) E

Ans.(d)

Q225.



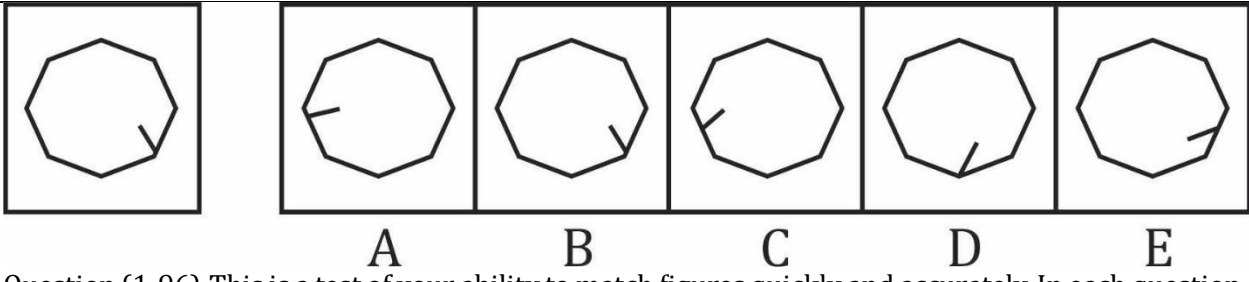
Question (1-96): This is a test of your ability to match figures quickly and accurately. In each question given below, there are five answer figures on the right side, where A, B, C, D, E are written below. One of them moved to the left is similar to a question-shape. You are required to find out which of the five figures is identical to the figure given on the left.

यह आकृतियों का त्वरित और सटीक मिलान करने की आपकी क्षमता का परीक्षण है नीचे दिए गए प्रत्येक प्रश्न में दाईं ओर पाँच उत्तर आकृतियाँ हैं, जहाँ नीचे A, B, C, D, E लिखा है। उनमें से एक बाईं ओर लेजाया गया प्रश्न-आकार के समान है। आपको यह पता लगाना है कि पाँच आकृतियों में से कौन सी बाईं ओर दी गई आकृति के समान है।

- (a) A
- (b) B
- (c) C
- (d) D
- (e) E

Ans.(c)

Q226.



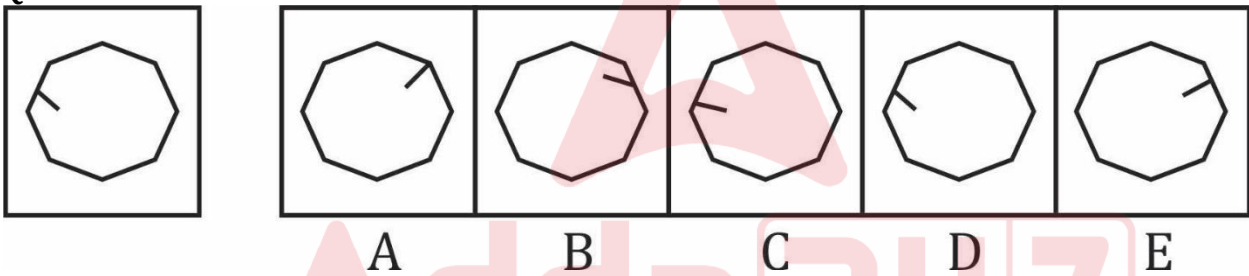
Question (1-96): This is a test of your ability to match figures quickly and accurately. In each question given below, there are five answer figures on the right side, where A, B, C, D, E are written below. One of them moved to the left is similar to a question-shape. You are required to find out which of the five figures is identical to the figure given on the left.

यह आकृतियों का त्वरित और सटीक मिलान करने की आपकी क्षमता का परीक्षण है नीचे दिए गए प्रत्येक प्रश्न में दाईं ओर पाँच उत्तर आकृतियाँ हैं, जहाँ नीचे A, B, C, D, E लिखा है। उनमें से एक बाईं ओर लेजाया गया प्रश्न-आकार के समान है। आप को यह पता लगाना है कि पाँच आकृतियों में से कौन सी बाईं ओर दी गई आकृति के समान है।

- (a) A
- (b) B
- (c) C
- (d) D
- (e) E

Ans. (b)

Q227.



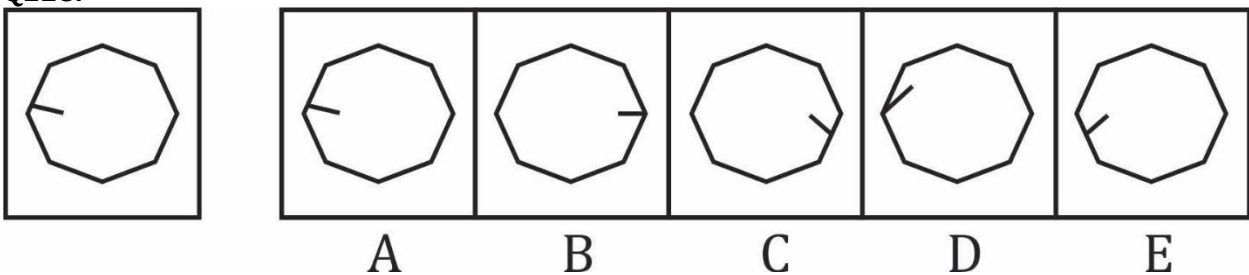
Question (1-96): This is a test of your ability to match figures quickly and accurately. In each question given below, there are five answer figures on the right side, where A, B, C, D, E are written below. One of them moved to the left is similar to a question-shape. You are required to find out which of the five figures is identical to the figure given on the left.

यह आकृतियों का त्वरित और सटीक मिलान करने की आपकी क्षमता का परीक्षण है नीचे दिए गए प्रत्येक प्रश्न में दाईं ओर पाँच उत्तर आकृतियाँ हैं, जहाँ नीचे A, B, C, D, E लिखा है। उनमें से एक बाईं ओर लेजाया गया प्रश्न-आकार के समान है। आप को यह पता लगाना है कि पाँच आकृतियों में से कौन सी बाईं ओर दी गई आकृति के समान है।

- (a) A
- (b) B
- (c) C
- (d) D
- (e) E

Ans. (d)

Q228.



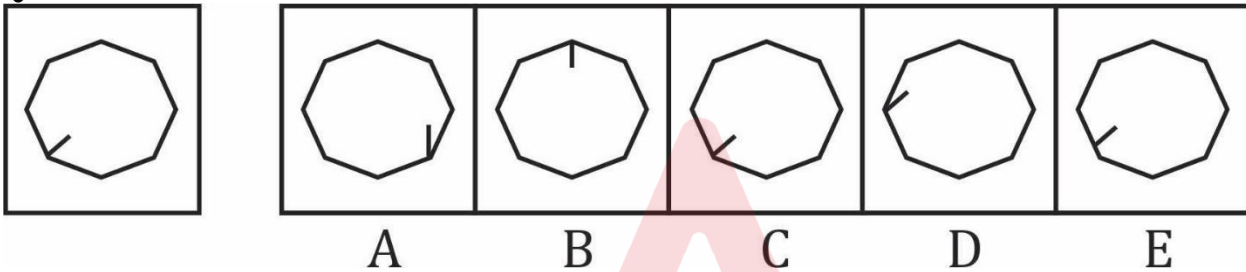
Question (1-96): This is a test of your ability to match figures quickly and accurately. In each question given below, there are five answer figures on the right side, where A, B, C, D, E are written below. One of them moved to the left is similar to a question-shape. You are required to find out which of the five figures is identical to the figure given on the left.

यह आकृतियों का त्वरित और सटीक मिलान करने की आपकी क्षमता का परीक्षण है नीचे दिए गए प्रत्येक प्रश्न में दाईं ओर पाँच उत्तर आकृतियाँ हैं, जहाँ नीचे A, B, C, D, E लिखा है। उनमें से एक बाईं ओर लेजाया गया प्रश्न-आकार के समान है। आपको यह पता लगाना है कि पाँच आकृतियों में से कौन सी बाईं ओर दी गई आकृति के समान है।

- (a) A
- (b) B
- (c) C
- (d) D
- (e) E

Ans.(a)

Q229.



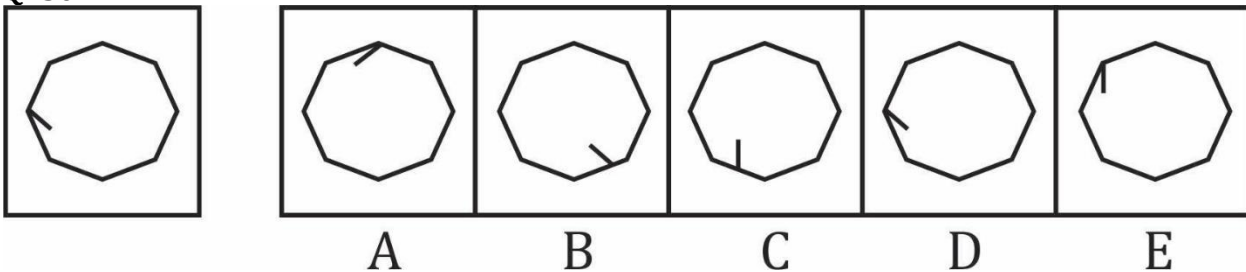
Question (1-96): This is a test of your ability to match figures quickly and accurately. In each question given below, there are five answer figures on the right side, where A, B, C, D, E are written below. One of them moved to the left is similar to a question-shape. You are required to find out which of the five figures is identical to the figure given on the left.

यह आकृतियों का त्वरित और सटीक मिलान करने की आपकी क्षमता का परीक्षण है नीचे दिए गए प्रत्येक प्रश्न में दाईं ओर पाँच उत्तर आकृतियाँ हैं, जहाँ नीचे A, B, C, D, E लिखा है। उनमें से एक बाईं ओर लेजाया गया प्रश्न-आकार के समान है। आपको यह पता लगाना है कि पाँच आकृतियों में से कौन सी बाईं ओर दी गई आकृति के समान है।

- (a) A
- (b) B
- (c) C
- (d) D
- (e) E

Ans.(c)

Q230.



Question (1-96): This is a test of your ability to match figures quickly and accurately. In each question given below, there are five answer figures on the right side, where A, B, C, D, E are written below. One of them moved to the left is similar to a question-shape. You are required to find out which of the five figures is identical to the figure given on the left.

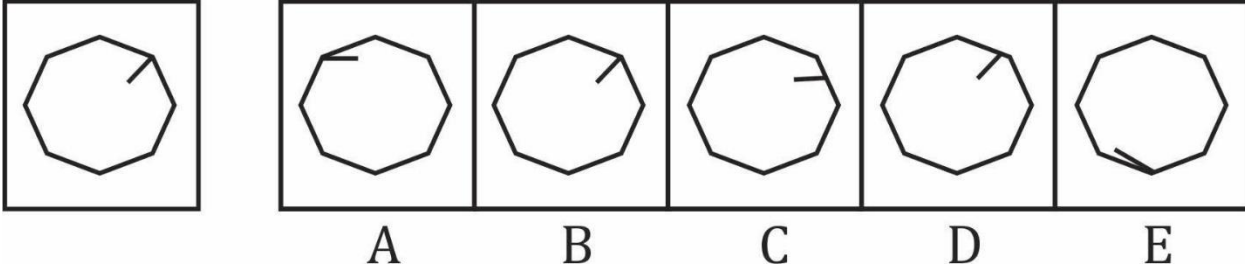
यह आकृतियों का त्वरित और सटीक मिलान करने की आपकी क्षमता का परीक्षण है नीचे दिए गए प्रत्येक प्रश्न में दाईं ओर पाँच उत्तर आकृतियाँ हैं, जहाँ नीचे A, B, C, D, E लिखा है। उनमें से एक बाईं ओर लेजाया गया प्रश्न-आकार के समान है। आपको यह पता लगाना है कि पाँच आकृतियों में से कौन सी बाईं ओर दी गई आकृति के समान है।

- (a) A

- (b) B
- (c) C
- (d) D
- (e) E

Ans.(d)

Q231.



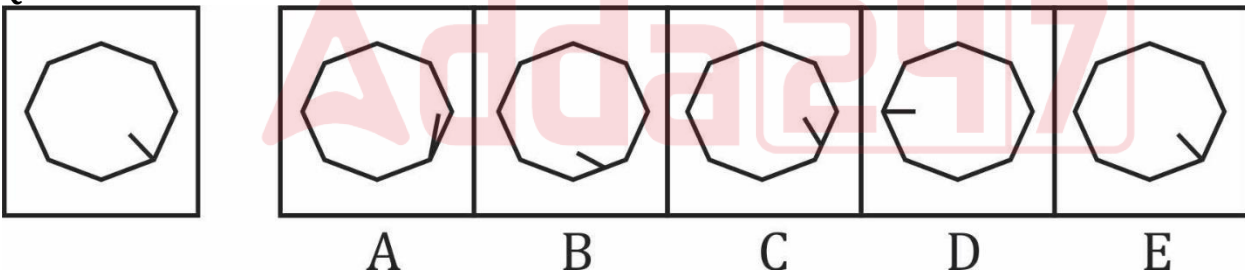
Question (1-96): This is a test of your ability to match figures quickly and accurately. In each question given below, there are five answer figures on the right side, where A, B, C, D, E are written below. One of them moved to the left is similar to a question-shape. You are required to find out which of the five figures is identical to the figure given on the left.

यह आकृतियों का त्वरित और सटीक मिलान करने की आपकी क्षमता का परीक्षण है नीचे दिए गए प्रत्येक प्रश्न में दाईं ओर पाँच उत्तर आकृतियाँ हैं, जहाँ नीचे A, B, C, D, E लिखा है। उनमें से एक बाईं ओर लेजाया गया प्रश्न-आकार के समान है। आपको यह पता लगाना है कि पाँच आकृतियों में से कौन सी बाईं ओर दी गई आकृति के समान है।

- (a) A
- (b) B
- (c) C
- (d) D
- (e) E

Ans.(b)

Q232.



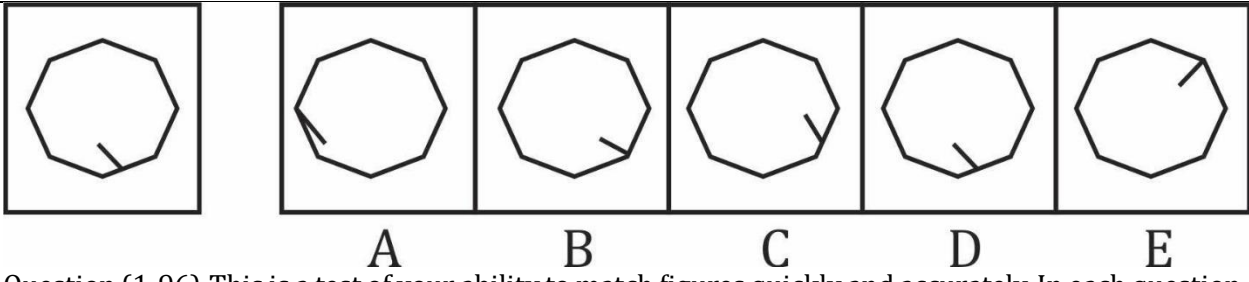
Question (1-96): This is a test of your ability to match figures quickly and accurately. In each question given below, there are five answer figures on the right side, where A, B, C, D, E are written below. One of them moved to the left is similar to a question-shape. You are required to find out which of the five figures is identical to the figure given on the left.

यह आकृतियों का त्वरित और सटीक मिलान करने की आपकी क्षमता का परीक्षण है नीचे दिए गए प्रत्येक प्रश्न में दाईं ओर पाँच उत्तर आकृतियाँ हैं, जहाँ नीचे A, B, C, D, E लिखा है। उनमें से एक बाईं ओर लेजाया गया प्रश्न-आकार के समान है। आपको यह पता लगाना है कि पाँच आकृतियों में से कौन सी बाईं ओर दी गई आकृति के समान है।

- (a) A
- (b) B
- (c) C
- (d) D
- (e) E

Ans.(e)

Q233.



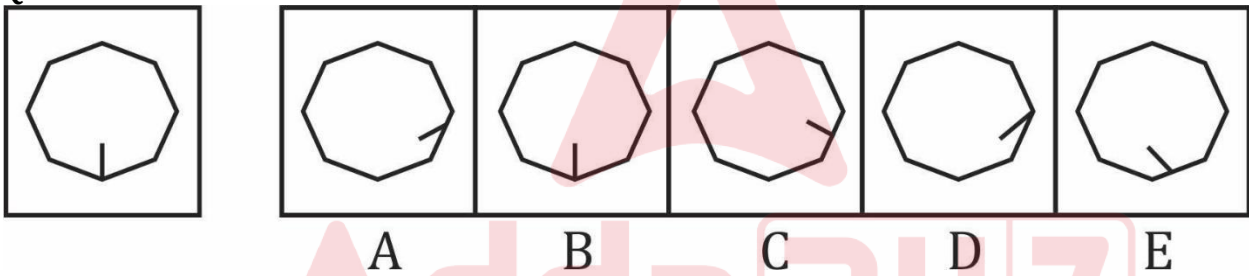
Question (1-96): This is a test of your ability to match figures quickly and accurately. In each question given below, there are five answer figures on the right side, where A, B, C, D, E are written below. One of them moved to the left is similar to a question-shape. You are required to find out which of the five figures is identical to the figure given on the left.

यह आकृतियों का त्वरित और सटीक मिलान करने की आपकी क्षमता का परीक्षण है नीचे दिए गए प्रत्येक प्रश्न में दाईं ओर पाँच उत्तर आकृतियाँ हैं, जहाँ नीचे A, B, C, D, E लिखा है। उनमें से एक बाईं ओर लेजाया गया प्रश्न-आकार के समान है। आपको यह पता लगाना है कि पाँच आकृतियों में से कौन सी बाईं ओर दी गई आकृति के समान है।

- (a) A
- (b) B
- (c) C
- (d) D
- (e) E

Ans. (d)

Q234.



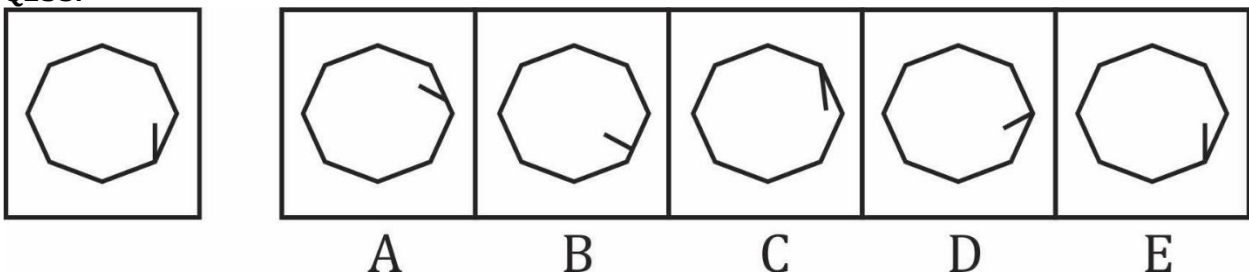
Question (1-96): This is a test of your ability to match figures quickly and accurately. In each question given below, there are five answer figures on the right side, where A, B, C, D, E are written below. One of them moved to the left is similar to a question-shape. You are required to find out which of the five figures is identical to the figure given on the left.

यह आकृतियों का त्वरित और सटीक मिलान करने की आपकी क्षमता का परीक्षण है नीचे दिए गए प्रत्येक प्रश्न में दाईं ओर पाँच उत्तर आकृतियाँ हैं, जहाँ नीचे A, B, C, D, E लिखा है। उनमें से एक बाईं ओर लेजाया गया प्रश्न-आकार के समान है। आपको यह पता लगाना है कि पाँच आकृतियों में से कौन सी बाईं ओर दी गई आकृति के समान है।

- (a) A
- (b) B
- (c) C
- (d) D
- (e) E

Ans. (b)

Q235.



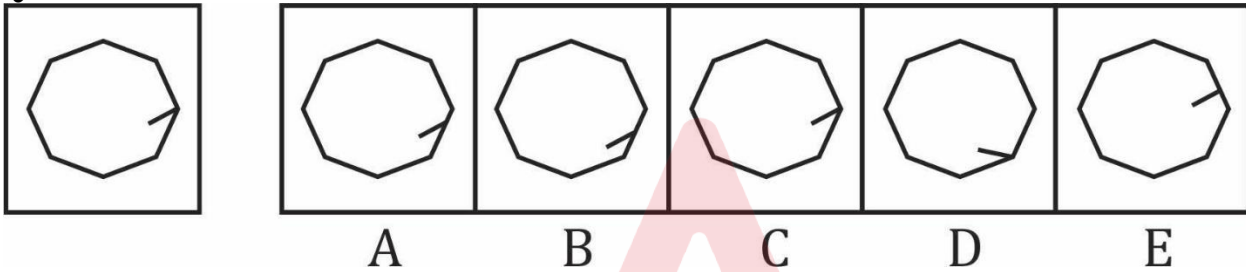
Question (1-96): This is a test of your ability to match figures quickly and accurately. In each question given below, there are five answer figures on the right side, where A, B, C, D, E are written below. One of them moved to the left is similar to a question-shape. You are required to find out which of the five figures is identical to the figure given on the left.

यह आकृतियों का त्वरित और सटीक मिलान करने की आपकी क्षमता का परीक्षण है नीचे दिए गए प्रत्येक प्रश्न में दाईं ओर पाँच उत्तर आकृतियाँ हैं, जहाँ नीचे A, B, C, D, E लिखा है। उनमें से एक बाईं ओर लेजाया गया प्रश्न-आकार के समान है। आपको यह पता लगाना है कि पाँच आकृतियों में से कौन सी बाईं ओर दी गई आकृति के समान है।

- (a) A
- (b) B
- (c) C
- (d) D
- (e) E

Ans.(e)

Q236.



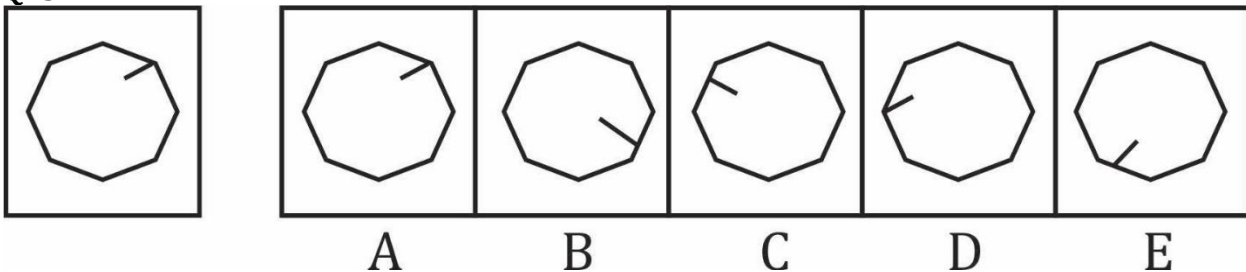
Question (1-96): This is a test of your ability to match figures quickly and accurately. In each question given below, there are five answer figures on the right side, where A, B, C, D, E are written below. One of them moved to the left is similar to a question-shape. You are required to find out which of the five figures is identical to the figure given on the left.

यह आकृतियों का त्वरित और सटीक मिलान करने की आपकी क्षमता का परीक्षण है नीचे दिए गए प्रत्येक प्रश्न में दाईं ओर पाँच उत्तर आकृतियाँ हैं, जहाँ नीचे A, B, C, D, E लिखा है। उनमें से एक बाईं ओर लेजाया गया प्रश्न-आकार के समान है। आपको यह पता लगाना है कि पाँच आकृतियों में से कौन सी बाईं ओर दी गई आकृति के समान है।

- (a) A
- (b) B
- (c) C
- (d) D
- (e) E

Ans.(c)

Q237.



Question (1-96): This is a test of your ability to match figures quickly and accurately. In each question given below, there are five answer figures on the right side, where A, B, C, D, E are written below. One of them moved to the left is similar to a question-shape. You are required to find out which of the five figures is identical to the figure given on the left.

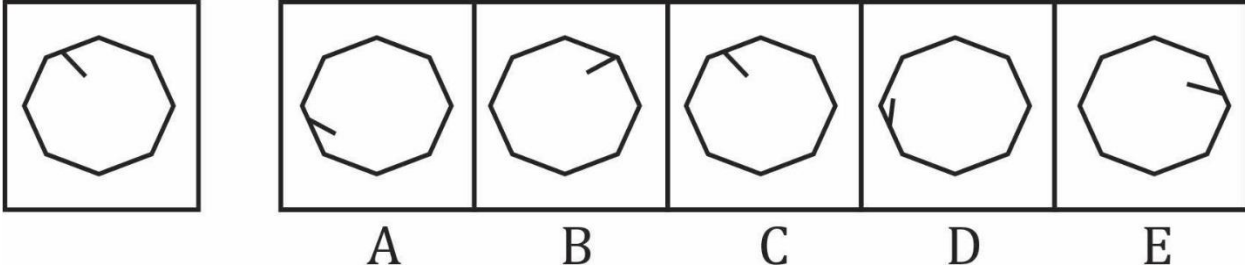
यह आकृतियों का त्वरित और सटीक मिलान करने की आपकी क्षमता का परीक्षण है नीचे दिए गए प्रत्येक प्रश्न में दाईं ओर पाँच उत्तर आकृतियाँ हैं, जहाँ नीचे A, B, C, D, E लिखा है। उनमें से एक बाईं ओर लेजाया गया प्रश्न-आकार के समान है। आपको यह पता लगाना है कि पाँच आकृतियों में से कौन सी बाईं ओर दी गई आकृति के समान है।

- (a) A

- (b) B
- (c) C
- (d) D
- (e) E

Ans.(a)

Q238.



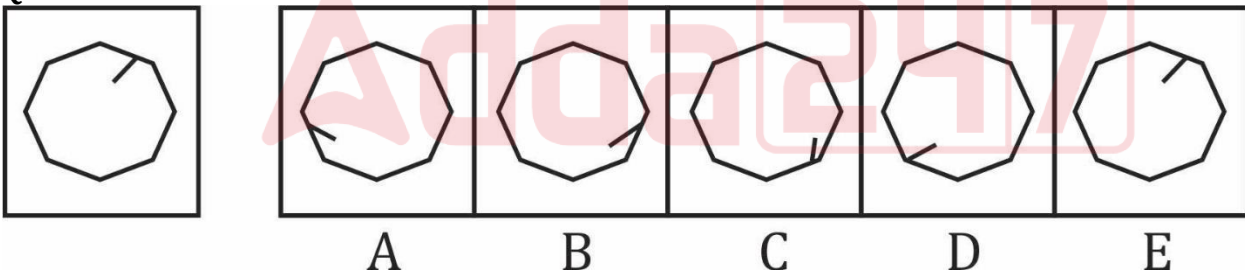
Question (1-96): This is a test of your ability to match figures quickly and accurately. In each question given below, there are five answer figures on the right side, where A, B, C, D, E are written below. One of them moved to the left is similar to a question-shape. You are required to find out which of the five figures is identical to the figure given on the left.

यह आकृतियों का त्वरित और सटीक मिलान करने की आपकी क्षमता का परीक्षण है नीचे दिए गए प्रत्येक प्रश्न में दाईं ओर पाँच उत्तर आकृतियाँ हैं, जहाँ नीचे A, B, C, D, E लिखा है। उनमें से एक बाईं ओर लेजाया गया प्रश्न-आकार के समान है। आपको यह पता लगाना है कि पाँच आकृतियों में से कौन सी बाईं ओर दी गई आकृति के समान है।

- (a) A
- (b) B
- (c) C
- (d) D
- (e) E

Ans.(c)

Q239.



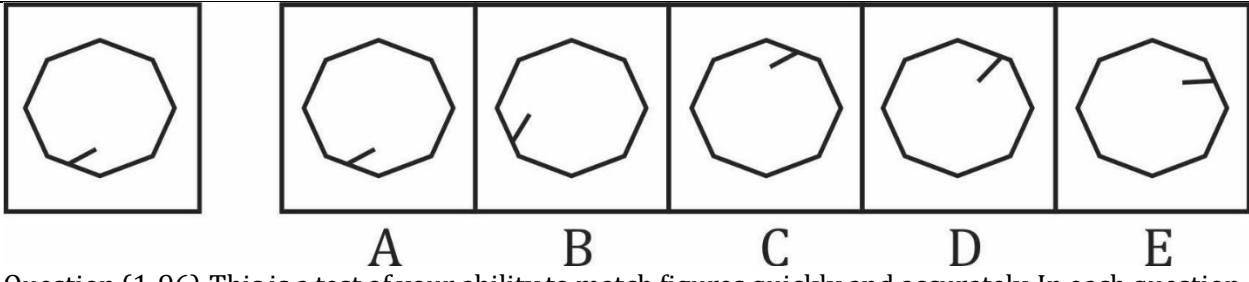
Question (1-96): This is a test of your ability to match figures quickly and accurately. In each question given below, there are five answer figures on the right side, where A, B, C, D, E are written below. One of them moved to the left is similar to a question-shape. You are required to find out which of the five figures is identical to the figure given on the left.

यह आकृतियों का त्वरित और सटीक मिलान करने की आपकी क्षमता का परीक्षण है नीचे दिए गए प्रत्येक प्रश्न में दाईं ओर पाँच उत्तर आकृतियाँ हैं, जहाँ नीचे A, B, C, D, E लिखा है। उनमें से एक बाईं ओर लेजाया गया प्रश्न-आकार के समान है। आपको यह पता लगाना है कि पाँच आकृतियों में से कौन सी बाईं ओर दी गई आकृति के समान है।

- (a) A
- (b) B
- (c) C
- (d) D
- (e) E

Ans.(e)

Q240.



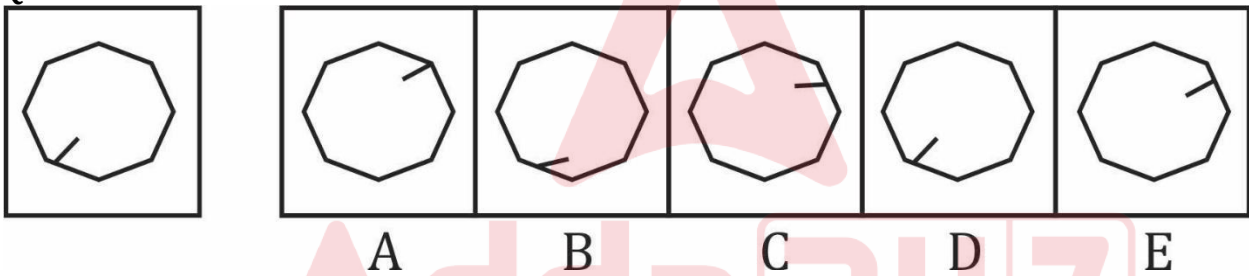
Question (1-96): This is a test of your ability to match figures quickly and accurately. In each question given below, there are five answer figures on the right side, where A, B, C, D, E are written below. One of them moved to the left is similar to a question-shape. You are required to find out which of the five figures is identical to the figure given on the left.

यह आकृतियों का त्वरित और सटीक मिलान करने की आपकी क्षमता का परीक्षण है नीचे दिए गए प्रत्येक प्रश्न में दाईं ओर पाँच उत्तर आकृतियाँ हैं, जहाँ नीचे A, B, C, D, E लिखा है। उनमें से एक बाईं ओर लेजाया गया प्रश्न-आकार के समान है। आपको यह पता लगाना है कि पाँच आकृतियों में से कौन सी बाईं ओर दी गई आकृति के समान है।

- (a) A
- (b) B
- (c) C
- (d) D
- (e) E

Ans. (a)

Q241.



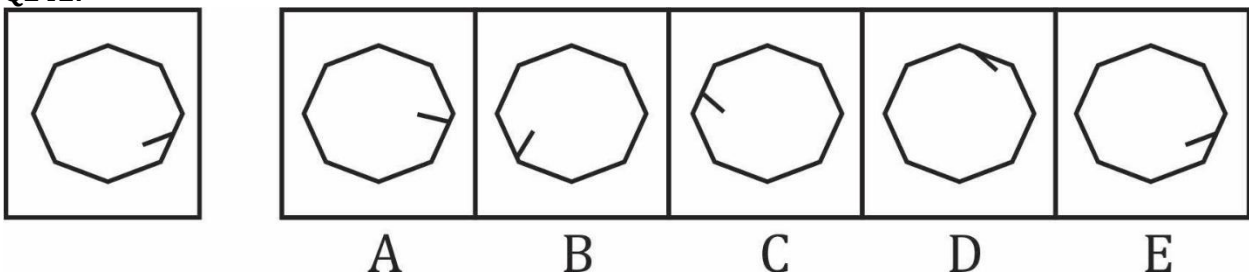
Question (1-96): This is a test of your ability to match figures quickly and accurately. In each question given below, there are five answer figures on the right side, where A, B, C, D, E are written below. One of them moved to the left is similar to a question-shape. You are required to find out which of the five figures is identical to the figure given on the left.

यह आकृतियों का त्वरित और सटीक मिलान करने की आपकी क्षमता का परीक्षण है नीचे दिए गए प्रत्येक प्रश्न में दाईं ओर पाँच उत्तर आकृतियाँ हैं, जहाँ नीचे A, B, C, D, E लिखा है। उनमें से एक बाईं ओर लेजाया गया प्रश्न-आकार के समान है। आपको यह पता लगाना है कि पाँच आकृतियों में से कौन सी बाईं ओर दी गई आकृति के समान है।

- (a) A
- (b) B
- (c) C
- (d) D
- (e) E

Ans. (d)

Q242.



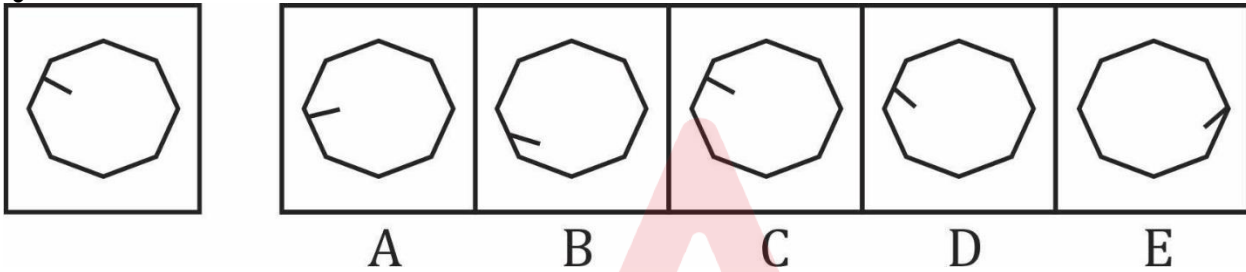
Question (1-96): This is a test of your ability to match figures quickly and accurately. In each question given below, there are five answer figures on the right side, where A, B, C, D, E are written below. One of them moved to the left is similar to a question-shape. You are required to find out which of the five figures is identical to the figure given on the left.

यह आकृतियों का त्वरित और सटीक मिलान करने की आपकी क्षमता का परीक्षण है नीचे दिए गए प्रत्येक प्रश्न में दाईं ओर पाँच उत्तर आकृतियाँ हैं, जहाँ नीचे A, B, C, D, E लिखा है। उनमें से एक बाईं ओर लेजाया गया प्रश्न-आकार के समान है। आपको यह पता लगाना है कि पाँच आकृतियों में से कौन सी बाईं ओर दी गई आकृति के समान है।

- (a) A
- (b) B
- (c) C
- (d) D
- (e) E

Ans.(e)

Q243.



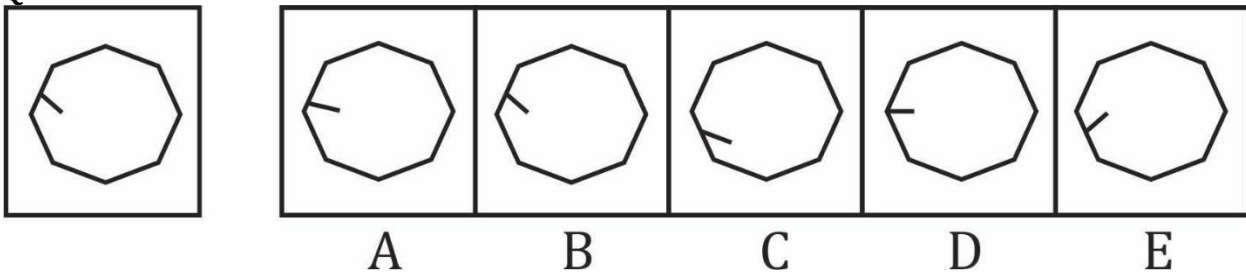
Question (1-96): This is a test of your ability to match figures quickly and accurately. In each question given below, there are five answer figures on the right side, where A, B, C, D, E are written below. One of them moved to the left is similar to a question-shape. You are required to find out which of the five figures is identical to the figure given on the left.

यह आकृतियों का त्वरित और सटीक मिलान करने की आपकी क्षमता का परीक्षण है नीचे दिए गए प्रत्येक प्रश्न में दाईं ओर पाँच उत्तर आकृतियाँ हैं, जहाँ नीचे A, B, C, D, E लिखा है। उनमें से एक बाईं ओर लेजाया गया प्रश्न-आकार के समान है। आपको यह पता लगाना है कि पाँच आकृतियों में से कौन सी बाईं ओर दी गई आकृति के समान है।

- (a) A
- (b) B
- (c) C
- (d) D
- (e) E

Ans.(c)

Q244.



Question (1-96): This is a test of your ability to match figures quickly and accurately. In each question given below, there are five answer figures on the right side, where A, B, C, D, E are written below. One of them moved to the left is similar to a question-shape. You are required to find out which of the five figures is identical to the figure given on the left.

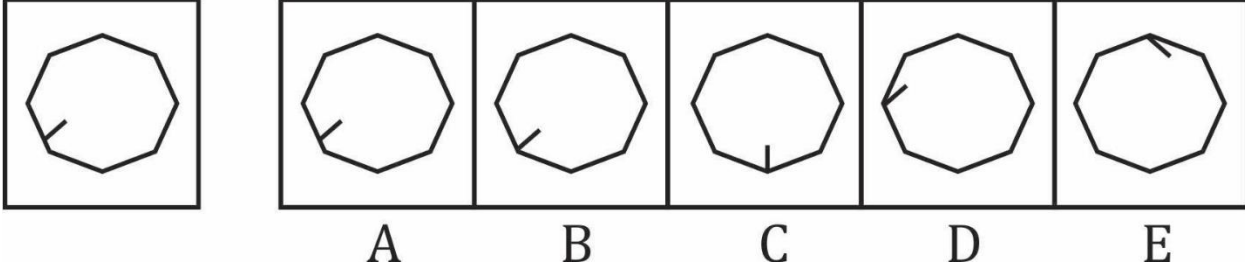
यह आकृतियों का त्वरित और सटीक मिलान करने की आपकी क्षमता का परीक्षण है नीचे दिए गए प्रत्येक प्रश्न में दाईं ओर पाँच उत्तर आकृतियाँ हैं, जहाँ नीचे A, B, C, D, E लिखा है। उनमें से एक बाईं ओर लेजाया गया प्रश्न-आकार के समान है। आपको यह पता लगाना है कि पाँच आकृतियों में से कौन सी बाईं ओर दी गई आकृति के समान है।

- (a) A

- (b) B
- (c) C
- (d) D
- (e) E

Ans.(b)

Q245.



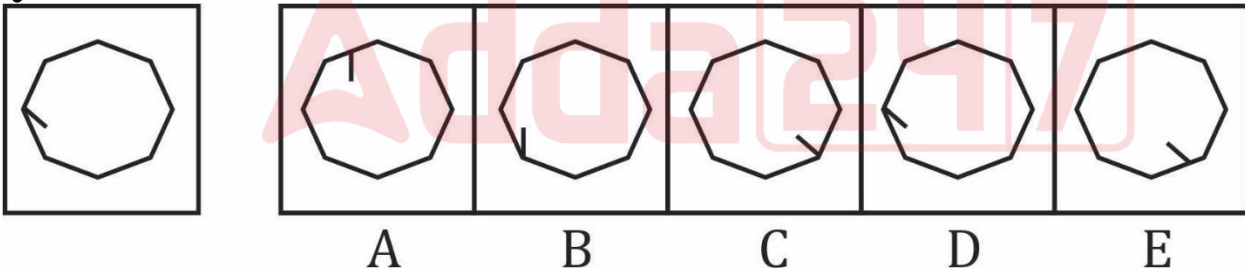
Question (1-96): This is a test of your ability to match figures quickly and accurately. In each question given below, there are five answer figures on the right side, where A, B, C, D, E are written below. One of them moved to the left is similar to a question-shape. You are required to find out which of the five figures is identical to the figure given on the left.

यह आकृतियों का त्वरित और सटीक मिलान करने की आपकी क्षमता का परीक्षण है नीचे दिए गए प्रत्येक प्रश्न में दाईं ओर पाँच उत्तर आकृतियाँ हैं, जहाँ नीचे A, B, C, D, E लिखा है। उनमें से एक बाईं ओर लेजाया गया प्रश्न-आकार के समान है। आपको यह पता लगाना है कि पाँच आकृतियों में से कौन सी बाईं ओर दी गई आकृति के समान है।

- (a) A
- (b) B
- (c) C
- (d) D
- (e) E

Ans.(a)

Q246.



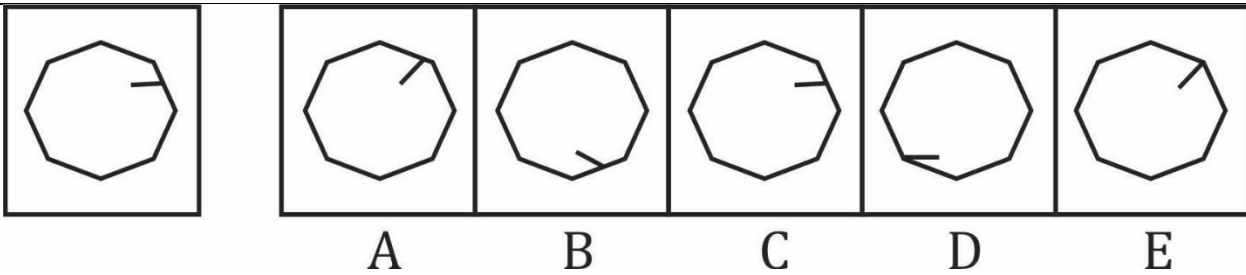
Question (1-96): This is a test of your ability to match figures quickly and accurately. In each question given below, there are five answer figures on the right side, where A, B, C, D, E are written below. One of them moved to the left is similar to a question-shape. You are required to find out which of the five figures is identical to the figure given on the left.

यह आकृतियों का त्वरित और सटीक मिलान करने की आपकी क्षमता का परीक्षण है नीचे दिए गए प्रत्येक प्रश्न में दाईं ओर पाँच उत्तर आकृतियाँ हैं, जहाँ नीचे A, B, C, D, E लिखा है। उनमें से एक बाईं ओर लेजाया गया प्रश्न-आकार के समान है। आपको यह पता लगाना है कि पाँच आकृतियों में से कौन सी बाईं ओर दी गई आकृति के समान है।

- (a) A
- (b) B
- (c) C
- (d) D
- (e) E

Ans.(d)

Q247.



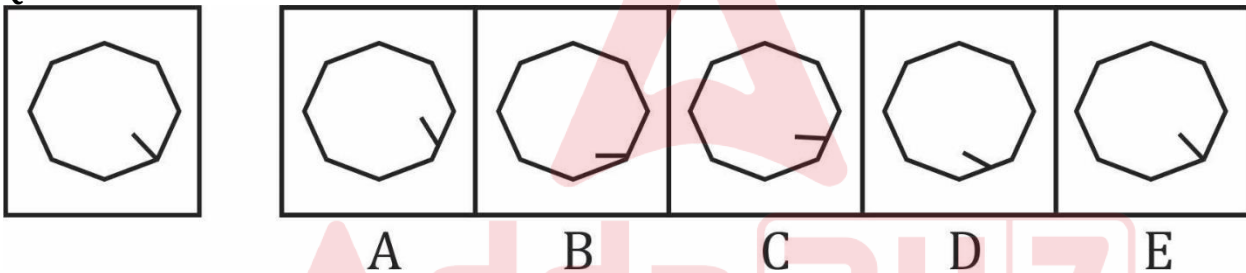
Question (1-96): This is a test of your ability to match figures quickly and accurately. In each question given below, there are five answer figures on the right side, where A, B, C, D, E are written below. One of them moved to the left is similar to a question-shape. You are required to find out which of the five figures is identical to the figure given on the left.

यह आकृतियों का त्वरित और सटीक मिलान करने की आपकी क्षमता का परीक्षण है नीचे दिए गए प्रत्येक प्रश्न में दाईं ओर पाँच उत्तर आकृतियाँ हैं, जहाँ नीचे A, B, C, D, E लिखा है। उनमें से एक बाईं ओर लेजाया गया प्रश्न-आकार के समान है। आप को यह पता लगाना है कि पाँच आकृतियों में से कौन सी बाईं ओर दी गई आकृति के समान है।

- (a) A
- (b) B
- (c) C
- (d) D
- (e) E

Ans. (c)

Q248.



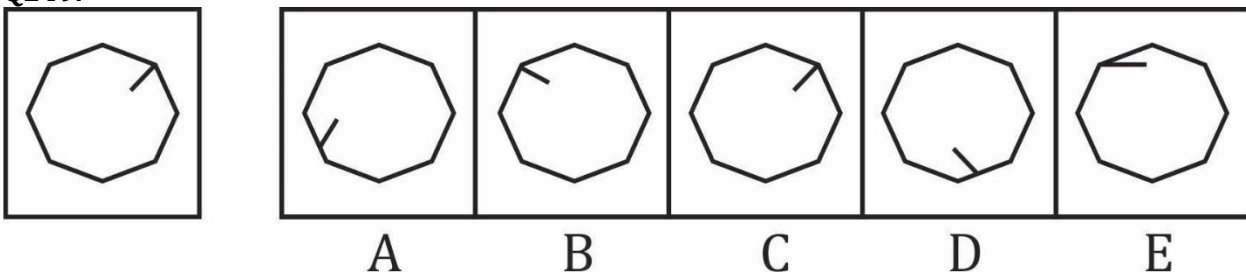
Question (1-96): This is a test of your ability to match figures quickly and accurately. In each question given below, there are five answer figures on the right side, where A, B, C, D, E are written below. One of them moved to the left is similar to a question-shape. You are required to find out which of the five figures is identical to the figure given on the left.

यह आकृतियों का त्वरित और सटीक मिलान करने की आपकी क्षमता का परीक्षण है नीचे दिए गए प्रत्येक प्रश्न में दाईं ओर पाँच उत्तर आकृतियाँ हैं, जहाँ नीचे A, B, C, D, E लिखा है। उनमें से एक बाईं ओर लेजाया गया प्रश्न-आकार के समान है। आप को यह पता लगाना है कि पाँच आकृतियों में से कौन सी बाईं ओर दी गई आकृति के समान है।

- (a) A
- (b) B
- (c) C
- (d) D
- (e) E

Ans. (e)

Q249.



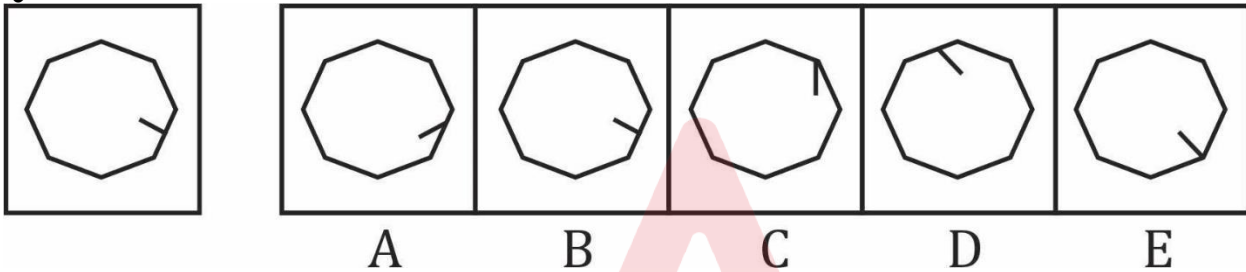
Question (1-96): This is a test of your ability to match figures quickly and accurately. In each question given below, there are five answer figures on the right side, where A, B, C, D, E are written below. One of them moved to the left is similar to a question-shape. You are required to find out which of the five figures is identical to the figure given on the left.

यह आकृतियों का त्वरित और सटीक मिलान करने की आपकी क्षमता का परीक्षण है नीचे दिए गए प्रत्येक प्रश्न में दाईं ओर पाँच उत्तर आकृतियाँ हैं, जहाँ नीचे A, B, C, D, E लिखा है। उनमें से एक बाईं ओर लेजाया गया प्रश्न-आकार के समान है। आपको यह पता लगाना है कि पाँच आकृतियों में से कौन सी बाईं ओर दी गई आकृति के समान है।

- (a) A
- (b) B
- (c) C
- (d) D
- (e) E

Ans.(c)

Q250.



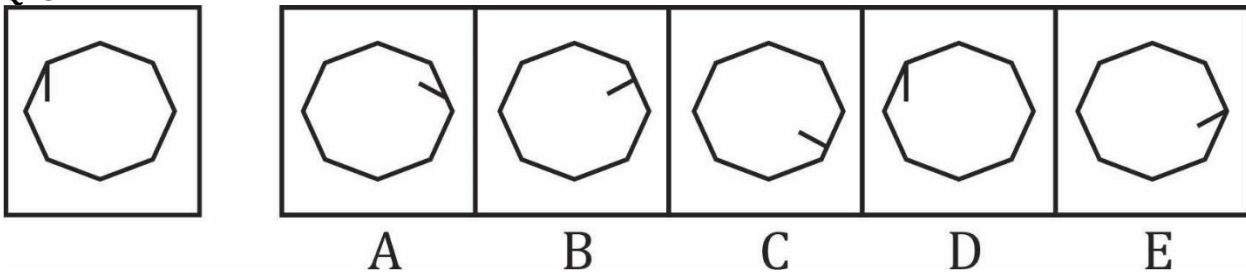
Question (1-96): This is a test of your ability to match figures quickly and accurately. In each question given below, there are five answer figures on the right side, where A, B, C, D, E are written below. One of them moved to the left is similar to a question-shape. You are required to find out which of the five figures is identical to the figure given on the left.

यह आकृतियों का त्वरित और सटीक मिलान करने की आपकी क्षमता का परीक्षण है नीचे दिए गए प्रत्येक प्रश्न में दाईं ओर पाँच उत्तर आकृतियाँ हैं, जहाँ नीचे A, B, C, D, E लिखा है। उनमें से एक बाईं ओर लेजाया गया प्रश्न-आकार के समान है। आपको यह पता लगाना है कि पाँच आकृतियों में से कौन सी बाईं ओर दी गई आकृति के समान है।

- (a) A
- (b) B
- (c) C
- (d) D
- (e) E

Ans.(b)

Q251.



Question (1-96): This is a test of your ability to match figures quickly and accurately. In each question given below, there are five answer figures on the right side, where A, B, C, D, E are written below. One of them moved to the left is similar to a question-shape. You are required to find out which of the five figures is identical to the figure given on the left.

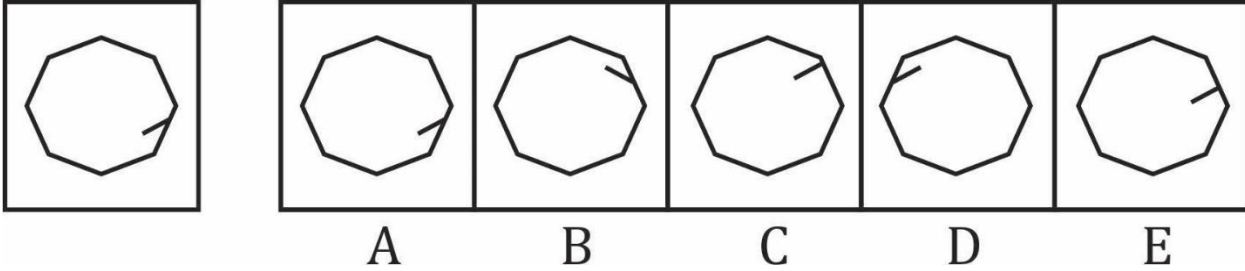
यह आकृतियों का त्वरित और सटीक मिलान करने की आपकी क्षमता का परीक्षण है नीचे दिए गए प्रत्येक प्रश्न में दाईं ओर पाँच उत्तर आकृतियाँ हैं, जहाँ नीचे A, B, C, D, E लिखा है। उनमें से एक बाईं ओर लेजाया गया प्रश्न-आकार के समान है। आपको यह पता लगाना है कि पाँच आकृतियों में से कौन सी बाईं ओर दी गई आकृति के समान है।

- (a) A

- (b) B
- (c) C
- (d) D
- (e) E

Ans.(d)

Q252.



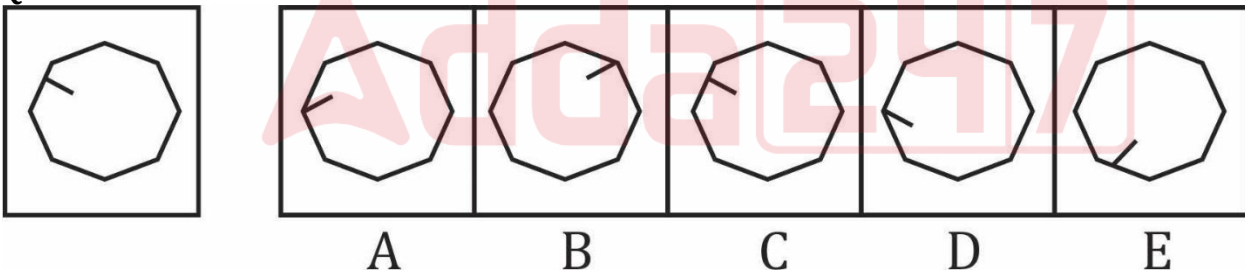
Question (1-96): This is a test of your ability to match figures quickly and accurately. In each question given below, there are five answer figures on the right side, where A, B, C, D, E are written below. One of them moved to the left is similar to a question-shape. You are required to find out which of the five figures is identical to the figure given on the left.

यह आकृतियों का त्वरित और सटीक मिलान करने की आपकी क्षमता का परीक्षण है नीचे दिए गए प्रत्येक प्रश्न में दाईं ओर पाँच उत्तर आकृतियाँ हैं, जहाँ नीचे A, B, C, D, E लिखा है। उनमें से एक बाईं ओर लेजाया गया प्रश्न-आकार के समान है। आपको यह पता लगाना है कि पाँच आकृतियों में से कौन सी बाईं ओर दी गई आकृति के समान है।

- (a) A
- (b) B
- (c) C
- (d) D
- (e) E

Ans.(a)

Q253.



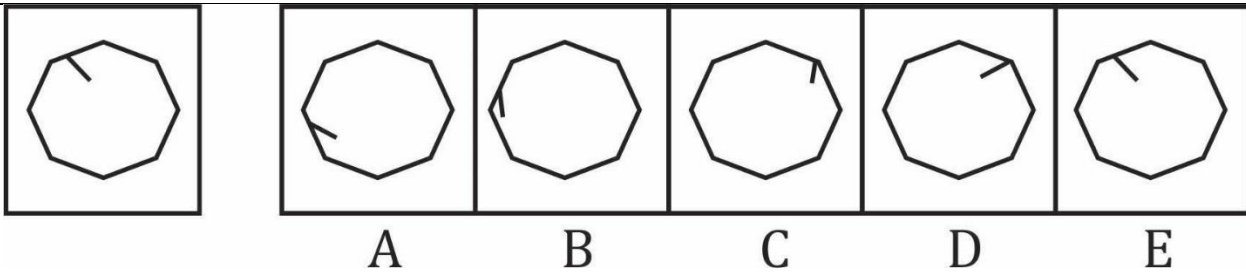
Question (1-96): This is a test of your ability to match figures quickly and accurately. In each question given below, there are five answer figures on the right side, where A, B, C, D, E are written below. One of them moved to the left is similar to a question-shape. You are required to find out which of the five figures is identical to the figure given on the left.

यह आकृतियों का त्वरित और सटीक मिलान करने की आपकी क्षमता का परीक्षण है नीचे दिए गए प्रत्येक प्रश्न में दाईं ओर पाँच उत्तर आकृतियाँ हैं, जहाँ नीचे A, B, C, D, E लिखा है। उनमें से एक बाईं ओर लेजाया गया प्रश्न-आकार के समान है। आपको यह पता लगाना है कि पाँच आकृतियों में से कौन सी बाईं ओर दी गई आकृति के समान है।

- (a) A
- (b) B
- (c) C
- (d) D
- (e) E

Ans.(c)

Q254.



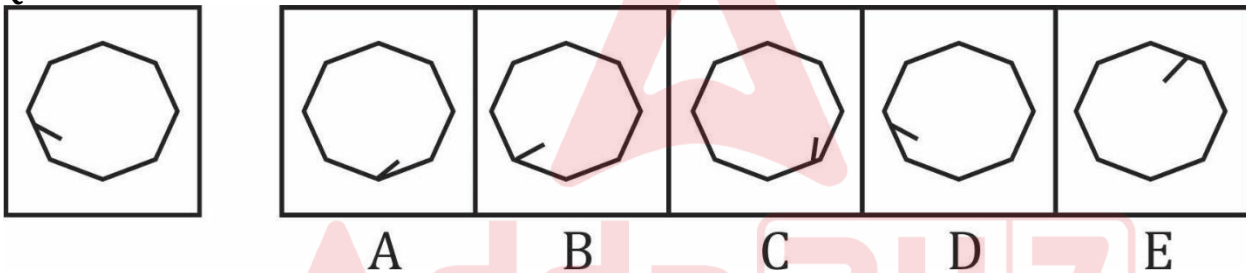
Question (1-96): This is a test of your ability to match figures quickly and accurately. In each question given below, there are five answer figures on the right side, where A, B, C, D, E are written below. One of them moved to the left is similar to a question-shape. You are required to find out which of the five figures is identical to the figure given on the left.

यह आकृतियों का त्वरित और सटीक मिलान करने की आपकी क्षमता का परीक्षण है नीचे दिए गए प्रत्येक प्रश्न में दाईं ओर पाँच उत्तर आकृतियाँ हैं, जहाँ नीचे A, B, C, D, E लिखा है। उनमें से एक बाईं ओर लेजाया गया प्रश्न-आकार के समान है। आपको यह पता लगाना है कि पाँच आकृतियों में से कौन सी बाईं ओर दी गई आकृति के समान है।

- (a) A
- (b) B
- (c) C
- (d) D
- (e) E

Ans. (e)

Q255.



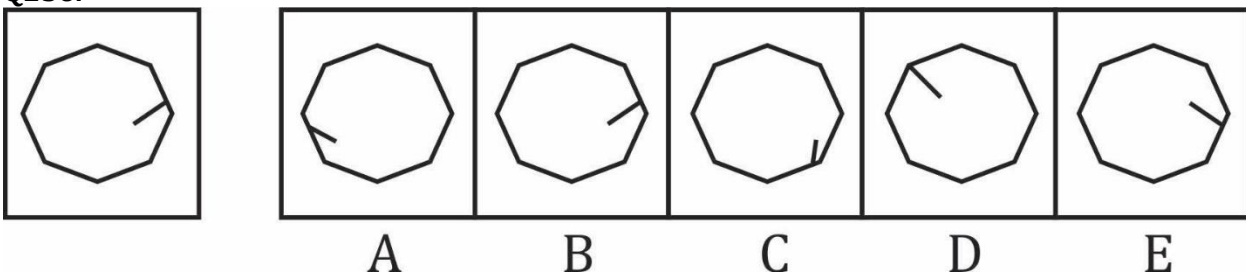
Question (1-96): This is a test of your ability to match figures quickly and accurately. In each question given below, there are five answer figures on the right side, where A, B, C, D, E are written below. One of them moved to the left is similar to a question-shape. You are required to find out which of the five figures is identical to the figure given on the left.

यह आकृतियों का त्वरित और सटीक मिलान करने की आपकी क्षमता का परीक्षण है नीचे दिए गए प्रत्येक प्रश्न में दाईं ओर पाँच उत्तर आकृतियाँ हैं, जहाँ नीचे A, B, C, D, E लिखा है। उनमें से एक बाईं ओर लेजाया गया प्रश्न-आकार के समान है। आपको यह पता लगाना है कि पाँच आकृतियों में से कौन सी बाईं ओर दी गई आकृति के समान है।

- (a) A
- (b) B
- (c) C
- (d) D
- (e) E

Ans. (d)

Q256.



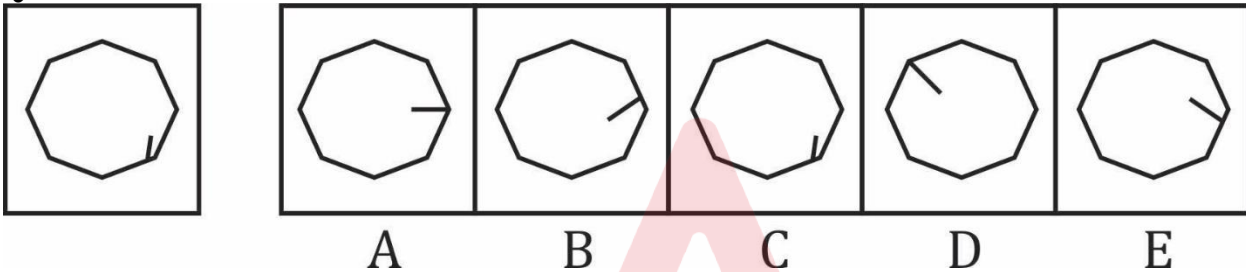
Question (1-96): This is a test of your ability to match figures quickly and accurately. In each question given below, there are five answer figures on the right side, where A, B, C, D, E are written below. One of them moved to the left is similar to a question-shape. You are required to find out which of the five figures is identical to the figure given on the left.

यह आकृतियों का त्वरित और सटीक मिलान करने की आपकी क्षमता का परीक्षण है नीचे दिए गए प्रत्येक प्रश्न में दाईं ओर पाँच उत्तर आकृतियाँ हैं, जहाँ नीचे A, B, C, D, E लिखा है। उनमें से एक बाईं ओर लेजाया गया प्रश्न-आकार के समान है। आपको यह पता लगाना है कि पाँच आकृतियों में से कौन सी बाईं ओर दी गई आकृति के समान है।

- (a) A
- (b) B
- (c) C
- (d) D
- (e) E

Ans.(b)

Q257.



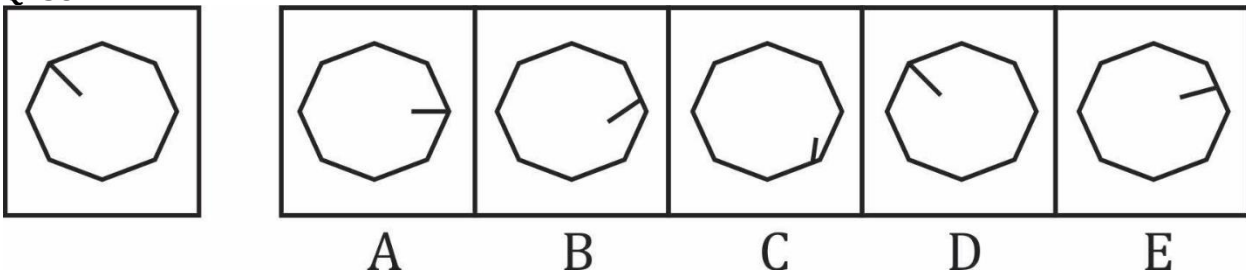
Question (1-96): This is a test of your ability to match figures quickly and accurately. In each question given below, there are five answer figures on the right side, where A, B, C, D, E are written below. One of them moved to the left is similar to a question-shape. You are required to find out which of the five figures is identical to the figure given on the left.

यह आकृतियों का त्वरित और सटीक मिलान करने की आपकी क्षमता का परीक्षण है नीचे दिए गए प्रत्येक प्रश्न में दाईं ओर पाँच उत्तर आकृतियाँ हैं, जहाँ नीचे A, B, C, D, E लिखा है। उनमें से एक बाईं ओर लेजाया गया प्रश्न-आकार के समान है। आपको यह पता लगाना है कि पाँच आकृतियों में से कौन सी बाईं ओर दी गई आकृति के समान है।

- (a) A
- (b) B
- (c) C
- (d) D
- (e) E

Ans.(c)

Q258.



Question (1-96): This is a test of your ability to match figures quickly and accurately. In each question given below, there are five answer figures on the right side, where A, B, C, D, E are written below. One of them moved to the left is similar to a question-shape. You are required to find out which of the five figures is identical to the figure given on the left.

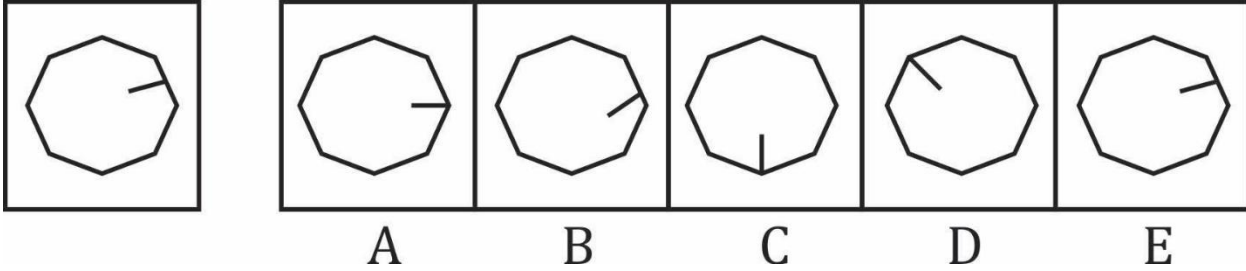
यह आकृतियों का त्वरित और सटीक मिलान करने की आपकी क्षमता का परीक्षण है नीचे दिए गए प्रत्येक प्रश्न में दाईं ओर पाँच उत्तर आकृतियाँ हैं, जहाँ नीचे A, B, C, D, E लिखा है। उनमें से एक बाईं ओर लेजाया गया प्रश्न-आकार के समान है। आपको यह पता लगाना है कि पाँच आकृतियों में से कौन सी बाईं ओर दी गई आकृति के समान है।

- (a) A

- (b) B
- (c) C
- (d) D
- (e) E

Ans.(d)

Q259.



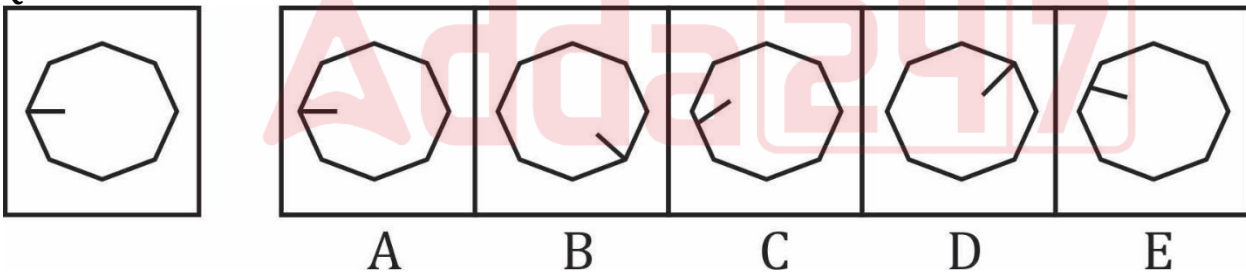
Question (1-96): This is a test of your ability to match figures quickly and accurately. In each question given below, there are five answer figures on the right side, where A, B, C, D, E are written below. One of them moved to the left is similar to a question-shape. You are required to find out which of the five figures is identical to the figure given on the left.

यह आकृतियों का त्वरित और सटीक मिलान करने की आपकी क्षमता का परीक्षण है नीचे दिए गए प्रत्येक प्रश्न में दाईं ओर पाँच उत्तर आकृतियाँ हैं, जहाँ नीचे A, B, C, D, E लिखा है। उनमें से एक बाईं ओर लेजाया गया प्रश्न-आकार के समान है। आपको यह पता लगाना है कि पाँच आकृतियों में से कौन सी बाईं ओर दी गई आकृति के समान है।

- (a) A
- (b) B
- (c) C
- (d) D
- (e) E

Ans.(e)

Q260.



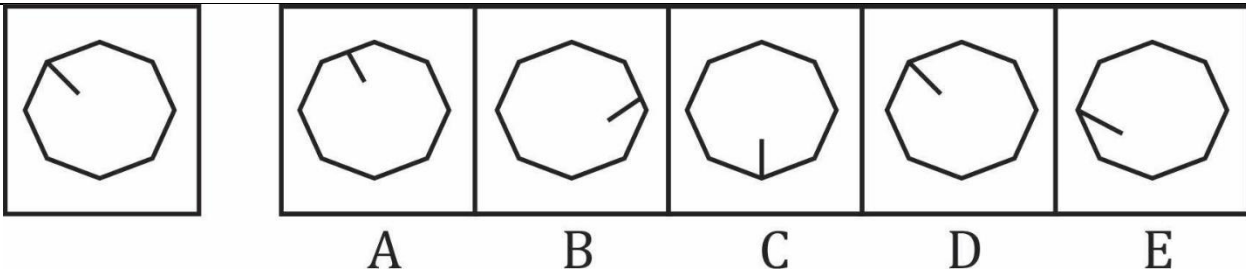
Question (1-96): This is a test of your ability to match figures quickly and accurately. In each question given below, there are five answer figures on the right side, where A, B, C, D, E are written below. One of them moved to the left is similar to a question-shape. You are required to find out which of the five figures is identical to the figure given on the left.

यह आकृतियों का त्वरित और सटीक मिलान करने की आपकी क्षमता का परीक्षण है नीचे दिए गए प्रत्येक प्रश्न में दाईं ओर पाँच उत्तर आकृतियाँ हैं, जहाँ नीचे A, B, C, D, E लिखा है। उनमें से एक बाईं ओर लेजाया गया प्रश्न-आकार के समान है। आपको यह पता लगाना है कि पाँच आकृतियों में से कौन सी बाईं ओर दी गई आकृति के समान है।

- (a) A
- (b) B
- (c) C
- (d) D
- (e) E

Ans.(a)

Q261.



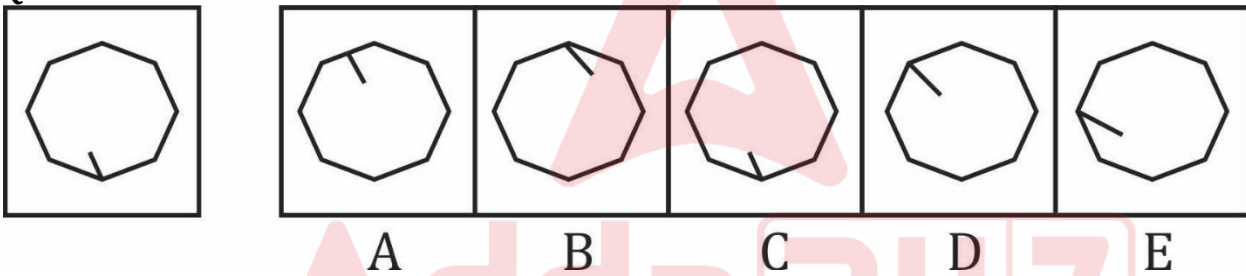
Question (1-96): This is a test of your ability to match figures quickly and accurately. In each question given below, there are five answer figures on the right side, where A, B, C, D, E are written below. One of them moved to the left is similar to a question-shape. You are required to find out which of the five figures is identical to the figure given on the left.

यह आकृतियों का त्वरित और सटीक मिलान करने की आपकी क्षमता का परीक्षण है नीचे दिए गए प्रत्येक प्रश्न में दाईं ओर पाँच उत्तर आकृतियाँ हैं, जहाँ नीचे A, B, C, D, E लिखा है। उनमें से एक बाईं ओर लेजाया गया प्रश्न-आकार के समान है। आपको यह पता लगाना है कि पाँच आकृतियों में से कौन सी बाईं ओर दी गई आकृति के समान है।

- (a) A
- (b) B
- (c) C
- (d) D
- (e) E

Ans. (d)

Q262.



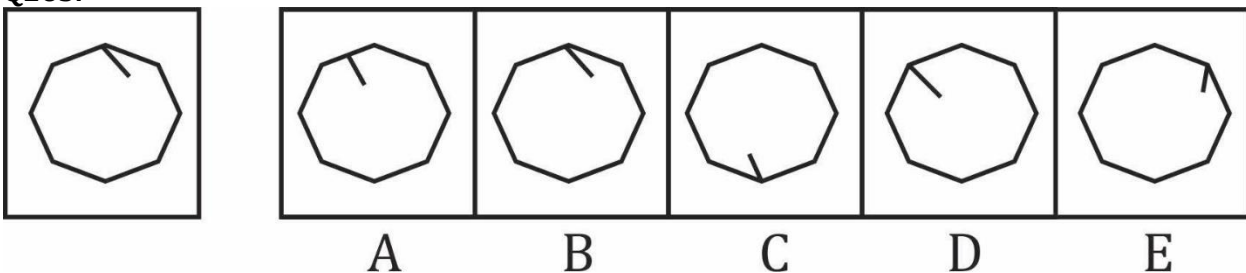
Question (1-96): This is a test of your ability to match figures quickly and accurately. In each question given below, there are five answer figures on the right side, where A, B, C, D, E are written below. One of them moved to the left is similar to a question-shape. You are required to find out which of the five figures is identical to the figure given on the left.

यह आकृतियों का त्वरित और सटीक मिलान करने की आपकी क्षमता का परीक्षण है नीचे दिए गए प्रत्येक प्रश्न में दाईं ओर पाँच उत्तर आकृतियाँ हैं, जहाँ नीचे A, B, C, D, E लिखा है। उनमें से एक बाईं ओर लेजाया गया प्रश्न-आकार के समान है। आपको यह पता लगाना है कि पाँच आकृतियों में से कौन सी बाईं ओर दी गई आकृति के समान है।

- (a) A
- (b) B
- (c) C
- (d) D
- (e) E

Ans. (c)

Q263.



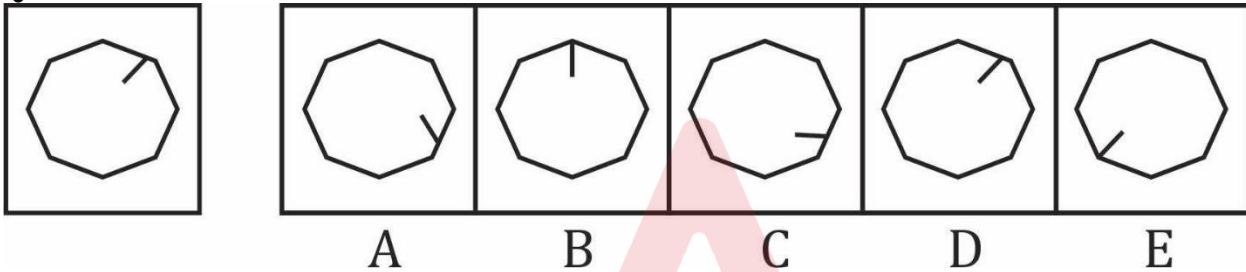
Question (1-96): This is a test of your ability to match figures quickly and accurately. In each question given below, there are five answer figures on the right side, where A, B, C, D, E are written below. One of them moved to the left is similar to a question-shape. You are required to find out which of the five figures is identical to the figure given on the left.

यह आकृतियों का त्वरित और सटीक मिलान करने की आपकी क्षमता का परीक्षण है नीचे दिए गए प्रत्येक प्रश्न में दाईं ओर पाँच उत्तर आकृतियाँ हैं, जहाँ नीचे A, B, C, D, E लिखा है। उनमें से एक बाईं ओर लेजाया गया प्रश्न-आकार के समान है। आपको यह पता लगाना है कि पाँच आकृतियों में से कौन सी बाईं ओर दी गई आकृति के समान है।

- (a) A
- (b) B
- (c) C
- (d) D
- (e) E

Ans.(b)

Q264.



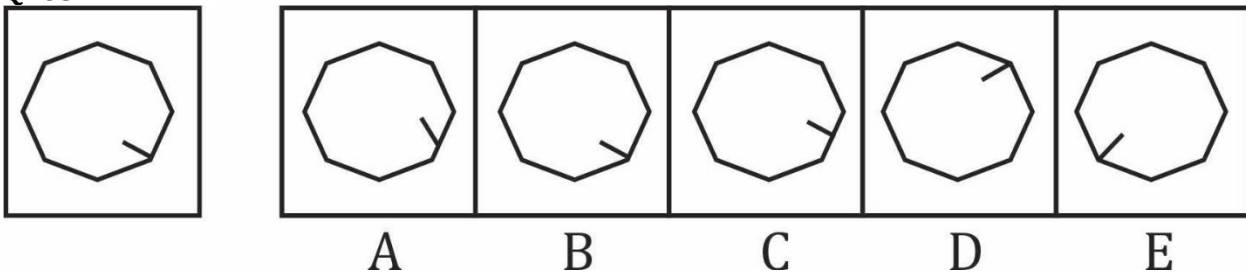
Question (1-96): This is a test of your ability to match figures quickly and accurately. In each question given below, there are five answer figures on the right side, where A, B, C, D, E are written below. One of them moved to the left is similar to a question-shape. You are required to find out which of the five figures is identical to the figure given on the left.

यह आकृतियों का त्वरित और सटीक मिलान करने की आपकी क्षमता का परीक्षण है नीचे दिए गए प्रत्येक प्रश्न में दाईं ओर पाँच उत्तर आकृतियाँ हैं, जहाँ नीचे A, B, C, D, E लिखा है। उनमें से एक बाईं ओर लेजाया गया प्रश्न-आकार के समान है। आपको यह पता लगाना है कि पाँच आकृतियों में से कौन सी बाईं ओर दी गई आकृति के समान है।

- (a) A
- (b) B
- (c) C
- (d) D
- (e) E

Ans.(d)

Q265.



Question (1-96): This is a test of your ability to match figures quickly and accurately. In each question given below, there are five answer figures on the right side, where A, B, C, D, E are written below. One of them moved to the left is similar to a question-shape. You are required to find out which of the five figures is identical to the figure given on the left.

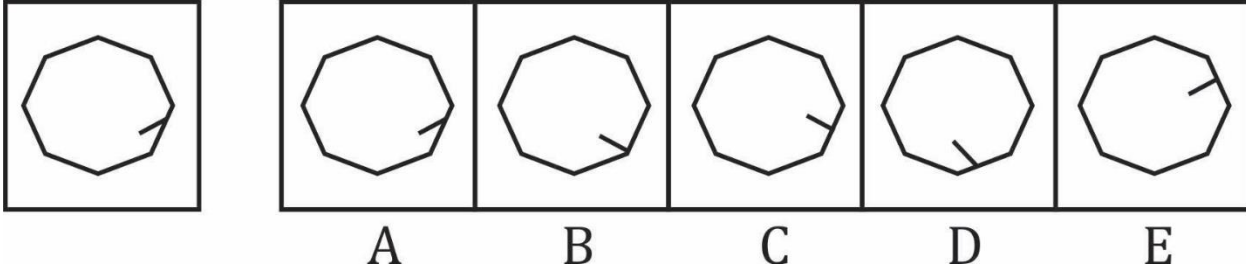
यह आकृतियों का त्वरित और सटीक मिलान करने की आपकी क्षमता का परीक्षण है नीचे दिए गए प्रत्येक प्रश्न में दाईं ओर पाँच उत्तर आकृतियाँ हैं, जहाँ नीचे A, B, C, D, E लिखा है। उनमें से एक बाईं ओर लेजाया गया प्रश्न-आकार के समान है। आपको यह पता लगाना है कि पाँच आकृतियों में से कौन सी बाईं ओर दी गई आकृति के समान है।

- (a) A

- (b) B
- (c) C
- (d) D
- (e) E

Ans.(b)

Q266.



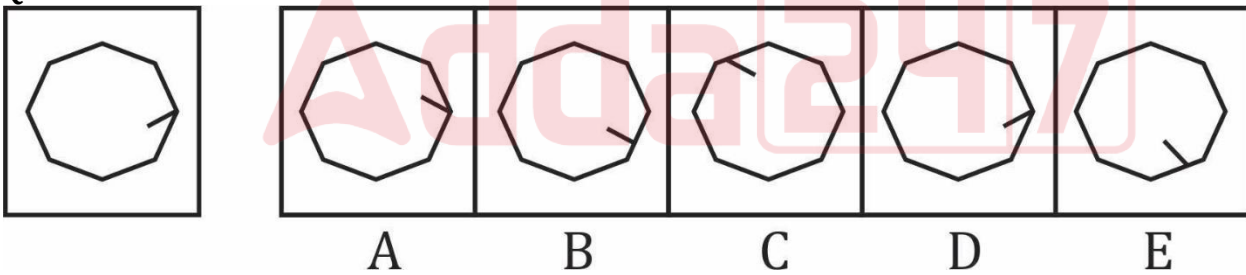
Question (1-96): This is a test of your ability to match figures quickly and accurately. In each question given below, there are five answer figures on the right side, where A, B, C, D, E are written below. One of them moved to the left is similar to a question-shape. You are required to find out which of the five figures is identical to the figure given on the left.

यह आकृतियों का त्वरित और सटीक मिलान करने की आपकी क्षमता का परीक्षण है नीचे दिए गए प्रत्येक प्रश्न में दाईं ओर पाँच उत्तर आकृतियाँ हैं, जहाँ नीचे A, B, C, D, E लिखा है। उनमें से एक बाईं ओर लेजाया गया प्रश्न-आकार के समान है। आपको यह पता लगाना है कि पाँच आकृतियों में से कौन सी बाईं ओर दी गई आकृति के समान है।

- (a) A
- (b) B
- (c) C
- (d) D
- (e) E

Ans.(a)

Q267.



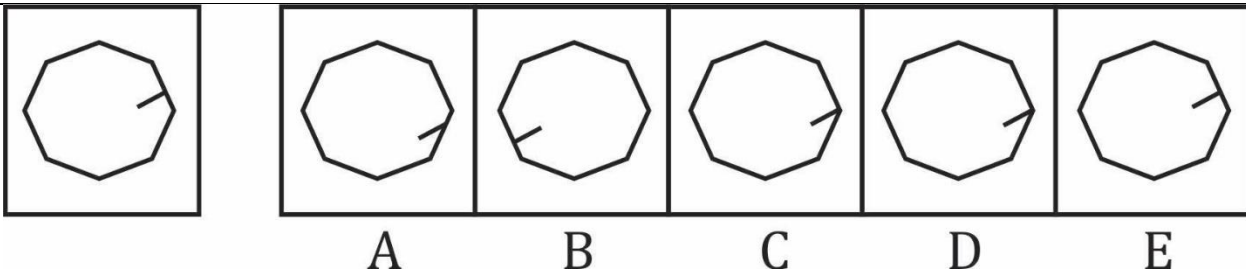
Question (1-96): This is a test of your ability to match figures quickly and accurately. In each question given below, there are five answer figures on the right side, where A, B, C, D, E are written below. One of them moved to the left is similar to a question-shape. You are required to find out which of the five figures is identical to the figure given on the left.

यह आकृतियों का त्वरित और सटीक मिलान करने की आपकी क्षमता का परीक्षण है नीचे दिए गए प्रत्येक प्रश्न में दाईं ओर पाँच उत्तर आकृतियाँ हैं, जहाँ नीचे A, B, C, D, E लिखा है। उनमें से एक बाईं ओर लेजाया गया प्रश्न-आकार के समान है। आपको यह पता लगाना है कि पाँच आकृतियों में से कौन सी बाईं ओर दी गई आकृति के समान है।

- (a) A
- (b) B
- (c) C
- (d) D
- (e) E

Ans.(d)

Q268.



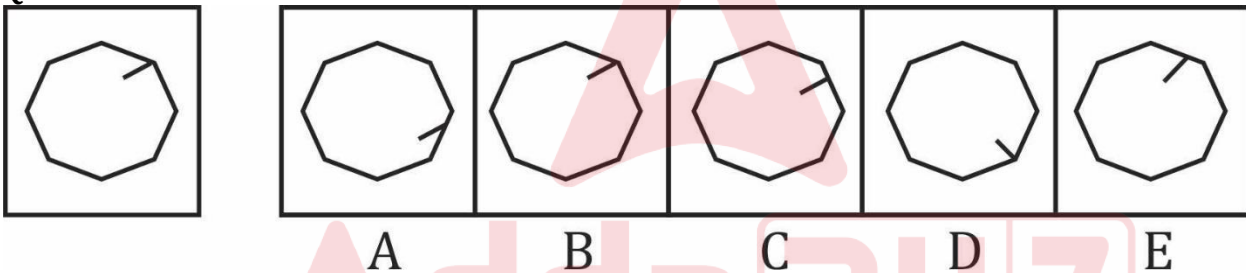
Question (1-96): This is a test of your ability to match figures quickly and accurately. In each question given below, there are five answer figures on the right side, where A, B, C, D, E are written below. One of them moved to the left is similar to a question-shape. You are required to find out which of the five figures is identical to the figure given on the left.

यह आकृतियों का त्वरित और सटीक मिलान करने की आपकी क्षमता का परीक्षण है नीचे दिए गए प्रत्येक प्रश्न में दाईं ओर पाँच उत्तर आकृतियाँ हैं, जहाँ नीचे A, B, C, D, E लिखा है। उनमें से एक बाईं ओर लेजाया गया प्रश्न-आकार के समान है। आप को यह पता लगाना है कि पाँच आकृतियों में से कौन सी बाईं ओर दी गई आकृति के समान है।

- (a) A
- (b) B
- (c) C
- (d) D
- (e) E

Ans. (e)

Q269.



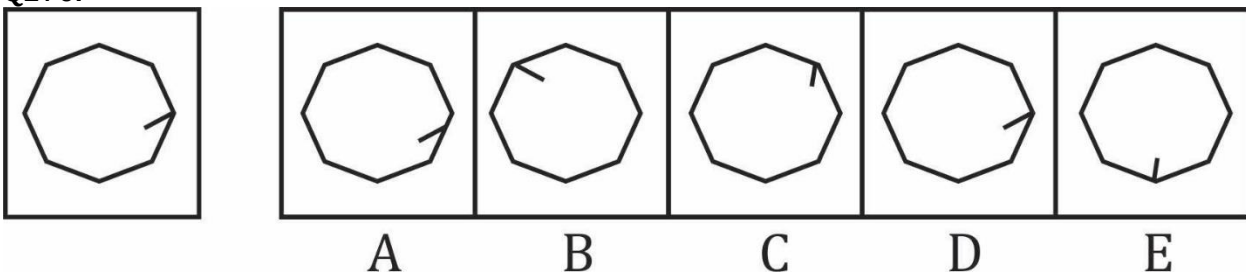
Question (1-96): This is a test of your ability to match figures quickly and accurately. In each question given below, there are five answer figures on the right side, where A, B, C, D, E are written below. One of them moved to the left is similar to a question-shape. You are required to find out which of the five figures is identical to the figure given on the left.

यह आकृतियों का त्वरित और सटीक मिलान करने की आपकी क्षमता का परीक्षण है नीचे दिए गए प्रत्येक प्रश्न में दाईं ओर पाँच उत्तर आकृतियाँ हैं, जहाँ नीचे A, B, C, D, E लिखा है। उनमें से एक बाईं ओर लेजाया गया प्रश्न-आकार के समान है। आप को यह पता लगाना है कि पाँच आकृतियों में से कौन सी बाईं ओर दी गई आकृति के समान है।

- (a) A
- (b) B
- (c) C
- (d) D
- (e) E

Ans. (b)

Q270.



Test

Prime

By Adda247

Previous Year Papers PDF

PRACTICE MORE, SCORE HIGHER!



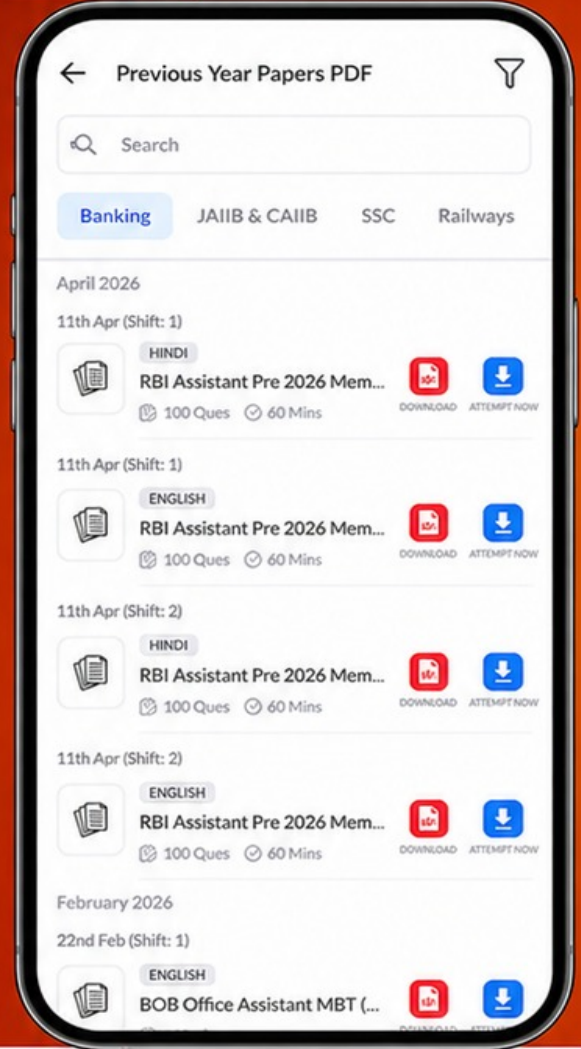
Free
25,000+
PDF's

High-Quality | Exam-Wise | Updated Regularly

ATTEMPT AS
MOCK



Turn PDFs into real exam experience.
Analyze. Improve. Succeed.



Topic-wise & Exam-wise PDFs



Download & Study Offline



Attempt as Mock & Track Score



Smart Analysis & Performance

AVAILABLE IN



Banking



SSC



Railway



Teaching



UGC



Agriculture



Nursing



Bihar



UP



Punjab



WB



Odisha



TN



AP & Telangana



Haryana



DOWNLOAD THE APP



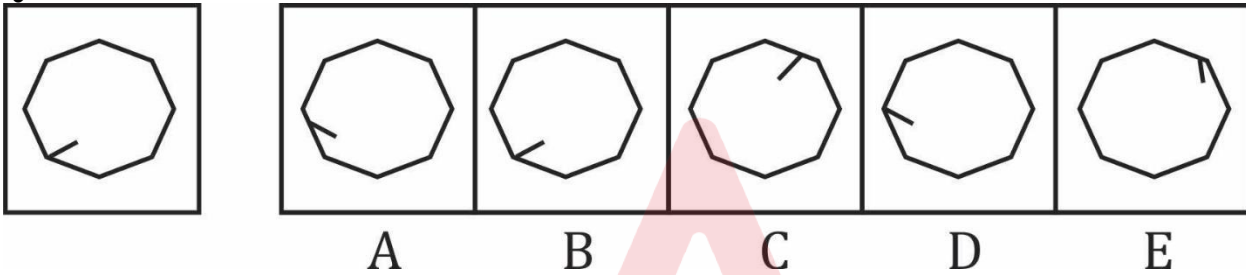
Question (1-96): This is a test of your ability to match figures quickly and accurately. In each question given below, there are five answer figures on the right side, where A, B, C, D, E are written below. One of them moved to the left is similar to a question-shape. You are required to find out which of the five figures is identical to the figure given on the left.

यह आकृतियों का त्वरित और सटीक मिलान करने की आपकी क्षमता का परीक्षण है नीचे दिए गए प्रत्येक प्रश्न में दाईं ओर पाँच उत्तर आकृतियाँ हैं, जहाँ नीचे A, B, C, D, E लिखा है। उनमें से एक बाईं ओर लेजाया गया प्रश्न-आकार के समान है। आपको यह पता लगाना है कि पाँच आकृतियों में से कौन सी बाईं ओर दी गई आकृति के समान है।

- (a) A
- (b) B
- (c) C
- (d) D
- (e) E

Ans. (d)

Q271.



Question (1-96): This is a test of your ability to match figures quickly and accurately. In each question given below, there are five answer figures on the right side, where A, B, C, D, E are written below. One of them moved to the left is similar to a question-shape. You are required to find out which of the five figures is identical to the figure given on the left.

यह आकृतियों का त्वरित और सटीक मिलान करने की आपकी क्षमता का परीक्षण है नीचे दिए गए प्रत्येक प्रश्न में दाईं ओर पाँच उत्तर आकृतियाँ हैं, जहाँ नीचे A, B, C, D, E लिखा है। उनमें से एक बाईं ओर लेजाया गया प्रश्न-आकार के समान है। आपको यह पता लगाना है कि पाँच आकृतियों में से कौन सी बाईं ओर दी गई आकृति के समान है।

- (a) A
- (b) B
- (c) C
- (d) D
- (e) E

Ans. (b)