

Test Center Name	Pratt Muller Distributors Ltd
Test Date	19/04/2024
Test Time	12:00 PM - 1:00 PM
Subject	212 Combine Competitive Exam Group A and B

 Scanned with OKEN Scanner

Adda247

Test Prime

ALL EXAMS, ONE SUBSCRIPTION



1,00,000+
Mock Tests



**Personalised
Report Card**



**Unlimited
Re-Attempt**



600+
Exam Covered



25,000+ Previous
Year Papers

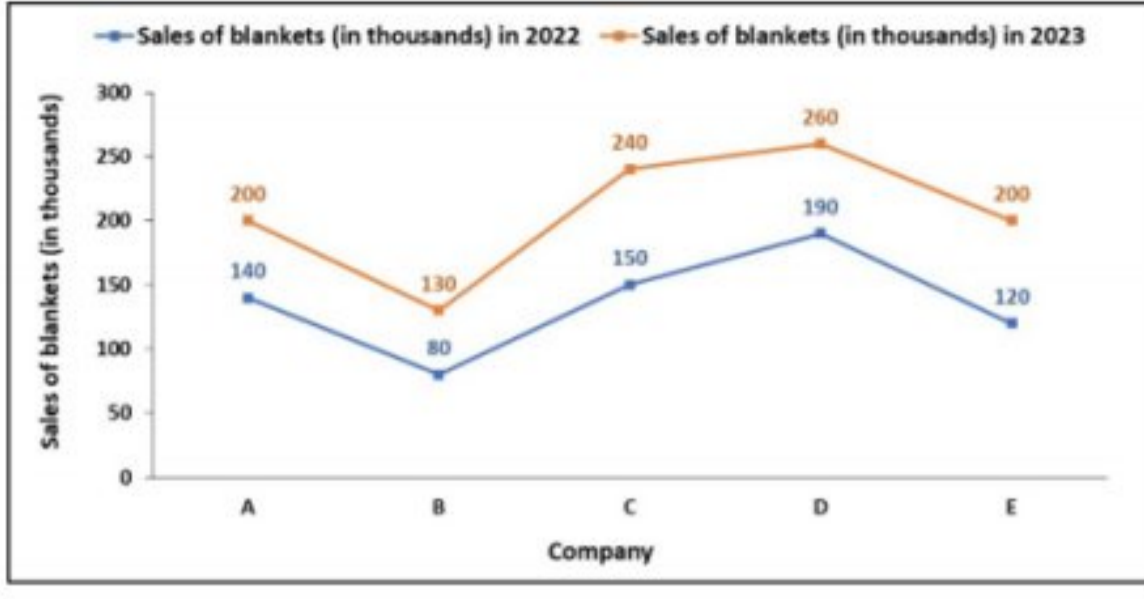


500%
Refund



ATTEMPT FREE MOCK NOW

Q.1 રેખા ગ્રાફ 2022 અને 2023 દરમિયાન પાંચ અલગ-અલગ કંપનીઓના ધાબળા(હજારોમાં)ના વેચાણ વિશે માહિતી પ્રદાન કરે છે. વર્ષ 2022 અને 2023માં કંપની Bના વેચાણો વચ્ચેનો ગુણોત્તર શોધો.



(સંદર્ભ: Sales of blankets (in thousands) in 2022- 2022માં ધાબળાનું વેચાણ (હજારોમાં), Company- કંપની)

- Options
1. 4 : 5
 2. 8 : 15
 3. 4 : 15
 4. 8 : 13

Question ID : 630680718260

Option 1 ID : 6306802814553

Option 2 ID : 6306802814554

Option 3 ID : 6306802814555

Option 4 ID : 6306802814556

Status : Answered

Chosen Option : 4

Q.2 જો A 'સરવાળો' સૂચવે છે, B 'ગુણાકાર' સૂચવે છે, C 'બાદબાકી' સૂચવે છે, અને D 'ભાગાકાર' સૂચવે છે, તો નીચેના સમીકરણનું મૂલ્ય શું હશે?
12 A 6 B 32 D 4 C 5 = ?

- Options
1. 55
 2. 62
 3. 47
 4. 78

Question ID : 630680718240

Option 1 ID : 6306802814474

Option 2 ID : 6306802814475

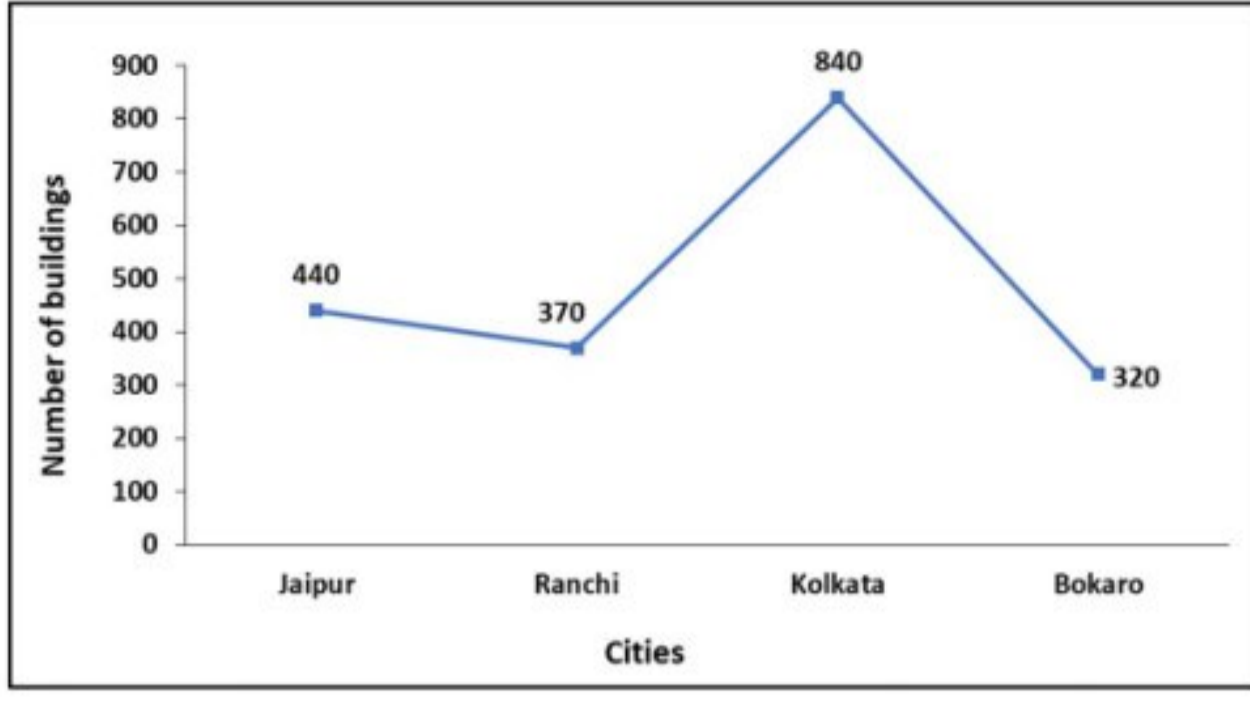
Option 3 ID : 6306802814473

Option 4 ID : 6306802814476

Status : Answered

Chosen Option : 1

Q.3 નીચે આપેલ રેખા આલેખ 2023માં ચાર જુદા-જુદા શહેરોમાં બાંધવામાં આવેલી ઇમારતોની સંખ્યા દર્શાવે છે. ચારેય શહેરોમાં 2023માં બનેલી ઇમારતોની કુલ સંખ્યા શોધો.



(સંદર્ભ: Number of buildings- ઇમારતોની સંખ્યા, Cities- શહેરો)

- Options
1. 1950
 2. 1170
 3. 1970
 4. 1820

Question ID : 630680718338

Option 1 ID : 6306802814867

Option 2 ID : 6306802814866

Option 3 ID : 6306802814865

Option 4 ID : 6306802814868

Status : Answered

Chosen Option : 3

Q.4 પાંચ મિત્રો વિવાન, આશુ, કાસિબ, ઓસ્વાલ અને યમનની ઊંચાઈઓ નીચે મુજબ છે. આશુ કાસિબ કરતાં ઊંચો છે પણ યમન કરતાં નીચો છે. યમન વિવાન કરતાં ઊંચો છે પણ તે સૌથી ઊંચો નથી. કાસિબ માત્ર વિવાન કરતાં ઊંચો છે. તેમનામાંથી સૌથી ઊંચું કોણ છે?

- Options
1. આશુ
 2. વિવાન
 3. કાસિબ
 4. ઓસ્વાલ

Question ID : 630680718311

Option 1 ID : 6306802814760

Option 2 ID : 6306802814757

Option 3 ID : 6306802814758

Option 4 ID : 6306802814759

Status : Answered

Chosen Option : 4

Q.5 જો અંકોને તેમના ચડતા ક્રમમાં લખવામાં આવે તો 5346782 સંખ્યામાં કેટલા અંકો તેમનું સ્થાન બદલશે?

- Options
1. 3
 2. 2
 3. 1
 4. 5

Question ID : 630680718241
Option 1 ID : 6306802814479
Option 2 ID : 6306802814478
Option 3 ID : 6306802814477
Option 4 ID : 6306802814480
Status : Answered
Chosen Option : 4



Q.6 જ્યારે આકૃતિના તળિયે MN તરફ જળ હોય ત્યારે આપેલી આકૃતિનું સાચું જળ પ્રતિબિંબ પસંદ કરો.



M N

Options

1.




2.



3.



4.



Question ID : 630680718237

Option 1 ID : 6306802814461

Option 2 ID : 6306802814464

Option 3 ID : 6306802814463

Option 4 ID : 6306802814462

Status : Answered

Chosen Option : 2

Q.7 બે વિધાનો આપેલા છે અને તે પછી I અને II નંબરના બે તારણો આપવામાં આવ્યા છે. આપેલા વિધાનોને સાચા માની લઈએ, ભલે તેઓ સામાન્ય રીતે જાણીતા તથ્યોથી અલગ જણાતા હોય. નક્કી કરો કે આપેલામાંથી કયું તારણ તાર્કિક રીતે આપેલા વિધાનોને અનુસરે છે.

વિધાનો:

બધા હેલ્મેટ્સ બાઈકો છે.

કેટલીક બાઈકો સ્કૂટરો છે.

તારણો:

I. કેટલાક હેલ્મેટ્સ એ સ્કૂટરો છે.

II. કેટલાક હેલ્મેટ્સ બાઈકો છે.

Options

1. તારણ I અને તારણ II બંને અનુસરે છે
2. માત્ર તારણ II અનુસરે છે
3. તારણ I અથવા તારણ II માંથી કોઈ તારણ અનુસરતું નથી
4. માત્ર તારણ I અનુસરે છે

Question ID : 630680718224

Option 1 ID : 6306802814411

Option 2 ID : 6306802814410

Option 3 ID : 6306802814412

Option 4 ID : 6306802814409

Status : Answered

Chosen Option : 3

Q.8 વિકલ્પમાં આપેલી આકૃતિઓમાંથી, એવી આકૃતિને પસંદ કરો કે જેમાં પ્રશ્ન આકૃતિ છુપાયેલી/જડેલી હોય. (રોટેશનની મંજૂરી નથી).




Options


1.



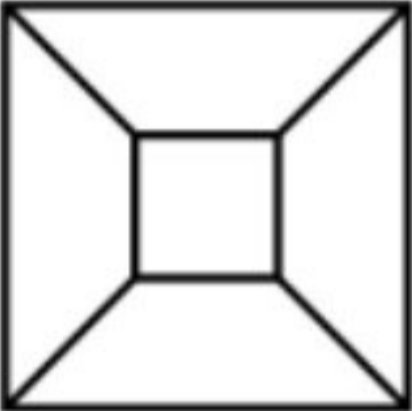
2.



3.



4.



Question ID : 630680718315

Option 1 ID : 6306802814774

Option 2 ID : 6306802814775

Option 3 ID : 6306802814773

Option 4 ID : 6306802814776

Status : Answered

Chosen Option : 3

Q.9 એવો વિકલ્પ પસંદ કરો જે ત્રીજી સંખ્યા સાથે એ રીતે જ સંબંધિત હોય જે રીતે બીજી સંખ્યા સાથે પ્રથમ સંખ્યા સંબંધિત છે:

21 : 9262 :: 25 : ?

Options 1. 15626

2. 14484

3. 12786

4. 13248

Question ID : 630680718295

Option 1 ID : 6306802814694

Option 2 ID : 6306802814695

Option 3 ID : 6306802814696

Option 4 ID : 6306802814693

Status : Not Answered

Chosen Option : --

Q.10 નીચેના પ્રશ્નમાં એક પ્રશ્ન અને તેની નીચે આપેલા 1 અને 2 નંબરવાળા બે વિધાનોનો સમાવેશ થાય છે. તમારે નક્કી કરવાનું છે કે વિધાનોમાં આપવામાં આવેલી માહિતી પ્રશ્નનો જવાબ આપવા માટે પર્યાપ્ત છે કે કેમ. બંને વિધાનો વાંચો અને જવાબ આપો.

પ્રશ્ન: કમલનો પિકી સાથે શું સંબંધ છે?

વિધાન 1: કમલનો ભાઈ સુભમ છે.

વિધાન 2: સુભમ એ પિકીની બહેનના પિતા છે.

- Options**
1. એકલું 1 પર્યાપ્ત છે જ્યારે એકલું 2 પર્યાપ્ત નથી
 2. 1 અને 2 બંને પર્યાપ્ત છે
 3. ન તો 1 કે ન તો 2 પર્યાપ્ત છે
 4. એકલું 2 પર્યાપ્ત છે જ્યારે એકલું 1 પર્યાપ્ત નથી

Question ID : 630680718228

Option 1 ID : 6306802814425

Option 2 ID : 6306802814427

Option 3 ID : 6306802814428

Option 4 ID : 6306802814426

Status : Answered

Chosen Option : 2

Q.11 ચોક્કસ સંકેત (code)ની એક ભાષામાં,

'Y × Z' નો અર્થ 'Y એ Zનો પુત્ર છે'

'Y + Z' નો અર્થ 'Y એ Zનો પિતા છે'

'Y ÷ Z' નો અર્થ 'Y એ Zનો ભાઈ છે'

'Y - Z' નો અર્થ 'Y એ Zનો પતિ છે'

ઉપરની માહિતીને આધારે, 'A ÷ B + C × D' અભિવ્યક્તિમાં B એ D સાથે કેવી રીતે સંબંધિત છે?

- Options**
1. પતિ
 2. પુત્ર
 3. ભાઈ
 4. પિતા

Question ID : 630680718263

Option 1 ID : 6306802814565

Option 2 ID : 6306802814568

Option 3 ID : 6306802814567

Option 4 ID : 6306802814566

Status : Not Answered

Chosen Option : --

Q.12 આપેલ શ્રેણીમાં નીચેનામાંથી કઈ સંખ્યા પ્રશ્ન ચિહ્ન (?)ના સ્થાને આવશે?
7, 9, 12, 17, 24, ?

- Options
1. 31
 2. 33
 3. 37
 4. 35

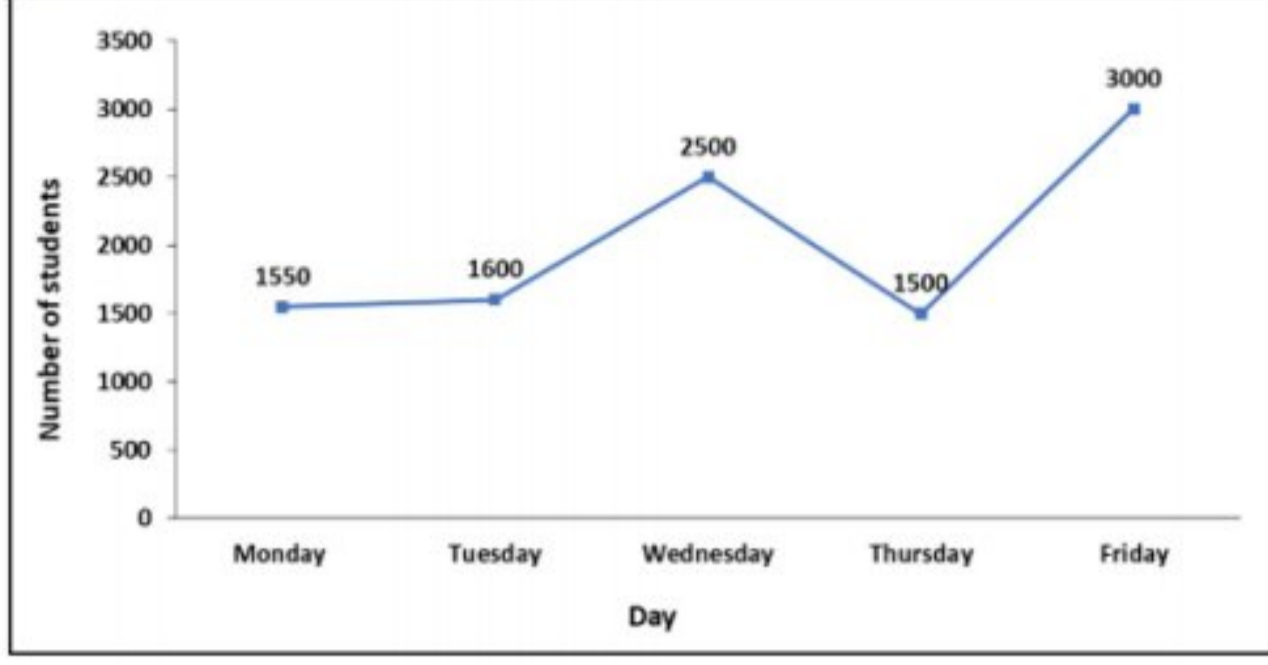
Question ID : 630680718326
Option 1 ID : 6306802814820
Option 2 ID : 6306802814817
Option 3 ID : 6306802814819
Option 4 ID : 6306802814818
Status : Answered
Chosen Option : 4

Q.13 એવો વિકલ્પ પસંદ કરો જે ત્રીજી સંખ્યા સાથે એ રીતે જ સંબંધિત હોય જે રીતે પ્રથમ સંખ્યા સાથે બીજી સંખ્યા સંબંધિત છે.
17 : 68 :: 44 : ?

- Options
1. 331
 2. 176
 3. 317
 4. 294

Question ID : 630680718293
Option 1 ID : 6306802814688
Option 2 ID : 6306802814685
Option 3 ID : 6306802814686
Option 4 ID : 6306802814687
Status : Answered
Chosen Option : 2

Q.14 નીચેનો સ્તંભ આલેખ અઠવાડિયાના 5 અલગ-અલગ દિવસોમાં લેવાયેલી પરીક્ષામાં હાજર રહેલા વિદ્યાર્થીઓની સંખ્યા દર્શાવે છે. ગુરુવારે પરીક્ષામાં હાજર રહેલા વિદ્યાર્થીઓની સંખ્યા શુક્રવારે પરીક્ષામાં હાજર રહેલા વિદ્યાર્થીઓની સંખ્યાના કેટલા ટકા છે?



(સંદર્ભ:- Number of students- વિદ્યાર્થીઓની સંખ્યા, Day – વાર, Monday- સોમવાર, Tuesday- મંગળવાર, Wednesday-બુધવાર, Thursday - ગુરુવાર, Friday – શુક્રવાર)

- Options
1. 60%
 2. 50%
 3. 55%
 4. 75%

Question ID : 630680718298

Option 1 ID : 6306802814707

Option 2 ID : 6306802814708

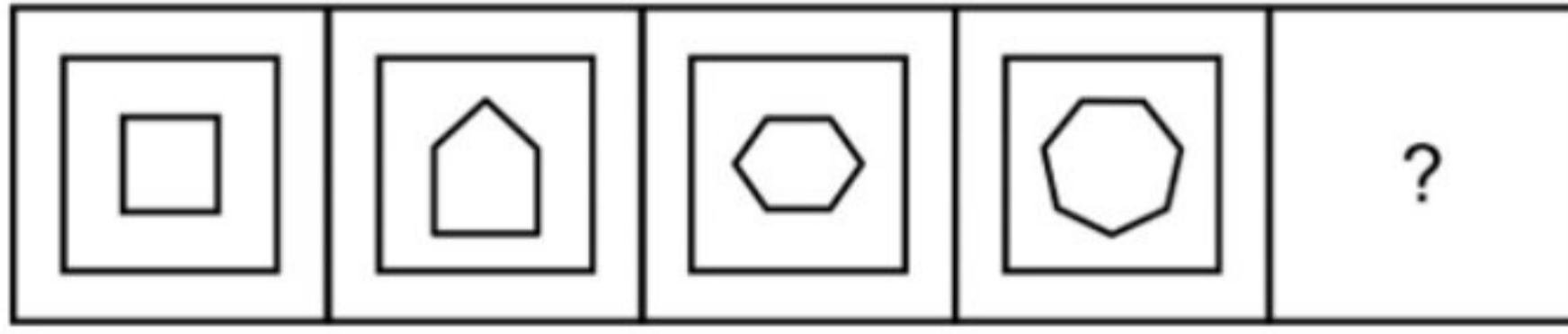
Option 3 ID : 6306802814706

Option 4 ID : 6306802814705

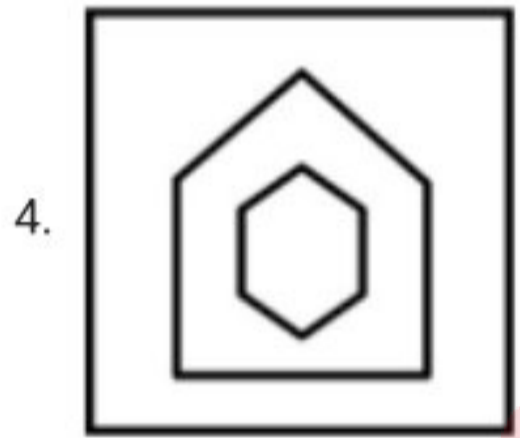
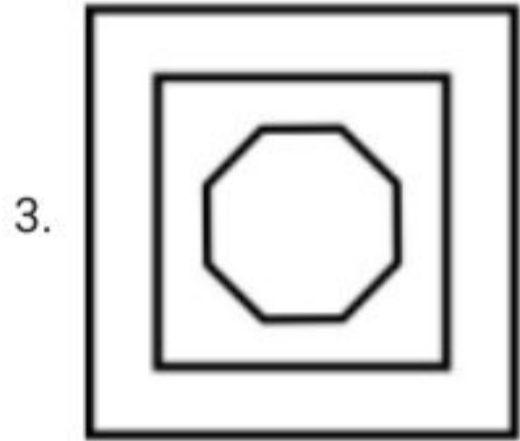
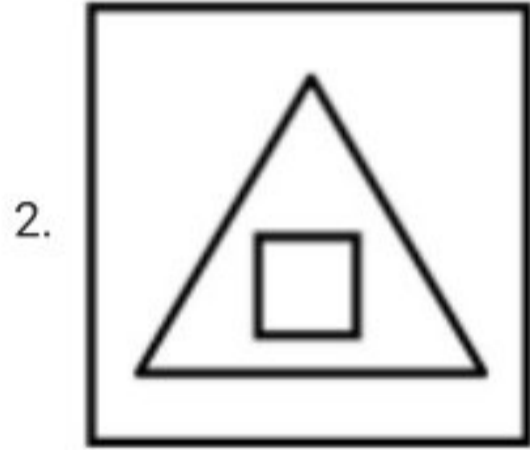
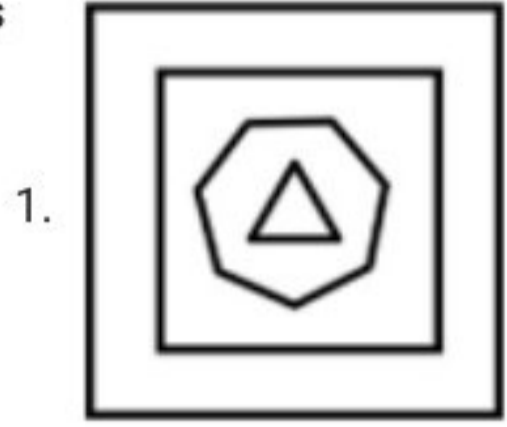
Status : Answered

Chosen Option : 2

Q.15 नीचेनी आकृतिओनी श्रेणीमां प्रश्न चिह्न (?)ना स्थाने आवे ते आकृति पसंद करो.



Options



Question ID : 630680718232
 Option 1 ID : 6306802814441
 Option 2 ID : 6306802814444
 Option 3 ID : 6306802814443
 Option 4 ID : 6306802814442
 Status : Answered
 Chosen Option : 3

Q.16 નીચે આપેલ પ્રશ્નમાં એક સવાલ અને બે વિધાનો આપેલ છે જેને 'I' અને 'II' એમ ક્રમાંકિત કરવામાં આવ્યા છે. વિધાનોમાં આપેલ માહિતી (ડેટા) એ સવાલનો જવાબ આપવા પૂરતી છે કે નહિ એ તમારે નક્કી કરવાનું છે. પછી પ્રશ્ન વાંચી એનો જવાબ જણાવવાનો છે.

સવાલ: ધોરણ X માં ચેસ ટુર્નામેન્ટમાં ભાગ લેનારા વિદ્યાર્થીઓની કુલ સંખ્યા કેટલી છે?

વિધાન I: ધોરણ XI માં કુલ 100 વિદ્યાર્થીઓ છે.

વિધાન II: 75 વિદ્યાર્થીઓએ ટુર્નામેન્ટમાં ભાગ લીધો ન હતો.

- Options**
1. વિધાન I એકલું પૂરતું છે જ્યારે કે II એકલું પૂરતું નથી
 2. એકલું II પૂરતું છે જ્યારે કે એકલું I પૂરતું નથી
 3. I અને II એમ બન્ને સાથે મળીને પૂરતાં છે
 4. ન તો I કે ન તો II પૂરતું છે

Question ID : 630680718268

Option 1 ID : 6306802814585

Option 2 ID : 6306802814586

Option 3 ID : 6306802814587

Option 4 ID : 6306802814588

Status : Answered

Chosen Option : 3

Q.17 બે વિધાનો આપેલ છે જેના પછી 'I' અને 'II' એમ ક્રમાંકિત કરાયેલ બે તારણો આપવામાં આવ્યા છે. વિધાનોમાં આપેલ માહિતી ભલે સામાન્ય રીતે જાણીતી હકીકતો કરતાં, જૂદી વાગે તો પણ એને સાચી માની લઈને નક્કી કરો કે વિધાનો પરથી કયા તારણો તાર્કિક રીતે અનુસરે છે.

વિધાનો:

અમુક ઓશીકા (pillows) એ તળીયાં (floors) છે.

કોઈ તળીયું એ આરસપહાણ (marble) નથી.

તારણો:

I. અમુક ઓશીકા (pillows) એ તળીયાં (floors) નથી.

II. કોઈ ઓશીકા (pillows) એ આરસપહાણ (marble) નથી.

- Options**
1. ન તો તારણ I કે ન તો II અનુસરે છે.
 2. તારણ I અને II બન્ને અનુસરે છે.
 3. માત્ર તારણ I અનુસરે છે.
 4. માત્ર તારણ II અનુસરે છે.

Question ID : 630680718264

Option 1 ID : 6306802814572

Option 2 ID : 6306802814571

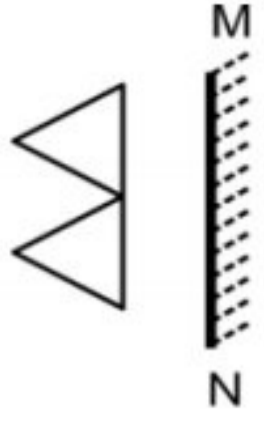
Option 3 ID : 6306802814569

Option 4 ID : 6306802814570

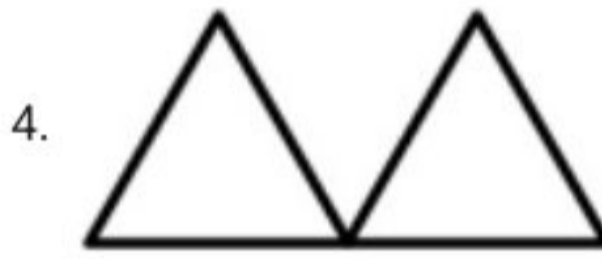
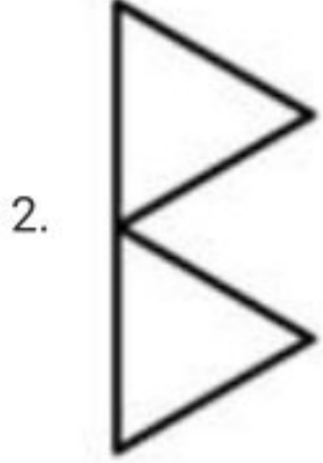
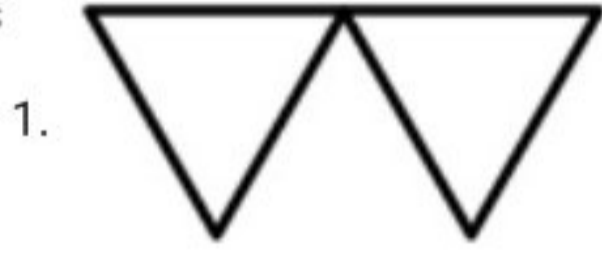
Status : Answered

Chosen Option : 2

Q.18 આપેલ આકૃતિની જમણી બાજુએ દર્પણ MN મુકવામાં આવે ત્યારે આ આકૃતિની સાચું દર્પણ પ્રતિબિંબ કયું મળશે એ પસંદ કરી જણાવો.



Options



Question ID : 630680718276

Option 1 ID : 6306802814619

Option 2 ID : 6306802814618


Option 3 ID : 6306802814620

Option 4 ID : 6306802814617

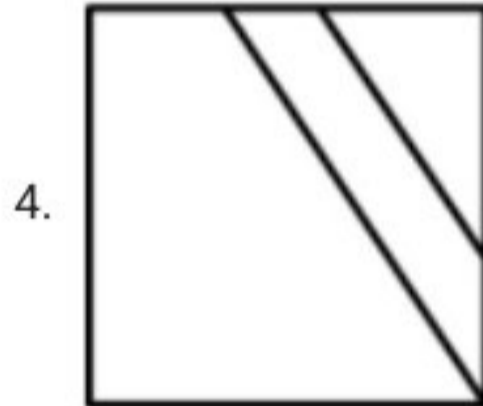
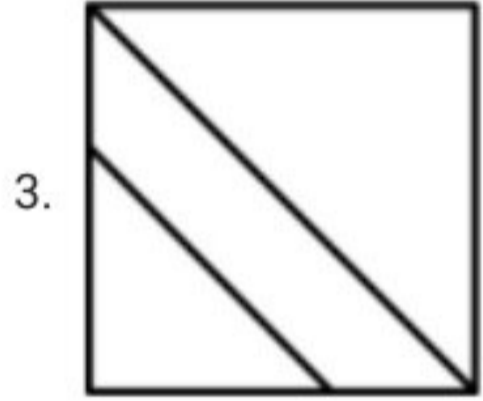
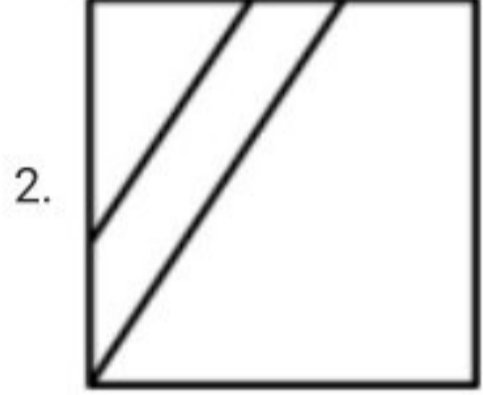
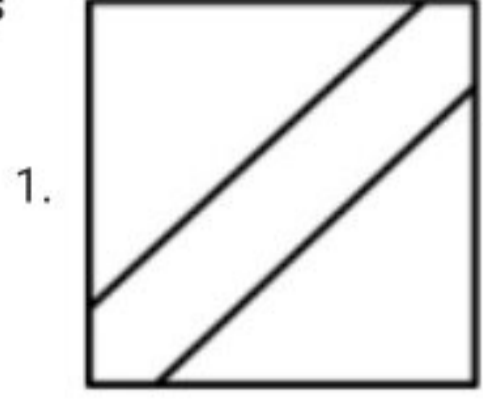
Status : Answered

Chosen Option : 2

Q.19 નીચે આપેલ વિકલ્પોમાંથી એક એવી આકૃતિ પસંદ કરો, કે જ્યારે તેને આકૃતિની ખાલી જગ્યામાં મૂકવામાં આવે ત્યારે તે પેટર્નને પૂર્ણ કરે.



Options



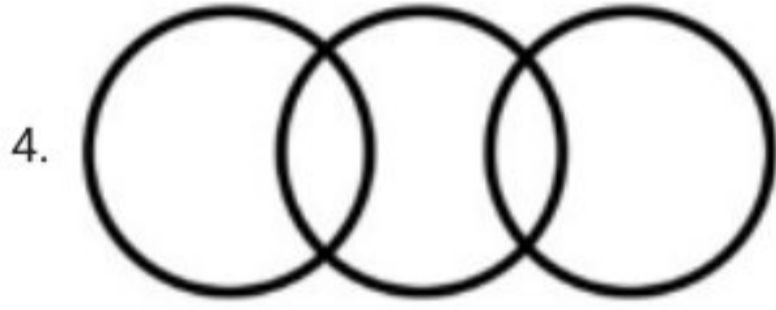
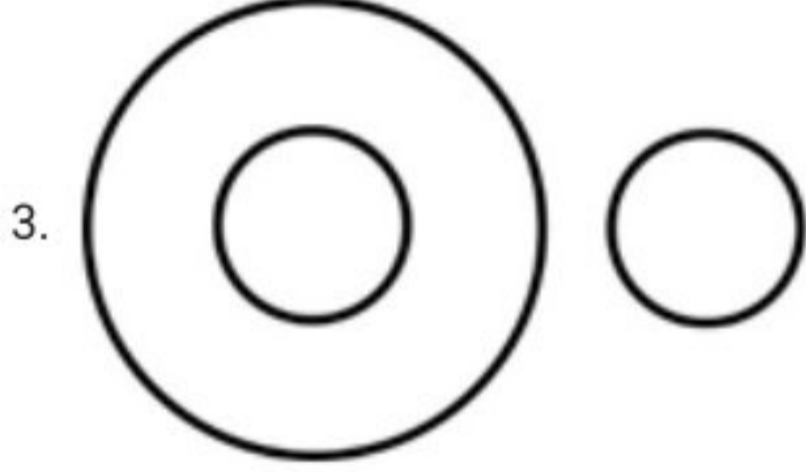
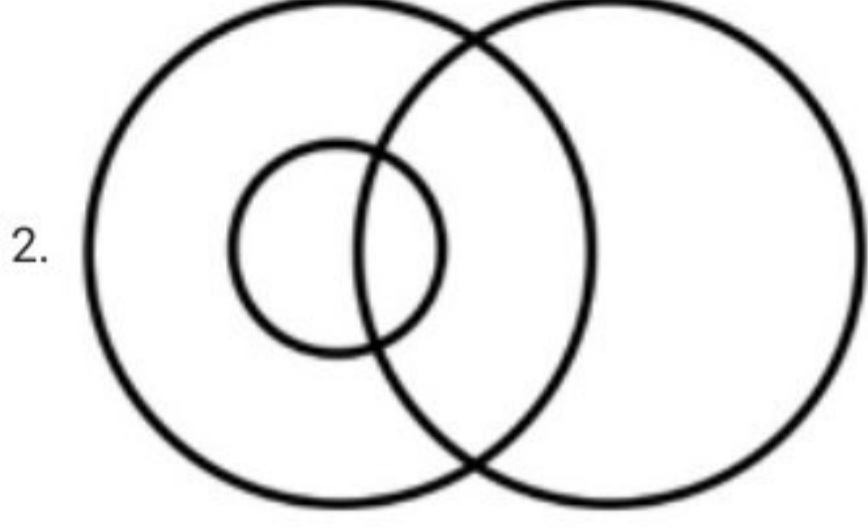
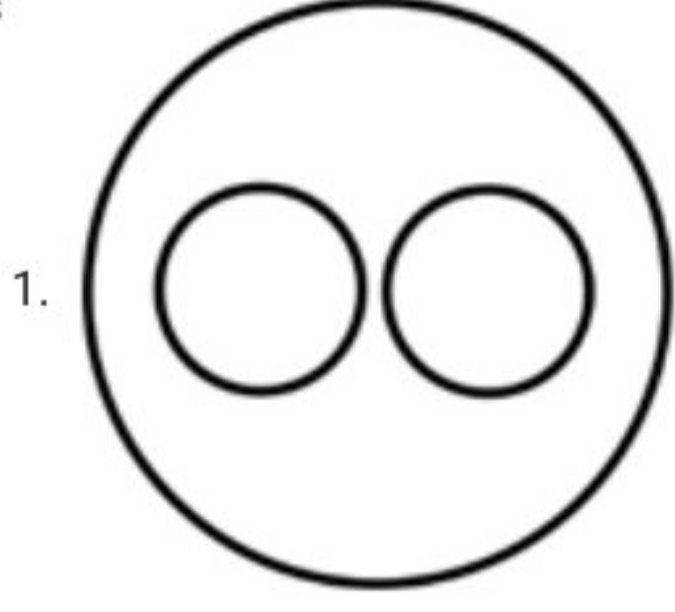
Adda247

Question ID : 630680718318
 Option 1 ID : 6306802814787
 Option 2 ID : 6306802814786
 Option 3 ID : 6306802814788
 Option 4 ID : 6306802814785
 Status : Answered
 Chosen Option : 2

Q.20 નીચેનામાંથી કઈ વેન-આકૃતિ વર્ગો વચ્ચેના સંબંધને સાચી રીતે દર્શાવે છે?

ગાય, હાથી, શાકાહારીઓ

Options



Question ID : 630680718226

Option 1 ID : 6306802814418

Option 2 ID : 6306802814420

Option 3 ID : 6306802814419

Option 4 ID : 6306802814417

Status : Answered

Chosen Option : 1

Q.21 નીચેનામાંથી એવો વિકલ્પ પસંદ કરો જે ત્રીજી સંખ્યા સાથે એવી રીતે જ સંબંધિત હોય જે રીતે બીજી સંખ્યા એ પ્રથમ સંખ્યા સાથે સંબંધિત છે:
981 : 937 :: 844 : ?

- Options
1. 800
 2. 790
 3. 810
 4. 820

Question ID : 630680718331
Option 1 ID : 6306802814839
Option 2 ID : 6306802814840
Option 3 ID : 6306802814838
Option 4 ID : 6306802814837
Status : Answered
Chosen Option : 1

Q.22 આપેલી શ્રેણીમાં નીચેનામાંથી કઈ સંખ્યા પ્રશ્ન ચિહ્ન (?)ના સ્થાને આવશે?
32, 64, 96, 128, ?

- Options
1. 140
 2. 150
 3. 170
 4. 160

Question ID : 630680718245
Option 1 ID : 6306802814493
Option 2 ID : 6306802814495
Option 3 ID : 6306802814496
Option 4 ID : 6306802814494
Status : Answered
Chosen Option : 4

Q.23 નીચેની સંખ્યા-જોડી જેવો સમાન સંબંધ ધરાવતો વિકલ્પ પસંદ કરો.

- Options
1. 18 : 3751
 2. 14 : 3531
 3. 16 : 4096
 4. 12 : 2121

Question ID : 630680718254
Option 1 ID : 6306802814531
Option 2 ID : 6306802814532
Option 3 ID : 6306802814530
Option 4 ID : 6306802814529
Status : Not Answered
Chosen Option : --

Q.24 આપેલ શ્રેણીમાં નીચેમાંથી કઈ સંખ્યા પ્રશ્ન ચિહ્ન (?) ને બદલે આવશે?

800, 835, 871, 908, ?

- Options
1. 954
 2. 938
 3. 942
 4. 946

Question ID : 630680718287

Option 1 ID : 6306802814663

Option 2 ID : 6306802814661

Option 3 ID : 6306802814662

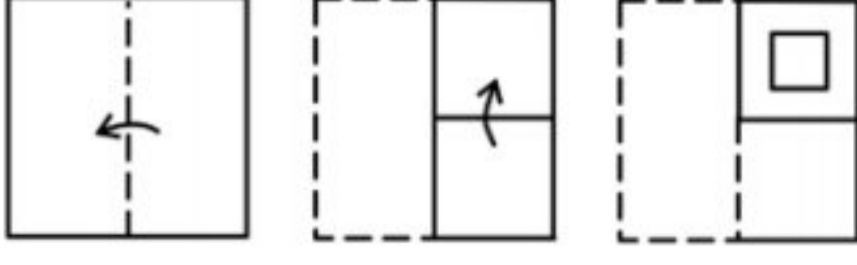
Option 4 ID : 6306802814664

Status : Answered

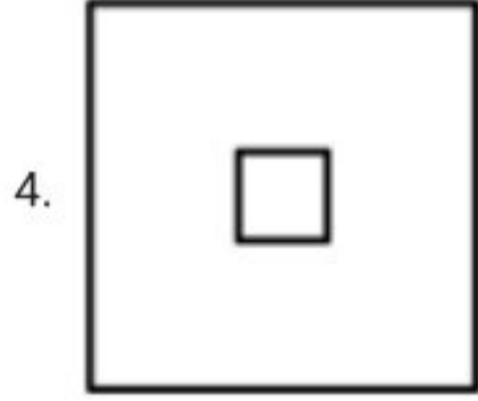
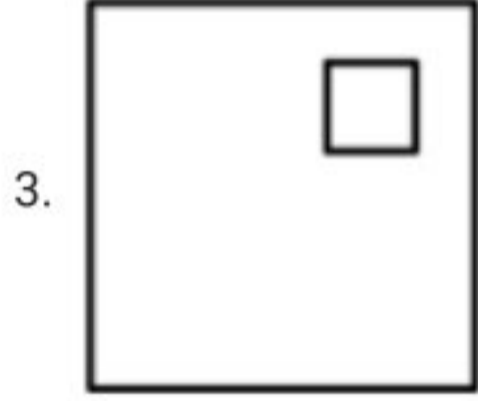
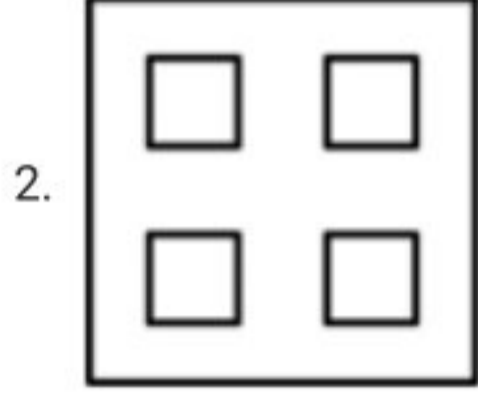
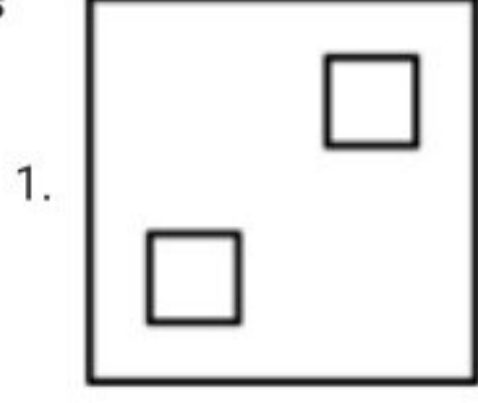
Chosen Option : 4



Q.25 નીચે બતાવ્યા પ્રમાણે એક કાગળને વાળવામાં આવે અને કાપવામાં આવે છે. જ્યારે તેને ખોલવામાં આવશે ત્યારે તે કેવો દેખાશે?



Options



Question ID : 630680718319

Option 1 ID : 6306802814792

Option 2 ID : 6306802814790

Option 3 ID : 6306802814791

Option 4 ID : 6306802814789

Status : Answered

Chosen Option : 2

Q.26 આપેલ શ્રેણીમાં નીચેનામાંથી કઈ સંખ્યા પ્રશ્ન ચિહ્ન (?)ના સ્થાને આવશે?
544, 560, 528, 576, 512, ?

Options 1. 594

2. 592

3. 588

4. 610

Question ID : 630680718328

Option 1 ID : 6306802814826

Option 2 ID : 6306802814827

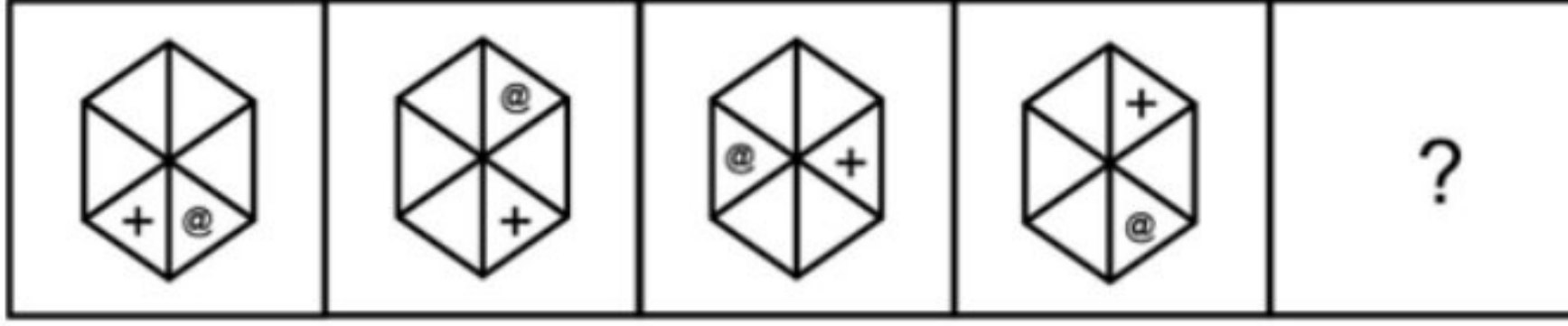
Option 3 ID : 6306802814825

Option 4 ID : 6306802814828

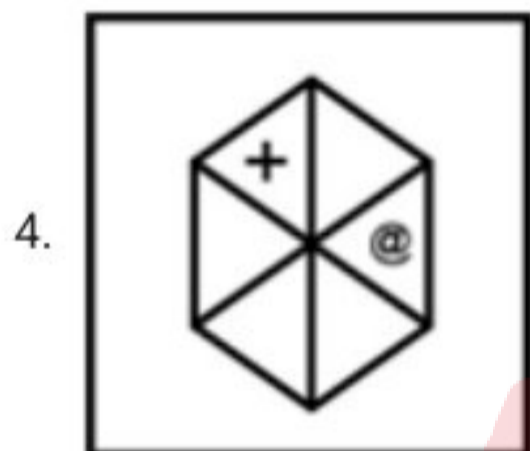
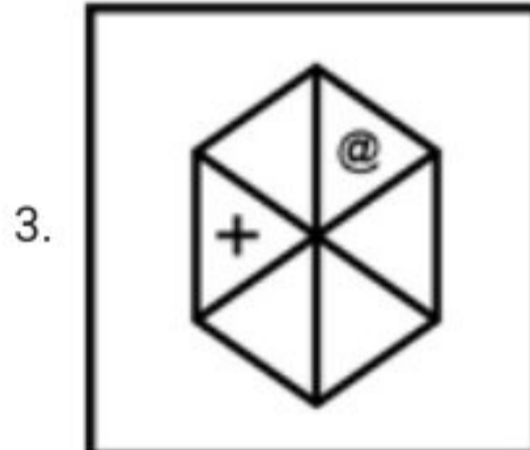
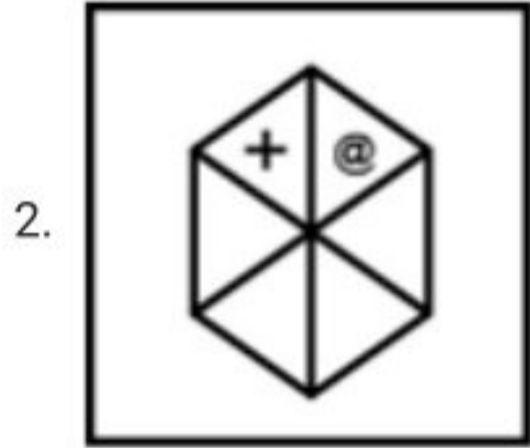
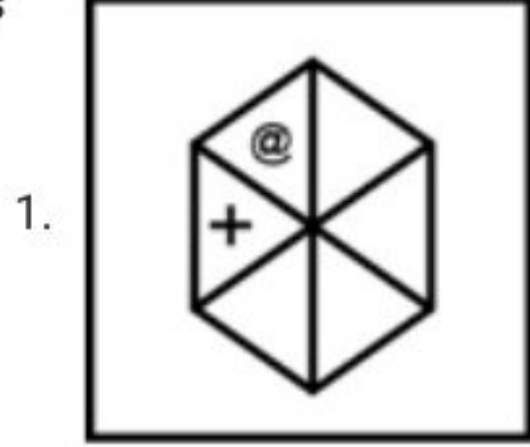
Status : Answered

Chosen Option : 2

Q.27 आपेव विकल्पोमांथी प्रश्न चिह्न (?)नी संज्ञा पर मूडी शकाय तेवी आकृति पसंद करो.



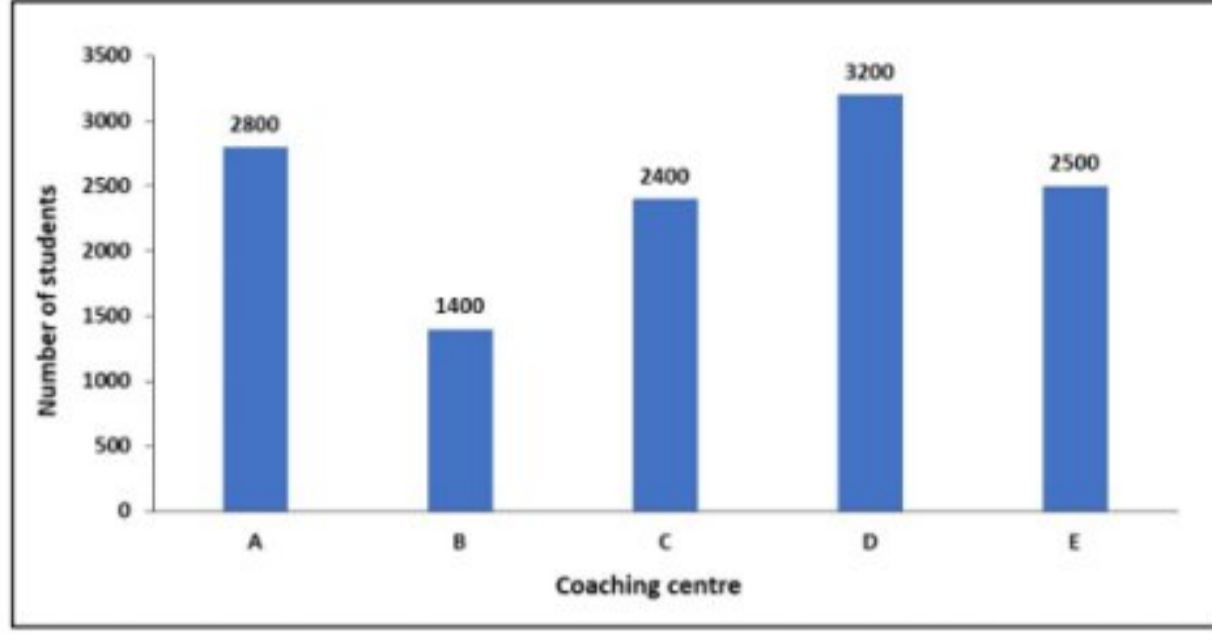
Options



Adda247

Question ID : 630680718314
 Option 1 ID : 6306802814772
 Option 2 ID : 6306802814770
 Option 3 ID : 6306802814769
 Option 4 ID : 6306802814771
 Status : Answered
 Chosen Option : 2

Q.28 નીચેનો બાર ગ્રાફ એક શહેરમાં પાંચ અલગ અલગ કોચિંગ સેન્ટરોમાં અભ્યાસ કરતા વિદ્યાર્થીઓની કુલ સંખ્યા દર્શાવે છે. બધા કોચિંગ સેન્ટરોમાં એકસાથે અભ્યાસ કરતા વિદ્યાર્થીઓની સરેરાશ સંખ્યા કેટલી છે?



(સંદર્ભ: Number of students- વિદ્યાર્થીઓની સંખ્યા, Coaching centres- કોચિંગ સેન્ટરો)

- Options
1. 2150
 2. 2100
 3. 2460
 4. 2820

Question ID : 630680718257

Option 1 ID : 6306802814541

Option 2 ID : 6306802814544

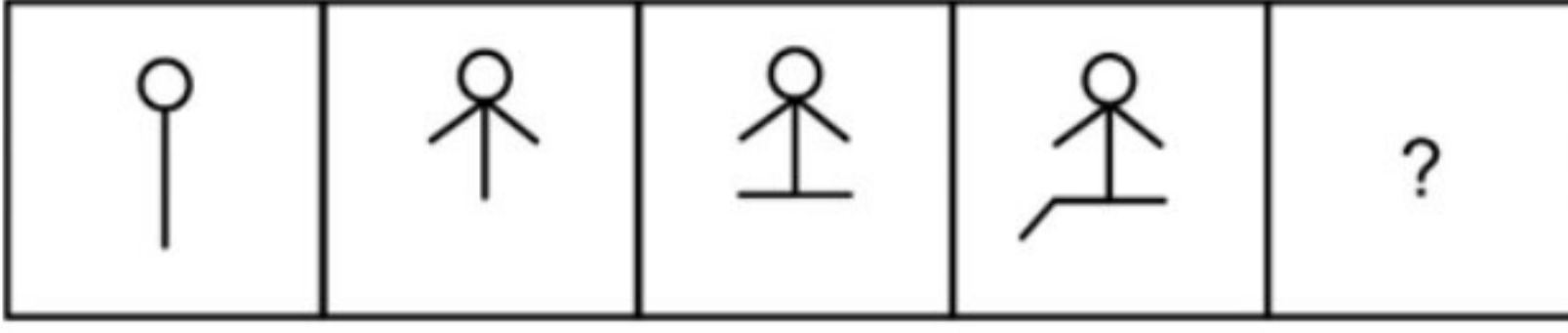
Option 3 ID : 6306802814542

Option 4 ID : 6306802814543





Status : Answered

Chosen Option : 3

Q.29 આપેલ વિકલ્પોમાંથી પ્રશ્ન ચિહ્ન (?)ની સંજ્ઞા પર મૂકી શકાય તેવી આકૃતિ પસંદ કરો.



Options



Question ID : 630680718313

Option 1 ID : 6306802814768

Option 2 ID : 6306802814767

Option 3 ID : 6306802814765

Option 4 ID : 6306802814766

Status : Answered

Chosen Option : 2

Q.30 નીચેના પ્રશ્નમાં એક પ્રશ્ન અને તેની નીચે આપેલા 1 અને 2 નંબરવાળા બે વિધાનોનો સમાવેશ થાય છે. તમારે નક્કી કરવાનું છે કે વિધાનોમાં આપવામાં આવેલી માહિતી પ્રશ્નનો જવાબ આપવા માટે પર્યાપ્ત છે કે કેમ. બંને વિધાનો વાંચો અને જવાબ આપો.

પ્રશ્ન: શું સંખ્યા $7512xy$ એ 6 વડે વિભાજ્ય છે?

વિધાન I: અંકોનો સરવાળો 24 છે.

વિધાન II: y એ બેકી સંખ્યા છે.

- Options**
1. 1 અને 2 બંને એકસાથે પર્યાપ્ત છે
 2. એકલું 1 પર્યાપ્ત છે જ્યારે એકલું 2 પર્યાપ્ત નથી
 3. ન તો 1 કે ન તો 2 પર્યાપ્ત છે
 4. એકલું 1 પર્યાપ્ત છે જ્યારે એકલું 2 પર્યાપ્ત નથી

Question ID : 630680718249

Option 1 ID : 6306802814511

Option 2 ID : 6306802814510

Option 3 ID : 6306802814512

Option 4 ID : 6306802814509

Status : Not Answered

Chosen Option : --

Q.31 એવો વિકલ્પ પસંદ કરો કે જે ત્રીજી સંખ્યા સાથે એવી રીતે સંબંધિત છે જે રીતે બીજી સંખ્યા પ્રથમ સંખ્યા સાથે સંબંધિત છે.

$91 : 8 :: 96 : ?$

- Options**
1. 7
 2. 5
 3. 3
 4. 1

Question ID : 630680718252

Option 1 ID : 6306802814521

Option 2 ID : 6306802814522

Option 3 ID : 6306802814523

Option 4 ID : 6306802814524

Status : Answered

Chosen Option : 3

Q.32 82357614 સંખ્યામાં અંકોને તેમના ચડતા ક્રમમાં લખવામાં આવે તો કેટલા અંકો તેમનું સ્થાન બદલશે નહીં?

- Options**
1. 5
 2. 3
 3. 1
 4. 0

Question ID : 630680718243

Option 1 ID : 6306802814488

Option 2 ID : 6306802814487

Option 3 ID : 6306802814486

Option 4 ID : 6306802814485

Status : Answered

Chosen Option : 2

Q.33 નીચે આપેલ પ્રશ્નમાં એક સવાલ અને બે વિધાનો આપેલ છે જેને 'I' અને 'II' એમ ક્રમાંકિત કરવામાં આવ્યા છે. તમારે નક્કી કરવાનું છે કે વિધાનોમાં આપેલ માહિતી (ડેટા) સવાલનો જવાબ આપવા પૂરતી છે કે નહિ. પછી પ્રશ્ન વાંચી એનો જવાબ જણાવવાનો છે.

સવાલ: નળાકારનું વક્ર પૃષ્ઠફળ શોધો.

વિધાન I: એક નળાકારની ત્રિજ્યા 7 cm છે.

વિધાન II: નળાકારનું ઘનફળ 1540 cm^3 છે.

Options

1. I અને II એમ બંને સાથે મળીને પૂરતાં છે
2. ન તો I કે ન તો II પૂરતું છે
3. વિધાન I એકલું પૂરતું છે જ્યારે કે II એકલું પૂરતું નથી
4. એકલું II પૂરતું છે જ્યારે કે એકલું I પૂરતું નથી

Question ID : 630680718290

Option 1 ID : 6306802814675

Option 2 ID : 6306802814676

Option 3 ID : 6306802814673

Option 4 ID : 6306802814674

Status : Answered

Chosen Option : 1

Q.34 રઘુબીર સ્નેહાનો ભાઈ છે. શીના સ્નેહાના એકમાત્ર ભાઈની પત્ની છે. આકાશ રઘુબીરનો પુત્ર છે. શીનાનો આકાશ સાથે શું સંબંધ છે?

Options

1. બહેન
2. માતા
3. પત્ની
4. દીકરી

Question ID : 630680718222

Option 1 ID : 6306802814401

Option 2 ID : 6306802814403

Option 3 ID : 6306802814402




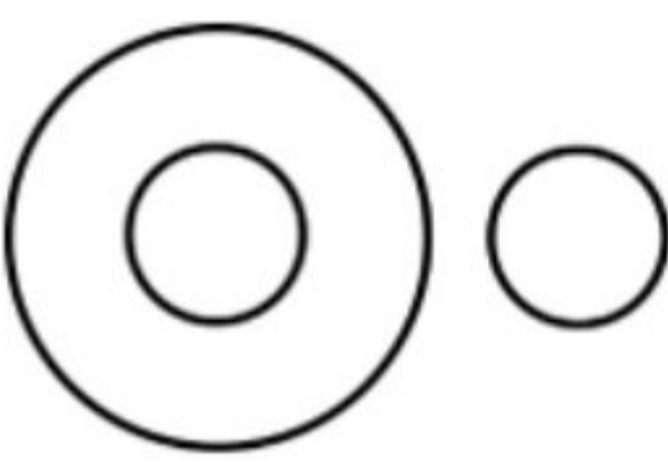
Option 4 ID : 6306802814404

Status : Answered

Chosen Option : 2

Q.35 નીચેનામાંથી કઈ વેન-આકૃતિ છોડ, ઈજનેર અને વાઘ વચ્ચેના સંબંધને યોગ્ય રીતે દર્શાવે છે?

Options

1. 
2. 
3. 
4. 

Question ID : 630680718306

Option 1 ID : 6306802814738

Option 2 ID : 6306802814740

Option 3 ID : 6306802814737

Option 4 ID : 6306802814739

Status : Answered

Chosen Option : 1

Q.36 આપેલ સમીકરણને સાચું બનાવવા માટે કઈ બે સંજ્ઞાઓની અદલાબદલી કરવી જોઈએ?

$$18 \times 9 + 12 \div 3 - 23 = 15$$

Options

1. \times અને $+$
2. $+$ અને \div
3. \times અને \div
4. \times અને $-$

Question ID : 630680718322

Option 1 ID : 6306802814801

Option 2 ID : 6306802814804

Option 3 ID : 6306802814803

Option 4 ID : 6306802814802

Status : Answered

Chosen Option : 3

Q.37 નીચેના સંખ્યા-સમૂહ જોવો જ સંબંધ ધરાવતો વિકલ્પ પસંદ કરો.

196 : 14

- Options
1. 166 : 13
 2. 400 : 20
 3. 100 : 99
 4. 122 : 11

Question ID : 630680718334

Option 1 ID : 6306802814851

Option 2 ID : 6306802814852

Option 3 ID : 6306802814849

Option 4 ID : 6306802814850

Status : Answered

Chosen Option : 2

Q.38 એક ચોક્કસ સાંક્રિતિક ભાષામાં,

'M × N' નો અર્થ 'M એ N નો પિતા છે'

'M + N' નો અર્થ 'M એ N ની માતા છે'

'M ÷ N' નો અર્થ 'M એ N નો પુત્ર છે'

'M - N' નો અર્થ 'M એ N ની દીકરી છે'

ઉપરના આધારે, 'H + I - J × K' પદાવલિમાં K નો I સાથે શું સંબંધ છે?

- Options
1. માતા
 2. બહેન
 3. પત્ની
 4. પુત્રી

Question ID : 630680718301

Option 1 ID : 6306802814720

Option 2 ID : 6306802814717

Option 3 ID : 6306802814719

Option 4 ID : 6306802814718

Status : Not Answered

Chosen Option : --

Q.39 પાંચ ભાઈઓ અમિત, બિનિત, હર્ષિત, વલિત અને મોહિતની ઉંમર નીચે મુજબ છે: અમિત હર્ષિત કરતા મોટો છે. વલિત બિનિત કરતા મોટો છે. બિનિત અમિત કરતાં મોટો છે. વલિત સૌથી મોટો નથી. તેમનામાંથી સૌથી નાનો કોણ છે?

- Options
1. બિનિત
 2. અમિત
 3. હર્ષિત
 4. મોહિત

Question ID : 630680718310
 Option 1 ID : 6306802814753
 Option 2 ID : 6306802814756
 Option 3 ID : 6306802814755
 Option 4 ID : 6306802814754
 Status : Answered
 Chosen Option : 3

Q.40 આપેલ સમીકરણને સાચું બનાવવા માટે કઈ બે સંખ્યાઓની અદલાબદલી કરવી જોઈએ?
 $11 + 8 \times 9 \div 12 - 3 = 14$

- Options
1. 8 અને 9
 2. 3 અને 9
 3. 14 અને 11
 4. 8 અને 12

Question ID : 630680718324
 Option 1 ID : 6306802814812
 Option 2 ID : 6306802814810
 Option 3 ID : 6306802814811
 Option 4 ID : 6306802814809
 Status : Answered
 Chosen Option : 1

Section : Quantitative Aptitude

Q.41 નીચેનામાંથી કઈ સંખ્યાને 8 વડે ભાગી શકાય છે?

- Options
1. 3658
 2. 3638
 3. 3668
 4. 3648

Question ID : 630680718379
 Option 1 ID : 6306802815033
 Option 2 ID : 6306802815031
 Option 3 ID : 6306802815034
 Option 4 ID : 6306802815032
 Status : Answered
 Chosen Option : 4

Q.42 નીચેનામાંથી કઈ સંખ્યાઓની જોડી સહઅવિભાજ્ય છે?

- Options
1. 21,33
 2. 28,58
 3. 28,49
 4. 87,88

Question ID : 630680718350

Option 1 ID : 6306802814915

Option 2 ID : 6306802814916

Option 3 ID : 6306802814917

Option 4 ID : 6306802814918

Status : Answered

Chosen Option : 3

Q.43 નીચેનામાંથી કયો ઉકેલ ત્રણ ચલમાં બંને રેખીય સમીકરણોને સંતોષી શકે છે તે નક્કી કરો

A) $5x+y-3z = -21$

B) $3x-5y-3z = -25$

- Options
1. $x=-4, y=2, z=2$
 2. $x=-4, y=2, z=1$
 3. $x=-3, y=2, z=1$
 4. $x=-4, y=1, z=1$

Question ID : 630680718371

Option 1 ID : 6306802815001

Option 2 ID : 6306802815002

Option 3 ID : 6306802814999

Option 4 ID : 6306802815000

Status : Answered

Chosen Option : 2

Q.44 અર્જુન 14 કલાકમાં પ્રવાસ પૂર્ણ કરે છે. તે મુસાફરીનો પહેલો અર્ધભાગ 21 km/hr ના દરે અને બીજો અર્ધભાગ 14 km/hr ના દરે પૂર્ણ કરે છે. તો કુલ પ્રવાસ km માં કેટલો હશે?

- Options
1. 235.2 km
 2. 237.5 km
 3. 239 km
 4. 232.2 km

Question ID : 630680718427

Option 1 ID : 6306802815224

Option 2 ID : 6306802815225

Option 3 ID : 6306802815226

Option 4 ID : 6306802815223

Status : Answered

Chosen Option : 1

Q.45 નીચેના AP(સમાંતર શ્રેણી): $S = 429 + 403 + 377 + 351 + \dots$ ના પ્રથમ 36 પદના સરવાળાની ગણતરી કરો.

- Options
1. -936
 2. -952
 3. -944
 4. -924

Question ID : 630680718375
 Option 1 ID : 6306802815016
 Option 2 ID : 6306802815018
 Option 3 ID : 6306802815017
 Option 4 ID : 6306802815015
 Status : Answered
 Chosen Option : 1

Q.46 જોકબના પગારમાં 10%નો વધારો થયો છે. પછી તેમાં વધુ 10%નો ઘટાડો થાય છે. તો તેના પગારમાં થતો ફેરફાર કેટલો છે?

- Options
1. 2% નો વધારો
 2. 10% નો ઘટાડો
 3. 10% નો વધારો
 4. 1% નો ઘટાડો

Question ID : 630680718415
 Option 1 ID : 6306802815176
 Option 2 ID : 6306802815177
 Option 3 ID : 6306802815178
 Option 4 ID : 6306802815175
 Status : Answered
 Chosen Option : 4

Q.47 14 વર્ષ પછી બુપેનની ઉંમર તેની સાત વર્ષ પહેલાની ઉંમર કરતા બે ગણી થશે. બુપેનની હાલની ઉંમર કેટલી છે?

- Options
1. 7 વર્ષ
 2. 28 વર્ષ
 3. 21 વર્ષ
 4. 14 વર્ષ

Question ID : 630680718372
 Option 1 ID : 6306802815003
 Option 2 ID : 6306802815006
 Option 3 ID : 6306802815005
 Option 4 ID : 6306802815004
 Status : Answered
 Chosen Option : 2

Q.48 એક સંમેય સંખ્યાનો છેદ તેના અંશ કરતાં 12 વધુ છે. જો અંશમાં 15નો વધારો કરવામાં આવે અને છેદમાં 2નો ઘટાડો થાય, તો પ્રાપ્ત સંખ્યા $6/5$ છે. સંમેય સંખ્યા શોધો.

- Options
1. $15/27$
 2. 15
 3. 27
 4. $27/15$

Question ID : 630680718433
 Option 1 ID : 6306802815248
 Option 2 ID : 6306802815247
 Option 3 ID : 6306802815250
 Option 4 ID : 6306802815249
 Status : Answered
 Chosen Option : 1

Q.49 ચાર અંકની સૌથી મોટી સંખ્યા કઈ હશે જેને 12, 6, 16 અને 22 વડે સંપૂર્ણ ભાગી શકાય?

- Options
1. 9504
 2. 9464
 3. 9637
 4. 9410

Question ID : 630680718383
 Option 1 ID : 6306802815048
 Option 2 ID : 6306802815047
 Option 3 ID : 6306802815049
 Option 4 ID : 6306802815050
 Status : Answered
 Chosen Option : 1

Q.50 મૂલ્યાંકન કરો: $28 + 11 \times 76 \div 4 + 12 - 91 \div 7 \times 11$

- Options
1. 107
 2. 110
 3. 106
 4. 108

Question ID : 630680718381
 Option 1 ID : 6306802815040
 Option 2 ID : 6306802815042
 Option 3 ID : 6306802815039
 Option 4 ID : 6306802815041
 Status : Answered
 Chosen Option : 3

Q.51 આરવ તરબૂચ વેચે છે. એક મહિનામાં તેનું વેચાણ Rs. 486 હતું અને તેની પસંદ કરેલ કિંમત પર 24.5% ના વધારાની અપેક્ષા છે. તેનો નફો શું હતો?

- Options**
1. Rs. 96.22
 2. Rs. 95.64
 3. Rs. 95.95
 4. Rs. 96.35

Question ID : 630680718388
 Option 1 ID : 6306802815069
 Option 2 ID : 6306802815067
 Option 3 ID : 6306802815068
 Option 4 ID : 6306802815070
 Status : Not Answered
 Chosen Option : --

Q.52 અમન 45 દિવસમાં બાઇક બનાવી શકે છે અને ચંદન 40 દિવસમાં તે જ બાઇક બનાવી શકે છે. તેઓએ સાથે મળીને બાઇક બનાવવાનું શરૂ કર્યું પરંતુ અમન થોડા દિવસોમાં જ નીકળી ગયો. ચંદને બાકીનું કામ 23 દિવસમાં પૂરું કરવાનું હતું. કેટલા દિવસો પછી ચંદને સ્વતંત્ર રીતે કામ પૂરું કરવાનું હતું તે શોધો.

- Options**
1. 6 દિવસ
 2. 9 દિવસ
 3. 10 દિવસ
 4. 8 દિવસ

Question ID : 630680718395
 Option 1 ID : 6306802815095
 Option 2 ID : 6306802815097
 Option 3 ID : 6306802815098
 Option 4 ID : 6306802815096
 Status : Answered
 Chosen Option : 2

Q.53 જો વેચાણ કિંમત છ ગણી વધારવામાં આવે, તો નફો દસ ગણો વધી જાય છે. નફાની ટકાવારી શોધો.

- Options**
1. 175%
 2. 150%
 3. 100%
 4. 125%

Question ID : 630680718357
 Option 1 ID : 6306802814946
 Option 2 ID : 6306802814945
 Option 3 ID : 6306802814943
 Option 4 ID : 6306802814944
 Status : Not Answered
 Chosen Option : --

Q.54 જો 50 પેનનો ખર્ચ Rs. 620 છે. તો 78 પેનનો ખર્ચશોધો.

- Options
1. Rs. 984.4
 2. Rs. 992.6
 3. Rs. 967.2
 4. Rs. 974.6

Question ID : 630680718421
 Option 1 ID : 6306802815201
 Option 2 ID : 6306802815202
 Option 3 ID : 6306802815199
 Option 4 ID : 6306802815200
 Status : Answered
 Chosen Option : 3

Q.55 0.316 ને સાદા અપૂર્ણાંકમાં રૂપાંતરિત કરો. જ્યાં "16" આવૃત અંકો છે.

- Options
1. 85/48
 2. 158/49
 3. 158/999
 4. 313/990

Question ID : 630680718382
 Option 1 ID : 6306802815044
 Option 2 ID : 6306802815045
 Option 3 ID : 6306802815046
 Option 4 ID : 6306802815043
 Status : Not Answered
 Chosen Option : --

Q.56 16 મશીનો 12 કલાકમાં 768 પેજ પ્રિન્ટ કરી શકે છે. દરેક મશીન દ્વારા એક કલાકમાં છાપવામાં આવેલા પૃષ્ઠોની સરેરાશ સંખ્યા શોધો.

- Options
1. 3
 2. 2
 3. 4
 4. 1

Question ID : 630680718347
 Option 1 ID : 6306802814905
 Option 2 ID : 6306802814904
 Option 3 ID : 6306802814906
 Option 4 ID : 6306802814903
 Status : Answered
 Chosen Option : 3

Q.57 પવન સનફવાવર ઓઈલ લાવ્યો અને તેને પડતર કિંમત કરતાં 35% વધુ ભાવ અંકિત કર્યો. અંતે તેણે 16% ડિસ્કાઉન્ટ પર ઓઈલ વેચ્યું. શું તેણે નફો મેળવ્યો કે નુકસાન અને કેટલું?

- Options**
1. 11.6% નફો
 2. 13.4% નફો
 3. 8.4% નુકસાન
 4. 9.7% નફો

Question ID : 630680718420
 Option 1 ID : 6306802815197
 Option 2 ID : 6306802815198
 Option 3 ID : 6306802815195
 Option 4 ID : 6306802815196
 Status : Answered
 Chosen Option : 2

Q.58 એક હોડીની પ્રવાહની વિરુદ્ધ દિશામાં ઝડપ 12.8 કિમી/કલાક છે અને પ્રવાહની દિશામાં ઝડપ 16.4 કિમી/કલાક છે. 120 કિમી પ્રવાહની વિરુદ્ધ દિશામાં અને તે જ અંતર પ્રવાહની દિશામાં ઝડપ કવર કરવા માટે હોડી દ્વારા લેવામાં આવેલ સમય શોધો.

- Options**
1. 16.42 કલાક
 2. 16.78 કલાક
 3. 16.9 કલાક
 4. 16.69 કલાક

Question ID : 630680718368
 Option 1 ID : 6306802814987
 Option 2 ID : 6306802814989
 Option 3 ID : 6306802814990
 Option 4 ID : 6306802814988
 Status : Not Answered
 Chosen Option : --

Q.59 એક સંખ્યાના પ્રથમ પાંચ અવયવીની સરેરાશ 27 છે. તો તે સંખ્યા શોધો.

- Options**
1. 3
 2. 6
 3. 9
 4. 27

Question ID : 630680718406
 Option 1 ID : 6306802815139
 Option 2 ID : 6306802815140
 Option 3 ID : 6306802815141
 Option 4 ID : 6306802815142
 Status : Answered
 Chosen Option : 3

Q.60 જો કોઈ સંખ્યાના 40%ના 15% 42 હોય, તો તે સંખ્યા શોધો.

- Options
1. 168
 2. 76.36
 3. 700
 4. 56

Question ID : 630680718416
 Option 1 ID : 6306802815181
 Option 2 ID : 6306802815180
 Option 3 ID : 6306802815182
 Option 4 ID : 6306802815179
 Status : Answered
 Chosen Option : 3

Q.61 જો $r + (1/r) = 18$ હોય, તો પછી $r^2 + (1/r^2)$ નું મૂલ્ય નક્કી કરો.

- Options
1. 1
 2. 0
 3. 322
 4. 18

Question ID : 630680718400
 Option 1 ID : 6306802815116
 Option 2 ID : 6306802815115
 Option 3 ID : 6306802815118
 Option 4 ID : 6306802815117
 Status : Answered
 Chosen Option : 3

Q.62 બે ઉમેદવારો વચ્ચે યોજાયેલી ચૂંટણીમાં સનમને કુલ માન્ય મતોમાંથી 8400 મત મળ્યા હતા. જો રોશનને મળેલા મતોની સંખ્યા 16% છે. કુલ માન્ય મતો શોધો.

- Options
1. 10000
 2. 14000
 3. 16000
 4. 12000

Question ID : 630680718414
 Option 1 ID : 6306802815171
 Option 2 ID : 6306802815173
 Option 3 ID : 6306802815174
 Option 4 ID : 6306802815172
 Status : Answered
 Chosen Option : 1

Q.63 GP (સમગુણોત્તર શ્રેણી) નું પ્રથમ પદ 13 છે અને સામાન્ય ગુણોત્તર 7 છે, તો GP (સમગુણોત્તર શ્રેણી) નું ચોથું પદ શું છે?

- Options**
1. 4452
 2. 4468
 3. 4440
 4. 4459

Question ID : 630680718405
 Option 1 ID : 6306802815136
 Option 2 ID : 6306802815138
 Option 3 ID : 6306802815135
 Option 4 ID : 6306802815137
 Status : Not Answered
 Chosen Option : --

Q.64 રિકીએ Rs.2600 માં એક જીન્સ ખરીદ્યું. દુકાનદારે તેને ચિહ્નિત કિંમત પર 20% નું ડિસ્કાઉન્ટ ઓફર કર્યું. જીન્સની ચિહ્નિત કિંમત શું હતી?

- Options**
1. 3260
 2. 3240
 3. 3270
 4. 3250

Question ID : 630680718419
 Option 1 ID : 6306802815193
 Option 2 ID : 6306802815191
 Option 3 ID : 6306802815194
 Option 4 ID : 6306802815192
 Status : Answered
 Chosen Option : 4

Q.65 વિજય પાસે પેઇન્ટના બે કન્ટેનર છે. પ્રથમ કન્ટેનરમાં 80% પેઇન્ટ છે અને બાકીનું પાણી છે. બીજા કન્ટેનરમાં 50% પાણી સમાવે છે અને બાકીનું પેઇન્ટ છે. 24 લિટર પેઇન્ટ મેળવવા માટે તેને દરેક કન્ટેનરમાંથી કેટલું પેઇન્ટ મિક્સ કરવું જોઈએ કે જેથી પેઇન્ટ માટે પાણીનો ગુણોત્તર 3 : 7 હોય?

- Options**
1. એક કન્ટેનરમાંથી 6 લિટર અને બીજામાંથી 18 લિટર
 2. એક કન્ટેનરમાંથી 8 લિટર અને બીજામાંથી 16 લિટર
 3. એક કન્ટેનરમાંથી 10 લિટર અને બીજામાંથી 14 લિટર
 4. એક કન્ટેનરમાંથી 12 લિટર અને બીજામાંથી 12 લિટર

Question ID : 630680718348
 Option 1 ID : 6306802814908
 Option 2 ID : 6306802814909
 Option 3 ID : 6306802814907
 Option 4 ID : 6306802814910
 Status : Not Answered
 Chosen Option : --

Q.66 બે નળ G અને H અનુક્રમે 24 મિનિટ અને 32 મિનિટમાં એક ટાંકી ભરે છે. જો બંને નળ એકસાથે ખોલવામાં આવે, તો કેટલી મિનિટ પછી નળ H બંધ કરવો જોઈએ જેથી ટાંકી 16 મિનિટમાં ભરાઈ જાય.

- Options**
1. 10.66 મિનિટ
 2. 14.5 મિનિટ
 3. 16.24 મિનિટ
 4. 15.36 મિનિટ

Question ID : 630680718394

Option 1 ID : 6306802815091

Option 2 ID : 6306802815092

Option 3 ID : 6306802815094

Option 4 ID : 6306802815093

Status : Not Answered

Chosen Option : --

Q.67 છ વર્ષ પહેલાં, આફતાબ અને સંજયની ઉંમરનો ગુણોત્તર 6:5 હતો. ચાર વર્ષ પછી, તેમની ઉંમરનો ગુણોત્તર 11:10 હશે. સંજયની હાલની ઉંમર કેટલી છે?

- Options**
1. 12 વર્ષ
 2. 18 વર્ષ
 3. 14 વર્ષ
 4. 16 વર્ષ

Question ID : 630680718393

Option 1 ID : 6306802815087

Option 2 ID : 6306802815090

Option 3 ID : 6306802815088

Option 4 ID : 6306802815089

Status : Answered

Chosen Option : 2

Q.68 દિનેશ 24 કિમી/કલાકની ઝડપે સ્કૂટર પર એક જગ્યાએ જાય છે અને ઓછી ઝડપે પાછો આવે છે. જો કુલ મુસાફરીમાં સરેરાશ ઝડપ 12 કિમી/કલાક હોય, તો પાછા વળતાં તેની ઝડપ (કિમી/કલાકમાં) છે:

- Options**
1. 10 કિમી/કલાક
 2. 9 કિમી/કલાક
 3. 7 કિમી/કલાક
 4. 8 કિમી/કલાક

Question ID : 630680718396

Option 1 ID : 6306802815102

Option 2 ID : 6306802815101

Option 3 ID : 6306802815099

Option 4 ID : 6306802815100

Status : Answered

Chosen Option : 4

Q.69 112 ને 3:5 ના ગુણોત્તરમાં વિભાજિત કરો.

- Options
1. 42 અને 70
 2. 46 અને 66
 3. 44 અને 72
 4. 40 અને 72

Question ID : 630680718392
 Option 1 ID : 6306802815083
 Option 2 ID : 6306802815086
 Option 3 ID : 6306802815085
 Option 4 ID : 6306802815084
 Status : Answered
 Chosen Option : 1

Q.70 બે ટ્રેનની ઝડપ વચ્ચેનો ગુણોત્તર 12:15 છે. જો બીજી ટ્રેન 12 કલાકમાં 1512 કિમી ચાલે છે, તો પ્રથમ ટ્રેનની ઝડપ _____ છે:

- Options
1. 100.7 કિમી પ્રતિ કલાક
 2. 100.5 કિમી પ્રતિ કલાક
 3. 100.6 કિમી પ્રતિ કલાક
 4. 100.8 કિમી પ્રતિ કલાક

Question ID : 630680718399
 Option 1 ID : 6306802815113
 Option 2 ID : 6306802815111
 Option 3 ID : 6306802815112
 Option 4 ID : 6306802815114
 Status : Not Answered
 Chosen Option : --

Section : English

Q.71 Choose the option which is the best translation to Gujarati of the given sentence.

Children laughed beneath the ancient oak tree, creating a joyous meadow sound.

- Options
1. પ્રાચીન ઓક વૃક્ષની નીચે બાળકો હસી પડ્યા, ઘાસના મેદાનોમાં આનંદી અવાજ ગુંજી ઊઠ્યો.
 2. બાળકો પ્રાચીન ઓક વૃક્ષની નીચે હસ્યા, જેનાથી ઘાસના મેદાનમાં આનંદી અવાજ બન્યો
 3. પ્રાચીન ઓક વૃક્ષની નીચે બાળકો હસી રહ્યા છે, જેના લીધે ઘાસના મેદાનોમાં આનંદી અવાજ બને છે.
 4. પ્રાચીન ઓક વૃક્ષની નીચે બાળકો હસતા હતા, અને એનાથી ઘાસના મેદાનોમાં એક ખુશહાલ અવાજ રચાયો.

Question ID : 630680718110
 Option 1 ID : 6306802813965
 Option 2 ID : 6306802813967
 Option 3 ID : 6306802813966
 Option 4 ID : 6306802813968
 Status : Answered
 Chosen Option : 1

Q.72 Fill in the blank with the most appropriate noun

The ____ of the mountain posed a challenge for the climbers.

- Options
1. summit
 2. summiting
 3. submission
 4. summited

Question ID : 630680718085
Option 1 ID : 6306802813872
Option 2 ID : 6306802813871
Option 3 ID : 6306802813869
Option 4 ID : 6306802813870
Status : Not Answered
Chosen Option : --

Q.73 Choose the correct one-word substitution for the Underlined words:

Persons who advocate for the protection of the environment play a crucial role in conservation efforts, helping to protect and preserve natural habitats.

- Options
1. Ecologist
 2. Misogynist
 3. Altruist
 4. Epitome

Question ID : 630680718090
Option 1 ID : 6306802813890
Option 2 ID : 6306802813892
Option 3 ID : 6306802813891
Option 4 ID : 6306802813889
Status : Not Answered
Chosen Option : --

Q.74 Choose the correct one-word substitution for the Underlined word:

The unexpected explosion in the crowded marketplace created a sudden and violent disturbance, causing chaos or uproar among the panicked crowd.

- Options
1. Cautious
 2. Serenity
 3. Turmoil
 4. Euphoria

Question ID : 630680718091
Option 1 ID : 6306802813896
Option 2 ID : 6306802813894
Option 3 ID : 6306802813893
Option 4 ID : 6306802813895
Status : Not Answered
Chosen Option : --

Q.75 Fill in the blank with the simple past tense:

Last night, they _____ an amazing concert in the park.

- Options
1. attend
 2. attended
 3. attending
 4. attends

Question ID : 630680718103
Option 1 ID : 6306802813940
Option 2 ID : 6306802813937
Option 3 ID : 6306802813939
Option 4 ID : 6306802813938
Status : Answered
Chosen Option : 2

Q.76 Choose the option which is synonym of (similar to) the word Resilient

- Options
1. Tenacious
 2. Delicate
 3. Brittle
 4. Fragile

Question ID : 630680718109
Option 1 ID : 6306802813962
Option 2 ID : 6306802813963
Option 3 ID : 6306802813964
Option 4 ID : 6306802813961
Status : Not Answered
Chosen Option : --

Q.77 Choose the option which is antonym of (opposite of) the word Sycophant

- Options
1. Complimentary
 2. Rebel
 3. Obedient
 4. Flatterer

Question ID : 630680718108
Option 1 ID : 6306802813960
Option 2 ID : 6306802813958
Option 3 ID : 6306802813959
Option 4 ID : 6306802813957
Status : Not Answered
Chosen Option : --

Q.78 Rearrange the following sentences to form a coherent paragraph and choose the correct sequence from the options given below:

- A. Also known as ghost kitchens or virtual kitchens, these establishments operate solely for food delivery.
- B. This model streamlines costs and allows for greater culinary experimentation.
- C. Without a traditional dine-in space, cloud kitchens leverage online platforms and food delivery apps to reach customers directly.
- D. Creating a new frontier for chefs and entrepreneurs to explore diverse cuisines and culinary concepts with the convenience of online ordering shaping the future of dining.
- E. In the digital age, the concept of a cloud kitchen has emerged as a disruptive force in the food industry.

- Options
- 1. CBEAD
 - 2. EACBD
 - 3. DBEAC
 - 4. ADBEC

Question ID : 630680718073

Option 1 ID : 6306802813825

Option 2 ID : 6306802813827

Option 3 ID : 6306802813828

Option 4 ID : 6306802813826

Status : Not Answered

Chosen Option : --

Q.79 Fill in the blank with the most appropriate pronoun:

The company announced _____ plans for expansion in the coming year.

- Options
- 1. its
 - 2. it is
 - 3. it
 - 4. it's

Question ID : 630680718070

Option 1 ID : 6306802813813

Option 2 ID : 6306802813815

Option 3 ID : 6306802813816

Option 4 ID : 6306802813814

Status : Answered

Chosen Option : 4

Q.80 Rearrange the following sentences to form a coherent paragraph and choose the correct sequence from the options given below:

- A. Major automakers are investing heavily in EV development, and countries are rolling out initiatives to encourage the adoption of electric cars.
- B. Propelled by advancements in battery technology, electric vehicles (EVs) are gaining popularity for their eco-friendly credentials and lower carbon footprint.
- C. As the charging infrastructure expands and battery efficiency improves, the rise of electric cars is poised to revolutionize the way we commute, offering a greener alternative to traditional gasoline-powered vehicles.
- D. In response to environmental concerns and a quest for sustainable transportation, electric cars have become a defining force in the automotive industry.

- Options
- 1. CDBA
 - 2. BDCA
 - 3. DBAC
 - 4. ACBD

Question ID : 630680718088

Option 1 ID : 6306802813883

Option 2 ID : 6306802813881

Option 3 ID : 6306802813884

Option 4 ID : 6306802813882

Status : Not Answered

Chosen Option : --

Q.81 Fill in the blank with the most appropriate article:

_____ interesting story from Persia tells of a man praying to God to reveal devotion.

- Options
- 1. an
 - 2. a
 - 3. no article
 - 4. the

Question ID : 630680718084

Option 1 ID : 6306802813866

Option 2 ID : 6306802813865

Option 3 ID : 6306802813868

Option 4 ID : 6306802813867

Status : Answered

Chosen Option : 1

Comprehension:

Read the passage carefully and choose the best answer to each question out of the four alternatives:

The 21st century confronts humanity with complex challenges to the safeguarding of human rights. While advancements in technology and communication offer unprecedented opportunities, they also bring forth new threats. Privacy concerns in the era of widespread surveillance, digital discrimination, and the ethical implications of artificial intelligence pose significant human rights dilemmas.

Moreover, issues of social justice, gender equality, and racial discrimination persist globally. Forced migrations, refugee crises, and the impacts of climate change further strain the protection of individuals' rights. Authoritarian regimes and the erosion of democratic institutions in some regions raise alarms about political freedoms.

In the face of these challenges, the role of international cooperation and institutions becomes crucial. Balancing security measures with the preservation of civil liberties, addressing economic inequality, and fostering inclusive policies are imperative. The 21st-century human rights landscape demands a collective commitment to upholding the principles of dignity, equality, and justice, adapting them to the intricacies of our technologically interconnected and socially diverse world.

SubQuestion No : 82

Q.82 What is the most appropriate title for the passage?

- Options**
1. Navigating Human Rights in a Technologically Disconnected World
 2. Challenges of the 21st Century: Human Rights Perspectives
 3. Emerging Threats to Privacy and Civil Liberties
 4. Global Issues: Climate Change, Migration, and Autocracy

Question ID : 630680718096

Option 1 ID : 6306802813912

Option 2 ID : 6306802813909

Option 3 ID : 6306802813910

Option 4 ID : 6306802813911

Status : **Not Answered**

Chosen Option : --

Comprehension:

Read the passage carefully and choose the best answer to each question out of the four alternatives:

The 21st century confronts humanity with complex challenges to the safeguarding of human rights. While advancements in technology and communication offer unprecedented opportunities, they also bring forth new threats. Privacy concerns in the era of widespread surveillance, digital discrimination, and the ethical implications of artificial intelligence pose significant human rights dilemmas.

Moreover, issues of social justice, gender equality, and racial discrimination persist globally. Forced migrations, refugee crises, and the impacts of climate change further strain the protection of individuals' rights. Authoritarian regimes and the erosion of democratic institutions in some regions raise alarms about political freedoms.

In the face of these challenges, the role of international cooperation and institutions becomes crucial. Balancing security measures with the preservation of civil liberties, addressing economic inequality, and fostering inclusive policies are imperative. The 21st-century human rights landscape demands a collective commitment to upholding the principles of dignity, equality, and justice, adapting them to the intricacies of our technologically interconnected and socially diverse world.

SubQuestion No : 83

Q.83 Which of the following can be inferred from the passage?

- Options**
1. Climate change exacerbates racial discrimination.
 2. Technological advancements always enhance human rights protection.
 3. Balancing security and civil liberties is essential.
 4. International cooperation is irrelevant in addressing human rights challenges.

Question ID : 630680718098

Option 1 ID : 6306802813918

Option 2 ID : 6306802813917

Option 3 ID : 6306802813920

Option 4 ID : 6306802813919

Status : **Not Answered**

Chosen Option : --

Comprehension:

Read the passage carefully and choose the best answer to each question out of the four alternatives:

The 21st century confronts humanity with complex challenges to the safeguarding of human rights. While advancements in technology and communication offer unprecedented opportunities, they also bring forth new threats. Privacy concerns in the era of widespread surveillance, digital discrimination, and the ethical implications of artificial intelligence pose significant human rights dilemmas.

Moreover, issues of social justice, gender equality, and racial discrimination persist globally. Forced migrations, refugee crises, and the impacts of climate change further strain the protection of individuals' rights. Authoritarian regimes and the erosion of democratic institutions in some regions raise alarms about political freedoms.

In the face of these challenges, the role of international cooperation and institutions becomes crucial. Balancing security measures with the preservation of civil liberties, addressing economic inequality, and fostering inclusive policies are imperative. The 21st-century human rights landscape demands a collective commitment to upholding the principles of dignity, equality, and justice, adapting them to the intricacies of our technologically interconnected and socially diverse world.

SubQuestion No : 84**Q.84 What is the structure of the passage?**

- Options**
1. Privacy Concerns, Economic Inequality, Dignity and Justice Principles, 21st-century Landscape
 2. Introduction, Challenges of the 21st Century, Role of International Cooperation, Conclusion.
 3. Emerging Threats, Historical Background of Human Rights, Political Freedoms, Collective Commitment
 4. Overview of Human Rights, Technology Advancements, Social Justice Issues, Global Cooperation

Question ID : 630680718099

Option 1 ID : 6306802813924

Option 2 ID : 6306802813921

Option 3 ID : 6306802813923

Option 4 ID : 6306802813922

Status : **Not Answered**

Chosen Option : --

Comprehension:

Read the passage carefully and choose the best answer to each question out of the four alternatives:

The 21st century confronts humanity with complex challenges to the safeguarding of human rights. While advancements in technology and communication offer unprecedented opportunities, they also bring forth new threats. Privacy concerns in the era of widespread surveillance, digital discrimination, and the ethical implications of artificial intelligence pose significant human rights dilemmas.

Moreover, issues of social justice, gender equality, and racial discrimination persist globally. Forced migrations, refugee crises, and the impacts of climate change further strain the protection of individuals' rights. Authoritarian regimes and the erosion of democratic institutions in some regions raise alarms about political freedoms.

In the face of these challenges, the role of international cooperation and institutions becomes crucial. Balancing security measures with the preservation of civil liberties, addressing economic inequality, and fostering inclusive policies are imperative. The 21st-century human rights landscape demands a collective commitment to upholding the principles of dignity, equality, and justice, adapting them to the intricacies of our technologically interconnected and socially diverse world.

SubQuestion No : 85

Q.85 What is the central theme of the passage?

- Options**
1. Balancing Security Measures and Civil Liberties
 2. The Role of International Cooperation in Safeguarding Rights
 3. The Impact of Climate Change on Human Rights
 4. The 21st-century human rights landscape demanding a collective commitment

Question ID : 630680718097

Option 1 ID : 6306802813913

Option 2 ID : 6306802813915

Option 3 ID : 6306802813914

Option 4 ID : 6306802813916

Status : Not Answered

Chosen Option : --

Section : Gujarati

Q.86 આપેલ વિકલ્પોમાંથી કહેવતનો સાચો અર્થ આપો:

'બાવાના બેય બગડ્યાં'

- Options**
1. સાધુના લગ્ન
 2. સાધુપણું છોડવું
 3. સંસાર છોડવો
 4. બે બાજુથી પસ્તાવાનું થયું

Question ID : 630680718202

Option 1 ID : 6306802814324

Option 2 ID : 6306802814322

Option 3 ID : 6306802814323

Option 4 ID : 6306802814321

Status : Answered

Chosen Option : 4

Q.87 સમાસનો સાચો વિગ્રહ શોધો: નોધારી

- Options
1. જેનો કોઈ આધાર છે તેવી
 2. જેનો કોઈ આધાર નથી તેવી
 3. જેની કોઈ ધાર નથી તેવું
 4. જેની ધાર તીક્ષ્ણ છે તેવું

Question ID : 630680701957

Option 1 ID : 6306802749736

Option 2 ID : 6306802749734

Option 3 ID : 6306802749733

Option 4 ID : 6306802749735

Status : Answered

Chosen Option : 2

Q.88 આપેલ વિકલ્પોમાંથી સમાનાર્થી શબ્દ શોધો:

'જવાહર'

- Options
1. ઝવેર
 2. હાર
 3. મોતી
 4. નહેરુ

Question ID : 630680718186

Option 1 ID : 6306802814259

Option 2 ID : 6306802814257

Option 3 ID : 6306802814260

Option 4 ID : 6306802814258

Status : Not Answered

Chosen Option : --

Q.89 આપેલ વિકલ્પોમાંથી ખોટી જોડણીવાળો શબ્દ શોધો.

- Options
1. આધાશિશી
 2. અગિયારી
 3. મૂળિયા
 4. અભિભૂત

Question ID : 630680718174

Option 1 ID : 6306802814210

Option 2 ID : 6306802814209

Option 3 ID : 6306802814212

Option 4 ID : 6306802814211

Status : Not Answered

Chosen Option : --

Q.90 आपेव विकल्पोमांची विरुद्धार्थी शब्द शोधो.:

'अगोचर'

- Options
1. उदर
 2. गोचर
 3. भूधर
 4. गाढ

Question ID : 630680718168

Option 1 ID : 6306802814188

Option 2 ID : 6306802814187

Option 3 ID : 6306802814186

Option 4 ID : 6306802814185

Status : Not Answered

Chosen Option : --

Q.91 समानार्थी शब्द शोधो:

'दुश्मन'

- Options
1. यधु
 2. दानव
 3. रिपु
 4. दोस्त

Question ID : 630680718199

Option 1 ID : 6306802814311

Option 2 ID : 6306802814309

Option 3 ID : 6306802814312

Option 4 ID : 6306802814310

Status : Answered

Chosen Option : 2

Q.92 विरुद्धार्थी शब्द शोधो.:

आदेश

- Options
1. विनंती
 2. अलप
 3. हुकम
 4. आज्ञा

Question ID : 630680718219

Option 1 ID : 6306802814389

Option 2 ID : 6306802814392

Option 3 ID : 6306802814390

Option 4 ID : 6306802814391

Status : Answered

Chosen Option : 1

Q.93 શબ્દસમૂહ માટે એક શબ્દ લખો.:

'પ્રવાહની મધ્યધારા'

- Options
1. નદી
 2. મઝધાર
 3. કિનારો
 4. સાગર

Question ID : 630680718207

Option 1 ID : 6306802814343

Option 2 ID : 6306802814344

Option 3 ID : 6306802814341

Option 4 ID : 6306802814342

Status : Answered

Chosen Option : 2

Q.94 પ્રેમનો જન્મ પરસ્પરના સમભાવમાંથી થાય છે. સમભાવ પ્રેમનું બીજ છે. એમાંથી જન્મતો પ્રેમ સ્થૂળથી પર છે. એ ચાહે છે પરસ્પરના હૃદયનું આકર્ષણ, હૃદયનો વિનિમય, પરસ્પરના હૃદયનું પૂજન ત્યાં સુધી તેનું સ્વરૂપ ઊર્ધ્વગામી છે.

વાક્ય વાચન કરીને વિકલ્પોમાંથી 'ઊર્ધ્વગામી' નો અર્થ શોધો.

- Options
1. નીચે જોનારું
 2. ઊંચે જોનારું
 3. નીચે જનારું
 4. ઊંચે જોનારું

Question ID : 630680718194

Option 1 ID : 6306802814291

Option 2 ID : 6306802814290

Option 3 ID : 6306802814289

Option 4 ID : 6306802814292

Status : Not Answered

Chosen Option : --

Q.95 નીચેના વિકલ્પોમાંથી શબ્દસમૂહ માટે એક શબ્દ પસંદ કરો:

'હાથીનો ચાલક'

- Options
1. શલ્ય
 2. મહાવત
 3. અશ્વસ્થામાં
 4. સારથી

Question ID : 630680718179

Option 1 ID : 6306802814229

Option 2 ID : 6306802814232

Option 3 ID : 6306802814230

Option 4 ID : 6306802814231

Status : Answered

Chosen Option : 2

Q.96 ભોમિયા વિના મારે ભમવા'તા ડુંગરા,
જંગલની કુંજકુંજ જોવી હતી;
જોવાં'તાં કોતરો ને જોવી'તી કંદરા,
રોતાં ઝરણાંની આંખ લહોવી હતી.
સૂના સરવરિયાની સોનેરી પાળે,
હંસોની હાર મારે ગણવી હતી;
ડાળે જૂલંત કોક કોકિલાને માળે,
અંતરની વેદના વણવી હતી.
એકલા આકાશ તળે ઊભીને એકલો,
પડઘા ઉરબોલના ઝીલવા ગયો;
વેરાયા બોલ મારા, ફેલાયા આભમાં,
એકલો, અટૂલો ઝાંખો પડ્યો.
આખો અવતાર મારે ભમવા ડુંગરિયા,
જંગલની કુંજકુંજ જોવી ફરી;
ભોમિયા ભૂલે એવી ભમવી રે કંદરા,
અંતરની આંખડી લહોવી જરી.

કાવ્યને યોગ્ય શીર્ષક આપો.

- Options
1. કુંજ
 2. ઝરણાં
 3. ભોમિયા વિના
 4. ડુંગર

Question ID : 630680718176
Option 1 ID : 6306802814219
Option 2 ID : 6306802814217
Option 3 ID : 6306802814218
Option 4 ID : 6306802814220

Status : Not Answered

Chosen Option : --

Q.97 'Bribery and corruption should have no place whatsoever in any of government office' -
વાક્યનું સાચું ગુજરાતી ભાષાંતર શોધો

- Options
1. કોઈ પણ સરકારી કચેરીમાં લાંચ અને ભ્રષ્ટાચારને બિલકુલ સ્થાન ન હોવું જોઈએ.
 2. કોઈ પણ સરકારી કચેરીમાં બ્રેડ અને ભ્રષ્ટાચારને બિલકુલ સ્થાન ન હોવું જોઈએ.
 3. કોઈ પણ સરકારી કચેરીમાં લાંચ અને ભ્રષ્ટાચારને બિલકુલ સ્થાન હોવું જોઈએ.
 4. કોઈ પણ સરકારી કચેરીમાં કાયરતા અને ભ્રષ્ટાચારને બિલકુલ સ્થાન ન હોવું જોઈએ.

Question ID : 630680718177
Option 1 ID : 6306802814223
Option 2 ID : 6306802814224
Option 3 ID : 6306802814221
Option 4 ID : 6306802814222

Status : Answered

Chosen Option : 1

Q.98 આપેલ વિધાનનું કર્મણિમાં રૂપાંતર કરો: એણે દસ બાળકોને જમાડ્યા

- Options
1. એનાથી દસ બાળકોને નજમાડાયાં
 2. એનાથી દસ બાળકોને જમાડાયાં
 3. એણે દસ બાળકોને ન જમાડ્યા
 4. એણે દસ બાળકોને જમાડશે

Question ID : 630680718189

Option 1 ID : 6306802814271

Option 2 ID : 6306802814272

Option 3 ID : 6306802814269

Option 4 ID : 6306802814270

Status : Answered

Chosen Option : 2

Q.99 'વર્તમાન સમયમાં ભારતમાં ભ્રષ્ટાચાર એક મુખ્ય સમસ્યા છે.' - વાક્યનું સાચું અંગ્રેજી ભાષાંતર શોધો.

- Options
1. 'Corruption was one of the major problems that India faces at present.'
 2. 'Corruption is one of the major problems that India faces at past.'
 3. 'Corruption is one of the minor problems that India faces at present.'
 4. 'Corruption is one of the major problems that India faces at present.'

Question ID : 630680718216

Option 1 ID : 6306802814377

Option 2 ID : 6306802814378

Option 3 ID : 6306802814380

Option 4 ID : 6306802814379

Status : Answered

Chosen Option : 4

Q.100 નીચેના વિકલ્પોમાંથી સાચું સંધિજોડાણ શોધો.:

ઇતિ + આદિ

- Options
1. ઈત્યાદિ
 2. ઈત્યાદી
 3. ઈત્યાદી:
 4. અત્યાદી

Question ID : 630680718172

Option 1 ID : 6306802814203

Option 2 ID : 6306802814201

Option 3 ID : 6306802814204

Option 4 ID : 6306802814202

Status : Answered

Chosen Option : 1