

Section : Reasoning

Q.1 જો અંકોને તેમના ચડતા ક્રમમાં લખવામાં આવે તો સંખ્યા 3764512 માં કેટલા અંકો તેમની સ્થિતિ બદલશે નહીં?

Options 1. 5
2. 2
3. 1
4. 4

Question ID : 630680730776
Option 1 ID : 6306802863813
Option 2 ID : 6306802863814
Option 3 ID : 6306802863815
Option 4 ID : 6306802863816
Status : Marked For Review
Chosen Option : 2

Q.2 નીચેનામાંથી શ્રેષ્ઠ વિકલ્પ પસંદ કરો. જે આકૃતિ (Z) ના વાળેલ ન હોય તે સ્વરૂપને સૌથી વધુ મળતો આવતો હોય.

Options 1. 2
2. 4
3. 1
4. 3

Question ID : 630680730769
Option 1 ID : 6306802863786
Option 2 ID : 6306802863788
Option 3 ID : 6306802863785
Option 4 ID : 6306802863787
Status : Answered
Chosen Option : 4

Q.3 દર્શાવેલ રેખા MN પર સમતલ રીતે મૂકવામાં આવે ત્યારે નીચે પૈકી કઈ જવાબ આકૃતિ સવાલ આકૃતિની દર્શાવેલી હશે?

પ્રશ્ન-આકૃતિ જવાબ-આકૃતિઓ

Options 1. 3
2. 4
3. 2
4. 1

Question ID : 630680730763
Option 1 ID : 6306802863763
Option 2 ID : 6306802863764
Option 3 ID : 6306802863762
Option 4 ID : 6306802863761
Status : Marked For Review
Chosen Option : 4

Q.4 નીચેનામાંથી કઈ વેન આકૃતિ ફળ, કેરી અને સફરજન વચ્ચેનો શ્રેષ્ઠ સંબંધ દર્શાવે છે?

Options

Options 1. 1
2. 2
3. 3
4. 4

Question ID : 630680730743
Option 1 ID : 6306802863684
Option 2 ID : 6306802863682
Option 3 ID : 6306802863681
Option 4 ID : 6306802863683
Status : Answered
Chosen Option : 2

Adda247

Test Prime

ALL EXAMS, ONE SUBSCRIPTION



1,00,000+
Mock Tests



**Personalised
Report Card**



**Unlimited
Re-Attempt**



600+
Exam Covered



25,000+ Previous
Year Papers



500%
Refund



ATTEMPT FREE MOCK NOW

Chosen Option : 2

Q.5 નીચે આપેલા સમીકરણને સાચું બનાવવા માટે નીચેના સમીકરણની કઈ બે સંખ્યાઓપરસ્પર બદલવી જોઈએ?

$$60 - 33 \div 2 + 3 \times 5 = 18$$

- Options
1. 3 અને 2
 2. 2 અને 5
 3. 60 અને 33
 4. 60 અને 5

Question ID : 630680730777
 Option 1 ID : 6306802863817
 Option 2 ID : 6306802863818
 Option 3 ID : 6306802863819
 Option 4 ID : 6306802863820
 Status : Not Attempted and
 Marked For Review
 Chosen Option : --

Q.6 નીચે આપેલ પ્રશ્નમાં એક સવાલ અને બે વિધાનો આપેલ છે જેને '1' અને '2' એમ ક્રમાંકિત કરવામાં આવ્યા છે. વિધાનોમાં આપેલ માહિતી (ડેટા) એ સવાલનો જવાબ આપવા પૂરતી છે કે નહિ એ ઉપેક્ષાઓએ નક્કી કરી જણાવવાનું છે.

પ્રશ્ન: સુજાતા ચોકસ કેટલી ઉંમરની છે?
 વિધાનો:

1. સુજાતાનો ભાઈ કહે છે કે તે તેનાથી મોટી છે.
2. સુજાતાની માતા કહે છે કે તેનો જન્મ તેના પુત્રના જન્મ પછી થયો છે.

- Options
1. વિધાન 1 એકલું પૂરતું છે જ્યારે વિધાન 2 એકલું પૂરતું નથી
 2. વિધાન 2 એકલું પૂરતું છે જ્યારે વિધાન 1 એકલું પૂરતું નથી
 3. ન તો વિધાન 1 કે ન તો 2 પૂરતું છે
 4. બંને વિધાન 1 અને 2 પૂરતાં છે

Question ID : 630680730791
 Option 1 ID : 6306802863873
 Option 2 ID : 6306802863874
 Option 3 ID : 6306802863876
 Option 4 ID : 6306802863875
 Status : Not Attempted and
 Marked For Review
 Chosen Option : --

Q.7 આના પિતાનો આની પત્નીના સસરા સાથે શું સંબંધ છે? (A પુરુષ છે)

- Options
1. દાદા
 2. પિતા
 3. સસરા
 4. પુત્ર

Question ID : 630680730737
 Option 1 ID : 6306802863658
 Option 2 ID : 6306802863657
 Option 3 ID : 6306802863659
 Option 4 ID : 6306802863660
 Status : Marked For Review
 Chosen Option : 3

Q.8 જો P = '+', Q = '-', R = 'x' અને S = '÷' હોય, તો નીચેની પદાવલિનું મૂલ્ય શું હશે?

$$5 R 3 Q 1 P 18 S 2$$

- Options
1. 44
 2. 23
 3. 31
 4. 51

Question ID : 630680730777
 Option 1 ID : 6306
 Option 2 ID : 6306
 Option 3 ID : 6306
 Option 4 ID : 6306
 Status : Marked
 Chosen Option : 2

Q.9 નીચે આપેલ શ્રેણીને તાર્કિક રીતે પૂર્ણ કરવા માટે પ્રશ્નચિહ્નની જગ્યાએ શું આવશે?

$$25719765 : 42 :: 79546712 : ?$$

- Options
1. 30
 2. 41
 3. 45
 4. 48

Question ID : 630680730794
 Option 1 ID : 6306802863888
 Option 2 ID : 6306802863886
 Option 3 ID : 6306802863885
 Option 4 ID : 6306802863887
 Status : Answered
 Chosen Option : 2

Q.10 જો અંક તેમના ચડતા ક્રમમાં લખવામાં આવે તો સંખ્યા 26536871 માં કેટલા અંકો તેમની સ્થિતિ બદલશે નહીં?

- Options
1. 4
 2. 3
 3. 1
 4. 2

Question ID : 630680730774
 Option 1 ID : 6306802863806
 Option 2 ID : 6306802863805
 Option 3 ID : 6306802863808
 Option 4 ID : 6306802863807
 Status : Marked For Review
 Chosen Option : 4

Q.11 નીચેના પ્રશ્નમાં 'પ્રશ્ન' અને તેની નીચે ક્રમાંકિત 1 અને 2 એમ બે વિધાનોનો સમાવેશ થાય છે. ઉમેદવારોએ એ નક્કી કરવાનું છે કે વિધાનોમાં આપવામાં આવેલી માહિતી પ્રશ્નનો જવાબ આપવા માટે પર્યાપ્ત છે કે કેમ.

પ્રશ્ન: એક સાંકેતિક ભાષામાં 'Nest' કેવી રીતે લખવામાં આવ્યું છે?

વિધાનો:

1. 'Nest in tree' ને 'sky appears dusty' તરીકે સાંકેતિક કરેલું છે.
2. 'Nest and Branch' ને 'Evening in Sky' તરીકે સાંકેતિક કરેલું છે.

Options

1. વિધાન 1 અને વિધાન 2 બંને પર્યાપ્ત છે

2. વિધાન 1 એકલું પર્યાપ્ત છે જ્યારે વિધાન 2 એકલું પર્યાપ્ત નથી
3. વિધાન 2 એકલું પર્યાપ્ત છે જ્યારે વિધાન 1 એકલું પર્યાપ્ત નથી
4. ન તો વિધાન 1 કે ન તો વિધાન 2 પર્યાપ્ત છે

Question ID : 630680730746
 Option 1 ID : 6306802863695
 Option 2 ID : 6306802863693
 Option 3 ID : 6306802863696
 Option 4 ID : 6306802863694
 Status : Marked For Review
 Chosen Option : 1

Q.12 નીચે આપેલ પ્રશ્નમાં એક સવાલ અને બે વિધાનો આપેલ છે જેને '1' અને '2' એમ ક્રમાંકિત કરવામાં આવ્યા છે. વિધાનોમાં આપેલ માહિતી (ડેટા) એ સવાલનો જવાબ આપવા પૂરતી છે કે નહિ એ ઉમેદવારોએ નક્કી કરી જણાવવાનું છે.

પ્રશ્ન: સંગીતા આવતીકાલે દિલ્હી જવા માટે કયા સમયની ટ્રેનનો ઉપયોગ કરશે?

વિધાનો:

1. દિલ્હી જતી ટ્રેન સોમવારે જ ચાલે છે.
2. સંગીતા બસનો ઉપયોગ કરીને પણ જઈ શકે છે.

Options

1. વિધાન 1 એકલું પૂરતું છે જ્યારે વિધાન 2 એકલું પૂરતું નથી

2. બન્ને વિધાન 1 અને 2 પૂરતાં છે
3. ન તો વિધાન 1 કે ન તો 2 પૂરતું છે
4. વિધાન 2 એકલું પૂરતું છે જ્યારે વિધાન 1 એકલું પૂરતું નથી

Question ID : 630680730789
 Option 1 ID : 6306802863865
 Option 2 ID : 6306802863867
 Option 3 ID : 6306802863868
 Option 4 ID : 6306802863866
 Status : Not Attempted and
 Marked For Review
 Chosen Option : --

Q.13 આપેલી પદાવલિમાં પ્રશ્નચિહ્નની જગ્યાએ નીચેના વિકલ્પોમાંથી કયું આવશે?

130: 1170 :: 170: ?

- Options
1. 1200
 2. 1480
 3. 1240
 4. 1530

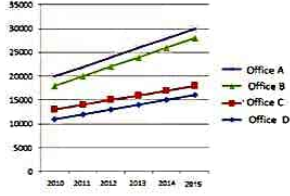
Q.14 એવો વિકલ્પ પસંદ કરો કે જેમાં સંખ્યાઓ એવી જ રીતે સંબંધિત હોય જે રીતે આપેલા સેટમાંની સંખ્યાઓ સંબંધિત છે.

19 : 42

- Options
1. 14 : 41
 2. 17 : 39
 3. 18 : 40
 4. 20 : 48

Question ID : 630680730796
Option 1 ID : 6306802863896
Option 2 ID : 6306802863894
Option 3 ID : 6306802863893
Option 4 ID : 6306802863895
Status : Marked For Review
Chosen Option : 3

Q.15 નીચે આપેલા રેખા આલેખનો અભ્યાસ કરો. જે વર્ષો દરમિયાન કેટલીક ઓફિસોના ખર્ચ (હજારમાં) દર્શાવે છે. યાદની અભ્યાસ કરો અને આપેલી સુચનાના આધારે નીચેના પ્રશ્નો જવાબ આપો.



ઉપરોક્ત રેખા આલેખના આધારે, ઓફિસ A એ કયા વર્ષમાં સૌથી વધુ ખર્ચ કર્યો હતો?

- Options
1. 2011
 2. 2013
 3. 2015
 4. 2012

Question ID : 630680730807
Option 1 ID : 6306802863940
Option 2 ID : 6306802863939
Option 3 ID : 6306802863938
Option 4 ID : 6306802863937
Status : Marked For Review
Chosen Option : 3

Q.16 આપેલા વિધાન(વિધાનો) અને તારણો ક્રમશઃક્રમ વાંચો. એવું માનીને કે વિધાનોમાં આપવામાં આવેલી માહિતી સાચી છે, ભલે તે સામાન્ય રીતે જાણીતી હકીકતોથી ભિન્ન લાગતી હોય. નક્કી કરો કે વિધાન(વિધાનો)માંથી આપેલા તારણો પૈકી કયું તારણ તાર્કિક રીતે અનુસરે છે.

વિધાનો:

- A. કેટલાક ચંદ્ર શુક્ર છે.
- B. કેટલાક શુક્ર શનિ છે.
- C. કેટલાક શનિ યુરેનસ છે.

તારણો:

1. બધા શનિ શુક્ર છે.
2. બધા શુક્ર ચંદ્ર છે.
3. બધા યુરેનસ ચંદ્ર છે.

- Options
1. માત્ર તારણ 3 અનુસરે છે.
 2. માત્ર તારણ 1 અને 2 અનુસરે છે.
 3. માત્ર તારણ 1 અનુસરે છે.
 4. એકપણ તારણ અનુસરતું નથી.

Question ID : 630680730740
Option 1 ID : 6306802863672
Option 2 ID : 6306802863670
Option 3 ID : 6306802863669
Option 4 ID : 6306802863671
Status : Answered
Chosen Option : 4

Q.17 નીચેનામાંથી કઈ વેન આકૃતિ ગઘેડા, દરવાજા, ડોક્ટર વચ્ચેનો શ્રેષ્ઠ સંબંધ દર્શાવે છે?

Options

- 1.
- 2.
- 3.
- 4.

Q.18 નીચે આપેલી શ્રેણીને તાર્કિક રીતે પૂર્ણ કરવા માટે પ્રશ્નચિહ્ન (?)ની જગ્યાએ શું આવશે?

9, 32, 55, 78, 101, 124, 147, 170, ?

- Options 1. 201
2. 195
3. 193
4. 198

Question ID : 630680730787
Option 1 ID : 6306802863860
Option 2 ID : 6306802863857
Option 3 ID : 6306802863858
Option 4 ID : 6306802863859

Status : Not Attempted and
Marked For Review
Chosen Option : --

Q.19 એવો વિકલ્પ પસંદ કરો કે જેમાં સંખ્યાઓ એવી જ રીતે સંબંધિત હોય જે રીતે આપેલા સેટમાંની સંખ્યાઓ સંબંધિત છે.

(40, 20, 2)
(50, 25, 2)

- Options 1. 95, 16, 2
2. 78, 39, 2
3. 35, 17, 2
4. 80, 16, 2

Question ID : 630680730803
Option 1 ID : 6306802863922
Option 2 ID : 6306802863923
Option 3 ID : 6306802863924
Option 4 ID : 6306802863921

Status : Marked For Review
Chosen Option : 2

Q.20 આપેલી શ્રેણીમાં પ્રશ્નચિહ્નની જગ્યાએ નીચેના વિકલ્પોમાંથી કયું આવશે?

9, 18, 27, 36, 45, 54, 63, ?

- Options 1. 81
2. 54
3. 63
4. 72

Question ID : 630680730798
Option 1 ID : 6306802863901
Option 2 ID : 6306802863904
Option 3 ID : 6306802863903
Option 4 ID : 6306802863902

Status : Answered
Chosen Option : 4

Q.21 જો અંકોને તેમના ચડતા ક્રમમાં લખવામાં આવે તો સંખ્યા 75314862 માં કેટલા અંકો તેમની સ્થિતિ બદલશે નહીં?

- Options 1. 3
2. 1
3. 2
4. 4

Question ID : 630680730775
Option 1 ID : 6306802863811
Option 2 ID : 6306802863809
Option 3 ID : 6306802863810
Option 4 ID : 6306802863812

Status : Answered
Chosen Option : 2

Q.22 આપેલી શ્રેણીમાં પ્રશ્નચિહ્નની જગ્યાએ નીચેના વિકલ્પોમાંથી કયું આવશે?

31, 37, 41, 43, 47, ?

- Options 1. 53
2. 59
3. 67
4. 71

Question ID : 6306
Option 1 ID : 6306
Option 2 ID : 6306
Option 3 ID : 6306
Option 4 ID : 6306

Status : Mark
Chosen Option : 1

Q.23 હીમ અવિક કરતા ઘોડો છે. ગુલાબ અવિક કરતા નાનો છે જ્યારે પ્રીતમ હીમ કરતા ઘોડો છે. જો રીતિક આ બધામાં સૌથી નાનો હોય તો પછી તેમાંથી સૌથી મોટું કોણ છે?

- Options 1. ગુલાબ
2. હીમ
3. અવિક
4. પ્રીતમ

જામ આવક કરતા માટા છે. ગુલાબ આવક કરતા નાની છે જ્યારે પ્રીતમ લીમ કરતા મોટો છે. જો રીતિક આ બધામાં સૌથી નાનો હોય, તો પછી તેમાંથી સૌથી મોટું કોણ છે?

- Options
1. ગુલાબ
 2. લીમ
 3. અવિક
 4. પ્રીતમ

Question ID : 630680730753
Option 1 ID : 6306802863724
Option 2 ID : 6306802863721
Option 3 ID : 6306802863723
Option 4 ID : 6306802863722
Status : Answered
Chosen Option : 4

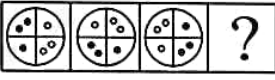
Q.24 રીટા અર્શી કરતા મોટી છે. ગરિમા અર્શી કરતા નાની છે જ્યારે પારુલ રીટા કરતા મોટી છે. સખી ગરિમા કરતા નાની છે. આ બધામાં સૌથી નાનું કોણ છે?

- Options
1. સખી
 2. રીટા
 3. અર્શી
 4. પારુલ

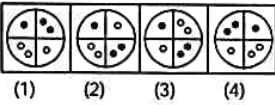
Question ID : 630680730750
Option 1 ID : 6306802863709
Option 2 ID : 6306802863710
Option 3 ID : 6306802863711
Option 4 ID : 6306802863712
Status : Answered
Chosen Option : 1

Q.25 નીચેનામાંથી કઈ જવાબ-આકૃતિ નીચે આપેલ પ્રશ્ન-આકૃતિમાં પ્રશ્ન ચિહ્નને સ્થાને આવશે?

પ્રશ્ન-આકૃતિ



જવાબ-આકૃતિઓ

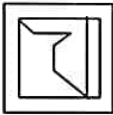


- Options
1. 4
 2. 2
 3. 1
 4. 3

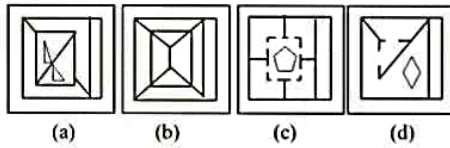
Question ID : 630680730755
Option 1 ID : 6306802863732
Option 2 ID : 6306802863730
Option 3 ID : 6306802863729
Option 4 ID : 6306802863731
Status : Answered
Chosen Option : 3

Q.26 નીચેનામાંથી કઈ જવાબ-આકૃતિમાં પ્રશ્ન-આકૃતિ સામેલ છે (પરિભ્રમણની મંજૂરી છે)?
(rotation is allowed)?

પ્રશ્ન-આકૃતિ



જવાબ-આકૃતિઓ

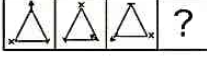


- Options
1. b
 2. c
 3. d
 4. a

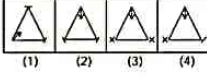
Question ID : 630680730755
Option 1 ID : 6306802863732
Option 2 ID : 6306802863730
Option 3 ID : 6306802863729
Option 4 ID : 6306802863731
Status : Answered
Chosen Option : 1

નાચનામાથા 50 જવાબ-આકૃતિ નાચ આપલ પ્રશ્ન-આકૃતિમાં પ્રશ્ન ચિહ્ન સ્થાન આવશ (પારણમણના મજૂરા છ)?

પ્રશ્ન-આકૃતિ



જવાબ-આકૃતિઓ



- Options 1. 2
2. 4
3. 3
4. 1

Question ID : 630680730759

Option 1 ID : 6306802863746

Option 2 ID : 6306802863748

Option 3 ID : 6306802863747

Option 4 ID : 6306802863745

Status : Answered

Chosen Option : 2

Q.28 નીચે આપેલા શ્રેણિકમાં એક પરીક્ષામાં છ જુદા-જુદા વિષયોમાં છ વિદ્યાર્થીઓએ મેળવેલા ગુણની ટકાવારી આપવામાં આવી છે.

વિદ્યાર્થી	વિષય (સહસ્રમ ગુણ)					
	A (100)	B (100)	C (100)	D (100)	E (100)	F (100)
સુનિલ	72	99	78	100	88	67
મીટુ	93	87	45	55	89	100
રહમત	97	89	85	88	87	55
અભિષેક	84	55	90	79	77	79
પુષ્પર	73	83	77	58	97	62
બાબેશ	75	91	78	37	80	70

ઉપરોક્ત કોષ્ટકના આધારે, સુનિલને ઉપરોક્ત વિષયોમાંથી કયા વિષયમાં A+ મળ્યો છે(A+ એટલે કે વિદ્યાર્થીએ 80 થી વધુ અને 90 થી ઓછા ગુણ મેળવ્યા હોવા જોઈએ)?

- Options 1. C
2. B
3. E
4. F

Question ID : 630680730810

Option 1 ID : 6306802863950

Option 2 ID : 6306802863949

Option 3 ID : 6306802863952

Option 4 ID : 6306802863951

Status : Answered

Chosen Option : 3

Q.29 નીચેના પ્રશ્નમાં 'પ્રશ્ન' અને તેની નીચે ક્રમાંકિત 1 અને 2 એમ બે વિધાનોનો સમાવેશ થાય છે. ઉમેદવારોએ એ નક્કી કરવાનું છે કે વિધાનોમાં આપવામાં આવેલી માહિતી પ્રશ્નનો જવાબ આપવા માટે પર્યાપ્ત છે કે કેમ.

પ્રશ્ન: એક સાંકેતિક ભાષામાં 'Email' ને કેવી રીતે લખવામાં આવે છે?

વિધાનો:

- 'Email is cryptic' ને 'Google gone high' તરીકે સાંકેતિક કરેલું છે.
- 'Coding was tough' ને 'computer now obsolete' તરીકે સાંકેતિક કરેલું છે.

- Options 1. વિધાન 1 અને વિધાન 2 બંને પર્યાપ્ત છે
2. વિધાન 2 એકલું પર્યાપ્ત છે જ્યારે વિધાન 1 એકલું પર્યાપ્ત નથી
3. ન તો વિધાન 1 કે ન તો વિધાન 2 પર્યાપ્ત છે
4. વિધાન 1 એકલું પર્યાપ્ત છે જ્યારે વિધાન 2 એકલું પર્યાપ્ત નથી

Question ID : 630680730748

Option 1 ID : 6306802863702

Option 2 ID : 6306802863704

Option 3 ID : 6306802863703

Option 4 ID : 6306802863701

Status : Answered

Chosen Option : :

Q.30 જો $L + M$ નો અર્થ L એ M ના પિતા હોય;

$L - M$ નો અર્થ L એ M ની માતા હોય;

$L * M$ નો અર્થ L એ M ની બહેન હોય અને

$L \# M$ નો અર્થ L એ M નો પુત્ર હોય, તો

નીચેનામાંથી કયો વિકલ્પ એ દર્શાવે છે કે K એ B ની બહેન છે?

- Options 1. $K + B$
2. $K * B$
3. $K \times B$
4. $K - B$

Question ID : 630680730733

Option 1 ID : 6306802863644

Option 2 ID : 6306802863642

Option 3 ID : 6306802863643

Option 4 ID : 6306802863641

Status : Answered

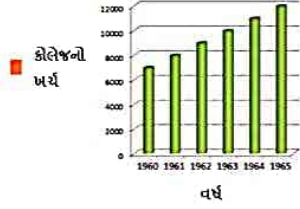
Chosen Option : 2

Q.31 રાકેશના પિતાના ભાઈના પિતાનો રાકેશ સાથે શું સંબંધ છે? (રાકેશ પુરુષ છે)

- Options
1. નાની
 2. દાદા
 3. માતા
 4. પિતા

Question ID : 630680730736
 Option 1 ID : 6306802863654
 Option 2 ID : 6306802863653
 Option 3 ID : 6306802863656
 Option 4 ID : 6306802863655
 Status : Marked For Review
 Chosen Option : 2

Q.32 નીચે આપેલા બાર ચાર્ટમાં વર્ષ 1960 થી 1965 દરમિયાન એક કોલેજના ખર્ચ વિશેની માહિતી આપવામાં આવી છે. ચાર્ટનો અભ્યાસ કરો અને આપેલી સૂચનાના આધારે નીચેના પ્રશ્નનો જવાબ આપો.



આપેલા ચાર્ટના આધારે, નીચેનામાંથી કયા વર્ષમાં કોલેજ સૌથી ઓછો ખર્ચ (લાખમાં) કર્યો હતો?

- Options
1. 1960
 2. 1963
 3. 1962
 4. 1965

Question ID : 630680730804
 Option 1 ID : 6306802863928
 Option 2 ID : 6306802863926
 Option 3 ID : 6306802863927
 Option 4 ID : 6306802863925
 Status : Answered
 Chosen Option : 1

Q.33 નીચે આપેલા રેખા આલેખનો અભ્યાસ કરો. જે વર્ષો દરમિયાન કેટલીક ઓફિસોના ખર્ચ (હજારમાં) દર્શાવે છે. ચાર્ટનો અભ્યાસ કરો અને આપેલી સૂચનાના આધારે નીચેના પ્રશ્નનો જવાબ આપો.



ઉપરોક્ત રેખા આલેખના આધારે, નીચેનામાંથી કયા વર્ષમાં ઓફિસ C એ ખર્ચની દ્રષ્ટિએ Rs. 15000ના આંકડાને સ્પર્શ કર્યો હતો?

- Options
1. 2012
 2. 2010
 3. 2011
 4. 2014

Question ID : 630680730809
 Option 1 ID : 6306802863947
 Option 2 ID : 6306802863946
 Option 3 ID : 6306802863948
 Option 4 ID : 6306802863945
 Status : Answered
 Chosen Option : 1

Q.34 આપેલી શ્રેણીમાં પ્રત્યેક (?)ની જગ્યાએ શું આવશે જેથી શ્રેણીને માન ગુણકાર અને સરવાળાની પ્રક્રિયાઓ દ્વારા તાર્કિક રીતે પૂર્ણ કરી શકાય?

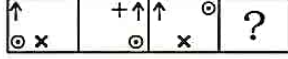
5, 10, 19, 38, 47, 94, 103, 206, 215, ??

- Options
1. 403, 444
 2. 430, 439
 3. 448, 445
 4. 445, 481

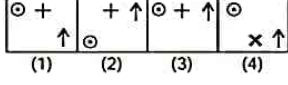
Question ID :
 Option 1 ID :
 Option 2 ID :
 Option 3 ID :
 Option 4 ID : 6306802863834
 Status : Marked For Review
 Chosen Option : 2

૫.૩૩ નીચેનામાંથી કઈ જવાબ-આકૃતિ નીચે આપેલ પ્રશ્ન-આકૃતિમાં પ્રશ્ન ચિહ્નને સ્થાને આવશે?

પ્રશ્ન-આકૃતિ



જવાબ-આકૃતિઓ



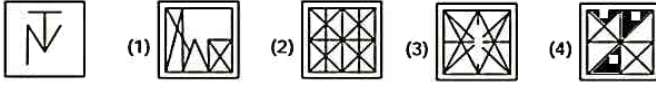
- Options 1. 2
2. 3
3. 1
4. 4

Question ID : 630680730757
Option 1 ID : 6306802863738
Option 2 ID : 6306802863739
Option 3 ID : 6306802863737
Option 4 ID : 6306802863740
Status : Marked For Review
Chosen Option : 2

૫.૩૬ નીચેનામાંથી કઈ જવાબ-આકૃતિમાં પ્રશ્ન-આકૃતિ સામેલ છે (પરિલમણની મંજૂરી નથી)?

પ્રશ્ન-આકૃતિ

જવાબ-આકૃતિઓ



- Options 1. 3
2. 1
3. 2
4. 4

Question ID : 630680730761
Option 1 ID : 6306802863755
Option 2 ID : 6306802863753
Option 3 ID : 6306802863754
Option 4 ID : 6306802863756
Status : Marked For Review
Chosen Option : 3

૫.૩૭ આપેલા વિધાન(વિધાનો) અને તારણો કાળજીપૂર્વક વાંચો. એવું માનીને કે વિધાનોમાં આપવામાં આવેલી માહિતી સાચી છે, ભલે તે સામાન્ય રીતે જાણીતી હકીકતોથી ભિન્ન લાગતી હોય. નક્કી કરો કે વિધાન(વિધાનો)માંથી આપેલા તારણો પૈકી કયું તારણ તાર્કિક રીતે અનુસરે છે.

વિધાનો:

- A. કેટલાક સમુદ્ર રણ છે.
B. કેટલાક રણ ખંડ છે.

તારણો:

1. બધા રણ સમુદ્ર છે.
2. બધા ખંડ રણ છે.

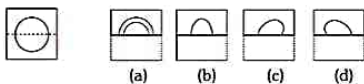
- Options 1. તારણ 1 અને તારણ 2 બંને અનુસરે છે
2. ન તો તારણ 1 કે ન તો તારણ 2 અનુસરે છે.
3. માત્ર તારણ 1 અનુસરે છે.
4. માત્ર તારણ 2 અનુસરે છે.

Question ID : 630680730739
Option 1 ID : 6306802863666
Option 2 ID : 6306802863668
Option 3 ID : 630
Option 4 ID : 630
Status : Ans
Chosen Option : 2

૫.૩૮ જ્યારે પ્રશ્ન આકૃતિની ઇબી ડોટેડ લાઇન પર વાળવામાં આવે છે, ત્યારે નીચેનામાંથી કયો વિકલ્પ તેને રજૂ કરશે?

પ્રશ્ન-આકૃતિ

જવાબ-આકૃતિઓ



- Options 1. a
2. c
3. d
4. b

Question ID : 630680730768
Option 1 ID : 6306802863781
Option 2 ID : 6306802863783
Option 3 ID : 6306802863784
Option 4 ID : 6306802863782
Status : Marked For Review
Chosen Option : 4

Q.39 નીચે આપેલી શ્રેણીને તાર્કિક રીતે પૂર્ણ કરવા માટે પ્રશ્નચિહ્ન (?)ની જગ્યાએ શું આવશે?

9, 7, 11, 9, 13, 11, 15, 13, 17, 15, ?

- Options
1. 19
 2. 21
 3. 22
 4. 20

Question ID : 630680730784

Option 1 ID : 6306802863845

Option 2 ID : 6306802863847

Option 3 ID : 6306802863848

Option 4 ID : 6306802863846

Status : Marked For Review

Chosen Option : 1

Q.40 નીચે આપેલી શ્રેણીને તાર્કિક રીતે પૂર્ણ કરવા માટે પ્રશ્નચિહ્ન (?)ની જગ્યાએ શું આવશે?

65, 59, 47, 29, 5, ?

- Options
1. -25
 2. -20
 3. 21
 4. 19

Question ID : 630680730783

Option 1 ID : 6306802863842

Option 2 ID : 6306802863841

Option 3 ID : 6306802863844

Option 4 ID : 6306802863843

Status : Marked For Review

Chosen Option : 1

Section : Quantitative Aptitude

Q.41 Rs.1800ની કિંમતના એક કબાટને એક જથ્થાબંધ વેપારી દ્વારા 12% અને 14%ના કમિક ડિસ્કાઉન્ટ સાથે છૂટક વેપારીને વેચવામાં આવે છે. છૂટક વેપારીની કબાટની ખરીદ કિંમત શોધો.

- Options
1. Rs. 1345.80
 2. Rs. 1256.40
 3. Rs. 1362.24
 4. Rs. 1289.55

Question ID : 630680730698

Option 1 ID : 6306802863503

Option 2 ID : 6306802863501

Option 3 ID : 6306802863504

Option 4 ID : 6306802863502

Status : Not Answered

Chosen Option : --

Q.42 એક શહેરની વસ્તી 78600 હતી, જે એક વર્ષ પછી વધીને 98250 થઈ હતી. વસ્તીમાં થયેલો ટકાવારી વધારો શોધો.

- Options
1. 15%
 2. 25%
 3. 30%
 4. 20%

Question ID : 630680730691

Option 1 ID : 6306802863473

Option 2 ID : 6306802863475

Option 3 ID : 6306802863476

Option 4 ID : 6306802863474

Status : Not Attempted and

Marked For Review

Chose

Q.43 20 અને 18નું મધ્યમ પ્રમાણપદ શોધો.

- Options
1. $2\sqrt{10}$
 2. $6\sqrt{10}$
 3. $\sqrt{10}$
 4. $3\sqrt{10}$

Qu

Op

Option 2 ID : 6306802863524

Option 3 ID : 6306802863521

Option 4 ID : 6306802863522

Status : Marked For Review

Chosen Option : 2

Q.45 420 મીટર વાબી એક ટ્રેન X, 78 km/hrની ઝડપે દોડી રહી છે, તેનાથી વિપરીત દિશામાં 62 km/hrની ઝડપે દોડતી 540 મીટર વાબી બીજી ટ્રેનમાં બેઠેલા માણસને પાર કરવામાં કેટલો સમય લાગશે?

- Options
1. 10.8 સેકન્ડ
 2. 10.9 સેકન્ડ
 3. 10.45 સેકન્ડ
 4. 10.68 સેકન્ડ

Question ID : 630680730717
 Option 1 ID : 6306802863579
 Option 2 ID : 6306802863580
 Option 3 ID : 6306802863577
 Option 4 ID : 6306802863578
 Status : Not Answered
 Chosen Option : --

Q.46 જો $q + r = 8$ અને $qr = 18$ હોય, તો $q^2 + r^2$ નું મૂલ્ય શોધો.

- Options
1. 32
 2. 36
 3. 24
 4. 28

Question ID : 630680730722
 Option 1 ID : 6306802863599
 Option 2 ID : 6306802863600
 Option 3 ID : 6306802863597
 Option 4 ID : 6306802863598
 Status : Not Answered
 Chosen Option : --

Q.47 જ્યારે 140 kg વજનના એક મશીનની જગ્યાએ નવું મશીન આવે છે ત્યારે 18 મશીનોનું સરેરાશ વજન 8.5 kg વધી જાય છે. તો નવા મશીનનું વજન શોધો.

- Options
1. 293 kg
 2. 310 kg
 3. 238 kg
 4. 178 kg

Question ID : 630680730673
 Option 1 ID : 6306802863403
 Option 2 ID : 6306802863404
 Option 3 ID : 6306802863401
 Option 4 ID : 6306802863402
 Status : Not Answered
 Chosen Option : --

Q.48 ઘઉંના ભાવમાં 18% નો વધારો થાય તો મોનાએ ઘઉંનો વપરાશ કેટલા ટકા સુધી ઘટાડવો જોઈએ, જેથી ખર્ચ ન વધે (બે દશાંશ સ્થાનો સુધીનો સાચો જવાબ)?

- Options
1. 18.4%
 2. 14.75%
 3. 15.25%
 4. 16.8%

Question ID : 630680730690
 Option 1 ID : 6306802863471
 Option 2 ID : 6306802863469
 Option 3 ID : 6306802863470
 Option 4 ID : 6306802863472
 Status : Marked For Review
 Chosen Option : 4

Q.49 $0.1\bar{4}$ ને સાધારણ અપૂર્ણાંક તરીકે દર્શાવો.

- Options
1. $\frac{19}{51}$
 2. $\frac{18}{71}$
 3. $\frac{5}{8}$
 4. $\frac{13}{90}$

Question ID
 Option 1 ID
 Option 2 ID
 Option 3 ID
 Option 4 ID : 6306802863430
 Status : Marked For Review
 Chosen Option : 4

Q.50 19ના પ્રથમ પાંચ ગુણાંકની સરેરાશ શોધો.

- Options 1. 43
2. 57
3. 67
4. 61

Question ID : 630680730672
Option 1 ID : 6306802863398
Option 2 ID : 6306802863398
Option 3 ID : 6306802863400
Option 4 ID : 6306802863399
Status : Marked For Review
Chosen Option : 3

Q.51 2324, 3566, 4856 અને 5076 નંબરમાંથી કઈ સંખ્યા 9 વડે ભાગી શકાય છે?

- Options 1. 5076
2. 3566
3. 4856
4. 2324

Question ID : 630680730677
Option 1 ID : 6306802863420
Option 2 ID : 6306802863418
Option 3 ID : 6306802863419
Option 4 ID : 6306802863417
Status : Marked For Review
Chosen Option : 1

Q.52 જો કોઈ વસ્તુની વેચાણ કિંમત છ ગણી ઘટ જાય, તો નફો દસ ગણો થાય છે. મૂળ નફાની ટકાવારી શોધો.

- Options 1. 175%
2. 100%
3. 125%
4. 150%

Question ID : 630680730693
Option 1 ID : 6306802863484
Option 2 ID : 6306802863481
Option 3 ID : 6306802863482
Option 4 ID : 6306802863483
Status : Not Answered
Chosen Option : --

Q.53 16, 21 અને 8નું ચતુર્થ પ્રમાણપદ શોધો.

- Options 1. 9.4
2. 8.6
3. 11.2
4. 10.5

Question ID : 630680730704
Option 1 ID : 6306802863526
Option 2 ID : 6306802863525
Option 3 ID : 6306802863528
Option 4 ID : 6306802863527
Status : Not Answered
Chosen Option : --

Q.54 એક બોટ 30 મિનિટમાં 4 km પ્રવાહની દિશામાં અને 12 km પ્રવાહની વિરુદ્ધ દિશામાં અંતર કાપે છે. જો પ્રવાહની દિશામાં ઝડપ, પ્રવાહની વિરુદ્ધ દિશામાં ઝડપ કરતા બમણી હોય, તો સમગ્ર મુસાફરી દરમિયાન બોટની સરેરાશ ઝડપ (બે દશાંશ સ્થાનો સુધીનો સાચો જવાબ) કેટલી હશે?

- Options 1. 4.36 km/hr
2. 4.57 km/hr
3. 4.45 km/hr
4. 4.28 km/hr

Q.55 સાદુરૂપ આપો: $\frac{(555 \times 555 \times 555) - (523 \times 523 \times 523)}{(555 \times 555) + (555 \times 523) + (523 \times 523)} \times \frac{1}{81-73}$

- Options 1. 4
2. 2
3. 1
4. 3

Question ID : 630680730724
Option 1 ID : 6306802863608
Option 2 ID : 6306802863606
Option 3 ID : 6306802863605
Option 4 ID : 6306802863607
Status : Not Answered

Q.56 જો $u + v = 27$ અને $u^2 + v^2 = 425$ હોય, તો $(u - v)^2$ નું મૂલ્ય શોધો.

- Options 1. 36
2. 81
3. 25
4. 121

Question ID : 630680730726
Option 1 ID : 6306802863614
Option 2 ID : 6306802863615
Option 3 ID : 6306802863613
Option 4 ID : 6306802863616
Status : Not Answered
Chosen Option : --

Q.57 એક GPનું (સમગુણોત્તર શ્રેણી) પ્રથમ પદ 5 છે અને સામાન્ય ગુણોત્તર 9 છે, તો GP (સમગુણોત્તર શ્રેણી)નું ચોથું પદ શોધો.

- Options 1. 3598
2. 3645
3. 3458
4. 3712

Question ID : 630680730730
Option 1 ID : 6306802863630
Option 2 ID : 6306802863631
Option 3 ID : 6306802863629
Option 4 ID : 6306802863632
Status : Not Answered
Chosen Option : --

Q.58 94 વિદ્યાર્થીઓના એક સમૂહ માટે વિજ્ઞાનની પરીક્ષા લેવામાં આવી હતી. 42 વિદ્યાર્થીઓએ મેળવેલા ગુણોની સરેરાશ 74 હતી અને બાકીનાના વિદ્યાર્થીઓના સરેરાશ ગુણ 56 હતા. સમગ્ર વર્ગના ગુણોની સરેરાશ શોધો (બે દશાંશ સ્થાનો સુધીનો સાચો જવાબ)?

- Options 1. 72.4
2. 64.04
3. 75.8
4. 58.6

Question ID : 630680730674
Option 1 ID : 6306802863407
Option 2 ID : 6306802863406
Option 3 ID : 6306802863408
Option 4 ID : 6306802863405
Status : Not Answered
Chosen Option : --

Q.59 જો કોઈ સ્કીમમાં, 5 ટી-શર્ટ ખરીદો અને વધુ 3 ટી-શર્ટ મફત મેળવોની ઓફર કરવામાં આવી હોય તો અસરકારક ડિસ્કાઉન્ટ શોધો. બધા ટી-શર્ટ પર ચિહ્નિત કિંમત એકસરખી છે.

- Options 1. 60%
2. 62.5%
3. 40%
4. 37.5%

Question ID : 630680730700
Option 1 ID : 6306802863510
Option 2 ID : 6306802863509
Option 3 ID : 6306802863512
Option 4 ID : 6306802863511
Status : Not Answered
Chosen Option : --

Q.60 બે સહ-અવિભાજ્ય સંખ્યાઓનો ગુણાકાર 3599 છે. એ બે સંખ્યાઓનો ગુ.સા.અ શોધો.

- Options 1. 3599
2. 61
3. 0
4. 1

Question ID : 6306
Option 1 ID : 6306
Option 2 ID : 6306
Option 3 ID : 6306
Option 4 ID : 6306
Status : Not Answered
Chosen Option : --

Q.61 એક સમાંતર શ્રેણીનું પ્રથમ પદ 48 છે અને સામાન્ય તફાવત 12 છે. A.P. (સમાંતર શ્રેણી)નું 148મું પદ શોધો.

- Options 1. 1665
2. 1475
3. 1285
4. 1812

Question ID : 630680730727
Option 1 ID : 6306802863619
Option 2 ID : 6306802863618
Option 3 ID : 6306802863617
Option 4 ID : 6306802863620
Status : Not Answered
Chosen Option : --

Q.62 શિબુ 12 કલાકમાં પ્રથમ 147 km અને પછીના 9 કલાકમાં 129 km ડ્રાઇવ કરે છે. સમગ્ર પ્રવાસ દરમિયાન તેની સરેરાશ ઝડપ કેટલી છે (બે દશાંશ સ્થાનો સુધીનો સાચો જવાબ)?

- Options
1. 13.14 km/hr
 2. 13.64 km/hr
 3. 13.36 km/hr
 4. 13.48 km/hr

Question ID : 630680730711
Option 1 ID : 6306802863553
Option 2 ID : 6306802863556
Option 3 ID : 6306802863554
Option 4 ID : 6306802863555
Status : Not Answered
Chosen Option : --

Q.63 અનુજનો પત્રાર ભીજુના પત્રાર 5રતા 40% વધારે છે. ભિજુનો પત્રાર અનુજના પત્રાર કરતા કેટલા ટકા ઓછો છે (એક દશાંશ સ્થાન સુધીનો સાચો જવાબ)?

- Options
1. 28.6%
 2. 28.7%
 3. 28.9%
 4. 28.8%

Question ID : 630680730689
Option 1 ID : 6306802863465
Option 2 ID : 6306802863466
Option 3 ID : 6306802863468
Option 4 ID : 6306802863467
Status : Not Answered
Chosen Option : --

Q.64 એક વ્યક્તિએ 15 કલાકમાં એક યાત્રા પૂરી કરી. તેણે આ યાત્રાનો પહેલો ભાગ 24 km/hrની ઝડપે અને બીજો ભાગ 16 km/hrની ઝડપે પૂર્ણ કર્યો. કુલ કેટલો પ્રવાસ કર્યો એ શોધો.

- Options
1. 328 km
 2. 315 km
 3. 288 km
 4. 348 km

Question ID : 630680730714
Option 1 ID : 6306802863567
Option 2 ID : 6306802863566
Option 3 ID : 6306802863565
Option 4 ID : 6306802863568
Status : Not Answered
Chosen Option : --

Q.65 મૂલ્યાંકન કરો:

$$0.08 \div 0.032 \times 0.38 \div 1.9 + 0.72 \times 5$$

- Options
1. 3.84
 2. 4.1
 3. 3.6
 4. 4.55

Question ID : 630680730681
Option 1 ID : 6306802863434
Option 2 ID : 6306802863435
Option 3 ID : 6306802863433
Option 4 ID : 6306802863436
Status : Not Answered
Chosen Option : --

Q.66 બે પાઇપ M અને N અનુક્રમે 24 મિનિટ અને 18 મિનિટમાં ટાંકી ભરી શકે છે અને પાઇપ T ટાંકીને 5 લિટર પ્રતિ મિનિટના દરે ખાલી કરી શકે છે. ત્રણેય પાઇપ એક સાથે ખોલવામાં આવે તો તે ટાંકીને 12 મિનિટમાં ભરી શકે છે. તો ટાંકીનો ક્ષમતા શોધો.

- Options
1. 180 લિટર
 2. 120 લિટર
 3. 360 લિટર
 4. 240 લિટર

Question ID : 6306
Option 1 ID : 6306
Option 2 ID : 6306
Option 3 ID : 6306
Option 4 ID : 6306
Status : Not
Chosen Option : --

Q.67 વિષ્ણુએ Rs. 834 પ્રતિ ડોલરના ભાવે 5લરના કેટલાક બોક્સ ખરીદ્યા. તેમણે તમામ 5લર બોક્સ Rs. 88.60 પ્રતિ બોક્સના ભાવે વેચ્યા. તેના નફાનો ટકાવારી શોધો.

- Options
1. 28.24%
 2. 26.85%
 3. 27.96%
 4. 27.48%

Question ID : 630680730694
Option 1 ID : 6306802863488
Option 2 ID : 6306802863485

Q.68 અર્જુન અરવિંદ કરતા પાંચ ગણો કાર્યક્ષમ છે. અર્જુન એક કામ પૂર્ણ કરવા માટે અરવિંદ કરતા 24 દિવસ ઓછો સમય લે છે. જો તેઓ સાથે મળીને કામ કરશે તો કેટલા દિવસમાં કામ પૂરું થશે?

- Options 1. 6
2. 4
3. 5
4. 8

Question ID : 630680730709
Option 1 ID : 6306802863547
Option 2 ID : 6306802863545
Option 3 ID : 6306802863546
Option 4 ID : 6306802863548
Status : Not Answered
Chosen Option : --

Q.69 $(k - 0.2)(k + 0.2)$ પદાવલીનું સાદુરૂપ આપો.

- Options 1. $k^2 + 0.04$.
2. $k + 0.04$.
3. $k - 0.04$.
4. $k^2 - 0.04$.

Question ID : 630680730720
Option 1 ID : 6306802863589
Option 2 ID : 6306802863592
Option 3 ID : 6306802863591
Option 4 ID : 6306802863590
Status : Marked For Review
Chosen Option : 1

Q.70 તાંબુ અને ટીનની 960 ગ્રામ મિશ્રણ તુ 7:5ના ગુણોત્તરમાં છે. 7.8નો ગુણોત્તર મેળવવા માટે તેમાં કેટલું ટીન (ગ્રામમાં) ઉમેરવું જોઈએ?

- Options 1. 80 ગ્રામ
2. 92 ગ્રામ
3. 78 ગ્રામ
4. 88 ગ્રામ

Question ID : 630680730705
Option 1 ID : 6306802863530
Option 2 ID : 6306802863532
Option 3 ID : 6306802863529
Option 4 ID : 6306802863531
Status : Not Answered
Chosen Option : --

Section : English

Q.71 Choose the correct option to complete the sentence:
She jumped off the bus while it _____.

- Options 1. was moving
2. moved
3. had moved
4. had been moving

Question ID : 630680715092
Option 1 ID : 6306802802036
Option 2 ID : 6306802802038
Option 3 ID : 6306802802037
Option 4 ID : 6306802802039
Status : Marked For Review
Chosen Option : 4

Q.72 Identify the correct synonym of the word in BLOCK letters:
They quickly pulled their clothes back on lest someone DESCRIBED them in the act.

- Options 1. Distrust
2. Discover
3. Misfit
4. Differ

Question ID : 630680715092
Option 1 ID : 6306802802036
Option 2 ID : 6306802802038
Option 3 ID : 6306802802037
Option 4 ID : 6306802802039
Status : Not Marked
Chosen Option : --

Q.73 Given below are four jumbled sentences. Select the option that gives their correct order forming a meaningful and coherent paragraph.
A. It was founded in 2004 by Mark Zuckerberg, Eduardo Saverin, Dustin Moskovitz, and Chris Hughes.
B. All of these founders were students at Harvard University.
C. Facebook became the largest social network in the world, with nearly three billion users as of 2021, and about half that number were using Facebook every day.
D. Facebook is an American online social media platform and social network service that is part of the company Meta Platforms.

- Options 1. BCDA
2. DCBA
3. ACBD
4. DABC

Question ID : 630680725896
Option 1 ID : 6306802844639
Option 2 ID : 6306802844636
Option 3 ID : 6306802844638
Option 4 ID : 6306802844637
Status : Not Attempted and Marked For Review

Q.74 Fill in the blank with the correct verb in the following sentence:
Hitesh and his younger sister _____ to visit their parents.

- Options 1. Are wish
2. Wish
3. Wishes
4. Wishing

Question ID : 630680725885
Option 1 ID : 6306802844595
Option 2 ID : 6306802844593
Option 3 ID : 6306802844592
Option 4 ID : 6306802844594
Status : Marked For Review
Chosen Option : 1

Q.75 Given below are four jumbled sentences. Select the option that gives their correct order forming a meaningful and coherent paragraph.

- A. These types of questions are one of the most important parts of the verbal ability section of English for Entrance Exams.
B. Usually, a candidate is given a paragraph with sentences, not in the right order.
C. Para jumbles are paragraphs that are jumbled.
D. The candidate has to rearrange the sentences in a logical order to make meaning.

- Options 1. DCAB
2. ACBD
3. CBDA
4. CDBA

Question ID : 630680725899
Option 1 ID : 6306802844651
Option 2 ID : 6306802844650
Option 3 ID : 6306802844649
Option 4 ID : 6306802844648
Status : Not Attempted and Marked For Review
Chosen Option : --

Q.76 Given below are four jumbled sentences. Select the option that gives their correct order forming a meaningful and coherent paragraph.

- A. This practice was concerned with the characteristics of places, in particular their natural environments and peoples, as well as the relations between the two.
B. Geography is the study of the diverse environments, places, and spaces of Earth's surface and their interactions.
C. The modern academic discipline of geography is rooted in ancient practice.
D. It seeks to answer the questions of why things are as they are, where they are.

- Options 1. CDBA
2. BDCA
3. DCAB
4. ADBC

Question ID : 630680725892
Option 1 ID : 6306802844621
Option 2 ID : 6306802844620
Option 3 ID : 6306802844623
Option 4 ID : 6306802844622
Status : Not Attempted and Marked For Review
Chosen Option : --

Q.77 Fill in the blank with the correct preposition.
I could not find your slippers _____ the table.

- Options 1. Through
2. Under
3. Towards
4. Into

Question ID : 630680725880
Option 1 ID : 6306802844573
Option 2 ID : 6306802844574
Option 3 ID : 6306802844572
Option 4 ID : 6306802844575
Status : Marked For Review
Chosen Option : 2

Q.78 वाङ्मयं सायं अत्रेणु भाषांतर सोपं
सुं अर्वाथी मद्रास गयो.

- Options 1. proceeded to Madras by me
2. proceeded to Madras by myself also
3. I next to Madras going
4. I next proceeded to Madras

Question ID :
Option 1 ID :
Option 2 ID :
Option 3 ID :
Option 4 ID :
Status :
Chosen Option :

Q.79 Given below are four jumbled sentences. Select the option that gives their correct order forming a meaningful and coherent paragraph.

- A. These entries are then fact-checked, edited, and copyedited by Britannica editors, a process intended to ensure that the articles meet Britannica's long-held standards for readability and accuracy.
B. Since its founding, the Encyclopædia Britannica has relied upon both outside experts and its own editors with various subject-area proficiencies to write its entries.
C. Moreover, that same team of editors regularly revise and update existing articles to reflect new developments in those realms of knowledge.
D. Encyclopædia Britannica is the oldest English-language general encyclopaedia that was first published in 1768, when it began to appear in Edinburgh, Scotland.

- Options 1. BCAD
2. ACBD
3. DBAC
4. DCBA

Question ID : 630680725898
Option 1 ID : 6306802844644
Option 2 ID : 6306802844645
Option 3 ID : 6306802844647

Chosen Option : --

Q.80 Choose the correct option to complete the sentence:
A cow is _____ useful animal.

- Options 1. a
2. an
3. only
4. the

Question ID : 630680715080
Option 1 ID : 6306802801988
Option 2 ID : 6306802801989
Option 3 ID : 6306802801991
Option 4 ID : 6306802801990
Status : Marked For Review
Chosen Option : 1

Q.81 Identify the correct antonym of the following word: alluring

- Options 1. Riveting
2. Inviting
3. Arresting
4. Revolting

Question ID : 630680725916
Option 1 ID : 6306802844717
Option 2 ID : 6306802844716
Option 3 ID : 6306802844718
Option 4 ID : 6306802844719
Status : Not Answered
Chosen Option : --

Comprehension:

Read the following passage and answer the questions given below:

What is truth? said jesting Pilate; and would not stay for an answer. Certainly there be that delight in giddiness; and count it a bondage to fix a belief; affecting free-will in thinking, as well as in acting. And though the sects of philosophers of that kind be gone, yet there remain certain discursive wits, which are of the same veins, though there be not so much blood in them as was in those of the ancients. But it is not only the difficulty and labour which men take in finding out of truth, nor again, that when it is found, it imposeth upon men's thoughts, that doth bring lies in favour, but a natural though corrupt love of the lie itself. One of the later schools of the Grecians examineth the matter, and is at a stand to think what should be in it, that men should love lies; where neither they make for pleasure, as with poet; nor for advantage, as with the merchant, but for the lie's sake.

SubQuestion No : 82

Q.82 The passage suggests that some individuals resist fixing their beliefs because they:

- Options 1. Fear the consequences of embracing truth.
2. Are unable to understand philosophical concepts.
3. Prefer the freedom to think and act as they please.
4. Enjoy pondering different viewpoints.

Question ID : 630680725927
Option 1 ID : 6306802844753
Option 2 ID : 6306802844754
Option 3 ID : 6306802844755
Option 4 ID : 6306802844752
Status : Not Answered
Chosen Option : --

Comprehension:

Read the following passage and answer the questions given below:

What is truth? said jesting Pilate; and would not stay for an answer. Certainly there be that delight in giddiness; and count it a bondage to fix a belief; affecting free-will in thinking, as well as in acting. And though the sects of philosophers of that kind be gone, yet there remain certain discursive wits, which are of the same veins, though there be not so much blood in them as was in those of the ancients. But it is not only the difficulty and labour which men take in finding out of truth, nor again, that when it is found, it imposeth upon men's thoughts, that doth bring lies in favour, but a natural though corrupt love of the lie itself. One of the later schools of the Grecians examineth the matter, and is at a stand to think what should be in it, that men should love lies; where neither they make for pleasure, as with poet; nor for advantage, as with the merchant, but for the lie's sake.

SubQuestion No : 83

Q.83 Identify the meaning of the word 'giddiness' as it is used in the passage.

- Options 1. Being oriented is instrumental in accomplishments.
2. The composed mind can achieve success comparatively faster.
3. The patient's condition is caused by the disequilibrium in the brain's functioning.
4. It is commonly believed that steadiness wins an individual several laureates.

Question ID : 630680725929
Option 1 ID : 6306802844761
Option 2 ID : 6306802844762
Option 3
Option 4
Stat
Chosen Opti

Comprehension:

Read the following passage and answer the questions given below:

What is truth? said jesting Pilate; and would not stay for an answer. Certainly there be that delight in giddiness; and count it a bondage to fix a belief; affecting free-will in thinking, as well as in acting. And though the sects of philosophers of that kind be gone, yet there remain certain discursive wits, which are of the same veins, though there be not so much blood in them as was in those of the ancients. But it is not only the difficulty and labour which men take in finding out of truth, nor again, that when it is found, it imposeth upon men's thoughts, that doth bring lies in favour, but a natural though corrupt love of the lie itself. One of the later schools of the Grecians examineth the matter, and is at a stand to think what should be in it, that men should love lies; where neither they make for pleasure, as with poet; nor for advantage, as with the merchant, but for the lie's sake.

Q.84 Select the correct summary for the passage:

- Options
1. While people in general avoid truth as it is taught to them. The great ancient philosophers as well as the current set of philosophers, though lacking rigor and vitality of the ancient ones, present uniform views about truth. However, the passage doesn't explore the reasons people get attracted to falsehood.
 2. While people in general are truth-lovers and seldom enjoy resorting to falsehood. The great ancient philosophers as well as the current set of philosophers, though lacking rigor and vitality of the ancient ones, have not commented anything, about the truth or the falsehood.
 3. While people in general do not think much about truth or falsehood in their day-to-day life and often their conscience is at bay. The great ancient philosophers as well as the current set of philosophers, though lacking rigor and vitality of the ancient ones, present multiple views about falsehood and advocate that men should love lies. However, the passage on the whole explores the various professionals like the poet, merchant etc. and their attitude regarding truth.
 4. While people in general avoid truth as it is inconvenient to them, they enjoy resorting to falsehood. The great ancient philosophers as well as the current set of philosophers, though lacking rigor and vitality of the ancient ones, presented conflicting observations about truth. The passage also underlines various reasons people get attracted to falsehood.

Question ID : 630680725928
Option 1 ID : 6306802844757
Option 2 ID : 6306802844758
Option 3 ID : 6306802844759
Option 4 ID : 6306802844756
Status : Not Answered
Chosen Option : --

Comprehension:

Read the following passage and answer the questions given below:

What is truth? said jesting Pilate; and would not stay for an answer. Certainly there be that delight in giddiness; and count it a bondage to fix a belief; affecting free-will in thinking, as well as in acting. And though the sects of philosophers of that kind be gone, yet there remain certain discursive wits, which are of the same veins, though there be not so much blood in them as was in those of the ancients. But it is not only the difficulty and labour which men take in finding out of truth, nor again, that when it is found, it imposeth upon men's thoughts, that doth bring lies in favour, but a natural though corrupt love of the lie itself. One of the later schools of the Grecians examineth the matter, and is at a stand to think what should be in it, that men should love lies; where neither they make for pleasure, as with poet; nor for advantage, as with the merchant, but for the lie's sake.

SubQuestion No : 85

Q.85 Identify the meaning of the word 'discursive' as it is used in the passage.

- Options
1. secretive
 2. rational
 3. deliverer
 4. unsystematic

Question ID : 630680725930
Option 1 ID : 6306802844766
Option 2 ID : 6306802844767
Option 3 ID : 6306802844764
Option 4 ID : 6306802844765
Status : Not Answered
Chosen Option : --

Section : Gujarati

Q.86 સાચો સંધિ વિગ્રહ શોધો. અનુક્રમ

- Options
1. અનુ+ સ્થાન
 2. અનુક્રમ+અન
 3. અનુ+ઉક્રમ
 4. અનુ+ઉક્રમન

Question ID : 630680725841
Option 1 ID : 6306802844422
Option 2 ID : 6306802844423
Option 3 ID : 6306802844420
Option 4 ID : 6306802844421
Status : Answered
Chosen Option : 1

Q.87 નીચેનો ગદ્યખંડ વાંચી તેની નીચે આપેલા પ્રશ્નનો જવાબ આપો.

વિકાસના વિકાસે રૂઢ ધર્મ વિશેનો ઉપેક્ષા ભાવ દૂર કરનારે વાતાવરણ સર્જ્યું છે. પણ ધર્મ વિશેની અશ્રદ્ધા એ ધર્મ સહિષ્ણુતા નથી. જેમ બુદ્ધિ જીવનનું ચાલક અને નિયામક બળ છે તેમ શ્રદ્ધા પણ માનવ વ્યક્તિત્વને સંગઠિત કરનારે અને આહાર આપનારે બળ છે. પ્રશ્ન: જીવનનું ચાલક બળ કયું છે?

- Options
1. શ્રદ્ધા
 2. ધર્મ
 3. ઉપેક્ષા
 4. બુદ્ધિ

Q
O
O
O
O

Chos

Q.88 શબ્દસમૂહ માટે એક શબ્દ લખો

ખોડાં પશુઓને રાખવા માટેનું સ્થાન

- Options
1. ગમ્હાર
 2. ઘણ
 3. ગૌશાળા
 4. પાંજરાપોળ

Question ID : 630680725817
Option 1 ID : 6306802844324
Option 2 ID : 6306802844326
Option 3 ID : 6306802844325
Option 4 ID : 6306802844327
Status : Answered
Chosen Option : 4

Q.89 સમાસનો સાચો વિગ્રહ શોધો - ગૃહસ્થ

- Options 1. ગૃહમાં રહેનાર
2. ગૃહમાં પ્રવેશ કરનાર
3. ગૃહનિર્માતા
4. ગૃહ બનાવનાર

Question ID : 630680725804
Option 1 ID : 6306802844273
Option 2 ID : 6306802844275
Option 3 ID : 6306802844274
Option 4 ID : 6306802844272
Status : Answered
Chosen Option : 1

Q.90 અશુદ્ધ વિધાન શોધો

- Options 1. એક વાક્યમાં તમારે ઉત્તર લખો
2. હું તો ચાલતો જ જઈશ
3. સાંજે પાછા આવી જાજો
4. તમે કાલે મને મળજો

Question ID : 630680725830
Option 1 ID : 6306802844376
Option 2 ID : 6306802844378
Option 3 ID : 6306802844379
Option 4 ID : 6306802844377
Status : Answered
Chosen Option : 1

Q.91 સાચું સંધિ જોડાણ શોધો- સમીક્ષા

- Options 1. સહ+ મીક્ષા
2. સમ+ ઇક્ષા
3. સંમ+મીક્ષા
4. સં-મીક્ષા

Question ID : 630680725834
Option 1 ID : 6306802844394
Option 2 ID : 6306802844392
Option 3 ID : 6306802844395
Option 4 ID : 6306802844393
Status : Answered
Chosen Option : 2

Q.92 કહેવતનો અર્થ આપો - ખાટી છાશ ઉકરડે મોળાય

- Options 1. ખાટી છાશ અન્યને આપી દેવામાં આવે
2. ખાટી છાશની વાનગી બને
3. છાસ ખાટી હોય તો તલ્લિયત બગડે
4. બિનઉપયોગી ચીજ-વસ્તુઓનો સંગ્રહ યોગ્ય નથી

Question ID : 630680725796
Option 1 ID : 6306802844283
Option 2 ID : 6306802844282
Option 3 ID : 6306802844281
Option 4 ID : 6306802844280
Status : Answered
Chosen Option : 4

Q.93 સાચી જોડણીવાળો શબ્દ શોધો

- Options 1. નિષ્ક્રિય
2. અનુકરમ
3. સંગિત
4. ખાસ્તીયત

Question ID : 630680725846
Option 1 ID : 6306802844440
Option 2 ID : 6306802844442
Option 3 ID : 6306802844441
Option 4 ID : 6306802844443
Status : Marked For Review
Chosen Option : 3

Q.94 રૂઢિપ્રયોગનો અર્થ આપો -કંઠાઈ જવું

- Options 1. કંઠાન પર સુઈ જવું
2. કાંઠો આવવો
3. દુબળા થઈ જવું
4. સીસાઈ જવું

Chc

Q.95 સાચો સંધિ વિગ્રહ શોધો-ગુરુવંજા

- Options 1. ગુરુ+જા
2. ગુર+ વંજા
3. ગુરુ+આજા
4. ગુરુ+વંજા

Question ID : 630680725837
Option 1 ID : 6306802844407
Option 2 ID : 6306802844405
Option 3 ID : 6306802844406
Option 4 ID : 6306802844404
Status : Marked For Review
Chosen Option : 3

Option 1 ID : 6306802844222
 Option 2 ID : 6306802844220
 Option 3 ID : 6306802844221
 Option 4 ID : 6306802844223
 Status : Marked For Review
 Chosen Option : 4

Q.95 સાચો સંધિ વિગ્રહ શોધો.-ગુર્વાણા

- Options 1. ગુરુમજા
 2. ગુરુમ વર્ગજા
 3. ગુરુમઆજા
 4. ગુરુમવર્ગજા

Question ID : 630680725837
 Option 1 ID : 6306802844407
 Option 2 ID : 6306802844405
 Option 3 ID : 6306802844406
 Option 4 ID : 6306802844404
 Status : Marked For Review
 Chosen Option : 3

Q.96 સાચું સંધિ જોડાણ શોધો.
સાકાર

- Options 1. સઃ+ કાર
 2. સઃ+ આકાર
 3. સાકઃ+ આર
 4. સકઃ+આર

Question ID : 630680725832
 Option 1 ID : 6306802844386
 Option 2 ID : 6306802844384
 Option 3 ID : 6306802844385
 Option 4 ID : 6306802844387
 Status : Marked For Review
 Chosen Option : 2

Q.97 Translate the following sentence into Gujarati:
I want to live my life as I want.

- Options 1. મારી ઈચ્છા મુજબ મારું જીવન જીવવું પડશે.
 2. હું ઈચ્છું એ મુજબ મારે મારું જીવન જીવવું છે.
 3. હું ઈચ્છું એ મુજબ મારે મારું જીવન જીવવું જોઈએ.
 4. હું ઈચ્છું એ મુજબ મારે જીવન જીવવું છે.

Question ID : 630680715237
 Option 1 ID : 6306802802598
 Option 2 ID : 6306802802596
 Option 3 ID : 6306802802597
 Option 4 ID : 6306802802599
 Status : Not Attempted and
 Marked For Review
 Chosen Option : --

Q.98 વિજ્ઞાપ્ય શબ્દ શોધો.-ઈંદ્રલોક

- Options 1. પરલોક
 2. કલોક
 3. આલોક
 4. સબલોક

Question ID : 630680725815
 Option 1 ID : 6306802844318
 Option 2 ID : 6306802844319
 Option 3 ID : 6306802844316
 Option 4 ID : 6306802844317
 Status : Marked For Review
 Chosen Option : 1

Q.99 મોતના પવનો
રસ્તાની ચિરાડોમાં પ્રેમની બાધથી લચી પડી ઓગળે છે.
રાવરના કાંઠા પર સમયની અવળસવળ જાંઘો ઘસાય છે.
હૃતરાં ભસે છે.
પ્રશ્ન:
બાધ્ય મારેનો વૈકલ્પિક શબ્દ કયો છે?

- Options 1. ઘસાળ
 2. ઉલાળ
 3. નાશ
 4. વસાળ

Q.100 સમાનાર્થી શબ્દ શોધો: શામળું

- Options 1. નીલું
 2. અસિત
 3. ધોળું
 4. ધવલ

Question ID : 630680715177
 Option 1 ID : 6306802802359
 Option 2 ID : 6306802802356
 Option 3 ID : 6306802802357
 Option 4 ID : 6306802802358
 Status : Marked For Review
 Chosen Option : 3