

Section : Reasoning

17-05-2024 (CCE - Shift 2)

ઉમે દવારોન Privacy માટે પ્રથમ પે જ Remove કરે છે..

Q.1 નીચે આપેલ પ્રશ્નમાં એક સવાલ અને ક્રમાંકિત '1' અને '2' એમ બે વિધાનો આપેલ છે . વિધાનોમાં આપેલ માહિતી (ડેટા) એ સવાલનો જવાબ આપવા પૂરતી છે કે નહિ એ ઉમેદવારોએ નક્કી કરવાનું છે.

સવાલ: મનુ,વરદાન, કુશલ અને આન્યામાંથી ઉંમરમાં સૌથી મોટું કોણ છે?

વિધાનો:

1. મનુ વરદાન કરતાં મોટો છે.
2. વરદાન કુશલ કરતાં મોટો છે અને કુશલ એ આન્યા કરતાં મોટો છે.

- Options
1. વિધાન 1 એકલું પૂરતું છે જ્યારે કે વિધાન 2 એકલું પૂરતું નથી.
 2. વિધાન 2 એકલું પૂરતું છે જ્યારે કે વિધાન 1 એકલું પૂરતું નથી
 3. વિધાન 1 અને વિધાન 2 બન્ને સાથે મળીને પૂરતાં છે.
 4. ન તો વિધાન 1 કે ન તો 2 પૂરતું છે

Question ID : 630680718530

Option 1 ID : 6306802815639

Option 2 ID : 6306802815640

Option 3 ID : 6306802815641

Option 4 ID : 6306802815642

Status : Answered

Chosen Option : 3

Adda247

Test Prime

ALL EXAMS, ONE SUBSCRIPTION



1,00,000+
Mock Tests



Personalised
Report Card



Unlimited
Re-Attempt



600+
Exam Covered



25,000+ Previous
Year Papers



500%
Refund



ATTEMPT FREE MOCK NOW

Q.2 નીચેમાંથી કઈ વેન આકૃતિ સ્ત્રી, શિક્ષક અને પ્રોફેસર વચ્ચેનો શ્રેષ્ઠ સંબંધ દર્શાવે છે?

Options

- 1.
- 2.
- 3.
- 4.

Question ID : 630680718466

Option 1 ID : 6306802815384

Option 2 ID : 6306802815385

Option 3 ID : 6306802815386

Option 4 ID : 6306802815383

Status : Not Answered

Chosen Option : --

Q.3 નીચેમાંથી કઈ જોડી નીચે આપેલ પદાવલિને સમાન છે?

739 : 937

Options

1. 428 : 284
2. 127 : 217
3. 278 : 827
4. 783 : 387

Question ID : 630680718492

Option 1 ID : 6306802815489

Option 2 ID : 6306802815487

Option 3 ID : 6306802815488

Option 4 ID : 6306802815490

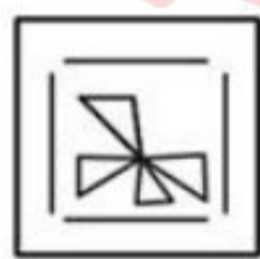
Status : Answered

Chosen Option : 4

Q.4 નીચેનામાંથી કઈ જવાબ-આકૃતિમાં પ્રશ્ન-આકૃતિ સમાયેલ છે (આકૃતિ પરિભ્રમણ કરવાની પરવાનગી નથી)?

Question figure

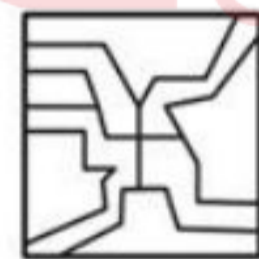
Answer Figure



(a)



(b)



(c)



(d)

સંદર્ભ : Question Figure - પ્રશ્ન-આકૃતિ , Answer Figure - જવાબ-આકૃતિ

Options

1. c
2. a
3. d
4. b

Question ID : 630680718475

Option 1 ID : 6306802815421

Option 2 ID : 6306802815419

Option 3 ID : 6306802815422

Option 4 ID : 6306802815420

Status : Answered

Chosen Option : 4

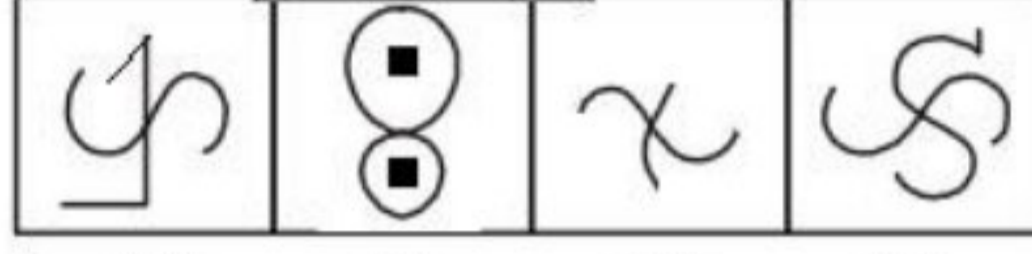
Q.5 બિરજુ શોભા કરતાં ઉમરમાં મોટો છે. કશીશ બિરજુ કરતાં ઉમરમાં મોટો છે. રમેશ પણ કશીશ જેટલી ઉમરનો નથી પણ બિરજુ કરતાં મોટો છે. તેઓમાંથી ઉમરમાં સૌથી નાનું કોણ છે?

- Options
1. રમેશ
 2. કશીશ
 3. શોભા
 4. બિરજુ

Question ID : 630680718470
 Option 1 ID : 6306802815401
 Option 2 ID : 6306802815402
 Option 3 ID : 6306802815400
 Option 4 ID : 6306802815399
 Status : Answered
 Chosen Option : 3

Q.6 નીચેનામાંથી કઈ જવાબ-આકૃતિમાં પ્રશ્ન-આકૃતિ સમાયેલ છે (આકૃતિ પરિભ્રમણ કરવાની પરવાનગી નથી)?

Question Figure : Answer Figures :



(1) (2) (3) (4)

સંદર્ભ : Question Figure – પ્રશ્ન-આકૃતિ , Answer Figure – જવાબ-આકૃતિ

- Options
1. 4
 2. 2
 3. 1
 4. 3

Question ID : 630680718476
 Option 1 ID : 6306802815426
 Option 2 ID : 6306802815424
 Option 3 ID : 6306802815423
 Option 4 ID : 6306802815425
 Status : Answered
 Chosen Option : 1

Q.7 આપેલ જોડીની સંખ્યાઓ જે રીતે સંબંધિત છે તે રીતે સંબંધિત સંખ્યાઓ ધરાવતી જોડી વિકલ્પમાંથી પસંદ કરો.

83 : 71

- Options
1. 18 : 79
 2. 10 : 19
 3. 97 : 79
 4. 87 : 120

Question ID : 630680718534
 Option 1 ID : 6306802815656
 Option 2 ID : 6306802815657
 Option 3 ID : 6306802815655
 Option 4 ID : 6306802815658
 Status : Not Answered
 Chosen Option : --

Q.8 જીશાનના સગા ભાઈની પત્નીની સાસુનો જીશાન સાથે શો સંબંધ છે?

- Options
1. પુત્ર
 2. માતા
 3. દીકરી
 4. સાસુ

Question ID : 630680718503
 Option 1 ID : 6306802815532
 Option 2 ID : 6306802815534
 Option 3 ID : 6306802815533
 Option 4 ID : 6306802815531
 Status : Not Answered

Chosen Option : --

Q.9 જો 'A'નો અર્થ 'ગુણાકાર કરવો' એવો થાય, 'B'નો અર્થ 'સરવાળો કરવો' એવો થાય, 'C'નો અર્થ 'બાદબાકી કરવી' અને 'D'નો અર્થ 'ભાગાકાર કરવો' કરવો એવો થાય, તો નીચે આપેલ પદાવલિનું મૂલ્ય શું થશે?
 4 A 6 C 3 B 15 D 3 = ?

- Options
1. 26
 2. 29
 3. 30
 4. 28

Question ID : 630680718480
 Option 1 ID : 6306802815439
 Option 2 ID : 6306802815441
 Option 3 ID : 6306802815442
 Option 4 ID : 6306802815440
 Status : Answered

Chosen Option : 1

Q.10 જો P = '+', Q = '-', R = 'x' અને S = '÷', તો પછી આપેલ પદાવલિનું મૂલ્ય શું થશે?

5 R 6 Q 3 P 8 S 2

- Options
1. 31
 2. 34
 3. 35
 4. 37

Question ID : 630680718522
 Option 1 ID : 6306802815607
 Option 2 ID : 6306802815608
 Option 3 ID : 6306802815610
 Option 4 ID : 6306802815609
 Status : Answered

Chosen Option : 1

Q.11 જો 'M' 'x'ને દર્શાવે, 'D' '÷'ને દર્શાવે, 'A' '+'ને દર્શાવે, 'S' '-'ને દર્શાવે, તો નીચે આપેલ પદાવલિનું મૂલ્ય શું થશે?
 3 S 28 D 4 A 9 M 2

- Options
1. 15
 2. 16
 3. 14
 4. 13

Question ID : 630680718483
 Option 1 ID : 6306802815453
 Option 2 ID : 6306802815454
 Option 3 ID : 6306802815452
 Option 4 ID : 6306802815451
 Status : Answered

Chosen Option : 3

Q.12 નીચે આપેલ શ્રેણીને તાર્કિક રીતે પૂર્ણ કરવા માટે પ્રશ્ન ચિહ્ન (?) ની જગ્યાએ શું આવશે?
18, 59, 18, 61, 18, 67, 18, ?

Options 1. 77

2. 68

3. 71

4. 73

Question ID : 630680718487

Option 1 ID : 6306802815470

Option 2 ID : 6306802815468

Option 3 ID : 6306802815469

Option 4 ID : 6306802815467

Status : Answered

Chosen Option : 1

Q.13 આપેલ જોડીની સંખ્યાઓ જે રીતે સંબંધિત છે તે રીતે સંબંધિત સંખ્યાઓ ધરાવતી જોડી વિકલ્પમાંથી પસંદ કરો.

11 : 121

Options 1. 8 : 58

2. 4 : 16

3. 6 : 32

4. 5 : 23

Question ID : 630680718531

Option 1 ID : 6306802815644

Option 2 ID : 6306802815646

Option 3 ID : 6306802815645

Option 4 ID : 6306802815643

Status : Answered

Chosen Option : 2

Q.14 નીચેના કોષ્ટકમાં છ વિદ્યાર્થીઓએ એક પરીક્ષામાં છ જુદા જુદા વિષયોમાં મેળવેલા માર્ક્સની ટકાવારી આપેલ છે.

વિદ્યાર્થી	વિષય (મહત્તમ માર્ક્સ)					
	પર્યાવરણ	સમાજશાસ્ત્ર	ગણિત	રાજનીતિશાસ્ત્ર	અર્થશાસ્ત્ર	ભૌતિકવિજ્ઞાન
	(100)	(100)	(100)	(100)	(100)	(100)
મનુ	67	99	99	99	75	100
ઓમ	84	87	80	85	89	86
ફીદા	90	84	96	98	93	85
નાસીર	79	90	87	96	99	89
ઈક્ષા	80	80	79	95	98	93
રેહાન	90	92	86	81	85	71

ઉપરોક્ત કોષ્ટકના આધારે, ફીદાએ તમામ છ વિષયોમાં મેળવેલ કુલ ગુણ કેટલા છે?

Options 1. 550

2. 546

3. 440

4. 460

Question ID : 630680718538

Option 1 ID : 6306802815671

Option 2 ID : 6306802815672

Option 3 ID : 6306802815673

Option 4 ID : 6306802815674

Status : Answered

Chosen Option : 2

Q.15 એક ફોટોગ્રાફ તરફ ઈશારો કરીને દિનેશ (પુરુષ) કહે છે કે ફોટોગ્રાફમાં દેખાતો માણસ તેના સગા ભાઈની માતાનો પતિ છે. ચિત્રમાં દેખાતા માણસ સાથે દિનેશ કેવી રીતે સંબંધિત છે?

Options 1. કાકા (પિતાના ભાઈ)

2. ભાઈ
3. પુત્ર
4. પિતા

Question ID : 630680718462

Option 1 ID : 6306802815370

Option 2 ID : 6306802815367

Option 3 ID : 6306802815369

Option 4 ID : 6306802815368

Status : Answered

Chosen Option : 3

Q.16 નીચેના કોષ્ટકમાં છ વિદ્યાર્થીઓએ એક પરીક્ષામાં છ જુદા જુદા વિષયોમાં મેળવેલા માર્ક્સની ટકાવારી આપેલ છે.

વિદ્યાર્થી	વિષય (મહત્તમ માર્ક્સ)					
	પર્યાવરણ (100)	સમાજશાસ્ત્ર (100)	ગણિત (100)	રાજનીતિશાસ્ત્ર (100)	અર્થશાસ્ત્ર (100)	ભૌતિકવિજ્ઞાન (100)
માનવી	67	99	99	99	75	100
આન્યા	84	87	80	85	89	86
ફિરોઝ	90	84	96	98	93	85
નીરજ	79	90	87	96	99	89
ઈશી	80	80	79	95	98	93
રેશમા	90	92	86	81	85	71

ઉપરોક્ત કોષ્ટકના આધારે, માનવીને ઉપરોક્તમાંથી કયા વિષયમાં A- મળ્યો છે (A- એટલે કે વિદ્યાર્થીએ 70 કરતાં વધુ અને 80 કરતાં ઓછા માર્ક્સ મેળવ્યા હોવા જોઈએ)?

Options 1. અર્થશાસ્ત્ર

2. ગણિત
3. રાજનીતિશાસ્ત્ર
4. સમાજશાસ્ત્ર

Question ID : 630680718539

Option 1 ID : 6306802815677

Option 2 ID : 6306802815675

Option 3 ID : 6306802815676

Option 4 ID : 6306802815678

Status : Answered

Chosen Option : 1

Q.17 આપેલ જોડીની સંખ્યાઓ જે રીતે સંબંધિત છે તે રીતે સંબંધિત સંખ્યાઓ ધરાવતી જોડી વિકલ્પમાંથી પસંદ કરો.

8 : 3

Options 1. 19 : 4

2. 17 : 5
3. 14 : 4
4. 98 : 6

Question ID : 630680718535

Option 1 ID : 6306802815660

Option 2 ID : 6306802815659

Option 3 ID : 6306802815662

Option 4 ID : 6306802815661

Status : Not Attempted and
Marked For Review

Chosen Option : --

Q.18 નીચે આપેલ પ્રશ્નમાં એક સવાલ અને ક્રમાંકિત '1' અને '2' એમ બે વિધાનો આપેલ છે . વિધાનોમાં આપેલ માહિતી (ડેટા) એ સવાલનો જવાબ આપવા પૂરતી છે કે નહિ એ ઉમેદવારોએ નક્કી કરવાનું છે.

સવાલ :

એક સાંકેતિક ભાષામાં 'Taste' કઈ રીતે લખાય છે?

વિધાનો:

1. 'Taste is sweet' ને ' # \$ % ' તરીકે સાંકેતિક કરવામાં આવે છે.
2. 'Biscuit was Taste' ને # % @ ' તરીકે સાંકેતિક કરવામાં આવે છે.

Options 1. ન તો વિધાન 1 કે ન તો 2 પૂરતું છે

2. વિધાન 2 એકલું પૂરતું છે જ્યારે કે વિધાન 1 એકલું પૂરતું નથી.
3. વિધાન 1 અને વિધાન 2 બન્ને સાથે મળીને પૂરતાં છે
4. વિધાન 1 એકલું પૂરતું છે જ્યારે કે વિધાન 2 એકલું પૂરતું નથી.

Question ID : 630680718468

Option 1 ID : 6306802815394

Option 2 ID : 6306802815393

Option 3 ID : 6306802815392

Option 4 ID : 6306802815391

Status : Answered

Chosen Option : 1

Q.19 નીચેમાંથી કઈ જવાબ આકૃતિમાં પ્રશ્ન-આકૃતિ જડિત છે (પરિભ્રમણની મંજૂરી નથી)?

Question Figure : Answer figures :



(a)

(b)

(c)

(d)

સંદર્ભ : Question Figure – પ્રશ્ન-આકૃતિ , Answer Figure – જવાબ-આકૃતિ

Options 1. d

2. a

3. c

4. b

Question ID : 630680718515

Option 1 ID : 6306802815582

Option 2 ID : 6306802815579

Option 3 ID : 6306802815581

Option 4 ID : 6306802815580

Status : Not Attempted and
Marked For Review

Chosen Option : --

Q.20 એવી જોડી પસંદ કરો જેમાં સંખ્યાઓ તેવી જ રીતે સંબંધિત છે જે રીતે નીચે આપેલ જોડીની સંખ્યાઓ સંબંધિત છે.

29 : 873

Options 1. 42 : 882

2. 28 : 763

3. 20 : 456

4. 28 : 562

Question ID : 630680718496

Option 1 ID : 6306802815505

Option 2 ID : 6306802815504

Option 3 ID : 6306802815503

Option 4 ID : 6306802815506

Status : Not Attempted and
Marked For Review

Chosen Option : --

Q.21 નીચે આપેલ શ્રેણીને તાર્કિક રીતે પૂર્ણ કરવા માટે પ્રશ્ન ચિહ્ન (?) ની જગ્યાએ શું આવશે?

9, 18, 23, 46, 51, ?, ?

- Options
1. 105, 100
 2. 100, 105
 3. 107, 102
 4. 102, 107

Question ID : 630680718526

Option 1 ID : 6306802815623

Option 2 ID : 6306802815624

Option 3 ID : 6306802815626

Option 4 ID : 6306802815625

Status : Answered

Chosen Option : 4

Q.22 જો '\$'નો અર્થ '-', '*'નો અર્થ '+', '@' અર્થ '÷', '#' અર્થ 'x' થાય, તો નીચે આપેલ પદાવલિનું મૂલ્ય શું થશે?

6 # 2 * 42 @ 7 \$ 1 = ?

- Options
1. 17
 2. 15
 3. 12
 4. 13

Question ID : 630680718481

Option 1 ID : 6306802815446

Option 2 ID : 6306802815445

Option 3 ID : 6306802815443

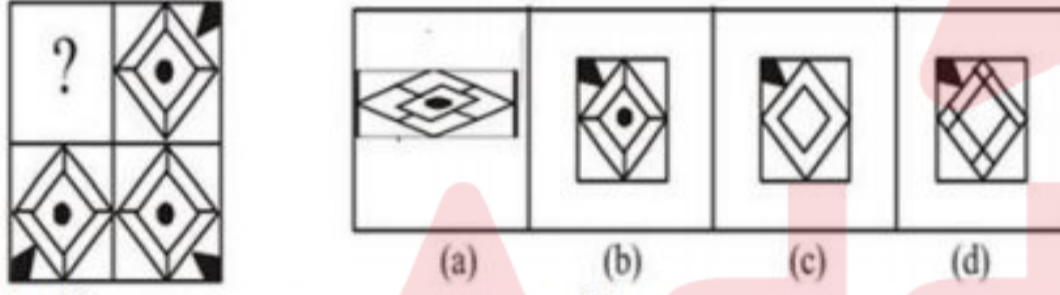
Option 4 ID : 6306802815444

Status : Answered

Chosen Option : 1

Q.23 કઈ જવાબ-આકૃતિ નીચે આપેલ પ્રશ્ન-આકૃતિમાંના પ્રશ્નચિહ્નનું સ્થાન લેશે (આકૃતિ પરિભ્રમણ કરવાની પરવાનગી નથી)?

Question Figures : Answer figures :



સંદર્ભ : Question Figure – પ્રશ્ન-આકૃતિ, Answer Figure – જવાબ-આકૃતિ

- Options
1. a
 2. b
 3. d
 4. c

Question ID : 630680718512

Option 1 ID : 6306802815567

Option 2 ID : 6306802815568

Option 3 ID : 6306802815570

Option 4 ID : 6306802815569

Status : Answered

Chosen Option : 2

Q.24 અરુણા શાંતિ કરતાં ઉમરમાં મોટી છે. વિનીત અરુણા કરતાં ઉમરમાં મોટો છે. કિષ્ના પણ વિનીત જેટલી ઉમરનો નથી પણ અરુણા કરતાં મોટો છે. તેમની વચ્ચે ઉમરમાં સૌથી મોટું કોણ છે?

- Options
1. શાંતિ
 2. વિનીત
 3. અરુણા
 4. કૃષ્ણ

Question ID : 630680718471

Option 1 ID : 6306802815404

Option 2 ID : 6306802815403

Option 3 ID : 6306802815406

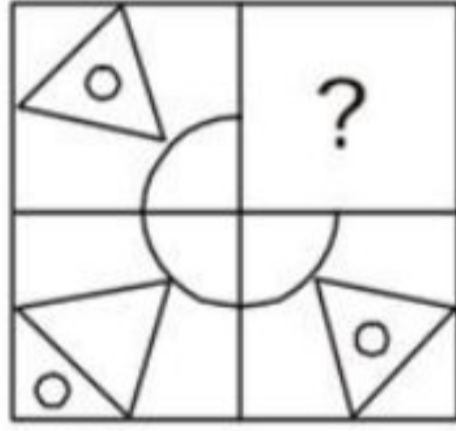
Option 4 ID : 6306802815405

Status : Not Attempted and Marked For Review

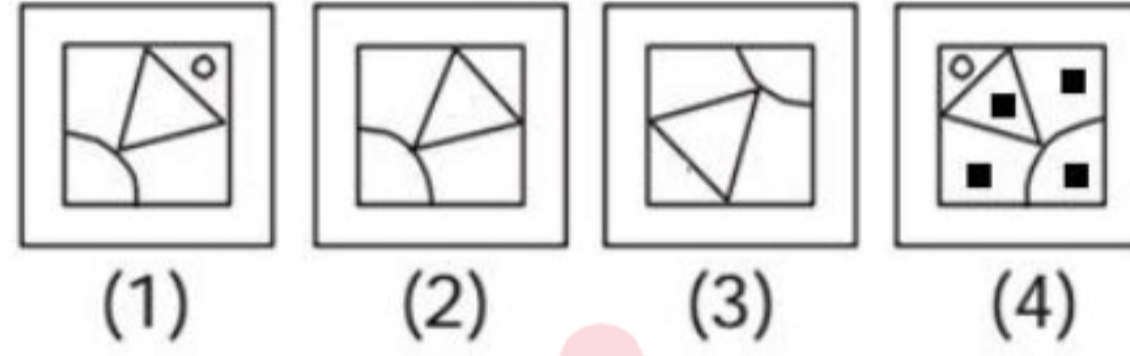
Chosen Option : --

Q.25 કઈ જવાબ-આકૃતિ નીચે આપેલ પ્રશ્ન-આકૃતિમાંના પ્રશ્નચિહ્નનું સ્થાન લેશે (આકૃતિ પરિભ્રમણ કરવાની પરવાનગી નથી)?

Question Figure :



Answer Figures :



સંદર્ભ : Question Figure - પ્રશ્ન-આકૃતિ , Answer Figure - જવાબ-આકૃતિ

- Options
1. 1
 2. 4
 3. 2
 4. 3

Question ID : 630680718474

Option 1 ID : 6306802815415

Option 2 ID : 6306802815418

Option 3 ID : 6306802815416

Option 4 ID : 6306802815417

Status : Answered

Chosen Option : 1

Q.26 નીચે આપેલ પ્રશ્નમાં એક સવાલ અને ક્રમાંકિત '1' અને '2' એમ બે વિધાનો આપેલ છે . વિધાનોમાં આપેલ માહિતી (ડેટા) એ સવાલનો જવાબ આપવા પૂરતી છે કે નહિ એ ઉમેદવારોએ નક્કી કરવાનું છે.

સવાલ: ડરબન અને પેરીસ વચ્ચેનું સૌથી ટૂંકું અંતર કેટલું છે?

વિધાનો:

1. ડરબન એ લંડનથી 300 km દૂર છે.

2. ડરબન એ લંડનથી 115 km દૂર છે.

- Options
1. વિધાન 2 એકલું પૂરતું છે જ્યારે કે વિધાન 1 એકલું પૂરતું નથી
 2. વિધાન 1 એકલું પૂરતું છે જ્યારે કે વિધાન 2 એકલું પૂરતું નથી.
 3. વિધાન 1 અને વિધાન 2 બન્ને સાથે મળીને પૂરતાં છે.
 4. ન તો વિધાન 1 કે ન તો 2 પૂરતું છે

Question ID : 630680718529

Option 1 ID : 6306802815636

Option 2 ID : 6306802815635

Option 3 ID : 6306802815638

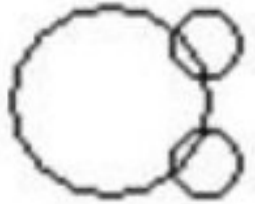



Option 4 ID : 6306802815637

Status : Not Answered

Chosen Option : --

Q.27 નીચેમાંથી કઈ વેન આકૃતિ કેરોસીન, છરી અને પતંગ વચ્ચેનો શ્રેષ્ઠ સંબંધ દર્શાવે છે?

Options

1. 
2. 
3. 
4. 

Question ID : 630680718504

Option 1 ID : 6306802815537

Option 2 ID : 6306802815535

Option 3 ID : 6306802815536

Option 4 ID : 6306802815538

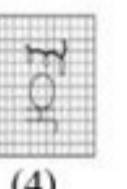


Status : Answered

Chosen Option : 3

Q.28 દર્પણને રેખા MN પર શિરોલંબ મૂકવામાં આવે ત્યારે નીચે પૈકી કઈ જવાબ આકૃતિ એ સવાલ આકૃતિની દર્પણ છબી હશે?

Question Figure :

Answer Figures :



સંદર્ભ : Question Figure – પ્રશ્ન આકૃતિ , Answer Figure – જવાબ આકૃતિ

Options 1. 3

2. 4

3. 1

4. 2

Question ID : 630680718519

Option 1 ID : 6306802815597

Option 2 ID : 6306802815598

Option 3 ID : 6306802815595

Option 4 ID : 6306802815596

Status : Answered

Chosen Option : 2

Q.29 નીચેના કોષ્ટકમાં છ વિદ્યાર્થીઓએ એક પરીક્ષામાં છ જુદા જુદા વિષયોમાં મેળવેલાં માર્ક્સની ટકાવારી આપેલ છે.

વિદ્યાર્થી	વિષય (મહત્તમ માર્ક્સ)					
	અર્થશાસ્ત્ર	ઇતિહાસ	ભૂગોળ	તત્વજ્ઞાન	રસાયણશાસ્ત્ર	ગણિત
	(100)	(100)	(100)	(100)	(100)	(100)
અવીક	45	94	89	69	75	54
ભાવના	84	59	99	79	53	46
ડેનીશ	89	77	55	65	45	97
ગીતા	95	88	77	47	69	49
રાશિ	58	48	69	85	79	93
સૂરજ	93	52	46	81	85	94

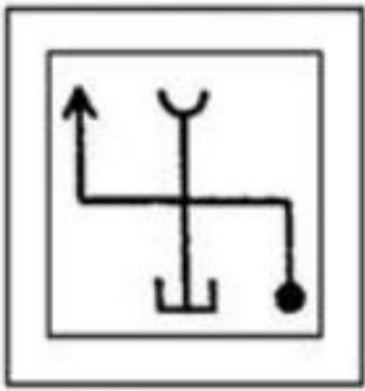
ઉપરોક્ત કોષ્ટકના આધારે, તત્વજ્ઞાનમાં છ વિદ્યાર્થીઓએ મેળવેલ કુલ સરેરાશ ગુણ (ટકાવારીમાં) કેટલા છે?

- Options
1. 69 %
 2. 70 %
 3. 72 %
 4. 71 %

Question ID : 630680718537
 Option 1 ID : 6306802815667
 Option 2 ID : 6306802815668
 Option 3 ID : 6306802815670
 Option 4 ID : 6306802815669
 Status : Not Answered
 Chosen Option : --

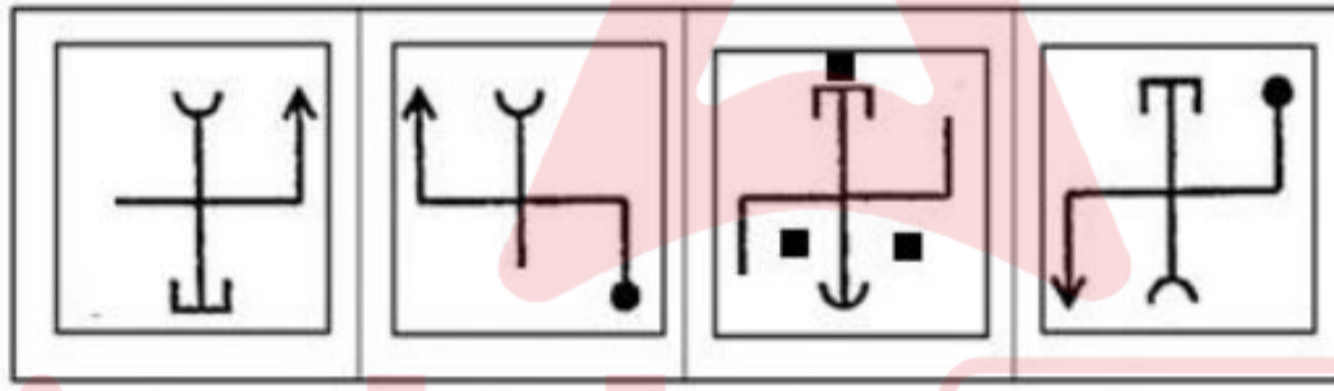
Q.30 નીચે આપેલ 4 વિકલ્પોમાંથી, કયો વિકલ્પ અસલ છબી X નું જળ-પ્રતિબિંબ છે (આકૃતિ પરિભ્રમણ કરવાની પરવાનગી નથી)?

Question Figure



(X)

Answer Figures



(1)

(2)

(3)

(4)

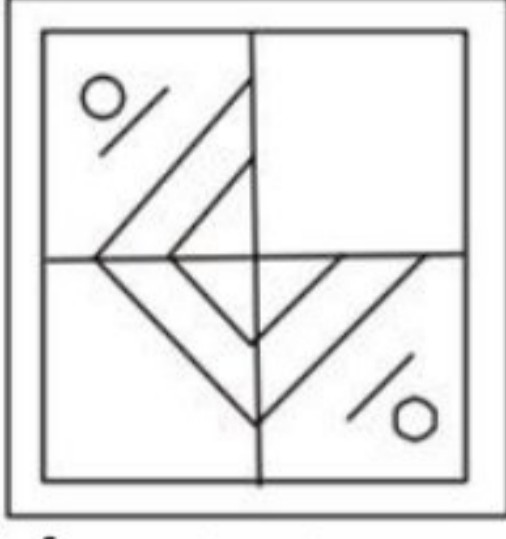
સંદર્ભ : Question Figure - પ્રશ્ન-આકૃતિ, Answer Figure - જવાબ-આકૃતિ

- Options
1. 2
 2. 3
 3. 4
 4. 1

Question ID : 630680718477
 Option 1 ID : 6306802815428
 Option 2 ID : 6306802815429
 Option 3 ID : 6306802815430
 Option 4 ID : 6306802815427
 Status : Answered
 Chosen Option : 3

Q.31 કઈ જવાબ-આકૃતિ નીચે આપેલ પ્રશ્ન-આકૃતિની ખાલી જગ્યાનું સ્થાન લેશે (આકૃતિ પરિભ્રમણ કરવાની પરવાનગી નથી)?

Question Figure : Answer Figures :



(1)



(2)



(3)



(4)

સંદર્ભ : Question Figure – પ્રશ્ન-આકૃતિ , Answer Figure – જવાબ-આકૃતિ

- Options
1. 1
 2. 3
 3. 4
 4. 2

Question ID : 630680718473
 Option 1 ID : 6306802815411
 Option 2 ID : 6306802815413
 Option 3 ID : 6306802815414
 Option 4 ID : 6306802815412
 Status : Answered
 Chosen Option : 2

Q.32 નીચેના કોષ્ટકમાં છ વિદ્યાર્થીઓએ એક પરીક્ષામાં છ જુદા જુદા વિષયોમાં મેળવેલા માર્ક્સની ટકાવારી આપેલ છે.

વિદ્યાર્થી	વિષય (મહત્તમ માર્ક્સ)					
	પર્યાવરણ (100)	સમાજશાસ્ત્ર (100)	ગણિત (100)	રાજનીતિશાસ્ત્ર (100)	અર્થશાસ્ત્ર (100)	ભૌતિકવિજ્ઞાન (100)
માનવી	67	99	99	99	75	100
આન્યા	94	87	80	85	89	86
ફિરોઝ	90	64	96	98	33	85
નીરજ	79	90	87	36	99	89
ઈશી	80	80	39	95	98	93
રેશમા	90	32	86	81	85	71

ઉપરોક્ત કોષ્ટકના આધારે, રેશમાને ઉપરોક્ત વિષયોમાંથી કયા વિષયમાં O+ મળ્યો છે (O+ એટલે કે વિદ્યાર્થીએ 87 કરતાં વધુ પરંતુ 91 કરતાં ઓછા ગુણ મેળવ્યા હોવા જોઈએ)?

- Options
1. પર્યાવરણ
 2. રાજનીતિશાસ્ત્ર
 3. સમાજશાસ્ત્ર
 4. ગણિત

Question ID : 630680718540
 Option 1 ID : 6306802815682
 Option 2 ID : 6306802815679
 Option 3 ID : 6306802815681
 Option 4 ID : 6306802815680
 Status : Answered
 Chosen Option : 1

Q.33 નીચે આપેલ પ્રશ્નમાં એક સવાલ અને ક્રમાંકિત '1' અને '2' એમ બે વિધાનો આપેલ છે. વિધાનોમાં આપેલ માહિતી (ડેટા) એ સવાલનો જવાબ આપવા પૂરતી છે કે નહિ એ ઉમેદવારોએ નક્કી કરવાનું છે.
સવાલ: પાંચ મિત્રો આભા, વર્ષા, ચંદન, દર્શ અને હિનામાં ઉંમરમાં સૌથી નાનું કોણ છે?
વિધાનો:
1. ચંદન કરતાં આભા ઊંચી છે.
2. આભા કરતાં ચંદન કદમાં નીચો છે.

Options 1. વિધાન 1 એકલું પૂરતું છે જ્યારે કે વિધાન 2 એકલું પૂરતું નથી.
2. વિધાન 2 એકલું પૂરતું છે જ્યારે કે વિધાન 1 એકલું પૂરતું નથી.
3. વિધાન 1 અને વિધાન 2 બન્ને પૂરતાં છે
4. ન તો વિધાન 1 કે ન તો 2 પૂરતું છે

Question ID : 630680718469
Option 1 ID : 6306802815398
Option 2 ID : 6306802815396
Option 3 ID : 6306802815397
Option 4 ID : 6306802815395
Status : Answered
Chosen Option : 4

Q.34 એવી જોડી પસંદ કરો જેમાં સંખ્યાઓ તેવી જ રીતે સંબંધિત છે જે રીતે નીચે આપેલ જોડીની સંખ્યાઓ સંબંધિત છે.
83 : 89

Options 1. 10 : 99
2. 27 : 120
3. 18 : 81
4. 103 : 107

Question ID : 630680718494
Option 1 ID : 6306802815497
Option 2 ID : 6306802815498
Option 3 ID : 6306802815496
Option 4 ID : 6306802815495
Status : Not Answered
Chosen Option : --

Q.35 આપેલ જોડીની સંખ્યાઓ જે રીતે સંબંધિત છે તે રીતે સંબંધિત સંખ્યાઓ ધરાવતી જોડી વિકલ્પમાંથી પસંદ કરો.





837 : 738

Options 1. 277 : 727
2. 345 : 453
3. 756 : 567
4. 379 : 973

Question ID : 630680718532
Option 1 ID : 6306802815648
Option 2 ID : 6306802815650
Option 3 ID : 6306802815647
Option 4 ID : 6306802815649
Status : Answered
Chosen Option : 4

Q.36 નીચેમાંથી કઈ વેન આકૃતિ માણસ, શિક્ષક અને ગાય વચ્ચેનો શ્રેષ્ઠ સંબંધ દર્શાવે છે?

Options

1. 
2. 
3. 
4. 

Question ID : 630680718465

Option 1 ID : 6306802815382

Option 2 ID : 6306802815380

Option 3 ID : 6306802815379

Option 4 ID : 6306802815381

Status : Answered

Chosen Option : 4

Q.37 નીચે આપેલ શ્રેણીને તાર્કિક રીતે પૂર્ણ કરવા માટે પ્રશ્ન ચિહ્ન (?) ની જગ્યાએ શું આવશે?
67, 71, 70, 74, 73, ?, ?

Options

1. 77, 76
2. 70, 69
3. 69, 70
4. 76, 77

Question ID : 630680718485

Option 1 ID : 6306802815462

Option 2 ID : 6306802815460

Option 3 ID : 6306802815459

Option 4 ID : 6306802815461

Status : Answered

Chosen Option : 1

Q.38 હર્ષિત (પુરુષ) હર્ષિતની માતાની માતાના એકમાત્ર જમાઈ સાથે કેવી રીતે સંબંધિત છે?

Options

1. પુત્ર
2. ભાઈ
3. ભત્રીજો
4. પિતા

Question ID : 630680718501

Option 1 ID : 6306802815526

Option 2 ID : 6306802815524

Option 3 ID : 6306802815523

Option 4 ID : 6306802815525

Status : Answered

Chosen Option : 1

Q.39 નીચે આપેલ શ્રેણીને તાર્કિક રીતે પૂર્ણ કરવા માટે પ્રશ્ન ચિહ્ન (?) ની જગ્યાએ શું આવશે?

87, 85, 83, 81, ?

Options

1. 72
2. 79
3. 77
4. 70

Question ID : 630680718528

Option 1 ID : 6306802815633

Option 2 ID : 6306802815632

Option 3 ID : 6306802815634

Option 4 ID : 6306802815631

Status : Answered

Chosen Option : 2

Q.40 આપેલ વિધાન(નો) અને તારણો કાળજીપૂર્વક વાંચો. ધારી લો કે વિધાનોમાં આપવામાં આવેલી માહિતી સાચી છે, ભલે તે સામાન્ય રીતે જાણીતી હકીકતો કરતાં ભિન્ન હોય તેવું જણાય, વિધાન(નો)માથી આપેલ તારણોમાંથી કયું તાર્કિક રીતે અનુસરે છે તે નક્કી કરો.

વિધાનો:

અમુક કોલસા (coal) બોક્સાઈટ (bauxite) છે.

અમુક બોક્સાઈટ એ ચાંદી (silver) છે.

તારણો:

1. તમામ ચાંદી એ બોક્સાઈટ છે.
2. તમામ બોક્સાઈટ એ કોલસા છે.

Options

1. તારણ 1 અને 2 બન્ને અનુસરે છે
2. માત્ર તારણ 1 અનુસરે છે
3. ન તો તારણ 1 કે ન તો 2 અનુસરે છે
4. માત્ર તારણ 2 અનુસરે છે

Question ID : 630680718507

Option 1 ID : 6306802815549

Option 2 ID : 6306802815547

Option 3 ID : 6306802815550

Option 4 ID : 6306802815548

Status : Answered

Chosen Option : 3

Section : Quantitative Aptitude

Q.41 સ્થિર પાણીમાં હોડીની ઝડપ 20 km/h છે. તે નદીમાં 12 km પ્રવાહની દિશામાં જાય છે તે જ સમયે તે 8 km ઉપર તરફ જવા માટે લે છે. નદીના પ્રવાહની ઝડપ કેટલી છે?

Options

1. 4 km/h
2. 3 km/h
3. 2 km/h
4. 5 km/h

Question ID : 630680719289

Option 1 ID : 6306802818627

Option 2 ID : 6306802818625

Option 3 ID : 6306802818624

Option 4 ID : 6306802818626

Status : Not Answered

Chosen Option : --

Q.42 મિલકત ચાર ભાઈ-બહેનો વચ્ચે 1:2:3:4 ના ગુણોત્તરમાં વહેંચવામાં આવે છે. જો મિલકતનું કુલ મૂલ્ય ₹1,000,000 હોય, તો અનુક્રમે લઘુત્તમ ભાગ અને સૌથી મોટો ભાગ કેટલો છે?

- Options
1. ₹200,000 અને ₹300,000
 2. ₹100,000 અને ₹400,000
 3. ₹250,000 અને ₹300,000
 4. ₹150,000 અને ₹400,000

Question ID : 630680719282
 Option 1 ID : 6306802818598
 Option 2 ID : 6306802818596
 Option 3 ID : 6306802818599
 Option 4 ID : 6306802818597
 Status : Answered
 Chosen Option : 2

Q.43 દસ વર્ષ પહેલાં, એલિસ તેની કઝીન કેરોલ કરતાં ચાર ગણી મોટી હતી. જો કેરોલ હવે 15 વર્ષની હોય, તો એલિસ હવે કેટલા વર્ષની છે?

- Options
1. 60 વર્ષ
 2. 45 વર્ષ
 3. 30 વર્ષ
 4. 70 વર્ષ

Question ID : 630680719305
 Option 1 ID : 6306802818691
 Option 2 ID : 6306802818689
 Option 3 ID : 6306802818688
 Option 4 ID : 6306802818690
 Status : Answered
 Chosen Option : 3

Q.44 રેસીપીમાં 2:5 ના પ્રમાણમાં ખાંડ અને લોટનું મિશ્રણ જરૂરી છે. જો બેકર પાસે 10 કપ ખાંડ હોય, તો કેટલા કપ લોટની જરૂર છે?

- Options
1. 30 કપ
 2. 20 કપ
 3. 15 કપ
 4. 25 કપ

Question ID : 630680719278
 Option 1 ID : 6306802818583
 Option 2 ID : 6306802818581
 Option 3 ID : 6306802818580
 Option 4 ID : 6306802818582
 Status : Answered
 Chosen Option : 4

Q.45 સમગુણોત્તર શ્રેણી: 2, 4, 8, 16..... ના કેટલા પદોની જરૂર પડે કે જેથી સરવાળો 8190 થાય?

- Options
1. 27
 2. 12
 3. 18
 4. 9

Question ID : 630680716782
 Option 1 ID : 6306802808745
 Option 2 ID : 6306802808743
 Option 3 ID : 6306802808744
 Option 4 ID : 6306802808742
 Status : Not Answered
 Chosen Option : --

Q.46 શાળાના પ્રમુખપદની ચૂંટણીમાં, એક ઉમેદવારે કુલ 1,350 મતોમાંથી 58% મેળવ્યા છે. તેને કેટલા મત મળ્યા?

- Options
1. 756 વોટ
 2. 783 વોટ
 3. 700 વોટ
 4. 800 વોટ

Question ID : 630680719301
 Option 1 ID : 6306802818672
 Option 2 ID : 6306802818673
 Option 3 ID : 6306802818674
 Option 4 ID : 6306802818675
 Status : Answered
 Chosen Option : 2

Q.47 જો કોઈ કંપની વસ્તુની ચિહ્નિત કિંમત પર 40% નું વળતર આપે છે અને તેના પર 40% લાભ મેળવે છે, તો પડતર કિંમત કરતાં કેટલા ટકા ઉપર વસ્તુની કિંમત ચિહ્નિત કરવામાં આવી છે?

- Options
1. 133.33%
 2. 12.5%
 3. 145.67%
 4. 130%

Question ID : 630680716772
 Option 1 ID : 6306802808704
 Option 2 ID : 6306802808702
 Option 3 ID : 6306802808705
 Option 4 ID : 6306802808703
 Status : Not Answered
 Chosen Option : --

Q.48 એક શેફ ફૂકીઝની મોટી બેચ તૈયાર કરી રહ્યો છે અને તેને રેસીપીમાં વસ્તુઓને વધારવાની જરૂર છે. રેસીપીમાં દરેક 3 કપ ખાંડ માટે 4 કપ લોટની જરૂર છે. જો શેફે પહેલેથી જ 9 કપ ખાંડ માપી લીધી હોય, તો તેને રેસીપી માટે યોગ્ય ગુણોત્તર જાળવવા માટે કેટલા કપ લોટની જરૂર છે?

- Options
1. 18
 2. 15
 3. 12
 4. 6

Question ID : 630680716725
 Option 1 ID : 6306802808517
 Option 2 ID : 6306802808516
 Option 3 ID : 6306802808515
 Option 4 ID : 6306802808514
 Status : Answered
 Chosen Option : 3

Q.49 ગયા વર્ષે સાન્દ્રાની આવક ₹50,000 હતી. તેણીએ તેની આવકનો 30% હાઉસિંગ અને 20% પરિવહન પર ખર્ચ કર્યો. જો તેણીની આવકમાં આ વર્ષે 10%નો વધારો થાય છે અને હાઉસિંગ અને પરિવહન પર તેણીનો ખર્ચ તેની આવકના જેટલા ટકા હતો તેટલો જ રહે છે, તો તે આ વર્ષે હાઉસિંગ અને પરિવહન પર કેટલો ખર્ચ કરશે?

- Options
1. ₹ 28,200
 2. ₹ 27,700
 3. ₹ 27,500
 4. ₹ 30,000

Question ID : 630680716749
 Option 1 ID : 6306802808611
 Option 2 ID : 6306802808610
 Option 3 ID : 6306802808612
 Option 4 ID : 6306802808613
 Status : Answered
 Chosen Option : 3

Q.50 કારનું મૂલ્ય તેના પ્રથમ વર્ષમાં 20% ઘટે છે અને બીજા વર્ષમાં 10% વધે છે. જો કારની શરૂઆતમાં કિંમત ₹150000 હોય, તો બીજા વર્ષના અંતે તેની કિંમત (₹ માં) કેટલી હશે?

- Options
1. 150000
 2. 140400
 3. 132000
 4. 126000

Question ID : 630680719303
 Option 1 ID : 6306802818683
 Option 2 ID : 6306802818682
 Option 3 ID : 6306802818681
 Option 4 ID : 6306802818680
 Status : Answered
 Chosen Option : 3

Q.51 બે ટ્રેન, જે દરેક 150 મીટર લાંબી છે, વિરુદ્ધ દિશામાં આગળ વધે છે અને 10 સેકન્ડમાં એકબીજાને પસાર કરે છે. જો એક ટ્રેનની ઝડપ 10 km/h હોય, તો બીજી ટ્રેનની ઝડપ કેટલી હશે?

- Options
1. 68km/h
 2. 106km/h
 3. 54km/h
 4. 98km/h

Question ID : 630680716766
 Option 1 ID : 6306802808679
 Option 2 ID : 6306802808680
 Option 3 ID : 6306802808678
 Option 4 ID : 6306802808681
 Status : Answered
 Chosen Option : 1

Q.52 બે પેન અને ત્રણ પેન્સિલનો ખર્ચ ₹17 છે. બે પેન અને એક પેન્સિલનો ખર્ચ ₹ 15 છે. તો પેનની કિંમત શોધો.

- Options
1. ₹1
 2. ₹5
 3. ₹7
 4. ₹3

Question ID : 630680716785
 Option 1 ID : 6306802808754
 Option 2 ID : 6306802808756
 Option 3 ID : 6306802808757
 Option 4 ID : 6306802808755
 Status : Answered
 Chosen Option : 1

Q.53 એક સુથાર પાસે બે લંબાઈવાળા લાકડા હોય છે, એક 84 મીટર લાંબો અને બીજો 126 મીટર લાંબો. તેણે તેમને સમાન લંબાઈના ટુકડાઓમાં કાપવાની જરૂર છે જેમાં કોઈ લાકડું બાકી ન હોય. દરેક ભાગની મહત્તમ લંબાઈ કેટલી છે?

- Options
1. 14 મીટર
 2. 21 મીટર
 3. 42 મીટર
 4. 28 મીટર

Question ID : 630680719299
 Option 1 ID : 6306802818664
 Option 2 ID : 6306802818665
 Option 3 ID : 6306802818666
 Option 4 ID : 6306802818667
 Status : Answered
 Chosen Option : 1

Q.54 નીચેની પદાવલીના મૂલ્યની ગણતરી કરો: $(18/3) \times (2^3 - 2) + \sqrt{64} \div 8 - (5/2) \times 4$.

- Options
1. 20
 2. 27
 3. 26
 4. 24

Question ID : 630680719293
 Option 1 ID : 6306802818643
 Option 2 ID : 6306802818641
 Option 3 ID : 6306802818640
 Option 4 ID : 6306802818642
 Status : Answered
 Chosen Option : 2

Q.55 $(743+732)^2 - 4 \times 743 \times 732$ નું સાદું રૂપ આપો.

- Options
1. 121
 2. 169
 3. 196
 4. 144

Question ID : 630680716788
 Option 1 ID : 6306802808766
 Option 2 ID : 6306802808768
 Option 3 ID : 6306802808769
 Option 4 ID : 6306802808767
 Status : Not Attempted and
 Marked For Review
 Chosen Option : --

Q.56 ગયા વર્ષે, જોડને તેની ₹3000000ની વાર્ષિક આવકનો 40% ભાડા પર ખર્ચ કર્યો હતો. આ વર્ષે તેની આવકમાં 20%નો વધારો થયો છે. જો તે આ વર્ષે તેની આવકના સમાન ટકા ભાડા પર ખર્ચવાનું નક્કી કરે, તો તે આ વર્ષે ભાડા પર કેટલો ખર્ચ કરશે?

- Options
1. ₹ 1440000
 2. ₹ 960000
 3. ₹ 1200000
 4. ₹ 1480000

Question ID : 630680719302
 Option 1 ID : 6306802818678
 Option 2 ID : 6306802818679
 Option 3 ID : 6306802818677
 Option 4 ID : 6306802818676
 Status : Answered
 Chosen Option : 1

Q.57 ફર્નિચર સ્ટોર એક ટેબલ પર 20% અને 10% ના બે કમિક ડિસ્કાઉન્ટ ઓફર કરે છે. જો ટેબલની મૂળ કિંમત ₹ 200 છે, તો બંને ડિસ્કાઉન્ટ પછી અંતિમ કિંમત કેટલી છે?

- Options
1. ₹ 144
 2. ₹ 160
 3. ₹ 164
 4. ₹ 172

Question ID : 630680716733
 Option 1 ID : 6306802808549
 Option 2 ID : 6306802808547
 Option 3 ID : 6306802808546
 Option 4 ID : 6306802808548
 Status : Answered
 Chosen Option : 1

Q.58 જો હરોળમાં સમાન રીતે ગોઠવવા માટે 60 બ્લોક્સ હોય કે દરેક હરોળમાં સમાન સંખ્યામાં બ્લોક્સ હોય, તો નીચેનામાંથી કઈ હરોળની સંખ્યા ન હોઈ શકે?

- Options
1. 4
 2. 5
 3. 7
 4. 10

Question ID : 630680719295
 Option 1 ID : 6306802818648
 Option 2 ID : 6306802818649
 Option 3 ID : 6306802818651
 Option 4 ID : 6306802818650
 Status : Answered
 Chosen Option : 3

Q.59 એક આર્કિટેક્ટ બે લંબચોરસ બગીચા ડિઝાઇન કરે છે. પ્રથમ બગીચાનું માપ $(2y + 5)$ મીટર ગુણ્યા $(y + 3)$ મીટર છે અને બીજા બગીચાનું માપ $(2y - 3)$ મીટર ગુણ્યા $(y + 1)$ મીટર છે. ચોરસ મીટરમાં બંને બગીચાઓનું સંયુક્ત ક્ષેત્રફળ કેટલું છે?

- Options
1. $5y^2 + 14y + 8$
 2. $4y^2 + 10y + 12$
 3. $3y^2 + 10y + 8$
 4. $5y^2 + 16y + 15$

Question ID : 630680719304
 Option 1 ID : 6306802818684
 Option 2 ID : 6306802818687
 Option 3 ID : 6306802818686
 Option 4 ID : 6306802818685
 Status : Answered
 Chosen Option : 2

Q.60 સ્ટોર દરેક ₹1200માં ફ્લેશ ડ્રાઇવનો બેચ ખરીદે છે અને તેને 25% સુધી માર્ક કરે છે. એકમાં ખામી જણાયા પછી, સ્ટોર તેના સમારકામ પર ₹500 ખર્ચાને ચિહ્નિત કિંમતથી 15% વળતર પર વેચે છે. આ ખામીયુક્ત ફ્લેશ ડ્રાઇવ પર સ્ટોરનો નફો કે નુકસાન કેટલું છે?

- Options
1. ₹425 નુકસાન
 2. ₹400 નફો
 3. ₹200 નફો
 4. ₹400 નુકસાન

Question ID : 630680719284
 Option 1 ID : 6306802818607
 Option 2 ID : 6306802818604
 Option 3 ID : 6306802818606
 Option 4 ID : 6306802818605
 Status : Not Answered
 Chosen Option : --

Q.61 જો બે ધન સંખ્યાના વર્ગોનો સરવાળો 6586 છે અને એક સંખ્યાનું વર્ગમૂળ 9 છે, તો બીજી સંખ્યા..... છે.

- Options
1. 5
 2. 3
 3. 9
 4. 7

Question ID : 630680716790
 Option 1 ID : 6306802808775
 Option 2 ID : 6306802808774
 Option 3 ID : 6306802808777
 Option 4 ID : 6306802808776
 Status : Answered
 Chosen Option : 1

Q.62 જો માણસ 3 km/hની ઝડપે ચાલે તો 40 મિનિટમાં ચોક્કસ અંતર કાપી શકે છે. જો તે 4 km/hની ઝડપે ચાલે તો તેને સમાન અંતર ચાલવામાં કેટલો સમય લાગશે?

- Options
1. 30 મિનિટ
 2. 32 મિનિટ
 3. 28 મિનિટ
 4. 35 મિનિટ

Question ID : 630680719290
 Option 1 ID : 6306802818629
 Option 2 ID : 6306802818630
 Option 3 ID : 6306802818628
 Option 4 ID : 6306802818631
 Status : Answered
 Chosen Option : 1

Q.63 રાજ અને સૂરજની ઝડપ અનુક્રમે 17:15ના ગુણોત્તરમાં છે. જો સૂરજની ઝડપ 90 km/hr છે, તો રાજની ઝડપ કેટલી છે?

- Options
1. 90 km/hr
 2. 102 km/hr
 3. 98 km/hr
 4. 130 km/hr

Question ID : 630680716771
 Option 1 ID : 6306802808698
 Option 2 ID : 6306802808700
 Option 3 ID : 6306802808699
 Option 4 ID : 6306802808701
 Status : Answered
 Chosen Option : 2

Q.64 એક પાઇપ 6 કલાકમાં એક ટાંકીને ભરી શકે છે, પરંતુ ટાંકીમાં એક લીક છે જે 9 કલાકમાં સંપૂર્ણ ટાંકીનું તમામ પાણી ખાલી કરી શકે છે. જો ટાંકી ખાલી હોય અને પાઇપ અને લીક બંનેને એકસાથે ખોલવામાં આવે તો ટાંકી ભરવામાં કેટલો સમય લાગશે?

- Options
1. 5.4 કલાક
 2. 3.6 કલાક
 3. 18 કલાક
 4. 7.2 કલાક

Question ID : 630680716755
 Option 1 ID : 6306802808634
 Option 2 ID : 6306802808637
 Option 3 ID : 6306802808635
 Option 4 ID : 6306802808636
 Status : Answered
 Chosen Option : 3

Q.65 એક વર્ગમાં 20 છોકરાઓ અને 30 છોકરીઓનો સમાવેશ થાય છે. છોકરાઓનું સરેરાશ વજન 50 kg અને છોકરીઓનું સરેરાશ વજન 45 kg છે. વર્ગમાં બધા વિદ્યાર્થીઓનું સરેરાશ વજન કેટલું છે?

- Options
1. 46.2 kg
 2. 47.6 kg
 3. 47 kg
 4. 48 kg

Question ID : 630680716757
 Option 1 ID : 6306802808642
 Option 2 ID : 6306802808644
 Option 3 ID : 6306802808643
 Option 4 ID : 6306802808645
 Status : Answered
 Chosen Option : 3

Q.66 બેકપેક અને જૂતાની જોડીની કિંમત ₹1600 છે. બેકપેકની કિંમત જૂતાની જોડી કરતાં ₹400 વધુ છે. તો જૂતાની જોડીની કિંમત કેટલી છે?

- Options
1. ₹ 700
 2. ₹ 600
 3. ₹ 500
 4. ₹ 400

Question ID : 630680719306
 Option 1 ID : 6306802818695
 Option 2 ID : 6306802818694
 Option 3 ID : 6306802818693
 Option 4 ID : 6306802818692
 Status : Answered
 Chosen Option : 2

Q.67 એક માણસ સ્થિર પાણીમાં 2 મિનિટમાં 600 મીટર તરીને જાય છે. પ્રવાહની ઝડપ 1 m/s છે, તો તેને 480 મીટર પ્રવાહની વિરુદ્ધ દિશા (અપસ્ટ્રીમ)માં તરવામાં કેટલો સમય લાગે?

- Options
1. 15 મિનિટ
 2. 5 મિનિટ
 3. 4 મિનિટ
 4. 2 મિનિટ

Question ID : 630680716765
 Option 1 ID : 6306802808677
 Option 2 ID : 6306802808676
 Option 3 ID : 6306802808675
 Option 4 ID : 6306802808674
 Status : Answered
 Chosen Option : 4

Q.68 કુલ 5 વિદ્યાર્થીઓમાંથી 4 વિદ્યાર્થીઓનું સરેરાશ વજન 40 કિલો છે. જો 5મા વિદ્યાર્થીનું વજન તમામ 5 વિદ્યાર્થીઓના સરેરાશ વજન કરતાં 4 કિલો વધુ હોય, તો 5મા વિદ્યાર્થીનું વજન કેટલું છે?

- Options
1. 36kg
 2. 41kg
 3. 16 kg
 4. 45kg

Question ID : 630680716780
 Option 1 ID : 6306802808735
 Option 2 ID : 6306802808736
 Option 3 ID : 6306802808734
 Option 4 ID : 6306802808737
 Status : Not Answered
 Chosen Option : --

Q.69 જો સમાંતર શ્રેણીનું પ્રથમ પદ 5 હોય અને સામાન્ય તફાવત 6 હોય, તો 18મું પદ શું છે?

- Options
1. 108
 2. 105
 3. 107
 4. 109

Question ID : 630680719292
 Option 1 ID : 6306802818636
 Option 2 ID : 6306802818638
 Option 3 ID : 6306802818639
 Option 4 ID : 6306802818637
 Status : Answered
 Chosen Option : 3

Q.70 બે કામદારો, A અને B સાથે મળીને એક કાર્ય 3 દિવસમાં પૂર્ણ કરી શકે છે. જો કામદાર A કામદાર B કરતા બમણી ઝડપે કામ કરે છે અને તે બંને અચળ દરે કામ કરે છે, તો કામદાર Aને એકલા કાર્ય પૂર્ણ કરવામાં કેટલા દિવસો લાગશે?

- Options
1. 4.5 દિવસ
 2. 9 દિવસ
 3. 12 દિવસ
 4. 6 દિવસ

Question ID : 630680716756
 Option 1 ID : 6306802808638
 Option 2 ID : 6306802808640
 Option 3 ID : 6306802808641
 Option 4 ID : 6306802808639
 Status : Answered
 Chosen Option : 1

Section : English

Q.71 Select the most appropriate form of verb from the given options to fill in the blanks for the given sentence.

When I __to a foreign country, I always stay at a hotel.

- Options
1. travels
 2. travelling
 3. is travelling
 4. travel

Question ID : 630680719145
 Option 1 ID : 6306802818059
 Option 2 ID : 6306802818057
 Option 3 ID : 6306802818056
 Option 4 ID : 6306802818058
 Status : Answered
 Chosen Option : 4

Q.72 Rearrange the following parts of a sentence to make it a coherent sentence.

- A) not rejected but further investigated
- B) from irregular results, which were
- C) in history have come
- D) some of the greatest discoveries

- Options
1. DCBA
 2. CABD
 3. BACD
 4. ABCD

Question ID : 630680719151
 Option 1 ID : 6306802818080
 Option 2 ID : 6306802818082
 Option 3 ID : 6306802818083
 Option 4 ID : 6306802818081
 Status : Answered
 Chosen Option : 1

Q.73 Select the most appropriate present tense form of the verb from the given options to fill in the blanks for the given sentence.

She ___ to her friends on the phone regularly.

- Options
1. was talking
 2. will be talking
 3. talked
 4. talks

Question ID : 630680719147
Option 1 ID : 6306802818064
Option 2 ID : 6306802818066
Option 3 ID : 6306802818067
Option 4 ID : 6306802818065
Status : Answered
Chosen Option : 4

Q.74 Select the most appropriate form of verb from the given options to fill in the blanks for the given sentence.

She ___ every morning before work.

- Options
1. will have run
 2. run
 3. runs
 4. running

Question ID : 630680717379
Option 1 ID : 6306802811092
Option 2 ID : 6306802811091
Option 3 ID : 6306802811089
Option 4 ID : 6306802811090
Status : Answered
Chosen Option : 3

Q.75 Rearrange the following parts of a sentence to make it a coherent sentence.

- A) more than doubled since 1900,
B) and general hygiene
C) thanks to advancements in medicine, technology,
D) the global average life expectancy has

- Options
1. ADBC
 2. BCDA
 3. ABCD
 4. DACB

Question ID : 630680717359
Option 1 ID : 6306802811016
Option 2 ID : 6306802811014
Option 3 ID : 6306802811015
Option 4 ID : 6306802811013
Status : Answered
Chosen Option : 4

Q.76 Which one of the alternatives substitutes the given group of words in the bracket?

Hodges' 1983: -

Hodges' (life history written by somebody else) of Alan Turing's life called 'The Enigma', was the book that inspired the film 'The Imitation Game'.

- Options
1. Diary
 2. Biography
 3. Memorandum
 4. Autobiography

Question ID : 630680719152
 Option 1 ID : 6306802818085
 Option 2 ID : 6306802818087
 Option 3 ID : 6306802818086
 Option 4 ID : 6306802818084
 Status : Answered
 Chosen Option : 2

Q.77 Select the most appropriate SYNONYM of the word given below.

Ratified

- Options
1. Prohibited
 2. Sanctioned
 3. Refused
 4. Disallowed

Question ID : 630680717392
 Option 1 ID : 6306802811138
 Option 2 ID : 6306802811139
 Option 3 ID : 6306802811140
 Option 4 ID : 6306802811137
 Status : Answered
 Chosen Option : 2

Q.78 Translate the sentence given below into Gujarati.

Scientific research is vital to the growth and development of society.

- Options
1. વૈજ્ઞાનિક અભ્યાસ સમાજના ઉત્થાન અને વિકાસ માટે મહત્વપૂર્ણ છે
 2. વૈજ્ઞાનિક અભ્યાસ સમાજના વિકાસ અને વિકાસ માટે મહત્વપૂર્ણ છે
 3. વૈજ્ઞાનિક અભ્યાસ સમાજના ઉત્થાન અને વિકાસમાં મહત્વપૂર્ણ છે
 4. વૈજ્ઞાનિક પ્રેક્ટીસ સમાજના ઉત્થાન અને વિકાસ માટે મહત્વપૂર્ણ છે

Question ID : 630680719161
 Option 1 ID : 6306802818117
 Option 2 ID : 6306802818116
 Option 3 ID : 6306802818118
 Option 4 ID : 6306802818119
 Status : Answered
 Chosen Option : 1

Q.79 Select the most appropriate article from the options given below to complete the sentence.
Mark "no article" if there is no requirement for an article in the given sentence.

There's a position available in my team. ___ job will involve some international travel.

- Options
1. an
 2. the
 3. a
 4. No article

Question ID : 630680719143
Option 1 ID : 6306802818050
Option 2 ID : 6306802818051
Option 3 ID : 6306802818048
Option 4 ID : 6306802818049
Status : Answered
Chosen Option : 2

Q.80 Which one of the alternatives substitutes the given group of words in brackets?

Her work at a/ an (institution for the care of people who are mentally ill) was tiring, but provided her the means of subsistence.

- Options
1. Abattoir
 2. Asylum
 3. Apiary
 4. Crematorium

Question ID : 630680717386
Option 1 ID : 6306802811118
Option 2 ID : 6306802811119
Option 3 ID : 6306802811117
Option 4 ID : 6306802811120
Status : Answered
Chosen Option : 2

Q.81 Rearrange the following parts of a sentence to make it a coherent sentence.

- A) and structured process of discovering
B) their relationships to other facts
C) scientific research is the systematic
D) new facts and uncovering

- Options
1. ABCD
 2. DBAC
 3. DCAB
 4. CADB

Question ID : 630680719149
Option 1 ID : 6306802818074
Option 2 ID : 6306802818072
Option 3 ID : 6306802818075
Option 4 ID : 6306802818073
Status : Answered
Chosen Option : 2

Comprehension:

Read the passage given below and answer the questions

Amid the overwhelming dominance of the digital sphere, the traditional newspaper, once a powerhouse of knowledge, now bears the marks of time. Its faded importance in the face of the digital flood reminds us of a time when newspaper reading was not just a habit, but a cherished ritual that enriched our minds. In its prime, the newspaper was more than a source of news. It was a gateway to a diverse tapestry of life, offering insights into current affairs, politics, art, and commerce. Its pages were a bridge between aspirations and opportunities, offering employment prospects and nurturing linguistic prowess. The newspaper served as both a medium of knowledge and a companion, filling solitary moments with a world's worth of tales. However, the era of instant updates and electronic convenience has marginalized this beloved artifact. The allure of quick, visual consumption has overshadowed the quiet charms of textual immersion. The once vibrant realm of print has become a testament to our preference for ease over effort, fading into the background of modern convenience. As we say our farewells to this fading bastion of reliability, we must remember its enduring importance. In its absence, the influx of unchecked digital data threatens to overwhelm us, lacking the sanctity of verification. Let us not succumb to the allure of immediacy, but instead, cherish the enduring value of the printed word, maintaining our connection to the veracity of our times.

SubQuestion No : 82

Q.82 The central idea of the passage is best explained by which one of the following statements?

- Options**
1. The passage reflects on how the era of instant updates and electronic convenience has marginalized traditional newspapers.
 2. The passage reflects on the importance of keeping up with the fast-paced modern life.
 3. The passage reflects on the decreased usage of digital media and its various aspects.
 4. The passage reflects on the limited usage of print media and its lack of sanctity of verification.

Question ID : 630680717389

Option 1 ID : 6306802811126

Option 2 ID : 6306802811127

Option 3 ID : 6306802811125

Option 4 ID : 6306802811128

Status : Not Answered

Chosen Option : --

Comprehension:

Read the passage given below and answer the questions

Amid the overwhelming dominance of the digital sphere, the traditional newspaper, once a powerhouse of knowledge, now bears the marks of time. Its faded importance in the face of the digital flood reminds us of a time when newspaper reading was not just a habit, but a cherished ritual that enriched our minds. In its prime, the newspaper was more than a source of news. It was a gateway to a diverse tapestry of life, offering insights into current affairs, politics, art, and commerce. Its pages were a bridge between aspirations and opportunities, offering employment prospects and nurturing linguistic prowess. The newspaper served as both a medium of knowledge and a companion, filling solitary moments with a world's worth of tales. However, the era of instant updates and electronic convenience has marginalized this beloved artifact. The allure of quick, visual consumption has overshadowed the quiet charms of textual immersion. The once vibrant realm of print has become a testament to our preference for ease over effort, fading into the background of modern convenience. As we say our farewells to this fading bastion of reliability, we must remember its enduring importance. In its absence, the influx of unchecked digital data threatens to overwhelm us, lacking the sanctity of verification. Let us not succumb to the allure of immediacy, but instead, cherish the enduring value of the printed word, maintaining our connection to the veracity of our times.

SubQuestion No : 83

Q.83 Select the most appropriate SYNONYM of the word given below (as used in the passage).

Cherish

- Options**
1. Undervalue
 2. Appreciate
 3. Despise
 4. Loathe

Question ID : 630680717390

Option 1 ID : 6306802811131

Option 2 ID : 6306802811129

Option 3 ID : 6306802811132

Option 4 ID : 6306802811130

Status : Answered

Chosen Option : 2

Comprehension:

Read the passage given below and answer the questions

Amid the overwhelming dominance of the digital sphere, the traditional newspaper, once a powerhouse of knowledge, now bears the marks of time. Its faded importance in the face of the digital flood reminds us of a time when newspaper reading was not just a habit, but a cherished ritual that enriched our minds. In its prime, the newspaper was more than a source of news. It was a gateway to a diverse tapestry of life, offering insights into current affairs, politics, art, and commerce. Its pages were a bridge between aspirations and opportunities, offering employment prospects and nurturing linguistic prowess. The newspaper served as both a medium of knowledge and a companion, filling solitary moments with a world's worth of tales. However, the era of instant updates and electronic convenience has marginalized this beloved artifact. The allure of quick, visual consumption has overshadowed the quiet charms of textual immersion. The once vibrant realm of print has become a testament to our preference for ease over effort, fading into the background of modern convenience. As we say our farewells to this fading bastion of reliability, we must remember its enduring importance. In its absence, the influx of unchecked digital data threatens to overwhelm us, lacking the sanctity of verification. Let us not succumb to the allure of immediacy, but instead, cherish the enduring value of the printed word, maintaining our connection to the veracity of our times.

SubQuestion No : 84

Q.84 Identify the most suitable title for the passage.

- Options**
1. Knowledge and companion
 2. Nostalgia and the Digital Age
 3. Newspaper: A forgotten tale
 4. Digital Data and its disadvantages

Question ID : 630680717388

Option 1 ID : 6306802811121

Option 2 ID : 6306802811123

Option 3 ID : 6306802811122

Option 4 ID : 6306802811124

Status : Not Answered

Chosen Option : --

Comprehension:

Read the passage given below and answer the questions

Amid the overwhelming dominance of the digital sphere, the traditional newspaper, once a powerhouse of knowledge, now bears the marks of time. Its faded importance in the face of the digital flood reminds us of a time when newspaper reading was not just a habit, but a cherished ritual that enriched our minds. In its prime, the newspaper was more than a source of news. It was a gateway to a diverse tapestry of life, offering insights into current affairs, politics, art, and commerce. Its pages were a bridge between aspirations and opportunities, offering employment prospects and nurturing linguistic prowess. The newspaper served as both a medium of knowledge and a companion, filling solitary moments with a world's worth of tales. However, the era of instant updates and electronic convenience has marginalized this beloved artifact. The allure of quick, visual consumption has overshadowed the quiet charms of textual immersion. The once vibrant realm of print has become a testament to our preference for ease over effort, fading into the background of modern convenience. As we say our farewells to this fading bastion of reliability, we must remember its enduring importance. In its absence, the influx of unchecked digital data threatens to overwhelm us, lacking the sanctity of verification. Let us not succumb to the allure of immediacy, but instead, cherish the enduring value of the printed word, maintaining our connection to the veracity of our times.

SubQuestion No : 85

Q.85 Select the most appropriate **ANTONYM** of the word given below (as used in the passage).

Convenience

- Options**
1. Benefit
 2. Burden
 3. Assistance
 4. Availability

Question ID : 630680717391

Option 1 ID : 6306802811136

Option 2 ID : 6306802811133

Option 3 ID : 6306802811135

Option 4 ID : 6306802811134

Status : Not Answered

Chosen Option : --

Section : Gujarati

Q.86 નીચેના શબ્દોની સંધિ જોડો
જીર્ણ + ઉત્ + હાર =

- Options**
1. જીર્ણોદ્ધાર
 2. જીર્ણોદ્ધાર
 3. જીર્ણોત્તર
 4. જીર્ણોહાર

Question ID : 630680717443

Option 1 ID : 6306802811338

Option 2 ID : 6306802811337

Option 3 ID : 6306802811340

Option 4 ID : 6306802811339

Status : Answered

Chosen Option : 1

Q.87 રૂઢિપ્રયોગનો અર્થ આપો: દૂધમાં સાકરની જેમ ભળી જવું

- Options
1. દૂધમાં સાકર મેળવી પીવું
 2. સારી પેઠે હળી - મળી જવું
 3. સારી રીતભાત હોવી
 4. સાકર અને દૂધ મેળવવું

Question ID : 630680717434
 Option 1 ID : 6306802811302
 Option 2 ID : 6306802811303
 Option 3 ID : 6306802811304
 Option 4 ID : 6306802811301
 Status : Answered
 Chosen Option : 2

Q.88 નીચે આપેલ શબ્દોમાંથી ખોટી જોડણીવાળો શબ્દ બતાવો

- Options
1. શ્રેષ્ઠ
 2. સુરક્ષીત
 3. સૌરઊર્જા
 4. સૌમ્ય

Question ID : 630680717426
 Option 1 ID : 6306802811272
 Option 2 ID : 6306802811269
 Option 3 ID : 6306802811270
 Option 4 ID : 6306802811271
 Status : Answered
 Chosen Option : 2

Q.89 "ધનોત - પનોત નીકળી જવું" - આપેલ રૂઢિપ્રયોગનો અર્થ શોધો.

- Options
1. ધનિક થવું
 2. ધન - ધાન્યનો વધારો થવો
 3. ધાર્મિકતા ઓછી થવી
 4. સર્વસ્વ નાશ પામવું

Question ID : 630680717416
 Option 1 ID : 6306802811230
 Option 2 ID : 6306802811229
 Option 3 ID : 6306802811232
 Option 4 ID : 6306802811231
 Status : Answered
 Chosen Option : 4

Q.90 નીચેની કહેવતનો અર્થ લખો
 આપણો વેત નમીએ તો કોઈ હાથ નમે

- Options
1. એક વેતના માપે જુકવું જોઈએ
 2. સામેથી માન ન મળવું
 3. સામેવાળાને નમાવવાની કોશીષ કરવી
 4. આપણે થોડું માન આપીએ તો સામેથી વધુ માન મળે

Question ID : 630680717436
 Option 1 ID : 6306802811309
 Option 2 ID : 6306802811311
 Option 3 ID : 6306802811310
 Option 4 ID : 6306802811312
 Status : Answered
 Chosen Option : 4

Q.91 આપેલ શબ્દસમૂહ માટે એક શબ્દ આપો:
મડદાને બાળવા લઈ જનાર માણસો

- Options
1. સત્કર્મીઓ
 2. શ્રેષ્ઠીઓ
 3. ડાધુઓ
 4. મહાજનો

Question ID : 630680717440
Option 1 ID : 6306802811328
Option 2 ID : 6306802811327
Option 3 ID : 6306802811325
Option 4 ID : 6306802811326
Status : Answered
Chosen Option : 3

Q.92 આપેલી કાવ્યપદ્ધતિઓ પરથી પ્રશ્નનો જવાબ આપોઅવસરનાં તોરણિયાં લીલું હસે
ને કહે : હૈયામાં હેત ભરી આવો લાખેણી લાગણીઓ લહેરાતી જાય
કહે : લૂંટી લ્યો વ્હાલભર્યો વ્હાવોમરજાદી ઉભરાને ઠેસે વટાવતીક દોડી આવી છું, હું જ સામે સુખ આવશે અમારે
સરનામે.
પ્રશ્ન- અહીં કોણ લીલું હસે છે?

- Options
1. લાખેણી લાગણીઓ
 2. વ્હાલભર્યો વ્હાવો
 3. અવસરના તોરણિયા
 4. મરજાદી ઉભરા

Question ID : 630680717448
Option 1 ID : 6306802811358
Option 2 ID : 6306802811360
Option 3 ID : 6306802811359
Option 4 ID : 6306802811357
Status : Answered
Chosen Option : 3

Q.93 આપેલ શબ્દનો સમાનાર્થી શબ્દ આપો: બખોલ

- Options
1. તળેટી
 2. બોખું
 3. ટેકરો
 4. પોલાણ

Question ID : 630680717438
Option 1 ID : 6306802811318
Option 2 ID : 6306802811317
Option 3 ID : 6306802811319
Option 4 ID : 6306802811320
Status : Answered
Chosen Option : 4

Q.94 નીચે આપેલ વાક્યને કર્મણિ વાક્યમાં ફેરવો
શિલ્પીએ જવાબ આપ્યો.

- Options
1. જવાબ આપ્યો શિલ્પીથી
 2. શિલ્પીને જવાબ અપાયો.
 3. શિલ્પીનો જવાબ અપાયો
 4. શિલ્પીથી જવાબ અપાયો.

Question ID : 630680717422
Option 1 ID : 6306802811255
Option 2 ID : 6306802811253
Option 3 ID : 6306802811254
Option 4 ID : 6306802811256
Status : Answered
Chosen Option : 4

Q.95 નીચેનો ફકરો વાંચી આપેલ પ્રશ્નનો જવાબ આપો.
દરેક ઋતુ પોતાના પ્રત્યક્ષ પદાર્થપાઠ લઈને આવે છે. કુદરતનો એક કારવાન કાફલો આવે છે, ને જાય છે, એ બધાં
પોતાનાં હોય તેમ વાડી તેમને સૌને આશ્રય, આવાસ ને આકાર - આહ્વાદ આપે છે.
પ્રશ્ન- દરેક ઋતુ શું લઈને આવે છે?

- Options
1. પ્રત્યક્ષ પદાર્થપાઠ લઈને આવે છે
 2. આશ્રય અને આવાસ લઈને આવે છે
 3. આકાર અને આહ્વાદ લઈને આવે છે
 4. કારવાન કાફલો લઈને આવે છે

Question ID : 630680717428
Option 1 ID : 6306802811279
Option 2 ID : 6306802811278
Option 3 ID : 6306802811280
Option 4 ID : 6306802811277
Status : Answered
Chosen Option : 1

Q.96 નીચેના શબ્દનો સમાસ ઓળખાવો: નવરાત્રી

- Options
1. દ્વંદ્વ સમાસ
 2. કર્મધારય સમાસ
 3. દ્વિગુ સમાસ
 4. તત્પુરુષ સમાસ

Question ID : 630680717418
Option 1 ID : 6306802811240
Option 2 ID : 6306802811239
Option 3 ID : 6306802811237
Option 4 ID : 6306802811238
Status : Answered
Chosen Option : 3

Q.97 નીચેના વાક્યને શુદ્ધ વાક્યમાં ફેરવો:
અત્યાર સુધીની નોકરીમાં મારી આ સુંદર મકાન મળ્યું છે સહુથી.

- Options
1. નોકરીમાં અત્યાર સુધીની મારી મકાન આ સહુથી સુંદર મળ્યું છે.
 2. નોકરીમાં મારી અત્યાર સુધીની આ સહુથી મકાન સુંદર મળ્યું છે.
 3. મારી અત્યાર સુધીની નોકરીમાં આ સહુથી સુંદર મકાન મળ્યું છે.
 4. સુંદર મકાન છે મળ્યું આ સહુથી અત્યાર સુધીની મારી નોકરીમાં.

Question ID : 630680717427
Option 1 ID : 6306802811275
Option 2 ID : 6306802811273
Option 3 ID : 6306802811276
Option 4 ID : 6306802811274
Status : Answered
Chosen Option : 3

Q.98 નીચેના વાક્યનું સાચું અંગ્રેજી ભાષાંતર શોધો:
અમારા ઘરમાં ત્યાર પછી તરત જ ધમાલ શરૂ થઈ

- Options
1. After the commotion soon started that in our house
 2. Soon after that the commotion started in our house
 3. In our house after the commotion that soon started
 4. Soon started that in our house after the commotion

Question ID : 630680717451
Option 1 ID : 6306802811372
Option 2 ID : 6306802811371
Option 3 ID : 6306802811369
Option 4 ID : 6306802811370
Status : Answered
Chosen Option : 2

Q.99 આપેલા શબ્દોમાંથી સાચી જોડણીવાળો શબ્દ શોધો

- Options
1. આગતૂક
 2. આગતૂક
 3. આંગતુક
 4. આગંતુક

Question ID : 630680717425
Option 1 ID : 6306802811267
Option 2 ID : 6306802811268
Option 3 ID : 6306802811266
Option 4 ID : 6306802811265
Status : Answered
Chosen Option : 4

Q.100 અંગ્રેજીમાં અનુવાદ કરો: આપઘાતની વાત ભૂલી જવી એવો ઠરાવ કર્યો.

- Options
1. Forgot to suicide about decided
 2. Decided to forget about suicide
 3. Deciding to forgot for suicide
 4. For suicide forget decided

Question ID : 630680717431
Option 1 ID : 6306802811289
Option 2 ID : 6306802811290
Option 3 ID : 6306802811291
Option 4 ID : 6306802811292
Status : Answered
Chosen Option : 2