

17-04-2024 (CCE - Shift 1)

Privacy માટે પ્રથમ પેજ Remove કરેલ છે..

Q.2 બોબ એ સરિતા કરતાં ઉંમરમાં મોટો છે. કોમલ એ બોબ કરતા મોટો છે. રીટા પણ કોમલ જેટલી મોટી નથી પણ બોબ કરતા મોટી છે. તેમાંથી સૌથી નાનું કોણ છે?

- Options
1. બોબ
  2. કોમલ
  3. રીટા
  4. સરિતા

Question ID : 630680702335

Option 1 ID : 6306802751233

Option 2 ID : 6306802751236

Option 3 ID : 6306802751235

Option 4 ID : 6306802751234

Status : Answered

Chosen Option : 4

Q.3 નીચેનું કોષ્ટક એક પરીક્ષામાં આઠ વિદ્યાર્થીઓએ છ જુદા જુદા વિષયોમાં મેળવેલા ગુણની ટકાવારી આપે છે.

The Numbers in the Brackets give the Maximum Marks in Each Subject

Student	Subject (Max. Marks)					
	Business (100)	Finance (100)	Maths (100)	Psychology (100)	Sociology (100)	Hindi (100)
Rashi	45	99	39	88	35	74
Umang	70	49	89	49	88	86
Yogita	99	80	60	65	50	90
Manav	65	80	76	38	96	99
Nilam	80	78	99	45	49	83
Priyam	73	32	57	71	75	89
Riya	95	95	40	87	99	94
Tarun	99	88	79	89	69	49

ઉપરોક્ત કોષ્ટકના આધારે, ઉમંગે તમામ છ વિષયોમાં મળીને કુલ કેટલા ગુણ મેળવ્યા હશે?

(સંદર્ભ: Subject (Max. Marks)- વિષય (મહત્તમ ગુણ), Student- વિદ્યાર્થી, Business- બિઝનેસ, Finance- ફાઇનાન્સ, Maths- ગણિત, Psychology- મનોવિજ્ઞાન, Sociology- સમાજશાસ્ત્ર, Hindi- હિન્દી, Rashi- રાશિ, Umang- ઉમંગ, Yogita- યોગિતા, Manav- માનવ, Nilam- નીલમ, Priyam- પ્રિયમ, Riya- રીયા, Tarun- તરુણ)

- Options
1. 441
  2. 421
  3. 413
  4. 431

Question ID : 630680702401

Option 1 ID : 6306802751500

Option 2 ID : 6306802751498

Option 3 ID : 6306802751497

Option 4 ID : 6306802751499

Status : Answered

Chosen Option : 4

Adda247

# Test Prime

**ALL EXAMS, ONE SUBSCRIPTION**



**1,00,000+**  
Mock Tests



**Personalised**  
Report Card



**Unlimited**  
Re-Attempt



**600+**  
Exam Covered



**25,000+** Previous  
Year Papers



**500%**  
Refund



**ATTEMPT FREE MOCK NOW**

Q.4 નીચેના પ્રશ્નમાં 'પ્રશ્ન' અને તેની નીચે 1 અને 2 નંબરમાં દર્શાવેલા બે વિધાનોનો સમાવેશ થાય છે. ઉમેદવારોએ એ નક્કી કરવાનું છે કે વિધાનોમાં આપવામાં આવેલી માહિતી પ્રશ્નનો જવાબ આપવા માટે પર્યાપ્ત છે કે કેમ.  
પ્રશ્ન: અમિત, બાલુ, ચારુ, દયાલુ અને ઇશ્વરમાંથી કોને સૌથી ઓછા ગુણ મળ્યા છે?  
વિધાનો:

1. દયાલુએ માત્ર ચારુ કરતા ઓછા ગુણ મેળવ્યા છે.
2. દયાલુએ 50 ગુણ મેળવ્યા છે

- Options
1. વિધાન 1 અને વિધાન 2 બંને પર્યાપ્ત છે
  2. વિધાન 1 એકલું પર્યાપ્ત છે જ્યારે વિધાન 2 એકલું પર્યાપ્ત નથી
  3. વિધાન 2 એકલું પર્યાપ્ત છે જ્યારે વિધાન 1 એકલું પર્યાપ્ત નથી
  4. ન તો વિધાન 1 કે ન તો વિધાન 2 પર્યાપ્ત છે

Question ID : 630680702533  
Option 1 ID : 6306802752027  
Option 2 ID : 6306802752025  
Option 3 ID : 6306802752026  
Option 4 ID : 6306802752028  
Status : Answered  
Chosen Option : 4

Q.5 રાકેશ(પુરુષ)ના પિતાની પત્નીની પુત્રીનો રાકેશ સાથે શું સંબંધ છે?

- Options
1. ભાઈ
  2. પિતા
  3. બહેન
  4. માતા

Question ID : 630680702325  
Option 1 ID : 6306802751195  
Option 2 ID : 6306802751193  
Option 3 ID : 6306802751196  
Option 4 ID : 6306802751194  
Status : Answered  
Chosen Option : 3

Q.6 એક ડ્રોટોગ્રાફ તરફ ઈશારો કરીને સુનીલ(પુરુષ) કહે છે કે તસવીરમાં દેખાતી મહિલા તેના પિતાની પત્નીની એકમાત્ર પુત્રી છે. તસવીરમાં દેખાતી મહિલા સાથે સુનીલનો શું સંબંધ છે?

- Options
- ભાઈ
  - માતા
  - બહેન
  - પિતા

Question ID : 630680702286  
 Option 1 ID : 6306802751037  
 Option 2 ID : 6306802751040  
 Option 3 ID : 6306802751038  
 Option 4 ID : 6306802751039  
 Status : Answered  
 Chosen Option : 3

Q.7 નીચેનું કોષ્ટક એક પરીક્ષામાં આઠ વિદ્યાર્થીઓએ છ જુદા જુદા વિષયોમાં મેળવેલા ગુણની ટકાવારી આપે છે.

The Numbers in the Brackets give the Maximum Marks in Each Subject

Student	Subject (Max. Marks)					
	Business (100)	Finance (100)	Maths (100)	Psychology (100)	Sociology (100)	Hindi (100)
Rashi	45	99	39	88	35	74
Umang	70	49	89	49	88	86
Yogita	99	80	60	65	50	90
Manav	65	80	76	38	96	99
Nilam	80	78	99	45	49	83
Priyam	73	32	57	71	75	89
Riya	95	95	40	87	99	94
Tarun	99	88	79	89	69	49

ઉપરોક્ત કોષ્ટકના આધારે, પ્રિયમે તમામ છ વિષયોમાં કુલ મળીને કેટલા ગુણ પ્રાપ્ત કર્યા છે?

સંદર્ભ:

Subject (Max. Marks)- વિષય (મહત્તમ ગુણ), Student- વિદ્યાર્થી, Business- બિઝનેસ, Finance-

ફાઈનાન્સ, Maths- ગણિત, Psychology- મનોવિજ્ઞાન, Sociology- સમાજશાસ્ત્ર, Hindi- હિન્દી, Rashi-

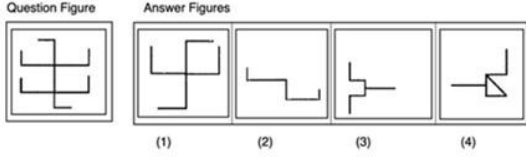
રાશિ, Umang- ઉમંગ, Yogita- યોગિતા, Manav- માનવ, Nilam- નીલમ, Priyam- પ્રિયમ, Riya- રીયા,

Tarun- તરુણ

- Options
- 397
  - 393
  - 399
  - 391

Question ID : 630680702641  
 Option 1 ID : 6306802752459  
 Option 2 ID : 6306802752458  
 Option 3 ID : 6306802752460  
 Option 4 ID : 6306802752457  
 Status : Answered  
 Chosen Option : 1

Q.8 નીચેનામાંથી કઈ જવાબી આકૃતિ એ પ્રશ્ન આકૃતિને જડિત (એમ્બેડ) થશે (રોટેશનની મંજૂરી નથી)?



(સંદર્ભ: Question Figure - પ્રશ્ન આકૃતિ, Answer Figures - જવાબ આકૃતિ)

Options 1. 4

2.

પ્રશ્ન આકૃતિમાં પ્રશ્ન ચિહ્નની જગ્યાએ કોઈ જવાબી આકૃતિ જડીત નથી.

3. 3

4. 1

Question ID : 630680702579

Option 1 ID : 6306802752212

Option 2 ID : 6306802752210

Option 3 ID : 6306802752211

Option 4 ID : 6306802752209

Status : Answered

Chosen Option : 2

Q.9 W નો અર્થ '+', X નો અર્થ '-', Y નો અર્થ '×' અને Z નો અર્થ '÷' થાય, તો નીચેની પદાવલિનું મૂલ્ય શું હશે?

15 Y 3 W 18 X 28 Z 4 = ?

Options 1. 55

2. 57

3. 58

4. 56

Question ID : 630680702304

Option 1 ID : 6306802751109

Option 2 ID : 6306802751111

Option 3 ID : 6306802751112

Option 4 ID : 6306802751110

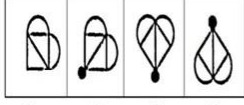
Status : Answered

Chosen Option : 4

Q.10 જ્યારે અરીસાને AB રેખા પર આડી રીતે મૂકવામાં આવે ત્યારે નીચેની જવાબી આકૃતિમાંથી કયું પ્રશ્ન આકૃતિનું પ્રતિબિંબ હશે?

Question Figure

Answer Figures

A  B

(1) (2) (3) (4)

(સંદર્ભ: Question Figure - પ્રશ્ન આકૃતિ, Answer Figures - જવાબ આકૃતિ)

Options 1. 3

2. 1

3. 4

4. 2

Question ID : 630680702342

Option 1 ID : 6306802751263

Option 2 ID : 6306802751261

Option 3 ID : 6306802751264

Option 4 ID : 6306802751262

Status : Answered

Chosen Option : 4

Q.11 નીચેના પ્રશ્નમાં 'પ્રશ્ન' અને તેની નીચે 1 અને 2 નંબરમાં દર્શાવેલા બે વિધાનોનો સમાવેશ થાય છે. ઉમેદવારોએ એ નક્કી કરવાનું છે કે વિધાનોમાં આપવામાં આવેલી માહિતી પ્રશ્નનો જવાબ આપવા માટે પર્યાપ્ત છે કે કેમ.

પ્રશ્ન: સાંકેતિક ભાષામાં 'house' કેવી રીતે લખાય છે?

વિધાનો:

1. come to college' ને 'sa re pa' તરીકે લખેલું છે.

2. 'way to room' ને 'ga re ni' તરીકે લખાયેલ છે.

Options 1. વિધાન 1 અને વિધાન 2 બંને પર્યાપ્ત છે

2. વિધાન 1 એકલું પર્યાપ્ત છે જ્યારે વિધાન 2 એકલું પર્યાપ્ત નથી

3. ન તો વિધાન 1 કે ન તો વિધાન 2 પર્યાપ્ત છે

4. વિધાન 2 એકલું પર્યાપ્ત છે જ્યારે વિધાન 1 એકલું પર્યાપ્ત નથી

Question ID : 630680702332

Option 1 ID : 6306802751223

Option 2 ID : 6306802751221

Option 3 ID : 6306802751224


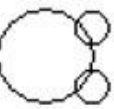


Option 4 ID : 6306802751222

Status : Answered

Chosen Option : 3

Q.12 નીચેનામાંથી કઈ વેન આકૃતિ ધાતુઓ, વૃક્ષ અને ટ્રેન વચ્ચેનો શ્રેષ્ઠ સંબંધ દર્શાવે છે?

Options

1. 
2. 
3. 
4. 

Question ID : 630680702648

Option 1 ID : 6306802752487

Option 2 ID : 6306802752486

Option 3 ID : 6306802752485




Option 4 ID : 6306802752488

Status : Answered

Chosen Option : 2

Q.13 નીચેનામાંથી કઈ વેન આકૃતિ ફેન, ફાઈલ અને આગ વચ્ચેનો શ્રેષ્ઠ સંબંધ દર્શાવે છે?

Options

1. 
2. 
3. 
4. 

Question ID : 630680702329

Option 1 ID : 6306802751211

Option 2 ID : 6306802751210

Option 3 ID : 6306802751212

Option 4 ID : 6306802751209

Status : Answered

Chosen Option : 1

Q.14 જો 'M' એ 'x' સૂચવે છે, 'D' એ '+' સૂચવે છે, 'A' એ '-' સૂચવે છે, 'S' એ '-' સૂચવે છે, તો નીચેની પદાવલિનું મૂલ્ય શું હશે?

18 S 56 D 8 A 8 M 2

- Options
1. 20
  2. 24
  3. 27
  4. 22

Question ID : 630680702308

Option 1 ID : 6306802751125

Option 2 ID : 6306802751127

Option 3 ID : 6306802751128

Option 4 ID : 6306802751126

Status : Answered

Chosen Option : 3

Q.15 નીચેના પ્રશ્નમાં 'પ્રશ્ન' અને તેની નીચે 1 અને 2 નંબરમાં દર્શાવેલા બે વિધાનોનો સમાવેશ થાય છે. ઉમેદવારોએ એ નક્કી કરવાનું છે કે વિધાનોમાં આપવામાં આવેલી માહિતી પ્રશ્નનો જવાબ આપવા માટે પર્યાપ્ત છે કે કેમ.

પ્રશ્ન: શું નીચે આપેલા વિધાનોમાં 'X' એકી સંખ્યા છે?

વિધાનો:

1.  $X - Y = 15$

2.  $Z + P = 22$

Options

1. વિધાન 1 એકલું પર્યાપ્ત છે જ્યારે વિધાન 2 એકલું પર્યાપ્ત નથી
2. ના તો વિધાન 1 અથવા વિધાન 2 પર્યાપ્ત છે
3. વિધાન 1 અને વિધાન 2 બંને પર્યાપ્ત છે
4. વિધાન 2 એકલું પર્યાપ્ત છે જ્યારે વિધાન 1 એકલું પર્યાપ્ત નથી

Question ID : 630680702314

Option 1 ID : 6306802751149

Option 2 ID : 6306802751152

Option 3 ID : 6306802751151

Option 4 ID : 6306802751150

Status : Answered

Chosen Option : 2

Q.16 નીચેનામાંથી કયો વિકલ્પ નીચે આપેલ આકૃતિ (X) માં પ્રશ્ન ચિહ્નને બદલે છે? (રોટેશનની મંજૂરી નથી).



X.



1.



2.



3.



4.

- Options
1. 2
  2. 4
  3. 1
  4. 3

Question ID : 630680702416

Option 1 ID : 6306802751558

Option 2 ID : 6306802751560

Option 3 ID : 6306802751557

Option 4 ID : 6306802751559

Status : Answered

Chosen Option : 1

Q.17 માત્ર સરવાળા અને બાદબાકીની પ્રક્રિયાનો ઉપયોગ કરીને નીચે આપેલી શ્રેણીને તાર્કિક રીતે પૂર્ણ કરવા માટે પ્રશ્ન ચિહ્નની જગ્યાએ શું આવશે?

13, 10, 23, 20, 33, ?

- Options
1. 43, 30
  2. 38, 50
  3. 50, 38
  4. 30, 43

Question ID : 630680702389

Option 1 ID : 6306802751450

Option 2 ID : 6306802751451

Option 3 ID : 6306802751452

Option 4 ID : 6306802751449

Status : Answered

Chosen Option : 4

Q.18 નીચેનામાંથી કઈ જોડી ફક્ત સંખ્યાઓના સરવાળા અને બાદબાકી પદ્ધતિના આધારે નીચે આપેલ પદાવલીને સમાન છે?

958 : 21

- Options
1. 628 : 19
  2. 759 : 19
  3. 349 : 18
  4. 746 : 16

Question ID : 630680702477

Option 1 ID : 6306802751804

Option 2 ID : 6306802751801

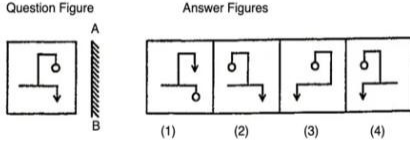
Option 3 ID : 6306802751802

Option 4 ID : 6306802751803

Status : Answered

Chosen Option : 4

Q.19 જ્યારે અરીસાને AB રેખા પર લંબ રીતે મૂકવામાં આવે ત્યારે નીચેની જવાબી આકૃતિમાંથી કયું પ્રશ્ન આકૃતિનું પ્રતિબિંબ હશે?



(સંદર્ભ: Question Figure - પ્રશ્ન આકૃતિ, Answer Figures - જવાબ આકૃતિ)

- Options
1. 3
  2. 2
  3. 4
  4. 1

Question ID : 630680702583

Option 1 ID : 6306802752227

Option 2 ID : 6306802752226

Option 3 ID : 6306802752228

Option 4 ID : 6306802752225

Status : Answered

Chosen Option : 3

Q.20 નીચેના પ્રશ્નમાં 'પ્રશ્ન' અને તેની નીચે આપેલા 1 અને 2 એમ બે વિધાનોનો સમાવેશ થાય છે. ઉમેદવારોએ નક્કી

કરવાનું છે કે શું વિધાનોમાં આપવામાં આવેલ માહિતી પ્રશ્નનો જવાબ આપવા માટે પૂરતી છે કે કેમ

પ્રશ્ન: શારદા કોલેજની રેડ ટીમનું કુલ ગ્રાન્ડ ટોટલ કેટલું હતું?

વિધાનો:

1. મનુને યાદ છે કે તમામ ટીમની સરેરાશ 80 થી ઉપર છે, પરંતુ 86 થી ઓછી છે.
2. આર્યને યાદ છે કે ગ્રીન ટીમે 77થી ઉપર અને 82થી નીચેનો સ્કોર કર્યો હતો.

- Options
1. માત્ર વિધાન 1 પૂરતું છે જ્યારે વિધાન 2 એકલું પૂરતું નથી
  2. માત્ર વિધાન 2 પૂરતું છે જ્યારે વિધાન 1 એકલું પૂરતું નથી
  3. ન તો વિધાન 1 કે ન તો વિધાન 2 પર્યાપ્ત છે
  4. 1 અને 2 બંને વિધાન પર્યાપ્ત છે

Question ID : 630680702474

Option 1 ID : 6306802751789

Option 2 ID : 6306802751790

Option 3 ID : 6306802751791

Option 4 ID : 6306802751792

Status : Answered

Chosen Option : 3

Q.21 W ના પિતાના પુત્રની એકમાત્ર બહેનનો W ના પિતા સાથે શું સંબંધ છે? (W સ્ત્રી છે).

- Options
1. પુત્ર
  2. બહેન
  3. પિતા
  4. પુત્રી

Question ID : 630680702447  
 Option 1 ID : 6306802751682  
 Option 2 ID : 6306802751681  
 Option 3 ID : 6306802751684  
 Option 4 ID : 6306802751683  
 Status : Answered  
 Chosen Option : 4

Q.22 ફક્ત સરવાળા અને ગુણાકારની પ્રક્રિયાનો ઉપયોગ કરીને નીચે આપેલી શ્રેણીને તાર્કિક રીતે પૂર્ણ કરવા માટે પૂર્ણ ચિહ્ન (?) ના સ્થાને શું આવશે?  
 4, 7, 14, 17, 34, ??

- Options
1. 70, 35
  2. 74, 37
  3. 37, 74
  4. 35, 70

Question ID : 630680702670  
 Option 1 ID : 6306802752576  
 Option 2 ID : 6306802752573  
 Option 3 ID : 6306802752574  
 Option 4 ID : 6306802752575  
 Status : Answered  
 Chosen Option : 3

Q.23 નીચેના કોષ્ટકનો અભ્યાસ કરો અને પ્રશ્નોના જવાબ આપો.  
એક પરીક્ષામાં ભાષા અને સંસ્કૃતિના પેપરમાં મળેલા ગુણના આધારે 100 વિદ્યાર્થીઓનું વર્ગીકરણ

વિષય	100 માંથી મળેલા ગુણ				
	70 અને તેથી વધુ	60 અને તેથી વધુ	50 અને તેથી વધુ	40 અને તેથી વધુ	30 અને તેથી વધુ
ભાષા	9	32	80	92	0
સંસ્કૃતિ	4	21	66	81	0
સંરેરાશ (એકંદર)	7	27	73	87	0

ઉપરોક્ત કોષ્ટકના આધારે, કેટલા વિદ્યાર્થીઓએ ભાષાના પેપરમાં 70 અને તેથી વધુ ગુણ મેળવ્યા છે?

- Options 1. 27  
2. 9  
3. 32  
4. 4

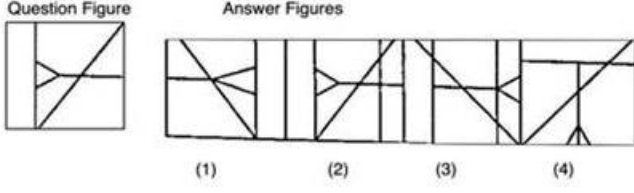
Question ID : 630680702522  
Option 1 ID : 6306802751981  
Option 2 ID : 6306802751982  
Option 3 ID : 6306802751983  
Option 4 ID : 6306802751984  
Status : Answered  
Chosen Option : 2

Q.24 જો 'A' નો અર્થ 'ગુણાકાર', 'B' નો અર્થ 'વત્તા', 'C' નો અર્થ 'બાદબાકી' અને 'D' નો અર્થ 'ભાગ્યા' એવો થતો હોય, તો નીચેની પદાવલિનું મૂલ્ય શું હશે?  
9 A 3 C 6 B 40 D 4 = ?

- Options 1. 31  
2. 32  
3. 40  
4. 44

Question ID : 630680702668  
Option 1 ID : 6306802752567  
Option 2 ID : 6306802752568  
Option 3 ID : 6306802752565  
Option 4 ID : 6306802752566  
Status : Answered  
Chosen Option : 1

Q.25 નીચેના વિકલ્પમાંથી કઈ આકૃતિ પ્રશ્ન આકૃતિમાં જડિત(એમ્બેડ) છે?  
(રોટેશનની મંજૂરી નથી)



(સંદર્ભ- Question Figure- પ્રશ્ન આકૃતિ, Answer Figure- જવાબી આકૃતિ)

- Options
1. 4
  2. 1
  3. 3
  4. 2

Question ID : 630680702500  
Option 1 ID : 6306802751896  
Option 2 ID : 6306802751893  
Option 3 ID : 6306802751895  
Option 4 ID : 6306802751894  
Status : Answered  
Chosen Option : 4

Q.26 નીચે આપેલ કોષ્ટક પાછલા વર્ષો દરમિયાન કંપની દ્વારા ઉત્પાદિત મોબાઇલના વેચાણની માહિતી આપે છે. વર્ષો દરમિયાન કંપની દ્વારા વેચવામાં આવેલા વિવિધ પ્રકારના મોબાઇલની સંખ્યા (હજારોમાં સંખ્યા) છે

વર્ષ	મોબાઇલના પ્રકાર					Total
	4 H	7 H	32 H	35 H	55 H	
2000	75	144	114	102	108	543
2001	90	126	102	84	126	528
2002	96	114	75	105	135	525
2003	105	90	150	90	75	510
2004	90	75	135	75	90	465
2005	105	60	165	45	120	495
2006	115	85	160	100	145	605

વર્ષ 2003માં 35H પ્રકારના કેટલા મોબાઇલ વેચાયા હતા?

- Options
1. 80
  2. 90
  3. 75
  4. 85

Question ID : 630680702484  
Option 1 ID : 6306802751831  
Option 2 ID : 6306802751832  
Option 3 ID : 6306802751830  
Option 4 ID : 6306802751829  
Status : Answered  
Chosen Option : 2

Q.27 માત્ર વર્ગ, ઘન, સરવાળાના આધારે, નીચેનામાંથી કઈ જોડી નીચે આપેલી પ્રસ્તુતિને સમાન છે?

156 : 1740

- Options
1. 81 : 216
  2. 125 : 340
  3. 90 : 738
  4. 143 : 25

Question ID : 630680702355

Option 1 ID : 6306802751314

Option 2 ID : 6306802751316

Option 3 ID : 6306802751315

Option 4 ID : 6306802751313

Status : Answered

Chosen Option : 3

Q.28 નીચેનામાંથી કયો વિકલ્પ નીચે આપેલી આકૃતિમાં પ્રશ્ન ચિહ્નના સ્થાને આવશે? (રોટેશનની મંજૂરી છે).



X.



1.



2.



3.



4.

- Options
1. 3
  2. 2
  3. 4
  4. 1

Question ID : 630680702337

Option 1 ID : 6306802751243

Option 2 ID : 6306802751242

Option 3 ID : 6306802751244

Option 4 ID : 6306802751241

Status : Answered

Chosen Option : 2

Q.29 નીચેનામાંથી કયો વિકલ્પ નીચે આપેલી આકૃતિ (X) માં પ્રશ્ન ચિહ્નના સ્થાને આવશે? (રોટેશનની મંજૂરી નથી).



X.



1.



2.



3.



4.

- Options 1. 1  
2. 2  
3. 4  
4. 3

Question ID : 630680702376

Option 1 ID : 6306802751397

Option 2 ID : 6306802751398

Option 3 ID : 6306802751400

Option 4 ID : 6306802751399

Status : Answered

Chosen Option : 1

Q.30 ફક્ત સરવાળાની પદ્ધતિનો ઉપયોગ કરીને નીચે આપેલી શ્રેણીને તાર્કિક રીતે પૂર્ણ કરવા માટે પ્રશ્ન ચિહ્ન (?) ની જગ્યાએ શું આવશે?

19, 23, 27, 31, 35, ?

- Options 1. 41  
2. 43  
3. 37  
4. 39

Question ID : 630680702512

Option 1 ID : 6306802751943

Option 2 ID : 6306802751944

Option 3 ID : 6306802751941

Option 4 ID : 6306802751942

Status : Answered

Chosen Option : 4

Q.31 નલિની એ માલિની કરતાં મોટી છે. માલિનીની ઉંમર યોગી જેટલી નથી. ચમન એ યોગી કરતાં ઉંમરમાં મોટો છે પણ નલિની જેટલો નથી. તેમાં સૌથી મોટું કોણ છે?

- Options 1. માલિની  
2. નલિની  
3. યોગી  
4. ચમન

Question ID : 630680702615

Option 1 ID : 6306802752354

Option 2 ID : 6306802752353

Option 3 ID : 6306802752356

Option 4 ID : 6306802752355

Status : Answered

Chosen Option : 2

Q.32 નીચેનામાંથી કઈ જોડી કક્ત આગલી અવિભાજ્ય સંખ્યા પદ્ધતિ દ્વારા ગુણાકાર કરેલ સંખ્યાના આધારે નીચે આપેલ પદાવલીને સમાન છે?  
9 : 99

- Options
1. 6 : 48
  2. 9 : 98
  3. 10 : 110
  4. 12 : 168

Question ID : 630680702359  
Option 1 ID : 6306802751330  
Option 2 ID : 6306802751331  
Option 3 ID : 6306802751332  
Option 4 ID : 6306802751329  
Status : Answered  
Chosen Option : 3

Q.33 આપેલ વિધાન(વિધાનો) અને તારણો કાળજીપૂર્વક વાંચો. ધારી લઈએ કે વિધાનોમાં આપવામાં આવેલી માહિતી સાચી છે, ભલે તે સામાન્ય રીતે જાણીતી હકીકતોથી ભિન્ન હોય તેવું લાગતું હોય, પછી નક્કી કરો કે આપેલા તારણો કયા વિધાન(વિધાનો)ને તાર્કિક રીતે અનુસરે છે.  
વિધાનો:  
કેટલીક ખુરશી વાસણો છે.  
કેટલાક વાસણો ચાંદીના છે.



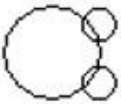

- તારણો:  
1. કેટલીક ચાંદી વાસણો છે.  
2. કેટલાક વાસણો ખુરશી છે.

- Options
1. માત્ર તારણ 1 અનુસરે છે
  2. તારણ 1 અને તારણ 2 બંને અનુસરે છે
  3. માત્ર તારણ 2 અનુસરે છે
  4. ન તો તારણ 1 કે તારણ 2 અનુસરે છે.

Question ID : 630680702651  
Option 1 ID : 6306802752497  
Option 2 ID : 6306802752499  
Option 3 ID : 6306802752498  
Option 4 ID : 6306802752500  
Status : Answered  
Chosen Option : 2

Q.34 નીચેનામાંથી કઈ વેન આકૃતિ ફૂલો, ફલેટ અને ટ્રક વચ્ચેનો શ્રેષ્ઠ સંબંધ દર્શાવે છે?

Options

1. 
2. 
3. 
4. 

Question ID : 630680702650

Option 1 ID : 6306802752495

Option 2 ID : 6306802752493

Option 3 ID : 6306802752496

Option 4 ID : 6306802752494

Status : Answered

Chosen Option : 2

Q.35 ફક્ત સંખ્યાઓના સરવાળા અને બાદબાકીની પદ્ધતિના આધારે નીચેનામાંથી કઈ જોડી નીચે આપેલી પ્રસ્તુતિને સમાન છે?  
2598 : 23

Options

1. 3149 : 18
2. 8628 : 20
3. 2759 : 15
4. 8746 : 24

Question ID : 630680702437

Option 1 ID : 6306802751642

Option 2 ID : 6306802751644

Option 3 ID : 6306802751641

Option 4 ID : 6306802751643

Status : Answered

Chosen Option : 4

Q.36 नीचे आपेली श्रेणीने तार्किक रीते पूर्ण करवा माटे प्रश्न चिह्न (?)नी जग्याचे श्रुं आवशे?

8, 11, 8, 13, 8, ?

- Options
1. 10
  2. 18
  3. 17
  4. 20

Question ID : 630680702551  
 Option 1 ID : 6306802752099  
 Option 2 ID : 6306802752098  
 Option 3 ID : 6306802752097  
 Option 4 ID : 6306802752100  
 Status : Answered  
 Chosen Option : 3

Q.37 नीचेनामांथी कठ जोडी इक्त आगवी अविभाज्य संख्या पद्धति द्वारा गुणाकार करेव संख्याना आधारे नीचे आपेव पदावलीने समान छे?

7 : 77

- Options
1. 16 : 272
  2. 15 : 358
  3. 21 : 398
  4. 13 : 189

Question ID : 630680702479  
 Option 1 ID : 6306802751810  
 Option 2 ID : 6306802751812  
 Option 3 ID : 6306802751811  
 Option 4 ID : 6306802751809  
 Status : Answered  
 Chosen Option : 1

Q.38 जो 'A' नी अर्थ 'गुणाकार', 'B' नी अर्थ 'वत्ता', 'C' नी अर्थ 'व्याख्याकी' अने 'D' नी अर्थ "साग्या" अेवो थतो छीय, तो नीचेनी पदावलिनुं मूल्य श्रुं छशे?

3 A 9 C 9 B 26 D 2 = ?

- Options
1. 27
  2. 20
  3. 31
  4. 18

Question ID : 630680702384  
 Option 1 ID : 6306802751431  
 Option 2 ID : 6306802751430  
 Option 3 ID : 6306802751432  
 Option 4 ID : 6306802751429  
 Status : Answered  
 Chosen Option : 3

Q.39 નીચેનામાંથી કઈ જોડી ફક્ત ભાગાકાર પદ્ધતિના આધારે નીચે આપેલી પ્રસ્તુતિને સમાન છે?

22 : 663

- Options
1. 16 : 483
  2. 43 : 882
  3. 22 : 482
  4. 13 : 282

Question ID : 630680702560

Option 1 ID : 6306802752136

Option 2 ID : 6306802752135

Option 3 ID : 6306802752133

Option 4 ID : 6306802752134

Status : Answered

Chosen Option : 1

Q.40 જો P = '+', Q = '-', R = 'x' અને S = '÷' હોય, તો નીચેની પદાવલિનું મૂલ્ય શું હશે?

6 R 3 Q 5 P 35 S 7

- Options
1. 14
  2. 16
  3. 15
  4. 18

Question ID : 630680702546

Option 1 ID : 6306802752077

Option 2 ID : 6306802752079

Option 3 ID : 6306802752078

Option 4 ID : 6306802752080

Status : Answered

Chosen Option : 4

Section : Quantitative Aptitude

Q.41 જો  $x = (\sqrt{5})/9$  અને  $5/x = y\sqrt{5}$ , તો y નું મૂલ્ય \_\_\_\_\_ છે.

- Options
1. 9
  2. 12
  3. 20
  4. 15

Question ID : 630680699415

Option 1 ID : 6306802739685

Option 2 ID : 6306802739686

Option 3 ID : 6306802739688

Option 4 ID : 6306802739687

Status : Answered

Chosen Option : 1

Q.42 રેખીય સમીકરણ  $6x + 4y = 16$  નો આલેખ \_\_\_\_\_ બિંદુ પર y-અક્ષને કાપે છે.

- Options
1. (4, 2)
  2. (4, 0)
  3. (2, 4)
  4. (0, 4)

Question ID : 630680699315  
 Option 1 ID : 6306802739288  
 Option 2 ID : 6306802739286  
 Option 3 ID : 6306802739287  
 Option 4 ID : 6306802739285  
 Status : Answered  
 Chosen Option : 4

Q.43 A અને B પાસે કુલ મળીને ₹ 1245 છે. જો A ની રકમના  $\frac{4}{15}$  B ની રકમના  $\frac{2}{5}$  ના બરાબર છે, તો B પાસે કેટલી રકમ છે?

- Options
1. ₹ 638
  2. ₹ 598
  3. ₹ 498
  4. ₹ 548

Question ID : 630680699513  
 Option 1 ID : 6306802740080  
 Option 2 ID : 6306802740079  
 Option 3 ID : 6306802740077  
 Option 4 ID : 6306802740078  
 Status : Answered  
 Chosen Option : 3

Q.44 આલેખાત્મક રીતે, સમીકરણોની જોડી  $6x - 8y = 5$ ;  $12x - 16y = 4$  એ બે રેખાઓ રજૂ કરે છે જે \_\_\_\_\_.

- Options
1. સમાંતર છે
  2. બે બિંદુઓ પર છેદે છે
  3. સંપાત થાય છે
  4. એક બિંદુએ છેદે છે

Question ID : 630680699404  
 Option 1 ID : 6306802739644  
 Option 2 ID : 6306802739641  
 Option 3 ID : 6306802739642  
 Option 4 ID : 6306802739643  
 Status : Answered  
 Chosen Option : 1

Q.45 એક વેપારી તેની વસ્તુની પડતર કિંમત કરતાં 46 ટકા વધુ કિંમત અંકિત કરે છે. તે તેના પર થોડું ડિસ્કાઉન્ટ આપે છે અને 5 ટકા નફો કમાય છે. તો ડિસ્કાઉન્ટની ટકાવારી શું છે?

- Options
1. 28.08%
  2. 33.21%
  3. 45.10%
  4. 20.20%

Question ID : 630680699481  
 Option 1 ID : 6306802739951  
 Option 2 ID : 6306802739950  
 Option 3 ID : 6306802739952  
 Option 4 ID : 6306802739949  
 Status : Answered  
 Chosen Option : 1

Q.46 180 નોટબુકનું વેચાણ કરીને, એક દુકાનદાર 60 નોટબુકની વેચાણ કિંમત મેળવે છે. તેના લાભની ટકાવારી કેટલી હશે?

- Options
1. 50%
  2. 25%
  3. 53%
  4. 42%

Question ID : 630680699479  
 Option 1 ID : 6306802739944  
 Option 2 ID : 6306802739943  
 Option 3 ID : 6306802739941  
 Option 4 ID : 6306802739942  
 Status : Answered  
 Chosen Option : 1

Q.47 મનજીતે ₹ 12280 માં AC ખરીદ્યું અને પરિવહન માટે ₹ 280 ચૂકવ્યા. પછી તેણે તેને ₹ 14650 માં વેચી દીધું. તેનો અંદાજિત નફો કેટલા ટકા (%) થયો તે શોધો.

- Options
1. 22.8%
  2. 19.2%
  3. 10.5%
  4. 16.6%

Question ID : 630680699359  
 Option 1 ID : 6306802739464  
 Option 2 ID : 6306802739463  
 Option 3 ID : 6306802739462  
 Option 4 ID : 6306802739461  
 Status : Answered  
 Chosen Option : 4

Q.48 A બે આપેલા સ્ટેશનો વચ્ચે રેલ્વે ટ્રેક 15 દિવસમાં બિછાવી શકે છે અને B તે જ કામ 12 દિવસમાં કરી શકે છે. C ની મદદથી, તેમણે માત્ર 5 દિવસમાં જ કામ કર્યું. તો પછી, C એકલા \_\_\_\_\_ માં કામ કરી શકે છે.

- Options
1. 25 દિવસ
  2. 18 દિવસ
  3. 32 દિવસ
  4. 20 દિવસ

Question ID : 630680699547  
 Option 1 ID : 6306802740213  
 Option 2 ID : 6306802740214  
 Option 3 ID : 6306802740215  
 Option 4 ID : 6306802740216  
 Status : Answered  
 Chosen Option : 4

Q.49 સૂર્ય 10% કેળા અને 30% સફરજન ખાતો હતો. જો ત્યાં 60 કેળા અને 50 સફરજન હતા, તો તેણે કેટલા ફળ ખાધા હશે?

- Options
1. 21
  2. 25
  3. 15
  4. 18

Question ID : 630680699448  
 Option 1 ID : 6306802739818  
 Option 2 ID : 6306802739820  
 Option 3 ID : 6306802739817  
 Option 4 ID : 6306802739819  
 Status : Answered  
 Chosen Option : 1

Q.50  $4200 \div [10\{(13-6)+(25-12)\}]$  નું સાદુરૂપ આપો.

- Options
1. 25
  2. 21
  3. 30
  4. 45

Question ID : 630680699324  
 Option 1 ID : 6306802739322  
 Option 2 ID : 6306802739321  
 Option 3 ID : 6306802739323  
 Option 4 ID : 6306802739324  
 Status : Answered  
 Chosen Option : 2

Q.51 6 વિષયોમાં રોશનના માર્ક્સની સરેરાશ 74 છે. જો વિજ્ઞાન સિવાયના પાંચ વિષયોમાં તેની સરેરાશ 70 છે, તો તેણે વિજ્ઞાનમાં કેટલા માર્ક્સ મેળવ્યા હશે?

- Options
1. 91
  2. 98
  3. 88
  4. 94

Question ID : 630680699408  
 Option 1 ID : 6306802739658  
 Option 2 ID : 6306802739660  
 Option 3 ID : 6306802739657  
 Option 4 ID : 6306802739659  
 Status : Answered  
 Chosen Option : 4

Q.52 યુક્તા તેની મુસાફરીના પ્રથમ 6 કલાક 80 miles/hr. ની ઝડપે મુસાફરી કરે છે. અને બાકીનું અંતર 5 કલાકમાં 40 miles/hr. ની ઝડપે કાપે છે તો તેની સરેરાશ ઝડપ miles/hr. માં કેટલી હશે?

- Options
1. 70 miles/hr.
  2. 61.8 miles/hr.
  3. 39.9 miles/hr.
  4. 45.5 miles/hr.

Question ID : 630680699429  
 Option 1 ID : 6306802739744  
 Option 2 ID : 6306802739743  
 Option 3 ID : 6306802739741  
 Option 4 ID : 6306802739742  
 Status : Answered  
 Chosen Option : 2

Q.53 પૂર્ણિમા અનિતા કરતાં ત્રણ ગણી કાર્યક્ષમ છે અને કામ પૂર્ણ કરવામાં અનિતા કરતાં 32 દિવસ ઓછો સમય લે છે. તેઓ સાથે મળીને કેટલા દિવસમાં કામ પૂરું કરશે?

- Options
1. 12 દિવસ
  2. 21 દિવસ
  3. 24 દિવસ
  4. 15 દિવસ

Question ID : 630680699516  
 Option 1 ID : 6306802740089  
 Option 2 ID : 6306802740091  
 Option 3 ID : 6306802740092  
 Option 4 ID : 6306802740090  
 Status : Answered  
 Chosen Option : 1

Q.54 સમાંતર શ્રેણી:  $\frac{1}{8p}, \frac{1-8p}{8p}, \frac{1-16p}{8p}$ , નો સામાન્ય તફાવત .....છે.

- Options
1. -8/p
  2. 1/p
  3. 1
  4. -1

Question ID : 630680699527  
 Option 1 ID : 6306802740136  
 Option 2 ID : 6306802740135  
 Option 3 ID : 6306802740133  
 Option 4 ID : 6306802740134  
 Status : Answered  
 Chosen Option : 4

Q.55 જો શાલિની તેના ચાર મિત્રો A, B, C અને D વચ્ચે 1/3 : 1/4 : 1/5 : 1/8 ના ગુણોત્તરમાં તેની પેનનું વિતરણ કરે છે, તો આ વિતરણ કરવા માટે શાલિની જોડે ઓછામાં ઓછી કેટલી પેન હોવી જોઈએ?

- Options
1. 120
  2. 109
  3. 218
  4. 85

Question ID : 630680699305  
 Option 1 ID : 6306802739245  
 Option 2 ID : 6306802739247  
 Option 3 ID : 6306802739246  
 Option 4 ID : 6306802739248  
 Status : Answered  
 Chosen Option : 1

Q.56 જો પેટ્રોલની કિંમત ₹ 32 પ્રતિ લિટરથી વધીને ₹ 65 પ્રતિ લિટર થઈ ગઈ હોય, તો વ્યક્તિએ તેના વપરાશમાં કેટલા ટકા ઘટાડો કરવો પડશે જેથી તેનો ખર્ચ સમાન રહે?

- Options
1. 50.77%
  2. 45%
  3. 40.20%
  4. 20.25%

Question ID : 630680699387  
 Option 1 ID : 6306802739573  
 Option 2 ID : 6306802739575  
 Option 3 ID : 6306802739576  
 Option 4 ID : 6306802739574  
 Status : Answered  
 Chosen Option : 1

Q.57 બે કારો એકસાથે રેસ શરૂ કરે છે. એક કાર 54 kmph અને બીજી 40 m/s ની ઝડપે દોડે છે. તો 90 kms ની રેસ પૂરી કરવા માટે કારોને લાગતા સમયનો તફાવત શોધો?

- Options
1. 3205 સેકન્ડ
  2. 2215 સેકન્ડ
  3. 3750 સેકન્ડ
  4. 2890 સેકન્ડ

Question ID : 630680699431  
 Option 1 ID : 6306802739752  
 Option 2 ID : 6306802739749  
 Option 3 ID : 6306802739750  
 Option 4 ID : 6306802739751  
 Status : Not Answered  
 Chosen Option : -

Q.58 જો બે રાશિઓનો સરવાળો તેમના તફાવતના 12 ગણા બરાબર હોય છે, તો બે રાશિઓનો ગુણોત્તર \_\_\_\_\_ છે.

- Options
1. 11:7
  2. 7:13
  3. 13:11
  4. 3:2

Question ID : 630680699274  
 Option 1 ID : 6306802739123  
 Option 2 ID : 6306802739124  
 Option 3 ID : 6306802739122  
 Option 4 ID : 6306802739121  
 Status : Answered  
 Chosen Option : 3

Q.59 એક છૂટક વેપારીને એક વસ્તુની પ્રિન્ટિંગ કિંમત પર 29% નું ડિસ્કાઉન્ટ મળે છે. છૂટક વેપારી તેને પ્રિન્ટિંગ કિંમતે વેચે છે. તેનો નફો \_\_\_\_\_ ટકા છે.

- Options
1. 38.55%
  2. 44.66%
  3. 40.85%
  4. 42.45%

Question ID : 630680699332  
 Option 1 ID : 6306802739353  
 Option 2 ID : 6306802739356  
 Option 3 ID : 6306802739354  
 Option 4 ID : 6306802739355  
 Status : Answered  
 Chosen Option : 3

Q.60 12 વ્યક્તિઓમાંથી, 11 વ્યક્તિઓએ દરેકે તેમના ભોજન માટે ₹50નો ખર્ચ કર્યો. 12મી વ્યક્તિએ તમામ 12 વ્યક્તિઓના સરેરાશ ખર્ચ કરતાં ₹22 વધુ ખર્ચ કર્યો. તે બધા દ્વારા કુલ \_\_\_\_\_ નાણાં ખર્ચવામાં આવ્યા હતા.

- Options
1. ₹ 634
  2. ₹ 583
  3. ₹ 735
  4. ₹ 612

Question ID : 630680699290  
 Option 1 ID : 6306802739187  
 Option 2 ID : 6306802739185  
 Option 3 ID : 6306802739188  
 Option 4 ID : 6306802739186  
 Status : Answered  
 Chosen Option : 1

Q.61 એક દાયકામાં ગામની કુલ વસ્તી 1,54,00 થી વધીને 20,500 થઈ. દર વર્ષે તે ગામની વસ્તીમાં સરેરાશ ટકાવારીનો વધારો \_\_\_\_\_ છે.

- Options
1. 4.12%
  2. 5.30%
  3. 5.20%
  4. 3.31%

Question ID : 630680699416  
 Option 1 ID : 6306802739690  
 Option 2 ID : 6306802739692  
 Option 3 ID : 6306802739689  
 Option 4 ID : 6306802739691  
 Status : Not Answered  
 Chosen Option : -

Q.62 એક વ્યક્તિ 48 km ની મુસાફરી 8 km/hr ની ઝડપે પૂરી કરે છે અને બાકીની 54 km ની મુસાફરી 6 કલાકમાં પૂર્ણ કરે છે. તો સમગ્ર મુસાફરી માટે તેની સરેરાશ ઝડપ \_\_\_\_\_ છે.

- Options
1. 12.5 km/hr.
  2. 10.5 km/hr.
  3. 8.5 km/hr.
  4. 9.5 km/hr.

Question ID : 630680699340  
 Option 1 ID : 6306802739388  
 Option 2 ID : 6306802739387  
 Option 3 ID : 6306802739385  
 Option 4 ID : 6306802739386  
 Status : Answered  
 Chosen Option : 3

Q.63 8 પેન, 7 નોટબુક અને 9 ફાઈલોની કિંમત ₹340 છે. 5 પેન, 4 નોટબુક અને 6 ફાઈલોની કિંમત ₹ 170 છે. તો 11 પેન, 10 નોટબુક અને 12 ફાઈલોની કિંમત (₹માં) કેટલી હશે?

- Options
1. ₹ 712
  2. ₹ 510
  3. ₹ 670
  4. ₹ 490

Question ID : 630680699463  
 Option 1 ID : 6306802739880  
 Option 2 ID : 6306802739878  
 Option 3 ID : 6306802739879  
 Option 4 ID : 6306802739877  
 Status : Answered  
 Chosen Option : 4

Q.64 એક વ્યક્તિ 5 kmph ની ઝડપે ઓફિસ તરફ મુસાફરી કરે છે અને 7 kmph ની ઝડપે પાછો આવે છે. જો તેને ઓફિસમાં જવામાં અને પાછા આવવામાં 15 કલાક લાગે છે. ઘરથી ઓફિસ \_\_\_\_\_ km દૂર છે.

- Options
1. 43.75 km
  2. 30.22 km
  3. 22.46 km
  4. 35 km

Question ID : 630680699308  
 Option 1 ID : 6306802739260  
 Option 2 ID : 6306802739257  
 Option 3 ID : 6306802739259  
 Option 4 ID : 6306802739258  
 Status : Answered  
 Chosen Option : 1

Q.65 ત્રણ સંખ્યાઓ 3:5:9 ના ગુણોત્તરમાં છે અને તેમનો લ.સા.અ. (L.C.M.) 675 છે. તેમનો ગુ.સા.અ. (H.C.F) \_\_\_\_\_ છે.

- Options
1. 5
  2. 7
  3. 4
  4. 6

Question ID : 630680699383  
 Option 1 ID : 6306802739558  
 Option 2 ID : 6306802739560  
 Option 3 ID : 6306802739557  
 Option 4 ID : 6306802739559  
 Status : Answered  
 Chosen Option : 1

Q.66 12 સંખ્યાઓની સરેરાશ 48 છે. જો દરેક સંખ્યામાં 4 અંકનો વધારો કરવામાં આવે, તો નવી સરેરાશ કેટલી થશે?

- Options
1. 61
  2. 58
  3. 53
  4. 52

Question ID : 630680699259  
Option 1 ID : 6306802739061  
Option 2 ID : 6306802739062  
Option 3 ID : 6306802739063  
Option 4 ID : 6306802739064  
Status : Answered  
Chosen Option : 4

Q.67 જો કોઈ સંખ્યાના છ ગણાં અને ત્રણ ગણાં વચ્ચેનો તફાવત 27 જેટલો હોય, તો તે સંખ્યા કઈ હશે?

- Options
1. 6
  2. 13
  3. 15
  4. 9

Question ID : 630680699381  
Option 1 ID : 6306802739552  
Option 2 ID : 6306802739550  
Option 3 ID : 6306802739549  
Option 4 ID : 6306802739551  
Status : Answered  
Chosen Option : 4

Q.68 સમાંતર શ્રેણી (A.P.) માં પચીસમું પદ ચૌદમાં પદ કરતાં 66 વધુ છે. તો સામાન્ય તફાવત શોધો.

- Options
1. 6
  2. -6
  3. 11
  4. -11

Question ID : 630680699466  
Option 1 ID : 6306802739891  
Option 2 ID : 6306802739892  
Option 3 ID : 6306802739889  
Option 4 ID : 6306802739890  
Status : Answered  
Chosen Option : 1

Q.69 k નું મૂલ્ય શોધો કે જેના માટે સમીકરણોની સિસ્ટમ  $kx - y = 2$ ,  $9x - 3y = 3$  અનન્ય ઉકેલ ધરાવે છે.

- Options
1.  $K \neq 7$
  2.  $K = 3$
  3.  $K \neq 3$
  4.  $K = 5$

Question ID : 630680699552  
 Option 1 ID : 6306802740236  
 Option 2 ID : 6306802740233  
 Option 3 ID : 6306802740234  
 Option 4 ID : 6306802740235  
 Status : Answered  
 Chosen Option : 3

Q.70 નીચેનામાંથી કોને 11 વડે નિ:શેષ ભાગી શકાય છે?

- Options
1. 9824
  2. 9515
  3. 9745
  4. 9500

Question ID : 630680699352  
 Option 1 ID : 6306802739436  
 Option 2 ID : 6306802739434  
 Option 3 ID : 6306802739435  
 Option 4 ID : 6306802739433  
 Status : Answered  
 Chosen Option : 2

Section : English

Q.71 Choose the most logical order of the words from among the four given choices to construct a coherent sentence.

- A) they provide raw materials that
- B) and raise living standards
- C) forests are important economically because
- D) support the nation's economic development

- Options
1. DBAC
  2. CADB
  3. DCAB
  4. ABCD

Question ID : 630680699675  
 Option 1 ID : 6306802740697  
 Option 2 ID : 6306802740698  
 Option 3 ID : 6306802740700  
 Option 4 ID : 6306802740699  
 Status : Answered  
 Chosen Option : 2

Q.72 Select the most appropriate SYNONYM of the given word below.

**Ardent**

- Options**
1. Reserved
  2. Passionate
  3. Cold
  4. Unemotional

Question ID : 630680699716  
Option 1 ID : 6306802740852  
Option 2 ID : 6306802740850  
Option 3 ID : 6306802740849  
Option 4 ID : 6306802740851  
Status : Answered  
Chosen Option : 4

Q.73 Translate the following sentence into Gujarati:

**How would life be without stress?**

- Options**
1. જીવનમાં તાણ કેવી હશે?
  2. તાણ વિના કેવું જીવન જીવવું જોઈએ.
  3. તાણ વિનાનું જીવન કેવું હશે?
  4. તાણ વિના જીવન કેવું છે?

Question ID : 630680699702  
Option 1 ID : 6306802740797  
Option 2 ID : 6306802740799  
Option 3 ID : 6306802740800  
Option 4 ID : 6306802740798  
Status : Answered  
Chosen Option : 3

Q.74 Select the most appropriate past tense form of the verb from the given options to fill in the blanks for the given sentence.

I \_\_\_\_\_ in Brazil for two years.

- Options**
1. lives
  2. was lived
  3. lived
  4. will be living

Question ID : 630680699658  
Option 1 ID : 6306802740635  
Option 2 ID : 6306802740636  
Option 3 ID : 6306802740633  
Option 4 ID : 6306802740634  
Status : Answered  
Chosen Option : 2

Q.75 Which one of the alternatives substitutes the given sentence.

The branch of science concerned with the origin, structure, and composition of rocks.

- Options
1. Zoology
  2. Genealogy
  3. Petrology
  4. Dactylology

Question ID : 630680699709  
Option 1 ID : 6306802740825  
Option 2 ID : 6306802740828  
Option 3 ID : 6306802740827  
Option 4 ID : 6306802740826  
Status : Answered  
Chosen Option : 3

Q.76 Select the most appropriate preposition from the given options to fill in the blanks for the given sentence.

Mary is very punctual. She is always \_\_\_\_\_ time for her appointments.

- Options
1. at
  2. on
  3. by
  4. with

Question ID : 630680699608  
Option 1 ID : 6306802740447  
Option 2 ID : 6306802740446  
Option 3 ID : 6306802740445  
Option 4 ID : 6306802740448  
Status : Answered  
Chosen Option : 2

Q.77 Select the most appropriate article from the options given below to complete the sentence.  
Mark "No article" if there is no requirement of article in the given sentence

\_\_\_\_\_ apple I bought last week has got rotten.

- Options
1. An
  2. The
  3. A
  4. No article

Question ID : 630680699671  
Option 1 ID : 6306802740683  
Option 2 ID : 6306802740684  
Option 3 ID : 6306802740681  
Option 4 ID : 6306802740682  
Status : Answered  
Chosen Option : 1

Q.78 Out of the four alternatives, choose the one which can be substituted for the given group of words.

The study of rocks and soil in the Earth's crust

- Options
1. Geology
  2. Alchemy
  3. Demography
  4. Palaeography

Question ID : 630680699645  
Option 1 ID : 6306802740587  
Option 2 ID : 6306802740585  
Option 3 ID : 6306802740588  
Option 4 ID : 6306802740586  
Status : Answered  
Chosen Option : 1

Q.79 Select the most appropriate SYNONYM of the given word below.

Subvert

- Options
1. Degrade
  2. Elevate
  3. Enhance
  4. Improve

Question ID : 630680699701  
Option 1 ID : 6306802740794  
Option 2 ID : 6306802740793  
Option 3 ID : 6306802740796  
Option 4 ID : 6306802740795  
Status : Answered  
Chosen Option : 1

Q.80 Select the most appropriate preposition from the given options to fill in the blanks in the given sentence.

My house is \_\_\_\_\_ the street from the Mall.

- Options
1. Across
  2. Into
  3. Through
  4. By

Question ID : 630680699656  
Option 1 ID : 6306802740626  
Option 2 ID : 6306802740627  
Option 3 ID : 6306802740625  
Option 4 ID : 6306802740628  
Status : Answered  
Chosen Option : 1

**Q.81** Choose the most logical order of the words from among the four given choices to construct a coherent sentence.

- A) growth in wheat production
- B) government's efforts to build stocks
- C) and complicate the
- D) adverse weather could limit

**Options** 1. DACB

2. DCAB

3. BCDA

4. ADCB

Question ID : 630680699596

Option 1 ID : 6306802740404

Option 2 ID : 6306802740401

Option 3 ID : 6306802740403

Option 4 ID : 6306802740402

Status : Answered

Chosen Option : 1

### Comprehension:

Read the passage below and answer the questions.

Climate change is now a fact of political life and is playing a growing role in business competition. Greenhouse gas emissions will be increasingly scrutinised, regulated, and priced. While individual managers can disagree about how immediate and significant the impact of climate change will be, companies need to take action now.

Companies that persist in treating climate change solely as a corporate social responsibility issue, rather than a business problem, will risk the greatest consequences. Of course, a company's climate policies will be affected by stakeholder expectations and standards for social responsibility. But the effects of climate on companies' operations are now so tangible and certain that the issue is best addressed with the tools of the strategist, not the philanthropist. There is no one-size-fits-all approach to climate change. Each company's approach will depend on its business and should mesh with its overall strategy. For every company, the approach must include initiatives to mitigate climate-related costs and risks in its value chain. Business leaders need to start treating carbon emissions as costly, because they are or soon will be, and companies need to assess and reduce their vulnerability to climate-related environmental and economic shocks. Every firm needs to get those basics right, as a matter of operational effectiveness.

A firm that has more employees than it needs in its shipping department is operationally ineffective; its managers are wasting resources and creating a drag on performance. In the same way, a firm that produces excess emissions in its shipping operations is also operationally ineffective—it is wasting resources and incurring unnecessary costs that are certain to rise. Implementing best practices in managing climate-related costs is the minimum required to remain competitive. In addition to understanding its emissions costs, every firm needs to evaluate its vulnerability to climate-related effects such as regional shifts in the availability of energy and water, the reliability of infrastructures and supply chains, and the prevalence of infectious diseases.

**SubQuestion No : 82**

**Q.82** Identify the most suitable title for the passage.

- Options** 1. A firm and its emission issues
2. Persistent issues of climate change
3. Climate Change: Causes and Strategies to Reduce the Risks
4. The Business Imperative of Addressing Climate Change.

Question ID : 630680699696

Option 1 ID : 6306802740774

Option 2 ID : 6306802740775

Option 3 ID : 6306802740776

Option 4 ID : 6306802740773

Status : Answered

Chosen Option : 1

**Comprehension:**

Read the passage below and answer the questions.

Climate change is now a fact of political life and is playing a growing role in business competition. Greenhouse gas emissions will be increasingly scrutinised, regulated, and priced. While individual managers can disagree about how immediate and significant the impact of climate change will be, companies need to take action now.

Companies that persist in treating climate change solely as a corporate social responsibility issue, rather than a business problem, will risk the greatest consequences. Of course, a company's climate policies will be affected by stakeholder expectations and standards for social responsibility. But the effects of climate on companies' operations are now so tangible and certain that the issue is best addressed with the tools of the strategist, not the philanthropist. There is no one-size-fits-all approach to climate change. Each company's approach will depend on its business and should mesh with its overall strategy. For every company, the approach must include initiatives to mitigate climate-related costs and risks in its value chain. Business leaders need to start treating carbon emissions as costly, because they are or soon will be, and companies need to assess and reduce their vulnerability to climate-related environmental and economic shocks. Every firm needs to get those basics right, as a matter of operational effectiveness.

A firm that has more employees than it needs in its shipping department is operationally ineffective; its managers are wasting resources and creating a drag on performance. In the same way, a firm that produces excess emissions in its shipping operations is also operationally ineffective—it is wasting resources and incurring unnecessary costs that are certain to rise. Implementing best practices in managing climate-related costs is the minimum required to remain competitive. In addition to understanding its emissions costs, every firm needs to evaluate its vulnerability to climate-related effects such as regional shifts in the availability of energy and water, the reliability of infrastructures and supply chains, and the prevalence of infectious diseases.

**SubQuestion No : 83**

**Q.83** Select the most appropriate SYNONYM of the given word below.

**Mitigate**

- Options**
1. Agitate
  2. Aggravate
  3. Provoke
  4. Soothe

Question ID : 630680699698  
Option 1 ID : 6306802740781  
Option 2 ID : 6306802740784  
Option 3 ID : 6306802740782  
Option 4 ID : 6306802740783

Status : Answered

Chosen Option : 1

**Comprehension:**

Read the passage below and answer the questions.

Climate change is now a fact of political life and is playing a growing role in business competition. Greenhouse gas emissions will be increasingly scrutinised, regulated, and priced. While individual managers can disagree about how immediate and significant the impact of climate change will be, companies need to take action now.

Companies that persist in treating climate change solely as a corporate social responsibility issue, rather than a business problem, will risk the greatest consequences. Of course, a company's climate policies will be affected by stakeholder expectations and standards for social responsibility. But the effects of climate on companies' operations are now so tangible and certain that the issue is best addressed with the tools of the strategist, not the philanthropist. There is no one-size-fits-all approach to climate change. Each company's approach will depend on its business and should mesh with its overall strategy. For every company, the approach must include initiatives to mitigate climate-related costs and risks in its value chain. Business leaders need to start treating carbon emissions as costly, because they are or soon will be, and companies need to assess and reduce their vulnerability to climate-related environmental and economic shocks. Every firm needs to get those basics right, as a matter of operational effectiveness.

A firm that has more employees than it needs in its shipping department is operationally ineffective; its managers are wasting resources and creating a drag on performance. In the same way, a firm that produces excess emissions in its shipping operations is also operationally ineffective—it is wasting resources and incurring unnecessary costs that are certain to rise. Implementing best practices in managing climate-related costs is the minimum required to remain competitive. In addition to understanding its emissions costs, every firm needs to evaluate its vulnerability to climate-related effects such as regional shifts in the availability of energy and water, the reliability of infrastructures and supply chains, and the prevalence of infectious diseases.

**SubQuestion No : 84**

**Q.84** Select the most appropriate ANTONYM of the given word below.

**Drag**

- Options**
1. Annoyance
  2. Burden
  3. Bother
  4. Delight

Question ID : 630680699699  
Option 1 ID : 6306802740788  
Option 2 ID : 6306802740785  
Option 3 ID : 6306802740786  
Option 4 ID : 6306802740787

Status : Answered

Chosen Option : 3

**Comprehension:**

Read the passage below and answer the questions.

Climate change is now a fact of political life and is playing a growing role in business competition. Greenhouse gas emissions will be increasingly scrutinised, regulated, and priced. While individual managers can disagree about how immediate and significant the impact of climate change will be, companies need to take action now.

Companies that persist in treating climate change solely as a corporate social responsibility issue, rather than a business problem, will risk the greatest consequences. Of course, a company's climate policies will be affected by stakeholder expectations and standards for social responsibility. But the effects of climate on companies' operations are now so tangible and certain that the issue is best addressed with the tools of the strategist, not the philanthropist. There is no one-size-fits-all approach to climate change. Each company's approach will depend on its business and should mesh with its overall strategy. For every company, the approach must include initiatives to mitigate climate-related costs and risks in its value chain. Business leaders need to start treating carbon emissions as costly, because they are or soon will be, and companies need to assess and reduce their vulnerability to climate-related environmental and economic shocks. Every firm needs to get those basics right, as a matter of operational effectiveness.

A firm that has more employees than it needs in its shipping department is operationally ineffective; its managers are wasting resources and creating a drag on performance. In the same way, a firm that produces excess emissions in its shipping operations is also operationally ineffective—it is wasting resources and incurring unnecessary costs that are certain to rise. Implementing best practices in managing climate-related costs is the minimum required to remain competitive. In addition to understanding its emissions costs, every firm needs to evaluate its vulnerability to climate-related effects such as regional shifts in the availability of energy and water, the reliability of infrastructures and supply chains, and the prevalence of infectious diseases.

**SubQuestion No : 85**

**Q.85** Select the most appropriate SYNONYM of the given word below.

**Tangible**

- Options**
1. Virtual
  2. Unreal
  3. Noticeable
  4. Abstract

Question ID : 630680699697  
Option 1 ID : 6306802740777  
Option 2 ID : 6306802740779  
Option 3 ID : 6306802740780  
Option 4 ID : 6306802740778

Status : Answered

Chosen Option : 3

Q.86 કાવ્યપંક્તિનું વાચન કરીને આપેલ પ્રશ્નનો સાચા જવાબ શોધો.  
વેદ તો એમ વદે,શ્રુતિ-સ્મૃતિ શાખ દે,કનકકુંડળ વિશે ભેદ ન હોય,  
ઘાટ ઘડીયા પછી,નામરૂપ જૂજવાં,અંતે તો હેમનું હેમ હોય. અખિલ..  
ગ્રંથ ગરબડ કરી,વાત ન કરી ખરી ,જેહને જે ગમે તેને પૂજે,

પ્રશ્ન

હેમ શબ્દનો તમે શું અર્થ કરશો?

- Options
1. હિમાલય
  2. હેમખેમ
  3. સોનું
  4. જેમ

Question ID : 630680700649  
Option 1 ID : 6306802744574  
Option 2 ID : 6306802744573  
Option 3 ID : 6306802744575  
Option 4 ID : 6306802744576

Status : Answered

Chosen Option : 3

Q.87 ખાલી ચણો , વાગે ઘણો -કહેવતનો અર્થ શોધો

- Options
1. ખાલી ચણા જ નહિ,મમરા પણ જરૂરી છે.
  2. ચણાથી ઈજા થાય છે
  3. ચણો તો ધ્યાન રાખો
  4. અલ્પજ્ઞાની વિદ્વતાનો ડોળ કરે

Question ID : 630680700563  
Option 1 ID : 6306802744230  
Option 2 ID : 6306802744229  
Option 3 ID : 6306802744232  
Option 4 ID : 6306802744231

Status : Answered

Chosen Option : 4

Q.88 નીચેનામાંથી સાચી જોડણીવાળો શબ્દ શોધો

- Options
1. ખુબસુરત
  2. ખૂબસૂરત
  3. ખૂબસુરત
  4. ખુબસૂરત

Question ID : 630680700708  
 Option 1 ID : 6306802744809  
 Option 2 ID : 6306802744811  
 Option 3 ID : 6306802744810  
 Option 4 ID : 6306802744812  
 Status : Answered  
 Chosen Option : 3

Q.89 'આઠદસ' સમાસનો સાચો વિગ્રહ શોધો

- Options
1. આઠ કે દસ
  2. આઠ પછી દસ
  3. દસ પછી આઠ
  4. આઠ કે દસ

Question ID : 630680700685  
 Option 1 ID : 6306802744719  
 Option 2 ID : 6306802744718  
 Option 3 ID : 6306802744720  
 Option 4 ID : 6306802744717  
 Status : Answered  
 Chosen Option : 1

Q.90 'પર્યાપ્ત' શબ્દનો સાચો સંધિ વિગ્રહ શોધો.

- Options
1. પ્રતિ + આપત
  2. પરિ + આપ્ત
  3. પ્યા + પ્ત
  4. પ્પિ + આપ્ત

Question ID : 630680700676  
 Option 1 ID : 6306802744682  
 Option 2 ID : 6306802744683  
 Option 3 ID : 6306802744681  
 Option 4 ID : 6306802744684  
 Status : Answered  
 Chosen Option : 2

Q.91 ગુજરાતી અનુવાદ શોધો

I dreamt continually of going to England.

- Options
1. વિલાયતનાં જ સ્વપ્નાં આવે.
  2. મને વિલાયતનાં જ સ્વપ્નાં આવે.
  3. ઇંગ્લેન્ડ સપનામાં જ આવે
  4. વિલાયત જ જવું છે

Question ID : 630680700650

Option 1 ID : 6306802744577

Option 2 ID : 6306802744578

Option 3 ID : 6306802744580

Option 4 ID : 6306802744579

Status : Answered

Chosen Option : 2

Q.92 નીચેનામાંથી શુદ્ધ વાક્ય શોધી બતાવો.

- Options
1. હું માંદો પડ્યો છું.
  2. તેણે ગોળ વર્તુળ દોર્યું
  3. દરેક વિદ્યાર્થીઓએ મેદાન ઉપર હાજર રહેવું
  4. હું માદા પડ્યો છું.

Question ID : 630680700629

Option 1 ID : 6306802744493

Option 2 ID : 6306802744495

Option 3 ID : 6306802744496

Option 4 ID : 6306802744494

Status : Answered

Chosen Option : 1

Q.93 નીચેનાંમાંથી શુદ્ધ વિધાન શોધો

- Options
1. શેઠ તો જૂના કાપડના વેપારી છે.
  2. આ વાતમાં ગુપ્ત રહસ્ય રહેલું છે.
  3. સિલાઈના સ્વદેશી દોરા અહીં મળે છે.
  4. અમદાવાદ એ એક ઔદ્યોગિક શહેર છે.

Question ID : 630680700675  
 Option 1 ID : 6306802744678  
 Option 2 ID : 6306802744677  
 Option 3 ID : 6306802744679  
 Option 4 ID : 6306802744680  
 Status : Answered  
 Chosen Option : 3

Q.94 'નવટાંક' શબ્દનો સમાસ ઓળખાવો

- Options
1. મધ્યમપદલોપી
  2. ક્રન્ક
  3. દ્વિગુ
  4. ઉપપદ

Question ID : 630680700699  
 Option 1 ID : 6306802744775  
 Option 2 ID : 6306802744773  
 Option 3 ID : 6306802744776  
 Option 4 ID : 6306802744774  
 Status : Answered  
 Chosen Option : 3

Q.95 'આજે ચાર કલાક વીજળી ન આવી' વાક્યનો સાચો અંગ્રેજી અનુવાદ શોધો

- Options
1. Today his was no electricity for four hours
  2. Today the was no electricity for four hours
  3. Today there was no electricity for hours
  4. Today there was no electricity for four hours

Question ID : 630680700711  
 Option 1 ID : 6306802744823  
 Option 2 ID : 6306802744821  
 Option 3 ID : 6306802744822  
 Option 4 ID : 6306802744824  
 Status : Answered  
 Chosen Option : 4

Q.96 'કર્કશ' શબ્દનો વિરુદ્ધાર્થી શોધો

- Options
1. કર્ણપ્રિય
  2. ચોક્કસ
  3. બારકસ
  4. દિલકશ

Question ID : 630680700642  
 Option 1 ID : 6306802744547  
 Option 2 ID : 6306802744548  
 Option 3 ID : 6306802744545  
 Option 4 ID : 6306802744546  
 Status : Answered  
 Chosen Option : 1

Q.97 રૂઢિપ્રયોગનો અર્થ શોધો - પશ્ચિમમાં સૂરજ ઉગવો

- Options
1. ઝાલરટાણું
  2. તડકો પડવો
  3. જે કદી પણ ન બનવાનું હોય તે બનવું
  4. ખેતી કરવી

Question ID : 630680700577  
 Option 1 ID : 6306802744288  
 Option 2 ID : 6306802744287  
 Option 3 ID : 6306802744285  
 Option 4 ID : 6306802744286  
 Status : Answered  
 Chosen Option : 3

Q.98 સાચી જોડણીવાળો શબ્દ શોધો

- Options
1. દિગ્વિજય
  2. માલીનિ
  3. અનૂભુતી
  4. સરસવતિ

Question ID : 630680700632  
 Option 1 ID : 6306802744505  
 Option 2 ID : 6306802744508  
 Option 3 ID : 6306802744506  
 Option 4 ID : 6306802744507  
 Status : Answered  
 Chosen Option : 2

Q.99 'शोणित' शब्दको समानार्थी शब्द शोधो

- Options
1. नदी
  2. रक्त
  3. लाल
  4. सुधिर

Question ID : 630680700596  
Option 1 ID : 6306802744363  
Option 2 ID : 6306802744364  
Option 3 ID : 6306802744362  
Option 4 ID : 6306802744361  
Status : Answered  
Chosen Option : 2

Q.100 કોઈપણ પક્ષમાં જ ન જોડાયેલું - શબ્દસમૂહ માટે એક શબ્દ આપો

- Options
1. વિપક્ષ
  2. સર્વપક્ષ
  3. અપક્ષ
  4. શુક્લપક્ષ

Question ID : 630680700583  
Option 1 ID : 6306802744309  
Option 2 ID : 6306802744310  
Option 3 ID : 6306802744312  
Option 4 ID : 6306802744311  
Status : Answered  
Chosen Option : 3