

16-04-2024 (CCE - Shift 2)

Privacy માટે પ્રથમ પેજ Remove કરેલ છે..

આપેલ પ્રશ્નમાં 4 સંખ્યા-જોડી આપવામાં આવી છે . અહીં (X) ની ડાબી બાજુની સંખ્યા (X) ની જમણી બાજુની સંખ્યા સાથે સંબંધિત છે. એક સમાન તર્કને આધારે જો ત્રણ જોડ એક સરખી હોય તો અસંગત જોડને શોધી કાઢો.

1. 15 X 3
2. 15 X 4
3. 10 X 6
4. 20 X 3

Question ID : 71  
 Option 1 ID : 1  
 Option 2 ID : 1 7  
 Option 3 ID : 1  
 Option 4 ID : 1  
 Status :  
 Chosen Option :

નીચે આપેલ પ્રશ્નમાં એક સવાલ અને બે વિધાનો આપેલ છે જેને '1' અને '2' એમ ક્રમાંકિત કરવામાં આવ્યા છે. વિધાનોમાં આપેલ માહિતી (ડેટા) એ સવાલનો જવાબ આપવા પૂરતી છે કે નહિ એ ઉમેદવારોએ નક્કી કરી જણાવવાનું છે.

સવાલ : દુર્ગાપુર અને પટના વચ્ચેનું સૌથી ટૂંક અંતર કેટલું છે?

વિધાનો :

1. દુર્ગાપુર દિલ્હીથી 100 કી.મી. દૂર છે.
2. પટના દિલ્હીથી 115 કી.મી દૂર છે.

1. ન તો વિધાન 1 કે ન તો વિધાન 2 પૂરતું છે
2. વિધાન 1 એકલું પૂરતું છે જ્યારે કે વિધાન 2 એકલું પૂરતું નથી
3. બન્ને વિધાનો 1 અને 2 પૂરતાં છે.
4. વિધાન 2 એકલું પૂરતું છે જ્યારે કે વિધાન 1 એકલું પૂરતું નથી

Question ID : 71 7  
 Option 1 ID : 1  
 Option 2 ID : 1  
 Option 3 ID : 1 7  
 Option 4 ID : 1  
 Status :  
 Chosen Option :

આપેલ શ્રેણીમાં પ્રશ્નચિહ્ન (?)ની જગ્યાએ શું આવે જેથી શ્રેણીને માત્ર ગુણાકાર અને સરવાળાની પ્રક્રિયાઓ દ્વારા તાર્કિક રીતે પૂર્ણ કરી શકાય?

1, 2, 5, 10, 13, ?, ?

1. 28, 25
2. 26, 29
3. 29, 26
4. 25, 28

Question ID : 71 7  
 Option 1 ID : 1  
 Option 2 ID : 1  
 Option 3 ID : 1 7  
 Option 4 ID : 1  
 Status :  
 Chosen Option :

Adda247

# Test Prime

**ALL EXAMS, ONE SUBSCRIPTION**



**1,00,000+**  
Mock Tests



**Personalised  
Report Card**



**Unlimited  
Re-Attempt**



**600+**  
Exam Covered



**25,000+** Previous  
Year Papers



**500%**  
Refund



**ATTEMPT FREE MOCK NOW**

જો 'M' એ 'x'ને રજૂ કરે, 'D' એ '+'ને રજૂ કરે, 'A' એ '+ને રજૂ કરે, 'S' એ denotes '-' ને રજૂ કરે તો આપેલ પદાવલીનું મૂલ્ય શું ફરશે?

3 S 36 D 4 A 8 M 2

1. 10
2. 14
3. 15
4. 13

Question ID : 71  
 Option 1 ID : 1 1  
 Option 2 ID : 1 17  
 Option 3 ID : 1 1  
 Option 4 ID : 1 1  
 Status :  
 Chosen Option : 1

જ્યારે પ્રજ્ઞ આકૃતિની છબી ડોટેડ લાઇન પર વાળવામાં આવે છે, ત્યારે નીચેનામાંથી કયો વિકલ્પ તેને રજૂ કરશે?

પ્રજ્ઞ આકૃતિ



જવાબ આકૃતિ



(a) (b) (c) (d)

1. c
2. b
3. d
4. કોઈપણ છબી પ્રજ્ઞ આકૃતિને રજૂ કરશે નહીં.

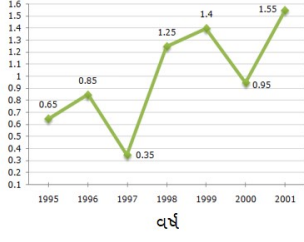
Question ID : 71 7  
 Option 1 ID : 1  
 Option 2 ID : 1 7  
 Option 3 ID : 1  
 Option 4 ID : 1  
 Status :  
 Chosen Option :

7 નમન માનવ કરતાં ઉમરમાં મોટો છે. માનવ યશ જેટલો મોટો નથી. ચિંતન યશ કરતાં મોટો છે પણ નમન જેટલો ઉમરનો નથી. કેશવ નમન કરતાં મોટો છે. તેઓમાં કોણ સૌથી મોટું છે?

1. ચિંતન
2. માનવ
3. કેશવ
4. યશ

Question ID : 71  
 Option 1 ID : 1 7  
 Option 2 ID : 1  
 Option 3 ID : 1  
 Option 4 ID : 1  
 Status :  
 Chosen Option :

નીચેઆપેલ રેખા આલેખ 1995 થી 2001ના સમયગાળા દરમિયાન કંપની દ્વારા કરવામાં આવેલી આયાતની રકમ અને તે કંપનીની નિકાસની રકમનો ગુણોત્તર દર્શાવે છે.



1997 થી 1998 દરમિયાન આયાતમાં કેટલા ટકા વધારો થયો હતો?

- 55
- ડેટા અપૂરતો છે
- 74
- 67

Question ID : 71 7  
 Option 1 ID : 1  
 Option 2 ID : 1  
 Option 3 ID : 1  
 Option 4 ID : 1 7  
 Status :  
 Chosen Option :

આપેલ શ્રેણીમાં પ્રથમચિહ્ન (?)ની જગ્યાએ શું આવે જેથી શ્રેણીને માત્ર બાદબાકી પદ્ધતિ દ્વારા તાર્કિક રીતે પૂર્ણ કરી શકાય ?

187, 158, 129, 100, ?

- 71
- 72
- 70
- 73

Question ID : 71 71  
 Option 1 ID : 1  
 Option 2 ID : 1  
 Option 3 ID : 1  
 Option 4 ID : 1  
 Status :  
 Chosen Option :

- 1 આપેલ વિધાન(નો) અને તારણો કાળજીપૂર્વક વાંચો. ધારી લો કે વિધાનોમાં આપવામાં આવેલી માહિતી સાચી છે, ભલે તે સામાન્ય રીતે જાણીતી હકીકતો કરતાં જુદી લાગતી હોય, નક્કી કરો કે આપેલ તારણોમાંથી કયું એ વિધાનને તાર્કિક રીતે અનુસરે છે.

વિધાનો:

- A. અમુક મીણબત્તીઓ દીવાસળી-પેટી છે.  
B. અમુક દીવાસળી-પેટીઓ અગ્નિ છે.

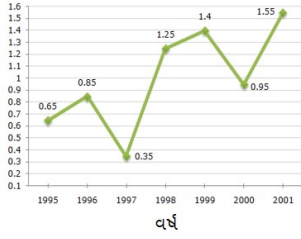
તારણો:

1. બધા અગ્નિ દીવાસળી-પેટી છે.  
2. બધી દીવાસળી-પેટીઓ મીણબત્તીઓ છે.

1. ન તો તારણ 1 ન તો 2 અનુસરે છે.  
2. માત્ર તારણ 2 અનુસરે છે.  
3. માત્ર તારણ 1 અનુસરે છે  
4. બન્ને તારણ 1 અને 2 અનુસરે છે

Question ID : 71  
Option 1 ID : 1 1  
Option 2 ID : 1  
Option 3 ID : 1  
Option 4 ID : 1  
Status :  
Chosen Option : 1

- 11 નીચેઆપેલ રેખા આલેખ 1995 થી 2001 ના સમયગાળા દરમિયાન કંપની દ્વારા કરવામાં આવેલી આયાતની રકમ અને તે કંપનીની નિકાસની રકમનો ગુણોત્તર દર્શાવે છે.



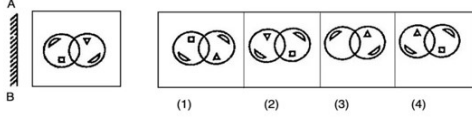
નીચેનામાંથી કયા વર્ષમાં, આયાત કંપનીની નિકાસના લઘુત્તમ પ્રમાણમાં હતી?

1. 1999  
2. 1998  
3. 2000  
4. 1997

Question ID : 71  
Option 1 ID : 1  
Option 2 ID : 1  
Option 3 ID : 1  
Option 4 ID : 1  
Status :  
Chosen Option :

Q.12 દર્પણને રેખા AB પર શિરોલંબ મૂકવામાં આવે ત્યારે નીચે પૈકી કઈ જવાબ આકૃતિ એ સવાલ આકૃતિની દર્પણ છબી હશે?

પ્રશ્ન આકૃતિ : જવાબ આકૃતિ:



- Options
1. 3
  2. 1
  3. 2
  4. 4

Question ID : 630680714953  
 Option 1 ID : 6306802801482  
 Option 2 ID : 6306802801480  
 Option 3 ID : 6306802801481  
 Option 4 ID : 6306802801483  
 Status : Answered  
 Chosen Option : 3

Q.13 નીચે આપેલ શ્રેણીને તાર્કિક રીતે પૂર્ણ કરવા માટે પ્રશ્ન ચિહ્ન (?)ના સ્થાને શું આવશે?

54, 45, 34, 21, 6, ?

- Options
1. 11
  2. 10
  3. -11
  4. -8

Question ID : 630680714976  
 Option 1 ID : 6306802801575  
 Option 2 ID : 6306802801574  
 Option 3 ID : 6306802801573  
 Option 4 ID : 6306802801572  
 Status : Answered  
 Chosen Option : 3

Q.14 સુનીલ (પુરુષ)ના પિતાના ભાઈના પિતાની પત્નીનો સુનીલ સાથે શું સબંધ છે?

- Options
1. માતા
  2. દાદી (Paternal Grandmother)
  3. નાની (Maternal Grandmother)
  4. સાસુ

Question ID : 630680714924  
 Option 1 ID : 6306802801365  
 Option 2 ID : 6306802801367  
 Option 3 ID : 6306802801366  
 Option 4 ID : 6306802801364  
 Status : Answered  
 Chosen Option : 2

Q.15 સીમાના પતિના સગા ભાઈના પિતાની પત્ની સીમા સાથે કઈ રીતે સંબંધિત છે ? (સીમા એક સ્ત્રી છે)

- Options
1. દીકરી
  2. સાસુ
  3. દીકરો
  4. પિતા

Question ID : 630680714926  
 Option 1 ID : 6306802801374  
 Option 2 ID : 6306802801373  
 Option 3 ID : 6306802801375  
 Option 4 ID : 6306802801372  
 Status : Answered  
 Chosen Option : 2

Q.16 જો  $C + D$  નો અર્થ  $C$  એ  $D$  ની માતા છે;  
 $C - D$  નો અર્થ  $C$  એ  $D$  નો ભાઈ છે;  
 $C \% D$  નો અર્થ  $C$  એ  $D$ નો પિતા છે અને  
 $C \times D$  નો અર્થ  $C$  એ  $D$  ની બહેન છે,  
 નીચેનામાંથી કયો વિકલ્પ એવું દર્શાવે છે, કે  $P$  એ  $N$  ના મામા છે?

- Options
1.  $P \% M+N \times Q$
  2.  $Q-S\%P$
  3.  $P+M+NXO$
  4.  $P-M+O \times N$

Question ID : 630680714921  
 Option 1 ID : 6306802801355  
 Option 2 ID : 6306802801352  
 Option 3 ID : 6306802801354  
 Option 4 ID : 6306802801353  
 Status : Answered  
 Chosen Option : 3

Q.17 નીચે આપેલ વેન-આકૃતિ અમુક વ્યક્તિઓ દ્વારા કરવામાં આવેલ ફોનો વપરાશ દર્શાવે છે.



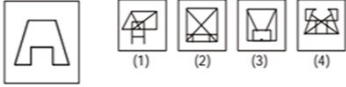
ઉપરોક્ત વેન-આકૃતિના આધારે કેટલી વ્યક્તિઓ માત્ર નારંગી પસંદ કરે છે?

- Options 1. 17  
2. 45  
3. 18  
4. 21

Question ID : 630680714934  
Option 1 ID : 6306802801404  
Option 2 ID : 6306802801406  
Option 3 ID : 6306802801405  
Option 4 ID : 6306802801407  
Status : Answered  
Chosen Option : 2

Q.18 કઈ સવાલ આકૃતિ એ નીચે આપેલમાંની જવાબ આકૃતિઓ પૈકી કોઈ એક ધરાવે છે (આકૃતિ પરિભ્રમણ કરવાની છૂટ નથી)?

પ્રશ્ન આકૃતિ : જવાબ આકૃતિ:



Options 1.

- સવાલ આકૃતિ એ આપેલ જવાબ આકૃતિઓ પૈકી એક પણ ધરાવતી નથી  
2. 2  
3. 1  
4. 3

Question ID : 630680714951  
Option 1 ID : 6306802801475  
Option 2 ID : 6306802801473  
Option 3 ID : 6306802801472  
Option 4 ID : 6306802801474  
Status : Answered  
Chosen Option : 1

Q.19 સારાહ મોહિની કરતાં ઉમરમાં મોટી છે. ઈકશા મોહિની કરતાં મોટી છે પણ સારાહ કરતાં નાની છે. રજની નીશા અને મોહિની બન્ને કરતાં નાની છે. મોહિની નીશા કરતાં મોટી છે. તેઓમાં કોણ સૌથી મોટું છે?

- Options
1. મોહિની
  2. રજની
  3. ઈકશા
  4. સારાહ

Question ID : 630680714939  
 Option 1 ID : 6306802801426  
 Option 2 ID : 6306802801424  
 Option 3 ID : 6306802801425  
 Option 4 ID : 6306802801427  
 Status : Answered  
 Chosen Option : 4

Q.20 નીચેનામાંથી કઈ જવાબ આકૃતિ નીચે આપેલ પ્રશ્ન આકૃતિમાં પ્રશ્ન ચિહ્નના સ્થાને આવશે? (રોટેશનની મંજૂરી નથી)

પ્રશ્ન આકૃતિ



જવાબ આકૃતિ

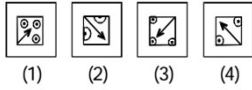


- Options
1. 1
  2. 3
  3. 4
  4. 2

Question ID : 630680714946  
 Option 1 ID : 6306802801452  
 Option 2 ID : 6306802801454  
 Option 3 ID : 6306802801455  
 Option 4 ID : 6306802801453  
 Status : Answered  
 Chosen Option : 2

Q.21 સવાલ આકૃતિમાંના પ્રશ્નચિહ્નના સ્થાને નીચે આપેલમાંની કઈ જવાબ આકૃતિ આવશે (આકૃતિ પરિભ્રમણ કરવાની છૂટ નથી)?

પ્રશ્ન આકૃતિ : જવાબ આકૃતિ:



- Options
1. 4
  2. 1
  3. 3
  4. 2

Question ID : 630680714956  
 Option 1 ID : 6306802801495  
 Option 2 ID : 6306802801492  
 Option 3 ID : 6306802801494  
 Option 4 ID : 6306802801493  
 Status : Answered  
 Chosen Option : 4

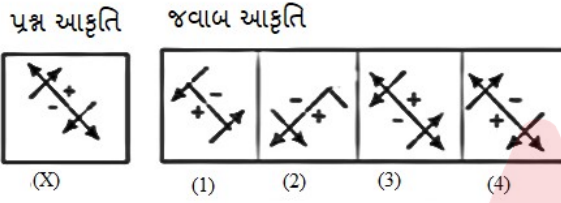
Q.22 માત્ર અવિભાજ્ય સંખ્યાઓના આધારે નીચેમાંથી કઈ જોડી નીચે આપેલ પદાવલી સમાન છે?

83 : 89 :: 127 : ?

- Options
1. 145
  2. 131
  3. 227
  4. 172

Question ID : 630680714984  
 Option 1 ID : 6306802801606  
 Option 2 ID : 6306802801604  
 Option 3 ID : 6306802801605  
 Option 4 ID : 6306802801607  
 Status : Answered  
 Chosen Option : 2

Q.23 નીચે આપેલા 4 વિકલ્પોમાંથી પ્રશ્ન આકૃતિ X ના જળ પ્રતિબિંબવાળી આકૃતિ કઈ છે?



- Options
1. 3
  2. 1
  3. કોઈ પણ આકૃતિ પ્રશ્ન આકૃતિ X નું જળ પ્રતિબિંબ નહીં હોય.
  4. 4

Question ID : 630680714955  
 Option 1 ID : 6306802801490  
 Option 2 ID : 6306802801488  
 Option 3 ID : 6306802801489  
 Option 4 ID : 6306802801491  
 Status : Answered  
 Chosen Option : 3

Q.24 માત્ર અવિભાજ્ય સંખ્યામાંથી સંખ્યા બાદ કરવાની પદ્ધતિને આધારે નીચેમાંથી કઈ જોડી એ નીચે આપેલ પદાવલી સમાન છે?

89 : 8

- Options
1. 17 : 5
  2. 98 : 6
  3. 73 : 6
  4. 14 : 4

Question ID : 630680714985  
 Option 1 ID : 6306802801608  
 Option 2 ID : 6306802801610  
 Option 3 ID : 6306802801609  
 Option 4 ID : 6306802801611  
 Status : Answered  
 Chosen Option : 2

- Q.25** નીચે આપેલ પ્રશ્નમાં એક સવાલ અને બે વિધાનો આપેલ છે જેને '1' અને '2' એમ ક્રમાંકિત કરવામાં આવ્યા છે. વિધાનોમાં આપેલ માહિતી (ડેટા) એ સવાલનો જવાબ આપવા પૂરતી છે કે નહિ એ ઉમેદવારોએ નક્કી કરી જણાવવાનું છે.
- સવાલ: માના, નીલા, ચોમી અને પરી નામની વ્યક્તિઓમાંની દરેકે જો એક પરિક્ષામાં જુદા જુદા ગુણ મેળવ્યા હોય તો તેઓમાં કોનું સ્થાન સૌથી છેલ્લું છે?
- વિધાનો:
1. પરીએ નીલીમા કરતાં ઓછાં ગુણ મેળવ્યા છે.
  2. નીલીમાએ પરી કરતાં સારા ગુણ મેળવ્યા છે.

- Options**
1. ન તો વિધાન 1 કે ન તો 2 પૂરતું છે
  2. બન્ને વિધાનો 1 અને 2 પૂરતાં છે
  3. વિધાન 1 એકલું પૂરતું છે જ્યારે કે વિધાન 2 એકલું પૂરતું નથી.
  4. વિધાન 2 એકલું પૂરતું છે જ્યારે કે વિધાન 1 એકલું પૂરતું નથી.

Question ID : 630680714936  
 Option 1 ID : 6306802801415  
 Option 2 ID : 6306802801414  
 Option 3 ID : 6306802801412  
 Option 4 ID : 6306802801413  
 Status : Answered  
 Chosen Option : 2

- Q.26** સંખ્યા 7654321 માંના અંકોને ચઢતા ક્રમમાં લખવામાં આવે તો કેટલા અંકોનું સ્થાન બદલાશે નહિ?

- Options**
1. 5
  2. 4
  3. 2
  4. 1

Question ID : 630680714965  
 Option 1 ID : 6306802801531  
 Option 2 ID : 6306802801530  
 Option 3 ID : 6306802801528  
 Option 4 ID : 6306802801529  
 Status : Answered  
 Chosen Option : 4

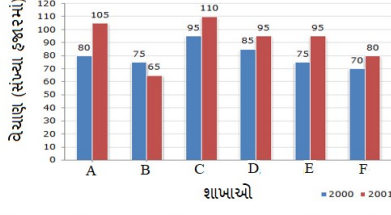
- Q.27** આપેલ સમીકરણમાંની કઈ બે સંખ્યાની અદલાબદલી કરવાથી નીચે આપેલ સમીકરણ ખરું થાય?
- $$18 - 30 \div 2 + 4 \times 36 = 93$$

- Options**
1. 18 અને 36
  2. 36 અને 4
  3. 2 અને 4
  4. 30 અને 18

Question ID : 630680714967  
 Option 1 ID : 6306802801539  
 Option 2 ID : 6306802801537  
 Option 3 ID : 6306802801536  
 Option 4 ID : 6306802801538  
 Status : Answered  
 Chosen Option : 4

**Q.28** નીચે આપેલ બાર આલેખ વર્ષ 2000 અને 2001 દરમિયાન પ્રકાશન કંપનીની છ શાખાઓમાંથી પ્રિન્ટર્સ (સંખ્યા હજારમાં)ના વેચાણનો ડેટા દર્શાવે છે.

2000 અને 2001 માં પ્રકાશન કંપનીની A, B, C, D, E અને F - છ શાખાઓમાંથી પ્રિન્ટર્સનું વેચાણ (સંખ્યા હજારમાં).



વર્ષ 2015 માટે તમામ શાખાઓ (સંખ્યા હજારમાં)નું સરેરાશ વેચાણ કેટલું છે?

- Options
1. 74
  2. 84
  3. 72
  4. 80

Question ID : 630680714994  
 Option 1 ID : 6306802801645  
 Option 2 ID : 6306802801647  
 Option 3 ID : 6306802801644  
 Option 4 ID : 6306802801646  
 Status : Answered  
 Chosen Option : 2

**Q.29** નીચે આપેલ પ્રશ્નમાં એક સવાલ અને બે વિધાનો આપેલ છે જેને '1' અને '2' એમ ક્રમાંકિત કરવામાં આવ્યા છે. વિધાનોમાં આપેલ માહિતી (ડેટા) એ સવાલનો જવાબ આપવા પૂરતી છે કે નહિ એ ઉમેદવારોએ નક્કી કરી જણાવવાનું છે.

સવાલ: જણાવો કે 'Waste'ને એક સંકેત (code)ની ભાષામાં કઈ રીતે લખવામાં આવશે?

વિધાનો:

1. 'Waste thy yours' ને ' I you mine' તરીકે લખવામાં આવશે.
2. 'that is waste'ને 'there you her' તરીકે લખવામાં આવશે.

- Options
1. વિધાન 2 એકલું પૂરતું છે જ્યારે કે વિધાન 1 એકલું પૂરતું નથી
  2. ન તો વિધાન 1 કે ન તો 2 પૂરતાં છે
  3. વિધાન 1 એકલું પૂરતું છે જ્યારે કે વિધાન 2 એકલું પૂરતું નથી
  4. બન્ને વિધાનો 1 અને 2 સાથે મળીને પૂરતાં છે

Question ID : 630680714937  
 Option 1 ID : 6306802801417  
 Option 2 ID : 6306802801419  
 Option 3 ID : 6306802801416  
 Option 4 ID : 6306802801418  
 Status : Answered  
 Chosen Option : 4

Q.30 જો 'A' નો અર્થ 'ગુણાકાર', 'B' નો અર્થ 'સરવાળો', 'C' નો અર્થ 'બાદબાકી' અને 'D' નો અર્થ 'ભાગાકાર' હોય, તો નીચેની પદાવલિનું મૂલ્ય શું હશે?

17 A 2 C 6 B 55 D 5 = ?

- Options
1. 30
  2. 38
  3. 39
  4. 36

Question ID : 630680714959  
 Option 1 ID : 6306802801507  
 Option 2 ID : 6306802801505  
 Option 3 ID : 6306802801506  
 Option 4 ID : 6306802801504  
 Status : Answered  
 Chosen Option : 3

Q.31 નીચે આપેલ પદાવલિમાં નીચેનામાંથી કયો વિકલ્પ પ્રશ્ન ચિહ્નના સ્થાને આવશે?

1388756 : 6578831:: 1279876: ?

- Options
1. 1728765
  2. 7125468
  3. 6789721
  4. 2174567

Question ID : 630680714982  
 Option 1 ID : 6306802801597  
 Option 2 ID : 6306802801599  
 Option 3 ID : 6306802801598  
 Option 4 ID : 6306802801596  
 Status : Answered  
 Chosen Option : 3

Q.32 નીચે આપેલ શ્રેણીને તાર્કિક રીતે પૂર્ણ કરવા માટે નીચેનામાંથી કયો વિકલ્પ પ્રશ્ન ચિહ્નનું સ્થાન લેશે?

258678 : 36:: 439764: ?

- Options
1. 38
  2. 33
  3. 25
  4. 35

Question ID : 630680714983  
 Option 1 ID : 6306802801602  
 Option 2 ID : 6306802801601  
 Option 3 ID : 6306802801603  
 Option 4 ID : 6306802801600  
 Status : Answered  
 Chosen Option : 1

Q.33 આપેલ શ્રેણીમાં પ્રશ્નચિહ્ન (?)ની જગ્યાએ શું આવે જેથી શ્રેણીને તાર્કિક રીતે પૂર્ણ કરી શકાય ?


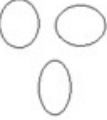


11, 107, 11, 103, 11, ?,

- Options
1. 110
  2. 108
  3. 101
  4. 109

Question ID : 630680714970  
 Option 1 ID : 6306802801551  
 Option 2 ID : 6306802801549  
 Option 3 ID : 6306802801548  
 Option 4 ID : 6306802801550  
 Status : Answered  
 Chosen Option : 3

Q.34 નીચેનામાંથી કઈ વેન-આકૃતિ વૃક્ષ, દેશ, લોહ વચ્ચેનો શ્રેષ્ઠ સંબંધ દર્શાવે છે?

Options

1. 
2. 
3. 
4. 

Question ID : 630680714931  
 Option 1 ID : 6306802801394  
 Option 2 ID : 6306802801395  
 Option 3 ID : 6306802801392  
 Option 4 ID : 6306802801393  
 Status : Answered  
 Chosen Option : 2

Q.35 નીચે આપેલ શ્રેણીને તાર્કિક રીતે પૂર્ણ કરવા માટે નીચેનામાંથી કયો વિકલ્પ પ્રશ્ન ચિહ્નનું સ્થાન લેશે?

1,3,11,123,?

- Options
1. 15190
  2. 15131
  3. 15125
  4. 15166

Question ID : 630680714989

Option 1 ID : 6306802801627

Option 2 ID : 6306802801625

Option 3 ID : 6306802801624

Option 4 ID : 6306802801626

Status : Answered

Chosen Option : 2

Q.36 નીચે આપેલ વેન આકૃતિ અમુક લોકો દ્વારા કરાતાં ફળોના સેવનને દર્શાવે છે.



ઉપર આપેલ વેન આકૃતિના આધારે જણાવો કે કેટલા લોકોને માત્ર કેરી અને માત્ર સફરજન પસંદ છે?

- Options
1. 23
  2. 21
  3. 18
  4. 15

Question ID : 630680714933

Option 1 ID : 6306802801402

Option 2 ID : 6306802801401

Option 3 ID : 6306802801403

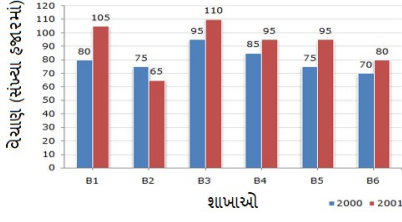
Option 4 ID : 6306802801400

Status : Answered

Chosen Option : 4

**Q.37** નીચે આપેલ બાર આલેખ વર્ષ 2010 અને 2011 દરમિયાન પ્રકાશન કંપનીની છ શાખાઓમાંથી ઝેરોક્ષ મશીન (સંખ્યા હજારમાં)ના વેચાણનો ડેટા દર્શાવે છે.

2021 અને 2022 માં કોલેજની છ શાખાઓ - B1, B2, B3, B4 B5 અને B6 માંથી ઝેરોક્ષ મશીનનું વેચાણ. (સંખ્યા હજારમાં)



બંને વર્ષો માટે B1, B3 અને B5 શાખાઓનું કુલ વેચાણ કેટલું છે? (સંખ્યા હજારમાં)

- Options
1. 560
  2. 650
  3. 625
  4. 575

Question ID : 630680714995  
 Option 1 ID : 6306802801648  
 Option 2 ID : 6306802801651  
 Option 3 ID : 6306802801650  
 Option 4 ID : 6306802801649  
 Status : Answered  
 Chosen Option : 1

**Q.38** સંખ્યા 9876543 માંના અંકોને ચઢતા ક્રમમાં લખવામાં આવે તો કેટલા અંકોનું સ્થાન બદલાશે નહિ?

- Options
1. 4
  2. 5
  3. 1
  4. 3

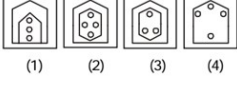
Question ID : 630680714964  
 Option 1 ID : 6306802801524  
 Option 2 ID : 6306802801527  
 Option 3 ID : 6306802801526  
 Option 4 ID : 6306802801525  
 Status : Answered  
 Chosen Option : 3

Q.39 નીચેનામાંથી કઈ જવાબ આકૃતિ નીચે આપેલ પ્રશ્ન આકૃતિમાં પ્રશ્ન ચિહ્નના સ્થાને આવશે? (રોટેશનની મંજૂરી નથી)

પ્રશ્ન આકૃતિ



જવાબ આકૃતિ



- Options 1. 3  
2. 1  
3. 4  
4. 2

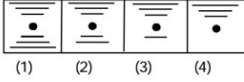
Question ID : 630680714945  
Option 1 ID : 6306802801450  
Option 2 ID : 6306802801448  
Option 3 ID : 6306802801451  
Option 4 ID : 6306802801449  
Status : Answered  
Chosen Option : 4

Q.40 નીચેનામાંથી કઈ જવાબ આકૃતિ નીચે આપેલ પ્રશ્ન આકૃતિમાં પ્રશ્ન ચિહ્નના સ્થાને આવશે? (રોટેશનની મંજૂરી નથી)

પ્રશ્ન આકૃતિ



જવાબ આકૃતિ



- Options 1. 4  
2. 3  
3. 2  
4. 1

Question ID : 630680714947  
Option 1 ID : 6306802801459  
Option 2 ID : 6306802801458  
Option 3 ID : 6306802801457  
Option 4 ID : 6306802801456  
Status : Answered  
Chosen Option : 1

Section : Quantitative Aptitude

Q.41 GP(સમગુણોત્તર શ્રેણી): 18, 36, 72,... નું 8મુ પદ શોધો.

- Options
1. 2120
  2. 2406
  3. 1844
  4. 2304

Question ID : 630680715073  
 Option 1 ID : 6306802801960  
 Option 2 ID : 6306802801963  
 Option 3 ID : 6306802801961  
 Option 4 ID : 6306802801962  
 Status : Answered  
 Chosen Option : 2

Q.42 15 વ્યક્તિઓના જૂથની સરેરાશ ઉંમર 40 વર્ષ છે. એક નવી વ્યક્તિ જૂથમાં જોડાય છે અને જૂથની સરેરાશ ઉંમર 42 વર્ષ થાય છે. નવા જોડાયેલા સભ્યની ઉંમર શોધો.

- Options
1. 74 વર્ષ
  2. 70 વર્ષ
  3. 72 વર્ષ
  4. 71 વર્ષ

Question ID : 630680715015  
 Option 1 ID : 6306802801731  
 Option 2 ID : 6306802801728  
 Option 3 ID : 6306802801729  
 Option 4 ID : 6306802801730  
 Status : Answered  
 Chosen Option : 1

Q.43 950 m લાંબી ટ્રેન 90 m/s ની ઝડપે આગળ વધી રહી છે. તે સમય શોધો કે જેમાં તે 5 m/s ની ઝડપે ચિરુક દિશામાંથી આવતા માણસને પાર કરશે.

- Options
1. 20 સેકન્ડ
  2. 30 સેકન્ડ
  3. 10 સેકન્ડ
  4. 12 સેકન્ડ

Question ID : 630680715060  
 Option 1 ID : 6306802801908  
 Option 2 ID : 6306802801910  
 Option 3 ID : 6306802801909  
 Option 4 ID : 6306802801911  
 Status : Answered  
 Chosen Option : 4

**Q.44** એક મોટરબાઇકની કિંમત પહેલા 18% વધી અને પછી 25% ઘટી. તો મોટરબાઇકની કિંમતમાં એકંદરે થયેલા ફેરફારની ટકાવારી શોધો.

- Options
1. 11.5% ઘટાડો
  2. 7% ઘટાડો
  3. 10% ઘટાડો
  4. 13.5% ઘટાડો

Question ID : 630680715035  
 Option 1 ID : 6306802801810  
 Option 2 ID : 6306802801808  
 Option 3 ID : 6306802801809  
 Option 4 ID : 6306802801811  
 Status : Answered  
 Chosen Option : 4

**Q.45** પાઇપ P અને Q સાથે મળીને એક ટાંકી 4 કલાકમાં ભરી શકે છે. એકલો પાઇપ Q એક ટાંકીને 12 કલાકમાં ભરી શકે છે. એકલા પાઇપ P ને ટાંકી ભરવામાં કેટલો સમય લાગશે?

- Options
1. 6 કલાક
  2. 4 કલાક
  3. 8 કલાક
  4. 12 કલાક

Question ID : 630680715050  
 Option 1 ID : 6306802801870  
 Option 2 ID : 6306802801868  
 Option 3 ID : 6306802801869  
 Option 4 ID : 6306802801871  
 Status : Answered  
 Chosen Option : 1

**Q.46** રવીનાની બે ગણી ઉંમર સીમાની ઉંમર કરતા ત્રણ ગણી છે. જો તેમની ઉંમરનો સરવાળો 75 વર્ષ હોય, તો રવીનાની ઉંમર શોધો.

- Options
1. 30 વર્ષ
  2. 60 વર્ષ
  3. 45 વર્ષ
  4. 15 વર્ષ

Question ID : 630680715048  
 Option 1 ID : 6306802801860  
 Option 2 ID : 6306802801863  
 Option 3 ID : 6306802801861  
 Option 4 ID : 6306802801862  
 Status : Answered  
 Chosen Option : 1

Q.47 ત્રણ પાઇપ્સ M, N અને O અનુક્રમે એક ટંકીને 10, 15 અને 25 મીનીટમાં ભરી શકે છે. જો ત્રણેય પાઇપને એકસાથે ખોલવામાં આવે, તો ટંકી ભરવામાં લાગતો સમય શોધો.

- Options
1.  $\frac{17}{7}$  મીનીટ
  2.  $\frac{150}{31}$  મીનીટ
  3.  $\frac{111}{31}$  મીનીટ
  4.  $\frac{15}{7}$  મીનીટ

Question ID : 630680715051  
 Option 1 ID : 6306802801874  
 Option 2 ID : 6306802801875  
 Option 3 ID : 6306802801873  
 Option 4 ID : 6306802801872  
 Status : Answered  
 Chosen Option : 3

Q.48 જો  $n + \frac{1}{n} = 11$  હોય, તો  $n^2 + \frac{1}{n^2}$  નું મૂલ્ય શોધો.

- Options
1. 119
  2. 121
  3. 117
  4. 123

Question ID : 630680715062  
 Option 1 ID : 6306802801917  
 Option 2 ID : 6306802801916  
 Option 3 ID : 6306802801919  
 Option 4 ID : 6306802801918  
 Status : Answered  
 Chosen Option : 2

Q.49 વિશાલ ત્રણ સમાન અંતર માટે 24 km/hr, 12 કિમી/કલાક અને 20 km/hr ની ઝડપે મુસાફરી કરે છે. જો તેના દ્વારા કરવામાં આવેલ મુસાફરીનું કુલ અંતર 720 km હોય, તો તેની સરેરાશ ઝડપ કેટલી છે? (બે દશાંશ સ્થાનો સુધીની સંખ્યા)

- Options
1. 16.66 km/hr
  2. 18.20 km/hr
  3. 19.50 km/hr
  4. 17.14 km/hr

Question ID : 630680715054  
 Option 1 ID : 6306802801884  
 Option 2 ID : 6306802801885  
 Option 3 ID : 6306802801887  
 Option 4 ID : 6306802801886  
 Status : Answered  
 Chosen Option : 2

Q.50 112 અને 114નો HCF (ગુ.સા.અ) શોધો.

- Options
1. 6
  2. 2
  3. 4
  4. 8

Question ID : 630680715026  
 Option 1 ID : 6306802801774  
 Option 2 ID : 6306802801772  
 Option 3 ID : 6306802801773  
 Option 4 ID : 6306802801775  
 Status : Answered  
 Chosen Option : 2

Q.51 જો 30 વસ્તુઓની કિંમત 45 વસ્તુઓની વેંચાણ કિંમત જેટલી હોય, તો નફા /નુકસાનની ટકાવારી શોધો.

- Options
1. 25% નુકસાન
  2.  $33\frac{1}{3}$  % નફો
  3.  $33\frac{1}{3}$  % નુકસાન
  4. 25% નફો

Question ID : 630680715036  
 Option 1 ID : 6306802801814  
 Option 2 ID : 6306802801815  
 Option 3 ID : 6306802801813  
 Option 4 ID : 6306802801812  
 Status : Answered  
 Chosen Option : 2

Q.52 એક ખુરશી ₹ 19740 માં વેચવા પર, અકરમને 16% ગુમાવે છે. ખુરશીની પડતર કિંમત શોધો.

- Options
1. ₹ 22200
  2. ₹ 20100
  3. ₹ 24200
  4. ₹ 23500

Question ID : 630680715039  
 Option 1 ID : 6306802801824  
 Option 2 ID : 6306802801825  
 Option 3 ID : 6306802801826  
 Option 4 ID : 6306802801827  
 Status : Answered  
 Chosen Option : 3

Q.53 AP (સમાંતર શ્રેણી) 4, 10, 16, .....,184 ના પદોની સંખ્યા શોધો.

- Options
1. 30
  2. 31
  3. 28
  4. 32

Question ID : 630680715071  
Option 1 ID : 6306802801953  
Option 2 ID : 6306802801952  
Option 3 ID : 6306802801954  
Option 4 ID : 6306802801955  
Status : Answered  
Chosen Option : 2

Q.54  $6543.44 + 543.44 - 98.66 - 11.2$  નું મૂલ્ય શોધો.

- Options
1. 6982.62
  2. 5422.62
  3. 6977.02
  4. 7844.62

Question ID : 630680715024  
Option 1 ID : 6306802801764  
Option 2 ID : 6306802801767  
Option 3 ID : 6306802801766  
Option 4 ID : 6306802801765  
Status : Answered  
Chosen Option : 3

Q.55 એક હોડી 2 કલાકમાં 18 km પ્રવાહની દિશામાં અને એટલું જ અંતર 6 કલાકમાં પ્રવાહની વિપરીત દિશામાં કાપી શકે છે. પ્રવાહની ગતિ શોધો.

- Options
1. 6 km/hr
  2. 3 km/hr
  3. 4 km/hr
  4. 5 km/hr

Question ID : 630680715059  
Option 1 ID : 6306802801904  
Option 2 ID : 6306802801905  
Option 3 ID : 6306802801906  
Option 4 ID : 6306802801907  
Status : Answered  
Chosen Option : 4

Q.56 પ્રાચીની બચત તેના ખર્ચના 20% છે. જો પ્રાચીની વાર્ષિક આવક ₹18,00,000 હોય, તો તેણીનો માસિક ખર્ચ શોધો.

- Options
1. ₹ 1,15,000
  2. ₹ 1,25,000
  3. ₹ 75,000
  4. ₹ 1,00,000

Question ID : 630680715033  
 Option 1 ID : 6306802801802  
 Option 2 ID : 6306802801803  
 Option 3 ID : 6306802801800  
 Option 4 ID : 6306802801801  
 Status : Answered  
 Chosen Option : 2

Q.57 અમન ધનબાદશી રાંચી સુધી 50 km/hr ની ઝડપે ગાડી ચલાવી અને 60 km/hr ની ઝડપે ધનબાદ પાછો ફર્યો. સમગ્ર પ્રવાસ દરમિયાનની તેની સરેરાશ ઝડપ શોધો.

- Options
1. 52.75 km/hr
  2. 54.55 km/hr
  3. 55 km/hr
  4. 57.7 km/hr

Question ID : 630680715055  
 Option 1 ID : 6306802801889  
 Option 2 ID : 6306802801890  
 Option 3 ID : 6306802801888  
 Option 4 ID : 6306802801891  
 Status : Answered  
 Chosen Option : 3

Q.58 નીચેનામાંથી કયો અપૂર્ણાંક 3.444444 ની સમકક્ષ છે....?

- Options
1.  $\frac{44}{9}$
  2.  $\frac{43}{7}$
  3.  $\frac{11}{7}$
  4.  $\frac{31}{9}$

Question ID : 630680715023  
 Option 1 ID : 6306802801763  
 Option 2 ID : 6306802801762  
 Option 3 ID : 6306802801760  
 Option 4 ID : 6306802801761  
 Status : Answered  
 Chosen Option : 1

Q.59 એક વસ્તુની ચિહ્નિત કિમત પર 25%ના ડિસ્કાઉન્ટ પછી તેની વેચાણ કિમત ₹ 45000 છે. તે વસ્તુની ચિહ્નિત કિમત શોધો.

- Options
1. ₹ 65000
  2. ₹ 75000
  3. ₹ 60000
  4. ₹ 52000

Question ID : 630680715040  
 Option 1 ID : 6306802801828  
 Option 2 ID : 6306802801830  
 Option 3 ID : 6306802801831  
 Option 4 ID : 6306802801829  
 Status : Answered  
 Chosen Option : 3

Q.60 12 અને 363નું સરેરાશ સમપ્રમાણ શોધો.

- Options
1. 33
  2. 132
  3. 66
  4. 55

Question ID : 630680715046  
 Option 1 ID : 6306802801853  
 Option 2 ID : 6306802801852  
 Option 3 ID : 6306802801854  
 Option 4 ID : 6306802801855  
 Status : Answered  
 Chosen Option : 1

Q.61 એક મિશ્રણમાં, દૂધ અને પાણીનો ગુણોત્તર 3:5 છે. જો તેમાં 22 લિટર પાણી ઉમેરવામાં આવે તો ગુણોત્તર 2:7 થાય છે. મિશ્રણની પ્રારંભિક માત્રા શોધો.

- Options
1. 32 લિટર
  2. 24 લિટર
  3. 40 લિટર
  4. 36 લિટર

Question ID : 630680715019  
 Option 1 ID : 6306802801746  
 Option 2 ID : 6306802801747  
 Option 3 ID : 6306802801745  
 Option 4 ID : 6306802801744  
 Status : Answered  
 Chosen Option : 2

Q.62 8%, 10% અને 15%ના કમિક ત્રણ ડિસ્કાઉન્ટની સમકક્ષ સિંગલ ડિસ્કાઉન્ટ શોધો.

- Options
1. 33.88%
  2. 31.54%
  3. 24.77%
  4. 29.62%

Question ID : 630680715042  
 Option 1 ID : 6306802801839  
 Option 2 ID : 6306802801838  
 Option 3 ID : 6306802801837  
 Option 4 ID : 6306802801836  
 Status : Answered  
 Chosen Option : 2

Q.63 જો  $uv = 18$  અને  $u^2 + v^2 = 85$  હોય, તો  $u^3 + v^3$  નું મૂલ્ય શોધો,  $u$  અને  $v$  બંને ધન છે.

- Options
1. 654
  2. 513
  3. 891
  4. 737

Question ID : 630680715817  
 Option 1 ID : 6306802804903  
 Option 2 ID : 6306802804904  
 Option 3 ID : 6306802804906  
 Option 4 ID : 6306802804905  
 Status : Answered  
 Chosen Option : 4

Q.64 જો  $m = 4$ ,  $n = 3$  અને  $p = -7$  હોય, તો  $m^3 + n^3 + p^3 - 3mnp$  નું મૂલ્ય શોધો.

- Options
1. 0
  2. 55
  3. 131
  4. -77

Question ID : 630680715067  
 Option 1 ID : 6306802801938  
 Option 2 ID : 6306802801937  
 Option 3 ID : 6306802801939  
 Option 4 ID : 6306802801936  
 Status : Answered  
 Chosen Option : 1

Q.65 બે ઉમેદવારો વચ્ચેની ચુંટણીમાં, વિજેતાને 52% મત મળે છે. જો કુલ મત 40,000 હોય, તો હારેલા ઉમેદવારે મેળવેલા મતો શોધો.

- Options
1. 17400
  2. 19200
  3. 20400
  4. 18400

Question ID : 630680715030  
 Option 1 ID : 6306802801791  
 Option 2 ID : 6306802801790  
 Option 3 ID : 6306802801789  
 Option 4 ID : 6306802801788  
 Status : Answered  
 Chosen Option : 1

Q.66 જો  $a + b = 17$  અને  $ab = 72$  હોય, તો  $a^3 + b^3$  નું મૂલ્ય શોધો.

- Options
1. 1144
  2. 1241
  3. 1753
  4. 1357

Question ID : 630680715065  
 Option 1 ID : 6306802801928  
 Option 2 ID : 6306802801930  
 Option 3 ID : 6306802801929  
 Option 4 ID : 6306802801931  
 Status : Answered  
 Chosen Option : 3

Q.67  $\frac{7}{4} \div \frac{14}{3}$  of  $\frac{1}{6} + \left(\frac{1}{3} - \frac{1}{4}\right)$  નું મૂલ્ય શોધો.

- Options
1.  $\frac{7}{3}$
  2.  $\frac{5}{12}$
  3.  $\frac{11}{6}$
  4.  $\frac{1}{3}$

Question ID : 630680715028  
 Option 1 ID : 6306802801782  
 Option 2 ID : 6306802801783  
 Option 3 ID : 6306802801781  
 Option 4 ID : 6306802801780  
 Status : Not Answered  
 Chosen Option : --

Q.68 ઋષિ અને રેહાનનું વજન 3:5ના ગુણોત્તરમાં છે. જો તેમનું કુલ વજન 160 kg હોય, તો રેહાનનું વજન શોધો.

- Options
1. 80 kg
  2. 60 kg
  3. 75 kg
  4. 100 kg

Question ID : 630680715044  
 Option 1 ID : 6306802801847  
 Option 2 ID : 6306802801844  
 Option 3 ID : 6306802801846  
 Option 4 ID : 6306802801845  
 Status : Not Answered  
 Chosen Option : --

Q.69 બે સહ-અવિભાજ્ય સંખ્યા T અને U નો LCM શું છે?

- Options
1. 2UT
  2. TU
  3. T-U
  4. T+U

Question ID : 630680715021  
 Option 1 ID : 6306802801754  
 Option 2 ID : 6306802801753  
 Option 3 ID : 6306802801755  
 Option 4 ID : 6306802801752  
 Status : Not Answered  
 Chosen Option : --

Q.70 સુનીલ અને વિક્રમની સરેરાશ પોકેટ મની ₹ 4000 છે અને શશી, રાહુલ અને વિયુષની સરેરાશ ₹ 6000 છે. પાંચેય લોકોની સરેરાશ પોકેટ મની શોધો.

- Options
1. ₹ 5300
  2. ₹ 5104
  3. ₹ 5200
  4. ₹ 4984

Question ID : 630680715017  
 Option 1 ID : 6306802801738  
 Option 2 ID : 6306802801737  
 Option 3 ID : 6306802801736  
 Option 4 ID : 6306802801739  
 Status : Not Answered  
 Chosen Option : --

**Q.71** Choose the correct option to complete the sentence:  
\_\_\_\_\_ are going to the movies tonight.

- Options**
1. They
  2. I
  3. She
  4. He

Question ID : 630680715088  
Option 1 ID : 6306802802022  
Option 2 ID : 6306802802020  
Option 3 ID : 6306802802023  
Option 4 ID : 6306802802021  
Status : Not Answered  
Chosen Option : --

**Q.72** Choose the appropriate synonym of the word given below:  
**ubiquitous**

- Options**
1. Widespread
  2. Sparse
  3. Occasional
  4. Limited

Question ID : 630680715124  
Option 1 ID : 6306802802166  
Option 2 ID : 6306802802164  
Option 3 ID : 6306802802167  
Option 4 ID : 6306802802165  
Status : Not Answered  
Chosen Option : --

**Q.73** Choose the correct option to complete the sentence:  
The \_\_\_\_\_ of the flowers filled the room with a pleasant fragrance.

- Options**
1. size
  2. weight
  3. scent
  4. shape

Question ID : 630680715082  
Option 1 ID : 6306802801998  
Option 2 ID : 6306802801996  
Option 3 ID : 6306802801999  
Option 4 ID : 6306802801997  
Status : Not Answered  
Chosen Option : --

**Q.74** In the following questions, the first and the last parts of the sentence are numbered 1 and 6. The rest of the sentence is split into four parts named, P, Q, R and S. These four parts are not given in their proper order. Read the parts and arrange them in the proper order.

1. The Indian Meteorological Department  
P. that the coming  
Q. monsoon would  
R. announced on Thursday  
S. "most likely" be normal  
6. this year

- Options**
1. PQRS
  2. RPQS
  3. SQRP
  4. RPSQ

Question ID : 630680715103  
Option 1 ID : 6306802802080  
Option 2 ID : 6306802802081  
Option 3 ID : 6306802802082  
Option 4 ID : 6306802802083  
Status : **Not Answered**  
Chosen Option : --

**Q.75** Choose the correct option to complete the sentence:  
The sun \_\_\_\_\_ in the east.

- Options**
1. risen
  2. rising
  3. rise
  4. rises

Question ID : 630680715094  
Option 1 ID : 6306802802046  
Option 2 ID : 6306802802047  
Option 3 ID : 6306802802045  
Option 4 ID : 6306802802044  
Status : **Not Answered**  
Chosen Option : --

**Q.76** Choose the appropriate synonym of the word given below:  
reverence

- Options**
1. Scorn
  2. Admiration
  3. Contempt
  4. Disdain

Question ID : 630680715122  
Option 1 ID : 6306802802156  
Option 2 ID : 6306802802158  
Option 3 ID : 6306802802159  
Option 4 ID : 6306802802157  
Status : **Not Answered**  
Chosen Option : --

**Q.77** In the given question, a statement divided into different segments is given. Rearrange all the segments to form a coherent statement:

**Browsing the**

**P- a bibliophile's fantasy come to life.**

**Q- towering columns of meticulously arranged books,**

**R- is not merely an act**

**S- but a ritual,**

**Options** 1. PQRS

2. PRQS

3. SRPQ

4. QRSP

Question ID : 630680715099

Option 1 ID : 6306802802067

Option 2 ID : 6306802802064

Option 3 ID : 6306802802065

Option 4 ID : 6306802802066

Status : **Not Answered**

Chosen Option : --

**Q.78** Choose the correct option to complete the sentence:

The rose is \_\_\_\_\_ sweetest of all flowers.

**Options** 1. another

2. an

3. a

4. the

Question ID : 630680715076

Option 1 ID : 6306802801975

Option 2 ID : 6306802801973

Option 3 ID : 6306802801972

Option 4 ID : 6306802801974

Status : **Not Answered**

Chosen Option : --

**Q.79** In the following questions, the first and the last parts of the sentence are numbered 1 and 6. The rest of the sentence is split into four parts named, P, Q, R and S. These four parts are not given in their proper order. Read the parts and arrange them in the proper order.

1. Last month, hundreds

P. of citizens hit the streets to

Q. defend democracy when

R. of thousands

S. a faction of the military

6. tried to seize power through a coup

**Options** 1. SPQR

2. RPQS

3. QPSR

4. PSQR

Question ID : 630680715106

Option 1 ID : 6306802802094

Option 2 ID : 6306802802093

Option 3 ID : 6306802802095

Option 4 ID : 6306802802092

Status : **Not Answered**

Chosen Option : --

Q.80 આપેલા વાક્યનું અંગ્રેજીમાં ભાષાંતર કરો. વાહા! તે અદ્ભુત છે!

- Options
1. Wow! That's awesome!
  2. How an awesome it was!
  3. What an awesome it is.
  4. Oh! You are awesome!

Question ID : 630680715227  
 Option 1 ID : 6306802802558  
 Option 2 ID : 6306802802557  
 Option 3 ID : 6306802802556  
 Option 4 ID : 6306802802559  
 Status : Not Answered  
 Chosen Option : --

Q.81 In the given question, a statement divided into different segments is given. Rearrange all the segments to form a coherent statement:

The fisherman,  
 P- a great effort to loosen  
 Q- then took a knife and put in  
 R- the lid from the jar  
 S- with a focused gaze and steady hands,

- Options
1. SQPR
  2. PSQR
  3. RQPS
  4. PRSQ

Question ID : 630680715096  
 Option 1 ID : 6306802802055  
 Option 2 ID : 6306802802052  
 Option 3 ID : 6306802802054  
 Option 4 ID : 6306802802053  
 Status : Not Answered  
 Chosen Option : --

#### Comprehension:

Read the passage carefully and answer the question that follows:

In the realm of employment, the quest for meaningful work and financial stability is a journey embarked upon by millions worldwide. With the evolving landscape of industries and technologies, the job market is both dynamic and competitive. Each individual seeks not just a job but a fulfilling career path that aligns with their passions, skills, and aspirations. Yet, employment isn't solely about earning a paycheck; it's about dignity, self-worth, and contributing to the greater community. The satisfaction derived from a job well done transcends monetary rewards, fostering a sense of purpose and fulfillment. However, the pursuit of employment is not without its challenges. Economic fluctuations, technological disruptions, and shifting labor demands create uncertainty and upheaval in the job market, leaving many grappling with unemployment or underemployment. Moreover, disparities in access to education, training, and opportunities exacerbate existing inequalities, perpetuating cycles of poverty and exclusion. Addressing these systemic barriers requires concerted efforts from governments, businesses, and civil society to promote inclusive growth and equitable access to employment.

SubQuestion No : 82

Q.82 Which of the following best summarizes the passage?

- Options
1. Disparities in access to education, training, and opportunities do not impact employment.
  2. Pursuit of fulfillment, facing challenges, fostering inclusivity globally.
  3. Only the government must make effort to promote inclusive growth and equitable access to employment.
  4. Employment is solely about earning a paycheck.

Question ID : 630680715143  
 Option 1 ID : 6306802802226  
 Option 2 ID : 6306802802224  
 Option 3 ID : 6306802802227  
 Option 4 ID : 6306802802225  
 Status : Not Answered  
 Chosen Option : --

**Comprehension:**

Read the passage carefully and answer the question that follows:

In the realm of employment, the quest for meaningful work and financial stability is a journey embarked upon by millions worldwide. With the evolving landscape of industries and technologies, the job market is both dynamic and competitive. Each individual seeks not just a job but a fulfilling career path that aligns with their passions, skills, and aspirations. Yet, employment isn't solely about earning a paycheck; it's about dignity, self-worth, and contributing to the greater community. The satisfaction derived from a job well done transcends monetary rewards, fostering a sense of purpose and fulfillment. However, the pursuit of employment is not without its challenges. Economic fluctuations, technological disruptions, and shifting labor demands create uncertainty and upheaval in the job market, leaving many grappling with unemployment or underemployment. Moreover, disparities in access to education, training, and opportunities exacerbate existing inequalities, perpetuating cycles of poverty and exclusion. Addressing these systemic barriers requires concerted efforts from governments, businesses, and civil society to promote inclusive growth and equitable access to employment.

**SubQuestion No : 83**

**Q.83** What does the term 'exacerbate' mean?

- Options**
1. To discover root cause of a problem
  2. To solve a problem efficiently
  3. To worsen a problem or to make it more severe
  4. To provide respite from suffering

Question ID : 630680715145  
Option 1 ID : 6306802802233  
Option 2 ID : 6306802802232  
Option 3 ID : 6306802802234  
Option 4 ID : 6306802802235  
Status : **Not Answered**  
Chosen Option : --

**Comprehension:**

Read the passage carefully and answer the question that follows:

In the realm of employment, the quest for meaningful work and financial stability is a journey embarked upon by millions worldwide. With the evolving landscape of industries and technologies, the job market is both dynamic and competitive. Each individual seeks not just a job but a fulfilling career path that aligns with their passions, skills, and aspirations. Yet, employment isn't solely about earning a paycheck; it's about dignity, self-worth, and contributing to the greater community. The satisfaction derived from a job well done transcends monetary rewards, fostering a sense of purpose and fulfillment. However, the pursuit of employment is not without its challenges. Economic fluctuations, technological disruptions, and shifting labor demands create uncertainty and upheaval in the job market, leaving many grappling with unemployment or underemployment. Moreover, disparities in access to education, training, and opportunities exacerbate existing inequalities, perpetuating cycles of poverty and exclusion. Addressing these systemic barriers requires concerted efforts from governments, businesses, and civil society to promote inclusive growth and equitable access to employment.

**SubQuestion No : 84**

**Q.84** Which of the following best suits the usage of the word 'pursuit' in the context of the passage?

- Options**
1. Watching television for leisure.
  2. Mugging up questions and answers from your textbook
  3. Engaging in activities as a profession or vocation
  4. Following someone closely with the intention of causing harm

Question ID : 630680715144  
Option 1 ID : 6306802802230  
Option 2 ID : 6306802802229  
Option 3 ID : 6306802802228  
Option 4 ID : 6306802802231  
Status : **Not Answered**  
Chosen Option : --

**Comprehension:**

Read the passage carefully and answer the question that follows:

In the realm of employment, the quest for meaningful work and financial stability is a journey embarked upon by millions worldwide. With the evolving landscape of industries and technologies, the job market is both dynamic and competitive. Each individual seeks not just a job but a fulfilling career path that aligns with their passions, skills, and aspirations. Yet, employment isn't solely about earning a paycheck; it's about dignity, self-worth, and contributing to the greater community. The satisfaction derived from a job well done transcends monetary rewards, fostering a sense of purpose and fulfillment. However, the pursuit of employment is not without its challenges. Economic fluctuations, technological disruptions, and shifting labor demands create uncertainty and upheaval in the job market, leaving many grappling with unemployment or underemployment. Moreover, disparities in access to education, training, and opportunities exacerbate existing inequalities, perpetuating cycles of poverty and exclusion. Addressing these systemic barriers requires concerted efforts from governments, businesses, and civil society to promote inclusive growth and equitable access to employment.

**SubQuestion No : 85**

**Q.85 What is emphasized as a key aspect of employment beyond earning a paycheck?**

- Options**
1. Seeking personal leisure time
  2. Contributing to the greater community
  3. Ignoring job satisfaction
  4. Pursuing monetary rewards

Question ID : 630680715142  
 Option 1 ID : 6306802802223  
 Option 2 ID : 6306802802221  
 Option 3 ID : 6306802802222  
 Option 4 ID : 6306802802220  
 Status : **Not Answered**  
 Chosen Option : --

## Section : Gujarati

**Q.86 રૂઢિપ્રયોગનો અર્થ આપો :  
છોડા કાઢી નાખવાં**

- Options**
1. ઠપકો આપવો
  2. ફળ છોલવું
  3. સફાઈ કરવી
  4. ઉશ્કેરવું

Question ID : 630680715153  
 Option 1 ID : 6306802802260  
 Option 2 ID : 6306802802261  
 Option 3 ID : 6306802802262  
 Option 4 ID : 6306802802263  
 Status : **Answered**  
 Chosen Option : 4

**Q.87 નીચેની કાવ્ય-પંક્તિ વાંચી તેની નીચે આપેલા પ્રશ્નનો જવાબ આપો.  
મને શિશુ તણી ગમે સરળ સૃષ્ટિ સ્નેહે ભરી,નિખાલસ સમત્વ ને અનઘ એક આનંદની.  
પ્રશ્ન: કવિને શું ગમે છે?**

- Options**
1. શૈશવ
  2. આનંદ
  3. સૃષ્ટિ
  4. નિખાલસતા

Question ID : 630680715218  
 Option 1 ID : 6306802802521  
 Option 2 ID : 6306802802523  
 Option 3 ID : 6306802802520  
 Option 4 ID : 6306802802522  
 Status : **Answered**  
 Chosen Option : 3

Q.88 કહેવતનો અર્થ આપો:  
નહીં ઘરના કે નહીં ઘાટના

- Options
1. કશું જ ન હોવું
  2. બેડોળ હોવું
  3. ન આ બાજુના કે નહિ તે બાજુના
  4. ઘર ન હોવું

Question ID : 630680715160  
Option 1 ID : 6306802802291  
Option 2 ID : 6306802802290  
Option 3 ID : 6306802802288  
Option 4 ID : 6306802802289  
Status : Answered  
Chosen Option : 3

Q.89 આપેલા વાક્યનું કર્તરિમાં પરિવર્તન કરો.  
મારાથી નવલકથા વંચાય છે.

- Options
1. મારે નવલકથા વાંચવી છે.
  2. હું નવલકથા વાંચવાનો છું.
  3. હું નવલકથા વાંચું છું.
  4. હું નવલકથા વાંચીશ.

Question ID : 630680715191  
Option 1 ID : 6306802802412  
Option 2 ID : 6306802802415  
Option 3 ID : 6306802802413  
Option 4 ID : 6306802802414  
Status : Answered  
Chosen Option : 3

Q.90 આપેલા વાક્યનું કર્મણિમાં પરિવર્તન કરો.  
રામ વનમાં જાય છે.

- Options
1. રામથી વનમાં જવાય છે,
  2. રામથી વનમાં જવાશે.
  3. રામ વનમાં જશે,
  4. રામ વનમાં ગયા હતા.

Question ID : 630680715190  
Option 1 ID : 6306802802408  
Option 2 ID : 6306802802411  
Option 3 ID : 6306802802409  
Option 4 ID : 6306802802410  
Status : Answered  
Chosen Option : 1

Q.91 સાચી જોડણીવાળો શબ્દ શોધો.

- Options
1. સુરૂચિ
  2. વિજ્ઞાતીય
  3. કમિશ્નર
  4. સ્વાદિષ્ટ

Question ID : 630680715212  
Option 1 ID : 6306802802496  
Option 2 ID : 6306802802499  
Option 3 ID : 6306802802498  
Option 4 ID : 6306802802497  
Status : Answered  
Chosen Option : 4

Q.92 નીચેનો ગદ્યખંડ વાંચી તેની નીચે આપેલા પ્રશ્નનો જવાબ આપો.  
વ્યક્તિને માટે શું કે સમાજને માટે શું, જીવનના ત્રણ પ્રકાર છે. બીજાને મારીને જીવવું એ પ્રકાર સર્વત્ર છે જ.આને જ જીવનક્રમ કહે છે. આ પ્રકારથી જીવન ટકે છે અથવા બહુ બહુ તો વિસ્તાર પામે છે એટલો જ એમાં લાભ છે. પણ એમાં જીવન સાફલ્ય નથી.  
પ્રશ્ન: જીવવાનો કયો પ્રકાર વ્યાપક છે?

- Options
1. જીવનક્રમ
  2. જીવન સાફલ્યનો
  3. બીજાને મારીને જીવવું
  4. જેમાં લાભ છે તે

Question ID : 630680715217  
Option 1 ID : 6306802802518  
Option 2 ID : 6306802802517  
Option 3 ID : 6306802802516  
Option 4 ID : 6306802802519  
Status : Answered  
Chosen Option : 2

Q.93 શબ્દસમૂહ માટે એક શબ્દ લખો:  
ચાર ગાઉ

- Options
1. માર્દલ
  2. યોજન
  3. કોશ
  4. વાર

Question ID : 630680715185  
Option 1 ID : 6306802802389  
Option 2 ID : 6306802802388  
Option 3 ID : 6306802802390  
Option 4 ID : 6306802802391  
Status : Answered  
Chosen Option : 1

Q.94 રૂઢિપ્રયોગનો અર્થ આપો :  
ખાંચો કાઢવો

- Options
1. ખાડો કરવો
  2. ખૂણો કરવો
  3. ખૂણો દોરવો
  4. વાંધો કાઢવો

Question ID : 630680715156  
Option 1 ID : 6306802802275  
Option 2 ID : 6306802802272  
Option 3 ID : 6306802802273  
Option 4 ID : 6306802802274  
Status : Answered  
Chosen Option : 2

Q.95 સમાસ ઓળખાવો: રોકકળ

Options 1. તત્પુરુષ સમાસ

2. બહુવ્રીહિ સમાસ
3. ઉપપદ સમાસ
4. દ્વંદ્વ સમાસ

Question ID : 630680715166

Option 1 ID : 6306802802314

Option 2 ID : 6306802802313

Option 3 ID : 6306802802312

Option 4 ID : 6306802802315

Status : Answered

Chosen Option : 4

Q.96 આપેલા શબ્દનો સાચો સંધિવિગ્રહ પસંદ કરો.  
સંચય

Options 1. સન્ + ચય

2. સમ્ + ચય
3. સં + ચય
4. સંચ + ય

Question ID : 630680715206

Option 1 ID : 6306802802473

Option 2 ID : 6306802802474

Option 3 ID : 6306802802472

Option 4 ID : 6306802802475

Status : Answered

Chosen Option : 1

Q.97 સમાસનો સાચો વિગ્રહ શોધો: સિંહાસન

Options 1. સિંહનું આસન

2. સિંહની આકૃતિવાળું આસન
3. સિંહ જેવું આસન
4. સિંહ જ્યાં બેસે છે તે આસન

Question ID : 630680715172

Option 1 ID : 6306802802336

Option 2 ID : 6306802802338

Option 3 ID : 6306802802337

Option 4 ID : 6306802802339

Status : Answered

Chosen Option : 2

Q.98 કહેવતનો અર્થ આપો:  
ઘીરજનાં ફળ મીઠાં

Options 1. ઘીરજ રાખવાથી સારું પરિણામ આવે છે.

2. મોડાં ફળ આવે તે મીઠાં હોય છે.
3. જે ફળ મોડાં પાકે તે મીઠાં હોય છે.
4. મીઠાં ફળ ખાવાથી તાકાત આવે છે.

Question ID : 630680715162

Option 1 ID : 6306802802299

Option 2 ID : 6306802802297

Option 3 ID : 6306802802298

Option 4 ID : 6306802802296

Status : Answered

Chosen Option : 1

Q.99 શુદ્ધ વિધાનનો વિકલ્પ પસંદ કરો.

Options 1. બા અમદાવાદ ગયા.

2. તમારે શું વસ્તુ જોઈએ છે?
3. તમે શું ફેરફાર કહેતા હતા?
4. આ ચિત્રનો શો ભાવ છે?

Question ID : 630680715195

Option 1 ID : 6306802802430

Option 2 ID : 6306802802429

Option 3 ID : 6306802802428

Option 4 ID : 6306802802431

Status : Answered

Chosen Option : 2

Q.100 Translate the following sentence into Gujarati:  
It's the only reasonable way to save our planet.

Options 1. આપણે ગ્રહને બચાવવાનો આ એક સૌથી વાજબી ઉપાય કરીશું.

2. આપણા ગ્રહને બચાવવાનો આ એક સૌથી વાજબી ઉપાય છે.
3. આપણા ગ્રહને બચાવવા એક સૌથી વાજબી ઉપાય કરવો જોઈએ.
4. આપણા ગ્રહને બચાવવાનો આ એક સૌથી વાજબી ઉપાય છે.

Question ID : 630680715232

Option 1 ID : 6306802802577

Option 2 ID : 6306802802579

Option 3 ID : 6306802802578

Option 4 ID : 6306802802576

Status : Not Answered

Chosen Option : --