

15-04-2024 (CCE - Shift 3)

Privacy માટે પ્રથમ પેજ Remove કરેલ છે..

**Q.2** આપેલા વિધાન(વિધાનો) અને તારણોને કાળજીપૂર્વક વાંચો. એવું માનીને કે વિધાનોમાં આપવામાં આવેલી માહિતી સાચી છે, ભલે તે સામાન્ય રીતે જાણીતી હકીકતોથી ભિન્ન વાગતી હોય, નક્કી કરો કે વિધાન(વિધાનો)માંથી આપેલા તારણો પૈકી કયું તારણ તાર્કિક રીતે અનુસરે છે.

વિધાનો:

તમામ ઘાસ બાવળ છે.

તમામ બાવળ કેશુડા છે.

તારણો:

1. તમામ કેશુડા બાવળ છે.

2. તમામ કેશુડા ઘાસ છે.

Options

- માત્ર તારણ 2 અનુસરે છે.
- તારણ 1 અને તારણ 2 બંને અનુસરે છે
- માત્ર તારણ 1 અનુસરે છે.
- ન તો તારણ 1 કે ન તો તારણ 2 અનુસરે છે.

Question ID : 630680725988

Option 1 ID : 6306802844990

Option 2 ID : 6306802844989

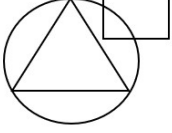
Option 3 ID : 6306802844988

Option 4 ID : 6306802844991

Status : Answered

Chosen Option : 4

**Q.3** નીચેનું વિધાન વાંચો અને નીચેની વેન આકૃતિના આધારે તેનો જવાબ આપો. શહેરની વેન આકૃતિ નીચે મુજબ છે જ્યાં શિક્ષકો વર્તુળ દ્વારા, તત્વજ્ઞાનીઓ ચોરસ દ્વારા અને ક્વાકારો ત્રિકોણ દ્વારા રજૂ થાય છે. નીચેની આકૃતિમાં બતાવ્યા પ્રમાણે શહેરમાં સૌથી વધુ કોનું પ્રતિનિધિત્વ છે?



Options

- શિક્ષકો અને ક્વાકારો બંને
- ક્વાકારો
- શિક્ષકો અને તત્વજ્ઞાનીઓ બંને
- તત્વજ્ઞાનીઓ

Question ID : 630680725993

Option 1 ID : 6306802845010

Option 2 ID : 6306802845011

Option 3 ID : 6306802845008

Option 4 ID : 6306802845009

Status : Answered

Chosen Option : 4

Adda247

# Test Prime

**ALL EXAMS, ONE SUBSCRIPTION**



**1,00,000+**  
Mock Tests



**Personalised  
Report Card**



**Unlimited  
Re-Attempt**



**600+**  
Exam Covered



**25,000+** Previous  
Year Papers



**500%**  
Refund



**ATTEMPT FREE MOCK NOW**

**Q.4** નીચેના પ્રશ્નમાં 'પ્રશ્ન' અને તેની નીચે ક્રમાંકિત 1 અને 2 એમ બે વિધાનોનો સમાવેશ થાય છે. ઉમેદવારોએ એ નક્કી કરવાનું છે કે વિધાનોમાં આપવામાં આવેલી માહિતી પ્રશ્નનો જવાબ આપવા માટે પર્યાપ્ત છે કે કેમ.

પ્રશ્ન: M નો નવીન સાથે શું સંબંધ છે?

વિધાનો:

1. બબ્બીતા M ની પુત્રી છે.
2. નવીન એ કાર્તિકનો પુત્ર છે.

Options

1. ન તો વિધાન 1 કે ન તો વિધાન 2 પર્યાપ્ત છે
2. વિધાન 1 અને વિધાન 2 બંને પર્યાપ્ત છે
3. વિધાન 1 એકલું પર્યાપ્ત છે જ્યારે વિધાન 2 એકલું પર્યાપ્ત નથી
4. વિધાન 2 એકલું પર્યાપ્ત છે જ્યારે વિધાન 1 એકલું પર્યાપ્ત નથી

Question ID : 630680725998

Option 1 ID : 6306802845031

Option 2 ID : 6306802845030

Option 3 ID : 6306802845028

Option 4 ID : 6306802845029

Status : Answered

Chosen Option : 1

**Q.5** A ના સગા ભાઈના પિતાની પત્નીની પુત્રીનો A સાથે શું સંબંધ છે? (A પુરુષ છે).

Options

1. માતા
2. ભત્રીજો
3. ભાભી/સાળી (Sister in Law)
4. બહેન

Question ID : 630680725984

Option 1 ID : 6306802844975

Option 2 ID : 6306802844974

Option 3 ID : 6306802844973

Option 4 ID : 6306802844972

Status : Answered

Chosen Option : 4

Q.6 નીચેનામાંથી કઈ જોડી નીચે આપેલ પદાવલીને સમાન છે?

9 : 2

- Options
1. 14 : 41
  2. 61 : 6
  3. 98 : 6
  4. 17 : 5

Question ID : 630680726045

Option 1 ID : 6306802845219

Option 2 ID : 6306802845217

Option 3 ID : 6306802845218

Option 4 ID : 6306802845216

Status : Answered

Chosen Option : 4

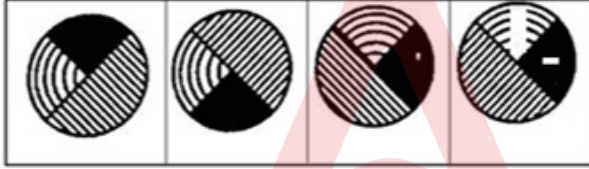
Q.7 નીચે આપેલા 4 વિકલ્પોમાંથી મૂળ છબી X નું જળ પ્રતિબિંબ કયું હશે?

પ્રશ્ન-આકૃતિ



(X)

જવાબ-આકૃતિ



(1)

(2)

(3)

(4)

- Options
1. 1
  2. 4
  3. 2
  4. 3

Question ID : 630680726015

Option 1 ID : 6306802845096

Option 2 ID : 6306802845099

Option 3 ID : 6306802845097

Option 4 ID : 6306802845098

Status : Answered

Chosen Option : 4

Q.8 નીચેના કોષ્ટકમાં છ વિદ્યાર્થીઓએ પરીક્ષામાં છ જુદા જુદા વિષયોમાં મેળવેલા ગુણની ટકાવારી આપેલ છે. કૌંસમાં આપેલ નંબરો દરેક વિષયમાં મહત્તમ ગુણ દર્શાવે છે.

વિદ્યાર્થી	વિષય (મહત્તમ ગુણ)					
	ઇકોલોજી (100)	હિન્દી (100)	જિનેટિક્સ (100)	તત્વજ્ઞાન (100)	વાણિજ્ય (100)	મેડીસીન (100)
અવિક	45	94	89	69	75	54
ભાવના	84	59	99	79	53	46
ડેનિશ	89	77	55	65	45	97
ગીતા	95	88	77	47	69	49
રાશી	58	48	69	85	79	93
સુરજ	93	52	46	81	85	94

ઉપરોક્ત કોષ્ટકના આધારે, નીચેનામાંથી કયા વિષયમાં સુરજને સૌથી વધુ ગુણ મળ્યા છે.

- Options
1. આયુર્વેદ
  2. તત્વજ્ઞાન
  3. હિન્દી
  4. વાણિજ્ય

Question ID : 630680726060  
 Option 1 ID : 6306802845277  
 Option 2 ID : 6306802845278  
 Option 3 ID : 6306802845279  
 Option 4 ID : 6306802845276

Status : Answered

Chosen Option : 1

Q.9 સંખ્યા 7612543માં અંકને તેમના યડતા ક્રમમાં લખવામાં આવે તો કેટલા અંકો તેમની સ્થિતિ બદલશે નહીં?

- Options
1. 1
  2. 2
  3. 4
  4. 0

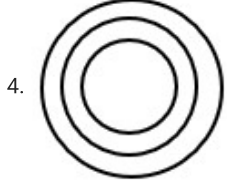
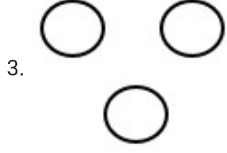
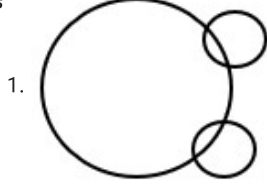
Question ID : 630680726023  
 Option 1 ID : 6306802845130  
 Option 2 ID : 6306802845131  
 Option 3 ID : 6306802845129  
 Option 4 ID : 6306802845128

Status : Answered

Chosen Option : 2

Q.10 નીચેનામાંથી કઈ વેન આકૃતિ પોપટ, ચકલી, પક્ષી વચ્ચેનો શ્રેષ્ઠ સંબંધ દર્શાવે છે?

Options



Question ID : 630680725991

Option 1 ID : 6306802845003

Option 2 ID : 6306802845002

Option 3 ID : 6306802845000

Option 4 ID : 6306802845001

Status : Answered

Chosen Option : 2

Q.11 નીચે આપેલ સમીકરણને સાચું બનાવવા માટે નીચેના સમીકરણમાં કઈ બે સંખ્યાઓનું સ્થાન પરસ્પર બદલવું જોઈએ?

$$16 - 7 \div 2 + 3 \times 5 = 14$$

Options

1. 2 અને 5

2. 16 અને 7

3. 3 અને 5

4. 2 અને 16

Question ID : 630680726027

Option 1 ID : 6306802845144

Option 2 ID : 6306802845145

Option 3 ID : 6306802845147

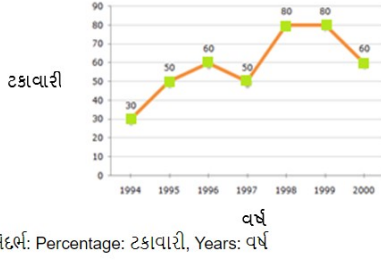
Option 4 ID : 6306802845146

Status : Not Answered

Chosen Option : --

**Q.12** નીચેનો રેખા આલેખ 1994 થી 2000 સુધીના સાત વર્ષના સમયગાળામાં ગાયન સ્પર્ધામાં ભાગ લેનારા કુલ વિદ્યાર્થીઓમાંથી ગાયન સ્પર્ધામાં વાયકાત મેળવનારા વિદ્યાર્થીઓની સંખ્યાની ટકાવારી દર્શાવે છે.

વરસો વરસ પરીક્ષામાં ગાયન સ્પર્ધામાં ભાગ લેવા માટે વાયકાત ધરાવતા વિદ્યાર્થીઓની ટકાવારી.



સંદર્ભ: Percentage: ટકાવારી, Years: વર્ષ

જો 1996 અને 1997 માં કુલ વિદ્યાર્થીઓની સંખ્યા 47,400 હતી, તો આ બે વર્ષમાં કુલ વાયકાત ધરાવતા ઉમેદવારોની સંખ્યા કેટલી હતી?

- Options**
1. ડેટા અપૂરતો છે
  2. 32,100
  3. 34,700
  4. 31,500

Question ID : 630680726058

Option 1 ID : 6306802845271

Option 2 ID : 6306802845269

Option 3 ID : 6306802845268

Option 4 ID : 6306802845270

Status : Not Answered

Chosen Option : --

**Q.13** નીચેનામાંથી કયો વિકલ્પ પ્રશ્ન ચિહ્નનું સ્થાન લેશે?  
73 : 79 :: 113 : ?

- Options**
1. 172
  2. 145
  3. 117
  4. 127

Question ID : 630680726044

Option 1 ID : 6306802845215

Option 2 ID : 6306802845214

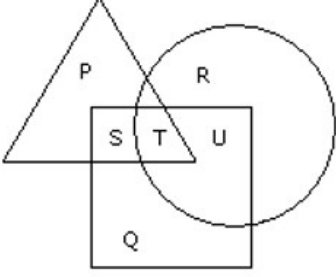
Option 3 ID : 6306802845212

Option 4 ID : 6306802845213

Status : Not Answered

Chosen Option : --

- Q.14 નીચેનું વિધાન વાંચો અને નીચેની વેન આકૃતિના આધારે તેનો જવાબ આપો.  
નીચે આપેલ આકૃતિમાં, ચોરસ અભિનેતાઓનું પ્રતિનિધિત્વ કરે છે, ત્રિકોણ વેખકોનું પ્રતિનિધિત્વ કરે છે અને વર્તુળ નિર્માતાનું પ્રતિનિધિત્વ કરે છે. એવા વેખકો જે અભિનેતા અને નિર્માતા બંને હોય તે કયા અક્ષર દ્વારા રજૂ થાય છે?



- Options
1. Q
  2. T
  3. R
  4. P

Question ID : 630680725994

Option 1 ID : 6306802845015

Option 2 ID : 6306802845013

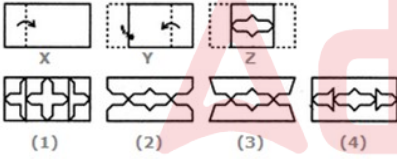
Option 3 ID : 6306802845014

Option 4 ID : 6306802845012

Status : Answered

Chosen Option : 2

- Q.15 નીચેનામાંથી શ્રેષ્ઠ વિકલ્પ પસંદ કરો, જે આકૃતિ (Z) ના ખુલ્લા સ્વરૂપને સૌથી વધુ મળતું આવે છે.



- Options
1. 3
  2. 4
  3. 2
  4. 1

Question ID : 630680726018

Option 1 ID : 6306802845110

Option 2 ID : 6306802845111

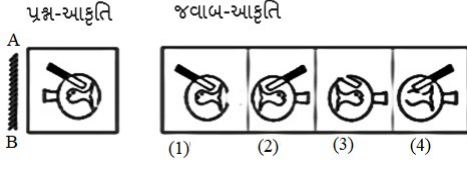
Option 3 ID : 6306802845109

Option 4 ID : 6306802845108

Status : Answered

Chosen Option : 3

Q.16 જ્યારે દર્પણને AB રેખા પર લંબ રીતે મૂકવામાં આવે ત્યારે નીચેની જવાબ-આકૃતિમાંથી કઈ પ્રશ્ન આકૃતિની દર્પણ છબી હશે?



- Options
1. 3
  2. 1
  3. 2
  4. 4

Question ID : 630680726013

Option 1 ID : 6306802845090

Option 2 ID : 6306802845088

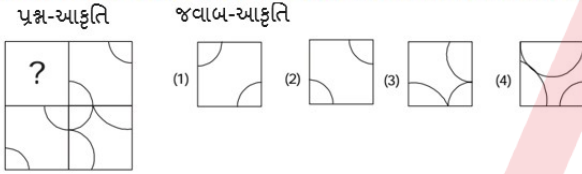
Option 3 ID : 6306802845089

Option 4 ID : 6306802845091

Status : Answered

Chosen Option : 3

Q.17 નીચેનામાંથી કઈ જવાબ-આકૃતિ નીચે આપેલ પ્રશ્ન-આકૃતિમાં પ્રશ્ન ચિહ્નના સ્થાને આવશે? (રોટેશનની મંજૂરી નથી)?



- Options
1. 1
  2. 3
  3. 4
  4. 2

Question ID : 630680726005

Option 1 ID : 6306802845056

Option 2 ID : 6306802845058

Option 3 ID : 6306802845059

Option 4 ID : 6306802845057

Status : Answered

Chosen Option : 2

**Q.18** નીચેના પ્રશ્નમાં 'પ્રશ્ન' અને તેની નીચે ક્રમાંકિત 1 અને 2 એમ બે વિધાનોનો સમાવેશ થાય છે. ઉમેદવારોએ એ નક્કી કરવાનું છે કે વિધાનોમાં આપવામાં આવેલી માહિતી પ્રશ્નનો જવાબ આપવા માટે પર્યાપ્ત છે કે કેમ.

પ્રશ્ન: રવિશનો જન્મ કઈ સાલમાં થયો હતો?

વિધાનો:

1. રવિશનો જન્મ મંગળવારે થયો હતો.

2. રવિશનો જન્મ 1978 પછી થયો હતો પરંતુ 1980 પહેલા થયો હતો.

- Options**
1. વિધાન 1 એકલું પર્યાપ્ત છે જ્યારે વિધાન 2 એકલું પર્યાપ્ત નથી
  2. વિધાન 2 એકલું પર્યાપ્ત છે જ્યારે વિધાન 1 એકલું પર્યાપ્ત નથી
  3. વિધાન 1 અને વિધાન 2 બંને પર્યાપ્ત છે.
  4. ન તો વિધાન 1 કે ન તો વિધાન 2 પર્યાપ્ત છે

Question ID : 630680726039

Option 1 ID : 6306802845192

Option 2 ID : 6306802845193

Option 3 ID : 6306802845195

Option 4 ID : 6306802845194

Status : Answered

Chosen Option : 2

**Q.19** નીચે આપેલ શ્રેણીને તાર્કિક રીતે પૂર્ણ કરવા માટે પ્રશ્ન ચિહ્ન(?)ના સ્થાને શું આવશે?  
99, 80, 61, 42, 23, ?

- Options**
1. 15
  2. 4
  3. 11
  4. 7

Question ID : 630680726036

Option 1 ID : 6306802845182

Option 2 ID : 6306802845181

Option 3 ID : 6306802845180

Option 4 ID : 6306802845183

Status : Answered

Chosen Option : 2

Q.20 નીચે આપેલા શ્રેણીમાં નીચેનામાંથી કયું પ્રશ્ન ચિહ્નનું સ્થાન લેશે?  
6, 12, 18, 24, 30, ?

- Options
1. 36
  2. 34
  3. 32
  4. 33

Question ID : 630680726047  
Option 1 ID : 6306802845227  
Option 2 ID : 6306802845226  
Option 3 ID : 6306802845224  
Option 4 ID : 6306802845225  
Status : Answered  
Chosen Option : 1

Q.21 નીચે આપેલ શ્રેણીને તાર્કિક રીતે પૂર્ણ કરવા માટે પ્રશ્ન ચિહ્ન(?)ના સ્થાને શું આવશે?  
14, 28, 16, 32, 20, ??

- Options
1. 40, 28
  2. 30, 18
  3. 28, 40
  4. 18, 30

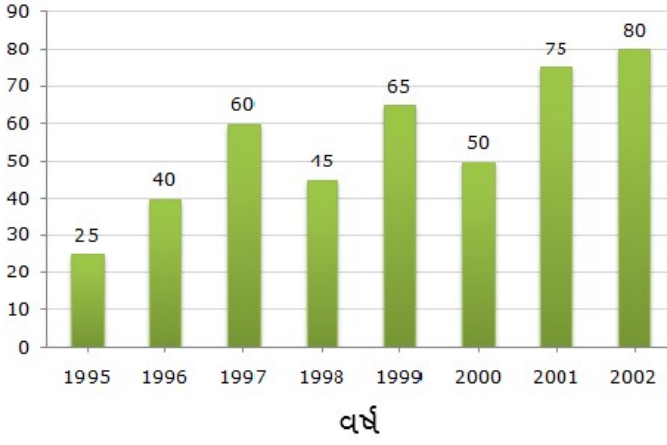
Question ID : 630680726034  
Option 1 ID : 6306802845174  
Option 2 ID : 6306802845172  
Option 3 ID : 6306802845175  
Option 4 ID : 6306802845173  
Status : Answered  
Chosen Option : 1

Q.22 નીરજ માનવી કરતાં ઉંમરમાં મોટો છે. માનવી એ યોગિતા કરતા મોટી છે. યોગિતા રણવીર કરતા ઉંમરમાં મોટી છે. જો અભિમાન નીરજ કરતા મોટી ઉંમરનો છે, તો તેમાંથી સૌથી મોટું કોણ છે?

- Options
1. અભિમાન
  2. નીરજ
  3. રણવીર
  4. યોગિતા

Question ID : 630680726001  
Option 1 ID : 6306802845042  
Option 2 ID : 6306802845040  
Option 3 ID : 6306802845041  
Option 4 ID : 6306802845043  
Status : Answered  
Chosen Option : 1

Q.23 બાર ચાર્ટનો અભ્યાસ કરો અને તેના આધારે પ્રશ્નનો જવાબ આપો.



એક કંપની દ્વારા વરસો વરસ ડાંગરનું ઉત્પાદન (1000 ટનમાં).  
1995ની સરખામણીમાં 2002માં ડાંગરના ઉત્પાદનમાં કુલ કેટલો વધારો થયો હતો?

- Options
1. 25
  2. 75
  3. 15
  4. 55

Question ID : 630680726053

Option 1 ID : 6306802845251

Option 2 ID : 6306802845249

Option 3 ID : 6306802845248

Option 4 ID : 6306802845250

Status : Answered

Chosen Option : 4

Q.24 નીચેના પ્રશ્નમાં 'પ્રશ્ન' અને તેની નીચે ક્રમાંકિત 1 અને 2 એમ બે વિધાનોનો સમાવેશ થાય છે. ઉમેદવારોએ એ નક્કી કરવાનું છે કે વિધાનોમાં આપવામાં આવેલી માહિતી પ્રશ્નનો જવાબ આપવા માટે પર્યાપ્ત છે કે કેમ.  
પ્રશ્ન: R નો L સાથે શું સંબંધ છે?

વિધાનો:

1. L નો પિતરાઈ ભાઈ એ P નો પતિ છે.
2. P એ T ની બહેનનો પિતરાઈ ભાઈ છે.

- Options
1. વિધાન 1 અને વિધાન 2 બંને પર્યાપ્ત છે
  2. વિધાન 1 એકલું પર્યાપ્ત છે જ્યારે વિધાન 2 એકલું પર્યાપ્ત નથી
  3. ન તો વિધાન 1 કે ન તો વિધાન 2 પર્યાપ્ત છે
  4. વિધાન 2 એકલું પર્યાપ્ત છે જ્યારે વિધાન 1 એકલું પર્યાપ્ત નથી

Question ID : 630680725996  
Option 1 ID : 6306802845022  
Option 2 ID : 6306802845020  
Option 3 ID : 6306802845023  
Option 4 ID : 6306802845021

Status : Answered

Chosen Option : 3

Q.25 નીચેનામાંથી કયો વિકલ્પ પ્રશ્ન ચિહ્નનું સ્થાન લેશે?  
459 : 18 :: 237 : ?

- Options
1. 16
  2. 15
  3. 18
  4. 12

Question ID : 630680726043  
Option 1 ID : 6306802845209  
Option 2 ID : 6306802845208  
Option 3 ID : 6306802845210  
Option 4 ID : 6306802845211

Status : Answered

Chosen Option : 1

Q.26 નીચે આપેલ શ્રેણીને તાર્કિક રીતે પૂર્ણ કરવા માટે પ્રશ્ન ચિહ્નના સ્થાને શું આવશે?  
91, 13,91, 11, 91, ?

- Options
1. 105
  2. 101
  3. 7
  4. 97

Question ID : 630680726031  
Option 1 ID : 6306802845163  
Option 2 ID : 6306802845162  
Option 3 ID : 6306802845160  
Option 4 ID : 6306802845161  
Status : Answered  
Chosen Option : 3

Q.27 નીચે આપેલા શ્રેણીમાં નીચેનામાંથી કયું પ્રશ્ન ચિહ્નનું સ્થાન લેશે?

137, 139, 149, 151, 157, ?

- Options
1. 163
  2. 145
  3. 191
  4. 141

Question ID : 630680726048  
Option 1 ID : 6306802845230  
Option 2 ID : 6306802845229  
Option 3 ID : 6306802845228  
Option 4 ID : 6306802845231  
Status : Answered  
Chosen Option : 1

Q.28 જો 'M' એ 'x' સૂચવે, 'D' એ '+' સૂચવે, 'A' એ '-' સૂચવે, 'S' એ '-' સૂચવે, તો નીચેની પદાવલિનું મૂલ્ય શું હશે?

3 S 6 D 2 A 3 M 5

- Options
1. 14
  2. 15
  3. 13
  4. 16

Question ID : 630680726022  
Option 1 ID : 6306802845125  
Option 2 ID : 6306802845126  
Option 3 ID : 6306802845124  
Option 4 ID : 6306802845127  
Status : Answered  
Chosen Option : 2

Q.29 જ્યારે પ્રશ્ન-આકૃતિની છબી ડોટવાળી વાઈન પર વાળવામાં આવે છે, ત્યારે નીચેનામાંથી કયો વિકલ્પ તેને રજૂ કરશે?

પ્રશ્ન-આકૃતિ



જવાબ-આકૃતિ



(a) (b) (c) (d)

- Options
1. c
  2. a
  3. d
  4. b

Question ID : 630680726017

Option 1 ID : 6306802845106

Option 2 ID : 6306802845104

Option 3 ID : 6306802845107

Option 4 ID : 6306802845105

Status : Answered

Chosen Option : 4

Q.30 નવવ એ મનન કરતાં ઉંમરમાં મોટો છે. મનનની ઉંમર યુક્તિ જેટલી નથી. ચંદ્રા યુક્તિ કરતાં મોટો છે પણ નવવ જેટલી મોટી નથી. તો તેમાંથી સૌથી મોટું કોણ છે?

- Options
1. નવવ
  2. યુક્તિ
  3. ચંદ્ર
  4. મનન

Question ID : 630680726000

Option 1 ID : 6306802845039

Option 2 ID : 6306802845038

Option 3 ID : 6306802845037

Option 4 ID : 6306802845036

Status : Answered

Chosen Option : 1

**Q.31** નીચેના પ્રશ્નમાં 'પ્રશ્ન' અને તેની નીચે ક્રમાંકિત 1 અને 2 એમ બે વિધાનોનો સમાવેશ થાય છે. ઉમેદવારોએ એ નક્કી કરવાનું છે કે વિધાનોમાં આપવામાં આવેલી માહિતી પ્રશ્નનો જવાબ આપવા માટે પર્યાપ્ત છે કે કેમ.

પ્રશ્ન: 10 મશીનોનું કુલ વજન કેટલું હશે?

વિધાનો:

- 1 મશીનનું કુલ વજન 25 kg છે.
- 2 દરેક મશીન સમાન વજન ધરાવે છે.

- Options**
1. ન તો વિધાન 1 કે ન તો વિધાન 2 પર્યાપ્ત છે
  2. વિધાન 1 અને 2 બંને સાથે મળીને પર્યાપ્ત છે
  3. વિધાન 1 એકલું પર્યાપ્ત છે જ્યારે વિધાન 2 એકલું પર્યાપ્ત નથી
  4. વિધાન 2 એકલું પર્યાપ્ત છે જ્યારે વિધાન 1 એકલું પર્યાપ્ત નથી

Question ID : 630680726040

Option 1 ID : 6306802845199

Option 2 ID : 6306802845198

Option 3 ID : 6306802845196

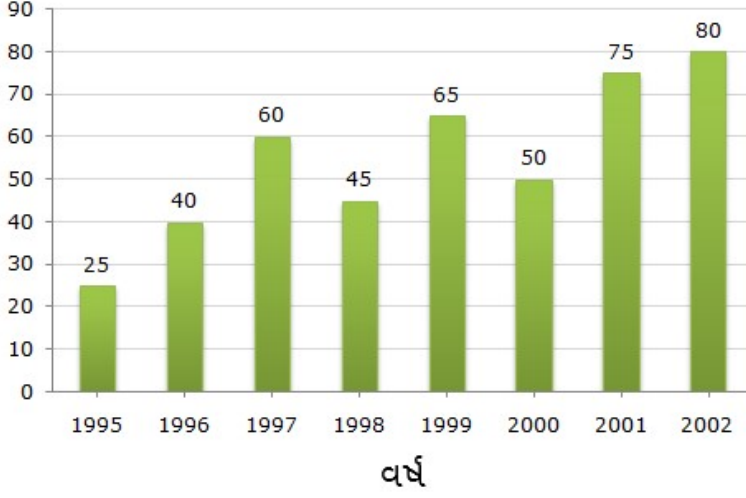
Option 4 ID : 6306802845197

Status : Answered

Chosen Option : 2



Q.32 બાર ચાર્ટનો અભ્યાસ કરો અને તેના આધારે પ્રશ્નનોના જવાબ આપો.



એક કંપની દ્વારા વરસો વરસ ડાંગરનું ઉત્પાદન (1000 ટનમાં).  
નીચેનામાંથી કયા વર્ષમાં ડાંગરનું સૌથી વધુ ઉત્પાદન (1000 ટનમાં) થયું?

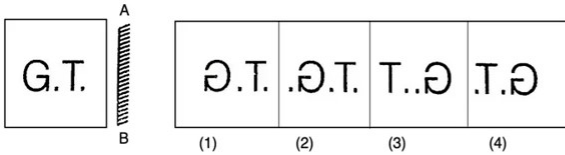
- Options
1. 2002
  2. 1997
  3. 2001
  4. 1998

Question ID : 630680726054  
Option 1 ID : 6306802845253  
Option 2 ID : 6306802845255  
Option 3 ID : 6306802845252  
Option 4 ID : 6306802845254

Status : Answered

Chosen Option : 1

Q.33 જ્યારે દર્પણને AB રેખા પર લંબ રીતે મૂકવામાં આવે ત્યારે નીચેની જવાબ-આકૃતિમાંથી કઈ પ્રશ્ન-આકૃતિની દર્પણ છબી હશે?



- Options
1. 1
  2. 4
  3. 2
  4. 3

Question ID : 630680726012  
Option 1 ID : 6306802845084  
Option 2 ID : 6306802845087  
Option 3 ID : 6306802845085  
Option 4 ID : 6306802845086

Status : Answered

Chosen Option : 2

Q.34 રાહુલની માતાના પતિની સાસુની એકમાત્ર પુત્રીનો રાહુલની બહેન સાથે શું સંબંધ છે? (રાહુલ પુરુષ છે)

- Options
1. સાસુ
  2. માતા
  3. દાદી
  4. નાની

Question ID : 630680725986

Option 1 ID : 6306802844980

Option 2 ID : 6306802844981

Option 3 ID : 6306802844982

Option 4 ID : 6306802844983

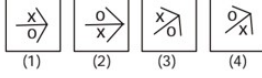
Status : Answered

Chosen Option : 2

Q.35 નીચેનામાંથી કઈ જવાબ-આકૃતિ નીચે આપેલ પ્રશ્ન-આકૃતિમાં પ્રશ્ન ચિહ્નના સ્થાને આવશે? (રોટેશનની મંજૂરી છે)?  
પ્રશ્ન-આકૃતિ



જવાબ-આકૃતિ



- Options
1. 4
  2. 3
  3. 1
  4. 2

Question ID : 630680726007

Option 1 ID : 6306802845067

Option 2 ID : 6306802845066

Option 3 ID : 6306802845064

Option 4 ID : 6306802845065

Status : Answered

Chosen Option : 1

Q.36 નીચે આપેલ સમીકરણને સાચુ બનાવવા માટે નીચેના સમીકરણમાં કઈ બે સંખ્યાઓનું સ્થાન પરસ્પર બદલવું જોઈએ?

$$6 - 8 \div 2 + 3 \times 5 = 20$$

- Options
1. 6 અને 8
  2. 3 અને 5
  3. 2 અને 6
  4. 2 અને 3

Question ID : 630680726026

Option 1 ID : 6306802845142

Option 2 ID : 6306802845141

Option 3 ID : 6306802845143

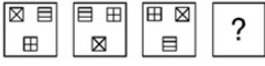
Option 4 ID : 6306802845140

Status : Answered

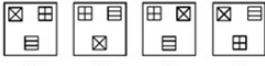
Chosen Option : 1

Q.37 નીચેનામાંથી કઈ જવાબ-આકૃતિ નીચે આપેલ પ્રશ્ન-આકૃતિમાં પ્રશ્ન ચિહ્નના સ્થાને આવશે? (રોટેશનની મંજૂરી છે)?

પ્રશ્ન-આકૃતિ



જવાબ-આકૃતિ



(1) (2) (3) (4)

- Options
1. 2
  2. 4
  3. 1
  4. 3

Question ID : 630680726003

Option 1 ID : 6306802845049

Option 2 ID : 6306802845051

Option 3 ID : 6306802845048

Option 4 ID : 6306802845050

Status : Answered

Chosen Option : 2

**Q.38** નીચે આપેલ સમીકરણને સાચુ બનાવવા માટે નીચેના સમીકરણમાં કઈ બે સંખ્યાઓનું સ્થાન પરસ્પર એકબીજાની સાથે બદલવું જોઈએ?

$$5 \times 5 - 30 + 7 + 3 = 28$$

- Options**
1. 3 અને 7
  2. 7 અને 30
  3. 5 અને 7
  4. 5 અને 30

Question ID : 630680726028

Option 1 ID : 6306802845148

Option 2 ID : 6306802845151

Option 3 ID : 6306802845149

Option 4 ID : 6306802845150

Status : Answered

Chosen Option : 2

**Q.39** નીચેનામાંથી કઈ જોડી નીચે આપેલ પદાવલીને સમાન છે?

5 : 255

- Options**
1. 4 : 829
  2. 4 : 408
  3. 3 : 248
  4. 8 : 638

Question ID : 630680726046

Option 1 ID : 6306802845222

Option 2 ID : 6306802845220

Option 3 ID : 6306802845223

Option 4 ID : 6306802845221

Status : Not Answered

Chosen Option : --

**Q.40** T, U, V અને W, તમામ 4 પુરુષો છે અને એક જ વર્ગમાં અભ્યાસ કરે છે. T એ U ની બહેન છે, U એ V નો ભાઈ છે, V એ W નો ભાઈ છે. આપેલ વિધાનના આધારે T, U, V અને W ના પિતા કોણ છે?

- Options**
1. આપેલા પ્રશ્નના આધારે જવાબ નક્કી કરી શકાતો નથી.
  2. T
  3. V
  4. U

Question ID : 630680725985

Option 1 ID : 6306802844979

Option 2 ID : 6306802844976

Option 3 ID : 6306802844978

Option 4 ID : 6306802844977

Status : Answered

Chosen Option : 1

**Q.41** 3:5 ના ગુણોત્તરમાં મિશ્રિત પાણી અને દૂધના 176 લિટર મિશ્રણમાં, થોડું દૂધ ઉમેરવામાં આવે છે. પાણી અને દૂધનો નવો ગુણોત્તર 11:21 બને છે. ઉમેરાયેલ દૂધની માત્રા શોધો.

- Options**
1. 18 લિટર
  2. 12 લિટર
  3. 10 લિટર
  4. 16 લિટર

Question ID : 630680725725  
 Option 1 ID : 6306802843958  
 Option 2 ID : 6306802843959  
 Option 3 ID : 6306802843956  
 Option 4 ID : 6306802843957  
 Status : Answered  
 Chosen Option : 4

**Q.42** સુમને એક ડઝનના ₹120 ના ભાવે 6 ડઝન કેળા ખરીદ્યા. 20 કેળા સડી ગયેલાં હતાં. તેણીએ બાકીના કેળા 30% નફા પર વેચ્યા. સોદામાં થયેલી એકંદર ખોટ શોધો.

- Options**
1. ₹ 80
  2. ₹ 32
  3. ₹ 44
  4. ₹ 50

Question ID : 630680725745  
 Option 1 ID : 6306802844037  
 Option 2 ID : 6306802844036  
 Option 3 ID : 6306802844038  
 Option 4 ID : 6306802844039  
 Status : Not Answered  
 Chosen Option : --

**Q.43** સમગુણોત્તર શ્રેણી (GP) :  $1, \frac{1}{4}, \frac{1}{16}, \dots$  ના અનંત પદોનો સરવાળો શોધો.

- Options**
1.  $\frac{4}{3}$
  2. 1
  3.  $\frac{3}{4}$
  4.  $\frac{2}{3}$

Question ID : 630680725780  
 Option 1 ID : 6306802844178  
 Option 2 ID : 6306802844177  
 Option 3 ID : 6306802844176  
 Option 4 ID : 6306802844179  
 Status : Answered  
 Chosen Option : 2

**Q.44** વિકાસ તેની માસિક આવકના 20% ભાડા પર, 15% ખોરાક પર અને 30% ઘરની અન્ય પ્રવૃત્તિઓમાં ખર્ચે છે. બાકીની રકમ તે બચાવે છે. જો તેની માસિક આવક ₹40000 હોય, તો તેની વાર્ષિક બચત શોધો.

- Options**
1. ₹ 1,72,000
  2. ₹ 1,54,000
  3. ₹ 1,68,000
  4. ₹ 1,22,000

Question ID : 630680725739  
 Option 1 ID : 6306802844014  
 Option 2 ID : 6306802844015  
 Option 3 ID : 6306802844013  
 Option 4 ID : 6306802844012  
 Status : Answered  
 Chosen Option : 4

**Q.45** 12% અને 19% ના સતત બે ડિસ્કાઉન્ટની સમકક્ષ એકલ (સિંગલ) ડિસ્કાઉન્ટ શોધો.

- Options**
1. 24.44%
  2. 28.72%
  3. 29%
  4. 31%

Question ID : 630680725748  
 Option 1 ID : 6306802844048  
 Option 2 ID : 6306802844050  
 Option 3 ID : 6306802844051  
 Option 4 ID : 6306802844049  
 Status : Answered  
 Chosen Option : 2

**Q.46** અમિત A થી B સુધી 40 km/hrની ઝડપે મુસાફરી કરે છે અને 80 km/hrની ઝડપે A પર પાછો ફરે છે. સમગ્ર પ્રવાસ દરમિયાન તેની સરેરાશ ઝડપ શોધો. (બે દશાંશ સ્થાનો સુધીનો સાચો જવાબ આપો.)

- Options**
1. 61.11 km/hr
  2. 53.33 km/hr
  3. 55.56 km/hr
  4. 51.75 km/hr

Question ID : 630680725762  
 Option 1 ID : 6306802844107  
 Option 2 ID : 6306802844106  
 Option 3 ID : 6306802844105  
 Option 4 ID : 6306802844104  
 Status : Answered  
 Chosen Option : 2

Q.47 જો  $h - j = 25$  અને  $hj = 150$  હોય, તો  $h^3 - j^3$ નું મૂલ્ય શોધો.

- Options
1. 31555
  2. 19845
  3. 26875
  4. 14375

Question ID : 630680725773  
 Option 1 ID : 6306802844150  
 Option 2 ID : 6306802844149  
 Option 3 ID : 6306802844151  
 Option 4 ID : 6306802844148  
 Status : Not Answered  
 Chosen Option : --

Q.48 નીચેનામાંથી કઈ સંખ્યા આપેલી સમાંતર શ્રેણી (AP): 24, 40, 56, 72, ... નું એક પદ હોઈ શકે છે?

- Options
1. 328
  2. 324
  3. 326
  4. 330

Question ID : 630680725778  
 Option 1 ID : 6306802844168  
 Option 2 ID : 6306802844169  
 Option 3 ID : 6306802844170  
 Option 4 ID : 6306802844171  
 Status : Answered  
 Chosen Option : 1

Q.49 196 અને 400 નું મધ્યમ પ્રમાણપદ શોધો.

- Options
1. 212
  2. 280
  3. 320
  4. 254

Question ID : 630680725753  
 Option 1 ID : 6306802844068  
 Option 2 ID : 6306802844070  
 Option 3 ID : 6306802844069  
 Option 4 ID : 6306802844071  
 Status : Answered  
 Chosen Option : 2

Q.50 1, 100 અને 1000 નો ગુ.સા.અ. (HCF) શોધો.

- Options
1. 10
  2. 1000
  3. 100
  4. 1

Question ID : 630680725733  
 Option 1 ID : 6306802843989  
 Option 2 ID : 6306802843991  
 Option 3 ID : 6306802843990  
 Option 4 ID : 6306802843988  
 Status : Answered  
 Chosen Option : 1

Q.51 એક વર્ગમાં 30 છોકરીઓ છે. 40 kg. વજનની એક છોકરીએ વર્ગ છોડી દીધો અને એક નવી છોકરી જોડાઈ. વર્ગના સરેરાશ વજનમાં  $\frac{1}{3}$  kg.નો ઘટાડો થયો છે. નવી છોકરીનું વજન શોધો

- Options
1. 32 kg
  2. 29 kg
  3. 30 kg
  4. 31 kg

Question ID : 630680725724  
 Option 1 ID : 6306802843953  
 Option 2 ID : 6306802843955  
 Option 3 ID : 6306802843952  
 Option 4 ID : 6306802843954  
 Status : Not Answered  
 Chosen Option : --

Q.52 212, 424 અને 848નો લ.સા.અ. (LCM) શોધો.

- Options
1. 424
  2. 212
  3. 1696
  4. 848

Question ID : 630680725734  
 Option 1 ID : 6306802843993  
 Option 2 ID : 6306802843992  
 Option 3 ID : 6306802843995  
 Option 4 ID : 6306802843994  
 Status : Not Answered  
 Chosen Option : --

Q.53 સુભમ તેની મોટરબાઈક 108 km/hrની ઝડપે ચલાવે છે. 2 કિમી 730 મીટરનું અંતર કાપવા માટે તેણે લીધેલો સમય શોધો.

- Options
1. 91 સેકન્ડ
  2. 73 સેકન્ડ
  3. 85 સેકન્ડ
  4. 107 સેકન્ડ

Question ID : 630680725764  
 Option 1 ID : 6306802844113  
 Option 2 ID : 6306802844112  
 Option 3 ID : 6306802844115  
 Option 4 ID : 6306802844114  
 Status : Not Answered  
 Chosen Option : --

Q.54 I, J, અને K એ એક બિઝનેસ શરૂ કર્યો. Iનું રોકાણ J ના રોકાણ કરતાં બે ગણું છે અને Jનું રોકાણ K ના રોકાણ કરતાં ત્રણ ગણું છે. જો એક વર્ષ પછીનો વાર્ષિક નફો ₹ 14,000 હોય, તો J અને K ના નફામાં તફાવત શોધો.

- Options
1. ₹ 1400
  2. ₹ 4200
  3. ₹ 2800
  4. ₹ 6400

Question ID : 630680725756  
 Option 1 ID : 6306802844080  
 Option 2 ID : 6306802844082  
 Option 3 ID : 6306802844081  
 Option 4 ID : 6306802844083  
 Status : Not Answered  
 Chosen Option : --

Q.55 જો  $d + \frac{1}{d} = 2$  હોય, તો  $d^6 + \frac{1}{d^6}$  નું મૂલ્ય શોધો.

- Options
1. 8
  2. 4
  3. 16
  4. 2

Question ID : 630680725775  
 Option 1 ID : 6306802844158  
 Option 2 ID : 6306802844157  
 Option 3 ID : 6306802844156  
 Option 4 ID : 6306802844159  
 Status : Answered  
 Chosen Option : 3

Q.56 p નું સૌથી નાનું મૂલ્ય શોધો જે આપેલી સંખ્યા 56432p17 ને 9 વડે વિભાજ્ય બનાવે.

- Options
1. 9
  2. 8
  3. 2
  4. 4

Question ID : 630680725727  
 Option 1 ID : 6306802843967  
 Option 2 ID : 6306802843964  
 Option 3 ID : 6306802843966  
 Option 4 ID : 6306802843965  
 Status : Answered  
 Chosen Option : 2

Q.57 શ્યામ અને સુંદર મળીને 5 દિવસમાં એક ખાડો ખોદી શકે છે. જો શ્યામ એકલો તેને 10 દિવસમાં ખોદી શકે છે, તો સુંદર દ્વારા આવા બે ખાડા ખોદવામાં કેટલો સમય લાગશે?

- Options
1. 20 દિવસ
  2. 5 દિવસ
  3. 10 દિવસ
  4. 15 દિવસ

Question ID : 630680725759  
 Option 1 ID : 6306802844093  
 Option 2 ID : 6306802844095  
 Option 3 ID : 6306802844092  
 Option 4 ID : 6306802844094  
 Status : Answered  
 Chosen Option : 1

Q.58 75 મીટર કાપડ વેચવા પર, દુકાનદારને 25 મીટરની વેચાણ કિંમત જેટલી રકમનો ફાયદો થાય છે. નફાની ટકાવારી શોધો.

- Options
1. 50%
  2. 80%
  3. 75%
  4. 25%

Question ID : 630680725743  
 Option 1 ID : 6306802844029  
 Option 2 ID : 6306802844031  
 Option 3 ID : 6306802844030  
 Option 4 ID : 6306802844028  
 Status : Not Answered  
 Chosen Option : --

**Q.59** પાઇપ X અને Y અનુક્રમે 20 મિનિટ અને 30 મિનિટમાં એક ટાંકી ભરી શકે છે. પાઇપ Z ટાંકીને 25 મિનિટમાં ખાલી કરી શકે છે. જો બધી પાઇપો એકસાથે ખોલવામાં આવે, તો ટાંકી ભરવામાં કેટલો સમય લાગશે?

- Options**
1.  $\frac{212}{9}$  મિનિટ
  2.  $\frac{270}{17}$  મિનિટ
  3.  $\frac{300}{13}$  મિનિટ
  4.  $\frac{401}{11}$  મિનિટ

Question ID : 630680725758

Option 1 ID : 6306802844090

Option 2 ID : 6306802844088

Option 3 ID : 6306802844091

Option 4 ID : 6306802844089

Status : Not Answered

Chosen Option : --

**Q.60** જો  $p + q = 21$  અને  $p^2 + q^2 = 261$  હોય, તો  $pq$ નું મૂલ્ય શોધો.

- Options**
1. 180
  2. 120
  3. 60
  4. 90

Question ID : 630680725769

Option 1 ID : 6306802844132

Option 2 ID : 6306802844135

Option 3 ID : 6306802844134

Option 4 ID : 6306802844133

Status : Not Answered

Chosen Option : --

**Q.61** 70 લિટરના શુદ્ધ દૂધના દ્રાવણમાંથી, 5 લિટર દૂધ બહાર કાઢવામાં આવે છે અને તેના સ્થાને સમાન પ્રમાણમાં પાણી ઉમેરવામાં આવે છે. આ પ્રક્રિયા વધુ એક વખત પુનરાવર્તિત થાય છે. મિશ્રણમાં શુદ્ધ દૂધની બાકીની માત્રા શોધો. (બે દશાંશ સ્થાનો સુધીનો સાચો જવાબ આપો.)

- Options**
1. 62.11 લિટર
  2. 60.36 લિટર
  3. 58.44 લિટર
  4. 61.75 લિટર

Question ID : 630680725726

Option 1 ID : 6306802843960

Option 2 ID : 6306802843962

Option 3 ID : 6306802843961

Option 4 ID : 6306802843963

Status : Not Answered

Chosen Option : --

Q.62 26, 65 અને 102 નું ચોથું પ્રમાણપદ શોધો.

- Options
1. 275
  2. 195
  3. 235
  4. 255

Question ID : 630680725752  
 Option 1 ID : 6306802844065  
 Option 2 ID : 6306802844064  
 Option 3 ID : 6306802844066  
 Option 4 ID : 6306802844067  
 Status : Not Answered  
 Chosen Option : --

Q.63 રોહિતનો પગાર પહેલા 31% ઘટ્યો અને પછી 31% વધ્યો. રોહિતના પગારમાં થયેલો કુલ ફેરફાર શોધો.

- Options
1. 15.5% વધારો
  2. 9.61% ઘટાડો
  3. 15.5% ઘટાડો
  4. કોઈ ફેરફાર નહીં

Question ID : 630680725742  
 Option 1 ID : 6306802844025  
 Option 2 ID : 6306802844026  
 Option 3 ID : 6306802844027  
 Option 4 ID : 6306802844024  
 Status : Not Answered  
 Chosen Option : --

Q.64 એક ટ્રેન 12 કલાકમાં 72 km/hrની ઝડપે ચોક્કસ અંતર કાપે છે. 10 કલાકમાં સમાન અંતર કાપવા માટે તેની ઝડપ કેટલી હોવી જરૂરી છે?

- Options
1. 100.4 km/hr
  2. 75.6 km/hr
  3. 99.2 km/hr
  4. 86.4 km/hr

Question ID : 630680725763  
 Option 1 ID : 6306802844108  
 Option 2 ID : 6306802844111  
 Option 3 ID : 6306802844109  
 Option 4 ID : 6306802844110  
 Status : Not Answered  
 Chosen Option : --

Q.65 નીચેના દશાંશને સાદા અપૂર્ણાંકમાં બદલો: 11.757575....

- Options
1.  $\frac{388}{33}$
  2.  $\frac{412}{17}$
  3.  $\frac{411}{13}$
  4.  $\frac{312}{11}$

Question ID : 630680725730  
 Option 1 ID : 6306802843977  
 Option 2 ID : 6306802843979  
 Option 3 ID : 6306802843978  
 Option 4 ID : 6306802843976  
 Status : Not Answered  
 Chosen Option : --

Q.66 બે ઉમેદવારો વચ્ચેની ચૂંટણીમાં, 17% મતો અમાન્ય હતા. વિજેતાને માન્ય મતોના 60% મળે છે અને તે 16600 મતોથી જીતે છે. માન્ય મતોની કુલ સંખ્યા શોધો.

- Options
1. 1,00,000
  2. 17,00,000
  3. 97000
  4. 83000

Question ID : 630680725738  
 Option 1 ID : 6306802844008  
 Option 2 ID : 6306802844009  
 Option 3 ID : 6306802844011  
 Option 4 ID : 6306802844010  
 Status : Not Answered  
 Chosen Option : --

Q.67 જો  $x^4 = (49)^2$  અને  $x > 0$  હોય, તો  $x$ નું મૂલ્ય શોધો.

- Options
1. 49
  2. 7
  3. 21
  4. 343

Question ID : 630680725736  
 Option 1 ID : 6306802844000  
 Option 2 ID : 6306802844003  
 Option 3 ID : 6306802844001  
 Option 4 ID : 6306802844002  
 Status : Not Answered  
 Chosen Option : --

Q.68 જો  $u^2 + \frac{1}{u^2} = 171$  હોય, તો  $u - \frac{1}{u}$  નું સંભવિત મૂલ્ય શોધો.

- Options
1. 17
  2. 11
  3. 13
  4. 15

Question ID : 630680725771  
 Option 1 ID : 6306802844140  
 Option 2 ID : 6306802844142  
 Option 3 ID : 6306802844143  
 Option 4 ID : 6306802844141  
 Status : Not Answered  
 Chosen Option : --

Q.69 એક દુકાનદારે એક વસ્તુ જેની ચિહ્નિત કિંમત ₹ 7000 છે તેના પર 12% અને 15% ના સતત બે ડિસ્કાઉન્ટ આપ્યા. વસ્તુની વેચાણ કિંમત શોધો.

- Options
1. ₹ 4,414
  2. ₹ 6,564
  3. ₹ 7,826
  4. ₹ 5,236

Question ID : 630680725749  
 Option 1 ID : 6306802844054  
 Option 2 ID : 6306802844053  
 Option 3 ID : 6306802844055  
 Option 4 ID : 6306802844052  
 Status : Not Answered  
 Chosen Option : --

Q.70 બે ટ્રેનની ઝડપ વચ્ચેનો ગુણોત્તર 7:8 છે. બીજી ટ્રેન 8 કલાકમાં 320 km નું અંતર કાપે છે. પ્રથમ ટ્રેન દ્વારા 6 કલાકમાં કાપવામાં આવેલું અંતર શોધો.

- Options
1. 220 km
  2. 140 km
  3. 180 km
  4. 210 km

Question ID : 630680725768  
 Option 1 ID : 6306802844128  
 Option 2 ID : 6306802844130  
 Option 3 ID : 6306802844131  
 Option 4 ID : 6306802844129  
 Status : Not Answered  
 Chosen Option : --

**Q.71 Identify the correct antonym of the following word: ordeal**

- Options**
1. Comfort
  2. Tragedy
  3. Trouble
  4. Mishap

Question ID : 630680725914  
Option 1 ID : 6306802844709  
Option 2 ID : 6306802844710  
Option 3 ID : 6306802844708  
Option 4 ID : 6306802844711  
Status : **Not Answered**  
Chosen Option : --

**Q.72 Rewrite the following sentence in the simple present tense:  
I was having several resources on the topic.**

- Options**
1. I will be having several resources on the topic.
  2. I have several resources on the topic.
  3. I had several resources on the topic.
  4. I am having several resources on the topic.

Question ID : 630680725888  
Option 1 ID : 6306802844607  
Option 2 ID : 6306802844605  
Option 3 ID : 6306802844606  
Option 4 ID : 6306802844604  
Status : **Not Answered**  
Chosen Option : --

**Q.73 Identify the correct meaning of the word in BLOCK letters.  
The shepherd is bringing his FLOCK down from the hills.**

- Options**
1. A group of sheep
  2. Community members
  3. Family members
  4. Kith and kin

Question ID : 630680725904  
Option 1 ID : 6306802844670  
Option 2 ID : 6306802844671  
Option 3 ID : 6306802844668  
Option 4 ID : 6306802844669  
Status : **Not Answered**  
Chosen Option : --

**Q.74** Fill in the blank with the correct pronoun in the following sentence:  
The teacher asked \_\_\_\_\_ to help Yasmeen to complete her assignment.

- Options**
1. She
  2. He
  3. Me
  4. My

Question ID : 630680725882  
Option 1 ID : 6306802844580  
Option 2 ID : 6306802844582  
Option 3 ID : 6306802844583  
Option 4 ID : 6306802844581  
Status : **Not Answered**  
Chosen Option : --

**Q.75** Fill in the blank with the correct pronoun in the following sentence:  
My mother served us the cookies and we immediately ate \_\_\_\_\_.

- Options**
1. It
  2. Them
  3. Him
  4. Their

Question ID : 630680725883  
Option 1 ID : 6306802844584  
Option 2 ID : 6306802844585  
Option 3 ID : 6306802844586  
Option 4 ID : 6306802844587  
Status : **Not Answered**  
Chosen Option : --

**Q.76** Identify the correct antonym of the following word: lucid

- Options**
1. Gemmy
  2. Sunny
  3. Dusky
  4. Fiery

Question ID : 630680725913  
Option 1 ID : 6306802844705  
Option 2 ID : 6306802844707  
Option 3 ID : 6306802844704  
Option 4 ID : 6306802844706  
Status : **Not Answered**  
Chosen Option : --

Q.77 વાક્યનું સાચું અગ્રેજી ભાષાંતર શોધો  
સર ફિરોઝશાહે મારી વાત ધ્યાનપૂર્વક સાંભળી લીધી

- Options
1. Sir Pherozeshah carefully listened to me
  2. Sir Pherozeshah ready to hear to my words
  3. Sir Pherozeshah heard my talks
  4. Sir Pherozeshah was hearing mine

Question ID : 630680725858  
Option 1 ID : 6306802844488  
Option 2 ID : 6306802844491  
Option 3 ID : 6306802844489  
Option 4 ID : 6306802844490  
Status : Not Answered  
Chosen Option : --

Q.78 Given below are four jumbled sentences. Select the option that gives their correct order forming a meaningful and coherent paragraph.

- Together these phenomena permit the succession of still frames on a film strip to represent continuous movement when projected at the proper speed.
- The latter creates apparent movement between images when they succeed one another rapidly.
- The illusion of films is based on the optical phenomena known as persistence of vision and the phi phenomenon.
- The first of these causes the brain to retain images cast upon the retina of the eye for a fraction of a second beyond their disappearance from the field of sight.

- Options
1. ABCD
  2. BCAD
  3. DCAB
  4. CDBA

Question ID : 630680725893  
Option 1 ID : 6306802844625  
Option 2 ID : 6306802844624  
Option 3 ID : 6306802844627  
Option 4 ID : 6306802844626  
Status : Not Answered  
Chosen Option : --

Q.79 Identify the correct meaning of the word in BLOCK letters.  
Rosa Parks is a great example of a BASTION for desegregation.

- Options
1. Strange place
  2. Base camp
  3. Basin
  4. Stronghold

Question ID : 630680725909  
Option 1 ID : 6306802844691  
Option 2 ID : 6306802844689  
Option 3 ID : 6306802844688  
Option 4 ID : 6306802844690  
Status : Not Answered  
Chosen Option : --

**Q.80** In the following questions, the first and the last parts of the sentence are numbered 1 and 6.

The rest of the sentence is split into four parts named, P, Q, R and S. These four parts are not given in their proper order. Read the parts and arrange them in the proper order.

1. I spend a

P- relaxing by this

Q- couple of hours every

R- lake and helping these.

S- Sunday morning,

6. little guys out

- Options**
1. SPRQ
  2. QSPR
  3. RQSP
  4. RPSQ

Question ID : 630680715104

Option 1 ID : 6306802802086

Option 2 ID : 6306802802085

Option 3 ID : 6306802802087

Option 4 ID : 6306802802084

Status : Not Answered

Chosen Option : --

**Q.81** The character of Celie writes letters to God in \_\_\_\_ novel 'The Color Purple'.

- Options**
1. the
  2. a
  3. an
  4. No article needed

Question ID : 630680725873

Option 1 ID : 6306802844546

Option 2 ID : 6306802844544

Option 3 ID : 6306802844545

Option 4 ID : 6306802844547

Status : Not Answered

Chosen Option : --

**Comprehension:**

Read the following passage and answer the questions given below:

Studies serve for delight, for ornament and for ability. Their chief use for delight, is in privateness and retiring; for ornament, is in discourse; and for ability, is in the judgment and disposition of business; for expert men can execute, and perhaps judge of particulars, one by one: but the general counsels, and the plots and marshalling of affairs come best from those that are learned. To spend too much time in studies, is sloth; to use them too much for ornament, is affectation; to make judgment wholly by their rules, is the humour of a scholar: they perfect nature, and are perfected by experience: for natural abilities are like natural plants, that need pruning by study; and studies themselves do give forth directions too much at large, except they be bounded in by experience. Crafty men condemn studies, simple men admire them, and wise men use them; for they teach not their own use; but that is a wisdom without them, and above them, won by observation. Read not to contradict and confute, nor to believe and take for granted, nor to find talk and discourse, but to weigh and consider. Some books are to be tasted, others to be swallowed, and some few to be chewed and digested; that is, some books are to be read only in parts; others to be read, but not curiously; and some few to be read wholly, and with diligence and attention.

**SubQuestion No : 82**

**Q.82** Identify the meaning of the word 'ornament' as it is used in the passage.

**Options** 1. honour

2. a piece of jewellery

3. something that enhances communication

4. decoration

Question ID : 630680725935

Option 1 ID : 6306802844783

Option 2 ID : 6306802844780

Option 3 ID : 6306802844782

Option 4 ID : 6306802844781

Status : **Not Answered**

Chosen Option : --

**Comprehension:**

Read the following passage and answer the questions given below:

Studies serve for delight, for ornament and for ability. Their chief use for delight, is in privateness and retiring; for ornament, is in discourse; and for ability, is in the judgment and disposition of business; for expert men can execute, and perhaps judge of particulars, one by one: but the general counsels, and the plots and marshalling of affairs come best from those that are learned. To spend too much time in studies, is sloth; to use them too much for ornament, is affectation; to make judgment wholly by their rules, is the humour of a scholar: they perfect nature, and are perfected by experience: for natural abilities are like natural plants, that need pruning by study; and studies themselves do give forth directions too much at large, except they be bounded in by experience. Crafty men contemn studies, simple men admire them, and wise men use them; for they teach not their own use; but that is a wisdom without them, and above them, won by observation. Read not to contradict and confute, nor to believe and take for granted, nor to find talk and discourse, but to weigh and consider. Some books are to be tasted, others to be swallowed, and some few to be chewed and digested; that is, some books are to be read only in parts; others to be read, but not curiously; and some few to be read wholly, and with diligence and attention.

**SubQuestion No : 83****Q.83 Select the correct summary for the passage:**

- Options**
1. The passage discusses prominent aspects of studies. While studies are meant for personal benefits, communicative purposes and for better insight into businesses, the excess of studies leads to laziness, parading, and being merely scholarly than practical. The writer also comments on reading and books. The books are meant for various readings and not all the books are read alike.
  2. The passage discusses prominent aspects of studies. While studies are meant for personal benefits, communicative purposes and for better insight into businesses, the excess of studies leads to laziness, parading, and being merely scholarly than practical. The writer also comments on reading and books. The books are meant for various readings and all the books are read alike.
  3. The passage discusses prominent aspects of studies. While studies are meant for personal benefits, communicative purposes and for better insight into businesses, the excess of studies leads to being merely scholarly than practical. The writer also comments on books. The books are meant for various readings and not all the books are read alike.
  4. The passage discusses prominent aspects of studies. While studies are meant for personal benefits, communicative purposes and for better insight into businesses, studies lead to laziness, parading, and being merely scholarly than practical. The writer also comments on reading and books. The books are meant for various readings and not all the books are read alike.

Question ID : 630680725933

Option 1 ID : 6306802844775

Option 2 ID : 6306802844772

Option 3 ID : 6306802844773

Option 4 ID : 6306802844774

Status : Not Answered

Chosen Option : --

**Comprehension:**

Read the following passage and answer the questions given below:

Studies serve for delight, for ornament and for ability. Their chief use for delight, is in privateness and retiring; for ornament, is in discourse; and for ability, is in the judgment and disposition of business; for expert men can execute, and perhaps judge of particulars, one by one: but the general counsels, and the plots and marshalling of affairs come best from those that are learned. To spend too much time in studies, is sloth; to use them too much for ornament, is affectation; to make judgment wholly by their rules, is the humour of a scholar: they perfect nature, and are perfected by experience: for natural abilities are like natural plants, that need pruning by study; and studies themselves do give forth directions too much at large, except they be bounded in by experience. Crafty men condemn studies, simple men admire them, and wise men use them; for they teach not their own use; but that is a wisdom without them, and above them, won by observation. Read not to contradict and confute, nor to believe and take for granted, nor to find talk and discourse, but to weigh and consider. Some books are to be tasted, others to be swallowed, and some few to be chewed and digested; that is, some books are to be read only in parts; others to be read, but not curiously; and some few to be read wholly, and with diligence and attention.

**SubQuestion No : 84**

**Q.84** Identify the sentence with the correct usage of the word 'confute' as given in the passage.

- Options**
1. The meaning of the term was well-established unanimously.
  2. To prove his point, he gave multiple examples.
  3. One can discredit good ideas by associating them with bad ones.
  4. They can affirm that the painting was genuine.

Question ID : 630680725934

Option 1 ID : 6306802844776

Option 2 ID : 6306802844778

Option 3 ID : 6306802844779

Option 4 ID : 6306802844777

Status : **Not Answered**

Chosen Option : --

**Comprehension:**

Read the following passage and answer the questions given below:

Studies serve for delight, for ornament and for ability. Their chief use for delight, is in privateness and retiring; for ornament, is in discourse; and for ability, is in the judgment and disposition of business; for expert men can execute, and perhaps judge of particulars, one by one: but the general counsels, and the plots and marshalling of affairs come best from those that are learned. To spend too much time in studies, is sloth; to use them too much for ornament, is affectation; to make judgment wholly by their rules, is the humour of a scholar: they perfect nature, and are perfected by experience: for natural abilities are like natural plants, that need pruning by study; and studies themselves do give forth directions too much at large, except they be bounded in by experience. Crafty men contemn studies, simple men admire them, and wise men use them; for they teach not their own use; but that is a wisdom without them, and above them, won by observation. Read not to contradict and confute, nor to believe and take for granted, nor to find talk and discourse, but to weigh and consider. Some books are to be tasted, others to be swallowed, and some few to be chewed and digested; that is, some books are to be read only in parts; others to be read, but not curiously; and some few to be read wholly, and with diligence and attention.

**SubQuestion No : 85**

**Q.85** According to the passage, who is best suited to handle the general counsels and marshalling of affairs?

- Options**
1. Expert men
  2. Simple men
  3. Crafty men
  4. Learned individuals

Question ID : 630680725932

Option 1 ID : 6306802844768

Option 2 ID : 6306802844770

Option 3 ID : 6306802844771

Option 4 ID : 6306802844769

Status : Not Answered

Chosen Option : --

Section : Gujarati

**Q.86** શબ્દસમૂહ માટે એક શબ્દ લખો- ઊંડે સુધી જઈને સ્પર્શતું

- Options**
1. ગહન
  2. અગાધ
  3. તલસ્પર્શી
  4. વિગાધ

Question ID : 630680725819

Option 1 ID : 6306802844335

Option 2 ID : 6306802844333

Option 3 ID : 6306802844332

Option 4 ID : 6306802844334

Status : Answered

Chosen Option : 1

Q.87 વિરુદ્ધાર્થી શબ્દ શોધો.-જંગમ

- Options
1. અભિગમ
  2. દંગમ
  3. સંગમ
  4. સ્થાવર

Question ID : 630680725812  
 Option 1 ID : 6306802844306  
 Option 2 ID : 6306802844305  
 Option 3 ID : 6306802844304  
 Option 4 ID : 6306802844307  
 Status : Answered  
 Chosen Option : 4

Q.88 શુદ્ધ વિધાન શોધો

- Options
1. કાલે મનોજ આવી હતી
  2. નિંદર તો આવ્યો જ નહિ પછી બોલો
  3. આજે ખૂબ ગરમી છે
  4. શિયાળો ઠંડો ઋતુ છે

Question ID : 630680725829  
 Option 1 ID : 6306802844373  
 Option 2 ID : 6306802844375  
 Option 3 ID : 6306802844372  
 Option 4 ID : 6306802844374  
 Status : Answered  
 Chosen Option : 3

Q.89 સમાસ ઓળખાવો- સ્થિતપ્રજ્ઞ

- Options
1. ઢંઢ
  2. કર્મધારય
  3. દ્વિગુ
  4. બહુવ્રીહિ

Question ID : 630680725801  
 Option 1 ID : 6306802844261  
 Option 2 ID : 6306802844262  
 Option 3 ID : 6306802844260  
 Option 4 ID : 6306802844263  
 Status : Answered  
 Chosen Option : 4

Q.90 નીચેની કાવ્ય-પંક્તિ વાંચી તેની નીચે આપેલા પ્રશ્નનો જવાબ આપો.  
કોઈ મારા માર્ગમાં કંટક ભલેને પાથરે; પુષ્પ તેના માર્ગમાં વેરીશ હું, વેરીશ હું.  
પ્રશ્ન: કાવ્ય-પંક્તિમાં કઈ ભાવના વ્યક્ત થયેલી છે?

- Options
1. ઉપકારનો બદલો અપકાર
  2. બદલાની
  3. અપકારનો બદલો ઉપકાર
  4. પરોપકાર

Question ID : 630680715222  
Option 1 ID : 6306802802537  
Option 2 ID : 6306802802539  
Option 3 ID : 6306802802536  
Option 4 ID : 6306802802538  
Status : Answered  
Chosen Option : 3

Q.91 શબ્દસમૂહ માટે એક શબ્દ લખો- રંગભૂમિનો પડદો કે પાછળનો ભાગ

- Options
1. ભરદો
  2. નેપથ્ય
  3. ગરદો
  4. પાર્શ્વ

Question ID : 630680725818  
Option 1 ID : 6306802844329  
Option 2 ID : 6306802844331  
Option 3 ID : 6306802844328  
Option 4 ID : 6306802844330  
Status : Answered  
Chosen Option : 4

Q.92 સાચો સંધિ વિગ્રહ શોધો.-મનોવ્યાપાર

- Options
1. મન+ વ્યાપાર
  2. માનસ + વ્યાપાર
  3. મનસ+વ્યાપાર
  4. મન+ વેપાર

Question ID : 630680725840  
Option 1 ID : 6306802844417  
Option 2 ID : 6306802844418  
Option 3 ID : 6306802844419  
Option 4 ID : 6306802844416  
Status : Answered  
Chosen Option : 4

Q.93 વિરુદ્ધાર્થી શબ્દ શોધો.- ટોચ

- Options
1. ખરોચ
  2. તળેટી
  3. મોચ
  4. પહોંચ

Question ID : 630680725813  
Option 1 ID : 6306802844309  
Option 2 ID : 6306802844311  
Option 3 ID : 6306802844310  
Option 4 ID : 6306802844308  
Status : Answered  
Chosen Option : 2

Q.94 Translate the following sentence into Gujarati:  
Ants are miserable.

- Options
1. કીડીઓ દયનીય હોય છે.
  2. કીડીઓ દયાળુ હોય છે.
  3. કીડી દયનીય હોય છે.
  4. કીડીઓ દયાવાન છે.

Question ID : 630680715241  
Option 1 ID : 6306802802615  
Option 2 ID : 6306802802612  
Option 3 ID : 6306802802614  
Option 4 ID : 6306802802613  
Status : Marked For Review  
Chosen Option : 2

Q.95 સાચું સંધિ જોડાણ શોધો- ઉપેક્ષા

- Options
1. ઉપ+ક્ષા
  2. ઉપ+ ઇક્ષા
  3. ઉપે+ઇક્ષા
  4. ઉપ +ક્ષા

Question ID : 630680725833  
Option 1 ID : 6306802844388  
Option 2 ID : 6306802844389  
Option 3 ID : 6306802844390  
Option 4 ID : 6306802844391  
Status : Answered  
Chosen Option : 2

Q.96 સાચી જોડણીવાળો શબ્દ શોધો

- Options
1. નીર્દોષ
  2. નિઃસ્પૃહ
  3. મહીમા
  4. નીવાર્ય

Question ID : 630680725845  
 Option 1 ID : 6306802844437  
 Option 2 ID : 6306802844436  
 Option 3 ID : 6306802844438  
 Option 4 ID : 6306802844439  
 Status : Answered  
 Chosen Option : 2

Q.97 ખોટી જોડણીવાળો શબ્દ શોધો

- Options
1. અભીરૂચી
  2. અભિનય
  3. અનુનય
  4. પ્રતિલિપિ

Question ID : 630680725843  
 Option 1 ID : 6306802844429  
 Option 2 ID : 6306802844428  
 Option 3 ID : 6306802844430  
 Option 4 ID : 6306802844431  
 Status : Answered  
 Chosen Option : 1

Q.98 શુદ્ધ વિધાનનો વિકલ્પ પસંદ કરો.

- Options
1. મેં મગફળી અને ગોળ ખાધો.
  2. મેં ગોળ અને મગફળી ખાધી.
  3. મેં મગફળી અને ગોળ ખાધાં.
  4. મેં મગફળી અને ગોળ ખાધા.

Question ID : 630680715194  
 Option 1 ID : 6306802802425  
 Option 2 ID : 6306802802426  
 Option 3 ID : 6306802802424  
 Option 4 ID : 6306802802427  
 Status : Marked For Review  
 Chosen Option : 3

Q.99 મહિલા સશક્તિકરણ એ તેમને સમાજમાં તેમના યોગ્ય અધિકારો પ્રાપ્ત કરવા સક્ષમ બનાવવાનો છે.લિંગ સમાનતાને પ્રાધાન્ય આપવાથી સમગ્ર ભારતમાં મહિલા સશક્તિકરણને પ્રોત્સાહન મળ્યું છે. મહિલા સશક્તિકરણના ઉચ્ચ ધ્યેયને પ્રાપ્ત કરવા માટે બાળપણથી જ દરેક પરિવારમાં તેનો પ્રચાર કરવો જોઈએ.

પ્રશ્ન:

હકો મેળવવા માટે શું કરવું જરૂરી છે?

- Options
1. અધિકારપ્રાપ્તિ
  2. ધ્યેયપ્રાપ્તિ
  3. સક્ષમ બનાવવા
  4. પ્રોત્સાહન

Question ID : 630680725847

Option 1 ID : 6306802844445

Option 2 ID : 6306802844446

Option 3 ID : 6306802844444

Option 4 ID : 6306802844447

Status : Answered

Chosen Option : 3

Q.100 સમાસ ઓળખાવો: ઘાડપાડુ

- Options
1. ઉપપદ સમાસ
  2. ઢંઢ સમાસ
  3. તત્પુરુષ સમાસ
  4. બહુવ્રીહિ સમાસ

Question ID : 630680715167

Option 1 ID : 6306802802317

Option 2 ID : 6306802802316

Option 3 ID : 6306802802319

Option 4 ID : 6306802802318

Status : Answered

Chosen Option : 3