

11-05-2024 (CCE - Shift 4)

ઉમે દવારોન Privacy માટે પ્રથમ પે જ Remove કરે છે..

Q.1 નીચેનામાંથી કઈ જવાબ-આકૃતિ નીચે આપેલ પ્રશ્ન-આકૃતિમાં પ્રશ્ન ચિહ્નના સ્થાને આવશે? (રોટેશનની મંજૂરી છે)?  
પ્રશ્ન-આકૃતિ



જવાબ-આકૃતિ



- Options
1. 1
  2. 4
  3. 2
  4. 3

Question ID : [630680726006](#)Option 1 ID : [6306802845060](#)Option 2 ID : [6306802845063](#)Option 3 ID : [6306802845061](#)Option 4 ID : [6306802845062](#)

Status : Answered

Chosen Option : 3

Q.2 જો  $T + P$  નો અર્થ છે કે  $T$  એ  $P$  ના પિતા છે;  
 $T - P$  નો અર્થ છે કે  $T$  એ  $P$  ની માતા છે;  
 $T * P$  નો અર્થ છે કે  $T$  એ  $P$  ની બહેન છે અને  
 $T \# P$  નો અર્થ છે કે  $T$  એ  $P$  નો પુત્ર છે, તો  
નીચેનામાંથી કયો વિકલ્પ દર્શાવે છે કે  $A$  એ  $B$  ના પિતા છે?

- Options
1.  $A * B$
  2.  $A - B$
  3.  $A \# B$
  4.  $A + B$

Question ID : [630680725981](#)Option 1 ID : [6306802844962](#)Option 2 ID : [6306802844960](#)Option 3 ID : [6306802844963](#)Option 4 ID : [6306802844961](#)

Status : Answered

Chosen Option : 4

Adda247

# Test Prime

**ALL EXAMS, ONE SUBSCRIPTION**



**1,00,000+**  
Mock Tests



**Personalised  
Report Card**



**Unlimited  
Re-Attempt**



**600+**  
Exam Covered



**25,000+** Previous  
Year Papers



**500%**  
Refund



**ATTEMPT FREE MOCK NOW**

- Q.3** નીચેના પ્રશ્નમાં 'પ્રશ્ન' અને તેની નીચે ક્રમાંકિત 1 અને 2 એમ બે વિધાનોનો સમાવેશ થાય છે. ઉમેદવારોએ એ નક્કી કરવાનું છે કે વિધાનોમાં આપવામાં આવેલી માહિતી પ્રશ્નનો જવાબ આપવા માટે પર્યાપ્ત છે કે કેમ.  
પ્રશ્ન: સંક્રિતિક ભાષામાં 'Sun' કેવી રીતે વખાય છે?  
વિધાનો:  
1. 'Sun is yellow' એ 'Green is mine' તરીકે સંક્રિતિક રીતે વખવામાં આવે છે.  
2. 'Earth is Sun' એ 'mine your limit' તરીકે સંક્રિતિક રીતે વખવામાં આવે છે.

- Options**
1. વિધાન 2 એકલું પર્યાપ્ત છે જ્યારે વિધાન 1 એકલું પર્યાપ્ત નથી
  2. ન તો વિધાન 1 કે ન તો વિધાન 2 પર્યાપ્ત છે
  3. વિધાન 1 એકલું પર્યાપ્ત છે જ્યારે વિધાન 2 એકલું પર્યાપ્ત નથી
  4. વિધાન 1 અને વિધાન 2 બંને પર્યાપ્ત છે

Question ID : [630680725997](#)  
 Option 1 ID : [6306802845026](#)  
 Option 2 ID : [6306802845025](#)  
 Option 3 ID : [6306802845024](#)  
 Option 4 ID : [6306802845027](#)  
 Status : **Answered**  
 Chosen Option : 4

- Q.4** નીચેના પ્રશ્નમાં સંખ્યાની 4 જોડી આપવામાં આવી છે. સમાન તર્કના આધારે ત્રણ એકસમાન છે, તો આપેલા વિકલ્પોમાંથી અલગ પડતો વિકલ્પ શોધો.

- Options**
1. 21, 18
  2. 12, 9
  3. 6, 3
  4. 39, 37

Question ID : [630680726050](#)  
 Option 1 ID : [6306802845239](#)  
 Option 2 ID : [6306802845237](#)  
 Option 3 ID : [6306802845238](#)  
 Option 4 ID : [6306802845236](#)  
 Status : **Answered**  
 Chosen Option : 4

Q.5 જો  $T + P$  નો અર્થ છે કે  $T$  એ  $P$  ના પિતા છે;  
 $T - P$  નો અર્થ છે કે  $T$  એ  $P$  ની માતા છે;  
 $T * P$  નો અર્થ છે કે  $T$  એ  $P$  ની બહેન છે અને  
 $T \# P$  નો અર્થ છે કે  $T$  એ  $P$  નો પુત્ર છે, તો  
 નીચેનામાંથી કયો વિકલ્પ દર્શાવે છે કે  $A$  એ  $B$  ના દાદા છે?

- Options
1.  $A-B$
  2.  $A\#B$
  3.  $A-D*B$
  4.  $A+D+B$

Question ID : [630680725982](#)

Option 1 ID : [6306802844965](#)

Option 2 ID : [6306802844967](#)

Option 3 ID : [6306802844966](#)

Option 4 ID : [6306802844964](#)

Status : Answered

Chosen Option : 4

Q.6 રિતેશ હર્ષ કરતા ઉંમરમાં મોટો છે. ગૌરી હર્ષ કરતા નાની છે જ્યારે પરમ એ રિતેશ કરતા ઉંમરમાં મોટી છે. તેઓમાંથી સૌથી નાનું કોણ છે?

- Options
1. ગૌરી
  2. રિતેશ
  3. પરમ
  4. હર્ષ

Question ID : [630680725999](#)

Option 1 ID : [6306802845033](#)

Option 2 ID : [6306802845032](#)

Option 3 ID : [6306802845035](#)

Option 4 ID : [6306802845034](#)

Status : Answered

Chosen Option : 1

Q.7 નીચે આપેલ પદાવલીમાં નીચેનામાંથી કયું પ્રશ્ન ચિહ્નનું સ્થાન વેશે?  
 $11 : 88 :: 12 : ?$

- Options
1. 48
  2. 120
  3. 24
  4. 96

Question ID : [630680726041](#)

Option 1 ID : [6306802845201](#)

Option 2 ID : [6306802845203](#)

Option 3 ID : [6306802845200](#)

Option 4 ID : [6306802845202](#)

Status : Answered

Chosen Option : 4

**Q.8** આપેલા વિધાન(વિધાનો) અને તારણો કાળજીપૂર્વક વાંચો. એવું માનીને કે વિધાનોમાં આપવામાં આવેલી માહિતી સાચી છે, ભલે તે સામાન્ય રીતે જાણીતી હકીકતોથી ભિન્ન વાગતી હોય, નક્કી કરો કે વિધાન(વિધાનો)માંથી આપેલા તારણો પૈકી કયું તારણ તાર્કિક રીતે અનુસરે છે.

વિધાનો:

અમુક સાપો સીડીઓ છે.  
અમુક સીડીઓ સંખ્યાઓ છે.

તારણો:

1. તમામ સીડીઓ સાપો છે.  
2. તમામ સંખ્યાઓ સીડીઓ છે.

Options

1. માત્ર તારણ 1 અનુસરે છે.
2. ન તો તારણ 1 કે ન તો તારણ 2 અનુસરે છે.
3. તારણ 1 અને તારણ 2 બંને અનુસરે છે
4. માત્ર તારણ 2 અનુસરે છે.

Question ID : [630680725987](#)

Option 1 ID : [6306802844984](#)

Option 2 ID : [6306802844987](#)

Option 3 ID : [6306802844986](#)

Option 4 ID : [6306802844985](#)

Status : Answered

Chosen Option : 2

**Q.9** જો  $P = '+'$ ,  $Q = '-'$ ,  $R = 'x'$  અને  $S = '÷'$  હોય, તો નીચેની પદાવલિનું મૂલ્ય શું હશે?

5 R 5 Q 7 P 30 S 3

Options

1. 25
2. 28
3. 10
4. 29

Question ID : [630680726021](#)

Option 1 ID : [6306802845122](#)

Option 2 ID : [6306802845121](#)

Option 3 ID : [6306802845120](#)

Option 4 ID : [6306802845123](#)

Status : Answered

Chosen Option : 2

**Q.10** N એ M કરતાં ઉંમરમાં મોટો છે. M એ Y કરતાં ઉંમરમાં મોટો છે. Y એ R કરતાં મોટો છે. જો A એ N કરતાં મોટો છે, તો તેમાંથી સૌથી નાનું કોણ છે?

- Options**
1. R
  2. Y
  3. A
  4. N

Question ID : [630680726002](#)

Option 1 ID : [6306802845045](#)

Option 2 ID : [6306802845047](#)

Option 3 ID : [6306802845046](#)

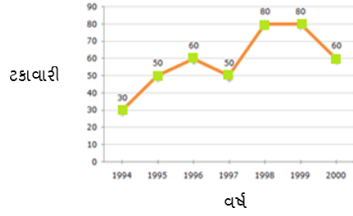
Option 4 ID : [6306802845044](#)

Status : **Answered**

Chosen Option : 1

**Q.11** નીચેનો રેખા આલેખ 1994 થી 2000 સુધીના સાત વર્ષના સમયગાળામાં ગાયન સ્પર્ધામાં ભાગ લેનારા કુલ વિદ્યાર્થીઓમાંથી ગાયન સ્પર્ધામાં લાયકાત મેળવનારા વિદ્યાર્થીઓની સંખ્યાની ટકાવારી દર્શાવે છે.

કેટલાક વર્ષોમાં ગાયન સ્પર્ધાની પરીક્ષામાં ભાગ લેવા માટે લાયકાત ધરાવતા વિદ્યાર્થીઓની ટકાવારી



1998માં લાયકાત ધરાવતા વિદ્યાર્થીઓની સંખ્યા 21200 હતી, 1998માં ભાગ લેનારા વિદ્યાર્થીઓની સંખ્યા કેટલી હતી?

- Options**
1. 32000
  2. 28500
  3. 25000
  4. 26500

Question ID : [630680726057](#)

Option 1 ID : [6306802845264](#)

Option 2 ID : [6306802845265](#)

Option 3 ID : [6306802845267](#)

Option 4 ID : [6306802845266](#)

Status : **Answered**

Chosen Option : 4

Q.12 નીચે આપેલ શ્રેણીને તાર્કિક રીતે પૂર્ણ કરવા માટે પ્રશ્ન ચિહ્નના સ્થાને શું આવશે?  
77, 64, 51, 38, 25, ?

- Options
1. 12
  2. 20
  3. 15
  4. 11

Question ID : [630680726032](#)

Option 1 ID : [6306802845165](#)

Option 2 ID : [6306802845167](#)

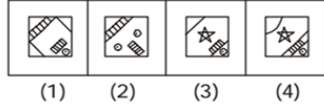
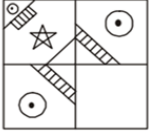
Option 3 ID : [6306802845166](#)

Option 4 ID : [6306802845164](#)

Status : Answered

Chosen Option : 1

Q.13 નીચેનામાંથી કઈ જવાબ-આકૃતિ નીચે આપેલ પ્રશ્ન-આકૃતિની ખાલી જગ્યાને પુરશે. (રોટેશનની મંજૂરી નથી)?  
પ્રશ્ન-આકૃતિ જવાબ-આકૃતિ



- Options
1. 4
  2. 1
  3. 2
  4. 3

Question ID : [630680726016](#)

Option 1 ID : [6306802845103](#)

Option 2 ID : [6306802845100](#)

Option 3 ID : [6306802845101](#)

Option 4 ID : [6306802845102](#)

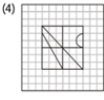
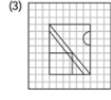
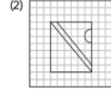
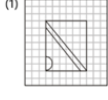
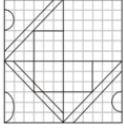
Status : Answered

Chosen Option : 1

Q.14 નીચેનામાંથી કઈ જવાબ-આકૃતિ નીચે આપેલ પ્રશ્ન-આકૃતિની ખાલી જગ્યાને પુરશે. (રોટેશનની મંજૂરી નથી)?

પ્રશ્ન-આકૃતિ

જવાબ-આકૃતિ



- Options
1. 4
  2. 2
  3. 1
  4. 3

Question ID : [630680726004](#)  
 Option 1 ID : [6306802845055](#)  
 Option 2 ID : [6306802845053](#)  
 Option 3 ID : [6306802845052](#)  
 Option 4 ID : [6306802845054](#)

Status : Answered

Chosen Option : 4

Q.15 જો  $T + P$  નો અર્થ છે કે  $T$  એ  $P$  ના પિતા છે;  
 $T - P$  નો અર્થ છે કે  $T$  એ  $P$  ની માતા છે;  
 $T * P$  નો અર્થ છે કે  $T$  એ  $P$  ની બહેન છે અને  
 $T \# P$  નો અર્થ છે કે  $T$  એ  $P$  નો પુત્ર છે, તો  
 નીચેનામાંથી કયો વિકલ્પ દર્શાવે છે કે  $A$  એ  $B$  ની માતા છે

- Options
1.  $A \# B$
  2.  $A + B$
  3.  $A - B$
  4.  $A * B$

Question ID : [630680725983](#)  
 Option 1 ID : [6306802844970](#)  
 Option 2 ID : [6306802844969](#)  
 Option 3 ID : [6306802844971](#)  
 Option 4 ID : [6306802844968](#)

Status : Answered

Chosen Option : 3

**Q.16** આપેલા વિધાન(વિધાનો) અને તારણોને કાળજીપૂર્વક વાંચો. એવું માનીને કે વિધાનોમાં આપવામાં આવેલી માહિતી સાચી છે, ભલે તે સામાન્ય રીતે જાણીતી હકીકતોથી સિદ્ધ વાગતી હોય, નક્કી કરો કે વિધાન(વિધાનો)માંથી આપેલા તારણો પૈકી કયું તારણ તાર્કિક રીતે અનુસરે છે. વિધાનો:

અમુક ચિપ્સ દૂધ છે.  
અમુક દૂધ મીઠાઈઓ છે.  
અમુક મીઠાઈઓ રંગો છે.

તારણો:

1. તમામ મીઠાઈઓ દૂધ છે.
2. તમામ દૂધ ચિપ્સ છે.
3. તમામ રંગો મીઠાઈઓ છે.

**Options**

1. માત્ર તારણ 1 અનુસરે છે.
2. ન તો તારણ 1,2 અને ન તો તારણ 3 અનુસરે છે.
3. તમામ 3 તારણો અનુસરે છે
4. માત્ર તારણ 2 અનુસરે છે.

Question ID : [630680725990](#)

Option 1 ID : [6306802844996](#)

Option 2 ID : [6306802844999](#)

Option 3 ID : [6306802844998](#)

Option 4 ID : [6306802844997](#)

Status : **Answered**

Chosen Option : 2

**Q.17** નીચેની કઈ જવાબ-આકૃતિમાં પ્રશ્ન-આકૃતિ જડિત(એમ્બેડ) છે (રોટેશનની મંજૂરી નથી)?

પ્રશ્ન-આકૃતિ



જવાબ-આકૃતિ



(1)



(2)



(3)



(4)

**Options**

1. 2
2. 4
3. 3
4. 1

Question ID : [630680726010](#)

Option 1 ID : [6306802845077](#)

Option 2 ID : [6306802845079](#)

Option 3 ID : [6306802845078](#)

Option 4 ID : [6306802845076](#)

Status : **Answered**

Chosen Option : 2

**Q.18** નીચેના પ્રશ્નમાં 'પ્રશ્ન' અને તેની નીચે ક્રમાંકિત 1 અને 2 એમ બે વિધાનોનો સમાવેશ થાય છે. ઉમેદવારોએ એ નક્કી કરવાનું છે કે વિધાનોમાં આપવામાં આવેલી માહિતી પ્રશ્નનો જવાબ આપવા માટે પર્યાપ્ત છે કે કેમ.

પ્રશ્ન: P નો Q સાથે શું સંબંધ છે?

વિધાનો:

1. P ને બે પુત્રો અને બે પુત્રીઓ છે.
2. Mનો ભાઈ Lની પત્નીનો પુત્ર છે.

Options

1. ન તો વિધાન 1 કે ન તો વિધાન 2 પર્યાપ્ત છે
2. વિધાન 1 એકલું પર્યાપ્ત છે જ્યારે વિધાન 2 એકલું પર્યાપ્ત નથી
3. વિધાન 2 એકલું પર્યાપ્ત છે જ્યારે વિધાન 1 એકલું પર્યાપ્ત નથી
4. વિધાન 1 અને વિધાન 2 બંને પર્યાપ્ત છે.

Question ID : [630680726038](#)

Option 1 ID : [6306802845191](#)

Option 2 ID : [6306802845188](#)

Option 3 ID : [6306802845189](#)


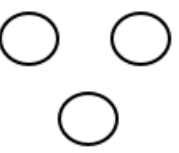


Option 4 ID : [6306802845190](#)

Status : Answered

Chosen Option : 1

**Q.19** નીચેનામાંથી કઈ વેન આકૃતિ ખંડ, દેશ અને રાજ્ય વચ્ચેનો શ્રેષ્ઠ સંબંધ દર્શાવે છે?

Options

1. 
2. 
3. 
4. 

Question ID : [630680725992](#)

Option 1 ID : [6306802845006](#)

Option 2 ID : [6306802845005](#)

Option 3 ID : [6306802845007](#)

Option 4 ID : [6306802845004](#)

Status : Answered

Chosen Option : 2

- Q.20** નીચેના પ્રશ્નમાં 'પ્રશ્ન' અને તેની નીચે ક્રમાંકિત 1 અને 2 એમ બે વિધાનોનો સમાવેશ થાય છે. ઉમેદવારોએ એ નક્કી કરવાનું છે કે વિધાનોમાં આપવામાં આવેલી માહિતી પ્રશ્નનો જવાબ આપવા માટે પર્યાપ્ત છે કે કેમ.  
પ્રશ્ન: અઠવાડિયાના કયા દિવસે સીમાનો જન્મદિવસ હતો?  
વિધાનો:  
1. સીમાએ ઓક્ટોબરમાં તેણીનો જન્મદિવસ ઉજવ્યો હતો.  
2. સીમાના મિત્રો જૂનમાં સીમાને તેણીના જન્મદિવસે મળ્યા હતા.

- Options**
1. વિધાન 1 એકલું પર્યાપ્ત છે જ્યારે વિધાન 2 એકલું પર્યાપ્ત નથી
  2. વિધાન 2 એકલું પર્યાપ્ત છે જ્યારે વિધાન 1 એકલું પર્યાપ્ત નથી
  3. ન તો વિધાન 1 કે ન તો વિધાન 2 પર્યાપ્ત છે
  4. વિધાન 1 અને વિધાન 2 બંને પર્યાપ્ત છે.

Question ID : [630680726037](#)

Option 1 ID : [6306802845184](#)

Option 2 ID : [6306802845185](#)

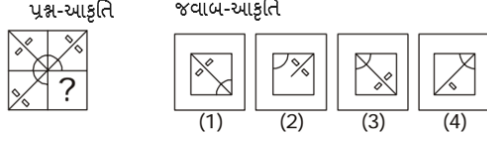
Option 3 ID : [6306802845186](#)

Option 4 ID : [6306802845187](#)

Status : **Answered**

Chosen Option : 3

- Q.21** નીચેનામાંથી કઈ જવાબ-આકૃતિ નીચે આપેલ પ્રશ્ન-આકૃતિમાં પ્રશ્ન ચિહ્નના સ્થાને આવશે? (રોટેશનની મંજૂરી નથી)?



- Options**
1. 1
  2. 2
  3. 4
  4. 3

Question ID : [630680726008](#)

Option 1 ID : [6306802845068](#)

Option 2 ID : [6306802845069](#)

Option 3 ID : [6306802845071](#)

Option 4 ID : [6306802845070](#)

Status : **Answered**

Chosen Option : 4

**Q.22** તે વિકલ્પ પસંદ કરો કે જેમાં સંખ્યાઓ એવી જ રીતે સંબંધિત છે જે રીતે આપેલ ગણમાંની સંખ્યાઓ સંબંધિત છે.  
9:16:25  
36:49:64

- Options**
1. 81:100:121
  2. 45:116:120
  3. 20:66:112
  4. 36:87:51

Question ID : [630680726052](#)

Option 1 ID : [6306802845247](#)

Option 2 ID : [6306802845246](#)

Option 3 ID : [6306802845245](#)

Option 4 ID : [6306802845244](#)

Status : **Answered**

Chosen Option : 1

**Q.23** નીચે આપેલ શ્રેણીને તાર્કિક રીતે પૂર્ણ કરવા માટે પ્રશ્ન ચિહ્નના સ્થાને શું આવશે?  
43, 46, 33, 36, 23, ??

- Options**
1. 38, 25
  2. 25, 38
  3. 26, 13
  4. 13, 26

Question ID : [630680726033](#)

Option 1 ID : [6306802845169](#)

Option 2 ID : [6306802845168](#)

Option 3 ID : [6306802845171](#)

Option 4 ID : [6306802845170](#)

Status : **Answered**

Chosen Option : 3

**Q.24** નીચે આપેલ શ્રેણીને તાર્કિક રીતે પૂર્ણ કરવા માટે પ્રશ્ન ચિહ્ન(?)ના સ્થાને શું આવશે?  
91, 101, 91, 97, 91, ??

- Options**
1. 89
  2. 17
  3. 83
  4. 11

Question ID : [630680726035](#)

Option 1 ID : [6306802845176](#)

Option 2 ID : [6306802845179](#)

Option 3 ID : [6306802845177](#)

Option 4 ID : [6306802845178](#)

Status : **Answered**

Chosen Option : 1

Q.25 તે વિકલ્પ પસંદ કરો કે જેમાં સંખ્યાઓ એવી જ રીતે સંબંધિત છે જે રીતે આપેલ ગણમાંની સંખ્યાઓ સંબંધિત છે.  
(7:5:35)  
(8:6:48)

- Options
1. 2:8:10
  2. 4:8:32
  3. 7:5:20
  4. 3:6:15

Question ID : [630680726051](#)

Option 1 ID : [6306802845242](#)

Option 2 ID : [6306802845241](#)

Option 3 ID : [6306802845243](#)

Option 4 ID : [6306802845240](#)

Status : **Answered**

Chosen Option : 2

Q.26 નીચેના કોષ્ટકમાં છ વિદ્યાર્થીઓએ પરીક્ષામાં છ જુદા જુદા વિષયોમાં મેળવેલા ગુણની ટકાવારી આપેલ છે.

કૌંસમાં આપેલા નંબરો દરેક વિષયમાં મહત્તમ ગુણ દર્શાવે છે

વિદ્યાર્થી	વિષય (મહત્તમ ગુણ)					
	ઈકોલોજી	હિન્દી	જિનેટિક્સ	તત્વજ્ઞાન	વાણિજ્ય	મેડીસીન
	(100)	(100)	(100)	(100)	(100)	(100)
અવિક	45	94	89	69	75	54
ભાવના	84	59	99	79	53	46
ડેનિશ	89	77	55	65	45	97
ગીતા	95	88	77	47	69	49
રાશી	58	48	69	85	79	93
સુરજ	93	52	46	81	85	94

ઉપરોક્ત કોષ્ટકના આધારે, ઈકોલોજીમાં છ વિદ્યાર્થીઓએ મેળવેલ કુલ સરેરાશ ગુણ કેટલા છે?

- Options
1. 78.50 %
  2. 76.33 %
  3. 75.50 %
  4. 77.33 %

Question ID : [630680726059](#)

Option 1 ID : [6306802845275](#)

Option 2 ID : [6306802845273](#)

Option 3 ID : [6306802845272](#)

Option 4 ID : [6306802845274](#)

Status : **Answered**

Chosen Option : 4

**Q.27** જો 'A' નો અર્થ 'યુષાકાર', 'B' નો અર્થ 'વત્તા', 'C' નો અર્થ 'બાદબાકી' અને 'D' નો અર્થ "વડે ભાગ્યા" એવો થતો હોય, તો નીચેની પદ્મવચિનું મૂલ્ય શું હશે?

3A1C8B40D5= ?

- Options**
1. 1
  2. 3
  3. 7
  4. 6

Question ID : [630680726019](#)

Option 1 ID : [6306802845115](#)

Option 2 ID : [6306802845114](#)

Option 3 ID : [6306802845113](#)

Option 4 ID : [6306802845112](#)

Status : **Answered**

Chosen Option : 2

**Q.28** નીચેના પ્રશ્નમાં 'પ્રશ્ન' અને તેની નીચે ક્રમાંકિત 1 અને 2 એમ બે વિધાનોનો સમાવેશ થાય છે. ઉમેદવારોએ એ નક્કી કરવાનું છે કે વિધાનોમાં આપવામાં આવેલી માહિતી પ્રશ્નનો જવાબ આપવા માટે પર્યાપ્ત છે કે કેમ.

પ્રશ્ન: 'Pluto' ને સંક્રિતિક સાધામાં કેવી રીતે વખાય છે?

વિધાનો:

1. 'Pluto is obsolete'ને 'space is black' તરીકે સંક્રિતિક રીતે વખવામાં આવે છે.
2. 'Uranus ring pluto'ને 'space your limit' તરીકે સંક્રિતિક રીતે વખવામાં આવે છે.

- Options**
1. ન તો વિધાન 1 કે ન તો વિધાન 2 પર્યાપ્ત છે
  2. વિધાન 2 એકલું પર્યાપ્ત છે જ્યારે વિધાન 1 એકલું પર્યાપ્ત નથી
  3. વિધાન 1 એકલું પર્યાપ્ત છે જ્યારે વિધાન 2 એકલું પર્યાપ્ત નથી
  4. વિધાન 1 અને વિધાન 2 બંને પર્યાપ્ત છે

Question ID : [630680725995](#)

Option 1 ID : [6306802845017](#)

Option 2 ID : [6306802845018](#)

Option 3 ID : [6306802845016](#)

Option 4 ID : [6306802845019](#)

Status : **Answered**

Chosen Option : 4

**Q.29** સંખ્યા 25,9,11,23,45,67માં જો અંકને તેમના ઉત્તરતા ક્રમમાં વખવામાં આવે તો કેટલા અંકો તેમની સ્થિતિ બદલશે નહીં?

- Options**
1. 3
  2. 4
  3. 1
  4. 2

Question ID : [630680726024](#)

Option 1 ID : [6306802845133](#)

Option 2 ID : [6306802845132](#)

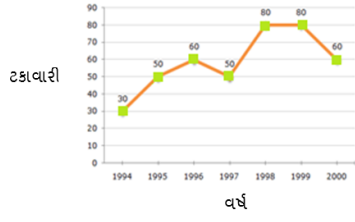
Option 3 ID : [6306802845135](#)

Option 4 ID : [6306802845134](#)

Status : **Answered**

Chosen Option : 3

**Q.30** નીચેનો રેખા આલેખ 1994 થી 2000 સુધીના સાત વર્ષના સમયગાળામાં ગાયન સ્પર્ધામાં ભાગ લેનારા કુલ વિદ્યાર્થીઓમાંથી ગાયન સ્પર્ધામાં લાયકતા મેળવનારા વિદ્યાર્થીઓની સંખ્યાની ટકાવારી દર્શાવે છે. કેટલાક વર્ષોમાં ગાયન સ્પર્ધાની પરીક્ષામાં ભાગ લેવા માટે લાયકતા ધરાવતા વિદ્યાર્થીઓની ટકાવારી



કઈ વર્ષ-જોડીમાં પાસ થયેલા વિદ્યાર્થીઓની સંખ્યા સમાન હતી?

- Options**
- 1995 અને 2000
  - 1995 અને 1997
  - ડેટા અપૂરતો છે
  - 1998 અને 1999

Question ID : [630680726056](#)  
 Option 1 ID : [6306802845261](#)  
 Option 2 ID : [6306802845260](#)  
 Option 3 ID : [6306802845263](#)  
 Option 4 ID : [6306802845262](#)

Status : **Answered**

Chosen Option : 4

**Q.31** જો '\$' નો અર્થ '-', '\*' નો અર્થ '+', '@' નો અર્થ '+', '#' નો અર્થ 'x' થાય, તો નીચેની પદાવલિનું મૂલ્ય શું હશે?

$$2 \# 3 * 4 @ 4 \$ 5 = ?$$

- Options**
- 6
  - 4
  - 2
  - 5

Question ID : [630680726020](#)  
 Option 1 ID : [6306802845119](#)  
 Option 2 ID : [6306802845117](#)  
 Option 3 ID : [6306802845116](#)  
 Option 4 ID : [6306802845118](#)

Status : **Answered**

Chosen Option : 3

Q.32 नीचे आपेवी श्रेणीमां नीयेनामांथी क्युं प्रश्न यिह्नुं स्थान वेशे?  
11, 13, 15, 17, 19, ?

- Options
1. 60
  2. 32
  3. 12
  4. 21

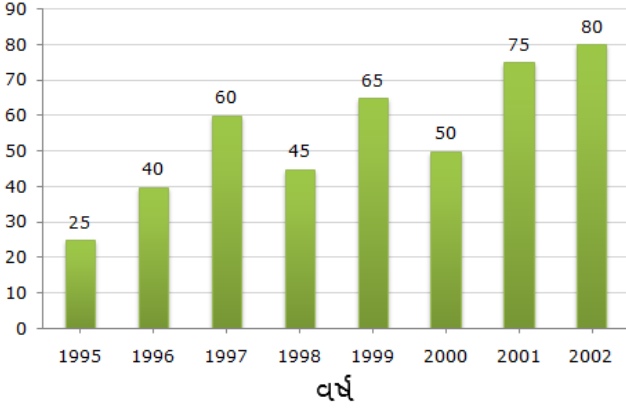
Question ID : [630680726049](#)  
Option 1 ID : [6306802845234](#)  
Option 2 ID : [6306802845235](#)  
Option 3 ID : [6306802845232](#)  
Option 4 ID : [6306802845233](#)  
Status : Answered  
Chosen Option : 4

Q.33 नीचे आपेव पदावलीमां नीयेनामांथी क्युं प्रश्न यिह्नुं स्थान वेशे?  
234 :432:: 457: ?

- Options
1. 547
  2. 754
  3. 457
  4. 745

Question ID : [630680726042](#)  
Option 1 ID : [6306802845205](#)  
Option 2 ID : [6306802845204](#)  
Option 3 ID : [6306802845206](#)  
Option 4 ID : [6306802845207](#)  
Status : Not Attempted and  
Marked For Review  
Chosen Option : --

Q.34 બાર ચાર્ટનો અભ્યાસ કરો અને તેના આધારે પ્રશ્નનો જવાબ આપો.



એક કંપની દ્વારા કેટલાક વર્ષોમાં કરવામાં આવેલું ડાંગરનું ઉત્પાદન (1000 ટનમાં). નીચેનામાંથી કયા વર્ષમાં ડાંગરનું ઉત્પાદન 65 (1000 ટનમાં) હતું ?

- Options
1. 1998
  2. 2002
  3. 1997
  4. 1999

Question ID : [630680726055](#)

Option 1 ID : [6306802845258](#)

Option 2 ID : [6306802845256](#)

Option 3 ID : [6306802845257](#)

Option 4 ID : [6306802845259](#)

Status : Answered

Chosen Option : 4

Q.35 નીચે આપેલ શ્રેણીને તાર્કિક રીતે પૂર્ણ કરવા માટે પ્રશ્ન ચિહ્નના સ્થાને શું આવશે?

5, 15, 7, 21, 13, ?

- Options
1. 31, 39
  2. 39, 31
  3. 24, 20
  4. 20, 24

Question ID : [630680726030](#)

Option 1 ID : [6306802845159](#)

Option 2 ID : [6306802845158](#)

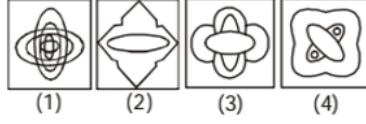
Option 3 ID : [6306802845156](#)

Option 4 ID : [6306802845157](#)

Status : Answered

Chosen Option : 3

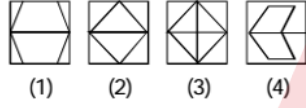
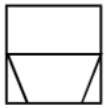
Q.36 નીચેની કઈ જવાબ-આકૃતિમાં પ્રશ્ન-આકૃતિ જડિત(એમ્બેડ) છે (રોટેશનની મંજૂરી નથી)?  
પ્રશ્ન-આકૃતિ જવાબ-આકૃતિ



- Options
1. 4
  2. 2
  3. 1
  4. 3

Question ID : [630680726011](#)  
 Option 1 ID : [6306802845083](#)  
 Option 2 ID : [6306802845081](#)  
 Option 3 ID : [6306802845080](#)  
 Option 4 ID : [6306802845082](#)  
 Status : Answered  
 Chosen Option : 3

Q.37 નીચેની કઈ જવાબ-આકૃતિમાં પ્રશ્ન-આકૃતિ જડિત(એમ્બેડ) છે (રોટેશનની મંજૂરી નથી)?  
પ્રશ્ન-આકૃતિ જવાબ-આકૃતિ



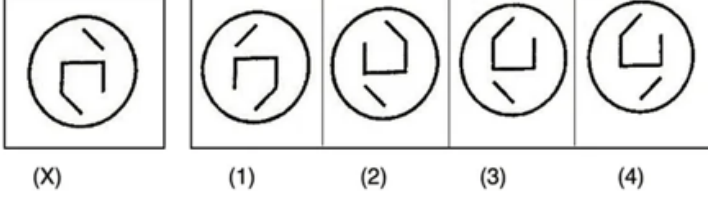
- Options
1. 2
  2. 3
  3. 4
  4. 1

Question ID : [630680726009](#)  
 Option 1 ID : [6306802845073](#)  
 Option 2 ID : [6306802845074](#)  
 Option 3 ID : [6306802845075](#)  
 Option 4 ID : [6306802845072](#)  
 Status : Answered  
 Chosen Option : 4

Q.38 નીચે આપેલા 4 વિકલ્પોમાંથી મૂળ છબી Xનું જળ પ્રતિબિંબ કયું હશે?

પ્રશ્ન-આકૃતિ

જવાબ-આકૃતિ



(X)

(1)

(2)

(3)

(4)

Options 1. 2

2. 1

3. 3

4. 4

Question ID : [630680726014](#)

Option 1 ID : [6306802845093](#)

Option 2 ID : [6306802845092](#)

Option 3 ID : [6306802845094](#)

Option 4 ID : [6306802845095](#)

Status : **Answered**

Chosen Option : 4

Q.39 આપેલા વિધાન(વિધાનો) અને તારણોને કાળજીપૂર્વક વાંચો. એવું માનીને કે વિધાનોમાં આપવામાં આવેલી માહિતી સાચી છે, ભલે તે સામાન્ય રીતે જાણીતી હકીકતોથી ભિન્ન લાગતી હોય, નક્કી કરો કે વિધાન(વિધાનો)માંથી આપેલા તારણો પૈકી કયું તારણ તાર્કિક રીતે અનુસરે છે.

વિધાનો:

તમામ રમતો બેઝબોલ છે.

તમામ બેઝબોલ પિચ છે.

તમામ પીચ ક્રિકેટ છે.

તારણો:

1. અમુક પિચ બેઝબોલ છે.

2. તમામ રમતો પીચ છે.

3. તમામ ક્રિકેટ પીચ છે.

Options 1. તારણ 1 અને તારણ 2 બંને અનુસરે છે

2. તમામ 3 તારણો અનુસરે છે

3. માત્ર તારણ 3 અનુસરે છે.

4. માત્ર તારણ 2 અનુસરે છે.

Question ID : [630680725989](#)

Option 1 ID : [6306802844992](#)

Option 2 ID : [6306802844995](#)

Option 3 ID : [6306802844994](#)

Option 4 ID : [6306802844993](#)

Status : **Answered**

Chosen Option : 1

**Q.40** નીચે આપેલ સંખ્યાઓના ગણનો અભ્યાસ કરો અને પ્રશ્નનો જવાબ આપો

221,576,899,665,710

જો સંખ્યાઓને ઉતરતા ક્રમમાં ફરીથી ગોઠવવામાં આવે તો તમામ સંખ્યાઓના પ્રથમ અંકોનો સરવાળો કેટલો હશે?

- Options
1. 25
  2. 28
  3. 24
  4. 21

Question ID : [630680726025](#)

Option 1 ID : [6306802845139](#)

Option 2 ID : [6306802845136](#)

Option 3 ID : [6306802845138](#)

Option 4 ID : [6306802845137](#)

Status : **Answered**

Chosen Option : 2

Section : Quantitative Aptitude

**Q.41** સમાંતર શ્રેણી (AP) : 18, 23, 28, ..., 138 ના તમામ પદોનો સરવાળો શોધો.

- Options
1. 2010
  2. 1720
  3. 1840
  4. 1950

Question ID : [630680725779](#)

Option 1 ID : [6306802844175](#)

Option 2 ID : [6306802844172](#)

Option 3 ID : [6306802844173](#)

Option 4 ID : [6306802844174](#)

Status : **Not Attempted and  
Marked For Review**

Chosen Option : --

**Q.42** રાજનો પગાર સેમ કરતાં બે ગણો અને ટૂંક કરતાં પાંચ ગણો છે. જો તેમની કુલ કમાણી ₹34,000 છે, તો રાજની કમાણી શોધો.

- Options
1. ₹ 24000
  2. ₹ 18000
  3. ₹ 12000
  4. ₹ 20000

Question ID : [630680725755](#)

Option 1 ID : [6306802844076](#)

Option 2 ID : [6306802844079](#)

Option 3 ID : [6306802844078](#)

Option 4 ID : [6306802844077](#)

Status : **Answered**

Chosen Option : 4

**Q.43** એક બોટ A થી B સાઉન્ટ્રીમ (પ્રવાહની દિશામાં) જાય છે અને 32 કલાકમાં B પર પાછી આવે છે. A અને B વચ્ચેનું અંતર 300 km છે. જો સ્થિર પાણીમાં બોટની ગતિ 20 km/hr હોય, તો પ્રવાહની ઝડપ શોધો.

- Options**
1. 4 km/hr
  2. 8 km/hr
  3. 3 km/hr
  4. 5 km/hr

Question ID : **630680725766**

Option 1 ID : **6306802844120**

Option 2 ID : [6306802844123](#)

Option 3 ID : [6306802844122](#)

Option 4 ID : [6306802844121](#)

Status : **Answered**

Chosen Option : **4**

**Q.44** એક જૂથમાં 20 વિદ્યાર્થીઓની સરેરાશ ઊંચાઈ 160 cm નોંધાઈ હતી. પાછળથી એવું જણાયું હતું કે એક વિદ્યાર્થીની ઊંચાઈ 180 cm ને બદલે 155 cm તરીકે ખોટી રીતે નોંધવામાં આવી હતી. જૂથની સાચી સરેરાશ ઊંચાઈ શોધો.

- Options**
1. 160.5 cm
  2. 161.25 cm
  3. 162.75 cm
  4. 163 cm

Question ID : [630680725723](#)

Option 1 ID : [6306802843948](#)

Option 2 ID : [6306802843949](#)

Option 3 ID : [6306802843951](#)

Option 4 ID : [6306802843950](#)

Status : **Answered**

Chosen Option : **2**

**Q.45** સમાંતર શ્રેણી (AP): 101, 107, 113, 119 ... નું 26મું પદ શોધો.

- Options**
1. 251
  2. 231
  3. 271
  4. 261

Question ID : [630680725777](#)

Option 1 ID : [6306802844166](#)

Option 2 ID : [6306802844164](#)

Option 3 ID : [6306802844165](#)

Option 4 ID : [6306802844167](#)

Status : **Answered**

Chosen Option : **1**

Q.46 એક વસ્તુની ચિહ્નિત કિંમત ₹1,100 છે અને તે ₹900માં વેચાય છે. ઓફર કરાયેલા ડિસ્કાઉન્ટની ટકાવારી નીચેનામાંથી કયા વિકલ્પની સૌથી નજીક છે?

- Options
1. 18.18%
  2. 20%
  3. 14.44%
  4. 15%

Question ID : [630680725747](#)  
 Option 1 ID : [6306802844047](#)  
 Option 2 ID : [6306802844046](#)  
 Option 3 ID : [6306802844045](#)  
 Option 4 ID : [6306802844044](#)  
 Status : **Marked For Review**  
 Chosen Option : 2

Q.47 જો  $g - h = 16$  અને  $g^2 - h^2 = 448$  હોય, તો  $g + h$ નું મૂલ્ય શોધો.

- Options
1. 26
  2. 28
  3. 32
  4. 22

Question ID : [630680725770](#)  
 Option 1 ID : [6306802844139](#)  
 Option 2 ID : [6306802844136](#)  
 Option 3 ID : [6306802844138](#)  
 Option 4 ID : [6306802844137](#)  
 Status : **Answered**  
 Chosen Option : 2

Q.48 જો  $x + z = 45$  અને  $x - z = 15$  હોય, તો  $xz$  નું મૂલ્ય શોધો.

- Options
1. 900
  2. 300
  3. 250
  4. 450

Question ID : [630680725772](#)  
 Option 1 ID : [6306802844147](#)  
 Option 2 ID : [6306802844144](#)  
 Option 3 ID : [6306802844145](#)  
 Option 4 ID : [6306802844146](#)  
 Status : **Answered**  
 Chosen Option : 4

Q.49 પ્રથમ 201 પૂર્ણ સંખ્યાઓની સરેરાશ શોધો.

- Options
1. 100
  2. 102
  3. 101.5
  4. 100.5

Question ID : [630680725722](#)

Option 1 ID : [6306802843945](#)

Option 2 ID : [6306802843947](#)

Option 3 ID : [6306802843944](#)

Option 4 ID : [6306802843946](#)

Status : **Answered**

Chosen Option : 1

Q.50 ત્રણ ઉમેદવારો M, N અને O વચ્ચેની ચૂંટણીમાં, M ને કુલ મતોના 45% મળે છે અને M ને O કરતાં 2400 વધુ મત પણ મળ્યા છે. જો કુલ મત 10000 નોખવામાં આવ્યા હતા, તો N ને મળેલા મતોની સંખ્યા શોધો.

- Options
1. 4000
  2. 1300
  3. 2100
  4. 3400

Question ID : [630680725737](#)

Option 1 ID : [6306802844007](#)

Option 2 ID : [6306802844004](#)

Option 3 ID : [6306802844005](#)

Option 4 ID : [6306802844006](#)

Status : **Answered**

Chosen Option : 4

Q.51 નીચેનામાંથી શું સહ-અવિભાજ્ય સંખ્યાઓ C અને D માટે હંમેશા સાચું છે?

- Options
1. C અને D બંને અવિભાજ્ય છે.
  2. C અને D નો ગુ.સા.અ. (HCF) 1 છે
  3. C અથવા Dમાંથી ઓછામાં ઓછી એક અવિભાજ્ય છે.
  4. C અને D 1 સિવાયનો સામાન્ય અવયવ ધરાવે તે આવશ્યક છે.

Question ID : [630680725728](#)

Option 1 ID : [6306802843968](#)

Option 2 ID : [6306802843969](#)

Option 3 ID : [6306802843970](#)

Option 4 ID : [6306802843971](#)

Status : **Answered**

Chosen Option : 2

Q.52 જો  $z + \frac{1}{z} = 5$  અને  $z - \frac{1}{z} = 3$  હોય, તો  $z^4 - \frac{1}{z^4}$  નું મૂલ્ય શોધો.

- Options
1. 225
  2. 345
  3. 361
  4. 289

Question ID : [630680725776](#)  
 Option 1 ID : [6306802844160](#)  
 Option 2 ID : [6306802844162](#)  
 Option 3 ID : [6306802844161](#)  
 Option 4 ID : [6306802844163](#)  
 Status : **Not Attempted and Marked For Review**  
 Chosen Option : --

Q.53  $7.5 \div 1.5 \times 0.7 + 4.2$  નું મૂલ્ય શોધો.

- Options
1. 5.5
  2. 7.7
  3. 8.8
  4. 6.6

Question ID : [630680725731](#)  
 Option 1 ID : [6306802843980](#)  
 Option 2 ID : [6306802843982](#)  
 Option 3 ID : [6306802843983](#)  
 Option 4 ID : [6306802843981](#)  
 Status : **Answered**  
 Chosen Option : 2

Q.54 સ્કીમ: '1 ખરીદો અને 2 મફતમાં મેળવો' માટે અસરકારક ડિસ્કાઉન્ટ શોધો. (બે દશાંશ સ્થાનો સુધીનો સાચો જવાબ લખો.)

- Options
1. 33.33%
  2. 66.67%
  3. 98.89%
  4. 72.15%

Question ID : [630680725750](#)  
 Option 1 ID : [6306802844057](#)  
 Option 2 ID : [6306802844058](#)  
 Option 3 ID : [6306802844059](#)  
 Option 4 ID : [6306802844056](#)  
 Status : **Answered**  
 Chosen Option : 2

Q.55 જો રિશવે પરીક્ષામાં અમન કરતાં 10% વધુ માર્ક્સ મેળવ્યા હોય, તો અમને રિશવ કરતાં કેટલા ટકા ઓછા માર્ક્સ મેળવ્યા હશે?

- Options
1. 10%
  2. 9.09%
  3. 11%
  4. 10.11%

Question ID : [630680725741](#)

Option 1 ID : [6306802844020](#)

Option 2 ID : [6306802844021](#)

Option 3 ID : [6306802844023](#)

Option 4 ID : [6306802844022](#)

Status : Answered

Chosen Option : 2

Q.56  $\frac{7}{11} \times \frac{45}{12} \div \frac{5}{44} - \frac{1}{3} + \frac{7}{3}$  નું મૂલ્ય શોધો.

- Options
1. 21
  2. 25
  3. 19
  4. 23

Question ID : [630680725735](#)

Option 1 ID : [6306802843996](#)

Option 2 ID : [6306802843997](#)

Option 3 ID : [6306802843999](#)

Option 4 ID : [6306802843998](#)

Status : Answered

Chosen Option : 4

Q.57 220 મીટર લાંબી એક ટ્રેન 50 મીટર/સેકન્ડની ઝડપે દોડી રહી છે. સમાંતર ટ્રેક પર ઊભી રહેલી 180 મીટર લંબાઈની બીજી ટ્રેનને પાર કરવામાં તેને કેટલી સેકન્ડ લાગે છે?

- Options
1. 4 સેકન્ડ
  2. 24 સેકન્ડ
  3. 12 સેકન્ડ
  4. 8 સેકન્ડ

Question ID : [630680725767](#)

Option 1 ID : [6306802844127](#)

Option 2 ID : [6306802844126](#)

Option 3 ID : [6306802844124](#)

Option 4 ID : [6306802844125](#)

Status : Answered

Chosen Option : 4

**Q.58** મોહન અને રામ અનુક્રમે 8 કલાક અને 10 કલાકમાં એક દિવાલને પેઇન્ટ કરી શકે છે. બંને સાથે મળીને કામ શરૂ કરે છે, પરંતુ મોહન 2 કલાક પછી જતો રહે છે. બાકીનો ભાગ પૂરો કરવા માટે રામે લીધેલો સમય શોધો.

- Options**
1. 5 કલાક 30 મિનિટ
  2. 6 કલાક
  3. 7 કલાક 30 મિનિટ
  4. 8 કલાક

Question ID : [630680725760](#)

Option 1 ID : [6306802844098](#)

Option 2 ID : [6306802844096](#)

Option 3 ID : [6306802844097](#)

Option 4 ID : [6306802844099](#)

Status : **Not Attempted and Marked For Review**

Chosen Option : --

**Q.59** બે સંખ્યાઓનો ગુ.સા.અ. (HCF) 8 છે અને તેમનો સરવાળો 48 છે. આવી સંખ્યાઓની કેટલી જોડી શક્ય છે?

- Options**
1. 4
  2. 3
  3. 2
  4. 1

Question ID : [630680725732](#)

Option 1 ID : [6306802843986](#)

Option 2 ID : [6306802843984](#)

Option 3 ID : [6306802843985](#)

Option 4 ID : [6306802843987](#)

Status : **Answered**

Chosen Option : 4

**Q.60** અમનની માસિક બચત અજયની માસિક ખર્ચ જેટલી છે અને અમનનો માસિક પગાર અજય કરતાં 20% વધુ છે. જો અજય દર મહિને ₹50000 કમાતો હોય અને અમન દર મહિને ₹15000 ખર્ચતો હોય, તો અજયની માસિક બચત શોધો.

- Options**
1. ₹ 45000
  2. ₹ 5000
  3. ₹ 35000
  4. ₹ 15000

Question ID : [630680725740](#)

Option 1 ID : [6306802844016](#)

Option 2 ID : [6306802844019](#)

Option 3 ID : [6306802844018](#)

Option 4 ID : [6306802844017](#)

Status : **Not Attempted and Marked For Review**

Chosen Option : --

**Q.61** જો 1 બોક્સમાં 15 ગિટાર સમાઈ થઈ શકે, તો 3150 ગિટારને સમાવવા માટે કેટલા બોક્સની જરૂર પડે?

- Options**
1. 230
  2. 190
  3. 210
  4. 170

Question ID : [630680725729](#)

Option 1 ID : [6306802843975](#)

Option 2 ID : [6306802843972](#)

Option 3 ID : [6306802843974](#)

Option 4 ID : [6306802843973](#)

Status : **Answered**

Chosen Option : 3

**Q.62** વિક્રમ એકબીજાથી 330 km દૂર શહેર A થી શહેર B વચ્ચે મુસાફરી કરે છે. તેણે પ્રથમ 110 km 55 km/hr ની ઝડપે, પછીનું 60 km 12 km/hr ની ઝડપે અને બાકીનું અંતર 40 km/hr ની ઝડપે કાપ્યું. સમગ્ર પ્રવાસ દરમિયાન તેની સરેરાશ ઝડપ શીયો.

- Options**
1. 20 km/hr
  2. 30 km/hr
  3. 25 km/hr
  4. 22 km/hr

Question ID : [630680725761](#)

Option 1 ID : [6306802844103](#)

Option 2 ID : [6306802844102](#)

Option 3 ID : [6306802844100](#)

Option 4 ID : [6306802844101](#)

Status : **Answered**

Chosen Option : 2

**Q.63** રામ ₹ 20,000માં એક લેપટોપ ખરીદે છે. તેણે તે 20% નફામાં શ્યામને વેચી દીધું જેણે તેને 20% નુકસાનમાં નિવેશને વેચ્યું. નિવેશ માટે લેપટોપની પડતર કિંમત શીયો.

- Options**
1. ₹ 19,200
  2. ₹ 20,000
  3. ₹ 16,000
  4. ₹ 22,400

Question ID : [630680725746](#)

Option 1 ID : [6306802844043](#)

Option 2 ID : [6306802844042](#)

Option 3 ID : [6306802844041](#)

Option 4 ID : [6306802844040](#)

Status : **Answered**

Chosen Option : 1

**Q.64** એક ટેસ્ટ મેચમાં, વિરાટ અને રોહિતે બનાવેલા રનનો ગુણોત્તર 13: 15 હતો. જો વિરાટે 195 રન બનાવ્યા હોય, તો રોહિતે બનાવેલા રન શોધો.

- Options
1. 215
  2. 235
  3. 225
  4. 205

Question ID : [630680725751](#)

Option 1 ID : [6306802844063](#)

Option 2 ID : [6306802844062](#)

Option 3 ID : [6306802844061](#)

Option 4 ID : [6306802844060](#)

Status : **Answered**

Chosen Option : 3

**Q.65** જો  $m - n = 8$  અને  $mn = 48$ , અને  $m > 0$ ,  $n > 0$  હોય, તો  $m^2 - n^2$ નું મૂલ્ય શોધો..

- Options
1. 112
  2. 144
  3. 128
  4. 160

Question ID : [630680725774](#)

Option 1 ID : [6306802844155](#)

Option 2 ID : [6306802844152](#)

Option 3 ID : [6306802844154](#)

Option 4 ID : [6306802844153](#)

Status : **Answered**

Chosen Option : 4

**Q.66** જો એક વર્ગના 10 વિદ્યાર્થીઓનું સરેરાશ વજન 34.7 kg હોય, તો વર્ગનું કુલ વજન શોધો.

- Options
1. 117 kg
  2. 662 kg
  3. 347 kg
  4. 215 kg

Question ID : [630680725721](#)

Option 1 ID : [6306802843942](#)

Option 2 ID : [6306802843941](#)

Option 3 ID : [6306802843940](#)

Option 4 ID : [6306802843943](#)

Status : **Answered**

Chosen Option : 3

Q.67 જો  $X: Y = 5: 14$  અને  $Y: Z = 28: 37$ , તો  $X: Z$  નું મૂલ્ય શોધો.

- Options
1. 11: 75
  2. 8: 35
  3. 10: 37
  4. 12: 77

Question ID : [630680725754](#)

Option 1 ID : [6306802844072](#)

Option 2 ID : [6306802844073](#)

Option 3 ID : [6306802844075](#)

Option 4 ID : [6306802844074](#)

Status : Answered

Chosen Option : 3

Q.68 સ્થિર પાણીમાં એક બોટની ઝડપ 26 km/hr. છે અને પ્રવાહની ઝડપ 5 km/hr છે. 105 km અપસ્ટ્રીમ (પ્રવાહની વિરુદ્ધ) જવા માટે બોટ દ્વારા લેવામાં આવેલો સમય શોધો.

- Options
1. 8 કલાક
  2. 7 કલાક
  3. 6 કલાક
  4. 5 કલાક

Question ID : [630680725765](#)

Option 1 ID : [6306802844119](#)

Option 2 ID : [6306802844118](#)

Option 3 ID : [6306802844117](#)

Option 4 ID : [6306802844116](#)

Status : Answered

Chosen Option : 4

Q.69 એક પંપ 4 કલાકમાં એક કુંડ ભરી શકે છે. સાવ (લીકેજ)ને કારણે કુંડને ભરવામાં 6 કલાકનો સમય લાગ્યો હતો. એકવા વીકથી સંપૂર્ણ કુંડને ખાલી થવામાં લાગતો સમય શોધો.

- Options
1. 6 કલાક
  2. 8 કલાક
  3. 12 કલાક
  4. 18 કલાક

Question ID : [630680725757](#)

Option 1 ID : [6306802844084](#)

Option 2 ID : [6306802844085](#)

Option 3 ID : [6306802844086](#)

Option 4 ID : [6306802844087](#)

Status : Answered

Chosen Option : 1

Q.70 એક ફોનની વેચાણ કિંમત ₹60,000 છે. જો તેની પડતર કિંમત ₹50,000 હોય, તો નફાની ટકાવારી શોધો.

- Options
1. 20%
  2. 18%
  3. 25%
  4. 15%

Question ID : [630680725744](#)

Option 1 ID : [6306802844033](#)

Option 2 ID : [6306802844035](#)

Option 3 ID : [6306802844032](#)

Option 4 ID : [6306802844034](#)

Status : Answered

Chosen Option : 1

Section : English

Q.71 વાક્યનું સાચું અર્થજી લાખાંતર શોધો  
લોકમાન્યનાં આ મને પ્રથમ દર્શન હતું

- Options
1. This was my first meeting with the Lokamanya
  2. This was my first meeting the Lokamanya
  3. was my first meeting Lokamanya
  4. This was my first meeting today

Question ID : [630680725860](#)

Option 1 ID : [6306802844496](#)

Option 2 ID : [6306802844497](#)

Option 3 ID : [6306802844499](#)

Option 4 ID : [6306802844498](#)

Status : Not Answered

Chosen Option : --

Q.72 Identify the correct meaning of the word in BLOCK letters.  
There are too many INANE quiz shows on television these days.

- Options
1. Immensely interesting
  2. Very clever
  3. Quite entertaining
  4. Extremely silly

Question ID : [630680725905](#)

Option 1 ID : [6306802844674](#)

Option 2 ID : [6306802844672](#)

Option 3 ID : [6306802844675](#)

Option 4 ID : [6306802844673](#)

Status : Not Answered

Chosen Option : --

**Q.73** Choose the correct option to complete the sentence:  
She answered the question \_\_\_\_\_ during the exam.

- Options**
1. shyly
  2. confidently
  3. angrily
  4. noisily

Question ID : [630680715084](#)

Option 1 ID : [6306802802004](#)

Option 2 ID : [6306802802005](#)

Option 3 ID : [6306802802007](#)

Option 4 ID : [6306802802006](#)

Status : **Answered**

Chosen Option : 2

**Q.74** Fill in the blank with the correct preposition.  
I was hoping to have snacks \_\_\_\_\_ the interval.

- Options**
1. On
  2. Inside
  3. In
  4. During

Question ID : [630680725881](#)

Option 1 ID : [6306802844578](#)

Option 2 ID : [6306802844579](#)

Option 3 ID : [6306802844576](#)

Option 4 ID : [6306802844577](#)

Status : **Answered**

Chosen Option : 4

**Q.75** Identify the correct meaning of the word in **BLOCK** letters.  
Sometimes the King is regarded as **DIVINE** and has become the key figure in fertility rituals.

- Options**
1. Royal
  2. Regal
  3. God
  4. Legal

Question ID : [630680725902](#)

Option 1 ID : [6306802844661](#)

Option 2 ID : [6306802844662](#)

Option 3 ID : [6306802844660](#)

Option 4 ID : [6306802844663](#)

Status : **Not Answered**

Chosen Option : --

Q.76 I had watched the drama at \_\_\_\_\_ amphitheatre in France.

- Options
1. No article needed
  2. an
  3. a
  4. the

Question ID : [630680725874](#)  
Option 1 ID : [6306802844551](#)  
Option 2 ID : [6306802844548](#)  
Option 3 ID : [6306802844549](#)  
Option 4 ID : [6306802844550](#)  
Status : Answered  
Chosen Option : 4

Q.77 Given below are four jumbled sentences. Select the option that gives their correct order forming a meaningful and coherent paragraph.

- A. Juggler is an entertainer who specializes in balancing and in feats of dexterity in tossing and catching items such as balls, plates, and knives.  
B. Juggling was a highly developed art long before the medieval period, according to evidence found in ancient Egyptian, Greek, and Roman sculpture, coins, and manuscripts.  
C. Its French linguistic equivalent, jongleur, signifies much more than just juggling, though some of the jongleurs may have turned to juggling when their original role fell out of fashion.  
D. Comparison with these ancient records reveals that, although juggling has advanced in technical perfection, the underlying principles are still the same. In an early manuscript, for example, a bear is shown standing on its hind legs and juggling with three knives.

- Options
1. DCBA
  2. ACBD
  3. ABCD
  4. ABDC

Question ID : [630680725901](#)  
Option 1 ID : [6306802844657](#)  
Option 2 ID : [6306802844658](#)  
Option 3 ID : [6306802844659](#)  
Option 4 ID : [6306802844656](#)  
Status : Not Answered  
Chosen Option : --

Q.78 Identify the correct antonym of the following word: demure

- Options
1. Modest
  2. Admire
  3. Convey
  4. Social

Question ID : [630680725912](#)  
Option 1 ID : [6306802844702](#)  
Option 2 ID : [6306802844700](#)  
Option 3 ID : [6306802844703](#)  
Option 4 ID : [6306802844701](#)  
Status : Not Answered  
Chosen Option : --

**Q.79** Identify the correct antonym of the following word: latent

- Options**
1. Dormant
  2. Dull
  3. Operative
  4. Asleep

Question ID : [630680725915](#)  
Option 1 ID : [6306802844714](#)  
Option 2 ID : [6306802844713](#)  
Option 3 ID : [6306802844712](#)  
Option 4 ID : [6306802844715](#)  
Status : **Not Answered**  
Chosen Option : --

**Q.80** Rewrite the following sentence in the simple past tense:  
I throw out the old material from my cupboard.

- Options**
1. I have been thrown out the old material from my cupboard.
  2. I have thrown out the old material from my cupboard.
  3. I threw out the old material from my cupboard.
  4. I was about to throw out the old material from my cupboard.

Question ID : [630680725887](#)  
Option 1 ID : [6306802844603](#)  
Option 2 ID : [6306802844601](#)  
Option 3 ID : [6306802844600](#)  
Option 4 ID : [6306802844602](#)  
Status : **Not Answered**  
Chosen Option : --

**Q.81** Given below are four jumbled sentences. Select the option that gives their correct order forming a meaningful and coherent paragraph.

- A.** In its preserving of this primary evidence, the museum differs markedly from the library, with which it has often been compared, for the items housed in a museum are mainly unique and constitute the raw material of study and research.
- B.** Museums have been founded for a variety of purposes like to serve as recreational facilities, scholarly venues, or educational resources; to contribute to the quality of life of the areas where they are situated; to attract tourism to a region; to promote civic pride or nationalistic endeavour; or even to transmit overtly ideological concepts.
- C.** In many cases they are removed in time, place, and circumstance from their original context, and they communicate directly to the viewer in a way not possible through other media.
- D.** Museum is an institution dedicated to preserving and interpreting the primary tangible evidence of humankind and the environment.

- Options**
1. DACB
  2. BCAD
  3. DCAB
  4. CDBA

Question ID : [630680725900](#)  
Option 1 ID : [6306802844652](#)  
Option 2 ID : [6306802844655](#)  
Option 3 ID : [6306802844653](#)  
Option 4 ID : [6306802844654](#)  
Status : **Not Answered**  
Chosen Option : --

**Comprehension:**

Read the following passage and answer the questions given below:

The novel is a genre of fiction, and fiction may be defined as the art or craft of contriving, through the written word, representations of human life that instruct or divert or both. The various forms that fiction may take are best seen less as a number of separate categories than as a continuum or, more accurately, a cline, with some such brief form as the anecdote at one end of the scale and the longest conceivable novel at the other. When any piece of fiction is long enough to constitute a whole book, as opposed to a mere part of a book, then it may be said to have achieved novelhood. But this state admits of its own quantitative categories, so that a relatively brief novel may be termed a novella (or, if the insubstantiality of the content matches its brevity, a novelette), and a very long novel may overflow the banks of a single volume and become a roman-fleuve, or river novel. Length is very much one of the dimensions of the genre.

**SubQuestion No : 82**

**Q.82 Identify the meaning of the word 'dimension' as it is used in the passage.**

- Options**
1. aspect
  2. division
  3. integral part
  4. salient features

Question ID : [630680725925](#)  
 Option 1 ID : [6306802844749](#)  
 Option 2 ID : [6306802844751](#)  
 Option 3 ID : [6306802844748](#)  
 Option 4 ID : [6306802844750](#)  
 Status : **Not Answered**  
 Chosen Option : --

**Comprehension:**

Read the following passage and answer the questions given below:

The novel is a genre of fiction, and fiction may be defined as the art or craft of contriving, through the written word, representations of human life that instruct or divert or both. The various forms that fiction may take are best seen less as a number of separate categories than as a continuum or, more accurately, a cline, with some such brief form as the anecdote at one end of the scale and the longest conceivable novel at the other. When any piece of fiction is long enough to constitute a whole book, as opposed to a mere part of a book, then it may be said to have achieved novelhood. But this state admits of its own quantitative categories, so that a relatively brief novel may be termed a novella (or, if the insubstantiality of the content matches its brevity, a novelette), and a very long novel may overflow the banks of a single volume and become a roman-fleuve, or river novel. Length is very much one of the dimensions of the genre.

**SubQuestion No : 83**

**Q.83 Identify the sentence with the correct usage of the word 'continuum' as given in the passage.**

- Options**
1. The trademarks shall be used during the continuance of this business agreement.
  2. They found the endings difficult.
  3. The progress was delayed by constant discontinuance of the work.
  4. They heard intermittent bursts of gunfire.

Question ID : [630680725924](#)  
 Option 1 ID : [6306802844744](#)  
 Option 2 ID : [6306802844747](#)  
 Option 3 ID : [6306802844746](#)  
 Option 4 ID : [6306802844745](#)  
 Status : **Not Answered**  
 Chosen Option : --

**Comprehension:**

Read the following passage and answer the questions given below:

The novel is a genre of fiction, and fiction may be defined as the art or craft of contriving, through the written word, representations of human life that instruct or divert or both. The various forms that fiction may take are best seen less as a number of separate categories than as a continuum or, more accurately, a cline, with some such brief form as the anecdote at one end of the scale and the longest conceivable novel at the other. When any piece of fiction is long enough to constitute a whole book, as opposed to a mere part of a book, then it may be said to have achieved novelhood. But this state admits of its own quantitative categories, so that a relatively brief novel may be termed a novella (or, if the insubstantiality of the content matches its brevity, a novelette), and a very long novel may overflow the banks of a single volume and become a roman-fleuve, or river novel. Length is very much one of the dimensions of the genre.

**SubQuestion No : 84****Q.84 Select the correct summary for the passage:**

- Options**
1. Discussing about the novel at length, the writer at the outset defines it, states about the full-length fiction work attaining novelhood to be the complete work, mentions about its forms like novella, novelette, river novel, etc. The discussion closes with a comment on the length of the novel as one of its dimensions.
  2. Discussing about the novel at length, the writer at the outset defines the constituents of it, states about the full-length fiction work attaining novelhood to be the complete work, mentions about its forms like novella, novelette, river novel, etc. The discussion closes with a comment on the characters of the novel.
  3. Discussing about the novel at length, the writer at the outset defines other forms of literature like poetry, drama etc. He also states about the full-length fiction work attaining novelhood to be the complete work, mentions about its forms like novella, novelette, river novel, etc. The discussion closes with a comment on the length of the novel as one
  4. Discussing about the novel at length, the writer tells the story about his own attempt to write a work of fiction and goes on to discuss how it got transformed with the passing of the time. The discussion closes with the writer's desire to write more novels in future.

Question ID : [630680725923](#)

Option 1 ID : [6306802844740](#)

Option 2 ID : [6306802844741](#)

Option 3 ID : [6306802844742](#)

Option 4 ID : [6306802844743](#)

Status : **Not Answered**

Chosen Option : --

**Comprehension:**

Read the following passage and answer the questions given below:

The novel is a genre of fiction, and fiction may be defined as the art or craft of contriving, through the written word, representations of human life that instruct or divert or both. The various forms that fiction may take are best seen less as a number of separate categories than as a continuum or, more accurately, a cline, with some such brief form as the anecdote at one end of the scale and the longest conceivable novel at the other. When any piece of fiction is long enough to constitute a whole book, as opposed to a mere part of a book, then it may be said to have achieved novelhood. But this state admits of its own quantitative categories, so that a relatively brief novel may be termed a novella (or, if the insubstantiality of the content matches its brevity, a novelette), and a very long novel may overflow the banks of a single volume and become a roman-fleuve, or river novel. Length is very much one of the dimensions of the genre.

**SubQuestion No : 85**

**Q.85** According to the passage, novel is \_\_\_\_\_.

- Options**
1. a genre of fiction contriving actions
  2. a genre of fiction contriving through words
  3. a genre of fiction contriving through words, representing human life that instructs or diverts or both.
  4. a genre of fiction

Question ID : [630680725922](#)  
 Option 1 ID : [6306802844738](#)  
 Option 2 ID : [6306802844737](#)  
 Option 3 ID : [6306802844739](#)  
 Option 4 ID : [6306802844736](#)

Status : **Not Answered**

Chosen Option : --

## Section : Gujarati

**Q.86** અથુક્ર વિધાન શોધો

- Options**
1. સુંદર સવાર છે
  2. કેવી સરસ ઋતુ છે!
  3. તમે જરૂર આવજો
  4. પ્રકાશનો પડછાયો હતી

Question ID : [630680725828](#)  
 Option 1 ID : [6306802844369](#)  
 Option 2 ID : [6306802844371](#)  
 Option 3 ID : [6306802844370](#)  
 Option 4 ID : [6306802844368](#)

Status : **Not Answered**

Chosen Option : --

Q.87 સમાસનો સાચો વિગ્રહ શોધો - નરસિંહ =

- Options
1. નર અને સિંહ
  2. સિંહ જેવો નર
  3. નર નહિ કે સિંહ નહિ
  4. નર જેવો સિંહ

Question ID : [630680725805](#)

Option 1 ID : [6306802844276](#)

Option 2 ID : [6306802844278](#)

Option 3 ID : [6306802844279](#)

Option 4 ID : [6306802844277](#)

Status : Not Answered

Chosen Option : --

Q.88 સાચી જોડણીવાળો શબ્દ શોધો.

- Options
1. ભીતી
  2. પ્રિતિ
  3. શીશિ
  4. ઊંટ

Question ID : [630680715210](#)

Option 1 ID : [6306802802491](#)

Option 2 ID : [6306802802490](#)

Option 3 ID : [6306802802488](#)

Option 4 ID : [6306802802489](#)

Status : Not Answered

Chosen Option : --

Q.89 વિરુદ્ધાર્થી શબ્દ શોધો.-પરિમલ

- Options
1. સુગંધ
  2. પિરામલ
  3. દુર્ગંધ
  4. વિમલ

Question ID : [630680725816](#)

Option 1 ID : [6306802844323](#)

Option 2 ID : [6306802844321](#)

Option 3 ID : [6306802844322](#)

Option 4 ID : [6306802844320](#)

Status : Not Answered

Chosen Option : --

**Q.90** Translate the following sentence into Gujarati:  
Its banks are stony.

- Options**
1. તેનો કિનારો પથ્થર છે.
  2. તે કિનારો પથરાળ છે.
  3. તેનો કિનારો પથરાળ છે.
  4. તેનો કિનારો પથરા છે.

Question ID : [630680715244](#)  
 Option 1 ID : [6306802802627](#)  
 Option 2 ID : [6306802802625](#)  
 Option 3 ID : [6306802802624](#)  
 Option 4 ID : [6306802802626](#)  
 Status : **Not Answered**  
 Chosen Option : --

**Q.91** શબ્દસમૂહ માટે એક શબ્દ લખો:  
વગર મહેનતાણાથી કામ કરનાર

- Options**
1. મફતિયો
  2. ફોગટ
  3. વેકિયો
  4. માનદ

Question ID : [630680715187](#)  
 Option 1 ID : [6306802802398](#)  
 Option 2 ID : [6306802802397](#)  
 Option 3 ID : [6306802802399](#)  
 Option 4 ID : [6306802802396](#)  
 Status : **Not Answered**  
 Chosen Option : --

**Q.92** સમાનાર્થી શબ્દ શોધો-પુરાતન

- Options**
1. સનાતન
  2. સૌતન
  3. નિષ્ઠા
  4. અધતન

Question ID : [630680725814](#)  
 Option 1 ID : [6306802844312](#)  
 Option 2 ID : [6306802844313](#)  
 Option 3 ID : [6306802844314](#)  
 Option 4 ID : [6306802844315](#)  
 Status : **Not Answered**  
 Chosen Option : --

Q.93 દિવસના સંક્રમણથી રાત્રિમાં સાગર સૂક્ષ્મ રૂપાંતરમાંથી પસાર થાય છે. પડછાયાઓ લંબાય છે, આસપાસના વાતાવરણમાં રહસ્યની હવા ઉભેર છે, અને સીગલ્સ આકાશમાં ઉડે છે, દિવસના પ્રકાશને વિદાય આપે છે. આ આત્મનિરીક્ષણનો સમય છે, કારણ કે સમુદ્રની વિશાળતા જીવનના રહસ્યો અને શક્યતાઓના ચિંતનને પ્રોત્સાહિત કરે છે.

પ્રશ્ન:

દરિયાની વિશાળતા શેને પ્રોત્સાહન આપે છે?

- Options
1. રહસ્યને
  2. સૂર્યપ્રકાશને
  3. અસીમતાને
  4. ચિંતન અને જીવનરહસ્ય

Question ID : [630680725848](#)

Option 1 ID : [6306802844451](#)

Option 2 ID : [6306802844449](#)

Option 3 ID : [6306802844450](#)

Option 4 ID : [6306802844448](#)

Status : Not Answered

Chosen Option : --

Q.94 વાક્યનું પરિવર્તન કર્મણિમાં કરો મુન્નાએ ખીચડી ખાધી

- Options
1. મુન્ના દ્વારા ખીચડી ખવાઈ
  2. મુન્નાએ ખીચડી ખાઈ લીધી
  3. મુન્નો ખીચડી ખાશે
  4. મુન્નો ખીચડી ખાઈ ગયો

Question ID : [630680725824](#)

Option 1 ID : [6306802844353](#)

Option 2 ID : [6306802844352](#)

Option 3 ID : [6306802844354](#)

Option 4 ID : [6306802844355](#)

Status : Not Answered

Chosen Option : --

Q.95 સમાસ ઓળખાવો - વાદવિવાદ

- Options
1. દ્વિગુ
  2. તત્પુરુષ
  3. દ્વંદ્વ
  4. ઉપપદ

Question ID : [630680725797](#)

Option 1 ID : [6306802844246](#)

Option 2 ID : [6306802844245](#)

Option 3 ID : [6306802844247](#)

Option 4 ID : [6306802844244](#)

Status : Not Answered

Chosen Option : --

Q.96 કહેવતનો અર્થ આપો - કાગડાના કાંટે રતન

- Options
1. કાગડા દ્વારા અપશુકન
  2. કાગડાને મોતીયારો
  3. કાગડો ઢોલી ખાય
  4. અયોગ્ય પાત્રને સારી વસ્તુ મળવી.

Question ID : [630680725795](#)

Option 1 ID : [6306802844237](#)

Option 2 ID : [6306802844236](#)

Option 3 ID : [6306802844239](#)

Option 4 ID : [6306802844238](#)

Status : Not Answered

Chosen Option : --

Q.97 રૂઢિપ્રયોગનો અર્થ આપો- હાથ ઠરવો

- Options
1. હાથ બેસી જવો
  2. સારો અનુભવ થવો
  3. હાથમાં લેવું
  4. હાથ ઠંડા કરવા

Question ID : [630680725787](#)

Option 1 ID : [6306802844205](#)

Option 2 ID : [6306802844206](#)

Option 3 ID : [6306802844207](#)

Option 4 ID : [6306802844204](#)

Status : Not Answered

Chosen Option : --

Q.98 મથુરાની વાટ મહિ વેચવાને નીસરી નટખટ એ નંદકિશોર માગે છે દાણ જી હે.. મારે દાણ દેવા, નઈ લેવા, મેંચારા રે... ગોઠુળ ગામના..

પ્રશ્ન:

વાટ શબ્દનો અર્થ શું અર્થ છે ?

- Options
1. રાહ જોવી
  2. રસ્તો
  3. પ્રતીક્ષા
  4. દીવાની વાટ

Question ID : [630680725852](#)

Option 1 ID : [6306802844464](#)

Option 2 ID : [6306802844466](#)

Option 3 ID : [6306802844467](#)

Option 4 ID : [6306802844465](#)

Status : Not Answered

Chosen Option : --

Q.99 समास ओजभावां- मिलमजूट

- Options
1. द्विगु
  2. तत्पुरुष
  3. मध्यमपदलोपी
  4. द्वंद्व

Question ID : [630680725799](#)

Option 1 ID : [6306802844253](#)

Option 2 ID : [6306802844255](#)

Option 3 ID : [6306802844252](#)

Option 4 ID : [6306802844254](#)

Status : Not Answered

Chosen Option : --

Q.100 समानार्थी शब्द शोधो-अव्युद्य

- Options
1. सर्वोद्य
  2. सूर्योद्य
  3. उत्थान
  4. ज्ञानोद्य

Question ID : [630680725808](#)

Option 1 ID : [6306802844288](#)

Option 2 ID : [6306802844290](#)

Option 3 ID : [6306802844291](#)

Option 4 ID : [6306802844289](#)

Status : Not Answered

Chosen Option : --