

09-05-2024 (CCE - Shift 4)

ઉમેદવારોના Privacy માટે પ્રથમ પેજ Remove કરેલ છે..

Q.2 નીચેના પ્રશ્નમાં, નીચે કેટલાક વિધાનો આપેલ છે અને તેની નીચે તે વિધાનોના આધારે કેટલાક તારણો આપવામાં આવ્યા છે. આપેલ વિધાનો સાચા હોવાનું માનીને, ભલે તેઓ સામાન્ય રીતે જાણીતા તથ્યોથી અલગ હોય, તમામ તારણો વાંચો અને પછી નક્કી કરો કે આપેલમાંથી કયું તારણ તાર્કિક રીતે આપેલા વિધાનોને અનુસરે છે.

વિધાનો:

- I. તમામ ડોક્ટર સખત છે.
- II. કોઈ નરમ એ ડોક્ટર નથી.

તારણ:

- I. કોઈ ડોક્ટર એ નરમ નથી.
- II. બધા સખત એ ડોક્ટર છે.

Options 1. માત્ર તારણ I અનુસરે છે.

2. તારણો I અને II બંને અનુસરે છે
3. બેમાંથી કોઈ તારણ અનુસરતું નથી
4. માત્ર તારણ II અનુસરે છે.

Question ID : 630680735431

Option 1 ID : 6306802882446

Option 2 ID : 6306802882448

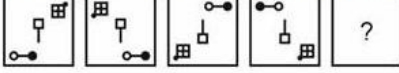
Option 3 ID : 6306802882449

Option 4 ID : 6306802882447

Status : Not Answered

Chosen Option : --

Q.3 નીચેના પ્રશ્નમાં, આપેલ વિકલ્પોમાંથી પ્રશ્ન ચિહ્ન (?) ના ચિહ્ન પર મૂકી શકાય તે આકૃતિ પસંદ કરો.



Options

- 1.
- 2.
- 3.
- 4.

Question ID : 630680735441

Option 1 ID : 6306802882489

Option 2 ID : 6306802882487

Option 3 ID : 6306802882486

Option 4 ID : 6306802882488

Status : Answered

Chosen Option : 4

Adda247

Test Prime

ALL EXAMS, ONE SUBSCRIPTION



1,00,000+
Mock Tests



Personalised
Report Card



Unlimited
Re-Attempt



600+
Exam Covered



25,000+ Previous
Year Papers



500%
Refund



ATTEMPT FREE MOCK NOW

Q.4 નીચેના પ્રશ્નમાં, આપેલ શ્રેણીમાંથી ખૂટતો નંબર પસંદ કરો.

89, 87, 83, 77, 69, ?

- Options
1. 60
 2. 59
 3. 58
 4. 61

Question ID : 630680743034
 Option 1 ID : 6306802912448
 Option 2 ID : 6306802912447
 Option 3 ID : 6306802912446
 Option 4 ID : 6306802912449
 Status : Not Answered
 Chosen Option : --

Q.5 સીતાએ તેની મિત્ર ગીતાને એક ફોટોગ્રાફ તરફ ઈશારો કરીને કહ્યું, "તેણીની માતા મારા પિતાની એકમાત્ર પુત્રી છે". ફોટોગ્રાફ કોનો છે?

- Options
1. સીતાની માતા
 2. સીતાની દીકરી
 3. સીતાની બહેન
 4. સીતા (પોતે)

Question ID : 630680735425
 Option 1 ID : 6306802882422
 Option 2 ID : 6306802882424
 Option 3 ID : 6306802882425
 Option 4 ID : 6306802882423
 Status : Not Attempted and
 Marked For Review
 Chosen Option : --

Q.6 6 છોકરાઓ G, H, I, J, K અને L ના ગુણની સરખામણી કરવામાં આવે છે. કોઈ બે છોકરાઓના ગુણ સરખા નથી. I ના ગુણ સૌથી ઓછા છે. G ના ગુણ ફક્ત J અને I કરતાં વધુ છે. H ના ગુણ L કરતાં વધુ અને K કરતાં ઓછા છે. કયા છોકરાના ગુણ સૌથી વધુ છે?

- Options
1. G
 2. L
 3. H
 4. K

Question ID : 630680743015
 Option 1 ID : 6306802912373
 Option 2 ID : 6306802912372
 Option 3 ID : 6306802912371
 Option 4 ID : 6306802912370
 Status : Not Attempted and
 Marked For Review
 Chosen Option : --

Q.7 नीचेना प्रश्नमां, आपेल श्रेणीमांथी भूटतो नंबर पसंद करो.

301, 300, 296, 287, 271, ?

- Options
1. 245
 2. 247
 3. 246
 4. 243

Question ID : 630680743036
 Option 1 ID : 6306802912455
 Option 2 ID : 6306802912457
 Option 3 ID : 6306802912456
 Option 4 ID : 6306802912454
 Status : Answered
 Chosen Option : 3

Q.8 जो AB रेखा पर अरीसो मुकवामां आवे, तो विकल्प आइतिओमांथी कइ आइति प्रश्न आइतिनी साथी छपी इशे?



Options

- 1.
- 2.
- 3.
- 4.

Question ID : 630680743026
 Option 1 ID : 6306802912415
 Option 2 ID : 6306802912416
 Option 3 ID : 6306802912417
 Option 4 ID : 6306802912414
 Status : Answered
 Chosen Option : 2

- Q.9 નીચેના પ્રશ્નમાં એક પ્રશ્ન અને તેની નીચે | અને II ક્રમાંકિત બે વિધાનોનો સમાવેશ થાય છે. તમારે નક્કી કરવાનું છે કે વિધાનોમાં આપવામાં આવેલી માહિતી પ્રશ્નનો જવાબ આપવા માટે પર્યાપ્ત છે કે કેમ.
હાલમાં, રામ અને શ્યામની ઉંમર અનુક્રમે 5 : 6 ના ગુણોત્તરમાં છે. રામની હાલની ઉંમર કેટલી છે?
I. હાલમાં, શ્યામ અને મોહનની ઉંમરનો અનુક્રમિક ગુણોત્તર 5 : 7 છે.
II. આજથી 5 વર્ષ પછી, શ્યામ અને મોહનની ઉંમરનો અનુક્રમિક ગુણોત્તર 35 : 47 થશે.

- Options**
1. પ્રશ્નનો જવાબ બંને વિધાનોનો એકસાથે ઉપયોગ કરીને આપી શકાય પણ બેમાંથી કોઈ એકલા વિધાન દ્વારા નહીં.
 2. બંને વિધાનોનો એકસાથે ઉપયોગ કરીને પણ પ્રશ્નનો જવાબ ન આપી શકાય.
 3. પ્રશ્નનો જવાબ કોઈ પણ એક વિધાનનો ઉપયોગ કરીને આપી શકાય પરંતુ એકલા અન્ય વિધાનનો ઉપયોગ કરીને જવાબ ન આપી શકાય.
 4. પ્રશ્નનો જવાબ એકલા (I) અથવા (II) બંનેમાંથી એકનો ઉપયોગ કરીને આપી શકાય.

Question ID : 630680735436

Option 1 ID : 6306802882468

Option 2 ID : 6306802882469

Option 3 ID : 6306802882466

Option 4 ID : 6306802882467

Status : Not Attempted and
Marked For Review

Chosen Option : --

- Q.10 કઈ જવાબ આકૃતિ પ્રશ્ન આકૃતિની પેટર્ન પૂર્ણ કરશે? (રોટેશનની મંજૂરી નથી)



Options

- 1.
- 2.
- 3.
- 4.

Question ID : 630680743022

Option 1 ID : 6306802912398

Option 2 ID : 6306802912399

Option 3 ID : 6306802912401

Option 4 ID : 6306802912400

Status : Answered

Chosen Option : 2

Q.11 આપેલ વિધાનો અને તારણો કાળજીપૂર્વક વાંચો. એવું માનીએ કે વિધાન(વિધાનો)માં આપવામાં આવેલી માહિતી સાચી છે, ભલે તે સામાન્ય રીતે જાણીતી હકીકતોથી ભિન્ન લાગતી હોય, નક્કી કરો કે આપેલા તારણોમાંથી કયું તારણ તાર્કિક રીતે વિધાન(વિધાનો)ને અનુસરે છે.

વિધાનો:

- A. તમામ પાસ્તા ન્યુટ્રેલા છે.
B. તમામ ન્યુટ્રેલા ફળો છે.

તારણો:

1. તમામ પાસ્તા ફળો છે.
2. તમામ ફળો પાસ્તા છે.

Options 1. માત્ર તારણ 2 અનુસરે છે

2. માત્ર તારણ 1 અનુસરે છે
3. તારણ 1 અને 2 બંને અનુસરે છે
4. ન તો તારણ 1 કે ન તો 2 અનુસરે છે.

Question ID : 630680735391

Option 1 ID : 6306802882287

Option 2 ID : 6306802882286

Option 3 ID : 6306802882288

Option 4 ID : 6306802882289

Status : Answered

Chosen Option : 2

Q.12 તે વિકલ્પ પસંદ કરો જે ચોથા સંખ્યા-સમૂહ સાથે તે જ રીતે સંબંધિત છે જે રીતે પ્રથમ સંખ્યા-સમૂહ બીજા સંખ્યા-સમૂહ સાથે સંબંધિત છે અને પાંચમો સંખ્યા-સમૂહ છઠ્ઠા સંખ્યા-સમૂહ સાથે સંબંધિત છે. (નોંધ: સંખ્યાઓને તેના ઘટક અંકોમાં છૂટી પાડ્યા વિના, પૂર્ણ સંખ્યા પર ગાણિતિક ક્રિયાઓ કરવી જોઈએ. દા.ત. 13 - 13 પરની ક્રિયાઓ જેવી કે સરવાળો/બાદબાકી/ગુણાકાર વગેરે પૂર્ણ 13 પર કરી શકાય છે. 13 ને 1 અને 3 માં છૂટી પાડીને 1 અને 3 પર ગાણિતિક ક્રિયાઓ કરવાની મંજૂરી નથી.)
249 : 505 :: ? : 435 :: 157 : 321

Options 1. 214

2. 221
3. 207
4. 203

Question ID : 630680735461

Option 1 ID : 6306802882566

Option 2 ID : 6306802882567

Option 3 ID : 6306802882568

Option 4 ID : 6306802882569

Status : Not Attempted and
Marked For Review

Chosen Option : --

Q.13 જો 18 A 10 B 20 C 22 = 6 અને 16 A 8 B 13 C 15 = 6, તો
6 A 5 B 9 C 4 = ?

Options 1. 5

2. 0
3. -3
4. 6

Question ID : 630680743027

Option 1 ID : 6306802912420

Option 2 ID : 6306802912418

Option 3 ID : 6306802912421

Option 4 ID : 6306802912419

Status : Not Attempted and
Marked For Review

Chosen Option : --

Q.14 એવો વિકલ્પ પસંદ કરો જેમાં સેટમાં રહેલી સંખ્યાઓ આપેલા સેટની સંખ્યાઓ સાથે સમાન સંબંધ ધરાવે છે.
(નોંધ: સંખ્યાઓને તેના ઘટક અંકોમાં વિભાજિત કર્યા વિના, પૂર્ણ સંખ્યાઓ પર ક્રિયાઓ કરવી જોઈએ. દા.ત. 13 - 13 પરની ક્રિયાઓ જેમ કે 13માં ઉમેરો/બાદબાકી/ગુણાકાર વગેરે કરી શકાય છે. 13 ને 1 અને 3 માં અલગ કરીને અને પછી 1 અને 3 પર ગાણિતિક ક્રિયા કરવાની મંજૂરી નથી)
(219, 3869, 159)
(78, 962, 111)

- Options
1. (72, 1348, 156)
 2. (57, 517, 81)
 3. (105, 2135, 183)
 4. (69, 928, 108)

Question ID : 630680743045
Option 1 ID : 6306802912490
Option 2 ID : 6306802912493
Option 3 ID : 6306802912492
Option 4 ID : 6306802912491
Status : Not Attempted and Marked For Review
Chosen Option : --

Q.15 એવો વિકલ્પ પસંદ કરો જે ત્રીજા સંખ્યા સમૂહ સાથે એવી રીતે સંબંધિત હોય જે રીતે બીજો સંખ્યા સમૂહ પહેલા સંખ્યા સમૂહ સાથે સંબંધિત છે અને પાંચમો સંખ્યા સમૂહ છઠ્ઠા સંખ્યા સમૂહ સાથે સંબંધિત છે.
(નોંધ: સંખ્યાઓને તેના ઘટક અંકોમાં છૂટી પાડ્યા વિના, પૂર્ણ સંખ્યા પર ગાણિતિક ક્રિયાઓ કરવી જોઈએ. દા.ત. 13 - 13 પરની ક્રિયાઓ જેવી કે સરવાળો/બાદબાકી/ગુણાકાર વગેરે પૂર્ણ 13 પર કરી શકાય છે. 13 ને 1 અને 3 માં છૂટી પાડીને 1 અને 3 પર ગાણિતિક ક્રિયાઓ કરવાની મંજૂરી નથી.)
98 : 197 :: 54 : ? :: 43 : 87

- Options
1. 109
 2. 108
 3. 106
 4. 107

Question ID : 630680743039
Option 1 ID : 6306802912467
Option 2 ID : 6306802912466
Option 3 ID : 6306802912469
Option 4 ID : 6306802912468
Status : Not Attempted and Marked For Review
Chosen Option : --

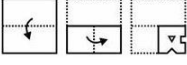
Q.16 આપેલ બે પૂર્ણ સંખ્યાઓનાં સ્થાન અદલાબદલી કરવાથી, નીચેનામાંથી કયું સમીકરણ સાચું નહિ હોય?

1 અને 3

- Options
1. $6 \div 3 - 1 + 4 \times 2 = 11$
 2. $5 - 8 \times 3 + 9 \div 1 = 1$
 3. $6 + 4 - 9 \times 3 \div 1 = 7$
 4. $4 \times 3 - 1 + 8 \div 2 = 5$

Question ID : 630680735452
Option 1 ID : 6306802882533
Option 2 ID : 6306802882532
Option 3 ID : 6306802882530
Option 4 ID : 6306802882531
Status : Not Attempted and Marked For Review
Chosen Option : --

Q.17 પ્રશ્ન-આકૃતિમાં નીચે દર્શાવ્યા મુજબ કાગળનો ટુકડો વાળવામાં અને પંચ કરવામાં આવે છે. આપેલ વિકલ્પ-આકૃતિઓમાંથી, જ્યારે ખોલવામાં આવે ત્યારે તે કેવી દેખાશે તે દર્શાવો?



Options

- 1.
- 2.
- 3.
- 4.

Question ID : 630680735442
Option 1 ID : 6306802882492
Option 2 ID : 6306802882490
Option 3 ID : 6306802882491
Option 4 ID : 6306802882493

Status : Answered
Chosen Option : 4

Q.18 એવો વિકલ્પ પસંદ કરો જેમાં સેટમાં રહેલી સંખ્યાઓ આપેલા સેટની સંખ્યાઓ સાથે સમાન સંબંધ ધરાવે છે. (નોંધ: સંખ્યાઓને તેના ઘટક અંકોમાં છૂટી પાડ્યા વિના, સંપૂર્ણ સંખ્યાઓ પર કામગીરી કરવી જોઈએ. દા.ત. 13 - 13 પરની ક્રિયાઓ જેમ કે 13 માં ઉમેરી/બાદબાકી/ગુણાકાર વગેરે કરી શકાય છે. 13 ને 1 અને 3 માં તોડીને અને પછી 1 અને 3 પર ગાણિતિક કામગીરી કરવાની મંજૂરી નથી)
(7, 2800, 20)
(8, 2048, 16)

- Options
1. (16, 3150, 15)
 2. (8, 1944, 18)
 3. (13, 1728, 12)
 4. (9, 1521, 13)

Question ID : 630680735468
Option 1 ID : 6306802882597
Option 2 ID : 6306802882595
Option 3 ID : 6306802882594
Option 4 ID : 6306802882596

Status : Not Attempted and
Marked For Review
Chosen Option : --

Q.19 એવો વિકલ્પ પસંદ કરો જેમાં સેટમાં રહેલી સંખ્યાઓ આપેલા સેટની સંખ્યાઓ સાથે સમાન સંબંધ ધરાવે છે.
(નોંધ: સંખ્યાઓને તેના ઘટક અંકોમાં વિભાજિત કર્યા વિના, પૂર્ણ સંખ્યાઓ પર ક્રિયાઓ કરવી જોઈએ. દા.ત. 13
- 13 પરની ક્રિયાઓ જેમ કે 13માં ઉમેરો/બાદબાકી/ગુણાકાર વગેરે કરી શકાય છે. 13 ને 1 અને 3 માં અલગ
કરીને અને પછી 1 અને 3 પર ગાણિતિક ક્રિયા કરવાની મંજૂરી નથી)
(10, 2250, 15)
(7, 2023, 17)

- Options
1. (3, 845, 13)
 2. (11, 1210, 11)
 3. (8, 1296, 12)
 4. (7, 1792, 16)

Question ID : 630680743044

Option 1 ID : 6306802912489

Option 2 ID : 6306802912488

Option 3 ID : 6306802912486

Option 4 ID : 6306802912487

Status : Not Attempted and
Marked For Review

Chosen Option : --

Q.20 નીચેના કોષ્ટકમાં છ વિદ્યાર્થીઓએ પરીક્ષામાં છ જુદા જુદા વિષયોમાં મેળવેલા ગુણની ટકાવારી આપેલ છે.

વિદ્યાર્થી	વિષય (મહત્તમ ગુણ)					
	ઇકોલોજી	હિન્દી	વિજ્ઞાન	વનસ્પતિશાસ્ત્ર	વાણિજ્ય	ગણિત
	(100)	(100)	(100)	(100)	(100)	(100)
અત્વિક	85	94	89	69	75	64
ચંદન	84	69	99	79	83	76
એલીના	89	77	85	65	75	97
ફારુખ	95	88	77	77	69	89
રમેશ	88	78	69	85	79	93
વિકી	93	72	76	81	85	94

ઉપરોક્ત કોષ્ટકના આધારે, વિજ્ઞાનમાં છ વિદ્યાર્થીઓએ મેળવેલા કુલ સરેરાશ ગુણ (ટકાવારીની દ્રષ્ટિએ) કેટલા છે?

- Options
1. 86.66 %
 2. 82.50 %
 3. 89.50 %
 4. 81.66 %

Question ID : 630680735421

Option 1 ID : 6306802882408

Option 2 ID : 6306802882407

Option 3 ID : 6306802882409

Option 4 ID : 6306802882406

Status : Not Attempted and
Marked For Review

Chosen Option : --

Q.21 તે વિકલ્પ પસંદ કરો જે પ્રથમ સંખ્યા-સમૂહ સાથે તે જ રીતે સંબંધિત છે જે રીતે ચોથો સંખ્યા-સમૂહ ત્રીજા સંખ્યા-સમૂહ સાથે સંબંધિત છે અને છઠ્ઠો સંખ્યા-સમૂહ પાંચમાં સંખ્યા-સમૂહ સાથે સંબંધિત છે. (નોંધ: સંખ્યાઓને તેના ઘટક અંકોમાં છૂટી પાડ્યા વિના, પૂર્ણ સંખ્યા પર ગાણિતિક ક્રિયાઓ કરવી જોઈએ. દા.ત. 13 - 13 પરની ક્રિયાઓ જેવી કે સરવાળો/બાદબાકી/ગુણાકાર વગેરે પૂર્ણ 13 પર કરી શકાય છે. 13 ને 1 અને 3 માં છૂટી પાડીને 1 અને 3 પર ગાણિતિક ક્રિયાઓ કરવાની મંજૂરી નથી.)
159 : ? :: 357 : 1077 :: 410 : 1236

- Options
1. 483
 2. 318
 3. 630
 4. 477

Question ID : 630680735463

Option 1 ID : 6306802882576

Option 2 ID : 6306802882577

Option 3 ID : 6306802882575

Option 4 ID : 6306802882574

Status : Not Attempted and
Marked For Review

Chosen Option : --

Q.22 A તરફ ઈશારો કરીને B (પુરુષ)એ કહ્યું, "તે મારી બહેનના એકમાત્ર ભાઈનો પુત્ર છે." A નો B સાથે કયો સંબંધ છે?

- Options
1. ભાઈનો પુત્ર
 2. પુત્ર
 3. બહેનનો પુત્ર
 4. ભાઈ

Question ID : 630680743003

Option 1 ID : 6306802912322

Option 2 ID : 6306802912324

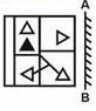
Option 3 ID : 6306802912323

Option 4 ID : 6306802912325

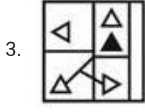
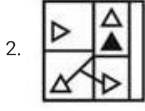
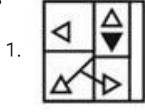
Status : Not Attempted and
Marked For Review

Chosen Option : --

Q.23 જો AB રેખા પર ઘર્પણ મુકવામાં આવે, તો વિકલ્પ-આકૃતિઓમાંથી કઈ આકૃતિ પ્રશ્ન-આકૃતિની સાચી છબી હશે?



Options



Question ID : 630680735445

Option 1 ID : 6306802882503

Option 2 ID : 6306802882505

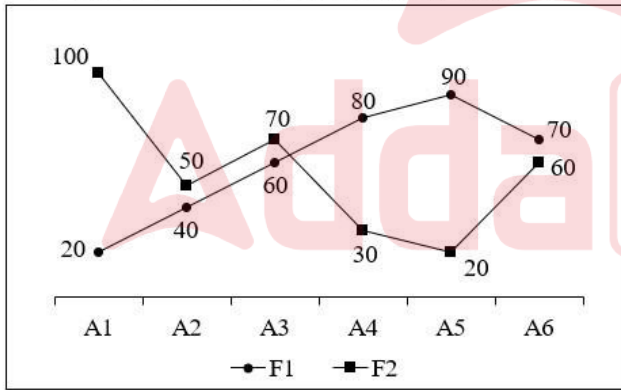
Option 3 ID : 6306802882502

Option 4 ID : 6306802882504

Status : Answered

Chosen Option : 3

Q.24 નીચે આપેલ રેખા આલેખ બે પરિવારો દ્વારા છ વસ્તુઓ પરનો ખર્ચ દર્શાવે છે.



કુટુંબ F2 દ્વારા તમામ છ વસ્તુઓ પર કરાયેલો કુલ ખર્ચ કેટલો છે?

Options 1. 360

2. 330

3. 320

4. 340

Question ID : 630680743046

Option 1 ID : 6306802912494

Option 2 ID : 6306802912495

Option 3 ID : 6306802912496

Option 4 ID : 6306802912497

Status : Not Attempted and
Marked For Review

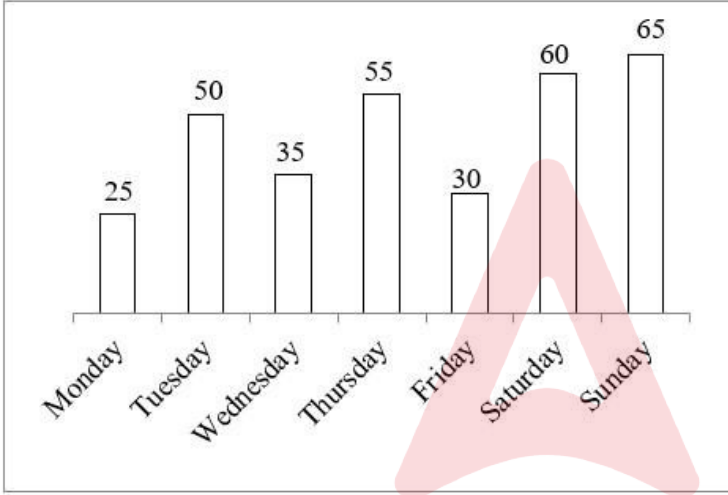
Chosen Option : --

Q.25 5 છોકરાઓ A, B, C, D અને E ના રનની સરખામણી કરવામાં આવે છે. કોઈ બે છોકરાઓના રન સરખા નથી. B ના રન E કરતા ઓછા છે પણ C કરતા વધુ છે. D ના રન A કરતા વધારે છે પણ C કરતા ઓછા છે. નીચેનામાંથી કોના રન બીજા ક્રમે સૌથી વધુ છે?

- Options
1. B
 2. A
 3. D
 4. E

Question ID : 630680735437
 Option 1 ID : 6306802882473
 Option 2 ID : 6306802882472
 Option 3 ID : 6306802882471
 Option 4 ID : 6306802882470
 Status : Answered
 Chosen Option : 3

Q.26 નીચે આપેલ બાર ગ્રાફ ચોક્કસ અઠવાડિયામાં દરરોજ નોંધાયેલ તાપમાન દર્શાવે છે.



આપેલા અઠવાડિયામાં નીચેનામાંથી કયા દિવસે સૌથી ઠંડુ તાપમાન નોંધાયું છે?

સંદર્ભ: Monday - સોમવાર, Tuesday - મંગળવાર, Wednesday - બુધવાર, Thursday - ગુરુવાર, Friday - શુક્રવાર, Saturday - શનિવાર, Sunday - રવિવાર

- Options
1. બુધવાર
 2. મંગળવાર
 3. સોમવાર
 4. શુક્રવાર

Question ID : 630680743047
 Option 1 ID : 6306802912498
 Option 2 ID : 6306802912500
 Option 3 ID : 6306802912501
 Option 4 ID : 6306802912499
 Status : Not Attempted and Marked For Review
 Chosen Option : --

Q.27 નીચેના પ્રશ્નમાં 'પ્રશ્ન' અને તેની નીચે 1 અને 2 ક્રમાંકિત બે વિધાનોનો સમાવેશ થાય છે. ઉમેદવારોએ નક્કી કરવાનું છે કે વિધાનોમાં આપવામાં આવેલી માહિતી પ્રશ્નનો જવાબ આપવા માટે પર્યાપ્ત છે કે કેમ.

પ્રશ્ન: A નો D સાથે કયો સંબંધ છે?

વિધાનો:

1. V એ A નો ભાઈ છે.
2. L એ K નો પુત્ર છે.

Options 1. ન તો વિધાન 1 કે ન તો 2 પર્યાપ્ત છે.

2. એકલું વિધાન 2 પર્યાપ્ત છે જ્યારે એકલું વિધાન 1 પર્યાપ્ત નથી
3. વિધાન 1 અને 2 બંને પર્યાપ્ત છે
4. એકલું વિધાન 1 પર્યાપ્ત છે જ્યારે એકલું વિધાન 2 પર્યાપ્ત નથી

Question ID : 630680735393

Option 1 ID : 6306802882297

Option 2 ID : 6306802882295

Option 3 ID : 6306802882296

Option 4 ID : 6306802882294

Status : Answered

Chosen Option : 1

Q.28 જો 'M' સૂચવે છે 'x', 'D' સૂચવે છે '÷', 'A' સૂચવે છે '+', 'S' સૂચવે છે '-' તો નીચેની પદાવલીનું મૂલ્ય શું હશે?

3 S 32 D 4 A 3 M 8

Options 1. 11

2. 10

3. 19

4. 16

Question ID : 630680735407

Option 1 ID : 6306802882351

Option 2 ID : 6306802882350

Option 3 ID : 6306802882353

Option 4 ID : 6306802882352

Status : Answered

Chosen Option : 3

Q.29 આપેલ વિકલ્પ આકૃતિઓમાંથી, પ્રશ્ન આકૃતિ જેમાં છુપાયેલ/ સમાયેલ હોય તે પસંદ કરો. (રોટેશનની મંજૂરી નથી)



Options

1.



2.



3.



4.



Question ID : 630680743021
Option 1 ID : 6306802912395
Option 2 ID : 6306802912394
Option 3 ID : 6306802912397
Option 4 ID : 6306802912396

Status : Answered

Chosen Option : 1

Q.30 જો $30A40B5C2 = 40$ અને $50A60B6C2 = 62$, તો $45A36B2C3 = ?$

Options 1. 54

2. 49

3. 50

4. 66

Question ID : 630680735449
Option 1 ID : 6306802882519
Option 2 ID : 6306802882520
Option 3 ID : 6306802882518
Option 4 ID : 6306802882521

Status : Not Attempted and
Marked For Review

Chosen Option : --

Q.31 નીચેના પ્રશ્નમાં 'પ્રશ્ન' અને તેની નીચે 1 અને 2 ક્રમાંકિત બે વિધાનોનો સમાવેશ થાય છે. ઉમેદવારોએ નક્કી કરવાનું છે કે વિધાનોમાં આપવામાં આવેલી માહિતી પ્રશ્નનો જવાબ આપવા માટે પર્યાપ્ત છે કે કેમ.

પ્રશ્ન: તળિયાથી શ્રદ્ધાનો ક્રમ કયો છે? વર્ગની કુલ સંખ્યા 25 છે.

વિધાનો:

1. શ્રદ્ધાનો ક્રમ ટોચથી નવમો છે.
2. રાહુલનો ક્રમ તળિયાથી 18મો છે.

Options 1. વિધાન 1 અને 2 બંને પર્યાપ્ત છે.

2. એકલું વિધાન 2 પર્યાપ્ત છે જ્યારે એકલું વિધાન 1 પર્યાપ્ત નથી.
3. ન તો વિધાન 1 કે ન તો 2 પર્યાપ્ત છે .
4. એકલું વિધાન 1 પર્યાપ્ત છે જ્યારે એકલું વિધાન 2 પર્યાપ્ત નથી.

Question ID : 630680735413

Option 1 ID : 6306802882377

Option 2 ID : 6306802882375

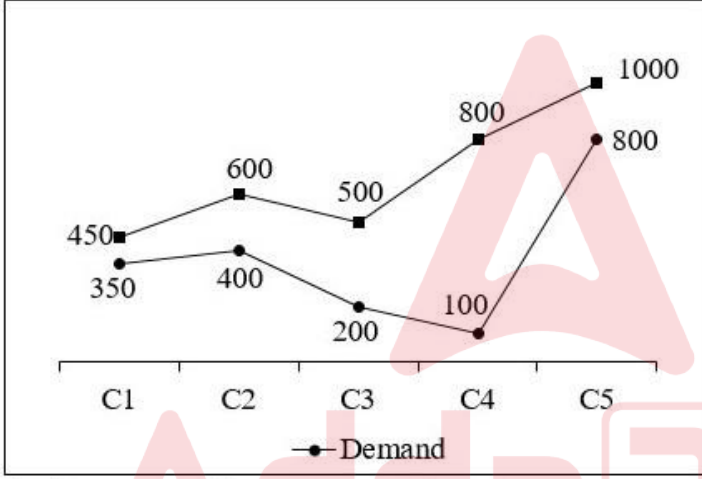
Option 3 ID : 6306802882376

Option 4 ID : 6306802882374

Status : Answered

Chosen Option : 3

Q.32 નીચે આપેલ રેખા આલેખ પાંચ વસ્તુઓની માંગ અને ઉત્પાદન દર્શાવે છે.



સંદર્ભ: Demand – માંગ, Production – ઉત્પાદન

J_1 = C1 અને C2 ની સરેરાશ માંગ.

J_2 = C3 અને C4 નું સરેરાશ ઉત્પાદન.

$(J_2 - J_1)$ નું મૂલ્ય કેટલું છે?

Options 1. 270

2. 260

3. 275

4. 230

Question ID : 630680735472

Option 1 ID : 6306802882611

Option 2 ID : 6306802882610

Option 3 ID : 6306802882613




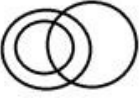
Option 4 ID : 6306802882612

Status : Not Attempted and
Marked For Review

Chosen Option : --

Q.33 નીચેનામાંથી કઈ વેન આકૃતિ ખાદ્ય પાક, ચોખા અને કોમ્પ્યુટર વચ્ચેનો શ્રેષ્ઠ સંબંધ દર્શાવે છે?

Options

1. 
2. 
3. 
4. 

Question ID : 630680735388

Option 1 ID : 6306802882274

Option 2 ID : 6306802882276

Option 3 ID : 6306802882277

Option 4 ID : 6306802882275





Status : Answered

Chosen Option : 2

Q.34 નીચેના પ્રશ્નમાં, આપેલ વિકલ્પોમાંથી પ્રશ્ન ચિહ્ન (?) ના ચિહ્ન પર મૂકી શકાય તેવી આકૃતિ પસંદ કરો.



Options

1. 
2. 
3. 
4. 

Question ID : 630680743018

Option 1 ID : 6306802912382

Option 2 ID : 6306802912383

Option 3 ID : 6306802912385

Option 4 ID : 6306802912384

Status : Answered

Chosen Option : 1

Q.35 જો $30A + 50B + 18C + 12 = 10$ અને $15A + 14B + 20C + 8 = 29$, તો $80A + 30B + 10C + 5 = ?$

- Options
1. 65
 2. 71
 3. 73
 4. 70

Question ID : 630680735450
 Option 1 ID : 6306802882522
 Option 2 ID : 6306802882524
 Option 3 ID : 6306802882525
 Option 4 ID : 6306802882523
 Status : Not Attempted and
 Marked For Review
 Chosen Option : --

Q.36 નીચેના પ્રશ્નમાં એક પ્રશ્ન અને તેની નીચે આપેલા I અને II નંબરવાળા બે વિધાનોનો સમાવેશ થાય છે. તમારે નક્કી કરવાનું છે કે વિધાનોમાં આપવામાં આવેલી માહિતી પ્રશ્નનો જવાબ આપવા માટે પર્યાપ્ત છે કે કેમ વસ્તુની છાપેલી કિંમત કેટલી છે?

I. વસ્તુની છાપેલી કિંમત પર 20 ટકા ડિસ્કાઉન્ટ આપ્યા પછી વેચાણ કિંમત Rs. 300 છે.
 II. જો વસ્તુને છાપેલી કિંમતે વેચવામાં આવી હોત તો પડતર કિંમત પર થયેલો નફો થશે 30 ટકા એટલે કે Rs. 150 હોત.

- Options
1. પ્રશ્નનો જવાબ એકલા (I) અથવા (II) બંનેમાંથી એકનો ઉપયોગ કરીને આપી શકાય.
 2. પ્રશ્નનો જવાબ એકલા વિધાનનો ઉપયોગ કરીને આપી શકાય પરંતુ એકલા બીજા વિધાનનો ઉપયોગ કરીને જવાબ ન આપી શકાય.
 3. બંને વિધાનોનો એકસાથે ઉપયોગ કરીને પણ પ્રશ્નનો જવાબ ન આપી શકાય.
 4. પ્રશ્નનો જવાબ બંને વિધાનોનો એકસાથે ઉપયોગ કરીને આપી શકાય પણ એકલા વિધાન દ્વારા નહીં.

Question ID : 630680743038
 Option 1 ID : 6306802912463
 Option 2 ID : 6306802912462
 Option 3 ID : 6306802912465
 Option 4 ID : 6306802912464
 Status : Answered
 Chosen Option : 1

Q.37 નીચેના પ્રશ્નમાં, આપેલ શ્રેણીમાંથી ખૂટતો નંબર પસંદ કરો.



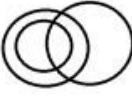

157, 156, 154, ?, 150, 148, 145

- Options
1. 149
 2. 151
 3. 155
 4. 153

Question ID : 630680743035
 Option 1 ID : 6306802912453
 Option 2 ID : 6306802912451
 Option 3 ID : 6306802912450
 Option 4 ID : 6306802912452
 Status : Answered
 Chosen Option : 2

Q.38 નીચેનામાંથી કઈ વેન આકૃતિ સેકન્ડ, મિનિટ અને કલાક વચ્ચે શ્રેષ્ઠ સંબંધ દર્શાવે છે?

Options

1. 
2. 
3. 
4. 

Question ID : 630680735389

Option 1 ID : 6306802882279

Option 2 ID : 6306802882281

Option 3 ID : 6306802882278

Option 4 ID : 6306802882280

Status : Answered

Chosen Option : 1

Q.39 નીચેના પ્રશ્નમાં, આપેલ શ્રેણીમાંથી ખૂટતી સંખ્યા પસંદ કરો.

156, 148, 140, 132, 124, ?

Options

1. 114
2. 118
3. 113
4. 116

Question ID : 630680735454

Option 1 ID : 6306802882539

Option 2 ID : 6306802882541

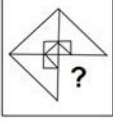
Option 3 ID : 6306802882540

Option 4 ID : 6306802882538

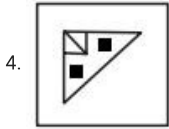
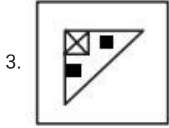
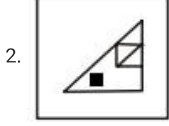
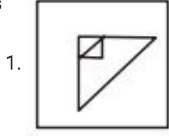
Status : Answered

Chosen Option : 4

Q.40 નીચેનામાંથી કયો વિકલ્પ નીચે આપેલ પ્રશ્ન આકૃતિમાં પ્રશ્ન-ચિહ્નનું સ્થાન લેશે (રોટેશનની મંજૂરી નથી)?
પ્રશ્ન આકૃતિ



Options



Question ID : 630680735396
Option 1 ID : 6306802882306
Option 2 ID : 6306802882309
Option 3 ID : 6306802882307
Option 4 ID : 6306802882308
Status : Answered
Chosen Option : 1

Section : Quantitative Aptitude

Q.41 એક હોડી પ્રવાહની દિશામાં જેટલા સમયમાં 21 kmનો પ્રવાસ કરી શકે છે તેટલા સમયમાં તે પ્રવાહની વિરુદ્ધ દિશામાં 15 kmનો પ્રવાસ કરી શકે છે. જો પ્રવાહની ઝડપ 3 km/h હોય, તો સ્થિર પાણીમાં હોડીની ઝડપ કેટલી હશે?

- Options
1. 15 km/h
 2. 9 km/h
 3. 18 km/h
 4. 12 km/h

Question ID : 630680742812
Option 1 ID : 6306802911568
Option 2 ID : 6306802911566
Option 3 ID : 6306802911567
Option 4 ID : 6306802911569
Status : Not Answered
Chosen Option : --

Q.42 એક સોશિયલ મીડિયા ચેલેન્જ વાયરલ થાય છે, જેમાં પ્રતિદિન સહભાગીઓની સંખ્યા ચાર ગણી વધી રહી છે. જો પ્રથમ દિવસના અંતે 310 સહભાગીઓ હતા, તો 4થા દિવસના અંતે કેટલા સહભાગીઓ હશે?

- Options
1. 19,200 સહભાગીઓ
 2. 19,400 સહભાગીઓ
 3. 19,840 સહભાગીઓ
 4. 18,200 સહભાગીઓ

Question ID : 630680742822
 Option 1 ID : 6306802911607
 Option 2 ID : 6306802911606
 Option 3 ID : 6306802911608
 Option 4 ID : 6306802911609
 Status : Not Answered
 Chosen Option : --

Q.43 એક વાહન 25 લીટર પેટ્રોલ પર 250 કિલોમીટરની મુસાફરી કરે છે. 750 કિલોમીટરની મુસાફરી માટે કેટલા પેટ્રોલની જરૂર પડશે?

- Options
1. 50 લિટર
 2. 75 લિટર
 3. 125 લિટર
 4. 100 લિટર

Question ID : 630680735658
 Option 1 ID : 6306802883354
 Option 2 ID : 6306802883355
 Option 3 ID : 6306802883357
 Option 4 ID : 6306802883356
 Status : Answered
 Chosen Option : 2

Q.44 બે મિત્રો એક જ બિંદુથી શરૂ કરીને એકબીજાથી વિરુદ્ધ દિશામાં 40 km ના ગોળાકાર રસ્તાની આસપાસ સાયકલ ચલાવવાનું નક્કી કરે છે. એક જણ 15 km/hની ઝડપે અને બીજો 20 km/hની ઝડપે સાયકલ ચલાવે છે. તેમને ફરીથી પ્રારંભિક બિંદુએ મળવામાં આશરે કેટલો સમય લાગશે?

- Options
1. 1.14 કલાક
 2. 2.4 કલાક
 3. 1.3 કલાક
 4. 2 કલાક

Question ID : 630680735669
 Option 1 ID : 6306802883399
 Option 2 ID : 6306802883401
 Option 3 ID : 6306802883398
 Option 4 ID : 6306802883400
 Status : Answered
 Chosen Option : 4

Q.45 ચાર મિત્રોનું જૂથ ખરીદી કરવા જાય છે. તેમાંથી ત્રણ અનુક્રમે ₹60, ₹75 અને ₹45 ખર્ચે છે. જો જૂથ દ્વારા ખર્ચવામાં આવેલ સરેરાશ રકમ ₹65 છે, તો ચોથા મિત્રે કેટલો ખર્ચ કર્યો છે?

- Options
1. ₹70
 2. ₹100
 3. ₹90
 4. ₹80

Question ID : 630680742927
 Option 1 ID : 6306802912027
 Option 2 ID : 6306802912029
 Option 3 ID : 6306802912026
 Option 4 ID : 6306802912028
 Status : Answered
 Chosen Option : 4

Q.46 જો એક શેરની કિંમત જાન્યુઆરીમાં 15% વધે છે અને પછી ફેબ્રુઆરીમાં 10% ઘટે છે. જો શેરની અંતિમ કિંમત ₹99 છે, તો જાન્યુઆરીમાં વધારો થયો તે પહેલા તેની મૂળ કિંમત કેટલી હતી?

- Options
1. ₹95.65
 2. ₹96.45
 3. ₹97.45
 4. ₹90.45

Question ID : 630680742920
 Option 1 ID : 6306802911999
 Option 2 ID : 6306802912000
 Option 3 ID : 6306802912001
 Option 4 ID : 6306802911998
 Status : Answered
 Chosen Option : 1

Q.47 સાદું રૂપ આપો: $128 \div 64 - 51 + 23 - 81$

- Options
1. -181
 2. -107
 3. -190
 4. -124

Question ID : 630680730428
 Option 1 ID : 6306802862389
 Option 2 ID : 6306802862390
 Option 3 ID : 6306802862391
 Option 4 ID : 6306802862392
 Status : Answered
 Chosen Option : 2

Q.48 બે મિત્રો 90 kmના અંતરે આવેલા બે શહેરોથી એકબીજા તરફ અનુક્રમે 10 km/h અને 15 km/hની ઝડપે સાઇકલ ચલાવવાનું શરૂ કરે છે. તેઓ કેટલા કલાક પછી મળશે?

- Options
1. 6 કલાક 12 મિનિટ
 2. 3 કલાક 36 મિનિટ
 3. 5 કલાક 36 મિનિટ
 4. 4 કલાક 16 મિનિટ

Question ID : 630680742907
 Option 1 ID : 6306802911949
 Option 2 ID : 6306802911946
 Option 3 ID : 6306802911948
 Option 4 ID : 6306802911947
 Status : Answered
 Chosen Option : 2

Q.49 હાલમાં, એક પિતા તેમના પુત્ર કરતાં પાંચ ગણા મોટા છે. 5 વર્ષ પછી, પિતા તેમના પુત્ર કરતાં ચાર ગણા મોટા હશે. તો તેમના પુત્રની વર્તમાન ઉંમર કેટલી છે?

- Options
1. 15 વર્ષ
 2. 20 વર્ષ
 3. 5 વર્ષ
 4. 10 વર્ષ

Question ID : 630680742922
 Option 1 ID : 6306802912008
 Option 2 ID : 6306802912009
 Option 3 ID : 6306802912006
 Option 4 ID : 6306802912007
 Status : Answered
 Chosen Option : 1

Q.50 કયો અપૂર્ણાંક પુનરાવર્તિત દશાંશ 0.47ને રજૂ કરે છે (7ના પુનરાવર્તન સાથે)?

- Options
1. 43/90
 2. 52/110
 3. 47/100
 4. 47/99

Question ID : 630680742913
 Option 1 ID : 6306802911971
 Option 2 ID : 6306802911973
 Option 3 ID : 6306802911970
 Option 4 ID : 6306802911972
 Status : Answered
 Chosen Option : 4

Q.51 કંપની તેના ત્રણ વિભાગો A, B અને C વચ્ચે 3:4:6 ના ગુણોત્તરમાં વાર્ષિક બોનસનું વિતરણ કરવાની યોજના ધરાવે છે. જો કુલ બોનસ ફંડ ₹2,60,000 હોય, તો સૌથી નાનો અને સૌથી મોટો હિસ્સો કેટલો છે?

- Options
1. સૌથી નાનો: ₹60,000 સૌથી મોટો: ₹1,20,000
 2. સૌથી નાનો: ₹40,000 સૌથી મોટો: ₹1,20,000
 3. સૌથી નાનો: ₹30,000 સૌથી મોટો: ₹96,000
 4. સૌથી નાનો: ₹45,000 સૌથી મોટો: ₹1,50,000

Question ID : 630680735661
 Option 1 ID : 6306802883366
 Option 2 ID : 6306802883369
 Option 3 ID : 6306802883368
 Option 4 ID : 6306802883367
 Status : Answered
 Chosen Option : 1

Q.52 એક વિમાનની ઝડપ સ્થિર પવનમાં 500 km/h છે. તે 50 km/hની ઝડપના પવન સામે ઊડીને એક ચોક્કસ અંતર કાપે છે. પાછા ફરતી વખતે, તે પવનની દિશામાં હોવાથી 1 કલાક ઓછો લે છે. તેનું એક-માર્ગી મુસાફરીનું અંતર કેટલું છે?

- Options
1. 2475 km
 2. 2260 km
 3. 2750 km
 4. 2000 km

Question ID : 630680742906
 Option 1 ID : 6306802911944
 Option 2 ID : 6306802911943
 Option 3 ID : 6306802911945
 Option 4 ID : 6306802911942
 Status : Not Attempted and Marked For Review
 Chosen Option : --

Q.53 એક ઉત્પાદક 15% ની ટ્રેડ ડિસ્કાઉન્ટ સ્કીમ અને ડિસ્કાઉન્ટવાળી કિંમત પર 5% વધારાનું જથ્થાનું ડિસ્કાઉન્ટ આપે છે. જો એક છૂટક વિક્રેતા આ બંને ડિસ્કાઉન્ટ માટે લાયક બનવા માટે પૂરતો ઓર્ડર આપે છે અને મૂળ કિંમત ₹1,000 છે, તો છૂટક વિક્રેતાને ચૂકવવાની થતી અંતિમ કિંમત કેટલી હશે?

- Options
1. ₹817.50
 2. ₹850.00
 3. ₹722.50
 4. ₹807.50

Question ID : 630680742810
 Option 1 ID : 6306802911559
 Option 2 ID : 6306802911560
 Option 3 ID : 6306802911558
 Option 4 ID : 6306802911561
 Status : Not Attempted and Marked For Review
 Chosen Option : --

Q.54 એક નાનો વેપારી કોફીનો એક વિશિષ્ટ પ્રકાર બનાવવા માટે બે પ્રકારના કોફી બિન્સ A અને Bનું 5:7ના ગુણોત્તરમાં મિશ્રણ કરે છે. જો તે A પ્રકારના બિન્સ 35kg વાપરે, તો તેણે B પ્રકારના બિન્સ કેટલા કિલો વાપરવાની જરૂર પડશે?

- Options
1. 57
 2. 49
 3. 77
 4. 65

Question ID : 630680742898
 Option 1 ID : 6306802911911
 Option 2 ID : 6306802911910
 Option 3 ID : 6306802911913
 Option 4 ID : 6306802911912
 Status : Answered
 Chosen Option : 2

Q.55 એક પુસ્તકાલય વધતાં જતાં સંચાલન ખર્ચને પહોંચી વળવા તેની વાર્ષિક સદસ્યતા ફીમાં 20% વધારો કરે છે. જો કે, રીન્યુઅલ્સને પ્રોત્સાહિત કરવા માટે, તે વર્તમાન સભ્યોને વધેલી ફી પર 10% ડિસ્કાઉન્ટ ઓફર કરે છે. જો મૂળ ફી ₹500 હતી, તો હાલના સભ્યો ગોઠવણ (એડજસ્ટમેન્ટ) પછી કેટલી રકમ ચૂકવે છે?

- Options
1. ₹560
 2. ₹540
 3. ₹600
 4. ₹580

Question ID : 630680735680
 Option 1 ID : 6306802883443
 Option 2 ID : 6306802883442
 Option 3 ID : 6306802883445
 Option 4 ID : 6306802883444
 Status : Answered
 Chosen Option : 2

Q.56 એક બેકર 250 ગ્રામ, 300 ગ્રામ, 400 ગ્રામ, 350 ગ્રામ અને 450 ગ્રામ વજનના પાંચ પ્રકારના બ્રેડના ગઠ્ઠા તૈયાર કરે છે. એક ગઠ્ઠાનું સરેરાશ વજન કેટલું છે?

- Options
1. 350g
 2. 375g
 3. 370g
 4. 355g

Question ID : 630680719309
 Option 1 ID : 6306802818707
 Option 2 ID : 6306802818706
 Option 3 ID : 6306802818705
 Option 4 ID : 6306802818704
 Status : Answered
 Chosen Option : 1

Q.57 એક દુકાનદાર 20%ના નફા પર એક વસ્તુ વેચે છે. જો વસ્તુની પસંદગી કિંમત ₹150 હોય, તો દુકાનદાર એને કેટલામાં વેચતો હશે?

- Options
1. ₹200
 2. ₹180
 3. ₹220
 4. ₹250

Question ID : 630680742901
 Option 1 ID : 6306802911923
 Option 2 ID : 6306802911922
 Option 3 ID : 6306802911924
 Option 4 ID : 6306802911925
 Status : Answered
 Chosen Option : 2

Q.58 એક વિદ્યાર્થીએ પાંચ વિષયોમાં નીચે મુજબ ગુણ મેળવ્યા છે: ગણિત: 95, વિજ્ઞાન: 88, સામાજિક અભ્યાસ: 76, ભાષા કળા: 84, અને શારીરિક શિક્ષણ: 92. તો સરેરાશ ગુણ કેટલા છે?

- Options
1. 86
 2. 89
 3. 87
 4. 85

Question ID : 630680742831
 Option 1 ID : 6306802911645
 Option 2 ID : 6306802911644
 Option 3 ID : 6306802911642
 Option 4 ID : 6306802911643
 Status : Answered
 Chosen Option : 3

Q.59 એક સામુદાયિક કેન્દ્ર ભંડોળ ઊભું કરવા માટે વેજિટેબલ સ્ક્યૂઅર્સ (vegetable skewers) તૈયાર કરી રહ્યું છે. જો એક સ્ક્યૂઅર માટે 5 શાકભાજીની જરૂર હોય અને તેઓ 250 સ્ક્યૂઅર તૈયાર કરવાનું આયોજન કરતાં હોય, તો કુલ કેટલી શાકભાજીની જરૂર છે?

- Options
1. 1,500 શાકભાજી
 2. 1,000 શાકભાજી
 3. 1,750 શાકભાજી
 4. 1,250 શાકભાજી

Question ID : 630680735673
 Option 1 ID : 6306802883416
 Option 2 ID : 6306802883414
 Option 3 ID : 6306802883417
 Option 4 ID : 6306802883415
 Status : Not Attempted and Marked For Review
 Chosen Option : --

Q.60 એક કાર 7 લીટર પેટ્રોલમાં 210 km ની મુસાફરી કરે છે. કારને 540 km ની મુસાફરી કરવા માટે કેટલા લિટર પેટ્રોલની જરૂર પડે છે?

- Options
1. 26 લિટર
 2. 14 લિટર
 3. 22 લિટર
 4. 18 લિટર

Question ID : 630680742805
 Option 1 ID : 6306802911541
 Option 2 ID : 6306802911538
 Option 3 ID : 6306802911539
 Option 4 ID : 6306802911540
 Status : Answered
 Chosen Option : 4

Q.61 બે સંખ્યાઓનો ગુ.સા.અ. (HCF) 8 અને લ.સા.અ. (LCM) 48 છે. જો આ સંખ્યાઓમાંથી એક 16 છે, તો બંને સંખ્યાઓનો સરવાળો કેટલો છે?

- Options
1. 32
 2. 24
 3. 40
 4. 56

Question ID : 630680742819
 Option 1 ID : 6306802911595
 Option 2 ID : 6306802911596
 Option 3 ID : 6306802911594
 Option 4 ID : 6306802911597
 Status : Answered
 Chosen Option : 2

Q.62 જો એક સમાંતર શ્રેણીનું પ્રથમ પદ 13 હોય અને સામાન્ય તફાવત 4 હોય, તો તેનું 27મું પદ કયું છે?

- Options
1. 117
 2. 114
 3. 116
 4. 119

Question ID : 630680742910
 Option 1 ID : 6306802911958
 Option 2 ID : 6306802911961
 Option 3 ID : 6306802911960
 Option 4 ID : 6306802911959
 Status : Not Attempted and
 Marked For Review
 Chosen Option : --

Q.63 એક પાઈપ 6 કલાકમાં ટાંકી ભરી શકે છે. જો કે, ટાંકીના તળિયે એક લીક છે જે 12 કલાકમાં સંપૂર્ણ ટાંકી ખાલી કરી શકે છે. જો ટાંકી ખાલી હોય અને પાઈપ અને લીક બંને ખુલ્લા હોય, તો ટાંકી ભરવામાં કેટલો સમય લાગશે?

- Options
1. 4 કલાક
 2. 18 કલાક
 3. 12 કલાક
 4. 24 કલાક

Question ID : 630680742829
 Option 1 ID : 6306802911634
 Option 2 ID : 6306802911636
 Option 3 ID : 6306802911635
 Option 4 ID : 6306802911637
 Status : Answered
 Chosen Option : 3

Q.64 બે ટ્રેનો વિરુદ્ધ દિશામાં આગળ વધી રહી છે, એક 80 km/hની ઝડપે અને બીજી 100 km/hની ઝડપે ચાલે છે. તેઓ 36 સેકન્ડમાં એકબીજાને સંપૂર્ણપણે પસાર કરે છે. જો પ્રથમ ટ્રેન 400 મીટર લાંબી હોય, તો બીજી ટ્રેનની લંબાઈ કેટલી હશે?

- Options
1. 1300 મીટર
 2. 1100 મીટર
 3. 1400 મીટર
 4. 1350 મીટર

Question ID : 630680742813
 Option 1 ID : 6306802911570
 Option 2 ID : 6306802911572
 Option 3 ID : 6306802911573
 Option 4 ID : 6306802911571
 Status : Not Attempted and
 Marked For Review
 Chosen Option : --

Q.65 આપેલી પ્રસ્તુતિનું મૂલ્ય કેટલું થાય? $49 \div [14 - 3(2^2 - 1)]$

- Options
1. 7.6
 2. 9.8
 3. 11
 4. 13

Question ID : 630680742915
 Option 1 ID : 6306802911978
 Option 2 ID : 6306802911979
 Option 3 ID : 6306802911980
 Option 4 ID : 6306802911981
 Status : Answered
 Chosen Option : 3

Q.66 એક ચિત્રકાર, લાલ અને વાદળી રંગને મિશ્રિત કરીને એક ખાસ રંગ બનાવવા માંગે છે. તેને લાલ રંગની સાંદ્રતા 55% હોય એવો એક રંગ 20 લિટર જોઈએ. જો તેની પાસે જે લાલ રંગ છે તે 70% શુદ્ધ છે અને 0% લાલ રંગ ધરાવતો વાદળી રંગ હોય, તો તેણે દરેકમાંથી કેટલા લિટર મિશ્રણ કરવાની જરૂર છે?

- Options
1. 15.5 લીટર લાલ અને 4.5 લીટર વાદળી
 2. 15.71 લીટર લાલ અને 4.29 લીટર વાદળી
 3. 13.8 લીટર લાલ અને 6.2 લીટર વાદળી
 4. 14 .6 લીટર લાલ અને 5.4 લીટર વાદળી

Question ID : 630680742929
 Option 1 ID : 6306802912034
 Option 2 ID : 6306802912037
 Option 3 ID : 6306802912036
 Option 4 ID : 6306802912035
 Status : Not Attempted and
 Marked For Review
 Chosen Option : --

Q.67 એક લંબચોરસની પહોળાઈ અને લંબાઈ મધ્યમ પ્રમાણપદનો સંબંધ ધરાવે છે જેમાં પહોળાઈ 8 cm છે. જો લંબાઈ એ પહોળાઈ કરતાં ચાર ગણી હોય, તો પહોળાઈ અને લંબાઈ વચ્ચે મધ્યમ પ્રમાણપદનું મૂલ્ય શું હશે?

- Options
1. 16 cm
 2. 32 cm
 3. 12 cm
 4. 24 cm

Question ID : 630680742804
 Option 1 ID : 6306802911535
 Option 2 ID : 6306802911537
 Option 3 ID : 6306802911534
 Option 4 ID : 6306802911536
 Status : Not Attempted and
 Marked For Review
 Chosen Option : --

Q.68 એક ડ્રેસની અંકિત કિંમત ₹120 છે. ક્લિયરન્સ ઈવેન્ટ દરમિયાન, સ્ટોર અંકિત કિંમત પર 25% નું ડિસ્કાઉન્ટ આપે છે. ડ્રેસની વેચાણ કિંમત શું હશે?

- Options
1. ₹100
 2. ₹90
 3. ₹105
 4. ₹95

Question ID : 630680742809
 Option 1 ID : 6306802911556
 Option 2 ID : 6306802911555
 Option 3 ID : 6306802911557
 Option 4 ID : 6306802911554
 Status : Answered
 Chosen Option : 2

Q.69 એક વર્ગમાં, ફાઇનલ ગ્રેડમાં 25% ક્વિઝ, 35% હોમવર્ક, 20% પ્રોજેક્ટ્સ અને 20% ફાઇનલ પરીક્ષા સામેલ છે. જો કોઈ વિદ્યાર્થી ક્વિઝમાં 90, હોમવર્કમાં 80, પ્રોજેક્ટમાં 85 અને ફાઇનલ પરીક્ષામાં 75 ગુણ મેળવે છે, તો વર્ગ માટે વિદ્યાર્થીની ભારિત સરેરાશ શું હશે?

- Options
1. 83.5
 2. 81.5
 3. 82.5
 4. 84.5

Question ID : 630680742832
 Option 1 ID : 6306802911648
 Option 2 ID : 6306802911646
 Option 3 ID : 6306802911647
 Option 4 ID : 6306802911649
 Status : **Not Attempted and Marked For Review**
 Chosen Option : --

Q.70 એક કુટુંબ તેની માસિક આવકના 35% ઘરેલું ખર્ચ પર અને 20% ખોરાક પર ખર્ચે છે. જો તેમનો ઘરેલું અને ખોરાક માટેનો કુલ માસિક ખર્ચ ₹1,650 છે, તો તેમની માસિક આવક કેટલી છે?

- Options
1. ₹3,200
 2. ₹4,500
 3. ₹3,300
 4. ₹3,000

Question ID : 630680742824
 Option 1 ID : 6306802911614
 Option 2 ID : 6306802911617
 Option 3 ID : 6306802911615
 Option 4 ID : 6306802911616
 Status : **Answered**
 Chosen Option : 1

Section : English

Q.71 Select the most appropriate form of verb from the given options to fill in the blanks for the given sentence.

She___ about her future often.

- Options
1. thinking
 2. is thought
 3. think
 4. thinks

Question ID : 630680724337
 Option 1 ID : 6306802838505
 Option 2 ID : 6306802838507
 Option 3 ID : 6306802838508
 Option 4 ID : 6306802838506
 Status : **Not Answered**
 Chosen Option : --

Q.72 Rearrange the following parts of a sentence to make it a coherent sentence.

- A) to improved sea, land, and air transport
- B) but today it is varied, thanks
- C) was often monotonous and dangerous,
- D) In pre-scientific times, food

- Options
- 1. CABD
 - 2. DCBA
 - 3. BACD
 - 4. ABCD

Question ID : 630680743089
Option 1 ID : 6306802912667
Option 2 ID : 6306802912665
Option 3 ID : 6306802912668
Option 4 ID : 6306802912666
Status : Not Answered
Chosen Option : --

Q.73 Select the most appropriate article from the options given below to complete the sentence. Mark "no article" if there is no requirement for an article in the given sentence.

They live in ____ north of New Jersey.

- Options
- 1. a
 - 2. No article
 - 3. the
 - 4. an

Question ID : 630680743081
Option 1 ID : 6306802912633
Option 2 ID : 6306802912634
Option 3 ID : 6306802912636
Option 4 ID : 6306802912635
Status : Not Answered
Chosen Option : --

Q.74 Select the most appropriate present tense form of the verb from the given options to fill in the blanks for the given sentence.

It ____ for quite some time now.

- Options
- 1. has been raining
 - 2. is rain
 - 3. have been rains
 - 4. have rained

Question ID : 630680743085
Option 1 ID : 6306802912650
Option 2 ID : 6306802912652
Option 3 ID : 6306802912651
Option 4 ID : 6306802912649
Status : Not Answered
Chosen Option : --

Q.75 Select the most appropriate SYNONYM of the word given below.

Desist

- Options
1. Begin
 2. Commence
 3. Abandon
 4. Resume

Question ID : 630680724352
 Option 1 ID : 6306802838561
 Option 2 ID : 6306802838562
 Option 3 ID : 6306802838563
 Option 4 ID : 6306802838564
 Status : Not Answered
 Chosen Option : --

Q.76 Out of the four alternatives, choose the one which can be substituted for the highlighted/ underlined phrase .

Observing the intricate network of underground passages, it was evident that small animals, particularly rabbits, had meticulously dug out holes or tunnels as their dwellings.

- Options
1. Cache
 2. Drey
 3. Burrow
 4. Shell

Question ID : 630680724697
 Option 1 ID : 6306802839932
 Option 2 ID : 6306802839931
 Option 3 ID : 6306802839933
 Option 4 ID : 6306802839934
 Status : Not Answered
 Chosen Option : --

Q.77 Translate the below sentence into Gujarati .

It is imperative that we, as individuals, do not let our cultural heritage disappear into oblivion due to the changing times.

- Options
1. એ મહત્ત્વનું છે કે વ્યક્તિઓ તરીકે આપણે આપણા સાંસ્કૃતિક વારસાને સમય બદલાતા ગુમાવી દઈએ.
 2. એ આવશ્યક છે કે આપણે આપણા સાંસ્કૃતિક વારસાને સમય જતા ભૂલી જઈએ.
 3. એ જરૂરી છે કે વ્યક્તિઓ તરીકે આપણે આપણા સાંસ્કૃતિક મૂલ્યો સમય બદલાવાના લીધે ભૂલી ન જઈએ.
 4. એ અતિ આવશ્યક છે કે વ્યક્તિઓ તરીકે આપણે આપણા સાંસ્કૃતિક વારસાને સમય બદલાવાના લીધે વિસરી ન જઈએ.

Question ID : 630680743099
 Option 1 ID : 6306802912703
 Option 2 ID : 6306802912704
 Option 3 ID : 6306802912701
 Option 4 ID : 6306802912702
 Status : Not Answered
 Chosen Option : --

Q.78 Rearrange the following parts of a sentence to make it a coherent sentence.

- A) encompasses the knowledge and
- B) humans from animals
- C) In its broadest sense, science
- D) experience that distinguishes

- Options**
- 1. CADB
 - 2. DCAB
 - 3. ABCD
 - 4. DBAC

Question ID : 630680743087
Option 1 ID : 6306802912658
Option 2 ID : 6306802912660
Option 3 ID : 6306802912659
Option 4 ID : 6306802912657
Status : Not Answered
Chosen Option : --

Q.79 Out of the four alternatives, choose the one which can be substituted for the phrase within brackets.

The bravery and (feeling of indifference to pleasure or pain) of the soldiers can be humbling.

- Options**
- 1. Prejudice
 - 2. Skepticism
 - 3. Stoicism
 - 4. Perseverance

Question ID : 630680730392
Option 1 ID : 6306802862254
Option 2 ID : 6306802862255
Option 3 ID : 6306802862256
Option 4 ID : 6306802862253
Status : Not Answered
Chosen Option : --

Q.80 Select the most appropriate form of verb from the given options to fill in the blanks for the given sentence.

She ____ a delicious meal.

- Options**
- 1. cooking
 - 2. will cooks
 - 3. is cook
 - 4. cooked

Question ID : 630680717353
Option 1 ID : 6306802810989
Option 2 ID : 6306802810990
Option 3 ID : 6306802810992
Option 4 ID : 6306802810991
Status : Not Answered
Chosen Option : --

Q.81 Rearrange the following parts of a sentence to make it a coherent sentence.

- A) knowledge, now bears the marks of time
- B) newspaper, once a powerhouse of
- C) of the digital sphere, the traditional
- D) Amid the overwhelming dominance

- Options
1. ABCD
 2. BACD
 3. DCBA
 4. CABD

Question ID : 630680730391
Option 1 ID : 6306802862250
Option 2 ID : 6306802862252
Option 3 ID : 6306802862249
Option 4 ID : 6306802862251
Status : Not Answered
Chosen Option : --

Comprehension:

Read the passage given below and answer the questions

In this era of globalization, society seems to be too busy chasing worldly luxuries and often neglects healthy lifestyle practices, especially recreational activities. This is because they take the importance of recreational activities lightly. Many people don't realize that recreation brings many benefits to society.

One of the benefits of recreation to society is the ability to strengthen relationships, whether with the local community or with one's own family members. This is because through recreational activities, individuals will interact with others around them, thus strengthening relationships. For example, through recreational activities, we can have friendly conversations with neighbors. Furthermore, recreational activities also have the ability to bring peace of mind to members of society. This is because through recreation, society can appreciate the beauty of their surroundings. For example, through exercises such as jogging, society can breathe in and enjoy the refreshing breeze, thus giving peace of mind. Therefore, recreational activities are seen as a main foundation for society to relax their minds.

In addition, recreational activities are very significant for maintaining physical health. Healthy activities such as jogging, camping, or extreme sports such as skydiving can increase fitness levels and prevent various heart diseases. For example, through activities, especially extreme sports that have become the craze among young people, society can increase good metabolism rates for their bodies. Finally, recreational activities can encourage the exchange of ideas or thoughts within society. This is because meaningful exchanges can mature society's thinking levels. For example, through brief discussions among society, individualistic spirit can be eliminated, and a strong spirit of unity can be established.

In conclusion, recreational and recreational activities have many specific benefits that can be utilised by each member of society. Therefore, we should prioritise and practice recreational activities in our daily lives because, in fact, a sharp mind lies in a healthy body.

SubQuestion No : 82

Q.82 Select the most appropriate SYNONYM of the word as used in the passage

Appreciate

- Options
1. Cherish
 2. Dismiss
 3. Detest
 4. Hate

Question ID : 630680730415
Option 1 ID : 6306802862338
Option 2 ID : 6306802862340
Option 3 ID : 6306802862337
Option 4 ID : 6306802862339
Status : Not Answered
Chosen Option : --

Comprehension:

Read the passage given below and answer the questions

In this era of globalization, society seems to be too busy chasing worldly luxuries and often neglects healthy lifestyle practices, especially recreational activities. This is because they take the importance of recreational activities lightly. Many people don't realize that recreation brings many benefits to society.

One of the benefits of recreation to society is the ability to strengthen relationships, whether with the local community or with one's own family members. This is because through recreational activities, individuals will interact with others around them, thus strengthening relationships. For example, through recreational activities, we can have friendly conversations with neighbors. Furthermore, recreational activities also have the ability to bring peace of mind to members of society. This is because through recreation, society can appreciate the beauty of their surroundings. For example, through exercises such as jogging, society can breathe in and enjoy the refreshing breeze, thus giving peace of mind. Therefore, recreational activities are seen as a main foundation for society to relax their minds.

In addition, recreational activities are very significant for maintaining physical health. Healthy activities such as jogging, camping, or extreme sports such as skydiving can increase fitness levels and prevent various heart diseases. For example, through activities, especially extreme sports that have become the craze among young people, society can increase good metabolism rates for their bodies. Finally, recreational activities can encourage the exchange of ideas or thoughts within society. This is because meaningful exchanges can mature society's thinking levels. For example, through brief discussions among society, individualistic spirit can be eliminated, and a strong spirit of unity can be established.

In conclusion, recreational and recreational activities have many specific benefits that can be utilised by each member of society. Therefore, we should prioritise and practice recreational activities in our daily lives because, in fact, a sharp mind lies in a healthy body.

SubQuestion No : 83

Q.83 Identify the most suitable title for the passage

- Options**
1. The importance of bond between the societies
 2. The importance of healthy practices
 3. The importance of sports activities
 4. The importance of recreational activities to society

Question ID : 630680730414

Option 1 ID : 6306802862333

Option 2 ID : 6306802862336

Option 3 ID : 6306802862334

Option 4 ID : 6306802862335

Status : **Not Answered**

Chosen Option : --

Comprehension:

Read the passage given below and answer the questions

In this era of globalization, society seems to be too busy chasing worldly luxuries and often neglects healthy lifestyle practices, especially recreational activities. This is because they take the importance of recreational activities lightly. Many people don't realize that recreation brings many benefits to society.

One of the benefits of recreation to society is the ability to strengthen relationships, whether with the local community or with one's own family members. This is because through recreational activities, individuals will interact with others around them, thus strengthening relationships. For example, through recreational activities, we can have friendly conversations with neighbors. Furthermore, recreational activities also have the ability to bring peace of mind to members of society. This is because through recreation, society can appreciate the beauty of their surroundings. For example, through exercises such as jogging, society can breathe in and enjoy the refreshing breeze, thus giving peace of mind. Therefore, recreational activities are seen as a main foundation for society to relax their minds. In addition, recreational activities are very significant for maintaining physical health. Healthy activities such as jogging, camping, or extreme sports such as skydiving can increase fitness levels and prevent various heart diseases. For example, through activities, especially extreme sports that have become the craze among young people, society can increase good metabolism rates for their bodies. Finally, recreational activities can encourage the exchange of ideas or thoughts within society. This is because meaningful exchanges can mature society's thinking levels. For example, through brief discussions among society, individualistic spirit can be eliminated, and a strong spirit of unity can be established.

In conclusion, recreational and recreational activities have many specific benefits that can be utilised by each member of society. Therefore, we should prioritise and practice recreational activities in our daily lives because, in fact, a sharp mind lies in a healthy body.

SubQuestion No : 84

Q.84 Select the most appropriate **ANTONYM** of the word given as used in the passage .

Luxuries

- Options**
1. Comforts
 2. Options
 3. Amenities
 4. Requirements

Question ID : **630680730417**
Option 1 ID : **6306802862346**
Option 2 ID : **6306802862347**
Option 3 ID : **6306802862345**
Option 4 ID : **6306802862348**

Status : **Not Answered**

Chosen Option : --

Comprehension:

Read the passage given below and answer the questions

In this era of globalization, society seems to be too busy chasing worldly luxuries and often neglects healthy lifestyle practices, especially recreational activities. This is because they take the importance of recreational activities lightly. Many people don't realize that recreation brings many benefits to society.

One of the benefits of recreation to society is the ability to strengthen relationships, whether with the local community or with one's own family members. This is because through recreational activities, individuals will interact with others around them, thus strengthening relationships. For example, through recreational activities, we can have friendly conversations with neighbors. Furthermore, recreational activities also have the ability to bring peace of mind to members of society. This is because through recreation, society can appreciate the beauty of their surroundings. For example, through exercises such as jogging, society can breathe in and enjoy the refreshing breeze, thus giving peace of mind. Therefore, recreational activities are seen as a main foundation for society to relax their minds. In addition, recreational activities are very significant for maintaining physical health. Healthy activities such as jogging, camping, or extreme sports such as skydiving can increase fitness levels and prevent various heart diseases. For example, through activities, especially extreme sports that have become the craze among young people, society can increase good metabolism rates for their bodies. Finally, recreational activities can encourage the exchange of ideas or thoughts within society. This is because meaningful exchanges can mature society's thinking levels. For example, through brief discussions among society, individualistic spirit can be eliminated, and a strong spirit of unity can be established.

In conclusion, recreational and recreational activities have many specific benefits that can be utilised by each member of society. Therefore, we should prioritise and practice recreational activities in our daily lives because, in fact, a sharp mind lies in a healthy body.

SubQuestion No : 85

Q.85 Select the most appropriate **SYNONYM** of the word as given in the passage

Prevent

Options 1. Release

2. Continue

3. Approve

4. Avert

Question ID : 630680730416

Option 1 ID : 6306802862342

Option 2 ID : 6306802862343

Option 3 ID : 6306802862344

Option 4 ID : 6306802862341

Status : Not Answered

Chosen Option : --

Section : Gujarati

Q.86 'ખૂબ સંકુચિત દૃષ્ટિવાળું' શબ્દસમૂહ માટે સાચો એક શબ્દ શોધો

Options 1. સજ્જન

2. કૂપમંડૂક

3. બદનામ

4. શંકાશીલ

Question ID : 630680724267

Option 1 ID : 6306802838228

Option 2 ID : 6306802838225

Option 3 ID : 6306802838227

Option 4 ID : 6306802838226

Status : Answered

Chosen Option : 2

Q.87 નીચેનામાંથી શુદ્ધ વિધાન શોધો.

- Options**
1. વંડીની દીવાલ પર એક બિલાડી બેઠી હતી
 2. ગુલાબજળનું પાણી લાવો
 3. ભારત મારો દેશ છે
 4. સવિનય સાથે જણાવીએ છીએ

Question ID : 630680742950
 Option 1 ID : 6306802912114
 Option 2 ID : 6306802912115
 Option 3 ID : 6306802912116
 Option 4 ID : 6306802912117
 Status : Answered
 Chosen Option : 3

Q.88 નીચેનામાંથી સાચી જોડણીવાળો શબ્દ શોધો

- Options**
1. વીચાર
 2. વીરોધી
 3. દીર્ઘ
 4. સ્મતુલા

Question ID : 630680742948
 Option 1 ID : 6306802912109
 Option 2 ID : 6306802912108
 Option 3 ID : 6306802912106
 Option 4 ID : 6306802912107
 Status : Answered
 Chosen Option : 3

Q.89 'ધારોષ્ણ' શબ્દની સંધિ છોડો

- Options**
1. ધારા + ઉષ્ણ
 2. ધરોસ + ન
 3. ધાર + ઉનશ્ર
 4. ધાર + ઉશ્ર

Question ID : 630680742947
 Option 1 ID : 6306802912104
 Option 2 ID : 6306802912103
 Option 3 ID : 6306802912102
 Option 4 ID : 6306802912105
 Status : Answered
 Chosen Option : 1

Q.90 નીચેના રૂઢિપ્રયોગનો યોગ્ય અર્થ લખો: પાકે પાયે કરવું

- Options**
1. પલંગના પાયા મજબૂત હોવા
 2. પાયો કાચો હોવો
 3. નક્કી કરવું
 4. નક્કી સમયે કામ જ કરવું

Question ID : 630680721284
 Option 1 ID : 6306802826489
 Option 2 ID : 6306802826492
 Option 3 ID : 6306802826491
 Option 4 ID : 6306802826490
 Status : Answered
 Chosen Option : 3

Q.91 निम्नलिखित काव्यपंक्ति परथी योग्य उत्तर आपो:
जवाने शाणामां मन थनगने मोर थर्णे;
जता नित्ये प्रीते दङ्कतर ભરી સજ્જ થઈને.
મળેલા સંસ્કારો સભર ભરી માનીય મમતા;
ઉમેરાતાં એમાં નિતનિત નવાં ભાવ-ક્ષમતા.
પ્રશ્ન - અહીં કવિનું મન શા માટે થનગને છે?

- Options
1. દફતર ભરવા માટે
 2. શાળાએ જવા માટે
 3. માની મમતા માટે
 4. ભાવ-ક્ષમતા માટે

Question ID : 630680721317
Option 1 ID : 6306802826621
Option 2 ID : 6306802826624
Option 3 ID : 6306802826622
Option 4 ID : 6306802826623
Status : Answered
Chosen Option : 2

Q.92 'જે સખત મહેનત કરે છે તે જીવનમાં સુખી થાય છે'
વાક્યનું સાચું અંગ્રેજી ભાષાંતર શોધો

- Options
1. He when works hard become happy in life.
 2. He how works hard become happy in life.
 3. He who works hard becomes happy in life.
 4. He she works hard becomes happy in life.

Question ID : 630680724315
Option 1 ID : 6306802838420
Option 2 ID : 6306802838418
Option 3 ID : 6306802838417
Option 4 ID : 6306802838419
Status : Not Answered
Chosen Option : --

Q.93 'કેટલીક વાતો કરવાં કરતાં કહેવી સહેલી હોય છે' વાક્યનું અંગ્રેજીમાં સાચું ભાષાંતર શોધો

- Options
1. Some things are easier said than done
 2. Some things are easiers said than doned
 3. Some things is easier said than done
 4. Some things are easier said than done

Question ID : 630680724279
Option 1 ID : 6306802838273
Option 2 ID : 6306802838276
Option 3 ID : 6306802838274
Option 4 ID : 6306802838275
Status : Not Answered
Chosen Option : --

Q.94 'अगवडोनी अतिभार जो ज्वनने क्यडी नांपतो छोय तो अे दौष सगवडोना ढगलामां पण रडेवो ज छे.' अर्हो 'दौष' शब्दनी अर्थ शोधो.

- Options
1. स्वप्न
 2. भामी
 3. पात्रता
 4. वर्तन

Question ID : 630680742951
 Option 1 ID : 6306802912119
 Option 2 ID : 6306802912121
 Option 3 ID : 6306802912118
 Option 4 ID : 6306802912120
 Status : Answered
 Chosen Option : 1

Q.95 नीचेनामांथी साथी जोडणीवालो शब्द शोधो

- Options
1. परीस्थीती
 2. परिस्थिति
 3. परीस्थिति
 4. परिस्थीती

Question ID : 630680724272
 Option 1 ID : 6306802838247
 Option 2 ID : 6306802838245
 Option 3 ID : 6306802838246
 Option 4 ID : 6306802838248
 Status : Answered
 Chosen Option : 2

Q.96 'स्वर्गवास' समासनी साथी ओणभ करो

- Options
1. द्विगु
 2. तत्पुरुष
 3. कर्मधारय
 4. ङङ

Question ID : 630680742940
 Option 1 ID : 6306802912077
 Option 2 ID : 6306802912075
 Option 3 ID : 6306802912076
 Option 4 ID : 6306802912074
 Status : Answered
 Chosen Option : 4

Q.97 'आवरदा' नो साथो समानार्थी शोधो

- Options
1. आयुष्य
 2. मंथन
 3. पक्ष
 4. विरोध

Question ID : 630680742941
 Option 1 ID : 6306802912081
 Option 2 ID : 6306802912078
 Option 3 ID : 6306802912080
 Option 4 ID : 6306802912079
 Status : Answered
 Chosen Option : 1

Q.98 'કોઈનાથી એ રોકાયો નહીં' નું સાચું કર્તરિ વિધાન શોધો

Options 1. શા માટે એને રોક્યો નહીં?

2. કોઈ એને રોકે નહીં?
3. કોઈએ એને રોક્યો નહીં
4. ભલે એને ન રોક્યો

Question ID : 630680724249
 Option 1 ID : 6306802838155
 Option 2 ID : 6306802838153
 Option 3 ID : 6306802838154
 Option 4 ID : 6306802838156
 Status : Answered
 Chosen Option : 3

Q.99 આપેલ કહેવતનો સાચો અર્થ શોધો : વાઢ કાન ને આવે સાન

Options 1. અનુભવે બધુ સમજાય છે.

2. અનુભવી વ્યક્તિ કાન વાઢે છે.
3. સાનમાં સમજવા માટે કાન વીંધાવવા જરૂરી છે.
4. કાન વાઢવાથી અનુભવ થાય છે.

Question ID : 630680721304
 Option 1 ID : 6306802826572
 Option 2 ID : 6306802826571
 Option 3 ID : 6306802826569
 Option 4 ID : 6306802826570
 Status : Answered
 Chosen Option : 1

Q.100 'કોઠે પડવું' રૂઢિપ્રયોગનો સાચો અર્થ શોધો

Options 1. સ્વાભાવિક થઈ જવું

2. હિમ્મતથી કામ કરવા તૈયાર થવું
3. મહેનત કરવી
4. સફાઈ કરવી

Question ID : 630680724242
 Option 1 ID : 6306802838126
 Option 2 ID : 6306802838127
 Option 3 ID : 6306802838128
 Option 4 ID : 6306802838125
 Status : Answered
 Chosen Option : 1