

9-05-2024 (CCE - Shift 1)

Privacy માટે પ્રથમ પેજ Remove કરેલ છે..

Q.2 એવી જોડી પસંદ કરો જેમાં સંખ્યાઓ તેવી જ રીતે સંબંધિત હોય જે રીતે નીચેની જોડીની સંખ્યાઓ સંબંધિત છે.

563:7

- Options
1. 682 : 15
 2. 439 : 10
 3. 468 : 9
 4. 438 : 5

Question ID : 630680724892

Option 1 ID : 6306802840695

Option 2 ID : 6306802840692

Option 3 ID : 6306802840693

Option 4 ID : 6306802840694

Status : Answered

Chosen Option : 4

Q.3 જો P = 'x', Q = 'y', R = 'z' અને S = 'w' હોય, તો નીચેની પદાવલિની કિંમત શું હશે?

5 R 3 Q 9 P 32 S 8

- Options
1. 9
 2. 12
 3. 10
 4. 8

Question ID : 630680724921

Option 1 ID : 6306802840809

Option 2 ID : 6306802840811

Option 3 ID : 6306802840810

Option 4 ID : 6306802840808

Status : Answered

Chosen Option : 3

Q.4 નીચેના પ્રશ્નમાં 'પ્રશ્ન' અને તેની નીચે ક્રમાંકિત 1 અને 2 તરીકે આપેલ બે વિધાનોનો સમાવેશ થાય છે. ઉમેદવારોએ નક્કી કરવાનું છે કે વિધાનોમાં આપવામાં આવેલ માહિતી પ્રશ્નનો જવાબ આપવા માટે પર્યાપ્ત છે કે કેમ.

પ્રશ્ન: એટલાસ કંપનીનું કુલ વેચાણ (રૂપિયામાં) કેટલું હતું?

વિધાનો:

1. કંપનીએ 50 સાયકલ વેચી.
2. દરેક સાયકલ ની કિંમત 900 રૂપિયા હતી.

- Options
1. વિધાન 1 અને 2 બંને સાથે મળીને પર્યાપ્ત છે
 2. વિધાન 1 એકલું પર્યાપ્ત છે જ્યારે વિધાન 2 એકલું પર્યાપ્ત નથી
 3. ન તો વિધાન 1 કે ન તો વિધાન 2 પર્યાપ્ત છે
 4. વિધાન 2 એકલું પર્યાપ્ત છે જ્યારે વિધાન 1 એકલું પર્યાપ્ત નથી

Question ID : 630680724888

Option 1 ID : 6306802840679

Option 2 ID : 6306802840676

Option 3 ID : 6306802840678

Option 4 ID : 6306802840677

Status : Answered

Chosen Option : 1

Adda247

Test Prime

ALL EXAMS, ONE SUBSCRIPTION



1,00,000+
Mock Tests



Personalised
Report Card



Unlimited
Re-Attempt



600+
Exam Covered



25,000+ Previous
Year Papers



500%
Refund



ATTEMPT FREE MOCK NOW

Q.5 નીચેના પ્રશ્નમાં 'પ્રશ્ન' અને તેની નીચે ક્રમાંકિત 1 અને 2 તરીકે બે વિધાનો સામેલ છે. ઉમેદવારોએ નક્કી કરવાનું છે કે શું વિધાનોમાં આપવામાં આવેલ ડેટા પ્રશ્નનો જવાબ આપવા માટે પર્યાપ્ત છે કે કેમ.

પ્રશ્ન: માનસી, નીલ, સીતા અને રીટામાં કોનું સ્થાન 100 મીટર રેસમાં ભાગ લેનારાઓમાં છેલ્લું છે?

વિધાનો:

1. માનસીએ સીતા કરતા નીચું સ્થાન મેળવ્યું છે.
2. રીટાએ સીતા કરતાં વધુ સારું સ્થાન પરંતુ નીલ કરતાં નીચું સ્થાન મેળવ્યું છે.

- Options
1. 1 અને 2 બંને વિધાન પર્યાપ્ત છે
 2. ન તો વિધાન 1 કે ન તો વિધાન 2 પર્યાપ્ત છે
 3. વિધાન 1 એકલું પર્યાપ્ત છે જ્યારે વિધાન 2 એકલું પર્યાપ્ત નથી
 4. વિધાન 2 એકલું પર્યાપ્ત છે જ્યારે વિધાન 1 એકલું પર્યાપ્ત નથી

Question ID : 630680724908

Option 1 ID : 6306802840759

Option 2 ID : 6306802840758

Option 3 ID : 6306802840756

Option 4 ID : 6306802840757

Status : Answered

Chosen Option : 1

Q.6 નીચે આપેલ શ્રેણીને તાર્કિક રીતે પૂર્ણ કરવા માટે પ્રશ્ન ચિહ્ન (?) ની જગ્યાએ શું આવશે?

6, 9, 18, 21, 42, ?, ?

- Options
1. 45, 90
 2. 135, 45
 3. 150, 50
 4. 50, 150

Question ID : 630680724885

Option 1 ID : 6306802840666

Option 2 ID : 6306802840667

Option 3 ID : 6306802840664

Option 4 ID : 6306802840665

Status : Answered

Chosen Option : 1

Q.7 નીચેના પ્રશ્નમાં 'પ્રશ્ન' અને તેની નીચે ક્રમાંકિત 1 અને 2 તરીકે બે વિધાનો સામેલ છે. ઉમેદવારોએ નક્કી કરવાનું છે કે વિધાનોમાં આપવામાં આવેલ ડેટા પ્રશ્નનો જવાબ આપવા માટે પર્યાપ્ત છે કે કેમ.

પ્રશ્ન: 40 વિદ્યાર્થીઓના વર્ગમાં આગળથી પ્રિયાનો ક્રમ શું છે?

વિધાનો:

1. વર્ગમાં 60 વિદ્યાર્થીઓ છે.
2. કમલેશનો ક્રમ ટોચથી ચોથો.

- Options
1. વિધાન 1 એકલું પર્યાપ્ત છે જ્યારે વિધાન 2 એકલું પર્યાપ્ત નથી
 2. વિધાન 2 એકલું પર્યાપ્ત છે જ્યારે વિધાન 1 એકલું પર્યાપ્ત નથી
 3. વિધાન 1 અને 2 બંને સાથે મળીને પર્યાપ્ત છે
 4. ન તો વિધાન 1 કે ન તો વિધાન 2 પર્યાપ્ત છે

Question ID : 630680724929

Option 1 ID : 6306802840841

Option 2 ID : 6306802840843

Option 3 ID : 6306802840842

Option 4 ID : 6306802840840

Status : Answered

Chosen Option : 4

Q.8 એવી જોડી પસંદ કરો જેમાં સંખ્યાઓ તેવી જ રીતે સંબંધિત હોય જે રીતે નીચેની જોડીની સંખ્યાઓ સંબંધિત છે.

4 : 18

- Options
1. 6 : 38
 2. 7 : 71
 3. 5 : 20
 4. 9:80

Question ID : 630680724890

Option 1 ID : 6306802840686

Option 2 ID : 6306802840685

Option 3 ID : 6306802840684

Option 4 ID : 6306802840687

Status : Answered

Chosen Option : 1

Q.9 નીચેનામાંથી કઈ જવાબ-આકૃતિમાં પ્રશ્ન-આકૃતિ એમ્બેડ કરેલ છે (રોટેશનની મંજૂરી નથી)?

Question Figure : Answer Figures :



(a)



(b)



(c)



(d)

સંદર્ભ: Question Figure = પ્રશ્ન-આકૃતિ, Answer Figure = જવાબ-આકૃતિ

- Options
1. b
 2. a
 3. c
 4. d

Question ID : 630680724914

Option 1 ID : 6306802840781

Option 2 ID : 6306802840780

Option 3 ID : 6306802840782

Option 4 ID : 6306802840783

Status : Answered

Chosen Option : 3

Q.10 એક ફોટોગ્રાફ તરફ ઈશારો કરતા લિસા (સ્ત્રી) કહે છે કે ફોટોગ્રાફમાં દેખાતી મહિલા તેના સગા ભાઈના પિતાની પત્ની છે. લીસા ચિત્રમાંની સ્ત્રી સાથે કેવી રીતે સંબંધિત છે?

- Options
1. બહેન
 2. માતા
 3. પુત્ર
 4. દીકરી

Question ID : 630680724861

Option 1 ID : 6306802840571

Option 2 ID : 6306802840569

Option 3 ID : 6306802840568

Option 4 ID : 6306802840570

Status : Answered

Chosen Option : 4

Q.11 નીચેના કોષ્ટકમાં છ વિદ્યાર્થીઓએ પરીક્ષામાં છ જુદા જુદા વિષયોમાં મેળવેલા ગુણની ટકાવારી આપે છે.

Student	Subject (Max. Marks)					
	ભાષા	હિન્દી	ભૂસ્તરશાસ્ત્ર	અર્થશાસ્ત્ર	શરીરવિજ્ઞાન	મરાઠી
	(100)	(100)	(100)	(100)	(100)	(100)
અનિતા	90	89	79	68	55	44
આયેશા	83	69	39	99	58	96
ફરદીન	67	86	65	75	95	83
નિરજ	90	65	71	85	58	39
પ્રતિમા	69	78	89	90	74	63
રીશભ	83	62	76	89	95	74

ઉપરોક્ત કોષ્ટકના આધારે, અનિતાને ઉપરોક્તમાંથી કયા વિષયમાં A- મળ્યો (A- એટલે કે વિદ્યાર્થીએ 70 કરતા વધુ અને 80 કરતા ઓછા ગુણ પ્રાપ્ત કર્યા હોવા જોઈએ)?

- Options
1. ભૂસ્તરશાસ્ત્ર
 2. હિન્દી
 3. મરાઠી
 4. ભાષા

Question ID : 630680724898

Option 1 ID : 6306802840717

Option 2 ID : 6306802840719

Option 3 ID : 6306802840718

Option 4 ID : 6306802840716

Status : Answered

Chosen Option : 1

Q.12 જ્યારે દર્પણને MN રેખા પર આડી રીતે રાખવામાં આવે ત્યારે નીચેનામાંથી કઈ જવાબ આકૃતિ પ્રશ્ન આકૃતિની દર્પણ છબી હશે?

Question Figure Answer Figure



સંદર્ભ: Question Figure = પ્રશ્ન-આકૃતિ, Answer Figure = જવાબ-આકૃતિ

- Options
1. 2
 2. 3
 3. 1
 4. 4

Question ID : 630680724917

Option 1 ID : 6306802840793

Option 2 ID : 6306802840794

Option 3 ID : 6306802840792





Option 4 ID : 6306802840795

Status : Answered

Chosen Option : 4

Q.13 નીચેનામાંથી કઈ વેન આકૃતિ ખુરશી, કપ અને ઘડિયાળ વચ્ચેનો શ્રેષ્ઠ સંબંધ દર્શાવે છે?

Options

1. 
2. 
3. 
4. 

Question ID : 630680724864
 Option 1 ID : 6306802840580
 Option 2 ID : 6306802840581
 Option 3 ID : 6306802840583
 Option 4 ID : 6306802840582
 Status : Answered
 Chosen Option : 4

Q.14 જો 'A' નો અર્થ 'ગુલાકાર', 'B' નો અર્થ 'વત્તા', 'C' નો અર્થ 'બાદબાકી' અને 'D' નો અર્થ 'ભાગ્યા' હોય, તો નીચેની પદાવલિનું મૂલ્ય શું હશે?

9 A 3 C 6 B 25 D 5 = ?

- Options
1. 29
 2. 30
 3. 26
 4. 38

Question ID : 630680724919
 Option 1 ID : 6306802840802
 Option 2 ID : 6306802840803
 Option 3 ID : 6306802840800
 Option 4 ID : 6306802840801
 Status : Answered
 Chosen Option : 3

Q.15 નીચે આપેલ શ્રેણીને તાર્કિક રીતે પૂર્ણ કરવા માટે પ્રશ્ન ચિહ્ન (?) ની જગ્યાએ શું આવશે?

9, 83, 9, 89, 9, ?

- Options
1. 98
 2. 100
 3. 99
 4. 97

Question ID : 630680724886
 Option 1 ID : 6306802840669
 Option 2 ID : 6306802840671
 Option 3 ID : 6306802840670
 Option 4 ID : 6306802840668
 Status : Answered
 Chosen Option : 4

Q.16 જો 'M' સૂચવે છે 'x', 'D' સૂચવે છે '÷', 'A' સૂચવે છે '+', 'S' સૂચવે છે '-' તો નીચેની પદાવલિની કિંમત શું હશે?

7 S 18 D 2 A 8 M 1

- Options
1. 7
 2. 5
 3. 6
 4. 8

Question ID : 630680724882

Option 1 ID : 6306802840654

Option 2 ID : 6306802840652

Option 3 ID : 6306802840653

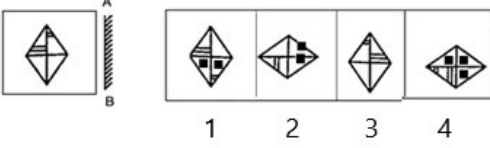
Option 4 ID : 6306802840655

Status : Answered

Chosen Option : 3

Q.17 જ્યારે દર્પણને AB રેખા પર ઊભી રીતે પકડી રાખવામાં આવે, ત્યારે નીચેનામાંથી કઈ જવાબ-આકૃતિ પ્રશ્ન-આકૃતિની દર્પણ છબી હશે?

Question Figure Answer Figure



સંદર્ભ: Question Figure = પ્રશ્ન-આકૃતિ, Answer Figure = જવાબ-આકૃતિ

- Options
1. 1
 2. 4
 3. 3
 4. 2

Question ID : 630680724877

Option 1 ID : 6306802840632

Option 2 ID : 6306802840635

Option 3 ID : 6306802840634

Option 4 ID : 6306802840633

Status : Answered

Chosen Option : 3

Q.18 અરુણ એ સ્વીટી કરતાં ઉંમરમાં મોટો છે. વિંતી એ અરુણ કરતા મોટી છે. કિશ એ વિંતી જેટલી ઉંમરનો નથી પણ અરુણ કરતા મોટો છે. તેમાંથી સૌથી નાનું કોણ છે?

- Options
1. સ્વીટી
 2. વિંતી
 3. અરુણ
 4. કિશ

Question ID : 630680724870

Option 1 ID : 6306802840605

Option 2 ID : 6306802840604

Option 3 ID : 6306802840607

Option 4 ID : 6306802840606

Status : Answered

Chosen Option : 1

Q.19 આપેલ વિધાનો અને તારણો કાળજીપૂર્વક વાંચો. ધારી લઈએ કે વિધાનોમાં આપવામાં આવેલી માહિતી સાચી છે, ભલે તે સામાન્ય રીતે જાણીતી હકીકતોથી ભિન્ન હોય તેવું જણાય તો પણ, નક્કી કરો કે આપેલ તારણોમાંથી કયા તારણો વિધાનોમાંથી તાર્કિક રીતે અનુસરે છે?

વિધાનો:

તમામ ચેરી એ બેરી છે.

તમામ બેરી એ કચુંબર છે.

તારણો:

1. તમામ ચેરી એ કચુંબર છે.

2. કેટલાક કચુંબર એ ચેરી છે.

Options 1. તારણ 1 અને 2 બન્ને અનુસરે છે

2. માત્ર તારણ 2 અનુસરે છે

3. ન તો તારણ 1 કે ન તો 2 અનુસરે છે.

4. માત્ર તારણ 1 અનુસરે છે

Question ID : 630680724866

Option 1 ID : 6306802840590

Option 2 ID : 6306802840589

Option 3 ID : 6306802840591

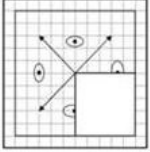
Option 4 ID : 6306802840588

Status : Answered

Chosen Option : 1

Q.20 નીચેનામાંથી કઈ જવાબ-આકૃતિ નીચે આપેલ પ્રશ્ન-આકૃતિમાં ખાલી જગ્યા ભરશે (રોટેશનની મંજૂરી નથી)?

Question Figure : Answer Figures :



(1)



(2)



(3)



(4)

સંદર્ભ: Question Figure = પ્રશ્ન-આકૃતિ, Answer Figure = જવાબ-આકૃતિ

Options 1. 2

2. 3

3. 1

4. 4

Question ID : 630680724913

Option 1 ID : 6306802840777

Option 2 ID : 6306802840778

Option 3 ID : 6306802840776

Option 4 ID : 6306802840779

Status : Answered

Chosen Option : 1

Q.21 નીચેના કોષ્ટકમાં છ વિદ્યાર્થીઓએ પરીક્ષામાં છ જુદા જુદા વિષયોમાં મેળવેલા ગુણની ટકાવારી આપેલ છે.

વિદ્યાર્થી	વિષય (મહત્તમ ગુણ)					
	ઇકોલોજી	વિજ્ઞાન	ગણિત	રાજકારણ	અર્થશાસ્ત્ર	ભૌતિકશાસ્ત્ર
	(100)	(100)	(100)	(100)	(100)	(100)
મનુ	67	99	99	99	75	100
ઓમ	84	87	80	85	89	86
ફિદા	90	84	96	98	93	85
નસીર	79	90	87	96	99	89
ઇક્ષા	80	80	79	95	98	93
રેહાન	90	92	86	81	85	71

ઉપરોક્ત કોષ્ટકના આધારે, મનુને આપેલા વિકલ્પોમાંથી કયા વિષયમાં B+ મેળવ્યો (B+ એટલે કે વિદ્યાર્થીએ 60 કરતા વધુ અને 70 કરતા ઓછા ગુણ પ્રાપ્ત કર્યા હોવા જોઈએ)?

Options 1. વિજ્ઞાન

2. ગણિત

3. રાજકારણ

4. ઇકોલોજી

Question ID : 630680724939

Option 1 ID : 6306802840881

Option 2 ID : 6306802840882

Option 3 ID : 6306802840883

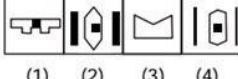
Option 4 ID : 6306802840880

Status : Answered

Chosen Option : 4

Q.22 નીચેનામાંથી કઈ જવાબ-આકૃતિ પ્રશ્ન આકૃતિમાં જડીત (એમ્બેડ) થયેલ છે?(રોટેશનની મંજૂરી નથી)

Question Figure : Answer Figures :



(1) (2) (3) (4)

સંદર્ભ: Question Figure = પ્રશ્ન-આકૃતિ, Answer Figure = જવાબ-આકૃતિ

Options 1. 1

2. 3

3. 2

4. 4

Question ID : 630680724874

Option 1 ID : 6306802840620

Option 2 ID : 6306802840622

Option 3 ID : 6306802840621

Option 4 ID : 6306802840623

Status : Answered

Chosen Option : 2

Q.23 નીચેના પ્રશ્નમાં 'પ્રશ્ન' અને તેની નીચે ક્રમાંકિત 1 અને 2 તરીકે આપેલ બે વિધાનોનો સમાવેશ થાય છે. ઉમેદવારોએ નક્કી કરવાનું છે કે શું વિધાનોમાં આપવામાં આવેલ ડેટા પ્રશ્નનો જવાબ આપવા માટે પર્યાપ્ત છે કે કેમ.

પ્રશ્ન: સાંકેતિક ભાષામાં 'Tasty' કેવી રીતે લખાય છે?

વિધાનો:

1. 'Tasty is sweet' ને '# \$%' તરીકે સંકેતમાં લખાય છે.
2. 'Biscuit was Tasty' ને '^#@' તરીકે સંકેતમાં લખાય છે.

- Options
1. 1 અને 2 બંને વિધાનો સાથે મળીને પર્યાપ્ત છે
 2. એકલું વિધાન 2 પર્યાપ્ત છે જ્યારે વિધાન 1 એકલું પર્યાપ્ત નથી
 3. ન તો વિધાન 1 કે ન તો વિધાન 2 પર્યાપ્ત છે.
 4. એકલું વિધાન 1 પર્યાપ્ત છે જ્યારે વિધાન 2 એકલું પર્યાપ્ત નથી

Question ID : 630680724867

Option 1 ID : 6306802840594

Option 2 ID : 6306802840593

Option 3 ID : 6306802840595

Option 4 ID : 6306802840592

Status : Answered

Chosen Option : 1

Q.24 એવી જોડી પસંદ કરો જેમાં સંખ્યાઓ એ જ રીતે સંબંધિત છે જે રીતે નીચેની જોડીની સંખ્યાઓ સંબંધિત છે .

6 : 1

- Options
1. 98 : 6
 2. 7 : 5
 3. 14 : 4
 4. 87 : 2

Question ID : 630680724934

Option 1 ID : 6306802840862

Option 2 ID : 6306802840860

Option 3 ID : 6306802840863

Option 4 ID : 6306802840861

Status : Not Attempted and
Marked For Review

Chosen Option : --

Q.25 રાકેશના પિતાના ભાઈની પત્નીની સાસુ રાકેશના પિતા સાથે કેવી રીતે સંબંધિત છે? (રાકેશ પુરુષ છે)

- Options
1. બહેન
 2. દીકરી
 3. પુત્ર
 4. માતા

Question ID : 630680724860

Option 1 ID : 6306802840564

Option 2 ID : 6306802840565

Option 3 ID : 6306802840566

Option 4 ID : 6306802840567

Status : Answered

Chosen Option : 4

Q.26 એવી જોડી પસંદ કરો જેમાં સંખ્યાઓ તેવી જ રીતે સંબંધિત હોય જે રીતે નીચેની જોડીની સંખ્યાઓ સંબંધિત છે.
3 : 12

- Options
1. 28 : 55
 2. 25 : 100
 3. 42 : 88
 4. 20 : 42

Question ID : 630680724895
Option 1 ID : 6306802840705
Option 2 ID : 6306802840707
Option 3 ID : 6306802840706
Option 4 ID : 6306802840704
Status : Answered
Chosen Option : 2

Q.27 નીચેના કોષ્ટકમાં છ વિદ્યાર્થીઓએ પરીક્ષામાં છ જુદા જુદા વિષયોમાં મેળવેલા ગુણની ટકાવારી આપેલ છે.

વિદ્યાર્થી	Subject (Max. Marks)					
	કાયદો	ઈતિહાસ	ભુગોળ	પર્યાવરણ	ભૌતિકશાસ્ત્ર	અંગ્રેજી
	(100)	(100)	(100)	(100)	(100)	(100)
અવિક	95	99	79	88	65	84
એલિના	80	99	89	69	98	96
ફાતિમા	99	80	65	85	90	80
નીરજ	95	60	79	87	96	99
પ્રેમા	68	78	99	95	99	93
રિશી	83	92	76	81	95	64

ઉપરોક્ત કોષ્ટકના આધારે, અવિકે તમામ છ વિષયોમાં મળીને કુલ કેટલા ગુણ મેળવેલ છે?

- Options
1. 500
 2. 530
 3. 510
 4. 520

Question ID : 630680724897
Option 1 ID : 6306802840712
Option 2 ID : 6306802840715
Option 3 ID : 6306802840713
Option 4 ID : 6306802840714
Status : Answered
Chosen Option : 3

Q.28 જો 'A' નો અર્થ 'ગુણાકાર', 'B' નો અર્થ 'વત્તા', 'C' નો અર્થ 'માઈનસ' અને 'D' નો અર્થ 'ભાગ્યા' હોય, તો નીચેની પદાવલિનું મૂલ્ય શું હશે?

$$5 A 4 C 7 B 20 D 5 = ?$$

Options

1. 19
2. 16
3. 17
4. 18

Question ID : 630680724883

Option 1 ID : 6306802840659

Option 2 ID : 6306802840656

Option 3 ID : 6306802840658

Option 4 ID : 6306802840657

Status : Answered

Chosen Option : 3

Q.29 અવિક એ સૂર્ય કરતાં મોટો છે. રાવલ એ અવિક કરતાં ઉમરમાં મોટો છે. હિતેશ એ પણ રાવલ જેટલી ઉમરનો નથી પણ અવિક કરતા મોટો છે. તેમની વચ્ચે સૌથી મોટું કોણ છે?

Options

1. અવિક
2. સૂર્ય
3. રાવલ
4. હિતેશ

Question ID : 630680724910

Option 1 ID : 6306802840765

Option 2 ID : 6306802840764

Option 3 ID : 6306802840767

Option 4 ID : 6306802840766

Status : Answered

Chosen Option : 3

Q.30 નીચે આપેલ શ્રેણીને તાર્કિક રીતે પૂર્ણ કરવા માટે પ્રશ્ન ચિહ્ન (?) ની જગ્યાએ શું આવશે?

8, 15, 11, 18, 14, ?,?

Options

1. 21, 17
2. 18, 22
3. 22, 18
4. 17, 21

Question ID : 630680724884

Option 1 ID : 6306802840660

Option 2 ID : 6306802840662

Option 3 ID : 6306802840663

Option 4 ID : 6306802840661

Status : Answered

Chosen Option : 1

Q.31 નીચેના કોષ્ટકમાં છ વિદ્યાર્થીઓએ પરીક્ષામાં છ જુદા જુદા વિષયોમાં મેળવેલા ગુણની ટકાવારી આપેલ છે.

વિદ્યાર્થી	વિષય (મહત્તમ ગુણ)					
	ઇકોલોજી (100)	વિજ્ઞાન (100)	ગણિત (100)	રાજકારણ (100)	વાણિજ્ય (100)	પ્રાણીશાસ્ત્ર (100)
મનુ	97	99	99	99	75	100
ઓમ	84	87	80	85	89	86
ફિદા	90	84	96	98	93	85
નસીર	79	90	87	96	99	89
ઇક્ષા	80	80	79	95	98	93
રેહાન	90	92	86	81	85	77

ઉપરોક્ત કોષ્ટકના આધારે, નસીરને વિકલ્પોમાં ઉલ્લેખિત વિષયોમાંથી કયા વિષયમાં A+ મળ્યો (A+ એટલે કે વિદ્યાર્થીએ 85 કરતાં વધુ પરંતુ 88 કરતાં ઓછા ગુણ પ્રાપ્ત કર્યા હોવા જોઈએ.)

- Options
1. ઇકોલોજી
 2. વિજ્ઞાન
 3. ગણિત
 4. રાજનીતિ

Question ID : 630680724938
 Option 1 ID : 6306802840876
 Option 2 ID : 6306802840877
 Option 3 ID : 6306802840878
 Option 4 ID : 6306802840879
 Status : Answered
 Chosen Option : 3

Q.32 નીચેનામાંથી કઈ વેન આકૃતિ નારંગી, મેરીગોલ્ડ અને ઉંદર વચ્ચેનો શ્રેષ્ઠ સંબંધ દર્શાવે છે?

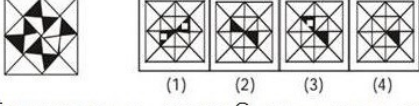
Options

- 1.
- 2.
- 3.
- 4.

Question ID : 630680724904
 Option 1 ID : 6306802840740
 Option 2 ID : 6306802840741
 Option 3 ID : 6306802840743
 Option 4 ID : 6306802840742
 Status : Answered
 Chosen Option : 4

Q.33 નીચેનામાંથી કઈ જવાબ-આકૃતિ નીચે આપેલ પ્રશ્ન-આકૃતિમાં ખાલી જગ્યા ભરશે (રોટેશનની મંજૂરી નથી)?

Question Figure : Answer Figures :



સંદર્ભ: Question Figure = પ્રશ્ન-આકૃતિ, Answer Figure = જવાબ-આકૃતિ

- Options 1. 1
2. 4
3. 3
4. 2

Question ID : 630680724872
Option 1 ID : 6306802840612
Option 2 ID : 6306802840615
Option 3 ID : 6306802840614
Option 4 ID : 6306802840613
Status : Answered
Chosen Option : 2

Q.34 A (પુરુષ) ના સગા ભાઈની બહેનના પિતાની પત્ની A સાથે કેવી રીતે સંબંધિત છે?

- Options 1. દીકરી
2. બહેન
3. માતા
4. પુત્ર

Question ID : 630680724862
Option 1 ID : 6306802840574
Option 2 ID : 6306802840572
Option 3 ID : 6306802840573
Option 4 ID : 6306802840575
Status : Answered
Chosen Option : 3

Q.35 જો 'A' નો અર્થ 'ગુણાકાર', 'B' નો અર્થ 'વત્તા', 'C' નો અર્થ 'બાદબાકી' અને 'D' નો અર્થ 'ભાગ્યા' હોય, તો નીચેની પદાવલિનું મૂલ્ય શું હશે?

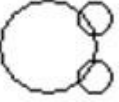



$$4 A 2 C 6 B 14 D 2 = ?$$

- Options 1. 7
2. 10
3. 9
4. 8

Question ID : 630680724879
Option 1 ID : 6306802840640
Option 2 ID : 6306802840643
Option 3 ID : 6306802840642
Option 4 ID : 6306802840641
Status : Answered
Chosen Option : 3

Q.36 નીચેનામાંથી કઈ વેન આકૃતિ વર્ષ, મહિના અને સપ્તાહ વચ્ચેનો શ્રેષ્ઠ સંબંધ દર્શાવે છે?

Options

1. 
2. 
3. 
4. 

Question ID : 630680724905

Option 1 ID : 6306802840747

Option 2 ID : 6306802840745

Option 3 ID : 6306802840744

Option 4 ID : 6306802840746

Status : Answered

Chosen Option : 2

Q.37 એવી જોડી પસંદ કરો જેમાં સંખ્યાઓ એ જ રીતે સંબંધિત છે જે રીતે નીચેની જોડીની સંખ્યાઓ સંબંધિત છે.

354 : 12

- Options
1. 684 : 19
 2. 438 : 17
 3. 439 : 18
 4. 157 : 13

Question ID : 630680724932

Option 1 ID : 6306802840855

Option 2 ID : 6306802840854

Option 3 ID : 6306802840852

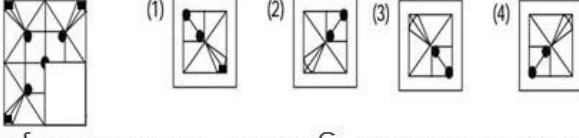
Option 4 ID : 6306802840853

Status : Answered

Chosen Option : 4

Q.38 નીચેનામાંથી કઈ જવાબ-આકૃતિ નીચે આપેલ પ્રશ્ન- આકૃતિમાં ખાલી જગ્યા ભરશે (રોટેશનની મંજૂરી નથી)?

Question Figure : Answer Figures :



સંદર્ભ : Question Figure – પ્રશ્ન-આકૃતિ , Answer Figure – જવાબ-આકૃતિ

Options

1. 3
2. 2
3. 1
4. 4

Question ID : 630680724871

Option 1 ID : 6306802840610

Option 2 ID : 6306802840609

Option 3 ID : 6306802840608

Option 4 ID : 6306802840611

Status : Answered

Chosen Option : 3

Q.39 એવી જોડી પસંદ કરો જેમાં સંખ્યાઓ એ જ રીતે સંબંધિત છે જે રીતે નીચેની જોડીની સંખ્યાઓ સંબંધિત છે. .

83 : 3

Options

1. 16 : 129
2. 18 : 79
3. 7 : 101
4. 10 : 19

Question ID : 630680724933

Option 1 ID : 6306802840859

Option 2 ID : 6306802840857

Option 3 ID : 6306802840856

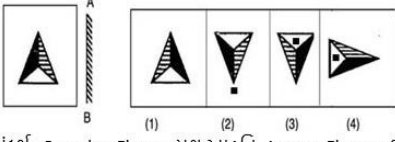
Option 4 ID : 6306802840858

Status : Not Attempted and
Marked For Review

Chosen Option : --

Q.40 જ્યારે દર્પણને AB રેખા પર ઊભી રીતે રાખવામાં આવે ત્યારે નીચેની જવાબ-આકૃતિઓમાંથી કઈ પ્રશ્ન-આકૃતિની દર્પણ છબી હશે?

Question Figure : Answer Figures :



સંદર્ભ- Question Figure - પ્રશ્ન આકૃતિ, Answer Figure - જવાબ આકૃતિ

- Options**
1. 1
 2. 3
 3. 2
 4. 4

Question ID : 630680724878
 Option 1 ID : 6306802840636
 Option 2 ID : 6306802840638
 Option 3 ID : 6306802840637
 Option 4 ID : 6306802840639
 Status : Answered
 Chosen Option : 1

Section : Quantitative Aptitude

Q.41 એક ચિત્રકાર અને બ્રશ સેટનું મૂલ્ય ₹220 છે. ચિત્રકાર બ્રશ સેટના મૂલ્ય કરતાં ₹30 વધુ વસૂલે છે. તો બ્રશ સેટનું મૂલ્ય શું છે?

- Options**
1. ₹105
 2. ₹95
 3. ₹120
 4. ₹80

Question ID : 630680727784
 Option 1 ID : 6306802851941
 Option 2 ID : 6306802851940
 Option 3 ID : 6306802851942
 Option 4 ID : 6306802851939
 Status : Not Answered
 Chosen Option : --

Q.42 બગીચાના પ્રોજેક્ટ માટે 5:3:2 ના ગુણોત્તરમાં માટી, રેતી અને ખાતરનું મિશ્રણ જરૂરી છે. જો કોઈ પ્રોજેક્ટ માટે 40 થેલી માટીની જરૂર હોય, તો રેતી અને ખાતરની કુલ કેટલી થેલીઓની જરૂર પડશે?

- Options**
1. 20 થેલી રેતી અને 10 થેલી ખાતર
 2. 24 થેલી રેતી અને 10 થેલી ખાતર
 3. 20 થેલી રેતી અને 16 થેલી ખાતર
 4. 24 થેલી રેતી અને 16 થેલી ખાતર

Question ID : 630680725077
 Option 1 ID : 6306802841431
 Option 2 ID : 6306802841430
 Option 3 ID : 6306802841428
 Option 4 ID : 6306802841429
 Status : Answered
 Chosen Option : 4

Q.43 કામદાર X એક કાર્ય 8 કલાકમાં પૂર્ણ કરી શકે છે. કામદાર Y X કરતા 50% વધુ કાર્યક્ષમ છે. જો કામદાર X કામ શરૂ કરે છે અને કામદાર Y તેની સાથે જોડાય તે પહેલા 2 કલાક કામ કરે છે, તો એકવાર કામદાર Y જોડાયા પછી તેમને કાર્ય પૂર્ણ કરવામાં કેટલો સમય લાગશે?

- Options
1. 3 કલાક અને 12 મિનિટ
 2. 5 કલાક
 3. 4 કલાક અને 48 મિનિટ
 4. 2 કલાક અને 24 મિનિટ

Question ID : 630680725102

Option 1 ID : 6306802841529

Option 2 ID : 6306802841530

Option 3 ID : 6306802841531

Option 4 ID : 6306802841528

Status : Not Answered

Chosen Option : --

Q.44 એક નવા પાર્કની ડિઝાઇન માટે સ્થાનિક સમુદાયના મતમાં, ડિઝાઇન A ને કુલ 2,000 મતોમાંથી 65% મળે છે. તો ડિઝાઇન A ને કેટલા મત મળ્યા?

- Options
1. 1,500
 2. 1,300
 3. 1,200
 4. 1,400

Question ID : 630680727779

Option 1 ID : 6306802851922

Option 2 ID : 6306802851920

Option 3 ID : 6306802851919

Option 4 ID : 6306802851921

Status : Answered

Chosen Option : 2

Q.45 બે સાયકલ સવારો ગોળાકાર ટ્રેક પર રિલે રેસમાં ભાગ લે છે. સાયકલ સવાર A બિંદુ X થી શરૂ કરે છે અને 18 km/hની ઝડપે ઘડિયાળની દિશામાં આગળ વધે છે. સાયકલ સવાર B એ બિંદુ Y થી વારાફરતી શરૂ કરે છે, જે X થી ઘડિયાળની દિશામાં 30 km સ્થિત છે અને 22 km/hની ઝડપે ઘડિયાળની વિરુદ્ધ દિશામાં આગળ વધે છે. તે ટ્રેકની કુલ લંબાઈ 60 km છે. જો તેઓ રોકાયા વિના સાયકલ ચલાવવાનું ચાલુ રાખે, તો તેઓ કેટલા સમય પછી પ્રથમ વખત મળશે?

- Options
1. 60 મિનિટ
 2. 35 મિનિટ
 3. 45 મિનિટ
 4. 2 કલાક

Question ID : 630680727769

Option 1 ID : 6306802851881

Option 2 ID : 6306802851879

Option 3 ID : 6306802851880

Option 4 ID : 6306802851882

Status : Not Answered

Chosen Option : --

Q.46 જો સમાંતર શ્રેણીનું પ્રથમ પદ 2 હોય અને સામાન્ય તફાવત 5 હોય તો 31મું પદ શું છે?

- Options
1. 162
 2. 108
 3. 107
 4. 152

Question ID : 630680725088
 Option 1 ID : 6306802841474
 Option 2 ID : 6306802841472
 Option 3 ID : 6306802841475
 Option 4 ID : 6306802841473
 Status : Answered
 Chosen Option : 4

Q.47 એક લેપટોપની કિંમત પહેલા વર્ષમાં 10% ઘટે છે અને પછી બીજા વર્ષે 5% વધે છે. જો શરૂઆતમાં લેપટોપની કિંમત ₹.1,000 હોય, તો બીજા વર્ષના અંતે તેની કિંમત કેટલી છે?

- Options
1. ₹945
 2. ₹845
 3. ₹885
 4. ₹990

Question ID : 630680727781
 Option 1 ID : 6306802851929
 Option 2 ID : 6306802851927
 Option 3 ID : 6306802851930
 Option 4 ID : 6306802851928
 Status : Answered
 Chosen Option : 1

Q.48 એક જવેલરીની દુકાન ₹1000માં એક નેકલેસ ખરીદે છે અને તેને 25% ના નફા પર વેચે છે. ગ્રાહક દ્વારા પરત કર્યા પછી, નેકલેસનું સમારકામ ₹.50ની કિંમતમાં થાય છે અને પછી તેની મૂળ વેચાણ કિંમત પર 15% ડિસ્કાઉન્ટ પર તેને વેચવામાં આવે છે. નેકલેસ પર મળતો કુલ નફો કેટલો છે?

- Options
1. ₹12.50
 2. ₹22.50
 3. ₹17.50
 4. ₹15.25

Question ID : 630680727763
 Option 1 ID : 6306802851857
 Option 2 ID : 6306802851858
 Option 3 ID : 6306802851856
 Option 4 ID : 6306802851855
 Status : Not Answered
 Chosen Option : --

Q.49 એક શૈક્ષણિક સ્પર્ધામાં, સહભાગીનું મૂલ્યાંકન ત્રણ ક્ષેત્રોમાં થાય છે: જ્ઞાન, સર્જનાત્મકતા અને પ્રસ્તુતિ. સહભાગી અનુક્રમે 92, 88 અને 95 સ્કોર કરે છે. જો જ્ઞાન, સર્જનાત્મકતા અને પ્રસ્તુતિ માટેના સ્કોર અનુક્રમે 30%, 20% અને 50% નું ભાર ધરાવતા હોય, તો સહભાગીનો અંતિમ ભારાંક સ્કોર શું છે?

- Options
1. 93.5
 2. 91.6
 3. 92.7
 4. 94.1

Question ID : 630680727788
 Option 1 ID : 6306802851956
 Option 2 ID : 6306802851958
 Option 3 ID : 6306802851955
 Option 4 ID : 6306802851957
 Status : Answered
 Chosen Option : 3

Q.50 એક વેબ ડિઝાઇનર બેઝીક વેબપેજ ડિઝાઇન કરવા માટે 2 કલાક અને કોમ્પ્લેક્સ વેબપેજ ડિઝાઇન કરવા માટે 5 કલાકનો સમય લે છે. 10 બેઝીક અને 5 મીડીયમ વેબપેજ ડિઝાઇન કરવામાં તેને કેટલો સમય લાગશે?

- Options
1. 45
 2. 55
 3. 10
 4. 30

Question ID : 630680727774
 Option 1 ID : 6306802851900
 Option 2 ID : 6306802851902
 Option 3 ID : 6306802851899
 Option 4 ID : 6306802851901
 Status : Answered
 Chosen Option : 1

Q.51 એક કલાકાર તેના 40,000 ના બજેટમાંથી 25% સામગ્રી પર ખર્ચ કરે છે. જો તેણીનું બજેટ આવતા વર્ષે 50% વધે છે અને તે સમાન ટકાવારી સામગ્રી પર ખર્ચ કરતી હોય, તો તે આવતા વર્ષે સામગ્રી પર કેટલો ખર્ચ કરશે?

- Options
1. ₹15,000
 2. ₹ 10,000
 3. ₹18,000
 4. ₹12,000

Question ID : 630680727780
 Option 1 ID : 6306802851923
 Option 2 ID : 6306802851926
 Option 3 ID : 6306802851925
 Option 4 ID : 6306802851924
 Status : Answered
 Chosen Option : 1

Q.52 બગીચાને 1:8 ના ગુણોત્તરમાં ખાતર અને પાણીના મિશ્રણની જરૂર પડે છે. જો માળીને 45 લિટર આવું મિશ્રણ તૈયાર કરવું હોય તો કેટલા લિટર ખાતરની જરૂર છે?

- Options
1. 8
 2. 4
 3. 5
 4. 9

Question ID : 630680725075
 Option 1 ID : 6306802841420
 Option 2 ID : 6306802841422
 Option 3 ID : 6306802841421
 Option 4 ID : 6306802841423
 Status : Answered
 Chosen Option : 3

Q.53 કંપની તેના ઉત્પાદનોને બોક્સમાં પેકેજ કરે છે, જેમાં દરેક બોક્સમાં 24 વસ્તુઓ હોય છે. જો કંપની 1,200 વસ્તુઓનું ઉત્પાદન કરે છે અને તેમાં 144 વસ્તુઓ ખામીયુક્ત છે, તો બિન-ખામીયુક્ત વસ્તુઓને પેક કરવા માટે કેટલા બોક્સની જરૂર છે?

- Options
1. 50
 2. 55
 3. 40
 4. 44

Question ID : 630680725092
 Option 1 ID : 6306802841490
 Option 2 ID : 6306802841491
 Option 3 ID : 6306802841488
 Option 4 ID : 6306802841489
 Status : Answered
 Chosen Option : 4

Q.54 એક ટ્રક 8 લિટર ડીઝલનો ઉપયોગ કરીને 240 Km નું અંતર કાપે છે. 80 Km ને આવરી લેવા માટે કેટલા લિટર ડીઝલની જરૂર પડશે?

- Options
1. 2.76
 2. 2.67
 3. 2.86
 4. 4

Question ID : 630680727758
 Option 1 ID : 6306802851835
 Option 2 ID : 6306802851838
 Option 3 ID : 6306802851836
 Option 4 ID : 6306802851837
 Status : Answered
 Chosen Option : 2

Q.55 એક લેબ ટેકનિશિયનને પ્રયોગ માટે 150 લિટર સોલ્યુશન તૈયાર કરવું જરૂરી છે. લેબમાં બે પ્રકારના સોલ્યુશન ઉપલબ્ધ છે: ટાઇપ X માં 25% કેમિકલ Z હોય છે, અને ટાઇપ Y માં 50% કેમિકલ Z હોય છે. અંતિમ સોલ્યુશન મેળવવા માટે જેમાં 40% કેમિકલ Z હોય છે, ટેકનિશિયનને દરેક સોલ્યુશનમાં કેટલા લિટર મિશ્રણ ઉમેરવું જોઈએ?

- Options
1. ટાઇપ X નું 50 લિટર અને ટાઇપ Y નું 100 લિટર
 2. ટાઇપ X નું 60 લિટર અને ટાઇપ Y નું 90 લિટર
 3. ટાઇપ X નું 75 લિટર અને ટાઇપ Y નું 75 લિટર
 4. ટાઇપ X નું 60 લિટર અને ટાઇપ Y નું 80 લિટર

Question ID : 630680727789

Option 1 ID : 6306802851960

Option 2 ID : 6306802851961

Option 3 ID : 6306802851962

Option 4 ID : 6306802851959

Status : Not Attempted and
Marked For Review

Chosen Option : --

Q.56 એક ગેમિંગ કન્સોલની કિંમત ₹500 છે પરંતુ એક સ્ટોર હોલીડે સેલમાં તેના પર 22% ડિસ્કાઉન્ટ આપે છે. તે ગેમિંગ કન્સોલની વેચાણ કિંમત શું છે?

- Options
1. ₹390
 2. ₹450
 3. ₹400
 4. ₹350

Question ID : 630680727764

Option 1 ID : 6306802851862

Option 2 ID : 6306802851860

Option 3 ID : 6306802851859

Option 4 ID : 6306802851861

Status : Answered

Chosen Option : 1

Q.57 વસ્ત્રોના છૂટક વેપારી મૂળ ₹1500ની કિંમતના જોકેટ પર 15% અને 5% ના ઉપરાછાપરી બે ડિસ્કાઉન્ટ લાગુ કરે છે. બંને ડિસ્કાઉન્ટ પછી જોકેટની કિંમત શું છે?

- Options
1. ₹1221.25
 2. ₹1211.25
 3. ₹1191.85
 4. ₹1201.75

Question ID : 630680725082

Option 1 ID : 6306802841451

Option 2 ID : 6306802841450

Option 3 ID : 6306802841448

Option 4 ID : 6306802841449

Status : Answered

Chosen Option : 2

Q.58 ₹84000 ની રકમ A, B અને C વચ્ચે એવી રીતે વહેંચવામાં આવે છે કે Aનો હિસ્સો અને B અને Cના ભેગાં હિસ્સાનો ગુણોત્તર 5:7 છે. એ જ રીતે, Bનો હિસ્સો અને A અને C ના ભેગાં હિસ્સાનો ગુણોત્તર 3:4 છે. C નો હિસ્સો કેટલો છે?

- Options
1. ₹ 16700
 2. ₹ 13000
 3. ₹ 14560
 4. ₹ 10000

Question ID : 630680716770
 Option 1 ID : 6306802808697
 Option 2 ID : 6306802808695
 Option 3 ID : 6306802808696
 Option 4 ID : 6306802808694
 Status : Not Answered
 Chosen Option : --

Q.59 એક રસોઇયો રસોઈ વર્ગમાં ઉપયોગ કરવા માટે ત્રણ પ્રકારના મસાલાનું મિશ્રણ તૈયાર કરી રહ્યો છે. મિશ્રણનું વજન 200g, 250g અને 300g છે. એક મસાલાના મિશ્રણનું સરેરાશ વજન કેટલું છે?

- Options
1. 275g
 2. 250g
 3. 220g
 4. 260g

Question ID : 630680727787
 Option 1 ID : 6306802851952
 Option 2 ID : 6306802851953
 Option 3 ID : 6306802851954
 Option 4 ID : 6306802851951
 Status : Answered
 Chosen Option : 2

Q.60 એક પંપ 3 કલાકમાં એક પૂલને ભરી શકે છે, અને લીકેજ 9 કલાકમાં તેને ખાલી કરી શકે છે. જો પંપ અને લીકેજ બંનેને આકસ્મિક રીતે ખુલ્લા છોડી દેવામાં આવે, તો પૂલને ભરાતા કેટલો સમય લાગશે?

- Options
1. 4.5 કલાક
 2. 9 કલાક
 3. 6.75 કલાક
 4. 7 કલાક

Question ID : 630680727785
 Option 1 ID : 6306802851945
 Option 2 ID : 6306802851943
 Option 3 ID : 6306802851946
 Option 4 ID : 6306802851944
 Status : Answered
 Chosen Option : 1

Q.61 બે સાયકલ સવારો એક જ બિંદુથી શરૂ કરે છે અને વિરુદ્ધ દિશામાં મુસાફરી કરે છે. એક સાયકલ 15 km/h ની ઝડપે અને બીજી 25 km/h ની ઝડપે જાય છે. તેમને 80 kmના અંતરમાં કેટલો સમય લાગશે?

- Options
1. 2.8 કલાક
 2. 3.5 કલાક
 3. 2 કલાક
 4. 2.5 કલાક

Question ID : 630680725086
 Option 1 ID : 6306802841464
 Option 2 ID : 6306802841467
 Option 3 ID : 6306802841466
 Option 4 ID : 6306802841465
 Status : Answered
 Chosen Option : 3

Q.62 સફરજનની થેલી અને નારંગીની થેલીની કિંમત ₹3000 છે. નારંગીની થેલી કરતાં સફરજનની થેલીની કિંમત ₹1400 વધુ છે. નારંગીની થેલીની કિંમત કેટલી છે?

- Options
1. ₹1000
 2. ₹500
 3. ₹800
 4. ₹900

Question ID : 630680725100
 Option 1 ID : 6306802841520
 Option 2 ID : 6306802841523
 Option 3 ID : 6306802841521
 Option 4 ID : 6306802841522
 Status : Answered
 Chosen Option : 3

Q.63 જો સાયકલ સવાર 10 km/hની ઝડપે 30 kmની મુસાફરી કરે છે અને 15 km/hની ઝડપે પરત ફરે છે, તો રાઉન્ડ ટ્રીપ માટે સાયકલ સવારની સરેરાશ ઝડપ કેટલી છે?

- Options
1. 12 km/h
 2. 11 km/h
 3. 13 km/h
 4. 14 km/h

Question ID : 630680719288
 Option 1 ID : 6306802818622
 Option 2 ID : 6306802818621
 Option 3 ID : 6306802818620
 Option 4 ID : 6306802818623
 Status : Answered
 Chosen Option : 1

Q.64 બે સંખ્યાઓનો ગુણોત્તર 4:9 છે. જો તેમનો તફાવત 675 છે, તો સૌથી નાની સંખ્યા કઈ છે?

- Options
1. 1215
 2. 135
 3. 675
 4. 540

Question ID : 630680716769
 Option 1 ID : 6306802808693
 Option 2 ID : 6306802808690
 Option 3 ID : 6306802808691
 Option 4 ID : 6306802808692
 Status : Answered
 Chosen Option : 4

Q.65 એક વહાણ 15 km/hની ઝડપે 60 km પૂર્વ તરફ અને પછી 10 km/hની ઝડપે 40 km પશ્ચિમ તરફ જાય છે. સમગ્ર 100 kmની મુસાફરી દરમિયાન વહાણની સરેરાશ ઝડપ કેટલી છે?

- Options
1. 13 km/h
 2. 12.5 km/h
 3. 11.5 km/h
 4. 12 km/h

Question ID : 630680727768
 Option 1 ID : 6306802851878
 Option 2 ID : 6306802851877
 Option 3 ID : 6306802851875
 Option 4 ID : 6306802851876
 Status : Answered
 Chosen Option : 4

Q.66 એક ફેક્ટરીને ખબર પડે છે કે દર 500 પ્રોડક્ટમાંથી 5 ખામીયુક્ત છે. જો ફેક્ટરી 10,000 પ્રોડક્ટનું ઉત્પાદન કરે છે, તો કેટલા ખામીયુક્ત પ્રોડક્ટની અપેક્ષા છે?

- Options
1. 150
 2. 100
 3. 500
 4. 250

Question ID : 630680727775
 Option 1 ID : 6306802851903
 Option 2 ID : 6306802851905
 Option 3 ID : 6306802851904
 Option 4 ID : 6306802851906
 Status : Answered
 Chosen Option : 2

Q.67 ચાર વર્ષ પહેલાં, રશેલ તેની બહેન લીલી કરતાં ત્રણ ગણી મોટી હતી. જો લીલી અત્યારે 12 વર્ષની છે, તો રશેલ હવે કેટલા વર્ષની છે?

- Options
1. 20
 2. 27
 3. 24
 4. 28

Question ID : 630680725099
 Option 1 ID : 6306802841517
 Option 2 ID : 6306802841519
 Option 3 ID : 6306802841518
 Option 4 ID : 6306802841516
 Status : Answered
 Chosen Option : 4

Q.68 એક વીડિયો વાયરલ થઈ જાય છે, જેના વ્યૂ દરરોજ બમણા થતા જાય છે. જો પ્રથમ દિવસના અંતે તેને 500 વખત જોવામાં આવ્યો હોય, તો ચોથા દિવસે તેને કેટલી વાર જોવામાં આવશે?

- Options
1. 4000
 2. 8000
 3. 2000
 4. 1600

Question ID : 630680727778
 Option 1 ID : 6306802851916
 Option 2 ID : 6306802851917
 Option 3 ID : 6306802851915
 Option 4 ID : 6306802851918
 Status : Answered
 Chosen Option : 1

Q.69 એક બેકરીમાં એક બોક્સ કપકેક બનાવવા માટે 3 ઇંડાની જરૂર છે. એવા ૧૫ બોક્સ બનાવવા માટે કેટલા ઇંડાની જરૂર પડશે?

- Options
1. 50
 2. 60
 3. 45
 4. 55

Question ID : 630680727772
 Option 1 ID : 6306802851892
 Option 2 ID : 6306802851894
 Option 3 ID : 6306802851891
 Option 4 ID : 6306802851893
 Status : Answered
 Chosen Option : 3

Q.70 એક ખેતર પાસે બે ખેતરો છે. એક ખેતરનો વિસ્તાર 80 m^2 લાંબો છે, અને બીજા ખેતરનો વિસ્તાર 120 m^2 લાંબો છે. તે ખેતરોને કોઈપણ શેષ જગ્યા વિના સમાન કદના વિભાગોમાં વિભાજીત કરવા માંગે છે. તે દરેક ખેતરને વિભાજિત કરી શકે તેવો સૌથી મોટો વિસ્તાર (m^2 માં) કયો છે?

- Options
1. 40
 2. 80
 3. 20
 4. 60

Question ID : 630680725094
 Option 1 ID : 6306802841497
 Option 2 ID : 6306802841499
 Option 3 ID : 6306802841496
 Option 4 ID : 6306802841498
 Status : Not Answered
 Chosen Option : --

Section : English

Q.71 Which one of the alternatives substitutes the given group of words in brackets?

Now the clash is (certain to happen), they are both so incensed and uncontrollable.

- Options
1. Dubious
 2. Attentive
 3. Insignia
 4. Inevitable

Question ID : 630680717361
 Option 1 ID : 6306802811024
 Option 2 ID : 6306802811021
 Option 3 ID : 6306802811022
 Option 4 ID : 6306802811023
 Status : Answered
 Chosen Option : 4

Q.72 Rearrange the following parts of a sentence to make it a coherent sentence.

- A) to modern-day cinema and
- B) sought out ways to be entertained
- C) from ancient Greek amphitheaters
- D) television, people have always

- Options
1. DBAC
 2. DCAB
 3. ABCD
 4. CADB

Question ID : 630680724416
 Option 1 ID : 6306802838822
 Option 2 ID : 6306802838825
 Option 3 ID : 6306802838824
 Option 4 ID : 6306802838823
 Status : Answered
 Chosen Option : 4

Q.73 Rearrange the following parts of a sentence to make it a coherent sentence.

- A) manure, derived from animal and plant sources,
- B) but it also enhances the soil's structure
- C) furnish a broad spectrum of plant nutrients,
- D) possesses a crucial advantage: not only does it

- Options
- 1. DACB
 - 2. BCDA
 - 3. DCAB
 - 4. ADCB

Question ID : 630680717383
Option 1 ID : 6306802811108
Option 2 ID : 6306802811107
Option 3 ID : 6306802811105
Option 4 ID : 6306802811106
Status : Answered
Chosen Option : 4

Q.74 Which one of the alternatives substitutes the given group of words that have been put in brackets?

The government immediately issued orders to curb activities of the (person who believes in or tries to bring about a state of lawlessness)

- Options
- 1. Convalescent
 - 2. Anarchist
 - 3. Cynic
 - 4. Bohemian

Question ID : 630680724346
Option 1 ID : 6306802838542
Option 2 ID : 6306802838543
Option 3 ID : 6306802838544
Option 4 ID : 6306802838541
Status : Not Attempted and Marked For Review
Chosen Option : --

Q.75 Select the most appropriate form of present tense from the given option to fill in the blanks for the given sentence.

She___ to her friends on the phone regularly.

- Options
- 1. is talk
 - 2. will be talking
 - 3. talks
 - 4. had talked

Question ID : 630680724692
Option 1 ID : 6306802839913
Option 2 ID : 6306802839912
Option 3 ID : 6306802839914
Option 4 ID : 6306802839911
Status : Answered
Chosen Option : 3

Q.76 Select the most appropriate article from the options given below to complete the sentence. Mark "no article" if there is no requirement for an article in the given sentence.
This is __ highest building in Mumbai.

- Options**
1. No article
 2. a
 3. an
 4. the

Question ID : 630680724444
Option 1 ID : 6306802838931
Option 2 ID : 6306802838930
Option 3 ID : 6306802838932
Option 4 ID : 6306802838933
Status : Answered
Chosen Option : 4

Q.77 Select the most appropriate SYNONYM of the given word below.

Apprehension

- Options**
1. Anticipation
 2. Sanguinity
 3. Uncertainty
 4. Optimism

Question ID : 630680724704
Option 1 ID : 6306802839957
Option 2 ID : 6306802839958
Option 3 ID : 6306802839955
Option 4 ID : 6306802839956
Status : Not Answered
Chosen Option : --

Q.78 Translate the sentence given below into Gujarati.
A busy life often makes us forget activities that are beneficial for our physical, mental, and psychological health.

- Options**
1. વ્યસ્ત જીવનમાં ઘણીવાર આપણે એવી પ્રવૃત્તિઓ યાદ રાખીએ છીએ જે આપણા શારીરિક, માનસિક અને મનોવૈજ્ઞાનિક સ્વાસ્થ્ય માટે લાભકારક હોય છે.
 2. રોજિંદા જીવનમાં કાયમ આપણે એવી પ્રવૃત્તિઓ યાદ રાખીએ છીએ જે આપણા શારીરિક, માનસિક અને મનોવૈજ્ઞાનિક સ્વાસ્થ્ય માટે હાનિકારક હોય છે.
 3. વ્યસ્ત જીવનમાં ઘણીવાર આપણે એવી પ્રવૃત્તિઓ ભૂલી જઈએ છીએ જે આપણા શારીરિક, માનસિક અને મનોવૈજ્ઞાનિક સ્વાસ્થ્ય માટે લાભકારક હોય છે.
 4. રોજિંદા હળવાશની પળોવાળા જીવનમાં ઘણીવાર આપણે એવી પ્રવૃત્તિઓ યાદ રાખીએ છીએ જે આપણા શારીરિક, માનસિક અને મનોવૈજ્ઞાનિક સ્વાસ્થ્ય માટે લાભકારક હોય છે.

Question ID : 630680724354
Option 1 ID : 6306802838570
Option 2 ID : 6306802838572
Option 3 ID : 6306802838569
Option 4 ID : 6306802838571
Status : Answered
Chosen Option : 3

Q.79 Select the most appropriate form of verb from the given option to fill in the blanks for the given sentence.

He ___ to the Fitness Center at least three times a week.

- Options**
1. go
 2. going
 3. gone
 4. goes

Question ID : 630680724689
Option 1 ID : 6306802839899
Option 2 ID : 6306802839902
Option 3 ID : 6306802839900
Option 4 ID : 6306802839901
Status : Answered
Chosen Option : 4

Q.80 Select the most appropriate form of verb from the given options to fill in the blanks for the given sentence.

Vikram ___ his brother a box of chocolates.

- Options**
1. give
 2. gave
 3. given
 4. giving

Question ID : 630680724447
Option 1 ID : 6306802838945
Option 2 ID : 6306802838942
Option 3 ID : 6306802838944
Option 4 ID : 6306802838943
Status : Answered
Chosen Option : 2

Q.81 Rearrange the following parts of a sentence to make it a coherent sentence.

- A) role in this regard
B) and schools play a crucial
C) instilled at a young age,
D) the reading culture must be

- Options**
1. ABCD
 2. DCBA
 3. CADB
 4. DBAC

Question ID : 630680724450
Option 1 ID : 6306802838956
Option 2 ID : 6306802838957
Option 3 ID : 6306802838955
Option 4 ID : 6306802838954
Status : Answered
Chosen Option : 2

Comprehension:

Refer to the below passage and answer the questions

Tourism is vital for the success of many economies around the world. There are several benefits of tourism to host destinations. Tourism boosts the revenue of the economy, creates thousands of jobs, develops the infrastructure of a country, and plants a sense of cultural exchange between foreigners and citizens. The number of jobs created by tourism in many different areas is significant. These jobs are not only a part of the tourism sector but may also include the agricultural sector, communication sector, health sector, and educational sector. Many tourists travel to experience the hosting destination's culture, different traditions, and gastronomy. This is very profitable for local restaurants, shopping centres, and stores.

Governments that rely on tourism for a large percentage of their revenue invest a lot in the infrastructure of the country. They want more and more tourists to visit their country, which means that safe and advanced facilities are necessary. This leads to new roads and highways, developed parks, improved public spaces, new airports, and possibly better schools and hospitals. Safe and innovative infrastructures allow for a smooth flow of goods and services. Moreover, local people experience an opportunity for economic and educational growth. Tourism creates a cultural exchange between tourists and local citizens. Exhibitions, conferences, and events usually attract foreigners. Organising authorities usually gain profits from registration fees, gift sales, exhibition spaces, and sales of media copyright. Furthermore, foreign tourists bring diversity and cultural enrichment to the hosting country.

Tourism is a great opportunity for foreigners to learn about a new culture, but it also creates many opportunities for local citizens. It allows young entrepreneurs to establish new products and services that would not be sustainable for the local population of residents alone. Moreover, residents experience the benefits that come with tourism occurring in their own country.

SubQuestion No : 82

Q.82 Select the most appropriate **ANTONYM** of the given word below (as used in the passage).

Rely

- Options**
1. Entrust
 2. Lean
 3. Disregard
 4. Bank

Question ID : 630680724702

Option 1 ID : 6306802839947

Option 2 ID : 6306802839948

Option 3 ID : 6306802839950

Option 4 ID : 6306802839949

Status : **Not Answered**

Chosen Option : --

Comprehension:

Refer to the below passage and answer the questions

Tourism is vital for the success of many economies around the world. There are several benefits of tourism to host destinations. Tourism boosts the revenue of the economy, creates thousands of jobs, develops the infrastructure of a country, and plants a sense of cultural exchange between foreigners and citizens. The number of jobs created by tourism in many different areas is significant. These jobs are not only a part of the tourism sector but may also include the agricultural sector, communication sector, health sector, and educational sector. Many tourists travel to experience the hosting destination's culture, different traditions, and gastronomy. This is very profitable for local restaurants, shopping centres, and stores.

Governments that rely on tourism for a large percentage of their revenue invest a lot in the infrastructure of the country. They want more and more tourists to visit their country, which means that safe and advanced facilities are necessary. This leads to new roads and highways, developed parks, improved public spaces, new airports, and possibly better schools and hospitals. Safe and innovative infrastructures allow for a smooth flow of goods and services. Moreover, local people experience an opportunity for economic and educational growth. Tourism creates a cultural exchange between tourists and local citizens. Exhibitions, conferences, and events usually attract foreigners. Organising authorities usually gain profits from registration fees, gift sales, exhibition spaces, and sales of media copyright. Furthermore, foreign tourists bring diversity and cultural enrichment to the hosting country.

Tourism is a great opportunity for foreigners to learn about a new culture, but it also creates many opportunities for local citizens. It allows young entrepreneurs to establish new products and services that would not be sustainable for the local population of residents alone. Moreover, residents experience the benefits that come with tourism occurring in their own country.

SubQuestion No : 83

Q.83 Select the most appropriate **SYNONYM** of the given word below(as used in the passage).

Boosts

- Options**
1. Augments
 2. Lessening
 3. Setback
 4. Shrinkage

Question ID : 630680724701
Option 1 ID : 6306802839944
Option 2 ID : 6306802839943
Option 3 ID : 6306802839946
Option 4 ID : 6306802839945
Status : **Not Answered**
Chosen Option : --

Comprehension:

Refer to the below passage and answer the questions

Tourism is vital for the success of many economies around the world. There are several benefits of tourism to host destinations. Tourism boosts the revenue of the economy, creates thousands of jobs, develops the infrastructure of a country, and plants a sense of cultural exchange between foreigners and citizens. The number of jobs created by tourism in many different areas is significant. These jobs are not only a part of the tourism sector but may also include the agricultural sector, communication sector, health sector, and educational sector. Many tourists travel to experience the hosting destination's culture, different traditions, and gastronomy. This is very profitable for local restaurants, shopping centres, and stores.

Governments that rely on tourism for a large percentage of their revenue invest a lot in the infrastructure of the country. They want more and more tourists to visit their country, which means that safe and advanced facilities are necessary. This leads to new roads and highways, developed parks, improved public spaces, new airports, and possibly better schools and hospitals. Safe and innovative infrastructures allow for a smooth flow of goods and services. Moreover, local people experience an opportunity for economic and educational growth. Tourism creates a cultural exchange between tourists and local citizens. Exhibitions, conferences, and events usually attract foreigners. Organising authorities usually gain profits from registration fees, gift sales, exhibition spaces, and sales of media copyright. Furthermore, foreign tourists bring diversity and cultural enrichment to the hosting country.

Tourism is a great opportunity for foreigners to learn about a new culture, but it also creates many opportunities for local citizens. It allows young entrepreneurs to establish new products and services that would not be sustainable for the local population of residents alone. Moreover, residents experience the benefits that come with tourism occurring in their own country.

SubQuestion No : 84

Q.84 The central idea of the passage is best explained by which of the following statements?

- Options**
1. The passage talks about the importance of various food options in the host countries that can attract tourists, thus benefiting the economy.
 2. The passage talks about the importance of cessation to the growing tourism industry and how it should be prevented to preserve the cultures of the host countries.
 3. The passage talks about the importance of profits for the growing tourism industry, thus making their respective economies suffer.
 4. The passage talks about the importance of tourism for economic development, cultural exchange, and social enrichment, benefiting host destinations and their communities in multifaceted ways.

Question ID : 630680724700
Option 1 ID : 6306802839939
Option 2 ID : 6306802839942
Option 3 ID : 6306802839941
Option 4 ID : 6306802839940

Status : Not Answered

Chosen Option : --

Comprehension:

Refer to the below passage and answer the questions

Tourism is vital for the success of many economies around the world. There are several benefits of tourism to host destinations. Tourism boosts the revenue of the economy, creates thousands of jobs, develops the infrastructure of a country, and plants a sense of cultural exchange between foreigners and citizens. The number of jobs created by tourism in many different areas is significant. These jobs are not only a part of the tourism sector but may also include the agricultural sector, communication sector, health sector, and educational sector. Many tourists travel to experience the hosting destination's culture, different traditions, and gastronomy. This is very profitable for local restaurants, shopping centres, and stores.

Governments that rely on tourism for a large percentage of their revenue invest a lot in the infrastructure of the country. They want more and more tourists to visit their country, which means that safe and advanced facilities are necessary. This leads to new roads and highways, developed parks, improved public spaces, new airports, and possibly better schools and hospitals. Safe and innovative infrastructures allow for a smooth flow of goods and services. Moreover, local people experience an opportunity for economic and educational growth. Tourism creates a cultural exchange between tourists and local citizens. Exhibitions, conferences, and events usually attract foreigners. Organising authorities usually gain profits from registration fees, gift sales, exhibition spaces, and sales of media copyright. Furthermore, foreign tourists bring diversity and cultural enrichment to the hosting country.

Tourism is a great opportunity for foreigners to learn about a new culture, but it also creates many opportunities for local citizens. It allows young entrepreneurs to establish new products and services that would not be sustainable for the local population of residents alone. Moreover, residents experience the benefits that come with tourism occurring in their own country.

SubQuestion No : 85**Q.85 Identify the suitable title for the passage.**

- Options**
1. Locking the Benefits of Tourism: Economic, Cultural, and Social Enrichment
 2. Local resident's vs tourists
 3. The Importance of Tourism for Businesses
 4. Smooth flow of goods and services

Question ID : 630680724699

Option 1 ID : 6306802839936

Option 2 ID : 6306802839935

Option 3 ID : 6306802839937

Option 4 ID : 6306802839938

Status : Not Answered

Chosen Option : --

Section : Gujarati

Q.86 તે પંખીની ઉપર પથરો ફેંકતાં ફેંકી દીધો;
છૂટ્યો તેને અરરર પડી ફાળ હૈયા મહીં તો.
અહીં 'ફાળ' શબ્દનો અર્થ શોધો.

- Options**
1. વહેમ
 2. વરસાદ
 3. ધ્રાસ્કો
 4. તાપ

Question ID : 630680724256

Option 1 ID : 6306802838183

Option 2 ID : 6306802838182

Option 3 ID : 6306802838184

Option 4 ID : 6306802838181

Status : Answered

Chosen Option : 3

Q.87 આપણા ભૂતકાલીન વારસા માટે હું ગૌરવ અનુભવું છું અને ભારતના અનાદિ કાળની અખંડ સાંકળની એક કડીરૂપ મારી જાતને સમજું છું.
અહીં 'અખંડ' શબ્દનો અર્થ શોધો.

- Options
1. આખું
 2. વાનગી
 3. વર્તન
 4. ભુરાઈ

Question ID : 630680724293
Option 1 ID : 6306802838329
Option 2 ID : 6306802838330
Option 3 ID : 6306802838332
Option 4 ID : 6306802838331
Status : Answered
Chosen Option : 1

Q.88 'ખાતર પાડવું' રૂઢિપ્રયોગનો સાચો અર્થ શોધો

- Options
1. ખાતર બનાવાવું
 2. કસરત કરવી
 3. પોષણ આપવું
 4. ચોરી કરવી

Question ID : 630680724243
Option 1 ID : 6306802838131
Option 2 ID : 6306802838130
Option 3 ID : 6306802838129
Option 4 ID : 6306802838132
Status : Answered
Chosen Option : 4

Q.89 'સ્વચ્છ' નો સાચો સમાનાર્થી શોધો

- Options
1. સબળ
 2. નિર્મળ
 3. પ્રબળ
 4. ગંદુ

Question ID : 630680724303
Option 1 ID : 6306802838371
Option 2 ID : 6306802838370
Option 3 ID : 6306802838372
Option 4 ID : 6306802838369
Status : Answered
Chosen Option : 2

Q.90 નીચેનામાંથી શુદ્ધ વિધાન શોધો

- Options
1. તેમને કામ પૂર્ણ કર્યું
 2. તે સજ્જન માણસ છે
 3. યથાશક્તિ દાન આપો
 4. તેની ભીતરમાં ખજાનો છુપાયેલો છે

Question ID : 630680724254
 Option 1 ID : 6306802838175
 Option 2 ID : 6306802838173
 Option 3 ID : 6306802838176
 Option 4 ID : 6306802838174
 Status : Answered
 Chosen Option : 3

Q.91 નીચેનામાંથી ખોટી જોડણીવાળો શબ્દ શોધો

- Options
1. સમીક્ષક
 2. સુશિક્ષિત
 3. આશિર્વાદ
 4. આશીર્વાદ

Question ID : 630680724310
 Option 1 ID : 6306802838400
 Option 2 ID : 6306802838397
 Option 3 ID : 6306802838398
 Option 4 ID : 6306802838399
 Status : Answered
 Chosen Option : 4

Q.92 આપેલ સમાસ ઓળખાવો : લે-મૂક

- Options
1. તત્પુરુષ સમાસ
 2. ઢંઢ સમાસ
 3. કર્મધારય સમાસ
 4. દ્વિગુ સમાસ

Question ID : 630680721305
 Option 1 ID : 6306802826576
 Option 2 ID : 6306802826574
 Option 3 ID : 6306802826573
 Option 4 ID : 6306802826575
 Status : Answered
 Chosen Option : 2

Q.93 'શેઠ દ્વારા નોકરને ઇનામ અપાયું' નું સાચું કર્તરિ વિધાન શોધો

- Options**
1. શેઠ નોકરને ઇનામ આપવાના છે
 2. શેઠ ઇનામ આપવા રાજી નથી
 3. શેઠે નોકરને ઇનામ ન આપ્યું
 4. શેઠે નોકરને ઇનામ આપ્યું

Question ID : 630680724307
 Option 1 ID : 6306802838386
 Option 2 ID : 6306802838385
 Option 3 ID : 6306802838388
 Option 4 ID : 6306802838387
 Status : Answered
 Chosen Option : 4

Q.94 રૂઢિપ્રયોગનો સાચો અર્થ આપો : જીભના કૂચા વળવા

- Options**
1. કહી-કહીને થાકીજવું
 2. બોલવાથી થાક લગાવો
 3. બોલવામાં તકલીફ પડાવી
 4. જીભમાં લકવો થવો

Question ID : 630680721303
 Option 1 ID : 6306802826566
 Option 2 ID : 6306802826568
 Option 3 ID : 6306802826567
 Option 4 ID : 6306802826565
 Status : Answered
 Chosen Option : 3

Q.95 'એક દિવસ એક ગધેડાને શિકારીએ નાંખી દીધેલી સિંહની ચામડી મળી' વાક્યનું અંગ્રેજીમાં સાચું ભાષાંતર શોધો

- Options**
1. One days an ass founds a lion's skin left in the forest by a hunter
 2. One days an ass founds a lion's skin left in the forest in a hunter
 3. One day an ass found a lion's skin left in the forest by a hunter
 4. One days an ass found a lion's skin left in the forest by a hunter

Question ID : 630680724298
 Option 1 ID : 6306802838350
 Option 2 ID : 6306802838349
 Option 3 ID : 6306802838351
 Option 4 ID : 6306802838352
 Status : Answered
 Chosen Option : 3

Q.96 નીચે આપેલ કહેવતનો અર્થ આપો: ઉજ્જડ ગામમાં એરંડો પ્રધાન

- Options**
1. ઊંચા માણસને પ્રધાન બનાવવો સારો
 2. કંઈ ન ઉગે ત્યાં એરંડા સારા ઉગે
 3. બહુ સારી વસ્તુ ન મળે ત્યાં સુધી ઓછી ખરાબ પણ સારી ગણાય
 4. ઉજ્જડ જગ્યામાં જ એરંડા પાકે છે

Question ID : 630680721286
 Option 1 ID : 6306802826498
 Option 2 ID : 6306802826497
 Option 3 ID : 6306802826500
 Option 4 ID : 6306802826499
 Status : Answered
 Chosen Option : 3

Q.97 'ગાયનું બચ્ચું' શબ્દસમૂહ માટે સાચો એક શબ્દ શોધો

- Options**
1. ગદીડું
 2. વાછરડું
 3. લવારું
 4. વછેરું

Question ID : 630680724285
 Option 1 ID : 6306802838298
 Option 2 ID : 6306802838299
 Option 3 ID : 6306802838297
 Option 4 ID : 6306802838300
 Status : Answered
 Chosen Option : 2

Q.98 વાક્યનો અંગ્રેજી અનુવાદ કરો: નાહીએ ત્યારે આખી નર્મદા આપણી હોય.

- Options**
1. is Ours While Bathing The Entire Narmada.
 2. The Entire Narmada is Ours While Bathing.
 3. While Bathing The Entire is Ours Narmada.
 4. Ours While Bathing is The Entire Narmada.

Question ID : 630680721319
 Option 1 ID : 6306802826629
 Option 2 ID : 6306802826630
 Option 3 ID : 6306802826632
 Option 4 ID : 6306802826631
 Status : Answered
 Chosen Option : 2

Q.99 શબ્દની સંધિ છોડો: પર્યાવરણ

- Options
1. પર્ય + આવરણ
 2. પર્યા + વરણ
 3. પરી + આવરણ
 4. પરિ + આવરણ

Question ID : 630680721312
Option 1 ID : 6306802826602
Option 2 ID : 6306802826604
Option 3 ID : 6306802826603
Option 4 ID : 6306802826601
Status : Answered
Chosen Option : 4

Q.100 નીચેનામાંથી ખોટી જોડણીવાળો શબ્દ શોધો

- Options
1. અભીસારિકા
 2. વિસ્મૃતિ
 3. અભિસારિકા
 4. સ્થાપિત

Question ID : 630680724291
Option 1 ID : 6306802838322
Option 2 ID : 6306802838324
Option 3 ID : 6306802838321
Option 4 ID : 6306802838323
Status : Answered
Chosen Option : 1