

08-05-2024 (CCE - Shift 2)

ઉમેદવારોના Privacy માટે પ્રથમ પેજ Remove કરેલ છે..

Q.2 નીચે આપેલ શ્રેણીને તાર્કિક રીતે પૂર્ણ કરવા માટે પ્રશ્ન ચિહ્નની જગ્યાએ શું આવશે?

15, 18, 10, 13, 5, ?, ?

Options 1. 8, 0

2. 0, 5

3. 5, 0

4. 0, 8

Question ID : 630680729004

Option 1 ID : 6306802856777

Option 2 ID : 6306802856775

Option 3 ID : 6306802856774

Option 4 ID : 6306802856776

Status : Answered

Chosen Option : 1

Q.3 એવી જોડી પસંદ કરો જેમાં સંખ્યાઓ એવી જ રીતે સંબંધિત છે જે રીતે નીચેની જોડીની સંખ્યાઓ સંબંધિત છે.

9 : 182

Options 1. 4 : 823

2. 8 : 637

3. 10 : 202

4. 7 : 708

Question ID : 630680729055

Option 1 ID : 6306802856980

Option 2 ID : 6306802856979

Option 3 ID : 6306802856981

Option 4 ID : 6306802856978

Status : Answered

Chosen Option : 3

Q.4 જો 'M' સૂચવે છે 'x', 'D' સૂચવે છે '+', 'A' સૂચવે છે '-', 'S' સૂચવે છે '-' તો પછી નીચેની પદાવલિનું મૂલ્ય શું હશે?

9 S 6 D 3 A 6 M 2

Options 1. 19

2. 18

3. 17

4. 16

Question ID : 630680729002

Option 1 ID : 6306802856769

Option 2 ID : 6306802856768

Option 3 ID : 6306802856767

Option 4 ID : 6306802856766

Status : Answered

Chosen Option : 1

Adda247

Test Prime

ALL EXAMS, ONE SUBSCRIPTION



1,00,000+
Mock Tests



**Personalised
Report Card**



**Unlimited
Re-Attempt**



600+
Exam Covered



25,000+ Previous
Year Papers



500%
Refund



ATTEMPT FREE MOCK NOW

Q.5 સ્નેહા (સ્ત્રી)ના લાઈની પત્નીના પિતાની એકમાત્ર પુત્રી સ્નેહાના લાઈ સાથે શુંસંબંધ ધરાવે છે?

Options 1. દીકરી

2. પુત્ર
3. પત્ની
4. પતિ

Question ID : 630680728980

Option 1 ID : 6306802856678

Option 2 ID : 6306802856679

Option 3 ID : 6306802856681

Option 4 ID : 6306802856680

Status : Answered

Chosen Option : 3

Q.6 નીચેના કોષ્ટકમાં છ વિદ્યાર્થીઓએ પરીક્ષામાં છ જુદા જુદા વિષયોમાં મેળવેલા ગુણની ટકાવારી આપે છે.

વિદ્યાર્થી	વિષય (મહત્તમ ગુણ)					
	પર્યાવરણ (100)	સમાજશાસ્ત્ર (100)	ગણિત (100)	રાજકારણ (100)	અર્થશાસ્ત્ર (100)	ભૌતિકશાસ્ત્ર (100)
માનસ	67	99	99	99	75	100
અનાસ	94	87	80	85	89	86
ફીરોઝ	90	64	96	98	33	85
નીરજા	79	90	87	36	99	89
ઇશીકા	80	80	39	95	98	93
રેશુ	90	32	86	81	85	71

ઉપરોક્ત કોષ્ટકના આધારે, માનસ દ્વારા તમામ છ વિષયોમાં મળીને કુલ કેટલા ગુણ મેળવેલ છે?

Options 1. 525

2. 526
3. 436
4. 539

Question ID : 630680729017

Option 1 ID : 6306802856826

Option 2 ID : 6306802856828

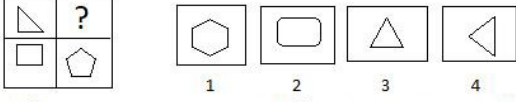
Option 3 ID : 6306802856829

Option 4 ID : 6306802856827

Status : Answered

Chosen Option : 4

Q.7 નીચેનામાંથી કઈ જવાબ-આકૃતિ નીચે આપેલ પ્રશ્ન-આકૃતિમાં ખાલી જગ્યા ભરશે (રોટેશનની મંજૂરી નથી)?
Question Figure: Answer Figure:



સંદર્ભ: Question Figure = પ્રશ્ન-આકૃતિ, Answer Figure = જવાબ આકૃતિ

- Options**
1. 2
 2. 3
 3. 1
 4. 4

Question ID : 630680729031
Option 1 ID : 6306802856883
Option 2 ID : 6306802856882
Option 3 ID : 6306802856884
Option 4 ID : 6306802856885
Status : Answered
Chosen Option : 1

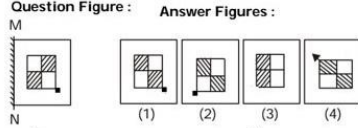
Q.8 એવી જોડી પસંદ કરો જેમાં સંખ્યાઓ એ જ રીતે સંબંધિત હોય જે રીતે નીચેની જોડીની સંખ્યાઓ સંબંધિત છે.

367 : 16

- Options**
1. 689 : 11
 2. 547 : 16
 3. 938 : 19
 4. 438 : 12

Question ID : 630680729012
Option 1 ID : 6306802856809
Option 2 ID : 6306802856807
Option 3 ID : 6306802856808
Option 4 ID : 6306802856806
Status : Not Attempted and Marked For Review
Chosen Option : --

Q.9 જ્યારે દર્પણને MN રેખા પર ઊભું પકડી રાખવામાં આવે ત્યારે નીચેનામાંથી કઈ જવાબ-આકૃતિ પ્રશ્ન-આકૃતિની દર્પણ છબી હશે?



સંદર્ભ: Question Figure = પ્રશ્ન-આકૃતિ, Answer Figure = જવાબ આકૃતિ

- Options**
1. 2
 2. 4
 3. 3
 4. 1

Question ID : 630680729038
Option 1 ID : 6306802856911
Option 2 ID : 6306802856913
Option 3 ID : 6306802856912
Option 4 ID : 6306802856910
Status : Answered
Chosen Option : 1

Q.10 નીચેના કોષ્ટકમાં છ વિદ્યાર્થીઓએ પરીક્ષામાં છ જુદા જુદા વિષયોમાં મેળવેલા ગુણની ટકાવારી આપેલ છે. ક્રમા કરીને કોષ્ટક વાંચો અને નીચેના પ્રશ્નનો જવાબ આપો

વિદ્યાર્થી	વિષય (મહત્તમ ગુણ)					
	વનસ્પતિશાસ્ત્ર (100)	વિજ્ઞાન (100)	ભૂસ્તરશાસ્ત્ર (100)	ગણિત (100)	વાણિજ્ય (100)	ભૌતિકશાસ્ત્ર (100)
શાનુ	63	95	87	96	75	39
બિંદુ	94	83	78	85	69	86
કાજલ	95	69	76	58	39	90
રીતા	74	96	82	56	94	89
રિયા	85	80	43	94	98	73
વાણી	90	39	86	81	85	77

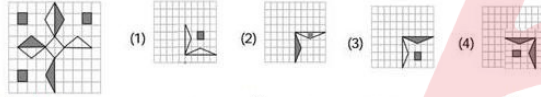
ઉપરોક્ત કોષ્ટકના આધારે, વાણીને ઉપરોક્ત પૈકી કયા વિષયમાં 0+ મળ્યો (0+ એટલે કે વિદ્યાર્થીએ 87 અને 95 કરતા ઓછા માર્ક્સ મેળવ્યા હોવા જોઈએ)?

- Options**
1. વાણિજ્ય
 2. વિજ્ઞાન
 3. ભૂસ્તરશાસ્ત્ર
 4. વનસ્પતિશાસ્ત્ર

Question ID : 630680729058
 Option 1 ID : 6306802856993
 Option 2 ID : 6306802856992
 Option 3 ID : 6306802856991
 Option 4 ID : 6306802856990
 Status : Answered
 Chosen Option : 4

Q.11 નીચેનામાંથી કઈ જવાબ-આકૃતિ નીચે આપેલ પ્રશ્ન-આકૃતિમાં ખાલી જગ્યા ભરશે (રોટેશનની મંજૂરી નથી)?

Question Figures : Answer figures :



સંદર્ભ: Question Figure = પ્રશ્ન આકૃતિ, Answer Figure = જવાબ આકૃતિ

- Options**
1. 1
 2. 4
 3. 3
 4. 2

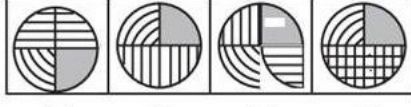
Question ID : 630680728992
 Option 1 ID : 6306802856726
 Option 2 ID : 6306802856729
 Option 3 ID : 6306802856728
 Option 4 ID : 6306802856727
 Status : Answered
 Chosen Option : 3

Q.12 નીચે આપેલા 4 વિકલ્પોમાંથી, કઈ (જવાબ આકૃતિ) પ્રશ્ન આકૃતિનું જળ પ્રતિબિંબ હશે?

Question Figure



Answer Figure



(a) (b) (c) (d)

સંદર્ભ: Question Figure = પ્રશ્ન આકૃતિ, Answer Figure = જવાબ આકૃતિ

- Options
1. d
 2. c
 3. a
 4. b

Question ID : 630680728996
 Option 1 ID : 6306802856745
 Option 2 ID : 6306802856744
 Option 3 ID : 6306802856742
 Option 4 ID : 6306802856743
 Status : Answered
 Chosen Option : 4

Q.13 જો 'A' નો અર્થ 'વડે ગુણાકાર', 'B' નો અર્થ 'વત્તા', 'C' નો અર્થ 'બાદબાકી' અને 'D' નો અર્થ "' વડે લાગ્યા ", તો નીચેની પદાવલિનું મૂલ્ય શું હશે?

5 A 2 C 4 B 4 D 4 = ?

- Options
1. 9
 2. 8
 3. 6
 4. 7

Question ID : 630680729043
 Option 1 ID : 6306802856933
 Option 2 ID : 6306802856932
 Option 3 ID : 6306802856930
 Option 4 ID : 6306802856931
 Status : Answered
 Chosen Option : 4

Q.14 રમણ અનસ કરતાં ઉંમરમાં મોટો છે. અનસની ઉંમર અંશ જેટલી નથી. ચંદન અંશ કરતાં ઉંમરમાં મોટો છે પણ રમણ જેટલી ઉંમરનો નથી. તેમાંથી સૌથી નાનું કોણ છે?

- Options
1. અનસ
 2. ચંદન
 3. અંશ
 4. રમણ

Question ID : 630680729030
 Option 1 ID : 6306802856880
 Option 2 ID : 6306802856879
 Option 3 ID : 6306802856881
 Option 4 ID : 6306802856878
 Status : Answered
 Chosen Option : 1

Q.15 જો P = '+', Q = '-', R = 'x' અને S = '÷' હોય, તો નીચેની પદાવલિનું મૂલ્ય શું હશે?

5 R 3 Q 3 P 18 S 2

Options 1. 85

2. 36

3. 21

4. 67

Question ID : 630680729001

Option 1 ID : 6306802856765

Option 2 ID : 6306802856763

Option 3 ID : 6306802856762

Option 4 ID : 6306802856764

Status : Answered

Chosen Option : 3

Q.16 માત્ર બાદબાકી અને ગુણાકાર પ્રક્રિયાઓનો ઉપયોગ કરીને નીચે આપેલ શ્રેણીને તાર્કિક રીતે પૂર્ણ કરવા માટે પ્રશ્ન ચિહ્ન (?)ની જગ્યાએ શું આવશે?

12, 9, 9, 6, 6, ?, ?

Options 1. 3, 5

2. 15, 19

3. 19, 15

4. 3, 3

Question ID : 630680729045

Option 1 ID : 6306802856941

Option 2 ID : 6306802856939

Option 3 ID : 6306802856938

Option 4 ID : 6306802856940

Status : Answered

Chosen Option : 4

Q.17 ભરત સારા કરતાં ઉંમરમાં મોટો છે. કાવ્યા ભરત કરતા મોટી છે. રીતિકા કાવ્યા જેટલી ઉંમરની નથી પણ ભરત કરતાં મોટી છે. તેમની વચ્ચે સૌથી મોટું કોણ છે?

Options 1. ભરત

2. સારા

3. રીતિકા

4. કાવ્યા

Question ID : 630680729029

Option 1 ID : 6306802856874

Option 2 ID : 6306802856875

Option 3 ID : 6306802856876

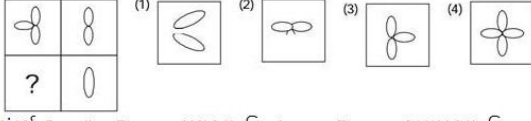
Option 4 ID : 6306802856877

Status : Answered

Chosen Option : 4

Q.18 નીચેનામાંથી કઈ જવાબ-આકૃતિ નીચે આપેલ પ્રશ્ન-આકૃતિમાં પ્રશ્ન ચિહ્નનું સ્થાન લેશે (રોટેશનની મંજૂરી નથી)?

Question Figures : Answer figures :



સંદર્ભ: Question Figure = પ્રશ્ન આકૃતિ, Answer Figure = જવાબ આકૃતિ

Options 1. 1

2. 3

3. 2

4. 4

Question ID : 630680728993

Option 1 ID : 6306802856730

Option 2 ID : 6306802856732

Option 3 ID : 6306802856731

Option 4 ID : 6306802856733

Status : Answered

Chosen Option : 4

Q.19 એવી જોડી પસંદ કરો જેમાં સંખ્યાઓ એવી જ રીતે સંબંધિત છે જે રીતે નીચેની જોડીની સંખ્યાઓ સંબંધિત છે.

15 : 195

Options 1. 9 : 60

2. 7 : 44

3. 8 : 48

4. 6 : 32

Question ID : 630680729050

Option 1 ID : 6306802856961

Option 2 ID : 6306802856958

Option 3 ID : 6306802856959

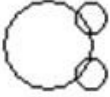


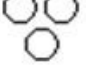
Option 4 ID : 6306802856960

Status : Answered

Chosen Option : 3

Q.20 નીચેનામાંથી કઈ વેન આકૃતિ પ્રાણી, હરણ અને ગાય વચ્ચેનો શ્રેષ્ઠ સંબંધ દર્શાવે છે?

Options

1. 
2. 
3. 
4. 

Question ID : 630680728985

Option 1 ID : 6306802856700


Option 2 ID : 6306802856698

Option 3 ID : 6306802856699

Option 4 ID : 6306802856701

Status : Answered

Chosen Option : 2



Q.21 અરીસાને જ્યારે MN રેખા પર આડી મૂકવામાં આવે ત્યારે નીચેના વિકલ્પોમાંથી કયું પ્રશ્ન આકૃતિનું જળ પ્રતિબિંબ હશે?

Question Figure :

M //////////////// N

5

સંદર્ભ: Question Figure = પ્રશ્ન આકૃતિ

Options

1. 5

2. ૮

3. ૬

4. ૨

Question ID : 630680728997

Option 1 ID : 6306802856746

Option 2 ID : 6306802856747

Option 3 ID : 6306802856749

Option 4 ID : 6306802856748

Status : Answered

Chosen Option : 3

Q.22 નીચેના પ્રશ્નમાં 'પ્રશ્ન' અને તેની નીચે 1 અને 2 તરીકે ક્રમાંકિત બે વિધાનોનો સમાવેશ થાય છે. ઉમેદવારોએ નક્કી કરવાનું છે કે વિધાનોમાં આપવામાં આવેલી માહિતી પ્રશ્નનો જવાબ આપવા માટે પર્યાપ્ત છે કે કેમ.

પ્રશ્ન: ઋષિએ અઠવાડિયાના કયા દિવસે બેંકની મુલાકાત લીધી હતી?

વિધાનો:

1. ઋષિ સાંજે ૪ બેંક પર જાય છે.

2. ગઈકાલે ઋષિએ મોલની મુલાકાત લીધી હતી.

Options 1. એકલું વિધાન 2 પર્યાપ્ત છે જ્યારે એકલું વિધાન 1 પર્યાપ્ત નથી

2. ન તો વિધાન 1 કે ન તો 2 પર્યાપ્ત છે

3. 1 અને 2 બંને વિધાન પર્યાપ્ત છે

4. એકલું વિધાન 1 પર્યાપ્ત છે જ્યારે એકલું વિધાન 2 પર્યાપ્ત નથી

Question ID : 630680729028

Option 1 ID : 6306802856871

Option 2 ID : 6306802856873

Option 3 ID : 6306802856872

Option 4 ID : 6306802856870

Status : Answered

Chosen Option : 2

Q.23 નીચેનામાંથી કઈ જોડી નીચે આપેલી પ્રસ્તુતિને સમાન છે?

17 : 306

Options 1. 8 : 60

2. 6 : 32

3. 7 : 40

4. 5 : 30

Question ID : 630680729010

Option 1 ID : 6306802856799

Option 2 ID : 6306802856800

Option 3 ID : 6306802856798

Option 4 ID : 6306802856801

Status : Answered

Chosen Option : 4

Q.24 એવી જોડી પસંદ કરો જેમાં સંખ્યાઓ એ જ રીતે સંબંધિત હોય જે રીતે નીચેની જોડીની સંખ્યાઓ સંબંધિત છે.

7 : 79

Options 1. 17 : 12

2. 19 : 11

3. 27 : 79

4. 12 : 19

Question ID : 630680729013

Option 1 ID : 6306802856813

Option 2 ID : 6306802856810

Option 3 ID : 6306802856811

Option 4 ID : 6306802856812

Status : Not Attempted and
Marked For Review

Chosen Option : --

Q.25 એવી જોડી પસંદ કરો જેમાં સંખ્યાઓ એવી જ રીતે સંબંધિત છે જે રીતે નીચેની જોડીની સંખ્યાઓ સંબંધિત છે.

100 : 1

Options 1. 90 : 2

2. 17 : 5

3. 14 : 1

4. 79 : 4

Question ID : 630680729054

Option 1 ID : 6306802856976

Option 2 ID : 6306802856974

Option 3 ID : 6306802856977

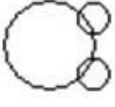



Option 4 ID : 6306802856975

Status : Answered

Chosen Option : 3

Q.26 નીચેનામાંથી કઈ વેન આકૃતિ વૃક્ષો ,પીપળો અને દૂધ વચ્ચેનો શ્રેષ્ઠ સંબંધ દર્શાવે છે?

Options

1. 
2. 
3. 
4. 

Question ID : 630680728983

Option 1 ID : 6306802856692

Option 2 ID : 6306802856691

Option 3 ID : 6306802856693

Option 4 ID : 6306802856690

Status : Answered

Chosen Option : 4

Q.27 એવી જોડી પસંદ કરો જેમાં સંખ્યાઓ એવી જ રીતે સંબંધિત છે જે રીતે નીચેની જોડીની સંખ્યાઓ સંબંધિત છે.

236 : 632

- Options
1. 416 : 614
 2. 137 : 317
 3. 345 : 453
 4. 278 : 827

Question ID : 630680729051

Option 1 ID : 6306802856964

Option 2 ID : 6306802856962

Option 3 ID : 6306802856965

Option 4 ID : 6306802856963

Status : Answered

Chosen Option : 1

Q.28 પરીક્ષામાં છ વિદ્યાર્થીઓએ છ જુદા જુદા વિષયોમાં મેળવેલા ગુણની ટકાવારી નીચેના કોષ્ટકમાં આપવામાં આવી છે. કોષ્ટક વાંચી અને નીચેના પ્રશ્નનો જવાબ આપો.

વિદ્યાર્થી	વિષય (મહત્તમ ગુણ)					
	અર્થશાસ્ત્ર (100)	સામાજિક વિજ્ઞાન (100)	જિનેટિક્સ (100)	તબીબી (100)	વાણિજ્ય (100)	ભૌતિકશાસ્ત્ર (100)
માનવી	67	95	97	99	75	100
અનમોલ	94	87	80	85	89	86
ફારુખ	90	69	96	98	39	85
નીલેશ	79	96	87	36	94	89
ઇશાદિ	80	76	43	95	80	93
રાશી	90	39	76	81	55	71

ઉપરોક્ત કોષ્ટકના આધારે, માનવીને ઉપરોક્ત પૈકી કયા વિષયમાં A- મળ્યો છે? (A- એટલે કે વિદ્યાર્થીએ 70 થી વધુ અને 80 કરતા ઓછા ગુણ પ્રાપ્ત કર્યા હોવા જોઈએ).

- Options**
1. અર્થશાસ્ત્ર
 2. તબીબી
 3. જિનેટિક્સ
 4. વાણિજ્ય

Question ID : 630680729019
 Option 1 ID : 6306802856834
 Option 2 ID : 6306802856836
 Option 3 ID : 6306802856835
 Option 4 ID : 6306802856837

Status : Answered

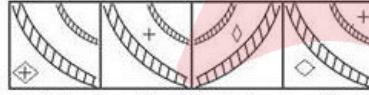
Chosen Option : 4

Q.29 નીચે આપેલા 4 વિકલ્પોમાંથી, કઈ (જવાબ-આકૃતિ) પ્રશ્ન-આકૃતિનું જળ પ્રતિબિંબ હશે?

Question figure



Answer figure



સંદર્ભ: Question Figure = પ્રશ્ન-આકૃતિ, Answer Figure = જવાબ આકૃતિ

- Options**
1. a
 2. b
 3. d
 4. c


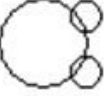


Question ID : 630680729036
 Option 1 ID : 6306802856902
 Option 2 ID : 6306802856903
 Option 3 ID : 6306802856905
 Option 4 ID : 6306802856904

Status : Answered

Chosen Option : 2

Q.30 નીચેનામાંથી કઈ વેન આકૃતિ ખંડ, દેશ અને રાજ્ય વચ્ચેનો શ્રેષ્ઠ સંબંધ દર્શાવે છે?

Options

1. 
2. 
3. 
4. 

Question ID : 630680728984

Option 1 ID : 6306802856696

Option 2 ID : 6306802856695

Option 3 ID : 6306802856694

Option 4 ID : 6306802856697

Status : Answered

Chosen Option : 1

Q.31 પ્રદીપ (પુરુષ)ના લાઈના પિતાની પત્નીની પુત્રીનો પ્રદીપ સાથે કયો સંબંધ છે?

Options 1. સાળી (પત્નીની બહેન)

2. સાસુ
3. બહેન
4. માતા

Question ID : 630680729022

Option 1 ID : 6306802856848

Option 2 ID : 6306802856846

Option 3 ID : 6306802856849

Option 4 ID : 6306802856847

Status : Answered

Chosen Option : 3

Q.32 નીચે આપેલ શ્રેણીને તાર્કિક રીતે પૂર્ણ કરવા માટે પ્રશ્ન ચિહ્ન (?) ની જગ્યાએ શું આવશે?

31, 5, 31, 3, 31, ?

Options 1. 11

2. 2
3. 141
4. 110

Question ID : 630680729006

Option 1 ID : 6306802856783

Option 2 ID : 6306802856782

Option 3 ID : 6306802856784

Option 4 ID : 6306802856785

Status : Answered

Chosen Option : 2

Q.33 નીચેના પ્રશ્નમાં 'પ્રશ્ન' અને તેની નીચે 1 અને 2 તરીકે ક્રમાંકિત બે વિધાનો સામેલ છે. ઉમેદવારોએ નક્કી કરવાનું છે કે વિધાનોમાં આપવામાં આવેલી માહિતી પ્રશ્નનો જવાબ આપવા માટે પર્યાપ્ત છે કે કેમ.

પ્રશ્ન: 45 વિદ્યાર્થીઓના એક વર્ગમાં ટોચથી ગૌતમનો રેન્ક શું છે?

વિધાનો:

1. તળિયેથી ગૌતમ રેન્ક 25 મો છે.
2. દીપ્તિ વર્ગમાં અગિયારમી છે.

Options 1. ન તો વિધાન 1 કે ન તો 2 પર્યાપ્ત છે .

2. એકલું વિધાન 2 પર્યાપ્ત છે જ્યારે એકલું વિધાન 1 પર્યાપ્ત નથી
3. એકલું વિધાન 1 પર્યાપ્ત છે જ્યારે એકલું વિધાન 2 પર્યાપ્ત નથી
4. 1 અને 2 બંને વિધાન પર્યાપ્ત છે.

Question ID : 630680729008

Option 1 ID : 6306802856790

Option 2 ID : 6306802856791

Option 3 ID : 6306802856792

Option 4 ID : 6306802856793

Status : Answered

Chosen Option : 3

Q.34 નીચેના પ્રશ્નમાં 'પ્રશ્ન' અને તેની નીચે 1 અને 2 તરીકે ક્રમાંકિત બે વિધાનો સામેલ છે. ઉમેદવારોએ નક્કી કરવાનું છે કે વિધાનોમાં આપવામાં આવેલી માહિતી પ્રશ્નનો જવાબ આપવા માટે પર્યાપ્ત છે કે કેમ.

પ્રશ્ન:

દયાને કેટલી દીકરીઓ છે?

વિધાનો:

1. અમિતના પિતાને સાત બાળકો છે.
2. દયા અમિતનો પિતરાઈ અને અદિતિનો પુત્ર છે.

Options 1. એકલું વિધાન 2 પર્યાપ્ત છે જ્યારે એકલું વિધાન 1 પર્યાપ્ત નથી

2. ન તો વિધાન 1 કે ન તો 2 વિધાન પર્યાપ્ત છે .
3. 1 અને 2 બંને વિધાન પર્યાપ્ત છે.
4. એકલું વિધાન 1 પર્યાપ્ત છે જ્યારે એકલું વિધાન 2 પર્યાપ્ત નથી

Question ID : 630680728988

Option 1 ID : 6306802856711

Option 2 ID : 6306802856713

Option 3 ID : 6306802856712

Option 4 ID : 6306802856710

Status : Answered

Chosen Option : 2

Q.35 નીચેના કોષ્ટકમાં છ વિદ્યાર્થીઓએ પરીક્ષામાં છ જુદા જુદા વિષયોમાં મેળવેલા ગુણની ટકાવારી આપેલ છે.

વિદ્યાર્થી	વિષય (મહત્તમ ગુણ)					
	ઇકોલોજી (100)	હિન્દી (100)	જિનેટિક્સ (100)	તત્વજ્ઞાન (100)	વાણિજ્ય (100)	તબીબી (100)
અવિક	45	94	89	69	75	54
ભાવના	84	59	99	79	53	46
ડેનિશ	89	77	55	65	45	97
ગીતા	95	88	77	47	69	49
રાશી	58	48	69	85	79	93
સુરજ	93	52	46	81	85	94

ઉપરોક્ત કોષ્ટકના આધારે, ઇકોલોજીમાં છ વિદ્યાર્થીઓએ મેળવેલ કુલ સરેરાશ ગુણ (ટકાવારીની દ્રષ્ટિએ) કેટલા છે?

- Options
1. 75.50 %
 2. 77.33 %
 3. 78.50 %
 4. 76.33 %

Question ID : 630680729016
 Option 1 ID : 6306802856822
 Option 2 ID : 6306802856824
 Option 3 ID : 6306802856825
 Option 4 ID : 6306802856823
 Status : Answered
 Chosen Option : 2

Q.36 એક ફોટોગ્રાફ તરફ ઈશારો કરીને ગુડિયા (સ્ત્રી) કહે છે કે ફોટોગ્રાફમાં દેખાતો માણસ ગુડિયાના પિતાની પત્નીનો પુત્ર છે. ચિત્રમાં દેખાતા માણસ સાથે ગુડિયાનો શું સંબંધ છે?

- Options
1. માતા
 2. બહેન
 3. પિતા
 4. ભાઈ

Question ID : 630680728981
 Option 1 ID : 6306802856684
 Option 2 ID : 6306802856682
 Option 3 ID : 6306802856685
 Option 4 ID : 6306802856683
 Status : Answered
 Chosen Option : 2

Q.37 જો 'A' નો અર્થ 'વડે ગુણાકાર', 'B' નો અર્થ 'વત્તા', 'C' નો અર્થ 'બાદબાકી' અને 'D' નો અર્થ 'વડે લાગ્યા' હોય, તો નીચેની પદાયલિનું મૂલ્ય શું હશે?

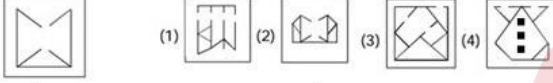
$$8 A 3 C 1 B 9 D 3 = ?$$

- Options
1. 26
 2. 28
 3. 24
 4. 22

Question ID : 630680729039
 Option 1 ID : 6306802856916
 Option 2 ID : 6306802856917
 Option 3 ID : 6306802856915
 Option 4 ID : 6306802856914
 Status : Answered
 Chosen Option : 1

Q.38 નીચેનામાંથી કઈ જવાબી આકૃતિમાં પ્રશ્ન આકૃતિ જડિત(એમ્બેડ) થયેલી છે (રોટેશનની મંજૂરી નથી)?

Question Figure : Answer Figures :



સંદર્ભ: Question Figure = પ્રશ્ન આકૃતિ, Answer Figure = જવાબ

- Options
1. 3
 2. 1
 3. 4
 4. 2

Question ID : 630680728995
 Option 1 ID : 6306802856740
 Option 2 ID : 6306802856738
 Option 3 ID : 6306802856741
 Option 4 ID : 6306802856739
 Status : Answered
 Chosen Option : 4

Q.39 નીચેના પ્રશ્નમાં 'પ્રશ્ન' અને તેની નીચે 1 અને 2 તરીકે ક્રમાંકિત બે વિધાનો સામેલ છે. ઉમેદવારોએ નક્કી કરવાનું છે કે વિધાનોમાં આપવામાં આવેલી માહિતી પ્રશ્નનો જવાબ આપવા માટે પર્યાપ્ત છે કે કેમ

પ્રશ્ન: આવતીકાલે ટ્રેન કેટલા વાગ્યે ઉપડશે?

વિધાનો:

1. ટ્રેન સામાન્ય રીતે સપ્તાહાંત ધોરણે એટલે કે રવિવારે જ ચાલે છે.
2. નિર્ધારિત પ્રસ્થાન બપોરે 3:30 વાગ્યે છે.

- Options
1. એકલું વિધાન 1 પર્યાપ્ત છે જ્યારે એકલું વિધાન 2 પર્યાપ્ત નથી
 2. 1 અને 2 બંને વિધાન પર્યાપ્ત છે.
 3. ન તો વિધાન 1 કે ન તો 2 પર્યાપ્ત છે .
 4. એકલું વિધાન 2 પર્યાપ્ત છે જ્યારે એકલું વિધાન 1 પર્યાપ્ત નથી

Question ID : 630680729009

Option 1 ID : 6306802856794

Option 2 ID : 6306802856796

Option 3 ID : 6306802856797

Option 4 ID : 6306802856795

Status : Not Attempted and
Marked For Review

Chosen Option : --

Q.40 આપેલ વિધાન(વિધાનો) અને તારણો કાળજીપૂર્વક વાંચો. એમ ધારીએ કે વિધાનોમાં આપવામાં આવેલી માહિતી સાચી છે, લલે તે સામાન્ય રીતે જાણીતી હકીકતોથી લિન્ન લાગતી હોય,એ નક્કી કરો કે આપેલા તારણોમાંથી કયું તારણ વિધાનોને તાર્કિક રીતે અનુસરે છે.

વિધાનો:

- કેટલાક કોબ્રા ચામાચીડિયા છે.
કેટલાક ચામાચીડિયા સાપ છે.

તારણો:

1. બધા સાપ ચામાચીડિયા છે.
2. બધા ચામાચીડિયા કોબ્રા છે.

- Options
1. માત્ર તારણ 1 અનુસરે છે
 2. માત્ર તારણ 2 અનુસરે છે
 3. ન તો તારણ 1 કે ન તો 2 અનુસરે છે.
 4. તારણ 1 અને 2 બંને અનુસરે છે

Question ID : 630680728986

Option 1 ID : 6306802856702

Option 2 ID : 6306802856703

Option 3 ID : 6306802856705

Option 4 ID : 6306802856704

Status : Answered

Chosen Option : 3

Q.41 એક પુસ્તકની અંકિત કિંમત ₹800 છે. દુકાનદાર 10% ડિસ્કાઉન્ટ ઓફર કરે છે, ત્યારબાદ 5%નું વધારાનું ડિસ્કાઉન્ટ આપે છે. ગ્રાહક દ્વારા ચૂકવવામાં આવેલી રકમ કેટલી છે?

- Options
1. ₹684
 2. ₹720
 3. ₹702
 4. ₹760

Question ID : 630680730436
 Option 1 ID : 6306802862421
 Option 2 ID : 6306802862423
 Option 3 ID : 6306802862422
 Option 4 ID : 6306802862424
 Status : Answered
 Chosen Option : 1

Q.42 એક સંખ્યા પહેલા 25% વધે છે અને પછી 25% ઘટે છે. સંખ્યામાં કેટલા ટકા ફેરફાર થશે?

- Options
1. 5% ઘટાડો
 2. 6.25% નો ઘટાડો
 3. 6.25% નો વધારો
 4. 5% વધારો

Question ID : 630680716775
 Option 1 ID : 6306802808715
 Option 2 ID : 6306802808717
 Option 3 ID : 6306802808716
 Option 4 ID : 6306802808714
 Status : Answered
 Chosen Option : 1

Q.43 જે માણસ તેની મુસાફરીના પહેલા ભાગમાં 20 km/hr અને બીજા ભાગમાં 30 km/hrની ઝડપે મુસાફરી કરે છે તેની સરેરાશ ઝડપ કેટલી છે?

- Options
1. 22 km/hr
 2. 30 km/hr
 3. 24 km/hr
 4. 36 km/hr

Question ID : 630680716762
 Option 1 ID : 6306802808662
 Option 2 ID : 6306802808664
 Option 3 ID : 6306802808663
 Option 4 ID : 6306802808665
 Status : Not Attempted and Marked For Review
 Chosen Option : --

Q.44 એક ટ્રેન 5 કલાકમાં 600 કિ.મી. નું અંતર કાપે છે. આગામી 400 કિ.મી. માટે, તેની ઝડપ તેની મૂળ ઝડપના 75% સુધી ઘટી જાય છે. સમગ્ર 1000 કિ.મી. ને આવરી લેવા માટે કુલ કેટલો સમય લાગે છે? (બે દશાંશ સ્થાનો સુધીનો સાચો જવાબ લખો)

- Options
1. 9.44 કલાક
 2. 10.87 કલાક
 3. 13.41 કલાક
 4. 11.23 કલાક

Question ID : 630680730455
 Option 1 ID : 6306802862500
 Option 2 ID : 6306802862497
 Option 3 ID : 6306802862498
 Option 4 ID : 6306802862499
 Status : Not Attempted and
 Marked For Review
 Chosen Option : --

Q.45 જો એક માણસ 4 કલાકમાં 18 km પ્રવાહની દિશામાં જાય છે અને 12 કલાકમાં સામા પ્રવાહે પાછો ફરે છે, તો km/hr માં પ્રવાહની ઝડપ કેટલી છે?

- Options
1. 2.4
 2. 4.5
 3. 1.5
 4. 2.5

Question ID : 630680730443
 Option 1 ID : 6306802862451
 Option 2 ID : 6306802862450
 Option 3 ID : 6306802862452
 Option 4 ID : 6306802862449
 Status : Not Attempted and
 Marked For Review
 Chosen Option : --

Q.46 નીચેનામાંથી કઈ સંખ્યાને 3 અને 4 બન્ને વડે લાગી શકાય છે?

- Options
1. 1566
 2. 1723
 3. 1210
 4. 1584

Question ID : 630680730427
 Option 1 ID : 6306802862386
 Option 2 ID : 6306802862387
 Option 3 ID : 6306802862388
 Option 4 ID : 6306802862385
 Status : Answered
 Chosen Option : 4

Q.47 એક રસોઈયો મરી અને મીઠુંનો ઉપયોગ કરીને 3:7 ના ગુણોત્તરમાં મસાલાનું મિશ્રણ તૈયાર કરી રહ્યો છે. જો રસોઈયાને 9 કપ મરીની જરૂર હોય, તો કેટલા કપ મીઠું જરૂરી છે?

Options 1. 27

2. 15

3. 21

4. 18

Question ID : 630680727757

Option 1 ID : 6306802851833

Option 2 ID : 6306802851834

Option 3 ID : 6306802851831

Option 4 ID : 6306802851832

Status : Answered

Chosen Option : 3

Q.48 એક વિદ્યાર્થી ત્રણ પરીક્ષાઓમાં 80, 85 અને 90 ગ્રેડ મેળવે છે, જેનો ભારાંક અનુક્રમે 20%, 30% અને 50% છે. વિદ્યાર્થીનો ભારિત સરેરાશ ગ્રેડ શું છે?

Options 1. 87

2. 89.5

3. 90

4. 86.5

Question ID : 630680730425

Option 1 ID : 6306802862378

Option 2 ID : 6306802862379

Option 3 ID : 6306802862380

Option 4 ID : 6306802862377

Status : Not Attempted and
Marked For Review

Chosen Option : --

Q.49 નીચેઆપેલ અભિવ્યક્તિના મૂલ્યની ગણતરી કરો:

$$\left(\frac{48}{3}\right) \times (4^3 - 4) + \sqrt{576} \div 8 - \left(\frac{5}{2}\right) \times 4$$

Options 1. 950

2. 953

3. 942

4. 924

Question ID : 630680727771

Option 1 ID : 6306802851890

Option 2 ID : 6306802851887

Option 3 ID : 6306802851889

Option 4 ID : 6306802851888

Status : Answered

Chosen Option : 2

Q.50 30 સંખ્યાઓની સરેરાશ 51 છે. જો સંખ્યા 100 ને બદલે 130 લેવામાં આવે, તો સરેરાશ કેટલી વધે છે?

- Options 1. 3
2. 4
3. 1
4. 2

Question ID : 630680716778
Option 1 ID : 6306802808728
Option 2 ID : 6306802808729
Option 3 ID : 6306802808726
Option 4 ID : 6306802808727
Status : Answered
Chosen Option : 3

Q.51 એક વર્ગમાં 10 વિદ્યાર્થીઓનો સરેરાશ સ્કોર 75 છે. જો વધુ એક વિદ્યાર્થી વર્ગમાં જોડાય અને નવી સરેરાશ 76 થાય, તો નવા વિદ્યાર્થીનો સ્કોર કેટલો હતો?

- Options 1. 90
2. 85
3. 86
4. 95

Question ID : 630680730424
Option 1 ID : 6306802862376
Option 2 ID : 6306802862373
Option 3 ID : 6306802862374
Option 4 ID : 6306802862375
Status : Answered
Chosen Option : 3

Q.52 એક દુકાનદાર એકના ₹0.50ના લાવે જથ્થાબંધ પેન્સિલો ખરીદે છે અને એકના ₹0.75ના લાવે વેચે છે. જો તે 300 પેન્સિલ વેચે છે, તો તેને કેટલો નફો થાય છે?

- Options 1. ₹ 150
2. ₹ 90
3. ₹ 75
4. ₹ 45

Question ID : 630680716730
Option 1 ID : 6306802808537
Option 2 ID : 6306802808536
Option 3 ID : 6306802808535
Option 4 ID : 6306802808534
Status : Answered
Chosen Option : 3

Q.53 કેક માટે જરૂરી ખાંડ અને લોટનો ગુણોત્તર 1:2 છે, અને લોટ અને ઇંડાનો ગુણોત્તર 4:3 છે. જો તમે 12 ઇંડાનો ઉપયોગ કરો છો, તો તમારે કેટલી ખાંડની જરૂર છે?

- Options
1. 4 એકમો
 2. 10 એકમો
 3. 8 એકમો
 4. 12 એકમો

Question ID : 630680730453
 Option 1 ID : 6306802862490
 Option 2 ID : 6306802862492
 Option 3 ID : 6306802862491
 Option 4 ID : 6306802862489
 Status : Answered
 Chosen Option : 3

Q.54 એક ગ્રેજેટ સ્ટોરમાં સ્માર્ટફોનની કિંમત ₹3000 છે પરંતુ હોલિડે સેલ દરમિયાન 12% નું ડિસ્કાઉન્ટ ઓફર કરે છે. સ્માર્ટફોનની વેચાણ કિંમત કેટલી છે?

- Options
1. ₹3000
 2. ₹2640
 3. ₹2720
 4. ₹2680

Question ID : 630680725081
 Option 1 ID : 6306802841447
 Option 2 ID : 6306802841445
 Option 3 ID : 6306802841444
 Option 4 ID : 6306802841446
 Status : Answered
 Chosen Option : 2

Q.55 ત્રણ વ્યક્તિઓ વચ્ચે ₹ 500000 ની રકમ 2:3:5 ના ગુણોત્તરમાં વહેંચવાની છે. સૌથી નાનો અને સૌથી મોટો હિસ્સો કેટલો છે?

- Options
1. સૌથી નાનો: ₹100,000, સૌથી મોટો: ₹250,000
 2. સૌથી નાનો: ₹75,000, સૌથી મોટો: ₹225,000
 3. સૌથી નાનો: ₹125,000, સૌથી મોટો: ₹175,000
 4. સૌથી નાનો: ₹50,000, સૌથી મોટો: ₹300,000

Question ID : 630680727761
 Option 1 ID : 6306802851847
 Option 2 ID : 6306802851849
 Option 3 ID : 6306802851850
 Option 4 ID : 6306802851848
 Status : Answered
 Chosen Option : 1

Q.56 A અને B ની આવક 3:2 ના ગુણોત્તરમાં છે. જો A, B કરતાં ₹6,000 વધુ કમાય છે, તો Bની આવક કેટલી છે?

- Options
1. ₹10,000
 2. ₹12,000
 3. ₹18,000
 4. ₹9,000

Question ID : 630680730454
 Option 1 ID : 6306802862493
 Option 2 ID : 6306802862494
 Option 3 ID : 6306802862496
 Option 4 ID : 6306802862495
 Status : Answered
 Chosen Option : 2

Q.57 એક પેસ્ટ્રી રસોઈયો ચાસણી બનાવવા માટે 1:4 ના ગુણોત્તરમાં ખાંડ અને પાણીના મિશ્રણનો ઉપયોગ કરે છે. જો રસોઈયા પાસે 8 કપ ખાંડ હોય, તો ગુણોત્તર જાળવવા માટે કેટલા કપ પાણીની જરૂર છે?

- Options
1. 40 કપ
 2. 32 કપ
 3. 16 કપ
 4. 24 કપ

Question ID : 630680725074
 Option 1 ID : 6306802841419
 Option 2 ID : 6306802841416
 Option 3 ID : 6306802841418
 Option 4 ID : 6306802841417
 Status : Answered
 Chosen Option : 2

Q.58 એક લેન્ડસ્કેપર પાસે ડિઝાઇન કરવા માટે જમીનના બે ખંડ છે, એકનું ક્ષેત્રફળ $90m^2$ અને બીજાનું $150m^2$ છે. તે જમીનના કોઈપણ ભાગને છોડ્યા વિના તેમને સમાન કદના પ્લોટોમાં વહેંચવા માંગે છે. દરેક પ્લોટનું m^2 માં (ક્ષેત્રફળમાં) સૌથી મોટું કદ કેટલું છે?

- Options
1. 15
 2. 45
 3. 60
 4. 30

Question ID : 630680727777
 Option 1 ID : 6306802851914
 Option 2 ID : 6306802851911
 Option 3 ID : 6306802851912
 Option 4 ID : 6306802851913
 Status : Not Attempted and
 Marked For Review
 Chosen Option : --

Q.59 બેક્ટેરિયાની વસ્તી દર કલાકે ત્રણ ગણી થાય છે. જો શરૂઆતમાં 500 બેક્ટેરિયા હતા, તો 4 કલાક પછી કેટલા બેક્ટેરિયા હશે?

- Options
1. 40,500
 2. 43,000
 3. 36,500
 4. 49,000

Question ID : 630680725095
 Option 1 ID : 6306802841503
 Option 2 ID : 6306802841500
 Option 3 ID : 6306802841501
 Option 4 ID : 6306802841502
 Status : Answered
 Chosen Option : 1

Q.60 જો બે સંખ્યાઓનો HCF(ગુ.સા.અ) 6 છે અને તેમનો LCM(લ.સા.અ) 72 છે, તો બે સંખ્યાઓના સંલવિત મૂલ્યો શું છે?

- Options
1. 18 અને 36
 2. 12 અને 48
 3. 18 અને 24
 4. 24 અને 36

Question ID : 630680730452
 Option 1 ID : 6306802862488
 Option 2 ID : 6306802862485
 Option 3 ID : 6306802862486
 Option 4 ID : 6306802862487
 Status : Answered
 Chosen Option : 1

Q.61 એક કાર 10 લિટર પેટ્રોલ પર 150 કિલોમીટરની મુસાફરી કરે છે. 15 લિટર પેટ્રોલ પર તે કેટલી દૂર જઈ શકે છે?

- Options
1. 250 કિ.મી.
 2. 300 કિ.મી.
 3. 225 કિ.મી.
 4. 275 કિ.મી.

Question ID : 630680730451
 Option 1 ID : 6306802862482
 Option 2 ID : 6306802862484
 Option 3 ID : 6306802862481
 Option 4 ID : 6306802862483
 Status : Answered
 Chosen Option : 3

Q.62 બે પાઇપો A અને B અનુક્રમે 20 મિનિટ અને 60 મિનિટમાં એક ટાંકીને ભરી શકે છે. તેમને એકસાથે ખોલવામાં આવે છે પરંતુ થોડા સમય પછી, પાઇપ B બંધ કરવામાં આવે છે, અને પાઇપ A બાકીની ટાંકી વધુ 8 મિનિટમાં ભરે છે. શરૂઆત થયાની કેટલી મિનિટ પછી પાઇપ B બંધ કરવામાં આવી હતી?

- Options
1. 9 મિનિટ
 2. 14 મિનિટ
 3. 6 મિનિટ
 4. 12 મિનિટ

Question ID : 630680730441
 Option 1 ID : 6306802862442
 Option 2 ID : 6306802862444
 Option 3 ID : 6306802862441
 Option 4 ID : 6306802862443
 Status : Not Answered
 Chosen Option : --

Q.63 એક કેમિસ્ટ્રી પાસે બે દ્રાવણો છે, જે પાણી અને દ્રાવણ Aનું મિશ્રણ છે. પ્રથમમાં 30% દ્રાવણ A હોય છે અને બીજામાં 60% દ્રાવણ A હોય છે. તે 45% દ્રાવણ A ધરાવતું 100 લિટર મિશ્રણ બનાવવા માંગે છે. તો તેણીએ દરેક દ્રાવણના કેટલા લિટરનો ઉપયોગ કરવો જોઈએ?

- Options
1. પ્રત્યેક 50 લિટર
 2. પ્રથમનું 70 લિટર અને બીજાનું 30 લિટર
 3. પ્રથમનું 60 લિટર અને બીજાનું 40 લિટર
 4. પ્રથમનું 40 લિટર અને બીજાનું 60 લિટર

Question ID : 630680719311
 Option 1 ID : 6306802818712
 Option 2 ID : 6306802818714
 Option 3 ID : 6306802818713
 Option 4 ID : 6306802818715
 Status : Not Attempted and Marked For Review
 Chosen Option : --

Q.64 જો આપેલ સમીકરણો નીચે મુજબ હોય:

1. $x-2y+z=6$,
2. $2x+y-3z=2$,
3. $-3x+4y+z=-12$

તો x , y , અને z નું મૂલ્ય શું છે?

- Options
1. $x=1, y=-3, z=2$
 2. $x=2, y=-1, z=0$
 3. $x=0, y=1, z=-1$
 4. $x=3, y=-1, z=1$

Question ID : 630680730447
 Option 1 ID : 6306802862466
 Option 2 ID : 6306802862465
 Option 3 ID : 6306802862468
 Option 4 ID : 6306802862467
 Status : Not Attempted and Marked For Review
 Chosen Option : --

Q.65 ચાર માળીઓ, A, B, C અને D, સાથે મળીને કામ કરીને એક લેન્ડસ્કેપિંગ પ્રોજેક્ટને 6 દિવસમાં પૂર્ણ કરી શકે છે. માળી A, માળી D કરતા ત્રણ ગણી ઝડપથી કામ કરે છે, માળી B, માળી D કરતા બમણી ઝડપે કામ કરે છે, અને માળી C, માળી Dની ઝડપ જેટલી ઝડપથી કામ કરે છે. જો તેઓ બધા અચળ દર કામ કરે, તો એકલા માળી Aને પ્રોજેક્ટ પૂર્ણ કરવામાં કેટલા દિવસો લાગશે?

- Options
1. 24
 2. 14
 3. 9
 4. 18

Question ID : 630680727786

Option 1 ID : 6306802851950

Option 2 ID : 6306802851948

Option 3 ID : 6306802851949

Option 4 ID : 6306802851947

Status : Not Attempted and
Marked For Review

Chosen Option : --

Q.66 એક શેરની કિંમત પહેલા મહિનામાં 10% વધે છે અને પછી બીજા મહિનામાં 5% ઘટે છે. જો શેરની મૂળ કિંમત ₹100 છે, તો બીજા મહિનાના અંતે શેરની કિંમત કેટલી છે?

- Options
1. ₹ 104.50
 2. ₹ 105.00
 3. ₹ 95.00
 4. ₹ 104.75

Question ID : 630680716750

Option 1 ID : 6306802808617

Option 2 ID : 6306802808615

Option 3 ID : 6306802808616

Option 4 ID : 6306802808614

Status : Answered

Chosen Option : 1

Q.67 જો કોઈ વ્યક્તિ તેની માસિક આવકના 30% ભાડા પર ખર્ચ કરે છે અને બાકીની બચત કરે છે અને તેનું માસિક ભાડું ₹6000 છે, તો તેની માસિક આવક કેટલી છે?

- Options
1. ₹30000
 2. ₹25000
 3. ₹20000
 4. ₹15000

Question ID : 630680730432

Option 1 ID : 6306802862408

Option 2 ID : 6306802862407

Option 3 ID : 6306802862406

Option 4 ID : 6306802862405

Status : Answered

Chosen Option : 3

Q.68 જો GP(સમગુણોત્તર શ્રેણી)નું 3જુ પદ 16 છે અને 6જુ પદ 128 છે, તો પ્રથમ પદ શું છે?

- Options
1. 4
 2. 8
 3. 2
 4. 1

Question ID : 630680730450

Option 1 ID : 6306802862480

Option 2 ID : 6306802862479

Option 3 ID : 6306802862478

Option 4 ID : 6306802862477

Status : Not Attempted and
Marked For Review

Chosen Option : --

Q.69 એક સાઈકલ સવાર 10 km/hrની ઝડપે અમુક અંતર કાપે છે અને તે જ માર્ગ પરથી 15 km/hrની ઝડપે પરત ફરે છે. જો રાઉન્ડ ટ્રીપ માટે લેવામાં આવેલો કુલ સમય 5 કલાક હોય, તો કુલ અંતર કેટલું છે?

- Options
1. 45 km
 2. 60 km
 3. 35 km
 4. 30 km

Question ID : 630680730442

Option 1 ID : 6306802862448

Option 2 ID : 6306802862447

Option 3 ID : 6306802862446

Option 4 ID : 6306802862445

Status : Not Attempted and
Marked For Review

Chosen Option : --

Q.70 પ્રત્યેક 100 મીટર લંબાઈ ધરાવતી બે ટ્રેનો, એક 40 km/hની ઝડપે અને બીજી 60 km/hની ઝડપે સમાંતર ટ્રેક પર એકબીજા તરફ જાય છે. તેઓ મળે તે ક્ષણથી એકબીજાને સંપૂર્ણપણે પાર કરવામાં તેમને કેટલો સમય લાગે છે?

- Options
1. 8 સેકન્ડ્સ
 2. 7.2 સેકન્ડ્સ
 3. 6 સેકન્ડ્સ
 4. 5.7 સેકન્ડ્સ

Question ID : 630680730444

Option 1 ID : 6306802862456

Option 2 ID : 6306802862453

Option 3 ID : 6306802862454

Option 4 ID : 6306802862455

Status : Not Answered

Chosen Option : --

Q.71 Rearrange the following parts of a sentence to make it a coherent sentence.

- A) A wise man once said,
- B) if we want to
- C) see the leadership of the
- D) future, look at the teenagers of today

Options 1. DBAC

- 2. DCAB
- 3. CADB
- 4. ABCD

Question ID : 630680730408

Option 1 ID : 6306802862313

Option 2 ID : 6306802862316

Option 3 ID : 6306802862314

Option 4 ID : 6306802862315

Status : Not Answered

Chosen Option : --

Q.72 Select the most appropriate article from the options given below to complete the sentence. Mark "no article" if there is no requirement for an article in the given sentence.

___ school at the end of the road is the one he attends.

Options 1. An

- 2. The
- 3. A
- 4. No article

Question ID : 630680730383

Option 1 ID : 6306802862219

Option 2 ID : 6306802862220

Option 3 ID : 6306802862217

Option 4 ID : 6306802862218

Status : Not Answered

Chosen Option : --

Q.73 Select the most appropriate form of verb from the given options to fill in the blanks for the given sentence.

He ___ three languages fluently.

Options 1. speaks

- 2. speaking
- 3. had spoke
- 4. speak

Question ID : 630680724338

Option 1 ID : 6306802838511

Option 2 ID : 6306802838509

Option 3 ID : 6306802838512

Option 4 ID : 6306802838510

Status : Not Answered

Chosen Option : --

Q.74 Rearrange the following parts of a sentence to make it a coherent sentence.

- A) In this era of globalization, society
- B) lifestyle practices, especially recreational activities
- C) luxuries and often neglects healthy
- D) seems to be too busy chasing worldly

Options 1. DACB

2. DCAB

3. BCDA

4. ADCB

Question ID : 630680730409

Option 1 ID : 6306802862320

Option 2 ID : 6306802862317

Option 3 ID : 6306802862319

Option 4 ID : 6306802862318

Status : Not Answered

Chosen Option : --

Q.75 Select the most appropriate form of verb from the given options to fill in the blanks for the given sentence.

Sheela was _____ for me when I arrived.

Options 1. waiting

2. waits

3. wait

4. waited

Question ID : 630680730404

Option 1 ID : 6306802862299

Option 2 ID : 6306802862298

Option 3 ID : 6306802862300

Option 4 ID : 6306802862297

Status : Not Answered

Chosen Option : --

Q.76 Rearrange the following parts of a sentence to make it a coherent sentence.

- A) a wide range of options for
- B) of advertising is that it provides
- C) both employers and job seekers
- D) One of the most significant benefits

Options 1. CADB

2. DBAC

3. DCAB

4. ABCD

Question ID : 630680730389

Option 1 ID : 6306802862242

Option 2 ID : 6306802862241

Option 3 ID : 6306802862244

Option 4 ID : 6306802862243

Status : Not Answered

Chosen Option : --

Q.77 Select the most appropriate **SYNONYM** of the word given below.

Extrapolate

- Options**
1. Doubt
 2. Conclude
 3. Mistrust
 4. Uncertain

Question ID : 630680730419
 Option 1 ID : 6306802862354
 Option 2 ID : 6306802862353
 Option 3 ID : 6306802862356
 Option 4 ID : 6306802862355
 Status : **Not Answered**
 Chosen Option : --

Q.78 Which one of the alternatives substitutes the given sentence in the bracket ?

Many people suffer from very serious (Extreme or irrational fear of heights).

- Options**
1. Agoraphobia
 2. Hydrophobia
 3. Claustrophobia
 4. Acrophobia

Question ID : 630680730411
 Option 1 ID : 6306802862326
 Option 2 ID : 6306802862325
 Option 3 ID : 6306802862327
 Option 4 ID : 6306802862328
 Status : **Not Answered**
 Chosen Option : --

Q.79 Translate the below sentence into Gujarati.

Adolescence is a crucial period in one's life as it serves as a foundation for the development of one's future.

- Options**
1. કરુણાવસ્થા જીવનનો સાચો સમયગાળો છે કેમકે તે પોતાના ભાવિનો નિર્ણય કરવા માટે એક પગલા તરીકે કાર્ય કરે છે.
 2. બાલ્યાવસ્થા જીવનનો અગત્યનો સમયગાળો છે કેમકે તે પોતાના ભાવિના વિકાસ માટે એક સંકેત તરીકે કાર્ય કરે છે.
 3. તરુણાવસ્થા જીવનનો મહત્વનો સમયગાળો છે કેમકે તે પોતાના ભાવિના વિકાસ માટે એક આધાર તરીકે કાર્ય કરે છે.
 4. બાળપણ જીવનનો નાજુક સમયગાળો છે કેમકે તે પોતાના ભાવિના વિકાસ માટે એક પગલા તરીકે કાર્ય કરે છે.

Question ID : 630680730420
 Option 1 ID : 6306802862358
 Option 2 ID : 6306802862360
 Option 3 ID : 6306802862359
 Option 4 ID : 6306802862357
 Status : **Not Answered**
 Chosen Option : --

Q.80 Which one of the alternatives substitutes the given sentence in the bracket ?

The car is presently at the (preliminary version of the vehicle from which other forms are developed) stage.

- Options**
1. Prototype
 2. Catalogue
 3. Photograph
 4. Parable

Question ID : 630680730412
Option 1 ID : 6306802862331
Option 2 ID : 6306802862330
Option 3 ID : 6306802862329
Option 4 ID : 6306802862332
Status : Not Answered
Chosen Option : --

Q.81 Select the most appropriate present tense form of the verb from the given options to fill in the blanks for the given sentence.

She _____ for a half-marathon.

- Options**
1. will be training
 2. would be trained
 3. has been training
 4. had been trained

Question ID : 630680730387
Option 1 ID : 6306802862233
Option 2 ID : 6306802862235
Option 3 ID : 6306802862234
Option 4 ID : 6306802862236
Status : Not Answered
Chosen Option : --

Comprehension:

Read the passage given below and answer the questions

The World Food Programme (WFP) estimates – from 78 of the countries where it works (and where data is available) – that more than 333 million people are facing acute levels of food insecurity in 2023, and do not know where their next meal is coming from. This constitutes a staggering rise of almost 200 million people compared to pre-COVID-19 pandemic levels. We have a choice: act now to save lives and invest in solutions that secure food security, stability, and peace for all, or see people around the world facing rising hunger. The scale of the current global hunger and malnutrition crisis is enormous.

But why is the world hungrier than ever? This seismic hunger crisis has been caused by a deadly combination of factors.

WFP is facing multiple challenges – the number of acutely hungry people continues to increase at a pace that funding is unlikely to match, while the cost of delivering food assistance is at an all-time high because food and fuel prices have increased. Conflict is still the biggest driver of hunger, with 70 percent of the world's hungry people living in areas afflicted by war and violence.

The climate crisis is one of the leading causes of the steep rise in global hunger. Climate shocks destroy lives, crops, and livelihoods, and undermine people's ability to feed themselves. Hunger will spiral out of control if the world fails to take immediate climate action. Global fertilizer prices have climbed even faster than food prices, which remain at a ten-year high themselves. The effects of the war in Ukraine, including higher natural gas prices, have further disrupted global fertilizer production and exports – reducing supplies, raising prices, and threatening to reduce harvests.

SubQuestion No : 82

Q.82 Select the most appropriate **ANTONYM** of the word as used in the passage

Conflict

- Options**
1. Accord
 2. Friction
 3. Strife
 4. Dispute

Question ID : 630680730398

Option 1 ID : 6306802862276

Option 2 ID : 6306802862274

Option 3 ID : 6306802862273

Option 4 ID : 6306802862275

Status : Not Answered

Chosen Option : --

Comprehension:

Read the passage given below and answer the questions

The World Food Programme (WFP) estimates – from 78 of the countries where it works (and where data is available) – that more than 333 million people are facing acute levels of food insecurity in 2023, and do not know where their next meal is coming from. This constitutes a staggering rise of almost 200 million people compared to pre-COVID-19 pandemic levels. We have a choice: act now to save lives and invest in solutions that secure food security, stability, and peace for all, or see people around the world facing rising hunger. The scale of the current global hunger and malnutrition crisis is enormous.

But why is the world hungrier than ever? This seismic hunger crisis has been caused by a deadly combination of factors.

WFP is facing multiple challenges – the number of acutely hungry people continues to increase at a pace that funding is unlikely to match, while the cost of delivering food assistance is at an all-time high because food and fuel prices have increased. Conflict is still the biggest driver of hunger, with 70 percent of the world's hungry people living in areas afflicted by war and violence.

The climate crisis is one of the leading causes of the steep rise in global hunger. Climate shocks destroy lives, crops, and livelihoods, and undermine people's ability to feed themselves. Hunger will spiral out of control if the world fails to take immediate climate action. Global fertilizer prices have climbed even faster than food prices, which remain at a ten-year high themselves. The effects of the war in Ukraine, including higher natural gas prices, have further disrupted global fertilizer production and exports – reducing supplies, raising prices, and threatening to reduce harvests.

SubQuestion No : 83

Q.83 Identify the most suitable title for the passage.

- Options**
1. Unraveling the Causes of the Global Hunger Crisis
 2. High Food Security
 3. Global fertilizer production crisis
 4. The World Food Programme (WFP) & its failed projects

Question ID : 630680730395

Option 1 ID : 6306802862263

Option 2 ID : 6306802862261

Option 3 ID : 6306802862262

Option 4 ID : 6306802862264

Status : Not Answered

Chosen Option : --

Comprehension:

Read the passage given below and answer the questions

The World Food Programme (WFP) estimates – from 78 of the countries where it works (and where data is available) – that more than 333 million people are facing acute levels of food insecurity in 2023, and do not know where their next meal is coming from. This constitutes a staggering rise of almost 200 million people compared to pre-COVID-19 pandemic levels. We have a choice: act now to save lives and invest in solutions that secure food security, stability, and peace for all, or see people around the world facing rising hunger. The scale of the current global hunger and malnutrition crisis is enormous.

But why is the world hungrier than ever? This seismic hunger crisis has been caused by a deadly combination of factors.

WFP is facing multiple challenges – the number of acutely hungry people continues to increase at a pace that funding is unlikely to match, while the cost of delivering food assistance is at an all-time high because food and fuel prices have increased. Conflict is still the biggest driver of hunger, with 70 percent of the world's hungry people living in areas afflicted by war and violence.

The climate crisis is one of the leading causes of the steep rise in global hunger. Climate shocks destroy lives, crops, and livelihoods, and undermine people's ability to feed themselves. Hunger will spiral out of control if the world fails to take immediate climate action. Global fertilizer prices have climbed even faster than food prices, which remain at a ten-year high themselves. The effects of the war in Ukraine, including higher natural gas prices, have further disrupted global fertilizer production and exports – reducing supplies, raising prices, and threatening to reduce harvests.

SubQuestion No : 84

Q.84 Select the most appropriate **SYNONYM** of the word as used in the passage .

Staggering

Options 1. Usual

2. Ordinary

3. Incredible

4. Typical

Question ID : 630680730396

Option 1 ID : 6306802862267

Option 2 ID : 6306802862268

Option 3 ID : 6306802862266

Option 4 ID : 6306802862265

Status : Not Answered

Chosen Option : --

Comprehension:

Read the passage given below and answer the questions

The World Food Programme (WFP) estimates – from 78 of the countries where it works (and where data is available) – that more than 333 million people are facing acute levels of food insecurity in 2023, and do not know where their next meal is coming from. This constitutes a staggering rise of almost 200 million people compared to pre-COVID-19 pandemic levels. We have a choice: act now to save lives and invest in solutions that secure food security, stability, and peace for all, or see people around the world facing rising hunger. The scale of the current global hunger and malnutrition crisis is enormous.

But why is the world hungrier than ever? This seismic hunger crisis has been caused by a deadly combination of factors.

WFP is facing multiple challenges – the number of acutely hungry people continues to increase at a pace that funding is unlikely to match, while the cost of delivering food assistance is at an all-time high because food and fuel prices have increased. Conflict is still the biggest driver of hunger, with 70 percent of the world's hungry people living in areas afflicted by war and violence.

The climate crisis is one of the leading causes of the steep rise in global hunger. Climate shocks destroy lives, crops, and livelihoods, and undermine people's ability to feed themselves. Hunger will spiral out of control if the world fails to take immediate climate action. Global fertilizer prices have climbed even faster than food prices, which remain at a ten-year high themselves. The effects of the war in Ukraine, including higher natural gas prices, have further disrupted global fertilizer production and exports – reducing supplies, raising prices, and threatening to reduce harvests.

SubQuestion No : 85

Q.85 Select the most appropriate SYNONYM of the word as used in the passage .

Disrupted

- Options**
1. Organised
 2. Fixed
 3. Hindered
 4. Healed

Question ID : 630680730397

Option 1 ID : 6306802862272

Option 2 ID : 6306802862270

Option 3 ID : 6306802862269

Option 4 ID : 6306802862271

Status : Not Answered

Chosen Option : --

Section : Gujarati

Q.86 'દીવા પાછળ અંધારું' કહેવતનો સાચો અર્થ શોધો

- Options**
1. દીવો ઓછું અજવાળું આપે
 2. સજ્જનના પુત્રો દુર્જન
 3. સારા સામે ખરાબ વધી જાય
 4. દીવાની નીચે અંધારું પડે

Question ID : 630680724282

Option 1 ID : 6306802838285

Option 2 ID : 6306802838286

Option 3 ID : 6306802838288

Option 4 ID : 6306802838287

Status : Answered

Chosen Option : 2

Q.87 'એક દિવસ એક સ્વાર્થી શિયાળે એક ભગલાને પોતાના ઘેર જમવાનું આમંત્રણ આપ્યું' વાક્યનું અંગ્રેજીમાં સાચું લાખાંતર શોધો

- Options
1. One day a selfish foxes in invited a stork to eat with him at his home
 2. One days a selfish fox in invited a stork too eat with him at his home
 3. One day a selfish foxes in invited a stork to eatin with him at his home
 4. One day a selfish fox in invited a stork to eat with him at his home

Question ID : 630680724296

Option 1 ID : 6306802838341

Option 2 ID : 6306802838343

Option 3 ID : 6306802838344

Option 4 ID : 6306802838342

Status : Not Attempted and
Marked For Review

Chosen Option : --

Q.88 'રાધા દ્વારા કાનાને સંદેશો મોકલાવાયો' નું સાચું કર્તરિ વિધાન શોધો

- Options
1. રાધા કાનાને સંદેશો મોકલી શકે
 2. રાધા કાનાને સંદેશો મોકલી શકે નહીં
 3. રાધાએ કાનાને સંદેશો મોકલ્યો
 4. રાધા કાનાને સંદેશો મોકલશે કે નહીં

Question ID : 630680724287

Option 1 ID : 6306802838305

Option 2 ID : 6306802838308

Option 3 ID : 6306802838306

Option 4 ID : 6306802838307

Status : Answered

Chosen Option : 3

Q.89 'પાશોરામાં પહેલી પૂણી હોવી' રૂઢિપ્રયોગનો સાચો અર્થ શોધો

- Options
1. આરંભ સારો ન થવો
 2. શરૂઆત હોવી
 3. ગેરલાભ થવો
 4. લાભ થવો

Question ID : 630680724280

Option 1 ID : 6306802838277

Option 2 ID : 6306802838280

Option 3 ID : 6306802838279

Option 4 ID : 6306802838278

Status : Answered

Chosen Option : 1

Q.90 આપેલ ફકરા પરથી પ્રશ્નનો જવાબ લખો:
લાલિક મનુષ્ય ઘાતારનું શિખર જોઈ જેમ શ્રદ્ધાથી આનંદ પામે તેમ વૃદ્ધ ડોસો આ મકાનની લાકડાની કમાન જોઈ આનંદ પામ્યો. કમાન પર એક જરીપુરાણા પાટિયામાં નવા અક્ષર લખ્યા હતા: 'પોસ્ટઓફિસ'
પ્રશ્ન- લાલિક મનુષ્ય શું જોઈ આનંદ પામે?

- Options
1. લાકડાની કમાન
 2. ઘાતારનું શિખર
 3. જરીપુરાણું પાટિયું
 4. પોસ્ટઓફિસ

Question ID : 630680721297
Option 1 ID : 6306802826542
Option 2 ID : 6306802826543
Option 3 ID : 6306802826541
Option 4 ID : 6306802826544
Status : Answered
Chosen Option : 2

Q.91 કોટિ કોટિ મનુષ્યોની કતારો રાંકડી અહીં
આઠે પ્હોર, બની માત્ર પશુ,
અંગાંગ તોડતી; અહીં 'કતારો' શબ્દનો અર્થ શોધો.

- Options
1. હારો
 2. તારોડિયાં
 3. પથારો
 4. જમાત

Question ID : 630680724313
Option 1 ID : 6306802838411
Option 2 ID : 6306802838409
Option 3 ID : 6306802838412
Option 4 ID : 6306802838410
Status : Answered
Chosen Option : 1

Q.92 'હુકમ' નો સાચો સમાનાર્થી શોધો

- Options
1. આદેશ
 2. કરજ
 3. ફરજ
 4. તાસ

Question ID : 630680724283
Option 1 ID : 6306802838292
Option 2 ID : 6306802838291
Option 3 ID : 6306802838290
Option 4 ID : 6306802838289
Status : Answered
Chosen Option : 1

Q.93 'બીજાની મજબૂરીનો લાલ ઉઠાવવો એ અનૈતિક છે' વાક્યનું અંગ્રેજીમાં સાચું લાષાંતર શોધો

- Options
1. It is immoral to take advantage on another's distress
 2. It is immoral to take advantage of another's distress
 3. It was moral to take advantage on another's distress
 4. It is immoral to take advantage of another's distress

Question ID : 630680724260

Option 1 ID : 6306802838199

Option 2 ID : 6306802838197

Option 3 ID : 6306802838200

Option 4 ID : 6306802838198

Status : Not Attempted and
Marked For Review

Chosen Option : --

Q.94 'લંબગોળ' સમાસની સાચી ઓળખ કરો

- Options
1. મધ્યમપદલોપી
 2. કર્મધારય
 3. દ્વન્દ્વ
 4. દ્વિગુ

Question ID : 630680724264

Option 1 ID : 6306802838214

Option 2 ID : 6306802838215

Option 3 ID : 6306802838213

Option 4 ID : 6306802838216

Status : Marked For Review

Chosen Option : 2

Q.95 'પાણીમાં જવું' રૂઢિપ્રયોગનો સાચો અર્થ શોધો

- Options
1. ડૂબી જવું
 2. નિરર્થક જવું
 3. મહેનત કરવી
 4. તણાઈ જવું

Question ID : 630680724281

Option 1 ID : 6306802838284

Option 2 ID : 6306802838283

Option 3 ID : 6306802838282

Option 4 ID : 6306802838281

Status : Answered

Chosen Option : 2

Q.96 નીચેનાંમાંથી શુદ્ધ વિધાન શોધો

- Options**
1. તમારી પાસે ક્યાં પુસ્તકો વાચ્યા વિનાના પડ્યા છે
 2. તમારી પાસે ક્યા પુસ્તકો વાચ્યાં વિનાના પડ્યા છે
 3. તમારી પાસે ક્યા પુસ્તકો વાચ્યા વિનાનાં પડ્યા છે
 4. તમારી પાસે ક્યાં પુસ્તકો વાચ્યાં વિનાનાં પડ્યાં છે

Question ID : 630680724311
 Option 1 ID : 6306802838401
 Option 2 ID : 6306802838402
 Option 3 ID : 6306802838404
 Option 4 ID : 6306802838403
 Status : Answered
 Chosen Option : 4

Q.97 આપેલા વિકલ્પોમાંથી યોગ્ય શબ્દસમૂહ પસંદ કરો: કાપણી માટે તૈયાર થયેલો પાક

- Options**
1. ખેડૂત
 2. ખેતીવાડી
 3. લણવું
 4. ફસલ

Question ID : 630680721290
 Option 1 ID : 6306802826515
 Option 2 ID : 6306802826514
 Option 3 ID : 6306802826516
 Option 4 ID : 6306802826513
 Status : Answered
 Chosen Option : 4

Q.98 ખોટી જોડણી શોધો:

- Options**
1. ગીરીરાજ
 2. પદાધિકારી
 3. પતિવ્રતા
 4. ગુણાતીત

Question ID : 630680721314
 Option 1 ID : 6306802826609
 Option 2 ID : 6306802826611
 Option 3 ID : 6306802826612
 Option 4 ID : 6306802826610
 Status : Answered
 Chosen Option : 3

Q.99 નીચેનામાંથી ખોટી જોડણીવાળો શબ્દ શોધો

- Options
1. વીનીપાત
 2. સ્વાયત
 3. વિનિપાત
 4. પ્રતિકૃતિ

Question ID : 630680724253

Option 1 ID : 6306802838171

Option 2 ID : 6306802838170

Option 3 ID : 6306802838169

Option 4 ID : 6306802838172

Status : Not Attempted and
Marked For Review

Chosen Option : --

Q.100 'વસુદૈવ' શબ્દની સંધિ છોડો

- Options
1. વસુ + એવ
 2. વસુધા + એવ
 3. વસુધા + ઈવ
 4. વસુધા + આવ

Question ID : 630680724289

Option 1 ID : 6306802838314

Option 2 ID : 6306802838313

Option 3 ID : 6306802838315

Option 4 ID : 6306802838316

Status : Answered

Chosen Option : 2