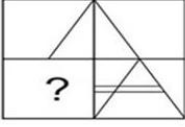


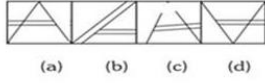
## 02-04-2024 (CCE - Shift 2)

Q.1 નીચેનામાંથી કઈ જવાબી આકૃતિ નીચે આપેલ પ્રશ્ન આકૃતિમાં પ્રશ્ન ચિહ્નને બદલે આવશે? (રોટેશનની મંજૂરી નથી)

Question Figure



Answer Figure



(સંદર્ભ- Question Figure- પ્રશ્ન આકૃતિ, Answer Figure- જવાબી આકૃતિ)

- Options
1. A
  2. C
  3. કોઈ જવાબી આકૃતિ પ્રશ્ન ચિહ્નને બદલે આવશે નહીં
  4. D

Question ID : 630680702498

Option 1 ID : 6306802751886

Option 2 ID : 6306802751888

Option 3 ID : 6306802751885

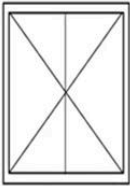
Option 4 ID : 6306802751887

Status : Answered

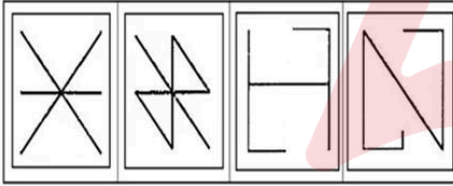
Chosen Option : 4

Q.2 નીચેનામાંથી કઈ જવાબી આકૃતિ નીચે આપેલી પ્રશ્ન આકૃતિમાં જડિત (એમ્બેડ) થશે? (રોટેશનની મંજૂરી નથી).

Question Figure



Answer Figures



(1)

(2)

(3)

(4)

સંદર્ભ:

Question Figure-પ્રશ્ન આકૃતિ Answer Figure- જવાબી આકૃતિ

- Options
1. 3
  2. 1
  3. 4
  4. 2

Question ID : 630680702619

Option 1 ID : 6306802752371

Option 2 ID : 6306802752369

Option 3 ID : 6306802752372

Option 4 ID : 6306802752370

Status : Answered

Chosen Option : 4

Adda247

# Test Prime

**ALL EXAMS, ONE SUBSCRIPTION**



**1,00,000+**  
Mock Tests



**Personalised  
Report Card**



**Unlimited  
Re-Attempt**



**600+**  
Exam Covered



**25,000+** Previous  
Year Papers



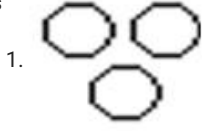
**500%**  
Refund



**ATTEMPT FREE MOCK NOW**

Q.3 નીચેનામાંથી કઈ વેન આકૃતિ શાકભાજી, પંખો અને ઘર વચ્ચેનો શ્રેષ્ઠ સંબંધ દર્શાવે છે?

Options



Question ID : 630680702568

Option 1 ID : 6306802752165

Option 2 ID : 6306802752168

Option 3 ID : 6306802752166

Option 4 ID : 6306802752167

Status : Answered

Chosen Option : 4

**Q.4** આપેલા વિધાન(વિધાનો) અને તારણોને કાળજીપૂર્વક વાંચો. ધારી વઠએ કે વિધાનોમાં આપવામાં આવેલી માહિતી સાચી છે, ભલે તે સામાન્ય રીતે જાણીતી હકીકતોથી ભિન્ન હોય તેવું લાગતું હોય, તો નક્કી કરો કે વિધાન(વિધાનો)માંથી આપેલા તારણો પૈકી કયું તારણ તાર્કિક રીતે અનુસરે છે.

વિધાનો:

બધા પિસ્તા એ બદામ છે.

બધા બદામ એ અંજીર છે.

તારણો

1. બધા પિસ્તા એ અંજીર છે.

2. કેટલાક અંજીર એ પિસ્તા છે.

**Options** 1. માત્ર તારણ 2 અનુસરે છે.

2. ન તો તારણ 1 કે ન તો તારણ 2 અનુસરે છે.

3. તારણ 1 અને તારણ 2 બંને અનુસરે છે.

4. માત્ર તારણ 1 અનુસરે છે.

Question ID : 630680702571

Option 1 ID : 6306802752178

Option 2 ID : 6306802752180

Option 3 ID : 6306802752179

Option 4 ID : 6306802752177

Status : Answered

Chosen Option : 4

**Q.5** નીચેનામાંથી કઈ જોડી પછીથી આવતી અવિભાજ્ય સંખ્યા વડે ગુણેલી સંખ્યાની પદ્ધતિના આધારે નીચે આપેલી પ્રસ્તુતિને સમાન છે?

10 : 110

**Options** 1. 2 : 6

2. 8 : 28

3. 9 : 120

4. 3 : 12

Question ID : 630680702639

Option 1 ID : 6306802752450

Option 2 ID : 6306802752452

Option 3 ID : 6306802752449

Option 4 ID : 6306802752451

Status : Answered

Chosen Option : 4

- Q.6 નીચેના પ્રશ્નમાં 'પ્રશ્ન' અને તેની નીચે 1 અને 2 નંબરમાં દર્શાવેલા બે વિધાનોનો સમાવેશ થાય છે. ઉમેદવારોએ એ નક્કી કરવાનું છે કે વિધાનોમાં આપવામાં આવેલી માહિતી પ્રશ્નનો જવાબ આપવા માટે પર્યાપ્ત છે કે કેમ.  
પ્રશ્ન: સાંકેતિક ભાષામાં 'Can' કેવી રીતે લખાય છે?  
વિધાનો:  
1. 'Should do that' ને 're ga ma' તરીકે લખેલું છે.  
2. 'That should do' ને 'ga sa re' તરીકે લખેલું છે.

- Options
1. વિધાન 2 એકલું પર્યાપ્ત છે જ્યારે વિધાન 1 એકલું પર્યાપ્ત નથી
  2. વિધાન 1 એકલું પર્યાપ્ત છે જ્યારે વિધાન 2 એકલું પર્યાપ્ત નથી
  3. ન તો વિધાન 1 કે ન તો વિધાન 2 પર્યાપ્ત છે
  4. વિધાન 1 અને વિધાન 2 બંને પર્યાપ્ત છે

Question ID : 630680702372  
Option 1 ID : 6306802751382  
Option 2 ID : 6306802751381  
Option 3 ID : 6306802751384  
Option 4 ID : 6306802751383  
Status : Not Answered  
Chosen Option : --

- Q.7 નીચેના પ્રશ્નમાં 'પ્રશ્ન' અને તેની નીચે 1 અને 2 નંબરમાં દર્શાવેલા બે વિધાનોનો સમાવેશ થાય છે. ઉમેદવારોએ એ નક્કી કરવાનું છે કે વિધાનોમાં આપવામાં આવેલી માહિતી પ્રશ્નનો જવાબ આપવા માટે પર્યાપ્ત છે કે કેમ.  
પ્રશ્ન: ઓક્ટોબરની કઈ તારીખે સીમાના પિતાનો જન્મદિવસ હતો?  
વિધાનો:  
1. સીમાની બહેનને યાદ છે કે તેની માતાનો જન્મદિવસ 6ઠ્ઠી પછી છે પણ 13 ઓક્ટોબર પહેલા છે.  
2. સીમાને યાદ છે કે તેના ભાઈનો જન્મદિવસ 4 થી પછી છે પરંતુ 11 ઓક્ટોબર પહેલા છે.

- Options
1. ન તો વિધાન 1 કે ન તો વિધાન 2 પર્યાપ્ત છે
  2. વિધાન 1 અને વિધાન 2 બંને પર્યાપ્ત છે
  3. વિધાન 1 એકલું પર્યાપ્ત છે જ્યારે વિધાન 2 એકલું પર્યાપ્ત નથી
  4. વિધાન 2 એકલું પર્યાપ્ત છે જ્યારે વિધાન 1 એકલું પર્યાપ્ત નથી

Question ID : 630680702433  
Option 1 ID : 6306802751625  
Option 2 ID : 6306802751627  
Option 3 ID : 6306802751628  
Option 4 ID : 6306802751626  
Status : Not Answered  
Chosen Option : --

Q.8 નીચેનું કોષ્ટક એક પરીક્ષામાં આઠ વિદ્યાર્થીઓએ છ જુદા જુદા વિષયોમાં મેળવેલા ગુણની ટકાવારી આપે છે.

The Numbers in the Brackets give the Maximum Marks in Each Subject

Student	Subject (Max. Marks)					
	Business (100)	Finance (100)	Maths (100)	Psychology (100)	Sociology (100)	Hindi (100)
Rashi	45	99	39	88	35	74
Umang	70	49	89	49	88	86
Yogita	99	80	60	65	50	90
Manav	65	80	76	38	96	99
Nilam	80	78	99	45	49	83
Priyam	73	32	57	71	75	89
Riya	95	95	40	87	99	94
Tarun	99	88	79	89	69	49

ઉપરોક્ત કોષ્ટકના આધારે, તમામ છ વિષયોમાં એકસાથે ટકાવારીની

દ્રષ્ટિએ (આશરે) રાશિએ મેળવેલા કુલ ગુણ કેટલા છે?

(સંદર્ભ: Subject (Max. Marks)- વિષય (મહત્તમ ગુણ), Student- વિદ્યાર્થી, Business- બિઝનેસ, Finance- ફાઇનાન્સ, Maths- ગણિત, Psychology- મનોવિજ્ઞાન, Sociology- સમાજશાસ્ત્ર, Hindi- હિન્દી, Rashi- રાશિ, Umang- ઉમંગ, Yogita- યોગિતા, Manav- માનવ, Nilam- નીલમ, Priyam- પ્રિયમ, Riya- રીયા, Tarun- તરુણ)

- Options
1. 64.33 %
  2. 63.33 %
  3. 62.33 %
  4. 61.33 %

Question ID : 630680702361

Option 1 ID : 6306802751340

Option 2 ID : 6306802751339

Option 3 ID : 6306802751338

Option 4 ID : 6306802751337

Status : Not Answered

Chosen Option : --

Q.9 સંખ્યાઓના માત્ર વર્ગો અને બાદબાકીના આધારે, નીચેનામાંથી કઈ જોડી નીચે આપેલી પ્રસ્તુતિને સમાન છે?

8 : 59

- Options
1. 9 : 76
  2. 7 : 56
  3. 6 : 42
  4. 10 : 110

Question ID : 630680702515

Option 1 ID : 6306802751955

Option 2 ID : 6306802751954

Option 3 ID : 6306802751953

Option 4 ID : 6306802751956

Status : Answered

Chosen Option : 1

**Q.10** માત્ર આગળ આવતી અભિભાજ્ય સંખ્યાને ઉમેરીને નીચે આપેલી શ્રેણીને તાર્કિક રીતે પૂર્ણ કરવા માટે પ્રશ્ન ચિહ્ન (?)ની જગ્યાએ શું આવશે?

17, 36, 73, 152, ?

- Options**
1. 287
  2. 399
  3. 309
  4. 321

Question ID : 630680702311

Option 1 ID : 6306802751140

Option 2 ID : 6306802751139

Option 3 ID : 6306802751137

Option 4 ID : 6306802751138

Status : Answered

Chosen Option : 3

**Q.11** નીચેનું કોષ્ટક ગરીબી રેખાના આધારે અને લિંગના આધારે પાંચ રાજ્યો A, B, C, D અને E ની વસ્તીની ટકાવારીનું વિતરણ આપે છે

રાજ્ય	ગરીબી રેખા નીચેની વસ્તીની ટકાવારી	પુરુષ(M) અને સ્ત્રીઓ(F) નું પ્રમાણ	
		ગરીબી રેખાની નીચે	ગરીબી રેખાથી ઉપર
		M : F	M : F
A	45	5 : 6	6 : 7
B	55	3 : 5	4 : 5
C	34	1 : 2	2 : 3
D	15	3 : 2	4 : 3
E	10	5 : 3	3 : 2

ઉપર આપેલા કોષ્ટકના આધારે, કયા રાજ્યમાં ગરીબી રેખા નીચેની વસ્તીની ટકાવારી સૌથી વધુ છે?

- Options**
1. D
  2. A
  3. B
  4. C

Question ID : 630680702601

Option 1 ID : 6306802752300

Option 2 ID : 6306802752297

Option 3 ID : 6306802752299

Option 4 ID : 6306802752298

Status : Answered

Chosen Option : 3

**Q.12** નીચેનામાંથી કઈ જોડી ફક્ત પછીની અવિભાજ્ય સંખ્યા વડે ગુણેલી સંખ્યાની પદ્ધતિના આધારે નીચે આપેલ પ્રસ્તુતિને સમાન છે?  
9 : 99

- Options**
1. 16 : 275
  2. 12 : 186
  3. 19 : 399
  4. 17 : 323

Question ID : 630680702439  
Option 1 ID : 6306802751650  
Option 2 ID : 6306802751649  
Option 3 ID : 6306802751651  
Option 4 ID : 6306802751652  
Status : Not Answered  
Chosen Option : --

**Q.13** માત્ર સંખ્યા પદ્ધતિના વર્ગ અને બાદબાકી જે પણ લાગુ પડે તેના આધારે, નીચેનામાંથી કઈ જોડી નીચે આપેલી પ્રસ્તુતિને સમાન છે?  
7 : 42

- Options**
1. 8 : 57
  2. 9 : 72
  3. 5 : 25
  4. 7 : 60

Question ID : 630680702595  
Option 1 ID : 6306802752275  
Option 2 ID : 6306802752276  
Option 3 ID : 6306802752273  
Option 4 ID : 6306802752274  
Status : Answered  
Chosen Option : 1

**Q.14** માત્ર બાદબાકીની પદ્ધતિનો ઉપયોગ કરીને નીચે આપેલી શ્રેણીને તાર્કિક રીતે પૂર્ણ કરવા માટે પ્રશ્ન ચિહ્ન (?)ની જગ્યાએ શું આવશે?  
41, 34, 27, 20, 13, ?

- Options**
1. 7
  2. 8
  3. 5
  4. 6

Question ID : 630680702592  
Option 1 ID : 6306802752263  
Option 2 ID : 6306802752264  
Option 3 ID : 6306802752261  
Option 4 ID : 6306802752262  
Status : Answered  
Chosen Option : 4

Q.15 જો 'A' નો અર્થ 'ગુણાકાર', 'B' નો અર્થ 'સરવાળો', 'C' નો અર્થ 'બાદબાકી' અને 'D' નો અર્થ "ભાગાકાર" એવો થતો હોય, તો નીચેની પદાવલિનું મૂલ્ય શું હશે?

$$5A5C10B10D2 = ?$$

- Options
1. 32
  2. 25
  3. 30
  4. 40

Question ID : 630680702588

Option 1 ID : 6306802752248

Option 2 ID : 6306802752247

Option 3 ID : 6306802752245





Option 4 ID : 6306802752246

Status : Answered

Chosen Option : 2

Q.16 નીચેનામાંથી કઈ વેન આકૃતિ સિંહ, આકાશ અને ભીંડા વચ્ચેનો શ્રેષ્ઠ સંબંધ દર્શાવે છે?

Options

1. 
2. 
3. 
4. 

Question ID : 630680702649

Option 1 ID : 6306802752489

Option 2 ID : 6306802752490

Option 3 ID : 6306802752491

Option 4 ID : 6306802752492

Status : Answered

Chosen Option : 3

Q.17 નીચેનામાંથી કયો વિકલ્પ નીચે આપેલી આકૃતિ (X) માં પ્રશ્ન ચિહ્નના સ્થાને આવશે? (રોટેશનની મંજૂરી નથી).



X.



1.



2.



3.



4.

- Options
1. 2
  2. 1
  3. 3
  4. 4

Question ID : 630680702336

Option 1 ID : 6306802751238

Option 2 ID : 6306802751237

Option 3 ID : 6306802751239

Option 4 ID : 6306802751240

Status : Answered

Chosen Option : 1

Q.18 E ના સગા ભાઈના પિતાની પત્નીનો E સાથે શું સંબંધ છે? (E પુરુષ છે)

- Options
1. દીકરી
  2. સાસુ
  3. પુત્ર
  4. માતા

Question ID : 630680702647

Option 1 ID : 6306802752482

Option 2 ID : 6306802752484

Option 3 ID : 6306802752481

Option 4 ID : 6306802752483

Status : Answered

Chosen Option : 4

Q.19 નીચેનામાંથી કઈ જોડી ફક્ત વિભાજન પદ્ધતિના આધારે નીચે આપેલ પદાવલીને સમાન છે?

31 : 933

- Options
1. 22 : 462
  2. 12 : 262
  3. 44 : 862
  4. 13 : 917

Question ID : 630680702480

Option 1 ID : 6306802751813

Option 2 ID : 6306802751814

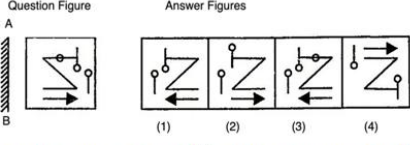
Option 3 ID : 6306802751815

Option 4 ID : 6306802751816

Status : Not Answered

Chosen Option : --

Q.20 અરીસાને AB રેખા પર લંબ રીતે રાખવામાં આવે છે ત્યારે નીચેનામાંથી કઈ જવાબી આકૃતિ પ્રશ્ન આકૃતિનું અરીસાનું પ્રતિબિંબ હશે?



(Question Figure- પ્રશ્ન આકૃતિ, Answer Figure- જવાબી આકૃતિ)

- Options
1. 1
  2. 3
  3. 2
  4. 4

Question ID : 630680702663  
 Option 1 ID : 6306802752545  
 Option 2 ID : 6306802752547  
 Option 3 ID : 6306802752546  
 Option 4 ID : 6306802752548  
 Status : Answered  
 Chosen Option : 1

Q.21 નીચેના કોષ્ટકનો અભ્યાસ કરો અને પ્રશ્નોના જવાબ આપો.  
 એક પરીક્ષામાં ભાષા અને સંસ્કૃતિના પેપરમાં મળેલા ગુણના આધારે 100 વિદ્યાર્થીઓનું વર્ગીકરણ

વિષય	100 માંથી મળેલા ગુણ				
	70 અને તેથી વધુ	60 અને તેથી વધુ	50 અને તેથી વધુ	40 અને તેથી વધુ	30 અને તેથી વધુ
ભાષા	9	32	80	92	0
સંસ્કૃતિ	4	21	66	81	0
સરેરાશ (એકંદર)	7	27	73	87	0

ઉપરોક્ત કોષ્ટકના આધારે, કેટલા વિદ્યાર્થીઓએ ભાષાના પેપરમાં 40 અને તેથી વધુ ગુણ મેળવ્યા છે?

- Options
1. 87
  2. 92
  3. 81
  4. 73

Question ID : 630680702524  
 Option 1 ID : 6306802751991  
 Option 2 ID : 6306802751989  
 Option 3 ID : 6306802751990  
 Option 4 ID : 6306802751992  
 Status : Answered  
 Chosen Option : 2

Q.22 જો P = '+', Q = '-', R = 'x' અને S = '+' હોય, તો નીચેની પદાવલિનું મૂલ્ય શું થશે?

9 R 6 Q 3 P 18 S 3

- Options
1. 52
  2. 57
  3. 44
  4. 46

Question ID : 630680702626

Option 1 ID : 6306802752399

Option 2 ID : 6306802752400

Option 3 ID : 6306802752397

Option 4 ID : 6306802752398

Status : Not Answered

Chosen Option : --

Q.23 અરબિંદ(પુરુષ)ના પિતાના પિતાના એકમાત્ર પુત્રનો અરબિંદ સાથે કયો સંબંધ છે?

- Options
1. દાદા
  2. ભાઈ
  3. પુત્ર
  4. પિતા

Question ID : 630680702405

Option 1 ID : 6306802751514

Option 2 ID : 6306802751513

Option 3 ID : 6306802751515

Option 4 ID : 6306802751516

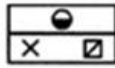
Status : Answered

Chosen Option : 1

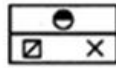
Q.24 નીચે આપેલા 4 વિકલ્પોમાંથી કયો વિકલ્પ મૂળ છબી X નું જળ પ્રતિબિંબ હશે?



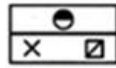
(x)



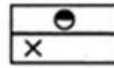
(1)



(2)



(3)



(4)

- Options
1. 2
  2. 4
  3. 3
  4. 1

Question ID : 630680702341

Option 1 ID : 6306802751258

Option 2 ID : 6306802751260

Option 3 ID : 6306802751259

Option 4 ID : 6306802751257

Status : Answered

Chosen Option : 3

Q.25 એક તસવીર તરફ ઇશારો કરીને રાખી (સ્રી) કહે છે કે તસવીરમાં દેખાતી મહિલા તેના પિતાની બહેનની માતા છે. તસવીરમાં દેખાતી મહિલાનો રાખી સાથે શું સંબંધ છે?

- Options
1. મામાની પૌત્રી
  2. નાની
  3. દાદી
  4. માતા

Question ID : 630680702326

Option 1 ID : 6306802751200

Option 2 ID : 6306802751198

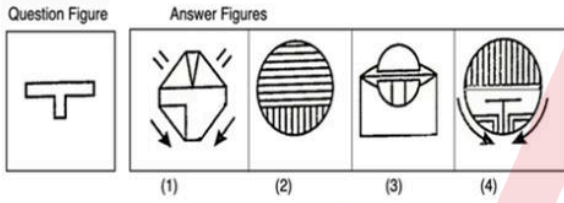
Option 3 ID : 6306802751199

Option 4 ID : 6306802751197

Status : Answered

Chosen Option : 3

Q.26 નીચે આપેલી જવાબ આકૃતિઓમાંથી, કઈ પ્રશ્ન આકૃતિ છુપાયેલી/જડેલી હશે. (રોટેશનની મંજૂરી નથી)



(સંદર્ભ- Question Figure- પ્રશ્ન આકૃતિ, Answer Figure- જવાબી આકૃતિ)

- Options
1. 2
  2. 1
  3. 3
  - 4.

જવાબ આકૃતિઓમાંથી કોઈપણ પ્રશ્ન આકૃતિ છુપાયેલી/જડેલી હશે નહીં

Question ID : 630680702459

Option 1 ID : 6306802751730

Option 2 ID : 6306802751729

Option 3 ID : 6306802751731

Option 4 ID : 6306802751732

Status : Answered

Chosen Option : 4

Q.27 જો 'A' નો અર્થ 'ગુણાકાર', 'B' નો અર્થ 'વત્તા', 'C' નો અર્થ 'બાદબાકી' અને 'D' નો અર્થ "ભાગ્યા" હોય, તો નીચેની પ્રસ્તુતિનું મૂલ્ય શું હશે?  
8 A 5 C 6 B 22 D 2 = ?

- Options
1. 41
  2. 39
  3. 45
  4. 40

Question ID : 630680702428  
Option 1 ID : 6306802751606  
Option 2 ID : 6306802751608  
Option 3 ID : 6306802751607  
Option 4 ID : 6306802751605  
Status : **Not Attempted and Marked For Review**  
Chosen Option : --

Q.28 રીટા શશી કરતા મોટી છે. પુનીતા શશી કરતા નાની છે જ્યારે દિયા રીટા કરતા મોટી છે. તેમની વચ્ચે સૌથી મોટું કોણ છે?

- Options
1. શશી
  2. પુનીતા
  3. દિયા
  4. રીટા

Question ID : 630680702414  
Option 1 ID : 6306802751551  
Option 2 ID : 6306802751552  
Option 3 ID : 6306802751550  
Option 4 ID : 6306802751549  
Status : **Answered**  
Chosen Option : 3

Q.29 ફક્ત ગુણાકાર અને બાદબાકીની પ્રક્રિયાનો ઉપયોગ કરીને નીચે આપેલ શ્રેણીને તાર્કિક રીતે પૂર્ણ કરવા માટે પ્રશ્ન ચિહ્ન (?) ના સ્થાને શું આવશે?

9, 18, 13, 26, 21, ??

- Options
1. 42, 37
  2. 35, 40
  3. 40, 35
  4. 37, 42

Question ID : 630680702590  
Option 1 ID : 6306802752255  
Option 2 ID : 6306802752253  
Option 3 ID : 6306802752254  
Option 4 ID : 6306802752256  
Status : **Answered**  
Chosen Option : 1

Q.30 નીચેનું કોષ્ટક ગરીબી રેખાના આધારે અને લિંગના આધારે પાંચ રાજ્યો A, B, C, D અને E ની વસ્તીની ટકાવારીનું વિતરણ આપે છે.

રાજ્ય	ગરીબી રેખા નીચેની વસ્તીની ટકાવારી	પુરુષ(M) અને સ્ત્રીઓ(F) નું પ્રમાણ	
		ગરીબી રેખાની નીચે	ગરીબી રેખાથી ઉપર
		M : F	M : F
A	45	5 : 6	6 : 7
B	55	3 : 5	4 : 5
C	34	1 : 2	2 : 3
D	15	3 : 2	4 : 3
E	10	5 : 3	3 : 2

ઉપર આપેલ કોષ્ટકના આધારે, રાજ્ય C ની ગરીબી રેખા નીચે જીવતી વસ્તીમાં સ્ત્રી અને પુરુષનો ગુણોત્તર કેટલો છે?

- Options
- 3:5
  - 3:2
  - 2:3
  - 5:6

Question ID : 630680702602  
Option 1 ID : 6306802752301  
Option 2 ID : 6306802752304  
Option 3 ID : 6306802752303  
Option 4 ID : 6306802752302

Status : Answered

Chosen Option : 3

Q.31 કવિતા એ નીલા કરતા મોટી છે. મીરા એ નીલા કરતા મોટી છે પણ કવિતા કરતા નાની છે. ઇતિ એ નીલા અને હરિ બંને કરતાં નાની છે, પણ હરિ એ નીલા કરતાં નાની છે. તેમની વચ્ચે સૌથી મોટું કોણ છે?

- Options
- નીલા
  - હરી
  - કવિતા
  - મીરા

Question ID : 630680702454  
Option 1 ID : 6306802751710  
Option 2 ID : 6306802751712  
Option 3 ID : 6306802751709  
Option 4 ID : 6306802751711

Status : Answered

Chosen Option : 3

**Q.32** નીચેના પ્રશ્નમાં 'પ્રશ્ન' અને તેની નીચે આપેલા 1 અને 2 એમ બે વિધાનોનો સમાવેશ થાય છે. ઉમેદવારોએ નક્કી કરવાનું છે કે શું વિધાનોમાં આપવામાં આવેલ માહિતી પ્રશ્નનો જવાબ આપવા માટે પૂરતી છે કે કેમ

પ્રશ્ન: જુલાઈની કઈ તારીખે રવિનો જન્મદિવસ હતો?

વિધાનો:

1. રવિના ભાઈને યાદ છે કે તેના પિતાનો જન્મદિવસ 4 થી પછીનો છે પરંતુ 9 જુલાઈ પહેલાનો છે.
2. રવિના મિત્રોને યાદ છે કે રવિની બહેનનો જન્મદિવસ 1વી પછીનો પણ 6ઠ્ઠી જુલાઈ પહેલાનો છે.

Options

1. 1 અને 2 બંને વિધાન પર્યાપ્ત છે
2. માત્ર વિધાન 1 પૂરતું છે જ્યારે વિધાન 2 એકલું પૂરતું નથી
3. ન તો વિધાન 1 કે ન તો વિધાન 2 પર્યાપ્ત છે
4. માત્ર વિધાન 2 પૂરતું છે જ્યારે વિધાન 1 એકલું પૂરતું નથી

Question ID : 630680702473  
 Option 1 ID : 6306802751787  
 Option 2 ID : 6306802751785  
 Option 3 ID : 6306802751788  
 Option 4 ID : 6306802751786  
 Status : Answered  
 Chosen Option : 3

**Q.33** જો '\$' નો અર્થ '-', '\*' નો અર્થ '+', '@' નો અર્થ '+', '#' નો અર્થ 'x' થાય, તો નીચેની પદાવલિનું મૂલ્ય શું હશે?

$$4 \# 6 + 42 @ 2 \$ 9 = ?$$

Options

1. 36
2. 38
3. 40
4. 34

Question ID : 630680702545  
 Option 1 ID : 6306802752074  
 Option 2 ID : 6306802752075  
 Option 3 ID : 6306802752076  
 Option 4 ID : 6306802752073  
 Status : Not Attempted and  
 Marked For Review  
 Chosen Option : --

Q.34 ફક્ત સરવાળા અને બાદબાકીની પ્રક્રિયાઓનો ઉપયોગ કરીને નીચે આપેલ શ્રેણીને તાર્કિક રીતે પૂર્ણ કરવા માટે પ્રશ્ન ચિહ્ન (?) ની જગ્યાએ શું આવશે?

8, 3, 14, 9, 20, ??

- Options
1. 19, 26
  2. 26, 15
  3. 15, 26
  4. 26, 19

Question ID : 630680702469

Option 1 ID : 6306802751772

Option 2 ID : 6306802751770

Option 3 ID : 6306802751769

Option 4 ID : 6306802751771

Status : Answered

Chosen Option : 3

Q.35 નીચેનામાંથી કઈ જોડી નીચે આપેલી પ્રસ્તુતિને સમાન છે?

2719 : 9172

- Options
1. 1298 : 2891
  2. 3681 : 1386
  3. 4316 : 6314
  4. 5376 : 6735

Question ID : 630680702316

Option 1 ID : 6306802751159

Option 2 ID : 6306802751157

Option 3 ID : 6306802751160

Option 4 ID : 6306802751158

Status : Answered

Chosen Option : 4

Q.36 નીચેના પ્રશ્નમાં 'પ્રશ્ન' અને તેની નીચે 1 અને 2 નંબરમાં દર્શાવેલા બે વિધાનોનો સમાવેશ થાય છે. ઉમેદવારોએ એ નક્કી કરવાનું છે કે વિધાનોમાં આપવામાં આવેલી માહિતી પ્રશ્નનો જવાબ આપવા માટે પર્યાપ્ત છે કે કેમ.

પ્રશ્ન: સાંકેતિક ભાષામાં 'And' કેવી રીતે લખાય છે?

વિધાનો:

1. 'Green and Blue' ને '# @ 7' તરીકે લખાય છે.
2. 'Pink and Indigo' ને '# \$ 8' તરીકે લખાય છે.

Options 1. ન તો વિધાન 1 કે ન તો વિધાન 2 પર્યાપ્ત છે.

2.

વિધાન 2 એકલું પર્યાપ્ત છે જ્યારે વિધાન 1 એકલું પર્યાપ્ત નથી.

3. વિધાન 1 અને વિધાન 2 બંને પર્યાપ્ત છે.

4.

વિધાન 1 એકલું પર્યાપ્ત છે જ્યારે વિધાન 2 એકલું પર્યાપ્ત નથી.

Question ID : 630680702492

Option 1 ID : 6306802751864

Option 2 ID : 6306802751862

Option 3 ID : 6306802751863

Option 4 ID : 6306802751861

Status : **Not Attempted and  
Marked For Review**

Chosen Option : --

Q.37 જો P = '+', Q = '-', R = 'x' અને S = '÷' હોય, તો નીચેની પ્રસ્તુતિનું મૂલ્ય શું હશે?

6 R 3 Q 8 P 12 S 2

Options 1. 14

2. 16

3. 17

4. 15

Question ID : 630680702466

Option 1 ID : 6306802751757

Option 2 ID : 6306802751759

Option 3 ID : 6306802751760

Option 4 ID : 6306802751758

Status : **Not Attempted and  
Marked For Review**

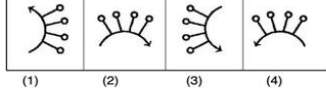
Chosen Option : --

**Q.38** નીચેનામાંથી કઈ જવાબ આકૃતિ પ્રશ્ન આકૃતિની અરીસાની છબી હશે, જ્યારે અરીસાને AB રેખા પર આડી રીતે રાખવામાં આવે છે?

Question Figure



Answer Figures



(સંદર્ભ- Question Figure- પ્રશ્ન આકૃતિ, Answer Figure- જવાબી આકૃતિ)

- Options
1. 2
  2. 3
  3. 4
  4. 1

Question ID : 630680702462

Option 1 ID : 6306802751742

Option 2 ID : 6306802751743

Option 3 ID : 6306802751744

Option 4 ID : 6306802751741

Status : Answered

Chosen Option : 3

**Q.39** નીચેનામાંથી કઈ વેન આકૃતિ ઇટાલી, યુરોપ અને વિશ્વ વચ્ચે શ્રેષ્ઠ સંબંધ દર્શાવે છે?

Options

- 1.
- 2.
- 3.
- 4.

Question ID : 630680702410

Option 1 ID : 6306802751536

Option 2 ID : 6306802751535

Option 3 ID : 6306802751533

Option 4 ID : 6306802751534

Status : Answered

Chosen Option : 4

Q.40 નીચેનામાંથી કયો વિકલ્પ નીચે આપેલી આકૃતિ (X) માં પ્રશ્ન ચિહ્નના સ્થાને આવશે? (રોટેશનની મંજૂરી નથી).



X.



1.



2.



3.



4.

Ctrl

Options 1. 4

2. 2

3. 3

4. 1

Question ID : 630680702377

Option 1 ID : 6306802751404

Option 2 ID : 6306802751402

Option 3 ID : 6306802751403

Option 4 ID : 6306802751401

Status : Answered

Chosen Option : 3

Section : Quantitative Aptitude

Q.41 "5677#3" માં # ની જગ્યાએ સૌથી નાનો અંક કયો આવવો જોઈએ જેથી કરીને આ સંખ્યાને 3 વડે ભાગી શકાય?

Options 1. 2

2. 1

3. 0

4. 4

Question ID : 630680699413

Option 1 ID : 6306802739679

Option 2 ID : 6306802739678

Option 3 ID : 6306802739677

Option 4 ID : 6306802739680

Status : Answered

Chosen Option : 1

Q.42 રસોઈના તેલના ભાવમાં 35% જેટલો વધારો થયો છે. કોઈ પરિવારે રસોઈના તેલના વપરાશમાં કેટલા ટકા ઘટાડો કરવો જોઈએ કે જેથી આના કારણે તેમના ખર્ચમાં કોઈ વધારો ન થાય?

Options 1. 30%

2. 36.5%

3. 25.9%

4. 20%

Question ID : 630680699298

Option 1 ID : 6306802739220

Option 2 ID : 6306802739219

Option 3 ID : 6306802739217

Option 4 ID : 6306802739218

Status : Not Answered

Chosen Option : --

Q.43 એક પુરુષ 25 દિવસમાં અને એક સ્ત્રી 18 દિવસમાં એક કામ કરી શકે છે. જો તેઓ તેના પર 10 દિવસ માટે એકસાથે કામ કરે, તો કેટલા ભાગનું કામ બાકી છે તે શોધો?

- Options
1. 2/45
  2. 3/28
  3. 4/63
  4. 2/39

Question ID : 630680699486  
 Option 1 ID : 6306802739971  
 Option 2 ID : 6306802739970  
 Option 3 ID : 6306802739972  
 Option 4 ID : 6306802739969  
 Status : Not Answered  
 Chosen Option : --

Q.44 જો  $A*B$  એ  $A^2+B^2$  સૂચવે છે. તો  $4*(3*5)$  નું મૂલ્ય શું છે?

- Options
1. 1156
  2. 1172
  3. 1323
  4. 1245

Question ID : 630680699472  
 Option 1 ID : 6306802739913  
 Option 2 ID : 6306802739914  
 Option 3 ID : 6306802739916  
 Option 4 ID : 6306802739915  
 Status : Not Answered  
 Chosen Option : --

Q.45  $(625 \times 625 + 356 \times 356) / (625 \times 625 - 625 \times 356 + 356 \times 356)$  નું મૂલ્ય શોધો.

- Options
1. 1025
  2. 756
  3. 788
  4. 981

Question ID : 630680699402  
 Option 1 ID : 6306802739636  
 Option 2 ID : 6306802739633  
 Option 3 ID : 6306802739634  
 Option 4 ID : 6306802739635  
 Status : Answered  
 Chosen Option : 4

Q.46 જો બે સંખ્યાઓનો ગુણાકાર અને ગુ.સા.અ અનુક્રમે 4144 અને 37 છે, તો લ.સા.અ(LCM) શોધો.

- Options
1. 124
  2. 115
  3. 146
  4. 112

Question ID : 630680699291  
 Option 1 ID : 6306802739191  
 Option 2 ID : 6306802739190  
 Option 3 ID : 6306802739192  
 Option 4 ID : 6306802739189  
 Status : Answered  
 Chosen Option : 4

Q.47 A અને B એકસાથે મળીને 21 દિવસમાં કાર્ય પૂર્ણ કરી શકે છે. તેઓએ 14 દિવસ સુધી એકસાથે કામ કર્યું અને પછી B ચાલ્યો જાય છે. બીજા 21 દિવસ પછી, A એ બાકીનું કામ પૂરું કર્યું છે. તો A એકલા \_\_\_\_\_ દિવસમાં કામ પૂરું કરી શકે છે?

- Options
1. 63 દિવસ
  2. 67 દિવસ
  3. 56 દિવસ
  4. 60 દિવસ

Question ID : 630680699337  
 Option 1 ID : 6306802739375  
 Option 2 ID : 6306802739376  
 Option 3 ID : 6306802739373  
 Option 4 ID : 6306802739374  
 Status : Not Attempted and Marked For Review  
 Chosen Option : --

Q.48 16.30 લિટરના 82% શોધો.

- Options
1. 10.335 લિટર
  2. 13.366 લિટર
  3. 15.252 લિટર
  4. 20.125 લિટર

Question ID : 630680699356  
 Option 1 ID : 6306802739452  
 Option 2 ID : 6306802739451  
 Option 3 ID : 6306802739450  
 Option 4 ID : 6306802739449  
 Status : Not Answered  
 Chosen Option : --

Q.49 એક વસ્તુની ચિહ્નિત કિંમત ₹ 720 હતી પરંતુ દુકાનદારે 5% નું ડિસ્કાઉન્ટ આપ્યું. તો આખરે કઈ કિંમતે વસ્તુ વેચી હશે?

- Options
1. ₹ 684
  2. ₹ 700
  3. ₹ 585
  4. ₹ 632

Question ID : 630680699422  
 Option 1 ID : 6306802739716  
 Option 2 ID : 6306802739713  
 Option 3 ID : 6306802739715  
 Option 4 ID : 6306802739714  
 Status : Answered  
 Chosen Option : 2

Q.50 જેને 14, 15 અને 18 વડે નિઃશેષ ભાગી શકાય એવી નાનામાં નાની સંખ્યા શોધો.

- Options
1. 670
  2. 720
  3. 580
  4. 630

Question ID : 630680699504  
 Option 1 ID : 6306802740043  
 Option 2 ID : 6306802740044  
 Option 3 ID : 6306802740042  
 Option 4 ID : 6306802740041  
 Status : Answered  
 Chosen Option : 4

Q.51 2 : 5 ના દરેક પદમાં કેટલા ઉમેરવા જોઈએ કે જેથી તે 3 : 4 બને?

- Options
1. 16
  2. 5
  3. 12
  4. 7

Question ID : 630680699514  
 Option 1 ID : 6306802740084  
 Option 2 ID : 6306802740081  
 Option 3 ID : 6306802740083  
 Option 4 ID : 6306802740082  
 Status : Not Answered  
 Chosen Option : --

Q.52 એક હોડી પ્રવાહની વિરુદ્ધ દિશા તરફ બિંદુ P થી Q સુધી 4 કલાક સુધી મુસાફરી કરે છે અને પાછા ફરતી વખતે પ્રવાહની દિશામાં બિંદુ Q થી R સુધી આગામી 4 કલાક સુધી મુસાફરી કરે છે, જો બિંદુ P અને R વચ્ચેનું અંતર 84 km હોય, તો સ્થિર પાણીમાં હોડીની ઝડપ કેટલી હશે?

- Options
1. 20 km/hr
  2. 10.5 km/hr
  3. 18.5 km/hr
  4. 12.2 km/hr

Question ID : 630680699488

Option 1 ID : 6306802739979

Option 2 ID : 6306802739977

Option 3 ID : 6306802739980

Option 4 ID : 6306802739978

Status : Not Answered

Chosen Option : --

Q.53 દરેકને ₹ 5400 માં એમ બે સાયકલો વેચવામાં આવી હતી, જેમાં એકમાં 5%નો નફો થયો હતો અને બીજી પર 5% નું નુકસાન થયું હતું. આખા સોદામાં નફો અથવા નુકસાનની ટકાવારી \_\_\_\_\_ છે.

- Options
1. 27% નફો
  2. 0.35% નફો
  3. 0.25% નુકસાન
  4. 25% નુકસાન

Question ID : 630680699389

Option 1 ID : 6306802739581

Option 2 ID : 6306802739583

Option 3 ID : 6306802739584

Option 4 ID : 6306802739582

Status : Not Answered

Chosen Option : --

Q.54 એક પુસ્તકાલયમાં, વાર્તાના પુસ્તકોની સંખ્યા અને વાર્તા સિવાયના પુસ્તકોની સંખ્યાનો ગુણોત્તર 5:4 હતો અને વાર્તાના પુસ્તકોની કુલ સંખ્યા 1200 હતી. જ્યારે થોડાક વધુ વાર્તાઓના પુસ્તકો ખરીદવામાં આવ્યા હતા, ત્યારે ગુણોત્તર 3:2 થયો હતો. ખરીદેલા વાર્તાના પુસ્તકોની સંખ્યા શોધો.

- Options
1. 210
  2. 440
  3. 300
  4. 240

Question ID : 630680699395

Option 1 ID : 6306802739605

Option 2 ID : 6306802739607

Option 3 ID : 6306802739606

Option 4 ID : 6306802739608

Status : Not Answered

Chosen Option : --

Q.55 ચક્રીય ચતુષ્કોણ ABCD ના ખૂણાઓ છે:  $A = (4x+30)$ ,  $B=(5x)^\circ$ ,  $C = (x+y)^\circ$  અને  $D=(3y-20)^\circ$ .  
x અને y ના મૂલ્ય \_\_\_\_\_ છે.

- Options
1.  $10^\circ, 15^\circ$
  2.  $20^\circ, 35^\circ$
  3.  $5^\circ, 25^\circ$
  4.  $25^\circ, 25^\circ$

Question ID : 630680699525  
Option 1 ID : 6306802740125  
Option 2 ID : 6306802740128  
Option 3 ID : 6306802740127  
Option 4 ID : 6306802740126  
Status : Not Answered  
Chosen Option : --

Q.56 સમાંતર શ્રેણી (A.P.) 6, 10, 14, 18, ... નું કયું પદ 118 છે?

- Options
1. 33
  2. 32
  3. 29
  4. 28

Question ID : 630680699556  
Option 1 ID : 6306802740252  
Option 2 ID : 6306802740251  
Option 3 ID : 6306802740250  
Option 4 ID : 6306802740249  
Status : Not Answered  
Chosen Option : --

Q.57 એક વસ્તુની ચિહ્નિત કિંમત પર 22% ડિસ્કાઉન્ટ આપ્યા પછી, તે ₹ 1248 માં વેચાય છે. તો તેની ચિહ્નિત કિંમત શોધો.

- Options
1. ₹ 1455
  2. ₹ 1560
  3. ₹ 1600
  4. ₹ 1300

Question ID : 630680699271  
Option 1 ID : 6306802739111  
Option 2 ID : 6306802739110  
Option 3 ID : 6306802739109  
Option 4 ID : 6306802739112  
Status : Answered  
Chosen Option : 3

Q.58 એક રેલવે ટ્રેકની બાજુમાં એક જોગર 10 kmph ની ઝડપે દોડી રહ્યો છે, તે જ દિશામાં 46 kmph ની ઝડપે દોડતી 150 મીટર લાંબી એક ટ્રેનના એન્જિનથી 250 મીટર આગળ છે. તો જોગરને ટ્રેન કેટલા સમયમાં પસાર કરશે?

- Options
1. 32 સેકન્ડ.
  2. 40 સેકન્ડ.
  3. 30 સેકન્ડ.
  4. 35 સેકન્ડ.

Question ID : 630680699281  
 Option 1 ID : 6306802739150  
 Option 2 ID : 6306802739152  
 Option 3 ID : 6306802739149  
 Option 4 ID : 6306802739151  
 Status : Answered  
 Chosen Option : 2

Q.59 એક ટ્રેન 68 km પ્રતિ કલાકની ઝડપથી 1.8 km લાંબી ટનલમાંથી બે મિનિટમાં પસાર થાય છે, તો ટ્રેનની લંબાઈ કેટલી હશે?

- Options
1. 467 m
  2. 305 m
  3. 218 m
  4. 320 m

Question ID : 630680699430  
 Option 1 ID : 6306802739748  
 Option 2 ID : 6306802739747  
 Option 3 ID : 6306802739746  
 Option 4 ID : 6306802739745  
 Status : Not Answered  
 Chosen Option : --

Q.60 એક બેટ્સમેન 5મી ઇનિંગમાં 100 રન બનાવે છે અને સરેરાશ 2 વધે છે. 5મી ઇનિંગ પછી તેની સરેરાશ \_\_\_\_\_ છે.

- Options
1. 92
  2. 85
  3. 82
  4. 87

Question ID : 630680699319  
 Option 1 ID : 6306802739304  
 Option 2 ID : 6306802739302  
 Option 3 ID : 6306802739301  
 Option 4 ID : 6306802739303  
 Status : Not Answered  
 Chosen Option : --

Q.61 5 સંખ્યાઓની સરેરાશ 56 છે. જો પ્રથમ 3 સંખ્યાઓની સરેરાશ 18 છે અને છેલ્લી 3 સંખ્યાઓની સરેરાશ 24 છે, તો મધ્યમ સંખ્યા કેટલી છે?

- Options
1. 172
  2. 167
  3. 154
  4. 178

Question ID : 630680699380  
 Option 1 ID : 6306802739547  
 Option 2 ID : 6306802739546  
 Option 3 ID : 6306802739545  
 Option 4 ID : 6306802739548  
 Status : Answered  
 Chosen Option : 3

Q.62 જ્યારે અંશમાંથી 3 બાદ કરવામાં આવે ત્યારે અપૂર્ણાંક  $1/5$  બને છે અને જ્યારે તેના છેદમાં 5 ઉમેરવામાં આવે ત્યારે તે  $1/4$  બને છે. તો મળેલ અપૂર્ણાંક \_\_\_\_\_ છે.

- Options
1.  $1/5$
  2.  $2/7$
  3.  $1/4$
  4.  $2/5$

Question ID : 630680699284  
 Option 1 ID : 6306802739161  
 Option 2 ID : 6306802739162  
 Option 3 ID : 6306802739163  
 Option 4 ID : 6306802739164  
 Status : Not Answered  
 Chosen Option : --

Q.63 દૂધ અને પાણીના 78 લિટર મિશ્રણમાં, દૂધ અને પાણીનો ગુણોત્તર 2 : 1 છે. નવા મિશ્રણમાં આ ગુણોત્તર 1 : 2 બનાવવા માટે તેમાં કેટલા લિટર પાણી ઉમેરવાનું છે?

- Options
1. 84 લિટર
  2. 72 લિટર
  3. 78 લિટર
  4. 88 લિટર

Question ID : 630680699304  
 Option 1 ID : 6306802739241  
 Option 2 ID : 6306802739244  
 Option 3 ID : 6306802739242  
 Option 4 ID : 6306802739243  
 Status : Not Answered  
 Chosen Option : --

Q.64 સમાંતર શ્રેણી 5, 1, -3, -7 નો સામાન્ય તફાવત \_\_\_\_\_ છે.

- Options
1. 4
  2. -5
  3. -4
  4. 5

Question ID : 630680699317  
 Option 1 ID : 6306802739293  
 Option 2 ID : 6306802739296  
 Option 3 ID : 6306802739295  
 Option 4 ID : 6306802739294  
 Status : Not Answered  
 Chosen Option : --

Q.65 નીચેનામાંથી કયું બીજ(બેજિક) ગાણિતિક ઓળખ દર્શાવે છે:

- Options
1.  $(x-3)(x+3)=x^2-9$
  2.  $(x+y)^3=x^3+y^3$
  3.  $x^2+y^2=(x+y)^2$
  4.  $(x-3)(x+3)=x^2+9$

Question ID : 630680699462  
 Option 1 ID : 6306802739875  
 Option 2 ID : 6306802739873  
 Option 3 ID : 6306802739874  
 Option 4 ID : 6306802739876  
 Status : Not Answered  
 Chosen Option : --

Q.66 એક ડીલર ₹ 3600 માં લિસ્ટ થયેલ એક જૂનું લેપટોપ ખરીદે છે અને તેને 20% અને 10% ના કમિક ડિસ્કાઉન્ટ મળે છે. તે તેના સમારકામ કરવામાં ₹ 1408 ખર્ચે છે અને તેને 20% ના નફા પર વેચે છે. તો લેપટોપની વેચાણ કિંમત શોધો.

- Options
1. ₹ 4400
  2. ₹ 4800
  3. ₹ 5000
  4. ₹ 4600

Question ID : 630680699270  
 Option 1 ID : 6306802739105  
 Option 2 ID : 6306802739107  
 Option 3 ID : 6306802739108  
 Option 4 ID : 6306802739106  
 Status : Not Answered  
 Chosen Option : --

Q.67 ત્રણ ઉમેદવારો, અશોક, વિકાસ અને ચંદુએ ચૂંટણી લડી અને અનુક્રમે 2840, 3160 અને 4200 મત મેળવ્યા. અશોકને કુલ કેટલા ટકા મત મળ્યા હશે?

- Options
1. 23.64%.
  2. 26.56%.
  3. 27.84%.
  4. 29.44%.

Question ID : 630680699507  
 Option 1 ID : 6306802740053  
 Option 2 ID : 6306802740054  
 Option 3 ID : 6306802740055  
 Option 4 ID : 6306802740056  
 Status : Not Answered  
 Chosen Option : --

Q.68 સરેરાશ શોધો: 14,12,19,35,40

- Options
1. 22
  2. 20
  3. 25
  4. 24

Question ID : 630680699528  
 Option 1 ID : 6306802740138  
 Option 2 ID : 6306802740137  
 Option 3 ID : 6306802740140  
 Option 4 ID : 6306802740139  
 Status : Not Answered  
 Chosen Option : --

Q.69 એક વ્યક્તિએ 24 kmph ની ઝડપે ટ્રેન દ્વારા ચોક્કસ અંતર કાપ્યું છે. અને 6 kmph ની ઝડપે તે ચાલતા પાછી ફરી છે. જો આખી મુસાફરીમાં 5 કલાક 45 મિનિટનો સમય લાગ્યો હોય, તો અંતર \_\_\_\_\_ હતું.

- Options
1. 22.25 km
  2. 29.75 km
  3. 25.2 km
  4. 27.6 km

Question ID : 630680699279  
 Option 1 ID : 6306802739141  
 Option 2 ID : 6306802739144  
 Option 3 ID : 6306802739142  
 Option 4 ID : 6306802739143  
 Status : Not Answered  
 Chosen Option : --

Q.70  $(2661)^{2888} + 2990$  નો છેલ્લો અંક \_\_\_\_\_ છે.

- Options
1. 3
  2. 1
  3. 6
  4. 4

Question ID : 630680699354  
Option 1 ID : 6306802739442  
Option 2 ID : 6306802739441  
Option 3 ID : 6306802739444  
Option 4 ID : 6306802739443  
Status : Not Answered  
Chosen Option : --

Section : English

Q.71 Out of the four alternatives, choose the one which can be substituted for the given group of words.

The branch of biology concerned with cyclical physiological phenomena

- Options
1. Dactylogy
  2. Genealogy
  3. Ornithology
  4. Chronobiology

Question ID : 630680699678  
Option 1 ID : 6306802740709  
Option 2 ID : 6306802740712  
Option 3 ID : 6306802740711  
Option 4 ID : 6306802740710  
Status : Not Answered  
Chosen Option : --

Q.72 Select the most appropriate preposition from the given options to fill in the blanks in the given sentence.

The committee members discussed the problem \_\_\_\_\_ themselves before they brought it up at the meeting.

- Options
1. among
  2. on
  3. along
  4. between

Question ID : 630680699624  
Option 1 ID : 6306802740506  
Option 2 ID : 6306802740508  
Option 3 ID : 6306802740507  
Option 4 ID : 6306802740505  
Status : Not Answered  
Chosen Option : --

**Q.73** Translate the following sentence into Gujarati:

**My brother Walt is no more.**

- Options**
1. મારા ભાઈ વોલ્ટ હયાત નથી.
  2. મારા ભાઈ વોલ્ટ નથી.
  3. મારા ભાઈ વોલ્ટ હાજર નથી.
  4. મારા ભાઈ વોલ્ટ ભાઈ હયાત નથી.

Question ID : 630680699622

Option 1 ID : 6306802740499

Option 2 ID : 6306802740497

Option 3 ID : 6306802740500

Option 4 ID : 6306802740498

Status : **Not Answered**

Chosen Option : --

**Q.74** Out of the four alternatives, choose the one which can be substituted for the given group of words.

**A piece of enclosed land planted with fruit trees**

- Options**
1. Tannery
  2. Orchard
  3. Sanatorium
  4. Garden

Question ID : 630680699661

Option 1 ID : 6306802740648

Option 2 ID : 6306802740647

Option 3 ID : 6306802740646

Option 4 ID : 6306802740645

Status : **Not Answered**

Chosen Option : --

**Q.75** Choose the most logical order of the words from among the four given choices to construct a coherent sentence.

- A) to investigate myofascial (muscle and surrounding connective tissue)
- B) and migraines among 50 people
- C) involvement in tension-type headaches
- D) Researchers used magnetic resonance imaging (MRI)

- Options**
1. BCDA
  2. DCAB
  3. DACB
  4. ADCB

Question ID : 630680699612

Option 1 ID : 6306802740463

Option 2 ID : 6306802740461

Option 3 ID : 6306802740464

Option 4 ID : 6306802740462

Status : **Not Answered**

Chosen Option : --

**Q.76** Select the most appropriate SYNONYM of the word given below.  
**Catastrophic**

- Options**
1. Fortuitous
  2. Happy
  3. Promising
  4. Unfortunate

Question ID : 630680699604  
Option 1 ID : 6306802740431  
Option 2 ID : 6306802740429  
Option 3 ID : 6306802740432  
Option 4 ID : 6306802740430  
Status : Not Answered  
Chosen Option : --

**Q.77** Select the most appropriate article from the options given below to complete the sentence. Mark "No article" if there is no requirement of article in the given sentence.

Govind is \_\_\_\_\_ tallest boy in the class.

- Options**
1. No article
  2. a
  3. an
  4. the

Question ID : 630680699607  
Option 1 ID : 6306802740442  
Option 2 ID : 6306802740441  
Option 3 ID : 6306802740443  
Option 4 ID : 6306802740444  
Status : Not Answered  
Chosen Option : --

**Q.78** Rearrange the following parts of a sentence to make it a coherence sentence.

- A) access to basic services such as electricity and
- B) and suffer from much poorer health
- C) the poorest in the world are often undernourished, without
- D) safe drinking water; they have less access to education,

- Options**
1. ABCD
  2. DCAB
  3. CADB
  4. DBAC

Question ID : 630680699691  
Option 1 ID : 6306802740759  
Option 2 ID : 6306802740760  
Option 3 ID : 6306802740758  
Option 4 ID : 6306802740757  
Status : Not Answered  
Chosen Option : --

**Q.79** Select the most appropriate preposition from the given options to fill in the blanks in the given sentence.

The local team scored three goals \_\_\_\_\_ the first half of the match.

- Options**
1. on
  2. from
  3. in
  4. of

Question ID : 630680699673  
Option 1 ID : 6306802740689  
Option 2 ID : 6306802740690  
Option 3 ID : 6306802740691  
Option 4 ID : 6306802740692  
Status : Not Answered  
Chosen Option : --

**Q.80** Select the most appropriate SYNONYM of the word given below.  
**Exoneration**

- Options**
1. Pardon
  2. Accusation
  3. Prosecution
  4. Conviction

Question ID : 630680699589  
Option 1 ID : 6306802740374  
Option 2 ID : 6306802740375  
Option 3 ID : 6306802740376  
Option 4 ID : 6306802740373  
Status : Not Answered  
Chosen Option : --

**Q.81** Select the most appropriate past tense form of the verb from the given options to fill in the blanks for the given sentence.  
I \_\_\_\_\_ there for a year.

- Options**
1. have works
  2. had been working
  3. was worked
  4. will be working

Question ID : 630680699594  
Option 1 ID : 6306802740396  
Option 2 ID : 6306802740393  
Option 3 ID : 6306802740395  
Option 4 ID : 6306802740394  
Status : Not Answered  
Chosen Option : --

**Comprehension:**

Read the passage given below and answer the questions.

The non-availability of credible, coherent data on the economy and society is a problem that needs urgent attention. Recently, there has been a spate of writing on India's statistical system and the data produced by it. The ensuing debate has witnessed active participation from within and outside the government. While discussions on data and its veracity are welcome, the important point on the usefulness of available data to measure social and economic progress of a transforming economy looms large. The debate has also to be seen in the context of the increasing global prominence of the economy and India's election to the highest statistical body of the UN for a four-year term.

Economic and social data ideally is a public good. Its provision, like many other public goods, is the responsibility of the government. While there are numerous private data-generating and publishing entities, they exclude data consumers through their pricing and restrictive access policies. Anticipating this, independent India planned for a well-designed statistical system and embarked on the journey of setting it up at both at the Centre and in the States. As noted by a leading journalist in a paper, "India's statistical system was the envy of the world till the early 1970s". However, over time, this saw a steady decline and has reached its present state, which is the subject of the current debate.

**SubQuestion No : 82**

**Q.82** Select the most appropriate **SYNONYM** of the given word given below.

**Veracity**

- Options**
1. Integrity
  2. Hypocrisy
  3. Dishonesty
  4. Lying

Question ID : 630680699569

Option 1 ID : 6306802740300

Option 2 ID : 6306802740298

Option 3 ID : 6306802740297

Option 4 ID : 6306802740299

Status : **Not Answered**

Chosen Option : --

**Comprehension:**

Read the passage given below and answer the questions.

The non-availability of credible, coherent data on the economy and society is a problem that needs urgent attention. Recently, there has been a spate of writing on India's statistical system and the data produced by it. The ensuing debate has witnessed active participation from within and outside the government. While discussions on data and its veracity are welcome, the important point on the usefulness of available data to measure social and economic progress of a transforming economy looms large. The debate has also to be seen in the context of the increasing global prominence of the economy and India's election to the highest statistical body of the UN for a four-year term.

Economic and social data ideally is a public good. Its provision, like many other public goods, is the responsibility of the government. While there are numerous private data-generating and publishing entities, they exclude data consumers through their pricing and restrictive access policies. Anticipating this, independent India planned for a well-designed statistical system and embarked on the journey of setting it up at both at the Centre and in the States. As noted by a leading journalist in a paper, "India's statistical system was the envy of the world till the early 1970s". However, over time, this saw a steady decline and has reached its present state, which is the subject of the current debate.

**SubQuestion No : 83**

**Q.83 Identify the most suitable title for the passage.**

- Options**
1. Data- not a valid requirement for today's era
  2. Data to measure social and economic progress
  3. Provisions for statistical data
  4. The debate on statistical system data

Question ID : 630680699568

Option 1 ID : 6306802740295

Option 2 ID : 6306802740296

Option 3 ID : 6306802740294

Option 4 ID : 6306802740293

Status : **Not Answered**

Chosen Option : --

**Comprehension:**

Read the passage given below and answer the questions.

The non-availability of credible, coherent data on the economy and society is a problem that needs urgent attention. Recently, there has been a spate of writing on India's statistical system and the data produced by it. The ensuing debate has witnessed active participation from within and outside the government. While discussions on data and its veracity are welcome, the important point on the usefulness of available data to measure social and economic progress of a transforming economy looms large. The debate has also to be seen in the context of the increasing global prominence of the economy and India's election to the highest statistical body of the UN for a four-year term.

Economic and social data ideally is a public good. Its provision, like many other public goods, is the responsibility of the government. While there are numerous private data-generating and publishing entities, they exclude data consumers through their pricing and restrictive access policies. Anticipating this, independent India planned for a well-designed statistical system and embarked on the journey of setting it up at both at the Centre and in the States. As noted by a leading journalist in a paper, "India's statistical system was the envy of the world till the early 1970s". However, over time, this saw a steady decline and has reached its present state, which is the subject of the current debate.

**SubQuestion No : 84**

**Q.84** Select the most appropriate **ANTONYM** of the word given below.  
**Envy**

- Options**
1. Sympathy
  2. Hatred
  3. Grudge
  4. Resentment

Question ID : 630680699571

Option 1 ID : 6306802740307

Option 2 ID : 6306802740306

Option 3 ID : 6306802740308

Option 4 ID : 6306802740305

Status : **Not Answered**

Chosen Option : --

**Comprehension:**

Read the passage given below and answer the questions.

The non-availability of credible, coherent data on the economy and society is a problem that needs urgent attention. Recently, there has been a spate of writing on India's statistical system and the data produced by it. The ensuing debate has witnessed active participation from within and outside the government. While discussions on data and its veracity are welcome, the important point on the usefulness of available data to measure social and economic progress of a transforming economy looms large. The debate has also to be seen in the context of the increasing global prominence of the economy and India's election to the highest statistical body of the UN for a four-year term.

Economic and social data ideally is a public good. Its provision, like many other public goods, is the responsibility of the government. While there are numerous private data-generating and publishing entities, they exclude data consumers through their pricing and restrictive access policies. Anticipating this, independent India planned for a well-designed statistical system and embarked on the journey of setting it up at both at the Centre and in the States. As noted by a leading journalist in a paper, "India's statistical system was the envy of the world till the early 1970s". However, over time, this saw a steady decline and has reached its present state, which is the subject of the current debate.

**SubQuestion No : 85**

**Q.85 Select the most appropriate SYNONYM of the word given below.**

**Coherent**

- Options**
1. Mysterious
  2. Vague
  3. Understandable
  4. Obscure

Question ID : 630680699570

Option 1 ID : 6306802740302

Option 2 ID : 6306802740304

Option 3 ID : 6306802740303

Option 4 ID : 6306802740301

Status : Not Answered

Chosen Option : --

Section : Gujarati

**Q.86** 'આજ અંધાર ખુશ્બોભર્યો લાગતો, આજ સૌરભભરી રાત સારી' કાવ્યપંક્તિઓમાં 'સૌરભ' શબ્દનો અર્થ શોધો.

- Options**
1. પામર
  2. સુગંધ
  3. સૂકી
  4. જીવંત

Question ID : 630680700680

Option 1 ID : 6306802744698

Option 2 ID : 6306802744697

Option 3 ID : 6306802744700

Option 4 ID : 6306802744699

Status : Answered

Chosen Option : 2

Q.87 નીચેનામાંથી શુદ્ધ વાક્ય શોધી બતાવો.

- Options
1. યુવકને ખાંસી આવ્યો
  2. રીના હસવા લાગ્યો
  3. બાળકના અણુઅણુમાં ઊભરાતો ઉત્સાહ શમી જતો.
  4. સમસ્યા ઉકલી ગયો

Question ID : 630680700614

Option 1 ID : 6306802744434

Option 2 ID : 6306802744435

Option 3 ID : 6306802744433

Option 4 ID : 6306802744436

Status : Answered

Chosen Option : 3

Q.88 સમાસનો વિગ્રહ કરો

કલ્પવૃક્ષ

- Options
1. મોટું વૃક્ષ
  2. કલ્પ(વિચાર)થી ફળ આપતું વૃક્ષ
  3. કલ્પનાનું ઝાડ
  4. કલ્પી લેવાયેલું ઝાડ

Question ID : 630680700640

Option 1 ID : 6306802744539

Option 2 ID : 6306802744540

Option 3 ID : 6306802744537

Option 4 ID : 6306802744538

Status : Answered

Chosen Option : 2

Q.89 સર્વાંગી - શબ્દનો વિરુદ્ધાર્થી શોધો

- Options
1. એકાંગી
  2. રૂપાંગી
  3. હોશાન્ગી
  4. દેવાંગી

Question ID : 630680700627  
 Option 1 ID : 6306802744488  
 Option 2 ID : 6306802744486  
 Option 3 ID : 6306802744487  
 Option 4 ID : 6306802744485  
 Status : Answered  
 Chosen Option : 1

Q.90 'મોહન વૃંદાવનમાં વાંસળી વગાડે છે' વાક્યનો સાચો અંગ્રેજી અનુવાદ શોધો

- Options
1. Mohan plays flute in Vrundavan
  2. Mohan plays flute Of Vrundavan
  3. Mohan plays flute under Vrundavan
  4. Mohan plays fluet in Vrundavan

Question ID : 630680700696  
 Option 1 ID : 6306802744762  
 Option 2 ID : 6306802744761  
 Option 3 ID : 6306802744764  
 Option 4 ID : 6306802744763  
 Status : Answered  
 Chosen Option : 3

Q.91 'રવિ + ઇન્દ્ર' શબ્દનું સાચું સંધિ જોડાણ શોધો

- Options
1. રવિંદર
  2. રવીન્દ્ર
  3. રવિન્દ્ર
  4. રવિંદર

Question ID : 630680700677  
 Option 1 ID : 6306802744685  
 Option 2 ID : 6306802744687  
 Option 3 ID : 6306802744688  
 Option 4 ID : 6306802744686  
 Status : Answered  
 Chosen Option : 2

Q.92 – સમાસ ઓળખાવો

કન્યાકેળવણી

- Options
1. બહુવ્રીહી
  2. ઉપપદ
  3. કર્મધારય
  4. મધ્યમપદ લોપી

Question ID : 630680700639

Option 1 ID : 6306802744535

Option 2 ID : 6306802744533

Option 3 ID : 6306802744534

Option 4 ID : 6306802744536

Status : Answered

Chosen Option : 4

Q.93 નીચેનાંમાંથી શુદ્ધ વિધાન શોધો

- Options
1. મારા અક્ષર તમારા અક્ષર કરતાં સારા છે.
  2. મારા અક્ષર તમારા કરતા સારાં છે.
  3. મારા અક્ષર તમારા કરતા સારા છે.
  4. મારાં અક્ષર તમારા કરતા સારા છે.

Question ID : 630680700705

Option 1 ID : 6306802744800

Option 2 ID : 6306802744799

Option 3 ID : 6306802744797

Option 4 ID : 6306802744798

Status : Answered

Chosen Option : 1

Q.94 શબ્દનો સમાનાર્થી શોધો

મધુકર

- Options
1. ઉમર
  2. મધુરિમા
  3. મધુપર્ક
  4. ભ્રમર

Question ID : 630680700611  
 Option 1 ID : 6306802744424  
 Option 2 ID : 6306802744422  
 Option 3 ID : 6306802744421  
 Option 4 ID : 6306802744423  
 Status : Answered  
 Chosen Option : 4

Q.95 'દરેક માણસે પરિશ્રમ કરવો અનિવાર્ય છે. જે પરિશ્રમ કર્યા વિના ખાદ્ય છે તે ચોરીનું અન્ન ખાય છે.' વાક્યમાં 'અન્ન' શબ્દનો અર્થ શોધો

- Options
1. જીવન
  2. આફત
  3. ખોરાક
  4. વિપત્તિ

Question ID : 630680700679  
 Option 1 ID : 6306802744696  
 Option 2 ID : 6306802744695  
 Option 3 ID : 6306802744693  
 Option 4 ID : 6306802744694  
 Status : Answered  
 Chosen Option : 3

Q.96 'ભેંસોનું ટોળું' શબ્દસમૂહ માટે એક શબ્દશોધો

- Options
1. જૂથ
  2. ખાડું
  3. ટોળું
  4. ઘણ

Question ID : 630680700568  
 Option 1 ID : 6306802744252  
 Option 2 ID : 6306802744249  
 Option 3 ID : 6306802744250  
 Option 4 ID : 6306802744251  
 Status : Answered  
 Chosen Option : 2

Q.97 'મઘ પર મકોડા થાય' કહેવતનો અર્થ શોધો

- Options
1. સ્વાર્થ દેખાય ત્યાં સૌ દોડે
  2. વાસી થઈ જવું
  3. જીવ-જંતુ બધાં સરખાં
  4. વાદ-વિવાદ કરવા

Question ID : 630680700698

Option 1 ID : 6306802744771

Option 2 ID : 6306802744772

Option 3 ID : 6306802744769

Option 4 ID : 6306802744770

Status : Answered

Chosen Option : 1

Q.98 નીચેના ફકરો વાંચીને પ્રશ્નો ઉત્તર આપો.

ગુરુ અને શિષ્ય વચ્ચેના સંબંધને પવિત્ર બંધન તરીકે જોવામાં આવે છે. ગુરુની હાજરી, ઉપદેશો અને આધ્યાત્મિક પ્રશ્નો શિષ્યમાં વ્યક્તિગત પરિવર્તનને ઉત્પ્રેરક બનાવી શકે છે. તેઓ વ્યક્તિઓને તેમની મર્યાદાઓથી આગળ વધવામાં, તેમના અહંકારને પાર કરવામાં અને પ્રેમ, કરુણા અને નિઃસ્વાર્થતા જેવા ગુણો વિકસાવવામાં મદદ કરી શકે છે.

પ્રશ્ન

ગુરુ શેમાં સહાયક સિદ્ધ થાય?

- Options
1. યશવૃદ્ધિમાં
  2. ગુણવિકાસમાં
  3. ધનવૈભવમાં
  4. જ્ઞાનપ્રાપ્તિમાં

Question ID : 630680700588

Option 1 ID : 6306802744332

Option 2 ID : 6306802744329

Option 3 ID : 6306802744331

Option 4 ID : 6306802744330

Status : Answered

Chosen Option : 2

Q.99 'કહેણ મોકલવું' રૂઢિપ્રયોગનો અર્થ શોધો

- Options
1. રક્ષણ કરવું
  2. સંદેશો મોકલવો
  3. બદલાઈ જવું
  4. પાપ કરવું

Question ID : 630680700697

Option 1 ID : 6306802744765

Option 2 ID : 6306802744766

Option 3 ID : 6306802744768

Option 4 ID : 6306802744767

Status : Answered

Chosen Option : 2

Q.100 'પ્રલય' શબ્દનો સાચો સંધિ વિગ્રહ શોધો.

- Options
1. પ્રલે + ય
  2. પર + લય
  3. પ + લય
  4. પલ + ય

Question ID : 630680700571

Option 1 ID : 6306802744264

Option 2 ID : 6306802744261

Option 3 ID : 6306802744262

Option 4 ID : 6306802744263

Status : Answered

Chosen Option : 1