

DDA MTS

Previous Year Paper
19 Dec, 2025 Shift 3



Adda247

Test Prime

ALL EXAMS, ONE SUBSCRIPTION



1,00,000+
Mock Tests



**Personalised
Report Card**



**Unlimited
Re-Attempt**



600+
Exam Covered



25,000+ Previous
Year Papers



500%
Refund



ATTEMPT FREE MOCK NOW



DELHI DEVELOPMENT AUTHORITY
RECRUITMENT CELL

VIKAS SADAN, I.N.A, NEW DELHI-110023.

Recruitment Advertisement No. 09/2025/Rectt. Cell/Pers./DDA
DIRECT RECRUITMENT IN VARIOUS CATEGORIES

Participant ID	
Participant Name	
Test Center Name	
Test Date	19/12/2025
Test Time	5:00 PM - 7:00 PM
Subject	MTS

Section : Numerical and Mathematical Ability

Q.1	0.09 और 16 का माध्यानुपाती ज्ञात कीजिए।
Ans	<input checked="" type="checkbox"/> A. 1.44
	<input checked="" type="checkbox"/> B. 0.8
	<input checked="" type="checkbox"/> C. 1.2
	<input checked="" type="checkbox"/> D. 0.9

Question ID :	4410091425561
Option 1 ID :	4410095630855
Option 2 ID :	4410095630857
Option 3 ID :	4410095630856
Option 4 ID :	4410095630858
Status :	Answered
Chosen Option :	C

Q.2 निम्नलिखित व्यंजक को सरल कीजिए:

$$\frac{2^3 \times 4^2}{8}$$

Ans

X

A. 32

X

B. 4

✓

C. 16

X

D. 8

Question ID :	4410091463943
Option 1 ID :	4410095783921
Option 2 ID :	4410095783918
Option 3 ID :	4410095783920
Option 4 ID :	4410095783919
Status :	Answered
Chosen Option :	C

Q.3 24 और 36 के महत्तम समापवर्तक (HCF) से पूर्ण रूप से विभाज्य होने वाली चार अंकों की सबसे बड़ी संख्या ज्ञात कीजिए।

Ans

✓

A. 9996

X

B. 9999

X

C. 9886

X

D. 9979

Question ID :	4410091470301
Option 1 ID :	4410095809131
Option 2 ID :	4410095809130
Option 3 ID :	4410095809132
Option 4 ID :	4410095809133
Status :	Answered
Chosen Option :	A

Q.4 पाइप A एक टैंक को 8 घंटे में भरता है, पाइप B उसे 12 घंटे में भरता है और वेस्ट पाइप C भरे हुए टैंक को 24 घंटे में खाली कर सकता है। यदि तीनों पाइप एक साथ खोल दिए जाएं, तो टैंक को भरने में कितना समय लगेगा?

Ans

X

A. 5 घंटे

✓

B. 6 घंटे

X

C. 8 घंटे

X

D. 4 घंटे

Question ID :	4410091422559
Option 1 ID :	4410095619145
Option 2 ID :	4410095619146
Option 3 ID :	4410095619147
Option 4 ID :	4410095619144
Status :	Answered
Chosen Option :	B

Q.5	एक दुकानदार ₹250 में एक वस्तु खरीदता है और उसे ₹300 में बेचता है। उसका लाभ प्रतिशत कितना है?
Ans	<div><div><div><div><div></div></div></div><div>A. 25%</div></div><div><div><div><div></div></div></div><div>B. 30%</div></div><div><div><div><div></div></div></div><div>C. 15%</div></div><div><div><div><div></div></div></div><div>D. 20%</div></div></div>

Question ID :	4410091463992
Option 1 ID :	4410095784120
Option 2 ID :	4410095784121
Option 3 ID :	4410095784118
Option 4 ID :	4410095784119
Status :	Answered
Chosen Option :	D

Q.6	आकाश को किसी वस्तु को उसके वास्तविक विक्रय मूल्य के $\frac{4}{14}$ मूल्य पर बेचने से 19% की हानि होती है। यदि वह उसे उसके वास्तविक विक्रय मूल्य के 60% मूल्य पर बेचता है, तो लाभ प्रतिशत क्या होगा?
Ans	<div><div><div><div><div></div></div></div><div>A. 69.1%</div></div><div><div><div><div></div></div></div><div>B. 69.7%</div></div><div><div><div><div></div></div></div><div>C. 70.1%</div></div><div><div><div><div></div></div></div><div>D. 70.4%</div></div></div>

Question ID :	441009914973
Option 1 ID :	4410093614145
Option 2 ID :	4410093614144
Option 3 ID :	4410093614143
Option 4 ID :	4410093614146
Status :	Not Attempted and Marked For Review
Chosen Option :	--

Q.7	राम और श्याम क्रमशः 40 km/hr और 50 km/hr की चाल से समान दूरी तय करते हैं। यदि राम को श्याम से 54 मिनट अधिक लगते हैं, तो प्रत्येक द्वारा तय की गई दूरी ज्ञात कीजिए।
Ans	<div><div><div><div><div></div></div></div><div>A. 180 km</div></div><div><div><div><div></div></div></div><div>B. 170 km</div></div><div><div><div><div></div></div></div><div>C. 173 km</div></div><div><div><div><div></div></div></div><div>D. 174 km</div></div></div>

Question ID :	441009549125
Option 1 ID :	4410092151896
Option 2 ID :	4410092151897
Option 3 ID :	4410092151898
Option 4 ID :	4410092151899
Status :	Answered
Chosen Option :	A

Q.8 एक खाद्य विक्रेता के पास 31 kg चावल है, जिसका कुछ हिस्सा वह 23% लाभ पर और शेष हिस्सा 54% लाभ पर बेचता है। उसे कुल चावल पर 53% लाभ अर्जित होता है। 54% लाभ पर बेचे गए चावल की मात्रा कितनी है?

- Ans ☒ A. 29 kg
- ☒ B. 30 kg
- ☒ C. 31 kg
- ☒ D. 28 kg

Question ID :	441009545862
Option 1 ID :	4410092138847
Option 2 ID :	4410092138844
Option 3 ID :	4410092138846
Option 4 ID :	4410092138845
Status :	Answered
Chosen Option :	B

Q.9 यदि दो संख्याओं का अनुपात 5 : 6 है, और उनका महत्तम समापवर्तक (HCF) 5 है, तो उनका लघुत्तम समापवर्त्य (LCM) क्या होगा?

- Ans ☒ A. 150
- ☒ B. 181
- ☒ C. 153
- ☒ D. 191

Question ID :	441009525673
Option 1 ID :	4410092058111
Option 2 ID :	4410092058114
Option 3 ID :	4410092058112
Option 4 ID :	4410092058113
Status :	Answered
Chosen Option :	A

Q.10 रामू ने ₹1,856 में एक घड़ी खरीदी और उसे ₹2,320 में बेच दिया। उसका लाभ प्रतिशत ज्ञात कीजिए।

- Ans ☒ A. 20%
- ☒ B. 23%
- ☒ C. 25%
- ☒ D. 18%

Question ID :	4410091430559
Option 1 ID :	4410095650381
Option 2 ID :	4410095650382
Option 3 ID :	4410095650383
Option 4 ID :	4410095650380
Status :	Answered
Chosen Option :	C

Q.1	₹2000 पर 9% वार्षिक साधारण ब्याज दर से ₹900 ब्याज कितने समय (वर्षों में) में प्राप्त होगा?
1	
Ans	<input checked="" type="checkbox"/> A. 7
	<input checked="" type="checkbox"/> B. 6
	<input checked="" type="checkbox"/> C. 5
	<input checked="" type="checkbox"/> D. 8

Question ID :	441009853194
Option 1 ID :	4410093365750
Option 2 ID :	4410093365749
Option 3 ID :	4410093365748
Option 4 ID :	4410093365751
Status :	Answered
Chosen Option :	C

Q.1	दो नल एक टंकी को क्रमशः 2 घंटे और 4 घंटे में भर सकते हैं। तीसरा नल उसे 2 घंटे में खाली कर सकता है। यदि तीनों नल एक साथ खोल दिए जाएं, तो खाली टंकी को एक चौथाई भाग भरने में कितना समय (घंटे में) लगेगा?
2	
Ans	<input checked="" type="checkbox"/> A. 1
	<input checked="" type="checkbox"/> B. 3
	<input checked="" type="checkbox"/> C. 4
	<input checked="" type="checkbox"/> D. 2

Question ID :	441009518299
Option 1 ID :	4410092028615
Option 2 ID :	4410092028617
Option 3 ID :	4410092028618
Option 4 ID :	4410092028616
Status :	Answered
Chosen Option :	A

Q.1	A एक काम को 15 दिनों में और B, 23 दिनों में पूरा करता है। यदि वे दोनों मिलकर 6 दिनों तक काम करें, तो काम का कितना भाग शेष रह जाएगा?
3	
Ans	<input checked="" type="checkbox"/> A. $\frac{39}{115}$
	<input checked="" type="checkbox"/> B. $\frac{43}{115}$
	<input checked="" type="checkbox"/> C. $\frac{47}{115}$
	<input checked="" type="checkbox"/> D. $\frac{34}{115}$

Question ID :	441009914018
Option 1 ID :	4410093610323
Option 2 ID :	4410093610324
Option 3 ID :	4410093610325
Option 4 ID :	4410093610326
Status :	Answered
Chosen Option :	A

Q.1
4

सुमंत 33 km/hr की चाल से कार चलाकर एक निश्चित दूरी तय करता है और 28 km/hr की चाल से स्कूटर चलाकर शुरुआती बिंदु पर लौट आता है। संपूर्ण यात्रा के लिए उसकी औसत चाल ज्ञात कीजिए। (दशमलव के एक स्थान तक पूर्णांकित)

Ans

✗ A. 33.3 km/hr

✗ B. 20.2 km/hr

✓ C. 30.3 km/hr

✗ D. 22.2 km/hr

Question ID :	4410091420593
Option 1 ID :	4410095611292
Option 2 ID :	4410095611289
Option 3 ID :	4410095611290
Option 4 ID :	4410095611291
Status :	Answered
Chosen Option :	C

Q.1
5

60 cm × 22 cm × 30 cm विमाओं वाले एक ठोस धात्विक घनाभ को पिघलाकर 4 cm बाह्य त्रिज्या, 3 cm आंतरिक त्रिज्या और 30 cm लंबाई वाले खोखले बेलनाकार पाइप बनाए जाते हैं। ऐसे कितने पाइप बनाए जा सकते हैं?
($\pi = \frac{22}{7}$ का उपयोग कीजिए।)

Ans

✗ A. 54

✓ B. 60

✗ C. 66

✗ D. 48

Question ID :	4410091462433
Option 1 ID :	4410095777843
Option 2 ID :	4410095777844
Option 3 ID :	4410095777845
Option 4 ID :	4410095777842
Status :	Answered
Chosen Option :	B

Q.1
6

एक दुकानदार किसी वस्तु को अंकित मूल्य पर 49% और 75% की दो क्रमागत छूट देकर ₹953.7 में बेचता है। यदि वह कोई छूट नहीं देता, तो उसे 10% का लाभ प्राप्त होता। वस्तु का क्रय मूल्य (₹ में) ज्ञात कीजिए।

Ans

✗ A. 6,794

✗ B. 6,796

✗ C. 6,763

✓ D. 6,800

Question ID :	441009915835
Option 1 ID :	4410093617594
Option 2 ID :	4410093617593
Option 3 ID :	4410093617592
Option 4 ID :	4410093617591
Status :	Answered
Chosen Option :	D

Q.1 7 यदि ब्याज वार्षिक रूप से संयोजित होता है, तो ₹5000 की राशि पर 14% वार्षिक दर से दो वर्ष बाद कुल देय धनराशि कितनी होगी?

Ans ☒ A. ₹6323

☒ B. ₹6498

☒ C. ₹7492

☒ D. ₹6430

Question ID : 441009897862

Option 1 ID : 4410093545519

Option 2 ID : 4410093545518

Option 3 ID : 4410093545521

Option 4 ID : 4410093545520

Status : Answered

Chosen Option : B

Q.1 8 A ने ₹32,000 की पूंजी से एक व्यवसाय शुरू किया और 3 महीने बाद B, A के साथ साझेदार के रूप में जुड़ गया। एक वर्ष बाद, लाभ को 2 : 3 के अनुपात में विभाजित किया गया। पूंजी में B का योगदान कितना है?

Ans ☒ A. ₹63,105

☒ B. ₹65,595

☒ C. ₹63,595

☒ D. ₹64,000

Question ID : 441009547857

Option 1 ID : 4410092146826

Option 2 ID : 4410092146827

Option 3 ID : 4410092146825

Option 4 ID : 4410092146824

Status : Answered

Chosen Option : D

Q.1 9 ईंधन की कीमत क्रमिक तीन महीनों में 55%, 55% और 55% घटती है, लेकिन चौथे महीने में 65% बढ़ जाती है। मूल मूल्य की तुलना में चौथे महीने में ईंधन के मूल्य में प्रतिशत वृद्धि/कमी (दो दशमलव स्थानों तक पूर्णांकित) कितनी है?

Ans ☒ A. 82.18% की कमी

☒ B. 80.47% की वृद्धि

☒ C. 84.96% की कमी

☒ D. 89.44% की वृद्धि

Question ID : 441009859949

Option 1 ID : 4410093392770

Option 2 ID : 4410093392769

Option 3 ID : 4410093392768

Option 4 ID : 4410093392771

Status : Answered

Chosen Option : C

Q.20	एक बल्लेबाज द्वारा 20 मैचों में बनाए गए रनों का औसत 45 है। अगले 10 मैचों में बल्लेबाज ने औसतन 16 रन बनाए। सभी 30 मैचों में उसके रनों का औसत (दशमलव के दो स्थानों तक पूर्णांकित) ज्ञात कीजिए।
Ans	<div><div><div>✖</div><div>A. 36.33</div></div><div><div>✖</div><div>B. 34.33</div></div><div><div>✔</div><div>C. 35.33</div></div><div><div>✖</div><div>D. 37.33</div></div></div>

Question ID :	441009516412
Option 1 ID :	4410092021069
Option 2 ID :	4410092021068
Option 3 ID :	4410092021067
Option 4 ID :	4410092021070
Status :	Answered
Chosen Option :	C

Q.21	X में से X का 46% घटाना, X को किसके साथ गुणा करने के बराबर है?
Ans	<div><div><div>✔</div><div>A. 0.54</div></div><div><div>✖</div><div>B. 0.046</div></div><div><div>✖</div><div>C. 0.5</div></div><div><div>✖</div><div>D. 0.46</div></div></div>

Question ID :	441009516682
Option 1 ID :	4410092022147
Option 2 ID :	4410092022150
Option 3 ID :	4410092022149
Option 4 ID :	4410092022148
Status :	Answered
Chosen Option :	A

Q.22	एक नाविक 36 km दूर एक स्थान तक नाव चलाकर जाता है और कुल 9 घंटे में वापस लौट आता है। वह धारा की विपरीत दिशा में 1 km की दूरी तय करने में लगने वाले समय में ही धारा की दिशा में 2 km की दूरी तय कर सकता है। धारा की चाल ज्ञात कीजिए।
Ans	<div><div><div>✔</div><div>A. 3 km/hr</div></div><div><div>✖</div><div>B. 4 km/hr</div></div><div><div>✖</div><div>C. 2 km/hr</div></div><div><div>✖</div><div>D. 1 km/hr</div></div></div>

Question ID :	4410091468034
Option 1 ID :	4410095799991
Option 2 ID :	4410095799992
Option 3 ID :	4410095799990
Option 4 ID :	4410095799989
Status :	Answered
Chosen Option :	D

Q.2 3	6, 30 और 15 के चतुर्थानुपाती का 8, 32 और 24 के चतुर्थानुपाती से अनुपात ज्ञात कीजिए।
Ans	<input checked="" type="checkbox"/> A. 19 : 22
	<input checked="" type="checkbox"/> B. 22 : 27
	<input checked="" type="checkbox"/> C. 16 : 19
	<input checked="" type="checkbox"/> D. 25 : 32

Question ID :	4410091430626
Option 1 ID :	4410095650649
Option 2 ID :	4410095650650
Option 3 ID :	4410095650648
Option 4 ID :	4410095650651
Status :	Answered
Chosen Option :	D

Q.2 4	एक बेलनाकार छड़ का बाह्य वक्र पृष्ठीय क्षेत्रफल 5100 cm^2 है। यदि छड़ की लंबाई 56 cm है, तो छड़ की बाह्य त्रिज्या (cm में) ज्ञात कीजिए। (दशमलव के दो स्थानों तक पूर्णांकित) $\pi = \frac{22}{7}$ लीजिए
Ans	<input checked="" type="checkbox"/> A. 16.15
	<input checked="" type="checkbox"/> B. 14.49
	<input checked="" type="checkbox"/> C. 13.79
	<input checked="" type="checkbox"/> D. 14.43

Question ID :	441009622203
Option 1 ID :	4410092442945
Option 2 ID :	4410092442944
Option 3 ID :	4410092442946
Option 4 ID :	4410092442947
Status :	Answered
Chosen Option :	B

Q.2 5	₹8,000 की राशि $1\frac{1}{2}$ वर्ष के लिए 10% वार्षिक चक्रवृद्धि ब्याज पर निवेश की जाती है, जिस पर ब्याज अर्धवार्षिक रूप से संयोजित होता है। अवधि के अंत में मिश्रधन ज्ञात कीजिए।
Ans	<input checked="" type="checkbox"/> A. ₹9,542
	<input checked="" type="checkbox"/> B. ₹9,435
	<input checked="" type="checkbox"/> C. ₹9,351
	<input checked="" type="checkbox"/> D. ₹9,261

Question ID :	4410091420973
Option 1 ID :	4410095612826
Option 2 ID :	4410095612827
Option 3 ID :	4410095612825
Option 4 ID :	4410095612824
Status :	Answered
Chosen Option :	D

Q.1 छह बॉक्स D, E, F, G, X और Y एक के ऊपर एक रखे गए हैं, लेकिन यह आवश्यक नहीं कि वे इसी क्रम में रखे गए हों। केवल E को Y के ऊपर रखा गया है। Y और D के बीच केवल G को रखा गया है। X को F के नीचे किसी स्थान पर रखा गया है। D और X के बीच कितने बॉक्स रखे गए हैं?

- Ans ☒ A. एक
- ☐ B. दो
- ☐ C. चार
- ☐ D. तीन

Question ID :	4410091432265
Option 1 ID :	4410095657394
Option 2 ID :	4410095657395
Option 3 ID :	4410095657397
Option 4 ID :	4410095657396
Status :	Answered
Chosen Option :	A

Q.2 एक विशिष्ट कूट भाषा में, 'ivy wine mop' को 'fu tp kp' के रूप में कूटबद्ध किया जाता है और 'mud ivy arch' को 'tp dv em' के रूप में कूटबद्ध किया जाता है। दी गई भाषा में 'ivy' का कूट क्या होगा? (सभी कूट दो-अक्षरीय कूट हैं।)

- Ans ☒ A. tp
- ☐ B. dv
- ☐ C. fu
- ☐ D. kp

Question ID :	4410091411310
Option 1 ID :	4410095574265
Option 2 ID :	4410095574268
Option 3 ID :	4410095574266
Option 4 ID :	4410095574267
Status :	Answered
Chosen Option :	A

Q.3 सात डिब्बे G, H, I, J, L, M और N एक के ऊपर एक रखे गए हैं, लेकिन जरूरी नहीं कि वे इसी क्रम में हों। J के नीचे केवल तीन डिब्बे रखे गए हैं। J और G के बीच केवल दो डिब्बे रखे गए हैं। N के ऊपर केवल I को रखा गया है। H को L के नीचे और M के ऊपर किसी स्थान पर रखा गया है। नीचे से दूसरे स्थान पर किस डिब्बे को रखा गया है?

- Ans ☐ A. H
- ☐ B. G
- ☐ C. L
- ☒ D. M

Question ID :	4410091435079
Option 1 ID :	4410095668850
Option 2 ID :	4410095668851
Option 3 ID :	4410095668848
Option 4 ID :	4410095668849
Status :	Answered
Chosen Option :	D

Q.4 शब्द DEFROCK के प्रत्येक अक्षर को अंग्रेजी वर्णमाला क्रम में उसके ठीक बाद वाले अक्षर से बदल दिया जाता है, और फिर इस प्रकार बने सभी अक्षरों को अंग्रेजी वर्णमाला क्रम में व्यवस्थित किया जाता है। इस प्रकार बने अक्षरों के नए समूह में, निम्नलिखित में से कौन-सा अक्षर, दाईं ओर से चौथा अक्षर होगा?

Ans ☒ A. G

☐ B. F

☐ C. L

☐ D. E

Question ID : 441009796551

Option 1 ID : 4410093140205

Option 2 ID : 4410093140204

Option 3 ID : 4410093140206

Option 4 ID : 4410093140203

Status : Answered

Chosen Option : A

Q.5 दी गई श्रृंखला में प्रश्न-चिह्न (?) के स्थान पर क्या आना चाहिए?

13 20 34 55 ? 118

Ans ☐ A. 93

☐ B. 91

☐ C. 81

☒ D. 83

Question ID : 441009590731

Option 1 ID : 4410092318040

Option 2 ID : 4410092318039

Option 3 ID : 4410092318037

Option 4 ID : 4410092318038

Status : Answered

Chosen Option : D

Q.6 निम्नलिखित अक्षर श्रृंखला का संदर्भ लें और दिए गए प्रश्न का उत्तर दें। गिनती केवल बाएं से दाएं की ओर की जानी है।

(बाएं) S J O B H M E I J P M A K C M F E K W A D B (दाएं)

ऐसे कितने स्वर हैं, जिनमें से प्रत्येक के ठीक पहले एक व्यंजन और ठीक बाद में भी एक व्यंजन है?

Ans ☒ A. 4

☐ B. 3

☐ C. 5

☐ D. 6

Question ID : 441009790827

Option 1 ID : 4410093117307

Option 2 ID : 4410093117309

Option 3 ID : 4410093117308

Option 4 ID : 4410093117310

Status : Answered

Chosen Option : A

Q.7 G, H, I, J, L, M और N में से प्रत्येक व्यक्ति की छुट्टी सोमवार से शुरू होकर रविवार को समाप्त होने वाले एक ही सप्ताह अलग-अलग दिन है। I के बाद किसी की छुट्टी नहीं है। L और I के बीच केवल तीन व्यक्तियों की छुट्टी है। N और H के बीच केवल एक व्यक्ति की छुट्टी है। M की छुट्टी J की छुट्टी से ठीक पहले है। G की छुट्टी शुक्रवार को नहीं है। N के बाद केवल तीन व्यक्तियों की छुट्टी है। G के बाद कितने व्यक्तियों की छुट्टी है?

- Ans ☒ A. दो
- ☒ B. छह
- ☒ C. पाँच
- ☒ D. चार

Question ID :	4410091435115
Option 1 ID :	4410095668995
Option 2 ID :	4410095668993
Option 3 ID :	4410095668992
Option 4 ID :	4410095668994
Status :	Not Answered
Chosen Option :	--

Q.8 एक परिवार में 7 सदस्य - J, K, L, M, N, O और P हैं। इनमें से 2 विवाहित युगल हैं। J, K की पत्नी है। K के दो पुत्र M और L हैं। N और P का पिता M है। N, O की पुत्री है। J का P से क्या संबंध है?

- Ans ☒ A. माता की माता
- ☒ B. पुत्री
- ☒ C. पिता की माता
- ☒ D. माता

Question ID :	4410091412184
Option 1 ID :	4410095577774
Option 2 ID :	4410095577772
Option 3 ID :	4410095577773
Option 4 ID :	4410095577775
Status :	Answered
Chosen Option :	C

Q.9 उस युग्म का चयन कीजिए, जो नीचे दिए गए दो युग्मों द्वारा अनुसरण किए गए पैटर्न के समान पैटर्न का अनुसरण करता है। दोनों युग्म समान पैटर्न का अनुसरण करते हैं।

MKH : OHJ
IOL : KLN

- Ans ☒ A. GIG : IFH
- ☒ B. INM : KKN
- ☒ C. LPM : NMO
- ☒ D. FKH : HGJ

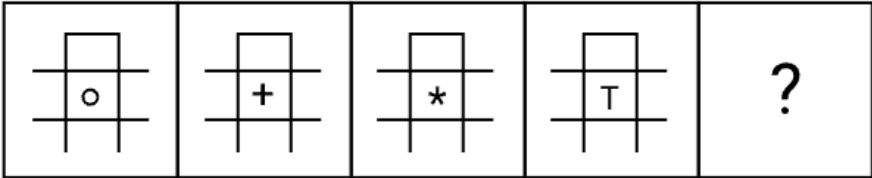
Question ID :	441009788502
Option 1 ID :	4410093108008
Option 2 ID :	4410093108010
Option 3 ID :	4410093108007
Option 4 ID :	4410093108009
Status :	Answered
Chosen Option :	C

Q.10	अंग्रेजी वर्णमाला क्रम के आधार पर, निम्नलिखित चार अक्षर-समूह युग्मों में से तीन एक निश्चित तरीके से समान हैं और इस प्रकार एक ग्रुप बनाते हैं। कौन-सा अक्षर-समूह युग्म, उस ग्रुप से संबंधित नहीं है? (नोट: असंगत अक्षर-समूह युग्म, व्यंजनों/स्वरों की संख्या या उनकी स्थिति पर आधारित नहीं है।)
Ans	<div><div>✓</div>A. PN-WB</div>
	<div><div>✗</div>B. VS-CH</div>
	<div><div>✗</div>C. HE-OT</div>
	<div><div>✗</div>D. SP-ZE</div>

Question ID :	441009796020
Option 1 ID :	4410093138080
Option 2 ID :	4410093138079
Option 3 ID :	4410093138081
Option 4 ID :	4410093138082
Status :	Answered
Chosen Option :	A

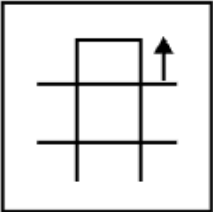


Q.1 विकल्पों में दी गई उस आकृति की पहचान कीजिए, जिसे प्रश्न-चिह्न (?) के स्थान पर रखे जाने से निम्न
1 श्रृंखला तार्किक रूप से पूर्ण हो जाएगी।

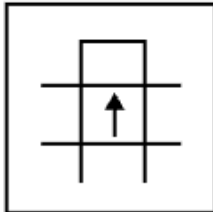


Ans

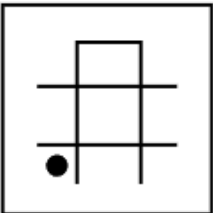
✗ A.



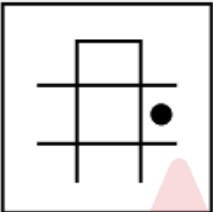
✓ B.



✗ C.



✗ D.



Question ID : 4410091425270

Option 1 ID : 4410095664134

Option 2 ID : 4410095664131

Option 3 ID : 4410095664133

Option 4 ID : 4410095664132

Status : Answered

Chosen Option : B

Q.1 2	अंग्रेजी वर्णमाला क्रम के आधार पर, दी गई श्रृंखला में प्रश्न-चिह्न (?) के स्थान पर क्या आना चाहिए? NER LHT JKV HNX ?
Ans	<input checked="" type="checkbox"/> A. TRE
	<input checked="" type="checkbox"/> B. NHY
	<input checked="" type="checkbox"/> C. FQZ
	<input checked="" type="checkbox"/> D. VGF

Question ID :	4410091435296
Option 1 ID :	4410095669718
Option 2 ID :	4410095669717
Option 3 ID :	4410095669716
Option 4 ID :	4410095669719
Status :	Answered
Chosen Option :	C

Q.1 3	अंग्रेजी वर्णमाला क्रम के आधार पर दी गई श्रृंखला में प्रश्न चिह्न (?) के स्थान पर क्या आना चाहिए? MEO JFM GGK ? AIG
Ans	<input checked="" type="checkbox"/> A. OIY
	<input checked="" type="checkbox"/> B. LOP
	<input checked="" type="checkbox"/> C. DHI
	<input checked="" type="checkbox"/> D. MJH

Question ID :	4410091432429
Option 1 ID :	4410095658077
Option 2 ID :	4410095658080
Option 3 ID :	4410095658078
Option 4 ID :	4410095658079
Status :	Answered
Chosen Option :	C

Q.1 4	आठ मित्र - R, S, T, U, V, W, X और Y एक गोल मेज के परितः केंद्र की ओर अभिमुख होकर बैठे हैं। T, V के बाईं ओर तीसरे स्थान पर बैठा है। S, V के दाईं ओर तीसरे स्थान पर बैठा है। U, W के बाईं ओर तीसरे स्थान पर बैठा है। X, R के ठीक बाईं ओर पड़ोस में बैठा है। W, T के ठीक बाईं ओर पड़ोस में बैठा है। Y के सापेक्ष X का स्थान क्या है?
Ans	<input checked="" type="checkbox"/> A. बाईं ओर तीसरा
	<input checked="" type="checkbox"/> B. दाईं ओर चौथा
	<input checked="" type="checkbox"/> C. दाईं ओर दूसरा
	<input checked="" type="checkbox"/> D. ठीक बाईं ओर पड़ोस में

Question ID :	441009791167
Option 1 ID :	4410093118668
Option 2 ID :	4410093118669
Option 3 ID :	4410093118667
Option 4 ID :	4410093118670
Status :	Answered
Chosen Option :	B

Q.1
5

अंग्रेजी वर्णमाला के क्रम के आधार पर, निम्नलिखित चार अक्षर-समूहों में से तीन किसी निश्चित तरीके से एकसमान हैं और इस प्रकार वे एक ग्रुप बनाते हैं। कौन-सा अक्षर-समूह, उस ग्रुप से संबंधित नहीं है? (नोट: असंगत अक्षर-समूह, व्यंजनों/स्वरों की संख्या या उनकी स्थिति पर आधारित नहीं है।)

Ans

☒ A. RTZ

☐ B. NQV

☐ C. DGL

☐ D. PSX

Question ID :	441009790574
Option 1 ID :	4410093116298
Option 2 ID :	4410093116296
Option 3 ID :	4410093116295
Option 4 ID :	4410093116297
Status :	Answered
Chosen Option :	A

Q.1
6

छह मित्र D, E, F, G, X और Y एक गोल मेज के परितः उसके केंद्र की ओर अभिमुख होकर बैठे हैं। Y, F के बाईं ओर तीसरे स्थान पर बैठा है। D, Y के बाईं ओर दूसरे स्थान पर बैठा है। X और D के बीच केवल F बैठा है। E, X का निकटतम पड़ोसी नहीं है। G के दाईं ओर से गिनने पर, G और D के बीच कितने व्यक्ति बैठे हैं?

Ans

☐ A. चार

☐ B. एक

☒ C. दो

☐ D. तीन

Question ID :	4410091432220
Option 1 ID :	4410095657217
Option 2 ID :	4410095657214
Option 3 ID :	4410095657215
Option 4 ID :	4410095657216
Status :	Answered
Chosen Option :	C

Q.1
7

छह मित्र D, E, F, G, X और Y उत्तर की ओर अभिमुख होकर एक सीधी पंक्ति में बैठे हैं। Y के बाईं ओर केवल दो व्यक्ति बैठे हैं। Y और G के बीच केवल दो व्यक्ति बैठे हैं। G और D के बीच केवल एक व्यक्ति बैठा है। X, E के ठीक बाईं ओर पड़ोस में बैठा है। F के दाईं ओर कितने व्यक्ति बैठे हैं?

Ans

☒ A. एक

☐ B. चार

☐ C. दो

☐ D. तीन

Question ID :	4410091432236
Option 1 ID :	4410095657278
Option 2 ID :	4410095657281
Option 3 ID :	4410095657279
Option 4 ID :	4410095657280
Status :	Answered
Chosen Option :	A

Q.1
8

यदि 'X' का अर्थ '+' है, 'Y' का अर्थ '-' है, 'Z' का अर्थ '×' है और 'W' का अर्थ '÷' है, तो निम्नलिखित समीकरण में प्रश्न-चिह्न (?) के स्थान पर क्या आएगा?

25 X 5 W 2 Y 6 Z 3 = ?

Ans

✓ A. 13

✗ B. 12

✗ C. 14

✗ D. 11

Question ID :	441009554791
Option 1 ID :	4410092174479
Option 2 ID :	4410092174481
Option 3 ID :	4410092174480
Option 4 ID :	4410092174478
Status :	Answered
Chosen Option :	A

Q.1
9

अंग्रेजी वर्णमाला के क्रम के आधार पर, ROCK का संबंध AXLT से है। इसी प्रकार, GROW का संबंध PAXF से है। समान तर्क का अनुसरण करते हुए, LAMP का संबंध दिए गए विकल्पों में से किससे है?

Ans

✗ A. TIUX

✗ B. UKWY

✓ C. UJVV

✗ D. VKWZ

Question ID :	441009792169
Option 1 ID :	4410093122676
Option 2 ID :	4410093122675
Option 3 ID :	4410093122677
Option 4 ID :	4410093122678
Status :	Not Attempted and Marked For Review
Chosen Option :	--

Q.2
0

निम्नलिखित अक्षर श्रृंखला का संदर्भ लें और दिए गए प्रश्न का उत्तर दें। गिनती केवल बाएं से दाएं की जानी है।

(बाएं) LTVOKNEXHAICWMUBYZRQP (दाएं)

ऐसे कितने व्यंजन हैं, जिनमें से प्रत्येक के ठीक पहले एक स्वर और ठीक बाद में भी एक स्वर है?

Ans

✓ A. एक भी नहीं

✗ B. दो

✗ C. तीन

✗ D. एक

Question ID :	441009796911
Option 1 ID :	4410093141643
Option 2 ID :	4410093141645
Option 3 ID :	4410093141646
Option 4 ID :	4410093141644
Status :	Answered
Chosen Option :	A

Q.2	दी गई श्रृंखला में प्रश्न-चिह्न (?) के स्थान पर क्या आना चाहिए?
1	3 13 48 203 1028 ?
Ans	<div><div>✗ A. 6283</div><div>✓ B. 6183</div><div>✗ C. 6182</div><div>✗ D. 6273</div></div>

Question ID :	4410091413446
Option 1 ID :	4410095582798
Option 2 ID :	4410095582796
Option 3 ID :	4410095582795
Option 4 ID :	4410095582797
Status :	Not Attempted and Marked For Review
Chosen Option :	--

Q.2	उस युग्म का चयन कीजिए, जो नीचे दिए गए युग्मों के दो समूह द्वारा अनुसरण किए जाने वाले पैटर्न के समान पैटर्न का अनुसरण करता है। दोनों युग्म समान पैटर्न का अनुसरण करते हैं।
2	OKN : RIQ HGP : KES
Ans	<div><div>✓ A. OFW : RDZ</div><div>✗ B. NPS : QNU</div><div>✗ C. SLL : VIO</div><div>✗ D. NMK : QKM</div></div>

Question ID :	4410091432377
Option 1 ID :	4410095657835
Option 2 ID :	4410095657833
Option 3 ID :	4410095657834
Option 4 ID :	4410095657836
Status :	Answered
Chosen Option :	A

Q.2	G, H, J, K, L और P एक ही इमारत के छह अलग-अलग तलों पर रहते हैं। इमारत के सबसे निचले तल का क्रमांक 1 है, उसके ठीक ऊपर वाले तल का क्रमांक 2 है और इसी प्रकार, सबसे ऊपरी तल का क्रमांक 6 है। H और K के बीच केवल दो व्यक्ति रहते हैं। G के ऊपर केवल P रहता है। J एक सम-क्रमांक वाले तल पर रहता है। H सबसे निचले तल पर रहता है। L और P के बीच कितने व्यक्ति रहते हैं?
3	
Ans	<div><div>✗ A. चार</div><div>✓ B. दो</div><div>✗ C. एक</div><div>✗ D. तीन</div></div>

Question ID :	441009814130
Option 1 ID :	4410093210646
Option 2 ID :	4410093210644
Option 3 ID :	4410093210643
Option 4 ID :	4410093210645
Status :	Answered
Chosen Option :	B

Q.2	यदि संख्या 8534176 के प्रत्येक विषम अंक में 1 जोड़ दिया जाए तथा प्रत्येक सम अंक में से 2 घटा दिया जाए, तो इस प्रकार बनी नई संख्या में बाईं ओर से तीसरा अंक निम्नलिखित में से क्या होगा?
Ans	<div><div><div><div></div></div><div>A. 8</div></div><div><div><div></div></div><div>B. 6</div></div><div><div><div></div></div><div>C. 4</div></div><div><div><div></div></div><div>D. 2</div></div></div>

Question ID :	441009552909
Option 1 ID :	4410092166953
Option 2 ID :	4410092166952
Option 3 ID :	4410092166950
Option 4 ID :	4410092166951
Status :	Answered
Chosen Option :	C

Q.2	मिस्टर दावा, बिंदु A से ड्राइव करना शुरू करते हैं और पश्चिम की ओर 23 km ड्राइव करते हैं। फिर वह बाएं मुड़ते हैं और 11 km ड्राइव करते हैं। फिर वह दाएं मुड़ते हैं और 15 km ड्राइव करते हैं। इसके बाद, वह दाएं मुड़ते हैं और 31 km ड्राइव करते हैं। फिर वह दाएं मुड़ते हैं और 9 km ड्राइव करते हैं। फिर वह दाएं मुड़ते हैं और 16 km ड्राइव करते हैं। अंत में वह बाएं मुड़ते हैं और 29 km ड्राइव करके बिंदु P पर रुक जाते हैं। बिंदु A पर वापस पहुंचने के लिए उन्हें कितनी दूरी (सबसे कम दूरी) तक और किस दिशा में ड्राइव करना चाहिए? (जब तक निर्दिष्ट न किया जाए, सभी मोड़ केवल 90-डिग्री के मोड़ हैं।)
Ans	<div><div><div><div></div></div><div>A. 4 km, दक्षिण की ओर</div></div><div><div><div></div></div><div>B. 16 km, पूर्व की ओर</div></div><div><div><div></div></div><div>C. 4 km, उत्तर की ओर</div></div><div><div><div></div></div><div>D. 15 km, पश्चिम की ओर</div></div></div>

Question ID :	441009761123
Option 1 ID :	4410092998486
Option 2 ID :	4410092998488
Option 3 ID :	4410092998485
Option 4 ID :	4410092998487
Status :	Not Answered
Chosen Option :	--

Section : General Awareness

Q.1	अंतर्राष्ट्रीय मात्रक प्रणाली (SI) में कार्य का मात्रक क्या है?
Ans	<div><div><div><div></div></div><div>A. जूल</div></div><div><div><div></div></div><div>B. पास्कल</div></div><div><div><div></div></div><div>C. वाट</div></div><div><div><div></div></div><div>D. न्यूटन-मीटर</div></div></div>

Question ID :	441009624090
Option 1 ID :	4410092450493
Option 2 ID :	4410092450495
Option 3 ID :	4410092450494
Option 4 ID :	4410092450492
Status :	Answered
Chosen Option :	A

Q.2	निम्नलिखित में से किस वर्ष में भारतीय राष्ट्रीय कांग्रेस के सूरत अधिवेशन में नरमपंथियों और अतिवादियों के बीच अंतिम विभाजन हुआ था?
Ans	<div><div><div><div><div></div></div></div><div>A. 1906</div></div></div>
	<div><div><div><div><div></div></div></div><div>B. 1905</div></div></div>
	<div><div><div><div><div></div></div></div><div>C. 1907</div></div></div>
	<div><div><div><div><div></div></div></div><div>D. 1908</div></div></div>

Question ID :	4410091502589
Option 1 ID :	4410095934687
Option 2 ID :	4410095934686
Option 3 ID :	4410095934688
Option 4 ID :	4410095934689
Status :	Answered
Chosen Option :	C

Q.3	शास्त्रीय भाषा की मान्यता का एक प्रमुख परिणाम _____।
Ans	<div><div><div><div><div></div></div></div><div>A. भाषा की लिपि और व्याकरण के आधुनिकीकरण के प्रयासों को सुगम बनाना है</div></div></div>
	<div><div><div><div><div></div></div></div><div>B. यह है कि इससे संयुक्त राष्ट्र की आधिकारिक भाषा के रूप में इसे एकीकृत करने के प्रयासों को सुगम बनाया जा सकेगा</div></div></div>
	<div><div><div><div><div></div></div></div><div>C. यह है कि इससे देशभर के सभी प्राथमिक विद्यालयों में इसके शिक्षण को अनिवार्य बनाने की दिशा में किए जा रहे प्रयासों को सुगम बनाया जा सकेगा</div></div></div>
	<div><div><div><div><div></div></div></div><div>D. इसके संवर्धन, संरक्षण और आगे के शोध के प्रयासों को सुगम बनाना है</div></div></div>

Question ID :	4410091509887
Option 1 ID :	4410095964233
Option 2 ID :	4410095964232
Option 3 ID :	4410095964234
Option 4 ID :	4410095964235
Status :	Answered
Chosen Option :	D

Q.4	निम्नलिखित में से कौन-सी, दाब की इकाई है?
Ans	<div><div><div><div><div></div></div></div><div>A. जूल</div></div></div>
	<div><div><div><div><div></div></div></div><div>B. न्यूटन</div></div></div>
	<div><div><div><div><div></div></div></div><div>C. पास्कल</div></div></div>
	<div><div><div><div><div></div></div></div><div>D. वाट</div></div></div>

Question ID :	441009625160
Option 1 ID :	4410092454773
Option 2 ID :	4410092454774
Option 3 ID :	4410092454772
Option 4 ID :	4410092454775
Status :	Answered
Chosen Option :	C

Q.5 भारत के अधिकांश हिस्सों में, दक्षिण-पश्चिम मानसून के आगमन से ठीक पहले गर्म मौसम की ऋतु किन महीनों में शुरू होती है?

- Ans
- ☒ A. सितंबर से नवंबर तक
 - ☒ B. मार्च से मई तक
 - ☒ C. जून से अगस्त तक
 - ☒ D. जनवरी से मार्च तक

Question ID :	4410091511232
Option 1 ID :	4410095968981
Option 2 ID :	4410095968979
Option 3 ID :	4410095968980
Option 4 ID :	4410095968978
Status :	Answered
Chosen Option :	B

Q.6 गुप्त शासकों ने पूर्व के भारतीय राजाओं पर अपनी सर्वोच्चता साबित करने के लिए कौन-सी उपाधि अपनाई?

- Ans
- ☒ A. राजन (Rājan)
 - ☒ B. महाराज (Mahārāja)
 - ☒ C. प्रभुपति (Prabhupati)
 - ☒ D. महाराजाधिराज (Mahārājadhirāja)

Question ID :	4410091498827
Option 1 ID :	4410095920233
Option 2 ID :	4410095920232
Option 3 ID :	4410095920235
Option 4 ID :	4410095920234
Status :	Answered
Chosen Option :	D

Q.7 किसी परिसंपत्ति के उपयोग को एक निश्चित अवधि के लिए किसी निजी पक्ष को हस्तांतरित करने के लिए किस शब्द का प्रयोग किया जाता है?

- Ans
- ☒ A. परिसमापन
 - ☒ B. पट्टे पर देना
 - ☒ C. विलय
 - ☒ D. संयुक्त उद्यम

Question ID :	4410091518357
Option 1 ID :	4410095996658
Option 2 ID :	4410095996659
Option 3 ID :	4410095996660
Option 4 ID :	4410095996661
Status :	Answered
Chosen Option :	B

Q.8	रामकृष्ण मिशन और रामकृष्ण मठ दोनों के मुख्यालय कहाँ स्थित हैं?
Ans	<input checked="" type="checkbox"/> A. पश्चिम बंगाल में दक्षिणेश्वर काली मंदिर
	<input checked="" type="checkbox"/> B. पश्चिम बंगाल में गौड़िया मठ
	<input checked="" type="checkbox"/> C. चेन्नई में विवेकानंद हाउस
	<input checked="" type="checkbox"/> D. पश्चिम बंगाल में बेलूर मठ

Question ID :	4410091514561
Option 1 ID :	4410095981910
Option 2 ID :	4410095981913
Option 3 ID :	4410095981912
Option 4 ID :	4410095981911
Status :	Answered
Chosen Option :	D

Q.9	भारतीय संविधान का 105वां संशोधन अधिनियम किस वर्ष अधिनियमित हुआ था?
Ans	<input checked="" type="checkbox"/> A. 2021
	<input checked="" type="checkbox"/> B. 2020
	<input checked="" type="checkbox"/> C. 2018
	<input checked="" type="checkbox"/> D. 2022

Question ID :	4410091515224
Option 1 ID :	4410095984298
Option 2 ID :	4410095984297
Option 3 ID :	4410095984296
Option 4 ID :	4410095984299
Status :	Answered
Chosen Option :	A

Q.10	निम्नलिखित में से कौन-सा एक तत्व का उदाहरण नहीं है?
Ans	<input checked="" type="checkbox"/> A. ऑक्सीजन
	<input checked="" type="checkbox"/> B. हाइड्रोजन
	<input checked="" type="checkbox"/> C. आयरन
	<input checked="" type="checkbox"/> D. जल

Question ID :	4410091515651
Option 1 ID :	4410095986005
Option 2 ID :	4410095986006
Option 3 ID :	4410095986007
Option 4 ID :	4410095986008
Status :	Answered
Chosen Option :	D

Q.1	ओडिशा का मूल वाद्य कौन-सा है और इसका उपयोग ओडिसी शास्त्रीय संगीत में किया जाता है?
1	
Ans	✓ A. मर्दाला
	✗ B. वायलिन
	✗ C. सितार
	✗ D. शहनाई

Question ID :	4410091515396
Option 1 ID :	4410095984990
Option 2 ID :	4410095984991
Option 3 ID :	4410095984989
Option 4 ID :	4410095984992
Status :	Answered
Chosen Option :	A

Q.1	निम्नलिखित में से किस राज्य में भारत का पहला तेल कुआँ सफलतापूर्वक खोदा गया था, जिसने देश में कच्चे तेल की खोज और उत्पादन गतिविधियों की शुरुआत को चिह्नित किया?
2	
Ans	✓ A. असम
	✗ B. महाराष्ट्र
	✗ C. गुजरात
	✗ D. राजस्थान

Question ID :	4410091502789
Option 1 ID :	4410095935448
Option 2 ID :	4410095935450
Option 3 ID :	4410095935449
Option 4 ID :	4410095935451
Status :	Answered
Chosen Option :	A

Q.1	अनुच्छेद 39A के अनुसार राज्य को यह सुनिश्चित करना अनिवार्य है कि कानूनी प्रणाली का संचालन किस केंद्रीय अवधारणा को बढ़ावा दे?
3	
Ans	✗ A. तीव्र आर्थिक विकास
	✓ B. समान अवसर के आधार पर न्याय
	✗ C. सामाजिक एवं धार्मिक समरसता
	✗ D. राजनीतिक स्थिरता और सुरक्षा

Question ID :	4410091515008
Option 1 ID :	4410095983449
Option 2 ID :	4410095983451
Option 3 ID :	4410095983448
Option 4 ID :	4410095983450
Status :	Answered
Chosen Option :	A

Q.1 4	भारतीय संविधान के अनुच्छेद 51A(c) में निर्दिष्ट नागरिकों के मौलिक कर्तव्यों में से एक के रूप में राष्ट्र की रक्षा और संरक्षण करने का नागरिक का कर्तव्य किन तीन मुख्य अवधारणाओं को समाहित करता है?
Ans	<div><div><input checked="" type="checkbox"/></div><div>A. भारत की संप्रभुता, एकता और अखंडता</div></div> <div><div><input checked="" type="checkbox"/></div><div>B. अर्थव्यवस्था, विकास और वाणिज्य</div></div> <div><div><input checked="" type="checkbox"/></div><div>C. गरीबी, असमानता और निरक्षरता</div></div> <div><div><input checked="" type="checkbox"/></div><div>D. शांति, न्याय और स्वतंत्रता</div></div>

Question ID :	4410091515057
Option 1 ID :	4410095983636
Option 2 ID :	4410095983638
Option 3 ID :	4410095983637
Option 4 ID :	4410095983639
Status :	Answered
Chosen Option :	A

Q.1 5	निम्नलिखित में से कौन-से व्यक्ति नागरिकता अधिनियम, 1955 की धारा 5(1)(g) के तहत भारतीय नागरिकता के लिए आवेदन कर सकते हैं?
Ans	<div><div><input checked="" type="checkbox"/></div><div>A. भारत में कार्य करने वाला कोई भी विदेशी नागरिक</div></div> <div><div><input checked="" type="checkbox"/></div><div>B. OCI कार्ड धारक जो पूर्ण भारतीय नागरिकता चाहता है</div></div> <div><div><input checked="" type="checkbox"/></div><div>C. किसी भारतीय विश्वविद्यालय में नामांकित विदेशी विद्यार्थी</div></div> <div><div><input checked="" type="checkbox"/></div><div>D. भारत आने वाला कोई भी पर्यटक</div></div>

Question ID :	4410091509471
Option 1 ID :	4410095962545
Option 2 ID :	4410095962546
Option 3 ID :	4410095962547
Option 4 ID :	4410095962544
Status :	Answered
Chosen Option :	B

Q.1 6	प्रधानमंत्री जीवन ज्योति बीमा योजना का शुभारंभ किसने किया?
Ans	<div><div><input checked="" type="checkbox"/></div><div>A. नरेंद्र मोदी</div></div> <div><div><input checked="" type="checkbox"/></div><div>B. अमित शाह</div></div> <div><div><input checked="" type="checkbox"/></div><div>C. निर्मला सीतारमण</div></div> <div><div><input checked="" type="checkbox"/></div><div>D. राजनाथ सिंह</div></div>

Question ID :	441009638857
Option 1 ID :	4410092509572
Option 2 ID :	4410092509573
Option 3 ID :	4410092509574
Option 4 ID :	4410092509571
Status :	Answered
Chosen Option :	A

Q.1 7	भारतीय संविधान का कौन-सा विशिष्ट अनुच्छेद, राज्य को अंतर्राष्ट्रीय शांति और सुरक्षा की अभिवृद्धि का प्रयास करने के लिए बाध्य करता है?
Ans	<input checked="" type="checkbox"/> A. अनुच्छेद 49
	<input checked="" type="checkbox"/> B. अनुच्छेद 48
	<input checked="" type="checkbox"/> C. अनुच्छेद 51
	<input checked="" type="checkbox"/> D. अनुच्छेद 48A

Question ID :	4410091515031
Option 1 ID :	4410095983538
Option 2 ID :	4410095983536
Option 3 ID :	4410095983539
Option 4 ID :	4410095983537
Status :	Answered
Chosen Option :	C

Q.1 8	सरकारी बजट को सामान्यतः किन दो प्रमुख भागों में विभाजित किया जाता है?
Ans	<input checked="" type="checkbox"/> A. राजस्व बजट और पूंजी बजट
	<input checked="" type="checkbox"/> B. योजनाबद्ध और गैर-योजनाबद्ध बजट
	<input checked="" type="checkbox"/> C. सकल और शुद्ध बजट
	<input checked="" type="checkbox"/> D. प्रत्यक्ष बजट और अप्रत्यक्ष बजट

Question ID :	4410091518770
Option 1 ID :	4410095998351
Option 2 ID :	4410095998353
Option 3 ID :	4410095998350
Option 4 ID :	4410095998352
Status :	Answered
Chosen Option :	A

Q.1 9	भारत के संविधान के अंतिम व्याख्याकार के रूप में, न्यायपालिका को कौन सी शक्ति असंवैधानिक कानूनों को रद्द करने में सक्षम बनाती है?
Ans	<input checked="" type="checkbox"/> A. समवर्ती शक्ति
	<input checked="" type="checkbox"/> B. न्यायिक समीक्षा
	<input checked="" type="checkbox"/> C. अध्यादेश बनाने की शक्ति
	<input checked="" type="checkbox"/> D. कार्यकारी निरीक्षण

Question ID :	4410091517421
Option 1 ID :	4410095993054
Option 2 ID :	4410095993053
Option 3 ID :	4410095993055
Option 4 ID :	4410095993056
Status :	Answered
Chosen Option :	B

Q.2 0	कौटिल्य के अर्थशास्त्र के अनुसार, गुप्त काल के बाद के शासकों ने पड़ोसी राज्यों के साथ गठबंधन (मित्र) क्यों बनाए?
Ans	<div><div><input checked="" type="checkbox"/></div><div>A. किसानों पर कराधान को कम करने के लिए</div></div>
	<div><div><input checked="" type="checkbox"/></div><div>B. सैन्य सहायता प्राप्त करने और राजनीतिक संतुलन बनाए रखने के लिए</div></div>
	<div><div><input checked="" type="checkbox"/></div><div>C. सांस्कृतिक आदान-प्रदान को बढ़ावा देने के लिए</div></div>
	<div><div><input checked="" type="checkbox"/></div><div>D. समुद्री व्यापार को नियंत्रित करने के लिए</div></div>

Question ID :	4410091498944
Option 1 ID :	4410095920675
Option 2 ID :	4410095920672
Option 3 ID :	4410095920673
Option 4 ID :	4410095920674
Status :	Answered
Chosen Option :	B

Q.2 1	असम की एक प्रमुख नदी प्रणाली बार-बार आने वाली बाढ़ के बाद अपना मार्ग बदल लेती है, जिससे कई नदी द्वीपों का निर्माण होता है। इनमें से सबसे बड़ा द्वीप, जो लगभग 1,250 वर्ग किलोमीटर में फैला है, _____ नाम से जाना जाता है।
Ans	<div><div><input checked="" type="checkbox"/></div><div>A. शिवसागर द्वीप</div></div>
	<div><div><input checked="" type="checkbox"/></div><div>B. उमानंद</div></div>
	<div><div><input checked="" type="checkbox"/></div><div>C. माजुली</div></div>
	<div><div><input checked="" type="checkbox"/></div><div>D. दिबांग द्वीप</div></div>

Question ID :	4410091517547
Option 1 ID :	4410095993554
Option 2 ID :	4410095993555
Option 3 ID :	4410095993553
Option 4 ID :	4410095993556
Status :	Answered
Chosen Option :	C

Q.2 2	भारतीय मरुस्थल से होकर बहने वाली एकमात्र विस्तृत नदी के रूप में किस नदी की पहचान की गई है?
Ans	<div><div><input checked="" type="checkbox"/></div><div>A. लूनी</div></div>
	<div><div><input checked="" type="checkbox"/></div><div>B. घग्गर</div></div>
	<div><div><input checked="" type="checkbox"/></div><div>C. सतलुज</div></div>
	<div><div><input checked="" type="checkbox"/></div><div>D. साबरमती</div></div>

Question ID :	4410091509038
Option 1 ID :	4410095960819
Option 2 ID :	4410095960818
Option 3 ID :	4410095960821
Option 4 ID :	4410095960820
Status :	Answered
Chosen Option :	A

Q.2 3	'लोटिया' लोक गीत और उत्सव परंपरा किस भारतीय राज्य से संबंधित है?
Ans	<div><div><div><div><div></div></div></div><div>A. मध्य प्रदेश</div></div><div><div><div><div></div></div></div><div>B. राजस्थान</div></div><div><div><div><div></div></div></div><div>C. गुजरात</div></div><div><div><div><div></div></div></div><div>D. उत्तर प्रदेश</div></div></div>

Question ID :	4410091513134
Option 1 ID :	4410095976568
Option 2 ID :	4410095976566
Option 3 ID :	4410095976567
Option 4 ID :	4410095976569
Status :	Answered
Chosen Option :	C

Q.2 4	हरित क्रांति ने कृषि में भूमि के उपयोग को किस प्रकार प्रभावित किया?
Ans	<div><div><div><div><div></div></div></div><div>A. इससे शहरी खेती पर अधिक ध्यान केंद्रित हुआ।</div></div><div><div><div><div></div></div></div><div>B. इससे कृषि योग्य भूमि के परित्याग को बढ़ावा मिला।</div></div><div><div><div><div></div></div></div><div>C. इससे खेती योग्य भूमि की मात्रा में कमी आई।</div></div><div><div><div><div></div></div></div><div>D. इसके परिणामस्वरूप मौजूदा कृषि भूमि का अधिक कुशल उपयोग हुआ।</div></div></div>

Question ID :	441009609885
Option 1 ID :	4410092394659
Option 2 ID :	4410092394660
Option 3 ID :	4410092394657
Option 4 ID :	4410092394658
Status :	Answered
Chosen Option :	D

Q.2 5	1886 में भारतीय राष्ट्रीय कांग्रेस के दूसरे अधिवेशन की अध्यक्षता किसने की थी?
Ans	<div><div><div><div><div></div></div></div><div>A. बदरूद्दीन तैयबजी</div></div><div><div><div><div></div></div></div><div>B. डब्ल्यू. सी. बनर्जी</div></div><div><div><div><div></div></div></div><div>C. दादाभाई नौरोजी</div></div><div><div><div><div></div></div></div><div>D. ए. ओ. ह्यूम</div></div></div>

Question ID :	4410091514464
Option 1 ID :	4410095981700
Option 2 ID :	4410095981699
Option 3 ID :	4410095981698
Option 4 ID :	4410095981701
Status :	Answered
Chosen Option :	C

Q.1

Select the most appropriate option to fill in the blanks.

The carpenter carefully selected the wood for _____ Vasant Vihar project, ensuring that a plank with an even grain would fit perfectly into _____ door frame.

Ans

X

A. a, the

B. the, the

X

C. an, the

X

D. the, a

Question ID :	4410091386621
Option 1 ID :	4410095477167
Option 2 ID :	4410095477169
Option 3 ID :	4410095477170
Option 4 ID :	4410095477168
Status :	Answered
Chosen Option :	A

Q.2

Select the INCORRECTLY spelt word.

Ans

X

A. Pictorial

X

B. Envious

C. Embarass

X

D. Chancellor

Question ID :	4410091372668
Option 1 ID :	4410095422109
Option 2 ID :	4410095422106
Option 3 ID :	4410095422107
Option 4 ID :	4410095422108
Status :	Answered
Chosen Option :	D

Q.3

Parts of a sentence are given below. While the first part is in the correct place, the remaining parts (labelled P, Q, R and S) are jumbled up. Arrange the parts in the correct order to form a meaningful and coherent sentence.

Life is judged / (P) and not by / (Q) of work done / (R) the longevity of years / (S) by the quality

Ans

X

A. QSPR

X

B. QSRP

X

C. SQRP

D. SQPR

Question ID :	4410091370238
Option 1 ID :	4410095412400
Option 2 ID :	4410095412402
Option 3 ID :	4410095412401
Option 4 ID :	4410095412403
Status :	Answered
Chosen Option :	D

Q.4 Select the most appropriate article to fill in the blanks. If no article is needed, select 'No article needed'.

My daughter goes to _____ school every day to learn, but yesterday I went to _____ school to have a brief appointment with _____ principal about her progress and upcoming activities.

- Ans ☒ A. no article needed, the, the
- ☐ B. the, the, the
- ☐ C. the, the, no article needed
- ☐ D. the, no article needed, the

Question ID :	4410091401398
Option 1 ID :	4410095534905
Option 2 ID :	4410095534903
Option 3 ID :	4410095534906
Option 4 ID :	4410095534904
Status :	Answered
Chosen Option :	B

Q.5 Select the most appropriate proverb/idiom that can substitute the underlined segment in the given sentence.

Trying to please everyone, Kiran realised that someone who is a friend to all may have no true friends.

- Ans ☐ A. A friend in need is a friend indeed
- ☐ B. Actions speak louder than words
- ☒ C. A friend to all is a friend to none
- ☐ D. Birds of a feather flock together

Question ID :	4410091379504
Option 1 ID :	4410095449296
Option 2 ID :	4410095449299
Option 3 ID :	4410095449297
Option 4 ID :	4410095449298
Status :	Answered
Chosen Option :	D

Q.6 Select the most appropriate ANTONYM of the underlined word in the given sentence.

The ancient manuscript was pristine, preserved without a single blemish despite centuries of handling.

- Ans ☐ A. Immaculate
- ☐ B. Flawless
- ☐ C. Unspoiled
- ☒ D. Tarnished

Question ID :	4410091361796
Option 1 ID :	4410095379234
Option 2 ID :	4410095379235
Option 3 ID :	4410095379237
Option 4 ID :	4410095379236
Status :	Not Answered
Chosen Option :	--

Q.7

Select the most appropriate ANTONYM of the underlined word in the context of the given sentence.

The movie was so dull that many people left before it ended.

Ans

A. Bright

B. Short

C. Interesting

D. Simple

Question ID :	4410091365424
Option 1 ID :	4410095393288
Option 2 ID :	4410095393290
Option 3 ID :	4410095393289
Option 4 ID :	4410095393291
Status :	Answered
Chosen Option :	C

Q.8

Select the most appropriate ANTONYM of the underlined word in the given sentence.

The engineer promised to rectify the errors in the report.

Ans

A. Improve

B. Amend

C. Correct

D. Worsen

Question ID :	4410091372706
Option 1 ID :	4410095422260
Option 2 ID :	4410095422259
Option 3 ID :	4410095422258
Option 4 ID :	4410095422261
Status :	Answered
Chosen Option :	B

Q.9

Select the most appropriate option that conveys the meaning of the given sentence to fill in the blank.

Although he held no official title, his subtle influence on policy decisions and quiet persuasion behind the scenes earned him the nickname of a _____.

Ans

A. bureaucrat

B. delegate

C. kingmaker

D. shadow

Question ID :	4410091370613
Option 1 ID :	4410095413897
Option 2 ID :	4410095413899
Option 3 ID :	4410095413898
Option 4 ID :	4410095413896
Status :	Answered
Chosen Option :	A

Q.10

Select the most appropriate option that rectifies the grammatical error in the given sentence.

The ethnomusicological research was conducted notwithstanding to the region's complex geopolitical dynamics.

Ans

A. The ethnomusicological research was conducted notwithstanding of the region's complex geopolitical dynamics.

B. The ethnomusicological research was conducted notwithstanding the region's complex geopolitical dynamics.

C. The ethnomusicological research was conducted notwithstanding despite the region's complex geopolitical dynamics.

D. The ethnomusicological research was conducted notwithstanding with the region's complex geopolitical dynamics.

Question ID :	4410091370452
Option 1 ID :	4410095413253
Option 2 ID :	4410095413252
Option 3 ID :	4410095413255
Option 4 ID :	4410095413254
Status :	Not Answered
Chosen Option :	--

Q.11

Select the most appropriate option that rectifies the underlined incorrect word segment in the given sentence.

Peter Parker is a teenager who sadly gains superhuman power as Spider-Man - something he had never experienced before.

Ans

A. who lovingly gains superhuman power

B. who willingly gains superhuman power

C. who hesitatingly gains superhuman power

D. who unexpectedly gains superhuman power

Question ID :	4410091386182
Option 1 ID :	4410095475434
Option 2 ID :	4410095475433
Option 3 ID :	4410095475432
Option 4 ID :	4410095475431
Status :	Answered
Chosen Option :	D

Q.12

Parts of a sentence are given below. Arrange the parts in the correct order to form a meaningful and coherent sentence.

(A) includes not only
(B) and emotional development
(C) a well-rounded education
(D) academic but also social

Ans

A. CADB

B. CABD

C. ABCD

D. ABDC

Question ID :	441009433968
Option 1 ID :	4410091695390
Option 2 ID :	4410091695391
Option 3 ID :	4410091695392
Option 4 ID :	4410091695393
Status :	Answered
Chosen Option :	A

Q.1 Select the option that can be used as a one-word substitute for the highlighted word segment in the given sentence.

The captain's skill in finding the **correct route to reach a destination while travelling by sea** ensured the ship arrived safely.

Ans ☒ A. Navigation

☐ B. Travel

☐ C. Journey

☐ D. Exploration

Question ID : 4410091379238

Option 1 ID : 4410095448425

Option 2 ID : 4410095448426

Option 3 ID : 4410095448428

Option 4 ID : 4410095448427

Status : Answered

Chosen Option : A

Q.1 Parts of a sentence are given below. Arrange the parts in the correct order to form a meaningful and coherent sentence.

- A. so calculated
B. lay an emotional duplicity
C. beneath the syntactic polish
D. it disguised its own artificiality

Ans ☐ A. BACD

☒ B. CBAD

☐ C. ACBD

☐ D. BCAD

Question ID : 4410091370587

Option 1 ID : 4410095413794

Option 2 ID : 4410095413795

Option 3 ID : 4410095413793

Option 4 ID : 4410095413792

Status : Not Answered

Chosen Option : --

Q.1 Select the option that rectifies the preposition usage error in the given sentence.

The children were playing happily for the garden while their parents were sitting on the bench.

Ans ☐ A. The children were playing happily on the garden while their parents were sitting on the bench.

☒ B. The children were playing happily in the garden while their parents were sitting on the bench.

☐ C. The children were playing happily without the garden while their parents were sitting on the bench.

☐ D. The children were playing happily under the garden while their parents were sitting on the bench.

Question ID : 4410091378795

Option 1 ID : 4410095446656

Option 2 ID : 4410095446657

Option 3 ID : 4410095446659

Option 4 ID : 4410095446658

Status : Answered

Chosen Option : D

Q.1 6 Select the most appropriate proverb that can substitute the underlined segment in the given sentence.

Despite tripping over the loose stone, Ravi continued carefully, because a minor setback can help avoid a bigger disaster.

- Ans
- ☒ A. Rome was not built in a day
 - ☒ B. one should look before they leap
 - ☒ C. haste makes waste
 - ☒ D. a stumble may prevent a fall

Question ID :	4410091379519
Option 1 ID :	4410095449358
Option 2 ID :	4410095449357
Option 3 ID :	4410095449356
Option 4 ID :	4410095449359
Status :	Not Answered
Chosen Option :	--

Q.1 7 Select the most appropriate options to fill in the blanks.

I went _____ the room _____ the window.

- Ans
- ☒ A. on; from
 - ☒ B. in; on
 - ☒ C. into; through
 - ☒ D. under; by

Question ID :	4410091378657
Option 1 ID :	4410095446108
Option 2 ID :	4410095446106
Option 3 ID :	4410095446107
Option 4 ID :	4410095446109
Status :	Answered
Chosen Option :	B

Q.1 8 Select the most appropriate option to fill in the blank.

He wandered from country to country, never staying long enough to establish roots, embracing the uncertainties of life like a true _____.

- Ans
- ☒ A. exile
 - ☒ B. emigrant
 - ☒ C. cosmopolitan
 - ☒ D. vagabond

Question ID :	4410091370597
Option 1 ID :	4410095413834
Option 2 ID :	4410095413835
Option 3 ID :	4410095413832
Option 4 ID :	4410095413833
Status :	Answered
Chosen Option :	B

Q.1	Select the INCORRECTLY spelt word.
9	
Ans	<input checked="" type="checkbox"/> A. Scripture
	<input checked="" type="checkbox"/> B. Concieve
	<input checked="" type="checkbox"/> C. Rationale
	<input checked="" type="checkbox"/> D. Vacuum

Question ID :	4410091400648
Option 1 ID :	4410095532275
Option 2 ID :	4410095532272
Option 3 ID :	4410095532274
Option 4 ID :	4410095532273
Status :	Not Answered
Chosen Option :	--

Q.2	Select the most appropriate idiom that can substitute the highlighted text in the given sentence.
0	
	She revealed the secret and disclosed everything to the team.
Ans	<input checked="" type="checkbox"/> A. spilled the beans
	<input checked="" type="checkbox"/> B. jumped the gun
	<input checked="" type="checkbox"/> C. hit the sack
	<input checked="" type="checkbox"/> D. beat around the bush

Question ID :	4410091371509
Option 1 ID :	4410095417428
Option 2 ID :	4410095417431
Option 3 ID :	4410095417429
Option 4 ID :	4410095417430
Status :	Answered
Chosen Option :	A

Comprehension:

Read the passage and answer the questions that follow.

Corbett Tiger Reserve is more than a tourist destination; it is a testament to dedicated wildlife conservation. Home to the world's highest density of tigers, the reserve demonstrates the success achievable through timely and effective intervention. Beyond its stunning landscapes and rich biodiversity, Corbett showcases how committed efforts preserve the delicate balance of nature. Each visit reminds us of the vital importance of protecting our natural world for future generations.
At Corbett, the Veterinary Unit and Quick Response Team work tirelessly to safeguard both wild and captive animals. State-of-the-art facilities and trained professionals provide comprehensive healthcare, conduct rescue operations, and manage human-wildlife conflicts. Committed to conservation and coexistence, the reserve ensures the well-being of wildlife while promoting the safety of surrounding communities.

SubQuestion No : 21

Q.2 Select the most appropriate title for the passage.

1

Ans

A. Corbett: India's Largest Desert Habitat

B. Urban Development Initiatives in Corbett City

C. Corbett Tiger Reserve: A Model of Wildlife Conservation

D. Adventure Tourism in India

Question ID :	4410091363995
Option 1 ID :	4410095387906
Option 2 ID :	4410095387908
Option 3 ID :	4410095387907
Option 4 ID :	4410095387909
Status :	Answered
Chosen Option :	A

Comprehension:

Read the passage and answer the questions that follow.

Corbett Tiger Reserve is more than a tourist destination; it is a testament to dedicated wildlife conservation. Home to the world's highest density of tigers, the reserve demonstrates the success achievable through timely and effective intervention. Beyond its stunning landscapes and rich biodiversity, Corbett showcases how committed efforts preserve the delicate balance of nature. Each visit reminds us of the vital importance of protecting our natural world for future generations.
At Corbett, the Veterinary Unit and Quick Response Team work tirelessly to safeguard both wild and captive animals. State-of-the-art facilities and trained professionals provide comprehensive healthcare, conduct rescue operations, and manage human-wildlife conflicts. Committed to conservation and coexistence, the reserve ensures the well-being of wildlife while promoting the safety of surrounding communities.

SubQuestion No : 22

Q.2 Which of the following can be inferred from the passage?

2

Ans

A. The reserve focuses only on tourism and leisure activities.

B. Conservation at Corbett requires trained staff and proper facilities.

C. Tigers are no longer endangered due to Corbett's efforts.

D. Human-wildlife conflicts do not occur at the reserve.

Question ID :	4410091363996
Option 1 ID :	4410095387910
Option 2 ID :	4410095387911
Option 3 ID :	4410095387913
Option 4 ID :	4410095387912
Status :	Answered
Chosen Option :	A

Comprehension:

Read the passage and answer the questions that follow.

Corbett Tiger Reserve is more than a tourist destination; it is a testament to dedicated wildlife conservation. Home to the world's highest density of tigers, the reserve demonstrates the success achievable through timely and effective intervention. Beyond its stunning landscapes and rich biodiversity, Corbett showcases how committed efforts preserve the delicate balance of nature. Each visit reminds us of the vital importance of protecting our natural world for future generations.
At Corbett, the Veterinary Unit and Quick Response Team work tirelessly to safeguard both wild and captive animals. State-of-the-art facilities and trained professionals provide comprehensive healthcare, conduct rescue operations, and manage human-wildlife conflicts. Committed to conservation and coexistence, the reserve ensures the well-being of wildlife while promoting the safety of surrounding communities.

SubQuestion No : 23

Q.2 Which real-life action is most appropriate based on the passage?
3

Ans

✗ A. Hunting or capturing wild animals for personal use.

✗ B. Ignoring forest rules and disturbing wild animals nearby.

✗ C. Building houses or resorts inside protected areas.

✓ D. Visiting Corbett responsibly to support wildlife conservation.

Question ID :	4410091363997
Option 1 ID :	4410095387916
Option 2 ID :	4410095387915
Option 3 ID :	4410095387917
Option 4 ID :	4410095387914
Status :	Not Answered
Chosen Option :	--

Comprehension:

Read the passage and answer the questions that follow.

Corbett Tiger Reserve is more than a tourist destination; it is a testament to dedicated wildlife conservation. Home to the world's highest density of tigers, the reserve demonstrates the success achievable through timely and effective intervention. Beyond its stunning landscapes and rich biodiversity, Corbett showcases how committed efforts preserve the delicate balance of nature. Each visit reminds us of the vital importance of protecting our natural world for future generations.
At Corbett, the Veterinary Unit and Quick Response Team work tirelessly to safeguard both wild and captive animals. State-of-the-art facilities and trained professionals provide comprehensive healthcare, conduct rescue operations, and manage human-wildlife conflicts. Committed to conservation and coexistence, the reserve ensures the well-being of wildlife while promoting the safety of surrounding communities.

SubQuestion No : 24

Q.2 Select the most appropriate synonym of the given word as used in the passage.
4
Dedicated

Ans

✓ A. Faltering

✗ B. Impetuous

✗ C. Committed

✗ D. Chuffed

Question ID :	4410091363998
Option 1 ID :	4410095387921
Option 2 ID :	4410095387918
Option 3 ID :	4410095387920
Option 4 ID :	4410095387919
Status :	Not Answered
Chosen Option :	--

Comprehension:

Read the passage and answer the questions that follow.

Corbett Tiger Reserve is more than a tourist destination; it is a testament to dedicated wildlife conservation. Home to the world's highest density of tigers, the reserve demonstrates the success achievable through timely and effective intervention. Beyond its stunning landscapes and rich biodiversity, Corbett showcases how committed efforts preserve the delicate balance of nature. Each visit reminds us of the vital importance of protecting our natural world for future generations.

At Corbett, the Veterinary Unit and Quick Response Team work tirelessly to safeguard both wild and captive animals. State-of-the-art facilities and trained professionals provide comprehensive healthcare, conduct rescue operations, and manage human-wildlife conflicts. Committed to conservation and coexistence, the reserve ensures the well-being of wildlife while promoting the safety of surrounding communities.

SubQuestion No : 25

Q.2 Which of the following is a fact stated in the passage?

5

Ans

A. Corbett guarantees that human-wildlife conflicts never occur.

B. Visitors can freely interact with tigers in the reserve.

C. Corbett has the world's highest density of tigers.

D. Tigers no longer require protection from natural threats.

Question ID :	4410091363999
Option 1 ID :	4410095387924
Option 2 ID :	4410095387923
Option 3 ID :	4410095387922
Option 4 ID :	4410095387925
Status :	Not Answered
Chosen Option :	--

Section : Computer Knowledge

Q.1 निम्नलिखित में से कौन-सा घटक डेटा को अस्थायी रूप से संग्रहीत करने के लिए उत्तरदायी है जिसे CPU प्रसंस्करण के दौरान सक्रिय रूप से उपयोग करता है?

Ans

A. ROM

B. PCB

C. CPU

D. RAM

Question ID :	441009686847
Option 1 ID :	4410092701410
Option 2 ID :	4410092701409
Option 3 ID :	4410092701408
Option 4 ID :	4410092701411
Status :	Answered
Chosen Option :	D

Q.2	वाइड एरिया नेटवर्क (Wide Area Networks) के संबंध में कौन-सा कथन सत्य या असत्य है? (i) WAN पर प्रेषित सभी डेटा को राउटिंग (routing) के लिए एक सेंट्रल सर्वर से होकर गुजरना पड़ता है। (ii) WAN इंफ्रास्ट्रक्चर का विशिष्ट रूप से स्वामित्व और प्रचालन एक ही निजी संगठन द्वारा किया जाता है।
Ans	<div><div><input checked="" type="checkbox"/></div><div>A. (i) सत्य, (ii) असत्य</div></div> <div><div><input checked="" type="checkbox"/></div><div>B. (i) असत्य, (ii) असत्य</div></div> <div><div><input checked="" type="checkbox"/></div><div>C. (i) सत्य, (ii) सत्य</div></div> <div><div><input checked="" type="checkbox"/></div><div>D. (i) असत्य, (ii) सत्य</div></div>

Question ID :	441009878100
Option 1 ID :	4410093466043
Option 2 ID :	4410093466045
Option 3 ID :	4410093466042
Option 4 ID :	4410093466044
Status :	Answered
Chosen Option :	C

Q.3	कंप्यूटर में LAN का पूर्ण रूप क्या है?
Ans	<div><div><input checked="" type="checkbox"/></div><div>A. Local Acoustic Node (लोकल एकोस्टिक नोड)</div></div> <div><div><input checked="" type="checkbox"/></div><div>B. Least Area Network (लीस्ट एरिया नेटवर्क)</div></div> <div><div><input checked="" type="checkbox"/></div><div>C. Last Area Network (लास्ट एरिया नेटवर्क)</div></div> <div><div><input checked="" type="checkbox"/></div><div>D. Local Area Network (लोकल एरिया नेटवर्क)</div></div>

Question ID :	441009394574
Option 1 ID :	4410091543815
Option 2 ID :	4410091543813
Option 3 ID :	4410091543814
Option 4 ID :	4410091543812
Status :	Answered
Chosen Option :	D

Q.4	MS वर्ड 2021 में किसी टेबल पंक्ति (table row) की सभी सेलों की ऊँचाई समान कैसे बनाते हैं?
Ans	<div><div><input checked="" type="checkbox"/></div><div>A. पंक्ति पर राइट-क्लिक करें और 'Equal Height' सलेक्ट करें</div></div> <div><div><input checked="" type="checkbox"/></div><div>B. 'Table Tools Layout' टैब का उपयोग करें और 'Distribute Rows' पर क्लिक करें</div></div> <div><div><input checked="" type="checkbox"/></div><div>C. 'Resize Table' पर क्लिक करें</div></div> <div><div><input checked="" type="checkbox"/></div><div>D. 'Table Properties' पर क्लिक करें और 'Equal Height' सलेक्ट करें</div></div>

Question ID :	441009882874
Option 1 ID :	4410093485318
Option 2 ID :	4410093485319
Option 3 ID :	4410093485321
Option 4 ID :	4410093485320
Status :	Answered
Chosen Option :	B

Q.5	CPU की कौन-सा अभिलक्षण यह निर्धारित करता है कि वह प्रति सेकंड कितने अनुदेशों को प्रोसेस कर सकता है?
Ans	<div><div><div>✖</div><div>A. रजिस्ट्रों की संख्या (Number of Registers)</div></div><div><div>✖</div><div>B. बिजली की खपत (Power Consumption)</div></div><div><div>✔</div><div>C. क्लॉक स्पीड (Clock Speed)</div></div><div><div>✖</div><div>D. कैश साइज़ (Cache Size)</div></div></div>

Question ID :	44100966448
Option 1 ID :	441009264676
Option 2 ID :	441009264677
Option 3 ID :	441009264674
Option 4 ID :	441009264675
Status :	Answered
Chosen Option :	A

Q.6	निम्नलिखित में से कौन-सा, टेक्स्ट फॉर्मेटिंग विकल्प नहीं है?
Ans	<div><div><div>✖</div><div>A. फ़ॉन्ट स्टाइल (Font style)</div></div><div><div>✔</div><div>B. लाइन स्पेसिंग (Line spacing)</div></div><div><div>✖</div><div>C. फ़ॉन्ट कलर (Font color)</div></div><div><div>✖</div><div>D. फ़ॉन्ट साइज़ (Font size)</div></div></div>

Question ID :	441009673568
Option 1 ID :	4410092648383
Option 2 ID :	4410092648381
Option 3 ID :	4410092648384
Option 4 ID :	4410092648382
Status :	Answered
Chosen Option :	B

Q.7	कौन-सा फीचर, प्रेजेंटेशन के लिए स्लाइड टाइमिंग को रिहर्स (rehearse) करने और स्वचालित रूप से रिकॉर्ड करने में सहायक होता है?
Ans	<div><div><div>✖</div><div>A. Slide Sorter</div></div><div><div>✔</div><div>B. Rehearse Timings</div></div><div><div>✖</div><div>C. Record Narration</div></div><div><div>✖</div><div>D. Set Up Slide Show</div></div></div>

Question ID :	44100968168
Option 1 ID :	441009271488
Option 2 ID :	441009271486
Option 3 ID :	441009271489
Option 4 ID :	441009271487
Status :	Answered
Chosen Option :	D

Q.8	WAN पर विभिन्न नेटवर्कों को कनेक्ट करने के लिए कौन-सा डिवाइस आवश्यक है?
Ans	<div><div><input checked="" type="checkbox"/></div><div>A. राउटर (Router)</div></div>
	<div><div><input type="checkbox"/></div><div>B. हब (Hub)</div></div>
	<div><div><input type="checkbox"/></div><div>C. स्विच (Switch)</div></div>
	<div><div><input type="checkbox"/></div><div>D. मॉडेम (Modem)</div></div>

Question ID :	441009882543
Option 1 ID :	4410093483840
Option 2 ID :	4410093483839
Option 3 ID :	4410093483842
Option 4 ID :	4410093483841
Status :	Answered
Chosen Option :	A

Q.9	Custom Slide Show सेलेक्ट करने के बाद, नया कस्टम शो बनाना शुरू करने के लिए आप किस बटन पर क्लिक करते हैं?
Ans	<div><div><input type="checkbox"/></div><div>A. Delete</div></div>
	<div><div><input type="checkbox"/></div><div>B. Rename</div></div>
	<div><div><input checked="" type="checkbox"/></div><div>C. New</div></div>
	<div><div><input type="checkbox"/></div><div>D. Edit</div></div>

Question ID :	441009750734
Option 1 ID :	4410092956819
Option 2 ID :	4410092956820
Option 3 ID :	4410092956817
Option 4 ID :	4410092956818
Status :	Answered
Chosen Option :	C

Q.10	कॉम्पैक्ट डिस्क (Compact Discs-CDs) के संबंध में निम्नलिखित में से कौन-सा कथन सत्य नहीं है?
Ans	<div><div><input type="checkbox"/></div><div>A. CD पर स्टोर डेटा को एक्सेस करने के लिए लेज़र बीम का उपयोग किया जाता है।</div></div>
	<div><div><input type="checkbox"/></div><div>B. CD लगभग 700 MB इनफार्मेशन स्टोर करने में सक्षम होती हैं।</div></div>
	<div><div><input type="checkbox"/></div><div>C. CD डेटा को रीड (read) और राइट करने (write) के लिए लेजर तकनीक का उपयोग करती हैं।</div></div>
	<div><div><input checked="" type="checkbox"/></div><div>D. CD चुंबकीय रिकॉर्डिंग पद्धतियों का उपयोग करके ऑपरेट होती हैं।</div></div>

Question ID :	441009397482
Option 1 ID :	4410091555367
Option 2 ID :	4410091555365
Option 3 ID :	4410091555364
Option 4 ID :	4410091555366
Status :	Answered
Chosen Option :	B

Q.1 1	कंप्यूटर में हार्डवेयर को इनिशियलाइज (शुरू) करने के लिए प्रयुक्त BIOS का पूर्ण रूप क्या है?
Ans	<div><div><input checked="" type="checkbox"/></div><div>A. Basic Input/Output System (बेसिक इनपुट/आउटपुट सिस्टम)</div></div> <div><div><input type="checkbox"/></div><div>B. Base Inside/Outside System (बेस इनसाइड/आउटसाइड सिस्टम)</div></div> <div><div><input type="checkbox"/></div><div>C. Bus Input/Output System (बस इनपुट/आउटपुट सिस्टम)</div></div> <div><div><input type="checkbox"/></div><div>D. Basic Inside/Outside Source (बेसिक इनसाइड/आउटसाइड सौर्स)</div></div>

Question ID :	441009398275
Option 1 ID :	4410091558548
Option 2 ID :	4410091558546
Option 3 ID :	4410091558549
Option 4 ID :	4410091558547
Status :	Answered
Chosen Option :	A

Q.1 2	Microsoft Word में, बुलेटेड लिस्ट के स्थान पर नंबरड लिस्ट का उपयोग कब करना चाहिए?
Ans	<div><div><input type="checkbox"/></div><div>A. टेक्स्ट को डेकोरेट (decorate) करते समय</div></div> <div><div><input checked="" type="checkbox"/></div><div>B. जब स्टेप (steps) का क्रमानुसार पालन करना आवश्यक हो</div></div> <div><div><input type="checkbox"/></div><div>C. यादृच्छिक तथ्यों को सूचीबद्ध करते समय</div></div> <div><div><input type="checkbox"/></div><div>D. जब वस्तुओं का क्रम मायने नहीं रखता</div></div>

Question ID :	441009672894
Option 1 ID :	4410092645692
Option 2 ID :	4410092645693
Option 3 ID :	4410092645690
Option 4 ID :	4410092645691
Status :	Answered
Chosen Option :	B

Q.1 3	निम्नलिखित में से कौन-सा, सिस्टम सॉफ्टवेयर का एक उदाहरण है और कौन-सा एप्लिकेशन सॉफ्टवेयर का एक उदाहरण है?
Ans	<div><div><input type="checkbox"/></div><div>A. Antivirus Software (एप्लिकेशन सॉफ्टवेयर), MS PowerPoint (सिस्टम सॉफ्टवेयर)</div></div> <div><div><input checked="" type="checkbox"/></div><div>B. Windows OS (सिस्टम सॉफ्टवेयर), MS Excel (एप्लिकेशन सॉफ्टवेयर)</div></div> <div><div><input type="checkbox"/></div><div>C. Google Chrome (सिस्टम सॉफ्टवेयर), Linux OS (एप्लिकेशन सॉफ्टवेयर)</div></div> <div><div><input type="checkbox"/></div><div>D. MS Word (सिस्टम सॉफ्टवेयर), Windows OS (एप्लिकेशन सॉफ्टवेयर)</div></div>

Question ID :	44100960863
Option 1 ID :	441009242411
Option 2 ID :	441009242409
Option 3 ID :	441009242410
Option 4 ID :	441009242408
Status :	Answered
Chosen Option :	B

Q.1 4	जब ग्रामर चेक "While working on the report" वाक्यांश के लिए "Fragment (consider revising)" का फ्लैग (flag) देता है, तो सर्वाधिक संभावित समस्या क्या है?
Ans	<div><div><div><div></div></div></div><div>A. गलत क्रिया काल (Incorrect verb tense)</div></div>
	<div><div><div><div></div></div></div><div>B. पूर्वसर्गों का अत्यधिक उपयोग (Overuse of prepositions)</div></div>
	<div><div><div><div></div></div></div><div>C. बड़ा अक्षर लुप्त हो जाना (Missing capital letter)</div></div>
	<div><div><div><div></div></div></div><div>D. मुख्य खंड की अनुपस्थिति (Absence of a main clause)</div></div>

Question ID :	441009679088
Option 1 ID :	4410092670548
Option 2 ID :	4410092670549
Option 3 ID :	4410092670546
Option 4 ID :	4410092670547
Status :	Not Answered
Chosen Option :	--

Q.1 5	माइक्रोसॉफ्ट एक्सेल 2007 स्प्रेडशीट के लिए डिफ़ॉल्ट फ़ाइल एक्सटेंशन क्या है?
Ans	<div><div><div><div></div></div></div><div>A. .txt</div></div>
	<div><div><div><div></div></div></div><div>B. .docx</div></div>
	<div><div><div><div></div></div></div><div>C. .xlsx</div></div>
	<div><div><div><div></div></div></div><div>D. .rtf</div></div>

Question ID :	441009910003
Option 1 ID :	4410093593976
Option 2 ID :	4410093593975
Option 3 ID :	4410093593977
Option 4 ID :	4410093593978
Status :	Answered
Chosen Option :	C

Q.1 6	निम्नलिखित में से कौन-सी कॉलम की चौड़ाई बदलने की एक मान्य विधि नहीं है?
Ans	<div><div><div><div></div></div></div><div>A. होम टैब से "Format" विकल्प का उपयोग करना</div></div>
	<div><div><div><div></div></div></div><div>B. "Insert Function" डायलॉग का उपयोग करना</div></div>
	<div><div><div><div></div></div></div><div>C. कॉलम बाउंड्री को ड्रैग करना</div></div>
	<div><div><div><div></div></div></div><div>D. कॉलम हेडर बॉर्डर पर डबल-क्लिक करना</div></div>

Question ID :	441009929910
Option 1 ID :	4410093673596
Option 2 ID :	4410093673598
Option 3 ID :	4410093673597
Option 4 ID :	4410093673599
Status :	Answered
Chosen Option :	B

Q.1 7	एक्सेल वर्कशीट में नई पंक्ति (row) इन्सर्ट करने के लिए किस कीबोर्ड शॉर्टकट का उपयोग किया जाता है?
Ans	<div><div><div>✖</div><div>A. Alt + Enter</div></div><div><div>✖</div><div>B. Ctrl + R</div></div><div><div>✖</div><div>C. F12 + I</div></div><div><div>✔</div><div>D. Ctrl + Shift + +</div></div></div>

Question ID :	441009687056
Option 1 ID :	4410092702246
Option 2 ID :	4410092702244
Option 3 ID :	4410092702247
Option 4 ID :	4410092702245
Status :	Answered
Chosen Option :	C

Q.1 8	निम्नलिखित में से कौन-सा कथन, सिस्टम सॉफ्टवेयर और एप्लिकेशन सॉफ्टवेयर के बीच सही तरीके से विभेद करता है?
Ans	<div><div><div>✖</div><div>A. एप्लिकेशन सॉफ्टवेयर में BIOS और ड्राइवर शामिल हैं।</div></div><div><div>✖</div><div>B. एप्लिकेशन सॉफ्टवेयर सीधे हार्डवेयर संसाधनों का प्रबंधन करता है।</div></div><div><div>✖</div><div>C. सिस्टम सॉफ्टवेयर वैकल्पिक है, जबकि एप्लिकेशन सॉफ्टवेयर अनिवार्य है।</div></div><div><div>✔</div><div>D. सिस्टम सॉफ्टवेयर, एप्लिकेशन सॉफ्टवेयर को रन करने के लिए एक प्लेटफॉर्म प्रदान करता है।</div></div></div>

Question ID :	441009846035
Option 1 ID :	4410093337024
Option 2 ID :	4410093337022
Option 3 ID :	4410093337021
Option 4 ID :	4410093337023
Status :	Answered
Chosen Option :	D

Q.1 9	माइक्रोसॉफ्ट पावरपॉइंट 2016 में, प्रेजेंटेशन देखने के संबंध में निम्नलिखित कथनों के सत्य या असत्य होने की पहचान कीजिए। (i) Slide Sorter View, स्लाइडों को रीऑर्डर होने से रोकता है। (ii) Outline View टेक्स्ट कंटेंट के प्रत्यक्ष संपादन (editing) की सुविधा देता है, लेकिन स्वरूपण (formatting) की नहीं।
Ans	<div><div><div>✖</div><div>A. (i) असत्य, (ii) असत्य</div></div><div><div>✖</div><div>B. (i) सत्य, (ii) सत्य</div></div><div><div>✔</div><div>C. (i) असत्य, (ii) सत्य</div></div><div><div>✖</div><div>D. (i) सत्य, (ii) असत्य</div></div></div>

Question ID :	441009877943
Option 1 ID :	4410093465414
Option 2 ID :	4410093465411
Option 3 ID :	4410093465413
Option 4 ID :	4410093465412
Status :	Not Answered
Chosen Option :	--

Q.2 0	एक्सेल में किसी संख्या को टेक्स्ट (उदाहरण के लिए, लीडिंग जीरो प्रविष्ट करना) के रूप में मानने के लिए कैसे बाध्य किया जा सकता है?
Ans	✔ A. संख्या से पहले एक एपॉस्ट्रॉफी (') टाइप करें
	✘ B. डेटा प्रविष्ट करने से पहले सेल को टेक्स्ट के रूप में फॉर्मेट करें
	✘ C. TEXT फंक्शन का उपयोग करें
	✘ D. संख्या को उद्धरण-चिन्हों (quotes) में रखें

Question ID :	4410091028908
Option 1 ID :	4410094067287
Option 2 ID :	4410094067288
Option 3 ID :	4410094067289
Option 4 ID :	4410094067286
Status :	Answered
Chosen Option :	B

