

DDA MTS

Previous Year Paper

17 Dec, 2025 Shift 2



Adda247

Test Prime

ALL EXAMS, ONE SUBSCRIPTION



1,00,000+
Mock Tests



**Personalised
Report Card**



**Unlimited
Re-Attempt**



600+
Exam Covered



25,000+ Previous
Year Papers



500%
Refund



ATTEMPT FREE MOCK NOW



DELHI DEVELOPMENT AUTHORITY
RECRUITMENT CELL

VIKAS SADAN, I.N.A, NEW DELHI-110023.

Recruitment Advertisement No. 09/2025/Rectt. Cell/Pers./DDA
DIRECT RECRUITMENT IN VARIOUS CATEGORIES

Participant ID	
Participant Name	
Test Center Name	
Test Date	17/12/2025
Test Time	1:00 PM - 3:00 PM
Subject	MTS

Section : Numerical and Mathematical Ability

Q.1	राम और कृष्ण की वर्तमान आयु का योग 50 वर्ष है। वर्तमान से चार वर्ष पहले उनकी आयु का अनुपात 3 : 4 था। वर्तमान से चार वर्ष बाद राम की आयु ज्ञात कीजिए।
Ans	<div><div><div><div><div><div></div></div></div><div><div><div></div></div></div></div><div>A. 20 वर्ष</div></div></div> <div><div><div></div></div></div> <div>B. 26 वर्ष</div>

C. 22 वर्ष

D. 28 वर्ष

Question ID :	4410091430616
Option 1 ID :	4410095650608
Option 2 ID :	4410095650610
Option 3 ID :	4410095650609
Option 4 ID :	4410095650611
Status :	Answered
Chosen Option :	B

Ans

~~X~~ B. $\frac{121}{150}$

✓ C. $\frac{113}{150}$

~~X~~ D. $\frac{117}{150}$

Chosen Option : **C**

Ans

✓ B. 8750

 C. 8770

X D. 8550

Chosen Option : B

Ans

☒ B. ₹49,460

✓ C. ₹51,200

☒ D. ₹50,730

Chosen Option : **C**

Q.5	यदि किसी घन का विकर्ण 12 cm है, तो उसका पृष्ठीय क्षेत्रफल कितना होगा?
Ans	<input checked="" type="checkbox"/> A. 278 cm ²
	<input checked="" type="checkbox"/> B. 288 cm ²
	<input checked="" type="checkbox"/> C. 192 cm ²
	<input checked="" type="checkbox"/> D. 198 cm ²

Question ID :	441009621199
Option 1 ID :	4410092438931
Option 2 ID :	4410092438929
Option 3 ID :	4410092438928
Option 4 ID :	4410092438930
Status :	Answered
Chosen Option :	B

Q.6	एक कार 2 घंटे तक 50 km/hr की चाल से और फिर 3 घंटे तक 60 km/hr की चाल से यात्रा करती है। पूरी यात्रा के लिए उसकी औसत चाल ज्ञात कीजिए।
Ans	<input checked="" type="checkbox"/> A. 58 km/hr
	<input checked="" type="checkbox"/> B. 48 km/hr
	<input checked="" type="checkbox"/> C. 56 km/hr
	<input checked="" type="checkbox"/> D. 52 km/hr

Question ID :	4410091422586
Option 1 ID :	4410095619254
Option 2 ID :	4410095619255
Option 3 ID :	4410095619252
Option 4 ID :	4410095619253
Status :	Answered
Chosen Option :	C

Q.7	दो पाइप A और B एक टंकी को क्रमशः 15 घंटे और 20 घंटे में भर सकते हैं। यदि दोनों पाइप एक साथ खोल दिए जाएं और 4 घंटे बाद पाइप B बंद कर दिया जाए, तो पाइप A को टंकी भरने में और कितना समय लगेगा?
Ans	<input checked="" type="checkbox"/> A. 9 घंटे
	<input checked="" type="checkbox"/> B. 7 घंटे
	<input checked="" type="checkbox"/> C. 10 घंटे
	<input checked="" type="checkbox"/> D. 8 घंटे

Question ID :	4410091426356
Option 1 ID :	4410095634004
Option 2 ID :	4410095634005
Option 3 ID :	4410095634006
Option 4 ID :	4410095634003
Status :	Answered
Chosen Option :	D

Q.8 एक गोल गेंद एक घन के अंदर इस प्रकार परिवद्ध है कि वह घन के सभी छह फलकों को स्पर्श करती है। यदि घन की भुजा 14 cm है, तो गोले का आयतन ज्ञात कीजिए।
($\pi = \frac{22}{7}$ का उपयोग कीजिए, उत्तर को दशमलव के दो स्थानों तक पूर्णांकित कीजिए।)

- Ans
- ☒ A. 1,436.33 cm³
 - ☒ B. 1,437.33 cm³
 - ☒ C. 1,347.33 cm³
 - ☒ D. 1,473.33 cm³

Question ID :	4410091463623
Option 1 ID :	4410095782623
Option 2 ID :	4410095782624
Option 3 ID :	4410095782622
Option 4 ID :	4410095782625
Status :	Answered
Chosen Option :	B

Q.9 एक व्यक्ति शहर A से शहर B तक 15 km/hr की चाल से जाता है और 35 km/hr की चाल से वापस आता है। सम्पूर्ण यात्रा के लिए उसकी औसत चाल (km/hr में) कितनी है?

- Ans
- ☒ A. 25
 - ☒ B. 21
 - ☒ C. 27
 - ☒ D. 22

Question ID :	4410091419769
Option 1 ID :	4410095608000
Option 2 ID :	4410095607998
Option 3 ID :	4410095608001
Option 4 ID :	4410095607999
Status :	Answered
Chosen Option :	B

Q.10 एक वॉशिंग मशीन की कीमत एक टीवी की कीमत से 25% कम है। यदि वॉशिंग मशीन की कीमत में 38% की वृद्धि होती है और टीवी की कीमत में 10% की कमी होती है, तो 4 वॉशिंग मशीनों और 6 टीवी की कुल कीमत में प्रतिशत परिवर्तन क्या होगा?

- Ans
- ☒ A. 7% की कमी
 - ☒ B. 4% की कमी
 - ☒ C. 6% की वृद्धि
 - ☒ D. 3% की वृद्धि

Question ID :	441009537076
Option 1 ID :	4410092103703
Option 2 ID :	4410092103701
Option 3 ID :	4410092103700
Option 4 ID :	4410092103702
Status :	Answered
Chosen Option :	C

Q.1 1	एक दुकानदार एक वस्तु को ₹3,120 में बेचता है और उसे 35% की हानि होती है। वस्तु का क्रय मूल्य (₹ में) ज्ञात कीजिए।
Ans	<div><div><div>✗</div><div>A. 4,080</div></div><div><div>✓</div><div>B. 4,800</div></div><div><div>✗</div><div>C. 6,240</div></div><div><div>✗</div><div>D. 2,028</div></div></div>

Question ID :	4410091419899
Option 1 ID :	4410095608511
Option 2 ID :	4410095608512
Option 3 ID :	4410095608513
Option 4 ID :	4410095608510
Status :	Answered
Chosen Option :	B

Q.1 2	चार संख्याएं क्रमशः 5 : 2 : 4 : 3 के अनुपात में हैं। यदि तीसरी संख्या चौथी संख्या से 500 अधिक है, तो दूसरी संख्या ज्ञात कीजिए।
Ans	<div><div><div>✗</div><div>A. 1200</div></div><div><div>✗</div><div>B. 500</div></div><div><div>✓</div><div>C. 1000</div></div><div><div>✗</div><div>D. 800</div></div></div>

Question ID :	4410091470418
Option 1 ID :	4410095809595
Option 2 ID :	4410095809596
Option 3 ID :	4410095809598
Option 4 ID :	4410095809597
Status :	Answered
Chosen Option :	C

Q.1 3	चार अंकों की वह सबसे बड़ी संख्या कौन-सी है जिसे 6, 12 और 10 से भाग देने पर प्रत्येक स्थिति में शेषफल के रूप में 4 प्राप्त होता है?
Ans	<div><div><div>✗</div><div>A. 9998</div></div><div><div>✗</div><div>B. 9739</div></div><div><div>✓</div><div>C. 9964</div></div><div><div>✗</div><div>D. 9631</div></div></div>

Question ID :	441009525560
Option 1 ID :	4410092057662
Option 2 ID :	4410092057661
Option 3 ID :	4410092057659
Option 4 ID :	4410092057660
Status :	Answered
Chosen Option :	C

Q.1 226 m लंबी एक ट्रेन 108 km/hr की चाल से चलते हुए एक प्लेटफॉर्म को 37 सेकंड में पार करती है।
4 प्लेटफॉर्म की लंबाई (m) में ज्ञात कीजिए।

- Ans
- ☒ A. 883
 - ☒ B. 887
 - ☒ C. 884
 - ☒ D. 886

Question ID :	441009545484
Option 1 ID :	4410092137334
Option 2 ID :	4410092137335
Option 3 ID :	4410092137332
Option 4 ID :	4410092137333
Status :	Answered
Chosen Option :	C

Q.1 दो नल एक टंकी को क्रमशः 2 घंटे और 17 घंटे में भर सकते हैं। तीसरा नल उसे 17 घंटे में खाली कर
5 सकता है। यदि तीनों नल एक साथ खोल दिए जाएं, तो खाली टंकी को आधा भरने में कितना समय (घंटे में) लगेगा?

- Ans
- ☒ A. 4
 - ☒ B. 3
 - ☒ C. 1
 - ☒ D. 2

Question ID :	441009518297
Option 1 ID :	4410092028610
Option 2 ID :	4410092028609
Option 3 ID :	4410092028607
Option 4 ID :	4410092028608
Status :	Answered
Chosen Option :	C

Q.1 X में से X का 44% घटाना, X को किसके साथ गुणा करने के बराबर है?
6

- Ans
- ☒ A. 0.44
 - ☒ B. 0.56
 - ☒ C. 0.044
 - ☒ D. 0.5

Question ID :	441009516680
Option 1 ID :	4410092022140
Option 2 ID :	4410092022139
Option 3 ID :	4410092022142
Option 4 ID :	4410092022141
Status :	Answered
Chosen Option :	B

Q.1 7	संख्या 746776 किससे विभाज्य है?
Ans	<input checked="" type="checkbox"/> A. 39
	<input checked="" type="checkbox"/> B. 38
	<input checked="" type="checkbox"/> C. 51
	<input checked="" type="checkbox"/> D. 22

Question ID :	441009911397
Option 1 ID :	4410093599840
Option 2 ID :	4410093599839
Option 3 ID :	4410093599842
Option 4 ID :	4410093599841
Status :	Answered
Chosen Option :	B

Q.1 8	एक बल्लेबाज द्वारा 20 मैचों में बनाए गए रनों का औसत 45 है। अगले 10 मैचों में, बल्लेबाज ने औसतन 14 रन बनाए। सभी 30 मैचों में उसके रनों का औसत (दो दशमलव स्थानों तक पूर्णांकित) ज्ञात कीजिए।
Ans	<input checked="" type="checkbox"/> A. 33.67
	<input checked="" type="checkbox"/> B. 35.67
	<input checked="" type="checkbox"/> C. 34.67
	<input checked="" type="checkbox"/> D. 36.67

Question ID :	441009516410
Option 1 ID :	4410092021060
Option 2 ID :	4410092021061
Option 3 ID :	4410092021059
Option 4 ID :	4410092021062
Status :	Answered
Chosen Option :	C

Q.1 9	P एक लैपटॉप Q को 25% हानि पर बेचता है, और Q उसी लैपटॉप को R को 36% लाभ पर बेचता है। यदि R ने लैपटॉप ₹3,468 में खरीदा था, तो P के लिए लैपटॉप का मूल्य (₹ में) कितना था?
Ans	<input checked="" type="checkbox"/> A. 3,550
	<input checked="" type="checkbox"/> B. 3,325
	<input checked="" type="checkbox"/> C. 3,322
	<input checked="" type="checkbox"/> D. 3,400

Question ID :	441009566170
Option 1 ID :	4410092219803
Option 2 ID :	4410092219801
Option 3 ID :	4410092219802
Option 4 ID :	4410092219800
Status :	Answered
Chosen Option :	D

Q.2 0 एक दुकानदार किसी वस्तु के अंकित मूल्य पर 16% और 74% की दो क्रमिक छूट प्रदान करके ₹300.3 में बेचता है। यदि वह कोई छूट प्रदान नहीं करता, तो उसे 10% का लाभ अर्जित होता। वस्तु का क्रय मूल्य (₹ में) ज्ञात कीजिए।

Ans ☒ A. 1,249

☒ B. 1,250

☒ C. 1,238

☒ D. 1,297

Question ID : 441009915834

Option 1 ID : 4410093617590

Option 2 ID : 4410093617587

Option 3 ID : 4410093617588

Option 4 ID : 4410093617589

Status : Answered

Chosen Option : B

Q.2 1 ₹5,500 की राशि पर 20% की वार्षिक चक्रवृद्धि ब्याज दर से (ब्याज वार्षिक रूप से संयोजित होने पर) 2 वर्षों में प्राप्त मिश्रधन ज्ञात कीजिए।

Ans ☒ A. ₹7,920

☒ B. ₹6,968

☒ C. ₹7,507

☒ D. ₹8,843

Question ID : 441009897865

Option 1 ID : 4410093545530

Option 2 ID : 4410093545531

Option 3 ID : 4410093545532

Option 4 ID : 4410093545533

Status : Answered

Chosen Option : A

Q.2 2 ₹10,000 की राशि पर 4% की वार्षिक ब्याज दर से (अर्धवार्षिक रूप से संयोजित) एक वर्ष का चक्रवृद्धि ब्याज ज्ञात कीजिए।

Ans ☒ A. ₹404

☒ B. ₹424

☒ C. ₹436

☒ D. ₹398

Question ID : 4410091409738

Option 1 ID : 4410095567879

Option 2 ID : 4410095567880

Option 3 ID : 4410095567881

Option 4 ID : 4410095567882

Status : Answered

Chosen Option : A

Q.2 3	₹2,000 की राशि पर 8% वार्षिक साधारण ब्याज दर से कितने वर्षों में ₹800 ब्याज प्राप्त होगा?
Ans	✓ A. 5
	✗ B. 6
	✗ C. 7
	✗ D. 8

Question ID :	441009853197
Option 1 ID :	4410093365760
Option 2 ID :	4410093365761
Option 3 ID :	4410093365762
Option 4 ID :	4410093365763
Status :	Answered
Chosen Option :	A

Q.2 4	दो अभाज्य संख्याओं का गुणनफल 8051 है। उनमें से एक संख्या 83 है। दोनों संख्याओं का अंतर ज्ञात कीजिए।
Ans	✗ A. 12
	✗ B. 16
	✗ C. 18
	✓ D. 14

Question ID :	4410091426376
Option 1 ID :	4410095634083
Option 2 ID :	4410095634085
Option 3 ID :	4410095634086
Option 4 ID :	4410095634084
Status :	Answered
Chosen Option :	D

Q.2 5	एक पंसारी के पास 57 kg चावल है, जिसका कुछ हिस्सा वह 23% के लाभ पर और शेष को 61% के लाभ पर बेचता है। उसे पूरे चावल पर 53% का लाभ प्राप्त होता है। 61% के लाभ पर बेचे गए चावल की मात्रा कितनी है?
Ans	✗ A. 48 kg
	✗ B. 43 kg
	✓ C. 45 kg
	✗ D. 44 kg

Question ID :	441009545866
Option 1 ID :	4410092138862
Option 2 ID :	4410092138861
Option 3 ID :	4410092138860
Option 4 ID :	4410092138863
Status :	Answered
Chosen Option :	C

Q.1

किसी निश्चित कूट भाषा में, 'DASH' को '8465' के रूप में कूटबद्ध किया जाता है और 'HADE' को '5862' के रूप में कूटबद्ध किया जाता है। दी गई कूट भाषा में 'E' का कूट क्या होगा?

Ans

X

A. 6

B. 2

X

C. 8

X

D. 5

Question ID :	441009797138
Option 1 ID :	4410093142553
Option 2 ID :	4410093142554
Option 3 ID :	4410093142552
Option 4 ID :	4410093142551
Status :	Answered
Chosen Option :	B

Q.2

छह मित्र D, E, F, G, X और Y एक गोल मेज के परितः उसके केंद्र की ओर अभिमुख होकर बैठे हैं। D के दाईं ओर से गिनने पर, D और F के बीच केवल दो व्यक्ति बैठे हैं। X और Y के बीच केवल दो व्यक्ति बैठे हैं। X के दाईं ओर से गिनने पर, D और X के बीच केवल तीन व्यक्ति बैठे हैं। G, X के ठीक बाईं ओर पड़ोस में बैठा है। G के दाईं ओर से गिनने पर, G और E के बीच कितने व्यक्ति बैठे हैं?

Ans

X

A. तीन

B. दो

X

C. चार

X

D. एक

Question ID :	4410091432223
Option 1 ID :	4410095657228
Option 2 ID :	4410095657227
Option 3 ID :	4410095657229
Option 4 ID :	4410095657226
Status :	Answered
Chosen Option :	B

Q.3

यदि संख्या 8476135 के प्रत्येक विषम अंक में 1 जोड़ दिया जाए तथा प्रत्येक सम अंक में से 2 घटा दिया जाए, तो इस प्रकार बनी संख्या के सबसे बड़े अंक और सबसे छोटे अंक के बीच अंतर कितना होगा?

Ans

A. 6

X

B. 1

X

C. 5

X

D. 4

Question ID :	441009552907
Option 1 ID :	4410092166944
Option 2 ID :	4410092166942
Option 3 ID :	4410092166945
Option 4 ID :	4410092166943
Status :	Answered
Chosen Option :	A

Q.4 निम्नलिखित अक्षर श्रृंखला का संदर्भ लें और दिए गए प्रश्न का उत्तर दें। गिनती केवल बाएं से दाएं की ओर की जानी है।
(बाएं) SGAJHLYAMCCAYRJIUYVATQ (दाएं)
ऐसे कितने व्यंजन हैं, जिनमें से प्रत्येक के ठीक पहले एक व्यंजन और ठीक बाद एक स्वर है?

- Ans
- ☒ A. 6
 - ☒ B. 7
 - ☒ C. 4
 - ☒ D. 5

Question ID :	441009790826
Option 1 ID :	4410093117304
Option 2 ID :	4410093117306
Option 3 ID :	4410093117305
Option 4 ID :	4410093117303
Status :	Answered
Chosen Option :	D

Q.5 अंग्रेजी वर्णमाला क्रम के आधार पर दी गई श्रृंखला में प्रश्न चिह्न (?) के स्थान पर क्या आना चाहिए?
TCT PFR LIP HLN ?
Ans

- ☒ A. DOL
- ☒ B. HGF
- ☒ C. TYH
- ☒ D. JHY

Question ID :	4410091432444
Option 1 ID :	4410095658147
Option 2 ID :	4410095658146
Option 3 ID :	4410095658145
Option 4 ID :	4410095658148
Status :	Answered
Chosen Option :	A

Q.6 एक निश्चित कूट भाषा में, 'uncle paper post' को 'xy wp zn' के रूप में कूटबद्ध किया जाता है और 'ocean post melon' को 'qu on wp' के रूप में कूटबद्ध किया जाता है। दी गई भाषा में 'post' को कैसे कूटबद्ध किया जाएगा? (सभी कूट केवल दो-अक्षर वाले कूट हैं।)
Ans

- ☒ A. qu
- ☒ B. zn
- ☒ C. xy
- ☒ D. wp

Question ID :	4410091411312
Option 1 ID :	4410095574276
Option 2 ID :	4410095574275
Option 3 ID :	4410095574274
Option 4 ID :	4410095574273
Status :	Answered
Chosen Option :	D

Q.7	A, B, C, D, E, F और G में से प्रत्येक की परीक्षा सोमवार से शुरू होकर रविवार को समाप्त होने वाले एक ही सप्ताह के अलग-अलग दिन है। A की परीक्षा मंगलवार को है। F की परीक्षा, A के ठीक बाद है। F और B के बीच केवल एक व्यक्ति की परीक्षा है। C की परीक्षा, B के ठीक बाद है। D की परीक्षा, C के ठीक बाद है। G से पहले किसी की भी परीक्षा नहीं है। E की परीक्षा किस दिन है?
Ans	<div><div><div>✗ A. सोमवार</div><div>✗ B. शुक्रवार</div><div>✓ C. गुरुवार</div><div>✗ D. बुधवार</div></div></div>

Question ID :	441009813874
Option 1 ID :	4410093209621
Option 2 ID :	4410093209620
Option 3 ID :	4410093209619
Option 4 ID :	4410093209622
Status :	Answered
Chosen Option :	C

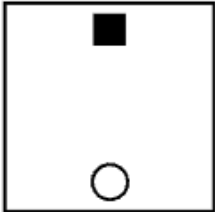


Q.8 विकल्पों में दी गई उस आकृति की पहचान कीजिए, जिसे प्रश्न-चिह्न (?) के स्थान पर रखे जाने से निम्न श्रृंखला तार्किक रूप से पूर्ण हो जाएगी।

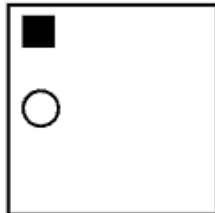
<div><div>+</div><div>■</div></div>	<div><div>*</div><div>■</div></div>	<div><div>●</div><div>■</div></div>	<div><div>↑</div><div>■</div></div>	<div>?</div>
-------------------------------------	-------------------------------------	-------------------------------------	-------------------------------------	--------------

Ans

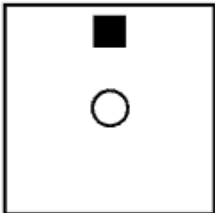
✗ A.



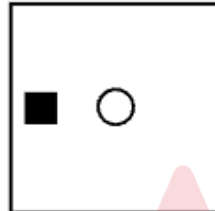
✗ B.



✗ C.



✓ D.



Question ID : 4410091425268

Option 1 ID : 4410095664866

Option 2 ID : 4410095664864

Option 3 ID : 4410095664865

Option 4 ID : 4410095664863

Status : Answered

Chosen Option : D

Q.9

सात बक्से G, H, I, J, L, M और N एक के ऊपर एक रखे गए हैं, लेकिन यह आवश्यक नहीं कि वे इसी क्रम में रखे गए हों। केवल G को J के ऊपर रखा गया है। J और I के बीच केवल दो बक्से रखे गए हैं। केवल M को H के नीचे रखा गया है। L को I के ठीक ऊपर नहीं रखा गया है। N और M के बीच कितने बक्से रखे गए हैं?

Ans

✓ A. दो

✗ B. चार

✗ C. एक

✗ D. तीन

Question ID :	4410091435068
Option 1 ID :	4410095668806
Option 2 ID :	4410095668804
Option 3 ID :	4410095668807
Option 4 ID :	4410095668805
Status :	Answered
Chosen Option :	A

Q.1

यदि 'P' का अर्थ '−' है, 'Q' का अर्थ '×' है, 'R' का अर्थ '÷' है और 'S' का अर्थ '+' है, तो निम्नलिखित समीकरण में प्रश्न-चिह्न '?' के स्थान पर क्या आएगा?

15 Q 4 R 2 P 6 S 8 = ?

Ans

✓ A. 32

✗ B. 34

✗ C. 28

✗ D. 30

Question ID :	441009554792
Option 1 ID :	4410092174483
Option 2 ID :	4410092174485
Option 3 ID :	4410092174482
Option 4 ID :	4410092174484
Status :	Answered
Chosen Option :	A

Q.1

शब्द FACTOID के प्रत्येक स्वर को अंग्रेजी वर्णमाला क्रम में उसके ठीक बाद वाले अक्षर से बदल दिया जाता है तथा प्रत्येक व्यंजन को अंग्रेजी वर्णमाला क्रम में उसके ठीक पहले वाले अक्षर से बदल दिया जाता है। इस प्रकार बने अक्षरों के समूह में कितने अक्षर ठीक दो बार आएंगे?

Ans

✗ A. एक भी नहीं

✗ B. तीन

✗ C. दो

✓ D. एक

Question ID :	441009796550
Option 1 ID :	4410093140199
Option 2 ID :	4410093140202
Option 3 ID :	4410093140201
Option 4 ID :	4410093140200
Status :	Answered
Chosen Option :	D

Q.1 2	श्री ओपीक्यू अपनी कक्षा में शीर्ष से 113वें स्थान पर और नीचे से 231वें स्थान पर हैं। उनकी कक्षा में कुल कितने विद्यार्थी हैं?
Ans	<input checked="" type="checkbox"/> A. 321
	<input checked="" type="checkbox"/> B. 432
	<input checked="" type="checkbox"/> C. 332
	<input checked="" type="checkbox"/> D. 343

Question ID :	4410091435178
Option 1 ID :	4410095669247
Option 2 ID :	4410095669244
Option 3 ID :	4410095669245
Option 4 ID :	4410095669246
Status :	Answered
Chosen Option :	D

Q.1 3	दी गई श्रृंखला में प्रश्न-चिह्न (?) के स्थान पर क्या आना चाहिए? 1 3 6 10 ? 21
Ans	<input checked="" type="checkbox"/> A. 19
	<input checked="" type="checkbox"/> B. 17
	<input checked="" type="checkbox"/> C. 15
	<input checked="" type="checkbox"/> D. 12

Question ID :	441009590734
Option 1 ID :	4410092318052
Option 2 ID :	4410092318051
Option 3 ID :	4410092318050
Option 4 ID :	4410092318049
Status :	Answered
Chosen Option :	C

Q.1 4	अंग्रेजी वर्णमाला के क्रम के आधार पर, DOCK का संबंध MXLT से है। इसी प्रकार, WEAR का संबंध FNJA से है। समान तर्क का अनुसरण करते हुए, TRUE का संबंध दिए गए विकल्पों में से किससे है?
Ans	<input checked="" type="checkbox"/> A. BZCM
	<input checked="" type="checkbox"/> B. CADN
	<input checked="" type="checkbox"/> C. DBEO
	<input checked="" type="checkbox"/> D. CBEM

Question ID :	441009792168
Option 1 ID :	4410093122673
Option 2 ID :	4410093122672
Option 3 ID :	4410093122671
Option 4 ID :	4410093122674
Status :	Answered
Chosen Option :	B

Q.1
5

निम्नलिखित संख्या श्रृंखला का संदर्भ लीजिए और दिए गए प्रश्न का उत्तर दीजिए। (सभी संख्याएँ केवल एकल-अंकीय संख्याएँ हैं)। गिनती केवल बाएँ से दाएँ की ओर की जानी है।

(बाएँ) 4 6 1 6 2 7 4 8 4 9 1 6 7 2 5 4 8 9 8 4 7 2 5 6 8 3 4 (दाएँ)

ऐसे कितने विषम अंक हैं, जिनमें से प्रत्येक के ठीक पहले एक सम अंक और ठीक बाद एक विषम अंक है?

Ans

☒ A. एक

☐ B. एक भी नहीं

☐ C. दो

☐ D. तीन

Question ID :	441009796890
Option 1 ID :	4410093141560
Option 2 ID :	4410093141559
Option 3 ID :	4410093141561
Option 4 ID :	4410093141562
Status :	Answered
Chosen Option :	A

Q.1
6

सात मित्र G, H, I, J, L, M और N उत्तर दिशा की ओर अभिमुख होकर एक सीधी पंक्ति में बैठे हैं। H, N के ठीक बाईं ओर पड़ोस में बैठा है। L के बाईं ओर केवल दो व्यक्ति बैठे हैं। L और M के बीच केवल तीन व्यक्ति बैठे हैं। M और I के बीच केवल एक व्यक्ति बैठा है। J, M का निकटतम पड़ोसी नहीं है। G के दाईं ओर कितने व्यक्ति बैठे हैं?

Ans

☐ A. चार

☒ B. एक

☐ C. तीन

☐ D. दो

Question ID :	4410091435045
Option 1 ID :	4410095668713
Option 2 ID :	4410095668716
Option 3 ID :	4410095668714
Option 4 ID :	4410095668715
Status :	Answered
Chosen Option :	B

Q.1
7

G, H की बहन है। I, H का भाई है। I, J का पुत्र है। J, K से विवाहित है। K, L की पुत्री है। K की केवल एक पुत्री है। O, H का भाई है। M, O से विवाहित है। यदि P, M की पुत्री है, तो H का P से क्या संबंध है?

Ans

☒ A. पिता का भाई

☐ B. पिता

☐ C. माता का भाई

☐ D. भाई

Question ID :	4410091412152
Option 1 ID :	4410095577637
Option 2 ID :	4410095577638
Option 3 ID :	4410095577639
Option 4 ID :	4410095577636
Status :	Answered
Chosen Option :	A

Q.1
8

अंग्रेजी वर्णमाला क्रम के आधार पर दी गई श्रृंखला में प्रश्न चिह्न (?) के स्थान पर क्या आना चाहिए?
ILN KJO MHP ? QDR

Ans

X

A. OFU

B. OFQ

X

C. OGY

X

D. OGK

Question ID :	4410091432403
Option 1 ID :	4410095657953
Option 2 ID :	4410095657954
Option 3 ID :	4410095657956
Option 4 ID :	4410095657955
Status :	Answered
Chosen Option :	B

Q.1
9

अंग्रेजी वर्णमाला के क्रम के आधार पर, निम्नलिखित चार अक्षर-समूह युग्मों में से तीन किसी निश्चित तरीके से एकसमान हैं और इस प्रकार वे एक ग्रुप बनाते हैं। कौन-सा अक्षर-समूह युग्म, उस ग्रुप से संबंधित नहीं है?
(नोट: असंगत अक्षर-समूह युग्म, व्यंजनों/स्वरों की संख्या या उनकी स्थिति पर आधारित नहीं है।)

Ans

X

A. HJG - IKH

X

B. MOL - NPM

C. SUR - TUS

X

D. DFC - EGD

Question ID :	441009789583
Option 1 ID :	4410093112332
Option 2 ID :	4410093112333
Option 3 ID :	4410093112334
Option 4 ID :	4410093112331
Status :	Answered
Chosen Option :	C

Q.2
0

G, H, I, J, L, M और N में से प्रत्येक की छुट्टी, सोमवार से शुरू होकर रविवार को समाप्त होने वाले एक ही सप्ताह के अलग-अलग है। M की छुट्टी गुरुवार को है। H की छुट्टी J से ठीक पहले है। N की छुट्टी के बाद किसी एक दिन है। L की छुट्टी J के ठीक बाद है। G के बाद केवल एक व्यक्ति की छुट्टी है। N और L के बीच कितने लोगों की छुट्टी है?

Ans

A. तीन

X

B. एक

X

C. दो

X

D. चार

Question ID :	4410091435105
Option 1 ID :	4410095668953
Option 2 ID :	4410095668955
Option 3 ID :	4410095668954
Option 4 ID :	4410095668952
Status :	Answered
Chosen Option :	A

Q.2	सात व्यक्ति - B, D, E, P, S, T और W उत्तर की ओर अभिमुख होकर एक पंक्ति में बैठे हैं।
1	P के बाईं ओर कोई नहीं बैठा है। P और D के बीच केवल चार व्यक्ति बैठे हैं। T के दाईं ओर केवल तीन व्यक्ति बैठे हैं। S, W के ठीक बाईं ओर पड़ोस में बैठा है। B, T का निकटतम पड़ोसी नहीं है। B के बाईं ओर तीसरे स्थान पर कौन बैठा है?
Ans	<input checked="" type="checkbox"/> A. D
	<input checked="" type="checkbox"/> B. W
	<input checked="" type="checkbox"/> C. S
	<input checked="" type="checkbox"/> D. T

Question ID :	441009796037
Option 1 ID :	4410093138149
Option 2 ID :	4410093138150
Option 3 ID :	4410093138148
Option 4 ID :	4410093138147
Status :	Answered
Chosen Option :	D

Q.2	दी गई श्रृंखला में प्रश्न-चिह्न (?) के स्थान पर क्या आना चाहिए?
2	951 822 693 564 435 ?
Ans	<input checked="" type="checkbox"/> A. 342
	<input checked="" type="checkbox"/> B. 348
	<input checked="" type="checkbox"/> C. 334
	<input checked="" type="checkbox"/> D. 306

Question ID :	4410091432464
Option 1 ID :	4410095658241
Option 2 ID :	4410095658243
Option 3 ID :	4410095658244
Option 4 ID :	4410095658242
Status :	Answered
Chosen Option :	D

Q.2	उस युग्म का चयन कीजिए, जो नीचे दिए गए दो युग्मों द्वारा अनुसरण किए गए पैटर्न के समान पैटर्न का अनुसरण करता है। दोनों युग्म समान पैटर्न का अनुसरण करते हैं।
3	UNT : VLW CTU : DRX
Ans	<input checked="" type="checkbox"/> A. HOP : IMS
	<input checked="" type="checkbox"/> B. GPR : HNT
	<input checked="" type="checkbox"/> C. LRR : MOU
	<input checked="" type="checkbox"/> D. QSQ : RQS

Question ID :	441009787749
Option 1 ID :	4410093104998
Option 2 ID :	4410093104995
Option 3 ID :	4410093104996
Option 4 ID :	4410093104997
Status :	Answered
Chosen Option :	A

Q.2
4

उस युग्म का चयन कीजिए, जो नीचे दिए गए युग्मों के दो समूह द्वारा अनुसरण किए जाने वाले पैटर्न के समान पैटर्न का अनुसरण करता है। दोनों युग्म समान पैटर्न का अनुसरण करते हैं।

RG0 : PJL
TKN : RNK

Ans

☒ A. FKG : DNC

☒ B. KLT : INQ

☒ C. HGR : FJN

☒ D. SOS : QRP

Question ID :	4410091432382
Option 1 ID :	4410095657864
Option 2 ID :	4410095657862
Option 3 ID :	4410095657861
Option 4 ID :	4410095657863
Status :	Answered
Chosen Option :	D

Q.2
5

अंग्रेजी वर्णमाला के क्रम के आधार पर, निम्नलिखित चार अक्षर-समूह युग्मों में से तीन किसी तरीके से एकसमान हैं और इस प्रकार वे एक ग्रुप बनाते हैं। कौन-सा अक्षर-समूह युग्म, उस ग्रुप से संबंधित नहीं है?
(नोट: असंगत अक्षर-समूह युग्म, व्यंजनों/स्वरों की संख्या या उनकी स्थिति पर आधारित नहीं है।)

Ans

☒ A. BM – FJ

☒ B. RD – VB

☒ C. KP – ON

☒ D. QL – UJ

Question ID :	441009795247
Option 1 ID :	4410093134987
Option 2 ID :	4410093134988
Option 3 ID :	4410093134989
Option 4 ID :	4410093134990
Status :	Answered
Chosen Option :	A

Section : General Awareness

Q.1

2020 में, भारत किस फसल का दूसरा सबसे बड़ा उत्पादक था, जिसकी विश्व के कुल उत्पादन में लगभग 14.14% हिस्सेदारी थी?

Ans

☒ A. दालें

☒ B. गेहूँ

☒ C. सरसों

☒ D. मक्का

Question ID :	441009609849
Option 1 ID :	4410092394515
Option 2 ID :	4410092394516
Option 3 ID :	4410092394513
Option 4 ID :	4410092394514
Status :	Answered
Chosen Option :	B

Q.2	निम्नलिखित में से कौन-सा विकल्प, शास्त्रीय छऊ नृत्य की मुख्य क्षेत्रीय शैलियों की सही संख्या को निरूपित करता है?
Ans	<input checked="" type="checkbox"/> A. 2
	<input checked="" type="checkbox"/> B. 4
	<input checked="" type="checkbox"/> C. 1
	<input checked="" type="checkbox"/> D. 3

Question ID :	4410091512792
Option 1 ID :	4410095975203
Option 2 ID :	4410095975205
Option 3 ID :	4410095975202
Option 4 ID :	4410095975204
Status :	Answered
Chosen Option :	D

Q.3	राजा राममोहन रॉय का मानना था कि सती प्रथा किस अंतर्निहित सामाजिक कारक के कारण थी?
Ans	<input checked="" type="checkbox"/> A. पुरुषों के लिए उचित शिक्षा का अभाव
	<input checked="" type="checkbox"/> B. हिंदू महिलाओं की अत्यंत निम्न स्थिति
	<input checked="" type="checkbox"/> C. परिवारों को आर्थिक कठिनाइयों का सामना करना पड़ रहा है
	<input checked="" type="checkbox"/> D. विदेशी धार्मिक प्रथाओं का प्रभाव

Question ID :	4410091514654
Option 1 ID :	4410095982047
Option 2 ID :	4410095982046
Option 3 ID :	4410095982045
Option 4 ID :	4410095982044
Status :	Answered
Chosen Option :	B

Q.4	भारत में कौन-सी पर्वत श्रेणी असंतत है क्योंकि महानदी, गोदावरी, कृष्णा, पेन्नार और कावेरी जैसी प्रमुख नदियों ने इसे कई स्थानों पर विच्छेदित कर दिया है?
Ans	<input checked="" type="checkbox"/> A. पूर्वी घाट
	<input checked="" type="checkbox"/> B. विंध्य पर्वत श्रेणी
	<input checked="" type="checkbox"/> C. पश्चिमी घाट
	<input checked="" type="checkbox"/> D. अरावली पर्वत श्रेणी

Question ID :	4410091517534
Option 1 ID :	4410095993501
Option 2 ID :	4410095993504
Option 3 ID :	4410095993502
Option 4 ID :	4410095993503
Status :	Answered
Chosen Option :	B

Q.5	भारत में जब केंद्र और राज्य दोनों समवर्ती सूची के विषय पर कानून पारित करते हैं तो उनके बीच संघर्षों को रोकने में कौन-सा तंत्र सहायक होता है?
Ans	<div><div><div><div><div></div></div><div>A. मामले को चुनाव आयोग को वापस भेजना</div></div><div><div><div></div></div><div>B. सर्वोच्च न्यायालय द्वारा न्यायिक समीक्षा</div></div><div><div><div></div></div><div>C. राज्य कानून को राष्ट्रपति की स्वीकृति प्राप्त न होने पर केंद्रीय कानून को वरीयता दी जाएगी</div></div><div><div><div></div></div><div>D. वित्त आयोग को अभिनिर्देशन</div></div></div></div>

Question ID :	4410091501414
Option 1 ID :	4410095930079
Option 2 ID :	4410095930076
Option 3 ID :	4410095930078
Option 4 ID :	4410095930077
Status :	Answered
Chosen Option :	C

Q.6	भारतीय राष्ट्रीय कांग्रेस का दूसरा अधिवेशन किस शहर में आयोजित हुआ था?
Ans	<div><div><div><div><div></div></div><div>A. इलाहाबाद (प्रयागराज)</div></div><div><div><div></div></div><div>B. बॉम्बे (मुंबई)</div></div><div><div><div></div></div><div>C. मद्रास (चेन्नई)</div></div><div><div><div></div></div><div>D. कलकत्ता (कोलकाता)</div></div></div></div>

Question ID :	4410091514481
Option 1 ID :	4410095981743
Option 2 ID :	4410095981746
Option 3 ID :	4410095981744
Option 4 ID :	4410095981745
Status :	Answered
Chosen Option :	D

Q.7	बहुआयामी गरीबी सूचकांक: प्रगति समीक्षा 2023 के अनुसार, निम्नलिखित में से किस राज्य में बहुआयामी गरीबी का प्रतिशत सबसे कम है?
Ans	<div><div><div><div><div></div></div><div>A. ओडिशा</div></div><div><div><div></div></div><div>B. सिक्किम</div></div><div><div><div></div></div><div>C. कर्नाटक</div></div><div><div><div></div></div><div>D. मणिपुर</div></div></div></div>

Question ID :	441009638847
Option 1 ID :	4410092509532
Option 2 ID :	4410092509533
Option 3 ID :	4410092509534
Option 4 ID :	4410092509531
Status :	Answered
Chosen Option :	B

Q.8

60 kg द्रव्यमान वाला एक व्यक्ति 20 kg भार अपने सिर पर लेकर 35 स्टेप वाली सीढ़ी पर 7 सेकंड में चढ़ता है। यदि प्रत्येक स्टेप की ऊंचाई 20 cm है, तो व्यक्ति द्वारा लगाई गई शक्ति _____ होगी।
($g = 10\text{m/s}^2$)

Ans

✗ A. 80 वाट

✗ B. 1143 वाट

✗ C. 5600 वाट

✓ D. 800 वाट

Question ID :	441009623867
Option 1 ID :	4410092449603
Option 2 ID :	4410092449602
Option 3 ID :	4410092449600
Option 4 ID :	4410092449601
Status :	Not Answered
Chosen Option :	--

Q.9

अनुच्छेद 324 द्वारा सशक्त कौन-सा संवैधानिक संरक्षक संसद, राज्य विधानसभाओं और राष्ट्रपति एवं उपराष्ट्रपति के कार्यालयों के लिए मतदाता पंजीकरण से लेकर परिणामों की घोषणा तक संपूर्ण चुनावी प्रक्रिया पर पूर्ण नियंत्रण रखता है?

Ans

✗ A. संघीय राजस्व आवंटनकर्ता

✗ B. राष्ट्रीय वित्तीय लेखा परीक्षक

✓ C. भारत के मुख्य निर्वाचन पर्यवेक्षक

✗ D. सिविल सेवा भर्ती प्राधिकरण

Question ID :	4410091502917
Option 1 ID :	4410095935935
Option 2 ID :	4410095935934
Option 3 ID :	4410095935933
Option 4 ID :	4410095935932
Status :	Answered
Chosen Option :	C

Q.10

भारत का कौन-सा द्वीप, देश के एकमात्र सक्रिय ज्वालामुखी के लिए प्रसिद्ध है?

Ans

✗ A. लिटिल अंडमान

✗ B. मिनिक्ॉय

✓ C. बैरन द्वीप

✗ D. कवरत्ती

Question ID :	4410091508663
Option 1 ID :	4410095959291
Option 2 ID :	4410095959288
Option 3 ID :	4410095959290
Option 4 ID :	4410095959289
Status :	Answered
Chosen Option :	C

Q.1 1	सर्वोच्च न्यायालय के किस मामले ने अनुच्छेद 301 के साथ राज्य के एकाधिकार के विरोधाभासी होने के संबंध में चिंता जताई, जिससे अनुच्छेद 305 का स्पष्टीकरण हुआ?
Ans	<div><div><div>✖</div><div>A. मिनर्वा मिल्स बनाम भारत संघ</div></div><div><div>✔</div><div>B. सगीर अहमद बनाम U.P. राज्य</div></div><div><div>✖</div><div>C. केशवानंद भारती बनाम केरल राज्य</div></div><div><div>✖</div><div>D. गोलकनाथ बनाम पंजाब राज्य</div></div></div>

Question ID :	4410091509466
Option 1 ID :	4410095962527
Option 2 ID :	4410095962526
Option 3 ID :	4410095962524
Option 4 ID :	4410095962525
Status :	Answered
Chosen Option :	C

Q.1 2	निम्नलिखित में से कौन-सा विशाल भारतीय मैदानों का हिस्सा नहीं है?
Ans	<div><div><div>✖</div><div>A. भाबर</div></div><div><div>✔</div><div>B. पश्चिमी घाट</div></div><div><div>✖</div><div>C. तराई</div></div><div><div>✖</div><div>D. खादर</div></div></div>

Question ID :	4410091514811
Option 1 ID :	4410095982672
Option 2 ID :	4410095982675
Option 3 ID :	4410095982674
Option 4 ID :	4410095982673
Status :	Answered
Chosen Option :	D

Q.1 3	अकबर द्वारा भूमि की माप और वर्गीकरण के आधार पर निम्नलिखित में से कौन-सी राजस्व व्यवस्था शुरू की गई थी?
Ans	<div><div><div>✖</div><div>A. इक्ता व्यवस्था</div></div><div><div>✖</div><div>B. महालवाड़ी व्यवस्था</div></div><div><div>✖</div><div>C. रैयतवाड़ी व्यवस्था</div></div><div><div>✔</div><div>D. जब्ती या दहसाला व्यवस्था</div></div></div>

Question ID :	4410091502716
Option 1 ID :	4410095935153
Option 2 ID :	4410095935155
Option 3 ID :	4410095935154
Option 4 ID :	4410095935152
Status :	Answered
Chosen Option :	C

Q.1 4	किस निर्देशक सिद्धांत को “सामाजिक और आर्थिक समानता को बढ़ावा देने वाले सिद्धांत” के अंतर्गत वर्गीकृत किया गया है?
Ans	<div><div><input checked="" type="checkbox"/></div>A. यह सुनिश्चित करना कि श्रमिकों का आर्थिक रूप से शोषण न हो</div> <div><div><input type="checkbox"/></div>B. वनों और वन्यजीवों का संरक्षण करना</div> <div><div><input type="checkbox"/></div>C. पड़ोसी राज्यों के साथ शांति बनाए रखना</div> <div><div><input type="checkbox"/></div>D. प्राधिकरण के साथ पंचायतों को बढ़ावा देना</div>

Question ID :	4410091504714
Option 1 ID :	4410095943312
Option 2 ID :	4410095943309
Option 3 ID :	4410095943310
Option 4 ID :	4410095943311
Status :	Answered
Chosen Option :	D

Q.1 5	किस राष्ट्रवादी नेता ने यह घोषणा की थी कि स्वराज एक "जन्मसिद्ध अधिकार" है, न कि ब्रिटिश आश्वासनों पर निर्भर कोई चीज?
Ans	<div><div><input type="checkbox"/></div>A. गोपाल कृष्ण गोखले</div> <div><div><input type="checkbox"/></div>B. अरबिंदो घोष</div> <div><div><input checked="" type="checkbox"/></div>C. लोकमान्य तिलक</div> <div><div><input type="checkbox"/></div>D. बिपिन चंद्र पाल</div>

Question ID :	4410091516890
Option 1 ID :	4410095990951
Option 2 ID :	4410095990952
Option 3 ID :	4410095990949
Option 4 ID :	4410095990950
Status :	Answered
Chosen Option :	C

Q.1 6	सही कथन का चयन कीजिए।
Ans	<div><div><input type="checkbox"/></div>A. प्रकाश वर्ष समय की इकाई है।</div> <div><div><input checked="" type="checkbox"/></div>B. प्रकाश वर्ष एक वर्ष में प्रकाश द्वारा तय की गई दूरी है।</div> <div><div><input type="checkbox"/></div>C. प्रकाश वर्ष पृथ्वी द्वारा एक वर्ष में अवशोषित फोटॉनों की संख्या है।</div> <div><div><input type="checkbox"/></div>D. प्रकाश वर्ष प्रकाश ऊर्जा की इकाई है।</div>

Question ID :	441009625161
Option 1 ID :	4410092454776
Option 2 ID :	4410092454777
Option 3 ID :	4410092454779
Option 4 ID :	4410092454778
Status :	Answered
Chosen Option :	B

Q.1 7	सरकार द्वारा फर्जी दस्तावेजों के कारण के आधार पर किसी व्यक्ति की नागरिकता छीन लेने को क्या कहा जाता है?
Ans	<div><div><input checked="" type="checkbox"/></div>A. वंचन (Deprivation)</div> <div><div><input type="checkbox"/></div>B. निलंबन (Suspension)</div> <div><div><input type="checkbox"/></div>C. समाप्ति (Termination)</div> <div><div><input type="checkbox"/></div>D. परित्याग (Renunciation)</div>

Question ID :	4410091506072
Option 1 ID :	4410095948670
Option 2 ID :	4410095948669
Option 3 ID :	4410095948668
Option 4 ID :	4410095948667
Status :	Answered
Chosen Option :	C

Q.1 8	निम्नलिखित में से कौन-सा नेटवर्क घटक लॉजिकलनेटवर्कों के बीच डेटा पैकेट प्रसारित करके नेटवर्कों का विस्तार या विभाजन करने के लिए उपयोग किया जाता है?
Ans	<div><div><input type="checkbox"/></div>A. जॉयस्टिक</div> <div><div><input type="checkbox"/></div>B. प्लॉटर</div> <div><div><input checked="" type="checkbox"/></div>C. राउटर</div> <div><div><input type="checkbox"/></div>D. मदरबोर्ड</div>

Question ID :	4410091502736
Option 1 ID :	4410095935229
Option 2 ID :	4410095935231
Option 3 ID :	4410095935228
Option 4 ID :	4410095935230
Status :	Answered
Chosen Option :	C

Q.1 9	मौर्य साम्राज्य में भूमि अभिलेखों के रखरखाव तथा कृषि राजस्व संग्रह के लिए कौन-सा अधिकारी उत्तरदायी था?
Ans	<div><div><input checked="" type="checkbox"/></div>A. राजुक (Rajuka)</div> <div><div><input type="checkbox"/></div>B. अमात्य (Amatya)</div> <div><div><input type="checkbox"/></div>C. धम्म महामात्र (Dhamma Mahamatra)</div> <div><div><input type="checkbox"/></div>D. युक्ता (Yukta)</div>

Question ID :	4410091498154
Option 1 ID :	4410095917655
Option 2 ID :	4410095917654
Option 3 ID :	4410095917657
Option 4 ID :	4410095917656
Status :	Answered
Chosen Option :	A

Q.20	संघ की कार्यकारी शक्ति किसमें निहित है, जिसका प्रयोग प्रत्यक्ष रूप से या अधीनस्थ अधिकारियों के माध्यम से किया जा सकता है?
Ans	<div><div><div><div><div><div></div></div></div><div>A. लोकसभा के अध्यक्ष</div></div><div><div><div></div></div><div>B. प्रधानमंत्री</div></div><div><div><div></div></div><div>C. राष्ट्रपति</div></div><div><div><div></div></div><div>D. भारत के मुख्य न्यायाधीश</div></div></div></div>

Question ID :	4410091514943
Option 1 ID :	4410095983193
Option 2 ID :	4410095983194
Option 3 ID :	4410095983192
Option 4 ID :	4410095983195
Status :	Answered
Chosen Option :	B

Q.21	निम्नलिखित में से कौन-सा विकल्प, राष्ट्रीय ग्रामीण आजीविका मिशन (NRLM), जिसे आजीविका के नाम से भी जाना जाता है, के प्राथमिक उद्देश्य का सर्वोत्तम वर्णन करता है?
Ans	<div><div><div><div><div><div></div></div></div><div>A. न्यूनतम समर्थन कीमतों पर फसलों की अनिवार्य खरीद सुनिश्चित करना</div></div><div><div><div></div></div><div>B. शहरी सूखा-प्रभावित क्षेत्रों में सार्वजनिक कार्य आधारित राहत प्रदान करना</div></div><div><div><div></div></div><div>C. बैंक क्रेडिट और सब्सिडी द्वारा समर्थित SHGs के माध्यम से स्व-रोजगार को बढ़ावा देना</div></div><div><div><div></div></div><div>D. नगरपालिका स्तर की परियोजनाओं के माध्यम से शहरी क्षेत्रों में वेतनभोगी रोजगार सृजित करना</div></div></div></div>

Question ID :	4410091518045
Option 1 ID :	4410095995420
Option 2 ID :	4410095995421
Option 3 ID :	4410095995419
Option 4 ID :	4410095995418
Status :	Answered
Chosen Option :	D

Q.22	निम्नलिखित में से कौन-सा भारत में यूनेस्को विश्व धरोहर स्थल है?
Ans	<div><div><div><div><div><div></div></div></div><div>A. चारमीनार (Charminar)</div></div><div><div><div></div></div><div>B. चारमीनार बाजार (Charminar Bazaar)</div></div><div><div><div></div></div><div>C. काकतीय कला थोरानाम (Kakatiya Kala Thoranam)</div></div><div><div><div></div></div><div>D. पट्टदकल मंदिर (Pattadakal temples)</div></div></div></div>

Question ID :	4410091512700
Option 1 ID :	4410095974847
Option 2 ID :	4410095974849
Option 3 ID :	4410095974846
Option 4 ID :	4410095974848
Status :	Answered
Chosen Option :	D

Q.2 3	संविधान की किस अनुसूची में भारत की कई आधिकारिक भाषाओं को सूचीबद्ध किया गया है, जिनमें गैर-शास्त्रीय भाषाएं भी शामिल हैं?
Ans	<div><div><div>✗ A. पहली अनुसूची</div><div>✗ B. दसवीं अनुसूची</div><div>✓ C. आठवीं अनुसूची</div><div>✗ D. बारहवीं अनुसूची</div></div></div>

Question ID :	4410091512752
Option 1 ID :	4410095975050
Option 2 ID :	4410095975052
Option 3 ID :	4410095975051
Option 4 ID :	4410095975053
Status :	Answered
Chosen Option :	C

Q.2 4	निम्नलिखित में से कौन-सा विकल्प प्राथमिक घाटे के सूत्र को व्यक्त करता है?
Ans	<div><div><div>✓ A. राजकोषीय घाटा – ब्याज भुगतान</div><div>✗ B. राजस्व घाटा – पूँजीगत प्राप्तियां</div><div>✗ C. कुल घाटा – उधार राशि</div><div>✗ D. पूँजीगत व्यय – राजस्व प्राप्तियां</div></div></div>

Question ID :	4410091518779
Option 1 ID :	4410095998387
Option 2 ID :	4410095998388
Option 3 ID :	4410095998386
Option 4 ID :	4410095998389
Status :	Answered
Chosen Option :	A

Q.2 5	वसा और तेल किस वर्ग के जैव-अणुओं से संबंधित हैं?
Ans	<div><div><div>✗ A. कार्बोहाइड्रेट</div><div>✗ B. विटामिन</div><div>✗ C. प्रोटीन</div><div>✓ D. लिपिड</div></div></div>

Question ID :	4410091515474
Option 1 ID :	4410095985297
Option 2 ID :	4410095985300
Option 3 ID :	4410095985299
Option 4 ID :	4410095985298
Status :	Answered
Chosen Option :	D

Q.1 Select the most appropriate ANTONYM of the underlined word in the given sentence.

She remained adamant about her decision despite repeated requests.

- Ans ☒ A. Determined
- ☒ B. Firm
- ☒ C. Yielding
- ☒ D. Stubborn

Question ID :	4410091372713
Option 1 ID :	4410095422289
Option 2 ID :	4410095422288
Option 3 ID :	4410095422286
Option 4 ID :	4410095422287
Status :	Answered
Chosen Option :	C

Q.2 Select the most appropriate idiom that can substitute the underlined segment in the given sentence.

Even though he made a mistake in the meeting, Arjun apologised quickly to avoid embarrassment and maintain his dignity.

- Ans ☒ A. to save his face
- ☒ B. to keep the ball in his court
- ☒ C. at the drop of a hat
- ☒ D. to bark up the wrong tree

Question ID :	4410091372759
Option 1 ID :	4410095422470
Option 2 ID :	4410095422473
Option 3 ID :	4410095422471
Option 4 ID :	4410095422472
Status :	Answered
Chosen Option :	A

Q.3 Select the most appropriate option to fill in the blank.

Despite the sudden downpour, the children continued to play _____, oblivious to the mud and water around them.

- Ans ☒ A. cautiously
- ☒ B. gleefully
- ☒ C. anxiously
- ☒ D. reluctantly

Question ID :	4410091370344
Option 1 ID :	4410095412826
Option 2 ID :	4410095412824
Option 3 ID :	4410095412827
Option 4 ID :	4410095412825
Status :	Answered
Chosen Option :	C

Q.4 Select the INCORRECTLY spelt word.

- Ans ☒ A. accumulate
- ☐ B. accommodate
- ☐ C. argument
- ☐ D. acreage

Question ID :	4410091386053
Option 1 ID :	4410095474915
Option 2 ID :	4410095474916
Option 3 ID :	4410095474917
Option 4 ID :	4410095474918
Status :	Answered
Chosen Option :	C

Q.5 Select the option that corrects the following sentence.

She runs very quick.

- Ans ☐ A. She runs quick.
- ☐ B. She quickly runs very.
- ☒ C. She runs very quickly.
- ☐ D. She runs very more quickly.

Question ID :	4410091363914
Option 1 ID :	4410095387584
Option 2 ID :	4410095387583
Option 3 ID :	4410095387582
Option 4 ID :	4410095387585
Status :	Answered
Chosen Option :	C

Q.6 Parts of a sentence are given below in jumbled order. Arrange the parts in the correct order to form a meaningful sentence.

- P. The old library
Q. Stood quietly at the corner of the street
R. Housing thousands of ancient manuscripts
S. Covered in ivy and moss
T. Whispering stories of the past
U. Awaiting curious minds to explore its treasures

- Ans ☐ A. PRSQTU
- ☐ B. PQRSTU
- ☒ C. PQSRTU
- ☐ D. PTRSQU

Question ID :	4410091368398
Option 1 ID :	4410095405027
Option 2 ID :	4410095405030
Option 3 ID :	4410095405029
Option 4 ID :	4410095405028
Status :	Answered
Chosen Option :	B

Q.7 Select the option that rectifies the underlined incorrectly spelt word in the given sentence.

The duty conferred upon a vetinerarian by the licensing authority to ensure the welfare of animals committed to his or her care requires different obligations to those of a human sports medicine doctor.

- Ans
- ☒ A. vetiranenian
 - ☒ B. vetenararian
 - ☒ C. veterinarian
 - ☒ D. vetinararian

Question ID :	4410091401001
Option 1 ID :	4410095533587
Option 2 ID :	4410095533585
Option 3 ID :	4410095533588
Option 4 ID :	4410095533586
Status :	Answered
Chosen Option :	B

Q.8 Select the most appropriate idiom that can substitute the highlighted text in the given sentence.

The negotiator cautioned the team not to **act prematurely without preparation**.

- Ans
- ☒ A. turn the tables
 - ☒ B. smell a rat
 - ☒ C. jump the gun
 - ☒ D. hit the nail on the head

Question ID :	4410091370801
Option 1 ID :	4410095414639
Option 2 ID :	4410095414640
Option 3 ID :	4410095414637
Option 4 ID :	4410095414638
Status :	Answered
Chosen Option :	D

Q.9 Select the most appropriate option that rectifies the underlined incorrect word segments in the given sentence.

In spite the heavy rain, the volunteers carried food supplies beyond the flooded streets to help the stranded families on the other side of the river.

- Ans
- ☒ A. In spite of the heavy rain, supplies above the flooded streets
 - ☒ B. Despite the heavy rain, supplies across the flooded streets
 - ☒ C. Instead of the heavy rain, supplies over the flooded streets
 - ☒ D. Despite of the heavy rain, supplies over the flooded streets

Question ID :	4410091386351
Option 1 ID :	4410095476104
Option 2 ID :	4410095476106
Option 3 ID :	4410095476103
Option 4 ID :	4410095476105
Status :	Answered
Chosen Option :	B

Q.10

Select the most appropriate article to fill in the blank. If no article is required, select 'No article required'.

_____ bus has picked up the children for school.

Ans

X

A. No article required

X

B. A

C. The

X

D. An

Question ID :	4410091376164
Option 1 ID :	4410095436219
Option 2 ID :	4410095436216
Option 3 ID :	4410095436218
Option 4 ID :	4410095436217
Status :	Answered
Chosen Option :	C

Q.11

Parts of a sentence are given below. Arrange the parts in the correct order to form a meaningful and coherent sentence.

A. like a ghost she couldn't explain away

B. but the syntax — clipped, parenthetical, evasive —

C. that undid her composure

D. it wasn't the content of the note

Ans

A. DBCA

X

B. DABC

X

C. ACBD

X

D. ABDC

Question ID :	4410091370575
Option 1 ID :	4410095413748
Option 2 ID :	4410095413751
Option 3 ID :	4410095413749
Option 4 ID :	4410095413750
Status :	Answered
Chosen Option :	B

Q.12

Select the option that can be used as a one-word substitute for the highlighted phrase in the given sentence.

Ravi reached the **highest point of a mountain** after years of successful trekking experience.

Ans

A. summit

X

B. ridge

X

C. base

X

D. peak

Question ID :	4410091370698
Option 1 ID :	4410095414234
Option 2 ID :	4410095414236
Option 3 ID :	4410095414237
Option 4 ID :	4410095414235
Status :	Answered
Chosen Option :	D

Q.1 Select the option that can be used as a one-word substitute for the underlined group of words in the given sentence.

The professor's lecture was filled with jargon and complex theories that most students found difficult to understand.

Ans ☒ A. ambiguous

☒ B. unintelligible

☒ C. abstract

☒ D. confusing

Question ID : 4410091370630

Option 1 ID : 4410095413964

Option 2 ID : 4410095413965

Option 3 ID : 4410095413967

Option 4 ID : 4410095413966

Status : Answered

Chosen Option : A

Q.1 Select the most appropriate ANTONYM of the highlighted word in the given sentence.

Although the witness seemed confident, his statement was later revealed to be spurious, leading the jury to distrust him.

Ans ☒ A. Genuine

☒ B. False

☒ C. Fake

☒ D. Deceptive

Question ID : 4410091370774

Option 1 ID : 4410095414535

Option 2 ID : 4410095414533

Option 3 ID : 4410095414534

Option 4 ID : 4410095414536

Status : Answered

Chosen Option : D

Q.1 Select the most appropriate option to fill in the blanks.

As a child grows out of their helplessness, and displays _____ infantile traits, a family's love may remain unconditional, but the strong, emotional response that stokes a desire to provide _____ care fades.

Ans ☒ A. more and more, constant

☒ B. higher and higher, consistent

☒ C. lesser and lesser, obvious

☒ D. fewer and fewer, constant

Question ID : 4410091386160

Option 1 ID : 4410095475344

Option 2 ID : 4410095475346

Option 3 ID : 4410095475343

Option 4 ID : 4410095475345

Status : Answered

Chosen Option : A

Q.1 6	Select the most appropriate proverb/idiom that can substitute the underlined segment in the given sentence. <u>A wise and intelligent person can achieve great influence</u> , because a person with intelligence, wisdom, or strong character can command respect and achieve great influence.
Ans	<div><div><input checked="" type="checkbox"/></div><div>A. A good mind possesses a kingdom</div></div> <div><div><input type="checkbox"/></div><div>B. Knowledge is power</div></div> <div><div><input type="checkbox"/></div><div>C. Actions speak louder than words</div></div> <div><div><input type="checkbox"/></div><div>D. Rome was not built in a day</div></div>

Question ID :	4410091379506
Option 1 ID :	4410095449307
Option 2 ID :	4410095449304
Option 3 ID :	4410095449305
Option 4 ID :	4410095449306
Status :	Answered
Chosen Option :	A

Q.1 7	Select the most appropriate option to fill in the blanks. In the gallery, I admired _____ landscape painting and _____ abstract piece, then noticed a still life while the curator explained each work.
Ans	<div><div><input type="checkbox"/></div><div>A. an, an</div></div> <div><div><input type="checkbox"/></div><div>B. an, a</div></div> <div><div><input checked="" type="checkbox"/></div><div>C. a, an</div></div> <div><div><input type="checkbox"/></div><div>D. no article needed, a</div></div>

Question ID :	4410091401406
Option 1 ID :	4410095534938
Option 2 ID :	4410095534936
Option 3 ID :	4410095534935
Option 4 ID :	4410095534937
Status :	Answered
Chosen Option :	C

Q.1 8	Select the most appropriate ANTONYM for the highlighted word. The manager found the employee's excuse genuine and accepted it.
Ans	<div><div><input checked="" type="checkbox"/></div><div>A. False</div></div> <div><div><input type="checkbox"/></div><div>B. Real</div></div> <div><div><input type="checkbox"/></div><div>C. Honest</div></div> <div><div><input type="checkbox"/></div><div>D. True</div></div>

Question ID :	4410091365428
Option 1 ID :	4410095393306
Option 2 ID :	4410095393304
Option 3 ID :	4410095393305
Option 4 ID :	4410095393307
Status :	Answered
Chosen Option :	A

Q.1 9	Select the option that can be used as a one-word substitute for the highlighted word segment in the given sentence. The contract was considered legally acceptable and reasonable by all parties involved .
Ans	<div><div><div>✖</div><div>A. Illegal</div></div><div><div>✖</div><div>B. Wrong</div></div><div><div>✔</div><div>C. Valid</div></div><div><div>✖</div><div>D. Invalid</div></div></div>

Question ID :	4410091379210
Option 1 ID :	4410095448314
Option 2 ID :	4410095448316
Option 3 ID :	4410095448313
Option 4 ID :	4410095448315
Status :	Answered
Chosen Option :	C

Q.2 0	Parts of a sentence are given below in jumbled order. Arrange the parts in the correct order to form a meaningful sentence. provided these methods are used (O)/ managing conflict effectively can be (P)/ respectfully to avoid further escalating the situation (Q)/ which can help ease tension and create a sense of connection (R)/ achieved by incorporating humour and playfulness (S)
Ans	<div><div><div>✖</div><div>A. SPROQ</div></div><div><div>✖</div><div>B. PSRQO</div></div><div><div>✖</div><div>C. SRPOQ</div></div><div><div>✔</div><div>D. PSROQ</div></div></div>

Question ID :	441009433979
Option 1 ID :	4410091695436
Option 2 ID :	4410091695435
Option 3 ID :	4410091695437
Option 4 ID :	4410091695434
Status :	Answered
Chosen Option :	B

Comprehension:	
Read the given passage carefully and answer the questions that follow.	
In today's fast-paced world, the importance of reading is often overlooked. Many students prefer spending hours on social media rather than opening a book. Yet, research shows that regular reading not only improves vocabulary and language skills but also strengthens concentration and critical thinking. Unlike scrolling through short online posts, reading books and articles requires focus and patience, qualities that are essential in academics and professional life. Reading also exposes individuals to diverse cultures, ideas, and perspectives, helping them develop empathy and creativity. Unfortunately, the habit of deep reading is declining, especially among younger generations. Schools and parents play a vital role in reviving this practice by encouraging library visits, book clubs, and discussions. In the end, reading is not just a leisure activity; it is a powerful tool that shapes minds, broadens horizons, and builds a foundation for lifelong learning.	
SubQuestion No : 21	
Q.2	What is the most suitable title for the passage?
1	
Ans	<div><div><div>✖</div><div>A. The Decline of Libraries</div></div><div><div>✖</div><div>B. Social Media and Entertainment</div></div><div><div>✖</div><div>C. How to Improve Vocabulary Quickly</div></div><div><div>✔</div><div>D. The Value of Reading in Modern Life</div></div></div>

Question ID :	4410091365254
Option 1 ID :	4410095392608
Option 2 ID :	4410095392610
Option 3 ID :	4410095392611
Option 4 ID :	4410095392609
Status :	Answered
Chosen Option :	D

Comprehension:	
Read the given passage carefully and answer the questions that follow.	
In today's fast-paced world, the importance of reading is often overlooked. Many students prefer spending hours on social media rather than opening a book. Yet, research shows that regular reading not only improves vocabulary and language skills but also strengthens concentration and critical thinking. Unlike scrolling through short online posts, reading books and articles requires focus and patience, qualities that are essential in academics and professional life. Reading also exposes individuals to diverse cultures, ideas, and perspectives, helping them develop empathy and creativity. Unfortunately, the habit of deep reading is declining, especially among younger generations. Schools and parents play a vital role in reviving this practice by encouraging library visits, book clubs, and discussions. In the end, reading is not just a leisure activity; it is a powerful tool that shapes minds, broadens horizons, and builds a foundation for lifelong learning.	
SubQuestion No : 22	
Q.2	What is the central theme of the passage?
2	
Ans	<div><div><div>✔</div><div>A. Reading is essential for intellectual and personal growth.</div></div><div><div>✖</div><div>B. Reading is only useful for examinations.</div></div><div><div>✖</div><div>C. Social media is more important than books.</div></div><div><div>✖</div><div>D. Parents should stop students from using technology.</div></div></div>

Question ID :	4410091365255
Option 1 ID :	4410095392612
Option 2 ID :	4410095392615
Option 3 ID :	4410095392613
Option 4 ID :	4410095392614
Status :	Answered
Chosen Option :	A

Comprehension:	
Read the given passage carefully and answer the questions that follow.	
In today's fast-paced world, the importance of reading is often overlooked. Many students prefer spending hours on social media rather than opening a book. Yet, research shows that regular reading not only improves vocabulary and language skills but also strengthens concentration and critical thinking. Unlike scrolling through short online posts, reading books and articles requires focus and patience, qualities that are essential in academics and professional life. Reading also exposes individuals to diverse cultures, ideas, and perspectives, helping them develop empathy and creativity. Unfortunately, the habit of deep reading is declining, especially among younger generations. Schools and parents play a vital role in reviving this practice by encouraging library visits, book clubs, and discussions. In the end, reading is not just a leisure activity; it is a powerful tool that shapes minds, broadens horizons, and builds a foundation for lifelong learning.	
SubQuestion No : 23	
Q.2	Which fact is directly mentioned in the passage?
3	
Ans	<div><div><div><div></div></div></div><div>A. Reading habits are increasing among teenagers.</div></div> <div><div><div><div></div></div></div><div>B. Reading strengthens concentration and critical thinking.</div></div> <div><div><div><div></div></div></div><div>C. Reading is less effective than online videos.</div></div> <div><div><div><div></div></div></div><div>D. Reading makes students more successful in sports.</div></div>

Question ID :	4410091365256
Option 1 ID :	4410095392619
Option 2 ID :	4410095392616
Option 3 ID :	4410095392618
Option 4 ID :	4410095392617
Status :	Answered
Chosen Option :	B

Comprehension:	
Read the given passage carefully and answer the questions that follow.	
In today's fast-paced world, the importance of reading is often overlooked. Many students prefer spending hours on social media rather than opening a book. Yet, research shows that regular reading not only improves vocabulary and language skills but also strengthens concentration and critical thinking. Unlike scrolling through short online posts, reading books and articles requires focus and patience, qualities that are essential in academics and professional life. Reading also exposes individuals to diverse cultures, ideas, and perspectives, helping them develop empathy and creativity. Unfortunately, the habit of deep reading is declining, especially among younger generations. Schools and parents play a vital role in reviving this practice by encouraging library visits, book clubs, and discussions. In the end, reading is not just a leisure activity; it is a powerful tool that shapes minds, broadens horizons, and builds a foundation for lifelong learning.	
SubQuestion No : 24	
Q.2	What is the tone of the passage?
4	
Ans	<div><div><div><div></div></div></div><div>A. Persuasive and reflective</div></div> <div><div><div><div></div></div></div><div>B. Neutral and descriptive</div></div> <div><div><div><div></div></div></div><div>C. Humorous and casual</div></div> <div><div><div><div></div></div></div><div>D. Angry and critical</div></div>

Question ID :	4410091365257
Option 1 ID :	4410095392621
Option 2 ID :	4410095392623
Option 3 ID :	4410095392620
Option 4 ID :	4410095392622
Status :	Answered
Chosen Option :	A

Comprehension:

Read the given passage carefully and answer the questions that follow.

In today's fast-paced world, the importance of reading is often overlooked. Many students prefer spending hours on social media rather than opening a book. Yet, research shows that regular reading not only improves vocabulary and language skills but also strengthens concentration and critical thinking. Unlike scrolling through short online posts, reading books and articles requires focus and patience, qualities that are essential in academics and professional life. Reading also exposes individuals to diverse cultures, ideas, and perspectives, helping them develop empathy and creativity. Unfortunately, the habit of deep reading is declining, especially among younger generations. Schools and parents play a vital role in reviving this practice by encouraging library visits, book clubs, and discussions. In the end, reading is not just a leisure activity; it is a powerful tool that shapes minds, broadens horizons, and builds a foundation for lifelong learning.

SubQuestion No : 25

Q.2 What inference can be drawn from the passage?

5

Ans

✓

A. Encouraging reading habits can positively shape future generations.

✗

B. Reading is only for people with a lot of free time.

✗

C. Social media will completely replace books.

✗

D. Students should avoid technology completely.

Question ID :	4410091365258
Option 1 ID :	4410095392624
Option 2 ID :	4410095392626
Option 3 ID :	4410095392625
Option 4 ID :	4410095392627
Status :	Answered
Chosen Option :	A

Section : Computer Knowledge

Q.1 संक्षिप्त रूप CPU का पूर्ण रूप क्या है?

Ans

✗

A. Computer Processing Unit (कंप्यूटर प्रोसेसिंग यूनिट)

✓

B. Central Processing Unit (सेंट्रल प्रोसेसिंग यूनिट)

✗

C. Computer Processing Utility (कंप्यूटर प्रोसेसिंग यूटिलिटी)

✗

D. Control Processing Unit (कंट्रोल प्रोसेसिंग यूनिट)

Question ID :	441009643329
Option 1 ID :	4410092527489
Option 2 ID :	4410092527488
Option 3 ID :	4410092527487
Option 4 ID :	4410092527486
Status :	Answered
Chosen Option :	B

Q.2	निम्नलिखित में से कौन-सा LAN का सर्वोत्तम वर्णन करता है?
Ans	<div><div><div><div><div></div></div></div><div>A. विश्व भर के कंप्यूटरों को जोड़ने वाला एक वैश्विक नेटवर्क</div></div><div><div><div><div></div></div></div><div>B. कंप्यूटर डेटा के लिए एक स्टोरेज डिवाइस</div></div><div><div><div><div></div></div></div><div>C. टेक्स्ट कैरेक्टर को एन्कोड करने के लिए एक प्रोटोकॉल</div></div><div><div><div><div></div></div></div><div>D. कार्यालय जैसे सीमित क्षेत्र में डिवाइसों को जोड़ने वाला एक नेटवर्क</div></div></div>

Question ID :	441009686806
Option 1 ID :	4410092701241
Option 2 ID :	4410092701242
Option 3 ID :	4410092701243
Option 4 ID :	4410092701240
Status :	Answered
Chosen Option :	D

Q.3	फॉर्मूला =ROUND(12.789, 1) _____ मान प्रदान करता है।
Ans	<div><div><div><div></div></div><div>A. 12.8</div></div><div><div><div><div></div></div></div><div>B. 12.7</div></div><div><div><div><div></div></div></div><div>C. 13</div></div><div><div><div><div></div></div></div><div>D. 12.79</div></div></div>

Question ID :	441009910192
Option 1 ID :	4410093594911
Option 2 ID :	4410093594914
Option 3 ID :	4410093594913
Option 4 ID :	4410093594912
Status :	Answered
Chosen Option :	D

Q.4	कंप्यूटर का कौन-सा भाग, अनुदेशों (instructions) के निष्पादन को नियंत्रित करता है?
Ans	<div><div><div><div></div></div><div>A. ALU</div></div><div><div><div><div></div></div></div><div>B. कंट्रोल यूनिट</div></div><div><div><div><div></div></div></div><div>C. मेमोरी</div></div><div><div><div><div></div></div></div><div>D. इनपुट डिवाइस</div></div></div>

Question ID :	441009464023
Option 1 ID :	4410091814678
Option 2 ID :	4410091814677
Option 3 ID :	4410091814679
Option 4 ID :	4410091814680
Status :	Answered
Chosen Option :	B

Q.5	यदि सेल A1 में मान 5 है, तो सूत्र =IF(A1>10,"High","Low") क्या प्रदर्शित करेगा?
Ans	<div><div><input checked="" type="checkbox"/></div>A. Low</div>
	<div><div><input type="checkbox"/></div>B. High</div>
	<div><div><input type="checkbox"/></div>C. Error</div>
	<div><div><input type="checkbox"/></div>D. 5</div>

Question ID :	4410091028762
Option 1 ID :	4410094066703
Option 2 ID :	4410094066702
Option 3 ID :	4410094066705
Option 4 ID :	4410094066704
Status :	Answered
Chosen Option :	C

Q.6	ईमेल में फाइल अटैच करने के संबंध में कौन-से कथन सत्य हैं? (i) 'Attach file' आइकन सामान्यतः एक पेपरक्लिप (paperclip) जैसा दिखता है। (ii) ईमेल से फाइलों को अटैच करने के लिए कोई आकार सीमा नहीं है। (iii) एक ही ईमेल में कई फाइलें अटैच की जा सकती हैं।
Ans	<div><div><input type="checkbox"/></div>A. (i), (ii) और (iii)</div>
	<div><div><input type="checkbox"/></div>B. केवल (ii) और (iii)</div>
	<div><div><input type="checkbox"/></div>C. केवल (i) और (ii)</div>
	<div><div><input checked="" type="checkbox"/></div>D. केवल (i) और (iii)</div>

Question ID :	441009878019
Option 1 ID :	4410093465721
Option 2 ID :	4410093465719
Option 3 ID :	4410093465718
Option 4 ID :	4410093465720
Status :	Answered
Chosen Option :	D

Q.7	किसी पैराग्राफ की पहली पंक्ति के लिए नेगेटिव इंडेंट (आउटडेंट) सेट करने का क्या उद्देश्य है?
Ans	<div><div><input type="checkbox"/></div>A. पैराग्राफ को आसपास के टेक्स्ट से अलग दिखाना</div>
	<div><div><input type="checkbox"/></div>B. पहली पंक्ति को स्पष्ट रूप से अलग दर्शाना, जिसका उपयोग अक्सर रिज्यूमे, बिबलियोग्राफी या लीगल डॉक्यूमेंट (resumes, bibliographies, or legal documents) में किया जाता है</div>
	<div><div><input checked="" type="checkbox"/></div>C. हैंगिंग इंडेंट (hanging indent) क्रिएट करना, जिसमें पहली लाइन पैराग्राफ के बाकी हिस्सों की तुलना में बाईं ओर अधिक बढ़ी हुई होती है</div>
	<div><div><input type="checkbox"/></div>D. पैराग्राफ को पहले से मौजूद किसी भी इंडेंटेशन (indentation) की उपेक्षा करते हुए पेज मार्जिन के साथ एलाइन करना</div>

Question ID :	441009679036
Option 1 ID :	4410092670346
Option 2 ID :	4410092670349
Option 3 ID :	4410092670347
Option 4 ID :	4410092670348
Status :	Answered
Chosen Option :	B

Q.8 किसी डॉक्यूमेंट को पहली बार सेव करने के लिए, निम्नलिखित में से कौन-सी शॉर्टकट कुंजी का उपयोग किया जाता है?

- Ans ☒ A. Ctrl + O
- ☒ B. Ctrl + P
- ☒ C. Ctrl + S
- ☒ D. Ctrl + X

Question ID :	441009929675
Option 1 ID :	4410093672649
Option 2 ID :	4410093672650
Option 3 ID :	4410093672651
Option 4 ID :	4410093672652
Status :	Answered
Chosen Option :	C

Q.9 निम्नलिखित में से कौन-सा टैब आपको एमएस पॉवरपॉइंट में अपनी प्रेजेंटेशन पर एक नया टेम्पलेट या थीम अप्लाई करने की सुविधा देता है?

- Ans ☒ A. Insert
- ☒ B. Design
- ☒ C. View
- ☒ D. Review

Question ID :	4410091001935
Option 1 ID :	4410093959446
Option 2 ID :	4410093959447
Option 3 ID :	4410093959449
Option 4 ID :	4410093959448
Status :	Answered
Chosen Option :	A

Q.10 संक्षिप्त रूपों ASCII, CD और LAN के संबंध में निम्नलिखित में से कौन-से कथन सत्य हैं?

1. ASCII मानक करैक्टरों को निरूपित करने के लिए 7 बिट्स का उपयोग करता है।
2. CD में डेटा को प्रायः चुंबकीय एन्कोडिंग का उपयोग करके संग्रहीत किया जाता है।
3. LAN सामान्यतः किसी इमारत या परिसर जैसे छोटे भौगोलिक क्षेत्र तक ही सीमित होती है।
4. ASCII में इमेज और ऑडियो जैसी मल्टीमीडिया फ़ाइलों के लिए एन्कोडिंग शामिल है।

- Ans ☒ A. केवल 3 और 4 ही सत्य हैं।
- ☒ B. केवल 1 और 2 ही सत्य हैं।
- ☒ C. केवल 1 और 3 ही सत्य हैं।
- ☒ D. केवल 2 और 4 ही सत्य हैं।

Question ID :	441009643171
Option 1 ID :	4410092526852
Option 2 ID :	4410092526850
Option 3 ID :	4410092526853
Option 4 ID :	4410092526851
Status :	Answered
Chosen Option :	C

Q.1 1	कंप्यूटर की कौन-सी विशेषता, उनकी मानवीय हस्तक्षेप के बिना मिलियनों संक्रियाएं करने की क्षमता को संदर्भित करती है?
Ans	<div><div><div><div><div></div></div></div><div>A. गति (Speed)</div></div><div><div><div><div></div></div></div><div>B. परिशुद्धता (Accuracy)</div></div><div><div><div><div></div></div></div><div>C. बहुआयामिता (Versatility)</div></div><div><div><div><div></div></div></div><div>D. अध्यवसाय (Diligence)</div></div></div>

Question ID :	441009674798
Option 1 ID :	4410092653345
Option 2 ID :	4410092653343
Option 3 ID :	4410092653342
Option 4 ID :	4410092653344
Status :	Answered
Chosen Option :	B

Q.1 2	किसी विशिष्ट टास्क को परफॉर्म करने हेतु सिस्टम सॉफ्टवेयर के साथ इंटरैक्ट करने के लिए, निम्नलिखित में से किस एप्लिकेशन सॉफ्टवेयर का उपयोग किया जाता है?
Ans	<div><div><div><div><div></div></div></div><div>A. डिवाइस ड्राइवर (Device Drivers)</div></div><div><div><div><div></div></div></div><div>B. माइक्रोसॉफ्ट विंडोज (Microsoft Windows)</div></div><div><div><div><div></div></div></div><div>C. एडोब फोटोशॉप (Adobe Photoshop)</div></div><div><div><div><div></div></div></div><div>D. लिनक्स कर्नेल (Linux Kernel)</div></div></div>

Question ID :	44100964035
Option 1 ID :	441009255150
Option 2 ID :	441009255147
Option 3 ID :	441009255148
Option 4 ID :	441009255149
Status :	Answered
Chosen Option :	B

Q.1 3	निम्नलिखित में से कौन-सी विधि, आपको MS-पावरपॉइंट में एक नई स्लाइड को इन्सर्ट करने की सुविधा देती है?
Ans	<div><div><div><div><div></div></div></div><div>A. Design → Slide Layout</div></div><div><div><div><div></div></div></div><div>B. Review → Compare</div></div><div><div><div><div></div></div></div><div>C. Home → New Slide</div></div><div><div><div><div></div></div></div><div>D. Slide Show → Custom Slide Show</div></div></div>

Question ID :	441009848722
Option 1 ID :	4410093347715
Option 2 ID :	4410093347716
Option 3 ID :	4410093347713
Option 4 ID :	4410093347714
Status :	Answered
Chosen Option :	C

Q.1 4	कौन-सी विधि आपको विषय के अनुरूप कॉलम की चौड़ाई को स्वतः समायोजित करने की सुविधा देती है?
Ans	<div><div><div><div></div></div><div>A. Format → Column → AutoFit का उपयोग करना</div></div><div><div><div></div></div><div>B. राइट-क्लिक करना और "Fit to Content" का चयन करना</div></div><div><div><div></div></div><div>C. कॉलम बॉर्डर पर डबल-क्लिक करना</div></div><div><div><div></div></div><div>D. कॉलम बॉर्डर को दाईं ओर ड्रैग करना</div></div></div>

Question ID :	4410091023088
Option 1 ID :	4410094043874
Option 2 ID :	4410094043872
Option 3 ID :	4410094043871
Option 4 ID :	4410094043873
Status :	Answered
Chosen Option :	A

Q.1 5	टेबल फॉर्मेटिंग में, बॉर्डर और शेडिंग में क्या अंतर है?
Ans	<div><div><div><div></div></div><div>A. बॉर्डर सेल्स के अंदर होते हैं; शेडिंग सेल्स के बाहर होती है।</div></div><div><div><div></div></div><div>B. कोई अंतर नहीं है।</div></div><div><div><div></div></div><div>C. बॉर्डर मोटी लाइनें होती हैं; शेडिंग पतली लाइनें होती हैं</div></div><div><div><div></div></div><div>D. बॉर्डर रंगीन होती लाइनें हैं; शेडिंग बैकग्राउंड का रंग है।</div></div></div>

Question ID :	4410091030007
Option 1 ID :	4410094071708
Option 2 ID :	4410094071709
Option 3 ID :	4410094071707
Option 4 ID :	4410094071706
Status :	Answered
Chosen Option :	D

Q.1 6	पावरप्वाइंट स्टार्ट करते समय कौन-सा फीचर, प्रयोक्ता को किसी विशेष उद्देश्य के लिए उपयुक्त, पहले से डिज़ाइन किए गए स्लाइड सेट के साथ तीव्रता से कार्य शुरू करने की सुविधा देता है?
Ans	<div><div><div><div></div></div><div>A. Design टैब से एक थीम (theme) सेलेक्ट कीजिए</div></div><div><div><div></div></div><div>B. Insert > Template पर क्लिक कीजिए</div></div><div><div><div></div></div><div>C. स्टार्ट स्क्रीन से एक टेम्पलेट (template) का चयन कीजिए</div></div><div><div><div></div></div><div>D. Save As का उपयोग कीजिए और एक फॉर्मेट सेलेक्ट कीजिए</div></div></div>

Question ID :	441009751799
Option 1 ID :	4410092961107
Option 2 ID :	4410092961108
Option 3 ID :	4410092961106
Option 4 ID :	4410092961109
Status :	Answered
Chosen Option :	B

Q.1	किसी वेबसाइट के शुरुआती पेज को समान्यतः क्या कहा जाता है?
7	
Ans	<input checked="" type="checkbox"/> A. एंड पेज (End page)
	<input checked="" type="checkbox"/> B. सर्च पेज (Search page)
	<input checked="" type="checkbox"/> C. होम पेज (Home page)
	<input checked="" type="checkbox"/> D. वेब एड्रेस (Web address)

Question ID :	441009882532
Option 1 ID :	4410093483796
Option 2 ID :	4410093483795
Option 3 ID :	4410093483798
Option 4 ID :	4410093483797
Status :	Answered
Chosen Option :	C

Q.1	कौन-सा एक्सेल फंक्शन, वर्तमान तिथि (current date) को रिटर्न करेगा?
8	
Ans	<input checked="" type="checkbox"/> A. =DATE()
	<input checked="" type="checkbox"/> B. =TIME()
	<input checked="" type="checkbox"/> C. =WEEKDAY()
	<input checked="" type="checkbox"/> D. =TODAY()

Question ID :	441009750548
Option 1 ID :	4410092956062
Option 2 ID :	4410092956060
Option 3 ID :	4410092956061
Option 4 ID :	4410092956063
Status :	Answered
Chosen Option :	A

Q.1	लाइन स्पेसिंग और पैराग्राफ स्पेसिंग (line spacing and paragraph spacing) में क्या अंतर है?
9	
Ans	<input checked="" type="checkbox"/> A. लाइन स्पेसिंग पैराग्राफ को प्रभावित करती है; पैराग्राफ स्पेसिंग लाइनों को प्रभावित करती है
	<input checked="" type="checkbox"/> B. दोनों समान स्पेसिंग को प्रभावित करते हैं
	<input checked="" type="checkbox"/> C. लाइन स्पेसिंग, पैराग्राफ के भीतर लाइनों के बीच के स्थान को प्रभावित करती है; पैराग्राफ स्पेसिंग, पैराग्राफों के बीच के स्थान को प्रभावित करती है
	<input checked="" type="checkbox"/> D. लाइन स्पेसिंग, एकल लाइनों के लिए है; पैराग्राफ स्पेसिंग एकाधिक लाइनों के लिए है

Question ID :	4410091029435
Option 1 ID :	4410094069411
Option 2 ID :	4410094069412
Option 3 ID :	4410094069410
Option 4 ID :	4410094069413
Status :	Answered
Chosen Option :	D

Q.2 0	CPU में P का पूर्ण रूप क्या है?
Ans	<input checked="" type="checkbox"/> A. Pooled (पूल्ड)
	<input checked="" type="checkbox"/> B. Pulse (पल्स)
	<input checked="" type="checkbox"/> C. पीस्ड (Pieced)
	<input checked="" type="checkbox"/> D. Processing (प्रोसेसिंग)

Question ID :	441009395057
Option 1 ID :	4410091545737
Option 2 ID :	4410091545736
Option 3 ID :	4410091545739
Option 4 ID :	4410091545738
Status :	Answered
Chosen Option :	D

