



JEEVKA

Bihar Rural Livelihoods Promotion Society
State Rural Livelihoods Mission, Bihar



Position	
Candidate Name	
Candidate Roll No.	
Test Date	24/11/2025
Test Time	12:30 PM - 1:50 PM
Test Center Name	Aadarsh Pariksha Kendra Bhagalpur

* Note

- Option shown as green colour in answer section of each question is the correct answer of that particular question.
- Options shown as red colour in answer section of each question are incorrect answer of that particular question

Section : General Intelligence & Reasoning

Q.1 दी गई श्रृंखला में प्रश्न चिह्न (?) के स्थान पर क्या आना चाहिए?

8 -1 -15 -34 -58 ?

- Ans
- ☒ 1. -87
 - ☐ 2. -86
 - ☐ 3. -88
 - ☐ 4. -85

Question Type : MCQ

Question ID : 441009529650

Option 1 ID : 4410092074004

Option 2 ID : 4410092074006

Option 3 ID : 4410092074005

Option 4 ID : 4410092074007

Q.2 Select the option that indicates the arrangement of the given words in the order in which they appear in an English dictionary.

- Mirror
- Knight
- Knowledge
- Bakery

- Ans
- ☒ 1. 4, 2, 3, 1
 - ☐ 2. 2, 1, 4, 3
 - ☐ 3. 3, 1, 4, 2
 - ☐ 4. 1, 3, 4, 2

Question Type : MCQ

Question ID : 4410091248433

Option 1 ID : 4410094926897

Option 2 ID : 4410094926896

Option 3 ID : 4410094926898

Option 4 ID : 4410094926895

Adda247

Test Prime

ALL EXAMS, ONE SUBSCRIPTION



1,00,000+
Mock Tests



Personalised
Report Card



Unlimited
Re-Attempt



600+
Exam Covered



25,000+ Previous
Year Papers



500%
Refund



ATTEMPT FREE MOCK NOW

Q.3 एक निश्चित तर्क का अनुसरण करते हुए, 3 का संबंध 36 से है। उसी तर्क का अनुसरण करते हुए, 5 का संबंध 60 से है। उसी तर्क का अनुसरण करते हुए, 10 का संबंध निम्नलिखित में से किससे है?

(नोट: संख्याओं को उनके घटक अंकों में तोड़ें कि बिना संक्रियाएँ पूर्ण संख्याओं पर की जानी चाहिए। उदाहरण के लिए 13 लीजिए - 13 पर संक्रियाएँ जैसे कि 13 में जोड़ना/घटाना/गुणा करना आदि केवल 13 पर की जा सकती हैं। 13 को 1 और 3 में तोड़ना तथा फिर 1 और 3 पर गणितीय संक्रियाएँ करने की अनुमति नहीं है।)

- Ans
- ☐ 1. 90
 - ☐ 2. 110
 - ☐ 3. 130
 - ☒ 4. 120

Question Type : MCQ
Question ID : 441009588230
Option 1 ID : 4410092308046
Option 2 ID : 4410092308047
Option 3 ID : 4410092308049
Option 4 ID : 4410092308048

Q.4 उस त्रिक का चयन कीजिए जो नीचे दिए गए दो त्रिकों द्वारा अनुसरण किए गए पैटर्न के समान पैटर्न का अनुसरण करता है। दोनों त्रिक एक ही पैटर्न का अनुसरण करते हैं।

JQ - MT - OS
LS - OV - QU

- Ans
- ☐ 1. EM - JP - LO
 - ☒ 2. FM - IP - KO
 - ☐ 3. FM - IP - LO
 - ☐ 4. EM - IP - LO

Question Type : MCQ
Question ID : 441009735530
Option 1 ID : 4410092895879
Option 2 ID : 4410092895876
Option 3 ID : 4410092895877
Option 4 ID : 4410092895878

Q.5 निम्नलिखित में से किस अक्षर-समूह द्वारा # और % को प्रतिस्थापित किया जाना चाहिए ताकि :: के बाईं ओर के अक्षर-समूह युग्म के बीच अनुसरण किया गया पैटर्न और संबंध, :: के दाईं ओर के अक्षर-समूह युग्म के बीच अनुसरण किए गए पैटर्न और संबंध के समान हो?

: TMP :: QIM : %

- Ans
- ☐ 1. # = VVZ, % = JON
 - ☐ 2. # = UZX, % = LQN
 - ☒ 3. # = WOS, % = NGJ
 - ☐ 4. # = WXY, % = IQN

Question Type : MCQ
Question ID : 441009793126
Option 1 ID : 4410093126505
Option 2 ID : 4410093126504
Option 3 ID : 4410093126506
Option 4 ID : 4410093126503

Q.6 निम्नलिखित श्रृंखला को तार्किक रूप से पूर्ण बनाने के लिए, समान अनुक्रम में प्रश्न-चिह्न (?) के स्थान पर कौन-सी संख्याएँ आनी चाहिए?

60, 40, 90, 20, 120, 0, ?, ?

- Ans
- ☒ 1. 150, -30
 - ☒ 2. 160, -20
 - ☒ 3. 160, -30
 - ☒ 4. 150, -20

Question Type : MCQ
Question ID : 441009557276
Option 1 ID : 4410092184418
Option 2 ID : 4410092184421
Option 3 ID : 4410092184420
Option 4 ID : 4410092184419

Q.7 A, B, C, D, P, Q और R एक गोल मेज के परितः केंद्र की ओर अभिमुख होकर बैठे हैं। P के दाएँ से गिनने पर, P और C के बीच में केवल एक व्यक्ति बैठा है। C और B के बीच में केवल एक व्यक्ति बैठा है। P और D के बीच में केवल एक व्यक्ति बैठा है। R और B के बीच में केवल दो व्यक्ति बैठे हैं। Q और D के बीच में केवल एक व्यक्ति बैठा है। A के दाएँ से तीसरे स्थान पर कौन बैठा है?

- Ans
- ☒ 1. B
 - ☒ 2. C
 - ☒ 3. P
 - ☒ 4. R

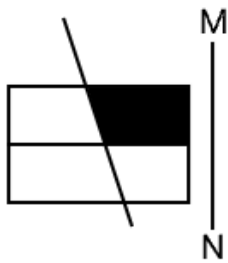
Question Type : MCQ
Question ID : 441009756017
Option 1 ID : 4410092978063
Option 2 ID : 4410092978064
Option 3 ID : 4410092978062
Option 4 ID : 4410092978061

Q.8 Each of the digits in the number 1764583 is arranged in ascending order from left to right. The position of how many digits will remain unchanged as compared to that in the original number?

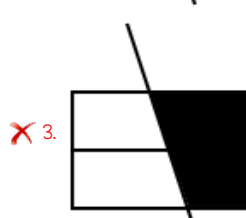
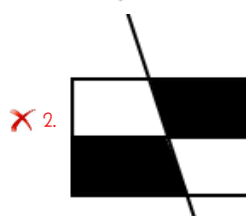
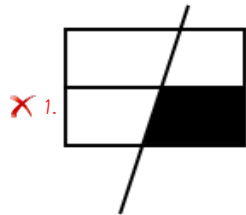
- Ans
- ☒ 1. One
 - ☒ 2. Three
 - ☒ 3. None
 - ☒ 4. Two

Question Type : MCQ
Question ID : 441009529119
Option 1 ID : 4410092071881
Option 2 ID : 4410092071883
Option 3 ID : 4410092071880
Option 4 ID : 4410092071882

Q.9 Select the correct mirror image of the given figure when the mirror is placed at MN as shown below.



Ans



Question Type : MCQ

Question ID : 4410091234328

Option 1 ID : 4410094871005

Option 2 ID : 4410094871003

Option 3 ID : 4410094871004

Option 4 ID : 4410094871002

Q.10 अंग्रेजी वर्णमाला क्रम के आधार पर दी गई श्रृंखला में प्रश्न-चिह्न (?) के स्थान पर क्या आना चाहिए?

DFI, FGH, HJM, MNO, ?

- Ans
- ☒ 1. OQT
 - ☐ 2. OQS
 - ☐ 3. OPR
 - ☐ 4. ORS

Question Type : MCQ

Question ID : 441009879930

Option 1 ID : 4410093473373

Option 2 ID : 4410093473376

Option 3 ID : 4410093473374

Option 4 ID : 4410093473375

Q.11 Based on the English alphabetical order, three of the following four letter-clusters are alike in a certain way and thus form a group. Which letter-cluster DOES NOT belong to that group? (Note: The odd one out is not based on the number of consonants/vowels or their position in the letter-cluster.)

- Ans
- ☐ 1. TSV
 - ☒ 2. IIK
 - ☐ 3. JIL
 - ☐ 4. WVY

Question Type : MCQ

Question ID : 441009769861

Option 1 ID : 4410093033438

Option 2 ID : 4410093033437

Option 3 ID : 4410093033439

Option 4 ID : 4410093033440

Section : General Awareness

Q.1 12 सितंबर 2025 को, रक्षा मंत्री राजनाथ सिंह ने किस शहर से विश्व की पहली अखिल महिला त्रि-सेवा जलयात्रा अभियान 'समुद्र प्रदक्षिणा' को हरी झंडी दिखाई?

- Ans
- ☐ 1. कोलकाता
 - ☐ 2. चेन्नई
 - ☐ 3. विशाखापटनम
 - ☒ 4. मुंबई

Question Type : MCQ

Question ID : 4410091316111

Option 1 ID : 4410095196041

Option 2 ID : 4410095196039

Option 3 ID : 4410095196042

Option 4 ID : 4410095196040

Q.2 भारतीय नौसेना के आठ ASW SWCs (एंटी-सबमरीन वारफेयर शैलो वाटर क्राफ्ट) में से दूसरा, 'एंड्रोथ (Androth)', निम्नलिखित में से किसके द्वारा डिलीवर और विकसित किया गया था?

- Ans
- ✓ 1. गार्डन रीच शिपबिल्डर्स एंड इंजीनियर्स (GRSE), कोलकाता
 - ✗ 2. कोचीन शिपयार्ड लिमिटेड (CSL), कोच्चि
 - ✗ 3. मझगांव डॉक शिपबिल्डर्स लिमिटेड (MDL), मुंबई
 - ✗ 4. हिंदुस्तान शिपयार्ड लिमिटेड (HSL), विशाखापत्तनम

Question Type : MCQ
Question ID : 4410091299813
Option 1 ID : 4410095131597
Option 2 ID : 4410095131595
Option 3 ID : 4410095131594
Option 4 ID : 4410095131596

Q.3 ऑस्ट्रेलिया ने निम्नलिखित में से किस शहर में 2025 में ऑस्ट्रेलिया समूह की पूर्ण बैठक की मेजबानी की थी?

- Ans
- ✓ 1. सिडनी
 - ✗ 2. केनबरा
 - ✗ 3. ब्रिस्बेन
 - ✗ 4. मेलबर्न

Question Type : MCQ
Question ID : 4410091346312
Option 1 ID : 4410095317556
Option 2 ID : 4410095317559
Option 3 ID : 4410095317558
Option 4 ID : 4410095317557

Q.4 चुआर विद्रोह (1766-72, 1799) किस क्षेत्र में हुआ था?

- Ans
- ✓ 1. बंगाल
 - ✗ 2. उड़ीसा
 - ✗ 3. राजस्थान
 - ✗ 4. केरल

Question Type : MCQ
Question ID : 4410091299962
Option 1 ID : 4410095132174
Option 2 ID : 4410095132177
Option 3 ID : 4410095132176
Option 4 ID : 4410095132175

Q.5 05 x डाइविंग सपोर्ट क्राफ्ट (DSC) प्रोजेक्ट के तीसरे जहाज 'DSC A 22' का लॉच, निम्नलिखित में से किसके द्वारा किया गया था?

- Ans
- ☒

1. कोचीन शिपयार्ड लिमिटेड (CSL)
- ☒

2. मेसर्स टीटागढ़ रेल सिस्टम लिमिटेड (TRSL), कोलकाता
- ☒

3. गार्डन रीच शिपबिल्डर्स एंड इंजीनियर्स लिमिटेड
- ☒

4. मझगांव डॉक शिपबिल्डर्स लिमिटेड (MDL)

Question Type : MCQ

Question ID : 4410091311732

Option 1 ID : 4410095178596

Option 2 ID : 4410095178594

Option 3 ID : 4410095178597

Option 4 ID : 4410095178595

Q.6 2022 में नीरज चोपड़ा निम्नलिखित में से कौन-सी ट्रॉफी जीतकर प्रतिष्ठित एथलेटिक्स सीरीज़ में पहले भारतीय चैंपियन बने?

- Ans
- ☒

1. प्रेसिडेंट्स ट्रॉफी (Presidents' Trophy)
- ☒

2. क्रिस्टल ट्रॉफी (Crystal Trophy)
- ☒

3. विंस लोम्बार्डी ट्रॉफी (Vince Lombardi Trophy)
- ☒

4. डायमंड लीग ट्रॉफी (Diamond League Trophy)

Question Type : MCQ

Question ID : 4410091262138

Option 1 ID : 4410094981451

Option 2 ID : 4410094981453

Option 3 ID : 4410094981452

Option 4 ID : 4410094981454

Q.7 मई 2025 में, निम्नलिखित में से कौन-सा भारतीय राज्य खेलो इंडिया यूथ गेम्स में 58 स्वर्ण और 47 रजत सहित 158 पदक प्राप्त करके समग्र चैंपियन के रूप में उभरा?

- Ans
- ☒

1. कर्नाटक
- ☒

2. उत्तर प्रदेश
- ☒

3. महाराष्ट्र
- ☒

4. आंध्र प्रदेश

Question Type : MCQ

Question ID : 4410091302199

Option 1 ID : 4410095140699

Option 2 ID : 4410095140698

Option 3 ID : 4410095140696

Option 4 ID : 4410095140697

Q.8 तमिलनाडु सरकार 3% खेल कोटा के तहत प्रमुख विभागों में कितने एथलीटों की नियुक्ति करती है?

- Ans
- ☒ 1. छह एथलीट
 - ☒ 2. आठ एथलीट
 - ☒ 3. पाँच एथलीट
 - ☒ 4. सात एथलीट

Question Type : MCQ
Question ID : 4410091314755
Option 1 ID : 4410095190652
Option 2 ID : 4410095190654
Option 3 ID : 4410095190651
Option 4 ID : 4410095190653

Q.9 अगस्त 2025 में, केंद्रीय मंत्रिमंडल ने _____ के लिए बोली प्रस्तुत करने हेतु युवा मामले और खेल मंत्रालय के प्रस्ताव को मंजूरी दी।

- Ans
- ☒ 1. राष्ट्रमंडल खेलों (CWG) 2035
 - ☒ 2. राष्ट्रमंडल खेलों (CWG) 2040
 - ☒ 3. राष्ट्रमंडल खेलों (CWG) 2027
 - ☒ 4. राष्ट्रमंडल खेलों (CWG) 2030

Question Type : MCQ
Question ID : 4410091302710
Option 1 ID : 4410095142780
Option 2 ID : 4410095142781
Option 3 ID : 4410095142778
Option 4 ID : 4410095142779

Q.10 भारत की किस वर्ष तक 6G प्रौद्योगिकी विकसित करने की योजना है?

- Ans
- ☒ 1. 2028
 - ☒ 2. 2031
 - ☒ 3. 2030
 - ☒ 4. 2029

Question Type : MCQ
Question ID : 4410091322752
Option 1 ID : 4410095222502
Option 2 ID : 4410095222505
Option 3 ID : 4410095222504
Option 4 ID : 4410095222503

Q.11 सैयद मोदी इंटरनेशनल 2024 में महिला एकल का खिताब किसने जीता?

- Ans
- ☒ 1. वू लिओ यू
 - ☒ 2. पीवी सिंधु
 - ☒ 3. कैरोलिना मारिन
 - ☒ 4. साइना नेहवाल

Question Type : MCQ
Question ID : 441009245706
Option 1 ID : 441009958476
Option 2 ID : 441009958475
Option 3 ID : 441009958473
Option 4 ID : 441009958474

Q.12 18 अगस्त 2025 को असम राइफल्स ने ड्रोन तकनीक को बढ़ावा देने के लिए, किस संस्थान के साथ एक समझौता ज्ञापन (MoU) पर हस्ताक्षर किए?

- Ans
- ☒ 1. भारतीय सूचना प्रौद्योगिकी संस्थान, मणिपुर
 - ☒ 2. भारतीय प्रौद्योगिकी संस्थान, नई दिल्ली
 - ☒ 3. भारतीय प्रौद्योगिकी संस्थान, कानपुर
 - ☒ 4. भारतीय प्रौद्योगिकी संस्थान, बॉम्बे

Question Type : MCQ
Question ID : 4410091316252
Option 1 ID : 4410095196567
Option 2 ID : 4410095196569
Option 3 ID : 4410095196570
Option 4 ID : 4410095196568

Q.13 12 सितंबर 2025 को, निम्नलिखित में से किसने पांच डाइविंग सपोर्ट क्राफ्ट में से तीसरे DSC A22 को लॉन्च किया?

- Ans
- ☒ 1. रक्षा अनुसंधान एवं विकास संगठन (DRDO)
 - ☒ 2. भारतीय नौसेना
 - ☒ 3. भारतीय तटरक्षक बल
 - ☒ 4. राष्ट्रीय तकनीकी अनुसंधान संगठन (NTRO)

Question Type : MCQ
Question ID : 4410091316062
Option 1 ID : 4410095195848
Option 2 ID : 4410095195849
Option 3 ID : 4410095195847
Option 4 ID : 4410095195850

Q.14 भारत में, संतोष ट्रॉफी निम्नलिखित में से किस खेल से संबंधित है?

- Ans

☒

1. टेनिस
- ☒

2. कबड्डी
- ☒

3. फुटबॉल
- ☒

4. क्रिकेट

Question Type : MCQ

Question ID : 4410091294626

Option 1 ID : 4410095110474

Option 2 ID : 4410095110476

Option 3 ID : 4410095110475

Option 4 ID : 4410095110473

Q.15 भारत में, राष्ट्रीय फार्माकोविजिलेंस सप्ताह 17-23 सितंबर 2025 तक आधिकारिक विषय, _____, के तहत मनाया गया।

- Ans

☒

1. आपकी सुरक्षा, बस एक क्लिक दूर: PwPI को रिपोर्ट करें (Your Safety, Just a Click Away: Report to PwPI)
- ☒

2. स्वस्थ कल के लिए सुरक्षित दवाइयाँ (Safe Medicines for a Healthier Tomorrow)
- ☒

3. दवा सुरक्षा के माध्यम से मरीजों को सशक्त बनाना (Empowering Patients through Drug Safety)
- ☒

4. स्वास्थ्य सेवा में विश्वास का निर्माण: प्रतिकूल घटनाओं की रिपोर्ट करें (Building Trust in Healthcare: Report Adverse Events)

Question Type : MCQ

Question ID : 4410091306634

Option 1 ID : 4410095158259

Option 2 ID : 4410095158260

Option 3 ID : 4410095158261

Option 4 ID : 4410095158262

Q.16 1910 में किसकी हत्या के कारण, हावड़ा गैंग केस (Howrah Gang Case) का मुकदमा चला था?

- Ans

☒

1. चार्ल्स टेगार्ट (Charles Tegart)
- ☒

2. कर्जन विली (Curzon Wylie)
- ☒

3. इंस्पेक्टर शमसुल आलम (Inspector Shamsul Alam)
- ☒

4. मजिस्ट्रेट किंग्सफोर्ड (Magistrate Kingsford)

Question Type : MCQ

Question ID : 4410091299971

Option 1 ID : 4410095132213

Option 2 ID : 4410095132210

Option 3 ID : 4410095132211

Option 4 ID : 4410095132212

Q.17 भारत सरकार अधिनियम 1858, के अनुसार भारत के राज्य सचिव की सहायता के लिए राज्य सचिव की अध्यक्षता में कितने सदस्यों की एक परिषद की स्थापना की गई थी?

- Ans
- ☒ 1. 18
 - ☒ 2. 11
 - ☒ 3. 15
 - ☒ 4. 13

Question Type : MCQ
Question ID : 4410091264701
Option 1 ID : 4410094991744
Option 2 ID : 4410094991741
Option 3 ID : 4410094991743
Option 4 ID : 4410094991742

Section : Quantitative Aptitude

Q.1 टेबल में डेवलपर्स R, S, M और P द्वारा दो OTT प्लेटफॉर्म A और J के लिए वीडियो और क्लिप के रूप में किए गए कंटेंट डेवलपमेंट को दिखाया गया है।

डेवलपर	A के लिए वीडियो	J के लिए वीडियो	दोनों OTT प्लेटफॉर्म पर क्लिप
R	$3x + 5$	$3(3x + 2)$	$4(2y + 3)$
S	$4x + 10$	$5x + 4$	$10y$
M	$6x + 2y$	$3(x+5)$	$6y$
P	$4x$	$3y$	$7y + 6$

एक डेवलपर के लिए कुल कंटेंट = प्लेटफॉर्म A के लिए वीडियो + प्लेटफॉर्म J के लिए वीडियो + क्लिप

डेवलपर S के लिए, सभी श्रेणियों में कुल कंटेंट 274 है

डेवलपर P के लिए, OTTs, J और A पर वीडियो की कुल संख्या 104 है।

यदि डेवलपर P और S ने प्लेटफॉर्म A पर कुल $(2x)$ उभयनिष्ठ (common) वीडियो पोस्ट किए हैं, तो उस क्रम में, प्लेटफॉर्म A पर P और S द्वारा पोस्ट किए गए अद्वितीय वीडियो का अनुपात _____ है।

- Ans
- ☒ 1. 4:3
 - ☒ 2. 5:4
 - ☒ 3. 4:5
 - ☒ 4. 3:4

Question Type : MCQ
Question ID : 4410091448842
Option 1 ID : 4410095723823
Option 2 ID : 4410095723820
Option 3 ID : 4410095723821
Option 4 ID : 4410095723822

Q.2 9% वार्षिक ब्याज दर से 5 वर्षों के लिए उधार ली गई ₹4,500 की धनराशि पर साधारण ब्याज (₹ में) ज्ञात कीजिए।

- Ans
- ☒ 1. 1985
 - ☒ 2. 1965
 - ☒ 3. 2065
 - ☒ 4. 2025

Question Type : MCQ

Question ID : 441009852235

Option 1 ID : 4410093361915

Option 2 ID : 4410093361914

Option 3 ID : 4410093361913

Option 4 ID : 4410093361912

Q.3 9 संख्याओं का औसत 25 है। यदि प्रत्येक संख्या में 6 की वृद्धि की जाए, तो नया औसत कितना होगा?

- Ans
- ☒ 1. 9
 - ☒ 2. 31
 - ☒ 3. 25
 - ☒ 4. 37

Question Type : MCQ

Question ID : 441009581450

Option 1 ID : 4410092280929

Option 2 ID : 4410092280926

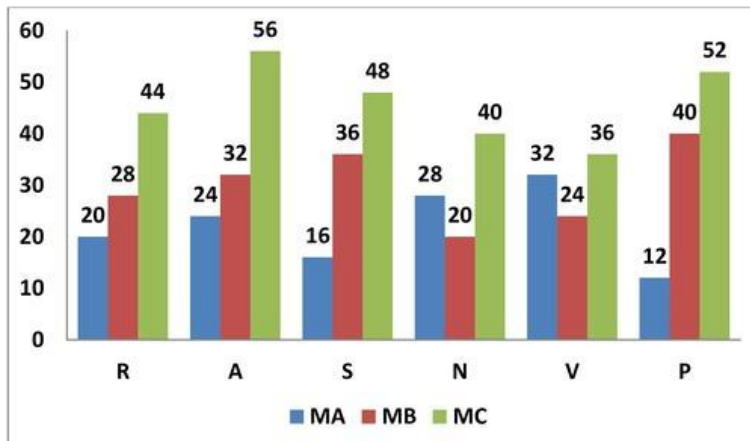
Option 3 ID : 4410092280927

Option 4 ID : 4410092280928



Q.4 दिया गया ग्राफ छह तकनीशियनों, R, A, S, N, V और P में से प्रत्येक द्वारा एक विशेष समयावधि में असेंबल की गई तीन प्रकार की मशीनों, MA, MB और MC में से प्रत्येक की संख्या का 25% दर्शाता है।

ग्राफ का ध्यानपूर्वक अध्ययन कीजिए और नीचे दिए गए प्रश्न का उत्तर दीजिए।



तकनीशियन S ने MB प्रकार की 56 मशीनें, MA प्रकार की 36 मशीनें बेचीं, और उसके द्वारा असेंबल की गई MC प्रकार की मशीनों का T% बेचा। उसने अपने द्वारा असेंबल किए गए सभी उत्पादों का 35% बेचा। T% का मान ज्ञात कीजिए।

- Ans
- ☒ 1. 28%
 - ☒ 2. 25%
 - ☒ 3. 26.8%
 - ☒ 4. 22.5%

Question Type : MCQ

Question ID : 4410091448690

Option 1 ID : 4410095723231

Option 2 ID : 4410095723229

Option 3 ID : 4410095723230

Option 4 ID : 4410095723228

Q.5 9%, 10% और 13% की तीन क्रमिक छूटों के बराबर एकल छूट का लगभग प्रतिशत ज्ञात कीजिए।

- Ans
- ☒ 1. 28.75%
 - ☒ 2. 32.30%
 - ☒ 3. 32.69%
 - ☒ 4. 32.36%

Question Type : MCQ

Question ID : 441009893590

Option 1 ID : 4410093528430

Option 2 ID : 4410093528432

Option 3 ID : 4410093528433

Option 4 ID : 4410093528431

Q.6 अतुल ₹15 में 3 kg की दर पर आम खरीदता है और उन्हें ₹50 में 5 kg की दर पर बेचता है। ₹140 का लाभ अर्जित करने के लिए उसे कितना (kg में) आम बेचना होगा?

- Ans
- ☒ 1. 28
 - ☐ 2. 31
 - ☐ 3. 29
 - ☐ 4. 30

Question Type : MCQ
Question ID : 441009895048
Option 1 ID : 4410093534262
Option 2 ID : 4410093534265
Option 3 ID : 4410093534263
Option 4 ID : 4410093534264

Q.7 यदि सुनील को नाव से 838 km की दूरी तय करने में धारा की विपरीत दिशा में 30 घंटे का समय लगता है और धारा की दिशा में उसे 12 घंटे का समय लगता है, तो धारा की चाल (km/hr में) ज्ञात कीजिए।

- Ans
- ☐ 1. 27.45
 - ☒ 2. 20.95
 - ☐ 3. 15.14
 - ☐ 4. 24.05

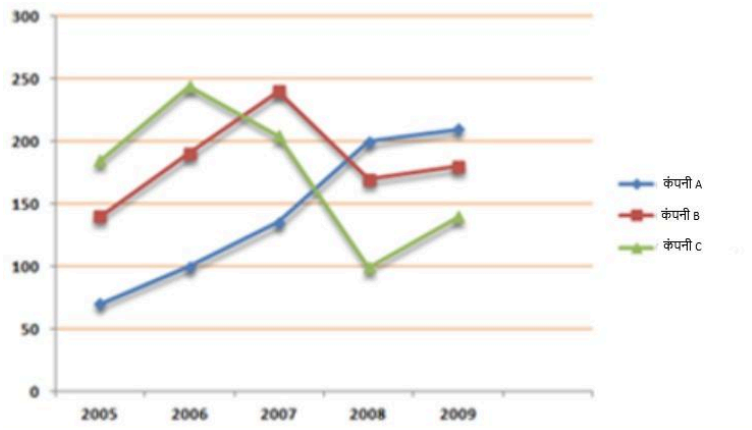
Question Type : MCQ
Question ID : 441009278466
Option 1 ID : 4410091081825
Option 2 ID : 4410091081823
Option 3 ID : 4410091081824
Option 4 ID : 4410091081826

Q.8 तीन मित्र A, B और C ने 8 : 4 : 5 के अनुपात में धनराशि निवेश करके एक व्यवसाय शुरू किया। 6 महीने बाद, B अपनी आधी पूँजी निकाल लेता है। यदि A द्वारा निवेशित धनराशि ₹69,000 है, तो ₹48,000 के कुल वार्षिक लाभ में से B का हिस्सा ज्ञात कीजिए।

- Ans
- ☐ 1. ₹9,135
 - ☐ 2. ₹8,020
 - ☐ 3. ₹9,285
 - ☒ 4. ₹9,000

Question Type : MCQ
Question ID : 441009899511
Option 1 ID : 4410093552115
Option 2 ID : 4410093552117
Option 3 ID : 4410093552116
Option 4 ID : 4410093552114

Q.9 दिए गए लाइन ग्राफ में तीन अलग-अलग कंपनियों A, B और C के पांच अलग-अलग वर्षों 2005, 2006, 2007, 2008 और 2009 में व्यय (₹ लाख में) को दर्शाया गया है।
ग्राफ का अध्ययन कीजिए और उसके बाद दिए गए प्रश्न का उत्तर दीजिए।



वर्ष 2006 में कंपनी A के व्यय और वर्ष 2008 में कंपनी C के व्यय का अनुपात कितना है?

- Ans
- ☒ 1. 3 : 1
 - ☒ 2. 1 : 1
 - ☒ 3. 1 : 2
 - ☒ 4. 2 : 1

Question Type : MCQ

Question ID : 441009928595

Option 1 ID : 4410093668354

Option 2 ID : 4410093668356

Option 3 ID : 4410093668353

Option 4 ID : 4410093668355

Q.10 $\sqrt{48} \cdot 8\sqrt{2}$ और $5\sqrt{6}$ का चतुर्थानुपाती ज्ञात कीजिए।

- Ans
- ☒ 1. 18
 - ☒ 2. 24
 - ☒ 3. 20
 - ☒ 4. 22

Question Type : MCQ

Question ID : 441009225000

Option 1 ID : 441009881081

Option 2 ID : 441009881084

Option 3 ID : 441009881082

Option 4 ID : 441009881083

Q.11 एक व्यक्ति अपनी मासिक आय में से 10% की बचत करता है। यदि उसकी मासिक आय में 20% की वृद्धि होती है, तो वह पिछली बचत से 20% अधिक की बचत करता है। उसके व्यय में प्रतिशत वृद्धि _____% है।

- Ans
1. 20

2. 16

3. 30

4. 24

Question Type : MCQ

Question ID : 441009895392

Option 1 ID : 4410093535638

Option 2 ID : 4410093535640

Option 3 ID : 4410093535641

Option 4 ID : 4410093535639

Q.12 एक कस्बे की जनसंख्या 2,00,000 है और यह 4% वार्षिक की दर से बढ़ रही है। दो वर्ष बाद जनसंख्या कितनी होगी?

- Ans
1. 2,15,320

2. 2,16,320

3. 2,17,320

4. 2,18,320

Question Type : MCQ

Question ID : 441009201929

Option 1 ID : 441009794878

Option 2 ID : 441009794875

Option 3 ID : 441009794876

Option 4 ID : 441009794877

Section : Basic Computer Knowledge

Q.1 _____ refers to preventing unauthorised access to computer networks and systems.

- Ans
1. Network security

2. Operational security

3. Cloud security

4. Information security

Question Type : MCQ

Question ID : 4410091038053

Option 1 ID : 4410094102755

Option 2 ID : 4410094102756

Option 3 ID : 4410094102757

Option 4 ID : 4410094102758

Q.2 Which of the following is the correct way to start a formula in MS Excel 2021?

- Ans
- ☒ 1. #
 - ☒ 2. =
 - ☒ 3. @
 - ☒ 4. \$

Question Type : MCQ
Question ID : 4410091038929
Option 1 ID : 4410094105826
Option 2 ID : 4410094105829
Option 3 ID : 4410094105827
Option 4 ID : 4410094105828

Q.3 In Windows PowerShell, which command is used to remove a specific operating system feature from the computer?

- Ans
- ☒ 1. Disable-WindowsOptionalFeature
 - ☒ 2. Remove-WindowsPackage
 - ☒ 3. Uninstall-WindowsFeature
 - ☒ 4. Remove-WindowsCapability

Question Type : MCQ
Question ID : 441009979934
Option 1 ID : 4410093872247
Option 2 ID : 4410093872246
Option 3 ID : 4410093872248
Option 4 ID : 4410093872249

Q.4 In which of the following fields is real-time computer processing considered most critical?

- Ans
- ☒ 1. Online shopping
 - ☒ 2. Air traffic control systems
 - ☒ 3. School library management
 - ☒ 4. Word processing

Question Type : MCQ
Question ID : 441009976534
Option 1 ID : 4410093858987
Option 2 ID : 4410093858988
Option 3 ID : 4410093858989
Option 4 ID : 4410093858986

Q.5 Which of the following statements are correct about page formatting in Microsoft Word 2016?

- (i) Page margins can only be set to predefined sizes.
- (ii) Page orientation can be changed between Portrait and Landscape.
- (iii) Headers and footers are part of page formatting.

- Ans
- ☒ 1. (i), (ii) and (iii)
 - ☒ 2. (ii) and (iii) only
 - ☒ 3. (i) and (ii) only
 - ☒ 4. (i) and (iii) only

Question Type : MCQ
Question ID : 4410091015196
Option 1 ID : 4410094012391
Option 2 ID : 4410094012390
Option 3 ID : 4410094012388
Option 4 ID : 4410094012389

Q.6 Which of the following statements correctly matches the digital financial tool with its primary feature?

- Ans
- ☒ 1. UPI - Requires only physical debit cards for transactions
 - ☒ 2. UPI - Uses Aadhaar number and biometrics for authentication
 - ☒ 3. USSD - Allows mobile banking without internet using simple codes
 - ☒ 4. AEPS - Facilitates banking transactions using USSD codes


Question Type : MCQ
Question ID : 4410091049015
Option 1 ID : 4410094145149
Option 2 ID : 4410094145146
Option 3 ID : 4410094145148
Option 4 ID : 4410094145147


Q.7 What is the function of the 'Frame Slides' option when printing a PowerPoint 2019 presentation?


- Ans
- ☒ 1. Adds a border around each slide
 - ☒ 2. Prints slides with animations
 - ☒ 3. Changes orientation to landscape
 - ☒ 4. Removes slide background


Question Type : MCQ
Question ID : 441009984239
Option 1 ID : 4410093889383
Option 2 ID : 4410093889382
Option 3 ID : 4410093889385
Option 4 ID : 4410093889384

Q.8 Which of the following options is NOT an example of a desktop operating system?

- Ans
- 

1. Windows 11
- 

2. Ubuntu Linux
- 

3. macOS
- 

4. Android

Question Type : MCQ

Question ID : 441009979854


Option 1 ID : 4410093871927


Option 2 ID : 4410093871928


Option 3 ID : 4410093871930


Option 4 ID : 4410093871929

Q.9 Which of the following is NOT a common technique for accessing the Internet?

- Ans
- 

1. Wireless LAN (Wi-Fi)
- 

2. Dial-up Connection
- 

3. Cable Modem
- 

4. Word Processor

Question Type : MCQ

Question ID : 4410091048275


Option 1 ID : 4410094142126

Option 2 ID : 4410094142123

Option 3 ID : 4410094142124


Option 4 ID : 4410094142125

Q.10 Which type of device can function as both an input and an output device, commonly seen in smartphones and tablets?

- Ans
- 

1. Touchscreen
- 

2. Microphone
- 

3. Scanner
- 

4. Webcam

Question Type : MCQ

Question ID : 441009985294

Option 1 ID : 4410093893576

Option 2 ID : 4410093893575

Option 3 ID : 4410093893574

Option 4 ID : 4410093893577

Q.1 दीनदयाल अंत्योदय योजना-राष्ट्रीय ग्रामीण आजीविका मिशन के अंतर्गत सामाजिक लामबंदी किस स्तर पर शुरू होती है?

- Ans
- ✓ 1. ग्रामीण स्तर
 - ✗ 2. राज्य स्तर
 - ✗ 3. राष्ट्रीय स्तर
 - ✗ 4. जिला स्तर

Question Type : MCQ
Question ID : 4410091417715
Option 1 ID : 4410095599785
Option 2 ID : 4410095599786
Option 3 ID : 4410095599787
Option 4 ID : 4410095599788

Q.2 निम्नलिखित में से कौन-सा कार्य, 73वें संवैधानिक संशोधन द्वारा अधिदेशित ग्रामीण विकास में पंचायती राज संस्थाओं (PRI) की भूमिका पर प्रकाश डालता है?

- Ans
- ✗ 1. संसदीय चुनावों का संचालन और राष्ट्रीय नीतियां बनाना
 - ✓ 2. ग्रामीण स्तर पर आर्थिक विकास और सामाजिक न्याय के लिए योजनाएं तैयार करना
 - ✗ 3. ग्रामीण क्षेत्रों में करेंसी, बैंकिंग और मौद्रिक नीति का प्रबंधन
 - ✗ 4. रक्षा, संचार और विदेशी व्यापार से संबंधित विधियों का निर्माण

Question Type : MCQ
Question ID : 4410091211986
Option 1 ID : 4410094781363
Option 2 ID : 4410094781361
Option 3 ID : 4410094781362
Option 4 ID : 4410094781360

Q.3 राष्ट्रीय ग्रामीण आजीविका मिशन का कौन-सा आभ्यंतरिक मूल्य (core value), समुदायों को सतत बाह्य सहायता के बिना स्वयं को सक्षम बनाए रखने पर फोकस है?

- Ans
- ✗ 1. सरकारी नेतृत्व कार्यान्वयन
 - ✓ 2. सामुदायिक स्वावलंबन और आत्म-निर्भरता
 - ✗ 3. सबसे निर्धन व्यक्तियों का समावेश
 - ✗ 4. पारदर्शिता और जवाबदेही

Question Type : MCQ
Question ID : 4410091232643
Option 1 ID : 4410094864303
Option 2 ID : 4410094864300
Option 3 ID : 4410094864301
Option 4 ID : 4410094864302

Q.4 क्लस्टर लेवल फेडरेशन (CLF) का एक प्रमुख कार्य _____ है।

- Ans
- ☒

 1. राष्ट्रीय स्तर के ऋण परिचालनों का पर्यवेक्षण करना
- ☒

 2. राज्य स्तरीय नीति बैठकें आयोजित करना
- ☒

 3. दैनिक SHG गतिविधियों के प्रबंधन में VOs को प्रतिस्थापित करना
- ☒

 4. निरंतर समर्थन और मार्गदर्शन के माध्यम से VOs और SHGs को सुदृढ़ करना

Question Type : MCQ

Question ID : 4410091425106

Option 1 ID : 4410095629064

Option 2 ID : 4410095629066

Option 3 ID : 4410095629065

Option 4 ID : 4410095629063

Q.5 73वें संवैधानिक संशोधन द्वारा अनिवार्य किया गया कौन-सा घटक, त्रि-स्तरीय पंचायती राज व्यवस्था का आधार है?

- Ans
- ☒

 1. पूरे राज्य की सेवा करने वाला योजना बोर्ड
- ☒

 2. जिला स्तर पर संचालित जिला परिषद
- ☒

 3. राज्य निर्वाचन आयोग द्वारा स्थानीय चुनावों का प्रबंधन
- ☒

 4. ग्रामीण स्तर पर कार्य करने वाली ग्राम पंचायत

Question Type : MCQ

Question ID : 4410091410387

Option 1 ID : 4410095570516

Option 2 ID : 4410095570515

Option 3 ID : 4410095570517

Option 4 ID : 4410095570518

Q.6 निम्नलिखित में से कौन-सी चुनौती, ग्रामीण भारतीय समाज में जनसांख्यिकीय वृद्धावस्था (demographic ageing) से सर्वाधिक निकटता से संबंधित है?

- Ans
- ☒

 1. वृद्ध आबादी के लिए पर्याप्त सामाजिक सुरक्षा और स्वास्थ्य-देखभाल सहायता की कमी के कारण बढ़ता निर्भरता अनुपात
- ☒

 2. बुजुर्गों के लिए पारंपरिक परिवार-आधारित सहायता प्रणालियों का पूर्ण उन्मूलन
- ☒

 3. कृषि श्रम में बुजुर्गों की भागीदारी बढ़ने से निर्भरता अनुपात में कमी
- ☒

 4. गांवों में बुजुर्गों की आबादी बनी रहने के कारण ग्रामीण-से-शहरी प्रवास में कमी

Question Type : MCQ

Question ID : 4410091211910

Option 1 ID : 4410094781058

Option 2 ID : 4410094781060

Option 3 ID : 4410094781059

Option 4 ID : 4410094781061

Q.7 दीनदयाल अंत्योदय योजना-राष्ट्रीय ग्रामीण आजीविका मिशन (DAY-NRLM) का प्राथमिक उद्देश्य क्या है?

- Ans
- ☒

1. सभी ग्रामीण बच्चों को निःशुल्क शिक्षा प्रदान करना
- ☒

2. ग्रामीण क्षेत्रों में निःशुल्क आवास उपलब्ध कराना
- ☒

3. शहरी अवसंरचना विकास को बढ़ावा देना
- ☒

4. ग्रामीण गरीबों को स्वयं सहायता समूहों (SHG) में संगठित करना और उनकी आजीविका में सुधार करना

Question Type : MCQ

Question ID : 4410091262247

Option 1 ID : 4410094981897

Option 2 ID : 4410094981895

Option 3 ID : 4410094981898

Option 4 ID : 4410094981896

Q.8 ग्राम संगठन (VO) स्तर पर सामुदायिक निवेश निधि (CIF) के प्रबंधन में पारदर्शिता क्यों महत्वपूर्ण है?

- Ans
- ☒

1. यह वित्तीय रिकॉर्ड को समूह से गोपनीय रखता है।
- ☒

2. यह वित्तीय निर्णयों में स्वयं सहायता समूह (SHG) सदस्यों की भागीदारी को रोकता है।
- ☒

3. यह ऋणों का उचित वितरण सुनिश्चित करता है, निधियों के दुरुपयोग को रोकता है और स्वयं सहायता समूह (SHG) सदस्यों के बीच विश्वास का निर्माण करता है।
- ☒

4. इससे स्वयं सहायता समूह की बैठकों की संख्या कम हो जाती है।

Question Type : MCQ

Question ID : 4410091267039

Option 1 ID : 4410095000877

Option 2 ID : 4410095000876

Option 3 ID : 4410095000875

Option 4 ID : 4410095000874

Q.9 निम्नलिखित में से कौन-सा क्षेत्र, भारत की ग्रामीण अर्थव्यवस्था का मुख्य आधार है?

- Ans
- ☒

1. खुदरा व्यापार और लघु व्यवसाय संस्थापन
- ☒

2. कृषि एवं संबंधित खेती गतिविधियां
- ☒

3. वस्त्र विनिर्माण और प्रसंस्करण केंद्र
- ☒

4. निर्माण कार्य और स्थानीय अवसंरचना परियोजनाएं

Question Type : MCQ

Question ID : 4410091399816

Option 1 ID : 4410095528946

Option 2 ID : 4410095528945

Option 3 ID : 4410095528944

Option 4 ID : 4410095528943

Q.10 जब एक सुचारु रूप से कार्य करने वाला स्वयं सहायता समूह (SHG) लगातार समय पर पुनर्भुगतान करता है, तो निम्नलिखित में से कौन-सा दीर्घकालिक प्रभाव सबसे कम संभावित है?

- Ans
- ☒ 1. समूह के भीतर सामाजिक पूंजी और विश्वास का सुदृढ़ीकरण
 - ☒ 2. अनुशासित पुनर्भुगतान चक्रों के कारण ब्याज का कम बोझ
 - ☒ 3. भविष्य में संस्थागत सहायता की आवश्यकता का पूर्ण उन्मूलन
 - ☒ 4. बैंकों से उच्चतर ऋण सीमा के लिए बड़ी हुई पात्रता

Question Type : MCQ

Question ID : 4410091267097

Option 1 ID : 4410095001122

Option 2 ID : 4410095001124

Option 3 ID : 4410095001125

Option 4 ID : 4410095001123

Q.11 पंचसूत्र के अंतर्गत SHGs में नियमित बचत का प्रमुख लाभ क्या है?

- Ans
- ☒ 1. सटीक अभिलेख रक्षण सुनिश्चित करना
 - ☒ 2. एक सामूहिक निधि का निर्माण और वित्तीय अनुशासन को बढ़ावा देना
 - ☒ 3. सदस्यों को नियमित रूप से मिलने के लिए प्रोत्साहित करना
 - ☒ 4. सरकारी सब्सिडी की गारंटी

Question Type : MCQ

Question ID : 4410091426541

Option 1 ID : 4410095634742

Option 2 ID : 4410095634739

Option 3 ID : 4410095634740

Option 4 ID : 4410095634741

Q.12 दीनदयाल अंत्योदय योजना-NRLM सामुदायिक निवेश निधि (CIF) के अंतर्गत क्लस्टर लेवल फेडरेशनों (CLF) को प्रदान की जाने वाली बीज पूंजी (Seed Capital) की सीमा कितनी है?

- Ans
- ☒ 1. ₹70,000 - ₹1,20,000
 - ☒ 2. ₹55,000 - ₹1,05,000
 - ☒ 3. ₹50,000 - ₹1,00,000
 - ☒ 4. ₹60,000 - ₹1,10,000

Question Type : MCQ

Question ID : 4410091232605

Option 1 ID : 4410094864142

Option 2 ID : 4410094864143

Option 3 ID : 4410094864140

Option 4 ID : 4410094864141

Q.13 ब्लॉक परियोजना प्रबंधक (block project manager) सामुदायिक सहभागिता किस प्रकार सुनिश्चित करता है?

- Ans
- ☒

1. केवल गैर सरकारी संगठनों (NGO) से संविदा करके
- ☒

2. ऑनलाइन सर्वेक्षणों के माध्यम से
- ☒

3. कौशल केंद्रों को आउटसोर्स (outsourcing) करके
- ☒

4. स्वयं सहायता समूह समन्वय के माध्यम से

Question Type : MCQ

Question ID : 4410091417571

Option 1 ID : 4410095599221

Option 2 ID : 4410095599220

Option 3 ID : 4410095599222

Option 4 ID : 4410095599219

Q.14 महात्मा गांधी राष्ट्रीय ग्रामीण रोजगार गारंटी अधिनियम, 2005 के अंतर्गत, मजदूरी रोजगार की कानूनी गारंटी निम्नलिखित में से किस पर लागू होती है?

- Ans
- ☒

1. ग्रामीण परिवारों के वयस्क सदस्यों पर जो कुशल कार्य करने के इच्छुक हैं
- ☒

2. ग्रामीण परिवारों के वयस्क सदस्यों पर जो अकुशल शारीरिक कार्य करने के इच्छुक हैं
- ☒

3. 18 वर्ष से अधिक आयु के कोई भी नागरिक पर चाहे वह किसी भी स्थान का हो
- ☒

4. ग्रामीण और शहरी परिवारों के सभी सदस्यों पर

Question Type : MCQ

Question ID : 4410091426558

Option 1 ID : 4410095634808

Option 2 ID : 4410095634809

Option 3 ID : 4410095634810

Option 4 ID : 4410095634807

Q.15 क्लस्टर लेवल फेडरेशन किस प्रक्रिया के माध्यम से समावेशन हेतु छूटे हुए परिवारों की पहचान करता है?

- Ans
- ☒

1. ग्रामीण रोजगार कार्यक्रम
- ☒

2. सामाजिक समावेशन अभियान
- ☒

3. गरीबों की सहभागी पहचान
- ☒

4. वित्तीय लेखापरीक्षा प्रक्रिया

Question Type : MCQ

Question ID : 4410091425089

Option 1 ID : 4410095629001

Option 2 ID : 4410095629002

Option 3 ID : 4410095629000

Option 4 ID : 4410095628999

Q.16 निम्नलिखित में से कौन-सा, RF पात्रता के लिए स्वयं सहायता समूहों (SHGs) द्वारा अनुसरण किए जाने वाले पंचसूत्र का हिस्सा नहीं है?

- Ans
- ☒ 1. नियमित बचत (Regular savings)
 - ☒ 2. नियमित बैठकें (Regular meetings)
 - ☒ 3. नियमित आंतरिक ऋणप्रदान (Regular internal lending)
 - ☒ 4. नियमित चुक (Regular defaults)

Question Type : MCQ
Question ID : 4410091417900
Option 1 ID : 4410095600522
Option 2 ID : 4410095600521
Option 3 ID : 4410095600523
Option 4 ID : 4410095600524

Q.17 Which process, identified by sociologists, illustrates how lower castes in rural India sought upward mobility within the stratified social system?

- Ans
- ☒ 1. Westernisation
 - ☒ 2. Urbanisation
 - ☒ 3. Sanskritisation
 - ☒ 4. Secularisation

Question Type : MCQ
Question ID : 4410091211889
Option 1 ID : 4410094780975
Option 2 ID : 4410094780974
Option 3 ID : 4410094780977
Option 4 ID : 4410094780976

Q.18 SHG विकास के किस चरण में सदस्य समूह का नाम तय करते हैं, उपविधि निर्धारित करते हैं और मीटिंग को विनियमित करते हैं?

- Ans
- ☒ 1. गठन चरण
 - ☒ 2. स्थिरीकरण चरण
 - ☒ 3. पूर्व-गठन चरण
 - ☒ 4. वृद्धि चरण

Question Type : MCQ
Question ID : 4410091426501
Option 1 ID : 4410095634584
Option 2 ID : 4410095634585
Option 3 ID : 4410095634583
Option 4 ID : 4410095634586

Q.19 दीनदयाल अंत्योदय योजना (DAY) का प्राथमिक उद्देश्य क्या है?

- Ans
- ✓ 1. कौशल विकास के माध्यम से आजीविका के अवसरों को बढ़ाना
 - ✗ 2. सभी के लिए शहरी आवास सुनिश्चित करना
 - ✗ 3. ग्रामीण भारत में डिजिटल साक्षरता को बढ़ावा देना
 - ✗ 4. किसानों को सीधे नकद हस्तांतरण प्रदान करना

Question Type : MCQ

Question ID : 4410091411021

Option 1 ID : 4410095573046

Option 2 ID : 4410095573047

Option 3 ID : 4410095573048

Option 4 ID : 4410095573045

Q.20 ग्राम संगठन (VO) मुख्यतः किसके लिए एक मंच के रूप में कार्य करता है?

- Ans
- ✗ 1. कर निर्धारण और लेखा परीक्षा करने के लिए
 - ✗ 2. राजनीतिक अभियान आयोजित करने के लिए
 - ✗ 3. निजी उद्यमों का प्रबंधन करने लिए
 - ✓ 4. SHG सदस्यों के अनुभवों और चिंताओं को साझा करने के लिए

Question Type : MCQ

Question ID : 4410091425162

Option 1 ID : 4410095629289

Option 2 ID : 4410095629288

Option 3 ID : 4410095629290

Option 4 ID : 4410095629287

