

Education Consultant India Ltd.

Notations :

- 1.Options shown in green color and with ✓ icon are correct.
- 2.Options shown in red color and with ✖ icon are incorrect.

Question Paper Name:	Stenographer Gr II S1
Subject Name:	Stenographer Gr II
Creation Date:	2019-08-27 11:43:46
Duration:	120
Total Marks:	200
Display Marks:	Yes
Share Answer Key With Delivery Engine:	No
Actual Answer Key:	Yes
Calculator:	None
Magnifying Glass Required?:	No
Ruler Required?:	No
Eraser Required?:	No
Scratch Pad Required?:	No
Rough Sketch/Notepad Required?:	No
Protractor Required?:	No
Show Watermark on Console?:	Yes
Highlighter:	No
Auto Save on Console?:	No

	Mental Ability 1
Group Number :	1
Group Id :	545927711
Group Maximum Duration :	0
Group Minimum Duration :	0
Revisit allowed for view? :	No
Revisit allowed for edit? :	No
Break time:	0
Group Marks:	20
Revisit allowed for group Instructions? :	Yes
Maximum Instruction Time:	0
Minimum Instruction Time:	0

	Mental Ability 1
Section Id :	545927711
Section Number :	1
Section type :	Online
Mandatory or Optional:	Mandatory
Number of Questions:	20
Number of Questions to be attempted:	20
Section Marks:	20

Adda247

Test Prime

ALL EXAMS, ONE SUBSCRIPTION



80,000+
Mock Tests



**Personalised
Report Card**



**Unlimited
Re-Attempt**



600+
Exam Covered



20,000+ Previous
Year Papers



500%
Refund



ATTEMPT FREE MOCK NOW

Display Number Panel: Yes
Group All Questions: No

Sub-Section Number: 1
Sub-Section Id: 545927853
Question Shuffling Allowed : Yes

Question Number : 1 Question Id : 54592714343 Question Type : MCQ Option Shuffling : Yes Display Question Number : Yes
Single Line Question Option : No Option Orientation : Vertical
Correct Marks : 1 Wrong Marks : 0.25

Which of the following word CANNOT be made by using the letters from the given word?

MODULARITY

Options :

1. ✖ MURAL
2. ✖ AUDIO
3. ✖ TRIAD
4. ✔ TRADE

Question Number : 1 Question Id : 54592714343 Question Type : MCQ Option Shuffling : Yes Display Question Number : Yes
Single Line Question Option : No Option Orientation : Vertical
Correct Marks : 1 Wrong Marks : 0.25

निम्नलिखित में से कौन सा शब्द दिए गए शब्द के अक्षरों का उपयोग करके नहीं बनाया जा सकता?

MODULARITY

Options :

1. ✖ MURAL
2. ✖ AUDIO
3. ✖ TRIAD
4. ✔ TRADE

Question Number : 2 Question Id : 54592714344 Question Type : MCQ Option Shuffling : Yes Display Question Number : Yes
Single Line Question Option : No Option Orientation : Vertical
Correct Marks : 1 Wrong Marks : 0.25

Find the missing term in the following letter series.

KJ, PO, UT, ZY, ED, ?

Options :

1. ✖ IJ
2. ✖ HI
3. ✖ IH
4. ✔ JI

Question Number : 2 Question Id : 54592714344 Question Type : MCQ Option Shuffling : Yes Display Question Number : Yes
Single Line Question Option : No Option Orientation : Vertical
Correct Marks : 1 Wrong Marks : 0.25

निम्नलिखित अक्षर श्रृंखला में लुप्त पद को ज्ञात करें

KJ, PO, UT, ZY, ED, ?

Options :

1. ✖ IJ
2. ✖ HI
3. ✖ IH
4. ✔ JI

Question Number : 3 Question Id : 54592714345 Question Type : MCQ Option Shuffling : Yes Display Question Number : Yes
Single Line Question Option : No Option Orientation : Vertical

Correct Marks : 1 Wrong Marks : 0.25

Find the missing term in the following letter series.

XOXXXX, XXOXXX, XXXOXX, XXXXOX, XXXXXO, ?

Options :

1. ✖ XXXXOX
2. ✖ OXXXX
3. ✖ XOXXX
4. ✔ OXXXXX

Question Number : 3 Question Id : 54592714345 Question Type : MCQ Option Shuffling : Yes Display Question Number : Yes
Single Line Question Option : No Option Orientation : Vertical

Correct Marks : 1 Wrong Marks : 0.25

निम्नलिखित अक्षर श्रृंखला में लुप्त पद को ज्ञात करें।

XOXXXX, XXOXXX, XXXOXX, XXXXOX, XXXXXO, ?

Options :

1. ✖ XXXXOX
2. ✖ OXXXX
3. ✖ XOXXX
4. ✔ OXXXXX

Question Number : 4 Question Id : 54592714346 Question Type : MCQ Option Shuffling : Yes Display Question Number : Yes
Single Line Question Option : No Option Orientation : Vertical

Correct Marks : 1 Wrong Marks : 0.25

Out of the given options, three are similar in a certain manner. However, one option is NOT like the other three. Select the option which is different from the rest.

Options :

1. ✔ Eyes
2. ✖ Stomach
3. ✖ Liver
4. ✖ Heart

Question Number : 4 Question Id : 54592714346 Question Type : MCQ Option Shuffling : Yes Display Question Number : Yes
Single Line Question Option : No Option Orientation : Vertical

Correct Marks : 1 Wrong Marks : 0.25

दिए गए विकल्पों में से, तीन एक निश्चित तरीके से समान हैं। हालाँकि, एक विकल्प अन्य तीन की तरह नहीं है। उस विकल्प का चयन करें जो बाकी से अलग है।

Options :

1. ✔ आंखें
2. ✖ पेट
3. ✖ यकृत

4. ✖ हृदय

Question Number : 5 Question Id : 54592714347 Question Type : MCQ Option Shuffling : Yes Display Question Number : Yes
Single Line Question Option : No Option Orientation : Vertical

Correct Marks : 1 Wrong Marks : 0.25

Out of the given options, three are similar in a certain manner. However, one option is NOT like the other three. Select the option which is different from the rest.

Options :

1. ✖ YVS
2. ✔ PNL
3. ✖ GDA
4. ✖ KHE

Question Number : 5 Question Id : 54592714347 Question Type : MCQ Option Shuffling : Yes Display Question Number : Yes
Single Line Question Option : No Option Orientation : Vertical

Correct Marks : 1 Wrong Marks : 0.25

दिए गए विकल्पों में से, तीन एक निश्चित तरीके से समान हैं। हालाँकि, एक विकल्प अन्य तीन की तरह नहीं है। उस विकल्प का चयन करें जो बाकी से अलग है।

Options :

1. ✖ YVS
2. ✔ PNL
3. ✖ GDA
4. ✖ KHE

Question Number : 6 Question Id : 54592714348 Question Type : MCQ Option Shuffling : Yes Display Question Number : Yes
Single Line Question Option : No Option Orientation : Vertical

Correct Marks : 1 Wrong Marks : 0.25

In the given options 3 pairs of words are similarly related and one pair is differently related. Find the pair which is differently related.

Options :

1. ✖ Long : Short
2. ✖ Up : Down
3. ✖ White : Black
4. ✔ Hot : Humid

Question Number : 6 Question Id : 54592714348 Question Type : MCQ Option Shuffling : Yes Display Question Number : Yes
Single Line Question Option : No Option Orientation : Vertical

Correct Marks : 1 Wrong Marks : 0.25

दिए गए विकल्पों में शब्दों की 3 जोड़ियाँ समान रूप से संबंधित हैं, और एक जोड़ी अलग तरह से संबंधित है। उस जोड़ी को ज्ञात करें जो अलग तरह से संबंधित है।

Options :

1. ✖ लंबा : छोटा
2. ✖ ऊपर : नीचे
3. ✖ सफेद : काला
4. ✔ गर्म : नम

Question Number : 7 Question Id : 54592714349 Question Type : MCQ Option Shuffling : Yes Display Question Number : Yes
Single Line Question Option : No Option Orientation : Vertical

Correct Marks : 1 Wrong Marks : 0.25

Select the option that is related to the third term on the same basis as the second term is related to the first term.

JGN : HEL :: KQC : ?

Options :

1. ✗ HNZ
2. ✗ LRD
3. ✗ MSE
4. ✓ IOA

Question Number : 7 Question Id : 54592714349 Question Type : MCQ Option Shuffling : Yes Display Question Number : Yes
Single Line Question Option : No Option Orientation : Vertical

Correct Marks : 1 Wrong Marks : 0.25

उस विकल्प का चयन करें जो तीसरे पद से उसी प्रकार से संबंधित है जिस प्रकार से दूसरा पद पहले पद से संबंधित है।

JGN : HEL :: KQC : ?

Options :

1. ✗ HNZ
2. ✗ LRD
3. ✗ MSE
4. ✓ IOA

Question Number : 8 Question Id : 54592714350 Question Type : MCQ Option Shuffling : Yes Display Question Number : Yes
Single Line Question Option : No Option Orientation : Vertical

Correct Marks : 1 Wrong Marks : 0.25

Select the option that is related to the third term on the same basis as the second term is related to the first term.

Bull : Cow :: Drake : ?

Options :

1. ✗ Sow
2. ✓ Duck
3. ✗ Doe
4. ✗ Molly

Question Number : 8 Question Id : 54592714350 Question Type : MCQ Option Shuffling : Yes Display Question Number : Yes
Single Line Question Option : No Option Orientation : Vertical

Correct Marks : 1 Wrong Marks : 0.25

उस विकल्प का चयन करें जो तीसरे पद से उसी प्रकार से संबंधित है जिस प्रकार से दूसरा पद पहले पद से संबंधित है।

सांड : गाय :: मक्खी : ?

Options :

1. ✗ बोना
2. ✓ बत्तख
3. ✗ हरिणी
4. ✗ मौली

Question Number : 9 Question Id : 54592714351 Question Type : MCQ Option Shuffling : Yes Display Question Number : Yes
Single Line Question Option : No Option Orientation : Vertical

Correct Marks : 1 Wrong Marks : 0.25

From the given options find a pair of letters which is analogous to the given pair.

PFA : RHC

Options :

1. ✗ TGV : JGP
2. ✗ UHN : PSJ
3. ✗ EDC : ORI
4. ✓ QTK : SVM

Question Number : 9 Question Id : 54592714351 Question Type : MCQ Option Shuffling : Yes Display Question Number : Yes
Single Line Question Option : No Option Orientation : Vertical

Correct Marks : 1 Wrong Marks : 0.25

दिए गए विकल्पों में से अक्षरों की एक जोड़ी को ज्ञात करें, जो दिए गए जोड़े के अनुरूप है।

PFA : RHC

Options :

1. ✗ TGV : JGP
2. ✗ UHN : PSJ
3. ✗ EDC : ORI
4. ✓ QTK : SVM

Question Number : 10 Question Id : 54592714352 Question Type : MCQ Option Shuffling : Yes Display Question Number : Yes
Single Line Question Option : No Option Orientation : Vertical

Correct Marks : 1 Wrong Marks : 0.25

In a certain coding language, if GO = 105 & SHE = 760 then BAIT will be equal to ?

Options :

1. ✓ 360
2. ✗ 380
3. ✗ 400
4. ✗ 420

Question Number : 10 Question Id : 54592714352 Question Type : MCQ Option Shuffling : Yes Display Question Number : Yes
Single Line Question Option : No Option Orientation : Vertical

Correct Marks : 1 Wrong Marks : 0.25

एक निश्चित कोडिंग भाषा में, यदि GO = 105 और SHE = 760 है, तो BAIT किस बराबर होगा?

Options :

1. ✓ 360
2. ✗ 380
3. ✗ 400
4. ✗ 420

Question Number : 11 Question Id : 54592714353 Question Type : MCQ Option Shuffling : Yes Display Question Number : Yes
Single Line Question Option : No Option Orientation : Vertical

Correct Marks : 1 Wrong Marks : 0.25

In a certain code language "TEARS" is written as "23-8-4-21-22", then "SMILE" would be written as:

Options :

1. ✓ 22-16-12-15-8
2. ✗ 19-13-9-12-5
3. ✗ 22-15-11-14-8

4. ✖ 19-12-8-11-5

Question Number : 11 Question Id : 54592714353 Question Type : MCQ Option Shuffling : Yes Display Question Number : Yes
Single Line Question Option : No Option Orientation : Vertical

Correct Marks : 1 Wrong Marks : 0.25

एक निश्चित कोड भाषा में "TEARS" को "23-8-4-21-22" लिखा जाता है, फिर "SMILE" को इस प्रकार लिखा जाएगा:

Options :

1. ✔ 22-16-12-15-8

2. ✖ 19-13-9-12-5

3. ✖ 22-15-11-14-8

4. ✖ 19-12-8-11-5

Question Number : 12 Question Id : 54592714354 Question Type : MCQ Option Shuffling : Yes Display Question Number : Yes
Single Line Question Option : No Option Orientation : Vertical

Correct Marks : 1 Wrong Marks : 0.25

If LCNEHC is the code for CLENCH then what is the code for PHYSICAL?

Options :

1. ✖ HPSYICLA

2. ✔ HPSYCILA

3. ✖ LACISYHP

4. ✖ HPYSCILA

Question Number : 12 Question Id : 54592714354 Question Type : MCQ Option Shuffling : Yes Display Question Number : Yes
Single Line Question Option : No Option Orientation : Vertical

Correct Marks : 1 Wrong Marks : 0.25

यदि CLENCH का कोड है LCNEHC तो PHYSICAL का कोड क्या है?

Options :

1. ✖ HPSYICLA

2. ✔ HPSYCILA

3. ✖ LACISYHP

4. ✖ HPYSCILA

Question Number : 13 Question Id : 54592714355 Question Type : MCQ Option Shuffling : Yes Display Question Number : Yes
Single Line Question Option : No Option Orientation : Vertical

Correct Marks : 1 Wrong Marks : 0.25

Aman, Pranoy, Rehman, Xerxes, Sahid and Zenab are sitting in a row. Sahid and Zenab are in the centre. Aman and Pranoy are at the ends. Rehman is sitting to the left of Aman. Who is to the right of Pronoy ?

Options :

1. ✖ Aman

2. ✔ Xerxes

3. ✖ Sahid

4. ✖ Zenab

Question Number : 13 Question Id : 54592714355 Question Type : MCQ Option Shuffling : Yes Display Question Number : Yes
Single Line Question Option : No Option Orientation : Vertical

Correct Marks : 1 Wrong Marks : 0.25

अमन, प्रणॉय, रहमान, जैक्सिस, साहिद और जैनब एक पंक्ति में बैठे हैं। साहिद और जैनब केंद्र में हैं। अमन और प्रणॉय दोनों छोर पर हैं। रहमान अमन के बाईं ओर बैठा है। प्रणॉय के दाएँ में कौन है?

Options :

1. ✖ अमन
2. ✔ जैकसीस
3. ✖ सहीद
4. ✖ जेनद

Question Number : 14 Question Id : 54592714356 Question Type : MCQ Option Shuffling : Yes Display Question Number : Yes
Single Line Question Option : No Option Orientation : Vertical

Correct Marks : 1 Wrong Marks : 0.25

In an Exhibition seven cars of different companies - Creta, Amaze, Fiat, Maruti 800, Mercedes, Baleno and Figo are standing facing east. Creta is to the right of Figo. Figo is fourth to the right of Fiat. Maruti 800 is between Amaze and Baleno. Fiat which is third to the left of Amaze, is at one end. Which car is to the right of Creta?

Options :

1. ✖ Amaze
2. ✖ Figo
3. ✖ Baleno
4. ✔ Mercedes

Question Number : 14 Question Id : 54592714356 Question Type : MCQ Option Shuffling : Yes Display Question Number : Yes
Single Line Question Option : No Option Orientation : Vertical

Correct Marks : 1 Wrong Marks : 0.25

एक प्रदर्शनी में विभिन्न कंपनियों की सात गाड़ियां, अमेज़, फिएट, मारुति 800, मर्सिडीज, बलेनो और फिगो पूर्व की ओर मुंह किए खड़े हैं। क्रेटा फिगो के बगल में दाईं तरफ है। फिगो, फिएट के दाईं ओर चौथे स्थान पर है। मारुति 800, अमेज़ और बलेनो के बीच है। फिएट जो अमेज़ के बाईं ओर से तीसरी है, एक छोर पर है। क्रेटा के दाईं ओर कौन सी गाड़ी है?

Options :

1. ✖ अमेज़
2. ✖ फिगो
3. ✖ बलेनो
4. ✔ मर्सिडीज

Question Number : 15 Question Id : 54592714357 Question Type : MCQ Option Shuffling : Yes Display Question Number : Yes
Single Line Question Option : No Option Orientation : Vertical

Correct Marks : 1 Wrong Marks : 0.25

A waiting list for admission in a certain college is put up. Three friends Ajoy, Bijoy and Chotu are in that list. There are seven persons between Ajoy and Bijoy and eight persons between Bijoy and Chotu. If there were three persons ahead of Chotu and 21 persons behind Ajoy and amongst the three Chotu is first what could be the minimum number of persons in the waiting list?

Options :

1. ✔ 42
2. ✖ 39
3. ✖ 45
4. ✖ 36

Question Number : 15 Question Id : 54592714357 Question Type : MCQ Option Shuffling : Yes Display Question Number : Yes
Single Line Question Option : No Option Orientation : Vertical

Correct Marks : 1 Wrong Marks : 0.25

एक निश्चित कॉलेज में प्रवेश के लिए प्रतीक्षा सूची रखी गई है। उस सूची में तीन दोस्त अजॉय, बिजॉय और छोटू हैं। अजॉय और बिजॉय के बीच सात व्यक्ति और बिजॉय और छोटू के बीच आठ व्यक्ति हैं। अगर छोटू से आगे तीन व्यक्ति और अजॉय के पीछे 21 व्यक्ति थे और तीन छोटू में से पहला व्यक्ति है तो प्रतीक्षा सूची में न्यूनतम संख्या क्या हो सकती है?

Options :

1. ✔ 42

2. ✖ 39
3. ✖ 45
4. ✖ 36

Question Number : 16 Question Id : 54592714358 Question Type : MCQ Option Shuffling : Yes Display Question Number : Yes
Single Line Question Option : No Option Orientation : Vertical

Correct Marks : 1 Wrong Marks : 0.25

A series is given, with one word missing. Choose the correct alternative from the given ones that will complete the series.

Doctor, Tornado, Adorable, Blender, ?

Options :

1. ✖ Blemish
2. ✔ Derivate
3. ✖ Adopted
4. ✖ Torment

Question Number : 16 Question Id : 54592714358 Question Type : MCQ Option Shuffling : Yes Display Question Number : Yes
Single Line Question Option : No Option Orientation : Vertical

Correct Marks : 1 Wrong Marks : 0.25

एक श्रृंखला दी गई है, जिसमें एक शब्द लुप्त है। दिए गए विकल्पों में से सही विकल्प चुनें जो श्रृंखला को पूरा करेगा।

Doctor, Tornado, Adorable, Blender, ?

Options :

1. ✖ Blemish
2. ✔ Derivate
3. ✖ Adopted
4. ✖ Torment

Question Number : 17 Question Id : 54592714359 Question Type : MCQ Option Shuffling : Yes Display Question Number : Yes
Single Line Question Option : No Option Orientation : Vertical

Correct Marks : 1 Wrong Marks : 0.25

If the 6th of a month falls on a Friday, 29th of that month will fall on which day of the week?

Options :

1. ✔ Sunday
2. ✖ Saturday
3. ✖ Wednesday
4. ✖ Thursday

Question Number : 17 Question Id : 54592714359 Question Type : MCQ Option Shuffling : Yes Display Question Number : Yes
Single Line Question Option : No Option Orientation : Vertical

Correct Marks : 1 Wrong Marks : 0.25

यदि किसी महीने की 6 तारीख शुक्रवार को है, तो उस महीने की 29 तारीख सप्ताह के किस दिन होगा?

Options :

1. ✔ रविवार
2. ✖ शनिवार
3. ✖ बुधवार
4. ✖ गुरुवार

Question Number : 18 Question Id : 54592714360 Question Type : MCQ Option Shuffling : Yes Display Question Number : Yes
Single Line Question Option : No Option Orientation : Vertical

Correct Marks : 1 Wrong Marks : 0.25

Read the given statement and conclusions carefully and decide which of the conclusions logically follow(s) from the statement.

Statement:

Those who are educated have an advantage over those who are not.

Conclusions:

I. Education for some creates unequal opportunities for different groups of people.

II. Before the concept of education society had equal opportunities for different groups of people.

Options :

1. ✓ Only conclusion I follows
2. ✗ Only conclusion II follows
3. ✗ Both I and II follow
4. ✗ Neither I nor II follow

Question Number : 18 Question Id : 54592714360 Question Type : MCQ Option Shuffling : Yes Display Question Number : Yes
Single Line Question Option : No Option Orientation : Vertical

Correct Marks : 1 Wrong Marks : 0.25

दिए गए कथन और निष्कर्ष को ध्यान से पढ़ें और निर्णय लें कि कथन में से कौन सा निष्कर्ष तार्किक रूप से अनुसरण करता है।

कथन:

जो शिक्षित हैं उन्हें फायदा है, उन पर जो नहीं हैं।

निष्कर्ष:

I. कुछ लोगों के लिए शिक्षा लोगों के विभिन्न समूहों के लिए असमान अवसर पैदा करती है।

II. शिक्षा की अवधारणा से पहले समाज के लोगों के विभिन्न समूहों के लिए समान अवसर थे।

Options :

1. ✓ केवल निष्कर्ष I अनुसरण करता है
2. ✗ केवल निष्कर्ष II अनुसरण करता है
3. ✗ I और II दोनों अनुसरण करते हैं
4. ✗ न तो I न ही II अनुसरण करता है

Question Number : 19 Question Id : 54592714361 Question Type : MCQ Option Shuffling : Yes Display Question Number : Yes
Single Line Question Option : No Option Orientation : Vertical

Correct Marks : 1 Wrong Marks : 0.25

In the question two statements are given, followed by two conclusions, I and II. You have to consider the statements to be true even if it seems to be at variance from commonly known facts. You have to decide which of the given conclusions, if any, follows from the given statements.

Statement 1 : Some mangoes are apples.

Statement 2 : Some grapes are mangoes.

Conclusion I : Some mangoes are grapes.

Conclusion II : All grapes are apples.

Options :

1. ✓ Only conclusion I follows
2. ✗ Only conclusion II follows
3. ✗ Both I and II follow
4. ✗ Neither I nor II follows

Question Number : 19 Question Id : 54592714361 Question Type : MCQ Option Shuffling : Yes Display Question Number : Yes
Single Line Question Option : No Option Orientation : Vertical

Correct Marks : 1 Wrong Marks : 0.25

प्रश्न में दो कथन दिए गए हैं, इसके बाद दो निष्कर्ष I और II दिए गए हैं। आपको कथनों को सत्य मानना है, भले ही यह सामान्य रूप से ज्ञात तथ्यों से भिन्न हो। आपको यह तय करना है कि दिए गए कथनों में से कौन सा निष्कर्ष, यदि कोई है, का अनुसरण करता है।

कथन 1: कुछ आम सेब हैं।
कथन 2: कुछ अंगूर आम हैं।

निष्कर्ष I: कुछ आम अंगूर हैं।
निष्कर्ष II: सभी अंगूर सेब हैं।

Options :

1. ✓ केवल निष्कर्ष I अनुसरण करता है
2. ✗ केवल निष्कर्ष II अनुसरण करता है
3. ✗ I और II दोनों अनुसरण करते हैं
4. ✗ ना तो I न ही II अनुसरण करता है

Question Number : 20 Question Id : 54592714362 Question Type : MCQ Option Shuffling : Yes Display Question Number : Yes
Single Line Question Option : No Option Orientation : Vertical

Correct Marks : 1 Wrong Marks : 0.25

Complete the following number series:

15, 20, 18, 23, 21, 26, ----

Options :

1. ✓ 24
2. ✗ 31
3. ✗ 28
4. ✗ 33

Question Number : 20 Question Id : 54592714362 Question Type : MCQ Option Shuffling : Yes Display Question Number : Yes
Single Line Question Option : No Option Orientation : Vertical

Correct Marks : 1 Wrong Marks : 0.25

निम्नलिखित संख्या श्रृंखला को पूरा करें।

15, 20, 18, 23, 21, 26, ----

Options :

1. ✓ 24
2. ✗ 31
3. ✗ 28
4. ✗ 33

Mental Ability2

Group Number :	2
Group Id :	545927712
Group Maximum Duration :	0
Group Minimum Duration :	0
Revisit allowed for view? :	No
Revisit allowed for edit? :	No
Break time:	0
Group Marks:	20

Revisit allowed for group Instructions? : Yes
Maximum Instruction Time: 0
Minimum Instruction Time: 0

Mental Ability2

Section Id : 545927712
Section Number : 1
Section type : Online
Mandatory or Optional: Mandatory
Number of Questions: 20
Number of Questions to be attempted: 20
Section Marks: 20
Display Number Panel: Yes
Group All Questions: No

Sub-Section Number: 1
Sub-Section Id: 545927854
Question Shuffling Allowed : Yes

Question Number : 21 Question Id : 54592714363 Question Type : MCQ Option Shuffling : Yes Display Question Number : Yes
Single Line Question Option : No Option Orientation : Vertical

Correct Marks : 1 Wrong Marks : 0.25

Out of the given options, three are similar in a certain manner. However, one option is NOT like the other three. Select the option which is different from the rest.

Options :

1. ✓ 1000
2. ✗ 100
3. ✗ 400
4. ✗ 900

Question Number : 21 Question Id : 54592714363 Question Type : MCQ Option Shuffling : Yes Display Question Number : Yes
Single Line Question Option : No Option Orientation : Vertical

Correct Marks : 1 Wrong Marks : 0.25

दिए गए विकल्पों में से, तीन एक निश्चित तरीके से समान हैं। हालाँकि, एक विकल्प अन्य तीन की तरह नहीं है। उस विकल्प का चयन करें जो बाकी से अलग है।

Options :

1. ✓ 1000
2. ✗ 100
3. ✗ 400
4. ✗ 900

Question Number : 22 Question Id : 54592714364 Question Type : MCQ Option Shuffling : Yes Display Question Number : Yes
Single Line Question Option : No Option Orientation : Vertical

Correct Marks : 1 Wrong Marks : 0.25

Find the wrong number in the given series.

6, 12, 24, 52, 96

Options :

1. ✓ 52

2. ✖ 24
3. ✖ 96
4. ✖ 12

Question Number : 22 Question Id : 54592714364 Question Type : MCQ Option Shuffling : Yes Display Question Number : Yes
Single Line Question Option : No Option Orientation : Vertical

Correct Marks : 1 Wrong Marks : 0.25

दी गई श्रृंखला में गलत संख्या ज्ञात करें

6, 12, 24, 52, 96

Options :

1. ✔ 52
2. ✖ 24
3. ✖ 96
4. ✖ 12

Question Number : 23 Question Id : 54592714365 Question Type : MCQ Option Shuffling : Yes Display Question Number : Yes
Single Line Question Option : No Option Orientation : Vertical

Correct Marks : 1 Wrong Marks : 0.25

Find the missing number in the given series.

10, 8, 5, 1, ?, -10, -17

Options :

1. ✖ -5
2. ✔ -4
3. ✖ 4
4. ✖ 5

Question Number : 23 Question Id : 54592714365 Question Type : MCQ Option Shuffling : Yes Display Question Number : Yes
Single Line Question Option : No Option Orientation : Vertical

Correct Marks : 1 Wrong Marks : 0.25

दी गई श्रृंखला में लुप्त संख्या ज्ञात करें

10, 8, 5, 1, ?, -10, -17

Options :

1. ✖ -5
2. ✔ -4
3. ✖ 4
4. ✖ 5

Question Number : 24 Question Id : 54592714366 Question Type : MCQ Option Shuffling : Yes Display Question Number : Yes
Single Line Question Option : No Option Orientation : Vertical

Correct Marks : 1 Wrong Marks : 0.25

In the given options 3 pair of numbers are similarly related and one pair is differently related. Find the pair which is differently related.

Options :

1. ✖ 58, 41
2. ✖ 67, 32
3. ✔ 37, 63

4. ✖ 28, 71

Question Number : 24 Question Id : 54592714366 Question Type : MCQ Option Shuffling : Yes Display Question Number : Yes
Single Line Question Option : No Option Orientation : Vertical

Correct Marks : 1 Wrong Marks : 0.25

दिए गए विकल्पों में शब्दों की 3 जोड़ी समान रूप से संबंधित हैं, और एक जोड़ी अलग तरह से संबंधित है। उस जोड़ी को ज्ञात करें जो अलग तरह से संबंधित है।

Options :

1. ✖ 58, 41

2. ✖ 67, 32

3. ✔ 37, 63

4. ✖ 28, 71

Question Number : 25 Question Id : 54592714367 Question Type : MCQ Option Shuffling : Yes Display Question Number : Yes
Single Line Question Option : No Option Orientation : Vertical

Correct Marks : 1 Wrong Marks : 0.25

Out of the given options, three are similar in a certain manner. However, one option is NOT like the other three. Select the option which is different from the rest.

Options :

1. ✖ 37

2. ✖ 47

3. ✔ 57

4. ✖ 67

Question Number : 25 Question Id : 54592714367 Question Type : MCQ Option Shuffling : Yes Display Question Number : Yes
Single Line Question Option : No Option Orientation : Vertical

Correct Marks : 1 Wrong Marks : 0.25

दिए गए विकल्पों में से, तीन एक निश्चित तरीके से समान हैं। हालाँकि, एक विकल्प अन्य तीन की तरह नहीं है। उस विकल्प का चयन करें जो बाकी से अलग है।

Options :

1. ✖ 37

2. ✖ 47

3. ✔ 57

4. ✖ 67

Question Number : 26 Question Id : 54592714368 Question Type : MCQ Option Shuffling : Yes Display Question Number : Yes
Single Line Question Option : No Option Orientation : Vertical

Correct Marks : 1 Wrong Marks : 0.25

Select the option that is related to the third number on the same basis as the second number is related to the first number.

216 : 124 :: 256 : ?

Options :

1. ✖ 134

2. ✔ 164

3. ✖ 144

4. ✖ 154

Question Number : 26 Question Id : 54592714368 Question Type : MCQ Option Shuffling : Yes Display Question Number : Yes
Single Line Question Option : No Option Orientation : Vertical

Correct Marks : 1 Wrong Marks : 0.25

उस विकल्प का चयन करें जो तीसरी संख्या से उसी प्रकार से संबंधित है जिस प्रकार से दूसरी संख्या पहली संख्या से सम्बंधित है संबंधित है।

$$216 : 124 :: 256 : ?$$

Options :

1. ✗ 134
2. ✓ 164
3. ✗ 144
4. ✗ 154

Question Number : 27 Question Id : 54592714369 Question Type : MCQ Option Shuffling : Yes Display Question Number : Yes
Single Line Question Option : No Option Orientation : Vertical

Correct Marks : 1 Wrong Marks : 0.25

Which two signs should be interchanged to make the below equation mathematically correct?

$$72 \times 3 + 8 \div 4 - 6 = 50$$

Options :

1. ✗ -, x
2. ✓ x, ÷
3. ✗ +, ÷
4. ✗ -, +

Question Number : 27 Question Id : 54592714369 Question Type : MCQ Option Shuffling : Yes Display Question Number : Yes
Single Line Question Option : No Option Orientation : Vertical

Correct Marks : 1 Wrong Marks : 0.25

नीचे दिए गए समीकरण को गणितीय रूप से सही बनाने के लिए, किन दो चिन्हों को परस्पर स्थानांतरित करना चाहिए?

$$72 \times 3 + 8 \div 4 - 6 = 50$$

Options :

1. ✗ -, x
2. ✓ x, ÷
3. ✗ +, ÷
4. ✗ -, +

Question Number : 28 Question Id : 54592714370 Question Type : MCQ Option Shuffling : Yes Display Question Number : Yes
Single Line Question Option : No Option Orientation : Vertical

Correct Marks : 1 Wrong Marks : 0.25

If $5\#2 = 70$, $2\#2 = 40$, $1\#9 = 100$ then find the value of $2\#3 = ?$

Options :

1. ✓ 50
2. ✗ 10
3. ✗ 60
4. ✗ 70

Question Number : 28 Question Id : 54592714370 Question Type : MCQ Option Shuffling : Yes Display Question Number : Yes
Single Line Question Option : No Option Orientation : Vertical

Correct Marks : 1 Wrong Marks : 0.25

यदि $5\#2 = 70$, $2\#2 = 40$, $1\#9 = 100$ तो $2\#3 = ?$, का मूल्य ज्ञात करें?

Options :

1. ✓ 50

2. ✖ 10
3. ✖ 60
4. ✖ 70

Question Number : 29 Question Id : 54592714371 Question Type : MCQ Option Shuffling : Yes Display Question Number : Yes
Single Line Question Option : No Option Orientation : Vertical

Correct Marks : 1 Wrong Marks : 0.25

Which two numbers should be interchanged to make the below equation mathematically correct?

$$22 + 88 \div 11 - 2 \times 4 = 7$$

Options :

1. ✔ 11,22
2. ✖ 2,22
3. ✖ 4,22
4. ✖ 4,11

Question Number : 29 Question Id : 54592714371 Question Type : MCQ Option Shuffling : Yes Display Question Number : Yes
Single Line Question Option : No Option Orientation : Vertical

Correct Marks : 1 Wrong Marks : 0.25

नीचे दिए गए समीकरण को गणितीय रूप से सही बनाने के लिए किन दो संख्याओं को परस्पर स्थानांतरित किया जाना चाहिए?

$$22 + 88 \div 11 - 2 \times 4 = 7$$

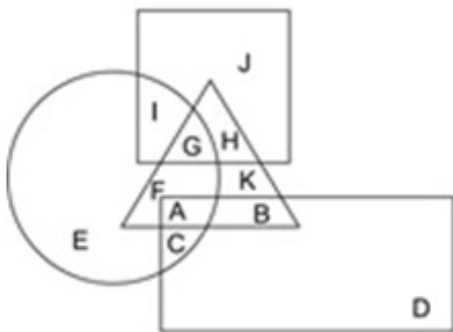
Options :

1. ✔ 11,22
2. ✖ 2,22
3. ✖ 4,22
4. ✖ 4,11

Question Number : 30 Question Id : 54592714372 Question Type : MCQ Option Shuffling : Yes Display Question Number : Yes
Single Line Question Option : No Option Orientation : Vertical

Correct Marks : 1 Wrong Marks : 0.25

In the following figure, square represents pilots, triangle represents cyclists, circle represents singers and rectangle represents Chinese. Which set of letters represents pilots who are cyclists?



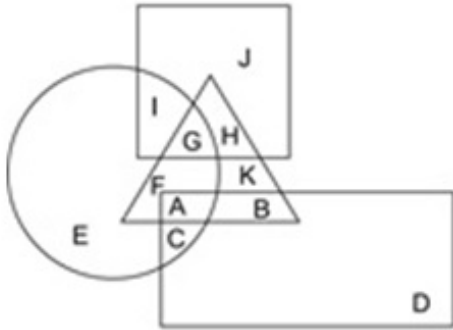
Options :

1. ✔ GH
2. ✖ AB
3. ✖ AC
4. ✖ FG

Question Number : 30 Question Id : 54592714372 Question Type : MCQ Option Shuffling : Yes Display Question Number : Yes
Single Line Question Option : No Option Orientation : Vertical

Correct Marks : 1 Wrong Marks : 0.25

निम्नलिखित आकृति में, वर्ग पायलटों को दर्शाता है, त्रिकोण साइकिल चालकों को दर्शाता है, वृत्त गायकों को दर्शाता है और आयत चीनी को दर्शाता है।
अक्षरों का कौन सा सेट पायलटों को दर्शाता है जो साइकिल चालक हैं?



Options :

1. ✓ GH
2. ✗ AB
3. ✗ AC
4. ✗ FG

Question Number : 31 Question Id : 54592714373 Question Type : MCQ Option Shuffling : Yes Display Question Number : Yes
Single Line Question Option : No Option Orientation : Vertical

Correct Marks : 1 Wrong Marks : 0.25

Which of the following Venn diagrams best represents the relationship between elephants, deer and carnivores?

Options :




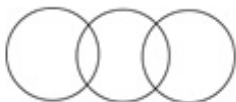
1. ✗
2. ✓
3. ✗
4. ✗

Question Number : 31 Question Id : 54592714373 Question Type : MCQ Option Shuffling : Yes Display Question Number : Yes
Single Line Question Option : No Option Orientation : Vertical

Correct Marks : 1 Wrong Marks : 0.25

निम्न में से कौन सा वेन आरेख हाथियों, हिरणों और मांसाहारियों के बीच के संबंध को सबसे अच्छा दर्शाता है?

Options :

1. ✖ 
2. ✔ 
3. ✖ 
4. ✖ 

Question Number : 32 Question Id : 54592714374 Question Type : MCQ Option Shuffling : Yes Display Question Number : Yes
Single Line Question Option : No Option Orientation : Vertical

Correct Marks : 1 Wrong Marks : 0.25

L and M start cycling from the same point. L cycles 23 km North, then then turns to her right and cycles 3 km. In the meanwhile M cycles 7 km East, then turns South and cycles 10 km, then turns right and cycles 4 km. Where is L now with respect to the position of M?

Options :

1. ✔ 33 km North
2. ✖ 33 km South
3. ✖ 16 km North
4. ✖ 16 km South

Question Number : 32 Question Id : 54592714374 Question Type : MCQ Option Shuffling : Yes Display Question Number : Yes
Single Line Question Option : No Option Orientation : Vertical

Correct Marks : 1 Wrong Marks : 0.25

L और M एक ही बिंदु से साइकिल चलाना शुरू करते हैं। L 23 km उत्तर में साइकिल चलाती है, फिर अपने दाईं ओर मुड़ती है और 3 km साइकिल चलाती है। इस बीच M 7 km पूर्व में साइकिल चलाता है, फिर दक्षिण की ओर मुड़ता है और 10 km साइकिल चलाता है, फिर दाएं मुड़ता है और 4 km साइकिल चलाता है। L, M की स्थिति के संबंध में अब कहाँ है?

Options :

1. ✔ 33 km उत्तर
2. ✖ 33 km दक्षिण
3. ✖ 16 km उत्तर
4. ✖ 16 km दक्षिण

Question Number : 33 Question Id : 54592714375 Question Type : MCQ Option Shuffling : Yes Display Question Number : Yes
Single Line Question Option : No Option Orientation : Vertical

Correct Marks : 1 Wrong Marks : 0.25

An engineer is surveying a land. He is facing the south-east direction. He turns 180 degree in the clockwise direction, then 90 degree in the anticlockwise direction and then turns 90 degrees to his left. Which direction is he facing now?

Options :

1. ✖ South-West

2. ✓ South-East
3. ✗ North-East
4. ✗ North-West

Question Number : 33 Question Id : 54592714375 Question Type : MCQ Option Shuffling : Yes Display Question Number : Yes
Single Line Question Option : No Option Orientation : Vertical

Correct Marks : 1 Wrong Marks : 0.25

एक इंजीनियर एक भूमि का सर्वेक्षण कर रहा है। उसका मुँह दक्षिण-पूर्व दिशा में है। वह घड़ी की दिशा में 180 डिग्री, फिर वामावर्त दिशा में 90 डिग्री और फिर बाईं ओर 90 डिग्री मुड़ जाता है। उसका मुँह अब किस दिशा में है?

Options :

1. ✗ दक्षिण-पश्चिम
2. ✓ दक्षिण-पूर्व
3. ✗ उत्तर-पूर्व
4. ✗ उत्तर-पश्चिम

Question Number : 34 Question Id : 54592714376 Question Type : MCQ Option Shuffling : Yes Display Question Number : Yes
Single Line Question Option : No Option Orientation : Vertical

Correct Marks : 1 Wrong Marks : 0.25

Out of the four options three are similar in a certain way and one is different. Find the option which is different.

Options :



Question Number : 34 Question Id : 54592714376 Question Type : MCQ Option Shuffling : Yes Display Question Number : Yes
Single Line Question Option : No Option Orientation : Vertical

Correct Marks : 1 Wrong Marks : 0.25

चार विकल्पों में से तीन एक निश्चित तरीके से समान हैं और एक अलग है। वह अलग विकल्प खोजें।

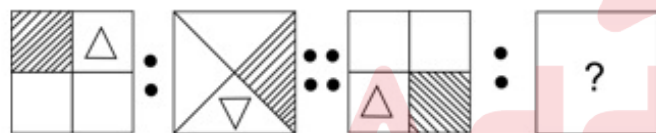
Options :



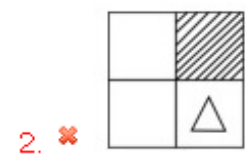
Question Number : 35 Question Id : 54592714377 Question Type : MCQ Option Shuffling : Yes Display Question Number : Yes
Single Line Question Option : No Option Orientation : Vertical

Correct Marks : 1 Wrong Marks : 0.25

Select the image that is related to the third image on the same basis as the second image is related to the first image.



Options :



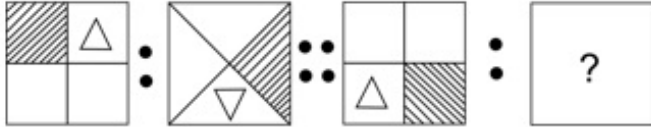


4. ✖

Question Number : 35 Question Id : 54592714377 Question Type : MCQ Option Shuffling : Yes Display Question Number : Yes
Single Line Question Option : No Option Orientation : Vertical

Correct Marks : 1 Wrong Marks : 0.25

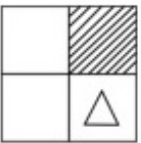
उस छवि का चयन करें जो तीसरी छवि से उसी प्रकार से संबंधित है जिस प्रकार से दूसरी छवि पहली छवि से संबंधित है।



Options :



1. ✖



2. ✖



3. ✔

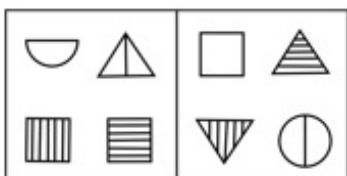


4. ✖

Question Number : 36 Question Id : 54592714378 Question Type : MCQ Option Shuffling : Yes Display Question Number : Yes
Single Line Question Option : No Option Orientation : Vertical

Correct Marks : 1 Wrong Marks : 0.25

The two figures given in the question are similar in a certain way. Only one figure from the options is similar to the two figures given in the question in the same way. Find that figure.



Options :

1. ✓



2. ✗



3. ✗



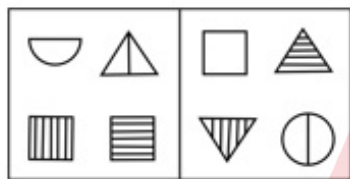
4. ✗



Question Number : 36 Question Id : 54592714378 Question Type : MCQ Option Shuffling : Yes Display Question Number : Yes
Single Line Question Option : No Option Orientation : Vertical

Correct Marks : 1 Wrong Marks : 0.25

प्रश्न में दी गई दो आकृतियां एक निश्चित तरीके से समान हैं। विकल्पों में से केवल एक आकृति, उसी तरह से प्रश्न में दी गई दो आकृतियों के समान है। उस आकृति को ज्ञात करें।



Options :

1. ✓



2. ✗



3. ✗



4. ✖



Question Number : 37 Question Id : 54592714379 Question Type : MCQ Option Shuffling : Yes Display Question Number : Yes
Single Line Question Option : No Option Orientation : Vertical

Correct Marks : 1 Wrong Marks : 0.25

If a cube is painted yellow on three adjacent sides and red on the other three sides and cut into 64 smaller cubes, then how many such smaller cubes will have one side red and one side yellow and no paint on any other sides?

Options :

1. ✖ 16

2. ✖ 9

3. ✖ 8

4. ✔ 12

Question Number : 37 Question Id : 54592714379 Question Type : MCQ Option Shuffling : Yes Display Question Number : Yes
Single Line Question Option : No Option Orientation : Vertical

Correct Marks : 1 Wrong Marks : 0.25

यदि एक घन को तीन आसन्न साइड को पीले रंग से रंगा जाता है और अन्य तीन तरफ लाल रंग से और उसे 64 छोटे घनों में काट दिया जाता है, तो ऐसे कितने छोटे घन में एक तरफ लाल और एक तरफ पीले और किसी भी अन्य साइड पर कोई पेंट नहीं होगा?

Options :

1. ✖ 16

2. ✖ 9

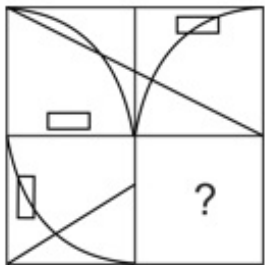
3. ✖ 8

4. ✔ 12

Question Number : 38 Question Id : 54592714380 Question Type : MCQ Option Shuffling : Yes Display Question Number : Yes
Single Line Question Option : No Option Orientation : Vertical

Correct Marks : 1 Wrong Marks : 0.25

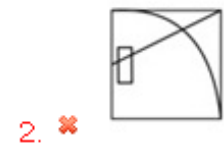
Which of the following answer figures completes the pattern shown in the question figure?



Options :



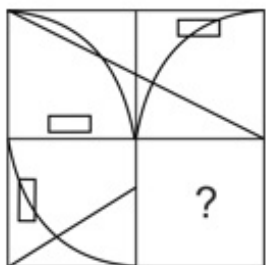
1. ✖



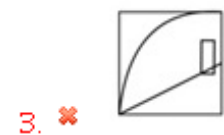
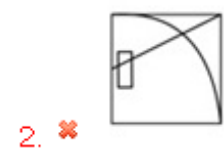
Question Number : 38 Question Id : 54592714380 Question Type : MCQ Option Shuffling : Yes Display Question Number : Yes
Single Line Question Option : No Option Orientation : Vertical

Correct Marks : 1 Wrong Marks : 0.25

निम्नलिखित में से कौन सी उत्तर आकृति, प्रश्न आकृति में दर्शाए गए पैटर्न को पूरा करती है?



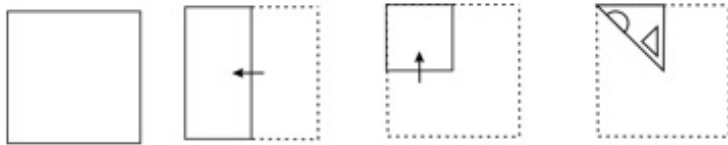
Options :



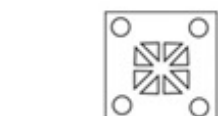
Question Number : 39 Question Id : 54592714381 Question Type : MCQ Option Shuffling : Yes Display Question Number : Yes
Single Line Question Option : No Option Orientation : Vertical

Correct Marks : 1 Wrong Marks : 0.25

A piece of paper is folded and punched as shown below in the question figures. From the given answer figures, indicate how it will appear when opened.



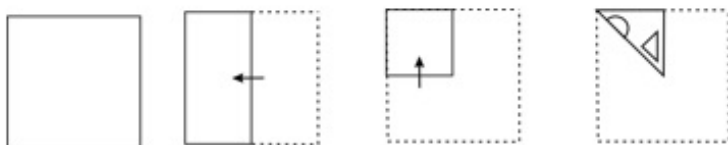
Options :



Question Number : 39 Question Id : 54592714381 Question Type : MCQ Option Shuffling : Yes Display Question Number : Yes
Single Line Question Option : No Option Orientation : Vertical

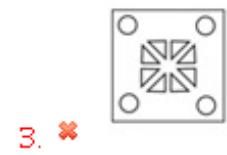
Correct Marks : 1 Wrong Marks : 0.25

प्रश्न आकृति में नीचे दिखाए अनुसार पेपर के टुकड़े को मोड़कर उसमें छेद किए गए हैं। दी गई उत्तर आकृतियों से, इंगित करें कि इसे खोले जाने पर यह कैसा दिखाई देगा।



Options :

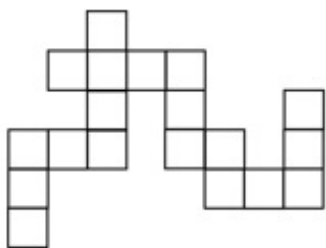




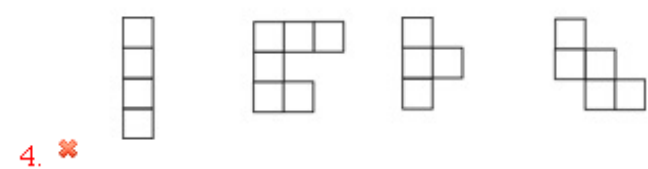

Question Number : 40 Question Id : 54592714382 Question Type : MCQ Option Shuffling : Yes Display Question Number : Yes
Single Line Question Option : No Option Orientation : Vertical

Correct Marks : 1 Wrong Marks : 0.25

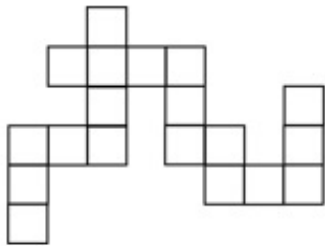
Parts given in which option can be joined to create the pattern given in the question figure?



Options :



Question Number : 40 Question Id : 54592714382 Question Type : MCQ Option Shuffling : Yes Display Question Number : Yes
Single Line Question Option : No Option Orientation : Vertical
Correct Marks : 1 Wrong Marks : 0.25
प्रश्न आकृति में दिए गए पैटर्न को बनाने के लिए कौन से विकल्प जोड़े जा सकते हैं?



Options :

1. ✓

2. ✗

3. ✗

4. ✗

General Awareness1	
Group Number :	3
Group Id :	545927713
Group Maximum Duration :	0
Group Minimum Duration :	0
Revisit allowed for view? :	No
Revisit allowed for edit? :	No
Break time:	0
Group Marks:	20
Revisit allowed for group Instructions? :	Yes
Maximum Instruction Time:	0
Minimum Instruction Time:	0

Section Id :	545927713
Section Number :	1
Section type :	Online
Mandatory or Optional:	Mandatory
Number of Questions:	20
Number of Questions to be attempted:	20
Section Marks:	20
Display Number Panel:	Yes
Group All Questions:	No

Sub-Section Number:	1
Sub-Section Id:	545927855
Question Shuffling Allowed :	Yes

Question Number : 41 Question Id : 54592714383 Question Type : MCQ Option Shuffling : Yes Display Question Number : Yes
Single Line Question Option : No Option Orientation : Vertical

Correct Marks : 1 Wrong Marks : 0.25

Kolkali is a famous dance form associated with _____.

Options :

- ✗ Meghalaya
- ✓ Lakshadweep
- ✗ Tripura
- ✗ Manipur

Question Number : 41 Question Id : 54592714383 Question Type : MCQ Option Shuffling : Yes Display Question Number : Yes
Single Line Question Option : No Option Orientation : Vertical

Correct Marks : 1 Wrong Marks : 0.25

कोलकली _____ से जुड़ा एक प्रसिद्ध नृत्य है।

Options :

- ✗ मेघालय
- ✓ लक्षद्वीप
- ✗ त्रिपुरा
- ✗ मणिपुर

Question Number : 42 Question Id : 54592714384 Question Type : MCQ Option Shuffling : Yes Display Question Number : Yes
Single Line Question Option : No Option Orientation : Vertical

Correct Marks : 1 Wrong Marks : 0.25

Nirguni Lavani is usually _____ in nature.

Options :

- ✗ historical
- ✗ social
- ✓ philosophical
- ✗ sensual

Question Number : 42 Question Id : 54592714384 Question Type : MCQ Option Shuffling : Yes Display Question Number : Yes
Single Line Question Option : No Option Orientation : Vertical

Correct Marks : 1 Wrong Marks : 0.25

निर्गुणी लावणी आमतौर पर प्रकृति में _____ है।

Options :

1. ✖ ऐतिहासिक
2. ✖ सामाजिक
3. ✔ दार्शनिक
4. ✖ कामुक

Question Number : 43 Question Id : 54592714385 Question Type : MCQ Option Shuffling : Yes Display Question Number : Yes
Single Line Question Option : No Option Orientation : Vertical

Correct Marks : 1 Wrong Marks : 0.25

The Charminar is situated on the eastern banks of the _____ River with the Makka Masjid.

Options :

1. ✔ Musi
2. ✖ Krishna
3. ✖ Tapti
4. ✖ Mahanadi

Question Number : 43 Question Id : 54592714385 Question Type : MCQ Option Shuffling : Yes Display Question Number : Yes
Single Line Question Option : No Option Orientation : Vertical

Correct Marks : 1 Wrong Marks : 0.25

चारमीनार मक्का मस्जिद के साथ _____ नदी के पूर्वी तट पर स्थित है

Options :

1. ✔ मूसी
2. ✖ कृष्णा
3. ✖ ताप्ती
4. ✖ महानदी

Question Number : 44 Question Id : 54592714386 Question Type : MCQ Option Shuffling : Yes Display Question Number : Yes
Single Line Question Option : No Option Orientation : Vertical

Correct Marks : 1 Wrong Marks : 0.25

Which among the following is also known as yellow festival?

Options :

1. ✖ Losar
2. ✖ Pongal
3. ✔ Basant Panchami
4. ✖ Maha Shivratri

Question Number : 44 Question Id : 54592714386 Question Type : MCQ Option Shuffling : Yes Display Question Number : Yes
Single Line Question Option : No Option Orientation : Vertical

Correct Marks : 1 Wrong Marks : 0.25

निम्नलिखित में से किसे पीले त्यौहार के रूप में भी जाना जाता है?

Options :

1. ✖ लोसर
2. ✖ पोंगल
3. ✔ बसंत पंचमी
4. ✖ महा शिवरात्रि

Question Number : 45 Question Id : 54592714387 Question Type : MCQ Option Shuffling : Yes Display Question Number : Yes
Single Line Question Option : No Option Orientation : Vertical

Correct Marks : 1 Wrong Marks : 0.25

It was only in 2001 that finance minister Yashwant Sinha changed the practice and the budget began to be introduced at _____.

Options :

1. ✗ 9 am
2. ✓ 11 am
3. ✗ 4 pm
4. ✗ 6 pm

Question Number : 45 Question Id : 54592714387 Question Type : MCQ Option Shuffling : Yes Display Question Number : Yes
Single Line Question Option : No Option Orientation : Vertical

Correct Marks : 1 Wrong Marks : 0.25

2001 में ही वित्त मंत्री यशवंत सिन्हा ने इस प्रथा को बदल दिया और बजट _____ पेश किया जाने लगा।

Options :

1. ✗ 9 पूर्वाह्न
2. ✓ 11 पूर्वाह्न
3. ✗ 4 अपराह्न
4. ✗ 6 अपराह्न

Question Number : 46 Question Id : 54592714388 Question Type : MCQ Option Shuffling : Yes Display Question Number : Yes
Single Line Question Option : No Option Orientation : Vertical

Correct Marks : 1 Wrong Marks : 0.25

The minimum support price for paddy is Rs _____ per quintal for 2019-20 crop season.

Options :

1. ✗ 1835
2. ✗ 1825
3. ✓ 1815
4. ✗ 1845

Question Number : 46 Question Id : 54592714388 Question Type : MCQ Option Shuffling : Yes Display Question Number : Yes
Single Line Question Option : No Option Orientation : Vertical

Correct Marks : 1 Wrong Marks : 0.25

2019-20 के फसल मौसम के लिए धान का न्यूनतम समर्थन मूल्य _____ रुपए प्रति क्विंटल है।

Options :

1. ✗ 1835
2. ✗ 1825
3. ✓ 1815
4. ✗ 1845

Question Number : 47 Question Id : 54592714389 Question Type : MCQ Option Shuffling : Yes Display Question Number : Yes
Single Line Question Option : No Option Orientation : Vertical

Correct Marks : 1 Wrong Marks : 0.25

The first bank in India was the _____.

Options :

1. ✓ General Bank of India
2. ✗ Bank of Bombay
3. ✗ State Bank of India
4. ✗ Central Bank of India

Question Number : 47 Question Id : 54592714389 Question Type : MCQ Option Shuffling : Yes Display Question Number : Yes
Single Line Question Option : No Option Orientation : Vertical

Correct Marks : 1 Wrong Marks : 0.25

भारत में पहला बैंक _____ था।

Options :

1. ✓ जनरल बैंक ऑफ इंडिया
2. ✗ बैंक ऑफ बॉम्बे
3. ✗ भारतीय स्टेट बैंक
4. ✗ सेंट्रल बैंक ऑफ इंडिया

Question Number : 48 Question Id : 54592714390 Question Type : MCQ Option Shuffling : Yes Display Question Number : Yes
Single Line Question Option : No Option Orientation : Vertical

Correct Marks : 1 Wrong Marks : 0.25

Which law states that the rates of diffusion of gases are inversely proportional to the square roots of their densities under similar conditions of temperature and pressure?

Options :

1. ✓ Graham's Law
2. ✗ Kepler's Law
3. ✗ Charles's Law
4. ✗ Boyles's Law

Question Number : 48 Question Id : 54592714390 Question Type : MCQ Option Shuffling : Yes Display Question Number : Yes
Single Line Question Option : No Option Orientation : Vertical

Correct Marks : 1 Wrong Marks : 0.25

कौन से नियम में कहा गया है कि गैसों के प्रसार की दर तापमान और दबाव की समान स्थितियों के तहत उनके घनत्व के वर्गमूल के विपरीत आनुपातिक हैं?

Options :

1. ✓ ग्राहम का नियम
2. ✗ केप्लर का नियम
3. ✗ चार्ल्स का नियम
4. ✗ बॉयल का नियम

Question Number : 49 Question Id : 54592714391 Question Type : MCQ Option Shuffling : Yes Display Question Number : Yes
Single Line Question Option : No Option Orientation : Vertical

Correct Marks : 1 Wrong Marks : 0.25

Which type of ore is Zinc?

Options :

1. ✗ Oxide
2. ✓ Sulphide
3. ✗ Carbonate Ores
4. ✗ Halide Ores

Question Number : 49 Question Id : 54592714391 Question Type : MCQ Option Shuffling : Yes Display Question Number : Yes
Single Line Question Option : No Option Orientation : Vertical

Correct Marks : 1 Wrong Marks : 0.25

जिंक किस प्रकार का अयस्क है?

Options :

1. ✗ ऑक्साइड
2. ✓ सल्फाइड

3. ✖ कार्बोनेट अयस्क

4. ✖ हालिड अयस्क

Question Number : 50 Question Id : 54592714392 Question Type : MCQ Option Shuffling : Yes Display Question Number : Yes
Single Line Question Option : No Option Orientation : Vertical

Correct Marks : 1 Wrong Marks : 0.25

Capra aegagrus hircus is the scientific name of _____.

Options :

1. ✓ goat

2. ✖ donkey

3. ✖ dog

4. ✖ cow

Question Number : 50 Question Id : 54592714392 Question Type : MCQ Option Shuffling : Yes Display Question Number : Yes
Single Line Question Option : No Option Orientation : Vertical

Correct Marks : 1 Wrong Marks : 0.25

काप्रा एगाग्रस हिरकस _____ का वैज्ञानिक नाम है।

Options :

1. ✓ बकरी

2. ✖ गधा

3. ✖ कुत्ता

4. ✖ गाय

Question Number : 51 Question Id : 54592714393 Question Type : MCQ Option Shuffling : Yes Display Question Number : Yes
Single Line Question Option : No Option Orientation : Vertical

Correct Marks : 1 Wrong Marks : 0.25

The part of the flower which receives pollen grains during pollination is _____.

Options :

1. ✓ Stigma

2. ✖ Leaf

3. ✖ Stomata

4. ✖ Chlorophyll

Question Number : 51 Question Id : 54592714393 Question Type : MCQ Option Shuffling : Yes Display Question Number : Yes
Single Line Question Option : No Option Orientation : Vertical

Correct Marks : 1 Wrong Marks : 0.25

फूल का वह भाग जो परागण के दौरान पराग कणों को प्राप्त करता है, वह _____ है।

Options :

1. ✓ स्तिग्मा

2. ✖ पत्ती

3. ✖ रंध्र

4. ✖ क्लोरोफिल

Question Number : 52 Question Id : 54592714394 Question Type : MCQ Option Shuffling : Yes Display Question Number : Yes
Single Line Question Option : No Option Orientation : Vertical

Correct Marks : 1 Wrong Marks : 0.25

The part of the plant that yields saffron spice is the _____.

Options :

1. ✓ stigma

2. ✖ bark
3. ✖ stem
4. ✖ seed

Question Number : 52 Question Id : 54592714394 Question Type : MCQ Option Shuffling : Yes Display Question Number : Yes
Single Line Question Option : No Option Orientation : Vertical

Correct Marks : 1 Wrong Marks : 0.25

पौधे का वह हिस्सा जो केसर मसाला देता है, वह ----- है।

Options :

1. ✔ स्टिग्मा
2. ✖ छाल
3. ✖ तना
4. ✖ बीज

Question Number : 53 Question Id : 54592714395 Question Type : MCQ Option Shuffling : Yes Display Question Number : Yes
Single Line Question Option : No Option Orientation : Vertical

Correct Marks : 1 Wrong Marks : 0.25

MSWM stands for -----.

Options :

1. ✔ Municipal Solid Waste Management
2. ✖ Management for Sanitation and Waste Municipality
3. ✖ Municipal and Sanitation of Waste Management
4. ✖ Municipal Solid Waste Manage

Question Number : 53 Question Id : 54592714395 Question Type : MCQ Option Shuffling : Yes Display Question Number : Yes
Single Line Question Option : No Option Orientation : Vertical

Correct Marks : 1 Wrong Marks : 0.25

MSWM का संक्षिप्तीकरण ----- है।

Options :

1. ✔ म्युनिसिपल सॉलिड वेस्ट मैनेजमेंट
2. ✖ मैनेजमेंट फॉर सैनिटेशन एंड वेस्ट म्युनिसिपैलिटी
3. ✖ म्युनिसिपल एंड सैनिटेशन ऑफ़ वेस्ट मैनेजमेंट
4. ✖ म्युनिसिपल सॉलिड वेस्ट मैनेज

Question Number : 54 Question Id : 54592714396 Question Type : MCQ Option Shuffling : Yes Display Question Number : Yes
Single Line Question Option : No Option Orientation : Vertical

Correct Marks : 1 Wrong Marks : 0.25

What is the standard pulse rate?

Options :

1. ✖ 70 pulses/min
2. ✖ 69 pulses/min
3. ✔ 72 pulses/min
4. ✖ 75 pulses/min

Question Number : 54 Question Id : 54592714396 Question Type : MCQ Option Shuffling : Yes Display Question Number : Yes
Single Line Question Option : No Option Orientation : Vertical

Correct Marks : 1 Wrong Marks : 0.25

मानक पल्स दर क्या है?

Options :

1. ✖ 70 पल्स/ मिनट
2. ✖ 69 पल्स/ मिनट
3. ✔ 72 पल्स/ मिनट
4. ✖ 75 पल्स/ मिनट

Question Number : 55 Question Id : 54592714397 Question Type : MCQ Option Shuffling : Yes Display Question Number : Yes
Single Line Question Option : No Option Orientation : Vertical

Correct Marks : 1 Wrong Marks : 0.25

Pench National Park is situated in

Options :

1. ✖ Tamil Nadu
2. ✖ Uttar Pradesh
3. ✖ Assam
4. ✔ Madhya Pradesh

Question Number : 55 Question Id : 54592714397 Question Type : MCQ Option Shuffling : Yes Display Question Number : Yes
Single Line Question Option : No Option Orientation : Vertical

Correct Marks : 1 Wrong Marks : 0.25

पेंच राष्ट्रीय उद्यान में स्थित है।

Options :

1. ✖ तमिल नाडु
2. ✖ उत्तर प्रदेश
3. ✖ असम
4. ✔ मध्य प्रदेश

Question Number : 56 Question Id : 54592714398 Question Type : MCQ Option Shuffling : Yes Display Question Number : Yes
Single Line Question Option : No Option Orientation : Vertical

Correct Marks : 1 Wrong Marks : 0.25

The river Ganga is formed by the confluence of two rivers and Alaknanda at Devprayag.

Options :

1. ✖ Brahmaputra
2. ✖ Indus
3. ✔ Bhagirathi
4. ✖ Mahanadi

Question Number : 56 Question Id : 54592714398 Question Type : MCQ Option Shuffling : Yes Display Question Number : Yes
Single Line Question Option : No Option Orientation : Vertical

Correct Marks : 1 Wrong Marks : 0.25

देवप्रयाग में गंगा नदी दो नदियों और अलकनंदा के संगम से बनती है।

Options :

1. ✖ ब्रह्मपुत्र
2. ✖ सिंधु
3. ✔ भागीरथी
4. ✖ महानदी

Question Number : 57 Question Id : 54592714399 Question Type : MCQ Option Shuffling : Yes Display Question Number : Yes
Single Line Question Option : No Option Orientation : Vertical

Correct Marks : 1 Wrong Marks : 0.25

Mount Elbert is the highest point of the

Options :

1. ✗ Atlas
2. ✓ Rockies
3. ✗ Eastern Ghats
4. ✗ Elbruz

Question Number : 57 Question Id : 54592714399 Question Type : MCQ Option Shuffling : Yes Display Question Number : Yes
Single Line Question Option : No Option Orientation : Vertical

Correct Marks : 1 Wrong Marks : 0.25

माउंट एल्बर्ट _____ का उच्चतम बिंदु है।

Options :

1. ✗ एटलस
2. ✓ रॉकीज़
3. ✗ पूर्वी घाट
4. ✗ एल्ब्रुज

Question Number : 58 Question Id : 54592714400 Question Type : MCQ Option Shuffling : Yes Display Question Number : Yes
Single Line Question Option : No Option Orientation : Vertical

Correct Marks : 1 Wrong Marks : 0.25

_____ is also known as 'riverine soil' as it is found mainly in river basins.

Options :

1. ✗ Red soil
2. ✗ Black soil
3. ✓ Alluvial soil
4. ✗ Laterite soil

Question Number : 58 Question Id : 54592714400 Question Type : MCQ Option Shuffling : Yes Display Question Number : Yes
Single Line Question Option : No Option Orientation : Vertical

Correct Marks : 1 Wrong Marks : 0.25

_____ को 'रिवेरिन सॉइल' के नाम से भी जाना जाता है क्योंकि यह मुख्य रूप से नदी घाटियों पर पाई जाती है।

Options :

1. ✗ लाल मिट्टी
2. ✗ काली मिट्टी
3. ✓ कछार की मिट्टी
4. ✗ लैटेराइट मिट्टी

Question Number : 59 Question Id : 54592714401 Question Type : MCQ Option Shuffling : Yes Display Question Number : Yes
Single Line Question Option : No Option Orientation : Vertical

Correct Marks : 1 Wrong Marks : 0.25

The Bermuda Triangle is located in the _____ Ocean.

Options :

1. ✓ Atlantic
2. ✗ Pacific
3. ✗ Arctic
4. ✗ Indian

Question Number : 59 Question Id : 54592714401 Question Type : MCQ Option Shuffling : Yes Display Question Number : Yes
Single Line Question Option : No Option Orientation : Vertical

Correct Marks : 1 Wrong Marks : 0.25

बरमूडा त्रिभुज _____ महासागर में स्थित है।

Options :

1. ☒ अटलांटिक
2. ☐ प्रशांत
3. ☐ उत्तरध्रुवीय
4. ☐ हिंद

Question Number : 60 Question Id : 54592714402 Question Type : MCQ Option Shuffling : Yes Display Question Number : Yes
Single Line Question Option : No Option Orientation : Vertical

Correct Marks : 1 Wrong Marks : 0.25

Nepal shares its border with five Indian states - Sikkim, West Bengal, Bihar, Uttar Pradesh and _____.

Options :

1. ☐ Madhya Pradesh
2. ☐ Odisha
3. ☐ Assam
4. ☒ Uttarakhand

Question Number : 60 Question Id : 54592714402 Question Type : MCQ Option Shuffling : Yes Display Question Number : Yes
Single Line Question Option : No Option Orientation : Vertical

Correct Marks : 1 Wrong Marks : 0.25

नेपाल अपनी सीमा पांच भारतीय राज्यों - सिक्किम, पश्चिम बंगाल, बिहार, उत्तर प्रदेश और _____ के साथ साझा करता है।

Options :

1. ☐ मध्य प्रदेश
2. ☐ ओडिशा
3. ☐ असम
4. ☒ उत्तराखंड

Group Number :

Group Id :

Group Maximum Duration :

Group Minimum Duration :

Revisit allowed for view? :

Revisit allowed for edit? :

Break time:

Group Marks:

Revisit allowed for group Instructions? :

Maximum Instruction Time:

Minimum Instruction Time:

General Awareness2

4

545927714

0

0

No

No

0

20

Yes

0

0

General Awareness2

Section Id :

545927714

Section Number :

1

Section type :

Online

Mandatory or Optional:

Mandatory

Number of Questions:

20

Number of Questions to be attempted:

20

Section Marks: 20
Display Number Panel: Yes
Group All Questions: No

Sub-Section Number: 1
Sub-Section Id: 545927856
Question Shuffling Allowed : Yes

Question Number : 61 Question Id : 54592714403 Question Type : MCQ Option Shuffling : Yes Display Question Number : Yes
Single Line Question Option : No Option Orientation : Vertical

Correct Marks : 1 Wrong Marks : 0.25

The largest producer of cotton in India is _____.

Options :

1. ✓ Gujarat
2. ✗ Kerala
3. ✗ Assam
4. ✗ West Bengal

Question Number : 61 Question Id : 54592714403 Question Type : MCQ Option Shuffling : Yes Display Question Number : Yes
Single Line Question Option : No Option Orientation : Vertical

Correct Marks : 1 Wrong Marks : 0.25

भारत में कपास का सबसे बड़ा उत्पादक _____ है।

Options :

1. ✓ गुजरात
2. ✗ केरल
3. ✗ असम
4. ✗ पश्चिम बंगाल

Question Number : 62 Question Id : 54592714404 Question Type : MCQ Option Shuffling : Yes Display Question Number : Yes
Single Line Question Option : No Option Orientation : Vertical

Correct Marks : 1 Wrong Marks : 0.25

Who founded the All India Trade Union Congress?

Note: For this question, discrepancy is found in question/answer. So, this question is ignored for all candidates.

Options :

1. N.M. Joshi with NM Joshi
2. Lala Lajpat Ray & Ray Chaudhary
3. Motilal Nehru & Ray Chaudhary
4. Bhagat Singh & Ray Chaudhary

Question Number : 62 Question Id : 54592714404 Question Type : MCQ Option Shuffling : Yes Display Question Number : Yes
Single Line Question Option : No Option Orientation : Vertical

Correct Marks : 1 Wrong Marks : 0.25

अखिल भारतीय मजदूर संघ काँग्रेस की स्थापना किसने की?

Note: For this question, discrepancy is found in question/answer. So, this question is ignored for all candidates.

Options :

1. एन. एम. जोशी और एन एम रे चौधरी
2. लाला लाजपत राय और रे चौधरी

3. मोतीलाल नेहरू और रे चौधरी
4. भगत सिंह और रे चौधरी

Question Number : 63 Question Id : 54592714405 Question Type : MCQ Option Shuffling : Yes Display Question Number : Yes
Single Line Question Option : No Option Orientation : Vertical

Correct Marks : 1 Wrong Marks : 0.25

Who was the finance consultant at Akbar's court?

Options :

1. ✓ Todar Mal
2. ✗ Abul Faizi
3. ✗ Birbal
4. ✗ Miyan Tansen

Question Number : 63 Question Id : 54592714405 Question Type : MCQ Option Shuffling : Yes Display Question Number : Yes
Single Line Question Option : No Option Orientation : Vertical

Correct Marks : 1 Wrong Marks : 0.25

अकबर के दरबार में वित्त सलाहकार कौन था?

Options :

1. ✓ टोडर मल
2. ✗ अबुल फैजी
3. ✗ बीरबल
4. ✗ मियाँ तानसेन

Question Number : 64 Question Id : 54592714406 Question Type : MCQ Option Shuffling : Yes Display Question Number : Yes
Single Line Question Option : No Option Orientation : Vertical

Correct Marks : 1 Wrong Marks : 0.25

When was the Hindu Widow Remarriage Act passed?

Options :

1. ✗ 1839
2. ✗ 1852
3. ✓ 1856
4. ✗ 1862

Question Number : 64 Question Id : 54592714406 Question Type : MCQ Option Shuffling : Yes Display Question Number : Yes
Single Line Question Option : No Option Orientation : Vertical

Correct Marks : 1 Wrong Marks : 0.25

हिंदू विधवा पुनर्विवाह अधिनियम कब पारित किया गया था?

Options :

1. ✗ 1839
2. ✗ 1852
3. ✓ 1856
4. ✗ 1862

Question Number : 65 Question Id : 54592714407 Question Type : MCQ Option Shuffling : Yes Display Question Number : Yes
Single Line Question Option : No Option Orientation : Vertical

Correct Marks : 1 Wrong Marks : 0.25

Who was the leader of the Great Revolt of 1857 in Barrackpore?

Options :

1. ✗ Rani Laxmibai

2. ✓ Mangal Pandey
3. ✗ Abdul Ali Khan
4. ✗ Amar Singh

Question Number : 65 Question Id : 54592714407 Question Type : MCQ Option Shuffling : Yes Display Question Number : Yes
Single Line Question Option : No Option Orientation : Vertical

Correct Marks : 1 Wrong Marks : 0.25

बैरकपुर में 1857 के महान विद्रोह के नेता कौन थे?

Options :

1. ✗ रानी लक्ष्मीबाई
2. ✓ मंगल पांडे
3. ✗ अब्दुल अली खान
4. ✗ अमर सिंह

Question Number : 66 Question Id : 54592714408 Question Type : MCQ Option Shuffling : Yes Display Question Number : Yes
Single Line Question Option : No Option Orientation : Vertical

Correct Marks : 1 Wrong Marks : 0.25

Who was the successor of Chandragupta I?

Options :

1. ✗ Ashoka
2. ✗ Ballala Sena
3. ✗ Vikramaditya
4. ✓ Samudragupta

Question Number : 66 Question Id : 54592714408 Question Type : MCQ Option Shuffling : Yes Display Question Number : Yes
Single Line Question Option : No Option Orientation : Vertical

Correct Marks : 1 Wrong Marks : 0.25

चंद्रगुप्त I का उत्तराधिकारी कौन था?

Options :

1. ✗ अशोक
2. ✗ बल्लाल सेन
3. ✗ विक्रमादित्य
4. ✓ समुद्रगुप्त

Question Number : 67 Question Id : 54592714409 Question Type : MCQ Option Shuffling : Yes Display Question Number : Yes
Single Line Question Option : No Option Orientation : Vertical

Correct Marks : 1 Wrong Marks : 0.25

Futuhat-e-firozshahi is the autobiography of _____.

Options :

1. ✓ Firoz Shah Tuglaq
2. ✗ Muhammad Tughlaq
3. ✗ Ghiyasuddin Tughlaq
4. ✗ Mohammad Khan

Question Number : 67 Question Id : 54592714409 Question Type : MCQ Option Shuffling : Yes Display Question Number : Yes
Single Line Question Option : No Option Orientation : Vertical

Correct Marks : 1 Wrong Marks : 0.25

फुतुह-ए-फिरोजशाही _____ की आत्मकथा है।

Options :

1. ✓ फिरोज शाह तुगलक
2. ✗ मुहम्मद तुगलक
3. ✗ गियासुद्दीन तुगलक
4. ✗ मोहम्मद खान

Question Number : 68 Question Id : 54592714410 Question Type : MCQ Option Shuffling : Yes Display Question Number : Yes
Single Line Question Option : No Option Orientation : Vertical

Correct Marks : 1 Wrong Marks : 0.25

Who is also known as Narendra?

Options :

1. ✓ Swami Vivekananda
2. ✗ Mahatma Gandhi
3. ✗ Subhash Chandra Bose
4. ✗ Jawaharlal Nehru

Question Number : 68 Question Id : 54592714410 Question Type : MCQ Option Shuffling : Yes Display Question Number : Yes
Single Line Question Option : No Option Orientation : Vertical

Correct Marks : 1 Wrong Marks : 0.25

किसे नरेंद्र के नाम से भी जाना जाता है?

Options :

1. ✓ स्वामी विवेकानंद
2. ✗ महात्मा गांधी
3. ✗ सुभाष चंद्र बोस
4. ✗ जवाहरलाल नेहरू

Question Number : 69 Question Id : 54592714411 Question Type : MCQ Option Shuffling : Yes Display Question Number : Yes
Single Line Question Option : No Option Orientation : Vertical

Correct Marks : 1 Wrong Marks : 0.25

A Paramvir Chakra winner or his kin gets a monthly compensation of _____ a month.

Options :

1. ✗ Rs 25,000
2. ✗ Rs 30,000
3. ✗ Rs 60,000
4. ✓ Rs 20,000

Question Number : 69 Question Id : 54592714411 Question Type : MCQ Option Shuffling : Yes Display Question Number : Yes
Single Line Question Option : No Option Orientation : Vertical

Correct Marks : 1 Wrong Marks : 0.25

परमवीर चक्र विजेता या उसके परिजनों को महीने में _____ का मासिक मुआवजा मिलता है।

Options :

1. ✗ 25,000 रुपए
2. ✗ 30,000 रुपए
3. ✗ 60,000 रुपए
4. ✓ 20,000 रुपए

Question Number : 70 Question Id : 54592714412 Question Type : MCQ Option Shuffling : Yes Display Question Number : Yes
Single Line Question Option : No Option Orientation : Vertical

Correct Marks : 1 Wrong Marks : 0.25

The 'Accidental Prime Minister' is written by _____.

Options :

1. ✓ Sanjaya Baru
2. ✗ Udaya Tara Nayar
3. ✗ Anjali Joseph
4. ✗ Cyrus Mistry

Question Number : 70 Question Id : 54592714412 Question Type : MCQ Option Shuffling : Yes Display Question Number : Yes
Single Line Question Option : No Option Orientation : Vertical

Correct Marks : 1 Wrong Marks : 0.25

----- द्वारा द 'एक्सीडेंटल प्राइम मिनिस्टर' लिखा गया है।

Options :

1. ✓ संजय बारू
2. ✗ उदया तारा नायर
3. ✗ अंजलि जोसेफ
4. ✗ साइरस मिस्त्री

Question Number : 71 Question Id : 54592714413 Question Type : MCQ Option Shuffling : Yes Display Question Number : Yes
Single Line Question Option : No Option Orientation : Vertical

Correct Marks : 1 Wrong Marks : 0.25

The League of Nations was founded in ----- to keep the peace after World War I.

Options :

1. ✗ 1902
2. ✓ 1919
3. ✗ 1921
4. ✗ 1905

Question Number : 71 Question Id : 54592714413 Question Type : MCQ Option Shuffling : Yes Display Question Number : Yes
Single Line Question Option : No Option Orientation : Vertical

Correct Marks : 1 Wrong Marks : 0.25

विश्व युद्ध I के बाद शांति बनाए रखने के लिए राष्ट्र संघ की स्थापना ----- में की गई थी।

Options :

1. ✗ 1902
2. ✓ 1919
3. ✗ 1921
4. ✗ 1905

Question Number : 72 Question Id : 54592714414 Question Type : MCQ Option Shuffling : Yes Display Question Number : Yes
Single Line Question Option : No Option Orientation : Vertical

Correct Marks : 1 Wrong Marks : 0.25

The Three Musketeers' is written by -----.

Options :

1. ✗ Jules Verne
2. ✗ Charles Dickens
3. ✓ Alexander Dumas
4. ✗ Daniel Defoe

Question Number : 72 Question Id : 54592714414 Question Type : MCQ Option Shuffling : Yes Display Question Number : Yes
Single Line Question Option : No Option Orientation : Vertical

Correct Marks : 1 Wrong Marks : 0.25

द श्री मस्किटर्स _____ द्वारा लिखी गई है

Options :

1. ✗ जूलस वर्न
2. ✗ चार्ल्स डिक्केस
3. ✓ अलेक्जेंडर डुमास
4. ✗ डैनियल डेफॉ

Question Number : 73 Question Id : 54592714415 Question Type : MCQ Option Shuffling : Yes Display Question Number : Yes
Single Line Question Option : No Option Orientation : Vertical

Correct Marks : 1 Wrong Marks : 0.25

_____ is the largest domestic communication system in the Asia-Pacific region.

Options :

1. ✓ INSAT
2. ✗ ISRO
3. ✗ IGNOU
4. ✗ IPDC

Question Number : 73 Question Id : 54592714415 Question Type : MCQ Option Shuffling : Yes Display Question Number : Yes
Single Line Question Option : No Option Orientation : Vertical

Correct Marks : 1 Wrong Marks : 0.25

एशिया-प्रशांत क्षेत्र में सबसे बड़ी घरेलू संचार प्रणाली _____ है

Options :

1. ✓ इनसैट
2. ✗ इसरो
3. ✗ इप्सू
4. ✗ आइ.पी.डी.सी.

Question Number : 74 Question Id : 54592714416 Question Type : MCQ Option Shuffling : Yes Display Question Number : Yes
Single Line Question Option : No Option Orientation : Vertical

Correct Marks : 1 Wrong Marks : 0.25

According to Article 170, the number of seats in the Legislative Assembly of each state to consist of not more than _____

Options :

1. ✗ 450
2. ✓ 500
3. ✗ 525
4. ✗ 600

Question Number : 74 Question Id : 54592714416 Question Type : MCQ Option Shuffling : Yes Display Question Number : Yes
Single Line Question Option : No Option Orientation : Vertical

Correct Marks : 1 Wrong Marks : 0.25

अनुच्छेद 170 के अनुसार, प्रत्येक राज्य की विधान सभा में सीटों की संख्या _____ से अधिक नहीं होनी चाहिए

Options :

1. ✗ 450
2. ✓ 500
3. ✗ 525
4. ✗ 600

Question Number : 75 Question Id : 54592714417 Question Type : MCQ Option Shuffling : Yes Display Question Number : Yes
Single Line Question Option : No Option Orientation : Vertical

Correct Marks : 1 Wrong Marks : 0.25

What is the minimum age limit for employment in a factory?

Options :

1. ✗ 16 years
2. ✗ 10 years
3. ✓ 14 years
4. ✗ 18 years

Question Number : 75 Question Id : 54592714417 Question Type : MCQ Option Shuffling : Yes Display Question Number : Yes
Single Line Question Option : No Option Orientation : Vertical

Correct Marks : 1 Wrong Marks : 0.25

किसी कारखाने में रोजगार के लिए न्यूनतम आयु सीमा क्या है?

Options :

1. ✗ 16 वर्ष
2. ✗ 10 वर्ष
3. ✓ 14 वर्ष
4. ✗ 18 वर्ष

Question Number : 76 Question Id : 54592714418 Question Type : MCQ Option Shuffling : Yes Display Question Number : Yes
Single Line Question Option : No Option Orientation : Vertical

Correct Marks : 1 Wrong Marks : 0.25

Konkani, Manipuri and Nepali have been added as languages in the _____ schedule of the 71st amendment.

Options :

1. ✓ 8th
2. ✗ 9th
3. ✗ 10th
4. ✗ 7th

Question Number : 76 Question Id : 54592714418 Question Type : MCQ Option Shuffling : Yes Display Question Number : Yes
Single Line Question Option : No Option Orientation : Vertical

Correct Marks : 1 Wrong Marks : 0.25

कोंकणी, मणिपुरी और नेपाली को 71 वें संशोधन के _____ अनुसूची में भाषाओं के रूप में जोड़ा गया है।

Options :

1. ✓ 8 वें
2. ✗ 9 वें
3. ✗ 10 वें
4. ✗ 7 वें

Question Number : 77 Question Id : 54592714419 Question Type : MCQ Option Shuffling : Yes Display Question Number : Yes
Single Line Question Option : No Option Orientation : Vertical

Correct Marks : 1 Wrong Marks : 0.25

According to Article 171, the total number of members in the Legislative Council of a State shall in no case be less than _____.

Options :

1. ✗ 35
2. ✓ 40
3. ✗ 60

4. ✖ 70

Question Number : 77 Question Id : 54592714419 Question Type : MCQ Option Shuffling : Yes Display Question Number : Yes
Single Line Question Option : No Option Orientation : Vertical

Correct Marks : 1 Wrong Marks : 0.25

अनुच्छेद 171 के अनुसार, किसी राज्य की विधान परिषद में कुल सदस्य किसी भी स्थिति में _____ से कम नहीं होंगे।

Options :

1. ✖ 35

2. ✔ 40

3. ✖ 60

4. ✖ 70

Question Number : 78 Question Id : 54592714420 Question Type : MCQ Option Shuffling : Yes Display Question Number : Yes
Single Line Question Option : No Option Orientation : Vertical

Correct Marks : 1 Wrong Marks : 0.25

Who won Indonesia Open BWF Tour Super 1000 tournament?

Options :

1. ✖ PV Sindhu

2. ✔ Akane Yamaguchi

3. ✖ Shane Lowry

4. ✖ Saina Nehwal

Question Number : 78 Question Id : 54592714420 Question Type : MCQ Option Shuffling : Yes Display Question Number : Yes
Single Line Question Option : No Option Orientation : Vertical

Correct Marks : 1 Wrong Marks : 0.25

इंडोनेशिया ओपन BWF टूर सुपर 1000 टूर्नामेंट किसने जीता?

Options :

1. ✖ पी.वी. सिंधु

2. ✔ अकाने यामागुची

3. ✖ शेन लोरी

4. ✖ साइना नेहवाल

Question Number : 79 Question Id : 54592714421 Question Type : MCQ Option Shuffling : Yes Display Question Number : Yes
Single Line Question Option : No Option Orientation : Vertical

Correct Marks : 1 Wrong Marks : 0.25

International Cricket Council has suspended _____ for failing to ensure there is no government interference in its running of the sport.

Options :

1. ✖ Afghanistan

2. ✖ England

3. ✔ Zimbabwe

4. ✖ Netherlands

Question Number : 79 Question Id : 54592714421 Question Type : MCQ Option Shuffling : Yes Display Question Number : Yes
Single Line Question Option : No Option Orientation : Vertical

Correct Marks : 1 Wrong Marks : 0.25

अंतर्राष्ट्रीय क्रिकेट परिषद ने _____ को यह सुनिश्चित करने में विफल रहने के लिए निलंबित कर दिया कि खेल के संचालन में कोई सरकारी हस्तक्षेप न हो।

Options :

- ✖ अफ़ग़ानिस्तान
- ✖ इंगलैंड
- ✔ जिम्बाब्वे
- ✖ नीदरलैंड

Question Number : 80 Question Id : 54592714422 Question Type : MCQ Option Shuffling : Yes Display Question Number : Yes
Single Line Question Option : No Option Orientation : Vertical
Correct Marks : 1 Wrong Marks : 0.25

The 21st Commonwealth Table Tennis Championship took place in -----.

Options :

- ✖ Mumbai
- ✖ New Delhi
- ✔ Odisha
- ✖ Gujarat

Question Number : 80 Question Id : 54592714422 Question Type : MCQ Option Shuffling : Yes Display Question Number : Yes
Single Line Question Option : No Option Orientation : Vertical
Correct Marks : 1 Wrong Marks : 0.25

21वीं राष्ट्रमंडल टेबल टेनिस चैम्पियनशिप ----- में हुई थी।

Options :

- ✖ मुंबई
- ✖ नई दिल्ली
- ✔ ओडिशा
- ✖ गुजरात

	Arithmetic Ability1
Group Number :	5
Group Id :	545927715
Group Maximum Duration :	0
Group Minimum Duration :	0
Revisit allowed for view? :	No
Revisit allowed for edit? :	No
Break time:	0
Group Marks:	20
Revisit allowed for group Instructions? :	Yes
Maximum Instruction Time:	0
Minimum Instruction Time:	0

	Arithmetic Ability1
Section Id :	545927715
Section Number :	1
Section type :	Online
Mandatory or Optional:	Mandatory
Number of Questions:	20
Number of Questions to be attempted:	20
Section Marks:	20
Display Number Panel:	Yes

Group All Questions:

No

Sub-Section Number:

1

Sub-Section Id:

545927857

Question Shuffling Allowed :

Yes

Question Number : 81 Question Id : 54592714423 Question Type : MCQ Option Shuffling : Yes Display Question Number : Yes
Single Line Question Option : No Option Orientation : Vertical

Correct Marks : 1 Wrong Marks : 0.25

Simplify: $(3.5 \times 4.25) \div (2.75 \times 3.375) = ?$

Options :

1. ✖ 238/145

2. ✖ 136/235

3. ✖ 140/337

4. ✔ 476/297

Question Number : 81 Question Id : 54592714423 Question Type : MCQ Option Shuffling : Yes Display Question Number : Yes
Single Line Question Option : No Option Orientation : Vertical

Correct Marks : 1 Wrong Marks : 0.25

सरल करें: $(3.5 \times 4.25) \div (2.75 \times 3.375) = ?$

Options :

1. ✖ 238/145

2. ✖ 136/235

3. ✖ 140/337

4. ✔ 476/297

Question Number : 82 Question Id : 54592714424 Question Type : MCQ Option Shuffling : Yes Display Question Number : Yes
Single Line Question Option : No Option Orientation : Vertical

Correct Marks : 1 Wrong Marks : 0.25

What is the greatest number that can divide 79, 96, and 65 leaving remainders of 4, 6 and 5 respectively ?

Options :

1. ✔ 15

2. ✖ 17

3. ✖ 19

4. ✖ 13

Question Number : 82 Question Id : 54592714424 Question Type : MCQ Option Shuffling : Yes Display Question Number : Yes
Single Line Question Option : No Option Orientation : Vertical

Correct Marks : 1 Wrong Marks : 0.25

सबसे बड़ी संख्या क्या है, जो क्रमशः 79, 96 और 65 को विभाजित करके शेष 4, 6 और 5 छोड़ सकती है?

Options :

1. ✔ 15

2. ✖ 17

3. ✖ 19

4. ✖ 13

Question Number : 83 Question Id : 54592714425 Question Type : MCQ Option Shuffling : Yes Display Question Number : Yes
Single Line Question Option : No Option Orientation : Vertical

Correct Marks : 1 Wrong Marks : 0.25

Find the LCM of $4/3$, $5/2$, and $6/13$?

Options :

1. ✗ 78
2. ✓ 60
3. ✗ $1/78$
4. ✗ $1/60$

Question Number : 83 Question Id : 54592714425 Question Type : MCQ Option Shuffling : Yes Display Question Number : Yes
Single Line Question Option : No Option Orientation : Vertical

Correct Marks : 1 Wrong Marks : 0.25

$4/3$, $5/2$, और $6/13$ के लघुत्तम समापवर्तक ज्ञात करें?

Options :

1. ✗ 78
2. ✓ 60
3. ✗ $1/78$
4. ✗ $1/60$

Question Number : 84 Question Id : 54592714426 Question Type : MCQ Option Shuffling : Yes Display Question Number : Yes
Single Line Question Option : No Option Orientation : Vertical

Correct Marks : 1 Wrong Marks : 0.25

Simplify: $\sqrt{121} + \sqrt{(110 + \sqrt{36} + \sqrt{25})} = ?$

Options :

1. ✓ 22
2. ✗ 21
3. ✗ 20
4. ✗ 19

Question Number : 84 Question Id : 54592714426 Question Type : MCQ Option Shuffling : Yes Display Question Number : Yes
Single Line Question Option : No Option Orientation : Vertical

Correct Marks : 1 Wrong Marks : 0.25

सरल करें: $\sqrt{121} + \sqrt{(110 + \sqrt{36} + \sqrt{25})} = ?$

Options :

1. ✓ 22
2. ✗ 21
3. ✗ 20
4. ✗ 19

Question Number : 85 Question Id : 54592714427 Question Type : MCQ Option Shuffling : Yes Display Question Number : Yes
Single Line Question Option : No Option Orientation : Vertical

Correct Marks : 1 Wrong Marks : 0.25

Find the HCF of $40/12$, $36/20$ and $32/18$.

Options :

1. ✗ $1/72$
2. ✗ 45
3. ✓ $1/45$
4. ✗ 72

Question Number : 85 Question Id : 54592714427 Question Type : MCQ Option Shuffling : Yes Display Question Number : Yes
Single Line Question Option : No Option Orientation : Vertical

Correct Marks : 1 Wrong Marks : 0.25

40/12, 36/20 और 32/18 का महत्तम समापवर्तक ज्ञात करें

Options :

1. ✗ $1/72$
2. ✗ 45
3. ✓ $1/45$
4. ✗ 72

Question Number : 86 Question Id : 54592714428 Question Type : MCQ Option Shuffling : Yes Display Question Number : Yes
Single Line Question Option : No Option Orientation : Vertical

Correct Marks : 1 Wrong Marks : 0.25

X and Y are 2 numbers such that their ratio is 2:3, is 2 : 3 and their HCF is 10. Find the LCM of the numbers?

Options :

1. ✗ 50
2. ✓ 60
3. ✗ 40
4. ✗ 70

Question Number : 86 Question Id : 54592714428 Question Type : MCQ Option Shuffling : Yes Display Question Number : Yes
Single Line Question Option : No Option Orientation : Vertical

Correct Marks : 1 Wrong Marks : 0.25

X और Y 2 दो ऐसे अंक हैं, जिनका अनुपात 2:3 है और उनका महत्तम समापवर्तक 10 है। संख्याओं का लघुत्तम समापवर्तक ज्ञात करें?

Options :

1. ✗ 50
2. ✓ 60
3. ✗ 40
4. ✗ 70

Question Number : 87 Question Id : 54592714429 Question Type : MCQ Option Shuffling : Yes Display Question Number : Yes
Single Line Question Option : No Option Orientation : Vertical

Correct Marks : 1 Wrong Marks : 0.25

Find value of x if: $7 \div x + (3 \times 3) - 5 = 5$

Options :

1. ✓ 7
2. ✗ $7/2$
3. ✗ $7/3$
4. ✗ $7/4$

Question Number : 87 Question Id : 54592714429 Question Type : MCQ Option Shuffling : Yes Display Question Number : Yes
Single Line Question Option : No Option Orientation : Vertical

Correct Marks : 1 Wrong Marks : 0.25

X का मूल्य ज्ञात करें यदि: $7 \div x + (3 \times 3) - 5 = 5$

Options :

1. ✓ 7
2. ✗ $7/2$
3. ✗ $7/3$
4. ✗ $7/4$

Question Number : 88 Question Id : 54592714430 Question Type : MCQ Option Shuffling : Yes Display Question Number : Yes
Single Line Question Option : No Option Orientation : Vertical

Correct Marks : 1 Wrong Marks : 0.25

Simplify: $1 \{1 \times 1 + 2 \times (2 + 3) \times 4 + 4 \times \sqrt{4}\} = ?$

Note: For this question, discrepancy is found in question/answer. So, this question is ignored for all candidates.

Options :

1. 112
2. 96
3. 54
4. 108

Question Number : 88 Question Id : 54592714430 Question Type : MCQ Option Shuffling : Yes Display Question Number : Yes
Single Line Question Option : No Option Orientation : Vertical

Correct Marks : 1 Wrong Marks : 0.25

सरल करें: $1 \{1 \times 1 + 2 \times (2 + 3) \times 4 + 4 \times \sqrt{4}\} = ?$

Note: For this question, discrepancy is found in question/answer. So, this question is ignored for all candidates.

Options :

1. 112
2. 96
3. 54
4. 108

Question Number : 89 Question Id : 54592714431 Question Type : MCQ Option Shuffling : Yes Display Question Number : Yes
Single Line Question Option : No Option Orientation : Vertical

Correct Marks : 1 Wrong Marks : 0.25

Which of the following three numbers have LCM 144 and HCF 12?

Options :

1. ✗ (24, 30, 36)
2. ✓ (24, 48, 36)
3. ✗ (18, 30, 36)
4. ✗ (24, 30, 42)

Question Number : 89 Question Id : 54592714431 Question Type : MCQ Option Shuffling : Yes Display Question Number : Yes
Single Line Question Option : No Option Orientation : Vertical

Correct Marks : 1 Wrong Marks : 0.25

निम्नलिखित तीन संख्या में से किस का लघुत्तम समापवर्तक 144 और महत्तम समापवर्तक 12 है?

Options :

1. ✗ (24, 30, 36)
2. ✓ (24, 48, 36)
3. ✗ (18, 30, 36)
4. ✗ (24, 30, 42)

Question Number : 90 Question Id : 54592714432 Question Type : MCQ Option Shuffling : Yes Display Question Number : Yes
Single Line Question Option : No Option Orientation : Vertical

Correct Marks : 1 Wrong Marks : 0.25

Find the HCF of 40, 55, 60, 42.

Options :

1. ✖ 4
2. ✔ 1
3. ✖ 2
4. ✖ 3

Question Number : 90 Question Id : 54592714432 Question Type : MCQ Option Shuffling : Yes Display Question Number : Yes
Single Line Question Option : No Option Orientation : Vertical

Correct Marks : 1 Wrong Marks : 0.25

40, 55, 60, 42 का महत्तम समापवर्तक ज्ञात करें।

Options :

1. ✖ 4
2. ✔ 1
3. ✖ 2
4. ✖ 3

Question Number : 91 Question Id : 54592714433 Question Type : MCQ Option Shuffling : Yes Display Question Number : Yes
Single Line Question Option : No Option Orientation : Vertical

Correct Marks : 1 Wrong Marks : 0.25

Find the average of the first four triple digit prime numbers.

Options :

1. ✖ 100
2. ✔ 105
3. ✖ 110
4. ✖ 120

Question Number : 91 Question Id : 54592714433 Question Type : MCQ Option Shuffling : Yes Display Question Number : Yes
Single Line Question Option : No Option Orientation : Vertical

Correct Marks : 1 Wrong Marks : 0.25

प्रथम चार, तीन अंक अभाज्य संख्याओं का औसत ज्ञात करें।

Options :

1. ✖ 100
2. ✔ 105
3. ✖ 110
4. ✖ 120

Question Number : 92 Question Id : 54592714434 Question Type : MCQ Option Shuffling : Yes Display Question Number : Yes
Single Line Question Option : No Option Orientation : Vertical

Correct Marks : 1 Wrong Marks : 0.25

Three circles have an area of 4π , 9π and 25π sq cm respectively. Find the average of their radius?

Options :

1. ✔ 3.33 cm
2. ✖ 4.66 cm
3. ✖ 5 cm
4. ✖ 5.54 cm

Question Number : 92 Question Id : 54592714434 Question Type : MCQ Option Shuffling : Yes Display Question Number : Yes
Single Line Question Option : No Option Orientation : Vertical

Correct Marks : 1 Wrong Marks : 0.25

तीन वृत्त का क्षेत्रफल क्रमशः 4π , 9π और 25π sq cm का है। उनकी औसत त्रिज्या ज्ञात करें?

Options :

1. ✓ 3.33 cm
2. ✗ 4.66 cm
3. ✗ 5 cm
4. ✗ 5.54 cm

Question Number : 93 Question Id : 54592714435 Question Type : MCQ Option Shuffling : Yes Display Question Number : Yes
Single Line Question Option : No Option Orientation : Vertical

Correct Marks : 1 Wrong Marks : 0.25

Ram sold 10 pens for Rs. 1 each. At end of day, he sold 8 pens at Rs. 10 and gave 4 pens for free. Find his average selling price.

Options :

1. ✗ Rs. 0.82
2. ✓ Rs. 0.91
3. ✗ Rs. 0.88
4. ✗ Rs.0.94

Question Number : 93 Question Id : 54592714435 Question Type : MCQ Option Shuffling : Yes Display Question Number : Yes
Single Line Question Option : No Option Orientation : Vertical

Correct Marks : 1 Wrong Marks : 0.25

राम ने प्रति पेन एक रुपए के हिसाब से 10 पेन बेचे। दिन के अंत में, उसने 10 रुपए में 8 पेन बेचे दिए, जबकि 4 पेन मुफ्त में दिए। उसकी औसत बिक्री मूल्य ज्ञात करें?

Options :

1. ✗ 0.82 रुपए
2. ✓ 0.91 रुपए
3. ✗ 0.88 रुपए
4. ✗ 0.94 रुपए

Question Number : 94 Question Id : 54592714436 Question Type : MCQ Option Shuffling : Yes Display Question Number : Yes
Single Line Question Option : No Option Orientation : Vertical

Correct Marks : 1 Wrong Marks : 0.25

Rohit scored 96 runs in 80 balls. If 24 runs were scored in 4 balls, what percent runs out of total runs were scored in the remaining balls?

Options :

1. ✗ 70 percent
2. ✗ 72.50 percent
3. ✓ 75 percent
4. ✗ 77.50 percent

Question Number : 94 Question Id : 54592714436 Question Type : MCQ Option Shuffling : Yes Display Question Number : Yes
Single Line Question Option : No Option Orientation : Vertical

Correct Marks : 1 Wrong Marks : 0.25

रोहित ने 80 गेंदों में 96 रन बनाए। यदि 4 गेंदों में 24 रन बनाए गए, तो शेष गेंदों में कुल रनों में से कितने प्रतिशत रन बने?

Options :

1. ✗ 70 प्रतिशत
2. ✗ 72.50 प्रतिशत
3. ✓ 75 प्रतिशत
4. ✗ 77.50 प्रतिशत

Question Number : 95 Question Id : 54592714437 Question Type : MCQ Option Shuffling : Yes Display Question Number : Yes
Single Line Question Option : No Option Orientation : Vertical

Correct Marks : 1 Wrong Marks : 0.25

If the side of a square is doubled, percentage increase in area = ?

Options :

1. ✖ 200 percent
2. ✔ 300 percent
3. ✖ 400 percent
4. ✖ 800 percent

Question Number : 95 Question Id : 54592714437 Question Type : MCQ Option Shuffling : Yes Display Question Number : Yes
Single Line Question Option : No Option Orientation : Vertical

Correct Marks : 1 Wrong Marks : 0.25

यदि किसी वर्ग का भाग दोगुना कर दिया जाता है, तो क्षेत्रफल में प्रतिशत वृद्धि = ?

Options :

1. ✖ 200 प्रतिशत
2. ✔ 300 प्रतिशत
3. ✖ 400 प्रतिशत
4. ✖ 800 प्रतिशत

Question Number : 96 Question Id : 54592714438 Question Type : MCQ Option Shuffling : Yes Display Question Number : Yes
Single Line Question Option : No Option Orientation : Vertical

Correct Marks : 1 Wrong Marks : 0.25

A customer buys petrol at Rs. 70 per litre. He gets a 10 percent discount on his credit card and 2 percent reward. What percent petrol does he pay for?

Options :

1. ✖ 62.50 percent
2. ✖ 75 percent
3. ✔ 88 percent
4. ✖ 90 percent

Question Number : 96 Question Id : 54592714438 Question Type : MCQ Option Shuffling : Yes Display Question Number : Yes
Single Line Question Option : No Option Orientation : Vertical

Correct Marks : 1 Wrong Marks : 0.25

एक ग्राहक 70 रुपए प्रति लीटर पेट्रोल खरीदता है। उसे अपने क्रेडिट कार्ड पर 10 प्रतिशत की छूट और 2 प्रतिशत का इनाम मिलता है। वह कितने प्रतिशत पेट्रोल का भुगतान करता है?

Options :

1. ✖ 62.50 प्रतिशत
2. ✖ 75 प्रतिशत
3. ✔ 88 प्रतिशत
4. ✖ 90 प्रतिशत

Question Number : 97 Question Id : 54592714439 Question Type : MCQ Option Shuffling : Yes Display Question Number : Yes
Single Line Question Option : No Option Orientation : Vertical

Correct Marks : 1 Wrong Marks : 0.25

A car was purchased for Rs. 1,00,000 and Rs. 10,000 was spent on repairs. The car was then sold at Rs. 1,32,000. Find the net profit percent?

Options :

1. ✖ 32 percent
2. ✖ 25 percent

3. ✓ 20 percent

4. ✗ 16 percent

Question Number : 97 Question Id : 54592714439 Question Type : MCQ Option Shuffling : Yes Display Question Number : Yes
Single Line Question Option : No Option Orientation : Vertical

Correct Marks : 1 Wrong Marks : 0.25

एक कार 1,00,000 रुपए में खरीदी गई थी और 10,000 रुपए मरम्मत पर खर्च किया गया था। कार तब 1,32,000 रुपए में बेची गई थी। शुद्ध लाभ प्रतिशत ज्ञात करें?

Options :

1. ✗ 32 प्रतिशत

2. ✗ 25 प्रतिशत

3. ✓ 20 प्रतिशत

4. ✗ 16 प्रतिशत

Question Number : 98 Question Id : 54592714440 Question Type : MCQ Option Shuffling : Yes Display Question Number : Yes
Single Line Question Option : No Option Orientation : Vertical

Correct Marks : 1 Wrong Marks : 0.25

A shopkeeper buys peanuts at Rs. 450 per kg, and sells it in packets of 50 g. Each packet costs a additional Rs. 0.5. At what price should he sell each packet of peanuts to make 10 percent profit?

Options :

1. ✗ Rs 23

2. ✓ Rs. 25.3

3. ✗ Rs 21

4. ✗ Rs. 27.5

Question Number : 98 Question Id : 54592714440 Question Type : MCQ Option Shuffling : Yes Display Question Number : Yes
Single Line Question Option : No Option Orientation : Vertical

Correct Marks : 1 Wrong Marks : 0.25

एक दुकानदार 450 प्रति kg रुपए मूंगफली खरीदता है और इसे 50 g के पैकेट में बेचता है। प्रत्येक पैकेट पर अतिरिक्त लागत 0.5 रुपए लगाता है। 10 प्रतिशत लाभ कमाने के लिए उसे मूंगफली के प्रत्येक पैकेट को किस मूल्य पर बेचना चाहिए?

Options :

1. ✗ 23 रुपए

2. ✓ 25.3 रुपए

3. ✗ 21 रुपए

4. ✗ 27.5 रुपए

Question Number : 99 Question Id : 54592714441 Question Type : MCQ Option Shuffling : Yes Display Question Number : Yes
Single Line Question Option : No Option Orientation : Vertical

Correct Marks : 1 Wrong Marks : 0.25

A food shop sells burgers at Rs. 50 and cold drinks at Rs. 40. If he sells both in a combo at Rs. 80, then what is his loss percent in selling the combo?

Options :

1. ✗ 10 percent

2. ✓ 11.11 percent

3. ✗ 12.50 percent

4. ✗ 15 percent

Question Number : 99 Question Id : 54592714441 Question Type : MCQ Option Shuffling : Yes Display Question Number : Yes
Single Line Question Option : No Option Orientation : Vertical

Correct Marks : 1 Wrong Marks : 0.25

एक भोजनालय में बर्गर 50 रुपए और ठंडा पेय 40 रुपए में बेचा जाता है। यदि दुकानदार एक पैकेज में दोनों 80 रुपये में बेचता है, तो कॉम्बो बेचने में उसका नुकसान का प्रतिशत कितना है?

Options :

1. ✗ 10 प्रतिशत
2. ✓ 11.11 प्रतिशत
3. ✗ 12.50 प्रतिशत
4. ✗ 15 प्रतिशत

Question Number : 100 Question Id : 54592714442 Question Type : MCQ Option Shuffling : Yes Display Question Number : Yes
Single Line Question Option : No Option Orientation : Vertical

Correct Marks : 1 Wrong Marks : 0.25

If a, b, c, d are in proportion, and $(a + b) : a :: (a + c) : d$, find d?

Options :

1. ✗ $d = b$
2. ✗ $d = a + b$
3. ✗ $d = a - b$
4. ✓ $d = a$

Question Number : 100 Question Id : 54592714442 Question Type : MCQ Option Shuffling : Yes Display Question Number : Yes
Single Line Question Option : No Option Orientation : Vertical

Correct Marks : 1 Wrong Marks : 0.25

यदि a, b, c, d आनुपातिक हैं, और $(a + b) : a :: (a + c) : d$, d ज्ञात करें?

Options :

1. ✗ $d = b$
2. ✗ $d = a + b$
3. ✗ $d = a - b$
4. ✓ $d = a$

Group Number : 6
Group Id : 545927716
Group Maximum Duration : 0
Group Minimum Duration : 0
Revisit allowed for view? : No
Revisit allowed for edit? : No
Break time: 0
Group Marks: 20
Revisit allowed for group Instructions? : Yes
Maximum Instruction Time: 0
Minimum Instruction Time: 0

Arithmetic Ability2

Arithmetic Ability2

Section Id : 545927716
Section Number : 1
Section type : Online
Mandatory or Optional: Mandatory
Number of Questions: 20

Number of Questions to be attempted: 20
Section Marks: 20
Display Number Panel: Yes
Group All Questions: No

Sub-Section Number: 1
Sub-Section Id: 545927858
Question Shuffling Allowed : Yes

Question Number : 101 Question Id : 54592714443 Question Type : MCQ Option Shuffling : Yes Display Question Number : Yes
Single Line Question Option : No Option Orientation : Vertical

Correct Marks : 1 Wrong Marks : 0.25

Find the ratio between the sum and product of the first two double digit prime numbers.

Options :

1. ✗ 11 : 13
2. ✓ 24 : 143
3. ✗ 12 : 143
4. ✗ 21 : 13

Question Number : 101 Question Id : 54592714443 Question Type : MCQ Option Shuffling : Yes Display Question Number : Yes
Single Line Question Option : No Option Orientation : Vertical

Correct Marks : 1 Wrong Marks : 0.25

पहले दो दोगुने अंक अविभाज्य संख्याओं के योग और उत्पाद के बीच का अनुपात ज्ञात करें

Options :

1. ✗ 11 : 13
2. ✓ 24 : 143
3. ✗ 12 : 143
4. ✗ 21 : 13

Question Number : 102 Question Id : 54592714444 Question Type : MCQ Option Shuffling : Yes Display Question Number : Yes
Single Line Question Option : No Option Orientation : Vertical

Correct Marks : 1 Wrong Marks : 0.25

If a square and circle have the same measure of side and radius, calculate the ratio of their areas?

Options :

1. ✓ 1 : 3.14
2. ✗ 3.14 : 1
3. ✗ 44 : 49
4. ✗ 49 : 44

Question Number : 102 Question Id : 54592714444 Question Type : MCQ Option Shuffling : Yes Display Question Number : Yes
Single Line Question Option : No Option Orientation : Vertical

Correct Marks : 1 Wrong Marks : 0.25

यदि एक वर्ग और वृत्त का एक ही साइड और त्रिज्या है, तो उनके क्षेत्र के अनुपात की गणना करें?

Options :

1. ✓ 1 : 3.14
2. ✗ 3.14 : 1
3. ✗ 44 : 49
4. ✗ 49 : 44

Question Number : 103 Question Id : 54592714445 Question Type : MCQ Option Shuffling : Yes Display Question Number : Yes
Single Line Question Option : No Option Orientation : Vertical

Correct Marks : 1 Wrong Marks : 0.25

Rekha invested Rs. 1000 at beginning of each year for 3 years. She received Rs. 3600 after 3 years, what is the rate of simple interest per year?

Options :

1. ✖ 6 percent
2. ✖ 8 percent
3. ✔ 10 percent
4. ✖ 12 percent

Question Number : 103 Question Id : 54592714445 Question Type : MCQ Option Shuffling : Yes Display Question Number : Yes
Single Line Question Option : No Option Orientation : Vertical

Correct Marks : 1 Wrong Marks : 0.25

रेखा ने शुरुआत के 3 साल तक प्रत्येक वर्ष 1000 रुपए निवेश किए। 3 साल के बाद उसे 3600 रुपए प्राप्त हुए, प्रति वर्ष साधारण ब्याज की दर क्या है?

Options :

1. ✖ 6 प्रतिशत
2. ✖ 8 प्रतिशत
3. ✔ 10 प्रतिशत
4. ✖ 12 प्रतिशत

Question Number : 104 Question Id : 54592714446 Question Type : MCQ Option Shuffling : Yes Display Question Number : Yes
Single Line Question Option : No Option Orientation : Vertical

Correct Marks : 1 Wrong Marks : 0.25

A loan of Rs. 4000 was partly lent at 5 percent and partly at 6 percent simple interest for 2 years. If interest earned is Rs. 430, find the amount lent at 6 percent?

Options :

1. ✔ Rs. 1500
2. ✖ Rs. 2000
3. ✖ Rs. 2500
4. ✖ Rs. 30000

Question Number : 104 Question Id : 54592714446 Question Type : MCQ Option Shuffling : Yes Display Question Number : Yes
Single Line Question Option : No Option Orientation : Vertical

Correct Marks : 1 Wrong Marks : 0.25

4000 रुपए का ऋण आंशिक रूप से 5 प्रतिशत और आंशिक रूप से 6 प्रतिशत साधारण ब्याज पर 2 साल के लिए उधार दिया गया था। यदि अर्जित ब्याज 430 रुपए है तो 6 प्रतिशत पर उधार दी गई राशि ज्ञात करें?

Options :

1. ✔ 1500 रुपए
2. ✖ 2000 रुपए
3. ✖ 2500 रुपए
4. ✖ 30000 रुपए

Question Number : 105 Question Id : 54592714447 Question Type : MCQ Option Shuffling : Yes Display Question Number : Yes
Single Line Question Option : No Option Orientation : Vertical

Correct Marks : 1 Wrong Marks : 0.25

A loan for Rs. 60,000 was paid after 1.5 years on a loan of Rs. 50,000. Find the rate of simple interest?

Options :

1. ✖ 11.11 percent

2. ✖ 12.22 percent
3. ✔ 13.33 percent
4. ✖ 14.44 percent

Question Number : 105 Question Id : 54592714447 Question Type : MCQ Option Shuffling : Yes Display Question Number : Yes
Single Line Question Option : No Option Orientation : Vertical

Correct Marks : 1 Wrong Marks : 0.25

50,000 रुपए का कर्ज 1.5 वर्ष में 60,000 रुपए चुकाया गया। साधारण ब्याज की दर ज्ञात करें?

Options :

1. ✖ 11.11 प्रतिशत
2. ✖ 12.22 प्रतिशत
3. ✔ 13.33 प्रतिशत
4. ✖ 14.44 प्रतिशत

Question Number : 106 Question Id : 54592714448 Question Type : MCQ Option Shuffling : Yes Display Question Number : Yes
Single Line Question Option : No Option Orientation : Vertical

Correct Marks : 1 Wrong Marks : 0.25

A passenger train and an express train depart from their stations located 350 km apart towards each other. When they meet in between, the express train has covered a distance of 200 km. What is the ratio of their speeds?

Options :

1. ✖ 1 : 2
2. ✖ 2 : 3
3. ✔ 3 : 4
4. ✖ 1.5 : 4

Question Number : 106 Question Id : 54592714448 Question Type : MCQ Option Shuffling : Yes Display Question Number : Yes
Single Line Question Option : No Option Orientation : Vertical

Correct Marks : 1 Wrong Marks : 0.25

एक यात्री रेलगाड़ी और एक एक्सप्रेस रेलगाड़ी 350 km की दूरी पर स्थित अपने स्टेशनों से एक दूसरे की ओर प्रस्थान करती हैं। जब वे बीच में मिलते हैं, तो एक्सप्रेस ट्रेन 200 km की दूरी तय करती है। उनकी गति का राशन क्या है?

Options :

1. ✖ 1 : 2
2. ✖ 2 : 3
3. ✔ 3 : 4
4. ✖ 1.5 : 4

Question Number : 107 Question Id : 54592714449 Question Type : MCQ Option Shuffling : Yes Display Question Number : Yes
Single Line Question Option : No Option Orientation : Vertical

Correct Marks : 1 Wrong Marks : 0.25

How much distance can a cheetah cover in 1 minute if it runs at an average speed of 50 km/h?

Options :

1. ✖ 800 m
2. ✔ 833.33 m
3. ✖ 866.66 m
4. ✖ 900 m

Question Number : 107 Question Id : 54592714449 Question Type : MCQ Option Shuffling : Yes Display Question Number : Yes
Single Line Question Option : No Option Orientation : Vertical

Correct Marks : 1 Wrong Marks : 0.25

50 km/h की औसत गति से दौड़ने पर 1 मिनट में चीता कितनी दूरी तय कर सकता है?

Options :

1. ✗ 800 m
2. ✓ 833.33 m
3. ✗ 866.66 m
4. ✗ 900 m

Question Number : 108 Question Id : 54592714450 Question Type : MCQ Option Shuffling : Yes Display Question Number : Yes
Single Line Question Option : No Option Orientation : Vertical

Correct Marks : 1 Wrong Marks : 0.25

A bird can fly at an average speed of 20 km/h. After flying for 2.5 hours, its speed got lowered by 10 percent. After flying for another 0.5 hours, the bird rested for 1 hour. What is the average speed of the bird for the day?

Note: For this question, discrepancy is found in question/answer. So, this question is ignored for all candidates.

Options :

1. 16 km/h
2. 18 km/h
3. 19 km/h
4. 20 km/h

Question Number : 108 Question Id : 54592714450 Question Type : MCQ Option Shuffling : Yes Display Question Number : Yes
Single Line Question Option : No Option Orientation : Vertical

Correct Marks : 1 Wrong Marks : 0.25

एक पक्षी 20 km/h की औसत गति से उड़ सकती है। 2.5 घंटे के लिए उड़ान भरने के बाद, इसकी गति 10 प्रतिशत कम हो गई, और 0.5 घंटे तक उड़ान भरने के बाद, पक्षी ने 1 घंटे के लिए आराम किया। इसने फिर से उड़ान भरना शुरू किया और 2.5 घंटे में 45 km की उड़ान भरी। उस दिन के, पक्षी की औसत गति क्या है?

Note: For this question, discrepancy is found in question/answer. So, this question is ignored for all candidates.

Options :

1. 16 km/h
2. 18 km/h
3. 19 km/h
4. 20 km/h

Question Number : 109 Question Id : 54592714451 Question Type : MCQ Option Shuffling : Yes Display Question Number : Yes
Single Line Question Option : No Option Orientation : Vertical

Correct Marks : 1 Wrong Marks : 0.25

15 women pluck 225 kg tea leaves by working for 6 hours. How much tea leaves can be plucked by 12 women in 8 hours?

Options :

1. ✗ 220 kg
2. ✗ 230 kg
3. ✓ 240 kg
4. ✗ 250 kg

Question Number : 109 Question Id : 54592714451 Question Type : MCQ Option Shuffling : Yes Display Question Number : Yes
Single Line Question Option : No Option Orientation : Vertical

Correct Marks : 1 Wrong Marks : 0.25

15 महिलाओं ने 6 घंटे काम करके 225 kg चाय की पत्तियों जमा की। 8 घंटे में 12 महिलाओं द्वारा कितनी चाय जमा की जा सकती है?

Options :

1. ✖ 220 kg
2. ✖ 230 kg
3. ✔ 240 kg
4. ✖ 250 kg

Question Number : 110 Question Id : 54592714452 Question Type : MCQ Option Shuffling : Yes Display Question Number : Yes
Single Line Question Option : No Option Orientation : Vertical

Correct Marks : 1 Wrong Marks : 0.25

A and B can complete a work alone in 42 and 21 days respectively. If they work on alternate days, how much time is required to complete the job?

Options :

1. ✖ 14 days
2. ✖ 21 days
3. ✔ 28 days
4. ✖ 35 days

Question Number : 110 Question Id : 54592714452 Question Type : MCQ Option Shuffling : Yes Display Question Number : Yes
Single Line Question Option : No Option Orientation : Vertical

Correct Marks : 1 Wrong Marks : 0.25

A और B क्रमशः 42 और 21 दिनों में अकेले काम पूरा कर सकते हैं। यदि वे वैकल्पिक दिनों में काम करती हैं तो काम पूरा करने के लिए कितना समय चाहिए?

Options :

1. ✖ 14 दिन
2. ✖ 21 दिन
3. ✔ 28 दिन
4. ✖ 35 दिन

Question Number : 111 Question Id : 54592714453 Question Type : MCQ Option Shuffling : Yes Display Question Number : Yes
Single Line Question Option : No Option Orientation : Vertical

Correct Marks : 1 Wrong Marks : 0.25

Ram can complete repairing a laptop in 5 hours. Shyam is 20 percent more efficient than Ram. If Ram and Shyam work together, their efficiency increases by 10 percent. If 16 similar laptops need to be repaired, how many hours will Ram and Shyam together require?

Options :

1. ✖ 10
2. ✖ 9
3. ✖ 12
4. ✔ 8

Question Number : 111 Question Id : 54592714453 Question Type : MCQ Option Shuffling : Yes Display Question Number : Yes
Single Line Question Option : No Option Orientation : Vertical

Correct Marks : 1 Wrong Marks : 0.25

राम लैपटॉप की मरम्मत 5 घंटे में पूरा कर सकते हैं। राम की तुलना में श्याम 20 प्रतिशत अधिक कुशल हैं। यदि राम और श्याम एक साथ काम करते हैं, तो उनकी कार्यक्षमता 10 प्रतिशत बढ़ जाती है। यदि 16 समान लैपटॉप की मरम्मत करने की आवश्यकता है, तो राम और श्याम को एक साथ कितने घंटे की आवश्यकता होगी?

Options :

1. ✖ 10
2. ✖ 9
3. ✖ 12

4. ✓ 8

Question Number : 112 Question Id : 54592714454 Question Type : MCQ Option Shuffling : Yes Display Question Number : Yes
Single Line Question Option : No Option Orientation : Vertical

Correct Marks : 1 Wrong Marks : 0.25

Find the volume of a cylinder with diameter 14 cm and height 5 cm.

Options :

1. ✓ 770 cu cm
2. ✗ 385 cu cm
3. ✗ 577.5 cu cm
4. ✗ 635.25 cu cm

Question Number : 112 Question Id : 54592714454 Question Type : MCQ Option Shuffling : Yes Display Question Number : Yes
Single Line Question Option : No Option Orientation : Vertical

Correct Marks : 1 Wrong Marks : 0.25

14 cm व्यास और 5 cm ऊँचाई वाले सिलेंडर के आयतन को ज्ञात करें

Options :

1. ✓ 770 cu cm
2. ✗ 385 cu cm
3. ✗ 577.5 cu cm
4. ✗ 635.25 cu cm

Question Number : 113 Question Id : 54592714455 Question Type : MCQ Option Shuffling : Yes Display Question Number : Yes
Single Line Question Option : No Option Orientation : Vertical

Correct Marks : 1 Wrong Marks : 0.25

Calculate the volume of a cube having side $2\sqrt{3}$ cm.

Options :

1. ✗ 54 cu cm
2. ✗ $36\sqrt{3}$ cu cm
3. ✗ 72 cu cm
4. ✓ $24\sqrt{3}$ cu cm

Question Number : 113 Question Id : 54592714455 Question Type : MCQ Option Shuffling : Yes Display Question Number : Yes
Single Line Question Option : No Option Orientation : Vertical

Correct Marks : 1 Wrong Marks : 0.25

$2\sqrt{3}$ cm के किनारे वाले घन के आयतन की गणना करें

Options :

1. ✗ 54 cu cm
2. ✗ $36\sqrt{3}$ cu cm
3. ✗ 72 cu cm
4. ✓ $24\sqrt{3}$ cu cm

Question Number : 114 Question Id : 54592714456 Question Type : MCQ Option Shuffling : Yes Display Question Number : Yes
Single Line Question Option : No Option Orientation : Vertical

Correct Marks : 1 Wrong Marks : 0.25

If the lengths of the two parallel sides of a trapezium are 6 cm and its area is 80 sq.cm, then find the distance between the parallel sides.

Note: For this question, discrepancy is found in question/answer. So, this question is ignored for all candidates.

Options :

1. 6 cm
2. 8 cm
3. 10 cm
4. 12 cm

Question Number : 114 Question Id : 54592714456 Question Type : MCQ Option Shuffling : Yes Display Question Number : Yes
Single Line Question Option : No Option Orientation : Vertical

Correct Marks : 1 Wrong Marks : 0.25

यदि एक ट्रैपेज़ियम के दो समानांतर साइड की लंबाई 6 cm और 10 cm है और इसका क्षेत्रफल 80 sq cm है तो इसके समानांतर पक्षों के बीच की दूरी ज्ञात करें।

Note: For this question, discrepancy is found in question/answer. So, this question is ignored for all candidates.

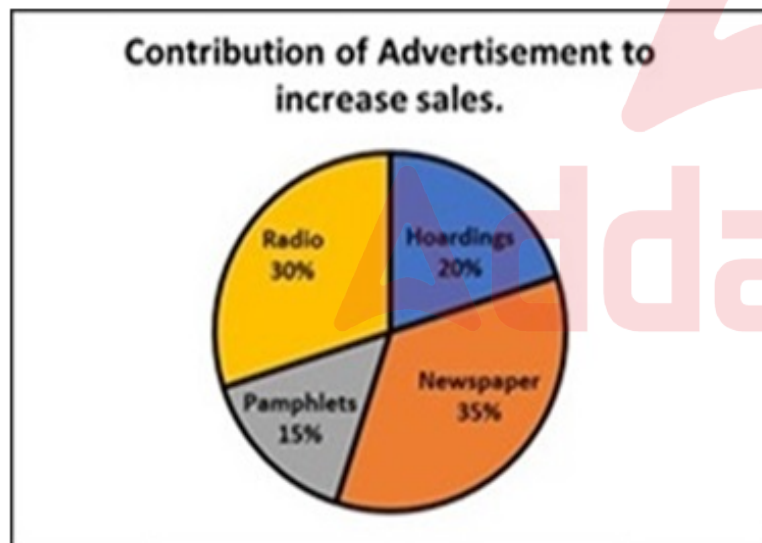
Options :

1. 6 cm
2. 8 cm
3. 10 cm
4. 12 cm

Question Number : 115 Question Id : 54592714457 Question Type : MCQ Option Shuffling : Yes Display Question Number : Yes
Single Line Question Option : No Option Orientation : Vertical

Correct Marks : 1 Wrong Marks : 0.25

The graph shows the contribution made by each mode of advertisement. A company spends money on different modes of advertisements to boost its sales. If the company, spends a total of Rs. 100000 to boost 12 percent of its sales, what percent of the sale is boosted by only newspaper advertisement?



Options :

1. ✗ 3.20 percent
2. ✗ 3.60 percent
3. ✗ 4.60 percent
4. ✓ 4.20 percent

Question Number : 115 Question Id : 54592714457 Question Type : MCQ Option Shuffling : Yes Display Question Number : Yes
Single Line Question Option : No Option Orientation : Vertical

Correct Marks : 1 Wrong Marks : 0.25

एक कंपनी अपनी बिक्री को बढ़ावा देने के लिए विज्ञापन के विभिन्न तरीकों पर पैसा खर्च करती है। यदि कंपनी अपनी बिक्री का 12 प्रतिशत बढ़ाने के लिए कुल 100000 रुपये खर्च करती है तो केवल अखबारों के विज्ञापन द्वारा बिक्री कितने प्रतिशत बढ़ा है? ग्राफ विज्ञापन के प्रत्येक तरीकों द्वारा किए गए योगदान को दर्शाता है।



STN1_HIN_Q31

Options :

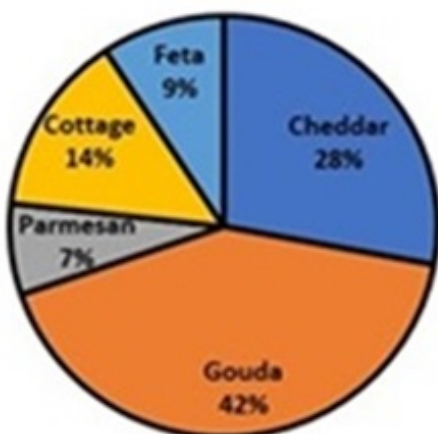
- ✗ 3.20 प्रतिशत
- ✗ 3.60 प्रतिशत
- ✗ 4.60 प्रतिशत
- ✓ 4.20 प्रतिशत

Question Number : 116 Question Id : 54592714458 Question Type : MCQ Option Shuffling : Yes Display Question Number : Yes Single Line Question Option : No Option Orientation : Vertical

Correct Marks : 1 Wrong Marks : 0.25

Refer to the chart showing 5 different types of cheese and their sales in rupees, sold by a shop. If 5 percent of sales of cheddar cheese is Rs. 2850, what is the sale of cottage cheese?

Sales of Cheese



Options :

- ✗ Rs. 32500
- ✓ Rs. 28500
- ✗ Rs. 30500

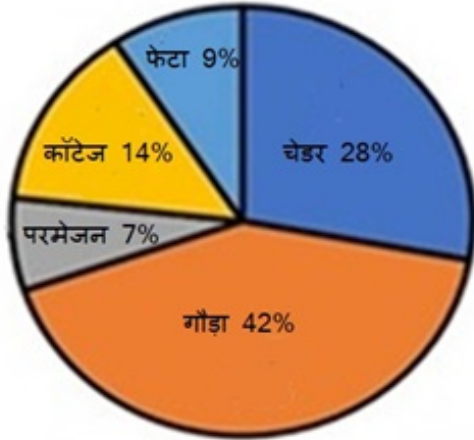
4. ✖ 25500

Question Number : 116 Question Id : 54592714458 Question Type : MCQ Option Shuffling : Yes Display Question Number : Yes
Single Line Question Option : No Option Orientation : Vertical

Correct Marks : 1 Wrong Marks : 0.25

एक दुकान द्वारा बेचे गए 5 विभिन्न प्रकार के चीज़ को दर्शाते हुए चार्ट देखें। यदि 5 प्रतिशत चeddar चीज़ की बिक्री मूल्य 2850 रूपए है तो कॉटेज चीज़ की कुल बिक्री मूल्य क्या है?

चीज़ की बिक्री



Options :

1. ✖ 32,500 रूपए
2. ✔ 28,500 रूपए
3. ✖ 30,500 रूपए
4. ✖ 25,500 रूपए

Question Number : 117 Question Id : 54592714459 Question Type : MCQ Option Shuffling : Yes Display Question Number : Yes
Single Line Question Option : No Option Orientation : Vertical

Correct Marks : 1 Wrong Marks : 0.25

The table shows number of daily labourers required in a factory during the year and their daily wages (in rupees). In which month does the factory spend maximum on wages?

Months	No. of labourers	Daily wages per labours
January	120	90
February	110	95
March	150	75
April	80	150
May	90	145
June	70	160
July	50	170
August	40	180
September	30	190
October	110	90
November	120	85
December	130	75

Options :

1. ✔ May

2. ✖ June
3. ✖ March
4. ✖ November

Question Number : 117 Question Id : 54592714459 Question Type : MCQ Option Shuffling : Yes Display Question Number : Yes
Single Line Question Option : No Option Orientation : Vertical

Correct Marks : 1 Wrong Marks : 0.25

तालिका वर्ष के दौरान एक कारखाने में आवश्यक दैनिक मजदूरों की संख्या और उनकी दैनिक वेतन (रुपये में) को दर्शाता है। किस महीने में कारखाना मजदूरी पर अधिकतम खर्च करता है?

महीने	मजदूरों की संख्या	प्रति श्रम दैनिक वेतन
जनवरी	120	90
फरवरी	110	95
मार्च	150	75
अप्रैल	80	150
मई	90	145
जून	70	160
जुलाई	50	170
अगस्त	40	180
सितंबर	30	190
अक्टूबर	110	90
नवंबर	120	85
दिसंबर	130	75

Options :

1. ✔ मई
2. ✖ जून
3. ✖ मार्च
4. ✖ नवंबर

Question Number : 118 Question Id : 54592714460 Question Type : MCQ Option Shuffling : Yes Display Question Number : Yes
Single Line Question Option : No Option Orientation : Vertical

Correct Marks : 1 Wrong Marks : 0.25

Refer the table and evaluate in which year the rainfall is highest (in total for all cities) when temperature is more than 25°C ?

Year	Temp. ($^{\circ}\text{C}$)	Rainfall (in cms)			
		Delhi	Kolkata	Mumbai	Chennai
2015	28	100	120	140	60
2016	23	90	110	130	50
2017	25	80	100	120	50
2018	24	70	90	110	50
2019	27	60	80	100	50

Options :

1. ✖ 2019
2. ✖ 2018
3. ✖ 2016
4. ✔ 2015

Question Number : 118 Question Id : 54592714460 Question Type : MCQ Option Shuffling : Yes Display Question Number : Yes
Single Line Question Option : No Option Orientation : Vertical
Correct Marks : 1 Wrong Marks : 0.25

तालिका देखकर मूल्यांकन करें कि किस वर्ष में वर्षा सबसे अधिक हुई (सभी शहरों के लिए कुल) जब तापमान 25°C से अधिक हो?

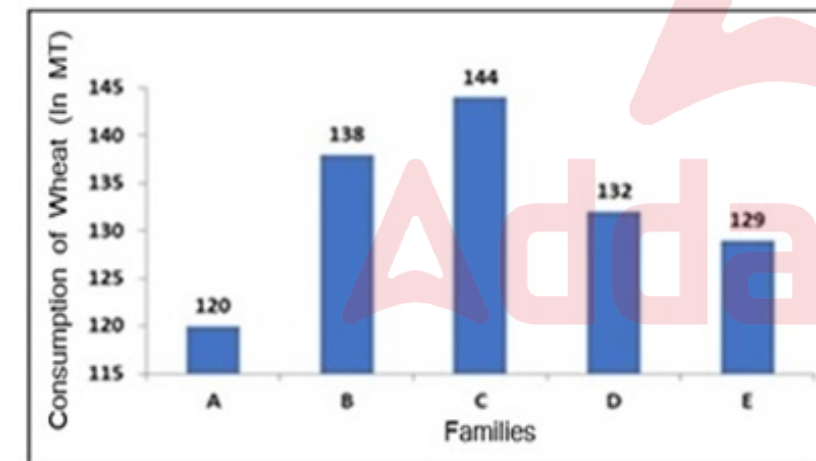
साल	अस्था ($^{\circ}\text{C}$)	वर्षा (सेमी में)			
		दिल्ली	कोलकाता	मुंबई	चेन्नई
2015	28	100	120	140	60
2016	23	90	110	130	50
2017	25	80	100	120	50
2018	24	70	90	110	50
2019	27	60	80	100	50

Options :

- ✗ 2019
- ✗ 2018
- ✗ 2016
- ✓ 2015

Question Number : 119 Question Id : 54592714461 Question Type : MCQ Option Shuffling : Yes Display Question Number : Yes
Single Line Question Option : No Option Orientation : Vertical
Correct Marks : 1 Wrong Marks : 0.25

The following chart shows total consumption of wheat (in MT) by families over a month. How many families consume 15 percent or more wheat than family A?

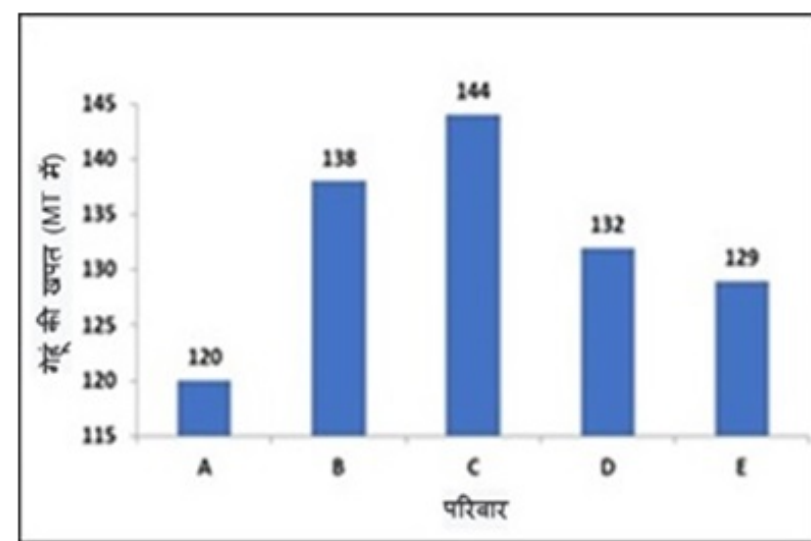


Options :

- ✗ 4
- ✗ 3
- ✓ 2
- ✗ 1

Question Number : 119 Question Id : 54592714461 Question Type : MCQ Option Shuffling : Yes Display Question Number : Yes
Single Line Question Option : No Option Orientation : Vertical
Correct Marks : 1 Wrong Marks : 0.25

निम्नलिखित चार्ट एक महीने में परिवारों द्वारा गेहूं (MT में) की कुल खपत को दर्शाता है। परिवार A की तुलना में कितने परिवार 15 प्रतिशत या अधिक गेहूं का उपभोग करते हैं?



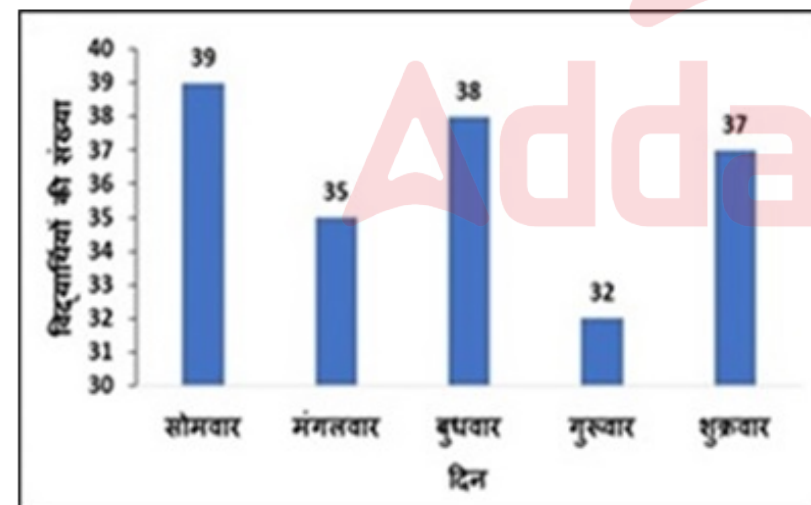
Options :

1. ✖ 4
2. ✖ 3
3. ✔ 2
4. ✖ 1

Question Number : 120 Question Id : 54592714462 Question Type : MCQ Option Shuffling : Yes Display Question Number : Yes
Single Line Question Option : No Option Orientation : Vertical

Correct Marks : 1 Wrong Marks : 0.25

ग्राफ़ को देखें और जात करें कि किस दिन 40 छात्रों की कक्षा में उपस्थिति सबसे अधिक है?



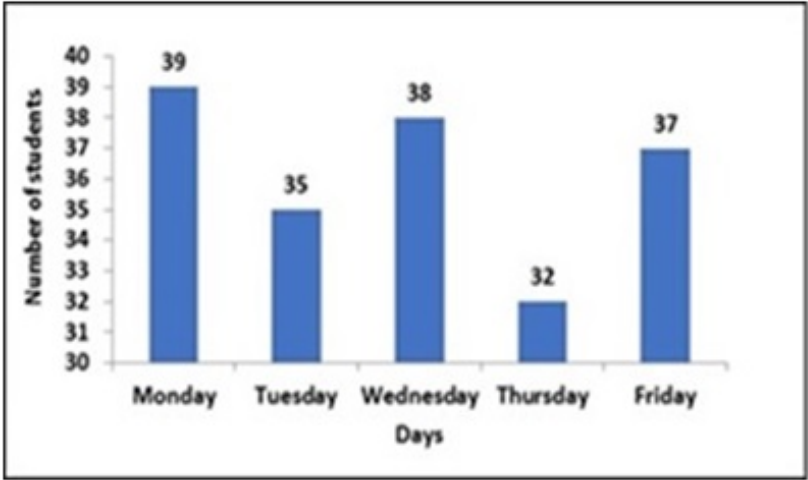
Options :

1. ✖ बृहस्पतिवार
2. ✖ शुक्रवार
3. ✖ बुधवार
4. ✔ सोमवार

Question Number : 120 Question Id : 54592714462 Question Type : MCQ Option Shuffling : Yes Display Question Number : Yes
Single Line Question Option : No Option Orientation : Vertical

Correct Marks : 1 Wrong Marks : 0.25

Refer to the graph and find the day on which the attendance in a class of 40 students is the highest?



Options :

- 1. ✖ Thursday
- 2. ✖ Friday
- 3. ✖ Wednesday
- 4. ✔ Monday

General English 1

Group Number :	7
Group Id :	545927717
Group Maximum Duration :	0
Group Minimum Duration :	0
Revisit allowed for view? :	No
Revisit allowed for edit? :	No
Break time:	0
Group Marks:	20
Revisit allowed for group Instructions? :	Yes
Maximum Instruction Time:	0
Minimum Instruction Time:	0

General English 1

Section Id :	545927717
Section Number :	1
Section type :	Online
Mandatory or Optional:	Mandatory
Number of Questions:	20
Number of Questions to be attempted:	20
Section Marks:	20
Display Number Panel:	Yes
Group All Questions:	No

Sub-Section Number:	1
Sub-Section Id:	545927859
Question Shuffling Allowed :	Yes

Question Number : 121 Question Id : 54592714463 Question Type : MCQ Option Shuffling : Yes Display Question Number : Yes
Single Line Question Option : No Option Orientation : Vertical

Correct Marks : 1 Wrong Marks : 0.25

The sentence below has been divided into three parts. Select the part of the sentence that has an error. If the sentence has no error, select the option 'No Error'.

The medicine the doctor / prescribed haves unpleasant / side effects.

Options :

1. ✗ The medicine the doctor
2. ✓ prescribed haves unpleasant
3. ✗ side effects.
4. ✗ No Error

Question Number : 121 Question Id : 54592714463 Question Type : MCQ Option Shuffling : Yes Display Question Number : Yes
Single Line Question Option : No Option Orientation : Vertical

Correct Marks : 1 Wrong Marks : 0.25

The sentence below has been divided into three parts. Select the part of the sentence that has an error. If the sentence has no error, select the option 'No Error'.

The medicine the doctor / prescribed haves unpleasant / side effects.

Options :

1. ✗ The medicine the doctor
2. ✓ prescribed haves unpleasant
3. ✗ side effects.
4. ✗ No Error

Question Number : 122 Question Id : 54592714464 Question Type : MCQ Option Shuffling : Yes Display Question Number : Yes
Single Line Question Option : No Option Orientation : Vertical

Correct Marks : 1 Wrong Marks : 0.25

The sentence below has been divided into three parts. Select the part of the sentence that has an error. If the sentence has no error, select the option 'No Error'.

History reminded us/ that events repeat / themselves.

Options :

1. ✓ History reminded us
2. ✗ that events repeat
3. ✗ themselves.
4. ✗ No Error

Question Number : 122 Question Id : 54592714464 Question Type : MCQ Option Shuffling : Yes Display Question Number : Yes
Single Line Question Option : No Option Orientation : Vertical

Correct Marks : 1 Wrong Marks : 0.25

The sentence below has been divided into three parts. Select the part of the sentence that has an error. If the sentence has no error, select the option 'No Error'.

History reminded us/ that events repeat / themselves.

Options :

1. ✓ History reminded us
2. ✗ that events repeat
3. ✗ themselves.

4. ✖ No Error

Question Number : 123 Question Id : 54592714465 Question Type : MCQ Option Shuffling : Yes Display Question Number : Yes
Single Line Question Option : No Option Orientation : Vertical

Correct Marks : 1 Wrong Marks : 0.25

The sentence below has been divided into three parts. Select the part of the sentence that has an error. If the sentence has no error, select the option 'No Error'.

Kiran was dreaming for / becoming a famous / scientist one day.

Options :

1. ✔ Kiran was dreaming for
2. ✖ becoming a famous
3. ✖ scientist one day.
4. ✖ No Error

Question Number : 123 Question Id : 54592714465 Question Type : MCQ Option Shuffling : Yes Display Question Number : Yes
Single Line Question Option : No Option Orientation : Vertical

Correct Marks : 1 Wrong Marks : 0.25

The sentence below has been divided into three parts. Select the part of the sentence that has an error. If the sentence has no error, select the option 'No Error'.

Kiran was dreaming for / becoming a famous / scientist one day.

Options :

1. ✔ Kiran was dreaming for
2. ✖ becoming a famous
3. ✖ scientist one day.
4. ✖ No Error

Question Number : 124 Question Id : 54592714466 Question Type : MCQ Option Shuffling : Yes Display Question Number : Yes
Single Line Question Option : No Option Orientation : Vertical

Correct Marks : 1 Wrong Marks : 0.25

The sentence below has been divided into three parts. Select the part of the sentence that has an error. If the sentence has no error, select the option 'No Error'.

Mrs. Thakur was not quite / satisfied from the exam results of / both her children.

Options :

1. ✖ Mrs. Thakur was not quite
2. ✔ satisfied from the exam results of
3. ✖ both her children.
4. ✖ No Error

Question Number : 124 Question Id : 54592714466 Question Type : MCQ Option Shuffling : Yes Display Question Number : Yes
Single Line Question Option : No Option Orientation : Vertical

Correct Marks : 1 Wrong Marks : 0.25

The sentence below has been divided into three parts. Select the part of the sentence that has an error. If the sentence has no error, select the option 'No Error'.

Mrs. Thakur was not quite / satisfied from the exam results of / both her children.

Options :

1. ✖ Mrs. Thakur was not quite
2. ✔ satisfied from the exam results of

3. ✖ both her children.

4. ✖ No Error

Question Number : 125 Question Id : 54592714467 Question Type : MCQ Option Shuffling : Yes Display Question Number : Yes
Single Line Question Option : No Option Orientation : Vertical

Correct Marks : 1 Wrong Marks : 0.25

The sentence below has been divided into three parts. Select the part of the sentence that has an error. If the sentence has no error, select the option 'No Error'.

My dad shouted / at me because I was rude / to the guests.

Options :

1. ✖ My dad shouted

2. ✖ at me because I was rude

3. ✖ to the guests.

4. ✔ No Error

Question Number : 125 Question Id : 54592714467 Question Type : MCQ Option Shuffling : Yes Display Question Number : Yes
Single Line Question Option : No Option Orientation : Vertical

Correct Marks : 1 Wrong Marks : 0.25

The sentence below has been divided into three parts. Select the part of the sentence that has an error. If the sentence has no error, select the option 'No Error'.

My dad shouted / at me because I was rude / to the guests.

Options :

1. ✖ My dad shouted

2. ✖ at me because I was rude

3. ✖ to the guests.

4. ✔ No Error

Question Number : 126 Question Id : 54592714468 Question Type : MCQ Option Shuffling : Yes Display Question Number : Yes
Single Line Question Option : No Option Orientation : Vertical

Correct Marks : 1 Wrong Marks : 0.25

Select the word segment that substitutes (replaces) the bracketed word segment correctly and completes the sentence meaningfully.

Read the (follows instructions) carefully and act accordingly.

Options :

1. ✔ following instructions

2. ✖ follow instructions

3. ✖ followed instructions

4. ✖ No correction required

Question Number : 126 Question Id : 54592714468 Question Type : MCQ Option Shuffling : Yes Display Question Number : Yes
Single Line Question Option : No Option Orientation : Vertical

Correct Marks : 1 Wrong Marks : 0.25

Select the word segment that substitutes (replaces) the bracketed word segment correctly and completes the sentence meaningfully.

Read the (follows instructions) carefully and act accordingly.

Options :

1. ✔ following instructions

2. ✖ follow instructions
3. ✖ followed instructions
4. ✖ No correction required

Question Number : 127 Question Id : 54592714469 Question Type : MCQ Option Shuffling : Yes Display Question Number : Yes
Single Line Question Option : No Option Orientation : Vertical

Correct Marks : 1 Wrong Marks : 0.25

Select the word segment that substitutes (replaces) the bracketed word segment correctly and completes the sentence meaningfully.

(Does Shyam writing) novels or short stories?

Options :

1. ✖ Does Shyam writes
2. ✔ Does Shyam write
3. ✖ Do Shyam write
4. ✖ No correction required

Question Number : 127 Question Id : 54592714469 Question Type : MCQ Option Shuffling : Yes Display Question Number : Yes
Single Line Question Option : No Option Orientation : Vertical

Correct Marks : 1 Wrong Marks : 0.25

Select the word segment that substitutes (replaces) the bracketed word segment correctly and completes the sentence meaningfully.

(Does Shyam writing) novels or short stories?

Options :

1. ✖ Does Shyam writes
2. ✔ Does Shyam write
3. ✖ Do Shyam write
4. ✖ No correction required

Question Number : 128 Question Id : 54592714470 Question Type : MCQ Option Shuffling : Yes Display Question Number : Yes
Single Line Question Option : No Option Orientation : Vertical

Correct Marks : 1 Wrong Marks : 0.25

Select the word segment that substitutes (replaces) the bracketed word segment correctly and completes the sentence meaningfully.

The Rajdhani Express (leaves from Delhi Station on) seven in the morning.

Options :

1. ✖ leaving from Delhi Station on
2. ✖ leaves from Delhi Station in
3. ✔ leaves from Delhi Station at
4. ✖ No correction required

Question Number : 128 Question Id : 54592714470 Question Type : MCQ Option Shuffling : Yes Display Question Number : Yes
Single Line Question Option : No Option Orientation : Vertical

Correct Marks : 1 Wrong Marks : 0.25

Select the word segment that substitutes (replaces) the bracketed word segment correctly and completes the sentence meaningfully.

The Rajdhani Express (leaves from Delhi Station on) seven in the morning.

Options :

1. ✖ leaving from Delhi Station on
2. ✖ leaves from Delhi Station in
3. ✔ leaves from Delhi Station at
4. ✖ No correction required

Question Number : 129 Question Id : 54592714471 Question Type : MCQ Option Shuffling : Yes Display Question Number : Yes
Single Line Question Option : No Option Orientation : Vertical

Correct Marks : 1 Wrong Marks : 0.25

Select the word segment that substitutes (replaces) the bracketed word segment correctly and completes the sentence meaningfully.

(Please wait) for a moment, Kiara is talking to Mary.

Options :

1. ✖ Please waits
2. ✖ Please waiting
3. ✖ Please to wait
4. ✔ No correction required

Question Number : 129 Question Id : 54592714471 Question Type : MCQ Option Shuffling : Yes Display Question Number : Yes
Single Line Question Option : No Option Orientation : Vertical

Correct Marks : 1 Wrong Marks : 0.25

Select the word segment that substitutes (replaces) the bracketed word segment correctly and completes the sentence meaningfully.

(Please wait) for a moment, Kiara is talking to Mary.

Options :

1. ✖ Please waits
2. ✖ Please waiting
3. ✖ Please to wait
4. ✔ No correction required

Question Number : 130 Question Id : 54592714472 Question Type : MCQ Option Shuffling : Yes Display Question Number : Yes
Single Line Question Option : No Option Orientation : Vertical

Correct Marks : 1 Wrong Marks : 0.25

Select the word segment that substitutes (replaces) the bracketed word segment correctly and completes the sentence meaningfully.

(What were you does) when the courier arrived?

Options :

1. ✖ What you doing
2. ✔ What were you doing
3. ✖ What were you does
4. ✖ No correction required

Question Number : 130 Question Id : 54592714472 Question Type : MCQ Option Shuffling : Yes Display Question Number : Yes
Single Line Question Option : No Option Orientation : Vertical

Correct Marks : 1 Wrong Marks : 0.25

Select the word segment that substitutes (replaces) the bracketed word segment correctly and completes the sentence meaningfully.

(What were you does) when the courier arrived?

Options :

1. ✗ What you doing
2. ✓ What were you doing
3. ✗ What were you does
4. ✗ No correction required

Question Number : 131 Question Id : 54592714473 Question Type : MCQ Option Shuffling : Yes Display Question Number : Yes
Single Line Question Option : No Option Orientation : Vertical

Correct Marks : 1 Wrong Marks : 0.25

Select the word that fills in the blank correctly and completes the sentence meaningfully.

The maid _____ the garbage into the dustbin yesterday.

Options :

1. ✗ toss
2. ✓ tossed
3. ✗ tosses
4. ✗ tost

Question Number : 131 Question Id : 54592714473 Question Type : MCQ Option Shuffling : Yes Display Question Number : Yes
Single Line Question Option : No Option Orientation : Vertical

Correct Marks : 1 Wrong Marks : 0.25

Select the word that fills in the blank correctly and completes the sentence meaningfully.

The maid _____ the garbage into the dustbin yesterday.

Options :

1. ✗ toss
2. ✓ tossed
3. ✗ tosses
4. ✗ tost

Question Number : 132 Question Id : 54592714474 Question Type : MCQ Option Shuffling : Yes Display Question Number : Yes
Single Line Question Option : No Option Orientation : Vertical

Correct Marks : 1 Wrong Marks : 0.25

Select the word that fills in the blank correctly and completes the sentence meaningfully.

He has the experience necessary for _____ advertised software job.

Options :

1. ✗ an
2. ✓ the
3. ✗ a
4. ✗ No article

Question Number : 132 Question Id : 54592714474 Question Type : MCQ Option Shuffling : Yes Display Question Number : Yes
Single Line Question Option : No Option Orientation : Vertical

Correct Marks : 1 Wrong Marks : 0.25

Select the word that fills in the blank correctly and completes the sentence meaningfully.

He has the experience necessary for _____ advertised software job.

Options :

1. ✗ an

2. ✓ the
3. ✗ a
4. ✗ No article

Question Number : 133 Question Id : 54592714475 Question Type : MCQ Option Shuffling : Yes Display Question Number : Yes
Single Line Question Option : No Option Orientation : Vertical

Correct Marks : 1 Wrong Marks : 0.25

Select the word that fills in the blank correctly and completes the sentence meaningfully.

The sailors walked _____ the ship.

Options :

1. ✗ on
2. ✗ top of
3. ✓ aboard
4. ✗ under

Question Number : 133 Question Id : 54592714475 Question Type : MCQ Option Shuffling : Yes Display Question Number : Yes
Single Line Question Option : No Option Orientation : Vertical

Correct Marks : 1 Wrong Marks : 0.25

Select the word that fills in the blank correctly and completes the sentence meaningfully.

The sailors walked _____ the ship.

Options :

1. ✗ on
2. ✗ top of
3. ✓ aboard
4. ✗ under

Question Number : 134 Question Id : 54592714476 Question Type : MCQ Option Shuffling : Yes Display Question Number : Yes
Single Line Question Option : No Option Orientation : Vertical

Correct Marks : 1 Wrong Marks : 0.25

Select the word that fills in the blank correctly and completes the sentence meaningfully.

The kids told ghost stories _____ the night.

Options :

1. ✓ during
2. ✗ for
3. ✗ from
4. ✗ on

Question Number : 134 Question Id : 54592714476 Question Type : MCQ Option Shuffling : Yes Display Question Number : Yes
Single Line Question Option : No Option Orientation : Vertical

Correct Marks : 1 Wrong Marks : 0.25

Select the word that fills in the blank correctly and completes the sentence meaningfully.

The kids told ghost stories _____ the night.

Options :

1. ✓ during
2. ✗ for
3. ✗ from

4. ✖ on

Question Number : 135 Question Id : 54592714477 Question Type : MCQ Option Shuffling : Yes Display Question Number : Yes
Single Line Question Option : No Option Orientation : Vertical

Correct Marks : 1 Wrong Marks : 0.25

Select the word that fills in the blank correctly and completes the sentence meaningfully.

Grandma loved sitting _____ her new rocking chair.

Options :

1. ✖ under

2. ✔ on

3. ✖ in

4. ✖ upon

Question Number : 135 Question Id : 54592714477 Question Type : MCQ Option Shuffling : Yes Display Question Number : Yes
Single Line Question Option : No Option Orientation : Vertical

Correct Marks : 1 Wrong Marks : 0.25

Select the word that fills in the blank correctly and completes the sentence meaningfully.

Grandma loved sitting _____ her new rocking chair.

Options :

1. ✖ under

2. ✔ on

3. ✖ in

4. ✖ upon

Question Number : 136 Question Id : 54592714478 Question Type : MCQ Option Shuffling : Yes Display Question Number : Yes
Single Line Question Option : No Option Orientation : Vertical

Correct Marks : 1 Wrong Marks : 0.25

Select the word that fills in the blank correctly and completes the sentence meaningfully.

The school bus driver _____ rashly on most days.

Options :

1. ✔ drives

2. ✖ drived

3. ✖ driven

4. ✖ driving

Question Number : 136 Question Id : 54592714478 Question Type : MCQ Option Shuffling : Yes Display Question Number : Yes
Single Line Question Option : No Option Orientation : Vertical

Correct Marks : 1 Wrong Marks : 0.25

Select the word that fills in the blank correctly and completes the sentence meaningfully.

The school bus driver _____ rashly on most days.

Options :

1. ✔ drives

2. ✖ drived

3. ✖ driven

4. ✖ driving

Question Number : 137 Question Id : 54592714479 Question Type : MCQ Option Shuffling : Yes Display Question Number : Yes
Single Line Question Option : No Option Orientation : Vertical

Correct Marks : 1 Wrong Marks : 0.25

Select the word that fills in the blank correctly and completes the sentence meaningfully.

There were many children in _____ sandpit at _____ park

Options :

1. ✓ the, the
2. ✗ a, an
3. ✗ an, the
4. ✗ a, a

Question Number : 137 Question Id : 54592714479 Question Type : MCQ Option Shuffling : Yes Display Question Number : Yes
Single Line Question Option : No Option Orientation : Vertical

Correct Marks : 1 Wrong Marks : 0.25

Select the word that fills in the blank correctly and completes the sentence meaningfully.

There were many children in _____ sandpit at _____ park

Options :

1. ✓ the, the
2. ✗ a, an
3. ✗ an, the
4. ✗ a, a

Question Number : 138 Question Id : 54592714480 Question Type : MCQ Option Shuffling : Yes Display Question Number : Yes
Single Line Question Option : No Option Orientation : Vertical

Correct Marks : 1 Wrong Marks : 0.25

Select the word that fills in the blank correctly and completes the sentence meaningfully.

Please _____ silence in the library.

Options :

1. ✗ maintaining
2. ✗ maintained
3. ✗ maintains
4. ✓ maintain

Question Number : 138 Question Id : 54592714480 Question Type : MCQ Option Shuffling : Yes Display Question Number : Yes
Single Line Question Option : No Option Orientation : Vertical

Correct Marks : 1 Wrong Marks : 0.25

Select the word that fills in the blank correctly and completes the sentence meaningfully.

Please _____ silence in the library.

Options :

1. ✗ maintaining
2. ✗ maintained
3. ✗ maintains
4. ✓ maintain

Question Number : 139 Question Id : 54592714481 Question Type : MCQ Option Shuffling : Yes Display Question Number : Yes
Single Line Question Option : No Option Orientation : Vertical

Correct Marks : 1 Wrong Marks : 0.25

The sentences of a paragraph have been jumbled up, and labelled P, Q, R and S. Select the option that gives the correct sequence in which these sentences should be rearranged to form a meaningful paragraph.

- P: Finally thanks for reading, do let me know if there any good resources I could use to find my birth family.
Q: I think the name I have for my mother is correct and know someone still living in Calcutta.
R: I have very few details, from what I know I came from St Catherine's Orphanage.
S: Hi, I was adopted in Barrackpore in 1991.

Options :

1. ✓ SRQP
2. ✗ SPRQ
3. ✗ RQSP
4. ✗ RQPS

Question Number : 139 Question Id : 54592714481 Question Type : MCQ Option Shuffling : Yes Display Question Number : Yes
Single Line Question Option : No Option Orientation : Vertical

Correct Marks : 1 Wrong Marks : 0.25

The sentences of a paragraph have been jumbled up, and labelled P, Q, R and S. Select the option that gives the correct sequence in which these sentences should be rearranged to form a meaningful paragraph.

- P: Finally thanks for reading, do let me know if there any good resources I could use to find my birth family.
Q: I think the name I have for my mother is correct and know someone still living in Calcutta.
R: I have very few details, from what I know I came from St Catherine's Orphanage.
S: Hi, I was adopted in Barrackpore in 1991.

Options :

1. ✓ SRQP
2. ✗ SPRQ
3. ✗ RQSP
4. ✗ RQPS

Question Number : 140 Question Id : 54592714482 Question Type : MCQ Option Shuffling : Yes Display Question Number : Yes
Single Line Question Option : No Option Orientation : Vertical

Correct Marks : 1 Wrong Marks : 0.25

The sentences of a paragraph have been jumbled up, and labelled P, Q, R and S. Select the option that gives the correct sequence in which these sentences should be rearranged to form a meaningful paragraph.

- P: "Breakup" is commonly termed "dumping [someone]" in slang when it is initiated by one partner.
Q: A relationship breakup, often referred to simply as a breakup, is the termination of an intimate relationship by any means other than death.
R: The term is less likely to be applied to a married couple, where a breakup is typically called a separation or divorce.
S: When a couple engaged to be married breaks up, it is typically called a "broken engagement"

Options :

1. ✗ PRSQ
2. ✗ SRPQ
3. ✓ QPRS
4. ✗ PQRS

Question Number : 140 Question Id : 54592714482 Question Type : MCQ Option Shuffling : Yes Display Question Number : Yes
Single Line Question Option : No Option Orientation : Vertical

Correct Marks : 1 Wrong Marks : 0.25

The sentences of a paragraph have been jumbled up, and labelled P, Q, R and S. Select the option that gives the correct sequence in which these sentences should be rearranged to form a meaningful paragraph.

- P: "Breakup" is commonly termed "dumping [someone]" in slang when it is initiated by one partner.
Q: A relationship breakup, often referred to simply as a breakup, is the termination of an intimate relationship by any means other than death.
R: The term is less likely to be applied to a married couple, where a breakup is typically called a separation or divorce.
S: When a couple engaged to be married breaks up, it is typically called a "broken engagement"

Options :

1. ✖ PRSQ
2. ✖ SRPQ
3. ✔ QPRS
4. ✖ PQRS

General English2	
Group Number :	8
Group Id :	545927718
Group Maximum Duration :	0
Group Minimum Duration :	0
Revisit allowed for view? :	No
Revisit allowed for edit? :	No
Break time:	0
Group Marks:	20
Revisit allowed for group Instructions? :	Yes
Maximum Instruction Time:	0
Minimum Instruction Time:	0

General English2	
Section Id :	545927718
Section Number :	1
Section type :	Online
Mandatory or Optional:	Mandatory
Number of Questions:	16
Number of Questions to be attempted:	16
Section Marks:	20
Display Number Panel:	Yes
Group All Questions:	No

Sub-Section Number:	1
Sub-Section Id:	545927860
Question Shuffling Allowed :	Yes

Question Number : 141 Question Id : 54592714483 Question Type : MCQ Option Shuffling : Yes Display Question Number : Yes
Single Line Question Option : No Option Orientation : Vertical
Correct Marks : 1 Wrong Marks : 0.25

The sentences of a paragraph have been jumbled up, and labelled P, Q, R and S. Select the option that gives the correct sequence in which these sentences should be rearranged to form a meaningful paragraph.

P: that the ability to be alone is an essentially healthy sign of emotional development and maturity. Once a child has obtained closeness and attachment by his early caregivers, he or she is able to develop emotional development and maturity.

Q: if children have not introjected the good and protective qualities of their parents,

R: they will fear separation and break-ups.

S: Kamer K Rueckert argues with the works of Donald Winnicott

Options :

1. ✓ SPQR

2. ✗ PQRS

3. ✗ PSRQ

4. ✗ SQRP

Question Number : 141 Question Id : 54592714483 Question Type : MCQ Option Shuffling : Yes Display Question Number : Yes
Single Line Question Option : No Option Orientation : Vertical

Correct Marks : 1 Wrong Marks : 0.25

The sentences of a paragraph have been jumbled up, and labelled P, Q, R and S. Select the option that gives the correct sequence in which these sentences should be rearranged to form a meaningful paragraph.

P: that the ability to be alone is an essentially healthy sign of emotional development and maturity. Once a child has obtained closeness and attachment by his early caregivers, he or she is able to develop emotional development and maturity.

Q: if children have not introjected the good and protective qualities of their parents,

R: they will fear separation and break-ups.

S: Kamer K Rueckert argues with the works of Donald Winnicott

Options :

1. ✓ SPQR

2. ✗ PQRS

3. ✗ PSRQ

4. ✗ SQRP

Question Number : 142 Question Id : 54592714484 Question Type : MCQ Option Shuffling : Yes Display Question Number : Yes
Single Line Question Option : No Option Orientation : Vertical

Correct Marks : 1 Wrong Marks : 0.25

Select the word that is closest in meaning SYNONYM to the word given below.

ACUMEN

Options :

1. ✓ Brilliance

2. ✗ Temerity

3. ✗ Ignorance

4. ✗ Condemn

Question Number : 142 Question Id : 54592714484 Question Type : MCQ Option Shuffling : Yes Display Question Number : Yes
Single Line Question Option : No Option Orientation : Vertical

Correct Marks : 1 Wrong Marks : 0.25

Select the word that is closest in meaning SYNONYM to the word given below.

ACUMEN

Options :

1. ✓ Brilliance

2. ✖ Temerity
3. ✖ Ignorance
4. ✖ Condemn

Question Number : 143 Question Id : 54592714485 Question Type : MCQ Option Shuffling : Yes Display Question Number : Yes
Single Line Question Option : No Option Orientation : Vertical

Correct Marks : 1 Wrong Marks : 0.25

Select the correct word HOMONYM that fills in the blank and makes the sentence meaningful.

Kashyap _____ away on his motorcycle in a huff.

Options :

1. ✖ road
2. ✔ rode
3. ✖ rowed
4. ✖ roed

Question Number : 143 Question Id : 54592714485 Question Type : MCQ Option Shuffling : Yes Display Question Number : Yes
Single Line Question Option : No Option Orientation : Vertical

Correct Marks : 1 Wrong Marks : 0.25

Select the correct word HOMONYM that fills in the blank and makes the sentence meaningful.

Kashyap _____ away on his motorcycle in a huff.

Options :

1. ✖ road
2. ✔ rode
3. ✖ rowed
4. ✖ roed

Question Number : 144 Question Id : 54592714486 Question Type : MCQ Option Shuffling : Yes Display Question Number : Yes
Single Line Question Option : No Option Orientation : Vertical

Correct Marks : 1 Wrong Marks : 0.25

Select the correct word HOMONYM that fills in the blank and makes the sentence meaningful.

Mom could not pick up my sister because the _____ of the car was punctured.

Options :

1. ✔ tyre
2. ✖ tier
3. ✖ tire
4. ✖ tyer

Question Number : 144 Question Id : 54592714486 Question Type : MCQ Option Shuffling : Yes Display Question Number : Yes
Single Line Question Option : No Option Orientation : Vertical

Correct Marks : 1 Wrong Marks : 0.25

Select the correct word HOMONYM that fills in the blank and makes the sentence meaningful.

Mom could not pick up my sister because the _____ of the car was punctured.

Options :

1. ✔ tyre
2. ✖ tier
3. ✖ tire

4. ✖ tyer

Question Number : 145 Question Id : 54592714487 Question Type : MCQ Option Shuffling : Yes Display Question Number : Yes
Single Line Question Option : No Option Orientation : Vertical

Correct Marks : 1 Wrong Marks : 0.25

Select the word that is opposite in meaning ANTONYM to the word given below.

BENEVOLENT

Options :

1. ✖ Urbanised
2. ✖ Agrarian
3. ✔ Miserly
4. ✖ Malignant

Question Number : 145 Question Id : 54592714487 Question Type : MCQ Option Shuffling : Yes Display Question Number : Yes
Single Line Question Option : No Option Orientation : Vertical

Correct Marks : 1 Wrong Marks : 0.25

Select the word that is opposite in meaning ANTONYM to the word given below.

BENEVOLENT

Options :

1. ✖ Urbanised
2. ✖ Agrarian
3. ✔ Miserly
4. ✖ Malignant

Question Number : 146 Question Id : 54592714488 Question Type : MCQ Option Shuffling : Yes Display Question Number : Yes
Single Line Question Option : No Option Orientation : Vertical

Correct Marks : 1 Wrong Marks : 0.25

Select the word that is closest in meaning SYNONYM to the word given below.

GENRE

Options :

1. ✖ Alluring
2. ✖ Ignorance
3. ✖ Upsurge
4. ✔ Category

Question Number : 146 Question Id : 54592714488 Question Type : MCQ Option Shuffling : Yes Display Question Number : Yes
Single Line Question Option : No Option Orientation : Vertical

Correct Marks : 1 Wrong Marks : 0.25

Select the word that is closest in meaning SYNONYM to the word given below.

GENRE

Options :

1. ✖ Alluring
2. ✖ Ignorance
3. ✖ Upsurge
4. ✔ Category

Question Number : 147 Question Id : 54592714489 Question Type : MCQ Option Shuffling : Yes Display Question Number : Yes
Single Line Question Option : No Option Orientation : Vertical

Correct Marks : 1 Wrong Marks : 0.25

Four words are given, out of which only one word is spelt correctly. Choose the correctly spelt word.

Options :

1. ✓ Bourgeoisie
2. ✗ Borgwasy
3. ✗ Bourgieoise
4. ✗ Bourgeoisie

Question Number : 147 Question Id : 54592714489 Question Type : MCQ Option Shuffling : Yes Display Question Number : Yes
Single Line Question Option : No Option Orientation : Vertical

Correct Marks : 1 Wrong Marks : 0.25

Four words are given, out of which only one word is spelt correctly. Choose the correctly spelt word.

Options :

1. ✓ Bourgeoisie
2. ✗ Borgwasy
3. ✗ Bourgieoise
4. ✗ Bourgeoisie

Question Number : 148 Question Id : 54592714490 Question Type : MCQ Option Shuffling : Yes Display Question Number : Yes
Single Line Question Option : No Option Orientation : Vertical

Correct Marks : 1 Wrong Marks : 0.25

Four words are given, out of which only one word is spelt correctly. Choose the correctly spelt word.

Options :

1. ✗ Allegence
2. ✗ Allegance
3. ✗ Alegiance
4. ✓ Allegiance

Question Number : 148 Question Id : 54592714490 Question Type : MCQ Option Shuffling : Yes Display Question Number : Yes
Single Line Question Option : No Option Orientation : Vertical

Correct Marks : 1 Wrong Marks : 0.25

Four words are given, out of which only one word is spelt correctly. Choose the correctly spelt word.

Options :

1. ✗ Allegence
2. ✗ Allegance
3. ✗ Alegiance
4. ✓ Allegiance

Question Number : 149 Question Id : 54592714491 Question Type : MCQ Option Shuffling : Yes Display Question Number : Yes
Single Line Question Option : No Option Orientation : Vertical

Correct Marks : 1 Wrong Marks : 0.25

Four words are given, out of which only one word is spelt correctly. Choose the correctly spelt word.

Options :

1. ✗ Presbaterian
2. ✓ Presbyterian
3. ✗ Presbuyterian
4. ✗ Pressbytarian

Question Number : 149 Question Id : 54592714491 Question Type : MCQ Option Shuffling : Yes Display Question Number : Yes
Single Line Question Option : No Option Orientation : Vertical

Correct Marks : 1 Wrong Marks : 0.25

Four words are given, out of which only one word is spelt correctly. Choose the correctly spelt word.

Options :

1. ✗ Presbaterian
2. ✓ Presbyterian
3. ✗ Presbuyterian
4. ✗ Pressbytarian

Question Number : 150 Question Id : 54592714492 Question Type : MCQ Option Shuffling : Yes Display Question Number : Yes
Single Line Question Option : No Option Orientation : Vertical

Correct Marks : 1 Wrong Marks : 0.25

Select the option that best expresses the meaning of the idiom or phrase given below.

'Bite off more than you can chew'

Options :

1. ✓ to try to do something that is too difficult for you
2. ✗ to be able to predict the future
3. ✗ to break relationships with others
4. ✗ to fiddle or meddle with something

Question Number : 150 Question Id : 54592714492 Question Type : MCQ Option Shuffling : Yes Display Question Number : Yes
Single Line Question Option : No Option Orientation : Vertical

Correct Marks : 1 Wrong Marks : 0.25

Select the option that best expresses the meaning of the idiom or phrase given below.

'Bite off more than you can chew'

Options :

1. ✓ to try to do something that is too difficult for you
2. ✗ to be able to predict the future
3. ✗ to break relationships with others
4. ✗ to fiddle or meddle with something

Question Number : 151 Question Id : 54592714493 Question Type : MCQ Option Shuffling : Yes Display Question Number : Yes
Single Line Question Option : No Option Orientation : Vertical

Correct Marks : 1 Wrong Marks : 0.25

Select the option that best expresses the meaning of the idiom or phrase given below.

'Back against the wall'

Options :

1. ✗ When you're really in need, you think of creative solutions to your problems.
2. ✓ Be in a difficult situation from where escape is difficult.
3. ✗ To do something badly or cheaply.
4. ✗ Running away from tricky situations.

Question Number : 151 Question Id : 54592714493 Question Type : MCQ Option Shuffling : Yes Display Question Number : Yes
Single Line Question Option : No Option Orientation : Vertical

Correct Marks : 1 Wrong Marks : 0.25

Select the option that best expresses the meaning of the idiom or phrase given below.

'Back against the wall'

Options :

1. ✗ When you're really in need, you think of creative solutions to your problems.
2. ✓ Be in a difficult situation from where escape is difficult.
3. ✗ To do something badly or cheaply.
4. ✗ Running away from tricky situations.

Question Number : 152 Question Id : 54592714494 Question Type : MCQ Option Shuffling : Yes Display Question Number : Yes
Single Line Question Option : No Option Orientation : Vertical

Correct Marks : 1 Wrong Marks : 0.25

Select the option that best expresses the meaning of the idiom or phrase given below.

'A chip off the old block'

Options :

1. ✗ to describe exactly what is causing a situation or problem
2. ✗ to have some secret information about someone
3. ✗ to flatter someone
4. ✓ similar to someone in the generation before you

Question Number : 152 Question Id : 54592714494 Question Type : MCQ Option Shuffling : Yes Display Question Number : Yes
Single Line Question Option : No Option Orientation : Vertical

Correct Marks : 1 Wrong Marks : 0.25

Select the option that best expresses the meaning of the idiom or phrase given below.

'A chip off the old block'

Options :

1. ✗ to describe exactly what is causing a situation or problem
2. ✗ to have some secret information about someone
3. ✗ to flatter someone
4. ✓ similar to someone in the generation before you

Question Number : 153 Question Id : 54592714495 Question Type : MCQ Option Shuffling : Yes Display Question Number : Yes
Single Line Question Option : No Option Orientation : Vertical

Correct Marks : 1 Wrong Marks : 0.25

Select the most appropriate 'one word ' for the expressions given below.

To influence someone in a deceptive way

Options :

1. ✓ Beguile
2. ✗ Ethereal
3. ✗ Delirious
4. ✗ Pluviophile

Question Number : 153 Question Id : 54592714495 Question Type : MCQ Option Shuffling : Yes Display Question Number : Yes
Single Line Question Option : No Option Orientation : Vertical

Correct Marks : 1 Wrong Marks : 0.25

Select the most appropriate 'one word ' for the expressions given below.

To influence someone in a deceptive way

Options :

1. ☒ Beguile
2. ☐ Ethereal
3. ☐ Delirious
4. ☐ Pluviophile

Question Number : 154 Question Id : 54592714496 Question Type : MCQ Option Shuffling : Yes Display Question Number : Yes
Single Line Question Option : No Option Orientation : Vertical

Correct Marks : 1 Wrong Marks : 0.25

Select the most appropriate 'one word ' for the expressions given below.

To persuade by flattery or coaxing

Options :

1. ☐ Callous
2. ☒ Cajole
3. ☐ Epoch
4. ☐ Juvenile

Question Number : 154 Question Id : 54592714496 Question Type : MCQ Option Shuffling : Yes Display Question Number : Yes
Single Line Question Option : No Option Orientation : Vertical

Correct Marks : 1 Wrong Marks : 0.25

Select the most appropriate 'one word ' for the expressions given below.

To persuade by flattery or coaxing

Options :

1. ☐ Callous
2. ☒ Cajole
3. ☐ Epoch
4. ☐ Juvenile

Question Number : 155 Question Id : 54592714497 Question Type : MCQ Option Shuffling : Yes Display Question Number : Yes
Single Line Question Option : No Option Orientation : Vertical

Correct Marks : 1 Wrong Marks : 0.25

Select the most appropriate 'one word ' for the expressions given below.

Someone who criticizes or attacks cherished ideas and beliefs

Options :

1. ☐ Lexicographer
2. ☐ Dictator
3. ☐ Composer
4. ☒ Iconoclast

Question Number : 155 Question Id : 54592714497 Question Type : MCQ Option Shuffling : Yes Display Question Number : Yes
Single Line Question Option : No Option Orientation : Vertical

Correct Marks : 1 Wrong Marks : 0.25

Select the most appropriate 'one word ' for the expressions given below.

Someone who criticizes or attacks cherished ideas and beliefs

Options :

1. ☐ Lexicographer

2. ✖ Dictator
3. ✖ Composer
4. ✔ Iconoclast

Sub-Section Number: 2
Sub-Section Id: 545927861
Question Shuffling Allowed : Yes

Question Id : 54592714498 Question Type : COMPREHENSION Sub Question Shuffling Allowed : Yes Group Comprehension Questions : No

Question Numbers : (156 to 160)

Question Label : Comprehension

Read the passage below and answer the questions that follow.

Air India is the flag carrier airline of India, headquartered at New Delhi. It is owned by Air India Limited, a government-owned enterprise, and operates a fleet of Airbus and Boeing aircraft serving 94 domestic and international destinations. The airline has its hub at Indira Gandhi International Airport, New Delhi, alongside several focus cities across India. Air India is the largest international carrier out of India with an 18.6 प्रतिशत market share. Over 60 international destinations are served by Air India across four continents. The airline became the 27th member of Star Alliance on 11th July 2014.

The airline was founded by J. R. D. Tata as Tata Airlines in 1932; Tata himself flew its first single-engine de Havilland Puss Moth, carrying air mail from Karachi to Bombay's Juhu aerodrome and later continuing to Madras (currently Chennai). After World War II, it became a public limited company and was renamed as Air India. On 21 February 1960, it took delivery of its first Boeing 707 named Gauri Shankar and became the first Asian airline to induct a jet aircraft in its fleet.

Air India's mascot is the Maharajah (high King). It was created by Bobby Kooka, the then-commercial director of Air India, and Umesh Rao, an artist with J. Walter Thompson Limited in 1946. Kooka stated that, "We call him a Maharajah for want of a better description. But his blood isn't blue. He may look like royalty, but he isn't royal". Air India adopted the Maharajah as its mascot in 1946. It was used in promoting it although initially designed only for the airline's memo-pads.

Sub questions

Question Number : 156 Question Id : 54592714499 Question Type : MCQ Option Shuffling : Yes Display Question Number : Yes Single Line Question Option : No Option Orientation : Vertical

Correct Marks : 1 Wrong Marks : 0.25

According to the passage, which among these is the flag carrier airline of India?

Options :

1. ✖ Indian Airlines
2. ✔ Air India
3. ✖ Jet Airways
4. ✖ Maharaja Airlines

Question Number : 157 Question Id : 54592714500 Question Type : MCQ Option Shuffling : Yes Display Question Number : Yes Single Line Question Option : No Option Orientation : Vertical

Correct Marks : 1 Wrong Marks : 0.25

According to the passage, which among these was the first Boeing 707 for Air India?

Options :

1. ✖ Gauri Parvat
2. ✖ Gauri Sinha
3. ✔ Gauri Shankar
4. ✖ Shiv Shankar

Question Number : 158 Question Id : 54592714501 Question Type : MCQ Option Shuffling : Yes Display Question Number : Yes
Single Line Question Option : No Option Orientation : Vertical

Correct Marks : 1 Wrong Marks : 0.25

According to the passage, Air India was founded by whom?

Options :

1. ✗ Ratan Tata
2. ✗ Sohrabji Tata
3. ✗ Dadabhai Tata
4. ✓ JRD Tata

Question Number : 159 Question Id : 54592714502 Question Type : MCQ Option Shuffling : Yes Display Question Number : Yes
Single Line Question Option : No Option Orientation : Vertical

Correct Marks : 1 Wrong Marks : 0.25

According to the passage, who among these is the mascot for Air India?

Options :

1. ✓ Maharajah
2. ✗ Thakur
3. ✗ Kuwarsa
4. ✗ Rai Bahadur

Question Number : 160 Question Id : 54592714503 Question Type : MCQ Option Shuffling : Yes Display Question Number : Yes
Single Line Question Option : No Option Orientation : Vertical

Correct Marks : 1 Wrong Marks : 0.25

According to the passage, JRD Tata carried air mail from _____.

Options :

1. ✗ Mumbai to Karachi
2. ✓ Karachi to Chennai
3. ✗ Chennai to China
4. ✗ Mumbai to Kerala

Question Id : 54592714498 Question Type : COMPREHENSION Sub Question Shuffling Allowed : Yes Group Comprehension
Questions : No

Question Numbers : (156 to 160)

Question Label : Comprehension

Read the passage below and answer the questions that follow.

Air India is the flag carrier airline of India, headquartered at New Delhi. It is owned by Air India Limited, a government-owned enterprise, and operates a fleet of Airbus and Boeing aircraft serving 94 domestic and international destinations. The airline has its hub at Indira Gandhi International Airport, New Delhi, alongside several focus cities across India. Air India is the largest international carrier out of India with an 18.6 प्रतिशत market share. Over 60 international destinations are served by Air India across four continents. The airline became the 27th member of Star Alliance on 11th July 2014.

The airline was founded by J. R. D. Tata as Tata Airlines in 1932; Tata himself flew its first single-engine de Havilland Puss Moth, carrying air mail from Karachi to Bombay's Juhu aerodrome and later continuing to Madras (currently Chennai). After World War II, it became a public limited company and was renamed as Air India. On 21 February 1960, it took delivery of its first Boeing 707 named Gauri Shankar and became the first Asian airline to induct a jet aircraft in its fleet.

Air India's mascot is the Maharajah (high King). It was created by Bobby Kooka, the then-commercial director of Air India, and Umesh Rao, an artist with J. Walter Thompson Limited in 1946. Kooka stated that, "We call him a Maharajah for want of a better description. But his blood isn't blue. He may look like royalty, but he isn't royal". Air India adopted the Maharajah as its mascot in 1946. It was used in promoting it although initially designed only for the airline's memo-pads.

Sub questions

Question Number : 156 Question Id : 54592714499 Question Type : MCQ Option Shuffling : Yes Display Question Number : Yes
Single Line Question Option : No Option Orientation : Vertical

Correct Marks : 1 Wrong Marks : 0.25

According to the passage, which among these is the flag carrier airline of India?

Options :

1. ✗ Indian Airlines
2. ✓ Air India
3. ✗ Jet Airways
4. ✗ Maharaja Airlines

Question Number : 157 Question Id : 54592714500 Question Type : MCQ Option Shuffling : Yes Display Question Number : Yes
Single Line Question Option : No Option Orientation : Vertical

Correct Marks : 1 Wrong Marks : 0.25

According to the passage, which among these was the first Boeing 707 for Air India?

Options :

1. ✗ Gauri Parvat
2. ✗ Gauri Sinha
3. ✓ Gauri Shankar
4. ✗ Shiv Shankar

Question Number : 158 Question Id : 54592714501 Question Type : MCQ Option Shuffling : Yes Display Question Number : Yes
Single Line Question Option : No Option Orientation : Vertical

Correct Marks : 1 Wrong Marks : 0.25

According to the passage, Air India was founded by whom?

Options :

1. ✗ Ratan Tata
2. ✗ Sohrabji Tata
3. ✗ Dadabhai Tata
4. ✓ J.R.D Tata

Question Number : 159 Question Id : 54592714502 Question Type : MCQ Option Shuffling : Yes Display Question Number : Yes
Single Line Question Option : No Option Orientation : Vertical

Correct Marks : 1 Wrong Marks : 0.25

According to the passage, who among these is the mascot for Air India?

Options :

1. ✓ Maharajah
2. ✗ Thakur
3. ✗ Kuwarsa
4. ✗ Rai Bhadur

Question Number : 160 Question Id : 54592714503 Question Type : MCQ Option Shuffling : Yes Display Question Number : Yes
Single Line Question Option : No Option Orientation : Vertical

Correct Marks : 1 Wrong Marks : 0.25

According to the passage, J.R.D.Tata carried air mail from _____.

Options :

1. ✗ Mumbai to Karachi
2. ✓ Karachi to Chennai
3. ✗ Chennai to China

4. ❌ Mumbai to Kerala

General Hindi1

Group Number :	9
Group Id :	545927719
Group Maximum Duration :	0
Group Minimum Duration :	0
Revisit allowed for view? :	No
Revisit allowed for edit? :	No
Break time:	0
Group Marks:	20
Revisit allowed for group Instructions? :	Yes
Maximum Instruction Time:	0
Minimum Instruction Time:	0

General Hindi1

Section Id :	545927719
Section Number :	1
Section type :	Online
Mandatory or Optional:	Mandatory
Number of Questions:	20
Number of Questions to be attempted:	20
Section Marks:	20
Display Number Panel:	Yes
Group All Questions:	No

Sub-Section Number:	1
Sub-Section Id:	545927862
Question Shuffling Allowed :	Yes

Question Number : 161 Question Id : 54592714504 Question Type : MCQ Option Shuffling : Yes Display Question Number : Yes
Single Line Question Option : No Option Orientation : Vertical

Correct Marks : 1 Wrong Marks : 0.25

निम्नलिखित प्रश्न में, चार विकल्पों में से, उस विकल्प का चयन करें जो देशज शब्द का सही विकल्प हो।

Options :

- ❌ गोश्त
- ❌ नीलाम
- ✅ पों-पों
- ❌ जनाब

Question Number : 161 Question Id : 54592714504 Question Type : MCQ Option Shuffling : Yes Display Question Number : Yes
Single Line Question Option : No Option Orientation : Vertical

Correct Marks : 1 Wrong Marks : 0.25

निम्नलिखित प्रश्न में, चार विकल्पों में से, उस विकल्प का चयन करें जो देशज शब्द का सही विकल्प हो।

Options :

- ❌ गोश्त
- ❌ नीलाम

3. ✓ पों-पों

4. ✗ जनाब

Question Number : 162 Question Id : 54592714505 Question Type : MCQ Option Shuffling : Yes Display Question Number : Yes
Single Line Question Option : No Option Orientation : Vertical

Correct Marks : 1 Wrong Marks : 0.25

निम्नलिखित प्रश्न में, चार विकल्पों में से, उस विकल्प का चयन करें जो विदेशी शब्द का सही विकल्प नहीं हो।

Options :

1. ✗ मीरिंग

2. ✗ बेगम

3. ✗ अजीब

4. ✓ सर-सर

Question Number : 162 Question Id : 54592714505 Question Type : MCQ Option Shuffling : Yes Display Question Number : Yes
Single Line Question Option : No Option Orientation : Vertical

Correct Marks : 1 Wrong Marks : 0.25

निम्नलिखित प्रश्न में, चार विकल्पों में से, उस विकल्प का चयन करें जो विदेशी शब्द का सही विकल्प नहीं हो।

Options :

1. ✗ मीरिंग

2. ✗ बेगम

3. ✗ अजीब

4. ✓ सर-सर

Question Number : 163 Question Id : 54592714506 Question Type : MCQ Option Shuffling : Yes Display Question Number : Yes
Single Line Question Option : No Option Orientation : Vertical

Correct Marks : 1 Wrong Marks : 0.25

निम्नलिखित प्रश्न में, चार विकल्पों में से, उस विकल्प का चयन करें जो दिए गए शब्द के लिए सही संप्रदान तत्पुरुष समास के विग्रह का विकल्प हो।

सत्याग्रह

Options :

1. ✓ सत्य के लिए आग्रह

2. ✗ सत्य से आग्रह

3. ✗ सत्य द्वारा आग्रह

4. ✗ सत्य को आग्रह

Question Number : 163 Question Id : 54592714506 Question Type : MCQ Option Shuffling : Yes Display Question Number : Yes
Single Line Question Option : No Option Orientation : Vertical

Correct Marks : 1 Wrong Marks : 0.25

निम्नलिखित प्रश्न में, चार विकल्पों में से, उस विकल्प का चयन करें जो दिए गए शब्द के लिए सही संप्रदान तत्पुरुष समास के विग्रह का विकल्प हो।

सत्याग्रह

Options :

1. ✓ सत्य के लिए आग्रह

2. ✗ सत्य से आग्रह

3. ✗ सत्य द्वारा आग्रह

4. ✗ सत्य को आग्रह

Question Number : 164 Question Id : 54592714507 Question Type : MCQ Option Shuffling : Yes Display Question Number : Yes
Single Line Question Option : No Option Orientation : Vertical

Correct Marks : 1 Wrong Marks : 0.25

निम्नलिखित प्रश्न में, चार विकल्पों में से, उस विकल्प का चयन करें जो क्रिया के भेद वाला सही विकल्प हो।

दीपा ने भागकर बस पकड़ी।

Options :

1. ✓ पूर्वकालिक क्रिया
2. ✗ नामधातु
3. ✗ प्रेरणार्थक क्रिया
4. ✗ संयुक्त क्रिया

Question Number : 164 Question Id : 54592714507 Question Type : MCQ Option Shuffling : Yes Display Question Number : Yes
Single Line Question Option : No Option Orientation : Vertical

Correct Marks : 1 Wrong Marks : 0.25

निम्नलिखित प्रश्न में, चार विकल्पों में से, उस विकल्प का चयन करें जो क्रिया के भेद वाला सही विकल्प हो।

दीपा ने भागकर बस पकड़ी।

Options :

1. ✓ पूर्वकालिक क्रिया
2. ✗ नामधातु
3. ✗ प्रेरणार्थक क्रिया
4. ✗ संयुक्त क्रिया

Question Number : 165 Question Id : 54592714508 Question Type : MCQ Option Shuffling : Yes Display Question Number : Yes
Single Line Question Option : No Option Orientation : Vertical

Correct Marks : 1 Wrong Marks : 0.25

निम्नलिखित प्रश्न में, चार विकल्पों में से, उस विकल्प का चयन करें जो दिए गए वाक्य के लिए अव्यय के भेद का सही विकल्प हो।

दादी कहानी सुना रही हैं तथा बच्चे कहानी सुन रहे हैं।

Options :

1. ✗ व्यधिकरण समुच्चयबोधक अव्यय
2. ✓ समानाधिकरण समुच्चयबोधक अव्यय
3. ✗ कालवाचक क्रियाविशेषण अव्यय
4. ✗ परिमाणवाचक क्रियाविशेषण अव्यय

Question Number : 165 Question Id : 54592714508 Question Type : MCQ Option Shuffling : Yes Display Question Number : Yes
Single Line Question Option : No Option Orientation : Vertical

Correct Marks : 1 Wrong Marks : 0.25

निम्नलिखित प्रश्न में, चार विकल्पों में से, उस विकल्प का चयन करें जो दिए गए वाक्य के लिए अव्यय के भेद का सही विकल्प हो।

दादी कहानी सुना रही हैं तथा बच्चे कहानी सुन रहे हैं।

Options :

1. ✗ व्यधिकरण समुच्चयबोधक अव्यय
2. ✓ समानाधिकरण समुच्चयबोधक अव्यय
3. ✗ कालवाचक क्रियाविशेषण अव्यय
4. ✗ परिमाणवाचक क्रियाविशेषण अव्यय

Question Number : 166 Question Id : 54592714509 Question Type : MCQ Option Shuffling : Yes Display Question Number : Yes
Single Line Question Option : No Option Orientation : Vertical

Correct Marks : 1 Wrong Marks : 0.25

निम्नलिखित प्रश्न में, चार विकल्पों में से, उस विकल्प का चयन करें जो दिए गए शब्द के पर्यायवाची शब्द का सही विकल्प नहीं है।

स्त्री

Options :

1. ✖ वनिता
2. ✖ रमणी
3. ✔ वाणी
4. ✖ कामिनी

Question Number : 166 Question Id : 54592714509 Question Type : MCQ Option Shuffling : Yes Display Question Number : Yes
Single Line Question Option : No Option Orientation : Vertical

Correct Marks : 1 Wrong Marks : 0.25

निम्नलिखित प्रश्न में, चार विकल्पों में से, उस विकल्प का चयन करें जो दिए गए शब्द के पर्यायवाची शब्द का सही विकल्प नहीं है।

स्त्री

Options :

1. ✖ वनिता
2. ✖ रमणी
3. ✔ वाणी
4. ✖ कामिनी

Question Number : 167 Question Id : 54592714510 Question Type : MCQ Option Shuffling : Yes Display Question Number : Yes
Single Line Question Option : No Option Orientation : Vertical

Correct Marks : 1 Wrong Marks : 0.25

निम्नलिखित प्रश्न में, चार विकल्पों में से, उस विकल्प का चयन करें जो दिए गए शब्द के पर्यायवाची शब्द का सही विकल्प नहीं है।

हाथी

Options :

1. ✔ पाणि
2. ✖ द्विरद
3. ✖ मतंग
4. ✖ द्विप

Question Number : 167 Question Id : 54592714510 Question Type : MCQ Option Shuffling : Yes Display Question Number : Yes
Single Line Question Option : No Option Orientation : Vertical

Correct Marks : 1 Wrong Marks : 0.25

निम्नलिखित प्रश्न में, चार विकल्पों में से, उस विकल्प का चयन करें जो दिए गए शब्द के पर्यायवाची शब्द का सही विकल्प नहीं है।

हाथी

Options :

1. ✔ पाणि
2. ✖ द्विरद
3. ✖ मतंग
4. ✖ द्विप

Question Number : 168 Question Id : 54592714511 Question Type : MCQ Option Shuffling : Yes Display Question Number : Yes
Single Line Question Option : No Option Orientation : Vertical

Correct Marks : 1 Wrong Marks : 0.25

निम्नलिखित प्रश्न में, चार विकल्पों में से, उस विकल्प का चयन करें जो दिए गए शब्द के विलोम शब्द का सही विकल्प है।

स्वकीया

Options :

1. ✖ सुलभ

2. ✓ परकीया
3. ✗ परमार्थ
4. ✗ विलास

Question Number : 168 Question Id : 54592714511 Question Type : MCQ Option Shuffling : Yes Display Question Number : Yes
Single Line Question Option : No Option Orientation : Vertical

Correct Marks : 1 Wrong Marks : 0.25

निम्नलिखित प्रश्न में, चार विकल्पों में से, उस विकल्प का चयन करें जो दिए गए शब्द के विलोम शब्द का सही विकल्प है।

स्वकीया

Options :

1. ✗ सुलभ
2. ✓ परकीया
3. ✗ परमार्थ
4. ✗ विलास

Question Number : 169 Question Id : 54592714512 Question Type : MCQ Option Shuffling : Yes Display Question Number : Yes
Single Line Question Option : No Option Orientation : Vertical

Correct Marks : 1 Wrong Marks : 0.25

निम्नलिखित प्रश्न में, चार विकल्पों में से, उस विकल्प का चयन करें जो दिए गए शब्द के विलोम शब्द का सही विकल्प है।

विपुल

Options :

1. ✗ अनुकूल
2. ✗ अथाह
3. ✗ बढ़ोत्तरी
4. ✓ न्यून

Question Number : 169 Question Id : 54592714512 Question Type : MCQ Option Shuffling : Yes Display Question Number : Yes
Single Line Question Option : No Option Orientation : Vertical

Correct Marks : 1 Wrong Marks : 0.25

निम्नलिखित प्रश्न में, चार विकल्पों में से, उस विकल्प का चयन करें जो दिए गए शब्द के विलोम शब्द का सही विकल्प है।

विपुल

Options :

1. ✗ अनुकूल
2. ✗ अथाह
3. ✗ बढ़ोत्तरी
4. ✓ न्यून

Question Number : 170 Question Id : 54592714513 Question Type : MCQ Option Shuffling : Yes Display Question Number : Yes
Single Line Question Option : No Option Orientation : Vertical

Correct Marks : 1 Wrong Marks : 0.25

निम्नलिखित प्रश्न में, चार विकल्पों में से, उस सही विकल्प का चयन करें जो दिए गए शब्द-युग्म के अर्थ का सही विकल्प हो।

ज़ाया-जाया

Options :

1. ✓ व्यर्थ और पत्नी
2. ✗ बहस और पत्नी
3. ✗ पत्नी और कवच

4. ✖ व्यर्थ और बहस

Question Number : 170 Question Id : 54592714513 Question Type : MCQ Option Shuffling : Yes Display Question Number : Yes
Single Line Question Option : No Option Orientation : Vertical

Correct Marks : 1 Wrong Marks : 0.25

निम्नलिखित प्रश्न में, चार विकल्पों में से, उस सही विकल्प का चयन करें जो दिए गए शब्द-युग्म के अर्थ का सही विकल्प हो।

ज़ाया-जाया

Options :

1. ✔ व्यर्थ और पत्नी
2. ✖ बहस और पत्नी
3. ✖ पत्नी और कवच
4. ✖ व्यर्थ और बहस

Question Number : 171 Question Id : 54592714514 Question Type : MCQ Option Shuffling : Yes Display Question Number : Yes
Single Line Question Option : No Option Orientation : Vertical

Correct Marks : 1 Wrong Marks : 0.25

निम्नलिखित प्रश्न में, चार विकल्पों में से, उस विकल्प का चयन करें जो दिए गए वाक्यांश के लिए एक शब्द का सही विकल्प है।

छिपकर टोह लेने वाला

Options :

1. ✖ गोपनीय
2. ✖ एकांगी
3. ✖ एकतंत्र
4. ✔ गुप्तचर

Question Number : 171 Question Id : 54592714514 Question Type : MCQ Option Shuffling : Yes Display Question Number : Yes
Single Line Question Option : No Option Orientation : Vertical

Correct Marks : 1 Wrong Marks : 0.25

निम्नलिखित प्रश्न में, चार विकल्पों में से, उस विकल्प का चयन करें जो दिए गए वाक्यांश के लिए एक शब्द का सही विकल्प है।

छिपकर टोह लेने वाला

Options :

1. ✖ गोपनीय
2. ✖ एकांगी
3. ✖ एकतंत्र
4. ✔ गुप्तचर

Question Number : 172 Question Id : 54592714515 Question Type : MCQ Option Shuffling : Yes Display Question Number : Yes
Single Line Question Option : No Option Orientation : Vertical

Correct Marks : 1 Wrong Marks : 0.25

निम्नलिखित प्रश्न में, चार विकल्पों में से, उस सही विकल्प का चयन करें जो रिक्त स्थान के लिए उचित विकल्प हो।

मेरे मित्र के पास _____ का खिलौना है।

Options :

1. ✖ कात
2. ✖ कार
3. ✖ कष्ट
4. ✔ काठ

Question Number : 172 Question Id : 54592714515 Question Type : MCQ Option Shuffling : Yes Display Question Number : Yes
Single Line Question Option : No Option Orientation : Vertical

Correct Marks : 1 Wrong Marks : 0.25

निम्नलिखित प्रश्न में, चार विकल्पों में से, उस सही विकल्प का चयन करें जो रिक्त स्थान के लिए उचित विकल्प हो।

मेरे मित्र के पास _____ का खिलौना है।

Options :

1. ✗ कात
2. ✗ काट
3. ✗ कष्ट
4. ✓ काठ

Question Number : 173 Question Id : 54592714516 Question Type : MCQ Option Shuffling : Yes Display Question Number : Yes
Single Line Question Option : No Option Orientation : Vertical

Correct Marks : 1 Wrong Marks : 0.25

निम्नलिखित प्रश्न में, चार विकल्पों में से, उस विकल्प का चयन करें जो दिए गए शब्द के समानार्थी शब्द का विकल्प नहीं है।

मुनि

Options :

1. ✗ तापस
2. ✗ अवधूत
3. ✓ पयोद
4. ✗ भिक्षु

Question Number : 173 Question Id : 54592714516 Question Type : MCQ Option Shuffling : Yes Display Question Number : Yes
Single Line Question Option : No Option Orientation : Vertical

Correct Marks : 1 Wrong Marks : 0.25

निम्नलिखित प्रश्न में, चार विकल्पों में से, उस विकल्प का चयन करें जो दिए गए शब्द के समानार्थी शब्द का विकल्प नहीं है।

मुनि

Options :

1. ✗ तापस
2. ✗ अवधूत
3. ✓ पयोद
4. ✗ भिक्षु

Question Number : 174 Question Id : 54592714517 Question Type : MCQ Option Shuffling : Yes Display Question Number : Yes
Single Line Question Option : No Option Orientation : Vertical

Correct Marks : 1 Wrong Marks : 0.25

निम्नलिखित प्रश्न में, चार विकल्पों में से, उस सही विकल्प का चयन करें जो रिक्त स्थान के लिए उपयुक्त शब्द का सही विकल्प है।

हमारी देह भीग _____ है।

Options :

1. ✓ गई
2. ✗ गया
3. ✗ गए
4. ✗ ग्या

Question Number : 174 Question Id : 54592714517 Question Type : MCQ Option Shuffling : Yes Display Question Number : Yes
Single Line Question Option : No Option Orientation : Vertical

Correct Marks : 1 Wrong Marks : 0.25

निम्नलिखित प्रश्न में, चार विकल्पों में से, उस सही विकल्प का चयन करें जो रिक्त स्थान के लिए उपयुक्त शब्द का सही विकल्प है।

हमारी देह भीग _____ है।

Options :

1. ✓ गई
2. ✗ गया
3. ✗ गए
4. ✗ ग्या

Question Number : 175 Question Id : 54592714518 Question Type : MCQ Option Shuffling : Yes Display Question Number : Yes
Single Line Question Option : No Option Orientation : Vertical

Correct Marks : 1 Wrong Marks : 0.25

निम्नलिखित प्रश्न में, चार विकल्पों में से, उस विकल्प का चयन करें जो शुद्ध शब्द का सही विकल्प है।

Options :

1. ✗ यथासमराध्य
2. ✗ यथासमार्थाया
3. ✓ यथासामर्थ्य
4. ✗ यथासामर्थय

Question Number : 175 Question Id : 54592714518 Question Type : MCQ Option Shuffling : Yes Display Question Number : Yes
Single Line Question Option : No Option Orientation : Vertical

Correct Marks : 1 Wrong Marks : 0.25

निम्नलिखित प्रश्न में, चार विकल्पों में से, उस विकल्प का चयन करें जो शुद्ध शब्द का सही विकल्प है।

Options :

1. ✗ यथासमराध्य
2. ✗ यथासमार्थाया
3. ✓ यथासामर्थ्य
4. ✗ यथासामर्थय

Question Number : 176 Question Id : 54592714519 Question Type : MCQ Option Shuffling : Yes Display Question Number : Yes
Single Line Question Option : No Option Orientation : Vertical

Correct Marks : 1 Wrong Marks : 0.25

निम्नलिखित प्रश्न में, चार विकल्पों में से, उस विकल्प का चयन करें जो सदा पुल्लिंग वाला शब्द है।

Options :

1. ✓ कुटुंब
2. ✗ छलनी
3. ✗ कड़ाई
4. ✗ मजदूरी

Question Number : 176 Question Id : 54592714519 Question Type : MCQ Option Shuffling : Yes Display Question Number : Yes
Single Line Question Option : No Option Orientation : Vertical

Correct Marks : 1 Wrong Marks : 0.25

निम्नलिखित प्रश्न में, चार विकल्पों में से, उस विकल्प का चयन करें जो सदा पुल्लिंग वाला शब्द है।

Options :

1. ✓ कुटुंब
2. ✗ छलनी
3. ✗ कड़ाई
4. ✗ मजदूरी

Question Number : 177 Question Id : 54592714520 Question Type : MCQ Option Shuffling : Yes Display Question Number : Yes
Single Line Question Option : No Option Orientation : Vertical

Correct Marks : 1 Wrong Marks : 0.25

निम्नलिखित प्रश्न में, चार विकल्पों में से, उस विकल्प का चयन करें जो दिए गए शब्द का स्त्रीलिंग शब्द वाला विकल्प है।

विधाता

Options :

1. ✖ विधाती
2. ✔ विधात्री
3. ✖ विधात्रिन
4. ✖ विधातराइन

Question Number : 177 Question Id : 54592714520 Question Type : MCQ Option Shuffling : Yes Display Question Number : Yes
Single Line Question Option : No Option Orientation : Vertical

Correct Marks : 1 Wrong Marks : 0.25

निम्नलिखित प्रश्न में, चार विकल्पों में से, उस विकल्प का चयन करें जो दिए गए शब्द का स्त्रीलिंग शब्द वाला विकल्प है।

विधाता

Options :

1. ✖ विधाती
2. ✔ विधात्री
3. ✖ विधात्रिन
4. ✖ विधातराइन

Question Number : 178 Question Id : 54592714521 Question Type : MCQ Option Shuffling : Yes Display Question Number : Yes
Single Line Question Option : No Option Orientation : Vertical

Correct Marks : 1 Wrong Marks : 0.25

निम्नलिखित प्रश्न में, चार विकल्पों में से, उस विकल्प का चयन करें जो सदा एकवचन शब्द का सबसे अच्छा विकल्प है।

Options :

1. ✖ कीड़ें
2. ✖ प्रजाजन
3. ✔ जनता
4. ✖ भैसें

Question Number : 178 Question Id : 54592714521 Question Type : MCQ Option Shuffling : Yes Display Question Number : Yes
Single Line Question Option : No Option Orientation : Vertical

Correct Marks : 1 Wrong Marks : 0.25

निम्नलिखित प्रश्न में, चार विकल्पों में से, उस विकल्प का चयन करें जो सदा एकवचन शब्द का सबसे अच्छा विकल्प है।

Options :

1. ✖ कीड़ें
2. ✖ प्रजाजन
3. ✔ जनता
4. ✖ भैसें

Question Number : 179 Question Id : 54592714522 Question Type : MCQ Option Shuffling : Yes Display Question Number : Yes
Single Line Question Option : No Option Orientation : Vertical

Correct Marks : 1 Wrong Marks : 0.25

निम्नलिखित प्रश्न में, चार विकल्पों में से, उस विकल्प का चयन करें जो दिए गए शब्द के बहुवचन शब्द का सबसे अच्छा विकल्प है।

वधू

Options :

1. ✖ वधुओं
2. ✖ वधूएँ
3. ✖ वधूओ
4. ✔ वधूएँ

Question Number : 179 Question Id : 54592714522 Question Type : MCQ Option Shuffling : Yes Display Question Number : Yes
Single Line Question Option : No Option Orientation : Vertical

Correct Marks : 1 Wrong Marks : 0.25

निम्नलिखित प्रश्न में, चार विकल्पों में से, उस विकल्प का चयन करें जो दिए गए शब्द के बहुवचन शब्द का सबसे अच्छा विकल्प है।

वधू

Options :

1. ✖ वधुओं
2. ✖ वधूएँ
3. ✖ वधूओ
4. ✔ वधूएँ

Question Number : 180 Question Id : 54592714523 Question Type : MCQ Option Shuffling : Yes Display Question Number : Yes
Single Line Question Option : No Option Orientation : Vertical

Correct Marks : 1 Wrong Marks : 0.25

निम्नलिखित प्रश्न में, चार विकल्पों में से, उस विकल्प का चयन करें जो कोष्ठक में दिए गए शब्द के अनुसार अन्य पुरुष वाचक सर्वनाम का सही विकल्प हो।

Options :

1. ✖ (तुम्हें) कुछ भी बोलने से पहले सोच लेना चाहिए।
2. ✖ (हम) क्या करें कुछ समझ में नहीं आ रहा।
3. ✔ (वे लोग) आज किसी भी समय आ सकते हैं।
4. ✖ (तुम) मेरा भला चाहते हो कि दूसरों का?

Question Number : 180 Question Id : 54592714523 Question Type : MCQ Option Shuffling : Yes Display Question Number : Yes
Single Line Question Option : No Option Orientation : Vertical

Correct Marks : 1 Wrong Marks : 0.25

निम्नलिखित प्रश्न में, चार विकल्पों में से, उस विकल्प का चयन करें जो कोष्ठक में दिए गए शब्द के अनुसार अन्य पुरुष वाचक सर्वनाम का सही विकल्प हो।

Options :

1. ✖ (तुम्हें) कुछ भी बोलने से पहले सोच लेना चाहिए।
2. ✖ (हम) क्या करें कुछ समझ में नहीं आ रहा।
3. ✔ (वे लोग) आज किसी भी समय आ सकते हैं।
4. ✖ (तुम) मेरा भला चाहते हो कि दूसरों का?

General Hindi2

Group Number :	10
Group Id :	545927720
Group Maximum Duration :	0
Group Minimum Duration :	120
Revisit allowed for view? :	No
Revisit allowed for edit? :	No

Break time:	0
Group Marks:	20
Revisit allowed for group Instructions? :	Yes
Maximum Instruction Time:	0
Minimum Instruction Time:	0

General Hindi2

Section Id :	545927720
Section Number :	1
Section type :	Online
Mandatory or Optional:	Mandatory
Number of Questions:	16
Number of Questions to be attempted:	16
Section Marks:	20
Display Number Panel:	Yes
Group All Questions:	No

Sub-Section Number:	1
Sub-Section Id:	545927863
Question Shuffling Allowed :	Yes

Question Number : 181 Question Id : 54592714524 Question Type : MCQ Option Shuffling : Yes Display Question Number : Yes
Single Line Question Option : No Option Orientation : Vertical

Correct Marks : 1 Wrong Marks : 0.25

निम्नलिखित प्रश्न में, चार विकल्पों में से, उस विकल्प का चयन करें जो दिए गए वाक्य के काल के भेद का सही विकल्प हो।

मछली जल में तैरती है।

Options :

- ✘ हेतुहेतु मद भूतकाल
- ✘ आसन्न भूतकाल
- ✘ अपूर्ण भूतकाल
- ✔ सामान्य वर्तमानकाल

Question Number : 181 Question Id : 54592714524 Question Type : MCQ Option Shuffling : Yes Display Question Number : Yes
Single Line Question Option : No Option Orientation : Vertical

Correct Marks : 1 Wrong Marks : 0.25

निम्नलिखित प्रश्न में, चार विकल्पों में से, उस विकल्प का चयन करें जो दिए गए वाक्य के काल के भेद का सही विकल्प हो।

मछली जल में तैरती है।

Options :

- ✘ हेतुहेतु मद भूतकाल
- ✘ आसन्न भूतकाल
- ✘ अपूर्ण भूतकाल
- ✔ सामान्य वर्तमानकाल

Question Number : 182 Question Id : 54592714525 Question Type : MCQ Option Shuffling : Yes Display Question Number : Yes
Single Line Question Option : No Option Orientation : Vertical

Correct Marks : 1 Wrong Marks : 0.25

निम्नलिखित प्रश्न में, चार विकल्पों में से, उस विकल्प का चयन करें जो दिए गए वाक्य के लिए वृत्ति के भेद का सबसे अच्छा विकल्प है।

संभव है आज विद्यालय की छुट्टी हो।

Options :

1. ✖ विध्यर्थ
2. ✔ संभावनार्थ
3. ✖ संदेहार्थ
4. ✖ निश्चयार्थ

Question Number : 182 Question Id : 54592714525 Question Type : MCQ Option Shuffling : Yes Display Question Number : Yes
Single Line Question Option : No Option Orientation : Vertical

Correct Marks : 1 Wrong Marks : 0.25

निम्नलिखित प्रश्न में, चार विकल्पों में से, उस विकल्प का चयन करें जो दिए गए वाक्य के लिए वृत्ति के भेद का सबसे अच्छा विकल्प है।

संभव है आज विद्यालय की छुट्टी हो।

Options :

1. ✖ विध्यर्थ
2. ✔ संभावनार्थ
3. ✖ संदेहार्थ
4. ✖ निश्चयार्थ

Question Number : 183 Question Id : 54592714526 Question Type : MCQ Option Shuffling : Yes Display Question Number : Yes
Single Line Question Option : No Option Orientation : Vertical

Correct Marks : 1 Wrong Marks : 0.25

निम्नलिखित प्रश्न में, चार विकल्पों में से, उस विकल्प का चयन करें जो दिए गए वाक्य के लिए पक्ष के भेद का सबसे अच्छा विकल्प है।

पृथ्वी अपने अक्ष पर घूमती है।

Options :

1. ✖ सातप्यबोधक
2. ✔ नित्यताद्योतक
3. ✖ प्रगतिद्योतक
4. ✖ आरंभद्योतक

Question Number : 183 Question Id : 54592714526 Question Type : MCQ Option Shuffling : Yes Display Question Number : Yes
Single Line Question Option : No Option Orientation : Vertical

Correct Marks : 1 Wrong Marks : 0.25

निम्नलिखित प्रश्न में, चार विकल्पों में से, उस विकल्प का चयन करें जो दिए गए वाक्य के लिए पक्ष के भेद का सबसे अच्छा विकल्प है।

पृथ्वी अपने अक्ष पर घूमती है।

Options :

1. ✖ सातप्यबोधक
2. ✔ नित्यताद्योतक
3. ✖ प्रगतिद्योतक
4. ✖ आरंभद्योतक

Question Number : 184 Question Id : 54592714527 Question Type : MCQ Option Shuffling : Yes Display Question Number : Yes
Single Line Question Option : No Option Orientation : Vertical

Correct Marks : 1 Wrong Marks : 0.25

निम्न विकल्पों में से निर्देशानुसार वाच्य परिवर्तन का विकल्प चुनिए।

बच्चा खाना नहीं खाता (भाववाच्य)

Options :

1. ✖ बच्चा नहीं खाता खाना
2. ✖ खाना नहीं खाता बच्चा
3. ✖ खाना बच्चे से नहीं खाया जाता
4. ✔ बच्चे से खाना नहीं खाया जाता

Question Number : 184 Question Id : 54592714527 Question Type : MCQ Option Shuffling : Yes Display Question Number : Yes
Single Line Question Option : No Option Orientation : Vertical

Correct Marks : 1 Wrong Marks : 0.25

निम्न विकल्पों में से निर्देशानुसार वाच्य परिवर्तन का विकल्प चुनिए।

बच्चा खाना नहीं खाता (भाववाच्य)

Options :

1. ✖ बच्चा नहीं खाता खाना
2. ✖ खाना नहीं खाता बच्चा
3. ✖ खाना बच्चे से नहीं खाया जाता
4. ✔ बच्चे से खाना नहीं खाया जाता

Question Number : 185 Question Id : 54592714528 Question Type : MCQ Option Shuffling : Yes Display Question Number : Yes
Single Line Question Option : No Option Orientation : Vertical

Correct Marks : 1 Wrong Marks : 0.25

निम्नलिखित प्रश्न में, चार विकल्पों में से, उस विकल्प का चयन करें जो सही वाक्य भेद का विकल्प हो।

हमारे शिक्षक बहुत अच्छे हैं।

Options :

1. ✖ मिश्र वाक्य
2. ✖ संयुक्त वाक्य
3. ✖ निषेधवाचक वाक्य
4. ✔ सरल वाक्य

Question Number : 185 Question Id : 54592714528 Question Type : MCQ Option Shuffling : Yes Display Question Number : Yes
Single Line Question Option : No Option Orientation : Vertical

Correct Marks : 1 Wrong Marks : 0.25

निम्नलिखित प्रश्न में, चार विकल्पों में से, उस विकल्प का चयन करें जो सही वाक्य भेद का विकल्प हो।

हमारे शिक्षक बहुत अच्छे हैं।

Options :

1. ✖ मिश्र वाक्य
2. ✖ संयुक्त वाक्य
3. ✖ निषेधवाचक वाक्य
4. ✔ सरल वाक्य

Question Number : 186 Question Id : 54592714529 Question Type : MCQ Option Shuffling : Yes Display Question Number : Yes
Single Line Question Option : No Option Orientation : Vertical

Correct Marks : 1 Wrong Marks : 0.25

निम्नलिखित प्रश्न में, चार विकल्पों में से, उस विकल्प का चयन करें जो सही वाक्य भेद का विकल्प हो।

सभी जानते हैं कि रीया बहुत अच्छी लड़की है।

Options :

1. ✗ संयुक्त वाक्य
2. ✓ मिश्र वाक्य
3. ✗ संदेहवाचक वाक्य
4. ✗ संकेतवाचक वाक्य

Question Number : 186 Question Id : 54592714529 Question Type : MCQ Option Shuffling : Yes Display Question Number : Yes
Single Line Question Option : No Option Orientation : Vertical

Correct Marks : 1 Wrong Marks : 0.25

निम्नलिखित प्रश्न में, चार विकल्पों में से, उस विकल्प का चयन करें जो सही वाक्य भेद का विकल्प हो।

सभी जानते हैं कि रीया बहुत अच्छी लड़की है।

Options :

1. ✗ संयुक्त वाक्य
2. ✓ मिश्र वाक्य
3. ✗ संदेहवाचक वाक्य
4. ✗ संकेतवाचक वाक्य

Question Number : 187 Question Id : 54592714530 Question Type : MCQ Option Shuffling : Yes Display Question Number : Yes
Single Line Question Option : No Option Orientation : Vertical

Correct Marks : 1 Wrong Marks : 0.25

निम्नलिखित प्रश्न में, चार विकल्पों में से, उस विकल्प का चयन करें जो सही वाक्य भेद का विकल्प हो।

दीपा ने खाना बनाया और मीना ने बरतन धोया।

Options :

1. ✗ विधानवाचक वाक्य
2. ✗ सरल वाक्य
3. ✗ मिश्र वाक्य
4. ✓ संयुक्त वाक्य

Question Number : 187 Question Id : 54592714530 Question Type : MCQ Option Shuffling : Yes Display Question Number : Yes
Single Line Question Option : No Option Orientation : Vertical

Correct Marks : 1 Wrong Marks : 0.25

निम्नलिखित प्रश्न में, चार विकल्पों में से, उस विकल्प का चयन करें जो सही वाक्य भेद का विकल्प हो।

दीपा ने खाना बनाया और मीना ने बरतन धोया।

Options :

1. ✗ विधानवाचक वाक्य
2. ✗ सरल वाक्य
3. ✗ मिश्र वाक्य
4. ✓ संयुक्त वाक्य

Question Number : 188 Question Id : 54592714531 Question Type : MCQ Option Shuffling : Yes Display Question Number : Yes
Single Line Question Option : No Option Orientation : Vertical

Correct Marks : 1 Wrong Marks : 0.25

निम्नलिखित प्रश्न में, चार विकल्पों में से, उस विकल्प का चयन करें जो विराम चिह्न युक्त वाक्य का सही विकल्प हो।

Options :

1. ✖ जब हम, घर से निकले, वर्षा हो, रही थी
2. ✖ जब हम घर से निकले! वर्षा हो रही थी
3. ✔ जब हम घर से निकले, वर्षा हो रही थी
4. ✖ जब हम घर से निकले, वर्षा हो रही थी?

Question Number : 188 Question Id : 54592714531 Question Type : MCQ Option Shuffling : Yes Display Question Number : Yes
Single Line Question Option : No Option Orientation : Vertical

Correct Marks : 1 Wrong Marks : 0.25

निम्नलिखित प्रश्न में, चार विकल्पों में से, उस विकल्प का चयन करें जो विराम चिह्न युक्त वाक्य का सही विकल्प हो।

Options :

1. ✖ जब हम, घर से निकले, वर्षा हो, रही थी
2. ✖ जब हम घर से निकले! वर्षा हो रही थी
3. ✔ जब हम घर से निकले, वर्षा हो रही थी
4. ✖ जब हम घर से निकले, वर्षा हो रही थी?

Question Number : 189 Question Id : 54592714532 Question Type : MCQ Option Shuffling : Yes Display Question Number : Yes
Single Line Question Option : No Option Orientation : Vertical

Correct Marks : 1 Wrong Marks : 0.25

निम्नलिखित प्रश्न में, चार विकल्पों में से, उस विकल्प का चयन करें जो विराम चिह्न युक्त वाक्य का सही विकल्प हो।

Options :

1. ✔ हम पेड़ पर पत्थर मारते हैं; वह हमें फल देता है।
2. ✖ हम पेड़ पर पत्थर मारते हैं वह हमें फल देता है
3. ✖ हम पेड़ पर; पत्थर मारते हैं; वह हमें, फल देता है।
4. ✖ हम पेड़ पर पत्थर मारते हैं! वह हमें, फल देता है।

Question Number : 189 Question Id : 54592714532 Question Type : MCQ Option Shuffling : Yes Display Question Number : Yes
Single Line Question Option : No Option Orientation : Vertical

Correct Marks : 1 Wrong Marks : 0.25

निम्नलिखित प्रश्न में, चार विकल्पों में से, उस विकल्प का चयन करें जो विराम चिह्न युक्त वाक्य का सही विकल्प हो।

Options :

1. ✔ हम पेड़ पर पत्थर मारते हैं; वह हमें फल देता है।
2. ✖ हम पेड़ पर पत्थर मारते हैं वह हमें फल देता है
3. ✖ हम पेड़ पर; पत्थर मारते हैं; वह हमें, फल देता है।
4. ✖ हम पेड़ पर पत्थर मारते हैं! वह हमें, फल देता है।

Question Number : 190 Question Id : 54592714533 Question Type : MCQ Option Shuffling : Yes Display Question Number : Yes
Single Line Question Option : No Option Orientation : Vertical

Correct Marks : 1 Wrong Marks : 0.25

निम्नलिखित प्रश्न में, चार विकल्पों में से, उस विकल्प का चयन करें जो दिए गए मुहावरे के लिए सही अर्थ वाला विकल्प है।

अपना राग अलापना

Options :

1. ✖ गाना गाना
2. ✔ दूसरों की न सुनकर अपनी ही बात कहना
3. ✖ गायन का अभ्यास करना
4. ✖ अपना काम निकलवाना

Question Number : 190 Question Id : 54592714533 Question Type : MCQ Option Shuffling : Yes Display Question Number : Yes
Single Line Question Option : No Option Orientation : Vertical

Correct Marks : 1 Wrong Marks : 0.25

निम्नलिखित प्रश्न में, चार विकल्पों में से, उस विकल्प का चयन करें जो दिए गए मुहावरे के लिए सही अर्थ वाला विकल्प है।

अपना राग अलापना

Options :

- ✗ गाना गाना
- ✓ दूसरों की न सुनकर अपनी ही बात कहना
- ✗ गायन का अभ्यास करना
- ✗ अपना काम निकलवाना

Question Number : 191 Question Id : 54592714534 Question Type : MCQ Option Shuffling : Yes Display Question Number : Yes
Single Line Question Option : No Option Orientation : Vertical

Correct Marks : 1 Wrong Marks : 0.25

निम्नलिखित प्रश्न में, चार विकल्पों में से, उस विकल्प का चयन करें जो दिए गए मुहावरे के लिए सही अर्थ वाला विकल्प है।

आँखें बंद कर लेना

Options :

- ✗ सो जाना
- ✗ शांत रहना
- ✓ ध्यान न देना
- ✗ अनसुना करना

Question Number : 191 Question Id : 54592714534 Question Type : MCQ Option Shuffling : Yes Display Question Number : Yes
Single Line Question Option : No Option Orientation : Vertical

Correct Marks : 1 Wrong Marks : 0.25

निम्नलिखित प्रश्न में, चार विकल्पों में से, उस विकल्प का चयन करें जो दिए गए मुहावरे के लिए सही अर्थ वाला विकल्प है।

आँखें बंद कर लेना

Options :

- ✗ सो जाना
- ✗ शांत रहना
- ✓ ध्यान न देना
- ✗ अनसुना करना

Question Number : 192 Question Id : 54592714535 Question Type : MCQ Option Shuffling : Yes Display Question Number : Yes
Single Line Question Option : No Option Orientation : Vertical

Correct Marks : 1 Wrong Marks : 0.25

निम्नलिखित प्रश्न में, चार विकल्पों में से, उस विकल्प का चयन करें जो दिए गए मुहावरे के लिए सही अर्थ वाला विकल्प है।

आँखों पर चढ़ना

Options :

- ✗ अप्रिय लगना
- ✗ पसंद न आना
- ✗ क्रोधित होना
- ✓ प्रेम तथा भरोसा होना

Question Number : 192 Question Id : 54592714535 Question Type : MCQ Option Shuffling : Yes Display Question Number : Yes
Single Line Question Option : No Option Orientation : Vertical

Correct Marks : 1 Wrong Marks : 0.25

निम्नलिखित प्रश्न में, चार विकल्पों में से, उस विकल्प का चयन करें जो दिए गए मुहावरे के लिए सही अर्थ वाला विकल्प है।

आँखों पर चढ़ना

Options :

1. ✖ अप्रिय लगना
2. ✖ पसंद न आना
3. ✖ क्रोधित होना
4. ✔ प्रेम तथा भरोसा होना

Question Number : 193 Question Id : 54592714536 Question Type : MCQ Option Shuffling : Yes Display Question Number : Yes
Single Line Question Option : No Option Orientation : Vertical

Correct Marks : 1 Wrong Marks : 0.25

निम्नलिखित प्रश्न में, चार विकल्पों में से, उस विकल्प का चयन करें जो दी गई लोकोक्ति के लिए सही अर्थ वाला विकल्प है।

कहने से कुम्भार गधे पर नहीं चढ़ता

Options :

1. ✖ जिद्दी व्यक्ति
2. ✖ किसी की भी एक न सुनना
3. ✔ दूसरों की न सुनकर अपनी इच्छा से काम करना
4. ✖ भरोसा न करना

Question Number : 193 Question Id : 54592714536 Question Type : MCQ Option Shuffling : Yes Display Question Number : Yes
Single Line Question Option : No Option Orientation : Vertical

Correct Marks : 1 Wrong Marks : 0.25

निम्नलिखित प्रश्न में, चार विकल्पों में से, उस विकल्प का चयन करें जो दी गई लोकोक्ति के लिए सही अर्थ वाला विकल्प है।

कहने से कुम्भार गधे पर नहीं चढ़ता

Options :

1. ✖ जिद्दी व्यक्ति
2. ✖ किसी की भी एक न सुनना
3. ✔ दूसरों की न सुनकर अपनी इच्छा से काम करना
4. ✖ भरोसा न करना

Question Number : 194 Question Id : 54592714537 Question Type : MCQ Option Shuffling : Yes Display Question Number : Yes
Single Line Question Option : No Option Orientation : Vertical

Correct Marks : 1 Wrong Marks : 0.25

निम्नलिखित प्रश्न में, चार विकल्पों में से, उस विकल्प का चयन करें जो दी गई लोकोक्ति के लिए सही अर्थ वाला विकल्प है।

घर फूंक तमाशा देखना

Options :

1. ✖ किसी का घर संवारना
2. ✖ काना-फूसी करना
3. ✖ मज़ा करना
4. ✔ अपना ही नुकसान कर खुश होना

Question Number : 194 Question Id : 54592714537 Question Type : MCQ Option Shuffling : Yes Display Question Number : Yes
Single Line Question Option : No Option Orientation : Vertical

Correct Marks : 1 Wrong Marks : 0.25

निम्नलिखित प्रश्न में, चार विकल्पों में से, उस विकल्प का चयन करें जो दी गई लोकोक्ति के लिए सही अर्थ वाला विकल्प है।

घर फूंक तमाशा देखना

Options :

1. ✖ किसी का घर सँवारना
2. ✖ काना-फूसी करना
3. ✖ मज़ा करना
4. ✔ अपना ही नुकसान कर खुश होना

Question Number : 195 Question Id : 54592714538 Question Type : MCQ Option Shuffling : Yes Display Question Number : Yes
Single Line Question Option : No Option Orientation : Vertical

Correct Marks : 1 Wrong Marks : 0.25

निम्नलिखित प्रश्न में, चार विकल्पों में से, उस सही विकल्प का चयन करें जो दी गई लोकोक्ति के लिए सही अर्थ वाला विकल्प है।

जिन ढूँढ़ा तिन पाइया, गहरे पानी पैठ

Options :

1. ✖ बैठ कर काम करना
2. ✔ परिश्रम का फल अवश्य मिलता है
3. ✖ पूरी शक्ति से किसी को ढूँढ़ना
4. ✖ बहुत दिनों बाद किसी से मिलना

Question Number : 195 Question Id : 54592714538 Question Type : MCQ Option Shuffling : Yes Display Question Number : Yes
Single Line Question Option : No Option Orientation : Vertical

Correct Marks : 1 Wrong Marks : 0.25

निम्नलिखित प्रश्न में, चार विकल्पों में से, उस सही विकल्प का चयन करें जो दी गई लोकोक्ति के लिए सही अर्थ वाला विकल्प है।

जिन ढूँढ़ा तिन पाइया, गहरे पानी पैठ

Options :

1. ✖ बैठ कर काम करना
2. ✔ परिश्रम का फल अवश्य मिलता है
3. ✖ पूरी शक्ति से किसी को ढूँढ़ना
4. ✖ बहुत दिनों बाद किसी से मिलना

Sub-Section Number: 2
Sub-Section Id: 545927864
Question Shuffling Allowed : Yes

Question Id : 54592714539 Question Type : COMPREHENSION Sub Question Shuffling Allowed : Yes Group Comprehension
Questions : No

Question Numbers : (196 to 200)

Question Label : Comprehension

नीचे दिए गए गद्यांश को ध्यानपूर्वक पढ़ें और दिए गए प्रश्न के सर्वोत्तम उत्तर चुनें।

शीलयुक्त व्यवहार मनुष्य की प्रकृति और व्यक्तित्व को उद्घाटित करता है। उत्तम, प्रशंसनीय और पवित्र आचरण ही शील है। शीलयुक्त व्यवहार प्रत्येक व्यक्ति के लिए हितकर है। इससे मनुष्य की ख्याति बढ़ती है। शीलवान व्यक्ति सबका हृदय जीत लेता है। शीलयुक्त व्यवहार से कटुता दूर भागती है। इससे आशंका और संदेह की स्थितियाँ कभी उत्पन्न नहीं होती। इससे ऐसे सुखद वातावरण का सृजन होता है, जिसमें सभी प्रसन्नता का अनुभव करते हैं। शीलवान व्यक्ति अपने संपर्क में आने वाले सभी लोगों को सुप्रभावित करता है। शिक्षार्थी यदि शील का अभाव है तो वह अपने शिक्षक से वांछित शिक्षा प्राप्त नहीं कर सकता। शीलवान अधिकारी या कर्मचारी में आत्मविश्वास की वृद्धि स्वतः ही होने लगती है और साथ ही उनके व्यक्तित्व में शालीनता आ जाती है। इस अमूल्य गुण की उपस्थिति में अधिकारी वर्ग और अधीनस्थ कर्मचारियों के बीच, शिक्षकगण और विद्यार्थियों के बीच तथा शासक और शासित के बीच मधुर एवं प्रगाढ़ संबंध स्थापित होते हैं और प्रत्येक वर्ग की कार्यकुशलता में वृद्धि होती है। इस गुण के माध्यम से छोटे-से-छोटा व्यक्ति बड़ों की सहानुभूति अर्जित कर लेता है।

Sub questions

Question Number : 196 Question Id : 54592714540 Question Type : MCQ Option Shuffling : Yes Display Question Number : Yes
Single Line Question Option : No Option Orientation : Vertical

Correct Marks : 1 Wrong Marks : 0.25

मनुष्य की प्रकृति और व्यक्तित्व कैसे उद्घाटित होता है?

Options :

1. ✗ अनाचरण से
2. ✗ ख्याति से
3. ✗ भावनाओं
4. ✓ शीलयुक्त व्यवहार से

Question Number : 197 Question Id : 54592714541 Question Type : MCQ Option Shuffling : Yes Display Question Number : Yes
Single Line Question Option : No Option Orientation : Vertical

Correct Marks : 1 Wrong Marks : 0.25

शीलयुक्त व्यवहार से किसकी स्थिति उत्पन्न नहीं होती है?

Options :

1. ✗ प्रशंसनीय
2. ✓ आशंका और संदेह
3. ✗ सुखद वातावरण
4. ✗ प्रसन्नता का अनुभव

Question Number : 198 Question Id : 54592714542 Question Type : MCQ Option Shuffling : Yes Display Question Number : Yes
Single Line Question Option : No Option Orientation : Vertical

Correct Marks : 1 Wrong Marks : 0.25

शिक्षार्थी में यदि शील का अभाव है तो क्या होता है?

Options :

1. ✓ शिक्षा से वंचित
2. ✗ वांछित शिक्षा प्राप्त करता है
3. ✗ कार्यकुशलता में वृद्धि
4. ✗ प्रभुत्वपूर्ण वातावरण

Question Number : 199 Question Id : 54592714543 Question Type : MCQ Option Shuffling : Yes Display Question Number : Yes
Single Line Question Option : No Option Orientation : Vertical

Correct Marks : 1 Wrong Marks : 0.25

इनमें से कौन - सा शालीनता का पर्यायवाची नहीं है?

Options :

1. ✗ शिष्टता
2. ✓ शासित
3. ✗ सुशीलता
4. ✗ नम्रता

Question Number : 200 Question Id : 54592714544 Question Type : MCQ Option Shuffling : Yes Display Question Number : Yes
Single Line Question Option : No Option Orientation : Vertical

Correct Marks : 1 Wrong Marks : 0.25

इस अनुच्छेद का कोई उपयुक्त शीर्षक-

Options :

1. ✗ शिक्षक और शिक्षार्थी
2. ✗ मनुष्य और प्रकृति
3. ✓ शालीनता सबसे अच्छा आचरण
4. ✗ प्रभुत्वपूर्ण वातावरण

Question Id : 54592714539 Question Type : COMPREHENSION Sub Question Shuffling Allowed : Yes Group Comprehension Questions : No

Question Numbers : (196 to 200)

Question Label : Comprehension

नीचे दिए गए गद्यांश को ध्यानपूर्वक पढ़ें और दिए गए प्रश्न के सर्वोत्तम उत्तर चुनें

शीलयुक्त व्यवहार मनुष्य की प्रकृति और व्यक्तित्व को उद्धारित करता है। उत्तम, प्रशंसनीय और पवित्र आचरण ही शील है। शीलयुक्त व्यवहार प्रत्येक व्यक्ति के लिए हितकर है। इससे मनुष्य की ख्याति बढ़ती है। शीलवान व्यक्ति सबका हृदय जीत लेता है। शीलयुक्त व्यवहार से कटुता दूर भागती है। इससे आशंका और संदेह की स्थितियाँ कभी उत्पन्न नहीं होती। इससे ऐसे सुखद वातावरण का सृजन होता है, जिसमें सभी प्रसन्नता का अनुभव करते हैं। शीलवान व्यक्ति अपने संपर्क में आने वाले सभी लोगों को सुप्रभावित करता है। शिक्षार्थी में यदि शील का अभाव है तो वह अपने शिक्षक से वांछित शिक्षा प्राप्त नहीं कर सकता। शीलवान अधिकारी या कर्मचारी में आत्मविश्वास की वृद्धि स्वतः ही होने लगती है और साथ ही उनके व्यक्तित्व में शालीनता आ जाती है। इस अमूल्य गुण की उपस्थिति में अधिकारी वर्ग और अधीनस्थ कर्मचारियों के बीच, शिक्षकगण और विद्यार्थियों के बीच तथा शासक और शासित के बीच मधुर एवं प्रगाढ़ संबंध स्थापित होते हैं और प्रत्येक वर्ग की कार्यकुशलता में वृद्धि होती है। इस गुण के माध्यम से छोटे-से-छोटा व्यक्ति बड़ों की सहानुभूति अर्जित कर लेता है।

Sub questions

Question Number : 196 Question Id : 54592714540 Question Type : MCQ Option Shuffling : Yes Display Question Number : Yes Single Line Question Option : No Option Orientation : Vertical

Correct Marks : 1 Wrong Marks : 0.25

मनुष्य की प्रकृति और व्यक्तित्व कैसे उद्धारित होता है?

Options :

1. ✖ अनाचरण से
2. ✖ ख्याति से
3. ✖ भावनाओं
4. ✔ शीलयुक्त व्यवहार से

Question Number : 197 Question Id : 54592714541 Question Type : MCQ Option Shuffling : Yes Display Question Number : Yes Single Line Question Option : No Option Orientation : Vertical

Correct Marks : 1 Wrong Marks : 0.25

शीलयुक्त व्यवहार से किसकी स्थिति उत्पन्न नहीं होती है?

Options :

1. ✖ प्रशंसनीय
2. ✔ आशंका और संदेह
3. ✖ सुखद वातावरण
4. ✖ प्रसन्नता का अनुभव

Question Number : 198 Question Id : 54592714542 Question Type : MCQ Option Shuffling : Yes Display Question Number : Yes Single Line Question Option : No Option Orientation : Vertical

Correct Marks : 1 Wrong Marks : 0.25

शिक्षार्थी में यदि शील का अभाव है तो क्या होता है?

Options :

1. ✔ शिक्षा से वंचित
2. ✖ वांछित शिक्षा प्राप्त करता है
3. ✖ कार्यकुशलता में वृद्धि
4. ✖ प्रभुत्वपूर्ण वातावरण

Question Number : 199 Question Id : 54592714543 Question Type : MCQ Option Shuffling : Yes Display Question Number : Yes Single Line Question Option : No Option Orientation : Vertical

Correct Marks : 1 Wrong Marks : 0.25

इनमें से कौन - सा शालीनता का पर्यायवाची नहीं है?

Options :

1. ✖ शिष्टता
2. ✔ शासित
3. ✖ सुशीलता
4. ✖ नम्रता

Question Number : 200 Question Id : 54592714544 Question Type : MCQ Option Shuffling : Yes Display Question Number : Yes
Single Line Question Option : No Option Orientation : Vertical

Correct Marks : 1 Wrong Marks : 0.25

इस अनुच्छेद का कोई उपयुक्त शीर्षक-

Options :

1. ✖ शिक्षक और शिक्षार्थी
2. ✖ मनुष्य और प्रकृति
3. ✔ शालीनता सबसे अच्छा आचरण
4. ✖ प्रभुत्वपूर्ण वातावरण

