



Question Paper Preview

Notations :

- Options shown in **green** color and with  icon are correct.
- Options shown in **red** color and with  icon are incorrect.

| | |
|--|--|
| Question Paper Name : | Paper I Marathi 23rd June 2025 Shift 2 |
| Subject Name : | Paper I Marathi |
| Duration : | 150 |
| Total Marks : | 150 |
| Display Marks: | Yes |
| Share Answer Key With Delivery Engine : | Yes |
| Actual Answer Key : | Yes |
| Change Font Color : | No |
| Change Background Color : | No |
| Change Theme : | No |
| Help Button : | No |
| Show Reports : | No |
| Show Progress Bar : | No |

Paper I Marathi

| | |
|---------------------------------|----------|
| Group Number : | 1 |
| Group Id : | 47718721 |
| Group Maximum Duration : | 0 |
| Group Minimum Duration : | 150 |
| Show Attended Group? : | No |
| Edit Attended Group? : | No |
| Break time : | 0 |
| Group Marks : | 150 |

Child Development and Pedagogy

| | |
|--|-----------|
| Section Id : | 477187101 |
| Section Number : | 1 |
| Section type : | Online |
| Mandatory or Optional : | Mandatory |
| Number of Questions : | 30 |
| Number of Questions to be attempted : | 30 |
| Section Marks : | 30 |
| Maximum Instruction Time : | 0 |
| Sub-Section Number : | 1 |
| Sub-Section Id : | 477187160 |
| Question Shuffling Allowed : | Yes |

Question Number : 1 Question Id : 4771873060 Question Type : MCQ Option Shuffling : Yes Display Question Number : Yes

Correct Marks : 1 Wrong Marks : 0

Rakesh, a Class-IX student is actively involving in co-curricular activities than curricular activities. This relates to

राकेश इयत्ता नववीचा विद्यार्थी, पाठशाळेय उपक्रमामध्ये (co-curricular activities) अभ्यासापेक्षा अधिक सक्रिय आहे. हे कोणत्या गोष्टींशी संबंधित आहे

Options :

Inter-individual differences

व्यक्तिमधील फरक

1. ✖

Intra-individual differences

व्यक्तितील अंतर्गत फरक

2. ✔

Both inter and intra individual differences

व्यक्तिमधील आणि व्यक्तितील दोन्ही प्रकाराचे फरक

3. ✖

Neither inter nor intra individual differences

व्यक्तिमधील किंवा व्यक्तितील दोन्ही प्रकारचे फरक नाहीत

4. ✖

Question Number : 2 Question Id : 4771873061 Question Type : MCQ Option Shuffling : Yes Display Question Number : Yes

Correct Marks : 1 Wrong Marks : 0

Identify the **INCORRECT** principle of child development

बाल विकासाचे चुकीचे तत्व ओळखा

Options :

Development proceeds from general to specific responses

1. ✖ विकास सामान्य प्रतिक्रियापासून विशिष्ट प्रतिक्रियांकडे जातो.

Development follows the principle of interrelation

2. ✖ विकास परस्पर संबंधाच्या तत्वानुसार होतो.

Development proceeds in the direction of the foot to head

3. ✔ विकास पायापासून डोक्यापर्यंतच्या दिशेने होतो.

Development exhibits lack of uniformity in the developmental rate of a child

4. ✖ विकासामध्ये मुलाच्या विकासदरात एकसारखेपणा नसतो.

Question Number : 3 Question Id : 4771873062 Question Type : MCQ Option Shuffling : Yes Display Question Number : Yes

Correct Marks : 1 Wrong Marks : 0

Match the periods of development given under List-A with stages as given under List-B with respect to Erikson's Psycho-Social Development Theory

एरिकसनच्या मानसिक-सामाजिक विकास सिद्धांताच्या संदर्भात यादी-अ अंतर्गत दिलेल्या विकासाच्या कालावधीचा यादी - ब अंतर्गत दिलेल्या टप्प्यांशी जुळणी करा.

| List- A यादी - अ (Period of Development) (विकासाचा कालावधी) | List -B यादी - ब (Stage) (टप्पा) |
|---|--|
| A) Birth to $1\frac{1}{2}$ years जन्म ते $1\frac{1}{2}$ वर्षे | i) Initiative Vs Guilt पुढाकार विरुद्ध अपराधीपणा |
| B) 6 years to 12 years 6 वर्षे ते 12 वर्षे | ii) Autonomy Vs Doubt स्वायत्तता विरुद्ध शंका |
| C) 3 years to 6 years 3 वर्षे ते 6 वर्षे | iii) Trust Vs Mistrust विश्वास विरुद्ध अविश्वास |
| D) $1\frac{1}{2}$ years to 3 years $1\frac{1}{2}$ वर्षे ते 3 वर्षे | iv) Industry Vs Inferiority उद्योग विरुद्ध कनिष्ठता |

Choose the correct one

योग्य पर्याय निवडा

Options :

A-iii, B-iv, C-i, D-ii

1. ✓

A-iv, B-iii, C-i, D-ii

2. ✗

A-iii, B-iv, C-ii, D-i

3. ✖

A-iii, B-i, C-iv, D-ii

4. ✖

Question Number : 4 Question Id : 4771873063 Question Type : MCQ Option Shuffling : Yes Display Question Number : Yes

Correct Marks : 1 Wrong Marks : 0

Identify the **INCORRECT** statement relating to the growth and development of a child

मुलाच्या वाढी व विकासाशी संबंधित चुकीचे विधान ओळखा

Options :

Development is comprehensive than growth

विकास हा वाढापेक्षा व्यापक आहे

1. ✖

Growth includes quantitative aspects; development includes both qualitative and quantitative aspects

वाढ ही परिमाणात्मक बाबींचा समावेश करते, विकासामध्ये गुणात्मक आणि परिमाणात्मक दोन्ही बाबींचा समावेश असतो.

2. ✖

Maturation and environment influence child's development

परिपक्वता आणि वातावरण मुलाच्या विकासावर परिणाम करतात.

3. ✖

Growth is comprehensive than development

वाढ ही विकासापेक्षा व्यापक आहे.

4. ✔

Question Number : 5 Question Id : 4771873064 Question Type : MCQ Option Shuffling : Yes Display Question Number : Yes

Correct Marks : 1 Wrong Marks : 0

Among the following, identify the correct statements regarding the role of heredity and environment on child development

खालीलपैकी कोणते विधान आनुवंशिकता व वातावरण यांचा मुलांच्या विकासावर होणा-या परिणामासंदर्भात योग्य आहे ते ओळखा

- A) Heredity plays a role in physical development of the child
मुलाच्या शारीर विकासात आनुवंशिकता भूमिका बजावते
- B) Environment plays a role in the emotional and social development of the child
मुलाच्या भावनिक आणि सामाजिक विकासात वातावरण भूमिका बजावते
- C) Development is the product of environment and heredity
विकासा हा वातावरण आणि आनुवंशिकतेचा परिणाम आहे.
- D) Learning and maturation influence development of the child
शिक्षण आणि परिपक्वता मुलाच्या विकासावर परिणाम करतात

Choose the correct one:

योग्य उत्तर निवडा

Options :

A, C, D only

फक्त A, C, D

1. ✖

B, C, D only

फक्त B, C, D

2. ✖

A, B, C only

फक्त A, B, C

3. ✖

A, B, C, D

4. ✔

Question Number : 6 Question Id : 4771873065 Question Type : MCQ Option Shuffling : Yes Display Question Number : Yes

Correct Marks : 1 Wrong Marks : 0

A teacher has provided support to a student in performing mensuration problems and has gradually withdrawn support after the student was able to perform the problem independently. According to Vygotsky, this is

एका शिक्षकाने एका विद्यार्थ्याला मापनाची (mensuration) गणिते सोडवण्यासाठी मदत केली आणि नंतर विद्यार्थ्याला ते गणित स्वतंत्रपणे सोडवता आल्यावर हळूहळू ती मदत कमी केली. वायगॉत्सकी (Vygotsky) नुसार त्याला हे म्हणतात.

Options :

Scaffolding

आधार देणे

1. ✖

Fading

कमी करणे / अदृश्य होणे

2. ✔

Shaping

आकार देणे

3. ✖

Guiding

मार्गदर्शन करणे

4. ✖

Question Number : 7 Question Id : 4771873066 Question Type : MCQ Option Shuffling : Yes Display Question Number : Yes

Correct Marks : 1 Wrong Marks : 0

As per Kohlberg's Theory of Moral Development, in this age, the child behaves with obedience for avoiding censure by higher authority or social systems.

कोहलबर्गच्या नैतिक विकासाच्या सिद्धांतानुसार, या वयात, उच्च अधिकार किंवा सामाजिक प्रणाली द्वारे निंदा टाळण्यासाठी मूल आज्ञाधारकपणे वागतो.

Options :

4 to 10 years

4 ते 10 वर्षे

1. ✖

10 to 13 years

10 ते 13 वर्षे

2. ✔

3 to 8 years

3 ते 8 वर्षे

3. ✖

8 to 13 years

8 ते 13 वर्षे

4. ✖

Question Number : 8 Question Id : 4771873067 Question Type : MCQ Option Shuffling : Yes Display Question Number : Yes

Correct Marks : 1 Wrong Marks : 0

Wechsler's Block Design Test, Picture Arrangement Test and Object Assembly Test belong to this type of intelligence tests.

वेक्सलरची ब्लॉक डिझाइन चाचणी, चित्र मांडणी चाचणी (Picture Arrangement Test) आणि वस्तू संयोजन चाचणी (Object Assembly Test) या सर्व चाचण्या या खालील प्रकारच्या बुद्धिमत्ता चाचणीच्या वर्गात येतात.

Options :

Verbal

शब्दिक

1. ✖

Performance

सादरीकरण

2. ✔

Paper – pencil

कागद - पेंसिल

3. ✖

Projective tests

प्रक्षेपण चाचण्या

4. ✖

Question Number : 9 Question Id : 4771873068 Question Type : MCQ Option Shuffling : Yes Display Question Number : Yes

Correct Marks : 1 Wrong Marks : 0

Who defined the personality as “the dynamic organization within the individual of those psycho-physical systems that determine his unique adjustment to his environment”.

“व्यक्तिमत्व ही व्यक्तितील मानसिक- भौतिक प्रणालींची गतिशील रचना आहे, ही त्याच्या वातावरणाशी जुळवून घेण्याच्या अनन्य पद्धती निश्चित करते” – अशी व्यक्तिमत्त्वाची व्याख्या कोणी केली.

Options :

Hillgard

1. ✖ हिलगार्ड

Raymond B. Cattell

2. ✖ रेमंड बी. कॅटेल

Allport

3. ✔ ऑलपोर्ट

Carl Jung

कार्ल जंग

4. ✖

Question Number : 10 Question Id : 4771873069 Question Type : MCQ Option Shuffling : Yes Display Question Number : Yes

Correct Marks : 1 Wrong Marks : 0

A Class-X completed student wants to continue his study and at the same time wants to join work to help his family due to socio-economic condition. The conflict being faced by the student here is

दहावी उत्तीर्ण झालेल्या विद्यार्थ्याला त्याचा अभ्यास सुरु ठेवायचा आहे आणि त्याच वेळी सामाजिक – आर्थिक परिस्थितीमुळे तो त्याच्या कुटुंबाला मदत करण्यासाठी कामावर रुजू होऊ इच्छितो. येथे विद्यार्थ्याला ज्या संघर्षाचा सामना करावा लागत आहे तो म्हणजे

Options :

Approach-Avoidance

उपागम – परिहार्य

1. ✖

Avoidance-Avoidance

परिहार्य – परिहार्य

2. ✖

Approach-Approach

उपागम – उपागम

3. ✔

Double Approach

दुहेरी उपागम

4. ✖

Question Number : 11 Question Id : 4771873070 Question Type : MCQ Option Shuffling : Yes Display Question Number : Yes

Correct Marks : 1 Wrong Marks : 0

Choose the correct statements regarding the methods and approaches of Child development

बालविकासाच्या पद्धती आणि दृष्टिकोनांबद्दल योग्य विधाने निवडा

A) Case Study Method is not applicable to an individual

केस स्टडी पद्धत एखाद्या व्यक्तिला लागू होत नाही.

B) Introspection Method lacks reliability, validity and objectivity

आत्मनिरीक्षण पद्धतीमध्ये विश्वासाहता, वैधता आणि वस्तुनिष्ठेच्या अभाव दिसतो.

C) Observation Method can be used to assess the behaviour of an

individual in natural conditions

नैसर्गिक परिस्थितीत एखाद्या व्यक्तीच्या वर्तनाचे मूल्यांकन करण्यासाठी निरीक्षण पद्धतीचा वापर केला जाऊ शकतो.

D) Experimental Method advocates the study of behaviour under

completely uncontrolled flexible conditions

प्रायोगिक पद्धत पूर्णपणे अनियंत्रित लवचिक परिस्थितीत वर्तनाचा अभ्यास करण्यास समर्थन देते

Choose the correct one

योग्य उत्तर निवडा

Options :

A, B, C, D

1. ✖

A, B, C only

फक्त A, B, C

2. ✖

B, C only

फक्त B, C

3. ✓

A, C, D only

फक्त A, C, D

4. ✗

Question Number : 12 Question Id : 4771873071 Question Type : MCQ Option Shuffling : Yes Display Question Number : Yes

Correct Marks : 1 Wrong Marks : 0

Decision making, Problem solving and Logical thinking belong to this domain

निर्णय घेणे, समस्या सोडवणे आणि तार्किक विचारसरणी या क्षेत्रात येते

Options :

Psycho-motor

सायको – मोटर

1. ✗

Cognitive

संज्ञानात्मक

2. ✓

Affective

प्रभावी

3. ✗

Conative

संकल्पनात्मक / इच्छाशक्तीविषयक

4. ✗

Question Number : 13 Question Id : 4771873072 Question Type : MCQ Option Shuffling : Yes Display Question Number : Yes

Correct Marks : 1 Wrong Marks : 0

Among the following, identify those that are relevant to learning

खालीलपैकी शिक्षणाशी संबंधित असलेले ओळखा

A) Unlearning is also considered as learning

न शिकणे हे पण शिकणे म्हणून मानले जाते

B) Learning is a product and not a process

शिकणे हे एक उत्पादन आहे, प्रक्रिया नाही

C) Learning prepares an individual only for any maladjustment

शिक्षण एखाद्या व्यक्तिला केवळ कोणत्याही चुकीच्या समायोजनासाठी तयार करते.

D) Learning results in behavioural change through practice

अभ्यासाच्या माध्यमातून शिकण्यामुळे वर्तनात बदल घडून येतो.

Choose the correct one

योग्य उत्तर निवडा

Options :

A, B, C, D

1. ✖

A, B, D only

फक्त A, B, D

2. ✖

A, B, C only

फक्त A, B, C

3. ✖

A, D only

फक्त A, D

4. ✓

Question Number : 14 Question Id : 4771873073 Question Type : MCQ Option Shuffling : Yes Display Question Number : Yes

Correct Marks : 1 Wrong Marks : 0

Match the items in List-A with the needs they represent given under List-B

यादी - अ मधील बाबी यादी - ब अंतर्गत दिलेल्या गरजांशी जुळवा

List- A

यादी - अ

A) Elders support

वडिलव्हा-यांचा पाठिंबा

B) Social status

सामाजिक स्थिती

C) Sleep

झोप

D) Affection

स्नेह

List -B

यादी - ब

i) Esteem needs

स्वाभिमानाच्या गरजा

ii) Safety needs

सुरक्षिततेच्या गरजा

iii) Love and Belonging needs

प्रेम आणि आपलेपणाच्या गरजा

iv) Physical needs

शारीरीक गरजा

Choose the correct one

योग्य उत्तर निवडा

Options :

A-iii, B-i, C-iv, D-ii

1. ✖

A-ii, B-i, C-iv, D-iii

2. ✔

A-ii, B-iii, C-iv, D-i

3. ✖

A-iv, B-iii, C-i, D-ii

4. ✖

Question Number : 15 Question Id : 4771873074 Question Type : MCQ Option Shuffling : Yes Display Question Number : Yes

Correct Marks : 1 Wrong Marks : 0

Among the following, identify the correct sequence of the steps involved in learning process

खालीलपैकी शिक्षण प्रक्रियेत सामील असलेल्या टप्प्यांचा योग्य क्रम ओळखा

Options :

Goal, Motive, Overcoming obstacles, Achieving desired behavioural change

ध्येय, हेतू, अडथळ्यावर मात करणे, इच्छित वर्तनात्मक बदल साध्य करणे

1. ✖

Goal, Overcoming obstacles, Achieving desired behavioural change, Motive

ध्येय, अडथळ्यांवर मात करणे, इच्छित वर्तनात्मक बदल साध्य करणे, हेतू

2. ✖

Motive, Overcoming obstacles, Achieving desired behavioural change, Goal

हेतू, अडथळ्यांवर मात करणे, इच्छित वर्तनात्मक बदल साध्य करणे, ध्येय

3. ✖

Motive, Goal, Overcoming obstacles, Achieving desired behavioural change

हेतू, ध्येय, अडथळ्यावर मात करणे, इच्छित वर्तनात्मक बदल साध्य करणे

4. ✔

Question Number : 16 Question Id : 4771873075 Question Type : MCQ Option Shuffling : Yes Display Question Number : Yes

Correct Marks : 1 Wrong Marks : 0

Identify the factor of learning which is associated with Men and Material resources

मानव व भौतिक संसाधनांशी संबंधित असलेला शिक्षणाचा घटक ओळखा

Options :

Proper seating arrangement and peaceful environment

योग्य बैठक व्यवस्था आणि शांततामय वातावरण

1. ✓

Linking the recent learnings with those of the past

सध्याच्या शिक्षणाला गत / भूतकालातील शिक्षणाशी जोडणे

2. ✗

The basic potential of the learner

शिकणा-याची मूलभूत क्षमता

3. ✗

The level of aspiration and achievement motivation

आकांक्षा आणि यशस्वी प्रेरणाचे स्तर

4. ✗

Question Number : 17 Question Id : 4771873076 Question Type : MCQ Option Shuffling : Yes Display Question Number : Yes

Correct Marks : 1 Wrong Marks : 0

Match the theories given under List-A with the basic principles given under

List-B

खालील यादी - अ अंतर्गत दिलेले सिद्धांत यादी - ब मधील दिलेले मूलभूत तत्त्वांशी जुळवा

| List- A | List -B |
|---|---|
| यादी - अ (Theory) (सिद्धांत) | यादी - ब (Principle/Laws) (तत्त्व / कायदे) |
| A) Operant conditioning कृतीजन्य अनुकूलीकरण (ऑपरेट कंडिशनिंग) | i) Learning is based on the principle of association and substitution शिकणे हे साहचर्य आणि प्रतिस्थापनाच्या तत्त्वावर आधारित असते |
| B) Classical conditioning शास्त्रीय अनुकूलीकरण (क्लासिकल कंडिशनिंग) | ii) Stamping in correct responses and stamping out of incorrect responses योग्य प्रतिसादांचे अधोरेखन आणि चुकीच्या प्रतिसादांचे विस्मरण / उच्चाटन करणे |
| C) Trial and Error चाचणी आणि त्रुटी | iii) Emphasis on perceptual reorganization (ग्रहणात्मक) बोधात्मक पुनर्संरचनेवर भर iv) Emphasis on response rather than stimulus उद्दीपनाच्या ऐवजी प्रतिसादावर भर |

Choose the correct one

योग्य उत्तर निवडा

Options :

A-iii, B-i, C-ii

1. ✖

A-iv, B-i, C-ii

2. ✔

A-iv, B-iii, C-ii

3. ✖

A-iii, B-iv, C-ii

4. ✖

Question Number : 18 Question Id : 4771873077 Question Type : MCQ Option Shuffling : Yes Display Question Number : Yes

Correct Marks : 1 Wrong Marks : 0

A Class-V student observed the Gardening work and plantation activity of high school students at school. He planted flowering plants at home. The action of the student reflects this step of social learning.

इयत्ता पाचवीचा विद्यार्थी शाळेत इयत्ता दहावीच्या विद्यार्थ्यांनी केलेले बागकाम व वृक्षारोपण कार्याचे निरीक्षण करतो. तो घरी फुलझाडे लावतो. विद्यार्थ्यांची ही कृती सामाजिक शिक्षणाच्या कोणत्या टप्प्याचे उदाहरण आहे

Options :

Attention

लक्ष देणे

1. ✖

Performance

कार्यप्रदर्शन

2. ✔

Reinforcement

मजबुतीकरण

3. ✖

Retention

आठवण ठेवणे (धारणशक्ति)

4. ✖

Question Number : 19 Question Id : 4771873078 Question Type : MCQ Option Shuffling : Yes Display Question Number : Yes

Correct Marks : 1 Wrong Marks : 0

Among the following, identify the aspects that can be transferred from one situation to other situation of learning.

खालीलपैकी कोणते घटक एका शिक्षण स्थितीतून दुस-या स्थितीत हस्तांतरित होऊ शकतात.

A) Habits

सवयी

B) Knowledge

ज्ञान

C) Skills

कौशल्ये

D) Feelings

भावना

Choose the correct one

योग्य उत्तर निवडा

Options :

1. ✓ A, B, C, D

A, C, D only

2. ✗ फक्त A, C, D

B, C, D only

3. ✗ फक्त B, C, D

A, B, D only

फक्त A, B, D

4. ✖

Question Number : 20 Question Id : 4771873079 Question Type : MCQ Option Shuffling : Yes Display Question Number : Yes

Correct Marks : 1 Wrong Marks : 0

A Class-VII student tried to recall the concepts of Class-VI but the concepts learnt in Class-VII are interrupting him. This is due to

इयत्ता सातवीच्या एका विद्यार्थ्याने इयत्ता सहावीच्या संकल्पना आठवण्याचा प्रयत्न केला पण इयत्ता सातवीमध्ये शिकलेल्या संकल्पना त्याला अडथळा आणत आहेत याचे कारण

Options :

Proactive inhibition

पूर्व – सक्रिय प्रतिबंध

1. ✖

Repression

दडपण

2. ✖

Amnesia

स्मृतिभ्रंश

3. ✖

Retroactive inhibition

पश्चसक्रिय प्रतिबंध

4. ✔

Question Number : 21 Question Id : 4771873080 Question Type : MCQ Option Shuffling : Yes Display Question Number : Yes

Correct Marks : 1 Wrong Marks : 0

Suggest the aspects which help individuals to improve their memory and retention abilities

व्यक्तिंची स्मरणशक्ति व धारणा क्षमता सुधारण्यासाठी मदत करणारे घटक ओळखा.

A) Appropriate motivation

योग्य प्रेरणा

B) Over learning

जास्त शिकणे (अधिकलोकन)

C) Being more emotional

अधिक भावूक होणे

D) Association of ideas

विचारांची / कल्पनांची संलग्नता

Choose the correct one

योग्य उत्तर निवडा

Options :

A, B, C, D

1. ✖

A, B, C only

फक्त A, B, C

2. ✖

A, B, D only

फक्त A, B, D

3. ✔

B, C, D only

4. ✖ फक्त B, C, D

Question Number : 22 Question Id : 4771873081 Question Type : MCQ Option Shuffling : Yes Display Question Number : Yes

Correct Marks : 1 Wrong Marks : 0

The educational programmes such as Acceleration and Enrichment are to be followed by the teacher to deal with these students

या विद्यार्थ्यांशी व्यवहार करण्यासाठी शिक्षकांनी गतीवर्धन आणि समृद्धीकरण या सारखे शैक्षणिक कार्यक्रम राबवले पाहिजे

Options :

Gifted

1. ✔ प्रतिभावान

Learning disabled

2. ✖ शिकण्यात अक्षम

Physically challenged

3. ✖ शारीरिक दृष्ट्या अक्षम / विकलांग

Slow learners

4. ✖ हळू शिकणारे

Question Number : 23 Question Id : 4771873082 Question Type : MCQ Option Shuffling : Yes Display Question Number : Yes

Correct Marks : 1 Wrong Marks : 0

In this learning, Learners initiate and advance their learning by more experienced partners

या शिक्षणात, शिकणारे अधिक अनुभवी जोडीदारांच्या मदतीने स्वतःहून शिकायला सुरुवात करतात आणि पुढे जातात

Options :

Insightful Learning

अंतर्दृष्टी पूर्ण शिक्षण

1. ✖

Imitational Learning

अनुकरणीय शिक्षण

2. ✖

Programmed Learning

कार्यक्रमीत शिक्षण

3. ✖

Guided Inquiry Learning

मार्गदर्शित चौकशी शिक्षण

4. ✔

Question Number : 24 Question Id : 4771873083 Question Type : MCQ Option Shuffling : Yes Display Question Number : Yes

Correct Marks : 1 Wrong Marks : 0

The teacher has to follow these steps to improve individual learning among students

विद्यार्थ्यांमध्ये व्यक्तिगत शिक्षण सुधारण्यासाठी शिक्षकांनी हे टप्पे पाळावे

A) Set clear and specific goals

स्पष्ट आणि विशिष्ट उद्दिष्टे निश्चित करा

B) Make goals dynamic with revision at regular intervals

उद्दिष्टे वेळोवेळी पुरावलोकनाने गतिशील करा

C) Involve parents

पालकांचा सहभाग घ्या

D) Let students own their progress

विद्यार्थ्यांना त्यांच्या प्रगतीची जबाबदारी घेऊ द्या

Choose the correct one

योग्य उत्तर निवडा

Options :

A, B, D only

फक्त A, B, D

1. ✖

A, B, C only

फक्त A, B, C

2. ✖

A, C, D only

फक्त A, C, D

3. ✖

A, B, C, D

4. ✔

Question Number : 25 Question Id : 4771873084 Question Type : MCQ Option Shuffling : Yes Display Question Number : Yes

Correct Marks : 1 Wrong Marks : 0

In SQ3R method, the learner has to follow this sequence

SQ3R पद्धती मध्ये, शिकणा-याला हा पाळावा लागतो

Options :

Survey, Question, Review, Read, Recite

1. ✖ सर्वेक्षण, प्रश्न, पुनरावलोकन, वाचन, पाठांतर

Survey, Question, Read, Review, Recite

2. ✖ सर्वेक्षण, प्रश्न, वाचन, पुनरावलोकन, पाठांतर

Survey, Question, Read, Recite, Review

3. ✔ सर्वेक्षण, प्रश्न, वाचन, पाठांतर, पुनरावलोकन

Survey, Read, Question, Recite, Review

4. ✖ सर्वेक्षण, वाचन, प्रश्न, पाठांतर, पुनरावलोकन

Question Number : 26 Question Id : 4771873085 Question Type : MCQ Option Shuffling : Yes Display Question Number : Yes

Correct Marks : 1 Wrong Marks : 0

Match the Phases of teaching given under List-A with the associations given under List-B

यादी - अ अंतर्गत दिलेल्या अध्यापनाच्या टप्प्याची यादी - ब अंतर्गत दिलेल्या याच्याशी संबंधित बाबींशी जुळणी करा

List- A

यादी - अ
(Phases)
(टप्पे)

List -B

यादी - ब
(Association)
(संबंधित बाबी)

A) Pre-active

पूर्व तयारी

i) Conducting Group activities
in the class

वर्गात गट क्रियाकलाप राबाविणे

B) Inter-active

कार्यात्मक

ii) Giving home assignments

गृहपाठ देणे

C) Post-active

प्रतिक्रिया / मूल्यमापन

iii) Writing lesson plan

धड्याचे नियोजन लिहिणे

Choose the correct one

योग्य उत्तर निवडा

Options :

A-i, B-ii, C-iii

1. ✖

A-iii, B-i, C-ii

2. ✔

A-iii, B-ii, C-i

3. ✖

A-ii, B-i, C-iii

4. ✖

Question Number : 27 Question Id : 4771873086 Question Type : MCQ Option Shuffling : Yes Display Question Number : Yes

Correct Marks : 1 Wrong Marks : 0

Which one of the following strategies has less scope to promote group learning among learners?

खालीलपैकी कोणत्या धोरणात विद्यार्थ्यांमध्ये गट शिक्षणाला प्रोत्साहन देण्यासाठी कमी बाब आहे

Options :

Discussions

1. ✖

चर्चा

Brain storming

2. ✖

विचार मंथन

Lecture cum demonstration

3. ✔

व्याख्यानासह प्रदर्शन

Seminars

4. ✖

परिसंवाद

Question Number : 28 Question Id : 4771873087 Question Type : MCQ Option Shuffling : Yes Display Question Number : Yes

Correct Marks : 1 Wrong Marks : 0

Choose the **INCORRECT** statement among the following regarding guidance and counselling

मार्गदर्शन आणि समुपदेशन या संदर्भातील खालीलपैकी चुकीचे विधान ओळखा

Options :

In directive counselling, the counsellor plays an active role in understanding problem

निर्देशात्मक समुपदेशनात, समुपदेशीत समस्या समजून घेण्यासाठी सक्रिय भूमिका बजावतो.

1. ✖

In non-directive counselling, the counsellee plays an active role

अनिर्देशात्मक समुपदेशनात, सामुपदेशक सक्रिय भूमिका बजावतो

2. ✖

Directive counselling is also called as client-centred-counselling

निर्देशात्मक समुपदेशनास क्लायंट – केंद्रित समुपदेशन देखिल म्हणतात.

3. ✔

Vocational guidance helps in career planning and professional development

व्यावसायिक मार्गदर्शन कॅरिअर नियोजन आणि व्यावसायिक विकासास मदत करते

4. ✖

Question Number : 29 Question Id : 4771873088 Question Type : MCQ Option Shuffling : Yes Display Question Number : Yes

Correct Marks : 1 Wrong Marks : 0

Match the learning styles given under List-A with the activities given under List-B

यादी - अ मधील दिलेल्या शिकण्याची शैली आणि यादी - ब मध्ये दिलेल्या उपक्रमांची जुळणी करा

List- A
यादी - अ
(Learning style)
(शिकण्याची शैली)

- A) Visual learning
दृश्याधारित / दृश्यात्मक शिक्षण
- B) Auditory learning
श्राव्य शिक्षण
- C) Kinesthetic learning
क्रियात्मक शिक्षण

List -B
यादी - ब
(Activities)
(उपक्रम)

- i) Listening to tape recorders
टप रेकार्डर ऐकणे
- ii) Understanding Gestures
हालचाली समजून घेणे
- iii) Preparing models
मॉडल्स तयार करणे

Choose the correct one

योग्य उत्तर निवडा

Options :

1. ✖ A-i, B-iii, C-ii

2. ✔ A-ii, B-i, C-iii

3. ✖ A-i, B-ii, C-iii

4. ✖ A-iii, B-ii, C-i

Question Number : 30 Question Id : 4771873089 Question Type : MCQ Option Shuffling : Yes Display Question Number : Yes

Correct Marks : 1 Wrong Marks : 0

The teacher can promote team work, leadership, conflict management and interpersonal skills among learners in this type of learning

या प्रकारच्या शिक्षणात, शिक्षक विद्यार्थ्यांमध्ये सांघिक कार्य, नेतृत्व, संघर्ष व्यवस्थापन आणि आंतरवैयक्तिक कौशल्ये प्रोत्साहित करू शकतो.

Options :

Co-operative learning

सहकार्यात्मक शिक्षण

1. ✓

Teacher-centric learning

शिक्षक – केंद्रित शिक्षण

2. ✗

Self-learning

स्वयं – अभ्यास

3. ✗

Subject-centric learning

विषय – केंद्रित शिक्षण

4. ✗

Language I Marathi

| | |
|---------------------------------------|-----------|
| Section Id : | 477187102 |
| Section Number : | 2 |
| Section type : | Online |
| Mandatory or Optional : | Mandatory |
| Number of Questions : | 22 |
| Number of Questions to be attempted : | 22 |
| Section Marks : | 30 |
| Maximum Instruction Time : | 0 |

Sub-Section Number :

1

Sub-Section Id :

477187161

Question Shuffling Allowed :

Yes

Question Id : 4771873090 Question Type : COMPREHENSION Sub Question Shuffling Allowed : Yes Group
Comprehension Questions : No Question Pattern Type : NonMatrix
Question Numbers : (31 to 35)

प्रश्न क्रमांक 31 ते 35 ची उत्तरे खाली दिलेल्या कवितेच्या आधारे योग्य पर्याय निवडून लिहा.

ही आवडते मज मनापासुनी शाळा
लाविते लळा ही जसा माउली बाळा ॥
हस-या फुलांचा बाग जसा आनंदी
ही तशीच शाळा मुले इथे स्वच्छंदी ॥
हासुनी हसवुनी खेळुनी, सांगुनी गोष्टी
आम्हास आमुचे गुरुजन शिक्षण देती ॥
हे प्रेम कराया किती भोवती भाऊ
हातांत घालुनी हात तयांच्या राहू ॥
येथेच बंधु प्रेमाचे, घ्या धडे
मग देशकार्य करण्याला, व्हा खडे ॥
पसरवा नाव शाळेचे चहूकडे
मग लोक बोलतील धन्य धन्य ती शाळा
जी देशासाठी तयार करिते बाळा ॥

Sub questions

Question Number : 31 Question Id : 4771873091 Question Type : MCQ Option Shuffling : Yes Display Question
Number : Yes

Correct Marks : 1 Wrong Marks : 0

या कवितेतून कवीने कोणाचे वर्णन केले आहे ?

Options :

1. ✓ शाळेचे
2. ✗ घराचे
3. ✗ शहराचे
4. ✗ नदीचे

Question Number : 32 Question Id : 4771873092 Question Type : MCQ Option Shuffling : Yes Display Question
Number : Yes

Correct Marks : 1 Wrong Marks : 0

शाळेतून कोणते धडे विद्यार्थ्याला मिळतात ?

Options :

1. ✖ काटकसरीचे
2. ✔ बंधू प्रेमाचे
3. ✖ श्रीमंत होण्याचे
4. ✖ द्वेषाचे

Question Number : 33 Question Id : 4771873093 Question Type : MCQ Option Shuffling : Yes Display Question Number : Yes

Correct Marks : 1 Wrong Marks : 0

कवीने शाळेला कोणती उपमा दिली आहे ?

Options :

1. ✖ बाजाराची
2. ✔ फुलांच्या बागेची
3. ✖ स्वर्गाची
4. ✖ पर्वत शिखरांची

Question Number : 34 Question Id : 4771873094 Question Type : MCQ Option Shuffling : Yes Display Question Number : Yes

Correct Marks : 1 Wrong Marks : 0

विद्यार्थ्यांना शाळे विषयी काय वाटते ?

Options :

1. ✖ कंटाळा
2. ✔ प्रेम व लळा

3. ✖ તિરસ્કાર

4. ✖ શિક્ષા

Question Number : 35 Question Id : 4771873095 Question Type : MCQ Option Shuffling : Yes Display Question Number : Yes

Correct Marks : 1 Wrong Marks : 0

દેશકાર્યાસાઠી શાઢા કોણાલા તયાર કરતે ?

Options :

1. ✔ લહાન બાઢાંના

2. ✖ મોઢ્યા માણસાંના

3. ✖ સ્ત્રિયાંના

4. ✖ અઢાવગ્રસ્તાંના

Sub-Section Number :

2

Sub-Section Id :

477187162

Question Shuffling Allowed :

Yes

Question Id : 4771873096 Question Type : COMPREHENSION Sub Question Shuffling Allowed : Yes Group
Comprehension Questions : No Question Pattern Type : NonMatrix
Question Numbers : (36 to 40)

प्रश्न क्रमांक 36 ते 40 ची उत्तरे खाली दिलेल्या उता-याच्या आधारे योग्य पर्याय निवडून लिहा.

आळशी माणूस हा सतत आरामाची अपेक्षा करत असतो. तर खरा काम करणारा माणूस आराम हराम आहे असे मानतो. रात्रीचे पाच-सहा तास झोप ही विश्रांती साठी पुरेशी असते. इतर वेळी त्याने सतत काम करत रहावे. उगाचच बसून राहिल्याने अंगात आळस वाढतो. उलट प्रत्येकाने हे लक्षात ठेवले पाहिजे की, काळ हा सतत पुढे जात असतो. माणूस कितीही श्रीमंत किंवा मोठ्या पदावर असला तरी तो कोणासाठीही थांबत नसतो. आपण तो आळसात व्यर्थ दवडला तर आपला कार्यभाग पूर्ण होणार नाही. सतत तेच ते काम करत राहिल्याने मनुष्यास कंटाळा येतो. म्हणून तर सहा दिवस काम केल्यावर रविवारी सुट्टी येते. त्या दिवशी आळसात लोळत पडण्यापेक्षा माणसाने आपल्या आवडीचे काम करावे, आपला छंद जपावा.

Sub questions

Question Number : 36 Question Id : 4771873097 Question Type : MCQ Option Shuffling : Yes Display Question Number : Yes

Correct Marks : 1 Wrong Marks : 0

माणूस उगाच रिकामे बसून राहिल्याने काय होते ?

Options :

1. ✖ शरीर चपळ बनते
2. ✖ बुद्धी परिपक्व होते
3. ✔ अंगात आळस वाढतो
4. ✖ या पैकी काहीही नाही

Question Number : 37 Question Id : 4771873098 Question Type : MCQ Option Shuffling : Yes Display Question Number : Yes

Correct Marks : 1 Wrong Marks : 0

माणसाने किती तास झोप घ्यायला हवी ?

Options :

1. ✖ तीन - चार

2. ✖ दहा - बारा

3. ✔ पाच - सहा

4. ✖ नऊ - दहा

Question Number : 38 Question Id : 4771873099 Question Type : MCQ Option Shuffling : Yes Display Question Number : Yes

Correct Marks : 1 Wrong Marks : 0

सुटीच्या दिवशी काय करावे असे लेखकाला वाटते ?

Options :

1. ✖ नुसते बसून रहावे

2. ✖ भांडण करावे

3. ✔ छंदात रमून जावे

4. ✖ उपाशी रहावे

Question Number : 39 Question Id : 4771873100 Question Type : MCQ Option Shuffling : Yes Display Question Number : Yes

Correct Marks : 1 Wrong Marks : 0

आराम हराम आहे असे कोण म्हणतो ?

Options :

1. ✖ आळसी माणूस

2. ✔ खरा काम करणारा माणूस

3. ✖ निराश झालेला माणूस

4. ✖ या पैकी कोणते ही नाही

Question Number : 40 Question Id : 4771873101 Question Type : MCQ Option Shuffling : Yes Display Question Number : Yes

Correct Marks : 1 Wrong Marks : 0

काळाची वैशिष्ट्ये कोणती ?

Options :

1. ✖ तो सतत मागे जातो

2. ✖ तो कधी कधी थांबतो

3. ✔ तो सतत पुढे जात असतो

4. ✖ या पैकी कोणते ही नाही

Sub-Section Number :

3

Sub-Section Id :

477187163

Question Shuffling Allowed :

Yes

Question Number : 41 Question Id : 4771873102 Question Type : MCQ Option Shuffling : Yes Display Question Number : Yes

Correct Marks : 1 Wrong Marks : 0

संत ज्ञानदेवांच्या गुरुंचे नाव कोणते ?

Options :

1. ✖ चांगदेव

2. ✖ गोरा कुंभार

3. ✔ निवृत्तीनाथ

4. ✖ या पैकी कोणते ही नाही

Question Number : 42 Question Id : 4771873103 Question Type : MCQ Option Shuffling : Yes Display Question Number : Yes

Correct Marks : 1 Wrong Marks : 0

खालीलपैकी कोणत्या लेखकाला ज्ञानपीठ पुरस्कार मिळाला आहे ?

Options :

1. ✖ मंगेश पाडगावकर
2. ✖ गंगाधर गाडगीळ
3. ✖ आचार्य प्र.के. अत्रे
4. ✔ वि.स. खांडेकर

Question Number : 43 Question Id : 4771873104 Question Type : MCQ Option Shuffling : Yes Display Question Number : Yes

Correct Marks : 1 Wrong Marks : 0

हा स्वर मराठीत फारसा वापरला जात नाही.

Options :

1. ✖ ऋ
2. ✖ ए
3. ✖ ई
4. ✔ लृ

Question Number : 44 Question Id : 4771873105 Question Type : MCQ Option Shuffling : Yes Display Question Number : Yes

Correct Marks : 1 Wrong Marks : 0

राजवाडा या सामाजिक शब्दाचा विग्रह कोणता ?

Options :

1. ✖ राजाला वाडा
2. ✖ राजाने वाडा
3. ✔ राजाचा वाडा
4. ✖ कोणते ही नाही

Question Number : 45 Question Id : 4771873106 Question Type : MCQ Option Shuffling : Yes Display Question Number : Yes

Correct Marks : 1 Wrong Marks : 0

'गैरशिस्त' ह्या शब्दातील समास कोणता?

Options :

1. ✖ कर्मधारेय
2. ✖ द्वंद्व
3. ✖ द्विगु
4. ✔ अव्ययीभाव

Question Number : 46 Question Id : 4771873107 Question Type : MCQ Option Shuffling : Yes Display Question Number : Yes

Correct Marks : 1 Wrong Marks : 0

कातर कातर अवस्था म्हणजे.....

Options :

1. ✖ खूप चांगली अवस्था
2. ✖ शांती देणारी अवस्था
3. ✖ सुखदायक अवस्था
4. ✔ दुःखदायक अवस्था

Question Number : 47 Question Id : 4771873108 Question Type : MCQ Option Shuffling : Yes Display Question Number : Yes

Correct Marks : 1 Wrong Marks : 0

फूल या शब्दाचा समानार्थी नसलेला शब्द कोणता ?

Options :

1. ✖ पुष्प
2. ✖ सुमन
3. ✔ पर्ण
4. ✖ कुसुम

Question Number : 48 Question Id : 4771873109 Question Type : MCQ Option Shuffling : Yes Display Question Number : Yes

Correct Marks : 1 Wrong Marks : 0

क्ष आणि ज्ञ ही कसली व्यंजने आहेत.

Options :

1. ✘ महाप्राण व्यंजने

2. ✘ स्पर्श व्यंजने

3. ✔ संयुक्त व्यंजने

4. ✘ या पैकी कोणते नाही

Question Number : 49 Question Id : 4771873110 Question Type : MCQ Option Shuffling : Yes Display Question Number : Yes

Correct Marks : 1 Wrong Marks : 0

लहान मुलांना झोप यावी म्हणून कोणते गीत म्हटले जाते ?

Options :

1. ✘ भूपाळी

2. ✘ नाट्यगीत

3. ✔ अंगाई गीत

4. ✘ भक्ती गीत

Question Number : 50 Question Id : 4771873111 Question Type : MCQ Option Shuffling : Yes Display Question Number : Yes

Correct Marks : 1 Wrong Marks : 0

राजहंस माझा निजला या गोविंदाग्रज लिखित कवितेत कोणता रस आहे ?

Options :

1. ✓ करुण रस
2. ✗ हास्य रस
3. ✗ शांत रस
4. ✗ अद्भुत रस

Question Number : 51 Question Id : 4771873112 Question Type : MCQ Option Shuffling : Yes Display Question Number : Yes

Correct Marks : 1 Wrong Marks : 0

या शब्दांमधील इंग्रजी नसलेला शब्द कोणता ?

Options :

1. ✗ क्लास
2. ✗ ब्रेकफास्ट
3. ✗ मशीन
4. ✓ तुतारी

Question Number : 52 Question Id : 4771873113 Question Type : MCQ Option Shuffling : Yes Display Question Number : Yes

Correct Marks : 1 Wrong Marks : 0

शैक्षणिक मूल्यमापनाचे स्वरूप यातून कळत नाही

Options :

1. ✘ चाचण्या घेणे
2. ✘ निरीक्षण करणे
3. ✘ अभ्यास
4. ✔ विद्यार्थ्यांस पुढच्या वर्गात ढकलणे

Question Number : 53 Question Id : 4771873114 Question Type : MCQ Option Shuffling : Yes Display Question Number : Yes

Correct Marks : 1 Wrong Marks : 0

‘सुसंगत’ या शब्दाचा अर्थ

Options :

1. ✘ एकामेकांविरुद्ध
2. ✔ एकामेकांना जुळणारे
3. ✘ असुसंगत
4. ✘ कोणते ही नाही

Question Number : 54 Question Id : 4771873115 Question Type : MCQ Option Shuffling : Yes Display Question Number : Yes

Correct Marks : 1 Wrong Marks : 0

भारतातील सर्वात साक्षरता असलेले राज्य कोणते ?

Options :

1. ✖ तेलंगाणा
2. ✔ केरळ
3. ✖ आसाम
4. ✖ बिहार

Question Number : 55 Question Id : 4771873116 Question Type : MCQ Option Shuffling : Yes Display Question Number : Yes

Correct Marks : 1 Wrong Marks : 0

“अरे संसार संसार, जसा तवा चूल्ह्यावर” ही रचना कोणाची ?

Options :

1. ✖ संत जनाबाई
2. ✖ संत तुकाराम
3. ✖ संत चोखामेळा
4. ✔ बहिणाबाई

Question Number : 56 Question Id : 4771873117 Question Type : MCQ Option Shuffling : Yes Display Question Number : Yes

Correct Marks : 1 Wrong Marks : 0

वि. वा. शिरवाडकर म्हणजे ?

Options :

1. ✖ गोविंदाग्रज
2. ✔ कुसुमाग्रज
3. ✖ माधव ज्युलियन
4. ✖ सुरेश भट

Question Number : 57 Question Id : 4771873118 Question Type : MCQ Option Shuffling : Yes Display Question Number : Yes

Correct Marks : 1 Wrong Marks : 0

मातृभाषा म्हणजे काय ?

Options :





1. ✔ मूल त्याचा पालका कडून शिकते ती भाषा
2. ✖ मूल त्याचा मित्राकडून शिकते ती भाषा
3. ✖ मूल गाण्यातून शिकते ती भाषा
4. ✖ या पैकी कोणतेही नाही

Question Number : 58 Question Id : 4771873119 Question Type : MCQ Option Shuffling : Yes Display Question Number : Yes

Correct Marks : 1 Wrong Marks : 0

मराठीला नुक्ताच हा दर्जा प्राप्त झाला आहे ?

Options :





1.  अभिजात
2.  नवजात
3.  आधुनिक
4.  वैश्विक

Question Number : 59 Question Id : 4771873120 Question Type : MCQ Option Shuffling : Yes Display Question Number : Yes

Correct Marks : 1 Wrong Marks : 0

तत्सम शब्द म्हणजे या भाषेतून जसेच्या तसे आलेले शब्द.

Options :

1.  इंग्रजी
2.  फारसी
3.  कानडी
4.  संस्कृत

Question Number : 60 Question Id : 4771873121 Question Type : MCQ Option Shuffling : Yes Display Question Number : Yes

Correct Marks : 1 Wrong Marks : 0

शिपायाने चोरास मारले या वाक्याचा प्रयोग कोणता ?

Options :

1. ✖ कर्तरी
2. ✖ कर्मणी
3. ✔ भावे
4. ✖ कोणतेही नाही

Language II English

| | |
|---------------------------------------|-----------|
| Section Id : | 477187103 |
| Section Number : | 3 |
| Section type : | Online |
| Mandatory or Optional : | Mandatory |
| Number of Questions : | 26 |
| Number of Questions to be attempted : | 26 |
| Section Marks : | 30 |
| Maximum Instruction Time : | 0 |
| Sub-Section Number : | 1 |
| Sub-Section Id : | 477187164 |
| Question Shuffling Allowed : | Yes |

Question Id : 4771873122 Question Type : COMPREHENSION Sub Question Shuffling Allowed : Yes Group Comprehension Questions : No Question Pattern Type : NonMatrix
Question Numbers : (61 to 65)

(61–65) Read the following passage and choose the correct option for each question.

The International Space Station (ISS) is a multinational initiative and the largest single structure ever constructed by humans in space. Its main construction was finished between 1998 and 2011, though it has continued to evolve with new missions and experiments. The ISS has been continuously occupied since November 2, 2000.

Rather than being owned by one country, the ISS operates as a collaborative program involving Europe, the United States of America, Russia, Canada, and Japan, as noted by the European Space Agency (ESA). The cost of operating the station is approximately \$3 billion annually for NASA, which represents about one-third of its human spaceflight budget, according to the agency's Office of the Inspector General.

As of May 2022, 258 people from 20 different nations have visited the ISS. The United States of America with 158 individuals and Russia with 54 individuals are the leading contributors. Astronauts and research time on the space station is allocated to different space agencies based on their financial and other resource contributions, such as modules or robotic systems.

Sub questions

Question Number : 61 Question Id : 4771873123 Question Type : MCQ Option Shuffling : Yes Display Question Number : Yes

Correct Marks : 1 Wrong Marks : 0

Astronauts and research time on the space station are assigned to various space agencies based on the following contribution.

Options :

1. ✖ social service–related
2. ✖ environmental
3. ✔ financial and other resources

4. ✖ educational

Question Number : 62 Question Id : 4771873124 Question Type : MCQ Option Shuffling : Yes Display Question Number : Yes

Correct Marks : 1 Wrong Marks : 0

The ISS has maintained a continuous human presence since the year

Options :

1. ✖ 2022

2. ✔ 2000

3. ✖ 1998

4. ✖ 2011

Question Number : 63 Question Id : 4771873125 Question Type : MCQ Option Shuffling : Yes Display Question Number : Yes

Correct Marks : 1 Wrong Marks : 0

Choose the correct statement about the International Space Station (ISS).

Options :

1. ✖ It is a multinational initiative and the smallest single structure ever constructed by humans in space.

2. ✖ It is a multinational initiative and the largest single structure ever constructed by humans in ocean.

3. ✔ It is a multinational initiative and the largest single structure ever constructed by humans in space.

4. ✖ It is only NASA's initiative and the largest single structure ever constructed by humans in space.

Question Number : 64 Question Id : 4771873126 Question Type : MCQ Option Shuffling : Yes Display Question Number : Yes

Correct Marks : 1 Wrong Marks : 0

As per the passage, this country has sent more astronauts to the ISS.

Options :

- 1. ✖ France
- 2. ✖ Russia
- 3. ✖ Japan
- 4. ✔ The United States of America

Question Number : 65 Question Id : 4771873127 Question Type : MCQ Option Shuffling : Yes Display Question Number : Yes

Correct Marks : 1 Wrong Marks : 0

As per the European Space Agency (ESA), the ISS operates as a collaborative program of the following.

Options :

- 1. ✔ Europe, the United States of America, Russia, Canada, and Japan
- 2. ✖ Europe, the United States of America, Russia, India, and Japan
- 3. ✖ Europe, the United States of America, Germany, Canada, and Japan
- 4. ✖ Europe, the United States of America, Russia, China and Japan

Sub-Section Number :

2

Sub-Section Id :

477187165

Question Shuffling Allowed :

Yes

Question Number : 66 Question Id : 4771873128 Question Type : MCQ Option Shuffling : Yes Display Question Number : Yes

Correct Marks : 1 Wrong Marks : 0

_____ brought _____ books to the library to study together.

Choose the correct option to complete the sentence.

Options :

1. ✖ They, there

2. ✖ There, their

3. ✖ Their, they

4. ✔ They, their

Question Number : 67 Question Id : 4771873129 Question Type : MCQ Option Shuffling : Yes Display Question Number : Yes

Correct Marks : 1 Wrong Marks : 0

Read the following two sentences.

Sentence A: She came here to studying at the college.

Sentence B: She came here to study at the college.

Choose the correct option.

Options :

1. ✖ Only the sentence A is correct.

2. ✔ Only the sentence B is correct.

3. ✖ The sentences A and B are correct.

4. ✖ The sentences A and B are incorrect.

Question Number : 68 Question Id : 4771873130 Question Type : MCQ Option Shuffling : Yes Display Question Number : Yes

Correct Marks : 1 Wrong Marks : 0

The passenger runs _____ to catch the train.

Choose the option to complete the sentence.

Options :

1. ✖ fastly
2. ✖ quick
3. ✔ quickly
4. ✖ slow

Question Number : 69 Question Id : 4771873131 Question Type : MCQ Option Shuffling : Yes Display Question Number : Yes

Correct Marks : 1 Wrong Marks : 0

The minister _____ the prizes to the winners at the end of the function.

Complete the sentence with correct option.

Options :

1. ✔ gave away
2. ✖ gave up
3. ✖ give up
4. ✖ gave back

Question Number : 70 Question Id : 4771873132 Question Type : MCQ Option Shuffling : Yes Display Question Number : Yes

Correct Marks : 1 Wrong Marks : 0

Sharath will not obey you. Talk to him politely.

Combine the two sentences.

Options :

Sharath will not obey you unless you talked to him politely.

1. ✖

Sharath will not obey you unless you don't talk to him politely.

2. ✖

Sharath will obey you unless you talk to him politely.

3. ✖

Sharath will not obey you unless you talk to him politely.

4. ✔

Question Number : 71 Question Id : 4771873133 Question Type : MCQ Option Shuffling : Yes Display Question Number : Yes

Correct Marks : 1 Wrong Marks : 0

My brother was driving the car.

Choose the passive voice sentence for the given sentence.

Options :

The car was been driven by my brother.

1. ✖

The car was being driven by my brother.

2. ✔

The car was driven by my brother.

3. ✖

The car had been driven by my brother.

4. ✖

Question Number : 72 Question Id : 4771873134 Question Type : MCQ Option Shuffling : Yes Display Question Number : Yes

Correct Marks : 1 Wrong Marks : 0

I said to my friend, 'Please lend me your cycle.'

Change the sentence into indirect speech.

Options :

1. ✖ I requested my friend to lend him his cycle.
2. ✖ I requested my friend to lend me your cycle.
3. ✔ I requested my friend to lend me his cycle.
4. ✖ My friend requested me to lend his cycle.

Question Number : 73 Question Id : 4771873135 Question Type : MCQ Option Shuffling : Yes Display Question Number : Yes

Correct Marks : 1 Wrong Marks : 0

He offers abundant evidence that he is right.

Identify the meaning of the word 'abundant'.

Options :

1. ✔ ample
2. ✖ meagre
3. ✖ minimal
4. ✖ scant

Question Number : 74 Question Id : 4771873136 Question Type : MCQ Option Shuffling : Yes Display Question Number : Yes

Correct Marks : 1 Wrong Marks : 0

His knowledge of history is profound.

Identify the opposite meaning of the word 'profound'.

Options :

1. ✖ sincere
2. ✖ scholarly
3. ✖ erudite
4. ✔ superficial

Question Number : 75 Question Id : 4771873137 Question Type : MCQ Option Shuffling : Yes Display Question Number : Yes

Correct Marks : 1 Wrong Marks : 0

The study of birds is called

Options :

1. ✖ anthropology.
2. ✔ ornithology.
3. ✖ zoology.
4. ✖ mythology.

Question Number : 76 Question Id : 4771873138 Question Type : MCQ Option Shuffling : Yes Display Question Number : Yes

Correct Marks : 1 Wrong Marks : 0

Choose the meaning of the idiom 'a dark horse'.

Options :

1. ✖ A wild animal
2. ✖ A black horse
3. ✔ An unknown entry
4. ✖ A front runner

Question Number : 77 Question Id : 4771873139 Question Type : MCQ Option Shuffling : Yes Display Question Number : Yes

Correct Marks : 1 Wrong Marks : 0

Identify **INCORRECTLY** spelt word.

Options :

1. ✖ privilege
2. ✔ maintenance
3. ✖ exclamatory
4. ✖ colleague

Question Number : 78 Question Id : 4771873140 Question Type : MCQ Option Shuffling : Yes Display Question Number : Yes

Correct Marks : 1 Wrong Marks : 0

Identify meaningful sentence.

Options :

1. ✖ Conversion of agriculture into forests land is weakening India's monsoon.
2. ✖ Conversion of forests into monsoon land is weakening India's agriculture.
3. ✖ Conversion of monsoons into agriculture land is weakening India's forests.
4. ✔ Conversion of forests into agriculture land is weakening India's monsoon.

Question Number : 79 Question Id : 4771873141 Question Type : MCQ Option Shuffling : Yes Display Question Number : Yes

Correct Marks : 1 Wrong Marks : 0

It was raining heavily yesterday, _____?

Choose the correct option to complete the sentence.

Options :

1. ✔ wasn't it
2. ✖ isn't it
3. ✖ is it
4. ✖ was it

Question Number : 80 Question Id : 4771873142 Question Type : MCQ Option Shuffling : Yes Display Question Number : Yes

Correct Marks : 1 Wrong Marks : 0

Identify the part with an error in the given sentence.

| | | | |
|-------------------------|---------------------|-------------------|------------------------|
| <u>When no one came</u> | <u>to help him.</u> | <u>he herself</u> | <u>picked the bag.</u> |
| A | B | C | D |

Options :

1. ✖ A

2. ✖ B

3. ✔ C

4. ✖ D

Question Number : 81 Question Id : 4771873143 Question Type : MCQ Option Shuffling : Yes Display Question Number : Yes

Correct Marks : 1 Wrong Marks : 0

Choose the grammatically correct sentence.

Options :

1. ✖ All the five man's were very energetic and eager to perform their duty.

2. ✔ All the five men were very energetic and eager to perform their duty.

3. ✖ All the five mens were very energetic and eager to perform their duty.

4. ✖ All the five men was very energetic and eager to performed their duty.

Question Number : 82 Question Id : 4771873144 Question Type : MCQ Option Shuffling : Yes Display Question Number : Yes

Correct Marks : 1 Wrong Marks : 0

Arrange the options to make a meaningful sentence.

P:In every country, people often

Q:the best and the most intelligent,

R:as less capable or inferior in comparison.

S:while viewing people from other countries

T:believe that they themselves are

Choose the correct option.

Options :

1. ✖ P, Q, T, R, S

2. ✔ P, T, Q, S, R

3. ✖ P, R, Q, T, S

4. ✖ P, T, R, Q, S

Question Number : 83 Question Id : 4771873145 Question Type : MCQ Option Shuffling : Yes Display Question Number : Yes

Correct Marks : 1 Wrong Marks : 0

Identify the option that uses the article 'the' **INCORRECTLY**.

Options :

He was the first man to arrive.

1. ✖

2. ✔ The wisdom is the gift of heaven.

The rose is the sweetest of all flowers.

3. ✖

The darkest cloud has a silver lining.

4. ✖

Question Number : 84 Question Id : 4771873146 Question Type : MCQ Option Shuffling : Yes Display Question Number : Yes

Correct Marks : 1 Wrong Marks : 0

She _____ her camera on the sofa.

Complete the sentence with correct option.

Options :

laid

1. ✔

lay

2. ✖

lie

3. ✖

lied

4. ✖

Question Number : 85 Question Id : 4771873147 Question Type : MCQ Option Shuffling : Yes Display Question Number : Yes

Correct Marks : 1 Wrong Marks : 0

An interactive communication between two or more people is a/an

Options :

1. ✖ story.
2. ✔ conversation.
3. ✖ essay.
4. ✖ speech.

Question Number : 86 Question Id : 4771873148 Question Type : MCQ Option Shuffling : Yes Display Question Number : Yes

Correct Marks : 1 Wrong Marks : 0

The best known advocate of 'Spiral Curriculum' is

Options :

1. ✔ Bruner
2. ✖ Noam Chomsky
3. ✖ Antony E M
4. ✖ Brendan J. Carroll

Question Number : 87 Question Id : 4771873149 Question Type : MCQ Option Shuffling : Yes Display Question Number : Yes

Correct Marks : 1 Wrong Marks : 0

In a primary school classroom, an English teacher should create an environment that is

Options :

focused on writing and giving home assignments.

1. ✖

strict and following formal methods of teaching.

2. ✖

stimulating, inclusive, and focused on student participation.

3. ✔

teaching and learning that relies solely on the textbook.

4. ✖

Question Number : 88 Question Id : 4771873150 Question Type : MCQ Option Shuffling : Yes Display Question Number : Yes

Correct Marks : 1 Wrong Marks : 0

The following theme is inappropriate for the English instruction at the primary level.

Options :

Friendship and Kindness

1. ✖

Sports and Games

2. ✖

Home and School

3. ✖

World Heritage and Culture

4. ✔

Question Number : 89 Question Id : 4771873151 Question Type : MCQ Option Shuffling : Yes Display Question Number : Yes

Correct Marks : 1 Wrong Marks : 0

The main goal in teaching the skill of speaking is to

Options :

1. ✖ memorize the vocabulary and reproduce.
2. ✔ express oneself intelligibly, reasonably and accurately.
3. ✖ assist learners in writing without making grammatical errors.
4. ✖ develop reading skills through speaking activities.

Question Number : 90 Question Id : 4771873152 Question Type : MCQ Option Shuffling : Yes Display Question Number : Yes

Correct Marks : 1 Wrong Marks : 0

Read the following two statements about language learning.

Statement A: Language learning needs tolerance on the part of the teacher.

Statement B: Mistakes are natural and inevitable part of the learning process.

Choose the correct option.

Options :

1. ✖ Only the statement A is correct.
2. ✖ Only the statement B is correct.
3. ✔ The statements A and B are correct.
4. ✖ The statements A and B are incorrect.

| | |
|---------------------------------------|-----------|
| Section Id : | 477187104 |
| Section Number : | 4 |
| Section type : | Online |
| Mandatory or Optional : | Mandatory |
| Number of Questions : | 30 |
| Number of Questions to be attempted : | 30 |
| Section Marks : | 30 |
| Maximum Instruction Time : | 0 |
| Sub-Section Number : | 1 |
| Sub-Section Id : | 477187166 |
| Question Shuffling Allowed : | Yes |

Question Number : 91 Question Id : 4771873153 Question Type : MCQ Option Shuffling : Yes Display Question Number : Yes

Correct Marks : 1 Wrong Marks : 0

Rational form of $3.\bar{7}$ is

$3.\bar{7}$ परिमेय स्वरूप

Options :

1. ✖ $\frac{37}{100}$

2. ✔ $\frac{34}{9}$

3. ✖ $\frac{37}{99}$

4. ✖ $\frac{34}{99}$

Question Number : 92 Question Id : 4771873154 Question Type : MCQ Option Shuffling : Yes Display Question Number : Yes

Correct Marks : 1 Wrong Marks : 0

$$[(-3) \times (-4) \times (-5) \times (-6) \times (-7)] =$$

Options :

1. ✓ -2520

2. ✗ 2520

3. ✗ -1260

4. ✗ 1260

Question Number : 93 Question Id : 4771873155 Question Type : MCQ Option Shuffling : Yes Display Question Number : Yes

Correct Marks : 1 Wrong Marks : 0

The population of a town is 108090. Out of which 29040 are men and 28105 are women and the remaining are children. Then the number of children is

एका शहराची लोकसंख्या 108090 आहे त्या पैकी 29040 पुरुष 28105 महिला आहेत आणि उरलेली मुले आहेत तर मुलांची संख्या किती

Options :

1. ✗ 50845

2. ✗ 51945

3. ✗ 51845

4. ✓ 50945

Question Number : 94 Question Id : 4771873156 Question Type : MCQ Option Shuffling : Yes Display Question Number : Yes

Correct Marks : 1 Wrong Marks : 0

The marks got by a student in 4 subjects in an examination are 228. If the average marks of 3 subjects is 56, then how many marks did the student get in the fourth subject?

एका विद्यार्थ्याने परीक्षेत 4 विषयांमध्ये एकूण गुण 228 मिळविले आहे जर 3 विषयांचे सरासरी गुण 56 असतील तर चौथ्या विषयात विद्यार्थ्याला किती गुण मिळाले

Options :

1. ✖ 58
2. ✖ 62
3. ✔ 60
4. ✖ 64

Question Number : 95 Question Id : 4771873157 Question Type : MCQ Option Shuffling : Yes Display Question Number : Yes

Correct Marks : 1 Wrong Marks : 0

Which of the following fractions is least?

ही संख्या सर्वात लहान अपूर्णाक आहे.

Options :

1. ✖ $\frac{98}{100}$

2. ✖ $\frac{23}{25}$

3. ✔ $\frac{10}{11}$

4. ✖ $\frac{57}{59}$

Question Number : 96 Question Id : 4771873158 Question Type : MCQ Option Shuffling : Yes Display Question Number : Yes

Correct Marks : 1 Wrong Marks : 0

If each side of a triangle $\frac{1}{3}$ rd of its perimeter, then type of the triangle is

जर त्रिकोणाची प्रत्येक भुजा त्याच्या परिमितीच्या $\frac{1}{3}$ इतकी असेल तर त्या त्रिकोणाचा प्रकार

Options :

Isosceles

समद्विभुज

1. ✖

Equilateral

समभुज

2. ✔

Right angled

काटकोन

3. ✖

Obtuse

विशाल कोन

4. ✖


Question Number : 97 Question Id : 4771873159 Question Type : MCQ Option Shuffling : Yes Display Question Number : Yes


Correct Marks : 1 Wrong Marks : 0


Which of the following number is divisible by 6?

खालील पैकी कोणत्या संख्येला 6 ने पूर्णपणे भाग जाते

Options :

1.  179184

2.  143354

3.  800552

4.  726352

Question Number : 98 Question Id : 4771873160 Question Type : MCQ Option Shuffling : Yes Display Question Number : Yes

Correct Marks : 1 Wrong Marks : 0

The number of millimetres in 100 Kilometres is

100 किलोमीटर मध्ये किती मिली मीटर आहे

Options :

1.  10^5

2.  10^7

3.  10^6

4.  10^8

Question Number : 99 Question Id : 4771873161 Question Type : MCQ Option Shuffling : Yes Display Question Number : Yes

Correct Marks : 1 Wrong Marks : 0

The number of edges in a tetrahedron is

चतुःष्फलकातील (tetrahedron) कडांची संख्या

Options :

1. ✖ 4

2. ✔ 6

3. ✖ 8

4. ✖ 12

Question Number : 100 Question Id : 4771873162 Question Type : MCQ Option Shuffling : Yes Display Question Number : Yes

Correct Marks : 1 Wrong Marks : 0

A 60cm long wire is used to form following shapes. Which of them will have shortest side?

60 सेमी असलेल्या तारेपासून खालील आकार तयार करण्यात आले या मध्ये सर्वात लहान भुजा असलेला आकार कोणता आहे.

Options :

a square

1. ✖ चौरस

an equilateral triangle

2. ✖ समभुज त्रिकोण

a regular pentagon

3. ✖ नियमित पंचकोन

a regular hexagon

4. ✔ नियमित षष्टकोन

Question Number : 101 Question Id : 4771873163 Question Type : MCQ Option Shuffling : Yes Display Question Number : Yes

Correct Marks : 1 Wrong Marks : 0

$$\frac{38 \times 38 \times 38 - 26 \times 26 \times 26}{38 \times 38 + 38 \times 26 + 26 \times 26} =$$

Options :

1. ✓ 12
2. ✗ 144
3. ✗ 64
4. ✗ 1728

Question Number : 102 Question Id : 4771873164 Question Type : MCQ Option Shuffling : Yes Display Question Number : Yes

Correct Marks : 1 Wrong Marks : 0

The ratio of the cost price and the selling price is 8:10. The profit percent is

खरेदी किमत आणि विक्री किमती चे प्रभाव 8:10 आहे तर टक्केवारी नफा किती आहे

Options :

1. ✗ 50%
2. ✓ 25%
3. ✗ 20%
4. ✗ 75%

Question Number : 103 Question Id : 4771873165 Question Type : MCQ Option Shuffling : Yes Display Question Number : Yes

Correct Marks : 1 Wrong Marks : 0

Which one of the following is NOT correct?

खालील पैकी कोणते बरोबर नाही

Options :

15 tenths = $\frac{15}{10}$

1. ✖ 15 लांबी = $\frac{15}{10}$

3025 grams = 3 kilograms 25 grams

2. ✖ 3025 ग्राम्स = 3 किलोग्राम 25 ग्राम

Area of a rectangle $4.5m \times 0.5m$ = area of a square with side $15cm$

3. ✔ आयताचे क्षेत्रफळ $4.5m \times 0.5m$ = चौरसाचे क्षेत्रफळ 15 से.मी. बाजू असलेल्या

4. ✖ $0.016 = 16 \times 10^{-3}$

Question Number : 104 Question Id : 4771873166 Question Type : MCQ Option Shuffling : Yes Display Question Number : Yes

Correct Marks : 1 Wrong Marks : 0

The place value of 0 in 2225.106 is

0 चे स्थानमूल्य 2225.106 मध्ये कोठे आहे

Options :

Hundreds

1. ✖ शेकडा

Tenths

2. ✖ दहावा भाग

Tens

3. ✖ दशम

Hundredths

4. ✔ शंभरावा भाग

Question Number : 105 Question Id : 4771873167 Question Type : MCQ Option Shuffling : Yes Display Question Number : Yes

Correct Marks : 1 Wrong Marks : 0

Ramu gave his sister $\frac{1}{5}$ th of chocolates available with him. He gave his brother $\frac{2}{3}$ rd from the remaining and left with 48 chocolates. The number of chocolates available with Ramu at first is

रामुने त्याच्याकडे असलेल्या चॉकलेट्स पैकी $\frac{1}{5}$ भाग त्याचा बहिणीला दिले उरलेल्या चॉकलेट्स पैकी $\frac{2}{3}$ भाग त्याने भावाला दिले आणि त्याचा कडे शेवटी 48 चॉकलेट्स उरले तर रामुकडे शुरुवातीला किती चॉकलेट्स होते.

Options :

1. ✖ 240
2. ✔ 180
3. ✖ 360
4. ✖ 480

Question Number : 106 Question Id : 4771873168 Question Type : MCQ Option Shuffling : Yes Display Question Number : Yes

Correct Marks : 1 Wrong Marks : 0

Which of the following numbers is divisible by 2, 3, 6 and 8?

खालील पैकी कोणत्या संख्येला 2,3,6 आणि 8 ने भाग जाते.

Options :

1. ✖ 24810
2. ✖ 43888
3. ✔ 34800
4. ✖ 42316

Question Number : 107 Question Id : 4771873169 Question Type : MCQ Option Shuffling : Yes Display Question Number : Yes

Correct Marks : 1 Wrong Marks : 0

4 men can complete a work in 24 days, then 12 men will complete the same work

in how many days?

4 पुरुष एक काम 24 दिवसात पूर्ण करतात तर 12 पुरुष तेच काम किती दिवसात पूर्ण करतील.

Options :

1. ✖ 12

2. ✖ 2

3. ✖ 6

4. ✔ 8

Question Number : 108 Question Id : 4771873170 Question Type : MCQ Option Shuffling : Yes Display Question Number : Yes

Correct Marks : 1 Wrong Marks : 0

$35m^2$ is the area of

$35m^2$ हे याचे क्षेत्रफळ आहे.

Options :

A square having side $35m$

1. ✖ 35 मी. बाजू असलेल्या चौरसाचे

5 squares having side $7m$ each

2. ✖ प्रत्येकी 7 मी. असलेले 5 चौरस

35 squares having side $1m$ each

3. ✔ प्रत्येकी 1 मी. असलेले 35 चौरस

7 squares having side $5m$ each

4. ✖ प्रत्येकी 5 मी. असलेले 7 चौरस

Question Number : 109 Question Id : 4771873171 Question Type : MCQ Option Shuffling : Yes Display Question Number : Yes

Correct Marks : 1 Wrong Marks : 0

The number 3 crores 6 lakhs 4 thousands 8 hundred sixty-nine in numerals can be written as

तीन कोटी सहा लाख चार हजार आठशे एकुण सत्तर हे अंकामध्ये

Options :

1. ✓ 30604869
2. ✗ 360400869
3. ✗ 36004869
4. ✗ 306048069

Question Number : 110 Question Id : 4771873172 Question Type : MCQ Option Shuffling : Yes Display Question Number : Yes

Correct Marks : 1 Wrong Marks : 0

$$(3^2)^3 =$$

Options :

1. ✗ 3^8
2. ✗ 6^3
3. ✗ 9^2
4. ✓ 27^2

Question Number : 111 Question Id : 4771873173 Question Type : MCQ Option Shuffling : Yes Display Question Number : Yes

Correct Marks : 1 Wrong Marks : 0

There are 72 students in a class. If the number of boys is $\frac{3}{5}$ times the number of girls, then the number of girls is

वर्गात एकुण 72 विद्यार्थी आहेत. जर मुलांची संख्या मुलींच्या संख्येपेक्षा $\frac{3}{5}$ इतकी आहे तर मुलींची संख्या किती.

Options :

1. ✖ 27

2. ✔ 45

3. ✖ 32

4. ✖ 40

Question Number : 112 Question Id : 4771873174 Question Type : MCQ Option Shuffling : Yes Display Question Number : Yes

Correct Marks : 1 Wrong Marks : 0

The number of points present on a straight line are

सरळ रेषेवरील बिंदुंची संख्या

Options :

1. ✖ 0

2. ✖ 2

3. ✔ ∞

4. ✖ 1

Question Number : 113 Question Id : 4771873175 Question Type : MCQ Option Shuffling : Yes Display Question Number : Yes

Correct Marks : 1 Wrong Marks : 0

Which of the following is an even integer when n is an odd integer?

खालील पैकी कोणती संपूर्ण समसंख्या आहे जेव्हा n संपूर्ण विषम संख्या असते.

Options :

$5n + 8$

1. ✖

$3n^3 + 5$

2. ✔

$3n^2 + 4$

3. ✖

$4n^2 - 5$

4. ✖

Question Number : 114 Question Id : 4771873176 Question Type : MCQ Option Shuffling : Yes Display Question Number : Yes

Correct Marks : 1 Wrong Marks : 0

If sum of prime numbers less than 25 is A and mean of odd numbers less than 10 is

B, then $\frac{A}{B} =$

जर 25 पेक्षा कमी असलेल्या सर्व मुळ संख्यांची बेरीज A असेल आणि 10 पेक्षा कमी असलेल्या विमष

संख्यांची सरासरी B असेलतर $\frac{A}{B} =$

Options :

1. ✓ 20

2. ✗ 25

3. ✗ 24

4. ✗ 18

Question Number : 115 Question Id : 4771873177 Question Type : MCQ Option Shuffling : Yes Display Question Number : Yes

Correct Marks : 1 Wrong Marks : 0

Which of the following best describes the nature of mathematics?

खालील पैकी कोणते पर्याय गणिताच्या स्वरूपाचे उत्तम वर्णन आहे.

Options :

It involves abstract thinking and logical reasoning.

1. ✓ हे अमूर्त विचार आणि तर्कशुद्ध विचार यांचा समावेश करते.

It is limited to solving routine classroom problems.

2. ✗ हे केवळ वर्गातील नियमित समस्यांचे समाधान करण्यापुरते मर्यादित आहे.

It is exclusively concerned with principles.

3. ✗ हे केवळ सिद्धांतांशी संबंधित आहे.

It is a language used only in art and engineering.

4. ✗ हे कला आणि अभियांत्रिकी मध्ये चांगला प्रकारे वापरले जाणारी एक भाषा आहे.

Question Number : 116 Question Id : 4771873178 Question Type : MCQ Option Shuffling : Yes Display Question Number : Yes

Correct Marks : 1 Wrong Marks : 0

If a child is consistently struggling to count beyond 20, what should a primary mathematics teacher do first?

जर एखादे मुल सातत्याने 20 च्या पुढे मोजण्यात धडपड करत असेल तर प्राथमिक गणित शिक्षकाने सर्वप्रथम काय करावे.

Options :

Doing challenging addition problems.

कठिन बेरीज समस्यावर काम करणे

1. ✖

Reciting the numbers.

संख्यांचे पठण करणे.

2. ✖

Conduct of daily tests.

दररोज चाचण्या घेणे.

3. ✖

Strengthening counting skills by utilizing concrete objects.

ठोस वस्तु वापरून मोजणी कौशल्ये मजबूत करणे.

4. ✔

Question Number : 117 Question Id : 4771873179 Question Type : MCQ Option Shuffling : Yes Display Question Number : Yes

Correct Marks : 1 Wrong Marks : 0

A rubric is:

रुब्रिक्स हे

Options :

A standardized test prepared by the experts.

हि तज्ञाद्वारे तयार केलेली एक प्रमाणित चाचणी आहे.

1. ✖

A multiplication and division trick to answer within seconds.

केवळ काही सेकंदात उत्तर मिळवण्यासाठी गुणाकार आणि भागाकाराची युक्ती

2. ✖

A scoring guide that provides criteria for assessment.

मूल्यापनासाठी निकष देणारे गुणनिर्धारक मार्गदर्शक

3. ✔

A graphing tool to solve algebraic equations and algebraic problems.

बीजगणितीय समीकरणे व प्रश्न सोडवण्यासाठी वापरात येणारे आलेखन साधन.

4. ✖

Question Number : 118 Question Id : 4771873180 Question Type : MCQ Option Shuffling : Yes Display Question Number : Yes

Correct Marks : 1 Wrong Marks : 0

Match the features of mathematics listed in A with their corresponding actions in B:

A मधील गणिताच्या वैशिष्ट्यांचे B मधील संबंधित कृतीशी जुळवा

| A | B |
|---|---|
| A) Creativity सृजनशीलता | i) Breaks down problems logically समस्या तर्कशुद्धी पद्धतीने सोडवणे. |
| B) Analytical Thinking विश्लेषणात्मक विचार | ii) In-depth content knowledge सखोल विषयज्ञान |
| C) Communication संप्रपण (संचार) | iii) Use innovative methods नाविन्यपूर्ण पद्धतीचा वापर. |
| D) Conceptual Understanding संकल्पनात्मक समज | iv) Explaining mathematical ideas गणिती कल्पना स्पष्ट करणे. |

Choose the correct answer

योग्य उत्तर निवडा

Options :

A-i, B-iv, C-iii, D-ii

1. ✖

A-iii, B-i, C-ii, D-iv

2. ✖

A-iii, B-i, C-iv, D-ii

3. ✔

A-iv, B-i, C-iii, D-ii

4. ✖

Question Number : 119 Question Id : 4771873181 Question Type : MCQ Option Shuffling : Yes Display Question Number : Yes

Correct Marks : 1 Wrong Marks : 0

The instructional objectives are:

सुचनात्मक उद्दिष्ट्ये

Options :

More related to classroom teaching.

1. ✓ वर्गखोलीतील शिक्षणाशी अधिक संबंधित असतात.

Achievable in the long term.

2. ✗ ती दीर्घकालीन कालावधीत साध्य केली जातात.

More abstract.

3. ✗ अधिक अमूर्त असतात.

Not measurable.

4. ✗ मोजता येण्यासारखी नसतात.

Question Number : 120 Question Id : 4771873182 Question Type : MCQ Option Shuffling : Yes Display Question Number : Yes

Correct Marks : 1 Wrong Marks : 0

A teacher asks students to guess, "If a square piece of paper is cut diagonally, what shapes will be formed?"

एका शिक्षकाने विद्यार्थ्यांना विचारले कि जर जास्तीचा कागदाचा तुकडा तिरप्या रेषेत कापला तर कोणते आकार तैयार होतील.

A) Two rectangles

दोन आयत

B) Two circles

दोन वर्तुळे

C) Two triangles

दोन त्रिकोण

D) One triangle

एक त्रिकोण

This question relates to this academic standard.

या प्रश्नाचा संबंध शैक्षणिक या निकषांशी आहे.

Options :

Connections

जोडणी संबंधित

1. ✖

Visualisation

2. ✔ दृश्य रूप कल्पना

Problem solving

3. ✖ समस्या सोडवणे

Reasoning and proof

4. ✖ कारणे आणि पुरावा

Environmental Studies

| | |
|---------------------------------------|-----------|
| Section Id : | 477187105 |
| Section Number : | 5 |
| Section type : | Online |
| Mandatory or Optional : | Mandatory |
| Number of Questions : | 30 |
| Number of Questions to be attempted : | 30 |
| Section Marks : | 30 |
| Maximum Instruction Time : | 0 |
| Sub-Section Number : | 1 |
| Sub-Section Id : | 477187167 |
| Question Shuffling Allowed : | Yes |

Question Number : 121 Question Id : 4771873183 Question Type : MCQ Option Shuffling : Yes Display Question Number : Yes

Correct Marks : 1 Wrong Marks : 0

Plants can be classified into the following categories

वनस्पतीचे वर्गीकरण खालील प्रकारात करता येते.

A) herbs

औषधी वनस्पती

B) shrubs

झुडपे

C) trees

झाडे

Choose the correct answer

योग्य उत्तर निवडा

Options :

A & B only

1. ✖ फक्त A आणि B

B & C only

2. ✖ फक्त B आणि C

A & C only

3. ✖ फक्त A आणि C

4. ✔ A, B & C

Question Number : 122 Question Id : 4771873184 Question Type : MCQ Option Shuffling : Yes Display Question Number : Yes

Correct Marks : 1 Wrong Marks : 0

Riya often peels vegetables like carrots and cucumbers before cooking. Her teacher advised her to use them with the peel whenever possible, as it helps improve digestion. The food component in the peel that is likely the reason for this advice is:

रिआ गाजर आणि काकडी सारख्या भाज्यांची सालं सोलुन शिजवते. तिच्या शिक्षकांनी तिला शक्य तितक्या वेळा सालासकट त्या वापरण्याचा सल्ला दिला, कारण त्यामुळे पचनास मदत होते सालामध्ये असणारा असा कोणता घटक आहे ज्यामुळे हा सल्ला दिला.

Options :

Protein

1. ✖ प्रथिने

Fiber

2. ✔ तंतुमय

Fat

3. ✖ चरबीयुक्त

Vitamin

4. ✖ जीवनसत्वे

Question Number : 123 Question Id : 4771873185 Question Type : MCQ Option Shuffling : Yes Display Question Number : Yes

Correct Marks : 1 Wrong Marks : 0

Identify the correct statement about hermaphroditism.

उभयलिंगी हर्माफ्रोडिटिझम (hermaphroditism) विषयी योग्य विधान ओळखा.

Options :

Hermaphrodites can only reproduce asexually.

उभयलिंगी (hermaphrodites) फक्त अलैंगिक प्रजनन करू शकतात.

1. ✖

All animals are hermaphrodites by nature.

सर्व प्राणी नैसर्गिक रित्या उभयलिंगी (hermaphrodites) असतात

2. ✖

Hermaphrodites possess both male and female reproductive organs.

उभयलिंगी (hermaphrodites) मध्ये नर व मादी दोन्ही जननेंद्रिये असतात

3. ✔

Hermaphroditism occurs only in plants.

उभयलिंगी (hermaphrodites) फक्त वनस्पती मध्ये आढळतो

4. ✖

Question Number : 124 Question Id : 4771873186 Question Type : MCQ Option Shuffling : Yes Display Question Number : Yes

Correct Marks : 1 Wrong Marks : 0

The primary purpose of rearing the Kangayam bullock is:

कंगायम बैल पाळण्यामागील मुख्य उद्देश्य हा आहे.

Options :

Racing

1. ✖ शर्यत

Milk production

2. ✖ दुध उत्पादन

Drought work

3. ✔ ओढ कामासाठी

Wool production

4. ✖ लोकरीचे उत्पादन

Question Number : 125 Question Id : 4771873187 Question Type : MCQ Option Shuffling : Yes Display Question Number : Yes

Correct Marks : 1 Wrong Marks : 0

Identify the device, commonly used in industrial chimneys to reduce air pollution by removing particulate matter from flue gases, from the following

औद्योगिक धुराडामध्ये धुरापासुन कणीय पदार्थ काढून टाकुन वायु प्रदुषण कमी करण्यासाठी सामान्यतः वापरले जाणारे उपकरण

Options :

Gas turbine

1. ✖ गॅस टरबाईन

Electrostatic precipitator

2. ✔ इलेक्ट्रोस्टॅटिक प्रेसिपिटर

Heat exchanger

3. ✖ हीट एक्सेंजर

Blast furnace

4. ✖ ब्लास्ट फरनेस

Question Number : 126 Question Id : 4771873188 Question Type : MCQ Option Shuffling : Yes Display Question Number : Yes

Correct Marks : 1 Wrong Marks : 0

Testing for the presence of starch in a food item should be done on:

कोणताही अन्न पदार्थातील स्टार्चची परिक्षा यावर केली जाते.

A) Cooked food

शिजवलेले अन्न

B) Raw food

कच्चे अन्न

Choose the correct answer

योग्य उत्तर निवडा

Options :

A only

1. ✖ फक्त A

B only

2. ✖ फक्त B

Both A & B

3. ✔ दोन्ही A & B

Neither A nor B

4. ✖ A पण नाही B पण नाही

Question Number : 127 Question Id : 4771873189 Question Type : MCQ Option Shuffling : Yes Display Question Number : Yes

Correct Marks : 1 Wrong Marks : 0

The number of ribs present on each side of the human chest

मानवाच्या छातीच्या प्रत्येक बाजूला असलेल्या बरगड्यांची संख्या

Options :

13 ribs

1. ✘ 13 बरगड्या

12 ribs

2. ✔ 12 बरगड्या

11 ribs

3. ✘ 11 बरगड्या

10 ribs

4. ✘ 10 बरगड्या

Question Number : 128 Question Id : 4771873190 Question Type : MCQ Option Shuffling : Yes Display Question Number : Yes

Correct Marks : 1 Wrong Marks : 0

The balance of oxygen and carbon dioxide in the atmosphere is maintained through:

वातावरणातील प्राणवायु आणि कार्बन डाय ऑक्साइडचे संतुलन या द्वारे राखले जाते.

A) Respiration – Plants

श्वसन - वनस्पती

B) Photosynthesis – Plants

प्रकाश संश्लेषण - वनस्पती

C) Photosynthesis – Animals

प्रकाश संश्लेषण - प्राणी

Choose the correct answer

योग्य उत्तर निवडा

Options :

A & B only

1. ✓ फक्त A आणि B

B & C only

2. ✗ फक्त B आणि C

A & C only

3. ✗ फक्त A आणि C

4. ✗ A, B & C

Question Number : 129 Question Id : 4771873191 Question Type : MCQ Option Shuffling : Yes Display Question Number : Yes

Correct Marks : 1 Wrong Marks : 0

Which of the following declared a 'no drive zone' within a 2.5 km radius of the Taj Mahal?

खालीलपैकी कोणी ताजमहालाचा 2.5 कि.मी. पर्यंत परिसरात 'नो ड्राइव्ह झोन' (वाहन निषेध) जाहिर केला.

Options :

Archaeological Survey of India

1. ✓ भारतीय पुरातत्व सर्वेक्षण

Central Pollution Control Board

2. ✗ केंद्रीय प्रदुषण नियंत्रण मंडळ

Supreme Court of India

3. ✗ भारताचे सर्वोच्च न्यायालय

Ministry of Environment, Forest and Climate Change

4. ✗ पर्यावरण वन आणि हवामान बदल मंत्रालय

Question Number : 130 Question Id : 4771873192 Question Type : MCQ Option Shuffling : Yes Display Question Number : Yes

Correct Marks : 1 Wrong Marks : 0

What fraction of the Earth's fresh water is available in the form of ice and snow?

पृथ्वीवरील ताज्या पाण्यापैकी किती भाग बर्फ आणि हिमरूपात उपलब्ध आहे ?

Options :

1. ✖ $\frac{1}{10}$

2. ✖ $\frac{1}{3}$

3. ✖ $\frac{5}{6}$

4. ✔ $\frac{2}{3}$

Question Number : 131 Question Id : 4771873193 Question Type : MCQ Option Shuffling : Yes Display Question Number : Yes

Correct Marks : 1 Wrong Marks : 0

Identify the correct statement regarding renewable and non-renewable energy sources.

नुतनीकरण (renewable) आणि अनुतनीकरण (non-renewable) उर्जास्त्रोता बाबत योग्य विधान ओळखा.

Options :

Renewable energy sources are always more efficient than non-renewable sources in energy conversion.

नुतनीकरण उर्जा स्त्रोत उर्जा रूपांतरणात नेहमी अनुतनीकरण योग्य स्त्रोतापेक्षा अधिक कार्यक्षम असतात.

1. ✖

Non-renewable energy sources are infinite and can be replenished naturally within a short time span.

अनुतनीकरण योग्य उर्जा स्त्रोत अनंत आहेत आणि थोड्या वेळात नैसर्गिक रित्या पुन्हा निर्माण होऊ शकतात.

2. ✖

Both renewable and non-renewable energy sources emit equal levels of greenhouse gases during energy production.

नुतनीकरण योग्य आणि अनुतनीकरण योग्य दोन्ही उर्जा स्त्रोत उर्जा निर्मिती दरम्यान सारखी हरितगृह वायु उत्सर्जन करतात.

3. ✖

Renewable energy sources include solar, wind, and geothermal, while non-renewable sources include coal, oil, and natural gas.

नूतनीकरण योग्य उर्जा स्रोतांमध्ये सौर वा-याची आणि भुतापीय उर्जा यांचा समावेश होतो तर अनुतनीकरण योग्य स्रोतांमध्ये कोळसा, तेल आणि नैसर्गिक वायुचा समावेश होतो.

4. ✓

Question Number : 132 Question Id : 4771873194 Question Type : MCQ Option Shuffling : Yes Display Question Number : Yes

Correct Marks : 1 Wrong Marks : 0

Which of the following food items help in increasing the quantity of blood in the human body?

खालीलपैकी कोणते अन्नघटक मानवी शरीरातील रक्ताची मात्रा वाढवण्यास मदत करते.

Options :

Chips, soda, and white bread

1. ✗ चिप्स, सोडा आणि पांढरी ब्रेड

Peanut bar, gingelly bar (Til), and eggs

2. ✓ शेंगदाण्याची चिक्की, तिळाची चिक्की आणि अंडे

Pickles, fried snacks, and candy

3. ✗ लोणची, तळलेले पदार्थ आणि कॅन्डी

Instant noodles, coffee, and sugary drinks

4. ✗ तत्काळ नुडल्स, कॉफी आणि साखरेचे पेय

Question Number : 133 Question Id : 4771873195 Question Type : MCQ Option Shuffling : Yes Display Question Number : Yes

Correct Marks : 1 Wrong Marks : 0

In 1565, the five Bahamani Kingdoms joined together and defeated this Vijayanagara ruler at Rakkasi Tangadi war

ई. स. 1565 मध्ये पाच बहमनी साम्राज्यांनी एकत्र येवुन रक्कासी तांगडीच्या युद्धात विजयनगर साम्राज्याच्या राजाला पराभुत केले.

Options :

Achyuta Raya

अच्युत राया

1. ✖

Aliya Rama Raya

आलिया रामराया

2. ✔

Venkatapati Raya

वेंकटपति राया

3. ✖

Saluva Narasimha Raya

सालुवा नरसिंहा राया

4. ✖

Question Number : 134 Question Id : 4771873196 Question Type : MCQ Option Shuffling : Yes Display Question Number : Yes

Correct Marks : 1 Wrong Marks : 0

Among the following principal followers of Jainism, the Rashtrakuta rulers were

खालील जैनधर्माचे प्रमुख अनुयायी यापैकी राष्ट्रकुट राजे होते.

Options :

Chandra Gupta II and Udayana

1. ✖ चंद्रगुप्त II आणि उदायना

Kharavela and Samprathi

2. ✖ खरवेला आणि संप्राती

Hamundaraya and Kharavela

3. ✖ हमुंदाराया आणि खरवेला

Amoghavarsha and Krishna IV

4. ✔ अमोघवर्षा आणि कृष्णा IV

Question Number : 135 Question Id : 4771873197 Question Type : MCQ Option Shuffling : Yes Display Question Number : Yes

Correct Marks : 1 Wrong Marks : 0

In 1956, the number of States and Union Territories created by the States Reorganisation Commission

1956 मध्ये राज्य पुनर्रचना आयोगाद्वारे तयार केलेले राज्ये आणि केंद्रशासित प्रदेशांची संख्या

Options :

14 states and 6 Union Territories

1. ✓ 14 राज्ये आणि 6 केंद्रशासित प्रदेश

28 States and 9 Union Territories

2. ✗ 28 राज्ये आणि 9 केंद्रशासित प्रदेश

18 States and 7 Union Territories

3. ✗ 18 राज्ये आणि 7 केंद्रशासित प्रदेश

29 States and 8 Union Territories

4. ✗ 29 राज्ये आणि 8 केंद्रशासित प्रदेश

Question Number : 136 Question Id : 4771873198 Question Type : MCQ Option Shuffling : Yes Display Question Number : Yes

Correct Marks : 1 Wrong Marks : 0

One among the following was NOT the Prime Minister of India between 1989 and 1991

खालील पैकी एक 1989 ते 1991 दरम्यान भारताचे पंतप्रधान नव्हते

Options :

I.K Gujral

1. ✖ आय.के. गुजराल

Deve Gowda

2. ✖ देवे गौडा

Vishwanath Prathap Singh

3. ✖ विश्वनाथ प्रताप सिंह

Morarji Desai

4. ✔ मोरारजी देसाई

Question Number : 137 Question Id : 4771873199 Question Type : MCQ Option Shuffling : Yes Display Question Number : Yes

Correct Marks : 1 Wrong Marks : 0

One of the following is the aim of 42nd constitutional amendment of the Indian Constitution

खालीलपैकी एक 42 व्या घटनादुरुस्तीचे भारतीय संविधानातील उद्दीष्ट्ये आहे.

Options :

Making the Judiciary subservient to Parliament

1. ✓ न्यायपालिकेला संसदेच्या अधीन करणे.

Enactment of the Official Language Act

2. ✗ राजभाषा कायद्याची अमलबजावणी

Bringing Education Under Fundamental Rights

3. ✗ शिक्षणाला मुलभुत हक्कांतर्गत आणणे.

Strengthening the State Government vis a vis the Central Government

4. ✗ राज्य शासनाला केंद्रशासनाच्या तुलनेत मजबुत करण्यास भर देणे.

Question Number : 138 Question Id : 4771873200 Question Type : MCQ Option Shuffling : Yes Display Question Number : Yes

Correct Marks : 1 Wrong Marks : 0

Ravi is travelling from New York to New Delhi by Aeroplane. Then Ravi

रवि न्युयार्कवरून नवी दिल्लीला विमानाने प्रवास करत आहे तर रवि

Options :

loses time of 4 minutes as he crosses every longitude

1. ✓ प्रत्येक रेखांश ओलांडताना तो 4 मिनिटाचा वेळ गमावतो.

gains time of 4 minutes as he crosses every longitude

2. ✗ प्रत्येक रेखांश ओलांडताना 4 मिनिटाचा वेळ मिळवतो

neither gains nor loses the time

3. ✗ वेळ मिळवत ही नाही गमवत ही नाही

almost loses 24 hours by the time he reaches New Delhi

4. ✗ तो नवी दिल्लीला पोहोचे पर्यंत जवळ-जवळ 24 तास गमावतो

Question Number : 139 Question Id : 4771873201 Question Type : MCQ Option Shuffling : Yes Display Question Number : Yes

Correct Marks : 1 Wrong Marks : 0

These mountain ranges form the eastern edges of the Deccan Plateau

या पर्वतरांगा दख्खनच्या पठाराच्या पूर्वेकडील कडा बनतात.

Options :

The Satpura Range

सातपुडा रांगा

1. ✖

The Mahadev, the Kaimur range and a portion of Maikal Range

महादेव, कैमुर रांग आणि मैकल रांगेचा एक भाग

2. ✔

Western Ghats

पश्चिम घाट

3. ✖

Nilagiri Mountain Ranges

नीलगीरी पर्वत रांगा

4. ✖

Question Number : 140 Question Id : 4771873202 Question Type : MCQ Option Shuffling : Yes Display Question Number : Yes

Correct Marks : 1 Wrong Marks : 0

In India, the major tea producing region among the following is

खालीलपैकी भारतातील प्रमुख चहा उत्पादक भाग कोणते आहे.

Options :

The hilly regions of Assam

आसाम मधील डोंगराळ भाग

1. ✓

The Baba Budan Hilly Region

बाबा बुधान डोंगराळ भाग

2. ✗

The Nilgiris in Karnataka, Kerala and Tamil Nadu

कर्नाटक, केरळ आणि तामिळनाडूतील नीलगीरी

3. ✗

The Andaman and Nicobar Region

अंदमान आणि निकोबार प्रदेश

4. ✗

Question Number : 141 Question Id : 4771873203 Question Type : MCQ Option Shuffling : Yes Display Question Number : Yes

Correct Marks : 1 Wrong Marks : 0

The main objective of Integrated Watershed Management Programme in drought prone areas is to

दुष्काळग्रस्त भागांमध्ये समेकित जलप्रवाह क्षेत्र व्यवस्थापन कार्यक्रमाचा मुख्य उद्देश्य काय आहे.

Options :

Strengthen the community and enable them to plan for proper utilisation of natural resources

समुद्रमाला बळकट करणे आणि नैसर्गिक स्रोतांचा योग्य वापर करण्यासाठी नियोजन करण्यात सक्षम बनवणे.

1. ✓

Provide water to drought prone areas continuously

दुष्काळग्रस्त भागांना सातत्याने पाणी पुरवठा करणे

2. ✗

Undertake plantation in large scale

मोठ्या प्रमाणावर वृक्षारोपण करणे

3. ✗

Encourage the farmers to undertake community farming

शेतकऱ्यांना सामुहिक शेती करण्यास प्रोत्साहित करणे.

4. ✗

Question Number : 142 Question Id : 4771873204 Question Type : MCQ Option Shuffling : Yes Display Question Number : Yes

Correct Marks : 1 Wrong Marks : 0

Bhakta Prahalada, the first talkie movie which was released in 1931 was produced by

भक्त प्रह्लाद ही 1931 मध्ये प्रदर्शित झालेली पहिली बोलपट (talkie movie) होती यांनी निर्मिती केली होती.

Options :

Raghupathi Venkaiah Naidu

1. ✖ रघुपती वेकय्या नायडु

Edida Nageswara Rao

2. ✖ इडिगा नागेश्वरराव

Hanumappa Muniappa Reddy

3. ✔ हनुमप्पा मुनीप्पा रेड्डी

M.V.Raghu

4. ✖ एम. वि. रघु

Question Number : 143 Question Id : 4771873205 Question Type : MCQ Option Shuffling : Yes Display Question Number : Yes

Correct Marks : 1 Wrong Marks : 0

To spread awareness among daliths by using Popular Folk Arts, Bhagya Reddy Varma started

दलितांमध्ये जनजागृती निर्माण करण्यासाठी लोकप्रिय लोककला वापरून भाग्य रेड्डी वर्मा यांनी कोणती संस्था सुरु केली.

Options :

Adi Hindu Society

1. ✖ आदि हिंदु सोसायटी

Jagan Mitra Mandali

2. ✔ जगन मित्र मंडळी

Satya Shodak Samaj

3. ✖ सत्य शोधक समाज

Sharada Sadan

4. ✖ शारदा सदन

Question Number : 144 Question Id : 4771873206 Question Type : MCQ Option Shuffling : Yes Display Question Number : Yes

Correct Marks : 1 Wrong Marks : 0

This amendment made to the Indian Constitution says that “the state shall provide free and compulsory Education to all children between the ages 6 and 14 years

भारतीय संविधानात केलेल्या या दुरुस्तीनुसार राज्याने 6 ते 14 वयोगटात सर्व मुलांना मोफत व सक्तीचे शिक्षण द्यावे. असे नमुद केले आहे.

Options :

61st Amendment

61 वी दुरुस्ती

1. ✖

42nd Amendment

42 वी दुरुस्ती

2. ✖

86th Amendment

86 वी दुरुस्ती

3. ✔

102nd Amendment

102वी दुरुस्ती

4. ✖

Question Number : 145 Question Id : 4771873207 Question Type : MCQ Option Shuffling : Yes Display Question Number : Yes

Correct Marks : 1 Wrong Marks : 0

During a science lesson, Ms. Patel asks her students to work in small groups to conduct an experiment and discuss their observations. Which type of learning interaction is primarily being emphasized in this activity?

विज्ञानाचा धड्या दरम्यान श्रीमती पटेल तिच्या विद्यार्थ्यांना लहान गटामध्ये काम करण्यास सांगतात. एक प्रयोग करून निरीक्षणे चर्चा करण्यास सांगतात या कृतीमध्ये कोणत्या प्रकाराचे शिक्षण संवादावर प्रामुख्याने भर दिला जातो.

Options :

Student–Content Interaction

विद्यार्थी – विषय सामग्री संवाद

1. ✖

Student –Teacher Interaction

विद्यार्थी – शिक्षक संवाद

2. ✖

Student– Student Interaction

विद्यार्थी – विद्यार्थी संवाद

3. ✔

Teacher–Content Interaction

शिक्षक – विषय सामग्री संवाद

4. ✖

Question Number : 146 Question Id : 4771873208 Question Type : MCQ Option Shuffling : Yes Display Question Number : Yes

Correct Marks : 1 Wrong Marks : 0

Which of the following is least relevant when evaluating the effectiveness of a science period plan at the primary level?

प्राथमिक स्तरावर विज्ञान कालावधी योजनेच्या परिणाम कारकतेचे मूल्यमापन करताना खालीलपैकी कोणते सर्वात कमी संबंधित आहे.

Options :

Motivation of students in the teaching-learning process

अध्यापन - अध्ययन प्रक्रियेत विद्यार्थ्यांची प्रेरणा

1. ✖

Clarity in explaining the content

अभ्यासक्रम स्पष्टपणे समजावून सांगण्याची प्रक्रिया

2. ✖

Effectiveness of assessment methods

मूल्यमापन पद्धतीची कार्यक्षमता

3. ✖

Teacher's dress code

शिक्षकांचा ड्रेस कोड

4. ✔

Question Number : 147 Question Id : 4771873209 Question Type : MCQ Option Shuffling : Yes Display Question Number : Yes

Correct Marks : 1 Wrong Marks : 0

An EVS teacher, Kalpana, always encourages her students to decide the final result not with a single observation, but after making several observations.

This is called:

एक EVS शिक्षिका कल्पना तिच्या विद्यार्थ्यांना अंतिम निकाल एकाच निरीक्षणाने नव्हे तर अनेक निरीक्षणे करून ठरवण्यासाठी नेहमी प्रोत्साहित करते. त्याला म्हणतात.

Options :

Inferencing

1. ✓ अनुमान काढणे

Classification

2. ✗ वर्गीकरण

Prediction

3. ✗ भाकीत करणे

Questioning

4. ✗ प्रश्न विचारणे

Question Number : 148 Question Id : 4771873210 Question Type : MCQ Option Shuffling : Yes Display Question Number : Yes

Correct Marks : 1 Wrong Marks : 0

As per the NCF-2005, the following are to be taught in Environmental Studies at Primary Stage

NCF-2005 नुसार प्राथमिक स्तरावर पर्यावरणीय अभ्यासात खालील गोष्टी शिकवल्या पाहिजे

A) Environmental Protection

पर्यावरण संरक्षण

B) Poverty

गरिबी

C) Child Labour

बालमजूरी

D) Illiteracy

निरक्षरता

E) Caste and Class equalities

जात आणि वर्ग समानता

Choose the correct one:

योग्य उत्तर निवडा

Options :

A, B, C, D, E

1. ✖

A, B, C, D only

2. ✔

फक्त A, B, C, D

A, B, C, E only

3. ✖

फक्त A, B, C, E

A, C, E only

फक्त A, C, E

4. ✖

Question Number : 149 Question Id : 4771873211 Question Type : MCQ Option Shuffling : Yes Display Question Number : Yes

Correct Marks : 1 Wrong Marks : 0

The lesson – “Child Rights” – was developed based on the following theme in
Environmental Studies

“बालकांचे हक्क” हा धडा पर्यावरण अभ्यासातील खालील संकल्पनेवर आधारित विकसित
करण्यात आला.

Options :

Safety

1. ✖ सुरक्षितता

Food, Health & Hygiene

2. ✖ अन्न, आरोग्य आणि स्वच्छता

Values and Rights

3. ✔ मुल्ये आणि हक्क

Travel

4. ✖ प्रवास

Question Number : 150 Question Id : 4771873212 Question Type : MCQ Option Shuffling : Yes Display Question Number : Yes

Correct Marks : 1 Wrong Marks : 0

The following activity will **NOT** help the teacher to create the effective EVS (Environmental Studies) classroom environment

खालीलपैकी कोणती क्रिया शिक्षकाला पर्यावरण अभ्यास वर्गाची निर्मिती करण्यास मदत करणार नाही.

Options :

Discuss in groups

1. ✖ गटात चर्चा

Think and Say

2. ✖ विचार करा आणि सांगा

Collect and Record the information (Tables)

3. ✖ माहिती गोळा करून नोंदवणे (तक्त्यात)

Reading the books

4. ✔ पुस्तके वाचणे