

DSSSB Warder

Previous Year Paper
27 Jun, 2019 Shift 2

Test Prime

**ALL EXAMS,
ONE SUBSCRIPTION**



70,000+
Mock Tests



**Personalised
Report Card**



**Unlimited
Re-Attempt**



600+
Exam Covered



**Previous Year
Papers**



**500%
Refund**



ATTEMPT FREE MOCK NOW

Education Consultant India Ltd.

Notations :

- 1.Options shown in green color and with ✓ icon are correct.
- 2.Options shown in red color and with ✖ icon are incorrect.

Question Paper Name:	WARDER 27th June Shift2
Subject Name:	WARDER
Creation Date:	2019-06-27 16:26:43
Duration:	120
Total Marks:	200
Display Marks:	Yes
Share Answer Key With Delivery Engine:	No
Actual Answer Key:	Yes
Calculator:	None
Magnifying Glass Required?:	No
Ruler Required?:	No
Eraser Required?:	No
Scratch Pad Required?:	No
Rough Sketch/Notepad Required?:	No
Protractor Required?:	No
Show Watermark on Console?:	Yes
Highlighter:	No
Auto Save on Console?:	No

Mental Ability1

Group Number :	1
Group Id :	49795931
Group Maximum Duration :	0
Group Minimum Duration :	0
Show Attended Group? :	No
Edit Attended Group? :	No
Break time:	0
Group Marks:	20
Is this Group for Examiner?:	No
Revisit allowed for group Instructions? :	Yes
Maximum Instruction Time:	0
Minimum Instruction Time:	0

Section type :	Online
Mandatory or Optional:	Mandatory
Number of Questions:	20
Number of Questions to be attempted:	20
Section Marks:	20

Sub-Section Number:	1
Sub-Section Id:	49795937
Question Shuffling Allowed :	Yes

Question Number : 1 Question Id : 497959607 Question Type : MCQ Option Shuffling : Yes

Correct Marks : 1 Wrong Marks : 0.25

Select the letter cluster that is related to the third letter cluster in the same way as the second letter cluster is related to the first letter cluster.

RUY : TWA :: CFJ : ?

Options :

1. ✖ DHL

2. ✖ FHK

3. ✔ EHL

4. ✖ EHK



Question Number : 1 Question Id : 497959607 Question Type : MCQ Option Shuffling : Yes

Correct Marks : 1 Wrong Marks : 0.25

उस अक्षर समूह का चयन करें जो तीसरे अक्षर समूह से उसी तरह से संबंधित है जैसे दूसरा अक्षर समूह पहले अक्षर समूह से संबंधित है।

RUY : TWA :: CFJ : ?

Options :

1. ✖ DHL

2. ✖ FHK

3. ✓ EHL

4. ✗ EHK

Question Number : 2 Question Id : 497959608 Question Type : MCQ Option Shuffling : Yes

Correct Marks : 1 Wrong Marks : 0.25

Select the term that is related to the third term in the same way as the second term is related to the first term.

FH : 42 :: HI : ?

Note: For this question, discrepancy is found in question/answer. So, this question is ignored for all candidates.

Options :

1. 70

2. 72

3. 74

4. 76



Question Number : 2 Question Id : 497959608 Question Type : MCQ Option Shuffling : Yes

Correct Marks : 1 Wrong Marks : 0.25

उस पद का चयन करें जो तीसरे पद से उसी प्रकार से संबंधित है जिस प्रकार से दूसरा पद पहले पद से संबंधित है।

FH : 42 :: HI : ?

Note: For this question, discrepancy is found in question/answer. So, this question is ignored for all candidates.

Options :

1. 70

2. 72

3. 74

4. 76

Question Number : 3 Question Id : 497959609 Question Type : MCQ Option Shuffling : Yes

Correct Marks : 1 Wrong Marks : 0.25

Select the word that is related to the third word in the same way as the second word is related to the first word.

Lock : Safety :: Pen : ?

Options :

1. ✖ Stationary

2. ✖ Pencil

3. ✔ Writing

4. ✖ Book



Question Number : 3 Question Id : 497959609 Question Type : MCQ Option Shuffling : Yes

Correct Marks : 1 Wrong Marks : 0.25

उस शब्द का चयन करें जो तीसरे शब्द से उसी तरह संबंधित है जैसे दूसरा शब्द पहले शब्द से संबंधित है।

ताला : सुरक्षा :: पेन : ?

Options :

1. ✖ स्टेशनरी

2. ✖ पेंसिल

3. ✔ लिखना

4. ✖ किताब

Question Number : 4 Question Id : 497959610 Question Type : MCQ Option Shuffling : Yes

Correct Marks : 1 Wrong Marks : 0.25

Select the number that is related to the third number in the same way as the second number is related to the first number.

9 : 79 :: 10 : ?

Options :

1. ✖ 102

2. ✔ 98

3. ✖ 100

4. ✖ 119



Question Number : 4 Question Id : 497959610 Question Type : MCQ Option Shuffling : Yes

Correct Marks : 1 Wrong Marks : 0.25

उस संख्या का चयन करें जो तीसरी संख्या से उसी तरह संबंधित है जैसे दूसरी संख्या पहली संख्या से संबंधित है।

9 : 79 :: 10 : ?

Options :

1. ✖ 102

2. ✓ 98

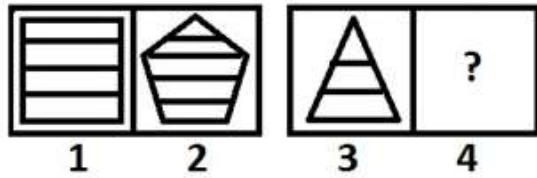
3. ✗ 100

4. ✗ 119

Question Number : 5 Question Id : 497959611 Question Type : MCQ Option Shuffling : Yes

Correct Marks : 1 Wrong Marks : 0.25

Select the figure that is related to the third figure in the same way as the second figure is related to the first figure.



Options :



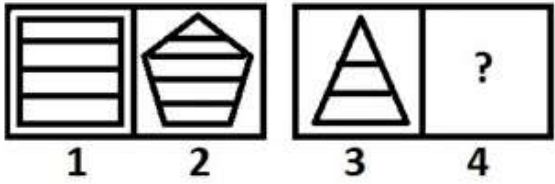
4. ✖



Question Number : 5 Question Id : 497959611 Question Type : MCQ Option Shuffling : Yes

Correct Marks : 1 Wrong Marks : 0.25

उस चित्र का चयन करें जो तीसरे चित्र से उसी तरह से संबंधित है जैसे दूसरा चित्र पहले चित्र से संबंधित है।



Options :


1. ✖



2. ✔



3. ✖



4. ✖



Question Number : 6 Question Id : 497959612 Question Type : MCQ Option Shuffling : Yes

Correct Marks : 1 Wrong Marks : 0.25

Pick the odd one out.

Options :

1. ✖ Mustard Seeds

2. ✔ Spices

3. ✖ Cumin

4. ✖ Clove

Question Number : 6 Question Id : 497959612 Question Type : MCQ Option Shuffling : Yes

Correct Marks : 1 Wrong Marks : 0.25

निम्न में से जो विषम है उसे अलग करें।

Options :

1. ✖ सरसों के बीज

2. ✔ मसाले

3. ✖ जीरा

4. ✖ लौंग

Question Number : 7 Question Id : 497959613 Question Type : MCQ Option Shuffling : Yes

Correct Marks : 1 Wrong Marks : 0.25

Identify the odd triad from among the given number triads.

Options :

1. ✖ 7, 49, 56

2. ✖ 6, 36, 42

3. ✖ 5, 25, 30

4. ✔ 2, 4, 8

Question Number : 7 Question Id : 497959613 Question Type : MCQ Option Shuffling : Yes

Correct Marks : 1 Wrong Marks : 0.25

दिए गए संख्या त्रिकों (ट्रायड) में से विषम ट्रायड को पहचानें।

Options :

1. ✖ 7, 49, 56

2. ✖ 6, 36, 42

3. ✖ 5, 25, 30

4. ✔ 2, 4, 8



Question Number : 8 Question Id : 497959614 Question Type : MCQ Option Shuffling : Yes

Correct Marks : 1 Wrong Marks : 0.25

Identify the odd one from the given group of numbers.

Options :

1. ✖ 11

2. ✖ 17

3. ✖ 19

4. ✓ 21

Question Number : 8 Question Id : 497959614 Question Type : MCQ Option Shuffling : Yes
Correct Marks : 1 Wrong Marks : 0.25

संख्याओं के दिए गए समूह से अलग समूह को पहचानिए।

Options :

1. ✗ 11

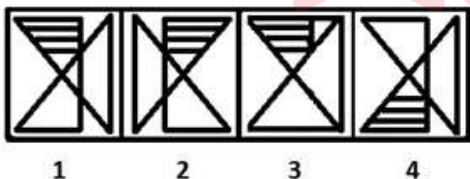
2. ✗ 17

3. ✗ 19

4. ✓ 21

Question Number : 9 Question Id : 497959615 Question Type : MCQ Option Shuffling : Yes
Correct Marks : 1 Wrong Marks : 0.25

Four figures marked 1, 2, 3 and 4 are given below. Three of the given figures are similar in a certain manner while one figure is not like the other three. Choose the figure which is different from the other figures.



Options :

1. ✗ 1

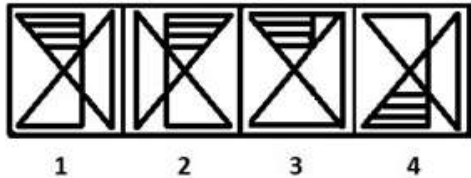
2. ✗ 2

3. ✓ 3

4. ✖ 4

Question Number : 9 Question Id : 497959615 Question Type : MCQ Option Shuffling : Yes
Correct Marks : 1 Wrong Marks : 0.25

नीचे चार चित्र दिए गए हैं जिन्हें 1, 2, 3 और 4 से चिह्नित किया गया है। दिए गए चित्रों में से तीन किसी ना किसी प्रकार की समानता रखते हैं जबकि कोई एक चित्र बाकि तीनों से अलग है। वह चित्र चुनें जो अन्य चित्रों से अलग हो।



Options :

1. ✖ 1

2. ✖ 2

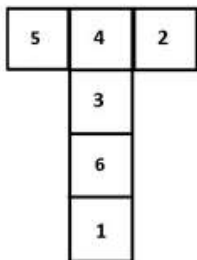
3. ✔ 3

4. ✖ 4



Question Number : 10 Question Id : 497959616 Question Type : MCQ Option Shuffling : Yes
Correct Marks : 1 Wrong Marks : 0.25

If the given figure is folded to form a cube, which number will appear on the face opposite the face with the number 1 on it?



Options :

1. ✖ 2

2. ✓ 3

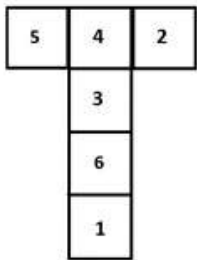
3. ✗ 4

4. ✗ 6

Question Number : 10 Question Id : 497959616 Question Type : MCQ Option Shuffling : Yes

Correct Marks : 1 Wrong Marks : 0.25

यदि निम्न आकृति को किसी घन बनाने के लिए मोड़ा जाता है, तो संख्या '1' के विपरीत सामने के मुख पर कौन सी संख्या दिखाई देगी?



Options :

1. ✗ 2

2. ✓ 3

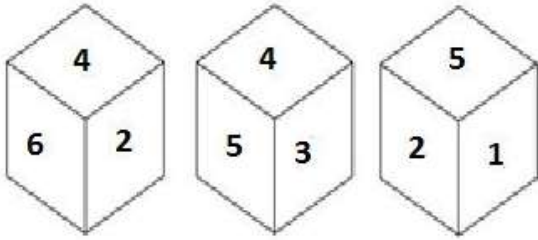
3. ✗ 4

4. ✗ 6

Question Number : 11 Question Id : 497959617 Question Type : MCQ Option Shuffling : Yes

Correct Marks : 1 Wrong Marks : 0.25

Three different positions of the same dice are shown below. Which number is on the face opposite the face showing the number 4?



Options :

1. ✓ 1

2. ✗ 2

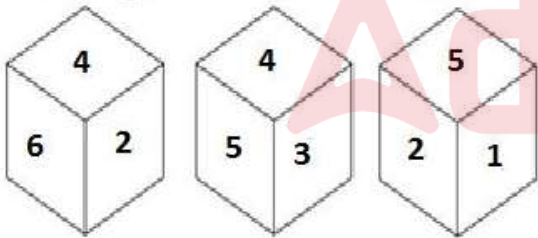
3. ✗ 3

4. ✗ 5

Question Number : 11 Question Id : 497959617 Question Type : MCQ Option Shuffling : Yes

Correct Marks : 1 Wrong Marks : 0.25

नीचे एक ही पासे की तीन अलग-अलग स्थितियों को दर्शाया गया है। जो हिस्सा संख्या 4 दिखा रहा है उसके विपरीत सामने के मुख पर कौन सी संख्या होगी?



Options :

1. ✓ 1

2. ✗ 2

3. ✗ 3

4. ✖ 5

Question Number : 12 Question Id : 497959618 Question Type : MCQ Option Shuffling : Yes
Correct Marks : 1 Wrong Marks : 0.25

Identify the correct mirror image of the given figure when the mirror is placed to its right side.



Options :



Question Number : 12 Question Id : 497959618 Question Type : MCQ Option Shuffling : Yes
Correct Marks : 1 Wrong Marks : 0.25

यदि दर्पण को दिए गए चित्र के दाहिने ओर रखा जाता है तो दिए गए चित्र की मिरर इमेज (दर्पण छवि) निम्न में से कौन सी होगी?



Options :

1. ✖



2. ✖



3. ✖



4. ✔



Question Number : 13 Question Id : 497959619 Question Type : MCQ Option Shuffling : Yes

Correct Marks : 1 Wrong Marks : 0.25

Identify the correct water image of the given figure.

RESTORATION

Options :

1. ✖ RESTORATION
2. ✖ RESTORATION
3. ✔ RESTORATION
4. ✖ RESTORATION

Question Number : 13 Question Id : 497959619 Question Type : MCQ Option Shuffling : Yes
Correct Marks : 1 Wrong Marks : 0.25

नीचे दिए गए चित्र की सही वाटर इमेज (जलीय छवि) को पहचानें।

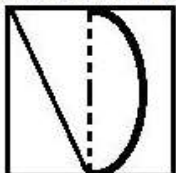
RESTORATION

Options :

1. ✖ RESTORATION
2. ✖ RESTORATION
3. ✔ RESTORATION
4. ✖ RESTORATION


Question Number : 14 Question Id : 497959620 Question Type : MCQ Option Shuffling : Yes
Correct Marks : 1 Wrong Marks : 0.25

Given here is a transparent piece of paper with some patterns on it. How would the paper appear when it is folded along the dotted line?

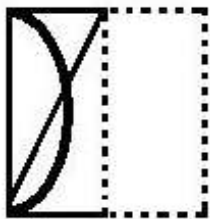


Options :


1. ✓



2. ✗



3. ✗



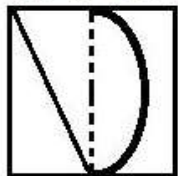
4. ✗






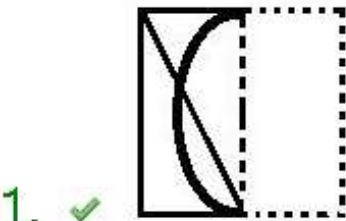
Question Number : 14 Question Id : 497959620 Question Type : MCQ Option Shuffling : Yes

Correct Marks : 1 Wrong Marks : 0.25


नीचे दिए गए पारदर्शी पन्ने पर कुछ आकृतियां (पैटर्न) बनी हुई हैं। अगर इस शीट को बिंदुदार रेखा के साथ-साथ मोड़ा जाए तो शीट किस प्रकार की दिखाई देगी?



Options :



Question Number : 15 Question Id : 497959621 Question Type : MCQ Option Shuffling : Yes
Correct Marks : 1 Wrong Marks : 0.25
Which of the following figures in the options will replace the question mark (?) in the given figure to complete the pattern?



Options :



2. ✓ 

3. ✗ 

4. ✗ 

Question Number : 15 Question Id : 497959621 Question Type : MCQ Option Shuffling : Yes
Correct Marks : 1 Wrong Marks : 0.25

नीचे दिए गए चित्र में, चित्र के पैटर्न को पूरा करने के लिए निम्नलिखित में से कौन सा विकल्प प्रश्न चिह्न (?) का स्थान लेगा?



Options :

1. ✗ 

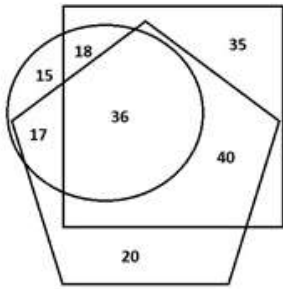
2. ✓ 

3. ✗ 

4. ✗ 

Question Number : 16 Question Id : 497959622 Question Type : MCQ Option Shuffling : Yes
Correct Marks : 1 Wrong Marks : 0.25

In the Venn diagram given below, the square represents 'boys', the circle represents 'singers' and the pentagon represents 'part-time workers'. The numbers given in the diagram represent the number of persons of that particular category.



How many boys are singers but NOT part-time workers?

Options :

1. ✖ 15

2. ✔ 18

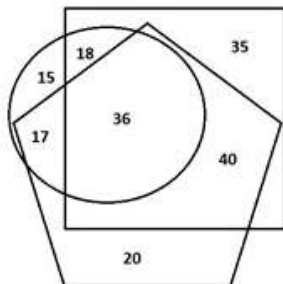
3. ✖ 17

4. ✖ 36

Question Number : 16 Question Id : 497959622 Question Type : MCQ Option Shuffling : Yes

Correct Marks : 1 Wrong Marks : 0.25

नीचे दिए गए वेन आरेख में, वर्ग 'लड़कों' को दर्शाता है, वृत्त 'गायकों' को दर्शाता है और पंचकोण 'अंशकालिक कामगार' को दर्शाता है। आरेख में दी गई संख्या उस विशेष श्रेणी के व्यक्तियों की संख्या दर्शाती है।



कितने लड़के गायक हैं, लेकिन अंशकालिक कामगार नहीं हैं?

Options :

1. ✖ 15

2. ✓ 18

3. ✗ 17

4. ✗ 36

Question Number : 17 Question Id : 497959623 Question Type : MCQ Option Shuffling : Yes

Correct Marks : 1 Wrong Marks : 0.25

Vaidehi starts walking from her shop and goes 65 m towards the east. From there, she turns right and walks 25 m. After that, she turns left and walks 15 m. Then, she turns left and walks 40 m. She then finally turns left and walks 80 m. How far is she now from her shop and in which direction with reference to her shop?

Options :

1. ✗ 25 m, North

2. ✓ 15 m, North

3. ✗ 15 m, South

4. ✗ 25 m, South

Question Number : 17 Question Id : 497959623 Question Type : MCQ Option Shuffling : Yes

Correct Marks : 1 Wrong Marks : 0.25

वैदेही अपनी दुकान से चलना शुरू करती है और 65 m पूर्व की ओर जाती है। वहां से वह दाएं मुड़ जाती है और 25 m तक चलती है। उसके बाद, वह बाएं मुड़ती है और 15 m चलती है। फिर, वह बाएं मुड़ती है और 40 m चलती है। वह फिर बाएं मुड़ती है और 80 m चलती है। वह अपनी दुकान से कितनी दूर है और अपनी दुकान के संदर्भ में किस दिशा में है?

Options :

1. ✗ 25 m, उत्तर

2. ✓ 15 m, उत्तर

3. ✗ 15 m, दक्षिण

4. ✗ 25 m, दक्षिण

Question Number : 18 Question Id : 497959624 Question Type : MCQ Option Shuffling : Yes

Correct Marks : 1 Wrong Marks : 0.25

At the time of sunrise, Kartik and Piyush are sitting facing each other. If the shadow of Kartik falls to the left of Piyush, then which direction is Piyush facing?

Options :

1. ✗ East

2. ✗ West

3. ✓ North

4. ✗ South



Question Number : 18 Question Id : 497959624 Question Type : MCQ Option Shuffling : Yes

Correct Marks : 1 Wrong Marks : 0.25

सूर्योदय के समय, कार्तिक और पीयूष एक दूसरे के आमने सामने बैठे हैं। यदि कार्तिक की छाया पीयूष के बाईं ओर पड़ती है, तो पीयूष किस दिशा की ओर मुंह करके बैठा है?

Options :

1. ✗ पूर्व

2. ✗ पश्चिम

3. ✓ उत्तर

4. ✗ दक्षिण

Question Number : 19 Question Id : 497959625 Question Type : MCQ Option Shuffling : Yes

Correct Marks : 1 Wrong Marks : 0.25

There are six friends, Aslam, Pritam, Vilas, Sukumar, Mrinal and Ojaswi. Aslam is elder than Pritam, but younger than Vilas. Sukumar is elder than Aslam, but younger than Vilas. Mrinal is younger than Aslam, but elder than Pritam. Ojaswi is elder than Sukumar, but younger than Vilas. Who is the second youngest in the group?

Options :

1. ✗ Pritam

2. ✗ Aslam

3. ✓ Mrinal

4. ✗ Sukumar

Question Number : 19 Question Id : 497959625 Question Type : MCQ Option Shuffling : Yes

Correct Marks : 1 Wrong Marks : 0.25

छह दोस्त हैं, असलम, प्रीतम, विलास, सुकुमार, मृणाल और ओजस्वी। असलम प्रीतम से बड़ा है, लेकिन विलास से छोटा है। सुकुमार असलम से बड़ा है, लेकिन विलास से छोटा है। मृणाल असलम से छोटा है, लेकिन प्रीतम से बड़ा है। ओजस्वी सुकुमार से बड़ी है, लेकिन विलास से छोटा है। समूह में दूसरा सबसे युवा अथवा छोटा कौन है?

Options :

1. ✗ प्रीतम

2. ✗ असलम

3. ✓ मृणाल

4. ✗ सुकुमार

Question Number : 20 Question Id : 497959626 Question Type : MCQ Option Shuffling : Yes

Correct Marks : 1 Wrong Marks : 0.25

Arpita, Kripal, Amit and Vinod each play one of the four games i.e. Cricket, Snooker, Golf and Carom. Arpita does not play Carom and Golf. Kripal does not play Cricket and Golf. Vinod does not play Snooker or Golf. Which game is played by Amit?

Options :

1. ✗ Cricket

2. ✗ Snooker

3. ✗ Carom

4. ✓ Golf

Question Number : 20 Question Id : 497959626 Question Type : MCQ Option Shuffling : Yes

Correct Marks : 1 Wrong Marks : 0.25

अर्पिता, कृपाल, अमित और विनोद प्रत्येक चार खेल अर्थात क्रिकेट, स्नूकर, गोल्फ और कैरम में से एक खेलते हैं। अर्पिता कैरम और गोल्फ नहीं खेलती है। कृपाल क्रिकेट और गोल्फ नहीं खेलता है। विनोद स्नूकर या गोल्फ नहीं खेलता है। अमित कौन सा खेल खेलता है?

Options :

1. ✗ क्रिकेट

2. ✗ स्नूकर

3. ✖ कैरम

4. ✔ गोल्फ

Mental Ability2

Group Number :	2
Group Id :	49795932
Group Maximum Duration :	0
Group Minimum Duration :	0
Show Attended Group? :	No
Edit Attended Group? :	No
Break time:	0
Group Marks:	20
Is this Group for Examiner?:	No
Revisit allowed for group Instructions? :	Yes
Maximum Instruction Time:	0
Minimum Instruction Time:	0

Mental Ability2

Section Id :	49795932
Section Number :	1
Section type :	Online
Mandatory or Optional:	Mandatory
Number of Questions:	20
Number of Questions to be attempted:	20
Section Marks:	20

Sub-Section Number:	1
Sub-Section Id:	49795938
Question Shuffling Allowed :	Yes

Question Number : 21 Question Id : 497959627 Question Type : MCQ Option Shuffling : Yes
Correct Marks : 1 Wrong Marks : 0.25

The flights for four cities – Chennai, Delhi, Hyderabad and Mumbai – take off from four terminals T-1, T-2, T-3 and T- 4.
The flight for Chennai leaves from T-1. The flight for Hyderabad does not leave from T-2 or T-4. The flight for Mumbai does not leave from T-4. Which flight takes off from T-2?

Options :

1. ✓ Mumbai
2. ✗ Delhi
3. ✗ Either Mumbai or Delhi
4. ✗ Either Delhi or Chennai

Question Number : 21 Question Id : 497959627 Question Type : MCQ Option Shuffling : Yes

Correct Marks : 1 Wrong Marks : 0.25

चार शहरों चेन्नई, दिल्ली, हैदराबाद और मुंबई के लिए उड़ानें चार टर्मिनल T-1, T-2, T-3 और T-4 से उड़ान भरती हैं। चेन्नई के लिए फ्लाइट T-1 से रवाना होती है। हैदराबाद के लिए उड़ान T-2 या T-4 से नहीं निकलती है। मुंबई के लिए उड़ान T-4 से नहीं निकलती है। T-2 से कौन सी उड़ान निकलती है?

Options :

1. ✓ मुंबई
2. ✗ दिल्ली
3. ✗ या तो मुंबई या दिल्ली
4. ✗ या तो दिल्ली या चेन्नई

Question Number : 22 Question Id : 497959628 Question Type : MCQ Option Shuffling : Yes

Correct Marks : 1 Wrong Marks : 0.25

The following are the criteria set by an FMCG company for the selection of candidates for the post of Sales Manager:

1. The candidate must have a Master of Business Administration (MBA) in the Marketing discipline.
2. The age of the candidate should not be less than 28 years and not more than 35 years as on 1 April 2019.
3. The candidate must have at least four years' work experience as a Sales Representative.

(a) If a candidate satisfies all the criteria except criteria no. 2 as given above, but is willing to fill a bond of not leaving the job for at least one year, she/he must be sent to the Head (Marketing) for further interview.

(b) If a candidate satisfies all the criteria except criteria no. 3, but has secured more than 80% marks in MBA, then the candidate must be sent to the Senior Sales Manager for further interview.

The details of a candidate are given below. You have to take one of the following decisions based on the information provided and the conditions and sub-conditions given above. Do not assume anything other than the information provided in the question.

Ravi has completed his MBA in the Marketing discipline with 72% marks. He has five years of work experience as a Sales Representative. He was born on 28 March 1990.

Options :

1. ✓ The candidate is to be selected.
2. ✗ The candidate is to be rejected.
3. ✗ The candidate is to be sent to the Head (Marketing) for further interview.
4. ✗ The candidate is to be sent to the Senior Sales Manager for further interview.

Question Number : 22 Question Id : 497959628 Question Type : MCQ Option Shuffling : Yes

Correct Marks : 1 Wrong Marks : 0.25

सेल्स मैनेजर के पद के लिए उम्मीदवारों के चयन के लिए एक एफएमसीजी कंपनी द्वारा निर्धारित मानदंड निम्नलिखित हैं।

1. उम्मीदवार के पास मार्केटिंग विषय में मास्टर ऑफ बिजनेस एडमिनिस्ट्रेशन (MBA) होना चाहिए।
2. 1 अप्रैल 2019 को उम्मीदवार की आयु 28 वर्ष से कम और 35 वर्ष से अधिक नहीं होनी चाहिए।
3. उम्मीदवार के पास सेल्स रिप्रेजेंटेटिव के रूप में कम से कम चार साल का कार्य अनुभव होना चाहिए।

(a) यदि कोई उम्मीदवार ऊपर दिए गए मानदंडों में से मानदंड संख्या 2 को छोड़कर सभी मानदंड पूरे करता है, लेकिन कम से कम एक वर्ष के लिए नौकरी नहीं छोड़ने का बॉन्ड भरने के लिए तैयार है, उसे आगे के साक्षात्कार (इंटरव्यू) के लिए हेड (मार्केटिंग) से मिलने के लिए भेजा जाना चाहिए।

(b) यदि कोई उम्मीदवार ऊपर दिए गए मानदंडों में से मानदंड संख्या 3 को छोड़कर सभी मानदंड पूरे करता है, लेकिन उसके एमबीए में 80% से अधिक अंक हैं, तो उम्मीदवार को आगे के साक्षात्कार (इंटरव्यू) के लिए वरिष्ठ सेल्स मैनेजर के पास भेजा जाना चाहिए।

नीचे एक उम्मीदवार का विवरण दिया गया है। आपको दी गई जानकारी और ऊपर दी गई शर्तों और उप-शर्तों के आधार पर निम्नलिखित में से कोई एक निर्णय लेना होगा। प्रश्न में दी गई जानकारी के आधार पर ही निर्णय लें। कोई अन्य अनुमान ना लगाएं।

रवि ने 72% अंकों के साथ मार्केटिंग में अपना MBA पूरा किया है। उसके पास सेल्स रिप्रेजेंटेटिव के रूप में पांच साल का कार्य अनुभव है। उसका जन्म 28 मार्च 1990 को हुआ था।

Options :

1. ✓ उम्मीदवार का चयन किया जाना है।
2. ✗ उम्मीदवार को खारिज/रिजेक्ट कर दिया जाना है।
3. ✗ उम्मीदवार को आगे के साक्षात्कार के लिए हेड (मार्केटिंग) के पास भेजा जाना है।

4. ✖ उम्मीदवार को आगे के साक्षात्कार के लिए वरिष्ठ सेल्स मैनेजर के पास भेजा जाना है।

Question Number : 23 Question Id : 497959629 Question Type : MCQ Option Shuffling : Yes

Correct Marks : 1 Wrong Marks : 0.25

The following are the criteria set by an FMCG company for the selection of candidates for the post of Sales Manager.

1. The candidate must have a Master of Business Administration (MBA) in the Marketing discipline.
 2. The age of the candidate should not be less than 28 years and not more than 35 years as on 1 April 2019.
 3. The candidate must have at least four years' work experience as a Sales Representative.
- (a) If a candidate satisfies all the criteria except criteria no. 2 as given above, but is willing to fill a bond of not leaving the job for at least one year, she/he must be sent to the Head (Marketing) for further interview.
- (b) If a candidate satisfies all the criteria except criteria no. 3, but has more than 80% marks in MBA, then the candidate must be sent to the Senior Sales Manager for further interview.

The details of a candidate are given below. You have to take one of the following decisions based on the information provided and the conditions and sub-conditions given above. Do not assume anything other than the information provided in the question.

Deepika has completed her MBA in Marketing with 78%. She was born on 17 July 1989. She has two years of work experience as a Sales Representative.

Options :

1. ✖ The candidate is to be selected.
2. ✔ The candidate is to be rejected.
3. ✖ The candidate is to be sent to the Head (Marketing) for further interview.
4. ✖ The candidate is to be sent to the Senior Sales Manager for further interview.

Question Number : 23 Question Id : 497959629 Question Type : MCQ Option Shuffling : Yes

Correct Marks : 1 Wrong Marks : 0.25

सेल्स मैनेजर के पद के लिए उम्मीदवारों के चयन के लिए एक एफएमसीजी कंपनी द्वारा निर्धारित मानदंड निम्नलिखित हैं।

1. उम्मीदवार के पास मार्केटिंग विषय में मास्टर ऑफ बिजनेस एडमिनिस्ट्रेशन (MBA) होना चाहिए।
 2. 1 अप्रैल 2019 को उम्मीदवार की आयु 28 वर्ष से कम और 35 वर्ष से अधिक नहीं होनी चाहिए।
 3. उम्मीदवार के पास सेल्स रिप्रेजेंटेटिव के रूप में कम से कम चार साल का कार्य अनुभव होना चाहिए।
- (a) यदि कोई उम्मीदवार ऊपर दिए गए मानदंडों में से मानदंड संख्या 2 को छोड़कर सभी मानदंड पूरे करता है, लेकिन कम से कम एक वर्ष के लिए नौकरी नहीं छोड़ने का बॉन्ड भरने के लिए तैयार है, उसे आगे के साक्षात्कार (इंटरव्यू) के लिए हेड (मार्केटिंग) से मिलने के लिए भेजा जाना चाहिए।
- (b) यदि कोई उम्मीदवार ऊपर दिए गए मानदंडों में से मानदंड संख्या 3 को छोड़कर सभी मानदंड पूरे करता है, लेकिन उसके एमबीए में 80% से अधिक अंक हैं, तो उम्मीदवार को आगे के साक्षात्कार (इंटरव्यू) के लिए वरिष्ठ सेल्स मैनेजर के पास भेजा जाना चाहिए।

नीचे एक उम्मीदवार का विवरण दिया गया है। आपको दी गई जानकारी और ऊपर दी गई शर्तों और उप-शर्तों के आधार पर निम्नलिखित में से कोई एक निर्णय लेना होगा। प्रश्न में दी गई जानकारी के आधार पर ही निर्णय लें। कोई अन्य अनुमान ना लगाएं।

दीपिका ने 78% के साथ मार्केटिंग में MBA पूरा किया है। उसका जन्म 17 जुलाई 1989 को हुआ था। उसे सेल्स रिप्रेजेंटेटिव के रूप में दो साल का कार्य अनुभव है।

Options :

1. ✖ उम्मीदवार का चयन किया जाना है।
2. ✔ उम्मीदवार को खारिज/रिजेक्ट कर दिया जाना है।
3. ✖ उम्मीदवार को आगे के साक्षात्कार के लिए हेड (मार्केटिंग) के पास भेजा जाना है।

4. ✖ उम्मीदवार को आगे के साक्षात्कार के लिए वरिष्ठ सेल्स मैनेजर के पास भेजा जाना है।

Question Number : 24 Question Id : 497959630 Question Type : MCQ Option Shuffling : Yes

Correct Marks : 1 Wrong Marks : 0.25

Two statements are followed by two conclusions numbered I and II. Assuming the information given in the statements to be true, even if they do not conform to real-world knowledge, decide which of the conclusion(s) logically follow/s from the statements.

Statements:

1. All windows are kitchens.
2. All kitchens are houses.

Conclusions:

- I. Some kitchens are windows.
- II. All houses are windows.

Options :

1. ✔ Only conclusion I follows

2. ✖ Only conclusion II follows

3. ✖ Both conclusions I and II follow

4. ✖ Either conclusion I or II follows

Question Number : 24 Question Id : 497959630 Question Type : MCQ Option Shuffling : Yes

Correct Marks : 1 Wrong Marks : 0.25

दो कथनों के बाद दो निष्कर्ष I और II दिए गए हैं। कथनों में दी गई जानकारी को सच मानते हुए, भले ही वे वास्तविक दुनिया के ज्ञान के अनुरूप न हों, यह निर्णय लें कि कौन सा/से निष्कर्ष कथनों का तार्किक रूप से अनुसरण करता है/ करते हैं।

कथन:

1. सभी खिड़कियां रसोई हैं।
2. सभी रसोई घर हैं।

निष्कर्ष:

- (a) कुछ रसोई खिड़कियां हैं।
- (b) सभी घर खिड़कियां हैं।

Options :

1. ✓ केवल निष्कर्ष I अनुसरण करता है
2. ✗ केवल निष्कर्ष II अनुसरण करता है
3. ✗ निष्कर्ष I और निष्कर्ष II दोनों अनुसरण करते हैं
4. ✗ या तो निष्कर्ष I या निष्कर्ष II अनुसरण करता है

Question Number : 25 Question Id : 497959631 Question Type : MCQ Option Shuffling : Yes

Correct Marks : 1 Wrong Marks : 0.25

Two statements are followed by two conclusions numbered I and II. Assuming the information given in the statements to be true, even if they do not conform to real-world knowledge, decide which of the conclusion(s) logically follow/s from the statements.

Statements:

1. Some cricketers are males.
2. Some males are hockey players.

Conclusions:

- I. Some hockey players are cricketers.
- II. No hockey player is a cricketer.

Options :

1. ✗ Only conclusion I follows
2. ✗ Only conclusion II follows
3. ✗ Both conclusions I and II follow
4. ✓ Either conclusion I or II follows

Question Number : 25 Question Id : 497959631 Question Type : MCQ Option Shuffling : Yes

Correct Marks : 1 Wrong Marks : 0.25

दो कथनों के बाद दो निष्कर्ष I और II दिए गए हैं। कथनों में दी गई जानकारी को सच मानते हुए, भले ही वे वास्तविक दुनिया के ज्ञान के अनुरूप न हों, यह निर्णय लें कि कौन सा/से निष्कर्ष कथनों का तार्किक रूप से अनुसरण करता है/करते हैं।

कथन:

1. कुछ क्रिकेटर पुरुष हैं।
2. कुछ पुरुष हॉकी खिलाड़ी हैं।

निष्कर्ष:

- I. कुछ हॉकी खिलाड़ी क्रिकेटर हैं।
- II. कोई भी हॉकी खिलाड़ी क्रिकेटर नहीं है।

Options :

1. ✖ केवल निष्कर्ष I अनुसरण करता है
2. ✖ केवल निष्कर्ष II अनुसरण करता है
3. ✖ निष्कर्ष I और निष्कर्ष II दोनों अनुसरण करते हैं
4. ✔ या तो निष्कर्ष I या निष्कर्ष II अनुसरण करता है

Question Number : 26 Question Id : 497959632 Question Type : MCQ Option Shuffling : Yes

Correct Marks : 1 Wrong Marks : 0.25

Which of the addresses given as options is exactly same as the address given below?

A Shivkumaran Swaminathan
Residence 2090-02, C Wing, K Block
Lovely Estate, North Pitampura Road
Aurangabad – 564 012

Options :

1. ✖ A Shivkumaran Swaminathan
Residence 2090-02, C Wing, K Block
Lovely Estate, North Pitampura Road
Aurangabad – 584 012

A Shivkumaran Swaminathan
Residence 2090-02, C Wing, K Block
Lovely state, North Pitampura Road
Aurangabad – 564 012

2. ✖

A Shivkumaran Swaminathan
Residence 2090-02, C Wing, K Block
Lovely Estate, North Pitampura Road
Aurangabad – 564 012

3. ✔

A Shivkumaran Swaminathan
Residence 2090-02, C Wing, K Block
Lovely Estate, North Pitampur Road
Aurangabad – 564 012

4. ✖

Question Number : 26 Question Id : 497959632 Question Type : MCQ Option Shuffling : Yes
Correct Marks : 1 Wrong Marks : 0.25

विकल्पों में दिए गए पत्तों में से कौन सा पता नीचे दिए गए पते के समान है?

A Shivkumaran Swaminathan
Residence 2090-02, C Wing, K Block
Lovely Estate, North Pitampura Road
Aurangabad - 564 012

Options :

A Shivkumaran Swaminathan
Residence 2090-02, C Wing, K Block
Lovely Estate, North Pitampura Road

1. ✖ Aurangabad - 584 012

A Shivkumaran Swaminathan
Residence 2090-02, C Wing, K Block
Lovely state, North Pitampura Road

2. ✖ Aurangabad - 564 012

A Shivkumaran Swaminathan
Residence 2090-02, C Wing, K Block
Lovely Estate, North Pitampura Road

3. ✓ Aurangabad - 564 012

A Shivkumaran Swaminathan
Residence 2090-02, C Wing, K Block
Lovely Estate, North Pitampur Road

4. ✗ Aurangabad - 564 012

Question Number : 27 Question Id : 497959633 Question Type : MCQ Option Shuffling : Yes
Correct Marks : 1 Wrong Marks : 0.25

Six numbers are given below, two of which are the same. Identify the two numbers that are the same.

(A) 689524351 (B) 685923451 (C) 689523451

(D) 689532451 (E) 689523451 (F) 689523541

Options :

1. ✗ A and B

2. ✗ E and F

3. ✗ A and D

4. ✓ C and E

Question Number : 27 Question Id : 497959633 Question Type : MCQ Option Shuffling : Yes
Correct Marks : 1 Wrong Marks : 0.25

नीचे छह संख्याएं दी गई हैं जिनमें से दो एक समान हैं। दो संख्याओं को पहचानें जो समान हैं।

(A) 689524351 (B) 685923451 (C) 689523451

(D) 689532451 (E) 689523451 (F) 689523541

Options :

1. ✖ A और B

2. ✖ E और F

3. ✖ A और D

4. ✔ C और E

Question Number : 28 Question Id : 497959634 Question Type : MCQ Option Shuffling : Yes

Correct Marks : 1 Wrong Marks : 0.25

Six symbol clusters are given below, two of which are the same. Identify the two clusters that are exactly the same.

(A) # \$ @ # \$ % % \$ % # @

(B) # \$ @ # \$ & % \$ \$ # @

(C) # \$ @ # \$ & % \$ % # @

(D) # \$ @ # \$ & % \$ % \$ @

(E) # \$ @ % # & % \$ % # @

(F) # \$ @ # \$ & % \$ % # @

Options :

1. ✖ B and C

2. ✖ A and D

3. ✖ C and D

4. ✔ C and F

Question Number : 28 Question Id : 497959634 Question Type : MCQ Option Shuffling : Yes

Correct Marks : 1 Wrong Marks : 0.25

नीचे छह प्रतीक समूह दिए गए हैं, जिनमें से दो एक समान हैं। वे एक समान समूह कौन से हैं।

- (A) # \$ @ # \$ % % \$ % # @
- (B) # \$ @ # \$ & % \$ \$ # @
- (C) # \$ @ # \$ & % \$ % # @
- (D) # \$ @ # \$ & % \$ % \$ @
- (E) # \$ @ % # & % \$ % # @
- (F) # \$ @ # \$ & % \$ % # @

Options :

- 1. ✖ B और C
- 2. ✖ A और D
- 3. ✖ C और D
- 4. ✔ C और F

Question Number : 29 Question Id : 497959635 Question Type : MCQ Option Shuffling : Yes

Correct Marks : 1 Wrong Marks : 0.25

$A + B$ means 'A is the brother of B'

$A - B$ means 'A is the wife of B'

$A \times B$ means 'A is the daughter of B'

$A \div B$ means 'A is the sister of B'

If $Q + P \div R \times T - S$, then how is P related to S?

Options :

- 1. ✖ Brother

2. ✖ Son

3. ✔ Daughter

4. ✖ Sister

Question Number : 29 Question Id : 497959635 Question Type : MCQ Option Shuffling : Yes

Correct Marks : 1 Wrong Marks : 0.25

$A + B$ का अर्थ है 'A, B का भाई है'

$A - B$ का अर्थ है 'A, B की पत्नी है'

$A \times B$ का अर्थ है 'A, B की बेटी है'

$A \div B$ का अर्थ है 'A, B की बहन है'

यदि $Q + P \div R \times T - S$ है, तो P, S से कैसे संबंधित है?

Options :

1. ✖ भाई

2. ✖ बेटा

3. ✔ बेटी

4. ✖ बहन

Question Number : 30 Question Id : 497959636 Question Type : MCQ Option Shuffling : Yes

Correct Marks : 1 Wrong Marks : 0.25

Pointing to the photograph of a lady, Raman said, "Her mother's husband is the only son of my mother's husband."
How is Raman related to the lady?

Options :

1. ✓ Father

2. ✗ Brother

3. ✗ Son

4. ✗ Uncle

Question Number : 30 Question Id : 497959636 Question Type : MCQ Option Shuffling : Yes

Correct Marks : 1 Wrong Marks : 0.25

रमन ने एक महिला की तस्वीर की ओर इशारा करते हुए कहा, "उसकी मां का पति मेरी मां के पति का इकलौता बेटा है।" रमन महिला से कैसे संबंधित है?

Options :

1. ✓ पिता

2. ✗ भाई

3. ✗ बेटा

4. ✗ चाचा /फूफा/मामा/मौसा

Question Number : 31 Question Id : 497959637 Question Type : MCQ Option Shuffling : Yes

Correct Marks : 1 Wrong Marks : 0.25

If in a code language, EMPTY is coded as 513162025, how would ROUTE be coded in the same language?

Options :

1. ✓ 181521205

2. ✖ 191521205

3. ✖ 181621205

4. ✖ 181522205

Question Number : 31 Question Id : 497959637 Question Type : MCQ Option Shuffling : Yes

Correct Marks : 1 Wrong Marks : 0.25

यदि एक कूट भाषा में EMPTY को 513162025 के रूप में कूटित किया जाता है, तो ROUTE को उसी भाषा में कैसे कूटित किया जाएगा?

Options :

1. ✔ 181521205

2. ✖ 191521205

3. ✖ 181621205

4. ✖ 181522205

Question Number : 32 Question Id : 497959638 Question Type : MCQ Option Shuffling : Yes

Correct Marks : 1 Wrong Marks : 0.25

In a code language, 'APARTMENT' is written as 'RAPATTNEM'. How will 'PROGRAMME' be written in the same language?

Options :

1. ✖ GORPRMEMA

2. ✖ GROPREMMA

3. ✖ GORPSEMMA

4. ✔ GORPREMMA

Question Number : 32 Question Id : 497959638 Question Type : MCQ Option Shuffling : Yes

Correct Marks : 1 Wrong Marks : 0.25

यदि एक कूट भाषा में APARTMENT को 'RAPATTNEM' लिखा जाता है, तो उसी भाषा में PROGRAMME को कैसे लिखा जाएगा?

Options :

1. ✖ GORPRMEMA

2. ✖ GROPREMMA

3. ✖ GORPSEMMA

4. ✔ GORPREMMA

Question Number : 33 Question Id : 497959639 Question Type : MCQ Option Shuffling : Yes

Correct Marks : 1 Wrong Marks : 0.25

The sum of Arjun and Vishakha's current ages is 42 years. After four years Arjun's age will be two years more than Vishakha's age. What is Vishakha's current age?

Options :

1. ✖ 22 years

2. ✖ 18 years

3. ✔ 20 years

4. ✖ 16 years

Question Number : 33 Question Id : 497959639 Question Type : MCQ Option Shuffling : Yes

Correct Marks : 1 Wrong Marks : 0.25

अर्जुन और विशाखा की वर्तमान आयु का योग 42 वर्ष है। चार साल के बाद अर्जुन की उम्र विशाखा की उम्र से दो साल अधिक होगी। विशाखा की वर्तमान आयु क्या है?

Options :

1. ✖ 22 वर्ष

2. ✖ 18 वर्ष

3. ✔ 20 वर्ष

4. ✖ 16 वर्ष

Question Number : 34 Question Id : 497959640 Question Type : MCQ Option Shuffling : Yes

Correct Marks : 1 Wrong Marks : 0.25

The sum of three numbers is 90. The second number is two times the first number. The third number is two times the first number. What will the first number be?

Options :

1. ✖ 12

2. ✖ 15

3. ✔ 18

4. ✖ 21

Question Number : 34 Question Id : 497959640 Question Type : MCQ Option Shuffling : Yes

Correct Marks : 1 Wrong Marks : 0.25

तीन संख्याओं का योग 90 है। दूसरी संख्या पहली संख्या से दोगुना है। तीसरी संख्या पहली संख्या से दोगुना है। पहली संख्या क्या होगी?

Options :

1. ✖ 12

2. ✖ 15

3. ✔ 18

4. ✖ 21

Question Number : 35 Question Id : 497959641 Question Type : MCQ Option Shuffling : Yes

Correct Marks : 1 Wrong Marks : 0.25

Select the number that will come next in the following series.

71, 84, 98, 113, 129, ?

Options :

1. ✔ 146

2. ✖ 148

3. ✖ 151

4. ✖ 153

Question Number : 35 Question Id : 497959641 Question Type : MCQ Option Shuffling : Yes

Correct Marks : 1 Wrong Marks : 0.25

निम्नलिखित श्रृंखला में आने वाली अगली संख्या का चयन करें।

71, 84, 98, 113, 129, ?

Options :

1. ✓ 146

2. ✗ 148

3. ✗ 151

4. ✗ 153

Question Number : 36 Question Id : 497959642 Question Type : MCQ Option Shuffling : Yes
Correct Marks : 1 Wrong Marks : 0.25

Select the number that will come next in the following series.

60, 61, 69, 96, 221, ?

Note: For this question, discrepancy is found in question/answer. So, this question is ignored for all candidates.

Options :

1. 337

2. 437

3. 351

4. 317

Question Number : 36 Question Id : 497959642 Question Type : MCQ Option Shuffling : Yes

Correct Marks : 1 Wrong Marks : 0.25

निम्नलिखित श्रृंखला में आने वाली अगली संख्या का चयन करें।

60, 61, 69, 96, 221, ?

Note: For this question, discrepancy is found in question/answer. So, this question is ignored for all candidates.

Options :

1. 337

2. 437

3. 351

4. 317

Question Number : 37 Question Id : 497959643 Question Type : MCQ Option Shuffling : Yes

Correct Marks : 1 Wrong Marks : 0.25

Select the letter cluster that will come next in the following series.

SWA, OTY, KQW, GNU, ?

Options :

1. ✖ CJR

2. ✖ DKR

3. ✖ CJS

4. ✔ CKS

Question Number : 37 Question Id : 497959643 Question Type : MCQ Option Shuffling : Yes

Correct Marks : 1 Wrong Marks : 0.25

निम्नलिखित श्रृंखला में आने वाले अगले अक्षर समूह का चयन करें।

SWA, OTY, KQW, GNU, ?

Options :

1. ✖ CJR

2. ✖ DKR

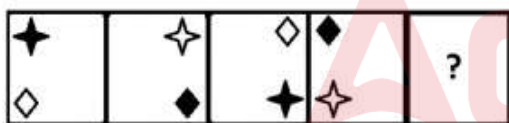
3. ✖ CJS

4. ✔ CKS

Question Number : 38 Question Id : 497959644 Question Type : MCQ Option Shuffling : Yes

Correct Marks : 1 Wrong Marks : 0.25

Which of the figures in the options will replace the question mark (?) to continue the figure series given below?



Options :



3. ✖




4. ✖



Question Number : 38 Question Id : 497959644 Question Type : MCQ Option Shuffling : Yes

Correct Marks : 1 Wrong Marks : 0.25

अगर नीचे दी गई चित्र शृंखला को आगे बढ़ाते जाएं तो इसे जारी रखने के लिए विकल्पों में से कौन-सी आकृति प्रश्न चिह्न (?) का स्थान लेगी?



Options :

1. ✔

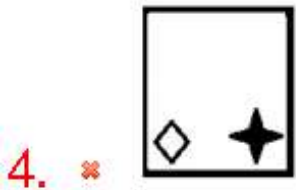


2. ✖



3. ✖





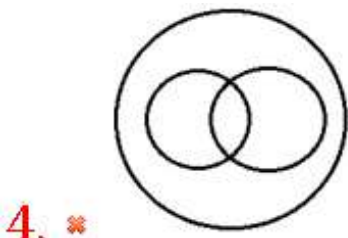
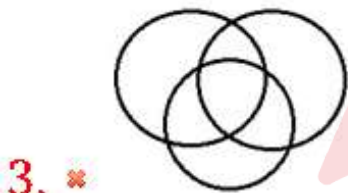
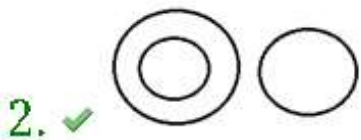
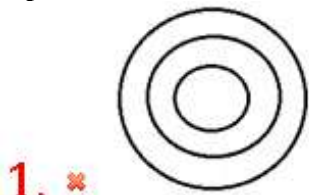
Question Number : 39 Question Id : 497959645 Question Type : MCQ Option Shuffling : Yes

Correct Marks : 1 Wrong Marks : 0.25

Select the Venn diagram that best represents the relationship among the given set of classes.

Stationery, Eraser, Writer

Options :



Question Number : 39 Question Id : 497959645 Question Type : MCQ Option Shuffling : Yes


Correct Marks : 1 Wrong Marks : 0.25

उस वेन आरेख का चयन करें जो वर्गों के दिए गए सेट के बीच संबंधों को सबसे अच्छे तरीके से दर्शाता है।

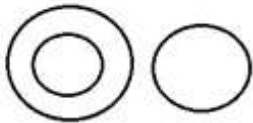
स्टेशनरी, इरेज़र, लेखक

Options :

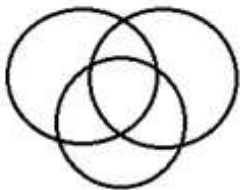
1. ✖



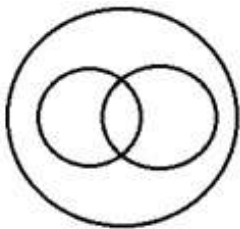
2. ✔



3. ✖

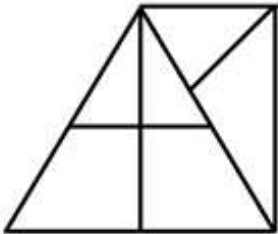


4. ✖



Question Number : 40 Question Id : 497959646 Question Type : MCQ Option Shuffling : Yes
Correct Marks : 1 Wrong Marks : 0.25

How many triangles are present in the figure given below?



Options :

1. ✔ 9

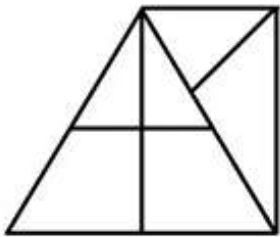
2. ✖ 10

3. ✖ 11

4. ✖ 12

Question Number : 40 Question Id : 497959646 Question Type : MCQ Option Shuffling : Yes
Correct Marks : 1 Wrong Marks : 0.25

नीचे दिए गए चित्र में कितने त्रिकोण मौजूद हैं?



Options :

1. ✔ 9

2. ✖ 10

3. ✖ 11

4. ✖ 12



General Awareness1

Group Number :	3
Group Id :	49795933
Group Maximum Duration :	0
Group Minimum Duration :	0
Show Attended Group? :	No
Edit Attended Group? :	No
Break time:	0
Group Marks:	20
Is this Group for Examiner?:	No
Revisit allowed for group Instructions? :	Yes

Maximum Instruction Time: 0
Minimum Instruction Time: 0

General Awareness1

Section Id : 49795933
Section Number : 1
Section type : Online
Mandatory or Optional: Mandatory
Number of Questions: 20
Number of Questions to be attempted: 20
Section Marks: 20

Sub-Section Number: 1
Sub-Section Id: 49795939
Question Shuffling Allowed : Yes

Question Number : 41 Question Id : 497959647 Question Type : MCQ Option Shuffling : Yes
Correct Marks : 1 Wrong Marks : 0.25

Which of these famous archaeological cave sites is not in Maharashtra?

Options :

1. ✖ Ajantha Caves

2. ✔ Bhimbetka caves

3. ✖ Ellora Caves

4. ✖ Elephanta Caves

Question Number : 41 Question Id : 497959647 Question Type : MCQ Option Shuffling : Yes
Correct Marks : 1 Wrong Marks : 0.25

इनमें से कौन सा प्रसिद्ध पुरातात्विक गुफा स्थल महाराष्ट्र में नहीं है?

Options :

1. ✖ अजंता गुफाएँ

2. ✓ भीमबेटका गुफाएँ

3. ✗ एलोरा गुफाएँ

4. ✗ एलिफेंटा गुफाएँ

Question Number : 42 Question Id : 497959648 Question Type : MCQ Option Shuffling : Yes

Correct Marks : 1 Wrong Marks : 0.25

Name the election symbol that has been allotted to the Makkal Needhi Maiam (MNM) party, the new political party floated by actor Kamal Haasan.

Options :

1. ✓ Battery torch

2. ✗ Bow and arrow

3. ✗ Chair

4. ✗ Mobile phone

Question Number : 42 Question Id : 497959648 Question Type : MCQ Option Shuffling : Yes

Correct Marks : 1 Wrong Marks : 0.25

निम्नलिखित में से कौन सा चुनाव चिन्ह मक्कल निधि माईम (एमएनएम) पार्टी को आवंटित किया गया है? यह नया राजनीतिक दल अभिनेता कमल हासन द्वारा बनाया गया है।

Options :

1. ✓ बैटरी टार्च

2. ✗ धनुष और बाण

3. ✖ कुर्सी

4. ✖ मोबाइल फोन

Question Number : 43 Question Id : 497959649 Question Type : MCQ Option Shuffling : Yes
Correct Marks : 1 Wrong Marks : 0.25

Which of these Olympics was held in Berlin and was hosted by Adolf Hitler?

Options :

1. ✖ 1924

2. ✖ 1928

3. ✖ 1932

4. ✔ 1936

Question Number : 43 Question Id : 497959649 Question Type : MCQ Option Shuffling : Yes
Correct Marks : 1 Wrong Marks : 0.25

इनमें से कौन सा ओलंपिक बर्लिन में आयोजित किया गया था, जिसकी मेजबानी एडॉल्फ हिटलर ने की थी?

Options :

1. ✖ 1924

2. ✖ 1928

3. ✖ 1932

4. ✓ 1936

Question Number : 44 Question Id : 497959650 Question Type : MCQ Option Shuffling : Yes
Correct Marks : 1 Wrong Marks : 0.25

In the context of offence management, what is the full form of IPC?

Options :

1. ✗ Indian Postal Code

2. ✗ Indian Police Code

3. ✓ Indian Penal Code

4. ✗ Indian Punishment Code

Question Number : 44 Question Id : 497959650 Question Type : MCQ Option Shuffling : Yes
Correct Marks : 1 Wrong Marks : 0.25

अपराध प्रबंधन के संदर्भ में, IPC का पूरा नाम क्या है?

Options :

1. ✗ Indian Postal Code (इंडियन पोस्टल कोड)

2. ✗ Indian Police Code (इंडियन पुलिस कोड)

3. ✓ Indian Penal Code (इंडियन पीनल कोड)

4. ✗ Indian Punishment Code (इंडियन पनिशमेंट कोड)

Question Number : 45 Question Id : 497959651 Question Type : MCQ Option Shuffling : Yes

Correct Marks : 1 Wrong Marks : 0.25

Name the shot in basketball in which the ball goes through the net without touching either the backboard or the rim?

Options :

1. ✖ Loop

2. ✔ Swish

3. ✖ Neat

4. ✖ Clean

Question Number : 45 Question Id : 497959651 Question Type : MCQ Option Shuffling : Yes

Correct Marks : 1 Wrong Marks : 0.25

बास्केटबॉल के खेल में उस शॉट का क्या नाम है जिसमें गेंद बैकबोर्ड या रिम को छुए बिना नेट से गुजरती है?

Options :

1. ✖ लूप

2. ✔ स्विश

3. ✖ नीट

4. ✖ क्लीन

Question Number : 46 Question Id : 497959652 Question Type : MCQ Option Shuffling : Yes

Correct Marks : 1 Wrong Marks : 0.25

Which of these countries controls the navigation rights and toll collection of the Suez Canal, the strategic canal that connects the Red Sea and the Mediterranean Sea?

Options :

1. ✖ England

2. ✖ Saudi Arabia

3. ✖ Jordan

4. ✔ Egypt

Question Number : 46 Question Id : 497959652 Question Type : MCQ Option Shuffling : Yes

Correct Marks : 1 Wrong Marks : 0.25

इनमें से कौन सा देश लाल सागर और भूमध्य सागर को जोड़ने वाली सामरिक नहर, स्वेज़ नहर के नेविगेशन अधिकारों और टोल संग्रह को नियंत्रित करता है?

Options :

1. ✖ इंग्लैंड

2. ✖ सऊदी अरब

3. ✖ जॉर्डन

4. ✔ मिस्र



Question Number : 47 Question Id : 497959653 Question Type : MCQ Option Shuffling : Yes

Correct Marks : 1 Wrong Marks : 0.25

Which is the only carbon negative country in the world (i.e. absorbs more carbon dioxide than what it releases)?

Options :

1. ✖ Switzerland

2. ✖ Finland

3. ✓ Bhutan

4. ✗ New Zealand

Question Number : 47 Question Id : 497959653 Question Type : MCQ Option Shuffling : Yes

Correct Marks : 1 Wrong Marks : 0.25

दुनिया का एकमात्र कार्बन नकारात्मक देश (अर्थात यह जितना कार्बन डाइऑक्साइड छोड़ता है उससे अधिक को अवशोषित करता है) निम्नलिखित में से कौन सा है?

Options :

1. ✗ स्विट्जरलैंड

2. ✗ फ़िनलैंड

3. ✓ भूटान

4. ✗ न्यूजीलैंड



Question Number : 48 Question Id : 497959654 Question Type : MCQ Option Shuffling : Yes

Correct Marks : 1 Wrong Marks : 0.25

In which pair of months do the two equinoxes occur (equinox is the date in which day and night are of same duration)?

Options :

1. ✗ January and July

2. ✗ February and August

3. ✓ March and September

4. ✖ April and October

Question Number : 48 Question Id : 497959654 Question Type : MCQ Option Shuffling : Yes

Correct Marks : 1 Wrong Marks : 0.25

किस महीनों की जोड़ी में दो विषुव होते हैं (विषुव वह तिथि है जिसमें दिन और रात की अवधि समान होती है)?

Options :

1. ✖ जनवरी और जुलाई

2. ✖ फरवरी और अगस्त

3. ✔ मार्च और सितंबर

4. ✖ अप्रैल और अक्टूबर

Question Number : 49 Question Id : 497959655 Question Type : MCQ Option Shuffling : Yes

Correct Marks : 1 Wrong Marks : 0.25

In which city of India is the National Institute of Epidemiology (NIE) located?

Options :

1. ✖ Kanpur

2. ✖ Hyderabad

3. ✖ Kochi

4. ✔ Chennai

Question Number : 49 Question Id : 497959655 Question Type : MCQ Option Shuffling : Yes

Correct Marks : 1 Wrong Marks : 0.25

भारत के किस शहर में नेशनल इंस्टीट्यूट ऑफ एपिडेमियोलॉजी (NIE) स्थित है?

Options :

1. ✖ कानपुर
2. ✖ हैदराबाद
3. ✖ कोच्चि
4. ✔ चेन्नई

Question Number : 50 Question Id : 497959656 Question Type : MCQ Option Shuffling : Yes
Correct Marks : 1 Wrong Marks : 0.25

As a profession, what does a palaeontologist do?

Options :

1. ✔ Study of fossils
2. ✖ Study of insects
3. ✖ Study of rivers
4. ✖ Study of handwriting

Question Number : 50 Question Id : 497959656 Question Type : MCQ Option Shuffling : Yes
Correct Marks : 1 Wrong Marks : 0.25

एक जीवाश्म विज्ञानी (पैलेन्टोलॉजी) का पेशा निम्नलिखित में से क्या होता है?

Options :

1. ✔ जीवाश्मों का अध्ययन

2. ✖ कीड़ों का अध्ययन

3. ✖ नदियों का अध्ययन

4. ✖ लिखावट का अध्ययन

Question Number : 51 Question Id : 497959657 Question Type : MCQ Option Shuffling : Yes

Correct Marks : 1 Wrong Marks : 0.25

Which of these rivers, though part of the greater Punjab province, does not actually flow in the Indian side of the state of Punjab?

Options :

1. ✔ Jhelum

2. ✖ Sutlej

3. ✖ Beas

4. ✖ Ravi



Question Number : 51 Question Id : 497959657 Question Type : MCQ Option Shuffling : Yes

Correct Marks : 1 Wrong Marks : 0.25

इनमें से कौन सी नदी, जो कि अधिक से अधिक पंजाब प्रांत का हिस्सा है, वास्तव में पंजाब राज्य के भारतीय भाग में नहीं बहती हैं?

Options :

1. ✔ झेलम

2. ✖ सतलुज

3. ✖ ब्यास

4. ✖ रावी

Question Number : 52 Question Id : 497959658 Question Type : MCQ Option Shuffling : Yes

Correct Marks : 1 Wrong Marks : 0.25

India and Denmark signed up a pact in April 2019 for collaboration in which of these areas?

Options :

1. ✖ Lithium mining

2. ✖ Fishing and prawn farming

3. ✔ Renewable energy

4. ✖ Milk and milk products production

Question Number : 52 Question Id : 497959658 Question Type : MCQ Option Shuffling : Yes

Correct Marks : 1 Wrong Marks : 0.25

भारत और डेनमार्क ने अप्रैल 2019 में निम्नलिखित में से किस क्षेत्र में सहयोग के लिए समझौते पर हस्ताक्षर किए?

Options :

1. ✖ लिथियम खनिकर्म

2. ✖ मछली पालन और झींगा पालन

3. ✔ अक्षय ऊर्जा (रीन्यूएबल एनर्जी)

4. ✖ दूध और दूध उत्पादों का उत्पादन

Question Number : 53 Question Id : 497959659 Question Type : MCQ Option Shuffling : Yes

Correct Marks : 1 Wrong Marks : 0.25

In the world of investments, the market in which trade of gold and silver takes place is called:

Options :

1. ✖ commodities market

2. ✖ futures market

3. ✖ metal market

4. ✔ bullion market

Question Number : 53 Question Id : 497959659 Question Type : MCQ Option Shuffling : Yes

Correct Marks : 1 Wrong Marks : 0.25

निवेश की दुनिया में, जिस बाजार में सोने और चांदी का व्यापार होता है उसे किस रूप में जाना जाता है?

Options :

1. ✖ कमोडिटी मार्केट

2. ✖ फ्यूचर मार्केट

3. ✖ मेटल मार्केट

4. ✔ बुलियन मार्केट

Question Number : 54 Question Id : 497959660 Question Type : MCQ Option Shuffling : Yes

Correct Marks : 1 Wrong Marks : 0.25

The Automotive Research Association of India (ARAI) is the leading automotive R&D organisation set up by the automotive industry along with the Government of India. Where is it headquartered?

Options :

1. ✖ Chennai

2. ✔ Pune

3. ✖ Kolkata

4. ✖ Hyderabad

Question Number : 54 Question Id : 497959660 Question Type : MCQ Option Shuffling : Yes

Correct Marks : 1 Wrong Marks : 0.25

ऑटोमोटिव रिसर्च एसोसिएशन ऑफ इंडिया (एआरएआई) भारत सरकार के साथ मोटर वाहन उद्योग द्वारा स्थापित प्रमुख ऑटोमोटिव आर एंड डी (अनुसंधान एवं विकास) संगठन है। इसका मुख्यालय कहाँ पर स्थित है?

Options :

1. ✖ चेन्नई

2. ✔ पुणे

3. ✖ कोलकाता

4. ✖ हैदराबाद

Question Number : 55 Question Id : 497959661 Question Type : MCQ Option Shuffling : Yes

Correct Marks : 1 Wrong Marks : 0.25

Name the last ruling Nizam of the princely state of Hyderabad.

Options :

1. ✓ Nizam Mir Osman Ali Khan
2. ✗ Nizam Mir Qamar-ud-din Khan
3. ✗ Nizam Mir Akbar Ali Khan
4. ✗ Nizam Mir Tahniyath Ali Khan

Question Number : 55 Question Id : 497959661 Question Type : MCQ Option Shuffling : Yes
Correct Marks : 1 Wrong Marks : 0.25

हैदराबाद रियासत के अंतिम निजाम का क्या नाम है?

Options :

1. ✓ निज़ाम मीर उस्मान अली खान
2. ✗ निज़ाम मीर कमर-उद-दीन खान
3. ✗ निज़ाम मीर अकबर अली खान
4. ✗ निज़ाम मीर तहनीआथ अली खान

Question Number : 56 Question Id : 497959662 Question Type : MCQ Option Shuffling : Yes
Correct Marks : 1 Wrong Marks : 0.25

By combining iron with which of these materials (in tiny but varying quantities) does one get steel?

Options :

1. ✗ Sulphur
2. ✗ Copper

3. ✓ Carbon

4. ✗ Phosphorus

Question Number : 56 Question Id : 497959662 Question Type : MCQ Option Shuffling : Yes

Correct Marks : 1 Wrong Marks : 0.25

इनमें से किस सामग्री के साथ लोहे को मिलाकर (छोटी लेकिन अलग-अलग मात्रा में) स्टील प्राप्त होता है?

Options :

1. ✗ सल्फर

2. ✗ कॉपर

3. ✓ कार्बन

4. ✗ फॉस्फोरस

Question Number : 57 Question Id : 497959663 Question Type : MCQ Option Shuffling : Yes

Correct Marks : 1 Wrong Marks : 0.25

The Ramana Ashram, which was home to modern sage and Advaita Vedanta philosopher Ramana Maharshi, is located in which of these towns in Tamil Nadu?

Options :

1. ✓ Tiruvannamalai

2. ✗ Salem

3. ✗ Thirunelveli

4. ✖ Rameswaram

Question Number : 57 Question Id : 497959663 Question Type : MCQ Option Shuffling : Yes

Correct Marks : 1 Wrong Marks : 0.25

रमण आश्रम, आधुनिक ऋषि और अद्वैत वेदांत दार्शनिक रमण महर्षि का घर था, यह तमिलनाडु के किस शहर में स्थित है?

Options :

1. ✔ तिरुवन्नामलाई

2. ✖ सलेम

3. ✖ तिरुनेलवेली

4. ✖ रामेश्वरम

Question Number : 58 Question Id : 497959664 Question Type : MCQ Option Shuffling : Yes

Correct Marks : 1 Wrong Marks : 0.25

India's first domestically built aircraft carrier INS Vikrant, designated IAC-1, is getting built in which shipyard of India?

Options :

1. ✖ Mazagon Dock Mumbai

2. ✖ Goa Shipyard

3. ✖ Jawaharlal Nehru Port Trust Mumbai

4. ✔ Cochin shipyard

Question Number : 58 Question Id : 497959664 Question Type : MCQ Option Shuffling : Yes

Correct Marks : 1 Wrong Marks : 0.25

भारत का पहला स्वदेशी निर्मित विमानवाहक पोत INS विक्रान्त, IAC-1 के नाम से नामित है। यह विमानवाहक पोत भारत के किस शिपयार्ड में बनाया जा रहा है?

Options :

1. ✖ मझगांव डॉक मुंबई
2. ✖ गोवा शिपयार्ड
3. ✖ जवाहरलाल नेहरू पोर्ट ट्रस्ट मुंबई
4. ✔ कोचीन शिपयार्ड

Question Number : 59 Question Id : 497959665 Question Type : MCQ Option Shuffling : Yes

Correct Marks : 1 Wrong Marks : 0.25

The Gadar Movement was a freedom struggle movement against the British rule initiated in 1913 by Indians settled in America. In which American city did it take roots?

Options :

1. ✖ New York
2. ✔ San Francisco
3. ✖ Chicago
4. ✖ Boston

Question Number : 59 Question Id : 497959665 Question Type : MCQ Option Shuffling : Yes

Correct Marks : 1 Wrong Marks : 0.25

1913 का गदर आंदोलन, ब्रिटिश शासन के खिलाफ अमेरिका में बसे भारतीयों द्वारा शुरू किया गया एक स्वतंत्रता संग्राम आंदोलन था। यह आंदोलन निम्नलिखित में से किस अमेरिकी शहर से शुरू हुआ था?

Options :

1. ✖ न्यूयॉर्क
2. ✔ सैन फ्रांसिस्को
3. ✖ शिकागो
4. ✖ बोस्टन

Question Number : 60 Question Id : 497959666 Question Type : MCQ Option Shuffling : Yes
Correct Marks : 1 Wrong Marks : 0.25

Which constitutional amendment reduced the voting age in India from 21 years to 18 years?

Options :

1. ✔ 61st Amendment Act 1988
2. ✖ 71st Amendment Act 1992
3. ✖ 78th Amendment Act 1995
4. ✖ 83rd Amendment Act 2000

Question Number : 60 Question Id : 497959666 Question Type : MCQ Option Shuffling : Yes
Correct Marks : 1 Wrong Marks : 0.25

निम्नलिखित किस संवैधानिक संशोधन के अनुसार भारत में मतदान की आयु को 21 वर्ष से घटाकर 18 वर्ष कर दिया गया?

Options :

1. ✔ 61वां संशोधन अधिनियम 1988

- 2. ✖ 71वां संशोधन अधिनियम 1992
- 3. ✖ 78वां संशोधन अधिनियम 1995
- 4. ✖ 83वां संशोधन अधिनियम 2000

General Awareness2

Group Number :	4
Group Id :	49795934
Group Maximum Duration :	0
Group Minimum Duration :	0
Show Attended Group? :	No
Edit Attended Group? :	No
Break time:	0
Group Marks:	20
Is this Group for Examiner?:	No
Revisit allowed for group Instructions? :	Yes
Maximum Instruction Time:	0
Minimum Instruction Time:	0



General Awareness2

Section Id :	49795934
Section Number :	1
Section type :	Online
Mandatory or Optional:	Mandatory
Number of Questions:	20
Number of Questions to be attempted:	20
Section Marks:	20

Sub-Section Number:	1
Sub-Section Id:	49795940
Question Shuffling Allowed :	Yes

Question Number : 61 Question Id : 497959667 Question Type : MCQ Option Shuffling : Yes
Correct Marks : 1 Wrong Marks : 0.25
Name the actor who played the role of Pandit Jawaharlal Nehru in the 1982 movie 'Gandhi' directed by Richard Attenborough?

Options :

1. ✖ Om Puri
2. ✔ Roshan Seth
3. ✖ Saeed Jaffrey
4. ✖ Alyque Padamsee

Question Number : 61 Question Id : 497959667 Question Type : MCQ Option Shuffling : Yes

Correct Marks : 1 Wrong Marks : 0.25

रिचर्ड एटनबरो द्वारा निर्देशित 1982 की फिल्म 'गांधी' में पंडित जवाहरलाल नेहरू की भूमिका निभाने वाले अभिनेता का नाम क्या है?

Options :

1. ✖ ओम पुरी
2. ✔ रोशन सेठ
3. ✖ सईद जाफरी
4. ✖ एलिक पदमसी

Question Number : 62 Question Id : 497959668 Question Type : MCQ Option Shuffling : Yes

Correct Marks : 1 Wrong Marks : 0.25

What is the capital of the African country of Mozambique?

Options :

1. ✖ Khartoum

2. ✓ Maputo

3. ✗ Accra

4. ✗ Tripoli

Question Number : 62 Question Id : 497959668 Question Type : MCQ Option Shuffling : Yes

Correct Marks : 1 Wrong Marks : 0.25

मोज़ाम्बिक एक अफ्रीकी देश है। निम्नलिखित में से कौन सा इस देश की राजधानी है?

Options :

1. ✗ खार्तूम

2. ✓ मापुटो

3. ✗ अक्करा

4. ✗ त्रिपोली



Question Number : 63 Question Id : 497959669 Question Type : MCQ Option Shuffling : Yes

Correct Marks : 1 Wrong Marks : 0.25

What is the currency of the African country of Ethiopia?

Options :

1. ✗ Rand

2. ✗ Franc

3. ✓ Ethiopian Birr

4. ✗ Dalasi

Question Number : 63 Question Id : 497959669 Question Type : MCQ Option Shuffling : Yes

Correct Marks : 1 Wrong Marks : 0.25

अफ्रीकी देश इथियोपिया की मुद्रा क्या है?

Options :

1. ✗ रैंड

2. ✗ फ्रैंक

3. ✓ इथियोपियन बिर

4. ✗ डालासी

Question Number : 64 Question Id : 497959670 Question Type : MCQ Option Shuffling : Yes

Correct Marks : 1 Wrong Marks : 0.25

German-born scientist Johannes Kepler is famously known for which of these areas of studies?

Options :

1. ✗ Pioneering rocket technology

2. ✗ Synthesising ammonia from nitrogen and hydrogen gases

3. ✓ Discovering the laws of planetary motion

4. ✖ Developments in atomic and quantum physics

Question Number : 64 Question Id : 497959670 Question Type : MCQ Option Shuffling : Yes

Correct Marks : 1 Wrong Marks : 0.25

जर्मनी में जन्मे प्रसिद्ध वैज्ञानिक जोहान्स केपलर निम्नलिखित में से किस क्षेत्र के अध्ययन के लिए जाने जाते हैं?

Options :

1. ✖ अनुसंधानात्मक रॉकेट तकनीक

2. ✖ नाइट्रोजन और हाइड्रोजन गैसों से अमोनिया का संश्लेषण

3. ✔ ग्रहों की गति के नियमों की खोज

4. ✖ परमाणु और क्वांटम (प्रमात्रा) भौतिकी में विकास

Question Number : 65 Question Id : 497959671 Question Type : MCQ Option Shuffling : Yes

Correct Marks : 1 Wrong Marks : 0.25

Which among these countries is NOT a part of South Asian Association for Regional Cooperation (SAARC)?

Options :

1. ✖ India

2. ✖ Bangladesh

3. ✔ China

4. ✖ Pakistan

Question Number : 65 Question Id : 497959671 Question Type : MCQ Option Shuffling : Yes

Correct Marks : 1 Wrong Marks : 0.25

इन देशों में से कौन सा देश दक्षिण एशियाई क्षेत्रीय सहयोग संगठन (सार्क) का हिस्सा नहीं है?

Options :

1. ✖ इंडिया
2. ✖ बांग्लादेश
3. ✔ चीन
4. ✖ पाकिस्तान

Question Number : 66 Question Id : 497959672 Question Type : MCQ Option Shuffling : Yes

Correct Marks : 1 Wrong Marks : 0.25

Samuel Christian Hahnemann is the inventor of the medical science of homeopathy. To which country did he belong?

Options :

1. ✔ Germany
2. ✖ France
3. ✖ Portugal
4. ✖ Greece

Question Number : 66 Question Id : 497959672 Question Type : MCQ Option Shuffling : Yes

Correct Marks : 1 Wrong Marks : 0.25

सैमुअल क्रिश्चियन हैनिमैन, होम्योपैथी के चिकित्सा विज्ञान के आविष्कारक हैं। वह किस देश से थे?

Options :

1. ✔ जर्मनी

2. ✖ फ्रांस

3. ✖ पुर्तगाल

4. ✖ ग्रीस

Question Number : 67 Question Id : 497959673 Question Type : MCQ Option Shuffling : Yes

Correct Marks : 1 Wrong Marks : 0.25

Which of these seas has Kazakhstan, Russia, Azerbaijan, Iran and Turkmenistan as the surrounding countries?

Options :

1. ✖ Red Sea

2. ✖ Dead Sea

3. ✔ Caspian Sea

4. ✖ Black Sea

Question Number : 67 Question Id : 497959673 Question Type : MCQ Option Shuffling : Yes

Correct Marks : 1 Wrong Marks : 0.25

इनमें से किस सागर को कजाकिस्तान, रूस, अजरबैजान, ईरान और तुर्कमेनिस्तान देश घेरे हुए हैं?

Options :

1. ✖ लाल सागर

2. ✖ मृत सागर

3. ✓ कैस्पियन सागर

4. ✗ काला सागर

Question Number : 68 Question Id : 497959674 Question Type : MCQ Option Shuffling : Yes

Correct Marks : 1 Wrong Marks : 0.25

Who was the Viceroy of India just before Lord Mountbatten, the last British Viceroy?

Options :

1. ✗ Lord Linlithgow

2. ✓ Lord Wavell

3. ✗ Lord Reading

4. ✗ Lord Irwin

Question Number : 68 Question Id : 497959674 Question Type : MCQ Option Shuffling : Yes

Correct Marks : 1 Wrong Marks : 0.25

अंतिम ब्रिटिश वायसराय लॉर्ड माउंटबेटन से ठीक पहले भारत का वायसराय कौन था?

Options :

1. ✗ लॉर्ड लिनलिथगो

2. ✓ लॉर्ड वेवेल

3. ✗ लॉर्ड रीडिंग

4. ✖ लॉर्ड इर्विन

Question Number : 69 Question Id : 497959675 Question Type : MCQ Option Shuffling : Yes
Correct Marks : 1 Wrong Marks : 0.25

What is the IPC act that deals with the punishment for murder?

Options :

1. ✖ Section 141 of IPC

2. ✖ Section 107 of IPC

3. ✔ Section 302 of IPC

4. ✖ Section 268 of IPC

Question Number : 69 Question Id : 497959675 Question Type : MCQ Option Shuffling : Yes
Correct Marks : 1 Wrong Marks : 0.25

निम्नलिखित में से कौन सा आईपीसी अधिनियम हत्या की सजा से संबंधित है?

Options :

1. ✖ आईपीसी की धारा 141

2. ✖ आईपीसी की धारा 107

3. ✔ आईपीसी की धारा 302

4. ✖ आईपीसी की धारा 268

Question Number : 70 Question Id : 497959676 Question Type : MCQ Option Shuffling : Yes
Correct Marks : 1 Wrong Marks : 0.25

Which of these languages does not use the devanagari script for writing?

Options :

1. ✖ Sanskrit

2. ✖ Hindi

3. ✔ Punjabi

4. ✖ Marathi

Question Number : 70 Question Id : 497959676 Question Type : MCQ Option Shuffling : Yes

Correct Marks : 1 Wrong Marks : 0.25

इनमें से कौन सी भाषा, लेखन के लिए देवनागरी लिपि का उपयोग नहीं करती है?

Options :

1. ✖ संस्कृत

2. ✖ हिंदी

3. ✔ पंजाबी

4. ✖ मराठी

Question Number : 71 Question Id : 497959677 Question Type : MCQ Option Shuffling : Yes

Correct Marks : 1 Wrong Marks : 0.25

Foxconn, one of the world's largest contract electronics manufacturers, has manufacturing bases all over the world. Which of these is the original home country of Foxconn?

Options :

1. ✖ United States

2. ✖ China

3. ✖ Japan

4. ✔ Taiwan

Question Number : 71 Question Id : 497959677 Question Type : MCQ Option Shuffling : Yes

Correct Marks : 1 Wrong Marks : 0.25

फॉक्सकॉन जो दुनिया के सबसे बड़े अनुबंध इलेक्ट्रॉनिक्स उत्पादकों में से एक है, उसके पास पूरी दुनिया में उत्पादन की जगहें हैं। फॉक्सकॉन का मूल देश निम्नलिखित में से कौन सा देश है?

Options :

1. ✖ संयुक्त राज्य अमेरिका

2. ✖ चीन

3. ✖ जापान

4. ✔ ताइवान



Question Number : 72 Question Id : 497959678 Question Type : MCQ Option Shuffling : Yes

Correct Marks : 1 Wrong Marks : 0.25

Which of these is a book that is not written by Vikram Seth?

Options :

1. ✖ A Suitable Boy

2. ✖ An Equal Music

3. ✓ Five Point Someone

4. ✗ The Golden Gate

Question Number : 72 Question Id : 497959678 Question Type : MCQ Option Shuffling : Yes

Correct Marks : 1 Wrong Marks : 0.25

इनमें से कौन सी पुस्तक विक्रम सेठ द्वारा नहीं लिखी गई है?

Options :

1. ✗ ए सूटेबल ब्वॉय

2. ✗ ऐन ईक्वल म्यूज़िक

3. ✓ फाइव पॉइंट समवन

4. ✗ दी गोल्डन गेट

Question Number : 73 Question Id : 497959679 Question Type : MCQ Option Shuffling : Yes

Correct Marks : 1 Wrong Marks : 0.25

With which South American country did India sign up an agreement in April 2019 for cooperation in the field of geology and mineral resources?

Options :

1. ✗ Paraguay

2. ✓ Bolivia

3. ✗ Chile

4. ✖ Argentina

Question Number : 73 Question Id : 497959679 Question Type : MCQ Option Shuffling : Yes

Correct Marks : 1 Wrong Marks : 0.25

किस दक्षिण अमेरिकी देश ने भारत के साथ अप्रैल 2019 में भूविज्ञान और खनिज संसाधनों के क्षेत्र में सहयोग के लिए समझौता किया था?

Options :

1. ✖ पैराग्वे

2. ✔ बोलीविया

3. ✖ चिली

4. ✖ अर्जेंटीना

Question Number : 74 Question Id : 497959680 Question Type : MCQ Option Shuffling : Yes

Correct Marks : 1 Wrong Marks : 0.25

Paul Revere is an immortal folk hero of the American Revolution against the British. In which city did he live?

Options :

1. ✖ San Francisco

2. ✔ Boston

3. ✖ Denver

4. ✖ Florida

Question Number : 74 Question Id : 497959680 Question Type : MCQ Option Shuffling : Yes

Correct Marks : 1 Wrong Marks : 0.25

पॉल रेवरे, अंग्रेजों के खिलाफ अमेरिकी क्रांति के अमर लोक नायक हैं। वह निम्नलिखित में से किस शहर में रहते थे?

Options :

1. ✖ सैन फ्रांसिस्को

2. ✔ बोस्टन

3. ✖ डेनवर

4. ✖ फ्लोरिडा

Question Number : 75 Question Id : 497959681 Question Type : MCQ Option Shuffling : Yes

Correct Marks : 1 Wrong Marks : 0.25

One of these countries has a unique constitutional law [Article 9 of their Constitution] which prohibits that country to wage a war against any other country. Which is the country that has this rare and unique law?

Options :

1. ✖ Germany

2. ✖ Italy

3. ✖ Switzerland

4. ✔ Japan

Question Number : 75 Question Id : 497959681 Question Type : MCQ Option Shuffling : Yes

Correct Marks : 1 Wrong Marks : 0.25

निम्नलिखित में से एक देश को एक अद्वितीय संवैधानिक कानून मिला है [उनके संविधान का अनुच्छेद 9] जो उस देश को किसी अन्य देश के खिलाफ युद्ध छेड़ने के लिए प्रतिबंधित करता है। यह अजीब और अनोखा कानून वाला देश कौन सा है?

Options :

1. ✖ जर्मनी
2. ✖ इटली
3. ✖ स्विट्जरलैंड
4. ✔ जापान

Question Number : 76 Question Id : 497959682 Question Type : MCQ Option Shuffling : Yes
Correct Marks : 1 Wrong Marks : 0.25

In the ancient art of Kathakali (from Kerala), which of these is not a legitimate form of costume and make up?

Options :

1. ✖ Pacha (Green)
2. ✔ Neela (Blue)
3. ✖ Katti (Knife)
4. ✖ Thaadi (Bread)

Question Number : 76 Question Id : 497959682 Question Type : MCQ Option Shuffling : Yes
Correct Marks : 1 Wrong Marks : 0.25

कथकली की प्राचीन कला (केरल से) में, निम्नलिखित में से कौन सा पोशाक और श्रृंगार का एक वैध रूप नहीं है?

Options :

1. ✖ पाचा (हरा)

2. ✓ नीला (नीला)

3. ✗ कट्टी (चाकू)

4. ✗ थड़ी (रोटी)

Question Number : 77 Question Id : 497959683 Question Type : MCQ Option Shuffling : Yes
Correct Marks : 1 Wrong Marks : 0.25

Which of these islands is not a part of the 'West Indies' island group?

Options :

1. ✗ Jamaica

2. ✗ Trinidad & Tobago

3. ✓ Hawaii

4. ✗ Barbados



Question Number : 77 Question Id : 497959683 Question Type : MCQ Option Shuffling : Yes
Correct Marks : 1 Wrong Marks : 0.25

इनमें से कौन सा द्वीप 'वेस्ट इंडीज' द्वीप समूह का हिस्सा नहीं है?

Options :

1. ✗ जमैका

2. ✗ त्रिनिदाद और टोबैगो

3. ✓ हवाई

4. ✗ बारबाडोस

Question Number : 78 Question Id : 497959684 Question Type : MCQ Option Shuffling : Yes

Correct Marks : 1 Wrong Marks : 0.25

In which of these streams of knowledge would you find the usage of an isoquant line?

Options :

1. ✗ Physics

2. ✓ Economics

3. ✗ Organic chemistry

4. ✗ Inorganic chemistry

Question Number : 78 Question Id : 497959684 Question Type : MCQ Option Shuffling : Yes

Correct Marks : 1 Wrong Marks : 0.25

निम्नलिखित में से किस विषय में आप एक सम-लागत (आईसोक्वैण्ट) रेखा का उपयोग कर पाएंगे?

Options :

1. ✗ भौतिक- विज्ञान

2. ✓ अर्थशास्त्र

3. ✗ ऑर्गेनिक केमिस्ट्री

4. ✖ इनाॅर्गेनिक केमिस्ट्री

Question Number : 79 Question Id : 497959685 Question Type : MCQ Option Shuffling : Yes
Correct Marks : 1 Wrong Marks : 0.25

Tinnitus is a medical disorder that affects which part of the human body?

Options :

1. ✖ Liver

2. ✖ Lungs

3. ✔ Ear / Eardrums

4. ✖ Knee / Knee Cap

Question Number : 79 Question Id : 497959685 Question Type : MCQ Option Shuffling : Yes
Correct Marks : 1 Wrong Marks : 0.25

टिनिटस एक मेडिकल डिसऑर्डर है, यह मानव शरीर के किस अंग को प्रभावित करता है?

Options :

1. ✖ लीवर

2. ✖ फेफड़े

3. ✔ कान / कान का पर्दा

4. ✖ घुटना / नीकैप

Question Number : 80 Question Id : 497959686 Question Type : MCQ Option Shuffling : Yes
Correct Marks : 1 Wrong Marks : 0.25

Where is the global headquarters of the Intergovernmental Panel on Climate Change (IPCC), a UNEP organisation that studies and assesses climate change?

Options :

1. ✓ Geneva
2. ✗ Cardiff
3. ✗ Nairobi
4. ✗ Ho Chi Minh City

Question Number : 80 Question Id : 497959686 Question Type : MCQ Option Shuffling : Yes

Correct Marks : 1 Wrong Marks : 0.25

इंटरगवर्नमेंटल पैनेल ऑन क्लाइमेट चेंज (IPCC) जो जलवायु परिवर्तन का अध्ययन और आकलन करता है, उसका वैश्विक मुख्यालय कहाँ पर स्थित है?

Options :

1. ✓ जिनेवा
2. ✗ कार्डिफ
3. ✗ नैरोबी
4. ✗ हो ची मिन्ह शहर

Arithmetic Ability1

Group Number : 5
 Group Id : 49795935
 Group Maximum Duration : 0
 Group Minimum Duration : 0

Show Attended Group? :	No
Edit Attended Group? :	No
Break time:	0
Group Marks:	20
Is this Group for Examiner?:	No
Revisit allowed for group Instructions? :	Yes
Maximum Instruction Time:	0
Minimum Instruction Time:	0

Arithmetic Ability1

Section Id :	49795935
Section Number :	1
Section type :	Online
Mandatory or Optional:	Mandatory
Number of Questions:	20
Number of Questions to be attempted:	20
Section Marks:	20

Sub-Section Number:	1
Sub-Section Id:	49795941
Question Shuffling Allowed :	Yes

Question Number : 81 Question Id : 497959687 Question Type : MCQ Option Shuffling : Yes
Correct Marks : 1 Wrong Marks : 0.25

$24 - [16 - \{8 \div 2 \text{ of } (8 + \overline{11 - 17})\}]$ is equal to:

Options :

1. ✓ 10

2. ✗ 12

3. ✗ 14

4. ✗ 16

Question Number : 81 Question Id : 497959687 Question Type : MCQ Option Shuffling : Yes
Correct Marks : 1 Wrong Marks : 0.25

$24 - [16 - \{8 \div 2 \text{ of } (8 + \overline{11 - 17})\}]$ का मान निम्नलिखित में से किसके बराबर होगा?

Options :

1. ✓ 10

2. ✗ 12

3. ✗ 14

4. ✗ 16

Question Number : 82 Question Id : 497959688 Question Type : MCQ Option Shuffling : Yes
Correct Marks : 1 Wrong Marks : 0.25

$\frac{3}{5 + \frac{4}{1 - \frac{4}{5}}}$ is equal to:

Options :

1. ✗ $\frac{1}{5}$

2. ✗ $\frac{3}{5}$

3. ✓ $\frac{3}{25}$

4. ✗ $\frac{6}{25}$

Question Number : 82 Question Id : 497959688 Question Type : MCQ Option Shuffling : Yes
Correct Marks : 1 Wrong Marks : 0.25

$\frac{3}{5 + \frac{4}{1 - \frac{4}{5}}}$ निम्न में से किसके बराबर होगा?

Options :

1. ✖ $\frac{1}{5}$

2. ✖ $\frac{3}{5}$

3. ✔ $\frac{3}{25}$

4. ✖ $\frac{6}{25}$

Question Number : 83 Question Id : 497959689 Question Type : MCQ Option Shuffling : Yes
Correct Marks : 1 Wrong Marks : 0.25

$\frac{(38.4+29.6)^2 - (38.4-29.6)^2}{3.84 \times 29.6}$ is equal to:

Options :

1. ✖ 4

2. ✔ 40

3. ✖ 400

4. ✖ 4000

Question Number : 83 Question Id : 497959689 Question Type : MCQ Option Shuffling : Yes
Correct Marks : 1 Wrong Marks : 0.25

$\frac{(38.4+29.6)^2 - (38.4-29.6)^2}{3.84 \times 29.6}$ निम्न में से किसके बराबर होगा?

Options :

1. ✖ 4

2. ✔ 40

3. ✖ 400

4. ✖ 4000

Question Number : 84 Question Id : 497959690 Question Type : MCQ Option Shuffling : Yes
Correct Marks : 1 Wrong Marks : 0.25

The sum of the first 24 terms of $\frac{1}{3 \times 5} + \frac{1}{5 \times 7} + \frac{1}{7 \times 9} + \dots$ is equal to:

Options :

1. ✖ $\frac{26}{147}$

2. ✖ $\frac{13}{147}$

3. ✖ $\frac{16}{51}$

4. ✔ $\frac{8}{51}$

Question Number : 84 Question Id : 497959690 Question Type : MCQ Option Shuffling : Yes
Correct Marks : 1 Wrong Marks : 0.25

$\frac{1}{3 \times 5} + \frac{1}{5 \times 7} + \frac{1}{7 \times 9} + \dots$ के पहले 24 पदों का योग कितना होगा?

Options :

1. ✖ $\frac{26}{147}$

2. ✖ $\frac{13}{147}$

3. ✖ $\frac{16}{51}$

4. ✔ $\frac{8}{51}$

Question Number : 85 Question Id : 497959691 Question Type : MCQ Option Shuffling : Yes

Correct Marks : 1 Wrong Marks : 0.25

$38.26 + 3.826 - 0.3826 - 0.03826$ is equal to:

Options :

1. ✖ 41.66814

2. ✔ 41.66514

3. ✖ 41.65154

4. ✖ 41.65514

Question Number : 85 Question Id : 497959691 Question Type : MCQ Option Shuffling : Yes

Correct Marks : 1 Wrong Marks : 0.25

$38.26 + 3.826 - 0.3826 - 0.03826$ निम्नलिखित में से किसके बराबर होगा?

Options :

1. ✖ 41.66814

2. ✓ 41.66514

3. ✗ 41.65154

4. ✗ 41.65514

Question Number : 86 Question Id : 497959692 Question Type : MCQ Option Shuffling : Yes

Correct Marks : 1 Wrong Marks : 0.25

$(3^2)^3 \times 3^{-5} \times \sqrt[3]{216} \div \sqrt{9} \times \sqrt[3]{8}$ is equal to:

Options :

1. ✗ 3

2. ✗ 6

3. ✗ 9

4. ✓ 12



Question Number : 86 Question Id : 497959692 Question Type : MCQ Option Shuffling : Yes

Correct Marks : 1 Wrong Marks : 0.25

$(3^2)^3 \times 3^{-5} \times \sqrt[3]{216} \div \sqrt{9} \times \sqrt[3]{8}$ निम्न में से किसके बराबर होगा?

Options :

1. ✗ 3

2. ✗ 6

3. ✖ 9

4. ✔ 12

Question Number : 87 Question Id : 497959693 Question Type : MCQ Option Shuffling : Yes

Correct Marks : 1 Wrong Marks : 0.25

$0.\overline{42} + 0.6\overline{48} - 0.6\overline{9}$ is equal to:

Options :

1. ✔ $0.3\overline{72}$

2. ✖ $0.3\overline{73}$

3. ✖ $0.3\overline{76}$

4. ✖ $0.38\overline{6}$

Question Number : 87 Question Id : 497959693 Question Type : MCQ Option Shuffling : Yes

Correct Marks : 1 Wrong Marks : 0.25

$0.\overline{42} + 0.6\overline{48} - 0.6\overline{9}$ निम्न में से किसके बराबर होगा?

Options :

1. ✔ $0.3\overline{72}$

2. ✖ $0.3\overline{73}$

3. ✖ $0.3\overline{76}$

4. ✖ $0.\overline{386}$

Question Number : 88 Question Id : 497959694 Question Type : MCQ Option Shuffling : Yes
Correct Marks : 1 Wrong Marks : 0.25

Which of the following is an irrational number?

Options :

1. ✖ $\sqrt{0.01}$

2. ✖ $\sqrt[3]{0.027}$

3. ✔ $\sqrt[4]{0.00016}$

4. ✖ $\sqrt[5]{0.00243}$

Question Number : 88 Question Id : 497959694 Question Type : MCQ Option Shuffling : Yes
Correct Marks : 1 Wrong Marks : 0.25

निम्नलिखित में से कौन सी संख्या एक अपरिमेय संख्या है?

Options :

1. ✖ $\sqrt{0.01}$

2. ✖ $\sqrt[3]{0.027}$

3. ✔ $\sqrt[4]{0.00016}$

4. ✖ $\sqrt[5]{0.00243}$

Question Number : 89 Question Id : 497959695 Question Type : MCQ Option Shuffling : Yes
Correct Marks : 1 Wrong Marks : 0.25

Which of the following is the largest fraction?

Options :

1. ✖ $\frac{121}{122}$

2. ✖ $\frac{122}{123}$

3. ✖ $\frac{123}{124}$

4. ✔ $\frac{124}{125}$

Question Number : 89 Question Id : 497959695 Question Type : MCQ Option Shuffling : Yes

Correct Marks : 1 Wrong Marks : 0.25

निम्नलिखित में से कौन सा भिन्न सबसे बड़ा भिन्न है?

Options :

1. ✖ $\frac{121}{122}$

2. ✖ $\frac{122}{123}$

3. ✖ $\frac{123}{124}$

4. ✔ $\frac{124}{125}$

Question Number : 90 Question Id : 497959696 Question Type : MCQ Option Shuffling : Yes

Correct Marks : 1 Wrong Marks : 0.25

A person has some money with him. He gave $\frac{3}{5}$ of it to his daughter and $\frac{2}{3}$ of the remaining amount to his son. If he is left with ₹8450, how much money did he have in the beginning?

Options :

1. ✖ ₹61,500

2. ✖ ₹62,100

3. ✔ ₹63,375

4. ✖ ₹64,500

Question Number : 90 Question Id : 497959696 Question Type : MCQ Option Shuffling : Yes

Correct Marks : 1 Wrong Marks : 0.25

एक व्यक्ति के पास कुछ धनराशि है। उसने इस धनराशि का $\frac{3}{5}$ वां हिस्सा अपनी बेटी को दे दिया और बाकी बची धनराशि का $\frac{2}{3}$ वां हिस्सा अपनी बेटे को दिया। अगर उसके पास अभी कुल ₹ 8450 बचे हैं, तो आरंभ में उसके पास कुल कितनी धनराशि मौजूद थी?

Options :

1. ✖ ₹ 61,500

2. ✖ ₹ 62,100

3. ✔ ₹ 63,375

4. ✖ ₹ 64,500

Question Number : 91 Question Id : 497959697 Question Type : MCQ Option Shuffling : Yes

Correct Marks : 1 Wrong Marks : 0.25

The HCF of two numbers is 22 and their product is 20328. How many such pairs of numbers are possible?

Options :

1. ✖ 3

2. ✔ 4

3. ✖ 5

4. ✖ 6

Question Number : 91 Question Id : 497959697 Question Type : MCQ Option Shuffling : Yes

Correct Marks : 1 Wrong Marks : 0.25

दो संख्याओं का महत्तम समापवर्तक (HCF) 22 है और उनका गुणनफल 20328 है। ऐसी संख्याओं के कितने जोड़े संभव हैं?

Options :

1. ✖ 3

2. ✔ 4

3. ✖ 5

4. ✖ 6

Question Number : 92 Question Id : 497959698 Question Type : MCQ Option Shuffling : Yes

Correct Marks : 1 Wrong Marks : 0.25

The sum of the digits of the least number which when divided by 14, 16, 18 and 24 leaves the same remainder 5 in each case and is divisible by 13 is:

Options :

1. ✔ 14

2. ✖ 15

3. ✖ 16

4. ✖ 17

Question Number : 92 Question Id : 497959698 Question Type : MCQ Option Shuffling : Yes

Correct Marks : 1 Wrong Marks : 0.25

वह कौन सी सबसे छोटी संख्या है जो 13 द्वारा विभाज्य है और जिसके अंकों के योग को क्रमशः 14, 16, 18 और 24 द्वारा विभाजित करने पर हर बार 5 शेषफल आएगा?

Options :

1. ✔ 14

2. ✖ 15

3. ✖ 16

4. ✖ 17



Question Number : 93 Question Id : 497959699 Question Type : MCQ Option Shuffling : Yes

Correct Marks : 1 Wrong Marks : 0.25

If $3a = 4b = 6c$, then $a : b : c$ is equal to:

Options :

1. ✖ 2 : 3 : 4

2. ✔ 4 : 3 : 2

3. ✖ 3 : 4 : 6

4. ✖ 6 : 4 : 3

Question Number : 93 Question Id : 497959699 Question Type : MCQ Option Shuffling : Yes

Correct Marks : 1 Wrong Marks : 0.25

अगर $3a = 4b = 6c$ हो, तो $a : b : c$ निम्नलिखित में से किसके बराबर होगा?

Options :

1. ✖ 2 : 3 : 4

2. ✔ 4 : 3 : 2

3. ✖ 3 : 4 : 6

4. ✖ 6 : 4 : 3

Question Number : 94 Question Id : 497959700 Question Type : MCQ Option Shuffling : Yes

Correct Marks : 1 Wrong Marks : 0.25

The incomes of A and B are in the ratio 4 : 5 and their expenditures are in the ratio 2 : 3, respectively. If the savings of A and B are ₹ 752 and ₹ 280, respectively, what is the sum of their incomes?

Options :

1. ✖ ₹ 6732

2. ✔ ₹ 7632

3. ✖ ₹ 8480

4. ✖ ₹ 9328

Question Number : 94 Question Id : 497959700 Question Type : MCQ Option Shuffling : Yes

Correct Marks : 1 Wrong Marks : 0.25

A और B की आय 4 : 5 के अनुपात में है और उनके व्यय 2 : 3 के अनुपात में हैं। यदि A और B की बचत क्रमशः ₹ 752 और ₹ 280 हैं, तो उनकी आय का योग कितना है?

Options :

1. ✖ ₹ 6732

2. ✔ ₹ 7632

3. ✖ ₹ 8480

4. ✖ ₹ 9328

Question Number : 95 Question Id : 497959701 Question Type : MCQ Option Shuffling : Yes

Correct Marks : 1 Wrong Marks : 0.25

What is the difference between the third proportional of 4 and 3 and the mean proportional between 14.4 and 3.6?

Options :

1. ✔ 4.95

2. ✖ 5.25

3. ✖ 5.85

4. ✖ 6.45

Question Number : 95 Question Id : 497959701 Question Type : MCQ Option Shuffling : Yes

Correct Marks : 1 Wrong Marks : 0.25

3 और 4 के तृतीयानुपाती (third proportional) और 14.4 और 3.6 के मध्यानुपाती (mean proportional) के बीच अंतर क्या है?

Options :

1. ✓ 4.95

2. ✗ 5.25

3. ✗ 5.85

4. ✗ 6.45

Question Number : 96 Question Id : 497959702 Question Type : MCQ Option Shuffling : Yes

Correct Marks : 1 Wrong Marks : 0.25

Two vessels A and B contain acid and water in the ratio 7 : 6 and 8 : 5, respectively. Their contents are mixed in the ratio 5 : 4. In 351 ml of this solution, how much water should be mixed to get a solution containing approximately 50% acid solution?

Options :

1. ✗ 43 ml

2. ✗ 46 ml

3. ✓ 51 ml

4. ✗ 55 ml

Question Number : 96 Question Id : 497959702 Question Type : MCQ Option Shuffling : Yes

Correct Marks : 1 Wrong Marks : 0.25

दो बर्तनों A और B में क्रमशः 7 : 6 और 8 : 5 के अनुपात में अम्ल और जल है। उनके घोल को 5 : 4 के अनुपात में मिलाया जाता है। इस मिश्रण के 351 ml घोल में लगभग 50% अम्ल वाला घोल प्राप्त करने के लिए कितनी मात्रा में जल मिलाया जाना चाहिए?

Options :

1. ✖ 43 ml

2. ✖ 46 ml

3. ✔ 51 ml

4. ✖ 55 ml

Question Number : 97 Question Id : 497959703 Question Type : MCQ Option Shuffling : Yes

Correct Marks : 1 Wrong Marks : 0.25

The average of all factors of 72 is:

Options :

1. ✖ 17.45

2. ✖ 16.96

3. ✔ 16.25

4. ✖ 15.65

Question Number : 97 Question Id : 497959703 Question Type : MCQ Option Shuffling : Yes

Correct Marks : 1 Wrong Marks : 0.25

72 के सभी गुणखंड (factors) का औसत कितना होगा?

Options :

1. ✖ 17.45

2. ✖ 16.96

3. ✔ 16.25

4. ✖ 15.65

Question Number : 98 Question Id : 497959704 Question Type : MCQ Option Shuffling : Yes

Correct Marks : 1 Wrong Marks : 0.25

The average of 41 numbers is 58. The average of the first 21 numbers is 65 and the average of the last 21 numbers is 50. If the 21st number is excluded, what will the average of the remaining numbers be?

Options :

1. ✖ 58.535

2. ✔ 58.525

3. ✖ 58.375

4. ✖ 58.750



Question Number : 98 Question Id : 497959704 Question Type : MCQ Option Shuffling : Yes

Correct Marks : 1 Wrong Marks : 0.25

41 संख्याओं का औसत 58 है। पहली 21 संख्याओं का औसत 65 है और अंतिम 21 संख्याओं का औसत 50 है। 21वीं संख्या को छोड़ दिया जाए तो शेष संख्याओं का औसत कितना होगा?

Options :

1. ✖ 58.535

2. ✔ 58.525

3. ✖ 58.375

4. ✖ 58.750

Question Number : 99 Question Id : 497959705 Question Type : MCQ Option Shuffling : Yes

Correct Marks : 1 Wrong Marks : 0.25

A number is increased by 60% and then decreased by 40%. What is the net increase or decrease percent in the number?

Options :

1. ✔ 4% decrease

2. ✖ 4% increase

3. ✖ 10% decrease

4. ✖ 10% increase

Question Number : 99 Question Id : 497959705 Question Type : MCQ Option Shuffling : Yes

Correct Marks : 1 Wrong Marks : 0.25

एक संख्या में 60% की वृद्धि हुई है और फिर 40% की कमी हुई है। संख्या में कुल कितने प्रतिशत की कमी या वृद्धि हुई है?

Options :

1. ✔ 4% की कमी

2. ✖ 4% की वृद्धि

3. ✖ 10% की कमी

4. ✖ 10% की वृद्धि

Question Number : 100 Question Id : 497959706 Question Type : MCQ Option Shuffling : Yes

Correct Marks : 1 Wrong Marks : 0.25

In a test, out of 250 students, 58% passed in science and 52% passed in mathematics. If 32% failed in both subjects, how many passed in both subjects?

Options :

1. ✖ 120

2. ✖ 115

3. ✖ 110

4. ✔ 105

Question Number : 100 Question Id : 497959706 Question Type : MCQ Option Shuffling : Yes

Correct Marks : 1 Wrong Marks : 0.25

एक टेस्ट में, 250 छात्रों में से 58% विज्ञान में और 52% गणित में पास हुए। यदि दोनों विषयों में 32% फेल हुए हैं, तो दोनों विषयों में कितने छात्र पास हुए हैं?

Options :

1. ✖ 120

2. ✖ 115

3. ✖ 110

4. ✔ 105

Arithmetic Ability2

Group Number :	6
Group Id :	49795936
Group Maximum Duration :	0
Group Minimum Duration :	0
Show Attended Group? :	No
Edit Attended Group? :	No
Break time:	0
Group Marks:	20
Is this Group for Examiner?:	No
Revisit allowed for group Instructions? :	Yes
Maximum Instruction Time:	0
Minimum Instruction Time:	0

Arithmetic Ability2

Section Id :	49795936
Section Number :	1
Section type :	Online
Mandatory or Optional:	Mandatory
Number of Questions:	20
Number of Questions to be attempted:	20
Section Marks:	20

Sub-Section Number:	1
Sub-Section Id:	49795942
Question Shuffling Allowed :	Yes

Question Number : 101 Question Id : 497959707 Question Type : MCQ Option Shuffling : Yes
Correct Marks : 1 Wrong Marks : 0.25

A person marked an article 40% above cost price and sold it at a discount of $x\%$. If his profit is 19%, what is the value of x ?

Options :

1. ✖ 14

2. ✖ 14.5

3. ✔ 15

4. ✖ 15.5

Question Number : 101 Question Id : 497959707 Question Type : MCQ Option Shuffling : Yes

Correct Marks : 1 Wrong Marks : 0.25

एक व्यक्ति ने अपने सामान पर उसकी लागत मूल्य से 40% अधिक का मूल्य चिह्नित किया और उसे $x\%$ की छूट पर बेच दिया। अगर उसे कुल 19% लाभ प्राप्त हुआ, तो x का मान कितना है?

Options :

1. ✖ 14

2. ✖ 14.5

3. ✔ 15

4. ✖ 15.5

Question Number : 102 Question Id : 497959708 Question Type : MCQ Option Shuffling : Yes

Correct Marks : 1 Wrong Marks : 0.25

A person sold an article for ₹561 at a loss of 15%. At what price should he have sold it to gain a profit of 20%?

Options :

1. ✖ ₹775

2. ✔ ₹792

3. ✖ ₹828

4. ✖ ₹856

Question Number : 102 Question Id : 497959708 Question Type : MCQ Option Shuffling : Yes

Correct Marks : 1 Wrong Marks : 0.25

एक व्यक्ति को ₹ 561 में एक सामान बेचने पर 15% की हानि हुई। 20% का लाभ कमाने के लिए उसे उस सामान को किस मूल्य पर बेचना चाहिए था?

Options :

1. ✖ ₹ 775

2. ✔ ₹ 792

3. ✖ ₹ 828

4. ✖ ₹ 856

Question Number : 103 Question Id : 497959709 Question Type : MCQ Option Shuffling : Yes

Correct Marks : 1 Wrong Marks : 0.25

A person sold two articles for ₹1863 each. On one he made a profit of 35% and on the other he incurred a loss of 31%. What is his overall gain or loss percent (correct to one decimal place)?

Options :

1. ✔ 8.7% loss

2. ✖ 9.5% loss

3. ✖ 8.7% gain

4. ✖ 9.5% gain

Question Number : 103 Question Id : 497959709 Question Type : MCQ Option Shuffling : Yes

Correct Marks : 1 Wrong Marks : 0.25

एक व्यक्ति ने दो सामानों को ₹ 1863 के मूल्य पर बेचा। एक सामान पर उसने 35% का लाभ कमाया और दूसरे सामान पर उसने 31% की हानि की। उसे कुल कितने प्रतिशत लाभ या हानि हुई है? (निकटतम दशमलव स्थान तक लिखें)

Options :

1. ✓ 8.7% हानि

2. ✗ 9.5% हानि

3. ✗ 8.7% लाभ

4. ✗ 9.5% लाभ

Question Number : 104 Question Id : 497959710 Question Type : MCQ Option Shuffling : Yes

Correct Marks : 1 Wrong Marks : 0.25

A person marked his goods 50% above the cost price. He sold 20% of goods at marked price, 60% of the remaining at a discount of 20% and the remaining at a 40% discount. What is his overall gain percent?

Options :

1. ✗ 15.6%

2. ✗ 15.8%

3. ✗ 16.2%

4. ✓ 16.4%

Question Number : 104 Question Id : 497959710 Question Type : MCQ Option Shuffling : Yes

Correct Marks : 1 Wrong Marks : 0.25

एक व्यक्ति अपने सामान पर लागत मूल्य से 50% अधिक मूल्य चिह्नित करता है। उसने 20% सामान को चिह्नित मूल्य पर बेचा, शेष माल का 60%, 20% छूट पर और बाकी सामान 40% छूट पर बेच दिया। उसे कुल कितने प्रतिशत लाभ प्राप्त हुआ?

Options :

1. ✖ 15.6%

2. ✖ 15.8%

3. ✖ 16.2%

4. ✔ 16.4%

Question Number : 105 Question Id : 497959711 Question Type : MCQ Option Shuffling : Yes

Correct Marks : 1 Wrong Marks : 0.25

A sum of money becomes $\frac{9}{8}$ of itself in four years at R% per annum simple interest. What is the value of R?

Options :

1. ✖ 2.675%

2. ✔ 3.125%

3. ✖ 6.5%

4. ✖ 6.75%

Question Number : 105 Question Id : 497959711 Question Type : MCQ Option Shuffling : Yes

Correct Marks : 1 Wrong Marks : 0.25

एक निश्चित धनराशि प्रतिवर्ष R% साधारण ब्याज पर चार वर्षों में स्वयं की $\frac{9}{8}$ गुना हो जाती है। R का मान कितना है?

Options :

1. ✖ 2.675%

2. ✓ 3.125%

3. ✗ 6.5%

4. ✗ 6.75%

Question Number : 106 Question Id : 497959712 Question Type : MCQ Option Shuffling : Yes

Correct Marks : 1 Wrong Marks : 0.25

The simple interest on ₹3600 for three years at R% per annum is ₹648. What will be the compound interest on ₹18,000 for two years at R% per annum?

Options :

1. ✗ ₹2208.40

2. ✗ ₹2212.60

3. ✓ ₹2224.80

4. ✗ ₹2228.20

Question Number : 106 Question Id : 497959712 Question Type : MCQ Option Shuffling : Yes

Correct Marks : 1 Wrong Marks : 0.25

प्रति वर्ष R% पर तीन वर्ष के लिए ₹ 3600 की राशि पर प्राप्त साधारण ब्याज ₹ 648 है। प्रति वर्ष R% पर दो वर्ष के लिए ₹ 18,000 पर चक्रवृद्धि ब्याज कितना होगा?

Options :

1. ✗ ₹ 2208.40

2. ✗ ₹ 2212.60

3. ✓ ₹ 2224.80

4. ✗ ₹ 2228.20

Question Number : 107 Question Id : 497959713 Question Type : MCQ Option Shuffling : Yes

Correct Marks : 1 Wrong Marks : 0.25

A sum of ₹7,000 is invested by a man for 15 months at 10% per annum compounded half yearly. What will be the percent increase in his income at the end of 15 months (correct to one decimal place)?

Options :

1. ✓ 13%

2. ✗ 13.2%

3. ✗ 13.5%

4. ✗ 13.8%

Question Number : 107 Question Id : 497959713 Question Type : MCQ Option Shuffling : Yes

Correct Marks : 1 Wrong Marks : 0.25

एक व्यक्ति द्वारा अर्धवार्षिक चक्रवृद्धि गणना किये जाने वाले ब्याज के 10% प्रतिवर्ष दर पर, ₹ 7,000 की धनराशि 15 महीनों के लिए निवेश की जाती है। 15 महीने के अंत में उसकी आय में कितने प्रतिशत की वृद्धि होगी (एक दशमलव स्थान लिखें)?

Options :

1. ✓ 13%

2. ✗ 13.2%

3. ✗ 13.5%

4. ✖ 13.8%

Question Number : 108 Question Id : 497959714 Question Type : MCQ Option Shuffling : Yes

Correct Marks : 1 Wrong Marks : 0.25

The difference between the compound interest and simple interest for 3 years at 10% per annum on ₹ x is ₹372. What is the value of x ?

Options :

1. ✖ 9000

2. ✖ 10,500

3. ✖ 10,700

4. ✔ 12,000

Question Number : 108 Question Id : 497959714 Question Type : MCQ Option Shuffling : Yes

Correct Marks : 1 Wrong Marks : 0.25

₹ x पर प्रति वर्ष 10% ब्याज दर पर 3 साल के लिए चक्रवृद्धि ब्याज और साधारण ब्याज के बीच अंतर ₹372 है। x का मूल्य कितना है?

Options :

1. ✖ 9000

2. ✖ 10,500

3. ✖ 10,700

4. ✔ 12,000

Question Number : 109 Question Id : 497959715 Question Type : MCQ Option Shuffling : Yes
Correct Marks : 1 Wrong Marks : 0.25

One side of a rhombus is 6.5 cm and one of its diagonals is 5 cm. What is the area of the rhombus (in cm^2)?

Options :

1. ✓ 30

2. ✗ 32.5

3. ✗ 35

4. ✗ 38.5

Question Number : 109 Question Id : 497959715 Question Type : MCQ Option Shuffling : Yes
Correct Marks : 1 Wrong Marks : 0.25

एक समभुज के एक भुजा की लंबाई 6.5 cm और 5 cm का एक विकर्ण है। समभुज का क्षेत्रफल (cm^2 में) कितना होगा?

Options :

1. ✓ 30

2. ✗ 32.5

3. ✗ 35

4. ✗ 38.5

Question Number : 110 Question Id : 497959716 Question Type : MCQ Option Shuffling : Yes
Correct Marks : 1 Wrong Marks : 0.25

The radius of a circle is increased by 40%. What is the percent increase in its area?

Options :

1. ✖ 40%

2. ✔ 96%

3. ✖ 140%

4. ✖ 196%

Question Number : 110 Question Id : 497959716 Question Type : MCQ Option Shuffling : Yes

Correct Marks : 1 Wrong Marks : 0.25

एक वृत्त की त्रिज्या में 40% की वृद्धि होती है। उसके क्षेत्रफल में कितने प्रतिशत की वृद्धि होगी?

Options :

1. ✖ 40%

2. ✔ 96%

3. ✖ 140%

4. ✖ 196%

Question Number : 111 Question Id : 497959717 Question Type : MCQ Option Shuffling : Yes

Correct Marks : 1 Wrong Marks : 0.25

A sphere of radius 2.7 cm is melted and small balls of radius 1 cm each are made. How many such balls can be made?

Options :

1. ✖ 18

2. ✔ 19

3. ✖ 20

4. ✖ 21

Question Number : 111 Question Id : 497959717 Question Type : MCQ Option Shuffling : Yes

Correct Marks : 1 Wrong Marks : 0.25

2.7 cm की त्रिज्या के एक गोले को पिघलाया जाता है और 1 cm की त्रिज्या वाली छोटी गेंदें बनाई जाती हैं। ऐसी कितनी गेंदें बनाई जा सकती हैं?

Options :

1. ✖ 18

2. ✔ 19

3. ✖ 20

4. ✖ 21

Question Number : 112 Question Id : 497959718 Question Type : MCQ Option Shuffling : Yes

Correct Marks : 1 Wrong Marks : 0.25

A cone is divided into two parts by cutting it by a plane parallel to the base such that the ratio of the height of the new cone and frustum of the cone is 3 : 4. What is the ratio of the volume of the cone and the frustum of the cone so obtained?

Options :

1. ✖ 9 : 16

2. ✖ 9 : 25

3. ✔ 27 : 316

4. ✖ 27 : 343

Question Number : 112 Question Id : 497959718 Question Type : MCQ Option Shuffling : Yes

Correct Marks : 1 Wrong Marks : 0.25

एक शंकु के आधार को समांतर काटकर दो भागों में इस तरह विभाजित किया जाता है जिससे कि इस शंकु के नए शंकु और छिन्नक की ऊंचाई का अनुपात 3 : 4 हो। प्राप्त शंकु और शंकु के छिन्नक के आयतन का अनुपात कितना है?

Options :

1. ✖ 9 : 16

2. ✖ 9 : 25

3. ✔ 27 : 316

4. ✖ 27 : 343

Question Number : 113 Question Id : 497959719 Question Type : MCQ Option Shuffling : Yes

Correct Marks : 1 Wrong Marks : 0.25

Pipes A, B and C can fill an empty tank in 10 hours, 20 hours and 30 hours, respectively. All three pipes are opened alternately for 1 hour each starting with B, then A and then C in this order. In how many hours will the tank be filled?

Options :

1. ✖ $15\frac{5}{6}$

2. ✖ $16\frac{1}{4}$

3. ✔ $16\frac{1}{3}$

4. ✖ $16\frac{2}{3}$

Question Number : 113 Question Id : 497959719 Question Type : MCQ Option Shuffling : Yes

Correct Marks : 1 Wrong Marks : 0.25

पाइप A, B और C क्रमशः 10 घंटे, 20 घंटे और 30 घंटे में एक खाली टैंक भर सकते हैं। तीनो पाइपों को एक के बाद एक बारी बारी एक एक घंटे के लिए खोला जाता है, और इन्हें सबसे पहले B, फिर A और उसके बाद C के क्रम में खोला जाता है। टैंक को भरने में कुल कितने घंटों का समय लगेगा?

Options :

1. ✖ $15\frac{5}{6}$

2. ✖ $16\frac{1}{4}$

3. ✔ $16\frac{1}{3}$

4. ✖ $16\frac{2}{3}$

Question Number : 114 Question Id : 497959720 Question Type : MCQ Option Shuffling : Yes

Correct Marks : 1 Wrong Marks : 0.25

By walking $\frac{8}{11}$ of his usual speed, a person reaches his office 9 minutes later than his usual time. His usual time (in minutes) is:

Options :

1. ✖ 18

2. ✖ 22

3. ✔ 24

4. ✖ 32

Question Number : 114 Question Id : 497959720 Question Type : MCQ Option Shuffling : Yes
Correct Marks : 1 Wrong Marks : 0.25

अपनी वास्तविक गति के $\frac{8}{11}$ गति पर चलने पर एक व्यक्ति अपने ऑफिस सामान्य समय से 9 मिनट के बाद पहुंचता है। उसका सामान्य समय (मिनटों में) क्या है?

Options :

1. ✖ 18

2. ✖ 22

3. ✔ 24

4. ✖ 32

Question Number : 115 Question Id : 497959721 Question Type : MCQ Option Shuffling : Yes
Correct Marks : 1 Wrong Marks : 0.25

A boat can go 8 km downstream and 6 km upstream in 66 minutes. Also, it can go 8 km upstream and 12 km downstream in 93 minutes. What is the speed of the boat downstream (in km/hr)?

Options :

1. ✖ 10

2. ✖ 12

3. ✖ 13

4. ✔ 16

Question Number : 115 Question Id : 497959721 Question Type : MCQ Option Shuffling : Yes

Correct Marks : 1 Wrong Marks : 0.25

एक नाव 66 मिनट में नदी की धारा की ओर 8 km और धारा के विपरीत 6 km जा सकती है। यह 93 मिनटों में धारा के विपरीत 8 km और धारा की ओर 12 km की दूरी भी तय कर सकती है। धारा की ओर या दिशा में नाव की गति (km/hr में) कितनी है?

Options :

1. ✖ 10

2. ✖ 12

3. ✖ 13

4. ✔ 16

Question Number : 116 Question Id : 497959722 Question Type : MCQ Option Shuffling : Yes

Correct Marks : 1 Wrong Marks : 0.25

A is 25% more efficient than B and C is 25% less efficient than B. Working together, they can complete a task in 20 days. In how many days can A alone complete 75% of that task?

Options :

1. ✔ 36

2. ✖ 40

3. ✖ 45

4. ✖ 60

Question Number : 116 Question Id : 497959722 Question Type : MCQ Option Shuffling : Yes

Correct Marks : 1 Wrong Marks : 0.25

A, B की तुलना में 25% अधिक काम कर सकता है जबकि C, B की तुलना में 25% कम काम कर सकता है। तीनों मिलकर एक काम को 20 दिनों में पूरा कर सकते हैं। A अकेले कितने दिनों में उस काम का 75% पूरा कर सकता है?

Options :

1. ✓ 36

2. ✗ 40

3. ✗ 45

4. ✗ 60

Question Number : 117 Question Id : 497959723 Question Type : MCQ Option Shuffling : Yes

Correct Marks : 1 Wrong Marks : 0.25

Study the following table and answer the questions that follow:

Number of cars sold by four different showrooms over the years.

Showroom	Years					
	2012	2013	2014	2015	2016	2017
A	500	580	620	680	700	820
B	420	460	480	560	520	530
C	520	500	540	490	510	640
D	480	520	480	540	570	620

What is the average number of cars sold by the showroom B during the years 2012 to 2017?

Options :

1. ✓ 495

2. ✗ 500

3. ✗ 505

4. ✖ 510

Question Number : 117 Question Id : 497959723 Question Type : MCQ Option Shuffling : Yes
Correct Marks : 1 Wrong Marks : 0.25

निम्न तालिका को ध्यान से पढ़ें और पूछे गए प्रश्नों के उत्तर दें:

वर्षों में चार अलग-अलग शोरूम द्वारा बेची गई कारों की संख्या।

शोरूम	वर्ष					
	2012	2013	2014	2015	2016	2017
A	500	580	620	680	700	820
B	420	460	480	560	520	530
C	520	500	540	490	510	640
D	480	520	480	540	570	620

वर्ष 2012 से 2017 के दौरान शोरूम B द्वारा बेची गई कारों की औसत संख्या कितनी है?

Options :

1. ✔ 495

2. ✖ 500

3. ✖ 505

4. ✖ 510

Question Number : 118 Question Id : 497959724 Question Type : MCQ Option Shuffling : Yes
Correct Marks : 1 Wrong Marks : 0.25

What is the ratio of the total cars sold by all showrooms during the year 2012 to the cars sold during the year 2016?

Note: For this question, discrepancy is found in question/answer. So, this question is ignored for all candidates.

Options :

1. 98 : 115

2. 96 : 125

3. 98 : 119

4. 96 : 115

Question Number : 118 Question Id : 497959724 Question Type : MCQ Option Shuffling : Yes

Correct Marks : 1 Wrong Marks : 0.25

वर्ष 2012 के दौरान सभी शोरूम द्वारा बेची गई कुल कारों का वर्ष 2016 के दौरान बेची गई कारों से अनुपात कितना है?

Note: For this question, discrepancy is found in question/answer. So, this question is ignored for all candidates.

Options :

1. 98 : 115

2. 96 : 125

3. 98 : 119

4. 96 : 115

Question Number : 119 Question Id : 497959725 Question Type : MCQ Option Shuffling : Yes

Correct Marks : 1 Wrong Marks : 0.25

What is the percent increase in the total sale of cars by all showrooms in the year 2017 from the total sale of the cars in the year 2015 (correct to one decimal place)?

Note: For this question, discrepancy is found in question/answer. So, this question is ignored for all candidates.

Options :

1. 14.8%

2. 15.0%

3. 15.2%

4. 15.4%

Question Number : 119 Question Id : 497959725 Question Type : MCQ Option Shuffling : Yes

Correct Marks : 1 Wrong Marks : 0.25

वर्ष 2015 में कारों की कुल बिक्री से 2017 में सभी शोरूम द्वारा कारों की कुल बिक्री में कितने प्रतिशत की वृद्धि हुई है (एक दशमलव स्थान तक लिखें)?

Note: For this question, discrepancy is found in question/answer. So, this question is ignored for all candidates.

Options :

1. 14.8%

2. 15.0%

3. 15.2%

4. 15.4%

Question Number : 120 Question Id : 497959726 Question Type : MCQ Option Shuffling : Yes

Correct Marks : 1 Wrong Marks : 0.25

If the total sales by showroom C is represented in a pie chart, what will be the central angle of the sector representing the sale in the year 2015 (closest to the nearest complete degree)?

Note: For this question, discrepancy is found in question/answer. So, this question is ignored for all candidates.

Options :

1. 51°

2. 53°

3. 55°

4. 57°

Question Number : 120 Question Id : 497959726 Question Type : MCQ Option Shuffling : Yes

Correct Marks : 1 Wrong Marks : 0.25

यदि शेरूम C द्वारा कुल बिक्री पाई चार्ट में दर्शायी जाती है, तो वर्ष 2015 में बिक्री का प्रतिनिधित्व करने वाले सेक्टर का केंद्रीय कोण क्या होगा (निकटतम पूर्ण डिग्री के करीब)?

Note: For this question, discrepancy is found in question/answer. So, this question is ignored for all candidates.

Options :

1. 51°

2. 53°

3. 55°

4. 57°

General English1

Group Number :

7

Group Id :

49795937

Group Maximum Duration :

0

Group Minimum Duration :

0

Show Attended Group? :

No

Edit Attended Group? :	No
Break time:	0
Group Marks:	20
Is this Group for Examiner?:	No
Revisit allowed for group Instructions? :	Yes
Maximum Instruction Time:	0
Minimum Instruction Time:	0

General English1

Section Id :	49795937
Section Number :	1
Section type :	Online
Mandatory or Optional:	Mandatory
Number of Questions:	20
Number of Questions to be attempted:	20
Section Marks:	20

Sub-Section Number:	1
Sub-Section Id:	49795943
Question Shuffling Allowed :	Yes

Question Number : 121 Question Id : 497959727 Question Type : MCQ Option Shuffling : Yes
Correct Marks : 1 Wrong Marks : 0.25

Parts of the following sentence are given as options. Identify the part that has an error.
I bought two dozens mangoes but most of them were sour.

Options :

1. ✖ I bought

2. ✔ two dozens mangoes

3. ✖ but most of them

4. ✖ were sour

Question Number : 121 Question Id : 497959727 Question Type : MCQ Option Shuffling : Yes
Correct Marks : 1 Wrong Marks : 0.25

Parts of the following sentence are given as options. Identify the part that has an error.
I bought two dozens mangoes but most of them were sour.

Options :

1. ✖ I bought
2. ✔ two dozens mangoes
3. ✖ but most of them
4. ✖ were sour

Question Number : 122 Question Id : 497959728 Question Type : MCQ Option Shuffling : Yes
Correct Marks : 1 Wrong Marks : 0.25

Parts of the following sentence are given as options. Identify the part that has an error.
The flyover is in repair and this is causing great inconvenience to all.

Options :

1. ✖ The flyover is
2. ✔ in repair
3. ✖ and this is causing
4. ✖ great inconvenience to all

Question Number : 122 Question Id : 497959728 Question Type : MCQ Option Shuffling : Yes
Correct Marks : 1 Wrong Marks : 0.25

Parts of the following sentence are given as options. Identify the part that has an error.
The flyover is in repair and this is causing great inconvenience to all.

Options :

1. ✖ The flyover is

2. ✓ in repair

3. ✗ and this is causing

4. ✗ great inconvenience to all

Question Number : 123 Question Id : 497959729 Question Type : MCQ Option Shuffling : Yes

Correct Marks : 1 Wrong Marks : 0.25

Select the alternative that will improve the underlined part of the sentence. In case no improvement is needed, select 'No improvement'.

India has become the most fastest grown smartphone market in the world.

Options :

1. ✗ the most fast grown

2. ✗ the most faster growing

3. ✓ the fastest growing

4. ✗ No improvement

Question Number : 123 Question Id : 497959729 Question Type : MCQ Option Shuffling : Yes

Correct Marks : 1 Wrong Marks : 0.25

Select the alternative that will improve the underlined part of the sentence. In case no improvement is needed, select 'No improvement'.

India has become the most fastest grown smartphone market in the world.

Options :

1. ✗ the most fast grown

2. ✗ the most faster growing

3. ✓ the fastest growing

4. ✗ No improvement

Question Number : 124 Question Id : 497959730 Question Type : MCQ Option Shuffling : Yes

Correct Marks : 1 Wrong Marks : 0.25

Select the alternative that will improve the underlined part of the sentence. In case no improvement is needed, select 'No improvement'.

The information present in the conference was focus on the plight of the girl child.

Options :

1. ✓ presented at the conference focussed

2. ✗ presented by the conference was focussing

3. ✗ present at the conference will focus

4. ✗ No improvement

Question Number : 124 Question Id : 497959730 Question Type : MCQ Option Shuffling : Yes

Correct Marks : 1 Wrong Marks : 0.25

Select the alternative that will improve the underlined part of the sentence. In case no improvement is needed, select 'No improvement'.

The information present in the conference was focus on the plight of the girl child.

Options :

1. ✓ presented at the conference focussed

2. ✗ presented by the conference was focussing

3. ✗ present at the conference will focus

4. ✖ No improvement

Question Number : 125 Question Id : 497959731 Question Type : MCQ Option Shuffling : Yes
Correct Marks : 1 Wrong Marks : 0.25

Select the option that expresses the given sentence in active voice.
A difficult catch was taken by the wicketkeeper.

Options :

- 1. ✖ The wicketkeeper takes a difficult catch.
- 2. ✔ The wicketkeeper took a difficult catch.
- 3. ✖ The wicketkeeper has taken a difficult catch.
- 4. ✖ The wicketkeeper was taking a difficult catch.

Question Number : 125 Question Id : 497959731 Question Type : MCQ Option Shuffling : Yes
Correct Marks : 1 Wrong Marks : 0.25

Select the option that expresses the given sentence in active voice.
A difficult catch was taken by the wicketkeeper.

Options :

- 1. ✖ The wicketkeeper takes a difficult catch.
- 2. ✔ The wicketkeeper took a difficult catch.
- 3. ✖ The wicketkeeper has taken a difficult catch.
- 4. ✖ The wicketkeeper was taking a difficult catch.

Question Number : 126 Question Id : 497959732 Question Type : MCQ Option Shuffling : Yes
Correct Marks : 1 Wrong Marks : 0.25

Select the option that expresses the given sentence in active voice.
The sky is being covered by dark clouds.

Options :

1. ✖ Dark clouds cover the sky.
2. ✖ Dark clouds covered the sky.
3. ✖ Dark clouds were covering the sky.
4. ✔ Dark clouds are covering the sky.

Question Number : 126 Question Id : 497959732 Question Type : MCQ Option Shuffling : Yes
Correct Marks : 1 Wrong Marks : 0.25

Select the option that expresses the given sentence in active voice.
The sky is being covered by dark clouds.

Options :

1. ✖ Dark clouds cover the sky.
2. ✖ Dark clouds covered the sky.
3. ✖ Dark clouds were covering the sky.
4. ✔ Dark clouds are covering the sky.

Question Number : 127 Question Id : 497959733 Question Type : MCQ Option Shuffling : Yes
Correct Marks : 1 Wrong Marks : 0.25

Select the option that expresses the given sentence in passive voice.
Who gave you this false information?

Options :

1. ✖ By whom is this false information given to you?
2. ✖ By whom is this false information being given to you?
3. ✔ By whom were you given this false information?
4. ✖ By whom were you gave this false information?

Question Number : 127 Question Id : 497959733 Question Type : MCQ Option Shuffling : Yes
Correct Marks : 1 Wrong Marks : 0.25

Select the option that expresses the given sentence in passive voice.
Who gave you this false information?

Options :

1. ✖ By whom is this false information given to you?
2. ✖ By whom is this false information being given to you?
3. ✔ By whom were you given this false information?
4. ✖ By whom were you gave this false information?

Question Number : 128 Question Id : 497959734 Question Type : MCQ Option Shuffling : Yes
Correct Marks : 1 Wrong Marks : 0.25

Select the option that expresses the given sentence in passive voice.
Celebrate the festival with great pomp and show.

Options :

1. ✔ Let the festival be celebrated with great pomp and show.

2. ✖ Let the festival celebrate with great pomp and show.
3. ✖ The festival will be celebrated with great pomp and show.
4. ✖ The festival should celebrate with great pomp and show.

Question Number : 128 Question Id : 497959734 Question Type : MCQ Option Shuffling : Yes
Correct Marks : 1 Wrong Marks : 0.25

Select the option that expresses the given sentence in passive voice.
Celebrate the festival with great pomp and show.

Options :

1. ✔ Let the festival be celebrated with great pomp and show.
2. ✖ Let the festival celebrate with great pomp and show.
3. ✖ The festival will be celebrated with great pomp and show.
4. ✖ The festival should celebrate with great pomp and show.

Question Number : 129 Question Id : 497959735 Question Type : MCQ Option Shuffling : Yes
Correct Marks : 1 Wrong Marks : 0.25

Select the most appropriate preposition to fill in the blank.
The villager stood staring _____ the high rise building.

Options :

1. ✖ on
2. ✔ at

3. ✖ along

4. ✖ across

Question Number : 129 Question Id : 497959735 Question Type : MCQ Option Shuffling : Yes

Correct Marks : 1 Wrong Marks : 0.25

Select the most appropriate preposition to fill in the blank.

The villager stood staring _____ the high rise building.

Options :

1. ✖ on

2. ✔ at

3. ✖ along

4. ✖ across

Question Number : 130 Question Id : 497959736 Question Type : MCQ Option Shuffling : Yes

Correct Marks : 1 Wrong Marks : 0.25

Select the most appropriate preposition to fill in the blank.

It is not advisable to hanker _____ money.

Options :

1. ✖ for

2. ✖ on

3. ✖ behind

4. ✓ after

Question Number : 130 Question Id : 497959736 Question Type : MCQ Option Shuffling : Yes
Correct Marks : 1 Wrong Marks : 0.25

Select the most appropriate preposition to fill in the blank.
It is not advisable to hanker _____ money.

Options :

1. ✗ for

2. ✗ on

3. ✗ behind

4. ✓ after

Question Number : 131 Question Id : 497959737 Question Type : MCQ Option Shuffling : Yes
Correct Marks : 1 Wrong Marks : 0.25

Select the most appropriate conjunction to fill in the blank.
You will not be able to reduce your weight _____ you cut down on fats.

Options :

1. ✗ because

2. ✗ since

3. ✓ unless

4. ✗ although

Question Number : 131 Question Id : 497959737 Question Type : MCQ Option Shuffling : Yes
Correct Marks : 1 Wrong Marks : 0.25

Select the most appropriate conjunction to fill in the blank.

You will not be able to reduce your weight _____ you cut down on fats.

Options :

1. ✖ because

2. ✖ since

3. ✔ unless

4. ✖ although

Question Number : 132 Question Id : 497959738 Question Type : MCQ Option Shuffling : Yes
Correct Marks : 1 Wrong Marks : 0.25

Select the most appropriate conjunction to fill in the blank.

Please wait _____ I come.

Options :

1. ✖ while

2. ✖ unless

3. ✔ until

4. ✖ when

Question Number : 132 Question Id : 497959738 Question Type : MCQ Option Shuffling : Yes
Correct Marks : 1 Wrong Marks : 0.25

Select the most appropriate conjunction to fill in the blank.

Please wait _____ I come.

Options :

1. ✖ while

2. ✖ unless

3. ✔ until

4. ✖ when

Question Number : 133 Question Id : 497959739 Question Type : MCQ Option Shuffling : Yes
Correct Marks : 1 Wrong Marks : 0.25

Select the option that expresses the given sentence in direct speech.
She requested her mother to hold her hand while crossing the road.

Options :

1. ✖ She said to her mother, "Please hold your hand while crossing the road."

2. ✖ She said to my mother, "Please hold her hand while crossing the road."

3. ✖ She said, "Mother, may I hold your hand while crossing the road?"

4. ✔ She said to her mother, "Please hold my hand while crossing the road."

Question Number : 133 Question Id : 497959739 Question Type : MCQ Option Shuffling : Yes
Correct Marks : 1 Wrong Marks : 0.25

Select the option that expresses the given sentence in direct speech.
She requested her mother to hold her hand while crossing the road.

Options :

1. ✖ She said to her mother, "Please hold your hand while crossing the road."

2. ✖ She said to my mother, "Please hold her hand while crossing the road."
3. ✖ She said, "Mother, may I hold your hand while crossing the road?"
4. ✔ She said to her mother, "Please hold my hand while crossing the road."

Question Number : 134 Question Id : 497959740 Question Type : MCQ Option Shuffling : Yes
Correct Marks : 1 Wrong Marks : 0.25

Select the option that expresses the given sentence in direct speech.
The man asked how far the grocery store was from his office.

Options :

1. ✔ The man said, "How far is the grocery store from my office?"
2. ✖ The man said, "How far was the grocery store from his office?"
3. ✖ The man said, "How much far is the grocery store from my office?"
4. ✖ The man said, "How far will the grocery store be from his office?"

Question Number : 134 Question Id : 497959740 Question Type : MCQ Option Shuffling : Yes
Correct Marks : 1 Wrong Marks : 0.25

Select the option that expresses the given sentence in direct speech.
The man asked how far the grocery store was from his office.

Options :

1. ✔ The man said, "How far is the grocery store from my office?"
2. ✖ The man said, "How far was the grocery store from his office?"

3. ✖ The man said, "How much far is the grocery store from my office?"

4. ✖ The man said, "How far will the grocery store be from his office?"

Question Number : 135 Question Id : 497959741 Question Type : MCQ Option Shuffling : Yes
Correct Marks : 1 Wrong Marks : 0.25

Select the option that expresses the given sentence in reported speech.

My sister said to me, "You look very pale."

Options :

1. ✖ My sister told me that I was looking very pale.

2. ✖ My sister told me I look very pale.

3. ✔ My sister told me that I looked very pale.

4. ✖ My sister told I was looking very pale.

Question Number : 135 Question Id : 497959741 Question Type : MCQ Option Shuffling : Yes
Correct Marks : 1 Wrong Marks : 0.25

Select the option that expresses the given sentence in reported speech.

My sister said to me, "You look very pale."

Options :

1. ✖ My sister told me that I was looking very pale.

2. ✖ My sister told me I look very pale.

3. ✓ My sister told me that I looked very pale.

4. ✗ My sister told I was looking very pale.

Question Number : 136 Question Id : 497959742 Question Type : MCQ Option Shuffling : Yes
Correct Marks : 1 Wrong Marks : 0.25

Select the option that expresses the given sentence in reported speech.

The old man said, "May God bless you."

Options :

1. ✗ The old man pray that God may bless me.

2. ✓ The old man prayed that God might bless me.

3. ✗ The old man told to God that bless me.

4. ✗ The old man said that God may bless you.

Question Number : 136 Question Id : 497959742 Question Type : MCQ Option Shuffling : Yes
Correct Marks : 1 Wrong Marks : 0.25

Select the option that expresses the given sentence in reported speech.

The old man said, "May God bless you."

Options :

1. ✗ The old man pray that God may bless me.

2. ✓ The old man prayed that God might bless me.

3. ✗ The old man told to God that bless me.

4. ✖ The old man said that God may bless you.

Question Number : 137 Question Id : 497959743 Question Type : MCQ Option Shuffling : Yes

Correct Marks : 1 Wrong Marks : 0.25

Select the most appropriate synonym of the given word.

PRESUME

Options :

1. ✖ Disregard

2. ✖ Demand

3. ✖ Doubt

4. ✔ Suppose

Question Number : 137 Question Id : 497959743 Question Type : MCQ Option Shuffling : Yes

Correct Marks : 1 Wrong Marks : 0.25

Select the most appropriate synonym of the given word.

PRESUME

Options :

1. ✖ Disregard

2. ✖ Demand

3. ✖ Doubt

4. ✔ Suppose

Question Number : 138 Question Id : 497959744 Question Type : MCQ Option Shuffling : Yes

Correct Marks : 1 Wrong Marks : 0.25

Select the most appropriate synonym of the given word.

ASSIDUOUS

Options :

1. ✓ Laborious

2. ✗ Important

3. ✗ Complex

4. ✗ Concise

Question Number : 138 Question Id : 497959744 Question Type : MCQ Option Shuffling : Yes

Correct Marks : 1 Wrong Marks : 0.25

Select the most appropriate synonym of the given word.

ASSIDUOUS

Options :

1. ✓ Laborious

2. ✗ Important

3. ✗ Complex

4. ✗ Concise

Question Number : 139 Question Id : 497959745 Question Type : MCQ Option Shuffling : Yes

Correct Marks : 1 Wrong Marks : 0.25

Select the most appropriate synonym of the given word.

HUMILITY

Options :

1. ✖ Pride
2. ✔ Modesty
3. ✖ Simplicity
4. ✖ Boldness

Question Number : 139 Question Id : 497959745 Question Type : MCQ Option Shuffling : Yes
Correct Marks : 1 Wrong Marks : 0.25

Select the most appropriate synonym of the given word.

HUMILITY

Options :

1. ✖ Pride
2. ✔ Modesty
3. ✖ Simplicity
4. ✖ Boldness

Question Number : 140 Question Id : 497959746 Question Type : MCQ Option Shuffling : Yes
Correct Marks : 1 Wrong Marks : 0.25

Select the most appropriate ANTONYM of the given word.

THRIVE

Options :

1. ✖ Flourish

2. ✖ Prosper

3. ✔ Decline

4. ✖ Succeed

Question Number : 140 Question Id : 497959746 Question Type : MCQ Option Shuffling : Yes
Correct Marks : 1 Wrong Marks : 0.25

Select the most appropriate ANTONYM of the given word.
THRIVE

Options :

1. ✖ Flourish

2. ✖ Prosper

3. ✔ Decline

4. ✖ Succeed



General English2

Group Number :	8
Group Id :	49795938
Group Maximum Duration :	0
Group Minimum Duration :	0
Show Attended Group? :	No
Edit Attended Group? :	No
Break time:	0
Group Marks:	20
Is this Group for Examiner?:	No
Revisit allowed for group Instructions? :	Yes
Maximum Instruction Time:	0
Minimum Instruction Time:	0

General English2

Section Id :	49795938
Section Number :	1
Section type :	Online
Mandatory or Optional:	Mandatory
Number of Questions:	16
Number of Questions to be attempted:	16
Section Marks:	20

Sub-Section Number:	1
Sub-Section Id:	49795944
Question Shuffling Allowed :	Yes

Question Number : 141 Question Id : 497959747 Question Type : MCQ Option Shuffling : Yes
Correct Marks : 1 Wrong Marks : 0.25

Select the most appropriate ANTONYM of the given word.
SEVERE

Options :

1. ✖ Strict

2. ✖ Easy

3. ✖ Extreme

4. ✔ Mild

Question Number : 141 Question Id : 497959747 Question Type : MCQ Option Shuffling : Yes
Correct Marks : 1 Wrong Marks : 0.25

Select the most appropriate ANTONYM of the given word.
SEVERE

Options :

1. ✖ Strict

2. ✖ Easy

3. ✖ Extreme

4. ✔ Mild

Question Number : 142 Question Id : 497959748 Question Type : MCQ Option Shuffling : Yes
Correct Marks : 1 Wrong Marks : 0.25

Select the most appropriate ANTONYM of the given word.
PUNISHMENT

Options :

1. ✔ Reward

2. ✖ Promotion

3. ✖ Freedom

4. ✖ Penance



Question Number : 142 Question Id : 497959748 Question Type : MCQ Option Shuffling : Yes
Correct Marks : 1 Wrong Marks : 0.25

Select the most appropriate ANTONYM of the given word.
PUNISHMENT

Options :

1. ✔ Reward

2. ✖ Promotion

3. ✖ Freedom

4. ✖ Penance

Question Number : 143 Question Id : 497959749 Question Type : MCQ Option Shuffling : Yes
Correct Marks : 1 Wrong Marks : 0.25

Select the most appropriate meaning of the following idiom.

Behind one's back

Options :

1. ✖ In the prison

2. ✔ In someone's absence

3. ✖ To follow someone

4. ✖ To chase someone

Question Number : 143 Question Id : 497959749 Question Type : MCQ Option Shuffling : Yes
Correct Marks : 1 Wrong Marks : 0.25

Select the most appropriate meaning of the following idiom.

Behind one's back

Options :

1. ✖ In the prison

2. ✔ In someone's absence

3. ✖ To follow someone

4. ✖ To chase someone

Question Number : 144 Question Id : 497959750 Question Type : MCQ Option Shuffling : Yes

Correct Marks : 1 Wrong Marks : 0.25

Select the most appropriate meaning of the following idiom.

At a stretch

Options :

1. ✖ To work very hard

2. ✔ To do something continuously

3. ✖ To expand something

4. ✖ To be very far

Question Number : 144 Question Id : 497959750 Question Type : MCQ Option Shuffling : Yes

Correct Marks : 1 Wrong Marks : 0.25

Select the most appropriate meaning of the following idiom.

At a stretch

Options :

1. ✖ To work very hard

2. ✔ To do something continuously

3. ✖ To expand something

4. ✖ To be very far

Question Number : 145 Question Id : 497959751 Question Type : MCQ Option Shuffling : Yes
Correct Marks : 1 Wrong Marks : 0.25

Select the most appropriate meaning of the following idiom.

At the eleventh hour

Options :

1. ✖ At midnight
2. ✖ At the right moment
3. ✔ At the last moment
4. ✖ In the beginning

Question Number : 145 Question Id : 497959751 Question Type : MCQ Option Shuffling : Yes
Correct Marks : 1 Wrong Marks : 0.25

Select the most appropriate meaning of the following idiom.

At the eleventh hour

Options :

1. ✖ At midnight
2. ✖ At the right moment
3. ✔ At the last moment
4. ✖ In the beginning

Question Number : 146 Question Id : 497959752 Question Type : MCQ Option Shuffling : Yes
Correct Marks : 1 Wrong Marks : 0.25

Select the option that can be used as a one-word substitute for the given group of words.

The life history of a person written by self

Options :

1. ✖ Biography
2. ✔ Autobiography
3. ✖ Bibliography
4. ✖ Sonography

Question Number : 146 Question Id : 497959752 Question Type : MCQ Option Shuffling : Yes
Correct Marks : 1 Wrong Marks : 0.25

Select the option that can be used as a one-word substitute for the given group of words.
The life history of a person written by self

Options :

1. ✖ Biography
2. ✔ Autobiography
3. ✖ Bibliography
4. ✖ Sonography

Question Number : 147 Question Id : 497959753 Question Type : MCQ Option Shuffling : Yes
Correct Marks : 1 Wrong Marks : 0.25

Select the option that can be used as a one-word substitute for the given group of words.
One who cannot read or write

Options :

1. ✖ Literate

2. ✓ Illiterate

3. ✗ Ignorant

4. ✗ Novice

Question Number : 147 Question Id : 497959753 Question Type : MCQ Option Shuffling : Yes

Correct Marks : 1 Wrong Marks : 0.25

Select the option that can be used as a one-word substitute for the given group of words.
One who cannot read or write

Options :

1. ✗ Literate

2. ✓ Illiterate

3. ✗ Ignorant

4. ✗ Novice



Question Number : 148 Question Id : 497959754 Question Type : MCQ Option Shuffling : Yes

Correct Marks : 1 Wrong Marks : 0.25

Select the option that can be used as a one-word substitute for the given group of words.
Something no longer in use

Options :

1. ✗ Dilapidated

2. ✗ Ancient

3. ✓ Obsolete

4. ✗ Remote

Question Number : 148 Question Id : 497959754 Question Type : MCQ Option Shuffling : Yes

Correct Marks : 1 Wrong Marks : 0.25

Select the option that can be used as a one-word substitute for the given group of words.
Something no longer in use

Options :

1. ✗ Dilapidated

2. ✗ Ancient

3. ✓ Obsolete

4. ✗ Remote

Question Number : 149 Question Id : 497959755 Question Type : MCQ Option Shuffling : Yes

Correct Marks : 1 Wrong Marks : 0.25

Select the correctly spelt word.

Options :

1. ✗ Percieve

2. ✓ Persuade

3. ✗ Particuler

4. ✖ Patner

Question Number : 149 Question Id : 497959755 Question Type : MCQ Option Shuffling : Yes
Correct Marks : 1 Wrong Marks : 0.25

Select the correctly spelt word.

Options :

1. ✖ Percieve

2. ✔ Persuade

3. ✖ Particuler

4. ✖ Patner

Question Number : 150 Question Id : 497959756 Question Type : MCQ Option Shuffling : Yes
Correct Marks : 1 Wrong Marks : 0.25

Select the correctly spelt word.

Options :

1. ✖ Rhythem

2. ✖ Rytham

3. ✖ Rythem

4. ✔ Rhythm

Question Number : 150 Question Id : 497959756 Question Type : MCQ Option Shuffling : Yes
Correct Marks : 1 Wrong Marks : 0.25

Select the correctly spelt word.

Options :

1. ✖ Rhythem

2. ✖ Rytham

3. ✖ Rythem

4. ✔ Rhythm

Question Number : 151 Question Id : 497959757 Question Type : MCQ Option Shuffling : Yes

Correct Marks : 1 Wrong Marks : 0.25

Select the most appropriate phrase to fill in the blank.

The gardener warned the children to _____ the grass.

Options :

1. ✖ keep away

2. ✖ keep on

3. ✔ keep off

4. ✖ keep up

Question Number : 151 Question Id : 497959757 Question Type : MCQ Option Shuffling : Yes

Correct Marks : 1 Wrong Marks : 0.25

Select the most appropriate phrase to fill in the blank.

The gardener warned the children to _____ the grass.

Options :

1. ✖ keep away

2. ✖ keep on

3. ✔ keep off

4. ✖ keep up

Question Number : 152 Question Id : 497959758 Question Type : MCQ Option Shuffling : Yes
Correct Marks : 1 Wrong Marks : 0.25

Select the most appropriate phrase to fill in the blank.
The sick man _____ by virtue of his strong will power.

Options :

1. ✖ pulled off

2. ✖ pulled back

3. ✖ pulled up

4. ✔ pulled through

Question Number : 152 Question Id : 497959758 Question Type : MCQ Option Shuffling : Yes
Correct Marks : 1 Wrong Marks : 0.25

Select the most appropriate phrase to fill in the blank.
The sick man _____ by virtue of his strong will power.

Options :

1. ✖ pulled off

2. ✖ pulled back

3. ✖ pulled up

4. ✔ pulled through

Question Number : 153 Question Id : 497959759 Question Type : MCQ Option Shuffling : Yes

Correct Marks : 1 Wrong Marks : 0.25

Select the grammatically correct sentence from the given options.

Options :

1. ✖ Neither the parents nor the child were allowed to enter the Principal's room.

2. ✔ Neither the parents nor the child was allowed to enter the Principal's room.

3. ✖ Neither the parents was allowed to enter the Principal's room nor the child.

4. ✖ Neither the parents were allowed nor the child to enter the Principal's room.

Question Number : 153 Question Id : 497959759 Question Type : MCQ Option Shuffling : Yes

Correct Marks : 1 Wrong Marks : 0.25

Select the grammatically correct sentence from the given options.

Options :

1. ✖ Neither the parents nor the child were allowed to enter the Principal's room.

2. ✔ Neither the parents nor the child was allowed to enter the Principal's room.

3. ✖ Neither the parents was allowed to enter the Principal's room nor the child.
4. ✖ Neither the parents were allowed nor the child to enter the Principal's room.

Question Number : 154 Question Id : 497959760 Question Type : MCQ Option Shuffling : Yes
Correct Marks : 1 Wrong Marks : 0.25

Select the grammatically correct sentence from the given options.

Options :

1. ✖ The entrance exam was much simple than I had thought it to be.
2. ✔ The entrance exam was much simpler than I had thought it to be.
3. ✖ The entrance exam was most simple than I had thought it to be.
4. ✖ The entrance exam was more simpler than I had thought it to be.

Question Number : 154 Question Id : 497959760 Question Type : MCQ Option Shuffling : Yes
Correct Marks : 1 Wrong Marks : 0.25

Select the grammatically correct sentence from the given options.

Options :

1. ✖ The entrance exam was much simple than I had thought it to be.
2. ✔ The entrance exam was much simpler than I had thought it to be.
3. ✖ The entrance exam was most simple than I had thought it to be.

4. ✖ The entrance exam was more simpler than I had thought it to be.

Question Number : 155 Question Id : 497959761 Question Type : MCQ Option Shuffling : Yes
Correct Marks : 1 Wrong Marks : 0.25

Select the grammatically correct sentence from the given options.

Options :

1. ✔ You must start early otherwise you will not be able to reach before sunset.

2. ✖ You must be starting early otherwise you will not be reaching before sunset.

3. ✖ You must start early lest you will not be able to reach before sunset.

4. ✖ You must start early so that you will not be able to reach before sunset.

Question Number : 155 Question Id : 497959761 Question Type : MCQ Option Shuffling : Yes
Correct Marks : 1 Wrong Marks : 0.25

Select the grammatically correct sentence from the given options.

Options :

1. ✔ You must start early otherwise you will not be able to reach before sunset.

2. ✖ You must be starting early otherwise you will not be reaching before sunset.

3. ✖ You must start early lest you will not be able to reach before sunset.

4. ✖ You must start early so that you will not be able to reach before sunset.

Sub-Section Number: 2
Sub-Section Id: 49795945
Question Shuffling Allowed : Yes

Question Id : 497959762 Question Type : COMPREHENSION Sub Question Shuffling Allowed : Yes Group Comprehension Questions : No

Question Numbers : (156 to 160)

Question Label : Comprehension

Read the following passage and answer the question.

There are four basic stages that human beings pass through when they enter and live in a new culture. The first stage begins when we arrive in a new culture and find everything thrilling and exciting. We may be suffering from jet lag but our excitement is high at discovering new sights, new sounds and language, eating new kinds of food served very differently and breathing new air! This honeymoon phase can last for a long time as we feel ourselves to be in some kind of great adventure. Unfortunately, the culture shock sets in during the second phase which may be more difficult. After we have settled down in our new life, working or studying, buying groceries, doing laundry, we can become very tired and begin to miss our family, friends and pets. Suddenly, the everyday problems also appear bigger and more disturbing in a foreign culture. This period of cultural adjustment can be quite difficult and may lead to rejecting or pulling away from the foreign culture. This stage may be quite dangerous because one may develop stress leading to unhealthy habits of smoking or drinking. Thus, this stage is considered a crisis in the process of cultural adjustment and many choose to return to their homeland or spend all their time with people from their own culture speaking their native language. The third stage is called the 'adjustment stage'. This is when you realise that things are not so bad in the host culture. You learn to accept things more openly and learn to take care of yourself. Things are still difficult but you are now a survivor! The fourth stage may be called 'ease at last'. Now you feel quite comfortable in your new surroundings. You can cope with most of your problems. Although the language problem persists, you have learnt how to deal with it. If you meet someone from your country who has just arrived, you can guide him like an expert on life in the new culture and help him to deal with the culture shock. Interestingly, there is another stage called the 'reverse culture shock' which many people do not know about. This occurs when you go back to your native culture and find that you have changed and things there have changed too while you were away. Now, you feel slightly uncomfortable back home and wish to return to the new culture. Life's like that!

Sub questions

Question Number : 156 Question Id : 497959763 Question Type : MCQ Option Shuffling : Yes

Correct Marks : 1 Wrong Marks : 0.25

Why is the first phase referred to as the honeymoon phase?

Options :

1. ✖ It is full of anxiety at leaving the native place.
2. ✔ There is fun and excitement at making a new beginning.
3. ✖ It is a period of relaxation and no work.
4. ✖ There are no responsibilities or restraints of any kind.

Question Number : 157 Question Id : 497959764 Question Type : MCQ Option Shuffling : Yes

Correct Marks : 1 Wrong Marks : 0.25

Which of these CANNOT be attributed to the crisis stage?

Options :

1. ✖ Restricting social contact with people from native culture
2. ✖ Extreme stress and anxiety leading to unhealthy habits
3. ✖ Complete rejection of the new culture
4. ✔ A feeling of comfort and ease in the new surroundings

Question Number : 158 Question Id : 497959765 Question Type : MCQ Option Shuffling : Yes

Correct Marks : 1 Wrong Marks : 0.25

What quality can make one a survivor in a new culture?

Options :

1. ✖ Excitement

2. ✖ Compassion

3. ✔ Perseverance

4. ✖ Communication

Question Number : 159 Question Id : 497959766 Question Type : MCQ Option Shuffling : Yes
Correct Marks : 1 Wrong Marks : 0.25

You can guide newcomers as an expert because you have:

Options :

1. ✔ experienced similar problems

2. ✖ trained yourself hard as one

3. ✖ the skills which they lack

4. ✖ the inclination to show off

Question Number : 160 Question Id : 497959767 Question Type : MCQ Option Shuffling : Yes
Correct Marks : 1 Wrong Marks : 0.25

Which of these statements is NOT true?

Options :

1. ✖ One may feel uncomfortable back home after staying in a foreign culture.

2. ✖ One misses family and friends after settling down to a tiring daily routine.

3. ✔ All who are in the crisis phase return to their homeland.

4. ✖ One learns to handle situations as one adjusts to the new culture.

Question Id : 497959762 Question Type : COMPREHENSION Sub Question Shuffling Allowed : Yes Group Comprehension Questions : No

Question Numbers : (156 to 160)

Question Label : Comprehension

Read the following passage and answer the question.

There are four basic stages that human beings pass through when they enter and live in a new culture. The first stage begins when we arrive in a new culture and find everything thrilling and exciting. We may be suffering from jet lag but our excitement is high at discovering new sights, new sounds and language, eating new kinds of food served very differently and breathing new air! This honeymoon phase can last for a long time as we feel ourselves to be in some kind of great adventure. Unfortunately, the culture shock sets in during the second phase which may be more difficult. After we have settled down in our new life, working or studying, buying groceries, doing laundry, we can become very tired and begin to miss our family, friends and pets. Suddenly, the everyday problems also appear bigger and more disturbing in a foreign culture. This period of cultural adjustment can be quite difficult and may lead to rejecting or pulling away from the foreign culture. This stage may be quite dangerous because one may develop stress leading to unhealthy habits of smoking or drinking. Thus, this stage is considered a crisis in the process of cultural adjustment and many choose to return to their homeland or spend all their time with people from their own culture speaking their native language.

The third stage is called the 'adjustment stage'. This is when you realise that things are not so bad in the host culture. You learn to accept things more openly and learn to take care of yourself. Things are still difficult but you are now a survivor!

The fourth stage may be called 'ease at last'. Now you feel quite comfortable in your new surroundings. You can cope with most of your problems. Although the language problem persists, you have learnt how to deal with it. If you meet someone from your country who has just arrived, you can guide him like an expert on life in the new culture and help him to deal with the culture shock.

Interestingly, there is another stage called the 'reverse culture shock' which many people do not know about. This occurs when you go back to your native culture and find that you have changed and things there have changed too while you were away. Now, you feel slightly uncomfortable back home and wish to return to the new culture. Life's like that!

Sub questions

Question Number : 156 Question Id : 497959763 Question Type : MCQ Option Shuffling : Yes
Correct Marks : 1 Wrong Marks : 0.25

Why is the first phase referred to as the honeymoon phase?

Options :

1. ✖ It is full of anxiety at leaving the native place.
2. ✔ There is fun and excitement at making a new beginning.
3. ✖ It is a period of relaxation and no work.
4. ✖ There are no responsibilities or restraints of any kind.

Question Number : 157 Question Id : 497959764 Question Type : MCQ Option Shuffling : Yes
Correct Marks : 1 Wrong Marks : 0.25

Which of these CANNOT be attributed to the crisis stage?

Options :

1. ✖ Restricting social contact with people from native culture
2. ✖ Extreme stress and anxiety leading to unhealthy habits
3. ✖ Complete rejection of the new culture
4. ✔ A feeling of comfort and ease in the new surroundings

Question Number : 158 Question Id : 497959765 Question Type : MCQ Option Shuffling : Yes
Correct Marks : 1 Wrong Marks : 0.25

What quality can make one a survivor in a new culture?

Options :

1. ✖ Excitement
2. ✖ Compassion
3. ✔ Perseverance
4. ✖ Communication

Question Number : 159 Question Id : 497959766 Question Type : MCQ Option Shuffling : Yes

Correct Marks : 1 Wrong Marks : 0.25

You can guide newcomers as an expert because you have:

Options :

1. ✔ experienced similar problems
2. ✖ trained yourself hard as one
3. ✖ the skills which they lack
4. ✖ the inclination to show off

Question Number : 160 Question Id : 497959767 Question Type : MCQ Option Shuffling : Yes

Correct Marks : 1 Wrong Marks : 0.25

Which of these statements is NOT true?

Options :

1. ✖ One may feel uncomfortable back home after staying in a foreign culture.

2. ✖ One misses family and friends after settling down to a tiring daily routine.

3. ✔ All who are in the crisis phase return to their homeland.

4. ✖ One learns to handle situations as one adjusts to the new culture.

General Hindi1

Group Number :	9
Group Id :	49795939
Group Maximum Duration :	0
Group Minimum Duration :	0
Show Attended Group? :	No
Edit Attended Group? :	No
Break time:	0
Group Marks:	20
Is this Group for Examiner?:	No
Revisit allowed for group Instructions? :	Yes
Maximum Instruction Time:	0
Minimum Instruction Time:	0

General Hindi1

Section Id :	49795939
Section Number :	1
Section type :	Online
Mandatory or Optional:	Mandatory
Number of Questions:	16
Number of Questions to be attempted:	16
Section Marks:	20

Sub-Section Id:

49795946

Question Shuffling Allowed :

Yes

Question Id : 497959768 Question Type : COMPREHENSION Sub Question Shuffling Allowed : Yes Group Comprehension Questions : No

Question Numbers : (161 to 165)

Question Label : Comprehension

नीचे दिये गए गद्यांश को पढ़कर पूछे गये प्रश्नों के उत्तर दीजिए।

असल में हम जिस युग में जी रहे हैं यह सूचना क्रांति का दौर है। मोबाइल, कंप्यूटर, इंटरनेट के विकास के साथ उदारीकरण, निजीकरण और भूमंडलीकरण की प्रक्रियाओं ने जितनी तेजी से विश्व को ग्लोबल विलेज के रूप में परिवर्तित किया है, वह चमत्कारी है। तेजी से होते भौतिक विकास, वैज्ञानिक प्रगति और उपयोगितावाद के विकास ने मनुष्य की भौतिक स्थिति में ही परिवर्तन नहीं किया बल्कि गहरे रूप में उसकी मानसिक संरचना को भी परिवर्तित किया है। आज का मनुष्य भौतिक विकास की अंधी आर्थिक दौड़ में स्वयं यंत्र बनता चला जा रहा है इसलिए उसकी सोच भी यंत्रवत होती जा रही है। संवेदना का लोप तेजी से हो रहा है। आज भयंकर से भयंकर मानवीय त्रासदी भी जनसंख्या के बड़े भाग के लिए मात्र सूचना है। इसके लिए भौतिक विकास के उपकरण जिम्मेदार नहीं है बल्कि उन्हें चालित करने वाले, उन पर नियंत्रण रखने वाले, उनका दुरुपयोग करने वाले, उनके पहरेदार जिम्मेदार हैं।

Sub questions

Question Number : 161 Question Id : 497959769 Question Type : MCQ Option Shuffling : Yes

Correct Marks : 1 Wrong Marks : 0.25

गद्यांश में किस दौर की बात कही गई है?

Options :

1. ✖ हरित क्रांति

2. ✖ श्वेत क्रांति

3. ✖ औद्योगिक क्रांति

4. ✓ सूचना क्रांति

Question Number : 162 Question Id : 497959770 Question Type : MCQ Option Shuffling : Yes

Correct Marks : 1 Wrong Marks : 0.25

संवेदना के लोप होने का अर्थ है:

Options :

1. ✗ संवेदना में परिवर्तन होना

2. ✗ संवेदना का प्रभावी होना

3. ✓ संवेदना का गायब होना

4. ✗ संवेदना का बढ़ना

Question Number : 163 Question Id : 497959771 Question Type : MCQ Option Shuffling : Yes

Correct Marks : 1 Wrong Marks : 0.25

गद्यांश में त्रासदी का अर्थ है:

Options :

1. ✗ सुखांत घटना

2. ✓ दुखांत घटना

3. ✗ महत्वपूर्ण घटना

4. ✗ क्रांतिकारी घटना

Question Number : 164 Question Id : 497959772 Question Type : MCQ Option Shuffling : Yes

Correct Marks : 1 Wrong Marks : 0.25

मनुष्य के यंत्र बनने का निहितार्थ क्या है?

Options :

1. ✖ मनुष्य की कार्यकुशलता में बढ़ोत्तरी
2. ✖ उत्पादन में बढ़ोत्तरी
3. ✔ मनुष्य के जीवन में संवेदना का हास
4. ✖ मनुष्य के जीवन में विचारों की प्रधानता

Question Number : 165 Question Id : 497959773 Question Type : MCQ Option Shuffling : Yes

Correct Marks : 1 Wrong Marks : 0.25

उपकरण का अर्थ है:

Options :

1. ✔ यंत्र
2. ✖ सूचना
3. ✖ विचार
4. ✖ कौशल

Question Id : 497959768 Question Type : COMPREHENSION Sub Question Shuffling Allowed : Yes Group Comprehension Questions : No

Question Numbers : (161 to 165)

Question Label : Comprehension

नीचे दिये गए गद्यांश को पढ़कर पूछे गये प्रश्नों के उत्तर दीजिए।

असल में हम जिस युग में जी रहे हैं यह सूचना क्रांति का दौर है। मोबाइल, कंप्यूटर, इंटरनेट के विकास के साथ उदारीकरण, निजीकरण और भूमंडलीकरण की प्रक्रियाओं ने जितनी तेजी से विश्व को ग्लोबल विलेज के रूप में परिवर्तित किया है, वह चमत्कारी है। तेजी से होते भौतिक विकास, वैज्ञानिक प्रगति और उपयोगितावाद के विकास ने मनुष्य की भौतिक स्थिति में ही परिवर्तन नहीं किया बल्कि गहरे रूप में उसकी मानसिक संरचना को भी परिवर्तित किया है। आज का मनुष्य भौतिक विकास की अंधी आर्थिक दौड़ में स्वयं यंत्र बनता चला जा रहा है इसलिए उसकी सोच भी यंत्रवत होती जा रही है। संवेदना का लोप तेजी से हो रहा है। आज भयंकर से भयंकर मानवीय त्रासदी भी जनसंख्या के बड़े भाग के लिए मात्र सूचना है। इसके लिए भौतिक विकास के उपकरण जिम्मेदार नहीं हैं बल्कि उन्हें चालित करने वाले, उन पर नियंत्रण रखने वाले, उनका दुरुपयोग करने वाले, उनके पहरेदार जिम्मेदार हैं।

Sub questions

Question Number : 161 Question Id : 497959769 Question Type : MCQ Option Shuffling : Yes
Correct Marks : 1 Wrong Marks : 0.25

गद्यांश में किस दौर की बात कही गई है?

Options :

1. ✖ हरित क्रांति
2. ✖ श्वेत क्रांति
3. ✖ औद्योगिक क्रांति
4. ✔ सूचना क्रांति

Question Number : 162 Question Id : 497959770 Question Type : MCQ Option Shuffling : Yes

Correct Marks : 1 Wrong Marks : 0.25

संवेदना के लोप होने का अर्थ है:

Options :

1. ✖ संवेदना में परिवर्तन होना
2. ✖ संवेदना का प्रभावी होना
3. ✔ संवेदना का गायब होना
4. ✖ संवेदना का बढ़ना

Question Number : 163 Question Id : 497959771 Question Type : MCQ Option Shuffling : Yes

Correct Marks : 1 Wrong Marks : 0.25

गद्यांश में त्रासदी का अर्थ है:

Options :

1. ✖ सुखांत घटना
2. ✔ दुखांत घटना
3. ✖ महत्वपूर्ण घटना
4. ✖ क्रांतिकारी घटना

Question Number : 164 Question Id : 497959772 Question Type : MCQ Option Shuffling : Yes

Correct Marks : 1 Wrong Marks : 0.25

मनुष्य के यंत्र बनने का निहितार्थ क्या है?

Options :

1. ✖ मनुष्य की कार्यकुशलता में बढ़ोत्तरी
2. ✖ उत्पादन में बढ़ोत्तरी
3. ✔ मनुष्य के जीवन में संवेदना का हास
4. ✖ मनुष्य के जीवन में विचारों की प्रधानता

Question Number : 165 Question Id : 497959773 Question Type : MCQ Option Shuffling : Yes
Correct Marks : 1 Wrong Marks : 0.25

उपकरण का अर्थ है:

Options :

1. ✔ यंत्र
2. ✖ सूचना
3. ✖ विचार
4. ✖ कौशल

Sub-Section Number: 2
Sub-Section Id: 49795947
Question Shuffling Allowed : Yes

Question Number : 166 Question Id : 497959774 Question Type : MCQ Option Shuffling : Yes
Correct Marks : 1 Wrong Marks : 0.25

निम्न में से कौन सा शब्द तद्भव है?

Options :

1. ✖ चक्र

2. ✖ चन्द्र

3. ✔ चीता

4. ✖ चूर्ण

Question Number : 166 Question Id : 497959774 Question Type : MCQ Option Shuffling : Yes
Correct Marks : 1 Wrong Marks : 0.25

निम्न में से कौन सा शब्द तद्भव है?

Options :

1. ✖ चक्र

2. ✖ चन्द्र

3. ✔ चीता

4. ✖ चूर्ण

Question Number : 167 Question Id : 497959775 Question Type : MCQ Option Shuffling : Yes
Correct Marks : 1 Wrong Marks : 0.25

निम्न में से कौन सा शब्द तद्भव नहीं है?

Options :

1. ✔ घट

2. ✖ घर

3. ✖ घी

4. ✖ घोड़ा

Question Number : 167 Question Id : 497959775 Question Type : MCQ Option Shuffling : Yes

Correct Marks : 1 Wrong Marks : 0.25

निम्न में से कौन सा शब्द तद्भव नहीं है?

Options :

1. ✔ घट

2. ✖ घर

3. ✖ घी

4. ✖ घोड़ा



Question Number : 168 Question Id : 497959776 Question Type : MCQ Option Shuffling : Yes

Correct Marks : 1 Wrong Marks : 0.25

निम्न में से कौन सा शब्द तत्सम है?

Options :

1. ✖ दूध

2. ✔ दन्त

3. ✖ दूब

4. ✖ दाहिना

Question Number : 168 Question Id : 497959776 Question Type : MCQ Option Shuffling : Yes
Correct Marks : 1 Wrong Marks : 0.25

निम्न में से कौन सा शब्द तत्सम है?

Options :

1. ✖ दूध

2. ✔ दन्त

3. ✖ दूब

4. ✖ दाहिना

Question Number : 169 Question Id : 497959777 Question Type : MCQ Option Shuffling : Yes
Correct Marks : 1 Wrong Marks : 0.25

निम्न में से कौन सा शब्द तत्सम नहीं है?

Options :

1. ✖ दमन

2. ✖ स्थल

3. ✖ स्थान

4. ✓ दही

Question Number : 169 Question Id : 497959777 Question Type : MCQ Option Shuffling : Yes

Correct Marks : 1 Wrong Marks : 0.25

निम्न में से कौन सा शब्द तत्सम नहीं है?

Options :

1. ✗ दमन

2. ✗ स्थल

3. ✗ स्थान

4. ✓ दही

Question Number : 170 Question Id : 497959778 Question Type : MCQ Option Shuffling : Yes

Correct Marks : 1 Wrong Marks : 0.25

निम्न में से 'देशज' शब्द कौन सा है?

Options :

1. ✓ पगड़ी

2. ✗ पलंग

3. ✗ पेशा

4. ✗ पुल

Question Number : 170 Question Id : 497959778 Question Type : MCQ Option Shuffling : Yes

Correct Marks : 1 Wrong Marks : 0.25

निम्न में से 'देशज' शब्द कौन सा है?

Options :

1. ✓ पगड़ी

2. ✗ पलंग

3. ✗ पेशा

4. ✗ पुल

Question Number : 171 Question Id : 497959779 Question Type : MCQ Option Shuffling : Yes

Correct Marks : 1 Wrong Marks : 0.25

निम्न में से विदेशी शब्द कौन सा है?

Options :

1. ✗ अदरक

2. ✓ आफीसर

3. ✗ आम

4. ✗ उल्लू

Question Number : 171 Question Id : 497959779 Question Type : MCQ Option Shuffling : Yes

Correct Marks : 1 Wrong Marks : 0.25

निम्न में से विदेशी शब्द कौन सा है?

Options :

1. ✗ अदरक

2. ✓ आफीसर

3. ✗ आम

4. ✗ उल्लू

Question Number : 172 Question Id : 497959780 Question Type : MCQ Option Shuffling : Yes
Correct Marks : 1 Wrong Marks : 0.25

निम्न में से शुद्ध वर्तनी वाला शब्द कौन सा है?

Options :

1. ✗ अनुशरण

2. ✗ अगामी

3. ✓ अधीन

4. ✗ अकांछा



Question Number : 172 Question Id : 497959780 Question Type : MCQ Option Shuffling : Yes
Correct Marks : 1 Wrong Marks : 0.25

निम्न में से शुद्ध वर्तनी वाला शब्द कौन सा है?

Options :

1. ✗ अनुशरण

2. ✗ अगामी

3. ✓ अधीन

4. ✗ अकांछा

Question Number : 173 Question Id : 497959781 Question Type : MCQ Option Shuffling : Yes

Correct Marks : 1 Wrong Marks : 0.25

‘अन्न-अन्य’ शब्द-युग्म का सही अर्थ है:

Options :

1. ✗ पैसा-दूसरा

2. ✗ निकट-दूर

3. ✗ दूसरा-अनाज

4. ✓ अनाज-दूसरा

Question Number : 173 Question Id : 497959781 Question Type : MCQ Option Shuffling : Yes

Correct Marks : 1 Wrong Marks : 0.25

‘अन्न-अन्य’ शब्द-युग्म का सही अर्थ है:

Options :

1. ✗ पैसा-दूसरा

2. ✗ निकट-दूर

3. ✗ दूसरा-अनाज

4. ✓ अनाज-दूसरा

Question Number : 174 Question Id : 497959782 Question Type : MCQ Option Shuffling : Yes
Correct Marks : 1 Wrong Marks : 0.25

‘कर’ का अर्थ नहीं होता:

Options :

1. ✓ कार्य

2. ✗ हाथ

3. ✗ किरण

4. ✗ टैक्स

Question Number : 174 Question Id : 497959782 Question Type : MCQ Option Shuffling : Yes
Correct Marks : 1 Wrong Marks : 0.25

‘कर’ का अर्थ नहीं होता:

Options :

1. ✓ कार्य

2. ✗ हाथ

3. ✗ किरण

4. ✗ टैक्स

Question Number : 175 Question Id : 497959783 Question Type : MCQ Option Shuffling : Yes
Correct Marks : 1 Wrong Marks : 0.25

‘जल में पैदा होने वाला’ के लिए एक शब्द होगा:

Options :

1. ✖ जलद

2. ✖ जलधि

3. ✔ जलज

4. ✖ जलचर

Question Number : 175 Question Id : 497959783 Question Type : MCQ Option Shuffling : Yes

Correct Marks : 1 Wrong Marks : 0.25

‘जल में पैदा होने वाला’ के लिए एक शब्द होगा:

Options :

1. ✖ जलद

2. ✖ जलधि

3. ✔ जलज

4. ✖ जलचर

Question Number : 176 Question Id : 497959784 Question Type : MCQ Option Shuffling : Yes

Correct Marks : 1 Wrong Marks : 0.25

‘गंगा’ किस प्रकार की संज्ञा का उदाहरण है?

Options :

1. ✖ जातिवाचक

2. ✓ व्यक्तिवाचक

3. ✗ भाववाचक

4. ✗ गुणवाचक

Question Number : 176 Question Id : 497959784 Question Type : MCQ Option Shuffling : Yes

Correct Marks : 1 Wrong Marks : 0.25

‘गंगा’ किस प्रकार की संज्ञा का उदाहरण है?

Options :

1. ✗ जातिवाचक

2. ✓ व्यक्तिवाचक

3. ✗ भाववाचक

4. ✗ गुणवाचक

Question Number : 177 Question Id : 497959785 Question Type : MCQ Option Shuffling : Yes

Correct Marks : 1 Wrong Marks : 0.25

निम्न में से प्रश्नवाचक सर्वनाम कौन सा है?

Options :

1. ✗ मैं

2. ✗ तू

3. ✖ आप

4. ✔ क्या

Question Number : 177 Question Id : 497959785 Question Type : MCQ Option Shuffling : Yes
Correct Marks : 1 Wrong Marks : 0.25

निम्न में से प्रश्नवाचक सर्वनाम कौन सा है?

Options :

1. ✖ मैं

2. ✖ तू

3. ✖ आप

4. ✔ क्या

Question Number : 178 Question Id : 497959786 Question Type : MCQ Option Shuffling : Yes
Correct Marks : 1 Wrong Marks : 0.25

‘दानी’ किस प्रकार का विशेषण है?

Options :

1. ✖ सार्वनामिक

2. ✖ संख्यावाचक

3. ✔ गुणवाचक

4. ✖ परिमाणबोधक

Question Number : 178 Question Id : 497959786 Question Type : MCQ Option Shuffling : Yes
Correct Marks : 1 Wrong Marks : 0.25

‘दानी’ किस प्रकार का विशेषण है?

Options :

1. ✖ सार्वनामिक

2. ✖ संख्यावाचक

3. ✔ गुणवाचक

4. ✖ परिमाणबोधक

Question Number : 179 Question Id : 497959787 Question Type : MCQ Option Shuffling : Yes
Correct Marks : 1 Wrong Marks : 0.25

‘गाड़ी चली।’ वाक्य में कैसी क्रिया है?

Options :

1. ✔ अकर्मक

2. ✖ सकर्मक

3. ✖ द्विकर्मक

4. ✖ प्रेरणार्थक

Question Number : 179 Question Id : 497959787 Question Type : MCQ Option Shuffling : Yes
Correct Marks : 1 Wrong Marks : 0.25

‘गाड़ी चली।’ वाक्य में कैसी क्रिया है?

Options :

1. ✓ अकर्मक
2. ✗ सकर्मक
3. ✗ द्विकर्मक
4. ✗ प्रेरणार्थक

Question Number : 180 Question Id : 497959788 Question Type : MCQ Option Shuffling : Yes

Correct Marks : 1 Wrong Marks : 0.25

‘तुम दौड़कर चलते हो।’ वाक्य में रेखांकित अंश क्या है?

Options :

1. ✗ संज्ञा
2. ✗ विशेषण
3. ✗ क्रिया
4. ✓ क्रिया विशेषण

Question Number : 180 Question Id : 497959788 Question Type : MCQ Option Shuffling : Yes

Correct Marks : 1 Wrong Marks : 0.25

‘तुम दौड़कर चलते हो।’ वाक्य में रेखांकित अंश क्या है?

Options :

- 1. ✖ संज्ञा
- 2. ✖ विशेषण
- 3. ✖ क्रिया
- 4. ✔ क्रिया विशेषण

General Hindi2

Group Number :	10
Group Id :	49795940
Group Maximum Duration :	0
Group Minimum Duration :	120
Show Attended Group? :	No
Edit Attended Group? :	No
Break time:	0
Group Marks:	20
Is this Group for Examiner?:	No
Revisit allowed for group Instructions? :	Yes
Maximum Instruction Time:	0
Minimum Instruction Time:	0

General Hindi2

Section Id :	49795940
Section Number :	1
Section type :	Online
Mandatory or Optional:	Mandatory
Number of Questions:	20
Number of Questions to be attempted:	20
Section Marks:	20

Sub-Section Number:	1
Sub-Section Id:	49795948
Question Shuffling Allowed :	Yes

Question Number : 181 Question Id : 497959789 Question Type : MCQ Option Shuffling : Yes
Correct Marks : 1 Wrong Marks : 0.25

‘विद्याभ्यास’ का संधि-विच्छेद होगा:

Options :

1. ✖ विद्या + भ्यास
2. ✔ विद्या + अभ्यास
3. ✖ विद्य + आभ्यास
4. ✖ विद्याभ + आस

Question Number : 181 Question Id : 497959789 Question Type : MCQ Option Shuffling : Yes
Correct Marks : 1 Wrong Marks : 0.25

‘विद्याभ्यास’ का संधि-विच्छेद होगा:

Options :

1. ✖ विद्या + भ्यास
2. ✔ विद्या + अभ्यास
3. ✖ विद्य + आभ्यास
4. ✖ विद्याभ + आस

Question Number : 182 Question Id : 497959790 Question Type : MCQ Option Shuffling : Yes
Correct Marks : 1 Wrong Marks : 0.25

‘राजदरबार’ में कौन सा समास है?

Options :

1. ✓ तत्पुरुष

2. ✗ द्वंद्व

3. ✗ द्विगु

4. ✗ अव्ययीभाव

Question Number : 182 Question Id : 497959790 Question Type : MCQ Option Shuffling : Yes

Correct Marks : 1 Wrong Marks : 0.25

‘राजदरबार’ में कौन सा समास है?

Options :

1. ✓ तत्पुरुष

2. ✗ द्वंद्व

3. ✗ द्विगु

4. ✗ अव्ययीभाव



Question Number : 183 Question Id : 497959791 Question Type : MCQ Option Shuffling : Yes

Correct Marks : 1 Wrong Marks : 0.25

‘उपदेश’ में किस उपसर्ग का प्रयोग हुआ है?

Options :

1. ✗ श

2. ✖ उ

3. ✔ उप

4. ✖ देश

Question Number : 183 Question Id : 497959791 Question Type : MCQ Option Shuffling : Yes
Correct Marks : 1 Wrong Marks : 0.25

‘उपदेश’ में किस उपसर्ग का प्रयोग हुआ है?

Options :

1. ✖ श

2. ✖ उ

3. ✔ उप

4. ✖ देश



Question Number : 184 Question Id : 497959792 Question Type : MCQ Option Shuffling : Yes
Correct Marks : 1 Wrong Marks : 0.25

‘मानसिक’ में किस प्रत्यय का प्रयोग हुआ है?

Options :

1. ✖ मान

2. ✖ सिक

3. ✖ क

4. ✔ इक

Question Number : 184 Question Id : 497959792 Question Type : MCQ Option Shuffling : Yes

Correct Marks : 1 Wrong Marks : 0.25

‘मानसिक’ में किस प्रत्यय का प्रयोग हुआ है?

Options :

1. ✖ मान

2. ✖ सिक

3. ✖ क

4. ✔ इक

Question Number : 185 Question Id : 497959793 Question Type : MCQ Option Shuffling : Yes

Correct Marks : 1 Wrong Marks : 0.25

निम्न में से कौन सा शब्द स्त्रीलिंग है?

Options :

1. ✖ बचपन

2. ✔ बचत

3. ✖ बल

4. ✖ बाल

Question Number : 185 Question Id : 497959793 Question Type : MCQ Option Shuffling : Yes
Correct Marks : 1 Wrong Marks : 0.25

निम्न में से कौन सा शब्द स्त्रीलिंग है?

Options :

1. ✖ बचपन

2. ✔ बचत

3. ✖ बल

4. ✖ बाल

Question Number : 186 Question Id : 497959794 Question Type : MCQ Option Shuffling : Yes
Correct Marks : 1 Wrong Marks : 0.25

‘शेर के समान बलवान’ किस पदबन्ध का उदाहरण है?

Options :

1. ✖ संज्ञा पदबन्ध

2. ✔ विशेषण पदबन्ध

3. ✖ सर्वनाम पदबन्ध

4. ✖ क्रियाविशेषण पदबन्ध

Question Number : 186 Question Id : 497959794 Question Type : MCQ Option Shuffling : Yes
Correct Marks : 1 Wrong Marks : 0.25

‘शेर के समान बलवान’ किस पदबन्ध का उदाहरण है?

Options :

1. ✖ संज्ञा पदबन्ध
2. ✔ विशेषण पदबन्ध
3. ✖ सर्वनाम पदबन्ध
4. ✖ क्रियाविशेषण पदबन्ध

Question Number : 187 Question Id : 497959795 Question Type : MCQ Option Shuffling : Yes

Correct Marks : 1 Wrong Marks : 0.25

‘मोहन ने कहा कि मैं खाऊँगा।’ वाक्य में ‘मैं खाऊँगा’ किस प्रकार का उपवाक्य है?

Options :

1. ✔ संज्ञा उपवाक्य
2. ✖ क्रिया उपवाक्य
3. ✖ विशेषण उपवाक्य
4. ✖ क्रियाविशेषण उपवाक्य

Question Number : 187 Question Id : 497959795 Question Type : MCQ Option Shuffling : Yes

Correct Marks : 1 Wrong Marks : 0.25

‘मोहन ने कहा कि मैं खाऊँगा।’ वाक्य में ‘मैं खाऊँगा’ किस प्रकार का उपवाक्य है?

Options :

1. ✔ संज्ञा उपवाक्य

2. ✖ क्रिया उपवाक्य

3. ✖ विशेषण उपवाक्य

4. ✖ क्रियाविशेषण उपवाक्य

Question Number : 188 Question Id : 497959796 Question Type : MCQ Option Shuffling : Yes

Correct Marks : 1 Wrong Marks : 0.25

अर्थ के अनुसार कौन सा वाक्य का भेद नहीं है?

Options :

1. ✖ आज्ञा वाचक

2. ✖ संदेह वाचक

3. ✔ संयुक्त वाचक

4. ✖ संकेत वाचक

Question Number : 188 Question Id : 497959796 Question Type : MCQ Option Shuffling : Yes

Correct Marks : 1 Wrong Marks : 0.25

अर्थ के अनुसार कौन सा वाक्य का भेद नहीं है?

Options :

1. ✖ आज्ञा वाचक

2. ✖ संदेह वाचक

3. ✓ संयुक्त वाचक

4. ✗ संकेत वाचक

Question Number : 189 Question Id : 497959797 Question Type : MCQ Option Shuffling : Yes
Correct Marks : 1 Wrong Marks : 0.25

‘हम खेल चुके।’ किस प्रकार का वाक्य है?

Options :

1. ✗ उपवाक्य

2. ✗ मिश्र वाक्य

3. ✗ संयुक्त वाक्य

4. ✓ सरल वाक्य

Question Number : 189 Question Id : 497959797 Question Type : MCQ Option Shuffling : Yes
Correct Marks : 1 Wrong Marks : 0.25

‘हम खेल चुके।’ किस प्रकार का वाक्य है?

Options :

1. ✗ उपवाक्य

2. ✗ मिश्र वाक्य

3. ✗ संयुक्त वाक्य

4. ✓ सरल वाक्य

Question Number : 190 Question Id : 497959798 Question Type : MCQ Option Shuffling : Yes
Correct Marks : 1 Wrong Marks : 0.25

‘तुम्हारा घर कहाँ है?’ किस प्रकार का वाक्य है?

Options :

1. ✗ इच्छावाचक

2. ✓ प्रश्नवाचक

3. ✗ संदेहवाचक

4. ✗ विस्मयवाचक

Question Number : 190 Question Id : 497959798 Question Type : MCQ Option Shuffling : Yes
Correct Marks : 1 Wrong Marks : 0.25

‘तुम्हारा घर कहाँ है?’ किस प्रकार का वाक्य है?

Options :

1. ✗ इच्छावाचक

2. ✓ प्रश्नवाचक

3. ✗ संदेहवाचक

4. ✗ विस्मयवाचक

Question Number : 191 Question Id : 497959799 Question Type : MCQ Option Shuffling : Yes

Correct Marks : 1 Wrong Marks : 0.25

पदक्रम की दृष्टि से कौन सा वाक्य शुद्ध है?

Options :

1. ✖ दिव्या दौड़ती है तेज।

2. ✖ तेज दौड़ती है दिव्या।

3. ✔ दिव्या तेज दौड़ती है।

4. ✖ दिव्या तेज है दौड़ती।

Question Number : 191 Question Id : 497959799 Question Type : MCQ Option Shuffling : Yes

Correct Marks : 1 Wrong Marks : 0.25

पदक्रम की दृष्टि से कौन सा वाक्य शुद्ध है?

Options :

1. ✖ दिव्या दौड़ती है तेज।

2. ✖ तेज दौड़ती है दिव्या।

3. ✔ दिव्या तेज दौड़ती है।

4. ✖ दिव्या तेज है दौड़ती।

Question Number : 192 Question Id : 497959800 Question Type : MCQ Option Shuffling : Yes

Correct Marks : 1 Wrong Marks : 0.25

निम्न में से कौन सा वाक्य शुद्ध है?

Options :

1. ✓ आशा ने पुस्तक पढ़ी।

2. ✗ आशा ने पुस्तक पढ़ा।

3. ✗ आशा पुस्तक पढ़ी।

4. ✗ आशा पुस्तक पढ़ा।

Question Number : 192 Question Id : 497959800 Question Type : MCQ Option Shuffling : Yes

Correct Marks : 1 Wrong Marks : 0.25

निम्न में से कौन सा वाक्य शुद्ध है?

Options :

1. ✓ आशा ने पुस्तक पढ़ी।

2. ✗ आशा ने पुस्तक पढ़ा।

3. ✗ आशा पुस्तक पढ़ी।

4. ✗ आशा पुस्तक पढ़ा।

Question Number : 193 Question Id : 497959801 Question Type : MCQ Option Shuffling : Yes

Correct Marks : 1 Wrong Marks : 0.25

‘तालाब’ का पर्यायवाची है:

Options :

1. ✗ सरिता

2. ✖ वसुधा

3. ✖ मीन

4. ✔ सरोवर

Question Number : 193 Question Id : 497959801 Question Type : MCQ Option Shuffling : Yes
Correct Marks : 1 Wrong Marks : 0.25

‘तालाब’ का पर्यायवाची है:

Options :

1. ✖ सरिता

2. ✖ वसुधा

3. ✖ मीन

4. ✔ सरोवर



Question Number : 194 Question Id : 497959802 Question Type : MCQ Option Shuffling : Yes
Correct Marks : 1 Wrong Marks : 0.25

‘समीर’ किसका पर्यायवाची है?

Options :

1. ✖ जल

2. ✔ वायु

3. ✖ अग्नि

4. ✖ बिजली

Question Number : 194 Question Id : 497959802 Question Type : MCQ Option Shuffling : Yes

Correct Marks : 1 Wrong Marks : 0.25

‘समीर’ किसका पर्यायवाची है?

Options :

1. ✖ जल

2. ✔ वायु

3. ✖ अग्नि

4. ✖ बिजली

Question Number : 195 Question Id : 497959803 Question Type : MCQ Option Shuffling : Yes

Correct Marks : 1 Wrong Marks : 0.25

‘पुष्प’ का पर्यायवाची नहीं है:

Options :

1. ✔ कंचन

2. ✖ फूल

3. ✖ सुमन

4. ✖ कुसुम

Question Number : 195 Question Id : 497959803 Question Type : MCQ Option Shuffling : Yes

Correct Marks : 1 Wrong Marks : 0.25

‘पुष्प’ का पर्यायवाची नहीं है:

Options :

1. ✔ कंचन

2. ✖ फूल

3. ✖ सुमन

4. ✖ कुसुम

Question Number : 196 Question Id : 497959804 Question Type : MCQ Option Shuffling : Yes

Correct Marks : 1 Wrong Marks : 0.25

‘रश्मि’ किसका पर्यायवाची है?

Options :

1. ✖ बाण

2. ✖ नदी

3. ✔ किरण

4. ✖ स्त्री

Question Number : 196 Question Id : 497959804 Question Type : MCQ Option Shuffling : Yes

Correct Marks : 1 Wrong Marks : 0.25

‘रश्मि’ किसका पर्यायवाची है?

Options :

1. ✖ बाण
2. ✖ नदी
3. ✔ किरण
4. ✖ स्त्री

Question Number : 197 Question Id : 497959805 Question Type : MCQ Option Shuffling : Yes

Correct Marks : 1 Wrong Marks : 0.25

‘अनुकूल’ का विलोम होगा:

Options :

1. ✖ कूल
2. ✖ दुकूल
3. ✖ समूल
4. ✔ प्रतिकूल

Question Number : 197 Question Id : 497959805 Question Type : MCQ Option Shuffling : Yes

Correct Marks : 1 Wrong Marks : 0.25

‘अनुकूल’ का विलोम होगा:

Options :


1. ✖ कूल
2. ✖ दुकूल
3. ✖ समूल
4. ✔ प्रतिकूल

Question Number : 198 Question Id : 497959806 Question Type : MCQ Option Shuffling : Yes
Correct Marks : 1 Wrong Marks : 0.25

‘आदि’ का विलोम होगा:

Options :

1. ✖ आरंभ
2. ✔ अंत
3. ✖ आद्यंत
4. ✖ अंतहीन



Question Number : 198 Question Id : 497959806 Question Type : MCQ Option Shuffling : Yes
Correct Marks : 1 Wrong Marks : 0.25

‘आदि’ का विलोम होगा:

Options :

1. ✖ आरंभ

2. ✓ अंत

3. ✗ आद्यंत

4. ✗ अंतहीन

Question Number : 199 Question Id : 497959807 Question Type : MCQ Option Shuffling : Yes
Correct Marks : 1 Wrong Marks : 0.25

‘कोमल’ का विलोम होगा:

Options :

1. ✓ कठोर

2. ✗ कठिन

3. ✗ उदार

4. ✗ निश्छल



Question Number : 199 Question Id : 497959807 Question Type : MCQ Option Shuffling : Yes
Correct Marks : 1 Wrong Marks : 0.25

‘कोमल’ का विलोम होगा:

Options :

1. ✓ कठोर

2. ✗ कठिन

3. ✖ उदार

4. ✖ निश्छल

Question Number : 200 Question Id : 497959808 Question Type : MCQ Option Shuffling : Yes

Correct Marks : 1 Wrong Marks : 0.25

‘जड़’ का विलोम होगा:

Options :

1. ✖ अचेतन

2. ✖ अर्द्धचेतन

3. ✔ चेतन

4. ✖ मूर्ख

Question Number : 200 Question Id : 497959808 Question Type : MCQ Option Shuffling : Yes

Correct Marks : 1 Wrong Marks : 0.25

‘जड़’ का विलोम होगा:

Options :

1. ✖ अचेतन

2. ✖ अर्द्धचेतन

3. ✔ चेतन

4. ✖ मूर्ख

